



# 2021 年军队文职人员招聘考试公共科目试卷

## 第一部分 基础知识

一、单项选择题（请根据题目要求，在四个选项中选出一个最恰当的答案。共 50 题，每题 0.5 分，共 25 分。）

1. 国家根据国防动员需要，可以依法征收、征用组织和个人的设备设施、交通工具、场所和其他财产。县级以上人民政府对被征收、征用者因征收、征用所造成的直接经济损失，按照国家有关规定给予( )的补偿。

- A. 适当
- B. 相应
- C. 合理、合法
- D. 公平、合理

2. 中华人民共和国公民必须遵守宪法和法律，( )，爱护公共财产，遵守劳动纪律，遵守公共秩序，尊重社会公德。

- A. 保守国家秘密
- B. 保护个人隐私
- C. 行使自由和权利
- D. 男女同工同酬

3. 下列不属于当代资本主义生产关系方面新变化的是( )。

- A. 在所有制方面，出现了资本社会化、股权分散化趋势
- B. 在生产管理方面，出现了一系列运用人工智能等新技术的管理手段和工具
- C. 在劳资关系方面，建立了劳资共决、职工参与管理和持股、终身雇佣等制度
- D. 在收入分配方面，推行社会福利政策，通过再分配手段缓和社会矛盾

4. 拉丁美洲诞生的第一个黑人独立国家是( )。

- A. 海地
- B. 巴西
- C. 秘鲁
- D. 墨西哥

5. 中国人民解放军的宗旨是( )。

- A. 听党指挥  
B. 拥政爱民  
C. 全心全意为人民服务  
D. 保卫祖国
6. 我国经济体制改革的中心环节是( )。
- A. 价格体制改革  
B. 完善市场体系  
C. 加强宏观经济调控  
D. 国有企业改革
7. 我国社会主义市场经济与资本主义市场经济的根本区别在于( )。
- A. 市场在资源配置中的作用不同  
B. 国家对经济运行宏观调控的方式不同
- C. 社会基本经济制度不同  
D. 国家在经济发展中的作用不同
8. 关于中国梦的叙述, 不正确的是( )。
- A. 中国梦是一个口号, 必须紧紧依靠人民来实现  
B. 中国梦是国家情怀、民族情怀、人民情怀相统一的梦  
C. 中国梦归根到底是人民的梦  
D. 中国梦是国家的梦、民族的梦, 也是每一个中国人的梦
9. 坚持和加强党的全面领导, 发挥好中国共产党最高政治领导力量的作用, 最根本的是坚决做到( )。
- A. “四个自信”  
B. “两个维护”  
C. “八个明确”  
D. “十四个坚持”
10. 中国古代国防与各朝代的政治、经济、军事状况密切相关, ( )是一种具有代表性的国防建设思想。
- A. 寓兵于农  
B. 崇尚武德  
C. 屯兵于地  
D. 不战而胜
11. 我国政府采取低息贷款、减免税收、开展就业培训等多种措施, 稳步推进扶贫开发工作。这说明了社会主义市场经济的根本目标是( )。
- A. 实现共同富裕  
B. 消除贫困  
C. 坚持公有制的主体地位  
D. 实行强有力的宏观调控
12. 对于广大发展中国家来说, 经济全球化无异于一把“双刃剑”, 这里“双刃剑”指的是( )。



- A. 既是风险，也是挑战  
B. 既有联系，也有合作  
C. 既是机遇，也是挑战  
D. 既有联系，也有竞争

13. 田教授举办学术讲座时，在学术报告厅外张贴公告，告知其一部新著的书名、价格、有意购买者在报告厅门口签字簿签名。前来听讲座的欧阳同学没有留意该公告，以为签字簿是为签到准备的，遂在上面签名。关于对欧阳同学行为的认定，下列选项正确的是( )。

- A. 田教授行为属于要约，欧阳同学行为属于附条件承诺  
B. 欧阳同学的行为构成重大误解  
C. 欧阳同学的行为可以推定为购买田教授新著的表示  
D. 欧阳同学的行为并非意思表示，在欧阳同学与田教授之间并未成立买卖合同

14. 关于国防与国家关系，下列说法不正确的是( )。

- A. 国防是伴随着国家的产生而出现的  
B. 国防是为国家利益服务的  
C. 国防是国家综合国力的体现  
D. 国防与国家的性质和根本制度无关

15. 兵者，以武为植，以文为种。武为表，文为里。论述了( )。

- A. 军队与政治的关系  
B. 战争与文化的关系  
C. 战争与政治的关系  
D. 军队与文化的关系

16. 马克思主义政治经济学遵循( )的分析方法。

- A. 实体正义  
B. 整体主义  
C. 形式主义  
D. 个体主义

17. 《中华人民共和国国防法》规定，( )、中国人民武装警察部队在规定岗位实行文职人员制度。

- A. 现役部队  
B. 预备役部队  
C. 中国人民解放军  
D. 民兵

18. 在“十四五”时期经济社会发展六大“新”目标中，居首的是( )。

- A. 改革开放迈出新步伐  
B. 社会文明程度得到新提高  
C. 生态文明建设实现新进步  
D. 经济发展取得新成就

19. 全民国防教育的基础是( )的国防教育。

- A. 企业事业组织  
B. 学校

- C. 党政机关  
D. 社会组织

20. 坚持党对军队绝对领导是有一整套制度作保证的。中央军事委员会实行( )。

- A. 主席负责制  
B. 政治机关制  
C. 政治委员制  
D. 党委统一的集体领导下的首长分工负责制

21. 下列不属于我国社会保障制度内容的是( )。

- A. 社会捐赠  
B. 社会保险  
C. 社会福利  
D. 社会救济

22. 法定情形下解除劳动合同时，用人单位应当向劳动者支付经济补偿。支付标准是：按劳动者在本单位工作的年限，每满一年支付( )工资的标准向劳动者支付。六个月以上不满一年的，按( )计算；不满六个月的，向劳动者支付( )工资的经济补偿。

- A. 两个月、一年、一个月  
B. 两个月、半年、一个月  
C. 一个月、一年、半个月  
D. 一个月、半年、半个月

23. 根据《中华人民共和国商标法》的规定，注册商标包括商品商标、服务商标和集体商标、( )。

- A. 驰名商标  
B. 证明商标  
C. 图形商标  
D. 地理标志

24. 由于李某所在公司的经营范围有变化，李某的工作岗位也作了调整，经公司与李某双方协商一致，决定变更原来订立的劳动合同的内容。在这种情况下，应当采用( )形式变更合同。

- A. 公证  
B. 书面  
C. 书面或者口头  
D. 口头

25. 全面深化改革的总目标是完善和发展中国特色社会主义制度，推进( )。

- A. 社会主义现代化  
B. 国家治理体系和治理能力现代化  
C. 建设社会主义现代化国家  
D. “五位一体”总布局



26. 资本主义工资的本质是( )。
- A. 劳动力的价值或价格的转化形式      B. 工人的劳动报酬  
C. 可变资本      D. 劳动的价值或价格
27. 2020 年, 中国成为全球唯一实现正增长的主要经济体, 实现逆势增长 2. 3%, GDP 总量( )。
- A. 超过 14 万亿美元, 约相当于美国 GDP 的 65% 以上  
B. 超过 15 万亿美元, 约相当于美国 GDP 的 70% 以上  
C. 超过 14 万亿美元, 约相当于美国 GDP 的 70% 以上  
D. 超过 15 万亿美元, 约相当于美国 GDP 的 65% 以上
28. 复制军事秘密载体, 不需要履行( ) 手续。
- A. 审批      B. 登记  
C. 通报      D. 签字
29. 事物矛盾运动的根本规律是( )。
- A. 对立统一规律      B. 历史规律  
C. 联系和发展的规律      D. 自然规律
30. 旗帜鲜明讲政治, 保证( ) 是党的生命, 也是我们党能成为百年大党, 创造世纪伟业的关键所在。
- A. 党的全国领导      B. 为人民服务  
C. 民主集中制      D. 党的团结和集中统一
31. 中国共产党明确把毛泽东思想作为党的指导思想写进党章的会议是( )。
- A. 中共七大      B. 中共五大  
C. 中共六大      D. 中共八大
32. 根据《中华人民共和国民法典》的规定, 处理民事纠纷, 应当依照法律; 法律没有规定的, 可以( )。
- A. 适用社会公德, 但不得损害社会公共利益  
B. 适用判例  
C. 适用习惯, 但是不得违背公序良俗  
D. 适用国家政策

33. 社会主义市场经济的特征有( )。

①以国有经济为主导、公有经济包括国有经济和劳动者集体所有制经济为主体，个体、私营和外资经济同时并存的国民经济所有制结构。

②以按劳分配为主体，多种分配形式并存的收入分配体系。

③坚持宏观计划主导下把计划与市场两种手段有机地结合起来，优势互补。

④有完善的商品、要素市场体系，以及相应的财政金融体制和价格体系，以保证充分发挥在宏观计划主导下市场机制的积极作用。

⑤国有企业由国家经营，盈亏由国家负担。

A. ①②③⑤

B. ②③④⑤

C. ①②④⑤

D. ①②③④

34. 我军政治工作萌芽于( )，创立于建军之初。

A. 大革命时期

B. 八七会议

C. 党的五大

D. 南昌起义

35. 新时代中国国防的发展路径是( )。

A. 走世界军事强国的发展道路

B. 走马克思列宁主义的建军道路

C. 坚持走中国特色强军之路

D. 独立自主、自力更生

36. ( )召开后不久，党中央突出强调，“小康不小康，关键看老乡，关键在贫困的老乡能不能脱贫”，承诺“决不能落下一个贫困地区、一个贫困群众”，拉开了新时代脱贫攻坚的序幕。

A. 党中央召开扶贫工作会议

B. 党的十八届四中全会

C. 党的十九大

D. 党的十八大

37. 创造了人和人类社会的是( )。

A. 生产力

B. 劳动

C. 自然界的客观演进

D. 人的进化

38. 下列行为属于狭义上“法的执行”的是( )。

A. 甲市司法局依法吊销违法律师高某的执业证书

B. 甲区基层人民法院依法对李某提起的财产纠纷案件作出判决

C. 甲市人民检察院依法对犯罪嫌疑人丁某提起公诉



- D. 甲县公安局依法对钱某故意伤害案进行侦查
39. 秦朝统一后的( )措施推动了以华夏族为主体的中华民族的形成。
- A. 以法为教, 以吏为师  
B. 书同文, 推行标准字体  
C. 焚书坑儒, 加强思想控制  
D. 在中央设三公九卿
40. 一种判断是不是真理, 要看它( )。
- A. 能否与事物及其规律本身相符合  
B. 能否付诸实践  
C. 能否满足人们的需要  
D. 能否被多数人认可
41. 中华人民共和国的主权、统一、领土完整、安全和发展利益遭受威胁时, ( )依照宪法和法律规定, 进行全国总动员或者局部动员。
- A. 中国共产党  
B. 国家  
C. 中央军事委员会  
D. 国务院
42. 根据《中华人民共和国国防法》的规定, 国防教育贯彻全民参与、长期坚持、( )的方针。
- A. 经常教育  
B. 普及教育  
C. 讲求实效  
D. 提高技能
43. 近代中国半殖民地半封建社会的社会性质, 决定了中国革命的一个主要形式是( )。
- A. 争取民主  
B. 农民运动  
C. 工人运动  
D. 武装斗争
44. 伟大斗争、伟大工程、伟大事业、伟大梦想是一个紧密联系、相互贯通、相互作用、有机统一的整体, 统一于新时代坚持和发展中国特色社会主义伟大实践。其中, 起决定性作用的是( )。
- A. 伟大工程  
B. 伟大斗争  
C. 伟大事业  
D. 伟大梦想
45. 在指导中国革命的历史进程中, 我们党提出了战胜敌人的三个主要法宝, 下列不属于主要法宝的是( )。
- A. 统一战线  
B. 群众路线  
C. 武装斗争  
D. 党的建设

46. 马克思主义中国化的本质是( )。

- A. 直接照搬马克思主义的现成理论
- B. 一个以中国国情为基础的全新社会主义理论
- C. 用马克思主义基本理论指导中国革命和建设, 并在这一过程中发展马克思主义
- D. 用现成的马克思主义理论直接解答和解决中国的现实问题

47. 下列不属于市场机制的是( )。

- A. 价格机制
- B. 供求机制
- C. 仲裁机制
- D. 竞争机制

48. 2020年12月, 国务院新闻办公室发布( )白皮书显示, 中国在建和在役公路桥梁、隧道总规模居世界第一。

- A. 《中国交通的可持续发展》
- B. 《中国交通未来五年发展》
- C. 《中国交通强国战略规划》
- D. 《中国交通的新发展》

49. 关于社会主义市场经济宏观调控的说法, 不正确的是( )。

- A. 宏观调控在市场调节的基础上进行
- B. 宏观调控手段主要包括: 经济政策、经济计划、法律手段、行政手段
- C. 宏观调控以经济手段为主, 法律和行政手段为辅
- D. 对经济运行实施间接调节

50. 根据《中华人民共和国英雄烈士保护法》的规定, 对侵害英雄烈士姓名、肖像、名誉、荣誉的行为, 英雄烈士的近亲属可以依法向人民法院提起诉讼。英雄烈士没有近亲属或者近亲属不提起诉讼的, ( )依法对侵害英雄烈士的姓名、肖像、名誉、荣誉, 损害社会公共利益的行为向人民法院提起诉讼。

- A. 检察机关
- B. 有关组织和个人
- C. 所有组织和个人
- D. 行政机关

二、多项选择题 (请根据题目要求, 在五个选项中选出两个或两个以上恰当的答案, 错选或多选均不得分, 少选且选择正确的每个选项得 0.3 分, 共 4 题, 每题 1.5 分, 共 6 分。)

51. 第十三届全国人民代表大会第四次会议通过的《全国人民代表大会关于完善香





港特别行政区选举制度的决定》规定，香港特别行政区设立一个具有广泛代表性、符合香港特别行政区实际情况、体现社会整体利益的选举委员会，选举委员会由( )等界别共 1500 名委员组成。

- A. 工商、金融界
- B. 专业界
- C. 基层、劳工和宗教等界
- D. 立法会议员、地区组织代表等界
- E. 香港特别行政区全国人大代表、香港特别行政区全国政协委员和有关全国性团体香港成员的代表界

52. 影响居民消费结构变动的有( )等因素。

- A. 居民收入水平
- B. 价格
- C. 商品
- D. 社会总需求
- E. 社会对消费行为的引导

53. 在同新冠疫情的殊死较量中，中国共产党领导中国人民以大无畏的气概，敢于斗争、敢于胜利，铸就了生命至上、( )的伟大抗疫精神。

- A. 百折不挠
- B. 举国同心
- C. 舍生忘死
- D. 尊重科学
- E. 命运与共

54. 我国依据国家职能的划分，一般把财政支出划分为( )。

- A. 经济建设费
- B. 社会文教费
- C. 国防费
- D. 行政管理费
- E. 地质勘探费

**三、系列单项选择题（请根据题目要求，在四个选项中选出一个最恰当的答案。共 6 题，每题 1.5 分，共 9 分。）**

材料一：俗话说，“兵可以千日不用，国不可一日无防”。作为一个国家、一个民族，最重要的无非两件大事：一个是安全问题，一个是发展问题。国防是国家生存与发展的安全保障，是关系到国家和民族生死存亡的根本大计。

55. 我国奉行防御性国防政策，独立自主、自力更生地建设和巩固国防，实行( )，坚持全民国防。

- A. 消极防御
- B. 积极防御
- C. 主动防御
- D. 被动防御

56. 我国国防活动的指导思想是马克思列宁主义、毛泽东思想，邓小平理论、“三个代表”重要思想、科学发展观、( )。

- A. 习近平强军思想
- B. 习近平新时代中国特色社会主义思想
- C. 习近平法治思想
- D. 国家总体安全观

材料二：中国是社会主义国家，实行和平外交政策，走和平发展道路，有着“和为贵”的优秀文化传统，这就从根本上决定了我们始终奉行防御性国防政策。

57. 现役部队是国家的常备军，主要担负( )任务，按照规定执行非战争军事行动任务。

- A. 反恐维稳
- B. 海上维权执法
- C. 处置社会突发事件
- D. 防卫作战

58. 新时代中国国防的鲜明特征不包括( )。

- A. 坚持不称霸
- B. 坚持不向海外派兵
- C. 坚持不扩张
- D. 坚持不谋求势力范围

材料三：《联合国宪章》是联合国的基本大法，它既确立了联合国的宗旨、原则和组织机构设置，又规定了成员国的责任、权利和义务，以及处理国际关系、维护世界和平与安全的基本原则和方法。

59. 《联合国宪章》规定，兹设联合国之主要机关如下：大会、安全理事会、经济及社会理事会、托管理事会、国际法院及秘书处。其中，安全理事会以联合国( )个理事国组织之。

- A. 五
- B. 十
- C. 二十
- D. 十五

60. 《联合国宪章》规定，各会员国应以( )方法解决其国际争端，避免危及国



际和平、安全及正义。

- A. 和平  
B. 法律  
C. 谈判与协商  
D. 斡旋与调停

## 第二部分 岗位能力

一、言语理解（请根据题目要求，在四个选项中选出一个最恰当的答案。共 15 题，每题 1 分，共 15 分。）

61. 诗句“钟山风雨起苍黄，百万雄师过大江”出自（ ）。

- A. 岑参的《送李副使赴碛西官军》  
B. 辛弃疾的《破阵子·为陈同甫赋壮词以寄之》  
C. 陆游的《书愤》  
D. 毛泽东的《人民解放军占领南京》

62. 依次在下列横线中填入词语，最恰当的一组是（ ）。

- ①今年春节期间，某省发生了一起\_\_\_\_\_的假酒案。  
②端午节，民间有在身上挂香荷包的习俗，据说，这样可以\_\_\_\_\_疾病。  
③见到这一情景，她那满腔怨恨，似乎一下子都\_\_\_\_\_了。

- A. 耸人听闻 驱除 融解  
B. 骇人听闻 祛除 融解  
C. 耸人听闻 祛除 溶解  
D. 骇人听闻 驱除 溶解

63. 中国人对知识与思想、文风与人品、政治与学术，向来很难划开一道理性的界限，把本来只是经验和感觉的判断，常常当成评价一切的铁律。其实，元好问早就说“心画心声总失真，文章宁复见为人”，刘因也曾说“若将字字论心术，恐有无边受屈人”。

以下观点与原文意思最相符的是（ ）。

- A. “文如其人”式的说法过于武断  
B. 凭感觉去评价人是不可靠的  
C. 知人知面不知心  
D. 识人的标准应多元化

64. 在抗美援朝战争中，志愿军将士面对强大而凶狠的作战对手，身处恶劣而残酷的战场环境，抛头颅、洒热血，以“钢少气多”力克“钢多气少”，充分展示了敢打

必胜的铮铮铁骨。新时代传承发扬伟大抗美援朝精神，就要深入学习宣传中国人民志愿军的英雄事迹和革命精神，引导广大官兵学好党史、新中国史、改革开放史、社会主义发展史，不断激发广大官兵的忧患意识和爱国情怀，让“一不怕苦、二不怕死”成为官兵的精神魂魄，更好展现强军胜战的新气象新作为。

这段文字意在说明( )。

- A. 传承发扬伟大抗美援朝精神，锻造舍生忘死、向死而生的民族血性
- B. 传承发扬伟大抗美援朝精神，砥砺不畏强暴、反抗强权的民族风骨
- C. 传承发扬伟大抗美援朝精神，汇聚万众一心、勠力同心的民族力量
- D. 传承发扬伟大抗美援朝精神，激发守正创新、奋勇向前的民族智慧

65. 依次在下列各句横线处填入词语，最恰当的一组是( )。

①专案组经过调查研究，\_\_\_\_\_查到了狡黠的嫌疑人的犯罪证据。

②中国外交以人为本，外交官们处理遇难事件的高效工作，\_\_\_\_\_是对同胞的关心和爱护，让当地华人倍感来自祖国的温暖。

③这几条主干道，平时都经常堵车，不是很畅通，\_\_\_\_\_是“国庆黄金周”这样的出行高峰呢？

- A. 从而 甚至 况且
- B. 从而 甚至 何况
- C. 进而 尤其 何况
- D. 进而 尤其 况且

66. 根据以下诗歌内容，按描述春、夏、秋、冬的顺序排列，正确的是( )。

①墙角数枝梅，凌寒独自开。遥知不是雪，为有暗香来。

②独在异乡为异客，每逢佳节倍思亲。遥知兄弟登高处，遍插茱萸少一人。

③夜热依然午热同，开门小立月明中。竹深树密虫鸣处，时有微凉不是风。

④无花无酒过清明，兴味萧然似野僧。昨夜邻家乞新火，晓窗分与读书灯。

- A. ①②③④
- B. ①③②④
- C. ②③①④
- D. ④③②①

67. 下面四句诗排列顺序正确的是( )。

①雨暗苍江晚未晴②月在浮云浅处明③井梧翻叶动秋声④楼头夜半风吹断

- A. ①③④②
- B. ②①④③
- C. ④②①③
- D. ④①②③



71. 阅读下列段落和选项，其中符合作者观点的是( )。

如果说“家电下乡”给了家电企业开拓农村消费市场的机遇，那么，“进城”则更能为企业创造更好的销售业绩。因为在城市里，居民更容易接受新的生活和消费方式。假如“家电进城”也得到政府的相关政策支持和补贴的话，企业应当有理由在城镇市场上发掘出新的消费潜力，客观上让城市低收入和失业居民也得到家电产品消费的实惠。

- A. 和农村市场比较，城镇消费市场同样具有挖掘的潜力
- B. “家电下乡”不可能给企业带来良好的销售业绩
- C. 城市低收入和失业居民更需要政策支持和补贴
- D. 政府应该支持企业的“家电进城”，大力推广新产品

72. 明月当空，花间的李白无亲自怜，便起舞清影，举杯邀月；大江上的曹操有雄兵百万，就横槊赋诗，酹酒江心。今舞者，正是从人们平常不自觉的动作中，抽出最美的、规律性的东西，以衣具饰之，以音乐和之，酿成一股酒香，反过来荡摇人的感情。

通过这段文字我们可以知道，古人起舞的原因是( )。

- A. 以舞姿来荡摇人的感情
- B. 因人内心情感的摇荡而不由得手舞足蹈
- C. 与音乐和之，抽出最美的东西
- D. 因礼节而起舞，表现自己

73. 下列没有语病的是( )。

A. 自从汉字成了汉语的书面符号，一直是中华民族文化最重要的载体。从甲骨文所记录的商周编年史到清代的《四库全书》，浩瀚的典籍集聚了一代又一代文化精英的思维逻辑和艺术创造

B. 由于熊猫从它们所吃的竹子里获得的营养非常少，所以它们必须尽可能地保存能量，它们的甲状腺就是缓解能量消耗的一系列特征之一

C. 考虑到 90%以上的交通事故的造成都是由人类的错误导致的，所以人工智能未来有很大的可能接过人类的驾驶权

D. 汉代西域都护府设立后，中原王朝对西域实施了有效的管辖和治理，使者往



来、朝贡、丝路贸易、移民、求法等活动，使中原和西域间政治、经济、军事、文化等联系密切

74. 下列各句标点符号使用正确的是( )。

A. 《孟子》里提及的各种圣人，表现各不相同。但有一点相同，即“行一不义，杀一不辜而得天下，皆不为也”。

B. 中国养殖业的发展要结合市场需求，更要结合国情。国外的养殖方式：大规模、产业化自然是好处很多，但也不能照搬。

C. 中国古典四大名著《红楼梦》、《西游记》、《三国演义》、《水浒传》的读者在逐渐减少。

D. 我不知道这一实验到底能不能得出最终的结论？但我一定要坚持下去，直到把问题搞个水落石出。

75. 王磊大学毕业后，给曾经帮助过他的李老师发了一条短信表示感谢，内容为：“李老师好！在大学阶段，您能帮助我学习，深感荣幸。我能有今天，是您悉心教导的结果。您的教学造诣是那样深厚，同学们非常敬重您。我将永远铭记你的教导，努力工作，不辜负您的期望！”

以下修改不当的选项是( )。

A. “您能帮助我学习”改为“我在您的帮助下学习”

B. “同学们非常敬重您”改为“令同学们刮目相看”

C. “教学造诣是那样深厚”改为“教学水平非常高”

D. “你的教导”改为“您的教导”

二、数量关系（请根据题目要求，在四个选项中选出一个最恰当的答案。共 10 题，每题 1.5 分，共 15 分。）

76. 选择最合理的一项来填充所给数列的空缺项，使之符合原数列的排列规律( )。

1, 2, 3, 8, 27, 220, ( )。

A. 4595

B. 5495

C. 5945

D. 4955

77. 一辆汽车第一天行驶了7个小时，第二天行驶了600公里，第三天比第一天少行驶200公里，三天共行驶了18个小时。已知第一天的平均速度与三天全程的平均速度相同，问三天共行驶了( )公里。

- A. 1800  
B. 1200  
C. 1400  
D. 1600

78. 选择最合理的一项来填充所给数列的空缺项，使之符合原数列的排列规律：2, 3, 4, 6, 6, 9, 8, 12, 10, ( )。

- A. 13  
B. 14  
C. 16  
D. 15

79. 一个盒子里放有红色钢笔100支，蓝色钢笔90支，黑色钢笔80支，棕色钢笔60支。它们的外形和质量都一样，闭着眼睛用手去摸，要保证摸出的钢笔中有15对同色钢笔，至少应摸出( )支钢笔。

- A. 31  
B. 61  
C. 33  
D. 63

80. 已知  $43^x = 47^y = 2021$ ，则  $\frac{1}{x} + \frac{1}{y} = ( )$ 。

- A.  $\frac{43}{47}$   
B.  $\frac{47}{43}$   
C. 0  
D. 1

81. 某学校在统计学生数据时发现，五年级小学生的出生日期均在2009年9月1日至2010年8月31日之间，其中，生于2010年的学生与生于2009年的学生比例为5:2，生于2009年的男生与生于2010年的女生比例为1:3。已知该学校五年级学生总数是下列选项之一，则该学校五年级学生总数为( )。

- A. 450  
B. 455  
C. 460  
D. 465

82. 定义  $Z = \{z \mid z = x - y, x \in X, y \in Y\}$ 。已知  $X = \{1, 2, 4\}$ ,  $Y = \{2, 3\}$ ，则  $Z = ( )$ 。

- A.  $\{-2, -1, -1, 0, 1, 2\}$   
B.  $\{-2, -1, 0, 1, 2\}$





C. {1, 2, 3, 4}

D. {1, 2, 2, 3, 4}

83. 某单位的会议室有 8 排共 64 个座位，每排座位数相同。小李和小王随机入座，则他们坐在同一排的概率约为( )。

A. 10. 94%

B. 11. 11%

C. 12. 50%

D. 12. 70%

84. 把 6 本书放在书架上，将其中指定的 3 本放在一起的排列有( )种。

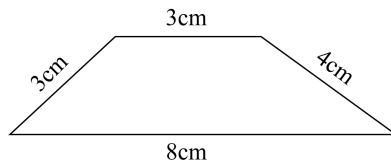
A. 120

B. 360

C. 144

D. 720

85. 如下图所示，梯形的上底和下底分别为 3 厘米、8 厘米，两条腰分别为 3 厘米、4 厘米，则该梯形的面积为( )平方厘米。



A. 12

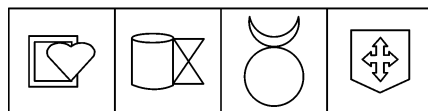

B. 16

C. 13. 2

D. 17. 4

三、判断推理 (请根据题目要求，在四个选项中选出一个最恰当的答案。共 10 题，每题 1. 5 分，共 15 分。)

86. 为了使图像具有规律性，下图空缺处应该是( )。



A. 如上图所示

B. 如上图所示

C. 如上图所示

D. 如上图所示

87. 某学校设有多个体育社团。据统计, 参加篮球社的学生都参加了健身俱乐部; 参加健身俱乐部的学生都没有参加乒乓球社; 参加足球社的学生都没有参加健身俱乐部。张三参加了足球社或者乒乓球社, 则可以确定的是( )。

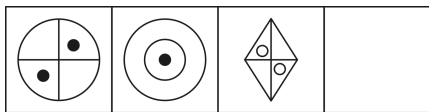
A. 张三参加了足球社

B. 张三没有参加健身俱乐部

C. 张三参加了篮球社

D. 张三没有参加乒乓球社

88. 从所给的四个选项中, 选择最合适的一个填入空缺处, 使之呈现一定的规律性的是( )。



A. 如上图所示

B. 如上图所示

C. 如上图所示

D. 如上图所示

89. 非法侵入住宅罪是指违背住宅内成员的意愿或者无法律依据, 故意进入公民住宅, 或者进入公民住宅后经要求退出而拒不退出的行为。根据上述定义, 下列构成非法侵入住宅罪的是( )。

A. 小王家附近开了个小茶馆, 他进去后什么都不点, 老板怎么说他都不肯走, 一直坐到打烊

B. 小张发现邻居家冒出了浓烟, 一脚踹开邻居大门就冲了进去, 结果发现原来是邻居在做化学实验

C. 小吴为了找工作, 在朋友家里一住就是半年, 朋友不胜其烦, 整天都在想怎样才能让他搬出去

D. 房东小李担心租出去的房子会有什么损坏, 隔一段时间就会拿着备用钥匙进去检查一下

90. 下列最合乎逻辑顺序的选项是( )。

①畜牧业发展



- ②水草丰美
- ③草场退化
- ④野生动物数量减少
- ⑤野生动物数量增加
- ⑥控制养殖规模

A. ②—①—⑤—③—④—⑥

B. ④—①—⑤—③—⑥—②

C. ①—④—③—⑥—②—⑤

D. ②—①—③—④—⑥—⑤

91. 有价证券是指标有票面金额，证明持有人有权按期取得一定收入并可自由转让和买卖的所有权或债权凭证。有价证券是虚拟资本的一种形式，它本身没价值，但有价格。根据上述定义，下列属于有价证券的是( )。

- A. 借据
- B. 收据
- C. 国债
- D. 增值税专用发票

92. 从所提供选项中选择( )填入问号处，使之呈现一定的规律性。

桌	兼	借	剥	?
---	---	---	---	---

- A. 填
- B. 街
- C. 能
- D. 进

93. 历史对于( )相当于( )对于积累。

- A. 发展 经验
- B. 飞跃 学习
- C. 阶段 知识
- D. 积淀 阅历

94. 下列与所给词组“遗忘：永记于心”在逻辑关系上最为贴近、相似或匹配的词组是( )。

- A. 美丽：惊天动地
- B. 幸运：甘之如饴
- C. 燥热：阴雨绵绵
- D. 高兴：悲痛万分

95. 下列最合乎逻辑顺序的选项是( )。

- ①搜集资料

- ②整理材料
- ③起草文件
- ④汇报工作
- ⑤撰写提纲

A. ①—②—⑤—③—④

B. ①—②—③—⑤—④

C. ⑤—①—②—③—④

D. ⑤—③—①—②—④

**四、资料分析（请根据题目要求，在四个选项中选出一个最恰当的答案。共 15 题，每题 1 分，共 15 分。）**

材料一：据央视网新闻联播消息，改革开放 40 年来，我国实施大规模扶贫开发，从解决温饱到全面实施精准扶贫、精准脱贫方略，到 2017 年底，我国一共减少了 7.4 亿贫困人口，相当于 2017 年底整个欧洲国家的人口数和。2013 年到 2017 年 5 月年间，累计减少贫困人口近 7000 万，历年减贫人口占比分别为 14.9%、20.6%、22.2% 和 29.7%。到 2017 年末，贫困人口只剩下 3.1%。而在 1978 年的时候，仅有约 3% 的人不是贫困人口。40 年来，实现了两个 3% 的对调，我国从世界上最贫困的国家之一，向整体消除绝对贫困迈进。

96. 2013 年 2017 年间，减贫人口占比( )。

- A. 逐年递减
- C. 保持均衡

- B. 逐年递增
- D. 翻倍递增

97. 如果我国 1978 年底总人口数为 9.6 亿，2017 年底总人口数量达到 13.9 亿，则我国改革开放 40 年间非贫困人口增加约有( )亿。

- A. 4.3
- C. 7.4

- B. 13.2
- D. 13.5

98. 我国改革开放 40 年，日均减少了约( )万贫困人口。

- A. 5
- C. 1850

- B. 7.4
- D. 40

99. 如果 2017 年底我国总人口数量达到 13.9 亿，那么我国贫困人口约有( )亿。



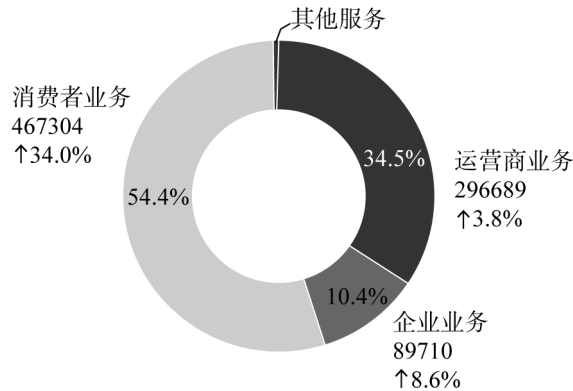
A. 3.1

B. 4.3

C. 0.19

D. 0.43

材料二：2019 年全球经济增长放缓，整体呈疲弱态势。受益于 5G 网络建设的开展，华为消费者业务手机销量持续增长、渠道下沉，以及企业业务抓住数字化与智能化转型机遇、提升场景化的解决方案能力，坚持为客户创造价值，提升消费者体验，改善经营质量，全年实现销售收入人民币 858833 百万元，同比增长 19.1%。销售收入分消费者业务、运营业务、企业业务和其他业务四部分，如下图所示（销售收入单位：（人民币）百万元）。



100. 2019 年，华为( )增长率最高。

A. 运营业务

B. 企业业务

C. 消费者业务

D. 其他业务

101. 2018 年，运营业务营业额约为( )百万元。

A. 467304

B. 285828

C. 296689

D. 285828

102. 2019 年，其他业务营业额为( )百万元。

A. 3487

B. 5130

C. 3934

D. 7211

材料三：2020 年 3 月~2020 年 6 月手机网民各类手机互联网应用用户规模和使





C. 89729

D. 93223

材料四：经核算，2019 年全国专利密集型产业增加值为 11463.08 亿元，比上年增长 7.0%（未扣除价格因素，下同），占国内生产总值（GDP）的比重为 11.6%，与上年持平。

从内部结构看，专利密集型产业中制造业相关行业规模大，增加值占比达到 72.9%。其中，首先是新装备制造业增加值 34052.8 亿元，占专利密集型产业增加值的比重最高，为 29.7%；其次是信息通信技术制造业，增加值为 22971.9 亿元，占比为 20.0%；再后，新材料制造业、医药医疗产业、环保产业占比分别为 12.2%、8.7% 和 2.3%。

从增长速度看，专利密集型产业中服务业相关行业发展较快。信息通信技术服务业增长 17.2%，研发、设计和技术服务业增长 14.0%，明显高于制造业。

2019 年全国专利密集型产业增加值

分类名称	增加值（亿元）	增速（%）	构成（%）
专利密集型产业	114630.8	7.0	100.0
信息通信技术制造业	22971.9	6.8	20.0
新装备制造业	34052.8	3.6	29.7
新材料制造业	13983.4	-1.0	12.2
医药医疗产业	9974.3	5.4	8.7
环保产业	2599.6	7.2	2.3
信息通信技术服务业	22822.9	17.2	19.9
研发、设计和技术服务业	8225.9	14.0	7.2

107. 由上述材料分析可知，上年全国专利密集型产业增加值约为( )亿元。

A. 105412

B. 106541

C. 107132

D. 108412

108. 下列说法错误的是( )。

A. 从增长速度看信息通信技术服务业发展速度最快

B. 从内部结构看新装备制造业占比最高

- C. 专利密集型产业中占比最少的是环保产业
- D. 2019 年全国专利密集型产业增加值比上年增长 7%，所以占 GDP 比例也比上年高

109. 下列产业中，增速最快的是( )。

- A. 研发、设计和技术服务业                      B. 新材料产业
- C. 环保产业    D. 医药医疗产业

110. 下列产业中( )出现了负增长。

- A. 环保    B. 新材料制造业
- C. 医药医疗产业                                        D. 新装备制造业





# 2022 年军队文职人员招聘考试公共科目试卷

## 第一部分 基础知识

一、单项选择题（请根据题目要求，在四个选项中选出一个最恰当的答案。共 50 题，每题 0.5 分，共 25 分。）

1. 近代中国社会面临的主要矛盾是( )。
  - A. 帝国主义与中华民族的矛盾、封建主义和人民大众的矛盾
  - B. 帝国主义与中华民族的矛盾、工人阶级和资产阶级的矛盾
  - C. 帝国主义与中华民族的矛盾、腐败王朝和人民大众的矛盾
  - D. 帝国主义与中华民族的矛盾、官僚买办和人民大众的矛盾
2. 西藏自治区约占中国陆地总面积的( )，相当于英国、法国、德国、荷兰、卢森堡五国面积的总和。
  - A. 八分之一
  - B. 十分之一
  - C. 五分之一
  - D. 六分之一
3. 在社会主义社会中，实行按劳分配制度是由( )决定的。
  - A. 等价交换原则
  - B. 社会化分工明确
  - C. 生产资料公有制
  - D. 社会生产力发展
4. 习近平在庆祝中国共产党成立 100 周年大会上指出，我们实现了人民生活从温饱不足到( )、奔向全面小康的历史性跨越，为实现中华民族伟大复兴提供了充满新的活力的体制保证和快速发展的物质条件。
  - A. 温饱有余
  - B. 总体富裕
  - C. 基本实现小康
  - D. 总体小康
5. 推动社会经济发展并决定社会经济制度变革的经济规律是( )。

- A. 生产关系一定要适应生产力的规律  
B. 价值规律  
C. 剩余价值规律  
D. 资本积累规律
6. 中华医学博大精深，源远流长。据记载，我国早在( )就发明和使用了麻醉剂一麻沸散。
- A. 春秋战国时期  
B. 秦朝  
C. 唐朝  
D. 汉朝
7. 政府对部分食品实施最高限价政策时，最可能导致的情况是( )。
- A. 出现市场短缺  
B. 刺激生产增加  
C. 引起产品供应过剩  
D. 提高农业生产者收入
8. 根据《中华人民共和国劳动法》的规定，劳动合同的无效，由( )确认。
- A. 劳动争议仲裁委员会  
B. 劳动争议调解委员会  
C. 人民法院  
D. 劳动争议仲裁委员会或者人民法院
9. 中国共产党的精神谱系为实现中华民族伟大复兴提供强大精神力量。这说明( )。
- A. 精神价值相比物质价值更为重要  
B. 主体需要是价值评价的唯一标准  
C. 价值观对人的行为起到导向作用  
D. 价值评价的根本标准依然是实践
10. 划分唯物主义和唯心主义的唯一标准是( )。
- A. 对思维和存在何者为第一性的不同回答  
B. 是否承认世界是运动和发展的  
C. 是否承认世界是统一的  
D. 世界是否是可知的
11. 战略物质储备应当规模适度、储存安全、调用方便、( )，保障战时的需要。
- A. 长期保存  
B. 不定期更换  
C. 定期更换  
D. 快速更换
12. 按交易方式的不同，外汇市场可以分为( )。



- A. 国内外汇市场和国际外汇市场                      B. 规范的市场和自发的市场  
C. 有形市场和无形市场                                  D. 一般的有形市场和特殊的有形市场

13. 电视剧《觉醒年代》中，陈独秀身陷囹圄，倚墙慨然长吟( )：“莫听穿林打叶声，何妨吟啸且徐行”，表现出深处逆境屡遭挫折而不畏惧不颓丧的倔强精神与旷达胸襟。

- A. 苏轼的《定风波》                                      B. 陆游的《诉衷情》  
C. 辛弃疾的《破阵子》                                  D. 文天祥的《过零丁洋》

14. 中国人民解放军由现役部队和预备役部队组成，在新时代的使命任务是为巩固中国共产党领导和社会主义制度，为捍卫( )，为维护国家海外利益，为促进( )，提供战略支撑。

- A. 国家主权、安全、发展利益      世界和平与发展  
B. 国家主权、统一、领土完整      世界和平与地区安全  
C. 国家主权、安全、发展利益      世界和平与地区安全  
D. 国家主权、统一、领土完整      世界和平与发展

15. 《孙子兵法》成书于春秋末期。其作者是( )。

- A. 孙臆    B. 孙策  
C. 孙权    D. 孙武

16. 新民主主义革命的主要内容是( )。

- A. 没收封建地主阶级的土地归农民所有  
B. 没收封建地主阶级的土地归苏维埃政权所有  
C. 没收官僚资产阶级的垄断资本归新民主主义国家所有  
D. 无产阶级取得领导地位

17. 在社会保障体系中，属于初级形式的社会保险要素的是( )。

- A. 社会福利    B. 社会保险  
C. 优抚安置    D. 社会救济

18. 纸币的发行量取决于( )。

- A. 市场购买力    B. 流通中所需要的金属货币量  
C. 商品的供求关系                                      D. 商品价格总额

19. 社会主义道德建设要以为人民服务为核心,以( )为原则。
- A. 公平正义  
B. 集体主义  
C. 和谐共处  
D. 和睦友爱
20. “须知政权是由枪杆子中取得的”是( )在党的八七会议上提出的。
- A. 陈独秀  
B. 毛泽东  
C. 周恩来  
D. 朱德
21. 根据《中华人民共和国民法典》的规定,无线电频谱资源属于( )所有。
- A. 集体  
B. 企业  
C. 国家  
D. 个人
22. ( )年1月1日起,《中华人民共和国农业税条例》被废止,标志着延续了2600多年的“皇粮国税”退出历史舞台。
- A. 2002  
B. 2005  
C. 2006  
D. 2012
23. 十八大后,党中央和中央军委在古田召开全军政治工作会议,对新时代政治建军作出部署,恢复和发扬我党我军光荣传统和优良作风,推动人民军队( )根本好转。
- A. 纪律规矩  
B. 政治生态  
C. 作风面貌  
D. 廉政建设
24. 进口配额制在国际贸易政策中属于( )。
- A. 关税壁垒措施  
B. 自由贸易措施  
C. 与贸易无关的措施  
D. 非关税壁垒措施
25. 写下“清澈的爱,只为中国”的戍边英雄是( )。
- A. 肖思远  
B. 祁发宝  
C. 陈祥榕  
D. 陈红军
26. 关于侵权责任,下列选项错误的是( )。
- A. 因产品存在缺陷造成他人损害的,被侵权人可以向产品的生产者或销售者请求赔偿
- B. 限制民事行为能力人在学校学习、生活期间受到人身损害的,学校应当承担侵



权责任

C. 二人以上共同实施侵权行为，造成他人损害的，应当承担连带责任

D. 民用航空器造成他人损害，民用航空器的经营者能够证明损害是因受害人故意造成的，不承担责任

27. 资本主义经济危机周期性发生的物质基础是( )。

A. 固定资本的更新

B. 流动资本的更新

C. 不变资本的更新

D. 可变资本的更新

28. 军队政治工作必须坚持的思想路线和根本作风是( )。

A. 解放思想和与时俱进

B. 批评与自我批评

C. 实事求是和群众路线

D. 解放思想和实事求是

29. 构建新发展格局的关键在于经济循环的畅通无阻，必须坚持深化( )这条主线，继续完成“三去一降一补”的重要任务，实现经济在高水平上的动态平衡。

A. 需求侧结构性改革

B. 供给侧结构性改革

C. 改革开放

D. 经济体制改革

30. 根据 2021 年 10 月 1 日起施行的《中华人民共和国兵役法》的规定，在征集期间，应征公民被征集服现役，同时被机关、团体、企业事业组织招录或者聘用的，( )履行服兵役义务。

A. 可以暂缓

B. 可以由公民选择是否

C. 由招录或者聘用的机关、团体、企业事业组织决定是否允许公民

D. 应当优先

31. 军委主席负责制最早写入我国宪法是在( )年。

A. 1978

B. 1982

C. 1992

D. 1998

32. 关于资本积聚的描述，正确的是( )。

A. 由众多中小资本合并实现

B. 由资本家通过勤俭节约实现

C. 依靠剩余价值的资本化实现

D. 通过竞争和信用方式实现

33. 按照规则的内容规定不同，法律规则可以分为( )。

- A. 授权性规则和义务性规则
- B. 确定性规则、委任性规则和准用性规则
- C. 规范性规则 and 标准性规则
- D. 强行性规则和任意性规则

34. 党的十九届六中全会通过的《中共中央关于党的百年奋斗重大成就和历史经验的决议》，用( )进一步对习近平新时代中国特色社会主义思想的核心内容作了系统概括。

- A. “四个自信”
- B. “五位一体”
- C. “十个明确”
- D. “十四个坚持”

35. 价格是商品价值的( )表现。

- A. 劳动
- B. 交换
- C. 货币
- D. 支付

36. 近代中国反侵略战争屡遭失败的根本原因是( )。

- A. 清廷消极备战、积极求和
- B. 文官贪财、武将惜命
- C. 社会制度腐败、经济技术落后
- D. 军队素质差、军事装备落后

37. 马克思主义产生的阶级基础和实践基础是( )。

- A. 无产阶级作为独立的政治力量登上了历史舞台
- B. 资本主义的剥削和压迫
- C. 工人为了改善自身经济状况进行的各种罢工活动
- D. 工人运动得到了“农民的合唱”

38. 新民主主义革命区别旧民主主义革命的主要标志是( )。

- A. 主要依靠广大工农群众
- B. 无产阶级的领导权
- C. 实现国共合作
- D. 走的是农村包围城市的道路

39. 根据《中华人民共和国劳动争议调解仲裁法》的规定，解决劳动争议，应当根据事实，遵循合法、公正、及时、( )的原则，依法保护当事人的合法权益。

- A. 协商
- B. 着重调解
- C. 平等
- D. 善意

40. 资本的循环时间是( )。



- A. 劳动时间和流通时间之和  
B. 运输时间和购置时间之和  
C. 生产时间和流通时间之和  
D. 存储时间和销售时间之和
41. 任何公民，非( )，不受逮捕。  
A. 由人民检察院决定并执行  
B. 由人民法院决定并执行  
C. 由公安机关决定并执行  
D. 经人民检察院批准或者决定或者人民法院决定，并由公安机关执行
42. 《诗经》中区分风、雅、颂的标准是( )。  
A. 国别  
B. 时代  
C. 作者  
D. 音乐
43. “断肠铭志”的红军将领是( )。  
A. 王尔琢  
B. 邓萍  
C. 陈树湘  
D. 吴焕先
44. 市场经济是一种( )。  
A. 经济运行方式  
B. 基本经济制度  
C. 社会组织形式  
D. 生产经营方式
45. 国产影片《长津湖》取材于抗美援朝战争时期的( )。  
A. 第一次战役  
B. 第二次战役  
C. 第三次战役  
D. 第五次战役
46. 探月工程“绕、落、回”三步走规划圆满收官的标志是( )任务的完成。  
A. 天宫二号  
B. 神舟十一号  
C. 空间实验室飞行  
D. 嫦娥五号
47. 要在党和国家人才工作大盘子中谋划推进我军人才工作，坚持( )需求导向，搞好规划对接、政策对接、工作对接，形成我军人才工作高效推进的良好局面。  
A. 军事  
B. 科技  
C. 岗位  
D. 能力
48. 以优秀文学作品陶冶道德情操，就要坚持把( )放在首位，倡导讲品味、讲格调、讲责任，抵制低俗、庸俗、媚俗，用健康向上的文艺作品温润心灵、启迪心

智、引领风尚。

- A. 经济效益
- B. 社会效益
- C. 宣传效益
- D. 个人利益

49. 文职人员在军队和社会生活中，依法享有( )相应的权力，履行相应的义务。

- A. 军队基层人员
- B. 国家企业职工
- C. 现役军人
- D. 国家工作人员

50. ( )的著作权保护办法由国务院另行规定。

- A. 杂技作品
- B. 口述作品
- C. 民间文学艺术作品
- D. 地图

二、多项选择题（请根据题目要求，在五个选项中选出两个或两个以上恰当的答案，错选或多选均不得分，少选且选择正确的每个选项得 0.3 分。共 6 题，每题 1.5 分，共 9 分。）

51. 当事人在订立合同过程中( )，造成对方损失的，应当承担赔偿责任。

- A. 假借订立合同，恶意进行磋商
- B. 故意隐瞒与订立合同有关的重要事实
- C. 提供虚假情况
- D. 有其他违背诚信原则的行为
- E. 有其他违背等价交换原则的行为

52. 国家通过开展国防教育，使全体公民( )。

- A. 增强国防观念
- B. 强化忧患意识
- C. 掌握国防知识
- D. 提高国防技能
- E. 发扬爱国主义精神

53. 运用货币政策调控经济的手段有( )。

- A. 法定准备金率
- B. 公开市场业务
- C. 税收政策
- D. 控制财政支出
- E. 再贴现政策





54. 习近平同志对关系新时代党和国家事业发展的一系列重大理论和实践问题进行了深邃思考和科学判断,就新时代( )等重大时代课题,提出一系列原创性的治国理政新理念新思想新战略。

- A. 坚持和发展什么样的中国特色社会主义、怎样坚持和发展中国特色社会主义
- B. 什么是社会主义、怎样建设社会主义
- C. 建设什么样的社会主义强国、怎样建设社会主义强国
- D. 建设什么样的长期执政的马克思主义政党、怎样建设长期执政的马克思主义政党
- E. 实现什么样的发展、怎样发展

55. 关于价值、使用价值和交换价值的论述,正确的有( )。

- A. 无使用价值就不可能有价值
- B. 有使用价值就一定有价值
- C. 价值是交换价值的基础
- D. 无论交换价值还是价值,都是商品的本质属性
- E. 无论交换价值还是价值,都是商品的社会属性

56. 中国传统文化中的“因材施教”“对症下药”“因地制宜”等蕴含的哲理是( )。

- A. 处理矛盾切忌“一刀切”
- B. 不同的矛盾需要用不同方法来解决
- C. 任何事物都存在矛盾
- D. 矛盾无处不在,无时不有
- E. 具体问题具体分析

三、系列单项选择题(请根据题目要求,在四个选项中选出一个最恰当的答案。共4题,每题1.5分,共6分。)

材料一:党的十八大以来,我们党提出新时代的强军目标,确立新时代军事战略方针,制定国防和军队现代化新“三步走”战略,推进政治建军、改革强军、科技强军、人才强军、依法治军,努力建设与我国国际地位相称,同国家安全和利益相

适应的巩固国防和强大人民军队。

57. 在国防和军队现代化新“三步走”战略中，到二〇三五年的奋斗目标是( )。

- A. 实现军事理论现代化、军队形态现代化、军事人员现代化、武器装备现代化
- B. 实现建军一百年奋斗目标
- C. 基本实现国防和军队现代化
- D. 全面实现国防和军队现代化

58. 实现党在新时代的强军目标，必须走中国特色强军之路，到( )人民军队全面建成世界一流军队。

- A. 二〇二一年
- B. 二〇二七年
- C. 本世纪中叶
- D. 二〇三五年

材料二：古希腊文明向来被视为西方文明的源头之一，对后世产生了广泛而深远的影响。它代表了辉煌灿烂的文化，当今世界的许多学科都可以追溯到古希腊。

59. 相传古希腊盲诗人荷马创作了著名的史诗《伊利亚特》。其主题是( )。

- A. 奥德修斯的返乡之旅
- B. 希腊英雄的冒险故事
- C. 特洛伊战争
- D. 奥林匹斯众神的故事

60. 古希腊形成了城邦制度，其最具代表性的城邦是雅典与( )。

- A. 叙拉古
- B. 斯巴达
- C. 迈锡尼
- D. 底比斯

## 第二部分 岗位能力

一、言语理解（请根据题目要求，在四个选项中选出一个最恰当的答案。共15题，每题1分，共15分。）

61. 下列语句中，“何”作为代词使用的一组句子是( )。

- ①何以战？（《曹刿论战》）
- ②大王来何操？（《鸿门宴》）



③徐公何能及君也? (《邹忌讽齐王纳谏》)

④又何间焉。(《曹刿论战》)

A. ②④

B. ②③

C. ①②

D. ①④

62. 下面短文最恰当的标题是( )。

在微生物真正造成危害前,人体的免疫系统就必须提前识别出这些具有潜在威胁的对象。在这个过程中,细胞会根据一些常见的分子结构,找出具有特殊识别功能的受体,以此大范围地识别不同微生物的种类。

其中一个标志性结构是脂多糖,它是众多类型细菌的细胞壁都具有的一种长链糖。许多研究人员认为,除了那些极少数专门演化出规避免疫检测的病原体外,人体可以识别出任何一种微生物产生的脂多糖。但一项新的研究表明,一些深海细菌细胞壁上的脂多糖非常特殊,基本上是“透明的”,无法被人体细胞的功能识别受体识别。

A. 微生物的危害

B. 绕过人体免疫的深海细菌

C. 微生物的脂多糖

D. 可识别的脂多糖

63. 根据文意,下列选项与“生物钟”无关的是( )。

睡眠有个神奇的特点,就是我们总是在每天晚上几乎相同的时间感受到睡神的召唤。之所以如此,是因为睡眠的启动部分依赖于大脑内的一个“时钟”,这个“时钟”能够追踪记录地球的昼夜更替,以及季节性规律。而这个星球上的其他生物,从细菌和植物,到鱼类、昆虫和哺乳动物,都具有这样的能力,“生物钟”在自然界无处不在。

A. 棕熊在冬天冬眠

B. 东半球的人移居到西半球需要倒时差

C. 夏季来临昼长夜短

D. 大多数花朵都会在春天盛开

64. 改革开放以来,我国文艺创作迎来了新的春天,产生了大量\_\_\_\_\_的作品。同时也不能否认,在文艺创作方面,存在着有数量缺质量、有“高原”缺“高峰”的现象,存在着抄袭模仿、\_\_\_\_\_的问题。精品之所以“精”,就在于其思想精深、艺术精湛、制作精良。文艺工作者要\_\_\_\_\_,随着时代生活创新,以自己的艺术个性

进行创新。

依次填入横线最恰当的是( )。

- A. 家喻户晓 泥沙俱下 标新立异      B. 丰富多彩 照猫画虎 精耕细作  
C. 脍炙人口 千篇一律 志存高远      D. 喜闻乐见 因循守旧 与时俱进

65. 下列顿号使用错误的是( )。

A. 目前, 中国 90% 的陆地生态系统类型和 71% 的国家重点保护野生动植物物种得到有效保护, 人们熟知的大熊猫、朱鹮、亚洲象等濒危物种种群数量在不断增加

B. 俄罗斯 S-500 “普罗米修斯” 防空导弹系统, 直接把抗击矛头指向战略轰炸机、战略侦察机、洲际弹道导弹、高超声速导弹甚至是低轨道卫星等

C. 王维的“清泉石上流”、“红豆生南国”、以及“独在异乡为异客”都是耳熟能详的诗句

D. 城市发展的近期和愿景规划, 包括土地的开发与利用, 基础设施和生活服务设施的建设与管理, 环境的治理与保护, 信息的收集、处理和应用, 吸引投资的网络组织、营销方式和鼓励措施等

66. 依次填入下面一段文字横线处的语句, 衔接最恰当的一组是( )。

我国是食品生产和消费的大国, 有效解决食品安全领域损害群众利益的突出问题, 切实增强消费安全感, \_\_\_\_\_, \_\_\_\_\_, \_\_\_\_\_, \_\_\_\_\_, \_\_\_\_\_。

- ①强化执法措施, 严惩违法犯罪分子  
②创新食品安全监管机制  
③坚决淘汰劣质企业, 以震慑所有企业, 使之不敢越雷池一步  
④既需要食品生产经营者诚信自律, 更需要严格的法律制度对其约束和有效监管  
⑤因此, 必须保持严厉打击违法违规行为的态势, 及时消除各环节的隐患

- A. ④⑤①②③      B. ⑤①②③④  
C. ④⑤①③②      D. ④③⑤②①

67. 下列各句中, 没有语病的一项是( )。

A. G7 高速横穿戈壁、草原、城市、乡村、湿地等多种地形, 沿途地貌多变, 充满挑战, 堪称“中国最美公路”, 走上一遭就能顺便满足人们横穿中国的心愿

B. 据中国人口与发展研究中心预测, 从“十四五”开始, 中国 60 岁以上老年人







导弹打击开辟了一条新的途径。

这段话主要说的是( )。

- A. 阵地工程防护面临全新挑战
- B. 近程拦截为军事防御工程带来新希望
- C. 大当量精确制导武器目前还无法防御
- D. 智能遮弹技术是军事防御的发展趋势

75. 下列各句中, 句意明确、没有歧义的是( )。

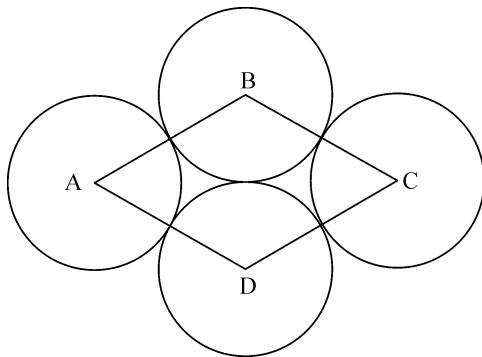
- A. 今年夏季, 河南和湖北的大部分地区都遭受了严重的洪涝灾害, 有人员伤亡
- B. 两个公司的员工都来了, 这两个公司的领导也来了
- C. 工作组来我县调查的前三天, 整个县城就已沸沸扬扬
- D. 他是刚到这里来工作的大学生, 很多人还不了解

二、数量关系 (请根据题目要求, 在四个选项中选出一个最恰当的答案。共 10 题, 每题 1.5 分, 共 15 分。)

76. 某通信排有 15 名女通信兵和 5 名男通信兵, 其中包括 2 名女业务尖兵和 1 名男业务尖兵。若从该排随机抽选 3 名女兵和 1 名男兵参加团里组织的通信专业技能比武竞赛, 则至少抽到 1 名业务尖兵的概率是( )。

- A. 46.7%
- B. 49.7%
- C. 50.3%
- D. 53.3%

77. 四个半径为 1 厘米的圆如下图所示摆放在一起, 且 4 个圆的圆心连成一个菱形 ABCD, 则这个菱形的面积是( )平方厘米。



- A. 4  
B.  $2\sqrt{3}$   
C.  $3\sqrt{2}$   
D.  $\pi$

78. 2015 年元旦，强军爸爸的年龄是强军的 6 倍。2017 年元旦，强军多了一个妹妹。2022 年元旦，强军 12 岁，又多了一个弟弟。则到( )年元旦时，强军爸爸的年龄恰好是其三个孩子的年龄之和。

- A. 2026  
B. 2028  
C. 2030  
D. 2032

79. 选择最合理的一项来填充所给数列的空缺位置，使之符合原数列的排列规律：  
24, 12, 12, 18, 45, ( )。

- A. 160  
B. 165  
C. 170  
D. 180

80. 某班级计划安排 7 名学生负责国庆 7 天的假期值班，每天安排 1 名学生，每名  
学生值班 1 天。若 7 名学生中的小王不值 10 月 3 日、小张不值 10 月 4 日，则有( )  
种不同的假期值班安排方案。

- A. 3480  
B. 3600  
C. 3720  
D. 4320

81. 记不超过 20 的所有质数（素数）的算术平均值为 M，则与 M 最接近的整数  
是( )。

- A. 8  
B. 9  
C. 10  
D. 11

82. 选择最合理的一项来填充所给数列的空缺位置，使之符合原数列的排列规律：  
-1, 2, 6, 21, 43, ( )。

- A. 56  
B. 68  
C. 74  
D. 82

83. 一项工程由甲乙丙三人合作完成需要 10 天。如果丙休息 1 天，则要么甲乙两  
人多合作 1 天，要么乙单独多做 2 天。问这项工程由丙单独完成需要( )天。

- A. 20  
B. 30





C. 40

D. 60

84. 某部队共有 200 名士兵，分成 3 组全部去参加抗洪救灾。已知第一组与第二组的士兵数量比为 3:2，第三组的士兵数量比第一组少 16，则第一组的士兵数量是( )。

A. 54

B. 65

C. 81

D. 90

85. 小王上楼梯，可以一步一个台阶，也可以一步两个台阶。若楼梯共有 10 个台阶，则小王上楼梯的方法有( )种。

A. 55

B. 89

C. 120

D. 144

三、判断推理（请根据题目要求，在四个选项中选出一个最恰当的答案。共 10 题，每题 1.5 分，共 15 分。）

86. 母亲只有在父亲陪伴下才坐飞机。如果父亲不坐高铁，那么儿子也不坐高铁。则正确的是( )。

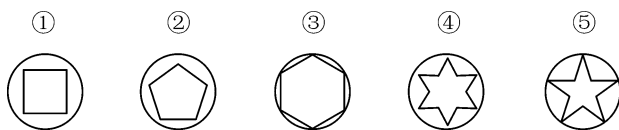
A. 父亲在高铁上，则儿子也在高铁上

B. 儿子不在高铁上，则母亲在飞机上

C. 父亲在飞机上，则母亲在高铁上

D. 儿子在高铁上，则母亲没在飞机上

87. 选择最合适的一项拿掉，使得剩下的图形呈现一定规律性的是( )。



A. ①

B. ②

C. ③


D. ④

88. 一项新的调查显示，那些饮食习惯相近的男女朋友发展成为夫妻的可能，比那些饮食习惯差异较大的男女朋友要高得多。因此，要想结为夫妻，男女朋友之间就需要尽量保持相近的饮食习惯。

以下哪项如果为真，最能削弱上述题干的结论？（ ）

- A. 饮食习惯不同的人往往性格差异巨大
- B. 男女朋友最后结为夫妻并不一定是饮食习惯相近
- C. 饮食习惯与男女朋友发展成为夫妻关系有直接联系
- D. 男女朋友不能结为夫妻的一个重要原因是饮食习惯差异大

89. 选择最合适的一项填入问号处，使之呈现一定规律性的是（ ）。



- A. 如上图所示
- B. 如上图所示
- C. 如上图所示
- D. 如上图所示

90. 五位同学对毕业去向进行讨论。

小张说：“小王去了西安，小李去了北京。”

小王说：“小李去了上海，小赵去了武汉。”

小李说：“小赵去了北京，小周去了武汉。”

小赵说：“小周去了南京，小李去了上海。”

小周说：“小张去了上海，小李去了南京。”

已知每位同学的去向不同，而且每位同学的去向都有同学说对，则正确的是（ ）。

- A. 小张去了上海，小王去了西安，小李去了南京，小赵去了北京，小周去了武汉
- B. 小李去了上海，小赵去了西安，小张去了南京，小王去了北京，小周去了武汉
- C. 小周去了上海，小王去了西安，小赵去了南京，小张去了北京，小李去了武汉



D. 小赵去了上海，小李去了西安，小周去了南京，小张去了北京，小王去了武汉

91. ( ) 对于“踌躇满志”，相当于“垂头丧气”对于( )。

- A. 心满意足；滚滚东流                      B. 奋不顾身；心灰意冷  
C. 谨小慎微；贪生怕死                      D. 怡然自得；萎靡不振

92. 在一次联欢晚会上，小李登台表演了一段越剧，博得满堂喝彩。老张说：“小李的越剧唱得这么好，一定是南方人。”则老张的话里不包含的意思是( )。

- A. 不是南方人，越剧不可能唱得那么好  
B. 只要越剧唱得像小李那样好，就是南方人  
C. 除非小李是南方人，否则她的越剧不可能唱得那么好  
D. 只有越剧唱得好，才是南方人

93. 曲曲折折的荷塘上面，弥望的是田田的叶子。\_\_\_\_\_。\_\_\_\_\_。  
\_\_\_\_\_。\_\_\_\_\_。\_\_\_\_\_。叶子底下是脉脉的流水，遮住了，不能见一些颜色，  
而叶却更见风致了。

①微风过处，送来缕缕清香，仿佛远处高楼上渺茫的歌声似的

②叶子本是肩并肩密密地挨着，这便宛然有了一道凝碧的波痕

③叶子出水很高，像亭亭的舞女的裙

④这时候叶子与花也有一丝的颤动，像闪电般，霎时传过荷塘的那边去了

⑤层层叶子中间，零星地点缀着些白花，有袅娜地开着的，有羞涩地打着朵儿的；正如一粒粒的明珠，又如碧天里的星星，又如刚出浴的美人

将以上 5 个句子依次填入画横线部分，最合适的排序是( )。

- A. ③①②⑤④                                      B. ③⑤①②④  
C. ③⑤④①②                                      D. ③⑤①④②

94. 必要条件：如果事件 M 不发生的时候事件 N 一定不会发生，那么 M 就是 N 的必要条件。根据上述定义，M 是 N 必要条件的选项是( )。

- A. 发生重大安全责任事故 (M)，人员伤亡 (N)  
B. 一个数能被 2 整除 (M)，该数为偶数 (N)  
C. 良好的家庭教育 (M)，孩子成才 (N)  
D. 一个国家自然资源丰富 (M)，该国经济发达 (N)

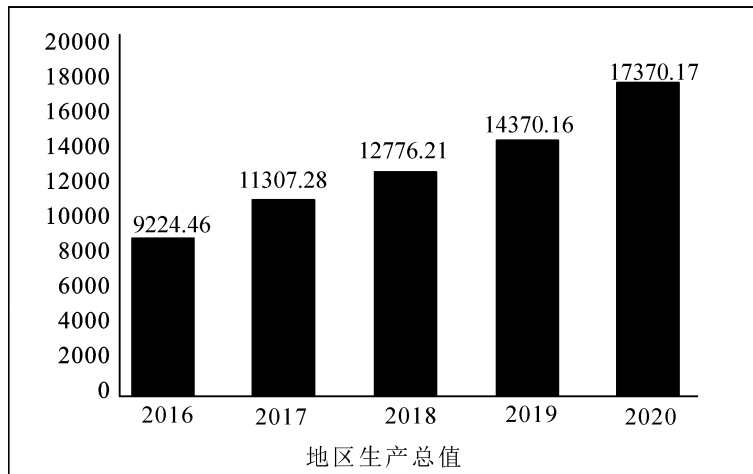
95. 下列词组与“房价上涨：宏观调控：维稳措施”逻辑关系最为贴近、相似或匹配的是( )。

- A. 肚子饿：吃饭：不饿  
B. 生病：打针：治疗  
C. 落后：教育：政策  
D. 刮风：下雨：乌云

四、资料分析（请根据题目要求，在四个选项中选出一个最恰当的答案。共 15 题，每题 1 分，共 15 分。）

材料一：某省经初步核算，2020 年全年实现地区生产总值 17370.17 亿元，第一产业增加值 202.12 亿元，同比上年增长 3.7%。第二产业增加值 8277.86 亿元，同比上年增长 12.7%，第三产业增加值 8890.19 亿元，同比上年增长 30.2%。第一、第二、第三产业结构比为 1.2：47.6：51.2。

2016—2020年地区生产总值



96. 从 2017 年至 2020 年，该省 GDP 增速最快的年份是( )年。

- A. 2017  
B. 2018  
C. 2019  
D. 2020

97. 2019 年该省第二产业在全省 GDP 中的占比是( )。

- A. 10.8%  
B. 14.4%  
C. 29.5%  
D. 51.1%

98. 2020 年该省的 GDP 同比增速是( )。







程度由 8930 上升为 15467，15 岁及以上人口平均受教育年限由 9.08 提高至 9.91，文盲率由 4.08% 下降至 2.67%。

居住在城镇的人口为 90199 万，占 63.89%。居住在乡村的人口为 50979 万，占 36.11%。与 2010 年相比，城镇人口增加 23642 万，乡村人口减少 16436 万，城镇人口比重上升 14.21 个百分点。

人户分离人口为 49276 万，其中，市辖区内人户分离人口为 11694 万，流动人口为 37582 万。与 2010 年相比，人户分离人口增长 88.52%，市辖区内人户分离人口增长 192.66%，流动人口增长 69.73%。

汉族人口为 128631 万，占 91.11%。各少数民族人口为 12547 万，占 8.89%。与 2010 年相比，汉族人口增长 4.93%，各少数民族人口增长 10.26%，少数民族人口比重上升 0.40 个百分点。

107. 下列结论错误的是( )。

- A. 2010 年以来，城镇人口一直就高于农村人口
- B. 10 年来我国新型城镇化进程稳步推进，城镇化建设取得了历史性成就
- C. 我国经济社会持续发展，为人口的迁移流动创造了条件，人口流动趋势更加明显，流动人口规模进一步扩大
- D. 少数民族人口稳步增长，充分体现了在中国共产党领导下，我国各民族全面发展进步的面貌

108. 下列结论错误的是( )。

- A. 我国少儿人口比重回升，生育政策调整取得了积极成效
- B. 人口老龄化程度进一步加深，未来一段时期将持续面临人口长期均衡发展的压力
- C. 少数民族人口增长率低于汉族人口增长率
- D. 受教育状况的持续改善反映了 10 年来我国大力发展高等教育以及扫除青壮年文盲等措施取得了积极成效，人口素质不断提高

109. 2010 年，人户分离人口和流动人口分别是( )万。

- A. 22142 和 26138
- B. 26138 和 22142
- C. 37582 和 49276
- D. 49276 和 37582

110. 与 2010 年相比, 每 10 万人中具有大学文化程度人口增长率是( )。

A. 57.74%

B. 73.20%

C. 119.57%

D. 173.20%





# 2023 年军队文职人员招聘考试公共科目试卷

## 第一部分 基础知识

一、单项选择题（请根据题目要求，在四个选项中选出一个最恰当的答案。共 50 题，每题 0.5 分，共 25 分。）

1. 习近平同志在中国共产党第二十次全国代表大会上所作报告的题目是：
  - A. 坚定不移沿着中国特色社会主义道路前进 为全面建成小康社会而奋斗
  - B. 高举中国特色社会主义伟大旗帜 为全面建设社会主义现代化国家而团结奋斗
  - C. 决胜全面建成小康社会 夺取新时代中国特色社会主义伟大胜利
  - D. 全面建设社会主义现代化国家 向第二个百年奋斗目标进军
2. 社会经济的两种基本形态是：
  - A. 计划经济与商品经济
  - B. 公有制经济与非公有制经济
  - C. 产品经济与商品经济
  - D. 自然经济与商品经济
3. 当前和今后一个时期，经济发展和经济工作的主线是：
  - A. 完善我国社会主义基本经济制度
  - B. 完善社会主义市场经济体制
  - C. 推进供给侧结构性改革
  - D. 建设现代化经济体系
4. 列宁得出社会主义可能在一国或数国首先取得胜利的结论，其依据是：
  - A. 帝国主义时代资本主义政治经济发展不平衡的规律
  - B. 资本主义必然灭亡、社会主义必然胜利的规律
  - C. 资本主义国家无产阶级与资产阶级之间矛盾和斗争的规律
  - D. 无产阶级是最先进、最革命的阶级与暴力革命的规律
5. 在世界上首次提出“航天员”概念的是中国科学家：
  - A. 钱学森
  - B. 王淦昌

- C. 钱三强  
D. 邓稼先
6. 大自然是人类赖以生存发展的基本条件。必须牢固树立和践行“绿水青山就是金山银山”的理念，站在( )的高度谋划发展。
- A. 人与自然互惠互利  
B. 人与自然和谐共生  
C. 人与自然平等互惠  
D. 人与自然相互改造
7. 国防是国家生存和发展的安全保障。( )是国防最基本的手段。
- A. 政治博弈  
B. 军事活动  
C. 经济建设  
D. 外交斡旋
8. 决定我国现阶段多种所有制形式并存的根本原因是：
- A. 产品经济的存在  
B. 社会生产力的多层次性  
C. 物质利益的差别  
D. 劳动就业的需要
9. 关于联合国，下列说法正确的是：
- A. 联合国是第一次世界大战后建立的国际组织  
B. 《联合国宪章》签署地是法国巴黎  
C. 联合国宗旨是维护成员国之间友好关系  
D. 中国是联合国五大创始成员国之一
10. 党的二十大报告指出，全面加强( )，巩固拓展国防和军队改革成果，完善军事力量结构编成，体系优化军事政策制度。
- A. 科学管理  
B. 战略管理  
C. 依法治军  
D. 军事治理
11. 神话是古代先民对世界起源、自然现象和社会生活的理解和想象。中国古代神话“夸父逐日”出自：
- A. 《列子》  
B. 《淮南子》  
C. 《山海经》  
D. 《太平御览》
12. 党的二十大报告指出，( )的历史车轮滚滚向前，祖国完全统一一定要实现，也一定能够实现！
- A. 国家统一、民族复兴  
B. 同胞团聚、民族复兴  
C. 国家统一、国富民安  
D. 同胞团聚，国富民交



13. 2022 年 11 月 29 日，神舟十五号载人飞船发射取得圆满成功。执行神舟十五号载人飞行任务的航天员是：

- A. 聂海胜、王亚平、蔡旭哲
- B. 陈冬、刘洋、蔡旭哲
- C. 费俊龙、邓清明、张陆
- D. 翟志刚、王亚平、叶光富

14. 在人类社会发展史上，人们很早就开始探讨道德起源并提出了种种见解和理论。其中，马克思主义道德起源观是：

- A. 生产方式论
- B. 天意神启论
- C. 情感欲望论
- D. 先天人神论

15. 全面建设社会主义现代化国家，最艰巨最繁重的任务仍然在：

- A. 城乡结合部
- B. 城市
- C. 农村
- D. 边远艰苦地区

16. 产业革命也称工业革命，始于 18 世纪 60 年代英国，首先从( )开始，80 年代因蒸汽机的发明和应用得到进一步发展。

- A. 纺织业
- B. 交通运输业
- C. 冶金业
- D. 机器制造业

17. ( )是社会主义初级阶段的根本任务，是中国特色社会主义政治经济学的重大原则。

- A. 实现共同富裕
- B. 解放和发展社会生产力
- C. 发展公有制经济
- D. 为人民谋福利

18. 简单商品经济的基本矛盾是( )的矛盾。

- A. 个别劳动和必要劳动
- B. 私人劳动和社会劳动
- C. 生产力和生产关系
- D. 经济基础和上层建筑

19. 《中国人民解放军文职人员条例》规定：军队建立与军人、公务员、事业单位工作人员相独立的文职人员政策制度体系。文职人员政策制度应当体现( )特点，构建完善的管理、保障体制。

- A. 军民通用
- B. 军事职业
- C. 非直接参与作战
- D. 专业性、保障性、稳定性较强的

20. “安而不忘危，存而不忘亡，治而不忘乱”，这句话对我们的哲学启示是：

- A. 矛盾双方在一定的条件下是可以相互转化的
- B. 要透过现象认识事物的本质
- C. 事物的质具有不确定性
- D. 矛盾的主要方面决定事物的性质

21. 关于国企混合所有制改革，下列说法错误的是：

- A. 国企引入各类社会投资主体改制后，形成混合所有制企业
- B. 国企引入各类社会投资主体改制后，可由社会资本控股
- C. 国企和民企合作，共同投资设立混合所有制企业
- D. 混合所有制企业，可建立企业员工持股制度

22. 建立现代企业制度的基本前提是：

- A. 资产的最终所有权与财产的归属权相分离
- B. 资产的法人财产权与经营权相分离
- C. 资产的占用权与使用权相分离
- D. 资产的最终所有权与法人财产权相分离

23. 关于对外开放和自力更生的关系，下列说法错误的是：

- A. 对外开放和自力更生能够有效避免金融风险
- B. 对外开放必须以自力更生为基础和前提
- C. 坚持独立自主、自力更生，决不是闭关锁国
- D. 对外开放和自力更生是相辅相成、相互促进的

24. ( )是中华民族精神之魂，是我们立党立国的重要原则。

- A. 独立自主
- B. 胸怀天下
- C. 开拓创新
- D. 敢于斗争

25. 马克思和恩格斯创立的( )，是具有革命意义的两大科学发现。

- A. 辩证唯物主义和历史唯物主义
- B. 阶级斗争和无产阶级专政学说
- C. 科学社会主义和共产主义
- D. 唯物史观和剩余价值学说

26. 1949年11月11日，中国人民解放军空军领导机构在北京成立。担任新中国首任空军司令员的是：

- A. 王海
- B. 萧劲光



- C. 刘亚楼  
D. 张廷发
27. 《宪法》规定, ( ) 是中国特色社会主义最本质的特征。
- A. 中国共产党领导  
B. 人民民主专政  
C. 人民代表大会  
D. 民主集中制
28. 中国社会主义市场经济体制是同社会主义基本制度结合在一起的, 就是要使市场在社会主义国家宏观调控下对资源配置起基础性作用, 使经济活动要遵循( ) 的要求, 适应供求关系的变化。
- A. 生产力发展规律  
B. 市场活动规律  
C. 价值规律  
D. 商品生产规律
29. ( ) 实现改革由局部探索到系统集成、全面深化的转变, 开创了我国改革开放新局面。
- A. 党的十一届三中全会  
B. 党的十八届三中全会  
C. 党的十九届三中全会  
D. 党的十九届六中全会
30. 国防教育贯彻( )、长期坚持、讲求实效的方针。
- A. 国家主导  
B. 全军配合  
C. 全民参与  
D. 学校为主
31. 《周易》是由元语言“--”与“—”叠加变化成八卦乃至六十四卦, 这种元语言类似于数学中的:
- A. 二进制  
B. 八进制  
C. 十六进制  
D. 六十四进制
32. 坚持党对军队绝对领导, 处于最高层次、居于统领地位的是:
- A. 党委制  
B. 政治委员制  
C. 支部建在连上  
D. 军委主席负责制
33. ( ) 成为中国全民族抗战的开端, 由此开辟了世界反法西斯战争的东方主战场。
- A. 九一八事变  
B. 平型关大捷  
C. 淞沪会战  
D. 卢沟桥事变
34. 根据《中国人民银行法》, 货币政策的目标是( ), 并以此促进经济增长。

- A. 平衡财政收支  
B. 促进货币升值  
C. 调节社会总需求  
D. 保持货币币值的稳定
35. ( )是民族复兴的根基, 社会稳定是国家强盛的前提。
- A. 强大军队  
B. 国家安全  
C. 巩固国防  
D. 人民安全
36. ( )是社会主义民主政治的本质属性, 是最广泛、最真实、最管用的民主。
- A. 全流程人民民主  
B. 全方位人民民主  
C. 全领域人民民主  
D. 全过程人民民主
37. 资本主义所有制的本质特征是:
- A. 生产资料归资本家占有  
B. 生活资料归私人占有  
C. 资本对劳动的雇佣和剥削  
D. 劳动者与生产资料相分离
38. 选举是公民的一项重要权利。下列关于我国选举原则和程序的表述正确的:
- A. 我国选举制度遵循平等原则, 其中城乡平等体现为城乡同比例  
B. 我国市、县、乡三级的选举实行选民直接选举制度  
C. 经直接选举当选的代表可向选举其的人大常委会书面辞职  
D. 如果少数民族的人口较少, 则可以只要县、乡两级代表
39. ( )是构筑法治国家的基础。
- A. 法治政府  
B. 法治监察  
C. 法治社会  
D. 法制监督
40. ( )是形成商品价值的唯一源泉。
- A. 社会劳动  
B. 具体劳动  
C. 私人劳动  
D. 抽象劳动
41. ( )是全面建设社会主义现代化国家的基础性、战略性支撑。
- A. 国防、外交和经济  
B. 教育、科技和人才  
C. 国防、科技和教育  
D. 教育、科技和经济
42. 《民法典》规定, 处理民事纠纷, 应当依照法律; 法律没有规定的, 可以适用习惯, 但是不得:
- A. 违背个人意愿  
B. 违背公序良俗



- C. 违背基本良知  
D. 违背自然公理
43. ( ) 犯故意杀人、故意伤害罪，致人死亡或者以特别残忍手段致人重伤造成严重残疾，情节恶劣，经最高人民检察院核准追诉的，应当负刑事责任。
- A. 已满十四周岁不满十六周岁的人  
B. 已满八周岁不满十六周岁的人  
C. 已满十二周岁不满十四周岁的人  
D. 已满十周岁的人
44. 建设中国特色社会主义法治体系，要加快形成完备的法律规范体系，高效的( )，严密的法治监督体系，有力的：
- A. 党内法规体系 法治保障体系  
B. 法治实施体系 法治运行体系  
C. 党内法规体系 法治运行体系  
D. 法治实施体系 法治保障体系
45. 粮食安全是“国之大者”。要全方位夯实粮食安全根基，牢牢守住( )亩耕地红线，确保中国人的饭碗牢牢端在自己手中。
- A. 十四亿  
B. 十六亿  
C. 十八亿  
D. 二十亿
46. 价值形成过程是生产资料价值转移和( )的过程。
- A. 社会必要劳动形成  
B. 社会分工协作  
C. 资本家与工人斗争  
D. 活劳动创造新价值
47. 关于法的特征，下列表述错误的是：
- A. 法由国家制定或认可  
B. 法由国家强制力保障实施  
C. 法具有普遍性，对特定人群有效  
D. 法是调整行为的社会规范
48. 《论语》中最能体现教育公平的是：
- A. 仁者爱人  
B. 有教无类  
C. 因材施教  
D. 温故知新
49. 《国防法》规定，( ) 领导和管理中国人民解放军、中国人民武装警察部队的建设，制定规划、计划并组织实施。
- A. 全国人民代表大会  
B. 中央军事委员会  
C. 国家主席  
D. 国务院
50. 《著作权法》所称的作品，是指文学、艺术和科学领域内具有( )并能以一定形式表现的智力成果。

- A. 新颖性
- B. 科学性
- C. 独创性
- D. 新奇性

二、多项选择题（请根据题目要求，在五个选项中选出两个或两个以上恰当的答案，错选或多选均不得分，少选且选择正确的每个选项得 0.3 分。共 6 题，每题 1.5 分，共 9 分。）

51. 劳动者可以解除劳动合同的情形有：

- A. 劳动者提前三十日以书面形式通知用人单位的
- B. 用人单位未按照劳动合同约定提供劳动保护或者劳动条件的
- C. 劳动者在试用期内随时通知用人单位辞职并离岗的
- D. 用人单位未及时足额支付劳动报酬的
- E. 用人单位以暴力、威胁或者非法限制人身自由的手段强迫劳动者劳动的

52. “大市场”和“小政府”是成熟市场经济条件下的一种合理选择。根据这一思路，属于政府职能范围的有：

- A. 制定市场规则、维护市场秩序
- B. 对资源进行配置和再配置
- C. 调节收入分配，避免两极分化
- D. 通过参与经济竞争干预经济运行
- E. 制定宏观经济发展计划和产业政策

53. 关于“一带一路”，下列说法正确的有：

- A. 促进了沿线国家共同繁荣
- B. 由发达国家发起并主导
- C. 由沿线相关合作国家共商、共建、共享
- D. 通过政策沟通、设施联通、贸易畅通、资金融通、民心相通，铺就互利共赢之路

- E. 目的是建设开放、包容、竞争、共赢的区域经济共同体

54. 党的二十大报告指出，深入推进新时代党的建设新的伟大工程。下列表述正确的有：





- A. 用党的创新理论武装全党是党的思想建设的根本任务
  - B. 全面建设社会主义现代化国家、全面推进中华民族伟大复兴。关键在党
  - C. 全面从严治党永远在路上
  - D. 把新时代中国特色社会主义制度转化为坚定理想
  - E. 全面推进党的自我净化、自我完善、自我革新和自我提高
55. “三个务必”是我们党从百年奋斗历程中总结出来的宝贵经验，具体内容是：
- A. 务必保持谦虚、谨慎、不骄、不躁的作风
  - B. 务必一不怕苦、二不怕死
  - C. 务必不忘初心、牢记使命
  - D. 务必谦虚谨慎、艰苦奋斗
  - E. 务必敢于斗争、善于斗争

56. 党的二十大报告指出，我们要坚持对马克思主义的坚定信仰、对中国特色社会主义的坚定信念，坚定( )，以更加积极的历史担当和创造精神为发展马克思主义作出新的贡献。

- A. 道路自信
- B. 理论自信
- C. 制度自信
- D. 文化自信
- E. 组织自信

**三、系列单项选择题（请根据题目要求，在四个选项中选出一个最恰当的答案。共4题，每题1.5分，共6分。）**

党的十八大以来，我们党着眼于实现中华民族的伟大复兴的中国梦，深入推进政治建军、改革强军、科技强军、人才强军、依法治军，大力推进国防和军队现代化建设，引领强军事业取得历史性成就、发生历史性变革。

57. 以习近平同志为核心的党中央，把握强国强军时代要求，与时俱进创新党的军事指导理论，形成了：
- A. “十四个坚持”
  - B. 习近平新时代中国特色社会主义思想
  - C. 新时代党的强军目标

D. 习近平强军思想

58. 十八大以来,我们党大刀阔斧深化国防和军队改革,裁减现役员额( )万胜利完成。

A. 二十

B. 三十

C. 五十

D. 一百

1950年10月19日,由中华优秀儿女组成的中国人民志愿军,雄赳赳,气昂昂,跨过鸭绿江,弘扬和光大了中国共产党和人民军队的革命精神,创建了威武雄壮的战争伟业。全国各族人民举国同心支撑起这场事关国家和民族前途命运的伟大抗争,最终用伟大胜利向世界宣告“西方侵略者几百年来只要在东方一个海岸上架起几尊大炮就可霸占一个国家的时代是一去不复返了”。

59. 全国各条战线和广大人民积极响应党和政府( )的伟大号召,开展了轰轰烈烈的抗美援朝运动。

A. 抗美援朝,保家卫国

B. 保卫和平,抵抗侵略

C. 抵抗侵略,保家卫国

D. 抗美援朝,保卫和平

60. 抗美援朝战争期间,许多作家亲赴朝鲜战场,用笔墨讴歌志愿军将士。其中,巴金创作了:

A. 《谁是最可爱的人》

B. 《上甘岭》

C. 《我们会见了彭德怀司令员》

D. 《三千里江山》

## 第二部分 岗位能力

一、言语理解(请根据题目要求,在四个选项中选出一个最恰当的答案。共15题,每题1分,共15分。)

61. 下列各句中,没有歧义的是:

A. 我们需要相信自己的人

B. 三个教育局的领导听了他的课

C. 小明和小军的哥哥在操场上踢足球

D. 请你告诉他要早一点回家做作业

62. 下列各句中,没有语病的是:



A. 上海科技开发中心聚集了一批热心于科技开发服务、善于经营管理的专业化人才

B. 每当我回忆起和他朝夕相处的一段生活，他那和蔼可亲的音容相貌，循循善诱的教导，又重新出现在我的面前

C. 《青春之歌》这部小说出色地塑造了共产党员卢嘉川、江华、林红等人的英雄事迹

D. 只有积极引导牧民开展多种经营，控制牲畜数量，降低对牧草的需求，退牧还草，才能为从根本上拯救纯种野牦牛提供可能

63. 关于“截止”和“截至”，用法正确的是：

①报名在昨天已经截止。

②截至九月中旬，该项目建设已完成全年施工计划的 90%

③截止到今天中午 12 点，第一次彩排的日期才确定下来

④截止上周日，对社区所有八十岁以上老人的健康监测均已完成

A. ①②③④

B. ①③④

C. ①②④

D. ①②③

64. 填入横线处最恰当的一组连接词是：

医德评价方式是对医学工作者的医学道德状况进行判断的特有方式。\_\_\_\_\_明确医学评价的重要作用、意义、依据和标准，\_\_\_\_\_使用一定的载体，运用一定的方式方法，\_\_\_\_\_把医学道德的原则和规范转化为医学工作者的行为，\_\_\_\_\_有效地扬善弃恶，树立良好的医德医风。

A. 首先要 才能 才能 或者

B. 除了要 还要 才能 才能

C. 不但要 而且 或者 才能

D. 只有 才能 不但 还能

65. 下面一段话中，多余的一句是：

①我们每一个人都应该去植树，不能去毁树。②植树和毁树是一对矛盾。③要做到这一点是很不容易的。④现在社会上还有毁树的现象。

A. ①

B. ③

C. ②

D. ④

66. 不言而喻，沙尘暴对人类来说，是一个气象灾害，但意想不到的是，沙尘暴对

海洋来说反而是一件好事，这是为什么呢？在世界气象日主题研讨会上，气象局杨研究员解释，这是因为沙尘暴里会带着很多营养盐，这些营养盐最后会沉降在海洋里。打个比方，陆地上的植物生长需要施肥，那么海洋也是需要肥料的，这个来源分两种，一种就是从陆地上来，另一种是海洋洋流从海底带上来。所以沙尘暴这件事也是需要两面来看，对人类来讲是一种灾害，对海洋来讲却是一件非常好的事情。

最适合做这段文字的标题是：

- A. 沙尘暴竟然还有好处？
- B. 海洋，我们的气候和天气
- C. 海洋的肥料从哪里来？
- D. 沙尘暴不再是一种灾害

67. 中国古代家训家教家风大多涉及“生活之道，待人之道，交友之道，读书之道”，具有“修齐治平”的特点。伴随着城市化进程的不断推进，现代家庭结构日益原子化，人们工作生活由原来的熟人社会进入生人社会。因此，我们在传承中华传统家训家教家风时，要对其中有关重农抑商、亲熟远生、封闭保守、轻视法治等内容进行创造性转化，以适应现代人生产生活方式和开放社会的需要。

这段文字的主旨是：

- A. 传统家训家教家风具有“修齐治平”特点。
- B. 传承传统家训家教家风需要对其进行创造性转化。
- C. 城市化导致家庭结构原子化、社会环境陌生化。
- D. 传统家训家教家风不适应现代人生活方式和开放社会的需要。

68. 作为一种购物方式，“秒杀”带来了全新体验，却也留下了复杂况味。转瞬之间，有惊喜也有失望，有欢乐也有忧愁。心理学家说，“秒杀”也是一次心理测验，淡然处之则自得其乐，而那些渴望“一击即中”、希望“马上就有”、总想“付出少收益大”的，则容易陷入纠结的泥沼。看来，“秒杀”可以有，但“秒杀心态”值得商榷。

下列诗句中，否定“秒杀心态”的是：

- A. 白发无凭吾老矣，青春不再汝知乎
- B. 人生得意须尽欢，莫使金樽空对月
- C. 大鹏一日同风起，扶摇直上九万里
- D. 千淘万漉虽辛苦，吹尽黄沙始到金

69. 下列各句中，标点符号使用有误的是：



A. 我国南海蕴藏着丰富的海洋动力资源，如潮汐能、波能、温差能、密度差能等……

B. 唐代的刘知几在《史通·叙事》中提出：“夫国史之美者，以叙事为工；而叙事为工者，以简要为主。”

C. 京剧雍容华美，昆曲典雅精致，越剧婉转悠扬，秦腔朴实无华，梆子戏高亢悲凉；中国的戏曲艺术博大精深，异彩纷呈。

D. “我们拥有百分之百‘中国芯’，尽管许多技术已全球领先，但拼搏和创新是无止境的，我们不能停下来。”这是陈总对记者说的话。

70. 环境保护主义是一种信念，是一种重建人与自然关系的强烈愿望。要实现这一愿望，就必须树立一种自然共同体的意识，即将人在共同体中的征服者角色，转变为这一共同体中的普通一员。它暗含着对共同体中每个成员的尊敬，也包括对这个共同体本身的尊敬。只有树立了这样的一种道德意识，人才有可能在运用权利时感到所负有的对这个共同体的义务。这不仅仅依赖对自然本质的科学理解，也依赖在了解基础上建立起的对自然的感情。

上述文字最后一句话中的“这”指的是：

- A. 自然共同体意识的树立
- B. 对共同体成员的尊敬
- C. 对共同体本身的尊敬
- D. 对自然共同体的义务

71. 填入横线处最恰当的是：

苦难可以激发生机，也可以扼杀生机；可以磨炼意志，也可以摧垮意志；可以启迪智慧，也可以蒙蔽智慧；可以高扬人格，也可以贬损人格——\_\_\_\_\_。

- A. 迎难而上是唯一选择
- B. 无论你是否以苦为乐
- C. 全看受苦者素质如何
- D. 人生哪可能一帆风顺

72. 下列各句中，使用成语恰当的是：

- A. 看他低着头一言不发，不停地抽泣，定有难言之隐。
- B. 照片中两位年轻人，左边的是一位英俊的解放军战士，右边的是一位长相文静的莘莘学子。
- C. 每个人都有不足之处，你不应该求全责备他的缺点。
- D. 在语文老师的严格要求下，我逐渐改正了文不加点的毛病。

73. 填入横线处最恰当的一组连接词是：

通古今就要学习，\_\_\_\_\_我们要学习，后人\_\_\_\_\_要学习，\_\_\_\_\_学习也有它的普遍性和永久性。

- A. 不但 也 所以  
B. 因为 便 何况  
C. 假如 又 因此  
D. 一旦 更 于是

74. 虽然 17 世纪中叶起就有不少欧洲人前往中国传教、经商，但直到 18 世纪 30 年代，欧洲文艺界对中国戏剧的了解依然局限于马若瑟做了诸多删减的《赵氏孤儿》译本，以及杜赫德在《中国通志》中极为简略的介绍。所以，中国古典戏剧在欧洲传播的初期，全译本并不多，而改编创作也并非是为了深入地研究中国古典戏剧本身独有的艺术价值。

这段文字的主要观点是：

- A. 中国古典戏剧在欧洲传播历史悠久  
B. 欧洲观众对中国古典戏剧了解有限  
C. 中国古典戏剧与西方戏剧完全不同  
D. 中国古典戏剧作品在欧洲被改编演出

75. 下列语句排序正确的是：

①这一工作的价值之一在于，对内部变率如何影响季风降水的年代际变化有了更清晰的认识，为季风降水的短期预估提供了宝贵的信息。

②研究表明，当北大西洋呈暖海温异常时，或赤道东太平洋呈冷海温异常、副热带西太平洋呈暖海温异常时，海洋能够通过加热上空大气，引起热带地区和季风区对流层的温度差。

③大气环流场的年代际变化，主要受热带太平洋和北大西洋海温的调控作用。

④这就有利于对流层厚度的经向梯度增大、季风环流增强。

⑤有利于更多水汽输送至季风区，最终引起了季风降水的增多。

- A. ①②③④⑤  
B. ②③④⑤①  
C. ③②④⑤①  
D. ③④⑤②①



二、数量关系 (请根据题目要求, 在四个选项中选出一个最恰当的答案。共 10 题, 每题 1.5 分, 共 15 分。)

76. 现有一项工程, 若由甲施工队单独施工要 10 天完成。乙施工队单独施工要 15 天完成, 丙施工队单独施工要 12 天完成。计划先由丙施工队单独施工, 3 天后乙施工队加入施工, 乙、丙共同施工 3 天后, 剩余任务由甲施工队单独完成。则完成该工程一共需用( ) 天。(注: 假设各施工队的施工效率保持不变。)

- A. 9  
B. 10  
C. 11  
D. 12

77. 一列匀速行驶的火车通过一座 780 米的桥梁用了 18 秒, 通过一根电线杆用了 5 秒, 则这列火车的长度是( )。

- A. 150 米  
B. 156 米  
C.  $216\frac{2}{3}$  米  
D. 300 米

78. 三角形 ABC 的面积为 S, P 为三角形 ABC 内一点, 则三角形 PAB 的面积小于  $\frac{S}{4}$  的概率是( )。

- A.  $\frac{1}{4}$   
B.  $\frac{7}{16}$   
C.  $\frac{9}{16}$   
D.  $\frac{3}{4}$

79. 某人的藏书中, 文学类占  $\frac{1}{5}$ , 科技类占  $\frac{1}{3}$ , 科技类藏书比文学类藏书多 100 册, 则其文学类藏书的册数是( )。

- A. 150  
B. 250  
C. 350  
D. 750

80. 选择最合理的一项来填充所给数列的空缺项, 使之符合原数列的排列规律:

$\frac{2}{3}, \frac{1}{4}, \frac{2}{15}, \frac{1}{12}, \frac{2}{35}$  ( )。

- A.  $\frac{1}{86}$   
B.  $\frac{1}{32}$

C.  $\frac{1}{24}$

D.  $\frac{1}{16}$

81. 一个罐子里有 5 种颜色的糖果各 6 颗，每次随机取出一颗，为保证取用的糖果中有 5 颗颜色相同，则至少应该取( )次。

A. 6

B. 11

C. 16

D. 21

82. 有两个等边三角形，它们的边长之比为 3 : 2，则它们的面积之比是( )。

A. 4 : 9

B. 3 : 2

C. 9 : 4

D. 27 : 8

83. 选择最合理的一项来填充所给数列的空缺项，使之符合原数列的排列规律：

2, 2, 15, 41, 80, ( ), 197。

A. 125

B. 130

C. 132

D. 138

84. 若一个三位正整数等于其各位数字的立方之和，则称该数为“水仙花数”。现有 4 个三位数：152, 153, 370, 371，其中“水仙花数”的个数是( )。

A. 1

B. 2

C. 3

D. 4

85. 某品牌服装店有三款最畅销服装 A、B、C。店方发现：①进店客户购买 A 款服装的概率为 40%；②如果客户购买 A 款服装，则其购买 B 款服装的概率为 60%，否则购买 B 款服装的概率为 30%；③如果客户既不购买 A 款服装也不购买 B 款服装，则其购买 C 款服装的概率为 90%，否则购买 C 款服装的概率为 10%。按进店客户购买 A、B、C 三款服装的概率大小排序，正确的是( )。

A. A>B>C

B. C>B>A

C. B>C>A

D. A>C>B

三、判断推理（请根据题目要求，在四个选项中选出一个最恰当的答案。共 10 题，每题 1.5 分，共 15 分。）

86. 张老师和李老师是某学院的教师，该学院的所有教职工都是运动爱好者。他们





或者喜欢游泳，或者喜欢跑步。张老师喜欢游泳，李老师不喜欢跑步。如果以上论述为真，则下列各项正确的是：

- ①李老师喜欢游泳
- ②张老师不喜欢跑步
- ③该学院的教职工不喜欢游泳的人喜欢跑步
- ④该学院的教职工一半喜欢游泳，一半喜欢跑步

- A. 仅①
- B. ①、②
- C. ①、③
- D. ②、③、④

87. 根据国家统计局数据，2022 年一季度，全国工业生产者出厂价格同比上涨 8.7%。其中，3 月份同比上涨 8.3%，涨幅比上月回落 0.5 个百分点，环比上涨 1.1%。据此分析，下列结论错误的是：

- A. 2022 年 3 月份全国工业生产者出厂价格比 2022 年 2 月份上涨 1.1%
- B. 2022 年 2 月份全国工业生产者出厂价格比 2022 年 1 月份上涨 7.2%
- C. 2022 年 2 月份全国工业生产者出厂价格比 2021 年 2 月份上涨 8.8%
- D. 2022 年 1-2 月份全国工业生产者出厂价格同比涨幅超过 8.7%

88. 职工因工作需要可以领用某种物资，该物资领用规定为：职工每月最多领用 2 件，连续三个月最多领用 4 件。下列四个选项是职工连续 12 个月的领用计划，不可行的是：

- A. 2, 2, 0, 1, 2, 1, 1, 2, 0, 2, 2, 0
- B. 2, 0, 2, 0, 2, 2, 0, 2, 2, 1, 1, 2
- C. 1, 1, 2, 1, 1, 2, 1, 1, 2, 1, 1, 2
- D. 2, 1, 1, 2, 0, 2, 2, 0, 2, 1, 1, 2

89. 甲、乙、丙、丁四人参加考试，成绩各不相同。对于谁的成绩最高，甲和乙都说“不是我”，丙说“是丁”，丁说“是乙”。已知四人中有且仅有一人的说法符合实际情况。那么四人中成绩最高的是( )。

- A. 甲
- B. 乙
- C. 丙
- D. 丁

90. 选择最合适的一项填入问号处，使之呈现一定的规律性的是( )。





- A. 搬  
B. 插  
C. 题  
D. 撑

94. 虎山长城遗址除一号台址发现很少的残砖之外,其他地方均没有发现城砖。虎山村及附近村庄也没有从长城上拆下城砖用于民房建筑的情况。由此可以推测,虎山长城用砖是极少的。

下列选项中最能支持上述观点的是( )。

- A. 此地山高坡陡,城砖难以运进运出  
B. 虎山长城遗址附近没有发现古砖窑  
C. 当地县志记载虎山长城是夯土筑成  
D. 此地土质极差,不宜烧制长城用砖

95. 某单位从甲、乙、丙、丁四人中选派若干人执行专项任务,要求如下:

①若甲去,则乙不去;②若丙去,则乙也去;③若甲不去,则丁去。

下列关于选派方案的判断,不满足要求的是( )

- A. 可让甲或丁单独去,也可让该二人同去  
B. 若让乙去,则丁也要去  
C. 若丁不去,则甲单独去  
D. 可只让乙、丙二人同去

**四、资料分析 (请根据题目要求,在四个选项中选出一个最恰当的答案。共 15 题,每题 1 分,共 15 分。)**

材料一:2021 年某省生产总值为 124370 亿元,同比增长 8.0%,两年平均增长 5.1%。其中,第一产业总值为 5004 亿元,同比增长 7.9%,两年平均增长 5.8%;第二产业总值为 50219 亿元,同比增长 8.7%,两年平均增长 5.2%;第三产业总值为 69147 亿元,同比增长 7.5%,两年平均增长 5.0%。

96. 2020 年该省生产总值是( )亿元。

- A. 101526  
B. 115157  
C. 120245  
D. 123576

97. 2021 年该省第三产业的增加值是( )亿元。

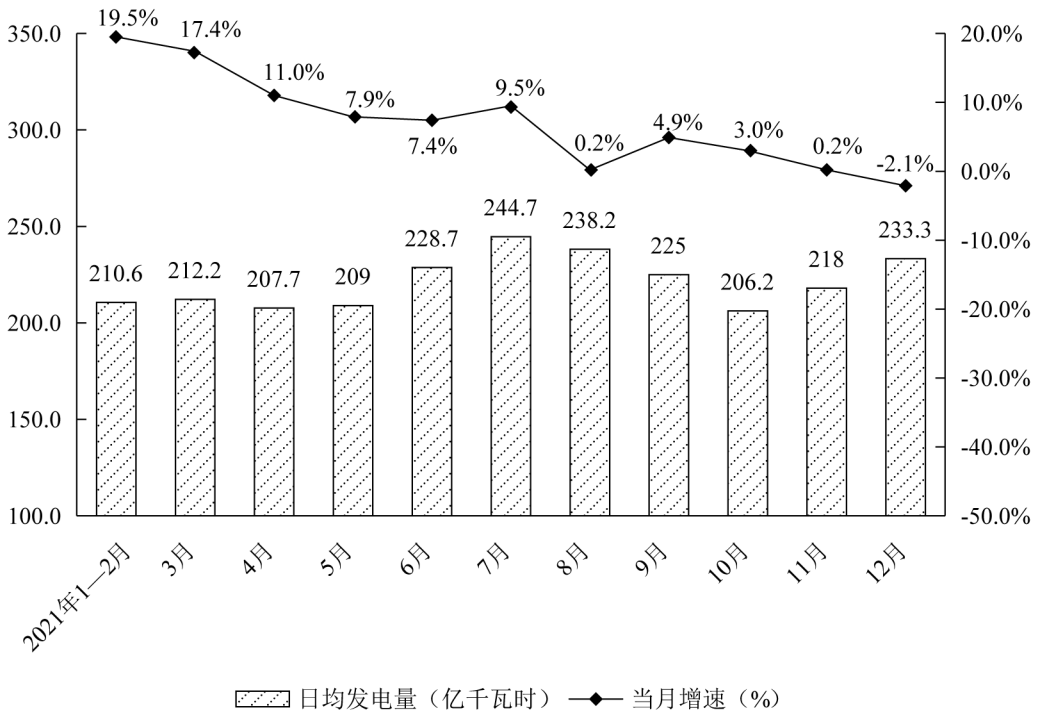
- A. 3425  
B. 4075  
C. 4754  
D. 4824
98. 2021 年三类产业总值占该省生产总值的比重, 同比增加的是( )。
- A. 第一产业总值  
B. 第二产业总值  
C. 第三产业总值  
D. 第一产业总值和第二产业总值
99. 2020 年该省增速最快的是( )。
- A. 生产总值  
B. 第一产业总值  
C. 第二产业总值  
D. 第三产业总值

材料二: 据报道, 2021 年我国网民总体规模持续增长。截至 2021 年 12 月, 我国网民规模达 10.32 亿, 较 2020 年 12 月增长 4296 万, 互联网普及率达 73.0%。其中农村网民规模已达 2.84 亿, 农村地区互联网普及率为 57.6%, 较 2020 年 12 月提升 1.7 个百分点, 城乡地区互联网普及率差异较 2020 年 12 月缩小 0.2 个百分点。网民人均每周上网时长达到 28.5 个小时, 较 2020 年 12 月提升 2.3 个小时, 互联网深度融入人民生活。在线办公、在线医疗、网上外卖、网约车用户规模分别达 4.69 亿、2.98 亿、5.44 亿和 4.53 亿, 同比分别增长 35.7%、38.7%、29.9%和 23.9%。

100. 2021 年我国网民规模同比增长( )。
- A. 1.6%  
B. 4.2%  
C. 4.3%  
D. 6.0%
101. 2021 年 12 月, 城乡地区互联网普及率差异是( )个百分点。
- A. 15.4  
B. 23.6  
C. 28.4  
D. 30.8
102. 按 2020 年 12 月用户规模从高到低排序, 正确的是( )。
- A. 在线办公、网上外卖、网约车、在线医疗  
B. 网上外卖、网约车、在线办公、在线医疗  
C. 网上外卖、在线办公、网约车、在线医疗  
D. 在线办公、网约车、网上外卖、在线医疗
103. 2021 年 12 月, 我国网民人均每周上网时长同比增长率是( )。



材料四：2021年全国规模以上工业发电量月度走势图



108. 2021年1—12月，日均发电量实现环比增长的月份有( )个。(注：1—2月份合并计算。)

- A. 5
- B. 6
- C. 9
- D. 11

109. 按月度分析，2021年10月份发电量与2021年4月份相比( )。

- A. 增加了
- B. 减少了
- C. 一样多
- D. 无法判断

110. 2021年规模以上工业发电量超过7000亿千瓦时的月份至少有( )个。

- A. 1
- B. 2
- C. 3
- D. 4