

2024.3.30联考《职业能力倾向测验（D类）》

第一部分 常识判断

1. 中国共产党第二十届中央委员会第二……，不属于保障和改善民生工作的是：

- A. 落实落细就……先政策
- B. 保障好困难群众……生活
- C. 切实提升产业链……性和安全水平
- D. 补齐医疗卫生特别……医疗卫生公共服务的短板

答案：C

2. 党的二十大报告把教育科技人才单独成……国的号角。习近平总书记在二十届中央政治局第五次集……建设。对于中国……强国，下列说法正确的是：

- ①以支撑引领中国式……核心功能
- ②以服务中华……为基本任务
- ③以坚持党对教育……领导为根本目标
- ④以教育理念、……、内容方法、治理现代化为基本路径

A. ①③

B. ①④

C. ②③

D. ③④

答案：B

3. 一个国家的竞争力，很大程度上体现……业高质量发展成就的说法，错误的是：

- A. “鲲龙”AG600水陆两栖飞机可用于水上救援和森林灭火
- B. 国产大直径硬岩……宁号”能够实现大倾角向上掘进
- C. “珠海云”是全球首……有远程遥……自主航行功能的科考船
- D. 载人潜水器“……者号”采用……可以承受6000米海压

答案：D

4. 下列关于高层建……对措施，错误的是：

- A. 靠近主干道躲避，并……呼救
- B. 若身处着火层，不要轻……开门
- C. 楼上着火，立……电梯

D.楼下着火，尽快向……动

答案：A

5.下列关于地震发……的做法，错误的有几项

①晃动停止后尽快……电梯下楼

②应队在地上成者躺……援以节省体力

③在户外应尽快到……带，远离高大建筑物

④在室内应……厨房卫生同等小开间房屋内，近水不近火

A.1

B.2

C.3

D.4

答案：B

6.根据《中华人民共……》，下列哪项属于我国公民的基本权利？

①依照法律……和参加民兵组织

②维护国家统一和……民族团结

③对任何国家机……人员提出批评和建议

④在年老、疾病的情况下，从国……获得物质帮助

A.①②

B.①③

C.②④

D.③④

答案：D

7.根据我国相关法律法规，下……为自首？

A.小孙因聚众斗殴被捕，在被讯问时……自己曾在 1 个月前陆续过 10 部手机

B.小马主动投案交代自己电信诈……罪行为，但……间隐瞒了本案同伙的犯罪行为

C.小张醉酒驾车造成车祸，致 1 人死亡，后……案，但在审讯结束后拒心……重又逃跑

了

D.小沈过失致人重伤，惊慌失措时被……，朋友规劝其主动投案无果后将……至公安局，

小沈遂交代案情

答案：A

8. 下列毛泽东诗词中所反映的历史场景，按照……排序正确的是：

- ①六盘山上高峰，红旗……风
- ②敌军围……重，我自岿然不动
- ③秋收时节暮云愁，霁……声暴动
- ④金沙水拍云……，大渡桥横铁索寒

A. ①③②④

B. ②④③①

C. ③②④①

D. ④①②③

答案：D

9. 下列诗句反映了诗人杜甫……境，按创作时间先……排序，正确的是：

- ①国破山……，城春草木深
- ②会当凌绝顶，一……山小
- ③无边落木萧萧下，……江滚滚来
- ④安得广厦……庇天下寒士俱欢颜

A. ①③②④

B. ②①④③

C. ③④①②

D. ④②③①

答案：B

10. 目前我国已有多项非物质……第一。下列入选上述名录名册的有：

- ①昆……②桂……水③中国……法④南京云锦织……艺⑤中医……灸⑥颀……园⑦

太……拳⑧……菜

A. ①③④⑤⑦

B. ①④⑤⑦⑧

C. ②③④⑥⑧

D. ②③⑤⑥⑦

答案：A

11. 同一年里，在太阳直射……移动的过程中，下列各诗句所描述的景象会在长江流域出现的是：

- A. 不知细……出，二月春风似剪刀
- B. 寂寞空庭春欲晚，梨花满……开门
- C. 接天莲叶无……碧，映日荷花别样红
- D. 千里黄云……，北风吹雁雪纷纷

答案：C

12. 关于我国农作物产区与农……型，下列匹配错误的是：

- A. 青海东部……产区——河谷农业
- B. 云南滇池……区——坝子农业
- C. 甘肃张掖小……区——灌溉农业
- D. 新疆吐鲁番瓜……区——旱作农业

答案：D

13. 关于露营的注意事项，下列说……误的是：

- A. 帐篷宜……在河滩上，便于取水
- B. 在雨季多雷区，营地不能……高地、高树下
- C. 为预防野蜂蜇伤，应避……香味浓郁的化妆品
- D. 在沙漠中宜将帐篷的……于 45 度角斜插在湿沙子里

答案：A

14. 坚持运动对人体健康……不能忽略。下列关于运动后的做法，正确的是：

- A. 尽快做拉……放松肌肉
- B. 立即洗热水澡……血压
- C. 喝大量白开……水分
- D. 就地蹲坐……息恢复体力

答案：A

15. 下列与呼吸道传……说法，正确的是：

- A. 支原体肺……自限性疾病
- B. 水痘病愈后可……久免疫力
- C. 夏季是呼吸道……高发季节
- D. 呼吸道传染病的病……细菌

答案：B

16.根据《关于未成年人犯罪记……施办法》，下列说法正确的是：

- A.未成年人因事实不清、证……的案件，对涉罪记录不予封存
- B.对于犯罪记录被封存的未成年人，在就业……记录的报告义务
- C.对未成年人犯罪记录应当封……存，或者封存不当，应当由人民法院进行审查
- D.被封存犯罪记录的未成年人……罪的，人民法院应当在裁……载明其之前的犯罪记录

答案：D

17.学校课程可以分为显性……课程。下列说法正确的是：

- A.光明小学构建了“悦……程群，属于隐性课程
- B.春雨小学安排了“阳光”趣味运动节，属……课程
- C.红星小学绘制了“唐诗宋词”文……隐性课程
- D.永光小学举办了“……于显性课程

答案：C

18.在教学过程中，教师可以……活动属于训练纲要策略的是：

- A.英语老师要求学……、交通工具等对所学单词进行分类
- B.语文老师要求学生基于主题，用思……章结构
- C.生物老师上新课之……生陈述上节课学过的知识点
- D.物理老师要求同学们边听边记……知识点圈出来

答案：B

19.五（1）班是公认的优秀班……。五（2）班是全校有名的“乱班”。两个班的授课老师相同，但班风……最恰当的解释是：

- A.学生的个性有差异，如果……然不好
- B.班主任对班级约……很严格，班风肯定好
- C.家校合作有差异，家……度会影响班风
- D.班风的形成是班……生等多方作用的结果

答案：D

20.拟定教学目标是教师的……教学目标，最恰当的是：

- A.学生上课时能够……心记好笔记
- B.使学生在英语课……背诵所学课文
- C.学生用列一元二……方法解出应用题

D.学生能完……步练习册上的课后习题

答案：C

第二部分 言语理解与表达

21. 过去引发食品安全问题的往……念，食品添加剂往往成了很多食品安全事件的_____。

A.代名词

B.替罪羊

C.绊脚石

D.障眼法

答案：B

22. 同时处理完成更多的任务，看似是很_____的做法，但这……在影响，我们人类大脑的认知资源_____，当我们尝试一……慢。

A.聪明 匮乏

B.明智 复杂

C.高效 有限

D.合理 不足

答案：C

23. 中国绝大多数的祠庙都……，显得_____有余，灵活不足。晋……持均衡又不强求对……严之中_____自由灵动之气。

A.恢宏 体现

B.肃穆 蕴含

C.典雅 映射

D.规整 展示

答案：B

24. 文物和文化遗产承载着……基因和_____，是不可再生、……优秀文明资源。我们要积极……文化遗产保护传承，_____文物和文化遗产的多重价值，传播更多承载中华文……

A.血脉 挖掘

B.根…… 重塑

C.底…… 倡导

D.记……现

答案：A

25.在古代黄河流域……物容易流失，无法_____长期高强度的耕种，如果不施肥就需要……粟作农业社会面临粮食生产的_____。新的考古研究发……们将粟黍种植与家猪饲养结合以提高粮食产……了经济基础。

A.承担 ……境

B.……续 中断

C.维持 瓶颈

D.……撑 衰落

答案：C

26.适应新职业需……发展需要的一种_____调整。眼下的新技术、新行业，要求从业者具备交叉学科知识，掌握前沿工具……优化专业设置，就应该_____地培养人才，……结的尝试。

A.整体 脚踏……

B.长期 千方……计

C.严肃 有……放矢

D.动态 量体裁衣

答案：D

27.科技馆强调展品的……，由于创新研发难度大、技术性强，使得展品的种类、数量、规模……科技馆之间展品_____较高，难以实……文化内容的_____和多样性都受到局限。

A.相似度 丰富性

B.重合度 灵活性

C.无序性 广阔度

D.同一性 辨识度

答案：A

28.太空与地面环境差异巨大……药学大国竞争的_____。我们应该抓住这一引领世界……遇，有效利用_____的太空资源，加快发展新兴前沿的太空药学。

A.杀手锏 无可比拟

B.试金石 不可多得

C.敲门砖 来之不易

D.入场券 难能可贵

答案：D

29.就稳定和便宜这……，才给了它“_____”的机会。全球每年生产大量塑料用于工业和……的特性，使得废弃……小的碎片，在环境中急剧_____。

A.无孔不入 累积

B.遍地开花 积压

C.来势汹汹 扩散

D.所向披靡 增加

答案：A

30.任何材料……”的陈述，即使_____，亦不妨其时有……”和“所传闻”的异辞，……史料价值，其_____并不稍减。

A.道听…… 重要性

B.支离破碎 真实性

C.子虚乌有 客观性

D.断章取义 时代性

答案：A

31.要跟上新科技革命……新能力。而_____、吸收引进他人创……合作双方在科技领域_____大有帮助。与此同……也给世界各国主权、安全、……新挑战，需要各国携手应对。

A.集思广益 一日千里

B.博采众长 崭露头角

C.取长补短 突飞猛进

D.推陈出新 脱颖而出

答案：B

32.墨卡托投影是至今使用范围最……严重的区域_____。在地球上，经线在南北两极汇合，而纬线……成长方形时，两极就会由点_____为长度与赤道相等的直线。每……在地图上，越_____两极，水平拉伸幅度就越大。

- A.颠倒 扩展趋向
- B.变形 放大临界
- C.扭曲 延伸接近
- D.重合 延续濒临

答案：B

33.我国古代的“师道精神” _____，不仅蕴含了对教……度。恪守和_____“师道精神”，……中国历代教师共同_____和遵循的基本原则，它……特征。

- A.包罗万象 膜拜尊崇
- B.源远流长 传承维护
- C.言近旨远 推崇履行
- D.博大精深 弘扬信奉

答案：D

34.当下，专业媒体、美术……驻云端“_____”，在网络平台……评论的_____。相较于传统媒体发表的美术评论时……满足了读者的_____需求。

- A.独占鳌头 弄潮儿 个性化
- B.大显身手 排头兵 场景化
- C.小试牛刀 引领者 专业化
- D.开疆拓土 主力军 多元化

答案：D

35.现在学习楷书，尤其是……者_____，有一些根深蒂固……习书者_____地将“永字八法”视为学习……品中表现出点画孤立、傅化刻……出“永字八法”的_____。

- A.闭门造车 毫不犹豫 泥淖
- B.泥古不化 不假思索 牢笼
- C.墨守成规 随声附和 桎梏
- D.坐井观天 理所当然 镣铐

答案：B

36.加快推动智库……，既要倡导智库专家……业水准、收……”：也要鼓励智库专家利用新媒体手段积极、主动、有效发声……树立新风的独特作用。

这段文字意在说明：

- A.树立新媒体意识有重要价值
- B.智库要借助新媒体发挥作用
- C.智库专家应当走近民众主动发声
- D.新媒体引导舆论的作用不容忽视

答案：B

37.非物质文化遗产……认识与尊重这一现象与规律，才能使非遗成为与时俱进的社会财富。

这段文字意在说明：

- A.非遗是变与不变的辩证统一体
- B.非遗传承的两种规律互为因果
- C.非遗保护应依据其内在规律实现活态保护
- D.要不断探索适合时代发展的非遗保护路径

答案：C

38.真实世界研究是指在真……出利用真实世界证据是儿童药物研发的一种策略。通过真实世界研究，可以找到和发现儿童药物临床使用的科学依据，也能让儿童用药剂量早日告别靠猜、靠掰的尴尬局面。

这段文字主要介绍：

- A.儿童用药和相关医疗措施评价的标准
- B.真实世界研究对儿童药物研用的意义
- C.传统临床试验与真实世界研究的区别
- D.药物研发利用真实世界证据的必要性

答案：B

39.政务机构和官方媒体在……构和官方媒体的视频号内容更容易依托个人所在的社群传播正能量。调研发现，八成以上的被调查者表示认同与“主流媒体视频号价值”相关的系列观点。

这段文字主要介绍了：

- A.碎片化时代短视频制作的要求
- B.短视频用户选择的自主性趋势

C.依托社交媒体等进行社群传播的必要性

D.政务机构与官方媒体视频号传播的优势

答案：D

40.人才的制高点决定产业发展的……术自主可控能力。此外，还要健全技能人才培养、使用、评价、激励制度，大……技能培训，弘扬精益求精的工匠精神，下大功夫打造大国工匠。这段文字意在强调：

- A.培养高素质队伍的重要性
 - B.提升人才与产业升级的匹配度
 - C.构建完善的技能人才制度体系
 - D.在当前弘扬工匠精神的紧迫性
- 答案：A

41.近年来，各地加大了专精特新……企业的日常经营过程中也会面临生产安全、员工安全、研发安全等风险。从长远来看，随着专精特新企业梯……险服务，建立企业全生命周期的风险保障体系，助力产业升级。

根据这段文字，作者的观点是：

- A.保险业应优化对专精特新企业的服务
 - B.政府应激励保险业提升金融服务质量
 - C.专精特新企业要提升自身抗风险能力
 - D.专精特新企业梯次培育体系有待完善
- 答案：A

42.关于月球上是否有水的争议终于尘埃落定——“嫦娥五号”探测器发现月壤、月岩中存在微量水，这是人类首次通过原位探测证明……原子与是……生命之源，在几乎无氧的环境下，即便有微量水分，月球仍无法孕育生命。

这段文字没有涉及：

- A.月岩的含水量
 - B.月球上水的形成途径
 - C.证明月球有水的方法
 - D.月壤含水量少的原因
- 答案：D

43.“木铎徇路”出自《尚书》，象征着王者布施……道的象征，使得“木铎”成为广泛分布乡间的风教人员。“木铎”职司巡行宣……的运作形式。木铎老人……学校等施教系统难以涉及的领域，进而与乡约、宗族等共同构成一套分层连动的政教下渗体系。

最适合做这段文字标题的是：

- A.木铎制与明清乡里的政教实践
- B.古代王者布施政教的治世图景
- C.传统社会分层政教体系的连动
- D.木铎制与封建社会的公序良俗

答案：A

44.读书和游历的结合是许多读书人的……天的确能够走得更多更远了。_____，这样，在行前自然更活书，回……这后一种旅途中，就主要是读大地天空、人间社会这样的“无字之书”了。

填入文中横线处最恰当的一项是：

- A.我们有时会带着某种研究目的去旅游
- B.游历可以成为单纯闭门读书的良好调剂
- C.亲历现场能够补充读书中难以得到的认识
- D.不同的阅读经历让人对目的地有不同的体验

答案：A

45.①任何方法都有适用边界，内容分析……自己的局限性

②自 1952 年美国学者贝雷尔森发表《传播研究的内容分析》一书，……实践应用

③内容分析的理论和方法……上不存在门户壁垒

④内容分析法诞生于 20 世……播学领域

⑤目前，内容分析法作为一种探究社会现象的研……的各个领域，教育领域也不例外

⑥不过，也正因为它没有自己的……定的偏见和争议

将以上六个句子重新排序，语序正确的是：

- A.②①④③⑤⑥
- B.②③⑥①④⑤
- C.④②⑤③⑥①
- D.④③①⑥②⑤

答案：C

第三部分 数量分析

46.某景区仅可凭身份证或购票二维……0 人次，其中凭身份证进园的正好是凭二维码进园人数的一半。问当天下午凭身份证进园的有多少人次？

- A.800
- B.900
- C.1000
- D.1100

答案：D

47.2024 年，某家庭大女儿的年龄是小……是母亲年龄的一半。

问母亲比大女儿大几岁？

- A.29
- C.31
- B.30
- D.32

答案：C

48.企业招聘了 100 多名应届毕业生，其中……公司工作。问企业招聘了多少名应届毕业生？

- A.126
- C.176
- B.139
- D.189

答案：B

49.一次学术会议安排 3 名教授和 2 名副教……择一种，则 2 名副教授发言次序相邻的概率为：

- A.1/4
- C.2/3
- B.1/3
- D.3/4

答案：C

50. 一条东西向的河流宽 50 米，如下图所示……续直线行驶，到达河流北岸的 C 点。问 A、C 两点的距离在以下哪个范围内？

- A. 不到 150 米
- B. 150~160 米之间
- C. 160~170 米之间
- D. 超过 170 米

答案：A

51. 2023 年前三季度，S 省平均每……在以下哪个范围内？

- A. 不到 0.5 亿元
- B. 0.5 亿元~1 亿元之间
- C. 1 亿元~1.5 亿元之间
- D. 超过 1.5 亿元

答案：B

52. 2022 年前三季度，S 省……业收入比文化核心领域：

- A. 低不到 50%
- B. 低 50% 以上
- C. 高不到 50%
- D. 高 50% 以上

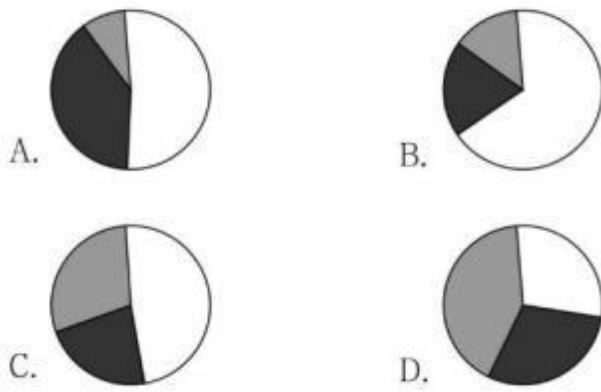
答案：A

53. 将 S 省①创意设计……按 2022 年前三季度营业收入从高到低排列，以下正确的是：

- A. ①②④③
- B. ①④②③
- C. ④①②③
- D. ④①③②

答案：D

54. 以下饼图中，最能准确反映 202……三个产业类型占比情况的是：



A.A

B.B

C.C

D.D

答案：C

55. 以下信息中，……中推出的有几项？

- ①2021 年前三季度 S 省文化核……营业收入
- ②2023 年上半年……收入同比增速
- ③2023 年前三季……业收入同比增速

A.0

B.1

C.2

D.3

答案：D

56.2022 年 3 月，……2 月月均发电量：

- A.低不到 200 亿……时
- B.低 200 亿千……以上
- C.高不……瓦时
- D.高 200 亿……以上

答案：C

57. 以下月份中，除……其他类型总发电量最高的月份是：

- A.6 月
- B.7 月
- C.8 月

D.9 月

答案：C

58.2022 年 4~10 月，……于 10%的月份有几个？

A.1

B.2

C.3

D.4

答案：B

59.2022 年……国水力发电量：

A.持……升

B.持……下降

C.先……后降

D.先……后升

答案：A

60.2022 年，H 国累计……5000 亿千瓦时是在：

A.5 月

B.6 月

C.7 月

D.8 月

答案：B

第四部分 判断推理

61.从所给的四个选项中，选择最合……现一定的规律性：



A.A

B.B

C.C

D.D

答案： B

62.从所给的四个选项中，……问号处，使之呈现一定的规律性：



A.A

B.B

C.C

D.D

答案： A

63.把下面的六个图形……有各自的共同特征或规律，分类正确的一项是：



A.①②③， ④⑤⑥

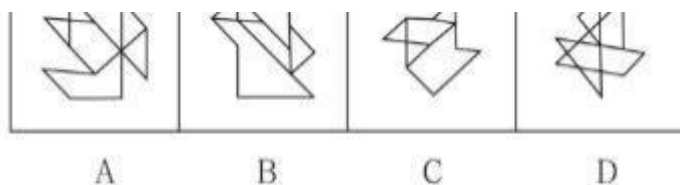
B.①②⑥， ③④⑤

C.①④⑥， ②③⑤

D.①⑤⑥， ②③④

答案： D

64.从所给的四个选项中，选择……使之呈现一定的规律性：



A.A

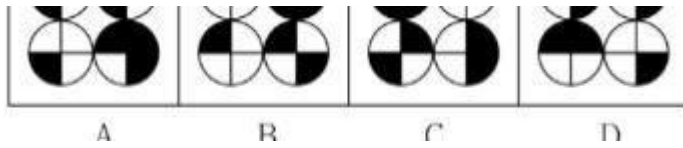
B.B

C.C

D.D

答案： D

65.从所给的四个选项中，……，使之呈现一定的规律性：



A.A

B.B

C.C

D.D

答案： A

66.自我中心语言是儿童的一种语言……反映了儿童思维的自我中心特点。

根据上述定义，下列属于自我中心语言的是：

A.饥饿的……要奶吃

B.3岁的孩子对着……自言自语

C.上幼儿园的小天很自我，……人的感受

D.小学一年级的的小舒考试不……始自我检讨

答案： B

67.文化预设是指作者与其意……须断言的、有特定文化身份的信息或命题。

根据上述定义，……预设的是：

A.大海捞针——……寻

B.芝麻开花——节……高

C.鸡蛋碰石头——不……量力

D.关公面前耍大……弄斧

答案： D

68.假定 f 和 g 分别是定义在集……5； $h(5,5) = 7$ ， $h(5,7) = h(7,5) = h(7,7) = 5$ 。

根据上述定义，下列选项正确的是：

A. $g(f(\dots)) = 7$

B. $h(f(\dots)) = 7$

C. $h(h(7,5)(5)) = 7$

D. $h(g(f(\dots,7,7))) = 7$

答案： D

69.单独海损是指在海……种损失只能由受损失方自己承担。

根据上述定义，下列情形属于单独海损的是：

- A.船舶触礁，为……船……被抛入海中的部分货物
- B.因遭遇海上风暴而导……部分货物受损
- C.船舶遭遇海……而支付的违约金
- D.船舶因船长指……支付的船员工资

答案：B

70.在研究中存在许多与……恒定，这种控制方法称为恒常法。

根据上述定义，下列使用了恒常法的是：

- A.通过将实验组和对照……素可能产生的影响
- B.为了控制噪音、光线等无关变量，在……措施消除这些影响因素
- C.为研究某药物对性别的影响……人数一致，从而控制性别这个变量
- D.为了控制实验刺激的先……红光刺激，再……一半被试顺序相反

答案：A

71.物理治疗指的是康复治……疗个体局部或全身性的功……的生理功能。

根据上述定义，下列不属于物理治疗的是：

- A.将冰袋敷在患者扭伤部……减轻局部肿胀
- B.在室内长时间……预防近视
- C.使用牵引技术帮……时制动
- D.采用红外光照射疗法缓解患者颈……疼痛

答案：B

72.概念的内涵就是反映在概念中……对象 x, x 既属于 A 也属于 B”。

根据上述定义，下列加下……念的外延是全异关系的是：

- A.这座山上……满了树
- B.土豆的……是马铃薯
- C.……一些女生当上了老师
- D.蔷薇是……见的落叶灌木

答案：A

73.大气污染物是指由于……然降落于地表的空气颗粒物，是粒径大于 10 微米的固体颗粒。大气污染物浓度可用两……积的空气中所含污染物的体积数。两者关系为 $C_p = (22.4 / \text{污染物质的分子量}) \times C$ 。

根据上述定义，……正确的是：

- A. 降尘量越多，代……程度越高
- B. 大气污染物的分子量一定时，污染……，其体积浓度就越小
- C. 不依靠外力，部分粒径……悬浮在空气中的颗粒物也会缓慢降落于地表
- D. 如果 1000 立方米空气中所含二氧化硫的质量……量浓度为 0.02mg/m³

答案：D

74.蕴涵关系的句式一般表……种方式行动的决心，以后件之假从而否定前件。

根据上述定义，下列选项中，依次为定义蕴涵、因果蕴涵和决心蕴涵的是：

- (1) 如果 4 能被 2 整……4 是偶数
- (2) 如果物体……么就会发热
- (3) 如果……不会是下大雨
- (4) 如……阳将从西边出来

- A. (1) (2) (4)
- B. (2) (3) (4)
- C. (3) (4) (2)
- D. (4) (1) (3)

答案：A

75.谷草比，又称谷秆比，……量)的比值。

根据上述定义，下列表述最恰当的是：

- A. 萝卜的谷草……于胡萝卜
- B. 双季水稻的……大于单季水稻
- C. 谷草比越大表……株果实转化效率越高
- D. 谷草比最大可……2，最小可能小于 0

答案：C

76.投石：问路

- A. 高屋：建……
- B. 指鹿：……马

C.洒扫：……客

D.土崩：瓦解

答案：C

77.猴子捞月：一……获

A.鸡栖……：德不配位

B.过江之……：井然有序

C.蜻蜓点……：轻而易举

D.卧龙凤……：机关算尽

答案：A

78.外语：母……：语言

A.疫苗：菌……：细菌

B.家乡：……乡：地方

C.白糖：……糖：葡萄糖

D.癌症：肿……：慢性病

答案：B

79.高尔夫：高尔……球杆：高尔夫球场

A.马术：马鞍：马……

B.瑜伽：瑜伽服：……馆

C.滑冰：冰刀鞋：……冰场

D.斗牛：斗……士：斗牛场

答案：C

80.沙漠……于（）相当于（）对于……学楼

A.戈壁……筑

B.沙丘……校

C.绿洲……籍

D.沙子……书

答案：B

81.某学会章程中有一条款规定，……学会的投票权，除非存在不可控因素。

由此可以推出：

A.如果存在不可控因素……在学会的投票……么他拖欠了会费

- B.如果不存在不可控因素，……去在学会的投票权，那么他拖欠了会费
- C.如果存在不可控因素，且会员没有失去……那么他没有拖欠会费
- D.如果不存在……因素，……在学会的投票权，那么他没拖欠会费

答案：D

82.当一首音乐被重复播放……导致夜间“耳虫效应”增多，从而损害睡眠质量。

以下哪项如果为真，最能支持上述研究结论？

- A.随着智能设备的……较以往大幅下降
- B.“耳虫效应”会持续……爱好者更难以摆脱它的纠缠
- C.当“耳虫效应”发生……大脑皮层就会活跃起来
- D.几乎每个人都曾受过……的人对其感受存在差异

答案：C

83.逻辑学主要研究的是如何进行……和纯粹形式的分析、推理而获得人们进行正确思维所应该遵守的一般……，观察和实验并不能证伪它，当然也不能证明它。

以下哪项如果为真，最能支持以上论述？

- A.观察和实验只……科学
- B.自然科学不……纯粹形式的分析
- C.自然科……逻辑学为基础
- D.自然科学都……验的检验

答案：A

84.研究人员通过实验发现，在……他们认为，牙线对于预防和改善牙病作用不大。

以下哪项如果为真，最能削弱上述结论？

- A.日常生活中还有很多人不能掌握……用方法
- B.在发达地区，牙……可少的生活用品
- C.劣质牙线使用工……造成危害
- D.牙线能够深入……减少细菌感染

答案：D

85.人们经常抱怨自己太忙……多名参与者的……结果显示，无论是……自由时间适中的人幸福感更强。

以下哪项如果为真，最能削弱上述结论？

- A.那些拥有高自由时间……幸福感

- B.实验期间，高低自由……有的生活习惯，从而影响了其幸福感
- C.在实验过程中，有很……，他们的幸福感相对较低
- D.拥有高和低自由时间……感与中等自由时间的人相似

答案：D

86.工会拟给职工发放一……、乙、丙、丁4人回答如下：

甲：洗发精、……、蜂蜜

乙：牙膏、……

丙：洗发精、……酸奶、面粉

丁：洗发精……、牙膏、面粉

工会综合大……有满足。

根据上述……会购买的4种物品中一定有：

- A.牙膏、……蜜
- B.蜂蜜、酸……
- C.面粉、食……油
- D.食……油、牙膏

答案：A

87.只有激情奋斗的青春，只……回忆。因此，没有留下充实的青春回忆，一定没有激情奋斗的青春。

以下哪项与上述论证形式最为类似？

- A.一部作品只……作品，一定不能赢得口碑
- B.加快建设农……农领域安全风险。因此，有效防范了涉……全风险，一定能加快建设农业强国
- C.唯有深入生活、遵循艺术规律、锤炼……座的作品，一定没有深入生活
- D.文艺创作要经得起时代检验和……青春理想的文艺创作，一定经不起时代检验或历史沉淀

答案：C

88.以下哪项如果为真，最能削弱小张的观点？

- A.“逃离”不是缓解工作压力……方式，更不是最好的方式
- B.在快节奏的今天，工作压力大……劳动者在职场普遍面临的问题
- C.“逃离”写字楼的人，更……经济条件下主动规划未来生活

D.有很多人选择“逃……入写字楼从事自己理想的脑力工作

答案：C

89.对于小王的言论，评价正确的是：

A.将是否应该“逃离……成“逃离”写字楼后是否一无所成这一论题

B.在证据不足、缺乏严谨论……然性的例子，就匆忙得出结论

C.对于他人的批评并非……个人背景、身份或与所讨……关的其他特征

D.将“身边的朋友”和其他“逃……友”也具有

答案：D

90.关于小赵对小……最恰当的是：

A.小赵通过……驳了小李

B.小赵通过援……反驳了小李

C.小赵的言论实……无法反驳小李

D.小赵的言论完全……法反驳小李

答案：D

第五部分 策略选择

91.进入六年级，陆续有家长反……下做法最合适的是：

A.安抚家长，正视……发展特点

B.向相应的学生……行教育引导

C.召开主题班……与家长正确沟通

D.召开家长……春期孩子相处

答案：D

92.周日晚上，某寄宿学校所有……列做法最不恰当的是：

A.告知家长学生……不必担心

B.找到学生，……离家出走的原因

C.找科任老……该学生近期情况

D.与家长沟通，请家……校看望孩子

答案：C

93.二（1）班的教室里，学生们正踊……师如何处理最合适：

A.装作若无其事的样……紧去上厕所，继续在班级授课

- B.立即调整上课……已带小李出去上厕所
- C.让小李赶紧去上厕所……知道，不许去嘲笑小李
- D.将小李的保温杯碰……湿”他的裤子，让他出去擦一下

答案：A

94.学校发现初中部一名住宿……生交谈时如何开始最合适：

- A.“你是一个遵守……品就得赔偿，对不对？”
- B.“这个事件让……是弄坏了公共财物……”
- C.“我想这个床坏了……，你愿意和老师说说吗？”
- D.“你如果不愿意跟老……给你爸妈打个电话聊一聊？”

答案：C

95.开学初，一（5）班的小……不起作用。下列做法最恰当的是：

- A.及时优化班级活动……看、跑、玩等多种游戏活动
- B.与家长联系，建议……早进行心理咨询干预
- C.与家长和小浩共同……可以每周上半天课
- D.和他约定，只要能……得到老师的表扬

答案：A

96.高中生小皮父母离异，……开玩笑。后来，班主任进一步了解得知，最近小皮常常被校外人员欺……种情况，班主任应该怎么做？

- ①与小皮爷爷……求家长每天护送小皮
- ②设法消除小皮……他说出事实的真相
- ③向班干部说明小……织同学保护小皮
- ④向学校报备小皮的……出面协调解决

A.①③

B.①④

C.②③

D.②④

答案：D

97.初三（1）班多位……情况，刘老师怎么做最恰当？

- A.联系小静家长……她最近在家的情况
- B.询问班里的……小静的情况
- C.与小静沟通，……解情况

D. 向班干部说……，请他们关注

答案：C

98. 为了防止各小组讨论和汇……节出现的问题，李老师课前最应该做什么？

- ① 深入研读课程标准和……分掌握本节课教学的重难点
- ② 观摩其他班级……熟悉小组合作学习基本流程
- ③ 多渠道学习本……而确定学生学习重难点
- ④ 与班级部分同学进……合小组讨论的学习内容
- ⑤ 合理制定小组的讨……生有效分工，积极参与

A. ①②③

B. ①③⑤

C. ①④⑤

D. ②④⑤

答案：C

99. 针对材料中小张的……何评价最合适？

- A. “声音真洪亮，再……更好了，同组可以帮他梳理一下吗？”
- B. “你的声音真响亮……同学听得清清楚楚的，真是不错！”
- C. “终于有比小韩声音……些复杂，其他同学还有想法吗？”
- D. “我们听得倒是挺……路不是很清晰，下次好好改一改！”

答案：A

100. 针对材料中小刘……师怎么回应最合适？

- A. “通过讨论进行自主……必要的，不能什么都依靠老师。”
- B. “讨论了这么久……明这个问题有讨论的必要。”
- C. “这个问题涉……都讲过，你们好好回忆一下。”
- D. “我讲很容易，……论主动思考，你们理解才会更深入。”

答案：D