

## 考生回忆版

### 【常识部分】

1.无农不稳，无粮则乱。\*\*\*\*\*，首要是粮食和重要农产品供给保障能力必须强。

下列举措属于提升粮食产能的有几项：

- ①切实把种业振兴行动抓出成效，加快生物育种产业化步伐
- ②完善农资保供稳价应对机制，稳定农民预期、降低生产风险
- ③逐步把永久基本农田全部建成高标准农田，确保建一块成一块
- ④制止“舌尖上的浪费”，深入开展“光盘行动”，提倡健康饮食
- ⑤坚决守住 18 亿亩耕地红线，坚决遏制“非农化”、有效防止“非粮化”

- A. 5
- B. 4
- C. 3
- D. 2

【答案】B

2.党的二十大报告指出，\*\*\*\*\*增强国内大循环内生动力和可靠性。下列关于扩大内需说法正确的有几项？

- ①建立和完善扩大居民消费的长效机制\*\*\*\*\*、没有后顾之忧敢消费、消费环境优获得感强愿消费
- ②加快发展贸易新业态、新模式，进一步发挥进出口对我国经济的支撑作用
- ③深化供给侧结构性改革，形成供给牵引需求、需求创造供给的更高水平动态平衡
- ④通过政府投资和政策激励有效带动全社会投资，形成有本金和债务约束的金融需求
- ⑤鼓励和吸引更多民间资本参与国家重大工程和补短板项目建设，激发民间投资活力

A.2 B.3 C.4 D.5

【答案】c

3.党的二十大报告指出，\*\*\*\*\*关于完善收入分配格局，下列说法正确的是：

- ①增加低收入者收入，扩大中等收入群体，取缔过高收入，促进社会公平正义
- ②构建知识、技术、数据等创新要素参与收益分配机制，优化初次分配格局
- ③推动教育、养老、医疗、住房保障等基本公共服务均等化，逐步健全再分配机制
- ④通过发展企业年金，职业年金的措施，发挥第三次分配重要作业

- A. ①②
- B. ①④
- C. ②③
- D. ①③

【答案】c

4. \*\*\*\*是对中\*\*领导法治建设丰富实践和宝贵经验的科学总结，是一个内涵丰富、论述深刻、逻辑严密、系统完备的科学理论体系。下列关于习近平法治思想说法正确的有几项？

- ①自由是\*\*，秩序是自由的保障
- ②\*的领导是社会主义法治之魂，是\*\*法治与西方资本主义\*\*法治最大的区别
- ③发挥\*\*干部示范带头作用，努力使\*\*\*在全社会蔚然成风你
- ④\*\*\*要加强对执法\*\*工作的监督，但对\*\*\*要予以支持，加强解疑释惑，进行理性引导
- ⑤加强重点领域、新兴领域、涉外领域立法，统筹推进国内法治和涉外法治，以良法促进发展、保障善治

A. 2    B.    3    C.    4    D. 5

【答案】

5. 下列对自首的判断说法正确的是：

- A. 甲和乙共同实施盗窃犯罪\*\*\*\*，并独自承担了全部罪刑，甲构成自首
- B. 甲和乙共同实施诈骗犯罪\*\*\*\*，主动交代了乙曾经实施的故意杀人行为，甲构成自首
- C. 王某交通事故逃逸，\*\*\*\*，王某主动交代了肇事逃逸行为，王某构成自首
- D. 甲公司非法集资且规模巨大，该公司总经理李某因害怕隐瞒其他高管偷偷到公安局交代了相关情况，李某作为单位犯罪的直接负责人不能单独自首

【答案】C

6.10.胡女士在甲公司 APP 上看到乙酒店某型客房贵宾优惠价为 2889 元后付款，\*\*\*\*\*关于此案，下列说法错误的是：

- A. 甲公司存在价格欺诈行为，胡女士有权退一赔三
- B. 甲公司向胡女士承诺贵宾优惠价，但未践行承诺，侵害了胡女士的公平交易权
- C. 甲公司的行为导致胡女士遭受了不必要的经济损失，侵害了胡女士的财产安全权
- D. 甲公司 APP 作为中介平台，\*\*\*\*\*，侵害了胡女士的知情权

【答案】C

7.下列顺序正确的是:

- ①氓之蚩蚩，抱布贸丝
- ②青钱白璧买无端，丈夫快意方为欢
- ③农工商交易之路充沛，而龟贝金钱刀布之币兴焉
- ④蜀川老觉家潼川，怀中交子是铁钱

- A.①③②④
- B.①④②③
- C.②④①③
- D.③②①④

【答案】A

8.如果唐太宗李世民\*\*\*\*\*流传至今，那么其中最不可能出现的场景是:

- A.与大臣一起品鉴李白的诗歌作品
- B.与房玄龄等重臣商议旱灾应对之策
- C.接见西域来使，被尊称为“天可汗”
- D.宗庙祭祀时向其父唐高祖李渊上香祷告

【答案】A

9.下列古籍中描述的现象与所体现的物理原理对应正确的是:

- A.《论衡》中提到\*\*\*\*\*轻小物体——分子引力
- B.《考工记》中提到\*\*\*\*\*车仍能向前移动一段距离——惯性
- C.《墨子》中提到天平一端加重物，\*\*\*\*\*——力的相互作用
- D.《异苑》中提到有户人家的铜盆经常发出声音，\*\*\*\*\*，声音就消失了——多普勒效应

【答案】B

10.下列可能发生的是:

- A.西汉末年，某将军与谋士在探讨夷陵之战的胜败之因
- B.唐朝初期市面上流通带有“开元通宝”这样的钱币
- C.魏晋时期其官员家中收藏了褚遂良的众多书法作品。
- D.宋朝时期农民在耕作时参考《王祯农书》里的内容

【答案】C

11.习近平总书记强调，\*\*\*\*\*

- ①北大红楼:红色序章②南湖红船:清正廉洁
- ③遵义会议会址:伟大转折④延安革命根据地:革命摇篮

- A.①② B.①③ C.②④D.③④

【答案】B

12. 地质学家和古生物学家根据\*\*\*\*\*, 将地层分为 4 宙 14 代 12 纪。关于下图说法错误的是:

- A. 太古宙时期回是什么?
- B. 植被覆盖最茂密
- C. 细菌, 蓝藻的出现
- D. 是白垩纪

【答案】D

13. 下列选项错误的是:

- A. 过山车快速下降时\*\*\*\*\*是人重力减少的缘故
- B. 沙滩车轮子宽大\*\*\*\*\*, 防止下陷
- C. 蹦极中腿部绑了弹性非常大的绳子, \*\*\*\*\*, 减少绳子对人的作用时间, 减少绳子对人的作用力
- D. 玩跷板时, \*\*\*\*\*, 是因为人对板的力臂减少

【答案】A

SINCE 2001

14. 下列说法错误的是:

- A. 白糖水水分少、糖分多, 不耐存储
- B. 食用醋 PH 值较低, 抑制抑制细菌和真菌的生长
- C. 美白牙膏依靠过氧化物美白牙齿
- D. 削皮的苹果变色的化学反应影响口感

【答案】A



15. 下列选项错误的是：

- A. 野火烧不尽，\*\*\*\*\*草原生态系统的稳定性
- B. 群雁辞归鹄南翔，\*\*\*\*\*候鸟通过迁徙适应气候变化
- C. 停车坐爱枫林晚，\*\*\*\*\*植物开花受温度和光照影响
- D. 落红不是无情物，\*\*\*\*\*微生物的分解作用及物质的循环

【答案】B

## 【言语部分】

1. 汉语溯源，\*\*\*\*\*在纷繁复杂的词义系统里\_\_\_\_\_，层层深入，探明真相。  
填入画横线部分最恰当的一项是：

- A. 去伪存真
- B. 去粗取精
- C. 抽丝剥茧
- D. 按图索骥

【答案】C

2. 当其他城市还停留在“漫步”的思维里寻找发展机遇时，有的地方已经开始\_\_\_\_\_，深挖骑行、游船休闲消费需求。\*\*\*\*\*产业发展转型升级提供更广阔的市场空间。  
填入画横线部分最恰当的一项是：

- A. 另辟蹊径
- B. 推陈出新
- C. 招兵买马
- D. 大展拳脚

【答案】A

3. 中华民族追求疆域领土统一、推崇中央政府权威、注重文化共识\_\_\_\_\_，反对国家四分五裂、地方各自为政、\*\*\*\*\*但统一始终是\_\_\_\_\_。不论分裂的时间有多长、分裂的局面有多严重，最终都会重新走向统一。

依次填入画横线部分最恰当的一项是：

- A. 凝聚 主流
- B. 汇合 重心
- C. 凝结 核心
- D. 汇聚 主题

【答案】A

4. 一些品牌随意挑选\*\*\*\*\*就为自己打出国潮的\_\_\_\_\_。这根本算不上真正意义的国潮，国潮不是简单的文化包装，而是传统文化与现代审美的深度\_\_\_\_\_。

依次填入画横线部分最恰当的一项是：

- A. 名头 交汇
- B. 标签 结合
- C. 标记 融汇
- D. 噱头 融合

【答案】D

5. 近日，\*\*\*\*\*倒不如说是新的生活审美态度在这几年间\_\_\_\_\_发生了转变，回归于事物的本质功能。人们日益发觉，简单、温暖地生活着，其实就是一种\_\_\_\_\_的幸福。依次填入画横线部分最恰当的一项是：

- A. 蓦然 不可多得
- B. 豁然 无可替代
- C. 全然 难以名状
- D. 悄然 弥足珍贵

【答案】D

6. 中国地理位置相对独立，\*\*\*\*\*人类迁徙的绝对\_\_\_\_\_，但会给大规模人群的流动带来挑战，尤其在环境恶化时更是如此。在这样相对封闭的生态环境中，于气候适宜期迁徙至此的早期直立人生存繁衍，\_\_\_\_\_。

依次填入画横线部分最恰当的一项是：

- A. 隔断 代代相传
- C. 障碍 开花结果
- B. 阻碍 绵绵不绝
- D. 屏障 开枝散叶

【答案】D

7. 电影黄金档期票房\*\*\*\*\*但电影产业的经济影响\_\_\_\_\_，因为人们会通过这一数字，来\_\_\_\_\_经济、社会的运转状况，尝试从中寻找规律、得到启发。

依次填入画横线部分最恰当的一项是：

- A. 不容小觑 管窥
- B. 毋庸置疑 分析
- C. 举足轻重 估量
- D. 兹事体大 洞察

【答案】A



8. 中国的岁时节日既情意盎然又韵味绵长，以其深厚的旨趣，令人\_\_\_\_\_，堪称中国人心目中的精神原乡。\*\*\*\*\*世界各地都开始有中国的节庆文化，华夏民族的古老智慧，在中滋润着这个世界。

依次填入画横线部分最恰当的一项是：C

- A.心向往之 春风化雨            B.心旌摇荡（jing） 继往开来  
C.心驰神往 历久弥新            D.心旷神怡 经久不衰

【答案】C

9.近年来，以云计算、大数据、人工智能等技术引领的新一代数字化浪潮\_\_\_\_\_。\*\*\*\*\*新技术新业态新模式\_\_\_\_\_，数字经济日渐成为继农业经济、工业经济之后的新兴经济形态。

依次填入画横线部分最恰当的一项是：B

- A.汹涌澎湃 此起彼伏            B.浩浩荡荡 层出不穷  
C.波澜壮阔 生生不息            D.气壮山河 方兴未艾

【答案】B

10.县域是连接农村和城市的重要\_\_\_\_\_，也是未来城镇化的重要载体。然而，虽然县域流动人口限制取消，农民工落户意愿却并未显著\_\_\_\_\_。究其原因，\*\*\*\*\*，关键是\_\_\_\_\_“稳定就业难、体面居住难、安心落户难”三大难题。

依次填入画横线部分最恰当的一项是：B

- A.纽带 增加 解决            B.枢纽 增强 破解  
C.关节 加强 分解            D.节点 上涨 解答

【答案】B

11.正所谓沧海桑田，\*\*\*\*\*\_\_\_\_\_的沙漠中意外发现了神秘的史前岩画，数十万幅精美的图像描绘着种群繁盛的大象、长颈鹿、河马和羚羊被猎人追捕的\_\_\_\_\_场景。可以推想，史前人类\_\_\_\_\_了撒哈拉由草原变成沙漠的过程。

依次填入画横线部分最恰当的一项是：C

- A.沉寂 神秘 见证            B.干燥 震撼 记录  
C.荒凉 生动 经历            D.广袤 壮观 目睹

【答案】C

12.20世纪80年代，伴随乡村民俗活动及观念的日益\_\_\_\_\_，\*\*\*\*\*年画艺术就与“年”的关系\_\_\_\_\_，木版年画的雕版套印技术，以及由此形成的传统审美趣味至此走到了边缘。

依次填入画横线部分最恰当的一项是：B

- A.弱化 形同陌路 式微            B.淡化 渐行渐远 没落  
C.淡出 今非昔比 衰亡            D.遗失 每况愈下 消弭

【答案】B

13.蜱虫具有恐怖的吸血能力，它会找到皮肤上隐蔽的角落，\_\_\_\_\_地吸血好几天，\*\*\*\*\*由各种蛋白质“\_\_\_\_\_”而成，\*\*\*\*\*多种病原体便会趁机入侵人体。

依次填入画横线部分最恰当的一项是：B

- A.不声不响 搅拌 启动            B.堂而皇之 调配 惊扰  
C.明目张胆 凝结 触发            D.有恃无恐 混合 唤醒

出处：《生态中国网》这种虫叮了会致命，超两亿人有感染风险

【答案】B

14.一款零食以前能靠独特口味畅销十几年，这在今天几乎是天方夜谭。新爆款横空出世，模仿者很快\_\_\_\_\_，\*\*\*\*\*，相比于\_\_\_\_\_的零食巨头，轻资产的中小品牌反而更容易在时代变幻莫测的风向中\_\_\_\_\_。

依次填入画横线部分最恰当的一项是：A

- A.蜂拥而至 尾大不掉 闪转腾挪      B.后来居上 作茧自缚 捷足先登  
C.青出于蓝 因循守旧 稳操胜券      D.龙争虎斗 老气横秋 脱颖而出

【答案】A

15.科学从来不会\_\_\_\_\_自己洞察了宇宙所有的真相和奥秘，\*\*\*\*\*没有任何一种理论能够\_\_\_\_\_和解释所有的现象，回答所有的问题

依次填入画横线部分最恰当的一项是：A

- A.宣称 描述      B.认定 把握  
C.预言 分析      D.标榜 论证

【答案】A

16.从道理上讲，科普和科幻都可以\_\_\_\_\_，但实际上，\*\*\*\*\*但科幻的载体主要是小说、电影，科幻作品的范围较为\_\_\_\_\_和集中

依次填入画横线部分最恰当的一项是：

- A.一应俱全 局限      B.应有尽有 狭隘  
C.无所不包 有限      D.包罗万象 狭窄

【答案】D

17.文旅开发需注重对古镇自然环境的呵护，避免简单\_\_\_\_\_其他文旅项目大广场\*\*\*\*\*已经让众多注重旅游体验的游客“用脚投票”，尤当\_\_\_\_\_。

依次填入画横线部分最恰当的一项是：

- A.移植 引以为戒      B.复刻 居安思危  
C.参考 防微杜渐      D.借鉴 慎之又慎

【答案】A

18.目前热议的“网约车订单饱和”不能\_\_\_\_\_，\*\*\*\*\*相关部门适时\_\_\_\_\_风险，对于动态调整市场供求关系也将发挥积极作用。

依次填入画横线部分最恰当的一项是：

- A.简而言之 防范      B.一概而论 预警  
C.予以臧否 调控      D.妄下结论 评估

【答案】B

19.竞技体育的天才型选手，胜利对于他们似乎是\_\_\_\_\_的。\*\*\*\*\*，\_\_\_\_\_于众人。

依次填入画横线部分最恰当的一项是：

- A.驾轻就熟 无异      B.天公地道 泯然  
C.信手拈来 混迹      D.唾手可得 湮没

【答案】D



20.就常理而言，阳春白雪似乎和下里巴人“\_\_\_\_\_”，\*\*\*\*\*这仿佛已是艺术史上一条的定律

依次填入画横线部分最恰当的一项是：

- A.南辕北辙 亘古不变
- B.势不两立 颠扑不破
- C.信判若云泥 屡试不爽
- D.各自为阵 毋庸置疑

【答案】B

21.科创企业往往轻资产、高风险，\*\*\*\*\*缺乏针对科创企业的中长期贷款产品。

这段文字意在强调：

- A. 科创企业的贷款不足
- B. 科创企业创业风险高
- C. 缺少适合科创企业的金融产品
- D. 金融机构对科创企业信心不足

【答案】C

22. 人类特别喜欢读到和关注有关他人和社会的负面信息，\*\*\*\*\*因此时过境迁，再大的悲剧也可以慢慢放下。这种“有偏见的记忆效应”又解释了为什么人们认为过去的道德水平相对较高。这段文字意在说明：

- A. “世风日下”可能是一种群体心理错觉
- B. 心理层面人们更愿记住过去美好的事件
- C. 道德水平的高低取决于负面事件的影响
- D. 媒体传播强化了人们对负面信息的接收

【答案】A

23. 关于文艺与时代的关系，中外许多艺术家都有过精辟论述。如诗人白居易说过“文章合为时而著，歌诗合为事而作”；\*\*\*\*\*在实践中丰富和完善艺术理想，积极响应“为时代画像、为时代立传、为时代明德”的号召，拿出更多艺术精品献给人民和这个伟大的时代。这段文字意在说明：

- A. 文艺创作绝不能脱离当下时代的社会现实
- B. 时代需要更多反映社会发展趋势的好作品
- C. 艺术家要在实践中不断丰富发展文艺理论
- D. 文艺既要反映时代现实又要超越时代现实

【答案】D

24.数字媒介是现代文明尤其是科学技术文明的最新成果，它本身就是现代文明的一部分，在数字媒介上人们不断创造新的文化样态，\*\*\*\*\*既是在场的交往又是离身的交往，文化族群之间的交往更加频繁。

这段文字意在强调：D

- A.文化交流途径依赖数字化传播
- B.数字技术不断创造文化新样式
- C.数字化的交流不再受时空限制
- D.数字媒介多维度影响文明交流

【答案】D

25.竹秆(茎)质地坚硬,被称作木质茎,只有初生结构,\*\*\*\*\*竹壁自外向内,分为竹青、竹肉、竹黄三个部分,竹青含叶绿素呈绿色,可以进行光合作用。

根据这段文字,下列说法错误的是:

- A.竹秆只能长高不能长粗
- B.竹子能够进行光合作用
- C.竹秆的节数在出笋时就已基本固定
- D.竹子的木质特性来自于次生木质部**

【答案】D

26.文言和白话是两个相互依存的概念,无文言,也就无所谓白话,但它们并不等同于书面语和口语。受限于语言保存技术,\*\*\*\*\*话是汉魏六朝以后,随着语言发展变化而形成的较为接近口语的言语,偶尔也夹杂一些文言成分,较能反映语言的时代性和区域性特点。

根据这段文字,下列说法正确的是:

- A.汉魏六朝以后的作品都属于白话文
- B.古代汉语实际上包含白话文的成分**
- C.文言文更能反映语言的时代性特点
- D.文言与白话分别等同书面语与口语

【答案】B

27.很多手工艺材料是因其所成之物原本的功能在现代社会中弱化或消失,才造成选材方向的改变,由此,治物不再依据客观需求,\*\*\*\*\*回溯历史,由古人之物及用物文化可见,传统手工艺的发展是不断发现和使用合用的材料治物以为人服务,而不是仅仅围绕某种物质存在的技术活动。

关于手工艺材料,文中传统观点认为:

- A.材料之美源于适用**
- B.发掘材质本身之美
- C.选材应趋于多元化
- D.治物基于艺术表现

【答案】A

28.我国平台经济具有较好的数据贯通能力和智能分析能力,\*\*\*\*\*在上下游联动、数实融合中创新孵化。

根据这段文字,我国平台经济需向哪个方向引导?B

- A.助力产业协同
- B.赋能实体经济**
- C.提升管理能力
- D.孵化创新产业

【答案】B

29.在真空蒸发器(以下简称蒸发器)内,\*\*\*\*\*不过,由于二次蒸汽的温度相对较低,为了有效利用其中的热量,此时会降低蒸发器中的压力。\*\*\*\*\*如此,通过多个蒸发器联用,不断回收蒸汽来进行加热,可以大大节省蒸汽的消耗量。

根据这段文字,为了节省蒸汽消耗量需采取的措施是:

- A.降低卤水的浓度
- B.提高蒸汽的温度
- C.降低蒸发器中的气压
- D.增加蒸发器的数量**

【答案】D

30.在确定是否认识一个人时，\*\*\*\*，而人的名字藏在记忆的某个角落，我们需要通过检索、回忆等过程，才能最终确定答案，这比识别更加复杂。所以\_\_\_\_\_。

填入画横线部分最恰当的一项是：B

- A.大脑确定是否认识一个人的过程非常的复杂
- B.记住一个人的名字比记住他的长相要难得多**
- C.大脑根据一个人的面部特征来回忆他的名字
- D.回忆名字需要与对词语、句子的记忆相联系

【答案】B

31.①他们认为成绩不好是老师和父母的责任，遇事不愿互动解决而更多地选择逃避

②究其原因，\*\*\*\*自己的行为会导致什么样的后果

③有研究显示，规则有助于孩子的健康发展

④那些家里规则清楚，始终保持一致，\*\*\*\*⑤而那些生活在规则意识且标准不稳定的，父母情绪易怒，而控制感、指责型家庭的孩子，更加自卑胆小

⑥这样有助于他们学会调整自己的动力，开始自己制定目标

- A.④②⑥⑤①③
- B.③④⑥②①⑤
- C.③②⑥④①⑤

**D.③④②⑥⑤①**

【答案】D

32. 长期来看，\_\_\_\_\_。美国“人类脑计划”研究发现，坚持运动可以明显增加神经细胞的数量，使大脑像肌肉一样越练越强大。\*\*\*\*前额叶掌控着决策、注意力以及人格；海马体具备形成及存储长时记忆的重要功能。

填入画横线部分最恰当的一句是：

- A. 运动能够增强人的记忆力
- B. 运动会增加大脑中某些营养因子
- C. 运动让人更健康，有活力
- D. 运动能够改变大脑的结构和功能**

【答案】D

33.开发前沿技术应用场景的实践价值在于，通过将前沿技术落地转化为生产力。高技能人才的宝贵之处不在于突破核心技术，\*\*\*\*燃气行业的建设重点是智能表具系统……这些前沿技术的应用场景不是原始创新，而是技术的跨界融合，需要一线技术人员基于行业特点寻找适合的前沿技术实现赋能和融合。

最适合做这段文字标题是

- A. 智能技术的开发与利用具有行业选择性
- B. 技术落地的基础——突破创新，跨界融合

C. 找准问题——开发前沿技术应用场景的核心

**D. 高技能人才——前沿技术应用落地的“嫁接者”**

【答案】D

34. 众多民间手工艺、戏曲等非物质文化遗产的遗失，\*\*\*\*\*\_\_\_\_\_。比如，《中国通史》等纪录片在视频平台上收费观看，使传统文化释放出可观的商业价值，纪录片创作方、版权方、播出方实现商业共赢；有花丝镶嵌技艺非遗传承人入驻电商平台，一年多来售出超 20 万件工艺产品。

填入画横线部分最恰当的一句是：

**A. 只有文化消费市场活跃，传统文化创作才能有动力**

B. 文化产业在新的发展能量集聚下将释放出更多精彩

C. 正是对传统文化的创新演绎成就了文化产业发展

D. 只有新媒体技术加持才能推动传统文化的传播

【答案】A

35. 近年来，为建设便民生活圈，北京、上海、杭州等多地兴办了不少社区食堂。除了老年人，一些年轻人、\*\*\*\*\*经营者也必须有市场化竞争意识，在长期运营上拿出“绣花功夫”。最适合做这段文字标题的是：

A. 社区食堂的“小餐桌”与大民生

**B. 统筹社区食堂“公益”与“效益”**

C. 激发活力，创新社区食堂运营新模式

D. 办好食堂，让社区居民共享幸福“食”光

【答案】B

36. 1 万多年前进入新石器时代后，中国中东部地区形成五大文化系统，彼此之间已有一些联系。距今 8000 多年后各区域间的文化交流加速，\*\*\*\*\*裴李岗文化发挥了纽带作用，四个文化系统初步联结为一个相对的文化共同体，从而有了早期中国文化圈或文化上早期中国的起源。

这段文字旨在强调：

A. 中国文化共同体源于新石器时代

B. 中国文化圈地理范围不断演变发展

C. 裴李岗文化是早起中国文化圈的核心

**D. 文化上早期中国源于各文化系统的交融**

【答案】D

37. 草原生态系统通过生物多样性，\*\*\*\*\*，河流和湖泊的淡水也有赖于草原涵养水源的功能；草原上的植物通过蒸腾作用、光合作用，降温、调节气候，还可以配合土壤发挥调蓄作用。

这段文字意在说明：

A. 草原具有涵养水源的重要作用

**B. 草原生态系统具有生物多样性**

C. 草原植物具有降温和调蓄作用

D. 草原与我们日常生活密不可分

【答案】B

38. ①它们不仅记录了长江历年的水文资料，而且具有很高的文学艺术价值  
 ②为配合三峡水库的建设，\*\*\*\*\*“丰年碑”已完全没于水下不得见  
 ④位于重庆朝天门码头的“丰年碑”、\*\*\*\*\*长江中游的三大石刻碑群  
 ⑤白鹤梁题刻保存完好，\*\*\*\*\*“全国重点文物保护单位”的遗址  
 ⑥在水下考古调查研究基础上设\*\*\*\*\*联合国教科文组织面向全球推广的经典案例。  
 将以上 6 个句子重新排列，语序正确的一项是：

- A. ④③⑤②⑥①
- B. ④①③②⑤⑥**
- C. ⑤③②⑥④①
- D. ⑤④③①②⑥

【答案】B

39. 随着大数据、物联网、云计算等现代智能技术的发展，\*\*\*\*\*。对智慧治理面临新任务新期待的理论认识不足，主动适应不够，以及过度依赖智能技术对智慧治理的定位不准是导致困境和风险的重要原因。\*\*\*\*\*过程融合及目标融合是实现这一转变的重要途径。假如这是一篇文章的摘要，那么这篇文章的标题可能是：

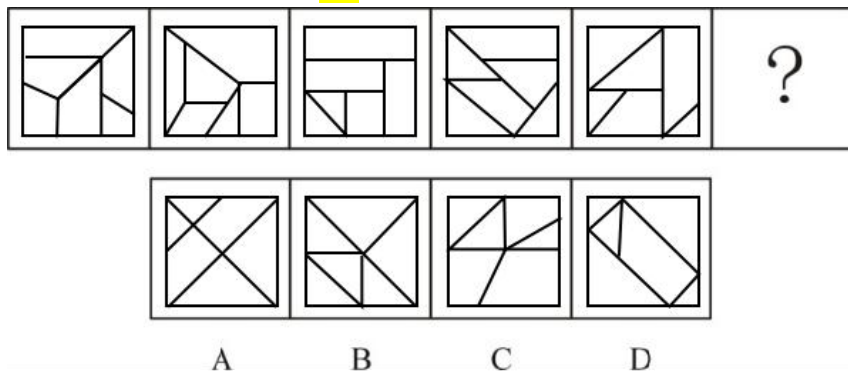
- A. 迈向技术融合的智慧治理**
- B. 理论认识不足制约智慧治理
- C. 智慧治理存在的问题及成因分析
- D. 智慧技术赋能的智慧治理路径

【答案】A

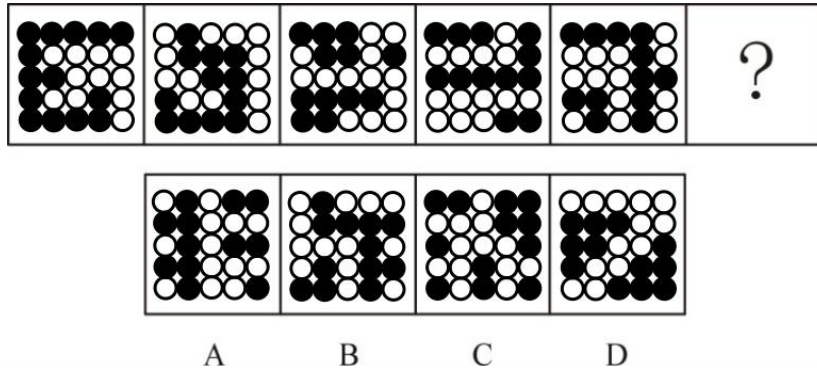
【判断部分】

图形推理

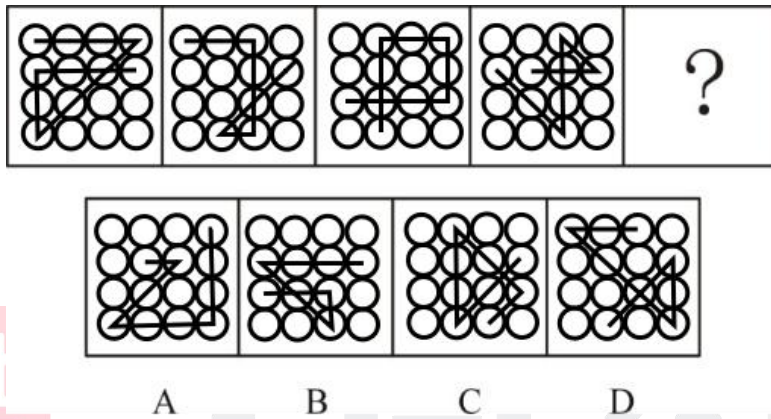
1. 四个选项，填入最符合的为 ( D )



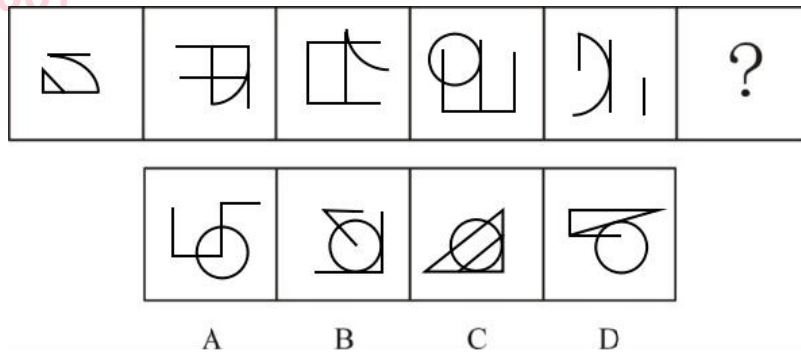
2. 四个选项，填入最符合的为 ( C )



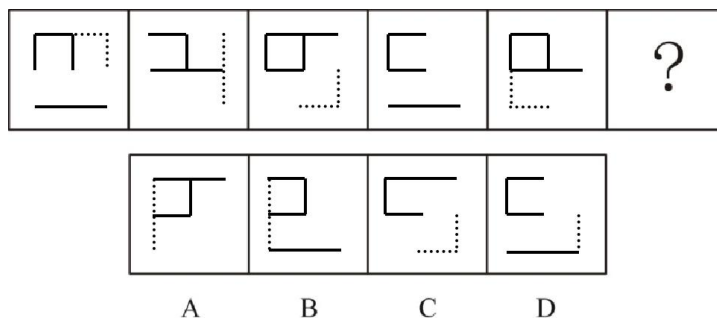
3.四个选项，填入最符合的为 ( D )



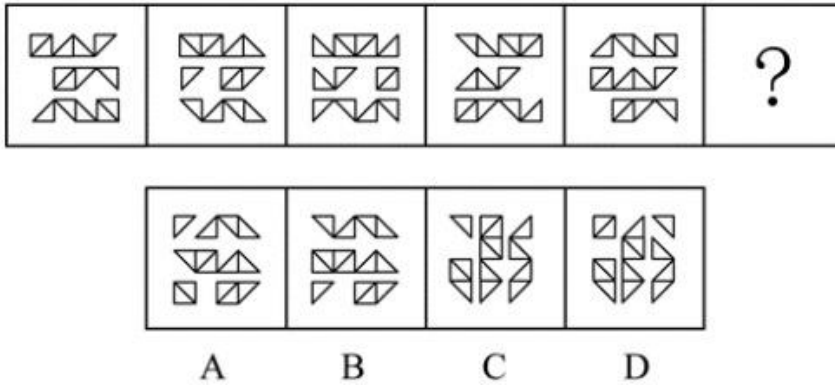
4.四个选项，填入最符合的为 ( D )



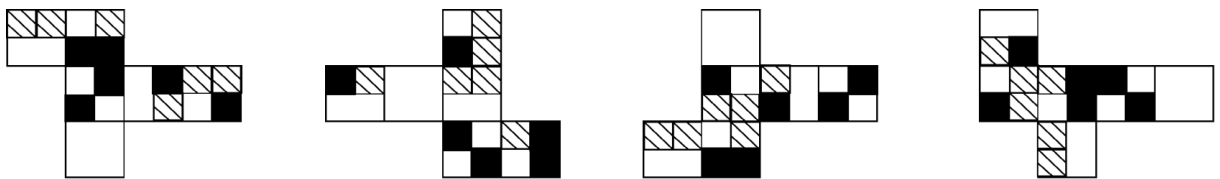
5.四个选项，填入最符合的为 ( A )



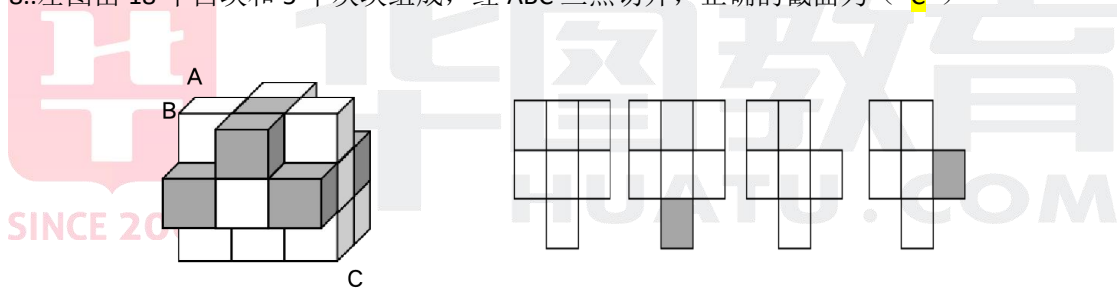
6.四个选项，填入最符合的为 ( B )



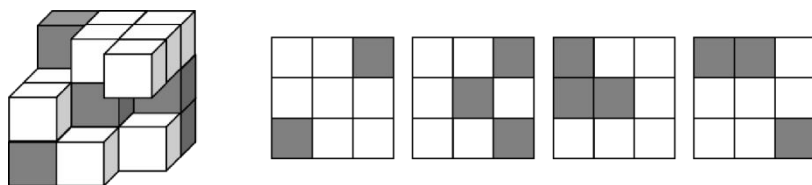
7. 下列是六面体的展开图，哪个选项不一样 (B)



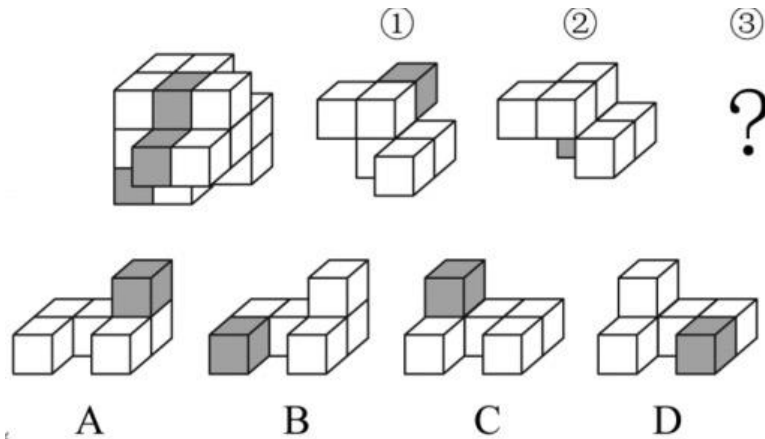
8. 左图由 18 个白块和 5 个灰块组成，经 ABC 三点切开，正确的截面为 (C)



9. 以下哪个选项不是左侧立体图形的视图 (B)



10. 下图为 15 个白色和 3 个灰色正方体组合而成的多面体，其可由①、②和③三个多面体组合而成，问能填入问号处的是：(D)



定义判断

1. 职场义警是指同事在职场中能够感知到违反公司规范的行为，\*\*\*\*\*范者进行直接或间接惩罚。

根据以上定义，属于职场义警的是（）

- A.同事在上班时间闲谈，老王看不过去，瞅准机会对这个同事进行批评教育
- B.小强认为公司强制加班行为违反了劳动法，向公司主管部门实名举报
- C.带红袖章的居委会\*\*\*\*\*绿灯的行人批评教育
- D.保卫科小刘就公司员工安全意识薄弱问题向领导汇报，建议领导通报批评

2. 矛盾职业认知是指从业者对于自身职业兼具认同和不\*\*\*\*\*应了从业者对于自身职业的矛盾情感。

根据上述定义，属于矛盾职业认知的是（）

- A.小强对于未来就业迷茫，\*\*\*\*\*，另一方面觉得工作压力会很大
- B.网络主播在社会上不被认可，小飞却要将主播作为一生事业进行下去
- C.小刚父母想要小刚毕业后考公务员，小刚自己却更想当一名教师
- D.老汪觉得送快递很累，但时间相对自由，因此他坚持下去

3. 邻里效应是指在一定的空间范围内，\*\*\*\*\*模仿和跟从，根据定义，下列属于邻里效应的是：

- A.村东的张三新买了一辆小轿车，村西的李四看到后，紧接着也买了一辆
- B.老王去年种的玉米格外高产，今年村里的邻居都跟着他家买一样的种子
- C.老孙的儿子初中毕业后选择上职高，这吸引了村里其他孩子也进了职高
- D.邻居们觉得牛二家房屋装修设计很漂亮，于是纷纷向他取经翻修自家

4. 警觉性市场学习是指企业或组织为提高深度市场洞察系统而提前建立预警系统，\*\*\*\*\*需求微弱信号的学习行为。

根据上述定义，下列属于警觉性市场学习的是：

- A.公司提醒小吴要想在职场上保持优势地位避免被淘汰，在家必须利用业余时间学习
- B.阳阳上课时注意力不集中，为帮他养成良好习惯，家长聘请了心理专家进行干预
- C.某知名品牌组建市场调研定期监测市场动向，积极培训员工，努力规避潜在风险



D、房地产开发商通过暂缓开发或拖延施工进度等方式，试图化解可能面临的发展危机。

5. 逆向选择性监管是在某些监管领域中，\*\*\*\*\*使得监管强度与对象违规程度成反比的现象。

根据定义，属于逆向选择性监管的是：（）

- A. 监管部对证照齐全的大\*\*\*\*\*却对问题突出的个体培训放任自由
- B. 候车时，守序排队的人上车没座位，\*\*\*\*\*公交车却不加干预
- C. 班主任把易犯错误\*\*\*\*\*，以便任课老师监督
- D. 在每年的消费者权益保护日晚上，监督部门都会重点披露一些违规产品

6. 适应性绩效是指个体应对，\*\*\*\*\*境中持续高效运作均具有重要意义：下列属于适应性绩效的是：

- A. 企业为适应市场环境，加\*\*\*\*\*以维持主管业务的竞争力
- B. 为响应绿色碳生产要求，\*\*\*\*\*高耗能生产项目
- C. 50多岁的赵老师的适应新的网络教学方式，专门学习了相关电脑技术
- D. 为了适应公司海外市场的快速拓展，销售骨干小刘开始学起了第二外语

7. 积极独处是个体主动选择与他人的交际分离，\*\*\*\*\*从而产生的一种内在积极体验。下列属于积极独处的是（）

- A. 小孙睡眠民质量不好，外出工作时一般都不和同事一起住。
- B. 小钱已经预定了演唱会门票，谢绝了同事下班后的聚餐邀请
- C. 为了准备研究生入学考试，小赵几乎不参加社交活动，他感到很充实
- D. 小同适应了不了职场人际关系\*\*\*\*\*整日在家刷视频

8. 即兴能力是企业在紧急不可预测环境下计划与行动同时进行，\*\*\*\*\*从而自发地实现预期目标的能力。

下列定义属于即兴能力的是：

- A. 企业聚餐，\*\*\*\*\*高涨起来即兴为大家表演了诗朗诵
- B. 负责公司招聘的人力资源部\*\*\*\*\*最终录用人员
- C. 某企业面对技术封锁边调整发展规划\*\*\*\*\*，最终成长为行业巨头
- D. 为应对未来劳动力成本大幅攀升的不利影响，企业开启了机器设备升级换代工作

9. 领导者对下属或员工的过错惩罚有两种，\*\*\*\*\*领导施加了与下属实际绩效和表现不相符的过度惩罚。

属于领导非权变惩罚的是：

- A. 小刘操作机床，故\*\*\*\*\*公司根据规定加重处罚
- B. 因甲方无法如期履行合同义务，乙方领导指示法务根据合同严肃追究甲方违约责任
- C. 刘律师因疏忽错过上诉期，尽管已获得委托人谅解，但律所仍定格处罚。
- D. 小郑不小心给客户少发了部分产品，及时补发，按规定只需罚款，但经理坚持开除。

10. 领导负面反馈是指领导\*\*\*\*\*其目的是激励员工更加努力工作或改变行为方式以减小差距。

根据上述定义，下列属于领导负面反馈的是：

- A.人力资源部王部长对总经理说，\*\*\*\*\*建议合同到期后不再续聘
- B.厨师小徐因为炒菜口味问题被顾客多次投诉，厨师长对他进行了严肃批评并帮他寻找原因
- C.在单位年终总结会上\*\*\*\*\*积极就自身工作不足向同事们征求批评意见
- D.办公室侯主任把年度考核不合格\*\*\*\*\*人事处向员工通报了处理结果

类比推理

76. 文字：汉字

- A.工人：矿工
- B.宇宙：恒星
- C.中国：北京
- D.判断：概念

77. 前因后果：因果

- A.内忧外患：忧患
- B.南征北战：征战
- C.左顾右盼：顾盼
- D.有始无终：始终

78. 飞机：机库：机场

- A.课桌：桌椅：桌面
- B.药品：药盒：药箱
- C.乘客：客车：车站
- D.汽车：车轮：车轴

79. 制造：中国制造：智能化中国制造

- A. 批评：自我批评：剖析式自我批评
- B. 小说：长篇小说：中长篇科幻小说
- C. 学习：深度学习：机器人深度学习
- D. 锻炼：体育锻炼：有意识体育锻炼

80. 风吹：草低：见牛羊

- A.浪打：船摇：靠舵手
- B.游人：如织：显道窄
- C.日照：香炉：生紫烟
- D.雨淋：花落：闻余香

81. 窗户：窗帘：遮光

- A.桌子：桌布：防污
- B.电脑：鼠标：操作
- C.座椅：座垫：美观
- D.茶杯：茶叶：茶水



82. 信息科技：生物科技：科技

- A. 机械工业：智能工业：工业
- B. 纺织产业：物流产业：产业
- C. 公共交通：城市交通：交通
- D. 商品住房：保障用房：住房

83. 政治家：文学家：思想家

- A. 马铃薯：西红柿：农作物
- B. 科幻片：纪录片：故事片
- C. 污染物：氧化物：硫化物
- D. 运动员：跆拳道：大学生

84. 山西：陈醋：粮食

- A. 甘肃：秦苏：植物
- B. 四川：蜀绣：丝绸
- C. 陕西：剪纸：纸张
- D. 河南：汝瓷：瓷土

85. ( ) 对于主演相当于\*\*\*\*\*对于 ( )

- A. 主角：顾客
- B. 配角：消费者
- C. 男主角：客户
- D. 导演：店主

逻辑判断

1. 前不久，某地烧烤突然在网上蹿红，\*\*\*\*\*最近，网上开始出现一些某地烧烤“凉了”的帖子，依据有三：一是客流量下降，二是一些烧烤店开始转让门面，三是网络搜索热度大不如前。

以下哪项组合如果为真，最能质疑上述帖子的观点？

- ①与其说是“凉了”，不如说是回归常态。眼下，某地烧烤虽然“降温”，但相较“火”起来前还是热得多
- ②某地烧烤的蹿红吸引了众多入局者，\*\*\*\*\*有些店面转让出局很正常
- ③互联网制造热点具有更新换代快、生命周期短等特点。\*\*\*\*\*但这并不等于“凉了”
- ④一场让全民或围观或参与的烧烤让更多人认识了某地\*\*\*\*\*A. ①②
- B. ③④
- C. ①②③
- D. ①②③④

2. 科学家一直在对世界最高峰顶部积雪厚度进行测量研究。\*\*\*\*\*珠峰顶部积雪比以前认为的要深得多，平均达 9.5 米。

以下哪项如果为真，最能支持上述结论？

- A. 探地雷达的测量结果证明了珠穆朗玛峰山脊的地形相对平坦
- B. 集中于珠峰山脊的 26 个测量点显示，各点积雪深度均为 9.5 米

- C. 探地雷达对珠峰北坡海拔 7000 米以上山脊反复测量的结果可靠  
D. 雪和岩石表面差异很大，探地雷达可准确确定这两种物质的边界

3. 视觉（光）是哺乳动物最重要的感知，\*\*\*\*\*以下哪项如果为真，最能支持专家的观点？

- A. 蜻蜓拥有近乎三百六十度的视野，它们不用频繁地扭动头部，就可以发现目标猎物  
B. 新生儿出生前视网膜已经发育，\*\*\*\*\*多增加光环境可以促进新生儿大脑发育  
C. 细胞光感受的缺失，会导致幼鼠在学习速度上的缺陷，但这种缺陷可以被幼年时人为激活该细胞或视上核的催产素神经元所弥补  
D. 小蝙蝠的视杆细胞主要用于感受暗光，\*\*\*\*\*可以忽略视觉对它的重要性

4. 某高校针对去年其图书馆的书籍借阅情况做了调查。\*\*\*\*\*因此，文学类书籍的受欢迎程度要高于科技类书籍。

以下哪项如果为真，最能削弱上述论证？

- A. 科技类书籍学习难度较大  
B. 文学类书籍占该校图书馆馆藏一半以上  
C. 该校就读文科专业的学生接近三分之二  
D. 除了文学类书籍，法律、哲学类书籍也很受欢迎

5. 有研究报告指出，\*\*\*\*\*因此人类可能会失去大多数药物来源。

以下哪项如果为真，最能质疑上述观点？

- A. 动物以及真菌类也是重要的药物来源  
B. 植物受威胁甚至濒临灭绝的情况明显超过动物  
C. 地球上的植物大概有 40 万种，当前开发为药用植物有一万多种  
D. 植物的药用价值也正是其濒临灭绝的主要原因，亟需寻找可替代药物

6. 世界上一些棉花种植区域的虫害导致全球棉花价格大幅上涨。\*\*\*\*\*棉花价格的高涨将大幅提高棉花种植者的收入。

以下哪项如果为真，最能削弱上述论证？

- A. 过去几年大豆种植成本显著增加，预计将继续攀升  
B. 很少有消费者愿意为棉织品支付比现在更高的价格  
C. 甲国新研发的杀虫剂价格低廉，还能有效杀死棉花害虫  
D. 未来几年，甲国的棉花和棉花制品需求量不会急剧增加

7. 借助水文气象卫星 20 年采集的数据，\*\*\*\*\*气候变暖让这片海域变得越来越绿。

以下哪项如果为真，最能支持上述结论？

- A. 变绿海域都处在热带和亚热带，特别是赤道附近  
B. 如果海洋持续变暖，海洋变绿现象会持续地加剧  
C. 气候变暖会大大加速热带和亚热带海洋浮游植物生长  
D. 模拟海洋生态系统证明气候变暖与海水变绿之间存在正相关关系

8. 帕金森病作为一种严重的神经变性疾病，其发生的潜在原因尚不清楚，尽管遗传突变已经成为诱发帕金森病的一种已知原因，\*\*\*\*\*这一发现表明潜在的环境因素是帕金森病的诱因之一。以下哪项如果为真，最能支持上述观点？

- A. 人类微生物组可能影响神经退行性疾病

B.帕金森病患者的肠道微生物组环境与健康人不同

C.帕金森病诱因的发现为开发新型疗法提供了方向

D.杀虫剂和工业化学物质等与机体神经退化之间不存在明显关联

9.小赵、小李、小周、小孙、小钱\*\*\*\*\* “谁是卧底”的游戏，已知五人中有两人是卧底，且存在以下情况：

①如果小钱不是卧底，那么小赵也不是卧底

②如果小李是卧底，那么小周一一定是卧底

③小赵、小李两人中至少有一人是卧底

④只有小孙是卧底时，小钱才是卧底

⑤小孙不是卧底

则卧底是：

A.小李和小周

B.小钱和小李

C.小赵和小钱

D.小赵和小周

10.有 7 个专家分成两组，\*\*\*\*\*，需要满足 4 个条件：

①甲和丙不能在一组；

②如果乙在第一组，则丁也在第一组；

③如果戊在第一组，则丙在第二组；

④己在第 2 组。

如果丙和戊在同一组，下列不能是一组的两人是？

A.甲和乙

B.甲和丁

C.庚和乙

D.丙和庚

56.甲、乙两工厂共同完成某个生产订单需 12 天，\*\*\*\*\*问如整个订单由乙单独生产，需要多少天？

A.20

B.23

C.26

D.30

57.运动会招募志愿者，第一次招募了不到 100 人，\*\*\*\*\*问最多可能补招了多少女性志愿者？

A.3

B.5

C.6

D.10

58.部队射击比赛中，5 名参赛战士攻击中了 88 个目标，已知任意 2 人击中数量均不相同，

问射击成绩排前 2 名战士至少击中了多少次目标?

- A.37
- B.39**
- C.58
- D.82

59.企业将 12 个技术培训名额分配给甲、乙、丙三个研发团队。\*\*\*\*\*且每个团队至少分配 1 个名额。那么有多少种不同的分配方式?

- A.7**
- B.9
- C.36
- D.42

60.某日,企业要安排 20 人从甲地前往乙地出差,单程总预算不超过 2 万元。已知从甲地到乙地的全价机票为 2000 元,购买全价或折扣机票,\*\*\*\*\*那么在预算范围内最多能安排多少人乘飞机前往乙地?

- A 11
- B 12
- C 13**
- D 14

61.商店销售甲、乙、丙、丁四种商品,\*\*\*\*\*四种商品每种至少销售 1 件,且甲、丁销量相同。问当天丙的销量为多少件?

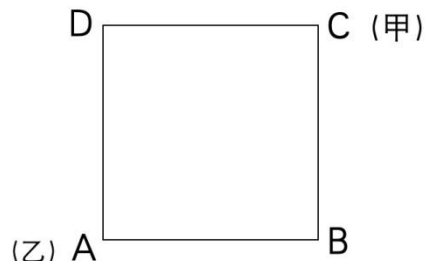
- A 21
- B 27
- C 29
- D 31**

62.王师傅加工零件,\*\*\*\*\*问加工完成 6 个零件最少需要多少分钟(不计换零件时间)?

- A.6**
- B.7
- C.8
- D.9

64.某校园围墙外的道路是一条边长为 300 米的正方形(如周),\*\*\*\*\*。问甲乙两人第一次处于同一条边是在哪一条边上?

- A.AB
- B.BC**
- C.CD
- D.DA



65.安排 ABCD 四个团队完成甲乙丙 3 个课题,要求每个课题至少一个团队参与,\*\*\*\*\*共有多少种安排方式?

- A.24
- B.26**

C.36

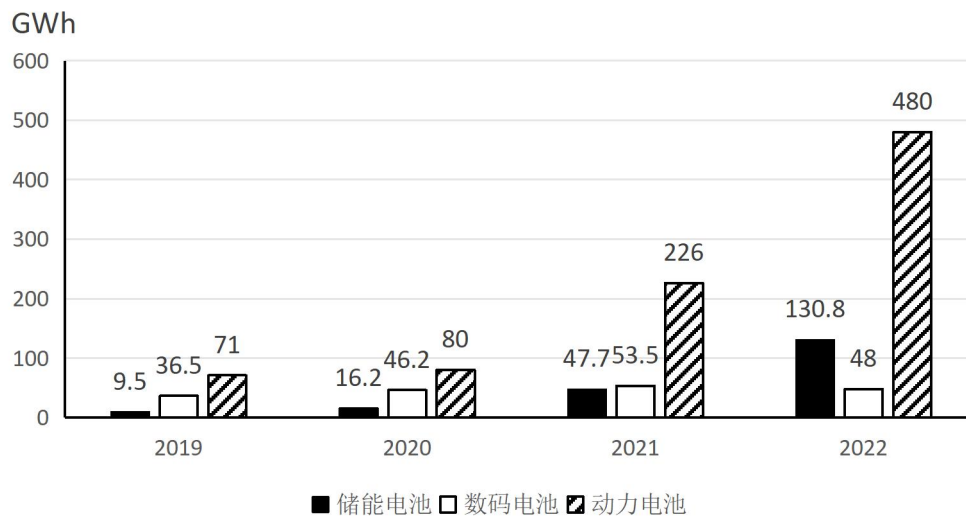
D.42

第一篇

2022 年中国锂电池出货量 658GWh，\*\*\*\*\*占全球动力锂电池装车量的 56.9%。

2019-2022 年中国新能源汽车产量与全球锂电池出货量

年份	2019	2020	2021	2022
中国新能源汽车产量（万辆）	119	146	368	722
全球锂电池出货量（GWh）	218	294.5	562.4	957.7



106.2019 年—2022 年间，中国数码锂电池年均出货量在以下哪个范围内？

A.不到 45GWh

B.45-47GWh

C.47-49GWh

D.49GWh 以上

107.2019 年—2022 年，\*\*\*\*\*超过全球锂电池年出货量一半的年份有几个？

A.1

B.2

C.3

D.4

108. 以下锂电池出货量指标\*\*\*\*\*最快的是:

- A. 2021 年储能锂电池出货量
- B. 2021 年动力锂电池出货量
- C. 2022 年储能锂电池出货量
- D. 2022 年动力锂电池出货量

109. 2021 年, \*\*\*\*\*池装车量约为多少 GWh?

- A. 271.5
- B. 295.6
- C. 301.4
- D. 323.6

110. 能够从上述资料中推出有几项?

- ① 2019-2022 年, \*\*\*\*\*均增速为 3 锂电池中最快
- ② 2019-2022 年, 中国锂电池出货量逐年增加
- ③ 2019-2022 年, 中国数码锂电池年出货量同比增速逐年下降
- ④ 2022 年, 中国新能源汽车产量同比增速慢于 2021 年水平

- A. 1
- B. 2
- C. 3
- D. 4

## 第二篇

2023 年前 5 个月, T 口岸出口汽车约为 17.2 万辆\*\*\*\*\*总价值约 100.1 亿元人民币, 同比增长 40.2%。

2023 年前 5 个月, 汽车出口带动 T 口岸整体出口同比增加。汽车出口占同期 T 口岸出口商品总值的 2.2%, 较上年同期提升 0.3 个百分点。1~5 月民营企业出口活力明显, 民营企业出口约 10.6 万辆, 同比增加 64.3%, 占同期 T 口岸汽车出口总量的 61.6%, 占比较上年同期提升 13 个百分点。新能源汽车出口成为新的增长点, 出口约 11 万辆, 同比增加 50.2%

2023 年 1~5 月 T 口岸汽车出口月度数据表



月份	出口车辆数	同比增速 (%)	人民币 (万元)	同比增速 (%)
1	29105	20.1	151198.7	44.0
2	22785	50.1	161250.2	97.3
3	43361	73.4	229566.6	50.4
4	40437	49.6	236893.0	53.2
5	36519	-12.2	222329.5	0.9

111. 2023 年 1-5 月, T 口岸出口汽车均价同比上涨约:

- A.8%
- B.12%
- C.16/%
- D.20%

112. 2023 年 1-5 月, T 口岸出口商品总值在以下哪几个范围内?

- A.低于 4000 亿元
- B.4000~4400
- C.4400~4800
- D.高于 4800 元



113. 2023 年 1~5 月, 民营企业出口汽车同比约增加了多少万辆?

- A.3
- B.4C.5
- D.6

114. 2022 年 1~5 月, T 出口岸出口新能源汽车约占 T 市口岸出口汽车的:

- A.46%
- B.50%
- C.55%
- D.64%

115.在以下信息中, 能够从上述资料中推出的有几项?

- ①2022 年 1-5 月，T 口岸汽车出口量最大的是 3 月
- ②2023 年 1-5 月，民营企业月均通过 T 口岸出口汽车 2 万辆以上
- ③2023 年 2 月，T 口岸出口汽车平均单价高于 1 月水平
- ④2022 年 1-5 月，汽车出口总价值占 T 口岸出口商品总值的 2%以下

A .1

B .2

C .3

D .4

### 第三篇

截至 2022 年 12 月，我国网民规模达 10.67 亿，较 2021 年 12 月增长 3549 万，互联网普及率达 75.6%，较 2021 年 12 月提高 2.6 个百分点。

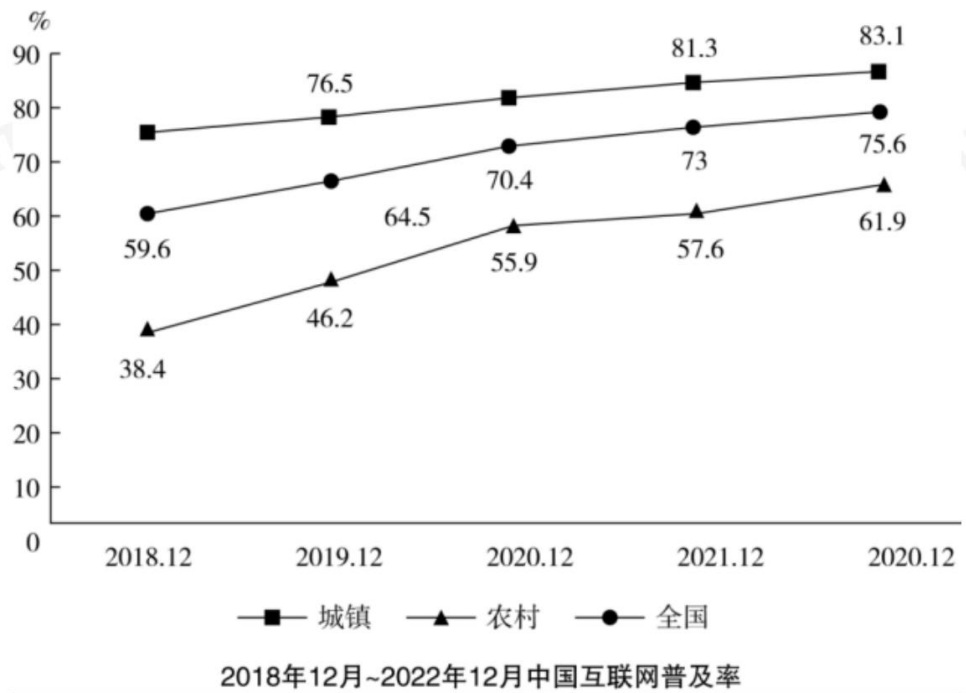
截至 2022 年 12 月，我国网民使用手机上网的比例达 99.8%，较 2021 年 12 月增加 0.1 个百分点。\*\*\*\*\*占网民整体的 28.9%。

2022 年 12 月，20-29 岁、30-39 岁、40-49 岁网民占比分别为 14.2%、19.6% 和 16.7%；50 岁及以上网民群体占比由 2021 年 12 月的 26.8%提升至 30.8%，互联网进一步向中老年群体渗透。

2022 年 12 月，\*\*\*\*\*农村地区在线教育和互联网医疗用户分别占农村网民整体的 31.8%和 21.5%，较上年分别增长 2.7 和 4.1 个百分点。

**(缺图表)**

2018 年 12 月-2022 年 12 月中国互联网普及率



华图教育  
HUATU.COM

116. 截至 2022 年 12 月, \*\*\*\*\*20 岁以下网民人数的 ( )

A.不到 3 倍

B.3-4 倍

C.4-5 倍

D.5 倍以上

117. 截至 2022 年 12 月, \*\*\*\*\*同比增速约为: ( )

A.1.2%

B.1.6%

C.2%

D.2.4%

118.根据给定材料, \*\*\*\*\*使用上网前 3 位的设备是 ( )

A. 手机、台式电脑、笔记本电脑

B.手机、笔记本电脑、平板电脑

C. 手机、电视、台式电脑

D. 电视、台式电脑、平板电脑

119.能够从上述资料中推出的有几项?

- ①2022 年 12 月我国手机网民人数同比增量
- ②2021 年 12 月我国线上办公用户占网民整体的比重
- ③2022 年 12 月我国城镇地区互联网医疗用户规模

A.0

B.1

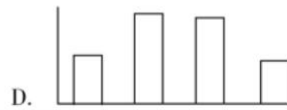
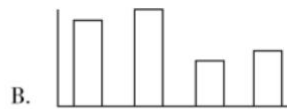
C.2

D.3



华图教育  
HUATU.COM

120.以下柱状图中最\*\*\*\*\*及率同比增量变化趋势的是( ) (横轴位置代表增量为0)



C

1. 汉语溯源, \*\*\*\*\*在纷繁复杂的词义系统里\_\_\_\_\_, 层层深入, 探明真相。填入画横线部分最恰当的一项是:

- A. 去伪存真
- B. 去粗取精
- C. 抽丝剥茧
- D. 按图索骥

【答案】C

【题源】敬德书院 <http://jdsy.hdjky.org.cn/portal/newsInfo/130/4315>

2. 当其他城市还停留在“漫步”的思维里寻找发展机遇时，有的地方已经开始\_\_\_\_\_，深挖骑行\*\*\*\*\*产业发展转型升级提供更广阔的市场空间。

填入画横线部分最恰当的一项是：

- A. 另辟蹊径
- B. 推陈出新
- C. 招兵买马
- D. 大展拳脚

【答案】A

【题源】中国经济网 [http://cj.zjtz.gov.cn/art/2023/9/20/art\\_1229566623\\_58931715.html](http://cj.zjtz.gov.cn/art/2023/9/20/art_1229566623_58931715.html)

3. 中华民族追求疆域领土统一、推崇中央政府权威、注重文化共识\_\_\_\_\_，反对国家四分五裂、地方各自为政、\*\*\*\*\*但统一始终是\_\_\_\_\_。不论分裂的时间有多长、分裂的局面有多严重，最终都会重新走向统一。

依次填入画横线部分最恰当的一项是：

- A. 凝聚 主流
- B. 汇合 重心
- C. 凝结 核心
- D. 汇聚 主题

【答案】A

【题源】《中华民族“大一统”理念的历史传承》

<http://www.jxxf.gov.cn/xfxxgk/c101210/202208/05e51622c6e04fe0ade286113db8d6ab.shtml>

4. 一些品牌随意挑选某个古代物件图样印在服饰上，再染上年画风格的配色，就为自己打出国潮的\_\_\_\_\_。\*\*\*\*\*而是传统文化与现代审美的深度\_\_\_\_\_。

依次填入画横线部分最恰当的一项是：

- A. 名头 交汇
- B. 标签 结合
- C. 标记 融汇
- D. 噱头 融合

【答案】D

【题源】《国潮不是简单文化包装，而是传统文化现代审美深度融合》

[https://m.thepaper.cn/baijiahao\\_14605303](https://m.thepaper.cn/baijiahao_14605303)

5. 近日，被称作“宝宝巴士”的新能源小车火出圈，与其说是可爱的形象俘获了大众的芳心，倒不如说是新的生活审美态度在这几年间\_\_\_\_\_发生了转变，回归于事物的本质功能。人们日益发觉，简单、温暖地生活着，其实就是一种\_\_\_\_\_的幸福。

依次填入画横线部分最恰当的一项是：

- A. 蓦然 不可多得
- B. 豁然 无可替代
- C. 全然 难以名状
- D. 悄然 弥足珍贵

【答案】D

【题源】《满大街的宝宝巴士，像极了朴实好用的我》

[http://k.sina.com.cn/article\\_1645578093\\_6215876d02701a7mm.html](http://k.sina.com.cn/article_1645578093_6215876d02701a7mm.html)

6. 中国地理位置相对独立，南有热带丛林，西南有世界屋脊喜马拉雅山和青藏高原，\*\*\*\*\*人类迁徙的绝对\_\_\_\_\_，但会给大规模人群的流动带来挑战\*\*\*\*\*，于气候适宜期迁徙至此的早期直立人生存繁衍，\_\_\_\_\_。

依次填入画横线部分最恰当的一项是：

- A. 隔断 代代相传
- C. 障碍 开花结果
- B. 阻碍 绵绵不绝
- D. 屏障 开枝散叶**

【答案】D

【题源】《探寻旧石器时代的中华文明根脉》

<https://baijiahao.baidu.com/s?id=1779137359802043219&wfr=spider&for=pc>

7. 电影黄金档期票房以及年度总票房在整个经济总量中占比不高，\*\*\*\*\*\_\_\_\_\_，因为人们会通过这一数字，来\_\_\_\_\_经济、社会的运转状况，尝试从中寻找规律、得到启发。

依次填入画横线部分最恰当的一项是：

- A. 不容小觑 管窥**
- B. 毋庸置疑 分析
- C. 举足轻重 估量
- D. 兹事体大 洞察

【答案】A

【题源】《信心比“票房重回百亿”更重要》

<https://finance.ifeng.com/c/8RjjHqmwNoD>

8. 中国的岁时节日既情意盎然又韵味绵长，以其深厚的旨趣，令人\_\_\_\_\_，\*\*\*\*\*世界各地都开始有中国的节庆文化，华夏民族的古老智慧，在\_\_\_\_\_中滋润着这个世界。

依次填入画横线部分最恰当的一项是：C

- A. 心向往之 春风化雨
- B. 心旌摇荡(jing) 继往开来
- C. 心驰神往 历久弥新**
- D. 心旷神怡 经久不衰

出处：《中工网》节日文化也是一种精神原乡

9. 近年来，以云计算、大数据、人工智能等技术引领的新一代数字化浪潮\_\_\_\_\_。面对复杂多变的外部环境和疫情防控的新常态，\*\*\*\*\*技术新业态新模式\_\_\_\_\_，数字经济日渐成为继农业经济、工业经济之后的新兴经济形态。

依次填入画横线部分最恰当的一项是：B

- A. 汹涌澎湃 此起彼伏
- B. 浩浩荡荡 层出不穷**
- C. 波澜壮阔 生生不息
- D. 气壮山河 方兴未艾

出处：《光明日报》翟云：发展数字经济重在“以数促实”

10. 县域是连接农村和城市的重要\_\_\_\_，也是未来城镇化的重要载体。然而，虽然县域流动人口户籍限制取消，农民工落户意愿却并未显著\_\_\_\_\_。\*\*\*\*\*都影响了农民工落户意愿。因此，进一步提升县域农民工市民化质量，关键是\_\_\_\_\_“稳定就业难、体面居住难、安心落

户难”三大难题。

依次填入画横线部分最恰当的一项是：B

- A.纽带 增加 解决      **B.枢纽 增强 破解**  
C.关节 加强 分解      D.节点 上涨 解答

出处：《中工网》加快提升县域农民工市民化质量

11.正所谓沧海桑田，\*\*\*\*\*巴特在\_\_\_\_\_的沙漠中意外发现了神秘的史前岩画，数十万幅精美的图像描绘着种群繁盛的大象、长颈鹿、河马和羚羊被猎人追捕的\_\_\_\_\_场景。可以推想，史前人类\_\_\_\_\_了撒哈拉由草原变成沙漠的过程。

依次填入画横线部分最恰当的一项是：C

- A.沉寂 神秘 见证      B.干燥 震撼 记录  
**C.荒凉 生动 经历**      D.广袤 壮观 目睹

出处：《地球知识局》这片比印度还大的草原，变成了沙漠！

12.20 世纪 80 年代，伴随乡村民俗活动及观念的日益\_\_\_\_\_，同时写实风格绘画也在快速地构建新的民间审美意趣。\*\*\*\*\*年画艺术就与“年”的关系\_\_\_\_\_，木版年画的雕版套印技术，以及由此形成的传统审美趣味至此走到了\_\_\_\_\_的边缘。

依次填入画横线部分最恰当的一项是：B

- A.弱化 形同陌路 式微      **B.淡化 渐行渐远 没落**  
C.淡出 今非昔比 衰亡      D.遗失 每况愈下 消弭

出处：《中国文化传媒网》木版年画的文化内涵与时代延展

13.蜱虫具有恐怖的吸血能力，它会找到皮肤上隐蔽的角落，\_\_\_\_\_地吸血好几天，人却无法察觉。\*\*\*\*\*由各种蛋白质“\_\_\_\_\_”而成，其中一些让人不痛不痒，一些让血液不会凝固，还有一些保证不会\_\_\_\_\_人的免疫系统，多种病原体便会趁机入侵人体。

依次填入画横线部分最恰当的一项是：B

- A.不声不响 搅拌 启动      **B.堂而皇之 调配 惊扰**  
C.明目张胆 凝结 触发      D.有恃无恐 混合 唤醒

出处：《生态中国网》这种虫叮了会致命，超两亿人有感染风险

[https://www.sohu.com/a/714220025\\_121119270](https://www.sohu.com/a/714220025_121119270)

14.一款零食以前能靠独特口味畅销十几年，\*\*\*\*\*模仿者很快\_\_\_\_\_，消费者的新鲜感也会被迅速透支。当朝生暮死成为当今网红食品的常态，相比于\_\_\_\_\_的零食巨头，轻资产的中小品牌反而更容易在时代变幻莫测的风向中\_\_\_\_\_。

依次填入画横线部分最恰当的一项是：A

- A.蜂拥而至 尾大不掉 闪转腾挪**      B.后来居上 作茧自缚 捷足先登  
C.青出于蓝 因循守旧 稳操胜券      D.龙争虎斗 老气横秋 脱颖而出

出处：《澎湃新闻》90 后的童年零食，没人愿意吃了

15.科学从来不会\_\_\_\_\_自己洞察了宇宙所有的真相和奥秘，它从不否认自身的局限性，\*\*\*\*\*没有任何一种理论能够\_\_\_\_\_和解释所有的现象，回答所有的问题

依次填入画横线部分最恰当的一项是：A

- A.宣称 描述**      B.认定 把握  
C.预言 分析      D.标榜 论证

出处：《澎湃新闻》90后的童年零食，没人愿意吃了

16.从道理上讲，科普和科幻都可以\_\_\_\_\_，但实际上，\*\*\*\*\*但科幻的载体主要是小说、电影，科幻作品的范围较为\_\_\_\_\_和集中  
依次填入画横线部分最恰当的一项是：

- A.一应俱全 局限                      B.应有尽有 狭隘  
C.无所不包 有限                      **D.包罗万象 狭窄**

出处：《光明网》科普与科幻的区别

17.文旅开发需注重对古镇自然环境的呵护，避免简单\_\_\_\_\_其他文旅项目大广场、大草坪、大展馆等设计，\*\*\*\*\*已经让众多注重旅游体验的游客“用脚投票”，尤当\_\_\_\_\_。  
依次填入画横线部分最恰当的一项是：

- A.移植 引以为戒**                      B.复刻 居安思危  
C.参考 防微杜渐                      D.借鉴 慎之又慎

出处：《中国青年报》古镇旅游何时不再“抄作业”

18.目前热议的“网约车订单饱和”不能\_\_\_\_\_，部分城市部分时段或部分月份可能出现的短暂性动态饱和，但回归到市场供求来说\*\*\*\*\*市场具有自主调节能力，相关部门适时风险，对于动态调整市场供求关系也将发挥积极作用。

依次填入画横线部分最恰当的一项是：

- A.简而言之 防范                      **B.一概而论 预警**  
C.予以臧否 调控                      D.妄下结论 评估

出处：《锦州网警》早涝不均，网约车平台困局如何破

19.竞技体育的天才型选手，胜利对于他们似乎是\_\_\_\_\_的。他们将其他人远远甩在身后的同时，\*\*\*\*\*他们也会如昙花一现，仅仅闪光了几个瞬间，就被时代抛弃，\_\_\_\_\_于众人。

依次填入画横线部分最恰当的一项是：

- A.驾轻就熟 无异                      B.天公地道 泯然  
C.信手拈来 混迹                      **D.唾手可得 湮没**

出处：《环球网》孤独的赛者，挑战的是自我和人类极限

20.就常理而言，阳春白雪似乎和下里巴人“\_\_\_\_\_”，\*\*\*\*\*往又是以失去大量受众为代价的，这仿佛已是艺术史上一条\_\_\_\_\_的定律

依次填入画横线部分最恰当的一项是：

- A.南辕北辙 亘古不变                      **B.势不两立 颠扑不破**  
C.信判若云泥 屡试不爽                      D.各自为阵 毋庸置疑

出处：《光明网》高雅艺术不应高冷

21.科创企业往往轻资产、高风险，\*\*\*\*\*金融机构对于企业知识产权质押融资的应用依然存在一定阻碍，现有产品仍以短期为主，缺乏针对科创企业的中长期贷款产品。

这段文字意在强调：

- A. 科创企业的贷款不足  
B. 科创企业创业风险高



C. 缺少适合科创企业的金融产品

D. 金融机构对科创企业信心不足

【答案】C

【题源】《“一纸协议”如何破解科创企业融资难?》

<http://ah.people.com.cn/n2/2023/1115/c358428-40640759.html>

22. 人类特别喜欢读到和关注有关他人和社会的负面信息,\*\*\*\*\*再大的悲剧也可以慢慢放下。这种“有偏见的记忆效应”又解释了为什么人们认为过去的道德水平相对较高。这段文字意在说明:

A. “世风日下”可能是一种群体心理错觉

B. 心理层面人们更愿记住过去美好的事件

C. 道德水平的高低取决于负面事件的影响

D. 媒体传播强化了人们对负面信息的接收

【答案】A

【题源】《世风日下人心不古?这可能只是一种群体心理幻觉》

<https://www.163.com/dy/article/I79K10JB05119GS3.html>

23. 关于文艺与时代的关系,中外许多艺术家都有过精辟论述。如诗人白居易说过“文章合为时而著,歌诗合为事而作”;\*\*\*\*\*“为时代画像、为时代立传、为时代明德”的号召,拿出更多艺术精品献给人民和这个伟大的时代。

这段文字意在说明:

A. 文艺创作绝不能脱离当下时代的社会现实

B. 时代需要更多反映社会发展趋势的好作品

C. 艺术家要在实践中不断丰富发展文艺理论

D. 文艺既要反映时代现实又要超越时代现实

【答案】D

【题源】《交出我们时代的文艺答卷》

<http://culture.people.com.cn/n1/2019/0405/c1013-31014965.html>

24. 数字媒介是现代文明尤其是科学技术文明的最新成果,它本身就是现代文明的一部分,在数字媒介上人们不断创造新的文化样态,\*\*\*\*\*既是在场的交往又是离身的交往,文化族群之间的交往更加频繁。

这段文字意在强调: D

A. 文化交流途径依赖数字化传播

B. 数字技术不断创造文化新样式

C. 数字化的交流不再受时空限制

D. 数字媒介多维度影响文明交流

出处:《新浪网》数字世界交往的兴起为文明的交流互鉴带来新的可能性

25. 竹秆(茎)质地坚硬,被称作木质茎,只有初生结构,\*\*\*\*\*不能长粗,只能保持“婴儿时期的身材”,恰如俗语所说“笋有多大,竹有多粗”。竹壁自外向内,分为竹青、竹肉、竹黄三个部分,竹青含叶绿素呈绿色,可以进行光合作用。

根据这段文字,下列说法错误的是:

A. 竹秆只能长高不能长粗

- B.竹子能够进行光合作用
- C.竹秆的节数在出笋时就已基本固定
- D.竹子的木质特性来自于次生木质部**

26.文言和白话是两个相互依存的概念，无文言，\*\*\*\*\*偶尔也夹杂一些文言成分，较能反映语言的时代性和区域性特点。

根据这段文字，下列说法正确的是：

- A.汉魏六朝以后的作品都属于白话文
- B.古代汉语实际上包含白话文的成分**
- C.文言文更能反映语言的时代性特点
- D.文言与白话分别等同书面语与口语

27.很多手工艺材料是因其所成之物原本的功能在现代社会中弱化或消失，才造成选材方向的改变，\*\*\*\*\*尤其是因藏、赏之好而愈趋物质化。回溯历史，由古人之物及用物文化可见，传统手工艺的发展是不断发现和使用合用的材料治物以为人服务，而不是仅仅围绕某种物质存在的技术活动。

关于手工艺材料，文中传统观点认为：

- A.材料之美源于适用**
- B.发掘材质本身之美
- C.选材应趋于多元化
- D.治物基于艺术表现

28.我国平台经济具有较好的数据贯通能力和智能分析能力，能够更好地帮助实体经济升级营销模式，\*\*\*\*\*在上下游联动、数实融合中创新孵化。

根据这段文字，我国平台经济需向哪个方向引导？B

- A.助力产业协同
- B.赋能实体经济**
- C.提升管理能力
- D.孵化创新产业

29.在真空蒸发器(以下简称蒸发器)内，卤水在外来蒸汽的作用下加热沸腾，部分卤水的水分蒸发，卤水得到浓缩。卤水蒸发出的蒸汽(以下称其为二次蒸汽)温度要低于外来输入蒸汽的温度，\*\*\*\*\*不断回收蒸汽来进行加热，可以大大节省蒸汽的消耗量。

根据这段文字，为了节省蒸汽消耗量需采取的措施是：

- A.降低卤水的浓度
- B.提高蒸汽的温度
- C.降低蒸发器中的气压
- D.增加蒸发器的数量**

30.在确定是否认识一个人时，\*\*\*\*\*才能最终确定答案，这比识别更加复杂。所以\_\_\_\_\_。

填入画横线部分最恰当的一项是：B

- A.大脑确定是否认识一个人的过程非常的复杂
- B.记住一个人的名字比记住他的长相要难得多**

- C.大脑根据一个人的面部特征来回忆他的名字  
D.回忆名字需要与对词语、句子的记忆相联系

31.①他们认为成绩不好是老师和父母的责任，遇事不愿互动解决而更多地选择逃避  
②究其原因，\*\*\*\*\*孩子能明白自己的行为会导致什么样的后果  
③有研究显示，规则有助于孩子的健康发展  
④那些家里规则清楚\*\*\*\*\*可执行的孩子对自己的学习能力更有信心，成绩也极为优秀  
⑤而那些生活在规则意识且标准不稳定的，\*\*\*\*\*指责型家庭的孩子，更加自卑胆小  
⑥这样有助于他们学会调整自己的动力，开始自己制定目标

- A.④②⑥⑤①③  
B.③④⑥②①⑤  
C.③②⑥④①⑤  
D.③④②⑥⑤①

32. 长期来看，\_\_\_\_\_。美国“人类脑计划”研究发现，坚持运动可以明显增加神经细胞的数量，使大脑像肌肉一样越练越强大。该现象可能源于一种叫脑源性神经营养因子（BDNF）的物质，\*\*\*\*\*前额叶掌控着决策、注意力以及人格；海马体具备形成及存储长时记忆的重要功能。

填入画横线部分最恰当的一句是：

- A. 运动能够增强人的记忆力  
B. 运动会增加大脑中某些营养因子  
C. 运动让人更健康，有活力  
D. 运动能够改变大脑的结构和功能

【答案】D

【题源】光明网-《运动是这样让娃变聪明的》

<https://baijiahao.baidu.com/s?id=1764133125049632272&wfr=spider&for=pc>

33.开发前沿技术应用场景的实践价值在于，通\*\*\*\*\*高技能人才的可贵之处不在于突破核心技术，而在于为产业痛点、难点问题找到核心技术的最佳实践运用场景。\*\*\*\*\*而是技术的跨界融合，需要一线技术人员基于行业特点寻找适合的前沿技术实现赋能和融合。

最适合做这段文字标题是

- A. 智能技术的开发与利用具有行业选择性  
B. 技术落地的基础——突破创新，跨界融合  
C. 找准问题——开发前沿技术应用场景的核心  
D. 高技能人才——前沿技术应用落地的“嫁接者”

【答案】D

【题源】工人日报《技术赋能、跨界融合：新时代大国工匠的技能新特质》

<https://baijiahao.baidu.com/s?id=1772539610891630645&wfr=spider&for=pc>

34.众多民间手工艺、戏曲等非物质文化遗产的遗失，与文化传承人缺乏丰厚的收入有关。即便以外部力量进行保护性抢救，往往也只是将其“标本化”，难以恢复其原生活力。

\_\_\_\_\_。比如，\*\*\*\*\*有花丝镶嵌技艺非遗传承人入驻电商平台，一年多来售出超20万件工艺产品。

填入画横线部分最恰当的一句是：

A. 只有文化消费市场活跃，传统文化创作才能有动力

B. 文化产业在新的发展能量集聚下将释放出更多精彩

C. 正是对传统文化的创新演绎成就了文化产业的发展

D. 只有新媒体技术加持才能推动传统文化的传播

【答案】A

【题源】《光明日报 | 用数字技术为优秀传统文化赋新能》

<https://baijiahao.baidu.com/s?id=1771120228189884786&wfr=spider&for=pc>

35.近年来，为建设便民生活圈，北京、上海、杭州等多地兴办了不少社区食堂。除了老年人，一些年轻人、附近社区居民也逐渐成为这里忠实的消费者。\*\*\*\*\*避免脱离社区实际盲目配置食堂，浪费公共资金。经营者也必须有市场化竞争意识，在长期运营上拿出“绣花功夫”。

最适合做这段文字标题的是：

A.社区食堂的“小餐桌”与大民生

B.统筹社区食堂“公益”与“效益”

C.激发活力，创新社区食堂运营新模式

D.办好食堂，让社区居民共享幸福“食”光

【题源】《中国网 统筹社区食堂“公益”与“效益”》

36.1万多年前进入新石器时代后，中国中东部地区形成五大文化系统，彼此之间已有一些联系。距今8000多年后各区域间的文化交流加速，\*\*\*\*\*从而有了早期中国文化圈或文化上早期中国的起源。

这段文字旨在强调：

A.中国文化共同体源于新石器时代

B.中国文化圈地理范围不断演变发展

C.裴李岗文化是早起中国文化圈的核心

D.文化上早期中国源于各文化系统的交融

【题源】《中国社会科学网 文化上和政治上早期中国的起源与形成》

37.草原生态系统通过生物多样性，\*\*\*\*\*草原上的植物通过蒸腾作用、光合作用，降温、调节气候，还可以配合土壤发挥调蓄作用。

这段文字意在说明：

A.草原具有涵养水源的重要作用

B.草原生态系统具有生物多样性

C.草原植物具有降温和调蓄作用

D.草原与我们日常生活密不可分

【题源】《人民日报 草原多样性“多”在哪里》

38.①它们不仅记录了长江历年的水文资料，而且具有很高的文学艺术价值

②为配合三峡水库的建设\*\*\*\*\*龙脊石进行了水下调查

③因长江水位变迁，“丰年碑”已完全没于水下不得见

④位于重庆朝天门码头的“丰年碑”、涪陵白鹤梁历代题刻、云阳龙脊石题刻被称为长江中游的三大石刻碑群

⑤白鹤梁题刻保存完好，被誉为世界\*\*\*\*\*，是长江三峡水库淹没区内最早被定为“全国

重点文物保护单位”的遗址

⑥在水下考古调查研究\*\*\*\*\*馆，独具特色，成为联合国教科文组织面向全球推广的经典案例。

将以上 6 个句子重新排列，语序正确的一项是：

A.④③⑤②⑥①

**B.④①③②⑤⑥**

C.⑤③②⑥④①

D.⑤④③①②⑥

【题源】《澎湃新闻 水下文化遗产，你了解多少？》

39.随着大数据、物联网、云计算等现代智能技术的发展，人类社会进入了智慧治理时代。智慧治理对于推进国家治理体系和治理能力现代化具有重要现实意义。当前正在推进的智慧治理面临治理效率低下，\*\*\*\*\*过程融合及目标融合是实现这一转变的重要路径。

假如这是一篇文章的摘要，那么这篇文章的标题可能是：

**A.迈向技术融合的智慧治理**

B.理论认识不足制约智慧治理

C.智慧治理存在的问题及成因分析

D.智慧技术赋能的智慧治理路径

【题源】《澎湃新闻 迈向技术融合的智慧治理》



华图教育  
HUATU.COM