

2024年全国事业单位联考模拟试卷（卷二）

《职业能力倾向测验·B类》

重要提示:

为维护您的个人权益，确保事业单位考试的公平公正，请您协助我们监督考试实施工作。

本场考试规定：监考老师要向本考场全体考生展示题本密封情况，并邀请2名考生代表验封签字后，方能开启试卷袋。

仅限华图教育内部教学使用!

二〇二四年

条形码

请将此条形码揭下，
贴在答题卡指定位置。

注意事项

一、此项测验分为五个部分，**100 道题，总时限 90 分钟**。各部分不分别计时，但都给出了参考时限，供答题时合理分配时间。

二、请按照要求在答题卡上填写好自己的姓名，涂写好准考证号，严禁折叠答题卡。

三、必须在答题卡上答题；在题本上答题，一律无效。

四、监考人员宣布考试开始时，方可答题，宣布考试结束时，应立即停止答题。

题本、答题卡、草稿纸一律留在桌上，待监考人员确认数量无误，允许离开后，方可离开考场。如果你违反了以上任何一项要求，都将影响你的成绩。

五、在这项测验中，可能有些试题较难，因此你不要在一道题上思考时间太久，遇到不会答的题目可先跳过去，如果有时间再去思考，否则，你可能没有时间完成后面的题目。

六、试题答错不倒扣分。

停！请不要往下翻！听候监考老师的指示。
否则，会影响你的成绩。



第一部分 常识判断

(共 20 题)

请根据每道题的要求，从四个选项中选出一个最恰当的答案。

1. 2024 年 1 月 16 日出版的第 2 期《求是》杂志发表中共中央总书记、国家主席、中央军委主席习近平的重要文章《完整、准确、全面贯彻落实关于做好新时代党的统一战线工作的重要思想》。文章指出，必须以铸牢（ ）为党的民族工作主线。

- A. 中华民族传统文化
- B. 中华民族共同体意识
- C. 爱国精神
- D. 中华文明

2. 根据各自治区成立时间的先后，下列排列顺序正确的是：

- A. 新疆维吾尔自治区——内蒙古自治区——西藏自治区——宁夏回族自治区
- B. 西藏自治区——广西壮族自治区——内蒙古自治区——新疆维吾尔自治区
- C. 内蒙古自治区——新疆维吾尔自治区——宁夏回族自治区——西藏自治区
- D. 广西壮族自治区——新疆维吾尔自治区——西藏自治区——宁夏回族自治区

3. 胡同，也称“里弄”、“巷弄”、“巷”，是指城镇或乡村里主要街道之间的比较小的街道，一直通向居民区的内部，它是沟通当地交通不可或缺的一部分。下列关于胡同的说法错误的是：

- A. 根据道路通达情况，胡同分为死胡同和活胡同
- B. 胡同一词源于新疆语
- C. 最长的胡同是北京的东、西交民巷
- D. 吉市口胡同是以吉祥话命名的

4. 在党史学习课上，小胡拿来了自己课前找到的视频资料向大家展示长征途中的历史场景。其中取材不当的是：

- A. 四渡赤水河
- B. 飞夺泸定桥
- C. 翻越大雪山
- D. 井冈山会师

5. 2024 年 1 月 16 日，习近平总书记在省部级主要领导干部推动金融高质量发展专题研

讨班开班式上发表重要讲话并强调，要通过（ ），提高我国金融资源配置效率和能力，增强国际竞争力和规则影响力，稳慎把握好节奏和力度。

- A. 扩大对外开放
- B. 积极对内改革
- C. 构建内循环
- D. 扩大国际视野

6. 2021年，我们迎来了中国共产党成立100周年。在一百年波澜壮阔的历史进程中，中国共产党团结和带领中国人民夺取革命、建设、改革、开放一个又一个伟大胜利，创造了人类社会发展史上惊天动地的奇迹。对党的认识，下列选项错误的是：

- A. 坚持以马克思的经典著作作为指导，走在时代前列
- B. 不忘初心，牢记使命，恪守和践行为人民服务宗旨
- C. 加强和改进党的建设，坚持解放思想，保持先进性
- D. 党的领导是中国特色社会主义制度的最大优势

7. 诗歌往往用来抒情咏物，下列诗句和所描述对象搭配有误的是：

- A. 春风得意马蹄急，一日看尽长安花——科举制
- B. 银瓶乍破水浆迸，铁骑突出刀枪鸣——箜篌
- C. 待到秋来九月八，我花开后百花杀——菊花
- D. 采得百花成蜜后，为谁辛苦为谁甜——蜜蜂

8. 下面关于重阳节的说法，错误的是：

- A. 宋朝时，重阳节被定为正式节日
- B. “重阳”之名称的由来，得名于古籍《易经》中的“阳爻为九”
- C. 重阳习俗普及于汉代，汉代是我国南北各地的经济文化交流融合时期，各地文化上的交流使节俗融合传播
- D. 放纸鸢是南方过的重阳节的主要习俗之一

9. 以下画作中，并非出自唐代画家之手的是：

①《洛神赋图》

②《步辇图》

③《富春山居图》

④《千里江山图》

A. ①②③

B.①②④

C.①③④

D.②③④

10. 下列关于文化常识的说法中，表述正确的一项是：

A. “六书”是指汉字的造字方法，即“象形、指事、会意、形声、转注、假借”，前四种指的是文字的使用方式，后两种指的是文字的形体结构

B. “八卦”是指“乾、坤、震、巽、坎、离、艮、兑”，分别象征天、地、雷、风、水、火、山、泽

C. 律诗按顺序可分四联：首联、颈联、颔联、尾联，杜甫的“无边落木萧萧下，不尽长江滚滚来”一句属于颈联

D. 古代诗歌按内容分类，可分为叙事诗、抒情诗、送别诗、边塞诗、山水田园诗、怀古诗、咏物诗、悼亡诗等，《木兰诗》是一首抒情诗

11. 下列关于《三国演义》中人物与主要故事对应有误的一项是：

A. 桃园三结义——刘备、张飞、关羽

B. 六出祁山——诸葛亮

C. 望梅止渴——曹操

D. 辕门射戟——黄忠

12. 下列有关气体的说法正确的是：

A. 氧气在低温高压下可以液化成淡蓝色液体

B. 二氧化氮是无色无味的气体，与水作用生成硝酸和一氧化氮

C. 稀有气体共有 7 种，氦气为其中之一

D. 氯气能使湿润的红色石蕊试纸变蓝后褪色

13. 关于北斗导航系统，下列说法错误的是：

A. 是中国自行研制的全球卫星导航系统

B. 北斗系统的卫星都是静止轨道卫星

C. 可实施高精度授时的功能

D. 能够实现汉字的短报文通信

14. 计算机硬件系统由运算器、控制器、存储器、输入设备和输出设备五部分组成。下列有关计算机硬件系统的相关说法错误的是：

A. 计算机硬件中的运算器主要功能是对数据和信息进行运算和加工

B. 中央处理器主要包括两个部分，即控制器和存储器

- C.控制器是发布命令的“决策机构”，即完成协调和指挥整个计算机系统的操作
- D.存储器是用来存储程序和各种数据信息的记忆部件
15. 血液由血浆和血细胞组成。下列有关血液的相关说法不正确的是：
- A.血浆的主要成分是水 and 血浆蛋白
- B.白细胞是血液中数量最多的一种血细胞
- C.红细胞的功能是运输氧和二氧化碳等物质
- D.在血液中，血小板是最小的细胞
16. “管住嘴、迈开腿”成为年轻人减肥的必备口诀，“迈开腿”对年轻人尤其重要，运动是人体健康的基础。下列关于运动和人体的说法中，错误的是：
- A.跳高属于无氧运动项目
- B.镁是人体内酶的重要激活剂
- C.维生素 C 属于脂溶性维生素
- D.铁人三项包括游泳、自行车和跑步
17. 下列说法不正确的是：
- A.民间文学一般为口头形式
- B.小提琴曲《梁祝》以民间传说为素材
- C.“信天游”是我国西北地区的一种民歌形式
- D.“乐府双璧”指的是《孔雀东南飞》和《长恨歌》
18. 下列关于生活常识的说法，正确的是：
- A.发现煤气中毒病人后，施救者应立即进行人工呼吸
- B.商场中绿色的消防安全标志用于指示安全和疏散通道
- C.暴雨黄色预警信号生效时，所在区域的中小学校应当自动停课
- D.隔夜茶指放置时间超过 6 小时的茶，其致癌物的含量会显著增加
19. 下列化学物质和主要成分对应错误的是：
- A.洗洁精和洗衣液——表面活性剂
- B.水煤气和天然气——一氧化碳
- C.工业酒精和医用酒精——乙醇
- D.水晶和石英玻璃——二氧化硅
20. 关于科技知识，下列有关说法错误的是：
- A.被称为高速铁路“中枢神经”的是列车控制系统

- B.计算机病毒主要通过显卡传播
- C.神工一号是人工神经康复机器人
- D.计算机的运算一般采用二进制制

第二部分 言语理解与表达

(共 30 题)

言语表达: 请从每道题所给的四个选项中选出一个填空, 使语句的意思表达得最为准确。

21. 由于一些审判人员业务水平_____，责任心不强等原因，对相同案件性质的民事案件判决，出现不同法院判决不一样、同一法院不同法官判决不一样、同一法官对同类性质案件在同一时期判决不一样等情况。最高法《意见》明确了类案检索的适用范围、检索主体及平台、检索范围、结果运用等具体、统一的规定，对形成审判信息化、智能化、标准化、精细化常态，进一步提升司法权威性和公信力，具有_____的意义。

填入横线部分最恰当的一项是:

- A.泥沙俱下 至关重要
- B.鱼龙混杂 不可估量
- C.良莠不齐 举重若轻
- D.参差不齐 举足轻重

22. 《杨家府演义》全称《杨家府世代忠勇通俗演义》，作者是明代人。内容与《杨家将》大致相同。其中对杨门女将的_____尤为生动，塑造了以穆桂英为代表的众多的巾帼英雄形象。作品对宋真宗的昏庸，潘仁美的奸诈都有一定的暴露。虽然小说中的故事，较多采用民间传说，与史籍记载_____，但它抗御强敌，谴责权奸，表彰忠烈的主题，表达了当时人民群众的共同愿望，所以深受人民的喜爱。

填入横线处的词语最恰当的一组是:

- A.描写 相去甚远
- B.描述 天差地别
- C.描绘 并无二致
- D.阐述 大相径庭

23. “不积跬步，无以致千里；不积小善，无以成大德”。_____的支教和蜻蜓点水式的“关怀”并不难做，难就难在_____的长期坚守。而这需要对学生的一颗赤诚之心，对教育的满腔爱心。桃李不言，下自成蹊，这便是师者的至高境界。

填入横线处的词语最恰当的一组是：

- A. 势利眼 旷日持久
- B. 敲边鼓 经年累月
- C. 打短工 积善余庆
- D. 客串式 日行一善

24. 文风“接地气”不仅是一种外在的形式，“身入”更要“心至”，既要有生动鲜活、让人_____的新话，又要有言之有物、深入浅出的实话——通过深入细致的调查研究，在充分占有和分析第一手材料的_____上，反映基层的实际问题，回应群众的关切。

填入横线处的词语最恰当的一项是：

- A. 喜闻乐见 基础
- B. 脍炙人口 基调
- C. 雅俗共赏 基准
- D. 耳濡目染 底蕴

25. 有人说，贪腐行径是多种多样的，但_____之因却大致相同。如，投机侥幸心理来自_____，不相信“手莫伸，伸手必被捉”铁律。或许有人窃思，自己真的就是那条漏网之鱼，但惩治腐败一网接着一网，“天网恢恢，疏而不漏”，鱼永远逃不脱网。如，痴迷于物质享受，莫不好色贪杯、_____、爱慕虚荣。一旦被这种人生信条所支配，也就完全失去了自律，沦为金钱的奴隶和声色犬马的仆人。稍有权力，心生邪念，为财死，为食亡。

填入横线处的词语最恰当的一项是：

- A. 肇始 自欺欺人 好逸恶劳
- B. 发端 掩耳盗铃 得过且过
- C. 起源 沽名钓誉 拈轻怕重
- D. 滥觞 装腔作势 坐享其成

26. 当前，不少地方都在_____地进行老旧小区改造。住建部相关负责人介绍，2019年，经过初步摸排，各地上报需改造的城镇老旧小区17万个，涉及居民上亿人。在实施过程中，从修灯杆、换管道到重新硬化路面，很多老旧小区的设施得到了_____，群众的生活环境大幅_____。这项民生工程既惠民又暖心，百姓对此纷纷竖起大拇指点赞。而设施改造只是个开始，如何让老旧小区“好看”又“宜居”，成为摆在治理者面前的新课题。

填入横线部分最恰当的一项是：

- A. 有条不紊 提高 改观

- B.如火如荼 提质 改变
- C.大张旗鼓 加强 优化
- D.紧锣密鼓 提升 改善

27. 新春将近，年味儿渐浓，城乡群众的文化活动热热闹闹开展起来。扎灯彩、扭秧歌、写春联、印年画，这些岁时节日里的歌与舞、诗与画，_____着生活的记忆，_____着绵长的乡愁，_____着民间美术传统，是时间长河里生动的文化标记。

填入横线部分最恰当的一项是：

- A.维系 承载 传承
- B.承载 维系 传承
- C.承载 传承 维系
- D.维系 传承 承载

28. 垄断是开放和公平竞争的天敌，制定《反垄断法》的目的，在于保护开放的市场环境，推动形成公平、合作的良性竞争局面，鼓励在开放市场和公平竞争中大胆探索创新。“意见稿”增设互联网经营者市场支配地位认定依据，既有利于_____一些探索创新和正常竞争之举被扩大化认定为垄断行为，也有利于执法机关和司法机关“_____”，合理、准确判断相关企业是否形成并滥用市场支配地位，相关行为是否构成垄断。这既是对互联网探索创新和正常竞争的鼓励和保护，更有利于对各种形式的互联网垄断行为进行有力_____。

填入横线部分最恰当的一项是：

- A.阻止 顺藤摸瓜 遏止
- B.防范 抽丝剥茧 控制
- C.防止 按图索骥 遏制
- D.阻挠 蔓引株求 掌握

29. 春节是一个重要的传统节日，也是父辈传递关怀、年轻一代表达感恩的好机会，更是_____家风的好时机。不论时代发生多大变化，不论生活格局发生多大变化，家风作为一个家庭的精神内核，是_____代际冲突、维系亲人和睦关系的重要精神纽带。家风好比一件上好的古董，历经一代代人的呵护与打磨，勾勒出一个家庭或家族的独特底色。家是爱的港湾，有爱就有理解、包容与沟通。良好的家风总是向上向善的，促进家庭成员更好发展，让亲人关系更加美好融洽，它是一个社会的价值缩影，_____着社会文明风尚、传播着社会正能量。

填入横线部分最恰当的一项是：

- A. 传承 消弭 涵养
- B. 传递 消除 净化
- C. 弘扬 逃避 培养
- D. 延续 避免 陶冶

30. 许多院校都热衷于开设影视专业以扩大生源数量和学校规模，其中一些院校的教育质量却未必过关。在多元共生的文化语境里，影视艺术_____。然而，近年来一些有悖于正向价值观和审美观的作品混入其中，甚至_____。而一些观众尤其是年轻观众却对这些作品趋之若鹜，并由此产生认同和效仿，让不良思想渐次_____。从根本上解决这些问题，要从影视教育这个源头入手，用价值引领来匡正创作和审美上的误区。

填入横线部分最恰当的一项是：

- A. 精彩纷呈 为所欲为 弥漫
- B. 丰富多彩 肆无忌惮 漫延
- C. 异彩纷呈 大行其道 蔓延
- D. 五彩缤纷 为虎作伥 充满

31. 有数据显示，我国家电保有量已超过 21 亿台，目前正处于家电报废高峰期，近年来每年淘汰废旧家电量达 1 亿到 1.2 亿台，并以年均 20% 的幅度增长。废旧家电兼具资源性和污染性双重属性。如果处理得当，它们就是可利用的资源；处理不当，将会威胁自然生态环境，危害人体健康。从整体上看，我国陆续出台一些政策来规范废旧家电回收拆解，推动相关工作取得长足进步。但有关回收处理体系仍不够健全，机制也不够完善。例如，正规回收企业受制于环境成本、运营成本等，难以大规模设立收购网点，没办法给出更高的回收价格，也不被社会所熟知，因而多数废旧家电被小商贩回收。结果，“退休”家电中质量稍好的，经过修理后流入二手市场；质量差的，有价值的零部件会被拆下来，剩余的部分才会进入拆解厂。

这段文字主要说明：

- A. 我国废旧家电回收处理体系仍不够健全
- B. 我国需完善废旧家电回收处理体系
- C. 应完善报废回收管理体系
- D. 应该给正规家电回收企业适当“帮扶”

32. 随着互联网科技的迭代升级，公益的形式正变得更加多元和丰富。从蚂蚁森林种树，到手机农场喂鸡扶贫，科技赋予公益更多想象力，使虚拟互联网与现实发生连接，让公众参

与公益变得更便捷。人人公益、随手公益、指尖公益正在成为潮流，公众参与公益的热情不断高涨，参与意识持续提升。当种成一棵树的时候，有人说，这是 20 年来被我赋予生命的第一物。还有人说，“这个世界终于因为有了我的存在而有了点不同”。像蚂蚁森林这类“互联网+公益”的新形式，最大的吸引力正在于帮助他人的同时，自己也收获颇多。网上购物、线下运动，在享受娱乐的同时，手指轻轻一点就能亲身参与公益活动，既实现个人价值，收获助人为乐带来的精神愉悦，又展示了自己积极向上的生活态度，何乐而不为？

这段文字意在说明：

- A. 公益的形式正变得更加多元和丰富
- B. 互联网助力公民实现个人价值
- C. “互联网+公益”的新形式让公众更好地参与公益
- D. “互联网+公益”模式的新启示

33. 曾经一段时间，麻将通宵、红包攀比、酒桌奔波、奢靡享乐，一度成为冲毁春节年味的“泥石流”。如果轻视了春节的文化意味，那么无论再多的消遣和吃喝，也弥补不了精神的空虚。对待春节这一文化传统，最令人忧心的事情莫过于：“物的败坏尚可恢复，而‘文化精神’一旦败落下去，要挽救回来，恐怕就难以计算时日”。由此而言，春节不仅是一道如何过节的生活命题，更是一道维护什么价值、追寻什么使命的文化命题。当我们的物质生活丰富起来，我们还需要学会过殷实的文化生活，学会取舍选择，懂得守望坚持。面对春节，对每个中华儿女而言，应有守护传承创新的文化自觉，应有凝神铸魂立根的文化自信。

这段文字意在说明：

- A. 春节是中国人心底最深处的文化胎记
- B. 春节是一道有关使命和价值的文化命题
- C. 面对春节，应坚持文化自觉和文化自信
- D. 我们要学会舍弃物质，坚守文化

34. 对于甘肃决定在全省所有校园及周边 200 米范围内禁止销售辣条的一刀切决定，叫好的人很多，但是质疑的人也很多，认为这一刀切得还不够狠。很多人认为，200 米范围内不能卖，那学生完全可以在 200 米范围外购买，上下学路上也可以买。虽然，通过提高购买门槛的方式来切断学生接触辣条的部分途径，减少吃到辣条的概率，是值得尝试的方法，但归根到底还是得依靠源头治理。今天辣条要在 200 米开外，明天方便面要在 300 米外才能销售，都不是长久之计。学校周围 200 米禁售是治标不治本，管住源头才是真道理，所谓扬汤止沸不如釜底抽薪。

对于学校周边 200 米范围内禁售辣条，作者的态度是：

- A.支持叫好
- B.反对一刀切
- C.未置可否
- D.治标不治本

35. 皮肤病难治、易复发都是由其本身的特点决定的，包括内外两方面因素。皮肤病虽然发生在皮肤外，但实际上，主要致病因素是内脏脏器的功能失和、气血运行失调。临床上，皮肤病的内因多半是内脏，比如体内湿、毒、热、淤等。常见的如湿热夹毒，导致这种症状的内因是脏腑功能失调，外因则可能和情志有关。如今生活节奏加快，持续的压力也会导致体内免疫失调。因此，在治疗皮肤病时，不能简单地通过涂抹药膏来解决，而是要通过整体的调理，包括免疫、内分泌、代谢等方面。

下列说法与原文相符的是：

- A.体内湿、毒、热可能引发皮肤病
- B.持续的压力会导致脏腑功能失调
- C.涂抹药膏无法治疗皮肤病
- D.有些皮肤病可能会危及生命

36. 睡眠时间的长短不代表睡眠质量，睡眠周期和时相是不断变化的。睡眠专家通过对人的眼球运动进行观察发现，睡眠分为非快速眼动睡眠和快速眼动睡眠。非快速眼动睡眠分为入睡期、浅睡期、中度睡眠期以及深度睡眠期。非快速眼动睡眠期和快速眼动睡眠期共同组成一个完整的睡眠周期。在人们一晚上的睡眠过程中，睡眠周期会由非快速眼动睡眠期到快速眼动睡眠期依次交替 4~5 次。根据睡眠专家研究，做梦只在快速眼动睡眠期发生。只有非快速眼动睡眠期中的深度睡眠期才叫做深度睡眠。

下列说法与原文相符的是：

- A.睡眠周期会由快速眼动睡眠期到非快速眼动睡眠期依次交替
- B.做梦只在非快速眼动睡眠期中的深度睡眠期发生
- C.短时记忆向长时记忆的转换过程是在睡眠中进行的
- D.完整的睡眠周期包含非快速眼动睡眠期和快速眼动睡眠期

37. 历史正剧必须以历史真实为基础，但艺术的眼光和标准，才是历史传奇剧正确打开方式。这便要求社会要以平和的心态和清晰的认知，让历史传奇剧归艺术，让历史研究归学术。至于一部历史传奇剧作为艺术作品的好与坏，评价标准除了艺术本身之外，社会真正关

心和衡量的是这部历史传奇剧的价值观。如果通过艺术多样化的表现方式，传递了积极、正面，自强不息和不屈不挠的正能量，传递了善良与关爱，对法制的信仰，那么纵然是在小事上不拘的影视剧，依然不失为一部好的作品。

作者通过这段文字意在说明：

- A. 社会应以平和的心态和清晰的认知让历史传奇剧归艺术
- B. 艺术的眼光和标准才是历史传奇剧正确的打开方式
- C. 历史传奇剧应通过艺术多样化的表现方式传递正确的价值观
- D. 历史研究和艺术创作应该注重主流价值观的传递

38. 透过职业教育改革发展的热闹表象，我们不难发现，这个三十年我们基本上是循着“先做大再做强”的思路来发展职业教育的。至于为什么采取这样的路径，我们很容易理解：在高等、高中教育资源相对紧缺的情况下，职教规模扩张比较容易实现，而改革则会触及更多更深层更复杂的问题。因此，对于教育主管部门尤其是地方教育行政主管部门来说，既然能够用相对较低成本取得规模发展的成绩，深层次的改革自然可以后延了。

对文段概括准确的一项是：

- A. 我国职业教育发展取得了较大的进步
- B. 我们是遵循先做大再做强来发展职业教育的
- C. 我国职业教育应当进行深层次的改革
- D. 我国职业教育选择规模化发展不深入改革的原因

39. 轰炸式的信息、快餐式的短视频都会影响儿童独立思考能力，相关信息的推送、输入法的联想功能等可能使儿童轻而易举获得所需要的信息，丧失了独立探索的欲望，而好奇心与求知欲是创新型人才首要的品质。同时，网络一方面将地球变成“地球村”，另一方面也使邻居变成了“陌生人”。如果在网络上乐于结识新朋友、现实中却羞涩怯懦，那就会损害团队合作的能力，无法跟上时代的要求。

关于这段文字，以下理解不正确的是：

- A. 智能信息设备在打开新世界大门的同时，也可能关上了不止一扇窗
- B. 对待智能网络不能一棒子打死，也不能一味放纵
- C. 青少年都愿意花更多的时间和朋友在网上交流，而不是面对面
- D. 矛盾是既对立又统一的

40. 节约是小事，浪费非小事。有人说，“自己掏钱、丰俭由我”。其实，只要看看食品浪费的严重程度，这种说法就站不住脚了。有数据统计，2015年我国城市餐饮业仅餐桌

上食物浪费量就高达 1700 万至 1800 万吨，相当于 3000 万至 5000 万人一年的食物量。中国餐饮业人均食物浪费量为每人每餐 93 克，浪费率为 11.7%，大型聚会浪费更是高达 38%。每一粒粮食都来之不易，每一粒食粮都值得珍惜。因此，依法反对食品浪费，就是纠偏有钱任性的消费观；依法监管食品浪费，就是给肆意浪费行为戴上“紧箍”，现实意义可想而知，未来价值也不言自明。

这段文字主要说明的是：

- A. 依法监管与反对食品浪费意义重大
- B. 依法监管与反对食品浪费必将杜绝浪费
- C. 依法监管与反对食品浪费的策略与途径
- D. 我国广泛存在食物浪费的不良行为

41. 人生的第一粒扣子要扣好。对于供职于机关单位、还将服务广大人民群众数十年的年轻人来说，参加招考无疑就是他们工作的第一粒扣子。如果因为以权谋私或为官不为，年轻人直接或间接经历了“白马非马”式的遭遇，那么很难想见在今后的工作中，他们能保持致力服务大众的赤子心。今天年轻人被“白马非马”，明天就难说不会去“指鹿为马”。如此，怎能对党和国家、对人民忠诚？

最适合做这段文字标题的是：

- A. 人生的第一粒扣子要扣好
- B. 年轻人“白马非马”式遭遇当止
- C. 年轻人难免被“白马非马”
- D. 年轻人不应遭遇“指鹿为马”

42. ①尽管脑瘫有多种原因，但结果上都是脑细胞损伤、死亡

②所谓“封针疗法”，是以针灸经络为理论基础的“中西医结合疗法”

③医学界公认，脑瘫治疗是个世界性难题

④根据医院方面宣传，“1997 年至 2002 年封针治疗 381 例脑瘫患儿，总体有效率高达 97.1%，其中正常化 190 例”

⑤果真如此的话，这无疑是个巨大的医学奇迹，但从现实来看，所谓“疗效”恐怕经不起科学检验

⑥目前尚无药物和疗法能恢复受损和死亡的脑细胞，无论是药物治疗还是其他疗法，都只是辅助治疗，起到的是部分康复作用，不能完全治愈

将以上句子重新排列，语序最恰当的一项是：

A.③①⑥②④⑤

B.①⑥③②④⑤

C.②④⑤③①⑥

D.⑥③②①④⑤

43. ①之后，不少网友表示“恍然大悟”，原来在中国用电是一件很实惠的事情

②前不久，有网友吐槽“中国电费太贵”

③电费，一直都被看作是成本

④目前，中国的居民电价为 0.084 美元/千瓦时，和美国、日本、德国、英国、法国、意大利等主要发达国家相比，中国居民电价水平最低

⑤国资委新闻中心进行了回应，并列举了全球主要国家电价水平

⑥但实际上，对企业来说，电费并不是成本的大宗——当然，除了电解铝等特殊工业企业之外。

对以上句子重新排序，正确的一项是：

A.②⑤④①③⑥

B.②④⑤①③⑥

C.④②⑤①⑥③

D.④①⑤②⑥③

44. 大量的人口流入给城市的发展带来了强大动力，也快速形成了超特大城市的发展红利。然而大城市社会福利分配的限制，发展带来的高生活成本以及区域间文化的巨大差异，让大量农村人口面临进得来、留不下的困境，而且远距离的流动也导致一系列社会问题。县域城镇化连接着农村人口生活的家乡以及工作的城市，具有距离、文化等优势，县域城镇化发展不仅能为农村人口提供更多发展机会，还能为农业转移人口提供城镇化水平的社会服务，让农村人口在参与城镇化建设过程中真正享受其成果。

这段文字接下来最可能讲的是：

A.人口的自由流动是城镇化的基础

B.发展区域城市建设吸引人口回流

C.城市的发展红利应为建设者们共享

D.县域城镇化需要实事求是精准施策

45. 农历七月初七是中国的传统节日——七夕节。传说天宫上的牛郎织女，要在这一天鹊桥相会，以解相思苦。千百年来，他们的故事早已家喻户晓，而在这漫漫人间，浩如烟海

的典籍、玲珑小巧的什物，无不蕴藏着人们对美好爱情的向往和追求。古人是含蓄的，很多能工巧匠都喜欢用成双成对的动物，或是并蒂而开的花草，来表达人们心中琴瑟和鸣、岁月静好的祈愿。鸳鸯戏水，交颈而眠。总是两两相伴的鸳鸯，经常是诗词歌赋里爱情的代名词，借着七夕的好光景，不妨让我们一起来看看，古代的匠人们如何将鸳鸯赋予新生，琢于器物之上，流转到我们的眼前。

文段接下来最不可能介绍的是：

A.故宫明代万历年间的藏品——五彩鸳鸯纹提梁壶，为宫中饮茶用器，构图饱满，纹饰线条较粗，图案生动活泼

B.明万历时期的五彩小件器与嘉靖时类似，品种略多，大件愈加盛行，大花觚、大蒜头瓶、大葫芦瓶等为典型器形，这时的五彩器几乎全是青花五彩，传世品中釉上五彩器很少

C.文竹嵌竹丝嵌玉荷花鸳鸯如意（清代）将打磨光洁的棕竹丝弯曲成波浪状，并列粘贴于柄身上，柄首的竹丝则盘成圈状，中央嵌荷花鸳鸯纹玉饰，整体设计简单流畅，却透出一种雅韵

D.青玉鸳鸯卧连云龙柄执壶，所用青玉材质，造型典雅，雕工精当，壶盖上鸳鸯造型精致灵动，与圆盖周边卷起的流云线条相呼应，更显得栩栩如生，实为明代玉器的一件精品

第三部分 数量分析

(共 15 题)

一、数学运算：本部分的每道题呈现一段表述数量关系的文字，请迅速、准确地计算答案。

46. 商店打算出售一台家电，按获利 20%进行标价。实际销售中顾客提出 9 折购买，但商店最多同意降价 100 元，最终双方以各自给出价格的平均值成交，成交后商店发现赚了 160 元，请问这台家电的标价是多少元？

- A.1200 B.1500
- C.1800 D.2160

47. 某公司有甲、乙、丙三个部门，人数之比为 3 : 4 : 5，现由于部门职能发生变化，需要对所有人员进行调整，重新分配之后三个部门的人数之比变为 4 : 5 : 6，其中有一个部门比原来多了 2 人，则该部门原来有多少人？

- A.27 B.30
- C.32 D.34

48. 购买8箱苹果与5箱芒果需要2200元，若购买5箱苹果与8箱芒果需要多花150元。则苹果与芒果各买一箱需要多少钱？

- A.120 元
- B.200 元
- C.300 元
- D.350 元

49. 在一条线段中间另有6个点，则这8个点可以构成多少条线段？

- A.15
- B.21
- C.28
- D.36

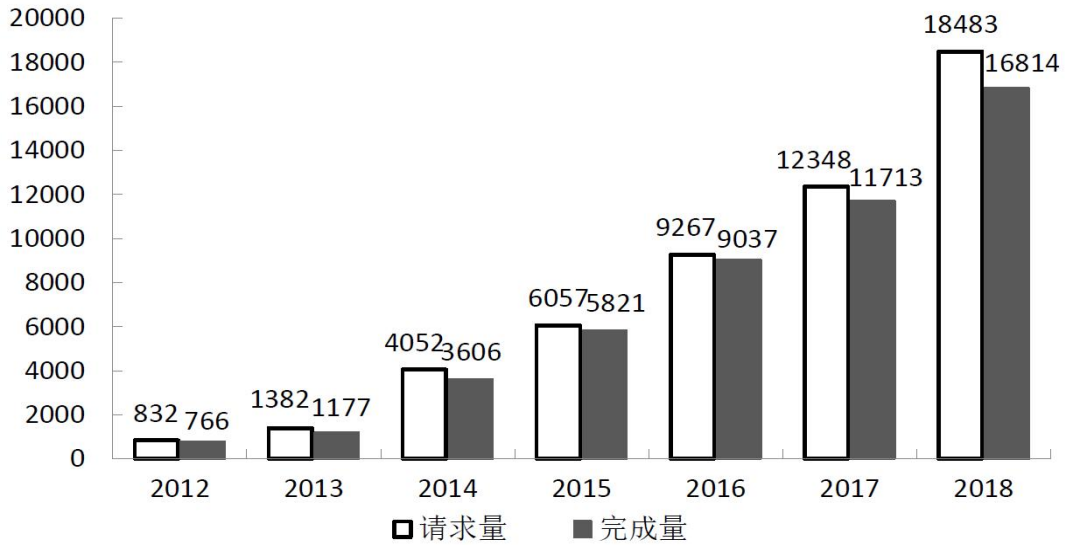
50. 给长方形的长增加2，宽增加5恰好可以得到一个面积为100的正方形，则原长方形的周长：

- A.13
- B.26
- C.40
- D.46

二、资料分析：请根据资料提供的信息，通过分析、比较、计算或判断，选出最符合每道题要求的一项。

(一) 根据所给资料，回答 51-55 题。

2018 年度全国外观设计专利申请量 70.9 万件，同比增长 12.7%，增速比上年同期扩大 3.2 个百分点；授权量 53.6 万件，同比增长 21.1%，增速比上年同期扩大 5.1 个百分点；有效量 161.1 万件，同比增长 10.4%，增速比上年同期收窄 3.4 个百分点。全年外观设计专利职务申请 42.3 万件，同比增长 18.4%；授权量 32.5 万件，同比增长 29.2%；有效量 104.4 万件，同比增长 14.2%。2018 年度外观设计专利权评价报告请求量 18483 件，完成量 16814 件，分别比 2010 年增长 559 倍和 933 倍。



2012—2018 年全国外观设计专利权评价报告（单位：件）

51. 2018 年度全国外观设计专利授权比两年前增长约：
- A.52.8% B.40.5%
- C.23.4% D.16.0%
52. 2014—2018 年，全国外观设计专利权评价报告完成率（完成量/请求量）超过 90% 的年份有几个？
- A.6 B.5
- C.4 D.3
53. 2013—2018 年，全国外观设计专利权评价报告请求量同比增长最快的年份是：
- A.2014 年 B.2015 年
- C.2017 年 D.2018 年
54. 2018 年，全年外观设计专利职务申请比上年同期约增长了：
- A.5.4 万件 B.6.6 万件
- C.7.1 万件 D.8.0 万件
55. 根据上述材料，以下说法不正确的是：
- A.2013—2018 年，全国外观设计专利权评价报告请求量与完成量同比增长最快的年份相同
- B.2010 年度，全国外观设计专利权评价报告请求量约为 33 件
- C.2018 年，外观设计专利申请有效量中职务有效量的占比超过六成
- D.2018 年，全国外观设计专利权评价报告完成量比四年前翻了 4 番多

（二）根据所给资料，回答 56-60 题。

2020 年全国居民收支主要数据

指标	绝对量 (元)	比上年增长 (%)
(一) 全国居民人均可支配收入	32189	4.7
按常住地分：		
城镇居民	43834	3.5
农村居民	17131	6.9
按收入来源分：		
工资性收入	17917	4.3
经营净收入	5308	1.1
财产净收入	2791	6.6
转移净收入	6173	8.7
(二) 全国居民人均消费支出	21210	-1.6
按常住地分：		
城镇居民	27007	-3.8
农村居民	13713	2.9
按消费类别分：		
食品烟酒	6397	5.1
衣着	1238	-7.5
居住	5215	3.2
生活用品及服务	1260	-1.7
交通通信	2762	-3.5
教育文化娱乐	2032	-19.1
医疗保健	1843	-3.1
其他用品及服务	462	-11.8

56. 2019 年全国居民人均转移净收入约占人均可支配收入的：

- A.24.3% B.20.9%
 C.19.2% D.18.5%

57. 2020 年城镇居民人均可支配收入与消费支出之比约是农村居民的多少倍？

- A.1.1 B.1.3
 C.2.1 D.2.4

58. 2019 年按收入来源分人均收入排序正确的是：

- A.工资性收入 > 经营净收入 > 转移净收入 > 财产净收入
 B.经营净收入 > 工资性收入 > 转移净收入 > 财产净收入
 C.转移净收入 > 财产净收入 > 工资性收入 > 经营净收入

D.工资性收入 > 转移净收入 > 经营净收入 > 财产净收入

59. 2020 年各个消费类别的人均消费支出占全国居民人均消费支出比重最高的比最低的约高多少个百分点？

- A.18.9
- B.22.4
- C.28.0
- D.33.3

60. 根据上述材料可以推出的是：

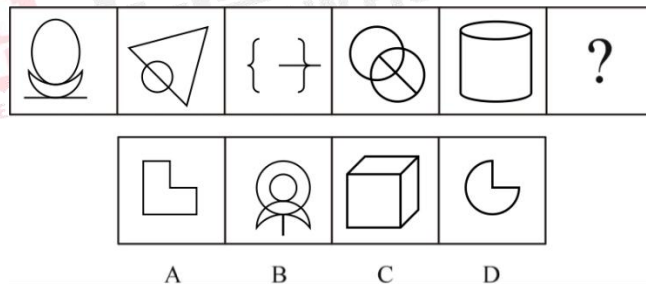
- A.2020 年有 4 个类别的人均消费支出占全国居民人均消费支出的比重超过 10%
- B.2019 年城镇居民人均可支配收入为 41500 元
- C.2020 年城镇居民人均可支配收入超过农村居民的 2 倍
- D.2020 年八大消费类别中超过 75%的类别人均消费支出低于去年同期

第四部分 判断推理

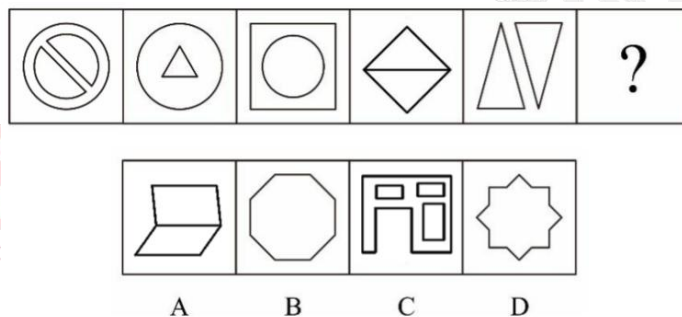
(共 35 题)

一、图形推理：请按每道题的答题要求，从四个选项中选出最合适的一项。

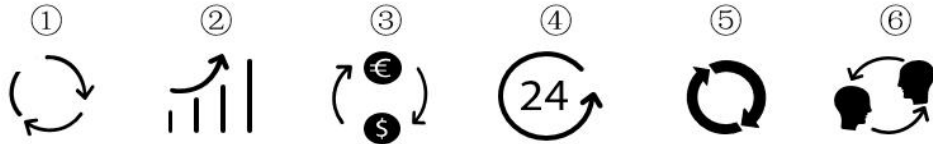
61. 从所给的四个选项中，选择最合适的一个填入问号处，使之呈现一定的规律性：



62. 从所给四个选项中，选择最合适的一个填入问号处，使之呈现一定规律性：

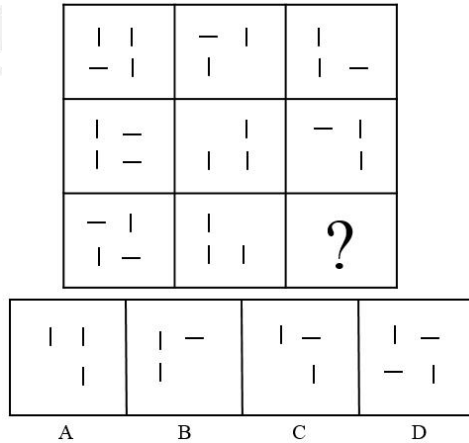


63. 把下面的六个图形分为两类，使每一类图形都有各自的共同特征或规律，分类正确的一项是：

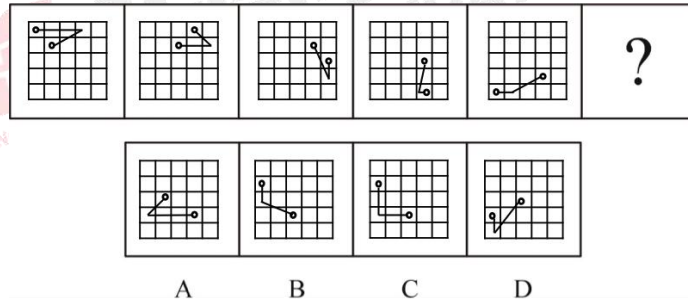


- A. ①③⑤, ②④⑥
 B. ①④⑤, ②③⑥
 C. ①④⑥, ②③⑤
 D. ①⑤⑥, ②③④

64. 从所给的四个选项中，选择最合适的一个填入问号处，使之呈现一定规律性：



65. 从所给的四个选项中，选择最合适的一个填入问号处，使之呈现一定的规律性：



二、定义判断：每道题先给出一个定义（这个定义被假设是正确的、不容置疑的），然后列出四种情况，请严格依据定义，选出最符合题干要求的一项。

66. 自然失业是由于经济中的一些难以克服的原因引起的失业，它是任何经济形态都难以避免的失业，也是正常的失业。

根据以上定义，下列属于自然失业的是：

- A. 赵某酗酒驾车造成重大交通事故，公司以违反劳动纪律为由将其开除
- B. 由于地震导致厂房和设备受损，厂长不得已遣散了工作多年的工人
- C. 某地高速公路收费方式由人工改为ETC后，一些工作人员下了岗
- D. 张某违反公司规定暗箱操作，被发现后公司将其开除

67. 非法侵入住宅罪是指违背住宅内成员的意愿或者无法律依据，故意进入公民住宅，

或者进入公民住宅后经要求退出而拒不退出的行为。

根据上述定义，下列构成非法侵入住宅罪的是：

A.小马家楼下开了个咖啡店，他进去后什么都不点，只是用电脑办公，老板怎么说他都不肯走，一直到打烊

B.小牛听到邻居家有不停砸碎东西的声音，一脚踹开邻居大门就冲了进去，结果发现原来是邻居在吵架，互相扔东西

C.小龙为了找工作，在朋友家里住了半年，其朋友已经感觉到厌烦，整天都在想怎样才能让他搬出去

D.房东小朱担心租出去的房子会有什么损坏，隔一段时间就会拿着备用钥匙进去检查一下

68. 文化挪用是指将本不属于本地的异域或其他民族的文化资源借用过来，从而对本地的文化形成影响，创造出新的文化产品的现象。

根据上述定义，下列属于文化挪用的是：

A.云南本地的歌曲在被艺术家发掘传播之后在全国范围内都得到了广泛传唱

B.在某高级餐厅法国主厨将法式美食的独特烹饪方式带入中国

C.中华文化传入日本之后和当地文化融合，形成了风格独特的文化作品并且在东京奥运会上得到了展示

D.随着中国国力的提升，世界上学习汉语的国家越来越多

69. 博喻是用几个喻体从不同角度反复设喻去说明一个本体，运用博喻能加强语意，增添气势。博喻能将事物的特征或事物的内涵从不同侧面、不同角度表现出来，这是其他类型的比喻所无法达到的。博喻有两种方式：一、用多个喻体描绘本体的一个方面。二、用多个喻体描绘本体的几种状态。

根据上述定义，下列选项中属于第二种博喻的是：

A.每天潮来的时候，听见海浪冲击岩石的音响，看见空际朝雾似的，暮烟似的飞沫升落

B.雨是最寻常的，一下就是三两天。可别恼，看，像牛毛、像花针、像细丝，密密地斜织着

C.两岸都是悬崖峭壁，累累垂垂的石乳一直浸到江水里去，像一挂一挂的葡萄

D.张老师有着一对厚嘴唇，从这对厚嘴唇里迸出的话语，总是那么热情、生动、流利

70. 卖萌营销是市场行销手段之一。它既是一种品牌亲民化沟通的方式，也是品牌与消费者互动的一种方式。不同品牌有着不同的卖萌方式：有的通过小孩，有的通过动物，有的

则本身就拥有“萌基因”。

根据上述定义，下列选项中不属于卖萌营销的是：

- A.某健身馆为了留住更多会员，在会员群体中建立顾客俱乐部，对顾客进行主动管理
- B.肯德基新品“喵套餐”火热出炉，该套餐因其随机附赠的四只小猫玩偶而备受90后消费群体的喜爱

C.可口可乐公司在中国换了新装，“可口可乐”四个大字已“退位”，取而代之的是“喵星人、天然呆、文艺青年”等网络萌语

D.加多宝在官方微博发布“可爱宝宝系列”，通过在广告中加入小孩大笑图片成功地激发了消费者的购买欲

71. 心理学上把学习定义为行为或行为潜能的相对持久的变化。有些学习不会在我们的当前行为中立即表现出来，但会影响我们对待事物的态度和价值观，即改变我们的行为潜能。有时候个体的生理成熟或衰老也会导致行为产生持久改变，但这是由生理成熟引起的，与经验无关，所以不能称为学习。学习主要有两种，一种是正规学习，如有计划的训练或练习等。另一种是随机学习，因偶然的生活经历而产生。

根据上述定义，以下选项不涉及学习的是：

- A.小利信奉佛教后，不再杀生、不再吃肉
- B.小张在教练地指导下学会了打乒乓球
- C.小潘进入青春期后因嗓音的变化而退出合唱团
- D.被开水烫过一次的小朋友就知道开水不能摸

72. 借对是古人诗文中的一种对仗方法，亦称假对，借多义词或同音字形成工整的对仗。可分两类：一是借音为对，即以一句中某字的同音字与另一句中的字相对；一是借义为对，即一句中的某字有两个以上的意义，诗中用的是甲义，而借其乙义或丙义与另一句中的字相对。

根据上述定义，下列说法正确的是：

- A.厨人具鸡黍，稚子摘杨梅。其中“杨”属于借义为对
- B.谈笑有鸿儒，往来无白丁。其中“鸿”属于借音为对
- C.酒债寻常行处有，人生七十古来稀。其中“寻常”属于借音为对
- D.沧海月明珠有泪，蓝田日暖玉生烟。其中“沧”属于借义为对

73. 达维多定律是以英特尔公司副总裁达维多的名字命名的。达维多认为，一家企业要在市场中总是占据主导地位，那么它就要永远做到第一个开发出新一代产品，第一个淘汰自

己的产品。这一定律的基点是着眼于市场开发和利益分割的成效。人们在市场竞争中无时无刻不在抢占先机，因为只有先入市场，才能更容易获得较大的份额和高额的利润。达维多定律揭示了以下取得成功的真谛：不断创造新产品，及时淘汰老产品，使新产品尽快进入市场，并以自己成功的产品形成新的市场和产品标准，进而形成大规模生产，取得高额利润。

根据上述定义，下列体现达维多定律的是：

- A.W公司的产品一直是性能最好的，但不一定是最新的
- B.D公司的产品一直是卖得最好的，但不一定是最贵的
- C.Q公司的产品一直是最好看的，但不一定是功能最全的
- D.Y公司的产品一直是最新的，为此，他们不惜淘汰自己哪怕是市场上正卖得好的产品

74. 所谓“玻璃式经营法”，也就是要像玻璃那样透明公开。它被视为松下电器公司的三大主要经营法则之一，松下的公开性方针还包括财务公开、经营方针公开、经营状况公开，一切都和全体员工共同承担。

根据上述定义，不符合玻璃式经营法的是：

- A.甲企业每年公开结算，对自己的员工毫不保留
- B.乙企业经常“报喜不报忧”，把经营实况掩盖起来
- C.丙企业对员工公开自己的经营状况，也向广大社会大众公开
- D.丁企业经营状况好的时候，把喜讯带给员工，请大家分享成功的欢乐；坏的时候，把问题摆在桌面上，依靠大家的力量共度难关

75. 开放式提问是心理咨询中使用的一种技术，是指提出比较概括、广泛、范围较大的问题，没有固定的标准答案，给对方以充分自由发挥的余地。开放式问题常常运用包括“如何”“怎么”“为什么”等词在内的语句发问，让来访者对有关的问题、事件给予较为详细的反应，而不是仅仅以“是”或“不是”等几个简单的词来回答。这样的问题是引起对方话题的一种方式，使对方能更多地讲出有关情况、想法、情绪等。

根据上述定义，以下不属于开放式提问的是：

- A.你们当初是如何开始创业的？
- B.你为什么要选择创业这条路？
- C.你们遇到了资金问题后，是如何解决的呢？
- D.你当年大学毕业后，是不是去北京发展了呢？

三、类比推理：请根据给出的题干从备选答案中选出一组与之在逻辑关系上最为贴近、相似或匹配的词，或者选出一组词使得题干的表述最符合逻辑。

76. 埋头苦干：兢兢业业：玩忽职守

- A.美不胜收：目不暇接：不堪入目
- B.语无伦次：颠三倒四：条理不清
- C.耳目一新：焕然一新：万象更新
- D.机不可失：失之交臂：时不我待

77. 白居易：别有幽愁暗恨生，此时无声胜有声

- A.李白：人生得意须尽欢，莫使金樽空对月
- B.李清照：便纵有千种风情，更与何人说
- C.杜甫：天长地久有时尽，此恨绵绵无绝期
- D.骆宾王：愿君多采撷，此物最相思

78. 海南：琼

- A.江西：皖
- B.湖北：鄂
- C.南京：苏
- D.重庆：川

79. 电压表 对于 () 相当于 () 对于 诗词

- A.电流表；文学
- B.仪器；宋词
- C.指针；情感
- D.电能表；山水

80. 皮手套：手套：橡胶手套

- A.防疫：口罩：纱布
- B.羊毛帽：帽子：礼帽
- C.怀表：表：手表
- D.铅球：球：乒乓球

81. 多行不义：必自毙

- A.四海之内：皆兄弟
- B.死要面子：活受罪
- C.打开窗户：说亮话
- D.火焰高：众人拾柴

82. 解除 对于 () 相当于 打磨 对于 ()

- A.问题；精致
- B.破除；抛光
- C.保留；磨砺
- D.警报；研磨

83. () 对于 法官 相当于 () 对于 海面

- A.律师；海鸥
- B.审判；游客
- C.法院；轮船
- D.严肃；平静

84. 薄荷脑：风油精

- A.奶油蛋糕：鸡蛋
- B.电动汽车：汽车

C.风力发电：电能 D.二氧化硅：玻璃

85. () 对于 项链 相当于 () 对于 笛子

A.白银；骨笛 B.铂金；箫

C.脖子；吹奏乐器 D.黄金；竹子

四、逻辑判断：每道题给出一段陈述，请根据这段陈述，选出最符合题干要求的一项。

86. 临近年关，老马、老王、老赵三个人想去农村体验生活，有黄石、富贵、格律三个村可供选择，每个人都有一个想去的村，每个村都有人想去，关于三个人想去的村，甲、乙、丙、丁四位同学有如下猜测：

甲说：“如果老马想去黄石，那么老王肯定想去富贵。”

乙说：“老王确实想去富贵，但老马不想去黄石。”

丙说：“老马想去黄石，但老王不想去富贵。”

丁说：“老王不想去富贵。”

如果上述断定中只有一个人的断定为真，则以下哪一项为真？

A.乙的断定为真，老马想去黄石

B.甲的断定为真，但老王不想去富贵

C.甲的断定为真，老王想去富贵

D.丙的断定为真，老赵想去富贵

87. 国家统计局在调查大学生就业以及失业情况时发现：由于大学毕业生集中进入劳动力市场，一般6月份到7月份之间失业率的上升幅度会比较大。但今年来看，7月份和6月份比，失业率上升幅度比疫情前的水平是要低的，说明我国当前的就业形势总体保持稳定。

以下选项如果正确，能够削弱上述结论的说法是：

A.在今年的9月份大学生的失业率相比去年上升了10.5%

B.一两个月的就业率或者失业率不足以体现整体的就业形式

C.6、7月份是大学生毕业季，每年都会有很多大学生在这段时间毕业但是就业的时间往往会推迟一到两个月

D.现在很多高校都设有大学生就业指导课程，可以有效的提高毕业生的就业能力

88. 对于很多没空做早饭的人来说，吃面包是非常省事的选择。那么，面包作为主食，真的健康吗？就此问题专家给出的回答是：一定要注意面包中的健康隐患。专家表示，虽然面包往往吃不出咸味，但一个事实是——做面包的时候是会加盐的。加盐的量通常占面粉重量的0.4%-2%左右，做出来的成品面包，通常每100g含有200-500mg的钠。我们常吃的吐司，

钠含量往往还会比其他面包高一点。

下列哪项如果为真，最能支持上述结论？

- A. 很多注重健康的人，开始选择“全麦”面包
- B. 起酥面包制作中会加入大量的油，不利于健康
- C. 钠摄入过多会增加心血管疾病的风险
- D. 面包不建议在冰箱里冷藏，低温下淀粉会老化回生

89. 教师刘洪、伍圆、黄亮、郑娟4人需要分配到A、B、C、D四个城市去实习，每人各去一个城市。根据工作需要，分配满足如下条件：

- (1) 若刘洪去A城市，则郑娟去D城市；
- (2) 要么伍圆去D城市，要么黄亮去D城市。

如果上述条件均得到满足，则补充下列哪项作为条件，可以得出“刘洪去C城市”的结论？

- A. 伍圆去A城市
- B. 郑娟去A城市
- C. 黄亮去B城市
- D. 黄亮去A城市

90. 美国斯坦福大学的一个研究团队收集了517对夫妇的照片数据，这些照片是在他们婚后不久以及几十年后拍摄的。他们使用先进的人脸识别软件和人工评判手段，结果显示，虽然长期伴侣确实往往看上去很像，但随着时间推移，他们不会变得越来越像。换句话说，这项研究支持一种说法，即我们倾向于选择与我们长得像的伴侣。

以下哪项如果为真，最能削弱上述结论？

- A. 伴侣的皮肤微生物群越来越相似，这导致伴侣长得像
- B. 长期伴侣有共同的饮食、生活方式、言谈举止
- C. 同居伴侣身体上微生物群最相似的部位是脚
- D. 伴侣像不像是不同人的感觉

91. 近日发表的一项健康学研究发现，聆听贝多芬的F大调双钢琴奏鸣曲“田园”至少30秒，被试者会对“田园”产生积极情绪反应，有助于降低耐药性癫痫患者大脑中癫痫相关电活动尖峰频率。

以下哪项为真，不能支持上述观点？

- A. 聆听“田园”达30~90秒，和全脑癫痫相关电活动尖峰数量平均降低66.5%相关，但其他音乐片段均无此效果
- B. “田园”的结尾是一段长而重复的乐节，当被试者听到这段结尾时，研究发现电活动

在其前额叶皮质区增加， θ 活动能触发对音乐的积极情感反应

C.被试者听完“田园”后，大脑的左右前额叶皮质会出现明显变化，一般认为这个部位参与热情、兴趣、决心、幸福、放松、快乐等情感的调控

D.研究者发现，音乐持续时间与降低耐药性癫痫患者大脑中癫痫相关电活动尖峰频率之间的关系成波动形态

五、综合判断推理：每道题给出若干材料，请综合运用各种推理能力，选择一个最恰当的答案。

材料一：结核病是由结核分枝杆菌引起的慢性传染病，可侵及许多脏器，以肺部结核最为常见。世界上约有1/3的人口感染了结核杆菌，其中有大约5%—10%会发展成结核病。对于艾滋病毒携带者、营养不良或糖尿病等免疫系统受损的人，或者烟草使用者，结核杆菌容易在体内大量复制，患病风险就会高很多。

材料二：人体感染结核菌后不一定发病，当抵抗力降低或细胞介导的变态反应增高时，才会引起临床发病。调查表明，最近几年来，患结核病的病例逐年减少。但是，还不能依此得出结核病发病率逐年下降的结论。

材料三：全球结核病曾三次大流行。第三次疫情回升主要是由于耐药结核杆菌，尤其是耐多药结核杆菌的流行。耐多药结核杆菌的流行使常用的抗痨西药受到极大的冲击，再次使结核病成为难治愈的疾病，之后中药加入了治疗结核病的行列，调查显示，中药加入后的治愈率达到了80%，据此，有人认为中药在防治结核病中发挥了重要作用。

根据上述材料，回答下列92-95题：

92. 根据材料一，下列哪一项不能从中推出（ ）

- A绝大多数人感染结核杆菌后并不发病
- B结核病可能发生在肺部或其他脏器
- C身体健康的人一般不会携带结核杆菌
- D身体虚弱者患结核病的可能性较高

93. 下列选项如果为真，最能对材料二中“还不能依此得出结核病发病率逐年下降的结论”这一观点进行加强的是（ ）

- A上述调查涵盖范围广，调查周期长，选取的样本极具代表性
- B近年来由于医疗科技的不断发展，结核病已经可以被治愈
- C据统计数据显示，青少年中患肺结核的病例逐年增多
- D近年由于糖尿病的患者逐年增多，使得结核病发病越发严重

94. 下列选项如果为真，最能够支持材料三结论的是（ ）

A 多名中医专家宣称中医学是老祖宗留下来的宝贵财富，它依然好使、管用

B 科研发现抗痨西药是单靶点起作用，但中药的作用机理目前尚不明确

C 结核病发病后，中药销售量突飞猛进

D 中药通过杀灭或抑制结核杆菌、提高机体免疫力、减轻抗痨西药的毒副作用等途径来发挥作用

95. 与材料二中“当抵抗力降低或细胞介导的变态反应增高时，才会引起临床发病”表达意思相同的（ ）

A 除非抵抗力降低或细胞介导的变态反应增高，否则会引起临床发病

B 如果抵抗力降低或细胞介导的变态反应增高就会引起临床发病

C 所有感染结核菌的人抵抗力降低或细胞介导的变态反应增高时都会引起临床发病

D 引起临床发病需要具有抵抗力降低或细胞介导的变态反应增高的必要条件

第五部分 综合分析

(共 10 题)

下面文字资料均有若干问题要你回答。你应该根据资料提供的信息进行分析和处理，并从每道题所给出的四个选项中选出一个最恰当的答案。

根据所给资料，回答 91-95 题。

①破除迷信、反对伪科学，无疑是一项长期、复杂而又艰巨的任务。近年来，随着社会发展、公民科学素养的_____，一些迷信活动又披上了时鲜热门的科学外衣，_____出现在人们视线中。

②十一长假期间，一个声称能够算命、测运势的电子罗盘出现在河南省开封市延庆观景区内，尽管用上了 APP、互联网等工具，却改变不了伪科学的本质。类似蹭热门科学的事件，在我们的生活中屡见不鲜。

③公共科学传播的力度持续加强，很多重大科学成果、技术突破成为人们生活中的热门词汇，这原本有利于促进人民树立科学意识、提升科学素质，增强认同感并投身于科研事业，而过于“实用主义”的商贩，却把它当成了一条生财之道。

④如果伪科学、封建迷信活动仅止步于娱乐、心理安慰，尚且为祸不烈；伪科学最大的危害就在于把探寻客观世界规律的科学与不可认知论相结合，损害人们的科学思维方式。

⑤破除封建迷信，科普战线是天然的主力军。然而人们需要意识到，科学的思维方式也

是将封建迷信、伪科学等活动斩草除根的神兵利器。当人们面对未知或暂时无法解释的事物时，最有助人们做出正确判断的无疑是科学的思维方式。

⑥科学思维追求严谨求实的精神，科学思维主张从实际出发，探求事物发展的内在规律；而伪科学往往借助科学的旗号，先入为主地确立观点，然后再牵强附会地寻求“证明”。通俗地说，_____。想要破除伪科学，就必须让公众知晓射箭的规则——科学的思维方式。

⑦18世纪英国哲学家大卫·休谟提出了理性思维的一条原则：“没有任何证言足以确定一个神迹，除非该证言属于这样的情形，其虚假比它力图确立的事实更为神奇。”因此，想要真正战胜伪科学，我们必须使用科学思维的武器，以证据为基础，用逻辑作为工具，面对不可知论、耸人听闻的结论或者神秘主义的活动，多问一句证据何在、是否合乎逻辑？

⑧尽管伪科学、封建迷信活动看起来仍有一定生存的土壤，但相信假以时日，公众科学素养的提升、科学思维方式的确立，终会将它们驱除出去。

91. 依次填入第①段划横线部分最恰当的一项是：

- A.提高 改弦更张
- B.提升 改头换面
- C.增强 洗心革面
- D.增加 耳目一新

92. 下列文字应该填入文中哪个位置最为恰当：

量子科技最火，量子鞋垫、牙刷甚至防癌治癌产品便很快问世；航天取得成功，相关的航天保健产品俯拾皆是。这个问题不仅中国有，国外也屡见不鲜。美国一影视明星力推身体感应贴纸，声称含有 NASA 最新科技，引来大批粉丝购买。

- A.①和②之间
- B.②和③之间
- C.③和④之间
- D.④和⑤之间

93. 下列说法不正确的一项是：

- A.许多商贩把前沿科学当成了一条生财之道
- B.伪科学最大的危害是损害了科学思维方式
- C.伪科学还不能立刻被消除
- D.科学的思维方式比科普更有利于破除迷信

94. 填入第⑥段划横线部分最恰当的一句是：

- A. 科学史上的假说或假设 95%是错的，但不能由此否定假说或假设的作用
- B. 伪科学是已经被实践证伪但仍然当做科学予以宣传推广的理论假说或假设
- C. 科学是瞄准靶心再射箭，而伪科学则是先射箭，再画上靶心
- D. 在人类科学发展过程中，理论假说或假设往往是科学发现的拐杖

95. 给以上文段拟定标题，最恰当的一项是：

- A. 以科学为武器 不怕迷信搭上黑科技
- B. 科学何惧“套路”
- C. 科学思维是把双刃剑
- D. 破除迷信 势在必行

※※※本科目到此结束！※※※

