

2024年全国事业单位联考模拟试卷（卷一）

《职业能力倾向测验·B类》

重要提示：

为维护您的个人权益，确保事业单位考试的公平公正，请您协助我们监督考试实施工作。

本场考试规定：监考老师要向本考场全体考生展示题本密封情况，并邀请2名考生代表验封签字后，方能开启试卷袋。

仅限华图教育内部教学使用！

二〇二四年

条形码

请将此条形码揭下，
贴在答题卡指定位置。

注意事项

一、此项测验分为五个部分，**100 道题，总时限 90 分钟**。各部分不分别计时，但都给出了参考时限，供答题时合理分配时间。

二、请按照要求在答题卡上填写好自己的姓名，涂写好准考证号，严禁折叠答题卡。

三、必须在答题卡上答题；在题本上答题，一律无效。

四、监考人员宣布考试开始时，方可答题，宣布考试结束时，应立即停止答题。

题本、答题卡、草稿纸一律留在桌上，待监考人员确认数量无误，允许离开后，方可离开考场。如果你违反了以上任何一项要求，都将影响你的成绩。

五、在这项测验中，可能有些试题较难，因此你不要在一道题上思考时间太久，遇到不会答的题目可先跳过去，如果有时间再去思考，否则，你可能没有时间完成后面的题目。

六、试题答错不倒扣分。

停！请不要往下翻！听候监考老师的指示。
否则，会影响你的成绩。

第一部分 常识判断

(共 20 题)

请根据每道题的要求，从四个选项中选出一个最恰当的答案。

1. 国务院总理李强 2024 年 1 月 5 日主持召开国务院常务会议，会议指出，（ ）是积极应对人口老龄化、推动高质量发展的重要举措，既利当前又惠长远。

- A. 延迟退休年龄
- B. 发展银发经济
- C. 加强养老服务
- D. 建设养老社区

2. 中共中央总书记、国家主席、中央军委主席习近平 2024 年 1 月 8 日上午在中国共产党第二十届中央纪律检查委员会第三次全体会议上发表重要讲话。习近平强调，要持续保持惩治腐败高压态势。面对依然严峻复杂的形势，反腐败绝对不能回头、不能松懈、不能慈悲，必须永远吹冲锋号。要（ ）

- ①持续盯住“七个有之”问题
- ②把严惩政商勾连的腐败作为攻坚战重中之重
- ③坚决打击以权力为依托的资本逐利行为
- ④坚决防止各种利益集团、权势团体向政治领域渗透

- A. ①②③
- B. ①②④
- C. ②③④
- D. ①②③④

3. 下列文学常识的说法不正确的是：

- A. 赤壁赋中“羽扇纶巾，谈笑间，檣櫓灰飞烟灭”描述的人物是诸葛亮
- B. “心比天高，身为下贱”是红楼梦中对晴雯的判词
- C. “冬天来了，春天还会远吗”这句话是雪莱说的
- D. 历史上的“约法三章”是由刘邦先提出来的

4. 根据习近平总书记在中国共产党第二十届中央纪律检查委员会第三次全体会议上发表重要讲话，可知，（ ）是推进党的自我革命的重要力量，肩负特殊政治责任和光荣使

命任务，必须始终做到绝对忠诚、绝对可靠、绝对纯洁。

- A. 纪检监察机关
- B. 行政机关
- C. 权力机关
- D. 中央军事机关

5. 关于中国特色社会主义说法正确的是：

- A. 中国特色社会主义的基本内容主要包括中国特色社会主义道路、理论、制度和文
- B. 中国特色社会主义的总依据是我国社会的主要矛盾
- C. 中国特色社会主义的总任务是全面建成小康社会
- D. 中国特色社会主义的总布局是经济、政治、文化、社会四位一体

6. () 是民族复兴的根基，() 是国家强盛的前提。

- A. 国家安全 社会稳定
- B. 国家安全 经济发达
- C. 社会稳定 国家安全
- D. 政治安全 经济繁荣

7. 下列历史事件按先后顺序有误的是：

- A. 南昌起义→秋收起义→广州起义
- B. 西安事变→皖南事变→卢沟桥事变
- C. 平型关大捷→百团大战→重庆谈判
- D. 上党战役→孟良崮战役→渡江战役

8. 匾额是中国古建筑的重要组成部分，显示建筑物的性质。下列匾额与建筑物对应正确的一组是：

- A. 还我河山——武侯祠
- B. 明镜高悬——贡院
- C. 万世师表——关帝庙
- D. 正大光明——乾清宫

9. 下列有关传统文化常识表示有误的一项是：

- A. 四库全书，是按照经史子集四部分类，所以称为四库
- B. 五岳，即东岳泰山、南岳黄山、西岳华山、北岳恒山、中岳嵩山
- C. 京剧人物分为生旦净丑四种行当

D.我国古代的四大发明包括造纸术、火药、印刷术、指南针

10. 下列关于荀子的说法不正确的是:

A.代表作《荀子》，其中名篇是《劝学》，强调学习的重要性

B.提出“天行有常”“制天命而用之”等唯物主义观点

C.提出“民为贵，社稷次之，君为轻”

D.荀子认为人性本恶，强调道德教化的作用，提出礼法并用

11. “有志者事竟成，破釜沉舟，百二秦关终属楚；苦心人天不负，卧薪尝胆，三千越甲可吞吴”一联中所涉及的历史人物及其历史时期分别对应的是:

A.项羽——秦末，勾践——春秋

B.项羽——春秋，勾践——战国

C.项羽——秦末，刘邦——汉初

D.刘邦——汉初，勾践——战国

12. 当社会总需求大于总供给，经济增长过热时，中央银行采取紧缩性货币政策，其主要措施不包括:

A.在金融市场上购买政府债券

B.提高贴现率

C.提高法定准备金

D.在金融市场上抛售政府债券

13. 我国古代在农业技术上取得了巨大的成就。下列有关古代农书的相关说法错误的是:

A.《农政全书》反映了明代最新的技术成就和欧洲先进的水利技术

B.《农桑辑要》是我国现存最早的官修农书

C.《齐民要术》是我国现存最早的农书

D.《四民月令》是东汉后期的叙述一年例行农事活动的专书

14. 下列关于染色体的描述，正确的是:

A.每条染色体一般有1个DNA分子，每个DNA分子上有1个基因

B.每条染色体一般有1个DNA分子，每个DNA分子上有多个基因

C.每条染色体一般有多个DNA分子，每个DNA分子上有多个基因

D.每条染色体一般有多个DNA分子，每个DNA分子上有1个基因

15. 下列与“一定”有关的说法，符合相关生物学知识的是:

A.含有碱基G的核酸一定是DNA

- B.没有成形细胞核的细胞一定是原核细胞
- C.含中心体的细胞一定为动物细胞
- D.病毒的生命活动一定离不开细胞

16. 袁某因生活琐事对邓某不满，心生杀意，趁邓某在卧室睡午觉之机，持菜刀向邓某的头部、背部等部位连砍数刀，后因邓某醒来反抗，袁某便逃离现场，后经鉴定邓某为轻伤一级。关于袁某的行为下列说法正确的是：

- A.未构成故意杀人罪
- B.故意杀人未遂
- C.故意杀人中止
- D.故意杀人既遂

17. 下列经济指标与衡量对象对应关系错误的是：

- A.CPI——通货膨胀
- B.恩格尔系数——居民生活水平
- C.基尼系数——收入分配差距
- D.生产者物价指数——货币供应量

18. 2021年6月10日下午，十三届全国人大常委会第二十九次会议在北京人民大会堂闭幕。会议经表决，通过了数据安全法、海南自由贸易港法、军人地位和权益保障法、新修订的军事设施保护法、关于修改安全生产法的决定、印花税法、反外国制裁法。根据《宪法》，下列关于全国人大常委会的说法错误的是：

- A.全国人民代表大会代表的选举由全国人民代表大会常务委员会主持
- B.全国人民代表大会选举并有权罢免全国人民代表大会常务委员会的组成人员
- C.全国人民代表大会常务委员会委员长、副委员长、秘书长连续任职不得超过两届
- D.全国人民代表大会常务委员会对全国人民代表大会负责并报告工作

19. 面包制作过程中使用酵母主要是利用其哪一种特性：

- A.酵母在生长过程中可合成蛋白
- B.酵母在生长过程中可分解淀粉
- C.酵母在生长过程中可产生乙醇
- D.酵母在生长过程中可产生二氧化碳

20. 下列生活常见的现象，说法正确的是：

- A.大雾弥漫时，汽车司机必须开雾灯，雾灯一般采用黄色

- B.在食品袋中充入氮气，可以延长食品的保存时间
- C.钢化玻璃比普通玻璃强度高，且没有自爆的可能性
- D.煤气中毒时，应及时对中毒者进行抢救，然后再关闭煤气，开窗通风

第二部分 言语理解与表达

(共 25 题)

一、言语表达：请从每道题所给的四个选项中选出一个填空，使语句的意思表达得最为准确。

21. 互联网时代借助各种社交软件，人人都可以成为新闻、信息的制造者、转发者、参与者，网络信息呈现开放、海量、复杂等特点，特别在春节这个欢聚的时节，人们八方汇聚，畅所欲言，心情放松，毫无戒备，往往依赖惯性思维，影响是非判断能力，宁可信其有，不可信其无，流言更容易_____。

填入横线部分最恰当的一项是：

- A.以讹传讹
- B.不胫而走
- C.臭名远扬
- D.口耳相传

22. 多年来，真“鲍师傅”在专注于产品开发、公司发展的同时，忽略了对“鲍师傅”商标的保护。随着“鲍师傅”品牌的市场知名度越来越高，各种山寨“鲍师傅”如雨后春笋般_____。

填入横线部分最恰当的一项是：

- A.接踵而至
- B.屡见不鲜
- C.应运而生
- D.不胜枚举

23. 低价茶换个“皮”就摇身变成高价茶，如此简单的“变脸”操作，毫无技术含量，消费者又辨识不出来，造假成本极低、风险极小，利润空间巨大，商家自然是_____。可这样_____造假，视消费者为“唐僧肉”的做法，只能欺瞒一时，待消费者察觉上当受骗后，就会毫不客气用脚投票。

填入横线部分最恰当的一项是：

- A.乐此不疲 肆无忌惮
- B.趋之若鹜 明目张胆
- C.亦步亦趋 堂而皇之
- D.蜂拥而至 无所顾忌

24. 一些网络游戏平台的“青少年模式”竟被未成年人轻易化解，真不知是谁的尴尬。对此，父母固然应尽到首要的监护责任，对青少年多些关心和陪伴，而非任其拿着手机_____于网游或直播，甚至将微信、QQ等账号交给青少年使用。但是，信息时代，使用手机已是大势所趋，总不能苛求父母时时刻刻盯着孩子。拥有强大技术支撑的网络平台，显然不能将责任都推到父母身上，而刻意_____自己的监管责任。

填入横线部分最恰当的一项是：

- A.沉溺 推托
- B.沉迷 推辞
- C.沉醉 推脱
- D.沉湎 推卸

25. 美国国会陆续推出的救助法案在实施过程中漏洞百出，给小企业的“救命钱”被不少大企业“钻空子”_____。经济重启计划也是_____，州政府与联邦政府步调不一。《纽约时报》撰文指出，美国领导者身边常见的敌对和派系斗争一直困扰着政府的应对工作，严重影响着决策和政策制定。

填入横线部分最恰当的一项是：

- A.获取 九龙治水
- B.谋取 壁垒分明
- C.攫取 各自为政
- D.吸取 各行其是

26. 在外打拼一年，许多人准备回家过年，可是回家的路并不顺心。日前，中央电视台以《“宰客”的长途客车》为题，曝光了沪昆高速公路沿线贵州铜仁、湖南湘潭、江西上饶境内客车司机伙同黑店经营者“宰客”乱象，引发关注。交通运输部办公厅印发警示通报，要求各地深刻汲取教训，_____，坚决_____此类乱象再次发生，切实保障乘客的合法权益。

填入横线部分最恰当的一项是：

A.触类旁通 制止

B.融会贯通 遏止

C.见微知著 抵制

D.举一反三 遏制

27. “零扰生命密码”_____人的意念能够聚合光、宇宙能力、上古能量来按摩病灶，让人想起前几年的“意念治病”——_____药物治疗功效，放大意念的作用。这些显然都是伪科学。

填入横线部分最恰当的一项是：

A.宣称 摒弃

B.断言 舍弃

C.妄言 放弃

D.预言 抛弃

28. 近日，“2019 全球华侨华人年度评选”在北京圆满落幕，陈永栽、方李邦琴、贝聿铭、谷建芬、丘成桐等大家_____的侨界人士获奖。他们或为传承弘扬中华文化_____，或在某一领域不辍耕耘、取得突出成绩，或为维护华人形象和权益四处奔走，展示了归侨侨眷和海外侨胞的时代风采。

填入横线部分最恰当的一项是：

A.街谈巷议 精雕细刻

B.妇孺皆知 全力以赴

C.众所周知 全心全意

D.耳熟能详 不遗余力

29. 当然，为人父母者也要改变自己的唠叨习惯。虽然唠叨是出于善意，但让孩子感觉到不适，效果也许_____。所以，父母也要继续学习如何当父母，对年轻人某些行为习惯要理解和包容，即使孩子的行为_____容忍底线，父母也要简单委婉表达意见。

填入横线部分最恰当的一项是：

A.适得其反 超出

B.过犹不及 逾越

C.事与愿违 践踏

D.背道而驰 打破

30. 在洪涝灾害频发的大背景下，店铺开在大坝“肚子里”的场景，既令人愤怒，也难

免让人脊背发凉，_____。俗话说：千里之堤，溃于蚁穴。这句话不仅是一句劝世喻人的“鸡汤”，也是古人对水利工程安全问题的深刻体会。看起来岿然不动、_____的堤坝，其实每时每刻都在抵挡水流的侵蚀。

填入横线部分最恰当的一项是：

- A.挥之不去 坚若磐石
- B.胆战心惊 根深蒂固
- C.历历在目 稳如泰山
- D.不寒而栗 固若金汤

31. 老字号是沿袭和继承了中华民族优秀文化传统，具有鲜明中华地域文化特征和历史痕迹、独特工艺和经营特色，取得了社会广泛认同和良好商业信誉的企业名称和产品品牌。在漫长的历史长河中，我国留下了众多独具民族特色的老字号，既是一种商贸景观，也是民族传统文化的瑰宝。在新的历史条件下，如何让老字号在激烈的市场竞争中再次焕发生机，考验着老字号企业的经营智慧。近年来，一些老字号企业为在经营困境中突围，尝试用上市来纾解发展中的“烦恼”，而往往忽略“二次创业”的创新。虽然上市不失为解决老字号企业后续发展资金不足的良方，但如果仅止步于此，而在产品与服务方面还是“倚老卖老”，那么即使筹集到再多的资金，恐怕也无济于事。老字号企业在上市募集资金的同时，不应把资本运作视为企业未来发展的唯一依赖，而应将功夫更多地放在老字号产品和服务的创新方面，这才是上策。

这段文字意在说明：

- A.老字号需要文化加持，也需要“推陈出新”
- B.文化不能仅重视资本运作，更需要产品和服务的创新
- C.老字号是民族传统文化的瑰宝
- D.老字号再次焕发生机重在创新

32. 网络文学在中国兴起以来，产业规模迅速扩大，作品数量不断攀升，近年来尤为凸显。然而，数字的增长远不能代表一个产业的繁荣健康发展。在市场机制作用下，网络文学作品常常给人以质量低、同质化、片面追求点击率的印象。在此背景下，中国网络文学要如何打个漂亮的翻身仗？抛弃“唯点击率”的市场思维，实现从“量”到“质”的飞跃，将成为网络文学实现规范化发展的必由之路。此次网络文学创作者实名注册制度的落地，是网络文学向精品化发展迈出的坚实一步。一方面，有利于规范市场秩序，维护优质作者的合法权益，使版权纠纷、刷票乱象有迹可循；另一方面，扒掉烂文作者的层层“马甲”，让真正的

好作品浮出水面，有助于一改泥沙俱下的现状，提升网络文学整体创作水准。

这段文字主要说明：

- A. 高质量网络文学作品需破除质量低、同质化等痼疾
- B. “实名注册”对创作者登载发布行为提出明确要求
- C. 网络文学问责制推出重要举措，提升网络文学整体创作水准
- D. “实名注册”为网络文学保驾护航，助力其长远发展

33. 生态文明制度是中国特色社会主义制度的重要组成部分，党的十八大以来，以习近平同志为核心的党中央大力推进生态文明制度建设，提出“生态兴则文明兴”“保护生态环境就是保护生产力，改善生态环境就是发展生产力”“良好生态环境是最公平的公共产品，是最普惠的民生福祉”等一系列重要论述，既彰显了我们党推进生态文明建设的政治智慧和坚定决心，也深刻阐释了人与自然和谐共生的重要意义。促进人与自然和谐共生，是生态文明制度建设的内在要求和重要评价标准。我们要坚持好运用好这一评价标准，进一步完善生态文明制度体系，着力补齐制度短板，促进人与自然和谐共生。

这段文字主要说明：

- A. 我国需着力补齐短板，促进人与自然和谐共生
- B. 我国要坚持和完善生态文明制度体系，建设生态文明
- C. 生态文明制度是中国特色社会主义制度的重要组成部分
- D. 人与自然和谐共生是生态文明制度的重要评价标准

34. 研究人员认为，蚊子的各种特性使它天生适合成为犯罪现场的物证。首先，蚊子的分布范围广泛、种类繁多，在多数犯罪现场也很常见。而且不同种类蚊子的飞行习惯和“饮食习惯”各有不同，有助于犯罪现场的推理和应用。而且，蚊子更喜欢温暖的血液，尸体血液不在它们的菜单上。同时，蚊子虽然在饥肠辘辘时可以飞行很长距离寻找食物，但吃饱喝足后，会倾向于待在用餐地点，直至把餐食消化完毕。这样，从犯罪现场收集的饱餐蚊子，很可能就是当时的“目击者”，而不是吃饱后从邻居家飞过来串门的“吃瓜群众”。另外，有其他学者提出，别的昆虫中是无法成功提取人类 DNA 的。这样看来，蚊子仿佛成为了犯罪案件中的“福尔摩斯”。

下列说法与原文不相符的是：

- A. 蚊子不会叮食死者
- B. 蚊子吃饱后不会飞远
- C. 昆虫中只有蚊子体内可以提取人类 DNA

D.蚊子可以成为犯罪现场的物证

35.考入清华北大的学子，总能看到诸如“平时很轻松，从来不上补课班”“考前不复习，小考小玩，大考大玩”等等报道，仿佛考上清北的孩子都是不用努力的天才。媒体如此“造神”，不光是在捧杀当事人，更是对普通人努力的不尊重。那些来自教育资源匮乏地区的孩子，拼尽全力、好不容易考上清华，却得知自己的同学都是“玩着就考来”的，她又该以何种心态去面对这种无法选择的出身的不公？可事实上，为了更多的流量，某些媒体用“神化个体”的方式，营造了一种看出身、看天赋、不看努力的浮躁而虚荣的舆论环境。在这样的社会氛围中，承认自己的成功是依靠辛苦努力得来的，有时都成为一种羞耻。这是哪门子的道理？

最适合做这段文字标题的是：

- A.拜托别再给清北“造神”了
- B.媒体捧杀不如脚踏实地
- C.辛苦努力值得媒体赞扬
- D.清北学子也需辛苦努力

36.最近，“区块链”火了。从居高不下的热度中，可以感受到企业、机构对区块链技术和产业发展的热情，但一些地方出现的“虚火”过旺、操作跑偏等现象。比如，有的人怀着爆炒心态、暴富心理，采取各种手段花式蹭热点，明明自身业务和区块链八竿子打不着，硬要安上区块链名号以大肆炒作；有的宣扬“数字货币就是区块链”“炒币获官方支持”等谬论，热炒比特币、归零币、空气币等。种种“套路”损害了公众利益，更污染了区块链行业生态。

这段文字意在强调：

- A.区块链行业生态乱象丛生
- B.区块链产业发展前景广阔
- C.莫要把区块链这部经念歪
- D.数字货币并不等于区块链

37.中国东北酸菜是把整棵白菜放入缸中腌制，吃的时候也是整棵取出来，根据需要切块或切丝。德国酸菜则是先把卷心菜切成细丝，再放入容器中腌制。卷心菜叶片较厚，质地紧实，含水量不多，腌制时不及大白菜入味，但吃起来更爽脆，二者各有千秋。此外，东北酸菜酸度很高，吃之前要用水漂洗，去掉多余的酸味，再通过炒、炖等烹饪方式食用。而德国酸菜因为酸度不高，既可加热，也可以直接生吃。

对这段文字的主旨概括最准确的是：

- A.中德两国美食各有优势
- B.中德酸菜制作方法的差异
- C.中德两国酸菜的不同之处
- D.中德酸菜口感上各有千秋

38.盲盒就是在盒子中随机放置不同的玩偶，消费者在购买前不知道会买到哪一款，既有可能买到稀有的隐藏款，也有可能抽到已有的固定款。该文化最初在日本、欧美流行，近年来在我国成为消费市场新趋势。记者近日在吉林长春、辽宁沈阳、安徽合肥等地专门售卖盲盒的泡泡玛特门店走访发现，店里消费者络绎不绝，“DIMOO”“拉布布”等不同主题玩偶被展示在玻璃柜里。盲盒的主力消费人群集中在15岁到30岁，女性多于男性，白领、大学生居多，也有不少小学生、初中生、高中生购买。

这段文字没有谈到的是：

- A.盲盒的流行区域
- B.盲盒的分类标准
- C.盲盒的市场现状
- D.盲盒的消费群体

39.一些老人身体不佳、行动不便，时常要去医院看病，子女却不在身边，该怎么办？陪诊服务应运而生，但每半天数百元的价格让不少家庭望而却步。更令人担忧的是，陪诊行业缺乏规范，从事相关业务的公司良莠不齐。老人有需求，社会有服务，本来很对口。但是，“陪诊服务价格普遍超出老人家庭的承受能力”，让服务无法真正满足需求。更有老人家属反映，陪诊公司客服对正常询问都不耐烦，怎能使人放心？尽管潜在需求不小，但高高在上的价格以及难料的服务水平，使社会对陪诊的认可度不高。

这段文字接下来最不可能论述的是：

- A.“高价陪诊”现象背后的成因分析
- B.政府应对陪诊服务行业进行常态化监督
- C.制定陪诊行业相关服务标准，势在必行
- D.优化医院就医流程，提升患者就医体验

40.蚊虫除了叮咬骚扰人类，还是疟疾、登革热和寨卡热等疾病的传播媒介。疟蚊肆虐每年造成全球大量新发疟疾病例，由此而死亡的人数较多，严重威胁人类健康、公共卫生和国家安全。由于缺乏疫苗，防治媒介蚊虫是控制和消除蚊媒传染病的有效手段。然而，蚊虫

防治长期依赖化学杀虫剂，泛滥使用化学农药导致蚊虫抗药性和环境污染等问题日益突出。因此，人们迫切需要研发出新的替代工具以安全有效地控制蚊虫种群数量。近年来，蚊虫遗传防治技术的研究发展迅速，为蚊虫的绿色防控提供了新途径。

这段文字主要说明的是：

- A.揭示蚊虫传播疾病的奥秘
- B.控制蚊虫种群数量困难重重
- C.有效控制蚊虫数量需研发新工具
- D.蚊虫遗传防治技术成控蚊新途径

41. ①具有新个体经济特点的微商已成为我国互联网经济重要组成部分

②近年来，互联网经济快速发展为新个体经济提供了更大舞台，同时也极大丰富了个体经济的内涵和外延

③网络直播从业人员数量、市场规模正在快速壮大。这说明，新个体经济发展已经积累了经验、具备了基础

④所谓“新个体经济”，是相对传统个体经济而言

⑤众所周知，传统个体经济如开小店、小商铺等，既解决了许多人的就业、创业问题，也为经济社会发展作出了贡献

将以上句子重新排列，语序最恰当的一项是：

- A.②③④①⑤
- B.③⑤②④①
- C.④⑤②①③
- D.⑤②④①③

42. ①对外贸企业而言，这意味着铁路国际联运将更加高效便捷，带来更多发展机遇

②“数字口岸”系统是中国铁路 95306 货运电商平台的新功能

③只要列车出发，货物、发运人、收货人等信息便实时传输到海关部门、口岸站、运输代理企业和铁路公司，自动完成海关申报，相关境内运输也可以提前办理手续

④“数字口岸”系统虽然是铁路货运改革创新的一小步，却是中国铁路把握数字化发展机遇的一大步，是中国铁路危中寻机、化危为机的生动实践

⑤通过这一系统，铁路国际联运各方将实现数据网上共享、快速申报查询等功能，跨境铁路运输可以实现过检通关数字化

⑥中国国家铁路集团有限公司不久前发布消息称，自 7 月起，95306“数字口岸”系统

在全国铁路各口岸站投入应用

将以上句子重新排列，语序最恰当的一项是：

A.⑥②①⑤④③

B.⑥①②⑤③④

C.②⑤①⑥③④

D.②⑤④⑥①③

43. ①不仅有损城市形象，还会带来高空坠物、消防等安全隐患，亟待引起重视

②城市天际线是表达城市形象的一大要素，而“第五立面”是城市天际线最重要的组成部分

③北京市编制完成的《导则》，明确建立与城市特色风貌分区相对应的第五立面管控体系，形成与城市自然环境、人文特色相协调的城市顶部风景，适应了加强楼顶空间治理的现实而迫切的需要

④近年来，各地城市正在变得越来越美，但一些城市的“第五立面”存在部分建筑屋顶尺度过大、屋顶形式突兀、屋顶设施杂乱、屋顶广告乱设等问题

⑤随着城市化进程加快，居民的生活空间不断向上发展，高架桥和高层建筑的不断增多，让越来越多的建筑屋顶进入人们日常视野，“第五立面”的环境和品质，不断影响着公众的愉悦感、舒适感

将以上句子重新排列，语序最恰当的一项是：

A.②⑤④①③

B.⑤④①②③

C.④①③②⑤

D.③⑤②④①

44. _____。人工智能推动各行各业加速向智能化跃升，让各类智能成果在物理世界和数字世界得到更加广泛的应用，从而不断改变生产生活关系，进一步提升与智能社会相匹配、以“网络化治理”为特色的治理能力。人工智能将大幅拓宽治理体系的延展面。依托大数据、云计算、物联网等技术，治理体系的“触觉”可以前所未有地深入到生产生活的各个方面，形成由点及面、串珠成链的治理体系，让公共服务共建共治共享与社会发展场景互联互通。同时，人工智能将显著增强治理体系的互动性。人工智能将打破传统治理体系的单向局面，使得治理体系成为更加开放的系统，可以根据用户需求作出及时反馈，实现自我更新与自我优化。

填入横线部分最恰当的一项是：

- A.人工智能带动以“数字化治理”为代表的治理能力提升
- B.人工智能可以满足人性化的治理需求
- C.人工智能将推动以“网络化治理”为特色的治理体系完善
- D.人工智能的智慧技术将进一步推动治理理念更新

45. 说到生物，你脑海中第一反应会浮现出什么？大象、狮子、蚂蚁……很多时候，我们可能会不由自主地忽略另一群重要的“地球邻居”。虽然植物占地球生物量的80%以上，但长久以来，它们一直会被忽略和低估。这种现象被科学家称为“植物失明”（plant blindness），这是一种认知偏差，我们的大脑真的会区分出视野中的植物，并低估它们的重要性。植物不会移动，不会发声，但它们是复杂的生物。它们总能很好地适应周围的变化。随着科学的发展，人们不禁好奇，植物是否也有知觉，它们是否也能像动物一样认知这个世界。

作者接下来最有可能论述的是：

- A.人类对植物的认知误区
- B.植物有哪些认知能力
- C.对植物认知的科学研究
- D.植物比大多数动物对环境要敏感得多

第三部分 数量分析

(共 15 题)

一、数学运算：本部分的每道题呈现一段表述数字关系的文字，请迅速、准确地计算答案。

46. 公司采购了一批青团发给员工，如果每个员工发6个，那么还剩余8个。如果多采购50个，每个员工发9个后还剩余7个。如果公司现决定多采购50%的青团，且每个员工分得的青团个数相同，则分完之后还能剩余几个青团？

- A.6
- B.9
- C.12
- D.15

47. 市场上有一款共享电动车，其收费方式为：每公里1元，超过20公里，每公里为0.8元。同时，还收取时租费，即从租车开始每分钟另缴纳0.2元，超过30分钟，每分钟为

0.1元。某次，小王租车共行驶了22公里，租车时间为40分钟，则共需支付费用多少元？

- A.29
B.28.6
C.29.6
D.30

48. 某单位组织领导干部培训。现有4人参与培训，共有4种不同的培训科目。每位参培者只能选择其中1个科目培训，最后只有1个培训科目没有被选择，则有多少种不同的选择情况？

- A.288
B.144
C.72
D.36

49. 口袋中有6个黄球和若干个白球，它们除颜色外完全相同，从中任意摸出一球，若摸出黄球的可能性是 $\frac{3}{4}$ ，则白球比黄球少多少个？

- A.3
B.4
C.5
D.6

50. 有一本笔记本，每天被用掉一定的页数，已知从第三天开始用掉的页数总是比前两天少一页，且第一天用了1页，第五天用了4页笔记本，第六天比第五天多用2页，此时发现按照如此用法，该笔记本还可以用三天，则该笔记本共有多少页？

- A.18
B.27
C.41
D.63

二、资料分析：请根据资料提供的信息，通过分析、比较、计算或判断，选出最符合每道题要求的一项。

(一) 根据所给资料，回答51~55题。

2020年1—8月份，全省固定资产投资增长3.1%。分领域看，工业投资增长1.1%，民间投资增长3.0%，基础设施投资增长2.0%，房地产开发投资增长3.5%。全省商品房销售面积7629.95万平方米，同比下降2.4%，商品房销售额5036.23亿元，下降0.1%。分产业看，第一产业投资增长11.8%，第二产业投资增长0.9%，第三产业增长3.7%。新开工项目投资保持快速增长。全省新开工项目计划总投资增长38.5%，完成投资增长35.3%。

8月份，全省社会消费品零售总额1907.72亿元，增长1.5%；其中，限额以上单位消费品零售额517.22亿元，增长7.7%。限额以上单位按经营单位所在地分，城镇消费品零售额473.30亿元，增长7.4%；乡村消费品零售额43.93亿元，增长10.0%。按消费类型分，商品零售485.05亿元，增长7.4%；餐饮收入32.18亿元，增长11.4%。1—8月，全省社会消费

品零售总额 13787.36 亿元，同比下降 8.4%；其中，限额以上单位消费品零售额 3716.86 亿元，下降 4.2%。

8 月份，全省居民消费价格同比上涨 2.7%。其中，城市上涨 2.3%，农村上涨 3.3%。分类别看，食品烟酒价格上涨 9.0%，衣着下降 1.6%，居住下降 0.8%，生活用品及服务下降 0.5%，交通和通信下降 3.6%，教育文化和娱乐下降 0.1%，医疗保健上涨 3.4%。8 月份，全省居民消费价格环比上涨 0.6%。

51. 2020 年 1—8 月份，全省商品房单位面积售价约为每平方米多少万元？

- A.0.58
- B.0.61
- C.0.66
- D.0.71

52. 2020 年 1—8 月份，限额以下单位消费品零售额占全省社会消费品零售总额的比重约为：

- A.73%
- B.63%
- C.37%
- D.27%

53. 2020 年 8 月份，全省社会消费品零售总额中限额以下单位消费品零售额同比约增长：

- A.-1.1%
- B.-0.6%
- C.-0.2%
- D.0.2%

54. 2019 年 8 月份，商品零售额占全省社会消费品零售总额的比重约为：

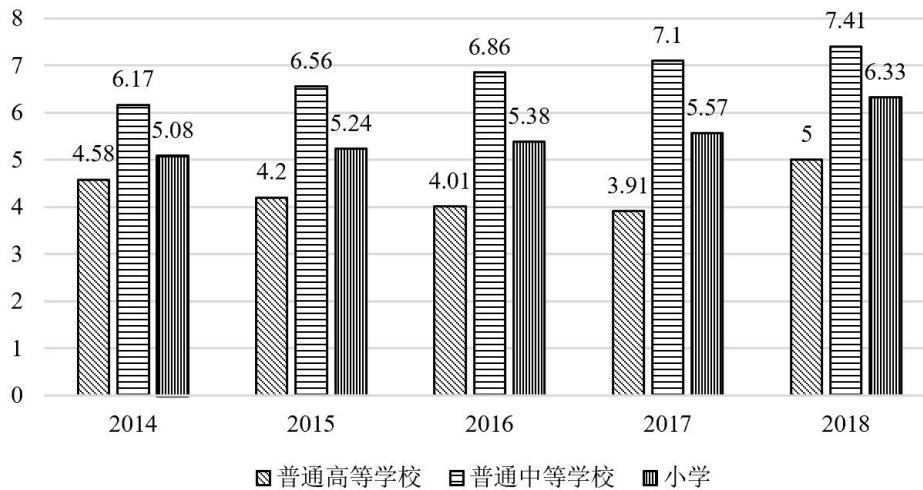
- A.26%
- B.25%
- C.24%
- D.23%

55. 能够从上述资料中推出的是：

- A.2019 年 8 月份，城镇消费品零售额是乡村的 10 多倍
- B.2020 年 7 月份，全省居民消费价格比 2019 年 8 月份上涨 2.2%
- C.2020 年 1—8 月份，分领域看，共有 3 类投资占全省固定资产投资的比重高于上年水平
- D.2020 年 8 月份，餐饮收入比上年增长了 3.20 亿元

(二) 根据所给资料，回答 56~60 题。

(单位：万人)



2014—2018 年 X 市各类学校招生人数

56. 2018 年，X 市小学招生人数的同比增长率为：

- A.11.2%
- B.12.0%
- C.13.6%
- D.14.1%

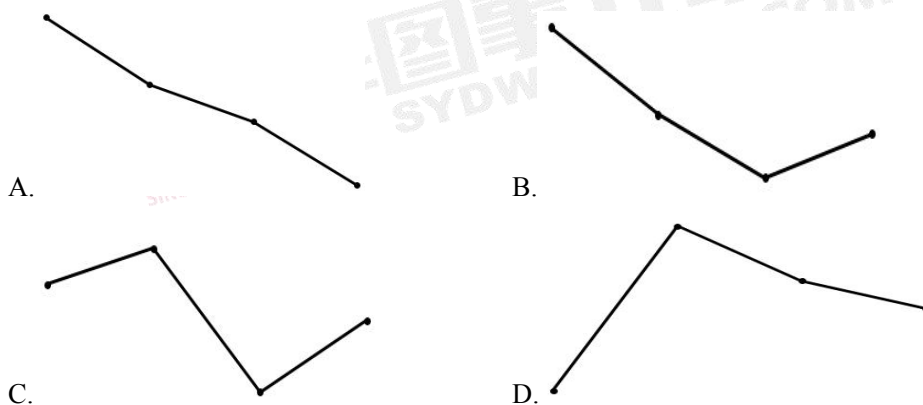
57. 2015—2018 年中，X 市普通中等学校的招生人数在各类学校的招生总数中占比最高的是：

- A.2015 年
- B.2016 年
- C.2017 年
- D.2018 年

58. 2015—2018 年中，X 市各类学校的招生总数与上年差异量最大的是：

- A.2015 年
- B.2016 年
- C.2017 年
- D.2018 年

59. 下列各曲线中，哪一条较好地反映了 2015-2018 年 X 市普通中等学校招生人数的同比增长率的变化趋势？



60. 根据上述资料，下列叙述中正确的是：

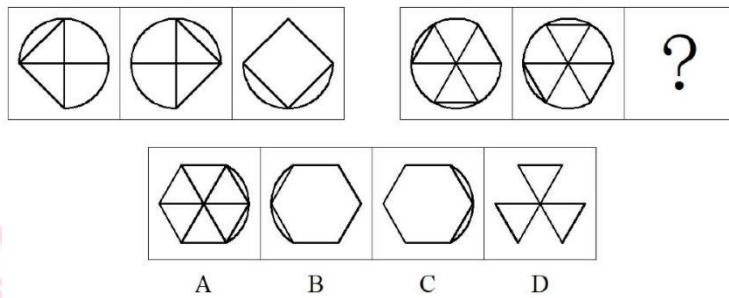
- A.2015—2018 年，X 市各类学校的招生总数逐年增加
- B.2015—2018 年，X 市普通高等学校的招生人数同比均为负增长
- C.2015—2018 年，X 市普通中等学校的招生人数的同比增长量均比小学的招生人数的同比增长量大
- D.2014—2018 年，X 市小学的年均招生人数约为 5.4 万人

第四部分 判断推理


(共 35 题)

一、图形推理：请按每道题的答题要求，从四个选项中选出最合适的一项。

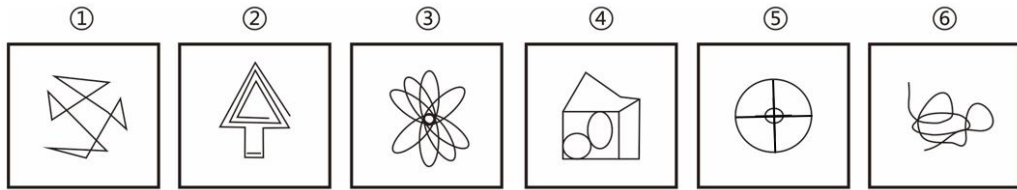
61. 从所给的四个选项中，选择最合适的一个填入问号处，使之呈现一定的规律性：



62. 从所给的四个选项中，选择最合适的一个填入问号处，使之呈现一定的规律性：

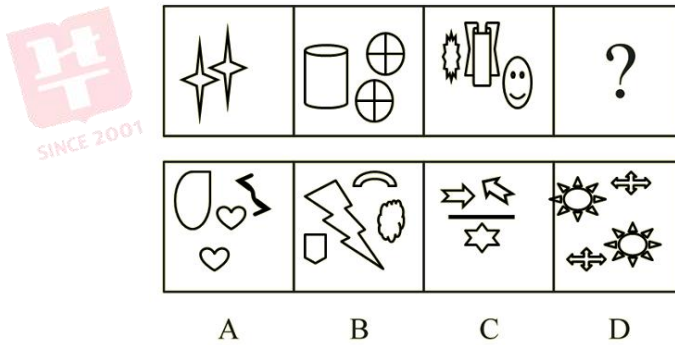


63. 把下面的六个图形分为两类，使每一类图形都有各自的共同特征或规律，分类正确的一项是：

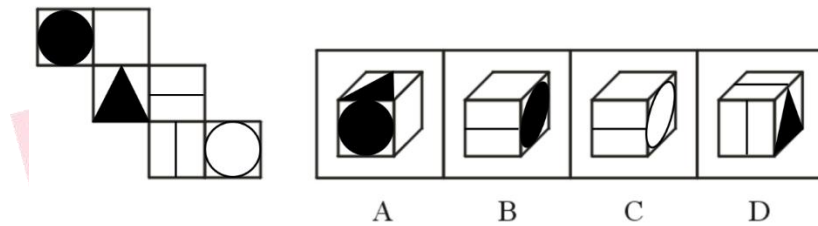


- A. ①②⑤, ③④⑥
 B. ①④⑤, ②③⑥
 C. ①②⑥, ③④⑤
 D. ①③⑥, ②④⑤

64. 从所给的四个选项中，选择最合适的一个填入问号处，使之呈现一定的规律性：



65. 左边给定的是纸盒外表面的展开图，右边哪一项能由它折叠而成？



二、定义判断：每道题先给出一个定义（这个定义被假设是正确的、不容置疑的），然后列出四种情况，请严格依据定义，选出最符合题干要求的一项。

66. 通假字是一个汉语词汇，是泛指中国古书的用字现象之一，“通假”就是“通用、借代”的意思，即用读音或字形相同或者相近的字代替本字。通假字所代替的那个字我们把它叫做“本字”。

根据上述定义，以下有通假字的是：

- A. 子不教，父之过
 B. 不知为不知，是知也
 C. 会当凌绝顶，一览众山小
 D. 忽如一夜春风来，千树万树梨花开

67. 潜意识是指人类心理活动中未被觉察的部分，是人们“已经发生但并未达到意识状态的心理活动过程”。它包括原始本能、冲动、童年心理印记、环境熏陶、观念、人格等一

系列因素。

根据上述定义，以下不属于潜意识的是：

- A. 母亲往往在孩子从高处摔到地上的时候不自觉地用身体护住孩子
- B. 小林小时候被蛇咬过，长大了后每次见到与蛇相关的玩具总会吓得突然跳起来
- C. 老李在复述《盗梦空间》的电影情节时总能对里面梦境的细节描绘得很生动
- D. 老张在村里生活了多年，他对村里许多光棍花钱买老婆的事早就习以为常

68. 禁果逆反即理由不充分的禁止反而会激发人们更强烈的探究欲望。因为禁止本身可能会增加人们对事物的关注和吸引力，并增加人们犯禁的可能性。

根据上述定义，以下不属于禁果逆反的是：

- A. 红楼梦在当时是禁书，官方却不说明禁的原因，结果红楼梦反倒受到了百姓的追捧，暗中有很多手抄本在民间流通
- B. 很多家长极力想拆散高中早恋的情侣，不仅不会成功，情侣反而越发坚定。而到了毕业的时候，家长不再干涉，他们反而会自己分手
- C. 医生的医嘱要求肺病患者戒烟，因此患者不得不改掉抽烟的习惯，用瓜子来替代香烟
- D. 父母禁止孩子去吃垃圾食品，但是孩子对垃圾食品会非常向往，经常趁父母不在的时候偷偷去吃

69. 固着效应是指人们关于自己和社会世界的观念会保持下去，即使知道支持这些信念的证据是假的，也是如此。

根据上述定义，以下属于固着效应的是：

- A. 小明原本觉得旅游行业发展前景广阔打算投身于此行业，但是突发的疫情对旅游业造成了重大影响，小明不得不另谋出路
- B. 小雪原本十分盼望着养一只小狗，但是在替朋友照顾一个月的小狗之后，被遛狗、喂食、打扫狗毛等等养狗的杂务折磨得精疲力尽，果断放弃了自己养狗的想法
- C. 老刘作为组长一直以来都兢兢业业地工作甚至会帮组员分担工作，但是在发现组员并不领情并且对自己有很多怨言之后就开始浑水摸鱼得过且过
- D. 小张一直以为自己是巨蟹座，并且根据巨蟹座的星座分析认为自己是一个顾家的人。尽管后面发现因为算法失误自己并不是巨蟹座，他的亲戚也都说他不顾家，他也坚持认为自己是一个顾家爱家的人

70. 臆造商标是指由无固定含义的臆造词构成的商标，此类商标来自于当事人的独创，不会与任何商品或服务发生联系，因而具有较强的显著性。任意商标是指由与指定商品或服务

务无关的非独创性词汇构成的商标。

根据上述定义，下列属于臆造商标的是：

- A.使用“舒服”作为床品的商标
- B.使用“也意”作为冰箱的商标
- C.使用“荷花”作为电视的商标
- D.使用“速效”作为药品的商标

71. 智力因素，是指在人们的智慧活动中直接参与认知过程的心理因素，包括注意力、观察力、记忆力、想象力、思维力等方面；非智力因素，是指在人们的智慧活动中不直接参与认知过程的心理因素，包括需要、兴趣、动机、情感、意志、性格等方面。

根据上述定义，下列属于非智力因素影响的是：

A.男孩子们从小就特别喜欢汽车和一些动漫模型，到了游乐场也喜欢玩“开汽车”项目，对这些有着浓厚的兴趣，故家长引导他们学习有关汽车方面的知识

B.自从父母带刚上一年级的孩子去看了《长津湖》之后，回到家孩子就一直拿着玩具枪在地上匍匐前进，觉得自己就是英雄

C.安德烈·斯卢沙齐克，他保持着2项世界纪录：一是能够背诵圆周率位数多达100万位，二是能在2分钟时间内记忆5100个数字。他的下一个目标是背诵500万位圆周率数字

D.牛顿根据苹果坠地发现了万有引力规律，瓦特改善了蒸汽机，在福尔摩斯第一次与华生见面时，就立刻辨别出华生是一名去过阿富汗的军医

72. 非诉讼法律事务，是指不含有纠纷，无需进行诉讼的事务；或者虽已形成纠纷，但不到法院诉讼，仅仅在当事人之间，通过调解或仲裁予以解决的事务，不需要上法庭。简而言之，就是无需或者不用诉讼程序加以解决的法律事务。

根据上述定义，下列属于非诉讼法律事务的是：

A.接受国家机关、企事业单位或其他中外经济组织的聘请，担任常年法律顾问

B.于某夫妻双方对于离婚后财产的分割和债务的分担以及子女的抚养等问题无法达成一致的意见，而向人民法院起诉

C.某中院经审理认为，某案当事人黄某与该市某区国土资源和房屋管理局就拆迁补偿安置问题未达成协议

D.某公司员工针对加班时间的结算问题走了仲裁，后通过系列调解，该公司决定将该员工加班时长计以日薪发放

73. 古代的中国园林建筑建造大多与享乐生活有密切关系，然而经过历代匠师的创造，以人工设计建造天然优美的景物，点缀环境，积累了丰富的经验，形成了独具风格的文化艺术特色。中国古代园林，除皇家园林外，还有一类属于王公、贵族、地主、富商、士大

夫等私人所有的园林，称为私家园林。古籍里称之为园、园亭、园墅、池馆、山池、山庄、别墅、别业等。规模较小，一般只有几亩至十几亩，小者仅一亩半亩而已；大多以水面为中心，四周散布建筑，构成一个个景点或几个景点；以修身养性，闲适自娱为园林主要功能；园主多是文人学士出身，能诗会画，清高风雅，淡素脱俗。私家园林集中在南京、苏州、无锡等地。现代保存下来的园林大多属于明清时代，这些园林充分表现了古代传统园林建筑的独特风格和高超的造园艺术。

根据上述定义，下列属于私家园林的是：

A.颐和园主要是以万寿山和昆明湖为基础，吸收了江南园林的设计要点，从而建造成的大型山水园林，主要景点有万寿山、苏州街、仁寿殿等

B.留园，虽然位居中国四大名园之一，又尤以奇石众多、水景分布和建筑布局精巧闻名，但并不是你想象中的孤傲在上，园子不大，却实在的接着地气，居住、宴饮、憩游、甚至修禅、祭祀，无所不备，犹如一个桃源梦，超然世外，拥有世俗的烟火快乐

C.圆明园有着万园之首的称呼，主要分为前部外朝、后湖景区、福海景区、长春园以及万春园，其中长春园有一组西式的宫殿，这是建园史上第一次出现欧式建筑

D.新加坡植物园是热带岛屿繁茂的缩影，结合了原始树林和专业花圃，拥有20000多种亚热带、热带的奇异花卉和珍贵树木，可分为热带、亚热带常绿乔木、棕榈、竹类园艺花卉、水生植物、沼生植物、寄生植物和沙漠植物等植物，包括了许多濒临灭绝的品种

74. 风险控制是指风险管理者采取各种措施和方法，消灭或减少风险事件发生的各种可能性，或风险控制者减少风险事件发生时造成的损失。

根据上述定义，下列不属于风险控制的是：

A.美国通用汽车公司迫于近年连续亏损、债务负担沉重等多方压力，于2009年6月正式按照相关规定向美国曼哈顿破产法院申请破产保护

B.为了在短期内控制国内通货膨胀局势，政府采取了部分行政手段控制物价，推迟了对土地、资源、能源、环境、劳动力等长期偏低的要素价格改革

C.冰岛，一个美丽富饶的北欧温泉岛国，被联合国选为全球最适宜居住的国家。由于受到世界金融危机的影响，一度面临着“国家破产”的危险

D.俄政府及中央银行发表了“联合声明”，对俄国内出现的金融危机采取三大措施：扩大卢布汇率浮动幅度、延期清偿内债和冻结部分外债

75. 调查按照调查对象包括的范围划分为全面调查和非全面调查。全面调查，是构成总体的所有单位的调查。非全面调查，是对构成总体的一部分单位的调查，其中非全面调查包

括重点调查、抽样调查和典型调查。

根据上述定义，下列说法正确的是：

- A.学校在给学生做校服前进行的尺寸大小的调查，可以采用非全面调查
- B.可采用全面调查来了解全国中学生安全自救知识掌握情况
- C.为了解工厂刚生产出来的一批玻璃的承受力，可采用全面调查
- D.疫情期间，对于上海、北京、深圳等中高风险城市市民的出行情况调查，需采用全面调查

三、类比推理：请根据给出的题干从备选答案中选出一组与之在逻辑关系上最为贴近、相似或匹配的词，或者选出一组词使得题干的表述最符合逻辑。

76. 新仇旧恨：大街小巷

- A.快快乐乐：和和美美
- B.无精打采：奄奄一息
- C.东奔西走：上蹿下跳
- D.察言观色：调兵遣将

77. 电脑：笔记本电脑

- A.钢笔：铅笔
- B.汽车：轮胎
- C.国家：法国
- D.植物：蔷薇

78. 牡丹：富贵

- A.康乃馨：富裕
- B.爱情：玫瑰
- C.鸽子：和平
- D.梅花：孤傲

79. 哈尔滨：牡丹江

- A.青岛：潍坊
- B.邯郸：石家庄
- C.郑州：河南
- D.合肥：芜湖

80. 做核酸：登记：采样

- A.乘地铁：安检：乘坐
- B.送审：开题：答辩
- C.喝水：烧水：开盖
- D.作画：画笔：墨

81. 图书馆：资料：整理

- A.河道：淤泥：疏通
- B.网络：评论：发表
- C.朋友圈：朋友：互动
- D.马路：交通：指挥

82. 刻刀：纸：剪纸

- A.毫针：穴位：针灸
- B.兽皮：白布：皮影戏
- C.竹帘：纸浆：纸
- D.汉字：石材：篆刻

83. 玻璃杯 对于 () 相当于 热带植物 对于 ()

- A.保温杯；香料植物
B.陶瓷杯；经济作物
C.热水；植物
D.玻璃；温带

84. () 对于 爬行 相当于 青蛙 对于 ()

- A.运动；动物
B.缓慢；害虫
C.螃蟹；跳跃
D.匍匐；蟾蜍

85. 巴洛克式：哥特式：洛可可式

- A.新闻30分：央视：广告
B.库尔勒：阿勒泰：慕尼黑
C.排比：比喻：拟人
D.西兰花：玫瑰花：丁香花

四、逻辑判断：每道题给出一段陈述，请根据这段陈述，选出最符合题干要求的一项。

86. 幼儿园的张老师与小朋友玩游戏，张老师分别把玩具、零食和饮料藏在四个教室中的三个里，四位小朋友甲、乙、丙、丁经过讨论，分别做出以下预测：

小朋友甲：有些教室里没有藏着玩具；

小朋友乙：所有教室都藏着玩具；

小朋友丙：零食没有藏在教室二中；

小朋友丁：饮料藏在教室三中。

四个人中只有一个人说对了，那么下列哪一项一定为真？

- A.教室二藏着零食
B.教室三藏着饮料
C.玩具藏在教室四中
D.玩具没有藏在教室四中

87. 许多消费者通过电子平台购买商品时，其他买家的评论是他们做出是否购买决策的重要依据。当某店铺产品的差评比较多的时候，消费者有可能会因为这些差评放弃购买原本心仪的商品。但是反过来，当某店铺的一切商品评论都非常好，都是五星，消费者也可能会觉得这些评论可疑而不愿购买该店铺的商品。所以，有人说，根据其他买家的评论作为是否做出购买决策的重要依据是很不明智的行为。

以下哪项如果为真，最能反驳上述结论？

- A.某国竞争和市场管理局表示，电子商务网站的虚假商品评论是非法的
B.平台方表示，它对任何旨在误导或影响消费者的评论都制定了“零容忍政策”
C.某机构负责人说：“虚假的推荐评论已经成为一个高利润的全球产业”
D.该平台中没有商家利用虚假评论来操纵消费者，所有商品评论都是真实的

88. 2014年，具备人脸识别系统的智能软件准确率达到98.52%，首次超过人眼识别能力。2016年3月和2017年5月，具备深度学习能力的人工智能“阿尔法狗”与世界围棋冠军进行人机大战，分别以4:1和3:0获胜。面对人工智能的快速发展，有人认为人工智能可能会自行启动，并以越来越快的速度重新设计自己。人类仅限于缓慢的生物进化过程，根本无法竞争，最终会被超越。

以下哪项如果为真，最能质疑这种观点？

A. 物理学家霍金表示：“人工智能的彻底发展，可能会导致人类的灭亡。”

B. 人工智能将越来越多地取代人类工作，引起大批失业问题，95%的人不工作，5%的人工作，可能造成财富分配不均，引起社会不稳定

C. 整个国际社会都对人工智能给予普遍关注，可以说发展人工智能已然成为了全球共识

D. 人工智能越发展，人类从劳动中解放程度越高，将有更多时间来学习和创造，而人工智能只能重复已掌握的内容

89. 所谓冰芯，就是以打钻方式从冰川内部取得的芯。一般而言，冰芯从底部越向上年代越新。冰芯堪称保存大气环境的“独特档案”，对于研究气候环境变化具有重要意义。

以下哪项如果为真，不能支持上述结论？

A. 水分子中氢、氧同位素比例可以反映温度变化

B. 冰芯中的大气成分和含量，如二氧化碳、甲烷等温室气体，可以揭示大气成分变化的过程

C. 我国青藏高原被誉为世界第三极，是中低纬度古气候研究的宝库，吸引了来自世界各地的科学家

D. 冰芯中含有的各类杂质，可以推断出当时的环境活动，实验室仪器可以检测出各种化学成分，提供自然活动和人类活动的相关信息

90. 农民种植农作物时，都会先进行“蹲苗”，其作用就在于“锻炼”幼苗，促进根系发育，促使植株生长健壮，提高后期抗倒伏能力。农作物只有熬过“蹲苗”这一关，植株生长才能更加健壮，有好收成。干部的成长成才与秧苗生长一样，必须首先把根扎深扎牢，先把自己“埋”下去，才能获得足够的养分，经得起日后的风吹雨打，更好地向上生长。对于广大年轻干部来说，现在正是打基础强素质的黄金时期。只有在基层沉下身子，锤炼意志、增长才干，才能增强胜任本职的“硬实力”，为将来的发展蓄足后劲。

由此可以推出：

A. 干部在成长成才的过程中，如果没有获得足够的养分，一定是没有把根扎深扎牢

B.不在基层锤炼意志、增长才干，年轻干部将不能增强胜任本职的“硬实力”

C.如果农作物熬过“蹲苗”这一关，就能健壮生长，最终获得好收成

D.只有获得足够的养分，才能经得起日后的风吹雨打，更好地向上生长

91. 小萌只有在母亲的陪伴下才会选择居家隔离。只要母亲不选择集中隔离，父亲就不会选择集中隔离。

则正确的是（ ）。

A.母亲选择集中隔离，则父亲也选择集中隔离

B.父亲不选择集中隔离，则小萌选择居家隔离

C.母亲选择居家隔离，则小萌选择集中隔离

D.父亲选择集中隔离，则小萌没选择居家隔离

五、综合判断推理：每道题给出若干材料，请综合运用各种推理能力，选择一个最恰当的答案。

材料一：治疗终末期癌症病人的脏器功能衰竭，器官移植是首选方案，但在我国，等待器官移植和获得器官移植的比例能达到30：1，每年有几十万病人因等不到器官移植而死亡。器官移植的瓶颈在于供体严重短缺，而目前这一问题最可行、最有效和最快速的解决途径是异种器官移植。异种器官移植的优势在于器官供体来源充足，且可以批量化、工厂化生产，而同种移植的器官不仅数量紧缺，而且可能来自疾病终末期的病人，器官质量无法保证。

人类虽然属灵长类动物，但是猪却在器官大小、解剖特征、生理生化与人类非常相似，而且其生长周期较短，繁殖率高，所以被科学界公认为异种器官移植的理想供体。

但在民间有句俗语，叫“羊肉贴不到狗身上”，异种器官移植的难点也正是如此。猪虽然是最理想的异种器官移植供体，但猪器官移植到人体后，会发生多种免疫排斥反应，特别是超急性排斥反应让移植器官在短时间内便丧失功能。这是物种保持种系延续最天然的一种防御，即使是人类亲属之间的器官，配型都可能不成功，更何况是猪跟人。

材料二：猪的许多器官系统与人体对应系统的相似度高达80%到90%——无论就解剖学特征还是器官功能而言。吻合度最高的可能要数心血管系统了。由于存在器官的惊人相似性和越来越严重的捐献器官短缺问题，猪被看成是潜在的人类心肺捐献体。虽然狒狒、猩猩等灵长目动物与人类关系更近，但猪作为器官捐献的来源更具吸引力，因为猪的数量庞大，而且生长周期短。

材料三：人类医学的发展与进步，离不开实验动物做出的默默牺牲。在药物开发进

入临床前，需要做大量动物实验，探究药物的药效、毒性、安全剂量等。然而，人与鼠、猪、兔子等动物毕竟存在不少差别，即使正确认识了动物的生理构造及药物反应规律，也不能将认识结果轻易、盲目地移用到人的身上。

根据上述材料，回答下列92-95题：

92. 下列选项不能够解释材料一“人类亲属之间的器官，配型都可能不成功”的是（ ）
- A. 会发生多种免疫排斥反应
 - B. 器官质量无法保证
 - C. 存在生命伦理问题
 - D. 数量紧缺
93. 根据材料二，以下哪项可以推出（ ）
- A. 器官高度相似性，使猪-人器官移植已开始发展起来
 - B. 灵长目动物作为器官捐献的来源更具吸引力
 - C. 能在猪身上奏效的东西，在人身上也会奏效
 - D. 与人类一样，猪也可能患上动脉硬化和心肌梗死等疾病
94. 下列选项如果为真，最能反驳材料二中关于“猪作为器官捐献的来源更具吸引力”论断的是（ ）
- A. 目前还没有猪器官移植到人身上成功的案例
 - B. 人们无法接受猪的器官移植到人身上
 - C. 灵长目动物的基因匹配度更接近人类
 - D. 有些少数民族禁止食用猪肉
95. 根据材料三，下列哪项如果为真，可以支持上述观点（ ）
- A. 屠呦呦团队获得了中性无毒的提取物，对伯氏疟原虫感染小鼠有着100%的疗效，而且临床试验也显示经治疗的病人疟疾症状迅速消失
 - B. 《柳叶刀》的一项论文表明，默克公司研究的埃博拉疫苗可以在猴子中发挥作用，并在WHO带领的几内亚临床实验中获得成功
 - C. 科学家针对2型糖尿病药物的小鼠试验获得了成功，进入临床试验一段时间后发现，这种药物对体会产生无益，甚至类似糖尿病的症状
 - D. 德国罗伯特·科赫利用豚鼠做实验得出结论：结核菌是结核病的病原菌，不论来自猴、牛或人均有相同症状，他因此发现而获得了诺贝尔奖

第五部分 综合分析

(共 5 题)

下面文字资料均有若干问题要你回答。你应该根据资料提供的信息进行分析和处理，并从每道题所给出的四个选项中选出一个最恰当的答案。

根据所给资料，回答 96-100 题。

①乡村旅游热点和网红民宿，总被消费市场关注，资本下乡刺激了乡村旅游新业态的发展。从是否适应乡情出发，把下乡做事的旅游开发分为“干开发”“湿开发”，主要是指下乡的资本、创意、经营和管理各种市场要素和乡村社区农民的疏密关系。“干”“湿”之说借用于国际航运经营模式的“干租”“湿租”，乡村旅游“干湿开发”，区别在于带没带上乡村社区和村民主体。“干湿开发”，不是模式之争，是由不同的乡村不同的发展取向所决定的选择。

②“干开发”是按照工业化发展思路所做的选择。规范的企业自然会选择“干开发”。业内有个很职业的表达：乡村旅游不能光说情怀，“情怀是情怀，生意是生意”。乡村有资源，企业有技术，社会有资本，但是乡村旅游的开发经常遇到困难，一是因为乡村旅游产品存在于乡村生活环境中间，村民的去留都是棘手的问题，这是乡村旅游项目中最难理顺的一环；二是乡村旅游的资源不是传统的市场化资源，很多资源与乡村社会、居民生活、整体环境划不清，割不断，“拿资源”很难，权属转让也难。企业开发者经常交流的经验，就是“产权不明晰”不投入，企业对资源没有掌控力不动手。现实中，乡村旅游最成功的那些企业项目，也正是按照这样的思路来实现的。产品需要乡村，但是产品要避开乡村社会和乡村关系，有些旅游产品看上去是“乡村旅游”，但是那个乡村是产品表达的艺术乡村，是没有乡村关系的虚构乡村，是“乡村化”的景区，是“景区化”的企业。而项目开发机制和运行机制，是标准的、现代“工业化”的组织模式。这个选择没毛病，其他农业企业和乡村企业也朝这个方向行进。现代企业不分城乡，市场主体不分出处，只要企业规模足够大，原本“乡村性质”的农村社区，最终也是“脱乡入城”“脱乡入镇”，带动周边的社区居民共同进入城镇化。

③“湿开发”不同，“湿开发”是个二元模式。目标上既要三农优先，又要发展产业本身，农民参与程度要深，乡村治理和产业兴旺_____。乡村旅游“湿开发”也是逐步长大的。早先是城市居民个人与农民个体私下合意，农民出宅基地，外来者出资金，算是个体小

微“湿开发”模式。这些年农村集体合作社兴起，220多万个集体合作社成为合作小平台。这个小平台是外来要素的对接机制，农民各家散在的资源，通过合作社整合，统一对外招商谈判；上级政府和社会各界对乡村产业的支持，通过合作社转化。带着市场、营销渠道、管理经验进村的外来要素和村合作社的股份合作，提升效率效益，提升整合能力，提升乡村旅游的档次。村民以资产和劳动两种股权参与其中，与产业发展紧密绑在一起。“湿开发”姓“乡”也姓“资”，这样的项目在长出“市场适应性”的同时，还带着乡土，带着农民，带着乡村社会本质属性的各种原始成分，保留了乡村社会的活性。“湿开发”实际上是机制创新。从技术上说，“湿开发”有天然弱点，市场要素在并非完全市场化的场景中运行，磕磕绊绊，市场效能一定会受损。所以不是本土企业，或者不是有帮扶任务的企业，很少主动搞这种“湿开发”。

96. 乡村旅游“干湿开发”的区别在于：

- A. 是否能够适应不同地方的乡情
- B. 是否征求和参考不同地方的意见
- C. 与乡村社区农民的疏密关系不同
- D. 下乡的资本、创意、经营和管理等要素不同

97. 填入文章第三段横线处词语最恰当的一项是：

- A. 并行不悖
- B. 大同小异
- C. 本同末异
- D. 等量齐观

98. 文中关于“干开发”的表述有误的一项是：

- A. “干开发”是按照工业化发展思路所做的选择
- B. 若是“产权不明晰”，则会给“干开发”带来障碍
- C. “情怀是情怀，生意是生意”符合“干开发”特点
- D. “干开发”下的乡村是没有村民居住的虚构乡村

99. 关于“湿开发”，下列表述正确的一项是：

- A. “湿开发”属二元模式，但目标上要优先发展三农
- B. 主动进行“湿开发”的企业多属于非营利性质的企业
- C. “湿开发”模式中，村民可以资产和劳动两种股权参与其中
- D. “湿开发”既具有天然的“市场适应性”，又保留了乡村社会的活性

100. 最适合做文章标题的一项是：

- A. 乡村旅游的模式之争：“干开发”PK“湿开发”
- B. “干开发”是工业化发展思路下的“宠儿”
- C. 乡村旅游的“干开发”和“湿开发”
- D. 企业的不同选择：“干开发”OR“湿开发”

※※※本科目到此结束！※※※