

2024 年全国事业单位联考模拟试卷（卷二）

《职业能力倾向测验·A类》

重要提示:

为维护您的个人权益,确保事业单位考试的公平公正,请您协助我们监督考试实施工作。

本场考试规定:监考老师要向本考场全体考生展示题本密封情况,并邀请2名考生代表  
验封签字后,方能开启试卷袋。

仅限华图教育内部教学使用!

二〇二四年

条形码

请将此条形码揭下,  
贴在答题卡指定位置。

## 注意事项

一、此项测验分为五个部分，**100 道题，总时限 90 分钟**。各部分不分别计时，但都给出了参考时限，供答题时合理分配时间。

二、请按照要求在答题卡上填写好自己的姓名，涂写好准考证号，严禁折叠答题卡。

三、必须在答题卡上答题；在题本上答题，一律无效。

四、监考人员宣布考试开始时，方可答题，宣布考试结束时，应立即停止答题。

题本、答题卡、草稿纸一律留在桌上，待监考人员确认数量无误，允许离开后，方可离开考场。如果你违反了以上任何一项要求，都将影响你的成绩。

五、在这项测验中，可能有些试题较难，因此你不要在一道题上思考时间太久，遇到不会答的题目可先跳过去，如果有时间再去思考，否则，你可能没有时间完成后面的题目。

六、试题答错不倒扣分。

停！请不要往下翻！听候监考老师的指示。  
否则，会影响你的成绩。

## 第一部分 常识判断

(共 20 题)

请根据每道题的要求，从四个选项中选出一个最恰当的答案。

1. 2024 年 2 月 1 日出版的第 3 期《求是》杂志将发表中共中央总书记、国家主席、中央军委主席习近平的重要文章《铸牢中华民族共同体意识 推进新时代党的民族工作高质量发展》。下列说法错误的是 ( )。

- A. 我国各族人民共同创造了璀璨夺目的中华文明，铸就了伟大的中华民族
- B. 铸牢中华民族共同体意识，就是要引导各族人民牢固树立休戚与共、荣辱与共、生死与共、命运与共的共同体理念
- C. 要立足中华民族悠久历史，加强中华民族共同体理论体系建设
- D. 建设中华民族共同体意识，是实现中华民族伟大复兴的应有之义

2. 2024 年 2 月 16 日出版的第 4 期《求是》杂志将发表中共中央总书记、国家主席、中央军委主席习近平的重要文章《坚持和完善人民代表大会制度 保障人民当家作主》，下列说法错误的是 ( )。

- A. 在中国实行人民代表大会制度，是中国人民翻身作主、掌握自己命运的必然选择
- B. 我国全过程人民民主不仅有完整的制度程序，而且有完整的参与实践
- C. 民主集中制度是实现我国全过程人民民主的重要制度载体
- D. 支持和保证人民通过人民代表大会行使国家权力，保证各级人大都由民主选举产生、对人民负责、受人民监督

3. 下列与生态文明建设有关的说法不正确的一项是：

- A. 坚持绿水青山就是金山银山理念
- B. 坚持山水林田湖草系统治理
- C. 支持有条件的地方延迟达到碳排放峰值
- D. 加快构建废旧物资循环利用体系

4. 关于行政许可期限说法正确的是：

- A. 通常行政机关应当自受理行政许可申请之日起 30 日内作出行政许可决定
- B. 行政许可采取统一办理或者联合办理、集中办理的，办理的时间不得超过 60 日
- C. 准予行政许可的，行政机关应当自作出决定之日起 10 日内向申请人送达行政许可证件

- D. 行政机关实施行政许可的期限以工作日计算，含法定节假日
5. 根据各自治区成立时间的先后，下列排列顺序正确的是：
- A. 新疆维吾尔自治区——内蒙古自治区——西藏自治区——宁夏回族自治区
- B. 西藏自治区——广西壮族自治区——内蒙古自治区——新疆维吾尔自治区
- C. 内蒙古自治区——新疆维吾尔自治区——宁夏回族自治区——西藏自治区
- D. 广西壮族自治区——新疆维吾尔自治区——西藏自治区——宁夏回族自治区
6. 以下是我国改革开放以来发生的重大事件，按时间先后顺序排列正确的是：
- ①脱贫攻坚战取得全面胜利
- ②加入世界贸易组织
- ③全面取消农业税
- ④香港、澳门回归祖国
- ⑤北京举办第二十九届夏季奥运会
- A. ②①⑤③④
- B. ②⑤④③①
- C. ④②③⑤①
- D. ④②⑤①③
7. 国家发展改革委、国家数据局等五部门日前联合出台举措，深入实施“东数西算”工程，加快构建全国一体化算力网。到（ ）年底，全国综合算力基础设施体系初步成型。
- A. 2025
- B. 2030
- C. 2035
- D. 2050
8. 下列有关气体的说法正确的是：
- A. 氧气在低温高压下可以液化成淡蓝色液体
- B. 二氧化氮是无色无味的气体，与水作用生成硝酸和一氧化氮
- C. 稀有气体共有 7 种，氦气为其中之一
- D. 氯气能使湿润的红色石蕊试纸变蓝后褪色
9. 下列说法不符合我国宪法规定的是：
- A. 国家监察机关和审判机关均由人民代表大会产生
- B. 国家工作人员就职时应当依照法律规定公开进行宪法宣誓

- C. 上级人民法院、人民检察院领导下级人民法院、人民检察院的工作
- D. 监察委员会依照法律规定独立行使监察权，不受行政机关、社会团体和个人的干涉
10. 下列关于战争题材的诗文与战役对应不正确的是：
- A. 万骑临江貔虎噪，千艘列炬鱼龙怒——长平之战
- B. 力拔山兮气盖世，时不利兮骓不逝——垓下之战
- C. 东渡黄河第一战，威扫敌倭青史留——平型关战役
- D. 昆战之战，屠百万于斯须，旷千古而一快——昆阳之战
11. 关于我国税收制度，下列说法不符合法律规定的是：
- A. 房产税和车船税都属于财产行为税
- B. 目前中央人民政府不在特别行政区征税
- C. 我国现行个人所得税征税起征点是 5000 元
- D. 所得税种均由税务部门负责征收
12. 下列文艺作品与其著作者对应正确的是：
- A. 肖邦——《命运交响曲》
- B. 达芬奇——《物种起源》
- C. 卢梭——《忏悔录》
- D. 狄更斯——《悲惨世界》
13. 关于传统文化，下列对应错误的是：
- A. 古人称“宫、商、角、徵、羽”这五个从低到高排列的音级为“五音”
- B. 儒家典籍“五经”为《诗经》《尚书》《礼记》《乐记》《春秋》的合称
- C. 古代社稷坛所用的“五色土”是指“青、红、黄、白、黑”五色的土
- D. 古代民间传说中的“五毒”为蜈蚣、毒蛇、蝎子、壁虎、蟾蜍
14. 甲状腺结节是指在甲状腺内的肿块，可随吞咽动作随甲状腺而上下移动，是临床常见的病症。下列关于甲状腺结节的说法不正确的是：
- A. 碘摄入量过高或过低都可能引起甲状腺结节
- B. 甲状腺结节可以单发，也可以多发
- C. 女性患者为甲状腺结节高发人群
- D. 甲状腺结节不会演变成甲状腺癌
15. 兰姐 45 周岁，女性，无子女，收入稳定。现兰姐想收养一名子女，下列说法正确的是：

- A. 若兰姐无配偶，想收养男孩，不受“应当与被收养人的年龄相差 40 周岁以上”的限制
- B. 兰姐 2021 年 2 月 5 日在福利院领养一名男孩，并于当天办理了收养登记，3 月 1 日将孩子接回家中，则收养关系从 3 月 1 日起算
- C. 若兰姐有配偶，必须征得配偶的同意，否则，不能收养
- D. 若兰姐收养自己姨妈的孙子小明，小明今年 10 岁，该收养关系不能成立
16. 生活中，火灾已成为威胁公共安全，危害人民群众生命财产的一种多发性灾害，面对火灾冷静机智地运用火灾逃生知识可以拯救自己 and 他人。火灾发生时，下列做法错误的是：
- A. 不乘坐电梯，向安全出口方向逃生
- B. 身上着火时就地打滚或用厚重的衣物压灭火苗
- C. 穿过浓烟逃生时，尽量使身体贴近地面，并用湿毛巾捂住口鼻
- D. 立即打开门窗，保持空气通畅
17. 下列关于古代科技史，说法正确的是：
- A. “朔月”二字最早出现在我国典籍《春秋》中
- B. 王叔和的《脉经》是世界上现存最早的脉学专著
- C. 《九章算术》中提到了鸡兔同笼的解法
- D. 郭守敬在《授时历》中提出“十二气历”
18. 下列选项对“夏满芒夏暑相连”中节气的表述错误的是：
- A. “小满”表明了降水的时间和强度
- B. “芒种”反映了自然物候现象或农事活动
- C. “立夏”“夏至”体现了寒来暑往的季节变化
- D. “小暑”“大暑”表明了一年之中最热的时段
19. 血液由血浆和血细胞组成。下列有关血液的相关说法不正确的是：
- A. 血浆的主要成分是水 and 血浆蛋白
- B. 白细胞是血液中数量最多的一种血细胞
- C. 红细胞的功能是运输氧和二氧化碳等物质
- D. 在血液中，血小板是最小的细胞
20. 国家卫健委发布的《消毒剂使用指南》中指出，基于以往对冠状病毒的了解，所有经典消毒方法都能杀灭冠状病毒。其中，提到次氯酸消毒剂是一种含氯消毒剂，适用于物体表面、果蔬等的消毒。关于含氯消毒液，下列说法正确的是：
- A. 次氯酸是一种氯元素的含氧酸，其氧化性较弱

- B. 84 消毒液是一种有机含氯消毒剂
- C. 次氯酸能够破坏细菌的菌体蛋白从而导致细菌死亡
- D. 漂白粉水溶液稳定性较强，在光照下不易分解

**※※※ 第一部分结束，请继续做第二部分! ※※※**



## 第二部分 言语理解与表达

(共 25 题)

一、言语表达：请从每道题所给的四个选项中选出一个填空，使语句的意思表达得最为准确。

21. 专业的学术研讨从表面上看往往\_\_\_\_\_。例如关于哥贝克力丘由石柱构成的环状结构究竟是什么用途，是严格意义上的神庙还是也作为居所，或者如施密特本人曾经做的猜测那样，是某种墓葬结构，至今都没有取得足够一致的看法。

填入画横线部分最恰当的一项是：

- A.莫衷一是
- B.首鼠两端
- C.无所适从
- D.标新立异

22. 临泽这个河西走廊中部的小县，南、北、中各有一条风沙线，60%以上的土地处于风沙线上，生活在这里的人们，祖祖辈辈都在与风沙战斗，进行着一场\_\_\_\_\_的家园保卫战。新中国成立以后，临泽县的第一个五年计划就是营造防风固沙林网，全民动员，高唱绿化歌，\_\_\_\_\_摸索出一套行之有效的办法。譬如，在农田与沙漠相连的地段，利用沙丘间的低地营造一片片块状林，分割包围沙丘，控制沙丘移动；在沙丘流动性大、危害严重的地段，用麦草草格或黏土沙障固沙；在新月形沙丘链上，用燕翅状沙障固沙……

填入画横线部分最恰当的一项是：

- A.殚精竭虑 因势利导
- B.旷日经久 因地制宜
- C.分秒必争 因利乘便
- D.旷日持久 因时制宜

23. 众所周知，国外的相关研究比中国要早，所涉及区域也大得多，在漫长的年代留下了\_\_\_\_\_的书刊等文献资料。因为种种原因，这些资料在国内存留极少，加上语言的隔阂，更鲜为国内所知。近年来，国内不断有相关译著出版，这固然是译者辛勤工作的硕果，也反映出国内在这方面愈加强烈的需求。然而和国外巨量的书刊文献相比，这些译著依然是\_\_\_\_\_。

填入画横线部分最恰当的一项是：



- A.学富五车 屈指可数
- B.浩如烟海 凤毛麟角
- C.汗牛充栋 吉光片羽
- D.数不胜数 硕果仅存

24. 笔者在整理违纪党员自我剖析材料时发现，有的篇幅虽长，但内容\_\_\_\_\_，有照搬照抄之嫌；有的寥寥数语，剖析违纪原因不深入，检讨问题浮于表面、\_\_\_\_\_；还有的前言不搭后语，让人看后不知所云……上述种种情况，折射出一些违纪党员干部对自我反省、自我剖析的不在乎，充分反映出个别党员干部对自身违反党纪问题的认识不到位。

填入画横线部分最恰当的一项是：

- A.千篇一律 蜻蜓点水
- B.一成不变 浅尝辄止
- C.如出一辙 浮光掠影
- D.俯拾皆是 走马观花

25. 追求真理是伟大的事业，也是异常艰巨的求索，来不得半点马虎，容不得半点“差不多”思想。只有通过反复核对、综合分析，不忽略、不放过任何细微的变化，才可能在\_\_\_\_\_中捕捉到成功的曙光。几年前，科学界发起了一项老科学家手稿采集工程。很多人看到手稿的第一反应是“\_\_\_\_\_”：标点符号准确无误，遣词造句无可挑剔，行文逻辑有理有据。

填入画横线部分最恰当的一项是：

- A.细枝末节 惊讶
- B.蛛丝马迹 震撼
- C.繁文末节 惊叹
- D.一鳞半爪 震惊

26. 文化是城市的灵魂。城市历史文化遗存是前人智慧的\_\_\_\_\_，是城市内涵、品质、特色的重要标志。正因此，习近平总书记强调：“要妥善处理好保护和发展的关系，注重\_\_\_\_\_城市历史文脉”。

填入画横线部分最恰当的一项是：

- A.压缩 扩展
- B.沉淀 扩大
- C.结晶 延伸

D.积淀 延续

27. 互联网时代借助各种社交软件，人人都可以成为新闻、信息的制造者、转发者、参与者，网络信息呈现开放、海量、复杂等特点，特别在春节这个欢聚的时节，人们八方汇聚，畅所欲言，心情放松，毫无戒备，往往依赖惯性思维，影响是非判断能力，宁可信其有，不可信其无，流言更容易\_\_\_\_\_。

填入横线部分最恰当的一项是：

A.以讹传讹

B.不胫而走

C.臭名远扬

D.口耳相传

28. 多年来，真“鲍师傅”在专注于产品开发、公司发展的同时，忽略了对“鲍师傅”商标的保护。随着“鲍师傅”品牌的市场知名度越来越高，各种山寨“鲍师傅”如雨后春笋般\_\_\_\_\_。

填入横线部分最恰当的一项是：

A.接踵而至

B.屡见不鲜

C.应运而生

D.不胜枚举

29. 低价茶换个“皮”就摇身变成高价茶，如此简单的“变脸”操作，毫无技术含量，消费者又辨识不出来，造假成本极低、风险极小，利润空间巨大，商家自然是\_\_\_\_\_。可这样\_\_\_\_\_造假，视消费者为“唐僧肉”的做法，只能欺瞒一时，待消费者察觉上当受骗后，就会毫不客气用脚投票。

填入横线部分最恰当的一项是：

A.乐此不疲 肆无忌惮

B.趋之若鹜 明目张胆

C.亦步亦趋 堂而皇之

D.蜂拥而至 无所顾忌

30. 一些网络游戏平台的“青少年模式”竟被未成年人轻易化解，真不知是谁的尴尬。对此，父母固然应尽到首要的监护责任，对青少年多些关心和陪伴，而非任其拿着手机\_\_\_\_\_于网游或直播，甚至将微信、QQ等账号交给青少年使用。但是，信息时代，使用手机已是

大势所趋，总不能苛求父母时时刻刻盯着孩子。拥有强大技术支持的网络平台，显然不能将责任都推到父母身上，而刻意\_\_\_\_\_自己的监管责任。

填入横线部分最恰当的一项是：

- A.沉溺 推托
- B.沉迷 推辞
- C.沉醉 推脱
- D.沉湎 推卸

31. 美国国会陆续推出的救助法案在实施过程中漏洞百出，给小企业的“救命钱”被不少大企业“钻空子”\_\_\_\_\_。经济重启计划也是\_\_\_\_\_，州政府与联邦政府步调不一。《纽约时报》撰文指出，美国领导者身边常见的敌对和派系斗争一直困扰着政府的应对工作，严重影响着决策和政策制定。

填入横线部分最恰当的一项是：

- A.获取 九龙治水
- B.谋取 壁垒分明
- C.攫取 各自为政
- D.吸取 各行其是

32. 在外打拼一年，许多人准备回家过年，可是回家的路并不顺心。日前，中央电视台以《“宰客”的长途客车》为题，曝光了沪昆高速公路沿线贵州铜仁、湖南湘潭、江西上饶境内客车司机伙同黑店经营者“宰客”乱象，引发关注。交通运输部办公厅印发警示通报，要求各地深刻汲取教训，\_\_\_\_\_，坚决\_\_\_\_\_此类乱象再次发生，切实保障乘客的合法权益。

填入横线部分最恰当的一项是：

- A.触类旁通 制止
- B.融会贯通 遏止
- C.见微知著 抵制
- D.举一反三 遏制

33. 客观事物是复杂的，常常包含相互矛盾的多个侧面，并且不断发生变化，不是一眼都能看清楚。人们对事物的认识，通常需要经过一个在实践中由浅入深、由表及里的过程，决不能把\_\_\_\_\_时获得的一点粗枝大叶的印象、甚至一些道听途说的话当作客观实际的全部，而且还自以为是，那样没有不摔跤的。

填入横线处的词语最恰当的一项是：

- A.一时兴起
- B.走马观花
- C.敷衍了事
- D.天马行空

34. 近年来，经过政府主管部门、旅游企业、媒体的不断宣传，文明旅游的观念日益深入人心。在景区景点排队、保护环境、爱护文物等成为游客自觉遵守的规则，出国旅游\_\_\_\_\_、尊重当地人的习惯等观念也得到普及。

填入横线处的词语最恰当的一项是：

- A.随机应变
- B.心甘情愿
- C.入乡随俗
- D.顺势而为

35. 当前正处于疫情防控常态化时期，全市上下正在为实现经济社会发展而奋力奋进，评选湛江市劳动模范、先进工作者和先进集体意义重大，他们身上体现了“爱岗敬业、争创一流，艰苦奋斗、勇于创新，\_\_\_\_\_、甘于奉献”的劳模精神。通过评选劳模，树立榜样，\_\_\_\_\_全市人民在新的历史征程上团结奋斗、勇往直前、求实创新，为我市各项事业的发展再立新功。

填入横线处的词语最恰当的一组是：

- A.坦荡无私 激发
- B.淡泊名利 激励
- C.穷奢极欲 鼓励
- D.艰苦朴素 勉励

**二、言语理解：请根据每道题的要求，从四个选项中选出最恰当的一项。**

36. 我们看到的、能够影响地球及周边环境的太阳活动与包括太阳耀斑在内的太阳爆发，都源于太阳大气中磁场结构的变化、磁场能量转化和释放。太阳大气中的磁场先在太阳内部产生，在太阳两极区域上浮到太阳大气当中，然后跟着太阳内部的物质流动慢慢地向赤道区域漂移。在漂移的过程中，这些磁场自身会发生变化，并与周围其他的磁场相互作用而发生能量的转化、释放，驱动太阳耀斑等爆发现象产生。太阳风是从太阳表面吹出来的高速等离子体流，或者说是高速带电粒子流，它们在磁场的引导下向外运动。如果人类不飞出地球公

转轨道所在的平面，这些关于太阳风的三维结构认知都是无法得到的。

下列说法与原文不相符的一项是：

- A.太阳耀斑与太阳大气中磁场结构的变化密切相关
- B.太阳风是从太阳表面吹出来的高速带电粒子流
- C.太阳爆发的主因是磁场能量转化
- D.太阳风在磁场的引导下向外运动

37. 恶意抢注行为，不仅有违公序良俗，也是对相关法律的突破。商标法中明确规定，申请注册的商标不得与他人先取得的合法权利相冲突；有害于社会主义道德风尚或者有其他不良影响的不得作为商标使用。而纵观目前的一些商标抢注行为，大多都存在“傍名气”“碰瓷”等嫌疑，其实质与保护知识产权的初衷存在很大出入。低廉的注册成本、巨大的利润空间、诱人的商业价值，已经让商标抢注渐渐成为一种“灰色产业”，催生出一大批以抢注他人商标、标识为业，并通过威胁、投诉、诉讼等方式滋扰实际权利人，进而牟取不法利益的职业商标抢注人。这不仅扰乱了商标注册秩序，损害正常的知识产权保护氛围，也对不特定人群构成了一种新的权益风险。对此，就要加大制度和法律层面的惩治力度。

这段文字意在说明：

- A.应从制度和法律层面加大对恶意抢注商标行为的惩治力度
- B.恶意抢注商标，本质上是牟取不法利益
- C.恶意抢注商标扰乱商标注册秩序，损害正常的知识产权保护氛围
- D.恶意抢注商标之风盛行，催生“灰色产业”

38. 在教育部最新公布的新增备案本科专业名单中，约180所高校通过了新增人工智能专业的审批。高等教育资源在一定程度上向人工智能领域倾斜，有利于满足市场的要求，“人工智能”很可能将在一段时间内成为“香饽饽”。教育部也曾提出：“研究生计划增量，重点投向临床医学、公共卫生、集成电路、人工智能等专业，而且以专业学位培养为主，以高层次的应用型人才专业学位为主。”亦有技术含量的教育，培养站在行业顶端的人才，用科技来推动社会发展，一定是以后的发展方向。像人工智能这样既有前途又有“钱途”的专业，必将出现井喷，为社会发展创造更多价值。市场的大潮涌起时，无论是高考还是考研，这样有“钱途”的专业一定是备受考生青睐的。考生对“热门”专业的追捧无可厚非，但是，在选报这样“热门专业”的时候，还是要多加理性思考。

这段文字意在说明：

- A.人工智能这一热门专业和热门领域占领高地

- B.应扩大人工智能办学的规模和数量
- C.虽然人工智能井喷但专业选择不必只奔“钱途”
- D.理性面对人工智能的井喷式发展

39. 网络文学在中国兴起以来，产业规模迅速扩大，作品数量不断攀升，近年来尤为凸显。然而，数字的增长远不能代表一个产业的繁荣健康发展。在市场机制作用下，网络文学作品常常给人以质量低、同质化、片面追求点击率的印象。在此背景下，中国网络文学要如何打个漂亮的翻身仗？抛弃“唯点击率”的市场思维，实现从“量”到“质”的飞跃，将成为网络文学实现规范化发展的必由之路。此次网络文学创作者实名注册制度的落地，是网络文学向精品化发展迈出的坚实一步。一方面，有利于规范市场秩序，维护优质作者的合法权益，使版权纠纷、刷票乱象有迹可循；另一方面，扒掉烂文作者的层层“马甲”，让真正的好作品浮出水面，有助于一改泥沙俱下的现状，提升网络文学整体创作水准。

这段文字主要说明：

- A.高质量网络文学作品需破除质量低、同质化等痼疾
- B.“实名注册”对创作者登载发布行为提出明确要求
- C.网络文学问责制推出重要举措，提升网络文学整体创作水准
- D.“实名注册”为网络文学保驾护航，助力其长远发展

40. 生态文明制度是中国特色社会主义制度的重要组成部分，党的十八大以来，以习近平同志为核心的党中央大力推进生态文明制度建设，提出“生态兴则文明兴”“保护生态环境就是保护生产力，改善生态环境就是发展生产力”“良好生态环境是最公平的公共产品，是最普惠的民生福祉”等一系列重要论述，既彰显了我们党推进生态文明建设的政治智慧和坚定决心，也深刻阐释了人与自然和谐共生的重要意义。促进人与自然和谐共生，是生态文明制度建设的内在要求和重要评价标准。我们要坚持好运用好这一评价标准，进一步完善生态文明制度体系，着力补齐制度短板，促进人与自然和谐共生。

这段文字主要说明：

- A.我国需着力补齐短板，促进人与自然和谐共生
- B.我国要坚持和完善生态文明制度体系，建设生态文明
- C.生态文明制度是中国特色社会主义制度的重要组成部分
- D.人与自然和谐共生是生态文明制度的重要评价标准

41. 此次《意见》提出了禁塑限塑的路线图和时间表，但《意见》能否解决白色污染问题，还有待实践的检验。解决白色污染问题仅靠意见的反复重申是不够的，我们更需要理性

思考和科学决策。一方面，需要加强宣传，改变公众消费习惯，消除监管难点；另一方面，还应提升塑料袋的“绿色含量”，或者尽快找到安全的、环保的替代产品，并通过推广使用纸袋、可降解塑料袋，或者简易打包的方式减少塑料袋的使用。同时，还应织密法律法规的“篱笆”，明确生产者、销售者、消费者等各个环节的法律责任和义务，推动建设一套完整的包装废弃物回收利用体系。在这方面，政府除了要做好相关宣传引导外，还应严格控制生产环节，打击违规生产超薄塑料袋黑作坊，严格监控批发、零售、消费等环节。只有多方合力，才能令行禁止。

这段文字主要说明了：

- A.限塑令升级重在执行力和强制力发威
- B.解决白色污染问题需要理性思考和科学决策
- C.白色污染问题屡禁不止的原因
- D.解决白色污染问题需要多方合力

42. 陈云提倡学哲学，最看重的是什么？是实事求是，是要使主观认识符合十分复杂的、并且在不断变化的客观实际。当然，马克思主义哲学是一个严整的理论体系，是科学的世界观和方法论，决不能简单化庸俗化地去对待它，那样不可能真正懂得和运用马克思主义哲学。前面所说陈云学习哲学时付出的那种艰苦努力，充分说明了这一点。但必须把最主要的精力用在把握它的精髓上，那就是实事求是，使主观认识符合客观实际。陈云常说的“\_\_\_\_\_”，就是这个意思。

填入划横线处最恰当的一项是：

- A.形而上者谓之道，形而下者谓之器
- B.博学而笃志，切问而近思
- C.不唯上，不唯书，只唯实
- D.惟有道者能备患于未形也

43. 推动创新发展、协调发展、绿色发展、开放发展、共享发展，前提都是国家安全、社会稳定。没有安全和稳定，一切都无从谈起。“\_\_\_\_\_。”我们必须积极主动、未雨绸缪，见微知著、防微杜渐，下好先手棋，打好主动仗，做好应对任何形式的矛盾风险挑战的准备，做好经济上、政治上、文化上、社会上、外交上、军事上各种斗争的准备，层层负责、人人担当。

填入横线部分最恰当的一项是：

- A.明者防祸于未萌，智者图患于将来

B.以人民安全为宗旨，以政治安全为根本

C.国家安全是安邦定国的重要基石

D.人民安全是国家安全的宗旨

44. ①对外贸企业而言，这意味着铁路国际联运将更加高效便捷，带来更多发展机遇

②“数字口岸”系统是中国铁路95306货运电商平台的新功能

③只要列车出发，货物、发运人、收货人等信息便实时传输到海关部门、口岸站、运输代理企业和铁路公司，自动完成海关申报，相关境内运输也可以提前办理手续

④“数字口岸”系统虽然是铁路货运改革创新的一小步，却是中国铁路把握数字化发展机遇的“一大步”，是中国铁路危中寻机、化危为机的生动实践

⑤通过这一系统，铁路国际联运各方将实现数据网上共享、快速申报查询等功能，跨境铁路运输可以实现过检通关数字化

⑥中国国家铁路集团有限公司不久前发布消息称，自7月起，95306“数字口岸”系统在全国铁路各口岸站投入应用

将以上句子重新排列，语序最恰当的一项是：

A.⑥②①⑤④③

B.⑥①②⑤③④

C.②⑤①⑥③④

D.②⑤④⑥①③

45. ①不仅有损城市形象，还会带来高空坠物、消防等安全隐患，亟待引起重视

②城市天际线是表达城市形象的一大要素，而“第五立面”是城市天际线最重要的组成部分

③北京市编制完成的《导则》，明确建立与城市特色风貌分区相对应的第五立面管控体系，形成与城市自然环境、人文特色相协调的城市顶部风景，适应了加强楼顶空间治理的现实而迫切的需要

④近年来，各地城市正在变得越来越美，但一些城市的“第五立面”存在部分建筑屋顶尺度过大、屋顶形式突兀、屋顶设施杂乱、屋顶广告乱设等问题

⑤随着城市化进程加快，居民的生活空间不断向上发展，高架桥和高层建筑的不断增多，让越来越多的建筑屋顶进入人们日常视野，“第五立面”的环境和品质，不断影响着公众的愉悦感、舒适感

将以上句子重新排列，语序最恰当的一项是：



A. ②⑤④①③

B. ⑤④①②③

C. ④①③②⑤

D. ③⑤②④①

※※※ 第二部分结束，请继续做第三部分! ※※※



华图事业单位  
SYDW.HUATU.COM



华图事业单位  
SYDW.HUATU.COM



华图事业单位  
SYDW.HUATU.COM

### 第三部分 数量关系

(共 5 题)

本部分的每道题呈现一段表述数字关系的文字，请迅速、准确地计算答案。

46. 居民用水采用分段方式计费，以人为单位设定了相同的基准吨数，家庭人均用水吨数超过基准吨数时，按基准水费的1.5倍收取。某月，甲户3口人，用水40吨，水费135元；乙户5口人，用水80吨，285元水费，且甲乙两户人均用水吨数均超过基准吨数，则该市基准水费为每吨多少元？

- A.5  
B.4  
C.3  
D.2

47. 一个体积为  $12\pi\text{cm}^3$  的圆柱体木块，高为3cm，在其中挖取了两个圆锥体，已知圆锥体底面直径与自身高相等，且与圆柱体底面半径相同，问挖去圆锥体后圆柱体剩余体积为多少  $\text{cm}^3$ ？（两个圆锥体之间没有交叉部分）

- A.  $10\pi$   
B.  $8\pi$   
C.  $34\pi/3$   
D.  $32\pi/3$

48. 购买8箱苹果与5箱芒果需要2200元，若购买5箱苹果与8箱芒果需要多花150元。则苹果与芒果各买一箱需要多少钱？

- A.120 元  
B.200 元  
C.300 元  
D.350 元

49. 某次运动会，某班共有 10 名运动员参赛。其中选出 4 人参加  $4\times 100$  接力赛，剩余 6 人平均分成 3 组参加乒乓球双打比赛，问共有多少种选法？

- A.1050  
B.3150  
C.9450  
D.18900

50. 学校举行趣味运动会，某班级共 60 人，其中，报名踢毽子的 38 人，报名接力赛的 32 人，报名跳绳的 40 人，同时报名踢毽子和跳绳的 28 人，同时报名接力赛和跳绳的 24 人，三个项目都报名的 16 人，另有 3 人三个项目都未报名，则有多少人只报名了一个项目？

- A.17  
B.20  
C.23  
D.26

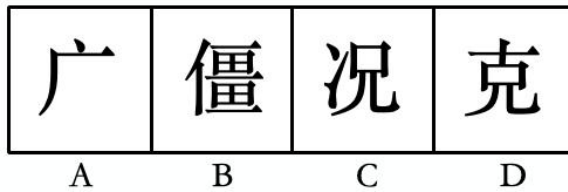
※※※ 第三部分结束，请继续做第四部分！ ※※※

### 第四部分 判断推理

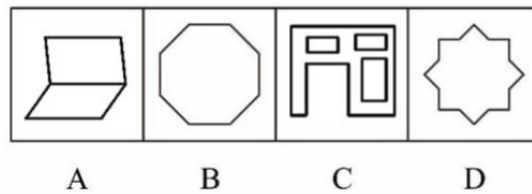
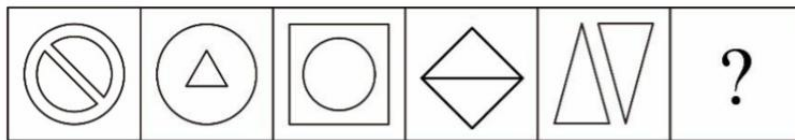
(共 35 题)

一、图形推理：请按每道题的答题要求，从四个选项中选出最合适的一项。

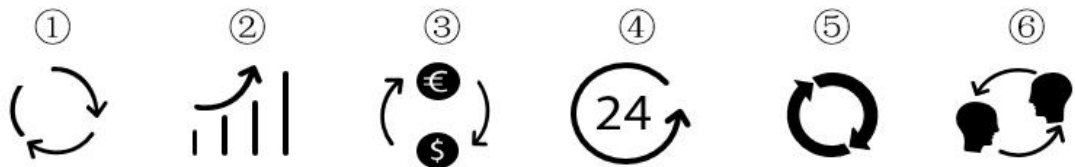
51. 从所给四个选项中，选择最合适的一个填入问号处，使之呈现一定规律性：



52. 从所给四个选项中，选择最合适的一个填入问号处，使之呈现一定规律性：



53. 把下面的六个图形分为两类，使每一类图形都有各自的共同特征或规律，分类正确的一项是：



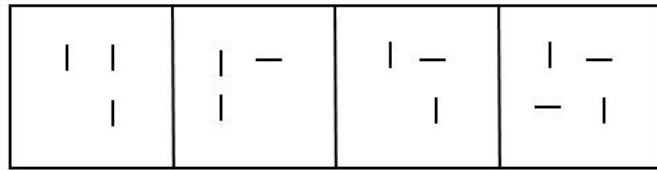
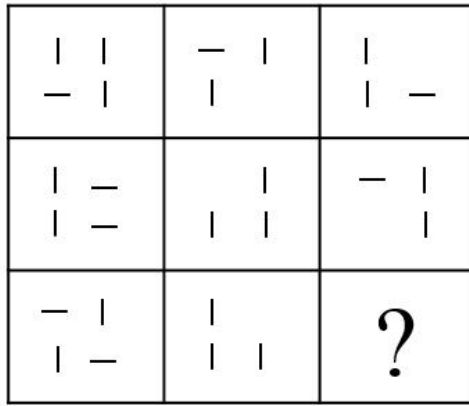
A. ①③⑤, ②④⑥

B. ①④⑤, ②③⑥

C. ①④⑥, ②③⑤

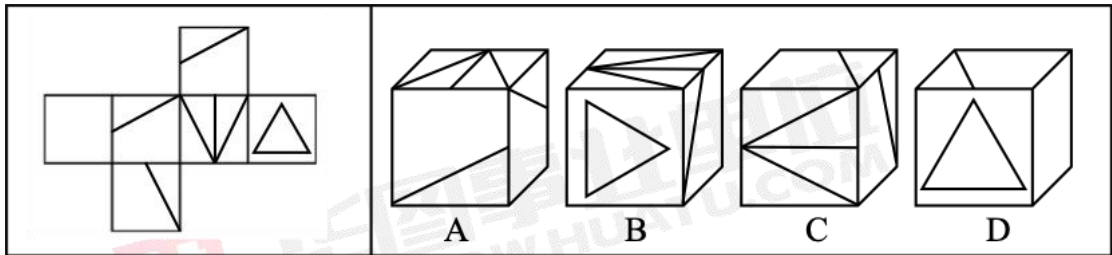
D. ①⑤⑥, ②③④

54. 从所给的四个选项中，选择最合适的一个填入问号处，使之呈现一定规律性：



A                      B                      C                      D

55. 左边给定的是纸盒外表面的展开图，右边哪一项能由它折叠而成？



**二、定义判断：每道题先给出一个定义（这个定义被假设是正确的、不容置疑的），然后列出四种情况。请严格依据定义，选出最符合题干要求的一项。**

56. 自然失业是由于经济中的一些难以克服的原因引起的失业，它是任何经济形态都难以避免的失业，也是正常的失业。

根据以上定义，下列属于自然失业的是：

- A. 赵某酗酒驾车造成重大交通事故，公司以违反劳动纪律为由将其开除
- B. 由于地震导致厂房和设备受损，厂长不得已遣散了工作多年的工人
- C. 某地高速公路收费方式由人工改为ETC后，一些工作人员下了岗
- D. 张某违反公司规定暗箱操作，被发现后公司将其开除

57. 非法侵入住宅罪是指违背住宅内成员的意愿或者无法律依据，故意进入公民住宅，或者进入公民住宅后经要求退出而拒不退出的行为。

根据上述定义，下列构成非法侵入住宅罪的是：

- A. 小马家楼下开了个咖啡店，他进去后什么都不点，只是用电脑办公，老板怎么说他都

不肯走，一直到打烊

B.小牛听到邻居家有不停砸碎东西的声音，一脚踹开邻居大门就冲了进去，结果发现原来是邻居在吵架，互相扔东西

C.小龙为了找工作，在朋友家里住了半年，其朋友已经感觉到厌烦，整天都在想怎样才能让他搬出去

D.房东小朱担心租出去的房子会有什么损坏，隔一段时间就会拿着备用钥匙进去检查一下

58. 文化挪用是指将本不属于本地的异域或其他民族的文化资源借用过来，从而对本地的文化形成影响，创造出新的文化产品的现象。

根据上述定义，下列属于文化挪用的是：

A.云南本地的歌曲在被艺术家发掘传播之后在全国范围内都得到了广泛传唱

B.在某高级餐厅法国主厨将法式美食的独特烹饪方式带入中国

C.中华文化传入日本之后和当地文化融合，形成了风格独特的文化作品并且在东京奥运会上得到了展示

D.随着中国国力的提升，世界上学习汉语的国家越来越多

59. 博喻是用几个喻体从不同角度反复设喻去说明一个本体，运用博喻能加强语意，增添气势。博喻能将事物的特征或事物的内涵从不同侧面、不同角度表现出来，这是其他类型的比喻所无法达到的。博喻有两种方式：一、用多个喻体描绘本体的一个方面。二、用多个喻体描绘本体的几种状态。

根据上述定义，下列选项中属于第二种博喻的是：

A.每天潮来的时候，听见海浪冲击岩石的音响，看见空际朝雾似的，暮烟似的飞沫升落

B.雨是最寻常的，一下就是三两天。可别恼，看，像牛毛、像花针、像细丝，密密地斜织着

C.两岸都是悬崖峭壁，累累垂垂的石乳一直浸到江水里去，像一挂一挂的葡萄

D.张老师有着一对厚嘴唇，从这对厚嘴唇里迸出的话语，总是那么热情、生动、流利

60. 卖萌营销是市场行销手段之一。它既是一种品牌亲民化沟通的方式，也是品牌与消费者互动的一种方式。不同品牌有着不同的卖萌方式：有的通过小孩，有的通过动物，有的则本身就拥有“萌基因”。

根据上述定义，下列选项中不属于卖萌营销的是：

A.某健身馆为了留住更多会员，在会员群体中建立顾客俱乐部，对顾客进行主动管理

B.肯德基新品“喵套餐”火热出炉，该套餐因其随机附赠的四只小猫玩偶而备受90后消费群体的喜爱

C.可口可乐公司在中国换了新装，“可口可乐”四个大字已“退位”，取而代之的是“喵星人、天然呆、文艺青年”等网络萌语

D.加多宝在官方微博发布“可爱宝宝系列”，通过在广告中加入小孩大笑图片成功地激发了消费者的购买欲

61. 心理学上把学习定义为行为或行为潜能的相对持久的变化。有些学习不会在我们的当前行为中立即表现出来，但会影响我们对待事物的态度和价值观，即改变我们的行为潜能。有时候个体的生理成熟或衰老也会导致行为产生持久改变，但这是由生理成熟引起的，与经验无关，所以不能称为学习。学习主要有两种，一种是正规学习，如有计划的训练或练习等。另一种是随机学习，因偶然的生活经历而产生。

根据上述定义，以下选项不涉及学习的是：

- A.小利信奉佛教后，不再杀生、不再吃肉
- B.小张在教练地指导下学会了打乒乓球
- C.小潘进入青春期后因嗓音的变化而退出合唱团
- D.被开水烫过一次的小朋友就知道开水不能摸

62. 借对是古人诗文中的一种对仗方法，亦称假对，借多义词或同音字形成工整的对仗。可分两类：一是借音为对，即以一句中某字的同音字与另一句中的字相对；一是借义为对，即一句中的某字有两个以上的意义，诗中用的是甲义，而借其乙义或丙义与另一句中的字相对。

根据上述定义，下列说法正确的是：

- A.厨人具鸡黍，稚子摘杨梅。其中“杨”属于借义为对
- B.谈笑有鸿儒，往来无白丁。其中“鸿”属于借音为对
- C.酒债寻常行处有，人生七十古来稀。其中“寻常”属于借音为对
- D.沧海月明珠有泪，蓝田日暖玉生烟。其中“沧”属于借义为对

63. 达维多定律是以英特尔公司副总裁达维多的名字命名的。达维多认为，一家企业要在市场中总是占据主导地位，那么它就要永远做到第一个开发出新一代产品，第一个淘汰自己的产品。这一定律的基点是着眼于市场开发和利益分割的成效。人们在市场竞争中无时无刻不在抢占先机，因为只有先入市场，才能更容易获得较大的份额和高额的利润。达维多定律揭示了以下取得成功的真谛：不断创造新产品，及时淘汰老产品，使新产品尽快进入市场，

并以自己成功的产品形成新的市场和产品标准，进而形成大规模生产，取得高额利润。

根据上述定义，下列体现达维多定律的是：

- A.W公司的产品一直是性能最好的，但不一定是最新的
- B.D公司的产品一直是卖得最好的，但不一定是最贵的
- C.Q公司的产品一直是最好看的，但不一定是功能最全的
- D.Y公司的产品一直是最新的，为此，他们不惜淘汰自己哪怕是市场上正卖得好的产品

64. 所谓“玻璃式经营法”，也就是要像玻璃那样透明公开。它被视为松下电器公司的三大主要经营法则之一，松下的公开性方针还包括财务公开、经营方针公开、经营状况公开，一切都和全体员工共同承担。

根据上述定义，不符合玻璃式经营法的是：

- A.甲企业每年公开结算，对自己的员工毫不保留
- B.乙企业经常“报喜不报忧”，把经营实况掩盖起来
- C.丙企业对员工公开自己的经营状况，也向广大社会大众公开
- D.丁企业经营状况好的时候，把喜讯带给员工，请大家分享成功的欢乐；坏的时候，把问题摆在桌面上，依靠大家的力量共度难关

65. 开放式提问是心理咨询中使用的一种技术，是指提出比较概括、广泛、范围较大的问题，没有固定的标准答案，给对方以充分自由发挥的余地。开放式问题常常运用包括“如何”“怎么”“为什么”等词在内的语句发问，让来访者对有关的问题、事件给予较为详细的反应，而不是仅仅以“是”或“不是”等几个简单的词来回答。这样的问题是引起对方话题的一种方式，使对方能更多地讲出有关情况、想法、情绪等。

根据上述定义，以下不属于开放式提问的是：

- A.你们当初是如何开始创业的？
- B.你为什么要选择创业这条路？
- C.你们遇到了资金问题后，是如何解决的呢？
- D.你当年大学毕业后，是不是去北京发展了呢？

**三、类比推理：请根据给出的题干从备选答案中选出一组与之在逻辑关系上最为贴近、相似或匹配的词，或者选出一组词使得题干的表述最符合逻辑。**

66. 埋头苦干：兢兢业业：玩忽职守

- A.美不胜收：目不暇接：不堪入目

- B.语无伦次：颠三倒四：条理不清  
C.耳目一新：焕然一新：万象更新  
D.机不可失：失之交臂：时不我待
67. 白居易：别有幽愁暗恨生，此时无声胜有声  
A.李白：人生得意须尽欢，莫使金樽空对月  
B.李清照：便纵有千种风情，更与何人说  
C.杜甫：天长地久有时尽，此恨绵绵无绝期  
D.骆宾王：愿君多采撷，此物最相思
68. 海南：琼  
A.江西：皖  
B.湖北：鄂  
C.南京：苏  
D.重庆：川
69. 电压表 对于 ( ) 相当于 ( ) 对于 诗词  
A.电流表；文学  
B.仪器；宋词  
C.指针；情感  
D.电能表；山水
70. 皮手套：手套：橡胶手套  
A.防疫：口罩：纱布  
B.羊毛帽：帽子：礼帽  
C.怀表：表：手表  
D.铅球：球：乒乓球
71. 多行不义：必自毙  
A.四海之内：皆兄弟  
B.死要面子：活受罪  
C.打开窗户：说亮话  
D.火焰高：众人拾柴
72. 解除 对于 ( ) 相当于 打磨 对于 ( )  
A.问题；精致  
B.破除；抛光  
C.保留；磨砺  
D.警报；研磨
73. ( ) 对于 法官 相当于 ( ) 对于 海面  
A.律师；海鸥  
B.审判；游客  
C.法院；轮船  
D.严肃；平静
74. 薄荷脑：风油精  
A.奶油蛋糕：鸡蛋  
B.电动汽车：汽车  
C.风力发电：电能  
D.二氧化硅：玻璃
75. ( ) 对于 项链 相当于 ( ) 对于 笛子



- A.白银；骨笛  
B.铂金；箫  
C.脖子；吹奏乐器  
D.黄金；竹子

**四、逻辑判断：每道题给出一段陈述，请根据这段陈述，选出最符合题干要求的一项。**

76. 临近年关，老马、老王、老赵三个人想去农村体验生活，有黄石、富贵、格律三个村可供选择，每个人都有一个想去的村，每个村都有人想去，关于三个人想去的村，甲、乙、丙、丁四位同学有如下猜测：

甲说：“如果老马想去黄石，那么老王肯定想去富贵。”

乙说：“老王确实想去富贵，但老马不想去黄石。”

丙说：“老马想去黄石，但老王不想去富贵。”

丁说：“老王不想去富贵。”

如果上述断定中只有一个人的断定为真，则以下哪一项为真？

- A.乙的断定为真，老马想去黄石  
B.甲的断定为真，但老王不想去富贵  
C.甲的断定为真，老王想去富贵  
D.丙的断定为真，老赵想去富贵

77. 某个小城市为了缓解车辆交通拥挤，该市交管局建议对每天进入市区的私家车收取入市费5元。该市交管局指出这个费用将超过乘公交车进出市区的车费，所以很多人都会因此不再开车上班，而改乘公交车。

以下哪项如果为真，最严重地削弱了交管局的结论？

- A.汽油价格的大幅上涨将增加开车上下班的成本  
B.对多数自己开车进入市区的人来说，在市区内停车的费用已经远远超过了乘公交车的费用  
C.多数现在乘公交车的人没有私人汽车  
D.很多进出市区的人反对交管局的计划，他们宁愿承受交通阻塞也不愿交那5元钱

78. 专家针对几家大型停车场进行研究发现，当车辆准备离开所占车位时，发现有车辆在旁边安静地等待入车位时，离开的时候用时平均为39秒；当发现等待进入的车辆不耐烦地鸣笛催促时，离开的时候用时平均为51秒；当没有车辆等待进入时，离开的时候用时平均为25秒。这意味着，在停车场，车主对所使用的车位具有占有意识，越是意识到有其他车辆也要使用这一车位，这种占有意识越强。

以下哪项如果为真，最能支持上述推理？

A.当车辆在进入车位时，如果司机发现有其他车辆也在同时进入另外的车位时，则会明显缩短进入车位的时间

B.有的大型停车场是免费的，有的则收费，后者停车的时间更短

C.个别司机有不健康的恶作剧心理，越是发现有人要使用，特别是急于要使用自己将要离开车位，越是故意放慢离开车位的速度

D.当车主下意识认为自己拥有某个车位时，会不自主地想要保护自己的车位使用权

79. 现在很多实体服装店经营状况不佳，甚至难以维持，而大量的网上服装店却销售火爆。对此，有人分析，这主要是因为网上服装店的服装比实体服装店价格便宜，所以更具有竞争力。

上述分析隐含的假设是：

A.价格是消费者购买服装的主要考虑因素

B.网上服装店提供上门送货服务

C.网上服装店和实体服装的质量相同

D.价格是销售中最主要的竞争因素

80. 美国斯坦福大学的一个研究团队收集了517对夫妇的照片数据，这些照片是在他们婚后不久以及几十年后拍摄的。他们使用先进的人脸识别软件和人工评判手段，结果显示，虽然长期伴侣确实往往看上去很像，但随着时间推移，他们不会变得越来越像。换句话说，这项研究支持一种说法，即我们倾向于选择与我们长得像的伴侣。

以下哪项如果为真，最能削弱上述结论？

A.伴侣的皮肤微生物群越来越相似，这导致伴侣长得像

B.长期伴侣有共同的饮食、生活方式、言谈举止

C.同居伴侣身体上微生物群最相似的部位是脚

D.伴侣像不像是不同人的感觉

81. 近日发表的一项健康学研究发现，聆听贝多芬的F大调双钢琴奏鸣曲“田园”至少30秒，被试者会对“田园”产生积极情绪反应，有助于降低耐药性癫痫患者大脑中癫痫相关电活动尖峰频率。

以下哪项为真，不能支持上述观点？

A.聆听“田园”达30~90秒，和全脑癫痫相关电活动尖峰数量平均降低66.5%相关，但其他音乐片段均无此效果

B.“田园”的结尾是一段长而重复的乐节，当被试者听到这段结尾时，研究发现 $\theta$ 活动在其前额叶皮质区增加， $\theta$ 活动能触发对音乐的积极情感反应

C.被试者听完“田园”后，大脑的左右前额叶皮质会出现明显变化，一般认为这个部位参与热情、兴趣、决心、幸福、放松、快乐等情感的调控

D.研究者发现，音乐持续时间与降低耐药性癫痫患者大脑中癫痫相关电活动尖峰频率之间的关系成波动形态

**五、综合判断推理：每道题给出若干材料，请综合运用各种推理能力，选择一个最恰当的答案。**

材料一：结核病是由结核分枝杆菌引起的慢性传染病，可侵及许多脏器，以肺部结核最为常见。世界上约有1/3的人口感染了结核杆菌，其中有大约5%—10%会发展成结核病。对于艾滋病毒携带者、营养不良或糖尿病等免疫系统受损的人，或者烟草使用者，结核杆菌容易在体内大量复制，患病风险就会高很多。

材料二：人体感染结核菌后不一定发病，当抵抗力降低或细胞介导的变态反应增高时，才会引起临床发病。调查表明，最近几年来，患结核病的病例逐年减少。但是，还不能依此得出结核病发病率逐年下降的结论。

材料三：全球结核病曾三次大流行。第三次疫情回升主要是由于耐药结核杆菌，尤其是耐多药结核杆菌的流行。耐多药结核杆菌的流行使常用的抗痨西药受到极大的冲击，再次使结核病成为难治愈的疾病，之后中药加入了治疗结核病的行列，调查显示，中药加入后的治愈率达到了80%，据此，有人认为中药在防治结核病中发挥了重要作用。

根据上述材料，回答下列82-85题：

82. 根据材料一，下列哪一项不能从中推出（ ）

- A. 绝大多数人感染结核杆菌后并不发病
- B. 结核病可能发生在肺部或其他脏器
- C. 身体健康的人一般不会携带结核杆菌
- D. 身体虚弱者患结核病的可能性较高

83. 下列选项如果为真，最能对材料二中“还不能依此得出结核病发病率逐年下降的结论”这一观点进行加强的是（ ）

- A. 上述调查涵盖范围广，调查周期长，选取的样本极具代表性
- B. 近年来由于医疗科技的不断发展，结核病已经可以被治愈

- C. 据统计数据显示，青少年中患肺结核的病例逐年增多
- D. 近年由于糖尿病的患者逐年增多，使得结核病发病越发严重

84. 下列选项如果为真，最能够支持材料三结论的是（ ）

- A. 多名中医专家宣称中医学是老祖宗留下来的宝贵财富，它依然好使、管用
- B. 科研发现抗痨西药是单靶点起作用，但中药的作用机理目前尚不明确
- C. 结核病发病后，中药销售量突飞猛进
- D. 中药通过杀灭或抑制结核杆菌、提高机体免疫力、减轻抗痨西药的毒副作用等途径

来发挥作用

85. 与材料二中“当抵抗力降低或细胞介导的变态反应增高时，才会引起临床发病”表达意思相同的（ ）

- A. 除非抵抗力降低或细胞介导的变态反应增高，否则会引起临床发病
- B. 如果抵抗力降低或细胞介导的变态反应增高就会引起临床发病
- C. 所有感染结核菌的人抵抗力降低或细胞介导的变态反应增高时都会引起临床发病
- D. 引起临床发病需要具有抵抗力降低或细胞介导的变态反应增高的必要条件

**※※※ 第四部分结束，请继续做第五部分！ ※※※**



C.74% D.73%

90. 不能从上述资料中推出的是:

A.2020年1—8月份，中、西、东北地区房地产开发投资总额及住宅投资总额均未超过全国总计的一半

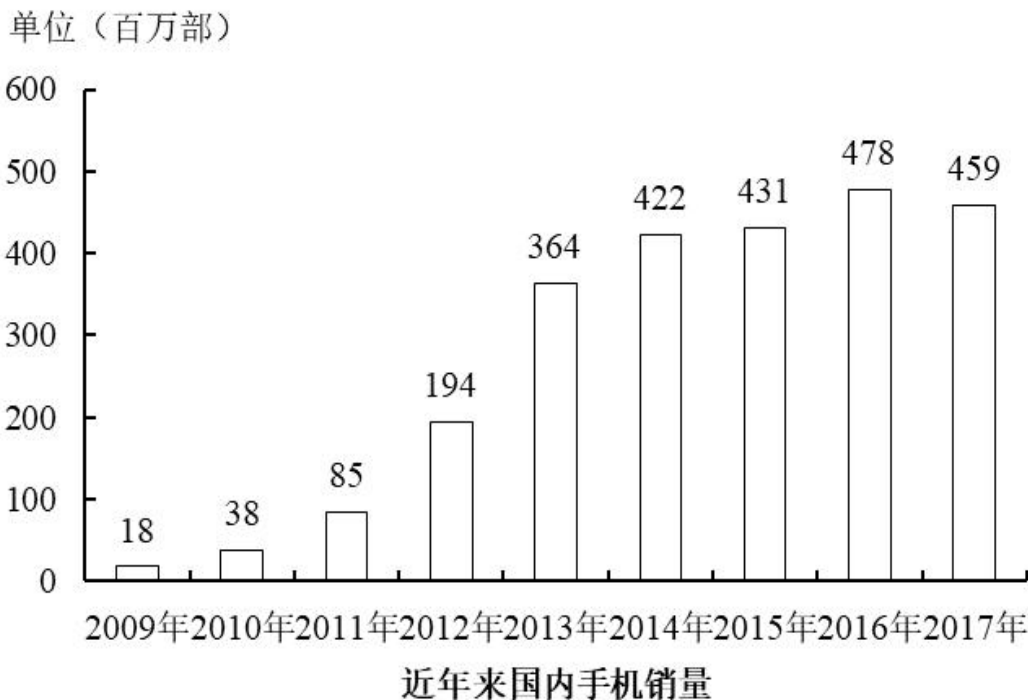
B.2020年1—8月份，全国商品房销售面积总计超过10亿平方米

C.2020年1—8月份，房地产开发投资额同比增速最低的地区，其商品房销售额同比增速也最低

D.2020年1—8月份，仅东部地区商品房销售面积高于上年同期

## 二、根据所给资料，回答91~95题。

2017年国内市场手机销量达到4.59亿部，销售规模1.09万亿元，其中线下规模0.876万亿元。经过10多年高速发展，中国市场的手机渗透已经接近饱和，到2016年，中国的手机普及率已经超过96部/100人。



品牌方面，2017年国内市场，国产手机依然占据主导，华为手机在中国市场销量为1.0255亿部，整体销售份额约为22.8%，继2016年后持续排名榜首。排在第二位的OPPO销量为7756万部，第三位vivo为7223万部，第四位苹果为5105万部，第五位小米为5094

万部。2017 年苹果手机销售份额达到 1.23 亿美元，同比增长 3.9%。

91. 2017 年国内市场手机销量同比约下降：

A.4.2% B.4.0%

C.3.8% D.3.6%

92. 国内手机销量同比增速最快的年份是：

A.2010 B.2011

C.2012 D.2013

93. 十二五期间，国内手机销量年均增长量大约是多少万部？

A.7860 B.8650

C.78.6 D.86.5

94. 若每部手机售价均相同，则 2017 年线上市场约销售出多少部手机？

A.0.8 亿 B.0.9 亿

C.1.0 亿 D.1.1 亿

95. 根据上述材料可以推出的是：

A.2017 年平均每月小米约比华为少销售 5161 万部手机

B.2017 年底，中国手机普及率未超过 1 部/人

C.与 2011 年相比，2016 年国内手机销量翻了 3 番

D.2017 年苹果手机销售份额同比约增长 462 万美元

三、根据所给资料，回答 96~100 题。





D.工资性收入 > 转移净收入 > 经营净收入 > 财产净收入

99. 2020 年各个消费类别的人均消费支出占全国居民人均消费支出比重最高的比最低的约高多少个百分点？

A.18.9

B.22.4

C.28.0

D.33.3

100. 根据上述材料可以推出的是：

A.2020 年有 4 个类别的人均消费支出占全国居民人均消费支出的比重超过 10%

B.2019 年城镇居民人均可支配收入为 41500 元

C.2020 年城镇居民人均可支配收入超过农村居民的 2 倍

D.2020 年八大消费类别中超过 75%的类别人均消费支出低于去年同期

※※※

全部测验到此结束！

※※※

