

2024 年全国事业单位联考模拟试卷（卷一）

《职业能力倾向测验·A类》

重要提示:

为维护您的个人权益,确保事业单位考试的公平公正,请您协助我们监督考试实施工作。

本场考试规定:监考老师要向本考场全体考生展示题本密封情况,并邀请2名考生代表
验封签字后,方能开启试卷袋。

仅限华图教育内部教学使用!

二〇二四年

姓名
准考证号

条形码

请将此条形码揭下,
贴在答题卡指定位置。

注意事项

一、此项测验分为五个部分，**100 道题，总时限 90 分钟**。各部分不分别计时，但都给出了参考时限，供答题时合理分配时间。

二、请按照要求在答题卡上填写好自己的姓名，涂写好准考证号，严禁折叠答题卡。

三、必须在答题卡上答题；在题本上答题，一律无效。

四、监考人员宣布考试开始时，方可答题，宣布考试结束时，应立即停止答题。

题本、答题卡、草稿纸一律留在桌上，待监考人员确认数量无误，允许离开后，方可离开考场。如果你违反了以上任何一项要求，都将影响你的成绩。

五、在这项测验中，可能有些试题较难，因此你不要在一道题上思考时间太久，遇到不会答的题目可先跳过去，如果有时间再去思考，否则，你可能没有时间完成后面的题目。

六、试题答错不倒扣分。

停！请不要往下翻！听候监考老师的指示。
否则，会影响你的成绩。

第一部分 常识判断

请根据每道题的要求，从四个选项中选出一个最恰当的答案。

1. 习近平总书记在党的二十大报告中指出，“拥有马克思主义科学理论指导是我们党坚定理想信念、把握历史主动的根本所在”，并强调，不断谱写（ ）新篇章，是当代中国共产党人的庄严历史责任。

- A.马克思主义中国化时代化大众化
- B.马克思主义本土化具体化
- C.马克思主义中国化
- D.马克思主义中国化时代化

2. 下列关于党史的表述正确的是：

- A. 中共十五大之后“两个一百年”成为全国各族人民的奋斗目标
- B. 中共六届六中全会第一次提出“马克思主义中国化”
- C. 中共十八届三中全会首次以全会的形式研究部署“全面推进依法治国”这一基本治国方略
- D. 中共七大上提出“团结国内外一切可能团结的力量”

3. 习近平总书记在中共中央政治局第十一次集体学习时强调：加快发展新质生产力，扎实推进高质量发展。下列关于“新质生产力”的说法不正确的是（ ）。

- A.新质生产力的特点是创新，关键在质优，本质是先进生产力
- B.新质生产力是创新起主导作用，摆脱传统经济增长方式、生产力发展路径
- C.新质生产力具有高科技、高效能、高质量特征，符合新发展理念的先进生产力质态
- D.新质生产力以劳动者、劳动资料、劳动对象及其优化组合的跃升为标志

4. 下列关于侵权责任的说法正确的是：

- A. 侵害他人造成人身损害的，应当赔偿医疗费、护理费、交通费、营养费、住院伙食补助费、辅助器具费等为治疗和康复支出的合理费用，以及因误工减少的收入
- B. 只有国家机关有权扣留侵权人的财物，其他任何人无权扣留他人财物
- C. 损害他人财物，应按照该财物购买时的市场价定价赔偿
- D. 当事人关于损害赔偿的支付方式协商不一致的，赔偿费用应当一次性支付

5. 习近平总书记的下列用语，前后对应场景及领域正确的是（ ）。

- A.如何成功跳出治乱兴衰历史周期率、确保党永远不变质不变色不变味——国家安全观
- B.在尊重多样性中寻求一致性，找到最大公约数、画出最大同心圆——文化建设
- C.“结合”的前提是彼此契合；“结合”的结果是互相成就——统战工作
- D.锚定建设农业强国目标，学习运用“千万工程”经验——乡村振兴

6. 毛泽东诗词描写过很多历史事件，下列诗词与历史事件对应不正确的是：

- A. 更喜岷山千里雪，三军过后尽开颜——红军长征
- B. 宜将剩勇追穷寇，不可沽名学霸王——人民解放军占领南京
- C. 六盘山上高峰，红旗漫卷西风——第一次反围剿胜利
- D. 秋收时节暮云愁，霹雳一声暴动——秋收起义

7. 下列诗句中，描写抗美援朝的是：

- A. 钟山风雨起苍黄，百万雄师过大江
- B. 金沙水拍云崖暖，大渡桥横铁索寒
- C. 谁敢横刀立马，唯我彭大将军
- D. 雄赳赳气昂昂越过鸭绿江

8. 化学与生活密切相关。下列说法正确的是：

- A. 食品中的抗氧化剂对人体无害且均具有氧化性
- B. 尼龙绳是由天然高分子化合物制成的，强度很大
- C. 用氯气可以处理自来水中的 Cu^{2+} 、 Hg^{2+} 、 Pb^{2+} 等重金属离子
- D. ClO_2 具有强氧化性，用于自来水的杀菌消毒时比 Cl_2 的效率高

9. 我国古代在农业技术上取得了巨大的成就。下列有关古代农书的相关说法错误的是：

- A. 《农政全书》反映了明代最新的技术成就和欧洲先进的水利技术
- B. 《农桑辑要》是我国现存最早的官修农书
- C. 《齐民要术》是我国现存最早的农书
- D. 《四民月令》是东汉后期的叙述一年例行农事活动的专书

10. 世界自然遗产是联合国教科文组织为了保护自然遗产而设立的，根据《保护世界文化与自然遗产公约》规定申报成功的将列入《世界遗产名录》。下列关于中国世界自然遗产的说法正确的是：

- A. 三江并流国家公园，三江是指金沙江、雅砻江和澜沧江
- B. 三清山的名字和佛教有关
- C. 中国南方喀斯特涉及云南、贵州、重庆、广西四个省、直辖市
- D. 澄江化石地是中国第二个化石类世界遗产

11. “有志者事竟成，破釜沉舟，百二秦关终属楚；苦心人天不负，卧薪尝胆，三千越甲可吞吴”一联中所涉及的历史人物及其历史时期分别对应的是：

- A. 项羽——秦末，勾践——春秋
- B. 项羽——春秋，勾践——战国
- C. 项羽——秦末，刘邦——汉初
- D. 刘邦——汉初，勾践——战国

12. 中国古典长篇小说四大名著是中国文学史中的经典作品和世界宝贵的文化遗产，下

列是对这四部著作中人物的描述，说法正确的是：

- A.《三国演义》中大战长坂坡、单骑救主的人物是关羽
- B.《水浒传》中大闹野猪林、单打二龙山的人物是武松
- C.《西游记》中奎木狼曾下界在宝象国波月洞，化身为黄袍怪
- D.《红楼梦》中“机关算尽太聪明，反误了卿卿性命”指的是薛宝钗

13. 科举制从隋朝开创至清光绪三十一年举行最后一科进士考试为止，前后经历一千二百余年。科举制度是封建时代所能采取的最公平的人才选拔形式，它扩展了封建国家引进人才的社会层面，吸收了大量出身中下层社会的人士进入统治阶级。关于“明清时期科举制”下列说法错误的是：

- A.会试于乡试次年三月进行
- B.通过院试考试者称为举人
- C.会试考试也被称为“春闱”
- D.殿试的一甲第二名为“榜眼”

14. 2022年12月20日，国务院联防联控机制召开新闻发布会上，专家介绍慢性呼吸系统疾病患者在合并新冠感染的时候，可能会加重呼吸道症状。关于呼吸系统，下列说法错误的是：

- A.喉是呼吸系统和消化系统共有的部分
- B.肺泡是肺的功能单位，是气体交换的场所
- C.病毒会引起上呼吸道黏膜发炎，从而引发咳嗽
- D.痰中往往有细菌等，会随空气进入人的呼吸道

15. 2020年8月8日14时许，袁某因生活琐事对邓某不满，心生杀意，趁邓某在卧室睡午觉之机，持菜刀向邓某的头部、背部等部位连砍数刀，后因邓某醒来反抗，袁某便逃离现场，后经鉴定邓某为轻伤一级。关于袁某的行为下列说法正确的是：

- A. 未构成故意杀人罪
- B. 故意杀人未遂
- C. 故意杀人中止
- D. 故意杀人既遂

16. 下列疾病与其部分临床表现对应错误的是：

- A. 糖尿病——多饮、多尿、多食、疲乏无力
- B. 水俣病——麻木、惊厥、精神迟钝、视力障碍
- C. 甲亢症——眩晕、嗜睡、厌食、肌肉无力、记忆力减退
- D. 脑中风——呕吐、流涎、意识障碍、一侧肢体感觉异常

17. 下列关于中国名山的说法正确的是：

- A.北半球河流右岸侵蚀严重是受地球线速度的影响

B.歌词“不管是西北风还是东南风，都是我的歌”体现了我国大陆性气候显著的特征
C.拉萨被称为日光城，因为海拔高，大气层稀薄洁净，太阳辐射在大气层中的削弱效果会下降

D.“羌笛何须怨杨柳，春风不度玉门关”涉及到了中国南北分界线

18. 下列诗文提及的地域由北向南排列正确的是：

①洛阳亲友如相问，一片冰心在玉壶

②突兀高楼正倚城，洞庭春水坐来生

③一封朝奏九重天，夕贬潮阳路八千

④幽蓟东来第一关，襟连沧海枕青山

A. ①②④③

B. ①③④②

C. ④②③①

D. ④①②③

19. 下列与“一定”有关的说法，符合相关生物学知识的是：

A. 含有碱基 G 的核酸一定是 DNA

B. 没有成形细胞核的细胞一定是原核细胞

C. 含中心体的细胞一定为动物细胞

D. 病毒的生命活动一定离不开细胞

20. 化学是一门基础的自然科学，对人类有重大意义，跟生活也有很大关系。关于生活常识的化学原理，下列说法错误的是：

A.磷肥可以增加农作物茎枝的坚韧度，提高作物的开花率和结果率

B.棉花、羊毛和天然橡胶都属于天然有机高分子材料

C.红壤呈酸性，其中钾、钠含量较少，铁、铝含量较为丰富

D.赛跑发令枪中的“发令纸”被打响后，产生的白烟主要成分是干冰

※※※ 第一部分结束，请继续做第二部分！ ※※※

第二部分 言语理解与表达

一、言语表达：请从每道题所给的四个选项中选出一个填空，使语句的意思表达得最为准确。

21. 卢静是研究化石鱼类脑颅结构的专家，她所研究的化石标本大都很小，并且非常_____。在研究的过程中，即使对这些标本进行了加固，且操作过程极为小心翼翼，但多年使用之后，标本还是会遭受一定的损伤。难上加难的是，很多重要的结构深藏在化石内部，很难观察到。所以，究竟是要保护标本还是深入研究标本，两者一度有所_____。

填入横线部分最恰当的一项是：

- A. 孱弱 抵牾
- B. 脆弱 矛盾
- C. 羸弱 争执
- D. 薄弱 隔阂

22. 面对人民英雄，我们应该有_____的崇敬和永铭丰碑的缅怀。在争取民族解放的斗争中，许许多多的人牺牲了生命成就了新中国。红军长征中的土城之战、四渡赤水、南渡乌江、抢占大渡河、飞夺泸定桥、翻越夹金山，血雨腥风、壮怀激烈，但有几个人能够在历史上留下名字？他们都是父母生养，都是青春年少，却血战沙场、_____，为了建立新中国献出自己的一切。

填入横线部分最恰当的一项是：

- A. 从善如流 以泽量尸
- B. 高山仰止 马革裹尸
- C. 仰之弥高 尸位素餐
- D. 上行下效 尸禄素食

23. 近日香榭叶被一些商家“盯上”并_____出商机高价销售。一个愿打一个愿挨，你情我愿，本是无可厚非的商业交易，但是一片香榭叶的高价营销，却_____着耐人寻味的资本叙事，也充满着复杂的象征意涵。

填入横线部分最恰当的一项是：

- A. 催生 衍射
- B. 派生 揭露
- C. 衍生 折射

D.萌生 披露

24. 城市文脉是一个城市诞生和演进过程中形成的生活方式以及不同阶段留存下的历史印记，是城市的根本生命力，它决定着城市的价值品质，_____着城市的特色。在城市的发展过程中，每个时期都留下了历史的记忆。这些_____的印记通过各种各样的古典建筑、历史街区、风土人情、民间艺术等表现出来。

填入划线部分恰当的一项是：

A.演绎 林林总总

B.诠释 形形色色

C.解读 多种多样

D.刻画 层出不穷

25. 没有什么比孩子的食品安全更叫人揪心的了，在放心奶都要“陪餐制”呵护的今天，在教育部、市场监督管理总局和卫生健康委联合印发《学校食品安全与营养健康管理规定》的当下，舆论对辣条安全稍微谨慎一些，显然也算不得是_____的事。

填入横线部分最恰当的一项是：

A.蟾宫折桂

B.杯弓蛇影

C.投鞭断流

D.买椟还珠

26. 两会期间，国家市场监督管理总局局长张茅表示要把群众最关心、危害最大的食品、药品、儿童老年用品作为重点，实行最严格的监管、最严厉的处罚。监管不可谓不重视，法规不可谓不严厉，但_____诸多因素，落地起来殊非易事。根据某电商品牌的数据，2016年，该公司共排查出4495个销售额超过5万元起刑点的制售假线索，但通过公开信息能够确认已有刑事判决结果的比例不足1%。对于书皮之类的小玩意，法律的惩戒更是_____。

填入横线部分最恰当的一项是：

A.困于 力屈道穷

B.囿于 力有不逮

C.缘于 捉襟见肘

D.由于 力不能及

27. 日前，珠峰无限期关闭的传闻在网络_____，在许多登山者心目中，珠峰是毕生“朝圣”的心愿，“无限期关闭”无疑令人惋惜。然而，新闻_____来得也很快，珠穆朗玛峰

国家级自然保护区定日县管理分局局长次欧在接受媒体采访时说：“珠峰不存在什么‘无限期关停’的概念，只是游客的活动范围后撤到珠峰自然保护区的实验区内。”

填入横线部分最恰当的一项是：

- A.漫延 掉转
- B.外溢 回转
- C.蔓延 反转
- D.扩散 反复

28. 尽管一些国家也意识到电动汽车的节能减排，但由于种种原因，一直_____。英国伦敦目前只在4条公交线换成电动公交车，要实现公交车的电动化得等到2030年，美国纽约甚至把实现无排放公交车目标的时间定在2040年。大家在新能源汽车上有着同样的担心：电动汽车是否节能减排和环保？相对于燃油车的节能减排环保效果有多大，还持观望态度。或许，这正是世界上其他国家并未在电动车上面下功夫的主要原因，并且这个原因也让中国的一些城市_____。

填入横线部分最恰当的一项是：

- A.踟蹰不前 驻足观望
- B.心猿意马 画地为牢
- C.三番四复 停滞不前
- D.迟疑不决 固步自封

29. 高校毕业生一离校就想拿八千以上的月薪，这在很多人眼里显得_____，甚至产生鄙视心态。特别是在高校毕业生逐年增多，未就业大学生_____的当下，能找到一个饭碗，暂且养活自己已经是件幸事，谈何更高要求？其实，一味地给毕业生浇凉水倒显得有些“不地道”，即便现实再残酷，也应该允许年轻人有颗火热的心。

填入横线部分最恰当的一项是：

- A.揠苗助长 待价而沽
- B.不切实际 水涨船高
- C.好高骛远 居高不下
- D.利欲熏心 比比皆是

30. 2019年春节贺岁电影中，《流浪地球》的票房独占鳌头，究其原因，就在于传递出人类命运共同体的宝贵理念。中国航天事业的发展不是巧合，中国航天成绩的取得不是_____。做新时代的追梦人，做浩瀚宇宙的探索者，一起向更深处 的寰宇、更美好的未来

填入横线部分最恰当的一项是：

- A.偶然 迸发
- B.意外 迸发
- C.突然 挺进
- D.随机 探索

31. 在法律上，国内尚无遗体捐献方面的全国性立法，仅有针对器官的《人体器官移植条例》，其明确规定，“公民生前未表示不同意捐献其人体器官的，该公民死亡后，其配偶、成年子女、父母可以以书面形式共同表示同意捐献该公民人体器官的意愿。”地方性的遗体捐赠立法，则充分赋予了家属完全的决定权，在原则上与《人体器官移植条例》_____。

填入横线部分最恰当的一项是：

- A.如出一辙
- B.不谋而合
- C.千人一面
- D.大相径庭

32. 极端激进分子举着“自由”“民主”幌子，蒙蔽、挑动、_____年轻人上街，拿他们当炮灰，自己却坐享渔翁之利，甚至潇洒宣布已出国留学。如果任由他们胡闹下去，留给香港的只有社会撕裂后的伤痛和经济动荡后的_____，这是越发认识到问题严重性的香港市民绝对不会答应的。

填入横线部分最恰当的一项是：

- A.指示 萧条
- B.教唆 衰颓
- C.怂恿 衰退
- D.劝说 凋敝

33. 地铁是城市的窗口，对地铁商业的翻来覆去，在城市的其他领域也时有表现，比如有些地方治理夜市、沿街商铺等，就有频繁“_____”的现象，政策风向忽左忽右，让群众无所适从。所以，地铁能不能卖早点，作决策并不难，难的是能否_____地落实决策。如果不能避免决策的后续问题，不如慎重稳妥一点，能不推倒重来的就先不推倒。

填入横线部分最恰当的一项是：

- A.打太极 萧规曹随

- B.翻烧饼 一以贯之
- C.钉钉子 率由旧章
- D.摸活鱼 一脉相承

34. 中国古代史是指从原始社会到1840年鸦片战争爆发为止的中国历史。中华民族5000多年文明史留下的史料_____，众多史学家撰著了_____的史学典籍。1949年新中国成立后，中国古代史研究不断焕发新的生机、取得新的成就。

填入横线部分最恰当的一项是：

- A.比比皆是 洋洋洒洒
- B.卷帙浩繁 广袤无边
- C.浩如烟海 汗牛充栋
- D.左图右史 星罗棋布

35. 很多人认为种草消费的快乐并不在于使用商品，而在于对购买商品的期待。他们所消费的不是物质本身，而是物质所_____的符号意义。比如，有人省吃俭用“拔草”，并不是看重其实际使用价值，而是通过消费来_____自己的品位，支撑起当代精致都市人的形象。

填入横线部分最恰当的一项是：

- A.蕴含 昭示
- B.蕴藉 凸显
- C.承载 彰显
- D.承袭 提高

二、言语理解：请根据每道题的要求，从四个选项中选出最恰当的一项。

36. 近年来，人脸识别技术运用逐渐增多。作为众多生物特征识别技术之一，人脸识别技术以高精度、易使用、稳定性好、性价比高等特点成为市场应用场景最广阔的认识技术。一些餐厅、银行、商店纷纷安装刷脸支付，一时间“出门只需带上脸”成为人们热议的话题。但在便捷背后有着安全隐患。人脸信息伴随人的终生，不像账户信息泄露还可以用更换账号和密码的方式进行补救。有专家认为，人脸数据具有唯一性，如果厂商将人脸数据收集以后没有规范化应用，一旦泄露可能导致严重后果，出现滥用的可能性。

这段文字主要说明：

- A.公众应有相应的自我防范意识，防止“脸”被盗刷

- B.“人脸识别”的便捷是通过让渡部分隐私权实现的
- C.人脸数据泄露会导致严重后果
- D.“人脸识别”提供的便利存在安全隐患

37. 有孔虫是一类古老的单细胞原生动物，分为浮游有孔虫和底栖有孔虫。一旦死亡，浮游有孔虫便会向海底沉降。有孔虫在生长过程中，会吸收生活环境中海水里的镁和钙，其比值的变化，能反映海水多种环境参数的变化。李保华曾经做过研究，根据有孔虫壳体的镁钙比，重现了45万年来南海西部表层海水古温度的变化史。有孔虫壳体氧同位素的组成，与其所处水体环境中的氧同位素组成有对应关系。其壳体中氧18和氧16之比的比值高，意味着当时地球的中高纬度更为寒冷；反之，则更为温暖。此外，通过有孔虫还可以研究出季风的演化。季风驱动上升流可以导致海洋生产力升高和温跃层变浅。代表高生产力的浮游有孔虫相对丰度增高，生活在混合层中的浅水种有孔虫比例降低，是季风加强的重要标志。

下列表述中，符合文意的一项是：

- A.季风加强意味着浅水种有孔虫比例会升高，浮游有孔虫相对丰度下降
- B.有孔虫壳体氧18和氧16的比值，也可用于反映海水多种环境参数的变化
- C.有孔虫可用于研究季风演化、海水古温度重建和反映海水环境参数
- D.浮游有孔虫和底栖有孔虫为古生物学提供精确的生物地层学数据

38. 水滴筹是靠什么盈利？据水滴筹官方信息，累计筹款金额多达200余亿元，资金沉淀带来部分利息。同时，水滴筹以自动跳转或链接的方式将用户引流至水滴互助或水滴保，引导用户购买商业保险，实现流量变现，这也是其收入的一大来源。而且，据水滴互助官方公众号，水滴互助于2019年3月1日开始收取管理费，这些费用自然也落入了水滴筹的“腰包”。水滴筹打着公益旗号，利用地推筹款牟利的做法，不仅偏离了公益轨道，亦存在管理失职，其放纵地推员乱作为，以及放松信息审核、善款用途信息不透明、编造悲情故事等问题，则破坏了公益规则，在这种情况下，水滴筹屡屡被曝光“消费爱心”也就不足为奇了。这就提醒平台要加强信息审核制度，不能只顾赚钱而放松管理，需要厘清公益与商业的界限，采取合理的分管措施，否则一再上演的“诈捐”事件，会消耗掉公众的耐心与爱心，最终令平台反受其害。

这段文字意在说明：

- A.规范水滴筹需各个层面共同发力
- B.网络募捐平台盈利模式遭受质疑，背离公益初心
- C.在网络募捐时代，平台显然责无旁贷

D.“水滴筹”需厘清公益与商业的界限

39. 目前各地文明祭扫的形势并不乐观，尽管每到清明之际，各级政府都发出文明祭扫的倡导书，相关的职能部门也加大了宣传和巡查力度，然而因不少祭扫者安全意识、法律意识相对淡薄，加之传统习俗的影响，以及法不责众的侥幸心理，依然忽视火灾安全风险和行为后果在山林里烧纸。在清明火灾高发的特殊期，需要以此为戒，进一步筑牢公共安全的防线。一方面要进一步通过法律宣传，结合案例宣讲，让公众心存敬畏并恪守法律底线；另一方面，应把移风易俗作为一项打基础，求长远的行动，改变传统的焚烧陋习，转变为用鲜花代替纸火，用电子网络、制作信件等别样的新式文明祭祀。

这段文字主要说明的是：

- A.清明祭扫使防火形势异常严峻
- B.清明祭扫需倡导新式文明祭祀
- C.清明祭扫当以安全为第一要务
- D.清明祭扫需提升民众法律意识

40. 随着一些在线诊疗平台的出现，一些医生、专家线上坐诊，网友通过这些平台以免费或付费方式进行病情咨询、寻求治疗的建议等等，都属于网络问诊的范畴。但是还有一些疾病，还是要和患者面对面交流、观察、触摸，尤其是一些外科疾病，不能简单通过描述来判断病情，比如患者说肚子疼，那么哪里疼，他根本说不准，不同的痛点、痛感意味着不同的病情可能。即便一些在线诊疗平台也表示，网上问诊得到的医师回复，只能作为建议和参考，而不能作为正式诊断依据。多数在线医生给出咨询意见以后，也会建议患者到医院去看医生。既然如此，患者最好只是把网络问诊的结果当做一种参考，而不能把其视为自己到医院求医问药的代替品，那样可能会耽误自己正常的诊疗，不利于身体健康的恢复。

这段文字意在强调：

- A.网络问诊能提高医生技术价值
- B.建议病患去正规医院就诊
- C.网络问诊可以参考但切莫依赖
- D.网络问诊弊病丛生，耽误正常诊疗

41. “烟草软文”在手机APP、互联网上泛滥成灾，除了手机APP、互联网平台没有尽到应有的审核责任之外，归根结底是监管的滞后和缺位。互联网上的烟草广告处于海量状态，仅“小红书”一款APP上就多达9万余条烟草营销信息，给监管带来挑战。而且，与传统广告形式相比，互联网平台上的烟草营销信息更多使用软性植入的方式，有更强的隐蔽性，给监

管带来一定难度。保护国民健康，全社会都必须对互联网平台上的烟草营销信息、“烟草软文”说“不”，这就需要监管跟进，改变当前监管滞后格局。

这段文字意在说明：

- A.互联网成烟草营销重灾区，需净化互联网环境
- B.小红书现烟草软文，处理不应止于“下线”
- C.涉烟草软文“下线”，还须控烟立法“上线”
- D.烟草软文泛滥，监管不能滞后

42. 如果从地球的视角看，十几万颗近地小行星在不远处高速穿梭，如同不远处的“枪林弹雨”，偶尔会有“子弹”飞来击中自己，虽然概率很小，但是会对全球环境、经济以及地缘政治造成严重灾难，是可能毁灭人类的重大潜在威胁。当天体抵达地球时，与地球的相对速度高达每秒十几甚至几十公里，其携带的巨大动能在短时间内急剧释放，发生空中爆炸或地面撞击。例如，2013年2月15日一颗直径约20米的小行星在俄罗斯车里雅宾斯克上空发生爆炸，间接造成3000余间建筑物受损，1600余人受伤，经济损失约2亿元人民币。而6500万年前一颗直径10公里的天体撞击在墨西哥尤卡坦半岛北部沿海的事件被认定是恐龙灭绝的直接原因。

最适合做本文标题的一项是：

- A.警惕：地球的安全威胁
- B.预防：小行星的“影响力”
- C.近地小行星：地球不得不防的“近邻”
- D.破解近地小行星是否会撞向地球

43. ①前者源于文字的产生过程——用锐器在龟甲上契刻；后者则与其功用有关——记录占卜内容

②如果从1899年殷墟出土算起，甲骨文被发现已达120年

③甲骨文，又叫契文和甲骨卜辞

④当年在龟甲上刻下卜辞的人或许难以想象，这些文字在后世将成为解密当时社会、文化、军事、宗教甚至天文气象的重要钥匙

⑤“卜以决疑”，三千多年前，商代的先民对天地神明充满敬畏，不管是能不能打胜仗、近日有无灾祸等大事，还是能不能顺利分娩等日常事务，都需要率民事神以求天启

⑥但对于跻身“中国近代史料的四大发现”的甲骨文，人们的了解还远远不够

将以上6个句子重新排列，语序正确的是：

A.②⑥③⑤④①

B.⑤④③②①⑥

C.③①⑤④②⑥

D.⑥④③①⑤②

44. ①然而，“劳谦虚己，则附之者众；骄慢倨傲，则去之者多”

②对于网约车平台的安全管理漏洞、支付霸王条款、不提供电子收据等问题，工商、税务、消协等部门得拿出意见和办法来

③不可否认，网约车是利用“互联网+”优化交通运输资源、满足居民出行需求的、了不起的创新

④“互联网+”型服务商安身立命的基石是万千“草根”的拥护，一旦这些商业平台觉得自己翅膀硬了，可以对消费者不买账了，抛却谦恭姿态，漠视消费需求，总是一副“拿钱说话”的优越感，虽然眼下日子舒坦，但长远看，“钱程”堪忧

⑤保护消费者利益，不能全指望商家自省、自查、自纠，相关的监管必须到位

⑥它最终能冲破重重体制机制阻碍合法化，并迅速上规模，也是因为它获得了广大百姓的由衷喜爱和强力支持

将以上6个句子重新排列，语序正确的是：

A.③⑥①④⑤②

B.⑥①⑤②③④

C.④③⑥①⑤②

D.④③①⑥②⑤

45. 与传统的线下监管模式相比，网购食品由于依托了互联网技术，深刻改变了传统监管模式，对安全问题的监管要求更高，昔日被动应付的监管模式已然行不通。如果对网购食品安全的监管无法找到行之有效的发力点，即使再怎么努力，监管也难免陷入疲于应付收效甚微的尴尬境地。网购食品基于互联网技术而生，交易过程会产生拥有海量信息的大数据，只要让这些信息能够互联互通、实现共享，网购食品的相关信息可以轻松地被锁定，监管职能部门就可以按图索骥对网购食品的安全问题精准进行监管。这种借助大数据的精准监管，除了可以让网购食品的交易过程始终保持在可控范围，还可以对有安全问题的网购食品追溯源头，确保事后对责任者的严肃处理有据可查，从而收到一举多赢的监管效果。

填入划横线部分最恰当的一句是：

- A.因此，监管职能部门更要运用大数据思维，织密网购安全的监管之网
- B.让监管跟上互联网的发展步伐，切实有效保证网购是监管职能部门的一个重大命题
- C.运用大数据思维对网购食品进行安全监管，不失为事半功倍的上策，理当推而广之
- D.必须看到，特别是在网购安全问题危及消费者生命健康时，更需对其予以严格监管

※※※ 第二部分结束，请继续做第三部分! ※※※



华图事业单位
SYDW.HUATU.COM



华图事业单位
SYDW.HUATU.COM



华图事业单位
SYDW.HUATU.COM

第三部分 数量关系

本部分的每道题呈现一段表述数字关系的文字，请迅速、准确地计算答案。

46. 商店新进一批套装，整套套装成本价为250元。套装中，因上衣、裤子做工不同，特分别按照10%和20%的利润定价。若顾客直接购买一整套套装，则打九折销售，此时商店的利润为11元，则裤子的成本价为多少元？

- A.50
B.100
C.150
D.200

47. 某私立中学2019年高中新入学的名单中有从该学校初中部保送直升的学生，还有经过自主招生进入该中学高中的校外学生和全区统考考入该中学高中的学生。保送直升的学生每年学费6折，自主招生进入该中学高中的校外学生每年学费9折，全区统考考入该中学高中的学生每年缴纳全部学费2000元。该私立中学2019年高中新入学的名单270人，共缴纳学费46.2万元。那么全区统考考入该中学高中的学生最多有多少人？

- A.171
B.172
C.173
D.174

48. 某单位组织领导干部培训。现有4人参与培训，共有4种不同的培训科目。每位参培者只能选择其中1个科目培训，最后只有1个培训科目没有被人选择，则有多少种不同的选择情况？

- A.288
B.144
C.72
D.36

49. 某糖果厂新出了一种包装盒，该包装盒长10厘米、宽10厘米、高7厘米，每个包装盒内可放置20颗糖果。现在想用棱长为1.2米的立方体纸箱打包该糖果盒，以便运输。请问每个纸箱内最多能装多少颗糖果？

- A.48960
B.34560
C.20160
D.2448

50. 一个长方形，若将短边长度增加4厘米，长边长度增加一倍，则面积是原来的3倍，若将长边缩短8厘米，就成正方形，则原长方形面积是多少平方厘米？

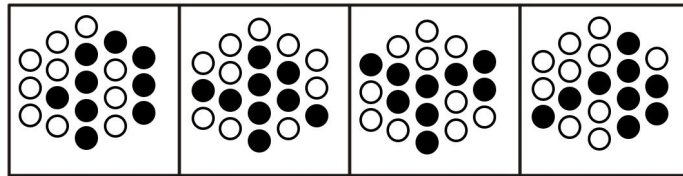
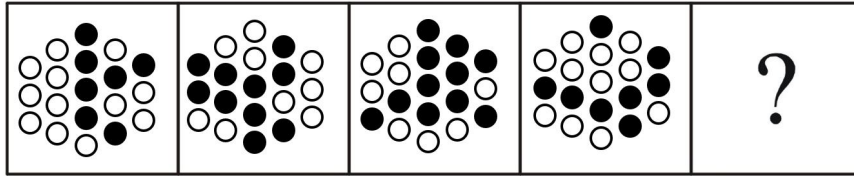
- A.180
B.128
C.84
D.48

※※※ 第三部分结束，请继续做第四部分！ ※※※

第四部分 判断推理

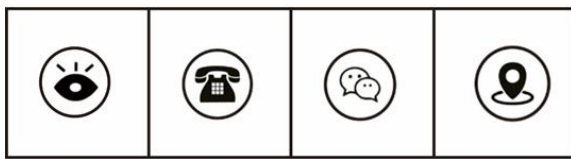
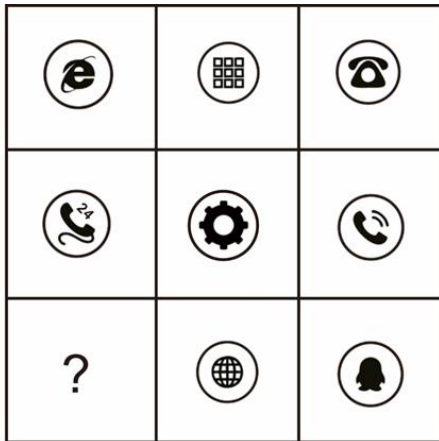
一、图形推理：请按每道题的答题要求，从四个选项中选出最合适的一项。

51. 从所给的四个选项中，选择最合适的一个填入问号处，使之呈现一定的规律性：



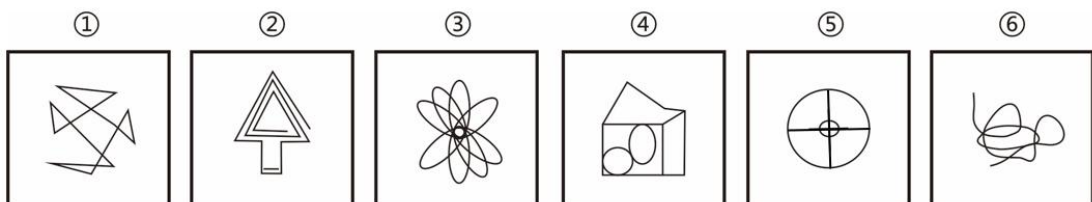
A B C D

52. 从所给的四个选项中，选择最合适的一个填入问号处，使之呈现一定的规律性：



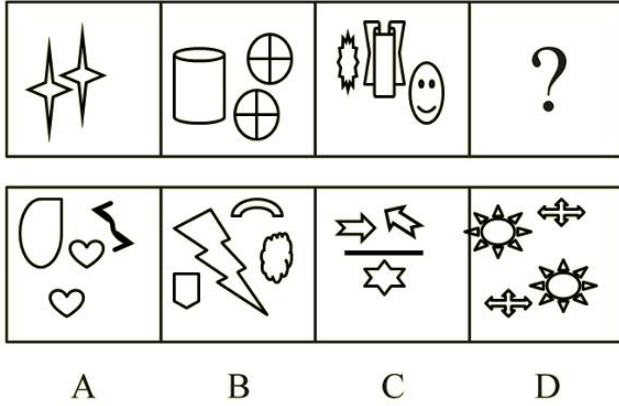
A B C D

53. 把下面的六个图形分为两类，使每一类图形都有各自的共同特征或规律，分类正确的一项是：

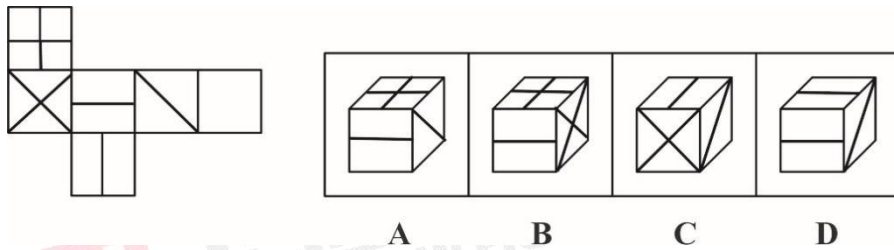


- A.①②⑤, ③④⑥ B.①④⑤, ②③⑥
C.①②⑥, ③④⑤ D.①③⑥, ②④⑤

54. 从所给的四个选项中，选择最合适的一个填入问号处，使之呈现一定的规律性：



55. 左边给出的是一个立方体的平面展开图，右边哪一项能由它折叠而成？



二、定义判断：每道题先给出一个定义（这个定义被假设是正确的、不容置疑的），然后列出四种情况。请严格依据定义，选出最符合题干要求的一项。

56. 通假字是一个汉语词汇，是泛指中国古书的用字现象之一，“通假”就是“通用、借代”的意思，即用读音或字形相同或者相近的字代替本字。通假字所代替的那个字我们把它叫做“本字”。

根据上述定义，以下有通假字的是：

- A.子不教，父之过
B.不知为不知，是知也
C.会当凌绝顶，一览众山小
D.忽如一夜春风来，千树万树梨花开

57. 潜意识是指人类心理活动中未被觉察的部分，是人们“已经发生但并未达到意识状态的心理活动过程”。它包括原始本能、冲动、童年心理印记、环境熏陶、观念、人格等一系列因素。

根据上述定义，以下不属于潜意识的是：

- A. 母亲往往在孩子从高处摔到地上的时候不自觉地用身体护住孩子
- B. 小林小时候被蛇咬过，长大了后每次见到与蛇相关的玩具总会吓得突然跳起来
- C. 老李在复述《盗梦空间》的电影情节时总能对里面梦境的细节描绘得很生动
- D. 老张在村里生活了多年，他对村里许多光棍花钱买老婆的事早就习以为常

58. 禁果逆反即理由不充分的禁止反而会激发人们更强烈的探究欲望。因为禁止本身可能会增加人们对事物的关注和吸引力，并增加人们犯禁的可能性。

根据上述定义，以下不属于禁果逆反的是：

- A. 红楼梦在当时是禁书，官方却不说明禁的原因，结果红楼梦反倒受到了百姓的追捧，暗中有很多手抄本在民间流通
- B. 很多家长极力想拆散高中早恋的情侣，不仅不会成功，情侣反而越发坚定。而到了毕业的时候，家长不再干涉，他们反而会自己分手
- C. 医生的医嘱要求肺病患者戒烟，因此患者不得不改掉抽烟的习惯，用瓜子来替代香烟
- D. 父母禁止孩子去吃垃圾食品，但是孩子对垃圾食品会非常向往，经常趁父母不在的时候偷偷去吃

59. 固着效应是指人们关于自己和社会世界的观念会保持下去，即使知道支持这些信念的证据是假的，也是如此。

根据上述定义，以下属于固着效应的是：

- A. 小明原本觉得旅游行业发展前景广阔打算投身于此行业，但是突发的疫情对旅游业造成了重大影响，小明不得不另谋出路
- B. 小雪原本十分盼望着养一只小狗，但是在替朋友照顾一个月的小狗之后，被遛狗、喂食、打扫狗毛等等养狗的杂务折磨得精疲力尽，果断放弃了自己养狗的想法
- C. 老刘作为组长一直以来都兢兢业业地工作甚至会帮组员分担工作，但是在发现组员并不领情并且对自己有很多怨言之后就开始浑水摸鱼得过且过
- D. 小张一直以为自己是巨蟹座，并且根据巨蟹座的星座分析认为自己是一个顾家的人。尽管后面发现因为算法失误自己并不是巨蟹座，他的亲戚也都说他不顾家，他也坚持认为自己是一个顾家爱家的人

60. 臆造商标是指由无固定含义的臆造词构成的商标，此类商标来自于当事人的独创，不会与任何商品或服务发生联系，因而具有较强的显著性。任意商标是指由与指定商品或服务无关的非独创性词汇构成的商标。

根据上述定义，下列属于臆造商标的是：

- A.使用“舒服”作为床品的商标
- B.使用“也意”作为冰箱的商标
- C.使用“荷花”作为电视的商标
- D.使用“速效”作为药品的商标

61. 智力因素，是指在人们的智慧活动中直接参与认知过程的心理因素，包括注意力、观察力、记忆力、想象力、思维力等方面；非智力因素，是指在人们的智慧活动中不直接参与认知过程的心理因素，包括需要、兴趣、动机、情感、意志、性格等方面。

根据上述定义，下列属于非智力因素影响的是：

- A.男孩子们从小就特别喜欢汽车和一些动漫模型，到了游乐场也喜欢玩“开汽车”项目，对这些有着浓厚的兴趣，故家长引导他们学习有关汽车方面的知识
- B.自从父母带刚上一年级的孩子去看了《长津湖》之后，回到家孩子就一直拿着玩具枪在地上匍匐前进，觉得自己就是英雄

C.安德烈·斯卢沙齐克，他保持着2项世界纪录：一是能够背诵圆周率位数多达100万位，二是能在2分钟时间内记忆5100个数字。他的下一个目标是背诵500万位圆周率数字

D.牛顿根据苹果坠地发现了万有引力规律，瓦特改善了蒸汽机，在福尔摩斯第一次与华生见面时，就立刻辨别出华生是一名去过阿富汗的军医

62. 非诉讼法律事务，是指不含有纠纷，无需进行诉讼的事务；或者虽已形成纠纷，但不向法院诉讼，仅仅在当事人之间，通过调解或仲裁予以解决的事务，不需要上法庭。简而言之，就是无需或者不用诉讼程序加以解决的法律事务。

根据上述定义，下列属于非诉讼法律事务的是：

- A.接受国家机关、企事业单位或其他中外经济组织的聘请，担任常年法律顾问
- B.于某夫妻双方对于离婚后财产的分割和债务的分担以及子女的抚养等问题无法达成一致的意见，而向人民法院起诉

C.某中院经审理认为，某案当事人黄某与该市某区国土资源和房屋管理局就拆迁补偿安置问题未达成协议

D.某公司员工针对加班时间的结算问题走了仲裁，后通过系列调解，该公司决定将该员工加班时长计以日薪发放

63. 古代的中国园林建筑建造大多与享乐生活有密切关系，然而经过历代匠师的创造，以人工设计建造天然优美的景物，点缀环境，积累了丰富的经验，形成了独具风格的传统文化艺术特色。中国古代园林，除皇家园林外，还有一类属于王公、贵族、地主、富商、士大夫等私人所有的园林，称为私家园林。古籍里称之为园、园亭、园墅、池馆、山池、

山庄、别墅、别业等。规模较小，一般只有几亩至十几亩，小者仅一亩半亩而已；大多以水面为中心，四周散布建筑，构成一个个景点或几个景点；以修身养性，闲适自娱为园林主要功能；园主多是文人学士出身，能诗会画，清高风雅，淡素脱俗。私家园林集中在南京、苏州、无锡等地。现代保存下来的园林大多属于明清时代，这些园林充分表现了古代传统园林建筑的独特风格和高超的造园艺术。

根据上述定义，下列属于私家园林的是：

A.颐和园主要是以万寿山和昆明湖为基础，吸收了江南园林的设计要点，从而建造成的大型山水园林，主要景点有万寿山、苏州街、仁寿殿等

B.留园，虽然位居中国四大名园之一，又尤以奇石众多、水景分布和建筑布局精巧闻名，但并不是你想象中的孤傲在上，园子不大，却实在的接着地气，居住、宴饮、憩游、甚至修禅、祭祀，无所不备，犹如一个桃源梦，超然世外，拥有世俗的烟火快乐

C.圆明园有着万园之首的称呼，主要分为前部外朝、后湖景区、福海景区、长春园以及万春园，其中长春园有一组西式的宫殿，这是建园史上第一次出现欧式建筑

D.新加坡植物园是热带岛屿繁茂的缩影，结合了原始树林和专业花圃，拥有 20000 多种亚热带、热带的奇异花卉和珍贵树木，可分为热带、亚热带常绿乔木、棕榈、竹类园艺花卉、水生植物、沼生植物、寄生植物和沙漠植物等植物，包括了许多濒临灭绝的品种

64. 风险控制是指风险管理采取各种措施和方法，消灭或减少风险事件发生的各种可能性，或风险控制者减少风险事件发生时造成的损失。

根据上述定义，下列不属于风险控制的是：

A.美国通用汽车公司迫于近年连续亏损、债务负担沉重等多方压力，于 2009 年 6 月正式按照相关规定向美国曼哈顿破产法院申请破产保护

B.为了在短期内控制国内通货膨胀局势，政府采取了部分行政手段控制物价，推迟了对土地、资源、能源、环境、劳动力等长期偏低的要素价格改革

C.冰岛，一个美丽富饶的北欧温泉岛国，被联合国选为全球最适宜居住的国家。由于受到世界金融危机的影响，一度面临着“国家破产”的危险

D.俄政府及中央银行发表了“联合声明”，对俄国内出现的金融危机采取三大措施：扩大卢布汇率浮动幅度、延期清偿内债和冻结部分外债

65. 调查按照调查对象包括的范围划分为全面调查和非全面调查。全面调查，是构成总体的所有单位的调查。非全面调查，是对构成总体的一部分单位的调查，其中非全面调查包括重点调查、抽样调查和典型调查。

根据上述定义，下列说法正确的是：

- A.学校在给学生做校服前进行的尺寸大小的调查，可以采用非全面调查
- B.可采用全面调查来了解全国中学生安全自救知识掌握情况
- C.为了解工厂刚生产出来的一批玻璃的承受力，可采用全面调查
- D.疫情期间，对于上海、北京、深圳等中高风险城市市民的出行情况调查，需采用全面调查

三、类比推理：请根据给出的题干从备选答案中选出一组与之在逻辑关系上最为贴近、相似或匹配的词，或者选出一组词使得题干的表述最符合逻辑。

66. 新仇旧恨：大街小巷

- A.快快乐乐：和和美美
- B.无精打采：奄奄一息
- C.东奔西走：上蹿下跳
- D.察言观色：调兵遣将

67. 电脑：笔记本电脑

- A.钢笔：铅笔
- B.汽车：轮胎
- C.国家：法国
- D.植物：蔷薇

68. 牡丹：富贵

- A.康乃馨：富裕
- B.爱情：玫瑰
- C.鸽子：和平
- D.梅花：孤傲

69. 哈尔滨：牡丹江

- A.青岛：潍坊
- B.邯郸：石家庄
- C.郑州：河南
- D.合肥：芜湖

70. 做核酸：登记：采样

- A.乘地铁：安检：乘坐
- B.送审：开题：答辩
- C.喝水：烧水：开盖
- D.作画：画笔：墨

71. 图书馆：资料：整理

- A.河道：淤泥：疏通
- B.网络：评论：发表
- C.朋友圈：朋友：互动
- D.马路：交通：指挥

72. 刻刀：纸：剪纸

- A.毫针：穴位：针灸
- B.兽皮：白布：皮影戏
- C.竹帘：纸浆：纸
- D.汉字：石材：篆刻

73. 玻璃杯 对于 () 相当于 热带植物 对于 ()
- A.保温杯；香料植物
B.陶瓷杯；经济作物
C.热水；植物
D.玻璃；温带
74. () 对于 爬行 相当于 青蛙 对于 ()
- A.运动；动物
B.缓慢；害虫
C.螃蟹；跳跃
D.匍匐；蟾蜍
75. 巴洛克式：哥特式：洛可可式
- A.新闻 30 分：央视：广告
B.库尔勒：阿勒泰：慕尼黑
C.排比：比喻：拟人
D.西兰花：玫瑰花：丁香花

四、逻辑判断：每道题给出一段陈述，请根据这段陈述，选出最符合题干要求的一项。

76. 幼儿园的张老师与小朋友玩游戏，张老师分别把玩具、零食和饮料藏在四个教室中的三个里，四位小朋友甲、乙、丙、丁经过讨论，分别做出以下预测：

小朋友甲：有些教室里没有藏着玩具；

小朋友乙：所有教室都藏着玩具；

小朋友丙：零食没有藏在教室二中；

小朋友丁：饮料藏在教室三中。

四个人中只有一个人说对了，那么下列哪一项一定为真？

- A.教室二藏着零食
B.教室三藏着饮料
C.玩具藏在教室四中
D.玩具没有藏在教室四中

77. 专家为研究午睡对心情的影响，招募了 8 个年轻力壮、精神正常、没有失眠问题的研究生（平均年龄 30 岁左右），观察他们分别午睡和不午睡之后，对心情的影响。午睡组在下午 1 点~2 点之间小睡半个小时。实验结果表明，愤怒、快乐和放松 3 种情绪在午睡后都明显上升了，快乐的变化最明显。8 名实验人员中的 7 个，在午睡自发醒来后，都明显更加快乐了。专家认为，有午睡习惯的人，更容易在剩下来的半天时间里，保持心情美丽。

最能支持专家观点的选项是：

- A.午睡，能给喜欢熬夜的人提供第二次睡觉的机会，弥补晚上的睡眠不足对身体的伤害
- B.根据研究者的解释，这里的“愤怒”指的并不是“生气”，而是一种“精神盎然”的状态，这说明午睡的人他们下午斗志更加盎然了，更能和同事一起愉快地完成工作

C.一项研究结果显示，午觉可以有效改善人的记忆能力，相比咖啡，午觉提升工作的效率效果可能更佳

D.在很多互联网公司中，会为员工配备午睡仓，或者延长员工中午的休息时间

78. 研究显示，对偶尔吃一些冰棒的儿童而言，大多数品牌的冰棒并不会导致肠胃发炎，因此，研究人员认为，儿童可以偶尔吃冰棒而无需担心其影响身体健康成长。

下列选项如果为真，最能削弱上述论证的是：

A.喜欢吃冰棒的儿童往往还喜欢喝会损害肠胃的冰镇饮料

B.所有品牌的冰棒或多或少都含有容易引起肠胃发炎的有害菌群

C.不引起儿童肠胃发炎不等于身体会健康成长

D.吃很多冰棒会导致腹泻

79. 所谓冰芯，就是以打钻方式从冰川内部取得的芯。一般而言，冰芯从底部越向上年代越新。冰芯堪称保存大气环境的“独特档案”，对于研究气候环境变化具有重要意义。

以下哪项如果为真，不能支持上述结论？

A.水分子中氢、氧同位素比例可以反映温度变化

B.冰芯中的大气成分和含量，如二氧化碳、甲烷等温室气体，可以揭示大气成分变化的过程

C.我国青藏高原被誉为世界第三极，是中低纬度古气候研究的宝库，吸引了来自世界各地的科学家

D.冰芯中含有的各类杂质，可以推断出当时的环境活动，实验室仪器可以检测出各种化学成分，提供自然活动和人类活动的相关信息

80. 农民种植农作物时，都会先进行“蹲苗”，其作用就在于“锻炼”幼苗，促进根系发育，促使植株生长健壮，提高后期抗倒伏能力。农作物只有熬过“蹲苗”这一关，植株生长才能更加健壮，有好收成。干部的成长成才与秧苗生长一样，必须首先把根扎深扎牢，先把自己“埋”下去，才能获得足够的养分，经得起日后的风吹雨打，更好地向上生长。对于广大年轻干部来说，现在正是打基础强素质的黄金时期。只有在基层沉下身子，锤炼意志、增长才干，才能增强胜任本职的“硬实力”，为将来的发展蓄足后劲。

由此可以推出：

A.干部在成长成才的过程中，如果没有获得足够的养分，一定是没有把根扎深扎牢

B.不在基层锤炼意志、增长才干，年轻干部将不能增强胜任本职的“硬实力”

C.如果农作物熬过“蹲苗”这一关，就能健壮生长，最终获得好收成

D.只有获得足够的养分，才能经得起日后的风吹雨打，更好地向上生长

81. 甲、乙、丙、丁四人在玩游戏时，四人的身份分别是射手、法师、辅助和刺客。在问到他们的身份时，得到如下回答：

甲说：“乙不是射手。”

乙说：“丙是刺客。”

丙说：“丁不是辅助。”

丁说：“甲、乙、丙三人中有一个人是刺客，而且，只有这个人说的是实话。”

如果丁说的是实话，那么以下说法正确的是：

A.丙是射手，丁是辅助

B.乙是辅助，丙是刺客

C.甲是射手，乙是法师

D.丁是法师，甲是刺客

五、综合判断推理：每道题给出若干材料，请综合运用各种推理能力，选择一个最恰当的答案。

材料一：治疗终末期癌症病人的脏器功能衰竭，器官移植是首选方案，但在我国，等待器官移植和获得器官移植的比例能达到 30 : 1，每年有几十万病人因等不到器官移植而死亡。器官移植的瓶颈在于供体严重短缺，而目前这一问题最可行、最有效和最快速的解决途径是异种器官移植。异种器官移植的优势在于器官供体来源充足，且可以批量化、工厂化生产，而同种移植的器官不仅数量紧缺，而且可能来自疾病终末期的病人，器官质量无法保证。

人类虽然属灵长类动物，但是猪却在器官大小、解剖特征、生理生化与人类非常相似，而且其生长周期较短，繁殖率高，所以被科学界公认为异种器官移植的理想供体。

但在民间有句俗话，叫“羊肉贴不到狗身上”，异种器官移植的难点也正是如此。猪虽然是最理想的异种器官移植供体，但猪器官移植到人体后，会发生多种免疫排斥反应，特别是超急性排斥反应让移植器官在短时间内便丧失功能。这是物种保持种系延续最天然的一种防御，即使是人类亲属之间的器官，配型都可能不成功，更何况是猪跟人。

材料二：猪的许多器官系统与人体对应系统的相似度高达 80%到 90%——无论就解剖学特征还是器官功能而言。吻合度最高的可能要数心血管系统了。由于存在器官的惊人相似性和越来越严重的捐献器官短缺问题，猪被看成是潜在的人类心肺捐献体。虽然狒狒、猩猩等灵长目动物与人类关系更近，但猪作为器官捐献的来源更具吸引力，因为猪的数量庞大，而且生长周期短。

材料三：人类医学的发展与进步，离不开实验动物做出的默默牺牲。在药物开发进入临床前，需要做大量动物实验，探究药物的药效、毒性、安全剂量等。然而，人与鼠、猪、兔子等动物毕竟存在不少差别，即使正确认识了动物的生理构造及药物反应规律，也不能将认识结果轻易、盲目地移用到人的身上。

根据上述材料，回答下列 82-85 题：

82. 下列选项不能够解释材料一“人类亲属之间的器官，配型都可能不成功”的是（ ）

- A. 会发生多种免疫排斥反应
- B. 器官质量无法保证
- C. 存在生命伦理问题
- D. 数量紧缺

83. 根据材料二，以下哪项可以推出（ ）

- A. 器官高度相似性，使猪-人器官移植已开始发展起来
- B. 灵长目动物作为器官捐献的来源更具吸引力
- C. 能在猪身上奏效的东西，在人身上也会奏效
- D. 与人类一样，猪也可能患上动脉硬化和心肌梗死等疾病

84. 下列选项如果为真，最能反驳材料二中关于“猪作为器官捐献的来源更具吸引力”论断的是（ ）

- A. 目前还没有猪器官移植到人身上成功的案例
- B. 人们无法接受猪的器官移植到人身上
- C. 灵长目动物的基因匹配度更接近人类
- D. 有些少数民族禁止食用猪肉

85. 根据材料三，下列哪项如果为真，可以支持上述观点（ ）

A. 屠呦呦团队获得了中性无毒的提取物，对伯氏疟原虫感染小鼠有着 100% 的疗效，而且临床试验也显示经治疗的病人疟疾症状迅速消失

B. 《柳叶刀》的一项论文表明，默克公司研究的埃博拉疫苗可以在猴子中发挥作用，并在 WHO 带领的几内亚临床实验中获得成功

C. 科学家针对 2 型糖尿病药物的小鼠试验获得了成功，进入临床试验一段时间后发现，这种药物对体会产生无益，甚至类似糖尿病的症状

D. 德国罗伯特·科赫利用豚鼠做实验得出结论：结核菌是结核病的病原菌，不论来自猴、牛或人均有相同症状，他因此发现而获得了诺贝尔奖

※※※ 第四部分结束，请继续做第五部分！ ※※※



C.67% D.57%

89. 2016 年全社会固定资产投资中，民间固定资产投资所占比例比基础设施投资所占比例：

A.高 10 个百分点 B.高 20 个百分点
C.高 30 个百分点 D.高 40 个百分点

90. 根据上述材料，以下说法正确的是：

A.2016 年在固定资产投资（不含农户）中，三大产业的占比同比上升的只有第一产业
B.2012-2016 年，全社会固定资产投资（不含农户）呈逐年上升趋势
C.2016 年高技术产业投资同比增长不超过 5 千亿元
D.2016 年全社会农户固定资产投资同比增长率超过 8.6%

二、根据所给资料，回答 91 ~ 95 题。

2018 年一季度，全国居民人均可支配收入 7815 元，比上年同期增长 8.8%。按收入来源分，一季度，全国居民人均工资性收入 4450 元，增长 9.0%；人均经营净收入 1372 元，增长 7.1%；人均财产净收入 643 元，增长 10.3%；人均转移净收入 1351 元，增长 9.2%。

消费支出情况方面，2018 年一季度，全国居民人均消费支出 5162 元，比上年同期增长 7.6%。其中，城镇居民人均消费支出 6749 元，增长 5.7%；农村居民人均消费支出 3241 元，增长 11.0%。

一季度，全国居民人均食品烟酒消费支出 1615 元，增长 5.2%；人均衣着消费支出 441 元，增长 9.4%；人均居住消费支出 1107 元，增长 13.1%；人均生活用品及服务消费支出 310 元，增长 11.9%；人均交通通信消费支出 676 元，增长 4.9%；人均教育文化娱乐消费支出 454 元，下降 5.4%；人均医疗保健消费支出 424 元，增长 20.7%；人均其他用品及服务消费支出 135 元，增长 6.3%。

91. 2018 年一季度，全国居民人均工资性收入较去年同期增长了约多少元？

A.321 B.345
C.367 D.389

92. 2018 年一季度，人均经营净收入占全国居民人均可支配收入的比重与上年同期相比：

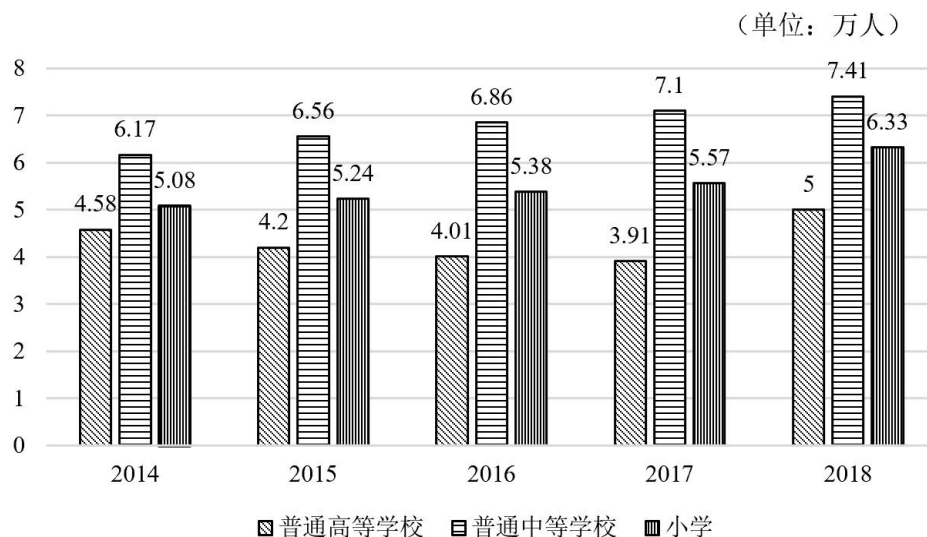
A.下降了 0.3 个百分点 B.上升了 0.3 个百分点
C.下降了 3 个百分点 D.上升了 3 个百分点

93. 2017 年一季度，全国居民人均消费支出约为农村居民人均消费支出的多少倍？

- A.1.97
C.1.58
- B.1.64
D.1.44
94. 2018 年一季度，以下哪项消费支出较上年同期增长的最多？
A.人均食品烟酒消费支出
B.人均衣着消费支出
C.人均居住消费支出
D.人均生活用品及服务消费支出

95. 根据上述材料可以推出的是：
A.2017 年一季度，全国居民人均可支配收入接近 7000 元
B.2018 年一季度，全国居民人均可支配收入主要来源于工资性收入
C.2018 年一季度，全国居民人均食品烟酒消费支出占人均消费支出的 4 成多
D.2018 年一季度，全国居民各项人均消费支出中人均居住消费支出同比增长的最快

三、根据所给资料，回答 96~100 题。



2014—2018 年 X 市各类学校招生人数

96. 2018 年，X 市小学招生人数的同比增长率为：
A.11.2%
B.12.0%
C.13.6%
D.14.1%
97. 2015—2018 年中，X 市普通中等学校的招生人数在各类学校的招生总数中占比最高的是：
A.2015 年
B.2016 年
C.2017 年
D.2018 年
98. 2015—2018 年中，X 市各类学校的招生总数与上年差异量最大的是：

