

2024 年军队文职备考白皮书

华图教育部队事业部 编著

目 录

第一章 军队文职简介	2
第二章 军队文职报考条件	6
第三章 军队文职考情考务	8
第四章 军队文职笔试备考指导	11
第五章 军队文职面试备考指导	39

第一章 军队文职简介

1. 军队文职人员身份属性是怎么规定的？

根据 2023 年 1 月 1 日起施行的《中国人民解放军文职人员条例》，文职人员，是指在军队编制岗位依法履行职责的非服兵役人员，是军队人员的组成部分，依法享有国家工作人员相应的权利、履行相应的义务。

文职人员主要编配在军民通用、非直接参与作战，且专业性、保障性、稳定性较强的岗位，按照岗位性质分为管理类文职人员、专业技术类文职人员、专业技能类文职人员。管理类文职人员和专业技术类文职人员是党的干部队伍的重要组成部分。

2. 文职人员的职责是什么？

（一）根据所任岗位，从事行政事务等管理工作，教育教学、科学研究、工程技术、医疗卫生等专业技术工作，操作维护、勤务保障等专业技能工作；

（二）根据需要，参加军事训练和战备值勤；

（三）根据需要，在作战和有作战背景的军事行动中承担支援保障任务，以及参加非战争军事行动；

（四）法律、法规规定的其他职责。

3. 军队文职人员岗位的类型和等级是如何设置的？

管理类文职人员实行岗位职务层级与文员等级并行制度。

担任领导职务的管理类文职人员的岗位职务层级，由高到低分为七个层级，即军队文职部级副职、军队文职局级正职、军队文职局级副职、军队文职处级正职、军队文职处级副职、军队文职科级正职、军队文职科级副职。

文员等级在军队文职局级以下设置，由高到低分为十二个等级，即一级文员至十二级文员。

军队文职局级以下岗位职务层级对应的最低文员等级是：

（一）军队文职局级正职：一级文员；

（二）军队文职局级副职：二级文员；

（三）军队文职处级正职：四级文员；

（四）军队文职处级副职：六级文员；

（五）军队文职科级正职：八级文员；

（六）军队文职科级副职：十级文员。

4. 军队文职人员职业发展方面是如何规定的？

军队文职人员职业稳定，发展路径顺畅，发展空间广阔。

一是培训体系。文职人员的培训，分为初任培训、晋升培训、岗位培训。

对新招录聘用的文职人员应当进行初任培训，使其具备适应岗位必备的军政素质和基本业务能力。对拟晋升岗位职务层级的文职人员应当进行晋升培训，提高其政治能力、管理能力和专业能力。根据岗位特点和工作需要，应当对文职人员进行岗位培训，提高其履行职责能力。

二是考评机制。文职人员的考核，分为年度考核、聘（任）期考核、专项考核。

年度考核，主要考核文职人员年度履行职责的总体情况。聘（任）期考核，主要考核文职人员在一个聘（任）期内的总体情况。专项考核，主要考核拟任用文职人员的总体情况，以及文职人员执行任务、参加教育培训、试用期表现等情况。

三是任用交流。文职人员实行委任制和聘用制相结合的任用方式。对实行聘用制的文职人员，用人单位应当与其签订聘用合同。担任领导职务的管理类文职人员实行任期制。

文职人员的交流分为军队内部交流和跨军地交流两种方式，以军队内部交流为主。

四是退出政策。实行委任制的文职人员辞职，或者被用人单位辞退的；实行聘用制的文职人员解除、终止聘用合同，或者用人单位解除、终止聘用合同的，按照军队有关规定执行。

文职人员因用人单位精简整编等原因需要退出军队的，由军队有关单位会同中央和国家有关机关、地方有关机关根据不同情形按照有关政策予以妥善安排。

文职人员符合国家和军队规定退休条件的，应当退休。文职人员退休后，享受国家和军队规定的相应待遇。各级人民政府退役军人工作主管部门牵头承担退休文职人员服务管理工作，人力资源社会保障、医保等相关部门和街道（乡镇）、社区（村）按照职责分工做好相关工作。

5. 军队文职人员教育管理有哪些规定？

用人单位应当根据军队有关规定，结合文职人员身份属性和岗位职责，坚持统分结合、注重效能原则，坚持尊重激励与监督约束并重，做好文职人员的教育管理工作，营造干事创业的良好环境。

用人单位应当加强文职人员队伍的思想政治建设，引导文职人员投身强军兴军实践，培养政治合格、业务熟练、敢于担当、积极作为、恪尽职守、遵规守纪的职业操守，培育热爱军队、服务国防的职业认同。

用人单位应当加强对文职人员的安全管理和保密教育，对涉密岗位文职人员，按照国家

和军队有关规定进行管理。

文职人员因公、因私出国（境）的管理，按照国家和军队有关规定执行。

文职人员可以按照军队有关规定，参加军地本专业领域学术组织，以及社会团体的组织及其活动。军队鼓励支持从事专业技术工作的文职人员参加国家和地方的人才工程计划、军民科技协同创新等活动。

从事专业技术工作的文职人员，在履行好岗位职责、完成本职工作的前提下，经批准可以到军队以外单位兼职。

6. 军队文职人员待遇保障主要有哪些方面？

答：文职人员依法享受相应的政治待遇、工作待遇和生活待遇。文职人员的政治待遇，按照国家和军队有关规定执行。文职人员在军队工作期间根据所任岗位职务层级和岗位等级等，享受军队规定的办公用房、公务用车等工作待遇；免职、退出军队的，调整或者取消相应的工作待遇。

（一）工资制度。军队建立统一的文职人员工资制度。文职人员工资包括基本工资、津贴、补贴等。在军队技术密集型单位，可以实行文职人员绩效工资。

（二）社会保险。用人单位及其文职人员应当按照国家有关规定参加社会保险，依法缴纳社会保险费。

（三）补充保障。军队根据国家有关规定，为文职人员建立补充保障。文职人员享受国家和军队规定的社会化、货币化住房保障政策。

（四）住房保障。用人单位及其文职人员应当按照规定缴存、使用住房公积金，缴存的住房公积金由所在地住房公积金管理中心统一管理。文职人员可以按照军队有关规定租住军队集体宿舍或者公寓住房。

（五）医疗保障。文职人员享受国家和军队规定的医疗补助和医疗保健政策。文职人员在作战和有作战背景的军事行动中承担支援保障任务，以及参加非战争军事行动期间，实行军队免费医疗。

（六）抚恤优待。文职人员的抚恤优待，按照国家和军队有关规定执行。

文职人员因在作战和有作战背景的军事行动中承担支援保障任务，参加非战争军事行动以及军级以上单位批准且列入军事训练计划的军事训练造成伤亡的，其抚恤优待参照有关军人抚恤优待的规定执行。

（七）其他福利。文职人员按照军队有关规定享受探亲休假、交通补助、看望慰问、困难救济和子女入托等福利待遇。文职人员办理落户，以及配偶子女随迁等，按照国家和军队

有关规定执行。



第二章 军队文职报考条件

1. 招考对象为哪些人员？

军队文职人员的招考对象为普通高等学校毕业生或者社会人才。其中：普通高等学校毕业生包括应届毕业生和非应届毕业生，应届毕业生是指在报考当年规定日期前取得相应毕业证和学位证的毕业生；非应届毕业生是指在两年择业期内未落实工作单位，其户口、档案、组织关系仍保留在原毕业学校，或者保留在各级毕业生就业主管部门（毕业生就业指导服务中心）、各级人才交流服务机构和各级公共就业服务机构的近两年未就业毕业生。

定向招考对象为军队烈士、因公牺牲军队人员的配偶子女、未婚军队烈士的兄弟姐妹，以及现役军人配偶。

2. 报考人员应当具备哪些条件？

报考人员应当符合《中国人民解放军文职人员条例》规定的基本条件，同时具备下列资格条件：

- (1) 政治条件。报考人员应当符合军队招录聘用文职人员政治考核的标准条件。
- (2) 学历条件。一般应当具有普通高等学校全日制本科以上学历。报考在艰苦边远地区、岛屿的岗位，以及特殊岗位可不作全日制要求。驻艰苦边远地区、岛屿的单位定向招考军队烈士、因公牺牲军队人员的配偶子女，未婚军队烈士的兄弟姐妹，以及现役军人配偶，除教学、科研、工程、医疗专业技术岗位外，报考学历要求可以放宽至大学专科。报考护理、艺术、体育专业岗位的，可为大学专科以上学历。
- (3) 资格条件。应当具有招考岗位要求的职称和职业资格。除法律法规明确规定的外，报考初级专业技术岗位，以及博士研究生报考中级专业技术岗位的，不作资格条件要求。
- (4) 身体条件。应当符合军队招录聘用文职人员体格检查的标准条件。
- (5) 年龄条件。报考九级文员以下管理岗位或者初级专业技术岗位的，年龄不超过 35 周岁；报考八级文员、七级文员管理岗位或者中级专业技术岗位的，年龄不超过 45 周岁。
- (6) 其他条件。在符合以上条件的前提下，具体报考条件由用人单位根据招考岗位需要确定。

3. 哪些人员不能报考？

- (1) 现役军人不能报考。

(2) 因犯罪受过刑事处罚的人员、被开除中国共产党党籍的人员、被开除公职的人员、被依法列为失信联合惩戒对象的人员

(3) 在公务员、事业单位工作人员和军队文职人员招考中被认定有舞弊等严重违反录用纪律行为的人员

(4) 被军队用人单位或者机关事业单位辞退（解聘）未满 5 年的人员

(5) 法律法规规定不得招录聘用为文职人员其他情形的人员，不得报考。

4. 已与国家、地方和军队用人单位建立劳动人事关系的社会人才能否报考？

征得所在用人单位同意后，可以报考。面试时，本人需提供所在用人单位出具的同意报考的证明（加盖公章）；被确定为拟录用对象的，在签订军队文职人员聘用合同前须与原用人单位解除劳动人事关系。

5. 留学回国人员能否报考，有哪些要求？

可以报考。本人在参加面试时需提供国家教育部有关机构出具的学历认证书和我国驻外使（领）馆出具的留学回国人员证明（或者驻香港、澳门特别行政区联络办公室出具的港澳地区学习证明）。

6. 非普通高等学历教育的其他国民教育形式的毕业生是否可以报考？

报考在艰苦边远地区、岛屿的岗位，以及特殊岗位可不作全日制要求。

驻艰苦边远地区、岛屿的单位定向招考军队烈士、因公牺牲军人的配偶子女以及现役军人配偶，除教学、科研、工程、医疗专业技术岗位外，报考学历要求可以放宽至大学专科。

报考护理、艺术、体育岗位的，可为大学专科以上学历。

7. 报考人员学历高于招考岗位学历要求的，能否报考？

报考人员应当符合招考岗位要求的学历层次，其中高学历的可以报考低学历要求的岗位，但报考人员应当具有招考岗位要求的学历对应的所学专业。比如，招考岗位中要求限本科学历、所学专业为化学的，硕士和博士研究生报考该岗位的，本科所学专业必须是化学。

8. 专业技术资格以考代评和参加职业资格考试的人员，已通过相关考试但暂未取得相应资格证书的，如何报考？

此类人员网上报名时，专业技术资格和职业资格证书编号一栏，可以用资格考试成绩单编号或者准考证号替代填写。面试时，本人须出具相应专业技术资格和职业资格证书原件或者通过相关考试的成绩单等证明材料，否则不得参加面试。

第三章 军队文职考情考务

1. 军队面向社会公开招考军队文职人员按照什么程序进行？

军队面向社会公开招考文职人员，一般按照制定计划、发布信息、资格审查、统一考试、面试体检、政治考核、结果公示、审批备案的程序进行。考试工作由全军统一组织实施。

年份	公告时间	报名时间	报名资格初审	准考证打印	笔试时间	面试/体检
2018	7月10日	7月12-22日	7月12-22日	8月6-26日	8月26日	10月18日起
2019	3月12日	3月13-20日	3月13-20日	4月10-27日	4月28日	7月5日起
2020	6月15日	7月1-10日	7月12日	8月12-23日	8月23日	10月26日起
2021	4月3日	4月7-13日	4月15日	5月13-23日	5月23日	7月29日起
2022	(2021年) 12月4日	(2021年) 12月5-9日	(2021年) 12月11日	1月4-9日	1月9日	7月27日起
2023	1月11日	1月13-17日	1月13-18日	2月14-19日	2月19日	4月20日起

2. 全军统一考试科目是如何设置的，主要考核哪些方面？

全军统一考试内容包括公共科目和1门相应专业科目，主要考核报考人员的综合素质和专业基础。

3. 全军统一考试大纲包括哪些科目，如何获取？

全军统一考试大纲分为公共科目和专业科目，其中管理岗位和专业技术岗位共用公共科目考试大纲；专业科目考试大纲区分管理岗位和专业技术岗位两类，按各专业领域和学科门类设置。

专业科目考试大纲分为哲学、经济学、法学、教育学、文学、外国语言文学、历史学、理工学、农学、医学、图书档案学、艺术学、管理学等13类45个专业。

对专业科目考试大纲没有覆盖的小语种和少数民族语言专业岗位，专业科目笔试按照相应语种语言本科教育教学大纲命题。

4. 如何选择全军统一考试地点？

全军统一考试地点由报考人员在系统提供的考试城市中自行选择，准考证上将予以标明。

5. 全军统一考试入围人员名单如何确定？

中央军委政治工作部按照90%考生上线的比例，划定公共科目合格分数线；根据招考岗

位入围比例（1:3 或者 1:5），对达到公共科目合格分数线的，再按照全军统一笔试成绩由高到低确定考试入围人员名单，并在军队人才网公布名单。

公共科目或者专业科目单科考试成绩为零分或者缺考的，不列入考试入围人员名单。

军队烈士和因公牺牲军队人员的配偶子女、未婚军队烈士的兄弟姐妹，现役军人、2023年（当年）退役军人、在职病故军人和现役干部转改文职人员的配偶子女，在军队工作年限满5年的社会用工、服役年限满5年的退役军人，以及参加由中央军委或者中央军委机关部委批准的作战、有作战背景的军事行动、非战争军事行动的社会用工和退役军人，通过报名条件审核且取得全军统一笔试有效成绩的，享受公共科目加分优待政策。

6. 如何确定参加面试人员名单？

用人单位对考试入围人员的基本情况、学历学位、专业资质、工作经历、准考证等原件或者证明材料进行审查，依据报考人员参加面试意向、资格条件审查等情况确定面试人员名单，名单由中央军委机关部委、战区、军兵种、中央军委直属单位、武警部队政治工作部门汇总审核后，由用人单位或者其上级单位按照规定组织实施面试。

7. 面试主要考核哪些内容，采取什么方式进行？

面试由用人单位或者其上级单位组织实施，主要考核报考人员的业务知识和专业技能，一般采用现场答辩、授课试讲、器械操作、能力测验等方式进行，时间20分钟左右，也可根据实际需要适当延长。

8. 报考人员如何获知面试成绩？

面试结束后，由组织面试单位现场告知报考人员面试成绩。

9. 全军统一考试和面试的总成绩如何计算？

全军统一考试的公共科目、专业科目和面试成绩满分均为100分，总成绩按百分制折算。其中，公共科目、专业科目、面试成绩分别占30%、30%、40%。各科目成绩和总成绩可保留到小数点后两位。

10. 如何确定预选对象，怎么告知本人？

全军统一笔试的公共科目、专业科目和面试成绩满分均为100分，总成绩按百分制折算。其中，公共科目、专业科目、面试成绩分别占30%、30%、40%。各科目成绩和总成绩可保留到小数点后两位。

用人单位根据报考人员总成绩由高到低确定预选对象，其数量一般应当多于招考岗位计划人数，按照招考岗位计划人数120%的比例确定，并及时告知本人是否被确定为预选对象。其中，面试成绩低于60分或者体检不合格的，不得作为预选对象；总成绩相同

的，依次按照面试成绩、专业科目成绩确定排名。

艺术（含艺术专业教学岗位）、体育、播音岗位的预选对象，由中央军委政治工作部按照上述规定确定，并通过军队人才网进行公示。

11. 政治考核和综合考察由谁组织，主要考察什么？

由用人单位组织对预选对象进行政治考核和综合考察。政治考核主要考察政治面貌、宗教信仰、遵纪守法以及主要社会关系等情况，组织涉外安全审查；主要考察现实表现、综合素质和业务能力。

12. 如何确定拟录用对象？

对政审考察合格的预选对象，用人单位按照总成绩排名确定拟录用对象名单。

13. 拟录用对象如何公示？

拟录用对象名单经军委机关各部门、各大单位政治工作部门统一审核后在本单位军地门户网站和军队人才网同步对外公示。公示内容包括拟录用对象姓名、性别、准考证号、招考岗位和录用分数线，同时公布监督受理电话和电子邮箱，接受社会监督，公示期为5天。

14. 报考人员自愿放弃预选对象或者拟录用对象资格的，用人单位能否递补？

对未能按计划招满的岗位，用人单位可以逐级申报补录，由中央军委政治工作部审批并在军队人才网统一发布补录岗位计划和公告。除首轮录用人员和政治考核结论为不通过的，其他报考人员均可凭当年全军统一笔试有效成绩，报名符合相应条件的补录岗位。中央军委政治工作部按照规定比例和要求，审核确定并下发补录入围人员名单。有关单位按照规定的程序办法，遴选确定拟补录对象和组织公示审批。

15. 新录用人员签订聘用合同有哪些规定，试用期多长？

全军面向社会公开招考新录用人员，聘用合同期限起算时间按照军队文职人员聘用合同管理有关规定执行。新录用人员实行试用期，时间为6个月。新录用人员名单，报中央军委政治工作部备案。

第四章 军队文职笔试备考指导

一、2023 年军队文职笔试考情分析——公共科目

科目	题型	题量	分值	占比
基本知识	单选题	50	$50 \times 0.5 = 25$	40%
	多项选择题	6	$4 \times 1.5 = 9$	
	系列单项选择题	4	$4 \times 1.5 = 6$	
岗位能力	言语理解与表达	15	$15 \times 1 = 15$	60%
	数量关系	10	$10 \times 1.5 = 15$	
	判断推理	10	$10 \times 1.5 = 15$	
	资料分析	15	$15 \times 1 = 15$	
总计		110	100	100%

公共科目笔试的考试科目一般分为基本知识和岗位能力两部分。

(一) 基本知识主要考察 6 个方面内容：

1. 政治

主要测查应试者对政治基本理论：马克思主义基本理论、毛泽东思想、中国特色社会主义理论体系、公民道德修养的掌握程度。

2. 经济

主要测查应试者对马克思主义政治经济学、社会主义市场经济的掌握情况，以及理论与现实问题相结合的能力。

3. 法律

主要测查应试者对相关法律基础知识的了解掌握程度和运用能力。主要涉及法学理论、宪法、民法、刑法等。

4. 人文与社会

主要测查应试者对文化常识、历史常识、国情社情、国内国际时事等人文常识与社会常识的了解程度。

5. 科学技术

主要测查应试者对科学技术基础知识、科学常识以及现代高新技术知识的了解和掌握程度。

6. 国防和军队知识

主要测查应试者对国防知识、军队文职人员制度、军队安全保密等国防和军队基本知识的了解和掌握情况。

(二) 岗位能力主要考察 4 个方面内容:

1. 言语理解与表达

主要测查报考者运用语言文字进行思考和交流、迅速准确地理解和把握文字材料内涵的能力。

2. 数量关系

主要是考查对数量关系的理解计算、判断和推理的能力。数量关系主要有两种题型：数字推理和数字运算。

3. 判断推理

主要测查对各种事物关系的分析推理。常见的题型有图形推理、定义判断、类比推理、逻辑判断等。

4. 资料分析

主要测查应试者对文字、图表等资料综合理解与分析处理能力。增长率、倍数、百分点等概念考查频率较高。

(三) 备考提示

军队文职考试和公务员考试相比，既有公共科目和专业科目的某些共通之处，更具有自身强烈的军队特色。考生们在笔试这个环节知识储备应该都相差无几，所以要拉开档次就要从军队特色的考试内容中下手，只有把握了军队文职考试的这些重点环节，才有可能在文职考试中脱颖而出。

军队特色的考试内容包括“国防和军队”中的“国防常识”和“军队常识”两个部分，虽然这部分占的分值不大，但是能不能取得好成绩，它发挥着至关重要的作用。所以复习这部分的时候，对于一般内容基本掌握就可以了，而对于一些具体的知识和政策，一定要了然于心，多下一番功夫去复习。所以考生们备考的时候，一定要抽出一点时间复习这方面的知

识。

二、2023 年军队文职笔试考情分析——专业科目

军队文职招录考试，专业科目考试大纲分为 26 个专业。

专业科目试题类型以客观性试题为主，有部分专业涉及主观性试题。

(一) 既有客观性试题又有主观性试题的专业：

1. 社会科学基础知识、新闻专业科目；
2. 英语，小语种（俄语、日语、法语等全部删除）；
3. 管理学类，新增申论题型。

(二) 客观性试题

客观性试题：给试题提供正确和错误答案，由考生从中选择自己认为正确的答案。

客观性试题评分标准统一、客观、准确，不受评卷人主观因素的影响，易于采用计算机阅卷，提高评价速度，降低考试成本。

但客观性试题无法考查学生的组织能力、表达能力以及写作能力。客观性试题常用的有选择题、判断题等形式。

(三) 主观性试题

主观性试题：多是“发挥性题目”，一般带有主观性，虽然有评分标准，但没有唯一标准答案，如写作、文字材料分析等。

此类试题对于考查考生的语言表达能力、思维创新能力等方面有独到的作用，但评分容易受到评卷人的主观因素影响。

三、2023 年军队文职笔试公共科目真题呈现

2023 年军队文职人员招聘考试公共科目试卷

第一部分 基本知识

一、单项选择题（请根据题目要求，在四个选项中选出一个最恰当的答案。共 50 题，每题 0.5 分，共 25 分。）

1. 习近平同志在中国共产党第二十次全国代表大会上所作报告的题目是：

- A. 坚定不移沿着中国特色社会主义道路前进 为全面建成小康社会而奋斗
- B. 高举中国特色社会主义伟大旗帜 为全面建设社会主义现代化国家而团结奋斗

- C. 决胜全面建成小康社会 夺取新时代中国特色社会主义伟大胜利
- D. 全面建设社会主义现代化国家 向第二个百年奋斗目标进军
2. 社会经济的两种基本形态是：
- A. 计划经济与商品经济
- B. 公有制经济与非公有制经济
- C. 产品经济与商品经济
- D. 自然经济与商品经济
3. 当前和今后一个时期，经济发展和经济工作的主线是：
- A. 完善我国社会主义基本经济制度
- B. 完善社会主义市场经济体制
- C. 推进供给侧结构性改革
- D. 建设现代化经济体系
4. 列宁得出社会主义可能在一国或数国首先取得胜利的结论，其依据是：
- A. 帝国主义时代资本主义政治经济发展不平衡的规律
- B. 资本主义必然灭亡、社会主义必然胜利的规律
- C. 资本主义国家无产阶级与资产阶级之间矛盾和斗争的规律
- D. 无产阶级是最先进、最革命的阶级与暴力革命的规律
5. 在世界上首次提出“航天员”概念的是中国科学家：
- A. 钱学森
- B. 王淦昌
- C. 钱三强
- D. 邓稼先
6. 大自然是人类赖以生存发展的基本条件。必须牢固树立和践行“绿水青山就是金山银山”的理念，站在（ ）的高度谋划发展。
- A. 人与自然互惠互利
- B. 人与自然和谐共生
- C. 人与自然平等互惠
- D. 人与自然相互改造
7. 国防是国家生存和发展的安全保障。（ ）是国防最基本的手段。
- A. 政治博弈

- B. 军事活动
- C. 经济建设
- D. 外交斡旋
8. 决定我国现阶段多种所有制形式并存的根本原因是：
- A. 产品经济的存在
- B. 社会生产力的多层次性
- C. 物质利益的差别
- D. 劳动就业的需要
9. 关于联合国，下列说法正确的是：
- A. 联合国是第一次世界大战后建立的国际组织
- B. 《联合国宪章》签署地是法国巴黎
- C. 联合国宗旨是维护成员国之间友好关系
- D. 中国是联合国五大创始成员国之一
10. 党的二十大报告指出，全面加强（ ），巩固拓展国防和军队改革成果，完善军事力量结构编成，体系优化军事政策制度。
- A. 科学管理
- B. 战略管理
- C. 依法治军
- D. 军事治理
11. 神话是古代先民对世界起源、自然现象和社会生活的理解和想象。中国古代神话“夸父逐日”出自：
- A. 《列子》
- B. 《淮南子》
- C. 《山海经》
- D. 《太平御览》
12. 党的二十大报告指出，（ ）的历史车轮滚滚向前，祖国完全统一一定要实现，也一定能够实现！
- A. 国家统一、民族复兴
- B. 同胞团聚、民族复兴
- C. 国家统一、国富民安

D. 同胞团聚，国富民交

13. 2022年11月29日，神舟十五号载人飞船发射取得圆满成功。执行神舟十五号载人飞行任务的航天员是：

- A. 聂海胜、王亚平、蔡旭哲
- B. 陈冬、刘洋、蔡旭哲
- C. 费俊龙、邓清明、张陆
- D. 翟志刚、王亚平、叶光富

14. 在人类社会发 展史上，人们很早就开始探讨道德起源并提出了种种见解和理论。其中，马克思主义道德起源观是：

- A. 生产方式论
- B. 天意神启论
- C. 情感欲望论
- D. 先天人神论

15. 全面建设社会主义现代化国家，最艰巨最繁重的任务仍然在：

- A. 城乡结合部
- B. 城市
- C. 农村
- D. 边远艰苦地区

16. 产业革命也称工业革命，始于18世纪60年代英国，首先从（ ）开始，80年代因蒸汽机的发明和应用得到进一步发展。

- A. 纺织业
- B. 交通运输业
- C. 冶金业
- D. 机器制造业

17. （ ）是社会主义初级阶段的根本任务，是中国特色社会主义政治经济学的重大原则。

- A. 实现共同富裕
- B. 解放和发展社会生产力
- C. 发展公有制经济
- D. 为人民谋福利

18. 简单商品经济的基本矛盾是（ ）的矛盾。

- A. 个别劳动和必要劳动
- B. 私人劳动和社会劳动
- C. 生产力和生产关系
- D. 经济基础和上层建筑

19. 《中国人民解放军文职人员条例》规定：军队建立与军人、公务员、事业单位工作人员相独立的文职人员政策制度体系。文职人员政策制度应当体现（ ）特点，构建完善的管理、保障体制。

- A. 军民通用
- B. 军事职业
- C. 非直接参与作战
- D. 专业性、保障性、稳定性较强的

20. “安而不忘危，存而不忘亡，治而不忘乱”，这句话对我们的哲学启示是：

- A. 矛盾双方在一定的条件下是可以相互转化的
- B. 要透过现象认识事物的本质
- C. 事物的质具有不确定性
- D. 矛盾的主要方面决定事物的性质

21. 关于国企混合所有制改革，下列说法错误的是：

- A. 国企引入各类社会投资主体改制后，形成混合所有制企业
- B. 国企引入各类社会投资主体改制后，可由社会资本控股
- C. 国企和民企合作，共同投资设立混合所有制企业
- D. 混合所有制企业，可建立企业员工持股制度

22. 建立现代企业制度的基本前提是：

- A. 资产的最终所有权与财产的归属权相分离
- B. 资产的法人财产权与经营权相分离
- C. 资产的占用权与使用权相分离
- D. 资产的最终所有权与法人财产权相分离

23. 关于对外开放和自力更生的关系，下列说法错误的是：

- A. 对外开放和自力更生能够有效避免金融风险
- B. 对外开放必须以自力更生为基础和前提

- C. 坚持独立自主、自力更生，决不是闭关锁国
- D. 对外开放和自力更生是相辅相成、相互促进的

24. () 是中华民族精神之魂，是我们立党立国的重要原则。

- A. 独立自主
- B. 胸怀天下
- C. 开拓创新
- D. 敢于斗争

25. 马克思和恩格斯创立的 ()，是具有革命意义的两大科学发现。

- A. 辩证唯物主义和历史唯物主义
- B. 阶级斗争和无产阶级专政学说
- C. 科学社会主义和共产主义
- D. 唯物史观和剩余价值学说

26. 1949年11月11日，中国人民解放军空军领导机构在北京成立。担任新中国首任空军司令员的是：

- A. 王海
- B. 萧劲光
- C. 刘亚楼
- D. 张廷发

27. 《宪法》规定，() 是中国特色社会主义最本质的特征。

- A. 中国共产党领导
- B. 人民民主专政
- C. 人民代表大会
- D. 民主集中制

28. 中国社会主义市场经济体制是同社会主义基本制度结合在一起的，就是要使市场在社会主义国家宏观调控下对资源配置起基础性作用，使经济活动要遵循 () 的要求，适应供求关系的变化。

- A. 生产力发展规律
- B. 市场活动规律
- C. 价值规律
- D. 商品生产规律

29. () 实现改革由局部探索到系统集成、全面深化的转变, 开创了我国改革开放新局面。

- A. 党的十一届三中全会
- B. 党的十八届三中全会
- C. 党的十九届三中全会
- D. 党的十九届六中全会

30. 国防教育贯彻 ()、长期坚持、讲求实效的方针。

- A. 国家主导
- B. 全军配合
- C. 全民参与
- D. 学校为主

31. 《周易》是由元语言“一一”与“一”叠加变化成八卦乃至六十四卦, 这种元语言类似于数学中的:

- A. 二进制
- B. 八进制
- C. 十六进制
- D. 六十四进制

32. 坚持党对军队绝对领导, 处于最高层次、居于统领地位的是:

- A. 党委制
- B. 政治委员制
- C. 支部建在连上
- D. 军委主席负责制

33. () 成为中国全民族抗战的开端, 由此开辟了世界反法西斯战争的东方主战场。

- A. 九一八事变
- B. 平型关大捷
- C. 淞沪会战
- D. 卢沟桥事变

34. 根据《中国人民银行法》, 货币政策的目标是 (), 并以此促进经济增长。

- A. 平衡财政收支
- B. 促进货币升值

- C. 调节社会总需求
- D. 保持货币币值的稳定
35. () 是民族复兴的根基，社会稳定是国家强盛的前提。
- A. 强大军队
- B. 国家安全
- C. 巩固国防
- D. 人民安全
36. () 是社会主义民主政治的本质属性，是最广泛、最真实、最管用的民主。
- A. 全流程人民民主
- B. 全方位人民民主
- C. 全领域人民民主
- D. 全过程人民民主
37. 资本主义所有制的本质特征是：
- A. 生产资料归资本家占有
- B. 生活资料归私人占有
- C. 资本对劳动的雇佣和剥削
- D. 劳动者与生产资料相分离
38. 选举是公民的一项重要权利。下列关于我国选举原则和程序的表述正确的：
- A. 我国选举制度遵循平等原则，其中城乡平等体现为城乡同比例
- B. 我国市、县、乡三级的选举实行选民直接选举制度
- C. 经直接选举当选的代表可向选举其的人大常委会书面辞职
- D. 如果少数民族的人口较少，则可以只要县、乡两级代表
39. () 是构筑法治国家的基础。
- A. 法治政府
- B. 法治监察
- C. 法治社会
- D. 法制监督
40. () 是形成商品价值的唯一源泉。
- A. 社会劳动
- B. 具体劳动

C. 私人劳动

D. 抽象劳动

41. () 是全面建设社会主义现代化国家的基础性、战略性支撑。

A. 国防、外交和经济

B. 教育、科技和人才

C. 国防、科技和教育

D. 教育、科技和经济

42. 《民法典》规定，处理民事纠纷，应当依照法律；法律没有规定的，可以适用习惯，但是不得：

A. 违背个人意愿

B. 违背公序良俗

C. 违背基本良知

D. 违背自然公理

43. () 犯故意杀人、故意伤害罪，致人死亡或者以特别残忍手段致人重伤造成严重残疾，情节恶劣，经最高人民检察院核准追诉的，应当负刑事责任。

A. 已满十四周岁不满十六周岁的人

B. 已满八周岁不满十六周岁的人

C. 已满十二周岁不满十四周岁的人

D. 已满十周岁的人

44. 建设中国特色社会主义法治体系，要加快形成完备的法律规范体系，高效的()，严密的法治监督体系，有力的：

A. 党内法规体系 法治保障体系

B. 法治实施体系 法治运行体系

C. 党内法规体系 法治运行体系

D. 法治实施体系 法治保障体系

45. 粮食安全是“国之大者”。要全方位夯实粮食安全根基，牢牢守住()亩耕地红线，确保中国人的饭碗牢牢端在自己手中。

A. 十四亿

B. 十六亿

C. 十八亿

D. 二十亿

46. 价值形成过程是生产资料价值转移和（ ）的过程。

A. 社会必要劳动形成

B. 社会分工协作

C. 资本家与工人斗争

D. 活劳动创造新价值

47. 关于法的特征，下列表述错误的是：

A. 法由国家制定或认可

B. 法由国家强制力保障实施

C. 法具有普遍性，对特定人群有效

D. 法是调整行为的社会规范

48. 《论语》中最能体现教育公平的是：

A. 仁者爱人

B. 有教无类

C. 因材施教

D. 温故知新

49. 《国防法》规定，（ ）领导和管理中国人民解放军、中国人民武装警察部队的建设，制定规划、计划并组织实施。

A. 全国人民代表大会

B. 中央军事委员会

C. 国家主席

D. 国务院

50. 《著作权法》所称的作品，是指文学、艺术和科学领域内具有（ ）并能以一定形式表现的智力成果。

A. 新颖性

B. 科学性

C. 独创性

D. 新奇性

二、多项选择题（请根据题目要求，在五个选项中选出两个或两个以上恰当的答案，错选或多选均不得分，少选且选择正确的每个选项得 0.3 分。共 6 题，每题 1.5 分，共 9

分。)

51. 劳动者可以解除劳动合同的情形有:

- A. 劳动者提前三十日以书面形式通知用人单位的
- B. 用人单位未按照劳动合同约定提供劳动保护或者劳动条件的
- C. 劳动者在试用期内随时通知用人单位辞职并离岗的
- D. 用人单位未及时足额支付劳动报酬的
- E. 用人单位以暴力、威胁或者非法限制人身自由的手段强迫劳动者劳动的

52. “大市场”和“小政府”是成熟市场经济条件下的一种合理选择。根据这一思路,属于政府职能范围的有:

- A. 制定市场规则、维护市场秩序
- B. 对资源进行配置和再配置
- C. 调节收入分配,避免两极分化
- D. 通过参与经济竞争干预经济运行
- E. 制定宏观经济发展计划和产业政策

53. 关于“一带一路”,下列说法正确的有:

- A. 促进了沿线国家共同繁荣
- B. 由发达国家发起并主导
- C. 由沿线相关合作国家共商、共建、共享
- D. 通过政策沟通、设施联通、贸易畅通、资金融通、民心相通,铺就互利共赢之路
- E. 目的是建设开放、包容、竞争、共赢的区域经济共同体

54. 党的二十大报告指出,深入推进新时代党的建设新的伟大工程。下列表述正确的有:

- A. 用党的创新理论武装全党是党的思想建设的根本任务
- B. 全面建设社会主义现代化国家、全面推进中华民族伟大复兴。关键在党
- C. 全面从严治党永远在路上
- D. 把新时代中国特色社会主义制度转化为坚定理想信念
- E. 全面推进党的自我净化、自我完善、自我革新和自我提高

55. “三个务必”是我们党从百年奋斗历程中总结出来的宝贵经验,具体内容是:

- A. 务必保持谦虚、谨慎、不骄、不躁的作风
- B. 务必一不怕苦、二不怕死
- C. 务必不忘初心、牢记使命

- D. 务必谦虚谨慎、艰苦奋斗
- E. 务必敢于斗争、善于斗争

56. 党的二十大报告指出，我们要坚持对马克思主义的坚定信仰、对中国特色社会主义的坚定信念，坚定（ ），以更加积极的历史担当和创造精神为发展马克思主义作出新的贡献。

- A. 道路自信
- B. 理论自信
- C. 制度自信
- D. 文化自信
- E. 组织自信

三、系列单项选择题（请根据题目要求，在四个选项中选出一个最恰当的答案。共4题，每题1.5分，共6分。）

党的十八大以来，我们党着眼于实现中华民族的伟大复兴的中国梦，深入推进政治建军、改革强军、科技强军、人才强军、依法治军，大力推进国防和军队现代化建设，引领强军事业取得历史性成就、发生历史性变革。

57. 以习近平同志为核心的党中央，把握强国强军时代要求，与时俱进创新党的军事指导理论，形成了：

- A. “十四个坚持”
- B. 习近平新时代中国特色社会主义思想
- C. 新时代党的强军目标
- D. 习近平强军思想

58. 十八大以来，我们党大刀阔斧深化国防和军队改革，裁减现役员额（ ）万胜利完成。

- A. 二十
- B. 三十
- C. 五十
- D. 一百

1950年10月19日，由中华优秀儿女组成的中国人民志愿军，雄赳赳，气昂昂，跨过鸭绿江，弘扬和光大了中国共产党和人民军队的革命精神，创建了威武雄壮战争伟业。全国各族人民举国同心支撑起这场事关国家和民族前途命运的伟大抗争，最终用伟大胜利向世

界宣告“西方侵略者几百年来只要在东方一个海岸上架起几尊大炮就可霸占一个国家的时代是一去不复返了”。

59. 全国各条战线和广大人民群众积极响应党和政府（ ）的伟大号召，开展了轰轰烈烈的抗美援朝运动。

- A. 抗美援朝，保家卫国
- B. 保卫和平，抵抗侵略
- C. 抵抗侵略，保家卫国
- D. 抗美援朝，保卫和平

60. 抗美援朝战争期间，许多作家亲赴朝鲜战场，用笔墨讴歌志愿军将士。其中，巴金创作了：

- A. 《谁是最可爱的人》
- B. 《上甘岭》
- C. 《我们会见了彭德怀司令员》
- D. 《三千里江山》

第二部分 岗位能力

一、言语理解（请根据题目要求，在四个选项中选出一个最恰当的答案。共 15 题，每题 1 分，共 15 分。）

61. 下列各句中，没有歧义的是：

- A. 我们需要相信自己的人
- B. 三个教育局的领导听了他的课
- C. 小明和小军的哥哥在操场上踢足球
- D. 请你告诉他要早一点回家做作业

62. 下列各句中，没有语病的是：

- A. 上海科技开发中心聚集了一批热心于科技开发服务、善于经营管理的专业化人才
- B. 每当我回忆起和他朝夕相处的一段生活，他那和蔼可亲的音容相貌，循循善诱的教导，又重新出现在我的面前
- C. 《青春之歌》这部小说出色地塑造了共产党员卢嘉川、江华、林红等人的英雄事迹
- D. 只有积极引导牧民开展多种经营，控制牲畜数量，降低对牧草的需求，退牧还草，才能为从根本上拯救纯种野牦牛提供可能

63. 关于“截止”和“截至”，用法正确的是：

- ①报名在昨天已经截止。
- ②截至九月中旬，该项目建设已完成全年施工计划的 90%
- ③截止到今天中午 12 点，第一次彩排的日期才确定下来
- ④截止上周日，对社区所有八十岁以上老人的健康监测均已完成

A. ①②③④

B. ①③④

C. ①②④

D. ①②③

64. 填入横线处最恰当的一组连接词是：

医德评价方式是对医学工作者的医学道德状况进行判断的特有方式。_____明确医学评价的重要作用、意义、依据和标准，_____使用一定的载体，运用一定的方式方法，_____把医学道德的原则和规范转化为医学工作者的行为，_____有效地扬善弃恶，树立良好的医德医风。

A. 首先要 才能 才能 或者

B. 除了要 还要 才能 才能

C. 不但要 而且 或者 才能

D. 只有 才能 不但 还能

65. 下面一段话中，多余的一句是：

- ①我们每一个人都应该去植树，不能去毁树。
- ②植树和毁树是一对矛盾。
- ③要做到这一点是很不容易的。
- ④现在社会上还有毁树的现象。

A. ①

B. ③

C. ②

D. ④

66. 不言而喻，沙尘暴对人类来说，是一个气象灾害，但意想不到的是，沙尘暴对海洋来说反而是一件好事，这是为什么呢？在世界气象日主题研讨会上，气象局杨研究员解释，这是因为沙尘暴里会带着很多营养盐，这些营养盐最后会沉降在海洋里。打个比方，陆地上的植物生长需要施肥，那么海洋也是需要肥料的，这个来源分两种，一种就是从陆地上来，另一种是海洋洋流从海底带上来。所以沙尘暴这件事也是需要从两面来看，对人类来讲是一

种灾害，对海洋来讲却是一件非常好的事情。

最适合做这段文字的标题是：

- A. 沙尘暴竟然还有好处？
- B. 海洋，我们的气候和天气
- C. 海洋的肥料从哪里来？
- D. 沙尘暴不再是一种灾害

67. 中国古代家训家教家风大多涉及“生活之道，待人之道，交友之道，读书之道”，具有“修齐治平”的特点。伴随着城市化进程的不断推进，现代家庭结构日益原子化，人们工作生活由原来的熟人社会进入生人社会。因此，我们在传承中华传统家训家教家风时，要对其中有关重农抑商、亲熟远生、封闭保守、轻视法治等内容进行创造性转化，以适应现代人生产生活方式和开放社会的需要。

这段文字的主旨是：

- A. 传统家训家教家风具有“修齐治平”特点。
- B. 传承传统家训家教家风需要对其进行创造性转化。
- C. 城市化导致家庭结构原子化、社会环境陌生化。
- D. 传统家训家教家风不适应现代人生活方式和开放社会的需要。

68. 作为一种购物方式，“秒杀”带来了全新体验，却也留下了复杂况味。转瞬之间，有惊喜也有失望，有欢乐也有忧愁。心理学家说，“秒杀”也是一次心理测验，淡然处之则自得其乐，而那些渴望“一击即中”、希望“马上就有”、总想“付出少收益大”的，则容易陷入纠结的泥沼。看来，“秒杀”可以有，但“秒杀心态”值得商榷。

下列诗句中，否定“秒杀心态”的是：

- A. 白发无凭吾老矣，青春不再汝知乎
- B. 人生得意须尽欢，莫使金樽空对月
- C. 大鹏一日同风起，扶摇直上九万里
- D. 千淘万漉虽辛苦，吹尽黄沙始到金

69. 下列各句中，标点符号使用有误的是：

- A. 我国南海蕴藏着丰富的海洋动力资源，如潮汐能、波能、温差能、密度差能等……
- B. 唐代的刘知几在《史通·叙事》中提出：“夫国史之美者，以叙事为工；而叙事为工者，以简要为主。”
- C. 京剧雍容华美，昆曲典雅精致，越剧婉转悠扬，秦腔朴实无华，梆子戏高亢悲凉：中

国的戏曲艺术博大精深，异彩纷呈。

D. “我们拥有百分之百‘中国芯’，尽管许多技术已全球领先，但拼搏和创新是无止境的，我们不能停下来。”这是陈总对记者说的话。

70. 环境保护主义是一种信念，是一种重建人与自然关系的强烈愿望。要实现这一愿望，就必须树立一种自然共同体的意识，即将人在共同体中的征服者角色，转变为这一共同体中的普通一员。它暗含着对共同体中每个成员的尊敬，也包括对这个共同体本身的尊敬。只有树立了这样的一种道德意识，人才有可能在运用权利时感到所负有的对这个共同体的义务。这不仅仅依赖对自然本质的科学理解，也依赖在了解基础上建立起的对自然的感情。

上述文字最后一句话中的“这”指的是：

- A. 自然共同体意识的树立
- B. 对共同体成员的尊敬
- C. 对共同体本身的尊敬
- D. 对自然共同体的义务

71. 填入横线处最恰当的是：

苦难可以激发生机，也可以扼杀生机；可以磨炼意志，也可以摧垮意志；可以启迪智慧，也可以蒙蔽智慧；可以高扬人格，也可以贬损人格——_____。

- A. 迎难而上是唯一选择
- B. 无论你是否以苦为乐
- C. 全看受苦者素质如何
- D. 人生哪可能一帆风顺

72. 下列各句中，使用成语恰当的是：

- A. 看他低着头一言不发，不停地抽泣，定有难言之隐。
- B. 照片中两位年轻人，左边的是一位英俊的解放军战士，右边的是一位长相文静的莘莘学子。
- C. 每个人都有不足之处，你不应该求全责备他的缺点。
- D. 在语文老师的严格要求下，我逐渐改正了文不加点的毛病。

73. 填入横线处最恰当的一组连接词是：

通古今就要学习，_____我们要学习，后人_____要学习，_____学习也有它的普遍性和永久性。

- A. 不但 也 所以

- B. 因为 便 何况
- C. 假如 又 因此
- D. 一旦 更 于是

74. 虽然 17 世纪中叶起就有不少欧洲人前往中国传教、经商,但直到 18 世纪 30 年代,欧洲文艺界对中国戏剧的了解依然局限于马若瑟做了诸多删减的《赵氏孤儿》译本,以及杜赫德在《中国通志》中极为简略的介绍。所以,中国古典戏剧在欧洲传播的初期,全译本并不多,而改编创作也并非是为了深入地研究中国古典戏剧本身独有的艺术价值。

这段文字的主要观点是:

- A. 中国古典戏剧在欧洲传播历史悠久
- B. 欧洲观众对中国古典戏剧了解有限
- C. 中国古典戏剧与西方戏剧完全不同
- D. 中国古典戏剧作品在欧洲被改编演出

75. 下列语句排序正确的是:

①这一工作的价值之一在于,对内部变率如何影响季风降水的年代际变化有了更清晰的认识,为季风降水的短期预估提供了宝贵的信息。

②研究表明,当北大西洋呈暖海温异常时,或赤道东太平洋呈冷海温异常、副热带西太平洋呈暖海温异常时,海洋能够通过加热上空大气,引起热带地区和季风区对流层的温度差。

③大气环流场的年代际变化,主要受热带太平洋和北大西洋海温的调控作用。

④这就有利于对流层厚度的经向梯度增大、季风环流增强。

⑤有利于更多水汽输送至季风区,最终引起了季风降水的增多。

- A. ①②③④⑤
- B. ②③④⑤①
- C. ③②④⑤①
- D. ③④⑤②①

二、数量关系(请根据题目要求,在四个选项中选出一个最恰当的答案。共 10 题,每题 1.5 分,共 15 分。)

76. 现有一项工程,若由甲施工队单独施工要 10 天完成。乙施工队单独施工要 15 天完成,丙施工队单独施工要 12 天完成。计划先由丙施工队单独施工,3 天后乙施工队加入施工,乙、丙共同施工 3 天后,剩余任务由甲施工队单独完成。则完成该工程一共需用()天。(注:假设各施工队的施工效率保持不变。)

- A. 9
- B. 10
- C. 11
- D. 12

77. 一列匀速行驶的火车通过一座 780 米的桥梁用了 18 秒,通过一根电线杆用了 5 秒,则这列火车的长度是 ()。

- A. 150 米
- B. 156 米
- C. $216\frac{2}{3}$ 米
- D. 300 米

78. 三角形 ABC 的面积为 S, P 为三角形 ABC 内一点,则三角形 PAB 的面积小于 $\frac{S}{4}$ 的概率是 ()。

- A. $\frac{1}{4}$
- B. $\frac{7}{16}$
- C. $\frac{9}{16}$
- D. $\frac{3}{4}$

79. 某人的藏书中,文学类占 $\frac{1}{5}$,科技类占 $\frac{1}{3}$,科技类藏书比文学类藏书多 100 册,则其文学类藏书的册数是 ()。

- A. 150
- B. 250
- C. 350
- D. 750

80. 选择最合理的一项来填充所给数列的空缺项,使之符合原数列的排列规律:

$\frac{2}{3}, \frac{1}{4}, \frac{2}{15}, \frac{1}{12}, \frac{2}{35}, ()$ 。

- A. $\frac{1}{86}$
- B. $\frac{1}{32}$

- C. $\frac{1}{24}$
D. $\frac{1}{16}$

81. 一个罐子里有 5 种颜色的糖果各 6 颗，每次随机取出一颗，为保证取用的糖果中有 5 颗颜色相同，则至少应该取（ ）次。

- A. 6
B. 11
C. 16
D. 21

82. 有两个等边三角形，它们的边长之比为 3 : 2，则它们的面积之比是（ ）。

- A. 4 : 9
B. 3 : 2
C. 9 : 4
D. 27 : 8

83. 选择最合理的一项来填充所给数列的空缺项，使之符合原数列的排列规律：

2, 2, 15, 41, 80, (), 197。

- A. 125
B. 130
C. 132
D. 138

84. 若一个三位正整数等于其各位数字的立方之和，则称该数为“水仙花数”。现有 4 个三位数：152, 153, 370, 371，其中“水仙花数”的个数是（ ）。

- A. 1
B. 2
C. 3
D. 4

85. 某品牌服装店有三款最畅销服装 A、B、C。店方发现：①进店客户购买 A 款服装的概率为 40%；②如果客户购买 A 款服装，则其购买 B 款服装的概率为 60%，否则购买 B 款服装的概率为 30%；③如果客户既不购买 A 款服装也不购买 B 款服装，则其购买 C 款服装的概率为 90%，否则购买 C 款服装的概率为 10%。按进店客户购买 A、B、C 三款服装

的概率大小排序，正确的是（ ）。

- A. $A > B > C$
- B. $C > B > A$
- C. $B > C > A$
- D. $A > C > B$

三、判断推理（请根据题目要求，在四个选项中选出一个最恰当的答案。共 10 题，每题 1.5 分，共 15 分。）

86. 张老师和李老师是某学院的教师，该学院的所有教职工都是运动爱好者。他们或者喜欢游泳，或者喜欢跑步。张老师喜欢游泳，李老师不喜欢跑步。如果以上论述为真，则下列各项正确的是：

- ① 李老师喜欢游泳
 - ② 张老师不喜欢跑步
 - ③ 该学院的教职工不喜欢游泳的人喜欢跑步
 - ④ 该学院的教职工一半喜欢游泳，一半喜欢跑步
- A. 仅①
 - B. ①、②
 - C. ①、③
 - D. ②、③、④

87. 根据国家统计局数据，2022 年一季度，全国工业生产者出厂价格同比上涨 8.7%。其中，3 月份同比上涨 8.3%，涨幅比上月回落 0.5 个百分点，环比上涨 1.1%。据此分析，下列结论错误的是：

- A. 2022 年 3 月份全国工业生产者出厂价格比 2022 年 2 月份上涨 1.1%
- B. 2022 年 2 月份全国工业生产者出厂价格比 2022 年 1 月份上涨 7.2%
- C. 2022 年 2 月份全国工业生产者出厂价格比 2021 年 2 月份上涨 8.8%
- D. 2022 年 1-2 月份全国工业生产者出厂价格同比涨幅超过 8.7%

88. 职工因工作需要可以领用某种物资，该物资领用规定为：职工每月最多领用 2 件，连续三个月最多领用 4 件。下列四个选项是职工连续 12 个月的领用计划，不可行的是：

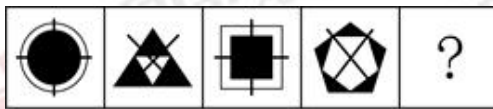
- A. 2, 2, 0, 1, 2, 1, 1, 2, 0, 2, 2, 0
- B. 2, 0, 2, 0, 2, 2, 0, 2, 2, 1, 1, 2
- C. 1, 1, 2, 1, 1, 2, 1, 1, 2, 1, 1, 2

D. 2, 1, 1, 2, 0, 2, 2, 0, 2, 1, 1, 2

89. 甲、乙、丙、丁四人参加考试，成绩各不相同。对于谁的成绩最高，甲和乙都说“不是我”，丙说“是丁”，丁说“是乙”。已知四人中有且仅有一人的说法符合实际情况。那么四人中成绩最高的是（ ）。

- A. 甲
- B. 乙
- C. 丙
- D. 丁

90. 选择最合适的一项填入问号处，使之呈现一定的规律性的是（ ）。



- A. 如上图所示
- B. 如上图所示
- C. 如上图所示
- D. 如上图所示

91. 甲、乙、丙、丁四人参加一项测试，试题为 10 道判断题，每题 1 分。四人的答题情况如下表所示。已知四人一共答错 10 道题，成绩各不相同，且甲的成绩不是最高的。那么可以确定的是（ ）。

题号	1	2	3	4	5	6	7	8	9	10
甲	√	×	√	√	×	×	×	×	×	√
乙	×	√	√	√	√	×	×	√	√	√
丙	×	×	×	√	×	√	×	√	×	√
丁	×	√	√	√	√	×	×	×	×	√

- A. 甲得了 8 分
- B. 乙的成绩排名第二

- C. 丙得了6分
- D. 丁的成绩排名第一

92. 小王和小刘作为面试官对甲、乙、丙三位毕业生进行面试。面试后，小王认为可以录用甲和乙，不录用丙。小刘表示反对。下列准确表达小刘意见的选项是：

- A. 录用丙，但不录用甲和乙
- B. 如果录用甲和丙，则不能录用乙
- C. 如果不录用丙，那么不能同时录用甲和乙
- D. 如果录用丙，那么甲和乙至多录用一人

93. 选择最合适的一项填入问号处，使之呈现一定的规律性的是（ ）



- A. 搬
- B. 插
- C. 题
- D. 撑

94. 虎山长城遗址除一号台址发现很少的残砖之外，其他地方均没有发现城砖。虎山村及附近村庄也没有从长城上拆下城砖用于民房建筑的情况。由此可以推测，虎山长城用砖是极少的。

下列选项中最能支持上述观点的是（ ）。

- A. 此地山高坡陡，城砖难以运进运出
- B. 虎山长城遗址附近没有发现古砖窑
- C. 当地县志记载虎山长城是夯土筑成
- D. 此地土质极差，不宜烧制长城用砖

95. 某单位从甲、乙、丙、丁四人中选派若干人执行专项任务，要求如下：

- ①若甲去，则乙不去；②若丙去，则乙也去；③若甲不去，则丁去。

下列关于选派方案的判断，不满足要求的是（ ）

- A. 可让甲或丁单独去，也可让该二人同去
- B. 若让乙去，则丁也要去

- C. 若丁不去, 则甲单独去
- D. 可只让乙、丙二人同去

四、资料分析(请根据题目要求, 在四个选项中选出一个最恰当的答案。共 15 题, 每题 1 分, 共 15 分。)

材料一: 2021 年某省生产总值为 124370 亿元, 同比增长 8.0%, 两年平均增长 5.1%。其中, 第一产业总值为 5004 亿元, 同比增长 7.9%, 两年平均增长 5.8%; 第二产业总值为 50219 亿元, 同比增长 8.7%, 两年平均增长 5.2%; 第三产业总值为 69147 亿元, 同比增长 7.5%, 两年平均增长 5.0%。

96. 2020 年该省生产总值是 () 亿元。

- A. 101526
- B. 115157
- C. 120245
- D. 123576

97. 2021 年该省第三产业的增加值是 () 亿元。

- A. 3425
- B. 4075
- C. 4754
- D. 4824

98. 2021 年三类产业总值占该省生产总值的比重, 同比增加的是 ()。

- A. 第一产业总值
- B. 第二产业总值
- C. 第三产业总值
- D. 第一产业总值和第二产业总值

99. 2020 年该省增速最快的是 ()。

- A. 生产总值
- B. 第一产业总值
- C. 第二产业总值
- D. 第三产业总值

材料二: 据报道, 2021 年我国网民总体规模持续增长。截至 2021 年 12 月, 我国网民规模达 10.32 亿, 较 2020 年 12 月增长 4296 万, 互联网普及率达 73.0%。其中农村网民规

模已达 2.84 亿，农村地区互联网普及率为 57.6%，较 2020 年 12 月提升 1.7 个百分点，城乡地区互联网普及率差异较 2020 年 12 月缩小 0.2 个百分点。网民人均每周上网时长达到 28.5 个小时，较 2020 年 12 月提升 2.3 个小时，互联网深度融入人民生活。在线办公、在线医疗、网上外卖、网约车用户规模分别达 4.69 亿、2.98 亿、5.44 亿和 4.53 亿，同比分别增长 35.7%、38.7%、29.9% 和 23.9%。

100. 2021 年我国网民规模同比增长（ ）。

- A. 1.6%
- B. 4.2%
- C. 4.3%
- D. 6.0%

101. 2021 年 12 月，城乡地区互联网普及率差异是（ ）个百分点。

- A. 15.4
- B. 23.6
- C. 28.4
- D. 30.8

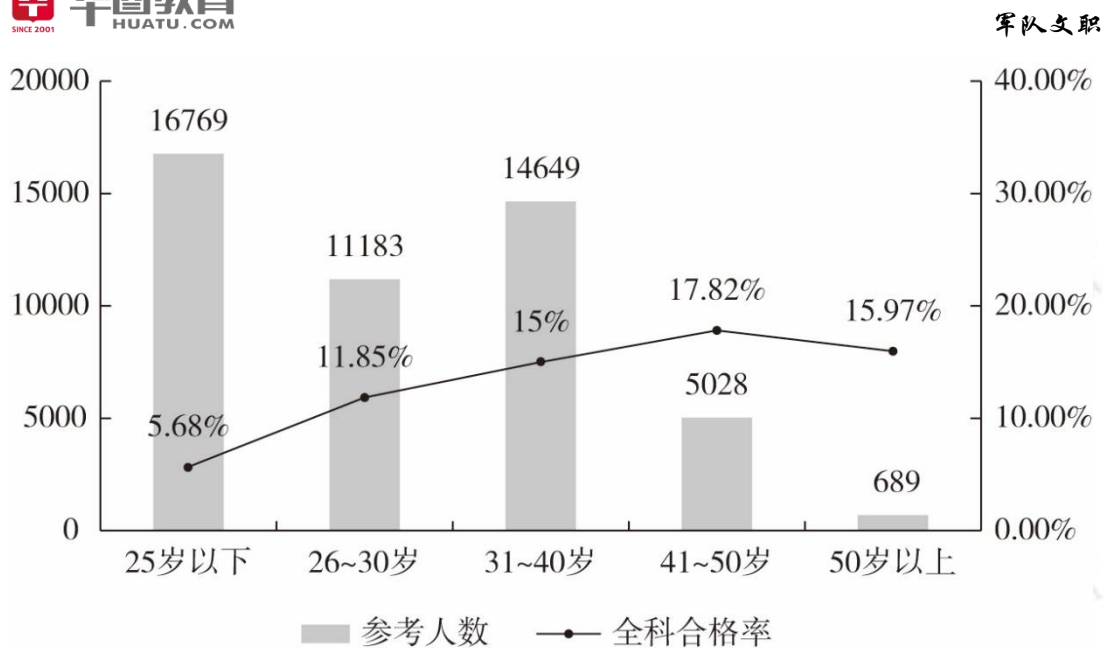
102. 按 2020 年 12 月用户规模从高到低排序，正确的是（ ）。

- A. 在线办公、网上外卖、网约车、在线医疗
- B. 网上外卖、网约车、在线办公、在线医疗
- C. 网上外卖、在线办公、网约车、在线医疗
- D. 在线办公、网约车、网上外卖、在线医疗

103. 2021 年 12 月，我国网民人均每周上网时长同比增长率是（ ）。

- A. 7.8%
- B. 8.1%
- C. 8.8%
- D. 9.7%

材料三：2022 年某考试参考人数和全科合格率统计图。



104. 2022 年该考试全科合格的 30 岁及以下人数是 ()。

- A. 1325
- B. 2197
- C. 2277
- D. 3149

105. 2022 年该考试全科合格的人数是 ()。

- A. 4832
- B. 5480
- C. 5800
- D. 6281

106. 下列关于 2022 年该考试全科合格率 (记为 P) 的判断, 正确的是 ()。

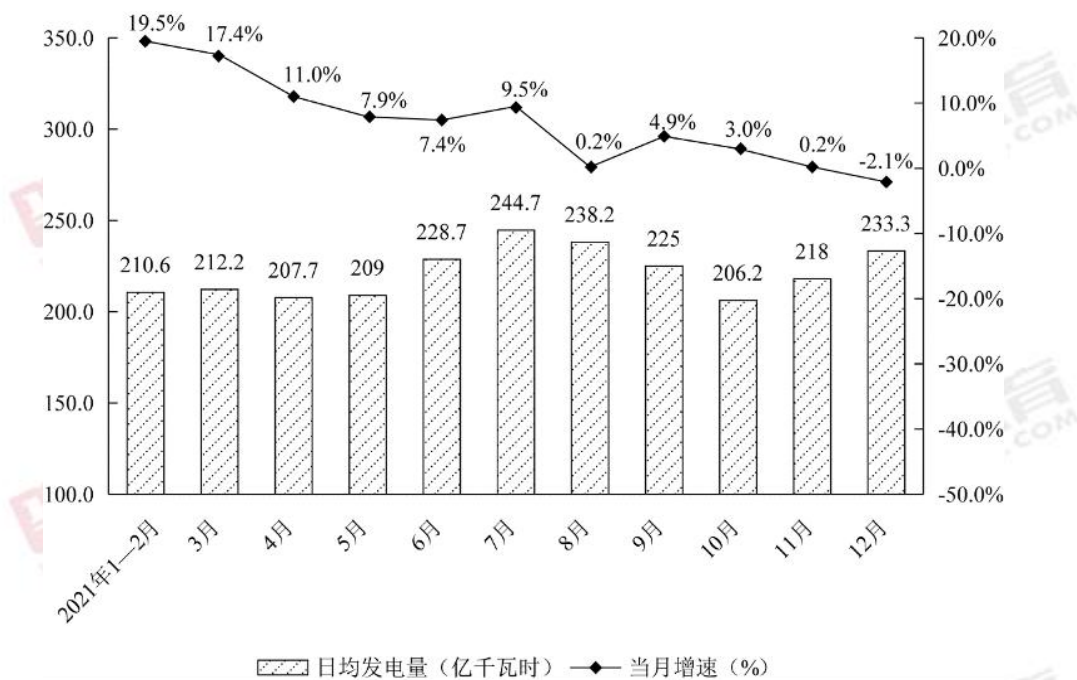
- A. $P \leq 11.85\%$
- B. $11.85\% < P \leq 15.00\%$
- C. $15.00\% < P \leq 15.97\%$
- D. $P > 15.97\%$

107. 2022 年该考试全科合格人员中, 31—40 岁人员所占比例与 26—30 岁人员所占比例相比, ()。

- A. 低了 6.81 个百分点
- B. 低了 2.53 个百分点
- C. 高了 3.15 个百分点

D. 高了 15.91 个百分点

材料四：2021 年全国规模以上工业发电量月度走势图



108. 2021 年 1—12 月，日均发电量实现环比增长的月份有（ ）个。（注：1—2 月份合并计算。）

- A. 5
- B. 6
- C. 9
- D. 11

109. 按月度分析，2021 年 10 月份发电量与 2021 年 4 月份相比（ ）。

- A. 增加了
- B. 减少了
- C. 一样多
- D. 无法判断

110. 2021 年规模以上工业发电量超过 7000 亿千瓦时的月份至少有（ ）个。

- A. 1
- B. 2
- C. 3
- D. 4

第五章 军队文职面试备考指导

一、军队文职人员面试形式介绍

从历年军队文职人员面试情况来看，面试形式侧重在半结构化面试，外加专业知识测试（包含专业技能实践操作），考查形式多样，涵盖内容全面。

二、军队文职人员面试题型剖析

从测评要素的角度出发，军队文职结构化面试的题型主要包括以下几种：

1. 自我认知

出题思路：通过心理投射或迫选的方式提出问题，考查应聘人员的真实意愿。

【真题示例】请做3分钟自我介绍。（军队文职面试-战略支援部队某部队-医师）

2. 工作关系处理

出题思路：通过描述一个与工作职位高度相关的涉及到人际关系处理的假设情境，考查应聘人员对该情境事件的处理能力。

【真题示例】如果领导让你办个事，但是他的方法你觉得不好，且很难开展，你会怎么做？（联勤保障部队某单位单位-工程师）

3. 规划事件处理

出题思路：通过描述一个与工作职位高度相关的事件规划、组织的假设情境，考查应聘人员的组织计划、团队协作能力。

【真题示例】为强健单位员工体魄，单位准备组织一场羽毛球比赛，你会如何组织？（军队文职面试真题-海军研究院-海军助理工程师）

4. 突发事件处理

出题思路：通过描述一个与工作职位高度相关的突发事件处理的假设情境，考查应聘人员的灵活应变能力、团队协作能力、人际交往能力。

【真题示例】马上10分钟就开会了，有个地方领导他说要迟到30分钟来，你怎么办？（军队文职面试-国动系统干休所-干事助理员）

5. 现象认知与职业认知

出题思路：通过应聘人员对社会热点或某一现象的分析阐述，观察应聘人员的分析能力、思维层次。

【真题示例】目前网络综艺层出不穷，但是被很多观众说是抄袭，而且部分综艺的内容出现低俗庸俗的情况。针对现在出现的网络综艺，你怎么看？（军队文职面试-解放军新闻中心-新闻编辑岗）

6. 专业知识

出题思路：了解应聘人员对专业知识的掌握情况。

【真题示例】请考生说出信号调制方法都有哪些？（军队文职面试-海南陆军某单位-助理工程师）

7. 专业实践操作

【真题示例】留置针静脉输液。（军队文职面试-联勤保障部队第九四三医院-护师）

三、军队文职人员面试特殊性分析

相比公职类考试面试，军队文职人员面试更加复杂，包括结构化面试+追问（半结构化），以及专业知识测试，所有岗位几乎都包含有专业知识测试环节。在整个面试中，结构化面试部分内容占比少于专业知识测试，当然不同的单位会选择结构化不同的题型，但是共同点基本包括自我介绍，以及自我认知与职位匹配的相关问题，部分单位会考查人际沟通，综合分析，应急应变和组织管理，但整体比例较少。

四、军队文职人员面试流程介绍

1. 面试考前准备

面试组织方组织应聘人员提前 30 分钟到达面试候考室，查验准考证和身份证件等（具体证件在面试通知单中会详细说明），宣布考场纪律，明确注意事项，并组织应聘人员抽签确定面试顺序。

2. 随机抽取考题

考务组长将考题分发至各面试主考室，由主考官签收应聘人员当场随机抽取考题，提交主考官拆封。每份试题均由大小两个信封分装，其中，大信封分装试卷包括题目、答题要点和评分参考，这些都是供考官使用的，每个考官人手一份；小信封中只有题目，供应聘人员使用。

部分单位也会采取现场电脑抽题的方式。

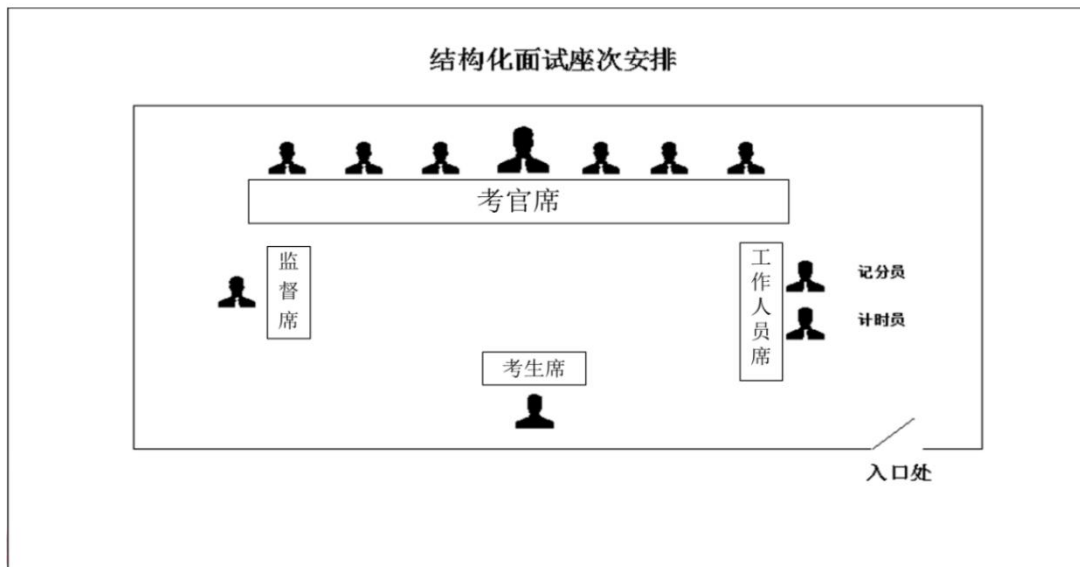
需要注意的是，大部分考场已经采用考生根据专业和岗位分类情况，在《面试系统》中随机抽取的方式确定考题，这样就会大大简化面试考务工作，也更方便做好面试工作的痕迹

管理。

3. 组织答辩操作

主考官根据应聘人员抽选的考题进行提问，其他考官在应聘人员回答后视情况追问，由应聘人员现场回答。面试时间一般不超过 20 分钟。

在考场内，一般会有考官、计分员、记时员、监督员以及考生，考场内的席位空间位置，如下图所示：



面试考场，主考官负责宣读面试指导语，提醒应聘人员应该注意的事项，宣读问题等。计分员负责现场统计分数。记时员负责记录时间，并提醒考试距离答题结束的时间应聘人员应在规定时限内回答给定的问题，切记不可超时。

考生入场后，直接走到考生席，站定后向各位考官问好，并报自己的考试序号。特别注意，应聘人员不能自报姓名，如在考场内自报姓名会被当场取消面试资格（很多单位在面试时会明确要求不能自报姓名等个人信息）。应聘人员落座后，主考官向其宣读面试规则，面试开始。

面试指导语（示例）

你好！欢迎参加今天的面试。面试时间为 20 分钟，你需要通过面试系统选取一套考题，其中包括 * 个问题，准备时间为 * 分钟，答题时间为 * 分钟，另有 * 分钟考官随机提问.....

一道题，计时员对总用时进行控制。

考官根据考生答辩操作情况进行初步打分。有些考场用纸质打分表进行打分，有些考场则通过《面试系统》打分。考官评分客观公正不得相互商量或者暗示。

4. 考官综合评议

同一组应聘人员面试结束后，考务组长组织考官对应聘人员的面试情况进行综合评议。主考官主持评议时应充分听取每个考官的意见，并做好评议总结。

5. 考官评定成绩

每一位考官根据应聘人员答辩操作、回答追问以及合评议的情况，按照下发的面试评分表给每位考生以无记名方式进行逐项评分，调整初评分数。评分结束后交由计分员和监督员核算分数并统计。采取电子评分器进行评分的考场，由考官直接提交分数即可，系统会直接核算分数。

6. 确定面试成绩

在监督员的监督下，计分员将每个考官的评分填入面试成绩表，计算出考官评分的算术平均分，就是每位考生的最终面试成绩。填写到《军队文职人员招聘面试成绩名单》，由计分员、监督员以及主考官签名确认该分数。