

金融习题（30 题）

单项选择题

1. 假定一定时期内，金融市场上企业债券和政府债券的发行数额均一定，但之前发行的企业债券爆发违约潮。由此可以推知（ ）。

- (1) 政府债券收益率下降
- (2) 企业债券收益率上升
- (3) 企业债券收益率高于政府债券，并且利差有大的趋势

- A. 仅 (1) 和 (3)
- B. 仅 (1) 和 (2)
- C. 三项都可推知
- D. 仅 (2) 和 (3)

2. 韩立有一笔资金，想要投资下列金融工具中的一种，已知它们的回报率及概率是：

甲		乙		丙		丁	
回报率	概率	回报率	概率	回报率	概率	回报率	概率
10%	0.6	12%	0.4	15%	0.3	5%	0.9
7%	0.4	8%	0.6	6%	0.7	2%	0.1

为了让收益最大，则韩立应选择哪种金融工具？（ ）

- A. 甲
- B. 乙
- C. 丁
- D. 丙

3. 小张是某银行的理财经理，该银行新推出了一款非保本浮动收益理财产品，在此之前，有一款与之类似的产品年收益达到了 5%，于是小张向客户介绍，该产品是一款投资理财产品，预期收益可达 5%，下列对该行为描述正确的是（ ）。

- A. 历史不能代表未来，小张的推荐容易误导客户，违反了销售人员需要客观真实地向客户介绍银行产品和服务原则
- B. 小张的介绍，简洁明了抓住了产品的特点，值得借鉴
- C. 小张的介绍透露了银行产品内部信息，违反了商业保密原则

D.详细的介绍突出了该产品的优势，且进行了有效的风险提示，客户更容易接受

4. 李某是一家银行的客户经理，他的下列行为中没有违反银行业从业人员职业操守规定的是（ ）。

- A.知道其部门同事有受贿行为，但由于不属于同一部门，因此不予劝阻
- B.周末将有存有客户资料的办公用笔记本电脑带回家用于娱乐和游戏
- C.某企业财务人员向其了解本公司法人在该银行的私人存款情况，李某予以拒绝
- D.利用职务便利，为朋友办事，朋友以一定财务作为回报

5. 假设存在两种债券 X 和 Y，面值均为 1000 元。以下说法正确的是（ ）。

债券	息票率 (%)	发行价 (元)
x	5.5	800
y	7.0	1300

- A.正常情况下，债券 X 的到期收益率与息票率相等
- B.正常情况下，债券 X 的到期收益率比息票率低
- C.正常情况下，债券 Y 的到期收益率与息票率相等
- D.正常情况下，债券 Y 的到期收益率比息票率低

6. 各国在制定汇率时必须选择某一国货币作为主要对比对象，这种货币被称为关键货币。根据本国货币与关键货币实际价值的对比，制定出对它的汇率，这个汇率就是（ ）。

- A.浮动汇率
- B.基本汇率
- C.套算汇率
- D.固定汇率

7. 中央银行可以通过调控商业银行的可用资金量，扩大或缩小商业银行的货币派生能力，发挥其在货币供给中的作用。关于中央银行对货币供给的调控说法错误的是（ ）。

- A.中央银行可以完全控制市场中的货币供应量
- B.中央银行可以通过变动法定准备金率调控
- C.中央银行可以通过变动再贴现率调控
- D.商业银行不能动用所持有的全部准备金

8. 2020 年下半年以来，随着我国率先控制住疫情，经济社会全面恢复，人民币对美元汇率持续升值。下列关于人民币升值的说法正确的是（ ）。

- A.有利于我国出口

- B.有利于我国扩大外需
- C.有利于我国收回外债
- D.有利于我国对外投资

9. 甲于 2019 年 3 月 30 日存入银行定期存款 2000 元，存期一年，存入时该档存款年利率为 2%，后甲于 2020 年 5 月 30 日才支取这笔存款。若支取日挂牌公告的活期储蓄存款年利率为 0.3%，支取后甲于当日将 1000 元存为活期存款。不考虑利息税，则甲的一年定期存款的到期利息为（ ）。

- A.20 元
- B.41 元
- C.3 元
- D.40 元

10. 金融市场按照期限可以分为货币市场和资本市场。以下市场属于资本市场范畴的是（ ）。

- A.股票市场
- B.银行间同业拆借市场
- C.贴现市场
- D.票据市场

11. 下列措施不属于货币政策的是（ ）。

- A.人民银行延续普惠小微企业贷款延期还本付息政策
- B.保持广义货币 M_2 和社会融资规模的增速与名义 GDP 的增速大体相当
- C.国务院提前下达下一年度新增地方政府债务限额
- D.人民银行以信贷资产质押方式发放信贷政策支持再贷款

12. 在全球经济背景下，M 国遭受金融危机重创，企业破产，政府债台高筑，N 国遭受较小，则下列说法中正确的是（ ）。

- A.M 国货币将升值，M 货币/N 货币汇率将减小
- B.M 国货币将贬值，M 货币/N 货币汇率将增大
- C.M 国货币将升值，M 货币/N 货币汇率将增大
- D.M 国货币将贬值，M 货币/N 货币汇率将减小

13. 商业银行在企业资金业务来往中扮演着重要角色，企业资金的进出都需要经过银行系统，这个过程中，银行扮演的角色是（ ）。

- A.信用中介
- B.清算中介
- C.支付中介
- D.交易中介

14. 2021 年春节前夕，中国人民银行开展了 500 亿元 14 天期逆回购操作。该操作起到的主要效果是（ ）。

- A.缓解股市上发生的短时间内暴跌走势
- B.提升银行间市场货币利率，增加贷款成本
- C.缓解市场上出现的短期流动性紧张局面
- D.提高人民币币值，降低汇率，以促进出口

15. 某小国 2020 年的经济数据是：（1）国际收支经常账户逆差 70 亿元；（2）资本账户顺差 80 亿元；（3）年底未清偿外债余额 30 亿元，其中短期外债占 70%；（4）2020 年 GDP140 亿元。

该小国国际收支的情况是（ ）。

- A.逆差 20 亿元
- B.顺差 10 亿元
- C.逆差 10 亿元
- D.顺差 20 亿元

16. 在我国，金融资产管理公司的产生具有历史特殊性，它的经营是以（ ）为核心。

- A.国民资本的保值、增值
- B.国债的兑付、清算
- C.国有固定资产的管理和处置
- D.不良资产的经营、管理和处置

17. 下列利率中，通常按本金的千分比表示的是（ ）。

- A.时息率
- B.年息率
- C.日利率
- D.月利率

18. 证券发行时，发行公司只对特定对象推销证券，这种方式被称为（ ）。

- A.初级发行

- B. 公募
- C. 私募
- D. 次级证券

19. 对商业银行来说, 发行大额可转让定期存单的好处是 ()。

- A. 从期货市场上获取更多的投资收益
- B. 有稳定的资金来源, 增强贷款能力
- C. 将优先股股息固定, 减少了银行支出
- D. 减少了银行负债, 增加了银行资本

20. 面对金融风险造成的预期损失, 商业银行一般采取哪种措施加以应对? ()

- A. 利用资本金
- B. 提取损失准备金
- C. 裁减员工, 降低薪酬
- D. 购买商业保险

多项选择题

21. 金融市场的类型按交易中介可以划分 ()。

- A. 直接金融市场
- B. 间接金融市场
- C. 发行市场
- D. 流通市场
- E. 有形市场

22. 中间业务作为商业银行金融服务能力和产品创新能力的集中体现, 伴随并见证了商业银行发展壮大的过程。下列属于商业银行中间业务的有 ()。

- A. 代理保险业务
- B. 票据贴现业务
- C. 投行咨询业务
- D. 基金托管业务

23. 关于商业银行贷款风险分类说法正确的是 ()。

- A. 按照贷款风险程度的不同, 贷款实行五级分类, 其中后两类为不良贷款
- B. 次级贷款的特征是借款人无法足额偿还贷款本息, 即使执行担保, 也要造成较大损失

C. 尽管借款人目前有能力偿还贷款本息，但存在一些可能对偿还产生不利影响的因素，符合此特征的贷款应归为关注类贷款

D. 可疑贷款属于不良贷款

24. 下列债券中，属于外国债券的是（ ）。

A. 扬基债券

B. 武士债券

C. 金边债券

D. 猛犬债券

25. 中央银行从一家商业银行购买 1000 元国债，商业银行的资产负债表和基础货币将发生（ ）的变化。

A. 基础货币减少 1000 元

B. 商业银行准备金减少 1000 元，证券资产减少 1000 元

C. 商业银行准备金增加 1000 元，证券资产减少 1000 元

D. 基础货币增加 1000 元

26. 下列属于“黑天鹅”事件的是（ ）。

A. 泰坦尼克号沉没

B. 美国 9.11 事件

C. 欧洲债务危机

D. 中国乒乓球队夺取 2008 年北京奥运会冠军

27. “不可能三角”定理指出，一国不可能同时实现三个目标，只能选择其中两个。以下属于该定理的三个目标的是（ ）。

A. 货币政策独立性

B. 财政政策独立性

C. 资本自由流动

D. 汇率稳定

28. 弗里德曼货币需求函数中的机会成本变量有（ ）。

A. 恒久收入

B. 预期物价变动率

C. 固定收益的债券利率

D. 非固定收益的债券利率

E.非人力财富占总财富的比重

29. 下列属于我国人民币制度基本内容的是（ ）。

A.人民币没有含金量的规定

B.人民币是我国（内地）唯一的合法通货

C.人民币出入境不受限制

D.国家指定中国人民银行为唯一的货币发行机构

E.人民币的单位为“元”，辅币的名称为“角”和“分”

30. 下列选项中，属于原生的金融工具的有（ ）。

A.存单

B.货币

C.远期

D.股票

E.债券

经济习题（30题）

单项选择题

1. 国内生产总值表示一定时期内的某一国家或地区领土范围内（ ）的市场价值总和。

A.所有经济交易

B.所有市场交换的最终商品和劳务

C.所有商品与劳务

D.生产的所有最终商品和劳务

2. 一定时期内，某国消费 16 亿，投资 6 亿，政府购买 6 亿，出口 8 亿，进口 7 亿，企业间接税 3 亿，则 GDP 为（ ）。

A.39 亿

B.29 亿

C.38 亿

D.36 亿

3. 如果消费函数为 $c=100+0.8(y-t)$ ，并且税收和政府购买支出同时增加 1 美元，则均衡收入将（ ）。

- A. 保持不变
- B. 增加 3 美元
- C. 增加 1 美元
- D. 下降 4 美元

4. 从储蓄函数可知，引起储蓄增加的因素是（ ）。

- A. 收入增加
- B. 利率提高
- C. 政府支出增加
- D. 人们预期未来的价格水平要上升

5. 以下说法正确的是（ ）。

- A. 如果没有投机货币需求，则 LM 曲线是水平的
- B. 如果没有投机货币需求，则 LM 曲线是垂直的
- C. 如果 LM 曲线斜率为正的话，增加实际货币供给对 LM 曲线没有影响
- D. 如果 LM 曲线垂直的话，增加实际货币供给对 LM 曲线没有影响

6. 运用 IS-LM 模型进行总需求曲线推导过程中，下列哪个说法是正确的？（ ）

- A. 价格下降，IS 曲线右移
- B. 价格下降，IS 曲线左移
- C. 价格下降，LM 曲线右移
- D. 价格下降，LM 曲线左移

7. AD-AS 模型是在 IS-LM 模型基础上推导出来的，它改变的一个基本假设是（ ）。

- A. 投资由利率决定
- B. 货币需求受利率和收入的影响
- C. 价格不变
- D. 充分就业

8. 通货膨胀有不同的类型，需求拉上的通货膨胀（ ）。

- A. 通常用于描述某种供给因素所引起的价格波动
- B. 通常用于描述某种总需求的增长所引起的价格变动
- C. 表示经济制度已调整过的预期通货膨胀率

D.以上均不是

9. 关于奥肯定律，下列说法正确的是（ ）。

A.奥肯定律是由英国经济学家奥肯提出来的

B.奥肯定律衡量的是物价变动率和失业率之间的相关关系

C.当实际 GDP 增长相对于潜在 GDP 增长上升 1%，失业率下降大约 1%

D.当实际 GDP 增长相对于潜在 GDP 增长上升 2%，失业率下降大约 1%

10. 下列对 CPI 的认识，错误的是（ ）。

A.CPI 反映一定时期内居民所购生活消费品的价格变化的相对数

B.CPI 是采用所有商品的价格计算出来的

C.CPI 反映居民所需生活消费品的价值和服务项目价格的变动趋势

D.CPI 的上升将会降低人们的实际收入

11. 通货膨胀是指在一段时间内，一般物价水平或价格水平持续，显著上涨的经济现象。

下列关于通货膨胀的说法，错误的是（ ）。

A.通货膨胀不利于靠固定的货币收入维持生活的人

B.通货膨胀有利于靠固定的货币收入维持生活的人

C.通货膨胀可以在债务人和债权人之间发生收入再分配的作用

D.通货膨胀对储蓄者不利

12. 要实施扩张型的财政政策，可采取的措施有（ ）。

A.增加财政转移支付

B.减少政府购买

C.降低再贴现率

D.提高税率

13. 某些女性在收入比较低时购买杏仁蜜作为化妆品，而在收入提高时，则去购买欧莱雅，杏仁蜜对这些人来说（ ）。

A.吉芬商品

B.低档商品

C.正常品

D.生活必需品

14. 在完全垄断市场上，生产者实施价格歧视的基本条件之一是根据不同的（ ）划分出两组或两组以上的不同购买者。

- A.需求收入弹性
- B.供给价格弹性
- C.需求价格弹性
- D.需求交叉弹性

15. 当存在正的外部经济影响时, ()。

- A.社会边际成本大于私人边际成本, 社会边际收益大于私人边际收益
- B.社会边际成本小于私人边际成本, 社会边际收益小于私人边际收益
- C.社会边际成本大于私人边际成本, 社会边际收益小于私人边际收益
- D.社会边际成本小于私人边际成本, 社会边际收益大于私人边际收益

16. 总需求曲线向右下方倾斜是因为 ()。

- A.价格水平上升时, 投资会减少
- B.价格水平上升时, 消费会减少
- C.价格水平上升时, 净出口会减少
- D.以上几个因素都是

17. 甲乙两地居民的恩格尔系数分别为 30%和 32%, 这可能表明 ()。

- A.从生活水平看, 乙地居民略高于甲地居民
- B.从收入水平看, 甲地居民略高于乙地居民
- C.从收入水平看, 乙地居民略高于甲地居民
- D.从生活水平看, 甲地居民略高于乙地居民

18. 对于生产函数 $Q=f(L, K)$, 理性的生产者选择的生产区域应是 ()。

- A.MP>AP 阶段
- B.MP 下降阶段
- C.MP 与 AP 的交点起至 MP 与横轴交点止
- D.MP>0 阶段

19. 关于无差异曲线, 以下说法错误的是 ()。

- A.同一平面有无数条曲线
- B.曲线凸向原点, 彼此相交
- C.越远离原点的曲线效用越大
- D.同一条曲线上任意两点的效用一致

20. 以下说法哪一种是正确的? ()

- A. 当外在性存在时，商品的价格不一定反映它的社会价值
- B. 存在负的外在性时，边际社会成本等于边际私人成本
- C. 外在性导致的无效率可以依赖于市场本身的力量解决
- D. 存在正的外在性时，边际社会收益小于边际私人收益

多项选择题

21. 从支出法的角度看 GDP，GDP 包括（ ）。

- A. 私人消费
- B. 营业盈余
- C. 政府购买
- D. 私人投资
- E. 净出口

22. 与政府购买支出乘数大小相等的有（ ）。

- A. 自发消费的乘数
- B. 自发投资的乘数
- C. 税收乘数
- D. 政府转移支付乘数

23. 如果 LM 曲线是水平的，则意味着（ ）。

- A. 政府支出挤出效应最强
- B. 流动性陷阱
- C. 货币需求对收入非常敏感
- D. 货币需求对利率非常敏感

24. 如果商品 X 对于商品 Y 的边际替代率 MRS_{XY} 小于 X 和 Y 的价格之比 P_x/P_y ，则（ ）。

- A. 该消费者应减少 X 消费，增加 Y 消费
- B. 该消费者应增加 X 消费，减少 Y 消费
- C. 该消费者未获得最大效用
- D. 该消费者获得了最大效用

25. 寡头垄断市场具有的基本特征是（ ）。

- A. 在一个行业中，只有很少几个企业进行生产

- B.它们所生产的产品有一定的差别或者完全无差别
- C.它们对价格有较大幅度的控制
- D.企业可以自由进入或退出市场
26. 关于个人劳动力供给曲线的说法，正确的是（ ）。
- A.它解释的是劳动力供给意愿随着工资率的上升而上升的变动规律
- B.它解释的是劳动力供给意愿随着工资率的下降而下降的变动规律
- C.个人劳动力供给曲线的形状是向后弯曲的
- D.它反映了个人劳动力供给时间随工资率的变动而变化的规律
27. 在下列乘数中，是正值的乘数有（ ）。
- A.投资乘数
- B.政府购买乘数
- C.税收乘数
- D.政府转移支付乘数
- E.平衡预算乘数
28. 关于摩擦性失业的说法中正确的有（ ）。
- A.经济运行正常时此种失业也会存在
- B.可以通过提高劳动市场的交易效率，部分降低此种失业
- C.可以通过货币政策降低此种失业
- D.凯恩斯的短期需求管理政策对此种失业无显著影响
29. 如果央行减少货币供给，政府增加税收，则（ ）。
- A.利率必定提高
- B.IS 曲线向左移动
- C.利率必定下降
- D.收入的均衡水平必定下降
30. 政府支出对私人投资和消费的挤出效应小，可能是因为（ ）。
- A.政府支出乘数小
- B.货币需求的收入系数小
- C.货币需求的利率系数小
- D.投资的利率弹性小

会计习题（25 题）

单项选择题

1. 下列各项中，不符合资产会计要素定义的是（ ）。
 - A. 原材料
 - B. 委托加工物资
 - C. 盘亏的固定资产
 - D. 尚待加工的半成品
2. 在下列项目中，与“制造费用”科目应归属于同一类的是（ ）。
 - A. 无形资产
 - B. 管理费用
 - C. 生产成本
 - D. 资产减值损失
3. 下列各项中，属于总分类会计科目的是（ ）。
 - A. 应交增值税
 - B. 应付账款
 - C. 专利权
 - D. 专用设备
4. 账户的开设依据是（ ）。
 - A. 会计对象
 - B. 会计科目
 - C. 会计要素
 - D. 会计方法
5. 符合资产类账户记账规则的是（ ）。
 - A. 增加记借方
 - B. 增加记贷方
 - C. 减少记借方
 - D. 期末若有余额，在贷方
6. 应付账款账户期初贷方余额为 2000 元，本期贷方发生额为 5000 元，本期贷方余额为 2000 元，该账户借方发生额为（ ）元。

A.借方 5000

B.借方 3000

C.借方 2000

D.贷方 2000

7. 余额试算平衡法下的平衡关系有（ ）。

A.全部账户借方本期发生额合计=全部账户贷方本期发生额合计

B.全部账户借方期初余额合计=全部账户贷方期末余额合计

C.借方科目金额=贷方科目金额

D.全部账户借方期末余额合计=全部账户贷方期末余额合计

8. 假定某企业应收账款账户期初余额为 10000 元，本期借方发生额为 30000 元，贷方发生额为 10000 元，则期末余额为（ ）。

A.借方 10000

B.贷方 30000

C.借方 30000

D.都不正确

9. 对于所有者权益类账户而言（ ）。

A.增加记入借方

B.增加记入贷方

C.减少记入贷方

D.期末无余额

10. 会计对象是指特定主体（ ）。

A.全部经济活动

B.销售过程中的经济活动

C.生产过程中的经济活动

D.能以货币表现的经济活动

11. 某企业上年末资产总额为 900 万元，所有者权益为 500 万元，假设该企业今年向银行借款 100 万元用于购置设备，则该企业的负债总额为（ ）万元。

A.400

B.900

C.500

D.100

12. 会计主体是指会计所服务的（ ）。

- A.特定单位
- B.投资者
- C.债权人
- D.管理者

13. 流动负债是指可以在（ ）偿还的现时义务，包括短期借款、应付账款等。

- A.一年内
- B.一年或超过一年的一个营业周期内
- C.一个营业周期内
- D.一年或超过一年的一个营业周期以上

14. 企业发放工资，属于资金运动的哪一环节（ ）。

- A.资金的投入
- B.资金的运用
- C.资金的退出
- D.资金的来源

15. 承租企业将融资租入的固定资产视为自有固定资产核算体现了（ ）的要求。

- A.客观性
- B.重要性
- C.实质重于形式
- D.一贯性

16. 以下符合谨慎性要求的是（ ）。

- A.高估资产
- B.计提减值
- C.低估收益
- D.低估负债

17. 下列不属于反映企业财务状况的会计要素是（ ）。

- A.资产
- B.负债
- C.所有者权益

D.利润

18. 下列属于会计的基本等式的是（ ）。

- A.资产=负债+所有者权益
- B.资产=负债+所有者权益+(收入-费用)
- C.资产=负债+所有者权益+利润
- D.收入-费用=利润

19. 下列不属于流动负债的是（ ）。

- A.应付账款
- B.预付账款
- C.在1年内的一个营业周期内偿还的债务
- D.将于1年内到期的长期借款

20. 下列不属于会计科目设置原则的是（ ）。

- A.相关性
- B.实用性
- C.科学性
- D.合法性

多项选择题

21. 企业的资金运动由各个环节组成，它包括（ ）。

- A.资金投入
- B.资金运用
- C.资金退出
- D.资金增值

22. 期间费用包括（ ）。

- A.生产费用
- B.管理费用
- C.销售费用
- D.财务费用

23. 下列各项中，会导致账实不符的有（ ）。

- A.记账中漏记经济业务

B.收、发财产时，计量不准确而造成数量上的差错

C.记账中错记经济业务

D.财产毁损

24. 财务会计报告由（ ）组成。

A.会计报表

B.审计报告

C.会计报表附注

D.财务情况说明书

25. 下列财务报表中，既属于动态报表，又属于对外报表的是（ ）。

A.资产负债表

B.利润表

C.现金流量表

D.产品成本表

管理习题（25 题）

单项选择题

1. 最早提出“生产合理化”的概念是（ ）。

A.罗伯特·欧文

B.亚当·斯密

C.泰罗

D.查尔斯·巴贝奇

2. 某厂领导者杨某，在工作中经常事先无布置，事后无检查。喜欢把权力完全给予个人，给下属以高度独立性，并且在组织内部未形成规章制度，完全凭借个人的自觉性。杨某的领导方式属于下列哪一种（ ）。

A.专制式

B.放任式

C.民主式

D.告知式

3. 下列指标中，用于衡量组织整体绩效的是（ ）。

- A.生产率
- B.利润
- C.员工士气
- D.上述 ABC 都是

4. 方案的实施需要利用一定的资源。缺乏必要的人力、物力、财力，理论上十分完善的方案也只能是空中楼阁。这体现了决策的哪一特点（ ）。

- A.目标性
- B.过程性
- C.选择性
- D.可行性

5. 法约尔提出的管理五选项职能或要素（ ）。

- A.计划、组织、指挥、协调和控制
- B.计划、组织、决策、领导和控制
- C.计划、组织、决策、协调和控制
- D.计划、组织、激励、协调和控制

6. 下列哪一选项不属于决策的特征（ ）。

- A.目标性
- B.满意性
- C.选择性
- D.静态性

7. 某民营企业一位姓姚的老板手下有几十个员工，他对自己“独有”的领导方式感到颇为自豪。他对手下人常说的一句口头禅就是：“不好好干回家去，干好了月底多拿奖金。”

可以认为，老板把他手下的工人都看作是（ ）。

- A.只有生理需要和安全需要的人
- B.只有生理需要和归属需要的人
- C.只有归属需要和安全需要的人
- D.只有安全需要和尊重需要的人

8. 下列选项中，哪一选项不属于传统战略决策模型（ ）。

A.SWOT 分析法

B.波士顿矩阵

C.GE 矩阵

D.网络技术法

9. 管理过程学派强调的是（ ）。

A.管理是让别人同自己去实现既定目标的过程

B.管理的核心是提高劳动生产率

C.在管理中要重视人的因素

D.要建立正式的、非人格化的组织体系

10. 在（ ）中，管理者处理信息并得出结论。

A.人际角色

B.信息角色

C.决策角色

D.主要角色

11. 下列属于赫茨伯格所提出的“激励因素”的是（ ）。

A.薪金

B.地位

C.工作条件

D.晋升

12. 有人曾做过这样一个试验，请一家公司的 23 位主管回答“假如你是公司总裁，你认为哪个问题最重要”，结果每个主管都认为从全公司角度出发，自己所负责的部门最重要。销售经理说营销是个大问题，生产经理认为产品是生命，人事经理则回答说在现代的管理中，人是中心。这个试验说明什么（ ）。

A.沟通的技术因素

B.沟通技巧的差异

C.沟通接受的有选择性

D.沟通的结构因素

13. 巴纳德在组织的性质和理论方面做出了杰出贡献，其代表作是（ ）。

A.《工业文明的社会问题》

B.《社会和经济组织的理论》

- C.《经理的职能》
- D.《科学管理原则》

14. 沟通的类别依划分的标准不同而不同。以下哪一选项是按照沟通的方向划分的（ ）。

- A.工具式沟通和感情式沟通
- B.口头沟通、书面沟通、电子媒介沟通
- C.正式沟通和非正式沟通
- D.下行沟通、上行沟通和平行沟通

15. 组织文化的核心是什么（ ）。

- A.组织价值观
- B.以人为本的人本文化
- C.以柔性管理为主
- D.增强群体凝聚力

16. 宝洁 P&G 是中国最大的日用消费品公司，主要是以品牌事业部为主，如飘柔、舒肤佳、玉兰油、吉列等，事业部是宝洁的利润来源。这种以产品线为中心，实行集中政策下的分散经营属于哪种组织结构类型（ ）。

- A.直线制
- B.职能制
- C.矩阵制
- D.事业部制

17. “法约尔跳板”原理是指允许跨越权力线直接进行横向沟通，从而克服由于统一指挥而产生的信息传递延误。以下哪一理论的创始人与“法约尔跳板”原理的提出者相同（ ）。

- A.科学管理理论
- B.组织一般管理理论
- C.双因素理论
- D.决策理论

18. 移动配置型是一种从员工相对岗位移动进配置的类型，这种配置的具体表现形式大致有三种，其具体表现形式中不包含（ ）。

- A.晋升
- B.降职

C.调动

D.辞退

19. 马斯洛认为人类最底层的需要是（ ）。

A.安全需要

B.生理需要

C.社交需要

D.自我实现需要

20. 在沟通过程中，可能有几个中心人物，由他转告若干人，而且有某种程度的弹性。

这属于非正式沟通的哪种类型（ ）。

A.集群连锁

B.随机连锁

C.密语连锁

D.单线连锁

多项选择题

21. 控制工作的目的不包括（ ）。

A.提高管理水平

B.提高技术水平

C.维持现状

D.打破现状

22. 领导权变理论中的菲德勒权变理论提出了领导风格分为关系取向和任务取向。该理论的特点包括（ ）。

A.在最有利的情况下，采取以任务为中心的领导方式，效果要好

B.在最有利的情况下，采取以人为中心的领导方式，效果要好

C.在中间状态下，采取以任务为中心的领导方式，效果要好

D.在最不利的情况下，采取以任务为中心的领导方式，效果要好

E.处于中间状态的环境采用“以人为中心”的宽容型领导方式，效果较好

23. 企业决策者在制定决策时，要通过诊断问题、识别机会和目标、拟定和评估备选方案、作出决定后选择实施战略，最后进行监督和评估。在选择实施战略阶段，需要注意哪些问题（ ）。

- A.制定相应具体措施，保证方案正确实施
- B.确保与方案有关的各种指令能被有关人员充分接受
- C.应用目标管理法把决策目标层层分解
- D.建立重要的工作报告制度

24. 孔茨认为，目标管理是一个全面的管理系统，它用系统的方法，使许多管理活动结合起来，并且有意识地高效实现组织目标和个人目标。一个完整的目标管理过程应包括（ ）。

- A.制定目标
- B.明确组织的作用
- C.执行目标
- D.成果评价、实行奖惩

25. 对于企业而言，沟通的重要意义是（ ）。

- A.是企业凝聚为一个整体的催化剂
- B.是信息传递或交换的过程
- C.是企业同政府等建立固定联系的桥梁
- D.是管理者实现管理职能的基本途径

公基习题（40 题）

单项选择题

1. 甲与乙订立了一份买卖合同，价款 100 万元，甲向乙支付 10 万元定金。因甲方不能履行合同，引起违约，造成乙方 25 万元的损失，合同约定的违约金为合同价款的 15%，根据《民法典》相关规定，对乙方的权利描述正确的是（ ）。

- A.有权不返还甲方定金，无权提出其他要求
- B.有权不返还甲方定金，有权要求甲方赔偿实际损失超过定金部分差额
- C.有权不返还甲方定金并要求甲方支付违约金
- D.有权要求甲方赔偿实际损失并支付违约金

2. 《民法典》规定，主债权债务合同无效的，担保合同（ ），但是法律另有规定的除外。

A.效力不受影响

B.无效

C.效力待定

D.以上答案都不对

3. 《民法典》规定，同一财产既设立抵押权又设立质权的，拍卖、变卖该财产所得的价款按（ ）确定清偿顺序。

A.抵押权人优于质权人

B.质权人优于抵押权人

C.按照登记、交付的时间先后

D.按照抵押合同、质押合同生效时间先后

4. 甲贩运假烟，驾车路过某检查站时，被工商执法部门拦住检查。检查人员乙正登车检查时，甲突然发动汽车夺路而逃。乙抓住汽车车门的把手不放，甲为摆脱乙，在疾驶时突然急刹车，导致乙头部着地身亡。甲对乙死亡的心理态度属于下列哪一选项（ ）。

A.直接故意

B.间接故意

C.过于自信的过失

D.疏忽大意的过失

5. 下列哪种情形中，当事人之间产生合同法律关系？（ ）

A.甲拾得乙遗失的一块手表

B.甲邀请乙看球赛，乙因为有事没有前去赴约

C.甲因出差，将一台电脑放入乙家

D.甲鱼塘的鱼跳入乙鱼塘

6. 根据《中华人民共和国民法典》规定，处理民事纠纷，应当依照法律；法律没有规定的，可以（ ）。

A.适用习惯，但是不得违背公序良俗

B.适用社会公德，但不得损害社会公共利益

C.适用地方政策

D.适用县政府的决定

7. 下列哪一事项属于民法的调整对象（ ）。

A.甲对男朋友说，如果你考上研究生我就嫁给你

B.县长乙与某国有企业厂长约定，企业上缴税收达一定数额，即为其加薪

C.丙在出国旅游时承诺为好友代购奶粉

D.丁无偿搭载同事，途中因驾驶不慎引发交通事故，致同事受伤

8. 下列关于所有权的表述，正确的是（ ）。

A.所有权的存在可以预定其存续期间

B.所有权具有弹性性

C.仅包括使用、收益的权利

D.不具有排他性

9. 小王与某广告公司明确权利义务后，公司决定与小王签订劳动合同，并确定了合同时长、试用期期限及试用期工资。下列符合法律规定的是（ ）。

A.合同为2年，试用期为6个月

B.合同为2年，试用期为2个月

C.试用期工资为转正工资的50%

D.试用期工资为转正工资的60%

10. 关于合同成立时间的表述，不正确的一项是（ ）。

A.双方有承诺的，承诺生效时合同就成立

B.书面形式的，双方当事人签字时合同就成立

C.数据电文形式且有确认书的，签订确认书时合同就成立

D.投寄信件的，以受要约人收到信件时合同就成立

11. 关于我国著名水系，下列说法正确的是（ ）。

A.黄河最终注入黄海

B.长江流经安徽和江西

C.澜沧江为东西走向

D.珠江发源于青藏高原

12. 关于节气常识，下列说法不正确的是（ ）。

A.夏至，太阳直射北回归线，南半球白昼时间最短

B.冬至，北半球一年中影子最短，白昼时间最短

C.春分、秋分昼夜等长，白露是北半球昼夜温差最大的时间

D.从立春开始，立春在每年的2月4日左右，每个月两个节气

13. 世界上最长的河流是（ ）。

A.尼日尔河

B.刚果河

C.尼罗河

D.亚马逊河

14. 关于太阳，下列说法不正确的是（ ）。

A.目前已经进入衰老时期

B.通过核聚变来释放能量

C.所产生的能量主要靠辐射方式传播

D.是太阳系中唯一会发光的天体

15. 关于我国著名湖泊，下列说法错误的是（ ）。

A.太湖位于亚热带季风气候区域

B.洞庭湖位于淮河流域

C.青海湖是内陆湖泊

D.鄱阳湖是中国最大淡水湖

16. 下列关于地球的说法，错误的是（ ）。

A.东经 180° 与西经 180° 重合

B.地球的赤道半径比两极半径略长

C.哥白尼最早提出大地是球形的设想

D.地球是太阳系中质量最大的类地行星

17. 下列作者与诗句连线不正确的是（ ）。

A.范仲淹——先天下之忧而忧，后天下之乐而乐

B.杜甫——安得广厦千万间，大庇天下寒士俱欢颜

C.李白——安能摧眉折腰事权贵，使我不得开心颜

D.杜牧——野火烧不尽，春风吹又生

18. 关于宋词，下列说法不正确的是（ ）。

A.“人比黄花瘦”是女词人李清照的名句

B.“井水处即能歌柳词”说的是柳永

C.“檣櫓灰飞烟灭”说的是官渡之战

D.辛弃疾是“豪放派”代表词人之一

19. 我国省级行政区的设立最早始于（ ）。

- A.唐朝
- B.元朝
- C.明朝
- D.清朝

20. 下列典故与事件，不是发生在汉武帝在位期间的是（ ）。

- A.七国之乱
- B.封狼居胥
- C.开通丝绸之路
- D.颁布“推恩令”

21. 在 Word 中，“页面设置”的方法是选择（ ）菜单中的“页面设置”命令。

- A.“视图”
- B.“编辑”
- C.“文件”
- D.“格式”

22. 如果一个类的成员变量只能在所在类中使用，则该成员变量必须使用的修饰是（ ）。

- A.public
- B.protected
- C.private
- D.static

23. 下列字符中，ASCII 码值最小的是（ ）。

- A.A
- B.a
- C.Z
- D.x

- (1) 数字比字母要小。如“7” < “F”；
- (2) 字母 A 比字母 Z 要小，并按 A 到 Z 顺序递增。如“A” < “Z”；
- (3) 数字 0 比数字 9 要小，并按 0 到 9 顺序递增。如“3” < “8”；
- (4) 同个字母的大写字母比小写字母要小 32。如“A” < “a”。

本题选项从小到大依次是 A<Z<a<x，故本题正确答案选 A。

24. 当前，由人工智能引领的新一轮科技革命和产业变革方兴未艾。在移动互联网、大数据、超级计算、传感网、脑科学等新理论新技术驱动下，人工智能呈现深度学习、跨界融合、人机协同、群智开放、自主操控等新特征，正在对经济发展、社会进步、全球治理等方面产生重大而深远的影响。下列对人工智能的认识，正确的是（ ）。

- A. 人工智能越来越成为人类改造世界活动的决定因素
- B. 人工智能是自然的产物并推动了人类思维的发展
- C. 人工智能扩展了人类实践活动的深度和广度
- D. 人工智能决定人类意识的发展水平

25. 下列哪一个 IP 地址是不可能存在的（ ）。

- A. 198.163.0.2
- B. 256.134.7.8
- C. 201.202.34.9
- D. 136.64.17.5

26. 区块链技术的革命在于把人与人的信任转换为人与技术的信任。以下哪项不是区块链构成的核心要素？（ ）

- A. 统一记账机制
- B. 共识机制
- C. 密码学技术
- D. 分布式存储

27. 高铁订票系统属于（ ）方面的计算机应用。

- A. 科学计算
- B. 信息检索
- C. 过程控制
- D. 数据处理

28. C/S 是一种重要的网络计算机模式，其含义是（ ）。

- A. 客户/服务器模式
- B. 文件/服务器模式
- C. 分时/共享模式
- D. 浏览器/服务器模式

29. 下列关于视图的说法不正确的是（ ）。

- A.视图是从一个或多个基本表导出的表，它是虚表
- B.某一用户可以定义若干个视图
- C.视图一经定义就可以和基本表一样被查询、删除和更新
- D.视图可以用来定义新的视图

30. 某型号计算机的配置为：Intel 酷睿 2.8GHz/4G/500GB./50X/19’，那么该机器的内存大小是（ ）。

- A.2.8GHz
- B.4G
- C.500GB.
- D.50X

多项选择题

31. 用人单位不得解除劳动合同的情形（ ）。
- A.在单位患职业病的
 - B.女职工在哺乳期间的
 - C.不能胜任本单位工作的
 - D.已在本单位工作满 15 年，且离退休不到 5 年的

32. 关于可撤销民事行为，下列说法中正确的是（ ）。

- A.行为人对行为内容有重大误解的是可撤销的民事行为
- B.显失公平的行为是可撤销的民事行为
- C.当事人请求变更的，人民法院或者仲裁机构可以撤销
- D.可撤销民事行为一经撤销，自始无效

33. 李某将电脑遗失在火车站候车室，被旅客王某捡到，下列说法不符合法律规定的是（ ）。

- A.王某可将电脑交给执勤警察，也可以自己用
- B.王某联系李某后声称可以返还，但要求李某支付 50 元快递费
- C.李某登报悬赏 3000 元寻找电脑，王某表示愿意归还，但李某以悬赏金额过高为由只同意支付 1000 元
- D.王某将电脑交给公安机关，公安机关发布招领公告，经过一年无人认领，电脑应归王某所有

34. 根据《民法典》的规定，下列关于物权变动的表述中，正确的有（ ）。

- A.因人民法院的判决取得物权的，自判决生效时发生效力
- B.因受遗赠取得物权的，自受遗赠开始时发生效力
- C.因合法建造取得物权的，自登记之日起发生效力
- D.因拆除房屋等事实行为消灭物权的，自事实行为成就时发生效力

35. 下列小说属于鲁迅作品的有（ ）。

- A.《子夜》
- B.《彷徨》
- C.《泯灭》
- D.《阿Q正传》

36. 下列关于二十四节气与生产生活关系说法正确的是（ ）。

- A.“夏满芒夏暑相连”包含了六个节气
- B.惊蛰后树木生根发芽，是林果嫁接的最佳时期
- C.小暑过后长江以南将进入雨季，梅雨汛期开始
- D.清明后自然由阴转阳，这时要注意清泻肝火

37. 下列选项中属于地质作用的内力作用为（ ）。

- A.地震
- B.火山
- C.泥石流
- D.滑坡

38. 以下哪项属于网络管理系统的组成部分？（ ）

- A.管理进程
- B.被管对象
- C.代理进程
- D.网络管理协议

39. 计算机网络中的恶意程序，包括（ ）。

- A.计算机病毒
- B.计算机蠕虫
- C.Cookie
- D.逻辑炸弹

40. 关于 TCP 协议描述正确的是 ()。

- A. 提供可靠交付的服务
- B. 通过窗口大小进行流量的控制
- C. 基于字符流的传输层通信协议
- D. 提供半双工通信

英语习题 (50 题)

选词填空

1. Woman have made great () in the employment market over the past 50 years, and some are at the very top in different professions.

- A. strides
- B. edge
- C. strive
- D. ribbons

2. The ability of mammals to bear live young is a consequence of a viral gene () to permit the formation of placentas.

- A. modified
- B. having modified
- C. modifying
- D. being modified

3. With the U.S. government amassing growing amounts of () every year, it needs the money that foreign investors offer.

- A. debt
- B. cost
- C. currency
- D. Payment

4. It took me exactly a week to () the work.

- A. start

- B. achieve
- C. complete
- D. stop
5. The dentist has decided to () her bad tooth.
- A. take out
- B. break off
- C. push in
- D. dig up
6. There's been a lot of contention in the last couple of weeks about the future () of the company.
- A. decision
- B. direction
- C. condition
- D. Orientation
7. This table is strong and ().
- A. eternal
- B. extensive
- C. far-reaching
- D. Durable
8. If you want to keep healthy, you should () the foods you eat.
- A. reject
- B. accept
- C. choose
- D. vary
9. These are defensive behavior patterns which () from our fears.
- A. derive
- B. rely
- C. thrive
- D. inform
10. One's economic condition often () his or her way of life.

- A. depends
- B. shows
- C. reduces
- D. influences

11. Poor schooling was the () of the unemployment problem.

- A. base
- B. result
- C. force
- D. root

12. This new policy proved effective, leading to () increase in production.

- A. striking
- B. minor
- C. fixed
- D. Modest

13. No one but Tom and Jerry () the ambition to secure a post in NATO headquarters which () located in Shanghai.

- A. go; is
- B. have gone; is
- C. goes; has been
- D. goes; are

14. We need no floor mopping robot, () .

- A. and we can neither afford it
- B. and nor we can afford it
- C. nor can we afford it
- D. neither can afford it

15. Secondhand smoke is so harmful to the health of children and women that it kills far more people each year () the flu virus.

- A. then
- B. than
- C. that

D. with

16. () that he is the youngest basketball player on the court, he actually plays pretty well.

A. Considered

B. Consider

C. To consider

D. Considering

17. Scientific research shows that no one in the world has a perfectly () face.

A. balanced

B. similar

C. subtle

D. symmetric

18. () recent medical research, there are effective treatments for lung cancer.

A. Thanks to

B. Account for

C. In addition to

D. As long as

19. In times of emergency, citizens buy and stock up food and daily necessities in bulk in supermarkets. The underlined part means ().

A. in large quantities

B. in advance

C. in addition

D. in basket

20. Under the bed () two boxes, one containing Nike shoes, the other Adidas.

A. lies

B. lays

C. lay

D. laid

21. () for Beijing by train today, Lisa could meet her parents there in three days.

A. Would she leave

- B. Was she leaving
- C. Were she to leave
- D. If she leaves

22. The team members know that this game could only () backwards, but all of them must () forwards.

- A. be reviewing; living
- B. been reviewed; living
- C. be reviewed; live
- D. review; live

23. Those who come to the interview today will have to wait () six weeks to find out whether they are accepted or not.

- A. another
- B. either
- C. both
- D. other

24. Scientists believe the domestic epidemic outbreak has been expanding and spreading since October 2019.

- A. was expanding and spreading
- B. has been expanding and spreading
- C. is expanding and spreading
- D. expends and spreads

25. () for long periods of time has always amazed biologists.

- A. Insects can fly
- B. Insects are flying
- C. How insects fly
- D. Could insects fly

26. Scarcely () the good news when the tall boy laughed out.

- A. did he hear
- B. had he heard
- C. would he hear

D. he had heard

27. He is now a famous musician and a () person in this country.

A. respectable

B. respecting

C. respectful

D. respective

阅读理解

Passage 1

Over the past year, dockless electric scooters have descended on city sidewalks almost as if fell from the sky. From Austin, Texas, to Denver to Cambridge, Mass., these compact two-wheelers are leading what researchers are calling the “micro-mobility revolution”. But their arrival has not been without controversy. A survey of 7,000 people by the research firm Populous found that 3.6 percent of people reported using scooters in the relatively short time they’ve been available, which is a quicker adoption rate than competitors such as dockless bikes. Nearly 70 percent of people view dockless scooters positively, the report also found. “The adoption of these new services has been quite remarkable in terms of new mobility services is accelerating,” Populous CEO Regina Clewlow says.

Many of those surveyed view dockless scooters as a fun and easy way to get around the city, Clewlow says. According to the report, riders say dockless scooters complement public transportation and can replace short rides in a personal car rather than a taxi. They can also support a car-free lifestyle. And they’re cheap to ride, too. They cost about \$1 to unlock and then 15 cents per minute. Users download an app, enter their credit card information and locate available scooters in their area. “Because so many people are accustomed to using their cellphones to call a personal car or now unlock a car-sharing vehicle, the idea of being able to unlock a dockless electric scooters feel quite natural,” Clewlow says.

But those who enjoy riding these scooters may constitute a silent majority. In fact, dockless scooters and bikes have drawn the anger of some residents who say they’re a nuisance. People weave in and out of traffic at speeds of up to 15 mph, often without helmets, and when they’re done riding, they discard the scooters in the middle of sidewalks, according to reports.

Local governments are also struggling to keep up. In San Francisco, St. Louis and Milwaukee, among other cities, electric scooter companies deployed hundreds of scooters unannounced or without permission from the city. Some cities have completely banned scooters by issuing cease-and-desist orders. For example, San Francisco ordered electric scooters companies to stop operations until they applied for permits. The same thing happened in Cambridge and Somerville, Mass., just days after scooters were dropped on the streets. Patrick Sisson, a reporter with the website Curbed, told NPR News that the confusion over how to regulate dockless scooters is similar to how local government reacted to the rise of personal cars' ride-sharing services. City officials are completely caught off guard and unprepared.

1. How do the local governments view the scooters? ()
 - A. They should be banned.
 - B. They are lack of permission.
 - C. They complement public transportation.
 - D. They are the future of local transportation.
2. What can we learn from the passage? ()
 - A. Bikes have a quicker adoption rate than scooters.
 - B. Scooters can replace short rides in a car or a taxi.
 - C. Cities are well prepared about the influx of scooters.
 - D. People who view scooters positively are the majority.
3. What is mainly discussed in the passage? ()
 - A. Adoption of dockless scooters is accelerating.
 - B. Small vehicle shares have caused controversy.
 - C. Dockless scooters gain both popularity and scorn.
 - D. Tech companies race to keep up with vehicle shares.
4. According to the passage, which is NOT the factor that makes some residents angry?
()
 - A. People discard scooters at will.
 - B. People ride scooters at high speed.
 - C. People do not take care of scooters.
 - D. People ride scooters without helmets.

5. According to the passage, how much will it cost if one uses a dockless scooters for 5 minutes? ()

- A. \$1.
- B. \$1.15.
- C. \$1.5.
- D. \$1.75.

Passage 2

In 1901, H. G. Wells, an English writer, wrote a book describing a trip to the moon. When the explorers landed on the moon, they discovered that the moon was full of underground cities. They expressed their surprise to the “moon people” they met. In turn, the “moon people” expressed their surprise. “Why,” they asked, “are you traveling to outer space when you don’t even use your inner space?”

H. G. Wells could only imagine travel to the moon. In 1969, human beings really did land on the moon. People today know that there are no underground cities on the moon. However, the question that the “moon people” asked is still an interesting one. A growing number of scientists are seriously thinking about it.

Underground systems are already in place. Many cities have underground car parks. In some cities, such as Tokyo, Seoul and Montreal, there are large underground shopping areas. The “Chunnel”, a tunnel connecting England and France, is now complete.

But what about underground cities? Japan’s Taisei Corporation is designing a network of underground systems, called “Alice Cities.” The designers imagine using surface space for public parks and using underground space for flats, offices, shopping, and so on. A solar dome (太阳能穹顶) would cover the whole city.

Supporters of underground development say that building down rather than building up is a good way to use the earth’s space. The surface, they say, can be used for farms, parks, gardens, and wilderness. H. G. Wells’ “moon people” would agree. Would you?

6. The explorers in H. G. Wells’ story were surprised to find that the “moon people” ().
- A. lived in so many underground cities
 - B. knew so much about the earth

- C. understood their language
- D. were ahead of them in space technology
7. What does the underlined word “it” refer to? ()
- A. Discovering the moon’s inner space.
- B. Traveling to outer space.
- C. Meeting the “moon people” again.
- D. Using the earth’s inner space.
8. What sort of underground systems are already here with us? ()
- A. Tunnels, car parks, shopping areas.
- B. Offices, shopping areas, power stations.
- C. Gardens, car parks, power stations.
- D. Tunnels, gardens, offices.
9. What would be the best title for the text? ()
- A. Alice Cities—cities of the future.
- B. Space travel with H. G. Wells.
- C. Building down, not up.
- D. Enjoy living underground.

Passage 3

Within three days of starting high school this year, my ninth-grader could not get into bed before 11 p.m. or wake up by 6 a.m. He complained he couldn’t fall asleep but felt foggy during the school day and had to reread lessons a few times at night to finish his homework. And forget morning activities on the weekends---he was in bed.

We’re not the only family struggling to get result shut-eye. “What parents are sharing with us is that the ‘normal life’ of a typical American high schooler is interfering with sleep,” says Sarah Clark, co-director of C.S. Mott Children’s Hospital National Poll on Children’s Health at the University of Michigan.

In the poll of 2,000 parents from various ethnic groups and backgrounds that Clark and her team published this month, 1 in 6 parents say their teen experiences frequent sleep problems---“having trouble falling asleep or staying asleep 3 or more nights per week.” More than half the

parents say it's because their teens won't get off their electronic devices, and 43 percent blame irregular schedules with homework and activities. A significant percentage of parents say their kids worry about school (31 percent), and 23 percent say their teens stay up worrying about their social lives. It's likely that the numbers of teens who have trouble sleeping is even higher than the poll of parents suggests, Clark says, because kids can hide their nighttime electronics use and parents may not frequently check in on older children.

How can parents help? Start with knowing what kids need. The average American teenager gets seven hours of sleep a night, wedging it in between homework, outside activities, dinner and maybe a job. But research suggests teens need more like nine hours. Unfortunately, even their bodies work against them, says Mary Carskadon, a longtime sleep researcher and professor of psychiatry and human behavior at Brown University. As children grow into the middle and teen years, they are naturally inclined to go to bed later and sleep later in the morning. But an early school start time doesn't allow it. "If kids' body clocks are shifting later and the school is starting earlier, there's no time left to recover," Carskadon says.

Clark and Carskadon say, the most effective thing we parents can do is listen to our kids---talk with them about their sleep challenges and help them set a regular sleep schedule. It's never too early (or too late) to find healthy ways to relieve daytime stresses that can disrupt sleep at night, whatever your age. Best idea yet, parents: We can set a good example, by putting our own electronics away--- really away--- at bedtime.

10. How many parents report their teens worry about school? ()

- A. 17%
- B. 23%
- C. 31%
- D. 43%

11. How much sleep do the average teens need? ()

- A. Six hours.
- B. Seven hours.
- C. Eight hours.
- D. Nine hours.

12. What can we learn from the passage? ()

- A. Teens will not get off their electronic devices until bedtime.
- B. There are more teens who have sleep problems than parents.
- C. More than half the teens hide their nighttime electronic use.
- D. The teens' body clocks work against the early school start time.

13. What is the passage mainly about? ()

- A. The perils of parents pushing teens too hard.
- B. The challenges teens experience in high school.
- C. The advice for teens adjusting to high school life.
- D. The normal life of a typical American high schooler.

14. What can parents do according to the researchers? ()

- A. Teach time management.
- B. Pull back on the crammed schedule.
- C. Limit caffeine in the evening.
- D. Put electronics away and out of reach.

Passage 4

The World Bank is committed to fighting poverty and helping developing countries invest in their education systems. In light of this, it has embraced the achievement of the Millennium Development Goals as its main priority and, particularly, "Eliminating gender disparity primary and secondary education". The World Bank has recognized that there is no investment more effective for achieving development goals than educating girls. World Bank activities focus on assisting countries own efforts to advance gender equality. Through its lending and non-lending activities, the Bank has helped to improve lives of girls in client countries. Since the World Conference on Education for all in joint in 1990, the Bank's emphasis in the area of girls' education has increased and gender equality has been integrated as an important component of the Bank's poverty reduction mission.

Compared with two decades ago, more young people are entering school, completing the primary level, and pursuing secondary and tertiary education. In low-income countries alone, average enrollment rates in primary education have surged upwards of 80 percent, and primary completion rates are now above 60 percent. Remarkable accomplishments have been made

towards achieving gender equality at all levels of education. Since 1990 the ratio of girls to boy enrolled in school has risen at all levels of education. The most significant increase in girls' education enrollment in Sub-Saharan Africa and South Asia has been at the primary education level. In East Asia, Latin America and the Caribbean, the increase in girl's education has been at the secondary education level while In Europe and Central Asia; girls' enrollment has raised most at the higher education level.

Although most developing countries have made considerable progress in reducing the gender gap in school enrollment, significant gender gaps remain. Estimates show that many countries will not meet the education Millennium Development Goals by 2016. Almost 30% of low and middle income countries are off-track or seriously off-track from meeting the education Millennium Development Goal of universal primary education.

The inter-linkages between gender inequalities economic growth and poverty are the main reasons why girls' education is a smart investment for developing countries to reap these benefits fully. Educating all their people, not just half of them, makes the most sense of future economic growth.

Systematic exclusion of women from access to schooling and the labor force translates into a less educated workforce, inefficient allocation of labor, lost productivity, and consequently diminished progress of economic development. Evidence across countries suggests that countries with better gender equality are more likely to have higher economic growth.

The benefits of women's education go beyond higher productivity for 50 percent of the population. More educated women also tend to be healthier, participate more in the formal labor market, earn more income, have fewer children, and provide better health care and education to their children, all of which eventually improve the well-being of all individuals and lift households out of poverty. These benefits also transmit across generations, as well as to their communities at large.

15. The World Bank has admitted that () is the most effective investment for achieving development goals.

- A. helping developing countries
- B. elimination gender disparity
- C. educating girls

D. fighting poverty

16. The World Bank has taken () as an important of its poverty reduction commitment.

A. girls' education

B. girls' enrollment

C. enrollment rates in primary education

D. gender equality

17. According to this passage, which of the following is TRUE? ()

A. World Bank activities focus on eliminating gender inequalities.

B. Girls' enrollment has raised most at the higher education level in Europe.

C. Primary completion rates have surged towards of 80 percent in low-income.

D. Its importance to bridge the significant gender gaps.

18. All of the following are the benefits of women's education EXCEPT ().

A. more educated women tend to participate more in the formal labor market.

B. all of the benefits will eventually lift households out poverty.

C. these benefits will eventually eliminate gender inequalities.

D. more educated women will provide better education to their children.

Passage 5

The original Olympic Games started in Greece more than 2,000 years ago. There games were a religious festival, and at their height, lasted for five days. Only men could compete, and the sports included running, wrestling, and chariot racing.

Today's Olympic Games are quite a bit different. First, there are two varieties: Winter Olympics and Summer Gymnastics. They are each held every four years, but not during the same year. They alternate so that there are Olympic Games every two years. The Olympics are no longer held only in one country, they are hosted by different cities around the world. The opening ceremony is a spectacular display, usually incorporating the traditional dances and culture of the host city.

The highlight of the opening ceremony is the lighting of the Olympic flame. Teams of runners carry the torch from Olympic the site of the ancient Greek games. Although the games

have changed greatly throughout the centuries, the spirit of competition is still alive. The flame represents that spirit.

19. The passage is primarily concerned with ().
- A. justifying the existence of the Olympic Games
 - B. explaining all about the games in Ancient Greece
 - C. discussing the differences between Winter Olympics and Summer Olympics
 - D. comparing the modern Olympic Games to those in Ancient Greece
20. The author mentions “traditional dances and culture of the host city” in order to ().
- A. give an example of how the opening ceremony is so spectacular
 - B. explain the differences among the different host cities
 - C. show that Ancient Greek games were quite boring by contrast
 - D. make an analogy to the life of the Ancient Greeks
21. The author’s tone in the passage can best be described as ().
- A. disinterested
 - B. upbeat
 - C. gloating
 - D. Depressing
22. The lighting of the torch is meant to symbolize ().
- A. the destruction caused in Ancient Greece
 - B. the spirit of Ancient Greek competition
 - C. the rousing nature of the games
 - D. the heat generated in competition
23. Which of the following is the author most likely to discuss next? ()
- A. The origin of the Ancient Greek games
 - B. The future of the Winter Olympics
 - C. Discussing of the types of sports that are played at the Olympics
 - D. The reasons that the Ancient Greek games ended

言语习题（30题）

1. 随着租赁市场的发展，各类长租服务平台如雨后春笋般建立起来，市场份额较大的长租服务平台所承担的责任更大，受到的关注度也更高，而中小型住房平台的资质，服务品质参差不齐，存在的问题可能更严重，也容易被忽视，相对而言，大品牌可能更关注声誉，也有更多的压力和动力来改进服务，但这种行为毕竟属于企业行为，无法覆盖整个市场。

这段话，主要表达（ ）。

- A. 各类长租服务平台的出现，进一步繁荣了城市的租赁市场
- B. 市场份额占比较大的服务平台，服务质量更好，更应该得到扶持
- C. 从市场行为角度分析，大的长租平台发展再好，也不能改变整个市场的问题
- D. 各类常驻服务平台中，相比大平台小平台暴露的问题更容易引起关注

2. 今天作为发展中人口大国。中国教育已经站上新的历史起点，各级各类教育全面提质增效。总体发展水平进入世界中上里，然而我们也看到举世瞩目的历史性成就，历史性飞跃，背后教育公平的内涵也因时而变，挑战和问题依然紧迫，留学生的难度还未完全攻克与上好学的矛盾日益凸显并行，城市名校挤破门槛与乡村教育捉襟见肘并存，人民群众接受更好教育的需求与教育发展不平衡不充分的矛盾，意味着以教育公平促进教育公平公正，注定是乘势而上，久久为功的长期功课。总结这段话的含义为（ ）。

- A. 教育发展中的人口大国要长期推进教育公平，促进社会公平公正的视野
- B. 我国教育水平进入世界中上列教育的矛盾也发生了变化
- C. 在新的历史前提下，上好学与教育不均衡发展之间是主要的教育矛盾
- D. 在新的教育公平内涵下，以教育公平促进社会公平是长久事业

3. 如果我国高校招收国际生的标准和招收国内学生一样，培养标准也一样，还会有这么多“国际高考移民”吗？要遏制“国际高考移民”既要严格申请者的身份审核，更重要的是必须提高留学生招生标准，从重视留学生招生数是转为重视留学生教育质量，并以此提高对优秀国际生的吸引力。

这段文字主要说明的是（ ）

- A. 目前，仅是提高国际学生申请者的身份审核，而不提高招生标准是无法遏制国际高移民现象的
- B. 提高留学生招生标准，是遏制国际高考移民的有效方法
- C. 提高留学生招生标准，就是采用招收国内学生的方法

D.如何才能遏制国际高考移民现象的发生

4. 在这个传播方式日新月异而娱乐节目大行其道的时代，那些紧守着严肃内容的节目创作者固然令人肃然起敬，但是有限的传播渠道却让人心急。我们国家拥有着最强大的文化宝库，但是这些精神和物质宝藏一度被大众所忽视，如果能将其打造成品牌范式，将这些严谨、专业的文化知识进行大范围的传播，那么整个文娱市场的生态也许会变得丰厚饱满得多。

这段文字意在说明（ ）。

A.严肃文化因传播渠道有限在文娱市场不受重视

B.整个文娱市场综艺节目质量参差、同质化严重

C.应着力打造文化类节目品牌，扩大传播

D.文化类节目应当融入综艺元素，以满足大众口味

5. 市场经济以自愿交易为基础，交易即产权的交换，交易顺利完成的前提是产权的界定和保护。若无产权保护，市场就有可能变成战场，侵占将取代互利，成为配置资源的主要方式。若想防止暴力配置资源，社会必须保护产权和保证契约的执行，这就需要一个完善的法律体系，法律的作用是惩罚侵权者和违约者。

这段文字意在说明（ ）。

A.资源有效配置应从产权的界定和保护入手

B.制定产权保护的相关法律可以有效惩治侵权

C.市场经济发展的前提是遵循公平互利的原则

D.产权受到法律保护，市场经济才能够正常运行

6. 大数据、云计算时代的来临，让网上政务已经不再新鲜，开发政务 App，推行功能更齐全、传输效率更高的掌上政务，则成为各地各级行政部门的时髦标配。不过，政务 App 应该开发多少，每款政务 App 能否将科技红利转化成服务为民的制度红利，到底是掌上政务重要，还是实际工作更重要，都是必须认真考量的问题。像新闻报道的，小小村干部竟需在手机里安装十多个政务 App，需定期通过这些 App 填写上报有关工作情况，和基层群众生产生活情况，以致于没时间走村串户，则属于舍本逐末、过犹不及。偏偏这类报道渐有增多之势，某地基层干部曾向媒体吐槽，每天一上班，他们就得打开各类政务 App 和微信公众号，转发相关政务文章，收集点赞并截屏反馈，还承担着向群众推荐下载政务 App 的任务，不堪其烦。真不知，如此这般耽于掌上政务而无暇干实际工作的基层干部还有多少？

此段文字意在说明（ ）。

A.大数据、云计算的发展为网上政务得到运用

B.政务 APP 实现了科技红利向服务为民的红利

C.政务 APP 的开发和应用既要有量更要重视质

D.乡村基层的 APP 的应用应该向城市管理学习

7. 1895 年 3 月，法国人路易·卢米埃尔在他经营的工厂制造出了“活动电影机”，一种既能摄影又能放映和洗印的机器。这样，他终于发明了一种超越其他一切竞争者的机器。机器技术上的先进和卢米埃尔摄制影片主题的新颖，使他获得了世界性的胜利。当年的 12 月 28 日，《工厂大门》、《火车到站》等影片在巴黎“大咖啡馆”里的成功放映，宣告了电影的诞生。电影成功诞生后，广阔的利润空间吸引着越来越多的商人投入到电影的生产制作中来，同时也刺激着不法商人大量地非法翻印。保护电影发行者免受竞争者和无执照电影院经营者的侵害以及保护已有作品不被后来者侵害，成了电影发展早期亟需解决的问题。

电影诞生的标志是（ ）。

A.活动电影机的成功生产

B.《工厂大门》、《火车到站》的成功放映

C.《工厂大门》、《火车到站》的成功拍摄

D.不法商人大量的非法翻印

8. 花未眠这众所周知的事，忽然成了新发现花的机缘。自然的美是无限的，人感受到的美却是有限的。正因为人感受美的能力是有限的，所以说人感受到的美是有限的。至少人的一生中感受到的美是有限的，是很有限的，这是我的实际感受，也是我的感叹。人感受美的能力，既不是与时代同步前进，也不是伴随年龄而增长。凌晨四点的海棠花，应该说也是难能可贵的。如果说，一朵花很美，那么我有时就会不由地自语道：要活下去！画家雷诺阿说：只要有点进步，那就是进一步接近死亡，这是多么凄惨啊。他又说：我相信我还在进步。这是他临终的话。米开朗琪罗临终的话也是：事物好不容易如愿表现出来的时候，也就是死亡。米开朗琪罗享年八十九岁。

基于以上文字，下列说法错误的是（ ）。

A.人发现美的机会并不常在，发现美是需要机缘的。

B.人一生中感受到的美是有限的，即使雷诺阿和米开朗琪罗这些对美很敏感的大艺术家也不例外。

C.雷诺阿和米开朗琪罗临终的话说明了艺术美和自然美难以结合。

D.现在的人并不一定比过去的人领略到更多的美，年龄大的也不一定比年龄小的感受美的能力强。

9. 植物和动物一样，也会受伤。由于一些食草动物以植物为食，所以植物经常受伤。同样，植物也和动物一样，会为自己迅速疗伤，以防伤口感染或者重要物质流失。但是最近科学家们发现了一种不自我封闭伤口的植物。这种叫做小癩茄的茄属植物会让伤口渗出物质，在伤口处释放奇怪的液滴。其分泌的液滴是一种花蜜，可以吸引昆虫，进而可以保护植物不受食草动物的伤害如蚂蚁在收到花蜜这样的雇佣费之后，就会对抗甲虫幼虫。甲虫幼虫不得不爬上茎，因为它们要在植物幼嫩的茎上开采物质。幼嫩的茎离主干约半米到一米的距离。幼虫在前往茎的路上，就会受到蚂蚁的攻击。与没有受到蚂蚁群保护的植物相比，受到保护的植物其生长速度要快约 109%-13%。

植物受伤的主要原因是（ ）。

- A.被食草动物伤害
- B.被人类伤害
- C.处于生态链的最低端

10. 引力波的存在打开了人们感知、了解、观察、认知和解释大千世界的更为广袤的空间。如果说，过去人类认识世界只是靠眼耳鼻舌身这些不同的感知窗口，然后靠大脑来合成这些不同感官感知到的事物的全貌，那么，引力波的被检测到就为人们认识世界打开了一扇或几扇大门，让人类能用其他的感知途径来更为全面和深刻地观察世界。

最适合做这段文字标题的是（ ）。

- A.引力波的存在提供了新的思维视角
- B.引力波：引力的作用以波动的形式传播
- C.引力波：开拓人类认知的新世界
- D.科学家终于探测到引力波

11. 有媒体报道，某社区是一个成立只有 3 年多的新社区，常住居民 3 万多人，其中四分之三来自市内外，5.5%的居民来自外省市，对社区缺乏认同感和归属感，更没兴趣参与社区公共事务管理。针对这个问题，该社区将国学融入社区生活，以“耕、读、居、养、礼、乐”为内容，密集开展“一平米菜园”、太极拳、负离子体验、小剧场等活动，让居民有了沟通交流的平台，邻里矛盾纠纷明显下降，治安环境明显改善。

如果请你给这则报道起个标题，下列选项中适宜的是（ ）。

- A.推广新“六艺”，党员发挥先锋模范作用
- B.政府提供贴心服务，做好社区“好管家”
- C.创新社会治理，撑起群众生活“幸福伞”

D.普法宣传进万家，探索治安管理专业化

12. 中国原始彩陶的大批出现，是从约六千年前的仰韶文化到的三千年前的大汶口文化。从已发现的材料看，黄河流域，长河流域新石器时的彩陶，大体上可以按照区域归为中原地区彩陶，西北地区彩陶和东南沿海地区彩陶三类。这三个区域的彩陶，在器型、纹饰方面都有它的基本相异之处，从器型来看，中原地区多盆形、钵形西北地区多罐形壶形；长江中下游及沿海地区多鼎形，豆形和深腹罐。从纹饰来看，三者虽然都以动物、植物和编织为主，但是在图案的取材变化以及组织等方面有各自的特色，其相异程度是一看便知的。

文章最好的标题是（ ）。

- A.中国陶瓷艺术的初期形态
- B.远古时期的彩陶艺术
- C.彩陶的起源
- D.早期彩陶的地域差异辨析

13. 在珠海航展开幕式上，歼 10 表演机的换装首秀就打出一个“开门红”。歼 10 表演机新涂装以较深的宝蓝色为主色调，设计团队的领军者张宇桐副教授认为，深蓝色，能够彰显歼 10 的特点，“使飞机显得非常精致”。而据另一位设计者——中央美院的女设计师卢樱介绍，“以前的空军蓝是非常非常蓝的，现在的口号是制胜蓝天，范围扩展了，能够捍卫的领域也扩展了，颜色上就不仅仅要有天空的颜色，还要是宇宙的蓝色，是一种更国际化的蓝色。”卢樱这样道出深蓝色背后的深意。这位设计师认为，歼 10 表演机的深蓝色与许多国际组织使用的蓝色一脉相承，有一种沉稳凝重的感觉，符合歼 10 的气质和大国空军的气质。

下列选项对“深蓝色背后的深意”的含义，理解最不准确的是（ ）。

- A.使飞机显得非常精致
- B.宇宙感和国际化
- C.大国空军的气质
- D.沉稳凝重感

14. 现在的校外培训已经“不疯狂不成魔”。教育部门推进素质教育不可谓不用心，但现实中学生负担仍重，家庭经济负担仍大，甚至越来越大。原因就在于教育减负留下的空儿被校外培训填上了。诚然，校外培训热与当前的应试体制有着很大关系。可是，国家投入了大量财力，教育部门推出了很多办法，这一切就应该被校外培训稀释吗？中国教育学会的数据显示，2016 年我国中小学课外辅导行业市场规模超过 8000 亿元，学生参与培训的规模超

过 1.37 亿人次。冰冷的数字下面，是多少家庭和学生不堪承受的压力。更重要的是，校外培训真如宣传中说的那么好吗？

“一些教师课上不讲课后讲，已经在无声中说明了许多”，这里，“说明了许多”指的是（ ）。

- A. 家庭和学生不堪承受的压力
- B. 现在的校外培训已经“不疯狂不成魔”
- C. 校外培训热与当前的应试体制有着很大关系
- D. 素质教育改革成果被侵蚀了

15. 把非遗当成摇钱树，过度利用、过度开发的情况并不鲜见。比如，为了大量生产皮影，机器一次性压制替代了刀与火的精雕细刻，雕版印制的年画，改为机器印刷，众多传统手工艺类项目，利用现代技术进行流水线生产。然而，并不能因为这些不好的现象，就把非遗保护所注重的原汁原味扩大到固步自封、与时代割裂的地步。应当明确的是，阻隔非遗与当代生活、现实情感的密切关系，非遗保护就难免“博物馆化”，从某种意义上说，非遗的生命力不但在于“技”，更在于人。离开了民心的自主参与，它便成了无源之水、无本之木。而要吸引人、留下广大习承和喜好人群，离不开非遗项目对生活、对时代的关注和融入。

文段中“博物馆化”指的是（ ）。

- A. 使非遗脱离生活，脱离现实情感
- B. 保护非遗的原汁原味
- C. 对非遗进行流水线生产
- D. 非遗保护失去民众的参与，只可远观

16. 对于许多明星们的各种新闻，有的是无中生有，有的则无风不起浪。

“无风不起浪”的意思是（ ）。

- A. 无原由的事。
- B. 事情不是完全没有原由的。
- C. 好像洞穴中的一股风，它是朝着某个方向吹去的。
- D. 好像洞穴中的风一样飘忽不定，一会儿这样一会儿那样。

17. 填入括号中最恰当的词语是（ ）。

行走在路上，我的目光被橱窗内的摆设吸引住了，从外表看起来，这不过是一家普通的文印店，但店内摆设却是（ ），店主（ ），用废纸加上各种颜色，彼此搭配，做成人、树和房子等各种形状，透着轻松活泼的气氛。

- A.与众不同 独树一帜
- B.与众不同 别出心裁
- C.富丽堂皇 别出心裁
- C.富丽堂皇 独树一帜

18. 填入括号中最恰当的词语是（ ）。

(1) 洪峰未过，大坝岌岌可危，如何保证下游民众安全已经迫在眉睫，（ ）是将洪水引入废置的水库，转移下游民众。

(2) 民族主义在现代国家形成过程中起到了非常重要的作用，但对它与全球化的关系，与会专家（ ），莫衷一是。

- A.万全之策 各执一端
- B.万全之策 分道扬镳
- C.当务之急 分道扬镳
- D.当务之急 各执一端

19. 填入括号中的词语最恰当的一项是（ ）。

(1) 利用现代建筑科技，历史悠久的老城区得到了维护，整体（ ）。

(2) 行驶在这条横穿草原的天路上，我们（ ）能见到几处羊群，如同漂浮在绿色天空上的白云。

- A.焕然一新 偶然
- B.耳目一新 偶然
- C.耳目一新 偶尔
- D.焕然一新 偶尔

20. 下列语句排序最为连贯的一项是（ ）。

- (1) “斜杠青年”标榜了与传统时代不同的职业观
- (2) 此处观念一方面激活了个体活力，另一方面也是社会宽容度提升的表现
- (3) 但真正要成为受到社会认可的“斜杠青年”，却不是那么容易的
- (4) “斜杠青年”，是多面手、多职业、跨界青年群体的代名词
- (5) 职业不再是单一、稳定和保守不变的，而是可以在更多的岗位角色之间自由选择
- (6) 不同角色的共存和转换，势必需要每个个体投入更多时间、精力。

- A. (1) (5) (2) (4) (3) (6)
- B. (1) (4) (5) (2) (6) (3)

C. (4) (5) (2) (1) (6) (3)

D. (4) (1) (5) (2) (3) (6)

21. 下列语句排序最为连贯的一项是 ()

(1) 19 大城市群，以全国 1/4 的土地集聚 75% 的人口。创造 88% 的 GDP，其中城镇人口占比 78%。

(2) 都市圈和城市群的轨道交通、城际铁路、教育、医疗等基础设施短板将伴随着人口持续流入，未来问题将更为突出。

(3) 都市圈和城市群是中国经济和人口的主要载体。

(4) 有观点认为，应该通过控制大城市规模而不是加大改善城市基础设施来治理“大城市病”

(5) 这种观点显然有其局限性，因为人口集聚是经济发展的基础：人为强行打破这种集聚有悖于经济运行规律。

(6) 24 个人口超过 1000 万的大都市圈，以全国 6.7% 的土地集聚 34.7% 的人口，创造 53.8% 的 GDP。

A. (3) (6) (1) (2) (4) (5)

B. (2) (4) (5) (3) (6) (1)

C. (3) (1) (6) (4) (5) (2)

D. (2) (3) (6) (1) (4) (5)

22. 下列语句排序最为连贯的一项是 ()。

(1) 互联网平台为学生提供免费上网课渠道虽是好事，但借机推广网游就有点不厚道。

(2) 作为市场化的互联网产品，直播平台吸引广大用户无可厚非，但不能背弃基本的市场伦理

(3) 未成年人要进行网络学习，先要浏览大量游戏、交友等无关信息。

(4) 据报道，几家互联网平台利用免费提供的上网课渠道，向未成年人推广网络游戏。

(5) 既然主动面向未成年人提供网课渠道，互联网平台就应主动履行主体责任，对不良信息进行有效屏蔽。

A. (4) (2) (5) (1) (3)

B. (2) (3) (1) (4) (5)

C. (2) (5) (4) (3) (1)

D. (4) (3) (1) (2) (5)

23. 下列语句排列最为连贯的一项是（ ）。

(1) 中经“为政以德”的阐释，最终成为此后中国传统社会的基本治国方略。

(2) “德主刑辅”始于先秦“明慎慎罚”的观念。

(3) 这些思想对于坚持和完善中国特色社会主义制度、推进国家治理体系和治理能力现代化具有重要借鉴意义。

(4) 但仅有德治尚不足以达到国家有效治理的目标，我国古人找到了另一把“钥匙”，即法治。

(5) 德主刑辅、以德化人的德治主张，是中华优秀传统文化的重要内容。

(6) “法者，治之端也”，“徒善不足以为政，徒法不能以自行”，强调了法治的重要地位以及依法而治的重要意义。

A. (5) (4) (6) (2) (1) (3)

B. (5) (2) (1) (4) (6) (3)

C. (2) (1) (4) (6) (3) (5)

D. (2) (1) (5) (4) (3) (6)

24. 许渊冲先生在《朗读者》一书的序言里说，人生最大的乐趣是发现美、创造美，这个乐趣是取之不尽用之不竭的，而美的乐趣来自阅读这些名篇佳作。是的，阅读不仅让人享受美，也是人之所以为文明人的一个根本。人，是这个地球上唯一能够用文字记录自己的生活与智慧，唯一能够通过阅读充盈自己的心灵、丰富自己的精神世界的生物。_____。

填入划部分最恰当的一句（ ）。

A. 如何回归真正的阅读，让浮躁的心灵有安顿的地方，仍然是我们这个时代的重要课题

B. 一个人的精神发育史就是他的阅读史，一个民族的精神境界也取决于这个民族的阅读水平

C. 通过品读经典培养高尚的心灵，养成知识丰富、道德高尚、情趣健康的性灵，可以让
人生从浮躁走向宁静、从浅陋走向优雅

D. 因比，应该通过电视把那些伟大的思想、最美好的语篇、最优秀的著作介绍给成长中的孩子，给需型精神常养的少年，给需要过精神生活的成年人

25. 文学是人类继语言之后的第二大发明。如果说语言的出现使人类实现了由动物到人的转变，那么文学的发明，则使人类从原始社会的低级阶段上升到文明的高级阶段，从而使人民的生活发生了质的飞越，文学是一个民族与国家文化传承与创新的基础，因此，_____。

A.在世界文化格局中，每一种文化都有它自己的渊源和特点

B.能够使用和传承自己本民族的文学，不仅是一种文化责任和文化能力，更是一种文化情怀和文化热爱

C.中国文学文化的演变具有非常清晰的传承体系，这正是中华文明与世界其他文明的区别所在

D.正是有了汉字，才有了中国人自己的精神，才有了中国五千年绵延不绝光辉灿烂的文化

26. 以李鸿章为领袖的洋务运动曾给中国带来富国强兵的希望，而经其手签订的各种丧权辱国条约却让中国陷入半封建半殖民地社会。正因如此，一百多年来，李鸿章头顶变换着救国、误国、卖国三顶帽子。对这样一个复杂的历史人物，只有给其一个更为精准的定位，才能更清晰地解读他的所作所为。而在如何定位上，诸多史学著作或抓小放大，或以偏概全，或就事论事，隔靴搔痒，雾里看花，_____。

填入画横线部分最恰当的一句是（ ）。

A.读者难有尽兴之感

B.有失公允之处颇多

C.真正的佳作甚为罕见

D.难以摘掉这三顶帽子

27. 创新源泉的另一个重要方向，就是面向历史的发掘。每一次回顾历史都可能是一次观念的清理和创新。研究和发掘新的史料，也是一次价值观的梳理。_____。重新发现历史，建立当下社会观念与历史价值的承继关系，这是奠定创新思维的一个重要因素。我们要在前人的肩膀上瞭望未来，不是简单地忽略或者漠视历史积累，不断复制曾经的创新过程。

填入划横线部分最恰当的一句是（ ）。

A.历史无法重来

B.与其重读历史，不如创造历史

C.一切历史都是当代史

D.历史是胜利者的历史

28. 下列句子中没有语病的一项是（ ）。

A.李校长要调任其他省份的学校，这是所有学校师生众所周知的消息。

B.台上一分钟，台下十年功，这句用来形容相声演员的成长经历一点都不为过。

C.三十六个人不停地变换着方阵的样子，同时他们还有规律地挥动着彩旗，让人看的眼花缭乱。

D.就如何提高饲料的生产效率，在场的技工们都提出了真知灼见的意见。

29. 下列句子中没有语病的一项是（ ）。

A.年度内经济数据不及预期，加上经济封锁，该国的股指大幅下跌，一时间股市上哀鸿遍野。

B.站在山顶上，我们可以一览无余地看到山下翠绿的麦田，以及整齐的房屋。

C.水是一种可循环再利用的资源，但任何一个使用主体如果都不爱护，肆意污染，那可循环也会变成不可循环。

D.政府采取扩大有价证券购买量的措施，目的是为了增加市场主体持有的货币量，避免因无法偿还债务而引发危机。

30. 下列句子中没有语病的一项是（ ）。

A.在决胜节的大部分时间段内，教练让内线有丰富经验并且外线有远投能力的李亮镇守中路伺机而动，一路前冲，直接将球踢进了对方的球门

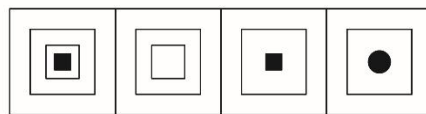
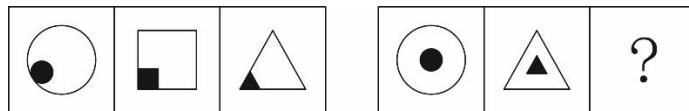
B.无论对于正在长身体的孩子，还是压力大的年轻人，都更适合“非白粥”的早餐选择。

C.今年三轮降准和央行向市场注入万亿流动性，利率债收益率走低，加上疫情下国企、城投等融资需求降低，高性价比的资产供给较为稀缺

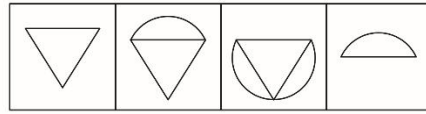
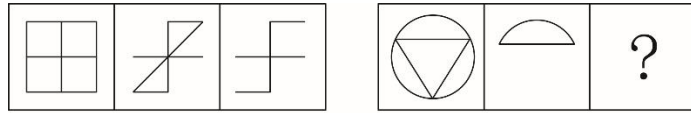
D.数据显示，2020 年一季度，我国经常账户逆差 2352 亿元，资本和金融账户顺差 774 亿元。

判断习题（30 题）

1. 根据图形规律，最适合填入问号处的图形是（ ）。

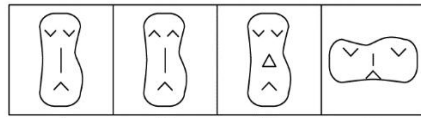
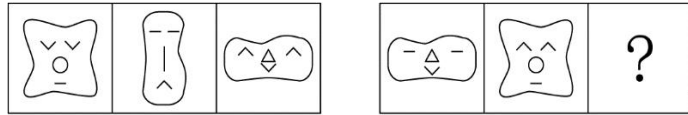


2. 根据图形规律，最适合填入问号处的图形是（ ）。



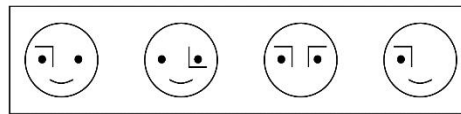
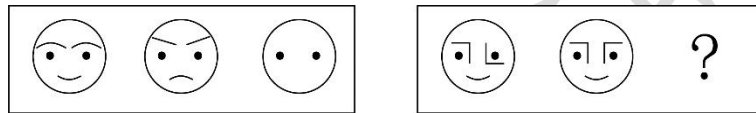
A B C D

3. 从所给的四个选项中, 选择最合适的一个填入问号处, 使之呈现一定的规律性()。



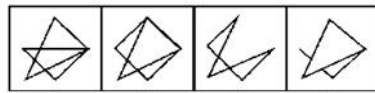
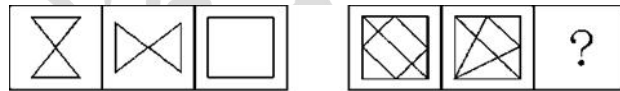
A B C D

4. 从所给的四个选项中, 选择最合适的一个填入问号处, 使之呈现一定的规律性()。





A B C D

5. 从所给的四个选项中, 选择最合适的一个填入问号处, 使之呈现一定的规律性()。



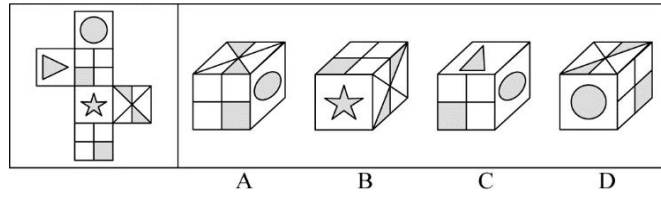
A B C D

6. 根据规律填入问号处的图形是()。

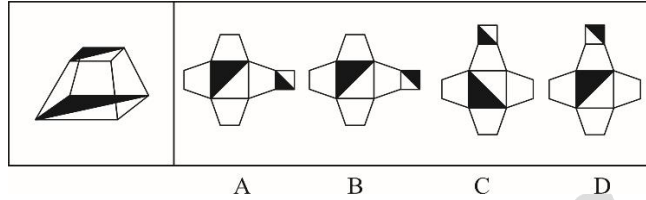


A B C D

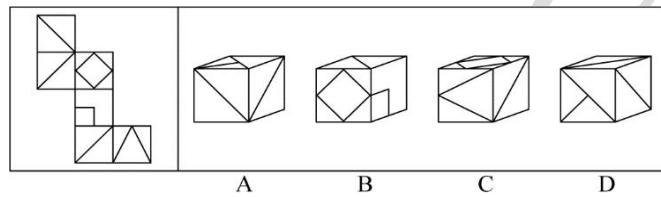
7. 左边给定的是纸盒的外表面, 下列哪一项能有它折叠而成()。



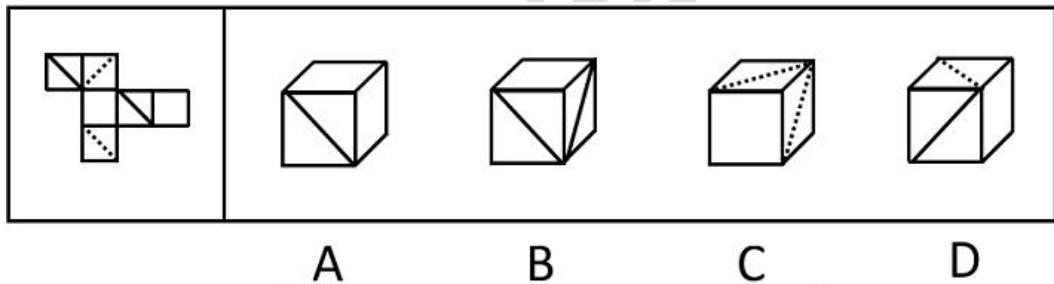
8. 右边哪一项能够折叠而成左边图形 ()。



9. 左边给定的是纸盒的外表面, 下列哪一项能有它折叠而成 ()。



10. 左边给定的是纸盒的外表面, 下列哪一项能有它折叠而成 ()。



11. 1761年6月4日, 普鲁士皇家学院(柏林科学院)向欧洲学术界发布了1761-1763年度有奖征文事宜, 征文主题如下: “形而上学的真理, 特别是自然神学与道德的第一原理是否能像几何学的真理那般清晰明证, 若不能, 那它确然性的本性是什么, 确然性的程度怎样, 在该程度上其可靠性是否完全可信。”

由此不能有效推出的是: ()

- A. 形而上学在当时的处境肯定很不妙
- B. 几何学在当时可谓一切学问的样板
- C. 形而上学对于人类不是不可或缺的
- D. 形而上学缺乏几何学那样的确然性

12. 传统的问题解决方法强调以往的知识经验。而现代问题解决方法则强调从达到目标的所有可能途径中选择出最佳的一种, 由于两者均不能成功地解决所有问题, 因此 ()。

- A. 应该根据不同的问题选择一种方法

B.根据实际情况来决定用适合的方法，或者传统或者现代

C.不能只采用一种方法

D.没有完全满意的解决方法

13. 国家一直十分注重扶贫工程。前些年国家拨给贫困地区大量救济物资，但事实却是越救济越贫穷。后来国家改变策略，帮助贫困地区建立大批项目，引导当地人民自己扶贫，取得了显著成效。可见（ ）。

A.授人以鱼不如授人以渔

B.救济贫困地区是多余的

C.金钱不是万能的

D.光吃饱饭并不能解决问题

14. 近代法国著名科学家法拉第，发现了电磁感应规律，但是由于他不能用最科学最严密的语言表达出来，因此一直没有得到科学界的承认，直到麦克斯韦完整地表达了这一规律，才得到人们正式承认。可见（ ）。

A.麦克斯韦比法拉第更聪明

B.语言表达能力是很重要的

C.科学语言是最严密，最科学的

D.只要表达能力强，就能赢得人们的承认

15. 在相同的收入水平上，农村家庭比城市或城郊居民家庭有更大的购买力，因为城市或城郊居民家庭中用在食品或居住的一部分收入可以被农村居民家庭用在其他的消费上。根据以上的论述，最能推出以下哪项结论（ ）。

A.农村居民家庭在食品和居住上的支出比城市或城郊居民家庭的支出少

B.城郊居民家庭的购买力更高于城市居民家庭

C.一般来说，农村居民家庭比城市居民家庭的人口数量要多

D.三种类型的居民家庭在食品上的支出都超过了在居住上的支出

16. 由于近期的干旱和高温，导致海湾盐度增加，引起了许多鱼的死亡。虾虽然可以适应高盐度，但盐度高也给养虾场带来了不幸。

以下哪项如果为真，能够解释以上现象的原因（ ）。

A.持续的干旱会使海湾的水位下降，这已经引起了有关机构的注意

B.幼虾吃的有机物在盐度高的环境下几乎难以存活

C.水温升高会使虾更快速繁殖

D.鱼多的海湾往往虾也多，虾少的海湾鱼也不多

17. 某省商超业经营点的数量从 2000 年的约 50000 个，逐年下降到 2012 年的约 10000 个。但是，12 年以来，该省商超业的经营资本在整个服务行业中所占的比例并没有减少。

以下各项如果正确，哪项最不能解释上述现象（ ）。

A.作为激烈竞争的结果，12 年以来该省的商场、超市有的被迫停业，有的则努力扩大经营规模

B.该省 2012 年商超业经营店的平均经营资本额比 2000 年有显著增长

C.2000 年以来，该省服务行业的经营资本总额逐年下降

D.2000 年以来，该省服务行业的经营资本占全省产业经营总资本的比例逐年下降

18. 大学生保姆已不再是新鲜事。一项调查显示，63%的被调查者赞成大学生当保姆，但是，问到自己家里是否会请大学生保姆时，却有近 60%的人表示“不会”。

以下哪项陈述如果为真，能够合理解释上述看似矛盾的现象（ ）。

A.在选择“会请大学生当保姆”的人中，有 75%的人打算让大学生担任家教或秘书工作，只有 25%的人想让大学生从事家务劳动

B.调查中有 62%的人表示只愿意付给大学生保姆 800 元到 1000 元左右的月薪

C.赞成大学生当保姆的人中，有 69%的人认为做家政工作对大学生自身有益，只有 31%的人认为大学生保姆能提供更好的家政服务

D.在不赞成大学生当保姆的人中，有 40%的人认为，学生实践应该选择与自己专业相关的领域

19. 尽管大家开始抵制珍稀动物的皮草产品，但仍有家具制造商将珍稀动物的皮毛用于家具饰品。几年前专家发明了一种新的高仿合成皮草，受到了家居制造商广泛的好评。但从最近几年的统计看，各地为获取皮毛而对珍稀动物进行捕杀的活动却并没有减少。

以下哪一项正确，最有助于对“捕杀活动没有减少”进行解释（ ）。

A.生产新的高仿合成皮草比生产原未的合成皮革的成本更低

B.新的高仿合成皮革与动物皮毛的质地相似，很难区分

C.绝大部分珍稀动物的皮毛用在越来越流行的皮草服饰上

D.家居制造商在销售大的家居物件时，往往将家居饰品当作赠品免费送给购买者

20. 某市风景优美，气候宜人。该市晨曦路两侧开设的几乎全部都是老年疗养院，来自全国各地的很多老年人来此旅游、疗养。晨曦路只有很少几座居民住宅，但是晨曦路附近却有很多专门经营儿童用品的商店，而且生意还相当火爆。

下列哪一项是最能解释这一现象（ ）。

- A.晨曦路附近的专门经营儿童用品的商店所出售的商品物美价廉
- B.来此疗养的老人都是有子女带着孩子陪同的，他们需为孩子购买所需物品
- C.居住在晨曦路的居民虽然不多，但孩子们之间经常互相赠送
- D.晨曦路附近的儿童用品商店闹中取静购物环境良好

21. 医院：医生：病人（ ）。

- A.学校：老师：学生
- B.监狱：军人：犯人
- C.法院：法官：律师
- D.公司：老板：员工

22. 拔苗助长：《孟子》（ ）。

- A.糟糠之妻：《三国志》
- B.十面埋伏：《汉书》
- C.鸡鸣狗盗：《史记》
- D.纵虎归山：《后汉书》

23. 乔迁之喜：搬家（ ）。

- A.加官进爵：纳新
- B.梦熊之喜：生子
- C.鸾凤和鸣：新婚
- D.桑中之喜：嫁女

24. 天干对于（ ）相当于地支对于（ ）。

- A.重光：单阙
- B.逢阙：蒙旃
- C.作噩：阍茂
- D.屠维：上章

25. 指甲：指甲钳（ ）。

- A.头发：发卡
- B.铅笔：铅笔盒
- C.手：手套
- D.胡子：剃须刀

26. 地方性法规是有立法权的地方国家机关依法制定与发布的规范性文件。在中国，根据宪法和立法等有关法律的规定，省、自治区、直辖市、设区的人民代表大会及其常委会，根据本行政区域的具体情况和实际需要，在不同宪法、法律、行政法规相抵触的前提下有权制定地方性法规。

以下属于地方性法规的是（ ）。

- A. 财政部制定并实施的《政府事业单位会计制度》
- B. 全国人大制定的《会计法》
- C. 国务院制定的《总会计师条例》
- D. 安徽省十二届人大第三十三次会议表决通过的《安徽省信息化促进条例》

27. 垂直搜索引擎是针对某一个行业的专业搜索引擎，是对网页资源中的某类专门的信息进行一次整合，定向分字段抽取需要的数据进行处理后再以某种形式返回给用户。根据上述定义，下列应用与垂直搜索引擎关系最为密切的是（ ）。

- A. 在某个购物网站上在线购买鞋子
- B. 登陆央视网站查询某个城市天气
- C. 用百度音乐搜索自己爱听的歌曲
- D. 在图书馆网站上查询该馆的藏书

28. 柔性领导是指依靠领导者的非权力影响力，采取非强制命令的方式，在人们心目中产生一种潜在的说服力，使其自觉服从和认同，从而把组织意志变为人们自觉的行动的领导行为。根据上述定义，下列属于柔性领导的是（ ）。

- A. 校长决定给全体教师涨工资
- B. 张校长作为教书育人楷模成为全体教师的偶像
- C. 校长提出教师创新激励计划
- D. 资深教师张老师说话很感召力

29. 权威暗示效应，是指如果一个人地位高，有威信而且受人敬重，那这个人所说的话及所做的事就容易引起别人重视，并让他们相信其正确性。下列描述中，属于运用权威暗示效应的是（ ）。

- A. 某小型食品生产企业邀请二线明星来代言所生产的食品
- B. 老师用励志故事来激励备战考试的同学们奋发向上
- C. 某市召开环保动员会，邀请了相关专家发表开幕宣言
- D. 甲和乙在辩论数字问题时，甲引用著名文学家的名言作为论据

30. 印记学习是指发生在动物生活的早期阶段, 由直接印象形成的学习行为, 印记学习行为虽发生在早期, 但对晚期行为也具有一定的影响。根据上述定义, 下列不属于印记学习行为的是 ()。

- A. 绵羊走近并试图留在喂养过它的主人身边
- B. 由人喂养大的斑马雀会向主人的手指求偶
- C. 刚出生的绿头鸭跟随着一个移动的物体走
- D. 绵羊用舌舐小羊的方式来标记自己的后代

数资习题 (40 题)

数量关系 (25 题)

1. 2019 年某品牌口罩定价为 n 元/个, 2020 年由于新冠病毒的爆发, 口罩成本大幅度提高, 定价提高为原来的 5 倍, 每个口罩利润翻一番, 总利润较上年增加了 9 倍, 2020 年销量比 2019 年增加了 ()。

- A. 3 倍
- B. 4 倍
- C. 5 倍
- D. 6 倍

2. 某大学的动物科学学院有桑教授、罗教授和荣教授三个研究生导师, 桑教授的学生人数是罗教授学生人数的 1.5 倍, 且恰好比荣教授的的学生人数多 30%, 那么在三个教授的学生总人数最少的情况下, 至少要从中选几个学生就一定能够保证有 30 个人是来自同一导师? ()

- A. 84
- B. 85
- C. 87
- D. 88

3. 有四个学校相互之间作学术交流, 需要各派代表去其他学校进行学习交流。其中甲乙丙分校打算各派一名代表, 而丁分校打算派出两名代表, 两人要去的学校由他们自行选择, 请问共有多少种派遣方式? ()

- A. 44
- B. 51
- C. 54
- D. 88

4. 小王和小红是多年邻居，某天小王和小红聊起年龄发现在 10 年前，小王的年龄是小红的 3 倍，5 年后，小王与小红的年龄和为 50 岁，今年小王多少岁？（ ）

- A. 5
- B. 10
- C. 15
- D. 25

5. 临近春节，某饭店囤积了大量猪肉以应对年夜饭，每斤猪肉进价为 25 元。受新冠疫情影响，政府临时通知关闭所有饭店，为了减少损失，该饭店决定把猪肉加工成肉脯进行销售。每斤肉脯售价 65 元，加工费 10 元，该饭店将一部分肉脯无偿捐给武汉医院，一部分在网上进行销售，处理完所有肉脯，最终获利 6000 元。请问该饭店向医院捐赠了多少斤肉脯？

（ ）（肉脯重量均为整数）

- A. 400
- B. 500
- C. 600
- D. 700

6. 甲、乙共同打印一本书，甲、乙打印的效率之比为 3 : 4。甲乙合作了 3 天后甲有事先离开，剩余的交给乙独立完成，此时甲已经完成总量的四分之一，求剩余的工作量乙需要多少天完成？（ ）

- A. 3
- B. 4
- C. 5
- D. 6

7. 甲杯中有浓度为 23% 的溶液 200 克，乙杯中有浓度为 47% 的同种溶液 300 克，现在分别从甲、乙杯中取出部分溶液，把甲杯中取出的溶液倒入乙杯中，把乙杯中取出的溶液倒入甲杯中，使甲、乙两杯溶液浓度相同，问现在两杯溶液浓度是多少？（ ）

- A. 36.2%

B. 36.4%

C. 37.2%

D. 37.4%

8. 三月底，某公司给 6 名市场人员分配业绩任务，共需要在二季度完成 234 万元的业绩，每个人承担的业绩各不相同，已知排名第三的任务量是他后一名的 1.5 倍，且任务量最多的那个人不超过任务量排名最后两人和的 2 倍，那么业绩排名第三的那个人最少分得多少业绩？（ ）

A. 20 万

B. 30 万

C. 40 万

D. 50 万

9. 为喜迎春节，小李计划对自己的卧室重新进行粉刷，已知该卧室的长分别是宽与高的 2 倍，且高为 3 米。窗户是边长为 1 米的正方形，门的面积为 2 平方米，粉刷一平方米的费用为 50 元，请问小李需要花多少钱？（ ）

A. 3450 元

B. 3500 元

C. 3600 元

D. 4350 元

10. 大年三十，共有四个家庭围在一桌吃年夜饭，已知每个家庭内部的成员必须坐在一起。其中甲乙两个家庭只有夫妻两人，暂无子女，丙家庭夫妻两人有一个孩子，丁家庭夫妻两人育有一对双胞胎，若家里有孩子，则孩子必须坐在自己父母中间，问共有多少种就坐方法？（ ）

A. 96

B. 192

C. 384

D. 768

11. 2, 3, 6, 18, 108, ()

A. 216

B. 1080

C. 2160

D.1944

12. 5, 6, 19, 33, (), 101

A.55

B.60

C.65

D.70

13. $1/5, 2/9, 3/13, 4/17, ()$

A. $5/19$

B. $6/21$

C. $5/21$

D. $6/19$

14. 128, (), 8, 2, 4, $1/2$

A.64

B.55

C.16

D.28

15. 1, 2, 7, -2, 29, ()

A.45

B.76

C.116

D.153

16. -1, 1, 7, 25, 79, ()

A.121

B.241

C.243

D.254

17. 7, 11, 17, 26, ()

A.39

B.40

C.41

D.42

18. 5, 7, 9, 11, 13, ()

A.15

B.16

C.17

D.18

19. 下面数列表现出一定的规律性, 0.002, 0.04, 0.3, 4, (), 你认为填入最合适的数字是? ()

A.60

B.5

C.50

D.500

20. 2, 4, 7, 11, 16, ()

A.19

B.22

C.26

D.28

21. 外语学校有英语、日语和法语老师共 27 人, 其中能教英语的有 18 人, 能教日语的有 12 人, 能教法语的有 8 人, 既能教英语又能教日语的有 6 人, 既能教日语又能教法语的有 4 人, 既能教英语又能教法语的有 5 人, 则能同时教英语、日语和法语的有多少人? ()

A.4 人

B.5 人

C.6 人

D.7 人

22. 袋子中装着 3 个红球、4 个橙球、6 个黄球、7 个绿球、10 个蓝球、11 个紫球、11 个黑球和 12 个白球, 至少从袋子中取几个球, 才能保证某两种颜色的球加起来超过 14 个? ()

A.47

B.48

C.49

D.50

23. 某班同学共 78 人，都喜欢傅园慧、孙杨中的至少一个人，其中喜欢傅园慧的人数是喜欢孙杨的 3 倍，是两者都喜欢的 4 倍，则只喜欢傅园慧的有多少人？（ ）

A.36

B.48

C.54

D.56

24. 小荣、小桑和小罗三个人从操场同一点同向出发慢走，小桑比小荣出发晚 20 分钟，小罗比小桑早出发 5 分钟，当再次回到起点时，小荣比两个人都晚 4 分钟。已知小荣和小桑的速度之比是 3：5，小罗的速度是 15 米/分钟，那么操场的全程为（ ）。

A.615 米

B.675 米

C.1125 米

D.1185 米

25. 有一项工程，按原定设计需 1 人工作两天方可完成，完工后甲方并不满意，要求再次施工，此时需再增加 1 人并工作三天才能完成，完工后，甲方要求重新设计，最终又增加了 2 人并工作了四天才全部完成，若每人每天工作效率相同，则最终的总施工量约为最初设计的几倍？（ ）

A.3

B.6

C.8

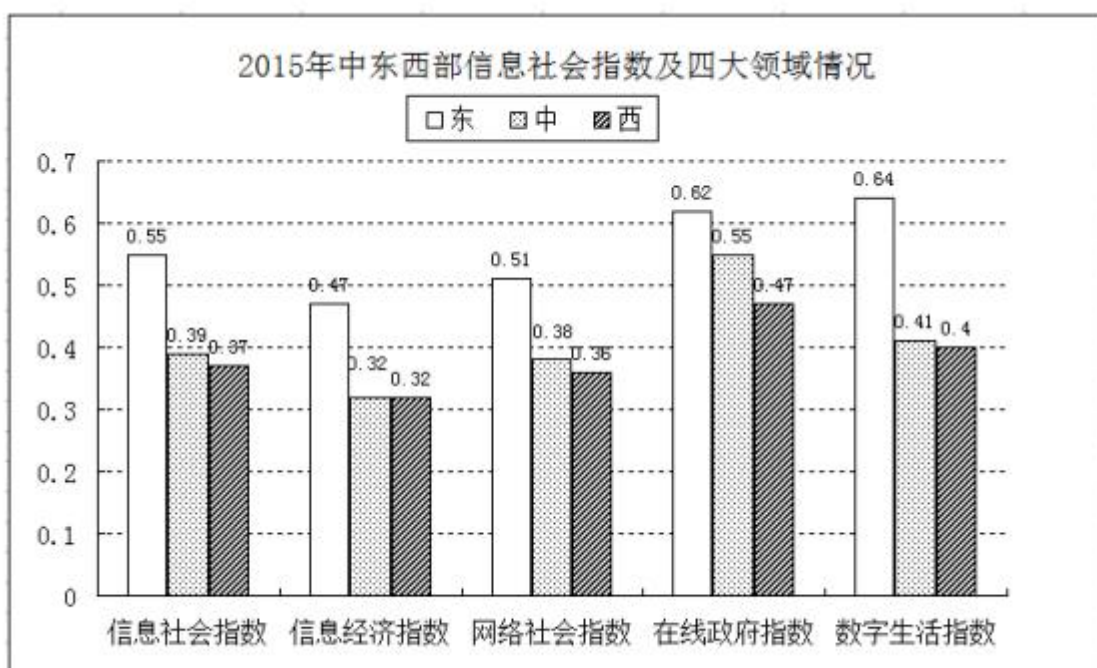
D.12

资料分析（15 题）

国家信息中心近日发布的《中国信息社会发展报告 2015》显示，2015 年全国信息社会指数达到 0.4351。从四个重点领域看，数字生活发展最快，2015 年全国数字生活指数达到 0.5038，同比增长 9.79%。

2011-2015年中国信息社会指数走势

年份	全国信息社会指数	全国信息经济指数	网络社会发展指数	在线政府指数	数字生活指数
2011	0.3274	0.3114	0.3109	0.5031	0.3015
2012	0.3450	0.3316	0.3353	0.3914	0.3528
2013	0.3807	0.3462	0.3617	0.4410	0.4141
2014	0.4170	0.3683	0.3810	0.5450	0.4589
2015	0.4351	0.3795	0.3852	0.5450	0.5038



26. 2011-2015年间，中国各领域信息社会指数中出现起伏变化的是：（ ）。

- A.全国信息经济指数
- B.数字生活指数
- C.全国信息社会指数
- D.在线政府指数

27. 2015年与2011年相比，我国数字生活指数提高了近（ ）。

- A.1.5倍
- B.0.7倍
- C.1.7倍

D.0.5 倍

28. 图中数据显示，东中西部各领域信息社会指数差距最大的是：（ ）。

A.信息经济指数

B.网络社会指数

C.数字生活指数

D.在线政府指数

29. 资料显示，2015 年西部地区各类指数与全国水平相差的最大值是：（ ）。

A.0.1038

B.0.0833

C.0.1362

D.0.0938

30. 下列说法错误的是：（ ）。

A.2011-2015 年间，从四个重点领域看，发展最慢的是在线政府指数

B.2015 年信息社会指数及四大领域指数变化中中部地区处于中等水平

C.2011-2015 年间，从四个重点领域看，数字生活发展最快

D.2015 年，在社会信息指数及各领域变化中东部地区低于全国平均水平

2013年全国社会保险基金资产情况

单位：亿元

基金类别 资产项目	城镇职工 基本养老 保险	居民基本 养老保险	城镇职工 基本医疗 保险	居民基本 医疗保险	工伤保险	失业保险	生育保险	合计
基金资产总额	29930	3124	8348	1077	1004	3726	518	47727
其中：财政专户存款	24218	2829	7406	966	923	3495	474	40311
支出户	1234	145	730	83	73	121	41	2427
暂付款	2544	124	197	28	4	94	2	2993
债券投资	54	26	15	-	4	16	1	116
委托运营	595	-	-	-	-	-	-	595
协议存款	1285	-	-	-	-	-	-	1285

31. 居民基本养老保险基金中的支出户资产总额比居民基本医疗保险基金中的支出户资产总额约高多少亿元？（ ）

A.62

B.72

C.504

D.585

32. 若将城镇职工基本养老保险基金中财政专户资产总额的 10% 转入协议存款, 则协议存款总额占社会保险基金资产总额的比重将增加约多少个百分点? ()

A.2

B.5

C.8

D.12

33. 根据基金资产总额从高到低, 以下顺序正确的是 ()。

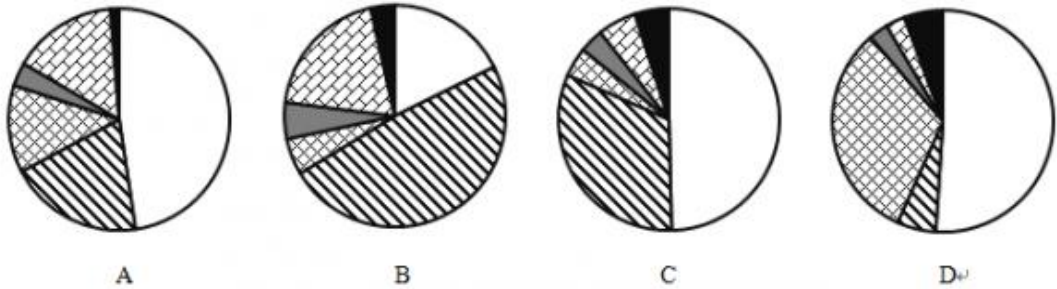
A.失业保险 生育保险 居民基本养老保险

B.居民基本医疗保险 工伤保险 失业保险

C.失业保险 居民基本养老保险 居民基本医疗保险

D.城镇职工基本医疗保险 工伤保险 居民基本养老保险

34. 以下哪个图形能够正确反映债券投资总额中各基金的占比情况 ()。



35. 能够从上述资料推出的是 ()。

A.除居民养老保险基金外, 其他社保基金均无协议存款投资

B.城镇职工基本养老保险基金资产总额是居民基本养老保险基金的 8 倍多

C.城镇职工基本医疗保险基金的资产项目类型数少于其他社会保险基金

D.城镇职工基本养老保险基金资产总额高于表中其他各项基金总额之和

2018 年 1~9 月份, 全国固定资产投资 (不含农户) 483442 亿元, 同比增长 5.4%, 增速比 1~8 月份小幅回升 0.1 个百分点。从环比速度看, 9 月份固定资产投资 (不含农户) 增长 0.43%。其中, 民间固定资产投资 301664 亿元, 同比增长 8.7%。

分产业看, 第一产业投资 16724 亿元, 同比增长 11.7%, 增速比 1~8 月份回落 2.5 个百分点; 第二产业投资 180734 亿元, 增长 5.2%, 增速提高 0.9 个百分点; 第三产业投资 285984 亿元, 增长 5.3%, 增速回落 0.2 个百分点。

第二产业中，工业投资同比增长 5.4%，增速比 1~8 月份提高 1.0 个百分点；其中，采矿业投资同比增长 6.2%，增速比 1~8 月份提高 0.3 个百分点；制造业投资增长 8.7%，增速提高 1.2 个百分点；电力、热力、燃气及水生产和供应业投资下降 10.7%，降幅收窄 0.7 个百分点。

第三产业中，基础设施投资（不含电力、热力、燃气及水生产和供应业）同比增长 3.3%，增速比 1~8 月份回落 0.9 个百分点。其中，水利管理业投资下降 4.7%，降幅扩大 1.1 个百分点；公共设施管理业投资增长 1.7%，增速回落 1.3 个百分点；道路运输业投资增长 8.9%，增速回落 0.4 个百分点；铁路运输业投资下降 10.5%，降幅收窄 0.1 个百分点。

分地区看，东部地区投资同比增长 5.8%，增速比 1~8 月份提高 0.1 个百分点；中部地区投资增长 9.6%，增速提高 0.4 个百分点；西部地区投资增长 2.3%，增速提高 0.1 个百分点；东北地区投资增长 1.7%，增速与 1~8 月份持平。

分登记注册类型看，内资企业投资同比增长 5.8%，增速与 1~8 月份持平；港澳台商投资下降 6%，降幅比 1~8 月份收窄 0.8 个百分点；外商投资增长 4.7%，增速比 1~8 月份提高 1.1 个百分点。

36. 2018 年 1~9 月份，全国固定资产投资（不含农户）平均每月同比增长约多少亿元？（ ）
- A.2063
B.2752
C.2174
D.2908
37. 2018 年 1~9 月份，投资同比增速快于 1~8 月份的地区有几个？（ ）
- A.1
B.2
C.3
D.4
38. 2018 年 1~9 月份第一产业投资占全国固定资产投资(不含农户)的比重与上年相比：（ ）。
- A.上升 6.3 个百分点
B.下降 6.3 个百分点
C.上升 0.2 个百分点

D.下降 0.2 个百分点

39. 2018 年 1~8 月份, 水利管理业投资同比增速为: ()。

A.5.8%

B.3.6%

C.-5.8%

D.-3.6%

40. 能够从上述资料中推出的是: ()。

A.2018 年 1~9 月份, 非民间固定资产增速小于 8.7%

B.2018 年 1~9 月份, 分产业看第一产业投资同比增长金额最多

C.2018 年 1~9 月份, 分登记注册类型中港澳台商投资增长最快

D.2018 年 1~9 月份, 第三产业中增速超过基础设施投资的有 3 项