

《行政能力测试》1000 题

言语理解与表达

第一部分 逻辑填空

1. 从十九大到二十大，是“两个一百年”奋斗目标的历史交汇期。我们既要全面建成小康社会、实现第一个百年奋斗目标，又要_____开启全面建设社会主义现代化国家新征程，向第二个百年奋斗目标进军。

填入划线部分最恰当的一项是（ ）

- A. 乘势而上
- B. 迎难而上
- C. 一鼓作气
- D. 中流击水

2. 应该承认，好读书这个习惯的养成是很重要的。_____根本不读书或者不喜欢读书，_____，说什么求甚解_____不求甚解都毫无意义了。_____不读书就不了解什么知识，不喜欢读也就不能用心去了解书中的道理。

填入横线最恰当的一项是（ ）

- A. 然而 尽管 和 因为
- B. 要是 那么 和 如果
- C. 但是 尽管 或 如果
- D. 如果 那么 或 因为

3. 现在，全球工业产业和农产品的成本逐年下降，而中国工业产品和农业产品的成本逐年上升，我们要格外加强往来交流，引进更先进的技术和管理，_____这个态势。

填入横线最恰当的一项是（ ）

- A. 转变
- B. 扭转
- C. 改变
- D. 挽回

4. 在现今国际竞争格局中，一个国家的综合竞争力也取决于是否有若干个综合经济实力强大的_____或城市群，它们是一国国民经济的_____，代表国家参与国际竞争_____周边乃至全国经济的增长。

填入划线部分最恰当的一项是（ ）

- A. 地区 晴雨表 推动
- B. 地域 风向标 撬动
- C. 区域 制高点 带动
- D. 区位 领头羊 启动

5. 高考是多年求学的检验，也是人生的一个起点，这些_____的“状元”能否成为栋梁之才，靠的是此后不懈的努力。但只要育人机制与用人机制之间的衔接通道没有彻底建立起来，这种众声喧哗的乱象还是会存在。

填入划线部分最恰当的一项是（ ）

- A. 凤毛麟角
- B. 形形色色
- C. 屈指可数
- D. 不一而足

6. 昆曲是国粹、是文化遗产，对大多数人而言，不过是“阳春白雪”，很多人没有品尝过_____的昆曲，但是由昆曲演化而来的京剧，倒是_____。

填入划线部分最恰当的一项是（ ）

- A. 原汁原味 家喻户晓
- B. 古色古香 众所周知
- C. 唱作俱佳 耳熟能详
- D. 别具一格 屡见不鲜

7. 持续走热的中国留学市场对任何一个留学目的国而言都是巨大的诱惑，这从每次教育发展的参展国家和院校数量就_____。

填入划横线部分最恰当的一项是（ ）

- A. 管窥蠡测
- B. 一孔之见
- C. 可见一斑
- D. 管中窥豹

8. 在积贫积弱的旧中国，中国人的“强国梦”成为一种_____的集体意识，无数追梦人 为之抛头洒血。新中国的成立，终于使“强国梦”有了实现的坚实基础，使个体梦想找到了归属和_____。

填入划横线部分最恰当的一项是（ ）

- A. 自发 寄托
- B. 悲壮 依托
- C. 崇高 庇护
- D. 朴素 慰藉

9. 情人不仅是情人，还是“神探福尔摩斯”：对方一有任何出轨的_____，一定会暗暗留心，或者当面_____。怪不得现在的爱情类书籍中，都有这样一条“忠告”：在女朋友或者妻子面前，切不可称赞其他的女人，在男朋友或者丈夫面前，切不可赞扬其他的男人！

填入划横线部分最恰当的一项是（ ）

- A. 现象 询问
- B. 表象 疑问
- C. 迹象 质问
- D. 现象 质问

10. 大脑是体内最依赖葡萄糖的器官，在大部分时间里，大脑选择使用葡萄糖为其_____能量。

填入划横线部分最恰当的一项是（ ）

- A. 增加
- B. 分解
- C. 转变
- D. 提供

11. 为调和潮湿闷热的天气，东南亚菜普遍偏向重口味，无论是菜肴还是汤品，大多酸辣，很容易刺激味蕾，让人忍不住_____，在这个饮食界的酸辣帝国中，冬阴功汤堪称东南亚菜肴中的____，以其独特的口感吸引着世界各国食客。

依次填入划横线部分最恰当的一项是（ ）

- A. 狼吞虎咽 翘楚
- B. 大快朵颐 翘楚
- C. 拍案叫绝 回首
- D. 食不甘味 杰作

12. 据 2008 年 7 月 18 日《中国青年报》报道，山东玫德责任有限公司为“济南市希望工程乡村教师援助计划”注入了 26 万元的_____资金。这笔资金除了用于为济南市乡村教师提供生活上的帮助外，还将抽调一部分资金帮助他们参加培训学习，_____提高乡村教师的整

体素质，____乡村教师的工作和生活条件。这一资助项目是济南市希望工程的创新与发展，在全国公益机构活动中尚属____。

依次填入划横线部分最恰当的一项是（ ）

- A. 起动 从而 改善 先例
- B. 启动 从而 改善 首例
- C. 启动 进而 改进 先例
- D. 起动 进而 改进 首例

13. 汉字无论是字形的演变，还是其中的文化意蕴，都____了中华民族几千年积淀下来的精神财富。认识和____汉字，熟悉它们的内涵，是我们了解中华历史与文化的重要途径，对____优秀的文化基因和弘扬优秀的民族文化，意义重大。

填入划横线部分最恰当的一项是（ ）

- A. 聚集 辨析 继承
- B. 凝聚 辨别 承接
- C. 聚集 辨别 承接
- D. 凝聚 辨析 继承

14. 语文课上得简捷，课堂导入也要简捷。最好开门见山，一句话导入课题。力避繁琐、花哨、作秀、不实用。因为导入仅仅是个环节、是个铺垫、而不是课堂教学的重头戏。好多初学教学的语文教师或参评各级优质课评选的老师爱在课堂导入环节上____，设计____的铺陈，这是错误的。

填在横线上最恰当的词语是（ ）

- A. 煞费苦心 繁琐
- B. 费尽心机 烦琐
- C. 挖空心思 琐碎
- D. 呕心沥血 繁杂

15. 俄罗斯今年来数次切断对邻国的天然气供应，在欧盟国家引起不小的____，认为欧盟的能源安全随时可能要受到威胁。

填入划横线部分最恰当的一项是（ ）

- A. 震惊
- B. 震动
- C. 恐惧

D. 麻烦

16. 我们仍一如既往坚决支持第三世界国家进行的反对外来侵略和干涉、维护民族独立和国家主权的斗争，我们绝不能因考虑国家关系而对侵略干涉行为_____。

填入划横线部分最恰当的一项是（ ）

A. 不管不顾

B. 姑息迁就

C. 坐视观望

D. 漠然处之

17. 如果说传统媒体人过去有_____的心态，现在却有不少人又开始_____。

填在横线上最恰当的词语是（ ）

A. 目空一切 目若无人

B. 妄自尊大 妄自菲薄

C. 唯我独尊 自甘堕落

D. 自高自大 自我陶醉

18. 假如你想当网红，千万别走_____的路线，千万别当逾越道德底线和法律规定的网红。也许有人不以为然，觉得成为网红的任何途径，都符合这个时代的价值多元性。的确，我们承认并倡导价值多元，但多元不是挑战公序良俗，不能充满阴冷丑恶。

填入划横线部分最恰当的一项是（ ）

A. 抱残守缺

B. 贻笑大方

C. 哗众取宠

D. 外强中干

19. 在对持文化遗产的问题上，如何既保护好，又利用好，从而更好地____，引发很多人的思考。尤其是那些从民间生活中生长出来的，一直和人们日常生活密切相关的传统手工艺品、非物质文化遗产等，有必要加以适当改造，以符合现代人的审美情趣，重新____当代生活。

填入划横线部分最恰当的一项是（ ）

A. 传承 融入

B. 继承 流入

C. 发扬 深入

D. 弘扬 溶入

20. 近年来，影视作品里的炫富现象越来越多。这现象有其深层的社会原因：社会转型期，部分先富起来的人沉浸于自我陶醉之中，产生了强烈的优越感和排他心理。影视作品是社会思潮的反映和社会现状的缩影，部分影视作品开始迎合并助推这种思潮的____。影视产业的繁荣发展让许多从业者收入渐涨、身价倍增。其中有些人发财之后就____，甚至____、迷失自我，陶醉在资本逻辑当中无法自拔。

填入划横线部分最恰当的一项是（ ）

- A. 泛滥 沾沾自喜 忘乎所以
- B. 漫溢 忘乎所以 沾沾自喜
- C. 发展 趾高气扬 得意洋洋
- D. 弥漫 得意洋洋 趾高气扬

21. 有人用“归期不定、前路不明、何去何从”来____留守儿童的心理状态。实际上，对于成长中的孩子们来说，比物质____更需要的是来自父母的精神上的____。

依次填入划横线部分最恰当的是（ ）

- A. 概括 贫乏 抚慰
- B. 描述 缺乏 安慰
- C. 总结 匮乏 慰藉
- D. 形容 稀缺 安抚

22. 乡愁是情感的记忆，是一壶陈年的老酒，农村的山山水水都是乡愁的载物，尤其那些有着千百年历史的古村落，____着丰富的农耕文化元素，____着中国农业文化、古代建筑和民俗民风的____与发展历史，如同神奇的时空隧道，让我们得以回望久远的时代，保护好这些农耕文化的瑰宝，我们才能记得住乡愁。

依次填入划横线部分最恰当的是（ ）

- A. 孕育 展示 演化
- B. 蕴含 见证 演变
- C. 质疑 扰乱 引发
- D. 轻视 破坏 诱发

23. 在知识爆炸性增长和社会竞争日趋激烈的当下，对于不学无术者来说，“毕业即失业”并非____。与其事后自怨自艾，不如事前做好____；与其今后在“回炉重造”和现实困境中____，不如把握当下。

依次填入划横线部分最恰当的是（ ）

- A. 遥不可及 谋划 无能为力
- B. 危言耸听 规划 左支右绌
- C. 无稽之谈 打算 走投无路
- D. 空穴来风 准备 寸步难行

24. 近年来，中国网络文学产业的发展_____，作为新兴行业，网络文学产业在高速发展的同时，也出现了对网络文学作者保护不够的问题。网络文学盗版乱象_____，网站签约作者发布的作品，几乎都存在“秒盗”的可能，俨然已形成了一条灰色产业链，严重_____了正版网站及作家的切身利益。

依次填入划横线部分最恰当的是（ ）

- A. 势如破竹 防不胜防 侵害
- B. 如日中天 应接不暇 损害
- C. 炙手可热 层出不穷 侵犯
- D. 方兴未艾 屡见不鲜 损坏

25. ①一个国家的文化完了，这个国家就陷入了_____的境地了。

②他感人的诗作都真情实感，再加以对文字的反复____，也就特别的能引发读者的共鸣。

将下列选项中的词语依次填入各句划线处，最恰当的一组是（ ）

- A. 万劫不复 锤炼
- B. 万念俱灰 磨炼
- C. 万劫不复 磨炼
- D. 万念俱灰 锤炼

26. 网络文学开启了大众写作的热潮，也在改变着当代文学创作的_____，特别是网络文学潜在的“对话性”，是区别传统文学的根本所在。有学者认为，互联网平台的在线性和_____，使得这样的对话更为便捷和真实，这是传统文学所不具备的。

依次填入划横线处最恰当的一项是：

- A. 传统 交互性
- B. 模式 直观性
- C. 趋势 开放性
- D. 版图 及时性

27. 咳嗽涉及病因众多，临床诊治咳嗽有时很困难，也是每个临床医生经常碰到的难题，

但如果分清楚原因，对症下药，效果则_____。

依次填入划横线处最恰当的一项是：

- A. 药到病除
- B. 立竿见影
- C. 不言自明
- D. 事半功倍

28. 以鸟类迁徙为话题的纪录片《迁徙的鸟》向我们完美展示了一个自然界的奇迹。虽然大部分地表已被人类改造得_____，但在天空中，鸟儿仍是主角，无论雪鹅、野鸭还是云雀，都自有其尊严。“我们需要与自然界和平相处，因为人类不可能_____地生活在这个地球上。”

依次填入划横线处最恰当的一项是：

- A. 面目全非 孤单
- B. 支离破碎 傲慢
- C. 元气大伤 自私
- D. 体无完肤 麻木

29. 社会的和谐，是以人与人之间的爱即仁爱为_____基础的，也是以执政者怀抱民本思想执政为民，惠及民生为基础的。可以说，正是传统仁爱思想和民本思想的有力_____，才确保了中华民族 5000 年历史的_____。

依次填入划横线处最恰当的一项是：

- A. 思想 维护 革故鼎新
- B. 情感 维系 绵延不绝
- C. 精神 维持 历久弥新
- D. 理论 维稳 山高水长

30. 中国制造业超越美国指日可待，中国 GDP 超越美国也将在这一代中国人的有生之年变为现实。这两个超越凝聚了几代中国人的奋斗，当然意义巨大。但过分陶醉，就会变自信自大，进而_____。毕竟，物质产出只是硬实力，历史上，船坚炮利的国家甚多，基业长青的却少有，_____更多在“软实力”而不在“硬实力”。

依次填入划横线处最恰当的一项是：

- A. 妄自尊大 关键
- B. 忘乎所以 秘密

C. 目中无人 原因

D. 趾高气扬 秘诀

31. 我国著名语言学家罗常培说过：语言文字是一个民族文化的结晶。这个民族过去的文化靠着它来流传。未来的文化也仗着它来_____，我们可以从诸多文字现象中，如汉字的造字、构词，汉字词义的形成和_____中找寻中国文化形成与发展的理据。

依次填入划横线处最恰当的一项是：

A. 推进 演变

B. 提升 演进

C. 弘扬 变迁

D. 推动 变革

32. 中国古代的四大发明——火药、指南针、造纸术和印刷术，通过丝绸之路传播到了全世界，中国政府_____古代经验，助推肩负新四大发明的中国企业进军海外，不过想要席卷全球，他们不仅要像在中国国内一样具备_____，还要符合世界各地的风俗习惯。

依次填入划横线处最恰当的一项是：

A. 总结 通用性

B. 借鉴 便利性

C. 发挥 实用性

D. 积累 趣味性

33. 在人类文明史上，古埃及人和两河流域的苏美尔人，都曾创造过古老的文字。然而，随着时间的流逝，这些文字早已消亡。时至今日，_____的古老文字，唯有中国人创立的汉字。作为伟大的汉文化的载体和媒介，汉字依然_____，堪称当今世界上最有生命力的文字之一。

依次填入划横线处最恰当的一项是：

A. 硕果仅存 长盛不衰

B. 凤毛麟角 源远流长

C. 出类拔萃 博大精深

D. 鹤立鸡群 方兴未艾

34. 在当代漆器制作中，仅仅拥有对材料实验的冒险精神是不够的，对漆器制作传统的沉潜钻研_____。对创作者而言，漆艺的美学精神和社会价值是否已经_____，漆艺家是否掌握漆的自身语言去创作具有生命力的独特艺术作品，这些都给漆艺家提出了新挑战。

依次填入划横线处最恰当的一项是：

- A. 不可偏废 了然于胸
- B. 迫在眉睫 与时俱进
- C. 不可或缺 内化于心
- D. 势在必行 融为一体

35. “当真相还在穿鞋，谣言已环游世界，”在当今信息传播高度发达的时代。这句名言可谓_____。科学类流言往往是披着科学外衣的伪科学，内容中常出现很多专业用语，或引用国外科学期刊内容，看似引经据典，其实却_____。科学类流言经常会反复传播，即使已被科学界和传统媒体辟谣。很多人抱着“宁可信其有”的心态，客观上存在“_____”的效应。

依次填入划横线处最恰当的一项是：

- A. 一语中的 偷梁换柱 众口铄金
- B. 一言蔽之 故弄玄虚 以讹传讹
- C. 一语成谶 移花接木 三人成虎
- D. 一针见血 信口开河 风声鹤唳

36. 翻开《红楼梦》的任何一个篇章，往往都能使人_____一个重要的原因，恐怕就在于《红楼梦》创造了各种各样引人入胜的艺术_____

依次填入划横线处最恰当的一项是：

- A. 乐不思蜀 境地
- B. 流连忘返 境界
- C. 乐不思蜀 境界
- D. 流连忘返 境地

37. 一般人对身边的事物只看到特别触目的部分，有的人比别的人看到的多一些，然而能把视觉范围内的事物全部都看到的人却_____。

依次填入划横线处最恰当的一项是：

- A. 凤毛麟角
- B. 九牛一毛
- C. 寥寥无几
- D. 恒河沙数

38. 今天的中国，历经 30 多年的快速发展，一些地方富起来了，一些行业变强壮了，

一些大城市够现代了。睹物看景，虽然油然而生自豪感与自信心是正常的，
_____。到偏远山村去，到贫困地区去，到困难群众家里去，我们就会
冷静得多。

依次填入划横线处最恰当的一项是：

- A. 中国的发展速度已经大大超过了一般发展中国家
- B. 然而自信能带领我们走向成功
- C. 但若因此而头脑发热、变得自满自大却是危险的
- D. 很多时候需要冷静

39. 尽管生物燃料是一个先进的、好的概念，但并不能想当然、盲目地将之视为“清洁能源”，在大力提倡生物燃料之前应对其生产方式及其广泛使用的后果进行充分的研究，否则便有可能“好心办坏事”_____

依次填入划横线处最恰当的一项是：

- A. 南辕北辙
- B. 分道扬镳
- C. 各行其是
- D. 缘木求鱼

40. 电视评论的犀利和深刻是主持人思想创造性的外化，主持人只有具备思想的创造性，才能将观点转化为_____发人深省的评说。

依次填入划横线处最恰当的一项是：

- A. 深入浅出
- B. 知微见著
- C. 举世闻名
- D. 鞭辟入里

41. 菜籽油含有亚油酸、亚麻酸、花生酸等三种人体_____的脂肪酸，还有油酸。菜籽油能_____胆固醇在小肠的吸收，还能促进肝内胆固醇的降解和排出，因此，对_____心血管病的发生有一定作用。

依次填入划横线处最恰当的一项是：

- A. 必须 抑止 防治
- B. 必须 抑制 防止
- C. 必需 抑止 防治

D. 必需 抑制 防止

42. 笔名满天下而原名湮没无闻者，事实上等于_____。人家给咱们介绍一位沈雁冰先生，不如介绍茅盾来得响亮；介绍一位谢婉莹女士，不如介绍冰心来得_____等到自己也肯公然承认名叫茅盾或冰心的时候，仍不失为行不更名、坐不改姓的好汉。千秋万岁后，非但真假难辨，而且_____

依次填入划横线处最恰当的一项是：

- A. 改名换姓 大名鼎鼎 弄巧成拙
- B. 移花接木 如雷贯耳 弄巧成拙
- C. 改名换姓 如雷贯耳 弄假成真
- D. 移花接木 大名鼎鼎 弄假成真

43. 在温哥华冬奥会花样滑冰双人滑比赛中，中国选手申雪赵宏博_____以 216.57 分的总成绩夺得冠军，让国人很振奋。

依次填入划横线处最恰当的一项是：

- A. 不负众望
- B. 不孚众望
- C. 平步青云
- D. 声名鹊起

44. 领导干部应该深入群众，和群众打成一片，真正_____民情。

依次填入划横线处最恰当的一项是：

- A. 体察
- B. 体恤
- C. 体贴
- D. 体验

45. 随着电扇、空调的_____，炎炎夏日中人们手摇蒲扇纳凉的情景已经很难看到了，但_____、瑰丽多彩的中国扇文化，却一直传承至今，成为人们记忆中绚丽无比的一道风景。

依次填入划横线处最恰当的一项是：

- A. 出现 享誉中外
- B. 普及 源远流长
- C. 使用 喜闻乐见
- D. 发明 异彩纷呈

46. 中外合拍片对中方和好莱坞电影工厂均有好处，但是由于存在文化环境和审美趣味的差异，中国元素很难与好莱坞电影_____，为了照顾全球影迷的欣赏口味，好莱坞电影只能减少中国元素的份量，因此，仅针对中国内地市场的“中国特供版”便_____。

依次填入划横线部分最恰当的一项是：

- A. 契合 粉墨登场
- B. 协调 东山再起
- C. 融合 应运而生
- D. 匹配 大行其道

47. 经过一段时间的侦察，公安人员在工业园附近，一举_____了这个特大地下制毒工厂。

填入括号最恰当的一项是（ ）

- A. 查处
- B. 整顿
- C. 捣毁
- D. 拆毁

48. 音乐是声音中最早进入电影的一个艺术_____，它向来以擅长表现感情、_____气氛而受到编创人员的喜爱。

依次填入划横线处最恰当的一项是：

- A. 环节 烘托
- B. 元素 营造
- C. 手段 打造
- D. 形式 衬托

49. 信念是人的生命得以闪光的火花，信念的火花一旦熄灭，人的生命就不再有闪光点了，人的生命如不以信念为_____，将会逐渐萎缩以至_____。

依次填入划横线处最恰当的一项是：

- A. 前提 干涸
- B. 基础 消亡
- C. 基石 枯竭
- D. 依托 枯槁

50. 不少作家把人生比作登山，_____就是登上山顶略事休息徘徊的那一刹那。此前

是“快乐地努力地向前进”，此后则“别有一般滋味”的“想回家”；此前是“路上有好多块绊脚石，曾把自己磕碰得鼻青脸肿”，此后则“前面是下坡路，好走得多”。“下坡路”也罢，“想回家”也罢，都是一种_____的心态。一切都不过如此，没什么稀奇的，不值得大惊小怪，也不值得苦苦追求。

依次填入划横线处最恰当的一项是：

- A. 中年 过来人
- B. 老年 过来人
- C. 中年 成功者
- D. 老年 成功者

51. 消防战士李隆：火场、废墟，有多少次出生入死，就有多少次不离不弃。他用希望_____希望，用生命_____生命。

填入横线部分最恰当的一项是：

- A. 点燃 换回
- B. 带来 挽救
- C. 扩展 激活
- D. 连接 拯救

52. 目前焦化废水的处理技术_____, 是生物技术, 在焦化废水组成中各种成分均会对生物处理效果产生一定影响, 有些是作为微生物的营养, 相反, 有些成为生物的_____剂。

依次填入划线部分恰当的一项是：

- A. 基本 还原
- B. 中心 催化
- C. 本质 激活
- D. 核心 抑制

53. 在乡村, 老牛与牧童彼此守望, 庄稼人面朝黄土, 把自己生命的期望播种进_____的泥土里, 把一切梦想向季节里扔去, 和庄稼、土地一起_____, 一起金黄, 在鲜润的土地上, 将十指插入泥土, 攥一把, 闻一闻泥土的清香, 然后把泥土捏出心中渴望的形状, 那是老农一生重复了多少次的庄重礼仪和神奇享受, _____的身影和溅落的汗珠也被编成一个章节, 使故事闪现着更加真实的笑声, _____在季节深处的笑容和粗犷的酒歌里。

依次填入划横线部分最恰当的一项是：

- A. 黝黑 葱郁 消瘦 镶嵌

- B. 广袤 成长 清瘦 洒落
- C. 湿润 葱郁 健硕 飘零
- D. 厚重 成长 矫健 凝结

54. 苏东坡成全了黄州，黄州也成全了苏东坡，这实在是一种_____的有趣关系。东坡写于黄州的那些杰作，既宣告着黄州进入了一个新的美学等级，也宣告着东坡进入了一个新的人生阶段，两方面一起_____。谁也离不开谁。

填入横线处最恰当的选项是：

- A. 相辅相成 提升
- B. 水乳交融 闻名
- C. 如影随形 升华
- D. 同舟共济 流传

55. 徜徉在这个花海中，常常使你思索起来，感受到许多寻常的道理中新鲜的_____。

填入划横线部分最恰当的一项是：

- A. 意思
- B. 意味
- C. 涵义
- D. 意义

56. 从法官的精英化到法官的专业化，无不_____着人们对法官资格和法官职位的憧憬和理想，当前，应当建立以职业品德、专业知识、实践经验三位一体的法官培养_____标准。

依次填入划横线处最恰当的一项：

- A. 承载 遴选
- B. 寄托 挑选
- C. 肩负 选取
- D. 承担 入选

57. 科学家在分析气象卫星发回的数据时_____地发现，这个神秘的气溶胶层的浓度大大增加了，竟然达到了 1996 年时的 3 倍。科学家_____到问题的严重性了，因为一旦气溶胶进入到平流层，就可以随着平流层特有的强劲侧风迅速扩散到整个地球大气层。并给臭氧层带来严重的破坏。

依次填入划横线部分最恰当的一项是：

- A. 惊讶 意识
- B. 好奇 意识
- C. 好奇 认识
- D. 惊讶 意味

58. 保护好历史建筑,实质就是留住城市发展的_____,让人真切_____到真实的“昨天”“今天”与“明天”。我们并不_____,有历史的城市,但很多城市确实缺少“历史感”与“厚重感”。就此看,“不拆真遗存,不建假古董”,其实并不是针对具体历史建筑的保护,而是强调对历史的敬畏,对人文本位的回归。

依次填入划横线部分最恰当的一项是:

- A. 痕迹 感受 存在
- B. 文脉 体认 缺乏
- C. 线索 了解 获得
- D. 遗迹 领悟 缺少

59. 一直以来,家庭养老是中国式养老的重要方式,极大_____了社会养老风险。不过,随着计划生育和人口流动因素的影响,“四个老人、一对夫妻和一个孩子”的家庭模式,使家庭养老功能_____。目前,中国式养老大致有三种方式:家庭养老、社区养老和机构养老。而机构养老除国家投资的养老院外,需求最大的是一般工薪阶层消费水平可以负担的养老院,但这类养老院_____。而无论是哪种养老,背后都藏着两本账:经济账和感情账。

依次填入划横线部分最恰当的一项是:

- A. 承担 减弱 供过于求
- B. 减轻 强化 于事无补
- C. 舒缓 失去 事半功倍
- D. 缓解 弱化 供不应求

60. 半个月一趟的班列,把内蒙古、京津冀乃至江浙地区的外贸产品和大宗货物_____地运往国外,并将俄罗斯和欧盟等国家的汽车配件、木材、食品、小家电等货物通过赤峰保税物流中心集散至全国各地,_____了一条连接国内外的黄金物流通道。

填入划横线部分最恰当的一项是:

- A. 连绵不断 拓展
- B. 层出不穷 开发
- C. 络绎不绝 开拓

D. 源源不断 开辟

61. 大草原上世世代代的牧羊人，要_____现代养殖业的红利，不能迷信“养了几辈子羊”得来的经验理念、形成的路径依赖，而得主动_____生态约束、市场规律的检验。

填入画线部分最恰当的一项是：

A. 得到 承受

B. 收获 迎接

C. 获得 接纳

D. 取得 接受

62. ①家长的思想观念，生活习惯，无不通过_____、潜移默化，在孩子身上发生作用。

②德才兼备的人才固然好，可这种人才不多，大多数人才是_____。

③这篇文章_____，把那种微妙的感情描绘的异常细腻，赢得了大赛组委会的一致好评。

A. 相濡以沫 瑕不掩瑜 独树一帜

B. 耳濡目染 瑕瑜互见 自出机杼

C. 相濡以沫 瑕瑜互见 自出机杼

D. 耳濡目染 瑕不掩瑜 独树一帜

63. 史学研究如果离开了哲学的_____，不关注重大的历史事变和基本的理论问题，以繁琐考辨取代理论思维，以堆砌资料为_____，以叠床架屋为_____，拾芝麻以为玃珠，袭陈言而自诩多闻，见枯木以为树林，_____，见小遗大，就注定要湮没在史料的汪洋之中，堕落为服务故纸堆的陈腐工具。

依次填入划横线部分最恰当的一项是：

A. 指引 多 强 一孔见天

B. 引导 广 美 窥斑见豹

C. 指导 博 精 以偏概全

D. 指点 全 妙 以管窥天

64. 科技与艺术的____，催生了电子音乐的诞生，音乐人才的培养方式也被改写了。正因为此，上音音工系于2003年_____。

依次填入划横线处最恰当的一项是：

A. 结合 水到渠成

- B. 溶合 应际而生
- C. 融合 应运而生
- D. 交融 应时而生

65. 《龙的传人》的内容取材与当前课堂教育高度_____, 特别是与目前小学生的课本内容_____。这种贴近目标受众的传播模式, 让课堂化扩大为社会化, 为目标受众的知识教育和价值教育开辟了更多的渠道。

依次填入划横线处最恰当的一项是:

- A. 接近 一致
- B. 相似 匹配
- C. 不同 适应
- D. 吻合 同步

66. 中国国防部表示, “中方捍卫国家领土主权的决心和意志坚定不移, 将不惜一切代价维护自主权和安全利益”, “强烈要求印方立即将越界的边防人员撤回边界线印方一侧, 这是解决事态的前提和基础”, “印方不要_____, 不要抱着_____的幻想”, “撼山易, 撼解放军难”。

依次填入横线最恰当的一项是:

- A. 心存侥幸 不切实际
- B. 心存侥幸 天马行空
- C. 肆意妄为 不切实际
- D. 肆意妄为 天马行空

67. 庄子一生穷困潦倒, 却能超越贫困乐在其中, 庄子_____, 尤其善用寓言和小故事来表达自己的观点, 同时嘲讽那些追名逐利的小人。庄子的文章充满了讽刺和挖苦。他的所作所为, 经常令人_____, 又令人拍案叫绝。

填入划横线部分最恰当的一项是:

- A. 学富五车 匪夷所思
- B. 洞悉世事 如坠云雾
- C. 能言善辩 瞠目结舌
- D. 旁征博引 恍然大悟

68. 就像传记文学一样, 传记片最见作者_____之处, 是对人物生平材料的剪裁和取舍。经典传记片《巴顿将军》虽然冠名“巴顿”, 却没有像编年史一样横跨几十年地展现这个人

物，而仅仅只是截取了“二战”期间巴顿的天才与自傲，一位美国“二战”英雄的_____便跃然于银幕之上。

依次填入划横线部分最恰当的一项是：

- A. 功力 风采
- B. 能力 风姿
- C. 实力 风度
- D. 心力 风骨

69. 13 世纪的欧洲在经历了前后近 200 年的十字军东征之后，显得倦怠而疲惫，宗教战争的狂热逐渐被茶叶、陶瓷、香料和丝绸等这些被打上“神秘东方”标记的商品所替代。《马可·波罗游记》的记述_____地满足了西方的遐想，_____了西方对东方的无限神往。

填入划横线部分最恰当的一项是：

- A. 难能可贵 产生
- B. 恰如其分 激起
- C. 淋漓尽致 引发
- D. 面面俱到 唤醒

70. 传统经济学习惯铺陈宏大的讲说辞，在人性的细节方面，总是_____，被抽空了细节的经济学，虽_____，拥有如庙堂般巍峨的气势，却还原和解读不了世界的真实。

依次填入划横线部分最恰当的一项是：

- A. 语焉不详 高屋建瓴
- B. 闪烁其词 博大精深
- C. 含糊其辞 鞭辟入里
- D. 捉襟见肘 天马行空

71. 幸福有没有标准？我认为，现实生活离不开比较，但是幸福的比拼，本身就是比较_____的事情。幸福耐不住人家打扰，经不起科学研究，当幸福成为指数、成为概念、成为一批标准时，也就变得_____了。

依次填入划横线部分最恰当的一项是：

- A. 混乱 一文不值
- B. 私密 可有可无
- C. 模糊 无足轻重

D. 荒诞 遥不可及

72. 对大多数人来说，糖尿病并不陌生。然而，很多人对它的了解仅仅是_____。并非_____，就发病率而言，糖尿病可谓疾病之王。按照 2013 年的数据，中国 18 岁以上成年人的糖尿病发病率已经高达 11.6%，患者绝对人数已经过亿。

依次填入划横线部分最恰当的一项是：

- A. 略知一二 空穴来风
- B. 冰山一角 危言耸听
- C. 道听途说 杞人忧天
- D. 管中窥豹 故弄玄虚

73. 古人提倡“吾日三省吾身”，_____，而今天有些人则不然，总是_____，对比之下，实在不应该。

依次填入划横线部分最恰当的一项是：

- A. 修身养性 瑕不掩瑜
- B. 兢兢业业 好大喜功
- C. 闻过则喜 讳疾忌医
- D. 博采众长 刚愎自用

74. 从某种意义上来说，大脑就像肌肉一样，如果_____锻炼某个部分，就会使该区域增强。科学家发现小提琴演奏家的大脑中用来控制左手的区域远大于常人，因为左手按压琴弦的工作比较_____，而右手拉弓弦则相对简单。同样，阅读盲文的盲人，其大脑中很大的区域_____给触觉。

依次填入划横线部分最恰当的一项是：

- A. 长期 紧张 安排
- B. 反复 繁琐 分配
- C. 直接 劳累 划分
- D. 刻意 复杂 预留

75. 机遇与每个人的未来_____，把握机遇，就能更好地把握未来。然而，机遇又像是一个美丽而性情古怪的天使，她偶尔降临在你身边，如果你稍有不慎，如果你不懂珍惜，她将翩然离去，不管你怎样_____。

依次填入划横线部分最恰当的一项是：

- A. 休戚相关 捶胸顿足

- B. 息息相关 扼腕叹息
- C. 休戚与共 后悔莫及
- D. 生死攸关 自怨自艾

76. 执行力的强弱已经成为影响企业成败的关键因素。世界级优秀企业总是能够让那些令人振奋的战略规划_____地得到落实，达到甚至超出预期的目标。

依次填入划横线部分最恰当的一项是：

- A. 分毫不差
- B. 滴水不漏
- C. 一丝不苟
- D. 不遗余力

77. 世界上没有完美无缺的医疗体系，无论是免费医疗还是市场化的医疗体系，都各有弊端。但从生存权和人的尊严的角度看，对个人免费或少量收费的医疗实乃_____。

依次填入划横线部分最恰当的一项是：

- A. 未雨绸缪
- B. 万全之策
- C. 大势所趋
- D. 当务之急

78. 实际上雾霾形成的原因是多方面的，识别污染源是有效治理大气污染至关重要的环节。对京津冀区域而言，认清区域内污染源的共性及差别，有助于区域内地区_____地对污染源进行综合治理。

依次填入划横线部分最恰当的一项是：

- A. 因地制宜
- B. 正本清源
- C. 有的放矢
- D. 齐心协力

79. 作为一种现代产权制度，知识产权制度的本质是通过保护产权形成_____，“给天才之火添加利益之油”，使全社会创新活力_____，创新成果涌流。

依次填入划横线部分最恰当的一项是：

- A. 吸引 释放
- B. 刺激 膨胀

C. 促进 凸显

D. 激励 迸发

80. 正是史学家独自的思想和视角，将_____、凌乱纷繁的史料串联、构建成一个引人入胜的历史故事，使读者能够在往昔和今日之间_____，在对历史的阅读中获得愉悦和教益。

依次填入划横线部分最恰当的一项是：

A. 汗牛充栋 附读仰思

B. 多如牛毛 字斟句酌

C. 浩如烟海 自如穿越

D. 不胜枚举 反复推敲

81. 《海洋星球》是一部编排细致、变现手法新颖的环保纪录片。影片用几句_____的开场白点明人与海洋关系的主题后，便将镜头对准了 40 亿年前的太古时期、我们通过画面了解到，洋流如何孕育了生命的雏形，藻类如何引发了新生命的爆发，海洋生物如何互相追逐捕食，形成_____的生物链。

依次填入划横线部分最恰当的一项是：

A. 铿锵有力 唇齿相依

B. 提纲挈领 环环相扣

C. 醍醐灌顶 密不可分

D. 开门见山 绵延不绝

82. 依次填入下列横线的词语，最恰当的一组是：

(1) 这个经历了八百年风雨_____的土塔究竟能保存多久，实在难以预料。

(2) 可能是一时疏忽，你的文章中有几处不大通畅的语句，我斗胆加以_____。

(3) 商品价值、抽象劳动、具体劳动等，属于政治经济学的_____。

依次填入划横线部分最恰当的一项是：

A. 腐蚀 斧正 范畴

B. 腐蚀 改正 范围

C. 侵蚀 斧正 范围

D. 侵蚀 改正 范畴

83. “书”与“法”是一种_____的组合，纵观历代书法名家星辰，遍览闪耀艺术之光的碑帖名篇，好的书法家无不遵循先“书”后“法”的客观规律。而只有牢固的文化_____，

才能创作出给人以心灵震撼、情感激越、思想启迪和艺术享受的好作品，才能负载传承优秀文化的神圣使命。

依次填入划横线部分最恰当的一项是：

- A. 矛盾 底蕴
- B. 辩证 根基
- C. 依存 内涵
- D. 因果 功底

84. 我们在一个碎片化的时代里，信息是_____的，但是我们每天只有十几个小时醒着的时间，注意力就成了稀缺资源。谁能吸引到注意力，谁就具有_____的商业价值。厂商传统的方法是投放广告或者找明星代言。互联网里，因为传播结构发生了变化，网红也能担负这样的角色，他们成批量地成长起来，成批量地被发现，总的影响力十分可观。

依次填入划横线部分最恰当的一项是：

- A. 零散 巨大
- B. 变化 真正
- C. 无限 潜在
- D. 丰富 持续

85. 如果中医药在动物保护这些价值上也受到批评，还怎么能在和西药竞争中获得一席存身之地呢？不用动物入药，的确可能对目前一些中医构成了压力，但是真正的良医不会_____，他们会化压力为动力，努力钻研医术，_____中医药的优良传统。恪守生态文明原则，拥抱动物保护，是中医药现代发展的题中应有之意。

填入划横线部分最恰当的一项是：

- A. 束手无策 继承
- B. 画地为牢 弘扬
- C. 故步自封 复兴
- D. 舍本逐末 倡导

86. 目前的“钱荒”并不是货币政策收紧所导致的，而是过去几年金融体系借助国内外宽松的货币政策环境，脱离实体经济_____发展，金融资产过度膨胀在一个时间点的_____爆发。

依次填入划横线部分最恰当的一项是：

- A. 畸形 突然

- B. 飞速 恶性
- C. 片面 系统
- D. 盲目 集中

87. 做学问，“要大处着眼，小处下手”。由博入专，不可急功近利，能大处着眼，为学方不致流于_____，而有裨益于世；能小处下手，方不致流于_____，所以做学问千万不要要求速效。

依次填入划横线部分最恰当的一项是：

- A. 狭隘 口号
- B. 烦琐 空谈
- C. 表面 形式
- D. 平庸 俗套

88. 就形式而言，引注被历史地赋予两种功能，即索引工具和道德标尺。引注以其标记技术直接显示所引内容的存在处所，方便人们_____，同时也有利于人们全面地把握所引内容的准确意义。另外，引注直观地表明作者对事实和前人劳动的_____，展示自己的道德人格。

依次填入划横线部分最恰当的一项是：

- A. 搜索 认同
- B. 核实 尊重
- C. 理解 敬畏
- D. 查阅 关注

89. 迭代思维，大数据思维，平台思维……关于互联网思维的众多阐释尤其是实践心得，都有价值。不过，互联网思维并不是万能的救命稻草，抓住了就能_____。如果罔顾互联网思维的本质，迷惑于它的表象，盲目套用这个“万能公式”，结果只会_____。用好互联网思维，还要洗去它被打扮的妆容，看清“素颜”，需要立足于“互联网给我们带来的改变”去思考，也需要_____，从自身的特点来挑选和利用。

依次填入划横线部分最恰当的一项是：

- A. 起死回生 适得其反 量体裁衣
- B. 化险为夷 事与愿违 随机应变
- C. 转危为安 拔苗助长 随遇而安
- D. 妙手回春 欲速不达 量力而行

90. 品鉴国学不易，品鉴国学经典更难。然而此书却自出机杼，采英撷华，从浩如烟海的史料中选取了_____的国学经典，上起《管子·牧民》，下迄《曾国藩家书》，_____了思想上的大智、心灵上的大真、伦理上的大善、心性上的大爱、行为上的大义、为人上的大诚、做事上的大信以及艺术上的大美。

依次填入划横线部分最恰当的一项是：

- A. 贯通古今 蕴含
- B. 汗牛充栋 融合
- C. 包罗万象 汲取
- D. 车载斗量 荟萃

91. 在我国，核工业为国民经济的发展做出了重要贡献，我们不能因为日本发生福岛核电事故而_____，停止对和平利用核能的探索。

依次填入划横线部分最恰当的一项是：

- A. 听天由命
- B. 因噎废食
- C. 患得患失
- D. 杞人忧天

92. 语言在代代相传的过程中会发生改变。在人口众多的族群中，语言倾向于保持_____，原因很简单，因为有更多的人能记住上一辈说话的方式，然而在规模较小的族群中，语言有可能更快地发生变化，在世代交替中有些音素将会_____。

依次填入划横线部分最恰当的一项是：

- A. 稳定 流失
- B. 传统 异化
- C. 活力 消亡
- D. 原貌 式微

93. 筹算应用了大约两千年，对中国古代数学的发展功不可没。但筹算有个严重缺点，就是运算过程不保留。元朝数学家朱世杰能用筹算解四元高次方程，其数学水平居世界领先地位，但是他的方法难懂、运算过程又不能保留，因而_____。中国古代数学不能发展为现代数学，筹算方法的_____是个重要原因。

依次填入划横线部分最恰当的一项是（ ）

- A. 形同虚设 束缚

- B. 销声匿迹 片面
- C. 后继无人 限制
- D. 难以为继 约束

94. 唐朝中期以来，帝国再次陷入激烈的持续动荡，农民起义和藩镇割据成为唐帝国后叶的_____。最终，中国进入了 50 余年的五代十国大分裂时期，看起来，黄河文明似乎已经_____。但是，为什么中国的文明没像古埃及和古巴比伦那样彻底衰亡，而是_____，一直延续至今呢？

依次填入划横线部分最恰当的一项是：

- A. 主题 危在旦夕 薪尽火传
- B. 主线 岌岌可危 柳暗花明
- C. 主调 危机四伏 重振旗鼓
- D. 主流 危如累卵 涅槃重生

95. 在某种程度上，各地博物馆收藏化石，是对我国化石资源最大程度的保护。但_____的是，这种方式的收藏也不能被_____，因为这就像吃鱼翅的人越多，遭到杀戮的鲨鱼就越多一样。

依次填入划横线部分最恰当的一项是（ ）

- A. 遗憾 复制
- B. 矛盾 鼓励
- C. 不幸 推广
- D. 尴尬 宣传

96. 一项研究表明：由父母带大的孩子智商高，他们在学校里的成绩往往更好，将来走向社会也更容易成功。尽管很多男性已经领悟到父教的_____，但现实生活中父教的缺位并不鲜见。中国家庭分工普遍注重“男主外，女主内”，投入到孩子身上的时间自然就会减少：有些男性存在浓厚的“大男子主义”情结，认为父教是“_____”，就算有时间，也不愿陪伴孩子；还有的父亲尚未认识到父教的必要性和重要性。

依次填入划横线部分最恰当的一项是：

- A. 大有可为 小题大做
- B. 不可或缺 雕虫小技
- C. 大有裨益 家长里短
- D. 至关重要 大材小用

97. 当人类社会进入到信息时代，曾有人_____，计算机是方块汉字的掘墓人。然而，事实_____了对汉字的这些偏见和悲观论调。据统计，现在已有 10000 多种汉字输入法，无论从速度还是准确率上看，方块汉字的计算机输入丝毫不逊色于拼音文字。

依次填入划横线部分最恰当的一项是（ ）

- A. 宣称 打破
- B. 断言 粉碎
- C. 妄言 驳斥
- D. 预言 批判

98. 要因地制宜、_____，不搞“一刀切”，不追求一步到位，允许采取差异性、过渡性的制度和政策安排。

依次填入划横线部分最恰当的一项是：

- A. 量体裁衣
- B. 因时制宜
- C. 循序渐进
- D. 对症下药

99. 文风源于内心，你表面上可以做到不动声色，但作为情感的_____，文字通常会将你内心的感受直接表现出来，一个人的文风并不是_____的，它会随着人的年龄、心态、思想内涵及_____的变化而改变。

依次填入划横线处最恰当的一项是：

- A. 宣泄 一成不变 阅历
- B. 抒发 一以贯之 经历
- C. 爆发 一蹴而就 资历
- D. 表露 持之以恒 历练

100. 洁净是茶室的必要条件，比方说茶室里最幽暗的角落，纵使客人根本_____，主人也必须拭抹得_____。可是仲夏之际，从一株百合花上无意滴落在地板上的水珠，却应任其留存，它暗示着水一般的纯净与清爽。

依次填入划横线处最恰当的一项是：

- A. 无暇顾及 一尘不染
- B. 不以为然 一干二净
- C. 视而不见 洁白无瑕

D. 熟视无睹 纤尘不染

101. 自由的读书_____有乐趣，_____常常能因书中某一隽永的句子而_____，并对人生某一方面产生一种难得的顿悟。

依次填入划横线处最恰当的一项是：

A. 即使 也 茅塞顿开

B. 不但 而且 豁然开朗

C. 不仅 还 心有余悸

D. 虽然 但是 融会贯通

102. 在赞叹互联网海纳百川的同时，我们也必须认识到，互联网的使用者_____，产生的内容自然也会_____、纷繁芜杂。因此，互联网内容生产绝不同于互联网内容建设。

依次填入划横线处最恰当的一项是：

A. 形形色色 泥沙俱下

B. 五行八作 黑白颠倒

C. 林林总总 鱼龙混杂

D. 三教九流 斑驳陆离

103. 对互联网企业来讲，从用户那里收集到的信息主要包括消费习惯、行为特征、个人数据等。企业可以通过收集这些信息去开展大数据分析，进一步挖掘用户的潜在消费能力和更_____的价值，从而为用户提供更具_____的服务。

依次填入划横线部分最恰当的一项是：

A. 市场化 独创性

B. 多元化 针对性

C. 智能化 实用性

D. 规模化 多样性

104. “心理弹性”的动力可能来自大脑激素反应、基因以及行为方式的共同作为，以保证一种情绪上的_____状态。它不仅帮助我们在人生变故、创伤面前不至于崩溃，也让我们在好的经验上不至于沉溺，比如享受美餐、赢得球赛、受到表扬，都不会持续太久，这可能因为人是天生的_____动物，在愉快的经验中沉浸太久，会_____识别新危险的能力。

依次填入划横线部分最恰当的一项是（ ）

A. 平衡 忧患 钝化

- B. 应激 危险 弱化
- C. 积极 健忘 异化
- D. 稳定 懒散 退化

105. 火星上是否有生物存在? 长期以来, 科学家们争论不休, 也曾引起_____。美国和前苏联自 20 世纪 60 年代以来进行长期探测, 美国先后向火星发射了系列探测器, 前苏联也发射过相应的探测器。他们对火星上有巨石人面像、金字塔等类似城市遗迹先是_____, 20 世纪 80 年代后期才逐渐向公众披露。

依次填入划横线部分最恰当的一项是:

- A. 轰动 秘而不宣
- B. 争议 不置可否
- C. 质疑 各执一端
- D. 反响 视而不见

106. 在中国日益走近世界舞台中央, 影响力日益_____的情况下, 中国的社会主义现代化之路、中华民族的复兴之路更是同人类命运、世界社会主义命运紧密_____。

依次填入划横线部分最恰当的一项是:

- A. 扩大 相关
- B. 扩大 相连
- C. 扩充 联系
- D. 扩充 衔接

107. 民间口头_____的故事, 经过文人整理加工, 能呈现出不同的生命力, 而这些美好的故事总能_____我们的心灵。

依次填入划横线部分最恰当的一项是:

- A. 流传 洗礼
- B. 流传 洗涤
- C. 留传 洗涤
- D. 留传 洗礼

108. 在跨入新时期、担当新使命、实现强军新目标的征程中, _____历史足音, _____红色基因, 无疑是不忘初心、铸牢军魂、砥砺奋进的精神动力。

依次填入划横线部分最恰当的一项是:

- A. 聆听 传承

- B. 倾听 发扬
- C. 感受 承接
- D. 牢记 传递

109. 在快速疾走的信息时代，我们不缺速度，但泛着智慧之光的_____才具长久魅力。文化不是流行，是_____，是传承；大师不是过客，是恒星是路灯；名人不是符号，而是一个个鲜活的人。

依次填入划横线部分最恰当的一项是：

- A. 远见 沉淀
- B. 洞见 积淀
- C. 卓见 积聚
- D. 高见 积累

110. 没有互联网的时候，商家跟消费者之间的交易以信息不对称为基础，_____地讲，就是“买的不如卖的精”。但有了互联网，消费者掌握的信息越来越多，于是变得越来越精明，越来越具有_____。如果你的产品或服务做得好，好得超出他们的预期，即使一分钱广告不投，消费者也愿意在网上分享，_____为你树口碑。

依次填入划横线部分最恰当的一项是（ ）

- A. 简单 知情权 主动
- B. 通俗 话语权 免费
- C. 确切 主动权 自愿
- D. 坦白 选择权 义务

111. 海军舰艇中的军辅船是大洋上的“粮草官”，虽不具备强大作战能力，却直接关系着远洋保障。但是，目前中国仅有四艘综合补给舰在海军服役，维持日益_____的远洋训练、护航和演习，显得有些_____。

依次填入划横线部分最恰当的一项是（ ）

- A. 漫长 顾此失彼
- B. 复杂 无能为力
- C. 繁重 捉襟见肘
- D. 艰苦 苦不堪言

112. 声音由听觉加工，图像识别则由视觉分管。音乐和绘画是不同感官的艺术形式，应该没有相互_____的可能。不过，有人却能“看到”身边的音乐，并且将旋律凝固到画

板上。许多研究机构也正在进行“声音视觉化”的尝试，在不久的将来，人们也许就能从真正意义上_____音乐的“色彩”。

填入划横线部分最恰当的一项是：

- A. 转化 表达
- B. 代替 展现
- C. 替换 感受
- D. 转换 观赏

113. 台风形成于赤道地区的温暖水域。当潮湿、温暖的空气开始上升的时候，会产生一个低压区，进而_____周围更多的暖湿空气。温暖的空气在上升的过程中开始旋转，温度开始_____，冷凝生成云团，释放出热量，进一步_____上升运动。在这种正反馈机理的促进下，气旋不断加强，最终形成巨大的台风。

填入划横线部分最恰当的一项是：

- A. 释放 变化 促进
- B. 凝聚 稳定 抑制
- C. 吸引 下降 加快
- D. 汇集 提升 配合

114. 德国诗人海涅将塞万提斯与莎士比亚、歌德相提并论，称他们是“三头统治”，在小说、戏剧和诗歌这三类文学创作中_____。此外，浪漫主义、现实主义等各种流派的作家无不受到塞万提斯的影响；滑稽模仿、多重叙事视角、套盒结构……所有这些小说家们_____的写作手法，都曾出现在《堂吉珂德》之中。

填入划横线部分最恰当的一项是：

- A. 齐头并进 信手拈来
- B. 独当一面 习以为常
- C. 独占鳌头 如数家珍
- D. 各领风骚 津津乐道

115. 中国有句谚语：“月下看佳人，马上看壮士。”一定条件下，朦胧比清晰更富有美感，朦胧可以藏拙，趋于尽美，_____地赏美会有这种效果吗？

填入划横线部分最恰当的一项是：

- A. 吹毛求疵
- B. 明察秋毫

C. 洞若观火

D. 目光如炬

116. 公共场所的聚群，是群体现象的一种形态，聚群由个体构成，人们相互间虽不认识，但却聚集在一起，可以共同行动，但不能持续不散，聚群现象往往伴随着情绪非理性，可能群情高昂，也可能_____，例如，“组团过马路”既体现出典型的不文明行为聚群性，闯红灯过程中大家各自匿名，相互壮胆，又相互依赖，以此来_____责任。

填入划横线部分最恰当的一项是：

A. 各行其是 躲避

B. 溃不成军 承担

C. 一哄而散 分散

D. 偃旗息鼓 转移

117. 皮影戏是我国民间工艺美术与戏曲巧妙结合的独特艺术品种，某种程度上可以说是我国动画最早的表现形态。有人说，对于现在的孩子，皮影戏这门古老的艺术已经太_____。其实，皮影戏并没有因为历史的久远而_____，相反，皮影戏的幽默诙谐、简约古朴完全可以转换为颇具时尚气息的中国式卡通形象。

填入划横线部分最恰当的一项是：

A. 幼稚 不当时宜

B. 晦涩 一成不变

C. 遥远 老气横秋

D. 落伍 每况愈下

118. 从符号化到数字化，信息在人类进化和文明发展中的重要性毋庸置疑。如果说符号化产生了知识的“宝库”，那么作为数字化的产物，大数据将成为人类的“超级矿藏”，其资源性、基础性与战略性的价值已经_____。为应对大数据时代的到来，国际竞争正在悄然展开。

填入划横线部分最恰当的一项是：

A. 略胜一筹

B. 初露峥嵘

C. 不可胜数

D. 今非昔比

119. 在今天的全球化浪潮中，中国社会的对外开放程度与对外交流密度前所未有，与

此同时，互联网及数字化媒介的普及，使知识与信息进一步覆盖到更广大的群体，阅读的_____进一步降低。一块块移动电子屏，让书籍_____，极大地拓展了阅读的时间与空间。

填入划横线部分最恰当的一项是：

- A. 标杆 俯拾即是
- B. 条件 一目了然
- C. 成本 改头换面
- D. 门槛 触手可及

120. 农产品市场几乎每隔几年就会来个“姜你军”“蒜你狠”，媒体似乎也_____地年年跟时，说法也经年不变，无非是有人像炒房一样“炒菜”哄抬物价，但每次都是_____，带大家云里雾里走一趟了事。

填入划横线部分最恰当的一项是：

- A. 追根究底 含糊其辞
- B. 乐此不疲 语焉不详
- C. 趋之若鹜 浅尝辄止
- D. 连篇累牍 轻描淡写

121. 盯着名利干事，难免_____，欲速则不达；盯着责任干事，“不闻掌声”而_____，才能最终赢得掌声。

依次填入划横线处最恰当的一项是：

- A. 斤斤计较 心无二用
- B. 急公好义 心怀大局
- C. 患得患失 心胸开阔
- D. 急功近利 心无旁骛

122. 城市人口过度聚集，对土地、水、空气等资源的需求与消耗_____，而且由于使用不当，浪费严重，使得城市资源_____，越来越短缺，结果是水资源和食物供应不足，清洁空气也越发稀缺。

依次填入划横线处最恰当的一项是：

- A. 与日俱增 供不应求
- B. 有增无减 山穷水尽
- C. 旷日持久 左支右绌

D. 日甚一日 危在旦夕

123. 《最后的通用语言》的作者奥斯特勒向读者讲述了世界主要语言_____的命运。事实说明每种语言的“唯我独尊”到最后均是_____。波斯语差不多花了 1000 年才确立通用语的地位，但在短短的 16 年里就沦为了寻常语言。如果现在我们_____英语至高无上的地位会永远持续下去，就是犯了“失忆症”与“典型的想象力缺乏症”。

依次填入划横线部分最恰当的一项是：

- A. 历经坎坷 烟消云散 揣测
- B. 跌宕起伏 不堪一击 臆想
- C. 沧海桑田 明日黄花 幻想
- D. 此消彼长 败走麦城 预测

124. 书法界常有字因人贵的说法，不无道理。而在颜真卿这里，却是字因人重，忠贞正直的人格为其瑰丽书法添辉，骨力遒劲的书法为其雄壮人生增彩，做人与写字_____，在颜真卿身上得到了圆满的统一。颜真卿的书法成就一直为后代_____，其人格同样颇具感召力。

依次填入划横线部分最恰当的一项是：

- A. 交相辉映 尊重
- B. 和光同尘 尊敬
- C. 相得益彰 推崇
- D. 相辅相成 推重

125. 思想史研究在很长时间内，变得相当狭窄和单一，近来这种状况有一些变化的_____，其实，学科界限的打破是一种必然的趋势，在这种趋势下的思想史研究不能_____。

依次填入划横线部分最恰当的一项是：

- A. 痕迹 刻舟求剑
- B. 苗头 南辕北辙
- C. 迹象 画地为牢
- D. 呼声 闭门造车

126. 在下面一段话的空缺处依次填入词语，最恰当的一组是：

①从 9 月 30 日至 10 月 3 日，让人始料未及的楼市限购风潮，在全国各大城市间_____，9 个地市先后发布楼市调控新政策，多地重启限购限贷。

②他因为家里开着茶社，从小就_____对茶艺颇有心得。

③家具市场产品_____的现象早已屡见不鲜，网购平台上售卖仿冒名品家具的卖家也越来越多，有关部门有必要展开一轮彻查严打的行动了。

- A. 蔓延 耳熟能详 良莠不齐
- B. 蔓延 耳濡目染 鱼目混珠
- C. 蔓延 耳濡目染 鱼目混珠
- D. 蔓延 耳熟能详 良莠不齐

127. 共产党执政就是领导和支持人民掌握管理国家的_____，实行民主选举、民主决策、民主管理和民主监督，保证人民依法享有广泛的_____和自由，尊重和保障人权。

- A. 权力、权利
- B. 权利、兴趣
- C. 权利、义务
- D. 权利、权力

128. 2018年12月18日，庆祝改革开放40周年大会在北京人民大会堂隆重举行。习近平总书记在大会上发表重要讲话。他强调，40年的实践充分证明，改革开放是党和人民大踏步赶上时代的重要法宝，是坚持和发展中国特色社会主义的必由之路，是决定当代中国命运的_____。

- A. 重要步骤
- B. 核心举措
- C. 关键举措
- D. 关键一招

129. 习近平总书记在全国生态环境保护大会上指出，生态文明建设正处于_____的关键期，已进入提供更多优质生态产品以满足人民日益增长的优美生态环境需要的攻坚期，也到了有条件有能力解决生态环境突出问题的窗口期。

- A. 压力叠加、负重前行
- B. 压力叠加、成效稳固
- C. 压力叠加、根本转好
- D. 充满机遇、负重前行

130. 欲知大道，必先知史。历史也是一位长者，从与它的对话切磋中，我们才能_____了思维，_____了思想，_____了精神，发现了新图景。

依次填入划横线部分最恰当的一项是：

- A. 活跃 深邃 试炼
- B. 活化 深化 锻炼
- C. 活泼 深刻 锤炼
- D. 活动 深入 炼化

131. 千百年来，这里的茂密丛林一直守护着长江水系，从上世纪 50 年代开始，10 万多人的伐木队伍开进大山，从此森林的水源涵养能力日渐_____，全省水土流失面积一度接近 20 万平方公里，成为长江上游最大的泥沙输出地。莽莽青山，是应该做人类的伐木场，还是应该做长江的守护神？最终，绿色发展成为人们的_____，艰难的转型由此起步。今天，层层叠叠的茂林，奔流不息的江水，_____着造林、治水的故事。

依次填入划横线部分最恰当的一项是：

- A. 衰竭 选择 叙述
- B. 枯竭 决定 叙说
- C. 贫乏 决议 倾诉
- D. 枯竭 抉择 诉说

132. 每一位党员干部，都要有_____的态度，鼓起_____的勇气，拿出_____的担当。

依次填入划横线部分最恰当的一项是：

- A. 不容过 不讳过 不谗过
- B. 不谗过 不讳过 不容过
- C. 不讳过 不谗过 不容过
- D. 不容过 不谗过 不讳过

133. 满地盛开的荷花，冲击着我的视觉，我仿佛看到荷花仙子在水中摆出各种妖娆的姿态：有的_____，像羞涩的少女，合起了手掌，直指蓝天，默默祈祷；有的稍稍露出了绯红的小脸，从荷叶深处探出了小脑袋，仿佛是在跟游人捉迷藏。

填入划横线部分最恰当的一项是：

- A. 含苞待放
- B. 亭亭玉立
- C. 争奇斗艳
- D. 落英缤纷

134. 闹得沸沸扬扬的高考方案几经易稿后终于_____，这意味着我省数十万考生将

按新的高考模式参加高考。

填入划横线部分最恰当的一项是：

- A. 尘埃落定
- B. 木已成舟
- C. 覆水难收
- D. 一锤定音

135. 同时，对于象形字、方块字，不少来自字母化语言文字背景的外国人，常发出汉字难写、汉语难学的感慨，甚至在学习时_____、中途而废。而古代中国长期_____“有来学，无往教”的观念和传统，缺乏成功推广自己语言文化的历史经验，也导致不少人对推动汉语和中华文化走向世界缺乏足够的热情。

依次填入划横线部分最恰当的一项是：

- A. 莫衷一是 持有
- B. 浅尝辄止 秉持
- C. 安之若素 拥有
- D. 走马观花 支持

136. 传言如此可畏，让 A 股成了惊弓之鸟，其实这已成为 A 股的“新常态”，一有风吹草动，便_____引起市场恐慌，各路资本夺路而逃，冲垮了股市应有的定力。那 A 股为何如此神经脆弱，一有风声便坐立不安，“跌跌”不休？原因之一在于，A 股_____，有不安定因素“潜伏”其中，一遇机会便兴风作浪。

依次填入划横线部分最恰当的一项是：

- A. 一惊一乍 参差不齐
- B. 风声鹤唳 泾渭分明
- C. 草木皆兵 鱼龙混杂
- D. 惶恐不安 鱼目混珠

137. 当人工智能开始渗透至制造业的生态链条中，人工成本优势变得不那么重要的时候，“印度制造”是否_____？至少在这个时点上，巨大的资金似乎并没有惠及到“印度制造”。在海外的竞争力，全球经济放缓，印度出口几乎在莫迪推出“印度制造”规划后反而下降了。

填入划横线部分最恰当的一项是：

- A. 一蹶不振

- B. 生不逢时
- C. 纸上谈兵
- D. 江河日下

138. 覆盖全国的高速公路网已经形成，高速铁路网正在形成。中国已经是世界上最大的
人力流动和物资流动的国家。过去那种“_____”的产业分工格局已被打破，地区间产业分
工趋向合理；全国范围内产业链_____迅速推进。高效统一的全国大市场正在形成之中。

依次填入划线部分最恰当的一项是：

- A. 自成一体 整合
- B. 壁垒分明 升级
- C. 各自为政 运转
- D. 条块分割 扩充

139. 面向未来的教育要培养学生“从做中学”，将儿童从传统的书本背诵中_____出来。
现实社会过于复杂，学校必须将其_____；现实社会系统庞杂，学校必须组织而使之条理
化；现实社会良莠不齐，学校必须对其过滤和_____；现实社会有着很多的矛盾和偏见，
学校必须在众多不同中寻求平衡。教育的目的就是经验的重组和改造。

依次填入划横线部分最恰当的一项是：

- A. 解放 简化 优选
- B. 解救 剪辑 优化
- C. 解脱 剪接 升华
- D. 拯救 剪接 净化

140. 在对作品进行评价时，不仅要准确把握创新是否植根于现实生活，还要_____地
指出作品艺术创作上的创新点及其于艺术积累的意义。

依次填入划横线部分最恰当的一项是：

- A. 以偏概全
- B. 以点概面
- C. 可见一斑
- D. 见微知著

141. 针对孩子的教育，老师和父母不能“_____”。_____家庭教育是学校教育的
基石，_____学校教育是家庭教育的智力引领和精神导向。

依次填入横线处最恰当的一项是：

- A. 壁垒分明 尽管 但是
- B. 各自为政 一方面 另一方面
- C. 自成一家 因为 所以
- D. 条块分割 首先 其次

142. 置身于现代社会，每个人的悲欢离合、不断更新的思潮和种种现象，都与现代性问题有_____的深层联系。每个人都在现代化的洪流裹挟下前进，但往往置身其中而_____。

依次填入横线处最恰当的一项是：

- A. 千丝万缕 浑然不觉
- B. 盘根错节 心领神会
- C. 休戚与共 麻木不仁
- D. 息息相关 毫无察觉

143. 透过“十问”，我们发现“钱去哪儿了”其实并不是公众最关注的_____答案，找出权力运行的监管漏洞和体制机制顽疾才是最终目的。

填入横线处最恰当的一项是：

- A. 主要
- B. 真实
- C. 终极
- D. 正确

144. 一个民族的文化与精神的健康发展，最重要的标志就是敢于并善于_____，所有优秀的文化，如我们常常讲，大唐时代长安流行胡乐，并没有使我们的文化出现_____。

依次填入划横线部分最恰当的一项是：

- A. 吸收 断裂
- B. 接纳 蜕变
- C. 借鉴 浮躁
- D. 融合 停滞

145. 依次填入下列横线处的词语，最恰当的一项是：

①无论脚步走多远，在人的脑海中，只有故乡的味道，熟悉而又_____，它就像一个味觉定位系统，永远牵系着记忆深处的故乡。

②李明真是_____，制作出的航船模型与众不同，令人叫绝。

③书法是中国传统的艺术形式，风格各异的作品，或古朴，或隽秀，或雄浑，或飘逸，将书法艺术之美表现得_____。

- A. 稳固 别有用心 淋漓尽致
- B. 顽固 别出心裁 惟妙惟肖
- C. 稳固 别有用心 惟妙惟肖
- D. 顽固 别出心裁 淋漓尽致

146. 依次填入下列各句横线处的词语，最恰当的一组是：

(1)日前举行的第二届山西文博会上，展台前的“皮影热”，让后台的艺人们感叹_____的皮影戏市场。

(2)在每一个政治关键的节点，都有大量的动摇者_____，甚至_____，每一个人都要面对这些艰难的选择。

(3)想起那次海上遇到的风暴，还有些_____。

- A. 寂寞、裹足不前、逃之夭夭、害怕
- B. 落寞、逃之夭夭、裹足不前、害怕
- C. 寂寞、逃之夭夭、裹足不前、后怕
- D. 落寞、裹足不前、逃之夭夭、后怕

147. 对于中国人来说，院落不仅是一个物理的空间，而且是家的核心。有院落的地方，就有我们最真实淳朴的情感与记忆。巷、道、瓦、檐、廊等这些_____，形成了传统院落独具特色的形式美感和空间氛围。中国人几千年来形成的特有的生活方式、人文情怀，决定了我们对自己栖身的建筑有着自己独特的文明特征识别，而院落就可以将这一特征表达得_____。

填入划横线最恰当的一项是（ ）

- A. 设计 一览无余
- B. 结构 尽善尽美
- C. 元素 淋漓尽致
- D. 标志 出神入化

148. 真正做公益，不是说投入精力和资金以后，自己就可以_____了，而是看我们真正能做多少，怎么使我们的投入最大_____地解决问题。

填入划横线最恰当的是（ ）

- A. 高枕无忧 水平

- B. 一劳永逸 限度
- C. 袖手旁观 效率
- D. 心安理得 范围

149. 文物是历史留下的印记，是过去写给今天和未来的“书信”，也是人类存在于历史中的_____。历史文化古迹损毁的后果是任何人都担不起的，每一次随意破坏文物的行为，都应被视作对文明传承的挑衅。因为，那些留在历史中的足迹都是_____的，没有备份，也没有重来的可能。

依次填入划横线处最恰当的一项是（ ）

- A. 见证 唯一
- B. 记录 珍贵
- C. 痕迹 脆弱
- D. 标志 模糊

150. 网络虚拟社会是现实社会在计算机网络上的_____和延伸，现实社会中的违法犯罪以及社会治安问题已经开始向网络虚拟社会_____，大大增加了政府管理的复杂性。

依次填入划横线部分最恰当的一项是（ ）

- A. 映衬 蔓生
- B. 映照 蔓引
- C. 映射 蔓延
- D. 映带 蔓连

151. 井冈山作为中国革命的摇篮，两年零4个月的革命斗争为井冈山留下了众多革命遗址、革命史料和革命英雄故事，让这里成为一座没有围墙的红色博物馆。依托_____的红色资源，井冈山新红色培训管理模式，打造沉浸式互动课程，培训效果得到学员们的普遍好评。

填入划横线处最恰当的一项是：

- A. 史无前例
- B. 得天独厚
- C. 无出其右
- D. 独一无二

152. 文明是一个民族的终极_____。缺乏文明的社会就如同暴发户，缺乏文明准则、文明底线、文明自律，一定会_____。在实现中国梦的过程中，享受文明无疑是最美的，

也是人们的终极梦想。正因此，文明堪称一个民族复兴的关键。

填入划横线部分最恰当的一组是：

- A. 需求 窘态百出
- B. 要求 尴尬无比
- C. 追求 丑态百出
- D. 探索 黯然失色

153. 代表委员们认为，网络购物_____立法整治，健全网络市场规则，完善维权流程_____让人放心的网络消费环境，为网购族加道“防火墙”。

依次填入横线处最恰当的一项是：

- A. 亟须 营造
- B. 必须 打造
- C. 有望 建造
- D. 应该 发展

154. 习近平总书记指出，我们的事业是同世界各国合作共赢的事业。国际社会日益成为一个你中有我、我中有你的命运共同体。面对世界经济的复杂形势和全球性问题，任何国家都不可能_____、一枝独秀。

填入横线上的词语最恰当的是：

- A. 特立独行
- B. 独善其身
- C. 独步天下
- D. 孤独求败

155. 生活严肃的人，怀抱着理想，不愿自欺欺人，在生活里面_____到不可解救的矛盾，永难_____的冲突。然而愈矛盾则体验愈深，生命的境界愈丰满浓郁，在生活悲壮的冲突里显露出的人生与世界的“深度”。

依次填入横线部分最恰当的一项是：

- A. 感觉 协调
- B. 体味 平衡
- C. 体验 调和
- D. 体会 消灭

156. 断崖式降职形式是降级处分，实质比撤职更严厉，从而丰富了行政处分的层次性。

当然，什么样的违纪情节适用断崖式降职，降级的_____有多大，现在似乎全凭有关方面自由裁量，这样的制度仍然过于_____。

依次填入横线处最恰当的一项是：

- A. 程度 严厉
- B. 区间 模糊
- C. 空间 自由
- D. 范围 明白

157. “90后”的美好，在于无限可能，要让这样的美好能够尽情绽放，归根结底还是要_____于生活的土壤中，把激情用在坚守理想、积极向上，坚持创新、守法敬业的大方向上。一时的虚名，如果没有真实底子的_____，不过是场浮云。

依次填入横线处最恰当的一项是：

- A. 建立 依存
- B. 生长 依赖
- C. 扎根 依托
- D. 萌芽 基础

158. 时下的带娃老人不仅要付出体力劳动，还可能_____，自然也就不愿意再_____这样的压力了。

依次填入横线处最恰当的一项是：

- A. 动辄得咎 承受
- B. 求全责备 承受
- C. 动辄得咎 承担
- D. 求全责备 承担

159. 眼下，大家经常能从微信上刷到各种各样的保健品，这些“网红保健品”功效各异，从减肥到调节免疫力，从缓解疲劳到改善睡眠，功能_____，效果也被吹得_____。

依次填入横线处最恰当的一项是：

- A. 层出不穷 神乎其神
- B. 层出不穷 妙不可言
- C. 不一而足 妙不可言
- D. 不一而足 神乎其神

160. 唐宋是我国封建文化的鼎盛时期，尤其是诗词作品_____、洋洋大观，缤纷的

作者群舞文弄墨、抱膝长吟。

填入划横线部分最恰当的一项是：

- A. 寥若晨星
- B. 漫山遍野
- C. 汗牛充栋
- D. 鱼龙混杂

161. 美食让人想念故乡的味道，美景_____让人回味故乡的风情。农历二三月间，乍暖还寒时分，正值油菜花开，在_____的江淮平原，一片片翠绿托起明黄地毯，一阵阵春风吹皱金色花海，伴着温润的气息，花香渐次侵袭，啁啾鸟鸣，蝶舞蜂飞，好一幅乡村图景，好一曲田园小调，美得令人_____，美得让人不忍相扰。

依次填入划横线部分最恰当的一项是：

- A. 却 宽阔 喜闻乐见
- B. 就 广阔 乐不可支
- C. 则 广袤 心旷神怡
- D. 只 无垠 怡然自得

162. (1) 上帝此刻或许_____了这个小生命，在马志恭被丢到乱葬岗的第二天，一位老农意外发现了她。

(2) 20 世纪 90 年代，随着电视的普及，农村电影市场日渐_____。

依次填入划横线部分最恰当的一项是：

- A. 垂青 萎靡
- B. 亲睐 萎缩
- C. 垂青 萎缩
- D. 亲睐 萎靡

163. 就如同那些古典音乐爱好者批驳电子播放器在玷污耳朵一样，喜欢闻书香的人更_____，大多数人无法想象没有书架的家居环境，也无法接受电子文字_____纸质书籍所拥有的心理感情空间，尽管他们都_____电子纸张是一场未来十年注定将要发生的大趋势。

依次填入下列句子横线处的词语，最恰当的一组是：

- A. 保守 挤占 明白
- B. 偏执 挤占 明白
- C. 保守 侵占 认为

D. 偏执 侵占 认为

164. 随着中央八项规定的出台及反对“四风”活动的步步深入，近年来，举国上下，奢侈浪费之风受到很大程度_____，公款吃喝、公款送礼、公款旅游等不正之风大为_____，一些城市里诸如“皇宫大酒店”之类的高档消费场所因_____也不得不打出平民牌，以中低档价位纳客。

依次填入划横线部分最恰当的一项是：

A. 遏制 收敛 曲高和寡

B. 制止 猖獗 洛阳纸贵

C. 禁止 放纵 雅俗共赏

D. 阻挠 敛迹 独树一帜

165. 以区域经济合作为主导的“汉字经济体”的_____集中反映了时代的要求，文明发展的需要，尽管它一直难以完善，难以被他们普遍接受，但它绝非_____的遐想。

依次填入横线部分最恰当的一项是：

A. 蓝图 粗浅

B. 构想 空洞

C. 设想 虚幻

D. 规划 缥缈

166. 一双步履，粗茶淡饭，这样的日子过起来就是二十年，笔端却有_____的乾坤，不闻尘世喧哗，但见暗香疏影。

填入划横线部分最恰当的一项是：

A. 改头换面

B. 包罗万象

C. 应有尽有

D. 呼风唤雨

167. 身为一个中国人，让我们时时牢记自己的身份，除了身体发肤之外，就该是我们的母语了，在无数中国人心里，_____的汉语是我们五千年文明最美丽的组成部分，也是我们之所以成为我们的文化标记。千百年来，汉语_____了我们民族独特的思维，我们依靠它倾诉，运用它思想，通过它记载，凭借它穿越五千年历史文化隧道。

依次填入横线部分最恰当的一项是：

A. 古老优雅 承载

- B. 博大精深 表达
- C. 高深莫测 宣扬
- D. 匠心独运 造就

168. 有舆论质疑北大博士去中学当教师有些_____。说实在的，这种质疑既高看了北大博士，又看轻了中学教育。北大博士去中学当教师，这是很正常的选择。为提高我国中小学人才培养质量，我国应该建立高素质的教师队伍，虽然学历并不是高素质的唯一标准，但越来越多的硕士、博士进入中小学教育领域，将是_____。

依次填入划横线部分最恰当的一项是：

- A. 量才录用 势在必行
- B. 大材小用 大势所趋
- C. 不可思议 势不可遏
- D. 人尽其才 力挽狂澜

169. 如果上海迪士尼正式营业后，迪士尼方面确实由于定价过高，_____，为了盈利，它一定会降价。如果还是人满为患，_____，那说不定定价还低了呢。

依次填入划横线部分最恰当的一项是：

- A. 门可罗雀 摩肩接踵
- B. 纷至沓来 排山倒海
- C. 万籁俱寂 川流不息
- D. 万人空巷 摩拳擦掌

170. 随着移动互联网的发展，现在地铁或者公交车上，人们拿着智能手机或者专门的阅读器等终端设备_____阅读的情景已_____，一些人钟情各类小说，也有不少人阅读各类杂志时评。

依次填入横线处最恰当的一项是：

- A. 屏气凝神 司空见惯
- B. 目不转睛 层出不穷
- C. 专心致志 多如牛毛
- D. 全神贯注 屡见不鲜

171. 持之以恒的精神固然可贵，但如果我们所坚持，所固守的是_____甚至错误的，那坚持到底的结果只能是一错再错，人生允许_____，敢于放弃不切实际的理想，也是一种生存智慧。

依次填入划横线部分最恰当的一项是：

- A. 消极 无功而返
- B. 盲目 知错就改
- C. 反面 偃旗息鼓
- D. 偏颇 改弦易辙

172. 本次大赛旨在发挥政府部门、创业园区、高等院校等多方作用，通过赛事与选拔和扶持优质创业项目，帮助海归人才_____政策、资本、市场等各类资源，_____科技成果转移转化，_____海创企业的产业链、创新链、服务链。

依次填入划横线部分最恰当的一项是：

- A. 对于 加快 构成
- B. 对付 加强 构筑
- C. 对应 加大 构造
- D. 对接 加快 构建

173. 浪漫的时代总富于瑰丽的想象，灾难的岁月自然免不了灰暗的色彩，普罗米修斯的千秋功过就这样交替在“恩人”于“罪人”这两极间频繁地晃动着，让人_____。难怪在学养深厚的经典注疏家维斯特看来，研究文献虽汗牛充栋。其实却_____。

依次填入横线部分最恰当的一项是：

- A. 捉摸不定 平淡无奇
- B. 无所适从 乏善可陈
- C. 扑朔迷离 差强人意
- D. 眼花缭乱 不赞一词

174. 作为瓷器之路的起点，中国的制瓷技术有悠久的历史，其独家奥秘延续千年，世人莫不_____，而且，在东西方贸易史中，茶叶和丝绸虽然更大宗，但它们完成的都是“输出——接受”的单向旅程，若论跨文化的_____、渗透、影响、融合，则非瓷器莫属。

依次填入划横线部分最恰当的一项是：

- A. 接踵而来 交往
- B. 趋之若鹜 交流
- C. 趋炎附势 交际
- D. 众星捧月 交换

175. 我本想对他发火，起码也要_____几句，为他把我的老母亲当成道具，可是看到

他满头大汗，满脸惶恐竟又不知道说什么才好：况且我也发现，他似乎消瘦了许多，也_____许多。

依次填入划横线处最恰当的一项是：

- A. 质疑 憔悴
- B. 责骂 干瘦
- C. 谴责 憔悴
- D. 斥责 困苦

176. 对违反中央政策、侵害群众利益的“土政策”要及时_____，破除政策制定和实行中的“山头主义”，防止权力滥用。湖南省社科院研究员陆福兴说，一般而言，执行中央政策，省里会配套实施细则，县市会补充操作规程，但细化不等于“部门利益最大化”，这一倾向必须克服。

填入划横线处最恰当的一项是：

- A. 解决
- B. 克服
- C. 禁止
- D. 纠偏

177. 官员容不容得有个性？对于这个问题，不同官员早已用不同表现来作答，有人喜欢闷声求稳，有人追求高调发声，_____地活动在大众视线里，又反过来被社会_____地认可，毫无疑问的是，在当代社会，个性官员已经算不得新鲜事。

依次填入划横线部分最恰当的一项是：

- A. 五花八门 熟视无睹
- B. 各显神通 漠不关心
- C. 求同存异 习以为常
- D. 截然不同 悄无声息

178. 随着智能手机的普及，微信营销正呈现蓬勃发展、_____之势，对社会生活产生了深远而广泛的影响。

填入横线处，最恰当的一项是：

- A. 轰轰烈烈
- B. 方兴未艾
- C. 炙手可热

D. 烜赫一时

179. 在现代社会，公民能独立的表达自己的观点，却不傲慢，对政治表示服从，却不_____；看到弱者知道同情，看到邪恶知道_____。

依次填入横线上的词语最恰当的是：

A. 阿谀奉承 悲愤

B. 趋炎附势 气愤

C. 卑躬屈膝 愤怒

D. 溜须拍马 愤慨

180. 在乡土题材写作方面，陈忠实是最具文化厚重感的作家。有的作家是凭借苦功、与时间作战，写出惊世之作；有的作家依赖才华，调动观察能力就可以_____好故事。而陈忠实是少有的把两者结合在一起的写作者，他的作品里，有耗尽心血写作所带来的那种苦涩感，但更多的却是作家的灵魂在土地上奔跑时，所_____的那种惊心动魄感。

填入划横线部分最恰当的一项是：

A. 创造 酿造

B. 编造 创造

C. 塑造 营造

D. 制造 营建

181. 上世纪 90 年代以降，商品经济大潮席卷神州，国人的偶像也发生了巨大的变化。与先前偶像形象的_____不同，如今的偶像多数只能“各领风骚三五年”，层出不穷的偶像令人_____。这是为什么呢？德国哲学家本雅明曾用“光晕”的消失来描述技术进步后艺术品价值的消解。其实，在商品化、利润化的资本市场面前，偶像的精神价值也会逐渐消弭，尤其在网络时代，原来的偶像形象被大量复制、传播，高不可攀的形象逐渐步入寻常。

填入划横线部分最恰当的一项是：

A. 单一性 目不暇接

B. 机械性 应接不暇

C. 长期性 扑朔迷离

D. 稳定性 眼花缭乱

182. 在荷兰待久了，也见惯了各种场合里各式各样的跪姿，就慢慢_____出来了，同样是跪，但中外真是_____。对于一些中国人来说，膝盖骨那叫一个灵活自如，所谓奴颜婢膝便是最好的诠释，在中国沉淀了上千年的下跪文化里，跪是一种很庄重或很屈辱的身

体语言，其中蕴含了太多不可言表的内涵，但无论如何，不到万不得已，那断然是不能随便下跪的。

填入划横线部分最恰当的一项是：

- A. 研究 大同小异
- B. 捉摸 天差地别
- C. 琢磨 天地之别
- D. 体会 南辕北辙

183. 公立医院的医患问题_____。老百姓看病难、看病贵，是医患关系紧张的_____。病人家属，在病人进入医院之前，就不知道会面对多少挑战。一般的医院，把看病的收入，当成业绩最重要的指标，而没有把如何尽量减少病人痛苦和家属的开支，作为主要的事情来抓。所以，许多病人一进医院，总体上都要先被吓唬一下。这样一来，病人就愿意乖乖掏钱。

填入划横线部分最恰当的一项是：

- A. 滔滔不绝 关键
- B. 源源不断 诱因
- C. 屡见不鲜 前提
- D. 层出不穷 基础

184. 当然，也有些年轻人积极通过网络手段_____、整理和分析政治信息，对国家运营给予高度关注，但那毕竟只是很少一部分。从现状判断，仍有绝大多数的年轻人对政治_____。每每想到这里，我都迫切地期待年轻人能更加清醒地认识自己所处的社会位置，一旦意识到有所不公，应主动做出改善的努力。

填入划横线部分最恰当的一项是：

- A. 搜集 充耳不闻
- B. 收集 漠不关心
- C. 汇集 置若罔闻
- D. 聚集 麻木不仁

185. 中国消费者的这种“高级化”是由诸多因素促成的，收入只是其中之一。一系列_____的食品和药物丑闻使中国人对低端品牌格外警觉。对产品质量的担忧和对伪劣商品生产厂家问责制的缺失都对这个趋势起到了_____的作用。

填入划横线部分最恰当的一项是：

- A. 博人眼球 如虎添翼
- B. 引人入胜 火上浇油
- C. 骇人听闻 揠苗助长
- D. 引人注目 推波助澜

186. 电话营销是销售的一种重要途径，许多商家依赖短信、电邮、电话等电子推销手段销售产品和服务，但消费者往往_____。香港与内地一样，人们天天遭遇电子促销的疲劳轰炸，希望政府规管，以求耳根清净。这些年香港通过立法和执行，基本管住了垃圾短信、电子邮件促销，但人对人的促销电话，仍让这个现代化大都市_____。

填入划横线部分最恰当的一项是：

- A. 不堪入目 一筹莫展
- B. 忍无可忍 手足无措
- C. 不胜其烦 束手无策
- D. 不厌其烦 望洋兴叹

187. 据媒体报道，当下中国清明节祭品花样上的翻新“与时俱进”，纸糊的名包、香车、别墅继续受追捧的同时，号称无限透支的信用卡、女仆人和男管家、护照乃至 iPhone、iPad 等样式的纸祭品_____——令人_____的是，商家还会非常“贴心”地提醒别忘了买数据线。这些带有明显摆谱比阔的祭品，投射出的是活人世界里的_____倾向。

填入划横线部分最恰当的一项是：

- A. 俯拾皆是 瞠目结舌 鄙俗化
- B. 层出不穷 啼笑皆非 低俗化
- C. 比比皆是 大惊小怪 庸俗化
- D. 屡见不鲜 哭笑不得 通俗化

188. “说有易，说无难”是实证主义研究共同遵守的“祖宗家法”之一，意思就是“证实容易，证伪难”。在复杂的语言事实面前，任何人都难免有“_____”的认知局限，因此，时刻牢记这一“家法”，有利于保持清晰的学术头脑和不断探索的求真心态。只有从事过实地田野调查的人，才会对这个“家法”的_____有深刻的认识和切身的感受，才会对语言系统的规则和规律保持几分_____，唯此才会有后辈接力传承的使命和发展创新的空间。

填入划横线部分最恰当的一项是：

- A. 管中窥豹 作用 警觉

- B. 井底之蛙 延伸 怀疑
- C. 盲人摸象 内涵 敬畏
- D. 一叶知秋 教训 尊重

189. 新闻采访要求采访者具有新闻敏感、应变能力和采访技巧，即能够在纵横交错的客观事物中敏锐地发现新闻，在_____的机遇中迅速地捕捉新闻，在各种困难的条件下巧妙地_____新闻。新闻采访除突发事件的采访外，新闻记者在平时还从事主动的、有目的的采访，这种采访事先有明确的报道思想，有充分的资料准备，有_____的采访计划。

填入划横线部分最恰当的一项是：

- A. 变幻莫测 探索 完备
- B. 波谲云诡 创造 详细
- C. 稍纵即逝 挖掘 周密
- D. 风起云涌 激发 严谨

190. 想象一家服装店，他们可以模拟你穿上不同衣服的照片，生成的图像可以通过模糊面部实现匿名立即被放到一家特殊的网站上，那里的用户可以提出自己的观点，告诉你哪件衣服让你显得更瘦。几秒钟内，你就会从毫无任何偏见的陌生人那里得到_____的、可靠的反馈。既然你能免费获得答案，为什么还要依赖由佣金_____的销售员呢？

填入划横线部分最恰当的一项是：

- A. 多元 驱使
- B. 主观 推动
- C. 客观 驱动
- D. 公正 指使

191. 在手机终端参数逐步_____，外观设计越来越难以超越的情况下，手机品牌的_____因素，品牌的故事魅力，也许在未来就会成为消费者选择手机的重要因素。这与汽车产业走过的路是一样的，每个人买的车绝不仅仅是一台车，而是一种身份与生活的认同感，是一种情怀的归属感。

填入划横线部分最恰当的一项是：

- A. 吻合 感性
- B. 趋同 情感
- C. 接近 价格
- D. 异化 文化

192. 从账面数据来看，此时还略有_____，但钢铁行业下滑的趋势已开始_____——2015年上半年，全国粗钢产量同比出现近20年来首次下降。由于传统用钢行业增长动力不足，钢材需求持续下降，而市场供大于求的结果，就是钢材价格持续下跌。

填入划横线部分最恰当的一项是：

- A. 营利 凸显
- B. 盈利 显现
- C. 赢利 明显
- D. 获利 突现

193. 写作好比一场_____，读书便是补充给养。所谓“带甲十万，千里馈粮”，没有源源不断的_____，写作将变成自我重复，言说将变成唠叨。与一般的写作者不同，评论人在长征过程中还要持续短促突击。“每役必与”是_____的，有时一场战役要参战若干次，比如天津爆炸、长江沉船这样的重大事件。

填入划横线部分最恰当的一项是：

- A. 旅行 粮食 通用
- B. 比赛 供养 必备
- C. 远足 供给 日常
- D. 远征 补给 基本

194. 当今是改革开放、包容融合的时代，中小学教材需要更多地从人类文明共同的优秀成果中_____营养，一定要在教材内容中分清楚哪些是外国的，哪些是中国的，一定要判定外国内容占比多大就构成“严重西化”，这种简单机械的思维和粗暴生硬的做法早该_____了。

填入划横线部分最恰当的一项是：

- A. 吸取 摒弃
- B. 汲取 扬弃
- C. 吸纳 抛弃
- D. 获取 唾弃

195. 我们不能以论文_____了论文制造工厂、论文造假工厂而否定写论文这一要求与做法，这完全是_____。如果我们下大力气去惩处论文造假，如果都能像美国的高校那般“杀无赦”，有几个人敢这样做？论文工厂又怎么会如此泛滥？

填入划横线部分最恰当的一项是：

- A. 滋生 饮鸩止渴
- B. 促进 因噎废食
- C. 导致 竭泽而渔
- D. 催生 本末倒置

196. 台湾大学的 25 名学生日前为了登山培养“领导能力”，在网络上发起募款 50 万元新台币的活动，他们在企划书中自称“未来将扮演台湾社会中影响力重大的角色，请投资我们”。这一做法遭到网友恶评，有人_____活动本身没有公益性，“伸手要钱跟乞丐有什么区别”。但也有人称，只要不违法，这种做法也_____。

填入划横线部分最恰当的一项是：

- A. 质疑 无可厚非
- B. 质问 可圈可点
- C. 怀疑 无可非议
- D. 置疑 情有可原

197. 透支作为一种信贷方式，是造成社会经济生活中信用膨胀、货币金融市场混乱的直接原因之一。如果银行是依靠其原来吸收的各种存款和储蓄来_____透支，即不改变信用资金来源的数额而靠原来的贷款来实现透支，这种透支是有物质基础的，不会给货币市场造成太大的影响。实际上，透支往往引起银行信用资金的紧张，不得不靠_____货币发行来实现透支款项，这时的透支信贷就可能_____原有的信贷平衡，造成信用膨胀。

填入划横线部分最恰当的一项是：

- A. 扩大 加强 打破
- B. 减少 消减 干预
- C. 吸纳 紧缩 扰乱
- D. 压缩 增加 破坏

198. 虽然人们总是假定，只要不断_____人类的理性水平，并使信息透明化，就能_____谣言产生的土壤，但迄今为止这一直只是_____，而且很可能永远无法实现。

填入划横线部分最恰当的一项是：

- A. 提升 消弭 理想
- B. 提高 消除 噱头
- C. 增强 避免 前提
- D. 强化 逃离 假设

199. 东汉末期，紫檀被作为一种香料由外邦进贡给皇室，但是直至唐代，才开始在宫廷器玩中_____。到了元代，它成为皇宫中建筑以及家具制作的重要材料。清朝中期，南洋地区的优质木材流入境内，为家具制作提供了_____的原材料，同时，清初手工艺技术突飞猛进的发展和统治者的推崇，对紫檀家具的发展也起到了_____作用。

填入划横线部分最恰当的一项是：

- A. 大放异彩 优良 锦上添花
- B. 引人注目 丰富 画龙点睛
- C. 崭露头角 充足 推波助澜
- D. 风生水起 珍贵 一锤定音

200. 一旦我们把某种东西认为是_____的，对于那些熟悉的事物，我们就很难看清它们的真面目，正所谓“只缘身在此山中”。

填入划横线部分最恰当的一项是：

- A. 理所当然
- B. 平淡无奇
- C. 司空见惯
- D. 由来已久

201. 博物馆是为社会及社会发展服务的公共机构，在经济社会发展中具有独特地位和作用。党的十八大以来，我国博物馆体系建设更加完备，全国博物馆总数已达 5136 家，博物馆免费开放深入推进，公共服务效能显著提升。“博物馆热”，既是中国博物馆人_____的梦想，也是全社会文明进步的共同成果。

依次填入划横线部分最恰当的一项是：

- A. 生生不息
- B. 朝思暮想
- C. 期盼已久
- D. 永不磨灭

202. “一带一路”建设给我们文化产业走向世界提供了难得的机遇。在国际交往中，经济与文化从来都是相互依托、_____的。没有文化内涵的经济是畸形的，没有经济支撑的文化是海市蜃楼。

依次填入划横线部分最恰当的一项是：

- A. 互为表里

- B. 相辅相成
- C. 对立统一
- D. 唇齿相依

203. 我们的传统文化经历了_____的五四新文化运动，这种_____的新潮使其受到从未有过的挑战和冲击，是一次_____的洗礼。在改革开放发展进步中，我们的传统文化终于迈开了社会主义现代化的大步。

依次填入划横线部分最恰当的一项是：

- A. 振聋发聩 狂飙突进 脱胎换骨
- B. 醍醐灌顶 激流勇进 旧瓶新酒
- C. 振奋人心 循序渐进 鲤跃龙门
- D. 振臂一呼 倍道兼进 推陈出新

204. 对真正了解音乐、懂得思考的演奏家来说，练习只是确保舞台上的演出水平，并非练出一个不可改变的诠释，技巧越是铜墙铁壁、_____，演奏家也越能在表演时驰骋想象，随心所欲而不逾规。同理，越是体察作曲家意念，越是深入解析作品之和声理路，思考也就越能_____，表现指挥越灵活越丰富，而非_____、动辄得咎。

依次填入划横线部分最恰当的一项是：

- A. 固若金汤 触类旁通 投鼠忌器
- B. 固若金汤 举一反三 墨守成规
- C. 坚若磐石 举一反三 投鼠忌器
- D. 坚若磐石 触类旁通 墨守成规

205. 最近，一项关于体重与死亡率的研究让人_____。该研究认为，按照国际_____的体重评价标准，超重人群比体重正常人群在同一时期内的死亡率可能要低6%。这一结果一经公布，立即掀起轩然大波，因为大众媒体数十年来一直_____的观点是，超重甚至是适度的体重增加都不利于健康。

依次填入划横线部分最恰当的一项是：

- A. 啼笑皆非 公认 同意
- B. 出乎意料 通行 宣传
- C. 匪夷所思 现行 强调
- D. 无话可说 认可 灌输

206. 人类许多古老文化在与时间的拔河中没能挺到最后。中国的文化资源在历史长河

中究竟_____了多少，恐怕没有人能估量得出。在被_____扫荡过无数次的非洲大陆，人们只能在废墟中凭吊和猜测辉煌的古代文明了。

依次填入划横线部分最恰当的一项是：

- A. 流失 饥饿
- B. 流逝 饥馑
- C. 流逝 饥饿
- D. 流失 饥馑

207. 诸葛亮最大的弱点大家都知道，一生太谨小慎微了，当年大将魏延曾提出偷袭长安的奇计，但被诸葛亮所否，魏延至死都认为这是诸葛亮的大失误。然而街亭失守，诸葛亮被迫摆空城计，司马懿之所以不敢_____进城，是诸葛亮凭借一生用兵谨慎的“弱点”赢得了这步险棋。可以这么说，弱点也是强点，所以弱点也要珍惜。

依次填入划横线部分最恰当的一项是：

- A. 悍然
- B. 毅然
- C. 贸然
- D. 蓦然

208. 《权谋书》成书于汉成帝鸿嘉四年，是刘向在校书的过程中_____而成的。他编辑此书的目的是有感于当时社会风俗的奢靡荒淫，礼教零落，用历史上古圣先贤的事迹和流传下来的格言警句来引起皇帝的_____。

依次填入划横线部分最恰当的一项是：

- A. 整理 兴趣
- B. 总结 反思
- C. 编写 警戒
- D. 分析 警惕

209. “离婚率连续 10 年递增”无关个人道德问题，也并不能一定得出社会进步的结论，却提出了我们这个时代的婚姻价值观_____或_____的问题。婚姻固然扮演着社会最小细胞的角色、_____着社会稳定的责任，但理想化的现代婚姻，更应关照到婚姻对于个人的价值。

依次填入划横线部分最恰当的一项是：

- A. 稳定 持久 担当

- B. 失衡 混乱 维持
- C. 盲目 错误 支撑
- D. 模糊 缺失 承担

210. 中国文人具有深厚的精神担当的品格，这种品格突出体现为一种忧国忧民、济世救国的政治情怀。这一思想传统移植在中国现代意义上的知识分子身上，蝶化为“五四”启蒙精神。因此从精神谱系上说，中国现代意义上的知识分子与中国传统文人是_____的。

依次填入划横线部分最恰当的一项是：

- A. 一脉相承
- B. 殊途同归
- C. 承先启后
- D. 前赴后继

211. 在戏剧行业整体上陷入困境时仍具活力的越剧和黄梅戏，在戏剧复苏的今天却_____，令人扼腕。事实上不止越剧和黄梅戏，评剧、楚剧、粤剧等观众人口在中国位居前列的剧种，近年在新剧目创作中都出现相似的问题。

依次填入划横线部分最恰当的一项是：

- A. 乏善可陈
- B. 一落千丈
- C. 败走麦城
- D. 销声匿迹

212. 扬善必须抑恶，扶正自应祛邪，一个健康、文明的社会，当然不应让横行一方为非作歹的黑恶势力逍遥法外，不应为毒害健康_____暴利的无良企业庇护，不应对权钱勾结贪婪攫取的腐败现象_____，不应让_____侵夺他人权益的缺德行为无所制约。

依次填入划横线部分最恰当的一项是：

- A. 获取 漠然置之 随意
- B. 获取 不闻不问 恣意
- C. 牟取 置之不理 任意
- D. 牟取 麻木不仁 肆意

213. 很多大学生希望毕业后找到一份工作，稳步发展，可是也有许多人不愿_____，他们有相对稳定的家庭背景，有工作能力，却在寻找生活的另一种可能性。

依次填入划横线部分最恰当的一项是：

- A. 按部就班
- B. 墨守成规
- C. 人云亦云
- D. 步入后尘

214. 个别干部走访慰问困难群众不过是“走秀”而已，这种_____式的慰问不仅不能送去党的温暖，反而损害了党的形象，让群众寒心。

依次填入划横线部分最恰当的一项是：

- A. 走马观花
- B. 蜻蜓点水
- C. 一曝十寒
- D. 轻描淡写

215. 在理想主义者看来，大千世界里的人和物，行为和事件，国家和宗教，都不是在漫长的岁月中一点一滴地_____起来的，而是一幅画，一幅让心灵去_____感悟的画。

依次填入划横线部分最恰当的一项是：

- A. 积累 冥想
- B. 积攒 沉思
- B. 构筑 想象
- D. 堆积 意想

216. 心理学家发现，手势和话语在交流时具有同样的丰富性。手和嘴_____表达着说话人的意思。人们听故事时，如果在听到声音的同时能够看见讲故事人的手势，他们对故事理解的准确度要比_____听到声音时增加 10%。

依次填入划横线部分最恰当的一项是：

- A. 分别 单纯
- B. 共同 单纯
- C. 独立 单独
- D. 一致 单独

217. 尽管诗歌绝无翻译的可能，却大有翻译介绍的必要。有多位前辈时贤对诗歌翻译理论不乏鞭辟入里的_____。然而，何谓诗歌翻译的理想形式却_____。

依次填入划横线部分最恰当的一项是：

- A. 不易之论 各持己见

- B. 远见卓识 众说纷纭
- C. 真知灼见 各执一端
- D. 不刊之论 见仁见智

218.我国著名语言学家罗常培说过：语言文字是一个民族文化的结晶。这个民族过去的文化靠着它来流传，未来的文化也仗着它来_____。我们可以从诸多汉字现象中，如汉字的造句、构词，汉字词义的形成和_____中找寻中国文化形成与发展的理据。

依次填入划横线部分最恰当的一项是：

- A. 弘扬 变迁
- B. 推进 演变
- C. 推动 变革
- D. 提升 演进

219. 孟子有一句话：“山径之蹊间介然之而成路，为间不用，则茅塞之矣。”品读这寥寥数字，实在有着丰富的内涵：第一，路与路之间大相径庭，有的路崎岖但是向上，有的路方向就是错的，要确定走什么样的路并且走对路并不容易，这是_____之惑；第二，路是人在杂草之中不断行走开辟出来的，不会一蹴而就，必须反复尝试_____，以启山林，这是探索之苦；第三，寻得正确之路后必须坚定走下去，没有自信就会徘徊不前，半途而废更是_____，这是坚持之难。

填入划横线部分最恰当的一项是：

- A. 抉择 饱经风霜 浅尝辄止
- B. 决定 披荆斩棘 功亏一篑
- C. 判断 风餐露宿 徒劳无功
- D. 选择 筚路蓝缕 前功尽弃

220. 丹麦人_____工作与生活的平衡，这种闲散的态度令人_____。这种态度产生了重要的结果——既有积极的一面（幸福感很强），也有消极的一面（有时候需要鼓足干劲，全力以赴）。

填入划横线部分最恰当的一项是：

- A. 关注 匪夷所思
- B. 重视 肃然起敬
- C. 坚持 惊叹不已
- D. 注重 耳目一新

221. 天池经历了漫长的无名时期，后来伴随着天池传说的兴起，天池也开始_____。谈到天池传说，还有一个缘由：人们面对神奇的山水之境时，总爱把神灵的光环罩在山水的头上，使山水之景与神灵之气_____，即所谓山不在高，有仙则名。

依次填入划横线部分最恰当的一项是：

- A. 声名鹊起 相得益彰
- B. 门庭若市 相映成趣
- C. 脱颖而出 相濡以沫
- D. 广为人知 相视莫逆

222. 习近平总书记在纪念邓小平同志诞辰 110 周年座谈会指出，正是由于有邓小平同志大力倡导和全力推进的改革开放，中国特色社会主义才能_____，中国人民才能过上小康生活，中华民族和中华人民共和国才能以新的姿态_____于世界。

填入划横线部分最恰当的一项是：

- A. 方兴未艾 耸峙
- B. 欣欣向荣 屹立
- C. 朝气蓬勃 耸立
- D. 扶摇直上 挺拔

223. 很多人认为动力是一块馅饼，会从天而降，幸运地砸在自己头上，他们_____到自己缺少动力，却还在_____，期望动力在哪天能无缘由地突然撞到自己身上。

填入划横线部分最恰当的一项是：

- A. 认识 望眼欲穿
- B. 意识 守株待兔
- C. 体会 浮想联翩
- D. 考虑 翘首以盼

224. 从表面看，曹七巧不过是遗老家庭里的一种牺牲品，_____的宗法社会里_____渣滓，但命运偏偏要教渣滓当续命汤，不但要做她儿女的母亲，还要做她媳妇的婆婆，——把旁人的命运交在她手里。

填入划横线部分最恰当的一项是：

- A. 迂腐 不屑一顾
- B. 传统 不值一提
- C. 没落 微不足道

D. 落后 可有可无

225. 有人用“天价”片酬导致行业畸形来批判“天价”片酬，然而实际上“天价”片酬与行业畸形是恶性循环，互为因果的关系，因为现有的行业的畸形，才导致对明星效应的依赖，一线明星_____，片酬自然_____。

依次填入划横线部分最恰当的一项是：

- A. 席珍待聘 坐地起价
- B. 待价而沽 居高不下
- C. 奇货可居 水涨船高
- D. 国积居奇 随行就市

226. 深化改革如果不“全面”，某些领域_____走出很远，其他领域_____没有动静，不仅会让改革失衡、跛脚、事倍功半，甚至会使得改革发生变异，导致公平正义缺失、社会隔阂与对立加剧。

依次填入划线部分最恰当的一项是：

- A. 遥遥领先 捷足先登
- B. 一马当先 坐而论道
- C. 望其项背 纸上谈兵
- D. 瞠乎其后 黄粱一梦

227. 让孩子了解外面的世界有必要，但也得想明白选择游学是否出自攀比和从众，弄清楚到此一游的“镀金”能给孩子带来多大改变，看仔细各种机构是否会在项目设计中_____猫腻。教育投入多一些_____谋划，就能少一些_____、无功而返。

依次填入划线部分最恰当的一项是：

- A. 潜藏 深入 事半功倍
- B. 隐藏 创新 故步自封
- C. 暗藏 理性 事倍功半
- D. 埋藏 细腻 闭门造车

228. 只有进一步_____居民消费升级趋势，努力增加高品质产品和服务供给，切实满足基本消费，持续提升传统消费，大力培育新兴消费，才能挖掘新的消费增长点，不断激发潜在消费。但有钱才能消费，有保障才敢消费，这依然是_____的道理。

依次填入划线部分最恰当的一项是：

- A. 扩大 毋庸置疑

- B. 顺应 颠扑不破
- C. 加强 不容置疑
- D. 形成 牢不可破

229. 要是换在其他地方，这家酒吧恐怕是没人敢来了，可这里从白天到晚上都_____。无论是布鲁塞尔本地人还是外国游客都喜欢到这里喝上几杯，因为 Delirium 酒吧号称是世界上供应啤酒种类最多的酒吧，这个纪录已经得到了吉尼斯认证。

填入划线部分最恰当的一项是：

- A. 门可罗雀
- B. 络绎不绝
- C. 门庭冷落
- D. 门庭若市

230. 市场上类似研学旅行的项目种类_____，缺乏统一的标准规范。在一些机构的逐利冲动之下，研学游也有浮于表面的问题。比如说“学”与“游”的功能错位，一些研学游产品明显“游”大于“学”，部分教育机构打着“游学”的幌子，组织学生_____地到不同国家的知名学校体验感受，成为传统旅游的“变体”。

依次填入划线部分最恰当的一项是：

- A. 复杂 一丝不苟
- B. 单一 左右逢源
- C. 重复 循规蹈矩
- D. 繁杂 走马观花

231. 赵州桥高度的技术水平和不朽的技术价值，充分显示了我国劳动人民的_____和力量。

填入划横线部分最恰当的一项是：

- A. 才能
- B. 智能
- C. 智慧
- D. 智力

232. 疫苗事关百姓生命健康，容不得半点_____，不能有半点闪失。公众关心，是因为现实问题揪心。面对社会关切，_____有关部门迅速发声，及时发布权威信息，有效解疑释惑，同时加大调查力度，用事实与真相_____人们的焦虑情绪。疫苗安全不仅关系着人民健康，也关系着人心聚散。

依次填入划线部分最恰当的一项是：

- A. 马虎 急需 解答
- B. 偏差 要求 安抚
- C. 侥幸 亟待 疏解
- D. 偏颇 迫切 抚慰

233. 防范化解风险，要善于运用底线思维，凡事从坏处准备，努力争取最好的结果，做到_____、_____，牢牢把握主动权。既要有防范风险的先手，也要有应对和化解风险挑战的高招；既要打好防范和抵御风险的有准备之战，也要打好化险为夷、转危为机的战略主动战。守住底线，盯住问题，奋发有为，才能做到“任凭风浪起，稳坐钓鱼船”。

依次填入划线部分最恰当的一项是：

- A. 未雨绸缪 有备无患
- B. 亡羊补牢 来者可追
- C. 未雨绸缪 来者可追
- D. 亡羊补牢 有备无患

234. 在我们赖以生存的绿色地球上，_____着几块色彩斑斓的陆地，那是地球上的五大洲，在陆地中间_____辽阔的蓝色水域，那是地球的四大洋。这里有生命存在，生物活跃在多彩的生态系统中，它们_____这个星球以绿色的情调和生命的意义。

依次填入划线部分最恰当的一项是：

- A. 嵌入 布满 呈献
- B. 镶嵌 充盈 赋予
- C. 勾勒 填充 馈赠
- D. 勾画 覆盖 给予

235. “四风”问题的形成是一个长期的过程，具有反复性和顽固性，其背后是_____的陈旧观念、_____的“潜规则”、_____的利益纠结。

依次填入划线部分最恰当的一项是：

- A. 根深蒂固 习以为常 错综复杂
- B. 盘根错节 习以为常 扑朔迷离
- C. 盘根错节 司空见惯 扑朔迷离
- D. 根深蒂固 司空见惯 错综复杂

236. 中法建交 55 年来，两国坚持相互尊重、_____、互利共赢，不断扩大双方交往合作，给两国和两国人民带来了实实在在的福祉。当前，世界正面临百年未有之大变局，人

类社会发展面临许多机遇和挑战。中法都是联合国安理会常任理事国，_____着特殊历史使命和责任。

依次填入划线部分最恰当的一项是：

- A. 求同存异 担当
- B. 并行不悖 担负
- C. 求同存异 担负
- D. 并行不悖 担当

237. “环保督查”近来成为一个热词。一方面，它透露环保形势_____，另一方面，它代表着监督模式的改革。

填入划横线部分最恰当的一项是：

- A. 不容置喙
- B. 凶多吉少
- C. 水火不容
- D. 不容乐观

238. 全方位开发风险保障产品，仅靠保险业自身的_____还不够。因为这类产品往往保险面广、赔付金额多，巨大的经营风险令保险公司难以承受，大面积开发和经营这类产品显得_____。

依次填入划线部分最恰当的一项是：

- A. 条件 前途未卜
- B. 努力 力不从心
- C. 资源 得不偿失
- D. 积累 捉襟见肘

239. 宜居带是指一颗恒星周围一定距离的范围，在这一范围内水可以以液态形式存在。由于液态水被科学家认为是生命生存_____的元素，因此如果一颗行星恰好落在这一范围内，那么它就被认为有更大的_____拥有生命或至少拥有生命可以生存的环境。

依次填入划横线部分最恰当的一项是：

- A. 缺一不可 范围
- B. 举足轻重 条件
- C. 至关重要 优势
- D. 必不可少 机会

240. 面对金融危机，某市政府为当地的出口企业制定了许多扶持政策，大量企业在国际竞争中_____不断发展壮大。

依次填入划线部分最恰当的一项是：

- A. 脱颖而出
- B. 崭露头角
- C. 初露锋芒
- D. 势如破竹

241. 事实上任何一个不可避免的危害原本就是社会人口因素与生态系统中潜在的破坏性因素相结合的产物。就舟曲泥石流而言，人类活动的_____和社会管理_____显然是灾害的要素之一，但在地质专家们看来，这些原因还远不足以将舟曲之灾_____为人祸之故。

依次填入划横线部分最恰当的一项是：

- A. 加速 疏忽 断言
- B. 破坏 漏洞 归咎
- C. 频繁 忽略 断定
- D. 加剧 疏漏 妄定

242. 人类的寿命与基因有关，体内有多个基因_____着你的生命长短。研究表明，那些在恶劣环境下控制机体防御功能的基因，能够显著地改善多种生物的健康状况并且延长其寿命。了解这些基因的运作_____，或许可以帮助我们找到消除老年疾病、延长人类生命的秘诀。

依次填入划横线部分最恰当的一项是：

- A. 操控 规律
- B. 支配 原理
- C. 决定 机制
- D. 主宰 流程

243. 2017年的“双十一购物节”让外界_____中国热闹异常的电子商务产业。美国媒体感叹中国的“双十一”一天的销售规模已经赶超美国两大网上购物日，预计电子商务将_____中国在2017年成为全球最大的零售市场。

依次填入划横线部分最恰当的一项是：

- A. 惊诧 力推

- B. 关注 助推
- C. 热议 襄助
- D. 聚焦 助力

244. 一个人不能失忆，一个国家当然就更不能失忆了，但是因为历史的原因，有时候会有意无意地试图_____某方面的回忆。对于这种无奈的现实，我们能够理解，但是并不是说就应该支持或者默认这么做。在具备了条件之后，我们还是应该寻找和_____我们的记忆。

依次填入划横线部分最恰当的一项是：

- A. 回避 恢复
- B. 隐藏 修复
- C. 躲避 还原
- D. 掩盖 复原

245. 一个国家的发展道路合不合适，只有这个国家的人民才最有发言权。我们主张，各国和各国人民应该共同享受发展成果。世界长期发展不可能建立在一批国家越来越富裕而另一批国家却长期贫穷落后的基础上。只有各国共同发展的世界才能更好发展，那种_____、转嫁危机_____的做法，既不_____也难持久。

依次填入划横线部分最恰当的一项是：

- A. 嫁祸于人 害人害己 可能
- B. 兄弟阋墙 损人利己 团结
- C. 以邻为壑 害人害己 安全
- D. 以邻为壑 损人利己 道德

246. 外出旅游，异地的风物固然让人迷醉，可是在商场购物时遇到导购的劝说，却常常使人_____、兴味索然。

- A. 不厌其烦
- B. 诲人不倦
- C. 苦口婆心
- D. 不胜其烦

247. 胡同大多形成于 13 世纪的元朝，胡同从诞生之日起，就与北京城建立了一种天然的联系，胡同也就_____地成为北京城的标志。一条条横平竖直、纵横交错的胡同不仅仅是老北京城市的命脉，同时也是普通百姓生活的场所，蕴含了北京悠久的历史文

与这座城市_____的胡同文化。

依次填入划横线处最恰当的一项是：

- A. 理所当然 交相辉映
- B. 顺理成章 水乳交融
- C. 顺其自然 唇齿相依
- D. 名正言顺 天人合一

248. 唐朝社会的各色人物在唐朝文人笔下_____, 活灵活现。世界名著中有著名的四大吝啬鬼形象, 即阿巴贡、泼留希金、夏洛克和葛朗台, 而唐朝文人笔下的吝啬和贪婪之人亦_____。这些生活在中国各阶层的人, 被唐代文人刻画得_____, 读来呼之欲出, 令人不禁莞尔。

依次填入划横线部分最恰当的一项是：

- A. 惟妙惟肖 不相上下 绘声绘色
- B. 跃然纸上 大相径庭 酣畅淋漓
- C. 栩栩如生 毫不逊色 入木三分
- D. 引人入胜 风格各异 活灵活现

249. 领导要善于_____人才, 他们应该使每个职员都能在自己的岗位上得到充分施展才华的机会, 使所有人才都能_____。

依次填入划横线部分最恰当的一项是：

- A. 任用 各得其所
- B. 聘用 各司其职
- C. 选用 各取所需
- D. 利用 各行其是

250. 他们是一群来自全国各地、各行各业的文艺青年, 他们每个人都经历过艰辛、不为人知的奋斗经历, 在为青春梦想拼搏的道路上, 他们品尝过心酸苦辣, 却不_____。因为他们深知, 在实现梦想的道路上, 从来不是_____, 为自己的人生梦想忘我拼搏奋斗, 是一件无比幸福的事。

依次填入划横线部分最恰当的一项是：

- A. 坚持不懈 得心应手
- B. 坚持不懈 一帆风顺
- C. 轻言放弃 得心应手

D. 轻言放弃 一帆风顺

251. “没有调查就没有发言权”，新闻记者一定要深入一线，_____，绝不能从事虚假报道。

依次填入划线部分最恰当的一项是：

A. 管窥蠡测

B. 管中窥豹

C. 明廉暗察

D. 真心实意

252. 我们若想用我们自己建筑上的优良传统来建造适合于今天我们新中国的建筑，我们就必须首先_____自己建筑上的“文法”和“词汇”。考古学家所_____的殷代遗址证明，至迟在公元前 15 世纪，这个独特的体系已经基本上形成了。这种“词汇”和“文法”是从世世代代的劳动人民在长期建筑活动的实践中所积累的经验中提炼出来的，经过千百年的____，而普遍地受到承认而遵守的规则和_____。

填入划线部分最恰当的一项是（ ）

A. 熟悉 发现 检验 惯例

B. 熟习 发掘 考验 范例

C. 熟悉 发掘 考验 惯例

C. 熟习 发现 检验 范例

253. 黄河文化与长江文化_____属于两种各有特点的文化系统，_____这两种文化从其源头开始，_____有着相互交流与渗透。

依次填入划横线部分最恰当的一项是：

A. 虽然 但是 才

B. 虽然 但是 便

C. 因为 所以 便

D. 因为 所以 也

254. 电子书是利用计算机技术将一定的文字、图片、声音、影像等信息，通过数码方式_____在以光、电、磁为介质的设备中，再借助_____的设备来读取、复制和传输。

填入划横线部分最恰当的一项是：

A. 存储 先进

B. 记录 特定

C. 保存 固有

D. 记忆 专门

255. 人的争强好胜分两种，一种是跟自己争，一种是跟别人抢，与天斗与地斗固然其乐无穷，然而因他人的看法而_____的，胜利和失败同样是短暂且_____的，千万别回头、回头就能看到一场空。

依次填入划横线部分最恰当的一项是：

A. 人云亦云 鄙夷

B. 草木皆兵 虚妄

C. 亦步亦趋 空洞

D. 不知所措 缥缈

256. 正是由于中国等亚洲国家对日本当时（麦克阿瑟统治期）比现在问题更严重的历史教科书_____，错失了_____影响的最佳时机，新一代日本人长成了，问题才更_____了。

依次填入划横线处最恰当的一项是：

A. 熟视无睹 实行 复杂

B. 沉默不语 实行 棘手

C. 沉默不语 施加 棘手

D. 熟视无睹 施加 复杂

257. 唐人在文化观上是汉民族的文化观，以天朝上国而自居，骄傲于自己的典章制度和浮华文采，但对外来文化从来不排斥和抵触，拿来主义，_____。在这个儒家文化还没有全面_____人们精神生活的“历史缝隙”里，唐朝人没有太多思想束缚，也许正因如此，唐的文学才如此快意恩仇，唐的精神气质才如此奔放飞扬。

依次填入划横线部分最恰当的项是（ ）

A. 兼收并蓄 渗透

B. 求同存异 融入

C. 和而不同 浸透

D. 包罗万象 深入

258. 体育在青少年成长的过程中应该处于什么位置，用什么样的形式去推进，最终达到什么样的目标，都需要仔细_____，并能从身心成长的规律、教育的规律、体育的规律等方面去叠加探讨，最终形成有效的路径和模式，而不是头疼医头脚疼医脚，甚至手段和目

标_____。

依次填入划横线部分最恰当的一项是（ ）

A. 思索 适得其反 B. 斟酌 事与愿违 C. 推敲 南辕北辙 D. 商量 东趋西步

259. 公开、公平、公正和诚实信用是招投标活动应_____的原则，也是招投标能否获得公信力的生命线。

- A. 遵守
- B. 尊重
- C. 遵循
- D. 遵从

260. 治理垃圾短信和骚扰电话，运营商也是在拿自己的利益开刀，动力不足自然_____。所以过去有过多次的运动式治理，但治理完后经常会遭遇反弹。

A. 见怪不怪 B. 司空见惯 C. 屡见不鲜 D. 不足为奇

261. 人们在社会交往中难免出现碰撞摩擦，如果能够善于换位思考，设身处地理解他人，使用文明礼貌的言谈举止，常常会使矛盾_____。

- A. 荡然无存
- B. 烟消云散
- C. 无影无踪
- D. 冰释前嫌

262. 伴随着全国各地民俗活动_____展开，七夕这一中华传统节日以其古老的美好_____和现代_____，重新吸引众多民众的注意力

A. 陆续 趣味 意涵 B. 陆续 意涵 趣味
C. 持续 意涵 趣味 D. 持续 趣味 意涵

263. 日常生活中，不少语言大师____、喜剧名家____，他们让生活和艺术保持____的距离，分清彼此，自由出入，这是极高的艺术境界。

- A. 风趣幽默 妙语连珠 恰到好处
- B. 妙语连珠 风趣幽默 恰如其分
- C. 沉默寡言 严肃谨慎 恰如其分
- D. 严肃谨慎 沉默寡言 恰到好处

264. 喜欢断壁残垣，喜欢古城遗址，喜欢历史留给我们的沧桑感，像长安，像洛阳，像楼兰，喜欢它们_____的篱墙、砖头枯死的瓦菲和风蚀的石块。

填入划横线部分最恰当的一项是（ ）

- A. 倒塌
- B. 颓圮
- C. 破败
- D. 古老

265. 春雨啊，_____地下，雨珠落在湖面上，像珍珠落在玉盘里四面溅射；雨珠落在干土上，地皮上_____一个小坑，像草原姑娘脸上的笑靥。

依次填入划横线部分最恰当的一项是（ ）

- A. 潇潇 砸出
- B. 沙沙 隆起
- C. 哗哗 陷下
- D. 淅淅 凹下

266. 发展经济不能对资源和生态环境竭泽而渔，生态环境保护也不是舍弃经济发展而_____，而是坚持在发展中保护，在保护中发展，实现经济，社会发展与人口、资源、环境相协调，使绿水青山产生巨大生态效益，经济效益，社会效益，让绿水青山同时也成为金山银山。

填入划横线部分最恰当的一项是（ ）

- A. 舍本逐末
- B. 缘木求鱼
- C. 因小失大
- D. 临渊羡鱼

267. 归根结底，考虑一些管理规划或措施的初衷，应该是增加游客的福祉，而不是相反，这次翻包检查既输理又输人心的核心所在，我们期待上海迪士尼乐园拿出解决问题的勇气，从_____角度出发，充分释放规则的善意。

填入划横线部分最恰当的一项是（ ）

- A. 以己度人
- B. 角色互换
- C. 以人为本
- D. 先人后己

268. “东北病夫”一词看似明讽中国人身衰体弱，却也暗刺中国人思想_____，封闭落

后，1972年李小龙主演的电影《精武门》，剧中他饰演的陈真扛了一块“东亚病夫”的招牌到日本武道馆，并在日本人面前将其踢破栅栏的场景，成为后来人们接触到“东亚病夫”一次的经典画面。

填入划横线部分最恰当的一项是（ ）

- A. 一蹶不振
- B. 日薄西山
- C. 夜郎自大
- D. 沉疴难起

269. 江河没有大海的汹涌澎湃，却有蜿蜒流转的_____；小草没有青松的高大挺拔，却有绿意勃勃的_____；星星没有月亮的皎洁明亮，却有熠熠生辉的_____；世间万物，各有千秋，不必慨叹自己的不足，发挥自己的长处，风景这边独好。

依次填入划横线部分最恰当的一项是：

- A. 气韵 柔韧 闪烁
- B. 神态 坚韧 闪耀
- C. 风韵 灵活 闪动
- D. 韵致 柔软 光辉

270. 人们习惯借助标签来了解和评估某个对象或某种事态。这些标签包含_____价值和行为判断，节约了人际交往的成本。在日常交往中，人们只需用一个彼此熟知的标签，就能让对方_____。标签能辅助认知，但不能凡事都进行标签化认知，甚至养成标签化思维习惯。

依次填入划横线部分最恰当的一项是：

- A. 单一 豁然开朗
- B. 固有 醍醐灌顶
- C. 普遍 恍然大悟
- D. 特定 茅塞顿开

271. 古往今来，中华民族之所以在世界上有地位，有影响，不是靠_____，不是靠对外扩张，而是靠中华文化的强大感召力和吸引力，我们的先人早就认识到“远人不服，则修文德以来之”的道理。

填入划横线部分最恰当的一项是（ ）

- A. 偃武修文

- B. 顺天应命
- C. 穷兵黩武
- D. 远交近攻

272. 对于电池来说,体积小,容量大,寿命长、安全性高、制造成本低等都是_____的品质要求,但集这些特性于一身的电池目前还难以找到,就拿消费电子产品中广泛使用的锂电池来说,虽然在容量、体积,寿命等方面_____,但其爆炸风险却让许多人诟病。

依次填入划横线部分最恰当的一项是()

- A. 基本 出类拔萃
- B. 理想 可圈可点
- C. 合理 脱颖而出
- D. 必备 崭露头角

273. 如果使用一下,你就会发现,中国互联网公司的产品及服务比国外的更加_____,应有尽有.他们正成长为真正的巨头,对国际市场的“野心”也越来越大,但这种关注不应_____,忽略盈利能力强劲的国内市场将是严重的错误。

依次填入划横线部分最恰当的一项是()

- A. 包罗万象 喧宾夺主
- B. 一应俱全 朝秦暮楚
- C. 体贴入微 本末倒置
- D. 无所不至 避重就轻

274. 由于传统文化表达方式的缺乏,久而久之,大众对其产生_____,感到陌生和难以认同,更不用谈在此基础上讲进行文化形象的现代生产和民族产品的市场转换也因如此,在旅游产业迅速兴起的时候,各地政府部门和商业资本就只能忙着引进外国主题_____异域文化品牌。

依次填入划横线部分最恰当的一项是()

- A. 距离 树立
- B. 抵触 打造
- C. 隔膜 复制
- D. 抗拒 模仿

275. 鉴于公共博物馆的公益属性,引入市场机制要_____切忌跑偏.公共博物馆不是不能“商用”,但是商用有两个_____,一是不能放任博物馆的管理风险,二是不能让经

济效益盖过社会效益。

依次填入划横线部分最恰当的一项是（ ）

- A. 防微杜渐 原则
- B. 小心谨慎 前提
- C. 步步为营 限制
- D. 适可而止 条件

276. 配音演员们在声音这个有限的天地里创造了很高的艺术成就，除了他们自身在音色上有天赋，更重要的是他们对艺术有一种_____的追求.与书面翻译不同的是，电影配音除了与前者有一样的要求外，还要求用语尽量_____，演员吐字的嘴型要与银幕上说外国话的演员的嘴型基本吻合，因此难度超过了书面翻译。

依次填入划横线部分最恰当的一项是（ ）

- A. 精益求精 通俗
- B. 至高无上 生动
- C. 锲而不舍 简明
- D. 孜孜不倦 夸张

277. 基因检测存在种种问题，但_____不是长久之计.解决这些阻碍基因检测产业健康发展的问题，有赖国家出台具体的监管规范细则，也有赖生物医学科技工作者向大众做好科普工作.生命科学的积累已经为基因检测奠定了基石，在这场呼啸而来的生命科技产业革命中，我们不应_____。

依次填入划横线部分最恰当的一项是（ ）

- A. 束手束脚 投鼠忌器
- B. 裹足不前 退避三舍
- C. 杯弓蛇影 袖手旁观
- D. 因噎废食 错失良机

278. 现代脑成像技术明确证实大脑协同合作，即使是只涉及到语言，数学和创造的简单任务，也_____了左右半球，由整个大脑共同完成，大脑左右半球的主要区别在于:右半球控制身体左侧，左半球控制身体右侧。然而，这一点也不是完全_____的。一个人的大脑受到损伤，健康的部分有时可接管受损部分的功能，甚至是大脑另外半球的区域。

依次填入划横线部分最恰当的一项是（ ）

- A. 跨越 固定

- B. 协调 确定
- C. 整合 分离
- D. 联结 分裂

279. 一台电脑，一根网线，一头连着土地，一头连着_____，电子商务打通深山与外界的联系，让“久藏深闺无人识”的农产品成为“网货”。电商发展带来了“指尖上的_____”，确实改变了很多人的命运。

依次填入划横线部分最恰当的一项是（ ）

- A. 客户 便捷
- B. 财富 销量
- C. 市场 机遇
- D. 城市 变革

280. 农业供给侧结构性调整是一个动态的过程，不可能一劳永逸。农业是典型的产业，培育一个成熟产业，要三五年、十多年，甚至更长时间。靠政府_____不行，必须尊重农业发展规律和市场规律，有长远眼光，耐得住寂寞。

依次填入划横线部分最恰当的一项是（ ）

- A. 慢热型 拔苗助长
- B. 发散型 推波助澜
- C. 传统型 越俎代庖
- D. 技术型 大包大揽

第二部分 阅读理解

1. 检验结果发现，吸烟愈多体力下降愈明显。钙与锌离子浓度也随吸烟量的增加而下降。专家们推测，这可能是由于体内烟碱浓度增加使某些运动神经元受到抑制，从而使骨髓肌兴奋性降低的缘故。

这段话主要支持了这样一个论点，即：

- A. 吸烟使人体力下降
- B. 烟碱浓度增加，运动神经元也相应增加
- C. 钙与锌离子浓度的增加使骨髓肌兴奋性降低
- D. 吸烟导致体内烟碱浓度增加从而使骨髓肌兴奋性降低

2. 指头上的结是文字的原始方式，目的就是用外在的象征，利用联想作用，帮助人的记忆在一个常常变动的环境中，我们感觉到自己记忆力不够时，方需要这些外在的象征。从语言变到文字，也就是从用声音来说词，变到用绳打结，用刀刻图，用笔写字，是出于我们的生活从定型到不定型的过程中。在都市中生活，一天到晚接触着陌生面孔的人才需要在袋里藏着本姓名录、通信簿。

这段文字主要论述了：

- A. 说明环境对语言的影响
- B. 说明语言是不断变化和发展的
- C. 介绍“指头上的结”出现的原因和作用
- D. 说明人的记忆力是有限的

3. 如果说记忆包括形成、存储和提取这几个阶段，那么植物的确存在记忆。和人类一样，植物也存在多种不同形式的记忆。它们有短期记忆、免疫记忆，甚至还有跨代的记忆。比如，存在于捕蝇草中的短期记忆是基于电流的，很像动物的神经活动。当捕蝇草的触发毛中有两根被虫子触动，叶片就会闭合，也就是说它要记住此前有一根被触动过。不过这种记忆只能维持 20 秒，之后它就忘记了。

根据上述文字，下列说法正确的是：

- A. 植物的记忆和人类的记忆一样，包括形成、存储和提取这几个阶段
- B. 不同植物的记忆形式不同，有长期的，也有短期的
- C. 捕蝇草短期记忆的存在机理和动物神经活动类似
- D. 捕蝇草的记忆只能维持 20 秒，之后就会忘记

4. 人民银行对于互联网金融的基本态度，就是鼓励创新发展、分类适度监管。P2P 网络借贷是互联网金融的业态之一，互联网金融业态包括第三方支付、P2P、众筹、融资以及现在的银行、保险、证券、资产公司等借助网络平台销售的产品。它们的监管规则、所包含的法律关系、风险的性质不太一样，所以不同业态的监管规则和监管强度是有差别的。

以上文字说明：

- A. 大力支持互联网金融发展，总体上对其进行监管
 - B. 互联网金融鱼龙混杂，难以制定合适的监管规则
 - C. 对于不同的互联网金融业态，适宜采取差异化监管
 - D. 互联网金融种类丰富，给相关部门带来很大的监管压力
5. 科学发展的核心应该是以人为本。人才是生产力发展中最为活跃的因素，是发展的

出发点和落脚点。如果人的健康和生命都得不到保证，经济再发展有什么意义？以人为本的精神，首先就体现在安全生产上面。忽视生命的情况下求发展，漠视权益的情况下求绩效，这样的“发展”本身就是一种价值颠倒。搞建设，谋发展的最终目的是让人民过上更好、更有尊严的生活。发展是硬道理，但发展并非不计代价，更不能被少数人曲解为一切为发展让路。中国要发展，但绝不要带血的 GDP，绝不要漠视生命的发展！

这段文字没有论及的是：

- A. 人是生产力发展中一个极为重要的因素
- B. 中国要发展，发展是当前工作的重心之一
- C. 经济发展应该保障生命的健康和安全
- D. 发展离不开为人民谋福利

6. 自然界产生的核辐射大多危害不大且不易察觉；过量的放射性照射会对人体尤其是怀孕妇女或准备怀孕的人造成伤害，但这种情况并不是生活的常态，因而对普通人的影响也并不显著。人们更为担心的其实是生活中的各种电磁辐射。世界卫生组织（WHO）在 1996 年启动了国际电磁场项目以回应公众对于暴露在数量和种类越来越多的电磁场来源下可能产生的健康问题的担忧。结果表明，虽然对于生物效应的认识仍然存在一定的分歧有待进一步研究，目前的证据不足以确认暴露在低强度下的电磁场会造成任何损害健康的后果。

关于辐射对人体健康的影响，下列说法与上述文字不相符的是：

- A. 自然界产生的核辐射通常对普通人危害不明显
- B. 电磁辐射与核辐射相比，是安全无害的
- C. 过量辐射可能对人体健康产生伤害
- D. 目前尚不能确定电磁场是否会损害健康

7. 在大的方向说，教育是个体的社会化和社会的个性化的实践活动，往小的方向说，教育是人们在学校里学习知识，获得发展。教育的价值见于各种名人名言，某种程度上说，它们代表一种理想。但人要吃饭，要在社会立足，教育也不可避免要被放到生存生活的基础层面，这代表现实。理想很丰满。现实很骨感，这也反映在人们对教育的态度里。

在普罗大众中，教育的价值在于：

- A. 让人们学习知识技能
- B. 帮助人们实现心中的理想
- C. 为日后谋生打下基础
- D. 培养对某类事物的兴趣并持续研究

8. 信息是金融市场框架的核心，传统金融市场主要通过发行标准化的金融工具，并建立金融中介、信用评级公司等机构来收集收款人的相关信息，以解决由于信息不对称带来的逆向选择与道德风险问题。众筹模式利用网络平台传播融资信息，互联网拥有庞大的用户群，信息传播更为方便、快捷且成本低廉。

对以上文字概括最准确的是：

- A. 众筹模式较传统金融更容易吸引用户
- B. 传统金融市场信息传播的缺点
- C. 众筹模式的信息收集具有低成本优势
- D. 众筹利用互联网平台化解信息不对称的问题

9. 时代巨轮滚滚向前，途中却并不全然是风平浪静，也可能遇到难以预见的激流险滩或是惊涛骇浪。总之充满了不确定性。从而，要处理国家与国家、国家与社会以及社会内部的诸多难题，就需要在广开言路、从善如流的心态下引入现代智库机制，通过思想的竞争，丰富公共政策意见市场，形成一个活力四射的知识社会。

作者这段话的主旨是：

- A. 时代发展充满着不确定性
- B. 什么才是一个活力四射的社会
- C. 引入现代智库机制的原因
- D. 要用怎样的心态看待竞争

10. 德国科学家日前表示，通过对南极洲冰山移动情况的监控，他们发现了一座会“唱歌”的冰山。从这座冰山传来的声波的频率大约为 0.5 赫兹，远远没有达到人耳的听力范围。但科学家加速播放声波录音后发现，这座冰山能发出一种类似大群蜜蜂的嗡嗡声或者管弦乐队演奏前热身的声音。2002 年 7 月至 11 月，科学家在南极洲南大西洋沿岸的埃克斯特伦陆架冰地区记录地震信号时，却意外接收到了异常清楚的声音信号。根据对这些声音信号的追踪，科学家发现了一座长 50 公里、宽 20 公里的冰山。这座冰山与水下山脉撞击并发生缓慢摩擦。科学家维拉·施林德魏因说：“当冰山撞击海床时，它就像河中的一座礁石。当水冲过它的表面裂缝和内部孔隙时，它就开始发声了，时起时伏的旋律就如同一首歌曲。”人们此前发现，南极的冰块也能唱歌。南极冰雪经过漫长时期逐渐积累，压实，变成冰川冰。原来雪花中的气体也被保存在冰中。气泡在巨大的压力下变成了高压的气体。当冰块融化时，高压的气泡破裂，便会发出美妙的声音。

下列说法不符合原文意思的是：

- A. 德国科学家发现冰山发声类似大群蜜蜂的嗡嗡声或者管弦乐队演奏前热身的声音
- B. 冰山在与水下山脉撞击并缓慢摩擦，水冲过其表面裂缝和内部孔隙时就开始唱歌了
- C. 冰山唱歌的声音信号是在记录地震信号时意外发现的
- D. 南极的冰块也会唱歌，不过原理与冰山的不同

11. “黑马”一词其实是从英语舶来的，原指体育界一鸣惊人的后起之秀，后指实力难测的竞争者或在某一领域独树一帜的人，无贬义或政治含义。首先在英文中使用“黑马”的人，是英国前首相狄斯累利，他在一本小说中这样描写赛马的场面：“两匹公认拔尖的赛马竟然落后了，一匹‘黑马’，以压倒性优势飞奔。看台上的观众惊呼：‘黑马！黑马！’”从此，“黑马”便成了一个有特殊意义的名词。

这段文字的主要意思是：

- A. 论证“黑马”词义的起源
- B. 阐释“黑马”一词的内涵
- C. 分析“黑马”词义的演变
- D. 介绍“黑马”的感情色彩

12. 中国古代将阴历月的大月定为 30 天，小月定为 29 天，一年有 12 个月，即 354 天，比阳历年少了 11 天。怎么办呢？在 19 个阴历年里加七个闰月，就和 19 个阳历年的长度几乎相等。这个周期的发明巧妙地解决了阴阳历调和的难题，比希腊人梅冬的发明早了 160 年。

这段文字主要阐明的是：

- A. 古代阴历中闰月设置的规律与作用
- B. 中国古代历法在当时具有先进水平
- C. 阴阳历调和问题在古代是个世界性问题
- D. 中国古代如何解决阴阳历差异问题

13. 对于民俗文化，只要当地政府给予正确的扶持和引导，充分挖掘并赋予崭新的内容，民俗文化就能焕发出新的光彩，显示出强大的生命力。然而，一些地方在挖掘民俗文化的过程中，却将那些陈旧陋习“发扬光大”，这是与继承发扬民俗文化的理念相违背的。

下列表述最符合作者想表达的观点是：

- A. 民俗文化的光彩历久弥新
- B. 政府的正确领导是继承民俗文化的关键
- C. 传承民俗文化也应移风易俗

D. 民俗文化中存在一些陈旧陋习

14. 近日，科学家通过研究发现我们的宇宙可能是超流体，这说明我们可能生活在“水下”，新的研究显示时空可能是性质如同流体的质态，可以认为是一种超流体，该物质与其他物质不同，但可以为光子提供一个新的介质，就像声音在空气中传播一样，有研究人员认为如果这种可能“承载”光子运动的介质存在，那么其粘度应该为零，这将为我们开启一个新的理论，通过量子引力论来解释这奇怪的现象。

根据这段话，下列选项理解正确的是：

- A. 时空是一种固体
- B. 声音不可以在空气中传播
- C. 我们可能生活在海洋之中
- D. 可“承载”光子运动的介质可能存在

15. 有人也许认为，“写文章只要不妨害所表达的义理，材料细节有点出入是无所谓的。”义理是文章的灵魂，大凡写文章，不会不关注这一点。这种关注就应包含对支撑义理的材料审慎核查与选用。

对划横线文字理解最准确的是：

- A. 批评了只重视表达义理，但是不重视材料真实性的错误认识
- B. 肯定了既重视义理的表达，也重视材料细节必须真实的主张
- C. 批评了借口不妨害表达义理，而忽视材料真实性的错误认识
- D. 肯定了材料对表达义理的作用，不主张苛求材料细节的真实

16. 无论原著多么丰富精彩，文学经其改编成电视剧都是一次再创作。电视剧要尽可能地呈现原著复杂而沉重的主题，也要通过改编使片段式的故事汇成线条式的人物命运，古老土地的历史变迁，民族生存的生命反思，儒家文化的辉煌与没落、人性欲望的压抑与张扬……文学经典的主题，必须经由改编之手重新诠释，而且，无论怎么改，情节的推进，人物的塑造，剧情的发展，其本身都要符合人物内在的行为逻辑。

关于文学经典改编成电视剧的原则，文中没有涉及：

- A. 要突出文学经典的主题
- B. 要有比较明确的主线
- C. 应具有合理的内在逻辑
- D. 要使用必要的夸张手法

17. 当我们在承受某些心理痛苦——比如孤独、社会孤立、自我怀疑、负面情绪、觉得

人生无意义时，怀旧可以起到应对机制的作用。这些烦恼使大脑开始筛选自己的记忆库，总结出一些有特定叙事特色的片段。我们通过怀旧，让过去的成功经历和亲密的人际关系重新浮出水面，那些时候我们的生活有安全感也有秩序。心理学家解释道：“你在向自己重申‘我做过的很棒的事情’，也希望这句话能预测未来的发展。‘虽然我现在不甚确定，但看看我的过去，就知道我是个可爱的人。我命中注定要成就大事。’”

下列说法与原文不符的是：

- A. 怀旧会让我们逃避现实
- B. 怀旧是我们前进的动力
- C. 怀旧有情感缓冲的作用
- D. 怀旧能使我们变得乐观

18. “万物生长靠太阳”，没有太阳就没有地球的一切。太阳是距离地球最近的恒星，地球受到太阳的引力作用，它强大的引力控制着大小行星、彗星等天体的运动。它孕育了地球文明，并且始终影响着地球生物。人类生存的地理环境中，有大气、水、生物等要素，这些要素本身和要素之间是在不断变化的，其根本动力就是太阳辐射。太阳辐射是太阳对地球最大、也是最重要的贡献。

这段文字主要说明了：

- A. 太阳对地球有重要的贡献
- B. 太阳辐射是太阳对地球的最大贡献
- C. 太阳孕育了地球文明
- D. 太阳影响地球生物

19. 著名的教育学家约翰·亨里希·裴斯泰洛齐曾强调说，对不听话的注意力进行训练，“绝对是一切教育的根本目的”。如今，现代认知科学的结果也证明了这点。神经科学研究就为我们带来了好消息：专注力可以像肌肉一样通过训练得到提高。常常专注做事的人，长期如此便会取得更多的成就，也会更有效率，即使这个人已经上了年纪。

该段文字最想表达的是：

- A. 专注一定会取得更多的成就
- B. 专注是可以训练的
- C. 神经科学研究对专注有了更深的研究
- D. 上了年纪的人也会取得成就

20. 艺术如何现代化是当代画家面临的重大命题。“江山代有才人出，各领风骚数百年。”

每个时代都有不同的艺术表现对象和形式，也给画家提供了无尽的素材和灵感。笔墨当随时代，艺术才能回到肥沃的土壤，也才会有凝聚时代精神的煌煌大作。

这段文字中，作者的主要观点是：

- A. 每个时代都有其代表艺术家
- B. 当代画家应该做到艺术现代化
- C. 时代赋予艺术表现的多样性
- D. 画家创作时要学习前人精神

21. 2008 年冬天，美国有超过三分之一的商业蜂箱出现了蜂群崩溃症候群。某些蜂群中的所有工蜂突然消失或死亡，导致蜂窝中只剩下孤独的蜂王。这种综合症已经传到了欧洲许多国家，如法国、比利时、意大利、葡萄牙和西班牙等。如果没有这些蜜蜂，许多与人类生活密切相关的作物也将无法存在，如大豆、棉花、杏、葡萄、苹果、向日葵等。全球几乎三分之一的食物都与蜜蜂的行为有关。如果它们灭绝，随之而来的将是食物紧缺、饥饿、暴力和骚乱等严重社会问题。

下列无法从原文推出的是：

- A. 缺乏食物是工蜂消失的主要原因
- B. 美国的蜂群崩溃症候群早于欧洲
- C. 蜂群崩溃症候群会导致严重的社会问题
- D. 蜂王比工蜂对蜂群崩溃症候群有更强的抵抗力

22. 金字塔的建造者，不会是奴隶，应该是一批欢快的自由人！第一个作出这种预言的，是瑞士钟表匠塔·布克。1560 年，他在埃及的金字塔游历时，便作出了这种预言。

对上文内容概括最准确的是：

- A. 建造金字塔的是一批快乐的自由人
- B. 瑞士钟表匠塔·布克认为建造金字塔的是自由人
- C. 1560 年瑞士钟表匠塔·布克预言建造金字塔的是自由人
- D. 1560 年塔·布克在游历金字塔时预言建造金字塔的是利齿龇牙犬内丹上人

23. 黏性观点是指那些不费力气就被人牢牢记住的观点，比如“双鸟在林不如一鸟在手”这句谚语，曾经流传了 2500 年之久，跨越文化和语言的界隅无人之为之广告宣传，完全靠自己的力量长盛不衰，面对具有共同标准的语境，谚语能为人们的行为提供经验教训，有助于指导其做出决策，同时说法精炼，意义深远，容易被人记住，所以就属于黏性观点。

这段文字主要说明：

- A. 什么是黏性观点
- B. 谚语有什么价值
- C. 黏性观点能跨越文化界限
- D. 谚语的作用使其长盛不衰

24. 作为一个拥有五千年不间断文明史的古国，我国拥有十分丰富的非物质文化遗产。这些活态的文化不仅构成了中华民族深厚的文化底蕴，也承载着中华民族文化渊源的基因。但随着我国现代化建设的加速，文化标准化以及环境条件的变化，尚有不计其数的文化遗产正处于濒危状态，它们犹如一个个影子随时都可能消亡。

对这段文字概括最准确的是：

- A. 文化遗产保护工作要有新思路
- B. 要重视现代化建设带来的新问题
- C. 新形势下亟须加强文化遗产保护
- D. 诸多因素威胁着文化遗产的生存状态

25. 意大利文艺复兴时期，科学技术和生产力的发展使人的自我意识开始觉醒，人们开始厌弃神权时代那种表现追慕上帝的峭拔的建筑风格，便想起了古希腊、罗马时代的建筑，于是人们拾回那种规整，稳重的“十字”平面造型原则和体现人体美的柱式的基本形制，以圆拱代替尖拱，吸收力学上的新成就以及绘画中的透视原理，强调秩序和比例，以均衡端庄，典雅精致为美学追求，从而创造出多种空间效果，来标示属于自己时代的崭新风格。

这段文字主要介绍：

- A. 古希腊与文艺复兴时期建筑的传承关系
- B. 文艺复兴时期的建筑风格及形成背景
- C. 西方人的思想意识在建筑领域的表现
- D. 意大利文艺复兴在建筑方面的主要成就

26. 元代的蒙古人从中国内蒙古一直走到欧洲，最后在波斯——今天的伊朗一带，发现了一种画在瓷器上的原料“苏麻离青”。中国自己土产的画在瓷器上的蓝色颜料比较灰暗，比苏麻离青效果差很多。其中的原因是中国原料里含锰比较多，而伊朗出土的原料含锰少，所以颜色烧制之后特别清亮。正是蒙古大军带去的中国瓷匠，和伊朗的陶工相遇之后，采用了当地的钴料，才终于烧制成如今流传于世的美丽的青花瓷。

下列哪项说法不能从这段文字推出：

- A. 钴原料是元青花成功的关键

- B. 伊朗是“苏麻离青”的原产国
- C. 青花瓷工艺在元代突飞猛进
- D. 锰含量会影响青花瓷的色泽

27. 中国古代文明的繁荣，同政治思想中的人文精神和民主主义思想密切相关。注重苍生黎民的理念在一定程度上构成某种规范性力量，成为政权稳固、国家稳定的重要保障。一些有识之士能够怀有“保惠于庶民”、服务天下百姓的志向，以先天下之忧而忧、后天下之乐而乐的境界，以苟利国家生死以、岂因祸福避趋之的勇气，献身于报国安民事业。这些价值理念，在当代中国已转化为为人民服务的思想文化资源，给中国制度坚持以人民为中心的价值理念提供了丰厚历史文化土壤。

这段话的主要观点是：

- A. 中国传统的以民为本的价值是当代中国制度的基础
- B. 中国古代和现代都有人文精神与民主主义思想
- C. 中国传统价值观念是当前中国的思想文化根源
- D. 当代中国依然坚持人民为中心的思想理念

28. 摒弃“棍棒教育”传统理念不代表不能对犯错孩子施加必要惩戒。在大力普及禁止体罚孩子教育理念的同时，也要探索如何科学的惩戒严重犯错的未成年人。这样方能做到教育与惩戒相结合，既培养未成年人养成底线、规则和责任意识，又避免其生活在棍棒的阴影之下。

对上文理解正确的一项是：

- A. 传统的“棍棒教育”理念不能摒弃
- B. 对犯错孩子施加科学惩戒是必要的
- C. 科学的惩戒可以替代教育的作用
- D. 要让孩子养成底线、规则和责任意识必须实施体罚

29. 社交平台的兴起创造了许多新事物，也形成了层出不穷的新话语体系和风格。一种自嘲，颓废，麻木的生活方式为特征的“丧文化”正是其中的一种，“什么都不想干”，“颓废到忧伤”，这些散漫的话语配上生动的“葛优瘫”“懒猫瘫”等表情包，成了一些聊天场景的流行“新宠”。

属于这段文字中提及的内容是：

- A. “丧文化”的主要流行群体
- B. “丧文化”流行的危害

- C. “丧文化”的一部分表现
- D. “丧文化”流行的根源

30. 有些人或许会认为：“保护伞”在违法犯罪活动中的作用是次要的，违法犯罪分子本身才是最大的问题。但是，究竟是先有违法犯罪团伙，还是先有这些团伙的“保护伞”本质上其实是一个“鸡生蛋、蛋生鸡”的问题。事实上，在违法犯罪活动的灰色链条之中，身居要职的“保护伞”们，从来都不只是被动接受贿赂、被动放任违法犯罪活动的“客体”，更是催生违法犯罪的“主体”。

这段文字所要表达的主旨是：

- A. 在违法犯罪活动中，“保护伞”与犯罪分子之间的关系是难以界定的
- B. 在违法犯罪活动中，“保护伞”带来的危害完全不亚于犯罪分子本身带来的危害
- C. 在违反犯罪活动的灰色链条中，身居要职的“保护伞”已经成为违法犯罪的主体
- D. 在违法犯罪活动的过程中，“保护伞”带来的问题比犯罪分子带来的问题更严重

31. 不可否认，尽管治理旅游顽疾中乱扔垃圾的“药方”有多种，但“游客黑名单”惩戒制度或许才是最能收到疗效的一剂药方。一旦“游客黑名单”惩戒制度长出“钢牙利齿”，那么“文明旅游走遍天下，不文明旅游寸步难行”的旅游氛围必然蔚然成风。如此，游客必然就会自觉地把讲文明视为价值追求，把守规矩当成行为准则。

这段文字所要表达的主要观点是：

- A. 形成文明旅游的氛围才是治理旅游顽疾的根本之道
- B. “游客黑名单”惩戒制度能否长出“钢牙利齿”，才是治理旅游顽疾的关键
- C. 只有当游客自觉地讲文明、守规矩时，旅游顽疾才能得到根本的治理
- D. “游客黑名单”惩戒制度是规范游客文明旅游的有效手段

32. 法律面前，谁都不能享受特权，名气再大，“粉丝”再多，人脉再广，也绝不能凌驾于法律之上，按照国家税务总局的部署，接下来相关部门将在对部分高收入，高风险影视从业人员依法纳税情况进行评估调查的基础上，进一步强化风险防控分析，加大征管力度，依法查处违法违规行为，换言之，国家税务总局“盯”住的绝不是“范冰冰事件”这一个案，而是“部分高收入，高风险饮食从业人员”，其实，逃税从来都不是单方面的，“阴阳合同”既牵涉明星，也牵涉制作公司，还牵涉投资方等等，每一个责任主体都不能放过。

以下哪个结论更符合本段的主旨：

- A. 任何人都不能凌驾于法律之上
- B. 应该限制饮食从业人员的高收入

- C. 加大征管力度，依法查处违法行为
- D. 从个案入手，掀起全方位查税行动

33. 在消费者见多识广、日益成熟的时代，“王婆卖瓜，自卖自夸”式的吹嘘，很难让人轻易相信，而利用公众的爱心打“悲情牌”营销却往往能屡试不爽，悲情营销的套路虽然能获得一时之利，最终却很可能搬起石头砸自己脚。天下没有不透风的墙，尤其在资讯极其发达的当今时代，纸更加包不住火，一旦“悲情牌”泛滥，套路被揭开也就成了必然。即便一时没有揭开，靠“悲情”营销，也会给产品的品质带来极大的负面影响。爱心最多只能救一时之急，绝不可能“包买”一世。正是看到“悲情牌”营销给当地果业品牌形象造成的严重影响，临猗县政府才发布声明进行干预。

可以从这段文字中得到的结论是：

- A. 临猗县政府干预的时机滞后，效果不佳
- B. “悲情牌”营销泛滥成灾
- C. 提升消费者对营销手段的鉴别力十分迫切
- D. 悲情营销的套路没有任何效果

34. 向宪法宣誓，不仅是一个庄严的仪式，也是彰显宪法权威的重要方式，有利于增强国家工作人员的宪法观念，促进国家工作人员忠于宪法、遵守宪法、维护宪法，有利于在全社会增强宪法意识、捍卫宪法尊严。

这段文字主要分析了向宪法宣誓的：

- A. 意义
- B. 观念
- C. 方式
- D. 性质

35. 据报道，某卫视的亲子节目核心观众群女性观众占比近 2/3。可以想象这样的场景：晚上，年轻的母亲独自带着年幼的孩子，在家看电视上的“爸爸带孩子”，而年轻的爸爸也许还在加班、在应酬，也许只是待在卧室里打游戏、玩电脑——他们的孩子依然延续着没有父亲陪伴的故事，事实上，这种现象同样发生在母亲身上，在不少现代家庭，养育孩子的职责主要推到上一代老人身上。

这段文字旨在强调：

- A. 在现实生活中亲子教育的主体缺位
- B. 现实生活中父母与子女间缺少交流

- C. 父母亲情教育缺席现代的家庭生活
- D. 当下亲子节目赢得共鸣的真正原因

36. 居民贷款主要集中在房贷上，使居民难以在其他领域贷款消费，继而放缓了消费升级进程。应当坚持楼市调控不动摇，大力发展住房租赁市场，使房价整体水平理性回落，减轻民众的房贷压力，使之可以向其他消费领域适度转移。

这段文字表达的主旨是：

- A. 调控楼市可以减少居民房贷的数量
- B. 调控楼市可以减轻居民的房贷压力
- C. 调控楼市可加快居民消费升级进程
- D. 调控楼市可以发展住房租赁的市场

37. 互联网的规模效应在中国得到了极大的体现，这是一片互联网发展的沃土，让中国的互联网发展实现了弯道超车，成为改革开放四十年发展最为迅猛的行业，也让一个 32 年前才刚刚学会发出第一封电子邮件的年轻而古老的国家，成为世界互联网的大国。大到电子商务、物流快递、移动支付、共享经济、人工智能、社交网络、大数据、云计算，小到手机上的小应用、小程序、APP，中国都诞生了世界级的企业。这一切，都有赖于中国的普通网民规模。2018 年最新统计表明，中国的网民数量，已经突破了 8 亿。

不能从本段中得出的结论是：

- A. 中国的网民规模世界之最
- B. 互联网成为近四十年来中国发展最迅猛的产业
- C. 在互联网产业里中国有世界级企业
- D. 中国互联网规模和网民数量成正相关

38. 电磁轨道炮依靠电磁作用高速推动弹丸飞行，这与传统弹药的火药爆炸推动原理完全不同。电磁轨道炮发射的炮弹速度可达 7 倍音速，每秒能飞行约 2.5 公里，能攻击约 200 公里以外的目标。与导弹相比，电磁轨道炮的发射费用大幅下降，命中精度也较高，而且安全性更好，可在军舰上装载大量炮弹。

下列对电磁轨道炮的理解错误的一项是：

- A. 电磁轨道炮与传统炮弹的火药爆炸推动原理完全不同
- B. 电磁轨道炮飞行速度可达 7 倍音速
- C. 电磁轨道炮发射的费用比传统炮弹要高一些
- D. 电磁轨道炮命中精度较高安全性更高

39. 当我们感到疲惫时，体内已产生了许多二氧化碳，当二氧化碳过多时，必须再增加氧气来平衡体内所需，因为这些残留的二氧化碳会影响我们身体的机能活动，这时身体便会产生保护性的反应，于是就打起呵欠来，打呵欠是一种深呼吸动作，它会让我们比平常更多地吸进氧气和排出二氧化碳，还起到消除疲劳的作用。

下列说法与原文意思不相符的是：

- A. 劳累过度的人，其体内的二氧化碳含量会增加
- B. 过多的二氧化碳会影响身体机能
- C. 打哈欠可以使体内残留的二氧化碳消失
- D. 打哈欠是一种自我保护性的反应

40. 依据联合国标准，一个国家 60 岁以上老人达到总人口的 10%，65 岁老人占总人口的 7%，即视为进入老龄化社会。而根据国家统计局 2019 年公布的最新数据，2018 年，中国 60 周岁及以上人口为 24949 万人，占总人口的 17.9%，其中 65 周岁及以上人口 16658 万人，占总人口的 11.9%。

上述文字，作者旨在说明：

- A. 中国的老龄人口高于世界平均
- B. 目前中国已是老龄化社会
- C. 中国是全世界最长寿的国家
- D. 联合国老龄化社会标准适合中国

41. 人的一生仿佛在麦地中行走，在寻找最大的麦穗，有的人见到了颗粒饱满的“麦穗”就不失时机地摘下它；有的人则东张西望，一再地错失良机。当然，追求应该是最大的，但把眼前的一穗拿在手中，这才是实实在在的。

这段话表达的意思是：

- A. 人要有高追求，才能真正抓住机遇
- B. 要抓住眼前机遇，不要错失良机
- C. 只要坚持不懈地追求，总能达到理想的目标
- D. 要抓住眼前利益，不用想得太长远

42. 自然骨不仅外观形态非常不规则，而且内部结构也比较复杂，不同部位的密度不一，让人造骨在结构上模仿自然骨是极具挑战的。传统金属、高分子材料存在仿生结构不可控、力学性能不匹配、生物相容性差、无发育功能等术后并发症。为解决这一问题，汪焰恩从打印材料入手，将羟基磷灰石、黏合剂、细胞液、蛋白液（生长因子）等按照不同个体的骨骼

性质，对打印材料进行科学配比，从而制作出最适合被植入个体的 3D 打印仿生骨。在配比材料、铺粉打印环节，汪焰恩不仅研制了一套打印控制系统，还攻克了打印的关键机械技术，处于国际领先水平。

上述文字不涉及 3D 打印仿生骨的：

- A. 核心技术
- B. 性能优势
- C. 研发过程
- D. 学术地位

43. 西辽河流域、长江中下游地区及海岱地区这些新石器文化核心区衰落，中原核心区稳步崛起，中原中心趋势形成，这是中国史前文化格局改变的历程。旧大陆西部传来的农作物和绵羊、山羊、黄牛和马等家畜，显然对中国史前文化格局的改变起了作用。同时，伴随着冶金技术的东传，青铜铸造技术在中原地区扎根、发芽、开花和结果，标志着青铜时代全球化的形成，然而，西来的新作物与家畜，对于中原地区的产业仅为补充，未起到多大的作用，青铜时代的全球化对于中原的崛起作用有限。

根据上述文字，下列说法正确的是：

- A. 中国新石器时代传统核心区域文化衰落是历史必然
- B. 小农经济的发展更符合我国文化可持续发展的需要
- C. 西来的新作物与家畜对中原核心区优势的形成至关重要
- D. 青铜时代全球化并非中国史前文化格局改变的根本动因

44. 俗话说，关爱今天的老人，就是关爱明天的自己。对于个人来讲，我们应摒弃“老人无用”的偏执观念，尊重、接纳老年人，应看到老年人在化解社会矛盾、传帮带年轻人等方面的优势经验，使他们感受到人生的“第二个春天”。同时，“老吾老以及人之老”，应对老龄社会是全社会的事情，社会资本在办养老服务时，应该满足各个层次老年人的需求。当前社会养老机构很多，但多不等于强，社会资本在创办养老机构时应该做到协调可持续布局，使老龄事业链环环相扣，做到老有所养、老有所住。

这段文字主要表达的是：

- A. 当前社会养老机构仍存在诸多问题
- B. 我们要尊重老年人来保障他们的晚年生活
- C. 应对老龄社会需要个人与社会的共同努力
- D. 社会资本对养老服务起着举足轻重的作用

45. 互联网的商业模式总结起来有三种：一是在网上卖东西，卖有形的东西，那叫电子商务；二是卖广告，例如搜索引擎的推广链接；三是增值服务，如腾讯的 QQ 秀、游戏里的各种道具等。但这三种商业模式都有一个共同的前提，那就是必须拥有一个巨大的、免费的用户群。在互联网上，任何一项增值服务都只有百分之几的付费率，其余都是免费用户。因此，互联网经济强调的，首先不是如何获取收益，而是如何获取用户。

这段文字主要介绍了：

- A. 互联网经济基于免费的商业模式
- B. 互联网的三种商业模式
- C. 互联网经济更加注重用户
- D. 互联网经济不注重收益问题

46. 在科技发展的历史上，每逢新科技出现，总会有人打着新科技的幌子，搞骗局、传谣言，也有一些不法商家惯于玩概念、蹭热度，开展所谓“借势营销”，从早些年的“电脑算命”到“纳米按摩椅”，再到这些年的“量子抗癌吊坠”“暗物质洗发水”“石墨烯内衣内裤”等，当李鬼登堂入室，李逵反而欲哭无门，不但对社会生活造成危害，而且搞混了人们对科技创新的认识，伤害人们对新科技的热情。只有把新科技的科普工作做到位，才能避免骗局和谣言在科技发展之路上恶意“抢跑”，从而为科技创新以及将其应用于生活营造良好的条件。

上述文字主要说明了：

- A. 科学普及应被放到与科技创新同等重要的位置
- B. 科学普及要注重科学知识，科学史的介绍和传播
- C. 科学普及有利于帮助人们分辨“新科技”与“伪科技”
- D. 打破科技产品的神秘感才能发挥科技正确作用

47. “问题”通常指个体面临一个不易达到的目标时的情境，即通往目标的途径中存在着障碍，我们称之为遇到了问题。问题的一个根本特点是障碍，有障碍才会有问题。但客观的障碍并不是问题本身，问题是遇到障碍的个体提出来的，它总是以一定的方式被理解和表达。

上述文字表明问题的解决过程实质上是（ ）

- A. 实现由起始状态向目标状态的转化
- B. 包括一系列的运算或者心理操作
- C. 如何把握已有的或给定的信息

D. 依赖于一系列认知操作来进行

48. 我国国土面积中干旱、半干旱土地大约占一半，平原、丘陵、高原、盆地和山地等各种地貌类型兼具，这为我国因地制宜全面发展农、林、牧、副、渔业生产提供了有利条件。据《人民日报》报道，我国中低产田的比例占全国耕地面积的 2 / 3 以上；有相当一部分耕地地块零碎不规整，田坎、沟渠、道路、坑塘面积过多，土地利用效率低。

阅读该文段得出的结论应该是：

A. 我国的耕地少，农、林、牧、副、渔却发展很好

B. 我国国土面积大，耕地零碎

C. 我国土地类型多样，优质耕地少

D. 我国土地利用效率低

49. 几乎每个人的内心深处，都有着对乌托邦和理想社会的向往。反乌托邦主题则是将其逻辑进行推演，最终会发现理想（主要是对制度和技术的崇拜）往往会导致种种无法控制的弊端：极权统治、非人性社会、精神压抑等。与乌托邦批判“旧”或允诺“新”的热度相比，反乌托邦的语汇更加冷峻，也更尊重人性的真实。大多数反乌托邦作品都充满想象力和黑色幽默，其辛辣的讽刺让我们哭笑不得，然后冷汗涔涔。

对这段文字概括最准确的是：

A. 揭示乌托邦理想的弊端

B. 介绍反乌托邦作品的特点

C. 描述理想与现实之间的鸿沟

D. 指出乌托邦与反乌托邦作品的差异

50. 自从库克接管苹果以来，苹果手机已经失去了创新能力。早些年，苹果手机是全球手机行业的风向标。最近几年，从双摄像头，到全面屏，再到 AI，苹果都被国产手机品牌甩在了后面。为了保持利润的增长，库克甚至想出了提高苹果手机售价的昏招。现在看来，最高售价高达 12799 元的定价超出了果粉的承受能力，这直接导致苹果手机销量大幅下跳。

从上面材料分析，下列哪一项不是苹果手机在中国销量下跌的原因？

A. 失去了创新的能力

B. 产品的质量不过关

C. 国产手机强势竞争

D. 提高了手机的售价

51. 在中国古代，“压岁钱”最初的称谓是“压胜钱”，压胜钱属于古代钱币范畴，具有

文物价值，存世量极为有限，且不可再生，所以，随着时间的流逝，它的保值功能越发的显现出来，而且存放时间越长，年代越久。升值的机会就越多，空间就越大。

这段文字旨在说明：

- A. 压胜钱的文物价值
- B. 压胜钱与压岁钱的关系
- C. 对于压胜钱价值的评判标准
- D. 压胜钱的保值功能及背景

52. 在西方工业国家都在为金融危机所导致的经济衰退所困扰的时候，中国政府适时的启动了基础设施建设和中西部开发。这些耗资惊人，规模宏大的计划在经济高速增长时有可能导致过热的危险，但是现在，这些项目则成为中国经济增长源源不断的动力。

下列选项中，对短文内容理解错误的是：

- A. 基础设施建设和中西部开发可以应对中国经济衰退的困扰
- B. 基础设施建设和中西部开发有助于中国经济增长
- C. 在经济增长时，基础设施建设和中西部开发有可能导致经济过热
- D. 作者对此时进行中西部开发持赞赏态度

53. 攻击行为是复杂的，并非简单的受大脑中某个特定区域的控制。尽管如此，研究者还是在动物和人类身上发现了一些能够促进攻击行为的神经机制。当科学激活这些脑区时，人们的敌意程度增加了；当这些脑区的活动被抑制，敌意程度下降。通过这样的方法，温驯的动物也可以被激怒，同样可以让狂怒中的动物恢复顺从。

以下论述，不符合本段文字表达原意的是：

- A. 攻击行为并不能完全由大脑中特定区域控制
- B. 通过科学激活特定脑区，可以增加人们的敌意程度
- C. 人们敌意程度的下降，是由于特定脑区的活动被抑制
- D. 动物身上存在促进攻击行为的神经机制

54. 从地理上而言，香港在野生动物非法贸易行业中占有独特而重要的地位，香港紧密联系起了世界各国，无数资本在这里流动周转，整座城市经济也得以繁荣发展。而香港也是中国大陆——这个世界最大野生动物市场的南大门。过去 10 年中，中国的中产阶级和上层阶级日益壮大，他们对珠宝、手工艺品、传统中药材以及山珍海味的需求也有所增长，因此，全球范围内的野生动物黑市蓬勃发展，非洲、东南亚等地不少物种惨遭灭绝。

这段文字主要讲述了：

- A. 亚洲人热衷于购买野生动物的历史原因
- B. 由于非法贸易，野生动物在全球的生存状况堪忧
- C. 香港成为野生动物非法贸易重要市场的原因
- D. 我国中产阶级和上层阶级日益壮大的表现

55. 以“音乐胎教”为例，在国内还没有相关文件证明，给婴儿听音乐会形成音乐细胞，那些音乐胎教仪贴在孕妇肚子上使用，其实相隔肚皮，子宫和羊水的距离，声音很难被婴儿感应到，并且这类声音有可能对婴儿意味着噪音。

此文段意在说明：

- A. 音乐胎教对婴儿根本没用
- B. 音乐胎教还不能被证实
- C. 音乐胎教的说法是假的
- D. 反对音乐胎教

56. 出于对进城农民工生活的深切关怀，作家们在叙述农民进城的故事时，大都会情不自禁的持有一种严正的道德立场，这些故事往往被简化为一种苦难叙事或控诉文学，在这种叙事图景中，城市和农村往往被抽象化为两个相对立的价值世界，农民们在城市中的挣扎，也总是被演绎为一曲关于质朴价值遭到毁灭的挽歌。

这段文字的主旨是：

- A. 现代文学创作应更多关注进城农民工的生活
- B. 关于进城农民工的文学创作，不应局限于简单的价值判断
- C. 文学创作关于农民进城故事的叙述，有利于引起社会对他们的关注
- D. “三农问题”积重难返，城乡差距日益扩大，进城农民工生活艰难

57. 随着时代的进步，生态文明越来越得到国际社会的普遍认同。正如国外学者所指出的，“没有环境保护的繁荣是推迟执行的灾难”；不保护环境，经济就会陷入“增长的极限”；通过保护环境优化发展，经济则会有“无限的增长”。

对“没有环境保护的繁荣是推迟执行的灾难”的准确理解是：

- A. 没有环境保护的经济发展势必带来生态文明的灾难
- B. 没有环境保护，经济繁荣只会昙花一现
- C. 经济发展一定会造成环境破坏
- D. 有了环境保护，经济才会有持续的发展

58. 几次拿起《十字路口的顽童》这本书，几次放下，因为不时会有画面打断我的思路，

那是在我 18 年的教书生涯中遇到的一个个顽童的画面。有意思的是，其他学生凝固在我的记忆中的是“图片”——形象；而他们却是“视频”——故事，他们所占据的老师“内存”实在是比其他孩子大得多。

这段文字表达的主要意思是：

- A. 漫长的教学生涯给“我”留下了深刻的印象
- B. 顽童让“我”想起曾经发生的很多故事
- C. 顽皮学生留给“我”的印象更为生动深刻
- D. 这本书触动“我”对教学生涯的许多联想

59. 为适应新一代观众的欣赏需求，某演艺集团不仅在舞台声光光电上紧紧追踪技术前沿，而且把 3D 技术运用到地方戏曲演出中，把“舞台文化”智能手机、平板电脑、视频网站上，有效的传播传统文化，促进了传统戏曲的发展，这说明：

- A. 新兴媒体已成为文化传播的主要手段
- B. 科技是推动文化发展的重要因素
- C. 保护传统文化是现代媒体的重要任务
- D. 科技具有选择和创造文化的功能

60. 医生在进行 X 光拍片时，将能感光的底片放在人体下方。当 X 射线透过人体时，骨骼、牙齿等组织内含有的钙质会吸收部分的射线使到达底片的 X 射线减少，这样就能在底片上留下组织的影子了。这就像阳光下人的影子一样。人类第一幅 X 光片就是德国大科学家伦琴为他夫人所拍的手骨特写。其实不光是骨骼，其他凡是能够吸收 X 射线的物体，都会在感光底片上留下身影。X 射线就是这样一种神奇的射线。

该段文字主要讲述的是：

- A. X 射线成像与物体吸收 X 射线密切相关
- B. X 射线只能用于医学人体成像
- C. X 射线可以透射任何物体并在感光底片上留下图像
- D. 物体都能够吸收 X 射线，只是程度不同

61. 社会发展到今天，学前教育的重要性应该被重新评估。一方面，专家研究认为，0 至 3 岁是大脑开发的最佳时期，3 至 6 岁是接受教育的最佳时期，一个人、一个群体教养、品格等的养成，应该从学前教育开始；另一方面，实施“全面二孩”政策，家庭照顾孩子的负担大大增加，甚至不堪重负，需要外部力量为其分忧。更重要的是经济社会发展到一定水平，公共财政有了更多民生投入的能力。相对于发达国家，我们的财政性教育经费占 GDP

的比重偏低，投入到学前教育的经费更是少之又少，这种尴尬现状急需改变。

这段文字强调的是：

- A. 目前，我国应进一步推动学前教育发展
- B. “全面二孩”政策增加了家庭的负担
- C. 我国学前教育的现状令人担忧
- D. 我国的学前教育的水平比发达国家低

62. “外部性”是经济学上的一个重要概念，分享经济作为一种新形式的经济活动，至少存在两种“外部性”。一种是基于技术创新的“科技外部性”，目前主要是增强就业灵活性、盘活闲散资源等能使社会或他人获益的正外部性。另一种是产权变化所带来的“制度外部性”，分享经济主要以“分享使用权”为特征，弱化了所有权，盗窃、破坏等“控制权”缺失所带来的问题也是难免的。分享经济的制度外部性，无法简单地靠经济激励或惩戒等市场化行为来加以矫正，必须借助于法律和制度的力量。

下列说法与原文相符的是：

- A. 科技外部性和制度外部性都存在产权变化
- B. 外部性特征是分享经济最显著的特征
- C. 分享经济中的乱象源于国民素质问题
- D. 解决外部性带来的困境需法律制度的保障

63. 对比发现，不同于好莱坞制作团队中频频出现的科学顾问，我国影视制作团队中难觅科学顾问的身影。科学科幻电影是一种基于想象力的创作，最重要的基础是从科学出发与科学密切相关。科学内涵是科幻作品与神化、魔幻等作品最重要的差别，而国内科幻影视作品中的科学元素明显不足。在电影中，科学的价值不仅在于其中准确的科学知识，还在于制片人能否把科学作为一个创作手段，为作品增添精湛的视觉效果和扣人心弦的智力内容，从而增加影片可收获的潜在好评和票房，形成独特的良好口碑。这种口碑可以通过邀请科学顾问参与制作，并坚持科学真实性来实现。

下列说法中与原文内容不相符的是：

- A. 我国影视制作团队中频频出现科学顾问的身影
- B. 相对来说，我国科幻影视作品中的科学元素不是很充足
- C. 科幻电影是一种建立在科学上的幻想性情景为背景的创作
- D. 电影制作人能否把科学作为一个创作手段，为作品增添精湛的视觉效果和扣人心弦的智力内涵，对影片的票房产生一定影响

64. 好人主义以人情世故为第一选择，忘记了自己党员、党员领导干部的身份和所担职责，本质是个人主义、自由主义与实用主义、功利主义乃至有政治野心、个人政治仕途规划的复合体。以当“老好人”为乐事，把党性原则、立场、制度、纪律、规矩丢在一边，明知不对、视而不见、八面玲珑、遇事皆好，讲关系不讲原则，讲面子不讲规矩，讲人情不讲纪律，讲“人性”不讲党性，“好人”做了、“主义”丢了，为了成全自己，毁了党和人民的大业，危害极大。

这段文字主要说明：

- A. 好人主义破坏党的集中统一，直接挑战党中央权威
- B. 好人主义破坏党章、党纪、党规，直接挑战党的原则
- C. 好人主义盛行的根源在于党性上弱化、思想上腐败
- D. 好人主义完全等同于个人主义

65. 由于中小型公司的生产规模较小，公司所积累的固定资产数额也不会太多，有些厂房和机器等不动产甚至是通过短期租赁的方式获得的，无法作为抵押资产来申请贷款。相比于国际社会所流行的流动资产担保，我国银行现阶段大多数贷款的抵押方式仍然为不动产抵押，这一担保方式大大提升了中小企业的贷款难度。在国外，动产抵押已经成为一种潮流，并形成了一套完整成熟的理论和操作模式，一些存货单和应收账款甚至是知识产权都能作为流动资产抵押来申请贷款，这些措施为中小企业的发展提供了广阔空间。

这段文字主要介绍了：

- A. 银行允许用流动资产抵押申请贷款的意义
- B. 破解中小企业融资难题的最佳途径
- C. 中小企业在银行贷款上面临的主要障碍
- D. 中外银行在认定抵押资产方面的差异

66. 社会的生命，无论是看纵剖面，是看横截面，都像一种有机的组织。从纵剖面看，社会的历史是不断的；前人影响后人，后人又影响后人；没有我们的祖宗和那无数的古人，又哪里有今日的我和你？没有今日的我和你，又哪里有将来的后人？没有那无数的个人，便没有历史，但是没有历史，那无数的个人也绝不是那个样子。

由此可见：

- A. 个人造成历史，历史造成个人
- B. 历史是由无数的前人祖宗创造的
- C. 历史是不断向前发展的

D. 历史是由社会的生命组成的

67. 商业设计也许越来越被赋予艺术创作和欣赏的价值，但它根本出发点和落脚点永远是把产品的特质用于艺术方式展现给顾客。如果一项商业设计不能让人联想到产品并对之产生好感，即使它再精美，再具创意，也不能算是成功的设计，说到底，广告在创意之外，最重要的还是关联性。我们不想被一个美轮美奂的作品吸引，结果却看不出它与所代言的商品之间存在任何联系。

对这段文字概括最准确的是：

- A. 独特的创意并非成就商业设计的绝对元素
- B. 对于设计来说，吸引顾客应该是第一
- C. 成功的设计必须是能够艺术地展现产品的特质
- D. 商品设计应该尽量强调广告和产品的关联性

68. 费孝通在反思一生学术研究时，提出“文化自觉论”。他说：“生活在一定文化中的人对其文化有‘自知之明’，明白它的来历、形成的过程、所具有的特色和它的发展趋向，自知之明是为了加强文化转型的自主能力，取得适应新环境、新时代文化选择的自主地位。

根据这段文字“文化自觉”的主要作用是：

- A. 使文化的发展方向更为可控
- B. 使人们能更加适应不断发展的文化
- C. 使人们更加深刻的了解文化的来源和特点
- D. 使不同文化之间的融合和转变更为容易

69. 坚持考实评准是精准科学选人用人的基本前提。对干部的了解仅停留在感性上、印象上，知人不深、察人不准往往会出现用人不当、用人失误。操千曲而后晓声，观千剑而后识器。精准科学识别一名干部的德才高低、能力强弱、作风好坏，必须经过长期的观察与了解。但在实际操作中，有的仅通过定期有限的考察就想掌握班子，仅依靠数次谈话就想吃透干部，这是不切实际的。要坚持把功夫下在平时，建立经常性分析研判制度，主动深入班子、走近干部，通过民主生活会、谈心谈话、实地调研等方式，全方位，多角度，立体式考察干部。

根据这段文字，下列对精准科学识别干部理解错误的是：

- A. 是用好人的基本前提
- B. 其关键是看干部的平时表现
- C. 需要多维度，长时间的考察

D. 必须包括才德、作风等多方面内容

70. 读者广泛、方便快捷、门槛低是互联网平台备受诗人青睐的重要原因，在新技术、新平台的带动下，一批“草根诗人”以及“网络诗人”有了尽情展现的机会，真人朗读、动听配乐、精致页面、专家评论，共同为读者提供立体化且直观可感的诗歌体验。每晚一首诗的推介模式，正在成为若干中国人新的夜生活，许多诗歌平台拥有几万甚至几十万的订阅量，即使大多数人都看不懂，某些时候，我们惊奇地发现，一句广告语也可能是诗，一个策划文案也可能是诗，诗已经不仅仅是精神生活的配饰。

这段文字的主旨是：

- A. 互联网对诗歌的影响
- B. 诗歌平台的推介模式
- C. 诗歌对大众生活的影响
- D. 诗歌与日常生活的关系

71. 在日本，为了让人们更清楚什么是垃圾分类，每搬到一个小区物业都会送给你一本厚厚的倒垃圾辅导手册，图文并茂，巨细无遗，仅注意事项就高达 500 多条。比如纸箱务必拆开，铺放平整打捆；电线插头务必和电器捆绑在一起；棍棒类的长度不能超过 50 厘米；厨房垃圾需要沥干水分用报纸包好；带刺的或锋利的物品要用纸包好并贴上标签；用过的喷雾罐要扎一个孔以防出现爆炸；食用油需要用抹布擦干净，且瓶口必须用报纸封住等等。这就是日本人，既认真又较真。

下列选项能最好地概括上文的是：

- A. 日本人很注重垃圾分类
- B. 日本人的倒垃圾辅导手册有很多注意事项
- C. 在日本倒垃圾要留意很多细节
- D. 日本人做事认真又较真

72. 读书贵有可疑，可贵之处，就是独立思考，敢于大胆探索和追求。但是，提倡读书有疑、并不是脱离客观实际，并不是违背科学的胡猜乱疑，要疑得正确，疑得有长进，还必须善于疑。否则，当疑不疑，不当疑又乱疑，那不但得不到任何长进，相反还会把思想引上邪路，这绝不是我们应取的治学态度。

最能准确概括这段基本意思的是：

- A. 读书的可贵之处在于独立思考
- B. 读书的可贵之处在于不能违背科学的胡乱猜忌

- C. 当疑不疑，不当疑又乱疑会把思想引上邪路
- D. 应采取严谨的治学态度，不要轻易生疑

73. 卡尔·马克思说：“在民主的国家里，法律就是国王；在专制的国家里，国王就是法律。”关于马克思这段话的理解，下列选项错误的是：

- A. 从性质上看，有民主的法律，也有专制的法律
- B. 实行民主的国家，也是实行法律至上原则的国家
- C. 在实行民主的国家，君主或者国王不可以参与立法
- D. 在实行专制的国家，国王的意志可以上升为法律

74. 全面提高高等教育质量，必须大力推进文化传承创新。高等教育是优秀文化传承的重要载体和思想文化创新的重要源泉，要积极发挥文化育人作用，加强社会主义核心价值观体系建设，掌握前人积累的文化成果，扬弃旧义，创立新知，并传播到社会，延续至后代，不断培育崇尚科学、追求真理的思想观念，推动社会主义先进文化建设。要积极开展对外文化交流，增进对国外文化科技发展趋势和最新成果的了解，展示当代中国高等教育风采，增强我国文化软实力和中华文化国际影响力，努力为推动人类文明进步作出积极贡献。

依据文意推断，不恰当的一项是：

- A. 文化的传承创新是高等学校的重要任务，意即扬弃旧义、创立新知
- B. 文化创新意即加强建设社会主义核心价值观体系和崇尚科学、追求真理的思想观念
- C. 文化传承意即继承前人积累的优秀文化成果，并传播到社会，延续至后代
- D. 开展对外文化交流、增强中华文化国际影响力，既是文化的传承，也是文化的创新

75. 三坊七巷街区有“明清古建筑博物馆”之称，有人将其比喻为鱼骨与鱼刺，有人则形容为菩提树叶，或直呼为“非”字形。笔者觉得，它倒更像一片优美的棕榈树枝叶，南后街似叶片的主脉，向西伸出的三条支脉为三坊，向东生出的七条细脉是七巷。由北向南的三坊依次为衣锦坊、光禄坊、文儒坊，七巷的顺序依次为杨桥巷、郎官巷、塔巷、黄巷、安民巷、官巷和吉庇巷。

对这段文字的内容概括最恰当的一项是：

- A. 三坊七巷的建筑
- B. 三坊七巷的走向
- C. 三坊七巷的来历
- D. 三坊七巷

76. “缩略”是赶路人与时间搏斗的一种方式。也许，赶路人自有不得不缩略的苦衷，

其中也不乏积极因素，但从根本上说所谓缩略就是把一切尽快转化为物，转化为钱，转化为欲，转化为形式，直奔功利而去。缩略的标准是物质而非精神，是功利的而非审美的，是形式的而非内涵的。缩略之所以能实现其秘诀在于把精神性的水分一点点挤出去，像压缩饼干似的，卡路里倒是足够，滋味却没有了。对一次性的短暂人生，这不能不说是一种遗憾。

这段文字着重抒发怎样的感慨：

- A. 急于实现目标必然付出代价
- B. 淹没在物欲中的人生是枯燥无味的
- C. 人们只重目的忽略了过程的享受
- D. 时间可以转化为钱，却无法转化为美

77. 中国历史上曾出现过多次所谓盛世。盛世的出现是和法制的相对健全分不开的，法制是推动盛世出现的条件，又是盛世的外在标志。从来没有无法制的盛世，也从来没有盛世而法制衰微的现象。即使是入主中原的少数民族，在立定脚跟之后也急于立法，以适应统治广大汉族地区的需要。

对这段话正确理解的一项是：

- A. 中国历史上曾出现过多次盛世
- B. 盛世需要法制，法制促成盛世，这是一条必然规律
- C. 少数民族在入主中原之后，总会受到汉文化的熏陶
- D. 中国历史上出现的盛世是与法制的健全分不开的

78. 随着传统艺术热逐渐升温，习琴者日渐增多，这是好事。与此同时，人们也普遍存在着对古琴的“误读”，即认为古琴是一种表演性乐器，需要登台演出。其实在古代，弹琴不仅是娱乐，更是人们借以修身养性、陶冶精神的生活方式。因此社会对琴人要求很高：除要求演奏者具有高超演奏技术外，还要具备高度个人修养和道德情操。

对于这段文字，下列理解正确的是：

- A. 古琴不是一种娱乐性乐器
- B. 琴人都具备高度的个人修养
- C. 古琴不应该登台演出
- D. 弹古琴可以陶冶情操

79. 家校社合作共育，也是社区相关工作人员学习与成长的过程。家校合作会涉及各个机构的支持与协调，包括政府机关、专业社会组织，以及一些公共服务机构，如图书馆、科技馆、博物馆、少年宫、电影院、医院、商场等。相关人员在工作中可以由学校进行相应的

培训，这正是一种相互学习、相互受益的过程。在给孩子的教育提供支撑时，这些公共机构也能为提供更好的公共产品积累经验，增强公共性、公益性。

根据该段文字，下列判断错误的是：

- A. 政府、足球协会、医院都属于家校社合作中的“社”
- B. 社会人员可以通过培训参与到孩子的教育中
- C. 家校社合作是未来教育的重要模式
- D. 社会机构参与孩子的教育可以增强其公益性

80. 现代“喉舌”观念，它与古代“喉舌”观念确有不少近似之处，如它们都强调“喉舌”是一定阶级、一定社会集团、或一定社会势力的代言人，强调“喉舌”具有上情下达和下情上达的功能等等。但是，我们必须清楚，尽管如此，现代的“喉舌”观念，无论在内涵还是在外延方面，都大大超越了古代的“喉舌”观念，这是由于二者全然不同的传播环境所造成的。

这段话的中心意思是：

- A. 现代“喉舌”观念的超越
- B. “喉舌”观念古今都存在
- C. 古代“喉舌”观念与现代有相似之处
- D. 古今“喉舌”观念的传播环境不同

81. 为什么刚摘的柿子会如此苦涩呢？这是一种叫做单宁的物质在作怪。柿子等水果的果肉里含有许多单宁细胞，随着果实的增大，单宁细胞也跟着膨大。单宁细胞的含量多少在不同的水果中是不相同的，有的含量多，有的含量少，有些能自行脱涩，有些则不能自行脱涩。

这段文字主要支持了这样一种观点：

- A. 柿子苦涩的原因是因为它含有单宁细胞
- B. 柿子脱涩的办法
- C. 单宁细胞的基本状态
- D. 各种水果苦涩的原因

82. 微博不是中国人的发明，被引进后，也经过一些“本土化”的改造，但借助其巨大的传播功能却发挥了前所未有的作用，在国外影响最大的微博类网站上，用户大多在谈论吃喝玩乐，关注明星八卦，分享一切好玩的东西，在我们这里，虽然粉丝最多的“微博之王”也是娱乐明星，但真正具备社会影响力的，还是那些“有态度”的理性公民，他们更多地用

微博来传播新闻事件。

这段文字可以看出，作者的观点是：

- A. 在国内微博上，公民通过传播新闻事件来发挥其影响力
- B. 在国内，“有态度”的理性公民更具有影响力
- C. 微博在中国才发挥了其应有的作用
- D. 微博在中国同国外比既有共性也有差异

83. “环球同此凉热”，没有哪个国家可以成为风景独好的孤岛。有专家指出，热带雨林消失的生态影响难以靠其他地方的绿化来弥补。所以，植绿不是“单边行动”，还得依靠“集团作战”。作为国际合作的推动者，2017年，中国推动建立了“一带一路”防治荒漠化合作机制，共建绿色丝绸之路。从“牢记使命、艰苦创业、绿色发展”的塞罕坝精神，到政府、企业、农牧民、科技四轮驱动的库布其模式，中国智慧“为全球生态文明建设带来希望之光”。

下列说法与这段文字不符的是：

- A. 全球绿化需要世界各国的参与
- B. 热带雨林对生态的影响是最为关键的
- C. 保护生态环境是全球面临的共同挑战和责任
- D. 中国以自己的成功实践树立了“绿色样板”

84. 读书时，即使书中的字都认得了，话全懂了，也未必就知道作书人的意思。意思是离不开语言的，但有些是语言文字所不能完全表达出来的。如果仅局限于语言文字，死抓住语言文字不放，那就成为死读书了。语言文字是帮助了解书的意思的拐杖。这就是古人所说的“得意忘言”，在读书中，就是要过河拆桥。

对文中“得意忘言”一词的含义，理解正确的一项是：

- A. 明白了文句的字面意思，就要忘记文句。
- B. 明白了文句精神实质，就要忘掉文句
- C. 懂得了文句精神实质，就不拘泥于文句
- D. 懂得了文句的字面意思，就不受文句限制

85. 可以肯定地说，美育绝不会产生于政府的红头文件之中，不会产生于基层教育部门和学校空喊口号的过程中，而在于一个社会的福利水平的提高、贫富差距的缩小和应试教育的剔除。如果我们的民生压力放小，发现美的眼睛就一定会增多；如果应试教育被清除出历史舞台，学校里才会有更多惊艳绽放的祖国花朵；相反，如果学生疲于考试，如果家长忙于

生计，如果政府忙于政绩和 GDP，美育就必然会成为一个美丽的泡影。

上述文字的主要意思是：

- A. 美育在于生活水平的提高和应试考试的剔除
- B. 在应试教育的当下，在德育、体育被架空的学校教育中，政府关于美育政策能不能落地
- C. 分数仍然能够决定命运，学生眼中的中高考会把感性、飘渺的美育化为灰烬
- D. 美育和 GDP 不能同时兼顾

86. 月球是地球唯一的自然卫星，也是人类目前唯一能够抵达的地外星球，利用这颗自然卫星开展对地球的遥感观测比利用人造卫星有着更多的优势和不可替代性。月球表面积远远大于任何人造卫星，所以在月球上布设遥感器，不用考虑载荷多少、大小、重量等等可同时置放很多不同类型的遥感器，形成主被动、全波段同步观测的能力，对于观测大尺度地球科学现象——全球环境变化、陆海气相互作用、板块构造及固体潮、三极对比研究等会有深入的认识，并有可能观测到先前未知的科学现象。

对上述文字概括最准确的是：

- A. 月球比人造卫星更加适合布设遥感器
- B. 月球有望能给空间对地观测带来革命
- C. 月球对地观测有着天然的综合优势
- D. 月球开辟对地观测科学与技术新方向

87. 随着语言学、计算机科学、认知心理学等学科的发展以及以上学科在机器翻译进一步合作，机器翻译技术的迭代必将以更快的速度持续发生，从而推动机器翻译的质量不断提升至接近、甚至在一定条件下达到或超过人工翻译的水平。但是在情感、文化等需要对语言进行深度理解的情况下，机器翻译并不能完全代替人工翻译。

这段文字旨在说明：

- A. 机器翻译始终不能代替人工翻译
- B. 机器翻译和人工翻译各有优势，人机协同是必然趋势
- C. 机器翻译根据情感、文化对语言进行深度理解是无法攻克的堡垒
- D. 多学科协同合作促进机器翻译更新迭代

88. 印度语言分属多个语系：78.05%的印度人说的语言属于印欧语系，19.64%的印度人说的语言属于达罗毗荼语系，其他少数人所说语言分属澳亚语系和汉藏语系等。印度宪法表列语言有 22 种，宪法未表列语言有 100 种。根据 2001 年的人口普查数据，印度有 30 种

语言的使用者超过一百万人口，使用者超过 1 万人的语言总共有 122 种。

根据这段文字，下列说法不正确的是：

- A. 在印度超过一百万人口使用者的语言有未被宪法表列的
- B. 超过七成的印度人说的语言属于印欧语系
- C. 印度语言分属四个语系
- D. 用者超过一万人未超过一百万人的语言有 92 种

89. 应当感谢文学，感谢它为人生不至于囚死在条条现实的界内，而提供了一种优美的方式，否则钟表一样地不越雷池，任何一种猿类都无望成人。这样说吧：文学即越界，文学的生命力就在于不轨之思，或越界的原欲；倘于既定的界内大家都活得顺畅、满足，文学就根本不会发生。

对这段文字的分析不正确的一项是：

- A. 文学的表达方式是优美的
- B. 现实生活中文学的作用是最大的
- C. 现实的不顺畅可以通过文学补偿
- D. 文学起源于生活

90. 现在一些国家的法律体系中之所以出现越来越多的“软法”，根本原因就在于，在一个多元化的社会，道德价值的多元化决定了人们在处理社会关系时很难达成一致意见，将一些普遍遵循的道德规范变成共同的行为准则，不仅可以避免多元化社会道德评判混乱的现象，同时也可以在一定程度上引导公民的行为。

这段文字的主要观点是：

- A. “软法”有利于凝聚共同价值观
- B. “软法”顺应了社会多元化发展
- C. “软法”对道德准则有强化作用
- D. “软法”可以判定行为的合法性

91. 在工业企业中，职工培训工作是十分重要的，从发展的观点看，它还将变得越来越重要。科学技术在迅猛发展，生产和制造方面正经历着急剧的变化，企业里的职工都面临着提高个人素质以适应这种变化的问题。

这句话最基本的意思是：

- A. 科学技术在迅猛发展，生产和制造方面正经历着急剧的变化
- B. 在未来的科学技术发展中，个人素质变得越来越重要

- C. 职工培训是十分重要的，必须一直抓下去
- D. 科学技术的迅猛发展，使企业里的职工面临着提高个人素养的问题

92. 从中国古代的“车同轨，书同文”，到现代工业规模化生产，都有标准化的生动实践标准，是人类文明进步的成果，伴随着经济全球化深入发展，标准化在便利经贸往来、支援产业发展、促进科技进步、规范社会治理中的作用日益凸显。要携手共建网络空间命运共同体，同样要通过完善规则体系，形成“通用语言”，互联互通、规范约束、协同发展。

对文段主旨概括最准确的是：

- A. 如何完善网络空间规则体系
- B. 标准化的具体作用
- C. 共建网络空间命运共同体的原因
- D. 形成标准化的方法

93. 人类是自然选择的产物，是从一系列人类的祖先即近似人形的猿人进化而来的。猿人中有一部分已能使用简单的石制工具和武器。最早出现的猿人是南方古猿。一般认为，它们最早出现在非洲东部和南部的热带草原上，距今约 400 多万年。这种灵长类动物的骨盆和腿与现代人极为相似，但其脑容量只有人类的三分之一，几乎还不及现存的类人猿的脑容量大。

下列说法与原文相符的是：

- A. 南方古猿的脑容量只有现代人类的三分之一
- B. 人类是由南方古猿进化而来
- C. 猿人生活在距今 400 多万年的非洲
- D. 猿人已经能使用石制工具和武器

94. 经济学上所推崇的“橄榄型”收入分配结构，是低收入和高收入相对较少，中等收入占绝大多数的收入分配结构，可以说是最理想的收入分配结构，这种结构要比我国目前的“金字塔型”结构稳定得多。在“更加注重公平”这一精神指导下，中央强调对不同的收入人群体采用不同的调节办法，决心构建“橄榄型”收入分配结构。

对这段话理解不准确的是：

- A. “橄榄型”收入分配结构比较有利于社会稳定
- B. “金字塔型”收入分配结构是不太理想的收入分配结构
- C. “橄榄型”收入分配结构比较注重社会公平
- D. “金字塔型”收入分配结构改进的关键在于应优先增加中等收入人群的财富

95. 在大数据、云计算和人工智能技术的支撑下，互联网能够为未成年人打开一扇新的窗口。利用网络，远程医疗可以使万里之外的儿童接受顶级医学专家的会诊，直播教学可以使一块屏幕改变偏远地区无数孩子的命运，在线外语课程使得大山里的孩子也有了摆脱“土味外语”的可能。通过智能算法推荐和个性化定制，未成年人可以更便利地获取新闻，欣赏动漫、视频或影视作品，以及表达自我、分享体验。互联网创造了交往、交流、交友的无限空间。但由于未成年人心智尚不成熟，网络沉迷、行为失范、认知缺陷、价值错乱等问题，也使网络上一些色情、暴力等内容得以传播，损害了未成年人的身心健康。有研究显示，网络沉迷、不良信息、网络伤害以及信息泄露是侵害未成年人权益的四大风险。

这段文字的大意是：

- A. 在大数据、云计算和人工智能技术的支撑下，未成年人将会接触到更多的新奇事物
- B. 互联网给未成年人带来了方便，也带来了可能损害健康的伤害
- C. 成年人由于心智成熟，与未成年人比起来，在网络面前不太容易沉迷
- D. 互联网使个性化定制成为可能，将带来很多前所未有的新载体，时刻挑战着未成年人的理性

96. 趋“利”避“害”是资本的本性，地产商也不例外，所以挂创意之“头”卖地产之“肉”不能仅指责地产商，也在于，如今的创意产业园区进入门槛太低。放眼全国，创意园区遍地开花，其中很多都是“挂羊头卖狗肉”，做些简单但能赚钱的生意，比如搞带点创意色彩的餐饮、服饰、旅游工艺品等等，既没有文化，也没有创意。

这段文字主要表明：

- A. 许多创意园区名不副实
- B. 房地产商搞创意园区仅仅是个噱头
- C. 创意园区的发展任重道远
- D. 创意园区的准入门槛应该提高

97. 清代余云涣所撰与义府大堂联，通俗易懂，联曰：“不要百姓半文钱，原非异事；但问一官两千石，所造何功？”此联告诫官吏，不拿百姓半文钱是起码的为官之德，并非是什么特殊的事迹，重要的是要问一问自己，享受着国家的俸禄做出了什么政绩。

对这段话的准确概括是：

- A. 为政不在言多，须息息从省身克己而出
- B. 为官要一心为民，两袖清风，三思而行，四方太平
- C. 为官既要廉政，还要勤政

D. 为官不光要廉政，还要勤政，要有功于民

98. 古代高考和现代其实还是有很大差别的。以评卷来说，古代科举评卷是第一印象决定命运。为了加快阅卷速度，按时完成朝廷规定的工作，阅卷人员也是想尽办法，其中最主要的一个手段就是看“第一印象”，也就是重点看考生的头场卷子，此即古人所谓“止阅前场，又止阅书义”。一般情况下，如果考生头场卷考得好，阅卷时得了“高分”，基本上榜便有戏了，即便允许查分，也查不出来什么。

下列与原文相符的是：

- A. 古代“高考”的考生都可以随时查分
- B. 如果考生的卷面整洁，则上榜的可能性相对较高
- C. 古代“高考”评卷和现代一样看重“第一印象”
- D. 古代“高考”阅卷人员要按时完成规定的阅卷工作

99. 投资大师常常告诉我们：所谓“能力圈”，就是知道自己知道什么，和知道自己不知道什么，要永远只在自己熟悉的领域内投资，不管你的能力圈有多小。坚持自己能够理解的范围，只做自己理解的企业。在投资外扩展你的能力圈，在投资中守住你的能力圈。

对投资大师的说法，理解正确的是：

- A. 能力圈的大小决定了投资的成败
- B. 投资应当在固定的领域内进行
- C. 应当避免在自己不熟悉的领域投资
- D. 投资者可以通过投资不断地巩固和扩展自己的能力圈

100. 要在紧跟世界科技前沿基础研究的同时，更加注重以企业为主体、需求为导向的应用基础研究，创新关键共性技术合作研发的组织模式，通过建立以企业为主体的产学研合作模式、企业和研究机构共建工程技术研发中心、组建产业技术创新联盟等方式，构建制造业协同创新网络，形成科技创新支撑产业升级的协同效应。

这段文字旨在说明：

- A. 制造业需要提升创新能力
- B. 制造业需提升组织模式创新
- C. 制造业需提升建设创新体系
- D. 制造业需完善建设创新奖励机制

101. 中国的专利申请平均每年以 48% 的速度增长。中国的专利实施只占专利总量的 20%-30%，与国外达 80% 的实施率相比，专利差距很大。在中国专利申报总量中只有 15%

来自于企业，而发达国家的专利申请 80%来自于企业。

这段话支持了这样一种观点，即：

- A. 中国科技创新进步势头迅猛
- B. 中国的科技创新不仅要注重开发研究，更要加强推广和实施科技成果
- C. 中国科技创新水平与国外相比差距很大
- D. 中国企业不像科研院所和高校那样重视科技创新活动

102. 和谐和秩序是宇宙的美，也是人生美的基础。达到这种“美”的道路，在亚里士多德看来就是“执中”、“中庸”。但是中庸之道并不是庸俗一流，并不是依违两可、苟且的折中，乃是一种不偏不倚的毅力、综合的意志，力求取法乎上、圆满地实现个性中的一切而得和谐。所以中庸是“善的极锋”，而不是善与恶的中间物。

对这段文字主旨概括最准确的是：

- A. 中庸是和谐与秩序的宇宙之美
- B. 不偏不倚的综合才能通向中庸之境
- C. 中庸追求“善”，是实现和谐之手段
- D. 中庸要取法乎上，实现个性中的一切

103. “天下大势，分久必合，合久必分”，这一名断在封建社会的中国是适用的，原因在于另一著名规律：政治、经济发展的不平衡。虽然从整个封建史来看，统一是主流，分裂动乱是暂时，但分裂的存在是必然的，也是整个封建国家政治机构所无法克服的。由于自然经济是社会的主流经济形态，那么跟自然经济息息相关的农业生产就成为左右各地发展水平的重要因素，但显然，各地由于各种因素的限制，农业的发展并不平衡，由此产生的地方离心力在“盛世”过后总是积聚膨胀；而且，由于较早确立了土地买卖自由制度，导致土地兼并严重，一方面农民失去土地而揭竿而起，另一方面地方豪强有实力对抗中央，国家的动乱分裂也就在所难免，所以南北朝、五代十国等等的出现都不是偶然，而是必然的。当各种势力重新彻底整合、洗牌、淘漉之后，在人心所向下，一个统一的、崭新的国家又一次屹立于东方大地。

以下哪一选项符合本段作者意思：

- A. 当动乱过后，旧有势力被摧毁，新势力诞生，统治力量、秩序重新构造国家也就再次统一和充满活力
- B. 自然经济的存在决定了中国整个封建社会都无法摆脱国家分裂与动乱
- C. 地方离心力的产生在文中包括自然经济下的农业发展不平衡、土地兼并下的农民起

义及地方实力派的兴起

D. 农业文明是导致中国古代分合无常的根本因素，土地自由买卖则是重要因素

104. 个体对于口服药物的治疗反应，存在巨大的差异。这是因为肠道微生物群包含的基因比人体基因组多 150 倍，会产生大量有可能代谢药物的酶。这种互动可能会激活药物，也可能灭活药物，在某些情况下，还可能产生毒性化合物。这些被人体肠道微生物改变的口服药，会导致患者的治疗效果受到严重影响。细菌的物种身份并不总是能可靠地预测某物种或群落改变或代谢药物的能力，而直接改变药物的微生物酶通常可以更好地解释这些活动。

根据这段文字，下列说法正确的是：

- A. 肠道微生物群包括的基因比人体基因组多，所以口服药物的治疗效果不明显
- B. 有可能代谢药物的酶一定会灭活药物
- C. 细菌的物种身份可以预测某物种或群落改变或代谢药物的能力
- D. 微生物酶通常可以直接改变药物，它解释了个体对于口服药物的治疗反应存在巨大的差异

105. 人类学和考古学理论普遍认为农业可能并非人们向往的一种生活方式，而是在人口和环境之间关系逐渐失衡，供养人口的土地载能接近极限时的一种反映。环视我们的周围，可以发现日常食用的水产和肉食几乎绝大多数要依赖养殖，正是自然界里可供捕捞的资源日益减少，才迫使人们用养殖的方法来保证这些资源的供应。

这段文字的作者认为：

- A. 大自然的资源已接近枯竭
- B. 农业生产是人类的无奈之选
- C. 人类未来生活离不开养殖业
- D. 土地无法承载人类的生活

106. 命运共同体理念的可贵之处，还在于摒弃零和博弈的陈旧思维，展现了超越意识形态和地缘政治的中国智慧。从“历史终结论”“文明冲突论”，渲染颇多的所谓“修昔底德陷阱”到“中国威胁论”，对抗冲突的思维怪圈令世界深受其害，让人们对中国方案更加充满期待。正如英国剑桥大学马丁·雅克教授所说：“中国提供了一种‘新的可能’，这就是摒弃丛林法则、不搞强权独霸、超越零和博弈，开辟一条合作共赢、共建共享的文明发展新道路。这是前无古人的伟大创举，也是改变世界的伟大创造。”

这段话的大意应该是：

- A. 命运共同体为人类文明提供了新的发展思路

- B. 命运共同体避免了“历史终结论”“文明冲突论”
- C. 人类应当遵循命运共同体的规律
- D. 中国不搞强权独霸

107. 在中国教育整体水平进入世界中上行列后，面对改革开放所处的新的历史方位和实现中华民族伟大复兴的历史任务，教育对外开放的使命担当由服务国家教育改革发展向服务教育强国建设、“一带一路”建设和构建人类命运共同体转变。

这段文字旨在说明教育在改革开放中：

- A. 使命担当的转变
- B. 角色定位的转变
- C. 发展方式的转变
- D. 工作重点的转变

108. 雨天，车身被蒙上一层土，这层土像细砂纸般包在车身上，一旦有摩擦，就如同用砂纸来磨车漆；此外，雨中含有各种有害物质，被泥沙吸住后，酸雨就很容易腐蚀车漆。

此段文字的主旨是：

- A. 雨中的灰尘对车身会造成磨损
- B. 雨水对车漆带来危害的原因
- C. 酸雨是腐蚀车身的主要原因
- D. 保护车就一定不要让车淋雨

109. 汽车的发明，使人类有了便捷快速的交通工具，人类的活动范围一下子扩大了许多倍；石油的发现，为人类提供了高效方便的新能源，使现代社会发展有了强大动力。从某种意义上说，现代社会就是建立在汽车和石油的基础之上的，没有汽车和石油，很难想象现代社会还能正常运转。

下列选项中，对这段话的意思理解最为准确的一项是：

- A. 没有汽车和石油，现代社会就会停止运转
- B. 汽车和石油是现代社会文明进步的标志
- C. 汽车和石油促进了现代社会的发展和进步
- D. 现代社会的正常运转关键取决于汽车和石油

110. 维也纳浓厚的音乐气氛和丰富的音乐源泉，不仅孕育诞生了许多伟大的音乐作品，还哺育了不少音乐天才。在音乐史上名垂千古的“交响乐之父”、古典主义音乐的卓越创始人海顿，就是在维也纳谱写了大量的交响乐，从而名扬全球的。和海顿同时代的莫扎特，他

的那些流芳百世的作品，基本上也是在维也纳居住的时候谱写的。音乐艺术的一代宗师贝多芬虽然生在德国，却是在维也纳向海顿学习作曲并一举成名的。歌曲之王舒伯特，则完全全生在维也纳，长在维也纳。

下列说法与这段文字意思不符的一项是：

- A. 莫扎特的作品大部分是在维也纳创作的
- B. 海顿是“交响乐之父”、古典主义音乐的创始人
- C. 贝多芬在维也纳向海顿学习过作曲
- D. 生长在维也纳的舒伯特是歌曲之王

111. “微创新”，这个概念正在成为中国企业尝试的新方向。今天的技术革新在很多时候已经不再是颠覆性的更新换代，任何针对用户体验的微小改变，都可能引爆整个市场。微博是在博客基础上的微创新，用 140 个字拉低了用户门槛，迅速引发了全民微博。对于习惯了模仿的企业来说。如何不让微创新成“山寨”的代名词，是问题的关键，特别是在互联网领域，像团购这样的一窝蜂现象屡见不鲜，然而其中很难看到“微创新”在发挥作用。

这段文字用“团购”来说明：

- A. 盲目从众的现象
- B. 更新换代的趋势
- C. 复制与模仿的做法
- D. 集体相约采购的行为

112. 时代和社会在发展，每代人的成长环境都不相同，立法层面规定在校园内禁止用手机，只是用一种法律强制手段保证了学校教育环境的秩序，给学校管理有法可依，但真正把孩子从手机上吸引到课堂之上，归根结底靠的是提高教学本身的吸引力。科技在进步，教学的方式方法也必须跟上时代的步伐，否则禁了手机，学生一样可以在下面聊天开小差。

这段文字所要表达的主要意思是（ ）

- A. 从立法层面规定校园禁止用手机是没有实际意义的
- B. 要把孩子吸引到课堂上提高教学本身才是根本之道
- C. 好的教学方法比在立法层面规定在校园内禁止用手机更有效果
- D. 学生在课堂上注意力分散的最主要原因不是手机，而是教学本身

113. 中西古建筑最显著的差别体现在材料的选取上，中国用土木，西方用砖石。乍看之下，木质建筑简朴、扁平、易朽，似乎很难与巍峨高耸的石头教堂一争高下。有人把这归咎于古人的技术局限或材料短缺，但事实上，中华大地并不缺石材，古代冶金技术世界领先，

石料开采加工的器具也更先进。同时，老祖宗们并非完全不用石料，譬如陵墓，在他们看来，才是该用石头建筑的。而从秦汉陵墓的空间布局和工程结构来看，早在那个时代，砖石建筑就已经达到了相当高的水准。

作者意在强调（ ）

- A. 中西方砖石建筑在功能设计方面存在本质差别
- B. 中国古代的砖石建筑水平事实上遥遥领先于西方
- C. 是观念而非技术影响了中国古人对砖石材料的使用
- D. 秦汉时期的陵墓建筑是中国古代砖石建筑的杰出代表

114. 研究人员认为，年轻动物脑中有“胆碱能”水平更高的神经递质，这让大脑变得更具可塑性，也更容易接受改变。而年长动物脑中则会产生抑制胆碱能作用的化学物质，来积极保持大脑稳定不变。这个过程也在某种程度上反映了不同年龄层要面对的课题：儿童要探索，成年人要应用。从进化角度来看，童年是最适合学习的时期，在受保护的这段时间内，儿童只需要学习，不用担心实际发生的事情，成年人则需要运用所知一切，有效且快速地行动。抑制胆碱能作用的化学物质，可能就是在帮助这个过程进行。

根据这段文字，以下说法正确的是（ ）

- A. 儿童对外在世界的敏感程度不如成年人
- B. 胆碱能高抑制了成年人的学习能力
- C. 年轻动物的大脑结构有利于专心学习
- D. 成年人大脑具有稳定性有进化论依据

115. 我们一定要找到自己的长处，并把这个长处发挥到最佳。长处这块板越长越好，如果打破吉尼斯世界纪录，那就更好了。这样，你就做到了卓越，而在这一个点上的超越，会给你带来更多的资源和更多的成功，乔布斯是个完人吗？苹果公司是面面俱到吗？他们每一块木板都比竞争对手长吗？当他们能把产品做到人人喜欢，就几乎一切都有了，我们为什么没有苹果，没有乔布斯，正因为我们总是样样追求不落人后，努力活在别人描绘的理想模式之中。

对这段文字主要意思提炼最准确的一项是（ ）

- A. 长处这块板越长越好，能打破吉尼斯世界纪录就更好
- B. 我们需要找出自己的优势，且其发挥到极致
- C. 我们总是追求样样不落人后，努力活在别人的模式中
- D. 无论是人还是公司，都要靠自己最长的那块板成功

116. 随着城乡融合发展，原本封闭的乡村全面走向开放，乡村治理对象从单一的农民主体转向开放的城乡公民混合体，可以预测，乡村需要现代化的治理体系，城乡在部分治理手段上会逐渐趋同，但与城市社会不同，乡村社会是熟人社会，乡村治理要充分尊重农村的特点，多种治理方式相结合，要以自治激发民主活力，以法治推进现代治理，以德治引导文明乡风。

作者通过这段文字最主要想说明的是（ ）

- A. 乡村的治理要充分尊重农村的特点
- B. 当前社会治理的薄弱环节在乡村
- C. 乡村治理对象的转变
- D. 乡村治理手段转变

117. 科学家推断，琥珀毛环口螺已经逐步适应了白垩纪中期这个以被子植物为主导的世界，壳体上的毛首先起到让掠食者望而却步的作用，功能上则有助于它更好的附在被子植物的叶子上，降低意外掉落的风险，以及掉落重新爬回到高处的大量消耗，万一跌落到森林地面上，毛结构还可能会减轻冲击力而降低对壳体造成的潜在损害。

对这段文字主要意思提炼最准确的一项是（ ）

- A. 琥珀毛环螺壳体上的毛的作用与功能
- B. 琥珀毛环螺适应白垩纪中期环境的系列表现
- C. 琥珀毛环口螺进化出壳体上的毛的原因
- D. 琥珀毛环口螺促进了生物的演化

118. 改革开放以来，中国在受益于全球化发展的同时，也为开放型世界经济发展提供了重要动力，特别是 2001 年加入 WTO 后，中国开始参与多边贸易体制，与其他国家建立起更紧密的合作关系，同时，中国实际 GDP 对全球贡献率由 2001 年的 0.53% 上升到 2016 年的超过 30%。这些事实告诉我们，只有坚定不移地发展全球自由贸易和投资，在开放中推动贸易和投资自由化和便利化，才是多方受益的合作共赢之路。那些试图无视和规避世贸规则，搞保护主义的做法，如同把自己关进黑屋子，看似躲过了风吹雨打，但也隔绝了阳光和空气。

这段文字意在强调（ ）

- A. 中国为 WTO 带来的积极变化
- B. 中国为世界经济发展做出的贡献
- C. 发展全球自由贸易和投资的重要性

D. 贸易保护主义的弊端与消极影响

119. 应试教育的缺陷众所周知，但向素质教育的转型，不能仅有高悬头顶的理念做支撑即便应试教育被口诛笔伐，许多学生还是挤破头也要挤进那些“超级中学”的大门，这不是因为学生喜欢应试教育，而是应试教育承载了改变命运的妙想。毕竟在城乡，地区教育资源仍不够均衡的情况下，不是每个人都有机会触及优质教育资源。同样，在“刻苦学习一金榜题名”预期仍然稳定的当下，单方面高谈素质教育的种种好处，容易给人一种不切实际的感觉。

根据这段文字，作者认为素质教育改革应（ ）

- A. 强基固本，淡化考试功利色彩
- B. 谨言慎行，大胆假设小心求证
- C. 轻装上阵，切实减轻学生负担
- D. 循序渐进，逐步平衡教育资源

120. 信息不对称是导致决策失误的重要因素。一般情况下，除决策者组织的钻研、专家论证等，获得决策信息的主要方式是抽样调查，信息能否反映实情况的关键是样本的代表性。与之相比，大数据在理论上几乎可以搜到所有相关信息，决策信息支持系统由“抽样样本”向“全数据样本”换成为可能，从根本上解决抽样样本覆盖范围窄、渠道单一等问题，避免决策中出现“偏信则暗”的情况。

这段文字意在说明大数据（ ）

- A. 是解决信息不对称的新途径
- B. 能为决策提供更全面的依据
- C. 可以有效解决统计误差问题
- D. 能够选取更具代表性的样本

第三部分 语句表达

1. 自上世纪 80 年代实行计划生育以来，最早一批独生子女父母已年逾 60 岁。不少独生子女异地求学、就业，与父母分隔两地。

作者接下来最可能介绍的是：

- A. 老人生病住院时，谁来陪护成了难题
- B. 取消计划生育迫在眉睫

C. 计划生育是错误的决定

D. 计划生育在现阶段还是可以继续

2. 把下列句子组成语意连贯的语段，正确的排列顺序是（ ）

①然而，我们的大脑对音乐的感知却不是这样

②所以要有交响乐，也正是这样的“和声”才使得我们这个世界充满趣味

③例如管弦乐的合奏，音波虽然混合，但是管乐声和弦乐声仍然保持各自的特点

④物理学家们长期热衷于研究的现象都是整体等于所有部分的加合，声音就是这样的

⑤整体可以大于部分之和，这一事实在对大多数人来说已经是显而易见的了，但是曾经让物理学家们感到非常窘困

⑥虽然管乐声和弦乐声独立地进入我们的耳朵，但是这两种声音的“和声”对我们的情感所产生影响却远远大于这两种乐器的单独作用

A. ④①③⑥②⑤

B. ④③①⑤⑥②

C. ⑤③④①②⑥

D. ⑤④③①⑥②

3. 把下列句子组成语意连贯的语段，正确的排列顺序是（ ）

①真实的“自我”之所以被压抑到无意识的领域之中，这种“自我欺骗”起了重要作用

②真正的自信者必是有勇气正视自己的人，而这样的自信也必定和对自我的怀疑及不满有着内在的联系

③软弱的人往往有意无意的欺骗自己，忘掉那些不愉快的经历和体验

④由此造成虚假的自信，有些人的自信不过是一种“有益的盲目”

⑤真实需要巨大的勇气，认识真实的“自我”也不例外

⑥事实上，几乎所有伟大的天才都并非天性自信的人，相反倒有几分自卑，他们为自己的弱点苦恼，于是奋起自强，反而有了令一般人吃惊的业绩

A. ②①③④⑤⑥

B. ⑤③①④②⑥

C. ②⑥⑤③①④

D. ⑤⑥②③④①

4. 技术开发与应用在人类历史发展中一直扮演着举足轻重的角色。蒸汽机的改良，发电机的出现，核技术的运用，电脑的发明无一不深刻改变了人类社会的存在方式。不过技术对社会的影响似乎从来就没有延伸到对人格的塑造上来，技术在绝大多数人看来，只能成为人的对象和工具，至少它不会直接改变人类之间关系的模式，但是麻省理工学院社会学教授雪莉·特克尔并不这么认为。

这段文字接下来最可能讨论：

A. 雪莉·特克尔教授对技术发展持悲观态度

B. 技术对人的影响如何延伸到改变人际关系

C. 回顾技术影响人类发展的演变历程

D. 被技术改变的人类该何去何从

5. ①成为健身达人、追剧狂魔、手游玩家也是让人劳神的“小目标”

②手机、汽车减轻了沟通之苦，但网络社交、保养停放令人伤神

③所以，值得思考的是：如何忙的充实、忙的有效，让忙碌真正加快前进的步伐

④在现代社会，人们看似从重复劳动中被解放出来，但物质的丰富、生活的多彩令人目不暇接

⑤五颜六色的生活，是时代进步的馈赠，但某种意义上也是忙碌的源头

⑥稍不小心，朝着目标阔步而去的忙碌，就会变成无头苍蝇式的庸碌，甚至带来低效混沌的“拖延症”

将以上六个句子重新排列语序正确的是（ ）

A. ②①⑤④⑥③

B. ④②①⑤⑥③

C. ②①④⑤③⑥

D. ④③⑤①⑥②

6. ①这座音乐之城的真正的天才便在于把所有这些矛盾对立都和谐地融为一体，变成一新型的，独特的东西，变成奥地利的，维也纳的东西

②它把极不相同的互相矛盾的各种力量吸收进来，使之情绪缓和，心情舒畅，感到宽慰

③这座城市赋有兼容并包的能力，具有接受外来影响的特殊感觉

④在这里，在这种精神和解的气氛中生活极为惬意

⑤在宫廷里、在贵族当中，在民间，德意志的和斯拉夫的、匈牙利的、西班牙的、佛兰德尔的因素都融合在血液里

⑥这个城市的每一个市民都无意识地被教育成为一个超民族的人，一个世界主义者，一个世界公民

将以上 6 个句子重新排列，语序正确的是（ ）

A. ③②④①⑥⑤

B. ⑤①③②④⑥

C. ①②④③⑤⑥

D. ⑤③④①②⑥

7. 很多人心中的理想工作状态应该近似于不劳而获——活少轻松赚钱多。但是，人类学家大卫·格雷伯指出“调研发现，如果你给一个人很高的工资却让他无所事事，那他很有可能感到焦虑疲惫……而一旦获得一份真正富有责任感的工作，这些负面症状就会消失”。

这段文字接下来可能描述的是：

- A. 轻松的工作为什么人获得幸福感
- B. 难度大的工作为什么比难度小的工作更受欢迎
- C. 有意义的工作带来的各种积极作用
- D. 当代年轻人的就业倾向

8. ①以体现一个国家经济形势的危机状况
②并不预示着一个国家马上就会改换门庭
③国家有别于企业的最显著特点是“国家主权神圣不可侵犯”
④“国家破产”更像是一个形容词
⑤而不是一个动词

将以上 5 个句子重新排序，语序正确的是：

- A. ④①⑤③②
- B. ④⑤①②③
- C. ③④①⑤②
- D. ③①②④⑤

9. ①就可能走向思维的误区
②这无疑是最好的强国路径
③对于经济增长和民众福利来说，更重要的是人均意义上的增长，而不是总量意义上的增长

④当然，也不能说总量意义上的经济增长没有意义，毕竟有很多事情是由“总体实力”决定的

- ⑤简单地通过增加劳动力供给的数量来推动总量意义上的增长
- ⑥如果人均意义上的增长快，却能够在提高民众福利的同时提高“总体实力”

将以上 6 个句子重新排列，语序正确的是：

- A. ③⑤①④⑥②
- B. ④⑥②③⑤①
- C. ⑤①⑥②③④
- D. ⑥②⑤①③④

10. 不知道何时起，网络直播渐渐走进了我们的视野，这种全新的网络平台成为目前最火的一种新媒体方式。网络直播迅速蹿红并不是偶然，除了本身优势之外，太多的负面新闻也让这种新媒体的曝光度大大增加。实力也好，炒作也罢，网络直播已经成为我们不可忽视的一股力量，并且以迅雷不及掩耳之势开始蔓延。

这段文字接下来要讲述的内容最不可能是：

- A. 网络直播流行起来的原因

- B. 网络直播带来的不良社会影响
- C. 网络直播出现以前的流行媒体
- D. 网络直播发展面对的问题

11. ①为应对这一问题，深海生物的对策是增加细胞膜中不饱和脂肪的比例，这些脂肪在低温下呈液态，能够保持细胞膜的流动性

②我们可以用吹气球作类比，在空气中吹气球很容易，但如果你在游泳池底部试着吹气球，就会发现这要困难得多，因为气体分子都被压缩了

③低温和高压对动物的身体会产生特别的影响，在这种环境下，生物细胞膜中的脂质会变为固态，细胞膜失去了流动性就无法行使正常生理功能

④蛋白质在生物体内承担了多种生理功能，为了发挥其作用，蛋白质分子必须能够自由地改变它们的大小和形状，但这在高压之下是很困难的

⑤压力还会对蛋白质造成严重的影响

将以上 5 个句子重新排列，语序正确的是：

- A. ④③①⑤②
- B. ③⑤②④①
- C. ③①⑤④②
- D. ④⑤③①②

12. ①右手下坡去十来步，就是一条小溪，水却不深

②踏着溪中的几块垫脚石过了溪，路旁有茅棚，住着一两家老百姓

③小屋前门有一条小路，曲折向外，在松林中行数百米，便豁然开朗

④还有很多美丽的骨牌草，有的还是很青翠，有的已经枯黄

⑤左手上坡是一条较为正式的路，隔路又是一片松林，坡头长满了半人高的茅草

将上面的句子组成语意连贯的一段话，排列正确的一项是：

- A. ②①④③⑤
- B. ③④①⑤②
- C. ②⑤①④③
- D. ③⑤④①②

13. 打造特色小镇是推进以人为核心的新型城镇化、实现乡村振兴的一项重要举措。近年来，各地建设了不少特色小镇，有力推进了农业农村现代化和城乡融合发展，但是，也有一些地方的特色小镇在发展过程中出现了特色不够鲜明、低水平重复建设、产业联动不畅、无序竞争等问题。解决这些问题，必须推动特色小镇创新发展。

这段文字接下来最有可能讨论的是：

- A. 特色小镇应怎样结合自身资源，找准产业定位
- B. 如何塑造特色小镇的独特气质

C. 建设特色小镇应如何抓住新科技革命的机遇

D. 如何推动特色小镇创新发展

14. ①每每我从树下踩着脱落的花瓣，总忍不住会抬头仰望刺桐树

②刺桐树的枝桠参差，苍劲有力，把风轻云淡的天空分割得支离破碎

③刺桐花开的时候，它的叶子就落得精光，满树枝的尽是一簇簇的花骨朵

④你不能不相信，每一株刺桐树，在深邃的湛蓝中，都是一首撩拨人心的诗

⑤火一样的刺桐花俏立枝头，妩媚地燃烧，让我在一个个感伤的季节里，总能体会到一种

种熨贴的温暖

将以上 5 个句子重新排列，语序正确的一项是（ ）

A. ①②⑤③④

B. ③①②④⑤

C. ②④①⑤③

D. ⑤③④①②

15. ①许多人希望能延缓机器人普及的过程，以减少失去工作机会的可能性。

②盖茨的欧洲同行们却没有这么大气，他们以征税将阻碍创新为由，游说欧洲议会拒绝了对机器人立法征税。

③他主张对使用机器人的公司征税，用这些税收来帮助因机器人失去工作的人们获得新工作。

④盖茨颇有一点自我革命的勇气，因为地球人都知道他一手创建的微软公司正是引领全球人工智能研发的少数几家大公司之一。

⑤比尔·盖茨就是其中一员。

⑥在生产领域，机器人确实带来了更高的生产率，但也抢走了不少人的饭碗。

将上述 6 个句子重新排序，语序正确的是（ ）

A. ③⑥①⑤④②

B. ⑥⑤③①②④

C. ⑤③⑥②①④

D. ⑥①⑤③④②

16. ①上海海纳百川、兼容并蓄的特征也开始初露端倪

②历史上的上海，处于传统江南文化的边缘地位

③来自各地的商帮，如浙江的宁波帮、绍兴帮，湖南的洞庭商帮，广东潮州帮，福建泉州漳帮等活跃在上海

④从经济地理角度而言，上海距离素称“鱼米之乡”的苏杭尚有相当距离，在以农耕文明为主体的传统社会中自然不占突出位置

⑤在这样的历史条件下，作为政治、经济、文化三重边陲的上海，尚无法在以苏杭为代

D. 汉宣帝如何发展汉武帝的治国方针

23. ①这些细节都告诉我们阅读与一个民族的伟大息息相关

②犹太民族诞生了许多影响人类文明进程的人，贝多芬、马克思、卓别林、毕加索、爱因斯坦……一个人口不多的民族，为什么会取得如此成就？

③因为在他们看来，这是亵渎，书柜只能放在床头的位置

④小孩刚懂事时，父母就将《圣经》涂蜂蜜让小孩去舔，让孩子意识到书本是“甜”的，从出生起培养对书的亲近感

⑤除了勤劳之外，一个重要的原因就是阅读

⑥犹太人已将阅读神圣化。他们不会把书柜放在床的尾部，不能让脚对着它

将以上 6 个句子重新排列，语序正确的是：

A. ①⑥③④②⑤

B. ④⑥⑤②③①

C. ②⑤⑥③④①

D. ⑥③①②⑤④

24. ①而是“这是一本好书吗？值得花费几个小时甚至几天的时间去读吗？”

②但其中真正能够浸润心灵、开启心智的图书数量仍然有限

③一个重要原因是出版变得容易了，书不像以往那么金贵了

④面对琳琅满目的新书进行挑选时，人们往往首先感受到的既不是对知识的敬意，也不是“开卷有益”的喜悦

⑤中国老百姓过去有敬惜字纸的传统，进入现代社会，文字或者阅读的这种神圣感正在逐渐消解

⑥中国现在每年出版 40 多万种纸质图书，规模空前

将以上 6 个句子重新排列，语序正确的是：

A. ④①⑤⑥②③

B. ⑥②④⑤③①

C. ⑤③⑥②④①

D. ①⑤③⑥②④

25. 素食在中国有深厚的传统，《墨子》记载：“古之民未知为饮食时，素食而分处”，清人孙诒让注：“素食，谓食草木”，素食又称“蔬食”，《礼记》曰“山林藪泽，有能取蔬食”，东汉郑玄注：“草木之实为蔬食”。素食自古以来是中华文明的饮食传统，中国以及整个东亚，饮食皆以谷物和蔬菜为主，与西方以肉为主的饮食习惯是不同的。舌尖之上是对美的品味，舌尖之下是文化精神的倾向。

作者接下来最可能讲述的是：

A. 素食文化在现代生活中的表现

- B. 中国古代与素食有关的典故
- C. 素食文化对中国饮食文化的影响
- D. 中国素食传统中蕴含的文化内涵

26. 我们苦恼困惑于男孩成长中看起来无解的社会环境问题，家庭教育提供了另一条路径。专家告诉我们，如果算上所有的节假日，男孩在家庭中呆的时间超过学校，因此家庭教育的作用弥足珍贵。亲人对孩子天性的认可、理解，可以让孩子在外部世界的挫败感中获得安慰。而父性角色可以帮助孩子在家庭中建立良好的规则感，这是他进入社会最好的情感资源。

这段文字接下来最有可能讲的是：

- A. 如何进行合适的家庭教育
- B. 男孩具有怎样的天性和特点
- C. 规则意识是家庭教育的重要内容
- D. 父亲如何扮演自己的角色

27. ①水书是水族的古文字、水族书籍的通称

②它是一种类似于甲骨文和金文的古老文字符号，是世界上除东巴文之外又一存活的象形文字，也是水族历史文化的重要组成部分

③为保护水书，三都水族自治县采取了包括征集、翻译水书，为“水书先生”录音，水书文化进校园等多项措施加以传承保护

④2006年，水书被列为首批国家级非物质文化遗产名录

⑤在中国56个民族中，有17个民族有自己传统的文字，水书即为其中一种

⑥水书记载了水族古代天文、民俗、伦理、哲学、美学、法学等文化信息，被誉为象形文字的“活化石”

将以上6个句子重新排列，语序正确的是（ ）

- A. ①⑤②⑥④③
- B. ⑤①②⑥④③
- C. ④⑥①②⑤③
- D. ⑤①②④③⑥

28. ①对于刚回国的海归来讲，大多数人还处在从学生到上班族的转变阶段，身份的变化也容易带来心理落差

②随着留学大军的数字逐年攀升，海归回国后的工作竞争更加激烈

③面对就业和生活环境的变化，心理落差是大多数海归逃不开的一关

④国外的轻松社会生活环境和国内一线城市的生活压力让海归同样“心塞”

③放眼望去,无论是深圳市中心高耸入云的摩天大楼还是周围人手一台无所不能的智能手机,似乎都在证明此话不假

④认为这两者带来了生产力的巨大飞跃,代表着人类和动物之间的本质区别

⑤但其实大多数老百姓更关心艺术,一个高有创造力的歌手往往要比名优秀的工程师更能打动人心

将上面的句子组成语意连贯的语段,排序最恰当的一项是:。

- A. ②④③⑤① B. ②③⑤①④ C. ③①②④⑤ D. ①④②③⑤

35. 研究发现,人们所受压力会增加血液中糖皮质激素的含量,而糖皮质激素可将前体细胞变成脂肪细胞,所以压力与肥胖有联系。人们过去不清楚,为什么白天压力大不一定会胖,而上夜班之类的压力则与肥胖相联系。

这段文段接下来最可能讲述:

- A. 压力与肥胖的作用机理
B. 时间段与血液中糖皮质激素的关系
C. 血液中糖皮质激素与肥胖的关系
D. 不同时间段下压力与糖皮质激素的关系

36. 把下面几个句子组成语义连贯的一项是:

①于个人,能用钱解决烦心事,就像有了代驾,开车去吃饭也可以放开喝而不担心酒驾判刑

②对于几个外卖平台创造数以百万个就业岗位,就像托了“代经济”的福

③而且借助便捷的移动互联网技术,“代经济”这一更加专业和本土的姿态出现在人们生活的每一个细节中

④于社会,专业的事由专业的人来干,分工精细化有助于增加就业机会,提高效率,从而促进经济增长

⑤可以说“代经济”在为美好生活加分

- A. ①④②③⑤ B. ①④③②⑤ C. ⑤①④②③ D. ⑤①④③②

37. ①“阿尔法围棋”构建了两套神经网络,对大量棋谱进行学习,在此基础上进行“左右互搏”,即自对弈学习

②其实,深度学习的方法在十年之前就已经出现,但在近年大数据的背景下才展现出惊人的威力

③深度学习的一大特点是,它不依赖于任何对象的具体知识,只需通过大量图像和结果

的比对就能完成学习

④这一方法也是目前人工智能领域最热门的方向

⑤横空出世的“阿尔法围棋”取得突破的核心在于深度学习

⑥围棋的复杂程度是棋类之最，人和计算机都难以通过暴力计算达到穷尽

将以上6个句子重新排列，语序正确的是：

A. ⑤①③⑥④② B. ③②⑤①④⑥ C. ②⑤⑥④①③ D. ⑥⑤④①③②

38. ①知全人，需要读全文；可如果没有“选本”，我们无论如何应付不了那汗牛充栋的诸多全集

②但除了专家，又有多少人是读过苏轼全集，然后才开口说话的呢

③没有读作家的全集，单凭入选法眼的那几篇，就说陶渊明很悠闲，苏东坡很放达，这当然不对

④可以这么说，“选本”既扩大了我们的知识面，又相对缩小了我们的眼界

⑤所谓“选本”，不外借古人的文章，寓自家的见解

⑥就阅读效果而言，既不同于包罗万象的“全集”，也不同于立一家之言的“著述”

将以上6个句子重新排列，语序正确的是：

A. ①③②⑤④⑥ B. ①⑤⑥③②④ C. ③⑤④①②⑥ D. ③②⑤⑥①④

39. ①在以往许多“纠纷”中，大部分冲突都是狗主人的言行不当，以及爱狗人士过分拔高狗的权益所致

②之所以很多人反感养狗，在很大程度上和养狗者的不文明行为有关。

③既不让正常养狗者的利益被“伪爱狗者”的行为所误伤，也不让“狗患”成为困扰公众生活的难题，这还需要将视角从极端个案转移到社会公共事务管理层面。

④而在文明养狗这件事上，又能否达成社会共识？

⑤对于养狗者的个人行为控制，能否从道德约束层面，上升到制度约束？

将以上5个句子重新排列，排序正确的一项是（ ）

A. ⑤②①③④ B. ①②⑤③④ C. ②①⑤④③ D. ①②④③⑤

40. ①每次经济危机之后，都会带来一个巨大的创新

②“中国制造”走向了世界，为中国的经济带来了一个持续高速增长

③但是，在国际金融危机的情况下，中国的自主创新能力确实受到了严峻的考验

④中国不得不创新，如果不创新的话，依然是中国制造

⑤正式危机的不断刺激，才有世界经济的波澜壮阔的发展，才有不断地创新

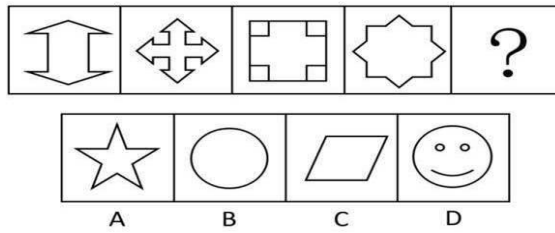
⑥因为危机淘汰了很多落后的，再一次占领市场的时候必须是先进的

- A. ②③①⑥⑤④ B. ②③⑤④①⑥ C. ①⑥②③⑤④ D. ③②④⑤①⑥

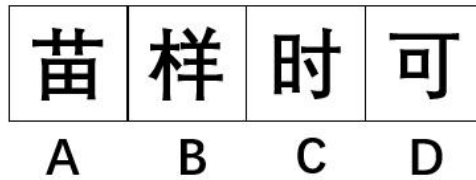
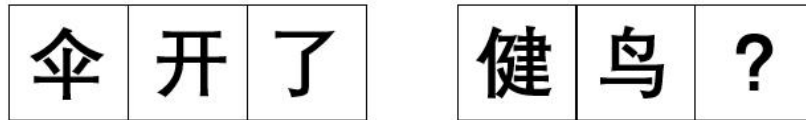
判断推理

第一部分 图形推理

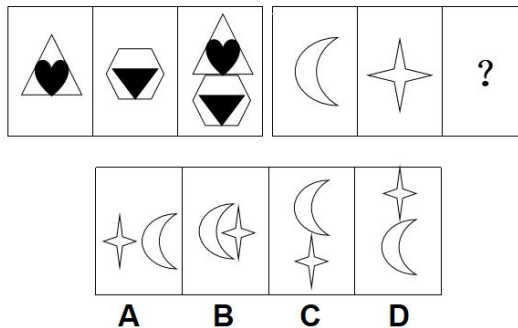
1. 从所给四个选项中，选择最合适的一个填入问号中去，使之呈现规律性：



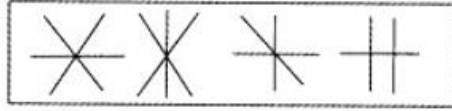
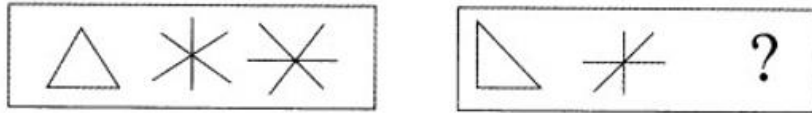
2. 根据所给图形的既有规律，选出一个最合理的答案：



3. 观察已给图形规律，从以下选项中选出一项填充到问号中：

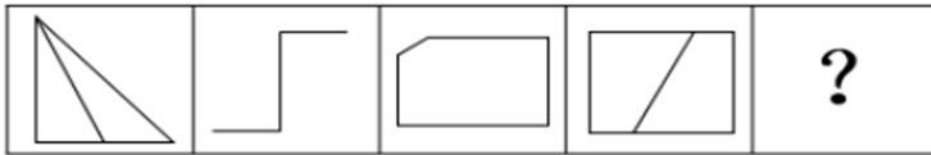


4. 请从所给的四个选项中，选择最合适的一个填在问号处，使之呈现一定的规律性：



A B C D

5. 请从所给的四个选项中，选择最合适的一个填在问号处，使之呈现一定的规律性：



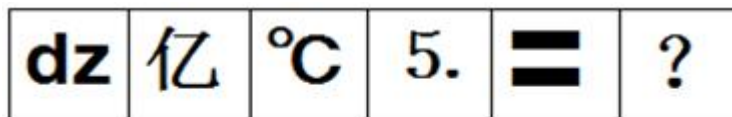
A B C D

6. 从所给的四个选项中，选择最合适的一个填入问号处，使之呈现一定的规律性：



A B C D

7. 从所给的四个选项中，选择最合适的一个填入问号处，使之呈现一定的规律性：




A B C D

8. 从所给的四个选项中，选择最合适的一个填入问号处，使之呈现一定的规律性：



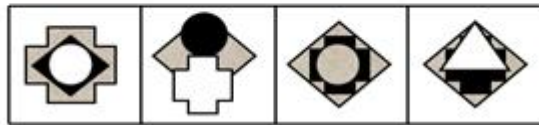
A B C D

9. 从所给的四个选项中，选择最合适的一个填入问号处，使之呈现一定的规律性：



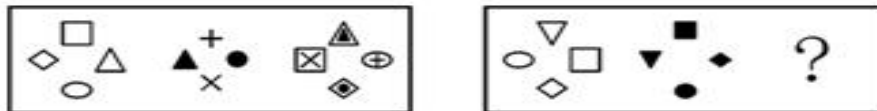
A B C D

10. 从所给的四个选项中，选择最合适的一个填入问号处，使之呈现一定的规律性：



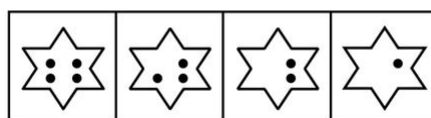
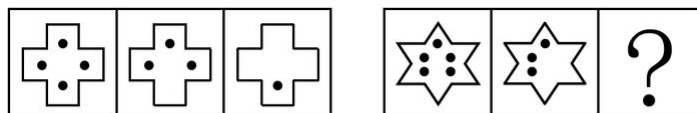
A B C D

11. 从所给的四个选项中，选择最合适的一个填入问号处，使之呈现一定的规律性：



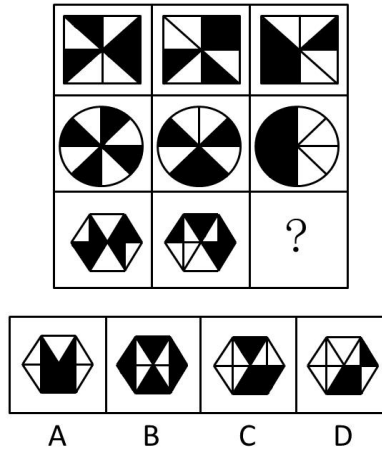
A B C D

12. 从所给的四个选项中，选择最合适的一个填入问号处，使之呈现一定的规律性：




A B C D

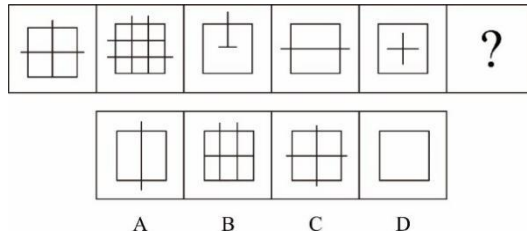
13. 从所给的四个选项中，选择最合适的一个填入问号处，使之呈现一定的规律性：



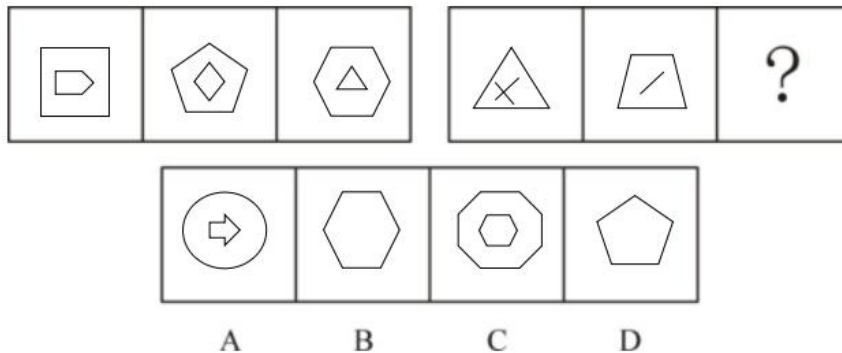
14. 从所给的四个选项中，选择最合适的一个填入问号处，使之呈现一定的规律性：



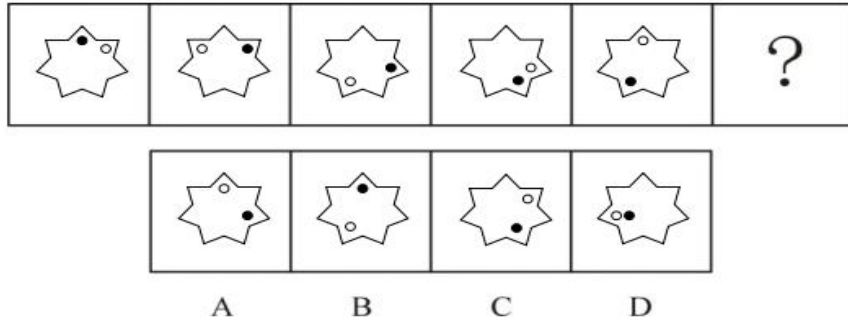
15. 从所给的四个选项中，选择最合适的一个填入问号处，使之呈现一定的规律性：



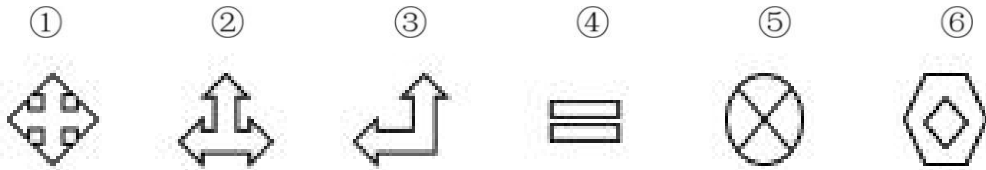
16. 从所给的四个选项中，选择最合适的一个填入问号处，使之呈现一定的规律性：



17. 请从所给的四个选项中，选择最合适的一个填入问号处，使之呈现一定的规律性：

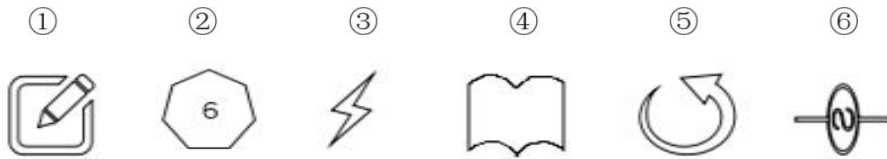


18. 把下面的六个图形分为两类，使每一类图形都有各自的共同特征或规律，分类正确的一项是：



- A. ①③④, ②⑤⑥ B. ①④⑥, ②③⑤
C. ①②④, ③⑤⑥ D. ①②③, ④⑤⑥

19. 把下面的六个图形分为两类，使每一类图形都有各自的共同特征或规律，分类正确的一项是：



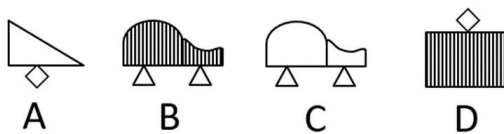
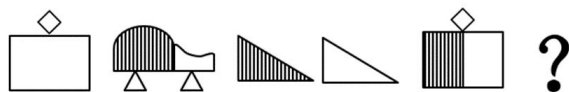
- A. ①②⑥, ③④⑤ B. ①④⑤, ②③⑥
C. ①②③, ⑤④⑥ D. ①③⑤, ②④⑥

20. 把下面的六个图形分为两类，使每一类图形都有各自的共同特征或规律，分类正确的一项是：

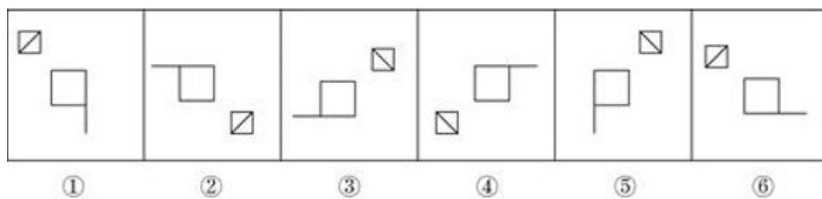


- A. ①②⑥, ③④⑤ B. ①④⑤, ②③⑥
C. ①③⑥, ②④⑤ D. ①②⑤, ③④⑥

21. 请选择最适合的一项填入问号处，使右边图形的变化规律与左边图形一致 ()

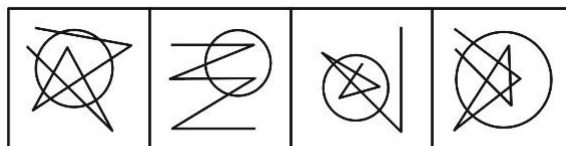
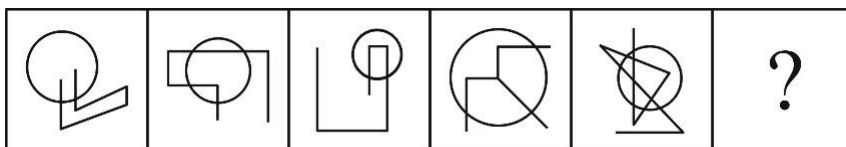


22. 把下面的六个图形分为两类，使得每一类图形都有各自的共同特征或者规律，分类正确的一项是（ ）



- A. ①②⑥, ③④⑤
- B. ①③⑤, ②④⑥
- C. ①③④, ②⑤⑥
- D. ①④⑥, ②③⑤

23. 请从所给的四个选项中，选择最合适的一个填入问号处，使之呈现一定的规律性：



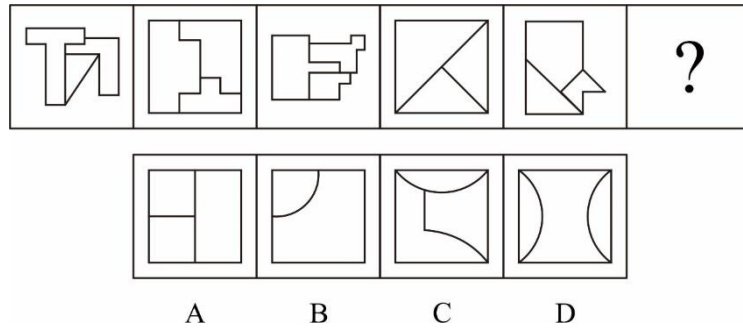
A B C D

24. 请从所给的四个选项中，选择最合适的一个填入问号处，使之呈现一定的规律性：

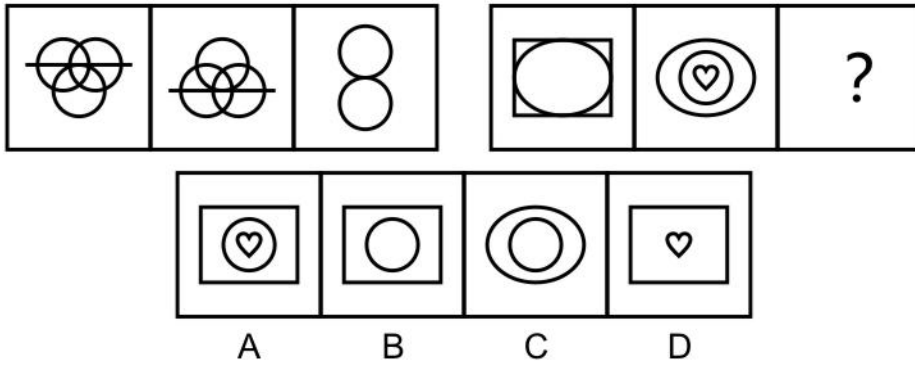


A B C D

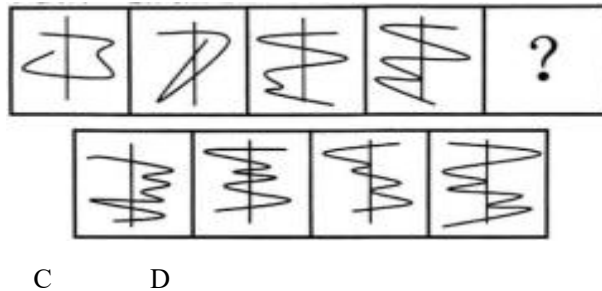
25. 请从所给的四个选项中，选择最合适的一个填入问号处，使之呈现一定的规律性：



26. 从所给选项中，选择最适合的一个填入问号处，使之呈现一定的规律性：

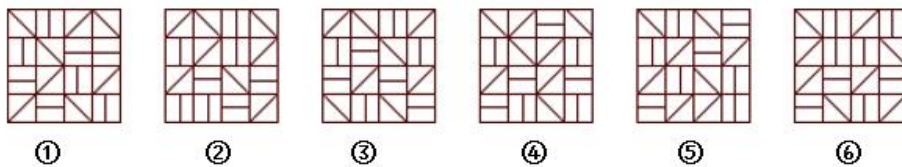


27. 从所给的四个选项中，选择最合适的一个填入问号处，使之呈现一定的规律性：



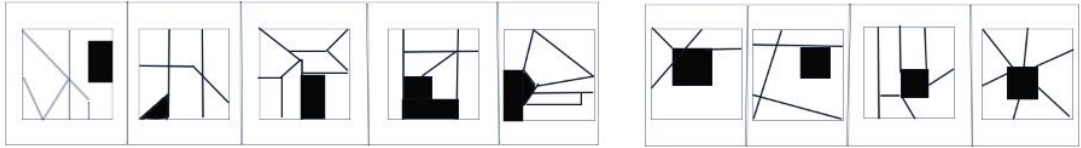
A B C D

28. 把下面的六个图形分为两类，使每一类都有各自的共同特征或规律，分类正确的一项是：

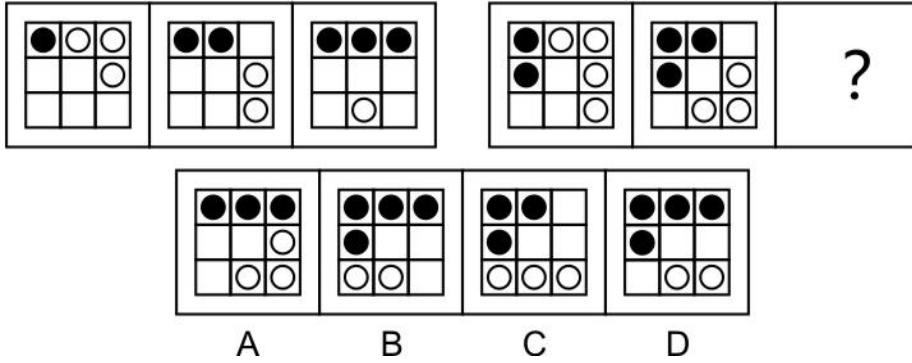


- A. ①③④，②⑤⑥
- B. ①③⑤，②④⑥
- C. ①②⑥，③④⑤
- D. ①④⑥，②③⑤

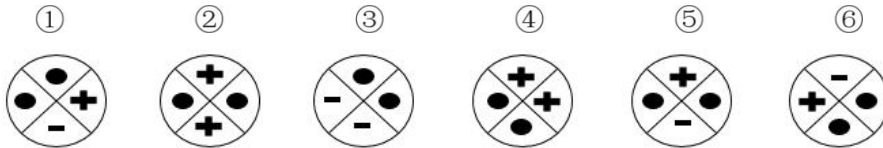
29. 从所给的四个选项中，选择最合适的一个填入问号处，使之呈现一定的规律性：



30. 从所给选项中，选择最适合的一个填入问号处，使之呈现一定的规律性：

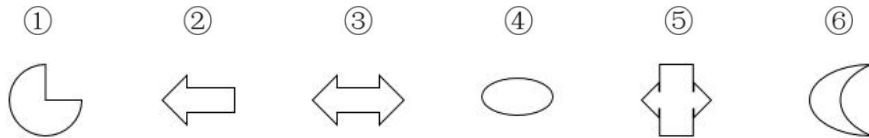


31. 把下面的六个图形分为两类，使每一类图形都有各自的共同特征或规律，分类正确的一项是：



- A. ①②④，③⑤⑥
- B. ①⑤⑥，②③④
- C. ①③④，②⑤⑥
- D. ①③⑥，②④⑤

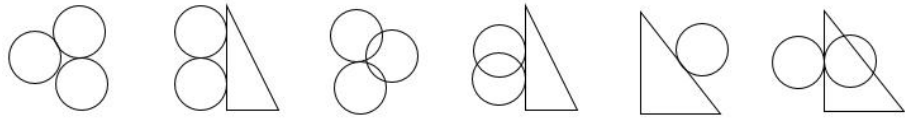
32. 把下面的六个图形分为两类，使每一类图形都有各自的共同特征或规律，分类正确的一项是：



- A. ①②④，③⑤⑥
- B. ①④⑥，②③⑤
- C. ①③④，②⑤⑥
- D. ①②⑥，③④⑤

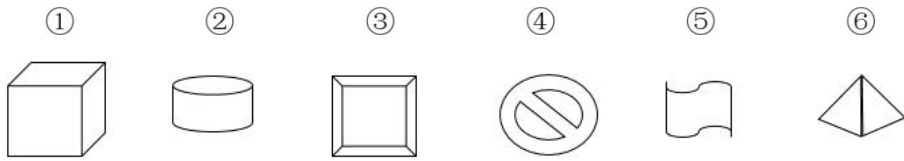
33. 把下面的六个图形分为两类，使每一类图形都有各自的共同特征或规律，分类正确的一项是：





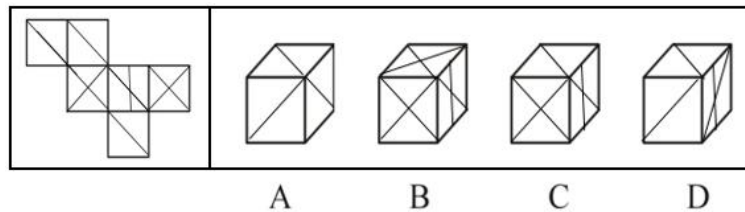
- A. ①②⑤, ③④⑥
- B. ①④⑤, ②③⑥
- C. ①②③, ④⑤⑥
- D. ①③⑤, ②④⑥

34. 把下面的六个图形分为两类, 使每一类图形都有各自的共同特征或规律, 分类正确的一项是:

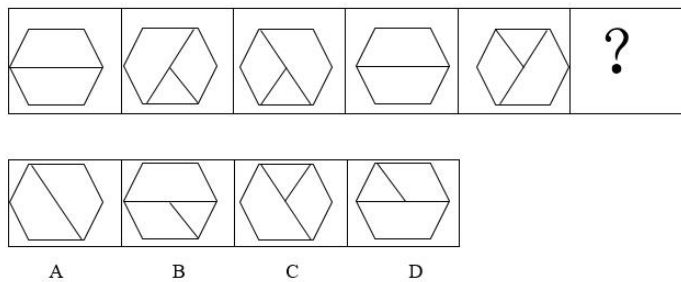


- A. ①②⑥, ③④⑤
- B. ①④⑤, ②③⑥
- C. ①③⑥, ②④⑤
- D. ①②⑤, ③④⑥

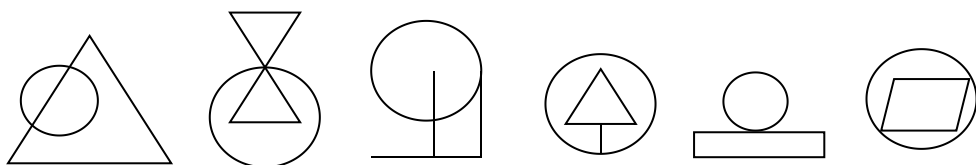
35. 左边给定的是纸盒的外表面, 下面哪一项能由它折叠而成?



36. 根据所给图形的既有规律, 选出一个最合理的答案:




37. 把下面的图形分为两类, 使每一类图形都有各自的共同特征或规律, 分类正确的一项是:



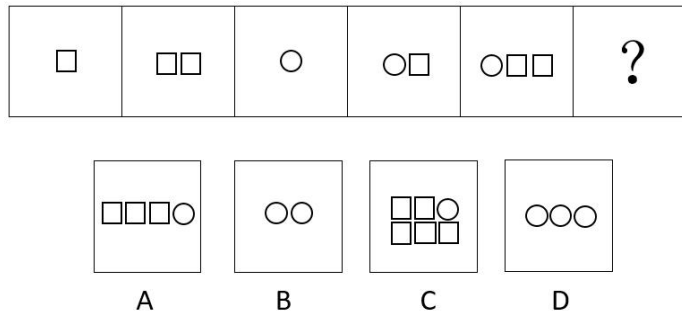
① ② ③ ④ ⑤ ⑥

- A. ①②⑤, ③④⑥
- B. ①③⑥, ②④⑤
- C. ①③⑤, ②④⑥
- D. ①③④, ②⑤⑥

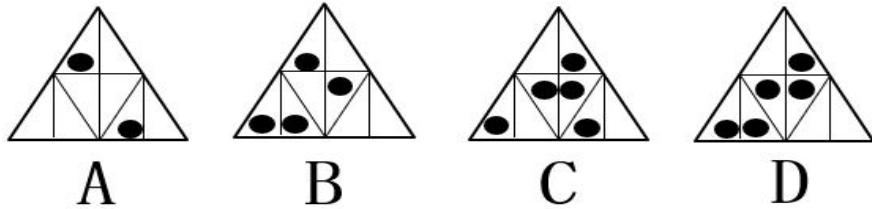
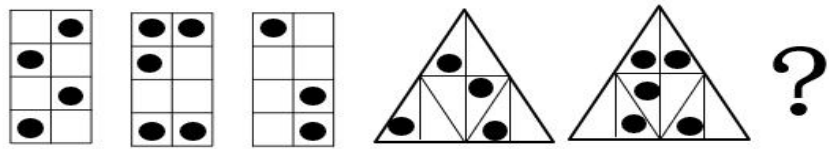
38. 根据所给图形的既有规律，选出一个最合理的答案：



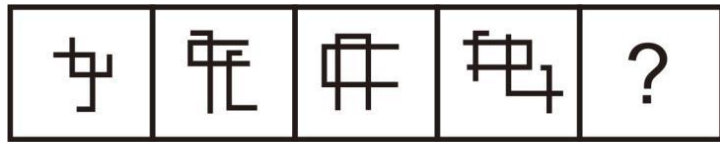
39. 根据所给图形的既有规律，选出一个最合理的答案：



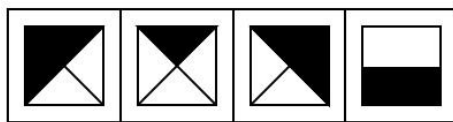

40. 请从所给的四个选项中，选择最合适的一个填入问号处，使之呈现一定的规律性：



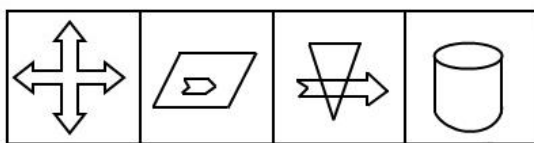
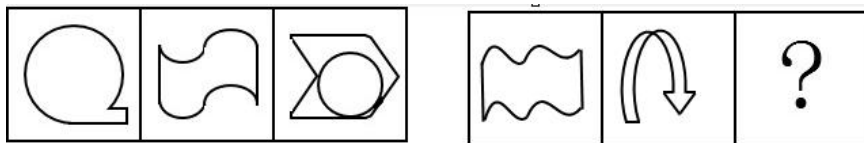
41. 根据前四个图形的规律，判断第五个图形应该是：



42. 从所给出的四个选项中，选择最合适的一项填入问号处，使之呈现一定规律性：



43. 请从所给的四个选项中，选出一个填入问号处，使之呈现一定的规律性：

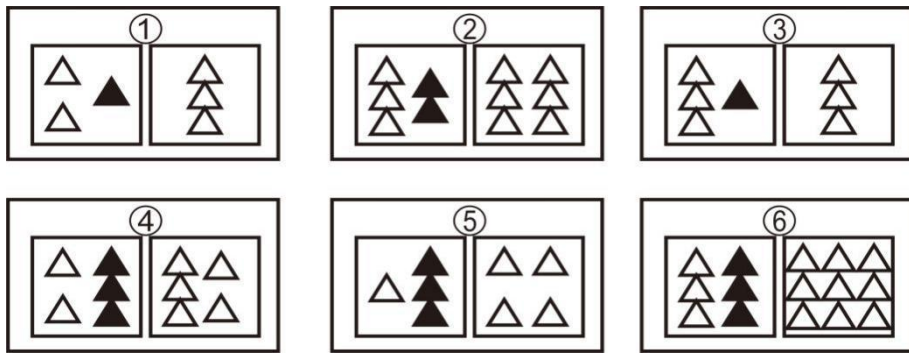


44. 把下面的六个图形分为两类，使每一类图形都有各自的共同特征或规律，分类最为恰当的一项是：



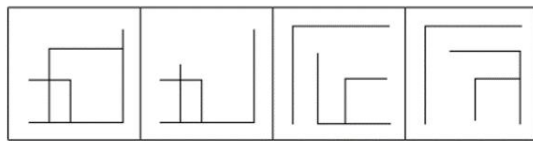
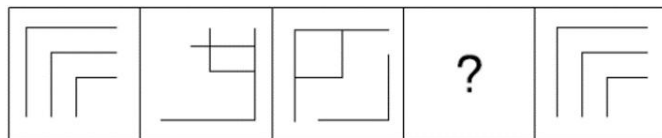
- A. ①③⑤, ②④⑥
- B. ①②③, ④⑤⑥
- C. ①②⑤, ③④⑥
- D. ①③④, ②⑤⑥

45. 把下列六个图形分为两类，使每一类图形都有各自的共同特征或规律，分类正确的是：



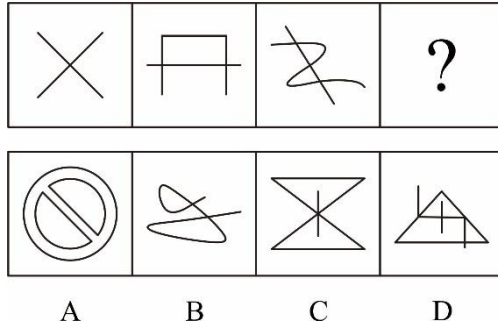
- A. ①②③, ④⑤⑥
- B. ①③⑥, ②④⑤
- C. ①④⑤, ②③⑥
- D. ①⑤⑥, ②③④

46. 从所给选项中，选择最合适的一个填入问号处，使之呈现一定的规律性：（ ）

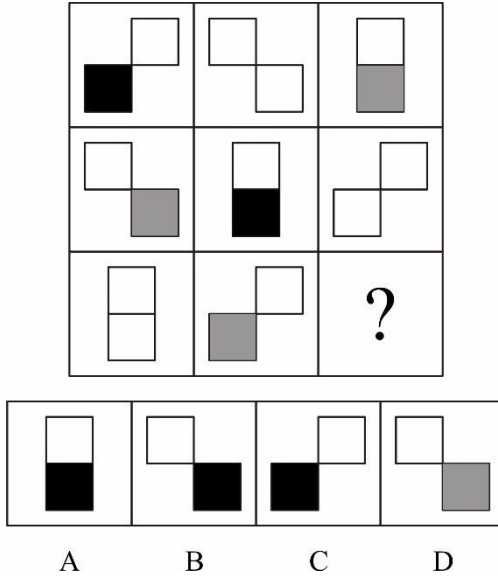


A B C D

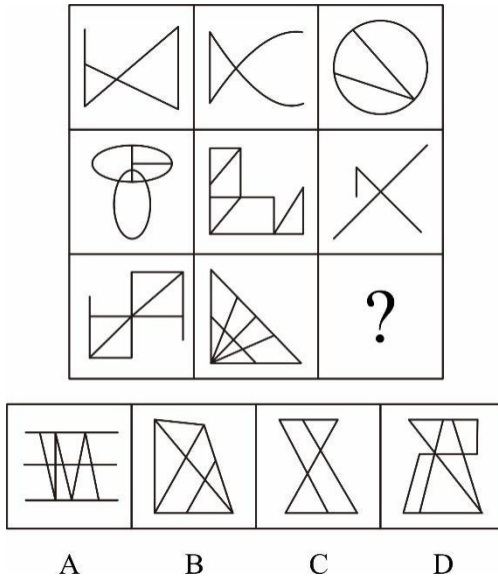
47. 从所给选项中，选择最合适的一个填入问号处，使之呈现一定的规律性：（ ）



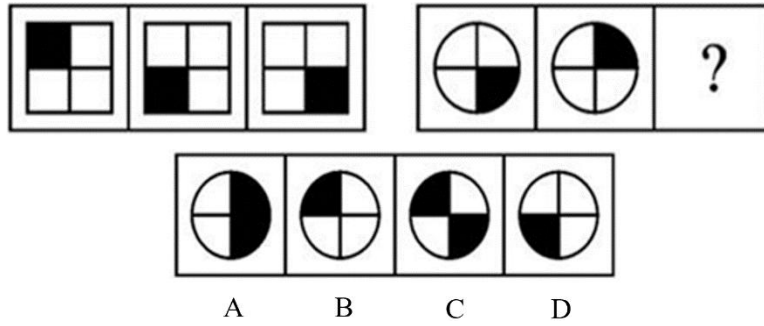
48. 从所给选项中，选择最合适的一个填入问号处，使之呈现一定的规律性：()



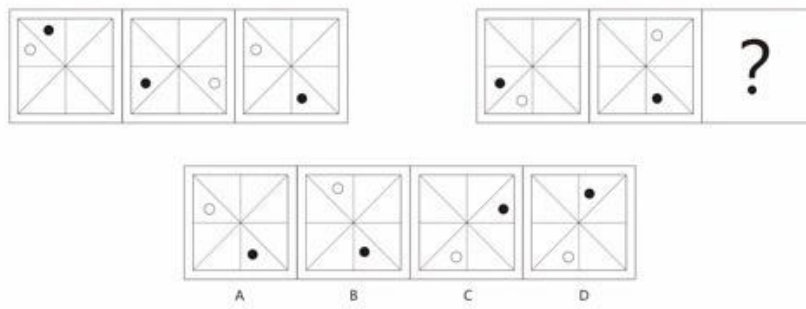
49. 从所给选项中，选择最合适的一个填入问号处，使之呈现一定的规律性：()




50. 从所给选项中，选择最合适的一个填入问号处，使之呈现一定的规律性：()



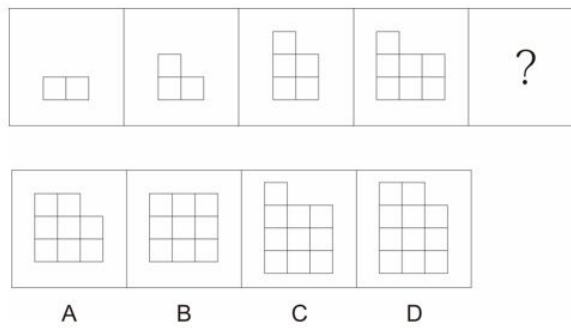
51. 填入问号处最恰当的是 ()



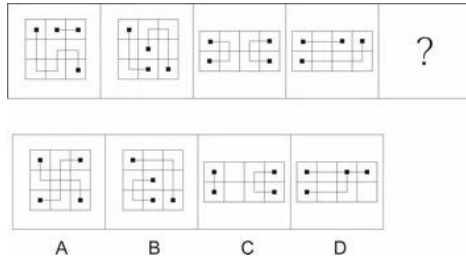
52. 填入问号处最恰当的是:



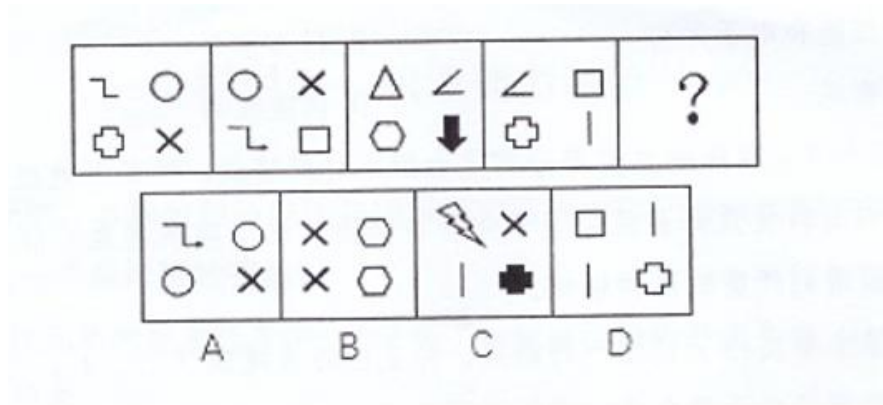
53. 填入问号处最恰当的是 ()



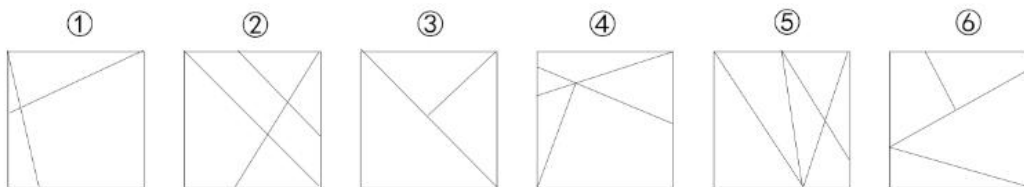
54. 填入问号处最恰当的是 ()



55. 从所给的四个选项中，选择最合适的一个填入问号处，使之呈现一定的规律性
()




56. 把下面的六个图形分为两类，使每一类都有各自的共同特征或规律，分类正确的一项是 ()

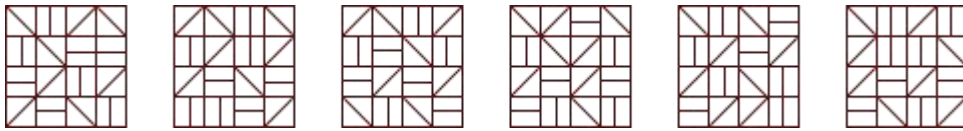


- A. ①②③, ④⑤⑥
- B. ①②⑤, ③④⑥
- C. ①②④, ③⑤⑥
- D. ①③⑥, ②④⑤

57. 从所给的四个选项中，选择最合适的一个填入问号处，使之呈现一定的规律性
()

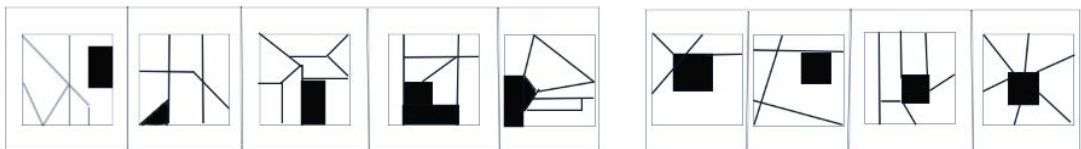


58. 把下面的六个图形分为两类，使每一类都有各自的共同特征或规律，分类正确的一项是（ ）



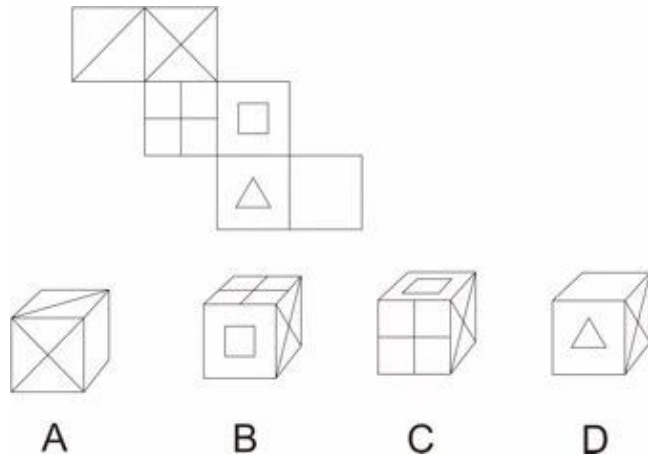
- A. ①③④, ②⑤⑥ B. ①③⑤, ②④⑥
- C. ①②⑥, ③④⑤ D. ①④⑥, ②③⑤

59. 从所给的四个选项中，选择最合适的一个填入问号处，使之呈现一定的规律性（ ）



- A B C D

60. 上边是给定的六面体外表面展开图，下边哪一项能由它折叠而成的（ ）



第二部分 类比推理

1. 稻米：大米

A. 核桃：桃酥	B. 棉花：棉籽
C. 西瓜：瓜皮	D. 花生：花生酱
2. 通货膨胀：物价上涨

A. 风光旖旎：流连忘返	B. 因地制宜：因势利导
C. 孤苦伶仃：无依无靠	D. 妄自菲薄：妄自尊大
3. 陶器：陶土

A. 棉纶：尼龙	B. 颜料：丹青
C. 砖头：黏土	D. 茶壶：茶水
4. 成熟：幼稚

A. 犹疑：深信	B. 超前：提前
C. 婉拒：表扬	D. 爽利：强横
5. 宋江：《水浒传》

A. 林黛玉：《三国演义》	B. 崔莺莺：《西厢记》
C. 蒲松龄：《聊斋志异》	D. 哪吒：《搜神记》
6. 房子：窗户

A. 权利：金钱	B. 水果：萝卜
C. 飞机：宇宙	D. 汽车：轮胎
7. 浙江：杭州：安徽

- A. 湖北：武汉：北京
B. 福建：厦门：上海
- C. 江苏：南昌：哈尔滨
D. 吉林：长春：沈阳
8. 工人：农民
- A. 清香：浓郁
B. 老师：学生
- C. 车间：工人
D. 教师：医生
9. 汽油：去渍
- A. 盐：杀菌
B. 双氧水：消毒
- C. 洗衣服：去渍
D. 酱油：调味
10. 背水一战：韩信
- A. 宝刀未老：赵云
B. 约法三章：刘邦
- C. 才高八斗：李白
D. 一身是胆：黄忠
11. 书籍：课本
- A. 有理数：整数
B. 定义：定理
- C. 数学：计算
D. 辽宁：东北
12. 诗圣：杜甫
- A. 药圣：张仲景
B. 兵圣：岳飞
- C. 医圣：华佗
D. 和圣：柳下惠
13. 环保，约谈
- A. 新闻：采访
B. 医疗：救助
- C. 交通：处罚
D. 体育：竞争
14. 岑参；柳永
- A. 苏轼；白居易
B. 王昌龄；秦观
- C. 李白；杜牧
D. 高适；王翰
15. 护照；国籍
- A. 法律；权利
B. 房产证；居住权
- C. 钥匙；锁
D. 结婚证；配偶
16. 洛阳桥；福建
- A. 拙政园；浙江
B. 兵马俑；山西
- C. 皮影戏；陕西
D. 醉翁亭；安徽
17. 茶几 对于 () 相当于 () 对于 衣服

- A. 被子 熨斗
C. 沙发 商场
18. 米饭：米酒：发酵
A. 菜花：菜油：压榨
C. 木材：木炭：烧制
19. 医院：体检
A. 驾校：驾驶证
C. 教室：学习
20. 红绿灯：开关柜
A. 千斤顶：百米尺
C. 加热炉：冷却罐
21. 男人：运动员
A. 军人：警察
C. 学生：大学生
22. 破旧：立新
A. 宁缺：勿滥
C. 与时：俱进
23. 土豆：马铃薯：洋芋
A. 乒乓球：桌球：国球
C. 巴士：公交：汽车
24. 琴棋书画：经史子集
A. 兵强马壮：闭关自守
C. 衣帽鞋袜：冰清玉洁
25. 努力：成功
A. 法官：检察官
C. 城市：福利
26. 宋江：《水浒传》
A. 红娘：《白蛇传》
C. 刘备：《三国演义》
27. 作家：读者
- B. 茶具 模特
D. 杯具 衣柜
- B. 陈醋：白醋：匀兑
D. 钢：铁：冶炼
- B. 教师：上课
D. 办公室：停车
- B. 手摇床：脚踏车
D. 装卸车：录放机
- B. 商人：父亲
D. 女生：礼仪小姐
- B. 拔苗：助长
D. 混淆：是非
- B. 正月：寅月：献岁
D. 质押：抵押：扣押
- B. 悲欢离合：漂泊流浪
D. 鸟兽虫鱼：江河湖海
- B. 耕耘：收获
D. 扩招：失业
- B. 姜子牙：《西游记》
D. 司马迁：《史记》

- A. 政府：官员
C. 江苏：园林
28. 特仑苏：牛奶
- A. 南瓜：瓜果
C. 皮鞋：布鞋
29. 地球：宇宙
- A. 白云：大气
C. 桌椅：教室
30. 计划经济：市场经济
- A. 民主集中制：首长负责制
C. 宏观调控：自主经营
31. 父亲：女儿
- A. 叔叔：阿姨
C. 姨父：姨妈
32. 书籍：纸张
- A. 毛笔：宣纸
C. 菜肴：萝卜
33. 卓别林：《摩登时代》
- A. 美国：越战
C. 苏联：解体
34. 炮弹：炸弹：地雷
- A. 武汉：汉口：武昌
C. 油料：棉花：甘蔗
35. 电脑：鼠标
- A. 水壶：茶杯
C. 船：锚
36. () 对于效益相当于经营对于 ()
- A. 投入 利润
C. 生产 规划
37. 仙境：漫游
- B. 窗户：玻璃
D. 售货员：顾客
- B. 海信：电视
D. 开水：热水
- B. 树木：树枝
D. 铅笔：钢笔
- B. 社会主义：资本主义
D. 人民代表大会制度：议会制
- B. 儿子：女婿
D. 祖父：母亲
- B. 文具：文具盒
D. 飞机：大炮
- B. 马龙·白兰度：《教父》
D. 列宁：社会主义
- B. 整数：分数：有理数
D. 东北：吉林：辽宁
- B. 手机：短信
D. 录音机：磁带
- B. 成本 税收
D. 资本 管理

- A. 得当：安排
C. 自然：亲近
38. 金碧辉煌：建筑
A. 曲径通幽：竹林
C. 袖里玄机：棋艺
39. 喜鹊 对于 () 相当于 () 对于 福禄双全
A. 喜不自胜 梅花鹿
C. 欣喜若狂 芙蓉
40. 黄豆：蚕豆
A. 饰具：灯具
C. 猴子：狮子
41. 发动机：飞机：搭载旅客
A. 琴键：钢琴：演奏音乐
C. 杆秤：秤杆：称量重量
42. 树木：煤炭
A. 汽油：石油
C. 树脂：琥珀
43. 人工智能：计算机科学
A. 法律：刑法
C. 虚数：复数
44. 水滴：石穿
A. 千军：万马
C. 买椟：还珠
45. 仰慕：结交：断交
A. 复习：合格：补考
C. 没电：充电：放电
46. 中医：号脉 ()
A. 西医：手术
C. 画家：染料
47. 纸张：印刷：书籍 ()
- B. 旖旎：风光
D. 完成：作业
- B. 绕梁三日：音乐
D. 风光月霁：山水
- B. 喜上眉梢 蝙蝠
D. 喜从天降 仙鹤
- B. 木瓜：西瓜
D. 鲫鱼；鲸鱼
- B. 灯泡：手电筒：发射灯光
D. 发条：钟表：显示时间
- B. 象牙：大象
D. 太阳：能源
- B. 麦子：水稻
D. 祥林嫂：《祝福》
- B. 掩耳：盗铃
D. 唇亡：齿寒
- B. 逛街：购物：退货
D. 讨论：支持：反对
- B. 电脑：打字
D. 调查：取样

- A. 皮革：加工：鞋子
B. 种子：播种：粮食
C. 面粉：油炸：油条
D. 蓝图：施工：建筑
48. 增加：负担 （ ）
A. 拉高：幅度
B. 萦绕：乐音
C. 减免：收获
D. 开拓：视野
49. 举报：查处 （ ）
A. 咨询：答复
B. 悬赏：兑现
C. 开会：讲话
D. 布置作业：批改作业
50. 虚心使人进步，骄傲使人落后：有志者事竟成 （ ）
A. 皇天不负有心人：失败是成功之母
B. 吃一堑，长一智：打破砂锅问到底
C. 先天下之忧而忧，后天下之乐而乐：世界上怕就怕“认真”俩字
D. 满招损，谦受益：天下无难事，只怕有心人
51. 红糖：甘蔗
A. 香茗：茶水
B. 豆浆：豆汁
C. 糍粑：糯米
D. 汤圆：元宵
52. 记挂：挂记
A. 喜欢：欢喜
B. 责问：问责
C. 巴结：结巴
D. 外校：校外
53. 黄梅戏：黄梅雨
A. 主席团：主席台
B. 打官司：打官腔
C. 绍兴戏：绍兴酒
D. 圣诞节：圣诞树
54. 前车之覆：后车之鉴
A. 前事不忘：后事之师
B. 兼听则明：偏信则暗
C. 不经一事：不长一智
D. 失之东隅：收之桑榆
55. 复赛：预赛：半决赛
A. 斜眼：对眼：斗鸡眼
B. 茅屋：草堂：四合院
C. 原油：石油：润滑油
D. 仰泳：蛙泳：自由泳
56. 罗汉：罗汉果
A. 桥头：桥头堡
B. 冰川：冰川期

- C. 金龟：金龟子
D. 考古：考古学
57. 繁荣：萧条
A. 接受：心领
B. 高尚：庸俗
C. 约束：制止
D. 肝胆：脾胃
58. 报刊：杂志
A. 墨宝：策论
B. 皮影：年画
C. 债券：合同
D. 经书：史籍
59. 寒来：暑往
A. 价廉：物美
B. 妙手：回春
C. 唇亡：齿寒
D. 唇枪：舌剑
60. 叹为观止：拍案叫绝
A. 茅塞顿开：豁然贯通
B. 春风化雨：口诛笔伐
C. 老蚌生珠：生不逢时
D. 眼冒金星：色厉内荏

第三部分 定义判断

1. 行政许可，是指行政机关根据公民、法人或者其他组织提出的申请，经依法审查，准予其从事特定活动的行为。但有关行政机关对其他机关或者对其直接管理的事业单位的人事、财物、外事等事项的审批，不属于行政许可。行政许可的目的在于维护公共利益和社会秩序，保障和监督行政机关有效实施行政管理。根据上述定义，下列审批属于行政许可的是：

- A. 某市公安局鼓楼分局向市公安局申请有关“刑事侦查技术创新”的课题并获得批准
B. 乙某向某市司法局递交律师执业申请得到批准，获颁律师执业证
C. 某高校向上级主管机关报告请求追加年度预算 500 万元并获得批准
D. 某市公安局拟录用丙某为该局民警而报送上级机关审批，获得批准

2. “标题党”，是指在以互联网为代表的媒体上通过制作耸人听闻或者媚俗、低俗、庸俗等标题来吸引网友注意力，置新闻内容的基本事实于不顾，以达到增加点击量、提升知名度或者谋取一些见不得阳光的利益等各种目的的一小撮网站编辑、记者、管理者和网民等。

根据上述定义，下列属于“标题党”的是：

- A. 著名作家莫言把其创作的一部赞扬母性的小说命名为《丰乳肥臀》
B. 富士康公司员工发生连续跳楼事件后，某编辑在某门户网站以《七连跳——又一个

富士康员工自杀身亡》发帖报道此事

C. 某写手在某军事论坛网站发表了《国防部长的一句话，美国和日本震惊了》为题的帖子，但读完并没有发现国防部长发表任何针对美日的强硬言论

D. 某网民在某论坛发表名为《从荡妇到追求爱情的殉葬者——为潘金莲正名》的评论，他结合心理学知识一步步分析了小说中潘金莲心理的微妙变化，认为潘金莲大胆追求爱情却被封建礼教毒害

3. 监督权，是指公民有监督国家机关及其工作人员的公务活动的权利，它是公民参政权中的一项不可缺少的内容，是国家权利监督体系中的一种极具活力的监督。它包括公民直接行使的监督权和公民通过自己选举的国家代表机关代表行使的监督权，根据上述定义，下列属于监督权的是：

A. 每个消费者都应该自觉维护自身的合法权益

B. 网民“爱琴海”实名举报某市副市长在对某大型企业视察时收受大量现金事实，后经公安机关证实属实，该市长停职检查

C. 老赵对公司某中层领导工作方式不满，向总裁匿名投诉

D. 小李是一名科员，经常将同事休息期间聊天时透漏出的对领导不满向直属领导报告

4. 垂直搜索引擎是针对某一个行业的专业搜索引擎，是对网络资源中的某类专门的信息进行一一整合，定向分字段抽取需要的数据进行处理后再以某种形式返回给用户。

根据上述定义，下列应用与垂直搜索引擎关系最为密切的是：

A. 在某个购物网站上在线购买鞋子

B. 登录央视网站查询某个城市天气

C. 用百度音乐搜索自己爱听的歌曲

D. 在某图书馆网站上查询该馆的藏书

5. 应激性是指生物对外界刺激所发生的一种趋利避害的反应，也是生物的根本特征之一。

根据上述定义，以下属于应激性的是：

A. 湖水中扔入石头泛起波澜

B. 手碰到燃烧的蜡虫立马缩回

C. 铁钉放置在潮湿的环境中生锈

D. 鞭炮点燃后发生爆炸，灰飞烟灭

6. 酝酿效应是指当一个人长时间致力于解决某一个问题而又百思不得其解时，如果他

暂时停下来去做别的事情，一段时间之后，他可能会忽然想到解决的办法。

根据上述定义，以下属于酝酿效应的是：

- A. 小李找某份文件一直没找到，过了两个小时后他发现了那份文件
- B. 某修理人员在修理电视时查阅了大量线路图，终于修好了电视
- C. 王同学写毕业论文时遇到了困难，几天后他参加学术会议时得到很多相关的信息，并且理清了思路

D. 某研究人员申请了一个项目迟迟没有得到相关部门的批复，他转而研究别的课题，几个月后该项目得到了批准

7. 共享经济指借助网络第三方平台，基于闲置资金使用权的暂时性转移，实现生产要素的社会化，提高存量资产的使用效率以创造更多价值，促进社会经济的可持续发展。

根据上述定义，下列经济活动不属于共享经济的有：

- A. 王某从某网络平台订车去飞机场，方便快捷
- B. 张某从某网络平台购买外卖美食，在家享受美味
- C. 李基从某网络平台贷款炒股，获得了预期收益
- D. 马某旅行前从某网络平台预订民宿，抵达后入住

8. 商品差价是指同一商品由于流通环节、质量、购销地区与季节不同而形成的价格差额。

根据该定义，下列属于商品差价的选项是：

- A. 猪肉加工成香肠后价格上升
- B. 五粮液酒和茅台酒的价格不同
- C. 在合肥买 2018 版高配昂科威汽车比在北京买要便宜
- D. 冬季的金针菇比夏季的平菇贵

9. 种群是指在一定空间和时间的同种生物个体的总和。下列不属于种群的一项是：

- A. 森林里的鸟
- B. 一片草原上的波尔山羊
- C. 一个蚁巢里的白蚁
- D. 一块地里的小麦

10. 皮格马利翁效应是指当某人获得他人信任和期望时，便会产生积极向上的动力，更加努力地实现他人对自己的期望。根据此定义，下列属于皮格马利翁效应的是：

- A. 小丽从小就想当歌唱家，在老师的严格要求和训练下，加之自身十分的努力，长大

后终于实现了自己的梦想

B. 平时总爱自暴自弃的小阳，在老师和父母的鼓励辅助下，最终考取了名牌大学

C. 豫剧大师常香玉拥有一颗拳拳爱国之心，经过 180 多场义演，常香玉带领着剧社实现了捐一架飞机的意愿

D. 张亮的事业心非常强，工作中总是兢兢业业、任劳任怨

11. 家用医疗器械是指在家庭中使用的，作用于人体体表或体内的对健康起到预防、诊断、监护和缓解作用的仪器、设备或器具。根据该定义，下列家用物品中不属于家用医疗器械的是：

A. 电子血压计

B. 按摩椅

C. 便携式心电监测仪

D. 跑步机

12. 服从是个体按照社会要求、团体规范或别人的意志而作出的行为，这种行为是来自外界的影响而被迫发生的。根据该定义，以下属于服从的是：

A. 一位行人过马路，由于人行道对面有摄像头，他会等灯变绿了才通过，一旦在没有摄像头的路口，他看左右无车时就快速通过了

B. 十字路口一群人正在闯红灯，小李看大家都在闯红灯，也就尾随其后跟了过去

C. 这次外出实习，小张和小王两位同学被分到一组，其实小张一开始是不愿意的，只是老师这样安排了，他也没办法

D. 一位科长当着主任的面表示一定会听从主任的安排开展工作，但实际上他总是我行我素

13. 错觉是指人在特定的条件下对客观事物产生的某种受到歪曲的知觉。下面不属于错觉的一项是：

A. 杯弓蛇影

B. 望洋兴叹

C. 望梅止渴

D. 画饼充饥

14. 边际效用递减规律是指消费者连续消费某商品的过程中，随着消费数量提高而逐渐降低对商品评价的现象。根据该定义，下列符合边际效用递减规律的是：

A. 1 年前，因为太饿了，小方一次性吃了 5 碗饺子，导致 2 天都没消化掉，现在他看到

饺子就想吐

B. 王阿姨去菜场买菜，老板说买 1 斤不打折，买 2 斤给打 9 折，买 3 斤给打 8 折

C. 十多年前的液晶电视价格非常高，现在已经变得很便宜了

D. 由于去年大蒜头的价格非常高，许多种植户大量种植大蒜，导致今年大蒜价格猛降了不少

15. 邻近性因素通常是指时空距离因素，距离越接近，交往越容易，交往的频率就可能高，就越容易建立和发展良好的人际关系，也就越能够提高人们相互之间的喜欢程度。

根据上述定义，下列体现邻近性因素的是：

A. 君子和而不同，小人同而不和

B. 物以类聚，人以群分

C. 爱屋及鸟

D. 远亲不如近邻

16. 集中学习，指在较长的时间里不间断地反复学习。

根据上述定义，下列属于集中学习的是：

A. 语文老师给同学们一上午的时间熟读并背诵《春》这篇课文，中午放学的时候抽查背诵

B. 小许在考前一个月，每天背一篇英文作文，在考试的时候她的英文作文得分全班最高

C. 每周一、周三下午，同学们都会集中在操场上学习踢足球

D. 小李利用上班路上坐公交车的一小时时间，看完了一部电影，并且打算在下班路上再看完另外一部电影

17. 闪光融合是指当刺激不是连续作用而是断续作用的时候，随着断续频率的增加，感觉到的不再是断续的刺激，而是连续的刺激的一种景象。

根据上述定义，下列属于闪光融合的是：

A. 摄影师打开闪光灯拍照时，周围的人会感觉一闪一闪的晃眼睛

B. 电影院放映的电影是以极快的速度放映的一张张电影幻灯图片，而我们感觉这些画面是连续的

C. 坐在行驶中的公交车上，看窗外的树木时，会以为树木在移动

D. 先注视 15 毫秒的瞬时红光刺激，然后改成绿光刺激 15 毫秒，这时我们看到的不是红光和绿光，而是黄光

18. 概念的外延就是具体的，具有概念所反映的特有属性的那些事物。根据概念外延所反映的对象是否具有某种属性，可将概念分为正概念和负概念。正概念是反映对象具有某种属性的概念，也叫做肯定概念。负概念是反映对象不具有某种属性的概念，也称否定概念，通常带有否定词，但关键要看这些语词是否表达了事物不具有某种属性。

根据上述定义，下列选项中属于负概念的是：

- A. 无产阶级
- B. 亚洲
- C. 非正义战争
- D. 正式员工

19. 操作性条件反射，是一种由刺激引起的行为改变。其核心内容是：如果个体所做出的行为得到了强化和奖励，个体就会认为重复这样的行为会得到同样的强化和奖励从而重复类似行为；若行为得不到强化或奖励，行为重复的可能性就越来越小。

根据上述定义，下列行为不属于操作性条件反射的是：

- A. 婴儿偶尔叫一声“妈妈”，妈妈褒义微笑或爱抚，婴儿就会经常叫“妈妈”
- B. 小明学游泳，越学越能从中感受游泳的乐趣，很快就学会了
- C. 阳阳主动为老师擦黑板却没有得到老师的表扬，阳阳很失落
- D. 领导经常鼓励小山积极工作，小山的工作热情越来越高了

20. 俗话说：“一条船不能有两个船长。”从管理的角度看，下列解释最恰当的是：

- A. 在领导班子中如果有多个固执己见的人物最终会降低管理效率
- B. 一个组织中的人太多必然会造成内耗增加从而导致效率下降
- C. 需要集权管理的组织不能允许有多个领导核心
- D. 组织中不能允许存在两种以上的观点，否则易造成管理混乱

21. 踢猫效应，是指对弱于自己或者等级低于自己的对象发泄不满情绪而产生的连锁反应。踢猫效应描绘的是一种典型的坏情绪的传染。人的不满情绪和糟糕心情，一般会沿着等级和强弱组成的社会关系链条依次传递。根据上述定义，下列属于踢猫效应的是：

- A. 小王被上司训斥后，回家对妻子发了一通脾气，妻子随后愤怒地把孩子骂了一顿
- B. 小李拿到了硕士录取通知书，他打电话将这一消息告诉了亲人们，大家都为他感到开心
- C. 小张和小孙因为作业发生口角，两人大打出手，最后双双进了医院
- D. 小赵见小陈情绪很低落，于是就带小陈去游乐场放松心情

22. 智力激励法，又称集思广益法、头脑风暴法，是以小组讨论会形式产生创造性设想的一种集体创造方法。根据上述定义，下列属于智力激励法的是：

- A. 某明星到北京宣传其即将上映的电影，现场人山人海
- B. 受极端台风天气的影响，某地气象局每隔 1 小时就向外发布最新的监测情况
- C. 本年度公司业绩不佳，公司销售部举行部门会议，研究对策，争取扭转形势
- D. 某单位组织全体人员学习习近平总书记系列讲话

23. 不正当竞争，是指经营者以及其他有关市场参与者采取违反公平、诚实信用等公认的商业道德的手段去争取交易机会或者破坏他人的竞争优势，损害消费者和其他经营者的合法权益，扰乱社会经济秩序的行为。根据上述定义，下列不属于不正当竞争的是：

- A. 某服装厂通过私自生产某国际品牌当季衣物提高销售额
- B. 某食品加工厂为了排挤对手，散播竞争对手产品质量有严重问题的谣言
- C. 某企业近年来招聘了大量营销人才，企业产品的销量翻了一倍
- D. 某药品经销商通过给医生回扣的方式保证自己药品的销量

24. 春秋笔法是一种委婉地表达作者的倾向而不直接表明态度的写作手法，即在文章的记叙之中表现出作者的思想倾向，而不是通过议论性文辞表达出来。根据上述定义，下列运用了春秋笔法的是：

- A. 诗仙李白的洒脱超然，是因为他心中向往着不羁与潇洒的生活
- B. 天快要亮了，银钉似的星星渐渐地隐没了，弯弯的月牙也把眼睛眯得更小了
- C. 必须对不良文风下狠手、出猛招，彻底改变文山会海的问题，绝不能遮遮掩掩、视而不见
- D. 某市公安局集中曝光警务用车的交通违法行为，其中一辆监狱的警车违法次数最多，高达 14 次

25. 超限效应是指刺激过多、过强或作用时间过久，从而引起极不耐烦或逆反的心理现象。

根据上述定义，下列各项中不符合超限效应的是：

- A. 大规模密集轰炸的广告不仅起不到宣传产品的作用，反而容易引起人们的反感
- B. 最初同事们都认为小李的演唱很专业，一直听了一个多小时后，大家都觉得小李唱得也不过如此
- C. 马克·吐温听牧师演讲，开始觉得讲得很好，准备捐款。十分钟后还没有讲完，他决定只捐一些零钱。又过了十分钟还没有讲完，他决定一分钱也不捐。等到牧师结束演讲时，

他决定从盘子里偷两元钱

D. 父母对未成年子女的教育，应以劝导和鼓励为主，而不应该使用打骂和侮辱的方式

26. 知觉恒常性，是指知觉系统能在一定范围内保持对客观事物的稳定的认识，而不随知觉的条件或感觉映像模式的改变而改变。

下列属于知觉恒常性的是：

A. 5岁的明明第一次坐飞机，在空中看到地面的人小得像蚂蚁，很是奇怪“人怎么变得那么小”

B. 同样的水，由大杯子倒进了小杯子，明明觉得水变多了

C. 明明坐车的时候，看到路两旁的树也在跑，感到很疑惑

D. 妈妈今天换了一身衣服，头发也染了颜色，但明明还是一眼就认出了妈妈

27. 偷税是指纳税人故意违反税收法规，采用欺骗、隐瞒等方式逃避纳税的违法行为。

漏税是指纳税人因无意识发生的漏缴或少缴税款的违章行为。

根据上述定义，下列说法错误的是：

A. 某饭店中午由于人多，老板来不及给客人提供发票，客人就自行离开，这属于漏税行为

B. 某明星将一部电影片酬合同通过拆分合同的方式少缴纳个人所得税 618 万元，这属于偷税行为

C. 某加油站经常以发票用完为借口，不给车主开发票，这属于偷税行为

D. 某服装店老板因外出未营业，于是就未到税务局缴纳税款，这属于漏税行为

28. 回避制度：是指与刑事案件有某种利害关系或其他特殊关系的司法工作人员，包括侦查人员、检察人员、审判人员、书记员、鉴定人、翻译人员等，不能参加该案件处理工作的一项诉讼制度。

在某一案件中，下列人员可以不回避的是：

A. 当事人妈妈，法院法医鉴定员

B. 当事人哥哥，负责法院同声翻译

C. 当事人的同学，邮递员，住在法院隔壁

D. 当事人的父亲，该县检察院副检察长，党组宣传委员

29. 文饰作用，是指人们在受挫折后会想出各种理由原谅自己或为自己的失败辩解的现象。

下列选项中不属于文饰作用的是：

- A. 戈尔竞选美国总统失败后，抱怨美国司法制度不公正
- B. 小张没评上先进分子，他认为是自己与当评委的领导关系不好
- C. 小李生意失败，股票下跌，就吃安眠药自杀了
- D. 老师说漏嘴了，便解释说自己路上太匆忙，打乱了思路

30. 后喻时代，指的是在当今高科技时代的某种条件下，晚辈（或学生）由于掌握了一定的新知识新技能，给先辈(或教师)传授知识和培养能力的时代。文化反哺是后喻时代的最基本特征。根据上述定义，下列不属于后喻时代表现的是：

- A. 学校引进了全新的多媒体技术，张老师没用过，班长小华非常热心地演示了一遍，张老师就学会了
- B. 梅梅在幼儿园学会了 50 种动物的英文说法，英语专业出身的妈妈有很多都不知道，梅梅得意地教妈妈怎么读写
- C. 韦斯是一名出色的脑科医生，从医十多年了，不过最近他碰到了一个非常棘手的手术，为了保证手术成功，他邀请了大学的博士生导师前来指导
- D. 建辉去日本留学期间，学到了一种新的基因技术，学成之后，他迫不及待地回国跟身为生物学院士的爷爷分享

31. 投射效应，指在认知和对他人形成印象时，以为他人也具备与自己相似的特征的现象，即推己及人的情形。下列不属于投射效应的是：

- A. 乐善好施的人认为天底下都是一样的好人
- B. 疑心重的人，认为别人也在怀疑他
- C. 他是一个及其聪慧的人认为别人也和他一样做事聪明无误
- D. 一向成绩差的王明这次考试成绩极其优异，老师说他一定是作弊了

32. 海选，是指一种不提名候选人的直接选举。根据上述定义，下列不属于海选的是：

- A. 前进村选举村支书，采用的是自我推荐、选民投票、得票多者当选的方式
- B. 某校园文学社招聘几位干部，要求自荐，择优录用
- C. 某公司正招聘业务经理，凡本科以上学历，35-38 岁，熟悉业务的均可竞聘
- D. 某单位团代会在选举副书记时采用了五选三的方式

33. 心理测试是一种测量人的心理状态的一种技术手段，如同医生给患者量血压就可以知道患者的血压是否偏高或偏低一样，心理测试也希望达到类似的目的，因此在心理测试中，往往把某个人所得到的分数与某一参照分数相比较，以判断其所得的分数的高低，这个参照分数便是常模，常模的概念可以类推到其他测验领域。

根据上述定义，下列不属于常模的是：

- A. 某省高考数学成绩的平均分
- B. 某省公职人员的平均月工资
- C. 联合国认定的出生人口性别比例
- D. 国家法定的结婚年龄

34. 代际公平，指当代人和后代人在利用自然资源、满足自身利益、谋求生存与发展上权利均等，即当代人必须留给后代人生存和发展的必要环境资源和自然资源，是可持续发展战略的重要原则。根据上述定义，下列符合“代际公平”的是：

- A. 某风景名胜区为了吸引更多的游客，肆意开垦土地，开发新的游览区
- B. 渔民为了获取更大经济效益，在休渔期依然进行捕鱼
- C. 政府投入大量的资金治理太湖蓝藻水华引起的水污染
- D. 某企业深入调查，计划研究更有利于人民身心健康的保健药

35. 接受学习，是指人类个体经验的获得，来源于学习活动中，主体对他人经验的接受，把别人发现的经验经过其掌握、占有或吸收，转化成自己的经验。发现学习是指学习的主要内容未直接呈现给学习者，只呈现了有关线索或例证。学习者必须经历一个发现的过程，自己得出结论或找到问题的答案。

根据上述定义，下列属于发现学习的是：

- A. 张某在课堂上将老师讲的知识点全部记下，课后认真背诵
- B. 刘老师在教授“光的反射和折射”这一课程时，把学生带到了实验室让学生自己设计实验，得出相应结论
- C. 邓某喜欢打羽毛球，但一直不会杀球，后经教练指点，很快掌握了要领
- D. 蔡某酷爱诗词，唐诗百首中的诗句信手拈来

36. 冲突管理：是由冲突与管理组合而成，冲突是指人们由于某种抵触或对立状况而感知到的不一致的差异，管理者不仅要解决组织中的冲突，更要刺激功能的冲突，以促进组织目标的达成。根据上述定义，下列选项不属于冲突管理的是：

- A. 某公司营销部和技术部因产品的定位产生意见分歧，公司领导在听取技术部的意见后，采纳了他们的意见
- B. 在课题论证会上，主持人鼓励大家发言，有些专家观点针锋相对，最后主持人汇总了大家的意见后提出结论性意见
- C. 某公司的部门之间常有沟通和协作障碍，公司决定将各个部门人员分批送到拓展机

构开展团队协作训练，效果显著

D. 某公司人力资源部与战略部对公司目标的确定存在争议，公司领导要求各部联合论证方案的合理性，最终形成新的方案

37. 自媒体（外文名:We Media）又称“公民媒体”或“个人媒体”，是指私人化、平民化、普泛化、自主化的传播者，以现代化、电子化的手段，向不特定的大多数或者特定的单个人传递规范性及非规范性信息的新媒体的总称。自媒体平台包括：博客、微博、微信、百度官方贴吧、论坛等网络社区。

根据上述定义，下列属于自媒体行为的是：

- A. 某企业利用微信平台宣传自己的 APP
- B. 某市政府为了更好的便民利民，开通了市长热线
- C. 某作家为了与读者更好的互动开通了微博账号
- D. 某公司为了拓宽销售手段，研发了自己的在线购物网站

38. 突发性事件是指突然发生，造成或者可能造成严重社会危害，需要采取应急处置措施予以应对的自然灾害、事故灾难、公共卫生事件和社会安全事件。

根据上述定义，下列不属于突发性事件的是

- A. 小张家的围墙年久失修，近日连日大雨，半夜突然倒塌，使得一家人从梦中惊醒
- B. 某学校食堂出现食物中毒事件，工商、公安等部门介入调查
- C. 老刘在爬山时违规抽烟，造成了森林大火
- D. 最近在某列长途火车上发现大批乘客出现了发烧、呕吐等疑似禽流感的症状，上级命令其停靠最近车站并进行隔离检查

39. 偶遇抽样是研究在一定的时间、地点、环境中遇到或接触到的人均选入样本的方法。配额抽样是按照调查对象的某种属性，将总体中的所有个体分为若干类或层，然后在各层中按其总体中的相应比例非随机的抽取样本。整体抽样是将总体分成许多群，每个群由个体按一定方式结合而成，然后随机地抽取若干群，并由这些群中的所有个体组成样本。

下列情形中，属于配额抽样的是：

- A. 要研究退休老人的生活，可以清晨到公园去结识几位散步老人，再通过他们结识其朋友，不用很久，就可以交上一大批老年朋友
- B. 调查三百个老人每天锻炼的时间，对每个老人都进行调查
- C. 某高校有 2000 名学生，其中男生占 60%，女生占 40%；文科学生和理科学生各占 50%；一年级学生占 40%，二年级、三年级、四年级学生分别占 30%、20%和 10%。现要

依上述三个变量抽取一个规模为 100 人的样本

D. 为了调查某市的交通情况，研究者到离他们最近的公共汽车站，把当时正在那里等车的人选作调查对象

40. 技术创新是新产品或工艺从设想产生到市场应用的一个完整过程，它包括新设想的产生、研究、开发、商业化生产到推广这样一系列的活动。新设想的产生到研发活动，是技术知识产权的创造过程；商业化生产到推广，则是促进品牌知识产权的创造过程。

根据上述定义，下列属于技术创新的一项是：

A. 上世纪 90 年代，丹麦一家助听器公司推行了一种全新的组织模型：没有正式的层级和汇报关系，资源分配是围绕项目小组展开的，组织是完全开放的。这种创新取得了巨大成功

B. 钢铁公司通过引进国际先进技术，建设了一条超薄热带生产线，实现了以薄为主，以热代冷的生产方式，填补了国内空白

C. 经过研究与实践，我国某农业科学家提出果树嫁接的新技术，实现了产量翻两番的目标

D. 技术人员引进并吸收了国外发达技术，设计生产出具有自主知识产权的高速动车组，并已应用到京津、武广等线

41. 隐性广告是指将产品或品牌及其代表性的视觉性符号，甚至服务性内容策略性的融入电影、电视剧或其他电视节目及其他传播内容中（隐藏于载体并与载体融为一体），使观众在接受传播内容事物同时，不自觉地接受商品或品牌信息，继而达到广告主所期望的传播目的。根据上述定义，下列属于隐性广告的是：

A. 电视台在转载世界杯足球比赛中场休息时播放的某知名饮品的广告

B. 某电子产品生产商赞助拍摄电影，电影放映前播放该产品广告

C. 某知名运动品牌赞助奥运会某国家运动员的领奖服

D. 某电视台知名女主播穿着某品牌提供的服装参加亲戚的婚礼

42. 当所学的新知识相对于原有认知结构为上位关系，即原有知识是从属观念，而新学习的知识是总括性观念，这样的学习即为上位学习。相反，如果新知识与原有知识是下位关系，则为下位学习。而如果新知识仅仅是由原知识的相关内容合理组合构成的，不能与原有某些特定的内容构成上位关系或下位关系，那么，这时的学习就是同位学习。

依据上述定义，下列属于上位学习的是：

A. 学生先学习平行四边形再学习矩形

- B. 在学完所有的内容之后进行总复习
- C. 先学习理论知识，再进行实践技能的操作
- D. 教师为讲解某语法结构，先举了很多例句

43. 兼并，指的是一个企业收购另一个企业的行为，通常以一个企业收购另一企业股票的形式发生。主要形式包括：（1）纵向兼并，发生在两个企业处在生产过程的不同阶段的时候；（2）横向兼并，发生在两个企业处在同一个市场中的情况下；（3）混合兼并，发生在两个企业在两个没有关联的市场中各自经营的场合。

根据上述定义，下列选项正确的是：

- A. 甲果汁公司收购乙可乐公司，属于横向兼并
- B. 甲手机公司收购乙电脑公司，属于纵向兼并
- C. 甲面粉厂被乙面包厂收购，属于混合兼并
- D. 甲商品房开发公司收购乙物业管理公司，属于混合兼并

44. 不安抗辩权，是指当事人互负债务，有先后履行顺序的，先履行的一方有确切证据表明另一方丧失履行债务能力时，在对方没有履行或者没有提供担保之前，有权中止合同履行的权利。规定不安抗辩权是为了切实保护当事人的合法权益，防止借合同进行欺诈，促使对方履行义务。

根据上述定义，下列行使了不安抗辩权的是：

- A. 甲公司与乙公司签订服装加工合同，合同生效还未开始设计生产时甲公司就支付了10万元全款。后甲公司因经营不善倒闭，不再需要这批服装，遂请求解除合同
- B. 甲、乙双方签订了房屋租赁合同，合同约定双方于某日同一时间交纳租金和交付房屋。当交付期限到来时，甲发现乙方房屋仍被占用，甲遂拒绝支付租金
- C. 某公司与当红歌星甲签订演出合同，该公司应在规定日期预付演出劳务费5万元。后甲因重病住院治疗，该公司告知甲暂不支付该笔劳务费
- D. 甲、乙两公司约定由甲公司在3个月内分批向乙公司供货，乙公司在5个月内每月付款30万元。甲公司货物供应完毕后，乙公司声称甲公司货物不合格，拒绝支付余下货款

45. 蒸发冷却是指液体在蒸发成气体的过程中会吸热，从而降低周围的温度起到冷却的效果。蒸发冷却效应是指在目的或志趣相同的人们组成的社会团体中，团体的价值跟液体的整体温度类似，当价值较高的成员离开社团后，社团自身的平均价值会降低。

根据上述定义，下列属于蒸发冷却效应的是：

- A. 某高校的街舞社团的团长毕业离开学校后，该社团便再没有在街舞比赛中取得较好

的名次

B. 某知名流行音乐演唱组合中的一名歌手因意外去世，大批歌迷认为这个歌手的离开导致该组合整体演唱水平大打折扣

C. 某教育机构的一些老师离开该机构创办自己的教育公司，使该机构在市场竞争的形势变得更加严峻

D. 某社交网站的影评小组建立之初时人数较少，影评质量较高，后来有大量人加入这个小组上传影评，使这里整体的影评质量有所下降

46. 生态移民，亦称环境移民，是指原居住在自然保护区、生态环境严重破坏地区、生态脆弱区以及自然环境条件恶劣、基本不具备人类生存条件的地区的人口，搬离原来的居住地，在另外的地方定居并重建家园的人口迁移。

根据上述定义，下列属于生态移民的是：

A. 为了照顾孙子，爷爷奶奶离开原住地，和儿子儿媳一起生活

B. 某地区出现石质荒漠化现象，该地区村民被迁往他乡

C. 为了谋求更好的发展，某村年轻人都选择去城市打拼

D. 小李去女朋友小张所在的城市工作

47. 暴力慈善是以牺牲受赠人的尊严来获得自己满足的一种慈善暴力行为，是对“现金救穷”“高调行善”的行事方式的一种概括。

根据上述定义，下列涉及暴力慈善的是：

A. 通过媒体公开某彩票百万中奖者的领奖名单

B. 要求受捐残疾人举着现金与捐赠人合影

C. 给贫困山区儿童捐赠远远超出其需求的财物

D. 强制要求班上的每一个学生给地震受灾区捐款

48. 聚合思维是指从已知信息中产生逻辑结论，从现成资料中寻求正确答案的一种有方向、有条理的思维方式，是从不同来源、不同材料、不同层次探求出一个正确答案的思维方法。因此，聚合思维对于从众多可能性的结果中迅速做出判断，得出结论是最重要的。

依据上述定义，下列行为中属于聚合思维的是：

A. 人类失去联想，世界将会怎样？

B. 浮想联翩，夜不能寐

C. 甲>丙，甲<乙，乙>丙，乙<丁，其结果必然是丙<丁

D. 巴金的《灯》由“眼前的灯”到“回忆的灯”再到“联想的灯”，最后归结为“灯光

是不会灭的”

49. 食品污染物指不是有意加入食品中，而是在生产、制造、加工、调制、处理、填充、包装、运输和贮藏等过程中带入食品中，或是由于环境污染带入食品中的任何物质。

根据上述定义，下列属于食品污染物的是：

- A. 对肉质进行嫩化改良而使用的木瓜蛋白酶成分
- B. “三鹿奶粉”事件中“问题奶粉”含有的三聚氰胺成分
- C. 油炸食品在加工过程中由于加入增多剂而产生的铝成分
- D. 食品腌制时，使用的添加剂中含有的对人体有害的亚硝酸盐

50. 社会责任是公民、企业和各种组织对国家或社会公共利益方面应尽的责任或义务。社会责任就是行为主体对社会负有一定的责任，人是社会的动物，只有在社会中才能体现出人的真正本质。

根据上述定义，下列属于公民社会责任的是：

- A. 宪法法律规定以外的公民义务
- B. 公民应尽的非道德责任的责任
- C. 爱国守法、明礼诚信、敬业奉献
- D. 在工作单位应尽的一些岗位职责

51. 防御商标，是指较为知名的商标，所有人在该注册商标核定使用的商品（服务）或类似商品（服务）以外的其他不同类别的商品或服务上注册的若干相同商标，为防止他人在这些类别的商品或服务上注册使用相同的商标。原商标为主商标，其余为防御商标。

根据上述定义，下列属于防御商标的是：

A. 娃哈哈集团公司为防止娃哈哈商标被他人仿冒，先后注册了哈哈娃、哈娃娃、娃娃哈等商标

B. 日本电器制造商索尼公司，在服装、食品等商品上注册索尼商标

C. 上海避风塘公司先后注册了避风塘图形商标、BI FENG TANG 英文商标、避风塘图文组合商标

D. 美国柯达（KODAK）公司在照相机、胶卷和摄影器材上注册“柯达”商标后，印度一公司以柯达自行车为名称从事经营活动，并申请将“柯达”商标注册在自行车上

52. 住房反向抵押保险，又称“以房养老保险”，是一种将住房抵押与终身年金相结合的新型商业养老保险。即拥有房屋完全产权的产权人，将其房屋抵押给保险公司，继续拥有房屋居住权，并按照约定条件领取养老金直至身故；产权人身故后，保险公司获得抵押房屋处

置权，将处置所得优先用于偿付养老保险相关费用。

根据上述定义，下列属于住房反向抵押保险的是：

- A. 李某将其父母的房子抵押给银行，获得银行 200 万元贷款
- B. 甲公司将公司所有一栋写字楼抵押给乙银行，向乙银行贷款 1000 万元，甲公司向丙财产保险公司投保了房屋抵押贷款保证保险
- C. 林某将自有一套房屋抵押给某保险公司，该保险公司按保险合同约定每月向林某支付 5000 元生活费
- D. 王某向某银行贷款 150 万元，以按揭方式向开发商购买一套商品房，王某向某财产保险公司投保个人购置房屋抵押贷款保证保险

53. 股权众筹，是指企业将其持有的一定比例股份转让给投资者，投资者通过出资直接或间接（成立专项投资该公司的有限合伙企业）入股公司，分享未来收益。股权众筹通过互联网渠道融资，又被称为“私募股权互联网化”。

根据上述定义，下列不属于股权众筹的是：

- A. 某私募基金公司通过网络以股权认筹方式向公众融资从事股票投资
- B. 甲物流公司通过贷帮网将公司持有的一定比例的股份，以每股 3000 元转让给投资者
- C. 乙公司通过爱合投网站将公司电玩项目的 20% 股份转让给投资者，最低认购金额以 3 万元为起点
- D. 丙与丁以股东身份各自出资 500 万元设立某网络公司

54. 展望理论，是指人在不确定条件下的决策选择，取决于结果与展望（预期、设想）的差距而非单一的结果本身。人在面临获利时，不愿冒风险，而在面临损失时，人人都成了冒险家。

根据上述定义，下列符合展望理论的定义的是：

- A. 股市红火，甲将银行存款全部取出用于炒股以获取高额回报
- B. 乙通过债基定投的方式获取稳定的投资收益
- C. 公司产品严重滞销，丙孤注一掷，将公司所有资金投入新产品研发
- D. 得陇望蜀

55. 格式塔疗法，是自己对自己疾病觉察、体会和醒悟的一种修心养性的自我治疗方法。这种疗法主张通过增加对自己此时此地躯体状况的知觉，认识被压抑的情绪和需求，整合人格的分裂部分，从而改善不良的适应。被治疗者的基本目标是去察觉自己正体验到什么及自己做些什么，通过这种察觉达成自我了解，并得到足以修正自我的知识，从而学到如何对自

己的情感、思维和行为负责。

根据上述定义，下列不属于格式塔疗法的是：

A. 通过团体成员的沟通，分享各自内心预演各自社会角色的情境，使得被治疗者能察觉自己对他人的期望并帮助他人实现其期望

B. 要求被治疗者坐在一张椅子上扮演胜利者，然后再坐到另一张椅子上扮演失败者，并让其扮演的两方角色持续对话，使其情感外显化

C. 要求被治疗者在团体中扮演一个与自己以往风格相反的角色，从而与自己已经埋没和否认的部分接触，并学会逐渐接纳之

D. 要求被治疗者回忆梦境里的每个人、事、物及心情，然后将自己变成梦中的每一部分，尽量去表现梦境，并引出对话，发现人格的缺失

56. 角色冲突（Role Conflict）是当一个人扮演一个角色或同时扮演几个不同的角色时，由于不能胜任，造成不合时宜而产生的矛盾和冲突。

根据上述定义，下列不属于角色冲突的是：

A. 刘某毕业上班后，学生气十足的他一时难以适应公司层级分明的岗位工作

B. 王某是一名公务员，父母希望其利用工作之便，多为家人办事，可单位严禁走后门，王某感到很为难

C. 研究生李某兼职大一新生辅导员，时而忙于论文写作，时而忙于学生事务处理，难以兼顾，经常出现论文迟交或被批“办事不力”

D. 张某与丈夫离婚了，恢复单身状态，常以“明天会更好”自我安慰

57. 风险厌恶是个人面对生活中充满的风险而秉持的一种行为选择心态。个人对风险的理性反应不一定是 不惜一切代价去回避它，而是在作出决策时要考虑可能面临的风险。绝大多数人不喜欢坏事发生在自己身上，人们对坏事的厌恶往往更甚于对好事的喜欢，即人们排斥不确定性。

根据上述定义，下列不属于“风险厌恶”的是：

A. 车主为了分担驾车风险购买汽车盗抢险、车损险、第三者责任险等商业保险

B. 股市振荡，股民退出股市转而购买国债

C. 居民为了应对通货膨胀而囤积、购买实物黄金

D. 彩民为了中大奖而大量购买体育彩票

58. 社会主义的产业结构采用三次产业分类法，将产业划分为第一次、第二次、第三次产业。其中第一次产业指用自然界本来就存在着的劳动对象进行生产的初级产品的生产部门；

第二次产业是指对初级产品进一步加工的生产部门；第三次产业是指不生产物质产品而只提供服务的部门。

根据上述定义，下列选项属于第一次产业的是：

- A. 某水产养殖户购入 10 万尾鱼苗开展网箱养殖
- B. 某鞋业公司买入 5000 吨塑料颗粒用于塑胶运动鞋生产
- C. 投资者通过证券公司交易平台从事股票、债券交易
- D. 某高校为扩大国际生招生规模，招收多名外国留学生

59. 犯罪中止，是指在犯罪的实施过程中，犯罪分子自动放弃犯罪或者自动有效地防止犯罪结果发生的一种犯罪停止形态。相比犯罪未遂，犯罪中止的本质特征在于犯罪分子主观认识发生了变化，并在行动上有效阻止了原先犯罪行为的后果。对于犯罪构成要件已经全部具备的行为，犯罪分子的后续脊，不能认定为犯罪中止，但可以作为量刑情节予以考虑。

根据上述定义，下列情形属于犯罪中止的是：

- A. 甲某因恋人乙某移情别恋，心生报复。某日，甲某将安放有自制定时炸弹的“礼物”（三天后爆炸）送给乙某，第二天甲某因看电影回忆起两人原先的美好时光，心生不忍，便冲到乙某住处将“礼物”抢回
- B. 丙某被乙公司以连续旷日为在通知解除劳动合同后怀恨在心。某日，丙某携带工具前往实施破坏活动，到达 A 公司后发现工具落在公共汽车上，只能转身回家
- C. 丁某深夜尾随一位“长发女子”实施强奸，实施过程中发现该“长发女子”是男的，丁某对该男子大骂一声“变态”后离去
- D. 戊某欲将拐骗来的男孩（4 岁）当成自己的孩子来养，后来发现电视、广播等媒体上正在发布家属寻找该男孩的启事，深受感动，最终将该男孩偷偷送到派出所门口后溜走

60. 彼得原理是美国学者劳伦斯·彼得在对组织中人员晋升的相关现象研究后得出一个结论，即在各种组织中，由于雇主单位习惯上对在某个层级上称职的雇员予以晋升提拔，因而雇员总是趋向于晋升到其本人不称职的地位。彼得原理有时也被称为“向上爬”原理。

根据上述定义，下列现象中符合彼得原理的是：

- A. 小李工作业绩突出，被提升为区域经理后，在新的岗位上表现依然出色
- B. 小王原任生产部经理，业绩十分稳定，升任公司副总裁后，却深感力不从心
- C. 小张曾是优秀的足球运动员，退役后供职于某网络游戏公司，工作备感吃力
- D. 小林无真才实干，因家人任公司领导职务，很快从底层提升为公司高管，上任后致使公司连连遭受重大损失

第四部分 逻辑判断

1. 在目前财政拮据的情况下，在 A 市增加警力的建议不可取。在计算增加警力所需的经费开支时，光考虑到支付新增警员的工资是不够的，同时还要考虑到支付法庭和监狱新雇员的工资，由于警力的增加带来的逮捕、宣判和监管任务的增加，势必需要相关机构同时增员。以下哪项如果为真，最能削弱上述论证？

- A. 虽然财政状况比较紧张，但新增警员需要的费用在整个财政支出中的比例是很小的
- B. 增加一定的警力后，A 市的犯罪率会大大降低
- C. 去年 B 市的警力增加了 15%，逮捕个案增加了 37%，判决个案增加了 9.5%
- D. 可通过其他途径来承担一部分由于新增警力而带来的费用

2. 出于天气恶劣，同时许多原先种植大蒜的农民改种价值更高的烟草，所以过去的两年内国内的大蒜产量一直低于销售量。大蒜处于相对短缺的状态，价格也飞涨至与烟草相当。

从上文可以推知：

- A. 大蒜只有大量种植才有利可图
- B. 气候一旦回转正常，国内大蒜的产量又会回升
- C. 过去两年内国内的大蒜剩余储备减少了
- D. 过去两年内种植大蒜的农民获利之大是前所未有的

3. 有数据表明，自“酒驾”入刑以来，由于“酒驾”而导致的交通事故已经下降了 40%，因此，刑罚比思想教育在塑造人们的行为方面更有效。

以下哪项信息为真，能够最有效地反驳上述结论：

- A. 部分因“酒驾”被判刑的人员在获释后依然还有“酒驾”行为
- B. 大部分民众表示自己由于考虑到“酒驾”可能造成的严重后果而放弃了“酒驾”的行为

- C. 自“酒驾”入刑以来，因“酒驾”而导致的严重交通事故并没有明显减少
- D. 自“酒驾”入刑以来，社会各界均加大了对“酒驾”严重后果的宣传和教育力度

4. 有一项长期跟踪调查显示，坚持常年晨练的人与从不晨练的人相比，平均寿命相同。可见，晨练并不能延长寿命。

如果以下陈述为真，哪一项最有力地削弱了上述论证：

- A. 晨练能舒缓筋骨，促进血液循环

- B. 常年坚持晨练的人之前大多都患过重大疾病
- C. 早上的空气质量较差，晨练会吸入更多有害空气
- D. 有些人身体素质好，但是寿命却低于平均寿命

5. 元旦节期间，某单位举办有奖竞猜活动，有甲、乙、丙、丁、戊五位员工参与竞猜。每人将自己的谜底写在纸条上交给主持人。主持人看了五位员工的谜底之后，遗憾的说道：“只有一个人猜中了谜底。”并让五位员工猜测谁猜中了谜底。

甲说：“或者是我猜中的，或者是丙猜中的。”

乙说：“不是戊猜中的。”

丙说：“如果不是丁猜中的，那么一定是乙猜中的。”

丁说：“既不是我猜中的，也不是乙猜中的。”

戊说：“既不是丙猜中的，也不是甲猜中的。”

主持人说：“你们五个人的猜测，只有两个人的话是真的。”

根据主持人的话，可以判定以下哪项是真的？

- A. 甲猜中此谜底
- B. 乙猜中此谜底
- C. 丁猜中此谜底
- D. 戊猜中此谜底

6. 烟草业仍然是有利可图的。在中国，尽管今年吸烟者中成人人数减少，烟草生产商销售的烟草总量还是增加了。

以下哪项不能用来解释烟草销售量的增长和吸烟者中成人人数的减少：

- A. 今年中，开始吸烟的妇女数量多于戒烟的男子数量。
- B. 今年中，开始吸烟的少年数量多于同期戒烟的成人数量。
- C. 今年，非吸烟者中咀嚼烟草及嗅鼻烟的人多于戒烟者。
- D. 今年和往年相比，那些有长年吸烟史的人平均消费了更多的烟草。

7. 实践表明多媒体课件进行教学能够提高教学效果。即使课件做得过于简单，只是传统的板书的“搬家”，未能真正实现多媒体的功效，也可以起到节省时间的作用。以下哪一项陈述是上面的论证所依赖的假设？

- A. 采用多媒体课件教学比使用传统的板书教学有明显的优势
- B. 将板书的内容移入课件不会降低传统板书在教学中的功效
- C. 有些教师使用的课件过于简单，不能真正发挥多媒体的功效

D. 用多媒体课件代替传统的板书可以节省写板书的时间

8. 有调查表明，四川人比广东人更喜欢吃辣椒，由此可推：

A. 爱吃辣椒的一定是四川人

B. 广东人不能吃辣椒

C. 四川人比广东人更适合吃辣椒

D. 四川人和广东人一样适合吃辣椒

9. 某珠宝店失窃，甲、乙、丙、丁四人涉嫌被拘审。四人的口供如下：

甲：案犯是丙。

乙：丁是罪犯。

丙：如果我作案，那么丁是主犯。

丁：作案的不是我。

四个口供中只有一个是假的，

如果上述断定为真，那么以下哪项是真的：

A. 说假话的是甲，作案的是乙。

B. 说假话的是丁，作案的是丙和丁。

C. 说假话的是乙，作案的是丙。

D. 说假话的是丙，作案的是丙。

10. 世界级的马拉松选手每天跑步都不超过 6 小时。一名选手每天跑步超过 6 小时，因此他不是一名世界级马拉松选手。

以下哪项与上文推理形式相同：

A. 跳远运动员每天早晨跑步。如果某人早晨跑步，那么他是跳远运动员

B. 如果每日只睡 4 小时，对身体不利。研究表明，最有价值的睡眠都发生在入睡后的第 5 个小时。

C. 家长和小孩做游戏时，小孩更高兴。因此，家长应该多作游戏。

D. 油漆三小时内都不会干。某涂料在三小时内干了，所以它不是油漆。

11. “他是演员或是导演。”不可能推出：

A. 他既是演员，又是导演

B. 他是演员，不是导演

C. 他是导演，不是演员

D. 他既不是演员，也不是导演

12. “不健康的人都不美”等同于:

- A. 有些美的人不是健康的
- B. 有些不美的人是健康的
- C. 有些不健康的人是美的
- D. 美的人都健康

13. 甲市环保部门抽样调查表明: 2018 年上半年, 该市的河流污染情况有不断改善的趋势, 河水中重点检测污染物含量比去年少了 30%。由此可知, 今年的河流水质好于去年。

最能质疑上述结论的一项是:

- A. 该市去年关闭了几家水污染严重的企业
- B. 该市今年开展了河流污染改造工程
- C. 该市河流严重污染时段一般在下半年
- D. 该市环保部门今年购买了新的检测设备

14. 班主任: 我主张小红和小明两人中至少提拔一人当班长。

教导主任: 我不同意。

以下哪项, 最为准确地表述了教导主任实际上的意思?

- A. 小红和小明两人都不提拔
- B. 小红和小明两人都得提拔
- C. 如果提拔小红, 则不提拔小明
- D. 如果提拔小明, 则不提拔小红

15. 不少在小区居住的人都在想方设法降低住宅小区的物业管理费, 但实际上, 这种做法是欠缺考虑的。因为对于住户而言, 少交 1 元的物业管理费, 他们将要为应付物业管理质量下降而付出的费用可能达到 4 元、5 元甚至更多。

以下哪项最可能是上述论证所做的假设?

- A. 目前许多小区的物业管理费用较高, 超出了不少住户的承受能力
- B. 相对于现在的物业服务质量, 目前许多小区的物业管理费用的标准是合理的
- C. 目前许多小区的物业管理质量是合格的
- D. 物业管理公司可能以降低服务质量来应对管理费的减小

16. 小王、小张、小赵是好朋友, 他们当中一个人下海经商, 一个人考上重点大学, 一个人参军, 其中小赵的年龄比士兵的大, 大学生的年龄比小张小, 小王的年龄和大学生的年龄不一样, 谁是大学生:

- A. 小王
- B. 小赵
- C. 小张
- D. 不确定

17. 周末的时候，萌萌和她的三个好朋友乐乐、嘉嘉和欣欣在家里玩。妈妈买菜回来后发现餐桌下面有一个打碎的杯子，于是询问四个孩子是谁打碎了杯子。以下是四个孩子的回答。

萌萌：“是乐乐打碎的。”

乐乐：“是欣欣打碎的。”

嘉嘉：“不是我打碎的。”

欣欣：“乐乐在说谎。”

这四个孩子中只有一个人说了真话，由此可以推断出是（ ）打碎了杯子。

- A. 萌萌
- B. 乐乐
- C. 嘉嘉
- D. 欣欣

18. 研究显示，当气温低至零下时，心脏病的发病率会增高；而当气温上升3到4摄氏度时，心脏病的发病率会显著降低。由此可见，温度越高，心脏病的发病率越低。如果以下各项为真，最能削弱上述结论的是：

- A. 寒冷多风的天气会增加人们的紧张情绪，这会导致心脏病发作
- B. 待在室内或穿保暖的衣服会减少患心脏病的风险
- C. 一旦知道了心脏病的触发机制，就能更好地保护心脏
- D. 气温、大气压、风速、日照时间长短都会影响心脏病的发病率

19. 如果关起门来就无法碰撞出创新的火花。据此，下列选项中可以推出的是：

- A. 打开门就可以碰撞出创新的火花
- B. 要碰撞出创新的火花必须打开门
- C. 只有碰撞出创新的火花，才能打开门
- D. 除非碰撞出创新的火花，否则就得关起门

20. 高级中学所有住校生都在学校午餐，因此有些家在学校附近的学生不在学校住宿。

为使上述论证成立，以下哪项关于高级中学的断定是必须假设的：

- A. 在学校住宿的学生家都距离学校较远
- B. 在校吃午餐的学生都住校
- C. 家在学校附近的学生都不在学校吃午餐
- D. 有些家在学校附近的学生不在学校吃午餐

21. 有人说，工作的时候，我们要将重要事务放在主要位置。重要事务是必要条件，关系着一件事情成功与否。重要的事务没做好，一定不成功。但是，细节也是很重要的，细节是成功的充分条件，同样也与一件事情成功与否相关。一个成功的人是能够协调好重要事务与细节的关系的。由此可以推出：

- A. 成功并不代表着所有细节都处理好了
- B. 如果不成功则说明重要事务没有做好
- C. 成功的前提条件是既要做好重要事务，又要处理好细节
- D. 虽然处理好了细节，但没做好重要事务，也不一定成功

22. 随着越来越多“零排放”汽车走向市场，未来空气中源于汽车尾气的污染将逐渐减少，但科研人员担心另一种污染依然没有减轻的迹象，那就是汽车刹车时因摩擦而产生的金属微粒在空气中造成的污染。车辆在刹车时，因刹车片、轮胎等部位的摩擦，会产生铜、铁和锰等金属微粒，这些金属微粒会与空气中的酸性硫酸盐反应，从而更易对身体造成危害。

下列哪项如果为真，最能质疑以上观点（ ）

- A. 这些金属微粒不易溶于水，难以进入机体组织内部
- B. 汽车只有速度较快时刹车才会产生金属颗粒
- C. 汽车尾气的污染减少对人体造成的危害减小
- D. 这些金属微粒和汽车尾气都能对人体造成危害

23. 小方在计算机安全中心存储了用户名、账户密码和指纹密码三项信息。当登陆操作系统时，安全中心首先要鉴别这台计算机的指纹密码是否正确，输入的用户名是否存在，账户密码是否正确。如果三项信息均正确，则允许登陆；如果以上信息有一项不正确，那么安全中心就会拒绝这个用户从这台计算机登陆。小方输入的用户名是正确的，但是安全中心拒绝小方登陆。由此可以推出：

- A. 小方输入的账户密码和指纹密码都是错误的
- B. 如果小方的指纹密码是错误的，那么他输入的账户密码是正确的
- C. 如果小方的账户密码是正确的，那么他输入的指纹密码是错误的
- D. 只有小方输入的账户密码是正确的，他的指纹密码才是正确的

24. 研究团队对位于高纬度和低纬度国家的果蝇在升温过程中的表现进行观察分析, 结果发现, 如果果蝇未成年阶段受到升温影响, 它们成年后繁殖能力被削弱的可能性会显著增加, 即使温度仅有缓和上升, 也会影响它们的繁殖能力。研究人员还发现, 升温对果蝇繁殖能力的影响程度还与它们所在地域相关。研究人员认为, 上述结果有很高的概率也适用于其他昆虫, 这意味着高纬度国家生活的昆虫在气候变化面前更加脆弱。它们的种群数量可能会下降, 如果以下哪个选项 () 为真, 最能削弱上述结论。

- A. 生活在高纬度国家的果蝇比生活在低纬度国家的果蝇繁殖能力低
- B. 赤道附近的昆虫繁殖能力要比两极附近的昆虫繁殖能力强
- C. 生活在高纬度国家的果蝇与生活在低纬度国家的果蝇基因存在很大差异
- D. 未成年的果蝇对外界环境的变化比较敏感

25. 如果甲和乙都不吃炒面, 那么丙吃炒饭。以此为前提, 再加上条件 (), 可以推出甲吃炒面。

- A. 丙吃炒饭, 乙不吃炒面
- B. 丙不吃炒饭, 乙吃炒面
- C. 乙不吃炒面
- D. 丙不吃炒饭, 乙不吃炒面

26. 电视剧的创作, 与经济体制、文化政策、民众需求等有着直接而紧密的关联。在社会转型的不同阶段, 各种文化力量的共存与角力也激发出不同的文化景观, 社会主导思潮和核心价值发生巨大变化, 民众普遍的文化心态, 审美心理, 精神需求等也体现出不同的倾向。

由此可推知:

- A. 电视剧作品适应国家、市场等意识形态建构的需要
- B. 电视剧在当代社会发挥着巨大的价值导向作用
- C. 电视剧创作实现了对社会变迁的一种影像记录
- D. 电视剧的影响力超过了其他众多媒介艺术形式

27. 寻求带有普遍性的伦理法则是一个全球性的法理学课题。在我国, 寻求于儒学者、借助于西学者、倾心于宗教者皆引经据典。而我们认为, 解决这个问题必须着眼于宪法和法律。() 哪项为真最有可能支持以上结论。

- A. 重视精神文明建设, 是中国自古以来的一大优良传统
- B. 宪法和法律集中体现了人民的根本意志和价值观念, 具有权威性、普遍性、科学性等特点

- C. 近十年中国经济的腾飞是依赖于社会物质财富有效的积累
- D. 儒家学说既包含我国古老文化的优良传统，也有一些不适应时代的封建糟粕

28. 有学者认为：国家应当制定政策，用立法的方式规定成年子女陪伴年老父母的时间下限，这样可以减轻老年人的孤独感和寂寞感。因此，这样的法律也就能够使家庭幸福。下列哪一项为真，最能够加强上述的推论：

- A. 子女有义务供养年老父母的物质生活，这是社会对每一个公民的起码要求
- B. 大部分的成年子女平常都能够与父母经常地在一起生活
- C. 这项政策的目标是减轻老年人的孤独感和寂寞感
- D. 精神赡养缺失是家庭幸福很大的障碍

29. 2015 年发生了自 1998 以来最强的厄尔尼诺气候事件，导致明显的气候异常。2015 年四季，我国北方地区温度明显偏高，空气污染扩散条件不利，空气污染状况加重，重污染过程频发，2016 年厄尔尼诺切换为拉尼娜状况，但仍延续了气候异常状况的影响。因此：

- A. 2015、2016 两年，不利气象条件是北方地区重污染过程的主要原因之一
- B. 重污染天气还将会持续较长一段时间
- C. 单个城市采取应对措施难以达到治污控霾的效果
- D. 冬季污染越高，空气污染发生的可能性越大

30. 通过对危地马拉寺的横梁进行再分析，1960 年曾对其进行首次放射性碳测定，科学家认为他显示了玛雅文明在一千年前坍塌，因为他们无法很好的适应气候变化。由此，科学家认为玛雅文明毁灭的真正原因是气候的变化。

下面哪句话最不利于上述论断？

- A. 玛雅文明长时间处于雨季
- B. 危地马拉寺不能代表整个玛雅文明
- C. 除了碳元素法以外，科学家没有采用其他研究方法进行佐证
- D. 历史上记载的气候变化所用的历法时间与现在的历法时间无法匹配

31. 已知，所有的社区工作者都是年轻人，一些年轻人是女性，因此可以推出：

- A. 没有一个女性是社区工作者
- B. 一些女性是社区工作者
- C. 一些女性不是社区工作者
- D. 以上结论都不正确

32. 老师教导学生：“在考场上，没有自信一定会输。”

以下哪项与老师的话的意思最为接近了：

- A. 只有赢了，才可能更加自信
- B. 在考场上，如果自信，一定会赢
- C. 在考场上，只有自信，才可能不输
- D. 在考场上，除非自信，否则不可能输

33. 五位大学生甲、乙、丙、丁、戊、一起去影视城观看新上映的 3D 电影，他们坐在 15 排 11、12、13、14、15 号座位。现已知

- (1) 甲与乙不是邻座
- (2) 乙的座号比丁小
- (3) 丙的座号数是双数
- (4) 甲的座号比戊大 3 号

根据上述条件，丁所在的座号是：

- A. 12 号
- B. 13 号
- C. 14 号
- D. 15 号

34. 三个大学生“十一”期间准备到“避暑山庄”游玩，他们对出行方式的态度如下：小赵要坐车，什么车都可以；小钱可以不坐车，要坐就坐公交车；小孙可以不坐车，要坐就坐出租车。如果让他们根据自己的态度，对以下意见表示自己的看法：不坐车，坐出租车。根据资料，以下哪项是不可能成立的？

- A. 有一个人同意全部意见
- B. 每个意见至多有两个人同意
- C. 小赵和小钱都同意坐公交车
- D. 小孙同意不坐车或坐出租车

35. 有专家建议，为盘活土地资源，有效保护耕地，让农民像城市人一样住进楼房是个不错的选择，这样就可以将农民现有的住房“叠起来”，从而节省大量土地资源。以下哪项如果为真，最能削弱上述专家的观点？

- A. 由于农民的生活习惯性，他们大多表示不愿意住楼房
- B. 建楼房消耗的资源与建现有的农民住房消耗的资源差不多
- C. 有农民表示，即使搬进楼房居住，他们也不会将现有的房子拆掉
- D. 农民住进楼房后远离田地，影响农业生产，会从效益上降低土地资源的利用

36. 不是所有的过程都有结局，不是所有的努力都有结果，这句话告诉我们：

- A. 即使付出再多也不会有收获
- B. 尽管付出了，也不一定会有收获

- C. 有付出就一定有收获
- D. 有时候我们收获的比付出的更多

37. 如果有人出生于 80 年代，那么他肯定听过香港的“四大天王”，张喜乐听过四大天王，则（ ）项为最真

- A. 张喜乐一定出生于 70 年代
- B. 张喜乐可能出生在 80 年代
- C. 张喜乐可能出生于 90 年代
- D. 张乐可能出生于任何年代

38. 甲和乙今年都报考了研究生，关于他们的考试有如下四个断言：

- ①他们俩人至少有一个考上
- ②甲并不必然考上
- ③乙确实考上了；
- ④并非是甲可能没考上。

最后录取结果表明：这四个断言中有两个是真的，两个是假的。则下面哪一个结果可以从上述条件推出：

- A. 甲考上了，乙没考上
- B. 甲和乙都考上了
- C. 甲和乙都没考上
- D. 乙考上了，甲没考上

39. 妈妈将女儿心仪的衣服和两个包分别放在了三个柜子中，并且在三个柜子上分别贴了一个纸条。

第一个柜子：这里有包。

第二个柜子：衣服在第一个柜子中。

第三个柜子：柜子里有包。

其实这三张纸条上的话只有一个是真的，此时女儿想找到自己心仪的衣服，问衣服在哪个柜子当中？

- A. 衣服在第一个柜子中
- B. 衣服在第二个柜子中
- C. 衣服在第三个柜子中
- D. 三个柜子中均没有衣服

40. 唐代韩愈在《师说》中指出：“孔子曰：三人行，则必有我师。是故弟子不必不如师，师不必贤于弟子，闻道有先后，术业有专攻，如是而已。”根据上述韩愈的观点，可以得出的推论是：

- A. 有的师可能不贤于弟子
- B. 有的弟子可能不如师
- C. 有的师不可能贤于弟子
- D. 有的弟子可能不贤于师

41. 知己知彼，才能百战不殆。这句话同样适用于人际交往之中。一个人只有先了解自己，才能了解别人；任何人也只是信赖充分了解它的人，包括自己。试想如果一个人根本不了解你自己，他如何值得你信任呢？由此可以推出：

- A. 只有信赖自己，才能信赖别人
- B. 不了解自己就不会被任何人信任
- C. 他充分了解你，所以他值得你信赖
- D. 充分了解自己就可以获得许多人信赖

42. 远红外线被人体吸收后，可使生物细胞产生共振效应，可将远红外热能传递到人体皮下较深的部分，皮下深层温度上升，产生的温热由内向外散发。这种作用强度，使毛细血管扩张，促进血液循环，强化各组织之间的新陈代谢，增加组织的再生能力，提高机体的免疫能力，调节精神的异常兴奋状态。从上段文字可以推出（ ）项

- A. 远红外线可使生物细胞温度上升
- B. 远红外线能使人精神亢奋
- C. 远红外线对人体有医疗保健作用
- D. 远红外线能量较高可以治疗疾病

43. 某办公室有若干名员工，现已知：有 6 名员工是近视眼，所有近视眼员工都戴眼镜，有 4 名员工是远视眼，该办公室有 13 名员工戴眼镜，同一名员工没有同时患有近视眼和远视眼。

由此可以推出：

- A. 有一部分员工是远视眼且戴眼镜
- B. 有一部分员工是远视眼但不戴眼镜
- C. 有一部分员工不是近视眼但也不是远视眼且不戴眼镜
- D. 有一部分员工不是近视眼也不是远视眼但戴眼镜

44. 某大学的研究人员发现女性喝醉所需的酒精含量通常要比男性少 30 毫升。研究发现，在比自己平时的量多喝一杯（含 10 毫升酒精）之后，女性喝醉的可能性比男性高 13%。研究人员认为，女性的体重一般比男性低，体脂率也更高，这也意味着她们体内含水量更少，不容易将饮用的酒精稀释，所以她们的血液酒精含量也上升的很快。

如果以下各项为真，最能反驳研究人员观点的是：

- A. 有些女性喝醉所需的酒精含量比男性多
- B. 女性并不都比男性的体重低
- C. 人体解酒并不是依靠体内的水，而是酶
- D. 女性喝酒机会少，缺乏饮酒经验

45. 如果你是长时间从事耐力运动的职业运动员，需要运动饮料补充糖分和电解质。但是，如果你是普通人，只是为了强身健体或者想要减肥控制体重，运动量一般不大，就没必要喝运动饮料了，普通饮用水即可。

如果以下各项为真，最能支持上述结论的是：

- A. 运动员运动后还需要补充钾、钠等微量元素
- B. 普通饮用水更能满足人体对水分的需求
- C. 过多无法消耗的糖和电解质不利于人体健康
- D. 很多身体健康的普通人运动后不爱喝运动饮料

46. 根据人事部门的数据，某单位的女性员工多于男性员工，中共党员员工多于政治面貌为群众的员工（该单位员工政治面貌只有中共党员和群众两种情况）。下列判断一定正确的是：（ ）

- A. 政治面貌为群众的女性员工多于政治面貌为群众的男性员工
- B. 政治面貌为中共党员的男性员工多于政治面貌为中共党员的女性员工
- C. 政治面貌为中共党员的女性员工多于政治面貌为群众的男性员工
- D. 政治面貌为群众的男性员工多于政治面貌为中共党员的男性员工

47. 近来，月嫂收入成为人们讨论的热门话题。有人要求政府加强监管，并质疑月嫂的收入为何能高过一个医学博士的月薪。也有人反驳说，月嫂的收入为什么不能高过医学博士呢？月嫂收入的提高，一方面是市场调节的结果，另一方面反映了我国越来越重视体力劳动，尊重体力劳动者是社会的进步。下列哪项陈述不能支持反驳者的观点：（ ）

- A. 收入高低不完全取决于学历高低
- B. 有些月嫂非常优秀，具有博士学位

C. 随着新生儿的增多，出现“一嫂难求”的现象

D. 谁能放下身段去赚辛苦钱，谁就值得尊重

48. 科学家们把 200 名阿尔茨海默病患者分成了两组，进行跟踪调查。长期观察发现，与不吃味精的患者相比，吃味精的患者症状有所改善，食用味精的患者可以记住更多的单词，并且能更准确地说出时间。因此科学家得出结论：经常食用味精可以提高人类的记忆力。

下列选项中，最能削弱上述结论的是（ ）

A. 味精可以刺激海马体进而使人增强记忆

B. 味精曾是餐桌上必不可少的调味剂，后被证明对人体有害而淡出餐桌

C. 味精可以促进人体对锌元素的吸收，进而达到修复脑细胞的作用

D. 实验中，吃味精的患者比不吃味精的患者的饮食习惯更为健康和规律

49. 近年来，随着甲状腺癌发病率的大幅上升，“吃碘盐致甲状腺癌”的说法流传甚广。某国卫生健康部门发布的首部《居民补碘指南》中指出，目前尚无证据表明食盐加碘与甲状腺癌高发的现象关联。

以下（ ）如果为真，最有助于增强题干结论。

A. 甲状腺癌病因暂未确定

B. 近年来人们的碘盐食用量增加

C. 几十年前人们就开始食用碘盐，但那时甲状腺癌发病率很低

D. 调查发现沿海地区人群甲状腺发病率更高

50. 富营养化是一种氮、磷等植物营养物质含量过多所引起的水质污染现象，会造成藻类植物大量繁殖。已知 A 湖藻类植物迅速增加，比去年增加了一倍。由此可知，今年 A 湖水质污染比去年更严重。

如果以下说法为真，最能增强上述结论的一项是：（ ）

A. A 湖周围新建了化肥工厂

B. A 湖所在省主张退耕还林

C. A 湖所在省多云雨天气

D. A 湖有专门的生活污水处理厂

51. 某师范大学只设文科和理科，文科生多于理科生，女生多于男生。

上述断定如果为真，则下列哪项关于该大学学生的断定也一定为真？（ ）

I. 文科的女生多于文科的男生

II. 理科的男生多于文科的男生

III. 文科的女生多于理科的男生

- A. 只有I和II
- B. 只有II和III
- C. 只有III
- D. I、II和III都不一定是真的

52. 关于小明的饮食偏好，小明妈妈很头疼，与鱼类食物和蛋类食物比起来，小明更喜欢大米类食物；事实上在所有的食物中，他最喜欢肉类食物；而和蛋类食物比起来，他更不喜欢蔬菜类食物。

下列除了哪项外，其余各项都能从上述信息推出？（ ）

- A. 比起蛋类食物，小明更喜欢肉类食物
- B. 比起蔬菜类食物，小明更喜欢鱼类食物
- C. 比起大米类食物，小明更喜欢肉类食物
- D. 比起蔬菜类食物，小明更喜欢大米类食物

53. 某高校的有关负责人说：“总的来说，现在大学生的家庭困难情况比以前有了很大的改观。这种现象十分明显，因为现在课余时间要求学校安排勤工俭学工作岗位的学生越来越少了。”

上述的论断是建立在下列哪项假设的基础上？（ ）

- A. 现在大学生的家庭收入有了很大的提高
- B. 大学生把更多的时间用在学习方面，要求勤工俭学的越来越少
- C. 课余时间要求学校安排勤工俭学工作岗位是学生家庭是否困难的一个重要标志
- D. 现在学校给学生的各种奖学金不断增多，学生可以不需要勤工俭学

54. 学生上完体育课后回到教室，有 23 人喝了饮水机里的纯净水，其中 8 人很快产生了腹泻。饮水机里的水马上被送去检验，检验的结果不能肯定其中是否有造成腹泻的有害物质。因此，喝了饮水机里的纯净水不是造成腹泻的原因。（ ）

如果上述检验过程没有问题，则下列哪项对上述论证的评价最为恰当？

- A. 题干的论证有漏洞，因为它没有考虑到另一个事实：那些没有喝饮水机里的水的同学都没有腹泻
- B. 题干的论证有漏洞，因为它把缺少证据证明某种情况存在，当作有充分证据证明某种情况不存在
- C. 题干的论证有漏洞，因为它没有利用一个有力的证据：为什么有更多的人喝了饮水

机里的水却没有腹泻

D. 题干的论证有漏洞，因为它没有指出造成腹泻的真正原因

55. 某市的新法规要求那里的企业制定 5 年期的节能规划。法规要求每家企业制定一个至少能节能 30% 的详细计划。然而很清楚，法规将不会导致能耗的显著减少，因为法规并没有强制要求企业实施他们的计划。

下列哪项最能削弱上述论证？（ ）

- A. 节能改造所需要提升的设备，市场供应充足
- B. 详细计划显示，节能改造措施能降低企业成本
- C. 节能改造计划将受到社会欢迎
- D. 节能改造计划将需要政府某部门的备案

56. 这次湖人队不可能取得联赛冠军。如果湖人队夺得冠军，太阳就打西边出来了。

下列哪项在论证方式上与上述论证最相似？（ ）

- A. 人在自己的生活中不能不尊重规律，如果违背规律，就会受到规律的无情惩罚
- B. 加强税法宣传十分重要，这样做可以增强人们的纳税意识，增加国家财政收入
- C. 风水先生惯说空，指南指北指西东，倘若真有龙虎地，何不当年葬乃翁
- D. 有些近体诗是要求对仗的，因为有些近体诗是律诗，而所有的律诗都要求对仗

57. 近年来，越来越多的人参加国家司法考试，可以说，所有想从事律师职业的人都想要获得国家法律职业资格证书。小陈也想获得国家法律职业资格证书，所以，小陈一定是想从事律师职业了。

下列哪项如果为真，最能加强上述断定？（ ）

- A. 只有获得国家法律职业资格证书的人，才有资格从事律师职业
- B. 目前越来越多学习法律的人具有国家法律职业资格证书
- C. 国家司法考试号称“国考”，许多法律工作岗位把获得国家法律职业资格证书作为人才招聘的前提条件
- D. 只有想从事律师工作的人，才想获得国家法律职业资格证书

58. 前不久，山东大学对 368 名在校本科生提出成绩警告，并对其中 97 名学生作出退学处理，理由是“警告甚至多次警告，成绩依然很差”。有媒体对此提出质疑，呼吁大学的校长、老师自己先扪心自问：“我们尽职了吗？”

下列哪项如果正确，最能对于媒体的质疑进行反驳？（ ）

- A. 被劝退的学生绝大多数是因沉湎于游戏或厌学而无法完成学业

- B. 大学生作为成年人，应该为自身行为承担相应责任
- C. 中西方的成功经验均昭示，在大学入学门槛不断降低的今天，淘汰机制显得更加重要

D. 美国的兰德公司的调查报告指出，美国几乎有 50% 的本科生会从学校流失

59. 因在与苹果手机的官司中败诉，三星有八款手机在美国遭到禁售。因此有人担心三星手机在美国的销售量会大幅下滑。

下列各项说明这种担心是不必要的，除了（ ）

- A. 在美国销售的三星手机中，这八款手机只占很少的比例
- B. 这八款手机是比较老式的机型，在美国使用的人并不多
- C. 凡是在使用这几款手机的用户，手机坏了可以置换其他的类型
- D. 美国民众现在普遍表现出一种更加偏爱使用苹果手机的倾向

60. 三个男孩 K、L、M，以及三个女孩 R、S、T，举办一场舞会。他们要跳三场舞：第一、第二、第三场。每场舞由三对孩子参加，在每对孩子中要有一个男孩和一个女孩为伴，且遵循以下原则：

- (1) K 和 S 为伴，且不在第一场就在第二场；
- (2) R 在第二场为伴的人一定在第三场和 S 为伴；
- (3) 两个小孩不能结伴超过 1 场。

若 L 和 S 在第二场中为伴，则下面哪一对孩子必须在第一场中为伴？（ ）

- A. K 和 R
- B. K 和 T
- C. L 和 R
- D. L 和 T

数量关系

第一部分 数字推理

1. 2, 4, 10, 18, 28, (), 56

- A. 40
- B. 42
- C. 44

D. 46

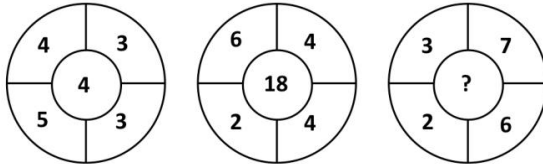
2. 1, 1, 2, 6, 24, ()

A. 86

B. 112

C. 120

D. 144



3.

A. 2

B. 8

C. 9

D. 14

4. $\frac{1}{3}, \frac{1}{7}, \frac{7}{9}, \frac{1}{31}, \frac{19}{45}, ()$

A. $\frac{11}{21}$

B. $\frac{13}{51}$

C. $\frac{63}{65}$

D. $\frac{91}{165}$

5. -3, 3, 0, (), 3, 6

A. 3

B. 4

C. 5

D. 6

6. 0.02, 3.13, 8.24, 5.35, 4.46, ()

A. 5.57

B. 5.68

C. 6.57

D. 6.68

7. 4, 30, 56, 82, ()

A. 114

B. 106

C. 112

D. 108

8. 2.7×10^2 , 4.2×10^3 , 5.7×10^5 , 7.2×10^7 , (), ()

A. 8.7×10^9

B. 8.3×10^9

C. 8.7×10^{11}

D. 8.3×10^{11}

9. 3, 5, 7, 11, 19, (), 307

A. 51

B. 37

C. 23

D. 57

10. 7, 9, 23, 41, 87, ()

A. 129

B. 137

C. 150

D. 169

11. 20.15, 29.34, 40.35, 53.58, ()

A. 64.59

B. 65.70

C. 68.63

D. 68.73

12. 0, 1, 5, 23, 119, ()

A. 719

B. 721

C. 599

D. 521

13. 134, 68, 36, 21, ()

- A. 18
- B. 14.5
- C. 12
- D. 9

14. 0, 6, 24, ()

- A. 48
- B. 60
- C. 72
- D. 96

15. 缉毒警察截获某贩毒集团的密电，密电为暗示交易地点的房间号，请根据其他数字，协助警察推导出正确的房间号：12345, 6234, 1023, (), 60。

- A. 102
- B. 402
- C. 310
- D. 231

16. ()

20	22	19	21
17	19	16	?
19	21	?	20
16	18	15	?

A.	B.	C.	D.												
<table border="1" style="margin: auto;"><tr><td>19</td></tr><tr><td>18</td></tr><tr><td>19</td></tr></table>	19	18	19	<table border="1" style="margin: auto;"><tr><td>18</td></tr><tr><td>18</td></tr><tr><td>17</td></tr></table>	18	18	17	<table border="1" style="margin: auto;"><tr><td>18</td></tr><tr><td>17</td></tr><tr><td>18</td></tr></table>	18	17	18	<table border="1" style="margin: auto;"><tr><td>19</td></tr><tr><td>17</td></tr><tr><td>17</td></tr></table>	19	17	17
19															
18															
19															
18															
18															
17															
18															
17															
18															
19															
17															
17															

17. 4, 6, 5, 7, 7, 9, 11, 13, 19, 21, (), ()

- A. 27, 29
- B. 32, 33
- C. 35, 37

D. 41, 43

18. 18, 20, 16, 24, 8, ()

A. 40

B. 36

C. 28

D. 32

19. $\sqrt{42}$, $3\sqrt{5}$, $4\sqrt{3}$, $3\sqrt{6}$, $6\sqrt{2}$, ()

A. 12

B. $2\sqrt{35}$

C. $2\sqrt{37}$

D. 144

20. 7, 8, 8, 10, 11, ()

A. 12

B. 13

C. 14

D. 16

21. 1, 2, 6, 24, 120, ()

A. 480 B. 360 C. 240 D. 720

22. 3, 4, 7, 11, 18, ()

A. 26 B. 27 C. 28 D. 29

23. 1, 4, 5, 6, 10, 15, ()

A. 16 B. 18 C. 20 D. 21

24. $1/44$, $1/37$, $1/30$, $1/23$, ()

A. $1/14$ B. $1/15$ C. $1/16$ D. $1/17$

25. 3, 2, 6, 5, 12, 8, ()

A. 12 B. 18 C. 24 D. 30

26. 13, 9, 4, 5, -1, ()

A. -6 B. -4 C. 4 D. 6

27. 4, 6, 11, 18, 30, ()

A. 46 B. 48 C. 49 D. 51

28. 10, 12, 23, 25, 36, ()

A. 38 B. 44 C. 48 D. 54

29. 5, 8, 14, 26, 50 ()

A. 76 B. 82 C. 86 D. 98

30. 2, 6, 12, (), 30, 42,

A. 18 B. 22 C. 20 D. 28

第二部分 数学运算

1. 2016年某公司校招扩大规模,招聘的本科生和研究生分别比去年校招多12%和15%,而本科生和研究生多招的人数刚好相同。则去年该公司招聘的本科生比研究生()

A. 多20%

B. 少20%

C. 多25%

D. 少25%

2. 假如每3个啤酒瓶可以换一瓶啤酒,某人买了10瓶,那么他最多可以喝()瓶

A. 11

B. 12

C. 14

D. 15

3. 张某早晨批发了1500元的苹果和葡萄,苹果每斤3.25元,葡萄每斤2.5元。到了下午全部售完后发现,苹果平均每斤盈利10%,而葡萄损耗严重,平均每斤亏损15%。两种水果共获利100元。问张某早晨批发了多少斤苹果?

A. 200

B. 80

C. 300

D. 400

4. 某新开加油站之前无库存,每个月初进货400吨汽油,每月稳定可卖出月初进货后库存量的80%,如果长期保持这种状态,该加油站的汽油库存最大量将无限接近多少吨?

A. 320

B. 400

C. 500

D. 600

5. 有一片矩形空地，已知一条边长为 20 米，另一边长为整数米。该矩形空地周长小于 100 米，面积大于 550 平方米。现需在矩形空地边界上种树，要求两棵树苗沿边界线间距大于等于 5 米（两棵树如在拐角两边，间距分别到顶点的距离相加），则最多需要准备多少棵树苗？

A. 16

B. 17

C. 18

D. 19

6. 某单位向希望工程捐款，其中部门领导每人捐 50 元。普通员工每人捐 20 元。某部门所有人员共捐款 320 元，已知该部门总人数超过 10 人，该部门可能有几名部门领导？

()

A. 1

B. 2

C. 3

D. 4

7. 一个圆形牧场面积为 3 平方公里。牧民骑马以每小时 18 公里速度围牧场外沿巡视一圈，约需要几分钟？ ()

A. 12

B. 18

C. 20

D. 24

8. 60 名员工投票从甲、乙、丙三人中评选出最佳员工，选举时每人只能投票选举一人，得票最多的人当选。开票中途累计，前 30 张选票中，甲得 15 票，乙得 10 票，丙得 5 票。

问在尚未统计的选票中，甲至少再得多少票就一定当选 ()

A. 15

B. 13

C. 10

D. 8

9. 有纯液态酒精一桶，倒出 10 升后用水灌满，再倒出混合液 5 升，再用水灌满。这时酒精浓度为 72%。则桶容量为（ ）升。

A. 60

B. 50

C. 45

D. 40

10. 甲、乙两种商品，其成本价共 100 元。如果甲、乙商品分别按 30% 和 20% 利润定价，并以定价的 90% 出售，全部售出后共获得利润 14.3 元，则甲商品的成本价是（ ）

A. 55

B. 60

C. 70

D. 48

11. 某高校艺术学院分音乐系和美术系两个系别，已知学院男生人数占总人数的 30%，且音乐系男女生人数之比为 1: 3，美术系男女生人数之比为 2: 3，问音乐系和美术系的总人数之比为多少（ ）

A. 5: 2

B. 5: 1

C. 3: 1

D. 2: 1

12. 有 6 种颜色的小球，数量分别为 4, 6, 8, 9, 11, 10，将它们放在一个盒子里，那么，拿到相同颜色的球最多需要的次数为（ ）

A. 6

B. 12

C. 11

D. 7

13. 有 135 人参加某单位的招聘，31 人有英语证书和普通话证书，37 人有英语证书和计算机证书，16 人有普通话证书和计算机证书，其中一部分人有三种证书，而一部分人则只有一种证书。该单位要求必须至少有两种上述证书的应聘者才有资格参加面试。问至少有

多少人不能参加面试（ ）

- A. 51
- B. 50
- C. 53
- D. 52

14. 女儿今年的年龄是母亲年龄的 $\frac{1}{4}$ ，40年后女儿的是母亲的 $\frac{2}{3}$ 。问当女儿年龄是母亲年龄的 $\frac{1}{2}$ 时是公元多少年（假设今年是 2013 年）（ ）

- A. 2021
- B. 2022
- C. 2026
- D. 2029

15. 某单位有职工 15 人，其中业务人员 9 人，现要从整个单位选出 3 人参加培训，要求其中业务人员的人数不以少于非业务人员的人数。问有多少种不同的选人方法（ ）

- A. 156
- B. 216
- C. 240
- D. 300

16. 2016 年 5 月 1 日是星期日，请推算 2015 年 6 月 1 日是星期几？（ ）

- A. 星期一
- B. 星期二
- C. 星期三
- D. 星期四

17. 一项工作由师傅单独做要 10 天，由徒弟单独做要 12 天，现由两人共同做，中途师傅请假 1 天，则完成需要（ ）天

- A. 6
- B. 7
- C. 8
- D. 9

18. 甲、乙二人分别同时从 A、B 两地出发相向匀速而行，两人相遇之后，甲又经过了 2 个小时到达 B 地；乙又经过 4 个半小时到达 A 地，若他们到达后都立即调头，当他们再次

相遇时，距他们第一次相遇经过了多少个小时？

- A. 5
- B. 5.5
- C. 6
- D. 6.5

19. 汽车以每小时 54 千米的速度笔直地开向峭壁，驾驶员按一声喇叭，6 秒后听到回声，已知声音的速度是每秒 340 米，问听到回声时，汽车离峭壁的距离是多少米？

- A. 975
- B. 1020
- C. 1065
- D. 1155

20. 车库中有 10 个相连的空车位，有 3 辆车开进车库并随机停在这 10 个车位上，问剩下的空位中正好只有 5 个相连空位的概率为（ ）

- A. 小于 10%
- B. 10%
- C. 20%
- D. 大于 20%

21. 小伟参加英语考试，共 50 道题，满分为 100 分，得 60 分算及格。试卷评分标准为做对一道加 2 分，做错一道倒扣 2 分，结果小伟做完了全部的试题但没及格。他发现，如果他少做错两道题就刚好及格了。问小伟做对了几道题（ ）

- A. 32
- B. 34
- C. 36
- D. 38

22. 五名工人按甲—乙—丙—丁—戊的顺序轮流值夜班，每人值班 1 天休息 4 天。某日乙值夜班，问再过 789 天该谁值班（ ）

- A. 甲
- B. 乙
- C. 丙
- D. 戊

23. 某钢铁厂生产一种特种钢材，由于原材料价格上涨，今年这种特种钢材的成本比去年上升 20%。为了推销该种钢材，钢铁厂仍然以去年的价格出售，这种钢材每吨的盈利下降 40%，不过销量比去年增加了 80%，那么今年生产该种钢材的总盈利比去年增加了多少（ ）

- A. 4%
- B. 8%
- C. 20%
- D. 54%

24. 数字 3、5 至少都出现一次的三位数有多少个（ ）

- A. 48
- B. 52
- C. 54
- D. 60

25. 在一杯清水中放入 10 克盐，然后再加入浓度为 5% 的盐水 200 克，这时配成了浓度为 2.5% 的盐水，问原来杯中有清水多少克（ ）

- A. 460 克
- B. 490 克
- C. 570 克
- D. 590 克

26. 清晨 5 点时，时钟的时针和分针的夹角是多少度（ ）

- A. 30 度
- B. 60 度
- C. 90 度
- D. 150 度

27. 有甲、乙、丙三辆公交车于上午 8:00 同时从公交总站出发，三辆车再次回到公交总站所用的时间分别为 40 分钟、25 分钟和 50 分钟，假设这三辆公交车中途不休息，请问它们下次同时到达公交总站将会是几点（ ）

- A. 11 点整
- B. 11 点 20 分
- C. 11 点 40 分

D. 12 点整

28. 某大型会议室共有 20 排座位，第一排有 12 个座位，以后每排都比前一排多 1 个座位，则该会议室共有（ ）个座位。

A. 430

B. 420

C. 410

D. 440

29. 双十一期间小王在网上买了 16 元一袋的纸巾、10 元一支的牙刷和 7 元一瓶的洗手液若干，共花了 150 元。如果他买的每一样物品数量都不同，纸巾数量最多而洗手液最少，那么他买的牙刷数量比洗手液多几个？（ ）

A. 1

B. 2

C. 3

D. 4

30. 一把钥匙只能开一把锁，现在有 4 把钥匙 4 把锁，但不知道哪把钥匙开哪把锁，最多要试多少次就能配好全部的钥匙和锁？（ ）

A. 6

B. 8

C. 7

D. 9

31. 一个饲养场饲养了不同种类的动物 144 只，任意两种动物之和不少于 20 只，且任意两种动物的数量不同，问这个饲养场最多饲养了多少种动物？（ ）

A. 7

B. 8

C. 9

D. 10

32. 今年父亲和儿子年龄的和是 50，5 年前父亲的年龄是儿子的 7 倍，5 年后父亲的年龄是儿子的几倍？（ ）

A. 2

B. 3

C. 5

D. 6

33. 一张边长为 8 米的正方形纸板，在四个角上各截去一个周长为 3 米的正方形，所剩下的部分的周长是多少米？（ ）

A. 20

B. 26

C. 32

D. 38

34. 已知甲乙两地相距 24 千米，某人骑自行车自甲地去乙地办事，去时顺风用了 80 分钟，回来逆风用了 2 小时，假设此区间风速恒定，问此人在无风时的骑行速度是多少千米/小时？（ ）

A. 12

B. 14

C. 15

D. 18

35. 在 1-100 的自然数中，既不能被 3 整除，又不能被 5 整除，也不能被 7 整除的自然数有几个？（ ）

A. 45

B. 48

C. 51

D. 52

36. 甲乙两件商品成本共 300 元，甲商品按 30% 的利润定价，乙商品按 20% 的利润定价，然后两家商品分别按定价的八折和九折促销。结果获得利润 20 元，甲商品的成本多少元？（ ）

A. 200

B. 150

C. 100

D. 80

37. 运动会会场外的大街上插了一排彩旗，从第一面开始，按照四面红旗，三面黄旗，两面绿旗，一面蓝旗的顺序周而复始的排下去，则第 206 面旗是什么颜色？（ ）

A. 红色

B. 蓝色

C. 绿色

D. 黄色

38. 从一瓶装满浓度为 75% 的医用酒精中，到出 $\frac{3}{5}$ 后，加满清水，再倒出 $\frac{2}{5}$ ，又加满清水，此时这瓶酒精的浓度是多少？（ ）

A. 12%

B. 18%

C. 27%

D. 50%

39. 规定 $a*b = 3a + b + 1$ ，如果 $3*(2*x) = 20$ ，那么 x 的值是多少？（ ）

A. 6

B. 5

C. 4

D. 3

40. 已知甲数的 12% 为 13，乙数的 13% 为 14，丙数的 14% 为 15，丁数的 15% 为 16，则甲、乙、丙、丁 4 个数中最大的数是（ ）

A. 甲

B. 乙

C. 丙

D. 丁

41. 甲乙合作完成一项工作，由于配合得好，甲的工作效率比单独做时提高 $\frac{1}{10}$ ，乙的工作效率比单独做时提高 $\frac{1}{5}$ ，甲乙合作 6 小时完成了这项工作。如果甲单独做需要 11 小时，那么乙单独做需要几小时？（ ）

A. 13

B. 16

C. 18

D. 20

42. 某代表队参加文艺会演的共 78 人，其中女生人数的 $\frac{4}{5}$ 是男生人数的 $\frac{1}{2}$ ，那么参加演出的女生人数为多少人？（ ）

A. 30

B. 33

C. 36

D. 38

43. 某班有 50 人，其中有 42 人会打乒乓球，40 人会打篮球，38 人会打排球，35 人会打羽毛球，则这个班至少有多少人这四项球类都会打？（ ）

A. 2

B. 3

C. 4

D. 5

44. 一个数的 20 倍减去 1 能被 153 整除，这样的自然数中最小的是：（ ）

A. 31

B. 29

C. 23

D. 18

45. 平面上有 99 条直线，这些直线最多有多少交点？（ ）

A. 1198

B. 2297

C. 3596

D. 4851

46. 甲乙在银行存款共 9600 元，如果两人取走各自存款的 40%，然后甲再从存款中转账 120 元给乙，这时两人存款数相等。那么甲的原存款为多少元？（ ）

A. 3500

B. 3900

C. 4200

D. 5000

47. 某单位准备在一条小路的两边栽树。已知该小路长 40 米，在路的两边每隔 4 米栽一棵树，那么小路的两边一共要栽树（ ）棵。

A. 10

B. 11

C. 20

D. 22

48. 小张因为太久没有登录某网站了，故忘记了该网站登录密码的最后两位数字，只记得其中有一位是 4，则他最多要试（ ）次才能保证把密码输入正确。

A. 16

B. 17

C. 19

D. 21

49. 甲乙二人协商共同投资，甲从乙处取了 9000 元，并以两人名义进行了 15000 元的投资，但由于决策失误，只收回 6000 元。甲由于过失在己，愿意主动承担 $\frac{2}{3}$ 的损失。问收回的投资中，乙将分得多少钱？（ ）

A. 2000 元

B. 3000 元

C. 4000 元

D. 6000 元

50. 一个立方体随意翻动，每次翻动朝上一面的颜色与翻动前都不同，那么这个立方体的颜色至少有几种？（ ）

A. 3

B. 4

C. 5

D. 6

51. 在一次猜谜游戏中，共有 80 道谜题，每题猜对可得 1.25 分，猜错要扣 1.25 分。某人连续猜完了所有谜题，最后得了 80 分，则他共猜对（ ）题。

A. 68

B. 70

C. 72

D. 74

52. 某公园招了 10 个人修围墙，修建 1000 米用了 10 天，修完后有 2 个工人因病停工，若保持工人效率不变，则剩下的工人再修建 2000 米的城墙还需要（ ）天。

A. 20

B. 25

C. 30

D. 40

53. 已知甲和乙拥有的书本数之比为 5:4，丙和丁拥有的书本数之比为 25:9，甲和丁拥有书本数之比为 10:3，若丙拥有的书本数是 50，那么甲拥有的书本数是（ ）

A. 28

B. 33

C. 42

D. 60

54. 妈妈要把 11.2 升的油分别装入 0.5 升和 0.8 升的瓶子中，已知每个瓶子全部装满共用了 17 个瓶子，那么其中 0.8 升的瓶子有（ ）个

A. 8

B. 9

C. 10

D. 11

55. 已知李明、李磊、李均、李斌四人具有血亲关系：李磊是李明的儿子，李均是李明的弟弟，李明是李斌的父亲，则李明、李磊、李均、李斌四人中年龄最大的是（ ）

A. 李明

B. 李磊

C. 李均

D. 李斌

56. 一个三位数，它的百位上的数字是个位上的数字的 3 倍，十位上的数字等于个位数字和百位上的数字之和，则这个三位数可能是（ ）

A. 175

B. 341

C. 351

D. 642

57. 小明要按顺序完成 30 道数学题，这些数学题先易后难，他每小时完成的题数是上一个小时完成题数的一半，最后他在第四小时做完了所有的题，那么他在第一小时完成了（ ）道题。

A. 20

B. 16

C. 12

D. 8

58. 陈某借了李某 3 万元，并承诺按照 5% 的月利率给予李某利息，假如陈某借了这笔钱 4 个月，那李某最终会拿到（ ）元。

A. 31000

B. 33000

C. 34000

D. 36000

59. 某部门开展技能比拼大赛，甲、乙两人一组，共加工了 170 个零件。比赛结束后经统计发现，甲加工零件个数的 $\frac{1}{3}$ 比乙加工零件个数的 $\frac{1}{4}$ 还多 10 个，则乙在比赛中加工了（ ）个零件。

A. 80

B. 85

C. 90

D. 95

60. 十年前，小明的爷爷 60 岁的时候，正好是小明当时年龄的 10 倍，小明在爸爸 25 岁的时候出生，则爸爸现在的年龄是（ ）岁。

A. 40

B. 41

C. 45

D. 48

61. 若在某连续的三个月中共有 24 天是周末，则该年第一个周日是（ ）

A. 1 月 1 日

B. 1 月 2 日

C. 1 月 3 日

D. 1 月 4 日

62. 瓶内装有酒精，倒进 500 克以后又倒出一半，又倒进 500 克，这时瓶内有酒精 1200 克，瓶内原有酒精多少克？（ ）

A. 750

B. 800

C. 850

D. 900

63. 刘女士今年 48 岁，她说：“我有两个女儿，当妹妹长到姐姐现在的年龄时，姐妹俩的年龄之和比我到那时的年龄还大 2 岁。”问姐姐今年几岁？（ ）

A. 24

B. 23

C. 25

D. 26

64. 某商场举行周年让利活动，单件商品满 300 返 180 元，满 200 返 100 元，满 100 元 40 元，如果不参加现金的活动，则商品可以打 5.5 折，小王买了价值 350 元、200 元、150 元的商品各一件，问最少需要多少钱？（ ）

A. 360

B. 352.5

C. 401.5

D. 410

65. 一周长为 100 米的长方形花园，在花园外围沿花园建一条等宽的环路，路的面积为 600 平方米，则路的宽度为（ ）米。

A. 3 或 4

B. 5

C. 8

D. 10 或 15

66. 两箱同样多的蛋黄派分别分发给两队志愿者做早餐，分给甲队每人 6 块缺 8 块，分给乙队每人 7 块剩 6 块，已知甲队比乙队多 6 人，则一箱蛋黄派有（ ）块。

A. 120

B. 160

C. 180

D. 240

67. 从六点整到八点整，手表的秒针多少次经过 12 点处？（ ）

A. 119 次

B. 122 次

C. 120 次

D. 121 次

68. 某条道路进行灯光增亮工程, 原来间隔 35 米的路灯一共有 21 盏, 现要将路灯的间隔缩短为 25 米, 那么有 () 盏路灯无需移动。

A. 2

B. 3

C. 4

D. 5

69. 水果店里有相同数量的苹果和梨子, 现要把这些苹果和梨放入若干个水果篮中, 已知每个水果篮放 6 个苹果和 4 个梨, 最后还剩下 2 个苹果和 18 个梨, 那么一共包装了 () 个水果篮。

A. 2

B. 4

C. 6

D. 8

70. 两根相同长的木炭, 燃烧完一根粗的木炭需要 2 小时, 燃烧完一根细的木炭需要 1 小时, 现同时点燃这两根木炭, 若干分钟后将两根木炭同时熄灭, 发现粗木炭的剩余长度是细木炭的剩余长度的 2 倍, 则燃烧了 () 分钟

A. 35

B. 40

C. 45

D. 50

71. 小斌和小雯一起在公园跑步, 小斌身高 1.6 米, 同一时刻, 小斌和小雯在地上形成的影子长度为 3.6 米和 3.69 米。则小雯的身高为 ()

A. 1.56 米

B. 1.59 米

C. 1.62 米

D. 1.64 米

72. 实验室在调配盐水，已知原有盐水的重量为 120g，浓度为 15%。若此时再往该盐水溶液添加 15g 食盐，充分搅拌溶解后，盐水的浓度约为（ ）

- A. 24%
- B. 26%
- C. 31%
- D. 35%

73. 某单位拟今年奖励优秀员工 243 人，将优秀员工名额分配到该单位的 6 个部门，假设财务部获得优秀员工的名额比其他部门都多，那么，财务部的优秀员工名额至少为（ ）

- A. 40
- B. 41
- C. 42
- D. 43

74. 某工厂甲、乙两台机器制作一批玩具。甲机器单独制作需要 5 小时，乙机器单独制作需要 10 小时，现两台机器一起制作，完成时甲机器比乙机器多制作了 240 个玩具。那么，这批玩具的总个数是（ ）

- A. 500
- B. 720
- C. 960
- D. 1200

75. 小崔、小李、小刘三人月工资不同。其中小崔月工资是 4000 元，小李月工资比小崔高 200 元，小刘月工资是小崔月工资和小李月工资的平均数。则小刘的月工资是（ ）元。

- A. 2000
- B. 3800
- C. 4100
- D. 4200

76. 已知一张桌子的价格是一把椅子价格的 10 倍，又知道这张桌子比这把椅子贵 288 元，那么购买一把椅子和一张桌子共多少钱（ ）

- A. 332
- B. 35

C. 300

D. 280

77. 某地苹果丰收，现用甲，乙，丙三种型号货车运输 100 吨苹果。甲型货车运送完六次，乙型号货车运送完三次。丙型号货车运送完 9 次，完成运输 51 吨。此时丙型号货车由于故障停止运输，甲型号货车又送了 5 次、乙型号又送了 2 次，完成了 25 吨苹果的运输。若此后只用乙丙两种型号货车以相同行驶速度运输，则至少还需要运输（ ）次。（每次运输的苹果为整吨数）

A. 4

B. 2

C. 3

D. 5

78. 一家人有父亲、母亲、哥哥、妹妹四人，年龄总和为 115 岁。15 年之后，父亲的年龄是妹妹年龄的两倍。一年之后，母亲的年龄是哥哥年龄的两倍，妹妹的年龄比哥哥年龄小五岁。则父亲年龄与母亲的年龄相差（ ）岁。

A. 4

B. 5

C. 6

D. 8

79. 四只鸡、五只鸭，每月可下蛋 285 枚；九只鸡，两只鸭每月可下蛋 410 枚。那么每只鸡每月可下蛋（ ）枚。

A. 30

B. 35

C. 40

D. 45

80. 一个车间，女员工比男员工少 35 人，男女各调出 17 人后，男员工是女员工的 2 倍，则原有女员工（ ）人

A. 52

B. 25

C. 35

D. 42

81. 某汽车销售公司 2015 年盈利 1500 万元，到 2017 年盈利 2160 万元，且从 2015 年到 2017 年，每年盈利的年增长率相同。则该公司 2016 年盈利（ ）万元

- A. 1650
- B. 1700
- C. 1750
- D. 1800

82. 某工厂准备各加工 600 个零件，在加工了 100 个零件后，采取了新技术，使每天的工作效率是原来的 2 倍，结果共用 7 天完成了任务，则该厂原来每天加工（ ）个零件。

- A. 45
- B. 50
- C. 55
- D. 60

83. 快、慢两列车长度分别为 160 米和 120 米，它们相向行驶在平行轨道上，若坐在慢车上的人见整列快车驶过的时间为 4 秒，则坐在快车上的人见整列慢车驶过的时间为（ ）

- A. 3 秒
- B. 4 秒
- C. 5 秒
- D. 6 秒

84. 某商店举行店庆活动，顾客消费达到一定数量后，可以在 4 件赠品中随机选取 2 件不同的赠品，任意两位顾客所选赠品中，恰有 1 件品种相同的概率是（ ）

- A. $\frac{1}{3}$
- B. $\frac{2}{3}$
- C. $\frac{1}{4}$
- D. $\frac{3}{4}$

85. 裁缝老王有三匹布料，一匹长 36 米，一匹长 54 米，一匹长 72 米，现在要将它们分割成同样长度的布料，不许剩余，则每段布料最长为（ ）米。

- A. 8
- B. 16
- C. 18
- D. 24

86. 一项工程甲单独完成需要 2 天，乙单独完成需要 4 天，如果甲单独干一天后，剩下的由乙单独完成，工程一共需要多少天？

- A. 5
- B. 6
- C. 2
- D. 3

87. 一根钢管长 100 米，可以截成长 7 米和 9 米的两种，现组合一种三角形需要 2 个 7 米，一个 9 米，有 20 根这样的钢管，最多可以组成多少个三角形（ ）

- A. 80
- B. 83
- C. 85
- D. 86

88. 一个单位有微博和微信 2 种公共媒体渠道，每 2 天发一个微博，每 3 天发一个微信公众文章，在一个自然月中，同一天发微博和微信的最多几次？（ ）

- A. 6
- B. 4
- C. 3
- D. 2

89. 某种商品的成本为 45 元每件，商店以 60 元单价售出 70% 的库存后，每件降价 10 元销售剩余库存，总共获利 96000 元，问这种商品原库存为多少件？

- A. 6000
- B. 8000
- C. 9600
- D. 10000

90. 某企业某月销售 2 台重型机械，总销售额为 1069 万元，获利 69 万，其中机械 A 和机械 B 的利润分别为成本的 6% 和 8%，问机械 B 的成本为多少万元？（ ）

- A. 400
- B. 450
- C. 500
- D. 550

91. 某单位有 2 个处室，甲处室有 12 人，乙处室有 20 人。现在将甲处室最年轻的 4 人调入乙处室，则乙处室的平均年龄增加了 1 岁，甲处室的平均年龄增加了 3 岁。问在调动之前，两个处室的平均年龄相差多少岁？

- A. 8
- B. 12
- C. 14
- D. 15

92. 一个木工加工木料，每小时需要花费 15 分钟去修理工具，他真正加工木材所用时间占劳动总时间的百分比是（ ）

- A. 90%
- B. 80%
- C. 85%
- D. 75%

93. 制造 1 个 A 零件的成本为 50 元，B 零件的单个成本低于 A 零件且也是整数元，先加工 n 个 B 零件和 n+1 个 A 零件，成本总计为 800 元，问制造 1 个 B 零件的成本为多少元？

- A. 25
- B. 28
- C. 54
- D. 57

94. 甲、乙两人每日一起晨跑，甲每天比乙多跑 200 米，每年 11 月 1 日--12 日，甲出差未晨跑，当月甲晨跑的总距离刚好是乙的 $\frac{2}{3}$ ，问 11 月乙晨跑的总距离为多少千米？

- A. 48
- B. 51
- C. 54
- D. 57

95. 一批水果销往外地，全部销售可卖 10000，选择水路运输有 12% 坏损，运费比陆路少 10%，空运运费比陆路多 1000，没有坏损，陆路运输有一定比率的坏损，坏损的只能丢弃，如果三种运输的最终收益相同，请问陆路的运输的坏损比率为多少？

- A. 5%
- B. 10%
- C. 20%
- D. 30%

96. 某大学有一批研究生参加面试，面试考生从 5 个面试题中抽取 2 个答题，无论怎么抽题，结果还是有 3 名考生的试题相同，问该大学至少有多少研究生参加面试？

- A. 14
- B. 21
- C. 31
- D. 41

97. 将 75 人分为 3 队，其中人数最多的人数是人数最少的人数的队的 2.5 倍，问人数第 2 多的队最少多少人？

- A. 19
- B. 21
- C. 25
- D. 41

98. 有一架天平，只有 5 克和 30 克砝码，要把 300 克盐分成三等分，最少称几次（ ）

- A. 6
- B. 5
- C. 4
- D. 3

99. 在某地举行的拔河比赛中，有甲、乙、丙、丁 4 支队伍参加赛程规定任意两队之间必须比赛两场，胜一场得 3 分，平一场得 1 分，负一场得 0 分，全部赛事结束后，甲队得 10 份，乙队得 8 分，丙队得 7 分，丁队得 7 分，问这次比赛出现的平局共有多少场？

- A. 3
- B. 4
- C. 5
- D. 6

100. 有三支搜救队从不同方向搜索走失的游客，A，B，C 搜救队面积分别为 220 平方千米，160 平方千米，200 平方千米，三支队共搜救了面积为 500 的区域，A 与 B，B 与 C，A 与 B 与 C 搜救重叠的面积是 A 与 C 搜救重叠面积的 5%、30%、20%，问 A 与 C 搜救重叠区域是多少平方千米？

- A. 120
- B. 100
- C. 80
- D. 70

资料分析

一、根据所给资料，回答下列问题。

某地区的全年财政收入完成 6.97 亿元，完成年度计划的 110.6%，按可比口径计算比上年增长 20.6%。其中营业税 2.89 亿元，增长 18.9%，占全区财政收入的 41.5%，拉动财政收入增长 8 个百分点；房产税 1.2 亿元，增长 32.3%，占全区财政收入的 17.2%，拉动财政收入增长 5.1 个百分点；增值税 0.75 亿元，增长 3.2%，占全区财政收入的 10.8%，拉动财政收入增长 0.4 个百分点；企业所得税 0.71 亿元，增长 15.1%，占全区财政收入的 10.2%，拉动财政收入增长 1.6 个百分点；其它科目合计 1.42 亿元，增长 29.6%，占全区财政收入的 20.3%，拉动财政收入增长 5.5 个百分点。

1. 该地区去年的增值税为多少亿元？（ ）
 - A. 0.774
 - B. 0.727
 - C. 0.726
 - D. 0.775
2. 营业税和企业所得税一共拉动财政收入增长了多少个百分点？（ ）
 - A. 9.6
 - B. 8
 - C. 13.1
 - D. 8.4
3. 房产税占全区财政收入的比例增加了多少？（ ）
 - A. 2.0%
 - B. 1.8%
 - C. 1.6%
 - D. 1.5%
4. 全年财政收入的计划是多少亿元？（ ）
 - A. 5.78
 - B. 6.03
 - C. 6.30
 - D. 6.45
5. 其他科目的财政收入增长了多少亿元？（ ）
 - A. 0.420
 - B. 0.324

C. 0.36

D. 0.402

二、根据所给资料，回答下列问题。

2011年第一季度我国建筑业产值为16096.4亿元。其中，建筑工程产值14220.0亿元，安装工程产值1405.2亿元，其他471.2亿元。华东六省一市数据如下表。

省（市）	合计	建筑工程	安装工程	其他
上海市	739.2	610.4	104.5	24.3
江苏省	1773.2	1621.2	139.4	12.6
浙江省	2381.2	2134.1	171.8	75.3
安徽省	625.7	544.9	53.1	27.7
福建省	583.9	534.3	42.7	6.9
江西省	334.2	301.9	19.3	12.4
山东	838.5	682.7	129.1	26.7

6. 2011年一季度，华东六省一市建筑业产值的平均值是（ ）

A. 1437.8亿元

B. 1367.3亿元

C. 1039.4亿元

D. 872.7亿元

7. 2011年一季度，江苏省建筑业产值占我国建筑业产值的比重是（ ）

A. 8.76%

B. 10.01%

C. 11.02%

D. 17.25%

8. 2011年一季度，华东六省一市安装工程产值高于其平均产值的省（市）有（ ）

A. 1个

B. 2个

C. 3个

D. 4个

9. 2011年一季度，华东六省一市建筑工程产值与安装工程产值之比最大的三个省（市）是（ ）

A. 浙江省、福建省、江西省

B. 江苏省、上海市、江西省

C. 福建省、安徽省、江西省

D. 浙江省、福建省、山东省

10. 下列判断不正确的有 ()

(1) 2011 年一季度, 江西省建筑业每项产值在华东六省一市中都是最低。

(2) 2011 年一季度, 江苏省建筑业产值比上海市高出 139.9%。

(3) 2011 年一季度, 华东六省一市建筑工程产值占其建筑业产值的比重均超过 80%。

A. 0 个

B. 1 个

C. 2 个

D. 3 个

三、根据所给资料, 回答下列问题。

2018 年全年全国网上零售额 90065 亿元, 比上年增长 23.9%。其中, 实物商品网上零售额 70198 亿元, 增长 25.4%。

2018 年 12 月份社会消费品零售总额及同比增速

指 标	12 月		1-12 月	
	金额 (亿 元)	增速 (%)	金额 (亿元)	增速 (%)
社会消费品零售总额	35893	8.2	380987	9.0
其中: 限额以上单位消费品零售 额	15084	2.4	145311	5.7
(一) 按经营地分				
城镇	30329	8.0	325637	8.8
乡村	5565	9.3	55350	10.1
(二) 按消费类型分				
餐饮收入	4422	9.0	42716	9.5
其中: 限额以上单位餐饮收入	909	5.5	9236	6.4
商品零售	31472	8.0	338271	8.9
其中: 限额以上单位商品零售	14175	2.2	136075	5.7
粮油、食品类	1403	11.3	13776	10.2
饮料类	187	9.2	2040	9.0
烟酒类	394	8.4	3873	7.4

指 标	12 月		1-12 月	
	金额 (亿 元)	增速 (%)	金额 (亿元)	增速 (%)
服装鞋帽、针纺织品类	1541	7.4	13707	8.0
化妆品类	247	1.9	2619	9.6
金银珠宝类	276	2.3	2758	7.4
日用品类	545	16.8	5392	13.7
家用电器和音像器材类	936	13.9	8863	8.9
中西药品类	574	10.6	5593	9.4
文化办公用品类	386	-4.0	3264	3.0
家具类	251	12.7	2250	10.1
通讯器材类	406	-0.9	4371	7.1
石油及制品类	1736	5.8	19541	13.3
汽车类	4268	-8.5	38948	-2.4
建筑及装潢材料类	280	8.6	2498	8.1

11. 2017 年 1-11 月份，限额以上单位消费品零售额的绝对量约为多少万亿元？

- A. 10.3
- B. 11.3
- C. 12.3
- D. 13.3

12. 2018 年全年限额以下单位餐饮收入同比增速为多少？

- A. 6.4%
- B. 8.0%
- C. 9.5%
- D. 10.4%

13. 2017 年 12 月份，城镇消费品零售额约是乡村消费品零售额的多少倍？

- A. 5 倍
- B. 5.5 倍

- C. 6 倍
- D. 6.5 倍

14. 2018 年全年实物商品网上零售额占社会消费品零售总额的比重约为 ()

- A. 18.4%
- B. 32.4%
- C. 58.7%
- D. 77.9%

15. 能够从上述资料中推出的是:

- A. 2018 年 12 月份, 各类商品限额以上单位零售额同比增量最多的是石油及制品类
- B. 2018 年 12 月份, 粮油、食品类限额以上单位商品零售额占限额以上单位商品零售总额的一成多
- C. 2018 年全年, 非实物类社会消费品网上零售额为 20000 多亿元
- D. 2018 年全年通讯器材类限额以上单位商品零售额同比增长接近 300 亿元

四、根据所给资料, 回答下列问题。

2017 年, 服务业增加值 427032 亿元, 占全国 GDP 比重为 51.6%; 服务业增加值比上年增长 8.0%, 比国内生产总值和第二产业增加值增速分别高出 1.1 和 1.9 个百分点, 已连续五年在三次产业中领跑; 服务业增长对国民经济增长的贡献率为 58.8%, 比第二产业高出 22.5 个百分点; 拉动全国 GDP 增长 4.0 个百分点, 比第二产业高出 1.5 个百分点。

2017 年, 第三产业新登记企业 479.4 万户, 同比增长 7.5%, 占全部新登记企业总数的 78.9%。服务业完成固定资产投资 375040 亿元, 比上年增长 9.5%, 增速高出第二产业 6.3 个百分点; 占全部固定资产投资比重达 59.4%, 比上年提高 1.3 个百分点, 高出第二产业 22.1 个百分点。2017 年 1-11 月, 我国服务业进出口总额同比增长 8.2%, 其中电信、计算机和信息服务进出口额同比增长 23.6%; 服务业实际使用外资金额同比增长 13.5%, 占外资总量比重达 72.5%, 其中高技术服务业实际使用外资同比增长 100.9%。

2017 年 1-11 月, 规模以上服务业企业实现营业利润 21618.0 亿元, 同比增长 30.4%, 比上年同期提高 28.2 个百分点; 10 个行业门类中有 9 个行业营业利润实现了两位数增长; 扣除投资收益后, 规模以上服务业企业经营性利润同比增长 41.2%。

2017 年, 我国人均出游次数达到 3.7 次, 比上年明显增加; 全国建设各类体育场地 2 万余个, 经常性参加体育锻炼的人口比例提高到 41.3%; 城市院线观影人次达到 16.2 亿, 比上年增长 18.1%; 远程医疗覆盖 1.3 万家医疗机构和所有国家级贫困县, 开展远程会诊,

远程病理、影像、心电诊断等服务超过 6000 万例次。

16. 2017 年，第二产业增加值同比增长为多少？（ ）

A. 9.1%

B. 6.9%

C. 6.1%

B. 9.9%

17. 2017 年，全国国内生产总值（GDP）是多少万亿元？（ ）

A. 81

B. 82

C. 83

B. 84

18. 2017 年 1-11 月较 2015 年 1-11 月规模以上服务业企业实现营业利润增长了多少？

（ ）

A. 28.2%

B. 30.4%

C. 33.3%

B. 37.5%

19. 2017 年，服务业增加值同比增长了多少亿元？（ ）

A. 30500

B. 31632

C. 32840

B. 33240

20. 下列判断正确的是（ ）

A. 2017 年，第三产业全部新登记企业总数为 605 万户

B. 2017 年，国内生产总值同比增速为 6.9%

C. 第二产业对国民经济增长的贡献率为 36.3 个百分点

D. 2016 年，我国城市院线观影人次为 14.7 亿人

五、根据所给资料，回答下列问题。

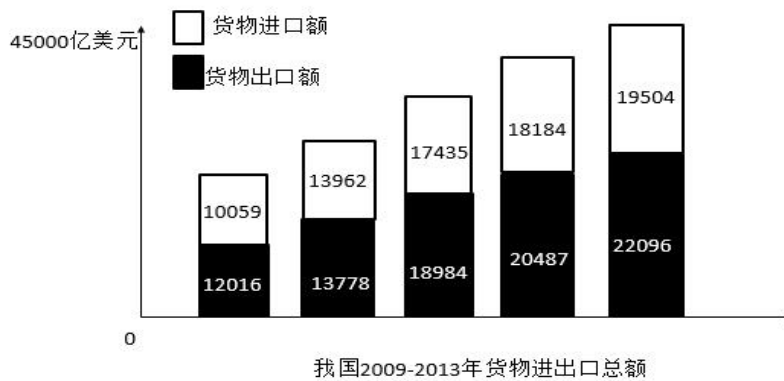


表1 我国2013年货物进出口总额及其增长速度(单位:亿美元)

指标	绝对数	比上年增长%
货物进出口总额	41600	7.6
货物出口额	22096	7.9
其中:一般贸易	10875	10.1
加工贸易	8605	-0.3
其中:机电产品	2652	7.3
高新技术产品	6603	9.8
货物进口额	19504	7.3
其中:一般贸易	11099	8.6
加工贸易	4970	3.3
其中:机电产品	8400	7.3
高新技术产品	5582	10.1
进出口差额(出口减进口)	2592	?

表2 我国2013年年对主要国家和地区货物进出口总额及其增长速度(单位:亿美元)

国家和地区	出口额	比上年增长%	进口额	比上年增长
欧盟	3390	1.1	2200	3.7
美国	3684	4.7	1525	14.8
东盟	2441	19.5	1996	1.9
中国香港	3848	19	162	-9.3
日本	1503	-0.9	1623	-8.7
韩国	912	4	1831	8.5
中国台湾	406	10.5	1566	18.5
俄罗斯	496	12.6	396	-10.2
印度	484	1.6	170	-9.6

21. 表1中的“?”为()

- A. 12.5
- B. 67.3
- C. 112.5
- D. 167.3

22. 2013年,我国对俄罗斯的进口额比2012年减少了()亿美元。

A. 10.2

B. 27.0

C. 36.7

D. 45.0

23. 根据上述资料，2013 年进出口差额最小的是（ ）

A. 一般贸易

B. 加工贸易

C. 机电产品

D. 高新技术产品

24. 根据上述资料，下列说法正确的是（ ）

A. 2012 年，一般贸易、加工贸易的出口额都大于进口额

B. 2012 年，机电产品，高新技术产品出口额都大于进口额

C. 2012 年，我国对于日本的出口额大于进口额。

D. 2012 年，我国对东盟的出口额大于进口额

25. 根据上述资料，下列说法不正确的是（ ）

A. 2009 年-2013 年，货物进口额逐年增长

B. 2009 年-2013 年，货物出口额逐年增长

C. 2009 年-2013 年，货物进出口差额逐年增长

D. 2009 年-2013 年，货物进出口总额逐年增长

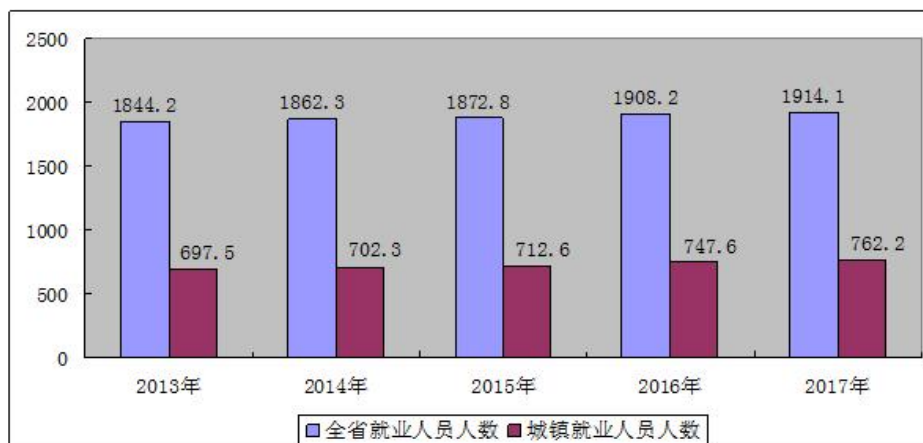
六、根据所给资料，回答下列问题。

截止 2017 年末全省就业人员 1914.1 万人，比上年末增加 5.9 万人；其中城镇就业人员 762.2 万人，比上年末增加 14.5 万人。全省就业人员中，第一产业就业人员占 35.0%；第二产业就业人员占 25.3%；第三产业就业人员占 39.7%。

2017 年全省农民工总量 517.7 万人，比上年增长 15.9 万人，其中外出农民工 182.1 万人。

图 1 近五年全省就业人员年末人数

单位：万人



全年城镇新增就业人数 51.80 万人，城镇失业人员再就业人数 17.18 万人，就业困难人员就业人数 4.76 万人。年末城镇登记失业人数为 26.53 万人，城镇登记失业率为 3.43%。全年全省共帮助 2100 户零就业家庭实现每户至少一人就业。组织 600 名高校毕业生到基层从事“三支一扶”服务。

图 2 近五年全省城镇新增就业人数

单位：万人

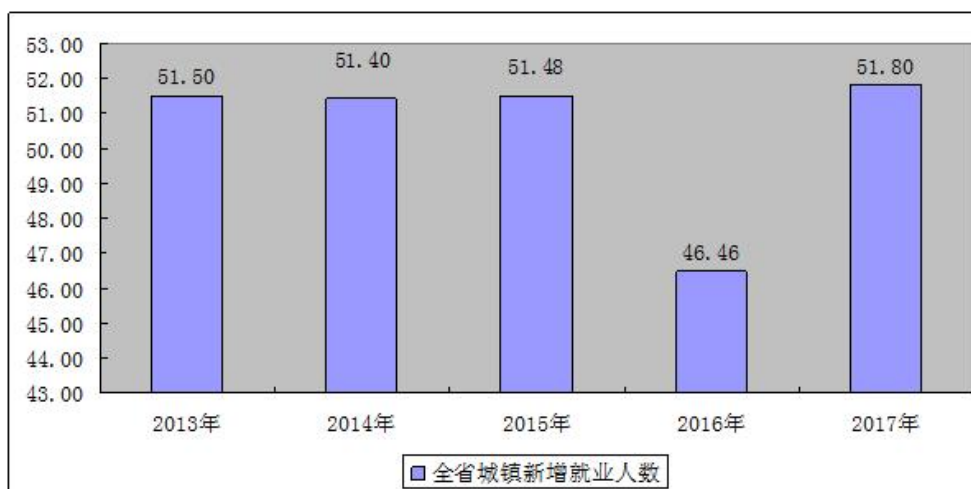


图 3 近五年城镇登记失业人数及登记失业率

单位：万人，%



截至 2017 年底，全行业共有人力资源服务机构 539 家，从业人员 5889 人，实现营业收入 38.76 亿元。2017 年，共为 12.24 万家次用人单位提供了人力资源服务，帮助 77.99 万劳动者实现了求职择业和流动服务。

26. 2017 年末，全省就业人员比上年增加（ ）万人

- A. 5.9
- B. 5.4
- C. 4.3
- D. 4.6

27. 2017 年全省在家农民工务工（ ）万人。

- A. 182.1
- B. 335.6
- C. 501.8
- D. 198

28. 2017 年末城镇登记失业率为（ ）

- A. 3.43%
- B. 3.51%
- C. 3.52%
- D. 4.11%

29. 下列说法错误的是（ ）

- A. 截至 2017 年底，全行业共有人力资源服务机构 539 家，从业人员 5998 人。

B. 2017 年，共为 12.24 万家次用人单位提供了人力资源服务，帮助 77.99 万劳动者实现了求职择业和流动服务。

C. 2017 年全年全省共帮助 2100 户零就业家庭实现每户至少一人就业。组织 600 名高校毕业生到基层从事“三支一扶”服务。

D. 全省就业人员中，第一产业就业人员占 35.0%；第二产业就业人员占 25.3%；第三产业就业人员占 39.7%。

30. 全省就业人员中，() 产业人员占比最高

- A. 第一产业
- B. 第二产业
- C. 第三产业
- D. 第四产业

七、根据所给资料，回答下列问题。

专业	2015 年		2016 年	
	毕业人数	在校人数	毕业人数	在校人数
哲学	9	54	10	66
经济学	573	3599	659	4664
法学	615	3879	800	4748
教育学	526	3745	798	4703
文学	1578	10593	1985	13683
历史学	102	534	98	556
理学	1158	7163	1315	8522
工学	3491	24912	4598	30850
农学	285	1860	363	2160
医学	626	5294	795	6566
管理学	1399	10275	1932	13817

31. 2016 年该市高校学生在校人数最多的专业是 ()

- A. 经济学
- B. 教育学

C. 文学

D. 工学

32. 107. 2015 年的毕业生中，文学专业所占的比例大概是（ ）

A. 10%

B. 12%

C. 15%

D. 18%

33. 下列说法正确的是（ ）

A. 与 2015 年相比，2016 年各专业毕业人数都有不同程度的上升

B. 2015 年在校人数较多的三个专业占当年总在校人数大半

C. 与 2015 年相比，2016 年理学专业毕业生的增长率比法学的高

D. 与 2015 年相比，2016 年文学专业在校人数的增长率比管理学的高

34. 2016 年与 2015 年相比，在校生增长率超过 25% 的专业有（ ）个

A. 3

B. 4

C. 5

D. 6

35. 与 2015 相比，2016 年毕业人数增长率最高的专业是（ ）

A. 经济学

B. 管理学

C. 教育学

D. 历史学

八、根据所给资料，回答下列问题。

国家工商总局公布的数据显示，2009 年第一季度，全国工商行政管理机关共查处各类违法违章案件 68202 件，同比下降 29.98%；其中立案查处案件 49654 件，同比下降 32.26%，案件总值 33.57 亿元，同比下降 21.26%，罚没金额 3.33 亿元，同比下降 39.49%。

从违法法规看，违反企业登记管理法规案件 9216 件，同比下降 38.54%；违反产品质量法规案件 6760 件，同比下降 27.51%；违反反不正当竞争法规案件 4944 件，同比增长 6.51%；违反商标法规案件 4119 件，同比下降 21.93%；违反广告法规案件 2141 件，同比下降 24.27%；违反消费者权益保护法规案件 1644 件，下降 13.66%；违反合同法规案件 156 件，同比下降

57.02%。

从违法主体看，在立案查处的案件中，个体工商户案件 22142 件，同比下降 22.73%；自然人案件 12472 件，同比下降 49.04%；公司案件 6521 件，同比下降 21.73%；私营企业案件 3975 件，同比下降 22.27%；集体企业案件 728 件，同比下降 45.26%。

36. 若保持同比下降率不变，预计 2010 年第一季度全国立案查处案件数将（ ）

- A. 接近 4.8 万
- B. 接近 3.4 万
- C. 接近 1.6 万
- D. 接近 2.1 万

37. 2009 年第一季度，违反产品质量法规案件减少量是违反商标法规案件减少量的几倍？（ ）

- A. 1.25
- B. 1.56
- C. 1.77
- D. 2.22

38. 2009 年第一季度，各类违法主体占立案查处案件比重的最高值与最低值相差多少？（ ）

- A. 43.13%
- B. 36.62%
- C. 31.40%
- D. 26.67%

39. 下列说法与资料相符的有几个？（ ）

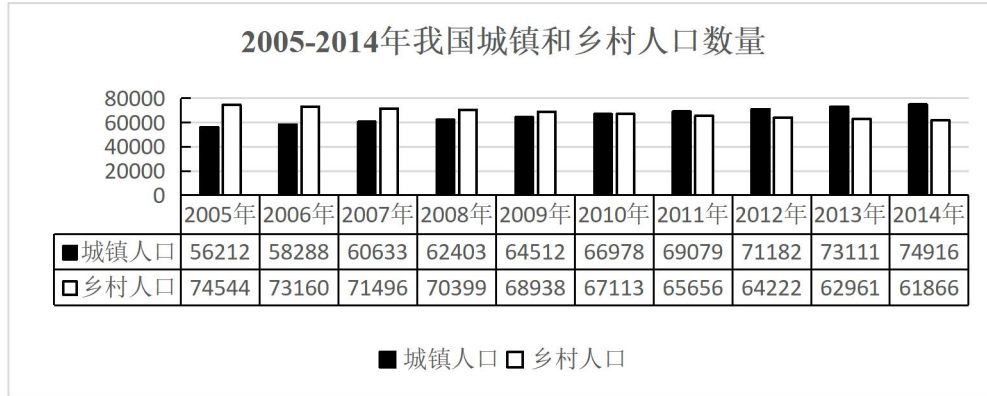
- (1) 2009 年第一季度，罚没金额同比下降率大于案件总值同比下降率
- (2) 2008 年第一季度，违反合同法规案件为 353 件
- (3) 2009 年第一季度，公司案件数大于私营企业案件与集体企业案件数之和

- A. 0
- B. 1
- C. 2
- D. 3

40. 根据上述资料，以下描述不正确的是（ ）

- A. 2009 年第一季度，自然人案件与集体企业案件同比下降均超过 40%
- B. 2009 年第一季度，违反广告法规案件占各类违法违章案件的比重为 3.14%
- C. 2009 年第一季度，违反各类法规案件与去年同期相比均有下降
- D. 2009 年第一季度，违反反不正当竞争法规案件数量大约是违反消费者权益保护法规案件数量的 3 倍

九、根据所给资料，回答下列问题。



部分国家和地区城镇化率

国家	1970年	1980年	1990年	2000年	2010年	2011年
世界	36.54	39.32	42.88	46.61	51.52	51.99
高收入国家	68.78	71.77	74.10	76.53	80.23	80.50
上中等收入国家	32.45	36.57	43.39	50.63	59.75	60.62
中等收入国家	28.82	32.66	37.88	42.92	48.99	49.58
低收入国家	14.82	18.61	21.48	24.26	27.60	28.00
美国	73.60	73.74	75.30	79.09	82.14	82.38
日本	71.88	76.18	77.34	78.65	90.54	91.14
德国	72.27	72.84	73.12	73.07	73.82	73.94
俄罗斯	62.47	69.75	73.39	73.35	73.65	73.82
巴西	55.91	65.47	73.92	81.19	84.34	84.60

印度	19.76	23.10	25.55	27.67	30.93	31.30
韩国	40.70	56.72	73.84	79.62	82.93	83.20

41. 城镇化率是指城镇人口占总人口的比重，2012年我国的城镇化率约为（ ）
- A. 47.5%
- B. 50.5%
- C. 52.5%
- D. 56.5%
42. 如所有数据均为年末数据，则“十一五”期间（2006-2010年），我国平均每年约新增（ ）人口
- A. 不到 500 万
- B. 500 多万
- C. 600 多万
- D. 700 万以上
43. 2011年，我国的城镇化率处于（ ）类国家的水平。
- A. 高收入国家
- B. 上中等收入国家
- C. 中等收入国家
- D. 低收入国家
44. 1990-2010年，下列各国中（ ）每万人中城镇人口数量增长最多。
- A. 美国
- B. 巴西
- C. 印度
- D. 韩国
45. 根据所给资料，下列表述正确的是（ ）
- A. 2010年起，我国城镇化率首次超过 50%
- B. 韩国城镇化率增量最高是在上世纪 80 年代
- C. 1970-2010年，德国的城镇化率每年均比上一年有所增长
- D. 中等收入国家 2010 年的城镇化率高于上中等收入国家 10 年前的水平
- 十、根据所给资料，回答下列问题。

2017年上半年，S市接待游客总人数1.4亿人次，实现旅游总收入2458.5亿元，同比分别增长4.9%和9.2%，增幅比2016年分别提高0.3个和0.2个百分点。旅游业发展呈现以下特点：

国内旅游市场保持稳步增长。上半年，S市接待国内游客1.3亿人次，同比增长5.2%；实现国内旅游收入2302.7亿元，同比增长10.0%。从游客构成看，外省游客8307.0万人次，本市游客5149.0万人次，同比分别增长8.2%和0.6%。从收入构成看，外省游客花费2103.2亿元，本市游客花费199.5亿元，同比分别增长10.4%和5.9%。

景区旅游持续向好。上半年，全市A级及以上旅游景区共接待游客1.5亿人次，同比增长4.2%，实现收入36.9亿元，同比增长8.6%，增幅同比提高1.8个百分点。从景区类型看，博物馆、历史文化景点、自然风景区、休闲娱乐场所是市民主要的游玩兴趣点。其中，博物馆型景区上半年共接待游客1016.3万人次，实现收入1.5亿元，同比分别增长12.7%和1.0%；历史文化观光型景区上半年共接待游客5388.3万人次，实现收入11.5亿元，同比分别增长11.3%和1.8%；自然山水型景区上半年共接待游客1257.6万人次，实现收入7.4亿元，同比分别增长5.1%和23.8%；休闲娱乐型景区上半年共接待游客1216.8万人次，实现收入3.7亿元，同比分别增长3.9%和2.0%。

住宿业稳步发展。上半年，全市限额以上住宿业单位累计接待住宿者2008.1万人次，同比增长4.2%，其中接待国内住宿者1852.4万人次，同比增长4.9%；实现营业收入213.9亿元，同比增长0.4%，其中客房收入和商品销售收入分别增长2.9%和3.4%。限额以上住宿业平均房价497.7元/间，同比上涨3.0%；平均出租率64.0%，同比提高2.8个百分点。

观光民俗旅游收益提高。上半年，观光园加大宣传力度，创新发展模式，民俗旅游发展不断规范，强化品牌建设，观光民俗旅游收入17.7亿元，同比增长4.9%。其中，观光园园均收入99.5万元，同比增长12.3%，民俗户户均收入3.7万元，同比增长3.4%。

46. 2016年，S市接待游客总人数同比增长（ ），实现旅游总收入同比增长（ ）

- A. 4.9% 9.2%
- B. 4.6% 9.0%
- C. 4.1% 8.9%
- D. 3.8% 8.7%

47. 2017年上半年，S市接待外省游客约比本市游客（ ）万人次

- A. 多 3158.0
- B. 少 3158.0

C. 多 3046.0

D. 少 3046.0

48. 下列景区中, 2017 年上半年实现收入占 S 市 A 级及以上旅游景区实现收入比例最大的是 ()

A. 博物馆型景区

B. 自然山水型景区

C. 历史文化观光型景区

D. 休闲娱乐型景区

49. 2017 年上半年, S 市接待国内住宿人次占全市限额以上住宿业单位累计接待住宿人次的比重约为 ()

A. 92%

B. 86%

C. 74%

D. 79%

50. 根据上述资料, 下列说法正确的是 ()

A. 2017 年上半年, S 市限额以上住宿业平均房价比 2016 年上半年要低

B. 2016 年上半年, S 市观光民俗旅游收入不足 15 亿元

C. 2016 年上半年, S 市限额以上住宿业平均出租率为 61.2%

D. 2017 年上半年, S 市历史文化观光型景区接待游客人次同比增幅大于博物馆型景区

十一、根据所给资料, 回答下列问题。

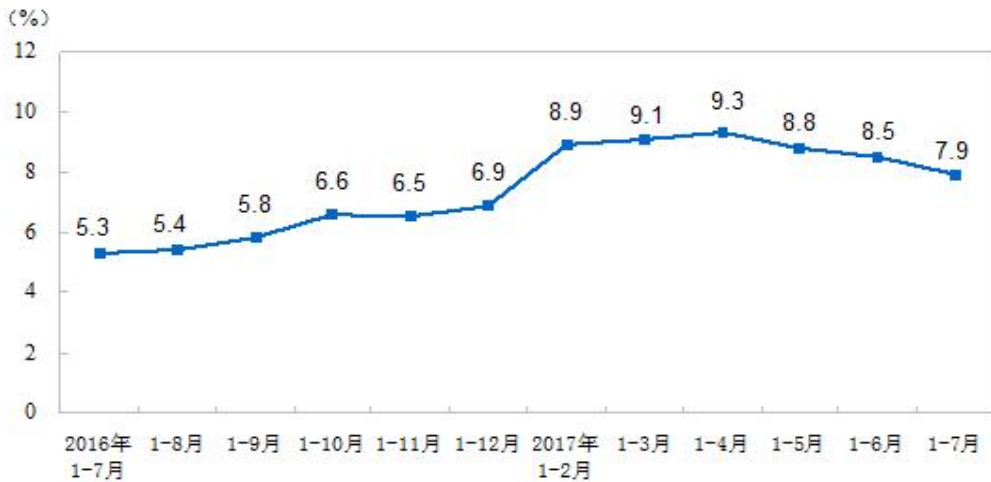
2017 年 1~7 月份, 全国房地产开发投资 59761 亿元, 同比名义增长 7.9%, 增速比 1~6 月份回落 0.6 个百分点。其中, 住宅投资 40683 亿元, 增长 10.0%, 增速回落 0.2 个百分点。住宅投资占房地产开发投资的比重为 68.1%。

1~7 月份, 东部地区房地产开发投资 32069 亿元, 同比增长 8.5%, 增速比 1~6 月份提高 0.1 个百分点; 中部地区投资 12612 亿元, 增长 13.8%, 增速回落 2.2 个百分点; 西部地区投资 12901 亿元, 增长 5.1%, 增速回落 1.7 个百分点; 东北地区投资 2179 亿元, 下降 11.3%, 降幅收窄 2.7 个百分点。

1~7 月份, 房地产开发企业房屋施工面积 707313 万平方米, 同比增长 3.2%, 增速比 1~6 月份回落 0.2 个百分点。其中, 住宅施工面积 483145 万平方米, 增长 2.8%。房屋新开工面积 100371 万平方米, 增长 8.0%, 增速回落 2.6 个百分点。其中, 住宅新开工面积 71746 万平方米, 增长 11.9%。房屋竣工面积 47021 万平方米, 增长 2.4%, 增速回落 2.6 个百分点。

其中，住宅竣工面积 33543 万平方米，下降 0.7%。

1~7 月份，房地产开发企业土地购置面积 12410 万平方米，同比增长 11.1%，增速比 1~6 月份提高 2.3 个百分点；土地成交价款 5428 亿元，增长 41.0%，增速提高 2.5 个百分点。



2016~2017 全国房地产开发投资增速

51. 2017 年 1~6 月份，全国房地产开发投资增速为：

- A. 8.5%
- B. 7.3%
- C. 7.9%
- D. 0.6%

52. 2017 年 1~7 月份，东部地区房地产开发投资占全国房地产开发投资的比重为：

- A. 21.7%
- B. 42.2%
- C. 53.7%
- D. 58.3%

53. 2016 年 1~6 月，房地产开发企业每单位面积土地的成交价约为多少平方米/元？

- A. 4374
- B. 3446
- C. 2286
- D. 5732

54. 2017 年 1~7 月全国房地产开发投资相对于 2015 年 1~7 月增长了：

- A. 7.9%
- B. 5.3%
- C. 13.2%
- D. 13.6%

55. 下列说法中正确的是：

- A. 2017 年 1~6 月，中部地区投资增长了 11.6%

B. 2017年1~7月,住宅新开工面积占房屋新开工面积的比重约为71.5%

C. 2016年1~6月,东北地区投资大约为1960亿元

D. 2017年1~7月,房屋竣工面积增长了2147万平方米

十二、根据所给资料,回答下列问题。

2017年1~6月份,全国规模以上工业企业实现利润总额36337.5亿元,同比增长22%,增速比1~5月份放缓0.7个百分点。

1~6月份,规模以上工业企业中,国有控股企业实现利润总额8054.5亿元,同比增长45.8%;集体企业实现利润总额212.8亿元,增长4.9%;股份制企业实现利润总额25658.4亿元,增长23.6%;外商及港澳台商投资企业实现利润总额8646.3亿元,增长18.9%;私营企业实现利润总额11887.5亿元,增长14.8%。

1~6月份,采矿业实现利润总额2435.9亿元,同比增长13.4倍;制造业实现利润总额32051.7亿元,增长18.5%;电力、热力、燃气及水生产和供应业实现利润总额1849.9亿元,下降28.2%。

1~6月份,在41个工业大类行业中,38个行业利润总额同比增加,3个减少。主要行业利润情况如下:煤炭开采和洗选业利润总额同比增长19.7倍,农副食品加工业增长6.6%,纺织业增长5.1%,石油加工、炼焦和核燃料加工业增长26.7%,化学原料和化学制品制造业增长33.1%,非金属矿物制品业增长25.4%,黑色金属冶炼和压延加工业增长96.4%,有色金属冶炼和压延加工业增长52.7%,通用设备制造业增长18.9%,专用设备制造业增长25.4%,汽车制造业增长11.7%,电气机械和器材制造业增长9.7%,计算机、通信和其他电子设备制造业增长17.1%,石油和天然气开采业由同期亏损转为盈利,电力、热力生产和供应业利润总额同比下降34.6%。

1~6月份,规模以上工业企业实现主营业务收入59.5万亿元,同比增长13.6%;发生主营业务成本51万亿元,增长13.6%;主营业务收入利润率为6.11%,同比提高0.42个百分点。

6月末,规模以上工业企业资产总计107.2万亿元,同比增长7.7%;负债合计60万亿元,增长6.4%;所有者权益合计47.2万亿元,增长9.5%;资产负债率为55.9%,同比下降0.8个百分点。

6月末,规模以上工业企业应收账款12.6万亿元,同比增长9.4%;产成品存货40060.8亿元,增长8.6%。

1~6月份,规模以上工业企业每百元主营业务收入中的成本为85.69元,同比减少0.02元;每百元主营业务收入中的费用为7.29元,同比减少0.35元;每百元资产实现的主营业务收入为113.4元,同比增加5.8元;人均主营业务收入为132.9万元,同比增加16.5万元;产成品存货周转天数为13.7天,同比减少0.8天;应收账款平均回收期为37天,同比减少1.1天。

6 月份，规模以上工业企业实现利润总额 7277.8 亿元，同比增长 19.1%，增速比 5 月份加快 2.4 个百分点。

56. 2016 年 1~6 月，全国规模以上工业企业实现利润总额为多少亿元：

- A. 29785
- B. 30281
- C. 39567
- D. 25736

57. 2017 年 1~6 月，规模以上工业企业中，下列增长最多的是：

- A. 国有股份制企业实现利润总额
- B. 股份制企业实现利润总额
- C. 外商及港澳台投资企业实现利润总额
- D. 私营企业实现利润总额

58. 2016 年 1~6 月，规模以上工业企业的利润率为：

- A. 61.1%
- B. 6.11%
- C. 56.9%
- D. 5.69%

59. 2017 年 1~6 月，制造业实现利润总额约是采矿业实现利润总额的多少倍：

- A. 13.2
- B. 76.1
- C. 20.7
- D. 35.2

60. 下列选项正确的是：

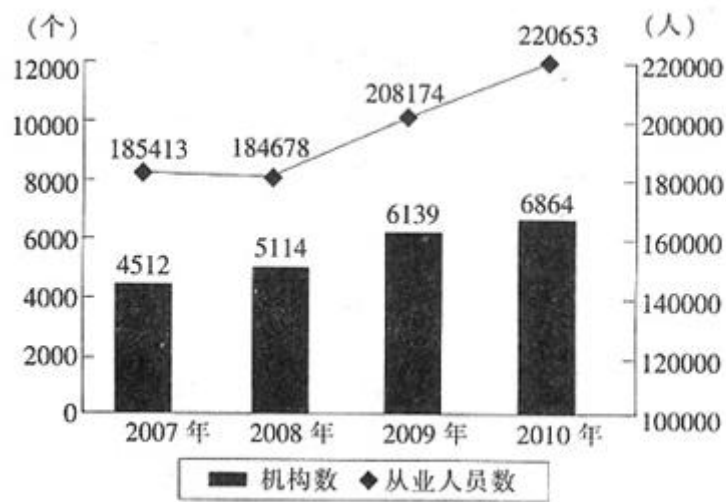
- A. 2017 年 6 月份，41 个工业大类行业中，38 个行业利润总额同比增加，3 个减少
- B. 2016 年 1~6 月份，石油和天然气开采业同期为盈利状态
- C. 2016 年 1~6 月份，平均每月的主营业务成本超过 10 万亿
- D. 2016 年 6 月末，规模以上工业企业的资产负债率为 56.7%

十三、根据所给资料，回答下列问题。

2010 年全国艺术表演团体分地区情况

地区	机构数量 (个)	演出场次 (万 场次)	观众人次 (万 人次)	演出收入 (万元)
全 国	6864	137.2	88456	342696

中 央	16	0.4	677	27388
东 部	2226	41.2	29357	187593
中 部	2980	71.8	39933	78890
西 部	1642	23.8	18489	48825



2007—2010年全国艺术表演团体机构与从业人员情况

61. 2007年我国每个艺术表演团体机构大概有从业人员（ ）名？
- A. 33
B. 38
C. 41
D. 45
62. 2010年艺术表演团体机构平均每个从业人员能创造（ ）万元的演出收入？
- A. 1.25
B. 1.55
C. 1.85
D. 2.15

63. 2010 年，每个中央艺术表演团的全年演出场次数大概是西部地区艺术表演团的（ ）倍。

- A. 0.3 倍
- B. 0.6 倍
- C. 1.7 倍
- D. 3 倍

64. 2007 到 2010 年间，全国艺术团体机构数年均增加多少个（ ）

- A. 588
- B. 626
- C. 692
- D. 784

65. 以下说法与材料相符的是：（ ）

A. 2010 年，中部艺术表演团体的演出数量占当年全国演出总场次的比重约三分之一左右

B. 2007-2010 年间，每个艺术表演团体机构的从业人员数在持续上升

C. 2010 年，西部的艺术表演团体演出每名观众带来的演出收入数额低于中部地区的数值

D. 2010 年，在中央艺术表演团体演出中每名观众带来的演出收入约是全国平均水平的大约 10 倍

十四、根据所给资料，回答下列问题。

2014 年一季度，上海市六个重点发展的工业行业共完成工业总产值 5168.47 亿元，增长 3.6%，增幅低于全市规模以上工业平均水平 0.4 个百分点。其中，汽车制造业产销两旺，共完成工业总产值 1372.12 亿元，增长 15%。一季度生产汽车 67.33 万辆，增长 15.9%。其中，排量在 1 升到 1.6 升之间(含 1.6 升)的轿车 41.57 万辆，增长 23.9%;运动型多用途乘用车 7.96 万辆，增长 44.1%。汽车制造业对全市工业增长的贡献率为 59%，拉动全市工业增长 2.4 个百分点。

表 2014 年一季度上海市六个重点发展的工业行业发展状况（单位：亿元）

行业	总产值	同比增长	销售产值	同比增长	产销率
规模以上工业合计	7719.26	4.0%	7622.27	2.1%	98.7%
六个重点发展的工业行业合计	5168.47	3.6%	5087.19	1.8%	98.4%
①电子信息产品制造业	1442.64	-4.7%	1436.44	-6.1%	99.6%
②汽车制造业	1372.12	15.0%	1347.51	14.0%	98.2%
③石油化工及精细化工制造业	943.06	-2.7%	922.47	-5.3%	97.8%
④精品钢材制造业	376.28	5.6%	375.39	4.6%	99.8%
⑤成套设备制造业	825.65	7.5%	810.25	5.7%	98.1%
⑥生物医药制造业	208.71	14.6%	195.14	5.0%	93.5%

注：产销率=（工业销售产值÷工业总产值）×100%

66. 2014年一季度，上海市规模以上工业总产值同比增量比同期销售产值同比增量约多（ ）亿元。

- A. 70
- B. 140
- C. 210
- D. 280

67. 2014年一季度，上海市六个重点发展的工业行业销售产值占总规模以上工业的比重约为（ ）

- A. 60%
- B. 67%
- C. 72%
- D. 79%

68. 上海市六个重点发展的工业行业中，2014年一季度产销率高于上年同期水平的有（ ）个。

- A. 0
- B. 2
- C. 4
- D. 6

69. 2014年一季度，上海市生产的汽车中，运动型多用途乘用车的比重比上年同期上升了约（ ）个百分点。

- A. 0.5

- B. 2
- C. 8
- D. 15

70. 关于 2014 年一季度上海市规模以上工业行业发展状况，下列表述与资料相符的是 ()

- A. 在六个重点行业中，产销率最低的行业也是产值增速最快的行业
- B. 成套设备制造业的产值增量高于精品钢材制造业
- C. 排量在 1 升以下或超过 1.6 升的汽车总产量增幅超过 2 成
- D. 汽车制造业平均每生产一辆汽车，创造的产值约为 12 万元

十五、根据所给资料，回答下列问题。

初步核算，辽宁省 2016 年全年地区生产总值 22037.88 亿元，比上年下降 2.5%，增长率比去年上升了 0.3 个百分点。其中，第一产业增加值 2173.04 亿元，下降 4.6%；第二产业增加值 8504.84 亿元，下降 7.9%；第三产业增加值 11360.00 亿元，增长 2.4%。

全年粮食作物播种面积 3231.4 千公顷，其中水稻播种面积 562.5 千公顷，玉米播种面积 2258.9 千公顷。全年经济作物播种面积 832.7 千公顷，其中油料作物播种面积 289.0 千公顷，蔬菜及食用菌播种面积 419.3 千公顷。全年果园面积 380.3 千公顷。

全年粮食总产量 2100.6 万吨，其中水稻产量 484.6 万吨，玉米产量 1465.6 万吨。全年油料产量 81.3 万吨，蔬菜及食用菌产量 2257.5 万吨。全年水果产量 802.3 万吨。

全年水产品产量（不含远洋捕捞）521.5 万吨，其中淡水产品产量 103.1 万吨，海洋捕捞 108.2 万吨，海水养殖 310.2 万吨。

全年一般公共预算收入 2199.3 亿元，比上年增长 3.4%。其中，各项税收 1687.4 亿元，增长 2.2%。在各项税收中，增值税 534.6 亿元，增长 86.8%；营业税 238.9 亿元，下降 49.3%；企业所得税 238.6 亿元，增长 1.4%；个人所得税 76.7 亿元，增长 5.9%；房产税 84.1 亿元，增长 2.1%。

71. 辽宁省 2016 年全年地区生产总值比 2014 年增长了：

- A. -2.8%
- B. -5.23%
- C. 2.2%
- D. 5.76%

72. 2015 年第二产业增加值比第一产业多多少亿元？

- A. 6331.80
- B. -6331.80
- C. 6956.53

D. -6956.53

73. 辽宁省 2016 年水稻和玉米产量占粮食总产量的比重是多少？

- A. 82.3%
- B. 92.8%
- C. 74.6%
- D. 65.2%

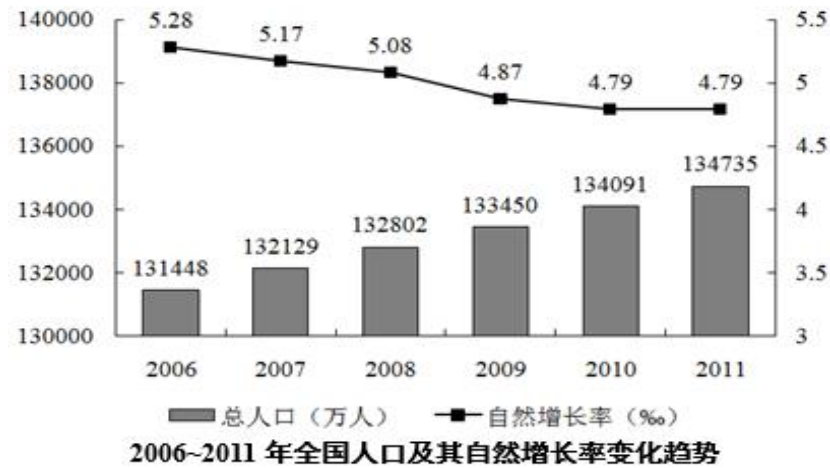
74. 2016 年个人所得税占总税收的比重与 2015 年相比：

- A. 上升了 3.7 个百分点
- B. 下降了 3.7 个百分点
- C. 上升了 0.16 个百分点
- D. 下降了 0.16 个百分点

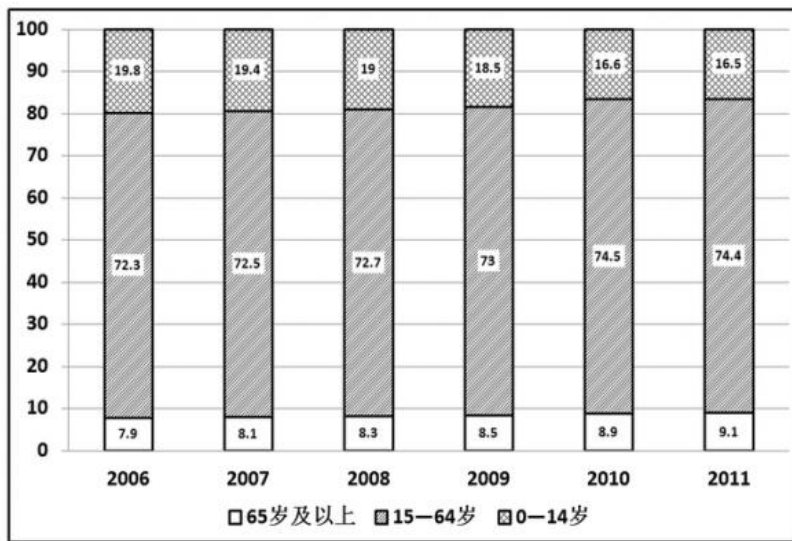
75. 根据材料，以下说法错误的是：

- A. 2016 年辽宁省主要粮食作物是玉米
- B. 2016 年全年一般公共预算收入中各项税收均有所增长
- C. 2016 年全年一般公共预算收入比 2015 年增长了约 71 亿元
- D. 2015 年房产税税收高于个人所得税

十六、根据所给资料，回答下列问题。



2006—2011年全国各年龄段人口比重变化情况（单位：%）



76. 以下哪一年的人口增长量高于上年水平？

- A. 2008 年
- B. 2009 年
- C. 2010 年
- D. 2011 年

77. 与 2006 年相比，2011 年我国的人口自然增长率下降了多少个百分点？

- A. 0.049
- B. 0.059
- C. 0.49
- D. 0.59

78. 若 2011 年末我国 15~59 岁的人口比重为 69.8%，则 60~64 岁人口约有多少万人？

- A. 4235
- B. 4934
- C. 5264
- D. 6198

79. 2011 年末我国 65 岁及以上人口约比 2010 年末多多少万人？

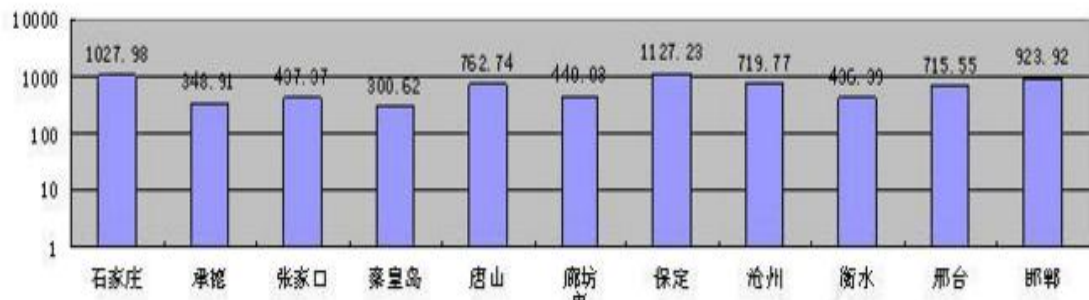
- A. 124
- B. 249
- C. 327
- D. 467

80. 能够从上述资料中推出的是 ()
- A. 2005 年我国人口总量低于 13 亿
- B. 2011 年我国人口总量比 2006 年增长了 3% 以上
- C. 我国 15~64 岁人口数同比增量最高的年份是 2011 年
- D. 2006 年到 2011 年间, 我国 0~14 岁人口比重逐年下降

十七、根据所给资料, 回答下列问题。

2015 年河北省各市人口分布图

单位: 万人



城市	公共图书馆 (个)	公共图书馆图书藏量 (千册)	医院和卫生院 (个)	医院和卫生院床位数 (张)	医生数 (人)	注册护士数 (人)
石家庄	8	3522	93	18640	12550	11079
承德	3	315	32	4470	2266	2254
张家口	2	754	40	5860	2817	2568
秦皇岛	2	605	55	6014	3642	3169
唐山	5	1235	144	17550	9309	10057
廊坊	2	1358	45	3813	2567	1953
保定	1	750	41	10385	4731	5131
沧州	1	270	14	5974	3281	3374
衡水	1	133	35	3575	2483	1623
邢台	1	365	52	6537	3387	3215
邯郸	4	615	92	12395	5759	5502

81. 2015 年, 石家庄市平均每人拥有公共图书馆图书多少册? ()
- A. 0.3426
- B. 3.426
- C. 34.26
- D. 342.6
82. 2015 年, 河北省各市的公共图书馆、注册护士、医院和卫生院数量均排在前五位的城市有几个? ()
- A. 1
- B. 2

C. 3

D. 4

83. 2015 年，公共图书馆平均图书藏量大于 50 万册的城市有几个？（ ）

A. 2

B. 5

C. 9

D. 11

84. 2015 年，河北省平均每个医院和卫生院的注册护士数量约为（ ）

A. 78 人

B. 89 人

C. 98 人

D. 148 人

85. 2015 年，河北省平均每个医院和卫生院医生数量约为（ ）

A. 64 人

B. 82 人

C. 97 人

D. 148 人

十八、根据所给资料，回答下列问题。

2017 年 4 月份，某省规模以上食品工业增加值同比增长 15.0%，比全省规模工业平均水平高 9.4 个百分点。其中，农副食品加工业增长 14.0%，食品制造业增长 18.6%，酒、饮料和精制茶制造业增长 13.9%。1—4 月，规模以上食品工业产值累计增长 11.6%，增幅比全省规模工业平均水平高 4.5 个百分点。

1—4 月，该省规模以上食品工业主要产品有 52 种，产量同比增加的有 41 种；20 种产品产量增幅超过 10%。主要产品中，果酒及配制酒同比增长 256.7%，米制半成品增长 29.3%，冷冻蔬菜增长 28.3%，水产业增长 22.5%，熟肉制品增长 20.3%，酱油增长 17.9%，成品糖增长 17.8%，在减产的产品中，汽水产量同比减少 73.1%，冷冻水产品减少 47.3%，饮料减少 6.0%。

1—3 月，规模以上食品工业主营业务收入为 1070.37 亿元，同比增长 13.8%，实现利润总额 52.66 亿元，增长 9.5%，平均用工人数 39.7 万人，增长 6.0%。资产总计 1836 亿元，增长 7.2%。

86. 2017年4月份, 该省规模工业产值平均水平同比增长: ()

- A. 5.6%
- B. 7.1%
- C. 16.1%
- D. 24.4%

87. 下列选项中, 2017年1-4月该省产量增速最快的是: ()

- A. 熟肉制品
- B. 米制半成品
- C. 冷冻蔬菜
- D. 酱油

88. 2017年1-4月, 该省规模以上食品工业主要产品品种中, 产量同比增加的品种约占:
()

- A. 38.5%
- B. 42.6%
- C. 53.7%
- D. 78.8%

89. 2017年1-4月, 该省规模以上食品工业主要产品中, 果酒及配制酒业同比增速约为水产业的 () 倍。

- A. 9.5
- B. 10.2
- C. 11.4
- D. 12.6

90. 根据上述资料, 下列说法中, 正确的有 () 个。

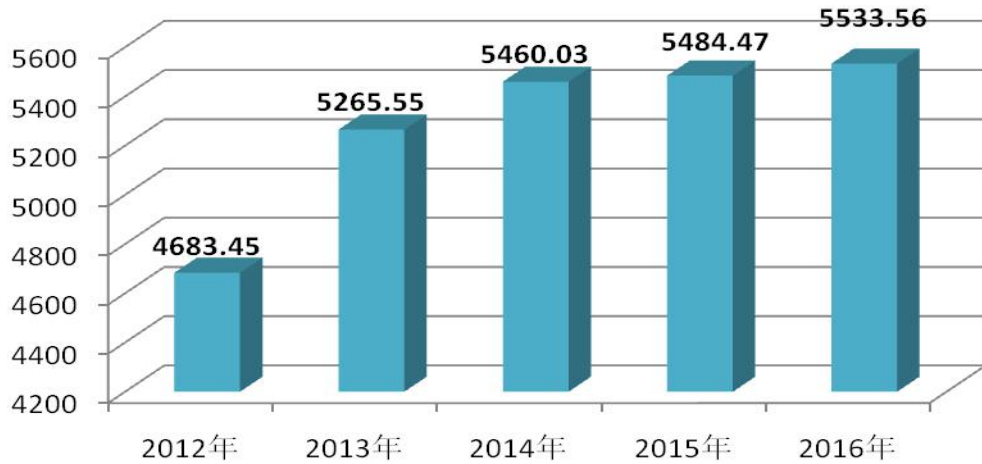
- (1) 2016年1-3月, 该省规模以上食品工业主营业务收入约为940.57亿元
- (2) 2017年1-4月, 该省规模工业产值同比累计增长7.1%
- (3) 2017年1-4月, 该省规模以上食品工业主要产品中, 冷冻水产品减产最多

- A. 0
- B. 1
- C. 2
- D. 3

十九、根据所给资料，回答下列问题。

2016年南京市固定资产投资稳中趋优。全年完成全社会固定资产投资5533.56亿元，比上年增长0.9%，增幅比上年提升0.45个百分点。其中，国有及国有经济控股投资2009.50亿元，增长4.9%；外商及港澳台投资603.61亿元，增长37.5%。

固定资产投资中，第一产业投资40.78亿元，比上年增长10.4%；第二产业投资1784.22亿元，下降14.2%，其中工业投资1761.65亿元，下降14.4%；第三产业投资3708.57亿元，增长12.0%。三次产业投资比例为0.7：32.2：67.1。



2012~2016年固定资产投资（亿元）

91. 2013~2016年固定资产投资增长量最大的是哪一年？（ ）

- A. 2013年
- B. 2014年
- C. 2015年
- D. 2016年

92. 2015年国有及国有经济控股投资比外商及港澳台投资多多少亿元？（ ）

- A. 1230
- B. 1406
- C. 1477
- D. 1831

93. 2015年第三产业投资约为第二产业的多少倍？（ ）

- A. 1.2
- B. 1.6
- C. 2.5
- D. 3.7

94. 2012~2016年全社会固定资产投资平均每年为多少亿元？（ ）

- A. 5135

- B. 5385
- C. 5415
- D. 5285

95. 根据材料，以下说法正确的是：（ ）

- A. 2015 年第二产业投资在固定资产投资中的比重低于 32%
- B. 2016 年工业投资是第一产业投资的 40 多倍
- C. 2016 年外商及港澳台投资的同比增量不到 150 亿
- D. 2016 年固定资产投资比 2012 年翻了一番

二十、根据所给资料，回答下列问题。



96. 2000 年到 2012 年十三年，全国城镇居民每百户拥有计算机数量的年平均增长量是（ ）

- A. 14.6 台
- B. 6.2 台
- C. 5.0 台
- D. 6.8 台

97. 用 V^1 、 V^2 、 V^3 分别表示 1982 年到 2012 年三十一年，全国城镇居民每百户拥有彩电、洗衣机、电冰箱的年平均增长速度，则下列表示正确的是：（ ）

- A. $V^1 > V^2 > V^3$
- B. $V^3 > V^2 > V^1$
- C. $V^1 > V^3 > V^2$

D. $V_3 > V_1 > V_2$

98. 在下列选项中，2012年全国城镇居民每百户拥有最多的耐用消费品是：（ ）

- A. 彩电
- B. 洗衣机
- C. 空调
- D. 电冰箱

99. 根据资料可以得到的结论是：（ ）

- A. 与2000年相比，2012年全国城镇居民每百户拥有移动电话数量增长了10倍多
- B. 与1981年相比，2012年全国城镇居民每百户拥有彩电、洗衣机与电冰箱数量均增长了20多倍
- C. 与1999年相比，2012年全国城镇居民每百户拥有家用汽车数量增长了70.7倍
- D. 1985年到2012年，全国城镇居民每百户拥有空调数量前期增长速度大于后期

100. 下列判断正确的是（ ）

- (1) 2012年全国城镇居民每百户拥有的移动电话数是彩电的两倍
 - (2) 1981年全国城镇居民每百户拥有最少的耐用消费品是电冰箱
 - (3) 2000年到2012年，全国城镇居民每百户拥有计算机、家用汽车数量呈增长趋势
- A. 0个
 - B. 1个
 - C. 2个
 - D. 3个

二十一、根据所给资料，回答下列问题

2018年1-11月，广东规模以上工业企业累计完成增加值28994.65亿元，同比增长6.2%。

1-11月，全省规模以上国有控股企业累计完成增加值5162.03亿元，同比增长8.1%，增幅高于1-10月0.2个百分点，高于全省规模以上工业平均水平1.9个百分点，对全省规模以上工业增加值增速的贡献率为22.4%，比1-10月提高0.2个百分点，拉动全省规模以上工业增长1.4个百分点，与1-10月持平；规模以上民营工业企业累计完成增加值14459.59亿元，增长8.9%，增幅低于1-10月0.1个百分点，高于全省规模以上工业平均水平2.7个百分点，对全省规模以上工业增长的贡献率为69.8%，拉动全省规模以上工业增长4.3个百分点；规模以上外商及港澳台商投资企业累计完成增加值10761.31亿元，增长1.8%，增幅与

1-10月持平，低于全省规模以上工业平均水平4.4个百分点。

1-11月，全省规模以上制造业累计完成增加值26324.75亿元，同比增长6.2%，增幅比1-10月提高0.1个百分点。三大支柱行业累计增速均比1-10月有所提高，其中：计算机、通信和其他电子设备制造业增长10.2%，增幅比1-10月提高0.1个百分点；电气机械和器材制造业增长6.7%，增幅比1-10月提高0.2个百分点；汽车制造业增长8.7%，增幅比1-10月提高0.1个百分点。三大行业合计对全省规模以上工业增长的贡献率61.1%，比1-10月提高0.7个百分点，合计拉动全省规模以上工业增长3.8个百分点，比1-10月累计提高0.1个百分点。

1-11月，全省规模以上工业企业实现出口交货值32172.95亿元，同比增长8.3%，增幅比1-10月提高0.2个百分点。

101. 2017年1-11月，广东规模以上工业企业累计完成增加值约（ ）亿元。

- A. 27301.93
- B. 26301.25
- C. 22095.33
- D. 20105.41

102. 2018年1-10月，全省规模以上国有控股企业累计完成增加值的同比增速为（ ）

- A. 6.3%
- B. 7.3%
- C. 7.9%
- D. 8.9%

103. 2018年1-11月，规模以上民营工业企业累计完成增加值比规模以上外商及港澳台商投资企业（ ）

- A. 多2798.62亿元
- B. 少2798.62亿元
- C. 多3698.28亿元
- D. 少3698.28亿元

104. 2018年1-10月，三大支柱行业增速最快的行业比最慢的行业高（ ）个百分点

- A. 2.6
- B. 2.1
- C. 3.5

D. 3.6

105. 根据材料，下列相关说法不正确的是（ ）

A. 与上年相比，2018年1-11月全省规模以上国有控股企业累计完成增加值占全省规模以上工业增加值的比重有所上升

B. 2018年1-11月，全省规模以上制造业累计完成增加值的同比增量多于全省规模以上工业企业

C. 2017年1-11月，全省规模以上工业企业实现出口交货值约为29707.25亿元

D. 2018年1-10月，规模以上民营工业企业累计完成增加值同比增速为9%

二十二、根据所给资料，回答下列问题

根据国家统计局发布的相关数据显示，2018年1-10月份，社会消费品零售总额309834亿元，同比增长9.2%。其中，限额以上单位消费品零售额117177亿元，增长6.6%。按经营单位所在地分，10月份，城镇消费品零售额30601亿元，同比增长8.4%；乡村消费品零售额4934亿元，增长9.7%。1-10月份，城镇消费品零售额265318亿元，同比增长9.0%；乡村消费品零售额44516亿元，增长10.3%。

按消费类型分，10月份，餐饮收入4006亿元，同比增长8.8%；商品零售31528亿元，增长8.5%。1-10月份，餐饮收入33769亿元，同比增长9.6%；商品零售276064亿元，增长9.1%。

在商品零售中，10月份，限额以上单位商品零售11630亿元，同比增长3.6%。1-10月份，限额以上单位商品零售109637亿元，同比增长6.6%。2018年1-10月份，全国网上零售额70539亿元，同比增长25.5%。其中，实物商品网上零售额54141亿元，增长26.7%，占社会消费品零售总额的比重为17.5%；在实物商品网上零售额中，吃、穿和用类商品分别增长36.1%、22.5%和27.2%。

106. 2017年1-10月份，我国社会消费品零售总额约为（ ）亿元。

A. 277578.8

B. 28145.3

C. 283730.8

D. 290211.3

107. 2018年10月份，我国商品零售较餐饮收入（ ）亿元。

A. 多27522

B. 少27522

C. 多 27532

D. 少 27532

108. 2018 年 10 月份限额以上单位商品零售额约占同年 1-10 月份限额以上单位商品零售总额的 ()

A. 6.1%

B. 7.2%

C. 8.5%

D. 10.6%

109. 2018 年 1-10 月份, 我国城镇消费品零售额约为乡村消费品零售额的 () 倍。

A. 4

B. 5

C. 6

D. 7

110. 根据材料, 下列相关说法中不正确的一项是 ()

A. 2018 年 1-10 月份, 限额以上单位消费品零售额的同比增长速度较社会消费品零售总额的同比增长速度慢

B. 2018 年 10 月份的城镇消费品零售额的同比增长速度较其 1-10 月的同比增长速度慢

C. 2017 年 1-10 月份, 我国餐饮收入约为 32811 亿元

D. 2018 年 1-10 月份, 在实物商品网上零售额中, 吃、穿和用类商品均有不同程度的增长

二十三、根据所给资料, 回答下列问题

某市不同种类商品房销售面积



(单位: 万平方米)

111. 2010-2013 年，该市商品房销售面积最小的种类是（ ）

- A. 住宅
- B. 商业营业用房
- C. 办公楼
- D. 其他

112. 2010-2013 年，办公楼销售面积与商业营业用房销售面积相差最大的年份是（ ）

- A. 2010 年
- B. 2011 年
- C. 2012 年
- D. 2013 年

113. 2010 年-2013 年，该市商品房销售面积年均增长率最大的种类是（ ）

- A. 办公楼
- B. 商业营业用房
- C. 住宅
- D. 其他

114. 2013 年该市住宅销售面积同比增长（ ）

- A. 25.0%
- B. 17.5%
- C. 12.5%
- D. 9.2%

115. 根据上图，下列说法正确的是（ ）

- A. 2010-2013 年，该市商业营业用房销售面积逐年递增
- B. 2010-2013 年，该市商业营业用户销售面积占当年商品房总销售面积的比重逐年上升
- C. 2010-2013 年，该市商品房总销售面积增长逾 20%
- D. 2010-2013 年，该市住宅销售面积最高的年份是 2012 年

二十四、根据所给资料，回答下列问题

2014 年某市六大支柱产业销售情况

	销	同比	利	同比	亏	同比	亏损
--	---	----	---	----	---	----	----

	售收入 (亿元)	(%)	润 (亿元)	(%)	损额 (亿元)	(%)	面 (%)
规 模以 上工 业	681 4	0.9	218	11.3	97	0.4	39.8
六 大产 业合 计	649 8	1.0	187	12.3	89	-1.0	39.8
电 子信 息业	217 8	3.4	36	39.0	26	7.9	43.2
装 备制 造业	162 6	3.7	97	7.9	26	-0.4	37.3
冶 金业	840	-4.5	1	-29.2	7	2.1	42.5
纺 织业	663	-1.0	3	386.5	12	-14.9	45.3
化 工及 石油 业	626	-2.7	34	4.2	10	-4.8	32.5
轻 工业	565	0.0	17	15.8	9	-2.1	39.4

116. 2013 年该市规模以上工业销售收入是 () 元

A. 6721 亿

B. 6753 亿

C. 6783 亿

D. 6814 亿

117. 2014 年该市六大支柱产业中销售收入同比上升最快的两个产业是 ()

A. 冶金业 装备制造业

B. 装备制造业 电子信息业

C. 冶金业 化工及石油

D. 冶金业 电子信息业

118. 2014 年该市六大支柱产业销售收入占规模以上工业销售收入的 ()

A. 92.8%

B. 93.8%

C. 94.4%

D. 95.4%

119. 2014 年该市六大支柱产业中，利润同比增长最快的产业，2013 年的销售收入是 () 亿元。

A. 666

B. 668

C. 670

D. 672

120. 2014 年该市六大支柱产业中，亏损面最小的产业，2014 年的利润占销售收入的比例为 ()

A. 5.4%

B. 5.9%

C. 6.2%

D. 6.7%

二十五、根据所给资料，回答下列问题。

2018 年 11 月 H 省限额以上企业 (单位) 消费零售额

	11 月份	1-11 月份
--	-------	---------

	绝对值(亿元)	同比增长(%)	绝对值(亿元)	同比增长(%)
限额以上企业(单位)消费品零售额	294.9	-0.7	3055.3	4.4
按销售单位所在地分				
城镇	285.3	-0.6	2953.9	4.7
乡村	9.6	-4.6	101.4	-2.8
限额以上批发和零售业商品零售额	286.0	-0.8	2964.2	4.5
粮油、食品类	24.9	23.8	255.1	14.6
饮料类	4.5	17.7	45.1	11.8
烟酒类	6.7	19.6	71.4	12.7
服装、鞋帽、针纺织品类	29.1	5.4	278.5	6.9
化妆品类	4.3	7.9	44.8	8.3
金银珠宝类	5.5	9.3	67.6	8.0
日用品类	14.1	53.3	111.3	16.1
五金、电料类	0.7	-10.5	6.9	3.4
体育、娱乐用品类	1.1	-38.0	9.0	-9.5
书报杂志类	4.6	-10.3	43.1	35.7
电子出版物及音像制品类	0.2	2.5	2.0	2.8
家用电器和音像器材类	20.3	16.8	206.0	11.0
中西药品类	13.8	15.9	134.3	16.4
文化办公用品类	2.1	-29.9	22.0	-0.5
家具类	3.0	24.0	23.8	7.9
通讯器材类	4.8	-47.0	48.3	1.0
煤炭及制品类	0.1	-49.1	1.5	-12.4
石油及制品类	46.7	15.7	483.1	13.9
建筑及装潢材料类	0.9	-2.0	9.6	5.2

机电产品及设备类	0.1	12.5	1.4	0.4
汽车类	97.5	-17.9	1088.2	-6.0

121. 2017 年 11 月，H 省限额以上企业（单位）消费零售额的绝对值约为（ ）亿元

- A. 297.0
- B. 299.6
- C. 301.5
- D. 303.2

122. 按销售单位所在地分，2018 年 11 月，H 省城镇限额以上企业（单位）消费品零售额的绝对值比乡村（ ）

- A. 多 249.7 亿元
- B. 多 275.7 亿元
- C. 少 249.7 亿元
- D. 少 275.7 亿元

123. H 省限额以上批发和零售业中，2018 年 1-10 月中西药品类消费品零售额的绝对值为（ ）

- A. 98.8
- B. 107.4
- C. 118.9
- D. 120.5

124. 下列限额以上批发和零售业中，2018 年 1-11 月商品零售额的绝对值最高的是（ ）

- A. 粮油、食品类
- B. 服装、鞋帽、针纺织品类
- C. 家用电器和音像器材类
- D. 通讯器材类

125. 根据材料，下列说法中正确的有（ ）个

①2018 年 11 月 H 省限额以上批发和零售业中，汽车类商品零售额的绝对值为建筑及装潢材料类的 108 倍

②2018年11月H省限额以上批发和零售业中，五金、电料类商品零售额的绝对值同比增速出现负增长

③2017年1-11月H省限额以上批发和零售业中，石油及制品类商品零售额的绝对值约为40.4亿元

A. 0

B. 1

C. 2

D. 3

二十六、根据所给资料，回答下列问题

2018年前三季度，Q市全社会能源消费总量为2493万吨标准煤，比上年同期增长3.5%，增速比上半年回落2.4个百分点。其中，全社会用电量为319亿千瓦时，同比增长7.7%，增速比上半年回落1个百分点。

2018年前三季度，Q市工业能源消费量为1177万吨标准煤，同比增长2.5%，增速比上半年回落2.5个百分点，占能源消费总量的47.2%，比重回落34个百分点。其中，工业用电量为170亿千瓦时，增长5.4%，占全社会用电量的53.4%，比重回落1个百分点。

从规模以上工业六大高耗能行业来看，2018年Q市前三季度综合能耗为905万吨标准煤，同比增长4.8%，增速比上半年回落4.3个百分点。其中，化学原料及化学制品制造业综合能耗为232万吨标准煤，增长4.5%，增速回落15.6个百分点。黑色金属冶炼及压延加工业综合能耗为150万吨标准煤，同比增长15.5%，增速回落0.6个百分点。电力、热力的生产和供应业综合能耗为299万吨标准煤，增长4.1%，增速回落1.7个百分点。

126. 2017年前三季度，Q市全社会能源消费总量约为（ ）万吨标准煤。

A. 2408.7

B. 2415.9

C. 2439.1

D. 2453.8

127. 2018年上半年，Q市全社会用电量同比增速为（ ）

A. 5.5%

B. 6.7%

C. 8.7%

D. 9.5%

128. 从规模以上工业六大高耗能行业来看，2018 年 Q 市前三季度综合能耗比上年同期（ ）

- A. 约增加了 41.5 万吨标准煤
- B. 约减少了 41.5 万吨标准煤
- C. 约增加了 43.8 万吨标准煤
- D. 约减少了 43.8 万吨标准煤

129. 下列 Q 市规模以上工业六大高能耗行业中，2018 年前三季度综合能耗最多的是（ ）

- A. 化学原料制造业
- B. 电力、热力的生产和供应业
- C. 黑色金属冶炼及压延加工业
- D. 化学制品制造业

130. 根据材料下列说法正确是有（ ）个。

- (1) 2018 年上半年，Q 市全社会能源消耗总量同比增速高于 5%
- (2) 2018 年前三季度，Q 市工业能源消耗量比上年同期增加了约 28.7 万吨标准煤
- (3) 2018 年前三季度，Q 市工业用电量占全社会用电量比重过半

- A. 0
- B. 1
- C. 2
- D. 3

二十七、根据所给资料，回答下列问题

深圳市 2014 年全年生产总值 16001.98 亿元，同比增长 8.8%，其中，第一产业增加 5.29 亿元，下降 19.4%；第二产业增加值为 6823.05 亿元，增长 7.7%；第三产业增加值为 9173.64 亿元，增长 9.8%。第一产业增加值占全市生产总值的比重不到 0.1%；第二和第三产业增加值占全市生产总值的比重分别为 42.7%和 57.3%。人均生产总值 149497 元/人，增长 7.7%。按 2014 年平均汇率折算为 24337 美元。在第三产业中，交通运输、仓储和邮政业增加值 532.86 亿元，增长 9.7%；批发和零售业增加值 1963.38 亿元，增长 9.3%；住宿和餐饮业增加值 286.26 亿元，增长 3.3%；房地产业增加值 1441.93 亿元，增长 6.7%。

注：假设增加值不考虑价格变动因素。

131. 深圳市 2013 年全年生产总值约（ ）亿元。

A. 12282

B. 13527

C. 14708

D. 15863

132. 2013 年, 深圳市第二产业增加值占全年生产总值比重为 ()

A. 43.1%

B. 40.9%

C. 39.6%

D. 34.8%

133. 2014 年, 深圳市批发和零售业增加值在第三产业增加值中占比 ()

A. 19.7%

B. 21.4%

C. 29.5%

D. 30.1%

134. 2014 年, 深圳市第三产业中的行业增加值增长速度按由慢到快的顺序排列, 排序正确的是 ()

A. 住宿和餐饮业<交通运输、仓储和邮政业<批发和零售业

B. 房地产业<住宿和餐饮业<交通运输、仓储和邮政业

C. 交通运输、仓储和邮政业<批发和零售业<房地产业

D. 房地产业<批发和零售业<交通运输、仓储和邮政业

135. 根据上文, 下列说法错误的是 ()

A. 深圳市 2013 年第三产业增加值占全年生产总值比重为 56.8%

B. 深圳市 2014 年第三产业增加值占全年生产总值比重同比上升

C. 深圳市 2013 年房地产业增加值在第三产业增加值中占比 24.3%

D. 深圳市 2014 年住宿和餐饮业增加值同比增加 9.14 亿元

二十八、根据所给资料, 回答下列问题

交通事故在我国的发生率始终居高不下, 根据国家公安部网站在 2018 年初统计的数据显示, 2017 年全年, 我国共发生道路交通事故 265204 起, 造成 73484 人死亡、304919 人受伤, 直接财产损失 10.1 亿元。与 2016 年相比, 事故起数减少 62005 起, 下降 19%; 死亡人数下

降 10%；受伤人数减少 75523 人，直接财产损失减少 1.9 亿元。其中，发生一次死亡 3 人以上道路交通事故 1290 起，同比减少 190 起，下降 12.9%；发生一次死亡 5 人以上道路交通事故 250 起，同比减少 17 起，下降 6.4%；发生一次死亡 10 人以上特大道路交通事故 29 起，同比增加 3 起。道路交通事故万车死亡率为 4.3%，同比减少 0.8%。

136. 2017 年全国由于道路交通事故造成的直接财产损失与 2016 年相比，（ ）

- A. 增加了 1.9 亿元
- B. 减少了 15.8%
- D. 减少了 22.4%
- C. 减少了 18.8%

137. 2016 年，全国共发生道路交通事故（ ）起。

- A. 203199
- B. 241261
- C. 306599
- D. 327209

138. 2016 年，全国交通事故中死亡 3 人以上的事故为（ ）起。

- A. 1480
- B. 1773
- C. 1100
- D. 1250

139. 2017 年交通事故中受伤人数和 2016 年相比下降（ ）

- A. 20%
- B. 18%
- C. 15%
- D. 10%

140. 根据资料，下列说法正确的是（ ）

- A. 2017 年道路交通发生特大事故的次数比 2016 年少
- B. 2016 年道路交通万车死亡率为 3.5%
- C. 2017 年交通事故引发的直接财产损失比 2016 年下降了 15.8%
- D. 2016 年交通事故引发的死亡人数超过 9 万人

二十九、根据所给资料，回答下列问题

国家统计局公布的全国棉花产量数据显示，2018年全国棉花产量609.6万吨，比上年增长7.8%。其中，新疆棉花产量511.1万吨，比上年增加54.5万吨，增长11.9%。新疆棉花产量占全国的83.8%，比上年提高3个百分点。

2018年全国棉花种植面积为3352.3千公顷（5028.5万亩），比2017年增加157.6千公顷，增长4.9%。分地区看，我国最大产棉区新疆的棉花种植面积比2017年增加273.9千公顷（410.8万亩），增长124%，国家对新疆地区实施棉花目标价格补贴政策，尤其是新疆建设兵团实行棉花价格“定”、取消“五统一”等政策，调动了棉农的生产积极性，推动了新疆棉花增产。全国（除新疆外）30个省（区、市）受种植效益和种植结构调整等因素的影响，延续多年来生产萎缩的态势，棉花种植面积比2017年减少116.2千公顷（174.3万亩）。其中，长江流域棉区种植面积比2017年减少107.0千公顷（160.5万亩），下降22.4%。

2018年全国棉花单位面积产量为1818.3公斤/公顷（121.2公斤/亩），比上年增长49.2公斤/公顷（3.3公斤/亩）。其中，长江流域棉区单位面积产量增加45.7公斤/公顷（3.0公斤/亩），增长4.3%；黄河流域棉区单位面积产量增加10.5公斤/公顷（0.7公斤/亩），增长0.9%。尽管新疆棉花单位面积产量比上年略减，减少7.6公斤/公顷（0.5公斤/亩），下降0.4%，但依然高达2051.5公斤/公顷（136.8公斤/亩），是其他棉区的1.8倍，且新疆棉花种植面积占全国的比重进一步上升，成为全国棉花单产增加的重要因素。

141. 2018年全国棉花产量比2017年增加约（ ）万吨

- A. 42.7
- B. 43.2
- C. 44.1
- D. 45.9

142. 2018年全国棉花种植面积比2017年增加约（ ）万亩。

- A. 211.5
- B. 219.3
- C. 225.7
- D. 236.4

143. 2018年全国棉花单位面积产量比上年增长约（ ）

- A. 2.8%
- B. 3.7%

C. 4.6%

D. 5.2%

144. 2018 年，长江流域棉区单位面积产量增加量约为黄河流域的（ ）倍

A. 5.6

B. 4.4

C. 3.7

D. 2.9

145. 根据上述材料，下列说法正确的有（ ）个。

①2018 年新疆的棉花产量占全国的比重高于五分之四

②新疆的棉花产量在 2019 年以后会急剧增加

③2018 年新疆的棉花质量在全国来说是最好的

A. 0

B. 1

C. 2

D. 3

三十、根据所给资料，回答下列问题

2018 年 1-9 月，X 市 272 家规模以上工业企业电力消费 305.51 亿千瓦时，同比增长 8.5%，从县区用电量来看，用电量较大的地区为湟中和大通，分别为 156.96 亿千瓦时和 100.87 亿千瓦时，电力消费与上年同期相比分别增长了 12.49%和 5.04%，两地区用电量占全部规模以上工业企业用电量的 84.3%，所以两地区是影响 X 市电力消费趋势的主要力量其他五个地区用电量为 47.69 亿千瓦时，同比增长 8.3%，具体电量使用情况如下表所示：

2018 年 1-9 月 X 市 272 家规模以上工业企业电力消费情况表

地区	本期电力消费合计（亿千瓦时）	去年同期电力消费合计（亿千瓦时）	电力消费同比增长率（%）
城东地区	15.90	16.40	-3.05
城中地区	1.38	1.67	-17.74
城西地区	1.52	2.17	-30.20
城北地区	16.35	15.93	2.67
大通地区	100.87	96.03	5.04

湟中地区	156.96	139.54	12.49
湟源地区	12.54	7.87	59.29

146. 2018 年 1-9 月，X 市规模以上工业企业电力消费同比增长量为（ ）亿千瓦时。

- A. 25.89
- B. 28.21
- C. 23.93
- D. 29.21

147. 2017 年 1-9 月，X 市湟中和大通地区规模以上工业企业电力消费量之差为（ ）亿千瓦时。

- A. 41.71
- B. 43.51
- C. 46.01
- D. 47.31

148. 2018 年 1-9 月，X 市各地区规模以上工业企业电力消费同比增长量最小的是（ ）

- A. 城东地区
- B. 城中地区
- C. 城西地区
- D. 城北地区

149. 2017 年 1-9 月，表中前四个地区规模以上工业企业平均电力消费量约为（ ）亿千瓦时。

- A. 8.84
- B. 8.95
- C. 9.04
- D. 9.09

150. 根据上述材料，下列说法正确的是（ ）

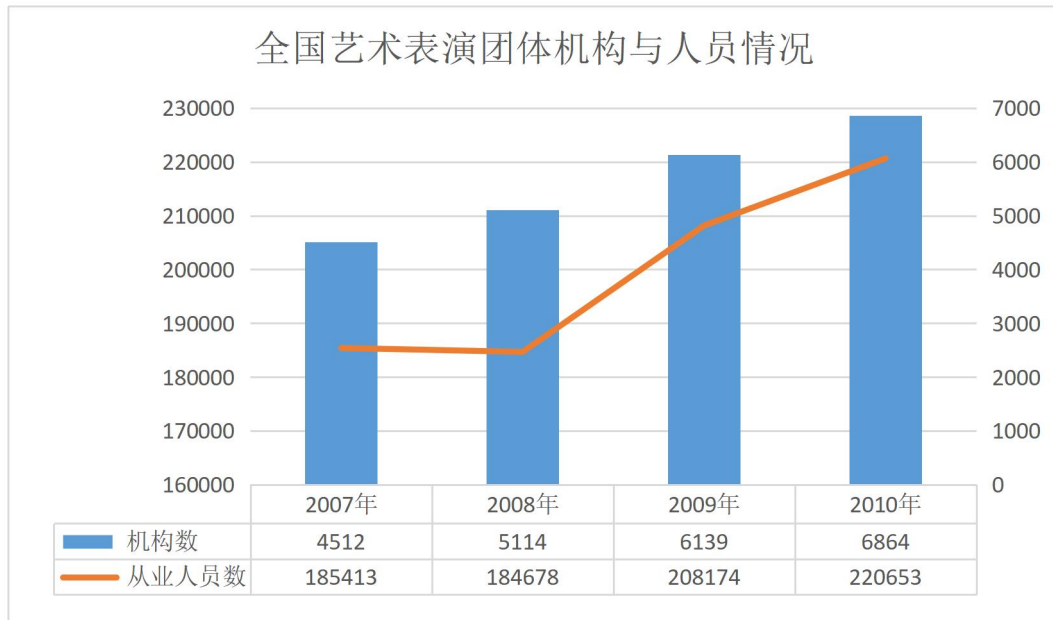
- A. 2018 年 1-9 月，大通地区规模以上工业企业电力消费量占全市电力消费量的 55.07%
- B. 2018 年 1-9 月，城西地区规模以上工业企业电力消费量是城中地区的 1.1 倍
- C. 2018 年 1-9 月，X 市规模以上工业企业电力消费同比增速大于 5%的有 4 个地区

D. 2018 年 1-9 月，湟中与湟源地区规模以上工业企业电力消费平均增速为 36.89%

三十一、根据所给资料，回答下列问题

2010 年全国艺术表演团体分地区情况

地区	机构数量 (个)	演出场次(万 场次)	观众人次(万 人次)	演出收入 (万元)
全国	6864	137.2	88456	342696
中央	16	0.4	677	27388
东部	2226	41.2	29357	187593
中部	2980	71.8	39933	78890
西部	1642	23.8	18489	48825



151. 2007 年我国每个艺术表演团体机构大概有从业人员 () 名?

- A. 33
- B. 38

C. 41

D. 45

152. 2010 年艺术表演团体机构平均每个从业人员能创造（ ）万元的演出收入？

A. 1.25

B. 1.55

C. 1.85

D. 2.15

153. 2010 年，每个中央艺术表演团的全年演出场次数大概是西部地区艺术表演团的（ ）倍。

A. 0.3 倍

B. 0.6 倍

C. 1.7 倍

D. 3 倍

154. 2007 到 2010 年间，全国艺术团体机构数年均增加多少个？

A. 588

B. 626

C. 692

D. 784

155. 以下说法与材料相符的是：（ ）

A. 2010 年，中部艺术表演团体的演出数量占当年全国演出总场次的比重约 1/3 左右

B. 2007-2010 年间，每个艺术表演团体机构的从业人员数在持续上升

C. 2010 年，西部的艺术表演团体演出每名观众带来的演出收入数额低于中部地区的数值

D. 2010 年，在中央艺术表演团体演出中每名观众带来的演出收入约是全国平均水平的大约 10 倍

三十二、根据所给资料，回答下列问题

2014 年一季度，上海市六个重点发展的工业行业共完成工业总产值 5168.47 亿元，增长 3.6%，增幅低于全市规模以上工业平均水平 0.4 个百分点。其中，汽车制造业产销两旺，共完成工业总产值 1372.12 亿元，增长 15%。一季度生产汽车 67.33 万辆，增长 15.9%。其中，排量在 1 升到 1.6 升之间（含 1.6 升）的轿车 41.57 万辆，增长 23.9%；运动型多用途乘用

车 7.96 万辆，增长 44.1%。汽车制造业对全市工业增长的贡献率为 59%，拉动全市工业增长 2.4 个百分点。

表 2014 年一季度上海市六个重点发展的工业行业发展状况（单位：亿元）

行 业	工业总产值 (亿元)	增长(%)	销售产值 (亿元)	增长(%)	产销率 (%)
全市规模以上工业合计	7719.26	4.0	7622.27	2.1	98.7
六个重点发展的工业行业合计	5168.47	3.6	5087.19	1.8	98.4
电子信息产品制造业	1442.64	-4.7	1436.44	-6.1	99.6
汽车制造业	1372.12	15.0	1347.51	14.0	98.2
石油化工及精细化工制造业	943.06	-2.7	922.47	-5.3	97.8
精品钢材制造业	376.28	5.6	375.39	4.6	99.8
成套设备制造业	825.65	7.5	810.25	5.7	98.1
生物医药制造业	208.71	14.6	195.14	5.0	93.5

注：产销率=（工业销售产值÷工业总产值）×100%

156. 2014 年一季度，上海市规模以上工业总产值同比增量比同期销售产值同比增量约多（ ）亿元。

- A. 70
- B. 140
- C. 210
- D. 280

157. 2014 年一季度，上海市六个重点发展的工业行业销售产值占总规模以上工业的比重约为（ ）

- A. 60%
- B. 67%
- C. 72%
- D. 79%

158. 上海市六个重点发展的工业行业中，2014 年一季度产销率高于上年同期水平的有（ ）个。

- A. 0
- B. 2
- C. 4
- D. 6

159. 2014 年一季度,上海市生产的汽车中,运动型多用途乘用车的比重比上年同期上升了约()个百分点。

- A. 0.5
- B. 2
- C. 8
- D. 15

160. 关于 2014 年一季度上海市规模以上工业行业发展状况,下列表述与资料相符的是()

- A. 在六个重点行业中,产销率最低的行业也是产值增速最快的行业
- B. 成套设备制造业的产值增量高于精品钢材制造业
- C. 排量在 1 升以下或超过 1.6 升的汽车总产量增幅超过 2 成
- D. 汽车制造业平均每生产一辆汽车,创造的产值约为 12 万元

三十三、根据所给资料,回答下列问题

交通事故在我国的发生率始终居高不下,根据国家公安部网站在 2018 年初统计的数据显示,2017 年全年,我国共发生道路交通事故 265204 起,造成 73484 人死亡、304919 人受伤,直接财产损失 10.1 亿元。与 2016 年相比,事故起数减少 62005 起,下降 19%;死亡人数下降 10%;受伤人数减少 75523 人;直接财产损失减少 1.9 亿元。其中,发生一次死亡 3 人以上道路交通事故 1290 起,同比减少 190 起,下降 12.9%;发生一次死亡 5 人以上道路交通事故 250 起,同比减少 17 起,下降 6.4%;发生一次死亡 10 人以上特大道路交通事故 29 起,同比增加 3 起。道路交通事故万车死亡率为 4.3%,同比减少 0.8%。

161. 2017 年全国由于道路交通事故造成的直接财产损失与 2016 年相比,()

- A. 增加了 1.9 亿元
- B. 减少了 15.8%
- C. 减少了 18.8%
- D. 减少了 22.4%

162. 2016 年,全国共发生道路交通事故()起。

- A. 203199
- B. 241261
- C. 306599
- D. 327209

163. 2016 年，全国交通事故中死亡 3 人以上事故为（ ）起。

- A. 1480
- B. 1773
- C. 1100
- D. 1250

164. 2017 年交通事故中受伤人数和 2016 年相比下降（ ）

- A. 20%
- B. 18%
- C. 15%
- D. 10%

165. 根据资料，下列说法正确的是（ ）

- A. 2017 年道路交通发生特大事故的次数比 2016 年少
- B. 2016 年道路交通万车死亡率为 3.5%
- C. 2017 年交通事故引发的直接财产损失比 2016 年下降了 15.8%
- D. 2016 年交通事故引发的死亡人数超过 9 万人

三十四、根据所给资料，回答下列问题

2017 年 1-4 月份，全国社会消费品网上零售额 19180 亿元，同比增长 32.0%。其中，实物商品网上零售额 14617 亿元，增长 25.9%。在实物商品网上零售额中，吃、穿和用类商品零售额分别增长 19.3%，18.4%和 29.5%。

2017年4月份社会消费品零售总额及同比增速

	4月		1-4月	
	金额(亿元)	增速(%)	金额(亿元)	增速(%)
社会消费品零售总额	27278	10.7	113102	10.2
其中:限额以上单位消费品零售额	12253	9.2	49765	8.2
按经营地分				
城镇	23483	10.4	96881	9.9
乡村	3795	12.6	16221	12.1
按消费类型分				
餐饮收入	2886	11.1	12082	10.9
其中:限额以上单位餐饮收入	721	8.0	2932	7.5
商品零售	24392	10.6	101020	10.1
其中:限额以上单位商品零售	11532	9.3	46832	8.3
其中:粮油、食品类	1174	12.6	5119	10.9
饮料类	175	14.2	708	13.0
烟酒类	310	8.9	1507	9.6
服装鞋帽、针纺织品	1126	10.0	4779	7.1
化妆品	176	7.7	784	9.4
金银珠宝	229	7.5	1028	7.8
日用品	414	8.0	1736	8.4
家用电器和音像器材	729	10.2	2758	8.6
中西药品	742	12.6	2894	11.2
文化办公用品	240	3.8	1006	12.0
家具	229	13.9	850	12.9
通讯器材	316	6.1	1322	9.8
石油及制品	1610	12.1	6330	12.8
汽车	3136	6.8	12402	3.4
建筑及装潢材料	265	13.4	957	14.4

166. 2017年1~4月份,实物商品网上零售额占社会消费品零售总额的比重约为()

- A. 12.9%
- B. 29.4%
- C. 53.6%
- D. 76.2%

167. 2017年4月份,城镇消费品零售额约是乡村消费品零售额的多少倍?()

- A. 1.2倍
- B. 5.2倍
- C. 59倍
- D. 6.2倍

168. 2017年4月份,表中各类商品限额以上单位零售额同比增量最多的是()

- A. 服装鞋帽、针纺织品
- B. 石油及制品
- C. 汽车
- D. 家用电器和音像器材

169. 2016 年 1~3 月份，限额以上单位消费品零售额的绝对量约为多少万亿元？

- A. 3.0
- B. 3.5
- C. 4.0
- D. 4.5

170. 能够从上述资料中推出的是（ ）

- A. 2017 年 1~4 月份，限额以上单位餐饮收入同比增速快于限额以下单位餐饮收入
- B. 2017 年 1~4 月份，非实物类社会消费品网上零售额为 5000 多亿元
- C. 2017 年 4 月份，粮油、食品类限额以上单位商品零售额占限额以上单位商品零售总额的一成多
- D. 2017 年第一季度烟酒类限额以上单位商品零售额同比增速不超过 9.6%

三十五、根据所给资料，回答下列问题

主要互联网理财产品发布 7 日年化收益率（18 年 X 月 X 日）

序号	产品名称	发售平台	收益率 (X.X)	较前一日变化
1	平安盈	平安银行	3.755%	↑
2	工银现金宝	工银瑞信	3.522%	↑
3	理财通	微信	3.363%	-
4	余额宝	支付宝	3.188%	↑
5	活期宝	中银基金	3.888%	↓
6	零钱宝	苏宁	3.384%	↑
7	百赚	百度金融	3.388%	↑
8	华夏活期通	华夏基金	3.388%	↑
9	现金宝	网易理财	3.384%	↑
10	加银现金宝	民生加银基金	3.341%	↓

171. 表中显示的理财产品中，当日收益率最高的产品是（ ）

- A. 平安盈

B. 工银现金宝

C. 余额宝

D. 活期宝

172. 表中收益率最高的产品比收益率最低的产品收益率多出（ ）%。

A. 0.45

B. 0.7

C. 0.85

D. 1.1

173. 如果某人“平安盈”里有 1 万元，则当日他可以获得的收益约是（ ）元。

A. 375.5

B. 37.55

C. 1.02

D. 0.102

174. 表中 10 款理财产品当日收益率的平均值是（ ）

A. 3.4601

B. 3.6154

C. 3.097

D. 3.388

175. 根据材料，以下说法正确的有（ ）个。

①表中只有活期宝一款理财产品的当日的收益率是比上一日低的

②当日收益率排名倒数前三位的理财产品分别是余额宝、加银现金宝、理财通

③某人有 10 万元，如果收益率维持表中水平，他把钱放入平安盈，比放入余额宝，每年理论上可以多赚 500 多元

④表中各种理财产品的收益率的中位数值，大概在 3.5%

A. 0

B. 1

C. 2

D. 3

三十六、根据所给资料，回答下列问题

国家统计局公布的全国棉花产量数据显示，2018 年全国棉花产量 609.6 万吨，比 2017

年增长 7.8%。其中，新疆棉花产量 511.1 万吨，比上年增加 54.5 万吨，增长 11.9%。新疆棉花产量占全国的 83.8%，比上年提高 3 个百分点。

2018 年全国棉花种植面积为 3352.3 千公顷（5028.5 万亩），比 2017 年增加 157.6 千公顷，增长 4.9%。

分地区看，我国最大产棉区新疆的棉花种植面积比 2017 年增加 273.9 千公顷（410.8 万亩），增长 12.4%。国家对新疆地区实施棉花目标价格补贴政策，尤其是新疆建设兵团实行棉花价格“三定”、取消“五统一”等政策，调动了棉农的生产积极性，推动了新疆棉花增产。全国（除新疆外）30 个省（区、市）受种植效益和种植结构调整等因素的影响，延续多年来生产萎缩的态势，棉花种植面积比 2017 年减少 116.2 千公顷（174.3 万亩），下降 11.9%。其中，长江流域棉区种植面积比 2017 年减少 107.0 千公顷（160.5 万亩），下降 22.4%。

2018 年全国棉花单位面积产量为 1818.3 公斤/公顷（121.2 公斤/亩），比上年增加 49.2 公斤/公顷（3.3 公斤/亩），增长 2.8%。

其中，长江流域棉区单位面积产量增加 45.7 公斤/公顷（3.0 公斤/亩），增长 4.3%；黄河流域棉区单位面积产量增加 10.5 公斤/公顷（0.7 公斤/亩），增长 0.9%。尽管新疆棉花单位面积产量比上年略减，减少 7.6 公斤/公顷（0.5 公斤/亩），下降 0.4%，但依然高达 2051.5 公斤/公顷（136.8 公斤/亩），是其它棉区的 1.8 倍；且新疆棉花种植面积占全国的比重进一步上升，成为全国棉花单产增加的重要因素。

176. 2018 年全国棉花产量比 2017 年增加约（ ）万吨

- A. 42.7
- B. 43.2
- C. 44.1
- D. 45.9

177. 2018 年全国棉花种植面积比 2017 年增加约（ ）万亩。

- A. 211.5
- B. 219.3
- C. 225.7
- D. 236.4

178. 2018 年全国棉花单位面积产量比上年增长约（ ）

- A. 2.8%
- B. 3.7%

C. 4.6%

D. 5.2%

179. 2018 年，长江流域棉区单位面积产量增加量约为黄河流域的（ ）倍。

A. 5.6

B. 4.4

C. 3.7

D. 2.9

180. 根据上述材料，下列说法正确的有（ ）个。

①2018 年新疆的棉花产量占全国的比重高于五分之四

②新疆的棉花产量在 2019 年以后会急剧增加

③2018 年新疆的棉花质量在全国来说是最好的

A. 0

B. 1

C. 2

D. 3

三十七、根据所给资料，回答下列问题

2018 年上半年，J 省实现生产总值 44863.5 亿元。分产业看，第一产业增加值 1363.3 亿元，同比增长 1.1%；第二产业增加值 20171.2 亿元，同比增长 6.4%；第三产业增加值 23329 亿元，同比增长 8.0%。

上半年，全省固定资产投资同比增长 5.3%。其中，工业投资增长 5.9%；房地产开发投资增长 16.6%，服务业投资增长 4.7%，高新技术产业投资增长 13.3%。

按人民币计价，上半年全省实现进出口总额 20460.2 亿元，同比增长 9.4%。其中，进口总额 8133.6 亿元，增长 12.4%，出口总额 12326.6 亿元，增长 7.5%。

上半年，全省完成一般公共预算收入 4642.8 亿元，同比增长 8.3%，其中，税收收入增长 16.5%。分税种看，增值税增长 17.6%；企业所得税增长 16.6%；个人所得税增长 22.7%。

6 月末，全省金融机构人民币存款余额 137499.6 亿元，同比增长 6.3%；金融机构人民币贷款余额 109822.1 亿元，同比增长 11.8%。

上半年，全省居民消费价格同比上涨 2.0%。八大类商品中，食品烟酒涨 1.8%，衣着涨 1.5%，居住涨 2.3%，生活用品及服务涨 3.2%，交通通信涨 1.9%，教育文化娱乐涨 2.0%，医疗保健涨 1.1%，其他用品和服务涨 2.4%。

上半年，全省居民人均可支配收入 19885 元，同比名义增长 8.9%，按常住地分，城镇居民人均可支配收入 24554 元，增长 8.3%；农村居民人均可支配收入 11194 元，增长 8.9%。

181. 2018 年上半年，J 省实现生产总值同比增长率可能为（ ）

- A. 9.7%
- B. 7.0%
- C. 0.9%
- D. -2.3%

182. 2018 年上半年，全省固定资产投资中，同比增速最高的是（ ）

- A. 服务业投资
- B. 房地产开发投资
- C. 高新技术产业投资
- D. 工业投资

183. 按人民币计价，与上年同期相比，2018 年上半年 J 省进口总额占进出口总额的比重约（ ）

- A. 上升了 1.1 个百分点
- B. 上升了 3.0 个百分点
- C. 下降了 1.1 个百分点
- D. 下降了 3.0 个百分点

184. 2017 年上半年，J 省完成一般公共预算收入约（ ）亿元。

- A. 5063.0
- B. 5028.2
- C. 4287.0
- D. 4257.4

185. 根据上述材料，下列说法正确的有（ ）个。

①2018 年 6 月末，J 省金融机构人民币存款余额比金融机构人民币贷款余额多 27677.5 亿元

②2018 年上半年，J 省八大类商品中同比增速高于全省居民消费价格同比增速的有 4 个

③按常住地分，2018 年上半年城镇居民人均可支配收入约比农村居民人均可支配收入多 2.2 倍

- A. 0

B. 1

C. 2

D. 3

三十八、根据所给资料，回答下列问题

2014年1~3月份，全国房地产开发投资15339亿元，同比名义增长16.8%，其中住宅投资10530亿元，增长16.8%，占房地产开发投资的比重为68.7%。

1~3月份，东部地区房地产开发投资为9139亿元，同比增长17.7%；中部地区投资2916亿元，增长15.6%；西部地区投资3285亿元，增长15.5%。

1~3月份房地产开发企业房屋施工面积547030万平方米，同比增长14.2%，其中，住宅施工面积393206万平方米，增长11.4%。房屋新开工面积29090万平方米，下降25.2%，降幅收窄2.2个百分点；其中，住宅新开工面积21238万平方米，下降27.2%，房屋竣工面积18520万平方米，下降4.9%，降幅收窄3.3个百分点；其中，住宅竣工面积13910万平方米，下降7.3%。

1-3月份，房地产开发企业土地购置面积5990万平方米，同比下降23%，1-2月份为增长6.5%；土地成交价款1556亿元，增长11.4%，增速提高2.5个百分点。

186. 2014年1-3月份，东部地区房地产开发投资占全国房地产开发投资的比例为（ ）

A. 24.8%

B. 59.6%

C. 42.2%

D. 65.7%

187. 2014年1-3月份，我国东西部房地产于开发投资差额为（ ）亿元。

A. 6223

B. 5854

C. 2416

D. 4243

188. 2013年1-3月份，住宅施工面积所占房屋施工面积的比重为（ ）

A. 35.4%

B. 47.2%

C. 63.1%

D. 73.7%

189. 下面指标同比下降的是 ()

- A. 房屋竣工面积
- B. 住房施工面积
- C. 房地产开发投资
- D. 土地成交价款

190. 根据材料下列说法正确的是 ()

- A. 2014 年 1-3 月份, 我国房地产开发投资最大的地区是西部
- B. 2014 年 1-3 月份, 我国住宅施工面积约占房屋施工面积的 72%
- C. 2014 年 1-3 月份, 房地产开发企业土地购置面积同比上涨
- D. 2014 年 1-3 月份, 我国房屋竣工面积下降 33 个百分点

三十九、根据所给资料, 回答下列问题

能量消耗总量和构成

年份	能源消耗总量 (折算标准燃料) (万吨)	占能源消耗的%			
		煤炭	石油	水电	天然气
1981	60275	72.1	20.85	3.99	3.06
1982	24947	72.75	20.00	4.51	2.74
1983	62646	74.02	18.58	4.92	2.48
1984	66040	74.27	18.07	5.26	2.4
1985	70904	75.31	17.45	4.91	2.33
1986	77020	75.92	17.02	4.83	2.23

191. 能源消费总量最少的一年是 ()

- A. 1981
- B. 1982
- C. 1983
- D. 1984

192. 1984 年消耗的天然气为多少万吨? (折合为标准燃料) ()

- A. 1584.96

B. 1538.80

C. 1547.12

D. 1545.03

193. 1986 年能源消耗总量比 1982 年高多少? ()

A. 16745

B. 52073

C. 49125

D. 6116

194. 能源消费构成中, 从 1981 年到 1986 年变化比例最大的是 ()

A. 煤炭

B. 石油

C. 水电

D. 天然气

195. 在能源消费构成中, 比例一直处于上升趋势的是 ()

A. 煤炭

B. 石油

C. 水电

D. 天然气

四十、根据所给资料, 回答下列问题

2014 年, 中国电子商务市场交易规模达 13.4 万亿元, 同比增长 31.4%。其中, B2B 电子商务市场交易额达 10.0 万亿元。电子商务市场细分行业结构中, B2B 电子商务市场份额占比为 74.6%, 网络零售市场份额占比为 21.0%, O2O 市场份额占比为 4.4%。

2010~2014 年中国电子商务发展状况

	2010 年	2011 年	2012 年	2013 年	2014 年
电子商务市场交易规模 (万亿元)	4.5	6.0	7.9	10.2	13.4
B2B 电子商务交易规模 (万亿元)	3.8	4.9	6.3	8.2	10.0
B2B 电子商务营业收入 (亿元)	83	93	103	112	120

B2B 企业规模 (家)	96	13	16	20	25
	92	0	0	5	5
	00	10	11	12	11
		500	350	000	200
网络零售交易规模 (亿元)	51	80	13	18	28
网络零售占社会消费品零售总额比重 (%)	41	19	205	851	211
	3.	4.	6.	8.	10
网络零售购物用户数 (亿人)	5	4	3	0	.6
	1.	2.	2.	3.	3.
	58	03	47	12	80

196. 2013 年, 平均每个网络零售购物用户通过网络零售渠道产生的交易额约为 ()

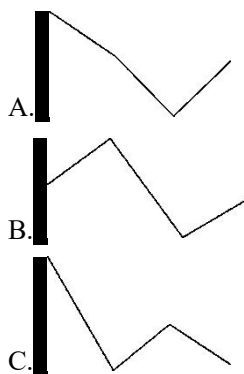
- A. 4 千多元
- B. 5 千多元
- C. 6 千多元
- D. 7 千多元

197. 2013 年, B2B 电子商务市场交易规模占电子商务整体市场交易规模的比重约为

()

- A. 70%
- B. 75%
- C. 80%
- D. 85%

198. 以下哪项最能反映 2011~2014 年网络零售交易规模的增速变化趋势? ()





199. 若 2015 年电子商务市场交易规模增速比 2014 年高 3 个百分点, 则 2015 年的电子商务市场交易规模约多少万亿元?

- A. 18
- B. 15
- C. 24
- D. 21

200. 能够从上述资料推出的是: ()

- A. 2011 年社会消费品零售总额超过 20 万亿元
- B. 2014 年网络零售购物用户数比三年前翻了一番
- C. 2014 年平均每家 B2B 企业实现了 200 多万元的营业收入
- D. 2012 年 B2B 企业数同比增速快于网络零售购物用户数同比增速