



**华图事业单位**  
SYDW.HUATU.COM

**2023上半年事业单位联考**

**《职业能力倾向测验》**

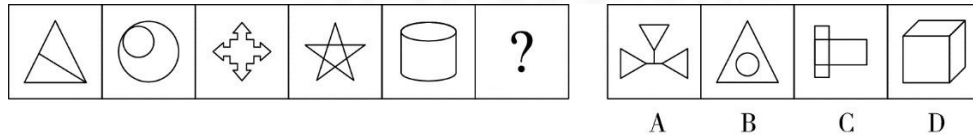
**判断推理必做100题**

# 2023上半年事业单位联考


## 《职业能力倾向测验》判断推理必做100题

### 一、图形推理

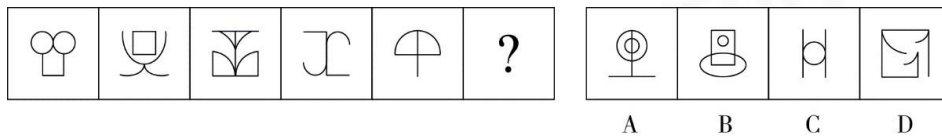
1. 从所给的四个选项中选择最合适的一个填入问号处，使之呈现一定的规律性：



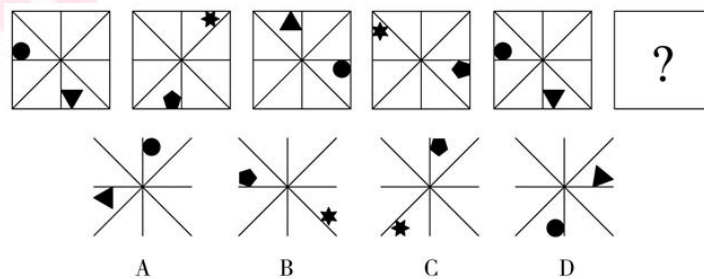
2. 从所给的四个选项中选择最合适的一个填入问号处，使之呈现一定的规律性：



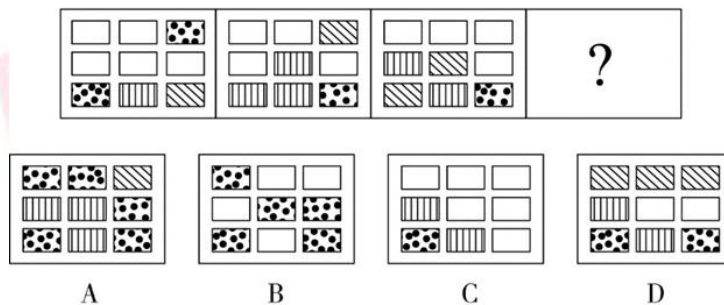
3. 从所给的四个选项中选择最合适的一个填入问号处，使之呈现一定的规律性：



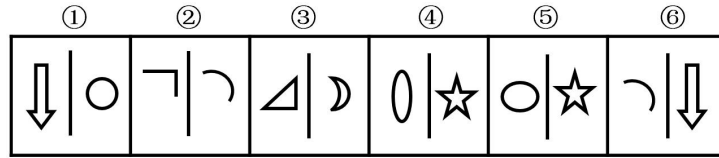
4. 从所给的四个选项中，选择最合适一个填入问号处，使之呈现一定规律性：



5. 从所给的四个选项中，选择最合适一个填入问号处，使之呈现一定规律性：

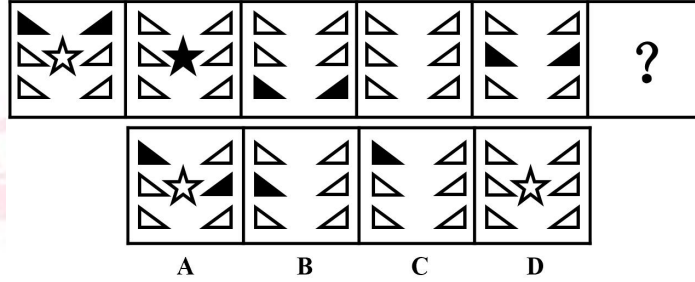


6. 题目中包含六组图形，请把它们分为两类，使得每一类图形都有各自的共同特征或规律：

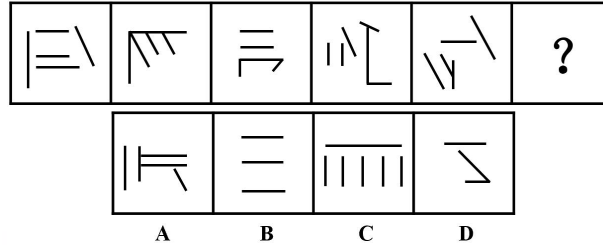


- A. ①④⑥, ②③⑤      B. ①③⑤, ②④⑥  
C. ①②③, ④⑤⑥      D. ①②④, ③⑤⑥

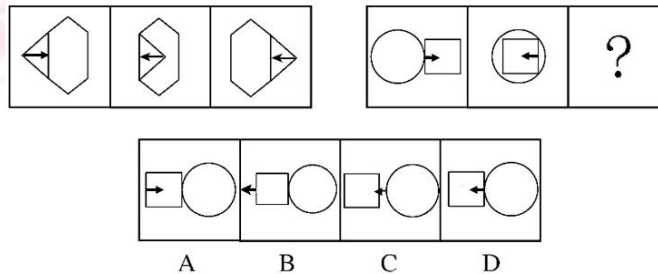
7. 从所给的四个选项中, 选择最合适的一个填入问号处, 使之呈现一定的规律性:



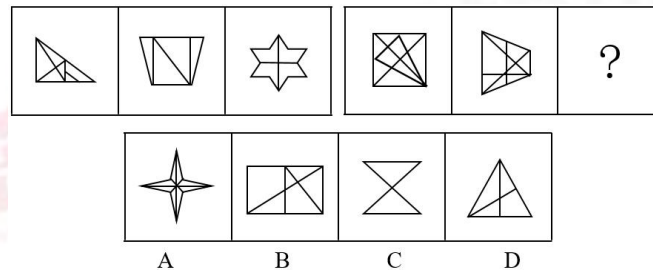
8. 从所给的四个选项中, 选择最合适的一个填入问号处, 使之呈现一定的规律性:



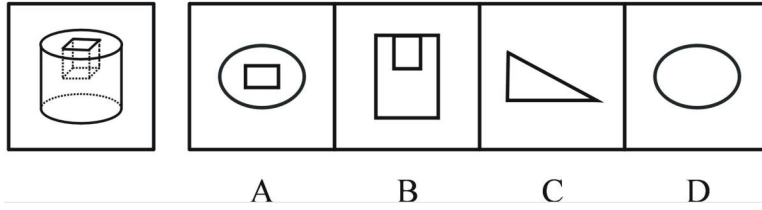
9. 请从所给的四个选项中, 选择最合适的一个填入问号处, 使之呈现一定的规律性。



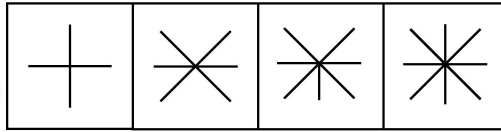
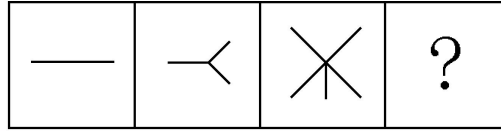
10. 从所给的四个选项中, 选择最合适的一个填入问号处, 使之呈现一定的规律性。



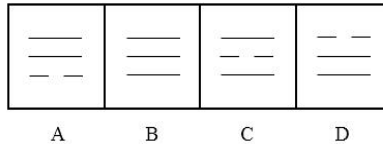

11. 请问所给的四个选项中, 哪个不可能是题干中立体图形的剖面图。



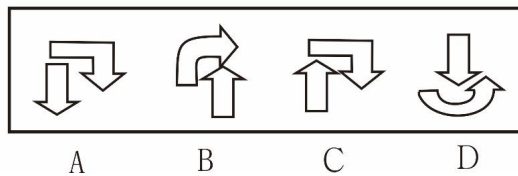
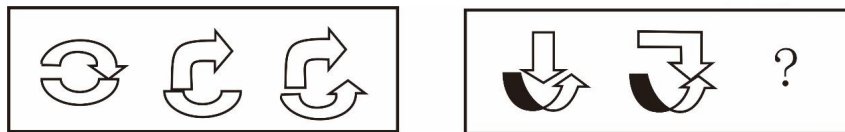
12. 请从所给的四个选项中, 选择最合适的一个填入问号处, 使之呈现一定的规律性。



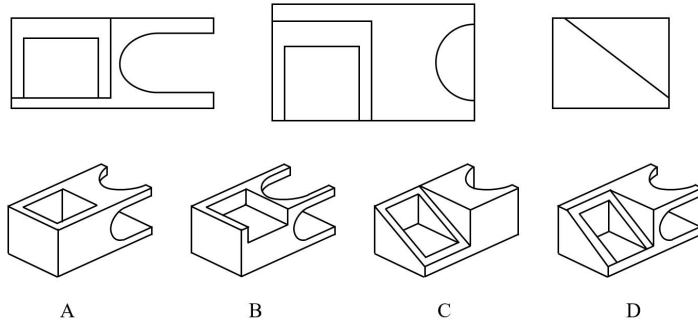
13. 下列选项中, 符合所给图形的变化规律的是\_\_\_\_\_。



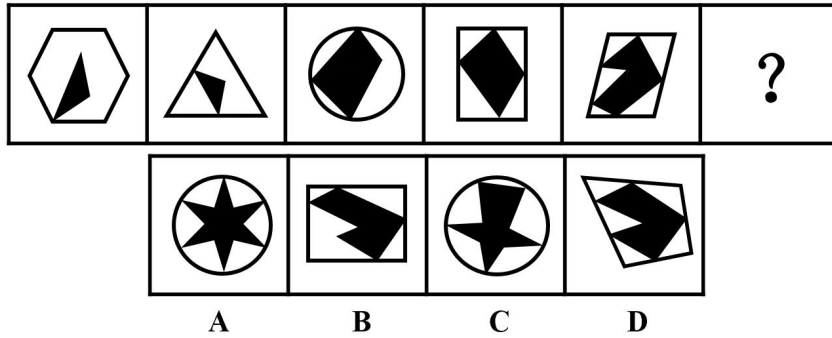
14. 下列选项中, 符合所给图形的变化规律的是\_\_\_\_\_。



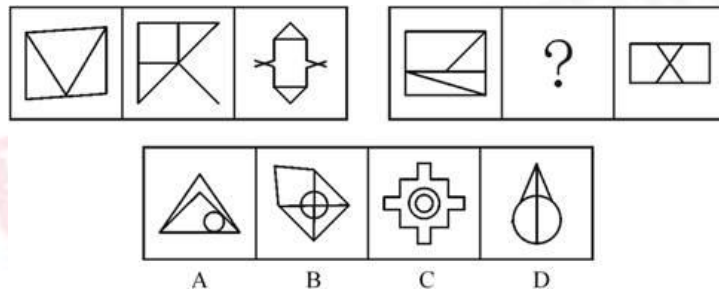
15. 以如下三个图形为三视图的立体图形是:



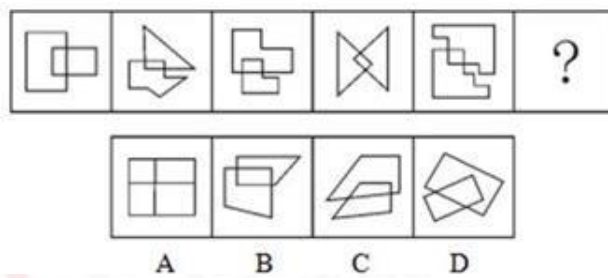
16. 从所给的四个选项中，选择最合适的一个填入问号处，使之呈现一定的规律性：



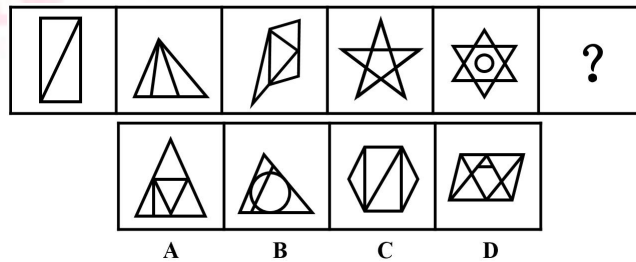
17. 从所给的四个选项中，选择最合适的一个填入问号处，使之呈现一定的规律性：



18. 从所给的四个选项中，选择最合适的一个填入问号处，使之呈现一定的规律性：

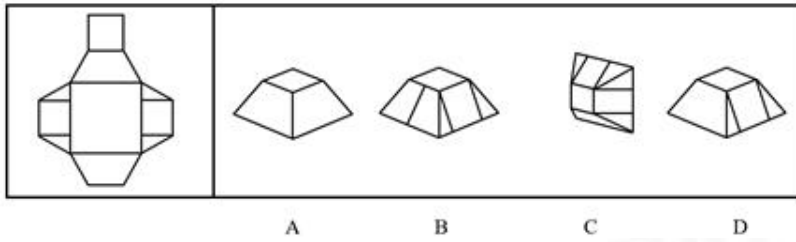


19. 从所给的四个选项中，选择最合适的一个填入问号处，使之呈现一定的规律性：

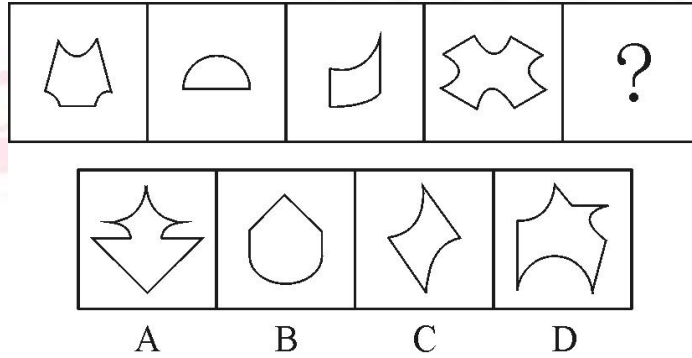


20. 在右面的4个图形中，只有一个是左边的纸板折叠而成的，你需要选出正确的一

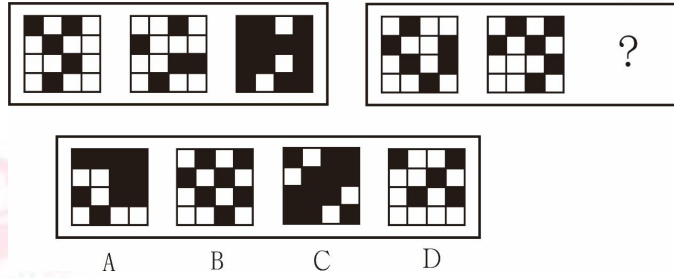
个。正确答案是：



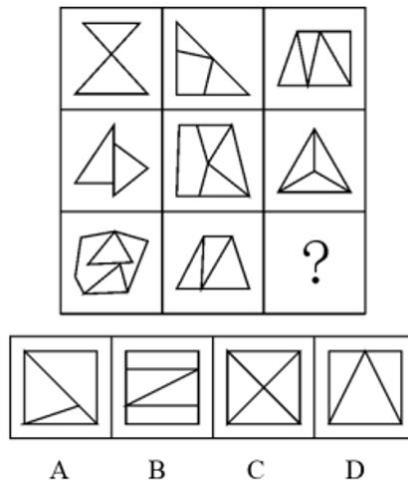
21. 请从所给的四个选项中选择最合适的一个填入问号处，使之呈现一定的规律。



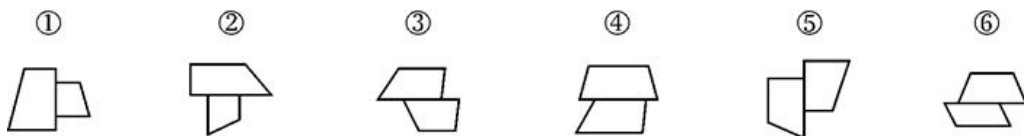
22. 从所给的四个选项中，选出一个填入问号处，使之呈现一定的规律性：



23. 从所给的四个选项中，选择最合适的一个填入问号处，使之呈现一定的规律性：

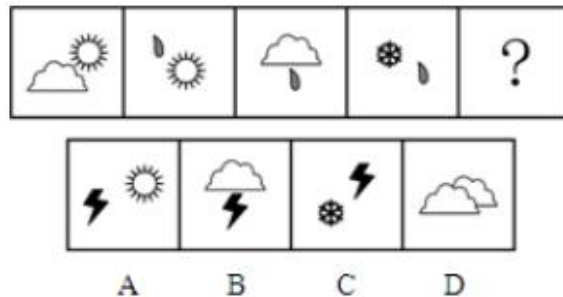


24. 把下面的六个图形分成两类，使每一类图形都有各自的共同特征或规律，分类正确的一项是：



- A. ①②③, ④⑤⑥  
 B. ①②④, ③⑤⑥  
 C. ①②⑤, ③④⑥  
 D. ①③④, ②⑤⑥

25. 请从所给的四个选项中, 选择最合适的一个填入问号处, 使之呈现一定的规律性。



## 二、定义判断

26. 人才测评是指通过一系列科学的手段和方法对人的基本素质及其绩效进行测量和评定的活动。人才测评的具体对象不是抽象的人, 而是作为个体存在的人其内在素质及其表现出的绩效。

根据上述定义, 下列不属于人才测评的是:

- A. 对拟用人选进行履职过程分析  
 B. 对拟用人选进行社会关系分析  
 C. 组织拟用人选进行无领导小组讨论  
 D. 对拟录用人选进行情景模拟考试

27. 行政指导, 是指行政主体在其职责、任务或其所管辖的范围内, 为适应复杂多变的经济和社会生活的需要, 基于国家的法律原则和政策, 在行政相对方的同意或协助下, 实施灵活地采取非强制手段, 以有效地实现一定的行政目的, 不直接产生法律效果的行为。

根据上述定义, 下列属于行政指导的是:

- A. 村长在本村大会上倡导晚婚晚育  
 B. 医院禁止高声喧哗  
 C. 国家出台政策抑制物价过快上涨  
 D. 公司规定, 禁止办公室恋情

28. 情感激励法, 是指通过良好的情感关系, 激发被管理者的积极性, 从而达到提高工作效率的一种管理激励方法。

根据上述定义, 下列属于情感激励法的一项是:

- A. 一名员工由于在大会上指责经理, 被人讽刺、打击、报复, 感到很无奈  
 B. 一名员工被怀疑私自收取顾客好处费而被责令待岗反省, 他很伤心

C. 职工思想和行动得到领导赞许，产生了继续坚持下去的情绪

D. 经理办公室决定，以后不允许职工在公司内谈论家常事

29. 旅游体验营销是指旅游企业和旅游经营者站在旅游者的角度，从旅游者的感官、情感、思考、行动和关系几个方面重新设计旅游营销方式。

根据上述定义，以下不属于旅游体验营销的是：

A. 让旅客重走红军路线

B. 为游客提供当年的红军休息地

C. 为游客提供红色菜肴

D. 向旅客讲解感人的红军英雄事迹

30. 立体农业是指农作物复合群体在时空上的充分利用，根据不同作物的不同特性，如高秆与矮秆、富光与耐阴、早熟与晚熟、深根与浅根、豆科与禾本科、利用它们在生长过程中的时空差，合理地实行科学的间种、套种、混种、轮种等配套种植，形成多种作物、多层次、多时序的立体交叉种植结构。

根据上述定义，下列属于立体农业的是：

A. 甲在自己的玉米地里种大豆

B. 乙在自己承包的鱼塘不但养鱼，还种植了很多莲藕

C. 丙在南方某地区承包了十亩稻田，特意引种了高产的水稻新品种

D. 丁前年承包了一座山，他在山上种植了大量苹果树，并在山上养殖了大量蜜蜂

31. 南风法则，也叫作“温暖”法则，它来源于法国作家拉·封丹写的一则寓言，他告诉我们：温暖胜于严寒，运用到管理实践中，南风法则要求管理者要尊重和关心下属，时刻以下属为本，多点“人情味”，多注意解决下属日常生活中的实际困难，使下属真正感受到管理者给予的温暖。这样，下属出于感激就会更加努力积极地为企业工作，维护企业利益。

根据上述定义，下列不属于南风法则的是：

A. 老张对包括小王在内的下属都很关心，即使小王在某些问题上提出过很尖锐的意见

B. 老李经常早退，但由于和直属领导关系不错，一直未被处罚，引起其他人不满

C. 某次小赵家里有人生病住院，领导和同事们都来探望，并主动分担其工作，让他照顾家人无后顾之忧

D. 小孙作为新入职员工，虽然经常有错误出现，但直属领导总宽容体谅他，积极督促其改正

32. 网宅经济：指在网络科技的支持下为满足宅生活而兴起的一种新的经济模式。它使人们足不出户就可以通过网络订购满足需求。

假设这个定义是正确的、不容置疑的，则下列属于网络宅经济的是：

A. 某搜索引擎推出懒人搜索，不用打字直接说出要查询的关键词，搜索结果就会显示出来



B. 调查显示，有8成购书者过去一年没有去过实体店，而是采取网购的形式获取所需的书籍

C. “有事您动嘴，办事我跑腿，一个电话就OK。”代办证件、代购代送、酒后代驾，跑腿公司的业务越来越火

D. 打网络游戏是小胖赚生活费的一个渠道。卖个装备能挣100，带小号升级能挣300。玩着还能赚钱，小胖乐此不疲

33. 水土流失是指在水力、重力、风力等外力作用下，水土资源和土地生产力遭受的破坏和损失，包括土地表层侵蚀和水的损失，亦称水土损失。水土流失是不利的自然条件与人类不合理的经济活动互相交织作用产生的。

根据以上定义，下列不存在水土流失的是：

- A. 某地在这次暴雨后发生泥石流
- B. 某些地区在强风作用下逐步沙漠化
- C. 岩石经过长期的风化变成沙砾
- D. 黄河将高原大量的泥沙挟带至下游

34. 企业法人是指具有符合国家法律规定的资金数额、企业名称、组织章程、组织机构、住所等法定条件，能够独立承担民事责任，经主管机关核准登记取得法人资格的社会经济组织。

下列属于企业法人的是：

- A. 村民刘老根个人独资在村里建起的养鸡场
- B. 王先生和妻子在商场承包的服装销售摊位
- C. 双鸭山市濒临破产的国有农用机械制造厂
- D. 韩国三星公司派驻中国的业务联络办事处

35. 逆向服务是在产品（服务）销售以后，企业向顾客提供实现产品（服务）使用价值的服务。

根据上述定义，下列不属于逆向服务的是：

- A. 某汽车4S店为客户提供二手车估价、转让服务
- B. 某空调生产商为客户提供终身免费上门维修服务
- C. 某网店推出售后商品7天内可免费退、换货服务
- D. 某电信运营商推出“存话费送手机”的优惠活动

36. 人际关系初级化是指人们之间的关系向亲密化、情感化乃至亲属性变动的过程和现象。在初级人群中，人的关系是友谊而非利益关系，在这种初级关系中，人们寻得了安全的发展。

根据上述定义，下列属于人际关系初级化的是：

- A. 刘备、关羽、张飞桃园结义

- B. 儿童相见不相识，笑问客从何处来
- C. 为了讨好领导，刘明将领导的母亲认作干妈
- D. 甲、乙合谋杀了邻村的丙

37. 夹心层指游离在政府保障与市场之外的无能力购房的群体。表现为有的不符合廉租房条件但又没有钱买经济适用房，有的没资格买经济适用房但又买不起商品房。

下列最可能为夹心层的是：

- A. 小王的妈妈要买一套楼中楼，而老婆却要买一处观景房，小王夹在中间受气
- B. 张教授没买过房，他认为买房不如租房，租房不如借房
- C. 老刘用一生积蓄买了一套三室一厅的二手房
- D. 公司刚招进的小李、小赵和小闫合住在公司的一间临时仓库里

38. 行政确认：指行政机关和法定授权的组织依照法定权限和程序对有关法律事实进行甄别，通过确定、证明等方式决定管理相对人某种法律地位的行政行为。

下列不属于行政确认的是：

- A. 某法院依据《招标投标法》，认定某招标代理机构在一次招标活动中违反相关法律规定，与招标人私下串通，谋取不当利益，并确认此次招标无效
- B. 某高速公路发生一起交通事故，并引起责任纠纷，交警到达现场后，经过勘察了解，认定甲司机应负主要责任
- C. 某市地税局干部小丁和小杨因工作中产生的一些矛盾吵得不可开交，一直闹到李局长那里，李局长了解情况后认为小杨应负主要责任，并批评教育了小杨
- D. 赵某是养鱼专业户，去年冬天因抢救落水者而不幸死亡，政府相关部门依据法律，确认其为烈士

39. 乡村旅游是以各种类型的乡村为背景，以乡村田园风光、乡村生活和乡村文化为旅游吸引物，以农业和农村特色资源为基础开发旅游产品，以农民为经营主体、以城市居民为目标的一种休闲旅游形式。

根据上述定义，下列属于乡村旅游的一项是：

- A. 五一期间靖远县旅游局组织东湾镇大坝村农民20人，赴景泰黄河石林景区参观学习当地农家乐建设情况
- B. 周末，小王约了几位好友一起去爬慕田峪长城，归途中向农民购买了一些特产
- C. 杨家埠位于山东潍坊，这里的农民心灵手巧，制作出了精美的木版年画和风筝，从而吸引了数十万计的国内外宾客前来观光旅游
- D. 周末某市机关组织职工去郊区采摘甜瓜。在这里，家家户户都种植甜瓜，只要与农户谈好价格，就既能体验采摘乐趣，又能把新鲜瓜果带回家

40. 旅游商品，是指旅游者在旅游活动中出于非商业性目的而购买的实物性商品，它不包含维持旅游活动所必需的生活用品。

根据上述定义，下列属于旅游商品的是：

- A. 小王在尼泊尔买了100个手链、200条围巾准备放到自己在北京经营的店铺里销售
- B. 到欧洲出差的张小姐利用闲暇时间在英国某古董商店购买了一套精美茶具
- C. 某夫妇为了国庆假期的海南五日游到超市购买了一瓶防晒霜和两副墨镜
- D. 李女士在泰国旅游时从小商贩那里得到了很多关于当地美食娱乐方面的信息

41. 心理暗示是指人受外界或他人的愿望、观念、情绪、判断或态度影响的心理特点。

积极的心理暗示会给我们带来喜悦和信心，消极的心理暗示会使人觉得郁闷不安。

下列不属于积极心理暗示的是：

- A. 小王考上了公务员，他告诫自己一定要踏踏实实为人民服务
- B. 小张因电话诈骗而上当，他对朋友说：吃一堑长一智，肯定没有下次了
- C. 高考语文结束，小龙感觉没考好，他想：接下来都是自己擅长的，没关系
- D. 高考前，小强在心里想：每年1至6月自己的运气就不好，但愿这次能好些

42. 收敛性思维是主体从已有的知识经验出发，围绕既定核心进行全方位的思考，运用比较、排除、综合、概括等方法，最终确定一个解决问题的最佳方案的思维方式。

根据上述定义，下列属于收敛性思维的是：

A. 为了宣传某活动，某团队从以前的宣传方案得到启发，成功策划出了一种创新的宣传方式

B. 某幼师教幼儿认识一些简单的形状后，让幼儿说出家里哪些东西是圆形的，哪些是三角形的

C. 在语文课上，教师围绕某古诗歌的作者、创作背景、意义等各方面进行讲解，从而加深学生对该古诗歌的认识

D. 某高校辩论队在准备辩论时，针对辩题设计出不同的框架和辩论方式，最后从中选择出一套最有攻击力度的辩论方式

43. 海洋能，是指依附在海水中的可再生能源，海洋通过各种物理过程接收、储存和散发能量，这些能量以潮汐、波浪、温度差、盐度梯度、海流等形式存在于海洋之中。

根据上述定义，下列不属于利用海洋能的是：

- A. 甲海洋工程公司利用海水的日夜温差为工程机械提供电力
- B. 乙船舶公司利用海水盐度差为轮船提供照明
- C. 丙能源公司利用海面上气流为居民提供照明
- D. 丁发电厂利用潮汐为造船厂提供电力

44. 邻避效应，是指项目所在地附近居民或者单位因担心建设项目对身体健康、环境质量和资产价值等带来诸多负面影响，从而激发嫌恶情绪，滋生“不要建在我家后院”的心理，及采取的强烈而坚决、有时高度情绪化的集体反对甚至抗争行为。

根据上述定义，下列涉及邻避效应的是：

A. 某住宅小区内宠物随地大小便情况严重，部分居民向业主委员会提出抗议，要求小区内禁养宠物

B. 某海上油田发生漏油事故，严重污染周边海洋环境，主管部门对其重罚并责令立即整改

C. 某县将兴建动车站，该县城的机关单位和工业企业均表示欢迎并积极支持，但项目所在地北部居民因担心辐射，多次在项目部前打横幅，要求重新选址

D. 某写字楼要在室内更换新型空气净化系统，但由于价格太高遭到写字楼内各企业联名反对

45. 认知干预：认知干预的原则认为，一个人的心理活动和心理状态决定于其内在的认知观念，个体心理问题的根源是其头脑中不合理的认知观念，认知干预就是要以正确的理论知识来改变个体的不合理认知。

下列不属于认知干预的是：

A. 在实施某项手术前，医护人员以正确的医学和生理学知识告诉病人此项手术是必需和安全的，消除病人的焦虑

B. 学校有计划、按步骤地对学校中有关人员的心理活动、个性特征或他们的心理问题施加影响，使之发生指向预期目标的变化

C. 对于抑郁症患者，给其提供另一种可以解释其观察和经验的观念系统，从而取代其原有的信念

D. 对于渴望提高自身理论水平的在职人员，教师结合其工作实际，向其提供系统的理论知识

46. 电子政府，是指政府机构运用现代网络通讯与计算机技术，将其内部和外部的管理和服务职能通过精简、优化、整合、重组后到网上实现，打破时间、空间以及部门分隔的制约，为社会公众以及自身提供一体化的高效、优质、廉洁的管理和服务。

根据上述定义，下列不属于电子政府的是：

A. 某市政府建立网络平台，将其原有全部的政务在网络上一一对应实现

B. 某市政府内部实行办公系统自动化

C. 某市政府建立内部信息化网络平台，使各部门实现信息共享

D. 某市政府向社会组织和个人开辟网上申报系统

47. 登门槛效应，是指一个人一旦接受了他人的一个微不足道的要求，为了避免认知上的不协调，或想给他人以前后一致的印象，就有可能接受更大的要求。

根据上述定义，下列属于登门槛效应的是：

A. 路旁，商贩们大声叫卖自己的商品，但却很少有人停下来买

B. 李明一向对人和善，但是今天竟然对客户发脾气了，同事们都很不解

C. 看了公司今年的业绩指标，销售员小吴感觉毫无压力，轻松就可以完成

D. 爸爸要求小光期中考60分，结果小光考了65分，爸爸又要求期末考70分，小光欣然答应

48. 搭便车行为，是指得到一种物品的利益但避开为此付费的行为。它是一种投机心理，根本原因在于团体利益同分，责任和行为成本却由团体的某个成员承担。

根据上述定义，下列不是搭便车行为的是：

A. 春节期间，张某搭李某的顺风车回老家过年

B. 《谁动了我的奶酪》畅销后，市面上立即出现了《我动了谁的奶酪》的书籍

C. 某小区进行了卫生设施改造，费用由小区业主根据自身财力支付，但该小区业主王某拒绝交费

D. 某企业为了提升管理水平，高薪聘请某资深职业经理人担任企业总经理

49. 经济分析法学派认为，法律的根本宗旨在于通过法律的参与使社会财富达到极大化的效益目标，也就是以价值极大化的方式分配和使用资源。因此，不但所有法律现象都是以一定的经济关系为基础的，所有法律法规都有其经济根源，而且一切法律问题归结起来都是经济问题。

根据上述定义，下列学者的观点中，属于经济分析法学派的是：

A. 对于罪犯而言，由于犯罪对他的预期收益超过其预期成本，所以，某人才实施犯罪

B. 法律进化的根本性动力是社会不断增进的复杂性，随着社会复杂性的进化，法律也会相应发生改变

C. 法律作为社会工程或社会控制的手段，任务就在于满足人们的各种要求和愿望

D. 法律是人类有意识地创造以达到一定目的的手段，其目的就是利益，包括个人利益和社会利益

50. 直接证据是指能够直接证明刑事案件主要事实的证据，间接证据是指不能够单独地直接证明刑事案件主要事实，需要与其他证据相结合才能证明的证据。所谓刑事案件的主要事实，是指犯罪行为是否系犯罪嫌疑人、被告人所实施。

根据上述定义，下列属于直接证据的是：

A. 小区监控拍摄下的犯罪嫌疑人李某盗窃车辆的视频

B. 被害人的邻居王某提供的犯罪嫌疑人在案发前到过案发现场的证言

C. 刑警在凶案现场提取到的男性鞋印

D. 诈骗案受害人姜某提供的自己所遭受的金钱损失的银行记录

### 三、类比推理

51. 玫瑰：爱情

A. 文化：交往

B. 紫荆花：统一

C. 红色：革命

- D. 足球：和平
52. 平型关大捷：抗日战争时期
- A. 台儿庄战役：第二次国内革命战争时期
- B. 汀泗桥战役：第一次国内革命战争时期
- C. 四渡赤水：国民大革命时期
- D. 孟良崮战役：第二次世界大战时期
53. 流芳百世：遗臭万年
- A. 佳偶天成：夫唱妇随
- B. 近朱者赤：近墨者黑
- C. 富商大贾：小商小贩
- D. 卧虎藏龙：藏污纳垢
54. 有限：无限
- A. 奇数：偶数
- B. 陆地：海洋
- C. 正数：负数
- D. 远亲：近邻
55. 孔雀绿：刚果红
- A. 虹吸管：排水管
- B. 铁索桥：独木桥
- C. 混凝土：观音土
- D. 天花板：刨花板
56. 唐诗：七律
- A. 曲艺：越剧
- B. 自行车：汽车
- C. 瓷器：茶杯
- D. 哺乳动物：老虎
57. 蜥蜴：爬行类：爬行
- A. 翠鸟：飞翔：鸟类
- B. 鲨鱼：鱼类：游动
- C. 奔跑：羚羊：哺乳类
- D. 青蛙：两栖类：行走
58. 发烧：体温计：摄氏度
- A. 卫星：探测器：光年
- B. 胃病：胃镜：活检

- C. 运动会：秒表：成绩  
D. 高血压：血压计：毫米汞柱
59. 奏折：公文：官吏
- A. 里弄：胡同：街道  
B. 学堂：书院：教授  
C. 绝句：诗歌：诗人  
D. 庙宇：住宅：僧人
60. 费尽心机：弄巧成拙
- A. 神通广大：八仙过海  
B. 装聋作哑：蒙混过关  
C. 自吹自擂：丢人现眼  
D. 宽宏大量：小肚鸡肠
61. 玲珑剔透：精明灵活
- A. 能屈能伸：可大可小  
B. 老气横秋：老骥伏枥  
C. 悄然无声：沉默不语  
D. 绵里藏针：柔中有刺
62. 沙漏 对于 ( ) 相当于 ( ) 对于 距离
- A. 时钟；光年  
B. 遗忘；异地  
C. 工具；千里  
D. 时间；卷尺
63. 车厢：火车：乘务员
- A. 手指：身体：医生  
B. 花架：花盆：园丁  
C. 课本：书包：学生  
D. 茶叶：开水：茶农
64. 西湖：“淡妆浓抹总相宜”
- A. 太湖：“云横九烟浮黄鹤”  
B. 峨眉山：“空山不见人”  
C. 长江：“飞流直下三千尺”  
D. 庐山：“横看成岭侧成峰”
65. 水上交通工具：陆上交通工具：人力交通工具
- A. 湖北：湖南：洞庭湖

- B. 小说：戏剧：中国文学作品
- C. 哺乳动物：鸟：恒温动物
- D. 议会制国家：两党制国家：欧洲国家
- 66. 风媒花：风：授粉
  - A. 蔬菜：温室：育苗
  - B. 果树：雨水：增产
  - C. 小麦：雪：丰收
  - D. 绿色植物：阳光：光合作用
- 67. 义薄云天：高义薄云：薄情寡义
  - A. 不甘示弱：甘拜下风：自叹不如
  - B. 守株待兔：望梅止渴：亡羊补牢
  - C. 失魂落魄：镇定自如：泰然自若
  - D. 天衣无缝：无懈可击：破绽百出
- 68. 空军：战斗机：天空
  - A. 足球裁判：哨子：球场
  - B. 司机：方向盘：马路
  - C. 学生：试卷：考场
  - D. 消防员：云梯：洒水车
- 69. 考古：文物
  - A. 旅游：风景
  - B. 医学：人体
  - C. 数学：数字
  - D. 化学：实验
- 70. 春：秋：春秋
  - A. 铁：锈：铁锈
  - B. 绿：地：绿地
  - C. 江：湖：江湖
  - D. 明：月：明月

#### 四、逻辑判断

71. 每个人的DNA携带的遗传信息都不相同，只要罪犯是累犯，只要他在作案现场留下了身体上包括一根头发、一滴血、还是一片皮屑在内的任何物质，警方都可以通过鉴定人类DNA的遗传信息，马上确定罪犯的身份。

由此可以推出：

- A. 警方不能鉴定初犯的DNA携带的遗传信息



- B. 罪犯的DNA携带的遗传信息不会因作案时间不同发生变化
- C. 同一个人身上的头发和血分别带有不同的遗传信息
- D. 只有根据人类DNA的遗传信息才能马上确定罪犯的身份

72. 民间有说法说，散养土鸡吃的是草籽和虫子，所下的蛋营养更丰富，这似乎在暗示鸡蛋的营养价值与下蛋的鸡所吃的食物有关。

为了验证这个结论，下面哪种试验方法最可靠？

- A. 选择一优良品种的蛋鸡投放到农村散养，然后与非散养的普通鸡的营养成分相比较
- B. 化验、比较散养的鸡食物和非散养的鸡食物的营养成分
- C. 选择品种、等级完全相同的蛋鸡，一半散养，一半在养鸡场圈养，然后比较它们的营养成分
- D. 选出不同品种的蛋鸡，投放到农村散养，然后比较它们的切实有效成分

73. 陈先生在鼓励他的孩子时说道：“不要害怕暂时的困难与挫折，不经历风雨怎么见彩虹？”他的孩子不服气的说：“您说的不对，我经历了那么多风雨，怎么就没见到彩虹呢？”

陈先生孩子的回答最适宜用来反驳以下哪项？

- A. 只要经历了风雨，就可以见到彩虹。
- B. 如果想见到彩虹，就必须经历风雨。
- C. 只有经历风雨，才能见到彩虹。
- D. 即使经历了风雨，也可能见不到彩虹。

74. 在一起事件中的四名被调查者分别是受害者、目击者、救助者和旁观者。他们在接受调查时分别作了如下陈述：

- ①孝：诚不是旁观者。
- ②诚：义不是目击者。
- ③敢：孝不是救助者。
- ④义：诚不是目击者。

进一步调查得知：他们四人的陈述如果是关于受害者的就是假的，如果是对其他人的就是真的。

由此可见，受害者是：

- A. 孝
- B. 诚
- C. 敢
- D. 义

75. 甲、乙和丙，一位是山东人，一位是河南人，一位是湖北人。现在只知道：丙比湖北人年龄大，甲和河南人不同岁，河南人比乙年龄小。

由此可以推知：

- A. 甲不是湖北人
- B. 河南人比甲年龄小
- C. 河南人比山东人年龄大
- D. 湖北人年龄最小

76. 韩雪依、庄梦蝶、紫云、柳飘飘、李梦颜要么出身峨眉派，要么出身古墓派，她们相互知道各自的身份，但其他人却不知道，一次武林大会上，她们请大家推理。

- 韩雪依对庄梦蝶说：“你出身古墓派。”
- 庄梦蝶对紫云说：“你和柳飘飘都出身古墓派。”
- 紫云对柳飘飘说：“你和庄梦蝶都出身峨眉派。”
- 柳飘飘对李梦颜说：“你和庄梦蝶都出身古墓派。”
- 李梦颜对韩雪依说：“你和紫云都不出身古墓派。”

如果规定同一个门派的人之间说真话，不同门派的人之间说假话，那么下面哪项必定为真？

- A. 韩雪依说真话，古墓派出身的是韩雪依、庄梦蝶、柳飘飘
- B. 韩雪依说真话，古墓派出身的是韩雪依、庄梦蝶、紫云
- C. 紫云说真话，古墓派出身的是紫云、柳飘飘、李梦颜
- D. 柳飘飘说假话，古墓派出身的是韩雪依、紫云、柳飘飘

77. 华天酒店如果既有“文昌鸡”，又有“嘉积鸭”，则一定会有“和乐蟹”，华天酒店在月尾从不卖“和乐蟹”；只有当华天酒店卖“嘉积鸭”时，老王才会与朋友到华天酒店吃大餐。

- 如果上述断定为真，以下哪项一定为真？
- A. 华天酒店在月尾不会卖“文昌鸡”
- B. 老王与朋友到华天酒店不会既吃“文昌鸡”，又吃“嘉积鸭”
- C. 华天酒店只有在月尾才不会卖“嘉积鸭”
- D. 如果老王在月尾与朋友到华天酒店吃大餐，他们肯定吃不到“文昌鸡”

78. 某菜店的进货价只有低于正常价格时，才能以低于市场的价格卖菜而获利；除非该菜店的销售量很大，否则，不能从菜农那里购得低于正常价格的菜；要想有大的销售量，该菜店就要满足消费者个人兴趣或者拥有特定品种的独家销售权。

- 如果上述断定为真，则以下哪项必定为真？
- A. 如果该菜店从菜农那里购得低于正常价格的菜，那么就会以低于市场的价格卖菜获利
- B. 如果该菜店没有以低于市场的价格卖菜而获利，则一定没有从菜农那里购得低于正常价格的菜
- C. 该菜店不仅满足了消费者的个人兴趣，而且拥有特定品种独家销售权，但仍然不能以低于市场价格卖菜而获利

D. 如果该菜店以低于市场价格卖菜而获利，那么进货价一定低于正常价格

79. 思想大师维特根斯坦曾经这样说：“人们必须自谬误开始，然后才从谬误进入真理。这就是说，人们必须揭露谬误的根源，否则，即使听到了真理也无济于事。当别的事务占据了它的位置时，真理就不会出现。要使人信服真理，光说出真理是不够的，人们还必须找到从谬误走向真理的途径。我必须一次又一次地投身于怀疑之水。”

由此可以推出：

- A. 如果真理没有出现，就是没有揭露谬误的根源
- B. 只有揭露谬误的根源，真理才能出现
- C. 即使没有揭露谬误的根源，真理也能出现
- D. 只有真理出现了，才能揭露谬误的根源

80. 有了宽容之心，见人之长，容人之短；见人之功，容人之过。有了宽容之心，就可以心平气和，不居高临下，盛气凌人，不为蝇头小利斤斤计较，不为虚名耿耿于怀。有了宽容的胸怀，就不会以己之优势识人而漠视了贤才，以己之喜好遇人从而拒绝了知己，以己之度量度人而误解了朋友。有了宽容的美德，就具备了人格的魅力，只有宽容他人，才能成就自己。

由此不能推出：

- A. 如果你赢得知己，那你一定没有以己之喜好遇人
- B. 如果你没有成就自己，那一定是因为你没有宽容他人
- C. 如果你为蝇头小利而斤斤计较，就说明你没有宽容之心
- D. 如果你不具备人格的魅力，那一定是因为你缺乏宽容的美德

81. 只有种粮成本低、粮食价格高，农民种粮的积极性才能高。只有农民种粮的积极性高了国家的粮食产量才能高。除非国家的粮食产量高，否则酿酒业就不能选购足够的优质粮食。酿酒业只要能选购足够的优质粮食就能酿出品质高的酒水。

由此下列推断正确的是：

- A. 如果国家粮食产量低，那么种粮成本下降、粮食价格低
- B. 国家粮食产量高，酿酒业就能酿出品质高的酒水
- C. 如果种粮成本高，酿酒业就不能选购足够的优质粮食
- D. 农民种粮积极性低，酿酒业就酿不出品质高的酒水

82. 理工学院的王老师在接受校刊记者采访时说：“近年来理科大学生对时事政治学习的兴趣普遍比以前浓了，因为我上课的班级中大学生对于各类时事政治讲座几乎一次也不落，这在几年前几乎是不可想象的。”

王老师的结论基于以下哪项假设？

- A. 这几年国内外一系列事件的发生极大地吸引了理科大学生
- B. 近年来入学的大学生的政治意识普遍比以前的学生强

- C. 对时事政治讲座的态度是衡量大学生对时事政治学习是否有兴趣的重要标志
- D. 在时事政治学习方面不能按文科大学生的标准来要求理科大学生

83. 试验发现，孕妇适当补充维生素D可以降低新生儿感染呼吸道合胞病毒的风险。科研人员检测了156名新生儿脐带血中维生素D的含量，其中54%的新生儿被诊断为维生素D缺失，这当中有12%的孩子在出生后一年内感染了呼吸道合胞病毒，这一比例远高于维生素D正常的孩子。

以下哪项如果为真，最能对科研人员的上述发现提供支持？

- A. 上述实验中，54%的新生儿维生素D缺失是由于他们的母亲在妊娠期间没有补充足够的维生素D造成的。
- B. 孕妇适当补充维生素D可降低新生儿感染流感病毒的风险，特别是在妊娠后期补充维生素D，预防效果会更好。
- C. 上述实验中，46%补充维生素D的孕妇所生的新生儿也有一些在出生一年内感染呼吸道合胞病毒。
- D. 维生素D具有多种防病健体功能，其中包括提高免疫系统功能、促进新生儿呼吸系统发育、预防新生儿呼吸道病毒感染等。

84. 交管局要求司机在通过某特定路段时，在白天也要像晚上一样使用大灯，结果发现这条路上的年事故发生率比从前降低了15%。他们得出结论说，在全市范围内都推行该项规定会同样地降低事故发生率。

最能支持上述论断的一项是：

- A. 该测试路段在选取时包括了在该市驾车时可能遇见的多种路况
- B. 由于可以选择其他路线，因此所测试路段的交通量在测试期间减少了
- C. 在某些条件下，包括有雾和暴雨的条件下，大多数司机已经在白天使用了大灯
- D. 司机们对在该测试路段使用大灯的要求的了解来自于在每个行驶方向上的三个显著的标牌

85. 已有研究表明，大脑的功能区并不是一成不变的。研究人员利用功能性磁共振成像技术在先天盲人执行语句理解任务时对其大脑视觉区进行扫描。如果大脑视觉皮层区拥有语言处理能力，那么在接触语言信息时，将会表现出与经典大脑语言区的相同敏感性。结果发现，大脑视觉区对句子结构和词义表现敏感。研究人员认为，先天盲人的视觉皮层可以处理语言。

以下哪项如果为真，最能支持上述结论？

- A. 研究显示，先天性盲人在执行阅读盲文的任务时，左侧视觉皮层有活跃现象
- B. 语言中枢发挥正常功能的条件下，先天盲人的视觉皮层由于没有获得视觉功能，会竞争其他功能
- C. 如果在人的生命早期实施手术，比如将其神经与大脑视觉皮层连接，视觉皮层将处理

声音信息

D. 人类大脑视觉皮层的不同部位在发育过程中获得了不同的功能,左视觉区的一部分获得了语言处理功能

86. 生长在非洲平原上的金合欢树是非洲象的最爱。研究者把金合欢树里的蚁窝去掉,当蚂蚁消失后,非洲象开始尽情地享用这棵原本有蚂蚁守护的树。与此同时,研究者还给一些未受到蚂蚁保护的金合欢树添上了蚁巢,结果非洲象就像小孩子躲避花椰菜一样躲避这些树。由此研究者认为,非洲平原上的金合欢树林未被非洲象摧毁殆尽,蚂蚁起到了非常重要的作用。

不能支持上文观点的论据是:

- ①非洲象鼻腔里的神经对爬虫异常敏感,因此会尽量避开蚂蚁
- ②非洲象发达的嗅觉能够闻到树中蚂蚁产生的气味
- ③非洲平原上的蚂蚁中,在地下筑巢的品种比在树上筑巢的更有攻击性

- A. 仅①
- B. ②和③
- C. 仅③
- D. ①、②和③

87. 《汉武故事》文中不涉佛家言语,行文质朴无华,谈求仙时也没有提及魏晋以后的各种仙方仙术,因此有些研究者推测:它并非与辞藻华丽、描写细腻的《汉武帝内传》一样,产生于六朝时期。

以下哪一项如果为真,不能为研究者的推测提供支持?

- A. 六朝时期的文章凡谈及求仙,必然会提及魏晋以后的仙方仙术
- B. 六朝时期的君王传记文章必然具有辞藻华丽、描写细腻的特色
- C. 佛家文化繁荣于六朝时期,此时期的作者行文大都会引用佛家言语
- D. 六朝时期的君王传记文章中,谈及求仙的内容非常少见

88. 17世纪的物理学家伊萨克牛顿爵士主要因他在运动和地球引力方面的论文而受到纪念。但是牛顿也基于神秘的炼丹术理论秘密地做了许多年的试验,企图使普通金属变成金子,并制出返老还童的长生不老药,这些尝试都以失败告终。如果17世纪的炼丹家发表了他们的试验结果,那么18世纪的化学将会比它实际上更先进。

下面哪一个假设可以合理地推出关于18世纪化学的结论?

- A. 科学的进步因历史学家不愿承认一些伟大的科学家的失败而受阻
- B. 不管试验成功与否,有关这些试验的报道若能被其他科学家所借鉴,将会促进科学的进步

C. 如果牛顿在炼丹术方面的工作结果也会被公布于众的话,那么他在运动和地球引力方面的工作将不会得到普遍接受

D. 科学日趋专业化，使得一个领域的科学家很难理解其他领域内的原理

89. 大多数抗抑郁药都会使体重增加。尽管在服用这些抗抑郁药物时，节食有助于控制体重的增加，但不可能完全避免这种体重的增加。

以上信息最能支持以下哪项结论？

- A. 医生不应当给超重的患者开抗抑郁药的处方
- B. 至少有些服用抗抑郁药物的人体重会超重
- C. 至少有些服用抗抑郁药物的患者应当通过节食来保持体重
- D. 至少有些服用抗抑郁药物的人会增加体重

90. 某年，国内某电视台在综合报道了当年的诺贝尔各奖项的获得者的消息后，做了以下评论：今年又有一位华裔科学家获得了诺贝尔物理学奖，这是中国人的骄傲。但是到目前为止，还没有中国人获得诺贝尔经济学奖和诺贝尔文学奖，看来中国在人文社会科学方面的研究与世界先进水平相比还有比较大的差距。

以上评论中所得出的结论最可能把以下哪项断定作为隐含的前提？

- A. 包括经济学在内的人文社会科学研究与各国的文化传统有非常密切的关系
- B. 中国的人文科学有先进的理论基础和雄厚的历史基础，目前和世界先进水平的差距在逐步缩小
- C. 诺贝尔奖是衡量一个国家某个学科发展水平的重要标志
- D. 诺贝尔奖的评比在原则上对所有人种是公平的，但实际上很难做到

91. 随着光纤网络带来的网速大幅度提高，高速下载电影、在线看大片等都不再是困扰我们的问题，即使在社会生产力发展水平较低的国家，人们也可以通过网络随时随地获得最快的信息、最贴心的服务和最佳体验。有专家据此认为：光纤网络将大幅提高人们的生活质量。

以下哪项如果为真，最能质疑该专家的观点？

- A. 随着高速网络的普及，相关上网费用也随之增加
- B. 人们生活质量的提高仅决定于社会生产力的发展水平
- C. 快捷的网络服务可能使人们将大量时间消耗在娱乐上
- D. 即使没有光纤网络，同样可以创造高品质的生活

92. 有学者认为，毅力即是克服一切阻碍以实现长远计划的能力，毅力被当下美国作为培养热爱幻想的、有创造力的、有叛逆心的人的核心理论。

若下列选项为真，最能削弱题干结论的是：

- A. 具有毅力性格的橄榄球队员会给身体带来长期创伤和精神创伤
- B. 过分强调毅力会导致服从威权的思维习惯，使得大众能够听从权力者的指示而各安其位
- C. 有许多因毅力而获得成功的音乐家、运动员、学者商人的案例

D. 外界认为在经济危机中摩根大通的成功归因于领导者的毅力,但实际是摩根大通得到了美国政府的救市资助

93. 对于高技术产业而言,每一次颠覆性发展总是伴随着创新的出现。没有创新很容易陷入自戕的危局,即使曾经享誉一时,也难逃厄运。比如柯达的破产,乐凯关闭胶片生产等等莫不是如此。因此没有创新,即使像柯达那么强大,最终还是被数码相机拉下马。因此,创新才是高技术产业发展的根本原因。

以下哪项如果为真,不能削弱这一论证?

- A. 创新若不能为消费者带来便利,也不会为市场所接受
- B. 世界知名品牌高技术产品的成功,再次印证着质量是产品生命线的道理
- C. 世界各国高技术产业的成功,无一不凝聚着技术人员的大胆创新
- D. 创新离不开技术的进步,而且技术的不断进步也带来了高技术产业的发展

94. 临床试验显示,对偶尔食用一定量的牛肉干的人而言,大多数品牌牛肉干的添加剂不会导致动脉硬化。因此,人们可以放心食用牛肉干而无须担心对健康的影响。

下列选项如果为真,最能削弱上述论证的是:

- A. 食用大量牛肉干不利于动脉健康
- B. 动脉健康不等于身体健康
- C. 肉类都含有对人体有害的物质
- D. 喜欢吃牛肉干的人往往也喜欢食用其他对动脉健康有损害的食品

95. 对于发展和贫困国家而言,解决饥荒和提高生活水平问题,往往迫在眉睫。由于发展转基因技术可以提高粮食产量,转基因食品价格通常低于传统食品,所以解决全球贫困人群的饥荒问题和提高他们的生活水平的重点在于转基因技术。

以下哪项如果为真,最能质疑上述结论?

- A. 发展中国家推广转基因技术的意愿不强
- B. 人们担忧食用转基因品会对健康产生影响
- C. 很多贫困国家因为自然环境恶劣,不适合发展农业
- D. 贫穷和资源分配不均才是贫困人群饥饿和生活水平不高的根本原因

96. 谈到大数据时,有一则故事经常被引用:一位男顾客到一家连锁店投诉,因为该店竟然给他读高中的女儿邮寄婴儿服装和孕妇服装的优惠券。后来,这位父亲与女儿进一步沟通发现,女儿真的已经怀孕了,于是致电道歉。该店解释说,他们发现女孩的购买记录中包括无味湿纸巾和补镁药品,而以往记录显示,孕妇购买这两种商品的比例高于一般人群,因此推测这位女性顾客可能怀孕了。引用者认为,这个故事可以说明,“数据比人更了解人”。

以下哪项如果为真,最能反驳引用者的观点?

- A. 该店给很多客户都邮寄了孕妇优惠券,这些人绝大多数并不是孕妇
- B. 无味湿纸巾和补镁药品跟怀孕没有因果关系,根据它们预测怀孕没有理论依据

- C. 该店把孕妇优惠券寄到女孩家，揭露了她的隐私，并不了解她的真实需求
- D. 女孩的妈妈其实早已察觉女儿的变化，但为了保护女儿，暂时没有告知父亲

97. 某市决定出台政策对网约车业务进行一定限制。有人建议，应规定非本市户籍不能在市区内从事网约车业务，因为非本市户籍的车主驾驶的外地车辆增加了本市的交通负担。

以下最能削弱这一观点的是：

- A. 非本市户籍的车主没有缴纳各种税费
- B. 60%的网约车业务是由外地车辆完成的
- C. 造成拥堵的车辆大部分是本市的私家车
- D. 该市有一半以上是非本市户籍的居民

98. 一般认为，为了预防胎儿神经管畸形，妇女必须在怀孕之前的三个月及孕期头三个月适量服用叶酸制剂以补充体内叶酸。现有一项新的研究表明，我们经常食用的绿叶蔬菜、水果、动物肝脏中都含有不少叶酸，因此孕前及孕中额外补充叶酸并非必需。

以下哪项如果为真，最能削弱上述结论？

- A. 只有早孕反应强烈的人才会缺乏叶酸，而并非所有孕妇都会出现强烈的早孕反应
- B. 胎儿神经管畸形一般都是由遗传因素所致，只有极少数才是由孕妇叶酸缺乏引起
- C. 天然叶酸极不稳定，遇光或被加热后容易氧化
- D. 叶酸制剂是经过提纯的，其生物利用度较高，便于人体吸收

99. 现在人们常常提到大学毕业生就业难，但据统计，近年我国就业市场空缺岗位与求职人数的比率一般大于1，劳动力市场的需求大于供给。而在求职人群中，大学毕业生的文化水平较高。因此，我国大学毕业生实际上不存在就业难的问题。

以下信息如果为真，能够有效反驳上述结论的是：

- A. 当前经济下行业压力较大，不少企业严控用工成本，已经开始裁员
- B. 劳动力市场最紧缺的一些岗位主要是适合高级技工的岗位
- C. 大学毕业生愿意从事的岗位往往竞争激烈
- D. 一些高级技工人才的收入水平要高于大学毕业生

100. 某县支行在对其储户进行统计分析时发现，在该行存款10万元以上的大额储户中，有55%的储户是城镇居民，该行某负责人由此向县领导建议：为增加大额储户的比例，县政府应该鼓励农村居民向城镇转移。

以下哪项如果为真，最能质疑该负责人的建议？

- A. 有很多农村居民更愿意将钱存入银行
- B. 城镇居民由于消费水平高，通常会更加积极努力工作
- C. 该县农村居民平均存款额只有城镇居民的70%
- D. 该县城镇居民的比例超过60%