

金融习题（30 题）

单项选择题

1. 假定一定时期内，金融市场上企业债券和政府债券的发行数额均一定，但之前发行的企业债券爆发违约潮。由此可以推知（ ）。

- (1) 政府债券收益率下降
- (2) 企业债券收益率上升
- (3) 企业债券收益率高于政府债券，并且利差有大的趋势

- A. 仅 (1) 和 (3)
- B. 仅 (1) 和 (2)
- C. 三项都可推知
- D. 仅 (2) 和 (3)

【答案】C。金融市场上企业债券和政府债券的发行数额均一定，但之前发行的企业债券爆发违约潮，则企业债券的风险升高，相应的企业债的收益率必须上升，才会有投资者愿意持有企业债，故 (2) 正确；政府债券相对企业债券更安全，即使收益率下降也愿意持有，故 (1) 正确；企业债券相对政府债券风险更高，且爆发违约潮，故企业债券收益率高于政府债券，并且利差有大的趋势，故 (3) 正确。故本题正确答案选 C。

2. 韩立有一笔资金，想要投资下列金融工具中的一种，已知它们的回报率及概率是：

甲		乙		丙		丁	
回报率	概率	回报率	概率	回报率	概率	回报率	概率
10%	0.6	12%	0.4	15%	0.3	5%	0.9
7%	0.4	8%	0.6	6%	0.7	2%	0.1

为了让收益最大，则韩立应选择哪种金融工具？（ ）

- A. 甲
- B. 乙
- C. 丁
- D. 丙

【答案】B。预期收益率 $E(r_i) = \sum p_i r_i$ ，则甲的预期收益 $= 0.6 \times 10\% + 0.4 \times 7\% = 8.8\%$ ；乙的预期收益 $= 0.4 \times 12\% + 0.6 \times 8\% = 9.6\%$ ；丙的预期收益 $= 0.3 \times 15\% + 0.7 \times 6\% = 8.7\%$ ；丁的预期收益 $= 0.9 \times 5\% + 0.1 \times 2\% = 4.7\%$ 。故本题正确答案选 B。

3. 小张是某银行的理财经理，该银行新推出了一款非保本浮动收益理财产品，在此之前，有一款与之类似的产品年收益达到了 5%，于是小张向客户介绍，该产品是一款投资理财产品，预期收益可达 5%，下列对该行为描述正确的是（ ）。

A. 历史不能代表未来，小张的推荐容易误导客户，违反了销售人员需要客观真实地向客户介绍银行产品和服务原则

B. 小张的介绍，简洁明了抓住了产品的特点，值得借鉴

C. 小张的介绍透露了银行产品内部信息，违反了商业保密原则

D. 详细的介绍突出了该产品的优势，且进行了有效的风险提示，客户更容易接受

【答案】A。非保本浮动收益理财产品是不保本的，因此需要向客户提示风险，另外浮动收益表明该款产品的收益是不确定的，不能根据历史情况来向客户推销。向客户推荐产品或提供服务时，应当根据监管规定要求，对所推荐的产品及服务涉及的法律风险、政策风险及市场风险等进行充分的提示，对客户提出的问题应当本着诚实作用的原则答复。A 选项对该行为描述正确，符合题意，当选；BCD 选项不符合题意。故本题正确答案选 A。

4. 李某是一家银行的客户经理，他的下列行为中没有违反银行业从业人员职业操守规定的是（ ）。

A. 知道其部门同事有受贿行为，但由于不属于同一部门，因此不予劝阻

B. 周末将有存有客户资料的办公用笔记本电脑带回家用于娱乐和游戏

C. 某企业财务人员向其了解本公司法人在该银行的私人存款情况，李某予以拒绝

D. 利用职务便利，为朋友办事，朋友以一定财务作为回报

【答案】C。李某知道其部门同事有受贿行为，即使不属于同一部门，也应予以劝阻，A 选项错误，排除；李某周末不应将有存有客户资料的办公用笔记本电脑带回家用于娱乐和游戏，B 选项错误，排除；某企业财务人员向其了解本公司法人在该银行的私人存款情况，李某予以拒绝，C 选项正确，当选；李某不应利用职务便利，为朋友办事，朋友以一定财务作为回报，D 选项错误，排除。故本题正确答案选 C。

5. 假设存在两种债券 X 和 Y，面值均为 1000 元。以下说法正确的是（ ）。

债券	息票率 (%)	发行价 (元)
x	5.5	800

y	7.0	1300
---	-----	------

- A.正常情况下，债券 X 的到期收益率与息票率相等
- B.正常情况下，债券 X 的到期收益率比息票率低
- C.正常情况下，债券 Y 的到期收益率与息票率相等
- D.正常情况下，债券 Y 的到期收益率比息票率低

【答案】D。折价发行是发行价格低于票面金额，X 属于折价发行，息票率低于到期收益率；溢价发行是发行价格大于票面金额，Y 属于溢价发行，息票率高于到期收益率。故 D 项当选；ABC 不当选。故本题正确答案选 D。

6. 各国在制定汇率时必须选择某一国货币作为主要对比对象，这种货币被称为关键货币。根据本国货币与关键货币实际价值的对比，制定出对它的汇率，这个汇率就是（ ）。

- A.浮动汇率
- B.基本汇率
- C.套算汇率
- D.固定汇率

【答案】B。根据本国货币与关键货币实际价值的对比，制定出对它的汇率，这个汇率就是基本汇率。一般美元是国际支付中使用较多的货币，各国都把美元当作制定汇率的主要货币，常把对美元的汇率作为基本汇率。故 B 项当选；ACD 不当选。故本题正确答案选 B。

7. 中央银行可以通过调控商业银行的可用资金量，扩大或缩小商业银行的货币派生能力，发挥其在货币供给中的作用。关于中央银行对货币供给的调控说法错误的是（ ）。

- A.中央银行可以完全控制市场中的货币供应量
- B.中央银行可以通过变动法定准备金率调控
- C.中央银行可以通过变动再贴现率调控
- D.商业银行不能动用所持有的全部准备金

【答案】A。货币供应量实际上是一个特殊的内生变量，即不完全受中央银行控制，而是由经济主体决定，因此，中央银行不可以完全控制市场中的货币供应量，A 项说法错误，符合题意，当选；中央银行可以通过对法定存款准备金比率的规定，直接限制商业银行创造信用的最大规模，同时，间接影响商业银行超额准备金的数量，从而调控商业银行的信贷规模，B 项说法正确，不符合题意，不当选；再贴现意味着商业银行向中央银行贷款，中央银行可以通过变动再贴现率调控货币供给量，C 项说法正确，不符合题意，不当选；商业银行存放在中央银行的资金，即存款准备金，在中央银行存款由两部分构成，一是法定存款准备

金，二是超额准备金，而只有超额准备金才是商业银行的可用资金，法定存款准备金是按照法定准备率向中央银行缴存的存款准备金，规定缴存存款准备金的最初目的，是为了银行备有足够的资金以应付存款人的提取，避免流动性不足而产生流动性危机，导致银行破产，因此，商业银行不能动用所持有的全部准备金，D项说法正确，不符合题意，不当选。故本题正确答案选A。

8. 2020年下半年以来，随着我国率先控制住疫情，经济社会全面恢复，人民币对美元汇率持续升值。下列关于人民币升值的说法正确的是（ ）。

- A.有利于我国出口
- B.有利于我国扩大外需
- C.有利于我国收回外债
- D.有利于我国对外投资

【答案】D。人民币升值即一定数量的外币能够兑换的本币减少了，表明出口产品的外币价格更高了，会抑制出口，A项说法错误，不当选；有利于提高我国企业和居民的国际购买力，但不利于我国扩大外需，B项说法错误，不当选；人民币升值有利于我国偿还外债，不利于我国收回外债，C项说法错误，不当选；进口产品的本币价格降低了，有利于降低进口成本，因此，有利于我国对外投资，不利于我国吸引外资，D项说法正确，当选。故本题正确答案选D。

9. 甲于2022年3月30日存入银行定期存款2000元，存期一年，存入时该档存款年利率为2%，后甲于2023年5月30日才支取这笔存款。若支取日挂牌公告的活期储蓄存款年利率为0.3%，支取后甲于当日将1000元存为活期存款。不考虑利息税，则甲的一年定期存款的到期利息为（ ）。

- A.20元
- B.41元
- C.3元
- D.40元

【答案】D。我国存款除活期存款计算复利外，其他存款一律不计复利，定期存款按照单利计息，则 $I=P \times R \times T=2000 \times 2\% \times 1=40$ 元。故本题正确答案选D。

10. 金融市场按照期限可以分为货币市场和资本市场。以下市场属于资本市场范畴的是（ ）。

- A.股票市场

B.银行间同业拆借市场

C.贴现市场

D.票据市场

【答案】A。资本市场是指期限在一年以上的金融资产交易的市场，通常，资本市场主要是指债券市场和股票市场，A项当选；BCD项均属于货币市场。故本题正确答案选A。

11. 下列措施不属于货币政策的是（ ）。

A.人民银行延续普惠小微企业贷款延期还本付息政策

B.保持广义货币 M_2 和社会融资规模的增速与名义 GDP 的增速大体相当

C.国务院提前下达下一年度新增地方政府债务限额

D.人民银行以信贷资产质押方式发放信贷政策支持再贷款

【答案】C。货币政策是指中央银行为实现其特定的经济目标而采用的各种控制和调节货币供应量和信用量的方针、政策和措施的总称，包括利率政策、法定存款准备金政策、再贴现政策、再贷款政策等，ABD均属于货币政策；C项属于财政政策，不属于货币政策。故本题正确答案选C。

12. 在全球经济背景下，M国遭受金融危机重创，企业破产，政府债台高筑，N国遭受伤害较小，则下列说法中正确的是（ ）。

A.M国货币将升值，M货币/N货币汇率将减小

B.M国货币将贬值，M货币/N货币汇率将增大

C.M国货币将升值，M货币/N货币汇率将增大

D.M国货币将贬值，M货币/N货币汇率将减小

【答案】D。M国受金融危机重创，企业破产，政府债台高筑，N国遭受伤害较小，会导致M国货币国际地位下降，M国货币贬值，M货币/N货币汇率将会减小。故本题正确答案选D。

13. 商业银行在企业资金业务来往中扮演着重要角色，企业资金的进出都需要经过银行系统，这个过程中，银行扮演的角色是（ ）。

A.信用中介

B.清算中介

C.支付中介

D.交易中介

【答案】A。商业银行的基本职能就是信用中介，企业资金的进出都需要经过银行系统。信用中介是指商业银行通过负债业务，将社会上的各种闲散资金集中起来，又通过资产业务，将所集中的资金运用到国民经济各部门中去。所以 A 正确。支付中介是指商业银行利用活期存款账户，为客户办理各种货币结算、货币收付、货币兑换和转移存款等业务活动。所以 BCD 不符题意。故本题正确答案选 A。

14. 2023 年春节前夕，中国人民银行以利率招标方式开展了 3810 亿元 7 天期和 14 天期逆回购操作。该操作起到的主要效果是（ ）。

- A.缓解股市上发生的短时间内暴跌走势
- B.提升银行间市场货币利率，增加贷款成本
- C.缓解市场上出现的短期流动性紧张局面
- D.提高人民币币值，降低汇率，以促进出口

【答案】C。中国人民银行进行逆回购操作，通过这种方式可以增加货币供应量，从而缓解市场上出现的短期流动性紧张的局面。所以 C 正确。央行逆回购，在证券市场上买入证券，不会使得股市缓解。逆回购释放货币量，人民币币值有所下降。不会影响银行市场利率。所以 ABD 错误。故本题正确答案选 C。

15. 某小国 2022 年的经济数据是：（1）国际收支经常账户逆差 70 亿元；（2）资本账户顺差 80 亿元；（3）年底未清偿外债余额 30 亿元，其中短期外债占 70%；（4）2022 年 GDP140 亿元。

该小国国际收支的情况是（ ）。

- A.逆差 20 亿元
- B.顺差 10 亿元
- C.逆差 10 亿元
- D.顺差 20 亿元

【答案】B。根据国际收支经常账户逆差 70 亿元，资本账户顺差 80 亿元，可知国际收支最终顺差 10 亿元。故本题正确答案选 B。

16. 在我国，金融资产管理公司的产生具有历史特殊性，它的经营是以（ ）为核心。

- A.国民资本的保值、增值
- B.国债的兑付、清算
- C.国有固定资产的管理和处置
- D.不良资产的经营、管理和处置

【答案】D。在我国，金融资产管理公司的产生具有历史特殊性。1999年成立四家金融资产管理公司，负责接收、管理、处置银行划转的不良贷款，并以最大限度保全资产、减少损失为主要经营目标，故D项正确，ABC错误。故本题正确答案选D。

17. 下列利率中，通常按本金的千分比表示的是（ ）。

- A.时息率
- B.年息率
- C.日利率
- D.月利率

【答案】D。利率按时间分为年利率（年息率）、月利率和日利率。通常年利率用百分比表示，月利率用千分比表示，日利率用万分比表示，故D项正确，BC错误；没有时息率，故A项错误。故本题正确答案选D。

18. 证券发行时，发行公司只对特定对象推销证券，这种方式被称为（ ）。

- A.初级发行
- B.公募
- C.私募
- D.次级证券

【答案】C。私募是指证券发行时，只针对特定的对象推销证券，故C项正确；初级发行是指新发行证券，故A项错误；公募是指证券发行时，向社会公众募集，故B项错误；次级证券亦称间接证券，是银行为购买初级证券筹集资金而发行的证券，故D项错误。故本题正确答案选C。

19. 对商业银行来说，发行大额可转让定期存单的好处是（ ）。

- A.从期货市场上获取更多的投资收益
- B.有稳定的资金来源，增强贷款能力
- C.将优先股股息固定，减少了银行支出
- D.减少了银行负债，增加了银行资本

【答案】B。B项，大额可转让定期存单具有主动性和灵活性，能够以较低的成本吸收数额庞大、期限稳定的资金，当选；CD项，通过主动发行大额可转让定期存单的方式增加负债也是获取资金、满足流动性的良好途径，不是股权融资，不当选；A项，经营证券交易业务的金融机构可以办理大额可转让定期存单的转让业务，不是在期货市场市场交易，不当选。故本题正确答案选B。

20. 面对金融风险造成的预期损失，商业银行一般采取哪种措施加以应对？（ ）

- A. 利用资本金
- B. 提取损失准备金
- C. 裁减员工，降低薪酬
- D. 购买商业保险

【答案】B。B项，预期损失是商业银行业务发展中基于历史数据分析可以预见到的损失，通常为一定历史时期内损失的平均值（有时也采用中间值），商业银行通常采取提取损失准备金和冲减利润的方式来应对和吸收预期损失，当选；A项，资本金吸收的是意外损失，不当选；C项，商业银行由于业务发展问题或宏观经济波动原因可能会造成裁减员工，降低薪酬，不当选；D项，商业银行通过购买商业保险来规避操作风险，不当选。故本题正确答案选B。

多项选择题

21. 金融市场的类型按交易中介可以划分（ ）。

- A. 直接金融市场
- B. 间接金融市场
- C. 发行市场
- D. 流通市场
- E. 有形市场

【答案】AB。金融市场按照交易中介可以分为直接金融市场和间接金融市场，故AB正确；金融市场按发行的程序分为发行市场和流通市场，故CD错误；金融市场按照交易场所分为有形市场和无形市场，故E错误。故本题正确答案选AB。

22. 中间业务作为商业银行金融服务能力和产品创新能力的集中体现，伴随并见证了商业银行发展壮大的过程。下列属于商业银行中间业务的有（ ）。

- A. 代理保险业务
- B. 票据贴现业务
- C. 投行咨询业务
- D. 基金托管业务

【答案】ACD。银行中间业务是商业银行为客户办理支付和其他委托事项而收取手续费的业务的总称。具体业务主要有：①支付结算类业务；②银行卡业务；③代理类业务；④

担保承诺类业务；⑤交易类业务；⑥投资银行类业务；⑦基金托管业务；⑧其他类。选项 A 属于代理类业务，选项 B 属于银行资产业务（银行引用其资产的业务，包括投资和放款等），选项 C 属于投资银行类业务，选项 D 属于基金托管业务，选项 ACD 均属于中间业务大类中的具体业务类别。故本题正确答案选 ACD。

23. 关于商业银行贷款风险分类说法正确的是（ ）。

- A. 按照贷款风险程度的不同，贷款实行五级分类，其中后两类为不良贷款
- B. 次级贷款的特征是借款人无法足额偿还贷款本息，即使执行担保，也要造成较大损失
- C. 尽管借款人目前有能力偿还贷款本息，但存在一些可能对偿还产生不利影响的因素，符合此特征的贷款应归为关注类贷款
- D. 可疑贷款属于不良贷款

【答案】CD。贷款五级分类是指商业银行依据借款人的实际还款能力进行贷款质量的五级分类。即按风险程度将贷款划分为五类：正常、关注、次级、可疑、损失，后三种为不良贷款。正常贷款：借款人能够履行合同，一直能正常还本付息，不存在任何影响贷款本息及时全额偿还的消极因素，银行对借款人按时足额偿还贷款本息有充分把握。贷款损失的概率为 0；关注贷款：尽管借款人有能力偿还贷款本息，但存在一些可能对偿还产生不利影响的因素，如这些因素继续下去，借款人的偿还能力受到影响，贷款损失的概率不会超过 5%；次级贷款：借款人的还款能力出现明显问题，完全依靠其正常营业收入无法足额偿还贷款本息，需要通过处分资产或对外融资乃至执行抵押担保来还款付息。贷款损失的概率在 30%-50%；可疑贷款：借款人无法足额偿还贷款本息，即使执行抵押或担保，也肯定要造成一部分损失，只是因为存在借款人重组、兼并、合并、抵押物处理和未决诉讼等特定因素，损失金额的多少还不能确定，贷款损失的概率在 50%-75%之间；损失贷款：指借款人已无偿还本息的可能，无论采取什么措施和履行什么程序，贷款都注定要损失了，或者虽然能收回极少部分，但其价值也是微乎其微，从银行的角度看，也没有意义和必要再将其作为银行资产在账目上保留下来，对于这类贷款在履行了必要的法律程序之后应立即予以注销，其贷款损失的概率在 75%-100%。A 选项，应该是后三类为不良贷款，排除；B 选项为可疑贷款，排除。故本题正确答案选 CD。

24. 下列债券中，属于外国债券的是（ ）。

- A. 扬基债券
- B. 武士债券
- C. 金边债券

D. 猛犬债券

【答案】ABD。金边债券是国债，故 C 项错误；外国债券是指非居民在该国发行且以该国货币为面值货币的债券，包括扬基债券（美国）、武士债券（日本）和猛犬债券（英国），故 ABD 正确。故本题正确答案选 ABD。

25. 中央银行从一家商业银行购买 1000 元国债，商业银行的资产负债表和基础货币将发生（ ）的变化。

A. 基础货币减少 1000 元

B. 商业银行准备金减少 1000 元，证券资产减少 1000 元

C. 商业银行准备金增加 1000 元，证券资产减少 1000 元

D. 基础货币增加 1000 元

【答案】CD。央行购买国债需要支付货币，会导致基础货币增加 1000 元，故 D 项正确，A 项错误；当央行从商业银行购买 100 元国债，会导致商业银行准备金增加 1000 元，此时商业银行持有的证券资产在减少，减少量为 1000 元，故 C 项正确，B 项错误。故本题正确答案选 CD。

26. 下列属于“黑天鹅”事件的是（ ）。

A. 泰坦尼克号沉没

B. 美国 9.11 事件

C. 欧洲债务危机

D. 中国乒乓球队夺取 2008 年北京奥运会冠军

【答案】ABC。黑天鹅事件指非常难以预测，且不寻常的事件，通常会引起市场连锁负面反应甚至颠覆。一般来说，“黑天鹅”事件是指满足以下三个特点的事件：它具有意外性；它产生重大影响；虽然它具有意外性，但人的本性促使我们在事后为它的发生编造理由，并且或多或少认为它是可解释和可预测的。“黑天鹅”存在于各个领域，无论金融市场、商业、经济还是个人生活，都逃不过它的控制。因此 ABC 均符合黑天鹅事件；中国乒乓球队夺取 2008 年北京奥运会冠军，并非意料之外的，是经过长期努力的必然结果，不符合“黑天鹅”事件的含义，故 D 项错误；所以答案 ABC。

27. “不可能三角”定理指出，一国不可能同时实现三个目标，只能选择其中两个。以下属于该定理的三个目标的是（ ）。

A. 货币政策独立性

B. 财政政策独立性

C.资本自由流动

D.汇率稳定

【答案】ACD。三元悖论又称为不可能三角。根据蒙代尔的三元悖论，一国的经济目标有三种：①各国货币政策的独立性；②汇率的稳定性；③资本的完全流动性。这三者，一国只能三选其二，而不可能三者兼得。故答案为ACD。

28. 弗里德曼货币需求函数中的机会成本变量有（ ）。

A.恒久收入

B.预期物价变动率

C.固定收益的债券利率

D.非固定收益的债券利率

E.非人力财富占总财富的比重

【答案】BCD。弗里德曼不仅关心名义货币需求量，而且特别关心实际货币需求量。在影响货币需求量的诸多因素中，弗里德曼把它们划分为三组：第一组，恒常收入 Y_p 和财富结构 w ；第二组，各种资产的预期收益和机会成本，它包括货币预期收益率 r_m ，固定收益的债券利率 r_b ，非固定收益的证券利率 r_e ，预期物价变动率 $1/p \cdot dp/dt$ 四项；第三组，各种随机变量 U ，它包括社会富裕程度，取得信贷的难易程度，社会支付体系的状况等等。本题要选的是弗里德曼货币需求函数中的机会成本变量，故BCD正确，AE错误。故本题正确答案选BCD。

29. 下列属于我国人民币制度基本内容的是（ ）。

A.人民币没有含金量的规定

B.人民币是我国（内地）唯一的合法通货

C.人民币出入境不受限制

D.国家指定中国人民银行为唯一的货币发行机构

E.人民币的单位为“元”，辅币的名称为“角”和“分”

【答案】ABDE。人民币制度的基本内容包括：①人民币采取不兑现的纸币形式，人民币没有含金量的规定，也不与任何外币确定正式的联系，是一种信用货币，故A项正确；②人民币是我国（内地）唯一的合法通货，严格禁止外币在中国境内计价流通，严禁金银流通，严格禁止损毁人民币及其信誉，故B项正确；③国家指定中国人民银行为唯一的货币发行机构，并对人民币流通进行管理，故D项正确；④人民币是我国的法定货币，人民币

的单位为“元”，辅币的名称为“角”和“分”，故 E 正确；⑤人民币出入境受到不同程度的限制，故 C 项错误。故本题正确答案选 ABDE。

30. 下列选项中，属于原生的金融工具的有（ ）。

- A. 存单
- B. 货币
- C. 远期
- D. 股票
- E. 债券

【答案】ABDE。原生的金融工具一般是指股票、债券、存单、货币等，故 ABDE 正确；金融衍生工具是从原生性金融工具派生出来的金融工具，其价值依赖于基础标的资产。在形式上均表现为合约，目前较为流行的金融衍生工具合约主要有远期、期货、期权和互换，故 C 错误。故本题正确答案选 ABDE。

经济习题（30 题）

单项选择题

1. 国内生产总值表示一定时期内的某一国家或地区领土范围内（ ）的市场价值总和。

- A. 所有经济交易
- B. 所有市场交换的最终商品和劳务
- C. 所有商品与劳务
- D. 生产的所有最终商品和劳务

【答案】D。国内生产总值（GDP），指经济社会（即一国或一地区）在一定时期内运用生产要素所生产的全部最终产品（物品和劳务）的市场价值，故 D 项正确，ABC 错误。故本题正确答案选 D。

2. 一定时期内，某国消费 16 亿，投资 6 亿，政府购买 6 亿，出口 8 亿，进口 7 亿，企业间接税 3 亿，则 GDP 为（ ）。

- A. 39 亿
- B. 29 亿

C.38 亿

D.36 亿

【答案】B。按支出法计算： $GDP=C+I+G+X-M$ ，根据题干已知条件： $GDP=消费+投资+政府购买-净出口=16+6+6+(8-7)=29$ （亿），故 B 项正确，ACD 项错误。故本题正确答案选 B。

3. 如果消费函数为 $c=100+0.8(y-t)$ ，并且税收和政府购买支出同时增加 1 美元，则均衡收入将（ ）。

A.保持不变

B.增加 3 美元

C.增加 1 美元

D.下降 4 美元

【答案】C。政府购买支出乘数为： $k_g = \frac{1}{1-\beta} = 5$ ，税收乘数为 $k_t = -\frac{\beta}{1-\beta} = -4$ ，所以说收和政府购买支出同时增加 1 美元时，政府购买支出增加导致收入增加 5 美元，而税收增加导致收入减少 4 美元，故总体来看收入增加 1 美元，故 C 项正确，ABD 错误。故本题正确答案选 C。

4. 从储蓄函数可知，引起储蓄增加的因素是（ ）。

A.收入增加

B.利率提高

C.政府支出增加

D.人们预期未来的价格水平要上升

【答案】A。影响收入的因素虽然很多，但是根据凯恩斯的假定，收入是决定储蓄的主要因素，“随着收入的增加，消费增加的会越来越少，而储蓄增加则会越来越多”。储蓄和收入之间存在的依存关系就是储蓄函数，储蓄函数中收入 y 是自变量，因此影响储蓄的因素是收入，故 A 项正确、BCD 不符合题意，故予以排除。故本题正确答案选 A。

5. 以下说法正确的是（ ）。

A.如果没有投机货币需求，则 LM 曲线是水平的

B.如果没有投机货币需求，则 LM 曲线是垂直的

C.如果 LM 曲线斜率为正的话，增加实际货币供给对 LM 曲线没有影响

D.如果 LM 曲线垂直的话，增加实际货币供给对 LM 曲线没有影响

【答案】B。如果没有投机货币需求，货币需求就与利率无关，LM 曲线为垂直于横轴的直线，故 B 项正确、A 项错误；如果 LM 曲线斜率为正的话，增加实际货币供给会使 LM 曲线向右移动，故 C 项错误；如果 LM 曲线垂直的话，增加实际货币供给也会使 LM 曲线向右移动，故 D 项错误。故本题正确答案选 B。

6. 运用 IS-LM 模型进行总需求曲线推导过程中，下列哪个说法是正确的？（ ）

- A. 价格下降，IS 曲线右移
- B. 价格下降，IS 曲线左移
- C. 价格下降，LM 曲线右移
- D. 价格下降，LM 曲线左移

【答案】C。IS-LM 模型是在价格水平不变的前提下研究利率与产出之间的关系，价格变动不影响 IS，通过影响货币供求 LM 曲线进而影响利率，作用于最终产出。当 P 下降，实际货币供给 M_s/P 将增加，即 LM 右移，故 C 项正确，ABD 错误。故本题正确答案选 C。

7. AD-AS 模型是在 IS-LM 模型基础上推导出来的，它改变的一个基本假设是（ ）。

- A. 投资由利率决定
- B. 货币需求受利率和收入的影响
- C. 价格不变
- D. 充分就业

【答案】C。无论总需求曲线的推导或者总供给曲线的推导，都涉及了价格 P 的变化，AD-AS 模型反应的是价格和产量之间的关系，而 IS-LM 模型是在价格不变假定下推导的利率和产量之间的关系，故 C 项正确；投资取决于利率、货币需求受利率和收入影响没有改变，故 AB 错误。充分就业在两个模型中都考虑的其中一种情况，故 D 项错误。故本题正确答案选 C。

8. 通货膨胀有不同的类型，需求拉上的通货膨胀（ ）。

- A. 通常用于描述某种供给因素所引起的价格波动
- B. 通常用于描述某种总需求的增长所引起的价格变动
- C. 表示经济制度已调整过的预期通货膨胀率
- D. 以上均不是

【答案】B。需求拉上的通货膨胀，通常用于描述某种总需求的增长所引起的价格变动，故 B 项正确；成本推动的通货膨胀，通常用于描述某种供给因素所引起的价格波动，A 项不符合题意，故予以排除；CD 项表述有误，故予以排除。故本题正确答案选 B。

9. 关于奥肯定律，下列说法正确的是（ ）。

- A. 奥肯定律是由英国经济学家奥肯提出来的
- B. 奥肯定律衡量的是物价变动率和失业率之间的相关关系
- C. 当实际 GDP 增长相对于潜在 GDP 增长上升 1%，失业率下降大约 1%
- D. 当实际 GDP 增长相对于潜在 GDP 增长上升 2%，失业率下降大约 1%

【答案】D。奥肯定律是指实际 GDP 每下降 2 个百分点，实际失业率比自然失业率上升 1 个百分点，所以当实际 GDP 相对于潜在 GDP 增长上升 2%，失业率下降大约 1%，故 D 项正确；奥肯定律是由美国经济学家阿瑟·奥肯根据美国的数据提出的，故 A 项错误；奥肯定律衡量的是失业率与产出变动的关系，故 B 项错误；当实际 GDP 增长相对于潜在 GDP 增长上升 1%，失业率下降大约 0.5%，故 C 项错误。故本题正确答案选 D。

10. 下列对 CPI 的认识，错误的是（ ）。

- A. CPI 反映一定时期内居民所购生活消费品的价格变化的相对数
- B. CPI 是采用所有商品的价格计算出来的
- C. CPI 反映居民所需生活消费品的价值和服务项目价格的变动趋势
- D. CPI 的上升将会降低人们的实际收入

【答案】B。CPI，称为居民消费价格指数，是一个在特定时段内度量一组代表性消费商品及服务项目的价格水平随时间而变动的相对数，用它来反映通货膨胀程度，反映居民家庭一般所购买的消费品价格水平变动情况的宏观经济指标，故 AC 正确、B 项错误；当 CPI 指数上升时，人们的实际收入水平下降，故 D 项正确。本题选错误的，故本题正确答案选 B。

11. 通货膨胀是指在一段时间内，一般物价水平或价格水平持续，显著上涨的经济现象。下列关于通货膨胀的说法，错误的是（ ）。

- A. 通货膨胀不利于靠固定的货币收入维持生活的人
- B. 通货膨胀有利于靠固定的货币收入维持生活的人
- C. 通货膨胀可以在债务人和债权人之间发生收入再分配的作用
- D. 通货膨胀对储蓄者不利

【答案】B。通货膨胀造成财富的再分配，不利于固定收入的人，不利于储蓄者，不利于债权人，故 B 项错误、ACD 正确。本题选错误的，故本题正确答案选 B。

12. 要实施扩张型的财政政策，可采取的措施有（ ）。

- A. 增加财政转移支付
- B. 减少政府购买

C.降低再贴现率

D.提高税率

【答案】A。扩张型的财政政策主要是减少税收，增加政府支出（包括购买支出和转移支付），故 A 项正确；减少政府购买属于紧缩型财政政策，故 B 项错误；降低再贴现率属于扩张型的货币政策，故 C 项错误；提高税率属于紧缩型财政政策，故 D 项错误。故本题正确答案选 A。

13. 某些女性在收入比较低时购买杏仁蜜作为化妆品，而在收入提高时，则去购买欧莱雅，杏仁蜜对这些人来说（ ）。

A.吉芬商品

B.低档商品

C.正常品

D.生活必需品

【答案】B。低档品是随着收入增加，其消费数量随之减少的一类商品，因此，杏仁蜜相对于欧莱雅化妆品来说是低档品，故 B 项正确、ACD 错误。故本题正确答案选 B。

14. 在完全垄断市场上，生产者实施价格歧视的基本条件之一是根据不同的（ ）划分出两组或两组以上的不同购买者。

A.需求收入弹性

B.供给价格弹性

C.需求价格弹性

D.需求交叉弹性

【答案】C。垄断厂商实行价格歧视，必须具备的基本条件之一：市场的消费者具有不同的偏好，且这些不同的偏好可以被区分开，这样厂商才有可能对不同的消费者或消费群体收取不同的价格，即对需求价格弹性大的消费者收取较低的价格，对需求价格弹性小的消费者收取较高的价格，故 C 项正确、ABD 错误。故本题正确答案选 C。

15. 当存在正的外部经济影响时，（ ）。

A.社会边际成本大于私人边际成本，社会边际收益大于私人边际收益

B.社会边际成本小于私人边际成本，社会边际收益小于私人边际收益

C.社会边际成本大于私人边际成本，社会边际收益小于私人边际收益

D.社会边际成本小于私人边际成本，社会边际收益大于私人边际收益

【答案】D。存在正的外部经济影响时，社会边际成本小于私人边际成本，社会边际收益大于私人边际收益，故 D 项正确、ABC 错误。故本题正确答案选 D。

16. 总需求曲线向右下方倾斜是因为（ ）。

- A. 价格水平上升时，投资会减少
- B. 价格水平上升时，消费会减少
- C. 价格水平上升时，净出口会减少
- D. 以上几个因素都是

【答案】D。总需求由投资、消费和净出口构成，如果价格水平上升，则上述三种需求都有可能减少，故 D 项正确、ABC 错误。故本题正确答案选 D。

17. 甲乙两地居民的恩格尔系数分别为 30% 和 32%，这可能表明（ ）。

- A. 从生活水平看，乙地居民略高于甲地居民
- B. 从收入水平看，甲地居民略高于乙地居民
- C. 从收入水平看，乙地居民略高于甲地居民
- D. 从生活水平看，甲地居民略高于乙地居民

【答案】D。恩格尔系数是食品支出总额占个人消费支出总额的比重，反映一个国家或地区的生活水平。百分比越低，说明食物支出占总支出的比例越低，则生活水平越好，故 D 项正确、ABC 错误。故本题正确答案选 D。

18. 对于生产函数 $Q=f(L, K)$ ，理性的生产者选择的生产区域应是（ ）。

- A. $MP > AP$ 阶段
- B. MP 下降阶段
- C. MP 与 AP 的交点起至 MP 与横轴交点止
- D. $MP > 0$ 阶段

【答案】C。本题考查生产理论中的短期生产理论，理性的生产者选择的在第二个区域进行生产，AP 和 MP 递减且大于零的阶段，即为 AP 和 MP 曲线的交点起至 MP 与横轴交点为止，故 C 项正确； $MP > AP$ 阶段是在第一个区域，故 A 项错误；MP 下降阶段也包括第三区域， $MP < 0$ 的区域，故 B 项错误； $MP > 0$ 阶段包括第一和第二区域，故 D 项错误。故本题正确答案选 C。

19. 关于无差异曲线，以下说法错误的是（ ）。

- A. 同一平面有无数条曲线
- B. 曲线凸向原点，彼此相交

C.越远离原点的曲线效用越大

D.同一条曲线上任意两点的效用一致

【答案】B。任意两条无差异曲线互不相交，故 B 项错误；同一条曲线上任意两点所带来的效用是一致的，故 D 项正确；同一平面有无数条无差异曲线，且远离原点的曲线效用高，故 AC 正确。本题选错误的，故本题正确答案选 B。

20. 以下说法哪一种是正确的？（ ）

A.当外在性存在时，商品的价格不一定反映它的社会价值

B.存在负的外在性时，边际社会成本等于边际私人成本

C.外在性导致的无效率可以依赖于市场本身的力量解决

D.存在正的外在性时，边际社会收益小于边际私人收益

【答案】A。当外部性存在时，外部性并不反映在市场价格中，所以此时商品的价格就不一定反映它的社会价值，故 A 项正确；存在负的外部性时，部分成本由社会承担，边际社会成本大于边际私人成本，故 B 项错误；外在性导致的无效率是市场本身造成的，不能依赖市场自身力量解决，需要依赖政府的调控解决，故 C 项错误；存在正的外在性时，部分收益由他人分享，边际社会收益大于边际私人收益，故 D 项错误。故本题正确答案选 A。

多项选择题

21. 从支出法的角度看 GDP，GDP 包括（ ）。

A.私人消费

B.营业盈余

C.政府购买

D.私人投资

E.净出口

【答案】ACDE。支出法角度，GDP 包括消费、投资、政府购买和净出口，故 ACDE 均正确；营业盈余是从收入法角度核算的，故 B 项予以排除。故本题正确答案选 ACDE。

22. 与政府购买支出乘数大小相等的有（ ）。

A.自发消费的乘数

B.自发投资的乘数

C.税收乘数

D.政府转移支付乘数

【答案】AB。自发消费和投资乘数： $k_i = \frac{1}{1-\beta}$ ；政府购买支出乘数： $k_g = \frac{1}{1-\beta}$ ；税收乘数： $k_t = -\frac{\beta}{1-\beta}$ ；政府转移支付乘数： $k_{tr} = \frac{\beta}{1-\beta}$ ，故与政府购买支出乘数大小相等的有自发消费和投资乘数，故 AB 正确，CD 错误。故本题正确答案选 AB。

23. 如果 LM 曲线是水平的，则意味着（ ）。

- A. 政府支出挤出效应最强
- B. 流动性陷阱
- C. 货币需求对收入非常敏感
- D. 货币需求对利率非常敏感

【答案】BD。当 LM 曲线水平时，利率极低且变化很小，对投资的挤出效应小，故政府支出挤出效应很小，所以 A 项错误；流动性陷阱是指当 LM 曲线水平，利率极低时，人们认为这时利率不大可能再下降，或者说有价证券价格不大可能再上升而只会跌落，人们会将所有的有价证券换成货币。然而，货币是流动性最强的资产，当经济陷入流动性陷阱时，货币政策的调节将会失去作用，因为不管货币供应量增加多少，利率水平将不再发生变化，故 B 项正确；LM 曲线： $r = \frac{k}{h}y - \frac{m_0}{h}$ ，斜率为： k/h 。LM 曲线水平意味着 K 小，h 大，即货币需求对收入不敏感，对利率非常敏感，故 C 项错误，D 项正确。故本题正确答案选 BD。

24. 如果商品 X 对于商品 Y 的边际替代率 MRS_{XY} 小于 X 和 Y 的价格之比 P_x/P_y ，则（ ）。

- A. 该消费者应减少 X 消费，增加 Y 消费
- B. 该消费者应增加 X 消费，减少 Y 消费
- C. 该消费者未获得最大效用
- D. 该消费者获得了最大效用

【答案】AC。由题干可得 $MRS_{XY} = \frac{MU_X}{MU_Y} < \frac{P_x}{P_y}$ ，即 $\frac{MU_X}{P_x} < \frac{MU_Y}{P_y}$ ，此时该消费者未获得最大效用，故 C 项正确、D 项错误；又根据消费者均衡条件，要使均衡实现，该消费者应减少 X 消费，增加 Y 消费，故 A 项正确、B 项错误。故本题正确答案选 AC。

25. 寡头垄断市场具有的基本特征是（ ）。

- A. 在一个行业中，只有很少几个企业进行生产
- B. 它们所生产的产品有一定的差别或者完全无差别
- C. 它们对价格有较大幅度的控制

D.企业可以自由进入或退出市场

【答案】ABC。寡头垄断市场，具有以下四点特征：（1）在一个行业中，只有很少几个企业进行生产；（2）它们所生产的产品有一定的差别或者完全无差别；（3）它们对价格有较大幅度的控制；（4）企业可以难以进入或退出市场，故ABC项正确。由于在寡头垄断市场，企业进出比较困难，故D项错误。故本题正确答案选ABCE。

26. 关于个人劳动力供给曲线的说法，正确的是（ ）。

A.它解释的是劳动力供给意愿随着工资率的上升而上升的变动规律

B.它解释的是劳动力供给意愿随着工资率的下降而下降的变动规律

C.个人劳动力供给曲线的形状是向后弯曲的

D.它反映了个人劳动力供给时间随工资率的变动而变化的规律

【答案】CD。个人劳动力供给曲线的形状是向后弯曲的，它反映了个人劳动力供给时间随工资率的变动而变化的规律，它表明工资率上升未必导致个人劳动力供给时间增加，故CD正确；当工资率较低时，随着工资的上升，消费者为较高的工资吸引将减少闲暇，增加劳动供给量，但工资的上涨对劳动供给的吸引力是有限的，当工资涨到一定程度时，消费者的劳动供给量达到最大，继续增加工资，劳动供给量非但不会增加，反而会减少，A项描述不完整，而B项表述不准确，故AB项错误。故本题正确答案选CD。

27. 在下列乘数中，是正值的乘数有（ ）。

A.投资乘数

B.政府购买乘数

C.税收乘数

D.政府转移支付乘数

E.平衡预算乘数

【答案】ABDE。只有税收乘数是负值，其他乘数全为正值，故ABDE正确，仅有C项错误。故本题正确答案选ABDE。

28. 关于摩擦性失业的说法中正确的有（ ）。

A.经济运行正常时此种失业也会存在

B.可以通过提高劳动市场的交易效率，部分降低此种失业

C.可以通过货币政策降低此种失业

D.凯恩斯的短期需求管理政策对此种失业无显著影响

【答案】AD。摩擦性失业是指在经济运行中难以避免的摩擦导致的失业，任何时候都会存在，故 A 项正确；通常源于劳动的供给方，无法通过劳动市场效率和货币政策来降低摩擦性失业，故 BC 错误，D 项正确。故本题正确答案选 AD。

29. 如果央行减少货币供给，政府增加税收，则（ ）。

- A.利率必定提高
- B.IS 曲线向左移动
- C.利率必定下降
- D.收入的均衡水平必定下降

【答案】BD。政府增加税收，会使得 IS 曲线向左移动，故 B 项正确；央行减少货币供给，会使得 LM 曲线向左移动，由于 IS 和 LM 曲线都向左移动，收入的均衡水平必定下降，故 D 项正确；减少货币供给，政府增加税收，由于 IS 和 LM 曲线都向左移动，使得利率变动情况却不确定，故排除 AC。故本题正确答案选 BD。

30. 政府支出对私人投资和消费的挤出效应小，可能是因为（ ）。

- A.政府支出乘数小
- B.货币需求的收入系数小
- C.货币需求的利率系数小
- D.投资的利率弹性小

【答案】ABD。“挤出效应”的大小与支出乘数、货币需求对收入变动的敏感程度成正比、投资需求对利率变动的敏感程度成正比，与货币需求对利率变动的敏感程度成反比。因此政府支出乘数越小、货币需求的收入系数越小、投资的利率弹性越小，挤出效应就越小，故 ABD 项正确；货币需求的利率系数越小，挤出效应越大，故 C 项错误。故本题正确答案选 ABD。

会计习题（30 题）

单项选择题

1. 下列各项中，不符合资产会计要素定义的是（ ）。

- A.原材料
- B.委托加工物资

- C.盘亏的固定资产
- D.尚待加工的半成品

【答案】C。“盘亏的固定资产”预期不会给企业带来经济利益，不属于企业的资产，故C选项是本题答案，其余ABD三项都符合资产定义，故ABD三项排除。故本题正确答案选C。

2. 在下列项目中，与“制造费用”科目应归属于同一类的是（ ）。

- A.无形资产
- B.管理费用
- C.生产成本
- D.资产减值损失

【答案】C。制造费用属于成本类科目，故C选项正确。A是资产类科目，故A选项错误。BD是损益类科目，故BD两项错误。故本题正确答案选C。

3. 下列各项中，属于总分类会计科目的是（ ）。

- A.应交增值税
- B.应付账款
- C.专利权
- D.专用设备

【答案】B。选项B应付账款为总分类会计科目，故B选项正确。选项A是“应交税费-应交增值税”，选项C是“无形资产-专利权”，选项D是“固定资产-专用设备”，由此可见选项ACD项都是明细分类会计科目，故ACD三项排除。故本题正确答案选B。

4. 账户的开设依据是（ ）。

- A.会计对象
- B.会计科目
- C.会计要素
- D.会计方法

【答案】B。会计科目是账户的名称，也是设置账户的依据。故选B。选项A会计对象主要是核算和监督的内容，不是开设账户的依据；选项C是会计要素是对会计对象所作的基本分类，是会计核算对象的具体化，是用于反映会计主体财务状况和经营成果的基本单位，也不是开设账户的依据。选项D会计方法并非账户开设的依据。故本题正确答案选B。

5. 符合资产类账户记账规则的是（ ）。

- A.增加记借方
- B.增加记贷方
- C.减少记借方
- D.期末若有余额，在贷方

【答案】A。资产类账户借方登记增加，贷方登记减少，期末若有余额一般在借方，故A项正确，D项错误。账户结构中，资产，成本，费用类账户借方登记增加，贷方登记减少；负债，所有者权益，收入类账户贷方登记增加，借方登记减少。故本题B，C错误。故本题正确答案选A。

6. 应付账款账户期初贷方余额为2000元，本期贷方发生额为5000元，本期贷方余额为2000元，该账户借方发生额为（ ）元。

- A.借方 5000
- B.借方 3000
- C.借方 2000
- D.贷方 2000

【答案】A。应付账款属于负债类账户，贷方期末余额=贷方期初余额+贷方本期发生额-借方本期发生额；所以本期借方发生额=贷方期初余额+贷方本期发生额-贷方期末余额=2000+5000-2000=5000（元）。其他选项BCD计算结果均不正确。故本题正确答案选A。

7. 余额试算平衡法下的平衡关系有（ ）。

- A.全部账户借方本期发生额合计=全部账户贷方本期发生额合计
- B.全部账户借方期初余额合计=全部账户贷方期末余额合计
- C.借方科目金额=贷方科目金额
- D.全部账户借方期末余额合计=全部账户贷方期末余额合计

【答案】D。D选项是余额试算平衡法下的平衡关系，故D选项正确。A项属于发生额平衡法下的公式，故A选项错误；B项全部会计科目的期初（末）借方余额合计=全部科目的期初（末）贷方余额合计，故B选项错误；C项全部账户借方期初（末）余额合计=全部账户贷方期初（末）余额合计，故C选项错误。故本题正确答案选D。

8. 假定某企业应收账款账户期初余额为10000元，本期借方发生额为30000元，贷方发生额为10000元，则期末余额为（ ）。

- A.借方 10000
- B.贷方 30000

C.借方 30000

D.都不正确

【答案】C。应收账款是资产类科目，余额在借方，期末余额=期初余额+本期借方发生额-本期贷方发生额=10000+30000-10000=30000 元，故 C 选项正确，其余 ABD 三项计算有误。故本题正确答案选 C。

9. 对于所有者权益类账户而言（ ）。

A.增加记入借方

B.增加记入贷方

C.减少记入贷方

D.期末无余额

【答案】B。所有者权益类账户，借方登记减少额，贷方登记增加额，期末余额一般在贷方，有些账户可能无余额，故 B 选项正确，其余 ACD 三项错误。故本题正确答案选 B。

10. 会计对象是指特定主体（ ）。

A.全部经济活动

B.销售过程中的经济活动

C.生产过程中的经济活动

D.能以货币表现的经济活动

【答案】D。会计是以货币为主要计量单位，反映和监督一个特定经济主体经济活动的经济管理工作。因此会计对象是会计核算和监督的内容，是货币反映的经济活动，故 D 选项正确。A 选项全部经济活动是错误的，我们只是货币反映的经济活动，故 A 选项错误。BC 两项只是某一过程的经济活动，故 BC 两项错误。故本题正确答案选 D。

11. 某企业上年末资产总额为 900 万元，所有者权益为 500 万元，假设该企业今年向银行借款 100 万元用于购置设备，则该企业的负债总额为（ ）万元。

A.400

B.900

C.500

D.100

【答案】C。根据会计恒等式“资产=负债+所有者权益”，得到上年末企业的负债总额=900-500=400（万元），向银行借款 100 万元购置设备，引起资产和负债同时增加 100 万元，则企业的负债总额为 500 万元，故 C 选项正确，ABD 三项计算有误。故本题正确答案选 C。

12. 会计主体是指会计所服务的（ ）。

- A. 特定单位
- B. 投资者
- C. 债权人
- D. 管理者

【答案】A。会计是以货币为主要计量单位，反映和监督一个特定经济主体经济活动的经济管理工作。会计主体即为会计工作的空间范围，故 A 选项正确。会计不为了某个人而服务，故 BCD 三项错误。故本题正确答案选 A。

13. 流动负债是指可以在（ ）偿还的现时义务，包括短期借款、应付账款等。

- A. 一年内
- B. 一年或超过一年的一个营业周期内
- C. 一个营业周期内
- D. 一年或超过一年的一个营业周期以上

【答案】B。流动负债是指可以在一年或超过一年的一个营业周期内偿还的现时义务，包括短期借款、应付账款等，故 B 选项正确。AC 两项只是概念的一部分，故 AC 两项错误。D 选项应该是一个营业周期内，故 D 选项错误。故本题正确答案选 B。

14. 企业发放工资，属于资金运动的哪一环节（ ）。

- A. 资金的投入
- B. 资金的运用
- C. 资金的退出
- D. 资金的来源

【答案】B。B 选项资金的循环与周转又叫做资金的运用，发放工资属于资金的运用，故 B 选项正确。A 选项资金的投入包括所有者投入的资本和借入的债务，故 A 选项错误。C 选项资金的退出包含向所有者分配利润，交纳相关税费和偿还债务，故 C 选项错误。D 选项不属于资金运动的三个环节，故 D 选项错误。故本题正确答案选 B。

15. 承租企业将融资租入的固定资产视为自有固定资产核算体现了（ ）的要求。

- A. 客观性
- B. 重要性
- C. 实质重于形式
- D. 一贯性

【答案】C。承租企业将融资租入的固定资产视为自有固定资产核算体现的是实质重于形式原则，故 C 选项正确。A 选项客观性和 D 选项一贯性不属于会计信息质量要求，故 AD 两项错误。B 选项重要性是指企业要反映所有重要的交易或事项，不符合题干的表述，故 B 选项错误。故本题正确答案选 C。

16. 以下符合谨慎性要求的是（ ）。

- A.高估资产
- B.计提减值
- C.低估收益
- D.低估负债

【答案】B。计提资产减值体现谨慎性要求，故 B 正确。谨慎性要求不高估资产或收益，不低估负债或费用，故 ACD 错误。故本题正确答案选 B。

17. 下列不属于反映企业财务状况的会计要素是（ ）。

- A.资产
- B.负债
- C.所有者权益
- D.利润

【答案】D。反映财务状况的会计要素包括资产、负债和所有者权益，故 ABC 三项正确。反映经营成果的会计要素包括收入、费用和利润，故 D 选项错误。故本题正确答案选 ABC。

18. 下列属于会计的基本等式的是（ ）。

- A.资产=负债+所有者权益
- B.资产=负债+所有者权益+（收入-费用）
- C.资产=负债+所有者权益+利润
- D.收入-费用=利润

【答案】A。“资产=负债+所有者权益”是会计的基本等式，故 A 选项正确。BC 两项属于会计等式的变形，动静结合的会计等式，故 BC 项错误。D 选项虽然也属于会计等式，但是不是会计的基本等式，故 D 选项错误。故本题正确答案选 A。

19. 下列不属于流动负债的是（ ）。

- A.应付账款
- B.预付账款

C.在1年内的一个营业周期内偿还的债务

D.将于1年内到期的长期借款

【答案】B。预付账款属于流动资产，故B选项是本题答案。A选项应付账款属于流动负债，故A选项排除。CD两项流动负债是一年（含一年）或超过一年的一个营业周期内偿还的负债，CD两项突出一年内偿还或到期，故CD两项排除。故本题正确答案选B。

20. 下列不属于会计科目设置原则的是（ ）。

A.相关性

B.实用性

C.科学性

D.合法性

【答案】C。设置会计科目时应遵循合法性、相关性和实用性三个原则，C选项科学性不属于设置会计科目的三个原则，故C选项错误，其余ABD三项正确。故本题正确答案选C。

多项选择题

21. 企业的资金运动由各个环节组成，它包括（ ）。

A.资金投入

B.资金运用

C.资金退出

D.资金增值

【答案】ABC。资金的运动包括资金投入、资金运用、资金退出，不包括资金的增值，故ABC三项正确。D选项资金运动不包括资金增值，故D选项错误。故本题正确答案选ABC。

22. 期间费用包括（ ）。

A.生产费用

B.管理费用

C.销售费用

D.财务费用

【答案】BCD。期间费用是指企业本期发生的、不能直接或间接归入营业成本，而是直接计入当期损益的各项费用，包括销售费用、管理费用和财务费用等，故 BCD 三项正确。A 选项属于成本不属于期间费用，故 A 选项排除。故本题正确答案选 BCD。

23. 下列各项中，会导致账实不符的有（ ）。

- A. 记账中漏记经济业务
- B. 收、发财产时，计量不准确而造成数量上的差错
- C. 记账中错记经济业务
- D. 财产毁损

【答案】ABCD。造成账实不符的原因是多方面的，如财产物资保管过程中发生的自然损耗；财产收发过程中由于计量或检验不准，造成多收或少收的差错；由于管理不善、制度不严造成的财产损坏、丢失、被盗；在账簿记录中发生的重记、漏记、错记；由于有关原始凭证未到，形成未达账项，造成双方账实不符；发生自然灾害等，故 ABCD 四项均正确。故本题正确答案选 ABCD。

24. 财务会计报告由（ ）组成。

- A. 会计报表
- B. 审计报告
- C. 会计报表附注
- D. 财务情况说明书

【答案】ACD。一套完整的财务会计报表至少应当包括资产负债表、利润表、现金流量表、所有者权益变动表以及附注。财务会计报告，除包含四表一注之外，还包含财务情况说明书，故 ACD 三项正确。B 选项审计报告不属于财务会计报告，故 B 选项错误。故本题正确答案选 ACD。

25. 下列财务报表中，既属于动态报表，又属于对外报表的是（ ）。

- A. 资产负债表
- B. 利润表
- C. 现金流量表
- D. 产品成本表

【答案】BC。利润表是反映企业在一定会计期间经营成果的报表。由于它反映的是某一期间的情况，所以，又被称为动态报表。有时，利润表也称为损益表、收益表。现金流量表的出现，主要是要反映出资产负债表中各个项目对现金流量的影响，并根据其用途划分为

经营、投资及融资三个活动分类。利润表和现金流量表既是动态报表也是对外报表，故 BC 两项正确。A 选项是对外报表但是也是静态报表，故 A 选项错误。D 选项属于对内报表，故 D 选项错误。故本题正确答案选 BC。

管理习题（25 题）

单项选择题

1. 最早提出“生产合理化”的概念是（ ）。

- A. 罗伯特·欧文
- B. 亚当·斯密
- C. 泰罗
- D. 查尔斯·巴贝奇

【答案】B。亚当·斯密是第一个对西方管理理论做出重要贡献的英国资产阶级古典经济学家。其代表作是他在 1776 年发表的《国富论》。主要观点：劳动分工使生产效率提高；提出的“生产合理化”的概念；提出了“经济人”观点，故 B 选项正确；罗伯特·欧文最早注意到人的因素对提高劳动生产率的重要性的人之一，故 A 选项错误；科学管理思想产生于 19 世纪末 20 世纪，泰罗是科学管理的创始人，被称为“科学管理之父”，故 C 选项错误；查尔斯·巴贝奇重视人的作用，鼓励工人提建议，主张实行有益的建议制度，故 D 选项错误。故本题正确答案选 B。

2. 某厂领导者杨某，在工作中经常事先无布置，事后无检查。喜欢把权力完全给予个人，给下属以高度独立性，并且在组织内部未形成规章制度，完全凭借个人的自觉性。杨某的领导方式属于下列哪一种（ ）。

- A. 专制式
- B. 放任式
- C. 民主式
- D. 告知式

【答案】B。美国依阿华大学的研究者、著名心理学家勒温把领导风格分为专制式、民主式和放任式三种。专制式是指权力定位于个人手中，个人独断专行，下属只能服从上级，此观点与题干表述无关，故 A 选项错误；放任式是领导缺少对下属支持和领导，整个决策

过程委托下属去完成，给下属以高度独立性，以致放任自流。符合题干中“事前无布置、事后无检查，喜欢把权利给与个人。”故 B 选项正确；民主式是领导在决策前同下属磋商，是目前最有效的一种领导风格，故 C 选项错误；告知型领导风格是基于行为倾向的领导风格，是指领导者对于被领导者给予明确的指导并近距离监督，故 D 选项错误。故本题正确答案选 B。

3. 下列指标中，用于衡量组织整体绩效的是（ ）。

- A.生产率
- B.利润
- C.员工士气
- D.上述 ABC 都是

【答案】D。生产率体现出企业的生产能力，利润体现了企业的盈利能力，员工士气体现了企业对人员的管理能力，这三方面是衡量组织整体绩效的关键因素，故 D 选项正确。故本题正确答案选 D。

4. 方案的实施需要利用一定的资源。缺乏必要的人力、物力、财力，理论上十分完善的方案也只能是空中楼阁。这体现了决策的哪一特点（ ）。

- A.目标性
- B.过程性
- C.选择性
- D.可行性

【答案】D。管理者在做任何决策时都应确定目标，目标确定以后，方案的拟订、比较、选择、实施及效果就有了标准和依据，不符合题意，故 A 选项错误；B 选项管理者所做的一系列决策，其本身就是一个过程，为分析方便，把决策过程划分为几个阶段，但实际工作中，是相互联系的，故 B 选项错误；选择性是指决策的关键是选择，没有选择就没有决策，故 C 选项错误；可行性是指在决策过程中，决策者不仅要考虑采取某种行动的必要性，也要注意实施条件的限制。假如作出的决策无论从企业的外部环境还是从企业的内部条件及其他方面来说都是不可能实现的，那么这样的决策显然是不可行的，故 D 选项正确。故本题正确答案选 D。

5. 法约尔提出的管理五选项职能或要素（ ）。

- A.计划、组织、指挥、协调和控制
- B.计划、组织、决策、领导和控制

C.计划、组织、决策、协调和控制

D.计划、组织、激励、协调和控制

【答案】A。组织一般管理理论代表人物为法约尔，被誉为“现代经营管理理论之父”，《工业管理和一般管理》是其最主要的代表作。法约尔将管理活动分为计划、组织、指挥、协调和控制等五大管理职能，故 A 选项正确；决策和领导均属于管理的基本职能，故 BC 选项错误；激励不属于管理的职能，故 D 选项错误。故本题正确答案选 A。

6. 下列哪一选项不属于决策的特征（ ）。

A.目标性

B.满意性

C.选择性

D.静态性

【答案】D。决策是组织或个人为实现某种目标而对未来一定时期内有关活动的方向、内容及方式的选择或调整的过程。决策具有以下特征：目标性、可行性、选择性、满意性（满意原则）、过程性、动态性，故 ABC 选项错误。静态性不属于决策的特征，因为决策是一个过程，又是一种适应，这体现的是决策的动态性，故 D 选项正确。故本题正确答案选 D。

7. 某民营企业一位姓姚的老板手下有几十个员工，他对自己“独有”的领导方式感到颇为自豪。他手下人常说的一句口头禅就是：“不好好干回家去，干好了月底多拿奖金。”可以认为，老板把他手下的工人都看作是（ ）。

A.只有生理需要和安全需要的人

B.只有生理需要和归属需要的人

C.只有归属需要和安全需要的人

D.只有安全需要和尊重需要的人

【答案】A。需要层次理论由马斯洛在其《人类动机的理论》论文中提出，其将人类需求由低到高按层次分为五种：生理需求、安全需求、社交需求、尊重需求和自我实现需求。题干中“不好好干回家去，干好了月底多拿奖金”体现的是维持人类生存必须的生理需要和保证身心避免受到伤害的安全需要，故 A 选项正确；BCD 选项不符合题意，故错误。故本题正确答案选 A。

8. 下列选项中，哪一选项不属于传统战略决策模型（ ）。

A.SWOT 分析法

B.波士顿矩阵

C.GE 矩阵

D.网络技术法

【答案】D。战略决策是战略管理中极为重要的环节，其起着承前启后的枢纽作用。传统战略决策模型主要有：SWOT 模型、波士顿矩阵、GE 矩阵。SWOT 分析法是可以对研究对象所处的情景进行全面、系统、准确的研究，从而根据研究结果制定相应的发展战略、计划以及对策等，本题为选非题，故 A 选项错误；波士顿矩阵分析法是以相对竞争地位和业务增长率为维度，相对竞争地位体现在市场占有率上，决定了企业的销售量、销售额和盈利能力，故 B 选项错误；GE 矩阵可以用来根据事业单位在市场上的实力和所在市场的吸引力对这些事业单位进行评估，故 C 选项错误；网络技术法是计划编制的方法，不属于传统决策模型，故 D 选项正确。故本题正确答案选 D。

9. 管理过程学派强调的是（ ）。

A.管理是让别人同自己去实现既定目标的过程

B.管理的核心是提高劳动生产率

C.在管理中要重视人的因素

D.要建立正式的、非人格化的组织体系

【答案】A。管理过程学派认为管理是一种程序，是一个过程。共有五个职能：计划、组织、人员配备、指挥、控制。理论的核心是让别人同自己去实现既定目标的过程，故 A 选项正确；泰勒的科学管理理论中提出的核心问题是提高劳动生产率，故 B 选项错误；人际关系学说第一次把管理研究的重点从工作上和从物的因素上转到人的因素上来，故 C 选项错误；行政组织理论强调理想的行政性组织应当以合理—合法权力作为组织的基础，高度结构的、正式的、非人格化的理想行政组织体系是人们进行强制控制的合理手段。故 D 选项错误。故本题正确答案选 A。

10. 在（ ）中，管理者处理信息并得出结论。

A.人际角色

B.信息角色

C.决策角色

D.主要角色

【答案】C。在决策角色中，管理者处理信息并得出结论。如果信息不用于组织的决策，这种信息就失去其应有的价值。故 C 选项正确；人际角色直接产生自管理者的正式权力基

础，管理者在处理与组织成员和其他利益相关者的关系时，他们就在扮演人际角色。故 A 选项错误；在信息角色中，管理者负责确保和其一起工作的人员具有足够的信息，从而能够顺利完成工作。由管理责任的性质决定，管理者既是所在单位的信息传递中心，也是组织内其他工作小组的信息传递渠道。整个组织的人依赖于管理结构和管理者以获取或传递必要的信息，以便完成工作。故 B 选项错误；D 选项管理者角色中无主要角色定位，故 D 选项错误；故本题正确答案选 C。

11. 下列属于赫茨伯格所提出的“激励因素”的是（ ）。

- A.薪金
- B.地位
- C.工作条件
- D.晋升

【答案】D。赫茨伯格的双因素理论中的激励因素是指成就感、别人的认可、工作本身、责任和晋升等因素。具备这些因素可以令员工满意，但不具备这些因素也不会招致员工的不满，故 D 选项正确；薪金、地位和工作条件都属于保健因素，故 ABC 选项错误。故本题正确答案选 D。

12. 有人曾做过这样一个试验，请一家公司的 23 位主管回答“假如你是公司总裁，你认为哪个问题最重要”，结果每个主管都认为从全公司角度出发，自己所负责的部门最重要。销售经理说营销是个大问题，生产经理认为产品是生命，人事经理则回答说在现代的管理中，人是中心。这个试验说明什么（ ）。

- A.沟通的技术因素
- B.沟通技巧的差异
- C.沟通接受的有选择性
- D.沟通的结构因素

【答案】C。沟通接受的有选择性是指人们拒绝或片面地接受与他们的期望不相一致的信息。人们往往听或看他们感情上有所准备的东西，或他们想听到或看到的东西，甚至只愿意接受中听的，拒绝不中听的，故 C 选项正确；技术因素主要包括语言、非语言暗示、媒介的有效性和信息过量，故 A 选项错误；沟通技巧的差异是有的人不能口头上完美地表达，但却能够用文字清晰而简洁地写出来；另一些人口头表达能力很强，但不善于听取意见；还有一些人阅读较慢，并且理解起来比较困难，故 B 选项错误；沟通的结构因素主要包括地位差别、信息传递链、团体规模和空间约束四个方面，故 D 选项错误。故本题正确答案选 C。

13. 巴纳德在组织的性质和理论方面做出了杰出贡献，其代表作是（ ）。

- A. 《工业文明的社会问题》
- B. 《社会和经济组织的理论》
- C. 《经理的职能》
- D. 《科学管理原则》

【答案】C。巴纳德将社会学的概念用于管理上，代表作是《经理的职能》。巴纳德组织理论的主要内容：组织是一个合作系统、组织存在的基本条件：明确的目标；合作的意愿；良好的沟通、权威接受论。故 C 选项正确；《工业文明的社会问题》是行为科学的创始人梅奥的代表作，故 A 选项错误；韦伯在《社会组织和经济组织理论》中明确而系统地指出理想的组织应以合理合法的权力为基础，没有某种形式的权力，任何组织都不能达到自己的目标，故 B 选项错误；《科学管理原则》是泰罗的代表作，故 D 选项错误。故本题正确答案选 C。

14. 沟通的类别依划分的标准不同而不同。以下哪一选项是按照沟通的方向划分的（ ）。

- A. 工具式沟通和感情式沟通
- B. 口头沟通、书面沟通、电子媒介沟通
- C. 正式沟通和非正式沟通
- D. 下行沟通、上行沟通和平行沟通

【答案】D。按照方向，沟通可分为下行沟通、上行沟通和平行沟通。下行沟通指上级将信息传达给下级，是由上而下的沟通。上行沟通指下级将信息传达给上级，是由下而上的沟通。平行沟通指同级之间横向的信息传递，这种沟通也称为横向沟通，故 D 选项正确；按照功能划分，沟通可以分为工具式沟通和感情式沟通，故 A 选项错误；按照方法，沟通可分为：口头沟通、书面沟通、非言语沟通、体态语言沟通、语调沟通及电子媒介沟通等，故 B 选项错误；按照组织系统，沟通可分为正式沟通和非正式沟通，故 C 选项错误；故本题正确答案选 D。

15. 组织文化的核心是什么（ ）。

- A. 组织价值观
- B. 以人为本的人本文化
- C. 以柔性管理为主
- D. 增强群体凝聚力

【答案】A。组织文化的核心是组织价值观，故 A 选项正确；组织文化的中心是以人为主体的人本文化，故 B 选项错误；组织文化的管理方式是以柔性管理为主，故 C 选项错误；组织文化的重要任务是增强群体凝聚力，故 D 选项错误。故本题正确答案选 A。

16. 宝洁 P&G 是中国最大的日用消费品公司，主要是以品牌事业部为主，如飘柔、舒肤佳、玉兰油、吉列等，事业部是宝洁的利润来源。这种以产品线为中心，实行集中政策下的分散经营属于哪种组织结构类型（ ）。

- A.直线制
- B.职能制
- C.矩阵制
- D.事业部制

【答案】D。首先抓住题目中的关键词，以品牌事业部为主，各事业部是宝洁公司的利润来源。直线制的特点是由企业的各级主管人员直接指挥和管理，故 A 选项错误；职能制的特点是，采用专业分公告的职能管理者，故 B 选项错误；矩阵制的特点是横向联系强，易于培养专业人员的合作精神和全局观念，故 C 选项错误；D 选项事业部制，是以总公司为投资决策中心，事业部为利润中心，下属的生产单位是成本中心，实行“集中政策下的分散经营”，事业部充分发挥主观能动性，自主管理其日常的生产活动。故本题正确答案选 D。

17. “法约尔跳板”原理是指允许跨越权力线直接进行横向沟通，从而克服由于统一指挥而产生的信息传递延误。以下哪一理论的创始人与“法约尔跳板”原理的提出者相同（ ）。

- A.科学管理理论
- B.组织一般管理理论
- C.双因素理论
- D.决策理论

【答案】B。题目中“法约尔跳板”原理是由“现代经营管理理论之父”法约尔提出的。科学管理理论的创始人是“科学管理之父”泰罗，故 A 选项错误；组织一般管理理论的创始人是法约尔，其主要代表作《工业管理和一般管理》，标志着一般管理理论的形成，故 B 选项正确；双因素理论是由赫兹伯格提出的，故 C 选项错误。决策理论的代表人物是美国赫伯特西蒙，故 D 选项错误。故本题正确答案选 B。

18. 移动配置型是一种从员工相对岗位移动进配置的类型，这种配置的具体表现形式大致有三种，其具体表现形式中不包含（ ）。

- A. 晋升
- B. 降职
- C. 调动
- D. 辞退

【答案】D。本题考察移动配置型。人力资源配置中的移动配置型是一种从员工相对岗位移动进行配置的类型。它通过人员相对上下左右岗位的移动来保证企业内的每个岗位人力资源的质量。这种配置的具体表现形式大致有三种：晋升、降职和调动。所以 A、B、C 项描述正确。流动配置型是一种从员工相对企业岗位的流动进行配置的类型。它通过人员相对企业的内外流动来保证企业内每个部门与岗位人力资源的质量。这种配置的具体形式有三种：安置、调整和辞退。所以 D 项不合题意，错误。本题选择错误项，故正确答案为 D。

19. 马斯洛认为人类最底层的需要是（ ）。

- A. 安全需要
- B. 生理需要
- C. 社交需要
- D. 自我实现需要

【答案】B。马斯洛需求层次理论将人类需求从低到高按层次分为五种：生理需求、安全需求、社交需求、尊重需求和自我实现需求。因此，马斯洛认为人类最底层的需要是生理需要，故 B 选项正确；安全需要属于第二层次的需求，故 B 选项错误；社交需要属于第三层次需求，故 C 选项错误；自我实现需要属于最高层次的需求，故 D 选项错误。故本题正确答案选 B。

20. 在沟通过程中，可能有几个中心人物，由他转告若干人，而且有某种程度的弹性。这属于非正式沟通的哪种类型（ ）。

- A. 集群连锁
- B. 随机连锁
- C. 密语连锁
- D. 单线连锁

【答案】A。本题考查的是人际沟通方式。集群连锁就是指在沟通过程中，可能有几个中心人物，由他转告若干人，而且有某种程度的弹性，故 A 选项正确；随机连锁即碰到什么人就转告什么人，并无一定中心人物或选择性，故 B 选项错误；密语连锁是由一人告知所有其他人，犹如其独家新闻，故 C 选项错误；单线连锁就是由一人转告另一人，他再转

告一个人，故 D 错误。解题时抓题目中的关键字，信息来源是来自一群人，因此为集群连锁，故本题正确答案选 A。

多项选择题

21. 控制工作的目的不包括（ ）。

- A. 提高管理水平
- B. 提高技术水平
- C. 维持现状
- D. 打破现状

【答案】AB。A 选项提高管理水平和 B 选项提高技术水平，不属于控制的目的，控制工作的目的有维持现状、打破现状，故 AB 选项符合题意；C 选项维持现状和 D 选项打破现状，属于控制的目的，控制工作的目的有维持现状、打破现状，故 CD 选项排除。故本题正确答案选 AB。

22. 领导权变理论中的菲德勒权变理论提出了领导风格分为关系取向和任务取向。该理论的特点包括（ ）。

- A. 在最有利的情况下，采取以任务为中心的领导方式，效果要好
- B. 在最有利的情况下，采取以人为中心的领导方式，效果要好
- C. 在中间状态下，采取以任务为中心的领导方式，效果要好
- D. 在最不利的情况下，采取以任务为中心的领导方式，效果要好
- E. 处于中间状态的环境采用“以人为中心”的宽容型领导方式，效果较好

【答案】ADE。菲德勒模型是“权变理论”的第一个领导模型，将领导风格分为：关系取向与任务取向。情境处于有利和最为不利状态时，采用“任务导向型”；情境处于中间状态时，适宜采用“关系导向型”，故 ADE 选项符合题意；BC 选项表述错误。故本题正确答案选 ADE。

23. 企业决策者在制定决策时，要通过诊断问题、识别机会和目标、拟定和评估备选方案、作出决定后选择实施战略，最后进行监督和评估。在选择实施战略阶段，需要注意哪些问题（ ）。

- A. 制定相应具体措施，保证方案正确实施
- B. 确保与方案有关的各种指令能被有关人员充分接受

- C.应用目标管理法把决策目标层层分解
- D.建立重要的工作报告制度

【答案】ABCD。方案的实施是决策过程中至关重要的一步。在方案选定以后，管理者就要制定实施方案的具体措施和步骤。实施过程中通常要注意做好以下工作：制定相应的具体措施，保证方案的正确实施，故 A 选项正确；确保与方案有关的各种指令能被所有有关人员充分接受和彻底了解，故 B 选项正确；应用目标管理方法把决策目标层层分解，落实到每一个执行单位和个人，故 C 选项正确；建立重要的工作报告制度，以便及时了解方案进展情况，及时调整，故 D 选项正确。故本题正确答案选 ABCD。

24. 孔茨认为，目标管理是一个全面的管理系统，它用系统的方法，使许多管理活动结合起来，并且有意识地高效实现组织目标和个人目标。一个完整的目标管理过程应包括（ ）。

- A.制定目标
- B.明确组织的作用
- C.执行目标
- D.成果评价、实行奖惩

【答案】ABCD。目标管理过程首先要制定目标，包括确定组织的总体目标和各部门的分目标，故 A 正确；然后要明确组织的作用，理想情况下，每个目标和子目标都应有某一个人的明确责任，故 B 正确；明确组织作用后，组织中各层次，各部门的成员为达成分目标，必须从事一定的活动，活动中必须利用一定的资源，故 C 正确；执行目标后，进行成果评价，成果评价既是实行奖惩的依据，也是上下级、同级部门沟通的机会，同时还是自我控制和自我激励的手段，故 D 正确；除此之外，目标管理过程的最后一步是制定新目标并开始新的目标管理循环。故本题正确答案选 ABCD。

25. 对于企业而言，沟通的重要意义是（ ）。

- A.是企业凝聚为一个整体的催化剂
- B.是信息传递或交换的过程
- C.是企业同政府等建立固定联系的桥梁
- D.是管理者实现管理职能的基本途径

【答案】ABCD。沟通是协调各个体、各要素，使企业成为一个整体的催化剂，故 A 选项正确；沟通是指可理解的信息或思想在两个或两个以上人群中的传递或交换的过程，故 B 选项正确；沟通也是企业与外部环境之间建立联系的桥梁，主要包括顾客、政府、公众、原

材料供应商、竞争者等，故 C 选项正确；企业管理有四种职能：计划、组织、领导、控制，而贯穿在其中的一条主线即为沟通，沟通为实现其管理职能的主要方式、方法、手段和途径，故 D 选项错误。故本题正确答案选 ABCD。

公基习题（40 题）

单项选择题

1. 甲与乙订立了一份买卖合同，价款 100 万元，甲向乙支付 10 万元定金。因甲方不能履行合同，引起违约，造成乙方 25 万元的损失，合同约定的违约金为合同价款的 15%，根据《民法典》相关规定，对乙方的权利描述正确的是（ ）。

- A. 有权不返还甲方定金，无权提出其他要求
- B. 有权不返还甲方定金，有权要求甲方赔偿实际损失超过定金部分差额
- C. 有权不返还甲方定金并要求甲方支付违约金
- D. 有权要求甲方赔偿实际损失并支付违约金

【答案】B。根据《民法典》的规定，甲乙订立买卖合同时，对定金条款和违约金条款只能择其一适用，故 C 项错误；若适用定金条款，还可要求对方承担不超过其所遭受损失的赔偿金，故 A 项错误，B 项正确；若适用违约金条款，则不能再要求对方赔偿实际损失，故 D 项错误。故本题正确答案选 B。

2. 《民法典》规定，主债权债务合同无效的，担保合同（ ），但是法律另有规定的除外。

- A. 效力不受影响
- B. 无效
- C. 效力待定
- D. 以上答案都不对

【答案】B。根据《民法典》第三百八十八条第一款，设立担保物权，应当依照本法和其他法律的规定订立担保合同。担保合同包括抵押合同、质押合同和其他具有担保功能的合同。担保合同是主债权债务合同的从合同。主债权债务合同无效的，担保合同无效，但是法律另有规定的除外。故本题正确答案选 B。

3. 《民法典》规定，同一财产既设立抵押权又设立质权的，拍卖、变卖该财产所得的价款按（ ）确定清偿顺序。

- A.抵押权人优于质权人
- B.质权人优于抵押权人
- C.按照登记、交付的时间先后
- D.按照抵押合同、质押合同生效时间先后

【答案】C。本题考查民法典知识。根据《民法典》第四百一十五条 同一财产既设立抵押权又设立质权的，拍卖、变卖该财产所得的价款按照登记、交付的时间先后确定清偿顺序。故本题正确答案选 C。

4. 甲贩运假烟，驾车路过某检查站时，被工商执法部门拦住检查。检查人员乙正登车检查时，甲突然发动汽车夺路而逃。乙抓住汽车车门的把手不放，甲为摆脱乙，在疾驶时突然急刹车，导致乙头部着地身亡。甲对乙死亡的心理态度属于下列哪一选项（ ）。

- A.直接故意
- B.间接故意
- C.过于自信的过失
- D.疏忽大意的过失

【答案】B。根据《刑法》第十四条，明知自己的行为会发生危害社会的结果，并且希望或者放任这种结果发生，因而构成犯罪的，是故意犯罪。间接故意是指行为人明知自己的行为可能造成危害社会的后果，并放任这种结果发生的心理态度。甲某明知急速驾驶再刹车可能导致乙死亡，但为了摆脱检查仍采取这样的行为，放任这一结果发生，对死亡结果的心理态度为间接故意。故本题正确答案选 B。

5. 下列哪种情形中，当事人之间产生合同法律关系？（ ）

- A.甲拾得乙遗失的一块手表
- B.甲邀请乙看球赛，乙因为有事没有前去赴约
- C.甲因出差，将一台电脑放入乙家
- D.甲鱼塘的鱼跳入乙鱼塘

【答案】C。合同是一种民事法律行为，以双方当事人的意思表示为要素，并且按意思表示的内容赋予法律效果，因而与事实行为不同。甲将电脑放入乙家的行为实际上构成了保管协议，乙有义务保管好该物品。甲乙之间形成了保管合同法律关系。C 项符合题意。A 项

属于拾得遗失物的情况，是事实行为；B项不存在合同关系；D项中甲、乙之间形成不当得利法律关系，是事实行为。故本题正确答案选C。

6. 根据《中华人民共和国民法典》规定，处理民事纠纷，应当依照法律；法律没有规定的，可以（ ）。

- A.适用习惯，但是不得违背公序良俗
- B.适用社会公德，但不得损害社会公共利益
- C.适用地方政策
- D.适用县政府的决定

【答案】A。本题考查民法典知识。根据《中华人民共和国民法典》第十条，处理民事纠纷，应当依照法律；法律没有规定的，可以适用习惯，但是不得违背公序良俗。故本题正确答案选A。

7. 下列哪一事项属于民法的调整对象（ ）。

- A.甲对男朋友说，如果你考上研究生我就嫁给你
- B.县长乙与某国有企业厂长约定，企业上缴税收达一定数额，即为其加薪
- C.丙在出国旅游时承诺为好友代购奶粉
- D.丁无偿搭载同事，途中因驾驶不慎引发交通事故，致同事受伤

【答案】D。根据《民法典》第二条，民法调整平等主体的自然人、法人和非法人组织之间的人身关系和财产关系。A项，该行为不属于民事法律行为，属于情感、道德领域的问题。且《民法典》第1041条规定：实行婚姻自由、一夫一妻、男女平等的婚姻制度。即便甲的男朋友考上研究生，甲也可以不嫁给他。即这个行为不产生相应的民事法律后果。与题意不符，排除。B项，民事法律行为应当具备的特征包括：平等民事主体实施的以发生民事法律后果为目的的行为；以意思表示为构成要素的行为。本题中县长与国有企业厂长加薪的约定并不发生民事法律后果，且不是平等的民事主体之间的行为，不符合民事法律行为的要件和特征。因此，该行为不属于民事法律行为。与题意不符，排除。C项，属于好意施惠。好意施惠是指当事人之间无意设定法律上的权利义务关系，而由当事人一方基于良好的道德风尚实施的使另一方受恩惠的关系，旨在增进情谊的行为。不受法律调整。与题意不符，排除。D项，无偿搭载同事属于好意施惠。但因丁驾驶不慎引发交通事故致同事受伤应承担侵权责任，因此属于民法调整范围。与题意相符，当选。故本题正确答案选D。

8. 下列关于所有权的表述，正确的是（ ）。

- A.所有权的存在可以预定其存续期间

- B.所有权具有弹性
- C.仅包括使用、收益的权利
- D.不具有排他性

【答案】B。所有权是所有人依法对自己财产所享有的占有，使用，收益和处分的权利。所以 C 错误。是对生产劳动的目的，对象，手段，方法和结果的支配力量，它是一种财产权，所以又称财产所有权。所有权是物权中最重要也最完全的一种权利，具有绝对性、排他性、永续性三个特征，所以 AD 错误。故本题正确答案选 B。

9. 小王与某广告公司明确权利义务后，公司决定与小王签订劳动合同，并确定了合同时长、试用期期限及试用期工资。下列符合法律规定的是（ ）。

- A.合同为 2 年，试用期为 6 个月
- B.合同为 2 年，试用期为 2 个月
- C.试用期工资为转正工资的 50%
- D.试用期工资为转正工资的 60%

【答案】B。根据劳动合同法规定，劳动合同期限 1 年以上不满 3 年的，试用期不得超过 2 个月，所以 A 项错误，B 项正确；劳动者在试用期的工资不得低于本单位相同岗位最低档工资或者劳动合同约定工资的 80%，并不得低于用人单位所在地的最低工资标准，所以 CD 错误。故本题正确答案选 B。

10. 关于合同成立时间的表述，不正确的一项是（ ）。

- A.双方有承诺的，承诺生效时合同就成立
- B.书面形式的，双方当事人签字时合同就成立
- C.数据电文形式且有确认书的，签订确认书时合同就成立
- D.投寄信件的，以受要约人收到信件时合同就成立

【答案】D。A 项正确：《民法典》第四百八十三条：承诺生效时合同成立，但是法律另有规定或者当事人另有约定的除外。B 项正确：《民法典》第四百九十条：当事人采用合同书形式订立合同的，自当事人均签名、盖章或者按指印时合同成立。在签名、盖章或者按指印之前，当事人一方已经履行主要义务，对方接受时，该合同成立。C 项正确，D 项错误：《民法典》第四百九十一条：当事人采用信件、数据电文等形式订立合同要求签订确认书的，签订确认书时合同成立。本题选非，故本题正确答案选 D。

11. 关于我国著名水系，下列说法正确的是（ ）。

- A.黄河最终注入黄海

- B.长江流经安徽和江西
- C.澜沧江为东西走向
- D.珠江发源于青藏高原

【答案】B。B项：长江干流流经青海、西藏、四川、云南、重庆、湖北、湖南、江西、安徽、江苏、上海11个省级行政单位。因此B项说法正确，当选。A项：黄河发源于青海省青藏高原的巴颜喀拉山，自西向东分别流经青海、四川、甘肃、宁夏、内蒙古、陕西、山西、河南及山东9个省级行政单位，最后注入渤海而非黄海。因此A项说法不正确，不当选。C项：澜沧江是流经横断山脉地区的重要河流，也是中国最长的南北向河流。因此C项说法不正确，不当选。D项：珠江，又名粤江，因流经海珠岛而得名。珠江发源于云贵高原乌蒙山系马雄山，流经中国中西部六省区及越南北部，在下游从八个入海口注入南海。因此D项说法不正确，不当选。故本题正确答案选B。

12. 关于节气常识，下列说法不正确的是（ ）。

- A.夏至，太阳直射北回归线，南半球白昼时间最短
- B.冬至，北半球一年中影子最短，白昼时间最短
- C.春分、秋分昼夜等长，白露是北半球昼夜温差最大的时间
- D.从立春开始，立春在每年的2月4日左右，每个月两个节气

【答案】B。B项：冬至这天，太阳运行至黄经 270° ，太阳几乎直射南回归线（又称为冬至线），阳光对北半球最为倾斜。因此，北半球一年中影子最长，而非最短，冬至日是北半球各地一年中白昼最短的一天，并且越往北白昼越短。B项说法错误。A项：夏至，在每年公历6月20日，或21日，或22日。夏至这天，太阳运行至黄经 90° 度，太阳几乎直射北回归线，此时，北半球各地的白昼时间达到全年最长，南半球各地白昼时间达到全年最短。说法正确，因此A项不符合题意。C项：春分、秋分时太阳直射赤道，南北半球都昼夜等长，白露此时天气转凉，昼夜温差可达十多度，是北半球昼夜温差最大的时段。说法正确，因此C项不符合题意。D项：二十四节气以立春为首，一年有二十四个节气，计十二个节和十二个气。即一个月之内有一节一气，如果仅从数字二十四来看，一个月占两个，说法正确，因此D项不符合题意。本题选非，故本题正确答案选B。

13. 世界上最长的河流是（ ）。

- A.尼日尔河
- B.刚果河
- C.尼罗河

D.亚马逊河

【答案】C。C项：尼罗河是一条流经非洲东部与北部的河流，自南向北注入地中海，长 6670 公里，是世界上最长的河流，符合题意。A项：尼日尔河是西非主要河流，全长 4200 公里，是仅次于尼罗河和刚果河的非洲第三长河，被称为西非的母亲河，非洲第三长河必然不是全球第一长河，A项错误。B项：刚果河位于非洲中西部，全长约 4640 千米，流域面积约 370 万平方千米，为非洲第二长河，仅次于尼罗河，B项错误。D项：亚马逊河位于南美洲北部，是世界上流量最大、流域最大、支流最多的河流，由于河流长度测量方法并无定论，一般认为其长为 6400 公里，是世界上第二长的河流，D项错误。故本题正确答案选 C。

14. 关于太阳，下列说法不正确的是（ ）。

- A.目前已经进入衰老时期
- B.通过核聚变来释放能量
- C.所产生的能量主要靠辐射方式传播
- D.是太阳系中唯一会发光的天体

【答案】A。A项：太阳是一颗恒星，寿命大致为 100 亿年，目前太阳大约 45.7 亿岁。在大约 50 至 60 亿年之后，太阳内部的氢元素几乎会全部消耗尽，将会由氢核聚变变为氦聚变，进入衰老期，太阳的核心将发生坍缩，目前太阳仍处于“青年期”，所以 A 项错误，符合题意。B项：从化学组成来看，现在太阳质量的大约四分之三是氢，剩下的几乎都是氦，采用核聚变的方式向太空释放光和热，B项正确，不符合题意。C项：太阳所产生的能量主要靠辐射方式传播，C项正确，不符合题意。D项：太阳是太阳系的中心天体，占有太阳系总体质量的 99.86%。太阳是位于太阳系中唯一的恒星和会发光的天体，D项正确，不符合题意。恒星是由等离子气态物质组成的，能自己发光发热的球状或类球状天体。本题选非，故本题正确答案选 A。

15. 关于我国著名湖泊，下列说法错误的是（ ）。

- A.太湖位于亚热带季风气候区域
- B.洞庭湖位于淮河流域
- C.青海湖是内陆湖泊
- D.鄱阳湖是中国最大淡水湖

【答案】B。B项：洞庭湖处于长江中游荆江南岸，属于长江流域湖泊，不属于淮河流域。B项错误，符合题意。A项：太湖是中国五大淡水湖之一，位居第三，界北纬 30° 55'40"--31° 32'58"和东经 119° 52'32"--120° 36'10"之间，横跨江、浙两省，地处亚热带，气

候温和湿润，属季风气候。A项正确，不符合题意。C项：青海湖位于我国青海省境内，藏语名为“措温布”（意为“青色的海”），它位于青藏高原东北部，是中国最大的内陆湖、咸水湖。C项正确，不符合题意。D项：鄱阳湖地处九江、南昌、上饶三市，是中国第一大淡水湖，也是中国第二大湖，仅次于青海湖。D项正确，不符合题意。本题选非，故本题正确答案选B。

16. 下列关于地球的说法，错误的是（ ）。

- A. 东经 180° 与西经 180° 重合
- B. 地球的赤道半径比两极半径略长
- C. 哥白尼最早提出大地是球形的设想
- D. 地球是太阳系中质量最大的类地行星

【答案】C。C项：公元前500年前后，古希腊数学家毕达哥拉斯和他的弟子们，首先提出了大地是球形的设想。哥白尼（1473年2月19日—1543年5月24日），是文艺复兴时期的波兰天文学家、数学家、教会法博士、神父。哥白尼提出的是日心说，可见，球形的设想并不是哥白尼最早提出的。C项错误，但符合题意，当选。A项： 180° 度经线，是本初子午线向东或向西 180° 度的经线，既为东经 180° ，又为西经 180° 。A项正确，但不符合题意，不当选。B项：赤道是地球表面的点随地球自转产生的轨迹中周长最长的圆周线，其半径为6378.2公里。极半径是从地心到北极或南极的距离，大约6357公里。B项正确，但不符合题意，不当选。D项：地球是太阳系八大行星之一，按离太阳由近及远的次序排为第三颗，也是太阳系中直径、质量和密度最大的类地行星。D项正确，但不符合题意，不当选。本题选非，故本题正确答案选C。

17. 下列作者与诗句连线不正确的是（ ）。

- A. 范仲淹——先天下之忧而忧，后天下之乐而乐
- B. 杜甫——安得广厦千万间，大庇天下寒士俱欢颜
- C. 李白——安能摧眉折腰事权贵，使我不得开心颜
- D. 杜牧——野火烧不尽，春风吹又生

【答案】D。D项：“野火烧不尽，春风吹又生”意思是不管烈火怎样无情地焚烧，只要春风一吹，又是遍地青青的野草，这句诗出自白居易的《赋得古原草送别》。杜牧是唐代杰出的诗人、散文家，《阿房宫赋》《遣怀》《樊川文集》等。D项错误，但符合题意，当选。A项：“先天下之忧而忧，后天下之乐而乐”出自范仲淹的《岳阳楼记》，意思是为官者（作者当时的身份）应把国家，民族的利益摆在首位，为祖国的前途、命运分愁担忧，为天底下

的人民幸福出力，表现出作者远大的政治抱负和伟大的胸襟胆魄。A项正确，但不符合题意，不当选。B项：“安得广厦千万间，大庇天下寒士俱欢颜”出自杜甫的《茅屋为秋风所破歌》，意思是如何能得到千万间宽敞高大的房子，普遍地庇覆天下间贫寒的读书人，让他们开颜欢笑。B项正确，但不符合题意，不当选。C项：“安能摧眉折腰事权贵，使我不得开心颜”出自李白的《梦游天姥吟留别》，意思是我怎么能够低三下四地去侍奉那些有权有钱的“贵人”，让自己心里非常的不痛快。C项正确，但不符合题意，不当选。本题选非，故本题正确答案选D。

18. 关于宋词，下列说法不正确的是（ ）。

- A. “人比黄花瘦”是女词人李清照的名句
- B. “井水处即能歌柳词”说的是柳永
- C. “檣櫓灰飞烟灭”说的是官渡之战
- D. 辛弃疾是“豪放派”代表词人之一

【答案】C。C项：“檣櫓灰飞烟灭”出自苏轼的《念奴娇·赤壁怀古》，描述的是赤壁之战的情形，并非官渡之战。C项错误，但符合题意，当选。A项：“人比黄花瘦”出自宋代李清照的《醉花阴·薄雾浓云愁永昼》。A项正确，但不符合题意，不当选。B项：人们对柳永的词有一个评价，说：“凡有井水饮处，即能歌柳词”，这说明，柳永的作品，比皇帝的圣旨传播得更快、影响更大、范围更广。B项正确，但不符合题意，不当选。D项：辛弃疾，字幼安，号稼轩，山东东路济南府历城县（今济南市历城区遥墙镇四风闸村）人。南宋豪放派词人、将领，有“词中之龙”之称。D项正确，但不符合题意，不当选。本题选非，故本题正确答案选C。

19. 我国省级行政区的设立最早始于（ ）。

- A.唐朝
- B.元朝
- C.明朝
- D.清朝

【答案】B。元朝是中国历代疆域最大的王朝，为了对全国实行有效的通知，元世祖忽必烈实行行省制度，开省级制度先河，在中央设中书省，地方设行中书省。所以我国省级行政区的设立最早始于元朝。故本题正确答案选B。

20. 下列典故与事件，不是发生在汉武帝在位期间的是（ ）。

- A.七国之乱

- B.封狼居胥
- C.开通丝绸之路
- D.颁布“推恩令”

【答案】A。A项：“七国之乱”是汉景帝时期以吴王刘濞为首的七个诸侯国发动的叛乱，并不是发生在汉武帝时期。B项：“封狼居胥”是指西汉霍去病在反击匈奴时期，登上狼居胥山筑坛祭天，以告成功之事，发生在汉武帝时期。B项不符合题意，不当选。C项：史学家认为“丝绸之路”始于汉武帝时期张骞出使西域，发生在汉武帝时期。C项不符合题意，不当选。D项：“推恩令”是汉武帝时期削弱诸侯王权力的一项重要法令，发生在汉武帝时期。D项不符合题意，不当选。故本题正确答案选A。

21. 在 Word 中，“页面设置”的方法是选择（ ）菜单中的“页面设置”命令。

- A. “视图”
- B. “编辑”
- C. “文件”
- D. “格式”

【答案】C。C项：在 Word 中点击左上角的“文件”按钮，然后点击“页面设置”，即可进行页面设置。C项正确，当选。A项：“视图”菜单的命令主要是针对文章的不同显示方式。如设置文档视图，可以通过“普通”、“页面”等来进行，还可以通过“视图”菜单控制标尺、段落标记、工具栏等的显示或隐藏，以及显示比例、全屏显示，设置页眉页脚等。A项错误，不当选。B项：“编辑”菜单的命令主要用来编辑文章，包括复制、粘贴、剪切等一些操作。B项错误，不当选。D项：“格式”菜单的命令主要用来设置文章的格式，包括字体设置、段落设置、页眉页脚等一些操作。D项错误，不当选。故本题正确答案选C。

22. 如果一个类的成员变量只能在所在类中使用，则该成员变量必须使用的修饰是（ ）。

- A.public
- B.protected
- C.private
- D.static

【答案】C。A项，public 对所有类都可见，任何地方都能访问，不当选。B项，protected 对同一包内的类和所有子类可见，不当选。C项，private 在同一类内可见，别的成员不可访问，当选。D项，static 关键字用来声明独立于对象的静态变量，无论一个类实例化多少对

象，它的静态变量只有一份拷贝，不当选。故本题正确答案选 C。

23. 下列字符中，ASCII 码值最小的是（ ）。

A.A

B.a

C.Z

D.x

【答案】A。ASCII 码的大小规则： $0\sim 9 < A\sim Z < a\sim z$

(1) 数字比字母要小。如“7” < “F”；

(2) 字母 A 比字母 Z 要小，并按 A 到 Z 顺序递增。如“A” < “Z”；

(3) 数字 0 比数字 9 要小，并按 0 到 9 顺序递增。如“3” < “8”；

(4) 同个字母的大写字母比小写字母要小 32。如“A” < “a”。

本题选项从小到大依次是 $A < Z < a < x$ ，故本题正确答案选 A。

24. 当前，由人工智能引领的新一轮科技革命和产业变革方兴未艾。在移动互联网、大数据、超级计算、传感网、脑科学等新理论新技术驱动下，人工智能呈现深度学习、跨界融合、人机协同、群智开放、自主操控等新特征，正在对经济发展、社会进步、全球治理等方面产生重大而深远的影响。下列对人工智能的认识，正确的是（ ）。

A.人工智能越来越成为人类改造世界活动的决定因素

B.人工智能是自然的产物并推动了人类思维的发展

C.人工智能扩展了人类实践活动的深度和广度

D.人工智能决定人类意识的发展水平

【答案】C。C 项：人工智能（Artificial Intelligence），英文缩写为 AI。它是研究、开发用于模拟、延伸和扩展人的智能的理论、方法、技术及应用系统的一门新的技术科学。总的说来，人工智能研究的一个主要目标是使机器能够胜任一些通常需要人类智能才能完成的复杂工作。所以，人工智能是人类认识发展到一定阶段的成果，扩展了人类实践活动的深度和广度。因此，选择 C 选项。A 项：人类改造客观世界的一切物质活动称为实践，实践具有客观物质性、主观能动性、直接现实性和社会历史性。实践决定认识，实践是人类认识水平的决定因素，而不是人工智能。A 项错误，不当选。B 项：自然物品是相对于人造物品而言的，为自然生成的未经过人工干预或制造而产生的物品。如天然形成的铁矿、石油等。人工智能是经过人的改造活动而形成的，而非自然的产物。B 项错误，不当选。D 项：人工智能决定人类意识的发展水平说法错误，应该为物质决定意识。D 项错误，不当选。故本题正确

答案选 C。

25. 下列哪一个 IP 地址是不可能存在的 ()。

A.198.163.0.2

B.256.134.7.8

C.201.202.34.9

D.136.64.17.5

【答案】B。IP 地址是指互联网协议地址，是 IP 协议提供的一种统一的地址格式，它为互联网上的每一个网络和每一台主机分配一个逻辑地址，以此来屏蔽物理地址的差异。IP 地址范围要在 0.0.0.0 到 255.255.255.255 之间，B 选项的 256 超过了 255 的范围。因此 B 选项错误，当选。A、C、D 选项：IP 地址均在 0 到 255 之间，是正确的 IP 地址。本题选非，故本题正确答案选 B。

26. 区块链技术的革命在于把人与人的信任转换为人与技术的信任。以下哪项不是区块链构成的核心要素？()

A.统一记账机制

B.共识机制

C.密码学技术

D.分布式存储

【答案】A。区块链技术的三种必不可少的技术，即：共识机制、分布式存储和密码学技术。共识机制：共识机制是指定义共识过程的算法、协议和规则，区块链的共识机制具备“少数服从多数”以及“人人平等”的特点。密码学原理：在区块链技术中应用了大量的密码学的知识，如：公钥、私钥、哈希、对称加密、非对称加密、同态加密、签名、零知识证明等。分布式存储：一是区块链每个节点都按照块链式结构存储完整的数据，二是区块链每个节点存储都是独立的、地位等同的，依靠共识机制保证存储的一致性。故本题正确答案选 A。

27. 高铁订票系统属于 () 方面的计算机应用。

A.科学计算

B.信息检索

C.过程控制

D.数据处理

【答案】D。输入计算机的数据经过计算机解释并赋予一定的意义之后，便成为信息。

数据处理是对数据的采集、存储、检索、加工、变换和传输高铁订票系统对客户不同信息进行处理，完成客户的订票需求。因此，高铁订票系统属于数据处理方面的计算机应用。D项符合题意，当选。A项：科学计算是指利用计算机再现、预测和发现客观世界运动规律和演化特征的全过程。科学计算为解决科学和工程中的数学问题利用计算机进行的数值计算。在现代科学和工程技术中，经常会遇到大量复杂的数学计算问题，这些问题用一般的计算工具来解决非常困难，而用计算机来处理却非常容易。显然，高铁订票系统不仅仅涉及到数学计算问题，因此，科学计算较片面。A项不符合题意，不当选。B项：信息检索是用户进行信息查询和获取的主要方式，是查找信息的方法和手段。显然，高铁订票系统同样不仅仅涉及信息检索方面的问题，因此，信息检索同样较片面。B项不符合题意，不当选。C项：计算机过程控制是指利用计算机来实现过程控制的功能。同样的，高铁订票系统不仅仅涉及到过程控制的问题，因此，过程控制比较片面。C项不符合题意，不当选。故本题正确答案选D。

28. C/S 是一种重要的网络计算机模式，其含义是（ ）。

- A. 客户/服务器模式
- B. 文件/服务器模式
- C. 分时/共享模式
- D. 浏览器/服务器模式

【答案】A。C/S 结构，即 Client/Server（客户机/服务器）结构，是计算机软件系统体系结构，通过将任务合理分配到 Client 端和 Server 端，降低了系统的通讯开销，可以充分利用两端硬件环境的优势。开发 C/S 架构可以采用多种语言，包括 Java、C++、C#等。A 项符合题意，当选。B 项：在计算机局域网中，以文件数据共享为目标，需要将供多台计算机共享的文件存放于一台计算机中，这台计算机就被称为文件服务器，文件服务器是一台对中央存储和数据文件管理负责的计算机，这样在同一网络中的其他计算机就可以访问这些文件。B 项不符合题意，不当选。C 项：分时/共享模式是一个多用户交互式操作系统。分时是指多个用户分享使用同一台计算机，多个程序分时共享硬件和软件资源。该系统是指在一台主机上连接多个带有显示器和键盘的终端，同时允许多个用户通过主机的终端，以交互方式使用计算机，共享主机中的资源。C 项不符合题意，不当选。D 项：B/S 结构，即 Browser/Server（浏览器/服务器）结构，是随着 Internet 技术的兴起，对 C/S 结构的一种变化或者改进的结构。在这种结构下，用户界面完全通过 WWW 浏览器实现。前端在大部分企业就是做浏览器端展现相关的工作，会用到 html、css、js 等，而“后端”的主要工作室程序开发、数据处理了，比如：php、mysql 等。D 项不符合题意，不当选。故本题正确答案选 A。

29. 下列关于视图的说法不正确的是（ ）。

- A.视图是从一个或多个基本表导出的表，它是虚表
- B.某一用户可以定义若干个视图
- C.视图一经定义就可以和基本表一样被查询、删除和更新
- D.视图可以用来定义新的视图

【答案】C。A项，在 SQL 中，视图是基于 SQL 语句的结果集的可视化的表。视图是一个虚表，是从一个或几个基本表导出的表，不当选。B项，某一用户可以定义若干个视图，不当选。D项，可以在视图之上再定义新的视图，不当选。C项，视图可以查询，但不可以新增、删除、修改，当选。本题选非，故本题正确答案选 C。

30. 某型号计算机的配置为：Intel 酷睿 2.8GHz/4G/500GB./50X/19'，那么该机器的内存大小是（ ）。

- A.2.8GHz
- B.4G
- C.500GB.
- D.50X

【答案】B。题干中计算机的配置为：Intel 酷睿 2.8GHz/4G/500GB/50X/19'，说明该计算机 CPU 类型为 Intel 酷睿 2.8GHz；内存储器容量为 4G；硬盘驱动器容量为 500GB；光盘驱动器为 50 倍速；显示器尺寸为 19 英寸。B 项符合题意，当选。故本题正确答案选 B。

多项选择题

31. 用人单位不得解除劳动合同的情形（ ）。

- A.在单位患职业病的
- B.女职工在哺乳期间的
- C.不能胜任本单位工作的
- D.已在本单位工作满 15 年，且离退休不到 5 年的

【答案】ABD。根据《劳动合同法》第四十二条，用人单位不得解除劳动合同的情形：（一）从事接触职业病危害作业的劳动者未进行离岗前职业健康检查，或者疑似职业病病人在诊断或者医学观察期间的；（二）在本单位患职业病或者因工负伤并被确认丧失或者部分丧失劳动能力的；（三）患病或者非因工负伤，在规定的医疗期内的；（四）女职工在孕期、产期、哺乳期的；（五）在本单位连续工作满十五年，且距法定退休年龄不足五年的；（六）

法律、行政法规规定的其他情形。C项：根据《劳动合同法》第四十条第二项，有下列情形之一的，用人单位提前三十日以书面形式通知劳动者本人或者额外支付劳动者一个月工资后，可以解除劳动合同：劳动者不能胜任工作，经过培训或者调整工作岗位，仍不能胜任工作的。C项不属于用人单位不得解除劳动合同的情形，不符合题意，不当选。故本题正确答案选 ABD。

32. 关于可撤销民事行为，下列说法中正确的是（ ）。

- A.行为人对行为内容有重大误解的是可撤销的民事行为
- B.显失公平的行为是可撤销的民事行为
- C.当事人请求变更的，人民法院或者仲裁机构可以撤销
- D.可撤销民事行为一经撤销，自始无效

【答案】ABD。A项：根据《民法典》，基于重大误解实施的民事法律行为，行为人有权请求人民法院或者仲裁机构予以撤销。A项正确。B项：根据《民法典》，一方利用对方处于危困状态、缺乏判断能力等情形，致使民事法律行为成立时显失公平的，受损害方有权请求人民法院或者仲裁机构予以撤销。B项正确。D项：根据《民法典》，无效的或者被撤销的民事法律行为自始没有法律约束力。D项正确。C项：根据《民法典》，民事法律行为自成立时生效，但是法律另有规定或者当事人另有约定的除外。行为人非依法律规定或者未经对方同意，不得擅自变更或者解除民事法律行为。《民法典》当中并未规定当事人请求变更时，可以撤销的规定。C项错误。故本题正确答案选 ABD。

33. 李某将电脑遗失在火车站候车室，被旅客王某捡到，下列说法不符合法律规定的是（ ）。

- A.王某可将电脑交给执勤警察，也可以自己用
- B.王某联系李某后声称可以返还，但要求李某支付 50 元快递费
- C.李某登报悬赏 3000 元寻找电脑，王某表示愿意归还，但李某以悬赏金额过高为由只同意支付 1000 元
- D.王某将电脑交给公安机关，公安机关发布招领公告，经过一年无人认领，电脑应归王某所有

【答案】ACD。A项：根据《民法典》，拾得遗失物应当返还原权利人。拾得人应当及时通知权利人领取，或者送交公安等有关部门。因此，交给执勤警察是合理的，但是自己用是不合法律规定的，A选项错误，当选。C项：根据《民法典》，权利人悬赏寻找遗失物的，领取遗失物时应当按照承诺履行义务。因此题干中，权利人李某应当付 3000 元，C选

项错误，当选。D项：根据《民法典》，遗失物自发布招领公告之日起一年内无人认领的，归国家所有。因此D选项“电脑应归王某所有”的说法错误，当选。B项：根据《民法典》，没有法定的或者约定的义务，为避免他人利益受损失而进行管理的人，有权请求受益人偿还由此支出的必要费用。所以王某联系李某后声称可以返还，但要求李某支付50元快递费的行为是合法的。因此B选项正确，不当选。本题选非，故本题正确答案选ACD。

34. 根据《民法典》的规定，下列关于物权变动的表述中，正确的有（ ）。

- A. 因人民法院的判决取得物权的，自判决生效时发生效力
- B. 因受遗赠取得物权的，自受遗赠开始时发生效力
- C. 因合法建造取得物权的，自登记之日起发生效力
- D. 因拆除房屋等事实行为消灭物权的，自事实行为成就时发生效力

【答案】AD。A项正确：《民法典》第二百二十九条 因人民法院、仲裁机构的法律文书或者人民政府的征收决定等，导致物权设立、变更、转让或者消灭的，自法律文书或者征收决定等生效时发生效力。B项错误：《民法典》第二百三十条 因继承取得物权的，自继承开始时发生效力。民法典删除了遗赠适用这条。C项错误，D项正确：《民法典》第二百三十一条 因合法建造、拆除房屋等事实行为设立或者消灭物权的，自事实行为成就时发生效力。故本题正确答案选AD。

35. 下列小说属于鲁迅作品的有（ ）。

- A. 《子夜》
- B. 《彷徨》
- C. 《泯灭》
- D. 《阿Q正传》

【答案】BD。B项：《彷徨》是近代文学家鲁迅创作的小说集，于1926年8月由北京北新书局初版，列为作者所编的《乌合丛书》之一，后编入《鲁迅全集》。B项符合题意，当选。D项：《阿Q正传》是鲁迅创作的中篇小说，创作于1921年12月，最初发表于北京《晨报副刊》，后收入小说集《呐喊》。D项符合题意，当选。因此，选择BD选项。A项：《子夜》，原名《夕阳》，中国现代长篇小说，约30万字。茅盾于1931年10月开始创作，至1932年12月5日完稿，共十九章。有些章节分别在《小说月报》和《文学月报》上发表过。半个多世纪以来，《子夜》不仅在中国拥有广泛的读者，且被译成英、德、俄、日等十几种文字，产生了广泛的国际影响。A项不是鲁迅的作品，不当选。C项：《泯灭》是中国物资出版社2007年5月出版的图书，作者是梁晓声。本书讲述的是民国时期青少年的成长

故事。C项不是鲁迅的作品，不当选。故本题正确答案选BD。

36. 下列关于二十四节气与生产生活关系说法正确的是（ ）。

- A. “夏满芒夏暑相连”包含了六个节气
- B. 惊蛰后树木生根发芽，是林果嫁接的最佳时期
- C. 小暑过后长江以南将进入雨季，梅雨汛期开始
- D. 清明后自然由阴转阳，这时要注意清泻肝火

【答案】ABD。A项：“夏满芒夏暑相连”包含了立夏、小满、芒种、夏至、小暑和大暑六个节气。A项正确，当选。B项：果树嫁接通常选择在春季进行，最佳嫁接时间段是每年的惊蛰到春分之间，芽苞还未萌发的时候，嫁接成活率高。嫁接时间不能过早，因为气温低，果树生长活性差，接穗的成活率不高。嫁接时间不能过迟，芽苞萌动生长，会散发大量的水分，影响接穗的成活率。B项正确，当选。D项：清明在每年的4月5日（阳历）前后，此时天气晴朗，草木繁茂。清明后雨水增多，自然由阴转阳，要注意清泻肝火，以防肝气升发太过或肝火上炎。D项正确，当选。因此，选择ABD选项。C项：小暑一般在每年的7月6-8日，此时长江中下游地区梅雨结束，进入伏旱，而华北、东北地区进入雨季。C项错误，不当选。故本题正确答案选ABD。

37. 下列选项中属于地质作用的内力作用为（ ）。

- A. 地震
- B. 火山
- C. 泥石流
- D. 滑坡

【答案】AB。地质作用就是形成和改变地球的物质组成、外部形态特征与内部构造的各种自然作用。内力地质作用是能促使整个地壳物质成分、地壳内部结构、地表形态发生变化的地质作用，表现为地壳运动、岩浆活动、变质作用和地震。外力地质作用是指由地球以外的能源，也就是由太阳能和日月引力能等所引起的地质作用，包括岩石的风化作用，流水、风、地下水、冰川、海洋、湖泊等外力的剥蚀作用、搬运作用、沉积作用和硬结成岩作用。A项：地震是地壳快速释放能量过程中造成的振动，期间会产生地震波的一种自然现象。地球上板块与板块之间相互挤压碰撞，造成板块边沿及板块内部产生错动和破裂，是引起地震的主要原因。故A项是内力作用形成的，当选。B项：火山是一种常见的地貌形态，由地下熔融物质及其携带的固体碎屑冲出地表后堆积形成的山体。地壳之下100-150千米处，有“液态区”，区内存在着高温、高压下含气体挥发成份的熔融状硅酸盐物质，即岩浆。它一

且从地壳薄弱的地段冲出地表，就形成了火山。故 B 项是内力作用形成的，当选。因此，选择 AB 选项。C 项：泥石流是指在山区或者其他沟谷深壑，地形险峻的地区，因为暴雨、暴雪或其他自然灾害引发的山体滑坡并携带有大量泥沙以及石块的特殊洪流。故 C 项是外力作用形成的，不当选。D 项：滑坡是指斜坡上的土体或者岩体，受河流冲刷、地下水活动、雨水浸泡、地震及人工切坡等因素影响，在重力作用下，沿着一定的软弱面或者软弱带，整体地或者分散地顺坡向下滑动的自然现象。故 D 项是外力作用形成的，不当选。故本题正确答案选 AB。

38. 以下哪项属于网络管理系统的组成部分？（ ）

- A.管理进程
- B.被管对象
- C.代理进程
- D.网络管理协议

【答案】ABCD。网络管理系统由管理进程、被管对象、代理进程、网络管理协议和管理信息库 5 部分组成，管理进程是网络管理的主动实体；被管对象是网络上的软硬件设施；代理进程是网络管理的被动实体；网络管理协议用于传输管理信息的一种传输协议；管理信息库是一个概念上的集合。故本题正确答案选 ABCD。

39. 计算机网络中的恶意程序，包括（ ）。

- A.计算机病毒
- B.计算机蠕虫
- C.Cookie
- D.逻辑炸弹

【答案】ABD。恶意程序通常是指带有攻击意图所编写的一段程序。这些威胁可以分成两个类别：需要宿主程序的威胁和彼此独立的威胁。前者基本上是不能独立于某个实际的应用程序、实用程序或系统程序的程序片段；后者是可以被操作系统调度和运行的自包含程序。恶意程序主要包括：陷门、逻辑炸弹、特洛伊木马、蠕虫、细菌、病毒等。故 ABD 表述正确，当选；Cookie，类型为“小型文本文件”，是某些网站为了辨别用户身份，进行 Session 跟踪而储存在用户本地终端上的数据（通常经过加密），由用户客户端计算机暂时或永久保存的信息。Cookies 是文本文件，一般情况下认为它不会造成安全威胁。但是，如果 Cookies 中通过特殊标记语言，引入可执行代码，就很可能给用户造成严重的安全隐患，被称为恶意 Cookie。C 项表述不准确，不当选。故本题正确答案选 ABD。

40. 关于 TCP 协议描述正确的是 ()。

- A. 提供可靠交付的服务
- B. 通过窗口大小进行流量的控制
- C. 基于字符流的传输层通信协议
- D. 提供半双工通信

【答案】AB。传输控制协议 (TCP, Transmission Control Protocol) 是一种面向连接的、可靠的、基于字节流的传输层通信协议。TCP 旨在适应支持多网络应用的分层协议层次结构。连接到不同但互连的计算机通信网络的主计算机中的成对进程之间依靠 TCP 提供可靠的通信服务。故 A 表述正确, C 表述错误; D 项, TCP 是通过窗口大小进行流量的控制, 提供全双工通信, 故 B 项表述正确, D 项表述错误。故本题正确答案选 AB。

英语习题 (50 题)

选词填空

1. Woman have made great () in the employment market over the past 50 years, and some are at the very top in different professions.

- A. strides
- B. edge
- C. strive
- D. ribbons

【答案】A。A 项: 步幅、进展; B 项: 边缘、优势; C 项: 努力、奋斗 (动词); D 项: 缎带。根据句意, 在过去的 50 年里, 女性在就业市场上取得了巨大的进步, A 项与题意相符。故本题正确答案选 A。

2. The ability of mammals to bear live young is a consequence of a viral gene () to permit the formation of placentas.

- A. modified
- B. having modified
- C. modifying
- D. being modified

【答案】D。观察句子结构，空白处应填入非谓语动词，且逻辑主语 *viral gene* 和 *modify* 之间是被动的关系，排除 BC 两项。根据句意，哺乳动物能拥有生育后代的能力，是因为它们体内源自病毒的基因被修改了，事情是属于客观现象，排除 A 项。故本题正确答案选 D。

3. With the U.S. government amassing growing amounts of () every year, it needs the money that foreign investors offer.

- A. debt
- B. cost
- C. currency
- D. Payment

【答案】A。名词辨析。A 项：债务；B 项：成本；C 项：货币；D 项：付款。句意：随着美国政府每年积累的.....越来越多，它需要外国投资者提供的资金。根据句意可知应该填债务。故本题正确答案选 A。

4. It took me exactly a week to () the work.

- A. start
- B. achieve
- C. complete
- D. stop

【答案】C。动词辨析。句意：我花了整整一个星期来完成这项工作。A 项：开始；B 项：（凭长期努力）达到（某目标、地位、标准）；C 项：**complete** 完成，使完整，结束，*It took sb some time to do sth*；D 项停止。故本题正确答案选 C。

5. The dentist has decided to () her bad tooth.

- A. take out
- B. break off
- C. push in
- D. dig up

【答案】A。词组辨析。A 项：**take out** 取出；B 项 **repair** 修理，多用于修理汽车/屋顶/道路/电视；C 项 **push in** 推动；D 项 **dig up** 挖掘。句意：牙医决定拔出她的坏牙。故本题正确答案选 A。

6. There's been a lot of contention in the last couple of weeks about the future () of the company.

- A. decision
- B. direction
- C. condition
- D. Orientation

【答案】B。本题考察名词辨析。A项表示决定；B项表示方向；C项表示情况；D项表示导向。根据句意，在过去几周，公司未来发展方向引发了诸多争论；B选项准确。故本题正确答案选B。

7. This table is strong and ().

- A. eternal
- B. extensive
- C. far-reaching
- D. Durable

【答案】D。形容词辨析。A项：永恒的、不朽的；B项：广泛的、大量的；C项：深远的，广泛的。D项：耐用的。句意：这张桌子结实耐用。故本题正确答案选D。

8. If you want to keep healthy, you should () the foods you eat.

- A. reject
- B. accept
- C. choose
- D. vary

【答案】D。动词辨析。A项：拒绝；B项：接受；C项：选择；D项：改变，变化。句意：如果你想保持健康，你应该改变你吃的食物。故本题正确答案选D。

9. These are defensive behavior patterns which () from our fears.

- A. derive
- B. rely
- C. thrive
- D. inform

【答案】A。A项：源于、起源；B项：依靠、信赖；C项：繁荣；D项：通知。句意：这些是从我们的恐惧中衍生出来的防御行为模式。故本题正确答案选A。

10. One's economic condition often () his or her way of life.

- A. depends

- B. shows
- C. reduces
- D. influences

【答案】D。动词辨析。A项：决定；B项：演出；C项：减少；D项：影响。句意：一个人的经济状况往往会影响他或她的生活方式。故本题正确答案选D。

11. Poor schooling was the () of the unemployment problem.

- A. base
- B. result
- C. force
- D. root

【答案】D。A项：基础；B项：结果；C项：力量；D项：根、根源。句意：没有好好上学是产生失业问题的根本原因。故本题正确答案选D。

12. This new policy proved effective, leading to () increase in production.

- A. striking
- B. minor
- C. fixed
- D. Modest

【答案】A。A项：表示“显著的、突出的”，根据句意，当选；B项：表示“固定的”；C项：“较小的、次要的”；D项：“适度的”。句意：这项新政策证明是有效的，导致了生产的显著的增加。故本题正确答案选A。

13. No one but Tom and Jerry () the ambition to secure a post in NATO headquarters which () located in Shanghai.

- A. go; is
- B. have gone; is
- C. goes; has been
- D. goes; are

【答案】C。考查主谓一致。no one but-做主语时，谓语动词根据no one确定，所以第一个空排除AB。Headquarters指总部，单数，所以选C。句意：除了汤姆和杰瑞，没有人有在上海的北约总部谋得职位的雄心。故本题正确答案选C。

14. We need no floor mopping robot, () .

- A. and we can neither afford it
- B. and nor we can afford it
- C. nor can we afford it
- D. neither can afford it

【答案】C。考察倒装句，否定词提前句子倒装，而 A 项是陈述语气且没有倒装，排除；B 项 and 和 nor 两个连接词不能放在一起，表述错误，排除。D 项中缺少主语 we，排除。句意：我们不需要扫地机器人，我们也负担不起。故本题正确答案选 C。

15. Secondhand smoke is so harmful to the health of children and women that it kills far more people each year () the flu virus.

- A. then
- B. than
- C. that
- D. with

【答案】B。考察固定搭配，more...than 比...多，超出预料。句意：二手烟对儿童和妇女的健康有害，每年比死于流感病毒的人要多得多。故本题正确答案选 B。

16. () that he is the youngest basketball player on the court, he actually plays pretty well.

- A. Considered
- B. Consider
- C. To consider
- D. Considering

【答案】D。considering 介词，考虑到，鉴于，后常跟 that。A 项形容词，B 项动词，C 项目的状语。句意：考虑到他是场上最年轻的篮球运动员，实际上他打得很好。故本题正确答案选 D。

17. Scientific research shows that no one in the world has a perfectly () face.

- A. balanced
- B. similar
- C. subtle
- D. symmetric

【答案】B。词语辨析。A项：平衡；B项：相似；C项：精细的；D项：对称的。句意：科学研究表明，世界上没有人有一张完美相似的脸。故本题正确答案选B。

18. () recent medical research, there are effective treatments for lung cancer.

- A. Thanks to
- B. Account for
- C. In addition to
- D. As long as

【答案】B。词语辨析。A项：由于、幸亏；B项：说明、解释；C项：除了……还有；D项：只要。句意：最近的医学研究表明，肺癌有有效的治疗方法。故本题正确答案选B。

19. In times of emergency, citizens buy and stock up food and daily necessities in bulk in supermarkets. The underlined part means () .

- A.in large quantities
- B.in advance
- C.in addition
- D.in basket

【答案】A。词语辨析。A项：大量的；B项：提前；C项：另外、此外；D项：在篮子里。句意：在紧急情况下，市民在超市大量购买和储存食物和生活必需品。故本题正确答案选A。

20. Under the bed () two boxes, one containing Nike shoes, the other Adidas.

- A. lies
- B. lays
- C. lay
- D. laid

【答案】B。A项：躺下、说谎；B项：躺下、放置；C项：也可做lie的过去式；D项：是lay的过去分词。句意：床底下有两个盒子，一个装着耐克的鞋子，另一个装着阿迪达斯的。所以放置符合句意，排除A；句意中也没有过去式的表述，排除D。主语是under the bed，动词是单三，B正确。故本题正确答案选B。

21. () for Beijing by train today, Lisa could meet her parents there in three days.

- A. Would she leave
- B. Was she leaving

C. Were she to leave

D. If she leaves

【答案】D。leave, start, begain 等词是一般现在时表将来，D 项正确。句意：如果她今天坐火车去北京，丽萨三天后就能在那里见到她的父母。故本题正确答案选 D。

22. The team members know that this game could only () backwards, but all of them must () forwards.

A. be reviewing; living

B. been reviewed; living

C. be reviewed; live

D. review; live

【答案】C。前半句从句中的主语是 game，所以是被动语态，排除 AD，could 后加动词原型，排除 B。句意：团队成员知道这个游戏只能回顾过去，但他们都必须向前看。故本题正确答案选 C。

23. Those who come to the interview today will have to wait () six weeks to find out whether they are accepted or not.

A. another

B. either

C. both

D. other

【答案】B。固定搭配，either...or，意为"或者……或者……；不是……就是……"。句意：今天来面试的人要等六个星期才能知道他们是否被录用。故本题正确答案选 B。

24. Scientists believe the domestic epidemic outbreak has been expanding and spreading since October 2019.

A. was expanding and spreading

B. has been expanding and spreading

C. is expanding and spreading

D. expends and spreads

【答案】B。考察时态，提示词 since，自从……的时候，用完成时，所以选 B。句意：科学家认为，自 2019 年 10 月以来，国内疫情一直在扩大和蔓延。故本题正确答案选 B。

25. () for long periods of time has always amazed biologists.

- A. Insects can fly
- B. Insects are flying
- C. How insects fly
- D. Could insects fly

【答案】A。根据句子后的句号，CD 属于疑问句，排除。A 项：昆虫会飞；B 项：昆虫在飞；C 项：昆虫如何飞行；D 项：昆虫会飞吗。句意昆虫能长时间飞行一直让生物学家们感到惊奇。故本题正确答案选 A。

26. Scarcely () the good news when the tall boy laughed out.
- A. did he hear
 - B. had he heard
 - C. would he hear
 - D. he had heard

【答案】B。考察倒装句。Scarcely ... when 引起的主从复合句，主句应倒装，从句不倒装，所以排除 D。根据从句中的动词 laughed，可以知道前面主句中的动词应该发生的早一些，先听到消息再笑，所以主句中是过去完成时。句意：他刚听到这个好消息，那个高个子男孩就笑了出来。故本题正确答案选 B。

27. He is now a famous musician and a () person in this country.
- A. respectable
 - B. respecting
 - C. respectful
 - D. respective

【答案】A。词语辨析。A 项：值得尊敬的；B 项：动词；C 项：恭敬的、有礼貌的；D 项：分别的、各自的。根据句意他是一个有名的，并且值得尊敬的音乐家。故本题正确答案选 A。

阅读理解

Passage 1

Over the past year, dockless electric scooters have descended on city sidewalks almost as if fell from the sky. From Austin, Texas, to Denver to Cambridge, Mass., there compact two-wheelers are leading what researchers are calling the “micro-mobility revolution”. But their

arrival has not been without controversy. A survey of 7,000 people by the research firm Populous found that 3.6 percent of people reported using scooters in the relatively short time they've been available, which is a quicker adoption rate than competitors such as dockless bikes. Nearly 70 percent of people view dockless scooters positively, the report also found. "The adoption of these new services has been quite remarkable in terms of new mobility services is accelerating," Populous CEO Regina Clewlow says.

Many of those surveyed view dockless scooters as a fun and easy way to get around the city, Clewlow says. According to the report, riders say dockless scooters complement public transportation and can replace short rides in a personal car rather than a taxi. They can also support a car-free lifestyle. And they're cheap to ride, too. They cost about \$1 to unlock and then 15 cents per minute. Users download an app, enter their credit card information and locate available scooters in their area. "Because so many people are accustomed to using their cellphones to call a personal car or now unlock a car-sharing vehicle, the idea of being able to unlock a dockless electric scooters feel quite natural," Clewlow say.

But those who enjoy riding these scooters may constitute a silent majority. In fact, dockless scooters and bikes have drawn the anger of some residents who say they're a nuisance. People weave in and out of traffic at speeds of up to 15 mph, often without helmets, and when they're done riding, they discard the scooters in the middle of sidewalks, according to reports.

Local governments are also struggling to keep up. In San Francisco, St. Louis and Milwaukee, among other cities, electric scooter companies deployed hundreds of scooters unannounced or without permission from the city. Some cities have completely banned scooters by issuing cease-and-desist orders. For example, San Francisco ordered electric scooters companies to stop operations until they applied for permits. The same thing happened in Cambridge and Somerville, Mass., just days after scooters were dropped on the streets. Patrick Sisson, a reporter with the website Curbed, told NPR News that the confusion over how to regulate dockless scooters is similar to how local government reacted to the rise of personal cars' ride-sharing services. City officials are completely caught off guard and unprepared.

1. How do the local governments view the scooters? ()
- A. They should be banned.
- B. They are lack of permission.

C. They complement public transportation.

D. They are the future of local transportation.

【答案】B。题干问地方政府如何看待电动滑板车?定位最后一段 San Francisco ordered electric scooters companies to stop operations until they applied for permits.旧金山要求电动摩托车公司在申请许可之前停止运营,可知 B 正确。A 项:它们应该被禁止,无中生有;B 项:他们缺乏许可;C 项它们是公共交通的补充,定位第二段可知是乘客所说;D 项:他们是当地交通的未来,无中生有。故本题正确答案选 B。

2. What can we learn from the passage? ()

A. Bikes have a quicker adoption rate than scooters.

B. Scooters can replace short rides in a car or a taxi.

C. Cities are well prepared about the influx of scooters.

D. People who view scooters positively are the majority.

【答案】D。推断题。A 项:自行车的普及率比小型摩托车快,定位第一段 which is a quicker adoption rate than competitors such as dockless bikes 可知摩托车比自行车普及快,排除;B 项:小型摩托车可以代替汽车或出租车的短途旅行,定位第二段 riders say dockless scooters complement public transportation and can replace short rides in a personal car rather than a taxi 可知表述错误,排除;C 项:各个城市都做好了迎接摩托车的准备,无中生有;D 项:积极看待滑板车的人占大多数,定位第一段 Nearly 70 percent of people view dockless scooters positively, the report also found 正确。故本题正确答案选 D。

3. What is mainly discussed in the passage? ()

A. Adoption of dockless scooters is accelerating.

B. Small vehicle shares have caused controversy.

C. Dockless scooters gain both popularity and scorn.

D. Tech companies race to keep up with vehicle shares.

【答案】C。主旨题。文章开头说到了 scooter 的便利,随后话风一转,开始论述会让居民讨厌,所以是既有好处也有不好处。A 项:无停靠小型摩托车的普及正在加速;B 项:小型汽车股引发争议;C 项:无停靠的小摩托车车既受欢迎又受鄙视;D 项:科技公司竞相追赶汽车股。故本题正确答案选 C。

4. According to the passage, which is NOT the factor that makes some residents angry? ()

- A. People discard scooters at will.
- B. People ride scooters at high speed.
- C. People do not take care of scooters.
- D. People ride scooters without helmets.

【答案】C。定位倒数第二段 People weave in and out of traffic at speeds of up to 15 mph, often without helmets, and when they're done riding, they discard the scooters in the middle of sidewalks 人们以每小时 15 英里的速度在车流中穿梭，通常不戴头盔，骑完车后，他们会把滑板车扔到人行道中间。所以 ABD 都有提及，故本题正确答案选 C。

5. According to the passage, how much will it cost if one uses a dockless scooters for 5 minutes? ()

- A. \$1.
- B. \$1.15.
- C. \$1.5.
- D. \$1.75.

【答案】D。定位第二段 They cost about \$1 to unlock and then 15 cents per minute. 它们的解锁成本约为 1 美元，每分钟 15 美分。题干中是 5 分钟，所以用 15 乘 5=75 美分，再加 1 美元，最后等于 1.75 美元。故本题正确答案选 D。

Passage 2

In 1901, H. G. Wells, an English writer, wrote a book describing a trip to the moon. When the explorers landed on the moon, they discovered that the moon was full of underground cities. They expressed their surprise to the “moon people” they met. In turn, the “moon people” expressed their surprise. “Why,” they asked, “are you traveling to outer space when you don't even use your inner space?”

H. G. Wells could only imagine travel to the moon. In 1969, human beings really did land on the moon. People today know that there are no underground cities on the moon. However, the question that the “moon people” asked is still an interesting one. A growing number of scientists are seriously thinking about it.

Underground systems are already in place. Many cities have underground car parks. In some cities, such as Tokyo, Seoul and Montreal, there are large underground shopping areas. The “Chunnel”, a tunnel connecting England and France, is now complete.

But what about underground cities? Japan’s Taisei Corporation is designing a network of underground systems, called “Alice Cities.” The designers imagine using surface space for public parks and using underground space for flats, offices, shopping, and so on. A solar dome (太阳能穹顶) would cover the whole city.

Supporters of underground development say that building down rather than building up is a good way to use the earth’s space. The surface, they say, can be used for farms, parks, gardens, and wilderness. H. G. Wells’ “moon people” would agree. Would you?

6. The explorers in H. G. Wells’ story were surprised to find that the “moon people” ().
- A. lived in so many underground cities
 - B. knew so much about the earth
 - C. understood their language
 - D. were ahead of them in space technology

【答案】A。根据 When the explorers landed on the moon, they discovered that the moon was full of underground cities. They expressed their surprise to the “moon people” they met. In turn, the “moon people” expressed their surprise. “Why,” they asked, “are you traveling to outer space when you don’t even use your inner space?” 可知 H. G. Wells 故事中的探险家吃惊的发现月球上的人住在许多地下城市，故正确答案是选项 A。

7. What does the underlined word “it” refer to? ()
- A. Discovering the moon’s inner space.
 - B. Traveling to outer space.
 - C. Meeting the “moon people” again.
 - D. Using the earth’s inner space.

【答案】D。根据 However, the question that the “moon people” asked is still an interesting one. A growing number of scientists are seriously thinking about it. 以及 they asked, “are you traveling to outer space when you don’t even use your inner space?”可知“it”指的是使用地球的内部空间，故正确答案是选项 D。

8. What sort of underground systems are already here with us? ()

- A. Tunnels, car parks, shopping areas.
- B. Offices, shopping areas, power stations.
- C. Gardens, car parks, power stations.
- D. Tunnels, gardens, offices.

【答案】A。根据 Underground systems are already in place. Many cities have underground car parks. In some cities, such as Tokyo, Seoul and Montreal, there are large underground shopping areas. The “Chunnel”, a tunnel connecting England and France, is now complete.可知我们现在已有的地下系统有：隧道，停车场，购物区，故正确答案是选项 A。

9. What would be the best title for the text? ()
- A. Alice Cities—cities of the future.
 - B. Space travel with H. G. Wells.
 - C. Building down, not up.
 - D. Enjoy living underground.

【答案】C。根据 Supporters of underground development say that building down rather than building up is a good way to use the earth’s space. The surface, they say, can be used for farms, parks, gardens, and wilderness. H. G. Wells’ “moon people” would agree.可知这篇文章最好的题目是：向下建造，而不是向上。故选项 C 符合文意。

Passage 3

Within three days of starting high school this year, my ninth-grader could not get into bed before 11 p.m. or wake up by 6 a.m. He complained he couldn’t fall asleep but felt foggy during the school day and had to reread lessons a few times at night to finish his homework. And forget morning activities on the weekends---he was in bed.

We’ re not the only family struggling to get result shut-eye. “What parents are sharing with us is that the ‘normal life’ of a typical American high schooler is interfering with sleep,” says Sarah Clark, co-director of C.S. Mott Children’ s Hospital National Poll on Children’ s Health at the University of Michigan.

In the poll of 2,000 parents from various ethnic groups and backgrounds that Clark and her team published this month, 1 in 6 parents say their teen experiences frequent sleep problems---“having trouble falling asleep or staying asleep 3 or more nights per week.” More than half the

parents say it's because their teens won't get off their electronic devices, and 43 percent blame irregular schedules with homework and activities. A significant percentage of parents say their kids worry about school (31 percent), and 23 percent say their teens stay up worrying about their social lives. It's likely that the numbers of teens who have trouble sleeping is even higher than the poll of parents suggests, Clark says, because kids can hide their nighttime electronics use and parents may not frequently check in on older children.

How can parents help? Start with knowing what kids need. The average American teenager gets seven hours of sleep a night, wedging it in between homework, outside activities, dinner and maybe a job. But research suggests teens need more like nine hours. Unfortunately, even their bodies work against them, says Mary Carskadon, a longtime sleep researcher and professor of psychiatry and human behavior at Brown University. As children grow into the middle and teen years, they are naturally inclined to go to bed later and sleep later in the morning. But an early school start time doesn't allow it. "If kids' body clocks are shifting later and the school is starting earlier, there's no time left to recover," Carskadon says.

Clark and Carskadon say, the most effective thing we parents can do is listen to our kids---talk with them about their sleep challenges and help them set a regular sleep schedule. It's never too early (or too late) to find healthy ways to relieve daytime stresses that can disrupt sleep at night, whatever your age. Best idea yet, parents: We can set a good example, by putting our own electronics away--- really away--- at bedtime.

10. How many parents report their teens worry about school? ()

- A. 17%
- B. 23%
- C. 31%
- D. 43%

【答案】C。题干问有多少家长报告他们的青少年担心学校？定位第三段 A significant percentage of parents say their kids worry about school (31 percent)可知 C 正确。B 项 23%是担心社会生活。故本题正确答案选 C。

11. How much sleep do the average teens need? ()

- A. Six hours.
- B. Seven hours.

C. Eight hours.

D. Nine hours.

【答案】D。定位第四段，But research suggests teens need more like nine hours 转折之后表明青少年需要九小时睡眠时间，所以 D 正确。故本题正确答案选 D。

12. What can we learn from the passage? ()

A. Teens will not get off their electronic devices until bedtime.

B. There are more teens who have sleep problems than parents.

C. More than half the teens hide their nighttime electronic use.

D. The teens' body clocks work against the early school start time.

【答案】D。A 项根据 electronic devices 定位第三段，because their teens won't get off their electronic devices 但没有说直到睡觉前都不会离开他们的电子设备，排除 A。文中并没有比较青少年和父母的睡眠问题，排除 B。C 项文中并没有提到超过一半的青少年隐瞒他们夜间使用电子设备的行为，排除 C。D 项定位第四段 they are naturally inclined to go to bed later and sleep later in the morning. But an early school start time doesn't allow it. 他们自然倾向于晚睡，早上晚睡，但是提前上学是不允许的，D 项正确。故本题正确答案选 D。

13. What is the passage mainly about? ()

A. The perils of parents pushing teens too hard.

B. The challenges teens experience in high school.

C. The advice for teens adjusting to high school life.

D. The normal life of a typical American high schooler.

【答案】B。主旨概括。A 项：父母把孩子逼得太紧的危险；B 项：青少年在高中经历的挑战；C 项：对青少年适应高中生活的建议；D 项：正常的生活还是典型的美国高中生。通读全文可知是有关于青少年睡眠的问题，倒数第二段提到随着孩子进入中年和青少年时期，他们很自然地倾向于晚睡晚起，可知是青少年时期面临的挑战。故本题正确答案选 B。

14. What can parents do according to the researchers? ()

A. Teach time management.

B. Pull back on the crammed schedule.

C. Limit caffeine in the evening.

D. Put electronics away and out of reach.

【答案】D。A项：教时间管理；B项：从排满的日程中抽身出来；C项：在晚上限制咖啡因的摄入；D项：把电子产品放在远处。根据最后一段 Best idea yet, parents: We can set a good example, by putting our own electronics away--- really away--- at bedtime.可知 D 正确。故本题正确答案选 D。

Passage 4

The World Bank is committed to fighting poverty and helping developing countries invest in their education systems. In light of this, it has embraced the achievement of the Millennium Development Goals as its main priority and, particularly, “Eliminating gender disparity primary and secondary education”. The World Bank has recognized that there is no investment more effective for achieving development goals than educating girls. World Bank activities focus on assisting countries own efforts to advance gender equality. Through its lending and non-lending activities, the Bank has helped to improve lives of girls in client countries. Since the World Conference on Education for all in joint in 1990, the Bank’s emphasis in the area of girls’ education has increased and gender equality has been integrated as an important component of the Bank’s poverty reduction mission.

Compared with two decades ago, more young people are entering school, completing the primary level, and pursuing secondary and tertiary education. In low-income countries alone, average enrollment rates in primary education have surged upwards of 80 percent, and primary completion rates are now above 60 percent. Remarkable accomplishments have been made towards achieving gender equality at all levels of education. Since 1990 the ratio of girls to boy enrolled in school has risen at all levels of education. The most significant increase in girls’ education enrollment in Sub-Saharan Africa and South Asia has been at the primary education level. In East Asia, Latin America and the Caribbean, the increase in girl’s education has been at the secondary education level while In Europe and Central Asia; girls’ enrollment has raised most at the higher education level.

Although most developing countries have made considerable progress in reducing the gender gap in school enrollment, significant gender gaps remain. Estimates show that many countries will not meet the education Millennium Development Goals by 2016. Almost 30% of low and middle

income countries are off-track or seriously off-track from meeting the education Millennium Development Goal of universal primary education.

The inter-linkages between gender inequalities economic growth and poverty are the main reasons why girls' education is a smart investment for developing countries to reap these benefits fully. Educating all their people, not just half of them, makes the most sense of future economic growth.

Systematic exclusion of women from access to schooling and the labor force translates into a less educated workforce, inefficient allocation of labor, lost productivity, and consequently diminished progress of economic development. Evidence across countries suggests that countries with better gender equality are more likely to have higher economic growth.

The benefits of women's education go beyond higher productivity for 50 percent of the population. More educated women also tend to be healthier, participate more in the formal labor market, earn more income, have fewer children, and provide better health care and education to their children, all of which eventually improve the well-being of all individuals and lift households out of poverty. These benefits also transmit across generations, as well as to their communities at large.

15. The World Bank has admitted that () is the most effective investment for achieving development goals.

- A. helping developing countries
- B. elimination gender disparity
- C. educating girls
- D. fighting poverty

【答案】C。根据题干内容定位到文章第一段的 The World Bank has recognized that there is no investment more effective for achieving development goals than educating girls 可知 C 项表述符合文意，故正确答案是选项 C。

16. The World Bank has taken () as an important of its poverty reduction commitment.

- A. girls' education
- B. girls' enrollment
- C. enrollment rates in primary education
- D. gender equality

【答案】D。现将引号中的部分定位到文章第一段首句：The World Bank is committed.....as its main priority and, particularly. “Eliminating gender disparity primary and secondary education”可知选项 D 表述符合文意，虽然其他三项在文章中提及，但是都属于细节信息，不可以偏概全。故正确答案是选项 D。

17. According to this passage, which of the following is TRUE? ()

- A. World Bank activities focus on eliminating gender inequalities.
- B. Girls' enrollment has raised most at the higher education level in Europe.
- C. Primary completion rates have surged towards of 80 percent in low-income.
- D. Its importance to bridge the significant gender gaps.

【答案】A。从文章第二段可得知女孩子入学注册的提升是在基础教育方面而不是在高等教育方面，选项 B 表述错误；通过关键词 completion rates 可得知文章中说的是 60%而不是选项中的 80%，选项 C 表述错误；D 项：建立性别差距的重要意义，与原文“消除性别歧视”不相符，排除。文章的主要论点都是围绕着 A 项内容来说，故正确答案是选项 A。

18. All of the following are the benefits of women's education EXCEPT ().

- A. more educated women tend to participate more in the formal labor market.
- B. all of the benefits will eventually lift households out poverty.
- C. these benefits will eventually eliminate gender inequalities.
- D. more educated women will provide better education to their children.

【答案】C。根据题干中的关键词 the benefits of women's education 可以定位到文章最后一段，选项 ABD 在文中均可以找到。除了 C 选项，而且 C 项本身是一个说法过于绝对的选项，排除。故正确答案是选项 C。

Passage 5

The original Olympic Games started in Greece more than 2,000 years ago. There games were a religious festival, and at their height, lasted for five days. Only men could compete, and the sports included running, wrestling, and chariot racing.

Today's Olympic Games are quite a bit different. First, there are two varieties: Winter Olympics and Summer Gymnastics. They are each held every four years, but not during the same year. They alternate so that there are Olympic Games every two years. The Olympics are no longer held only in one country, they are hosted by different cities around the world. The opening

ceremony is a spectacular display, usually incorporating the traditional dances and culture of the host city.

The highlight of the opening ceremony is the lighting of the Olympic flame. Teams of runners carry the torch from Olympic the site of the ancient Greek games. Although the games have changed greatly throughout the centuries, the spirit of competition is still alive. The flame represents that spirit.

19. The passage is primarily concerned with ().

- A. justifying the existence of the Olympic Games
- B. explaining all about the games in Ancient Greece
- C. discussing the differences between Winter Olympics and Summer Olympics
- D. comparing the modern Olympic Games to those in Ancient Greece

【答案】D。浏览文章每段首句就可以判断出文章主要将奥林匹克运动会同古希腊之间的比较，D项表达正确。A项：解释奥林匹克的存在；B项：对古希腊所用运动项目进行详细的解释；C项：讨论冬夏运动会的不同，均不能概括文章内容。故正确答案是选项D。

20. The author mentions “traditional dances and culture of the host city” in order to ().

- A. give an example of how the opening ceremony is so spectacular
- B. explain the differences among the different host cities
- C. show that Ancient Greek games were quite boring by contrast
- D. make an analogy to the life of the Ancient Greeks

【答案】A。将引号中的部分定位到文章第二段末句，可知目的是突出开幕式的精彩。CD选项均是围绕着古希腊在描述，和第二段开篇的现代奥林匹克不符。故正确答案是选项A。

21. The author’s tone in the passage can best be described as ().

- A. disinterested
- B. upbeat
- C. gloating
- D. Depressing

【答案】B。先排除漠不关心选项A。从文章整体的角度看，作者并没有用不积极的词语，排除选项D；C项带有沾沾自喜之意，文章中也没有隐含这样的意思。Upbeat意为“乐观的、积极向上的”。故正确答案是选项B。

22. The lighting of the torch is meant to symbolize ().

- A. the destruction caused in Ancient Greece
- B. the spirit of Ancient Greek competition
- C. the rousing nature of the games
- D. the heat generated in competition

【答案】B。根据题干中的关键词 the lighting of the torch 定位到文章末段末句: The flame represents that spirit, 可知选项 B 表述正确。

23. Which of the following is the author most likely to discuss next? ()

- A. The origin of the Ancient Greek games
- B. The future of the Winter Olympics
- C. Discussing of the types of sports that are played at the Olympics
- D. The reasons that the Ancient Greek games ended

【答案】C。根据文章每段的段首, 可知作者先提及了古希腊的奥运会, 接着是现代的。然后是现代奥运会的开幕式点火仪式, 可推出接着就该讲现代奥运会的各项赛事了。故正确答案是选项 C。

言语习题 (30 题)

1. 随着租赁市场的发展, 各类长租服务平台如雨后春笋般建立起来, 市场份额较大的长租服务平台所承担的责任更大, 受到的关注度也更高, 而中小型住房平台的资质, 服务品质参差不齐, 存在的问题可能更严重, 也容易被忽视, 相对而言, 大品牌可能更关注声誉, 也有更多的压力和动力来改进服务, 但这种行为毕竟属于企业行为, 无法覆盖整个市场。

这段话, 主要表达 ()。

- A. 各类长租服务平台的出现, 进一步繁荣了城市的租赁市场
- B. 市场份额占比较大的服务平台, 服务质量更好, 更应该得到扶持
- C. 从市场行为角度分析, 大的长租平台发展再好, 也不能改变整个问题
- D. 各类常驻服务平台中, 相比大平台小平台暴露的问题更容易引起关注

【答案】C。主旨概括题。文段重点在转折之后, 也就是最后一句话“但这种行为毕竟属于企业行为, 无法覆盖整个市场。”选项 C 为主旨句的同义替换。A 项文段未提, 无中

生有；B项过度推断；D项，文段说了中小型住房平台容易被忽视，而不是更容易引起关注。故本题正确答案选C。

2. 今天作为发展中人口大国。中国教育已经站上新的历史起点，各级各类教育全面提质增效。总体发展水平进入世界中上里，然而我们也看到举世瞩目的历史性成就，历史性飞跃，背后教育公平的内涵也因时而变，挑战和问题依然紧迫，留学生的难度还未完全攻克与上好学的矛盾日益凸显并行，城市名校挤破门槛与乡村教育捉襟见肘并存，人民群众接受更好教育的需求与教育发展不平衡不充分的矛盾，意味着以教育公平促进教育公平公正，注定是乘势而上，久久为功的长期功课。总结这段话的含义为（ ）。

- A. 教育发展中的人口大国要长期推进教育公平，促进社会公平公正的视野
- B. 我国教育水平进入世界中上列教育的矛盾也发生了变化
- C. 在新的历史前提下，上好学与教育不均衡发展之间是主要的教育矛盾
- D. 在新的教育公平内涵下，以教育公平促进社会公平是长久事业

【答案】D。文段前半部分总结成就，后面通过“然而”转折提出问题，最后通过“意味着”进行对策阐述总结“以教育公平促进教育公平公正，注定是乘势而上，久久为功的长期功课”，选项D为同义替换。故本题正确答案选D。

3. 如果我国高校招收国际生的标准和招收国内学生一样，培养标准也一样，还会有这么多“国际高考移民”吗？要遏制“国际高考移民”既要严格申请者的身份审核，更重要的是必须提高留学生招生标准，从重视留学生招生数是转为重视留学生教育质量，并以此提高对优秀国际生的吸引力。

这段文字主要说明的是（ ）

- A. 目前，仅是提高国际学生申请者的身份审核，而不提高招生标准是无法遏制国际高移民现象的
- B. 提高留学生招生标准，是遏制国际高考移民的有效方法
- C. 提高留学生招生标准，就是采用招收国内学生的方法
- D. 如何才能遏制国际高考移民现象的发生

【答案】B。本题考查主旨概括。根据文段，可从“既要…更重要的是”可知考查递进关系，重点内容为递进之后，即提高留学生招生标准，重视质量，提高吸引力。观察四个选项，B项为同义替换项，当选。AD项缺少“留学生招生标准”这一主体，排除。C项说法绝对化，排除。故本题正确答案选B。

4. 在这个传播方式日新月异而娱乐节目大行其道的时代，那些紧守着严肃内容的节目创作者固然令人肃然起敬，但是有限的传播渠道却让人心急。我们国家拥有着最强大的文化宝库，但是这些精神和物质宝藏一度被大众所忽视，如果能将其打造成品牌范式，将这些严谨、专业的文化知识进行大范围的传播，那么整个文娱市场的生态也许会变得丰厚饱满得多。

这段文字意在说明（ ）。

- A. 严肃文化因传播渠道有限在文娱市场不受重视
- B. 整个文娱市场综艺节目质量参差、同质化严重
- C. 应着力打造文化类节目品牌，扩大传播
- D. 文化类节目应当融入综艺元素，以满足大众口味

【答案】C。本题考查意图判断。文段主要概述的是文娱市场的生态化建设问题，两个“但是”——“有限的传播渠道让人心急”、“文化宝库的精神与物质宝藏被大众所忽视”，可知作者在肯定当前文娱节目的同时，也在呼吁把节目打造成品牌、把文化知识进行大规模传播，这样，文娱市场才能变得更加生态。提出问题，重点在于解决对策，即“把节目打造成品牌、把文化知识进行大规模传播”，C项符合，故C项正确；A项为文娱市场问题，不是解决对策，故A项错误；B项“节目质量参差、同质化严重”，文段并没有论述，不符合文意，故B项错误；D项“融入综艺元素、满足大众口味”，文段并没有论述，不符合文意，故D项错误。故本题正确答案选C。

5. 市场经济以自愿交易为基础，交易即产权的交换，交易顺利完成的前提是产权的界定和保护。若无产权保护，市场就有可能变成战场，侵占将取代互利，成为配置资源的主要方式。若想防止暴力配置资源，社会必须保护产权和保证契约的执行，这就需要一个完善的法律体系，法律的作用是惩罚侵权者和违约者。

这段文字意在说明（ ）。

- A. 资源有效配置应从产权的界定和保护入手
- B. 制定产权保护的相关法律可以有效惩治侵权
- C. 市场经济发展的前提是遵循公平互利的原则
- D. 产权受到法律保护，市场经济才能够正常运行

【答案】D。本题考查意图判断。文段为“总分”结构，第一句概述了文段重点，即市场经济交易的顺利完成，需要对产权的界定与保护，后面内容则是提及如何对产权的界定和保护，其中，“完善的法律体系”，起到有效的惩戒作用。因此，文段的逻辑思维是：市场经济的正常运行，需要对产权的界定与保护；产权的明晰与惩戒，需要完善的法律体系，D项符

合，故 D 项正确；A 项只是提及资源配置，不符合文意，故 A 项错误；B 项没有提及市场经济这一主体，故 B 项错误；C 项没有提及“法律”，故 C 项错误。故本题正确答案选 D。

6. 大数据、云计算时代的来临，让网上政务已经不再新鲜，开发政务 App，推行功能更齐全、传输效率更高的掌上政务，则成为各地各级行政部门的时髦标配。不过，政务 App 应该开发多少，每款政务 App 能否将科技红利转化成服务为民的制度红利，到底是掌上政务重要，还是实际工作更重要，都是必须认真考量的问题。像新闻报道的，小小村干部竟需在手机里安装十多个政务 App，需定期通过这些 App 填写上报有关工作情况，和基层群众生产生活情况，以致于没时间走村串户，则属于舍本逐末、过犹不及。偏偏这类报道渐有增多之势，某地基层干部曾向媒体吐槽，每天一上班，他们就得打开各类政务 App 和微信公众号，转发相关政务文章，收集点赞并截屏反馈，还承担着向群众推荐下载政务 App 的任务，不堪其烦。真不知，如此这般耽于掌上政务而无暇干实际工作的基层干部还有多少？

此段文字意在说明（ ）。

- A. 大数据、云计算的发展为网上政务得到运用
- B. 政务 APP 实现了科技红利向服务为民的红利
- C. 政务 APP 的开发和应用既要有量更要重视质
- D. 乡村基层的 APP 的应用应该向城市管理学习

【答案】C。意图判断题。文段一开始引出政务 APP 话题，提到其功能更齐全、传输效率更高，“不过”进行转折，提出一个问题-是掌上政务重要，还是实际工作更重要。随后的“像”字可以看出后面是举例子，最后一句话和转折之后对应，所以该文段主旨句是转折之后的句子，是一个问题句，但意图判断题应该优选对策项，次选问题项。A 项是转折之前的内容，非重点，排除；B 项表述有误，文中是能否将科技红利转化成服务为民的制度红利，而不是实现了，排除；C 项 D 项都是对策项，C 中既包含了量又有质，与主旨句表述相同；D 中不是乡村基层 APP，而是政务 APP。故本题正确答案选 C。

7. 1895 年 3 月，法国人路易·卢米埃尔在他经营的工厂制造出了“活动电影机”，一种既能摄影又能放映和洗印的机器。这样，他终于发明了一种超越其他一切竞争者的机器。机器技术上的先进和卢米埃尔摄制影片主题的新颖，使他获得了世界性的胜利。当年的 12 月 28 日，《工厂大门》、《火车到站》等影片在巴黎“大咖啡馆”里的成功放映，宣告了电影的诞生。电影成功诞生后，广阔的利润空间吸引着越来越多的商人投入到电影的生产制作中来，同时也刺激着不法商人大量地非法翻印。保护电影发行者免受竞争者和无执照电影院经营者的侵害以及保护已有作品不被后来者侵害，成了电影发展早期亟需解决的问题。

电影诞生的标志是（ ）。

- A.活动电影机的成功生产
- B.《工厂大门》、《火车到站》的成功放映
- C.《工厂大门》、《火车到站》的成功拍摄
- D.不法商人大量的非法翻印

【答案】B。文段提到“当年的12月28日，《工厂大门》、《火车到站》等影片在巴黎‘大咖啡馆’里的成功放映，宣告了电影的诞生。”可知B项正确，答案为B。由此可知，C项成功拍摄不正确，排除C项。A项“成功生产”只说明他终于发明了一种超越其他一切竞争者的机器，并非是电影诞生的标志。D项为电影诞生后的影响，排除D项。故本题正确答案选择B。

8. 花未眠这众所周知的事，忽然成了新发现花的机缘。自然的美是无限的，人感受到的美却是有限的。正因为人感受美的能力是有限的，所以说人感受到的美是有限的。至少人的一生中感受到的美是有限的，是很有限的，这是我的实际感受，也是我的感叹。人感受美的能力，既不是与时代同步前进，也不是伴随年龄而增长。凌晨四点的海棠花，应该说也是难能可贵的。如果说，一朵花很美，那么我有时就会不由地自语道：要活下去！画家雷诺阿说：只要有点进步，那就是进一步接近死亡，这是多么凄惨啊。他又说：我相信我还在进步。这是他临终的话。米开朗琪罗临终的话也是：事物好不容易如愿表现出来的时候，也就是死亡。米开朗琪罗享年八十九岁。

基于以上文字，下列说法错误的是（ ）。

- A.人发现美的机会并不常在，发现美是需要机缘的。
- B.人一生中感受到的美是有限的，即使雷诺阿和米开朗琪罗这些对美很敏感的大艺术家也不例外。
- C.雷诺阿和米开朗琪罗临终的话说明了艺术美和自然美难以结合。
- D.现在的人并不一定比过去的人领略到更多的美，年龄大的也不一定比年龄小的感受美的能力强。

【答案】C。作者引用雷诺阿和米开朗琪罗临终的话并非是证明艺术美和自然美难以融合，而是为了说明人感受美的能力有限，人难以发现美，C项错误，答案为C。A项，由文段首句“花未眠这众所周知的事，忽然成了新发现花的机缘”可知，众所周知的事都成为了发现美的机缘，可见发现美的机会不常在，发现美是需要机缘的；B项，文段提到“至少人的一生中感受到的美是有限的，是很有限的，这是我的实际感受，也是我的感叹”，后面引

用雷诺阿和米开朗琪罗所说颇为遗憾的话，也是为了例证人感受到的美有限，B项正确；D项，由文段中“人感受美的能力，既不是与时代同步前进，也不是伴随年龄而增长。”可知，正确。故本题正确答案选择C。

9. 植物和动物一样，也会受伤。由于一些食草动物以植物为食，所以植物经常受伤。同样，植物也和动物一样，会为自己迅速疗伤，以防伤口感染或者重要物质流失。但是最近科学家们发现了一种不自我封闭伤口的植物。这种叫做小癩茄的茄属植物会让伤口渗出物质，在伤口处释放奇怪的液滴。其分泌的液滴是一种花蜜，可以吸引昆虫，进而可以保护植物不受食草动物的伤害如蚂蚁在收到花蜜这样的雇佣费之后，就会对抗甲虫幼虫。甲虫幼虫不得不爬上茎，因为它们要在植物幼嫩的茎上开采物质。幼嫩的茎离主干约半米到一米的距离。幼虫在前往茎的路上，就会受到蚂蚁的攻击。与没有受到蚂蚁群保护的植物相比，受到保护的植物其生长速度要快约109%-13%。

植物受伤的主要原因是（ ）。

- A.被食草动物伤害
- B.被人类伤害
- C.处于生态链的最低端

【答案】A。文段前两句提到“植物和动物一样，也会受伤。由于一些食草动物以植物为食，所以植物经常受伤。”可知植物受伤主要因为食草动物以植物为食，答案为A。B项被人类伤害并未提及；C项属于假想推断，文段也没有提到。故本题正确答案选择A。

10. 引力波的发现打开了人们感知、了解、观察、认知和解释大千世界的更为广袤的空间。如果说，过去人类认识世界只是靠眼耳鼻舌身这些不同的感知窗口，然后靠大脑来合成这些不同感官感知到的事物的全貌，那么，引力波的被检测到就为人们认识世界打开了一扇或几扇大门，让人类能用其他的感知途径来更为全面和深刻地观察世界。

最适合做这段文字标题的是（ ）。

- A.引力波的存在提供了新的思维视角
- B.引力波：引力的作用以波动的形式传播
- C.引力波：开拓人类认知的新世界
- D.科学家终于探测到引力波

【答案】C。标题选择题。文段首先提出引力波的发现打开了广袤的空间，后文具体解释了引力波具体是如何做到打开新空间的，文段属于“总一分”结构，主旨句是第一句。对应选项C。是引力波的“发现”提供了新的思维视角，而不是引力波的“存在”提供新视角，

故排除 A。文段是讲引力波的意义，而不是强调科学家发现了引力波，也不是其作用以什么样的形式存在，BD 选项无中生有，故排除 BD。故本题正确答案选 C。

11. 有媒体报道，某社区是一个成立只有 3 年多的新社区，常住居民 3 万多人，其中四分之三来自市内外，5.5%的居民来自外省市，对社区缺乏认同感和归属感，更没兴趣参与社区公共事务管理。针对这个问题，该社区将国学融入社区生活，以“耕、读、居、养、礼、乐”为内容，密集开展“一平米菜园”、太极拳、负离子体验、小剧场等活动，让居民有了沟通交流的平台，邻里矛盾纠纷明显下降，治安环境明显改善。

如果请你给这则报道起个标题，下列选项中适宜的是（ ）。

- A. 推广新“六艺”，党员发挥先锋模范作用
- B. 政府提供贴心服务，做好社区“好管家”
- C. 创新社会治理，撑起群众生活“幸福伞”
- D. 普法宣传进万家，探索治安管理专业化

【答案】C。本题考查标题填入题。分析文段，可知 C 项“创新社会治理”符合“六艺”，撑起群众生活“幸福伞”可从“让居民有了沟通交流的平台，邻里矛盾纠纷明显下降，治安环境明显改善。”了解。A 项“党员发挥先锋模范作用”无中生有；B 项“政府”主体不对，应为“社区”；D 项为众生有。因此，本题应选 C 项。

12. 中国原始彩陶的大批出现，是从约六千年前的仰韶文化到的三千年前的大汶口文化。从已发现的材料看，黄河流域，长河流域新石器时的彩陶，大体上可以按照区域归为中原地区彩陶，西北地区彩陶和东南沿海地区彩陶三类。这三个区域的彩陶，在器型、纹饰方面都有它的基本相异之处，从器型来看，中原地区多盆形、钵形西北地区多罐形壶形；长江中下游及沿海地区多鼎形，豆形和深腹罐。从纹饰来看，三者虽然都以动物、植物和编织为主，但是在图案的取材变化以及组织等方面有各自的特色，其相异程度是一看便知的。

文章最好的标题是（ ）。

- A. 中国陶瓷艺术的初期形态
- B. 远古时期的彩陶艺术
- C. 彩陶的起源
- D. 早期彩陶的地域差异辨析

【答案】D。本题为标题选择题，从文段可知，文段主要实在探讨三个地区的彩陶差异，分别从器型、纹饰方面阐述了它的相异之处，故 D 正确。A 项扩大了话题范围，B、C 未论及差异之处，排除。故正确答案为 D。

13. 在珠海航展开幕式上，歼 10 表演机的换装首秀就打出一个“开门红”。歼 10 表演机新涂装以较深的宝蓝色为主色调，设计团队的领军者张宇桐副教授认为，深蓝色，能够彰显歼 10 的特点，“使飞机显得非常精致”。而据另一位设计者——中央美院的女设计师卢樱介绍，“以前的空军蓝是非常非常蓝的，现在的口号是制胜蓝天，范围扩展了，能够捍卫的领域也扩展了，颜色上就不仅仅要有天空的颜色，还要是宇宙的蓝色，是一种更国际化的蓝色。”卢樱这样道出深蓝色背后的深意。这位设计师认为，歼 10 表演机的深蓝色与许多国际组织使用的蓝色一脉相承，有一种沉稳凝重的感觉，符合歼 10 的气质和大国空军的气质。

下列选项对“深蓝色背后的深意”的含义，理解最不准确的是（ ）。

- A. 使飞机显得非常精致
- B. 宇宙感和国际化
- C. 大国空军的气质
- D. 沉稳凝重感

【答案】A。“使得飞机显得十分精致”并非卢樱所说的深意，而是张宇桐副教授所说的观点。由卢樱“还要是宇宙的蓝色，是一种更国际化的蓝色”可知，B 项正确。由“有一种沉稳凝重的感觉，符合歼 10 的气质和大国空军的气质”可知 C、D 正确。故本题应选 A。

14. 现在的校外培训已经“不疯狂不成魔”。教育部门推进素质教育不可谓不用心，但现实中学生负担仍重，家庭经济负担仍大，甚至越来越大。原因就在于教育减负留下的空儿被校外培训填上了。诚然，校外培训热与当前的应试体制有着很大关系。可是，国家投入了大量财力，教育部门推出了很多办法，这一切就应该被校外培训稀释吗？中国教育学会的数据显示，2016 年我国中小学课外辅导行业市场规模超过 8000 亿元，学生参与培训的规模超过 1.37 亿人次。冰冷的数字下面，是多少家庭和学生不堪承受的压力。更重要的是，校外培训真如宣传中说的那么好吗？

“一些教师课上不讲课后讲，已经在无声中说明了许多”，这里，“说明了许多”指的是（ ）。

- A. 家庭和学生不堪承受的压力
- B. 现在的校外培训已经“不疯狂不成魔”
- C. 校外培训热与当前的应试体制有着很大关系
- D. 素质教育改革成果被侵蚀了

【答案】B。本题考查词句理解题。纵观文段，论述的主体为“校外培训”，所以，根据主体排除法，排除AD项。文段为总分结构，第一句为重点句，起着总领全文作用，“说明了许多”正是对其的另一种表述，故B当选，C项只是从校外培训热这种现象衍生的一种表现，不构成重点，排除。因此，本题应选B项。

15. 把非遗当成摇钱树，过度利用、过度开发的情况并不鲜见。比如，为了大量生产皮影，机器一次性压制替代了刀与火的精雕细刻，雕版印制的年画，改为机器印刷，众多传统手工艺类项目，利用现代技术进行流水线生产。然而，并不能因为这些不好的现象，就把非遗保护所注重的原汁原味扩大到固步自封、与时代割裂的地步。应当明确的是，阻隔非遗与当代生活、现实情感的密切关系，非遗保护就难免“博物馆化”，从某种意义上说，非遗的生命力不但在于“技”，更在于人。离开了民心的自主参与，它便成了无源之水、无本之木。而要吸引人、留下广大习承和喜好人群，离不开非遗项目对生活、对时代的关注和融入。

文段中“博物馆化”指的是（ ）。

- A.使非遗脱离生活，脱离现实情感
- B.保护非遗的原汁原味
- C.对非遗进行流水线生产
- D.非遗保护失去民众的参与，只可远观

【答案】A。纵观文段，根据就近原则，可知“博物馆化”指的是“阻隔非遗与当代生活、现实情感的密切关系”，同义替换成A项。B项感情倾向错误。C项只是把非遗当做摇钱树的一个方面。D项指的是非遗缺失生命力。故本题正确答案选A。

16. 对于许多明星们的各种新闻，有的是无中生有，有的则无风不起浪。

“无风不起浪”的意思是（ ）。

- A.无原由的事。
- B.事情不是完全没有原由的。
- C.好像洞穴中的一股风，它是朝着某个方向吹去的。
- D.好像洞穴中的风一样飘忽不定，一会儿这样一会儿那样。

【答案】B。“无风不起浪”比喻事情发生，总有个原因。文段是说明星的新闻的发生，不会没有原由，答案为B。A、C、D与文义无关，应排除。故本题正确答案选择B。

17. 填入括号中最恰当的词语是（ ）。

行走在路上，我的目光被橱窗内的摆设吸引住了，从外表看起来，这不过是一家普通的文印店，但店内摆设却是（ ），店主（ ），用废纸加上各种颜色，彼此搭配，做成人、树和房子等各种形状，透着轻松活泼的气氛。

- A.与众不同 独树一帜
- B.与众不同 别出心裁
- C.富丽堂皇 别出心裁
- D.富丽堂皇 独树一帜

【答案】A。第一空，空格位于“但”之后，但之前提到文具店很普通，转折后应为文具店并不普通，跟其他店铺不同，应为“与众不同”，“富丽堂皇”形容建筑物宏伟豪华。也形容诗文词藻华丽。而文段并无建筑宏伟或词藻华丽之意，排除 C、D 两项。第二空，“独树一帜”比喻与众不同，自成一派。“别出心裁”意思是表示与众不同的新观念或办法。用来形容诗文、美术、建筑等的构思设想独具一格，与众不同。文段指店家自成一派，跟别人家都不一样，并非形容诗文、美术或建筑，排除 B 项。故本题正确答案选择 A。

18. 填入括号中最恰当的词语是（ ）。

（1）洪峰未过，大坝岌岌可危，如何保证下游民众安全已经迫在眉睫，（ ）是将洪水引入废置的水库，转移下游民众。

（2）民族主义在现代国家形成过程中起到了非常重要的作用，但对它与全球化的关系，与会专家（ ），莫衷一是。

- A.万全之策 各执一端
- B.万全之策 分道扬镳
- C.当务之急 分道扬镳
- D.当务之急 各执一端

【答案】D。第一空，由文段中“迫在眉睫”可知情况十分紧急，因此第一空应体现出“紧急”的含义，应为“当务之急”。“万全之策”意思是极其周到的计谋、办法。没有“紧急”的含义，排除 AB 两项。第二空，空格所填词语与“莫衷一是”表示并列，“莫衷一是”指各有各的意见、说法，不能得出一致的结论。“分道扬镳”意思是分路而行。比喻目标不同，各走各的路或各干各的事。文段是说意见不一致，而非行动。而“各执一端”指各自坚持各自的观点或道理。应为“各执一端”。排除 C 项。故本题正确答案选择 D。

19. 填入括号中的词语最恰当的一项是（ ）。

（1）利用现代建筑科技，历史悠久的老城区得到了维护，整体（ ）。

(2) 行驶在这条横穿草原的天路上，我们（ ）能见到几处羊群，如同漂浮在绿色天空上的白云。

- A.焕然一新 偶然
- B.耳目一新 偶然
- C.耳目一新 偶尔
- D.焕然一新 偶尔

【答案】D。第一空，耳目一新，意思是听到的、看到的跟以前完全不同，令人感觉到很新鲜。形容事物的面貌有了显著的变化。焕然一新，指改变陈旧的面貌，呈现出崭新的样子。第二空，形容见到羊群的频率，后文提到羊群像天上的白云，说明肯定具有重复性。偶然是一般过去时即形容过去某一时刻不经意的突然发生的一件事。偶尔是一般现在时即在最近一段时间内同一件事经常会发生，应填入“偶尔”，D项符合，ABC项错误。故本题正确答案选D。

20. 下列语句排序最为连贯的一项是（ ）。

- (1) “斜杠青年”标榜了与传统时代不同的职业观
 - (2) 这处观念一方面激活了个体活力，另一方面也是社会宽容度提升的表现
 - (3) 但真正要成为受到社会认可的“斜杠青年”，却不是那么容易的
 - (4) “斜杠青年”，是多面手、多职业、跨界青年群体的代名词
 - (5) 职业不再是单一、稳定和保守不变的，而是可以在更多的岗位角色之间自由选择
 - (6) 不同角色的共存和转换，势必需要每个个体投入更多时间、精力。
- A. (1) (5) (2) (4) (3) (6)
 - B. (1) (4) (5) (2) (6) (3)
 - C. (4) (5) (2) (1) (6) (3)
 - D. (4) (1) (5) (2) (3) (6)

【答案】D。首先，判定首句。(1)句讲“斜杠青年”的职业观，(4)句提出“斜杠青年”的概念，(4)更适合做首句。排除AB两项。第二步，验证选项。(3)句提出成为社会认可的“斜杠青年”不容易这个问题。(6)句提出对策。应该(3)在(6)前。排除C项。故本题正确答案选D。

21. 下列语句排序最为连贯的一项是（ ）

(1) 19大城市群，以全国1/4的土地集聚75%的人口。创造88%的GDP，其中城镇人口占比78%。

(2) 都市圈和城市群的轨道交通、城际铁路、教育、医疗等基础设施短板将伴随着人口持续流入，未来问题将更为突出。

(3) 都市圈和城市群是中国经济和人口的主要载体。

(4) 有观点认为，应该通过控制大城市规模而不是加大改善城市基础设施来治理“大城市病”

(5) 这种观点显然有其局限性，因为人口集聚是经济发展的基础：人为强行打破这种集聚有悖于经济运行规律。

(6) 24 个人口超过 1000 万的大都市圈，以全国 6.7% 的土地集聚 34.7% 的人口，创造 53.8% 的 GDP.

- A. (3) (6) (1) (2) (4) (5)
- B. (2) (4) (5) (3) (6) (1)
- C. (3) (1) (6) (4) (5) (2)
- D. (2) (3) (6) (1) (4) (5)

【答案】A。本题考查语句排序。观察首句，(3) 说明的是都市圈和城市群的地位，(2) 说明的是都市圈和城市群的具体问题，所以(3) 相比于(2) 而言，更符合首句特征；排除 BD 项；观察(1) (6) 两句，(1) 指的是城市群，(6) 指的是都市圈，由(3) 而知，应先讲都市圈，再讲城市群，故(6) (1) 相连，排除 C 项。故本题正确答案选 A。

22. 下列语句排序最为连贯的一项是()。

- (1) 互联网平台为学生提供免费上网课渠道虽是好事，但借机推广网游就有点不厚道。
- (2) 作为市场化的互联网产品，直播平台吸引广大用户无可厚非，但不能背弃基本的市场伦理
- (3) 未成年人要进行网络学习，先要浏览大量游戏、交友等无关信息。
- (4) 据报道，几家互联网平台利用免费提供的上网课渠道，向未成年人推广网络游戏。
- (5) 既然主动面向未成年人提供网课渠道，互联网平台就应主动履行主体责任，对不良信息进行有效屏蔽。

- A. (4) (2) (5) (1) (3)
- B. (2) (3) (1) (4) (5)
- C. (2) (5) (4) (3) (1)
- D. (4) (3) (1) (2) (5)

【答案】D。本题考查语句排序。观察首句，（2）是针对现象指出问题，（4）为举例说明问题，相较而言，（4）比（2）更符合首句特征，排除BC项。观察（3）句，主体为“未成年人”，与（4）话题一致，故（4）（3）相连，排除A项。故本题正确答案选D。

23. 下列语句排列最为连贯的一项是（ ）。

（1）中经“为政以德”的阐释，最终成为此后中国传统社会的基本治国方略。

（2）“德主刑辅”始于先秦“明慎慎罚”的观念。

（3）这些思想对于坚持和完善中国特色社会主义制度、推进国家治理体系和治理能力现代化具有重要借鉴意义。

（4）但仅有德治尚不足以达到国家有效治理的目标，我国古人找到了另一把“钥匙”，即法治。

（5）德主刑辅、以德化人的德治主张，是中华优秀传统文化的重要内容。

（6）“法者，治之端也”，“徒善不足以为政，徒法不能以自行”，强调了法治的重要地位以及依法而治的重要意义。

A. （5）（4）（6）（2）（1）（3）

B. （5）（2）（1）（4）（6）（3）

C. （2）（1）（4）（6）（3）（5）

D. （2）（1）（5）（4）（3）（6）

【答案】B。首先，判定首句。（5）句先提出“德主刑辅”的主张，（2）句开始说“德主刑辅的起源”，（5）句先引入“德主刑辅”这一概念，应为（5）为首句，排除CD。其次，验证选项。（5）（2）均在讨论“德主刑辅”的概念，话题一致。故本题正确答案选B。

24. 许渊冲先生在《朗读者》一书的序言里说，人生最大的乐趣是发现美、创造美，这个乐趣是取之不尽用之不竭的，而美的乐趣来自阅读这些名篇佳作。是的，阅读不仅让人享受美，也是人之所以为文明人的一个根本。人，是这个地球上唯一能够用文字记录自己的生活与智慧，唯一能够通过阅读充盈自己的心灵、丰富自己的精神世界的生物。_____。

填入划部分最恰当的一句（ ）。

A.如何回归真正的阅读，让浮躁的心灵有安顿的地方，仍然是我们这个时代的重要课题

B.一个人的精神发育史就是他的阅读史，一个民族的精神境界也取决于这个民族的阅读水平

C.通过品读经典培养高尚的心灵，养成知识丰富、道德高尚、情趣健康的性灵，可以让
人生从浮躁走向宁静、从浅陋走向优雅

D.因比，应该通过电视把那些伟大的思想、最美好的语篇、最优秀的著作介绍给成长中的孩子，给需型精神常养的少年，给需要过精神生活的成年人

【答案】B。本题考查语句衔接题。从文段可知，以许渊冲先生关于人生的感言出发引出文段主题：阅读经典名著的重要性，最后一句指出阅读对于充盈心灵、丰富精神世界的作用。B项与前文话题一致。答案为B。A项“回归阅读”并非前文谈论的重点；C项“浮躁走向宁静、从浅陋走向优雅”无中生有；D项“电视”文段未提。故本题应选B项。

25. 文学是人类继语言之后的第二大发明。如果说语言的出现使人类实现了由动物到人的转变，那么文学的发明，则使人类从原始社会的低级阶段上升到文明的高级阶段，从而使人民的生活发生了质的飞越，文学是一个民族与国家文化传承与创新的基础，因此，_____。

A.在世界文化格局中，每一种文化都有它自己的渊源和特点

B.能够使用和传承自己本民族的文学，不仅是一种文化责任和文化能力，更是一种文化情怀和文化热爱

C.中国文学文化的演变具有非常清晰的传承体系，这正是中华文明与世界其他文明的区别所在

D.正是有了汉字，才有了中国人自己的精神，才有了中国五千年绵延不绝光辉灿烂的文化

【答案】B。首先，分析文段。文段先指出“文学”是人类继“语言”之后的一大发明，并将语言和文学对人类的不同影响进行对比，强调文学对人类的作用，即从低级阶段上升到高级阶段。之后继续讲文学的重要意义，也就是一个民族与国家文化传承和创新的基础，之后通过因此得出结论，所以横线处应呈现文字对文化传承和创新的重要意义。空格在文段尾部，并且前面有表示结论的引导词“因此”，故横线处要填入对前文内容的总结。B项中提及文字对文化继承和创新的重要意义，衔接恰当。答案为B。前文讲到“文学”以及“国家文化的传承与创新”，空格处应与上文内容衔接，A、D两项没有提到“文学”，排除。故本题应选B。

26. 以李鸿章为领袖的洋务运动曾给中国带来富国强兵的希望，而经其手签订的各种丧权辱国条约却让中国陷入半封建半殖民地社会。正因如此，一百多年来，李鸿章头顶变换着救国、误国、卖国三项帽子。对这样一个复杂的历史人物，只有给其一个更为精准的定位，才能更清晰地解读他的所作所为。而在如何定位上，诸多史学著作或抓小放大，或以偏概全，或就事论事，隔靴搔痒，雾里看花，_____。

填入画横线部分最恰当的一句是（ ）。

- A.读者难有尽兴之感
- B.有失公允之处颇多
- C.真正的佳作甚为罕见
- D.难以摘掉这三顶帽子

【答案】B。横线出现在尾句，一方面承接前文，另一方面起到概括总结的作用。文段首句阐述了李鸿章既给中国带来了好的作用，又给中国带来了不好的影响，接着指出李鸿章顶着救国、误国卖国的帽子，随后通过“只有…才…”重在强调要给李鸿章一个更为精准的定位，尾句“而在如何定位上……依然围绕对李鸿章的“定位”展开，由“抓小放大、以偏概全、就事论事、隔靴搔痒、雾里看花”可知，诸多史学著作对李鸿章的定位是不太客观和公正的，B项“有失公允”中“公”即“公平”，“允”即“恰当”，“有失公允”即评价、定位不当，“颇多”是对史学家们共性问题的概括性表述，当选。文段强调的是史学著作对李鸿章的定位，与A项的“读者”无关，排除；C项，由文段可知“诸多史学著作”对李鸿章的评判均较为片面，故难以称得上佳作，“真正的佳作”与尾句的话题不一致，排除。D项中的“摘掉这三顶帽子”并非作者强调的目的所在，作者希望给予精准定位而非简单地“摘掉帽子”，排除。故正确答案为B。

27. 创新源泉的另一个重要方向，就是面向历史的发掘。每一次回顾历史都可能是一次观念的清理和创新。研究和发掘新的史料，也是一次价值观的梳理。_____。重新发现历史，建立当下社会观念与历史价值的承继关系，这是奠定创新思维的一个重要因素。我们要在前人的肩膀上瞻望未来，不是简单地忽略或者漠视历史积累，不断复制曾经的创新过程。

填入划横线部分最恰当的一句是（ ）。

- A.历史无法重来
- B.与其重读历史，不如创造历史
- C.一切历史都是当代史
- D.历史是胜利者的历史

【答案】C。本题为语句填空题。空格位于文段中间，需把握对上下文的衔接。文段前面论述了研究和发掘史料与观念创新的关系，后文指出建立当下社会观念与历史价值的关系很重要，故填入的句子应该体现“当下”与历史的关系。C项中的“当代史”与文段的“当

下”对应恰当；A项并未体现出历史与当下的关系；B项中的“创造历史”与D项中的“胜利者的历史”在文段中均未提及。故正确答案为C。

28. 下列句子中没有语病的一项是（ ）。

A.李校长要调任其他省份的学校，这是所有学校师生众所周知的消息。

B.台上一分钟，台下十年功，这句用来形容相声演员的成长经历一点都不为过。

C.三十六个人不停地变换着方阵的样子，同时他们还有规律地挥动着彩旗，让人看的眼花缭乱。

D.就如何提高饲料的生产效率，在场的技工们都提出了真知灼见的意见。

【答案】B。A选项“调任”的宾语不能是“学校”。C选项“让人看的眼花缭乱”缺少主语，D选项“真知灼见”的意见，语义重复。故本题正确答案选B。

29. 下列句子中没有语病的一项是（ ）。

A.年度内经济数据不及预期，加上经济封锁，该国的股指大幅下跌，一时间股市上哀鸿遍野。

B.站在山顶上，我们可以一览无余地看到山下翠绿的麦田，以及整齐的房屋。

C.水是一种可循环再利用的资源，但任何一个使用主体如果都不爱护，肆意污染，那可循环也会变成不可循环。

D.政府采取扩大有价证券购买量的措施，目的是为了增加市场主体持有的货币量，避免因无法偿还债务而引发危机。

【答案】B。A选项用词不当，哀鸿遍野，哀鸿是指哀鸣的大雁，这里比喻流离失所的灾民。形容到处都是呻吟呼号、流离失所的难民之悲惨景象。不能用来形容股市。C选项“任何一个主体都不”逻辑混乱。D选项“目的是”“为了”语义重复。故本题正确答案选B。

30. 下列句子中没有语病的一项是（ ）。

A.在决胜节的大部分时间段内，教练让内线有丰富经验并且外线有远投能力的李亮镇守中路伺机而动，一路前冲，直接将球踢进了对方的球门

B.无论对于正在长身体的孩子，还是压力大的年轻人，都更适合“非白粥”的早餐选择。

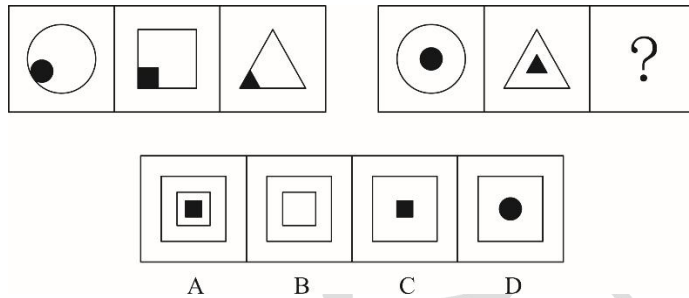
C.今年三轮降准和央行向市场注入万亿流动性，利率债收益率走低，加上疫情下国企、城投等融资需求降低，高性价比的资产供给较为稀缺

D.数据显示，2020年一季度，我国经常账户逆差2352亿元，资本和金融账户顺差774亿元。

【答案】D。A项，“一路向前”是向前冲刺的过程，“直接踢进”代表结果，放在一起语义矛盾，应将“直接”去掉；B项“都”前缺少主语，应加上“他们”；C项应为“在今年三轮降准和央行向市场注入万亿流动性后”。故本题正确答案选D。

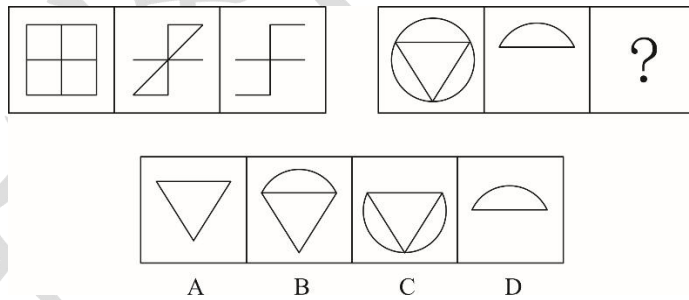
判断习题（30题）

1. 根据图形规律，最适合填入问号处的图形是（ ）。



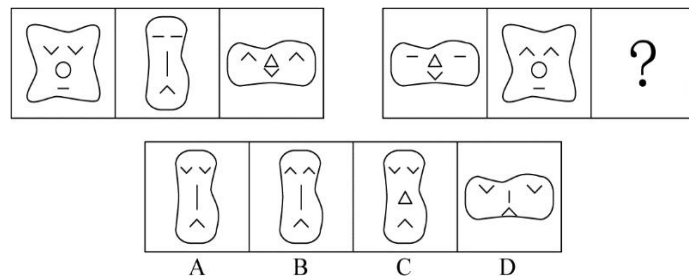
【答案】C。本题考查样式类，观察题干中左边一组图形中的内部图形均与外部图形外观相同，只是大小和颜色不一样，内部均与外部相连接；右边一组图形同样是内部与外部图形外观相同只是大小不一样，排除D；且内部均为黑色，排除B选项；内部只有一个图形，排除A。故本题正确答案选C。

2. 根据图形规律，最适合填入问号处的图形是（ ）。



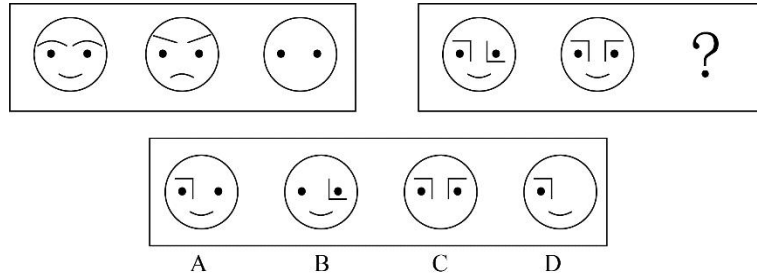
【答案】D。本题图形元素组成相似，考查样式类。观察题干左边一段图形整体求同均有相同的十字交叉线，右边一段图形整体求同均有最上面的窄半圆，D选项符合规律，排除ABC。故本题正确答案选D。

3. 从所给的四个选项中，选择最合适的一个填入问号处，使之呈现一定的规律性（ ）。



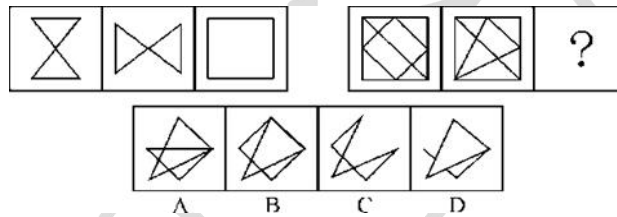
【答案】A。图形组成元素相似，考虑样式类。观察图形每组组成元素的种类和数量相同，排列次序不同。考察遍历，缺啥补啥，根据题干缺一个身材瘦长、眼睛开口方向向上、鼻子竖条，嘴巴开口方向向下，故本题正确答案选 A。

4. 从所给的四个选项中，选择最合适的一个填入问号处，使之呈现一定的规律性()。



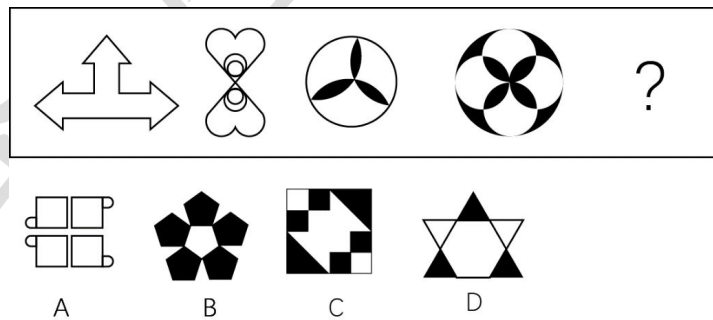
【答案】A。求同。第一段图形的前两个图形求同可得到第三个图，同理，第二段图形求同可知选项 A 正确；选项 BCD 均排除。故本题正确答案选 A。

5. 从所给的四个选项中，选择最合适的一个填入问号处，使之呈现一定的规律性()。



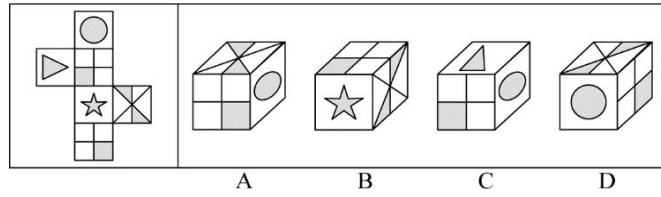
【答案】C。本题考查样式类运算—求异，也就是去掉图形相同的部分，留下不同的部分；显然，右边图形遵循同样的规律后，得到的图形将会如图 C 所示，故本题正确答案选 C。

6. 根据规律填入问号处的图形是()。



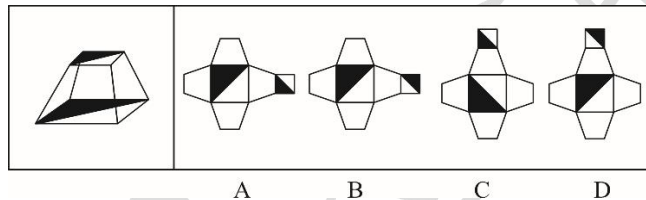
【答案】B。考察对称性，题干中图形均为轴对称，且对称轴数量为 1、2、3、4，选择对称轴为 5 的图形，A 选项有一条对称轴，排除，B 选项五条对称轴，符合，C 选项有两条对称轴，排除，D 选项有一条对称轴，排除。故本题正确答案选 B。

7. 左边给定的是纸盒的外表面，下列哪一项能有它折叠而成()。



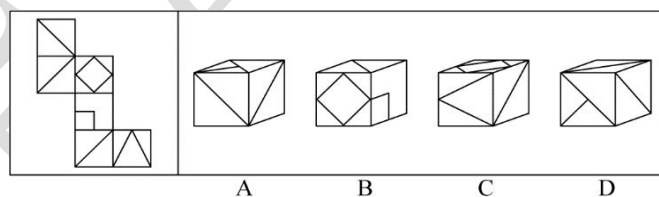
【答案】D。A项若“田”字面为原图面1，其与圆面的公共边为全白，但A项为半黑半白，错误。若“田”字面为原图面2，其与面3的公共边为半黑半白，但A项为全白，错误。故A项排除。B项原图中五角星面和面3之间的公共边与面3中上面的黑色三角形挨着，B项中五角星面和面3的公共边与面3中下面的黑色三角形挨着，因此和题干不符，排除。C项画边法，从三角形顶点边开始在三角形面上顺时针画边，原图三角形面与圆形面的公共边为边4，而C项三角形面与圆形面的公共边为边2，与题干不符，排除。故本题正确答案选D。

8. 右边哪一项能够折叠而成左边图形（ ）。



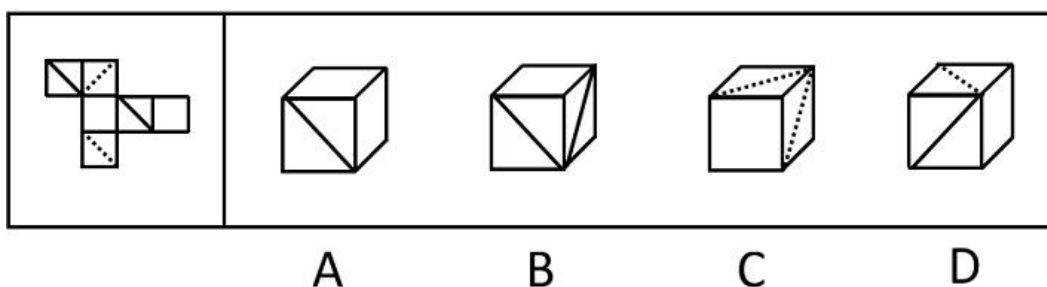
【答案】C。本题考查空间重构。观察题干中的上面图形和底面图形为相邻面，且内部黑色三角形属于平行关系，C选项符合题意。AB选项最右边面内部黑色三角形方向错误，排除；D选项最上面内部黑色三角形方向错误，排除。故本题正确答案选C。

9. 左边给定的是纸盒的外表面，下列哪一项能有它折叠而成（ ）。



【答案】C。图形旋转拼合和可知选项C正确；选项A，正上方图片在平面图形中不存在，可排除；选项B，时针方向错误，可排除；选项D，正前方图片在平面图形中不存在，可排除。故本题正确答案选C。

10. 左边给定的是纸盒的外表面，下列哪一项能有它折叠而成（ ）。



【答案】D。空间重构类，相对面排除；A项，两个空白面是相对面，不可能同时出现，排除；B项，两个斜线面是相对面，不可能同时出现，排除；C项，两个虚线面是相对面，不可能同时出现，排除；故本题正确答案选D。

11. 1761年6月4日，普鲁士皇家学院（柏林科学院）向欧洲学术界发布了1761-1763年度有奖征文事宜，征文主题如下：“形而上学的真理，特别是自然神学与道德的第一原理是否能像几何学的真理那般清晰明证，若不能，那它确然性的本性是什么，确然性的程度怎样，在该程度上其可靠性是否完全可信。”

由此不能有效推出的是：（ ）

- A.形而上学在当时的处境肯定很不妙
- B.几何学在当时可谓一切学问的样板
- C.形而上学对于人类不是不可或缺的
- D.形而上学缺乏几何学那样的确然性

【答案】A。本题属于归纳推理类题型。A选项，形而上学在当时的处境肯定很不妙，描述的太过绝对，排除；B选项，由题干信息可知，几何学的真理那般清晰明证可得出几何学在当时可谓一切学问的样板；C选项，之所以会采取有奖征文形式，正好说明了形而上学对于人类不是不可或缺的；D选项，由题干可知，几何学的真理那般清晰明证，若不能，那它确然性的本性是什么，确然性的程度怎样，可得到形而上学缺乏几何学那样的确然性。故本题正确答案选A。

12. 传统的问题解决方法强调以往的知识经验。而现代问题解决方法则强调从达到目标的所有可能途径中选择出最佳的一种，由于两者均不能成功地解决所有问题，因此（ ）。

- A.应该根据不同的问题选择一种方法
- B.根据实际情况来决定用适合的方法，或者传统或者现代
- C.不能只采用一种方法
- D.没有完全满意的解决方法

【答案】B。本题考查归纳推理。题干中讲到两种解决问题的方法，一种是传统的，一种是现代的，但两者均不能成功地解决所有问题，所以B项根据实际情况来决定用适合的方法，或者传统或者现代可以推出，而且或关系一真则真，遵循可能性优先原则就可以推出，B项符合题意。A项说“选择一种方法”太绝对了，排除；C说不能只采用一种方法同样太绝对，排除；D选项是否有完全满意的解决方法不得而知，D项属于无由猜测，排除。故本题正确答案选B。

13. 国家一直十分注重扶贫工程。前些年国家拨给贫困地区大量救济物资，但事实却是越救济越贫穷。后来国家改变策略，帮助贫困地区建立大批项目，引导当地人民自己扶贫，取得了显著成效。可见（ ）。

- A.授人以鱼不如授人以渔
- B.救济贫困地区是多余的
- C.金钱不是万能的
- D.光吃饱饭并不能解决问题

【答案】A。本题属于归纳推理类题目，题干中说直接给贫困地区物料，他们越来越贫困，后来引进项目，自己扶贫，取得了显著成效，这体现了直接救济不如教给他们方法，A选项正确；B选项，救济贫困地区是多余的这句话本来就是错误的，不能因为他们穷就放任不管，排除；C和D选项都是无关选项，题干中没有涉及，排除。故本题正确答案选A。

14. 近代法国著名科学家法拉第，发现了电磁感应规律，但是由于他不能用最科学最严密的语言表达出来，因此一直没有得到科学界的承认，直到麦克斯韦完整地表达了这一规律，才得到人们正式承认。可见（ ）。

- A.麦克斯韦比法拉第更聪明
- B.语言表达能力是很重要的
- C.科学语言是最严密，最科学的
- D.只要表达能力强，就能赢得人们的承认

【答案】B。本题属于归纳推理类题目。题干中先是提到法拉第发现电磁感应规律，但没有得到科学界的承认，后又强调麦克斯韦完整地表达了这一规律，才得到人们的承认，正是强调了语言表达的重要性，故B为正确选项，其他选项均不能推出，ACD项排除。故本题正确答案选B。

15. 在相同的收入水平上，农村家庭比城市或城郊居民家庭有更大的购买力，因为城市或城郊居民家庭中用在食品或居住的一部分收入可以被农村居民家庭用在其他的消费上。根据以上的论述，最能推出以下哪项结论（ ）。

- A. 农村居民家庭在食品和居住上的支出比城市或城郊居民家庭的支出少
- B. 城郊居民家庭的购买力更高于城市居民家庭
- C. 一般来说，农村居民家庭比城市居民家庭的人口数量要多
- D. 三种类型的居民家庭在食品上的支出都超过了在居住上的支出

【答案】A。根据“城市或城郊居民家庭中用在食品或居住的一部分收入可以被农村居民家庭用在其他的消费上”可知，农村居民家庭在食品和居住上的支出比城市或城郊居民家庭的支出少，A项当选；B项城郊和城市居民题干中没有进行对比，无从得出，排除；C项人口数量在题干中没有提及，无关项，排除；D项食品支出和居住支出，题干中并没有进行比较，排除。故本题正确答案选A。

16. 由于近期的干旱和高温，导致海湾盐度增加，引起了许多鱼的死亡。虾虽然可以适应高盐度，但盐度高也给养虾场带来了不幸。

以下哪项如果为真，能够解释以上现象的原因（ ）。

- A. 持续的干旱会使海湾的水位下降，这已经引起了有关机构的注意
- B. 幼虾吃的有机物在盐度高的环境下几乎难以存活
- C. 水温升高会使虾更快速繁殖
- D. 鱼多的海湾往往虾也多，虾少的海湾鱼也不多

【答案】B。本题需要解释的现象是为何虾能够适应高盐度，养虾场依然会因为盐度升高而遭遇不幸，最恰当的原因就是B项，正因为如此，虾缺乏食物，所以虾仍然难以生存。A选项为无关选项，排除；C选项，题干也没有说繁殖的问题，无关选项，排除；D选项，无关选项，排除。故本题正确答案选B。

17. 某省商超业经营点的数量从2000年的约50000个，逐年下降到2012年的约10000个。但是，12年以来，该省商超业的经营资本在整个服务行业中所占的比例并没有减少。

以下各项如果正确，哪项最不能解释上述现象（ ）。

- A. 作为激烈竞争的结果，12年以来该省的商场、超市有的被迫停业，有的则努力扩大经营规模
- B. 该省2012年商超业经营店的平均经营资本额比2000年有显著增长
- C. 2000年以来，该省服务行业的经营资本总额逐年下降

D.2000 年以来，该省服务行业的经营资本占全省产业经营总资本的比例逐年下降

【答案】D。A、B、C 三项都能解释题干中的数据或信息；D 项中的比例和题干中该省商超业的经营资本在整个服务行业中所占的比例没有必然联系，不能解释题干现象。故本题正确答案选 D。

18. 大学生保姆已不再是新鲜事。一项调查显示，63%的被调查者赞成大学生当保姆，但是，问到自己家里是否会请大学生保姆时，却有近 60%的人表示“不会”。

以下哪项陈述如果为真，能够合理解释上述看似矛盾的现象（ ）。

A.在选择“会请大学生当保姆”的人中，有 75%的人打算让大学生担任家教或秘书工作，只有 25%的人想让大学生从事家务劳动

B.调查中有 62%的人表示只愿意付给大学生保姆 800 元到 1000 元左右的月薪

C.赞成大学生当保姆的人中，有 69%的人认为做家政工作对大学生自身有益，只有 31%的人认为大学生保姆能提供更好的家政服务

D.在不赞成大学生当保姆的人中，有 40%的人认为，学生实践应该选择与自己专业相关的领域

【答案】C。题干中的矛盾点在于“63%的被调查者赞成大学生当保姆”和“近 60%的人表示‘不会’请大学生到自己家里当保姆”。A 选项只解释了后一种情形，B 和 D 选项并未对矛盾点做出解释，C 选项中的“69%的人认为做家政工作对大学生自身有益”和“只有 31%的人认为大学生保姆能够提供更好的家政服务”分别对矛盾的两点做出了解释；故本题正确答案选 C。

19. 尽管大家开始抵制珍稀动物的皮草产品，但仍有家具制造商将珍稀动物的皮毛用于家具饰品。几年前专家发明了一种新的高仿合成皮草，受到了家居制造商广泛的好评。但从最近几年的统计看，各地为获取皮毛而对珍稀动物进行捕杀的活动却并没有减少。

以下哪一项正确，最有助于对“捕杀活动没有减少”进行解释（ ）。

A.生产新的高仿合成皮草比生产原未的合成皮革的成本更低

B.新的高仿合成皮革与动物皮毛的质地相似，很难区分

C.绝大部分珍稀动物的皮毛用在越来越流行的皮草服饰上

D.家居制造商在销售大的家居物件时，往往将家居饰品当作赠品免费送给购买者

【答案】C。根据提问方式“解释”，确定为原因解释。题干中的现象是：高仿合成皮草，受到了家具制造商广泛的好评，但各地为获取皮毛而对珍稀动物进行捕杀的活动却并没有减少。A 项该项将新旧合成皮草的生产成本进行比较，与“获取皮毛”无关，排除；B 项

该项说明高仿合成皮草能很好地替代动物皮毛，可以减少对动物的捕杀，排除；C项该项说明虽然减少了家具饰品上动物皮毛的使用，但皮草服饰上对动物皮毛的需求却增加了，那么为获取皮毛进行的动物捕杀就不会减少，可以解释；D项“免费赠送家具饰品”与“获取皮毛”无关，排除。故本题正确答案选C。

20. 某市风景优美，气候宜人。该市晨曦路两侧开设的几乎全部都是老年疗养院，来自全国各地的很多老年人来此旅游、疗养。晨曦路只有很少几座居民住宅，但是晨曦路附近却有很多专门经营儿童用品的商店，而且生意还相当火爆。

下列哪一项是最能解释这一现象（ ）。

- A.晨曦路附近的专门经营儿童用品的商店所出售的商品物美价廉
- B.来此疗养的老人都是有子女带着孩子陪同的，他们需为孩子购买所需物品
- C.居住在晨曦路的居民虽然不多，但孩子们之间经常互相赠送
- D.晨曦路附近的儿童用品商店闹中取静购物环境良好

【答案】B。根据提问方式“最能解释这一现象”，确定为原因解释。题干现象为：晨曦路两侧几乎全部都是老年疗养院，居民也很少，但是却有很多专门经营儿童用品的商店。B项来疗养院的老人都有子女带着孩子陪同，有孩子对儿童用品就会有相应需求，使得当地店铺生意火爆，可以解释；A项儿童用品店的商品物美价廉，但是如果只有疗养院的老人，就没有人会去购买，无法做到生意火爆，不能解释，排除；C项当地居民不多，即使有孩子互赠礼物，也不会使很多商店生意火爆，不能解释，排除；D项购物环境再好，如果没有人需要，也不会生意火爆，不能解释，排除。故本题正确答案选B。

21. 医院：医生：病人（ ）。

- A.学校：老师：学生
- B.监狱：军人：犯人
- C.法院：法官：律师
- D.公司：老板：员工

【答案】A。观察题干中的逻辑关系，可以用造句子的方法解释，医生在医院给病人看病，分析选项，A选项：老师在学校给学生讲课，符合题干；B选项：军人在监狱看管犯人，不符合题干，犯人也不是军人看管的，是狱警看管，排除；C选项：法官在法院裁判案件，和律师之间不是对应的关系，排除；D选项：老板和员工都可以在公司，但是老板在公司给员工更多的是下任务，而不是帮助或者给予员工，而A选项和题干中，医生和病人，老师和学生都是有帮助和给予的成分在里面，故本题正确答案选A。

22. 拔苗助长：《孟子》（ ）。

- A. 糟糠之妻：《三国志》
- B. 十面埋伏：《汉书》
- C. 鸡鸣狗盗：《史记》
- D. 纵虎归山：《后汉书》

【答案】C。揠苗助长的出处为《孟子》；C项，鸡鸣狗盗的出处为《史记》；A项，糟糠之妻的出处为《后汉书》；B项，十面埋伏的出处为《前汉书》；D项，纵虎归山的出处为《三国志》。故本题正确答案选C。

23. 乔迁之喜：搬家（ ）。

- A. 加官进爵：纳新
- B. 梦熊之喜：生子
- C. 鸾凤和鸣：新婚
- D. 桑中之喜：嫁女

【答案】B。乔迁之喜是来做祝贺用语，贺人迁居或贺人官职升迁之辞；B项的梦熊之喜是祝贺生男孩的，与题干逻辑关系一致，当选；A项的加官进爵是指晋升官职爵位，不是纳新，排除；C项的鸾凤和鸣是指夫妻相亲相爱，不是新婚；D项的桑中之女是指男女不依礼法结合，不是嫁女。故本题正确答案选B。

24. 天干对于（ ）相当于地支对于（ ）。

- A. 重光：单阙
- B. 逢阙：蒙旃
- C. 作噩：阍茂
- D. 屠维：上章

【答案】A。十天干曰：“阍逢、旃蒙、柔兆、强圉、著雍、屠维、上章、重光、玄默、昭阳”。十二地支曰：“困顿、赤奋若、摄提格、单阙、执徐、大荒落、敦牂、协洽、涪滩、作噩、阍茂、大渊献。考查对应关系，符合的只有天干对应重光，地支对应单阙。故本题正确答案选A。

25. 指甲：指甲钳（ ）。

- A. 头发：发卡
- B. 铅笔：铅笔盒
- C. 手：手套

D.胡子：剃须刀

【答案】D。题干中指甲剪用来剪指甲，是功能对应关系。D项剃须刀用来刮胡子，是功能对应关系，而且二者都有剪短这个动作，当选；ABC也都是功能对应，但没有使变短这个动作，故本题正确答案选D。

26. 地方性法规是有立法权的地方国家机关依法制定与发布的规范性文件。在中国，根据宪法和立法等有关法律的规定，省、自治区、直辖市、设区的人民代表大会及其常委会，根据本行政区域的具体情况和实际需要，在不同宪法、法律、行政法规相抵触的前提下有权制定地方性法规。

以下属于地方性法规的是（ ）。

- A.财政部制定并实施的《政府事业单位会计制度》
- B.全国人大制定的《会计法》
- C.国务院制定的《总会计师条例》
- D.安徽省十二届人大第三十三次会议表决通过的《安徽省信息化促进条例》

【答案】D。关键信息：①有立法权的地方国家机关；②规范性文件；③在不同宪法、法律、行政法规相抵触的前提下。第三步，辨析选项。D项安徽省十二届人大属于“有立法权的地方国家机关”，《安徽省信息化促进条例》属于“规范性文件”，仅在珠海市范围内具有效力，并且“在不同宪法、法律、行政法规相抵触的前提下”，符合定义；A项财政部并非“地方国家机关”，不符合定义；B项全国人大并非“地方国家机关”，不符合定义；C项国务院，并非“地方国家机关”，不符合定义。故本题正确答案选D。

27. 垂直搜索引擎是针对某一个行业的专业搜索引擎，是对网页资源中的某类专门的信息进行一次整合，定向分字段抽取出需要的数据进行处理后再以某种形式返回给用户。根据上述定义，下列应用与垂直搜索引擎关系最为密切的是（ ）。

- A.在某个购物网站上在线购买鞋子
- B.登陆央视网站查询某个城市天气
- C.用百度音乐搜索自己爱听的歌曲
- D.在图书馆网站上查询该馆的藏书

【答案】C。垂直搜索引擎的定义关键词是：针对某一个行业、专业搜索引擎、网页资源的信息整合。C项符合所有定义要点，当选；A项并非针对某一行业，也未提及搜索，不符合定义，排除；B项是网站内部某个信息的查询，不是针对某一行业，也未涉及到信息整

合，不符合定义，排除；D项属于网站内部搜索，不是针对某一个行业，并且整合的是图书实体资源信息而非网页资源信息，不符合定义，排除。故本题正确答案选C。

28. 柔性领导是指依靠领导者的非权力影响力，采取非强制命令的方式，在人们心目中产生一种潜在的说服力，使其自觉服从和认同，从而把组织意志变为人们自觉的行动的领导行为。根据上述定义，下列属于柔性领导的是（ ）。

- A. 校长决定给全体教师涨工资
- B. 张校长作为教书育人楷模成为全体教师的偶像
- C. 校长提出教师创新激励计划
- D. 资深教师张老师说话很感召力

【答案】B。定义的要件是：依靠领导者的非权力影响力，潜在的说服力。B项张校长因为教书育人楷模被当作偶像，属于非权力影响力，符合柔性领导的定义。A项属于权力影响力，C项属于强制命令，D项老张不是公司领导，因此都不符合定义。故本题正确答案选B。

29. 权威暗示效应，是指如果一个人地位高，有威信而且受人敬重，那这个人所说的话及所做的事就容易引起别人重视，并让他们相信其正确性。下列描述中，属于运用权威暗示效应的是（ ）。

- A. 某小型食品生产企业邀请二线明星来代言所生产的食品
- B. 老师用励志故事来激励备战考试的同学们奋发向上
- C. 某市召开环保动员会，邀请了相关专家发表开幕宣言
- D. 甲和乙在辩论数字问题时，甲引用著名文学家的名言作为论据

【答案】D。本题属于定义判断选是题。关键信息为：①一个人地位高，有威信而且受人敬重。②通过这个人所说的话及所做的事容易引起别人重视，并让他们相信其正确性。A项，二线明星不明确是地位高，有威信而且受人敬重的人，排除。B项，励志故事不属于“一个人”，主体不符合，排除。C项，发表开幕宣言并没有体现让他们相信其正确性，不符合，排除。D项，著名文学家是有威信而且受人尊重的人，引用著名文学家的名言来作为论据可以更容易引起别人重视，让他们相信其正确性，符合定义。故本题正确答案选D。

30. 印记学习是指发生在动物生活的早期阶段，由直接印象形成的学习行为，印记学习行为虽发生在早期，但对晚期行为也具有一定的影响。根据上述定义，下列不属于印记学习行为的是（ ）。

- A. 绵羊走近并试图留在喂养过它的主人身边

- B. 由人喂养大的斑马雀会向主人的手指求偶
- C. 刚出生的绿头鸭跟随着一个移动的物体走
- D. 绵羊用舌舐小羊的方式来标记自己的后代

【答案】D。印记学习“发生在动物生活的早期阶段”、“由直接印象形成的”。D项绵羊用舌舐小羊的方式来标记自己的后代是发生在绵羊生了小羊之后，不满足关键词“发生在动物生活的早期阶段”，不属于印记学习行为；A项“走近喂养过它的主人身边”是由直接印象形成的，“试图留在主人身边”体现了早期阶段形成的行为对晚期行为的影响，符合定义；B项斑马雀由人喂养大，对主人存在直接印象，向主人的手指求偶体现的是早期阶段形成的行为对晚期行为的影响，符合定义；C项刚出生的绿头鸭跟随移动的物体走，发生在绿头鸭的早期阶段，跟着移动的物体走是由直接印象形成的，满足关键词，符合定义；本题为选非题，故本题正确答案选D。

数资习题（40题）

数量关系（25题）

1. 2019年某品牌口罩定价为 n 元/个，2020年由于新冠病毒的爆发，口罩成本大幅度提高，定价提高为原来的5倍，每个口罩利润翻一番，总利润较上年增加了9倍，2020年销量比2019年增加了（ ）。

- A. 3倍
- B. 4倍
- C. 5倍
- D. 6倍

【答案】B。本题考查经济利润问题。根据题意可知，总利润=每个口罩利润×销量，赋值2019年每个口罩利润为1，销量为1，总利润为1；则2020年每个口罩利润翻一番，为2，总利润增加9倍，为10，故销量为5。由此可得，2020年销量比2019年增加了4倍。因此，选择B选项。

2. 某大学的动物科学学院有桑教授、罗教授和荣教授三个研究生导师，桑教授的学生人数是罗教授学生人数的1.5倍，且恰好比荣教授的的学生人数多30%，那么在三个教授的

学生总人数最少的情况下，至少要从中选几个学生就一定能够保证有 30 个人是来自同一导师？（ ）

- A. 84
- B. 85
- C. 87
- D. 88

【答案】B。本题考查最不利问题。首先，桑教授的学生人数是罗教授学生人数的 1.5 倍，所以两位导师的学生人数之比为 3:2，那么桑教授的学生人数为 3 的倍数。又因为“且恰好比荣教授的的学生人数多 30%”，所以桑教授和荣教授两人的学生人数之比为 13:10，那么桑教授的学生人数既为 3 的倍数，也为 13 的倍数。要想满足“三个教授的学生总人数

最少”，则桑教授的学生人数有 $3 \times 13 = 39$ 个人，根据比例关系，罗教授的学生为 $39 \times \frac{2}{3} = 26$

个人，荣教授的学生有 $39 \times \frac{10}{13} = 30$ 个人。要满足“保证有 30 个人是来自同一导师”，根据最不利原则，至少要选出 $29 + 26 + 29 + 1 = 85$ 个学生。因此，选择 B 选项。

3. 有四个学校相互之间作学术交流，需要各派代表去其他学校进行学习交流。其中甲乙丙分校打算各派一名代表，而丁分校打算派出两名代表，两人要去的学校由他们自行选择，请问共有多少种派遣方式？（ ）

- A. 44
- B. 51
- C. 54
- D. 88

【答案】B。本题考查排列组合问题中的错位排序。根据题意，先从丁校的 2 人中选出 1 人，这样就可以先和其他学校的人员构成一个 4 人的错位排序（ $D_4 = 9$ ），再让丁校剩下的那个人选择要去的学校，共 3 种方式，则共有 $C_2^1 \times 9 \times 3 = 54$ 种。考虑到丁校两个人同在甲乙丙中的一个学校，共有 3 种重复情况，所以最终的派遣方式有 $54 - 3 = 51$ 种。因此，选择 B 选项。

4. 小王和小红是多年邻居，某天小王和小红聊起年龄发现在 10 年前，小王的年龄是小红的 3 倍，5 年后，小王与小红的年龄和为 50 岁，今年小王多少岁？（ ）

- A. 5
- B. 10
- C. 15
- D. 25

【答案】D。设小红 10 年前的年龄为 X 岁，则小王的年龄为 $3X$ 岁，则 15 年后两人各自长 15 岁，得方程为 $3X+15+X+15=50$ ，解得 $X=5$ 岁，则 10 年前小王为 15 岁，因此小王今年 25 岁，因此，选择 D 选项。

5. 临近春节，某饭店囤积了大量猪肉以应对年夜饭，每斤猪肉进价为 25 元。受新冠疫情影响，政府临时通知关闭所有饭店，为了减少损失，该饭店决定把猪肉加工成肉脯进行销售。每斤肉脯售价 65 元，加工费 10 元，该饭店将一部分肉脯无偿捐给武汉医院，一部分在网上进行销售，处理完所有肉脯，最终获利 6000 元。请问该饭店向医院捐赠了多少斤肉脯？

() (肉脯重量均为整数)

- A. 400
- B. 500
- C. 600
- D. 700

【答案】C。本题考查经济利润问题。根据题意，“进价”，“定价”，“加工费”，“利润”，可知每斤肉脯利润为 $65-10-25=30$ 元。设一共卖了 X 斤，捐赠了 Y 斤，可列方程为： $30X-35Y=6000$ ，不定方程，可利用带入排除法求解。因为 X, Y 均为整数，且 30, 6000 均为 6 的倍数，故 Y 应也为 6 的倍数，故只有 600 满足条件。因此，选择 C 选项。

6. 甲、乙共同打印一本书，甲、乙打印的效率之比为 3:4。甲乙合作了 3 天后甲有事先离开，剩余的交给乙独立完成，此时甲已经完成总量的四分之一，求剩余的工作量乙需要多少天完成？()

- A. 3
- B. 4
- C. 5
- D. 6

【答案】B。本题考查工程问题。根据题意，赋值甲的工作效率为 3，乙的工作效率为 4，则甲 3 天完成得工作量为 9，占总工作量的四分之一，则总工作量为 36。甲乙三天一共

做了 $(3+4)\times 3=21$ ，则余下工作量为 $36-21=15$ ，由乙独立完成共需要 $15\div 4=3\cdots 3$ ，即需4天。因此，选择B选项。

7. 甲杯中有浓度为23%的溶液200克，乙杯中有浓度为47%的同种溶液300克，现在分别从甲、乙杯中取出部分溶液，把甲杯中取出的溶液倒入乙杯中，把乙杯中取出的溶液倒入甲杯中，使甲、乙两杯溶液浓度相同，问现在两杯溶液浓度是多少？（ ）

- A. 36.2%
- B. 36.4%
- C. 37.2%
- D. 37.4%

【答案】D。本题考查溶液问题，用方程法解题。设混合后甲乙两杯相同浓度溶液的浓度为X，根据混合前后溶质不变，可得： $23\%\times 200+47\%\times 300=(200+300)\times X$ ，解得 $X=37.4\%$ 。因此，选择D选项。

8. 三月底，某公司给6名市场人员分配业绩任务，共需要在二季度完成234万元的业绩，每个人承担的业绩各不相同，已知排名第三的任务量是他后一名的1.5倍，且任务量最多的那个人不超过任务量排名最后两人和的2倍，那么业绩排名第三的那个人最少分得多少业绩？（ ）

- A. 20万
- B. 30万
- C. 40万
- D. 50万

【答案】B。本题考查最值问题中的数列构造问题。根据题意，要想让第三名的业绩最少，总业绩不变的情况下，其他几个名次的业绩要尽可能的多。因为“排名第三的任务量是他后一名的1.5倍”，可以设第三名的业绩为 $3X$ ，则第四名的业绩为 $2X$ ，故业绩排名第五和第六的人业绩最多分别为 $2X-1$ ， $2X-2$ 。又因为“且任务量最多的那个人不超过任务量排名最后两人和的2倍”，所以排名第一的人业绩最多为 $2\times(2X-1+2X-2)=8X-6$ ，那么排名第二的人业绩最多为 $8X-7$ 。所以， $234=8X-6+8X-7+3X+2X+2X-1+2X-2$ ，解得 $X=10$ ，则业绩排名第三的那个人业绩最少为 $3X=30$ 万。因此，选择B选项。

9. 为喜迎春节，小李计划对自己的卧室重新进行粉刷，已知该卧室的长分别是宽与高的2倍，且高为3米。窗户是边长为1米的正方形，门的面积为2平方米，粉刷一平米的费用为50元，请问小李需要花多少钱？（ ）

- A. 3450 元
B. 3500 元
C. 3600 元
D. 4350 元

【答案】A。本题考查几何问题。根据题意可知，卧室的高为 3 米，则宽为 3 米，长为 6 米，那么需要粉刷的面积为 $6 \times 3 \times 3 + 2 \times 3 \times 3 - 1 - 2 = 69$ 平方米。又因为粉刷一平方米的费用为 50 元，故总费用 $= 69 \times 50 = 3450$ 元。因此，选择 A 选项。

10. 大年三十，共有四个家庭围在一桌吃年夜饭，已知每个家庭内部的成员必须坐在一起。其中甲乙两个家庭只有夫妻两人，暂无子女，丙家庭夫妻两人有一个孩子，丁家庭夫妻两人育有一对双胞胎，若家里有孩子，则孩子必须坐在自己父母中间，问共有多少种就坐方法？（ ）

- A. 96
B. 192
C. 384
D. 768

【答案】B。本题考查排列组合问题中的捆绑环形排列问题。根据题意，先把四个家庭看成 4 组，做一个环形排列，则共有 $A_3^3 = 6$ 种。再看每一组内部的情况，甲乙丙家庭内部排列方式是一样的，都是父母位置互换的区别，共有 $A_2^2 = 2$ 种，而丁家庭的内部排列方式涉及到父母位置互换和中间的双胞胎位置互换，共有 $A_2^2 A_2^2 = 4$ 种。故总情况数为 $A_3^3 \times (A_2^2)^3 = 192$ 种。因此，选择 B 选项。

11. 2, 3, 6, 18, 108, ()

- A. 216
B. 1080
C. 2160
D. 1944

【答案】D。根据题干，可得 D 项正确；递推积数列， $2 \times 3 = 6$ ， $3 \times 6 = 18$ ， $6 \times 18 = 108$ ，因此 $18 \times 108 = 1944$ ，D 选项符合题意。A、B、C 选项错误。故本题应选 D 项。

12. 5, 6, 19, 33, (), 101

A.55

B.60

C.65

D.70

【答案】B。做差得到1、13、14、(27)、41，此为多级数列，括号内应为 $33+27=60$ ，B选项正确，A、C、D选项错误。故本题应选B。

13. $1/5, 2/9, 3/13, 4/17, ()$

A.5/19

B.6/21

C.5/21

D.6/19

【答案】C。根据题干，可得C项正确；分子为自然数列：1，2，3，4，(5)，分母是公差为4的等差数列，则 $17+4=21$ ，C选项符合题意。A、B、D选项错误。故本题应选C项。

14. 128, (), 8, 2, 4, $1/2$

A.64

B.55

C.16

D.28

【答案】C。规律为 $8\div 2=4$ ， $2\div 4=1/2$ ，则括号内为 $128\div 8=16$ 。C选项正确，A、B、D选项错误。故本题应选C。

15. 1, 2, 7, -2, 29, ()

A.45

B.76

C.116

D.153

【答案】A。两两分组，做差取绝对值，则有 1, 9, ()，代入答案，我们发现，如果是 45，刚好得出 16，则这三个数分别是 1, 3, 4 的平方， $4=1+3$ ，可满足题意，A 选项正确，B、C、D 选项错误。故本题应选择 A。

16. -1, 1, 7, 25, 79, ()

- A.121
- B.241
- C.243
- D.254

【答案】B。根据题干-1, 1, 7, 25, 79, $-1=3^0-2$, $1=3^1-2$, $7=3^2-2$, $25=3^3-2$, $79=3^4-2$ ，根据规律可推出下一项为 $3^5-2=241$ ，B 选项符合题意，A、C、D 选项错误。故本题应选 B。

17. 7, 11, 17, 26, ()

- A.39
- B.40
- C.41
- D.42

【答案】B。 $7+11-1=18$, $11+17-2=26$ ，括号内为 $17+26-3=40$ 。B 选项正确，A、C、D 选项错误。故本题应选 B 项。

18. 5, 7, 9, 11, 13, ()

- A.15
- B.16
- C.17
- D.18

【答案】A。题干为公差为 2 的等差数列，则括号内应为 $13+2=15$ ，A 选项正确，B、C、D 选项错误。故本题应选 A。

19. 下面数列表现出一定的规律性，0.002, 0.04, 0.3, 4, ()，你认为填入最合适的数字是？()

- A.60
- B.5

C.50

D.500

【答案】C。依次分别为 2×10^{-3} ， 4×10^{-2} ， 3×10^{-1} ， 4×10^0 所以下一项应为 5×10^1 即 50。C 选项正确，A、B、D 选项错误。故本题应选 C。

20. 2, 4, 7, 11, 16, ()

A.19

B.22

C.26

D.28

【答案】B。题干两两做差得到 2, 3, 4, 5, 下一项应为 6, 则括号内为 $16+6=22$, B 选项正确, A、C、D 选项错误。故本题应选 B。

21. 外语学校有英语、日语和法语老师共 27 人, 其中能教英语的有 18 人, 能教日语的有 12 人, 能教法语的有 8 人, 既能教英语又能教日语的有 6 人, 既能教日语又能教法语的有 4 人, 既能教英语又能教法语的有 5 人, 则能同时教英语、日语和法语的有多少人? ()

A.4 人

B.5 人

C.6 人

D.7 人

【答案】A。本题考查容斥原理, 属于三集合容斥问题, 用公式法解题。根据题意, 27 人是总数, 所以没有不能教的老师, 即三者都不的情况为 0。根据三集合容斥标准公式为: 总数-三者都不满足的人数=满足条件 1 的人数+满足条件 2 的人数+满足条件 3 的人数-满足两个条件的人数+三个条件都满足的人数。设能同时教英语、日语和法语的有 X 人, 可得: $27=18+12+8-6-4-5+X$, 解得 $X=4$ 。因此, 选择 A 选项。

22. 袋子中装着 3 个红球、4 个橙球、6 个黄球、7 个绿球、10 个蓝球、11 个紫球、11 个黑球和 12 个白球, 至少从袋子中取几个球, 才能保证某两种颜色的球加起来超过 14 个?

()

A.47

B.48

C.49

D.50

【答案】C。第一步，本题考查最值问题，属于最不利构造。第二步，若保证摸出的小球中有两种颜色加起来超过 14 个，则至少两种颜色加起来有 15 个，那么最不利情况就是 3 红，4 橙，6 黄，7 绿，蓝、紫、黑、白都 7 个，此时共有 $3+4+6+7+7+7+7+7=48$ 个球，答案=最不利+1=48+1=49。因此，选择 C 选项。

23. 某班同学共 78 人，都喜欢傅园慧、孙杨中的至少一个人，其中喜欢傅园慧的人数是喜欢孙杨的 3 倍，是两者都喜欢的 4 倍，则只喜欢傅园慧的有多少人？（ ）

A.36

B.48

C.54

D.56

【答案】C。第一步，本题考查容斥问题，属于二集合容斥类。第二步，两集合容斥的公式 $A+B-AB=全-都不$ ，设喜欢傅园慧的人有 a ，喜欢孙杨的有 b ，两人都喜欢的有 c ，则 $a+b-c=78-0$ ，“喜欢傅园慧的人是喜欢孙杨的人的 3 倍”，所以， $a=3b$ ，“喜欢傅园慧的人是两者都喜欢的人的 4 倍”，所以 $a=4c$ ，解得， $a=72$ ， $b=24$ ， $c=18$ 。只喜欢傅园慧的人是 $a-c=72-18=54$ 人。因此，选择 C 选项。

24. 小荣、小桑和小罗三个人从操场同一点同向出发慢走，小桑比小荣出发晚 20 分钟，小罗比小桑早出发 5 分钟，当再次回到起点时，小荣比两个人都晚 4 分钟。已知小荣和小桑的速度之比是 3：5，小罗的速度是 15 米/分钟，那么操场的全程为（ ）。

A.615 米

B.675 米

C.1125 米

D.1185 米

【答案】A。首先，因为小桑比小荣出发晚 20 分钟，所以也可以理解为小荣比小桑早出发 20 分钟，且晚 4 分钟到达，所以走完全程，小荣比小桑多用了 $20+4=24$ 分钟。相同的路程，时间与速度成反比，所以小荣和小桑的时间之比为 5：3，即时间之差 5 份-3 份=2 份

$=24$ 分钟，所以小荣走完全程需要 $24 \times \frac{5}{2} = 60$ 分钟。又因为小荣比小桑早出发 20 分钟，小罗比小桑早出发 5 分钟，所以小荣比小罗早出发 15 分钟，且小荣比两个人都晚 4 分钟，所以小荣比小罗全程多走了 $15+4=19$ 分钟，那么小罗全程用时为 $60-19=41$ 分钟，全程 $S=41 \times 15=615$ 米。因此，选择 A 选项。

25. 有一项工程, 按原定设计需 1 人工作两天方可完成, 完工后甲方并不满意, 要求再次施工, 此时需再增加 1 人并工作三天才能完成, 完工后, 甲方要求重新设计, 最终又增加了 2 人并工作了四天才全部完成, 若每人每天工作效率相同, 则最终的总施工量约为最初设计的几倍? ()

- A.3
- B.6
- C.8
- D.12

【答案】D。第一步, 本题考查工程问题, 属于效率类。第二步, 将施工量分为三个阶段计算: ①阶段施工量=1×2=2; ②阶段施工量=(1+1)×3=6; ③阶段施工量=(1+1+2)×4=16, 总施工量=2+6+16=24, 是最初设计的 $\frac{24}{2}=12$ 倍。因此, 选择 D 选项。

资料分析 (15 题)

【资料】

2021 年 1-2 月, 全国房地产开发投资 13986 亿元, 同比增加 3873 亿元。房屋施工面积 770629 万平方米, 同比增长 11.0%。其中, 住宅 542503 万平方米, 增长 11.2%; 办公楼 31802 万平方米, 增长 7.3%; 商业营业用房 76346 万平方米, 增长 2.5%; 其他类型 119978 万平方米。房屋新开工面积 17037 万平方米, 增长 64.3%。其中, 住宅 12736 万平方米, 增长 68.5%。商品房销售面积 17363 万平方米, 同比增长 1.05 倍, 比 2019 年 1-2 月增长 23.1%。商品房销售额 19151 亿元, 同比增长 1.33 倍, 比 2019 年同期增长 49.5%。

2 月末, 商品房待售面积比上年末增加 2575 万平方米。其中, 住宅增加 2314 万平方米, 办公楼和商业营业用房分别减少 24 万平方米和 269 万平方米。

2021 年 1-2 月, 分地区看, 东部地区房地产开发投资 8353 亿元。同比增长 32.4%; 中部地区 2640 亿元, 增长 52.5%; 西部地区 2834 亿元, 增长 45.1%; 东北地区 158 亿元, 增长 28.6%。

东部地区商品房销售面积 7565 万平方米, 同比增长 113.9%; 销售额 11891 亿元, 增长 148.1%。中部地区商品房销售面积 4369 万平方米, 增长 104.3%; 销售额 3280 亿元, 增长 130.2%。西部地区商品房销售面积 5054 万平方米, 增长

95.1%，销售额 3620 亿元，增长 103.6%，东北地区商品房销售面积 425 万平方米，增长 82.0%，销售额 359 亿元。增长 72.7%。

1. 2020 年 1-2 月，全国商品房销售面积同比增长（ ）。

- A.-40.0%
- B.-32.5%
- C.40%
- D.17.2%

【答案】A。

第一步，本题考查增长率计算类中间隔增长率计算问题。

第二步，定位文字材料，“商品房销售面积 17363 万平方米，同比增长 1.05 倍，比 2019 年 1-2 月增长 23.1%。”

第三步，根据公式 $\text{间隔增长率} = r_1 + r_2 + r_1 \times r_2$ ，代入数据，可得 $23.1\% = 1.05 + r_2 + 1.05 \times r_2$ ，简化为 $-0.82 = 2.05r_2$ ，计算可得 $r_2 = -40\%$ 。

因此，选择 A 选项。

2. 2021 年 1-2 月，对房屋施工面积同比增长贡献率最低的房屋类型是（ ）。

- A.住宅
- B.办公楼
- C.商业营业用房
- D.其他类型

【答案】C。

第一步，本题考查比重比较中增长贡献率比较问题。

第二步，定位文字材料，“房屋施工面积 770629 万平方米，同比增长 11.0%。其中，住宅 542503 万平方米，增长 11.2%；办公楼 31802 万平方米，增长 7.3%；商业营业用房 76346 万平方米，增长 2.5%；其他类型 119978 万平方米。”

第三步，根据 $\text{增长贡献率} = \frac{\text{部分增长量}}{\text{整体增长量}}$ ，由于整体增长量一致，只需要比较部分增长量大小。已知现期量和增长率，比较增长量，根据口诀“大大则大，一大一小看乘积”，在 A、B、C 选项当中发现 C 选项商业营业用房的生长量最小，只需要比较 C 和 D 选项。D 选项其他类型将现期量代替基期量通过整体增长量减去部分增长

量，列式子可得： $770629 \times 11\% - 542503 \times 11.2\% - 31802 \times 7.3\% - 76346 \times 2.5\%$ ，简化为 $77万 \times 11\% - 54万 \times 11\% - 3万 \times 7\% - 8万 \times 3\% \approx 2万$ ，C选项： $7.6万 \times 2.5\% \approx 0.2万$ 。C选项增长量最小。

因此，选择C选项。

3. 2021年1-2月，各地区按商品房销售额同比增量从大到小排序，正确的是（ ）。

- A. 中部地区>东部地区>东北地区>西部地区
- B. 东部地区>西部地区>中部地区>东北地区
- C. 中部地区>西部地区>东北地区>东部地区
- D. 东部地区>中部地区>西部地区>东北地区

【答案】D。

第一步，本题考查增长量比较中增长量公式比较问题。

第二步，定位文字材料，“东部地区商品房销售额11891亿元，增长148.1%。中部地区商品房销售额3280亿元，增长130.2%。西部地区商品房销售额3620亿元，增长103.6%，东北地区商品房销售额359亿元。增长72.7%。”

第三步，已知现期量和增长率，比较增长量，根据口诀“大大则大”，观察发现东部地区商品房销售额最高，增长率最高，东部地区销售额增长量最大，排除A和C选项。观察B和D选项，只需比较西部地区和中部地区，根据口诀“一大一小看乘积”，列式子可得： $3280 \times 130.2\% > 3620 \times 103.6\%$ ，中部地区增长量>西部地区增长量，排除B选项。

因此，选择D选项。

4. 分地区看，2021年1-2月房地产开发投资占全国比重同比提高的地区有（ ）个。

- A.1
- B.2
- C.3
- D.4

【答案】B。

第一步，本题考查比重中两期比重比较问题。

第二步，定位文字材料，“2021年1-2月，全国房地产开发投资13986亿元，同比增加3873亿元。分地区看，东部地区房地产开发投资8353亿元。同比增长32.4%；中部地区2640亿元，增长52.5%；西部地区2834亿元，增长45.1%；东北地区158亿元，增长28.6%。”

第三步，计算全国房地产开发投资增长率，根据公式 $\text{增长率} = \frac{\text{增长量}}{\text{现期量} - \text{增长量}}$ ，

列式子 $\frac{3873}{13986 - 3873}$ ，截取前两位计算可得39%。

第四步，比较两期比重比较，根据部分增长率 > 整体增长率，则两期比重比较同比提高。中部地区增速52.5%、西部地区增速45.1%均大于39%，有2个。

因此，选择B选项。

5. 根据上文，下列说法正确的是（ ）

- A. 2021年1-2月，全国房屋新开工面积同比增加超6800万平方米
- B. 2021年2月末，商业营业用房待售面积同比减少量比办公楼多245万平方米
- C. 2021年1-2月，房地产开发投资最低的地区，其投资额与最高的地区差距达35倍
- D. 2021年1-2月，分地区看，东业地区的商品房销售均价同比增长最小

【答案】D。

第一步，本题考查综合分析问题，且需选出正确的一项。

第二步，A选项，增长量计算，定位第一段文字材料，根据 $\text{增长量} = \frac{\text{现期量}}{n+1}$ ，将64.3%化成 $\frac{1}{1.6}$ ，代入数据可得 $\frac{17037}{1.6+1} \approx 6550 < 6800$ （万平方米），错误。

B选项，简单加减计算，定位第二段文字材料，材料当中仅给出商业营业用房待售面积比上年末减少269万平方米和办公楼待售面积比上年末减少24万平方米，并未给出其同比减少量，故无法推出，错误。

C 选项，增长率计算，定位第三段文字材料，东部地区房地产开发投资 8353

亿元为最高，东北地区 158 亿元为最低，根据 $\text{增长率} = \frac{\text{现期量}}{\text{基期量}} - 1$ ，代入数据，列

式子可得 $\frac{8353}{158} - 1 \approx 50$ 倍多，错误

D 选项，平均数增长量比较，定位最后一段文字材料，根据

商品房销售均价 = $\frac{\text{商品房销售额}}{\text{商品房销售面积}}$ ，两期平均数比较可知商品房销售额增长率大于

销售面积增长率，则商品房销售均价同比提高，观察发现东部地区商品房销售面积同比增长率 113.9% < 销售额增长率 148.1%；中部地区商品房销售面积增长率 104.3% < 销售额增长率 130.2%；西部地区商品房销售面积增长率 95.1% < 销售额增长率 103.6%；东北地区商品房销售面积增长率 82.0% > 销售额增长率 72.7%。可知东中西部地区商品房销售均价有所提高，而东北地区有所下降，因此东北地区的商品房销售均价同比增长最小，正确。

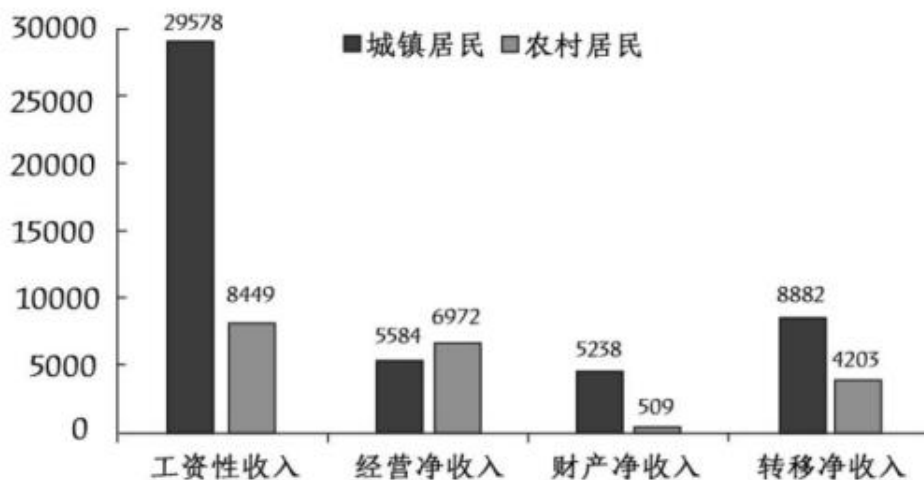
因此，选择 D 选项。

【资料】

2022 年，全国居民人均可支配收入 36883 元，比上年增长（以下如无特别说明，均为同比名义增长）5.0%。分城乡看，城镇居民人均可支配收入 49283 元，增长 3.9%；农村居民人均可支配收入 20133 元，增长 6.3%。

按收入来源分，2022 年，全国居民人均工资性收入 20590 元，增长 4.9%；人均经营性收入 6175 元，增长 4.8%；人均财产净收入 3227 元，增长 4.9%；人均转移净收入 6892 元，增长 5.5%。

2022年全国居民人均可支配收入构成（元）



2022年，全国居民人均消费支出 24538 元，比上年增长 1.8%。分城乡看，城镇居民人均消费支出 30391 元，增长 0.3%；农村居民人均消费支出 16632 元。增长 4.5%。

2022年城乡居民消费支出主要情况

类别	城镇居民		农村居民	
	人均支出 (元)	同比增长 (%)	人均支出 (元)	同比增长 (%)
食品烟酒	8958	3.2	5485	5.5
衣着	1735	-5.8	864	0.5
居住	7644	3.2	3503	5.7
生活用品及服务	1800	-1.1	934	3.7
交通通信	3909	-0.6	2230	4.6
教育文化娱乐	3050	-8.2	1683	2.3
医疗保健	2481	-1.6	1632	3.3
其他用品及服务	814	3.5	300	5.9

6. 2022年，农村居民人均可支配收入中，所占比例明显高于城镇居民的是（ ）

- A.工资性收入
- B.经营净收入
- C.财产净收入
- D.转移净收入

【答案】B

【解析】

第一步，本题考查现期比重比较，观察数据列式比较解题。

第二步，定位文字材料第一段，“2022年城镇居民人均可支配收入为49283元，农村居民人均可支配收入为20133元”。再定位柱状图，经观察可得，经营净收入中，农村居民6972元要高于城镇居民5584元。

第三步，列式比较验证，农村居民的经营净收入占农村居民人均可支配收入为 $\frac{6972}{20133}$ ，城镇居民经营净收入占城镇居民人均可支配收入为 $\frac{5584}{49283}$ 。根据分数性质可知， $\frac{6972}{20133}$ 的分子大而分母小，因此 $\frac{6972}{20133}$ 比 $\frac{5584}{49283}$ 大。

因此，选择B选项。

7. 2022年，除其他用品及服务外，我国城乡居民人均消费支出最少的类别是（ ）

- A.衣着
- B.生活用品及服务
- C.教育文化娱乐
- D.医疗保健

【答案】A

【解析】

第一步，本题考查简单计算中的和差比较，用简单加法解题。

第二步，定位表格材料，题目问的是城乡居民人均消费支出最少的，除其他用品及服务外，其中衣着的城镇居民支出和农村居民支出都最小，分别为1735元和864元，所以衣着的城乡居民人均消费支出最少。

因此，选择A选项。

8. 2022年，全国居民人均收支盈余比上一年（ ）。（注：收支盈余=收入-消费支出）

- A.增加了约5%
- B.减少了约5%
- C.增加了约12%
- D.减少了约12%

【答案】C

【解析】

解法一：第一步，本题考查增长率计算。

第二步，定位文字材料第一段第一行，“2022年全国居民人均可支配收入36883元，增长5%”；定位材料第三段第一行，“全国居民人均消费支出24538元，增长1.8%”。

第三步，根据收入=收支盈余+消费支出，则可以认定收入为整体量，收支盈余和消费支出为两个部分量，整体增长率介于两个部分量的增长率之间。

第四步，收入增长率为5%，消费支出增长率为1.8%，则收支盈余的增长率应该大于5%，观察选项，只有C选项大于5%。

因此，选择C选项。

解法二：第一步，本题考查增长率计算。

第二步，定位文字材料第一段第一行，“2022年全国居民人均可支配收入36883元，增长5%”；定位材料第三段第一行，“全国居民人均消费支出24538元，增长1.8%”。

第三步，根据收支盈余=收入-消费支出，2022年收支盈余为36883-24538=12345元。根据 $\text{基期量} = \frac{\text{现期量}}{1+r}$ ，2021年收支盈余 = $\frac{36883}{1.05} - \frac{24538}{1.018} \approx 11022$ 元，则收支盈余的增长率 = $\frac{12345 - 11022}{11022} \approx \frac{1323}{11000} \approx 12\%$ 。

因此，选择C选项。

9. 2022年，我国城镇居民与农村居民人数之比最接近（ ）。

A.2:3

B.3:2

C.3:4

D.4:3

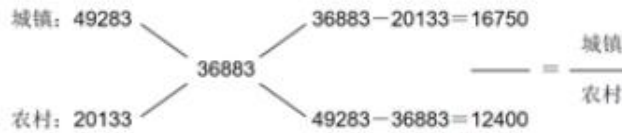
【答案】D

【解析】

第一步，本题考查平均数中调和平均数计算。

第二步，定位文字材料第一段，“2022年，全国居民人均可支配收入36883元，比上年增长（以下如无特别说明，均为同比名义增长）5.0%。分城乡看，城镇居民人均可支配收入49283元，增长3.9%；农村居民人均可支配收入20133元，增长6.3%”。

第三步，利用十字交叉法，计算出2022年的人数之比。



2022年的城乡居民人数之

比=16750 : 12400 \approx 1.35，选项D中4 : 3 \approx 1.33。

因此，选择D选项。

10. 根据资料，下列说法正确的是（ ）

- A.2022年，全国居民人均工资性收入增长主要由农村居民贡献
- B.2021年，与城镇居民相比，农村居民的人均可支配收入中用于消费支出的比例更大
- C.与2021年相比，2022年城镇居民在居住上的消费支出增加值最大
- D.2021年，无论在城镇还是农村，居民消费支出的重点都是食品烟酒和交通通信支出

【答案】B

【解析】

第一步，本题考查综合分析，且需选择正确的一项。

第二步，A选项，增长量比较。定位柱状图材料，人均工资性收入中，城镇居民为29578元，农村居民为8449元。定位文字材料第二段“全国居民人均工资性收入20590元，增长4.9%”。材料中没有关于城镇居民和农村居民工资性收入的增长率或基期量，所以无法判断全国居民人均工资性收入增长是否由农村居民贡献，错误。

B选项，基期比重比较。定位文字材料第一段“2022年城镇居民人均可支配收入为49283元，增长3.9%，农村居民人均可支配收入为20133元，增长6.3%”。定位文字材料第三段“城镇居民人均消费支出30391元，增长0.3%；农村居民人均

消费支出 16632 元，增长 4.5%”。根据基期比重 = $\frac{A}{B} \times \frac{1+b}{1+a}$ ，则 2021 年城镇、农村居民可支配收入中用于消费支出的比例分别为 $\frac{30391}{49283} \times \frac{1+3.9\%}{1+0.3\%}$ 约为 0.6、 $\frac{16632}{20133} \times \frac{1+6.3\%}{1+4.5\%}$ 约为 0.8，所以农村居民的人均可支配收入中用于消费支出的比例大于城镇居民，正确。

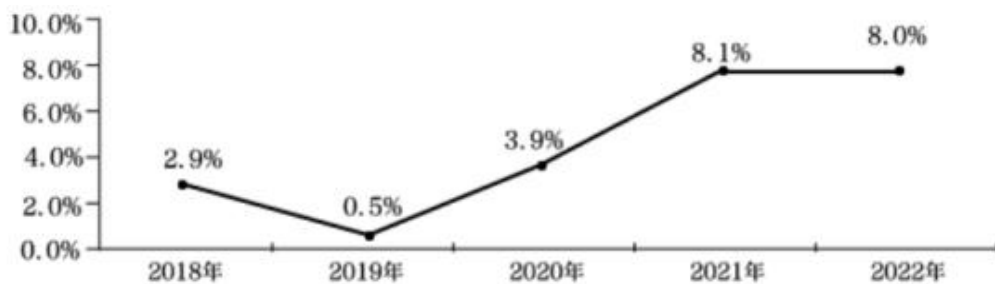
C 选项，增长量比较。定位表格。根据增长量比较口诀“大大则大，一大一小看乘积”判断。2022 年城镇居民在居住上的消费支出为 7644 元，增长 3.2%；而食品烟酒的支出为 8958 元，增长 3.2%，增长率相同，食品烟酒现期值大，则城镇居民在食品烟酒上的消费支出的增加值比在居住上的消费支出的增加值大，错误。

D 选项，基期量比较。定位表格，2022 年城镇居民消费支出中食品烟酒和交通通信分别为 8958 元和 3909 元，分别增长 3.2%和-0.9%，居住支出为 7644 元，
 $\frac{\text{现期量}}{1+r}$ 增长 3.2%。根据基期量 = $\frac{\text{现期量}}{1+r}$ 及“瘦死的骆驼比马大”，能明显看出 2021 年的城镇居住消费支出大于交通通信支出。观察农村居民消费支出的数据，可以发现食品烟酒和居住支出分别为 5485 元和 3503 元，分别增长 5.5%和 5.7%，交通通信支出 2230 元，增长 4.6%，能明显看出 2021 年的农村居住消费支出大于交通通信支出，错误。

因此，选择 B 选项。

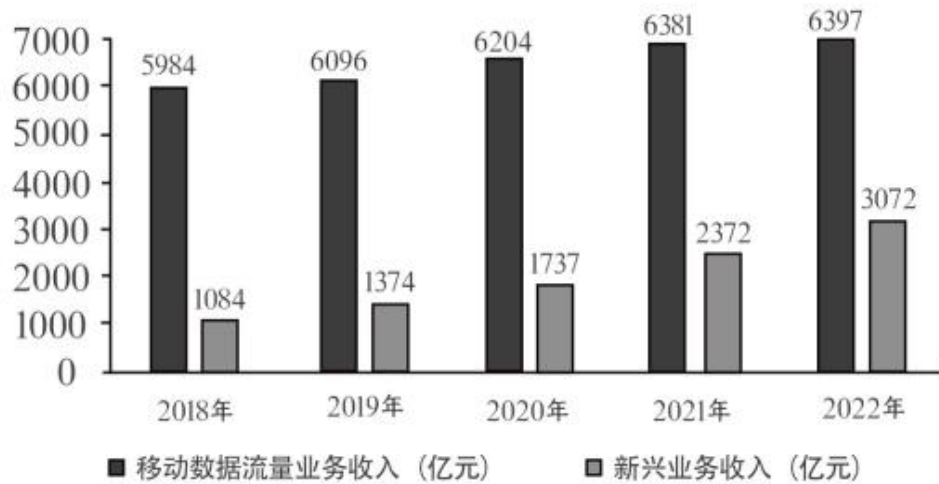
【资料】

五年来，我国积极推进网络强国和数字中国建设，着力深化数字经济与实体经济融合，为打造数字经济新优势、增强经济发展新动能提供有力支撑。2022 年，我国电信业务收入累计完成 1.58 万亿元，比上年增长 8%，较 2018 年增长超 2800 亿元。



2018-2022 年电信业务收入增长情况

2022年移动数据流量业务收入6397亿元，比上年增长0.3%，在电信业务收入中占比约为40.5%。数据中心、云计算、大数据、物联网等新兴业务快速发展，对我国电信业务拉动作用持续增强。2022年新兴业务收入达3072亿元，在电信业务收入中占比由上年的16.1%提升至19.4%。其中，数据中心、云计算、大数据、物联网业务比上年分别增长11.5%、118.2%、58%和24.7%。



2018-2022年移动数据流量及新兴业务收入情况

11. 2022年我国电信业务收入约为2018年的()倍。

- A.1.1
- B.1.2
- C.1.3
- D.1.4

【答案】B

【解析】

第一步，本题考查现期倍数计算。

第二步，定位文字材料第一段“2022年，我国电信业务收入累计完成1.58万亿元，比上年增长8%，较2018年增长超2800亿元”。

第三步，根据 $\text{倍数} = \frac{A}{B}$ 及基期量 = 现期量 - 增长量，代入数据得 $\frac{1.58}{1.58 - 0.28} = \frac{1.58}{1.3} \approx 1.22$ 倍。

因此，选择B选项。

12. 与 2021 年相比, 2022 年我国移动数据流量业务收入在电信业务收入中的占比 ()

- A.增加了约 3 个百分点
- B.减少了约 3 个百分点
- C.增加了约 13 个百分点
- D.减少了约 13 个百分点

【答案】B

【解析】

第一步, 本题考查比重中的两期比重差值。

第二步, 定位文字材料第一、第二段。“2022 年, 我国电信业务收入累计完成 1.58 万亿元, 比上年增长 8%”、“2022 年移动数据流量业务收入 6397 亿元, 比上年增长 0.3%”。

第三步, 根据两期比重差公式 $\frac{A}{B} \times \frac{a-b}{1+a}$, $a < b$, 比重下降, 排除 AC 选项, 再根据两期比重之差小于 $|a-b|$, 即小于 $|0.3\% - 8\%| = 7.7\%$, 排除 D 选项。

因此, 选择 B 选项。

13. 2021-2022 年间, 我国新兴业务收入增加值约占我国电信业务收入增加值的 ()

- A.30%
- B.40%
- C.50%
- D.60%

【答案】D

【解析】

第一步, 本题考查比重中的现期比重计算。

第二步, 定位文字材料第一段“2022 年, 我国电信业务收入累计完成 1.58 万亿元, 比上年增长 8%”和柱状图。

第三步, 根据增长量计算公式: $\text{增长量} = \text{现期量} - \text{基期量} = \frac{\text{现期量}}{1+n}$, 所以新兴业务收入增加值 = $3072 - 2372 = 700$ 亿元, 电信业务增长率 $8\% = \frac{1}{12.5}$, 则电信业

务收入增加值 $= \frac{1.58 \text{ 万}}{1 + 12.5} \approx 1170$ 亿元。根据比重 $= \frac{\text{部分量}}{\text{整体量}}$ ，所以新兴业务收入增加值约占我国电信业务收入增加值 $= \frac{700}{1170} \approx \frac{700}{1200} \approx 58.3\%$ 。

因此，选择 D 选项。

14. 根据资料,下列说法正确的是 ()。

- A.2018-2022 年间,我国新兴业务收入年均增长超 20%
- B.2018—2022 年间,我国电信业务收入同比增长率始终高于 1%
- C.2018-2022 年间,我国移动数据流量业务收入年均增加约 1000 亿元
- D.与 2021 年相比,2022 年我国云计算和大数据业务收入同比增长 88.1%

【答案】A

【解析】

第一步,本题考查综合分析,且需选择正确的一项。

第二步,A 选项,年均增长率计算。定位柱状图,2018 年新兴业务收入为 1084 亿元,2022 年为 3072 亿元。根据年均增长率公式,末期量 $=$ 初期量 $\times (1+r)^n$, $\frac{\text{末期量}}{\text{初期量}} = \frac{3072}{1084} \approx 2.8$, 代入 20% 后 $(1+20\%)^4 \approx 2.07$, 小于 2.8, 正确。

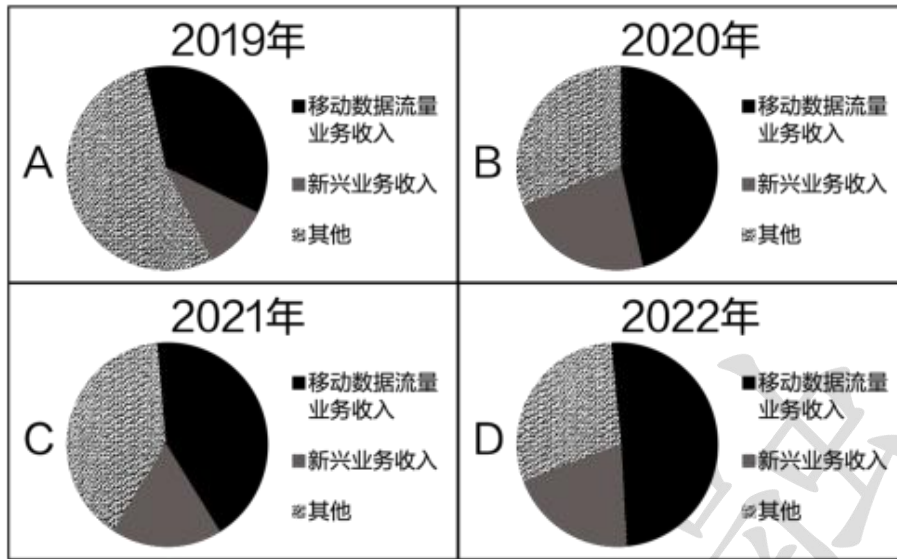
B 选项,增长率比较。定位折线图,直接读数可知 2019 年我国电信业务收入同比增长率只有 0.5%, 小于 1%, 错误;

C 选项,年均增长量计算。定位柱状图,2018 年移动数据流量业务收入为 5984 亿元,2022 年移动数据流量业务收入为 6397 亿元。根据年均增长量 $= \frac{\text{末期量} - \text{初期量}}{\text{年份差}}$, 总体增长量 $6397 - 5984 \approx 400$ 亿元, 年均必然远没有 1000 亿元, 错误。

D 选项,混合增长率计算。定位文字材料第二段“2022 年,其中,数据中心、云计算、大数据、物联网业务比上年分别增长 11.5%、118.2%、58%和 24.7%”。因没有具体的业务收入数据,只有各自的增长率,故无法推出混合增长率,错误。

因此,选择 A 选项。

15. 以下最有可能准确反映该年度各类业务在电信业务收入中占比的是（ ）



- A. 如上图所示
B. 如上图所示
C. 如上图所示
D. 如上图所示

【答案】C

【解析】

第一步，本题为比重比较。

第二步，定位文字材料第一段“2022年，我国电信业务收入累计完成1.58万亿元，比上年增长8%，较2018年增长超2800亿元”，定位折线图和柱状图。

第三步，D选项，2022年电信业务收入为1.58万亿元，移动数据流量业务收入6397亿元，很明显 $\frac{6397}{15800}$ 占比小于50%，而D选项饼状图显示占比超过50%。所以D选项错误，排除。

C选项，2021年电信业务收入 $\frac{1.58}{1+8\%} \approx 1.46$ 万亿元，所以其他的业务收入 $=14600-6381-2372=5847$ 亿元，即三个部分两大一小，且大的两个比较接近，且是小的两倍多，所以C选项饼状图比较吻合，保留。

B 选项，2020 年移动数据流量业务收入为 6204 亿元，新兴业务收入为 1737 亿元， $\frac{62}{17} > 3$ 倍，而 B 选项饼状图显示是大概两倍的关系。所以 B 选项错误，排除。

A 选项，根据第 96 题可知 2018 年电信业务收入为 1.3 万亿元，所以 2019 年电信业务收入为 $1.3 \times (1+0.5\%) \approx 1.3$ 万亿元，而移动数据流量业务收入为 6096 亿元，新兴业务收入为 1374 亿元， $6096 + 1374 > 1.3 \text{ 万亿} \times \frac{1}{2}$ ，所以这两部分的和应超过 50%，而 A 选项饼状图不符合。所以选项 A 错误，排除。

因此，选择 C 选项。