



华图教育
HUATU.COM

版权所有
复制必究

2019年2月23日浙江省事业单位联考
《职业能力倾向测验》

重要提示:

为维护您的个人权益,确保考试的公平公正,请您协助我们监督考试实施工作。

本场考试规定:监考老师要向本考场全体考生展示题本密封情况,并邀请2名考生代表验封签字后,方能开启试卷袋。

(仅限浙江华图内部教学使用!)

条
形
码

请将此条形码揭下,
贴在答题卡指定位置。

准考证号

姓名

注意事项

1. 此项测验 100 道题，总时限 90 分钟。各部分不分别计时。
2. 请按照要求在答题卡上填写好自己的姓名，涂写好准考证号，严禁折叠答题卡。
3. 必须在答题卡上答题；在题本上答题，一律无效。
4. 监考人员宣布考试开始时，方可答题，宣布考试结束时，应立即停止答题。题本、答题卡、草稿纸一律留在桌上，待监考人员确认数量无误，允许离开后，方可离开考场。如果你违反了以上任何一项要求，都将影响你的成绩。
5. 在这项测验中，可能有些试题较难，因此你不要在一道题上思考时间太久，遇到不会答的题目可先跳过去，如果有时间再去思考，否则，你可能没有时间完成后面的题目。
6. 试题答错不倒扣分。

停！请不要往下翻！听候监考老师的指示。
否则，会影响你的成绩。

第一部分 言语理解与表达

(共 25 题, 参考时限 25 分钟)

本部分包括表达与理解两方面的内容。请根据题目要求, 在四个选项中选出一个最恰当的答案。

请开始答题:

1. 在岁月的长河里, 我们永远不过是其中一粒微弱的尘埃, 原以为途经自己时光里的人都是过客, 到最后才真正明白, 其实自己才是那个误闯入别人生命的过客。那么多_____的赶路人, 似乎每一个都是你, 亦都是我。我们都曾千里迢迢地赶赴一场美丽的邀约, 而后便是_____, 各赴远方。

依次填入划横线部分最恰当的一项是:

- A. 行色匆匆 分道扬镳
B. 风尘仆仆 踌躇满志
C. 素昧平生 物是人非
D. 其貌不扬 不欢而散

2. 从远古时代的祖先直立行走、踏出东非大裂谷开始, 人类就一直是一个勇于开拓、勇于前进的物种。我们在历史的长河中_____, 在时代的阶梯上负重前行, 在道阻且长的旅途上, 征服了一座又一座成就的高峰, 也跨过了一个又一个危机的_____。

依次填入划横线部分最恰当的一项是:

- A. 披荆斩棘 悬崖
B. 乘风破浪 深谷
C. 扬帆起航 门槛
D. 勇往直前 时刻

3. 草书是五体书中最具_____的书体, 可以表达的品格、气质、审美类型丰富多样, 其笔法较为灵活自由, 又极具_____, 篆隶楷行的用笔方法都可融入草书的创作。

依次填入划横线部分最恰当的一项是:

- A. 现实性 扩张性
B. 理想性 可塑性
C. 多变性 求变性
D. 抒情性 包容性

4.电影是最适合表现现实社会问题的一种艺术形式,电视难以_____。电影艺术所具有的第一特征就是纪实特征,它完成了人类几千年来一个伟大抱负——复制一个神秘又客观的“现实”,_____地反映现实问题。

依次填入划横线部分最恰当的一项是:

- A.取而代之 不经意
B.望其项背 原生态
C.比肩齐声 戏剧化
D.后来居上 批判性

5.当今世界正面临更多的动荡和不安,全球化的进退和全球治理的滞后给世界带来新的不确定性。面对全球化的新态势,中国选择进而不是退,选择深化自身改革而不是_____,选择积极参与治理而不是_____。中国的快速成长和对全球化强有力的支持和参与,让世人更加重视。

依次填入划横线部分最恰当的一项是:

- A.安于现状 不闻不问
B.固步自封 独善其身
C.抱残守缺 隔岸观火
D.墨守成规 冷眼旁观

6.在各种思潮的_____下,金钱主义、享乐主义泛滥,不断侵蚀着大学生的思想防线。各种世界观、人生观、价值观在信息大潮中_____,如果不能加以_____,久而久之形成“青蛙效应”,对尚处于三观塑型期的大学生将产生负面影响。

依次填入划横线部分最恰当的一项是:

- A.裹挟 泥沙俱下 甄别
B.推动 鱼龙混杂 筛选
C.掣肘 大浪淘沙 鉴别
D.助推 鱼目混珠 遴选

7.流量时代,流量等于价值,吸粉能力就是_____。娱乐圈中,流量_____制片方,于是电视电影业“苦面瘫小鲜肉久矣”。

依次填入划横线部分最恰当的一项是:

- A.首选 吸引
B.钞票 诱惑
C.利器 制约
D.王道 绑架

8.环境的变化和人们要求的变化共同作用,使得农村人居环境的整治变得_____。

填入划横线部分最恰当的一项是:

- A.时不我待
B.刻不容缓

C.迫不及待

D.迫在眉睫

9.纵览近年来的全媒体发展，从具有社交链接属性的微博、微信_____，到以资讯聚合分发自特征的今日头条、一点资讯_____，从直播平台映客、斗鱼受到关注，到短视频平台快手、抖音快速崛起……媒体版图变化的一个结果是，主流媒体的“舆论主场”，现在变成了众多跨界者涌入的“舆论_____”

依次填入划横线部分最恰当的一项是：

A.应运而生 风生水起 广场

B.声名鹊起 盛况空前 客场

C.方兴未艾 风靡一时 平台

D.朝气蓬勃 如日中天 舞台

10.由于许多动植物在远古时期都曾被作为实施巫术的手段广泛使用过，因而这些动植物在文学作品中便_____了一种巫术的内涵，并_____成为后世的怪物。

依次填入划横线部分最恰当的一项是：

A.复制 蜕变

B.负荷 进化

C.承载 演变

D.担当 游走

11.在互联网上“杀熟”，首先需要详细的数据分析，平台或者公司要对用户的消费习惯、消费能力、行为偏好等_____，这显然就是大数据的强项，做到这些犹如_____。

填入划横线部分最恰当的一项是：

A.心知肚明 火中取栗

B.了然于胸 探囊取物

C.了如指掌 瓮中捉鳖

D.熟门熟路 杖策窥园

12.对于模式创新的企业来说，其_____在于行业的进入成本较低。例如滴滴与美团在打车与外卖业务上的竞争，_____有充足资本的支持，技术壁垒不高的新模式容易被复制。类似企业的商业模式与盈利前景存在着不确定性，上市后可能面临较大波动风险。

依次填入划横线部分最恰当的一项是：

A.专长 一旦

B.短板 只要

C.优点 如果

D.劣势 因为

13.①在教化所及之内，它规定着不同阶层、不同身份的各色人等的服饰

②诚如美学大师许觉民先生所言，服饰是反映人类社会审美情趣变迁的重要基因图谱，是时代文化的体现和审美情趣的反映

③我国素有“华夷之辨”“衣冠之治”的传统

④回望民国时期的男女衣衫，“各行各业，各就各位，行止不失范，穿衣不越界，拿捏到位，特征了然”

⑤不同人各自不同的服饰也是区分其尊卑上下的等级身份的标志，并借此以规范社会秩序、强化礼教约束

将上述 5 个句子重新排列，语序正确的是：

A.②①④③⑤

B.③⑤①④②

C.④⑤③①②

D.⑤③④②①

14.①为了达到这个目的，利用“霍曼轨道”是个非常好的方法

②探测器要脱离地球的引力圈，到达目标天体，燃料肯定是越多越好

③但是，发射升空的探测器的大小和重量都是有限制的，因此不得不消耗尽可能少的燃料来飞行

④利用这个轨道的话，可以使探测器在从一个天体的公转轨道转移到另一个天体的公转轨道时，消耗的能量最少

⑤霍曼轨道最初是由德国太空工程师瓦尔特·霍曼在 1925 年提出的

将上述 5 个句子重新排列，语序正确的是：

A.②③①⑤④

B.②①④③⑤

C.⑤④③②①

D.⑤③④①②

15.凯恩斯的思想是在经济衰退时政府可以干预经济，他害怕那种自由放任的经济会毁灭这个世界。凯恩斯成长于一个稳定和繁荣时期的英国，在一战结束后，他还参加了凡尔赛宫举行的和平会谈，他体会过这个世界最好的一面，也看到了这个世界坍塌的全貌。

这段文字想传达的主要意思是：

A.凯恩斯对世界经济了解比较全面

B.凯恩斯的主张源于其独特的经历

C.凯恩斯认为政府有必要干预经济

D.凯恩斯的观点随着现实的变化而改变

16.贸易流通、工作岗位与环境都是通过资本主义创造的；当与气候变化有关的黑死病击垮了欧洲农奴制——即旧秩序被打破之时，资本主义成为其最大的救赎。资本主义农业改变了地球；其对环境的毁灭、对文明的奴役，终会带来“后天”灾难；包括经济危机乃资本主义体系的伴生物，在每个体系周期中都会发生大大小小的危机，且不断积累，最终爆发总危机。

这段文字的意思可以用以下哪一句话概括：

- A.两害相权，取其轻
- B.成也萧何，败也萧何
- C.食之无味，弃之可惜
- D.前有虎豹，后有豺狼

17.一般来说，责任越清晰，落实越容易到位。校园食品安全决不能陷入“_____”的怪圈，必须通过健全的长效机制确保各方的责任清晰明确。

填入划横线部分最恰当的一项是：

- A.头痛医头，脚痛医脚
- B.公说公有理，婆说婆有理
- C.只许州官放火，不许百姓点灯
- D.一个和尚挑水喝、两个和尚抬水喝、三个和尚没水喝

18.清华、北大等多所名校公布了2018年自主招生简章，都将高中阶段的奥赛成绩作为学生报考的基本条件。教育部取消了普适性的奥赛加分。同时，教育主管部门下放行政管理权，给予高校更多自主权。随着高校自主招生的崛起，奥赛的含金量反而提高。

这段文字的主要意思是：

- A.下放高效行政权不利于公平竞争
- B.名校的择校通道变得越开越窄
- C.扩大高校自主招生权限强化了奥赛的升学功效
- D.基础教育领域存在着多元化选才的窘境

19.法律不能只是起于纠纷终于诉讼，而是要成为一种社会思维。法律的声音被越来越多的人侧耳倾听，从治国安邦的宏图伟业，到市井乡村的庸常生活，都已经深深地打上了法治的烙印，只有沿着法治的道路，才能建成一个和谐、公正的社会。公众的思维与法律思维还存在一定的差距，但已经有越来越多的人习惯于像法律人那样思考和分析问题，也有越

来越多的裁判在法律与民意中找契合点，公众思维与法律思维正在慢慢走向趋同，法律也正实现从顶层设计到底层反馈的统一。当然，法治不是听出来的、看出来的、说出来的，法的生命在于应用。法的应用不单是执法机关的权力和责任，也是全体公民的权利与义务，法律就是要人人都来用、都会用、都爱用，法治社会就是要实现人人都懂法、善用法、爱用法。

下列选项中，与作者观点不相符的是：

- A.法治社会离不开每一位公众对法律法规的不断应用
- B.公众思考和分析问题的方式正在慢慢趋向法律思维
- C.法律和制度需要不断完善才能跟上人类思想的进步
- D.营造和谐安宁的社会氛围需要以法治作为立足之本

20.“影子服务”偷话费，严重侵犯了消费者的知情权和选择权，属于强买强卖暗地收费，违反了《消费者权益保护法》，造成了恶劣的社会影响。消费者如果去申诉，运营商都会推说已经过消费者确认，但一般也会退钱。这说明，运营商并不是不清楚这些收费不合理。他们真正要赚的，大概就是那些长期为“影子服务”默默买单，却毫不知情的消费者的钱。

这段文字意在说明：

- A.“影子服务”经过消费者确认后开通也可以退钱
- B.运营商主要靠为不知情消费者开通“影子服务”赚钱
- C.“影子服务”比较隐蔽，消费者很难察觉得到
- D.运营商“影子服务”偷话费既不合理也不合法

21.后勤领域军民融合具有军地通用性、互补性，且涉密程度较低。近年来，随着电商的发展，中国民用物流爆发式增长，能对国内数以亿计的包裹实时掌控动态，一边是民营物流市场的生产力溢出，一边是军用物流需求仍存缺口。与其军队依赖自身建立物流系统，不如借助民企已有的庞大物流网络，实现节约成本、提升专业化水平的双赢。

这段文字意在说明：

- A.后勤领域军民融合具有广阔的发展前景
- B.军队供应链系统需借助新技术拓宽物流网络
- C.电商的发展推动了军用、民用物流系统的变革
- D.军用物流领域合理利用民用物流可加速自身发展

22.行星科学家对冥王星表面是否存在崎岖地貌已争论数年，答案取决于其表面的氮冰有多厚。这种冰覆盖了冥王星表面的大部分区域。氮冰十分脆弱，极易在其自身重力作用下坍塌，即便是在冥王星这样引力较弱的行星上。因此，_____。然而，当“新视野”号抵达冥王星时，最初获取到的一些高清图像就表明，这颗行星表面的山脉高度可达4500多米，说明冥王星表面的氮或许只是一层薄的壳，盖在我们后来发现的水冰层上。

填入划横线部分最恰当的一项是：

- A.冥王星复杂的地表特征甚至可以与地球、火星比肩
- B.氮冰对冥王星地貌的影响在太阳系内是独一无二的
- C.厚厚的一层氮冰会让冥王星表面无法形成任何高海拔地貌
- D.这作为冥王星显著地理特征成为“新视野”号的重大发现

23.在过去，中国本来拥有大量的自行车，以此为背景，中国的城市道路设计为自行车提供了足够的通行空间。但是，随着城市居民生活水平的急速提高，家用轿车数量呈现出突飞猛进的增长态势。最终造成的结果是，为了保证这部分车辆的通行，大量非机动车道被改造成机动车道。有些原本规划了非机动车道的路段，也因各种原因，不得不在正式施工建设的过程中进行人为的修改。非机动车道变得越来越窄。

这段文字意在说明：

- A.城市道路设计应当保障不同人群的交通出行需求
- B.中国的城市道路规划与社会经济发展的阶段相关
- C.日益严峻的非机动车道被挤占的情况并未得到重视
- D.居民生活水平的提高改变了人们对出行工具的要求

24.Hcy 作为一个体内的基础生化底物，其作用是复杂多样的，作为一种疾病的单一危险因素有机理与逻辑上的困惑。相比于胆固醇升高、高血压、糖尿病和烟草这些对动脉粥样硬化心血管病(ASCVD)已经明确的危险因素，高Hcy仅是一种多年研究尚不能确认的“新出现的因素”。按照循证医学的原理，至少应有可复制的结果，有同类研究的一致结果，才可能有足够力度的证据给予建议。

这段文字意在强调：

- A.应客观科学地看待Hcy对人体健康的正负面影响

- B.确定心血管疾病的致病因子需要循证医学的支持
- C.简单将 Hcy 作为脑卒中的危险影响因素依据不足
- D.应当对 Hcy 对心血管疾病的影响进行进一步研究

25.简单来讲，赵孟頫对中国绘画的贡献，就是改造了山水画的两大派，李郭和董巨。怎么改造的？两个字，“省减”，让文人可以操纵、可以执行、可以画。其实，在南宋，绘画已经出现“省减”，如禅画。但这种“省减”少了笔墨趣味。赵孟頫虽然省减了，里面却还是有书法的笔墨韵味。_____。赵孟頫的《水村图》、《鹊华秋色图》，改造的是董巨，他的《双松平远图》、《重江叠嶂图》，改造的是李郭。改造之后呢，跟董巨、李郭是天壤之别。

填入划横线部分最恰当的一项是：

- A.书法和绘画在笔墨上还是有着本质的区别
- B.画在省减上的不到家是其最为遗憾的地方
- C.这与南宋禅画的省减，是不一样的
- D.赵孟頫的书法成功融入了绘画艺术的特点

※※※ 第一部分结束，请继续做第二部分！ ※※※

第二部分 数量关系

(共 25 题, 参考时限 25 分钟)

在这部分试题中, 每道题呈现一段表述数字关系的文字, 要求你迅速、准确地计算出答案。

请开始答题:

26. 2, 4, 11, 13, 20, 22, ()

A. 25

B. 29

C. 30

D. 39

27. 1, $\frac{1}{4}$, 2, $\frac{3}{8}$, ()

A. 2

B. $\frac{5}{2}$

C. $\frac{7}{3}$

D. $\frac{8}{3}$

28. 7, 8, 9, 15, 17, 24, (), 41

A. 29

B. 31

C. 32

D. 37

29. 0, 5, 8, 17, 24, (), 48

A. 37

B. 38

C. 39

D. 40

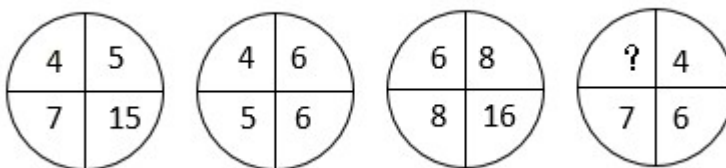
30. 1, 6, 5, 10, 11, 16, 19, 24, ()

A. 26

B. 29

C. 33

D. 42

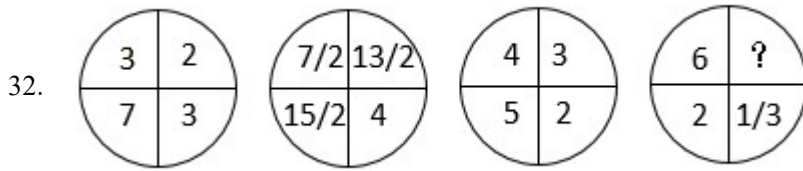
31. 

A. $\frac{5}{2}$

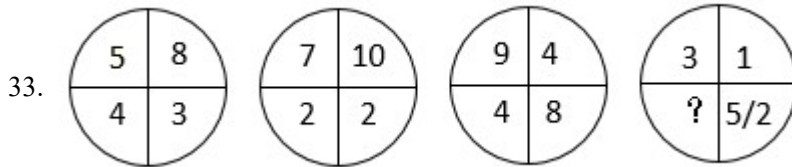
B. $\frac{7}{2}$

C. $\frac{9}{2}$

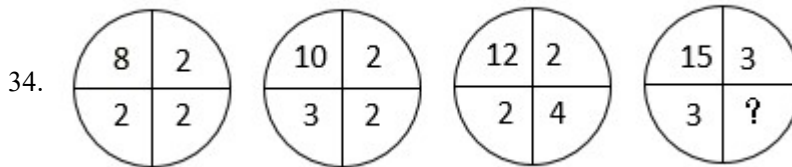
D. $\frac{11}{2}$



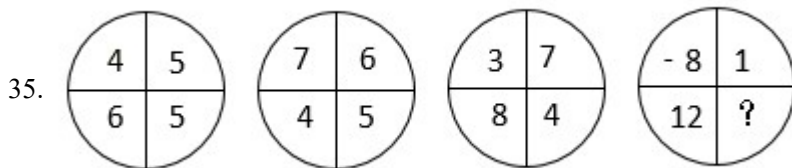
- A.0 B.1
C.2 D.3



- A.1/2 B.1
C.3/2 D.2



- A.1 B.2
C.3 D.4



- A.1 B.2
C.3 D.4

36.某校举办一场答题活动，总共 10 道题，每人基础分 10 分，答对得 3 分，答错扣一分，不答不得分也不扣分。问至少需要多少人参加答题，才能保证有三个人得分相同？

- A.41 B.75
C.77 D.83

37.某校有 100 人去旅游，有 A、B、C、D 四条路线供选择，每人可以选任意几种，最终以 A、B、C、D 路线分别有 60、55、70、65 个人选择，问至少有多少人选了 2 条及以上路线？

- A.35 人
B.40 人
C.45 人
D.50 人

38.某小学派 10 人组队参加“头脑风暴”比赛。队中低年级 8 人，高年级 2 人，其中男女各 5 人，且高年级队员均为女生。已知比赛时每队派出 5 人参赛，其中女生不少于 3 人，高年级队员不超过 1 人，问一共有多少种上场方案？

- A.80
B.160
C.170
D.190

39.为响应绿色出行号召，小李决定步行上班。如果每分钟走 75 米，则提早 8 分钟到单位；如果每分钟走 55 米，则会迟到 2 分钟。小李希望提前 10 分钟到单位，他大约应该以每分钟多少米的速度行走？

- A.73
B.77
C.81
D.85

40.小王和小张用同样的速度，同时开始读数。小王：“1、3、5、7、9……”小张：“1002、997、992、987、982……”小王和小张同时读出的数是：

- A.257
B.287
C.317
D.357

41.某社区新建一个养老中心，规划建造单人间、双人间、三人间三类房间共 100 间，因实际需要，单人间在 10 至 30 间之间（包括 10 和 30），双人间的房间数是单人间的 2 倍。问该养老中心建成后最多可提供床位多少个？

- A.240
B.245
C.255
D.260

42.甲、乙、丙三人一起去超市买饮料，可乐 3 元/瓶，冰红茶 4 元/瓶，旺仔牛奶 6 元/瓶。已知甲的现金比乙的 2 倍少 12 元，乙的现金是丙的 1.5 倍，丙的现金比甲少 8 元。如果仅考虑以上 3 种饮料，且刚好用完三人所有的钱，则最多可以购买多少瓶饮料？

- A.11
B.12

C.13

D.14

43.某公司组织员工春游，每辆车坐 25 人，剩下 6 人没有上车，每辆车坐 28 人，最后一辆车只坐了 13 人，问每辆车坐 26 人，最后一辆车少坐了几个人？

A.1

B.2

C.3

D.4

44.甲、乙、丙、丁四人共 625 元。甲的钱数加上 4，等于乙的钱数减去 4，等于丙的钱数乘以四，等于丁的钱数除以 4。问甲有多少元钱？

A.24

B.96

C.104

D.125

45.某公司初创业第一轮引进投资 200 万元，投资者获得企业 20%的股份，第二轮引进投资 1 亿元，投资者获得企业 50%的股份，第三轮引进投资 15 亿元，此时第一轮投资者在企业中的股份占比下降到 4%。问从第二轮投资后到第三轮投资之后，企业估值增长多少亿元？

A.15

B.19

C.23

D.27

46.380 人投票从甲、乙、丙三个方案中选出一个。规定得票最多的方案当选。当投票人数达到 265 时，选择甲方案的人是丙方案的 3 倍，选择乙方案的人比丙方案多 10 人。假设每人都要投票，问接下来的投票中，没有选择丙方案的不超过多少票，丙方案一定能胜出？

A.6

B.7

C.8

D.9

47.勘探院为 6 名地质工作者采购户外防护设备。现有两种不同的防护装备，单价分别为 800 元和 2500 元。已知购买防护设备的总成本不能超过 1 万元，且如果有人购买 2500 元的防护设备，则小张必须包含在内。问共有多少种不同的防护设备配备方式？

A.不超过 10 种

B.11~20 种

C.21~35 种

D.超过 35 种

48.某公司需将 11 车相同的物料发往该公司在甲、乙、丙、丁和戊五个市下设的分公司。要求至少送往其中的 4 个市，每个市送整数车且不超过 3 车。有多少种不同的发放方式？

A.不到 100 种

B.100-200 种之间

C.201-400 种之间

D.超过 400 种

49.有甲、乙、丙三个煤仓，其中乙煤仓是空的。现从甲煤仓运输 20%的煤到乙煤仓，从丙煤仓运输 25%的煤到乙煤仓，乙煤仓再额外采购 120 吨煤，则 3 个煤仓的煤储量相同，问最初甲煤仓和丙煤仓共有多少吨煤？

A.744

B.764

C.784

D.804

50.从 A 地到 B 地，要先行 120 千米的下坡路，然后再行 80 千米的上坡路。最后行 150 千米的平路后到达。甲车从 A 地到 B 地，乙车从 B 地到 A 地。甲车在任何路上速度相同，乙车在平路上速度与甲车相同，上坡路和下坡路的速度分别是平路的 0.8 和 1.2 倍，则乙车用时比甲车：

A.少不到 2%

B.少 2%以上

C.多不到 2%

D.多 2%以上

※※※ 第二部分结束，请继续做第三部分！ ※※※

第三部分 判断推理

(共 20 题, 参考时限 20 分钟)

一、类比推理。每道题先给出一组相关的词, 要求你在备选答案中找出一组与之在逻辑关系上最为贴近、相似或匹配的词。

请开始答题:

51. 古董 : 收藏 : 收藏家

A. 武器 : 军人 : 军事家

B. 实验 : 研究 : 科学家

C. 杂志 : 出版 : 教育家

D. 运营 : 公司 : 企业家

52. 华南虎 : 猫科动物 : 哺乳动物

A. 聚丙烯 : 不锈钢 : 建筑材料

B. 小提琴 : 弦乐器 : 交响乐团

C. 初中生 : 毕业生 : 青少年

D. 战斗机 : 军用飞机 : 航空器

53. 飞鸟 : 翅膀 : 飞机

A. 斑马 : 线条 : 斑马线

B. 大象 : 象牙 : 象牙白

C. 蝙蝠 : 声波 : 雷达

D. 绵羊 : 羊毛 : 毛衣

54. 民意 对于 () 相当于 () 对于 军队

A. 百姓; 士兵

B. 国家; 士气

C. 民心; 军心

D. 民生; 军纪

55. () 对于 犹豫 相当于 笑里藏刀 对于 ()

A. 瞻前顾后; 阴险

B. 居心叵测; 情绪

C. 举棋不定; 恐惧

D. 侧目而视; 恶毒

56. 水滴 : 石穿

A. 千军 : 万马

B. 掩耳 : 盗铃

C. 买椟 : 还珠

D. 唇亡 : 齿寒

57. 仰慕 : 结交 : 断交

A. 复习 : 合格 : 补考

B. 逛街 : 购物 : 退货

C. 没电 : 充电 : 放电

D. 讨论 : 支持 : 反对

58.电影：艺术：剧本

A.考古学：历史：史料

B.知识：财富：书籍

C.云计算：技术：大数据

D.进化论：理论：实践

二、逻辑判断。每道题给出一段陈述，这段陈述被假设是正确的，不容置疑的。要求你根据这段陈述，选择一个答案。

请开始答题：

59.某办公室有若干名员工，现已知：有 6 名员工是近视眼，所有近视眼员工都戴眼镜，有 4 名员工是远视眼，该办公室有 13 名员工戴眼镜，同一名员工没有同时患有近视眼和远视眼。

由此可以推出：

A.有一部分员工是远视眼且戴眼镜

B.有一部分员工是远视眼但不戴眼镜

C.有一部分员工不是近视眼但也不是远视眼且不戴眼镜

D.有一部分员工不是近视眼也不是远视眼但戴眼镜

60.某大学的研究人员发现女性喝醉所需的酒精含量通常要比男性少 30 毫升。研究发现，在比自己平时的量多喝一杯（含 10 毫升酒精）之后，女性喝醉的可能性比男性高 13%。研究人员认为，女性的体重一般比男性低，体脂率也更高，这也意味着她们体内含水量更少，不容易将饮用的酒精稀释，所以她们的血液酒精含量也上升的很快。

如果以下各项为真，最能反驳研究人员观点的是：

A.有些女性喝醉所需的酒精含量比男性多

B.女性并不都比男性的体重低

C.人体解酒并不是依靠体内的水，而是酶

D.女性喝酒机会少，缺乏饮酒经验

61.如果你是长时间从事耐力运动的职业运动员，需要运动饮料补充糖分和电解质。但是，如果你是普通人，只是为了强身健体或者想要减肥控制体重，运动量一般不大，就没必要喝运动饮料了，普通饮用水即可。

如果以下各项为真，最能支持上述结论的是：

- A.运动员运动后还需要补充钾、钠等微量元素
- B.普通饮用水更能满足人体对水分的需求
- C.过多无法消耗的糖和电解质不利于人体健康
- D.很多身体健康的普通人运动后不爱喝运动饮料

62.在棉花糖实验中，研究人员将 1 颗棉花糖放在受试儿童面前，并且告诉他们如果能够在研究人员回来之前忍住不吃这颗糖棉花糖的话（研究人员会离开 15 分钟），就能得到第 2 颗棉花糖。如果他们吃了这颗棉花糖，就只能得到这 1 颗棉花糖了。大约 10 年后，研究者发现，小时候越能忍住不吃棉花糖的孩子，他们的学术能力评估测试成绩越高，问题行为越少。研究者因此得出结论：儿童的延迟满足能力与其之后的认知发展、社会性发展有关。

如果以下各项为真，最能反驳上述研究结论的是：

- A.能忍住不吃棉花糖的孩子本来就不喜欢吃
- B.能忍住不吃棉花糖的孩子家庭条件较好
- C.10 年后能忍住不吃棉花糖的孩子动手能力相对较弱
- D.10 年后那些吃了棉花糖的孩子经济水平更差

63.对于茎叶茂密的谷物，化学药物喷施效率低。实际利用率不超过 30%，并且越来越多的农药不仅“锻炼出”害虫的耐药性，还容易导致农作物药残超标。某农科院最新研究成果显示，赤眼蜂可以在钻心虫的虫卵上寄生并繁殖，可建立并扩大种群，始终保持对害虫的源头压制。同时，生物防治后农作物害虫数量可比农药防治少一半。因此，研究人员认为，生物防治全面代替农药防治指日可待。

如果以下各项为真，最能支持研究人员结论的是：

- A.生物防治技术已相对成熟，但面临成本高、门槛高等难题
- B.已有地方开始对农民进行生物防治原理的系统培训
- C.采用生物防治的玉米面积已有几十万亩之多，且效果突出
- D.生物防治代替农药防治可以维护农作物物种多样性

64.痛风是一种常见病，轻则关节肿痛，重则肢体坏死，严重影响患者日常生活。痛风是嘌呤代谢紊乱使尿酸浓度升高所致的疾病，尿酸钠晶体沉积于关节、动脉、骨间隙组织而引起的关节畸形及功能障碍。很多患者都知道痛风要忌口海鲜、啤酒和动物内脏等。但不少人认为，白酒能通经活络，喝白酒对治愈痛风有好处。

如果以下各项为真，最能质疑“不少人”观点的是：

- A.临床诊断证明啤酒抑制尿酸排泄，过量饮用容易引起痛风
- B.干红葡萄酒可减少尿酸产生，所以患者可以少量饮用红酒
- C.研究证明，白酒会导致乳酸升高，进而引起尿酸排泄减少
- D.临床诊断证明无论是红酒和白酒，过量饮用都会引起痛风

65.某研究小组利用小鼠开展了一项大规模实验。他们设计了30种不同的食物，其中脂肪、碳水化合物（糖）和蛋白质含量各不相同。研究人员分别用这些食物饲喂5种不同品系的小鼠3个月。实验总共采集了超过10万例小鼠体重变化和体脂数据。实验结果显示，饮食中的脂肪含量是导致小鼠肥胖的唯一因素，因此，研究人员认为，人类只有严格控制膳食中的脂肪含量，才能避免肥胖。

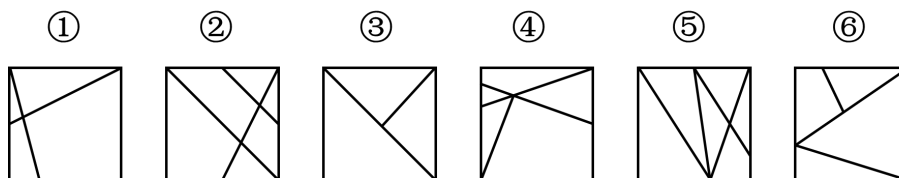
如果以下各项为真，最能支持研究人员观点的是：

- A.很多肥胖者严格控制吃甜食后体重没有下降
- B.类似的研究在其他动物实验中也得到过验证
- C.糖和脂肪的共同作用比脂肪单独作用更易增肥
- D.小鼠和人类在生理和代谢方面有很多共通之处

三、图形推理。请按每道题的答题要求作答。

请开始答题：

66.把下面的六个图形分为两类，使每一类都有各自的共同特征或规律，分类正确的一项是：



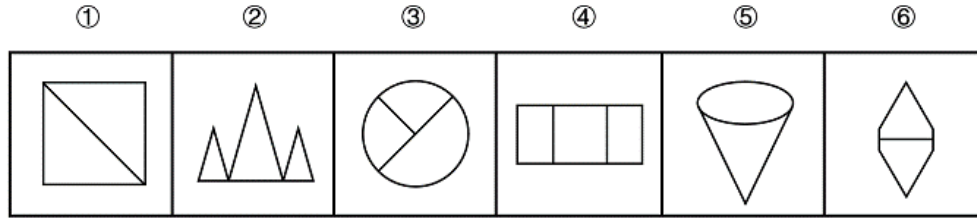
A.①②③, ④⑤⑥

B.①②⑤, ③④⑥

C.①②④, ③⑤⑥

D.①③⑥, ②④⑤

67.把下面的六个图形分为两类, 使每一类都有各自的共同特征或规律, 分类正确的一项是:



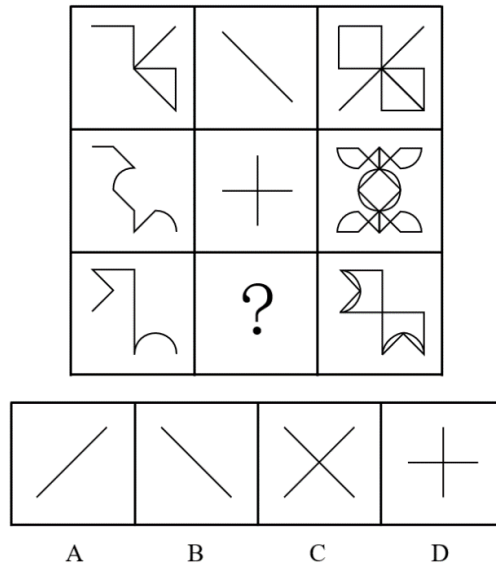
A.①②③, ④⑤⑥

B.①④⑥, ②③⑤

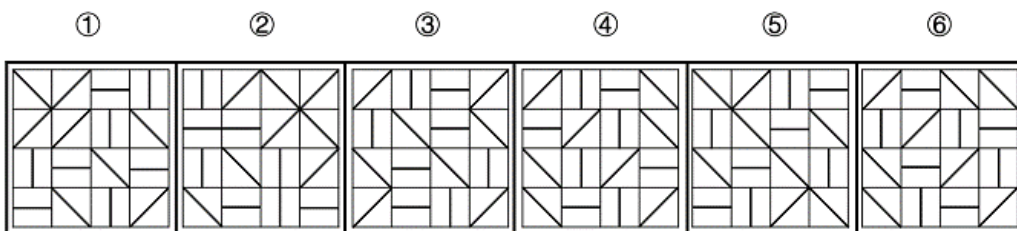
C.①③④, ②⑤⑥

D.①③⑥, ②④⑤

68.从所给的四个选项中, 选择最合适的一个填入问号处, 使之呈现一定的规律性:



69.把下面的六个图形分为两类, 使每一类都有各自的共同特征或规律, 分类正确的一项是:



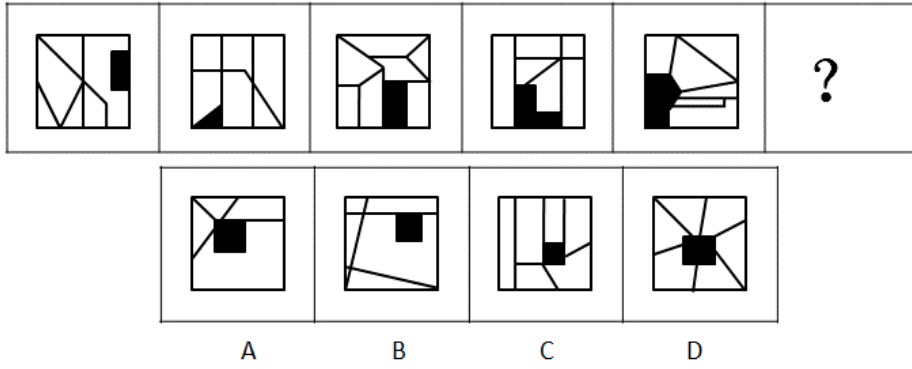
A.①③④, ②⑤⑥

B.①③⑤, ②④⑥

C.①②⑥, ③④⑤

D.①④⑥, ②③⑤

70.从所给的四个选项中，选择最合适的一个填入问号处，使之呈现一定的规律性：



※※※ 第三部分结束，请继续做第四部分！ ※※※

第四部分 常识判断

(共 15 题, 参考时限 10 分钟)

根据题目要求, 在四个选项中选出一个最恰当的答案。

请开始答题:

71. 下列与建国以来我国经济发展有关说法错误的是:

- A. 国民经济发展第一个五年计划始于上世纪 60 年代
- B. 中共十一届三中全会开启了我国改革开放历史新时期
- C. “西部大开发”中西部地区特指陕西、云南、重庆等 12 个省区市
- D. 目前我国已建成包括上海、天津、辽宁、湖北等多个自由贸易试验区

72. 下列科学家及其重大发现, 对应正确的是:

- A. 奥斯特——电磁感应
- B. 安培——电流磁效应
- C. 托里拆利——大气压强
- D. 伽利略——惯性定律

73. 下列文学流派对应正确的是:

- A. 黑色幽默——《第二十二条军规》《太阳照常升起》
- B. 批判现实主义——《人间喜剧》《丰乳肥臀》
- C. 浪漫主义——《西风颂》《唐璜》
- D. 魔幻现实主义——《百年孤独》《复活》

74. 越王勾践剑有“天下第一剑”的美称, 剑身身历经 2000 余年而不朽, 下列关于越王勾践剑千年不朽解释错误的是:

- A. 铸剑材料含铅量少
- B. 墓葬环境适合金属保存
- C. 工匠对剑身进行了硫化处理
- D. 剑鞘在一定程度隔绝了空气

75. 某社团欲征集代表性标语宣传儒家文化, 下列合适的是:

- A. 柔静处下, 随遇而安
- B. 人文化成, 止于至善
- C. 真心无始, 自性清净
- D. 无为自然, 万物齐同

76.下列文集不是按地名命名的是：

- A.《柳河东集》
- B.《孟襄阳集》
- C.《临川先生文集》
- D.《东坡先生文集》

77.“以人为本”是我国优良的政治思想传统和重要的思想资源。下列表述未体现“民本”的思维的是：

- A.民惟邦本，本固邦宁
- B.君命顺，则民有顺命
- C.凡治国之道，必先富民
- D.为政之道，以顺民心为本

78.宋人严羽曾这样评价两位唐代诗人的诗风：“【甲】不能为【乙】之飘逸，【乙】不能为【甲】之沉郁。”其中的甲、乙分别是：

- A.杜甫、李白
- B.李白、杜甫
- C.李商隐、杜牧
- D.杜牧、李商隐

79.下列展览主题与展览文物，对应正确的是：

- A.红山文化展——玉猪龙
- B.大汶口文化展——莲鹤青铜方壶
- C.仰韶文化展——绿松石耳坠
- D.三星堆文化展——骨耜

80.下列现象及其成因，对应错误的是：

- A.南方地区会有梅雨季节——受副热带高气压带控制
- B.南北寒带有极昼极夜现象——地球公转
- C.小明从中国坐飞机去美国后需要倒时差——地球自转
- D.秘鲁渔场水产资源非常丰富——上升补偿流

81.人有耳垂是一种显性性状，若一对夫妻都是有耳垂的，那么夫妻生育的龙凤胎：

- A.都是有耳垂的
- B.都没有耳垂的
- C.一个是有耳垂的，一个没有耳垂的
- D.以上都要可能

82.下列说法符合我国保密法相关规定的是：

- A.国家秘密在解密后可以对社会完全公开

- B.无法控制知悉范围的情形不得确定为国家秘密
- C.除另有规定外，绝密级国家秘密的保密期限不超过二十年
- D.国家保密行政管理部门负责规定国家秘密及其密级的具体范围

83.下列著名人物与其历史贡献对应错误的是：

- A.罗斯福——推行新政，克服经济大萧条
- B.戴高乐——二战时期领导自由法国政府抗击德国侵略
- C.曼德拉——促进终结种族隔离制度
- D.丘吉尔——战时领导英国并协调美苏等国作战

84.下列与地理有关的说法错误的是：

- A.星云是由星际空间的气体和尘埃结合成的云雾状天体
- B.地球的回归线与极点之间的区域是太阳无法直射到的
- C.上弦月出现在上半个月，位置在东半边的天空
- D.陨星是从星际空间降落到地球表面的大流星体

85.关于滑轮，下列说法正确的是：

- A.使用动滑轮时，滑轮轴的位置会随着被拉物体一起运动
- B.使用定滑轮可以实现省力效果，用很小的力就可以拉起很重的物体
- C.升国旗时拉绳子利用的是动滑轮的原理
- D.拉格朗日的《分析力学》首次分析了滑轮的动力学原理

※※※ **第四部分结束，请继续做第五部分！** ※※※

第五部分 资料分析

(共 15 题, 参考时限 15 分钟)

所给出的图、表、文字或综合性资料均有若干个问题要你回答。你应根据资料提供的信息进行分析、比较、计算和判断处理。

请开始答题:

2016 年我国课本类图书出版情况

课本	种数	同比 (%)	初版种数	同比 (%)	印数	同比 (%)	印张	同比 (%)	定价总额	同比 (%)
大专及以上	63258	1.5	21846	-4	31208	-2.6	5487193	-2.2	1113687	0.6
中专、技校	6580	-13.9	1836	-34.7	6698	-10.4	852523	-8.8	159364	-8.8
中学	6442	-6.3	806	-35.5	153076	-0.4	11921868	1.6	1243245	1
小学	5712	-8.6	956	-37	131365	-0.9	7240824	1.2	857361	-0.2
业余教育	3043	-15.9	1283	-19.1	2576	-26.2	409669	-20.9	100070	-23.2
扫盲	3				0.35		17		3	
教学用书	3963	-0.7	608	-21.4	2768	5.8	338692	-2.1	76637	-1.7

86.2016 年, 中小学课本初版种数占课本总数的比例约为:

- A.5% B.14%
C.28% D.44%

87.2016 年, 哪类课本初版种类占该类课本出版种数的比重最大?

- A.大专及以上 B.中专、技校
C.小学 D.业余教育

88.2016 年, 每册课本平均定价超过 30 元的课本类别有几个?

- A.1 B.2
C.3 D.4

89.2016 年, 印张数同比减少最多的课本类别是:

- A.大专及以上 B.中专、技校
C.业余教育 D.教学用书

90.关于 2016 年我国课本类图书出版情况, 下列说法与资料相符的是:

- A.初版种数同比减少最多的是小学课本

- B.业余教育课本平均每册定价低于 2015 年
- C.扫盲课本平均每册使用印张数超过 5 个印张
- D.种数同比降幅最大的课本类别印数同比降幅也最大

2017 年全国 18 个产茶省(区)茶园总面积 4588.7 万亩,比上年增加近 135 万亩。贵州,云南,四川,湖北,福建依次是茶园面积最大的五个省份。无性系良种茶园面积比例达 60.9%,有机茶园面积比例 7.5%。

2017 年全国茶产量为 260.9 万吨,比上年增加 16.9 万吨。产量超过 20 万吨的省份依次是福建、云南、贵州、四川、湖北,增产逾万吨的前四个省份分别是贵州、四川、湖北、浙江。总产值达到 1907.6 亿元,比上年增加 225.6 亿元。产值逾百亿元的前四个省份分别是贵州、福建、四川、浙江。

其中,名优茶产量 127.4 万吨,同比增长 6.8%;大宗茶产量 133.5 万吨,增长 7.0%。名优茶产值 1427.8 亿元,增长 10.42%,大宗茶产值 479.8 亿元,增长 23.3%。

2017 年乌龙茶每公斤茶价在 100 元左右,红茶价格每公斤 60 元及以下、每公斤 60—200 元的和每公斤 200 元以上销售比为 10:5:3, 上年这一比值为 5:2:1。黑茶(不含普洱)毛茶、普洱成品茶每公斤均价分别约为 28 元和 89 元。

茶类结构方面,绿茶产量约 162.21 万吨,同比增长 7.49%;红茶、黑茶(不含普洱)、白茶产量分别达到 32.35 万吨、22.44 万吨、2.77 万吨,分别增长约 8.60%、9.55%和 36.93%;乌龙茶产量约为 27.84 万吨,增长 2.66%。普洱茶产量约为 13.33 万吨,增长 2.54%。

2017 年,国内茶叶消费量达到 190 万吨,增幅为 4.40%;市场销售额达到 2353 亿元,增幅 9.54%。茶叶出口总量达 35.5 万吨,增幅 8.1%;出口额达 16.1 亿美元,增幅 8.7%。

91.2017 年,无性系良种茶园面积约比有机茶园多多少万亩?

- A.1450
- B.1780
- C.2450
- D.3010

92.2016 年,全国茶园平均每公斤茶叶价格约为多少元?

- A.60
- B.70
- C.80
- D.90

93.2017 年,名优茶平均每公斤价格约比大宗茶高多少元?

- A.60
C.80
- B.70
D.100
- 94.下列各类茶叶中，2017年产量同比增量最少的是？
- A.黑茶（不含普洱）
C.乌龙茶
- B.白茶
D.普洱茶

95.下列说法与资料相符的是：

- A.2017年，贵州省的茶叶产量和产值均为产茶省中最高
- B.2017年，全国名优茶的产量、产值的同比增幅均小于大宗茶
- C.2017年，200元/公斤以上的红茶销量占红茶总销量的比例小于上年
- D.2017年，全国茶叶出口平均每公斤价格超过5美元

截至2017年年末，J市城市商业综合体为3家，经营商户数为889户，全年可出租面积123124平方米，车位数481个，全年总客流量1457万人次，实现营业收入14.1亿元，城市商业综合体零售内零售业、餐饮业、服务业商户从业人员期末人数分别为3143人、499人和251人，全年实现营业收入12.7亿元、0.7亿元和0.5亿元。

2015—2017年J市城市商业综合体自营、联营商户经营情况

		商户数 (个数)	期末从业 人员(人)	营业额 (万元)	营业面积 (平方米)
2015	全部	790	2588	86264	94384
	自营、联营	688	1947	82618	66828
2016	全部	869	3573	97585	120043
	自营、联营	621	2030	70133	54931
2017	全部	889	3893	141079	117317
	自营、联营	621	2180	99885	53202

2017年J市城市商业综合体商户分布

	自营、联营(个)	租赁(个)
合计	621	268
其中：零售业	588	149
其中：百货店	0	1
超市	2	1
专卖店	586	147
餐饮业	32	90
服务业	1	29
其中：电影院	0	2
游乐游艺	1	8
KTV	0	1
健身休闲	0	9
生活服务	0	9

96.2017 年末，J 市城市商业综合体平均每人次客流带来多少元营业额？

- A.不到 50
B.50—100 元之间
C.100—500 元之间
D.超过 500 元

97.2017 年末，J 市城市商业综合体平均每个租赁商户的营业面积约是自营、联营商户的多少倍？

- A.1.5
B.2.8
C.5.1
D.9.4

98.2017 年，租赁商户营业额占 J 市城市商业综合体总营业额的比重比 2015 年：

- A.高 15 个百分点以内
B.高 15 个百分点以上
C.低 15 个百分点以内
D.低 15 个百分点以上

99.将 J 市城市商业综合体内 3 类商户按照 2017 年末平均每家商户的从业人数从高到底排序，正确的是：

- A.服务业、零售业、餐饮业
B.零售业、餐饮业、服务业
C.服务业、餐饮业、零售业
D.餐饮业、零售业、服务业

100.关于 J 市城市商业综合体内商户经营情况，能够从上述资料中推出的是：

- A.2017 年底营业面积占可出租面积的 98%以上
B.2017 年底平均每家自营、联营商户的从业人数少于 2015 年底
C.2017 年底专卖店中的自营、联营商户占比高于零售业商户中自营、联营商户占比
D.2016 年的自营、联营商户营业面积占总营业面积的比重高于 2015 年底

※※※ 全部测验到此结束！ ※※※