



华图教育
HUATU.COM

版权所有
复制必究

2018年5月12日浙江省事业单位联考
《职业能力倾向测验》

重要提示：

为维护您的个人权益，确保考试的公平公正，请您协助我们监督考试实施工作。

本场考试规定：监考老师要向本考场全体考生展示题本密封情况，并邀请2名考生代表验封签字后，方能开启试卷袋。

（仅限浙江华图内部教学使用！）

条
形
码

请将此条形码揭下，
贴在答题卡指定位置。

准考证号

姓名

注意事项

1. 此项测验 100 道题，总时限 90 分钟。各部分不分别计时。
2. 请按照要求在答题卡上填写好自己的姓名，涂写好准考证号，严禁折叠答题卡。
3. 必须在答题卡上答题；在题本上答题，一律无效。
4. 监考人员宣布考试开始时，方可答题，宣布考试结束时，应立即停止答题。题本、答题卡、草稿纸一律留在桌上，待监考人员确认数量无误，允许离开后，方可离开考场。如果你违反了以上任何一项要求，都将影响你的成绩。
5. 在这项测验中，可能有些试题较难，因此你不要在一道题上思考时间太久，遇到不会答的题目可先跳过去，如果有时间再去思考，否则，你可能没有时间完成后面的题目。
6. 试题答错不倒扣分。

停！请不要往下翻！听候监考老师的指示。
否则，会影响你的成绩。

4.对于一些分布范围已经非常狭窄的海洋动物来说环境的巨变或许会让灭绝在瞬间到来,它所留下的遗传密码会永久消失,只留下一个_____的文学拉丁名供后人凭吊,甚至受限于今天极为有限的探测手段,有些动物来不及被人类认识就已经_____,而它们的缺位会给海洋生态怎样的影响,也将成为永久的谜团。

依次填入划横线部分最恰当的一项是:

- A.昙花一现 杳无音信
B.吉光片羽 灰飞烟灭
C.茕茕孑立 无影无踪
D.佶屈聱牙 销声匿迹

5.各个领域的中国产品,质量正在不断升级,从深圳华强北“山寨王国”_____为创客孵化中心、高端制造中心,到中关村传统电子卖场化身科技创新、金融服务写字楼,这些力量_____到一起,必定能让自主创新成为中国制造的新主流。

依次填入划横线部分最恰当的一项是:

- A.转型 集结
B.涅槃 汇集
C.改造 聚拢
D.拓展 融合

6.“一带一路”倡议的重点省份应发掘自身独特的文化资源,_____自身的地缘优势,在开放包容、互利互惠的框架下,对“一带一路”近邻的文化需求进行研究,根据不同情况_____文化合作政策。

依次填入划横线部分最恰当的一项是:

- A.借助 完善
B.发挥 商讨
C.利用 制定
D.挖掘 研究

7.自动驾驶、智能汽车的出现,让原本在汽车领域并不_____的互联网企业,有了更多的用武之地。百度、阿里和腾讯,甚至京东,都已经全部入场,在汽车产业变革的赛道上,再一次_____。

依次填入横线处的词语最恰当的一项是:

- A.擅长 不期而遇
B.领先 兵戎相见
C.活跃 狭路相逢
D.积极 跃跃欲试

8.虎鲸是当之无愧的顶级猎手,它们的猎物是所有鲸豚中最_____的,包括各种鱼类、头足类、鳍脚类、鲸豚类、海龟甚至还包括海鸟,它们几乎能够猎杀一切。但它们的食谱会

因种群和生活海域不同而有差异，每个种群都有着自己_____的食物结构，而且会遗传给下一代。

依次填入横线处的词语最恰当的一项是：

- A.广泛 稳固
B.多样 固定
C.全面 独特
D.丰富 稳定

9.护照带来的尴尬折射出了一个重要的问题：我们还不知道该怎么_____电子世界和现实世界。虽然护照里已经出现了电子元素，但属于实体的部分依然_____。也许我们还需要很长一段时间才能彻底摆脱实体的身份证明。

依次填入横线处的词语最恰当的一项是：

- A.连接 挥之不去
B.结合 举足轻重
C.对接 不可或缺
D.协调 必不可少

10.黑洞最大的特点，顾名思义，就是黑，（如果不考虑量子效应）我们是无法看到黑洞的。除去黑洞的“三根毛”，即质量、角动量和电荷，黑洞_____了其他一切物质的信息，只是纯粹引力的一种具现。_____在大部分情况下，双黑洞的并合是不会有任

依次填入横线处的词语最恰当的一项是：

- A.淹没 当然
B.掩盖 但是
C.吞噬 而且
D.摧毁 因而

11.在过去的官场文化中，不乏有将官员粗话、霸气之言当个性的传统。这其实是“人治”的政治的某种历史遗留，与现代政治_____。不少事件中爆粗口的官员都因舆论压力而被谴责，但终究未能有效阻止后来者_____。这说明，对待官员的“言语”问题，不能就个案予以纠偏。从制度上实现对权力的有效驯服，才是根治各种官员粗话、脏话和暴脾气的根本之途。

依次填入横线处的词语最恰当的一项是：

- A.格格不入 重蹈覆辙
B.南辕北辙 左顾右盼
C.背道而驰 前赴后继
D.水火不容 望而却步

12.网瘾并非互联网本身具有缺陷，一方面是由于孩子本身的心理问题，另一方面，是父母在家庭教育中的失策和缺位。也就是说，正是由于心理上的_____，才导致孩子沉溺

C.④②③⑤①⑥

D.⑤④①⑥③②

15.鉴于制造业重心的转移由跨国公司主导，且相关经济利益均由发达国家获得，因此，发达国家应该更多承担这部分额外排放的减排责任，通过技术转移，扩大在发展中国家的低碳技术研发和应用投资等手段，使得从事制造业生产特别是低端制造业生产的发展中国家能够应用更高效能、更低碳的生产技术，以减缓温室气体排放增速，控制气候变暖效应，实现全球可持续发展。

这段文字意在说明：

- A.跨国公司是产业转移的幕后推手
- B.发达国家应当承担主要的减排责任
- C.发展中国家迫切需要技术援助
- D.可持续发展应当成为全世界的共同选择

16.新中国成立后的很长时间内，海军建设的策略是空、潜、快，有远洋运动能力的主要是潜艇，水面舰艇的战斗力的基本局限在近海。即便是2009年第四次海上阅兵，仍然没有航母，没有强大区域防空能力的驱护舰，能够进行远洋活动且有一定战力的舰艇很少。如今，局面已发生了显著变化，中国的航母战斗群、052D导弹驱逐舰、054A护卫舰、空中编队等已经形成规模、形成体系，中国真正做到了可以在远洋有所作为，开启了“蓝水海军”时代。

这段文字意在强调：

- A.应将近海远洋同步发展作为海军的建设重点
- B.海军正逐渐壮大全新的远洋作战能力
- C.近年来海军体系化建设取得令人瞩目的成就
- D.基于航母的集群战是海军远洋作战的基础

17.这些年来，“礼让斑马线”里的一个“礼”字，活生生把法律义务降格成了道德责任。好像在斑马线面前，机动车踩不踩刹车都是很自由的事情。殊不知，斑马线前减速慢行并非高级的道德责任，而是基本的法律义务。根据《道路交通安全法》，机动车行经斑马线时应当减速行驶，遇行人正在通行时应当停车让行。驾照考了，常识学了，有时候在斑马线面前，却成了“谁牛谁先过”。

下列说法不符合作者本意的是：

- A.“礼让斑马线”的说法容易让人产生误解

- B.斑马线让行是法律义务而不仅仅是道德责任
- C.每个机动车司机遇到行人过马路都应让行
- D.斑马线让行的实际执行情况还不容乐观

18.在早期互联网阶段，只要有一根网线，无论大城市里的白领还是山村里的孩童，都能在网上浏览需要的信息，唯一的不同是接受信息的能力和搜索信息的手段。而随着网络社群的分化和信息的深度化，人们已不会再对浅层的、免费的网络信息动心，只有那些隐藏在表象之下的信息，才是更有价值的。因此，网络上的知识付费和信息共享，这两种模式在未来都会长期存在，而且相互交融，或许只有时间能逐渐抹平信息鸿沟制造的差异，让更多人享受到信息革命带来的福利。

这段文字意在强调：

- A.信息革命需兼顾不同阶层人群的需求
- B.互联网时代信息鸿沟不可避免且长期存在
- C.网络资源的丰富提高了人们对信息质量的要求
- D.网络技术的革新拉大了不同人群间的信息鸿沟

19.科学研究表明，从简单的生命形式进化到人类的道路绝不是一条坦途，人类是一系列生物学上偶发因素的产物。纵观宇宙，我们也没有理由自诩为空前绝后或最理想的生物。我们所在的银河系包含的恒星约 2000 亿至 4000 亿颗，其中与太阳极其相似的恒星至少有 14 亿颗到 24 亿颗。生命既然可以“偶发”于地球，那么也非常有可能“偶发”于银河系至少上万颗行星中。

这段文字意在表明：

- A.人类诞生充满了偶然性
- B.人类相比其他物种而言没有实质性差别
- C.银河系存在着数量众多的类地行星
- D.宇宙中存在地外生命的可能性非常大

20.要是月饼安全出现了问题，流通环节也要负连带责任——新修订的《食品安全法》特别规定了在流通中各个环节参与者的民事连带责任。因此，无论是商场、酒楼，还是西饼店，月饼销售者都要绷紧安全这根弦。坚持不销售无厂名、无厂址、无保质期和来源不明的

月饼，不以裸装、散装和篡改保质期等方式经营超过保质期的月饼，更不要对月饼进行夸大宣传、虚假宣传。

这段文字意在强调：

- A.《食品安全法》加强了食品流通环节的有关法律责任
- B.月饼流通环节的各方主体应当重视食品安全问题
- C.月饼行业存在诸多销售乱象不利于市场发展
- D.销售者在购买月饼时要学会辨别真伪理性消费

21.在上一次冰期，牛奶对成年人来说基本上是一毒物。与孩子不同，成年人不能产生分解乳糖所必需的乳糖酶。但在大约 1.1 万年前，随着农业开始取代中东地区的狩猎采集，养殖奶牛的人们懂得了怎样通过发酵牛奶制作奶酪和酸奶，从而把奶制品中的乳糖含量降到可耐受程度。又过了好几千年，一种基因变异在欧洲传播开，它给予了人们产生乳糖酶的能力，人们由此_____。

填入划线处最合适的是：

- A.可以一生喝牛奶
- B.进入了西方文明时代
- C.发生了体格上的巨大变化
- D.把牛奶作为重要的食物

22.对于一个发育中的西瓜来说，种子是吸引糖分积累的原始动机，胎座里丰富的输导组织是将糖分运进西瓜的通道，正所谓_____，这就不难理解为什么胎座及附近组织糖分最多了。

填入划线处最合适的是：

- A.“近朱者赤，近墨者黑”
- B.“近水楼台先得月”
- C.“种瓜得瓜，种豆得豆”
- D.“顺藤摸瓜，顺水求源”

23.1985 年“百万大裁军”对应的时代背景，是改革开放初期的中国经济基础还比较薄弱，不足以供养一支规模巨大、功能单一的常规型武装；而本次军改启动之际，中国经济的崛起已经使国家的各项利益延伸和扩展到了全世界，这反过来要求我们提升解放军的战斗力，以保障和平崛起的成果。近年来中国海军的发展相当引人注目，第一艘国产航空母舰已经开工，就是为了匹配中国的人员、物流、资金流延伸到全世界的现状。在经济发展迅速的情况下，假如国防能力的提升不能跟上，假如军队改革继续滞后，一时的经济繁荣也将是脆弱的。

这段文字意在强调：

- A.两次军队改革是不同的经济形势推动的结果
- B.着力加强军队战斗力是军队改革的主要目标
- C.新时代的背景对建立强有力的军队提出新要求
- D.提升国防能力是保护和发展经济成果的保障

24.比如，战后百废待兴，社会对蓝领工人、白领工人、技术员、经济学家等有很现实
的强大需求，这让奇幻题材几无容身之地——家长们倾向于按照经济社会需求的角色模版来
塑造、教育自己的孩子，文学界也乐于提供这样的题材故事。他还举了中国的例子，政府现
在特别鼓励科幻小说，包括电影也放开了对科幻题材的限制，背后的原因是政府发现中国现
在太缺少杰出的原创性人才，而鼓励科幻会有助于想象力和创造力。

这段文字的主要意思是：

- A.文学在很大程度上受经济的牵制
- B.奇幻题材不适应现实的需求
- C.文学题材总是迎合大众的偏好
- D.作家不应该受流派和题材的限制

25.世贸组织代表的多边贸易体制和自由贸易区代表的区域贸易安排，是驱动经济全球
化发展的两个“轮子”。世贸组织有 160 多个成员，涵盖全球 98%的贸易额，具有广泛代表
性。世贸组织规则是经济全球化的重要制度保障，符合世界各国的共同利益。进入新世纪以
来，多边贸易体制发展进程受阻，开放水平更高、灵活性更强的区域贸易安排蓬勃发展，成
为驱动经济全球化的主引擎。要积极参与全球治理体系改革和建设，支持多边贸易体制，促
进自由贸易区建设，推动建设开放型世界经济。_____。

填入划线处最合适的是：

- A.是做开放型世界经济的建设者和贡献者的必然要求
- B.这既是拓展自身开放空间的需要，也体现了维护国际经济秩序的责任担当
- C.体现了一个大国应有的勇气
- D.将促进我国经济和世界经济交流的频率和密度

※※※ 第一部分结束，请继续做第二部分！ ※※※

第二部分 数量关系

(共 25 题, 参考时限 25 分钟)

在这部分试题中, 每道题呈现一段表述数字关系的文字, 要求你迅速、准确地计算出答案。

请开始答题:

26. 16, 23, 34, 40, 52, 57, (), 74

- A. 62
B. 65
C. 70
D. 72

27. 12, 13, 25, 50, 88, 163, ()

- A. 251
B. 301
C. 326
D. 329

28. 342, 215, 124, 63, 26, ()

- A. 7
B. 8
C. 9
D. 10

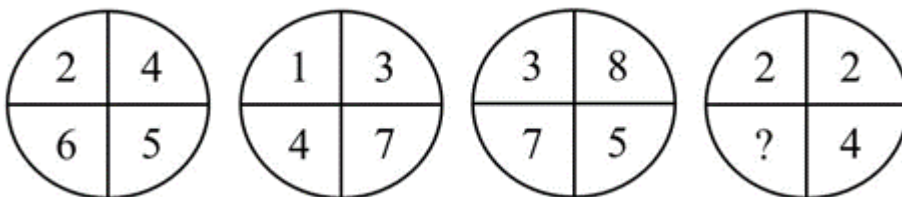
29. 38, 16, 30, 1, 29.5, ()

- A. 14.75
B. 13.75
C. -13.75
D. -14.75

30. 82, 73, 64, 54, 44, 33, 22, (), -2

- A. 10
B. 11
C. 12
D. 13

31. 从四个选项中选出你认为问号应该代表的数字:



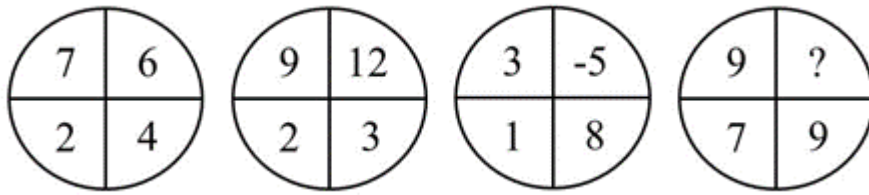
A. 3

B. 4

C.5

D.6

32.从四个选项中选出你认为问号应该代表的数字:



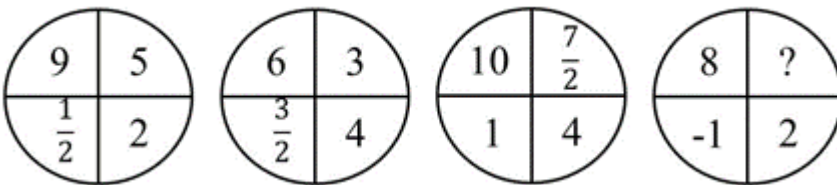
A.0

B.1

C.2

D.3

33.从四个选项中选出你认为问号应该代表的数字:



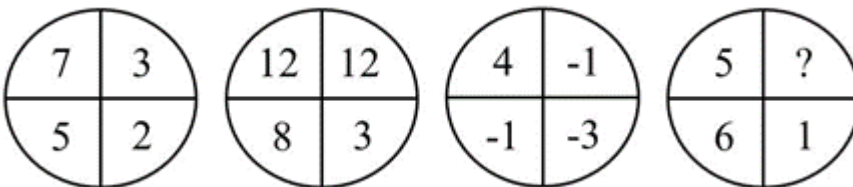
A.3

B.4

C.5

D.6

34.从四个选项中选出你认为问号应该代表的数字:



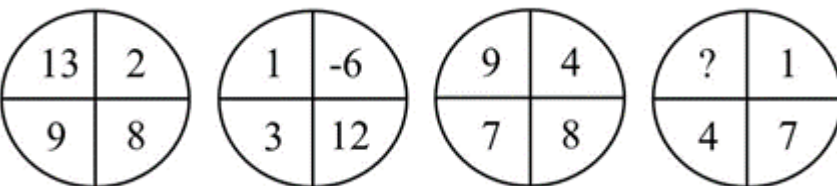
A.0

B.1

C.2

D.3

35.从四个选项中选出你认为问号应该代表的数字:



A.7

B.9

C.11

D.13

36.小张和小马分别从甲、乙两地同时出发，相向而行，出发时他们的速度之比是 5 : 3，第一次相遇后，小张的速度提高了 20%，小马的速度提高了 50%，这样，当小张到达乙地时，小马离甲地还有 11 千米，那么甲、乙两地的距离是多少？

- A.20 千米
B.24 千米
C.32 千米
D.40 千米

37.哥哥现在的年龄是妹妹当年年龄的 4 倍，哥哥当年的年龄是妹妹现在年龄的 1.5 倍，现在哥哥与妹妹的年龄和为 30 岁，则哥哥现在的年龄是多少岁？

- A.18
B.20
C.22
D.24

38.某工地现有一定存量的砖，且每天供应量相等。若每天消耗 27 万块砖，则 6 天全部用完；若每天消耗 24 万块，则 9 天全部用完。若每天消耗 20 万块，问工地上的砖可以用多少天？

- A.12
B.15
C.24
D.27

39.某职工餐厅有主食 3 种、热菜 4 种、凉菜 3 种，若每个职工均打 1 种主食、1 种热菜和 1 种凉菜，问至少有多少个职工在餐厅用餐，就会有 2 人的用餐组合是一样的？

- A.36
B.37
C.72
D.73

40.某市政协组织 9 名政协委员调研农民工子弟小学教学情况。调研结束合影前有 3 名委员因紧急工作已经离开，学校决定安排 3 名小学生代表与委员一起坐在前排。现要求每位小学生的两边都坐着政协委员，一共有 () 种不同的方式。

- A.7200
B.29600
C.43200
D.362880

41.某单位举办知识竞赛，题目涉及文化、历史、社会、地理、自然、科技、经济、医学、艺术、体育等 10 个领域，每位选手将从这 10 个领域中随机抽取 7 个领域答。问选手抽到的题中既没有自然题又没有艺术题的概率是多少？

- A.1/10
B.1/15
C.1/2
D.1/25

42.商场以 120 元/套的价格购进了 N 套某款服装，又以 135 元/套的价格购进了 2N 套，商场以定价售完 1.5N 套后，以定价的七折又销售了 N 套，最后以定价四折售完剩余所有服装，利润总计为 330N 元。问最初定价是多少元？

- A.200
B.240
C.280
D.300

43.甲、乙两人在 400 米的环形跑道上同时从 A 点出发逆时针方向跑步，同时丙从 A 点出发顺时针方向散步，丙第一次遇到甲后又用时 20 秒遇到乙，再过 100 秒后第二次遇到乙。假设甲、乙、丙均匀速前进，且丙的速度是甲、乙速度之差的 $\frac{1}{2}$ ，问丙的速度是多少？

- A.0.5 米/秒
B.0.8 米/秒
C.1.0 米/秒
D.1.2 米/秒

44.某单位有男员工 15 人，女员工 10 人，周一到周日每天晚上安排一名男员工值班，15 人轮流；周六、周日白天每天安排一名女员工值班，10 人轮流。A 男和 B 女恰好分别安排在 7 月 5 日值班，若不考虑调休，则下一次两人被安排在同一天值班是：

- A.9 月 15 日
B.10 月 18 日
C.11 月 21 日
D.12 月 2 日

45.某公司生产了两个级别的同一种产品，一级品比二级品每个贵 200 元，3 个一级品和 4 个二级品的价格相等。问 9600 元可以买多少个二级品？

- A.12
B.16
C.20
D.24

46.某放映厅有 80 名观众观看电影，已知有 5 名未成年人，观众中年龄最大的 69 岁，问至少存在多少名观众，他们的年龄与在场另外的某一人年龄相同？

- A.23
B.24
C.25
D.26

47.老王的年龄比小李的 2 倍多 6 岁，老王 20 年前的年龄和小李 9 年后的年龄相等。问老王多少岁？

- A.52
B.53
C.54
D.55

48.商店以每双 15 元的价格购进一批拖鞋，售价为 18 元，卖到还剩 8 双时，除去购进这批拖鞋的全部成本外还获利 120 元。问商店共购进拖鞋多少双？

A.80

B.86

C.88

D.90

49.甲、乙二人同时从 A 地出发去 B 地，甲每分钟走 270 米，乙每分钟走 90 米。甲到达 B 地后立即返回 A 地，在离 B 地 4.8 千米处与乙相遇。A、B 两地的距离是多少千米？

A.5.6

B.6.8

C.7.2

D.9.6

50.用 0, 2, 5, 6, 7 五个数字组成没有重复数字的三位数，其中偶数的数量比奇数多多少个？

A.12

B.14

C.16

D.18

※※※ 第二部分结束，请继续做第三部分！ ※※※

第三部分 判断推理

(共 20 题, 参考时限 20 分钟)

一、类比推理。每道题先给出一组相关的词, 要求你在备选答案中找出一组与之在逻辑关系上最为贴近、相似或匹配的词。

请开始答题:

51. 西游记: 小说: 牛魔王

A. 新闻稿: 文体: 正文

B. 安魂曲: 乐曲: 莫扎特

C. 雷雨: 戏剧: 周朴园

D. 最后的晚餐: 绘画: 耶路撒冷

52. 眼镜: 看书

A. 计算器: 加法

B. 扶手: 下楼

C. 地图: 上班

D. 窗户: 保温

53. 购物: 超市: 商场

A. 运动: 室内: 室外

B. 材料: 纸质版: 电子版

C. 订餐: 食堂: 饭店

D. 驾车: 高速路: 步行街

54. 化险为夷: 善始善终

A. 翻山越岭: 志同道合

B. 高瞻远瞩: 左顾右盼

C. 颠倒是非: 无足轻重

D. 舍近求远: 弄假成真

55. 路: 公路: 心路

A. 机: 机械: 机敏

B. 水: 河水: 风水

C. 土: 泥土: 领土

D. 菜: 蔬菜: 小菜

56. 桃花: 花蕊

A. 骏马: 鬃毛

B. 吉他: 琴弦

C. 长城: 城砖

D. 轿车: 钢铁

57. 流水: 流水线

A. 风向: 风向标

B. 车轮: 车轮战

C. 墙头: 墙头草

D. 里程: 里程碑

58.阻燃剂：灭火器

A.抽油烟机：洗洁精

B.吸尘器：防尘布

C.防火墙：杀毒软件

D.肥皂：洗衣粉

二、逻辑判断。每道题给出一段陈述，这段陈述被假设是正确的，不容置疑的。要求你根据这段陈述，选择一个答案。

请开始答题：

59.科学家认为，在全球气候变暖的趋势下，随着空气和海水温度的上升，帝企鹅生活的海冰将会逐渐融化，虽然帝企鹅可能会迁移到新的适宜居住的地方，但不能确定它们能否及时适应新栖息地环境的改变，因而帝企鹅数量减少的趋势是难以避免的。

以下哪项如果为真，最能支持上述论证？

A.帝企鹅的迁移可能会影响新栖息地其他物种的生存

B.海冰是乌贼、鱼类和磷虾等帝企鹅主要食物的躲藏处

C.有研究表明海冰融化已导致地球上 19 种企鹅面临灭绝危险

D.因为冬季敌害相对较少，帝企鹅常在严寒的冬季才能繁殖后代

60.青少年沉迷于智能手机，正在损害他们的精神健康。智能手机便利的虚拟社交可能阻碍甚至替代青少年现实生活中的面对面互动等健康行为，沉迷智能手机的青少年容易导致缺乏同情心，甚至失去建立正常人际关系的能力。因此，人们担心沉迷智能手机的社交媒体会让青少年在现实中更加孤立。

以下哪项如果为真，最能削弱人们的担心？

A.人们也可以通过社交媒体及时了解周围发生的新鲜事

B.一些本来就不擅长沟通的人在现实中直接互动更有压力

C.随着沟通平台越来越可视化，虚拟社交会让人更有真实感

D.青少年在手机媒体上联系的主要就是那些他们面对面互动的人

61.国外某研究团队通过对 27 个国家超过 73000 人进行采访发现,成长在藏书 500 本左右的家庭里的孩子,会比没有藏书的类似家庭里的孩子平均多受 3.2 年的教育,而且这些孩子完成大学学业的可能性要比家中无藏书的孩子多出 19 个百分点。这种效应的强度因国而异,

在中国这个数字则为 6.6 年,差不多是平均数据的 2 倍。因此,家庭的藏书丰富有利于孩子的学业进步。

以下哪项如果为真,最能支持这一结论?

- A.研究发现藏书少的家庭在艺术、体育等方面更为出色
- B.那些爱去图书馆读书的孩子往往知识面很广,而且更能自觉学习
- C.长期浸染于藏书家庭氛围的孩子入学后往往对学习更有兴趣
- D.在父母受教育程度不高的家庭,家中藏书多少对孩子影响更明显

62.研究发现,中年之后开始学习演奏乐器,可以在很短时间内就令听力显著改善。此外,聆听和演奏乐曲需要调动多个大脑系统协作,这也有助于帮助因衰老和疾病受损的大脑恢复和保持功能。因此,学习演奏乐器可以预防衰老。

以下哪项如果为真,最能支持这一论证?

- A.诺贝尔奖获得者中有相当一部分人同时也是音乐家
- B.演奏乐器的乐趣和克服困难的学习经历让人更有成就感
- C.很多少年时学会一门乐器的人年老之后仍然思维反应敏捷
- D.练习合奏时,为使演奏合拍需要与其他人多交流和互相理解

63.研究者利用美国自然历史博物馆收藏的化石,测量了 63 种已经灭绝的鲸头骨(可作为衡量鲸体型大小的指标),他们将测量结果和现存的鲸进行了分析对比,结果表明,鲸的体长随机变化了约 3000 万年,随后在距今 450 万年到几十万年前的一段时间里,一跃增加到 10 米以上。这段时间跨越了上新世和更新世时期。他们据此认为,鲸的体型是在上新世—更新世开始变大的。

以下哪项如果为真,最能削弱研究者的观点?

- A.鲸的头骨大小并不是衡量鲸体型大小最主要的指标
- B.研究涉及的 3000 万年中鲸的体长也曾经稳定增长过一段时间
- C.关于上新世—更新世的鲸的化石记录文献极其缺乏,无法佐证
- D.鲸体型增长是为了对抗巨齿鲨,而后者在约 700 万年前就已存在

64.某班级数学期末考试中,参加过某课外辅导班的学生成绩要明显优于没有参加该课外辅导班的学生,所以该数学课外辅导班的效果非常好。

以下哪项如果为真,最能削弱上述论证?

- A.该班级没有参加该数学课外辅导班的同学有的参加了其他的辅导班
- B.该数学课外辅导班的教师都经过专业培训
- C.该数学课外辅导班的教学理念比较先进
- D.该数学课外辅导班只招收成绩非常优秀的学生

65.某长途汽车对乘客免费提供三餐，这实际上是吸引乘客的一种经营策略，并没有实际让利，因为当某天的乘客满员率超过 95%时，就免费提供两餐，而即使在春运期间乘客满员率也很少超过 95%。有座位空着，何不通过免费提供三餐进行促销呢？

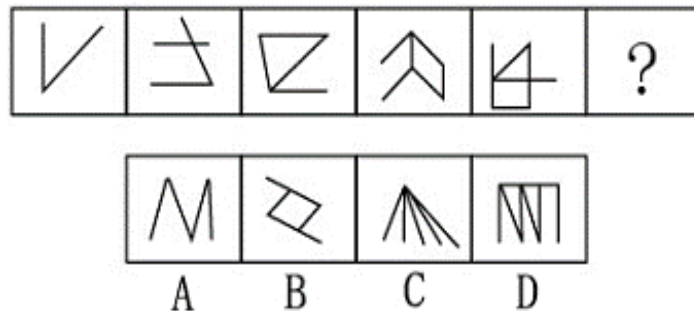
以下哪项如果为真，最能削弱上述论述？

- A.该长途汽车在免费提供三餐的同时，繁忙季节调高票价
- B.该长途汽车全年的平均满员率为 60%
- C.绝大多数乘客并不是因为免费提供三餐才选择乘坐该长途汽车
- D.乘坐该长途汽车的乘客相对较固定

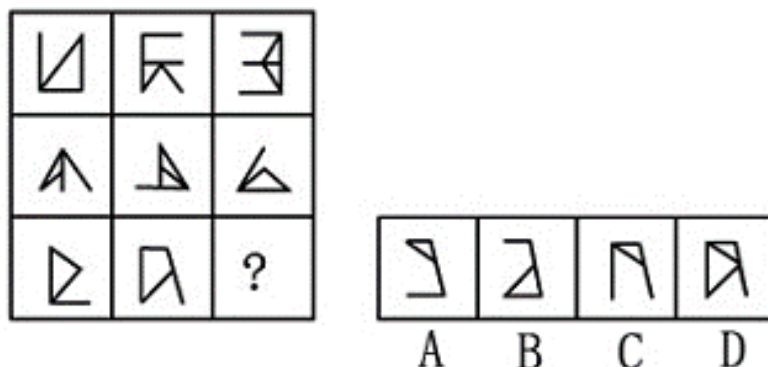
三、图形推理。请按每道题的答题要求作答。

请开始答题：

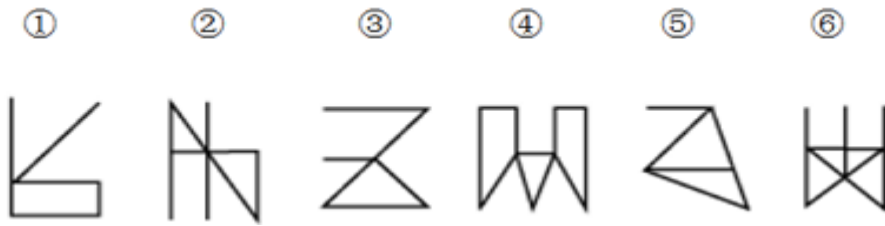
66.从所给的四个选项中，选出一个填入问号处，使之呈现一定的规律性。



67.从所给的四个选项中，选出一个填入问号处，使之呈现一定的规律性。

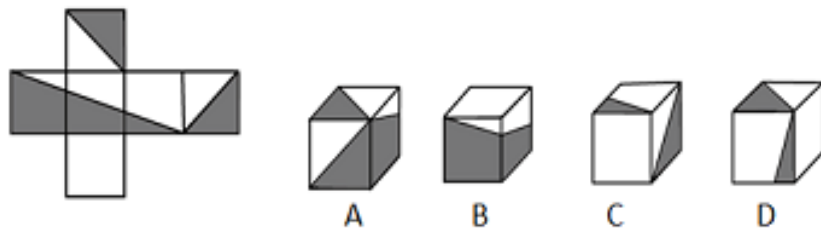


68.把下面的六个图形分为两类，使每一类都有各自的共同特征或规律，分类正确的一项是：

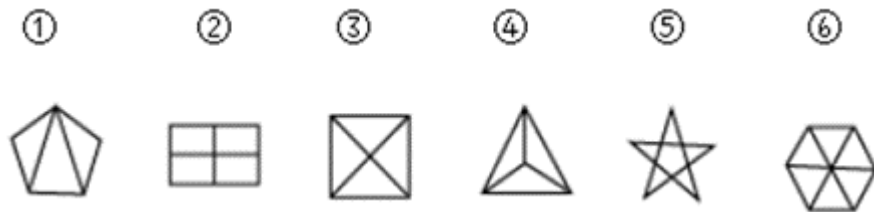


- A.①②③, ④⑤⑥
 B.①②⑤, ③④⑥
 C.①③④, ②⑤⑥
 D.①③⑥, ②④⑤

69.下列立体图中能由左侧展开图折成的是？



70.将以下哪两个图交换位置后，所形成的图形序列呈现出一定的规律性？



- A.①与②
 B.②与③
 C.③与④
 D.④与⑤

※※※ 第三部分结束，请继续做第四部分！ ※※※

第四部分 常识判断

(共 15 题, 参考时限 10 分钟)

根据题目要求, 在四个选项中选出一个最恰当的答案。

请开始答题:

71. 下列现象能证明地球是一个球体的是:

- ①日月的东升西落
- ②陆地上旅行的人, 向北走, 一些星星会在南方的地平线上消失
- ③人爬山时, 爬得越高, 看到的地平面越大
- ④一直向同一方向航行的船最终回到原地

A. ①②③④

B. ②③④

C. ①④

D. ③④

72. 下列关于地震的说法, 正确的是:

- A. 世界上大部分地震属于坍塌地震
- B. 震中是地震的发源地
- C. 地震前地下水会发生异常
- D. 地震和火山的分布特点不同

73. 下列诗句反映了分子处于不停的运动中的是:

- A. 野火烧不尽, 春风吹又生
- B. 白毛浮绿水, 红掌拨清波
- C. 举杯邀明月, 对影成三人
- D. 遥知不是雪, 为有暗香来

74. 下列诗句描绘的自然景象属于凝固现象的是:

- A. 雪消门外千山绿, 花发江边二月晴
- B. 秋荷一滴露, 清夜坠玄天
- C. 瀚海阑干百丈冰, 愁云惨淡万里凝
- D. 停车坐爱枫林晚, 霜叶红于二月花

75. 关于纯碱, 下列说法不正确的是:

- A. 生活中俗称为苏打、石碱
- B. 常温下为黄色粉末或颗粒

C.是侯氏制碱法的主要产品之一 D.具有一定的腐蚀性和刺激性

76.下列与我国商业保险有关的说法不正确的是:

- A.意外伤害险属于人寿保险的一种
- B.交强险是首个法律规定实行的强制保险制度
- C.社会医疗保险和商业医疗保险的保险对象不同
- D.农业保险是国家委托商业保险公司代办的政策性保险

77.下列与汉字有关的说法不正确的是:

- A.《康熙字典》是按照部首排列法分类的汉字辞书
- B.《说文解字》原文以楷书书写，逐字解释字体来源
- C.隶书的产生直接影响了汉字的构造，是古今汉字的分水岭
- D.“以事为名，取譬相成，江河是也”指六书中的形声造字法

78.下列成语与古代乐器无关的是:

- A.吹角连营
- B.罄竹难书
- C.巧舌如簧
- D.钟鸣鼎食

79.下列不属于中国古代地理名著的是:

- A.《山海经》
- B.《水经注》
- C.《梦溪笔谈》
- D.《大唐西域记》

80.以下哪项不是秦统一全国后的举措:

- A.为统一岭南，兴修灵渠
- B.设立三省六部制的中央官制
- C.以郡为最高地方行政区域，设郡守掌管
- D.修筑统一规格的道路并规定车轨的统一宽度

81.小明一边阅读历史教材，一边作批注，下列批注正确的是:

A.读到“1870年，英国在世界工业生产中占32%，美国占23%，德国占17%”，批注“英国是当时世界上最强大的工业国家”

B.读到“西汉统治者从‘海内新定，同姓寡少，惩戒亡秦孤立之败’的认识出发，实行郡国并行制度”，批注“大力巩固了中央集权统治”

C.读到“美国《独立宣言》发表”，批注“标志近代美国确立三权分立政治体制”

D.读到“魏源撰写《海国图志》”，批注“魏源主张学习西方先进政治制度”

82.植物的光合作用对地球生态起着至关重要的作用，下列关于光合作用的说法不正确的是：

- A.效率受二氧化碳浓度的影响
- B.分成光反应和暗反应两个阶段
- C.能够将水中的氧原子转化为氧气
- D.主要在植物细胞的线粒体中进行

83.《论语》记载，孔子有一天路过季氏庭院，愤怒的说“八佾舞于庭，是可忍也，孰不可忍”，孔子愤怒的原因是：

- A.八佾舞的内容过于奢侈淫靡
- B.八佾舞超出了卿相之家的待遇
- C.季氏主张大肆征伐，不行仁政
- D.季氏疏于学习，沉迷声色犬马

84.下列与诗人和诗句有关的说法不正确的是：

- A.“如果你因错过太阳而流泪，那你也将错过群星”是泰戈尔的名句
- B.“生命诚可贵，爱情价更高，若为自由故，二者皆可抛”出自海涅
- C.拜伦是19世纪英国著名的浪漫主义诗人
- D.《草叶集》是美国诗人惠特曼的代表作品

85.下列物理现象可以用惯性解释的是：

- A.汽车紧急左转弯时，车内乘客会向车厢右侧倾斜
- B.玻璃珠向前匀速运动时，会被墙面弹回
- C.跳水运动员从跳台跳入水中时，会溅起巨大水花
- D.飞机在飞行过程中如果遇到巨大气流会上下颠簸

※※※ 第四部分结束，请继续做第五部分！ ※※※

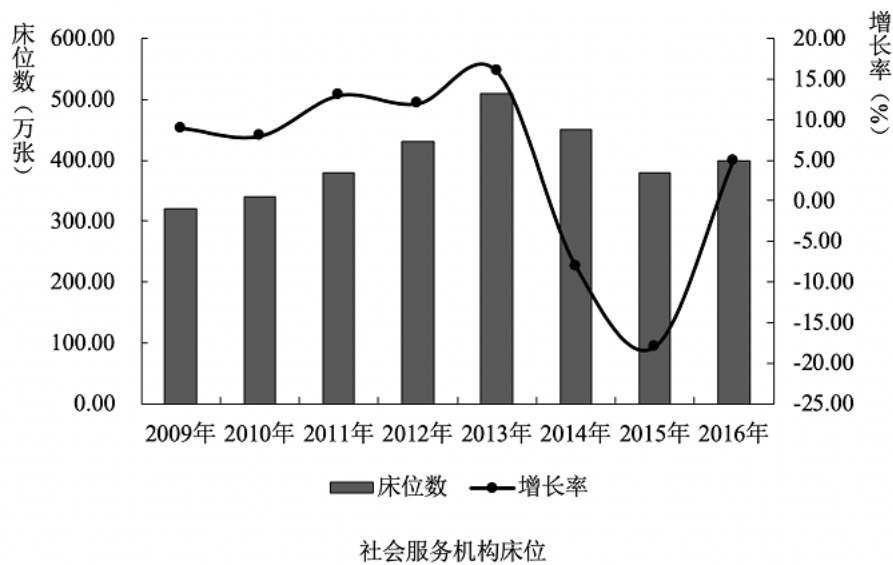
第五部分 资料分析

(共 15 题, 参考时限 15 分钟)

所给出的图、表、文字或综合性资料均有若干个问题要你回答。你应根据资料提供的信息进行分析、比较、计算和判断处理。

请开始答题:

截至 2016 年底, 全国办理了注册登记手续的提供住宿的各类社会服务机构 3.2 万个, 其中登记注册为事业单位的机构 1.8 万个, 登记注册为民办非企业单位的 1.2 万个。机构内床位 414.0 万张, 年末收留抚养人员 241.0 万人。



指标	2009年	2010年	2011年	2012年	2013年	2014年	2015年	2016年
床位数	326.5	349.6	396.4	449.3	526.7	482.3	393.2	414.0
增长率	8.72	7.08	13.39	13.35	17.23	-8.43	-18.47	5.29

图1 社会服务机构床位数及增长率

截至 2016 年底, 全国 60 岁及以上老年人口 23086 万人, 占总人口的 16.7%, 其中 65 岁及以上人口 15003 万人, 占总人口的 10.8%。

全国各类养老服务机构和设施 14.0 万个, 比上年增长 20.7%, 其中: 注册登记的养老服务机构 2.9 万个, 社区养老服务机构和设施 3.5 万个, 社区互助型养老设施 7.6 万个; 各类

养老床位合计 730.2 万张，比上年增长 8.6%（每千名老年人拥有养老床位 31.6 张，比上年增长 4.3%），其中社区留宿和日间照料床位 322.9 万张。

全国民政部门管理的智障与精神疾病服务机构共有 244 个，床位 8.4 万张。其中社会福利医院（精神病院）150 个，床位数 5.3 万张，年末收留抚养各类人员 4.4 万人；复退军人精神病院 94 个，床位数 3.1 万张，年末收留抚养各类人员 2.5 万人。

全国共有儿童收养救助服务机构 705 个，床位 10.0 万张，年末收留抚养各类人员 5.4 万人。其中儿童福利机构 465 个，床位 9.0 万张；未成年人救助保护中心 240 个，床位 1.0 万张，全年共救助流浪乞讨未成年人 5.2 万人次。

全国共有其他提供住宿的社会服务机构 2371 个，床位 16.7 万张。其中各类救助管理机构 1736 个，床位 10.2 万张，全年救助生活无着流浪乞讨人员 328.3 万人次（在站救助 283.5 万人次，站外救助 44.7 万人次）。军供站 315 个，其他提供住宿的机构 320 个。

86.2013-2016 年期间，各类提供住宿的社会服务机构床位增长量最多的是（ ）。

- A.2013
- B.2014
- C.2015
- D.2016

87.2015 年底，每万名老年人拥有养老床位约（ ）张。

- A.29
- B.30
- C.290
- D.300

88.假设每年我国老年人数量增加 3%，2018 年底各类养老床位需要比 2016 年底增加（ ）万张才能确保平均每位老年人拥有的床位比 2015 年约增加 20%。

- A.60
- B.90
- C.120
- D.160

89.2016 年底，平均每个精神病院的床位数约是儿童福利机构的（ ）倍。

- A.1.6
- B.1.8
- C.2.1
- D.2.5

90.能够从以上资料中推出的是：

- A.2017 年底全国各类提供住宿的社会服务机构的总床位数
- B.2015 年底平均每个社区养老服务机构和设施拥有的床位数
- C.2015 年救助的流浪乞讨未成年人数量

D.2016 年底全国总人口数

2018 年 3 月末，本外币贷款余额 130.45 万亿元，同比增长 11.9%。月末人民币贷款余额 124.98 万亿元，同比增长 12.8%，增速与上月末持平，比上年同期高 0.4 个百分点。一季度人民币贷款增加 4.86 万亿元，同比多增 6339 亿元。分部门看，住户部门贷款增加 1.75 万亿元，其中，短期贷款增加 4669 亿元，中长期贷款增加 1.29 万亿元；非金融企业及机关团体贷款增加 3.09 万亿元，其中，短期贷款增加 5987 亿元，中长期贷款增加 2.45 万亿元，票据融资减少 547 亿元；非银行业金融机构贷款减少 141 亿元。3 月份，人民币贷款增加 1.12 万亿元，同比多增 934 亿元。

3 月末，外币贷款余额 8704 亿美元，同比增长 4%。一季度外币贷款增加 324 亿美元，同比少增 186 亿美元。3 月份，外币贷款减少 223 亿美元，同比多减 288 亿美元。

91.2018 年 3 月末，我国本外币贷款余额比上年同期约增加多少万亿元？

- A.12
- B.14
- C.16
- D.18

92.与 2017 年 3 月末相比，2017 年底我国人民币贷款约增加多少万亿元？

- A.6.8
- B.9.0
- C.9.3
- D.10.6

93.2018 年一季度，人民币贷款增加值中，增长金额最多的是：

- A.住户部门贷款的短期贷款
- B.住户部门贷款的中长期贷款
- C.非金融企业及机关团体贷款的短期贷款
- D.非金融企业及机关团体贷款的中长期贷款

94.根据以上资料，以下无法推出的是：

- A.2017 年 2 月末人民币贷款余额
- B.2016 年底人民币贷款余额
- C.2016 年底外币贷款余额
- D.2016 年 3 月末外币贷款余额

95.能够从以上资料中推出的是：

- A.2017年3月末，人民币贷款余额比上年同期增长13.2%
- B.2017年1-2月，人民币贷款增加额比上年同期多增5405亿元
- C.2017年3月，外币贷款减少65亿美元
- D.2017年3月末，外币贷款余额约为8369亿美元

2016年，中国创业风险投资行业机构（VC机构）数达到2045家，其中，创业风险投资基金（VC基金）1421家，创业风险投资管理机构（VC管理）624家。与国外相比，近年来我国创业风险投资发展迅猛，2016年创投机构数量与管理资本规模仅次于美国。2016年，美国创投机构数达到2460家，管理资本总额为22644亿元。从投资阶段来看，近年来外资、内企VC机构投资于早期项目（种子期、起步期）的占比明显增多。

表一 中国VC机构数量和管理资本（2007—2016年）

	2007	2008	2009	2010	2011	2012	2013	2014	2015	2016
现存的VC机构（家）	383	464	576	867	1096	1183	1408	1551	1775	2045
VC基金（家）	331	410	495	720	860	942	1095	1167	1311	1421
VC管理机构（家）	52	54	81	147	236	241	313	384	464	624
管理资本（亿元）	1112.9	1455.7	1605.1	2406.6	3198.0	3312.9	5232.4	3573.9	6653.3	8277.1

表二 外资、内资创业风险投资项目所处阶段（2016年） 单位：%

投资阶段	投资金额		投资项目	
	外资	内资	外资	内资
种子期	9.4	4.3	24.9	19.5
起步期	23.0	30.4	38.5	38.4
成长（扩张）期	67.6	38.1	36.2	35.4
成熟（过渡）期	—	26.7	0.47	5.8
重建期	—	0.6	—	0.8

- 96.2016年，VC机构数量同比增长了多少？
- A.12.5%
 - B.14.7%
 - C.15.2%
 - D.17.6%
- 97.2007—2016年，哪一年VC基金数量占比最高？
- A.2008
 - B.2009
 - C.2012
 - D.2014
- 98.2007—2016年，平均每家VC机构管理资本超过3亿的年份有几个？
- A.3个
 - B.4个
 - C.5个
 - D.6个
- 99.2016年，内资创业风险投资项目平均投资金额最高的阶段是

A.种子期

B.起步期

C.成长（扩张）期

D.成熟（过渡）期

100.下列说法正确的是：

A.2008—2016年，VC机构数量增长最快的是2013年

B.若按照2016年VC机构数量的增长率，2年后我国VC机构的数量将超过2600家

C.2016年，内资VC机构投资于起步期项目的投资金额大于外资VC机构

D.2016年，内资、外资VC机构投资于早期项目的项目数量占比都超过三分之二

※※※ 全部测验到此结束！ ※※※