

# 2023 年军队文职备考白皮书

华图教育部队事业部 编著

## 目 录

第一章 军队文职简介.....	2
第二章 军队文职报考条件.....	6
第三章 军队文职考情考务.....	9
第四章 军队文职笔试备考指导.....	14
第五章 军队文职面试备考指导.....	44

## 第一章 军队文职简介

### 1.军队文职人员身份属性是怎么规定的？

2017年国务院、中央军委颁布实施新《中国人民解放军文职人员条例》，这是贯彻习近平强军思想，健全完善军事人力资源政策制度的重大创新成果，是建立统一的文职人员制度的重要基础法规，对军队现代化建设和长远发展具有十分重要的意义。

根据改革后文职人员的职能定位和国家有关法律法规，新《条例》从两个方面对文职人员身份作了明确。在国家层面，文职人员依法享有国家工作人员相应的权利，履行相应的义务。在军队层面，文职人员是在军队编制岗位从事管理工作和专业技术工作的非现役人员，是军队人员的组成部分。

（例如：军队医院的医护人员、军队院校的非军事科目教员、军事研究所的科研人员，等等）。

### 2.文职人员的职能使命是什么？

根据改革后对文职人员提出的使命要求，参照国际通行做法，文职人员平时履行相应岗位职责，根据需要参加军事训练和非战争军事行动，承担相应的作战支援保障任务，依法服现役。

### 3.军队文职人员岗位的类型和等级是如何设置的？

军队文职人员岗位分为管理和专业技术两类。其中，管理岗位是指担负领导职责或者管理任务的工作岗位，岗位等级由高到低设置9个等级，即部级副职、局级正职、局级副职、处级正职、处级副职、科级正职、科级副职、科员、办事员；专业技术岗位是指从事专业技术和专业技术工作，具有相应专业技术、专业技能水平和能力要求的工作岗位，分为高级、中级、初级岗位，由高到低设一级至十三级。

### 4.军队文职人员职业发展方面是如何规定的？

军队文职人员职业稳定，发展路径顺畅，发展空间广阔。

一是培训体系。为提高军队文职人员可持续职业能力，确保军队文职人员素质始终适应工作需要，军队文职人员培训纳入军队人员培训体系，并接受军事职业教育，区分岗前培训、在岗培训、专业培训和任务培训四种类型分级分类组织实施。军队可以利用国家和社会资源对军队文职人员进行教育培训。

二是考评机制。军队文职人员考核评价突出思想品德、业务水平和工作实绩，坚持靠素质立身、凭实绩发展的政策导向。军队文职人员的考核类型分为平时考核、年度考核、聘期考核，以及试用期考核、晋升领导职务的任职前考核等。

三是任用交流。军队文职人员实行委任制和聘用制相结合的任用方式。军队文职人员可以在用人单位内部交流，工作特别需要的也可以在本专业领域跨用人单位交流。

四是等级调整。军队文职人员晋升岗位等级，在现等级岗位任职的最低年限：管理岗位局级正职、局级副职分别为 5 年，处级正职至科级正职分别为 4 年，科级副职以下分别为 3 年；专业技术高级、中级、初级岗位，分别为 4 年、4 年、3 年。军队文职人员的岗位等级，一般应当逐级晋升。表现特别优秀的可以提前晋升，表现特别优秀、工作特别需要的可以越级晋升。

五是退出政策。军队文职人员符合国家和军队规定退休条件的，应当退休。工作特别需要的，可以适当延长退休年龄，但是不得超过规定年龄 5 周岁。军队文职人员退休年龄统一按国家和军队规定执行；军队文职人员退出军队后享受国家和军队规定的相应待遇，转移接续各种社会保障关系。实行委任制的军队文职人员辞职，或者被用人单位辞退的，按照军队有关规定办理；实行聘用制的军队文职人员解除、终止聘用合同，或者用人单位解除、终止聘用合同的，按照军队有关规定办理。

## 5.军队文职人员教育管理有哪些规定？

根据军队特殊要求和军队文职人员身份特点，按照与现役军人有统有分的原则，对军队文职人员进行教育管理。其中，在思想政治教育、党团组织管理、安全保密、因公出境、档案管理等方面，与现役军人一样要求。在入职宣誓、因私出境、人事争议处理等方面，实行军队文职人员特有的、与国家工作人员相衔接的管理制度。

在工作时间上，按照国家机关、事业单位工作人员工作时间有关规定执行，通常不参加早操。

在休假探亲上，参照国家机关、事业单位工作人员有关规定执行；执行军委下达的专项任务累计时间超过 6 个月的，任务期休息日和节假日未休息天数可累加计入本人当年假。

在因私出境上，军队文职人员可以利用休假探亲时间出境旅游，每年不超过两次。

同时，军队文职人员按军队统一规定着制式服装，佩戴相应标志服饰。对作出突出贡献的军队文职人员，按照国家和军队有关规定给予表彰和奖励，授予相应荣誉；对违反军队纪律的军队文职人员按照军队有关规定给予处分。

## 6.军队文职人员待遇保障主要有哪些方面？

军队文职人员待遇保障政策按照高于地方同类人员、具有比较优势的思路设计，主要体现在四个方面：

一是工资待遇。以现役军官为参照系，军队建立统一的军队文职人员工资制度，工资待遇综合比公务员高出 35% 左右。

二是住房保障。实行社会化、货币化保障政策，军队文职人员可以租住用人单位的宿舍，符合条件的可以租住公寓住房；军队文职人员的住房公积金、住房补贴和房租补贴参照现役军官政策确定的标准执行，符合规定条件的人员，军队可以增发住房补助。

三是社会保险。用人单位及其军队文职人员参照国家公务员和事业单位工作人员办法，参加所在地社会保险。军队根据国家有关规定，为军队文职人员建立补充保险。平时看病享

受社保待遇，军队给予医疗补助；执行军事任务期间免费医疗。

四是福利抚恤。健康体检、子女入托等普惠性福利待遇，军队文职人员与现役军官同等享受。平时抚恤执行国家工作人员有关规定，参加军事任务伤亡的抚恤优待执行现役军人政策。

军队文职人员工资（试用期）		
学历	高校毕业生（元）	社会人才（元）
博士	8500	9000
硕士	7600	8000
本科	7200	7600
专科	7000	7400

(试用期工资为转正后的 80%，以上数据是大概平均值，岗位职级不同有相应差异)



## 第二章 军队文职报考条件

### 1. 招考对象为哪些人员?

军队文职人员的招考对象为普通高等学校毕业生或者社会人才。其中：普通高等学校毕业生包括应届毕业生和非应届毕业生，应届毕业生是指在报考当年规定日期前取得相应毕业证和学位证的毕业生；非应届毕业生是指在两年择业期内未落实工作单位，其户口、档案、组织关系仍保留在原毕业学校，或者保留在各级毕业生就业主管部门（毕业生就业指导服务中心）、各级人才交流服务机构和各级公共就业服务机构的毕业生。

定向招考对象为军队烈士、因公牺牲军人的配偶子女以及现役军人配偶。

### 2. 报考人员应当具备哪些条件?

(1) 政治条件。符合《军队聘用军队文职人员政治考核工作规定》明确的政治条件。

(2) 学历条件。报考人员应当具有普通高等学校全日制本科以上学历。报考在艰苦边远地区、岛屿的岗位，以及特殊岗位可不作全日制要求。驻艰苦边远地区、岛屿的单位定向招考军队烈士、因公牺牲军人的配偶子女以及现役军人配偶，除教学、科研、工程、医疗专业技术岗位外，报考学历要求可以放宽至大学专科。报考护理、艺术、体育岗位的，可为大学专科以上学历。

(3) 资格条件。报考人员应当具有招考岗位要求的专业技术资格和职业资格。除法律法规明确规定的外，报考初级专业技术岗位，以及博士研究生报考中级专业技术岗位的，不作资格条件要求。

(4) 身体条件。报考人员应当符合军队招录聘用文职人员体格检查的标准条件。

(5) 年龄条件。报考科级副职以下管理岗位或者初级专业技术岗位的，年龄不超过 35 周岁；报考科级正职管理岗位或者中级专业技术岗位的，年龄不超过 45 周岁。

(6) 其他条件。在符合以上基本条件的前提下，具体报考条件由用人单位根据招考岗位需要确定。

### **3. 哪些人员不能报考？**

根据军队文职人员政治考核有关规定，有下列情形的不得报考军队文职人员：编造或传播有政治性问题言论；参加、支持民族分裂、暴力恐怖、宗教极端等非法组织和活动；与（境）外政治背景复杂的组织或人员有联系，被有关部门记录在案；曾受到刑事处罚、行政拘留等；有涉及淫秽、色情、暴力和非法组织标志等文身；被开除公职、责令辞职、开除党籍、开除学籍、开除团籍或受到严重纪律处分；家庭成员、主要社会关系成员因危害国家安全受到刑事处罚或为非法组织成员，等等。

### **4. 已与国家、地方和军队用人单位建立劳动人事关系的社会人才能否报考？**

征得所在用人单位同意后，可以报考。面试时，本人需提供所在用人单位出具的同意报考的证明（加盖公章）；被确定为拟录用对象的，在签订军队文职人员聘用合同前须与原用人单位解除劳动人事关系。

### **5. 留学回国人员能否报考，有哪些要求？**

可以报考。本人在参加面试时需提供国家教育部有关机构出具的学历认证书和我国驻外使（领）馆出具的留学回国人员证明（或者驻香港、澳门特别行政区联络办公室出具的港澳地区学习证明）。

### **6. 非普通高等学历教育的其他国民教育形式的毕业生是否可以报考？**

报考在艰苦边远地区、岛屿的岗位，以及特殊岗位可不作全日制要求。

驻艰苦边远地区、岛屿的单位定向招考军队烈士、因公牺牲军人的配偶子女以及现役军人配偶，除教学、科研、工程、医疗专业技术岗位外，报考学历要求可以放宽至大学专科。

报考护理、艺术、体育岗位的，可为大学专科以上学历。



### **7.报考人员学历高于招考岗位学历要求的，能否报考？**

报考人员应当符合招考岗位要求的学历层次，其中高学历的可以报考低学历要求的岗位，但报考人员应当具有招考岗位要求的学历对应的所学专业。比如，招考岗位中要求限本科学历、所学专业为化学的，硕士和博士研究生报考该岗位的，本科所学专业必须是化学。

### **8.专业技术资格以考代评和参加职业资格考试的人员，已通过相关考试但暂未取得相应资格证书的，如何报考？**

此类人员网上报名时，专业技术资格和职业资格证书编号一栏，可以用资格考试成绩单编号或者准考证号替代填写。面试时，本人须出具相应专业技术资格和职业资格证书原件或者通过相关考试的成绩单等证明材料，否则不得参加面试。

## 第三章 军队文职考情考务

### 1.军队面向社会公开招考军队文职人员按照什么程序进行？

军队面向社会公开招考文职人员，一般按照制定计划、发布信息、资格审查、统一考试、面试体检、政治考核、结果公示、审批备案的程序进行。考试工作由全军统一组织实施。

年份	公告时间	报名时间	报名资格初审	准考证打印	笔试时间	面试/体检
2018	7月10日	7月12-22日	7月12日-22日	8月6-26日	8月26日	10月18日起
2019	3月12日	3月13-20日	3月13-20日	4月10-27日	4月28日	7月5日起
2020	6月15日	7月1-10日	7月12日	8月12-23日	8月23日	10月26日起
2021	4月3日	4月7-13日	4月15日	5月13-23日	5月23日	7月29日起
2022	(2021年)12月4日	(2021年)12月5-9日	(2021年)12月11日	1月4-9日	1月9日	未定

### 2.全军统一考试科目是如何设置的，主要考核哪些方面？

全军统一考试内容包括公共科目和1门相应专业科目，主要考核报考人员的综合素质和专业基础。

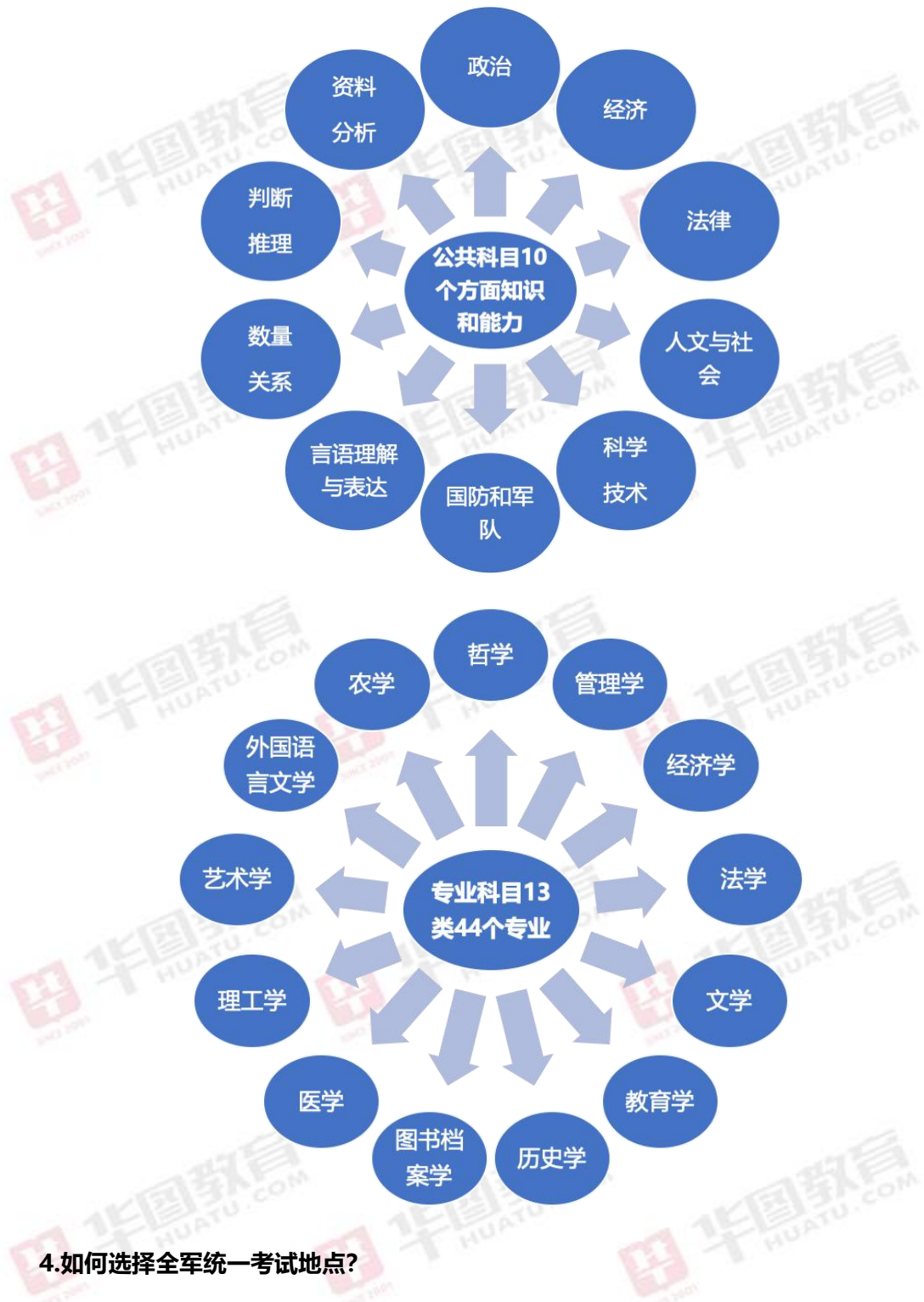
### 3.全军统一考试大纲包括哪些科目，如何获取？

全军统一考试大纲分为公共科目和专业科目，其中管理岗位和专业技术岗位共用公共科目考试大纲；专业科目考试大纲区分管理岗位和专业技术岗位两类，按各专业领域和学科门类设置。

专业科目考试大纲分为哲学、经济学、法学、教育学、文学、外国语言文学、历史学、理工学、农学、医学、图书档案学、艺术学、管理学等13类4个专业报考人员可登录军队人才网浏览下载考试大纲。

对专业科目考试大纲没有覆盖的小语种和少数民族语言专业岗位，专业科目笔试按照相

应语种语言本科教育教学大纲命题。



#### 4.如何选择全军统一考试地点?

全军统一考试地点由报考人员在系统提供的考试城市中自行选择,准考证上将予以标明。

#### 5.全军统一考试入围人员名单如何确定?

中央军委政治工作部按照 90%考生上线的比例,划定公共科目合格分数线;根据招考

岗位入围比例，对达到公共科目合格分数线的，再按照全军统一考试成绩由高到低确定考试入围人员名单，并在军队人才网公布名单。

公共科目或者专业科目单科考试成绩为零分或者缺考的，不列入考试入围人员名单。

对通过报名资格条件审核且取得全军统一考试有效成绩的军烈属等人员，实行加分优待政策。其中，军队烈士、因公牺牲军人的配偶子女，以及未婚军队烈士的兄弟姐妹，公共科目考试成绩加 10 分；现役军人、当年（2022 年）退役军人、在职病故军人和现役干部转改文职人员的配偶子女，以及在军队工作年限满 5 年以上的未纳编原社会招聘文职人员、社会聘用人员和服役年限满 5 年以上且被评为优秀士兵或者获得嘉奖以上奖励的退役优秀大学生士兵，公共科目考试成绩加 5 分。

军队派遣执行一线新冠肺炎疫情防控救治任务的未纳编原社会招聘文职人员、非现役公勤人员、社会聘用人员和退役大学生士兵，在符合上述规定加分条件的基础上，公共科目考试成绩可以再加 5 分。其中，属于军队烈士、因公牺牲军人的配偶子女，以及未婚军队烈士的兄弟姐妹的，累计加分不超过 15 分；属于现役军人、当年（2022 年）退役军人、在职病故军人和现役干部转改文职人员的配偶子女的，累计加分不超过 10 分。

#### **6.如何确定参加面试人员名单？**

用人单位对考试入围人员的基本情况、学历学位、专业资质、工作经历、准考证等原件或者证明材料进行审查，依据报考人员参加面试意向、资格条件审查等情况确定面试人员名单，名单由军委机关各部门、各大单位政治工作部门汇总审核。

#### **7.面试主要考核哪些内容，采取什么方式进行？**

面试由用人单位或者其上级单位组织实施，主要考核报考人员的业务知识和专业技能，一般采用现场答辩、授课试讲、器械操作、能力测验等方式进行，时间 20 分钟左右，也可根据实际需要适当延长。

### **8.报考人员如何获知面试成绩?**

面试成绩确定后,由用人单位现场告知报考人员面试成绩。

### **9.全军统一考试和面试的总成绩如何计算?**

全军统一考试的公共科目、专业科目和面试成绩满分均为100分,总成绩按百分制折算。其中,公共科目、专业科目、面试成绩分别占30%、30%、40%。各科目成绩和总成绩可保留到小数点后两位。

### **10.如何确定预选对象,怎么告知本人?**

用人单位按照计划招考人数1:1.2的比例,根据报考人员总成绩由高到低确定预选对象。其中,面试成绩低于60分的,不得作为预选对象;总成绩相同的,依次按照面试成绩、专业科目成绩确定排名。用人单位确定预选对象后,将及时告知报考人员是否被确定为预选对象。

### **11.政治考核和综合考察由谁组织,主要考察什么?**

由用人单位组织对预选对象进行政治考核和综合考察。政治考核主要考察政治面貌、宗教信仰、遵纪守法以及主要社会关系等情况,组织涉外安全审查;主要考察现实表现、综合素质和业务能力。

### **12.如何确定拟录用对象?**

对政审考察合格的预选对象,用人单位按照总成绩排名确定拟录用对象名单。

### **13.拟录用对象如何公示?**

拟录用对象名单经军委机关各部门、各大单位政治工作部门统一审核后在本单位军地门户网站和军队人才网同步对外公示。公示内容包括拟录用对象姓名、性别、准考证号、招考岗位和录用分数线,同时公布监督受理电话和电子邮箱,接受社会监督,公示期为5天。

### **14. 报考人员自愿放弃预选对象或者拟录用对象资格的,用人单位能否递补?**



报考人员被确定为预选对象或者拟录用对象后,本人自愿放弃录用资格或者经核查不符合录用条件的,用人单位可以按照报考人员总成绩由高到低,从面试合格的对象中递补,并按规定进行政审考察、体格检查和网上公示。

**15.新录用人员签订聘用合同有哪些规定,试用期多长?**

全军面向社会公开招考新录用人员,聘用合同期限起算时间按照军队文职人员聘用合同管理有关规定执行。新录用人员实行试用期,时间为6个月。新录用人员名单,报中央军委政治工作部备案。

**16.新录用人员在试用期内,须通过哪些培训和考核?**

进行新录用人员在试用期内,需要进行岗前培训和试用期考核。岗前培训和试用期考核不合格的,取消录用资格。

## 第四章 军队文职笔试备考指导

### 一、2022 年军队文职笔试考情分析——公共科目

科目	题型	题量	分值	占比
基本知识	单选题	50	$50 \times 0.5 = 25$	40%
	多项选择题	6	$4 \times 1.5 = 9$	
	系列单项选择题	4	$4 \times 1.5 = 6$	
岗位能力	言语理解与表达	15	$15 \times 1 = 15$	60%
	数量关系	10	$10 \times 1.5 = 15$	
	判断推理	10	$10 \times 1.5 = 15$	
	资料分析	15	$15 \times 1 = 15$	
总计		110	100	100%

公共科目笔试的考试科目一般分为基本知识和岗位能力两部分。

(一) 基本知识主要考察 6 个方面内容：

#### 1. 政治

主要测查应试者对政治基本理论：马克思主义基本理论、毛泽东思想、中国特色社会主义理论体系、公民道德修养的掌握程度。

#### 2. 经济

主要测查应试者对马克思主义政治经济学、社会主义市场经济的掌握情况，以及理论与现实问题相结合的能力。

#### 3. 法律

主要测查应试者对相关法律基础知识的了解掌握程度和运用能力。主要涉及法学理论、宪法、民法、刑法等。

#### 4.人文与社会

主要测查应试者对文化常识、历史常识、国情社情、国内国际时事等人文常识与社会常识的了解程度。

#### 5.科学技术

主要测查应试者对科学技术基础知识、科学常识以及现代高新技术知识的了解和掌握程度。

#### 6.国防和军队知识

主要测查应试者对国防知识、军队文职人员制度、军队安全保密等国防和军队基本知识的了解和掌握情况。

(二) 岗位能力主要考察 4 个方面内容:

#### 1.言语理解与表达

主要测查报考者运用语言文字进行思考和交流、迅速准确地理解和把握文字材料内涵的能力。

#### 2.数量关系

主要是考查对数量关系的理解计算、判断和推理的能力。数量关系主要有两种题型：数字推理和数字运算。

#### 3.判断推理

主要测查对各种事物关系的分析推理。常见的题型有图形推理、定义判断、类比推理、逻辑判断等。

#### 4.资料分析

主要测查应试者对文字、图表等资料综合理解与分析处理能力。增长率、倍数、百分点等概念考查频率较高。

### (三) 备考提示

军队文职考试和公务员考试相比，既有公共科目和专业科目的某些共通之处，更具有自身强烈的军队特色。考生们在笔试这个环节知识储备应该都相差无几，所以要拉开档次就要从军队特色的考试内容中下手，只有把握了军队文职考试的这些重点环节，才有可能在文职考试中脱颖而出。

军队特色的考试内容包括“国防和军队”中的“国防常识”和“军队常识”两个部分，虽然这部分占的分值不大，但是能不能取得好成绩，它发挥着至关重要的作用。所以复习这部分的时候，对于一般内容基本掌握就可以了，而对于一些具体的知识和政策，一定要了然于心，多下一番功夫去复习。所以考生们备考的时候，一定要抽出一点时间复习这方面的知识。

## 二、2022 年军队文职笔试考情分析——专业科目

军队文职招录考试，专业科目考试大纲分为 13 类 44 个专业。

专业科目试题类型以客观性试题为主，只有部分专业涉及主观性试题。

(一) 既有客观性试题又有主观性试题的专业：

1. 文学类 3 个专业（汉语言文学、新闻、出版）；
2. 外国语言文学类 5 个专业（英语、俄语、日语、德语、法语）；
3. 管理学类。

(二) 客观性试题

客观性试题：给试题提供正确和错误答案，由考生从中选择自己认为正确的答案。

客观性试题评分标准统一、客观、准确，不受评卷人主观因素的影响，易于采用计算机阅卷，提高评价速度，降低考试成本。

但客观性试题无法考查学生的组织能力、表达能力以及写作能力。客观性试题常用的有

选择题、判断题等形式。

### (三) 主观性试题

主观性试题：多是“发挥性题目”，一般带有主观性，虽然有评分标准，但没有唯一标准答案，如写作、文字材料分析等。

此类试题对于考查考生的语言表达能力、思维创新能力等方面有独到的作用，但评分容易受到评卷人的主观因素影响。

## 三、2022 年军队文职笔试公共科目真题呈现

2022 年军队文职人员招聘考试公共科目试卷

### 第一部分 基础知识

一、单项选择题（请根据题目要求，在四个选项中选出一个最恰当的答案。共 50 题，每题 0.5 分，共 25 分。）

1. 近代中国社会面临的主要矛盾是（ ）。

- A. 帝国主义与中华民族的矛盾、封建主义和人民大众的矛盾
- B. 帝国主义与中华民族的矛盾、工人阶级和资产阶级的矛盾
- C. 帝国主义与中华民族的矛盾、腐败王朝和人民大众的矛盾
- D. 帝国主义与中华民族的矛盾、官僚买办和人民大众的矛盾

2. 西藏自治区约占中国陆地总面积的（ ），相当于英国、法国、德国、荷兰、卢森堡五国面积的总和。

- A. 八分之一
- B. 十分之一
- C. 五分之一
- D. 六分之一

3. 在社会主义社会中，实行按劳分配制度是由（ ）决定的。

- A. 等价交换原则
- B. 社会化分工明确
- C. 生产资料公有制
- D. 社会生产力发展



4. 习近平在庆祝中国共产党成立 100 周年大会上指出,我们实现了人民生活从温饱不足到( )、奔向全面小康的历史性跨越,为实现中华民族伟大复兴提供了充满新的活力的体制保证和快速发展的物质条件。

- A. 温饱有余
- B. 总体富裕
- C. 基本实现小康
- D. 总体小康

5. 推动社会经济发展并决定社会经济制度变革的经济规律是( )。

- A. 生产关系一定要适应生产力的规律
- B. 价值规律
- C. 剩余价值规律
- D. 资本积累规律

6. 中华医学博大精深,源远流长。据记载,我国早在( )就发明和使用了麻醉剂一麻沸散。

- A. 春秋战国时期
- B. 秦朝
- C. 唐朝
- D. 汉朝

7. 政府对部分食品实施最高限价政策时,最可能导致的情况是( )。

- A. 出现市场短缺
- B. 刺激生产增加
- C. 引起产品供应过剩
- D. 提高农业生产者收入

8. 根据《中华人民共和国劳动法》的规定,劳动合同的无效,由( )确认。

- A. 劳动争议仲裁委员会
- B. 劳动争议调解委员会
- C. 人民法院
- D. 劳动争议仲裁委员会或者人民法院

9. 中国共产党的精神谱系为实现中华民族伟大复兴提供强大精神力量。这说明( )。

- A. 精神价值相比物质价值更为重要

- B. 主体需要是价值评价的唯一标准
- C. 价值观对人的行为起到导向作用
- D. 价值评价的根本标准依然是实践
10. 划分唯物主义和唯心主义的唯一标准是（ ）。
- A. 对思维和存在何者为第一性的不同回答
- B. 是否承认世界是运动和发展的
- C. 是否承认世界是统一的
- D. 世界是否是可知的
11. 战略物质储备应当规模适度、储存安全、调用方便、（ ），保障战时的需要。
- A. 长期保存
- B. 不定期更换
- C. 定期更换
- D. 快速更换
12. 按交易方式的不同，外汇市场可以分为（ ）。
- A. 国内外汇市场和国际外汇市场
- B. 规范的市场和自发的市场
- C. 有形市场和无形市场
- D. 一般的有形市场和特殊的有形市场
13. 电视剧《觉醒年代》中，陈独秀身陷囹圄，倚墙慨然长吟（ ）：“莫听穿林打叶声，何妨吟啸且徐行”，表现出深处逆境屡遭挫折而不畏惧不颓丧的倔强精神与旷达胸襟。
- A. 苏轼的《定风波》
- B. 陆游的《诉衷情》
- C. 辛弃疾的《破阵子》
- D. 文天祥的《过零丁洋》
14. 中国人民解放军由现役部队和预备役部队组成，在新时代的使命任务是为巩固中国共产党领导和社会主义制度，为捍卫（ ），为维护国家海外利益，为促进（ ），提供战略支撑。
- A. 国家主权、安全、发展利益      世界和平与发展
- B. 国家主权、统一、领土完整      世界和平与地区安全
- C. 国家主权、安全、发展利益      世界和平与地区安全

D. 国家主权、统一、领土完整 世界和平与发展

15. 《孙子兵法》成书于春秋末期。其作者是（ ）。

A. 孙臆

B. 孙策

C. 孙权

D. 孙武

16. 新民主主义革命的主要内容是（ ）。

A. 没收封建地主阶级的土地归农民所有

B. 没收封建地主阶级的土地归苏维埃政权所有

C. 没收官僚资产阶级的垄断资本归新民主主义国家所有

D. 无产阶级取得领导地位

17. 在社会保障体系中，属于初级形式的社会保险要素的是（ ）。

A. 社会福利

B. 社会保险

C. 优抚安置

D. 社会救济

18. 纸币的发行量取决于（ ）。

A. 市场购买力

B. 流通中所需要的金属货币量

C. 商品的供求关系

D. 商品价格总额

19. 社会主义道德建设要以为人民服务为核心，以（ ）为原则。

A. 公平正义

B. 集体主义

C. 和谐共处

D. 和睦友爱

20. “须知政权是由枪杆子中取得的”是（ ）在党的八七会议上提出的。

A. 陈独秀

B. 毛泽东

C. 周恩来

D. 朱德

21. 根据《中华人民共和国民法典》的规定，无线电频谱资源属于（ ）所有。

A. 集体

B. 企业

C. 国家

D. 个人

22. （ ）年1月1日起，《中华人民共和国农业税条例》被废止，标志着延续了2600多年的“皇粮国税”退出历史舞台。

A. 2002

B. 2005

C. 2006

D. 2012

23. 十八大后，党中央和中央军委在古田召开全军政治工作会议，对新时代政治建军作出部署，恢复和发扬我党我军光荣传统和优良作风，推动人民军队（ ）根本好转。

A. 纪律规矩

B. 政治生态

C. 作风面貌

D. 廉政建设

24. 进口配额制在国际贸易政策中属于（ ）。

A. 关税壁垒措施

B. 自由贸易措施

C. 与贸易无关的措施

D. 非关税壁垒措施

25. 写下“清澈的爱，只为中国”的戍边英雄是（ ）。

A. 肖思远

B. 祁发宝

C. 陈祥榕

D. 陈红军

26. 关于侵权责任，下列选项错误的是（ ）。

A. 因产品存在缺陷造成他人损害的，被侵权人可以向产品的生产者或销售者请求赔偿

- B. 限制民事行为能力人在学校学习、生活期间受到人身损害的，学校应当承担侵权责任
- C. 二人以上共同实施侵权行为，造成他人损害的，应当承担连带责任
- D. 民用航空器造成他人损害，民用航空器的经营者能够证明损害是因受害人故意造成的，不承担责任

27. 资本主义经济危机周期性发生的物质基础是（ ）。

- A. 固定资本的更新
- B. 流动资本的更新
- C. 不变资本的更新
- D. 可变资本的更新

28. 军队政治工作必须坚持的思想路线和根本作风是（ ）。

- A. 解放思想和与时俱进
- B. 批评与自我批评
- C. 实事求是和群众路线
- D. 解放思想和实事求是

29. 构建新发展格局的关键在于经济循环的畅通无阻，必须坚持深化（ ）这条主线，继续完成“三去一降一补”的重要任务，实现经济在高水平上的动态平衡。

- A. 需求侧结构性改革
- B. 供给侧结构性改革
- C. 改革开放
- D. 经济体制改革

30. 根据 2021 年 10 月 1 日起施行的《中华人民共和国兵役法》的规定，在征集期间，应征公民被征集服现役，同时被机关、团体、企业事业组织招录或者聘用的，（ ）履行服兵役义务。

- A. 可以暂缓
- B. 可以由公民选择是否
- C. 由招录或者聘用的机关、团体、企业事业组织决定是否允许公民
- D. 应当优先

31. 军委主席负责制最早写入我国宪法是在（ ）年。

- A. 1978
- B. 1982



C. 1992

D. 1998

32. 关于资本积聚的描述，正确的是（ ）。

- A. 由众多中小资本合并实现
- B. 由资本家通过勤俭节约实现
- C. 依靠剩余价值的资本化实现
- D. 通过竞争和信用方式实现

33. 按照规则的内容规定不同，法律规则可以分为（ ）。

- A. 授权性规则和义务性规则
- B. 确定性规则、委任性规则和准用性规则
- C. 规范性规则 and 标准性规则
- D. 强行性规则和任意性规则

34. 党的十九届六中全会通过的《中共中央关于党的百年奋斗重大成就和历史经验的决议》，用（ ）进一步对习近平新时代中国特色社会主义思想的核心内容作了系统概括。

- A. “四个自信”
- B. “五位一体”
- C. “十个明确”
- D. “十四个坚持”

35. 价格是商品价值的（ ）表现。

- A. 劳动
- B. 交换
- C. 货币
- D. 支付

36. 近代中国反侵略战争屡遭失败的根本原因是（ ）。

- A. 清廷消极备战、积极求和
- B. 文官贪财、武将惜命
- C. 社会制度腐败、经济技术落后
- D. 军队素质差、军事装备落后

37. 马克思主义产生的阶级基础和实践基础是（ ）。

- A. 无产阶级作为独立的政治力量登上了历史舞台

- B. 资本主义的剥削和压迫
- C. 工人为了改善自身经济状况进行的各种罢工活动
- D. 工人运动得到了“农民的合唱”

38. 新民主主义革命区别旧民主主义革命的主要标志是（ ）。

- A. 主要依靠广大工农群众
- B. 无产阶级的领导权
- C. 实现国共合作
- D. 走的是农村包围城市的道路

39. 根据《中华人民共和国劳动争议调解仲裁法》的规定，解决劳动争议，应当根据事实，遵循合法、公正、及时、（ ）的原则，依法保护当事人的合法权益。

- A. 协商
- B. 着重调解
- C. 平等
- D. 善意

40. 资本的循环时间是（ ）。

- A. 劳动时间和流通时间之和
- B. 运输时间和购置时间之和
- C. 生产时间和流通时间之和
- D. 存储时间和销售时间之和

41. 任何公民，非（ ），不受逮捕。

- A. 由人民检察院决定并执行
- B. 由人民法院决定并执行
- C. 由公安机关决定并执行
- D. 经人民检察院批准或者决定或者人民法院决定，并由公安机关执行

42. 《诗经》中区分风、雅、颂的标准是（ ）。

- A. 国别
- B. 时代
- C. 作者
- D. 音乐

43. “断肠铭志”的红军将领是（ ）。

- A. 王尔琢
- B. 邓萍
- C. 陈树湘
- D. 吴焕先

44. 市场经济是一种（ ）。

- A. 经济运行方式
- B. 基本经济制度
- C. 社会组织形式
- D. 生产经营方式

45. 国产影片《长津湖》取材于抗美援朝战争时期的（ ）。

- A. 第一次战役
- B. 第二次战役
- C. 第三次战役
- D. 第五次战役

46. 探月工程“绕、落、回”三步走规划圆满收官的标志是（ ）任务的完成。

- A. 天宫二号
- B. 神舟十一号
- C. 空间实验室飞行
- D. 嫦娥五号

47. 要在党和国家人才工作大盘子中谋划推进我军人才工作，坚持（ ）需求导向，搞好规划对接、政策对接、工作对接，形成我军人才工作高效推进的良好局面。

- A. 军事
- B. 科技
- C. 岗位
- D. 能力

48. 以优秀文学作品陶冶道德情操，就要坚持把（ ）放在首位，倡导讲品味、讲格调、讲责任，抵制低俗、庸俗、媚俗，用健康向上的文艺作品温润心灵、启迪心智、引领风尚。

- A. 经济效益
- B. 社会效益

- C. 宣传效益
- D. 个人利益

49. 文职人员在军队和社会生活中，依法享有（ ）相应的权力，履行相应的义务。

- A. 军队基层人员
- B. 国家企业职工
- C. 现役军人
- D. 国家工作人员

50. （ ）的著作权保护办法由国务院另行规定。

- A. 杂技作品
- B. 口述作品
- C. 民间文学艺术作品
- D. 地图

二、多项选择题（请根据题目要求，在五个选项中选出两个或两个以上恰当的答案，错选或多选均不得分，少选且选择正确的每个选项得 0.3 分。共 6 题，每题 1.5 分，共 9 分。）

51. 当事人在订立合同过程中（ ），造成对方损失的，应当承担赔偿责任。

- A. 假借订立合同，恶意进行磋商
- B. 故意隐瞒与订立合同有关的重要事实
- C. 提供虚假情况
- D. 有其他违背诚信原则的行为
- E. 有其他违背等价交换原则的行为

52. 国家通过开展国防教育，使全体公民（ ）。

- A. 增强国防观念
- B. 强化忧患意识
- C. 掌握国防知识
- D. 提高国防技能
- E. 发扬爱国主义精神

53. 运用货币政策调控经济的手段有（ ）。

- A. 法定准备金率
- B. 公开市场业务
- C. 税收政策

- D. 控制财政支出
- E. 再贴现政策

54. 习近平同志对关系新时代党和国家事业发展的一系列重大理论和实践问题进行了深邃思考和科学判断，就新时代（ ）等重大时代课题，提出一系列原创性的治国理政新理念新思想新战略。

- A. 坚持和发展什么样的中国特色社会主义、怎样坚持和发展中国特色社会主义
- B. 什么是社会主义、怎样建设社会主义
- C. 建设什么样的社会主义强国、怎样建设社会主义强国
- D. 建设什么样的长期执政的马克思主义政党、怎样建设长期执政的马克思主义政党
- E. 实现什么样的发展、怎样发展

55. 关于价值、使用价值和交换价值的论述，正确的有（ ）。

- A. 无使用价值就不可能有价值
- B. 有使用价值就一定有价值
- C. 价值是交换价值的基础
- D. 无论交换价值还是价值，都是商品的本质属性
- E. 无论交换价值还是价值，都是商品的社会属性

56. 中国传统文化中的“因材施教”“对症下药”“因地制宜”等蕴含的哲理是（ ）。

- A. 处理矛盾切忌“一刀切”
- B. 不同的矛盾需要用不同方法来解决
- C. 任何事物都存在矛盾
- D. 矛盾无处不在，无时不有
- E. 具体问题具体分析

三、系列单项选择题（请根据题目要求，在四个选项中选出一个最恰当的答案。共4题，每题1.5分，共6分。）

材料一：党的十八大以来，我们党提出新时代的强军目标，确立新时代军事战略方针，制定国防和军队现代化新“三步走”战略，推进政治建军、改革强军、科技强军、人才强军、依法治军，努力建设与我国国际地位相称，同国家安全和利益相适应的巩固国防和强大人民军队。

57. 在国防和军队现代化新“三步走”战略中，到二〇三五年的奋斗目标是（ ）。



- A. 实现军事理论现代化、军队形态现代化、军事人员现代化、武器装备现代化
- B. 实现建军一百年奋斗目标
- C. 基本实现国防和军队现代化
- D. 全面实现国防和军队现代化

58. 实现党在新时代的强军目标，必须走中国特色强军之路，到（ ）人民军队全面建成世界一流军队。

- A. 二〇二一年
- B. 二〇二七年
- C. 本世纪中叶
- D. 二〇三五年

材料二：古希腊文明向来被视为西方文明的源头之一，对后世产生了广泛而深远的影响。它代表了辉煌灿烂的文化，当今世界的许多学科都可以追溯到古希腊。

59. 相传古希腊盲诗人荷马创作了著名的史诗《伊利亚特》。其主题是（ ）。
- A. 奥德修斯的返乡之旅
  - B. 希腊英雄的冒险故事
  - C. 特洛伊战争
  - D. 奥林匹斯众神的故事

60. 古希腊形成了城邦制度，其最具代表性的城邦是雅典与（ ）。
- A. 叙拉古
  - B. 斯巴达
  - C. 迈锡尼
  - D. 底比斯

## 第二部分 岗位能力

一、言语理解（请根据题目要求，在四个选项中选出一个最恰当的答案。共 15 题，每题 1 分，共 15 分。）

61. 下列语句中，“何”作为代词使用的一组句子是（ ）。
- ①何以战？（《曹刿论战》）
  - ②大王来何操？（《鸿门宴》）
  - ③徐公何能及君也？（《邹忌讽齐王纳谏》）
  - ④又何间焉。（《曹刿论战》）

- A. ②④
- B. ②③
- C. ①②
- D. ①④

62. 下面短文最恰当的标题是（ ）。

在微生物真正造成危害前，人体的免疫系统就必须提前识别出这些具有潜在威胁的对象。在这个过程中，细胞会根据一些常见的分子结构，找出具有特殊识别功能的受体，以此大范围地识别不同微生物的种类。

其中一个标志性结构是脂多糖，它是众多类型细菌的细胞壁都具有的一种长链糖。许多研究人员认为，除了那些极少数专门演化出规避免疫检测的病原体外，人体可以识别出任何一种微生物产生的脂多糖。但一项新的研究表明，一些深海细菌细胞壁上的脂多糖非常特殊，基本上是“透明的”，无法被人体细胞的功能识别受体识别。

- A. 微生物的危害
- B. 绕过人体免疫的深海细菌
- C. 微生物的脂多糖
- D. 可识别的脂多糖

63. 根据文意，下列选项与“生物钟”无关的是（ ）。

睡眠有个神奇的特点，就是我们总是在每天晚上几乎相同的时间感受到睡神的召唤。之所以如此，是因为睡眠的启动部分依赖于大脑内的一个“时钟”，这个“时钟”能够追踪记录地球的昼夜更替，以及季节性规律。而这个星球上的其他生物，从细菌和植物，到鱼类、昆虫和哺乳动物，都具有这样的能力，“生物钟”在自然界无处不在。

- A. 棕熊在冬天冬眠
- B. 东半球的人移居到西半球需要倒时差
- C. 夏季来临昼长夜短
- D. 人多数花朵都会在春天盛开

64. 改革开放以来，我国文艺创作迎来了新的春天，产生了大量\_\_\_\_\_的作品。同时也不能否认，在文艺创作方面，存在着有数量缺质量、有“高原”缺“高峰”的现象，存在着抄袭模仿、\_\_\_\_\_的问题。精品之所以“精”，就在于其思想精深、艺术精湛、制作精良。文艺工作者要\_\_\_\_\_，随着时代生活创新，以自己的艺术个性进行创新。

依次填入横线最恰当的是（ ）。

- A. 家喻户晓 泥沙俱下 标新立异
- B. 丰富多彩 照猫画虎 精耕细作
- C. 脍炙人口 千篇一律 志存高远
- D. 喜闻乐见 因循守旧 与时俱进

65. 下列顿号使用错误的是（ ）。

A. 目前，中国 90%的陆地生态系统类型和 71%的国家重点保护野生动植物物种得到有效保护，人们熟知的大熊猫、朱鹮、亚洲象等濒危物种种群数量在不断增加

B. 俄罗斯 S-500 “普罗米修斯”防空导弹系统，直接把抗击矛头指向战略轰炸机、战略侦察机、洲际弹道导弹、高超声速导弹甚至是低轨道卫星等

C. 王维的“清泉石上流”、“红豆生南国”、以及“独在异乡为异客”都是耳熟能详的诗句

D. 城市发展的近期和远景规划，包括土地的开发与利用，基础设施和生活服务设施的建设与管理，环境的治理与保护，信息的收集、处理和应用，吸引投资的网络组织、营销方式和鼓励措施等

66. 依次填入下面一段文字横线处的语句，衔接最恰当的一组是（ ）。

我国是食品生产和消费的大国，有效解决食品安全领域损害群众利益的突出问题，切实增强消费安全感，\_\_\_\_\_，\_\_\_\_\_，\_\_\_\_\_，\_\_\_\_\_，\_\_\_\_\_。

- ①强化执法措施，严惩违法犯罪分子
- ②创新食品安全监管机制
- ③坚决淘汰劣质企业，以震慑所有企业，使之不敢越雷池一步
- ④既需要食品生产经营者诚信自律，更需要严格的法律制度对其约束和有效监管
- ⑤因此，必须保持严厉打击违法违规行为的态势，及时消除各环节的隐患

A. ④⑤①②③

B. ⑤①②③④

C. ④⑤①③②

D. ④③⑤②①

67. 下列各句中，没有语病的一项是（ ）。

A. G7 高速横穿戈壁、草原、城市、乡村、湿地等多种地形，沿途地貌多变，充满挑战，堪称“中国最美公路”，走上一遭就能顺便满足人们横穿中国的心愿

B. 据中国人口与发展研究中心预测，从“十四五”开始，中国 60 岁以上老年人口将进

入一个快速增长的时期，在 2055 年前中国的老年人口会超过 5 亿，占比将达到 39.5%

C. 四川三星堆遗址考古发掘中秉持的精细发掘理念、采用的多种现代科技手段、构建的考古发掘现场预防性保护，都为我国考古发掘和研究树立了新的标杆

D. “燃灯校长”张桂梅教书育人，用知识改变贫困山区女孩命运，用教育阻断贫困代际传递，她要化作一束光，照亮了大山里女孩的梦想

68. 能准确概括下面一段文字内容的是（ ）。

琴声渐起，我仿佛看见一滴滴饱满的水珠儿洒落在含苞待放的桃花上，又恋恋不舍地挂着丝儿似的落下来，犹如一个活泼的小精灵。它又像一条奔腾不息的大河，裹挟着泥沙、卵石，翻滚着向前奔去，撞击着河岸，向阻挡它的一切势力发起猛烈冲击。忽而，一阵清风穿过树林，一粒沙子从屋檐上滚落，掉在门前那口空水缸里，清脆悦耳，回音似璧。琴声欲止，似一朵烟花静静地绽放。

- A. 琴音遐想
- B. 琴声悠扬
- C. 琴音似水
- D. 琴声悦耳

69. 二十四节气是中华民族农耕文明的智慧结晶，也是专属中国人的独特时间美学。下列选项中，节气与诗句搭配正确的是（ ）。

- A. 立冬节气——蒹葭苍苍，白露为霜。所谓伊人，在水一方
- B. 惊蛰节气——微雨众卉新，一雷惊蛰始。田家几日闲，耕种从此起
- C. 立春节气——草树知春不久归，百般红紫斗芳菲。杨花榆荚无才思，惟解漫天作雪飞
- D. 清明节气——田家少闲月，五月人倍忙。夜来南风起，小麦覆陇黄

70. 下列文字中“它们是它们自己的。”一句指的是（ ）。

人说自己的作品是结成的果实，我却觉得，我的作品像一片片落叶，一年年落叶，一阵阵落叶。……一片又一片的落叶落下了，它们曾经是树的。现在也还是树的，却又不是树的了。它们是它们自己的。是树的过往的季节，过往的尝试，过往的儿女。又是大地的新客人，新的星外来客，新的友人。

- A. 作品一旦完成，就有了独立的生命
- B. 读作品不必理会作者的情况
- C. 树叶凋落，树已经无能为力
- D. 作家是作家，作品是作品

71. 填入横线最恰当的是（ ）。

君子之交淡如水，淡而不腻，才能持久。所有令人舒服的相处，一定饱含合适的\_\_\_\_\_。

- A. 代入感
- B. 价值感
- C. 认同感
- D. 分寸感

72. 下列两句填入横线处最恰当的是（ ）。

(1) 每逢深秋季节，\_\_\_\_\_，松竹山茶，色彩绚丽，美景尽览。

(2) 远眺群山环抱，\_\_\_\_\_，近看小河流域，茶园葱绿，松竹并茂。

- ①置身山顶，俯瞰槐榆丹枫
- ②置身山顶俯瞰，槐榆丹枫
- ③白云缭绕，层林叠翠
- ④层林叠翠，白云缭绕

- A. ②④
- B. ①③
- C. ①④
- D. ②③

73. 依次填入下列各句横线处的虚词，最恰当的是（ ）。

(1) 生活中，我们发现明智的人善于见微知著，\_\_\_\_\_做出科学的论断，于是便成了所谓的未卜先知。

(2) 随着高铁时代的到来，中国交通网日益发达，\_\_\_\_\_是边远山区，与外界的交往更便捷。

(3) 由于新冠疫情的影响，汽车生产和销售都受到了影响，\_\_\_\_\_是人员密集、流动性大的旅游行业。

- A. 从而 尤其 何况
- B. 从而 甚至 况且
- C. 进而 甚至 何况
- D. 进而 尤其 况且

74. 大当量精确制导武器的出现为阵地工程防护带来了新的挑战。比如，巨型钻地导弹可穿透数十米厚的混凝土防护层或岩石层，被称为“地堡克星”。即便是运用智能遮弹技术



将其击爆于防护层表面，其巨大的爆炸能量也足以将地下工程重创或摧毁。在此威胁下，面对防护材料和防护结构难以实现突破性进展的现实“瓶颈”，战场目标一旦被发现就意味着被摧毁。而依托信息手段的近程拦截防护技术为防御大当量钻地导弹打击开辟了一条新的途径。

这段话主要说的是（ ）。

- A. 阵地工程防护面临全新挑战
- B. 近程拦截为军事防御工程带来新希望
- C. 大当量精确制导武器目前还无法防御
- D. 智能遮弹技术是军事防御的发展趋势

75. 下列各句中，句意明确、没有歧义的是（ ）。

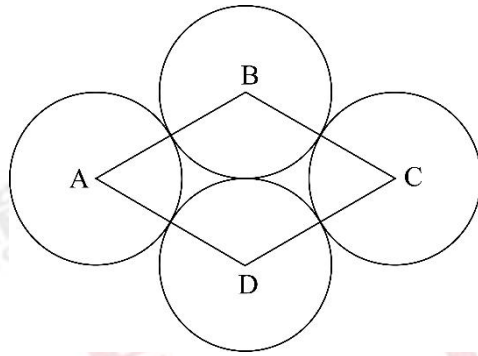
- A. 今年夏季，河南和湖北的大部分地区都遭受了严重的洪涝灾害，有人员伤亡
- B. 两个公司的员工都来了，这两个公司的领导也来了
- C. 工作组来我县调查的前三天，整个县城就已沸沸扬扬
- D. 他是刚到这里来工作的大学生，很多人还不了解

二、数量关系（请根据题目要求，在四个选项中选出一个最恰当的答案。共 10 题，每题 1.5 分，共 15 分。）

76. 某通信排有 15 名女通信兵和 5 名男通信兵，其中包括 2 名女业务尖兵和 1 名男业务尖兵。若从该排随机抽选 3 名女兵和 1 名男兵参加团里组织的通信专业技能比武竞赛，则至少抽到 1 名业务尖兵的概率是（ ）。

- A. 46.7%
- B. 49.7%
- C. 50.3%
- D. 53.3%

77. 四个半径为 1 厘米的圆如下图所示摆放在一起，且 4 个圆的圆心连成一个菱形 ABCD，则这个菱形的面积是（ ）平方厘米。



- A. 4
- B.  $2\sqrt{3}$
- C.  $3\sqrt{2}$
- D.  $\pi$

78. 2015 年元旦，强军爸爸的年龄是强军的 6 倍。2017 年元旦，强军多了一个妹妹。2022 年元旦，强军 12 岁，又多了一个弟弟。则到（ ）年元旦时，强军爸爸的年龄恰好是其三个孩子的年龄之和。

- A. 2026
- B. 2028
- C. 2030
- D. 2032

79. 选择最合理的一项来填充所给数列的空缺位置，使之符合原数列的排列规律：

24, 12, 12, 18, 45, ( )。

- A. 160
- B. 165
- C. 170
- D. 180

80. 某班级计划安排 7 名学生负责国庆 7 天的假期值班，每天安排 1 名学生，每名学生值班 1 天。若 7 名学生中的小王不值 10 月 3 日、小张不值 10 月 4 日，则有（ ）种不同的假期值班安排方案。

- A. 3480
- B. 3600
- C. 3720
- D. 4320

81. 记不超过 20 的所有质数(素数)的算术平均值为 M, 则与 M 最接近的整数是( )。

A. 8

B. 9

C. 10

D. 11

82. 选择最合理的一项来填充所给数列的空缺位置, 使之符合原数列的排列规律: -1, 2, 6, 21, 43, ( )。

A. 56

B. 68

C. 74

D. 82

83. 一项工程由甲乙丙三人合作完成需要 10 天。如果丙休息 1 天, 则要么甲乙两人多合作 1 天, 要么乙单独多做 2 天。问这项工程由丙单独完成需要( )天。

A. 20

B. 30

C. 40

D. 60

84. 某部队共有 200 名士兵, 分成 3 组全部去参加抗洪救灾。已知第一组与第二组的士兵数量比为 3:2, 第三组的士兵数量比第一组少 16, 则第一组的士兵数量是( )。

A. 54

B. 65

C. 81

D. 90

85. 小王上楼梯, 可以一步一个台阶, 也可以一步两个台阶。若楼梯共有 10 个台阶, 则小王上楼梯的方法有( )种。

A. 55

B. 89

C. 120

D. 144

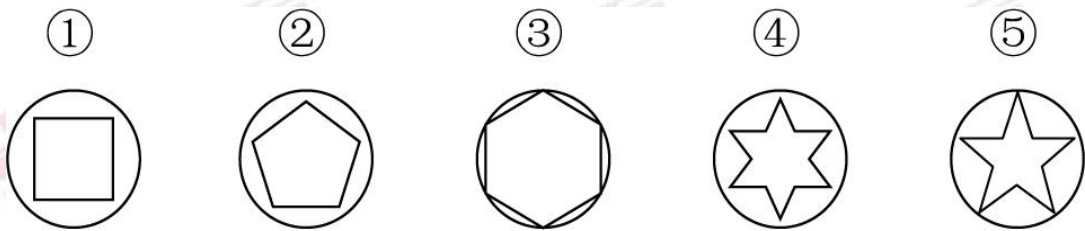
三、判断推理(请根据题目要求, 在四个选项中选出一个最恰当的答案。共 10 题, 每

题 1.5 分，共 15 分。)

86. 母亲只有在父亲陪伴下才坐飞机。如果父亲不坐高铁，那么儿子也不坐高铁。则正确的是 ( )。

- A. 父亲在高铁上，则儿子也在高铁上
- B. 儿子不在高铁上，则母亲在飞机上
- C. 父亲在飞机上，则母亲在高铁上
- D. 儿子在高铁上，则母亲没在飞机上

87. 选择最合适的一项拿掉，使得剩下的图形呈现一定规律性的是 ( )。



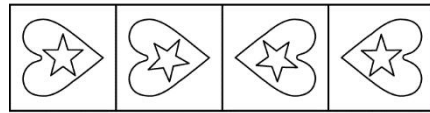

- A. ①
- B. ②
- C. ③
- D. ④

88. 一项新的调查显示，那些饮食习惯相近的男女朋友发展成为夫妻的可能，比那些饮食习惯差异较大的男女朋友要高得多。因此，要想结为夫妻，男女朋友之间就需要尽量保持相近的饮食习惯。

以下哪项如果为真，最能削弱上述题干的结论？ ( )

- A. 饮食习惯不同的人往往性格差异巨大
- B. 男女朋友最后结为夫妻并不一定是饮食习惯相近
- C. 饮食习惯与男女朋友发展成为夫妻关系有直接联系
- D. 男女朋友不能结为夫妻的一个重要原因是饮食习惯差异大

89. 选择最合适的一项填入问号处，使之呈现一定规律性的是 ( )。



A B C D

- A. 如上图所示
- B. 如上图所示
- C. 如上图所示
- D. 如上图所示

90. 五位同学对毕业去向进行讨论。

小张说：“小王去了西安，小李去了北京。”

小王说：“小李去了上海，小赵去了武汉。”

小李说：“小赵去了北京，小周去了武汉。”

小赵说：“小周去了南京，小李去了上海。”

小周说：“小张去了上海，小李去了南京。”

已知每位同学的去向不同，而且每位同学的去向都有同学说对，则正确的是（ ）。

- A. 小张去了上海，小王去了西安，小李去了南京，小赵去了北京，小周去了武汉
- B. 小李去了上海，小赵去了西安，小张去了南京，小王去了北京，小周去了武汉
- C. 小周去了上海，小王去了西安，小赵去了南京，小张去了北京，小李去了武汉
- D. 小赵去了上海，小李去了西安，小周去了南京，小张去了北京，小王去了武汉

91. ( ) 对于“踌躇满志”，相当于“垂头丧气”对于 ( )。

- A. 心满意足；滚滚东流
- B. 奋不顾身；心灰意冷
- C. 谨小慎微；贪生怕死
- D. 怡然自得；萎靡不振

92. 在一次联欢晚会上，小李登台表演了一段越剧，博得满堂喝彩。老张说：“小李的越剧唱得这么好，一定是南方人。”则老张的话里不包含的意思是（ ）。



- A. 不是南方人，越剧不可能唱得那么好
- B. 只要越剧唱得像小李那样好，就是南方人
- C. 除非小李是南方人，否则她的越剧不可能唱得那么好
- D. 只有越剧唱得好，才是南方人

93. 曲曲折折的荷塘上面，弥望的是田田的叶子。\_\_\_\_\_。\_\_\_\_\_。\_\_\_\_\_。

\_\_\_\_\_。\_\_\_\_\_。叶子底下是脉脉的流水，遮住了，不能见一些颜色，而叶却更见风致了。

- ①微风过处，送来缕缕清香，仿佛远处高楼上渺茫的歌声似的
- ②叶子本是肩并肩密密地挨着，这便宛然有了一道凝碧的波痕
- ③叶子出水很高，像亭亭的舞女的裙
- ④这时候叶子与花也有一丝的颤动，像闪电般，霎时传过荷塘的那边去了
- ⑤层层的叶子中间，零星地点缀着些白花，有袅娜地开着的，有羞涩地打着朵儿的；正

如一粒粒的明珠，又如碧天里的星星，又如刚出浴的美人

将以上 5 个句子依次填入画横线部分，最合适的排序是( )。

- A. ③①②⑤④
- B. ③⑤①②④
- C. ③⑤④①②
- D. ③⑤①④②

94. 必要条件：如果事件 M 不发生的时候事件 N 一定不会发生，那么 M 就是 N 的必要条件。根据上述定义，M 是 N 必要条件的选项是( )。

- A. 发生重大安全责任事故(M)，人员伤亡(N)
- B. 一个数能被 2 整除(M)，该数为偶数(N)
- C. 良好的家庭教育(M)，孩子成才(N)
- D. 一个国家自然资源丰富(M)，该国经济发达(N)

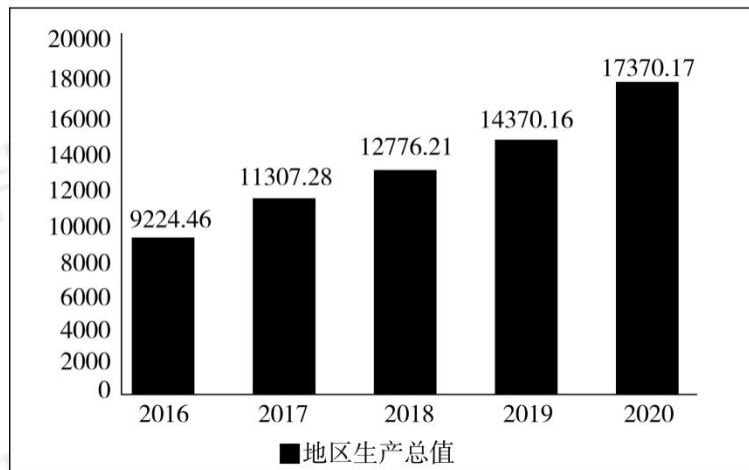
95. 下列词组与“房价上涨：宏观调控：保稳措施”逻辑关系最为贴近、相似或匹配的是( )。

- A. 肚子饿：吃饭：不饿
- B. 生病：打针：治疗
- C. 落后：教育：政策
- D. 刮风：下雨：乌云

四、资料分析（请根据题目要求，在四个选项中选出一个最恰当的答案。共 15 题，每题 1 分，共 15 分。）

材料一：某省经初步核算，2020 年全年实现地区生产总值 17370.17 亿元，第一产业生产总值 202.12 亿元，同比上年增长 3.7%。第二产业生产总值 8277.86 亿元，同比上年增长 12.7%，第三产业生产总值 8890.19 亿元，同比上年增长 30.2%。第一、第二、第三产业结构比为 1.2:47.6: 51.2。

2016—2020年地区生产总值



96. 从 2017 年至 2020 年，该省 GDP 增速最快的年份是（ ）年。

- A. 2017
- B. 2018
- C. 2019
- D. 2020

97. 2019 年该省第二产业在全省 GDP 中的占比是（ ）。

- A. 10.8%
- B. 14.4%
- C. 29.5%
- D. 51.1%

98. 2020 年该省的 GDP 同比增速是（ ）。

- A. 5.3%
- B. 9.7%
- C. 12.5%
- D. 20.9%

材料二:2020年,某地区农作物播种总面积达到1624.26万亩,比2019年同比增长4.5%。其中粮食和蔬菜播种面积大幅增长,分别为458.30万亩和110.01万亩,同比增长32.6%和31.2%;棉花、油料和甜菜播种面积大幅下降,分别为697.42万亩、104.42万亩和29.43万亩,同比下降17.2%、5.6%和18.1%。粮食作物中,小麦294.52万亩,同比增长66.7%;玉米92.66万亩,同比增长3.1%;大豆20.45万亩,同比增长75.4%;水稻33.54万亩,同比下降7.6%。蔬菜播种面积中,番茄64.48万亩,同比增长60.5%;辣椒22.34万亩,同比下降0.6%。

99. 根据上述资料,2019年油料播种面积约为( )万亩。

- A. 90
- B. 100
- C. 110
- D. 120

100. 2020年,下列农作物播种面积同比增幅最大的一种是( )。

- A. 番茄
- B. 小麦
- C. 玉米
- D. 棉花

101. 2020年粮食和蔬菜播种总面积( )。

- A. 比棉花的播种面积少近200万亩
- B. 同比增长超过40%
- C. 超过600万亩
- D. 约占该地区农作物总播种面积的35%

102. 2020年水稻播种面积比2019年大约少( )万亩。

- A. 2.34
- B. 2.52
- C. 2.76
- D. 2.85

材料三:2020年某省外贸全年完成进出口总值548.8亿美元,由上年下降转为增长8.5%,增速高于全国0.9个百分点,其中,出口总值309.6亿美元,增长4.6%,增速同比提高1个百分点;进口总值由上年的下降16.3%转为增长14.1%,高于全国6.2个百分点。

外贸出口中，其中，对东盟出口 38.2 亿美元，增长 14.7%，占全省出口总值的 12.3%，比上年提高 1.1 个百分点；对俄罗斯出口 28.9 亿美元，增长 16.4%，占 9.3%，提高 0.9 个百分点；对墨西哥、智利、南非、尼日利亚出口较快增长，比重均有提高，分别出口 4.3 亿美元、4.0 亿美元、3.4 亿美元和 3.3 亿美元，分别增长 61.7%、12.9%、16.5%和 36.6%。对欧盟出口 46.2 亿美元，下降 8.3%，占全省出口总值的 17.0%，比上年减少 2.1 个百分点；对美国出口 39.7 亿美元，增长 2.3%，减少 0.3 个百分点；对韩国出口 19.9 亿美元，下降 10.6%，占 6.4%，减少 1.1 个百分点；对日本出口 15.1 亿美元，下降 0.3%，占全省出口总值的 4.9%，减少 0.2 个百分点。

103. 2019 年全年该省进出口总值为（ ）亿美元。

- A. 505.8
- B. 519.2
- C. 581.9
- D. 595.4

104. 2019 年该省外贸出口总值与进口总值相差约（ ）亿美元。

- A. 13.1
- B. 70.4
- C. 86.2
- D. 100.1

105. 2020 年该省对（ ）出口增长速度最快。

- A. 墨西哥
- B. 东盟
- C. 尼日利亚
- D. 俄罗斯

106. 2020 年该省最大的出口市场是（ ）。

- A. 俄罗斯
- B. 东盟
- C. 欧盟
- D. 美国

材料四：第七次全国人口普查结果表明，我国 0—14 岁人口为 25338 万，占 17.95%。15—59 岁人口为 89438 万，占 63.35%。60 岁及以上人口为 26402 万，占 18.70%（其中，65

岁及以上人口为 19064 万，占 13.50%）。与 2010 年相比，0—14 岁、15—59 岁、60 岁及以上人口的比重分别上升 1.35 个百分点、下降 6.79 个百分点、上升 5.44 个百分点。

具有大学文化程度的人口为 21836 万，与 2010 年相比，每 10 万人中具有大学文化程度由 8930 上升为 15467，15 岁及以上人口平均受教育年限由 9.08 提高至 9.91，文盲率由 4.08% 下降至 2.67%。

居住在城镇的人口为 90199 万，占 63.89%。居住在乡村的人口为 50979 万，占 36.11%。与 2010 年相比，城镇人口增加 23642 万，乡村人口减少 16436 万，城镇人口比重上升 14.21 个百分点。

人户分离人口为 49276 万，其中，市辖区内人户分离人口为 11694 万，流动人口为 37582 万。与 2010 年相比，人户分离人口增长 88.52%，市辖区内人户分离人口增长 192.66%，流动人口增长 69.73%。

汉族人口为 128631 万，占 91.11%。各少数民族人口为 12547 万，占 8.89%。与 2010 年相比，汉族人口增长 4.93%，各少数民族人口增长 10.26%，少数民族人口比重上升 0.40 个百分点。

107. 下列结论错误的是（ ）。

- A. 2010 年以来，城镇人口一直就高于农村人口
- B. 10 年来我国新型城镇化进程稳步推进，城镇化建设取得了历史性成就
- C. 我国经济社会持续发展，为人口的迁移流动创造了条件，人口流动趋势更加明显，流动人口规模进一步扩大
- D. 少数民族人口稳步增长，充分体现了在中国共产党领导下，我国各民族全面发展进步的面貌

108. 下列结论错误的是（ ）。

- A. 我国少儿人口比重回升，生育政策调整取得了积极成效
- B. 人口老龄化程度进一步加深，未来一段时期将持续面临人口长期均衡发展的压力
- C. 少数民族人口增长率低于汉族人口增长率
- D. 受教育状况的持续改善反映了 10 年来我国大力发展高等教育以及扫除青壮年文盲等措施取得了积极成效，人口素质不断提高

109. 2010 年，人户分离人口和流动人口分别是（ ）万。

- A. 22142 和 26138
- B. 26138 和 22142



C. 37582 和 49276

D. 49276 和 37582

110. 与 2010 年相比, 每 10 万人中具有大学文化程度人口增长率是 ( )。

A. 57.74%

B. 73.20%

C. 119.57%

D. 173.20%

## 第五章 军队文职面试备考指导

### 一、军队文职人员面试形式介绍

从历年军队文职人员面试情况来看，面试形式侧重在半结构化面试，外加专业知识测试（包含专业技能实践操作），考查形式多样，涵盖内容全面。

### 二、军队文职人员面试题型剖析

从测评要素的角度出发，军队文职结构化面试的题型主要包括以下几种：

#### 1.自我认知

出题思路：通过心理投射或迫选的方式提出问题，考查应聘人员的真实意愿。

真题示例：请你谈谈选择到部队工作时都考虑了哪些因素？你是如何看待待遇和工作条件的？

#### 2.工作关系处理

出题思路：通过描述一个与工作职位高度相关的涉及到人际关系处理的假设情境，考查应聘人员对该情境事件的处理能力。

真题示例：在工作和学习过程中，你可能会遇到这种情况：你与一位同事需要共同完成一项工作任务，由于某种原因他有些情绪，表现出工作积极性不高。请问你会怎样对待这种情况？请举例说明。

#### 3.规划事件处理

出题思路：通过描述一个与工作职位高度相关的事件规划、组织的假设情境，考查应聘人员的组织计划、团队协作能力。

真题示例：某县要开展国防教育活动，邀请外地专家进行讲座，你怎么组织？

#### 4.突发事件处理

出题思路：通过描述一个与工作职位高度相关的突发事件处理的假设情境，考查应聘人

员的灵活应变能力、团队协作能力、人际交往能力。

真题示例：在一次重要的会议上，领导做报告时将一个重要的数字念错了，如不纠正会影响工作。这时你会怎么办？

#### 5.现象认知与职业认知

出题思路：通过应聘人员对社会热点或某一现象的分析阐述，观察应聘人员的分析能力、思维层次。

真题示例：吸烟有害健康，但烟草业对国家的税收有很大的贡献，你如何看待政府采取的禁烟措施？

#### 6.专业知识

出题思路：了解应聘人员对专业知识的掌握情况。

真题示例：你认为软件开发的重点是什么？

#### 7.专业实践操作

实操：口述一项你实际工作中的会计业务。

### 三、军队文职人员面试特殊性分析

相比公职类考试面试，军队文职人员面试更加复杂，包括结构化面试+追问（半结构化），以及专业知识测试，所有岗位几乎都包含有专业知识测试环节。在整个面试中，结构化面试部分内容占比少于专业知识测试，当然不同的单位会选择结构化不同的题型，但是共同点基本包括自我介绍，以及自我认知与职位匹配的相关问题，部分单位会考查人际沟通，综合分析，应急应变和组织管理测查较少。

### 四、军队文职人员面试流程介绍

#### 1.面试考前准备

面试组织方组织应聘人员提前 30 分钟到达面试候考室，查验准考证和身份证件等（具

体证件在面试通知单中会详细说明)，宣布考场纪律，明确注意事项，并组织应聘人员抽签确定面试顺序。

## 2.随机抽取考题

考务组长将考题分发至各面试主考室，由主考官签收应聘人员当场随机抽取考题，提交主考官拆封。每份试题均由大小两个信封分装，其中，大信封分装试卷包括题目、答题要点和评分参考，这些都是供考官使用的，每个考官人手一份；小信封中只有题目，供应聘人员使用。

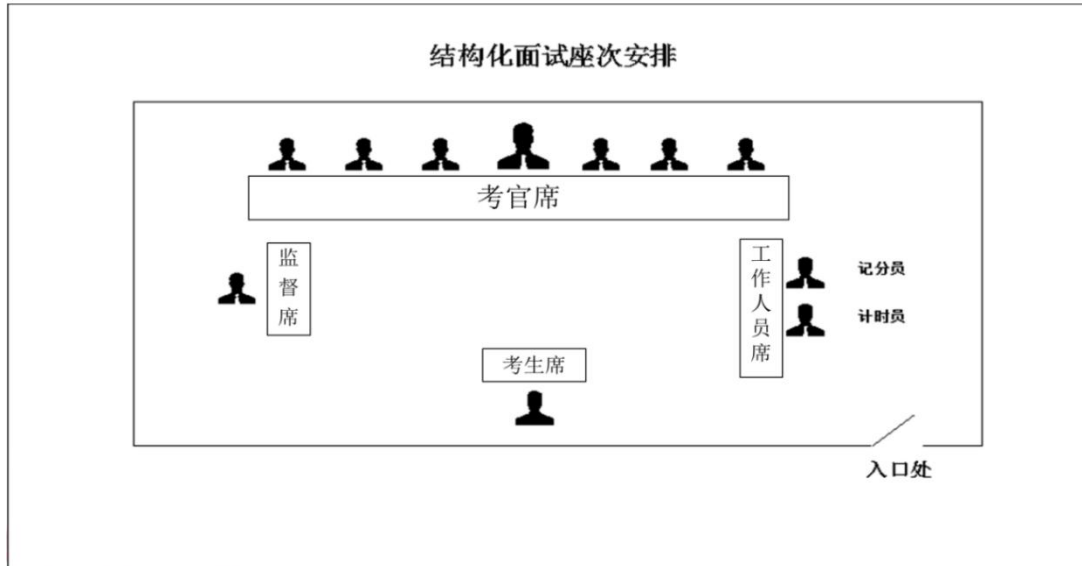
部分单位也会采取现场电脑抽题的方式。

需要注意的是，大部分考场已经采用考生根据专业和岗位分类情况，在《面试系统》中随机抽取的方式确定考题，这样就会大大简化面试考务工作，也更方便做好面试工作的痕迹管理。

## 3.组织答辩操作

主考官根据应聘人员抽选的考题进行提问，其他考官在应聘人员回答后视情况追问，由应聘人员现场回答。面试时间一般不超过 20 分钟。

在考场内，一般会有考官、计分员、记时员、监督员以及考生，考场内的席位空间位置，如下图所示：



面试考场，主考官负责宣读面试指导语，提醒应聘人员应该注意的事项，宣读问题等。计分员负责现场统计分数。计时员负责记录时间，并提醒考试距离答题结束的时间应聘人员应在规定时限内回答给定的问题，切记不可超时。

考生入场后，直接走到考生席，站定后向各位考官问好，并报自己的考试序号。特别注意，应聘人员不能自报姓名，如在考场内自报姓名会被当场取消面试资格。应聘人员落座后，主考官向其宣读面试规则，面试开始。

#### 面试指导语（示例）

你好！欢迎参加今天的面试。面试时间为 20 分钟，你需要通过面试系统选取一套考题，其中包括 \* 个问题，准备时间为 \* 分钟，答题时间为 \* 分钟，另有 \* 分钟考官随机提问……

在有些考场，思考时间与答题时间是分开的，先把全部问题都思考完毕之后，再一起答。

思考时间与答题时间分别做限定；而在有些考场，则是考官读一道题，考生思考+回答一道题，计时员对总用时进行控制。

考官根据考生答辩操作情况进行初步打分。有些考场用纸质打分表进行打分，有些考场则通过《面试系统》打分。考官评分客观公正不得相互商量或者暗示。



#### 4.考官综合评议

同一组应聘人员面试结束后，考务组长组织考官对应聘人员的面试情况进行综合评议。

主考官主持评议时应充分听取每个考官的意见，并做好评议总结。

#### 5.考官评定成绩

每一位考官根据应聘人员答辩操作、回答追问以及合评议的情况，按照下发的面试评分表给每位考生以无记名方式进行逐项评分，调整初评分数。评分结束后交由计分员和监督员核算分数并统计。采取电子评分器进行评分的考场，由考官直接提交分数即可，系统会直接核算分数。

#### 6.确定面试成绩

在监督员的监督下，计分员将每个考官的评分填入面试成绩表，计算出考官评分的算术平均分，就是每位考生的最终面试成绩。填写到《军队文职人员招聘面试成绩名单》，由计分员、监督员以及主考官签名确认该分数。