

## 2020年军队文职笔试《公共科目》真题

### 第一部分 基础知识

一、单项选择题（请根据题目要求，在四个选项中选出一个最恰当的答案。共 50 题，每题 0.5 分，共 25 分。）

1. “人的本质”这一概念是人对自身的认识发展到一定阶段形成的，它力图从根本上回答“人是什么”或“什么是人”这一重大问题。马克思主义认为，人的本质（ ）。

- A. 永恒不变
- B. 可随主观意志而任意改变
- C. 随着社会关系的变化而变化
- D. 随着个性的改变而改变

2. （ ）和信息化是事关国家安全和国家发展、事关广大人民群众工作生活的重大战略问题，是一体之两翼、驱动之双轮。

- A. 生态安全
- B. 军事安全
- C. 科技安全
- D. 网络安全

3. 在国家垄断资本主义条件下，政府对经济生活进行干预和调节的实质是（ ）。

- A. 维持资本主义经济稳定增长
- B. 消除和防止经济危机爆发
- C. 提高资本主义社会的整体福利水平
- D. 维护垄断资产阶级的整体利益和长远利益

4. 马克思在研究战争与和平的关系时指出：“战争比和平发达得早；某些经济关系，如雇佣劳动、机器等等，怎样在战争和军队等等中比在资产阶级社会内部发展得早。生产力和交往关系的关系在军队中也特别显著。”这一论述说明了一个重要观点，即（ ）。

- A. 战争是一定社会经济的产物
- B. 战争是流血的政治

- C. 战争是唯一推动社会经济发展的因素
- D. 战争对整个社会经济发展不起作用
5. 绿水青山就是金山银山。这是重要的（ ）理念，也是推进现代化的重大原则。
- A. 发展
- B. 创新
- C. 改革
- D. 安全
6. （ ）是我们党执政的最大底气，是我们共和国的坚实根基，是我们强党兴国的根本所在。
- A. 人民
- B. 社会主义制度
- C. 人民军队
- D. 党的各级组织
7. 在我国社会主义意识形态中，占据统摄地位的是（ ）。
- A. 共产主义
- B. 马克思主义
- C. 中国特色社会主义
- D. 社会主义核心价值观
8. 先进的社会意识对社会发展起着积极的促进作用，是由于它（ ）。
- A. 是社会存在的反映
- B. 具有历史继承性
- C. 反映了社会发展的趋势和要求
- D. 具有相对独立性
9. 贯穿于毛泽东思想各个组成部分的立场、观点和方法，是毛泽东思想的活的灵魂，它们有三个基本方面，即实事求是、群众路线、独立自主。其中，毛泽东思想的精髓是（ ）。

- A. 实事求是
- B. 群众路线
- C. 独立自主
- D. 统一战线

10. 党对军队绝对领导的原则和制度，发端于（ ），奠基于三湾改编，定型于古田会议。

- A. 秋收起义
- B. 广州起义
- C. 百色起义
- D. 南昌起义

11. 我们党团结带领人民找到了一条以农村包围城市、武装夺取政权的正确革命道路，进行了 28 年浴血奋战，完成了新民主主义革命，建立了中华人民共和国，实现了中国从几千年封建专制向人民民主的伟大飞跃。新民主主义革命实质上是（ ）。

- A. 工人运动
- B. 封建社会农民起义的延续
- C. 中国共产党领导下的农民革命
- D. 无产阶级社会主义革命

12. 唯物辩证法的实质和核心是（ ）。

- A. 对立统一规律
- B. 量变质变规律
- C. 否定之否定规律
- D. 联系和发展

13. 习近平在 2019 年 9 月中央党校（国家行政学院）中青年干部培训班开班式强调，共产党人的斗争是有方向、有立场、有原则的，大方向就是（ ）。

- A. 维护我国核心利益和重大原则
- B. 维护我国人民根本利益

- C. 实现“两个一百年”奋斗目标、实现中华民族伟大复兴
- D. 坚持中国共产党领导和我国社会主义制度不动摇

14. 增进民生福祉是我们党坚持立党为公、执政为民的本质要求。最大的民生工程、民心工程、根基工程是（ ）。

- A. 教育
- B. 就业
- C. 收入分配
- D. 社会保障

15. 平均利润的形成是（ ）。

- A. 部门内部竞争的结果
- B. 部门之间竞争的结果
- C. 资本构成变化的结果
- D. 剩余价值增加的结果

16. 生产逐渐发展、工人就业增加、物价逐步上升、企业利润增加是（ ）的特征。

- A. 危机阶段
- B. 萧条阶段
- C. 复苏阶段
- D. 繁荣阶段

17. 价值规律作用的表现形式是（ ）。

- A. 商品价格经常低于价值
- B. 商品价格总是高于价值
- C. 商品价格往往高于价值
- D. 商品价格围绕价值波动

18. 人类社会中最基本的关系是（ ）。

- A. 政治关系

- B. 宗教关系
- C. 家庭关系
- D. 生产关系

19. 当前我国推进要素市场制度建设，就是要实现（ ）。

- A. 要素市场价格决定、流动自主有序、配置高效公平
- B. 流动自主有序
- C. 配置高效公平
- D. 素市场价格决定

20. 现代企业制度的主要形式是（ ）。

- A. 合伙制
- B. 业主制
- C. 公司制
- D. 混合所有制

21. 商品的本质属性是（ ）。

- A. 使用价值
- B. 价值
- C. 交换价值
- D. 价格

22. 当前我国深化经济体制改革的重点是（ ）。

- A. 完善产权制度和要素市场化配置
- B. 扩大优质增量供给，实现供需动态平衡
- C. 加快培育国际经济合作和竞争新优势
- D. 建立更加有效的区域协调发展新机制

23. 党的十二届三中全会通过的《中共中央关于经济体制改革的决定》明确提出（ ）。

- A. 社会主义存在商品生产和商品交换
- B. 社会主义经济是在公有制基础上的有计划的商品经济
- C. 建立社会主义市场经济体制是我国经济体制改革的目标
- D. 社会主义是计划经济和市场经济的统一

24. 改革开放以来，我国利用外资主要有（ ）。

- A. 各种海外捐助
- B. 各种国外援助
- C. 外国人存款
- D. 各种贷款、外国直接投资

25. 下列行为中可以引起劳动关系产生的是（ ）。

- A. 某宾馆雇佣童工
- B. 因岗位原因甲与所在单位协议改变岗位
- C. 乙根据与某公司签订的劳动合同上岗就业
- D. 劳动合同期满前，丙与某公司协议延期

26. 我国《国防法》规定，公民和组织因国防建设和军事活动在经济上受到直接损失的，可以依照国家有关规定取得（ ）。

- A. 赔偿
- B. 补偿
- C. 补助
- D. 奖励

27. 下列关于国有经济地位的宪法表述正确的是（ ）。

- A. 国有经济是国民经济中的领导力量
- B. 国有经济是国民经济中的主导力量
- C. 国有经济是社会主义市场经济的基本组成部分
- D. 国有经济是我国社会主义经济制度的唯一基础

28. 中华人民共和国各级监察委员会是国家的（ ）。

- A. 行政机关
- B. 审判机关
- C. 监察机关
- D. 法律监督机关

29. 我国《宪法》和法律所确立的解决我国民族问题的基本政治制度是（ ）。

- A. 民族区域自治
- B. 各民族一律平等
- C. 设立特别行政区
- D. 实行国家统一领导

30. 根据马克思主义法学原理，下列选项正确的是（ ）。

- A. 在任何社会，法律内容的决定性因素都是利益需要
- B. 法律的本质是社会各阶层意志的体现
- C. 法律是调整人的一切社会行为的规范
- D. 特定国家的法的内容在最终意义上是由特定国家在特定时空下的物质生活条件决定

的

31. 我国注册商标的有效期为（ ），自核准注册之日起计算。

- A. 5 年
- B. 10 年
- C. 15 年
- D. 20 年

32. 2020 年 5 月 28 日第十三届全国人民代表大会第三次会议通过了（ ）。

- A. 《中华人民共和国国防法》
- B. 《中华人民共和国民法典》
- C. 《中华人民共和国现役军官法》
- D. 《中华人民共和国民法总则》

33. 著作权的内容包括人身权和（ ）。

- A. 财产权
- B. 收益权
- C. 署名权
- D. 出版权

34. 下列两则民谣，说明了我国国防活动基本原则中的（ ）。

(一) 松柏满山棵挨棵，哪有民兵人数多，人筑长城神难过，打得鬼子无处躲。  
(二) 前村后屋安土炮，满山遍野地雷网，老少民兵长翅膀，飞行出击敌后方。一脚踢后心，一手打耳光，配合主力歼敌人，封锁消息断敌粮。

- A. 全民自卫原则
- B. 积极防御原则
- C. 独立自主原则
- D. 国防建设与经济建设协调发展原则

35. 目前，我国人口增长已经进入（ ）。

- A. 低出生率、低自然增长率的现代模式
- B. 低出生率、低死亡率、低自然增长率的现代模式
- C. 高出生率、低死亡率、高自然增长率的过渡模式
- D. 高出生率、高自然增长率的传统模式

36. 成语“草木皆兵”反映的历史事件是（ ）。

- A. 赤壁之战
- B. 官渡之战
- C. 长平之战
- D. 淝水之战

37. 中央集权封建制度对我国封建社会产生的最主要的积极影响是（ ）。

- A. 维护国家统一



- B. 发展社会经济
- C. 防御侵略
- D. 加强民族团结

38. 关于我国“坚持推动构建人类命运共同体”，下列表述不正确的是（ ）。

- A. 始终坚持和平共处五项原则、走互利共赢的开放道路
- B. 坚持正确义利观，树立共同、综合、合作、可持续的新安全观
- C. 谋求开放创新、包容互惠的发展前景
- D. 始终做世界和平的建设者、全球发展的贡献者、国际秩序的维护者

39. 我国行政区划基本分为（ ）级。

- A. 省、自治区、直辖市
- B. 省、自治区、直辖市、特别行政区
- C. 省、县、乡
- D. 省、地、县、乡

40. 2019年3月30日上午，“双千兆第一区”开通仪式在（ ）举行，并拨通了首个5G手机通话，标志着（ ）成为全国首个中国引动5G试用城市。

- A. 北京朝阳区 北京
- B. 上海虹口区 上海
- C. 深圳龙华区 深圳
- D. 杭州西湖区 杭州

41. （ ）是决定当代中国命运的关键一招，也是决定我军发展壮大，制胜未来的关键一招。

- A. 开放
- B. 创新
- C. 改革
- D. 建设

42. 在战争制胜问题上，（ ）是决定因素，无论时代条件如何发展，战争形态如何演变，这一条永远不会变。

- A. 武器
- B. 人
- C. 战争性质
- D. 军队组织形态

43. 我国古代的国防是指从公元前 21 世纪夏王朝的建立到（ ）。

- A. 1840 年鸦片战争
- B. 第二次鸦片战争
- C. 1900 年八国联军侵华
- D. 辛亥革命

44. 国防的基本类型包括（ ）。

- A. 扩张型、侵略型、联盟型和中立型
- B. 扩张型、自卫型、联盟型和中立型
- C. 侵略型、自卫型、结盟型和中立型
- D. 攻击型、防守型、联盟型和中立型

45. 党的生命线和根本工作路线是（ ）。

- A. 实事求是
- B. 群众路线
- C. 独立自主
- D. 统一战线

46. 军队是要准备打仗的，一切工作都必须坚持（ ）标准，向能打仗、打胜仗聚焦。

- A. 对党忠诚
- B. 战斗力
- C. 作风优良

D. 保障有力

47. 1950年10月，党中央作出了抗美援朝、保家卫国的战略决策，毛泽东主席签署命令，任命（ ）为中国人民志愿军司令员兼政治委员。

- A. 陈毅
- B. 刘伯承
- C. 彭德怀
- D. 粟裕

48. 全面贯彻落实总体国家安全观，要聚焦重点，抓纲带目，把确保（ ）安全作为首要任务，统筹推进各重点领域国家安全工作。

- A. 军事
- B. 人民
- C. 经济
- D. 政治

49. 人民军队在内部实行的“三大民主”是（ ）。

- A. 政治民主、经济民主、军事民主
- B. 政治民主、管理民主、军事民主
- C. 文化民主、经济民主、军事民主
- D. 文化民主、管理民主、军事民主

50. 军队保密工作是军队建设（ ）的工作，是巩固战斗力、完成各项任务的重要保证。

- A. 临时性、基础性
- B. 经常性、基础性
- C. 临时性、保障性
- D. 保障性、基础性

二、多项选择题（请根据题目要求，在五个选项中选出两个或两个以上恰当的答案，错选或多选均不得分，少选且选择正确的每个选项得 0.3 分。共 10 题，每题 1.5 分，共 15 分。）

51. 面对来势汹汹的新冠肺炎疫情，党中央审时度势、综合研判，及时提出了（ ）总要求。

- A. 坚定信心
- B. 同舟共济
- C. 科学防治
- D. 精准施策
- E. 高度重视

52. 新时代，中央贯彻“一国两制”方针坚持两点，一是坚定不移，不会变，不动摇；二是全面准确，确保“一国两制”在香港、澳门的实践不走样、不变形，始终沿着正确方向前进。全面准确理解“一国”和“两制”的关系，必须把握（ ）。

- A. “一国两制”是一个完整的概念
- B. “一国”是实行“两制”的前提和基础，“两制”从属和派生于“一国”，并统一于“一国”之内
- C. “一国”是根，根深才能叶茂；“一国”是本，本固才能枝荣
- D. 国家主体坚持社会主义制度，是香港、澳门实行资本主义制度，保持繁荣稳定的前提和保障；香港、澳门依照基本法实行“港人治港”、“澳人治澳”、高度自治，必须充分尊重国家主体实行的社会主义制度
- E. 把坚持“一国”原则和尊重“两制”差异有机结合起来，做到坚守“一国”之本，实现“两制”和谐相处、相互促进，既要把实行社会主义制度的内地建设好，也要把实行资本主义制度的香港、澳门建设好

53. 党的十九届四中全会提出需要坚持和完善的社会主义基本经济制度包括（ ）。

- A. 公有制为主体、多种所有制经济共同发展
- B. 按劳分配为主体、多种分配方式并存
- C. 社会主义市场经济体制
- D. 混合所有制经济发展
- E. 改革开放

54. 共建“一带一路”倡议秉持的原则是（ ）。

- A. 共商
- B. 开放
- C. 共建
- D. 共赢
- E. 共享

55. 关于党对法治事业的领导，下列说法正确的是（ ）。

- A. 党的领导是社会主义法治最根本的保证
- B. 党对法治事业的领导的理念可以追溯到列宁关于无产阶级专政与社会主义法治的思想
- C. 应当将党所倡导的政治文明充分体现在对法治实践活动的领导之中
- D. 党对法治事业的领导，集中体现在思想领导、政治领导两个方面
- E. 党的领导必须依靠社会主义法治

56. 我国《宪法》规定的爱国统一战线的范围包括（ ）。

- A. 社会主义劳动者
- B. 社会主义事业的建设者
- C. 拥护社会主义的爱国者
- D. 拥护祖国统一的爱国者
- E. 我国公民

57. 2001年9月11日，基地组织策划了对美国纽约世界贸易中心和五角大楼的一系列恐怖袭击事件，造成重大人员伤亡和财产损失。这是一起典型的国际恐怖主义袭击活动。该事件发生后，不仅美国的盟友对美国表示了同情和支持，而且非盟友国家也表示支持美国打击恐怖主义。2001年10月7日，以美国为首的联军发起了一场针对基地组织和塔利班的战争，标志着反恐战争的开始。关于国际恐怖主义，下列描述正确的有（ ）。

- A. 国际恐怖主义崇尚暴力活动，一般没有政治色彩
- B. 需要世界各国相互合作，共同应对国际恐怖主义

- C. 打击国际恐怖主义已经成为少数大国推进霸权主义和强权政治的借口
- D. 贫富差距给国际恐怖主义可乘之机
- E. 国际恐怖主义目前仍然是美国面临的最主要威胁

58. 澳门回归祖国 20 年来取得的成就举世瞩目，习近平指出，总结澳门“一国两制”成功实践，可以获得 4 点重要经验，这些经验包括（ ）。

- A. 始终坚定“一国两制”制度自信
- B. 始终准确把握“一国两制”正确方向
- C. 始终强化“一国两制”使命担当
- D. 始终注重夯实“一国两制”中华文化根基
- E. 始终筑牢“一国两制”社会政治基础

59. 党的十九大对国防和军队现代化作出了战略安排，强调同国家现代化进程相一致，全面推进（ ），力争到二〇三五年基本实现国防和军队现代化，到本世纪中叶把人民军队全面建成世界一流军队。

- A. 军事理论现代化
- B. 军队组织形态现代化
- C. 军队力量编成现代化
- D. 军事人员现代化
- E. 武器装备现代化

60. 党对军队绝对领导的制度包括（ ）。

- A. 坚持军队最高领导权和指挥权属于党中央、中央军委，中央军委实行主席负责制
- B. 实行党委制、政治委员制、政治机关制
- C. 实行党委统一的集体领导下的首长分工负责制
- D. 实行支部建在连上
- E. 坚持民主集中制

## 第二部分 岗位能力

一、言语表达与理解（请根据题目要求，在四个选项中选出一个最恰当的答案。共 15 题，每题 1 分，共 15 分。）

61. 依次在下列各句横线处填入词语，恰当的一项是（ ）。

①北京卢沟桥两边的石栏杆上雕刻着数以百计的石狮，这些狮子在风霜雨雪中已守桥七百多个\_\_\_\_\_。

②不同管理层次、不同岗位上的人员，不管其工作内容有多大的\_\_\_\_\_，均有其工作的目标和重点。我们必须\_\_\_\_\_目标，抓住重点，有所取舍，集中\_\_\_\_\_做我们该做的事。

- A. 春秋 差距 制定 物力
- B. 岁月 差距 制定 物力
- C. 岁月 区别 实现 财力
- D. 春秋 差别 明确 精力

62. 下列语句中，划线词语使用不正确的是（ ）。

A. 文物，承载着一个民族的历史，也维系着生活在同一个文化圈里人们的情感认同。那些平素里“养在深闺人未识”的宝贝精品，如今因为一场场“云展览”，与艺术爱好者的距离陡然拉近了

B. 从这些器物上不难发现，无论是车马器、屏风座还是连接扣器都运用了云纹造型，色彩绚丽，动感十足，说明起于北方草原的中山国历经数百年已与中原民族渐趋融合，呈现出动静结合的风格

C. 疫情防控思政大课“云”开讲，四位老师带领我们从不同的角度审思这一场新冠肺炎疫情，很多人心头始终萦绕着“此生无悔入华夏，来世愿在种花家”的幸福感和自豪感

D. 科学家们表示，除了海王星和天王星这对“蓝色妖姬”本身充满神秘诱惑之外，这两颗行星和木星之间罕见的“行星连珠”现象将出现于本世纪 30 年代初

63. 最近，法国科学研究中心和欧洲南方天文台发布信息说，天文学家去年利用位于智利的超大望远镜拍摄到另一个“太阳系”行星的照片。这颗系外行星的体积是太阳系最大行星（木星）的 5 倍，温度是它的 10 倍。这颗系外行星围绕一颗年轻的棕矮星运行。但棕矮

星与行星很难区分。天文学家早先说过他们发现了一个距离地球 230 光年的物体围绕棕矮星运行，亮度仅为后者的 1/100。但他们不能确定这个物体是一颗棕矮星，还是绕棕矮星运行的系外行星。可今年早些时候的观测报告根据它一年来的运动轨迹证明，该物体确实是系外行星。这也是迄今为止第一次拍到系外行星的照片。

阅读这则消息，最符合该消息的导语是（ ）。

- A. 欧洲科学家相信他们第一次拍到了另一个“太阳系”行星的照片
- B. 欧洲科学家最近表示，他们相信自己第一次拍到了另一个“太阳系”行星的照片
- C. 欧洲科学家第一次拍到了另一个“太阳系”行星的照片
- D. 欧洲科学家最近表示第一次拍到了另一个“太阳系”行星的照片

64. 下列句子中没有语病的是（ ）。

- A. 夜深人静，想起今天一连串发生的事情，我怎么也睡不着
- B. 领导干部的楷模孔繁森真正具备了一个共产主义战士的优秀共产党员的品质
- C. 飞快的 18 次特快列车向北京奔驰
- D. 一列一列的火车满载着生产物资开往祖国的四面八方

65. 下列语句中语意明确的是（ ）。

- A. 他背着爸爸和妈妈偷偷地把这笔钱分别存入了两家银行
- B. 这本肖洛霍夫《静静的顿河》将作为今天“朗读者”的嘉宾的礼品赠送给他
- C. 这次考试题虽然不难，但由于他准备得不太充分，差一点儿就没及格
- D. 新学期疫情来势汹汹，区教育研讨视频会上，几个学校的领导提出一定要严把“停课不停学”期间教学质量关

66. 在作文运思时，最重要而且最艰苦的工作不在于搜寻材料，而在于有了材料之后，将它们加以选择与安排。就生糙的材料说，世间可想到可说出的话，前人在大体上都已经想说过；然而后来人却不能因此就不去想不去说，因为每个人有他的特殊的生活情境与经验。所以他所想所说尽管在表面上是老生常谈，而实际上却可以是一种新鲜的作品，如果选择与安排给了它一个新的形式和新的生命的话。

对这段文字主要意思的提炼，下面选项中最准确的是（ ）。

- A. 材料的选择与安排，能显出创作艺术的锤炼



- B. 尽管材料大致相同，但不同作者有不同的选择与安排
- C. 材料的选择与安排是写作中最重要、最艰苦的工作
- D. 作者特殊的生活情境与经验，造就了新鲜的作品

67. 下列语句中，关联词使用正确的是（ ）。

- A. 在阅读过程中，我们可以发现，即使每个作家都有自己的风格，但同时代的作品总还会有某些共同的特点
- B. 为学生减负，不只是学校单方面的事，而是整个社会的事情，因此必须动员社会各方面的力量参与
- C. 人类只有清醒地认识自己，才能合理地调整自己的行为，免于被大自然惩罚，与自然和谐相处
- D. 我亲自感受过中国近代的屈辱史，从而，我对近百年那些为中国寻求解放之路、前仆后继地探索和牺牲的先驱者，一直怀有崇高的敬意

68. 下列成语中划横线的字解释不完全正确的是（ ）。

- A. 言之不预（预料） 前倨（傲慢）后恭
- B. 痼（彻底）改前非 坚忍不拔（移动、改变）
- C. 挂（列举）一漏万 贻（留给）笑大方
- D. 名（名誉）不虚传 方（正在）兴未艾

69. 下列这首诗共有（ ）对仗。

早春南征寄洛中诸友

欧阳修

楚色穷千里，行人何苦赊。

芳林逢旅雁，候馆噪山鸦。

春入河边草，花开水上槎。

东风一樽酒，新岁独思家。

- A. 1 联
- B. 2 联
- C. 3 联

D. 4 联

70. 2019年8月24日,在北京召开的世界机器人大会现场,全球首款基于视觉识别做到侧面跟随、智能避障的OVIS智能行李箱发布。据悉,这款实质为“硬核”智能机器人的消费电子产品在上市前已获“Best of Product 2019 CES”等16项大奖,以及2019美国爱迪生奖——银奖等殊荣:其基于视觉感知和导航的侧跟技术已申请29项美国发明专利。据灵动科技(ForwardX)创始人兼CEO齐欧介绍,这款20英寸的登机箱“相当于一套搭载了无人驾驶技术的低速无人车”,通过融合多传感器的人工智能硬件,实现每分钟传输30GB的视频信息通量及360度全方位视觉感知能力,“能够视觉识别并预测用户的行走轨迹,实时调整自身的速度、导航行驶路线,以实现在侧面跟随主人行走、智能躲避路线中的所有障碍”,并且符合国际安检标准。

根据选文内容,下列最符合本文陈述的推断是( )。

- A. “侧跟”行李箱发布的目的是实现智能避障
- B. “侧跟”行李箱将会受到民众的热烈欢迎
- C. “侧跟”行李箱将会成为全球首款智能行李箱
- D. “侧跟”行李箱的充电电池使用期限会较长

71. 给下列句子排序,最恰当的是( )。

①活着就应该对生命保持一种敬畏和尊重。只要我们还拥有生命,就得对生命负责,让生命焕发出光彩。

②“水清鱼读月,山静鸟听风”,能领悟山月对话的静谧,活着就是一种幸福体验。

③我们为什么活着?

④观看潮涌大江的壮阔,品味人间真情的美好,活着就是一种快乐享受。

⑤同时,活着就是对生命过程的幸福体验和快乐享受。

- A. ③①④②⑤
- B. ②⑤①④③
- C. ④①⑤③②
- D. ③①⑤②④

72. 对下列这首词的赏析,不正确的是( )。

品令·茶词

黄庭坚

风舞团团饼，恨分破、教孤令。金渠体净，只轮慢碾，玉尘光莹。汤响松风，早减了、二分酒病。

味浓香永。醉乡路、成佳境。恰如灯下，故人万里，归来对影。口不能言，心下快活自省。

【注】孤令：孤零。金渠：茶碾，金属所制。

- A. 茶饼上印着团团起舞的凤凰，将茶饼分开，凤凰好像各自分飞，让人遗憾
- B. 词人在松林喝茶，听着茶水的沸腾声和掠过松林的风声，心中感到十分惬意
- C. 词人将茶饼用洁净的金渠细心碾成琼粉玉屑，但见茶末成色纯净，清亮晶莹
- D. 这首词上阕主要写品茶过程，下阕着重写品茶的感受，语言清丽，情感真挚

73. 将下列编号的语句依次填入语段划横线处，语意连贯的是（ ）。

汉文化所以不同于其他民族的化，\_\_\_\_\_，\_\_\_\_\_，\_\_\_\_\_，\_\_\_\_\_，孔子在塑造中国民族性格和文化——心理结构上的历史地位，已是一种难以否定的客观事实。

- ①不管是好是坏，是批判还是继承
- ②中国人所以不同于外国人
- ③中华艺术所以不同于其他艺术
- ④其思想来由仍应追溯到先秦孔学

- A. ④①②③
- B. ①②④③
- C. ②①④③
- D. ②③④①

74. 下文中划线部分“而正是在这两点上”中的“这”指代的是（ ）。

经济学家保罗·罗默指出，知识的生产、应用和扩散的效率与知识的积累及人力资本正相关。而正是在这两点上，发展中国家同发达国家存在着巨大差距，这种差距虽然使发展中国家在知识的选择和应用方面可以有较大的回旋余地，但同时使得他们与发达国家在国际分工中因位势的不同形成垂直分工的关系，因而处于不利地位，甚至随着新的技术壁垒的形成而形成新的“中心—依附”关系，加大贫富差距。

- A. 知识的生产、应用
- B. 知识的积累
- C. 知识的积累和人力资本
- D. 知识的应用及扩散效率

75. 下列各句标点符号使用正确的是（ ）。

A. 她认真地看过这些信后，郑重地转给了有关部门，不知道有关部门收到这些信后作何感想？能不能像影片中那位女法官那样秉公断案，尽快解决问题？

B. 以前可能因为年龄小，不知道珍惜时间，现在我才体会到“一寸光阴一寸金，寸金难买寸光阴。”这句话的真正含义。

C. 每当疼痛发作，他就采用自己的“压迫止痛法”——用茶壶盖、烟嘴、玻璃球、牙刷把……顶住疼痛的部位。

D. “真不是和你说着玩儿。”洪民一本正经地说，“如果你能出山，咱们一起想办法，这事准能完成”。

二、数量关系（请根据题目要求，在四个选项中选出一个最恰当的答案。共 10 题，每题 1.5 分，共 15 分。）

76. 请选择最合理的一项来填充所给数列的空缺项，使之符合原数列的排列规律：10, 8, 6, 4, ( ), 2, -2, 1, -6

- A. 2
- B. 3
- C. 0
- D. -1

77. 请选择最合理的一项填充所给数列的空缺项，使之符合原数列的排列规律：1, 1, 2, 3, 5, 8, 13, 21, ( )

- A. 34
- B. 37
- C. 39
- D. 41

78. 请选择最合理的一项填充所给数列的空缺项，使之符合原数列的排列规律：1, 7, 13, 19, 25, ( )

- A. 36
- B. 33
- C. 31
- D. 27

79. 自然数 12597 能够分解为 ( ) 个质数之积。

- A. 2
- B. 3
- C. 4
- D. 5

80. 某单位辖有 A、B、C 三支施工队，分别编有员工 388 人、289 人、339 人。现将三支施工队整合为人数相等的甲、乙两支施工队，其中 A 队所有员工编入甲队，缺员部分按 3:7 的比例从 B、C 两队抽调，其余人员编入乙队。那么乙队中有 ( ) 人来自 C 队。

- A. 205
- B. 253
- C. 255
- D. 303

81. 已知一个项数为 10 的等差数列，其中奇数项之和为 545，偶数项之和为 590，则其公差为 ( )。

- A. 7
- B. 8
- C. 9
- D. 10

82. 箱子里有 10 个苹果，其中 4 个红苹果，6 个青苹果，从箱子里任取两个苹果，则恰

好取到 1 个红苹果和 1 个青苹果的概率为 ( )。

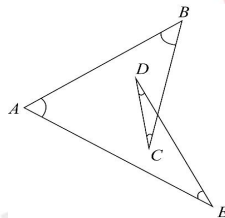
- A.  $\frac{8}{15}$
- B.  $\frac{4}{15}$
- C.  $\frac{1}{3}$
- D.  $\frac{1}{2}$

83. 某直升机原定以 260 公里的时速飞往目的地，因任务紧急，飞行时速提高到 360 公里，结果提前 1 小时到达，则总的航程是 ( ) 公里。

- A. 900
- B. 936
- C. 1200
- D. 1296

84. 如下图所示，图中  $\angle A + \angle B + \angle C + \angle D + \angle E$  的度数为 ( )。

- A.  $90^\circ$
- B.  $180^\circ$
- C.  $270^\circ$
- D.  $360^\circ$



85. 规定  $x \triangle y = 3x - 2y$ ,  $x \nabla y = 3x + 2y$ , 则  $(2 \triangle 3) \triangle (2 \nabla 3)$  ( )。

- A. -24
- B. 12
- C. 0
- D. 24

三、判断推理(请根据题目要求，在四个选项中选出一个最恰当的答案。共 10 题，每题 1.5 分，共 15 分。)

86. 珊瑚虫会在自己的身上记下“日历”，它们每天在自己的体壁上刻画一条斑纹。古

生物学家发现，3.5 亿年前的珊瑚虫每年会在自己的体壁上刻画 400 条斑纹。天文学家告诉我们，3.5 亿年前的地球上每天仅有约 21.9 小时，1 年是 400 天，而不是现在的 365 天。这说明（ ）。

- A. 现在地球自转比 3.5 亿年前变快了
- B. 现在地球自转比 3.5 亿年前变慢了
- C. 现在地球绕太阳公转比 3.5 亿年前变快了
- D. 现在地球绕太阳公转比 3.5 亿年前变慢了

87. 下列与所给词语组“三顾茅庐：刘备”在逻辑关系上最为贴近、相似或匹配的词组是（ ）。

- A. 投笔从戎：班超
- B. 望梅止渴：曹植
- C. 一字千金：刘邦
- D. 四面楚歌：韩信

88. 下列最合乎逻辑顺序的选项是（ ）。

- ①昼夜奋战
  - ②发生疫情
  - ③城市封闭
  - ④交通恢复
  - ⑤赶赴灾区
- A. ②—⑤—③—①—④
  - B. ②—③—⑤—①—④
  - C. ③—②—⑤—①—④
  - D. ⑤—④—②—③—①

89. 存折对于（ ）相当于（ ）对于围墙。

- A. 储户 牛羊
- B. 存款 绿地
- C. 银行卡 栅栏

D. 银行 庭院

90. 自然失业是由于经济中的一些难以克服的原因引起的失业，它是任何经济形态都难以避免的失业，也是正常的失业。根据以上定义，下列属于自然失业的是（ ）。

A. 王某由于酒后驾车造成人员伤亡，公司以王某违反劳动纪律为由将王某开除

B. 由于地震，厂房和设备受损，厂长不得已遣散了工人

C. 由于高速公路收费方式改为 ETC 通道收费，一些人工收费站的工作人员下了岗

D. 赵某因哥们义气帮朋友要债，失手将欠债人打残，单位以赵某违反劳动纪律为由将赵某开除

91. 大学某班级英语四级报名结束后，甲、乙、丙、丁四位同学在一起讨论报名情况。

甲：“我们班所有同学都报名了。”

乙：“如果班长报名了，那么副班长就没报名。”

丙：“班长报名了。”

丁：“我们班有人没有报名。”

已知四人中只有一个人说假话，则可推出结论（ ）。

A. 甲说假话，副班长没报名

B. 乙说假话，副班长没报名

C. 丙说假话，班长没报名

D. 甲说假话，班长没报名

92. 自我知识是指个体对自己的心智状态的认识，包括自己当下的经验、思想、信念或愿望的知识。根据上述定义，下列不属于自我知识的是（ ）。

A. 小李了解所学专业的就业情况后，决定考研深造

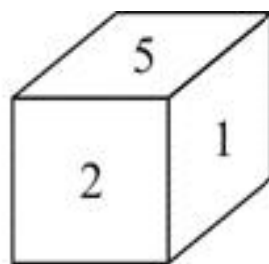
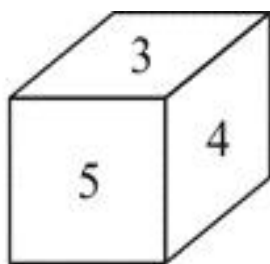
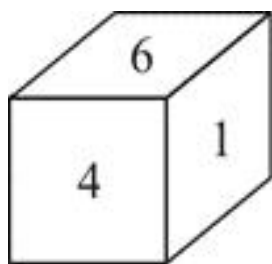
B. 小杨认识到如果不加强锻炼，会影响自己的健康

C. 小王通过网络，得知某地正在流行一种传染病

D. 小明相信通过自身努力，学业一定会取得进步

93. 一个正方体骰子的六个面上分别标注了数字 1、2、3、4、5、6，从三个不同的角度观察该骰子，看到如下数字标注。数字 3 对面的数字是（ ）。





- A. 1
- B. 2
- C. 4
- D. 6

94. 从所给的四个选项中，选择最合适的一个填入问号处，使之呈现一定的规律性的是 ( )。



A



- B. 
- C. 
- D. 

95. 生病去医院看病的一般流程为 ( )。

- ① 化验
- ② 治疗
- ③ 诊断
- ④ 病愈

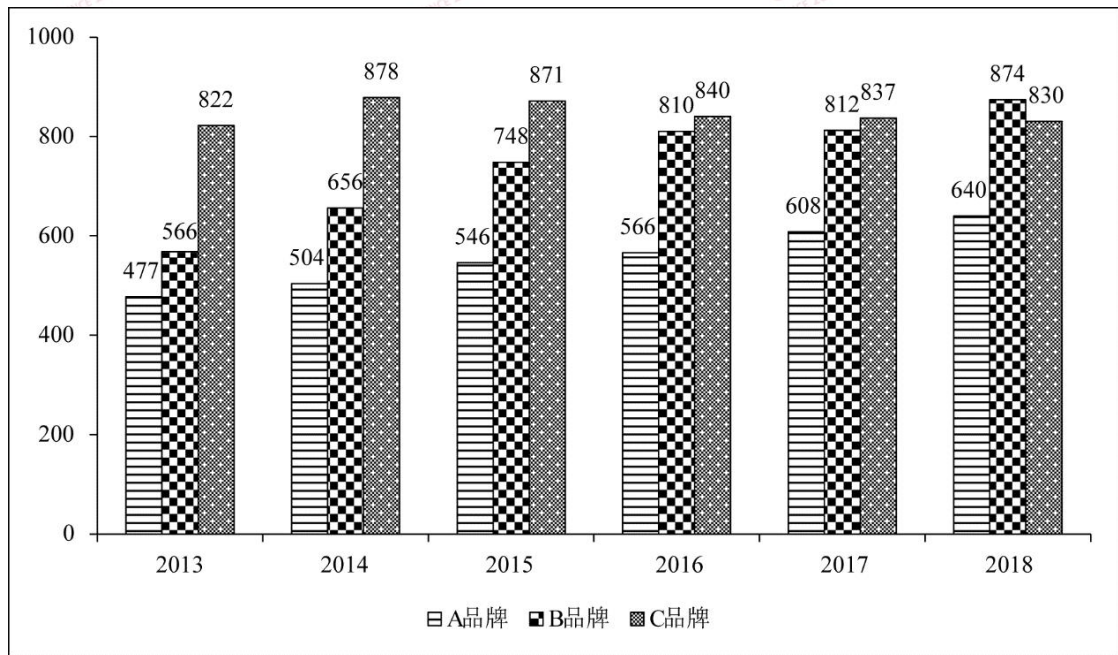
⑤就医

- A. ①—②—③—④—⑤
- B. ②—④—⑤—①—③
- C. ④—②—③—⑤—①
- D. ⑤—①—③—②—④

四、资料分析（请根据题目要求，在四个选项中选出一个最恰当的答案。共 15 题，每题 1 分，共 15 分。）

材料一：

某省是我国主要的手机生产地之一，并且生产有多个品牌的手机。下图是该省 2013~2018 年生产的 A 品牌、B 品牌和 C 品牌三个品牌手机的产量，单位：万台。



96. 2013~2018 年 A、B 两品牌产量之和占三个品牌总数比重最大的一年是（ ）。

- A. 2013 年
- B. 2015 年
- C. 2017 年
- D. 2018 年

97. 2015~2018 年 B 品牌产量年增长率最小的一年是（ ）。

- A. 2015 年
- B. 2016 年
- C. 2017 年
- D. 2018 年

98. 2013~2018 年 A 品牌平均年产量与 B 品牌平均年产量的比值约是 ( )。

- A. 0.95
- B. 0.86
- C. 0.75
- D. 0.51

99. 2013~2018 年 C 品牌产量年增长率最大的一年是 ( )。

- A. 2014 年
- B. 2015 年
- C. 2016 年
- D. 2017 年

材料二：

1995 年我国主要经济区生产力布局

地区名称	面积 (万平方公里)	人口数量 (亿)	地区国民生产总值占各 地区总和的比重 (%)
长江三角洲地区	33	1.68	20
环渤海地区	112	2.40	22
中部地区	87.1	3.08	14
珠江三角洲地区	29.9	0.98	13
西南地区	142	2.43	11
东北地区	124	1.13	15
西部地区	307	0.82	5

100. 依据表格数据各地区中人口密度最小的是 ( )。

- A. 西部地区
- B. 中部地区

- C. 长江三角洲地区
- D. 珠江三角洲地区

101. 表格中各地区人均地区国民生产总值最高的是（ ）。

- A. 长江三角洲地区
- B. 珠江三角洲地区
- C. 环渤海地区
- D. 东北地区

102. 根据表格数据，长江三角洲地区国民生产总值是西部地区的（ ）。

- A. 4 倍
- B. 5 倍
- C. 2 倍
- D. 3 倍

103. 由表格数据可以推断出（ ）。

- A. 面积越大的地区对应的人口越多
- B. 西南地区是表格中七个地区人均国民生产总值最低的地区
- C. 人口数量少对应人口密度就小
- D. 人口多经济发展水平一定高

材料三：

某市 2019 年 5 月发布的统计数据显示，2019 年前两个月实现工农业销售总额为 53.67 亿元，比上年同期增长 28.7%，其中，工业销售总额 27.29 亿元，比上年同期增长 30.1%；农业销售总额 26.38 亿元，比上年同期增长 27.4%。

统计数据，显示在 2019 年 2 月份实现工农业销售总额为 29.69 亿元，比上年同期增长 58.2%，增速比 1 月份加快 53.6%。其中，农业销售总额为 14.75 亿元，比上年同期增长 55.4%，增速比 1 月份加快 51.7%；工业销售总额为 14.95 亿元，比上年同期增长 61.1%，增速比 1 月份加快 55.6%。

2019 年前两个月在农业生产中的一般农业和农业深加工销售额都有较大增长，其中，

一般农业实现销售额 8.97 亿元，比上年同期增长 31%，与一月份增幅基本持平，一般农业销售额增幅高于全市农业销售总额平均增幅 3.6%；全市农业深加工销售额为 16.67 亿元，比上年同期增长 24.8%。

2019 年前两个月该市在深圳、广州、上海、北京、天津和南京等六个城市实现农业销售额达 18.38 亿元，占全市农业销售总额为 69.7%。其中，在深圳实现销售额 7.3 亿元，比上年同期增长 12.2%；在广州为 2.99 亿元，比上年同期增长 16.2%；在上海为 2.66 亿元，比上年同期增长 32%；在北京为 2.46 亿元，比上年同期增长 1.2 倍；在天津为 1.62 亿元，比上年同期增长 1.8 倍；在南京为 1.35 亿元，比上年同期增长 25.4%。

104. 2018 年 1 月份，该市工农业销售总额为（ ）亿元。

- A. 18.7
- B. 19.3
- C. 22.9
- D. 25.9

105. 2019 年前两个月，该市一般农业销售额占农业销售总额的比重与上年同期相比（ ）。

- A. 下降了大约 3.6%
- B. 上升了大约 1%
- C. 上升了 3.6%
- D. 持平

106. 该市 2018 年前两个月在上海实现的农业销售额约为（ ）亿元。

- A. 1.41
- B. 1.73
- C. 2.02
- D. 2.82

107. 与 2018 年同期相比，2019 年前两个月该市在上面六个城市中农业销售额增长最多的是（ ）。

- A. 北京
- B. 广州
- C. 天津
- D. 深圳

材料四：

2018 年全年粮食种植面积 11704 万公顷，比上年减少 95 万公顷。其中，小麦种植面积 2427 万公顷，减少 24 万公顷；稻谷种植面积 3019 万公顷，减少 56 万公顷；玉米种植面积 4213 万公顷，减少 27 万公顷；棉花种植面积 335 万公顷，增加 16 万公顷；油料作物种植面积 1289 万公顷，减少 33 万公顷；糖料作物种植面积 163 万公顷，增加 9 万公顷。

2014~2018 年每年粮食产量如下表所示，单位：万吨。2018 年全年粮食产量 65789 万吨，比上年减少 371 万吨，减产 0.6%。其中，夏粮产量 13878 万吨，减产 2.1%；早稻产量 2859 万吨，减产 4.3%；秋粮产量 49052 万吨，增产 0.1%。全年谷物产量 61019 万吨，比上年减产 0.8%。其中，稻谷产量 21213 万吨，减产 0.3%；小麦产量 13143 万吨，减产 2.2%；玉米产量 25733 万吨，减产 0.7%。



108. 2018 年粮食种植面积比 2017 年减少约为 ( )。

- A. 1.2%
- B. 0.4%

C. 1.8%

D. 0.8%

109. 2015~2018 年粮食产量增产比例最大的年份是 ( )。

A. 2015 年

B. 2016 年

C. 2017 年

D. 2018 年

110. 由材料可以判断下列说法不正确的是 ( )。

A. 2014~2018 年粮食产量处于最低点的年份是 2014 年

B. 2018 年全年粮食产量有所减少, 其中各类粮食产量都有所下降

C. 2014~2018 年粮食产量一直处于增减交替状态

D. 2018 年全年粮食种植面积减少, 但棉花和糖料作物种植面积有所增加

## 2020年军队文职笔试《公共科目》真题解析

### 第一部分 基础知识

#### 一、单项选择题

1. 【答案】C

【解析】马克思主义认为人的本质是一切社会关系的总和。它表明人的本质不是先天的、天赋的，而是在后天社会生活和社会实践，特别是生产实践中形成的。既然人的本质在其现实性上是一切社会关系的总和，而人的社会关系是会发生变化的，因此，就不存在什么永恒不变的一般的人的本质。恰恰相反，人的本质是随着社会关系的改变而变化的。C项正确，当选。A项错误，排除。BD项，人的本质是客观的，并非随主观意志、个性的变化而任意改变。BD项错误，排除。因此，选择C选项。

2. 【答案】D

【解析】2014年2月27日，习总书记在中央网络安全和信息化领导小组第一次会议上的讲话中指出，网络安全和信息化对一个国家很多领域都是牵一发而动全身的，要认清我们面临的形势和任务，充分认识做好工作的重要性和紧迫性，因势而谋，应势而动，顺势而为。网络安全和信息化是一体之两翼、驱动之双轮，必须统一谋划、统一部署、统一推进、统一实施。因此，选择D选项。

3. 【答案】D

【解析】在垄断资本主义条件下，垄断资产阶级利用国家机器干预经济生活，主要是为了暂时缓和资本主义基本矛盾引发的各种问题。其根本目的是为了维护垄断资产阶级的长远利益和整体利益。D项正确，当选。A项，维持资本主义经济稳定增长是政府对经济生活进行干预和调节的具体目的之一，而非实质。A项错误，排除。B项，在资本主义条件下，社会化大生产和生产资料私有制之间的基本矛盾无法解决，所以经济危机无法消除。B项错误，排除。C项，生产力的提高会带来资本主义社会的整体福利水平的提高。C项错误，排除。因此，选择D选项。

4. 【答案】A

【解析】历史唯物主义认为，战争既非从来就有，也不是永恒的，战争是社会生产力和生产关系发展到一定阶段的产物，是在私有制产生以后，随着阶级和国家的形成，出现压迫



和被压迫时才出现的。马克思的论述中指出战争与“生产力和交往关系的关系”紧密相关，与社会发展有关，是社会经济发展的产物。A项正确，当选。B项，毛泽东同志曾说过“战争是流血的政治，政治是不流血的战争”。但题干材料与此无关。B项错误，排除。C项，社会基本矛盾是推动社会经济发展的重要动力，战争不是唯一推动社会经济发展的因素，反而会造成社会经济的破坏。C项错误，排除。D项，战争会造成社会经济的破坏，但在某些方面也会促进军事科技、军事理论的发展。D项错误，排除。因此，选择A选项。

5. 【答案】A

【解析】建设社会主义生态文明，开创新时代中国特色社会主义事业新局面。“绿水青山就是金山银山”理念是重要的发展理念，也是推进现代化建设的重大原则，为人民群众正确认识和改造自然，建设社会主义生态文明提供理论指引。A项正确，当选。B项，党的十八届五中全会提出创新、协调、绿色、开放、共享五大发展理念，把创新放在首位，以创新引领发展，突出了创新的极端重要性。创新是引领发展的第一动力。B项错误，排除。C项，改革是中国的第二次革命。改革开放是我们党在新的时代条件下带领人民进行的新的伟大革命，是决定当代中国命运的关键抉择。C项错误，排除。D项，国家安全是指国家政权、主权、统一和领土完整、人民福祉、经济社会可持续发展和国家其他重大利益相对处于没有危险和不受内外威胁的状态，以及保障持续安全状态的能力。D项错误，排除。因此，选择A选项。

6. 【答案】A

【解析】2019年5月31日，习近平在“不忘初心、牢记使命”主题教育工作会议上的讲话中指出，人民是我们党执政的最大底气，是我们共和国的坚实根基，是我们强党兴国的根本所在。我们党来自于人民，为人民而生，因人民而兴，必须始终与人民心心相印、与人民同甘共苦、与人民团结奋斗。因此，选择A选项。

7. 【答案】B

【解析】党的十九届四中全会通过的《中共中央关于坚持和完善中国特色社会主义制度、推进国家治理体系和治理能力现代化若干重大问题的决定》指出，坚持马克思主义在意识形态领域指导地位的根本制度，并将其列为社会主义先进文化制度建设的首要内容，这是以习近平同志为核心的党中央全面总结党的意识形态工作历史经验而得出的科学结论，为做好新时代意识形态工作和宣传文化工作提供了根本遵循和实践指南。因此，选择B选项。

8. 【答案】C

【解析】社会意识是对社会存在的反映，对人们的活动有重要影响。正确地反映了社会

发展规律的先进的社会意识会对社会的发展起积极的促进作用，因为先进的社会意识可以反映社会发展的趋势和要求。C项说法正确。A项，社会意识是对社会存在的反映，说法正确但与题干无关，排除。B项，社会意识的发展具有历史继承性。任何时代的社会意识都和之前时代的社会意识有联系，它的产生和发展要以前人所积累的思想材料为前提，继承前人的思想成果。说法正确但与题干无关，排除。D项，社会存在决定社会意识，社会意识是对社会存在的反映，社会意识具有自己的相对独立性。说法正确但与题干无关，排除。因此，选择C选项。

9. 【答案】A

【解析】实事求是、群众路线、独立自主是毛泽东思想的活的灵魂。其中，实事求是毛泽东思想的精髓，群众路线是党的一切工作的基本方针和路线，独立自主是革命与建设的根本立足点。A项正确，当选。BC项与题意无关，排除。D项，1939年10月，毛泽东在《〈共产党人〉发刊词》中总结中国共产党18年革命斗争的历史经验时指出：“统一战线、武装斗争、党的建设，是中国共产党在中国革命中战胜敌人的三大法宝”。故与题意无关，排除。因此，选择A选项。

10. 【答案】D

【解析】党对军队绝对领导的原则和制度，发端于南昌起义，奠基于三湾改编，定型于古田会议，是人民军队完全区别于一切旧军队的政治特质和根本优势。历史证明，坚持党对军队的绝对领导，是党巩固执政地位，巩固人民民主专政，巩固社会主义制度的政治条件，是党领导军队开展革命活动以来，历经腥风血雨终获成功的历史经验教训的深刻总结。D项正确，当选。A项，秋收起义是1927年毛泽东在湖南东部和江西西部领导的工农革命军（即红军）举行的一次武装起义。秋收起义是继南昌起义之后，中国共产党领导的又一次著名的武装起义，是中共党史军史上的三大起义之一。故A项与题意无关，排除。B项，广州起义是指1927年12月11日中国共产党在广州领导工人、农民和革命士兵举行的反抗国民党反动派的武装起义，是中国共产党和中国人民继南昌起义、湘赣边界秋收起义之后，对国民党反动派的又一次英勇反击，是在城市建立苏维埃政权的大胆尝试，在国内外都引起了很大的震动。故B项与题意无关，排除。C项，百色起义，又叫右江暴动，是1929年12月11日，由邓小平、贺昌、陈豪人（政治委员）、张云逸、韦拔群、李明瑞等同志在广西百色组织领导的武装起义。起义建立了中国工农红军第七军，这是在南昌起义、秋收起义、广州起义的影响和鼓舞下，中国共产党在广西少数民族地区实行“工农武装割据”的一次光辉实践。故C项与题意无关，排除。因此，选择D选项。

11. 【答案】C

【解析】农民是中国革命的主力军，农民问题是中国革命的基本问题，新民主主义革命实质上就是中国共产党领导下的农民革命，中国革命战争实质上就是党领导下的农民战争。因此，选择C选项。

12. 【答案】A

【解析】唯物辩证法的三大基本规律是：对立统一规律、质量互变规律、否定之否定规律。其中，对立统一规律是唯物辩证法的实质和核心。因为它是区分辩证法和形而上学的试金石，是事物普遍联系的根本内容和永恒发展的根本规律，是事物普遍联系和发展的动力源泉，提供了认识世界和改造世界的根本方法。A项正确，当选。B项，质量互变规律是自然、社会和人类思维发展的普通规律，它揭示了事物发展的形式和状态。故B项与题意无关，排除。C项，否定之否定规律是哲学的基本规律之一，它揭示了事物发展的前进性与曲折性的统一，表明了事物的发展不是直线式前进而是螺旋式上升的。故C项与题意无关，排除。D项，联系和发展的观点是唯物辩证法的总特征。故D项与题意无关，排除。因此，选择A选项。

13. 【答案】D

【解析】2019年9月3日，2019年秋季学期中央党校（国家行政学院）中青年干部培训班在中央党校开班。习近平在开班式上发表讲话强调，共产党人的斗争是有方向、有立场、有原则的，大方向就是坚持中国共产党领导和我国社会主义制度不动摇。凡是危害中国共产党领导和我国社会主义制度的各种风险挑战，凡是危害我国主权、安全、发展利益的各种风险挑战，凡是危害我国核心利益和重大原则的各种风险挑战，凡是危害我国人民根本利益的各种风险挑战，凡是危害我国实现“两个一百年”奋斗目标、实现中华民族伟大复兴的各种风险挑战，只要来了，我们就必须进行坚决斗争，而且必须取得斗争胜利。我们的头脑要特别清醒、立场要特别坚定，牢牢把握正确斗争方向，做到在各种重大斗争考验面前“不畏浮云遮望眼”，“乱云飞渡仍从容”。因此，选择D选项。

14. 【答案】B

【解析】B项，《习近平新时代中国特色社会主义思想学习纲要》第十三部分关于新时代中国特色社会主义社会建设中指出，民生是人民幸福之基、社会和谐之本。增进民生福祉是我们党坚持立党为公、执政为民的本质要求。就业是最大的民生工程、民心工程、根基工程。要把稳就业摆在突出位置，实施就业优先政策，实现更高质量和更充分就业。B项正确，当选。A项，《习近平新时代中国特色社会主义思想学习纲要》第十三部分关于新时代中国

特色社会主义社会建设中指出，教育是民族振兴、社会进步的重要基石，是国之大计、党之大计，对提高人民综合素质、促进人的全面发展、增强中华民族创新创造活力、实现中华民族伟大复兴具有决定性意义。A项与题意无关，排除。C项，《习近平新时代中国特色社会主义思想学习纲要》第十三部分关于新时代中国特色社会主义社会建设中指出，收入分配是民生之源，是改善民生、实现发展成果由人民共享最重要最直接的方式。要坚持按劳分配原则，完善按要素分配的体制机制，促进收入分配更合理、更有序。C项与题意无关，排除。D项，《习近平新时代中国特色社会主义思想学习纲要》第十三部分关于新时代中国特色社会主义社会建设中指出，社会保障发挥着社会稳定器作用。要按照兜底线、织密网、建机制的要求，全面建成覆盖全民、城乡统筹、权责清晰、保障适度、可持续的多层次社会保障体系。D项与题意无关，排除。因此，选择B选项。

15. 【答案】B

【解析】平均利润是指投入不同部门的同量资本获得的等量利润或职能资本家按平均利润率获得的利润，是社会剩余价值总量在各部门资本家之间重新瓜分的结果，体现了整个资产阶级共同剥削整个无产阶级的关系。可见，平均利润的形成是部门之间竞争的结果。因此，选择B选项。

16. 【答案】C

【解析】资本主义再生产周期中，复苏阶段的主要特点是：生产逐渐发展，就业人数逐渐增多，社会购买力开始提高，市场容量开始扩大，资本周转加快，企业利润增长，商业信用和银行信用渐趋活跃，使社会生产恢复和发展到危机前的水平。C项符合题意，当选。因此，选择C选项。

17. 【答案】D

【解析】价值规律是商品生产和商品交换的基本经济规律，即商品的价值量取决于社会必要劳动时间，商品按照价值相等的原则互相交换。价值规律作用的表现形式是商品价格围绕价值波动。因此，选择D选项。

18. 【答案】D

【解析】人类社会中最基本的关系是生产关系。物质资料生产是人类社会存在与发展的基础，是生产力与生产关系的统一。生产关系是指人们在物质资料生产过程中所构成的社会或经济关系。它反映的是在生产过程中人与人之间的关系，是人类全部社会关系中最基础最本质的关系。因此，选择D选项。

19. 【答案】A

【解析】十九届四中全会通过的《中共中央关于坚持和完善中国特色社会主义制度、推进国家治理体系和治理能力现代化若干重大问题的决定》提出：“加快完善社会主义市场经济体制……推进要素市场制度建设，实现要素价格市场决定、流动自主有序、配置高效公平。因此，选择 A 选项。

20. 【答案】C

【解析】现代企业制度是适应社会化大生产和市场经济发展要求的，以公司制为主要形式，现代公司制企业的主要形式是有限责任公司和股份有限公司。C 项正确，当选。A 项，合伙制是由两个或两个以上个人共同拥有企业的组织形式。A 项不符合题意，排除。B 项，业主制也称单一业主制，是历史上最早出现的企业制度形式，它也是企业组织最传统、最简单的形式。它只有一个产权所有者，企业财产就是业主的个人财产。B 项不符合题意，排除。D 项，混合所有制是由几种所有制成分结合在一起而形成的所有制形式。混合所有制经济的具体形式有：股份制经济，合作经济，合资经济等。D 项不符合题意，排除。因此，选择 C 选项。

21. 【答案】B

【解析】商品是满足人们某种需要的，用来交换的劳动产品。商品的基本属性是价值和使用价值。价值是指凝结在商品中的无差别的人类劳动，是商品的本质属性。B 项符合题意，当选。A 项，使用价值是指物品能够满足人们某种需要的属性。使用价值是商品的自然属性。A 项不符合题意，排除。C 项，商品交换价值的表现形式是商品能同其他商品或货币相交换的属性。交换价值不是商品的本质属性。C 项不符合题意，排除。D 项，价格是商品同货币交换时单位商品量需要的货币的数量多少。价格不是商品的本质属性。D 项不符合题意，排除。因此，选择 B 选项。

22. 【答案】A

【解析】习近平总书记在十九大报告中提出，加快完善社会主义市场经济体制。经济体制改革必须以完善产权制度和要素市场化配置为重点，实现产权有效激励、要素自由流动、价格反应灵活、竞争公平有序、企业优胜劣汰。A 项正确，当选。B 项，习近平总书记在十九大报告中提出，深化供给侧结构性改革。坚持去产能、去库存、去杠杆、降成本、补短板，优化存量资源配置，扩大优质增量供给，实现供需动态平衡。B 项不符合题意，排除。C 项，习近平总书记在十九大报告中提出，推动形成全面开放新格局。创新对外投资方式，促进国际产能合作，形成面向全球的贸易、投融资、生产、服务网络，加快培育国际经济合作和竞争新优势。C 项不符合题意，排除。D 项，习近平总书记在十九大报告中提出，实施区域协

调发展战略。加大力度支持革命老区、民族地区、边疆地区、贫困地区加快发展，强化举措推进西部大开发形成新格局，深化改革加快东北等老工业基地振兴，发挥优势推动中部地区崛起，创新引领率先实现东部地区优化发展，建立更加有效的区域协调发展新机制。D项不符合题意，排除。因此，选择A选项。

23. 【答案】B

【解析】1984年10月20日党的十二届三中全会在北京召开，全会讨论并通过的《中共中央关于经济体制改革的决定》明确地指出，中国的社会主义经济不是计划经济，而是以公有制为基础的有计划的商品经济。在当时的历史条件下，明确地指出社会主义经济是有计划的商品经济，已是相当大的突破，是对马克思主义政治经济学的一个重大发展。B项正确，当选。A项，社会主义存在商品生产和商品交换，并不是在党的十二届三中全会通过的《中共中央关于经济体制改革的决定》明确提出。A项不符合题意，排除。C项，党的十四大报告中正式提出：“我国经济体制改革的目标是建立社会主义市场经济体制”。C项不符合题意，排除。D项，1987年，党的十三大正式提出社会主义有计划商品经济的体制应该是计划与市场内在统一的体制的观点。D项不符合题意，排除。因此，选择B选项。

24. 【答案】D

【解析】改革开放后的前十年，我国利用外资主要是政府贷款、国际组织贷款等，20世纪90年代后，外商直接投资才成为主导，这些外国企业带来了先进的技术管理，先进的生产力，激活了国内市场，形成了市场竞争，产品更新加快，产品研发和品牌提升加快，几乎对当时我国的工业体系进行了再造。所以，改革开放以来，我国利用外资主要有各种贷款、外国直接投资。因此，选择D选项。

25. 【答案】C

【解析】劳动法律关系是指劳动法律规范在调整劳动关系过程中形成的法律上的劳动权利和劳动义务关系。劳动法律关系是劳动关系在法律上的表现，是当事人之间发生的符合劳动法律规范、具有权利义务内容的关系。C项，乙根据与某公司签订的劳动合同上岗就业，可以引起劳动法律关系产生。C项当选。A项，根据《劳动法》第十五条，禁止用人单位招用未满十六周岁的未成年人。文艺、体育和特种工艺单位招用未满十六周岁的未成年人，必须遵守国家有关规定，并保障其接受义务教育的权利。A项某宾馆雇佣童工不符合法律规定。A项错误，排除。B项，根据《劳动法》第十七条，订立和变更劳动合同，应当遵循平等自愿、协商一致的原则，不得违反法律、行政法规的规定。劳动合同依法订立即具有法律约束力，当事人必须履行劳动合同规定的义务。B项，因岗位原因甲与所在单位协议改变岗位，

属于劳动合同的变更。B项错误，排除。D项，劳动法律关系的延续，是指劳动法律关系的有效期依法延长。劳动合同所确立的劳动法律关系，在劳动合同依法续订后继续有效。D项，劳动合同期满前，丙与某公司协议延期，属于劳动合同的延续。D项错误，排除。因此，选择C选项。

26. 【答案】B

【解析】根据《国防法》第五十八条，民兵、预备役人员和其他公民依法参加军事训练，担负战备勤务、防卫作战、非战争军事行动等任务时，应当履行自己的职责和义务；国家和社会保障其享有相应的待遇，按照有关规定对其实行抚恤优待。公民和组织因国防建设和军事活动在经济上受到直接损失的，可以依照国家有关规定取得补偿。因此，选择B选项。

27. 【答案】B

【解析】根据《宪法》第七条，国有经济，即社会主义全民所有制经济，是国民经济中的主导力量。国家保障国有经济的巩固和发展。因此，选择B选项。

28. 【答案】C

【解析】根据《宪法》第一百二十三条，中华人民共和国各级监察委员会是国家的监察机关。C项当选。A项，根据《宪法》第八十五条，中华人民共和国国务院，即中央人民政府，是最高国家权力机关的执行机关，是最高国家行政机关。根据《地方各级人民代表大会和地方各级人民政府组织法》第五十四条，地方各级人民政府是地方各级人民代表大会的执行机关，是地方各级国家行政机关。A项与题意无关，排除。B项，根据《宪法》第二条，第一百二十八条，中华人民共和国人民法院是国家的审判机关。B项与题意无关，排除。D项，根据《宪法》第一百三十四条，中华人民共和国人民检察院是国家的法律监督机关。D项与题意无关，排除。因此，选择C选项。

29. 【答案】A

【解析】《民族区域自治法》序言部分规定：中华人民共和国是全国各族人民共同缔造的统一的多民族国家。民族区域自治是中国共产党运用马克思列宁主义解决我国民族问题的基本政策，是国家的一项基本政治制度。因此，选择A选项。

30. 【答案】D

【解析】法是由国家制定或认可并以国家强制力保证实施的，反映由特定物质生活条件所决定的统治阶级意志，以权利和义务为内容的行为规范体系。法的内容是由统治阶级所处社会的物质生活条件所决定的。D项正确，当选。A项，法的内容是由统治阶级所处社会的物质生活条件所决定的。A项错误，排除。B项，法律的本质是统治阶级意志的体现，是国

家的统治工具。B项错误，排除。C项，法是调整人们行为或社会关系的规范，具有规范性。但法并非调整人的一切行为。C项错误，排除。因此，选择D选项。

31. 【答案】B

【解析】根据《商标法》第三十九条，注册商标的有效期为十年，自核准注册之日起计算。因此，选择B选项。

32. 【答案】B

【解析】2020年5月28日，十三届全国人大三次会议表决通过了《中华人民共和国民法典》，于2021年1月1日起施行。《中华人民共和国民法典》被称为“社会生活的百科全书”，是新中国第一部以法典命名的法律，在法律体系中居于基础性地位，也是市场经济的基本法。A项：《中华人民共和国国防法》由第八届全国人民代表大会第五次会议于1997年3月14日修订通过，自1997年3月14日起施行。A项不符合题意，排除。C项：《中华人民共和国现役军官法》由第七届全国人民代表大会常务委员会第三次会议于1988年9月5日颁布，1989年1月1日起实施。C项不符合题意，排除。D项：《中华人民共和国民法总则》由第十二届全国人民代表大会第五次会议于2017年3月15日表决通过，自2017年10月1日起施行。《中华人民共和国民法典》自2021年1月1日起施行。《中华人民共和国民法总则》同时废止。D项不符合题意，排除。因此，选择B选项。

33. 【答案】A

【解析】根据《著作权法》第十条，著作权包括下列人身权和财产权……。可知，著作权内容包括著作人身权和著作财产权。著作人身权是指作者通过创作表现个人风格的作品而依法享有获得名誉、声望和维护作品完整性的权利。著作财产权是作者对其作品的自行使用和被他人使用而享有的以物质利益为内容的权利。因此，选择A选项。

34. 【答案】A

【解析】根据《国防法》第六条，中华人民共和国奉行防御性国防政策，独立自主、自力更生地建设和巩固国防，实行积极防御，坚持全民国防。国家坚持经济建设和国防建设协调、平衡、兼容发展，依法开展国防活动，加快国防和军队现代化，实现富国和强军相统一。通过民谣中的“民兵人数多”“人筑长城”“老少民兵”可知体现的是我国国防活动基本原则中的全民自卫原则。保卫祖国是全体中国人民的神圣职责，我们的国防是全国人民的国防。因此，选择A选项。

35. 【答案】B

【解析】《新中国成立70周年经济社会发展成就系列报告之二十·人口总量平稳增长



人口素质显著提升》中指出，新中国成立 70 年以来，我国人口总量平稳增长，人口素质显著提升。上世纪末，我国人口再生产类型进入低出生率、低死亡率、低自然增长率的阶段，与现代经济发达和较发达国家类似。人口再生产类型的转变导致了人口年龄结构的老龄化。因此，选择 B 选项。

36. 【答案】D

【解析】草木皆兵，出自《晋书·苻坚载记》，与淝水之战相关。淝水之战是前秦和东晋的战争，秦军被彻底击溃，损失惨重，秦王苻坚受伤，仓皇而逃，他听到风吹树木的声音以为是敌人追兵到了。现用草木皆兵形容人在惊慌时疑神疑鬼。D 项当选。A 项：赤壁之战，是指东汉末年，孙权、刘备联军于建安十三年（208 年）在长江赤壁（今湖北省赤壁市西北）一带大破曹操大军的战役。与之相关的典故有草船借箭。A 项不符合题意，排除。B 项：官渡之战，是东汉末年“三大战役”之一，建安五年（公元 200 年），曹操军与袁绍军相持于官渡（今河南中牟东北），曹操奇袭袁军在乌巢的粮仓（今河南封丘西），继而击溃袁军主力。此战奠定了曹操统一中国北方的基础。B 项不符合题意，排除。C 项，长平之战，是秦国率军在赵国的长平（今山西省晋城高平市西北）一带同赵国军队发生的战争。赵军最终战败，秦国获胜进占长平。与之相关的典故有纸上谈兵。C 项不符合题意，排除。因此，选择 D 选项。

37. 【答案】A

【解析】中央集权制度是以国家职权统一于中央政府，削弱地方政府力量为标志的政治制度。明清之前的积极作用：①利于封建国家的建立、巩固和发展，利于维护祖国统一与领土完整。②能有效地组织人力、物力和财力从事大规模的生产活动和经济建设以及救灾行动，利于社会经济的发展。③在统一的环境下，利于各地区的经济文化交流。因此，选择 A 选项。

38. 【答案】A

【解析】在党的十九大报告中提出：坚持推动构建人类命运共同体，中国人民的梦想同各国人民的梦想息息相通，实现中国梦离不开和平的国际环境和稳定的国际秩序。必须统筹国内国际两个大局，始终不渝走和平发展道路、奉行互利共赢的开放战略，坚持正确义利观，树立共同、综合、合作、可持续的新安全观，谋求开放创新、包容互惠的发展前景，促进和而不同、兼收并蓄的文明交流，构筑尊崇自然、绿色发展的生态体系，始终做世界和平的建设者、全球发展的贡献者、国际秩序的维护者。BCD 项正确，A 项说法错误。因此，选择 A 选项。

39. 【答案】C

【解析】行政区划是国家为便于行政管理而分级划分的区域，根据《宪法》第三十条，中华人民共和国的行政区域划分如下：（一）全国分为省、自治区、直辖市；（二）省、自治区分为自治州、县、自治县、市；（三）县、自治县分为乡、民族乡、镇。直辖市和较大的市分为区、县。自治州分为县、自治县、市。自治区、自治州、自治县都是民族自治地方。因此，我国行政区划分为省县、乡三级别。因此，选择 C 选项。

40. 【答案】B

【解析】2019 年 3 月 30 日，“全球双千兆第一区”开通仪式在上海市虹口区举行，在仪式上拨通的全球首个不换卡不换号、基于中国移动 5G 网络的手机间通话，首次实现了基于现网升级的 5G 核心网、业务系统和 5G 手机的电话互通，完成了 5G 终端与无线网的优化适配，标志着上海成为全国首个中国移动 5G 试用城市。因此，选择 B 选项。

41. 【答案】C

【解析】改革开放是党在新的时代条件下带领人民进行的新的伟大革命。习近平总书记强调：“改革开放是决定当代中国命运的关键一招，也是决定实现‘两个一百年’奋斗目标、实现中华民族伟大复兴的关键一招。”这一重大论述和判断充分表明，全面深化改革是实现“两个一百年”奋斗目标和中华民族伟大复兴中国梦的必由之路。因此，选择 C 选项。

42. 【答案】B

【解析】在 2014 年全军装备工作会议上，习主席明确指出：“在战争制胜问题上，人是决定因素。无论时代条件如何发展，战争形态如何演变，这一条永远不会变。”这一重要论述继承了马克思主义军事理论，深刻揭示了战争制胜的一般规律，高扬了军事辩证法精神。因此，选择 B 选项。

43. 【答案】A

【解析】中国古代国防，是指从公元前 21 世纪我国第一个奴隶制王朝夏朝的建立开始，到 1840 年第一次鸦片战争爆发为止这段时期的国防，期间大约经历了 4000 年的历史。中国近代国防是指自 1840 年鸦片战争开始到 1949 年新中国成立，也就是清朝后期、北洋军阀统治时期和国民党政府统治时期的国防。中国现代国防是指新中国成立后国防建设时期，这一时期中国国防的性质发生了根本性的变化。因此，选择 A 选项。

44. 【答案】B

【解析】国防的基本类型分为：①扩张型：即奉行霸权主义侵略扩张政策的国防。②联盟型：即以联盟的形式进行防卫。③自卫型：保卫祖国，抵抗侵略的国防类型。④中立型：采用严守中立国防政策国家的国防。因此，选择 B 选项。

45. 【答案】B

【解析】群众路线是我们党的生命线和根本工作路线。1. 群众路线是党的生命线。一切为了群众、一切依靠群众，从群众中来、到群众中去的群众路线，是我们的事业不断取得胜利的重要法宝。也是我们党始终保持生机与活力的重要源泉。2. 群众路线是党的根本工作路线。党的思想路线、政治路线、组织路线和党的群众路线有着内在的联系。群众路线贯穿在党的路线的各个方面。因此，党的生命线和根本工作路线是群众路线。因此，选择B选项。

46. 【答案】B

【解析】党的十九大报告明确指出：“军队是要准备打仗的，一切工作都必须坚持战斗力标准，向能打仗、打胜仗聚焦。”因此，选择B选项。

47. 【答案】C

【解析】中国人民志愿军是中华人民共和国在1950年10月至1959年1月，参加抗美援朝的中国方面部队的名称。1950年10月，党中央作出了抗美援朝、保家卫国的战略决策，毛泽东主席签署命令，任命彭德怀为中国人民志愿军司令员兼政治委员，邓华为副司令员兼副政治委员，洪学智、韩先楚、宋时轮、陈赓为副司令员，解方任参谋长。因此，选择C选项。

48. 【答案】D

【解析】习近平新时代中国特色社会主义思想学习纲要指出，维护重点领域国家安全是主阵地、主战场。全面贯彻落实总体国家安全观，要聚焦重点，抓纲带目，把确保政治安全作为首要任务，统筹推进各重点领域国家安全工作。因此，选择D选项。

49. 【答案】A

【解析】中国人民解放军内部实行的政治民主、经济民主、军事民主，是人民解放军建军的一项原则，也是军队政治工作的基本原则和优良传统。三大民主在长期的革命战争和军队建设中发挥了重大作用。在社会主义建设新时期，随着军队现代化和官兵政治文化素质的提高，发扬民主的条件将更加充分，军队内部民主生活将更加丰富和成熟。因此，选择A选项。

50. 【答案】B

【解析】2011年3月，新修订的《中国人民解放军保密条例》发布实行。这次修订保密条例，首次明确：保密工作是军队建设经常性、基础性的工作，是巩固战斗力、完成各项任务的重要保证。因此，选择B选项。

## 二、多项选择题

51. 【答案】ABCD

【解析】2020年2月23日，统筹推进新冠肺炎疫情防控和经济社会发展工作部署会议在北京召开。中共中央总书记、国家主席、中央军委主席习近平出席会议并发表重要讲话。他强调，新冠肺炎疫情发生后，党中央高度重视，迅速作出部署，全面加强对疫情防控的集中统一领导，要求各级党委和政府及有关部门把人民群众生命安全和身体健康放在第一位，采取切实有效措施，坚决遏制疫情蔓延势头。党中央审时度势、综合研判，及时提出坚定信心、同舟共济、科学防治、精准施策的总要求，及时制定疫情防控战略策略，把提高收治率和治愈率、降低感染率和死亡率作为突出任务来抓，把武汉和湖北作为全国主战场，加强对武汉和湖北防疫的统一指挥，统筹抓好其他地区防控工作，加强医用物资和生活必需品应急保供，切实维护社会稳定，加强宣传教育和舆论引导，积极争取国际社会支持。因此，选择ABCD选项。

52. 【答案】ABCDE

【解析】在《习近平新时代中国特色社会主义思想三十讲》中，习近平总书记指出，保持香港、澳门长期繁荣稳定，必须全面准确贯彻“一国两制”、“港人治港”、“澳人治澳”、高度自治的方针，确保“一国两制”方针不会变、不动摇，确保“一国两制”实践不变形、不走样。贯彻这一方针，首先必须正确理解和把握“一国”和“两制”的关系。“一国两制”是一个完整的概念。“一国”是实行“两制”的前提和基础，“两制”从属和派生于“一国”，并统一于“一国”之内。“一国”是根，根深才能叶茂；“一国”是本，本固才能枝荣。要认识到，国家主体坚持实行社会主义制度，是香港、澳门实行资本主义制度、保持繁荣稳定的前提和保障；香港、澳门依照基本法实行“港人治港”、“澳人治澳”、高度自治，必须充分尊重国家主体实行的社会主义制度。要把坚持“一国”原则和尊重“两制”差异有机结合起来，做到坚守“一国”之本，实现“两制”和谐相处、相互促进，把实行社会主义制度的内地建设好，把实行资本主义制度的香港、澳门建设好。因此，选择ABCDE选项。

53. 【答案】ABC

【解析】党的十九届四中全会提出，坚持和完善社会主义基本经济制度，推动经济高质量发展。公有制为主体、多种所有制经济共同发展，按劳分配为主体、多种分配方式并存，社会主义市场经济体制等社会主义基本经济制度，既体现了社会主义制度优越性，又同我国社会主义初级阶段社会生产力发展水平相适应，是党和人民的伟大创造。十九届四中全会的一大创新，就是在公有制为主体，多种所有制经济共同发展作为基本经济制度基础上，把按

劳分配为主体，多种分配方式并存，社会主义市场经济体制上升为基本经济制度。因此，选择 ABC 选项。

54. 【答案】ACE

【解析】2015 年，习近平出席博鳌亚洲论坛年会开幕式并发表题为《迈向命运共同体 开创亚洲新未来》的主旨演讲，指出，“一带一路”建设秉持的是共商、共建、共享原则，不是封闭的，而是开放包容的；不是中国一家的独奏，而是沿线国家的合唱。在十九大报告中指出，要以“一带一路”建设为重点，坚持引进来和走出去并重，遵循共商共建共享原则，加强创新能力开放合作，形成陆海内外联动、东西双向互济的开放格局。共商共建共享，也是我们秉持的全球治理观，是中国积极参与全球治理体系变革和建设的基本理念和主张，为建设一个更加美好的世界提供了中国智慧，为破解世界共同面临的治理难题提供了中国方案。因此，选择 ACE 选项。

55. 【答案】ABCE

【解析】A 项：十八届四中全会审议通过的《中共中央关于全面推进依法治国若干重大问题的决定》指出，党的领导是中国特色社会主义最本质的特征，是社会主义法治最根本的保证。A 项正确。B 项：党坚持在法治事业中贯彻马克思主义法律思想，努力把马克思主义法律思想中国化。因此，党的领导理念可以追溯到列宁关于无产阶级专政与社会主义法治的思想。B 项正确。C 项：党对法治事业的政治领导，就是要把党的各项政治主张和要求及时地反映到立法之中，把法治实践活动自觉地纳入到党的中心工作和党的总体战略部署之中。2004 年宪法修正案正式将政治文明写入宪法。C 项正确。D 项：党对法治工作的领导体现为思想领导、政治领导和组织领导三个方面。D 项错误。E 项：党的领导和社会主义法治是一致的，社会主义法治必须坚持党的领导，党的领导必须依靠社会主义法治。E 项正确。因此，选择 ABCE 选项。

56. 【答案】ABCD

【解析】2018 年 3 月 11 日，第十三届全国人民代表大会第一次会议通过的宪法修正案，对于爱国统一战线的最新表述为：“在长期的革命、建设、改革过程中，已经结成由中国共产党领导的，有各民主党派和各人民团体参加的，包括全体社会主义劳动者、社会主义事业的建设者、拥护社会主义的爱国者、拥护祖国统一和致力于中华民族伟大复兴的爱国者的广泛的爱国统一战线，这个统一战线将继续巩固和发展。”因此，选择 ABCD 选项。

57. 【答案】BCD

【解析】A 项：“恐怖主义”及“恐怖分子”二词带有强烈的负面意思，常用作政治标

签。国际恐怖主义组织往往会提出政治诉求，有政治色彩。A项错误，排除。B项，国际恐怖主义是人类公敌，是国际社会的共同敌人，需要世界各国相互合作共同应对国际恐怖主义。B项正确，当选。C项，冷战结束后，美国、西欧等少数国家以国际恐怖主义为工具，推行自身的霸权主义和强权政治。C项正确，当选。D项，南北矛盾是国际恐怖主义产生的根本原因。不同国家之间的贫富差距成为了国际恐怖主义蔓延的因素之一。D项说法正确，当选。E项：国际恐怖主义目前是世界面临的主要威胁之一，E项错误，排除。因此，选择BCD选项。

58. 【答案】ABCE

【解析】习近平在庆祝澳门回归祖国20周年大会暨澳门特别行政区第五届政府就职典礼上发表重要讲话，他指出：澳门回归祖国20年来取得的成就举世瞩目。澳门地方虽小，但在“一国两制”实践中作用独特。总结澳门“一国两制”成功实践，可以获得以下4点重要经验。第一，始终坚定“一国两制”制度自信。第二，始终准确把握“一国两制”正确方向。第三，始终强化“一国两制”使命担当。第四，始终筑牢“一国两制”社会政治基础。因此，选择ABCE选项。

59. 【答案】ABDE

【解析】党的十九大报告指出，同国家现代化进程相一致，全面推进军事理论现代化、军队组织形态现代化、军事人员现代化、武器装备现代化，力争到二〇三五年，基本实现国防和军队现代化，到21世纪中叶把人民军队全面建成世界一流军队。因此，选择ABDE选项。

60. 【答案】ABCDE

【解析】党委统一的集体领导下的首长分工负责制，是党领导军队最根本的制度。其余制度为：（1）军队的最高领导权和指挥权集中于党中央和中央军委；（2）在团以上单位设党的委员会、政治委员和政治机关；（3）在营级单位设党的基层委员会、在连队设支部；（4）各级委员会（支部）是该单位统一领导和团结的核心；（5）坚持民主集中制；（6）执行党委统一的集体领导下的首长分工负责制；（7）省军区系统实行双重领导制度等等。这些制度从不同方向、不同层次，保证了党对军队绝对领导的实施和巩固，构成了一个严密、科学和完整的体系。从方向上来看，军队各级党组织按照民主集中制原则，形成严密的组织系统，使党的领导能够纵向直达基层；各级党委（支部）是各单位统一领导和团结的核心，对所属单位实行统一全面的领导，使党的领导能够横向涵盖部队的各项工作。从层次上来看，军队的最高领导权和指挥权属于党中央和中央军委，是这个制度体系的最高要求；党委统一的集体领导下的首长分工负责制，是这个制度体

系的基础，是党领导军队最根本的制度。因此，选择ABCDE选项。

## 第二部分 岗位能力

### 一、言语表达与理解

61. 【答案】D

【解析】第一步，从第二空突破。根据“不管其工作内容有多大的”可知，所填词语表示“工作的不同”。A项和B项“差距”侧重有一定的距离，排除A项和B项。C项“区别”和D项“差别”都可以表示不同，均符合文意。

第二步，分析第三空。所填词语搭配“目标”。C项“实现”指使成为现实，语义不符，排除C项。D项“明确”使清晰、明白而肯定不移，符合文意。答案锁定D选项。

第三步，验证第一空和第四空。“七百多个春秋”“集中精力”均符合文意。

因此，选择D选项。

62. 【答案】B

【解析】第一步，审题干，找出划线词语使用不正确的一项。

第二步，辨析选项。B项“动静结合”用词错误，应改成“刚柔并济”，即刚强的和柔和的互相调剂，能够表现出北方草原的中山国历经数百年已与中原民族渐趋融合特点。其余词语用法均正确。

因此，选择B选项。

63. 【答案】B

【解析】第一步，分析文段。文段首句为该则新闻的导语——“最近，法国科学研究中心和欧洲南方天文台发布信息说，天文学家去年利用位于智利的超大望远镜拍摄到另一个‘太阳系’行星的照片”。

第二步，对比选项。B项符合导语的内容。

因此，选择B选项。

【拓展】A项和C项：缺少时间的限定“最近”。D项：与B项比较来说，缺少欧洲科学家的态度，是“他们相信自己第一次拍到了另一个‘太阳系’行星的照片”。

64. 【答案】D

【解析】第一步，分析A项。该项定语语序不当，应该将“一连串发生的事情”改为“发

生的一连串事情”。

第二步，分析 B 项。该项定语重复，“一个共产主义战士”与“优秀共产党员”意思重复，可将前者去掉。

第三步，分析 C 项。该项缺少修饰成分。应该为“飞快的第 18 次特快列车向北京奔驰着”。

第四步，分析 D 项。没有语病。

因此，选择 D 选项。

65. 【答案】C

【解析】第一步，分析 A 项。存在歧义，可以理解为“他背着爸爸和妈妈，自己偷偷存了钱”，也可以理解为“他背着爸爸，他和妈妈一起偷偷地存了钱”。

第二步，分析 B 项。“赠送给他”指代不明确，可以指代“嘉宾”，也可以指代“嘉宾之外的其他人”。

第三步，分析 C 项。语意明确。

第四步，分析 D 项。“几个学校的领导”存在歧义，可以理解为“几个领导”，也可以理解为“几个不同学校的领导”。

因此，选择 C 选项。

66. 【答案】A

【解析】第一步，分析文段。文段首句提出观点“在作文运思时，最重要而且最艰苦的工作不在于搜寻材料，而在于有了材料之后，将它们加以选择与安排”。后文对此进行解释说。尾句通过“所以”再次总结观点，“所以他所想所说尽管在表面上是老生常谈，而实际上却可以是一种新鲜的作品，如果选择与安排给了它一个新的形式和新的生命的话”，即文段为“总一分一总”结构。强调作文运思时，创作新鲜作品时，需要材料的选择与安排。

第二步，对比选项。A 项是对主旨句的同义替换。

因此，选择 A 选项。

【拓展】B 项和 D 项：缺少核心话题“材料的选择与安排”。C 项：偏离重点，没有体现出“创作艺术”。

67. 【答案】C

【解析】第一步，分析 A 项。“即使”表示让步，一般与“也”搭配，应改为“虽然”，与“但”搭配构成转折关系。

第二步，分析 B 项。“而是”使用错误，应改为“而且是”，与“不只是”构成递进关



系。

第三步，分析D项。“从而”应该改成“因而”。

因此，选择C选项。

68. 【答案】A

【解析】第一步，明确题干，找出成语中划横线的字解释不完全正确的一项。

第二步，辨析选项。A项中“言之不预”意思是没有事先通知、提醒。其中“预”指预先，事先，而非“预料”，解释的不正确。其余选项解释均正确。

因此，选择A选项。

69. 【答案】B

【解析】第一步，对仗指(律诗、骈文等)按照字音的平仄和字义的虚实做成对偶的语句。格律诗对仗的具体内容，首先是上下两句平仄必须相反，其次是要求相对的句子句型应该相同，句法结构要一致，如主谓结构对主谓结构，偏正结构对偏正结构，述补结构对述补结构等。有的对仗的句式结构不一定相同，但要求字面要相对。再次，要求词语所属的词类(词性)相一致，如名词对名词，动词对动词，形容词对形容词等；词语的“词汇意义”也要相同。

第二步，辨析诗句。“穷千里”和“何苦赊”不是一个结构，不对仗。“旅雁”和“山鸦”对仗工整。“河边草”和“水上槎”对仗工整。“一樽酒”和“独思家”不对仗。因此只有两联对仗。

因此，选择B选项。

70. 【答案】C

【解析】第一步，通读原文，将选项和原文一一对应。

第二步，辨析选项。A项和C项对应“在北京召开的世界机器人大会现场，全球首款基于视觉识别做到侧面跟随、智能避障的OVIS智能行李箱发布”，文段并未论述“目的”，A项错误。C项可以从原文推出，当选。B项“民众热烈欢迎”无中生有。D项“充电池使用期限”无中生有。

因此，选择C选项。

71. 【答案】D

【解析】第一步，观察选项，确定首句。②句论述活着就是一种幸福体验。③句引出话题“我们为什么活着”。④句论述活着就是一种快乐享受。应该先引出话题再回答该问题，故③适合当首句，排除B项和C项。

第二步，对比选项。A项和D项的差别在于②④⑤的位置。文段应先论述⑤句“活着就是对生命过程的幸福体验和快乐享受”在用②④进行具体论述。所以是⑤②④的顺序。

因此，选择D选项。

72. 【答案】B

【解析】第一步，A项对应“凤舞团团饼，恨分破、教孤令”，表达凤凰各分南北，孤零零，A项解读正确。

第二步，B项对应“汤响松风，早减了、二分酒病”，意思是汤沸声如风过松林，而非在松林喝茶，解读错误。

第三步，C项对应“金渠体净，只轮慢碾，玉尘光莹”，解读正确。

第四步，D项对应“味浓香永。醉乡路、成佳境。恰如灯下，故人万里，归来对影。口不能言，心下快活自省”，解读正确。

因此，选择B选项。

73. 【答案】D

【解析】第一步，观察选项，确定首句。文段首句论述汉文化和其他民族文化。①论述不管好还；②对比中国人和外国人；④论述“其思想来由仍应追溯到先秦孔学”。④不适合放第一空，否则没有“其”的指代内容，排除A项。②句适合放第一空，对比完国外和国内，再统一论述，排除B项。

第二步，对比选项。尾句回答问题，前面应该接①句，故第四空应该放①。

因此，选择D选项。

74. 【答案】C

【解析】第一步，定位“这”出现的位置，分析其上文语境。“这两点”前文论述“经济学家保罗·罗默指出，知识的生产、应用和扩散的效率与知识的积累及人力资本正相关”，故“这两点”指的是“知识的积累和人力资本”。

第二步，对比选项，C项符合上述语境。

因此，选择C选项。

75. 【答案】C

【解析】第一步，A项均是陈述语气，前一个问号改为逗号，第二个问号改为句号。

第二步，B项引用的话语不需要句号，去掉引号里的句号。

第三步，C项标点符号使用均正确。

第四步，D项句末的句号应该放在引号里面。

因此，选择 C 选项。

## 二、数量关系

76. 【答案】A

【解析】第一步，本题考查多重数列。

第二步，观察包括（ ）一共 9 项，考虑奇数项为一组，偶数项为一组。偶数项为 8, 4, 2, 1, 是等比数列。奇数项为 10, 6, ( ), -2, -6, 猜测偶数项为公差为-4 的等差数列，则 ( ) 处为  $6 + (-4) = 2$ ，由于  $-2 - 2 = -4$ ，符合猜测规律，故所求项为 2。

因此，选择 A 选项。

77. 【答案】A

【解析】第一步，本题考查递推数列。

第二步，观察数列递增趋势平缓，考虑递推和数列。规律为每两项之和为下一项，即  $1 + 1 = 2$ ， $1 + 2 = 3$ ， $2 + 3 = 5$ ， $3 + 5 = 8$ ， $5 + 8 = 13$ ， $8 + 13 = 21$ ，那么所求项  $= 13 + 21 = 34$ 。

因此，选择 A 选项。

78. 【答案】C

【解析】第一步，本题考查基本数列。

第二步，考虑做差。两两做差得 6、6、6、6，差数列为常数数列，故所求项为  $25 + 6 = 31$ 。

因此，选择 C 选项。

79. 【答案】C

【解析】第一步，本题考查基础计算问题。

第二步，由于自然数  $12597 = 3 \times 13 \times 17 \times 19$ ，故能分解为 4 个质数之积。

因此，选择 C 选项。

80. 【答案】C

【解析】第一步，本题考查基础计算问题。

第二步，根据题意，三支施工队总共  $388 + 289 + 339 = 1016$  人，则甲乙两支施工队各  $1016 \div 2 = 508$ ，由于 A 队有 388 人，故甲队需从 BC 中共抽调  $508 - 388 = 120$  人。根据“3:7 的比例”可知从 C 抽调  $120 \times \frac{7}{10} = 84$  人，故 C 队有  $339 - 84 = 255$  人被调入乙队。

因此，选择 C 选项。

81. 【答案】C

【解析】第一步，本题考查等差数列。

第二步，设公差为  $d$ ，由于数列共 10 项，因此偶数项和一奇数项和  $= 5d$ ，代入数据可得  $590 - 545 = 5d$ ，解得  $d = 9$ 。

因此，选择 C 选项。

82. 【答案】A

【解析】第一步，本题考查概率问题，属于基本概率。

第二步，根据概率  $= \frac{\text{满足条件的情况数}}{\text{总情况数}}$ ，可知所求概率为  $P = \frac{C_4^1 C_6^1}{C_{10}^2} = \frac{8}{15}$ 。

因此，选择 A 选项。

83. 【答案】B

【解析】第一步，本题考查行程问题，属于基本行程类。

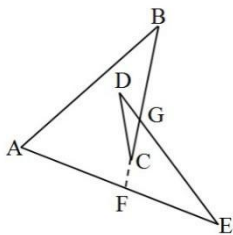
第二步，设总的航程为  $S$ ，根据“提前一小时到达”可列  $\frac{S}{260} - \frac{S}{360} = 1$ ，解得  $S = 936$ （公里）。

因此，选择 B 选项。

84. 【答案】B

【解析】第一步，本题考查几何问题，属于平面几何类。

第二步，如图，延长  $BC$  到  $AE$  上，交点为  $F$ ， $DE$  与  $BC$  的交点为  $G$ ，则  $\angle FGE$  为  $\triangle CDG$  的外角，则  $\angle FGE = \angle C + \angle D$ ；同理， $\angle GFE = \angle A + \angle B$ ；由于三角形  $EFG$  的内角和为  $180^\circ$ ，即  $\angle A + \angle B + \angle C + \angle D + \angle E = 180^\circ$ 。



因此，选择 B 选项。

85. 【答案】A

【解析】第一步，本题考查基础计算问题。

第二步，定义新运算，根据新运算规则可知  $2\triangle 3 = 3 \times 2 - 2 \times 3 = 0$ ， $2\nabla 3 = 3 \times 2 + 2 \times 3 = 12$ ，故  $0\triangle 12 = 3 \times 0 - 2 \times 12 = -24$ 。

因此，选择 A 选项。

### 三、判断推理

86. 【答案】B

【解析】第一步，确定题型。依据题干特征和提问方式，确定为归纳推理。第二步，分析题干。地球上一天时间是由地球自转决定的，与公转无关，排除 C、D 项。根据“3.5 亿年前的地球上每天仅有约 21.9 小时”，而现在地球一天时间约为 24 小时，可知现在地球自转一圈的时间变长了，即速度变慢了，只有 B 项符合。因此，选择 B 选项。

87. 【答案】A

【解析】第一步，确定题干逻辑关系。“三顾茅庐”的主人公是“刘备”，二者属于人物对应关系。第二步，辨析选项。A 项：“投笔从戎”的主人公是“班超”，二者属于人物对应关系，与题干的逻辑关系一致，符合；B 项：“望梅止渴”的主人公是曹操，而非“曹植”，排除；C 项：“一字千金”的主人公是吕不韦，而非“刘邦”，排除；D 项：“四面楚歌”的主人公是项羽，而非“韩信”，排除。因此，选择 A 选项。

88. 【答案】B

【解析】第一步，观察选项，确定首句应从②、③、⑤中选择。发生疫情是所有事件的起因，首句应为②，排除 C、D 项。第二步，观察分析剩余选项，比较③和⑤，发生疫情之后，为防止疫情扩散，会及时封闭城市，②应与③相连；且赶赴灾区和昼夜奋战的主体都是医护人员，⑤和①应该相连。因此，选择 B 选项。

89. 【答案】C

【解析】分别将选项代入题干，确定逻辑关系。A 项：“储户”把钱存到“存折”里，“牛羊”被圈在“围墙”里，其中“储户”是存钱的主体，“牛羊”是“围墙”圈定的对象，是客体，前后逻辑关系不一致，排除；B 项：“存折”是“存款”的载体，但“围墙”不是“绿地”的载体，前后逻辑关系不一致，排除；C 项：“存折”和“银行卡”都有存取款的作用，二者属于并列关系，“栅栏”和“围墙”都有阻拦和防护的作用，二者属于并列关系，前后逻辑关系一致，符合；D 项：“存折”与“银行”属于对应关系，“庭院”与“围墙”无明显逻辑关系，前后逻辑关系不一致，排除。因此，选择 C 选项。

90. 【答案】B

【解析】第一步，看提问方式，本题属于选是题。第二步，找关键信息。自然失业是由于经济中的一些难以克服的原因引起的失业。第三步，辨析选项。A 项：王某因为酒后驾车

造成人员伤亡被开除失业，不属于“经济中的一些难以克服的原因引起的失业”，不符合定义；B项：地震造成工厂工人失业，属于“经济中的一些难以克服的原因引起的失业”，符合定义；C项：由于技术升级造成收费站工作人员失业，不属于“经济中的一些难以克服的原因引起的失业”，不符合定义；D项：赵某因为打人被开除失业，不属于“经济中的一些难以克服的原因引起的失业”，不符合定义。因此，选择B选项。

91. 【答案】A

【解析】第一步，确定题型。根据若干论断和真假限定，确定为真假推理。第二步，找关系。甲：所有人报名；乙：班长报名→副班长没报名；丙：班长报名；丁：有的人没报名。甲和丁的话为矛盾关系。第三步，看其余。根据矛盾关系的特性“必定一真一假”及题干的真假限定“只有一个人说假话”，则假话必然在甲和丁之中，其余的乙和丙说的均为真话，可知班长报名，副班长没报名，即有的人没报名，丁的话为真，则甲的话为假。因此，选择A选项。

92. 【答案】C

【解析】第一步，看提问方式，本题属于选非题。第二步，找关键信息。①个体对自己心智状态的知识；②自己当下的经验、思想、信念或愿望。第三步，辨析选项。A项：小李了解自己专业的就业情况后决定读研，属于“个体对自己当下的愿望的知识”，符合定义；B项：小杨对于自己如果不加强锻炼，会影响自身健康的认知，属于“个体对自己当下的经验的知识”，符合定义；C项：小王从网络上得知某地传染病的消息，不属于“个体对自己心智状态的知识”，不符合定义；D项：小明相信通过努力会进步，属于“个体对于自己当下的信念的知识”，符合定义。因此，选择C选项。

93. 【答案】A

【解析】第一步，明确设问内容。选择数字3对面的数字。第二步，分析立体图形。根据图1和图3，面1均在右侧面，面4、面6、面2、面5均直接与其相邻，说明这四个面均是面1的相邻面，对于六面体中的任意一个面均有4个相邻面和1个相对面，可知剩下的面3只能是面1的相对面。因此，选择A选项。

94. 【答案】D

【解析】第一步，观察特征。图形组成不同，考虑数量类或属性类。图形均较为规整，考虑属性类对称性。第二步，一条式，从左向右找规律。题干图形均为中心对称图形，只有D项符合。因此，选择D选项。

95. 【答案】D

【解析】题干考查生病去医院看病的流程。病愈一定是最终的结果，在所有诊断和治疗之后，可知尾句为④，只有D项符合。因此，选择D选项。

#### 四、资料分析

96. 【答案】D

【解析】第一步，本题考查现期比重比较。

第二步，定位柱状图。

第三步，解法一：根据比重=  $\frac{\text{部分量}}{\text{整体量}}$ ，可得2013年、2015年、2017年、2018年的比重分别为： $\frac{477+566}{477+566+822} = \frac{1043}{1865}$ 、 $\frac{546+748}{546+748+871} = \frac{1294}{2165}$ 、 $\frac{608+812}{608+812+837} = \frac{1420}{2257}$ 、 $\frac{640+874}{640+874+830} = \frac{1514}{2344}$ ，直除首两位分别商55、59、62、64，则2018年占比最大。

因此，选择D选项。

解法二：根据比重=  $\frac{\text{部分量}}{\text{整体量}} = \frac{\text{部分量}}{\text{部分量} + \text{其余部分量}}$ ，要求比重最大，即可转化为求  $\frac{\text{部分量}}{\text{其余部分量}}$  最大，则2013年、2015年、2017年、2018年的比重比较，可转化为： $\frac{477+566}{822} = \frac{1043}{822}$ 、 $\frac{546+748}{871} = \frac{1294}{871}$ 、 $\frac{608+812}{837} = \frac{1420}{837}$ 、 $\frac{640+874}{830} = \frac{1514}{830}$ ，根据分数性质，可得2018年所对应的分数高于2015年与2017年，排除BC选项。2018年与2015年相比，分母相差不大，2018年所对应分数的分子远大于2015年，则2018年的分数值大（或直除首两位2018年与2015年分别商18、12），排除A选项。

因此，选择D选项。

97. 【答案】C

【解析】第一步，本题考查增长率计算比较。

第二步，定位柱状图。

第三步，根据末期量=初期量×(1+年均增长率)<sup>n</sup>，比较年均增长率即比较  $\frac{\text{末期量}}{\text{初期量}}$  即可，则2015—2018年的比值分别为： $\frac{748}{656}$ 、 $\frac{810}{748}$ 、 $\frac{812}{810}$ 、 $\frac{874}{812}$ ，很明显四个分数均大于1，且  $\frac{812}{810}$  基  
本为1，必最小（或者直除首三位分别商114、108、100、107）。

因此，选择C选项。

98. 【答案】C

【解析】第一步，本题考查平均数与倍数杂糅。

第二步，定位柱状图。

第三步，根据平均数 =  $\frac{\text{后}}{\text{前}}$ ，选项首位不同，分母从左向右截取前二位，分子为加法考虑

截位舍相同，可得 2013—2018 年 A 品牌平均年产量为  $\frac{48+50+55+57+61+64}{6} = \frac{335}{6}$ ，B

品牌平均年产量为  $\frac{57+66+75+81+81+87}{6} = \frac{447}{6}$ ，则所求比值为

$\frac{335}{6} \div \frac{447}{6} = \frac{335}{447} \approx \frac{3}{4} = 0.75$  或直除首位商 7。

因此，选择 C 选项。

99. 【答案】A

【解析】第一步，本题考查增长率计算比较。

第二步，定位柱状图。

第三步，观察柱状图可知，2017 年（837 万台）<2016 年（840 万台）<2015 年（871 万台）<2014 年（878 万台），均下降，只有 2014 年上升，则 2014 年增长率最大。

因此，选择 A 选项。

100. 【答案】A

【解析】第一步，本题考查现期平均数比较。

第二步，定位表格材料。

第三步，根据人口密度 =  $\frac{\text{人口数量}}{\text{面积}}$ ，可得西部地区、中部地区、长江三角洲地区、珠江

三角洲的人口密度分别为： $\frac{0.82}{307}$ ， $\frac{3.08}{87.1}$ ， $\frac{1.68}{33}$ ， $\frac{0.98}{29.9}$ ，根据分数性质可知，西部地区人口密度

$\frac{0.82}{307}$  最小。

因此，选择 A 选项。

101. 【答案】D

【解析】第一步，本题考查现期平均数比较。

第二步，定位表格材料。

第三步，根据平均数 =  $\frac{\text{后}}{\text{前}}$ ，则人均地区国民生产总值 =  $\frac{\text{地区国民生产总值}}{\text{人口数量}}$ 。又根据部分

量 = 整体量 × 比重，同一个整体量，则可以用比重替代部分量进行比较，可得长江三角洲地

区、珠江三角洲、环渤海地区、东北地区的人均地区国民生产总值分别为： $\frac{20}{1.68}$ 、 $\frac{13}{0.98}$ 、 $\frac{22}{2.40}$ 、

$\frac{15}{1.13} = \frac{30}{2.26}$ ，根据分数性质可知  $\frac{30}{2.26} > \frac{22}{2.40}$ ，排除 C 选项。利用化同法，可得  $\frac{20}{1.68} = \frac{60}{5.04} < \frac{15}{1.13} = \frac{60}{4.52}$



(分数性质), 排除 A 选项。利用差分法, 比较  $\frac{13}{0.98}$  与  $\frac{15}{1.13}$ , “差分数” =  $\frac{15-13}{1.13-0.98} = \frac{2}{0.15} = \frac{26}{1.95} > \frac{13}{0.98} =$

$\frac{26}{1.96}$  (分数性质), 排除 B 选项。

因此, 选择 D 选项。

102. 【答案】A

【解析】第一步, 本题考查现期倍数计算。

第二步, 定位表格材料。

第三步, 根据部分量=整体量×比重, 同一个整体量, 则可以用比重替代部分量进行计算, 可得长江三角洲地区国民生产总值是西部地区的  $20 \div 5=4$  (倍)。

因此, 选择 A 选项。

103. 【答案】B

【解析】第一步, 本题考查综合分析问题, 且需可以推断出的一项。

第二步, A 选项, 直接读数, 定位表格材料, 环渤海地区的面积与人口数量分别为 112 万平方公里和 2.40 亿; 中部地区的面积与人口数量分别为 87.1 万平方公里和 3.08 亿, 很明显不满足面积越大的地区对应的人口越多, 错误。

B 选项, 现期平均数比较, 定位表格材料, 根据平均数 =  $\frac{\text{后}}{\text{前}}$ , 则人均地区国民生产总值 =  $\frac{\text{地区国民生产总值}}{\text{人口数量}}$ , 又根据部分量=整体量×比重, 同一个整体量, 则可以用比重替代部

分量进行比较, 可得西南地区的人均地区国民生产总值为  $\frac{11}{2.43}$ , 确为表格中人均最少的, 正确。

C 选项, 直接读数, 定位表格材料, 环渤海地区的面积与人口数量分别为 112 万平方公里和 2.40 亿; 西南地区的面积与人口数量分别为 142 平方公里和 2.43 亿。环渤海地区和西南地区的人口密度分别为:  $\frac{2.40}{112}$  和  $\frac{2.43}{142}$ , 分子基本相同, 环渤海地区人口密度所对应分数的分母远远小于西南地区, 则环渤海地区人口密度大于西南地区, 环渤海地区人口数量小于西南地区, 错误。

D 选项, 直接读数, 定位表格材料, 根据部分量=整体量×比重, 同一个整体量, 则可以用比重替代部分量进行比较。环渤海地区的人口数量与地区国民生产总值占各地区总和的比重分别为 2.40 亿和 22%; 中部地区的人口数量与地区国民生产总值占各地区总和的比重分别为 3.08 亿和 14%, 很明显中部地区的人口数量 > 环渤海地区, 但中部地区国民生产总值占各地区总和的比重 < 环渤海地区, 即中部地区国民生产总值 < 环渤海地区, 错误。

因此，选择 B 选项。

104. 【答案】C

【解析】第一步，本题考查基期量和差计算。

第二步，定位第一段和第二段文字材料，“2019 前两个月实现工农业销售总额为 53.67 亿元，比上年同期增长 28.7%”“2019 年 2 月份实现工农业销售总额为 29.69 亿元，比上年同期增长 58.2%”。

第三步，根据基期量 =  $\frac{\text{现期量}}{1+\text{增长率}}$ ，又选项数据首位相同第二位不同，将数据分母从左向右截取前三位处理，可得  $\frac{53.67}{1+29\%} - \frac{29.69}{1+58\%} \approx 41.6 - 18.8 = 22.8$ ，与 C 选项最接近。

因此，选择 C 选项。

105. 【答案】B

【解析】第一步，本题考查两期比重比较。

第二步，定位第一段和第三段文字材料，“2019 年前两个月，农业销售总额 26.38 亿元，比上年同期增长 27.4%”“2019 年前两个月，一般农业实现销售额 8.97 亿元，比上年同期增长 31%”。

第三步，根据两期比重比较口诀，部分的增长率大于整体的增长率，则比重上升，反之，则下降。很明显  $31\% > 27.4\%$ ，则比重上升，排除 AD 选项。又根据两期比重差值  $< |31\% - 27.4\%| = 3.6\%$ ，排除 C 选项。

因此，选择 B 选项。

106. 【答案】C

【解析】第一步，本题考查基期量计算。

第二步，定位最后一段文字材料，“2019 年前两个月，上海（实现农业销售总额）为 2.66 亿元，比上年同期增长 32%”。

第三步，根据基期量 =  $\frac{\text{现期量}}{1+\text{增长率}}$ ，选项首位相同第二位不同，则分母从左向右截取前三位，可得该市 2018 年前两个月在上海实现的农业销售额约为  $\frac{2.66}{1.32}$ ，直除首两位商 20。

因此，选择 C 选项。

107. 【答案】A

【解析】第一步，本题考查增长量比较。

第二步，定位文字材料，“2019 年深圳实现销售额 7.3 亿元，比上年同期增长 12.2%；

在广州为 2.99 亿元，比上年同期增长 16.2%；在北京为 2.46 亿元，比上年同期增长 1.2 倍；在天津为 1.62 亿元，比上年同期增长 1.8 倍”。

第三步，比较深圳和广州的增长量，根据增长量比较口诀可知，深圳的增量高于广州，分别计算北京、天津、深圳的增长量，根据  $12.2\% \approx \frac{1}{8}$ ，可得深圳实现销售额的增长量为  $\frac{7.3}{8} \approx 0.9$ ；北京实现销售额的增长量为  $2.46 - \frac{2.46}{2.2} \approx 1.3$ ；天津实现销售额的增长量为  $1.62 - \frac{1.62}{2.8} \approx 1$ 。比较可知，北京实现农业销售额的增长量最多。

因此，选择 A 选项。

108. 【答案】D

【解析】第一步，本题考查减少率计算。

第二步，定位文字材料，“2018 年全年粮食种植面积 11704 万公顷，比上年减少 95 万公顷”。

第三步，根据减少率 =  $\frac{\text{减少量}}{\text{基期量}}$ ，可得 2018 年粮食种植面积比 2017 年减少  $\frac{95}{11704+95} \approx \frac{95}{11800}$ ，直除首位商 8。

因此，选择 D 选项。

109. 【答案】A

【解析】第一步，本题考查增长率计算比较中的增量替代。

第二步，定位柱状图。

第三步，根据增长率 =  $\frac{\text{增长量}}{\text{基期量}}$ ，当基期量差别不大时，可以用增长量替代增长率进行比较，增长量即为“柱高差”，明显 2015 年增长量最大（柱高差明显最大），且其基期量相对较小，故直接判定 2015 年增产比例最大。

因此，选择 A 选项。

110. 【答案】B

【解析】第一步，本题考查综合分析。

第二步，A 选项，读数比较，由柱状图可知，2014~2018 年粮食产量处于最低点的为 2014 年，正确。

B 选项，读数比较，由文字材料第二段可知，2018 年粮食产量比上年减少 371 万吨，但秋粮增产 0.1%，故并不是每一类粮食产量都下降，错误。

C 选项，读数比较，由柱状图可知，2014~2018 年粮食产量一直处于增减交替状态，正

确。

D 选项，读数比较，由文字材料第一段可知，2018 年粮食面积比上年减少 95 万公顷，但棉花增加 16 万公顷，糖料作物种植面积增加 9 万公顷，正确。

因此，选择 B 选项。

## 2021年军队文职人员招聘考试公共科目试卷

### 第一部分 基础知识

一、单项选择题（请根据题目要求，在四个选项中选出一个最恰当的答案。共50题，每题0.5分，共25分。）

1. 国家根据国防动员需要，可以依法征收、征用组织和个人的设备设施、交通工具、场所和其他财产。县级以上人民政府对被征收、征用者因征收、征用所造成的直接经济损失，按照国家有关规定给予（ ）的补偿。

- A. 适当
- B. 相应
- C. 合理、合法
- D. 公平、合理

2. 中华人民共和国公民必须遵守宪法和法律，（ ），爱护公共财产，遵守劳动纪律，遵守公共秩序，尊重社会公德。

- A. 保守国家秘密
- B. 保护个人隐私
- C. 行使自由和权利
- D. 男女同工同酬

3. 下列不属于当代资本主义生产关系方面新变化的是（ ）。

- A. 在所有制方面，出现了资本社会化、股权分散化趋势
- B. 在生产管理方面，出现了一系列运用人工智能等新技术的管理手段和工具
- C. 在劳资关系方面，建立了劳资共决、职工参与管理和持股、终身雇佣等制度
- D. 在收入分配方面，推行社会福利政策，通过再分配手段缓和社会矛盾

4. 拉丁美洲诞生的第一个黑人独立国家是（ ）。

- A. 海地
- B. 巴西
- C. 秘鲁
- D. 墨西哥

5. 中国人民解放军的宗旨是（ ）。

- A. 听党指挥

- B. 拥政爱民
- C. 全心全意为人民服务
- D. 保卫祖国
6. 我国经济体制改革的中心环节是（ ）。
- A. 价格体制改革
- B. 完善市场体系
- C. 加强宏观经济调控
- D. 国有企业改革
7. 我国社会主义市场经济与资本主义市场经济的根本区别在于（ ）。
- A. 市场在资源配置中的作用不同
- B. 国家对经济运行宏观调控的方式不同
- C. 社会基本经济制度不同
- D. 国家在经济发展中的作用不同
8. 关于中国梦的叙述，不正确的是（ ）。
- A. 中国梦是一个口号，必须紧紧依靠人民来实现
- B. 中国梦是国家情怀、民族情怀、人民情怀相统一的梦
- C. 中国梦归根到底是人民的梦
- D. 中国梦是国家的梦、民族的梦，也是每一个中国人的梦
9. 坚持和加强党的全面领导，发挥好中国共产党最高政治领导力量的作用，最根本的是坚决做到（ ）。
- A. “四个自信”
- B. “两个维护”
- C. “八个明确”
- D. “十四个坚持”
10. 中国古代国防与各朝代的政治、经济、军事状况密切相关，（ ）是一种具有代表性的国防建设思想。
- A. 寓兵于农
- B. 崇尚武德
- C. 屯兵于地
- D. 不战而胜

11. 我国政府采取低息贷款、减免税收、开展就业培训等多种措施，稳步推进扶贫开发工作。这说明了社会主义市场经济的根本目标是（ ）。

- A. 实现共同富裕
- B. 消除贫困
- C. 坚持公有制的主体地位
- D. 实行强有力的宏观调控

12. 对于广大发展中国家来说，经济全球化无异于一把“双刃剑”，这里“双刃剑”指的是（ ）。

- A. 既是风险，也是挑战
- B. 既有联系，也有合作
- C. 既是机遇，也是挑战
- D. 既有联系，也有竞争

13. 田教授举办学术讲座时，在学术报告厅外张贴公告，告知其一部新著的书名、价格、有意购买者在报告厅门口签字簿签名。前来听讲座的欧阳同学没有留意该公告，以为签字簿是为签到准备的，遂在上面签名。关于对欧阳同学行为的认定，下列选项正确的是（ ）。

- A. 田教授行为属于要约，欧阳同学行为属于附条件承诺
- B. 欧阳同学的行为构成重大误解
- C. 欧阳同学的行为可以推定为购买田教授新著的表示
- D. 欧阳同学的行为并非意思表示，在欧阳同学与田教授之间并未成立买卖合同

14. 关于国防与国家关系，下列说法不正确的是（ ）。

- A. 国防是伴随着国家的产生而出现的
- B. 国防是为国家利益服务的
- C. 国防是国家综合国力的体现
- D. 国防与国家的性质和根本制度无关

15. 兵者，以武为植，以文为种。武为表，文为里。论述了（ ）。

- A. 军队与政治的关系
- B. 战争与文化的关系
- C. 战争与政治的关系
- D. 军队与文化的关系

C项正确，当选。因此，选择C选项。

16. 马克思主义政治经济学遵循（ ）的分析方法。

- A. 实体正义
- B. 整体主义
- C. 形式主义
- D. 个体主义

17. 《中华人民共和国国防法》规定，（ ）、中国人民武装警察部队在规定岗位实行文职人员制度。

- A. 现役部队
- B. 预备役部队
- C. 中国人民解放军
- D. 民兵

18. 在“十四五”时期经济社会发展六大“新”目标中，居首的是（ ）。

- A. 改革开放迈出新步伐
- B. 社会文明程度得到新提高
- C. 生态文明建设实现新进步
- D. 经济发展取得新成就

19. 全民国防教育的基础是（ ）的国防教育。

- A. 企业事业组织
- B. 学校
- C. 党政机关
- D. 社会组织

20. 坚持党对军队绝对领导是有一整套制度作保证的。中央军事委员会实行（ ）。

- A. 主席负责制
- B. 政治机关制
- C. 政治委员制
- D. 党委统一的集体领导下的首长分工负责制

21. 下列不属于我国社会保障制度内容的是（ ）。

- A. 社会捐赠
- B. 社会保险
- C. 社会福利



D. 社会救济

22. 法定情形下解除劳动合同时，用人单位应当向劳动者支付经济补偿。支付标准是：按劳动者在本单位工作的年限，每满一年支付（ ）工资的标准向劳动者支付。六个月以上不满一年的，按（ ）计算；不满六个月的，向劳动者支付（ ）工资的经济补偿。

- A. 两个月、一年、一个月
- B. 两个月、半年、一个月
- C. 一个月、一年、半个月
- D. 一个月、半年、半个月

23. 根据《中华人民共和国商标法》的规定，注册商标包括商品商标、服务商标和集体商标、（ ）。

- A. 驰名商标
- B. 证明商标
- C. 图形商标
- D. 地理标志

24. 由于李某所在公司的经营范围有变化，李某的工作岗位也作了调整，经公司与李某双方协商一致，决定变更原来订立的劳动合同的内容。在这种情况下，应当采用（ ）形式变更合同。

- A. 公证
- B. 书面
- C. 书面或者口头
- D. 口头

25. 全面深化改革的总目标是完善和发展中国特色社会主义制度，推进（ ）。

- A. 社会主义现代化
- B. 国家治理体系和治理能力现代化
- C. 建设社会主义现代化国家
- D. “五位一体”总布局

26. 资本主义工资的本质是（ ）。

- A. 劳动力的价值或价格的转化形式
- B. 工人的劳动报酬

- C. 可变资本
- D. 劳动的价值或价格

27. 2020 年，中国成为全球唯一实现正增长的主要经济体，实现逆势增长 2.3%，GDP 总量（ ）。

- A. 超过 14 万亿美元，约相当于美国 GDP 的 65%以上
- B. 超过 15 万亿美元，约相当于美国 GDP 的 70%以上
- C. 超过 14 万亿美元，约相当于美国 GDP 的 70%以上
- D. 超过 15 万亿美元，约相当于美国 GDP 的 65%以上

28. 复制军事秘密载体，不需要履行（ ）手续。

- A. 审批
- B. 登记
- C. 通报
- D. 签字

29. 事物矛盾运动的根本规律是（ ）。

- A. 对立统一规律
- B. 历史规律
- C. 联系和发展的规律
- D. 自然规律

30. 旗帜鲜明讲政治，保证（ ）是党的生命，也是我们党能成为百年大党，创造世纪伟业的关键所在。

- A. 党的全国领导
- B. 为人民服务
- C. 民主集中制
- D. 党的团结和集中统一

31. 中国共产党明确把毛泽东思想作为党的指导思想写进党章的会议是（ ）。

- A. 中共七大
- B. 中共五大
- C. 中共六大
- D. 中共八大

32. 根据《中华人民共和国民法典》的规定，处理民事纠纷，应当依照法律；法律没有

规定的，可以（ ）。

- A. 适用社会公德，但不得损害社会公共利益
- B. 适用判例
- C. 适用习惯，但是不得违背公序良俗
- D. 适用国家政策

33. 社会主义市场经济的特征有（ ）。

①以国有经济为主导、公有经济包括国有经济和劳动者集体所有制经济为主体，个体、私营和外资经济同时并存的国民经济所有制结构。

②以按劳分配为主体，多种分配形式并存的收入分配体系。

③坚持宏观计划主导下把计划与市场两种手段有机地结合起来，优势互补。

④有完善的商品、要素市场体系，以及相应的财政金融体制和价格体系，以保证充分发挥在宏观计划主导下市场机制的积极作用。

⑤国有企业由国家经营，盈亏由国家负担。

- A. ①②③⑤
- B. ②③④⑤
- C. ①②④⑤
- D. ①②③④

34. 我军政治工作萌芽于（ ），创立于建军之初。

- A. 大革命时期
- B. 八七会议
- C. 党的五大
- D. 南昌起义

35. 新时代中国国防的发展路径是（ ）。

- A. 走世界军事强国的发展道路
- B. 走马克思列宁主义的建军道路
- C. 坚持走中国特色强军之路
- D. 独立自主、自力更生

36. （ ）召开后不久，党中央突出强调，“小康不小康，关键看老乡，关键在贫困的老乡能不能脱贫”，承诺“决不能落下一个贫困地区、一个贫困群众”，拉开了新时代脱贫攻坚的序幕。

- A. 党中央召开扶贫工作会议
- B. 党的十八届四中全会
- C. 党的十九大
- D. 党的十八大
37. 创造了人和人类社会的是（ ）。
- A. 生产力
- B. 劳动
- C. 自然界的客观演进
- D. 人的进化
38. 下列行为属于狭义上“法的执行”的是（ ）。
- A. 甲市司法局依法吊销违法律师高某的执业证书
- B. 甲区基层人民法院依法对李某提起的财产纠纷案件作出判决
- C. 甲市人民检察院依法对犯罪嫌疑人丁某提起公诉
- D. 甲县公安局依法对钱某故意伤害案进行侦查
39. 秦朝统一后的（ ）措施推动了以华夏族为主体的中华民族的形成。
- A. 以法为教，以吏为师
- B. 书同文，推行标准字体
- C. 焚书坑儒，加强思想控制
- D. 在中央设三公九卿
40. 一种判断是不是真理，要看它（ ）。
- A. 能否与事物及其规律本身相符合
- B. 能否付诸实践
- C. 能否满足人们的需要
- D. 能否被多数人认可
41. 中华人民共和国的主权、统一、领土完整、安全和发展利益遭受威胁时，（ ）依照宪法和法律规定，进行全国总动员或者局部动员。
- A. 中国共产党
- B. 国家
- C. 中央军事委员会
- D. 国务院

42. 根据《中华人民共和国国防法》的规定，国防教育贯彻全民参与、长期坚持、（ ）的方针。

- A. 经常教育
- B. 普及教育
- C. 讲求实效
- D. 提高技能

43. 近代中国半殖民地半封建社会的社会性质，决定了中国革命的一个主要形式是（ ）。

- A. 争取民主
- B. 农民运动
- C. 工人运动
- D. 武装斗争

44. 伟大斗争、伟大工程、伟大事业、伟大梦想是一个紧密联系、相互贯通、相互作用、有机统一的整体，统一于新时代坚持和发展中国特色社会主义伟大实践。其中，起决定性作用的是（ ）。

- A. 伟大工程
- B. 伟大斗争
- C. 伟大事业
- D. 伟大梦想

45. 在指导中国革命的历史进程中，我们党提出了战胜敌人的三个主要法宝，下列不属于主要法宝的是（ ）。

- A. 统一战线
- B. 群众路线
- C. 武装斗争
- D. 党的建设

46. 马克思主义中国化的本质是（ ）。

- A. 直接照搬马克思主义的现成理论
- B. 一个以中国国情为基础的全新社会主义理论
- C. 用马克思主义基本理论指导中国革命和建设，并在这一过程中发展马克思主义
- D. 用现成的马克思主义理论直接解答和解决中国的现实问题

47. 下列不属于市场机制的是（ ）。

- A. 价格机制
- B. 供求机制
- C. 仲裁机制
- D. 竞争机制

48. 2020年12月，国务院新闻办公室发布（ ）白皮书显示，中国在建和在役公路桥梁、隧道总规模居世界第一。

- A. 《中国交通的可持续发展》
- B. 《中国交通未来五年发展》
- C. 《中国交通强国战略规划》
- D. 《中国交通的新发展》

49. 关于社会主义市场经济宏观调控的说法，不正确的是（ ）。

- A. 宏观调控在市场调节的基础上进行
- B. 宏观调控手段主要包括：经济政策、经济计划、法律手段、行政手段
- C. 宏观调控以经济手段为主，法律和行政手段为辅
- D. 对经济运行实施间接调节

50. 根据《中华人民共和国英雄烈士保护法》的规定，对侵害英雄烈士姓名、肖像、名誉、荣誉的行为，英雄烈士的近亲属可以依法向人民法院提起诉讼。英雄烈士没有近亲属或者近亲属不提起诉讼的，（ ）依法对侵害英雄烈士的姓名、肖像、名誉、荣誉，损害社会公共利益的行为向人民法院提起诉讼。

- A. 检察机关
- B. 有关组织和个人
- C. 所有组织和个人
- D. 行政机关

**二、多项选择题（请根据题目要求，在五个选项中选出两个或两个以上恰当的答案，错选或多选均不得分，少选且选择正确的每个选项得0.3分，共4题，每题1.5分，共6分。）**

51. 第十三届全国人民代表大会第四次会议通过的《全国人民代表大会关于完善香港特别行政区选举制度的决定》规定，香港特别行政区设立一个具有广泛代表性、符合香港特别

行政区实际情况、体现社会整体利益的选举委员会，选举委员会由（ ）等界别共 1500 名委员组成。

- A. 工商、金融界
- B. 专业界
- C. 基层、劳工和宗教等界
- D. 立法会议员、地区组织代表等界
- E. 香港特别行政区全国人大代表、香港特别行政区全国政协委员和有关全国性团体香港

成员的代表界

52. 影响居民消费结构变动的有（ ）等因素。

- A. 居民收入水平
- B. 价格
- C. 商品
- D. 社会总需求
- E. 社会对消费行为的引导

53. 在同新冠疫情的殊死较量中，中国共产党领导中国人民以大无畏的气概，敢于斗争、敢于胜利，铸就了生命至上、（ ）的伟大抗疫精神。

- A. 百折不挠
- B. 举国同心
- C. 舍生忘死
- D. 尊重科学
- E. 命运与共

54. 我国依据国家职能的划分，一般把财政支出划分为（ ）。

- A. 经济建设费
- B. 社会文教费
- C. 国防费
- D. 行政管理费
- E. 地质勘探费

三、系列单项选择题（请根据题目要求，在四个选项中选出一个最恰当的答案。共6

题，每题1.5分，共9分。)

材料一：俗话说，“兵可以千日不用，国不可一日无防”。作为一个国家、一个民族，最重要的无非两件大事：一个是安全问题，一个是发展问题。国防是国家生存与发展的安全保障，是关系到国家和民族生死存亡的根本大计。

55. 我国奉行防御性国防政策，独立自主、自力更生地建设和巩固国防，实行（ ），坚持全民国防。

- A. 消极防御
- B. 积极防御
- C. 主动防御
- D. 被动防御

56. 我国国防活动的指导思想是马克思列宁主义、毛泽东思想，邓小平理论、“三个代表”重要思想、科学发展观、（ ）。

- A. 习近平强军思想
- B. 习近平新时代中国特色社会主义思想
- C. 习近平法治思想
- D. 国家总体安全观

材料二：中国是社会主义国家，实行和平外交政策，走和平发展道路，有着“和为贵”的优秀文化传统，这就从根本上决定了我们始终奉行防御性国防政策。

57. 现役部队是国家的常备军，主要担负（ ）任务，按照规定执行非战争军事行动任务。

- A. 反恐维稳
- B. 海上维权执法
- C. 处置社会突发事件
- D. 防卫作战

58. 新时代中国国防的鲜明特征不包括（ ）。

- A. 坚持不称霸
- B. 坚持不向海外派兵
- C. 坚持不扩张
- D. 坚持不谋求势力范围

材料三：《联合国宪章》是联合国的基本大法，它既确立了联合国的宗旨、原则和组织



机构设置，又规定了成员国的责任、权利和义务，以及处理国际关系、维护世界和平与安全的基本原则和方法。

59. 《联合国宪章》规定，兹设联合国之主要机关如下：大会、安全理事会、经济及社会理事会、托管理事会、国际法院及秘书处。其中，安全理事会以联合国（ ）个理事国组织之。

- A. 五
- B. 十
- C. 二十
- D. 十五

60. 《联合国宪章》规定，各会员国应以（ ）方法解决其国际争端，避免危及国际和平、安全及正义。

- A. 和平
- B. 法律
- C. 谈判与协商
- D. 斡旋与调停

## 第二部分 岗位能力

一、言语理解（请根据题目要求，在四个选项中选出一个最恰当的答案。共15题。

每题1分，共15分。）

61. 诗句“钟山风雨起苍黄，百万雄师过大江”出自（ ）。

- A. 岑参的《送李副使赴碛西官军》
- B. 辛弃疾的《破阵子·为陈同甫赋壮词以寄之》
- C. 陆游的《书愤》
- D. 毛泽东的《人民解放军占领南京》

62. 依次在下列横线中填入词语，最恰当的一组是（ ）。

①今年春节期间，某省发生了一起\_\_\_\_\_的假酒案。

②端午节，民间有在身上挂香荷包的习俗，据说，这样可以\_\_\_\_\_疾病。

③见到这一情景，她那满腔怨恨，似乎一下子都\_\_\_\_\_了。

- A. 耸人听闻      驱除      融解
- B. 骇人听闻      祛除      融解
- C. 耸人听闻      祛除      溶解
- D. 骇人听闻      驱除      溶解

63. 中国人对知识与思想、文风与人品、政治与学术，向来很难划开一道理性的界限，把本来只是经验和感觉的判断，常常当成评价一切的铁律。其实，元好问早就说“心画心声总失真，文章宁复见为人”，刘因也曾说“若将字字论心术，恐有无边受屈人”。

以下观点与原文意思最相符的是（ ）。

- A. “文如其人”式的说法过于武断
- B. 凭感觉去评价人是不可靠的
- C. 知人知面不知心
- D. 识人的标准应多元化

64. 在抗美援朝战争中，志愿军将士面对强大而凶狠的作战对手，身处恶劣而残酷的战场环境，抛头颅、洒热血，以“钢少气多”力克“钢多气少”，充分展示了敢打必胜的铮铮铁骨。新时代传承发扬伟大抗美援朝精神，就要深入学习宣传中国人民志愿军的英雄事迹和革命精神，引导广大官兵学好党史、新中国史、改革开放史、社会主义发展史，不断激发广大官兵的忧患意识和爱国情怀，让“一不怕苦、二不怕死”成为官兵的精神魂魄，更好展现强军胜战的新气象新作为。

这段文字意在说明（ ）。

- A. 传承发扬伟大抗美援朝精神，锻造舍生忘死、向死而生的民族血性
- B. 传承发扬伟大抗美援朝精神，砥砺不畏强暴、反抗强权的民族风骨
- C. 传承发扬伟大抗美援朝精神，汇聚万众一心、勠力同心的民族力量
- D. 传承发扬伟大抗美援朝精神，激发守正创新、奋勇向前的民族智慧

65. 依次在下列各句横线处填入词语，最恰当的一组是（ ）。

①专案组经过调查研究，\_\_\_\_\_查到了狡黠的嫌疑人的犯罪证据。

②中国外交以人为本，外交官们处理遇难事件的高效工作，\_\_\_\_\_是对同胞的关心和爱护，让当地华人倍感来自祖国的温暖。

③这几条主干道，平时都经常堵车，不是很畅通，\_\_\_\_\_是“国庆黄金周”这样的出

行高峰呢？

- A. 从而 甚至 况且
- B. 从而 甚至 何况
- C. 进而 尤其 何况
- D. 进而 尤其 况且

66. 根据以下诗歌内容，按描述春、夏、秋、冬的顺序排列，正确的是（ ）。

- ①墙角数枝梅，凌寒独自开。遥知不是雪，为有暗香来。
- ②独在异乡为异客，每逢佳节倍思亲。遥知兄弟登高处，遍插茱萸少一人。
- ③夜热依然午热同，开门小立月明中。竹深树密虫鸣处，时有微凉不是风。
- ④无花无酒过清明，兴味萧然似野僧。昨夜邻家乞新火，晓窗分与读书灯。

- A. ①②③④
- B. ①③②④
- C. ②③①④
- D. ④③②①

67. 下面四句诗排列顺序正确的是（ ）。

- ①雨暗苍江晚未晴②月在浮云浅处明③井梧翻叶动秋声④楼头夜半风吹断

- A. ①③④②
- B. ②①④③
- C. ④②①③
- D. ④①②③

68. 根据下文判断，文章意在指出，中国人要在现在世界上挣得自己的地位，最重要的是（ ）。

现在许多人大有恐惧，我也有大恐惧。许多人所怕的是“中国人”这名目要消灭；我所怕的是中国人要从“世界人”中挤出。

我认为“中国人”这名目，绝不会消灭。只要人种还在，总是中国人。譬如埃及犹太人，无论他们还有“国粹”没有，现在总叫埃及犹太人，未尝改了称呼。可见保存名目，全不必劳心费力。

但是想在现今的世界上，协同生长，挣一地位，即须有相当的进步的智识，道德，品格，思想，才能够站得住脚。这事极须劳心费力。而“国粹”多的国民，尤其劳心费力，他的“粹”太多了。粹太多，便太特别。太特别，便难于种种人协同生长，挣得地位。有人说：“我们

要特别生长，不然，何以为中国人！”于是乎要从“世界人”中挤出，于是乎中国人失了世界，却暂时仍要在这世界上住！——这便是我的大恐惧。

- A. 如何在根本上保存国粹
- B. 始终保持恐惧心理、忧患意识
- C. 大胆追求特别
- D. 要有进步意识

69. 在下面一段文字的横线处填入一句话，与上文衔接最好的一句话是（ ）。

自五四运动以来，翻译介绍先进国家的文化成果就成了中国文化界的追求之一。

- A. 这些翻译作品促进了中国学术文化的发展，同时也影响了中国的书面语言
- B. 翻译作品日见其多，一方面这些作品促进了中国学术文化的发展，同时也影响了中国的书面语言
- C. 这些翻译作品提高了中国学术文化的素养，同时促进了中国书面语言的发展
- D. 翻译作品日见其多，一方面这些作品提高了中国学术文化的素养，另一方面也促进了中国书面语言的发展

70. 我们行驶在世界第一长跨海大桥——港珠澳大桥上，\_\_\_\_\_那光洁高耸的钢梁架在落日余晖中\_\_\_\_\_，不由惊叹人类伟大的创造力！

依次在横线中填入词语，最恰当的一组是：

- A. 远望 挺立
- B. 凝望 伫立
- C. 仰望 矗立
- D. 眺望 肃立

71. 阅读下列段落和选项，其中符合作者观点的是（ ）。

如果说“家电下乡”给了家电企业开拓农村消费市场的机遇，那么，“进城”则更能为企业创造更好的销售业绩。因为在城市里，居民更容易接受新的生活和消费方式。假如“家电进城”也得到政府的相关政策支持和补贴的话，企业应当有理由在城镇市场上发掘出新的消费潜力，客观上让城市低收入和失业居民也得到家电产品消费的实惠。

- A. 和农村市场比较，城镇消费市场同样具有挖掘的潜力
- B. “家电下乡”不可能给企业带来良好的销售业绩
- C. 城市低收入和失业居民更需要政策支持和补贴

D. 政府应该支持企业的“家电进城”，大力推广新产品

72. 明月当空，花间的李白无亲自怜，便起舞清影，举杯邀月；大江上的曹操有雄兵百万，就横槊赋诗，酹酒江心。今舞者，正是从人们平常不自觉的动作中，抽出最美的、规律性的东西，以衣具饰之，以音乐和之，酿成一股酒香，反过来荡摇人的感情。

通过这段文字我们可以知道，古人起舞的原因是（ ）。

- A. 以舞姿来荡摇人的感情
- B. 因人内心情感的摇荡而不由得手舞足蹈
- C. 与音乐和之，抽出最美的东西
- D. 因礼节而起舞，表现自己

73. 下列没有语病的是（ ）。

A. 自从汉字成了汉语的书面符号，一直是中华民族文化最重要的载体。从甲骨文所记录的商周编年史到清代的《四库全书》，浩瀚的典籍集聚了一代又一代文化精英的思维逻辑和艺术创造

B. 由于熊猫从它们所吃的竹子里获得的营养非常少，所以它们必须尽可能地保存能量，它们的甲状腺就是缓解能量消耗的一系列特征之一

C. 考虑到90%以上的交通事故的造成都是由人类的错误导致的，所以人工智能未来有很大的可能接过人类的驾驶权

D. 汉代西域都护府设立后，中原王朝对西域实施了有效的管辖和治理，使者往来、朝贡、丝路贸易、移民、求法等活动，使中原和西域间政治、经济、军事、文化等联系密切

74. 下列各句标点符号使用正确的是（ ）。

A. 《孟子》里提及的各种圣人，表现各不相同。但有一点相同，即“行一不义，杀一不辜而得天下，皆不为也”。

B. 中国养殖业的发展要结合市场需求，更要结合国情。国外的养殖方式：大规模、产业化自然是好处很多，但也不能照搬。

C. 中国古典四大名著《红楼梦》、《西游记》、《三国演义》、《水浒传》的读者在逐渐减少。

D. 我不知道这一实验到底能不能得出最终的结论？但我一定要坚持下去，直到把问题搞个水落石出。

75. 王磊大学毕业后，给曾经帮助过他的李老师发了一条短信表示感谢，内容为：“李老师好！在大学阶段，您能帮助我学习，深感荣幸。我能有今天，是您悉心教导的结果。您

的教学造诣是那样深厚，同学们非常敬重您。我将永远铭记你的教导，努力工作，不辜负您的期望！”

以下修改不当的选项是（ ）。

- A. “您能帮助我学习”改为“我在您的帮助下学习”
- B. “同学们非常敬重您”改为“令同学们刮目相看”
- C. “教学造诣是那样深厚”改为“教学水平非常高”
- D. “你的教导”改为“您的教导”

二、数量关系（请根据题目要求，在四个选项中选出一个最恰当的答案。共10题。

每题1.5分，共15分。）

76. 选择最合理的一项来填充所给数列的空缺项，使之符合原数列的排列规律（ ）。

1, 2, 3, 8, 27, 220, ( )。

- A. 4595
- B. 5495
- C. 5945
- D. 4955

77. 一辆汽车第一天行驶了7个小时，第二天行驶了600公里，第三天比第一天少行驶200公里，三天共行驶了18个小时。已知第一天的平均速度与三天全程的平均速度相同，问三天共行驶了（ ）公里。

- A. 1800
- B. 1200
- C. 1400
- D. 1600

78. 选择最合理的一项来填充所给数列的空缺项，使之符合原数列的排列规律：

2, 3, 4, 6, 6, 9, 8, 12, 10, ( )。

- A. 13
- B. 14
- C. 16
- D. 15

79. 一个盒子里放有红色钢笔 100 支，蓝色钢笔 90 支，黑色钢笔 80 支，棕色钢笔 60 支。它们的外形和质量都一样，闭着眼睛用手去摸，要保证摸出的钢笔中有 15 对同色钢笔，至少应摸出（ ）支钢笔。

- A. 31
- B. 61
- C. 33
- D. 63

80. 已知  $43^x = 47^y = 2021$ , 则  $\frac{1}{x} + \frac{1}{y} =$  ( )。

- A.  $\frac{43}{47}$
- B.  $\frac{47}{43}$
- C. 0
- D. 1

81. 某学校在统计学生数据时发现，五年级小学生的出生日期均在 2009 年 9 月 1 日至 2010 年 8 月 31 日之间，其中，生于 2010 年的学生与生于 2009 年的学生比例为 5 : 2，生于 2009 年的男生与生于 2010 年的女生比例为 1 : 3。已知该学校五年级学生总数是下列选项之一，则该学校五年级学生总数为（ ）。

- A. 450
- B. 455
- C. 460
- D. 465

82. 定义  $Z = \{z | z = x - y, x \in X, y \in Y\}$ 。已知  $X = \{1, 2, 4\}, Y = \{2, 3\}$ , 则  $Z =$  ( )。

- A.  $\{-2, -1, -1, 0, 1, 2\}$
- B.  $\{-2, -1, 0, 1, 2\}$
- C.  $\{1, 2, 3, 4\}$
- D.  $\{1, 2, 2, 3, 4\}$

83. 某单位的会议室有 8 排共 64 个座位，每排座位数相同。小李和小王随机入座，则他们坐在同一排的概率约为（ ）。

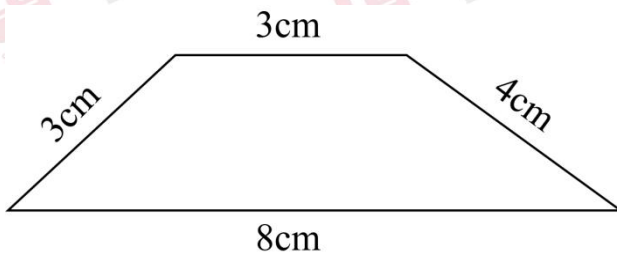
- A. 10.94%

- B. 11.11%
- C. 12.50%
- D. 12.70%

84. 把 6 本书放在书架上，将其中指定的 3 本放在一起的排列有 ( ) 种。

- A. 120
- B. 360
- C. 144
- D. 720

85. 如下图所示，梯形的上底和下底分别为 3 厘米、8 厘米，两条腰分别为 3 厘米、4 厘米，则该梯形的面积为 ( ) 平方厘米。

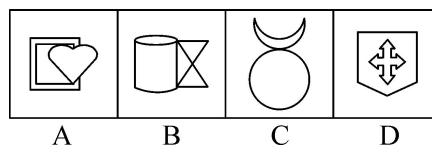



- A. 12
- B. 16
- C. 13.2
- D. 17.4

三、判断推理 (请根据题目要求，在四个选项中选出一个最恰当的答案。共10题。)

每题1.5分，共15分。)

86. 为了使图像具有规律性，下图空缺处应该是 ( )。



- A. 如上图所示
- B. 如上图所示

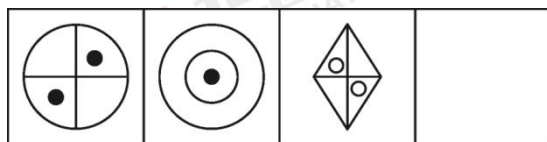


- C. 如上图所示
- D. 如上图所示

87. 某学校设有多个体育社团。据统计，参加篮球社的学生都参加了健身俱乐部；参加健身俱乐部的学生都没有参加乒乓球社；参加足球社的学生都没有参加健身俱乐部。张三参加了足球社或者乒乓球社，则可以确定的是（ ）。

- A. 张三参加了足球社
- B. 张三没有参加健身俱乐部
- C. 张三参加了篮球社
- D. 张三没有参加乒乓球社

88. 从所给的四个选项中，选择最合适的一个填入空缺处，使之呈现一定的规律性的是（ ）。



- A. 
- B. 
- C. 
- D. 

- A. 如上图所示
- B. 如上图所示
- C. 如上图所示
- D. 如上图所示

89. 非法侵入住宅罪是指违背住宅内成员的意愿或者无法律依据，故意进入公民住宅，或者进入公民住宅后经要求退出而拒不退出的行为。根据上述定义，下列构成非法侵入住宅罪的是（ ）。

- A. 小王家附近开了个小茶馆，他进去后什么都不点，老板怎么说他都不肯走，一直坐到打烊
- B. 小张发现邻居家冒出了浓烟，一脚踹开邻居大门就冲了进去，结果发现原来是邻居在做化学实验
- C. 小吴为了找工作，在朋友家里一住就是半年，朋友不胜其烦，整天都在想怎样才能让他搬出去
- D. 房东小李担心租出去的房子会有什么损坏，隔一段时间就会拿着备用钥匙进去检查一下

90. 下列最合乎逻辑顺序的选项是（ ）。

- ①畜牧业发展

- ②水草丰美
- ③草场退化
- ④野生动物数量减少
- ⑤野生动物数量增加
- ⑥控制养殖规模

- A. ②—①—⑤—③—④—⑥
- B. ④—①—⑤—③—⑥—②
- C. ①—④—③—⑥—②—⑤
- D. ②—①—③—④—⑥—⑤

91. 有价证券是指有票面金额，证明持有人有权按期取得一定收入并可自由转让和买卖的所有权或债权凭证。有价证券是虚拟资本的一种形式，它本身没价值，但有价格。根据上述定义，下列属于有价证券的是（ ）。

- A. 借据
- B. 收据
- C. 国债
- D. 增值税专用发票

92. 从所提供选项中选择（ ）填入问号处，使之呈现一定的规律性。

桌	兼	借	剥	?
---	---	---	---	---

- A. 填
- B. 街
- C. 能
- D. 进

93. 历史对于（ ）相当于（ ）对于积累。

- A. 发展 经验
- B. 飞跃 学习
- C. 阶段 知识
- D. 积淀 阅历

94. 下列与所给词组“遗忘：永记于心”在逻辑关系上最为贴近、相似或匹配的词组是（ ）。

- A. 美丽：惊天动地
- B. 幸运：甘之如饴
- C. 燥热：阴雨绵绵
- D. 高兴：悲痛万分

95. 下列最合乎逻辑顺序的选项是（ ）。

- ①搜集资料
  - ②整理材料
  - ③起草文件
  - ④汇报工作
  - ⑤撰写提纲
- A. ①—②—⑤—③—④
  - B. ①—②—③—⑤—④
  - C. ⑤—①—②—③—④
  - D. ⑤—③—①—②—④

**四、资料分析（请根据题目要求，在四个选项中选出一个最恰当的答案。共15题，每题1分，共15分。）**

材料一：据央视网新闻联播消息，改革开放 40 年来，我国实施大规模扶贫开发，从解决温饱到全面实施精准扶贫、精准脱贫方略，到 2017 年底，我国一共减少了 7.4 亿贫困人口，相当于 2017 年底整个欧洲国家的人口数和。2013 年到 2017 年 5 月年间，累计减少贫困人口近 7000 万，历年减贫人口占比分别为 14.9%、20.6%、22.2%和 29.7%。到 2017 年末，贫困人口只剩下 3.1%。而在 1978 年的时候，仅有约 3%的人不是贫困人口。40 年来，实现了两个 3%的对调，我国从世界上最贫困的国家之一，向整体消除绝对贫困迈进。

96. 2013 年 2017 年间，减贫人口占比（ ）。

- A. 逐年递减
- B. 逐年递增
- C. 保持均衡
- D. 翻倍递增

97. 如果我国 1978 年底总人口数为 9.6 亿，2017 年底总人口数量达到 13.9 亿，则我国

改革开放 40 年间非贫困人口增加约有 ( ) 亿。

- A. 4.3
- B. 13.2
- C. 7.4
- D. 13.5

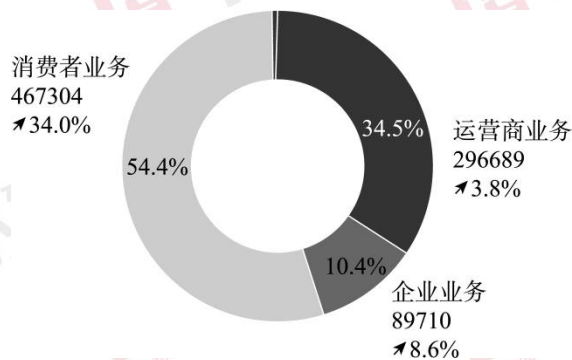
98. 我国改革开放 40 年, 日均减少了约 ( ) 万贫困人口。

- A. 5
- B. 7.4
- C. 1850
- D. 40

99. 如果 2017 年底我国总人口数量达到 13.9 亿, 那么我国贫困人口约有 ( ) 亿。

- A. 3.1
- B. 4.3
- C. 0.19
- D. 0.43

材料二: 2019 年全球经济增长放缓, 整体呈疲弱态势。受益于 5G 网络建设的开展, 华为消费者业务手机销量持续增长、渠道下沉, 以及企业业务抓住数字化与智能化转型机遇、提升场景化的解决方案能力, 坚持为客户创造价值, 提升消费者体验, 改善经营质量, 全年实现销售收入人民币 858833 百万元, 同比增长 19.1%。销售收入分消费者业务、运营商业、企业业务和其他业务四部分, 如下图所示(销售收入单位: (人民币)百万元)。



100. 2019 年, 华为 ( ) 增长率最高。

- A. 运营商业
- B. 企业业务
- C. 消费者业务

D. 其他业务

101. 2018 年，运营商业务营业额约为（ ）百万元。

A. 467304

B. 285828

C. 296689

D. 285828

102. 2019 年，其他业务营业额为（ ）百万元。

A. 3487

B. 5130

C. 3934

D. 7211

材料三：2020 年 3 月~2020 年 6 月手机网民各类手机互联网应用用户规模和使用率

应用	2020 年 6 月		2020 年 3 月		增长率
	用户规模 (万)	手机网民 使用率	用户规模 (万)	手机网民 使用率	
手机即时通信	93037	99.8%	89012	99.2%	4.5%
手机搜索引擎	76078	81.6%	74535	83.1%	2.15%
手机网络新闻	71999	77.2%	7642	81.0%	-0.9%
手机网络购物	74696	80.1%	70749	78.9%	5.6%
手机网络外卖	40720	43.7%	39653	44.2%	2.7%
手机网络支付	80172	86.0%	76508	85.3%	4.8%
手机网络游戏	53592	57.5%	52893	59.0%	1.3%
手机网络音乐	63598	68.2%	63274	70.5%	0.5%
手机网络文学	46515	49.9%	45255	50.5%	2.8%
手机在线教育	37668	40.4%	42023	46.9%	-10.4%

103. 2020 年 6 月，（ ）应用用户数量排名第二。

A. 手机即时通信

B. 手机搜索引擎

- C. 手机网络支付
- D. 手机网络新闻

104. 从 2020 年 3 月到 2020 年 6 月，手机网络购物网民数增长率为 5.6%，手机网络支付网民数增长率为 4.8%，（ ）。

- A. 手机网络购物网民增长数比手机网络支付网民增长数多
- B. 2020 年 3 月手机网络购物网民数比手机网络支付网民数多
- C. 2020 年 6 月手机网络购物网民数比手机网络支付网民数多
- D. 手机网络支付网民数增长率比手机网络购物网民数增长率高

105. 2020 年 6 月与 2020 年 3 月相比，手机网络购物用户数量增加值为（ ）万人。

- A. 4025
- B. 1067
- C. 3947
- D. 3664

106. 根据手机即时通信数据可知，2020 年 6 月手机网民数量约为（ ）万人。

- A. 93037
- B. 89012
- C. 89729
- D. 93223

材料四：经核算，2019 年全国专利密集型产业增加值为 11463.08 亿元，比上年增长 7.0%（未扣除价格因素，下同），占国内生产总值（GDP）的比重为 11.6%，与上年持平。

从内部结构看，专利密集型产业中制造业相关行业规模大，增加值占比达到 72.9%。其中，首先是新装备制造业增加值 34052.8 亿元，占专利密集型产业增加值的比重最高，为 29.7%；其次是信息通信技术制造业，增加值为 22971.9 亿元，占比为 20.0%；再后，新材料制造业、医药医疗产业、环保产业占比分别为 12.2%、8.7%和 2.3%。

从增长速度看，专利密集型产业中服务业相关行业发展较快。信息通信技术服务业增长 17.2%，研发、设计和技术服务业增长 14.0%，明显高于制造业。

2019 年全国专利密集型产业增加值

分类名称	增加值（亿元）	增速（%）	构成（%）
专利密集型产业	114630.8	7.0	100.0

信息通信技术制造业	22971.9	6.8	20.0
新装备制造业	34052.8	3.6	29.7
新材料制造业	13983.4	-1.0	12.2
医药医疗产业	9974.3	5.4	8.7
环保产业	2599.6	7.2	2.3
信息通信技术服务业	22822.9	17.2	19.9
研发、设计和技术服务业	8225.9	14.0	7.2

107. 由上述材料分析可知，上年全国专利密集型产业增加值约为（ ）亿元。

- A. 105412
- B. 106541
- C. 107132
- D. 108412

108. 下列说法错误的是（ ）。

- A. 从增长速度看信息通信技术服务业发展速度最快
- B. 从内部结构看新装备制造业占比最高
- C. 专利密集型产业中占比最少的是环保产业
- D. 2019 年全国专利密集型产业增加值比上年增长 7%，所以占 GDP 比例也比上年高

109. 下列产业中，增速最快的是（ ）。

- A. 研发、设计和技术服务业
- B. 新材料产业
- C. 环保产业
- D. 医药医疗产业

110. 下列产业中（ ）出现了负增长。

- A. 环保
- B. 新材料制造业
- C. 医药医疗产业
- D. 新装备制造业

## 2021年军队文职人员招聘考试公共科目试卷答案及解析

### 第一部分 基础知识

#### 一、单项选择题

1. 【答案】D

【解析】第一步，本题考查国防常识。

第二步，根据《国防法》第五十一条规定，国家根据国防动员需要，可以依法征收、征用组织和个人的设备设施、交通工具、场所和其他财产。县级以上人民政府对被征收、征用者因征收、征用所造成的直接经济损失，按照国家有关规定给予公平、合理的补偿。D项正确，当选。ABC项为干扰项，排除。因此，选择D选项。

2. 【答案】A

【解析】第一步，本题考查公民的基本权利和义务。

第二步，根据《宪法》第五十三条规定，中华人民共和国公民必须遵守宪法和法律，保守国家秘密，爱护公共财产，遵守劳动纪律，遵守公共秩序，尊重社会公德。A项正确，当选。BCD项为干扰项，排除。因此，选择A选项。

3. 【答案】B

【解析】第一步，本题考查资本知识并选错误项。

第二步，当代资本主义新变化的主要表现在：（1）生产力方面，当代资本主义的生产力取得了长足进步，劳动生产率大幅度提高，社会财富迅猛增长，经济保持了较长时期的相对稳定发展。在生产管理方面，出现了一系列运用电子计算机等新技术的管理手段和工具。所以B项属于生产力方面的变化，而非生产关系方面的变化，B选项符合题意，当选。（2）生产关系方面，在所有制关系上，出现了资本社会化、股权分散化的趋势，在劳资关系上，采取建立劳资共决制度。在分配关系上，对收入分配政策进行了某些调整，如实行社会福利政策，通过再分配手段在一定程度上缓和了社会矛盾。A项、C项、D项属于生产关系层面新变化，符合题意，排除。因此本题选择B选项。

【拓展】（3）当代资本主义新变化的主要表现的第三个方面即上层建筑方面，政治制度与法制的有效结合，国家管理经济和社会的职能增强；资产阶级的民主形式进一步扩大，公民权利的内涵和外延有新的拓展。意识形态上多元化的价值取向更加鲜明。

4. 【答案】A

【解析】第一步，本题考查世界历史。



第二步，海地岛于 1492 年为哥伦布发现，随即沦为西班牙的领土。1697 年，海地岛的西部转归法国所有，东部仍属于西班牙。1791 年 8 月 22 日，在法国大革命的影响下，海地的黑人终于举行了大规模的起义。1804 年 1 月 1 日海地宣告独立，成立了拉丁美洲第一个独立的国家——海地共和国，是世界上第一个取得独立的黑人国家。A 项正确，当选。因此，选择 A 选项。

5. 【答案】C

【解析】第一步，本题考查军队常识。

第二步，1945 年 4 月 24 日毛泽东在《论联合政府》政治报告中，明确提出：中国人民解放军“紧紧地和中国人民站在一起，全心全意地为中国人民服务，就是这个军队的唯一的宗旨。”这一宗旨，使中国人民解放军始终以服务人民为己任，始终与人民站在一起，成为中国历史上第一支真正意义上的人民军队。C 项正确，当选。因此，选择 C 选项。

【拓展】A 项：听党指挥，保证党对军队的绝对领导，关系我军性质和宗旨、关系社会主义前途命运、关系党和国家长治久安，是我军的立军之本和建军之魂。A 项与题干无关，排除。B 项：拥政爱民是中国人民解放军开展的拥护政府、爱护人民活动的简称，是军队群众工作的重要内容。中国人民解放军来自人民，服务于人民。拥政爱民是人民军队的优良传统。B 项与题干无关，排除。D 项：中国人民解放军的任务，中华人民共和国宪法规定，武装力量的任务是：“巩固国防，抵抗侵略，保卫祖国，保卫人民的和平劳动，参加国家建设事业，努力为人民服务”。D 项与题干无关，排除。

6. 【答案】D

【解析】第一步，本题考查经济体制和制度。

第二步，中国全国人大常委会委员长吴邦国在十一届全国人大常委会第二十九次会议闭幕会上强调，国有企业是中国国民经济的支柱，国有企业改革是经济体制改革的中心环节。因此，选择 D 选项。

【拓展】A 项：价格机制是市场机制的核心，市场决定价格是市场在资源配置中起决定性作用的关键。价格体制改革，我国由计划价格体制过渡到市场价格体制的改革。包括改革不合理的价格体系和价格管理体制两个方面。A 项与题干无关，排除。B 项：构建体系完整、机制健全、统一开放、竞争有序的现代市场体系是完善我国社会主义市场经济体制的重要内容。B 项与题干无关，排除。C 项：宏观调控是国家为了保持国民经济能持续、稳定、健康迅速的发展，促进经济结构的优化，引导推动社会全面进步而采取的经济措施。C 项与题干无关，排除。

7. 【答案】C

【解析】第一步，本题考查经济体制和制度。

第二步，社会主义市场经济与资本主义市场经济的根本区别在于基本制度不同。前者以社会主义初级阶段的基本经济制度为基础，不同于资本主义私有经济制度。社会主义初级阶段的基本经济制度是公有制为主体、多种所有制经济共同发展的经济结构，坚持这一基本经济制度是维系社会主义市场经济的前提条件。C项正确，当选。因此，选择C选项。

【拓展】社会主义市场经济的基本特征：（1）在所有制结构上，以公有制为主体，多种所有制经济共同发展，一切符合“三个有利于”的所有制形式都可以而且应该用来为社会主义服务。（2）在分配制度上，坚持按劳分配为主体，多种分配方式并存的制度。把按劳分配和按生产要素分配结合起来，坚持效率优先，兼顾公平的原则。（3）在宏观调控上，由于公有制为主体，因而国家对市场的调控具有较雄厚的物质基础，又有牢固的政治基础和广泛的群众基础，所以能够把人民的当前利益与长远利益、局部利益和集体利益结合起来，发挥计划与市场两个手段的长处，把市场调节和宏观调控结合起来。

8. 【答案】A

【解析】第一步，本题考查新时代中国特色社会主义思想并选错误项。

第二步，习近平总书记曾说：“中国梦不是镜中花、水中月，不是空洞的口号，其最深沉的根基在中国人民心中。”题干所述“中国梦是一个口号”的说法错误。因此，选择A选项。

【拓展】B项：习近平总书记指出：“中国梦是国家情怀、民族情怀、人民情怀相统一的梦。”“家是最小国，国是千万家。”国泰而民安，民富而国强。中国梦的最大特点，就是把国家、民族和个人作为一个命运共同体，把国家利益、民族利益和每个人的具体利益紧紧联系在一起，体现了中华民族的“家国天下”情怀。实现中国梦，意味着中国经济实力和综合国力、国际地位和国际影响力大大提升，意味着中华民族以更加昂扬向上、文明开放的姿态屹立于世界民族之林，意味着中国人民过上更加幸福安康的生活。B项不符合题干要求，排除。C项：习近平总书记说：“中国梦，归根到底是人民的梦。”“要实现中华民族伟大复兴的中国梦，就是要实现国家富强、民族振兴、人民幸福。”中国梦是民族的梦，也是每个中国人的梦。C项不符合题干要求，排除。D项：习近平总书记指出：“中国梦是国家的梦、民族的梦，也是每一个中国人的梦。”“得其大者可以兼其小。”“宏大叙事”的国家梦，也是“具体而微”的个人梦。D项不符合题干要求，排除。

9. 【答案】B

【解析】第一步，本题考查党政专题知识。

第二步，根据《中共中央关于加强党的政治建设的意见》可知，坚持和加强党的全面领导，最重要的是坚决维护党中央权威和集中统一领导；坚决维护党中央权威和集中统一领导，最关键的是坚决维护习近平总书记党中央的核心、全党的核心地位。要以党章为根本依据，不断完善保障“两个维护”的制度机制。B项符合题意，当选。因此，选择B选项。

10. 【答案】A

【解析】第一步，本题考查国防常识知识。

第二步，“寓兵于农”出自《闻见后录》卷一：“予谓议者以本朝养兵为大费，欲复寓兵于农之法，书生之见，可言而不可用者哉。”意思是给农民以一定军事训练，平时务农，战时参战。体现国防建设思想。A项正确，当选。因此，选择A选项。

【拓展】B项：武德，专指以武的行为特征、以仁义为准则的修习武术之人的言行举止操守准则。……武者，止戈也。中国古代师父传艺前都会指着武字对弟子讲解…武也止戈也，也就是说学武之人拿起兵器之前应该先学会放下兵器。弟子应先通过打杂来锻炼心性，心性稳定后才能正式习武。崇尚武德指习武术之人的言行举止和操守准则要严格的去遵守。没有体现国防建设思想。B项错误，排除。C项：“屯兵于地”指军队屯田垦荒，是一种没有体现国防建设思想。C项错误，排除。D项：“不战而胜”出自《孙子兵法》。孙子曰：夫用兵之法，全国为上，破国次之；全军为上，破军次之；全旅为上，破旅次之；全卒为上，破卒次之；全伍为上，破伍次之。是故百战百胜，非善之善也；不战而屈人之兵，善之善者也。意思是，孙子认为战争的原则是：使敌人举国降服是上策，用武力击破敌国就次一等；使敌人全军降服是上策，击败敌军就次一等；使敌人全旅降服是上策，击破敌旅就次一等；使敌人全卒降服是上策，击破敌卒就次一等；使敌人全伍降服是上策，击破敌伍就次一等。所以，百战百胜，算不上是最高明的；不通过交战就降服全体敌人，才是最高明的。是一种战争谋略而并非国防建设思想。D项错误，排除。

11. 【答案】A

【解析】第一步，本题考查社会主义市场经济知识。

第二步，社会主义市场经济就是同社会主义基本社会制度结合在一起的市场经济，体现社会主义的根本性质。是使市场在社会主义国家宏观调控下对资源配置起决定性作用的经济体制。社会主义市场经济的目标是达到共同富裕，达到全体人民的共同富裕是社会主义的本质所在和最基本的追求。因此，选择A选项。

12. 【答案】C

**【解析】**第一步，本题考查国际经济知识。

第二步，双刃剑，双面都有刃的剑，剑其实是两面都有刃的，古时剑乃上等兵器，也是将帅之饰物。今比喻每种事物都有两面性。经济全球化，有利于资源和生产要素在全球的合理配置，有利于资本和产品在全球性流动，有利于科技在全球性的扩张，有利于促进不发达地区经济的发展，是人类发展进步的表现，是世界经济发展的必然结果。但是对经济实力薄弱和科学技术比较落后的发展中国家，面对全球性的激烈竞争，所遇到的风险、挑战将也很严峻。因此，对于发展中国家来说，是一柄双刃剑，即既是机遇，也是挑战。因此，选择C选项。

**【拓展】**A项：风险和挑战意思趋同。都是指向经济全球化的弊端这一方面。不能准确表现出“双刃剑”这一特质。A项错误。B项：联系和合作只是凸显经济全球化有利的一面。不能准确表现出“双刃剑”这一特质。B项错误。D项：联系和竞争，有联系只能说明是有相互影响、相互作用的关系，但是不意味着就一定会产生有利的影响。并不能够准确的表现出“双刃剑”这一特质。D项错误。

13. **【答案】**D

**【解析】**第一步，本题考查民法典合同的相关知识。

第二步，根据《民法典》第四百七十一条，当事人订立合同，可以采取要约、承诺方式或者其他方式。根据《民法典》第四百七十二条，要约是希望与他人订立合同的意思表示，该意思表示应当符合下列条件：（一）内容具体确定；（二）表明经受要约人承诺，要约人即受该意思表示约束。由此可知，合同在订立之前，当事人必须就合同的主要条款协商一致。题干中指出“前来听讲座的欧阳同学没有留意该公告，以为签字簿是为签到准备的。”说明欧阳同学与田教授之间并未就合同的主要条款协商一致。因此，在欧阳同学与田教授之间并未成立买卖合同。D项符合题意。因此，选择D选项。

**【拓展】**A项：《民法典》第四百七十二条：要约是希望与他人订立合同的意思表示，该意思表示应当符合下列条件：（一）内容具体确定；（二）表明经受要约人承诺，要约人即受该意思表示约束。上述题目中，田教授的行为构成要约。但是，题干中指出“前来听讲座的欧阳同学没有留意该公告，以为签字簿是为签到准备的。”说明欧阳同学并没有和他订立合同的意思，因此，欧阳同学的行为不构成承诺。A项错误，排除。B项：《民法典》第一百四十七条：基于重大误解实施的民事法律行为，行为人有权请求人民法院或者仲裁机构予以撤销。重大误解，指的是一方当事人因自己的过错导致对合同的内容等发生误解而订立了合同。由此可知，重大误解是基于合同的订立才产生的法律效果。题干中，欧阳同学与田

教授的行为并没有致使合同的订立。因此，不涉及重大误解的情形。B项错误，排除。C项：根据《民法典》第四百六十四条，合同是民事主体之间设立、变更、终止民事法律关系的协议。根据《民法典》第四百七十二条，要约是希望与他人订立合同的意思表示，该意思表示应当符合下列条件：（一）内容具体确定；（二）表明经受要约人承诺，要约人即受该意思表示约束。因为题干中“前来听讲座的欧阳同学没有留意该公告，以为签字簿是为签到准备的。”因此，在欧阳同学与田教授之间并未成立买卖合同。因此，不能直接推定欧阳同学的行为是要购买田教授新著的表示。C项错误，排除。

14. 【答案】D

【解析】第一步，本题考查国防常识并选错误项。

第二步，国防是指国家为防备和抵抗侵略，制止武装颠覆和分裂，保卫国家主权、统一、领土完整、安全和发展利益所进行的军事活动，以及与军事有关的政治、经济、外交、科技、教育等方面的活动。现代国防是国家综合国力的体现。国防与国家相辅相成。主要表现在以下三个方面：第一，国防是伴随着国家的产生而产生的；第二，国防是为国家的利益服务的；第三，国家的性质、制度、政策决定着国防建设。因此，国防与国家的性质和根本制度无关说法错误，D项错误，当选。因此，选择D选项。

15. 【答案】C

【解析】第一步，本题考查国防常识。

第二步，“兵者，以武为植，以文为种。武为表，文为里”出自《尉缭子·兵令上第二十三》意思是指战争的胜败取决于战争参加者有无良好的政治。“文”主要是指政治，“武”主要是指战争，二者是“种”（根本）与“植”（枝干）、里与表的关系。由此可知，论述的是战争与政治的关系。

16. 【答案】B

【解析】第一步，本题考查马克思主义政治经济学。

第二步，马克思主义经济学强调生产力和生产关系矛盾运动的首要性，强调现实的社会生产关系对个人行为的规定性，这是整体性方法论原则的鲜明体现。B项正确，当选。因此，选择B选项。

【拓展】A项：实体的哲学概念是指实体本质、具体事物、个别主体、现象的支持者等意义，其含义一般是指能够独立存在的、作为一切属性的基础和万物本原的东西。A项和题干无关，不当选。C项：形式主义指的是一种只看事物的表象而不加分析其本质的思想方法和工作作风。它违背了内容决定形式、形式为内容服务，内容与形式相统一的科学原理。C

项和题干无关，不当选。D项：个体主义是心理学名词，强调个体独立性的价值取向和文化倾向。D项和题干无关，不当选。

17. 【答案】C

【解析】第一步，本题考查国防常识。

第二步，根据《国防法》第二十七条，中国人民解放军、中国人民武装警察部队在规定的岗位实行文职人员制度。因此，选择C选项。

18. 【答案】D

【解析】第一步，本题考查党政专题知识。

第二步，根据《中共中央关于制定国民经济和社会发展第十四个五年规划和二〇三五年远景目标的建议》锚定二〇三五年远景目标，综合考虑国内外发展趋势和我国发展条件，坚持目标导向和问题导向相结合，坚持守正和创新相统一，《建议》明确了“十四五”时期经济社会发展的六大主要目标。分别是：（1）经济发展取得新成效；（2）改革开放迈出新步伐；（3）社会文明程度得到新提高；（4）生态文明建设实现新进步；（5）民生福祉达到新水平（6）国家治理效能得到新提升。其中居首位的是经济发展取得新成效这个目标。因此，选择D选项。

【拓展】发展是解决我国一切问题的基础和关键，发展必须坚持新发展理念，在质量效益明显提升的基础上实现经济持续健康发展，增长潜力充分发挥，国内市场更加强大，经济结构更加优化，创新能力显著提升，产业基础高级化、产业链现代化水平明显提高，农业基础更加稳固，城乡区域发展协调性明显增强，现代化经济体系建设取得重大进展。

19. 【答案】B

【解析】第一步，本题考查国防常识。

第二步，根据《国防法》第四十五条，……学校的国防教育是全民国防教育的基础。各级各类学校应当设置适当的国防教育课程，或者在有关课程中增加国防教育的内容。普通高等学校和高中阶段学校应当按照规定组织学生军事训练。公职人员应当积极参加国防教育，提升国防素养，发挥在全民国防教育中的模范带头作用。因此，选择B选项。

【拓展】《国防法》第四十五条，国防教育主管部门应当加强国防教育的组织管理，其他有关部门应当按照规定的职责做好国防教育工作。军事机关应当支持有关机关和组织开展国防教育工作，依法提供有关便利条件。一切国家机关和武装力量、各政党和各人民团体、企业事业组织、社会组织和其他组织，都应当组织本地区、本部门、本单位开展国防教育。

20. 【答案】A

【解析】第一步，本题考查国家机构知识。

第二步，根据《宪法》第九十三条，中华人民共和国中央军事委员会领导全国武装力量。中央军事委员会由下列人员组成：主席，副主席若干人，委员若干人。中央军事委员会实行主席负责制。中央军事委员会每届任期同全国人民代表大会每届任期相同。因此，选择 A 选项。

21. 【答案】A

【解析】第一步，本题考查社会主义市场经济知识。

第二步，社会保障是以国家或政府为主体，依据法律，通过国民收入的再分配，对公民在暂时或永久丧失劳动能力以及由于各种原因而导致生活困难时给予物质帮助，以保障其基本生活的制度。中国社会保障制度主要包括社会保险、社会救助、社会优抚和社会福利等内容，故不包括社会捐赠。因此，选择 A 选项。

【拓展】社会捐赠是指自然人、法人或其他社会团体出于爱心，自愿无偿地向公益性社会团体、公益性非营利单位、某个群体或个人捐赠财产进行救助的活动。

22. 【答案】C

【解析】第一步，本题考查社会法。

第二步，根据《劳动合同法》第四十七条，经济补偿按劳动者在本单位工作的年限，每满一年支付一个月工资的标准向劳动者支付。六个月以上不满一年的，按一年计算；不满六个月的，向劳动者支付半个月工资的经济补偿。劳动者月工资高于用人单位所在直辖市、设区的市级人民政府公布的本地区上年度职工月平均工资三倍的，向其支付经济补偿的标准按职工月平均工资三倍的数额支付，向其支付经济补偿的年限最高不超过十二年。本条所称月工资是指劳动者在劳动合同解除或者终止前十二个月的平均工资。因此，选择 C 选项。

23. 【答案】B

【解析】第一步，本题考查商标法。

第二步，根据《商标法》第三条第一款，经商标局核准注册的商标为注册商标，包括商品商标、服务商标和集体商标、证明商标；商标注册人享有商标专用权，受法律保护。因此，选择 B 选项。

24. 【答案】B

【解析】第一步，本题考查社会法。

第二步，根据《劳动合同法》第三十五条，用人单位与劳动者协商一致，可以变更劳动合同约定的内容。变更劳动合同，应当采用书面形式。变更后的劳动合同文本由用人单位和

劳动者各执一份。因此，选择 B 选项。

25. 【答案】B

【解析】第一步，本题考查党政专题。

第二步，根据 2013 年 11 月 12 日中国共产党第十八届中央委员会第三次全体会议通过《中国共产党第十八届中央委员会第三次全体会议公报》，全面深化改革的总目标是完善和发展中国特色社会主义制度，推进国家治理体系和治理能力现代化。必须更加注重改革的系统性、整体性、协同性，加快发展社会主义市场经济、民主政治、先进文化、和谐社会、生态文明，让一切劳动、知识、技术、管理、资本的活力竞相迸发，让一切创造社会财富的源泉充分涌流，让发展成果更多更公平惠及全体人民。因此，选择 B 选项。

26. 【答案】A

【解析】第一步，本题考查剩余价值。

第二步，马克思政治经济学认为，资本主义工资的本质是劳动力价值或价格的转化形式。资本家购买劳动力付给工人的工资，不是劳动的价值或价格，而是劳动力的价值或价格。因此，选择 A 选项。

【拓展】B 项、D 项：工资不是劳动的报酬和价格，劳动的报酬价格远超劳动力本身的价格和报酬，超过部分被资本家无偿占有。B 项、D 项错误。C 项：可变资本：以劳动力价值形态存在的那部分资本，在生产过程中可以使价值增值，因此叫可变资本（V）。可变资本并非是资本主义工资的本质。C 项错误。

27. 【答案】C

【解析】第一步，本题考查时事热点。

第二步，2021 年 2 月 28 日，国家统计局发布《2020 年国民经济和社会发展统计公报》，指出疫后中国经济恢复全球领先，2020 年中国 GDP 实际增速 2.3%，GDP 总量达到 14.7 万亿美元。且中美经济规模差距正在快速缩小。美国 2020 年 GDP 为 20.9 万亿美元，中国 GDP 相当于美国的约 70.3%。因此，GDP 总量超过 14 万亿美元，约相当于美国 GDP 的 70% 以上。因此，选择 C 选项。

28. 【答案】C

【解析】第一步，本题考查军队常识并选错误项。

第二步，根据《中华人民共和国保守国家秘密法》第十六条规定，制作、收发、传递、使用、复制、保管、移交、销毁军事秘密载体，必须严格履行审批、登记、签字手续，并采取相应的保密措施。因此，复制军事秘密载体不需要履行通报手续。因此，选择 C 选项。



29. 【答案】A

【解析】第一步，本题考查唯物辩证法。

第二步，对立统一规律，是事物矛盾运动的根本规律，也是唯物辩证法最根本的规律以及实质和核心。因此，选择A选项。

30. 【答案】D

【解析】第一步，本题考查党政专题。

第二步，2021年3月21日，根据习近平总书记在党史学习教育动员大会上的重要讲话中的原文，“旗帜鲜明讲政治，保证党的团结和集中统一是党的生命，也是我们党能成为百年大党、创造世纪伟业的关键所在。”因此，选择D选项。

31. 【答案】A

【解析】第一步，本题考查中共党史。

第二步，1945年4月23日至6月11日，中共七大在延安胜利召开，刘少奇代表党中央作了《关于修改党章的报告》，他在报告中对毛泽东思想的科学内涵和基本内容进行了全面系统的概括，把毛泽东思想确立为党的指导思想写进党章，标志着马克思列宁主义同中国实际相结合形成了第一次大的历史性飞跃。因此，选择A选项。

【拓展】B项：中共五大，于1927年4月27日至5月9日在武汉召开，会议上虽然批评了陈独秀的错误，但对无产阶级如何争取领导权，如何领导农民进行土地革命，如何对待武汉国民政府和国民党，特别是如何建立党的革命武装等迫在眉睫的重大问题，都未能作出切实可行的回答。B项错误。C项：中共六大，于1928年6月18日至7月11日在莫斯科近郊五一村召开，这也是唯一一次在国外召开的党代会。C项错误。D项：中共八大，于1956年9月15日至27日在北京政协礼堂召开，提出既反保守又反冒进，在综合平稳中稳步前进的发展方针；正确分析了国内主要矛盾；制定了国家经济建设的基本方针。D项错误。

32. 【答案】C

【解析】第一步，本题考查民法概述。

第二步，根据《民法典》第十条，处理民事纠纷，应当依照法律；法律没有规定的，可以适用习惯，但是不得违背公序良俗。因此，选择C选项。

33. 【答案】D

【解析】第一步，本题考查社会主义市场经济。

第二步，社会主义市场经济指以社会主义经济制度为基础的经济模式，市场在资源配置中起基础性作用。国企采取自主经营、自负盈亏的企业制度，政府对企业的经济活动实行间

接的宏观调控。具体有如下特征：（1）以国有经济为主导、公有经济包括国有经济和劳动者集体所有制经济为主体，个体、私营和外资经济同时并存的国民经济所有制结构。（2）以按劳分配为主体，其他分配或包括按生产要素分配为辅的收入分配体系。（3）坚持宏观计划主导下把计划与市场两种手段有机地结合起来，优势互补。（4）有完善的商品、要素市场体系，以及相应的财政金融体制和价格体系，以保证充分发挥在宏观计划主导下市场机制的积极作用。因此，选择D选项。

34. 【答案】A

【解析】第一步，本题考查新民主主义革命理论并选错误项。

第二步，政治建军是人民军队的立军之本。我军政治工作萌芽于大革命时期，创立于建军之初，奠基于古田会议，在长期革命、建设、改革实践中不断丰富和发展。政治工作是我军的看家本领，是我军的最大特色、最大优势，是我军同一切其他性质军队的最大区别。A项正确。因此，选择A选项。

【拓展】B项：八七会议是第一次国内革命战争失败以后，中共中央政治局于1927年8月7日在汉口召开的紧急会议。会议批判和纠正了陈独秀右倾机会主义错误，确定了土地革命和武装斗争的总方针。这次会议具有重要的历史地位，毛泽东提出了“枪杆子里出政权”的著名思想。给正处于思想混乱和组织涣散的中国共产党指明了新的出路，为挽救党和革命作出了巨大贡献。B项不符合题意，排除。C项：1927年4月27日至5月9日，中国共产党第五次全国代表大会在武汉召开。中共五大是在陈独秀右倾机会主义占统治地位的情况下召开的。党的五大批评了陈独秀的错误，但对无产阶级如何争取领导权，如何领导农民进行土地革命等重大问题，都未能作出切实可行的回答，因此，难以承担在生死存亡的危急关头挽救大革命的重任。C项不符合题意，排除。D项：八一南昌起义，又称南昌起义或者八一起义，是指1927年8月1日，中国共产党领导部分国民革命军在江西省南昌市举行的武装起义。1933年7月11日，中华苏维埃共和国临时中央政府根据中央革命军事委员会6月30日的建议，决定8月1日为中国工农红军成立纪念日。从此，8月1日成为中国工农红军和后来的中国人民解放军的建军节。D项不符合题意，排除。

35. 【答案】C

【解析】第一步，本题考查党政专题知识。

第二步，2019年7月24日，《新时代的中国国防》发表。《新时代的中国国防》中提出，坚持走中国特色强军之路，这是新时代中国国防的发展路径。建设同国际地位相称、同国家安全和利益相适应的巩固国防和强大军队，是中国社会主义现代化建设的战略任

务，是坚持走和平发展道路的安全保障，是总结历史经验的必然选择。C项正确。因此，选择C选项。

【拓展】A项：中国主张和平崛起，走世界军事强国的发展道路，并非新时代中国国防的发展路径。A项排除。B项：马克思列宁主义的建军道路不具有中国特色，坚持走中国特色强军之路，才是新时代中国国防的发展路径。B项排除。D项：独立自主、自力更生是中国革命和建设的基本立足点，是我国对外开放的立足点，并非新时代中国国防的发展路径。D项排除。

36. 【答案】D

【解析】第一步，本题考查党政专题知识。

第二步，2021年2月25日，全国脱贫攻坚总结表彰大会在北京人民大会堂隆重举行。习近平在讲话中提出，2012年年底，党的十八大召开后不久，党中央就突出强调，“小康不小康，关键看老乡，关键在贫困的老乡能不能脱贫”，承诺“决不能落下一个贫困地区、一个贫困群众”，拉开了新时代脱贫攻坚的序幕。D项正确。因此，选择D选项。

【拓展】A项：2021年2月25日，习近平在全国脱贫攻坚总结表彰大会的讲话中提出，2015年，党中央召开扶贫开发工作会议，提出实现脱贫攻坚目标的总体要求，实行扶持对象、项目安排、资金使用、措施到户、因村派人、脱贫成效“六个精准”，实行发展生产、易地搬迁、生态补偿、发展教育、社会保障兜底“五个一批”，发出打赢脱贫攻坚战的总攻令。A项不符合题意，排除。B项：2014年10月20日至23日，中国共产党第十八届中央委员会第四次全体会议在北京召开。会议通过《中共中央关于全面推进依法治国若干重大问题的决定》，首次以全会的形式专题研究部署全面推进依法治国这一基本治国方略，与“脱贫攻坚”无关。B项不符合题意，排除。C项：2021年2月25日，习近平在全国脱贫攻坚总结表彰大会的讲话中提出，2017年，党的十九大把精准脱贫作为三大攻坚战之一进行全面部署，锚定全面建成小康社会目标，聚力攻克深度贫困堡垒，决战决胜脱贫攻坚。C项不符合题意，排除。

37. 【答案】B

【解析】第一步，本题考查唯物史观知识。

第二步，人是由古猿进化而来的，劳动起了决定性的作用。劳动创造了人的生理结构，形成了手脚分工；劳动使猿脑变成了人脑，形成了语言和意识；劳动使人结成了社会联系，形成了社会关系。因此，劳动创造了人和人类社会，没有劳动就没有人，就没有人类社会。B项正确。因此，选择B选项。

**【拓展】**A项：马克思主义认为，生产力是最活跃、最革命的因素，是社会发展的最终决定力量。生产力与生产关系、经济基础与上层建筑的矛盾，构成社会的基本矛盾。A项不符合题意，排除。C项：自然界的存在和发展是客观的，承认自然界的客观性是人类有意识地处理人与自然关系的基本前提，但自然界的客观演进并不能创造人和人类社会。C项不符合题意，排除。D项：劳动创造了人和人类社会，而不是人类的进化。D项不符合题意，排除。

38. **【答案】**A

**【解析】**第一步，本题考查法的实施知识。

第二步，广义的执法，或法的执行，是指所有国家行政机关、司法机关及其公职人员依照法定职权和程序实施法律的活动。狭义的执法，或法的执行，则专指国家行政机关及其公职人员依法行使管理职权、履行职责、实施法律的活动。甲市司法局依法吊销违法律师高某的职业资格证书，体现了狭义上法的执行过程。A项正确。因此，选择A选项。

**【拓展】**B项、C项：法的适用是法律上的概念，通常称为司法，是指国家司法机关依据法定职权和法定程序，具体应用法律处理案件的专门活动。甲区基层人民法院依法对案件作出判决、甲市人民检察院依法对犯罪嫌疑人提起公诉，都属于法的适用，不属于法的执行。B项、C项排除。D项：在我国，刑事司法是一个由各公安机关、检察机关、审判机关、司法行政机关共同参与、分工协作的系统工程，一般分为侦查、起诉、审判、执行四个环节。甲县公安局依法对故意伤害案进行侦查属于刑事司法行为，不属于法的执行。D项排除。

39. **【答案】**B

**【解析】**第一步，本题考查中国历史知识。

第二步，秦朝统一后，秦始皇推行郡县制，规定书同文、车同轨，统一货币、度量衡标准，使华夏民族在地域基础、语言文化、经济生活和政治上成为一个稳定的民族共同体。秦代“书同文”的文教政策，不仅使汉字走向统一、规范化、定型化过程中迈出了关键性的一步，对古代文化教育的发展具有重大贡献，而且对维护政治上、思想上的统一，形成中华民族统一的文化心理也有不可轻视的作用。因此，选择B选项。

**【拓展】**A项：“以法为教，以吏为师”是指“百姓”和“一般官吏”都向“法官、法吏”学习法律，加强普法教育。这项政策的推行，结束了战国以来百家争鸣、学术自由的氛围，也开启了政府实行文化专制的恶劣风气。A项不符合题意。C项：“焚书坑儒”虽然是为了加强思想控制，并在短时间内得到了成功；但不利于国家长治久安，不利于社会发展，钳制了当时人们的思想。C项不符合题意。D项：“三公九卿”是秦所建立的中央行政机构，

三公是左右丞相、太尉和御史大夫。为封建专制主义中央集权国家制度的建立创造了雏形。

D 项不符合题意。

40. 【答案】A

【解析】第一步，本题考查认识论知识。

第二步，马克思主义哲学认为，真理是客观事物及其规律在人的头脑中的正确反映，是主观同客观相符合的认识。所以一种判断是不是真理，要看它是否与事物及其规律本身相符合。因此，选择 A 选项。

41. 【答案】B

【解析】第一步，本题考查国防法知识。

第二步，根据《国防法》第四十七条，中华人民共和国的主权、统一、领土完整、安全和发展利益遭受威胁时，国家依照宪法和法律规定，进行全国总动员或者局部动员。因此，选择 B 选项。

42. 【答案】C

【解析】第一步，本题考查国防法知识。

第二步，根据《国防法》第四十四条，国防教育贯彻全民参与、长期坚持、讲求实效的方针，实行经常教育与集中教育相结合、普及教育与重点教育相结合、理论教育与行为教育相结合的原则。因此，选择 C 选项。

43. 【答案】D

【解析】第一步，本题考查新民主主义革命理论知识。

第二步，在近代中国这个半殖民地半封建社会里，内无民主制度而受封建主义的压迫；外无民族独立而受帝国主义的压迫。中国的无产阶级根本不可能像在资本主义国家那样，先在城市经过长期的、公开的合法斗争，然后再组织武装起义，夺取政权。中国无产阶级及其政党要战胜强大的敌人，革命的主要斗争形式只能是武装斗争，以革命的武装消灭反革命的武装，相应的主要组织形式必然是军队。因此，选择 D 选项。

44. 【答案】A

【解析】第一步，本题考查党政知识。

第二步，“四个伟大”是习近平总书记于 2017 年 10 月 18 日在十九大报告中提出的治国理政方针理论。伟大斗争，伟大工程，伟大事业，伟大梦想，紧密联系、相互贯通、相互作用，其中起决定性作用的是党的建设新的伟大工程。之所以这样强调，是因为中国特色社会主义最本质的特征是中国共产党领导，中国特色社会主义制度的最大优势是中国共产党领

导。A项正确。因此，选择A选项。

【拓展】①“进行伟大斗争”明确宣示了我们“以什么样的精神状态”治国理政。②“建设伟大工程”明确宣示了我们“以什么样的主体力量”治国理政。③“推进伟大事业”明确宣示了我们治国理政要“举什么旗，走什么路”。④“实现伟大梦想”明确宣示了我们“朝着什么样的目标”治国理政。

45. 【答案】B

【解析】第一步，本题考查新民主主义革命理论知识并选错误项。

第二步，1939年10月，毛泽东在《〈共产党人〉发刊词》中总结中国共产党18年革命斗争的历史经验时指出：“统一战线、武装斗争、党的建设，是中国共产党在中国革命中战胜敌人的三大法宝”。毛泽东思想活的灵魂有三个基本方面，分别是实事求是、群众路线、独立自主。可见，群众路线不是三大主要法宝的内容，而是毛泽东思想活的灵魂。B项符合题意。因此，选择B选项。

【拓展】统一战线就是无产阶级如何组织和领导同盟军的问题，它是无产阶级组织浩浩荡荡的革命大军，向一切敌人发动进攻的有力武器；武装斗争是中国革命的主要特点和形式；党的建设是党实现对中国革命领导的根本保证。统一战线是实行武装斗争的统一战线，只有以武装斗争为主要支柱，统一战线才能存在和发展。武装斗争必须以统一战线为基础，才能发展壮大。统一战线和武装斗争则是党所掌握的两个武器，这两个武器只有在共产党的领导下，才能发挥其作用。因此，党的建设是三大法宝的中心环节。

46. 【答案】C

【解析】第一步，本题考查毛泽东思想知识。

第二步，马克思主义中国化的本质是将马克思主义基本原理同中国具体实际相结合，并不断形成具有中国特色的马克思主义理论成果的过程。具体地说，就是把马克思主义基本原理同中国革命、建设和改革的实践结合起来，同中国的优秀历史传统和优秀文化结合起来，既坚持马克思主义，又发展马克思主义。C项正确。因此，选择C选项。

【拓展】A项、D项：直接照搬马克思主义的现成理论或者用现成的马克思主义理论直接解答和解决中国的现实问题，均未与中国实际相结合，无法体现“中国化”的过程，而且容易陷入教条主义的错误。A项、D项排除。B项：马克思主义中国化是不断形成具有中国特色的马克思主义理论成果的过程，与马克思主义一脉相承，并非以中国国情为基础的全新社会主义理论。B项排除。

47. 【答案】C

【解析】第一步，本题考查市场经济知识。

第二步，市场机制是通过市场竞争配置资源的方式，即资源在市场上通过自由竞争与自由交换来实现配置的机制，也是价值规律的实现形式。具体来说，它是指市场机制体内的供求、价格、竞争、风险等要素之间互相联系及作用机理。市场机制主要包括供求机制、价格机制、竞争机制和风险机制。仲裁机制不属于市场机制。C项符合题意。因此，选择C选项。

【拓展】①价格机制是指在竞争过程中，与供求相互联系、相互制约的市场价格的形成和运行机制。价格机制是市场机制中最敏感、最有效的调节机制，价格的变动对整个社会经济活动有十分重要的影响。商品价格的变动，会引起商品供求关系变化；而供求关系的变化，又反过来引起价格的变动。价格机制是市场机制中的基本机制。②供求机制是指商品的供求关系与价格、竞争等因素之间相互制约和联系而发挥作用的机制。供求关系受价格和竞争等因素的影响，而供求关系的变动，又能引起价格的变动和竞争的开展。供求机制是市场机制的主体。③竞争机制是商品经济活动中优胜劣汰的手段和方法，它反映竞争与供求关系、价格变动、资金和劳动力流动等市场活动之间的有机联系。竞争包括买者和卖者双方之间的竞争，也包括买者之间和卖者之间的竞争。竞争机制是商品经济最重要的经济机制。只要有商品经济存在，就必然存在竞争。商品的价值决定，价值规律的实现，都离不开竞争。

48. 【答案】A

【解析】第一步，本题考查时事热点知识。

第二步，2020年12月22日，国务院新闻办公室发布《中国交通的可持续发展》白皮书显示，新中国成立70多年来，我国交通发展创下多个“第一”，如全国铁路营业里程居世界第一、在建和在役公路桥梁、隧道总规模世界第一等等。A项正确。因此，选择A选项。

【拓展】B项：国家未发布名为《中国交通未来五年发展》的文件，属于混淆选项，排除。C项：国家未发布名为《中国交通强国战略规划》的文件，属于混淆选项，排除。D项：国家未发布名为《中国交通的新发展》的文件，属于混淆选项，排除。2019年9月，中共中央、国务院印发了《交通强国建设纲要》，并发出通知，要求各地区各部门结合实际认真贯彻落实。到2020年，完成决胜全面建成小康社会交通建设任务和“十三五”现代综合交通运输体系发展规划各项任务，为交通强国建设奠定坚实基础。

49. 【答案】C

【解析】第一步，本题考查宏观经济政策知识并选错误项。

第二步，国家宏观调控，应该以经济手段和法律手段为主，辅之以必要的行政手段，形成有利于科学发展观的宏观调控体系，充分发挥宏观调控手段的总体功能。C项错误。因此，

选择 C 选项。

【拓展】A 项：宏观调控，是指政府在市场调节的基础上，对国民经济总量进行的调节与控制。A 项正确；B 项：宏观调控的主要手段：（一）经济政策。经济政策包括财政政策、货币政策、收入政策等。（二）经济计划。经济计划是指政府通过制定长期、中期和短期经济计划，对国民经济的运行和发展进行宏观调控。（三）法律手段。法律手段是指国家依靠法制的力量，通过经济立法和司法，运用经济法规调控经济活动。（四）行政手段。行政手段包括政策和命令的制定与发布、行政管理、行政干预、行政奖惩等。B 项正确；D 项：社会主义市场经济宏观调控是在市场调节的基础上进行，以微观经济主体自主经营和市场机制作用为前提，对经济运行实施间接调节。D 项正确。

50. 【答案】A

【解析】第一步，本题考查英雄烈士保护法知识。

第二步，根据《英雄烈士保护法》第二十五条规定，对侵害英雄烈士的姓名、肖像、名誉、荣誉的行为，英雄烈士的近亲属可以依法向人民法院提起诉讼。英雄烈士没有近亲属或者近亲属不提起诉讼的，检察机关依法对侵害英雄烈士的姓名、肖像、名誉、荣誉，损害社会公共利益的行为向人民法院提起诉讼。负责英雄烈士保护工作的部门和其他有关部门在履行职责过程中发现第一款规定的行为，需要检察机关提起诉讼的，应当向检察机关报告。英雄烈士近亲属依照第一款规定提起诉讼的，法律援助机构应当依法提供法律援助服务。因此，选择 A 选项。

## 二、多项选择题

51. 【答案】ABCDE

【解析】第一步，本题考查时事热点。

第二步，2021 年 3 月 11 日第十三届全国人民代表大会第四次会议通过的《全国人民代表大会关于完善香港特别行政区选举制度的决定》中规定，香港特别行政区设立一个具有广泛代表性、符合香港特别行政区实际情况、体现社会整体利益的选举委员会。选举委员会负责选举行政长官候任人、立法会部分议员，以及提名行政长官候选人、立法会议员候选人等事宜。选举委员会由工商、金融界，专业界，基层、劳工和宗教等界，立法会议员、地区组织代表等界，香港特别行政区全国人大代表、香港特别行政区全国政协委员和有关全国性团体香港成员的代表界等五个界别共 1500 名委员组成。ABCDE 项正确，当选。因此，本题选



择 ABCDE 选项。

52. 【答案】ABCDE

【解析】第一步，本题考查市场机制。

第二步，影响居民消费结构变动的指标有很多，主要包括社会生产力发展水平、社会经济制度、产业结构、消费者的收入水平、消费品价格与消费决策（包括对消费的引导）、人口的社会结构和自然结构所决定的需求结构、消费者心理和消费行为、自然环境等。包括 ABCDE 选项所述内容。因此，选择 ABCDE 选项。

【拓展】A 项：收入水平是影响消费结构最重要、最基本的因素。收入水平提高了，意味着购买力提高了，使消费可能在外延上和内涵上扩大，过去只能满足最基本的消费需要，可以满足高层次的需要。这样必然使消费结构发生变化。B 项：商品价格是市场供求关系的反映，其变动是影响消费行为的重要因素。根据供求关系原理，假设影响需求的其他因素不变，在收入效应和替代效应的共同作用下，商品需求量与价格之间存在反方向变动的关系。C 项：商品的价格、供给量、功能等因素会影响居民消费结构，C 项正确。D 项：社会总需求是一定时期一国或地区发生的商品和劳务的购买总量。当社会总需求过大时，往往会引起通货膨胀，往往会导致居民消费购买行为的混乱，反之，当社会总需求过小时，造成的通货紧缩也会有相反的效果。所以，社会总需求的变动也会引起居民消费结构的变化。E 项：社会对消费行为的引导是指对人们的生活消费进行有意识的指导，即社会群体对消费者的消费爱好、消费风气、消费知识、消费情趣等方面的教育或影响。例如倡导绿色消费，反对浪费行为，提倡低碳生活等等。这些也会对居民的消费结构带来影响。

53. 【答案】BCDE

【解析】第一步，本题考查时事热点知识。

第二步，2020 年 9 月 8 日全国抗击新冠肺炎疫情表彰大会在北京召开。会议中，习总书记强调，在这场同严重疫情的殊死较量中，中国人民和中华民族以敢于斗争、敢于胜利的大无畏气概，铸就了生命至上、举国同心、舍生忘死、尊重科学、命运与共的伟大抗疫精神。与 BCDE 项表述一致。A 项为干扰选项。因此，选择 BCDE 选项。

54. 【答案】ABCD

【解析】第一步，本题考查宏观经济知识。

第二步，财政支出是指在市场经济条件下，政府为提供公共产品和服务，满足社会共同需要而进行的财政资金的支付。按财政支出与国家职能关系可将财政支出分为：①经济建设费支出，包括基本建设支出、流动资金支出、地质勘探支出、国家物资储备支出、工业交通

部门基金支出、商贸部门基金支出等；②社会文教费支出，包括科学事业费和卫生事业费支出等；③行政管理费支出，包括公检法支出、武警部队支出等；④其它支出，包括国防支出、债务支出、政策性补贴支出等。与 ABCD 项表述一致。地质勘探支出属于经济建设费支出的组成部分。E 项与题意不符。因此，选择 ABCD 选项。

### 三、系列单项选择题

55. 【答案】B

【解析】第一步，本题考查国防常识。

第二步，根据《国防法》第六条，中华人民共和国奉行防御性国防政策，独立自主、自力更生地建设和巩固国防，实行积极防御，坚持全民国防。因此，选择 B 选项。

56. 【答案】B

【解析】第一步，本题考查国防常识。

第二步，根据《国防法》第四条，国防活动坚持以马克思列宁主义、毛泽东思想、邓小平理论、“三个代表”重要思想、科学发展观、习近平新时代中国特色社会主义思想为指导，贯彻习近平强军思想，坚持总体国家安全观，贯彻新时代军事战略方针，建设与我国国际地位相称、与国家安全和发展利益相适应的巩固国防和强大武装力量。因此，选择 B 选项。

57. 【答案】D

【解析】第一步，本题考查国防常识。

第二步，根据《国防法》第二十二条，中华人民共和国的武装力量，由中国人民解放军、中国人民武装警察部队、民兵组成。中国人民解放军由现役部队和预备役部队组成，在新时代的使命任务是为巩固中国共产党领导和社会主义制度，为捍卫国家主权、统一、领土完整，为维护国家海外利益，为促进世界和平与发展，提供战略支撑。现役部队是国家的常备军，主要担负防卫作战任务，按照规定执行非战争军事行动任务。预备役部队按照规定进行军事训练、执行防卫作战任务和非战争军事行动任务；根据国家发布的动员令，由中央军事委员会下达命令转为现役部队。中国人民武装警察部队担负执勤、处置突发社会安全事件、防范和处置恐怖活动、海上维权执法、抢险救援和防卫作战以及中央军事委员会赋予的其他任务。民兵在军事机关的指挥下，担负战备勤务、执行非战争军事行动任务和防卫作战任务。因此，选择 D 选项。

58. 【答案】B

【解析】第一步，本题考查国防常识。

第二步，2019年7月24日，中国政府发表《新时代的中国国防》白皮书。白皮书指出，坚持永不称霸、永不扩张、永不谋求势力范围，这是新时代中国国防的鲜明特征。B项不是新时代中国国防的鲜明特征，符合题意，当选。因此，选择B选项。

59. 【答案】D

【解析】第一步，本题考查国防常识。

第二步，根据《联合国宪章》第二十三条第一款，安全理事会以联合国十五会员国组织之。中华民国、法兰西、苏维埃社会主义共和国联邦、大不列颠及北爱尔兰联合王国及美利坚合众国应为安全理事会常任理事国。大会应选举联合国其他十会员国为安全理事会非常任理事国，选举时首宜充分斟酌联合国各会员国于维持国际和平与安全及本组织其余各宗旨上之贡献，并宜充分斟酌地域上之公匀分配。因此，选择D选项。

60. 【答案】A

【解析】第一步，本题考查国防常识。

第二步，根据《联合国宪章》第二条第三款规定，各会员国应以和平方法解决其国际争端，避免危及国际和平、安全及正义。A项正确。因此，选择A选项。

【拓展】根据《联合国宪章》第二条规定，为求实现第一条所述各宗旨起见，本组织及其会员国应遵行下列原则：一、本组织系基于各会员国主权平等之原则。二、各会员国应一秉善意，履行其依本宪章所担负之义务，以保证全体会员国由加入本组织而发生之权益。三、各会员国应以和平方法解决其国际争端，避免危及国际和平、安全及正义。四、各会员国在其国际关系上不得使用威胁或武力，或以与联合国宗旨不符之任何其他方法，侵害任何会员国或国家之领土完整或政治独立。五、各会员国对于联合国依本宪章规定而采取之行动，应尽力予以协助，联合国对于任何国家正在采取防止或执行行动时，各会员国对该国不得给予协助。六、本组织在维持国际和平及安全之必要范围内，应保证非联合国会员国遵行上述原则。七、本宪章不得认为授权联合国干涉在本质上属于任何国家国内管辖之事件，且并不要求会员国将该项事件依本宪章提请解决；但此项原则不妨碍第七章内执行办法之适用。

## 第二部分岗位能力

### 一、言语理解

61. 【答案】D

【解析】第一步，分析给定诗句。题干中“钟山风雨起苍黄，百万雄师过大江”出自毛泽东的《七律·人民解放军占领南京》，意为“革命的暴风雨震荡着蒋家王朝都城南京，解放军以百万雄师突破长江天险”，文中“大江”指长江。

第二步，对比选项，D项符合文意。因此，选择D选项。

62. 【答案】B

【解析】第一步，分析第一空。A项和C项“耸人听闻”夸大事实或说离奇的话，使人听了感到震惊，所指的事实本身不一定是坏的。B项和D项“骇人听闻”指使人听了非常吃惊（多指社会上发生的坏事）。根据语境“假酒案”是确实发生的坏事，感情色彩偏消极，故排除A项和C项。

第二步，分析第二空。填入的词语搭配“疾病”。D项“驱除”指赶走、除掉，多用于具体的对象，常搭配“蚊蝇”。B项“祛除”指除去疾病、疑惧、邪祟等，多用于抽象的对象，“祛除”与“疾病”搭配得当。答案锁定在B选项。

第三步，验证第三空。“融解”多用于非科技语体，有消失、消散和融化的意思，与“怨恨”搭配得当。因此，选择B选项。

【拓展】溶解：一种物质（溶质）均匀地分散于另一物质（溶剂）中的过程，如糖溶解于水成为均匀的糖水溶液的过程。

63. 【答案】A

【解析】第一步，分析文段。文段先讲了中国人对于知识与思想、文风与人品、政治与学术之间关系的理解，然后通过转折词“其实”引出文段的观点。文段为“分—总”结构，尾句是作者的观点。分析句子内容，“心画心声总失真，文章宁复见为人”意为把心里想象的东西表达出来总是不如在心里那么完美，文章也是如此。“若将字字论心术，恐有无边受屈人”意为如果一味以文字论人品，恐怕会有很多受委屈的人。两句均是围绕两个主体“文”和“人”展开，阐述以文字评价他人的弊端。

第二步，对比选项。A项符合文段观点。因此，选择A选项。

【拓展】B项、C项和D项：均未谈及“文”与“人”的关系。

64. 【答案】A

【解析】第一步，分析文段。文段先援引抗美援朝战争的例子，介绍了志愿军将士抛头颅、洒热血，展示了敢打必胜的血性铁骨。紧接着提到了新时代传承发扬抗美援朝精神，就要学习中国人民志愿军的英雄事迹和革命精神，激发官兵的忧患意识和爱国情怀，让“一不

怕苦、二不怕死”成为官兵的精神魂魄。文段为“分—总”结构，主要强调要发扬抗美援朝精神，锻造官兵抛头颅、洒热血，不怕苦，不怕死的铮铮铁骨。

第二步，对比选项。A项为文段主旨的同义替换，符合文段的意图。因此，选择A选项。

【拓展】B项、C项和D项：“不畏强暴、反抗强权”“万众一心、戮力同心”“守正创新、奋勇前进”文段均未提及，无中生有。

65. 【答案】C

【解析】第一步，突破口在第二空。“甚至”和“尤其”都表示递进关系，但属两种不同的递进。“甚至”连接的是前一个分句的意义延伸，比如“他不但平时抓紧写作，～春节期间都不肯停一停”；“尤其”连接的是前一个分句的意义的具体点，如“他喜爱数、理、化，～喜爱物理”，语境中的“对同胞的关心和爱护”属于前文陈述“工作”的具体表述，所以此处应用“尤其”。排除A项和B项。

第二步，分析第三空。“何况”相当于口语中的“甭说，甭提”，表示补充说明，带前后对比意味。“况且”相当于口语中的“而且”“再说”，表示进一步说明理由，多用来补充前文。题干中的陈述对象由“平时”转到“黄金周”，是对比的补充，而且是用反问句的格式，“何况”表述更恰当。答案锁定在C选项。

第三步，验证第一空。“进而”是连词，表示继续往前，更进一步。此处指通过“调查研究”发现了“犯罪证据”，搭配得当。因此，选择C选项。

66. 【答案】D

【解析】第一步，分析每句诗。①“墙角数枝梅，凌寒独自开。遥知不是雪，为有暗香来。”意思是那墙角的几枝梅花，冒着严寒独自盛开。为什么远望就知道洁白的梅花不是雪呢？因为梅花隐隐传来阵阵的香气。“凌寒”二字交代时间，突出了梅花于严寒中傲然怒放的性格特征，描述的是冬天的场景。②“独在异乡为异客，每逢佳节倍思亲。遥知兄弟登高处，遍插茱萸少一人。”意思是独自远离家乡难免总有一点凄凉，每到重阳佳节倍加思念远方的亲人。远远想到兄弟们身佩茱萸登上高处，也会因为少我一人而生遗憾之情。“佳节”“登高”“茱萸”交代时间，指的是重阳节，即描述的是秋天的场景。③“夜热依然午热同，开门小立月明中。竹深树密虫鸣处，时有微凉不是风。”意思是夜晚依然跟中午一样炎热，打开房门在月下稍微站一会。虫鸣不歇的茂密竹林树丛中，不时有阵阵凉意袭来，但并不是风。描述的是夏天的场景④“无花无酒过清明，兴味萧然似野僧。昨夜邻家乞新火，晓窗分与读书灯。”意思是无花无酒的度过清明节，那萧索的兴致犹如居于山野庙宇的和尚一样。昨天从邻家讨来新燃的火种，破晓时就在窗前点灯，坐下来潜心读书，描述的是春天的场景。

第二步，对比选项。按描述春、夏、秋、冬的顺序排列为④③②①。因此，选择D选项。

67. 【答案】A

【解析】第一步，阅读给定的诗句。诗句来自宋代诗人道潜的《江上秋夜》，全诗为“雨暗苍江晚未晴，井梧翻叶动秋声。楼头夜半风吹断，月在浮云浅处明。”描写了苍江阴雨绵绵，时至傍晚仍未见晴，井边的梧桐翻动着叶片，飒飒有声。站在江楼上，风吹到半夜才停，乌云渐散，但未完全散去，透出朦胧月色。

第二步，对比选项。正确的顺序为①③④②。因此，选择A选项。

68. 【答案】D

【解析】第一步，定位原文，发现只有第三段提到了“中国人如何在现在世界上挣得自己的地位”，刚好对应第三段首句，“但是想在现今的世界上，协同生长，挣一地位，即须有相当的进步的智识，道德，品格，思想，才能够站得住脚”。

第二步，对比选项。只有D项提到了“进步意识”。因此，选择D选项。

69. 【答案】B

【解析】第一步，分析横线处的上下文语境。横线位于段尾，具有总结前文或者承接前文的作用。前文介绍了五四运动以来，翻译介绍先进国家的文化成果就成了中国文化界的追求之一。

第二步，对比选项。A项和C项的开头均有指示代词“这”，“这”只能承前指代，前头并没说作品的事，“这”指代不明，排除A项和C项。“中国学术文化的素养”定语中心语搭配不当，排除D项。因此，选择B选项。

70. 【答案】C

【解析】第一步，分析第一空。根据题干中“我们行驶在世界第一长跨海大桥”可知，此时作者正身处在港珠澳大桥上，二者距离极近，此时视线里的“钢梁架”在其头顶正上方。A项“远望”指向远处看，不符合文意，排除A项。B项“凝望”指目光凝聚在某个物体上，暂且保留。C项“仰望”指抬头看，符合语境，保留。D项“眺望”指从高处远望，跟语境不符，故排除D选项。

第二步，分析第二空。B项“伫立”指长时间地站立，没有动作，主语一般是人。D项“矗立”重点在直，直而高地立着之意，一般用于物，不用于人，搭配“钢梁架”恰当。因此，选择C选项。

71. 【答案】A

【解析】第一步，分析文段。文段先讲了“家电下乡”帮助家电企业开拓农村市场，接

着通过“更”这个递进关联词引出文段重点：“进城”能为家电企业创造更好的销售业绩。然后用城市居民的特点对这个观点进行原因的解釋，最后做出假设——假如“家电进城”得到政府支持，企业在城镇市场上会有更多的销量。文段为“总一分”结构，重点为第一句，主要强调的是：城市市场对于家电企业来说也有很大的开发空间。

第二步，对比选项。A项“和农村市场比较，城镇消费市场同样具有挖掘的潜力”符合作者观点。因此，选择A选项。

【拓展】B项：与文意相悖，排除。C项：文段强调的是家电企业得到政策支持和补贴，而非城市低收入者和失业居民。D项：“大力推广新产品”在文段中没有涉及。

72. 【答案】B

【解析】第一步，分析文段。由原文“今舞者……反过来荡摇人的感情”可知现代人起舞是用舞蹈来荡摇人的感情，由“反过来”可知古人起舞与现代人起舞的情况相反，故可知古人起舞是因人的感情摇荡而不自觉地手舞足蹈。

第二步，对比选项。只有B项符合要求。因此，选择B选项。

73. 【答案】D

【解析】第一步，A项缺少主语，“自从”是介词，“汉字”放在“自从”短句变成了时间状语，应该是“汉字自从成了”而不是“自从汉字成了”。

第二步，B项搭配不当，把“缓解”改为“减少”或“减缓”。

第三步，C项句式杂糅，把“的造成”去掉。D项没有语病。因此，选择D选项。

74. 【答案】A

【解析】第一步，A项句子标点使用无误。B项“国外的养殖方式：”，冒号使用错误。

第二步，C项书名号之间有顿号，使用错误。修订后的《标点符号用法》中有明确规定：“标有引号的并列成分、标有书名号的并列成分之间通常不用顿号。”

第三步，D项“我不知道这一实验到底能不能得出最终的结论？”这一句不是疑问语气，而是陈述语气，问号使用错误。因此，选择A选项。

75. 【答案】B

【解析】第一步，阅读文段与选项。

第二步，对比选项。B项“刮目相看”指别人已有进步，不能再用老眼光去看他。不能说老师原来的教学水平一般，进步后才得到同学们敬重。A项、C项和D项修改均没有问题。因此，选择B选项。

## 二、数量关系

76. 【答案】C

【解析】第一步，本题考查递推数列。

第二步，原数列存在  $1 \times 2 + 1 = 3$ ， $2 \times 3 + 2 = 8$ ， $3 \times 8 + 3 = 27$ ， $8 \times 27 + 4 = 220$ ，数列存在规律第一项  $\times$  第二项  $+ 1、2、3、4、5 \dots =$  第三项，那么（）为  $27 \times 220 + 5 = 5945$ 。因此，选择 C 选项。

77. 【答案】A

【解析】第一步，本题考查行程问题。

第二步，设第一天的平均速度与三天全程的平均速度均为  $v$ ，那么可列方程： $7v + 600 + (7v - 200) = 18v$ ，解得  $v = 100$ ，那么三天共行驶了  $100 \times 18 = 1800$ （公里）。因此，选择 A 选项。

78. 【答案】D

【解析】第一步，本题考查多重数列。

第二步，多重数列优先考虑两两分组，第一项  $+ 第二项 = 5$ ，第三项  $+ 第四项 = 10$ ，第五项  $+ 第六项 = 15$ ，第七项  $+ 第八项 = 20$ ，那么第九项  $+ 第十项$  应为 25，则（）为  $25 - 10 = 15$ 。因此，选择 D 选项。

79. 【答案】C

【解析】第一步，本题考查最值问题。

第二步，根据“要保证……至少……”可知本题为最不利构造问题，答案 = 最不利情况数  $+ 1$ ，最不利情况为取出某种笔 29 支及另外三种笔各 1 支，共  $29 + 1 + 1 + 1 = 32$  支，答案  $= 32 + 1 = 33$  支。因此，选择 C 选项。

80. 【答案】D

【解析】第一步，本题考查基础计算问题。

第二步， $43^x = 2021 = 43 \times 47$ ，对两边取以 43 为底的对数可得  $\log_{43} 43^x = \log_{43} 43 \times 47$ ，化简得  $x = (1 + \log_{43} 47)$ 。同理， $47^y = 2021 = 43 \times 47$ ，对两边取以 47 为底的对数可得， $\log_{47} 47^y = \log_{47} 43 \times 47$ ，化简得  $y = (1 + \log_{47} 43)$ ，代入得

$$\frac{1}{x} + \frac{1}{y} = \frac{1}{1 + \log_{43} 47} + \frac{1}{1 + \log_{47} 43} = \frac{1 + \log_{47} 43 + 1 + \log_{43} 47}{(1 + \log_{43} 47)(1 + \log_{47} 43)} = \frac{1 + \log_{47} 43 + 1 + \log_{43} 47}{1 + \log_{47} 43 + \log_{43} 47 + 1}$$



=1。因此，选择 D 选项。

81. 【答案】B

【解析】第一步，本题考查基础计算问题。

第二步，根据生于 2010 年的学生与生于 2009 年的学生比例为 5:2，可知五年级学生总数为 7 的倍数，观察选项仅 B 符合。因此，选择 B 选项。

82. 【答案】B

【解析】第一步，本题考查基础计算问题。

第二步，根据  $z=x-y$ ，当  $x=1、2、4$ ， $y=2、3$  时， $1-2=-1$ ； $1-3=-2$ ； $2-2=0$ ； $2-3=-1$ ； $4-2=2$ ； $4-3=1$ ， $z$  的取值为  $-2、-1、0、1、2$ 。因此，选择 B 选项。

83. 【答案】B

【解析】第一步，本题考查概率问题。

第二步，小李随机入座概率为 1，小王再入座要想与小李同排有 7 个位置可供选择（一排有 8 个座位，小李占 1 个，剩余 7 个），此时共有 63 个座位可供选择，概率为  $\frac{7}{63} \approx 11.11\%$ 。因此，选择 B 选项。

84. 【答案】C

【解析】第一步，本题考查排列组合问题。

第二步，先将指定的 3 本书捆绑，对整体排序，然后考虑捆绑内部的情况，共有  $A_4^4 A_3^3 = 144$  种排列方式。因此，选择 C 选项。

85. 【答案】C

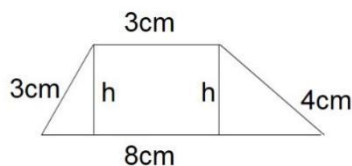
【解析】第一步，本题考查几何问题，属于平面几何类。

第二步，如图，设梯形的高为  $h$ ，根据勾股定理可

知， $\sqrt{3^2-h^2} + \sqrt{4^2-h^2} = 8-3$ ，解得  $h=2.4$ ，故梯

形的面积为  $\frac{(3+8) \times 2.4}{2} = 13.2$ （平方厘米）。因此，

选择 C 选项。



### 三、判断推理

86. 【答案】B

【解析】第一步，观察特征。组成元素不同，但是结构上出现了共性，考虑静态位置。

第二步，两段式，第一段找规律，第二段用规律。第一段图形都是内外结构，第二段图形都是左右结构。因此，选择 B 选项。

87. 【答案】B

【解析】第一步，确定题型。根据题干关键词“……都……”“……或……”，确定为翻译推理。

第二步，翻译题干。①篮球社→健身俱乐部②健身俱乐部→乒乓球社③足球社→健身俱乐部④张三→足球社或乒乓球社。

第三步，进行推理。按顺序，根据②可以得到：⑤乒乓球社→健身俱乐部，将③④⑤结合可知，张三一定没有参加健身俱乐部。因此，选择 B 选项。

88. 【答案】C

【解析】第一步，观察特征。组成元素不同，但是图形明显呈现对称，考虑对称性。

第二步，一条式，从左到右找规律。题干图形均为中心对称图形，选项中只有 C 是中心对称图形。因此，选择 C 选项。

89. 【答案】D

【解析】第一步，看提问方式，本题属于选是题。

第二步，找关键信息。①违背住宅内成员的意愿或者无法律依据；②故意进入公民住宅，或者进入公民住宅后经要求退出而拒不退出。

第三步，辨析选项。A 项：“小茶馆”不属于公民住宅，不符合定义；B 项：小张因为邻居家冒出了浓烟，以为发生了意外，不符合关键信息①，不符合定义；C 项：小吴没有故意进入公民住宅，小吴的朋友只是心理上可能不想让小吴居住，但是并没有要求小吴退出，小吴也并没有拒不退出的行为，不符合关键信息，不符合定义；D 项：房东只是在担心房子会有损坏，并没有任何法律依据，房东拿备用钥匙进去检查，属于故意进入公民住宅，符合定义。因此，选择 D 选项。

90. 【答案】D

【解析】第一步，观察选项，确定首句应从①②④中选择。题干这个事件说的是畜牧业发展对野生动物造成影响的过程，畜牧业发展有一定的发展条件，由于水草丰美，所以畜牧业发展，②应为首句，排除 BC。

第二步，观察分析剩余选项。⑤野生动物数量增加，一定是在⑥控制养殖规模之后，排除 A。因此，选择 D 选项。

91. 【答案】C

【解析】第一步，根据提问方式，确定为选是题。

第二步，找关键信息。①标有票面金额，证明持有人有权按期取得一定收入并可自由转让和买卖的所有权或债权凭证；②是虚拟资本的一种形式，它本身没价值，但有价格。

第三步，辨析选项。A项：借据是借用别人的钱或物品时所立的字据，与“按期取得一定收入”无关，不符合定义；B项：收据指的是收到交来的钱或物，写给送交者的凭据，无法体现关键信息①和②，不符合定义；C项：国债是由国家发行的债券，有一定的票面金额，同时持有人可以按期取得一定收入以及自由转让和买卖，是一种虚拟资本，符合定义；D项：《中华人民共和国刑法》规定增值税专用发票“不可自由转让和买卖”，不符合定义。因此，选择C选项。

92. 【答案】C

【解析】第一步，观察特征。组成元素不同，优先考虑数量类或属性类。均为汉字，优先考虑汉字笔画数。

第二步，一条式，从左向右找规律。图中汉字的笔画数均为10，所以问号处汉字笔画数也应为10，只有C项符合。因此，选择C选项。

93. 【答案】D

【解析】分别将选项代入题干，确定逻辑关系。A项：“历史”与“发展”无明显逻辑关系，“积累”“经验”，二者属于动宾关系，前后逻辑关系不一致，排除；B项：“历史”与“飞跃”无明显逻辑关系，“学习”需要“积累”，前后逻辑关系不一致，排除；C项：“历史”与“阶段”属于偏正关系，“知识”与“积累”属于动宾关系，前后逻辑关系不一致，排除；D项：“历史”与“积淀”属于动宾关系，“阅历”与“积累”属于动宾关系，前后逻辑关系一致，符合。因此，选择D选项。

94. 【答案】D

【解析】第一步，确定题干逻辑关系。“遗忘”与“永记于心”二者属于反义关系。

第二步，辨析选项。A项：“美丽”与“惊天动地”无明显逻辑关系，排除；B项：“幸运”与“甘之如饴”无明显逻辑关系，排除；C项：“燥热”的反义词是湿润，“阴雨绵绵”是雨天的描述，二者不是反义关系，排除；D项：“高兴”与“悲痛万分”属于反义关系，与题干逻辑关系一致，符合。

95. 【答案】C

【解析】第一步，观察选项，确定首句应从①或⑤中选择。搜集资料和撰写提纲中，应为先撰写提纲再搜集资料，首句应为⑤，第二句应为①，只有C项符合。因此，选择C选项。

#### 四、资料分析

96. 【答案】B

【解析】第一步，本题考查简单计算中的直接读数问题。

第二步，定位文字材料，“2013年到2017年5年间……历年减贫人口占比分别为14.9%、20.6%、22.2%和29.7%”。

第三步，根据材料，直接读数可知，逐年递增，且未实现翻倍递增。因此，选择B选项。

97. 【答案】B

【解析】第一步，本题考查增长量计算问题。

第二步，定位文字材料，“到2017年末，贫困人口只剩下了3.1%。而在1978年的时候，仅有约3%的人不是贫困人口”。

第三步，根据部分量=整体量×比重及增长量=现期量-基期量，可得窝工改革开放40年间非贫困人口增加  $13.9 \times (1 - 3.1\%) - 9.6 \times 3\% \approx 13.9 - 13.9 \times 3\% - 9.6 \times 3\% = 13.9 - (13.9 + 9.6) \times 3\% \approx 13.9 - 0.7 = 13.2$ （亿）。因此，选择B选项。

98. 【答案】A

【解析】第一步，本题考查年（日）均增长量计算问题。

第二步，定位文字材料，“改革开放40年来……到2017年底，我国一共减少了7.4亿贫困人口”。

第三步，根据日均增长量=增长量/天数，每年为365天和366天，因平年（365天）更多，可近似将每一年都看作是365天，则我国改革开放40年，日均减少了  $\frac{7.4 \times 10000}{40 \times 365} = \frac{74000}{14600} < 7$ ，选项中只有A选项满足。因此，选择A选项。

99. 【答案】D

【解析】第一步，本题考查现期比重计算中求部分量问题。

第二步，定位文字材料，“到2017年末，贫困人口只剩下了3.1%”。

第三步，根据部分量=整体量×比重，可得2017年我国贫困人口为  $13.9 \times 3.1\% \approx 14 \times 3\% = 0.42$ ，与D选项最接近。因此，选择D选项。

100. 【答案】C

【解析】第一步，本题考查增长率读数比较。

第二步，定位饼状图。

第三步，根据饼状图可知，2019年运营商业务同比增速为3.8%，企业业务同比增速为8.6%，消费者业务同比增速为34.0%，故消费者业务同比增速最高。因此，选择C选项。

101. 【答案】D

【解析】第一步，本题考查基期量计算。

第二步，定位柱状图。

第三步，根据基期量=现期量/(1+增长率)，可得2018年运营商业务营业额为  $\frac{296689}{1+3.8\%}$ ，分析可知，结果一定小于296689，结合选项只有D满足。因此，选择D选项。

102. 【答案】B

【解析】第一步，本题考查简单计算。

第二步，定位柱状图。

第三步，2019年，其他业务营业额为  $858833-296689-89710-467304=5130$ (百万元)，或者利用尾数法可知，尾数为0。因此，选择B选项。

103. 【答案】C

【解析】第一步，本题考查简单读数比较。

第二步，定位表格材料。

第三步，读数可知，2020年6月，应用用户排名数量第二的为手机网络支付(80172万)，仅低于手机即时通信(93037万)。因此，选择C选项。

104. 【答案】A

【解析】第一步，本题考查综合分析问题，且需选出说法正确的一项。

第二步，A选项，增长量比较，定位表格材料。根据增长量=现期量-基期量，将数据从左向右截取前三位，代入数据可得，手机网络购物网民增长量为  $747-707=40$ ，手机网络支付网民增长量为  $802-765=37$ ，则手机网络购物网民增长量比手机网络支付多，正确。B选项，简单读数比较，定位表格材料。2020年3月，手机网络购物网民数(70749万) < 手机网络支付网民数(76508万)，错误。C选项，简单读数比较，定位表格材料。2020年6月，手机网络购物网民数(74696万) < 手机网络支付网民数(80172万)，错误。D选项，简单读数比较，定位表格材料。手机网络支付网民数增长率(4.8%) < 手机网络购物网民数增长率(5.6%)，错误。因此，选择A选项。

105. 【答案】C

【解析】第一步，本题考查增长量计算。

第二步，定位表格材料。

第三步，根据增长量=现期量-基期量，手机网络购物用户数量增长量为74696-70749，直接计算尾数为7，仅C选项满足。因此，选择C选项。

106. 【答案】D

【解析】第一步，本题考查现期比重计算中的求整体量。

第二步，定位表格材料。

第三步，根据整体量=  $\frac{\text{部分量}}{\text{比重}}$ ，手机即时通信手机网民使用率即为用户规模占手机网民数量的比重，代入数据可得， $\frac{93037}{99.8\%} > 93037$ ，仅D选项满足。因此，选择D选项。

107. 【答案】C

【解析】第一步，本题考查基期量计算问题。

第二步，定位文字材料，“2019年全国专利密集型产业增加值为114630.8亿元，比上年增长7.0%”。

第三步，根据基期量=现期量/(1+增长率)，选项数据首两位相同，需精确计算，可得上年(2018年)全国专利密集型产业增加值为 $\frac{114630.8}{1+7\%}$ ，直除首三位商107。因此，选择C选项。

108. 【答案】D

【解析】第一步，本题考查综合分析问题，且需选出说法错误的一项。

第二步，A选项，增长率读数比较，定位表格材料。根据发展速度=  $\frac{\text{现期量}}{\text{基期量}} = \text{增长率} + 1$ ，比较发展速度大小，可直接比较增长率大小，读数可知，信息通信技术服务业增长率(17.2%)最大，即发展速度最快，正确。B选项，简单读数比较，定位文字材料第二段。读数可知，新装备制造业增加值占专利密集型产业增加值的比重最高(29.7%)，正确。C选项，简单读数比较，定位表格材料。读数可知，专利密集型产业中占比最少的是环保产业(2.3%)，正确。D选项，简单读数比较，定位文字材料第一段，2019年全国专利密集型产业增加值占GDP的比重与上年持平，并不比上年高，错误。因此，选择D选项。

109. 【答案】A

【解析】第一步，本题考查增长率读数比较。

第二步，定位表格材料。

第三步，读数可知，A选项，研发、设计和技术服务业（14%）；B选项，新材料制造业（-1%）；C选项，环保产业（7.2%）；D选项，医药医疗产业（5.4%）。四个选项中，增速最大的为研发、设计和技术服务业（14%）。因此，选择A选项。

【拓展】B选项为新材料产业，材料中并未给出新材料产业，按新材料制造业计算。

110. 【答案】B

【解析】第一步，本题考查读数比较。

第二步，定位表格。

第三步，根据表格可知，由于新材料制造业的增速为-1.0%，故出现负增长。因此，选择B选项。

## 2022年军队文职人员招聘考试公共科目试卷+解析

### 一部分 基础知识

一、单项选择题（请根据题目要求，在四个选项中选出一个最恰当的答案。共50题，每题0.5分，共25分。）

1. 近代中国社会面临的主要矛盾是（ ）。
- A. 帝国主义与中华民族的矛盾、封建主义和人民大众的矛盾
  - B. 帝国主义与中华民族的矛盾、工人阶级和资产阶级的矛盾
  - C. 帝国主义与中华民族的矛盾、腐败王朝和人民大众的矛盾
  - D. 帝国主义与中华民族的矛盾、官僚买办和人民大众的矛盾

【答案】 A

【解析】 第一步， 本题考查中国特色社会主义。

第二步， 近代中国社会面临的主要矛盾是帝国主义和中华民族的矛盾、封建主义和人民大众的矛盾。与 A 项表述一致。

因此， 选择 A 选项。

【知识点】 公共知识\*政治\*中国特色社会主义\*其他（中国特色社会主义）

2. 西藏自治区约占中国陆地总面积的（ ）， 相当于英国、法国、德国、荷兰、卢森堡五国面积的总和。

- A. 八分之一
- B. 十分之一
- C. 五分之一
- D. 六分之一

【答案】 A

【解析】 第一步， 本题考查自然地理。

第二步， 西藏自治区位于中华人民共和国西南部， 面积 122 多万平方公里， 约占中国陆地总面积的 1/8， 在中国各省区中， 仅次于新疆维吾尔自治区， 位居第二， 相当于英国、法国、德国、荷兰和卢森堡 5 国面积的总和。与 A 项表述一致。

因此， 选择 A 选项。

【知识点】 公共知识\*人文科技\*科技\*自然地理



3. 在社会主义社会中，实行按劳分配制度是由（ ）决定的。

- A. 等价交换原则
- B. 社会化分工明确
- C. 生产资料公有制
- D. 社会生产力发展

【答案】 C

【解析】 第一步， 本题考查中国特色社会主义。

第二步， 按劳分配为主体、多种分配方式并存，我国改革开放以来逐步形成的居民收入分配的方式和制度。按劳分配是指把劳动量作为个人消费品分配的主要标准和形式，按照劳动者的劳动数量和质量分配个人消费品，多劳多得，少劳少得，不劳动者不得食。按劳分配制度是由生产资料公有制决定的。C项正确，当选。

因此，选择 C 选项。

【知识点】 公共知识\*政治\*中国特色社会主义\*其他（中国特色社会主义）

4. 习近平在庆祝中国共产党成立 100 周年大会上指出，我们实现了人民生活从温饱不足到（ ）、奔向全面小康的历史性跨越，为实现中华民族伟大复兴提供了充满新的活力的体制保证和快速发展的物质条件。

- A. 温饱有余
- B. 总体富裕
- C. 基本实现小康
- D. 总体小康

【答案】 D

【解析】 第一步， 本题考查毛泽东思想概述。

第二步， 习近平在庆祝中国共产党成立 100 周年大会上指出，我们实现了人民生活从温饱不足到总体小康、奔向全面小康的历史性跨越，为实现中华民族伟大复兴提供了充满新的活力的体制保证和快速发展的物质条件。与 D 项表述一致。

因此，选择 D 选项。

【知识点】 公共知识\*政治\*中国特色社会主义\*新时代中国特色社会主义思想

5. 推动社会经济发展并决定社会经济制度变革的经济规律是（ ）。

- A. 生产关系一定要适应生产力的规律
- B. 价值规律

- C. 剩余价值规律
- D. 资本积累规律

【答案】 A

【解析】 第一步， 本题考查经济体制和制度知识。

第二步， 生产关系一定要适合生产力的规律， 亦称生产力与生产关系的矛盾运动规律。它是人类社会发展的基本规律。生产力与生产关系的这种矛盾运动循环往复， 不断推动社会生产发展， 进而推动整个社会逐步走向更高阶段。所以， 生产关系一定要适合生产力的规律推动社会经济发展并决定社会经济制度变革。

因此， 选择 A 选项。

【拓展】 B 项： 价值规律是商品生产和商品交换的基本经济规律， 即商品的价值量取决于社会必要劳动时间， 商品按照价值相等的原则互相交换。B 项不符合题意， 因此不当选。

C 项： 剩余价值规律是指剩余价值产生、 资本增值的规律。它反映资本主义生产的实质， 是资本主义的基本经济规律。C 项不符合题意， 因此不当选。

D 项： 资本积累是剩余价值转化为资本， 即剩余价值的资本化。D 项不符合题意， 因此不当选。

【知识点】 公共知识\*经济\*马克思主义政治经济学\*经济体制和制度

6. 中华医学博大精深， 源远流长。据记载， 我国早在（ ） 就发明和使用了麻醉剂——麻沸散。

- A. 春秋战国时期
- B. 秦朝
- C. 唐朝
- D. 汉朝

【答案】 D

【解析】 第一步， 本题考查文化常识。

第二步， 麻沸散传说是华佗创制的用于外科手术的麻醉药。华佗是东汉末年杰出的医学家。华佗深入民间， 足迹遍于中原大地和江淮平原， 在内、 外、 妇、 儿各科的临证诊治中， 曾创造了许多医学奇迹， 尤其以创麻沸散、 行剖腹术闻名于世。D 项正确， 当选。

因此， 选择 D 选项。

【知识点】 公共知识\*人文科技\*人文历史\*文化常识

7. 政府对部分食品实施最高限价政策时， 最可能导致的情况是（ ） 。

- A. 出现市场短缺
- B. 刺激生产增加
- C. 引起产品供应过剩
- D. 提高农业生产者收入

【答案】A

【解析】第一步，本题考查宏观经济政策知识。

第二步，最高限价是指国家用行政手段规定的价格上限。最高限价一般是低于市场均衡价格的，这可能会导致市场短缺。A项正确，当选。

因此，选择A选项。

【拓展】B项：最高限价一般是低于市场均衡价格的，不会刺激生产增加。B项不符合题意，因此不当选。

C项：最高限价一般是低于市场均衡价格的，不会引起产品供应过剩。C项不符合题意，因此不当选。

D项：控制食品的价格，最高限价一般是低于市场均衡价格的，这会减少农业生产者收入。D项不符合题意，因此不当选。

【知识点】公共知识\*经济\*宏观经济\*宏观经济政策

8. 根据《中华人民共和国劳动法》的规定，劳动合同的无效，由（ ）确认。

- A. 劳动争议仲裁委员会
- B. 劳动争议调解委员会
- C. 人民法院
- D. 劳动争议仲裁委员会或者人民法院

【答案】D

【解析】第一步，本题考查劳动法。

第二步，根据《劳动法》第十八条，下列劳动合同无效：（一）违反法律、行政法规的劳动合同；（二）采取欺诈、威胁等手段订立的劳动合同。无效的劳动合同，从订立的时候起，就没有法律约束力。确认劳动合同部分无效的，如果不影响其余部分的效力，其余部分仍然有效。

劳动合同的无效，由劳动争议仲裁委员会或者人民法院确认。D项正确，当选。

因此，选择D选项。

【知识点】公共知识\*法律\*其他法律\*社会法

9. 中国共产党的精神谱系为实现中华民族伟大复兴提供强大精神力量。这说明( )。

- A. 精神价值相比物质价值更为重要
- B. 主体需要是价值评价的唯一标准
- C. 价值观对人的行为起到导向作用
- D. 价值评价的根本标准依然是实践

【答案】 C

【解析】 第一步， 本题考查哲学马克思主义知识。

第二步， 中国共产党的精神谱系为中华民族的伟大复兴提供强大精神力量， 说明价值观对人的行为起到导向作用。 党的精神谱系为我们提供了强大的精神力量， 说明我们树立正确的价值观可以指导我们实现中华民族的复兴， 为我们提供精神力量。 与 C 项表述一致。

因此， 选择 C 选项。

【拓展】 A 项： 物质价值是最基本的价值， 离开它， 人类就不能生存。 精神价值是在创造物质价值的实践基础上发展起来的， 同时又影响着物质价值的生成和发展。 精神价值相比物质价值更为重要， 说法错误。 A 项错误。

B 项、 D 项： 价值评价是主体对客体可能具有的价值和实践改造客体后的意义、 成果等进行的评价。 本题不涉及价值评价的内容， 与题干不符合。 B 项错误。 D 项错误。

【知识点】 公共知识\*政治\*马克思主义哲学\*其他（马克思主义哲学）

10. 划分唯物主义和唯心主义的唯一标准是( )。

- A. 对思维和存在何者为第一性的不同回答
- B. 是否承认世界是运动 and 发展的
- C. 是否承认世界是统一的
- D. 世界是否是可知的

【答案】 A

【解析】 第一步， 本题考查哲学概论。

第二步， 哲学的基本问题包括两个方面内容： ①思维和存在何者为第一性的问题（本体论）， 这是划分唯物主义和唯心主义的唯一标准； ②思维和存在有没有同一性的问题（认识论）， 这是划分可知论与不可知论的标准。

划分唯物主义与唯心主义的唯一标准是对思维与存在何者为第一性问题的不同回答， A 项正确。

因此， 选择 A 选项。

【拓展】B项：唯物辩证法与形而上学是两种根本对立的世界观和方法论，它们的分歧表现在是否用联系、发展、全面的观点看待问题。是否承认事物的内部矛盾是事物发展的源泉则是二者的根本分歧。B项错误。

C项：是否承认世界是统一的是划分一元论和二元论的标准。一元论是认为世界只有一个本原的哲学学说，是本体论的分支的一个哲学学说。与“二元论”相对立。C项错误。

D项：世界是否是可知的是思维和存在有没有同一性的问题（认识论），这是划分可知论与不可知论的标准。D项错误。

【知识点】公共知识\*政治\*马克思主义哲学\*哲学概论

11. 战略物质储备应当规模适度、储存安全、调用方便、（ ），保障战时的需要。

- A. 长期保存
- B. 不定期更换
- C. 定期更换
- D. 快速更换

【答案】C

【解析】第一步，本题考查国防法知识。

第二步，根据《中华人民共和国国防法》第四十九条，国家建立战略物资储备制度。战略物资储备应当规模适度、储存安全、调用方便、定期更换，保障战时的需要。与C项表述一致。

因此，选择C选项。

【知识点】公共知识\*国防和军队\*国防常识

12. 按交易方式的不同，外汇市场可以分为（ ）。

- A. 国内外汇市场和国际外汇市场
- B. 规范的市场和自发的市场
- C. 有形市场和无形市场
- D. 一般的有形市场和特殊的有形市场

【答案】C

【解析】第一步，本题考查微观经济。

第二步，有形市场是指交易所市场，是指有固定的营业场所和规定的交易时间的外汇市场。无形市场是表明市场并没有一个具体的范围，个人、机构、银行之间发生货币转化也可以无形形成外汇市场。本题出题不严谨，“按交易所方式的不同”，外汇市场可以分为有形

市场和无形市场。ABD 选项不符合题干要求，

因此，选择 C 选项。

【知识点】公共知识\*经济\*微观经济\*其他（微观经济）

13. 电视剧《觉醒年代》中，陈独秀身陷囹圄，倚墙慨然长吟（ ）：“莫听穿林打叶声，何妨吟啸且徐行”，表现出深处逆境屡遭挫折而不畏惧不颓丧的倔强精神与旷达胸襟。

- A. 苏轼的《定风波》
- B. 陆游的《诉衷情》
- C. 辛弃疾的《破阵子》
- D. 文天祥的《过零丁洋》

【答案】A

【解析】第一步，本题考查文学常识。

第二步，“莫听穿林打叶声，何妨吟啸且徐行”出自宋代文学家苏轼的《定风波》，全文为“莫听穿林打叶声，何妨吟啸且徐行。竹杖芒鞋轻胜马，谁怕？一蓑烟雨任平生。料峭春风吹酒醒，微冷，山头斜照却相迎。回首向来萧瑟处，归去，也无风雨也无晴”。A 项正确，当选。

因此，选择 A 选项。

【拓展】B 项：陆游的《诉衷情》全词为“当年万里觅封侯，匹马戍梁州。关河梦断何处，尘暗旧貂裘。胡未灭，鬓先秋，泪空流。此生谁料，心在天山，身老沧洲！”。

C 项：辛弃疾的《破阵子》全词为“醉里挑灯看剑，梦回吹角连营。八百里分麾下炙，五十弦翻塞外声，沙场秋点兵。马作的卢飞快，弓如霹雳弦惊。了却君王天下事，赢得生前身后名。可怜白发生！”C 项错误，排除。

D 项：文天祥的《过零丁洋》全诗为“辛苦遭逢起一经，干戈寥落四周星。山河破碎风飘絮，身世浮沉雨打萍。惶恐滩头说惶恐，零丁洋里叹零丁。人生自古谁无死？留取丹心照汗青。”D 项错误，排除。

【知识点】公共知识\*人文科技\*人文历史\*文学常识

14. 中国人民解放军由现役部队和预备役部队组成，在新时代的使命任务是为巩固中国共产党领导和社会主义制度，为捍卫（ ），为维护国家海外利益，为促进（ ），提供战略支撑。

- A. 国家主权、安全、发展利益      世界和平与发展
- B. 国家主权、统一、领土完整      世界和平与地区安全

- C. 国家主权、安全、发展利益 世界和平与地区安全
- D. 国家主权、统一、领土完整 世界和平与发展

【答案】 D

【解析】 第一步， 本题考查国防常识。

第二步，《新时代的中国国防》白皮书指出，进入新时代，中国军队依据国家安全和发展战略要求，坚决履行党和人民赋予的使命任务，为巩固中国共产党领导和社会主义制度提供战略支撑，为捍卫国家主权、统一、领土完整提供战略支撑，为维护国家海外利益提供战略支撑，为促进世界和平与发展提供战略支撑。D项正确，当选。

因此，选择D选项。

【知识点】 公共知识\*国防和军队\*国防常识

15. 《孙子兵法》成书于春秋末期。其作者是（ ）。

- A. 孙臆
- B. 孙策
- C. 孙权
- D. 孙武

【答案】 D

【解析】 第一步， 本题考查文学常识。

第二步，《孙子兵法》是中国现存最早的兵书，也是世界上最早的军事著作，现存共有六千字左右，一共十三篇。作者为春秋时祖籍齐国乐安的吴国将军孙武。D项正确，当选。

因此，选择D选项。

【知识点】 公共知识\*人文科技\*人文历史\*文学常识

16. 新民主主义革命的主要内容是（ ）。

- A. 没收封建地主阶级的土地归农民所有
- B. 没收封建地主阶级的土地归苏维埃政权所有
- C. 没收官僚资产阶级的垄断资本归新民主主义国家所有
- D. 无产阶级取得领导地位

【答案】 A

【解析】 第一步， 本题考查新民主主义革命理论。

第二步，新民主主义革命理论新民主主义的经济纲领是：没收封建地主阶级的土地归农民所有，没收官僚资产阶级的垄断资本归新民主主义的国家所有，保护民族工商业。没收封

建地主阶级的土地归农民所有，是新民主主义革命的主要内容。A项正确，当选。

因此，选择A选项。

毛泽东在《中国的红色政权为什么能够存在？》等文章中提出了“工农武装割据”的思想，即在中国共产党领导下，以土地革命为中心内容，以武装斗争为主要形式（以武装革命反对武装的反革命），以农村革命根据地、战略阵地的三者密切结合的思想。

【知识点】公共知识\*政治\*毛泽东思想\*新民主主义革命理论

17. 在社会保障体系中，属于初级形式的社会保险要素的是（ ）。

- A. 社会福利
- B. 社会保险
- C. 优抚安置
- D. 社会救济

【答案】D

【解析】第一步，本题考查社会主义市场经济体制知识。

第二步，社会保障体系以社会安全网络的形式出现，起到安定社会生活的作用。社会救济制度，也叫社会救助，指国家通过国民收入的再分配对因自然灾害或其他经济、社会原因而无法维持最低生活水平的社会成员给予救助，以保障其最低生活水平的制度。社会救济制度属于社会保障制度中的最低纲领，属于初级形式的社会保险要素。D项正确。

因此，选择D选项。

【拓展】A项：社会福利制度。指由国家或社会在法律和政策范围内向全体公民普遍地提供资金帮助和优化服务的社会性制度。社会福利制度属于社会保障中的最高纲领。与题意无关，A项错误。

B项：社会保险制度。指由国家依法建立的，使劳动者在年老、患病、伤残、生育和失业时，能够从社会获得物质帮助的制度。社会保险制度属于社会保障中的基本纲领。与题意无关，B项错误。

C项：社会优抚制度是指国家依法定的形式和政府行为，对有特殊贡献的军人及其眷属实行的具有褒扬和有待赈恤性质的社会保障制度。社会优抚制度是社会保障制度中的特殊纲领。与题意无关，C项错误。

【知识点】公共知识\*经济\*社会主义市场经济体制\*其他（社会主义市场经济体制）

18. 纸币的发行量取决于（ ）。

- A. 市场购买力



- B. 流通中所需要的金属货币量
- C. 商品的供求关系
- D. 商品价格总额

【答案】 B

【解析】 第一步， 本题考查商品与货币。

第二步， 纸币是由国家发行并强制流通的价值符号， 它可以代替金属货币执行流通手段职能、 支付手段职能等， 并在一定程度上可以起到充当世界货币的作用。 纸币只有代表金量， 才成为价值符号， 所以纸币的发行量取决于流通中所需要的金属货币量， 如果纸币发行量超出流通中所需要的金属货币量， 就会造成通货膨胀， 反之， 如果纸币发行量小于流通中所需要的金属货币量， 就会造成通货紧缩。

因此， 选择 B 选项。

【知识点】 公共知识\*经济\*马克思主义政治经济学\*商品与货币

19. 社会主义道德建设要以为人民服务为核心， 以（ ） 为原则。

- A. 公平正义
- B. 集体主义
- C. 和谐共处
- D. 和睦友爱

【答案】 B

【解析】 第一步， 本题考查道德。

第二步， 《新时代公民道德建设实施纲要》 指出， 坚持马克思主义道德观、 社会主义道德观， 倡导共产主义道德， 以为人民服务为核心， 以集体主义为原则， 以爱祖国、 爱人民、 爱劳动、 爱科学、 爱社会主义为基本要求， 始终保持公民道德建设的社会主义方向。 故集体主义是公民道德建设的原则。

因此， 选择 B 选项。

【知识点】 公共知识\*政治\*道德\*其他（道德）

20. “须知政权是由枪杆子中取得的” 是（ ） 在党的八七会议上提出的。

- A. 陈独秀
- B. 毛泽东
- C. 周恩来
- D. 朱德

【答案】 B

【解析】 第一步， 本题考查毛泽东思想概述。

第二步， 1927年8月7日， 在共产国际的帮助下， 中共中央在汉口召开中央紧急会议， 即“八七会议”。 关于军事工作， 毛泽东着重强调：“以后要非常注意军事， 须知政权是由枪杆子中取得的。”这是一个对中国革命有着极其重要意义的论断。 这个论断是从大革命失败的血的教训中取得的， 它指出了中国革命的特点， 实际上提出了以军事斗争作为党的工作重心的问题。

因此， 选择 B 选项。

【知识点】 公共知识\*政治\*毛泽东思想\*毛泽东思想概述

21. 根据《中华人民共和国民法典》的规定， 无线电频谱资源属于（ ） 所有。

- A. 集体
- B. 企业
- C. 国家
- D. 个人

【答案】 C

【解析】 第一步， 本题考查物权。

第二步， 根据《民法典》第二百五十二条， 无线电频谱资源属于国家所有。

因此， 选择 C 选项。

【拓展】 根据《民法典》第二百四十六条， 法律规定属于国家所有的财产， 属于国家所有即全民所有。 国有财产由国务院代表国家行使所有权。 法律另有规定的， 依照其规定。

【知识点】 公共知识\*法律\*民法\*物权

22. （ ） 年 1 月 1 日起，《中华人民共和国农业税条例》被废止， 标志着延续了 2600 多年的“皇粮国税”退出历史舞台。

- A. 2002
- B. 2005
- C. 2006
- D. 2012

【答案】 C

【解析】 第一步， 本题考查其他法律。

第二步， 2005年12月29日， 十届全国人大常委会第十九次会议决定， 自2006年1月

1日起废止《中华人民共和国农业税条例》。由此，国家不再针对农业单独征税，一个在我国存在两千多年的古老税种宣告终结。与C项表述一致。

因此，选择C选项。

【知识点】公共知识\*法律\*其他法律\*其他（法律）

23. 十八大后，党中央和中央军委在古田召开全军政治工作会议，对新时代政治建军做出部署，恢复和发扬我党我军光荣传统和优良作风，推动人民军队（ ）根本好转。

- A. 纪律规矩
- B. 政治生态
- C. 作风面貌
- D. 廉政建设

【答案】B

【解析】第一步，本题考查时政。

第二步，2021年11月11日，中国共产党第十九届中央委员会第六次全体会议通过了《中共中央关于党的百年奋斗重大成就和历史经验的决议》（以下简称《决议》）。《决议》指出，党中央和中央军委狠抓全面从严治军，果断决策整肃人民军队政治纲纪，在古田召开全军政治工作会议，对新时代政治建军做出部署，恢复和发扬我党我军光荣传统和优良作风，以整风精神推进政治整训，全面加强军队党的领导和党的建设，深入推进军队党风廉政建设和反腐败斗争，坚决查处郭伯雄、徐才厚、房峰辉、张阳等严重违纪违法案件并彻底肃清其流毒影响，推动人民军队政治生态根本好转。与B项表述一致。

因此，选择B选项。

【知识点】公共知识\*政治\*时事政治\*时事热点

24. 进口配额制在国际贸易政策中属于（ ）。

- A. 关税壁垒措施
- B. 自由贸易措施
- C. 与贸易无关的措施
- D. 非关税壁垒措施

【答案】D

【解析】第一步，本题考查经济常识。

第二步，非关税壁垒是指一国或地区在限制进口方面采取的除关税以外的所有措施。它是相对于关税而言的。这种措施可以通过国家法律、法令以及各种行政措施的形式来实现。

与关税措施相比，非关税措施的保护作用比关税的作用更为强烈和直接。关税措施是通过征收关税来提高商品成本和价格，进而削弱其竞争能力的，因而其保护作用具有间接性。而一些非关税措施如进口配额，预先限定进口的数量和金额，超过限额就直接禁止进口，这样就能快速和直接地达到关税措施难以达到的目的。与 D 项表述一致。

因此，选择 D 选项。

**【拓展】** A 项：关税壁垒亦称“关税战”。以高额关税作为限制商品进口的一种措施。对外国商品征收高额进口关税，以提高其成本和削弱其竞争能力，从而达到限制这些商品进口，保护本国产品在国内市场上竞争优势的目的。因其像高墙壁垒一样把国外商品挡在墙外，从而把国内市场保护起来，故名关税壁垒。与题干表述不符。A 项错误。

B 项：自由贸易政策是指国家取消对进口贸易的限制和障碍，取消对本国进出口商的各种特权和优待，使商品自由进出口，让其在国内外市场上自由竞争，即既不限进口又不鼓励出口。与题干表述不符。B 项错误。

C 项：通过 D 项对于非关税壁垒措施的解读可知，进口配额制是与贸易有关的措施。C 项错误。

**【知识点】** 公共知识\*经济\*宏观经济\*国际经济

25. 写下“清澈的爱，只为中国”的戍边英雄是（ ）。

- A. 肖思远
- B. 祁发宝
- C. 陈祥榕
- D. 陈红军

**【答案】** C

**【解析】** 第一步，本题考查时事热点。

第二步，陈祥榕，男，福建宁德屏南县人，2001 年 12 月出生，2020 年 6 月在守边护边时壮烈牺牲，牺牲时不满 19 岁，是几人中最年轻的一位。2021 年 2 月，中央军委给陈祥榕追记一等功。“清澈的爱，只为中国。”这是 18 岁的陈祥榕写下的战斗口号。与 C 项表述一致。

因此，选择 C 选项。

**【拓展】** 2020 年 4 月开始，有关外军违反两国协议协定，抵边越线搭建便桥、修建道路，频繁在边境越线争控，试图单方面改变边境管控现状，导致边境局势陡然升温。（6.15 中印加勒万河谷边境冲突）。2020 年 6 月，外军公然违背与我方达成的共识，悍然越线挑

衅。按照处理边境事件的惯例和双方之前达成的约定，团长祁发宝本着谈判解决问题的诚意，仅带几名官兵前出交涉，却遭对方蓄谋暴力攻击。在前出交涉和激烈斗争中，团长祁发宝身先士卒，身负重伤；营长陈红军、战士陈祥榕突入重围营救，奋力反击，英勇牺牲；战士肖思远，突围后义无反顾返回营救战友，战斗至生命最后一刻；战士王焯冉，在渡河前出支援途中，拼力救助被冲散的战友脱险，自己却淹没在冰河之中。A项、B项、D项也都是参与这次戍边战斗的英雄，但是与题干不符，A项、B项、D项都错误。

【知识点】公共知识\*时政\*时事政治\*时事热点

26. 关于侵权责任，下列选项错误的是（ ）。

- A. 因产品存在缺陷造成他人损害的，被侵权人可以向产品的生产者或销售者请求赔偿
- B. 限制民事行为能力人在学校学习、生活期间受到人身损害的，学校应当承担侵权责任
- C. 二人以上共同实施侵权行为，造成他人损害的，应当承担连带责任
- D. 民用航空器造成他人损害，民用航空器的经营者能够证明损害是因受害人故意造成的，不承担责任

【答案】B

【解析】第一步，本题考查民法常识并选错误项。

第二步，根据《民法典》第一千二百零二条，限制民事行为能力人在学校或者其他教育机构学习、生活期间受到人身损害，学校或者其他教育机构未尽到教育、管理职责的，应当承担侵权责任。与B项表述不一致。

因此，选择B选项。

【拓展】A项：根据《民法典》第一千二百零三条，因产品存在缺陷造成他人损害的，被侵权人可以向产品的生产者请求赔偿，也可以向产品的销售者请求赔偿。A项正确。

C项：根据《民法典》第一千一百六十八条，二人以上共同实施侵权行为，造成他人损害的，应当承担连带责任。C项正确。

D项：根据《民法典》第一千二百三十八条，民用航空器造成他人损害的，民用航空器的经营者应当承担侵权责任；但是，能够证明损害是因受害人故意造成的，不承担责任。D项正确。

【知识点】公共知识\*法律\*民法\*侵权

27. 资本主义经济危机周期性发生的物质基础是（ ）。

- A. 固定资本的更新
- B. 流动资本的更新

- C. 不变资本的更新
- D. 可变资本的更新

【答案】 A

【解析】 第一步， 本题考查政治经济学。

第二步， 资本主义经济危机周期性的物质基础是固定资本更新。固定资本的大规模更新既使资本主义经济走出萧条，步入复苏，又为下次危机的到来准备了物质条件。所以，固定资本的更新是资本主义经济危机周期性爆发的物质基础。A 项正确，当选。

因此，选择 A 选项。

【知识点】 公共知识\*经济\*马克思主义政治经济学\*资本

28. 军队政治工作必须坚持的思想路线和根本作风是（ ）。

- A. 解放思想和与时俱进
- B. 批评与自我批评
- C. 实事求是和群众路线
- D. 解放思想和实事求是

【答案】 C

【解析】 第一步， 本题考查军队常识。

第二步， 2015 年 1 月 30 日， 中共中央发出通知， 转发《关于新形势下军队政治工作若干问题的决定》。《决定》强调， 在长期革命、建设、改革历程中， 我军坚持古田会议确立的思想建党、政治建军原则， 形成了政治工作一整套优良传统。主要包括：坚持党指挥枪的根本原则和制度， 坚持全心全意为人民服务的根本宗旨， 坚持实事求是的思想路线， 坚持群众路线的根本作风。C 项正确。

因此，选择 C 选项。

【知识点】 公共知识\*国防和军队\*军队常识

29. 构建新发展格局的关键在于经济循环的畅通无阻，必须坚持深化（ ）这条主线，继续完成“三去一降一补”的重要任务，实现经济在高水平上的动态平衡。

- A. 需求侧结构性改革
- B. 供给侧结构性改革
- C. 改革开放
- D. 经济体制改革

【答案】 B

【解析】第一步，本题考查党政专题。

第二步，2021年1月11日，省部级主要领导干部学习贯彻党的十九届五中全会精神专题研讨班在中央党校（国家行政学院）开班。中共中央总书记、国家主席、中央军委主席习近平在开班式上发表重要讲话，习近平指出，构建新发展格局的关键在于经济循环的畅通无阻。必须坚持深化供给侧结构性改革这条主线，继续完成“三去一降一补”的重要任务，全面优化升级产业结构，提升创新能力、竞争力和综合实力，增强供给体系的韧性，形成更高效率和更高质量的投入产出关系，实现经济在高水平上的动态平衡。B项正确。

因此，选择B选项。

【知识点】公共知识\*政治\*时事政治\*党政专题

30. 根据2021年10月1日起施行的《中华人民共和国兵役法》的规定，在征集期间，应征公民被征集服现役，同时被机关、团体、企业事业组织招录或者聘用的，（ ）履行服兵役义务。

- A. 可以暂缓
- B. 可以由公民选择是否
- C. 由招录或者聘用的机关、团体、企业事业组织决定是否允许公民
- D. 应当优先

【答案】D

【解析】第一步，本题考查法律相关知识。

第二步，根据《兵役法》第二十二条规定，在征集期间，应征公民被征集服现役，同时被机关、团体、企业事业组织招录或者聘用的，应当优先履行服兵役义务；有关机关、团体、企业事业组织应当服从国防和军队建设的需要，支持兵员征集工作。D项正确。

因此，选择D选项。

【知识点】公共知识\*法律\*其他法律\*其他（法律）

31. 军委主席负责制最早写入我国宪法是在（ ）年。

- A. 1978
- B. 1982
- C. 1992
- D. 1998

【答案】B

【解析】第一步，本题考查宪法。

第二步，1982年12月4日，五届全国人大五次会议表决通过了新修订的《中华人民共和国宪法》。其中，第九十三条明确规定：“中华人民共和国中央军事委员会领导全国武装力量”“中央军事委员会实行主席负责制”。这是军委主席负责制第一次正式写入宪法。B项正确。

因此，选择B选项。

【知识点】公共知识\*法律\*宪法\*其他（宪法）

32. 关于资本积聚的描述，正确的是（ ）。

- A. 由众多中小资本合并实现
- B. 由资本家通过勤俭节约实现
- C. 依靠剩余价值的资本化实现
- D. 通过竞争和信用方式实现

【答案】C

【解析】第一步，本题考查资本知识。

第二步，资本积聚是指个别资本家通过把自身所获得的剩余价值转化为资本，即资本家通过资本积累来增大自己资本量的过程。

因此，选择C选项。

【知识点】公共知识\*经济\*马克思主义政治经济学\*资本

33. 按照规则的内容规定不同，法律规则可以分为（ ）。

- A. 授权性规则和义务性规则
- B. 确定性规则、委任性规则和准用性规则
- C. 规范性规则 and 标准性规则
- D. 强行性规则和任意性规则

【答案】A

【解析】第一步，本题考查法的要素。

第二步，按照规则的内容规定不同，法律规则可以分为授权性规则和义务性规则。

(1) 授权性规则是指规定人们可为或不可为一定行为以及要求其他人为或不为一行为的规则。

(2) 义务性规则是指规定人们应为或勿为一定行为的规则。故A项正确，当选。

因此，选择A选项。

【拓展】B项：按照规则内容的确定性程度不同，可以把法律规则分为确定性规则、委



任性规则和准用性规则。

(1) 确定性规则，是指内容本已明确肯定，无须再援引或参照其他规则来确定其内容的法律规则。

(2) 委任性规则，是指内容尚未确定，而只规定某种概括性指示，由相应的国家机关通过相应的途径或程序加以确定的法律规则。

(3) 准用性规则，是指内容本身没有规定人们具体的行为模式，而是可以援引或参照其他相应内容规定的规则。

C项：从法律规则形式特征上看，可以把法律规则分为规范性规则 and 标准性规则。规范性规则指规则的内容明确、肯定和具体，且可直接适用的规则；标准性规则则指法律规则的部分内容或全部内容(事实状态、权利、义务、后果等)具有一定伸缩性，须经解释方可使用且可适当裁量的规则。

D项：按照规则对人们行为规定和限定的范围或程度不同，可以把法律规则分为强行性规则和任意性规则。

(1) 强行性规则，是指内容规定具有强制性性质，不允许人们随便加以更改的法律规则。

(2) 任意性规则，是指规定在一定范围内，允许人们自行选择或协商确定为与不为、为的方式以及法律关系中的权利义务内容的法律规则。

【知识点】公共知识\*法律\*法理学\*法的要素

34. 党的十九届六中全会通过的《中共中央关于党的百年奋斗重大成就和历史经验的决议》，用( )进一步对习近平新时代中国特色社会主义思想的核心内容作了系统概括。

- A. “四个自信”
- B. “五位一体”
- C. “十个明确”
- D. “十四个坚持”

【答案】C

【解析】第一步，本题考查党政专题知识。

第二步，2021年11月11日，中国共产党第十九届中央委员会第六次全体会议通过《中共中央关于党的百年奋斗重大成就和历史经验的决议》。《决议》在党的十九大报告“八个明确”的基础上，用“十个明确”对习近平新时代中国特色社会主义思想的核心内容作了进一步概括。

因此，选择C选项。

【拓展】A项：“四个自信”即中国特色社会主义道路自信、理论自信、制度自信、文化自信，由习近平总书记在庆祝中国共产党成立95周年大会上提出，是对党的十八大提出的中国特色社会主义“四个自信”的创造性拓展和完善。A项不符合题意，排除。

B项：“五位一体”总体布局是指经济建设、政治建设、文化建设、社会建设和生态文明建设五位一体，全面推进。B项不符合题意，排除。

D项：“十四个坚持”是习近平总书记2017年10月18日，在党的十九大报告中提出的新时代中国特色社会主义思想理论，回答了新时代怎样坚持和发展中国特色社会主义。具体包括：坚持党对一切工作的领导；坚持以人民为中心；坚持全面深化改革；坚持新发展理念；坚持人民当家作主；坚持全面依法治国；坚持社会主义核心价值观体系；坚持在发展中保障和改善民生；坚持人与自然和谐共生；坚持总体国家安全观；坚持党对人民军队的绝对领导；坚持“一国两制”和推进祖国统一；坚持推动构建人类命运共同体；坚持全面从严治党。D项不符合题意，排除。

【知识点】公共知识\*政治\*时事政治\*党政专题

35. 价格是商品价值的（ ）表现。

- A. 劳动
- B. 交换
- C. 货币
- D. 支付

【答案】C

【解析】第一步，本题考查商品与货币知识。

第二步，商品价格是商品价值的货币表现形态。在商品经济条件下，商品的价值是由生产这种商品所耗费的社会必要劳动时间决定的，但社会必要劳动时间又无法直接表示商品价值，而只能间接地和相对地表现在某种商品同另一种商品交换的比例上。

因此，选择C选项。

【知识点】公共知识\*经济\*马克思主义政治经济学\*商品与货币

36. 近代中国反侵略战争屡遭失败的根本原因是（ ）。

- A. 清廷消极备战、积极求和
- B. 文官贪财、武将惜命
- C. 社会制度腐败、经济技术落后
- D. 军队素质差、军事装备落后

【答案】 C

【解析】 第一步， 本题考查中国历史知识。

第二步， 近代中国社会制度的腐败是反侵略战争失败的根本原因。在中国逐渐沦为半殖民地半封建社会的过程中， 由于政治腐败、经济落后和文化保守， 一方面使清朝统治阶级封闭自守， 妄自尊大， 骄奢淫逸， 盲目进攻； 另一方面又使统治者和清军指挥人员在战争面前完全没有应变的能力和心态。另外， 近代中国经济技术的落后是反侵略战争失败的另一个重要原因。当时的英国已经历过工业革命， 资本主义生产力获得突飞猛进的发展， 而中国仍停留在封建的自然经济水平上。经济技术的落后直接造成军事装备的落后， 军队指挥员不了解近代军事战术， 从而造成军队素质和战斗力的低下。

因此， 选择 C 选项。

【知识点】 公共知识\*人文科技\*人文历史\*中国历史

37. 马克思主义产生的阶级基础和实践基础是（ ）。

- A. 无产阶级作为独立的政治力量登上了历史舞台
- B. 资本主义的剥削和压迫
- C. 工人为了改善自身经济状况进行的各种罢工活动
- D. 工人运动得到了“农民的合唱”

【答案】 A

【解析】 第一步， 本题考查其他（中共党史）知识。

第二步， 马克思主义产生的阶级基础和实践基础是无产阶级作为独立的政治力量登上了历史舞台， 其中“无产阶级”对应阶级基础； 无产阶级登上历史舞台的显著表现是工业罢工和起义的此起彼伏， 使政府不得不致力于安抚和解决工人阶级问题， 对应的是实践基础。

因此， 选择 A 选项。

【知识点】 公共知识\*政治\*中共党史\*其他（中共党史）

38. 新民主主义革命区别旧民主主义革命的主要标志是（ ）。

- A. 主要依靠广大工农群众
- B. 无产阶级的领导权
- C. 实现国共合作
- D. 走的是农村包围城市的道路

【答案】 B

【解析】 第一步， 本题考查新民主主义革命理论知识。

第二步，新、旧民主主义革命的分水岭是五四运动，五四运动以前都是资产阶级领导的，而五四运动中学生作为先锋、工人作为主要力量，取得了初步的胜利。就在这时，工人阶级登上了历史舞台，无产阶级参与到了反帝反封建的大革命中来，新民主主义革命拉开帷幕。所以，无产阶级对于革命的领导权问题，是区分新旧民主主义革命的主要标志。

因此，选择 B 选项。

【知识点】公共知识\*政治\*毛泽东思想\*新民主主义革命理论

39. 根据《中华人民共和国劳动争议调解仲裁法》的规定，解决劳动争议，应当根据事实，遵循合法、公正、及时、（ ）的原则，依法保护当事人的合法权益。

- A. 协商
- B. 着重调解
- C. 平等
- D. 善意

【答案】 B

【解析】 第一步， 本题考查仲裁调解制度。

第二步， 根据《中华人民共和国劳动争议调解仲裁法》第三条， 解决劳动争议， 应当根据事实， 遵循合法、 公正、 及时、 着重调解的原则， 依法保护当事人的合法权益。 B 选项正确， 当选。

因此， 选择 B 选项。

【知识点】 公共知识\*法律\*其他法律\*其他法律

40. 资本的循环时间是（ ）。

- A. 劳动时间和流通时间之和
- B. 运输时间和购置时间之和
- C. 生产时间和流通时间之和
- D. 存储时间和销售时间之和

【答案】 C

【解析】 第一步， 本题考查经济知识。

第二步， 资本循环所经历的全部时间是商品生产和流通所经历的时间(即购、产、销所经历的时间)， 它是由商品的使用价值性质决定的。 资本处在生产领域的时间叫生产时间， 资本处在流通领域的时间叫流通时间。 所以， 资本循环的时间等于生产时间和流通时间之和。

C 选项正确， 当选。

因此，选择 C 选项。

【知识点】公共知识\*经济\*宏观经济\*经济学原理

41. 任何公民，非（ ），不受逮捕。

- A. 由人民检察院决定并执行
- B. 由人民法院决定并执行
- C. 由公安机关决定并执行
- D. 经人民检察院批准或者决定或者人民法院决定，并由公安机关执行

【答案】D

【解析】第一步，本题考查宪法知识。

第二步，我国《宪法》第三十七条规定：任何公民，非经人民检察院批准或者决定或者人民法院决定，并由公安机关执行，不受逮捕。D 选项正确，当选。

因此，选择 D 选项。

【知识点】公共知识\*法律\*宪法\*公民的基本权利和义务

42. 《诗经》中区分风、雅、颂的标准是（ ）。

- A. 国别
- B. 时代
- C. 作者
- D. 音乐

【答案】D

【解析】第一步，本题考查文化常识。

第二步，风、雅、颂是按音乐的性质来划分的。风：也叫国风，是不同地区的地方音乐。共有 160 篇十五国风，多是民歌，即从地区采集上来的土风歌谣，少数是贵族作品。雅：是周王朝京都地区宫廷宴飨或朝会时的乐歌。按音乐的不同又分为《大雅》、《小雅》共 105 篇。颂：是宗庙祭祀的舞曲歌辞。内容多是歌颂祖先的功业，全部是贵族文人的作品。D 选项正确，当选。

因此，选择 D 选项。

【知识点】公共知识\*人文科技\*人文历史\*文化常识

43. “断肠铭志”的红军将领是（ ）。

- A. 王尔琢
- B. 邓萍

C. 陈树湘

D. 吴焕先

【答案】 C

【解析】 第一步， 本题考查中共党史。

第二步， 陈树湘， 1905 年出生于湖南长沙。 1934 年 10 月， 中央红军开始长征。 陈树湘率领红三十四师担负全军后卫。 在惨烈的湘江之战中， 他率领全师与十几倍于自己的敌人殊死激战四天五夜， 后陷入敌人的重重包围。 他在率部突围时腹部中弹， 身负重伤。 最后， 部队弹尽粮绝， 陈树湘伤重被俘。 1934 年 12 月 18 日， 在敌人将其押送长沙的路途中， 陈树湘趁敌不备， 忍着剧痛， 从伤口处掏出肠子， 用力绞断， 壮烈牺牲。 C 项说法正确。

因此， 选择 C 选项。

【拓展】 A 项： 王尔琢， 湖南省石门县人， 中共党员。 1924 年考入黄埔军校第一期， 同年秋加入中国共产党。 1928 年 1 月， 参加领导湘南起义， 任工农革命军第 1 师参谋长； 4 月， 朱德与毛泽东部队井冈山会师后， 王尔琢任中国工农红军第 4 军参谋长兼第 28 团团长， 协助毛泽东、 朱德指挥五斗江、 草市坳和龙源口等战斗， 为保卫和发展井冈山革命根据地作出了重大贡献。 1928 年 8 月 25 日， 在江西崇义思顺墟追击叛徒时， 英勇牺牲， 年仅 25 岁。 A 项不符合题意， 不当选。

B 项： 邓萍， 四川省富顺县人。 1926 年底考入武汉中央军事政治学校。 1927 年秋被派到国民党军湖南独立第 5 师彭德怀任团长的第 1 团从事兵运工作。 1934 年 1 月， 被选为中华苏维埃共和国中央候补执行委员。 同年 10 月参加长征， 协助彭德怀指挥红 3 军团担任右路前卫， 掩护主力突围。 1935 年 2 月 27 日在遵义战役前线指挥作战时英勇牺牲。 邓萍是红军长征中牺牲的唯一一位军团级将领。 B 项不符合题意， 不当选。

D 项： 吴焕先， 河南省信阳市新县人。 鄂豫陕苏区创建人， 中国工农红军杰出指挥员。 民国十四年（1925 年） 加入中国共产党。 民国十六年（1927 年） 11 月率紫云区农民武装参加黄麻起义， 随后坚持斗争并参与创建鄂豫皖苏区和红二十五军。 民国二十四年（1935 年） 8 月 21 日在甘肃泾川四坡村战斗中英勇牺牲， 年仅 28 岁。 D 项不符合题意， 不当选。

【知识点】 公共知识\*政治\*中共党史\*其他（中共党史）

44. 市场经济是一种（ ）。

A. 经济运行方式

B. 基本经济制度

C. 社会组织形式

D. 生产经营方式

【答案】 A

【解析】 第一步， 本题考查市场经济。

第二步， 市场经济， 是指依靠价格、 供求、 竞争等市场机制实现各类经济资源配置的一种社会经济运行方式。 A 项说法正确。

因此， 选择 A 选项。

【拓展】 B 项： 基本经济制度， 是国家依据社会性质及基本国情， 通过法律对社会经济秩序中生产资料归属做出明确规定的经济制度， 是社会经济在生产关系中最基本的规定。 中国现处于并将长期处于社会主义初级阶段， 因此公有制为主体、 多种所有制经济共同发展， 按劳分配为主体、 多种分配方式并存的社会主义市场经济体制是我国现阶段的基本经济制度。 B 项不符合题意， 不当选。

C 项： 社会组织， 是公共关系的主体。 它是人们为了有效地达到特定目标按照一定的宗旨、 制度、 系统建立起来的共同活动集体。 根据组织是否营利和是否具有竞争性为标准， 将组织分为四种形式， 即竞争性营利组织、 竞争性非营利组织、 独占性营利组织和独占性非营利组织。 C 项不符合题意， 不当选。

D 项： 经营方式， 指企业在经营活动中所采取的方式和方法， 是所有者和经营者相互关系的表现形式， 是经济单位经营的具体形式。 经营方式的分类严格地讲， 只有个人独自经营、 合伙经营、 有限责任公司， 以及股份有限责任公司。 D 项不符合题意， 不当选。

【知识点】 公共知识\*经济\*社会主义市场经济体制\*市场经济

45. 国产影片《长津湖》取材于抗美援朝战争时期的（ ）。

A. 第一次战役

B. 第二次战役

C. 第三次战役

D. 第五次战役

【答案】 B

【解析】 第一步， 本题考查中国历史。

第二步， 长津湖战役是抗美援朝第二次战役中发生在长津湖地区的一场战役。 长津湖战役中， 中国人民志愿军第 9 兵团 3 个军， 在艰难困苦的条件下， 与武器装备世界一流、 战功显赫的美军第 10 军， 于 1950 年 11 月 27 日至 12 月 24 日在朝鲜长津湖地区进行了直接较量， 创造了抗美援朝战争中全歼美军一个整团的纪录， 迫使美军王牌部队经历了有史以来“路程

最长的退却”。B项说法正确。

因此，选择B选项。

【拓展】A项：抗美援朝战争第一次战役1950年10月25日-11月5日，中国人民志愿军在朝鲜人民军配合下，在朝中边境及其附近地区，对美国为首的“联合国军”及其指挥的南朝鲜（韩国）军突然发起的进攻战役。A项不符合题意，不当选。

C项：抗美援朝战争第三次战役，是1950年12月31日-1951年1月8日，中国人民志愿军和朝鲜人民军，为打破美国政府“先停火，后谈判”，争取喘息时间，卷土重来的阴谋，突破“三八线”，对美国为首的“联合国军”及其指挥的南朝鲜（韩国）军进行的进攻战役。C项不符合题意，不当选。

D项：抗美援朝战争第五次战役是指，1951年4月22日-6月10日，中国人民志愿军和朝鲜人民军为挫败美国为首的“联合国军”及其指挥的南朝鲜（韩国）军从侧后登陆配合正面进攻的企图，在“三八线”南北地区进行的大规模反击战。D项不符合题意，不当选。

【知识点】公共知识\*人文科技\*人文历史\*中国历史

46. 探月工程“绕、落、回”三步走规划圆满收官的标志是（ ）任务的完成。

- A. 天宫二号
- B. 神舟十一号
- C. 空间实验室飞行
- D. 嫦娥五号

【答案】D

【解析】第一步，本题考查科技常识。

第二步，嫦娥五号，由国家航天局组织实施研制，是中国首个实施无人月面取样返回的月球探测器，为中国探月工程的收官之战。与前几次探月任务相比，嫦娥五号任务最重要的目标就是“采样返回”。这也是中国“探月工程”规划的“绕、落、回”中的第三步。D项说法正确。

因此，选择D选项。

【拓展】A项：天宫二号，为中国载人航天工程发射第二个目标飞行器，是中国首个具备补加功能的载人航天科学实验空间实验室。天宫二号先后与神舟十一号、天舟一号进行对接，承担着验证空间站相关技术的重要使命，是中国第一个真正意义上的太空实验室。A项不符合题意，不当选。

B项：神舟十一号，为中国载人航天工程发射的第十一艘飞船，是中国第六次载人飞行任务。神舟十一号实现中国载人航天工程三步走中从第二步到第三步的过程，为中国空间站



建造运营和航天员长期驻留奠定了坚实的基础。B项不符合题意，不当选。

C项：空间实验室又称太空实验室，是一种可重复使用和多用途的载人航天科学实验空间站。中国空间实验室的雏形“天宫一号”已于2011年9月29日发射升空。中国首个真正意义上的空间实验室——天宫二号空间实验室于2016年9月15日成功发射。C项不符合题意，不当选。

【知识点】公共知识\*人文科技\*科技\*前沿科技

47. 要在党和国家人才工作大盘子中谋划推进我军人才工作，坚持（ ）需求导向，搞好规划对接、政策对接、工作对接，形成我军人才工作高效推进的良好局面。

- A. 军事
- B. 科技
- C. 岗位
- D. 能力

【答案】A

【解析】第一步，本题考查军队常识。

第二步，2021年11月26日至28日，中央军委人才工作会议在北京召开。中共中央总书记、国家主席、中央军委主席习近平出席会议并发表重要讲话。他强调，实施新时代人才强军战略，要统筹全局、突出重点，全面推进人才培养、使用、评价、服务、支持、激励等各项工作，以重点突破带动整体提升。要在党和国家人才工作大盘子中谋划推进我军人才工作，坚持军事需求导向，搞好规划对接、政策对接、工作对接，形成我军人才工作高效推进的良好局面。A项正确。

因此，选择A选项。

【知识点】公共知识\*国防和军队\*军队常识

48. 以优秀文学作品陶冶道德情操，就要坚持把（ ）放在首位，倡导讲品味、讲格调、讲责任，抵制低俗、庸俗、媚俗，用健康向上的文艺作品温润心灵、启迪心智、引领风尚。

- A. 经济效益
- B. 社会效益
- C. 宣传效益
- D. 个人利益

【答案】B

【解析】第一步，本题考查党政专题。

第二步，2018年8月21日至22日，全国宣传思想工作会议在北京召开。中共中央总书记、国家主席、中央军委主席习近平出席会议并发表重要讲话。他强调，要坚持把社会效益放在首位，引导文艺工作者树立正确的历史观、民族观、国家观、文化观，自觉讲品位、讲格调、讲责任，自觉遵守国家法律法规，加强道德品质修养，坚决抵制低俗庸俗媚俗，用健康向上的文艺作品和做人处事陶冶情操、启迪心智、引领风尚。B项正确。

因此，选择B选项。

【知识点】公共知识\*政治\*时事政治\*党政专题

49. 文职人员在军队和社会生活中，依法享有（ ）相应的权力，履行相应的义务。

- A. 军队基层人员
- B. 国家企业职工
- C. 现役军人
- D. 国家工作人员

【答案】D

【解析】第一步，本题考查军队常识。

第二步，根据《中国人民解放军文职人员条例》第二条第二款，文职人员在军队和社会生活中，依法享有国家工作人员相应的权利，履行相应的义务。D项正确。

因此，选择D选项。

【知识点】公共知识\*国防和军队\*军队常识

50. （ ）的著作权保护办法由国务院另行规定。

- A. 杂技作品
- B. 口述作品
- C. 民间文学艺术作品
- D. 地图

【答案】C

【解析】第一步，本题考查知识产权。

第二步，根据《著作权法》第六条，民间文学艺术作品的著作权保护办法由国务院另行规定。C项正确。

因此，选择C选项。

【知识点】公共知识\*法律\*民法\*知识产权

二、多项选择题（请根据题目要求，在五个选项中选出两个或两个以上恰当的答案，错选或多选均不得分，少选且选择正确的每个选项得0.3分。共6题，每题1.5分，共9分。）

51. 当事人在订立合同过程中（ ），造成对方损失的，应当承担赔偿责任。

- A. 假借订立合同，恶意进行磋商
- B. 故意隐瞒与订立合同有关的重要事实
- C. 提供虚假情况
- D. 有其他违背诚信原则的行为
- E. 有其他违背等价交换原则的行为

【答案】 ABCD

【解析】 第一步， 本题考查民法典。

第二步， 根据《中华人民共和国民法典》第五百条规定：当事人在订立合同过程中有下列情形之一，造成对方损失的，应当承担赔偿责任：

- （一）假借订立合同，恶意进行磋商；
- （二）故意隐瞒与订立合同有关的重要事实或者提供虚假情况；
- （三）有其他违背诚信原则的行为。

因此，选择 ABCD 选项。

【知识点】 公共知识\*法律\*民法\*合同法

52. 国家通过开展国防教育，使全体公民（ ）。

- A. 增强国防观念
- B. 强化忧患意识
- C. 掌握国防知识
- D. 提高国防技能
- E. 发扬爱国主义精神

【答案】 ABCDE

【解析】 第一步， 本题考查国防常识。

第二步， 《国防法》第四十三条， 国家通过开展国防教育，使全体公民增强国防观念、强化忧患意识、掌握国防知识、提高国防技能、发扬爱国主义精神，依法履行国防义务。ABCDE 项正确，当选。

【知识点】 公共知识\*国防和军队\*国防常识

53. 运用货币政策调控经济的手段有（ ）。

- A. 法定准备金率
- B. 公开市场业务
- C. 税收政策
- D. 控制财政支出
- E. 再贴现政策

【答案】 ABE

【解析】 第一步， 本题考查宏观经济政策知识。

第二步， 货币政策是指中央银行为实现其特定的经济目标而采用的各种控制和调节货币供应量和信用量的方针、政策和措施的总称。调节总需求的货币政策的四大工具为法定准备金率， 公开市场业务和再贴现政策、 基准利率。

因此， 选择 ABE 选项。

【拓展】 C 项： 税收政策属于财政政策， 不属于货币政策。 C 项不符合题意， 因此不当选。

D 项： 控制财政支出属于财政政策， 不属于货币政策。 D 项不符合题意， 因此不当选。

【知识点】 公共知识\*经济\*宏观经济\*宏观经济政策

54. 习近平同志对关系新时代党和国家事业发展的一系列重大理论和实践问题进行了深邃思考和科学判断， 就新时代（ ） 等重大时代课题， 提出一系列原创性的治国理政新理念新思想新战略。

- A. 坚持和发展什么样的中国特色社会主义、 怎样坚持和发展中国特色社会主义
- B. 什么是社会主义、 怎样建设社会主义
- C. 建设什么样的社会主义强国、 怎样建设社会主义强国
- D. 建设什么样的长期执政的马克思主义政党、 怎样建设长期执政的马克思主义政党
- E. 实现什么样的发展、 怎样发展

【答案】 AD

【解析】 第一步， 本题考查新时代中国特色社会主义思想。

第二步， 党的十九届六中全会指出， 习近平同志对关系新时代党和国家事业发展的一系列重大理论和实践问题进行了深邃思考和科学判断， 就新时代坚持和发展什么样的中国特色社会主义、 怎样坚持和发展中国特色社会主义， 建设什么样的社会主义现代化强国、 怎样建设社会主义现代化强国， 建设什么样的长期执政的马克思主义政党、 怎样建设长期执政的马克思主义政党等重大时代课题， 提出一系列原创性的治国理政新理念新思想新战略， 是习近

平新时代中国特色社会主义思想的主要创立者。这一重要论断明确了习近平新时代中国特色社会主义思想要解决和回答的重大时代课题，体现了“时代之问”“人民之问”，具有鲜明的时代性、重大性、理论性和实践性。与 AD 项表述一致，C 项中缺少“现代化”，未提到 BE 项。

因此，选择 AD 选项。

**【拓展】**B 项：什么是社会主义、怎样建设社会主义是由邓小平提出的。社会主义，是解放生产力，发展生产力，消灭剥削，消除两极分化，最终达到共同富裕。怎样建设社会主义？既要不断努力，解放生产力，发展生产力，不断做大蛋糕，同时又必须逐步消灭剥削，消除两极分化下决心分好蛋糕。

E 项：实现什么样的发展、怎样发展是由胡锦涛提出的。科学发展观科学回答了“实现什么样的发展、怎么样发展”的重大理论和实际问题。

**【知识点】** 公共知识\*政治\*中国特色社会主义\*新时代中国特色社会主义思想

55. 关于价值、使用价值和交换价值的论述，正确的有（ ）。

- A. 无使用价值就不可能有价值
- B. 有使用价值就一定有价值
- C. 价值是交换价值的基础
- D. 无论交换价值还是价值，都是商品的本质属性
- E. 无论交换价值还是价值，都是商品的社会属性

**【答案】** AC

**【解析】** 第一步，本题考查商品与货币。

第二步，A 项：价值就是凝结在商品中无差别的人类劳动，使用价值是能够用来满足人们某种需要的属性。价值的存在要以使用价值的存在为前提，没有使用价值的东西也就不会有价值；使用价值是价值的物质承担者，价值寓于使用价值之中。故正确，当选。

C 项：交换价值是交换中产品价值与产品价值之间的关系或比例。交换价值是价值的表现形式，价值是交换价值的基础。故正确，当选。

因此，选择 AC 选项。

**【拓展】**B 项：价值就是凝结在商品中无差别的人类劳动，使用价值是能够用来满足人们某种需要的属性。有使用价值的东西不一定有价值，因为价值是指凝结在商品中的一般人类劳动，只有商品才有价值，而具有使用价值的东西不一定是商品。如非劳动产品空气、阳光等一定没有价值但有使用价值，劳动产品如农民收获的粮食如果供自己食用而不进行交换就不是商品不具有价值。B 项错误。

D项：价值就是凝结在商品中无差别的人类劳动，价值是商品的本质属性。D项错误。

E项：价值就是凝结在商品中无差别的人类劳动，价值是商品的社会属性。E项错误。

【知识点】公共知识\*经济\*马克思主义政治经济学\*商品与货币

56. 中国传统文化中的“因材施教”“对症下药”“因地制宜”等蕴含的哲理是（ ）。

- A. 处理矛盾切忌“一刀切”
- B. 不同的矛盾需要用不同方法来解决
- C. 任何事物都存在矛盾
- D. 矛盾无处不在，无时不有
- E. 具体问题具体分析

【答案】ABE

【解析】第一步，本题考查唯物辩证法。

第二步，“因材施教”是指针对不同对象的具体情况，采取有针对性的教育方法。“对症下药”是指针对病情开方用药，比喻针对具体情况，采取相应措施。“因地制宜”是指根据各地的具体情况，采取行之适当的措施。故三者均体现的哲理是矛盾具有特殊性，要做到具体问题具体分析，不同矛盾需要用不同方法来解析，处理矛盾切忌“一刀切”。故ABE项说法均正确，当选。

因此，选择ABE选项。

【拓展】C项：任何事物都存在矛盾，说法正确，但是和题干无关，C项错误。

D项：矛盾无处不在，无时不有，体现的是矛盾的普遍性，和题干无关，D项错误。

【知识点】公共知识\*政治\*马克思主义哲学\*唯物辩证法

三、系列单项选择题（请根据题目要求，在四个选项中选出一个最恰当的答案。共4题，每题1.5分，共6分。）

**材料一：**党的十八大以来，我们党提出新时代的强军目标，确立新时代军事战略方针，制定国防和军队现代化新“三步走”战略，推进政治建军、改革强军、科技强军、人才强军、依法治军，努力建设与我国国际地位相称，同国家安全和利益相适应的巩固国防和强大人民军队。

57. 在国防和军队现代化新“三步走”战略中，到二〇三五年的奋斗目标是（ ）。

- A. 实现军事理论现代化、军队形态现代化、军事人员现代化、武器装备现代化
- B. 实现建军一百年奋斗目标
- C. 基本实现国防和军队现代化

D. 全面实现国防和军队现代化

【答案】 C

【解析】 第一步， 本题考查军队常识。

第二步， 党的十九大报告指出， 适应世界新军事革命发展趋势和国家安全需求， 提高建设质量和效益， 确保到二〇二〇年基本实现机械化， 信息化建设取得重大进展， 战略能力有大的提升。 同国家现代化进程相一致， 全面推进军事理论现代化、 军队组织形态现代化、 军事人员现代化、 武器装备现代化， 力争到二〇三五年基本实现国防和军队现代化， 到本世纪中叶把人民军队全面建成世界一流军队。

因此， 选择 C 选项。

【知识点】 公共知识\*国防和军队\*军队常识

58. 实现党在新时代的强军目标， 必须走中国特色强军之路， 到（ ） 人民军队全面建成世界一流军队。

A. 二〇二一年

B. 二〇二七年

C. 本世纪中叶

D. 二〇三五年

【答案】 C

【解析】 第一步， 本题考查军队知识。

第二步， 习近平总书记在十九大报告中指出， 同国家现代化进程相一致， 全面推进军事理论现代化、 军队组织形态现代化、 军事人员现代化、 武器装备现代化， 力争到二〇三五年基本实现国防和军队现代化， 到本世纪中叶把人民军队全面建成世界一流军队。 C 选项正确。

因此， 选择 C 选项。

【知识点】 公共知识\*国防和军队\*军队知识

材料二： 古希腊文明向来被视为西方文明的源头之一， 对后世产生了广泛而深远的影响。 它代表了辉煌灿烂的文化， 当今世界的许多学科都可以追溯到古希腊。

59. 相传古希腊盲诗人荷马创作了著名的史诗《伊利亚特》。 其主题是（ ）。

A. 奥德修斯的返乡之旅

B. 希腊英雄的冒险故事

C. 特洛伊战争

D. 奥林匹斯众神的故事

【答案】 C

【解析】 第一步， 本题考查文学常识。

第二步，《伊利亚特》相传是由盲诗人荷马所作史诗。《伊利亚特》全诗共 15， 693 行， 分为 24 卷， 主要内容是叙述希腊人远征特洛伊城的故事。它通过对特洛伊战争的描写， 歌颂英勇善战、 维护集体利益、 为集体建立功勋的英雄。C 项符合题意。

因此， 选择 C 选项。

【知识点】 公共知识\*人文科技\*人文历史\*文学常识

60. 古希腊形成了城邦制度， 其最具代表性的城邦是雅典与（ ）。

- A. 叙拉古
- B. 斯巴达
- C. 迈锡尼
- D. 底比斯

【答案】 B

【解析】 第一步， 本题考查世界历史。

第二步， 希腊城邦是古希腊一种政治共同体， 以城市为单位形成自治国家。古希腊最具代表性的城邦是雅典和斯巴达。斯巴达史称拉凯达伊蒙， 位于伯罗奔尼撒半岛南部的拉科尼亚。斯巴达国家的政体属贵族共和政体。斯巴达社会分为 3 个等级： （1） 斯巴达人。城邦中的全权公民， 完全靠剥削奴隶劳动生活， 成为斯巴达国家的统治阶层。（2） 边民， 译为“庇里阿西”。被征服的边区城市的居民， 在本地有自治权， 但是没有斯巴达城邦的公民权。主要务农， 也有的从事工商业。（3） 黑劳士。属于斯巴达城邦所有的农业奴隶。B 项正确。

因此， 选择 B 选项。

【拓展】 雅典濒临爱琴海， 海上交通便利。这里的商人可以远航到埃及等地， 商业贸易使城邦繁荣起来。雅典的民主制度， 使公民积极地参政议政， 但是， 这种民主建立在奴隶制的基础之上， 占大多人口的奴隶、 妇女和外国人没有任何政治权利。

【知识点】 公共知识\*人文科技\*人文历史\*世界历史

## 第二部分 岗位能力

一、 言语理解（请根据题目要求， 在四个选项中选出一个最恰当的答案。共 15 题， 每题 1 分， 共 15 分。）

61. 下列语句中，“何”作为代词使用的一组句子是（ ）。



- ①何以战？（《曹刿论战》）
- ②大王来何操？（《鸿门宴》）
- ③徐公何能及君也？（《邹忌讽齐王纳谏》）
- ④又何间焉。（《曹刿论战》）

- A. ②④
- B. ②③
- C. ①②
- D. ①④

**【答案】** C

**【解析】** 第一步，审题干，找出句子“何”的意思。①“何以战？”意思为您凭借什么作战？②“大王来何操？”意思为大王来时带了什么东西？两句中“何”均为代词什么。③“徐公何能及君也？”意思是徐公怎么能比得上您呢？③中“何”指岂，怎么，为语气词，不是代词。④“又何间焉。”意思是你又何必参与呢？④中“何”指何必，为什么，不是代词。

第二步，辨析选项。C项①②中“何”为代词。

因此，选择C选项。

**【知识点】** 岗位能力\*言语理解与表达\*语句表达\*基础知识

62. 下面短文最恰当的标题是（ ）。

在微生物真正造成危害前，人体的免疫系统就必须提前识别出这些具有潜在威胁的对象。在这个过程中，细胞会根据一些常见的分子结构，找出具有特殊识别功能的受体，以此大范围地识别不同微生物的种类。

其中一个标志性结构是脂多糖，它是众多类型细菌的细胞壁都具有的一种长链糖。许多研究人员认为，除了那些极少数专门演化出规避免疫检测的病原体外，人体可以识别出任何一种微生物产生的脂多糖。但一项新的研究表明，一些深海细菌细胞壁上的脂多糖非常特殊，基本上是“透明的”，无法被人体细胞的功能识别受体识别。

- A. 微生物的危害
- B. 绕过人体免疫的深海细菌
- C. 微生物的脂多糖
- D. 可识别的脂多糖

**【答案】** B

**【解析】** 第一步，分析文段。文章第一段首句提出人体免疫系统需要在危害前识别微生物

物。第一段第二句介绍识别过程是细胞根据特殊的受体识别完成的，以此大范围的识别不同的微生物种类。第二段首句指出受体的标志性结构是脂多糖。第二段第二句先援引一般观点，人类可以识别任何一种微生物的脂多糖，之后文通过转折引出文段重点即深海细菌细胞壁上的脂多糖非常特殊，无法被人体细胞的功能识别受体识别。文段主旨为深海细菌无法被人体免疫系统识别。

第二步，对比选项。B项是对主旨的同义替换，适合作为文段的标题。

因此，选择B选项。

**【拓展】**A项、C和D项：均偏离“深海细菌”这一主体。文段出处：《这些深海细菌，能绕过人体免疫系统》

**【知识点】**岗位能力\*言语理解与表达\*片段阅读\*标题选择

63. 根据文意，下列选项与“生物钟”无关的是（ ）。

睡眠有个神奇的特点，就是我们总是在每天晚上几乎相同的时间感受到睡神的召唤。之所以如此，是因为睡眠的启动部分依赖于大脑内的一个“时钟”，这个“时钟”能够追踪记录地球的昼夜更替，以及季节性规律。而这个星球上的其他生物，从细菌和植物，到鱼类、昆虫和哺乳动物，都具有这样的能力，“生物钟”在自然界无处不在。

- A. 棕熊在冬天冬眠
- B. 东半球的人移居到西半球需要倒时差
- C. 夏季来临昼长夜短
- D. 人多数花朵都会在春天盛开

**【答案】**C

**【解析】**第一步，定位原文，“生物钟”出现在尾句。“生物钟”与前文的“大脑内的‘时钟’”意思一致，根据“这个‘时钟’能够追踪记录地球的昼夜更替，以及季节性节律，而这个星球上的其他生物，从细菌和植物，到鱼类、昆虫和哺乳动物，都具有这样的能力”可知，“生物钟”应涵盖“生物”和“更替”。

第二步，对比选项。C项不涉及“生物”，不符合上述语境。

因此，选择C选项。

**【拓展】**A项：是动物具备的能力，和“生物钟”有关。B项：“倒时差”同样和“生物钟”有关。D项：属于季节性节律，和“生物钟”有关。

**【知识点】**岗位能力\*言语理解与表达\*片段阅读\*细节查找

64. 改革开放以来，我国文艺创作迎来了新的春天，产生了大量\_\_\_\_\_的作品。同时

也不能否认，在文艺创作方面，存在着有数量缺质量、有“高原”缺“高峰”的现象，存在着抄袭模仿、\_\_\_\_\_的问题。精品之所以“精”，就在于其思想精深、艺术精湛、制作精良。文艺工作者要\_\_\_\_\_，随着时代生活创新，以自己的艺术个性进行创新。

依次填入横线最恰当的是（ ）。

- A. 家喻户晓 泥沙俱下 标新立异
- B. 丰富多彩 照猫画虎 精耕细作
- C. 脍炙人口 千篇一律 志存高远
- D. 喜闻乐见 因循守旧 与时俱进

【答案】C

【解析】第一步，突破口在第二空。根据“抄袭模仿、\_\_\_\_\_”可知，第二空与抄袭模仿语义相近。A项“泥沙俱下”指泥土和沙石一同被水冲下来，比喻好坏不同的人或事物都混杂在一起，与文意不符，排除。B项“照猫画虎”比喻只从形式上模仿，实际上并不理解，文中没有体现实际内容的不理解，与语境不符，排除。D项“因循守旧”因循守旧：照老样子不改，不求革新，与文意不符，排除。C项“千篇一律”指诗文书画等作品公式化，也泛指事物只有一种形式，没有变化，与文意相符。锁定答案为C项。

第二步，验证第一、三空。C项“脍炙人口”指美味大家都喜欢吃，比喻人人都赞美和传诵好的诗文或事物，与“文艺创作进来了新的春天”和“作品”照应。C项“志存高远”指立志很高远，有雄心壮志，与文意相符。

因此，选择C项。

【拓展】家喻户晓：家家户户都知道，形容尽人皆知。丰富多彩：内容充实，品种繁多，形式多样。喜闻乐见：喜欢听、乐意看。高。精耕细作：指精心细致地耕作。与时俱进：与时间一起前进，指不断进取，永不停滞。标新立异：照老样子不改，不求革新。

【知识点】岗位能力\*言语理解与表达\*逻辑填空\*成语辨析

65. 下列顿号使用错误的是（ ）。

- A. 目前，中国 90% 的陆地生态系统类型和 71% 的国家重点保护野生动植物物种得到有效保护，人们熟知的大熊猫、朱鹮、亚洲象等濒危物种种群数量在不断增加
- B. 俄罗斯 S-500“普罗米修斯”防空导弹系统，直接把抗击矛头指向战略轰炸机、战略侦察机、洲际弹道导弹、高超声速导弹甚至是低轨道卫星等
- C. 王维的“清泉石上流”、“红豆生南国”、以及“独在异乡为异客”都是耳熟能详的诗句
- D. 城市发展的近期和愿景规划，包括土地的开发与利用，基础设施和生活服务设施的建

设与管理，环境的治理与保护，信息的收集、处理和应用，吸引投资的网络组织、营销方式和鼓励措施等

**【答案】** C

**【解析】** 第一步，明确设问，寻找标点符号使用错误的一项。

第二步，辨析选项。A项、B项和C项标点使用正确。C项“清泉石上流”“红豆生南国”“都在异乡为异客”为并列主语，因此顿号应该为逗号。

因此，选择C选项。

**【知识点】** 岗位能力\*言语理解与表达\*语句表达\*基础知识

66. 依次填入下面一段文字横线处的语句，衔接最恰当的一组是（ ）。

我国是食品生产和消费的大国，有效解决食品安全领域损害群众利益的突出问题，切实增强消费安全感，\_\_\_\_\_，\_\_\_\_\_，\_\_\_\_\_，\_\_\_\_\_，\_\_\_\_\_。

- ①强化执法措施，严惩违法犯罪分子
- ②创新食品安全监管机制
- ③坚决淘汰劣质企业，以震慑所有企业，使之不敢越雷池一步
- ④既需要食品生产经营者诚信自律，更需要严格的法律制度对其约束和有效监管
- ⑤因此，必须保持严厉打击违法违规行为的态势，及时消除各环节的隐患

- A. ④⑤①②③
- B. ⑤①②③④
- C. ④⑤①③②
- D. ④③⑤②①

**【答案】** A

**【解析】** 第一步，通读文段，整个文段主要是讲对食品生产要进行法律制度约束和监管。对比选项，确定首句。④通过“既……更……”的递进句式，提出食品安全需要食品生产经营者诚信自律以及严格的法律制度进行监管，起到总领的作用，可作为首句。⑤通过“因此”引导具体的做法，相较而言，应该先提出整体做法，再具体来论述，故⑤不适合做首句，排除B选项。

第二步，对比A项、B项和C项。确定④之后为⑤还是③。⑤通过“因此”引导具体的做法，④⑤话题一致可绑定。③句通过“淘汰”“震慑”“不敢越雷池一步”等表述，强调对策所达到的效果，故③应该在⑤之后，排除D项。再对比A项和C项，确定②③的顺序，②强调“创新监管机制”依然为对策表述，③为对策所达到的效果，所以对策论述完，再来介绍其起到

的效果，②应该在③之前，排除 B 项。答案锁定 A 选项。

第三步，验证 A 选项。语句通顺，逻辑清晰。

因此，选择 A 选项。

【知识点】岗位能力\*言语理解与表达\*语句表达\*语句排序

67. 下列各句中，没有语病的一项是（ ）。

A. G7 高速横穿戈壁、草原、城市、乡村、湿地等多种地形，沿途地貌多变，充满挑战，堪称“中国最美公路”，走上一遭就能顺便满足人们横穿中国的心愿

B. 据中国人口与发展研究中心预测，从“十四五”开始，中国 60 岁以上老年人口将进入一个快速增长的时期，在 2055 年前中国的老年人口会超过 5 亿，占比将达到 39.5%

C. 四川三星堆遗址考古发掘中秉持的精细发掘理念、采用的多种现代科技手段、构建的考古发掘现场预防性保护，都为我国考古发掘和研究树立了新的标杆

D. “燃灯校长”张桂梅教书育人，用知识改变贫困山区女孩命运，用教育阻断贫困代际传递，她要化作一束光，照亮了大山里女孩的梦想

【答案】B

【解析】第一步，审清设问，找出没有语病的一项。

第二步，对比选项。A 项搭配不当，“城市、乡村”不属于“地形”，排除。B 项语意明确，没有语病。C 项“构建的考古发掘现场预防性保护”缺少句子成分，应该改为“构建的考古发掘现场预防性保护模式”，排除 C 项。D 项时态错误，前文提到张桂梅校长“用知识改变贫困山区女孩命运，用教育阻断贫困代际传递”，后文“她要化作一束光”为将来时，与前文的表述时态不一致，排除 D 项。

因此，选择 B 选项。

【知识点】岗位能力\*言语理解与表达\*语句表达\*病句辨析

68. 能准确概括下面一段文字内容的是（ ）。

琴声渐起，我仿佛看见一滴滴饱满的水珠儿洒落在含苞待放的桃花上，又恋恋不舍地挂着丝儿似的落下来，犹如一个活泼的小精灵。它又像一条奔腾不息的大河，裹挟着泥沙、卵石，翻滚着向前奔去，撞击着河岸，向阻挡它的一切势力发起猛烈冲击。忽而，一阵清风穿过树林，一粒沙子从屋檐上滚落，掉在门前那口空水缸里，清脆悦耳，回音似璧。琴声欲止，似一朵烟花静静地绽放。

A. 琴音遐想

B. 琴声悠扬

- C. 琴音似水
- D. 琴声悦耳

【答案】A

【解析】第一步，分析文段。文段先提到“琴声响起”，紧接着使用多个比喻“我仿佛看见……犹如……又像……忽而……琴声欲止……似……”，描绘了琴给作者营造的诸多意象，如“水珠儿、桃花、大河、泥沙、卵石、河岸”等等。文段为“分—分”结构，主要介绍了由悠扬美妙琴音引发的无限遐想。

第二步，对比选项。A项是对文段的概括和归纳。

因此，选择A选项。

【拓展】B项、C项和D项：均对应文中部分内容，表述片面。

【知识点】岗位能力\*言语理解与表达\*片段阅读\*主旨概括

69. 二十四节气是中华民族农耕文明的智慧结晶，也是专属中国人的独特时间美学。下列选项中，节气与诗句搭配正确的是（ ）。

- A. 立冬节气——蒹葭苍苍，白露为霜。所谓伊人，在水一方
- B. 惊蛰节气——微雨众卉新，一雷惊蛰始。田家几日闲，耕种从此起
- C. 立春节气——草树知春不久归，百般红紫斗芳菲。杨花榆荚无才思，惟解漫天作雪飞
- D. 清明节气——田家少闲月，五月人倍忙。夜来南风起，小麦覆陇黄

【答案】B

【解析】第一步，审题干，找出节气与诗句搭配正确的一项。

第二步，A项“蒹葭苍苍，白露为霜。所谓伊人，在水一方。”意思是河边芦苇青苍苍，秋深露水结成霜。意中之人在何处？就在河水那一方。这句描述的节气是“白露节气”，节气与诗句搭配不正确，排除A项。

第三步，B项“微雨众卉新，一雷惊蛰始。田家几日闲，耕种从此起。”意思是一场微细的春雨百草充满生机，一声隆隆的春雷惊蛰节令来临。种田人家一年能有几天空闲，田中劳作从惊蛰便开始忙碌起来。这句描述的节气是“惊蛰节气”，节气与诗句搭配正确。

第三步，C项“草树知春不久归，百般红紫斗芳菲。杨花榆荚无才思，惟解漫天作雪飞。”意思是春天不久就将归去，花草树木想方设法挽留春天，一是争奇斗艳，人间万紫千红。可怜杨花榆钱，没有艳丽姿色，只知漫天飞舞，好似片片雪花。这句描述的节气是“谷雨节气”，节气与诗句搭配不正确，排除C项。

第四步，D项“田家少闲月，五月人倍忙。夜来南风起，小麦覆陇黄。”意思是农家很少

有空闲的月份，五月到来人们更加繁忙。夜里刮起了南风，覆盖田垄的小麦已成熟发黄。这句描述的节气是“小满节气”，节气与诗句搭配不正确，排除 D 项。

因此，选择 B 选项。

【知识点】岗位能力\*言语理解与表达\*语句表达\*基础知识

70. 下列文字中“它们是它们自己的。”一句指的是（ ）。

人说自己的作品是结成的果实，我却觉得，我的作品像一片片落叶，一年年落叶，一阵一阵落叶。……一片又一片的落叶落下了，它们曾经是树的。现在也还是树的，却又不是树的了。它们是它们自己的。是树的过往的季节，过往的尝试，过往的儿女。又是大地的新客人，新的星外来客，新的友人。

- A. 作品一旦完成，就有了独立的生命
- B. 读作品不必理会作者的情况
- C. 树叶凋落，树已经无能为力
- D. 作家是作家，作品是作品

【答案】A

【解析】第一步，定位原文，“它们是它们自己的”出现在第四句。分析“它们是它们自己的”的上下文语境。前文引出“自己的作品是结成的果实”话题，第二句开始，将“作品”与“落叶”类比，提到“落叶曾经是树的，现在也还是树的，却又不是树的了”“是树的过往的季节，过往的尝试，过往的儿女”“又是大地的新客人，新的星外来客，新的友人”强调落叶离开大树，拥有了自己的什么。故，将“作品”与“落叶”类比，强调作品完成后，也将拥有自己的生命。

第二步，对比选项。A 项即为“它们是它们自己的”所指内容。

因此，选择 A 选项。

【知识点】岗位能力\*言语理解与表达\*片段阅读\*词句理解

71. 填入横线最恰当的是（ ）。

君子之交淡如水，淡而不腻，才能持久。所有令人舒服的相处，一定饱含合适的\_\_\_\_\_。

- A. 代入感
- B. 价值感
- C. 认同感
- D. 分寸感

【答案】D

【解析】第一步，分析语境。文中提到“君子之交淡如水，淡而不腻，才能持久”，即代表保持距离，防止过分的亲昵才可以长久，即要有“度”。

第二步，对比选项。D项“分寸感”表示要保持适度，符合语境。A项“代入感”是指在小说、影视作品或游戏中读者、观众或玩家产生一种自己代替了小说或游戏之中的人物而产生的一种身临其境的感觉；B项“价值感”是指个体看重自己，觉得自己的才能和人格受到社会重视，在团体中享有一定地位和声誉，并有良好的社会评价时所产生的积极情感体验；C项“认同感”是指人对自我及周围环境有用或有价值的判断和评估，希望被认可的感受。三者均不符合文意，排除A项、B项和C项。

因此，选项D选项。

【知识点】岗位能力\*言语理解与表达\*逻辑填空\*实词辨析

72. 下列两句填入横线处最恰当的是（ ）。

(1) 每逢深秋季节，\_\_\_\_\_，松竹山茶，色彩绚丽，美景尽览。

(2) 远眺群山环抱，\_\_\_\_\_，近看小河流水，茶园葱绿，松竹并茂。

①置身山顶，俯瞰槐榆丹枫

②置身山顶俯瞰，槐榆丹枫

③白云缭绕，层林叠翠

④层林叠翠，白云缭绕

A. ②④

B. ①③

C. ①④

D. ②③

【答案】A

【解析】第一步，分析第(1)句。(1)句描写的是深秋时节的景象描写。①和②的区别在于“俯瞰”是置于上分句还是置于下分句，分析原文可知，横线后面的几个分句均是“俯瞰”的宾语，均是四字构成，②的四字句置于文中句式一致，音节和谐，排除B项和C项。

第二步，分析第(2)句。③④的区别在于两个分句的前后顺序不同。④句的“绕”与原句中的“茂”两字都处于句末，更加押韵，读来更加朗朗上口，由此排除D项。

因此，选择A选项。

【知识点】岗位能力\*言语理解与表达\*语句表达\*语句填空

73. 依次填入下列各句横线处的虚词，最恰当的是（ ）。



(1) 生活中，我们发现明智的人善于见微知著，\_\_\_\_\_做出科学的论断，于是便成了所谓的未卜先知。

(2) 随着高铁时代的到来，中国交通网日益发达，\_\_\_\_\_是边远山区，与外界的交往更便捷。

(3) 由于新冠疫情的影响，汽车生产和销售都受到了影响，\_\_\_\_\_是人员密集、流动性大的旅游行业。

A. 从而 尤其 何况

B. 从而 甚至 况且

C. 进而 甚至 何况

D. 进而 尤其 况且

【答案】A

【解析】第一步，分析第(1)句。分析“进而”和“从而”的区别：“进而”侧重于继续往前，更进一步，用于后一分句，如“先调查研究，进而提出改革方案”；“从而”侧重于表示上文指明原因，条件，方法等，下文用“从而”引出结果，目的等，如“由于广泛采用了新技术，从而大大提高了劳动生产率”。在(1)句中，“善于见微知著”和“做出科学的论断”之间存在因果或条件关系，用“从而”符合语境，排除C项和D项。

第二步，分析第(3)句。分析“何况”和“况且”的区别：“何况”是连词，表示补充说明，带前后对比意味；“况且”相当于口语中的而且，再说，表示进一步说明理由，多用来补充说明理由。(3)句中“汽车行业”与“旅游行业”前后有对比，“何况”符合语境，排除B项。答案锁定A选项。

第三步，验证第(2)句。“尤其”符合语境。

因此，选择A选项。

【拓展】“甚至”和“尤其”的区别：“甚至”是在一个一般性的陈述完了之后，补充说明这一陈述之外的特殊点，如“一天之内，他已完成任务，甚至超额完成百分之二十”“他们贡献出所有的精力，甚至最宝贵的生命”；“尤其”则是在一般性陈述之后，补充说明陈述之内的特殊点，如“他做事认真，对关系重大的事尤其一丝不苟”“他各门功课都好，语文尤其突出”。内外之差，不可乱用。

【知识点】岗位能力\*言语理解与表达\*逻辑填空\*实词辨析

74. 大当量精确制导武器的出现为阵地工程防护带来了新的挑战。比如，巨型钻地导弹可穿透数十米厚的混凝土防护层或岩石层，被称为“地堡克星”。即便是运用智能遮弹技术将

其击爆于防护层表面，其巨大的爆炸能量也足以将地下工程重创或摧毁。在此威胁下，面对防护材料和防护结构难以实现突破性进展的现实“瓶颈”，战场目标一旦被发现就意味着被摧毁。而依托信息手段的近程拦截防护技术为防御大当量钻地导弹打击开辟了一条新的途径。

这段话主要说的是（ ）。

- A. 阵地工程防护面临全新挑战
- B. 近程拦截为军事防御工程带来新希望
- C. 大当量精确制导武器目前还无法防御
- D. 智能遮弹技术是军事防御的发展趋势

【答案】 B

【解析】 第一步，分析文段。文段开篇先提出问题，提到大当量精确制导武器的出现为阵地工程防护带来了新的挑战，并举例论证。然后指出即便是运用智能遮弹技术仍无法解决。最后尾句给出解决问题的对策，为文段的主旨句——依托信息手段的近程拦截防护技术为防御大当量钻地导弹打击开辟了一条新的途径。核心话题为“近程拦截防护技术”。

第二步，对比选项。B项是对文段主旨句的同义替换，核心话题与文段一致。

因此，选择B选项。

【拓展】 A项、C项和D项：均缺少核心话题“近程拦截防护技术”。

【知识点】 岗位能力\*言语理解与表达\*片段阅读\*主旨概括

75. 下列各句中，句意明确、没有歧义的是（ ）。

- A. 今年夏季，河南和湖北的大部分地区都遭受了严重的洪涝灾害，有人员伤亡
- B. 两个公司的员工都来了，这两个公司的领导也来了
- C. 工作组来我县调查的前三天，整个县城就已沸沸扬扬
- D. 他是刚到这里来工作的大学生，很多人还不了解

【答案】 B

【解析】 第一步，分析A项。该项中“河南和湖北的大部分地区”语意不明，是“河南、湖北的大部分地区”还是“河南大部分地区与湖北大部分地区”，有歧义。

第二步，分析B项。句意明确、没有歧义。

第三步，分析C项。该项中“前三天”语意不明，是“工作组”到来之前的三天，还是“调查”过程中的“前三天”，有歧义。

第四步，分析D项。该项中“很多人还不了解”语意不明，是“新来的大学生不了解很多人”还是“很多人不了解新来的大学生”，有歧义。

因此，选择 B 选项。

**【知识点】** 岗位能力\*言语理解与表达\*语句表达\*歧义句辨析

二、数量关系（请根据题目要求，在四个选项中选出一个最恰当的答案。共10题，每题1.5分，共15分。）

76. 某通信排有 15 名女通信兵和 5 名男通信兵，其中包括 2 名女业务尖兵和 1 名男业务尖兵。若从该排随机抽选 3 名女兵和 1 名男兵参加团里组织的通信专业技能比武竞赛，则至少抽到 1 名业务尖兵的概率是（ ）。

- A. 46.7%
- B. 49.7%
- C. 50.3%
- D. 53.3%

**【答案】** B

**【解析】** 第一步，本题考查概率问题。

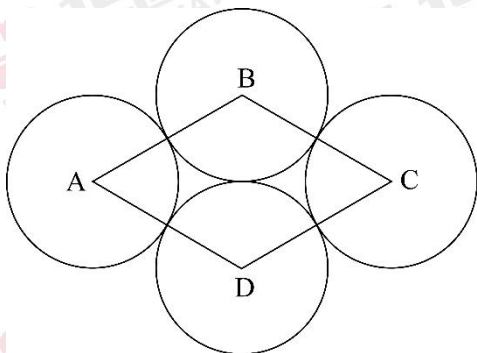
第二步，反向求解，用总的概率 1 减去 1 名业务尖兵都没抽到的概率，

$$1 - \frac{C_{13}^3 C_4^1}{C_{15}^3 C_5^1} = 1 - \frac{13 \times 12 \times 11 \times 4}{15 \times 14 \times 13 \times 5} \approx 1 - 50.3\% = 49.7\%。$$

因此，选择 B 选项。

**【知识点】** 岗位能力\*数量关系\*数学运算\*概率问题\*基本概率

77. 四个半径为 1 厘米的圆如下图所示摆放在一起，且 4 个圆的圆心连成一个菱形 ABCD，则这个菱形的面积是（ ）平方厘米。

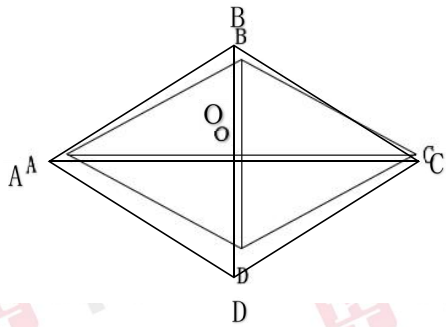


- A. 4
- B.  $2\sqrt{3}$
- C.  $3\sqrt{2}$
- D.  $\pi$

【答案】 B

【解析】 第一步， 本题考查几何问题。

第二步， 连结 AC、BD，  $AB=BD=2$  厘米（2 倍的半径），  $OB=1$  厘米， 可知  $\angle BAO=30^\circ$ ，  $AO=\sqrt{3}$ ，  $OB=\sqrt{3}$ ， 则  $AC=2\sqrt{3}$ ， 根据菱形面积等于对角线的乘积除以 2 可知， 菱形的面积  $=2 \times 2\sqrt{3} \div 2 = 2\sqrt{3}$ （平方厘米）。



因此， 选择 B 选项。

【知识点】 岗位能力\*数量关系\*数学运算\*几何问题\*平面几何类

78. 2015 年元旦， 强军爸爸的年龄是强军的 6 倍。2017 年元旦， 强军多了一个妹妹。2022 年元旦， 强军 12 岁， 又多了一个弟弟。则到（ ） 年元旦时， 强军爸爸的年龄恰好是其三个孩子的年龄之和。

- A. 2026
- B. 2028
- C. 2030
- D. 2032

【答案】 D

【解析】 第一步， 本题考查年龄问题。

第二步， 2022 年， 强军 12 岁， 2015 年， 强军  $12-7=5$  岁， 爸爸  $5 \times 6=30$  岁， 2022 年， 爸爸  $30+7=37$  岁、 强军 12 岁、 妹妹  $2022-2017=5$  岁、 弟弟 0 岁， 设再过  $x$  年爸爸的年龄恰好是其三个孩子的年龄之和，  $37+x=(12+x)+(5+x)+(0+x)$ ， 解得  $x=10$ ， 则到  $2022+10=2032$  年元旦时， 强军爸爸的年龄恰好是其三个孩子的年龄之和。

因此， 选择 D 选项。

【知识点】 岗位能力\*数量关系\*数学运算\*年龄问题

79. 选择最合理的一项来填充所给数列的空缺位置， 使之符合原数列的排列规律：

24, 12, 12, 18, 45, ( )。

- A. 160
- B. 165
- C. 170
- D. 180

【答案】D

【解析】第一步，本题考查多级数列。

第二步，后项÷前项依次为：1/2、1、3/2、5/2，将四个分数分母通分为2，分子依次为1、2、3、5，是递推和数列，下一项分子为3+5=8，则下一项分数为8/2=4，可知( ) ÷45=4，( ) =45×4=180。

因此，选择D选项。

【知识点】岗位能力\*数量关系\*数字推理\*多级数列

80. 某班级计划安排7名学生负责国庆7天的假期值班，每天安排1名学生，每名学生值班1天。若7名学生中的小王不值10月3日、小张不值10月4日，则有( )种不同的假期值班安排方案。

- A. 3480
- B. 3600
- C. 3720
- D. 4320

【答案】C

【解析】第一步，本题考查排列组合问题。

第二步，本题可分两类：①小王值10月4日，另外6人有 $A_6^6=720$ 种安排方案；②小王不值10月3日及4日，安排小王有 $C_5^1=5$ 种，小张从除4日以外的5天中任选一天值班有 $C_5^1=5$ 种，剩余5人有 $A_5^5=120$ 种，共 $5 \times 5 \times 120=3000$ 种。两类安排方式共有 $720+3000=3720$ 种不同的假期值班安排方案。

因此，选择C选项。

【知识点】岗位能力\*数量关系\*数学运算\*排列组合问题\*基础排列组合

81. 记不超过20的所有质数(素数)的算术平均值为M，则与M最接近的整数是( )。

- A. 8
- B. 9
- C. 10

D. 11

【答案】 C

【解析】 第一步， 本题考查平均数问题。

第二步， 20 以内的质数为 2, 3, 5, 7, 11, 13, 17, 19, 总和为 77, 共 8 个数, 所以平均数  $M=77\div 8=9.625$ , 更接近 10。

因此, 选择 C 选项。

【知识点】 岗位能力\*数量关系\*数学运算\*平均数问题

82. 选择最合理的一项来填充所给数列的空缺位置, 使之符合原数列的排列规律: -1, 2, 6, 21, 43, ( )。

A. 56

B. 68

C. 74

D. 82

【答案】 D

【解析】 第一步, 本题考查多级数列。

第二步, 将相邻项两两加和, 可得 1, 8, 27, 64, 是立方数列, 所以下一个立方数为 125, 所求项  $=125-43=82$ 。

因此, 选择 D 选项。

【知识点】 岗位能力\*数量关系\*数字推理\*多级数列

83. 一项工程由甲乙丙三人合作完成需要 10 天。如果丙休息 1 天, 则要么甲乙两人多合作 1 天, 要么乙单独多做 2 天。问这项工程由丙单独完成需要 ( ) 天。

A. 20

B. 30

C. 40

D. 60

【答案】 A

【解析】 第一步, 本题考查工程问题中的效率类。

第二步, 根据条件可知, 丙一天的工作量=甲乙合作一天的工作量=乙两天的工作量, 可知三个人的效率的关系为丙=2 甲=2 乙, 赋值甲乙丙的效率分别为 1, 1, 2, 则总量为  $(1+1+2)\times 10=40$ , 所以丙的工作时间为  $40\div 2=20$ 。

因此，选择 A 选项。

【知识点】岗位能力\*数量关系\*数学运算\*工程问题中\*效率类

84. 某部队共有 200 名士兵，分成 3 组全部去参加抗洪救灾。已知第一组与第二组的士兵数量比为 3:2，第三组的士兵数量比第一组少 16，则第一组的士兵数量是（ ）。

A. 54

B. 65

C. 81

D. 90

【答案】C

【解析】第一步，本题考查基础应用题，用方程法解题。

第二步，假设第一组和第二组士兵的数量分别为  $3x$  和  $2x$ ，第三组的士兵数量为  $3x-16$ ，总和为 200 人，解得  $x=27$ ，所以第一组士兵的数量为  $3x=81$ 。

因此，选择 C 选项。

【知识点】岗位能力\*数量关系\*数学运算\*基础应用题

85. 小王上楼梯，可以一步一个台阶，也可以一步两个台阶。若楼梯共有 10 个台阶，则小王上楼梯的方法有（ ）种。

A. 55

B. 89

C. 120

D. 144

【答案】B

【解析】第一步，本题考查排列组合问题中的方法技巧类。

第二步，如果每次一个台阶，共 10 步，只有一种走法；

如果走一次两个台阶，九次一个台阶，可根据捆绑法，共有  $C_9^1=9$  种；

如果走两次两个台阶，六次一个台阶，共有  $C_8^2=28$  种；

如果走三次两个台阶，四次一个台阶，共有  $C_7^3=35$  种；

如果走四次两个台阶，两次一个台阶，共有  $C_6^4=15$  种；

如果走五次两个台阶，只有一种走法，总计 89 种。

因此，选择 B 选项。

【知识点】岗位能力\*数量关系\*数学运算\*排列组合问题\*方法技巧类

三、判断推理（请根据题目要求，在四个选项中选出一个最恰当的答案。共10题，每题1.5分，共15分。）

86. 母亲只有在父亲陪伴下才坐飞机。如果父亲不坐高铁，那么儿子也不坐高铁。则正确的是（ ）。

- A. 父亲在高铁上，则儿子也在高铁上
- B. 儿子不在高铁上，则母亲在飞机上
- C. 父亲在飞机上，则母亲在高铁上
- D. 儿子在高铁上，则母亲没在飞机上

【答案】D

【解析】第一步，确定题型。

根据题干关键词“如果，那么”等，确定为翻译推理题。

第二步，翻译题干。

①母亲坐飞机→父亲坐飞机；

②¬父亲坐高铁→¬儿子坐高铁。

第三步，辨析选项。

A项：“父亲在高铁上”是对②的“否前”，否前无必然结论，排除；

B项：“儿子不在高铁上”是对②的“肯后”，肯后无必然结论，排除；

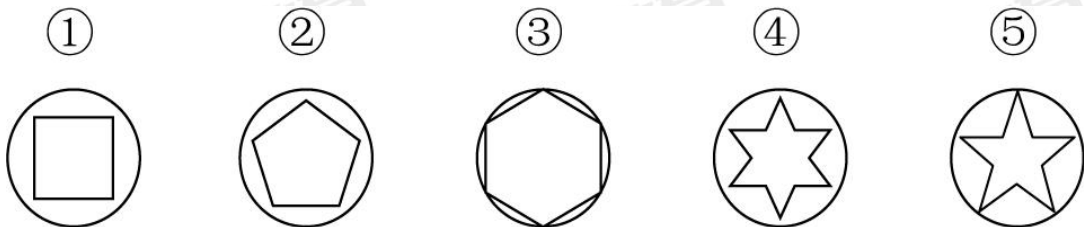
C项：“父亲在飞机上”是对①的“肯后”，肯后无必然结论，排除；

D项：“儿子在高铁上”是对②的“否后”，根据“否后必否前”可知，父亲在高铁上，即不在飞机上，是对①的“否后”，根据“否后必否前”可知母亲不在飞机上，正确。

因此，选择D选项。

【知识点】岗位能力\*判断推理\*翻译推理

87. 选择最合适的一项拿掉，使得剩下的图形呈现一定规律性的是（ ）。



- A. ①
- B. ②
- C. ③



D. ④

【答案】 B

【解析】 第一步，观察特征。

图形内部组成数量特征明显，优先考虑数量类。

第二步，一条式，从左到右找规律。

观察发现，去掉②图后其余图形内部直线数均为偶数。

因此，选择 B 选项。

【知识点】 岗位能力\*判断推理\*线

88. 一项新的调查显示，那些饮食习惯相近的男女朋友发展成为夫妻的可能，比那些饮食习惯差异较大的男女朋友要高得多。因此，要想结为夫妻，男女朋友之间就需要尽量保持相近的饮食习惯。

以下哪项如果为真，最能削弱上述题干的结论？（ ）

- A. 饮食习惯不同的人往往性格差异巨大
- B. 男女朋友最后结为夫妻并不一定是饮食习惯相近
- C. 饮食习惯与男女朋友发展成为夫妻关系有直接联系
- D. 男女朋友不能结为夫妻的一个重要原因是饮食习惯差异大

【答案】 B

【解析】 第一步，确定题型。

根据提问方式中出现“削弱”，确定为削弱论证。

第二步，找论点和论据。

论点：要想结为夫妻，男女朋友之间就需要尽量保持相近的饮食习惯。

论据：饮食习惯相近的男女朋友发展成为夫妻的可能，比那些饮食习惯差异较大的男女朋友要高得多。

第三步，辨析选项。

A 项：无关选项。该项说的是饮食习惯不同的人性格差异是否巨大，与论点无关，不可以削弱。

B 项：切断联系。该项指出男女朋友能否结为夫妻不一定取决于饮食习惯，切断了论据论点间的联系，有削弱作用。


C 项：增加论据。该项指出饮食习惯与男女朋友能否发展成为夫妻有关系，具有加强作用。

D项：增加论据。该项证明饮食习惯确实是影响男女朋友能否成为夫妻的因素，具有加强作用。

因此，选择B选项。

【知识点】 岗位能力\*判断推理\*削弱论证

89. 选择最合适的一项填入问号处，使之呈现一定规律性的是（ ）。



- A. 如上图所示
- B. 如上图所示
- C. 如上图所示
- D. 如上图所示

【答案】 B

【解析】 第一步，观察特征。

图形组成相似，优先考虑样式类。

第二步，九宫格，优先横向找规律。

观察发现，第一横行图一旋转 90 度后与逆时针旋转 45 度后的图二相加得图三，第二横行图一旋转 90 度后与逆时针旋转 45 度后的图二相加得图三，第三横行运用规律，只有 B 项符合。

因此，选择 B 选项。

【知识点】 岗位能力\*判断推理\*加，旋转

90. 五位同学对毕业去向进行讨论。

小张说：“小王去了西安，小李去了北京。”

小王说：“小李去了上海，小赵去了武汉。”

小李说：“小赵去了北京，小周去了武汉。”

小赵说：“小周去了南京，小李去了上海。”

小周说：“小张去了上海，小李去了南京。”

已知每位同学的去向不同，而且每位同学的去向都有同学说对，则正确的是（ ）。

- A. 小张去了上海，小王去了西安，小李去了南京，小赵去了北京，小周去了武汉
- B. 小李去了上海，小赵去了西安，小张去了南京，小王去了北京，小周去了武汉
- C. 小周去了上海，小王去了西安，小赵去了南京，小张去了北京，小李去了武汉
- D. 小赵去了上海，小李去了西安，小周去了南京，小张去了北京，小王去了武汉

【答案】A

【解析】第一步，确定题型。

题干有信息匹配特征，确定为分析推理。

第二步，分析条件，进行推理。

已知“每位同学的去向都有同学说对”，而小王和小张的去向都只被说起一次，则这两个猜测一定对，所以“小王去了西安”、“小张去了上海”为真。

因此，选择A选项。

【知识点】岗位能力\*判断推理\*逻辑判断\*分析推理

91. ( ) 对于“踌躇满志”，相当于“垂头丧气”对于 ( )。

- A. 心满意足；滚滚东流
- B. 奋不顾身；心灰意冷
- C. 谨小慎微；贪生怕死
- D. 怡然自得；萎靡不振

【答案】D

【解析】分别将选项代入题干，确定逻辑关系。

A项：“踌躇满志”形容对自己取得的成就非常得意，“心满意足”指心愿满足，二者属于近义关系，“垂头丧气”指非常失望或沮丧的神情，“滚滚东流”形容长江水波涛汹涌，一直向东流去，二者无明显逻辑关系，排除；

B项：“奋不顾身”指奋勇向前，不顾生命，与“踌躇满志”无明显逻辑关系，“心灰意冷”指灰心丧气，意志消沉，与“垂头丧气”属于近义关系，前后逻辑关系不一致，排除；

C项：“谨小慎微”指过分小心谨慎，缩手缩脚，不敢放手去做，与“踌躇满志”无明显逻辑关系，“贪生怕死”指贪恋生存，害怕死亡，与“垂头丧气”无明显逻辑关系，排除；

D项：“怡然自得”形容安适、愉快而满足的样子，与“踌躇满志”属于近义关系，“萎靡不

振”形容意志消沉，精神不振作，与“垂头丧气”属于近义关系，前后逻辑关系一致，符合。

因此，选择D选项。

【知识点】岗位能力\*判断推理\*类比推理\*语义关系\*近义

92. 在一次联欢晚会上，小李登台表演了一段越剧，博得满堂喝彩。老张说：“小李的越剧唱得这么好，一定是南方人。”则老张的话里不包含的意思是（ ）。

- A. 不是南方人，越剧不可能唱得那么好
- B. 只要越剧唱得像小李那样好，就是南方人
- C. 除非小李是南方人，否则她的越剧不可能唱得那么好
- D. 只有越剧唱得好，才是南方人

【答案】D

【解析】第一步，确定题型。

根据题干关联词“……一定……”，确定为翻译推理。

第二步，翻译题干。

①越剧唱得好→是南方人

第三步，进行推理。

- A项：翻译为：越剧唱得好→是南方人，与①一致，排除；
- B项：翻译为：越剧唱得好→是南方人，与①一致，排除；
- C项：翻译为：越剧唱得好→是南方人，与①一致，排除；
- D项：翻译为：是南方人→越剧唱得好，与①不一致，符合。

因此，选择D选项。

【知识点】岗位能力\*判断推理\*逻辑判断\*翻译推理

93. 曲曲折折的荷塘上面，弥望的是田田的叶子。\_\_\_\_\_。\_\_\_\_\_。\_\_\_\_\_。  
\_\_\_\_\_。\_\_\_\_\_。叶子底下是脉脉的流水，遮住了，不能见一些颜色，而叶却更见风致了。

- ①微风过处，送来缕缕清香，仿佛远处高楼上渺茫的歌声似的
- ②叶子本是肩并肩密密地挨着，这便宛然有了一道凝碧的波痕
- ③叶子出水很高，像亭亭的舞女的裙
- ④这时候叶子与花也有一丝的颤动，像闪电般，霎时传过荷塘的那边去了
- ⑤层层叶子中间，零星地点缀着些白花，有袅娜地开着的，有羞涩地打着朵儿的；正如一粒粒的明珠，又如碧天里的星星，又如刚出浴的美人

将以上 5 个句子依次填入画横线部分，最合适的排序是（ ）。

- A. ③①②⑤④
- B. ③⑤①②④
- C. ③⑤④①②
- D. ③⑤①④②

【答案】D

【解析】第一步，确定题型。

根据题干特征，确定为事件排序题。

第二步，观察选项，确定第二句应从①和⑤中选择。

①是对于歌声的描述，而⑤是对于叶子具体细节的刻画，结合首句③是描写叶子的，接下来应继续描写叶子，则第二句为⑤，排除 A 项。

第三步，继续观察，尾句应在②和④中选择。

②中出现了代词“这”，指代的是④句中的叶子与花的颤动，因此，④在②的前面，并与②相邻，排除 B、C 项。

因此，选择 D 选项。

【拓展】

【知识点】岗位能力\*判断推理\*事件排序\*事件排序

94. 必要条件：如果事件 M 不发生的时候事件 N 一定不会发生，那么 M 就是 N 的必要条件。根据上述定义，M 是 N 必要条件的选项是（ ）。

- A. 发生重大安全责任事故(M)，人员伤亡(N)
- B. 一个数能被 2 整除(M)，该数为偶数(N)
- C. 良好的家庭教育(M)，孩子成才(N)
- D. 一个国家自然资源丰富(M)，该国经济发达(N)

【答案】B

【解析】第一步，看提问方式，本题属于选是题。

第二步，找关键信息。

如果事件 M 不发生的时候事件 N 一定不会发生。

第三步，辨析选项。

A 项：如果不发生重大安全责任事故，也有可能由其他事情导致人员伤亡，不符合“如果事件 M 不发生的时候事件 N 一定不会发生”，不符合定义；

B项：如果一个数不能被2整除，则它一定不是偶数，符合“如果事件M不发生时事件N一定不会发生”，符合定义；

C项：如果没有良好的家庭教育，则孩子也有成才的可能性，不符合“如果事件M不发生时事件N一定不会发生”，不符合定义；

D项：如果一个国家自然资源不丰富，则也可能经济发达，不符合“如果事件M不发生时事件N一定不会发生”，不符合定义。

因此，选择B选项。

【知识点】岗位能力\*判断推理\*单定义

95. 下列词组与“房价上涨：宏观调控：保稳措施”逻辑关系最为贴近、相似或匹配的是（ ）。

A. 肚子饿：吃饭：不饿

B. 生病：打针：治疗

C. 落后：教育：政策

D. 刮风：下雨：乌云

【答案】B

【解析】第一步，确定题干逻辑关系。

“房价上涨”需要进行“宏观调控”，二者属于对应关系，“宏观调控”是一种“保稳措施”，二者属于包容关系中的种属关系。

第二步，辨析选项。

A项：“肚子饿”需要“吃饭”，二者属于对应关系，“吃饭”之后可以“不饿”，二者属于因果对应关系，排除；

B项：“生病”之后需要“打针”，二者属于对应关系，“打针”是一种“治疗”手段，二者属于包容关系中的种属关系，与题干逻辑关系一致，符合；

C项：“落后”需要接受“教育”，二者属于对应关系，但“教育”不是一种“政策”，排除；

D项：“刮风”与“下雨”都是天气现象，二者属于并列关系，排除。

因此，选择B选项。

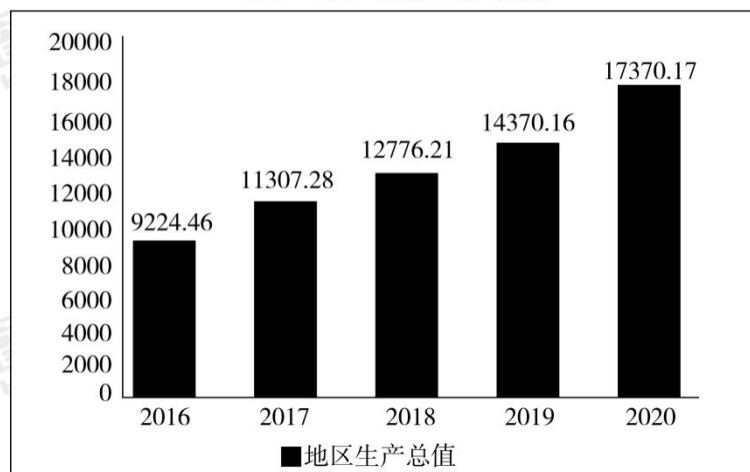
【知识点】岗位能力\*判断推理\*对应，包容

四、资料分析（请根据题目要求，在四个选项中选出一个最恰当的答案。共15题，每题1分，共15分。）

材料一：某省经初步核算，2020年全年实现地区生产总值17370.17亿元，第一产业生

产值 202.12 亿元, 同比上年增长 3.7%。第二产业产值 8277.86 亿元, 同比上年增长 12.7%, 第三产业产值 8890.19 亿元, 同比上年增长 30.2%。第一、第二、第三产业结构比为 1.2:47.6: 51.2。

2016—2020年地区生产总值



96. 从 2017 年至 2020 年, 该省 GDP 增速最快的年份是 ( ) 年。

- A. 2017
- B. 2018
- C. 2019
- D. 2020

【答案】 A

【解析】 第一步, 本题考查增长率计算比较。

第二步, 定位柱状图。

第三步, 将每年现期量与基期量截前三位, 代入增长率公式  $\frac{\text{现期量}-\text{基期量}}{\text{基期量}}$ , 有 2017 年 GDP 增速为  $\frac{113-92}{92} = \frac{21}{92}$ , 2018 年增速为  $\frac{128-113}{113} = \frac{15}{113}$ , 2019 年增速为  $\frac{144-128}{128} = \frac{16}{128}$ , 2020 年增速为  $\frac{174-144}{144} = \frac{30}{144}$ , 2017 年增速相较于 2018, 2019 年的增速分子大且分母小, 因此必然更大, 排除 B、C 选项。2017 年增速经过计算约为 22.8%, 2020 年增速约为 20.8%, 那么 2017 年 GDP 的增长率最快。

因此, 选择 A 选项。

【知识点】 岗位能力\*资料分析\*增长率\*增长率比较类\*增长率计算比较\*计算, 增量替代, 倍数替代

97. 2019 年该省第二产业在全省 GDP 中的占比是 ( ) 。

- A. 10.8%
- B. 14.4%
- C. 29.5%
- D. 51.1%

**【答案】** D

**【解析】** 第一步， 本题考查基期比重计算。

第二步， 定位文段“第二产业生产总值 8277.86 亿元， 同比增长 12.7%”与柱状图中 2019 年地区生产总值 14370.16 亿元。

第三步， 2019 年第二产业生产总值为  $\frac{8277.86}{1+12.7\%} \approx \frac{8277.86}{1.13} \approx 7300$  亿元， 超过 14370.16 亿元的一半， 观察选项必为 51.1%。

因此， 选择 D 选项。

**【知识点】** 岗位能力\*资料分析\*比重\*基期比重计算

98. 2020 年该省的 GDP 同比增速是 ( )。

- A. 5.3%
- B. 9.7%
- C. 12.5%
- D. 20.9%

**【答案】** D

**【解析】** 第一步， 本题考查增长率计算。

第二步， 定位柱状图 2019 年与 2020 年数据。

第三步， 观察选项首位不同， 将两年数据分别截前两位为 17 和 14， 代入增长率公式

$\frac{\text{现期量}-\text{基期量}}{\text{基期量}}$ ， 有  $\frac{17-14}{14} = \frac{3}{14}$ ， 直除首位商 2。

因此， 选择 D 选项。

**【知识点】** 岗位能力\*资料分析\*增长率\*增长率计算类\*增长率计算

**材料二:**2020 年,某地区农作物播种总面积达到 1624.26 万亩,比 2019 年同比增长 4.5%。其中粮食和蔬菜播种面积大幅增长,分别为 458.30 万亩和 110.01 万亩,同比增长 32.6%和 31.2%;棉花、油料和甜菜播种面积大幅下降,分别为 697.42 万亩、104.42 万亩和 29.43 万亩,同比下降 17.2%、5.6%和 18.1%。粮食作物中,小麦 294.52 万亩,同比增长 66.7%;玉米 92.66 万亩,同比增长 3.1%;大豆 20.45 万亩,同比增长 75.4%;水稻 33.54 万亩,同



比下降 7.6%。蔬菜播种面积中，番茄 64.48 万亩，同比增长 60.5%；辣椒 22.34 万亩，同比下降 0.6%。

99. 根据上述资料，2019 年油料播种面积约为（ ）万亩。

- A. 90
- B. 100
- C. 110
- D. 120

【答案】C

【解析】第一步，本题考查基期量计算。

第二步，定位文段“棉花、油料和甜菜播种面积大幅下降，分别为 697.42 万亩、104.42 万亩和 29.43 万亩，同比下降 17.2%、5.6%和 18.1%”。

第三步，根据公式基期量 =  $\frac{\text{现期量}}{1+\text{增长率}}$ ，有公式  $\frac{104.42}{1-5.6\%} = \frac{104.42}{0.944}$ ，直除首位商 1，次位商 1。

因此，选择 C 选项。

【知识点】岗位能力\*资料分析\*基期与现期\*基期量\*基期量计算

100. 2020 年，下列农作物播种面积同比增幅最大的一种是（ ）。

- A. 番茄
- B. 小麦
- C. 玉米
- D. 棉花

【答案】B

【解析】第一步，本题考查增长率读数比较。

第二步，定位文段“2020 年，……棉花、油料和甜菜播种面积大幅下降，分别为 697.42 万亩、104.42 万亩和 29.43 万亩，同比下降 17.2%、5.6%和 18.1%。粮食作物中，小麦 294.52 万亩，同比增长 66.7%；玉米 92.66 万亩，同比增长 3.1%；……番茄 64.48 万亩，同比增长 60.5%；辣椒 22.34 万亩，同比下降 0.6%”。

第三步，番茄、小麦、玉米、棉花播种面积增幅分别为 60.5%、66.7%、3.1%、-17.2%，最大的为 66.7%，即小麦增幅。

因此，选择 B 选项。

【知识点】岗位能力\*资料分析\*增长率\*增长率比较类\*增长率读数比较

101. 2020 年粮食和蔬菜播种总面积 ( )。

- A. 比棉花的播种面积少近 200 万亩
- B. 同比增长超过 40%
- C. 超过 600 万亩
- D. 约占该地区农作物总播种面积的 35%

【答案】D

【解析】第一步，本题考查比重计算。

第二步，定位文字材料。

第三步，根据比重 = 部分量 / 整体量，数据取整，代入可得，2020 年粮食和蔬菜播种总面积占该地区农作物总播种面积的  $\frac{458+110}{1624} \approx 35\%$ 。

因此，选择 D 选项。

【知识点】岗位能力\*资料分析\*比重\*现期比重\*求比重

102. 2020 年水稻播种面积比 2019 年大约少 ( ) 万亩。

- A. 2.34
- B. 2.52
- C. 2.76
- D. 2.85

【答案】C

【解析】第一步，本题考查减少量计算。

第二步，定位文字材料“2020 年，某地区水稻 33.54 万亩，同比下降 7.6%”。

第三步， $7.6\% \approx \frac{1}{13}$ ，根据减少量  $n-1$  原则，代入可得，2020 年水稻播种面积比 2019 年大约少  $\frac{33.54}{13-1} = \frac{33.54}{12}$ ，直除首两位商 27，对应 C 选项。

因此，选择 C 选项。

【知识点】岗位能力\*资料分析\*增长量\*增长量计算\*已知现期量与增长率

材料三：2020 年某省外贸全年完成进出口总值 548.8 亿美元，由上年下降转为增长 8.5%，增速高于全国 0.9 个百分点，其中，出口总值 309.6 亿美元，增长 4.6%，增速同比提高 1 个百分点；进口总值由上年的下降 16.3% 转为增长 14.1%，高于全国 6.2 个百分点。

外贸出口中，其中，对东盟出口 38.2 亿美元，增长 14.7%，占全省出口总值的 12.3%，比上年提高 1.1 个百分点；对俄罗斯出口 28.9 亿美元，增长 16.4%，占 9.3%，提高 0.9 个

百分点；对墨西哥、智利、南非、尼日利亚出口较快增长，比重均有提高，分别出口 4.3 亿美元、4.0 亿美元、3.4 亿美元和 3.3 亿美元，分别增长 61.7%、12.9%、16.5%和 36.6%。对欧盟出口 46.2 亿美元，下降 8.3%，占全省出口总值的 17.0%，比上年减少 2.1 个百分点；对美国出口 39.7 亿美元，增长 2.3%，减少 0.3 个百分点；对韩国出口 19.9 亿美元，下降 10.6%，占 6.4%，减少 1.1 个百分点；对日本出口 15.1 亿美元，下降 0.3%，占全省出口总值的 4.9%，减少 0.2 个百分点。

103. 2019 年全年该省进出口总值为（ ）亿美元。

- A. 505.8
- B. 519.2
- C. 581.9
- D. 595.4

**【答案】** A

**【解析】** 第一步，本题考查基期量计算。

第二步，定位第一段“2020 年某省外贸全年完成进出口总值 548.8 亿美元，由上年下降转为增长 8.5%”。

第三步，根据基期量 =  $\frac{\text{现期量}}{1 + \text{增长率}}$ ，数据取整，代入可得 2019 年全年该省进出口总值为  $\frac{548.8}{1 + 8.5\%} \approx \frac{548.8}{1.09}$ ，直除首两位商 50，对应 A 项。

因此，选择 A 选项。

**【知识点】** 岗位能力\*资料分析\*基期与现期\*基期量\*基期量计算

104. 2019 年该省外贸出口总值与进口总值相差约（ ）亿美元。

- A. 13.1
- B. 70.4
- C. 86.2
- D. 100.1

**【答案】** C

**【解析】** 第一步，本题考查基期量和差计算。

第二步，定位第一段“2020 年某省外贸全年完成进出口总值 548.8 亿美元，由上年下降转为增长 8.5%，增速高于全国 0.9 个百分点，其中，出口总值 309.6 亿美元，增长 4.6%，增速同比提高 1 个百分点；进口总值由上年的下降 16.3%转为增长 14.1%，高于全国 6.2 个

百分点”。

第三步，根据基期量 =  $\frac{\text{现期量}}{1 + \text{增长率}}$ ，数据取整，代入可得 2019 年该省外贸出口总值与进口总值相差  $\frac{310}{1 + 4.6\%} - \frac{549 - 310}{1 + 14.1\%} \approx 296 - 209 = 87$ （亿美元），与 C 项最接近。

因此，选择 C 选项。

**【知识点】** 岗位能力\*资料分析\*基期与现期\*基期量\*基期量和差计算

105. 2020 年该省对（ ）出口增长速度最快。

- A. 墨西哥
- B. 东盟
- C. 尼日利亚
- D. 俄罗斯

**【答案】** A

**【解析】** 第一步，本题考查读数比较。

第二步，定位第二段“对东盟出口 38.2 亿美元，增长 14.7%...对俄罗斯出口 28.9 亿美元，增长 16.4%...对墨西哥、智利、南非、尼日利亚出口较快增长...分别增长 61.7%、12.9%、16.5%和 36.6%”。

第三步，2020 年该省对墨西哥、东盟、尼日利亚、俄罗斯出口增长速度分别为 61.7%、14.7%、36.6%、16.4%，即 2020 年该省对墨西哥出口增长速度最快。

因此，选择 A 选项。

**【知识点】** 岗位能力\*资料分析\*简单比较\*读数比较

106. 2020 年该省最大的出口市场是（ ）。

- A. 俄罗斯
- B. 东盟
- C. 欧盟
- D. 美国

**【答案】** C

**【解析】** 第一步，本题考查读数比较。

第二步，定位第二段。

第三步，由材料可知，2020 年该省对俄罗斯出口 28.9 亿美元，对东盟出口 38.2 亿美元，对欧盟出口 46.2 亿美元，对美国出口 39.7 亿美元。故最大的出口市场是欧盟。

因此，选择 C 选项。

【知识点】 岗位能力\*资料分析\*简单比较\*读数比较

**材料四：**第七次全国人口普查结果表明，我国 0—14 岁人口为 25338 万，占 17.95%。15—59 岁人口为 89438 万，占 63.35%。60 岁及以上人口为 26402 万，占 18.70%（其中，65 岁及以上人口为 19064 万，占 13.50%）。与 2010 年相比，0—14 岁、15—59 岁、60 岁及以上人口的比重分别上升 1.35 个百分点、下降 6.79 个百分点、上升 5.44 个百分点。

具有大学文化程度的人口为 21836 万，与 2010 年相比，每 10 万人中具有大学文化程度由 8930 上升为 15467，15 岁及以上人口平均受教育年限由 9.08 提高至 9.91，文盲率由 4.08% 下降至 2.67%。

居住在城镇的人口为 90199 万，占 63.89%。居住在乡村的人口为 50979 万，占 36.11%。与 2010 年相比，城镇人口增加 23642 万，乡村人口减少 16436 万，城镇人口比重上升 14.21 个百分点。

人户分离人口为 49276 万，其中，市辖区内人户分离人口为 11694 万，流动人口为 37582 万。与 2010 年相比，人户分离人口增长 88.52%，市辖区内人户分离人口增长 192.66%，流动人口增长 69.73%。

汉族人口为 128631 万，占 91.11%。各少数民族人口为 12547 万，占 8.89%。与 2010 年相比，汉族人口增长 4.93%，各少数民族人口增长 10.26%，少数民族人口比重上升 0.40 个百分点。

107. 下列结论错误的是（ ）。

- A. 2010 年以来，城镇人口一直就高于农村人口
- B. 10 年来我国新型城镇化进程稳步推进，城镇化建设取得了历史性成就
- C. 我国经济社会持续发展，为人口的迁移流动创造了条件，人口流动趋势更加明显，流动人口规模进一步扩大
- D. 少数民族人口稳步增长，充分体现了在中国共产党领导下，我国各民族全面发展进步的面貌

【答案】 A

【解析】 第一步， 本题考查综合分析， 且需选出错误的一项。

第二步， A 选项， 直接读数。定位第 3 段， 材料只给出 2010 年及第七次全国人口普查的数据， 无法推出 2010 年以来各年份的数据， 错误。

B 选项， 直接读数。定位第 3 段， 城镇人口增加， 农村人口减少， 正确。

C选项，直接读数。定位第4段，与2010年相比，人口流动增长69.73%，人口流动趋势更加明显，流动人口规模进一步扩大，正确。

D选项，直接读数。定位最后1段，各少数民族人口增长10.26%，少数民族人口比重上升0.4个百分点，少数民族人口稳步增长，正确。

因此，选择A选项。

【知识点】岗位能力\*资料分析\*综合分析类\*综合分析

108. 下列结论错误的是（ ）。

A. 我国少儿人口比重回升，生育政策调整取得了积极成效

B. 人口老龄化程度进一步加深，未来一段时期将持续面临人口长期均衡发展的压力

C. 少数民族人口增长率低于汉族人口增长率

D. 受教育状况的持续改善反映了10年来我国大力发展高等教育以及扫除青壮年文盲等措施取得了积极成效，人口素质不断提高

【答案】C

【解析】第一步，本题考查综合分析，且需选出错误的一项。

第二步，A选项，直接读数。定位第1段“与2010年相比，0—14岁、15—59岁、60岁及以上人口的比重分别上升1.35个百分点、下降6.79个百分点、上升5.44个百分点”可知，少儿（0—14岁）比重回升，生育政策调整取得了积极成效，正确。

B选项，直接读数。定位第1段“与2010年相比，0—14岁、15—59岁、60岁及以上人口的比重分别上升1.35个百分点、下降6.79个百分点、上升5.44个百分点”可知，人口老龄化程度进一步加深，未来一段时期将持续面临人口长期均衡发展的压力，正确。

C选项，读数比较。定位最后1段“汉族人口增长4.93%，各少数民族人口增长10.26%”可知，少数民族增长率高于汉族人口增长率，错误。

D选项，直接读数。定位第1段“具有大学文化程度的人口为21836万，与2010年相比，每10万人中具有大学文化程度由8930上升为15467，15岁及以上人口平均受教育年限由9.08提高至9.91，文盲率由4.08%下降至2.67%”可知，受教育状况的持续改善反映了10年来我国大力发展高等教育以及扫除青壮年文盲等措施取得了积极成效，人口素质不断提高，正确。

因此，选择C选项。

【知识点】岗位能力\*资料分析\*综合分析类\*综合分析

109. 2010年，人户分离人口和流动人口分别是（ ）万。

- A. 22142 和 26138
- B. 26138 和 22142
- C. 37582 和 49276
- D. 49276 和 37582

**【答案】** B

**【解析】** 第一步， 本题考查基期量计算。

第二步， 定位第 4 段“人户分离人口为 49276 万， 其中， 市辖区内人户分离人口为 11694 万， 流动人口为 37582 万。 与 2010 年相比， 人户分离人口增长 88.52%， 市辖区内人户分离人口增长 192.66%， 流动人口增长 69.73%。”。

第三步， 根据基期量 $=\frac{\text{现期量}}{1+\text{增长率}}$ ， 2010 年， 人户分离人口为 $\frac{49276}{1+88.52\%} \approx \frac{49276}{1.89}$ ， 直除前 2 位商 26， 只有 B 选项满足。

因此， 选择 B 选项。

**【知识点】** 岗位能力\*资料分析\*基期与现期\*基期量\*基期量计算

110. 与 2010 年相比， 每 10 万人中具有大学文化程度人口增长率是（ ）。

- A. 57.74%
- B. 73.20%
- C. 119.57%
- D. 173.20%

**【答案】** B

**【解析】** 第一步， 本题考查增长率计算。

第二步， 定位第 2 段“与 2010 年相比， 每 10 万人中具有大学文化程度由 8930 上升为 15467”。

第三步， 根据增长率 $=\frac{\text{现期量}-\text{基期量}}{\text{基期量}}$ ， 代入数据 $\frac{15467-8930}{8930} \approx \frac{654}{893}$ ， 直除首位商 7。

因此， 选择 B 选项。

**【知识点】** 岗位能力\*资料分析\*增长率\*增长率计算类\*增长率计算