

2021年1219四川公务员考试《行测》
》真题（网友回忆）

扫描二维码
下载华图在线APP刷题对答案



第一部分 常识判断

1. (单选题) 习近平总书记在谈及生态文明建设时指出：“我们既要绿水青山，也要金山银山。宁要绿水青山，不要金山银山，而且绿水青山就是金山银山。”关于生态文明建设，下列理解正确的是：
- ①人与自然是人类社会最基本的关系
 - ②良好的生态环境，是最公平的公共产品，是最普惠的民生福祉
 - ③生态环境问题归根结底是气候变化问题
 - ④绿水青山中蕴含着经济价值
- A. ①②③ B. ②③④ C. ①②④ D. ①③④
2. (单选题) 习近平总书记在一系列重要讲话文章中，善于引用经典名句，恰到好处地表达了中国共产党人的立场、观点和方法。习近平总书记在阐述中国共产党人的为民情怀和人民立场时引用的经典名句是：
- A. 政者，正也，其身正，不令而行；其身不正，虽令不从
 - B. 如身使臂，如臂使指，叱咤变化，无有留难，则天下之势一矣
 - C. 衙斋卧听萧萧竹，疑是民间疾苦声。些小吾曹州县吏，一枝一叶总关情
 - D. 图难于其易，为大于其细。天下难事，必作于易；天下大事，必作于细
3. (单选题) 社会治理现代化是国家治理体系和治理能力现代化的题中应有之义。关于社会治理现代化的内容，下列表述正确的是：
- ①社会治理结构的合理化
 - ②社会治理过程的民主化
 - ③社会治理方式的科学化
 - ④社会治理目标的多样化
- A. ①②③ B. ①③④ C. ①②④ D. ②③④
4. (单选题) “十四五”规划纲要指出，全面推进健康中国建设，构建强大公共卫生体系。下列不属于公共卫生范畴的是：
- A. 大病医疗保障
 - B. 食品安全风险监测
 - C. 流感流行应急预案
 - D. 预防艾滋病母婴传播
5. (单选题) 为了加强安全生产工作，防止和减少生产安全事故、保障人民群众生命和财产安全，促进经济社会持续健康发展，我国制定了相关的法律法规。根据我国安全生产管理的相关制度，下列说法错误的是：
- A. 建设工程施工单位应当在施工现场入口处设置明显的安全警示标志
 - B. 烟花爆竹生产企业若未取得安全生产许可证的，不得从事生产活动
 - C. 大型游乐设施属于特种设备，使用单位应当记录其日常使用情况
 - D. 电梯应当至少每30日进行一次清洁、润滑、调整和检查
6. (单选题) 组织是经设计以达到某种特定目标的社会群体，下列关于组织的判断正确的是：
- A. 我国的共青团属于政府组织
 - B. 机关的合唱团属于非正式组织
 - C. 社区是城市最基层的政府组织
 - D. 职业足球俱乐部不属于经济组织
7. (单选题) 下列名言与作者对应不正确的是：
- A. 疾风知劲草，板荡识诚臣——刘邦
 - B. 世有伯乐，然后有千里马——韩愈
 - C. 江山代有才人出，各领风骚数百年——赵翼
 - D. 大鹏一日同风起，扶摇直上九万里——李白

8. (单选题) 人体包括运动系统、神经系统、内分泌系统、循环系统、呼吸系统、消化系统、泌尿系统、生殖系统这八大系统, 关于人体八大系统, 下列说法错误的是:
- A. 唾液腺和胃腺是消化腺, 属于消化系统
B. 组成人体循环系统的是体循环和肺循环
C. 糖尿病是内分泌系统紊乱所导致的疾病
D. 泌尿系统由肾、输尿管、膀胱及尿道组成
9. (单选题) 关于地理知识, 下列说法错误的是:
- A. 北京的气候类型特点是夏季高温多雨, 冬季寒冷干燥
B. 南北回归线之间的区域每年太阳直射两次, 形成热带
C. 欧亚地震带, 环太平洋地震带分别主要影响着我国西南部、中部地区
D. 北回归线自西向东依次穿越我国的云贵高原、东南丘陵等主要地形区
10. (单选题) 关于我国名胜古迹, 下列说法错误的是:
- A. 桂林山水是典型的丹霞地貌
B. 敦煌石窟是世界现存壁画最多的石窟群
C. 秦始皇陵兵马俑大部分采用泥土陶冶烧制
D. 万里长城的修建是为了抵御游牧部落的侵扰
11. (单选题) 关于病毒, 下列说法错误的是:
- A. 利用寄主细胞中的物质和能量, 以复制的方式进行繁殖
B. 据寄生的寄主不同分为动物病毒、植物病毒、细菌病毒
C. 多数耐寒不耐热且对抗生素不敏感, 可用碘化物等灭活
D. 含有一种或两种核酸: DNA或RNA, 或两种核酸兼有
12. (单选题) 关于消防安全知识, 下列说法错误的是:
- A. 居民小区消防通道宽度不应小于4米
B. 电器着火、油着火时不能用水去扑救
C. 生活区域应配置的灭火器为泡沫灭火器
D. 高层民用建筑内不得用瓶装液化石油气
13. (单选题) 石墨是一种①化合物, 能够②导电, 可用作③润滑剂, 与金刚石互为④同素异形体。关于石墨性质的描述, 画线部分错误的有几处?
- A. 1
B. 2
C. 3
D. 4
14. (单选题) 下列教学行为与体现的教学原则对应不正确的是:
- A. 陈老师在讲完一节课后, 会给学生布置与上课内容相关的作业——巩固性原则
B. 王老师在上新课时讲到“镭”这一元素, 向同学们介绍了居里夫人和镭的故事, 同学们深受教育——启发性原则
C. 刘老师对马虎的学生, 注意抓他们的学习习惯, 对课堂反应不积极的学生, 激励他们主动回答问题——因材施教原则
D. 李老师在讲《黄河大合唱》一文时, 为了让学生更好地感受到《黄河大合唱》的气势, 播放了对应歌曲——直观性原则
15. (单选题) 辛弃疾所作《生查子·独游雨岩》写道: “溪边照影行, 天在清溪底”。下列诗句中与此情景体现的物理原理一致的是:
- A. 举杯邀明月, 对影成三人
B. 潭清疑水浅, 荷动知鱼散
C. 独行潭底影, 数息树边身
D. 香炉初上日, 瀑水喷成虹

第二部分 言语理解与表达

16. (单选题) 明确规定儿童票从“量身高”转为“看年龄”, 顺应了公众普遍期待的改革方向, 也是对相关概念的“_____”。无论是联合国儿童权利公约, 还是我国相关法律法规, 界定儿童的唯一标准就是年龄。
- 填入画横线部分最恰当的一项是:

- A. 追根究底 B. 条分缕析 C. 正本清源 D. 求真务实
17. (单选题) 创新面对的最大难题是高失败率。高失败率导致创新的_____太高，于是一些创业者便选择“拷贝”、模仿别人的创新。不过，哪怕创新失败的人也应得到社会的_____，因为正是不断的失败，造就了真正的创新者。
- 依次填入画横线部分最恰当的一项是：
- A. 门槛 理解 B. 风险 同情 C. 投入 认可 D. 成本 尊重
18. (单选题) 媒体一直被认为是社会的_____，通过新闻事实选择、新闻价值判断等新闻生产机制，对大千世界的变动进行舆论监督，进而_____公众对大部分人所无法亲身经历和体验的事实的了解和认知，发挥着议程设置和社会协调的功能。
- 依次填入画横线部分最恰当的一项是：
- A. 守望者 影响 B. 掌控者 引导 C. 巡夜人 激发 D. 代言人 左右
19. (单选题) 人际纠葛的处理方式直接体现社会成员的精神面貌与人格修养，也反映一个社会的文明程度。一些人面对磕磕碰碰，不是_____，而是火冒三丈；不是冷静应对，而是宣泄情绪。心态失衡、情绪失控，可能有压力过大等原因，但互联网上日渐增多的谩骂，现实中时有所闻的暴力，都提醒人们，“心灵炎症”需要疗治，理性_____需要弥补。
- 依次填入画横线部分最恰当的一项是：
- A. 宽以待人 瑕疵 B. 平心静气 缺失 C. 从容不迫 缺陷 D. 据理力争 匮乏
20. (单选题) 虽然美洲人很早就把玉米作为主食，但欧洲人对此_____。直到15世纪末哥伦布到了北美，才发现这种美妙的粮食。不过，粮食与物种的传播过程，历来_____，也有人认为在哥伦布之前玉米就传到了欧洲。
- 依次填入画横线部分最恰当的一项是：
- A. 不屑一顾 莫衷一是 B. 不以为然 不言自明 C. 嗤之以鼻 见仁见智 D. 浑然不知 众说纷纭
21. (单选题) 在多元共生的文化语境里，影视艺术_____。然而，近年来一些有悖于主流价值观和审美观的作品混入其中，甚至大行其道。而一些观众尤其是年轻观众却对这些作品_____，并由此产生认同和效仿，让不良思想渐次蔓延。
- 依次填入画横线部分最恰当的一项是：
- A. 异彩纷呈 趋之若鹜 B. 百花齐放 津津乐道 C. 日新月异 乐此不疲 D. 别具一格 奉若圭臬
22. (单选题) 古有西王母“其状如人，豹尾虎齿”，今有豹纹服饰。可见，在人类文化中，豹总是和_____联系在一起。同时，豹也多是_____的象征，希腊罗马神话中的酒神狄奥尼索斯就多以骑豹或者披豹皮的形象出现，《诗经·郑风·羔裘》中的君子也是“羔裘豹饰，孔武有力”。
- 依次填入画横线部分最恰当的一项是：
- A. 时尚 勇猛 B. 个性 魁梧 C. 优美 智慧 D. 高雅 彪悍
23. (单选题) 在一个新词层出不穷的时代，准确说出所思所想，比不假思索套用流行词汇更有_____。很多时候，网络用语的风头正盛只是暂时的，真正拥有生命力的语言总会在时间的沉淀下大浪淘沙，只有直面内心感受的差异化表达，才能_____，造就语言的经典。
- 依次填入画横线部分最恰当的一项是：
- A. 意义 一语中的 B. 难度 历久弥新 C. 价值 经久不衰 D. 个性 掷地有声
24. (单选题) 民族音乐被认为是一种高雅艺术，但高雅并不等于_____。民族音乐来源于生活，是民众最_____的东西，很容易产生共鸣。在各种音乐会中，我们很注意观众的_____，看哪些作品被演奏出来的时候，会将现场气氛推向一个高潮。
- 依次填入画横线部分最恰当的一项是：

- A. 完美无缺 亲近 体验
B. 一枝独秀 欣赏 情绪
C. 曲高和寡 熟悉 反应
D. 阳春白雪 喜欢 状态

25. (单选题) 取名不规范已经成为中国楼市的怪现状。讨彩头、求吉利本来_____，但如果追逐流俗，浮华之风和矫饰文化就会“_____”。若只是市场流俗，不违反法治原则和市场规则也就罢了，若用“大、洋、怪”或“擅自更名”的方式去_____商业利润，不仅坐实了资本贪婪之名，甚至可能违反法律。

依次填入画横线部分最恰当的一项是：

- A. 无可厚非 应运而生 追逐
B. 理所当然 水到渠成 获取
C. 习以为常 层出不穷 谋求
D. 顺理成章 蔚然成风 牟取

26. (单选题) 当下，众创空间正朝着差异化、专业化、品牌化的趋势迭代发展。全国有超过400家由投资机构建立的“投资+孵化”类众创空间；以创业咖啡、创业茶馆等为代表的各类主题式开放众创空间，有效降低了大众创业的门槛；采用共享经济理念发展的联合办公形式众创空间，帮助大众创业者共享信息、知识、技能、想法和拓宽社交圈子；由大企业或高校、科研院所建立的专业化众创空间，促进了大中小企业融通发展；另外还有将创业培训、创业投资等专业服务与互联网平台相结合的平台型众创空间等。这些众创空间各具特色，发展势头十分迅猛。

这段文字主要介绍众创空间：

- A. 未来的发展趋势
B. 不同类型及特色
C. 对经济发展的影响
D. 最主要的资金来源

27. (单选题) 针对基层干部成长方向定型过早、综合素质偏弱等现实问题，为推进复合型干部队伍建设、实现党在新时代的强军目标，某部队大力破除“专职专用”“一专到底”的传统选人用人观念，通过送学培训、军政换岗、机关基层交叉任职等形式，打破专业界限，只要综合素质好，军政干部可以换岗，技术干部可以调任指挥干部。该部队大多数基层干部达到了本职专业精、相关专业通、其他专业懂的标准，解决了基层干部阅历浅、经验缺、能力单、素质偏等问题。

作者引用该部队的成功经验是为了证明：

- A. 基层干部能力素质直接关乎强军目标能否最终实现
B. 要始终坚持把基层一线作为选拔任用干部的主渠道
C. “专职专用”“一专到底”的观念会阻碍干部的成长
D. 多岗位锻炼磨砺是打造复合型基层干部的重要举措

28. (单选题) 有人认为，“要强化制度执行力，加强制度执行的监督，切实把我国制度优势转化为治理效能”，就是深化监察与督查体制改革，以监察和督查提升治理效能。事实上，监察和督查只是强化制度执行的一种方式。将国家制度优势转化为治理效能是一个过程，至少包括制度创设、有效执行、监督和反馈等环节，强化制度执行力也不能局限于监察、督查和问责，还应采取法制保障、德治引领等手段。

这段文字意在：

- A. 分析提升制度执行力的必要路径和有效方法
B. 说明如何将制度优势有效转化为国家治理效能
C. 纠正对监察和督查在强化制度执行中的作用的错误认识
D. 强调法制保障和德治引领在强化制度执行中的重要作用

29. (单选题) 在中国哲学中，“以道观之”最初是与“物无贵贱”联系在一起的，它反对两种态度，其一是“以物观之”，其二是“以俗观之”。“以道观之，物无贵贱；以物观之，自贵而相贱；以俗观之，贵贱不在己。”以俗观之把贵贱视为命定的差异而承认之；以物观之强调“我”贵而“他”贱；以道观之则认为，万物没有高低贵贱的差异——从道的角度看，不仅美人与丑人、健全的人与不健全的

人、做官的人与编草鞋的人没有高低贵贱的差别，庭柱与草茎、大鹏与小鸟也没有高低贵贱的差别。

这段文字主要介绍：

- A. “以道观之”的价值判断
- B. 古代平等观念的哲学基础
- C. “道”在古代哲学中的重要地位
- D. 观察角度对古代哲学观念的影响

30. (单选题) 为什么过去租赁市场发展相对滞后？为什么房企更愿意采取“开发——出售”模式，而不是“开发——持有——出租”模式？其根源在于租赁需求不旺；租赁需求不旺的根源则在于租购不同权，租房者难以享受与购房者同等的基本公共服务。对症施策，就是在法律上明确规定“租购同权”，把所有居民享受基本公共服务与是否拥有住房剥离开来，购房与否不再作为基本公共服务区别提供的条件。

这段文字旨在说明：

- A. 租房者的租赁需求不旺的原因
- B. 需要规定“租购同权”的原因
- C. 租赁市场发展相对滞后的原因
- D. 房企愿意采取现有模式的原因

31. (单选题) 人们通常以为人口爆炸是当今时代特有的现象，其实不然。生产技术获得重大突破时，都会伴随着壮观的人口增长。原因很明显，技术的发展导致生产率的提高，从而使能供养的人口大大增加。从旧石器时代初期到后期，技术初期的人口为12.5万人，末期为532万人，增长了40倍以上，堪比后来随历次技术革命而出现的人口爆炸。

这段文字旨在说明：

- A. 古今人口变化规律的异同
- B. 人口增长与生产技术的关系
- C. 技术进步对人类的重要作用
- D. 旧石器时代人口规模变化趋势

32. (单选题) 翻开中国近代以来的沧桑历史，回顾中华民族被欺凌、被侵略、被瓜分的往事，每名中国人尤其是中国军人心头，都应该时刻响起警钟：忘战必危。我们看得到的地方，是敌人；看不到的地方，是忧患。_____。思想上的马放南山，比现实中的刀枪入库更危险；头脑里的锈蚀，比枪口炮管锈蚀更可怕。置身新时代的共和国军人，都应该点燃思想深处的狼烟。时刻保持枕戈待旦、引而待发的战备状态，为能打仗、打胜仗而不懈奋斗。

填入画横线部分最恰当的一项是：

- A. 真正的对手不是战场上的敌人，而是思想深处的麻痹与懈怠
- B. 古语有云“忧先于事者，不及于忧；事至而忧者，无及于事”
- C. 要来一场“头脑革命”，以奋进的姿态推进新时代的练兵备战
- D. 打仗和准备打仗是军人的天职，忧患意识是其履行天职的根基

33. (单选题) 从概念上讲，数字经济是指人们通过大数据的“识别——选择——过滤——存储——使用”，引导资源快速优化配置与再生，进而实现经济高质量发展的经济形态。从技术层面的大数据、物联网、云计算、区块链，到应用层面的数字金融、新零售、智慧城市等，都属于数字经济的范畴，近年来，我国数字经济快速发展，取得丰硕成果，特别是在当前经济下行压力加大的背景下，数字经济仍然保持强劲的增长势头。有统计显示，2018年数字经济对GDP增长贡献率达到67.9%。同比增长12.9%。这充分说明，数字经济已经_____。

填入画横线部分最恰当的一项是：

- A. 在引导资源快速优化配置与再生中发挥关键作用
- B. 成为带动经济增长，推动高质量发展的重要引擎
- C. 在我国当前的经济结构中占有越来越重要的位置
- D. 成为当前经济下行背景下带动GDP增长的主力军

34. (单选题) _____。人们通常认为菊花只枯不落，但是不看尽“寿客金英”，怎可知黄花

也可遍地金？跳出教条的藩篱、突破程式化思维，多察实情、多听心声，拥抱广阔的社会生活，我们把握的将是多元多变的实际，赢得的则是更有价值的人生。

填入画横线部分最恰当的一项是：

- A. 博观而约取，厚积而薄发
B. 欲穷千里目，更上一层楼
C. 不识庐山真面目，只缘身在此山中
D. 操千曲而后晓声，观千剑而后识器

35. (单选题) ①目前我国常住人口城镇化率为59.58%，户籍人口城镇化率为43.37%
②社会治理是中国特色社会学研究的一个基本课题，也是有可能做出突出研究成果的一个重要领域
③所以，我国社会学者的一大任务，就是探索一条使我国社会既充满活力，又保持秩序的现代化转型之路
④社会治理的基本原则是激发活力和保持社会秩序，困难之处在于我国正处于现代化转型任务比较艰巨的时期
⑤根据世界各国现代化的经验，当城镇化率处于50%上下时，是现代化转型最为艰巨的时期
⑥正是在这样的背景下，党中央提出“社会治理”的概念

将以上6个句子重新排列，语序正确的是：

- A. ④①②③⑥⑤
B. ①④⑥②③⑤
C. ⑤②⑥①③④
D. ②④⑤①③⑥

36. (单选题) ①它和金银、粮食一样作为重要财富，出现在历史的战争和商贸交易中，以其为中心形成了庞大的经济圈
②原来的骑兵和车夫虽然被替代了，但这些行当中相当一部分，转换为装甲兵和司机等新行当，重新投入到社会进程中
③随着科技的发展，这一现象彻底改变
④同时，汽车和火车大大提高了运输能力和效率，助力石油等行业飞速发展，新的就业机会大量涌现
⑤人类在战争中开始使用更先进的坦克和装甲车，汽车和火车将马匹挤下主干道也有100年左右的时间了
⑥马匹在人类的社会进程中起到十分重要的作用

将以上6个句子重新排列，语序正确的是：

- A. ⑤④⑥③①②
B. ⑤③①⑥④②
C. ⑥③⑤①②④
D. ⑥①③⑤②④

37. (单选题) 经历快速增长后，社交媒体如今却面临用户倦怠的尴尬局面。说到底，社交媒体只是人们彼此之间用来分享意见、见解、经验和观点的工具，如何使用好、管理好是关键。对广大网民而言，用好社交媒体、真诚与人交流、获取优质信息才是正道。一方面，要不断提升自身的媒介素养，学会去粗存精；另一方面，积极管理自己的行为，规避社交媒体产生的负面影响。对社交媒体平台而言，要引导用户生产更加优质的内容，切实保障平台用户的信息安全。管理者既要优化平台的功能和设计，还要加强隐私保护。

这段文字回答了下列哪一问题？

- A. 如何用好、管理好社交媒体
B. 用户为何对社交媒体失去兴趣
C. 社交媒体如何保证用户信息安全
D. 用户如何通过社交媒体获取优质信息

38. (单选题) 政务新媒体的发展，不仅要注重“形”，更要注重“实”。但在政务新媒体建设过程中，有的地方贪多求全，运营多个平台，耗费运营者大量精力；有的一味追求阅读量、粉丝量。这类现象让政务新媒体建设表面上看着热热闹闹，实际上却陷入“指尖上的形式主义”，违背了政务新媒体建设的初衷，也加重了基层负担。政务新媒体应避免“重数量轻质量”“重外在轻内在”等形式主义倾向。

这段文字意在说明，政务新媒体应该：

- A. 创新运营模式，问政于民
B. 加强平台管理，提升水平

C. 丰富传播形式，增强互动

D. 立足办好实事，注重实绩

39. (单选题) 氧气是地球上所有生物生存不可或缺的物质，在某种程度上是生命存在的迹象。地外星球上是否也有这样一种生命存在的标志物呢?近日，研究人员发现，磷化氢或将是这种标志物之一。磷化氢只能通过极端厌氧生物产生，如：细菌、微生物等。这一特性使得磷化氢成为某一种生命的标志。磷化氢是地球上最臭最毒的气体之一，存在于粪便堆、沼泽深处等肮脏地方。这种沼泽气体高度易燃，能与大气中的微粒发生反应。如果某一地外星球的磷化氢含量与地球上的甲烷相似，该星球的大气中会产生一种标志性光波，被人们观测到。一旦证实岩石行星上存在磷化氢，将可确认该星球上存在生命迹象。

据此，如果某岩石行星上存在磷化氢，则该行星：

A. 大气中有甲烷

B. 可能有氧气存在

C. 有沼泽类环境

D. 应该有厌氧生物

40. (单选题) 对天体光谱进行分析，可以判断出天体的运动速度。光波和声波一样，遵循“多普勒效应”：波源接近观测者时，波被压短，也就是“蓝移”；波源远离观测者时，波被拉长，也就是“红移”。根据压缩与拉长的程度，可以定量计算出波源靠近或者远离的速度。天文学家将测出的光谱与实验室里元素发光的光谱比较，得到其红移或者蓝移的数值，进而计算出恒星与星系相对于地球的运动速度。尤其重要的是，天文学家发现大多数星系在远离地球，结合这些星系的距离，推断星系的退行速度与距离成正比，这意味着宇宙在膨胀。倒退回去，宇宙起源于一个极小的点。

最适合做这段文字标题的是：

A. 无处不在的“多普勒效应”

B. 天体光谱分析揭示宇宙起源

C. 宇宙中的“红移”与“蓝移”

D. 宇宙大爆炸之前是什么样子

41. (单选题) 长江拥有水生生物4300多种，其中鱼类400多种(含亚种)，170多种为长江特有，是世界上水生生物多样性最为丰富的河流之一。水生生物尤其是鱼类是长江水域生态系统健康状况的标志，而实施长江流域重点水域常年禁捕就是要在一段时间内从根本上停止捕捞利用，这是有效缓解长江生物资源衰退和生物多样性下降危机的关键之举，对改善长江水域生态环境、恢复生态功能具有重要意义。

这段文字主要介绍：

A. 长江水域生态环境修复的意义

B. 长江水域生物多样性的变化趋势

C. 水生生物对长江生态系统的作用

D. 长江流域重点水域常年禁捕的主要原因

42. (单选题) 对个人数据信息的抓取和使用，的确有助于金融机构更准确地把握消费者需求，全面识别风险，设计出更符合消费者需求的产品和服务。因而有观点认为，大数据时代，消费者只要享受了信息互联互通的便利，就必须付出信息让渡的代价，这是一种公平交易。这一观点实际上忽视了信息的价值，忽略了信息的所有权。

作者在后文应该不会谈论：

A. 互联网时代个人信息价值及获取方式

B. 个人信息被泄露或者滥用所带来的危害

C. 通过法律规范个人信息交易的必要性

D. 整顿信息交易对数字经济发展的影响

43. (单选题) 汉代“爱国”的观念开始大量出现，标志着中华民族爱国主义的确定与形成。虽然这一时期的“爱国如家”观念主要针对官员，但这一命题本身就含有普遍的意义。到了晋代，“忠贞爱国”作为一种政治道德，明确把先秦的忠贞思想与“爱国”结合了起来，显示出“爱国”的观念已深入人心。近代以来，有人说中国古代只知道忠君，不知道爱国，这是不符合历史事实的。

根据这段文字可以得出：

A. 在汉代，“爱国”的观念已经深入人心

B. “爱国”观念是忠贞思想的进一步升华

C. 在中国古代，爱国是先于且重于忠君的

D. 在汉代和晋代，对官员都有爱国的要求

44. (单选题) PPT的泛滥产生了一个有趣的词——“夺命PPT”。它既指一篇糟糕的演示文稿，也指一位

蹩脚的演示者，或者两者兼具，让听众痛不欲生。其特征主要包括：首先，就内容而言，展示的是并非必要的长篇文稿；其次，就形式而言，页面塞满小而难以辨认的字体；只有文字而缺乏适当的图片或动画，或者是过多过滥地使用动画效果；最后，也是最糟糕的是，演示者使用单调乏味的口气去朗读幻灯片上的内容，但实际上观众是可以自己看屏幕的。

关于“夺命PPT”，文中没有提及：

- A. 内容缺乏重点 B. 叙述逻辑混乱 C. 形式不利于观看 D. 演示者缺乏技巧

45. (单选题) 应该看到，大部分人选择相信他人并愿意将自身利益、诉求置于陌生人的社会交往活动中，一个重要原因在于有一整套规范的法律制度和法律体系在保护守信人、惩戒失信人。法律制度与法律约束为和谐的社会交往、互信的人际秩序提供了可以依靠、可以遵循、可以坚守的行为规范。法律是构建社会诚信的根本保障，良序的社会需要健全的法治，越是健全的法治越能为美好的社会保驾护航。对这段文字概括最为准确的一项是：
- A. 社会信任建设是一个不断强化的过程 B. 良好的社会信任需要靠法律制度来保障
C. 多管齐下才能营造诚信友善的社会生态 D. 信任是社会系统有序运转的重要润滑剂

第三部分 数量关系

46. (单选题) 为实现产业振兴，农科院对某县的所有自然村进行了调研，结果发现，适合种植A作物的自然村占 $\frac{4}{13}$ 。适合种植B作物的自然村有25个，同时适合种植两种作物的自然村占总数的 $\frac{1}{14}$ ，则在该县，不适合种植两种作物的自然村至少有多少个？
- A. 57 B. 67 C. 114 D. 134
47. (单选题) 小王每天以 v 千米/小时的速度骑车到单位上班，如果速度提高20%，则可以提前10分钟到单位；如果以原速度骑行2千米后再提速30%，也可以提前10分钟到达。问小王家距离单位多少千米？
- A. 5.4 B. 7.2 C. 8.5 D. 9.6
48. (单选题) 农科院派出6名科技人员支援甲、乙、丙三个县农业发展，每个县分配2人。其中精通农业、牧业和渔业技术的分别有3人、3人和2人。有2人同时精通农业和牧业技术、且精通渔业技术的人均不精通农业和牧业技术，已知丙县因无条件发展渔业只需要农业和牧业技术专家，甲县和乙县都需要掌握3类技术的专家支援，问有多少种不同的安排方式？
- A. 4 B. 8 C. 15 D. 20
49. (单选题) 现派出两个工作组对甲、乙、丙、丁和戊五个县的乡村振兴工作成果进行验收，要求每个工作组至少验收2个县，且每个县由1个工作组验收。问如按要求随机分配任务，则甲、乙两个县的乡村振兴工作成果由同一个工作组验收的概率为：
- A. $\frac{1}{3}$ B. $\frac{2}{5}$ C. $\frac{1}{2}$ D. $\frac{3}{5}$
50. (单选题) 王、李、刘、张四人参加测试，每人得分均为正整数，张的得分高于任意一人，李的得分低于其余任一人，王的得分高于刘，已知张和王得分之和为34，王和刘得分之和为20，刘和李得分之和为16，问张比王多得多少分？
- A. 8 B. 10 C. 12 D. 14
51. (单选题) 某项工程，甲、乙、丙三个工程队如单独施工，分别需要12小时、10小时和8小时完成。现按“甲—乙—丙—甲……”的顺序让三个工程队轮班，每队施工1小时后换班，问该工程完成时，甲工程队的施工时间共计：
- A. 2小时54分 B. 3小时 C. 3小时54分 D. 4小时
52. (单选题) 某公司开展爱心捐款活动，50名员工人均捐款81.5元。已知任2名员工捐款金额相差不超过

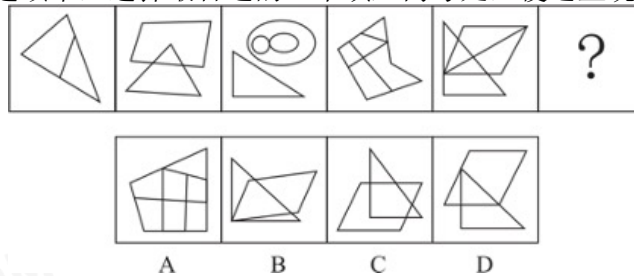
- 10元，问该公司捐款83元及以上的员工最多可能有多少人？
A. 40 B. 42 C. 44 D. 46
53. (单选题) 某工厂原有甲工种的人数是乙工种人数的2倍，由于公司扩大产能，又招聘了甲、乙两个工种的工人，且新招聘的甲工种人数是新招聘的乙工种人数的0.5倍，招聘后工厂中甲工种的人数是乙工种人数的1.5倍，问新招聘的乙工种人数是原乙工种人数的：
A. 1/3 B. 1/2 C. 2/3 D. 3/2
54. (单选题) 果农陈伯将收获的水果全部卖出，出售价格为苹果5元/公斤，冬枣6元/公斤，甜橘7元/公斤，已知苹果和冬枣的产量之比为4:3，苹果和甜橘的产量之比为5:2，出售冬枣的收入比甜橘多3400元，问他销售水果的总收入为多少元？
A. 22800 B. 23400 C. 24000 D. 24600
55. (单选题) 已知A单位在3月x日 ($x \leq 10$) 举行校招会，B单位在4月y日 ($y \geq 20$) 举行校招会，两个单位的校招会都在星期五举行，已知 $x+y=32$ ，问y的值为：
A. 24 B. 25 C. 26 D. 27

第四部分 判断推理

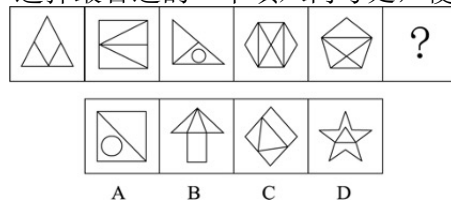
56. (单选题) 从所给的四个选项中，选择最合适的一个填入问号处，使之呈现一定的规律性：



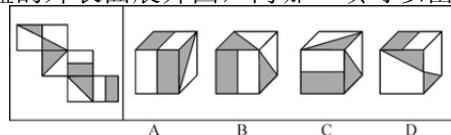
- A. 如上图所示 B. 如上图所示 C. 如上图所示 D. 如上图所示
57. (单选题) 从所给的四个选项中，选择最合适的一个填入问号处，使之呈现一定的规律性：



- A. 如上图所示 B. 如上图所示 C. 如上图所示 D. 如上图所示
58. (单选题) 从所给的四个选项中，选择最合适的一个填入问号处，使之呈现一定的规律性：




- A. 如上图所示 B. 如上图所示 C. 如上图所示 D. 如上图所示
59. (单选题) 左图为所给正方体纸盒的外表面展开图，问哪一项可以由其所折叠而成？



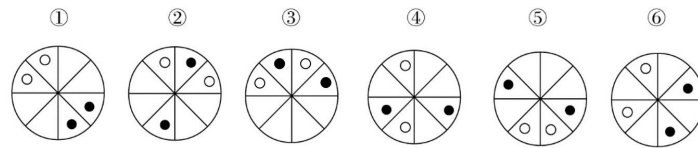
A. 如上图所示 B. 如上图所示 C. 如上图所示 D. 如上图所示

60. (单选题) 将下列六个图形分为两类, 使每一类图形都有各自的特征或规律, 分类正确是:



A. ①④⑤, ②③⑥ B. ①②⑥, ③④⑤ C. ①⑤⑥, ②③④ D. ①②③, ④⑤⑥

61. (单选题) 将下列六个图形分为两类, 使每一类图形都有各自的特征或规律, 分类正确的是:



A. ①②④, ③⑤⑥ B. ①⑤⑥, ②③④ C. ①③⑤, ②④⑥ D. ①③⑥, ②④⑤

62. (单选题) 自媒体是指区别于传统媒体的一种新媒体, 即个人在任何地点、任何时间, 通过网络个人平台向外界传递有关信息, 与他人进行即时通讯, 分享自己的真实感受。

根据上述定义, 下列属于自媒体的是:

- A. 某晚报编辑小周管理旅游类公众号, 定期推送副刊文章, 转发率很高
- B. 张教授建立个人微信公众平台、发布自己原创诗词作品, 受到学生好评
- C. 小王参加了电台举办的“职场中的女性情感”网络直播活动, 备受关注
- D. 摄影师小林不定期在某著名摄影杂志发布个人摄影作品, 受到粉丝追捧

63. (单选题) 见义勇为是指在法定职责、法定义务或者约定义务之外, 为保护国家利益、社会公共利益或者他人的人身财产安全, 挺身而出, 同违法犯罪行为作斗争或者抢险、救灾、救人的行为。

根据上述定义, 下列属于见义勇为的是:

- A. 某大学保安小张在日常巡查过程中, 发现某实验室起火, 迅速冲进实验室灭火, 导致他脸上手上多处烧伤
- B. 赵大妈看到某美容院的橱窗中挂着邻居王女士的照片, 经询问美容院并未获得王女士的授权, 赵大妈坚决要求美容院老板撤下照片
- C. 小杨的父亲在河边挖土, 不小心掉进了3米多深的河道里, 听到呼救声, 小杨不顾一切赶上前去, 迅速跳进冰冷的河水里, 把父亲救上岸
- D. 黄老伯邻居家的几个孩子在河边玩耍, 其中一个小孩掉进河里, 听到孩子们的哭喊声, 黄老伯不顾个人安危毅然冲进河中, 将孩子救了上来

64. (单选题) 战争中的随机是指战争主体随着战争情况和条件的改变, 因时因地灵活机智地把握和应对已出现的有利于或不利于军事行动的时机。

根据上述定义, 下列**没有**体现战争中的随机的是:

- A. 得时无怠, 时不再来
- B. 知己知彼, 百战不殆
- C. 待其来者而正之, 因时之所宜而定之
- D. 兵无常势, 水无常形, 能因敌变化而取胜者, 谓之神

65. (单选题) 碎片推理是指从只言片语或少量个案推到一般性结论的推理, 这类推理往往以偏概全, 缺乏说服力。

根据上述定义, 下列**不属于**碎片推理的是:

- A. 有的家长让孩子“在家上学”, 有的家长把孩子送到国外, 这说明当下的应试教育很成问题

- B. 某位京剧名家想收一个关门弟子，挑了几次没有中意的，他很失望，认为现在的年轻人都比较怕吃苦
- C. 蔡某参加某企业的研发人员招聘面试，表达欠佳，面试官因此断定蔡某的技术能力有限，决定不予聘用
- D. 某教师在班级管理中采用了金钱奖励制度，想培养学生的经济意识，但有家长表示不满，认为不能让金钱污染孩子的心灵
66. (单选题) 共同犯罪是指二人以上共同故意犯罪，共同故意要求共犯人知道共犯的内容及社会意义，并希望结果的发生，并且共犯人主观上要有共同犯罪意思联络，知道自己不是孤立的在犯罪，而是和他人一起共同犯罪。
- 根据上述定义，下列案件不属于共同犯罪的是：
- A. 李某和杨某系夫妻，与邻居黄某因为排水问题发生纠纷，继而发生口角，黄某被李某殴打。黄某受伤倒地后杨某未实施救助，与李某快速离开了现场。经鉴定，黄某受重伤
- B. 周某和陈某对刘某怀恨在心，二人商议杀死刘某，于是二人非法购买了枪支，准备第二天杀死刘某。但是陈某感到害怕，于当天晚上告知刘某杀人计划，并和刘某一起到公安机关报案
- C. 张某和王某两人互不认识。一天深夜，张某进入一家超市偷东西时，碰到王某也在该超市偷东西，两人相视而笑。之后，张某和王某一起将偷取的东西变卖，分别获利2.2万元和1.3万元
- D. 谢某和丁某共谋盗窃汽车，谢某将盗车所需的钥匙交给丁某。后来，谢某后悔，让丁某归还钥匙。丁某请求谢某让他配置一把钥匙之后再归还，谢某同意。随后丁某利用自己配置的钥匙盗窃了汽车
67. (单选题) 检出症候偏倚是医学研究中出现的一种系统误差，指的是病人常因某些与致病无关的因素就医，从而提高了早期病例的检出率，致使研究者过高地估计了该疾病与这些因素的关联程度，由此产生了系统误差。
- 根据上述定义，下列哪项反映了检出症候偏倚？
- A. 喜食高嘌呤饮食的痛风患者改善饮食后痊愈，研究者由此得出高嘌呤饮食与痛风有关的结论
- B. 有些中年人出现胸闷心悸后就诊，发现患有早期冠心病，研究者由此认为胸闷心悸与冠心病有关
- C. 某体检中心为社区30岁以上居民进行血脂检查，老年人因怀疑自身血脂异常乐于采血，年轻人却逃避检查，研究者由此得出30岁以上人群血脂异常比例大的结论
- D. 绝经期妇女服用雌激素造成子宫出血，就诊使子宫内膜癌被早期发现，而未服用者易漏诊或较迟发现，研究者由此得出绝经期妇女服用雌激素会导致子宫内膜癌的结论
68. (单选题) 选择性理解是指不同的受众对传播媒介所传播的同一信息做出不同的解释、结论和反应。造成这种现象的主要原因是受众在理解过程中加进了许多主观因素，如固有的观念、态度、立场，个人的感情、情绪、习惯，使用传播媒介的动机和目的，等等。
- 根据上述定义，下列情形属于选择性理解的是：
- A. 小吴与小宋经常就新闻报道中的观点发生争执
- B. 小婷与小凤就新闻受众问题提出不同的学术观点
- C. 小陈认为看时政新闻有意思，而小李认为文体新闻更刺激
- D. 小伍觉得晚上看新闻更有感觉，小王认为早上看能早知道
69. (单选题) 隐形贫困人口是指工作收入并不低，但由于无节制的消费造成日常生活有时比较窘困的一类人。
- 根据上述定义，下列**不属于**隐形贫困人口是：
- A. 甲在某大型企业市场部工作，喜欢结交朋友，每月工资到手，通常隔三差五地邀请朋友聚会，潇洒过后，只能蹭朋友的饭或借钱度日
- B. 公关部经理乙因为工作原因，特别注意穿着打扮，每月工资一大半花费在购买时尚服装及高档化妆品

上，而平时的生活只能将就着过

C. 高级工程师丙收入不菲，儿子本科毕业后出国攻读硕士学位，虽然费用昂贵，但丙全力支持儿子的选择，自己在家过着俭朴的生活

D. 丁喜欢过安逸舒适的生活，刚工作不久便用收入的大部分租住高档小区，日常生活开销只能尽量缩减，或刷卡透支以待下月偿还

70. (单选题) 补偿性消费，也称“报复性”消费，是指某个特殊时期或场合限制了人们的消费需求，一旦解除限制，消费的需求会大幅度增加，甚至会超出合理的范畴。

根据上述定义，下列属于补偿性消费的是：

A. 经济危机后，居民消费欲望低迷，为防风险，银行居民储蓄存款大幅增加

B. 民俗有正月剃头不吉利的说法，因此农历二月一到，镇上的理发店人满为患

C. 月收入2500元的小丽为追赶时尚，经常刷信用卡购买名牌服装，每月入不敷出

D. 老丁常年忙于出差应酬，为了补偿对儿子的忽视，经常给他买一些贵重的礼物

71. (单选题) 损失憎恶效应是基于对资源浪费的担心而宁愿做出不理智或者错误选择的行为。这种担心与事情本身通常并不相干，其行为也是低效无益的。

根据上述定义，下列属于损失憎恶心理的是：

A. 对于剩饭剩菜，老年人往往舍不得倒掉，就算子女极力反对，他们也要尽可能吃光，哪怕会吃坏身体

B. 在影院看一场近期很火的电影，刚刚开始看就发现完全不对胃口，但许多人还是会坚持到散场，因为毕竟是买了票来看这部电影的

C. 老同学在微信朋友圈给他的女儿拉票，尽管孩子的舞蹈跳的一般，但还是有许多同学每天坚持去点赞，否则怕伤了那位老同学的心

D. 陪孩子去上钢琴培训班，老李每次都要在教室外呆上两个小时，虽然不太情愿，但也有收获，毕竟孩子明年就要参加钢琴十级考试了

72. (单选题) 文字：资料：图片

A. 木板：建材：钢铁 B. 红色：颜色：彩色 C. 塑料：脸盆：脚盆 D. 窗户：窗帘：布料

73. (单选题) 公众号：新媒体：传播

A. 电视：电器：消费

B. 电饭煲：炊具：饮食

C. 手机：通讯工具：交流

D. 电脑：电子产品：打字

74. (单选题) 琴棋书画：古琴：围棋

A. 梅兰竹菊：梅花：兰花

B. 花鸟虫鱼：菊花：画眉

C. 笔墨纸砚：毛笔：砚台

D. 江河湖海：长江：黄河

75. (单选题) 睡觉 对于 () 相当于 () 对于 身体健康

A. 精力充沛；跑步

B. 身心愉悦；工作

C. 梦游；以逸待劳

D. 减肥；有氧运动

76. (单选题) 病毒 对于 () 相当于 () 对于 鲸鱼

A. 疫苗；捕鲸船

B. 微小；庞大

C. 医生；渔夫

D. 细菌；熊猫

77. (单选题) 甲醛作为室内空气污染，被世界卫生组织列为致癌和致畸形物质，研究者发现在甲醛胁迫下，植物光合作用的速率降低，植物叶片叶绿素含量下降，抗性越弱的植物品种其叶绿素含量下降越快。所以，甲醛污染对室内植物的影响与植物的抗性强弱有关。

以下哪项如果为真，最能反驳上述研究者的观点？

A. 植物的抗性越好叶绿素含量越高，越能吸收甲醛

B. 植物叶绿素含量变化是评价其抗性强弱的重要指标

C. 甲醛污染对室内植物的影响取决于植物叶片的大小

- D. 光合作用的速率改变，植物叶片叶绿素含量随之变化
78. (单选题) 德国的一项研究显示，长期居住在天寒地冻、杳无人烟的南极洲，人的大脑平均会缩小7%，学习、记忆以及与人交往能力随之减弱。因此，生活在炎热地区的人比生活在寒冷地区的人更聪明。
- 以下哪项如果为真，最能削弱上述论证？
- A. 该项研究成果尚未公开发表
B. 气候会对人的智力产生巨大的影响
C. 寒冷令人们为保存更多能量，倾向于减少学习及社交活动
D. 该研究结果是可逆的，离开南极洲一段时间后人的大脑基本恢复正常水平
79. (单选题) 有人建议，英语四六级考试应该改变统一考试模式，实行社会化改革，由社会机构组织，大学生自愿选择报考，大学与用人单位自主认可，而不再是所有学生必须统一参加、企事业单位招聘统一要求成绩的考试，这能令大学英语教育摆脱应试教育。
- 以下哪项如果为真，最能削弱上述结论？
- A. 大学生自愿选择报考有助于学生自主学习
B. 社会机构组织英语考试也会导致应试教育
C. 企事业单位招聘并没有统一要求英语成绩
D. 英语应试教育不仅仅是四六级统一考试造成的
80. (单选题) 随着靶向及免疫治疗方式的飞跃发展，某专科医生近日宣布，淋巴瘤已成为目前控制率、治愈率最高的肿瘤，淋巴瘤主要分为霍奇金淋巴瘤和非霍奇金淋巴瘤两大类，非霍奇金淋巴瘤是最常见的淋巴瘤类型，约占所有淋巴瘤的91%，其治愈率高达70%；而霍奇金淋巴瘤临床治愈率最高可达80%。除了发达的医学技术，该高治愈率还与越来越多的肿瘤药物被纳入医保报销、提高了药物的可及性有关。
- 以下哪项如果为真，最能支持上述专科医生的论证？
- A. 淋巴瘤不属恶性肿瘤，治愈率高
B. 淋巴瘤的高治愈率与其控制率提高有关
C. 如果医疗费用提高，则淋巴瘤治愈率将下降
D. 患霍奇金淋巴瘤的被治愈人数比非霍奇金淋巴瘤的更多
81. (单选题) 国外某中学通过走访和调研了解人们对基础教育的期望，排在前4位的是让学生“有清晰的目标”“能在行动中学习”“能在发现问题、解决问题中展示个人能力”“有勇气进入陌生领域”。有基础教育专家据此指出，每个孩子都是独立的个体，应该关注孩子的个性体验和挑战现状、解决问题的能力，而不是统一标准考试的成绩。
- 以下哪项如果为真，最能削弱该基础教育专家的观点？
- A. 教师在统一的大班制教学中也同样能让学生学会用已有的知识解决未知的问题
B. 统一标准的考试并不妨碍学生确立清晰的学习目标、锻炼进入陌生领域的勇气
C. 中国的教育资源比较紧缺，统一标准的考试有助于体现教育选拔的公平和公正
D. 大班制教学有助于激发学生的竞争意识，培养其团队合作和挑战现状以及解决问题的能力
82. (单选题) 科学家对19岁以上的1524名男性和2008名女性共3532人进行了调查。结果显示，不吃早餐的男性在1年内体重增加3公斤以上的比重是吃早餐的1.9倍之多；不吃早餐的女性在1年内体重增加3公斤以上的比重是吃早餐的1.4倍之多。因此，他们得出结论：如果不吃早餐，无论男女、体重增加的概率都会比较高。
- 以下哪项如果为真，最能削弱上述结论？
- A. 不吃早餐，男女体重不一定都会增加
B. 男女体重增加主要是早上睡懒觉造成的

- C. 18岁以下的人群不一定会出现研究中的结果
D. 相比男性，不吃早餐对女性体重增加的影响并不大
83. (单选题) 只有持之以恒抓基层、打基础，发挥基层党组织战斗堡垒作用和党员先锋模范作用，机关党建工作才能落地生根，只有与时俱进、改革创新，勇于探索实践、善于总结经验，机关党建工作才能不断提高质量、充满活力。
根据以上陈述，可以得出以下哪项结论？
A. 如果不能持之以恒抓基层、打基础，发挥基层党组织战斗堡垒作用和党员先锋模范作用，机关党建工作就不能不断提高质量，充满活力
B. 只要持之以恒抓基层、打基础，发挥基层党组织战斗堡垒作用和党员先锋模范作用，机关党建工作就能落地生根
C. 如果不能与时俱进、改革创新，勇于探索实践、善于总结经验，机关党建工作就不能不断提高质量、充满活力
D. 只要与时俱进、改革创新，勇于探索实践、善于总结经验，机关党建工作就能不断提高质量、充满活力
84. (单选题) 导游：“从朝天宫到金顶有两条道路可以走，一条是明代神道，一条是清代神道。清代神道路程比较近，台阶坡度也较小，走起来容易；明代神道路程比较远，台阶坡度也比较大。”选择走清代神道的小马走了一半，发现清代神道的台阶也很多、很陡，他不由得抱怨导游误导了他。
以下哪项如果为真，最能解释上述导游和小马的认识差异？
A. 明代神道的台阶更多，更陡
B. 小马平时缺少锻炼，爬山少
C. 清代神道的台阶主要集中在前半段
D. 导游几乎天天爬山，他说容易，但是对于游客却很难
85. (单选题) 某物业公司为住户提供24小时全年无休的门卫保安服务，门卫保安每日分为白班和夜班，每班均有一名保安人员上班。三名保安人员每3天排一轮班，已知本轮排班中，甲、乙、丙的上班情况如下：
①没有人连续上一整天班；
②甲、乙、丙在本轮排班中都有一个整天在休息；
③没有人被全部安排白班或夜班；
④为确保员工充足休息，刚排完夜班之后不能接着排白班。
则在上述排班中，以下情况可能发生的是：
A. 某住户已经连续两天看到乙上班
B. 某住户连续两天都看到甲和乙在上班
C. 某住户前天白天出门和今天夜晚回家时都看见丙在上班
D. 某住户已经连续三天晚上下班回家都没有看见丙在上班

第五部分 资料分析

2011—2016年部分省份服务业增加值情况表

单位：亿元

	广东	江苏	山东	浙江
2011年	24464.93	20842.21	17370.89	14449.07
2012年	27061.04	23517.98	19995.81	16071.16
2013年	30503.44	27197.43	23221.51	17948.72
2014年	33223.28	30599.49	25840.12	19220.79
2015年	36853.47	34085.88	28537.35	21341.91
2016年	41816.37	38458.45	31669.03	24091.57

86. (单选题) 2011—2016年, 资料中所列省份服务业增加值年均增量最大的是:
 A. 广东 B. 江苏 C. 山东 D. 浙江
87. (单选题) 2013—2016年间, 山东省服务业增加值同比增速最快的年份是:
 A. 2013年 B. 2014年 C. 2015年 D. 2016年
88. (单选题) 2016年, 广东省服务业增加值占表中四省服务业增加值之和的比重:
 A. 不到25% B. 在25%—28%之间 C. 在28%—32%之间 D. 高于32%
89. (单选题) 2016年, 江苏、浙江两省GDP分别为76086亿元和46485亿元, 江苏省当年服务业增加值占GDP的比重比浙江省:
 A. 高不到3个百分点 B. 高3个百分点以上 C. 低不到3个百分点 D. 低3个百分点以上
90. (单选题) 能够从上述资料中推出的是:
 A. 2011—2015年, 江苏省服务业累计增加值过15万亿元
 B. 2012—2014年, 浙江省服务业增加值同比增量每年均超过1500亿元
 C. 2015年, 表中四省服务业增加值总量较上年增加了一成以上
 D. 2016年, 山东省服务业增加值超过广东省的80%

2016年, 全国棉花产量534.3万吨, 比2015年减产26.0万吨。

播种面积减少是2016年我国棉花产量减少的主要原因。继2014、2015年后, 2016年棉花播种面积继续减少。2016年全国棉花播种面积为3376.1千公顷, 比2015年减少420.5千公顷。分地区看, 新疆棉花播种面积比2015年减少99.1千公顷, 下降约5.2%; 其他省棉花播种面积减少321.3千公顷, 下降约17%。

从棉区看, 黄河、长江流域棉区延续2015年减产较多的趋势。其中, 黄河流域棉花播种面积减少147.8千公顷, 下降约14.3%; 单产每公顷增加63.3公斤, 提高约6.0%; 产量减少10.0万吨, 下降约9.2%。长江流域棉花播种面积减少160.7千公顷, 下降约19.8%; 单产每公顷减少68.3公斤, 下降约5.9%; 产量减少23.0万吨, 下降约24.6%。

尽管我国最大的产棉区新疆棉花播种面积减少, 但由于每公顷单产增加151.5公斤, 棉花产量仍达到359.4万吨, 比上年增加9.1万吨, 增长约2.6%。新疆棉花产量占全国的比重进一步扩大到约67.3%, 比上年提高约4.8个百分点。

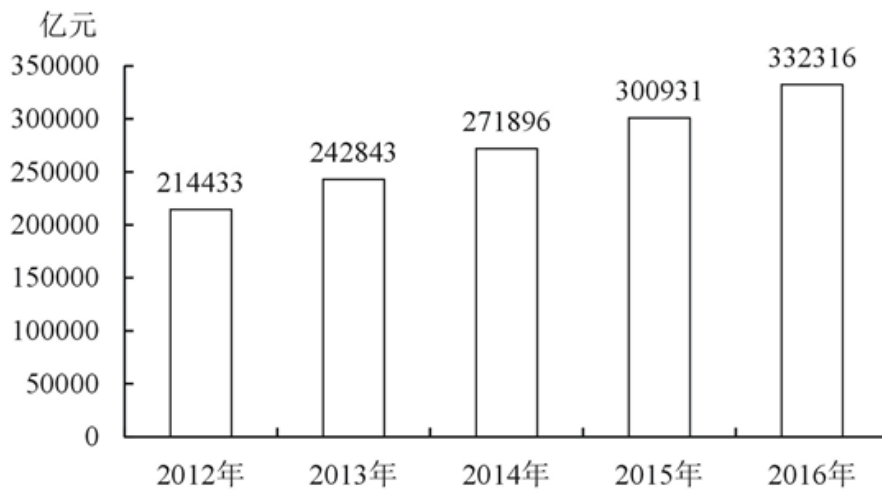
91. (单选题) 2016年, 全国棉花单位面积产量比上年约:
 A. 下降6.8% B. 下降3.9% C. 上升2.6% D. 上升7.2%
92. (单选题) 2015年, 黄河流域的棉花单产为:
 A. 1118公斤/公顷 B. 1092公斤/公顷 C. 1055公斤/公顷 D. 1003公斤/公顷
93. (单选题) 2016年, 黄河流域、长江流域和新疆流域三地之外的产棉地区棉花产量比上年:
 A. 减少6.8万吨 B. 减少2.1万吨 C. 增加2.1万吨 D. 增加6.8万吨
94. (单选题) 2016年, 棉花播种面积同比降幅最大的是:

- A. 全国棉花播种面积
- B. 黄河流域棉花播种面积
- C. 新疆棉花播种面积
- D. 长江流域棉花播种面积

95. (单选题) 不能从上述资料中推出的是:

- A. 2014—2016年, 我国棉花播种面积逐年递减
- B. 2015年和2016年新疆棉花产量占全国的比重都大于60%
- C. 2015年和2016年新疆棉花播种面积占全国的比重都大于50%
- D. 2016年, 黄河流域、长江流域棉区棉花播种面积和单产均减少

2016年, 我国全年社会消费品零售总额332316亿元。按经营地统计, 城镇消费品零售额285814亿元, 增长10.4%; 乡村消费品零售额46503亿元, 增长10.9%。按消费类型统计, 商品零售额296518亿元, 增长10.4%; 餐饮收入额35799亿元, 增长10.8%。



2012—2016年社会消费品零售总额

在限额以上企业商品零售额中, 粮油、食品、饮料、烟酒类零售额比上年增长10.5%, 服装、鞋帽、针纺织品类增长7.0%, 化妆品类增长8.3%, 金银珠宝类与上年持平, 日用品类增长11.4%, 家用电器和音像器材类增长8.7%, 中西药品类增长12.0%, 文化办公用品类增长11.2%, 家具类增长12.7%, 通讯器材类增长11.9%, 建筑及装潢材料类增长14.0%, 汽车类增长10.1%, 石油及制品类增长1.2%。

全年网上零售额51556亿元, 比上年增长26.2%。其中, 网上商品零售额41944亿元, 增长25.6%, 占社会消费品零售总额的比重为12.6%。在网上商品零售额中, 吃类商品增长28.5%, 穿类商品增长18.1%, 用类商品增长28.8%。


96. (单选题) 2013—2016年, 社会消费品零售总额同比增速最快的年份是:

- A. 2013年
- B. 2014年
- C. 2015年
- D. 2016年

97. (单选题) 2016年, 我国限额以上企业商品零售额, 按增幅排序正确的是:

- A. 文化办公用品类 > 通讯器材类 > 日用品类
- B. 家具类 > 中西药品类 > 建筑及装潢材料类
- C. 汽车类 > 化妆品类 > 粮油、食品、饮料、烟酒类
- D. 家用电器和音像器材类 > 服装、鞋帽、针纺织品类 > 石油及制品类

98. (单选题) 2015年, 我国网上商品零售额占当年社会消费品零售总额的比重可用下列哪一图形表示?




99. (单选题) 如从2016年开始, 社会消费品零售总额年增量保持不变, 社会消费品零售总额首次超过40万亿元的年份是:

- A. 2017年 B. 2018年 C. 2019年 D. 2020年

100. (单选题) 不能从上述资料中推出的是:

- A. 2012—2016年, 社会消费品零售总额超过140万亿元
B. 2015年, 城镇消费品零售总额占当年社会消费品零售总额的80%以上
C. 2016年, 限额以上企业商品零售额中, 并非所有品类都呈增长趋势
D. 2016年, 餐饮收入额占社会消费品零售总额的比重同比上升了不到0.4个百分点

查看参考答案与详细解析



扫描二维码

查看试卷解析

打开华图在线app，进入到“我的”，点击扫一扫
二维码就可以录入电子版答题卡，查看答案解析了哦



华图在线搜索：**系统提升班**

名师授课 超高性价比 一站式满足公务员备考所有需求