

目 录

言语习题.....	2
判断习题.....	16
数资习题.....	26
金融习题.....	40
经济习题.....	48
会计习题.....	56
公基习题.....	63
管理习题.....	71
英语习题.....	79

必
考
图
解
密
码

言语习题

1. 疫情防控期间以大数据为底层技术的健康码,成为人们日常生活和出行的“放心码”;无人机配备北斗高精度定位导航,高效执行喷药消毒、应急物资运输投送任务;全新人工智能诊断技术辅助医生快速、准确判读 CT 影像;宽带网络基础设施和云计算平台,不断吞吐着海量数据,支撑几亿人同上网课……科技竭尽所能帮助人们在与病毒的较量中胜出;与此同时,由应对疫情所催热的在线教育、远程办公等新业态、新模式,将依托人工智能和大数据等新技术进步发展,逐渐成为人们生活中的“常备品”。

这段文字意在()。

- A.探讨科技如何有效匹配民生需求和供给
- B.强调科技成果能够创造出巨大的社会价值
- C.说明科技成果在服务民生、惠及民生等方面的潜力
- D.解释有效发挥科技惠民生作用,重在精准“对接”

2. 当前,由于政府决策、施策的事项纷繁复杂,各类矛盾交织、各种变量融合的情况比比皆是。缺乏数据支撑的决策特别是凭经验做出的决策,往往顾此失彼,科学性、前瞻性不够。政府应借助大数据手段,利用数据关联分析、数学建模、虚拟仿真乃至人工智能等技术,在基于广泛、大量数据的基础上进行模块化分析和政策模拟,为决策提供更为系统、准确、科学的参考依据,为决策实施提供更为全面、可靠的实时跟踪,推动政府决策由过去的经验型、估计型向数据分析型转变,最终实现政府决策机制再造。

这段文字意在强调()。

- A.大数据在政府治理方面应用前景广阔
- B.当前政府决策施策事项问题丛生
- C.以大数据助推政府决策科学化
- D.以大数据助推政务管理精准化

3. “以数据为关键生产要素、以科技为核心生产工具、以平台生态为主要生产方式的新金融理念正对商业银行的增长方式产生深远影响。商业银行需要通过数字化转型开启“第二发展曲线”。一方面,数字化转型能够快速捕捉市场需求的变化,准确把握经济的短板、企业和个人的痛点,精确分析经济数据和产业动态信息实现精准对接市场。另一方面,借助金融科技力量,打造场景化和智能化的金融产品,使金融服务更好惠及百姓民生,解决社会

痛点。同时，数字化转型为商业银行提升风控能力提供了新思维、新模式和新手段，有助于提升智能风控水平。

上述文字意在说明（ ）。

- A. 商业银行有必要进行数字化转型以进一步适应数字经济时代的发展要求
- B. 商业银行开展数字化经营的必由路径
- C. 商业银行经营发展内生增长的需要促使商业银行开展数字化转型
- D. 外部环境变化和数字经济快速发展倒逼商业银行开展数字化转型

4. 如果科技工作者缺乏应有的科技伦理操守，就容易被资本力量、商业行为所裹挟。比如，一些网上商家滥用个人信息数据，进行差异定价的“大数据杀熟”，使市场伦理、商业伦理受到冲击。再如，滥用信息传播中的“算法”推荐，基于用户的行为数据判定其喜好，“投其所好”推送特定种类信息，制造“信息茧房”效应。又如，基于人工智能的 AI 换脸“深度伪造”等技术应用，可能威胁公民人身安全和金融安全。诸如此类的新兴技术滥用，突破了伦理边界、道德底线，甚至游走在违法犯罪的边缘。

这段文字意在说明（ ）。

- A. 科技伦理旨在从伦理准则层面关注科技工作者该不该做什么”
- B. 面对日益复杂的科技伦理问题，需要将其规范纳入制度和法律之中
- C. 科技伦理是科技活动必须遵守的价值准则
- D. 有关部门亟须加强科技伦理监管，完善相应的责任追究机制

5. 经济社会发展演进、社会主要矛盾的变化，需要金融更具适应性、竞争力、普惠性；中国特色社会主义制度优越性的发挥、国家治理体系和治理能力的现代化，需要金融提供助力、主动作为。在传统金融体系中，长期以来对“三农”的金融支持服务还不够，农村、农业、农民的金融服务获得感不明显。传统金融体系受“短期绩效”“资本至上”以及“规模偏好”等观念的影响，对规模小抗风险能力差的中小企业、创业者的金融服务相对不足。建设银行自觉对标习近平总书记重要指示批示精神和党中央决策部署，从服务大局着眼、从解决社会民生“痛点”入手，以新金融探索实践努力提供更有针对性的金融解决方案。

这段文字主要介绍了（ ）。

- A. 传统金融体系面临的问题
- B. 市场对金融服务的新需求
- C. 传统金融体系的新发展
- D. 建设新金融的现实背景

6. 前不久有媒体报道称，某市一位老人乘公交车时因没有智能手机无法扫健康码而被司机拒载，此事引起人们关注。近年来，随着科技的发展，移动支付等服务的出现方便了广大消费者，但也有一些老年人觉得不太适应。在日常生活中，一些老年人因为不会使用智能手机而遇到问题正常现象，不该遭到冷遇和拒绝。现在，一些企业的产品和服务多站在年轻人角度设计。一些厂家商家为了节约人力成本，大规模使用智能服务终端代替人工服务，更让不少老年人感觉无所适从。

对这段文字的主旨概括最准确的是（ ）。

- A. 让老年人适应智能化时代，社区、养老院、老年大学等组织和机构大有可为
- B. 在推动智能化、信息化应用加快普及的同时，要充分考虑老年人的实际需求
- C. 老年人的消费市场空间巨大，企业设计产品和服务时应考虑赢得更多的老年消费者
- D. 面对日新月异的智能化时代，年轻人接受能力强，老年人适应能力相对较弱

7. 中科院博士做起知识分享博主，获得百万粉丝；互联网营销师用“网络带货”对接供需两端，成为新网…从被认为“不务正业”到获得社会认可，人们的职业选择更加灵活，就业空间更加广阔。一位从事互联网营销的年轻人说，体验了直播带货后，家人朋友都觉得他的职业有前途。从国家到社会，再到身边人，这些认可将坚定更多年轻人的就业信心，激发蓬勃的创业活力。

上述文字表达的主要意思是（ ）。

- A. 新旧职业更迭中体现了社会发展活力
- B. 新职业涌现体现着更包容的职业观
- C. 随着时代发展，新职业层出不穷
- D. 新职业成为时代变迁的印记

8. 近年来 VR、AR、5G 等数字技术在文旅产业被广泛使用，诞生了诸如虚拟现实景区、虚拟现实娱乐、数字博物馆等全新的文旅业态。随着数字技术进一步深入渗透，数字化将推动形成数字文旅新生态和数字化新型供应链，从而变革文旅产业发展的基础设施，改变文旅产业发展的商业模式，提高文旅产业有效供给水平，拓展文旅产业发展新空间。

这段文字主要说明的是（ ）。

- A. 要改变文旅产业现状，推动新的商业模式，开拓更大空间，就必须发展数字技术
- B. 数字技术是文旅产业的基础设施，需要加大建设力度
- C. 数字技术已经改变并将继续推动文旅产业的商业模式和业态的发展
- D. 在文旅产业中，有很多场景可以应用数字技术

9. 由于各个国家发展过程中的传统、文化等因素的差异性，国民幸福指数应当具有国家特色。指标体系要全面，构建该指标体系不仅要包括人类发展指数所反映的内容（人均GDP、预期寿命、教育成就），同时也应该把政府治理、环境适宜度、安全感、社会资本、收入分配等衡量发展的重要指标纳入其中。

从这段文字中可以推知以下正确的是（ ）。

- A.各个国家对“幸福”的定义是相同的
- B.如果一个国家人均GDP很高，但安全度很低，那么国民幸福指数也不一定很高
- C.每个国家的国民幸福指数是不可比较的
- D.国民幸福指数反映了个人生活的方方面面

10. 当只有一只眼睛可以看到猎物时，这意味着不可能进行立体定位。当两只眼睛都可以看到猎物时，这意味着动物利用了立体感，这使得它们在攻击时可以做出更快的决策。乌贼是已知的第二个可以使用立体视觉来感知距离的无脊椎动物。英国的科学家表明，螳螂也具有双眼深度感知能力，拥有立体视觉。

根据这段文字可以知道（ ）。

- A.螳螂是科学家所知道可以通过立体视觉捕获猎物的第一种无脊椎动物
- B.具有两只以上眼睛的动物能够更快地定位猎物的位置，从而更快地发动准确攻击
- C.要想捕猎物，除非动物具有立体视觉
- D.只有一只眼睛的动物是无法进行立体定位的

11. 当植物暴露在干旱或有害昆虫、草食动物威胁中时，会表现出表型的改变，比如颜色、气味和形状的变化。它们所散发的挥发性有机化合物（VOCs）也会影响邻近的植物，导致这些植物抗性增强。然而，植物在受到胁迫压力下会发出声音的情况还没有得到充分研究。

基于这段文字，不能推出的项是（ ）。

- A.有些植物对有害昆虫产生抗性是因为它们受到邻近植物的警告而产生的
- B.并非所有植物在遭受威胁时都会发出声音用于自保
- C.植物可以利用视觉与化学信号影响其他动植物的行为
- D.植物虽然不能移动，但也并非是一个沉默的世界

12. 橡皮筋拉伸会发热，缩回后温度会降低，这是因为橡皮筋中的聚合物纤维是随机取向，当其受力拉伸时，纤维就会变成一致有序的取向，这就意味着熵的减少，当放松橡皮筋时，恢复成混乱的纤维排序就意味着更高的熵，也就意味着降温。利用这个原理，研究人员

将橡胶、鱼线和镍钛合金等材料经过加捻以“拧麻花”的方式实现制冷，如果该技术能够商业化，将有望替代现在使用空气压缩制冷技术，降低制冷对温室效应的影响。

这段文字中，我们可以推知（ ）。

- A. “拧麻花”制冷方式仍处于理论构想阶段
- B. 只有纤维物质的形变才可以引起环境的温度变化
- C. “拧麻花”制冷方式对电能的消耗更小
- D. 熵增加的过程就是释放热量的过程

13. 下列句子语序排列最连贯的是（ ）。

- (1) 不少学校和旅行社还会组织学生参加多种多样的游学项目和夏令营，开阔视野、增长见识。
- (2) 开学后，而没出过国的同学则融入不到出国同学的讨论中去，甚至还有被孤立之感，感到难堪。
- (3) 关键还是要引导孩子们自强、自立、自信，将积极的愿望和目标内化为好好学习、努力向上的内生动力。
- (4) 但这样的机会并不是所有同学都有，有的是因为家里的经济条件不允许，有的则因为家长工作繁忙。
- (5) 近年来，随着生活水平的提高和公众对于行万里路的重视，走出国门的学生越来越多。
- (6) 对教育者来说，该如何妥善处理好这些学生的心理落差，让孩子意识到没出过国并不丢人。

- A. (2) (5) (4) (1) (6) (3)
- B. (5) (1) (4) (2) (6) (3)
- C. (5) (1) (2) (4) (3) (6)
- D. (2) (6) (3) (5) (1) (4)

14. 下列语句排序最为连贯的一项是（ ）。

- (1) 大部分国家在军事上更重视信息化发展。
- (2) 目前的卫星导航系统可以实现单兵实时定位，确认每支部队的位置，这对协调部队指挥以及战术运用更加有利。
- (3) 因此，发展适合本国需要的导航系统已经成为了大国的战略之一。
- (4) 如今早已跨入了信息化时代，任何领域都在逐渐向信息化发展。

(5) 另外，导弹这类精确制导武器，也需要卫星导航系统提供定位，再结合自身的设备不断修正航线，能击中目标。

(6) 正因如此，卫星导航系统变得越来越重要。

- A. (4) (6) (2) (5) (1) (3)
- B. (1) (6) (2) (5) (3) (4)
- C. (4) (1) (6) (2) (5) (3)
- D. (1) (2) (5) (4) (6) (3)

15. 下列语句排序最为连贯的一项是 ()。

- (1) “斜杠青年”标榜了与传统时代不同的职业观。
- (2) 这种观念一方面激活了个体活力，另一方面也是社会宽容度提升的表现。
- (3) 但真正要成为受到社会认可的“斜杠青年”，却不是那么容易的。
- (4) “斜杠青年”，是多面手、多职业、跨界青年群体的代名词。
- (5) 职业不再是单一、稳定和保守不变的，而是可以在更多的岗位角色之间自由选择。
- (6) 不同角色的共存和转换，势必需要每个个体投入更多时间、精力。

- A. (1) (5) (2) (4) (3) (6)
- B. (1) (4) (5) (2) (6) (3)
- C. (4) (5) (2) (1) (6) (3)
- D. (4) (1) (5) (2) (3) (6)

16. 下列语句排序最为连贯的一项是 ()。

(1) 互联网平台为学生提供免费上网课渠道虽是好事，但借机推广网游就有点不厚道。

(2) 作为市场化的互联网产品，直播平台吸引广大用户无可厚非，但不能背弃基本的市场伦理。

(3) 未成年人要进行网络学习，先要浏览大量游戏、交友等无关信息。

(4) 据报道，几家互联网平台利用免费提供的上网课渠道，向未成年人推广网络游戏。

(5) 既然主动面向未成年人提供网课渠道，互联网平台就应主动履行主体责任，对不良信息进行有效屏蔽。

- A. (4) (2) (5) (1) (3)
- B. (2) (3) (1) (4) (5)
- C. (2) (5) (4) (3) (1)
- D. (4) (3) (1) (2) (5)

17. 下列语句排列最为连贯的一项是（ ）。

- (1) 中经“为政以德”的阐释，最终成为此后中国传统社会的基本治国方略。
- (2) “德主刑辅”始于先秦“明德慎罚”的观念。
- (3) 这些思想对于坚持和完善中国特色社会主义制度、推进国家治理体系和治理能力现代化具有重要借鉴意义。
- (4) 但仅有德治尚不足以达到国家有效治理的目标，我国古人找到了另一把“钥匙”，即法治。
- (5) 德主刑辅、以德化人的德治主张，是中华优秀传统文化的重要内容。
- (6) “法者，治之端也”，“徒善不足以为政，徒法不能以自行”，强调了法治的重要地位以及依法而治的重要意义。

- A. (5) (4) (6) (2) (1) (3)
- B. (5) (2) (1) (4) (6) (3)
- C. (2) (1) (4) (6) (3) (5)
- D. (2) (1) (5) (4) (3) (6)

18. 如果法律不能成为公民自卫的武器，他们就没有武器；如果法律不能保障公民合法的权利不受侵犯，他们不会有权利；如果法律总是出乎公民的意料成为威权的“贤内助”，他们就形同被宣布不配拥有法律，只配拥有宿命；如果执法部门不做出以事实为依据，以法律为准绳的公正审判，_____。

填入划横线部分最恰当的一句是（ ）。

- A. 政府的公信力会受到挑战
- B. 惩恶扬善的功能就难以实现
- C. 社会就不会有公正的立足之地
- D. 公民就不会得到安全的保障

19. _____。传统的扶贫主要是从经济物质上进行。而贫困地区要改变贫穷落后的面貌，既要从经济物质上进行辅助，而贫困地区要改变贫穷落后的面貌，既要从经济上加强扶持，更需要加强智力开发。农耕文明时期的辛勤劳动精神，中华文化典籍中记载的孝敬、懂礼等教义，中国古代名门望族诞生的家风、家训，这些文化财富正是当前许多村落缺失的精神支柱。只有“我想发展、我要发展、我能发展”的自我定位、“我想脱贫、我要脱贫、我能脱贫”的自主意识，在帮扶支持下由精准“扶”贫到精准自我“脱”贫的思想观念转变才能完成“脱”的“任务”。

填入画横线部分最恰当的一项是（ ）。

- A.文化扶贫需要精准扶贫
- B.文化扶贫需要问题导向
- C.文化扶贫需要转变观念
- D.文化扶贫需要突出特色

20. 当前，我国网信领域要求采用自主可控技术，产品，服务，系统的呼声越来越高，这里的“自主可控”强调的就是可控性。自主可控是实现网络安全的前提，换言之，_____。因此，为了实现网络安全，首先要实现自主可控，再实现传统意义上的安全，最终再结合其他各种安全措施，达到保障网络安全的目标。

填入文段横线部分最恰当的一句是（ ）。

- A.采用自主可控的技术不等于实现了网络安全，但没有采用自主可控的技术一定不安全
- B.目前网络不安全是因为没有采用自主可控的技术
- C.自主可控技术是网络安全的一个充分条件但不是必要条件
- D.采用了自主可控的技术就一定能实现网络安全

21. 许渊冲先生在《朗读者》一书的序言里说，人生最大的乐趣是发现美、创造美，这个乐趣是取之不尽用之不竭的，而美的乐趣来自阅读这些名篇佳作。是的，阅读不仅让人享受美，也是人之所以为文明人的一个根本。人，是这个地球上唯一能够用文字记录自己的生活与智慧，唯一能够通过阅读充盈自己的心灵、丰富自己的精神世界的生物。_____。

填入划线部分最恰当的一句（ ）。

- A.如何回归真正的阅读，让浮躁的心灵有安顿的地方，仍然是我们这个时代的重要课题
- B.一个人的精神发育史就是他的阅读史，一个民族的精神境界也取决于这个民族的阅读水平
- C.通过品读经典培养高尚的心灵，养成知识丰富、道德高尚、情趣健康的性灵，可以让
人生从浮躁走向宁静、从浅陋走向优雅
- D.因比，应该通过电视把那些伟大的思想、最美好的语篇、最优秀的著作介绍给成长中的孩子，给需要精神常养的少年，给需要过精神生活的成年人

22. 文学是人类继语言之后的第二大发明。如果说语言的出现使人类实现了由动物到人的转变，那么文学的发明，则使人类从原始社会的低级阶段上升到文明的高级阶段，从而使人民的生活发生了质的飞越，文学是一个民族与国家文化传承与创新的基础，因此，_____。

A.在世界文化格局中，每一种文化都有它自己的渊源和特点

B.能够使用和传承自己本民族的文学，不仅是一种文化责任和文化能力，更是一种文化情怀和文化热爱

C.中国文学文化的演变具有非常清晰的传承体系，这正是中华文明与世界其他文明的区别所在

D.正是有了汉字，才有了中国人自己的精神，才有了中国五千年绵延不绝光辉灿烂的文化

23. 以李鸿章为领袖的洋务运动曾给中国带来富国强兵的希望，而经其手签订的各种丧权辱国条约却让中国陷入半封建半殖民地社会。正因如此，一百多年来，李鸿章头顶变换着救国、误国、卖国三顶帽子。对这样一个复杂的历史人物，只有给其一个更为精准的定位，才能更清晰地解读他的所作所为。而在如何定位上，诸多史学著作或抓小放大，或以偏概全，或就事论事，隔靴搔痒，雾里看花，_____。

填入画横线部分最恰当的一句是（ ）。

A.读者难有尽兴之感

B.有失公允之处颇多

C.真正的佳作甚为罕见

D.难以摘掉这三顶帽子

24. 互联网时代的版权保护需要更为灵活包容的政策措施，在保障原创者、版权人利益的同时，也为互联网开放、共享的内生动力预留空间。实际上，从早期在线下制售盗版书、光碟和录音带，到今天在线上点点鼠标、敲敲键盘，就能轻松复制他人智力成果，侵犯版权的困扰由来已久。有些拥有海量用户的媒体平台，自动转载他人新闻作品，既没获得授权也不标明来源。在互联网时代，如何防止“我辛苦种草，你免费放羊”的尴尬又不妨碍开放、共享的互联网精神，如何化解以互动传播为特点的新型传播方式与现有版权制度的冲突，这些都需要更为灵活包容的政策措施。

最适合做这段文字标题的是（ ）。

A.版权保护“呼唤”政策支持

B.网络版权保护中的“不破不立”

C.版权保护要立足网络特性

D.网络版权保护形势严峻

25. 为什么上班族在一到下午两点就失去了干活的动力？有研究发现，大脑专注于寻找奖赏，奖赏能带来动力，让人们持续工作。研究者使用 FMRI 扫描了参与者在三个时间点（上午十点，下午两点，晚上七点）的大脑活动，发现左侧豆状核在上午和晚上的活动最频繁，在午后最为安静。这个区域在奖赏处理和奖赏预期中发挥重要作用。脑部的变化在于大脑对什么时候能预期“奖赏”存在“预测误差”，奖励预期值的低潮在上午和晚上，所以需求奖赏的动力会更高，人们会更加努力以期望获得奖赏。预期值在中午达到峰值，这时候人们就失去了努力的动力。

下面最适合本文的标题是（ ）。

- A. 预期奖赏不足，我选择偷懒
- B. 为什么一到下午就想偷懒
- C. 预期奖赏影响人们的工作动力
- D. 预期误差导致奖赏预期的差异

26. 引力波的存在打开了人们感知、了解、观察、认知和解释大千世界的更为广袤的空间。如果说，过去人类认识世界只是靠眼耳鼻舌身这些不同的感知窗口，然后靠大脑来合成这些不同感官感知到的事物的全貌，那么，引力波的被检测到就为人们认识世界打开了一扇或几扇大门，让人类能用其他的感知途径来更为全面和深刻地观察世界。

最适合做这段文字标题的是（ ）。

- A. 引力波的存在提供了新的思维视角
- B. 引力波：引力的作用以波动的形式传播
- C. 引力波：开拓人类认知的新世界
- D. 科学家终于探测到引力波

27. 有媒体报道，某社区是一个成立只有 3 年多的新社区，常住居民 3 万多人，其中四分之三来自市内外，5.5%的居民来自外省市，对社区缺乏认同感和归属感，更没兴趣参与社区公共事务管理。针对这个问题，该社区将国学融入社区生活，以“耕、读、居、养、礼、乐”为内容，密集开展“一平米菜园”、太极拳、负离子体验、小剧场等活动，让居民有了沟通交流的平台，邻里矛盾纠纷明显下降，治安环境明显改善。

如果请你给这则报道起个标题，下列选项中适宜的是（ ）。

- A. 推广新“六艺”，党员发挥先锋模范作用
- B. 政府提供贴心服务，做好社区“好管家”
- C. 创新社会治理，撑起群众生活“幸福伞”

D.普法宣传进万家，探索治安管理专业化

28. 中国原始彩陶的大批出现，是从约六千年前的仰韶文化到的三千年前的大汶口文化。从已发现的材料看，黄河流域，长河流域新石器时的彩陶，大体上可以按照区域归为中原地区彩陶，西北地区彩陶和东南沿海地区彩陶三类。这三个区域的彩陶，在器型、纹饰方面都有它的基本相异之处，从器型来看，中原地区多盆形、钵形西北地区多罐形壶形；长江中下游及沿海地区多鼎形、豆形和深腹罐。从纹饰来看，三者虽然都以动物、植物和编织为主，但是在图案的取材变化以及组织等方面有各自的特色，其相异程度是一看便知的。

文章最好的标题是（ ）。

- A.中国陶瓷艺术的初期形态
- B.远古时期的彩陶艺术
- C.彩陶的起源
- D.早期彩陶的地域差异辨析

29. 行业间频繁的间谍活动是商业竞争时代的典型特征，商业间谍在消费活动中非常盛行，它对亿元的营销活动和产品公布时间的正确与否起着关键作用。市场情报对商家来说极其重要，而情报的获得方式也很多样，一些公司选择雇佣双重间谍的方式，给一些企业带来了不可回的损失。所以目前不可忽视的问题是：合法的研究和不道德的甚至是不合法的间谍活动之间并没有一条明确的界限。

本文的最佳标题可以是（ ）。

- A.双重间谍盛行
- B.市场情报的重要性
- C.企业间的间谍活动
- D.市场竞争的决定因素

30. 当炫耀式旅游成了目的，扎堆往知名景点挤。也就在意料之中，其实旅游作为一种现代的生活方式，可以有多样化的功能。如果是为了教育，可以带孩子去看名山大川、古城遗迹，帮助他们了解国家的历史和文化传统；如果是为了休闲放松，可以去海边、深山，或者就近选择市郊的农家小院，能短暂逃避尘世喧嚣就好。理性面对旅游目的，寻找合适的度假所在，才是健康的旅游观念，才能更好地享受旅游的快乐。旅游观念转型升级旅游市场分化，人满为患的现象才可能消失，旅行中的快乐亦会更加醇厚。

根据这段文字，旅游观念的“转型升级”指的是（ ）。

- A.实现多样化的功能

B.赋予旅游实际意义

C.理性面对旅游目的

D.享受旅行中的快乐

31. 自我意识指的是个体对自己的心理思维及行为活动的内容、过程及结果的自我体验、自我认识自我调节。自我意识一般包括两个方面：一个是主体的我，即对自己身心活动的觉察，比如性格、能力和行为等；另一个是客体的我，即被觉察到的我，是个体在生活中作为客体被自我和他人所认识。自我意识的结构是从自我意识的知、情意二方面分析的，包括自我认识、自我体验和自我调节。自我认识是自我意识的认知成分，它是自我意识的首要成分，主要包括自我感觉、自我观察、自我分析和自我评价。自我体验是自我意识在情感方面的表现，自尊心、自信心都是自我体验的具体内容。自我调节是自我意识的意志成分，包括自我检查、自我监督、自我控制等。

根据材料，自我意识是指（ ）。

A.人对主体我和客体我认识的统一体

B.人对外部世界及对他人和自己的认识

C.人对思维活动结果的自我体验、自我认识和自我调节

D.人生而具有的一种区别于动物的意识存在形式

32. 婴儿很早就表现出掌握环境的强烈愿望。由于控制动作的技能发展缓慢，所以他们的活动受到了限制。他们还没有足够的本领来支配环境以独立生存。在这个意义上，应该说他们是“不能自立”的。

在这段话中，说婴儿“不能自立”是指（ ）。

A.他们完全不能够独立生存

B.他们不能控制自己的动作

C.他们仅有独立生存的意思

D.他们没有适应环境的足够本领

33. 人们为保护海龟采取了一系列措施，例如使用全球定位系统追踪他们的行踪、志愿者主动把孵化的幼龟送到海边、政府出面保护海龟的产卵场等。研究人员使用卫星设施跟踪海龟的迁徙情况，试图弄清这些海龟常常穿越广阔海域洄游数千公里的原因，以让保护海龟措施的制定更加科学。这类定位跟踪研究能更清晰地认识海龟的活动规律，例如海龟在产卵期要产五六窝卵，每产一窝卵需要回到海中休息半个月，一旦知道海龟在产卵间隙回到海洋休息的活动范围，就可以确切地知道保护区范围应该有多大才合适；又如海龟产完卵后会去

哪里？会走一条什么样路线？这些研究成果会让我们更明确应在哪些区域保护海龟。但是自然对人类公平的理念却漠不关心。实际上，如果没有额外的保护，海龟很有可能会永远消失。

结合上下文，对“自然对人类公平的理念漠不关心”这句话理解最精准的是（ ）。

- A.人类的干涉不会改变自然进程
- B.海龟的数量仍在不断减少
- C.海龟的现状不会因人类的保护而发生任何变化
- D.海龟的生存方式与人类无关

34. 学习乐器依赖于对抽象概念（比如节奏）的理解，这种能力对于学好数学非常重要。但是数学与音乐之间确切地关系我们仍不得而知。以往有的研究将乐器训练与数学成绩关联起来，但是这种关系被高度质疑。比如，虽然与没学过音乐的学生相比，受过音乐训练的人有更高的数学成绩，但是并不是所有的研究都能找到二者之间的联系。并且研究也没排除其他干扰因素的影响：比如社会经济背景、动力、教育、家长参与等等。当然也有可能是其他认知因素影响了个体在音乐与数学的成就。有研究表明，二者之间的关联可能是由高级认知处理能力造成的。比如执行能力可以让人们适应不断变化的任务需求，是学术成就的强有力的预测手段，甚至比智力水平发挥的用处还大。而乐器学习能不断增强这种能力，比如根据不断变换的节拍与音符来改变动作。

上述材料中提到的高级认知处理能力是指（ ）。

- A.领导能力
- B.执行能力
- C.统筹能力
- D.变化能力

35. 填入括号中的词语最恰当的项是（ ）。

（1）为了发现有创意的作品，出版社决定面向全国发出征文（ ），没想到短短的一个星期，就收到了几百份稿件。

（2）没有确切的理由表明九零后就没有担当，恰恰相反，我们要敢于（ ）有能力、有胆略的人，而不能局限于他是哪一代的人。

- A.启事 起用
- B.启示 起用
- C.启事 启用
- D.启示 启用

36. 填入括号中最恰当的一组词语是（ ）。

新冠疫情在全球传播蔓延，我国向国际社会提供力所能及的帮助，这种行为源于中国人民的（ ），源于对其他国家人民遭受疫情苦难的（ ），源于大国的责任和担当，绝非输出中国模式，更不是为谋求所谓的政治利益。

A.拳拳之心 感同身受

B.古道热肠 感同身受

C.古道热肠 情深意浓

D.拳拳之心 情深意浓

37. 填入括号处最恰当的一组词语是（ ）。

（1）就目前而言，进行详尽的市场调查，认清不同客户群体对产品功能的需求有何不同，有助于研发部门（ ）地对产品进行统一调整和优化。

（2）正是由于已经暴露的问题，公司管理层才要慎重考虑如何彻底整治，公司要做（ ）的事情，而不是头痛医头脚痛医脚。

A.因地制宜 正本清源

B.有的放矢 追本溯源

C.有的放矢 正本清源

D.因地制宜 追本溯源

38. 填入括号中最恰当的词语是（ ）。

行走在路上，我的目光被橱窗内的摆设吸引住了，从外表看起来，这不过是一家普通的文印店，但店内摆设却是（ ），店主（ ），用废纸加上各种颜色，彼此搭配，做成人、树和房子等各种形状，透着轻松活泼的气氛。

A.与众不同 独树一帜

B.与众不同 别出心裁

C.富丽堂皇 别出心裁

D.富丽堂皇 独树一帜

39. 填入括号中最恰当的词语是（ ）。

（1）洪峰未过，大坝岌岌可危，如何保证下游民众安全已经迫在眉睫，（ ）是将洪水引入废置的水库，转移下游民众。

（2）民族主义在现代国家形成过程中起到了非常重要的作用，但对它与全球化的关系，与会专家（ ），莫衷一是。

- A.万全之策 各执一端
- B.万全之策 分道扬镳
- C.当务之急 分道扬镳
- D.当务之急 各执一端

40. 填入括号中的词语最恰当的一项是 ()。

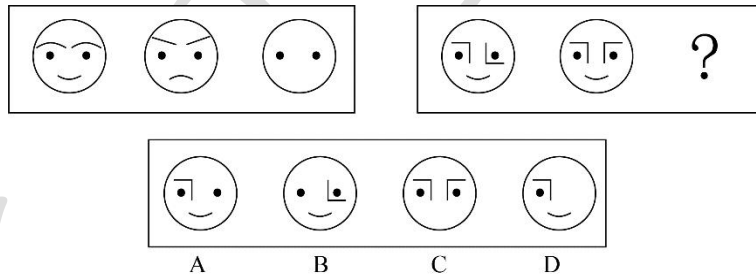
(1) 利用现代建筑科技, 历史悠久的老城区得到了维护, 整体 ()。

(2) 行驶在这条横穿草原的天路上, 我们 () 能见到几处羊群, 如同漂浮在绿色天空上的白云。

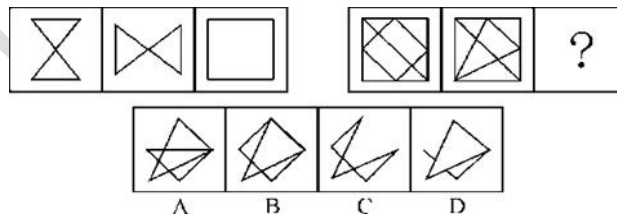
- A.焕然一新 偶然
- B.耳目一新 偶然
- C.耳目一新 偶尔
- D.焕然一新 偶尔

判断习题

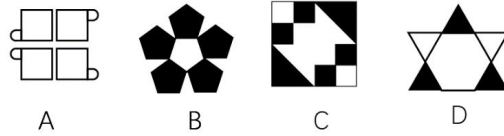

1. 从所给的四个选项中, 选择最合适的一个填入问号处, 使之呈现一定的规律性 ()。



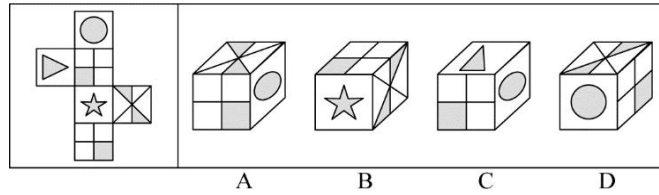
2. 从所给的四个选项中, 选择最合适的一个填入问号处, 使之呈现一定的规律性 ()。



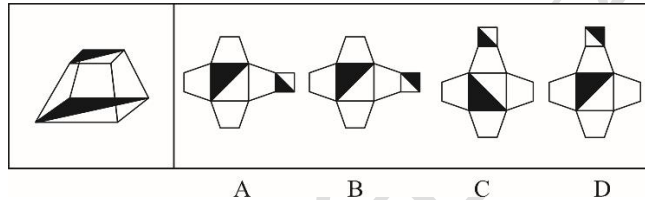
3. 根据规律填入问号处的图形是 ()。



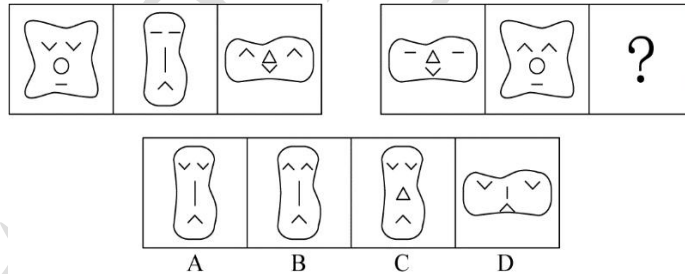
4. 左边给定的是纸盒的外表面，下列哪一项能有它折叠而成 ()。



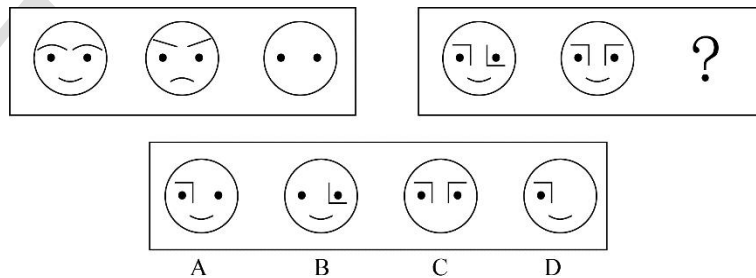
5. 右边哪一项能够折叠而成左边图形 ()。



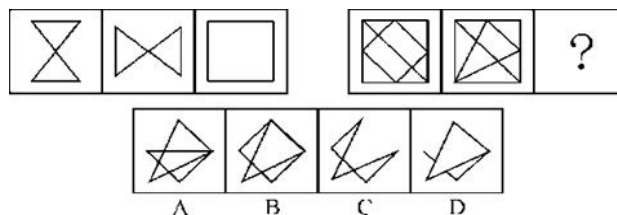
6. 从所给的四个选项中，选择最合适的一个填入问号处，使之呈现一定的规律性 ()。




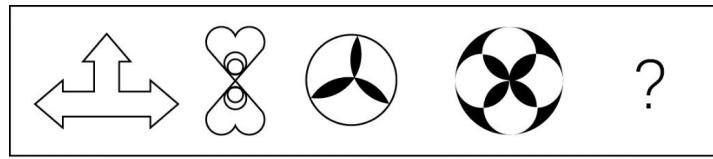
7. 从所给的四个选项中，选择最合适的一个填入问号处，使之呈现一定的规律性 ()。



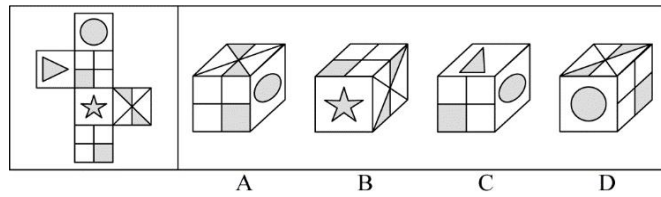
8. 从所给的四个选项中，选择最合适的一个填入问号处，使之呈现一定的规律性 ()。



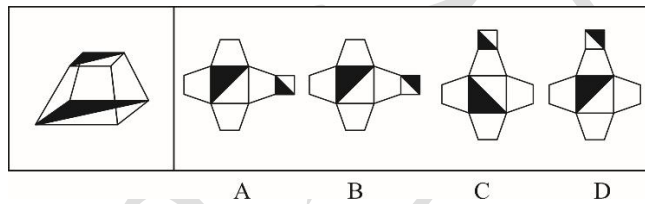
9. 根据规律填入问号处的图形是 ()。



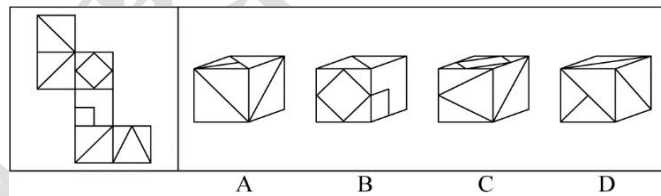
10. 左边给定的是纸盒的外表面，下列哪一项能有它折叠而成 ()。



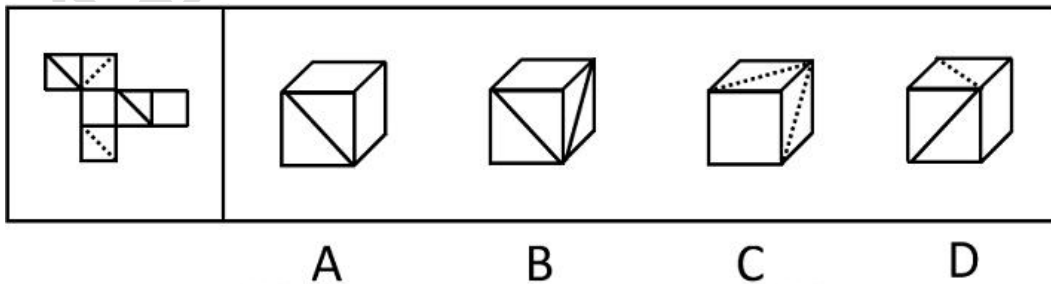
11. 右边哪一项能够折叠而成左边图形 ()。



12. 左边给定的是纸盒的外表面，下列哪一项能有它折叠而成 ()。



13. 左边给定的是纸盒的外表面，下列哪一项能有它折叠而成 ()。



14. 甲、乙、丙三人中一人是学考古的，一人是学文物保护的，一人是学文博的，已知：

- ①丙比学文博的年龄大
- ②甲和学文物保护的不同岁
- ③学文物保护的比乙年龄小

由此可以推出 ()。

- A.甲是学考古的，乙是学文物保护的，丙是学文博的
- B.甲是学文物保护的，乙是学文博的，丙是学考古的
- C.甲是学文博的，乙是学考古的，丙是学文物保护的
- D.甲是学文博的，乙是学文物保护的，丙是学考古的

15. 张三、李四、王五、赵六四人参加歌手大赛第一季，赛前，评委预测他们的名次，A 评委说：“五王第一，张三第三。” B 评委说：“李四第一，赵六第四。” C 评委说：“赵六第二，王五第三。” 结果发现，他们都只预测对了一半。由上可知，比赛的名次是（ ）。

- A.赵六第一，李四第二，王五第三，张三第四
- B.李四第一，赵六第二，张三第三，王五第四
- C.张三第一，王五第二，李四第三，赵六第四
- D.王五第一，张三第二，赵六第三，李四第四

16. 已知甲乙丙三人的职业各不相同，分别是教练、司机、律师中的一种，当询问他们时，得到了如下回答，甲说：“我和教练不同岁。” 乙说：“教练比我的年龄小。” 丙说：“我比司机的年龄大。” 如果他们所说都是真的，那下列描述中正确的是（ ）。

- A.乙的职业是司机
- B.甲的职业不是司机
- C.乙比甲年龄大
- D.丙比甲年龄小

17. 小丽、小花和小孙共用一间办公室。办公室的打印机不能用了。小丽说：“打印机不是缺墨了，也不是老旧坏了。” 小花说：“打印机不是缺墨，而是传输数据线坏了。” 小孙说：“打印机不是传输数据线坏了，而是缺墨了。” 已知她们三个人当中，有一个人说对了，有一个人说错了，有一个人只说对了一半。

根据上述情况，以下哪项是真的（ ）。

- A.打印机的电源坏了
- B.打印机的传输数据线坏了
- C.打印机缺墨了
- D.打印机老旧坏了

18. 在升达教育科技有限公司中，财务总监、市场部经理和软件工程师分别是白阳、张力和李强中的某一位。已知：市场部经理是个独生子，钱挣得最少；李强和张力的姐姐结了婚，钱挣得比财务总监多。根据以上陈述，下列对题干中三人的身份断定正确的是（ ）。

- A.白阳是财务总监，李强是软件工程师
- B.李强是软件工程师，张力是财务总监
- C.张力是财务总监，白阳是软件工程师
- D.白阳是市场部经理，李强是财务总监

19. 宋江、林冲和武松各自买了一辆汽车，分别是宝马、奥迪和陆虎。关于他们购买的品种，吴用有如下猜测“宋江选的是陆虎，林冲不会选奥迪，武松选的肯定不是陆虎”，但是他只猜对了其中一个人的选择，由此可知（ ）。

- A.宋江选的是奥迪，林冲选的是陆虎，武松选的是宝马
- B.宋江选的是陆虎，林冲选的是奥迪，武松选的是宝马
- C.宋江选的是奥迪，林冲选的是宝马，武松选的是陆虎
- D.宋江选的是宝马，林冲选的是奥迪，武松选的是陆虎

20. 低碳生活，就是指在生活中要利用低碳的科技创新减少所消耗的能量，特别是二氧化碳的排放量，从而低碳，减少对大气的污染，减缓生态恶化。主要是从节电、节气和回收三个环节来改变生活细节。下列选项中不属于低碳生活做法的是（ ）。

- A.王科新购入了一台新能源汽车，使出行更加环保
- B.刘芳总是乘坐公共交通工具上班
- C.王奶奶总是喜欢用用过的饮料瓶子装绿豆、红豆和黄豆
- D.购物时，李玲总是喜欢用免费的纸袋装东西

21. 结构性失业指劳动力的供给和需求不匹配所造成的失业，即经济结构变化引起的失业。结构性失业是由经济变化导致的，这些经济变化引起特定市场和区域中的特定类型劳动力的需求相对低于其供给。

根据以上定义，下列现象属于结构性失业的是（ ）。

- A.某职工辞职考研
- B.经济危机引发的失业率增加
- C.传统产业对劳动者的需求减少，许多水泥厂、钢厂的工人下岗
- D.许多欠发达国家不能提供足够岗位，存在大量失业人口

22. 稀缺效应是指人们因物以稀为贵，而引起的购买行为变化的现象，即当某件事情事物变得稀缺或者难以得到时。人们会认为此物更有价值，也更想得到。

根据上述定义，下列没有体现稀缺效应的是（ ）。

- A.商店每天都挂着打折仅此一天的横幅，吸引大量顾客

- B.某品牌手机实行网上预约销售限量抢购，结果供不应求
- C.月底经济拮据的小张靠着去超市购买零七食品度日
- D.男性在临近酒吧打烊时会认为女性的吸引力指数上升了

23. 文饰作用指人们在受挫折后，会想出各种理由原谅自己，或者为自己的失败辩解的现象。

根据上述定义，下列不属于该类现象的一项是（ ）。

- A.戈尔竞选美国总统失败后，抱怨美国司法制度不公正
- B.小张没评上先进份子，他认为是自己与当评委的领导关系不好
- C.氟派生意失败，股票暴跌，就吃安眠药想自杀
- D.老师说漏嘴了，便解释说自己路上太匆忙，打乱思路了

24. 行政不作为是行政机关对于公民、法人和其他组织的符合条件的申请依法应该实施某种行为或履行某种法定职责却无正当理由拒绝履行或拖延履行的行政违法行为。

根据上述定义，下列选项中不属于行政机关不作为的是（ ）。

- A.王某要去所在地交通局告知有关汽车养路费收费标准，三个月未答复
- B.陈某在某市住建局工作多年，符合职称评定条件，申请职称评定被拒绝
- C.林某投诉某市医药公司贩卖假药，某市药监局以不属于主管范围而拒绝
- D.何某因制止施工被打伤，公安机关以违章建筑无权处理不理睬

25. 沉锚效应，指的是人们对某事物做出判断时，易受第一印象或第一信息支配，就像沉入海底的锚一样把人们的思想固定在某处。第一印象和先入为主是其在社会生活中的表现形式。

根据上述定义，下列选项没有应用到沉锚效应的是（ ）。

A.一家粥店服务员为客人盛粥后总问：“加一个鸡蛋还是两个？”另家服务员总问“加不加鸡蛋？”头一家店日销售额总高于后一家

B.男孩邀请心仪女生说：“出去玩好吗？”女孩觉得拒绝好像很自然，答应显得太主动，所以说：“下次吧。”男孩认为女孩无意与他交往

C.邻居偷走华盛顿的马被发现拒不承认，华盛顿捂住马的双眼问邻居：“马哪只眼睛瞎的？”邻居说“右眼”，事实上，马的两只眼睛都没病

D.你去商场闲逛，导购小姐诱导说：“反正今天是出来买鞋的，甲或者乙很适合你的气质，请选一双吧。”然后你就挑选了其中一双。

26. 登门槛效应,是指一个人一旦接受了他人的一个微不足道的要求,为了避免认知上的不协调,或想给他人以前后一致的印象,就有可能接受更大的要求,根据上述定义,符合登门槛效应的是()。

A.无数歌手为了更好的在娱乐圈立足,除了不断增进自己的唱歌技术发售专辑之外,歌手们还会参加各大综艺和参演热门影视剧,增加自己的曝光度和热度

B.小明一开始只是每天上网玩游戏 1-2 个小时之后时间越来越长,从一天 2 小时到 3 小时再到 12 小时,整日沉迷于网络无法自拔

C.针对学习有困难的学生,老师不宜马上对其提出过高要求,而是先提出一个小要求,当学生达到要求后,再通过鼓励,逐步向其提出更高的要求,学生会更容易接受并力求达到

D.销售为了把产品更好的推广出去,会先跟客户提出一个很高的报价,客户不太同意的情况下,经过协调之后再降低

27. 跨栏定律是指一个人的成就大小往往取决于他所遇到困难的程度,竖在你面前的栏越高,你跳得也就越高

根据上述定义,下列不属于跨栏定律的是()。

A.一位患有红绿色盲的美术爱好者,发愤图强成为了一位颇有成就的美术家

B.失去双臂的人的平衡感更强,双脚更灵巧

C.金庸笔下幼年不幸的杨过成为了神雕大侠

D.盲人的听觉、触觉、嗅觉都比一般人灵敏

28. 地方性法规是有立法权的地方国家机关依法制定与发布的规范性文件。在中国,根据宪法和立法等有关法律的规定,省、自治区、直辖市、设区的人民代表大会及其常委会,根据本行政区域的具体情况和实际需要,在不同宪法、法律、行政法规相抵触的前提下有权制定地方性法规。

以下属于地方性法规的是()。

A.财政部制定并实施的《政府事业单位会计制度》

B.全国人大制定的《会计法》

C.国务院制定的《总会计师条例》

D.安徽省十二届人大第三十三次会议表决通过的《安徽省信息化促进条例》

29. 垂直搜索引擎是针对某一个行业的专业搜索引擎,是对网页资源中的某类专门的信息进行一次整合,定向分字段抽取需要的数据进行处理后再以某种形式返回给用户。根据上述定义,下列应用与垂直搜索引擎关系最为密切的是()。

- A.在某个购物网站上在线购买鞋子
- B.登陆央视网站查询某个城市天气
- C.用百度音乐搜索自己爱听的歌曲
- D.在图书馆网站上查询该馆的藏书

30. 某办公楼附近同时新开多家餐馆，为了争取顾客，他们纷纷派出推销员走进办公楼进行宣传，有两家餐馆都推出了免费试吃一周的活动，而其中一家餐馆推出了打折优惠的活动，并且这家餐馆的推销员向在办公楼里工作的人员说，那两家免费试吃的活动是陷阱，他们是靠无证经营获得运营成本的。

以下（ ）如果为真，最能质疑该餐馆推销员的宣传。

- A.相关法律明确规定，餐馆不得无证经营
- B.免费试吃活动是通过加大周边广告力度来获得运营成本的
- C.推出免费试吃活动餐馆的餐食质量很差
- D.很难保证餐饮价格优惠的餐馆不是无证经营

31. 随着人口增加和经济发展，现在我国不少城市都兴建起地铁。然而，地铁的兴建并没有真正解决拥堵问题，只是将拥堵由地上部分转移到地下，在北上广等市的早高峰地铁、因过于拥挤导致上班迟到早已不是新鲜事。因此，地铁并没有真正解决早高峰的拥堵问题。

以下哪项如果为真，最能削弱题目的结论？（ ）

- A.有资料显示，地铁的运力是地上交通远远不能比的，相差至少 4~5 倍
- B.相对能同时选择公交和地铁的上班族，乘坐公交的迟到率远高于乘坐地铁的迟到率
- C.地铁虽然速度快，间隔时间短，但对城市的覆盖范围是十分有限的
- D.地铁的价值在于对沿线房产价格和商铺租金有明显的带动作用

32. 因偷盗，抢劫或流氓罪入狱的刑满释放人员重新犯罪率，要远远高于因索贿、受贿等职务犯罪入狱刑满释放人员。这说明，在狱中对上述前一类罪犯教育改造的效果，远不如对后一类罪犯。

以下哪项如果为真，最能削弱上述论证（ ）。

- A.与其他类型的罪犯相比，职务犯罪者往往有较高的文化水平
- B.对贪污，受贿的刑事打击，并没有有效地扼制腐败，有些地方的腐败反而愈演愈烈
- C.刑满释放人员很难再得官职
- D.职务犯罪的罪犯在整个服刑犯中只占很小的比例。

33. 近来，智能家电催发了行业企业的热情，纷纷投身其中。不仅许多互联网企业通过智能产品切入家电产业，传统制造企业更是不甘其后。家电业内人士指出，智能产品的推广和被认可尚需时日，家电企业仍需修炼好内功。

以下哪项如果为真，最能质疑家电业内人士的观点？（ ）

- A. 调查数据显示，目前有 87.5% 的用户对智能家电现状不满
- B. 智能化家电产品成为今夏市场的主打
- C. 满足家电的基本功能是对智能家电的核心要求
- D. 有些企业方面在智能化的大道上一路狂奔，一方面却在产品基本性能方面栽跟头

34. 粮食可以在收割前在期货市场进行交易。如果预测水稻产量不足，水稻期货价格就会上升；如果预测水稻丰收，水稻期货价格就会下降。假设今天早上，气象学家们预测从明天开始水稻产区会有适量降雨。因为充分的潮湿对目前水稻的生长非常重要，所以今天的水稻期货价格会大幅下降。下面哪项如果正确，最严重地削弱以上的观点（ ）。

- A. 农业专家们今天宣布，一种水稻病菌正在传播
- B. 本季度水稻期货价格的波动比上季度更加剧烈
- C. 气象学家们预测的明天的降雨估计很可能会延伸到谷物产区以外
- D. 在关键的授粉阶段没有接受足够潮湿的谷物不会取得丰收

35. 研究发现，市面上的 X 饮料的 Y 成分可以抑制鼻病毒。实验证实，鼻病毒是引发感冒的罪魁祸首。因此，经常喝 X 饮料的人将减少引发感冒的风险。

以下哪项如果为真，最能削弱上述观点（ ）。

- A. 不同条件下的实验，可以得出类似的结论
- B. 已经感冒的患者喝了 X 饮料后并未发现病情好转
- C. Y 成分可以抑制鼻病毒，也可以对人的免疫系统产生负面作用
- D. Y 成分的作用可以被 X 饮料的 Z 成分中和

36. 大学生保姆已不再是新鲜事。一项调查显示，63% 的被调查者赞成大学生当保姆，但是，问到自己家里是否会请大学生保姆时，却有近 60% 的人表示“不会”。

以下哪项陈述如果为真，能够合理解释上述看似矛盾的现象（ ）。

- A. 在选择“会请大学生当保姆”的人中，有 75% 的人打算让大学生担任家教或秘书工作，只有 25% 的人想让大学生从事家务劳动
- B. 调查中有 62% 的人表示只愿意付给大学生保姆 800 元到 1000 元左右的月薪

C.赞成大学生当保姆的人中，有 69%的人认为做家政工作对大学生自身有益，只有 31%的人认为大学生保姆能提供更好的家政服务

D.在不赞成大学生当保姆的人中，有 40%的人认为，学生实践应该选择与自己专业相关的领域

37. 尽管大家开始抵制珍稀动物的皮草产品，但仍有家具制造商将珍稀动物的皮毛用于家具饰品。几年前专家发明了一种新的高仿合成皮草，受到了家居制造商广泛的好评。但从最近几年的统计看，各地为获取皮毛而对珍稀动物进行捕杀的活动却并没有减少。

以下哪一项正确，最有助于对“捕杀活动没有减少”进行解释（ ）。

- A.生产新的高仿合成皮草比生产原未的合成皮革的成本更低
- B.新的高仿合成皮革与动物皮毛的质地相似，很难区分
- C.绝大部分珍稀动物的皮毛用在越来越流行的皮草服饰上
- D.家居制造商在销售大的家居物件时，往往将家居饰品当作赠品免费送给购买者

38. 某市风景优美，气候宜人。该市晨曦路两侧开设的几乎全部都是老年疗养院，来自全国各地的很多老年人来此旅游、疗养。晨曦路只有很少几座居民住宅，但是晨曦路附近却有很多专门经营儿童用品的商店，而且生意还相当火爆。

下列哪一项是最能解释这一现象（ ）。

- A.晨曦路附近的专门经营儿童用品的商店所出售的商品物美价廉
- B.来此疗养的老人都是有子女带着孩子陪同的，他们需为孩子购买所需物品
- C.居住在晨曦路的居民虽然不多，但孩子们之间经常互相赠送
- D.晨曦路附近的儿童用品商店闹中取静购物环境良好

39. 如果电用完了，电动自行车就无法继续前行。我的电动自行车不能继续前行，因此，电一定用完了。

以下哪项推理与题干的最为类似？（ ）

A.如果姚明上场，中国队就一定能赢。中国队输了，所以，姚明肯定没上场

B.所有的条件我都可以接受，除非它明显不公平。这个条件我不能接受，因此，它明显不公平

C.如果晓莉努力学习，考试成绩就会很好。晓莉考试成绩不好，所以，晓莉没有努力学习

D.如果小美去过香港，她一定会购买高档化妆品。小美购买了高档化妆品，所以，小美去过香港

40. 经理：小张，这星期你怎么上班总是迟到？小张：经理，不要只盯着我哟！小李有时比我到的还要晚！以下哪项的对话方式与上述最为不同（ ）。

A. 丈夫：老婆，你有没有觉得最近你特别爱发火？妻子：你什么意思！你有没有觉得最近你特别爱唠叨？

B. 乘客：师傅，开车时你怎么还打手机啊？司机：你乱嚷什么！把我惹火了，一车人的安全你负责？

C. 老师：小明，你最近上课怎么老不注意听课？学生：老师，我注意听讲了但是听不懂！听不懂我怎么听？

D. 顾客：老板，你们卖的馄饨里怎么有股怪味呢？老板：你是何居心！你是哪家馄饨店派来的捣蛋鬼？

数资习题

数量关系

1. 5, 6, 19, 33, (), 101

A. 55

B. 60

C. 65

D. 70

2. $\frac{1}{5}$, $\frac{2}{9}$, $\frac{3}{13}$, $\frac{4}{17}$, ()

A. $\frac{5}{19}$

B. $\frac{6}{21}$

C. $\frac{5}{21}$

D. $\frac{6}{19}$

3. 128, (), 8, 2, 4, $\frac{1}{2}$

A. 64

B. 55

C. 16

D. 28

4. 1, 2, 7, -2, 29, ()

A.45

B.76

C.116

D.153

5. -1, 1, 7, 25, 79, ()

A.121

B.241

C.243

D.254

6. 5, 7, 9, 11, 13, ()

A.15

B.16

C.17

D.18

7. 某品牌的葛粉进价为 20 元，现降价 20% 卖出，结果还获得进价 52% 的利润。那么，该葛粉的定价是多少元？ ()

A.36

B.37

C.38

D.39

8. 已知今年小明父母的年龄之和为 76 岁，小明和他弟弟的年龄之和为 18 岁。三年后，母亲的年龄是小明的三倍，父亲的年龄是小明弟弟的四倍。问小明今年几岁？ ()

A.11

B.12

C.13

D.14

9. 一个棱长为 6 的正方体木块，若在某一面挖出一个棱长为 $2 \times 3 \times 4$ 的长方体空间，则剩下部分的体积是挖出的长方体体积的多少倍？ ()

A.5

B.6

C.8

D.9

10. 一辆汽车第一天行驶了 5 个小时，第二天行驶了 600 公里，第三天比第一天少行驶 200 公里，三天共行驶了 18 个小时。已知第一天的平均速度与三天全程的平均速度相同，问三天共行驶了多少公里？（ ）

A.900

B.800

C.1100

D.1000

11. 工程队接到一项工程，投入 80 台挖掘机。如连续施工 30 天，每天工作 10 小时，正好按期完成。但施工过程中遭遇大暴雨，有 10 天时间无法施工。工期还剩 8 天时，工程队增派 70 台挖掘机并加班施工。问工程队若想按期完成，平均每天需多工作多少个小时？（ ）

A.2.5

B.3

C.1.5

D.2

12. 企业花费 600 万元升级生产线，升级后能耗费用降低了 10%，人工成本降低了 30%。如每天的产量不变，预计在 400 个工作日后收回成本。如果升级前人工成本为能耗费用的 3 倍，问升级后每天的人工成本比能耗费用高多少万元？（ ）

A.1.8

B.2.4

C.1.2

D.1.5

13. 手工制作一批元宵节花灯，甲、乙、丙三位师傅单独做，分别需要 40 小时、48 小时、60 小时完成。如果三位师傅共同制作 4 小时后，剩余任务由乙、丙一起完成，则乙在整个花灯制作过程中所投入的时间是（ ）。

A.24 小时

B.25 小时

C.26 小时

D.28 小时

14. 建华中学共有 1600 名学生，其中喜欢乒乓球的有 1180 人，喜欢羽毛球的有 1360 人，喜欢篮球的有 1250 人，喜欢足球的有 1040 人，问以上四项球类运动都喜欢的至少有几
人？（ ）

A.20 人

B.30 人

C.40 人

D.50 人

15. 某班共有 8 名战士，现在从中挑出 4 人平均分成两个战斗小组分别参加射击和格斗
考核，问共有多少种不同的方案？（ ）

A.210

B.420

C.630

D.840

16. 支付宝“周周乐”的游戏规则是给 4 张扑克牌（无大、小王），中二等奖要求有 3
张牌的花色、数字、顺序一致，剩下 1 张牌无要求，则中二等奖共有多少种情况？（ ）

A.202

B.204

C.206

D.208

17. 小明从家到地铁站需 5 分钟，乘坐地铁到单位需 35 分钟，某日，小明到达地铁站
时发现未带地铁卡，于是回家取卡，取卡后发现此时再乘坐地铁必然迟到，于是决定打车，
乘坐出租车所需的时间比地铁少 20%，最终在 8:28 分打卡上班，若小明未忘记带卡，他
本应在几点打卡？（ ）（取卡和等待地铁均时间忽略不计）

A.8:24

B.8:26

C.8:28

D.8:30

18. 妈妈给了小红 60 元钱让她去水果店购买西瓜和苹果两种水果，其中苹果每千克 6 元，西瓜的单价为质数且为偶数，已知小红这两种水果都买了且数量都是整数并正好把钱都花完，问小红至少能买多少千克水果？（ ）

- A.9
- B.10
- C.11
- D.12

19. 一项工程由甲、乙两个工程队来完成。在晴天，甲队单独完成需 48 天，乙队单独完成需 60 天；在雨天，甲队的工作效率要下降 40%，乙队的工作效率要下降 25%。6 月 1 日两队同时开工，耗时 30 天正好完成该工程，则 6 月有多少天是晴天？（ ）

- A.18
- B.20
- C.22
- D.24

20. 小明、小红和小刚受班主任之托叠纸鹤共 1000 个，三人如果单独完成分别需要 10，20，50 天，现三人合作，但是整个过程中小明在工作之初离开了 7 天，小刚提前离开了 4 天，小红中间也休息了一段时间，最后整个工作耗时 14 天完成，则小红休息了多少天？（ ）

- A.11
- B.12
- C.10
- D.9

21. 某人分别以 80 万的相同价格出售两套房，一套房盈利 20%，另一套房盈利 30%，那么他从中获利约为（ ）。

- A.31.5 万元
- B.31.6 万元
- C.31.7 万元
- D.31.8 万元

22. 某船从上游 A 港往下游 B 港，航速每小时 16 公里，船在静水中的速度是每小时 14 公里，问从 B 港返回 A 港的速度是多少？（ ）

A.12

B.15

C.18

D.20

23. 一次英语比赛共有 100 道题。A 每分钟做 3 道题，B 每做 5 道题比 A 少用 6 秒钟。那么 B 做完 100 道题时，A 做完了多少道题（ ）。

A.91

B.92

C.93

D.94

24. 某项工程，可由若干台机器在规定的时间内完成，如果增加 2 台机器，则只需用规定时间的 $\frac{7}{8}$ 就可做完；如果减少 2 台机器，那么就要推迟 $\frac{2}{3}$ 小时做完，现问：由一台机器去完成这项工程需要多少小时？（ ）

A.60

B.56

C.48

D.39

25. 工作人员做成一个长 60 厘米，宽 40 厘米，高 22 厘米的箱子，因丈量错误，长和宽均比设计尺寸多了 2 厘米，而高比设计尺寸少了 3 厘米，那么该箱子的表面积与设计时的表面积相差多少平方厘米？（ ）

A.4

B.20

C.8

D.40

资料分析

2019 年全国规模以上文化及相关产业企业营业收入情况

	绝对额（亿元）	比上年增长	所占比重（%）
--	---------	-------	---------

		(%)	
总 计	86624	7.0	100.0
按行业类别分			
新闻信息服务	6800	23.0	7.9
内容创作生产	18585	6.1	21.5
创意设计服务	12276	11.3	14.2
文化传播渠道	11005	7.9	12.7
文化投资运营	221	13.8	0.3
文化娱乐休闲服务	1583	6.5	1.8
文化辅助生产和中介	13899	0.9	16.0
服务			
文化装备生产	5722	2.2	6.6
文化消费终端生产	16532	5.5	19.1
按产业类型分			
文化制造业	36739	3.2	42.4
文化批发和零售业	14726	4.4	17.0
文化服务业	35159	12.4	40.6
按领域分			
文化核心领域	50471	9.8	58.3
文化相关领域	36153	3.2	41.7
按区域分			
东部地区	63702	6.1	73.5
中部地区	13620	8.4	15.7
西部地区	8393	11.8	9.7
东北地区	909	1.5	1.0

注：1.表中速度均为未扣除价格因素的名义增速。

2.表中部分数据因四舍五入的原因，存在总计与分项合计不等的情况。

26. 2019年，全国规模以上文化及相关产业企业营业收入绝对额的同比增量约为()亿元。

A.5100

B.5667

C.6100

D.6667

27. 2018 年文化传播渠道收入的绝对额是文化投资运营的（ ）倍。

A.50.3

B.54.1

C.52.5

D.56.2

28. 按领域分，文化核心领域的收入额的同比增量是文化相关领域收入额的（ ）倍。

A.4.3

B.4.9

C.5.3

D.5.9

29. 按行业类别分，全国规模以上文化及相关产业企业营业收入绝对额的同比增量最大的类别是（ ）。

A.文化消费终端生产

B.文化娱乐休闲服务

C.文化投资运营

D.文化装备生产

30. 根据材料所给信息，2019 年以下选项中正确的是（ ）。

A.按行业类别来看，所有行业所占的比重均超过一成

B.按产业类型分，文化制造业收入绝对额的同比增量大于文化服务业

C.按领域分，文化相关领域收入绝对额的同比增量不到 1000 亿元

D.按区域分，东部地区规模以上文化及相关产业企业营业收入对全国的贡献最大

据对全国 6.0 万家规模以上文化及相关产业企业调查，2020 年前三季度，上述企业实现营业收入 66119 亿元，按可比口径计算，比上年同期下降 0.6%，降幅比上半年收窄 5.6 个百分点；文化新业态特征较为明显的 16 个行业小类实现营业收入 21229 亿元，增长 21.9%。

分行业类别看，在文化及相关产业9个行业中，新闻信息服务营业收入6434亿元，同比增长17.0%；创意设计服务10276亿元，增长9.0%；内容创作生产15855亿元，增长4.1%；文化消费终端生产12549亿元，增长0.8%；文化投资运营298亿元，增长0.2%。其余4个行业虽仍为负增长，但降幅明显收窄。

分产业类型看，文化制造业营业收入25566亿元，同比下降3.8%，降幅较上半年收窄5.7个百分点；文化批发和零售业10122亿元，下降10.0%，降幅收窄7.7个百分点；文化服务业30430亿元，增长6.0%，增速提高4.3个百分点。

分领域看，文化核心领域营业收入40423亿元，增速由上半年下降4.0%转为增长1.5%；文化相关领域25696亿元，下降3.8%，降幅收窄5.6个百分点。

分区域看，西部地区实现营业收入5865亿元，增速由上半年下降2.4%转为增长0.9%；东部、中部和东北地区分别为50305亿元、9385亿元和564亿元，分别下降0.4%、1.5%和15.9%，降幅分别收窄5.9、5.2和3.9个百分点。

2020年前三季度全国规模以上文化及相关产业企业营业收入情况

	绝对额	比上年同期增长 (%)		所占 比重
	(亿元)	前三季度	上半年	(%)
总 计	66119	-0.6	-6.2	100.0
按行业类别分				
新闻信息服务	6434	17.0	13.4	9.7
内容创作生产	15855	4.1	-0.3	24.0
创意设计服务	10276	9.0	3.3	15.5
文化传播渠道	6878	-16.5	-24.4	10.4
文化投资运营	298	0.2	-1.9	0.5
文化娱乐休闲服务	683	-39.9	-48.8	1.0
文化辅助生产和中介服务	9171	-9.5	-13.3	13.9
文化装备生产	3975	-3.4	-10.0	6.0
文化消费终端生产	12549	0.8	-5.9	19.0
按产业类型分				
文化制造业	25566	-3.8	-9.5	38.7
文化批发和零售业	10122	-10.0	-17.7	15.3
文化服务业	30430	6.0	1.7	46.0
按领域分				
文化核心领域	40423	1.5	-4.0	61.1
文化相关领域	25696	-3.8	-9.4	38.9
按区域分				
东部地区	50305	-0.4	-6.3	76.1
中部地区	9385	-1.5	-6.7	14.2
西部地区	5865	0.9	-2.4	8.9
东北地区	564	-15.9	-19.8	0.9

注：1.表中速度均为未扣除价格因素的名义增速。

2.表中部分数据因四舍五入，存在总计与分项合计不等的情况。

31. 2019年前三季度，全国新闻信息服务企业的营业收入约为（ ）亿元。

A.5340.22

B.5499.14

C.5673.72

D.7527.78

32. 2020年前三季度，全国规模以上文化及相关产业企业营业收入最高的行业是（ ）。

A.文化消费终端生产

B.新闻信息服务

C.内容创作生产

D.文体投资运营

33. 2020年前三季度，东部地区在全国规模以上文化及相关产业企业营业收入所占的比例约为（ ）。

A.76.1%

B.38.67%

C.14.5%

D.8.9%

34. 2020年上半年，全国规模以上文化及相关产业企业营业收入增长最快的地区（ ）。

A.东部地区

B.中部地区

C.西部地区

D.东北地区

35. 根据以上资料，下列说法正确的是（ ）。

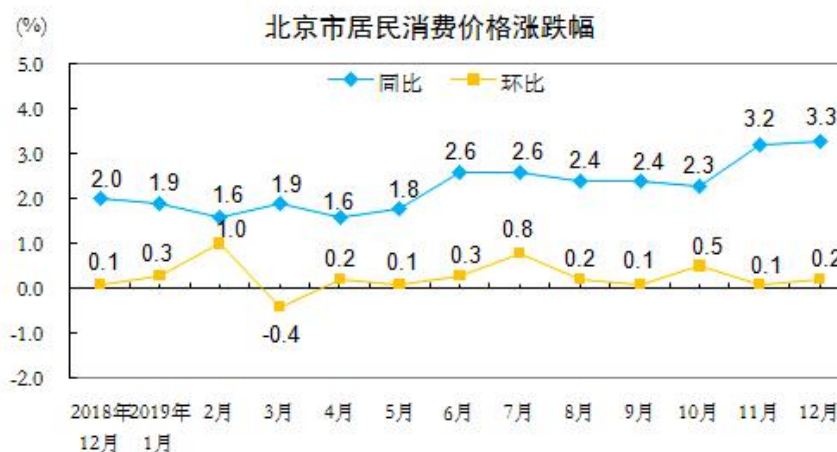
A.2020年前三季度，全国规模以上文化及相关产业企业营业收入绝对额比上年同期高

B.2020年前三季度，全国规模以上文化及相关产业文化服务业营业收入所占比重相当于文化批发和零售业的三倍

C.2020年前三季度，全国规模以上文化及相关产业企业营业收入增长最快的是文化娱乐休闲服务业

D.东北地区的文化及相关产业发展在全国处于领先地位

2019年12月份,北京居民消费价格总水平同比上涨3.3%,其中,消费品价格上涨3.4%,服务价格上涨3.1%。12月份,北京市居民消费价格总水平环比上涨0.2%,其中,消费品价格上涨0.5%,服务价格下降0.1%。

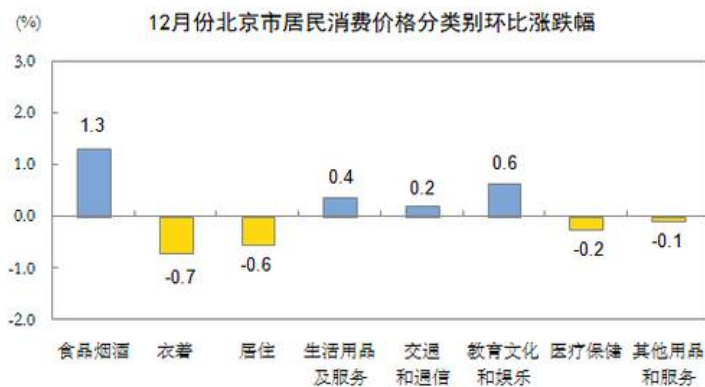


12月份,食品烟酒价格同比上涨9.1%,影响CPI上涨约2.29个百分点。其中,畜肉类价格上涨48.6%,影响CPI上涨约1.50个百分点(猪肉价格上涨97.3%,影响CPI上涨约1.1个百分点);禽肉类价格上涨20.5%,影响CPI上涨约0.12个百分点;鲜菜价格上涨16.0%,影响CPI上涨约0.30个百分点;蛋类价格上涨3.6%,影响CPI上涨约0.02个百分点;鲜果价格下降9.1%,影响CPI下降约0.18个百分点,水产品价格下降0.7%,影响CPI下降约0.01个百分点

其中:医疗保健、其他用品和服务、居住、衣着、教育文化和娱乐价格分别上涨13.4%、4.3%、0.5%、0.3%和0.1%;生活用品及服务、交通和通信价格分别下降2.0%和1.1%。

12月份,食品烟酒价格环比上涨1.3%,影响CPI上涨约0.35个百分点。其中,鲜菜价格上涨23.6%,影响CPI上涨0.40个百分点;鲜果价格上涨1.7%,影响CPI上涨约0.03个百分点;蛋类价格下降6.6%,影响CPI下降约0.03个百分点;禽肉价格下降3.1%,影响CPI下降约0.14个百分点,(猪肉价格下降7.1%,影响CPI下降约0.17个百分点);水产品价格下降0.7%,影响CPI下降约0.01个百分点。

其中:教育文化和娱乐生活用品及服务、交通和通信价格分别上涨0.6%、0.4%和0.2%;衣着、居住、医疗保健、其他用品和服务价格分别下降0.7%、0.6%、0.2%和0.1%。



	12月		1-12月
	环比涨跌幅 (%)	环比涨跌幅 (%)	涨跌幅 (%)
居民消费价格	0.2	3.3	2.3
其中：食品价格	1.6	11.6	6.2
非食品价格	0	1.7	1.8
其中：消费品价格	0.5	3.4	2.2
服务价格	-0.1	3.1	2.5
分类别			
一、食品烟酒	1.3	9.1	5.2
粮食	-0.2	-0.9	-0.4
食用油	0.1	-0.9	-0.4
鲜菜	23.8	16	0.7
畜肉类	-3.1	48.6	20.9
其中：肉类	-7.1	97.3	41.2
牛肉	0.4	18.3	9.9
羊肉	0.6	11.4	10.3
水产品	-0.7	-0.7	-1.6
蛋类	-8.6	3.8	3.8
奶类	1.9	2.1	1.0
鲜果	1.7	-9.1	11.2
烟草	0.1	-0.3	-0.1

酒类	-0.3	-1.1	1.1
二、衣着	-0.7	0.3	1.9
服装	-1.1	0.4	2.7
衣着加工服务费	0.4	9.1	9.1
鞋类	-0.1	-0.9	-0.6
三、居住	-0.6	0.5	1.3
租赁房房租	-0.6	0.7	1.7
水电燃料	0.0	0.0	1.1
四、生活用品及服务	0.4	-2.0	-0.3
家用器具	0.5	10.3	-4.8
家庭服务	1.9	6.6	5.6
五、交通和通信	0.2	-1.1	-2.2
交通工具	-0.5	-3.7	-2.8
交通工具用燃料	1.3	0.6	-5.8
交通工具使用和维修	2.3	2.7	3.2
通信工具	0.5	10.9	-4.1
通信服务	0.3	0.4	-5.2
邮递服务	0.0	0.0	0.0
六、教育文化和娱乐	0.6	0.1	1.1
教育服务	0.2	1.7	3.0
旅游	2.6	0.3	1.6
七、医疗保健	-0.2	13.4	8.4
中药	0.0	1.9	2.2
西药	0.0	0.5	2.7
医疗服务	0.0	39.6	21.8
八、其他用品和服务	-0.1	4.3	3.2

36. 根据资料，下列说法中正确的一项是（ ）。

A. 与 2019 年 11 月相比，当年 12 月份从北京租房的费用明显上涨了

B.2019年12月份北京鞋类的平均价格水平出现环比上升，同比下降的情况

C.2019年12月份北京平均房租水平相比于1月份高

D.2019年12月份，虽然交通工具价格同比下降，但交通工具用燃料价格同比升了

37. 根据材料可知，下列说法中不正确的一项是（ ）。

A.就环比来看，12月份，鲜菜价格对消费价格总水平的影响要大于鲜果价格

B.就同比来看，12月份，食品烟酒价格对消费价格总水平的影响要大于蛋类、畜肉类

C.不管是从同比看还是从环比看，2019年12月北京市居民消费价格涨跌幅度都是该年度内最高的

D.2018年北京市北京衣着价格环比下降，但同比价格上涨

38. 从资料可知，下列行业中，2019年1-12月份价格上涨了有（ ）个。

(1) 食品烟酒；(2) 医疗健康；(3) 居住；(4) 教育文化及娱乐；(5) 交通和通信；(6) 生活用品及服务；(7) 衣着；(8) 其他用品和服务。

A.4

B.3

C.7

D.6

39. 2019年全年北京市居民消费价格总水平比去年同比上涨（ ）个百分点。

A.2.2

B.2.0

C.2.1

D.2.3

40. 2019年1-12月份北京市居民消费价格环比涨跌情况的说法中正确的是（ ）。

(1) 全年2月份上涨幅度最大，3月份出现全年最大幅度下跌，极可能是受到春季因素影响

(2) 全年环比价格震动幅度没有超过1个百分点

(3) 全年环比价格整体呈现震动上行下降的趋势

A.只有(2)和(3)

B.只有(1)和(2)

C.三项说法都对

D.只有(1)和(3)

金融习题

单项选择题

1. 随着国内金融市场发生变化，各类理财产品获得了更好的发展机遇。但是，理财产品的根本还是债权，特别是在我国不再实行刚性兑付后，债券违约，理财产品收益变脸等伤害消费者的事情屡见不鲜。这描述的是理财产品的（ ）。

- A.法律风险
- B.市场风险
- C.信用风险
- D.声誉风险

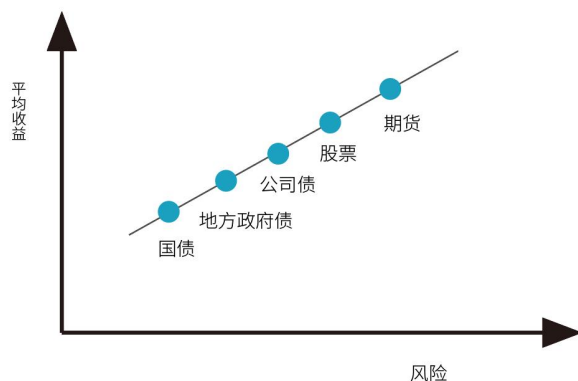
2. 下列不具有货币发行权的是（ ）。

- A.中国人民银行
- B.欧洲中央银行
- C.美联储
- D.香港金融管理局

3. 某日，央行支出 100 亿元购买政府债券，设该购买行为提供的货币供应量为 a ，提供的基础货币为 b ，货币乘数为 c ，则从理论上说，以下关系中正确的是（ ）。

- A. $a=100c$
- B. $ac>b$
- C. $a>bc$
- D. $b=100c$

4. 做好资产配置之前，需要对各类资产的收益风险特征有所了解。下图中列出了一些资产的收益特征。根据该图，基金的位置是（ ）。



A.股票、期货之间

B.国债、地方政府债之间

C.地方政府债、公司债之间

D.公司债、股票之间

5. 下列关于资产需求的观点中，正确的是（ ）。

(1) 假定其他因素不变，财富的增长会增加对资产的需求数量

(2) 在其他因素不变的情况下，某一资产相对其他替代性资产的预期回报率下降会增加对该资产的需求数量

(3) 假定其他因素不变，如果一种资产相对其他替代性资产的风险增大，则对该资产的需求数量会相应减少

A.只有(1)和(3)

B.三个观点都正确

C.只有(2)和(3)

D.只有(1)和(2)

6. 长期巨额贸易顺差并非好事，从经济学角度看，它会导致哪种情况出现？（ ）

A.本国失业率增加

B.外汇流入增多，本币面临升值压力

C.本国国内物资供应相对增加，出现商品供不应求的情形

D.本国货币供应小于需求

7. 金本位制下，（ ）是决定两国货币汇率的基础。

A.货币含金量

B.铸币平价

C.中心汇率

D.货币实际购买力

8. 2021年被人们所熟知的经营贷、消费贷属于商业银行的资产业务，除了它们，商业银行的资产业务还有（ ）。

A.支付结算

B.备用信用证

C.吸收存款

D.购买金融债

9. 以下属于短期信用工具的是（ ）。

- A. 政府公债
- B. 国库券
- C. 企业中长期债券
- D. 股票

10. 小张是某银行的理财经理，该银行新推出了一款非保本浮动收益理财产品，在此之前，有一款与之类似的产品年收益达到了 5%，于是小张向客户介绍，该产品是一款投资理财产品，预期收益可达 5%，下列对该行为描述正确的是（ ）。

- A. 历史不能代表未来，小张的推荐容易误导客户，违反了销售人员需要客观真实地向客户介绍银行产品和服务原则
- B. 小张的介绍，简洁明了抓住了产品的特点，值得借鉴
- C. 小张的介绍透露了银行产品内部信息，违反了商业保密原则
- D. 详细的介绍突出了该产品的优势，且进行了有效的风险提示，客户更容易接受

11. 李某是一家银行的客户经理，他的下列行为中没有违反银行业从业人员职业操守规定的是（ ）。

- A. 知道其部门同事有受贿行为，但由于不属于同一部门，因此不予劝阻
- B. 周末将有存有客户资料的办公用笔记本电脑带回家用于娱乐和游戏
- C. 某企业财务人员向其了解本公司法人在该银行的私人存款情况，李某予以拒绝
- D. 利用职务便利，为朋友办事，朋友以一定财务作为回报

12. 假设存在两种债券 X 和 Y，面值均为 1000 元。以下说法正确的是（ ）。

债券	息票率 (%)	发行价 (元)
x	5.5	800
y	7.0	1300

- A. 正常情况下，债券 X 的到期收益率与息票率相等
- B. 正常情况下，债券 X 的到期收益率比息票率低
- C. 正常情况下，债券 Y 的到期收益率与息票率相等
- D. 正常情况下，债券 Y 的到期收益率比息票率低

13. 各国在制定汇率时必须选择某一国货币作为主要对比对象，这种货币被称为关键货币。根据本国货币与关键货币实际价值的对比，制定出对它的汇率，这个汇率就是（ ）。

- A. 浮动汇率

B.基本汇率

C.套算汇率

D.固定汇率

14. 根据《中国人民银行法》，下列事项中，中国人民银行可以实施的是（ ）。

A.对政府财政透支

B.在公开市场上买卖金融债券

C.向各级政府提供贷款

D.直接认购国债

15. 在个人贷款业务中，确定贷款价格时的“贴水”指的是（ ）。

A.商业银行为补偿贷款风险向借款人征收的费用

B.中央银行向商业银行就通胀率给出的货币补偿

C.商业银行向借款人让渡的贷款优惠

D.中央银行向借款人就通胀率给出的货币补偿

16. 下列属于商业银行派生存款的是（ ）。

A.丁将一万元转账给朋友丙应急

B.甲将十万元存入银行定期账户

C.乙从银行账户中取出五万元

D.丙将从银行贷出的五十万重新存入银行活期账户

17. 中央银行调高法定存款准备金率时，市场的反应通常是（ ）。

A.商业银行可用资金增多，贷款下降，导致货币供应量减少

B.商业银行可用资金增多，贷款上升，导致货币供应量增多

C.商业银行可用资金减少，贷款下降，导致货币供应量减少

D.商业银行可用资金减少，贷款上升，导致货币供应量增多

18. 在其他因素不变的条件下，如果商品价格总额增加1倍，则流通中的货币需求量将会（ ）。

A.增加2倍

B.增加1倍

C.减少1倍

D.不变

19. 金融资产 M、X、Y、Z 之间的相关函数如下，M 与 X 的相关系数为 1，M 与 Y 的相关系数为 0.5，M 与 Z 的相关系数为 0.4，所有资产的期望收益率都为 7%，标准差为 15%，如果目前的资产都有 M 组成，只允许选取 X、Y 和 Z 中的一种资产组成组合投资，作为理性投资者应选择（ ）。

- A. 都可以
- B. Z
- C. Y
- D. X

20. 商业银行的业务性质要求其必须维持存款人贷款人和整个市场的信心，因此从这个意义上讲，以下哪个风险对于商业银行经济价值构成最大的威胁？（ ）

- A. 声誉
- B. 信用
- C. 操作
- D. 市场

21. 以下哪项不属于商业银行展业三原则（ ）。

- A. 了解你的客户
- B. 尽职调查
- C. 了解你的优势
- D. 了解你的业务

22. 甲乙丙丁四家商业银行的现金漏损率依次提高，它在不考虑其他因素是哪家银行创造派生存款货币的能力更强（ ）。

- A. 丙
- B. 丁
- C. 乙
- D. 甲

23. 下列理财业务中，客户等级最高，服务种类最为齐全的是（ ）。

- A. 理财顾问服务
- B. 理财计划服务
- C. 私人银行服务
- D. 财富管理服务

24. 个人活期储蓄存款按年度结息，存款在存期内遇利率调整，按（ ）计付利息。
- A. 结息日挂牌公告的活期利率
 - B. 存单开户日挂牌公告的利率
 - C. 清户日挂牌公告的活期利率
 - D. 支取日挂牌公告的利率
25. 根据《商业银行资本管理办法（试行）》关于商业银行各级资本的说法正确的是哪项？（ ）
- A. 商业银行进行资本规划时，应优先考虑补充二级资本
 - B. 商业银行二级资本的目标是在逆经济周期情况下吸收损失
 - C. 发行普通股和提高留存利润是商业银行补充资本的重要手段
 - D. 商业银行的一级资本的目标是在破产清算情况下吸收损失
26. 下列关于大额存单特点的说法中，正确的一项是（ ）。
- A. 均不能在二级市场流通
 - B. 均不能提前支取
 - C. 均是固定利率，避免利率波动
 - D. 均记名，以发行人信誉担保
27. 在下列选项中，由于他国内部政治环境或国际关系等因素的不确定性变化而导致本国经济主体发生损失的可能性，其风险属于（ ）。
- A. 关联风险
 - B. 政治风险
 - C. 主体风险
 - D. 国家风险
28. 资本市场又称长期资金市场，是金融市场的重要组成部分。货币市场是指期限在一年以内的金融交易的市場。下列关于两类市场的说法中错误的是（ ）。
- A. 债券不属于资本市场交易工具
 - B. 股票、债券属于资本市场交易工具
 - C. 资本市场主要以筹集运用长期资金为特点
 - D. 货币市场的交易工具有“准货币”的性质
29. （ ）基金，股份相对固定，一般不向投资者增发新股或赎回旧股。
- A. 开放型

B. 契约型

C. 公司型

D. 封闭型

30. 如果 PPP 理论成立, 单纯从物价和货币购买力的关系来看, 如果物价指数上升 20%, 则货币购买力 ()。

A. 上升 20%

B. 下降 20%

C. 上升 16.7%

D. 下降 16.7%

多项选择题

31. 债券按发行主体不同分为 ()。

A. 政府债券

B. 公司债券

C. 固定利率债券

D. 金融债券

32. 下列关于银行安全性指标的说法中, 正确的有 ()。

A. 不良贷款拨备覆盖率指标有利于观察银行的拨备政策

B. 一般而言, 不良贷款率低, 说明银行不能收回的贷款占总贷款的比例小

C. 按风险程度可将贷款划分为正常、关注、次级、可疑、损失五类, 其中后三类合称为不良贷款

D. 资本充足率反映一家银行的整体资本稳健水平

33. 个人贷款的还款方式较为灵活, 包括 ()。

A. 等额本金还款法

B. 等额累进还款法

C. 等额本息还款法

D. 等比累进还款法

34. 中央经济工作会议提出, 2021 年货币政策要“稳”字当头, 保持好正常货币政策空间的可持续性。下列关于央行三大货币政策工具的说法, 不正确的有 ()。

A. 再贴现政策有利于进行经常性、连续性操作

- B.法定存款准备金率是央行调节货币供给量的有效工具
- C.再贴现政策不利于发挥央行最后贷款人的作用
- D.公开市场业务传导机制快，其影响经过很短时间就能显现

35. 提高直接融资比重，对于深化金融供给侧结构性改革、加快构建新发展格局等具有十分重要的意义。以下属于直接融资的有（ ）。

- A.发行股票
- B.发行国债
- C.银行贷款
- D.商业本票

36. 金融市场的类型按交易中介可以划分（ ）。

- A.直接金融市场
- B.间接金融市场
- C.发行市场
- D.流通市场
- E.有形市场

37. 中间业务作为商业银行金融服务能力和产品创新能力的集中体现，伴随并见证了商业银行发展壮大的过程。下列属于商业银行中间业务的有（ ）。

- A.代理保险业务
- B.票据贴现业务
- C.投行咨询业务
- D.基金托管业务

38. 关于商业银行贷款风险分类说法正确的是（ ）。

- A.按照贷款风险程度的不同，贷款实行五级分类，其中后两类为不良贷款
- B.次级贷款的特征是借款人无法足额偿还贷款本息，即使执行担保，也要造成较大损失
- C.尽管借款人目前有能力偿还贷款本息，但存在一些可能对偿还产生不利影响的因素，符合此特征的贷款应归为关注类贷款
- D.可疑贷款属于不良贷款

39. “不可能三角”定理指出，一国不可能同时实现三个目标，只能选择其中两个。以下属于该定理的三个目标的是（ ）。

- A.货币政策独立性

B.财政政策独立性

C.资本自由流动

D.汇率稳定

40. 下列选项中，属于原生的金融工具的有（ ）。

A.存单

B.货币

C.远期

D.股票

E.债券

经济习题

单项选择题

1. 如果消费函数为 $c=100+0.8(y-t)$ ，并且税收和政府购买支出同时增加 1 美元，则均衡收入将（ ）。

A.保持不变

B.增加 3 美元

C.增加 1 美元

D.下降 4 美元

2. 关于宏观经济政策的选择，下列说法中错误的是（ ）。

A.当经济陷入流动性陷阱时，建议采用财政政策而非货币政策

B.当挤出效应很明显时，采取货币政策更能够成功

C.在古典世界里，应该采用货币政策而不是财政政策

D.在古典世界里，给定的货币数量的变化对收入水平的影响最小

3. 关于吉芬商品说法正确的是（ ）。

A.替代效应与价格同方向变动

B.收入效应与价格呈反方向变动

C.总效应与价格呈同方向变动

D.需求曲线向右下方倾斜

4. 苹果产品已经风靡全球，但是有消费者发现，2014年9月10发布的iPhone6（64G）零售价最便宜的地区是美国，只要4596元人民币（折合），而最贵的法国，需要6502元人民币（折合），两者相差的价格高达1906元人民币，这属于（ ）。

- A.一级价格歧视
- B.二级价格歧视
- C.三级价格歧视
- D.差别定价策略

5. 已知某企业生产的商品价格为10元，平均成本11元，平均可变成本8元，则该企业短期内（ ）。

- A.停止生产且亏损
- B.继续生产且有利润
- C.继续生产且亏损
- D.停止生产且不亏损

6. 假定规模报酬不变，在单位时间里增加了20%的劳动使用量，但保持资金量不变，则产出量将（ ）。

- A.增加20%
- B.减少20%
- C.增加小于20%
- D.题意含糊，无法计算

7. 直线型需求曲线的斜率不变，因此其价格弹性也不变，（ ）。

- A.正确
- B.不正确
- C.有时正确，有时不正确
- D.难以确定

8. 对于生产函数 $Q=f(L, K)$ ，理性的生产者选择的生产区域应是（ ）。

- A.MP>AP阶段
- B.MP下降阶段
- C.MP与AP的交点起至MP与横轴交点止
- D.MP>0阶段

9. 在度量通货膨胀的重要指标中，衡量制造商和农场主向商店出售商品的价格指数是（ ）。

- A. 批发物价指数（WPI）
- B. 消费者价格指数（CPI）
- C. 零售物价指数（RPI）
- D. 生产者价格指数（PPI）

10. 消费品 a 和消费品 b 的消费效用函数为 $\min\{2a,b\}$ ，则这两种消费品对消费者来说属于（ ）。

- A. 替代比例 1:2
- B. 完全替代品
- C. 完全互补品
- D. 替代比例 2:1

11. 下列哪项陈述正确？（ ）

- A. 所有的低档品都是吉芬商品，所有的吉芬商品都是低档品
- B. 所有的低档品都是吉芬商品，但不是所有的吉芬商品都是低档品
- C. 所有的吉芬商品都是低档品，但不是所有的低档品都是吉芬商品
- D. 上述说法都不正确，因为在低档品和吉芬商品之间没有确定的关系

12. 在影响需求价格弹性的因素中，时间因素与商品需求价格弹性大小的关系是（ ）。

- A. 两者间的关系需要根据具体商品才能判定
- B. 时间越长，商品需求价格弹性越小
- C. 时间越短，商品需求价格弹性越小
- D. 两者间不存在任何关系

13. 关于乘数效应，下列表述错误的是（ ）。

- A. 乘数是指总需求的增加所引起的国民收入增加的倍数
- B. 乘数效应的大小取决于边际消费倾向的高低
- C. 边际消费倾向越高，乘数效应就越小
- D. 边际消费倾向越低，乘数效应就越小

14. 关于无差异曲线，下列表述错误的是（ ）。

A. 无差异曲线是一条表示能够给消费者带来相同满足程度的两种商品的所有组合的曲线

B.这条曲线上所有各点的两种商品的组合带给消费者的满足程度是完全相同的

C.消费者对这条曲线上各个点的偏好程度是无差异的

D.无差异曲线离原点越近，消费者的偏好程度越高

15. 产出增加、利率不确定是财政政策和货币政策混合使用的哪种方式产生的结果？

()

A.紧缩性财政政策和扩张性货币政策

B.扩张性财政政策和扩张性货币政策

C.紧缩性财政政策和紧缩性货币政策

D.扩张性财政政策和紧缩性货币政策

16. 若中央银行在公开市场上大量抛售有价证券，意味着货币政策()。

A.放松

B.收紧

C.不变

D.不一定

17. 由于信息不对称，银行贷款发放后，()的存在将会使银行资产风险加大。

A.柠檬问题

B.搭便车问题

C.逆向选择

D.道德风险

18. 对于吉芬物品，其替代效应和收入效应，分别与价格成()变动。

A.同向、同向

B.同向、反向

C.反向、同向

D.反向、反向

19. 关于价格歧视基本条件的说法，正确的是()。

A.同一产品可以在不同市场之间流动

B.消费者必须具有相同的需求价格弹性

C.垄断者生产的产品必须是耐用品

D.不同市场必须有效地隔离开

20. 下列关于通货膨胀的表述，正确的是()。

- A.是经济中货币供应量少于客观需要量的现象
- B.是在社会总需求小于总供给情况下发生的
- C.对稳定经济会产生有利影响
- D.是货币失衡、物价不稳定的一种表现

21. 垄断、外部影响、() 和信息的不完全性这四项事实破坏了完全竞争赖以存在的基础, 因此, 资源配置不能够达到最优状态。

- A.公共物品
- B.技术进步
- C.交易成本
- D.过分投入

22. 下列各项中, 属于经济周期中的衰退或萧条阶段可能出现的特征的是()。

- A.投资持续增长
- B.企业利润水平下降
- C.产量不断扩大
- D.就业机会增多

23. 根据凯恩斯货币需求理论, 货币需求与利率水平()。

- A.正相关
- B.负相关
- C.不相关
- D.无法确定

24. 自发投资支出增加 20 亿元, IS 曲线()。

- A.向右移动 20 亿元
- B.向左移动 20 亿元
- C.向右移动支出乘数乘以 20 亿元
- D.向左移动支出乘数乘以 20 亿元

25. () 可以作为划分“高档品”和“必需品”的标准。

- A.边际成本曲线
- B.需求收入弹性
- C.需求价格弹性
- D.交叉弹性系数

26. 设某家庭的消费为 y ，可支配收入为 x ，消费函数 $y=3000+0.8x$ ，则当 $x=20000$ 时，该家庭的储蓄是（ ）。

- A.3000
- B.2000
- C.1000
- D.5000

27. 石油等重要能源价格上涨所引发的通货膨胀属于（ ）。

- A.需求拉动通货膨胀
- B.惯性通货膨胀
- C.经济型通货膨胀
- D.成本推进型通货膨胀

28. 少数几家厂商控制整个市场产品生产和销售的这样一种市场组织，称为（ ）。

- A.完全竞争市场
- B.垄断竞争市场
- C.垄断市场
- D.寡头市场

29. 厂商在提供一定数量的某种产品时，实际接受的总支付和愿意接受的最小总支付之间的差额，称为（ ）。

- A.机会成本
- B.消费者剩余
- C.生产者剩余
- D.边际收益

30. 财政政策的挤出效应是指（ ）。

- A.缩小财政支出时会导致私人投资增加
- B.扩大财政支出时会导致私人投资减少
- C.扩大财政支出时会导致进出口减少
- D.扩大财政支出时会导致进出口增加

多项选择题

31. 下面哪个不是简单国民收入决定理论的基本假设？（ ）

A.折旧和公司未分配利润为0

B.投资为一常数

C.存在供给限制

D.三部门经济

32. 下面关于边际技术替代率的说法正确的是（ ）。

A.等产量曲线上某一点的边际技术替代率就是等产量曲线在该点斜率的绝对值

B.边际技术替代率还可以表示为两要素的边际产量之比

C.边际技术替代率递减

D.边际报酬递减

33. 若完全竞争厂商的短期成本函数为 $STC=Q^3-3Q^2+120Q$ ，当产品市场价格为120时，关于厂商利润最大化的产量和利润正确的是（ ）。

A.产量为2

B.利润为4

C.产量为1

D.利润为6

34. 表示社会分配公平程度的分析工具是（ ）。

A.菲利普斯曲线

B.洛伦兹曲线

C.基尼系数

D.国民消费曲线

35. 下表是我国对应年份、城镇及农村的恩格尔系数（%）：

年份	1989	1997	2002	2014	2020
城镇	54.5	46.6	37.7	36.1	29.2
农村	54.8	51.1	46.2	40.2	39.7

从表中可知（ ）。

A.城镇地区不同职业人群收入差距小于农村地区

B.城镇地区贫富分化程度弱于农村

C.城镇地区比农村更加富裕

D.我国城镇、农村居民的收入持续提高

36. 平均成本曲线 AC 与边际成本曲线 MC 交于 AC 的最低点,下列判断正确的有()。
- A.在交点的左边, $MC < AC$, 增加一个单位的产量, 可以使平均成本减少
 - B.在交点的左边, $MC < AC$, 增加一个单位的产量, 可以使平均成本增加
 - C.在交点的右边, $MC > AC$, 增加一个单位的产量, 可以使平均成本增加
 - D.在交点的右边, $MC > AC$, 增加一个单位的产量, 可以使平均成本减少
37. 在 IS-LM 曲线中, 两线交点处意味着()。
- A.总产出=总需求
 - B.物价水平=收入水平
 - C.货币供应量=货币需求量
 - D.进口额=出口额
38. 需求价格弹性能够反映需求量变动对价格变动的大小程度, 以下说法正确的有()。
- A.当需求缺乏弹性时, 表现为 $E > 1$
 - B.若某种商品是富有弹性的, 则价格越高, 总收益越高
 - C.羽毛球拍和羽毛球这两种之间的交叉弹性为负
 - D.商品在家庭支出中占比大小影响需求弹性
39. 关于长期总供给曲线, 下列说法正确的有()。
- A.是一条垂直线
 - B.意味着社会达到充分就业状态
 - C.社会上不存在失业
 - D.是潜在产量线
40. 截止 2020 年 12 月底, 某汽车厂商生产的 3X 系列轿车全年销量同比增长 159%, 那么, 下列事实中, 有助于解释销量增加的有()。
- A.竞争对手同级别轿车的价格下降较多
 - B.市场传闻该系列轿车 2021 年 1 月价格上调 20%
 - C.该系列轿车的价格下降较多
 - D.2020 年居民平均收入较往年相比下降 8%

会计习题

单项选择题

- 下列不属于原始凭证填制规范要求的是（ ）。
 - 外文发票必须翻译为中文
 - 大写金额到元的，后面写上“正”或“整”字
 - 大写与小写金额必须相符
 - 从外部取得的原始凭证，必须盖有填制单位的公章
- “待摊费用”账户用于核算（ ）。
 - 前期已经发生应由本期支付的费用
 - 预先收取但应由以后各受益期负担的费用
 - 预先提取已经发生但尚未支付的费用
 - 已经发生但应由以后各受益期负担的费用
- 甲公司 2019 年 12 月 1 日购入生产设备一台，入账价格为 200000 元，采用年数总和法摊销，预计净残值 5000 元，预计使用年限 5 年。2020 年 12 月 31 日，该生产设备的可收回金额为 120000 元，则 2020 年底，该设备的账面价值为（ ）。
 - 120000
 - 135000
 - 150000
 - 161000
- 下列不属于损益类科目的是（ ）。
 - 主营业务收入
 - 投资收益
 - 递延收益
 - 税金及附加
- 对于盘亏的固定资产，按规定程序批准后确认为当期损益，应定义为（ ）账户的借方。
 - 待处理财产损益
 - 营业外支出
 - 累计折旧

- D.固定资产清理
6. 收入类账户期末结账后, 其余额是 ()。
- A.贷方
- B.借方
- C.借方或贷方
- D.无金额
7. 资产负债表下列项目中, 需根据明细账科目余额分析填列的是 ()。
- A.交易性金融资产
- B.预收账款
- C.资本公积
- D.应付职工薪酬
8. 原始凭证因格式不同分为通用凭证和专用凭证, 下列选项中, 属于通用凭证的是 ()。
- A.行政单位收费票据
- B.收料单
- C.工资发放汇总表
- D.审查单
9. 下列账务处理程序中, 适合规模较小, 经济业务较少类型使用的是 ()。
- A.记账凭证汇总表账务处理程序
- B.汇总记账凭证账务处理程序
- C.科目汇总表账务处理程序
- D.记账凭证账务处理程序
10. 在可预见的未来, 甲公司将会按当前的规模和状态进行经营下去, 不会停业也不会大规模削减业务, 这说明甲公司中会计处理时满足 () 的条件。
- A.会计主体假设
- B.持续经营假设
- C.会计分期假设
- D.货币计量假设
11. 能够及时反映各种存货收入, 发出和结存情况, 便于及时查明资金盘点盈亏的原因的是 ()。

- A.收付实现制
- B.权责发生制
- C.实地盘存制
- D.永续盘存制

12. 会计人员记账后,发现一笔“应付账款”应记 350 000 元,错记 35 000 元,会计科目和摘要等无误,则会计人员最恰当的处理方式为()。

- A.在总金额后加上一个“0”使金额变为 350 0000 元
- B.用红线划掉借记金额后直接更正为 350 000 元
- C.补记科目和方向相同,金额为 315 000 元
- D.用红字冲销原来记录的金额 35 000 元

13. 甲公司与乙公司签订了 50 万元的销售合同,甲公司在签订合同当日收到乙公司 10 万元定金,甲公司会计人员把 10 万元定金作为销售收入进行核算。这违反了会计信息质量要求的()原则。

- A.可靠性
- B.相关性
- C.收付实现制
- D.权责发生制

14. 甲公司发行股票 3000 万股,每股面值 1 元,每股发行价格是 2 元,支付手续费 10 万元,支付佣金 54 万元,此业务应计入“资本公积-股本溢价”账户()万元。

- A.3 000
- B.2 990
- C.2 946
- D.2 936

15. 假如某小企业采用完全的收付实现制记账基础来进行会计核算,在实际发生时无法进行记录反映的经济业务是()。

- A.销售商品取得一笔现金
- B.商品已发出,销售收入尚未收到
- C.投资人投入一笔现金
- D.以现金支付雇员的工薪

16. 关于记账基础与会计确认的说法,不正确的是()。

- A.权责发生制记账基础下，收入和支出的发生期与收益的归属期可能不一致
- B.收付实现制记账基础下，收入和支出的发生期与收益的归属期始终保持一致
- C.记账基础是收入和费用的确认方法，它也必然影响资产和负债的确认
- D.记账基础是收入与费用的确认方法，所以资产和负债的确认与其无关

17. 关于凭证的说法，正确的是（ ）。

- A.限额领料单是累计凭证
- B.限额领料单是汇总凭证
- C.增值税专用发票是记账凭证
- D.银行存款金额调节表是原始凭证

18. 某企业 2018 年期初账面资产总计 180 万元，期末账面资产 200 万元，负债 40 万元，2018 年度期间内发生费用 80 万元，实现利润总额 30 万元。则该企业 2018 年末所有者权益是（ ）。

- A.120 万元
- B.190 万元
- C.160 万元
- D.140 万元

19. 按照借贷记账法，不应计入资产负债表中的“存货”项目的是（ ）。

- A.“在建工程”账户的余额
- B.“生产成本”账户的余额
- C.“材料采购”账户的余额
- D.“原材料”账户的余额

20. 下列各项中，引起企业资产和负债要素同时发生增减变动的经济业务是（ ）。

- A.职工以现金方式向企业归还个人借款
- B.企业从银行借入短期借款
- C.企业收到股东投资款
- D.企业以盈余公积转增股本

21. 某企业收到新股东张强以现金投入的资本 200 万元，但原股东与张强协商，张强只在注册资本享有 150 万元的份额，超过的其股份权益的数额 50 万元应计入（ ）进行核算。

- A.实收资本

B.资本公积

C.盈余公积

D.投资收益

22. 原始凭证不得涂改、刮擦、挖补，对于金额有错误的原始凭证，正确的处理方法是（ ）。

A.由出具单位重开

B.由出具单位在凭证上更正并由经办人员签名

C.由出具单位在凭证上更正并加盖出具单位印章

D.由出具单位在凭证上更正并由出具单位负责人签名

23. 制造费用属于（ ）类账户。

A.费用

B.损益

C.成本

D.负债

24. 根据我国企业会计制度规定，资产负债表采用（ ）结构。

A.单步式

B.多步式

C.账户式

D.报告式

25. 经过对账，如果开户单位账面余额与银行分户账余额不符，可通过（ ）核对出差额，进行查对。

A.调节表

B.余额调节表

C.未达账项调节表

D.银行对账单

26. 银行存款余额调节表的作用是（ ）。

A.调节企业“银行存款日记账”余额的凭证

B.调节“银行对账单”余额的凭证

C.核对企业和银行的账簿记录

D.更正银行存款日记账错误的凭证

27. 以下不属于企业收入的是（ ）。

- A. 提供劳务所获得的收入
- B. 销售商品所获得的收入
- C. 出租机器设备获得的收入
- D. 出售固定资产获得的净收益

28. 借贷记账法的记账规则是（ ）。

- A. “有借必有贷，借贷必相等”
- B. 增加数计入借方，减少数计入贷方
- C. 以货币为主要计量单位
- D. 《企业会计准则》

29. 下列项目中能够引起企业所有者权益减少的是（ ）。

- A. 股东大会宣布派发现金股利
- B. 提取法定盈余公积
- C. 资本公积转增股本
- D. 提取任意盈余公积

30. 某企业资产总额为 100 万元，发生下列三笔经济业务：①向银行借款 25 万元存入银行。②用银行存款偿还债务 15 万元。③收回应收账款 6 万元存入银行。此三笔业务发生后其资产总额为（ ）。

- A. 110 万元
- B. 116 万元
- C. 96 万元
- D. 90 万元

多项选择题

31. 下列各项中，属于期间费用核算内容的是（ ）。

- A. 生产成本
- B. 管理费用
- C. 销售费用
- D. 财务费用

32. 根据权责发生制原则，下列各项中应计入本期的收入和费用的是（ ）。

- A.本期销售货款收存银行
 - B.上期销售货款本期收存银行
 - C.本期预收下期货款存入银行
 - D.计提本期固定资产折旧费
33. 下列各项中属于某公司的所有者权益的项目有（ ）。
- A.投入资本
 - B.资本公积金
 - C.盈余公积金
 - D.都不正确
34. 负债要素的定义包括（ ）。
- A.负债是由现在的交易或事项引起的偿债义务
 - B.负债是由过去的交易或事项形成的现时义务
 - C.负债是由将来的交易或事项引起的偿债义务
 - D.负债将导致经济利益流出企业
35. 关于总分类会计科目与明细分类会计科目表述正确的是（ ）。
- A.明细分类会计科目概括地反映会计对象的具体内容
 - B.总分类会计科目详细地反映会计对象的具体内容
 - C.总分类会计科目对明细分类科目具有控制作用
 - D.明细分类会计科目是对总分类会计科目的补充和说明
36. 下列表述中，正确反映借贷记账特点的有（ ）。
- A.以“借”“贷”作为记账符号
 - B.根据会计科目所反映的经济内容，来决定记账方向
 - C.记账规则是“有借必有贷，借贷必相等”
 - D.可以进行发生额试算平衡和余额试算平衡
37. 下列项目中，反映企业财务状况的会计要素有（ ）。
- A.资产
 - B.收入
 - C.负债
 - D.费用
38. 下列关于固定资产会计处理的表述中，正确的有（ ）。

- A.企业以出包方式建造固定资产发生的待摊支出应分摊计入各项固定资产的成本
- B.盘盈的固定资产应按重置成本计量，并先通过“待处理财产损益”科目核算
- C.管理用固定资产发生的日常修理费应计入管理费用
- D.已投入使用的机器设备才能计提折旧

39. 企业进行库存现金清查时发现库存现金短缺 100 元，应由出纳员赔偿。按照企业会计制度，账务处理正确的是（ ）。

- A.借：待处理财产损益 100
 贷：库存现金 100
- B.借：其他应收款 100
 贷：库存现金 100
- C.借：营业外支出 100
 贷：库存现金 100
- D.借：其他应收款 100
 贷：待处理财产损益 100

40. 下列关于固定资产计提折旧的表述，正确的有（ ）

- A.提前报废的固定资产不再补提折旧
- B.固定资产折旧方法一经确定不得改变
- C.已提足折旧但仍继续使用的固定资产不再计提折旧
- D.自行建造的固定资产应自办理竣工决算时开始计提折旧

公基习题

单项选择题

1. 下列不属于董事会职能的是（ ）。
 - A.制定公司发展目标
 - B.挑选总经理
 - C.确定产品采购计划
 - D.决定利润分配
2. 根据民法典的相关规定，下列不属于无效民事法律行为的是（ ）。
 - A.违背公序良俗的民事法律行为

- B.九周岁未成年人实施的民事法律行为
- C.行为人与相对人恶意串通，损害他人合法权益的民事法律行为
- D.行为人与相对人以虚假的意思表示实施的民事法律行为

3. 甲向乙发出订立合同意思表示，乙收到消息后立即向甲回复，称完全同意甲的合同订立条件，并请求甲按要求发货，下列说法正确的是（ ）。

- A.甲的意思表示属于要约邀请
- B.甲乙之间合同并未成立
- C.乙无权请求甲按其意思表示内容发货
- D.乙回复属于承诺

4. 张三以其个人名义依法申请，并领取了个体工商户营业执照，专门从事活鱼批发生意。因业务量大，张三的妻子父母全部参与并合伙经营。后张三为扩大经营规模，遂向李四借款 10 万元，因为市场波动较大，后张三出现巨额亏损，无法偿还该笔债务，根据《民法典》规定，该笔债务应当由（ ）承担。

- A.张三及妻子
- B.张三、张三妻、张三父母共同
- C.张三父母
- D.张三

5. 下列四个人对法律的看法，正确的是（ ）。

- A.小李在图书馆大声说话，读者制止他时他说：“这是我的权利和自由，别人无权干涉”
- B.小陈在阻止歹徒行窃时将对方重伤致死，小陈说：“我犯的是防卫过当罪，应该从轻处罚”
- C.小张在获得五一劳动奖章时自豪地说：“劳动最光荣，中国公民都有劳动和休息的权利”

D.双十一期间小王秒杀了一件 1 元的电脑，商家不得以设置错误为由不发货

6. 公司的监事可以由下列（ ）人员担任。

- A.独立董事
- B.职工代表
- C.董事
- D.高级管理人员

7. 张先生向公司登记机关申请设立登记注册资金为 100 万元的有限责任公司，后经查实张先生使用了虚假的材料，并且虚报了注册资本。公司登记机关将对其（ ）。

- A.处以虚报注册资本金额百分之十以上百分之二十以下的罚款
- B.拘留
- C.进行批评教育
- D.处以虚报注册资本金额百分之五以上百分之十五以下的罚款

8. 《民法典》中关于法定代表人的说法不正确的是（ ）。

- A.法定代表人以法人名义从事的民事活动，其法律后果由法人承受
- B.法人章程对法定代表人的限制，不得对抗善意相对人
- C.股东会对法定代表人的限制，不得对抗善意相对人
- D.法定代表人因执行职务造成他人损害的，由法定代表人承担民事责任

9. 甲与乙订立了一份买卖合同，价款 100 万元，甲向乙支付 10 万元定金。因甲方不能履行合同，引起违约，造成乙方 25 万元的损失，合同约定的违约金为合同价款的 15%，根据《民法典》相关规定，对乙方的权利描述正确的是（ ）。

- A.有权不返还甲方定金，无权提出其他要求
- B.有权不返还甲方定金，有权要求甲方赔偿实际损失超过定金部分差额
- C.有权不返还甲方定金并要求甲方支付违约金
- D.有权要求甲方赔偿实际损失并支付违约金

10. 《民法典》规定，主债权债务合同无效的，担保合同（ ），但是法律另有规定的除外。

- A.效力不受影响
- B.无效
- C.效力待定
- D.以上答案都不对

11. 《民法典》规定，同一财产既设立抵押权又设立质权的，拍卖、变卖该财产所得的价款按（ ）确定清偿顺序。

- A.抵押权人优于质权人
- B.质权人优于抵押权人
- C.按照登记、交付的时间先后
- D.按照抵押合同、质押合同生效时间先后

12. 下列关于陆地和海洋的叙述正确的是（ ）。
- A.赤道贯穿所有七大洲
 - B.海洋互相连通，陆地被海洋分割
 - C.海洋的面积远小于陆地
 - D.最大的陆地是非洲大陆
13. 我国民间所说的黎明时分的启明星和傍晚时分的长庚星都是指（ ）。
- A.水星
 - B.土星
 - C.火星
 - D.金星
14. 以下说法中不正确的是（ ）。
- A.在地球上的能源中，地热能仅次于太阳辐射能，排在第二位
 - B.太阳能、风能、地热能、潮汐能以及生物质能都是可再生能源
 - C.三聚氰胺是一种含氮杂环有机化工原料，主要用于做密胺塑料
 - D.1 纳米等于二十亿分之一米，约为 4—5 个原子排列起来的长度
15. 关于节气常识，下列说法不正确的是（ ）。
- A.夏至，太阳直射北回归线，南半球白昼时间最短
 - B.冬至，北半球一年中影子最短，白昼时间最短
 - C.春分、秋分昼夜等长，白露是北半球昼夜温差最大的时间
 - D.从立春开始，立春在每年的 2 月 4 日左右，每个月两个节气
16. 关于太阳，下列说法不正确的是（ ）。
- A.目前已经进入衰老时期
 - B.通过核聚变来释放能量
 - C.所产生的能量主要靠辐射方式传播
 - D.是太阳系中唯一会发光的天体
17. 下列不同朝代的官名与其在当时的职能对应不正确的一项是（ ）。
- A.清朝按察使-主管一省巡查、吏治刑法
 - B.唐朝户部尚书-主管国家经济、赋役、户口
 - C.汉朝执金吾-主管起草诏书、发文、备皇帝询
 - D.明朝鸿胪寺卿-主管朝会、筵席、祭祀

18. 成语“蓬荜生辉”中的“蓬荜”是对（ ）指称。

- A.自己的豪宅
- B.自己的陋居
- C.对方的豪宅
- D.对方的陋居

19. 以画虾著称的画家是（ ）。

- A.齐白石
- B.徐悲鸿
- C.吴冠中
- D.张大千

20. 周恩来题写的“千古奇冤，江南一叶，同室操戈，相煎何急”所反映的历史事件是（ ）。

- A.卢沟桥事变
- B.皖南事变
- C.中原突围
- D.红军长征

21. 虚拟专用网络（VPN）的功能不包括（ ）。

- A.加密数据
- B.访问控制
- C.身份认证和信息认证
- D.网络连接

22. 光纤通信是利用光波在光导纤维中传递各种信息，以下不属于光纤通信特点的是（ ）。

- A.传输损耗高
- B.通信容量大
- C.抗干扰能力强
- D.保密性能好

23. 通常所说计算机上的 U 盘标准接口是（ ）。

- A.USB
- B.USP

C.UBS

D.USB

24. 在 Word2010 中, 用于“插入”和“改写”状态的切换键是()。

A.End

B.Home

C.Insert

D.Delete

25. 下列关于无线通信的说法, 错误的是()。

A.无线通信的传输介质是电磁波

B.5G 技术需要的基站数量比 4G 少

C.蓝牙是一种安全性较高的无线通信技术

D.我国二代身份证使用了无线射频识别技术

26. 用户在使用云服务时, 如果和云服务商签订了隐私协议, 以下做法正确的是()。

A.有隐私协议就不需要另外的安全措施

B.有隐私协议就不必采用安全性太强的措施

C.先自己对敏感和隐私信息进行加密, 后上传到云中

D.先上传到云中, 然后由云服务商对敏感和隐私信息进行加密

27. 关于“人工智能”的理解, 下列表述正确的是()。

①人工智能就是人的智能

②人工智能在本质上是对人的思维的模仿, 并不就是人的智能本身

③人工智能最终会超越人的智能

④人工智能的出现不仅在于解放了人的智力, 而且为研究人脑的意识活动提供了新的方

法和途径

A.①③

B.①④

C.②③

D.②④

28. 如果结点 A 有 3 个兄弟, 而且 B 是 A 的双亲, 则 B 的度是()。

A.3

B.4

C.5

D.1

29. 下载软件前，甲看了一下计算机的系统类型，显示的是：“64 位操作系统，基于 x64 的处理器”。这里的“x64”指的是（ ）。

A.处理器的架构

B.CPU 的型号

C.电脑已安装的内存

D.生产厂商是英特尔

30. 下列有关文件扩展名的说法正确的是（ ）。

A.EXT 是数据文件的扩展名

B.DOC 是 word 文件的扩展名

C.EXT 是备份文件的扩展名

D.WAN 是视频文件的扩展名

多项选择题

31. 根据《民法典》的规定，以下情形中，撤销权未消灭的是（ ）。

A.当事人自知道或者应当知道撤销事由起一年内没有行使撤销权

B.重大误解的当事人自知道或者应当知道撤销事由之日起六十日内没有行使撤销权

C.当事人知道撤销事由后以自己的行为表明放弃撤销权

D.当事人受胁迫，自胁迫行为终止之日起六个月内没有行使撤销权

32. 用人单位不得解除劳动合同的情形（ ）。

A.在单位患职业病的

B.女职工在哺乳期间的

C.不能胜任本单位工作的

D.已在本单位工作满 15 年，且离退休不到 5 年的

33. 关于可撤销民事行为，下列说法中正确的是（ ）。

A.行为人对行为内容有重大误解的是可撤销的民事行为

B.显失公平的行为是可撤销的民事行为

C.当事人请求变更的，人民法院或者仲裁机构可以撤销

D.可撤销民事行为一经撤销，自始无效

34. 李某将电脑遗失在火车站候车室，被旅客王某捡到，下列说法不符合法律规定的是（ ）。

A. 王某可将电脑交给执勤警察，也可以自己用

B. 王某联系李某后声称可以返还，但要求李某支付 50 元快递费

C. 李某登报悬赏 3000 元寻找电脑，王某表示愿意归还，但李某以悬赏金额过高为由只同意支付 1000 元

D. 王某将电脑交给公安机关，公安机关发布招领公告，经过一年无人认领，电脑应归王某所有

35. 根据《民法典》的规定，下列关于物权变动的表述中，正确的有（ ）。

A. 因人民法院的判决取得物权的，自判决生效时发生法律效力

B. 因受遗赠取得物权的，自受遗赠开始时发生法律效力

C. 因合法建造取得物权的，自登记之日起发生法律效力

D. 因拆除房屋等事实行为消灭物权的，自事实行为成就时发生法律效力

36. 下列关于 ICMP 的说法正确的是（ ）。

A. ICMP 工作在物理层

B. ICMP 用于在 IP 主机、路由器之间传递控制信息和差错报告

C. ICMP 传输的信息包括控制信息和用户数据

D. ICMP 信息封装在 IP 数据包中

37. Java 设计模式主要分为三大类：创建型、结构型和行为型，下列属于创建型模式的是（ ）。

A. 原型模式

B. 单例模式

C. 组合模式

D. 工厂方法模式

38. 下列选项中，没涉及唐太宗李世民的历史事件是（ ）。

A. 杯酒释兵权

B. 玄武门之变

C. 贞观之治

D. 文景之治

39. 下列小说属于鲁迅作品的有（ ）。

- A.《子夜》
- B.《彷徨》
- C.《泯灭》
- D.《阿Q正传》

40. 下列关于二十四节气与生产生活关系说法正确的是（ ）。

- A.“夏满芒夏暑相连”包含了六个节气
- B.惊蛰后树木生根发芽，是林果嫁接的最佳时期
- C.小暑过后长江以南将进入雨季，梅雨汛期开始
- D.清明后自然由阴转阳，这时要注意清泻肝火

管理习题

单项选择题

1. 具有系统的全面管理的技能是指管理者的（ ）。

- A.技术技能
- B.人际技能
- C.概念技能
- D.学习技能

2. 张伟是一大型商场的CEO，近期经过调查发现：商场基层员工近期工作效率下滑，缺勤率上升，工作积极性下降，基层员工与客户的争吵事件也在呈上升趋势，员工普遍反映：工作枯燥乏味，没有挑战性与职业生涯规划，无法有效施展自己的才华；沟通机会较少，缺少集体活动，没有有效的沟通平台，大龄未婚职工人数日渐上升。员工的这些情况反映出在高层次需要没有得到满足时，对低层次的需要就会显得更加渴望。这符合（ ）的观点。

- A.奥尔德弗 ERG 理论
- B.赫茨伯格双因素理论
- C.马斯洛需求层次理论
- D.麦克利兰三重需求理论

3. 有家工厂最近进行车间布局的重新规划，根据工艺流程和现有厂房的条件共有10种方案可供选择，厂长办公会上提出要选择一种最经济的方案，在这种情况下，车间布局的安排问题属于（ ）。

A.非肯定型决策

B.肯定型决策

C.风险型决策

D.纯计划问题，与决策无关

4. 保证在组织中“事事有人做”属于管理的（ ）。

A.计划职能

B.组织职能

C.领导职能

D.控制职能

5. 制定工资报酬时应该考虑的首要因素是（ ）。

A.激励因素

B.保健因素

C.需求因素

D.公平因素

6. （ ）认为不存在一种“普适”的领导方式，领导工作强烈地受到领导者所处的客观环境的影响。这种理论的启示是领导者要根据所处的客观环境选择具体的领导方式。

A.权变理论

B.行为科学理论

C.期望理论

D.强化理论

7. 以下哪种领导方式认为只要职工精神愉快，生产自然会好。这种管理的结果可能很脆弱，一旦和谐的人际关系受到了影响，生产成绩就会随之下降（ ）。

A.9.1 型方式（任务型）

B.1.9 型方式（乡村俱乐部型）

C.5.5 型方式（中庸之道型）

D.9.9 型方式（团队型）

8. 组织文化作为一种自组织系统具有很多特定的功能，（ ）是组织文化通过培育组织成员的认同感和归属感，建立起成员与组织之间的相互信任和依存关系，使个人的行为、思想、感情、信念、习惯以及沟通方式与整个组织有机结合在一起，形成相对稳固的文化氛围，凝聚成一种无形的合力。

A.适应功能

B.整合功能

C.导向功能

D.发展功能

9. 控制工作的基本步骤不包括（ ）。

A.拟定标准

B.衡量成效

C.纠正偏差

D.事后跟踪

10. （ ）职能本身并没有某种特有的表现形式，总是在与其他管理职能的结合中表现自身的存在与价值。

A.计划

B.组织

C.领导

D.控制

11. 下列说法正确的是（ ）。

A.控制工作开展的前提条件是建立控制标准

B.衡量绩效是控制活动的最终目的

C.成语所说的“亡羊补牢”就属于现场控制

D.进行控制时标准的制定应当越高越好

12. 下列属于现场控制的是（ ）。

A.外科实习医生在第一次作手术时需要经验丰富的医生在手术过程中对其进行指导

B.某企业到了5月底，发现甲产品第二季度的生产计划才完成了55%，便采取日夜轮班的方式以完成计划

C.某企业发现甲产品供大于求，价格下降，立即决定停止生产

D.某公司制定了选拔和考核员工的严格标准

13. 关于Y式沟通的特点，以下选项中不正确的是（ ）。

A.信息传递和解决问题的速度较快，组织控制比较严格

B.由于信息中间环节多，可能使上级不了解下级的真实情况

C.组织成员之间缺少直接和横向沟通，不能越级沟通

D.包括节点在内，全体成员的满意程度比较高

14. 下列哪一选项不是按照控制时点和控制手段实施的位置不同对控制的分类？

()

A.前馈控制

B.自我控制

C.同期控制

D.反馈控制

15. 不确定型决策方法中，哪个是对“首先找出各个方案的最小收益值，然后选择最小收益值中最大的那个方案为最优方案”这个方法的描述？()

A.等概率决策法

B.乐观（大中取大法）决策法

C.折衷决策法

D.悲观（小中取大法）决策法

16. 美国社会心理学家马斯洛提出人类的多种需要可以分为五个层次，被称为马斯洛需求层次理论，其中最高层次的需求是()。

A.尊重的需要

B.自我实现的需要

C.社交的需要

D.安全的需要

17. 在决策中，可以进行自由畅谈、延迟评判、禁止批评、追求数量的集体决策方法称为()。

A.名义小组技术

B.德尔菲法

C.头脑风暴法

D.快速决策分析法

18. 某企业选项目讨论组现有5个人之间依次联络和沟通。其中，每个人都可同时与两侧的人沟通信息。在沟通中，组织的集中化程度和领导人的预测程度都较低；但组织内民主气氛较浓，团体的成员具有一定的满意度。上述文字符合下列哪一个沟通方式？()

A.链式

B.Y式

C.全通道式

D.环式

19. 下列表述中哪一选项不符合授权的类型？（ ）

A.对所授权力、责任等均有明确规定与交代，被授权人必须严格遵守，不得有任何逾越

B.给予被授权人的权力限度和权力容量比较模糊

C.只指示一个大纲或轮廓，让被授权人有较大的自由做随机应变的处理

D.将过分集中的权力，依据下属经营管理能力的差异，授予不等的权力和相应的责任

20. 上级对下级的工作范围、内容、应达到的绩效目标都有详细规定，这种授权类型是（ ）。

A.刚性授权

B.柔性授权

C.模糊授权

D.惰性授权

21. 现代企业制度的基本特征不包括（ ）。

A.厂长负责制

B.产权清晰

C.权责分明

D.政企分开

22. 管理者在制定决策时，会选择花费代价小且能取得最大效益的方案，这遵循了下列哪一个决策原则（ ）。

A.信息原则

B.效益原则

C.反馈原则

D.预测原则

23. 一种动态编制计划的方法，在每次编制或调整计划时，均将计划按时间顺序向前推进一个计划期，即向前滚动一次，按照制订的选项目计划进行施工，对保证选项目的顺利完成具有十分重要的意义。这属于下列哪一种计划编制方法（ ）。

A.线性规划法

B.甘特图法

C.滚动计划法

D.网络技术法

24. “木桶原理”是指一个木桶想盛满水，必须每块木板都一样平齐且无破损，如果这只桶的木板中有一块不齐或者某块木板下面有破洞，这个桶就无法盛满水。在计划工作原理中，又被称为（ ）。

A.许诺原理

B.限定因素原理

C.灵活性原理

D.改变航道原理

25. 把从投资开始到收回投资的时间作为计划工作期限，许诺任务越多，计划时期越长，预测能力就越耗费。若计划期限越长，越影响准确性。企业中常用的投资回收率是应用了哪一个原理（ ）。

A.许诺原理

B.灵活性原理

C.改变航道原理

D.限定因素原理

26. 目标管理体现了现代管理的哲学思想，是领导者与下属之间双向互动的过程，下列哪一选项不属于目标管理法的优点（ ）。

A.直接反映员工的工作内容

B.未在不同部门和员工之间设立统一目标

C.目标管理的过程是员工共同参与的过程

D.改进组织结构的职责分工

27. 在管理发展史上，首次重视“资本所有者与企业管理者分离”的时期是（ ）。

A.传统管理思想阶段

B.科学管理思想阶段

C.行为科学思想阶段

D.现代管理思想阶段

28. 根据麦格雷戈的理论，有人希望有正规化的组织与规章条例来要求自己的工作，而不愿参与问题的决策，这种人欢迎以（ ）指导管理工作。

A.X 理论

- B.Y 理论
- C.超 Y 理论
- D.Z 理论

29. 根据赫茨伯格的“双因素理论”，（ ）可以防止把激励因素变成保健因素，同时挖掘和提升保健因素的激励作用。

- A.采用差别计件工资制度
- B.将奖金转换为津贴，按工作年限分配
- C.暗示下属，将来要提升他们
- D.培养大家“只低头拉车不抬头看路”的勤奋工作意识

30. 沟通是管理的一项重要职能，有效沟通的基础是（ ）。

- A.沟通双方有共同的目标
- B.沟通双方相互信任
- C.计划
- D.信息

多项选择题

31. 按照X理论的观点（ ）。

- A.凭借宽容和信任可以改进工作
- B.人们都有从事生产的基本需要
- C.人天生懒惰、需要激励
- D.金钱比地位重要

32. 下列关于初始决策和追踪决策的表述正确的是（ ）。

- A.从决策的重要性分类，经营决策可分为初始决策和追踪决策
- B.初始决策是零起点决策，追踪决策又称为非零点决策
- C.追踪决策是初始决策的必然发展趋势
- D.初始决策是基础

33. 造成沟通中客观障碍的因素包括（ ）。

- A.空间距离
- B.沟通方式选择不当
- C.双方在知识、经验水平上的差距过大

D.沟通信息过量

E.组织结构不合理

34. 关于组织变革，下列说法正确的有（ ）。

A.组织变革的根本动因，是外部环境变了

B.不变革的组织是没有生命力的，必然会灭亡

C.盲目的变革同样会使组织灭亡，甚至更快

D.人员变革不属于组织变革的范畴

E.社会政治经济法律因素，有可能成为组织变革的动力

35. 计划职能是指管理者预测未来、确定目标、制定实现这些目标的行动方针的过程，

下列哪些属于计划的作用？（ ）

A.计划为控制提供了标准和依据

B.计划能使组织更加完善

C.通过计划可以促使管理者展望未来

D.计划可以规避风险，减少损失

36. 对企业来说，确定管理幅度需考虑下列哪些因素？（ ）

A.计划制定的完善程度

B.工作任务的复杂程度

C.企业员工的经验和知识水平

D.完成工作任务需要的协调程度

37. 基于公平理论，当员工感到不公平时，可能会采取的行为是（ ）。

A.改变自己的投入

B.改变自己的产出

C.改变自我认识

D.改变对其他人的看法

38. 领导权变理论中的菲德勒权变理论提出了领导风格分为关系取向和任务取向。该理论的特点包括（ ）。

A.在最有利的情况下，采取以任务为中心的领导方式，效果要好

B.在最有利的情况下，采取以人为中心的领导方式，效果要好

C.在中间状态下，采取以任务为中心的领导方式，效果要好

D.在最不利的情况下，采取以任务为中心的领导方式，效果要好

E.处于中间状态的环境采用“以人中心”的宽容型领导方式，效果较好

39. 孔茨认为，目标管理是一个全面的管理系统，它用系统的方法，使许多管理活动结合起来，并且有意识地高效实现组织目标和个人目标。一个完整的目标管理过程应包括（ ）。

A.制定目标

B.明确组织的作用

C.执行目标

D.成果评价、实行奖惩

40. 期望价值理论认为，要调动职工积极性，必须处理好的关系是（ ）。

A.奖励与满足个人需要的关系

B.绩效与奖励的关系

C.个人努力与绩效的关系

D.个人目标与整体目标的关系

英语习题

阅读理解

Passage 1

New research from Cornerstone On Demand and Harvard Business School suggests that rearranging desks or sitting next to someone with a complementary work style can be a cost-effective way to inject energy and efficiency into the workday.

We may be more satisfied with our jobs than we were a decade ago—at least according to Gallup's research. But employee engagement and retention continue to be among the top challenge companies face around the world, per a report from Deloitte on global human resource trends. That's because disengaged workers come with a hefty price tag. Gallup estimates that the U.S. economy loses up to \$550 billion per year when productivity flags as a result of unhappy employees.

In what they describe as the first study of "spatial management," the researchers analyzed data from the more than 2,000 workers at a large technology company with several locations across the U.S. and Europe over two years.

They discovered that seating the right types of workers together led to increased productivity and profits. The proper proximity, they write, "has been shown to generate up to a 15% increase in organizational performance. For an organization of 2,000 workers, strategic seating planning could add an estimated \$1 million per annum to profit."

Their analysis measured performance as well as a definitive metric for "**spillover**" for each employee—the term the researchers used to measure the combined performance of everyone seated around a given employee.

The study looked at three types of employees: "Productive," "Generalists," and "Quality" workers. The researchers defined productive workers as very productive but lacking in quality. Quality workers produce superior quality but aren't as productive. And generalists are average in both areas.

"If you sit a strong and a weak performer next to each other, the weaker employee performs much better, and the stronger employee's performance doesn't decline much at all," Housman tells Fast Company. He advises lower performers to try and sit next to strong performers.

1. The word "flag" in paragraph 2 is closest in meaning to: ().
 - A. mark
 - B. diminish
 - C. increase
 - D. signal
2. What did the research from Cornerstone On Demand and Harvard Business School find out? ()
 - A. Healthy competitions among workers can boost profits.
 - B. Managers should carefully arrange the seats for employees.
 - C. Paring right types of workers together can boost productivity.
 - D. Workers with similar personalities should sit together.
3. According to the last paragraph, which of the following statement is correct? ()
 - A. Positive performances have a stronger spillover than negative performances.
 - B. Seating has nothing to do with employees' performances.
 - C. The stronger employees' performances will be affected if they sit near weak performers.
 - D. Negative performances have a stronger spillover than positive performances.

4. What can be inferred from paragraph 2? ()
- A. Most employees are unhappy about their jobs.
 - B. Managers are trying hard to engage the workers.
 - C. People have higher demands for jobs today.
 - D. It is hard to keep the employees.
5. What does "spillover" mean?()
- A. The combined performance of workers seated in a certain area.
 - B. The consequence of workers sitting together.
 - C. The performance of a worker who is surrounded by a group of employees.
 - D. The indirect effect of a public expenditure.

Passage 2

You need a new automatic coffeemaker. Several are on display-different prices, different features- but you can't find a clerk. Finally one moves stealthily, trying to avoid eye contact. You collar him, but he knows even less about coffeemakers than you do.

You stand at the watch counter, waiting to look at an expensive wristwatch. Two young clerks are chatting animatedly to each other at the cash register. You clear your throat, but they keep talking. At last one of them turns to help you. Her forced smile says you're intruding.

You call a department store's customer-service line. A recording tells you, "Your call is important to us." Then comes the elevator music. Five minutes later you're still waiting.

Retailing is big business in the world. Every day millions of transactions take place in millions of stores across the world, which is conducive to the prosperity of purchases. But why do those encounters with sales people continue to bother us so?

A market survey investigated what they considered the most important aspect of customer service, consumers ranked staff courtesy, helpfulness and knowledgeability at the top. The investigation also showed that while a third of consumers have a store in mind when shopping for a specific item, nine times out of ten the customer leaves that store empty-handed. Over half of those customers say they did not buy the item because of the store's poor service or selection.

There are some reasons to explain the poor service that annoys us. The root of the problem is a lack of respect for the customer. Even though shoppers are now educated on the self-service culture, most told us that while uncomfortable with "aggressive" salespeople, they still expect a

courteous recognition. “There is no excuse for salespeople to ignore shoppers,” says John Williams, senior partner of the J.C. Williams Group. “Shoppers tell us they want to be acknowledged even if it’s just a wave or a smile.”

Then, stores are losing customers-and sales-because people are fed up having to search for a clerk. Many retailers made the mistake of cutting staff to the bone to save costs. Sales have suffered as frustrated customers have defected. Besides, salespeople are unknowledgeable and untrained. But some CEOs note that they are implementing customer-service programs aimed at salespeople.

Last but not least, the sad fact is stores can get away with poor customer service because we let them. Studies confirm what shoppers and customer-oriented retailers instinctively know: Shopping is a social experience, not merely the transfer of goods. Good customer service will build up a harmonious community of shopper and business.

6. What can we infer according to the text? ()
- A. Sales persons need training.
 - B. Shopping is social experience.
 - C. people keep looking for clerks.
 - D. Interaction may be used to improve custom services.
7. “You clear your throat” in paragraph 2 means ().
- A. You got a cough
 - B. You would like to draw the others’ attention
 - C. You are nervous before speaking
 - D. You feel upset
8. “Courteous” is opposite to ().
- A. conducive
 - B. frustrated
 - C. aggressive
 - D. expensive
9. () customers have an idea of the stores before shopping.
- A. 1/3
 - B. 9/10

C. over 1/2

D. 1/5

10. "Collar" in paragraph 1 is the equivalent of ().

A. "to seize"

B. "to talk"

C. "a necklace"

D. "part of garment"

Passage 3

What attracts customers? Obviously the quality of a product does, but visual images contribute a great deal. It is not only the image provided by the packaging that counts but the whole corporate identity of the company.

There are now many products and services on the market which are similar in content though produced by different companies. It is vital, therefore, for a company to distinguish itself from its competitors by having a strong company image which is immediately recognizable.

Logos are part of this image. They are symbols which often include a name or initials to identify a company. The logo establishes a visual identity for the company, just as different groups of young people express their identity through hairstyles and clothes. All groups from all cultures and throughout the ages have used colors and symbols to show their identity.

In different cultures, different colors carry different meanings. Some colors may be connected with coldness in one culture and with warmth in another; some colors represent life in one culture but death in another. International companies have, therefore, to make sure that their logos will not be misunderstood or misinterpreted in different countries.

Many companies have, over the years, renewed their logos to fit in with contemporary design and to present more powerful images. Company logos can be emotive and can inspire loyalty by influencing the subconscious. Some logos incorporate an idea of the product; the steering wheel in the Mercedes logo, for example, and the airplane tail of Alitalia.

Logos are used on letterheads, packaging and brochures as well as on the product itself. They may also appear in newspapers or on television as part of an advertising campaign.

Companies need to have a strong corporate identity. The logo helps to promote this image and to fix in the minds of the consumers. Logos, therefore, need to be original and to have impact and style.

11. According to the passage, what can attract customer' s eyes? ()
- A. Quality of the product
 - B. The corporate identity
 - C. Packaging images
 - D. All of above
12. You probably find a logo of a big company ().
- A. In the social media platform.
 - B. On the letterheads and packages.
 - C. Advertisements on TV.
 - D. All of above.
13. he steering wheel in the Mercedes logo and the airplane tail of Alitalia are ().
- A. the examples of giving people idea of the products by using the images
 - B. the examples of logos which are emotive and can inspire loyalty
 - C. the examples of logos which fit in with contemporary design
 - D. None of above
14. The passage supplies information that would answer which of the following question?
()
- A. What attracts customers?
 - B. What' s in the image?
 - C. What' s in a logo?
 - D. None of above
15. () are used to show the () of the company.
- A. hair style and clothes; image
 - B. hair style and clothes; corporate identity
 - C. colors and symbols; culture and identity
 - D. colors and symbols; taste and mission

UC Berkeley professors have previously used YouTube videos as a guide for robots to learn various motions such as jumping or dancing, while Google has trained robots to understand depth and motion.

In a collaboration between Google Brain, Intel Corporation and the University of California, Berkeley, researchers applied that knowledge to their latest project, Motion2Vec, in which videos of actual surgical procedures are used for instruction. In a recently released research paper, researchers outline how they used YouTube videos to train a two-armed da Vinci robot to insert needles and perform sutures on a cloth device.

The medical team relied on Siamese networks, a deep-learning setup that incorporates two or more networks sharing the same data. The system is optimal for comparing and assessing relationships between datasets. Such networks have been used in the past for facial detection. Ken Goldberg, a physician who heads the UC Berkeley laboratory, explains YouTube is a rich source of instructional materials for it.

"YouTube gets 500 hours of new material every minute. It's an incredible repository," he said. "Any human can watch almost any one of those videos and make sense of it a robot currently just see it as a stream of pixels. So the goal of this work is to try and make sense of those pixels. That is to look at the video, analyze it, and ... be able to segment the videos into meaningful sequences. "videos to train its AI engine to perform the procedure. That claim a success.

For the suture task, the team needed only 78 instructional medical videos to train its AI engine to perform they a success rate of 85 percent. This means that robots can eventually undertake some of the more basic, repetitive tasks in surgical procedures and allow surgeons to focus their time and energy on the more exacting steps.

"We didn't consider too far," Goldberg said. "What we're moving towards is the ability for a surgeon, who would be watching the system to indicate where they want a row of sutures, convey that they want six overhand sutures," Goldberg said. "Then the robot would essentially start doing that and the surgeon would be able to little bit so that they could then be more rested and able to focus on more complex or nuanced parts of the surgery.

Machine learning has contributed much to biotechnology in recent years. The ability of AI to rapidly process huge volumes of data has yielded progress in detecting lung cancer and stroke risk based on CAT scans, calculating risk of heart disease and cardiac arrest based on EKG and MRI

imagery, classifying skin lesions from photos and detecting signs of diabetic distress in eye images.

And here in the middle of a pandemic, AI is helping scientists find drugs that may curb the spread of COVID-19 and eventually find a cure and a vaccine.

16. How does Google train the robots?()
- A. Through the use of instructional videos.
 - B. By Programming code.
 - C. By Implanting chip in them.
 - D. By using a deep-learning setup.
17. What does "it" refer to according to the passage?()
- A. The deep-learning setup
 - B. Siamese networks
 - C. Dataset
 - D. Facial detection
18. Which of the following is true according to the passage? ()
- A. Segmenting the videos into meaningful pixels is conducive to robots learning.
 - B. 78 medical videos are used to train robots to perform simple surgical procedures.
 - C. Robots ultimately play a more auxiliary role in surgery.
 - D. Robots can make sense of pixels and get instructions from them.
19. The italic paragraph can be better used to answer which of the following questions?
()
- A. What is the gap between robots and surgeons?
 - B. Will robots replace surgeons soon?
 - C. How can robots help doctors perform surgery?
 - D. What surgical skills do we need to further train these robots?
20. AI has been successfully used for the following functions except ().
- A. disclosing lung cancer and stroke risk
 - B. detecting signs of diabetic distress.
 - C. finding a cure and a vaccine for a pandemic
 - D. estimating the probability of cardiac arrest

Passage 5

King Juan Carlos of Spain once insisted kings don't abdicate, they die in their sleep. But embarrassing scandals and the popularity of the republican left in the recent Euro-elections have forced him to eat his words and stand down. So, does the Spanish crisis suggest that monarchy is seeing its last days? Does that mean the writing is on the wall for all European royals, with their magnificent uniforms and majestic lifestyles?

The Spanish case previous arguments both for and against monarchy when public opinion is particularly polarized, as it was following the end of the France regime, monarchs can rise above "mere" politics and "embody" a spirit of national unity.

It is this apparent transcendence of politics that explains monarchs continuing popularity as heads of states. And so, the Middle East expected, Europe is the most monarch-infested region in the world, with 10 kingdoms not counting Vatican city and Andorra. But unlike their absolutist counterparts in the Gulf and Asia, most royal families have survived because they allow voters to avoid the difficult search for a non-controversial but respected public figure.

Even so, kings and queens undoubtedly have a downside, symbolic of national unity as they claim to be, their very history—and sometimes the way they behave today—embodies outdated and indefensible privileges and inequalities. At a time when Thomas Piketty and other ecumenists are warning of rising inequality and the increasing power of inherited wealth, it is bizarre that wealthy aristocratic families should still be the symbolic heart of modern democratic states. The most successful monarchies strive to abandon or hide their old aristocratic ways. Prince and princess have day-jobs and ride bicycles, not horses (or helicopters). Even so, these are wealthy families who party with the international 1%, and media intrusiveness makes it increasingly difficult to maintain the right image.

While Europe's monarchies will no doubt be smart enough to strive for some time to come, it is the British royals who have most to fear from the Spanish example.

It is only the Queen who has preserved the monarchy reputation with her rather ordinary (if well-healed) granny style. The danger will come with Charles, who has both an expensive taste of lifestyle and a pretty hierarchical view of the world. He has failed to understand that monarchies have largely survived because they provide a service—as non-controversial and non-political heads

of state. Charles ought to know that as English history shows, it is kings of republicans, who are the monarchy's worst enemies.

21. According to the first two paragraphs, King Juan Carl of Spain ().
- A. used to enjoy high public support
 - B. was unpopular among European royals
 - C. eased his relationship with his rivals
 - D. ended his reign in embarrassment
22. Monarchs are kept as head of state in Europe mostly ().
- A. owing to their undoubted and respectable status
 - B. to achieve a balance between tradition and reality
 - C. to give voters more public figures to look up to
 - D. due to their everlasting political embodiment
23. Which of the following is shown to be odd, according to Paragraph 4? ()
- A. Aristocrats' excessive reliance on inherited wealth.
 - B. The role of the nobility in modern democracies.
 - C. The simple lifestyle of the aristocratic families.
 - D. The nobility's adherence to their privileges.
24. The British royals "have most to fear" because Charles ().
- A. takes a tough line on political issues.
 - B. fails to adapt himself to his future role.
 - C. takes republicans as his potential allies.
 - D. fails to change his lifestyle as advised.
25. Which of the following is the best title of the text? ()
- A. Carlos, Glory and Disgrace Combined
 - B. Carlos, a Lesson for All European Monarchs
 - C. Charles, Slow to React to the Coming Threats
 - D. Charles, Anxious to Succeed to the Throne

Passage 6

It is reported that, Stan Lee, the legendary writer, editor and publisher of Marvel Comics whose fantabulous creations made him a real-life superhero to comic book lovers everywhere, has died. He was 95.

Lee began in the business in 1939 and created or co-created Black Panther, Spider-Man, the X-Men, the Mighty Thor, Iron Man, the Fantastic Four, the Incredible Hulk, Daredevil and Ant-Man, among countless other characters.

On his own and through his work with frequent writer collaborators Jack Kirby, Steve Ditko and others, Lee catapulted Marvel from a tiny venture into the world's No. 1 publisher of comic books and, later, a multimedia giant.

“I used to think what I did was not very important,” he told the media in April 2014. “People are building bridges and engaging in medical research, and here I was doing stories about fictional people who do extraordinary, crazy things and wear costumes. But I suppose I have come to realize that entertainment is not easily dismissed.”

Lee's fame and influence as the face and figurehead of Marvel, even in his nonagenarian years, remained considerable. Beginning in the 1960s, Lee punched up his Marvel superheroes with personality, not just power. Until then, comic book headliners like those of DC Comics were square and well-adjusted, but his heroes had human foibles and hang-ups: Peter Parker/Spider-Man, for example, fretted about his dandruff and was confused about dating. The evildoers were a mess of psychological complexity.

“His stories taught me that even superheroes like Spider-Man and the Incredible Hulk have ego deficiencies and girl problems and do not live in their fantasies 24 hours a day,” Gene Simmons of Kiss said in a 1979 interview. “Through the honesty of guys like Spider-Man, I learned about the shades of gray in human nature.”

“J.C. Lee and all of Stan Lee's friends and colleagues want to thank all of his fans and well-wishers for their kind words and condolences,” a family statement read.

“He worked tirelessly his whole life creating great characters for the world to enjoy. He wanted to inspire our imagination and for us to all use it to make the world a better place. His legacy will live on forever.”

26. What can we learn from paragraph 1? ()

A. Stan Lee is a real-life superhero to everyone.

- B. Stan Lee is a legendary person in the field of comics.
- C. Marvel Comics is founded by Stan Lee alone.
- D. Stan Lee is just a normal editor and writer to comic book lovers.
27. How did Marvel Comics become a multimedia giant from a tiny venture? ()
- A. With the help of some millionaires.
- B. Lee did it all by himself.
- C. By the effort of Lee and other frequent writer collaborators.
- D. Not mentioned
28. What can be inferred from paragraph four? ()
- A. Comic work is not important.
- B. Lee thinks what he does is completely meaningless.
- C. Now Lee realizes that the entertainment of comic works is also important.
- D. Lee's doing stories about fictional people is crazy.
29. What does the underlined word "foibles" mean? ()
- A. emotions
- B. behaviors
- C. thoughts
- D. weakness
30. Which of the following titles is the best for this passage? ()
- A. Superheroes in comic books
- B. A Legendary comic book Star: Stan Lee
- C. Marvel Comics
- D. No one is perfect

Passage 7

Beijing opted against wading directly into the social media storm over alleged insults by a co-founder of Italian fashion house Dolce & Gabbana, calling instead for the outside world to understand the Chinese public's view on the issue. "This incident is not a diplomatic issue essentially and the Chinese side does not wish to escalate it into one," foreign ministry spokesman Geng Shuang said on Thursday.

“Instead of asking the foreign ministry spokesperson, it is better to ask the ordinary people in China to see how they view this issue.” Geng’s statement came as Chinese celebrities, online retail platforms and consumers turned their back on the brand after co-founder Stefano Gabbana allegedly described China as “a country of s***”.

The social media storm that followed even prompted the Changan Sword, the WeChat account of the Central Politics and Law Commission of the Communist Party’s Central Committee, to bring its weight to bear. On Thursday, it said alleged remarks by Stefano Gabbana on Instagram “provoked Chinese citizens”. It also criticized a Dolce & Gabbana social media advert released on Sunday that patronized Chinese people for eating with chopsticks. “Respect is the foundation for exchange.” the commission said. And yes, any remarks that cross the line will not be accepted in any country.

31. What happened according to paragraph 1? ()
- A. A co-founder of Dolce & Gabbana insulted China on the social media.
 - B. There is a diplomatic issue between Italian and China.
 - C. Dolce & Gabbana evoked a diplomatic issue.
 - D. Italian side also made a statement about the incident.
32. What was the Dolce & Gabbana social media advert criticized for? ()
- A. It was released to mock Chinese people.
 - B. It provoked Chinese citizens.
 - C. It described Chinese people eating with chopsticks with sardonic amusement.
 - D. It made fun of Chinese people.
33. What is Changan Sword according to the passage? ()
- A. A kind of sword.
 - B. An official WeChat account.
 - C. A normal WeChat account.
 - D. A screen name of someone.
34. According to Changan Sword, we can learn that ().
- A. Dolce & Gabbana even becomes more popular than before.
 - B. Chinese people will turn their back on the brand.
 - C. Respect is not the base line for a country.

D. Any remarks without respect will not be accepted by any country.

35. What's the author's attitude toward the incident? ()

A. indifferent

B. upbeat

C. opposed

D. objective

Passage 8

While one in five people in China have symptoms of a sleep disorder, only one in 10 who exercise regularly report problems sleeping, according to a study released on Thursday by the Chinese Sleep Research Society.

The COVID-19 epidemic has also deepened the divide in sleeping patterns between couch potatoes and regular exercisers, as people who lead sedentary lifestyles and often sleep badly are less inclined to work out due to travel restrictions, causing further kerfuffle to their circadian rhythms, the study said.

Experts said the results provide a strong impetus for people suffering persistent sleep disorders, such as insomnia, irregular breathing and frequent nightmares, to incorporate more exercise into their lives or upgrade their workout regimes.

Sleep disorders and insufficient sleeping hours have become more prominent in China in recent years. Acute insomnia turning into chronic insomnia has to do with a common mistake people make after a night or two of poor sleep. Even among those who have struggled for years with insomnia, many continue to employ this same counterproductive strategy.

Experts said that the common, insomnia-perpetuating error that most people commit is that they try to make up for lost sleep; they take naps, they go to bed early, and they sleep in late. "All of this contributes to sleep dysregulation." Ellit, one of the experts suggested that they should not try to make up for lost sleep. Instead, they should stick to their usual sleep-wake routine even on days when they're exhausted and dying for a nap or a sleep-in. "I tell people to be awake in the service of sleep," he says. "If you build up enough sleep debt, sooner or later that will be enough to force you into deep and prolonged sleep. The ship will right itself."

The study also found that exercising for at least half an hour daily, doing more full-body cardio exercises such as swimming and boxing, and working out more in the morning, are some of

the key factors that contribute to high-quality sleep at night. Those who incorporate weight lifting in their workout plans find it easier to pull themselves out of bed every morning after waking up, the study said. People who prefer ball sports, planking and sit-ups report longer periods of slow-wave sleep, or deep sleep, it said.

36. Which of the following is the reason of turning acute insomnia to chronic insomnia?
()
- A. Irregular breathing.
 - B. Taking naps for lost sleep.
 - C. Frequently staying up late.
 - D. A night or two of poor sleep.
37. Who are easier to get up every day? ()
- A. People regularly do ball sports.
 - B. People regularly do some weight lifting.
 - C. People do more full-body cardio.
 - D. People exercise for more than an hour a day.
38. What is Ellit's suggestion for sleep-disordered people? ()
- A. Building up enough sleep debt.
 - B. Doing exercises.
 - C. Building new sleep-wake routine.
 - D. Making up for lost sleep.
39. What does "kerfuffle" mean in the second paragraph? ()
- A. Benefit
 - B. Disruption
 - C. Damage
 - D. Implication
40. What does "sedentary lifestyles" mean in the passage? ()
- A. Suffering sleep disorders.
 - B. Keeping regular exercises.
 - C. Remaining sitting and moving less.
 - D. Travelling a lot.

化学工业出版社