

## 2021 年行政职业能力测验模拟卷（二）



警校生小图公众号

华图助力 从警荣光

## 第一部分 言语理解与表达

### 一、选词填空

(共 20 题。要求你从所给的四个选项中选出一个填空，使句子的意思表达得最准确)

请开始答题：

1. 我们的传统文化经历了\_\_\_\_\_的五四新文化运动，这种\_\_\_\_\_的新潮使其受到从未有过的挑战和冲击，是一次\_\_\_\_\_的洗礼。在改革开放发展进步中，我们的传统文化终于迈开了社会主义现代化的大步。

填入划线部分最恰当的一项是 ( )

- A. 振聋发聩 狂飙突进 脱胎换骨
- B. 醍醐灌顶 激流勇进 旧瓶新酒
- C. 振奋人心 循序渐进 鲤跃龙门
- D. 振臂一呼 倍道兼进 推陈出新

2. 对真正了解音乐、懂得思考的演奏家来说，练习只是确保舞台上的演出水平，并非练出一个不可改变的诠释，技巧越是铜墙铁壁、\_\_\_\_\_，演奏家也越能在表演时驰骋想象，随心所欲而不逾规。同理，越是体察作曲家意念，越是深入解析作品之和声理路，思考也就越能\_\_\_\_\_，表现指挥越灵活越丰富，而非\_\_\_\_\_、动辄得咎。

填入划线部分最恰当的一项是 ( )

- A. 固若金汤 触类旁通 投鼠忌器
- B. 固若金汤 举一反三 墨守成规
- C. 坚若磐石 举一反三 投鼠忌器
- D. 坚若磐石 触类旁通 墨守成规

3. 语言发展自然是\_\_\_\_\_，对网络词汇持宽容的态度也\_\_\_\_\_。然而，这与反对言语的粗鄙化，提倡书面语言的典雅并不矛盾。所以，不加选择地用明显粗俗的网络词汇，语文老师不应该放任。

填入划线部分最恰当的一项是 ( )

- A. 循序渐进 无可厚非
- B. 一日千里 顺理成章
- C. 大浪淘沙 理所当然
- D. 欣欣向荣 不足为奇

4. 工匠精神，是一种工匠对产品\_\_\_\_\_的理念，其内涵在于精益求精、注重细节、严谨专注。改革开放以来，中国制造业高速增长、雄冠全球，但高能耗、低技术、低创新、低附加值让“中国制造”难以真正\_\_\_\_\_。

填入划横线部分最恰当的一项是（ ）

- A. 千锤百炼 力压群雄      B. 精雕细琢 扬眉吐气  
C. 竭尽全力 脱颖而出      D. 锲而不舍 名副其实

5. 莎氏喜剧中，人物对话除了冷嘲热讽，更多的是机智的幽默。在英式幽默中也经常用到双关、暗讽以及智慧笑话。英式幽默从本质上所表现出来的对权势的轻视，可谓从莎氏喜剧中\_\_\_\_\_。

填入划横线部分最恰当的一项是（ ）

- A. 一脉相承    B. 举一反三    C. 发扬光大    D. 受益匪浅

6. “环保督查”近来成为一个热词。一方面，它透露环保形势\_\_\_\_\_，另一方面，它代表着监督模式的改革。

填入划横线部分最恰当的一项是（ ）

- A. 不容置喙    B. 凶多吉少    C. 水火不容    D. 不容乐观

7. 我们若想用我们自己建筑上的优良传统来建造适合于今天我们新中国的建筑，我们就必须首先\_\_\_\_\_自己建筑上的“文法”和“词汇”。考古学家所\_\_\_\_\_的殷代遗址证明，至迟在公元前 15 世纪，这个独特的体系已经基本上形成了。这种“词汇”和“文法”是从世世代代的劳动人民在长期建筑活动的实践中所积累的经验中提炼出来的，经过千百年的\_\_\_\_\_，而普遍地承认而遵守的规则和\_\_\_\_\_。

填入划横线部分最恰当的一项是（ ）

- A. 熟悉 发现 检验 惯例      B. 熟习 发掘 考验 范例  
C. 熟悉 发掘 考验 惯例      C. 熟习 发现 检验 范例

8. ①人民教师孙维纲一生辛勤耕耘，把全部精力\_\_\_\_\_到学生身上，受到广大师生的尊敬和爱戴。

② 作为一名体育特长生，他果然\_\_\_\_\_，在这次校运动会上一举夺得两项个人第一。

填入划横线部分最恰当的一项是（ ）

- A. 灌注 不负众望      B. 贯注 不负众望  
C. 贯注 不孚众望      C. 灌注 不孚众望

9. 时间就像音乐、哲学、数学一样，\_\_\_\_\_诞生于自然，\_\_\_\_\_创造于人类。自然界没有时间，\_\_\_\_\_有了人类，人的生命都有长度，有长度的生命又找到了文明的生存方式，文明是历史的积淀，历史需要时间证明，\_\_\_\_\_时间才有了意义。

填入划横线部分最恰当的一项是（ ）

- A. 虽然 但是 既然 那么                                B. 不但 而且 因为 所以  
C. 不但 而且 但是 那么                                D. 不是 而是 因为 所以

10. ①要想彻底解决足球比赛中执法不公的“黑哨”问题就必须\_\_\_\_\_产生这一现象的社会土壤。

②投放资金的外国公司, 必须\_\_\_\_\_其在合约中的投放现金总额。

③少数青年成家后, 不赡养父母, 报答他们的养育之恩, \_\_\_\_\_假各种名义去揩他们的油, 加重他们的负担, 这是一种不道德的行为。

填入划线部分最恰当的一项是 (     )

- A. 铲除 申明 甚至                                B. 根除 声明 反而  
C. 铲除 声明 反而                                D. 根除 声明 甚至

11. 司马迁的伟大在于他从来以成败论英雄, 从来以简单的道德观念来\_\_\_\_\_历史人物。他居然将钱袋的杀手, 同时代的违法者塑造成了英雄或准英雄。\_\_\_\_\_, 这不是他一个人的想法, 刺客们不是经常出现在汉代的画像石上吗?

填入划线部分最恰当的一项是 (     )

- A. 评判 或许                                B. 评价 兴许  
C. 评价 或许                                D. 评判 兴许

12. ①那是一个\_\_\_\_\_的季节, 也是一个风流的季节。

②据有关部门统计, 出版市场上的 WTO 书籍, 已经超过 3000 种, 可谓琳琅满目, \_\_\_\_\_。

填入划线部分最恰当的一项是 (     )

- A. 热闹 洋洋洒洒                                B. 喧闹 洋洋大观  
C. 热闹 洋洋大观                                D. 喧闹 洋洋洒洒

13. 我不由得想起来与之相反的一些令人郝颜的现象。家用电器, 日用百货, \_\_\_\_\_独资、合资\_\_\_\_\_国营工厂, 挖空心思给产品起个洋名字, \_\_\_\_\_再卖给国人, 却\_\_\_\_\_国人是否方便。\_\_\_\_\_出现了因看不懂“洋文炮仗”方法而把手崩坏了的事情。

填入划线部分最恰当的一项是 (     )

- A. 无论 还是 然后 不管 于是                                B. 无论 还是 接着 不管 却  
C. 不仅 而且 接着 不论 于是                                D. 不仅 而且 然后 不论 却

14. 中国古典家具曾经非常受消费者\_\_\_\_\_, 后来很长一段时间市场上却没有了踪影, 而在全球崇古风气盛行的今天, 它又\_\_\_\_\_了。

填入划线部分最恰当的一项是（ ）

- A. 喜爱 渐入佳境                      B. 笃爱 死灰复燃  
C. 欢迎 东山再起                      D. 青睐 卷土重来

15. 由于石化能源存在污染及蕴藏量减少的问题，新能源一直被视为替代品，其中核能更是各国开发的\_\_\_\_\_。但日本核事故却引起大家对核能安全的\_\_\_\_\_，各国政府无不希望能在短期内找到更安全、经济的新能源，以减少对石油长期的依赖。

填入划线部分最恰当的一项是（ ）

- A. 热点 疑虑                              B. 重点 忧虑  
C. 要点 警觉                              D. 基点 警惕

16. 中外合拍片对中方和好莱坞电影工厂均有好处，但由于存在文化环境和审美趣味的差异，中国元素很难真正与好莱坞电影\_\_\_\_\_。为了照顾全球影迷的欣赏口味，好莱坞电影只能减少中国元素的分量，因此，针对中国内地市场的“中国特供版”便\_\_\_\_\_。

填入划线部分最恰当的一项是（ ）

- A. 契合 粉墨登场                      B. 协调 东山再起  
C. 匹配 大行其道                      D. 融合 应运而生

17. 中国人渴望“掌握”自身命运，并控制日常生活的\_\_\_\_\_。在物质追求相似的表象下，隐藏着\_\_\_\_\_迥异的情感诉求。如果西方品牌能学会\_\_\_\_\_中国人的世界观，那么也许就会\_\_\_\_\_更多的中国消费者。

填入划线部分最恰当的一项是（ ）

- A. 千变万化 本质 引领 俘获                      B. 变幻莫测 本质 迎合 赢得  
C. 千变万化 实质 迎合 赢得                      D. 变幻莫测 实质 引领 俘获

18. 流言常常令人不悦，却很可能有助于丑事的暴露，阻止恶性的继续。对很多公众人物来说，单单是人们的议论就可以阻止不良行为。总有人\_\_\_\_\_八卦和流言毁了自己心目中的明星，但事实上，少有哪个做得正、行的端的明星最终被流言摧毁；被破坏的仅仅是对偶像的\_\_\_\_\_想象，被\_\_\_\_\_的是明星的为所欲为和不良行径。

填入划线部分最恰当的一项是（ ）

- A. 担心 完美 曝光                      B. 抱怨 片面 曝光  
C. 担心 片面 约束                      D. 抱怨 完美 约束

19. 对于曾经有过辉煌的张艺谋而言，观众高标准的\_\_\_\_\_并不过分，好莱坞的大部分电影虽然也在水准之下，但张艺谋不应该是那个选择敷衍的人。

填入划横线部分最恰当的一项是（ ）

- A. 乞求 B. 渴望 C. 渴求 D. 期望

20. 随着大众旅游休闲时代的到来，囿于景点、紧盯门票的思维，愈发显得与\_\_\_\_\_。

填入划横线部分最恰当的一项是（ ）

- A. 目光短浅 急功近利 B. 孤陋寡闻 好大喜功  
C. 目光短浅 好大喜功 D. 孤陋寡闻 急功近利

## 二、阅读理解

（共 20 道题。阅读短文，短文后面有若干不完整的陈述，要求你从四个选项中选出一道来完成每一陈述。注意：供选择的答案有时可能是对短文的内容重复，有时则满足了陈述中其他方面的要求，你的选择应与所提要求最相符）

21. 普利策奖走过了一个卓越的世纪。从一开始，普利策奖就拥有某种定义新闻业的能力，即便是在该行业经历巨变的时期。即便是在新媒体时代，普利策奖也仍然举足轻重。面临职业动荡和日常压力，新闻从业者往往选择放弃深入的挖掘和艰苦的努力，更不用说新兴媒体很多采取取巧的捷径来和传统媒体相竞争。而普利策奖告诉我们，那些不取巧的深挖和努力是维持这个行业长存所不可或缺的。因此\_\_\_\_\_。

- A. 好的新闻就是好的新闻，不论其新闻的形态为何  
B. 即便是在新媒体时代，普利策奖也仍然举足轻重  
C. 普利策奖是否被淘汰，与新媒体的勃兴无关  
D. 在媒体行业经历具备的今天，普利策奖也在与时俱进

22. 公平正义的家国理想，悲天悯人的人文情怀，让记者的价值和使命与普通百姓的利益和命运紧紧联系在一起。正是心里没有装着百姓，个别官员才会对记者的态度和立场“看不惯”，而且，这种情绪还相当具有“传染性”和“感染力”。

这段文字接下来最有可能介绍的是（ ）

- A. 官员“看不惯”记者的原因 B. 记者引导社会舆论监督官员行为的意义  
C. 纠正个别官员态度的方法 D. 个别官员排斥记者的具体表现

23. 高效应重点加强红色经典艺术学科的建设力度和专业建设水平，开设有吸引力的、与时俱进的红色经典艺术教育课程，通过生动有趣的教学内容引导学生理性思考红色经典艺术的价值，增强对红色经典艺术的自信和认同感。同时，高校还可以聘请知名学者开设“红色经典艺术大讲堂”系列报告，按照公共选修课计入学生选学学分，以舆论专题、现场教育

和课堂展演等方式对红色经典艺术进行讲述。此外，高校还可以通过开设红色经典影视鉴赏课程，提升红色经典艺术教育课程的教育效果。

这段文字主要说明了（ ）

- A. 高校应重点加强红色经典艺术学科的建设力度和专业建设水平
- B. 高校应聘请知名学者开设“红色经典艺术大讲堂”系列报告进行红色教育
- C. 高校应开设各种形式的红色经典艺术教育课程来增强红色经典艺术教育说服力
- D. 高校应开设红色经典影视鉴赏课程，提升红色经典艺术教育效果

24. 当前，由于全球贸易“蛋糕”的缩小，部分经济实体借“反倾销”“特别保护税”之名，行贸易保护主义之实。近年来，由于中国是全球最大的贸易出口国，欧盟、美国等经济实体对华贸易一直存在巨额逆差，它们对此选择了日益强硬的态度，相关的贸易摩擦日渐增多。

根据这段文字，接下来作者最有可能着重讲述（ ）

- A. 中国如何去积极措施应对贸易摩擦
- B. 中国对外贸易顺差产生的原因
- C. 部分经济实体进行贸易保护的根源
- D. 当前全球贸易格局的新变化

25. 汽车产业是一个长期性产业，作为产业革命带来的核心产品，它形成了相当长的产业链，不仅产业自身的发展会对经济增长具有一定的扩展或成倍的乘数效应，而且会带动金属、电器设备、橡胶等一系列相关产业的发展，极大地解决了就业问题，提升了社会福利，这反过来又会促进汽车工业的进一步发展。

这段文字主要说明的是（ ）

- A. 汽车产业与其他相关产业的关系
- B. 汽车产业与社会就业问题的关系
- C. 汽车产业与产业革命进程的关系
- D. 汽车产业与经济社会发展的关系

26. 据了解，针对药价虚高的现象，国家发改委希望通过药品降低方式来解决。据统计，自政府恢复对部分药品价格实行管制以来，已经进行了 17 次药品降价，截至目前，已经制定、调整了国家医保目录的 1000 多种药品的最高零售价。但由于流通环节的繁琐和暗箱操作等原因，药品价格依然很高，实际药价与患者的期望值仍然具有较大差异。

根据这段文字，我们可以知道（ ）

- A. 通过减少流通环节和实施透明操作使药品降价已成为当务之急
- B. 患者认为药价过高是患者期望值过高的缘故
- C. 对药品价格实行管制是解决药价虚高的根本方法
- D. 国家已经通过调整国家医保目录的 1000 多种药品最高零售价解决了药价虚高的问题

27. 特普朗一方面叫停 TPP，同时又多次直称中国是“货币操纵国”。以前美国抱怨中国操纵货币是说人民币未按美国的预期升值，而今天人民币有贬值压力，中国抛售外汇资产防止人民币贬值怎么也遭到指责？特普朗到底要说什么恐怕连他本人也不清楚。我们关键是要守住两点：一是守住汇率以减少贸易摩擦；二是扩大出口并积极进口，守住贸易平衡。

与这段文字内容相符的是（ ）

- A. 特普朗并不清楚为什么叫停 TPP
- B. 中国需通过控制汇率来应对人民币贬值的压力
- C. 特普朗因人民币未按美国预期变化而多次指责中国
- D. 只有增大进出口额才能保持贸易平衡

28. 抢红包作为一个新生事物，曾经给许多人带来了刺激、愉悦的心理体验；当新鲜感过去，抢红包的吸引力就逐渐下降。疏解“过节疲劳”，除了年轻人要进行清醒的自我调适、少一些跟风从众之外，也需要赋予节日更多的文化价值与“时代感”——新奇的过节方式、有趣的节日内容、活泼的情感表达，只有赋予节日更多的价值和意义，才能得到年轻人的喜爱与认同。

根据这段文字，下列理解错误的一项是（ ）

- A. 抢红包是一种新兴的过节方式
- B. 抢红包的吸引力与其带来的新鲜感有关
- C. 年轻人跟风从众必然带来“过节疲劳”
- D. 具备价值和意义的节日更能使年轻人喜爱和认同

29. 中国经济发展进入新常态，最重要的是两个转变，一是经济增速从高速增长转向中高速增长，二是经济发展方式从规模速度型粗放增长转向质量效率型集约增长。第一个转变已接近完成，但第二个转变明显滞后，质量效率型集约增长模式尚未完全形成。我国发展过程中出现的不平衡不协调不可持续问题，与两个转变不同步有很大关系。延续中国经济发展奇迹，必须加快经济发展方式转变，推动经济从高速增长转向高效增长、实现由大到强的质的飞跃。



对这段文字理解有误的是（ ）

- A. 我国不少地方仍存在经济规模速度型粗放增长现象
- B. 两个转变同步进行可减少我国经济发展的一些问题
- C. 新常态推动我国经济发展实现由大到强的质的飞跃
- D. 我国经济增速已经完成从高速增长转向中高速增长

30. 神权的建筑以表现神圣、邃秘、玄虚、空灵取胜。在我国是寺刹庙观，而不是西方那种教堂。但总之相类似，都是于建筑中力图表现精神信仰，神在不可知的地方无处不在。飞鸿流翠的殿宇，佐之晨钟暮鼓，隔绝红尘，营造天庭与信仰。或高耸入云的塔，或华丽巍峨的殿，庄严辉煌的佛像，导引着、承载着世间百姓的虔诚和痴迷。

这段文字主要表达的是（ ）

- A. 我国的建筑与西方的不同
- B. 中国的老百姓对寺刹庙观很虔诚
- C. 建筑中的精神信仰在中西方国家普遍存在
- D. 西方教堂的建筑更能体现神性

31. 教育究竟能不能产业化？教育的确在一定程度上具有与私人产品相同的属性，比如这种产品的消费具有一定的竞争性、排他性，并且，受教育者可以通过教育得益，如增加工资收入、提高社会地位、获得精神享受等，其教育花费也就等同于私人的一种投资。从这个意义上讲，教育具有商品属性。但是，教育同时具有公共产品的基本属性——社会公益性。受过良好教育的公民可以给全社会带来广泛的收益，包括生产力的提高、社会文明程度的进步等等。正因教育消费有溢出效应，所以经济学把教育定义为“准公共产品”。

下列属于“教育产业化”的理由的一项是（ ）

- A. 教育一定程度上具有与私人产品相同的属性
- B. 教育消费有溢出效应
- C. 教育具有公共产品的基本属性
- D. 受过良好教育的人可以给全社会带来广泛的收益

32. 北极海域浮冰面积逐渐减小，总计缩小达 20% 左右，使北极熊难以在浮冰上长久立足，加之某些国家对海豹大量捕杀，使本来就不多的北极海豹越来越少，北极熊更难在浮冰上捕食海豹。我们来到北极斯匹兹卑尔根岛西北海岸北纬 80 度附近一海湾时，惊讶地拍摄到了北极熊捕鱼的全过程。我们看到，北极熊改变了以捕食海豹为生和“不下水”的习性，开始跳下冰冷的海水，抓鱼为食。

这段文字充分表明（ ）

- A. 北极环境日益恶劣
- B. 物竞天择，适者生存
- C. 聪明的物种更能适应环境
- D. 环境变化改变了北极熊的生活习性

33. 我国的中医博大精深，越来越受到人们的关注。但随着环境、人的体质、生活方式、药材性状都与过去发生很大变化，对于中医药来说，照搬古代典籍已经不能完全解决现代的很多问题，必须在继承的基础上不断创新，以此来促进祖国中医的大力发展。

上述材料说明，我们正确对待传统中医应该（ ）

- A. 大力保护、全面复兴中医
- B. 大胆突破传统中医的束缚，逐步用西医代替中医
- C. 兼收并蓄，中西医结合
- D. 批判继承，同时推陈出新、革故鼎新

34. 多家支付公司对外证实，中国人民银行支付司日前召集 10 余家主要的个人网络支付公司和若干银行，重申停止对比特币的取现业务。到昨天为止，已经有包括支付宝、财付通等多家支付公司表示停止相关业务。消息一出，比特币比上周下挫 20% 多。没有了支付公司的清算托管服务，比特币在中国的日子将会越来越难过。

最能体现这段话主旨的一项是（ ）

- A. 央行重申停止比特币取现业务导致其价格下跌
- B. 比特币在中国步履维艰
- C. 比特币将受到政府的封杀
- D. 比特币不再具有取现功能

35. 生活中几乎人人都懂得绝不能削足适履的道理，然而，为了职业而改变性格的人却比比皆是。职业这双鞋，难道就真的需要用改变性格的巨大代价来适应吗？这是典型的本末倒置。这一日常生活中再简单不过的道理，为什么我们却要花上几年、甚至是几十年的时间才能真正领悟到呢？

这段文字意在强调（ ）

- A. 工作中能否成功取决于对职业的热爱
- B. 工作中应注意兼容并蓄，扬长避短
- C. 求职时应考虑自己的性格特点

D. 即使是领悟浅显的道理也需要时间的磨砺

36. 其实，我们都是成功者，因为成功只是一种感受，一种自我意识的主观感受，如果我们把自己的每一点进步，哪怕只是微小的进步，都看作是一次成功，都认真地品味一番，那么，幸福和快乐就会常伴在我们身边。噩梦的人生也就会因此而变得格外的丰富和生动。

作者通过这段文字，最想表达的意思是（ ）

- A. 世界上没有绝对的失败者
- B. 成功的人生少有挫折和失败
- C. 成功是一种心理感受，与现实的物质无关
- D. 成功可以自己定义，不用将其看的过于神圣

37. 提起意大利，人们立即会联想到这里曾是文艺复兴的诞生地，米开朗琪罗、波提切利和十五、十六世纪其他艺术家们不仅改变了欧洲，也重塑了文化与艺术的表达方式。时至今日，我们的建筑、视觉艺术、文字甚至部分生活理念，在一定程度上仍然受到意大利文艺复兴时期在古典遗产基础上所创造的美学形式和思维方式的影响。

这段文字意在说明（ ）

- A. 意大利文艺复兴的重要影响
- B. 古典文化遗产保护的必要性
- C. 当代美学形式的历史渊源
- D. 意大利艺术家的伟大成就

38. 互联网既是技术，也是发展之本与和平之道。这是中国崛起为新的世界领导型国家在互联网领域亮出的鲜明主张。全体大会上，世界互联网大会高级咨询委员会主席法迪说，互联网的两大关键词是秩序与尊严，既要打造网络空间的秩序，否则国际体系将走向失败；又要捍卫人的尊严，提倡人工智能，也要考虑到被技术淘汰的人怎么办。

这段文字最适合的标题是（ ）

- A. 集思广益，共同发展
- B. 网以载道，术以福人
- C. 君子务本，本立而道生
- D. 互联网之本，就是造福全人类

39. 今天，如果我们将神经学科、认知学科、意向性学科、人工智能学科、机器人等领域中的成就整合到哲学认识论研究中，无疑可以极大地推进哲学认识论的发展。这样的认识论不再限于对认识现象的宏观说明，同时也不限于某一维度的局部理解，而是一种具有“中观”特色的认识论研究，它可以成为连接宏观认识与微观认知的桥梁，填补哲学认识论与具体科学认知研究之间的鸿沟，真正实现经典认识论与现代具体的认知科学、脑科学、智能科学之间的互惠。

这段文字中的“它”指代的是（ ）

- A. 局限于宏观现象的认识论
- B. 结合了某些科学领域新成就的哲学认识论
- C. 传统的哲学认识论
- D. 对认识论某一维护的局部理解

40. ①国内的南京大屠杀研究始于南京大学。1960年，四位日本史和中国近代史专业的老师开始对南京大屠杀进行研究，撰写了《日本帝国主义在南京的大屠杀》

②大量的历史事实出发，坚持正义立场，写出了一批有说服力的著作

③20世纪80年代，面对日本右翼不断否认，歪曲侵略历史，学者们义无反顾地发表著述驳斥，南京大屠杀史研究逐步走向正规

④二十世纪五六十年代，中日历史学者开始着手南京大屠杀事件研究

⑤编辑出版了两卷资料和一部《南京大屠杀史稿》

⑥那个年代的史料缺乏，从事研究的人员和经费有限，因此研究工作再很长时间内发展缓慢

连贯的语段，排序最恰当的是（ ）

- A. ④②①⑥③⑤
- B. ①⑥③⑤④②
- C. ②④③⑤①⑥
- D. ③⑤②④①⑥

## 第二部分 数量关系

### 一、数字推理

（共10题。给你一个数列，但其中缺少一项，要求你仔细观察数列的排列规律，然后从四个供选项的选项中选择你认为最合理的一项，来填补空缺项，使之符合原数列的排列规律）

请开始答题：

41. 1, 2, 5, 10, 17, ( )

- A.26
- B.25
- C.23
- D.28

42. 2, 2, 8, -1, -2, 5, 1, 1, 2, -1, 0, ( )

- A.-2

B.-1

C.1

D.2

43. 1, 2, 7, 23, 76, ( )

A.206

B.218

C.239

D.251

44. 3, 5, 10, 25, 75, ( ), 875

A.125

B.250

C.275

D.350

45. 4, 11, 6, 13, 8, ( ), 10

A.15

B.16

C.17

D.18

46. 36, 45, 70, 119, 200, ( )

A.321

B.341

C.421

D.441

47. 2, 3, 11, 124, ( )

A.16367

B.15943

C.15387

D.14269

48. 0, 1, 2, ( ), 16, 625

A.3

B.5

C.7

D.9

49. 8, 3, 17, 5, 24, 9, 26, 18, 30, ( )

A.22

B.25

C.33

D.36

50. 2, 1, 5, 7, 17, ( )

A.26

B.31

C.32

D.37

## 二、数字运算

(共 10 题，在这部分试题中，每道试题呈现一段表述数字关系的文字，要求你迅速、准确地计算出答案)

51. 某玩具店同时卖出一个拼装玩具和一架遥控飞机，已知拼装玩具售价为 66 元/个，盈利 10%；遥控飞机售价为 120 元/架，亏损 20%。那么商家该次销售的总体盈亏情况如何？

( )

A. 盈利 17.4 元

B. 亏损 17.4 元

C. 盈利 24 元

D. 亏损 24 元

52. 甲、乙、丙三位选手参加抢答竞赛，答对一题得一分，答错既不得分也不扣分。在竞赛过程中的某一时刻，甲得到 17 分，乙得到 16 分，丙得到 11 分。那么在剩下的 8 道题中，甲至少还要答对几道题才能确保胜出？ ( )

A. 1

B. 2

C. 3

D. 4

53. 一个水箱有 1 个进水口和 10 个出水速度相同的出水口，当水箱盛满水后同时打开进水口和 10 个出水口 3 小时流完，若打开进水口和 5 个出水口 8 小时流完，若打开进水口和 8 个出水口，水箱的水多少小时流完？（ ）

A. 4

B. 5

C. 6

D. 7

54. 有 6 个分别装满汽油、柴油、机油的油桶其容量分别为 31 升、20 升、19 升、16 升、15 升。已知 6 桶油中只有一桶是汽油，且柴油总容量比机油多一倍。请问柴油共有多少升？（ ）

A. 49

B. 50

C. 66

D. 68

55. 某高校艺术学院分音乐系和美术系两个系别，已知学院男生人数占总人数的 30%，且音乐系男女生人数之比为 1: 3，美术系男女生人数之比为 2: 3，问音乐系和美术系的总人数之比是多少？（ ）

A. 5: 2

B. 5: 1

C. 3: 1

D. 2: 1

56. 有 6 种颜色的小球，数量分别为 4, 6, 8, 9, 11, 10，将它们放在一个盒子里，那么，拿到相同颜色的球最多需要的次数为：（ ）

A. 6

B. 12

C. 11

D. 7

57. 有 135 人参加某单位的招聘，31 人有英语证书和普通话证书，37 人有英语证书和计算机证书，16 人有普通话证书和计算机证书，其中一部分人有三种证书，而一部分人则

只有一种证书。该单位要求必须至少有两种上述证书的应聘者才有资格参加面试。问至少有多少人不能参加面试：（ ）

- A. 51
- B. 50
- C. 53
- D. 52

58. 女儿今年的年龄是母亲年龄的  $\frac{1}{4}$ ，40年后女儿的是母亲的  $\frac{2}{3}$ 。问当女儿年龄是母亲年龄的  $\frac{1}{2}$  时是公元多少年（假设今年是 2013 年）：（ ）

- A. 2021
- B. 2022
- C. 2026
- D. 2029

59. 某单位有职工 15 人，其中业务人员 9 人，现要从整个单位选出 3 人参加培训，要求其中业务人员的人数不以少于非业务人员的人数。问有多少种不同的选人方法：（ ）

- A. 156
- B. 216
- C. 240
- D. 300

60. 2016 年 5 月 1 日是星期日，请推算 2015 年 6 月 1 日是星期几？（ ）

- A. 星期一
- B. 星期二
- C. 星期三
- D. 星期四

### 第三部分 判断推理

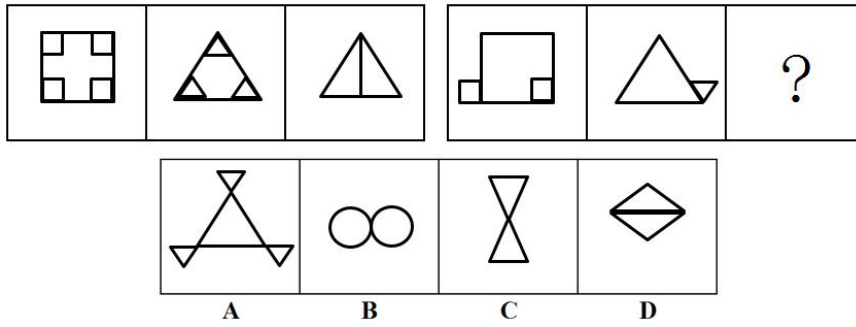
#### 一、图形推理

（共 10 题。要求你从四个选项中选择你认为最适合取代问号的一个。正确的答案应不仅使两套图形表现出最大的相似性，而且使第二套图形也表现出自己的特征）

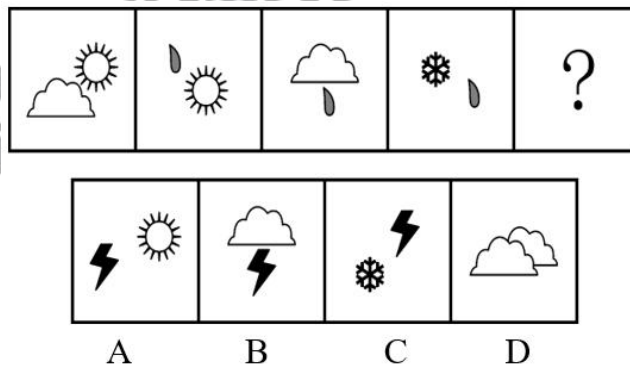
请开始答题：



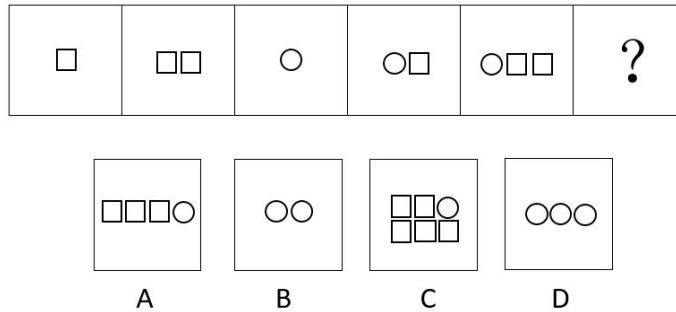
61. 从所给的四个选项中选择最合适的一个填入问号处，使之呈现一定的规律（ ）



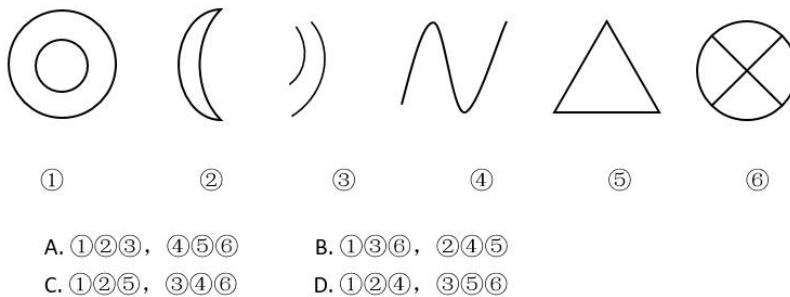
62. 从所给的四个选项中，选择最合适的一个填入问号处，使之呈现一定的规律性（ ）



63. 根据所给图形的既有规律，选出一个最合理的答案（ ）

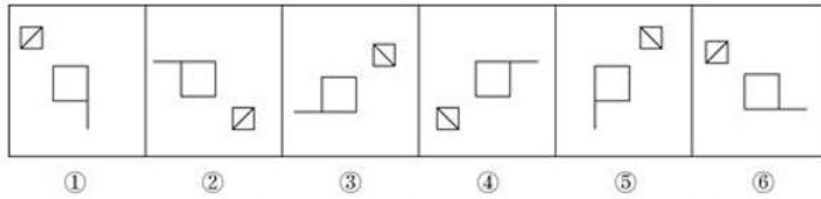


64. 把下面的六个图形分为两类，使每一类图形都有各自的共同特征或规律，分类最为恰当的一项是（ ）



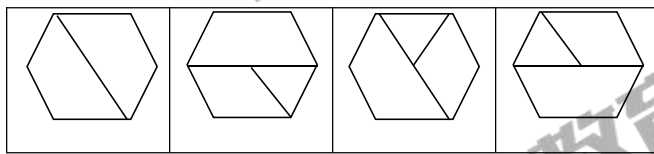
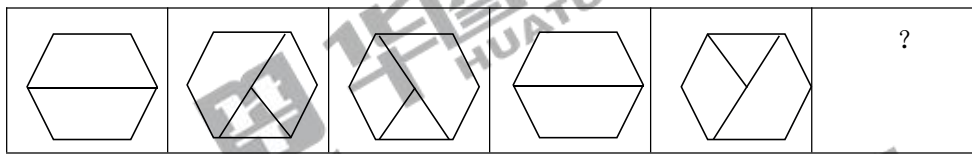
65. 把下面的六个图形分为两类，使得每一类图形都有各自的共同特征或者规律，分类

正确的一项是（ ）



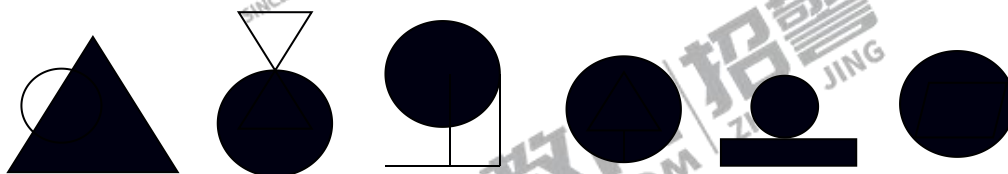
- A. ①②⑥, ③④⑤      B. ①③⑤, ②④⑥  
C. ①③④, ②⑤⑥      D. ①④⑥, ②③⑤

66. 根据所给图形的既有规律，选出一个最合理的答案（ ）



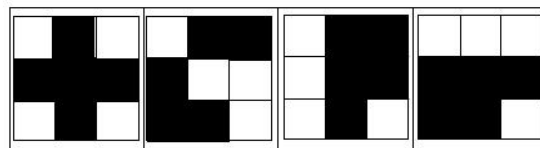

- A      B      C      D

67. 把下面的图形分为两类，使每一类图形都有各自的共同特征或规律，分类正确的一项（ ）




- ①      ②      ③      ④      ⑤      ⑥
- A. ①②⑤, ③④⑥  
B. ①③⑥, ②④⑤  
C. ①③⑤, ②④⑥  
D. ①③④, ②⑤⑥

68. 根据所给图形的既有规律，选出一个最合理的答案。（ ）



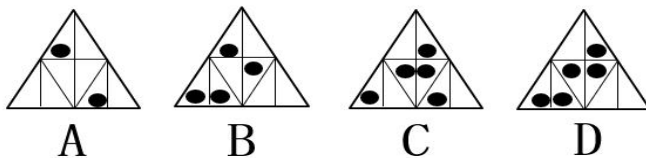
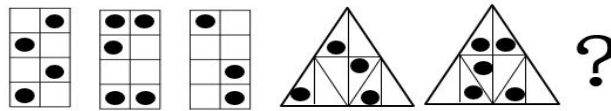
A B C D

69. 下图给定的是纸盒的外表面，下列能由它折叠而成的是 ( )



A B C D

70.



A B C D

## 二、定义判断

(共 10 题，每道题先给出一个概念的定义，然后分别列出四种行为，要求你严格依据定义从中选出一个最符合或最不符合该定义的答案。注意：假设这个定义是正确的，不容置疑的。)

71. 不作为的危害行为是指消极的行为，即行为人不履行或不积极地履行其法律义务，而出现危害社会的后果。根据上述定义，下列涉及不作为危害行为的是 ( )

- A. 聚会中朋友们的盛情劝酒导致孙某喝酒过量致死
- B. 七旬老人突发疾病，邻居知道却没有施救，最终老人因病情延误而瘫痪
- C. 张某的妻子患病住院多年，张某因经济拮据而经常拖欠医疗费
- D. 某 120 急救中心接到求救电话后未及时派遣救护车，导致一位事故中的伤者死去

72. 宗法制是以血缘关系为基础，来处理宗族内部成员之间的亲疏、等级和世袭权利的  
制度。根据上述定义，下列不属于宗法制的是（ ）

- A. 正妻所生的长子为法定的王位继承人
- B. 王位世袭中的“父死子继”原则
- C. 宗族首领在宗族内部拥有广泛的权利
- D. 分封功臣为公侯

73. 地缘群体是基于成员空间或地理位置关系而形成的群体，根据上述定义，下列涉及  
地缘群体的是（ ）

- A. 大学毕业后，同学们建立微信群保持联系
- B. 在石家庄的部分湖南老乡纷纷加入统一 QQ 群聊天
- C. 为了联络感情，同事们周末一起驾车出游
- D. 没到春节，亲人们从远方赶回来团聚

74. 热炉法则又称惩处法则，是指在规章制度面前人人平等，该法则源自西方管理雪茄  
提出的惩罚原则，它的指导意义在于人在工作中违反了规章制度，就像去触碰一个烧红的火  
炉，一定要让他受到“烫”的惩罚。根据上述定义，下列行为不符合热炉法则的是（ ）

- A. 孙武治军
- B. 诸葛亮挥泪斩马谡
- C. 诸葛亮七擒孟获
- D. 嘉庆处置和珅

75. 黑色旅游指人们到死亡、灾难、痛苦、恐怖事件或悲剧发生地旅游的一种现象。黑  
色旅游是近年来国内外旅游学界新兴的热点研究领域，也是一个颇具争议的领域。

根据上述定义，下列不属于黑色旅游的是（ ）

- A. 参观南京中山陵
- B. 参观 5·12 四川汶川地震遗址
- C. 游玩上海迪士尼乐园
- D. 游览北京圆明园遗址

76. 再造想象是指根据语言的表述或非语言的描绘（图样、图解、模型、符号记录等）在头脑中形成有关事物的形象的想象；创造想象是指根据一定的目的、任务，在脑海中创造出新形象的心理过程，用已积累的知觉材料作为基础，使用许多形象材料，并把他们加以深入，通过组合，创造出新的形象来。根据上述定义，下列属于创造想象的是（ ）

- A. 实用新型专利产品的创造
- B. 木模工人根据图纸想象出机械零件的形象
- C. 工程师根据建筑蓝图想象出建筑物的形象
- D. 学生在听到李白诗句“朝辞白帝彩云间，千里江陵一日还”时，想象出壮丽的河山情景

77. 设施农业是指利用人造设施，在局部范围改善或创造环境气象因素，为植物生长提供良好的环境条件而进行有效生产的农业，是一种高新技术产业，是当今世界最具活力的产业之一。下列哪一项不属于设施农业（ ）

- A. 坝上养羊业由传统养羊向科学养羊转变，变传统放牧山羊为围栏圈养
- B. 入春以来，我省北部及山区大部分农民利用塑料薄膜覆盖点种玉米
- C. 保定顺平县利用温室大棚种植草莓，使人们在寒冷的冬天，能吃上鲜果
- D. 我省环首都有关县市发挥水利基础设施作用，种植蔬菜供应北京市场

78. 绿色公关是指企业以生态与经济可持续发展观念影响公关，选择具有“绿色”特征的媒体开展传播活动，以“绿色”为特色塑造企业形象，赢得公众的信任与支持，给企业带来更多的便利和竞争优势的一系列公关活动。下列属于绿色公关的是（ ）

- A. 某快餐店通过植树节宣传减少包装节约资源，营造经营氛围
- B. 人民网举办以“发展低碳经济引领绿色潮流”为主题的论坛
- C. 某小区居委会在小区举办的垃圾分类现场竞赛，受到住户欢迎
- D. 某软件公司推出一款绿色软件，无插件，无需安装即可使用

79. 当所学的新知识相对于原有认知结构为上位关系，即原有知识是从属观念，而新学习的知识是总括性观念，这样的学习即为上位学习。相反，如果新知识与原有知识是下位关系，则为下位学习。而如果新知识仅仅是由原知识的相关内容合理组合构成的，不能与原有某些特定的内容构成上位关系或下位关系，那么，这时的学习就是同位学习。

依据上述定义，下列属于上位学习的是（ ）

- A. 学生先学习平行四边形再学习矩形
- B. 在学完所有的内容之后进行总复习

- C. 先学习理论知识，再进行实践技能的操作
- D. 教师为讲解某语法结构，先举了很多例句

80. 消费者剩余，是指消费者在购买一定数量的某种商品时愿意支付的最高总价格与实际支付的总价格之间的差额。消费者剩余衡量了购买者自己感觉到所获得的额外利益。

根据上述定义，下列最符合消费者剩余概念的经济活动是（ ）

- A. 小张在水果店看到刚上市的枇杷，新鲜的枇杷勾起了小张的购买欲，于是他以高于市场价 15 元/斤的价格买了多斤枇杷，店家比平时赚的多
- B. 某商场将原价标价 500 元但实际价值为 100 元的服装以 400 元的价格卖给了小王
- C. 某国外奶粉公司研制出添加各种营养成分的较高质量的奶粉，用更漂亮、更防潮的包装方式，以更高的价格销售给中国年轻妈妈
- D. 小李以 800 元的价格买到自己认可的价值 1200 元的一款新电子产品

### 三、类比推理

（共 10 题，先给出一对相关的词，要求你在备选答案中找出一对与之在逻辑关系上最为贴近或相似的词）

81. 风：帆（ ）

- A. 肉：壳
- B. 水：舟
- C. 针：线
- D. 歌：词

82. 医生：查房（ ）

- A. 男孩：玩耍
- B. 编辑：校对
- C. 讲课：老师
- D. 种田：农民

83. 铡刀：草料（ ）

- A. 工蜂：采蜜
- B. 雨伞：遮雨
- C. 化肥：庄稼
- D. 字模：铸造

84. 唐诗：七律 （ ）

- A. 曲艺：越剧
- B. 瓷器：茶杯
- C. 哺乳动物：老虎
- D. 自行车：汽车

85. 预习：上课：复习 （ ）

- A. 高考：考试：大学
- B. 调研：设计：生产
- C. 痊愈：挂号：出院
- D. 笔试：面试：报名

86. 园林：假山：盆栽 （ ）

- A. 佛寺：禅堂：蒲团
- B. 宝塔：浮屠：铁塔
- C. 舞台：戏台：月台
- D. 城墙：碉堡：岗楼

87. 波涛：汹涌：澎湃 （ ）

- A. 老师：左右：为难
- B. 军队：兵强：马壮
- C. 试题：增加：难度
- D. 字典：解释：词义

88. 海棠：花木：植物 （ ）

- A. 圣女果：西红柿：蔬菜
- B. 馒头：面食：食物
- C. 细胞：人类：动物
- D. 鲸鱼：鱼类：生物

89. 书签对于 （ ） 相当于 （ ） 对于浏览器

- A. 阅读：网页
- B. 书本：收藏夹
- C. 记录：网页
- D. 书本：插件

90. 分水岭 对于 ( ) 相当于 ( ) 对于水稻

- A. 山岭 大米
- B. 地质 节气
- C. 界线 作物
- D. 回归线 青稞

#### 四、逻辑判断

(共 10 题，每题给出一段陈述，这段陈述被假设是正确的，选出一个答案，注意，正确的答案应与所给的陈述相符合)

91. 根据身体比例，“吸血鬼松鼠”拥有哺乳动物中最大的尾巴，有研究人员认为，大尾巴可能是为了恐吓其主要天敌——云豹，让云豹误以为它是体型非常大的动物。

下列选项如果为真，最能削弱上述结论的是 ( )

- A. 云豹的尾巴长约 70--90 厘米，几乎与体长相当
- B. 云豹只分布在东亚、南亚和东南亚地区
- C. 云豹的捕食范围广泛，猴、野兔等小型动物均在其中
- D. 云豹常常捕食体型大的动物

92. 最近某网站的一项问卷调查报告表明，在 3000 个接受电话调查的中老年人中，85% 的人说自己非常喜欢网上购物，因此，有人认为有关 50 岁以上的中老年人不喜欢网上购物的说法是不正确的。

如果以下选项为真，最能削弱上述结论的一项是 ( )

- A. 该网站的电话调查缺乏权威性，其准确度值得探讨
- B. 大部分接受电话调查的中老年人喜欢在网上购物的同时浏览新闻
- C. 接受电话调查的中老年人很可能是喜欢网上购物的中老年人
- D. 有少数接受电话调查的人实际年龄还不到 50 岁

93. 在信息化的背景下，发展中国家和发达国家在经济全球化中的机遇和风险是相对平等的，因此，发达国家和发展中国家的经济发展差距呈现日益缩小的趋势。

以下哪项为真，能对以上结论提出最严重的质疑? ( )

- A. 经济全球化一方面促进了各国经济快速增长，另一方面却蕴含着前所未有的风险
- B. 即使对美国这样的发达国家来说，全球化也给它带来了不利影响：过量移民、廉价商品、跨国犯罪等



C. 据联合国的报告，1990 年到 2000 年间，世界各国中按发达程度排名的前 15 名和后 15 名的人均年收入比率从 60:1 扩大到 74:1

D. 经济全球化为世界创造了无数的就业机会，为千百万人创造了新的发展机遇

94. 中等收入陷阱指的是一个经济体的人均收入达到世界中等水平后，由于不能顺利实现发展战略和发展方式转变，导致新的增长动力特别是内生动力不足，经济长期停滞不前；同时，快速发展中积聚的问题集中爆发，造成贫富分化加剧、产业升级艰难、城市化进程受阻、社会矛盾凸显的问题。而有些专家认为，目前中国只有通过大力发展和鼓励创新，才能真正的跨过中等收入陷阱。

如果以下选项为真，最能加强专家观点的是（ ）

- A. 创新是实现发展战略和发展方式转变的关键
- B. 国家一直都很支持科技创新
- C. 西方国家也是通过创新而跨过中等收入陷阱的
- D. 并不是每一个国家都能成功跨过中等收入陷阱

95. 橄榄油由于富含对人体有益的单不饱和脂肪酸而被备受市场热捧。而且橄榄油能耐高温，不用担心高温烹饪会让橄榄油产生有害物质，用橄榄油煎炸烹饪没有任何问题，想怎么弄都可以，对人体无害。但是，高温会让橄榄油里的不饱和脂肪酸氧化成饱和脂肪酸，因此对于大部分中国家庭来说，花大价钱去购买昂贵的橄榄油是毫无必要的。

以下信息如果为真，最有助于得出上述推论的是（ ）

- A. 大部分中国家庭做菜都喜欢用高温烹饪
- B. 很多人都是使用橄榄油来做凉拌菜
- C. 煎炸烹饪也不会让其他油类产生有害物质
- D. 其他油类所含有的单不饱和脂肪酸远不如橄榄油丰富

96. 有研究表明：二氧化碳由固体变成气体时，周围空气的温度很快下降，温度下降的空气对水蒸气的溶解度变小，水蒸气发生液化反应，放出热量，从而形成了雾。

上述结论的成立需要补充（ ）作为前提。

- A. 二氧化碳由固体变成气体需要高温环境
- B. 二氧化碳在固体状态时对水蒸气的溶解程度很小
- C. 二氧化碳在固体状态时不能发生液化反应
- D. 二氧化碳由固体变成气体时可以吸收大量的热

97. 音乐欣赏并非仅仅作为音乐的接受环节而存在，它同时还以反馈的方式给音乐创作和表演以影响，它的审美判断和审美选择往往能左右作曲家和表演家的审美选择，每一个严肃的音乐家都不能不注意倾听音乐欣赏者的信息反馈，来调整和改进自己的艺术创造。

根据以上材料，可以推断（ ）

- A. 音乐欣赏就是音乐欣赏者理解创作者对音乐美感演绎的过程
- B. 所有音乐家以及作曲家都很注意音乐欣赏者们的反馈
- C. 音乐欣赏者的审美观对于音乐家来说也很重要
- D. 音乐创作实际上是集体劳动的过程，而不是某个人单独完成

98. 伦敦国王学院的行为遗传学家罗伯特·普罗敏博士坚信智力与基因关系密切，为此他展开对 5474 对 16 岁左右的双胞胎的全英统考成绩的调查，分析结果表明，核心科目（英语、数学等）的考试成绩有 58% 取决于基因，基因因数在理科中所占比例比文科高。相比之下，孩子们的学习环境，包括学校、老师和家长的因素在考试成绩中所占比例只有 36%。

以下选项如果为真，最能支持上述论证的是（ ）

- A. 基因好的孩子理科成绩要比文科成绩好
- B. 基因好的孩子不用老师或家长的教导也可能考出好成绩
- C. 孩子考试成绩差是因为基因不好
- D. 孩子成绩的高低很可能与基因的好坏有关

99. 有数据表明，适量饮酒的人群比滴酒不沾的人群整体健康水平更高。这说明，适量饮酒有利于身体健康。

以下各项如果为真，最能质疑上述观点的是（ ）

- A. 酒精对一些关节疾病有一定的疗效，而对大多数消化系统和神经系统疾病有负面作用
- B. 一般情况下，身体健康的人更倾向于适量饮酒，而健康问题更容易成为人们拒绝烟酒的原因
- C. 适量饮酒者往往比滴酒不沾的人更乐观、自信，对自我评价更高，精神上的愉悦有助于身体的健康
- D. 所谓饮酒的适量往往因人而异，调查显示，高纬度地区人们饮酒量更大，而低纬度地区的饮酒量则相对较小

100. 在一项对大学生是否喜欢“京剧或者其他地方剧种”的调查中，居然有 51.2%的“不感兴趣”，39.7%的人认为可以去看看，还有 2.1%的人“非常讨厌”，只有 8%的人表示喜欢。由此专家得出一项结论：现在的大学生普遍缺乏中国传统文化的学习和积累。

以下哪项最能削弱上述观点？（ ）

- A. 大学生缺少对京剧艺术欣赏方面的指导，不懂得怎样去欣赏
- B. 有一些大学生既喜欢京剧，又对中国传统文化的其他方面有兴趣
- C. 喜欢京剧艺术与学习中国传统文化不是一回事，不要以偏概全
- D. 8%正说明培养大学生对传统文化的学习大有潜力可挖

## 第四部分 资料分析

一、根据所给资料，回答下列问题。

2016 年全国一般公共预算收入 159552 亿元，比上年增长 4.5%。其中，中央一般公共预算收入 72357 亿元，同比增长 4.7%；地方一般公共预算本级收入 87195 亿元，同比增长 4.2%。全国一般公共预算收入中的税收收入 130354 亿元，同比增长 4.3%；非税收入 29198 亿元，同比增长 5%。国内增值税 40712 亿元，同比增长 30.9%，其中改征增值税增长 2.7 倍；营业税 11502 亿元，同比下降 40.4%。国内消费税 10217 亿元，同比下降 3.1%。企业所得税 28850 亿元，同比增长 6.3%。其中，金融业企业所得税 8802 亿元，增长 2.7%；工业企业所得税 7329 亿元，下降 1.3%；房地产企业所得税 3641 亿元，增长 26.8%。个人所得税 10089 亿元，同比增长 17.1%。其中，受二手房交易活跃等带动，财产转让所得税增长 30.7%。进口货物增值税、消费税 12781 亿元，同比增长 2%；关税 2603 亿元，同比增长 1.7%。

101. 2015 年，全国一般公共预算收入约为（ ）亿元。

- A. 149552
- B. 152681
- C. 151663
- D. 150084

102. 2015 年，地方一般公共预算本级收入约比中央一般公共预算收入（ ）。

- A. 多 14835 亿元
- B. 少 14835 亿元
- C. 多 14572 亿元

D. 少 14572 亿元

103. 2016 年非税收收入占全国一般公共预算收入的比重约为 ( )。

A. 16.2%

B. 17.3%

C. 18.3%

D. 18.8%

104. 2016 年，下列各项税收收入中与去年同比有所下降的是 ( )。

A. 国内增值税

B. 企业所得税

C. 个人所得税

D. 国内消费税

105. 根据上述材料，下列说法正确的是 ( )。

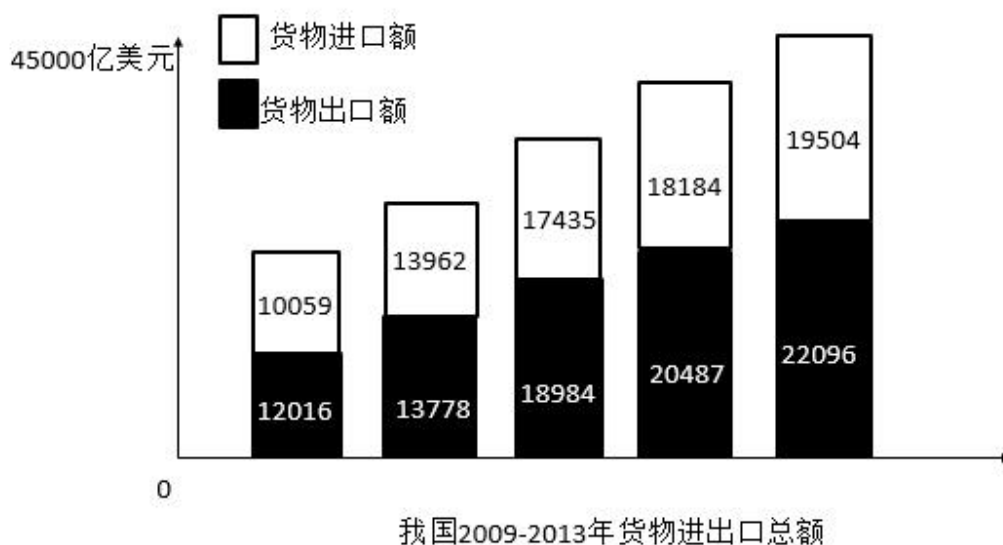
A. 2015 年，全国一般公共预算收入中的税收收入约是非税收收入的 4.8 倍

B. 2015 年，全国工业企业所得税约为 7329 亿元

C. 2016 年，房地产企业所得税占企业所得税的比重最大

D. 2016 年，关税收入同比增长额约为 43.5 亿元

二、根据所给资料，回答下列问题。



| 指标           | 绝对数   | 比上年增长% |
|--------------|-------|--------|
| 货物进出口总额      | 41600 | 7.6    |
| 货物出口额        | 22096 | 7.9    |
| 其中：一般贸易      | 10875 | 10.1   |
| 加工贸易         | 8605  | -0.3   |
| 其中：机电产品      | 2652  | 7.3    |
| 高新技术产品       | 6603  | 9.8    |
| 货物进口额        | 19504 | 7.3    |
| 其中：一般贸易      | 11099 | 8.6    |
| 加工贸易         | 4970  | 3.3    |
| 其中：机电产品      | 8400  | 7.3    |
| 高新技术产品       | 5582  | 10.1   |
| 进出口差额（出口减进口） | 2592  | ?      |

| 国家和地区 | 出口额  | 比上年增长% | 进口额  | 比上年增长 |
|-------|------|--------|------|-------|
| 欧盟    | 3390 | 1.1    | 2200 | 3.7   |
| 美国    | 3684 | 4.7    | 1525 | 14.8  |
| 东盟    | 2441 | 19.5   | 1996 | 1.9   |
| 中国香港  | 3848 | 19     | 162  | -9.3  |
| 日本    | 1503 | -0.9   | 1623 | -8.7  |
| 韩国    | 912  | 4      | 1831 | 8.5   |
| 中国台湾  | 406  | 10.5   | 1566 | 18.5  |
| 俄罗斯   | 496  | 12.6   | 396  | -10.2 |
| 印度    | 484  | 1.6    | 170  | -9.6  |

106. 表1中的“？”为（ ）

- A. 12.5
- B. 67.3
- C. 112.5
- D. 167.3

107. 2013年，我国对俄罗斯的进口额比2012年减少了（ ）亿美元。

- A. 10.2
- B. 27.0
- C. 36.7
- D. 45.0

108. 根据上述资料，2013年进出口差额最小的是（ ）

- A. 一般贸易

- B. 加工贸易
- C. 机电产品
- D. 高新技术产品

109. 根据上述资料，下列说法正确的是（ ）

- A. 2012 年，一般贸易、加工贸易的出口额都大于进口额
- B. 2012 年，机电产品，高新技术产品出口额都大于进口额
- C. 2012 年，我国对于日本的出口额大于进口额。
- D. 2012 年，我国对东盟的出口额小于进口额

110. 根据上述资料，下列说法不正确的是（ ）

- A. 2009 年-2013 年，货物进口额逐年增长
- B. 2009 年-2013 年，货物出口额逐年增长
- C. 2009 年-2013 年，货物进出口差额逐年增长
- D. 2009 年-2013 年，货物进出口总额逐年增长

### 三、根据所给资料，回答下列问题。

果品生产是 A 区农业主导产业之一，A 区以占全市 9.4% 的果树栽培面积，生产出了全市 12.4% 的果品，成为全市 13 个远郊区县中仅次于 B 区的第二大果品生产基地，为丰富该市民的“果盘子”作出了贡献。

随着城市化和新农村建设进程步伐加快，A 区果品生产空间被压缩，截止到 2009 年底，A 区果园面积 94537 亩，比 2005 年减少 20818 亩，下降 18%，以年均下降 4.9% 的速度递减，在“四大鲜果”中，苹果栽培面积 2522 亩，同比下降 54%；梨栽培面积 44671 亩，同比下降 25.8%，葡萄面积 5373 亩，同比下降 19.1%，桃栽培面积 31848 亩，同比下降 14.7%，“四大鲜果”栽培面积占全区果园总面积比 2005 年下降 5.9 个百分点。果园面积的减少与“四大鲜果”栽培比重的下降，是全区调整果品产业结构成果的具体体现，果品栽培结构进一步优化。

2009 年，A 区苹果产量 3773 吨，同比下降 29.8%，梨产量 58800 吨，同比增长 1%，所占比重达 52.7%，比 2005 年提升 5.3 个百分点，以丰水梨，水晶梨两个为代表的新品种产量就达到了 19122 吨，占梨产量的 32.5%，桃产量为 34174 吨，同比下降 24.1%，占果品产量比重 30.6%，下降 6 个百分点。葡萄产量为 8964 吨，同比下降 13.6%。上述“四大鲜果”产量达 105711 吨，占果品产量的 94.8%，比 2005 年下降 2.1 个百分点。

为了提升 A 区农业的“生产、生活、生态”功能，促进休闲观光农业的发展，果树树种进一步丰富，“名、优、新”果品产量增长显著。2009 年，鲜杏产量达到 2123 吨，比五年前

增长 22.2%；鲜枣产量 422.5 吨，增长 73.7%；樱桃产量从五年前的 10 吨，发展到 2009 年的 145 吨，增长 13.5 倍；草莓产量从 12 吨，发展到 105.8 吨，增长 7.8 倍。果树树种的丰富已成为休闲观光农业发展中不可或缺的重要内容，进而拓展了农民增收致富渠道。

(\*上述材料中的同比均为 2009 年同比 2005 年)

111. 截止 2009 年底，“四大鲜果”栽培面积占 A 区果园总面积的比例约是( )

- A. 47.9%
- B. 56.1%
- C. 74.2%
- D. 89.3%

112. 2009 年，“四大鲜果”中平均亩产量最高的是( )

- A. 苹果
- B. 梨
- C. 葡萄
- D. 桃

113. 下列关于 2009 年 A 区果品产量大小对比关系错误的是( )

- A. 桃>葡萄+苹果
- B. 梨>苹果>鲜杏
- C. 苹果<鲜杏+鲜枣
- D. 草莓<樱桃

114. 2005 年，A 区果品总产量约为多少万吨。( )

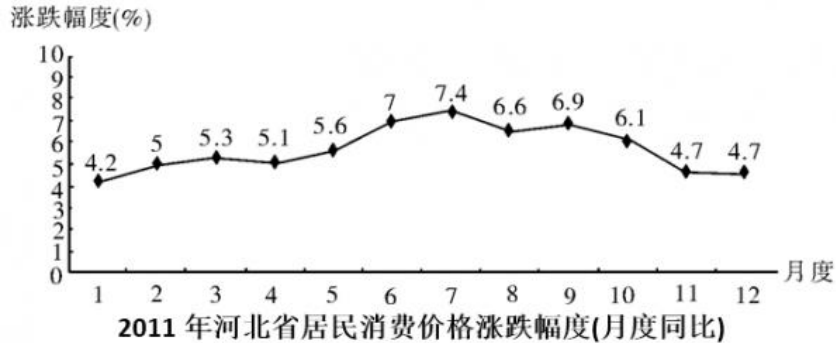
- A. 11.1
- B. 12.3
- C. 13.1
- D. 14.3

115. 根据材料，下列不能判断为正确的是( )。

- A. “十一五”期间 B 区的果品产量占全市产量的比例超过 12.4%
- B. 对比 2005 年，2009 年 A 区“四大鲜果”中栽培面积减少最多的是梨
- C. 2009 年 A 区丰水梨，水晶梨的产量占梨总产量的 32.5%
- D. 2005 年-2009 年 A 区樱桃产量的增长速度高于草莓

四、根据所给资料，回答下列问题。

由于气候、流通环节等原因，2011年河北省食品价格上涨12.2%；烟酒价格上涨3.3%；衣着价格上涨1.2%；家庭设备用品及维修服务价格上涨1.8%；医疗保健及个人用品价格上涨3.0%；交通和通信价格上涨0.2%。



116. 2011年河北省全年居民消费价格比上年上涨多少？

- A.5.7%
- B.5.9%
- C.6.0%
- D.6.1%

117. 2011年河北省居民消费食品价格总指数是多少？

- A.103.3
- B.105.7
- C.112.2
- D.116.1

118. 2011年河北省居民消费价格上涨自几月份开始回落？截止12月回落几个百分点？

- A.7、0.8
- B.8、2.7
- C.7、0.8%
- D.8、2.7%

119. 河北省统计局2012年3月22日公布，2012年前两个月，全省物价涨幅继续回落，居民消费价格同比上涨4.2%，涨幅同比回落了多少个百分点？

- A.0
- B.0.4
- C.0.8
- D.5



120. 对 2011 年河北省居民消费价格变动情况的概括，最恰当的一项是：

- A. 河北省各类价格指数呈现明显上涨态势，仍然处于高位运行
- B. 经过多方努力，各类价格指数继续呈现明显的高位回落态势
- C. 省委、省政府积极应对复杂形势，我省经济保持平稳较快发展
- D. 党中央、国务院采取有效措施，物价过快上涨势头得到扭转

