

## 2021 年行政职业能力测验模拟卷（一）



警校生小图公众号

华图助力 从警荣光

## 第一部分 言语理解与表达

### 一、选词填空

(共 20 题。要求你从所给的四个选项中选出一个填空，使句子的意思表达得最准确)

请开始答题：

1. 当人工智能开始渗透至制造业的生态链条中，人工成本优势变得不那么重要的时候，“印度制造”是否\_\_\_\_\_？至少在这个时点上，巨大的资金似乎并没有惠及到“印度制造”。在海外的竞争力，全球经济放缓，印度出口几乎在莫迪推出“印度制造”规划后反而下降了。

( )

填入划横线部分最恰当的一项是 ( )

- A. 一蹶不振
- B. 生不逢时
- C. 纸上谈兵
- D. 江河日下

2. 官员容不容得有个性？对于这个问题，不同官员早已用不同表现来作答，有人喜欢闷声求稳，有人追求高调发声，\_\_\_\_\_地活动在大众视线里，又反过来被社会\_\_\_\_\_地认可，毫无疑问的是，在当代社会，个性官员已经算不得新鲜事。

依次填入划横线部分最恰当的一项是 ( )

- A. 五花八门 熟视无睹
- B. 各显神通 漠不关心
- C. 求同存异 习以为常
- D. 截然不同 悄无声息

3. “四风”问题的形成是一个长期的过程，具有反复性和顽固性，其背后是\_\_\_\_\_的陈旧观念\_\_\_\_\_的“潜规则”、\_\_\_\_\_的利益纠结。( )

依次填入划横线部分最恰当的一项是 ( )

- A. 根深蒂固 习以为常 错综复杂
- B. 盘根错节 习以为常 扑朔迷离

- C. 盘根错节 司空见惯 扑朔迷离  
D. 根深蒂固 司空见惯 错综复杂

4. “一带一路”建设给我们文化产业走向世界提供了难得的机遇。在国际交往中，经济与文化从来都是相互依托、\_\_\_\_\_的。没有文化内涵的经济是畸形的，没有经济支撑的文化是海市蜃楼。

依次填入划横线部分最恰当的一项是（ ）

- A. 互为表里  
B. 相辅相成  
C. 对立统一  
D. 唇齿相依

5. 正是史学家独自的思想和视角，将\_\_\_\_\_、凌乱纷繁的史料串联、构建成一个个引人入胜的历史故事，使读者能够在往昔和今日之间\_\_\_\_\_，在对历史的阅读中获得愉悦和教益。

依次填入划横线部分最恰当的一项是（ ）

- A. 汗牛充栋 附读仰思  
B. 多如牛毛 字斟句酌  
C. 浩如烟海 自如穿越  
D. 不胜枚举 反复推敲

6. 《海洋星球》是一部编排细致、变现手法新颖的环保纪录片。影片用几句\_\_\_\_\_的开场白点名人与海洋关系的主题后，便将镜头对准了40亿年前的太古时期、我们通过画面了解到，洋流如何孕育了生命的雏形，藻类如何引发了新生命的爆发，海洋生物如何互相追逐捕食，形成\_\_\_\_\_的生物链。

依次填入划横线部分最恰当的一项是（ ）

- A. 铿锵有力 唇齿相依  
B. 提纲挈领 环环相扣  
C. 醍醐灌顶 密不可分  
D. 开门见山 绵延不绝

7. 依次填入下列横线的词语，最恰当的一组是（ ）

- (1) 这个经历了八百年风雨\_\_\_\_\_的土塔究竟能保存多久，实在难以预料。  
(2) 可能是一时疏忽，你的文章中有几处不大通畅的语句，我斗胆加以\_\_\_\_\_。

(3) 商品价值、抽象劳动、具体劳动等，属于政治经济学的\_\_\_\_\_。

- A. 腐蚀 斧正 范畴
- B. 腐蚀 改正 范围
- C. 侵蚀 斧正 范围
- D. 侵蚀 改正 范畴

8. “书”与“法”是一种\_\_\_\_\_的组合，纵观历代书法名家星辰，遍览闪耀艺术之光的碑帖名篇，好的书法家无不遵循先“书”后“法”的客观规律。而只有牢固的文化\_\_\_\_\_，才能创作出给人以心灵震撼、情感激越、思想启迪和艺术享受的好作品，才能负载传承优秀文化的神圣使命。

依次填入划横线部分最恰当的一项是（ ）

- A. 矛盾 底蕴
- B. 辩证 根基
- C. 依存 内涵
- D. 因果 功底

9. 我们在一个碎片化的时代里，信息是\_\_\_\_\_的，但是我们每天只有十几个小时醒着的时间，注意力就成了稀缺资源。谁能吸引到注意力，谁就具有\_\_\_\_\_的商业价值。厂商传统的方法是投放广告或者找明星代言。互联网里，因为传播结构发生了变化，网红也能担负这样的角色，他们成批量地成长起来，成批量地被发现，总的影响力十分可观。

依次填入划横线部分最恰当的一项是（ ）

- A. 零散 巨大
- B. 变化 真正
- C. 无限 潜在
- D. 丰富 持续

10. 如果中医药在动物保护这些价值上也受到批评，还怎么能在和西药竞争中获得一席存身之地呢？不用动物入药，的确可能对目前一些中医构成了压力，但是真正的良医不会\_\_\_\_\_，他们会化压力为动力，努力钻研医术，\_\_\_\_\_中医药的优良传统。恪守生态文明原则，拥抱动物保护，是中医药现代发展的题中应有之意。

填入划横线部分最恰当的一项是（ ）

- A. 束手无策 继承
- B. 画地为牢 弘扬

- C. 故步自封 复兴  
D. 舍本逐末 倡导

11. 新技术的支持者常说，不能\_\_\_\_，即使出了问题，也会有更高的技术来解决。于是，人工的技术系统就像叠罗汉一样，越来越高，也越来越危险。技术\_\_\_\_了社会！

依次填入划横线部分最恰当的一项是（ ）

- A. 因噎废食 绑架  
B. 因噎废食 绑缚  
C. 半途而废 绑架  
D. 半途而废 绑缚

12. 在各种\_\_\_\_说辞的精美包装面前，他们的良知完全“\_\_\_\_\_”，所以虽然看到了种种严重的问题，但又为自己有这种思想而深感歉疚，更不愿意将其说出，生怕造成各种不良影响。他们没有意识到，罪恶一旦被开脱，罪犯便更加\_\_\_\_\_。他们缺乏的并不是说出真理的勇气，而是认识真理的理性。

依次填入划横线部分最恰当的一项是（ ）

- A. 华丽 沦陷 随心所欲  
B. 浮夸 泯灭 为鬼为蜮  
C. 侃侃 失守 为虎作伥  
D. 宏伟 瘫痪 肆无忌惮

13. 那些能“择一事，爱一事，终一生”的人，令人\_\_\_\_\_。他们的职业精神和专业素养，能够促使我们在本职岗位上深扎不辍、\_\_\_\_\_。更重要的是，社会主义核心价值观中的敬业，是职业道德的灵魂，更需要职业精神的\_\_\_\_\_。

依次填入画横线处最恰当的一项是（ ）

- A. 过目难忘 坚定不移 培育  
B. 肃然起敬 精益求精 滋养  
C. 神驰神往 不离不弃 提升  
D. 见贤思齐 玉汝于成 呵护

14. 洪灾令人猝不及防，救灾往往就是一场与时间的\_\_\_\_\_。在专业救援队到来之前，以及救援过程中，都离不开自救。而防洪抗灾，更是一场保卫家园的“狙击战”谁都不该\_\_\_\_\_。

依次填入画横线处最恰当的一项是（ ）

- A. 赛跑 置身事外
- B. 争夺 置若罔闻
- C. 竞赛 独善其身
- D. 比拼 袖手旁观

15. 对中国教育不能\_\_\_\_\_，但也不能盲目乐观，而需要科学、理性的研究。借助国外的某些测试、研究，或者外国人的话来盲目肯定中国教育，为应试教育制度\_\_\_\_\_，得为继续坚持这样的制度“找理由”，并非理性态度。这不过是一种自我陶醉。

依次填入画横线处最恰当的一项是（ ）

- A. 妄自尊大 呐喊
- B. 悲观失望 维护
- C. 妄自菲薄 辩护
- D. 自我贬低 鼓掌

16. 文明，不去实践就不可能抵达。法治，不去\_\_\_\_\_就无以彰显\_\_\_\_\_。诚信，不去坚守就难以成为风尚。

依次填入画横线处最恰当的一项是（ ）

- A. 履行 公平
- B. 履行 公正
- C. 奉行 公平
- D. 奉行 公正

17. 面对不断走低的楼价，购房者站在楼前\_\_\_\_\_，他们因为憧憬更大的降价空间而愈加\_\_\_\_\_不定。

依次填入画横线处最恰当的一项是（ ）

- A. 徘徊 忧郁
- B. 忧郁 困惑
- C. 徘徊 犹豫
- D. 犹豫 困惑

18. 文言诗语具有意会性和弥散性，带有更多感悟；现代诗语更精密、具体，带有更多知性、智性色彩。两者有矛盾也有\_\_\_\_\_。然而，在实际语境中，现代诗语格局不可撼动，它逐渐形成\_\_\_\_\_于文言诗语的另一美学范式。

依次填入画横线处最恰当的一项是（ ）

- A. 贯通 差异
- B. 统一 迥别
- C. 融会 迥异
- D. 融通 截然

19. 自由的读书\_\_\_\_\_有乐趣，\_\_\_\_\_常常能因书中某一隽永的句子而\_\_\_\_\_，并对人生某一方面产生一种难得的顿悟。

依次填入画横线处最恰当的一项是（ ）

- A. 即使 也 茅塞顿开
- B. 不但 而且 豁然开朗
- C. 不仅 还 心有余悸
- D. 虽然 但是 融会贯通

20. 在赞叹互联网海纳百川的同时，我们也必须认识到，互联网的使用者\_\_\_\_\_，产出的内容自然也会\_\_\_\_\_、纷繁芜杂。因此，互联网内容生产绝不同于互联网内容建设。

依次填入画横线处最恰当的一项是（ ）

- A. 形形色色 泥沙俱下
- B. 五行八作 黑白颠倒
- C. 林林总总 鱼龙混杂
- D. 三教九流 斑驳陆离

## 二、阅读理解

（共 20 道题。阅读短文，短文后面有若干不完整的陈述，要求你从四个选项中选出一道来完成每一陈述。注意：供选择的答案有时可能是对短文的内容重复，有时则满足了陈述中其他方面的要求，你的选择应与所提要求最相符）

21. 供给侧结构性改革是从供给、生产端入手，激发微观主体的活力，解放生产力，开发优质新产品，解决有效供给不适应市场需求变化，使供需在更高水平实现新的平衡，这就需要以提高劳动力市场的灵活性，鼓励竞争，打破垄断，放宽准入，减少政府不正当干预为基础和条件。为此\_\_\_\_\_是全面推进供给侧改革必须跨越的首道门槛。

填入划横线处最合适的一句是（ ）

- A. 加快形成社会资本公平竞争的市场准入和运营环境
- B. 激发调动社会资本参与促进供给侧结构性改革的热情和活力
- C. 废除妨碍权利公平、机会公平、规则公平的各种规定和做法

D. 构建竞争有序的现代市场体系和营商环境

22. 我们苦恼困惑于男孩成长中看起来无解的社会环境问题，家庭教育提供了另一条路径。专家告诉我们，如果算上所有的节假日，男孩在家庭中呆的时间超过学校，因此家庭教育的作用弥足珍贵。亲人对孩子天性的认可、理解，可以让孩子在外部世界的挫败感中获得安慰。而父性角色可以帮助孩子在家庭中建立良好的规则感，这是他进入社会最好的情感资源。

这段文字接下来最有可能讲的是（ ）

- A. 如何进行合适的家庭教育
- B. 男孩具有怎样的天性和特点
- C. 规则意识是家庭教育的重要内容
- D. 父亲如何扮演自己的角色

23. 由贫穷到富裕，由少数人富裕到共同富裕，是社会进步的标志之一。每个人的富裕程度一定意义上决定了社会财富的拥有量：个人的财富一定程度上也是社会财富的一部分。个人私财在受法律保护的同时，也受到来自社会道德的制约：用于公益、慈善事业得到社会舆论的褒扬，相反，大肆浪费或炫耀式消费则受到社会的鄙视。

这段文字的主要意思是（ ）

- A. 个人财富促进社会前进
- B. 个人富裕与社会财富关系紧密
- C. 正确使用个人财富至关重要
- D. 个人的财富、行为受到社会道德的制约

24. 既然是投资，就意味着要有回报。公益创投的回报分为两种。一种是经济回报。相比商业领域的投资，社会领域的经济回报往往需要更漫长的周期，回报率也大多低于市场平均水平。风险慈善家们大多会将这些经济回报用于下一轮公益创投，支持更多的社会创业计划，而非用于投资人的个人利润分配。公益创投回报中还有一种不可忽视的回报。

这段文字接下来最可能讲述的是（ ）

- A. 除经济回报外，公益创投汇报中的另一种回报
- B. 解释公益创投回报的周期漫长的原因
- C. 获得公益创投回报的方法
- D. 实现公益创投回报的意义

25. 在任何时代都是宗教精神使人切实地希望世界更美好，使人追寻普世真理。宗教教



给人普世价值观，不断告诉人们“世俗的价值观是错误的”。也就是说，宗教精神从古到今都含有改变人们世界观的革命运动精神。

最能概括上述文字主旨的是，宗教（ ）

- A. 无时无刻不存在我们的生活中
- B. 是全人类追求幸福的思想动力
- C. 始终影响着人们对世界的看法
- D. 让我们不停的困扰在对错之中

26. 作为可再生新能源，风能具有无污染、永不枯竭、综合社会效益高、研发成本相对低等特点。然而，风能行业建设投资回收周期长，客观上需要长期、稳定的优惠政策保障。美国风能增长潜力很大，但因美政府对风能税收鼓励政策不稳定，使包括中国风能企业在内的国际投资者在美国风能市场的增长前景变得不确定。

对这段文字理解不准确的是（ ）

- A. 风能属于可再生新能源
- B. 风能行业的优势大于其劣势
- C. 美政府对风能企业的优惠政策不稳定
- D. 在美国投资的中国风能企业市场前景不确定

27. 据《中国家庭金融调查报告 2012》宣布：中国家庭总净资产为 69.1 万亿美元，美国家庭总净资产为 57.1 万亿美元。而另外一组对照数据是：中国人均年收入 4 千美元，而美国则是 4 万美元。在中国，这些年在大城市人们只要有一套房，就一定至少是身价百万甚至千万的富翁，尽管实际生活质量没什么改善，手里的储蓄少的可怜。

这段文字暗示的信息是（ ）

- A. 中国家庭总净资产超越美国只是表象
- B. 中国家庭资产是泡沫化的纸上富贵
- C. 中国普通公众的真实收益大打折扣
- D. 中国人均年收入仅相当于美国的 1/10

28. 如果你有自己喜欢做的事情，那毕业 5 周年的聚会，你不要去，因为那时你正处在最艰难的时刻，而你的同学大多在大公司里平步青云。同样，10 周年聚会，你也不要去。但是，20 周年的同学聚会，你可以去，你会看到，那些坚持梦想的人和随波逐流的人生将有什么不同。

对这句话理解最为准确的一项是（ ）

- A. 不要参加同学聚会，因为那对于一个追求梦想的人来说没有意义
- B. 要坚持梦想，在实现梦想的道路上要耐得住寂寞
- C. 那些平步青云的人，不一定是最后的成功者
- D. 实现梦想需要很长的时间

29. 中国老百姓过去有敬惜字纸的传统，进入现代社会，文字或者阅读的这种神圣感正在逐渐消解，一个重要原因是出版变得容易了，书不像以往那么金贵了。中国现在每年出版40多万种纸质图书，规模空前，但其中真正能够浸润心灵、开启心智的图书数量仍然有限。面对琳琅满目的新书进行挑选时，人们往往首先感受到的既不是对知识的敬意，也不是“开卷有益”的喜悦，而是“这是一本好书吗？值得花费几个小时甚至几天的时间去读吗？”

根据这段文字，人们对书籍不再像过去那样爱惜是因为（ ）

- A. 出版书籍数量太多难以选择
- B. 电子书对纸质书的冲击较大
- C. 社会心态浮躁难以静心阅读
- D. 书籍数量多了但质量没跟上

30. 发起质疑需要拿出证据，交由公众去甄别和判断，而不宜过早下结论。尤其是在自己的结论可能对他人造成很大影响的背景下，应慎之又慎。对任何网上质疑，如果没有确凿的证据，仅凭自己的逻辑推理，使用言之凿凿的话语、给出结论性意见，大部分公众无法信服。

关于这段文字，以下理解正确的是（ ）

- A. 公众能够判断质疑的真伪
- B. 如果质疑不会对他人造成影响，可以大胆下结论
- C. 发起质疑不能使用逻辑推理
- D. 确凿的证据是发起质疑的前提

31. 在中国历史上，官和诗的关系一直就很密切。尽管诗歌最早来自于民间，然而从把《诗》列入“五经”之后，它就成了上层社会官宦子弟的必修课，成为官场应对交流的基本功。孔子曰：“不学诗，无以言。”魏晋以下，唐宋元明清，我们知道的大诗人基本都是各级官吏，作诗填词是他们从政为官必须具备的能力，更是他们智慧、素养和文化品位的体现。就拿诗的鼎盛时期唐朝来讲，科举考生为了求得赏识，考前要呈献自己的作品，叫做“行卷”，行卷的内容就包括古诗、律诗、词赋、骈文等。白居易的“野火烧不尽，春风吹又生”就是行卷中的诗句。

这段文字主要说明了（ ）

- A. 古代的诗人大多同时也是一方官吏
- B. 作诗是古代的官员必备的素质和能力
- C. 历史上诗文化与官文化是息息相关的
- D. 古代诗歌的兴起、发展都离不开官吏

32. 经典并非天然就是经典，他们都经历了从普通著述变成神经典的过程。没有哪部著作是事先照着经典的尺寸和样式量身定做的，只是因为它写得好，被引用的多，被人觉着充满真理，又被反复解释，有的还被“钦定”为必读书，于是就在历史中渐渐成了被尊崇、被仰视的经典。因此，如今我们重新阅读经典，又需要你把它放回产生它的时代里面，重新去理解。经典的价值和意义也是层层积累的，对那些经典里传达的思想、原则甚至知识，未必需要亦步亦趋“照搬不走样”，倒是要审时度势、活学活用，要进行“创造性的转化”。

这段话意在强调（ ）

- A. 经典在历史上是如何生成的
- B. 阅读经典要进行创造性转化
- C. 我们应以历史的态度对待经典
- D. 要破除对经典的迷信和盲目崇拜

33. ①同样的饮酒速度，用不含酒精的饮料勾兑过的酒能减慢酒精吸收  
 ②同时它还能促进酒精进入小肠的速度，增加酒精在小肠中的吸收  
 ③碳酸饮料富含二氧化碳气体，能使胃部迅速膨胀，增加胃吸收酒精的面积  
 ④在这个过程中，如能减慢酒精的吸收，就可以延缓醉酒  
 ⑤饮酒后，酒精可以慢慢地经胃壁或小肠吸收进入血液  
 ⑥但使用碳酸饮料进行饮酒的勾兑需要格外当心

将以上 6 个句子重新排列，语序正确的是（ ）

- A. ①④⑥③⑤②
- B. ⑤①⑥③④②
- C. ①⑥⑤④③②
- D. ⑤④①⑥③②

34. 将下列句子组成一段逻辑连贯的、语言流畅的文字，排列顺序最合理的是（ ）

①从这个意义出发，“不文明与文明之间”的概念就可作为公共文明研究的一种解释工具，以表示“不文明”常发生在每个人身边又在时刻改变。

②通过整理与分析调查数据可以发现，公共场所林林总总的行为带有某种“过程性”，

不文明与文明既相斥又相叠，呈现为一种文明的模糊地带。

③把文明研究定格在公共文明之上，并进行跟踪调查与思考，是一个有趣的研究维度。

④同时，在这个过程中，无论个体还是由个体集合而成的聚群，都会产生对不文明的排斥，这常常是促使行为转向文明的动因。

A. ③②④①

B. ②①③④

C. ①②④③

D. ②③①④

35. 将下列句子组成一段逻辑连贯的、语言流畅的文字，排列顺序最合理的是（ ）

①情况危急，我紧急调集数十名战士用人墙隔出检票通道，对群众进行疏导，协调场馆开放全部检票口

②虽然天气炎热，但观众热情高涨，排队检票的队伍达数百米

③当悬着的心落下来，大家都已汗流浹背，早成了“水人”

④越临近比赛，人们越是不安焦躁，有人开始往检票口挤，排在后面的一哄而上，几千人瞬间把检票口围了个水泄不通

⑤经过半个多小时的紧张努力，终于让全部观众有序进场，避免了混乱踩踏

A. ③②⑤④①

B. ④①②③⑤

C. ②④①⑤③

D. ①③②⑤④

36. ①立春的霜花团团簇簇的，很有点花园的气象

②一旦太阳从山峦中升起来，印着霜花的玻璃窗，就像魔镜一样，散发出奇诡的光辉了

③早晨，迎接我的是一夜寒流和冷月、凝结在玻璃窗上的霜花

④这天的霜花不似往日的，总是树的形态

⑤想必霜花也知道节气变化了吧

⑥你能从中看出喇叭形的百合花来，也能看出重瓣的玫瑰和单瓣的矢车菊来

将以上六句重新排列，语句正确的一项是（ ）

A. ⑤③④⑥②①

B. ③⑤④①⑥②

C. ⑤④③⑥①②

D. ③④⑤②①⑥

37. 城市要种树这一点虽说是共识，但种什么树却大有讲究。以穿衣为喻，人都要穿衣，但穿什么衣却有不同选择。有钱人当然主要不为保暖遮羞，而是要体面，要独具风采；钱少的人就不能不量力而行；穷人自然图便宜，过得去就可以了。而对于做衣服的、卖衣服的，当然是经营高档衣服利润高；还有，大户人家、大酒店，即使囊内没钱，奴仆和侍应生也要衣着光鲜，那是主人的面子嘛。

对这段文字的主旨概括最恰当的是（ ）

- A. 城市种树，不应该选择高档树种
- B. 城市种树，对树种的选择要讲科学
- C. 城市种树，不应搞政绩工程
- D. 城市种树，在树种选择上应量力而行

38. 可口可乐、百事可乐、康师傅不约而同地对主流饮料更换瓶型，导致包装和饮料含量一同“瘦身”，减量不减价已成为企业的通行做法。比如许多人早就发现常见的小盒酸奶的容量从 125ml 悄然变为 100ml。这种改变商品规格以规避上层限价令的做法，在药品企业实施的历史更为悠久，这也导致了国家管理者并未在限价的基础上，限定商品规格。

这段文字主旨是（ ）

- A. 这说明管理者对此也是睁一只眼闭一只眼
- B. 在通胀预期甚大的背景下，管理者对企业经营难以“过分干预”
- C. 管理者应该限定商品规格
- D. 减量不减价已成为企业的通行做法

39. 29 日前，乘坐飞机可购买“航空人身意外伤害保险”，航空意外险是针对乘坐客运航班旅客的非强制险，是否购买完全由乘客自己决定。对于空难，保险公司一般都能迅速理赔，对于未买乘机保险的遇难旅客，按照未投保不能保险的原则，不在保险理赔责任范围之内。不愿购买航空意外险，经济原因并不是根本原因，能买得起飞机票的乘客对于多支付 20 元的航空意外险并不会犹豫，但是由于保险意识淡薄的惯性作用和侥幸心理存在，甚至一些传统思想认为买保险不吉利等思想意识方面的因素，很多乘客不主动购买航空意外险。

对这段文字的内容概括最恰当的是（ ）

- A. 对于空难，保险公司一般都能理赔
- B. 乘客的保险意识普遍都很淡薄
- C. 乘客不买航空意外险，有经济原因，也有思想意识方面的原因

D. 航空意外险是非强制险

40. 公众是环境最大的利益相关人，拥有保护环境的最大动机，只要有合适的渠道，就能释放出巨大能量。中国公众目前的环保参与程度还很低，原因不是公众环保意识淡漠，而是缺乏参与渠道。在中国目前的国情下，良性的公众参与不仅能弥补政府力量之不足，还能大大提高公众对政府政策的认同度，更能提升国民的公共道德素质。

这段话的中心意思是（ ）

- A. 中国公众参与环保的驱动力大
- B. 中国公众目前环保参与程度不高
- C. 公众参与环保的积极作用明显
- D. 目前公众参与环保的渠道不畅通

## 第二部分 数量关系

### 一、数字推理

（共 10 题。给你一个数列，但其中缺少一项，要求你仔细观察数列的排列规律，然后从四个供选项的选项中选择你认为最合理的一项，来填补空缺项，使之符合原数列的排列规律）

请开始答题：

41. 120, 80, 48, 24, ( ), 0

- A.4
- B.6
- C.8
- D.10

42. 2, 3, 4, 9, 16, 45, ( ), 315

- A.90
- B.96
- C.102
- D.120

43. 1, 8, 20, 42, 79, ( )

A.126

B.128

C.132

D.136

44. 1, 4, 14, 31, 55, ( )。

A.83

B.84

C.85

D.86

45. 5, 7, 11, 13, ( )

A.14

B.15

C.16

D.17

46. 9, 10, 65, 26, 217, ( )

A.289

B.89

C.64

D.50

47. 143, 59, 25, 9, 7, ( )

A.-2

B.-3

C.-4

D.-5

48. 3, 8, 6, 11, 9, 14, ( ), ( )

A.11, 16

B.12, 16

C.12, 17

D.13, 17

49. 1, 2,  $\frac{3}{2}$ ,  $\frac{5}{6}$ ,  $\frac{11}{30}$ , ( )

A.17/90

B.23/180

C.37/240

D.41/330

50. 5, 13, 15, 27, 29, 45, ( )。

A.56

B.47

C.55

D.64

## 二、数字运算

(共 10 题，在这部分试题中，每道试题呈现一段表述数字关系的文字，要求你迅速、准确地计算出答案)

51. 某单位向希望工程捐款，其中部门领导每人捐 50 元。普通员工每人捐 20 元。某部门所有人员共捐款 320 元，已知该部门总人数超过 10 人，该部门可能有几名部门领导？( )。

A. 1

B. 2

C. 3

D. 4

52. 一个圆形牧场面积为 3 平方公里。牧民骑马以每小时 18 公里速度围牧场外沿巡视一圈，约需要几分钟？( )。

A. 12

B. 18

C. 20

D. 24

53. 60 名员工投票从甲、乙、丙三人中评选出最佳员工，选举时每人只能投票选举一人，得票最多的人当选。开票中途累计，前 30 张选票中，甲得 15 票，乙得 10 票，丙得 5 票。问在尚未统计的选票中，甲至少再得多少票就一定当选( )。

A. 15

B. 13

C. 10

D. 8

54. 有纯液态酒精一桶，倒出 10 升后用水灌满，再倒出混合液 5 升，再用水灌满。这时酒精浓度为 72%。则桶容量为( )升。

A.60

B.50

C.45

D.40

55. 甲、乙两种商品，其成本价共 100 元。如果甲、乙商品分别按 30% 和 20% 利润定价，并以定价的 90% 出售，全部售出后共获得利润 14.3 元，则甲商品的成本价是( )。

A.55

B.60

C.70

D.48



56. 已知甲数的 12% 为 13，乙数的 13% 为 14，丙数的 14% 为 15，丁数的 15% 为 16，则甲、乙、丙、丁 4 个数中最大的数是（ ）
- A. 甲                      B. 乙                      C. 丙                      D. 丁
57. 某市新增地铁线路，修建该地铁线，如果每 4 米铺设 5 根枕木，共需 5000 根；如果每 5 米铺设 6 根枕木，一共要用（ ）根。
- A. 3600                      B. 4200                      C. 4800                      D. 7500
58. 某高校艺术学院分音乐系和美术系两个系别，已知学院男生人数占总人数的 30%，且音乐系男女生人数之比为 1:3，美术系男女生人数之比为 2:3，问音乐系和美术系的总人数之比为多少（ ）
- A. 5:2                      B. 5:1                      C. 3:1                      D. 2:1
59. 双十一期间小王在网上买了 16 元一袋的纸巾、10 元一支的牙刷和 7 元一瓶的洗手液若干，共花了 150 元。如果他买的每一样物品数量都不同，纸巾数量最多而洗手液最少，那么他买的牙刷数量比洗手液多几个？（ ）
- A. 1                      B. 2                      C. 3                      D. 4
60. 军训时，某班学生站成一排，从一开始报数，除了小李以外其他人报的数之和减去小李报的数恰好等于 50，问该班共有多少学生？（ ）
- A. 10                      B. 11                      C. 12                      D. 13

### 第三部分 判断推理


#### 一、图形推理


（共 10 题。要求你从四个选项中选择你认为最适合取代问号的一个。正确的答案应不仅使两套图形表现出最大的相似性，而且使第二套图形也表现出自己的特征）

请开始答题：

一、图形推理。请按每道题的答题要求作答。

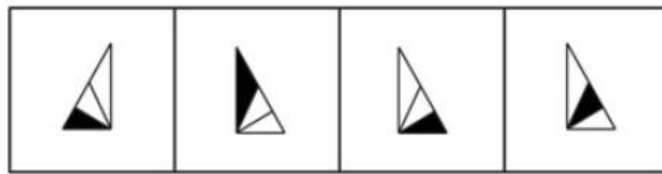
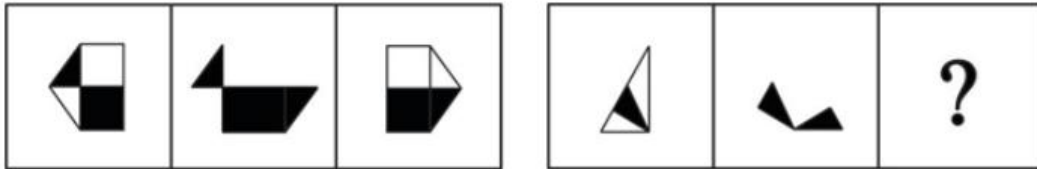
61. 请从所给的四个选项中，选出一个填入问号处，使之呈现一定的规律性。（ ）





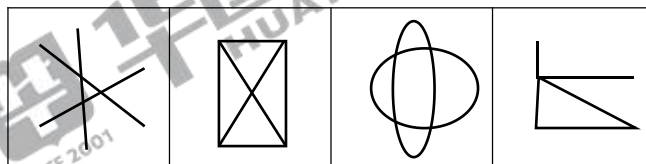
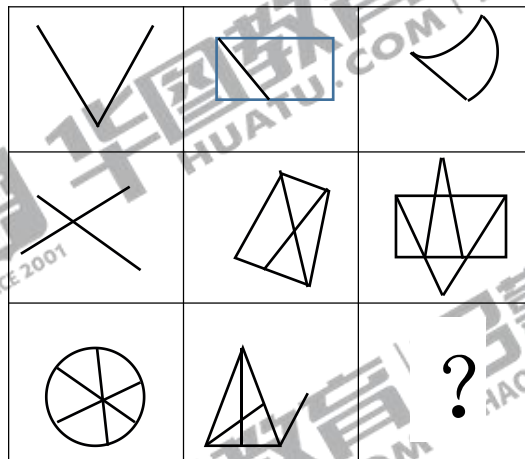
A B C D

62. 从所给出的四个选项中，选择最合适的一项填入问号处，使之呈现一定规律性。( )



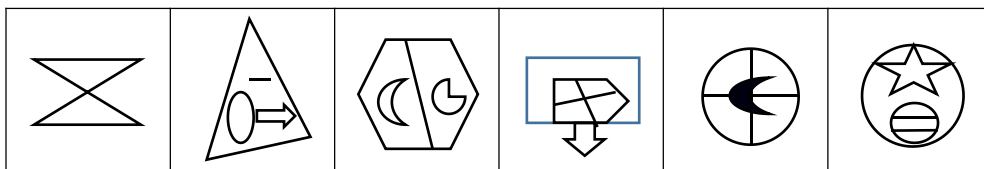
A B C D

63. 请从从所给的四个选项中，选出一个填入问号处，使之呈现一定的规律性。( )



A B C D

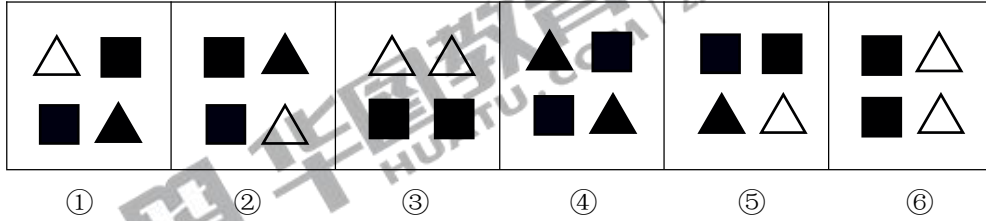
64. 以下哪两个图形调换位置之后，所有的图形能呈现出一定的规律性？( )



①	②	③	④	⑤	⑥
---	---	---	---	---	---

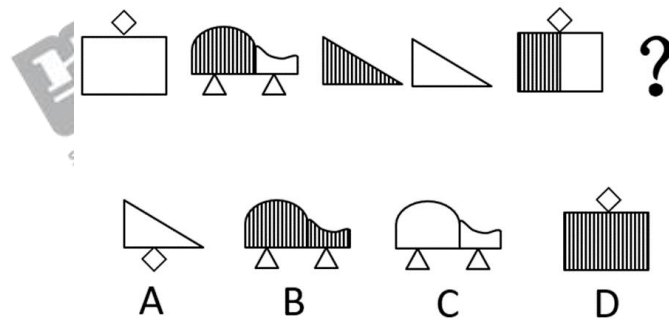
- A.①和②                      B.②和③  
C.③和④                      D.④和⑤

65.把下面的六个图形分为两类，使每一类图形都有各自的共同特征或者规律，分类正确的一项是：（ ）

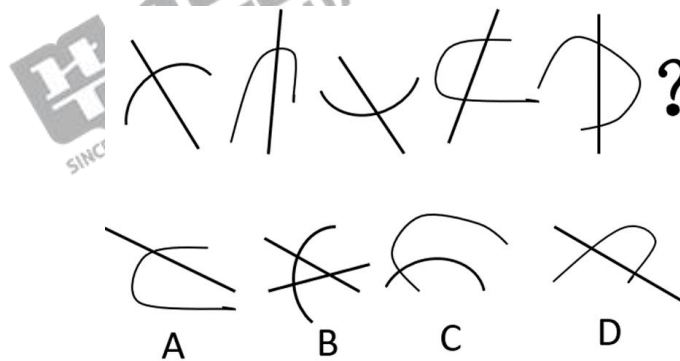


- A.①②③, ④⑤⑥              B.①②⑤, ③④⑥  
C.①③④, ②⑤⑥              D.①④⑤, ②③⑥

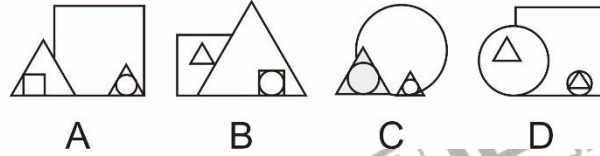
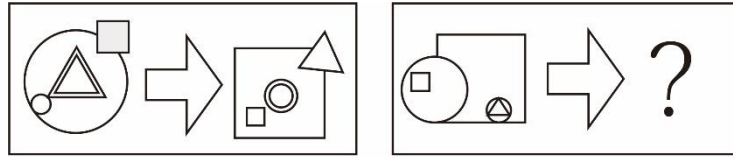
66.请选择最适合的一项填入问号处，使右边图形的变化规律与左边图形一致（ ）



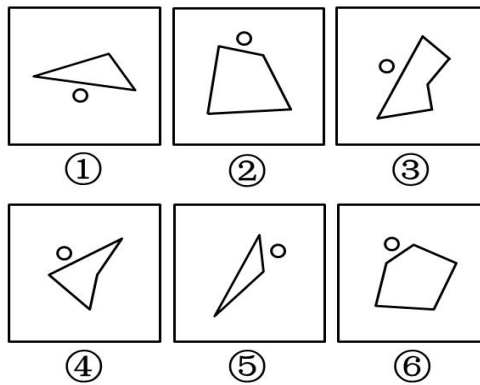
67. 请选择最适合的一项填入问号处，使右边图形的变化规律与左边图形一致（ ）



68. 填入问号处最恰当的是（ ）

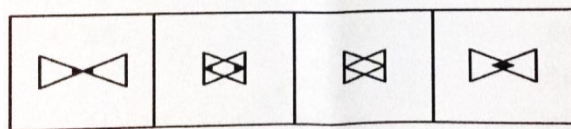
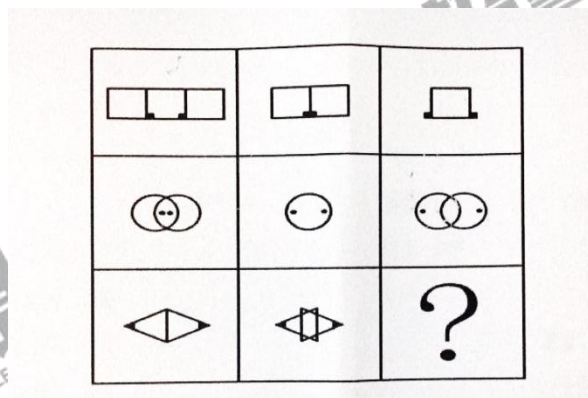


69.把下面的六个图形分为两类，使得每一类图形都有各自的共同特征或者规律，分类正确的一项是（ ）



- A. ①③④, ②⑤⑥      B. ①②⑥, ③④⑤  
C. ①③⑤, ②④⑥      D. ①⑤⑥, ②③④

70.下列图形中，符合图形变化规律的选项是（ ）



二、定义判断

(共 10 题，每道题先给出一个概念的定义，然后分别列出四种行为，要求你严格依据定义从中选出一个最符合或最不符合该定义的答案。注意：假设这个定义是正确的，不容置疑的。)

71.职业枯竭，是指人们在自己长期从事的工作压力之下，产生身心能量被工作耗尽的感觉。

根据上述定义，下列属于职业枯竭的是：( )

- A.甲每天白天要上班，晚上还要照顾小孩和老人，身心疲惫
- B.小李刚刚参加工作，感觉单位工作节奏很快，领导要求很高，时常感觉跟不上节奏
- C.某钢厂工人看到自己工厂面临倒闭，感觉自己的前途渺茫
- D.老张在单位既要负责办案，又要负责综合文稿撰写，经常加班加点，感觉非常劳累

72.直觉营销，一种为了在任何地方产生可度量的反应和(或)这项交易而使用一种或多种广告媒体相互作用的营销体系。

根据以上定义，下列不属于直觉营销的是：( )

- A.汽车 4S 店通过试驾推销产品
- B.某商品常年在某电视购物台参加电视购物节目
- C.近年兴起的微商十分火爆，刷爆了朋友圈
- D.某省新华书店通过电话及邮件向省内各工业企业、科研机构、高校等单位发放《中国标准图书目录》，回应率高，常年运作，收入可观

73.相对剥夺感：是指人们在与那些既和自己地位相近，又不完全等同于自己的人或群体作比较时，由价值期待和价值能力不一致的认知所产生的一种心理状态。

根据以上定义，下列属于相对剥夺感的是：( )

- A.作为新人的谢某看到单位的一位老同事不断得到各项荣誉奖励，心中羡慕之情油然而生
- B.王某退休前是单位的老总，前拥后呼的人员很多，退休后没人在其身边了，王某感到非常的冷清
- C.王某看到不如自己的大学同学现如今能够在核心期刊上多次发表论文，而自己却屡试不第，不免感到有些失落
- D.小学生张某上学后，发现同桌用的文具、穿的衣服都和自己一样，于是非常生气

74.正常菌群：是指正常人体体表及外界相通的腔道中存在着多种微生物，正常情况下它们与宿主间以及它们之间保持相对平衡，通常对人体有益无害，称为正常菌群。

根据上述定义，下列不属于正常菌群的是：（ ）

- A.人皮肤表面的葡萄球菌、类白喉棒状杆菌、绿脓杆菌
- B.人口腔里的卡他球菌、各种链球菌、肺炎克雷伯菌
- C.人鼻子里像葡萄串一样聚集的金色葡萄球菌，鼻腔深处的链球菌
- D.人结肠中的可引起痢疾的溶组织内阿米巴菌

75.翻转课堂教学模式：是指重新调整课堂内外的时间，将学习的决定权从教师转移给学生。在这种教学模式下，教师不再占用课堂的时间来讲授信息，这些信息需要学生在课外通过观看视频、听播客等方式自主学习。在课堂时间内，教师主要进行问题辅导，或者对实验过程中有困难的学生提供帮助，使得学生能更专注于主动学习。

根据上述定义，下列属于翻转课堂教学模式的是：（ ）

- A.教师布置学生在课后阅读一道案例并要求查阅相关资料，在课堂上由教师主持学生进行分组讨论
- B.学生在课前预习教材的内容，记录下遇到的疑难问题，教师在课堂讲授后的剩余时间与同学们一起讨论所记录的难题
- C.教师布置学生在课余时间自行设计下次实验课的操作步骤，学生在课堂上展示自己的实验步骤，教师进行点评计分
- D.学生在课外完成课程教材的阅读，教师在课堂上通过对学生讨论和学生提出的问题进行分析指导。

76.工业 4.0，是指利用信息物理系统促进产业变革，将智能产品制造、生产服务化与云工厂融于一体的工业发展阶段。生产由集中向分散转变，规模效应不再是工业生产的关键因素；产品由趋同向个性转变，未来产品都将完全按照个人意愿生产，极端情况下将成为自动化，个性化的单件制造；用户由部分参与向全程参与转变，用户不仅出现在流程的两端，而且广泛、实时地参与到生产和价值创造的全过程。

根据上述定义，下列符合工业 4.0 的企业是：（ ）

- A.甲公司通过对生产流水线进行规模化升级，降低了汽车生产的固定成本，提高了生产效率
- B.乙公司利用云制造平台，实施分散接洽客户需求模式，推行“私人定制”的个性化全程可视生产模式
- C.丙公司推行产品组装的客户参与模式，将标准化产品组件的最终组装交由用户自己完成

D.丁公司生产油电混合动力的智能汽车，降低了环境污染，实现驾驶过程舒适度安全性的同步提升

77.边界效应，是指人们喜爱逗留在区域的边缘，而区域开敞的中间地带是最后的选择。一般来说，边界是众多信息汇聚的地方，它具有异质性，是变化的所在，容易产生特殊的现象，受到人们的关注。

根据上述定义，下列不属于边界效应的是：（ ）

- A.在地铁里，人们乐于选择人少的座位
- B.在就餐时，人们普遍倾向选择靠窗的位置坐下
- C.在聚会中，人们往往喜欢选择靠边位置坐下
- D.在广场上，人们常常选择广场四周的花圃坐下

78.软瘾，是指那些强迫性的习惯、行为或回复性的情绪，通常表现为过度购物、看电视、上网，强迫性地频繁查看电子邮件等。软瘾患者通过上述行为获得暂时的满足和快感，却花费大量的精力和财力，其事后可能会后悔，但当时却难以自拔，深陷其中。软瘾不同于毒品、药物、酒精成瘾，也不同于爱好和激情，爱好和激情是人在学习、成长过程中，通过活动自我调整、消除不良情绪而产生愉快心理体验的一种正面情绪，软瘾则是一种负面情绪。

根据上述定义，下列不属于软瘾的是：（ ）

- A.张某频繁而不加节制地购买各种有用或没用的物品，导致债台高筑，陷入经济困境，但张某仍乐此不疲
- B.李某担心未能及时获得招聘单位的相关信息，每隔半个小时就上网查阅邮箱，每次查无所获后都非常沮丧却又无法自拔
- C.王某为了在网络游戏上战胜对手，每周末都要通宵达旦上网激战，但游戏结束后都会空虚后悔，愧疚自责
- D.林某为了给追求的女孩陈某送上生日礼物，在陈某宿舍楼下连续守候一周后被拒绝，从此郁郁寡欢，酗酒成瘾

79.个体社会化，是指个体在社会环境影响下，认识和掌握社会事物、社会标准的过程，通过这个过程，个体得以独立地参加社会生活。从社会心理学的角度讲，是指个体的特定的社会情境中，通过自身与社会的双向互动，逐步形成社会心理定向和社会心理模式，学会履行其社会角色，由自然人转变为社会人并不断完善的长期发展过程。

根据上述定义，下列不属于个体社会化的是：（ ）

- A.小甲通过到博物馆担任志愿者，锻炼了口语能力，增长了文物辨别能力

- B.小乙注重身体锻炼，个子长得很快，还没 12 岁身高就已达 1.7 米
- C.小丙在工作中掌握了汽车营销的行业技巧，辞职创办汽车销售公司
- D.小丁经历多次创业失败后，决定出国深造，学习法语

80.补偿性工资差别：指同质的劳动者，在从事工作条件和环境不同的劳动时，要对某些职业支付较高的工资，以弥补不同职业的非金钱的差异。

根据上述定义，不属于补偿性工资差别的是：（ ）

- A.某市电力系统抄表工的年收入高于该市人均工资，高工资用于补偿员工在工作过程中消耗的体力与脑力劳动
- B.煤矿工人得到的工资高于其他有相似受教育水平的工人，高工资是用来补偿采煤的枯燥和危险性，及煤矿工人所面临的长期健康问题
- C.教授的工资低于受教育时间大致相同的律师和医生，低工资可以由工作所带来的学术与个人满足而得到补偿
- D.工厂中的夜班工人的工资高于白班工人，高工资用于补偿他们不得不在夜里工作而在白天睡觉对身体带来的不利影响

### 三、类比推理

（共 10 题，先给出一对相关的词，要求你在备选答案中找出一对与之在逻辑关系上最为贴近或相似的词）

81.赶尽杀绝：斩草除根

- A.出类拔萃：青出于蓝
- B.空穴来风：无中生有
- C.风声鹤唳：草木皆兵
- D.耳熟能详：历历在目

82.超速：交警：处罚

- A.犯规：裁判员：禁赛
- B.超载：路政：卸货
- C.故障：工程师：维修
- D.作弊：学生：重修

83.（ ）对于心花怒放相当于勤奋对于（ ）

- A.心情 一曝十寒
- B.激动 妄自菲薄
- C.高兴 废寝忘食
- D.难受 指日可待

84.旧时王谢堂前燕 对于（ ）相当于（ ）对于杭州

- A. 南京 月中山寺寻桂子
- B. 西安 二十四桥明月夜



C. 洛阳 淮水东边旧时月

D. 开封 月落乌啼霜满天

85.蜂蜜：甘甜

A.道路：畅通

B.技术：高超

C.雨林：潮湿

D.资源：丰富

86.望梅止渴：曹操

A.鞠躬尽瘁：岳飞

B.四面楚歌：刘邦

C.指鹿为马：赵括

D.东窗事发：秦桧

87.灯泡：台灯

A.手机：电话

B.水：矿泉水

C.纸张：打印机

D.木门：房间

88.馒头：面点：食物

A.砖石：珠宝：矿物

B.香樟：木材：森林

C.普洱：茶具：器皿

D.冰箱：家电：电器

89.入侵者：战俘

A.流浪者：乞讨

B.独裁者：庸君

C.失败者：成功

D.竞争者：对手

90.春城 对于 ( ) 相当于 ( ) 对于 山城

A. 南宁：秦岭

B. 昆明：重庆

C. 大理：贵州

D. 广州：株洲

#### 四、逻辑判断

(共 10 题，每题给出一段陈述，这段陈述被假设是正确的，选出一个答案，注意，正确的答案应与所给的陈述相符合)

91.税务部门检查发现，家具批发市场中并非所有商户都有偷税行为。

如果上述调查的结论是真实的，那么以下一定正确的是：( )

A.所有商户都没有偷税行为

B.有的商户没有偷税行为

C.并非有的商户没有偷税行为

D.多数商户都有偷税行为

92.王考官说：“所有的考生都查验过身份证，所以没有查验过身份证的都不是考生。”

以下哪项和王考官的推理结构最为相似？

- A.所有已经发表过的论文都认真校对过，所以认真校对过的论文都已经发表了
- B.所有修剪过的果树长势都非常旺盛，所以没有修剪过的果树长势都不旺盛
- C.所有的真理都经过实践的检验，所以没有经过实践检验的都不是真理
- D.所有关闭的工厂都没有创新精神，所以没有创新精神的工厂都关闭了

93.A、B、C三人从法学院毕业后，一人去了律所，一人去了法院，一人去了检察院，

甲、乙、丙三人做了一下猜测：

甲：A去了律所，B去了法院

乙：A去了法院，C去了律所

丙：A去了检察院，B去了律所。

如果甲、乙、丙三人的猜测都只对了一半，那么以下哪项为真？（ ）

- A.A去了律所，B去了检察院，C去了法院
- B.A去了律所，B去了法院，C去了检察院
- C.A去了检察院，B去了法院，C去了律所
- D.A去了法院，B去了律所，C去了检察院

94.甲、乙、丙、丁、戊五人去了泳池游泳，游完上岸后都发现自己穿的拖鞋不是下水前那双。已知甲穿的拖鞋不是丁和乙的，乙穿的拖鞋不是丙和丁的，丙穿的拖鞋不是戊和乙的，丁穿的拖鞋不是丙和戊的，戊穿的拖鞋不是丁和甲的，另外没有两个人互相穿了对方的拖鞋，那么谁穿了乙的拖鞋？（ ）

- A.甲
- B.丙
- C.丁
- D.戊

95.狂犬病是一种对人、畜危害很大的传染病。人、畜如果被病犬咬伤，感染上病毒就会发病，且发病无一例外地死亡。医学研究表明：被病犬咬伤后24小时内注射狂犬病疫苗，可大大降低发病几率。

根据以上资料可以推出：（ ）

- A.被病犬咬伤后就会感染狂犬病毒
- B.被病犬咬伤24小时内注射狂犬病疫苗就不会死亡

C.狂犬病毒在人体内的潜伏期很久，有时长达几十年

D.部分人在被病犬咬伤 24 小时内注射狂犬疫苗后，仍会死亡

96.我国是世界产绒大国，山羊绒产量占世界的四分之三左右。但是有专家认为这并不是件好事，建议压缩山羊数量，最终绝养。

以下哪项最可能是专家的建议基于的理由？（ ）

A.山羊绒制品对人体健康有害，市场需求会大大下降

B.山羊会因为失去羊绒受冻而死，这是不人道的

C.山羊生活习性差，会严重破坏生态平衡

D.山羊绒生产周期长，且市场价格不稳定，很容易亏本

97.最近几年，外科医生数量的增长超过了外科手术数量的增长，而许多原来必须履行的外科手术现在又可以用内科治疗取代，这样，使得现在每个外科医生每年做的手术数量平均下降四分之一。如果这种趋势不改善，那么，外科手术的不可避免的水平会下降。

上述论述基于以下哪个假设？（ ）

A.大部分外科手术中，刚工作的外科医生表现和工作多年的差不多

B.外科医生必须要经常做手术才能保持较高的技术水平

C.最近几年，外科医生的平均学历越来越高

D.大部分外科手术都集中在几个经验丰富的医生手上

98.中国睡眠研究会日前发布了《2017 中国青年睡眠现状报告》，调查范围纳入了 10 岁至 45 岁的人群，共调查了近 6 万人。从整体的睡眠状况来看，76%的受访者表示入睡困难，其中超过 13%的人甚至感觉处在痛苦状态。专家指出压力大、焦虑是睡不好的罪魁祸首。

以下哪项如果为真，最能支持专家的结论？（ ）

A.不少失眠者长时间使用电子产品

B.大城市的人睡眠质量明显比小县城的差

C.失眠群体主要集中在 25-40 岁

D.高收入人群睡眠质量比低收入人群差

99.最近一份调查报告声称，名人家族中才能出众者是普通人家族的 23 倍。由此可以推出人的素质主要由遗传决定的。

以下哪项如果为真，最能削弱上述结论？（ ）

A.社会上普遍有这样的认识，一两的遗传胜过一吨的教育

B.“家无三代兴”，所有家族都避免不了兴衰轮回的历史规律

C. 普通人家族中才能出众者往往比名人家族对社会贡献更大

D. 一个人能否才能出众主要取决于他的成长环境好坏、接受教育程度高低等因素

100. 最近一项问卷调查报告表示，在 3500 份问卷调查中，有 83% 的老年人说自己非常喜欢看“跑男”这个娱乐节目。由此调查小组得出结论：老年人对“跑男”这个节目不感兴趣的说法是不正确的。

以下哪项如果为真，最能削弱上述结论？（ ）

A. 多数老年人不爱看娱乐节目，且拒绝参加问卷调查

B. 该问卷缺乏权威性，其准确性值得商榷

C. 问卷调查有明显的倾向性暗示，影响真实性

D. 大多数参加问卷调查的老年人还喜欢看其他娱乐节目

## 第四部分 资料分析

所给出的图、表、文字或综合性资料均有若干个问题要你回答。你应根据资料提供的信息进行分析、比较、计算和判断处理。

请开始答案：

一、根据所给资料，回答下列问题。

某地区的全年财政收入完成 6.97 亿元，完成年度计划的 110.6%，按可比口径计算比上年增长 20.6%。其中营业税 2.89 亿元，增长 18.9%，占全区财政收入的 41.5%，拉动财政收入增长 8 个百分点；房产税 1.2 亿元，增长 32.3%，占全区财政收入的 17.2%，拉动财政收入增长 5.1 个百分点；增值税 0.75 亿元，增长 3.2%，占全区财政收入的 10.8%，拉动财政收入增长 0.4 个百分点；企业所得税 0.71 亿元，增长 15.1%，占全区财政收入的 10.2%，拉动财政收入增长 1.6 个百分点；其它科目合计 1.42 亿元，增长 29.6%，占全区财政收入的 20.3%，拉动财政收入增长 5.5 个百分点。

101. 该地区去年的增值税为多少亿元？（ ）

A. 0.774

B. 0.727

C. 0.726

D. 0.775

102. 营业税和企业所得税一共拉动财政收入增长了多少个百分点？（ ）

A. 9.6

B. 8

C. 13.1

D. 8.4

103. 房产税占全区财政收入的比例增加了多少？（ ）

A. 2.0%

B. 1.8%

C. 1.6%

D. 1.5%

104. 全年财政收入的计划是多少亿元？（ ）

A. 5.78

B. 6.03

C. 6.30

D. 6.45

105. 其他科目的财政收入增长了多少亿元？（ ）

A. 0.420

B. 0.324

C. 0.36

D. 0.402

二、根据所给资料，回答下列问题。

2011年第一季度我国建筑业产值为16096.4亿元。其中，建筑工程产值14220.0亿元，安装工程产值1405.2亿元，其他471.2亿元。华东六省一市数据如下表。

2011年第一季度我国华东六省一市建筑产值统计

单位：亿元

省(市)	合计	建筑工程	安装工程	其他
上海市	739.2	610.4	104.5	24.3
江苏省	1773.2	1621.2	139.4	12.6
浙江省	2381.2	2134.1	171.8	75.3
安徽省	625.7	544.9	53.1	27.7
福建省	583.9	534.3	42.7	6.9
江西省	334.2	301.9	19.3	12.4
山东	838.5	682.7	129.1	26.7

106. 2011 年一季度，华东六省一市建筑业产值的平均值是（ ）。

- A. 1437.8 亿元
- B. 1367.3 亿元
- C. 1039.4 亿元
- D. 872.7 亿元

107. 2011 年一季度，江苏省建筑业产值占我国建筑业产值的比重是（ ）。

- A. 8.76%
- B. 10.01%
- C. 11.02%
- D. 17.25%

108. 2011 年一季度，华东六省一市安装工程产值高于其平均产值的省(市)有（ ）。

- A. 1 个
- B. 2 个
- C. 3 个
- D. 4 个

109. 2011 年一季度，华东六省一市建筑工程产值与安装工程产值之比最大的三个省(市)是（ ）。

- A. 浙江省、福建省、江西省
- B. 江苏省、上海市、江西省
- C. 福建省、安徽省、江西省
- D. 浙江省、福建省、山东省

110. 下列判断不正确的有（ ）。

- (1) 2011 年一季度，江西省建筑业每项产值在华东六省一市中都是最低。
- (2) 2011 年一季度，江苏省建筑业产值比上海市高出 139.9%。
- (3) 2011 年一季度，华东六省一市建筑工程产值占其建筑业产值的比重均超过 80%。

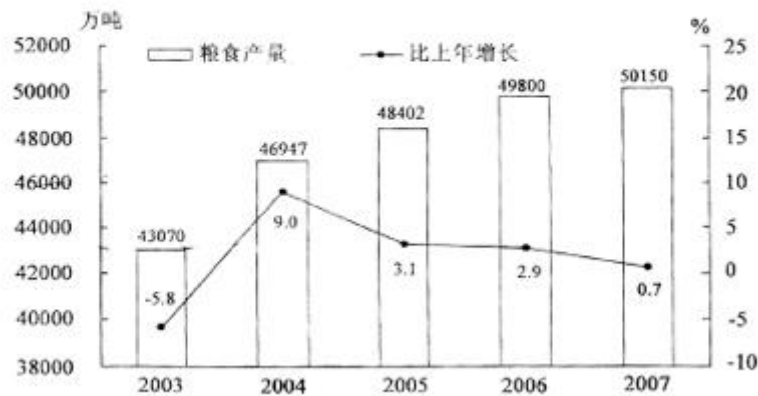
- A. 0 个
- B. 1 个
- C. 2 个
- D. 3 个

三、根据所给资料，回答下列问题。

2007 年我国粮食种植面积 10553 万公顷，比上年增加 70 万公顷；棉花种植面积 559 万公顷，增加 7 万公顷；油料种植面积 1094 万公顷，减少 60 万公顷；糖料种植面积 167 万公顷，增加 10 万公顷。

全年粮食产量 50150 万吨，比上年增加 350 万吨，增产 0.7%，其中，夏粮产量 11534 万吨，增产 1.3%；早稻产量 3196 万吨，增产 0.3%；秋粮产量 35420 万吨，增产 0.6%。

2003—2007 年全国粮食产量及其增长速度统计图



全年棉花产量 760 万吨，比上年增产 1.3%。油料产量 2461 万吨，减产 4.2%。糖料产量 11110 万吨，增产 11.4%。烤烟产量 239 万吨，减产 3.9%。茶叶产量 114 万吨，增产 10.9%。

全年肉类总产量 6800 万吨，比上年减少 3.5%。其中，猪肉减少 9.2%；牛、羊肉分别增长 6.1%和 5.8%。全年水产品产量 4737 万吨，增长 3.3%。全年木材产量 6974 万立方米，增长 5.5%。

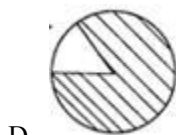
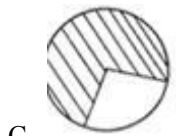
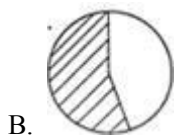
111. 2002 年我国的粮食产量约为（ ）

- A. 45722 万吨
- B. 44965 万吨
- C. 44761 万吨
- D. 40709 万吨

112. 2007 年我国粮食的平均亩产量约为（1 公顷=15 亩）：（ ）

- A. 475 公斤
- B. 416 公斤
- C. 368 公斤
- D. 317 公斤

113. 下列阴影部分最能体现 2006 年秋粮产量占当年粮食产量比重的是：（ ）



114. 能够从上述资料中推出的是：（ ）

- A. 2005 年我国粮食的种植面积
- B. 2005 年我国早稻的产量
- C. 2006 年我国茶叶的产量
- D. 2006 年我国猪肉的产量

115. 以下说法中，正确的有：（ ）

- I. 2003—2007 年我国的粮食产量是逐年增长的
- II. 2006 年我国的棉花产量不足 750 万吨
- III. 2006 年我国的油料产量超过 2500 万吨



IV. 2006 年我国的水产品产量不足 4500 万吨

- A. 1 个
- B. 2 个
- C. 3 个
- D. 4 个

四、根据所给资料，回答下列问题。

2016 年 6 月某市统计局对应届毕业生的抽样调查显示：有 593 名受访者打算创业，占 28.6%。其中，大专生打算创业的比重比平均水平高 7.0 个百分点，本科生打算创业的比重比平均水平低 3.9 个百分点，31.4%的研究生打算创业，有 34.5%的受访男生打算创业，比女生高 11.2 个百分点。

在没有创业打算的受访应届毕业生中，因缺乏启动资金、缺乏社会经验、缺乏创业方向等原因不打算创业的情况见图 1，有创业打算的受访应届毕业生能承担的创业资金额度情况见图 2。

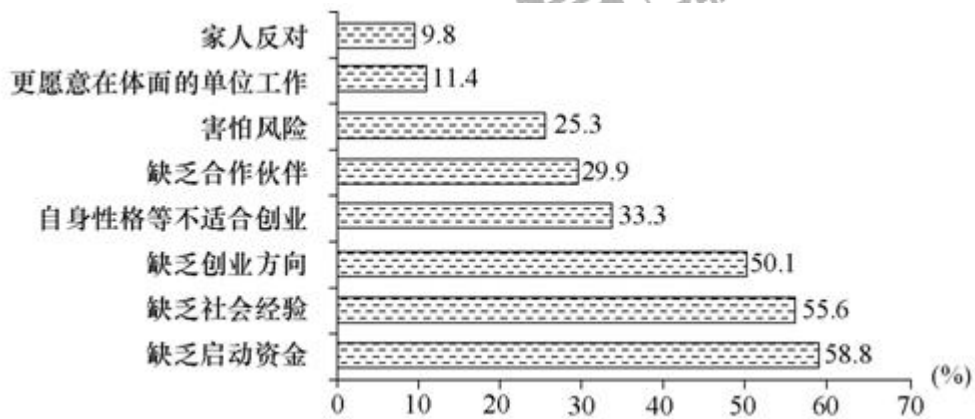


图 1 受访应届毕业生不打算创业的原因（多选）

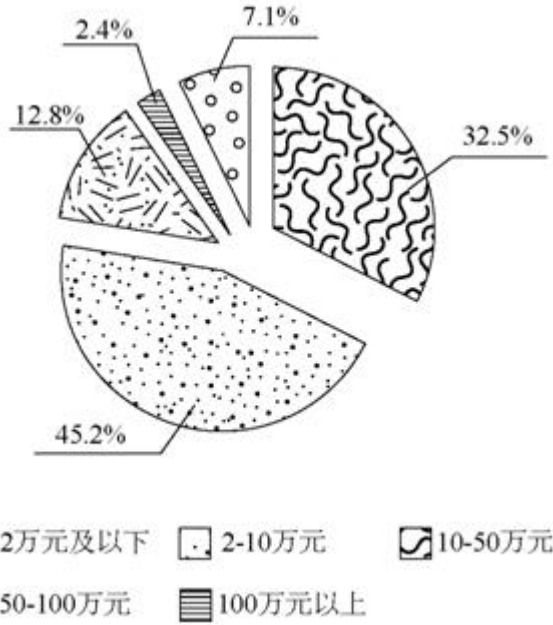


图2 有创业打算的受访应届毕业生能承担的创业资金额度情况

116. 本次调查中，没有创业打算的毕业生人数约是有创业打算的毕业生人数的（ ）。

- A.1.5 倍
- B.1.9 倍
- C.2.5 倍
- D.2.8 倍

117. 本次调查中，本科毕业生打算创业的比重比大专生低（ ）。

- A.3.1 个百分点
- B.3.9 个百分点
- C.7.0 个百分点
- D.10.9 个百分点

118. 本次调查中，因缺乏启动资金而不打算创业的毕业生有（ ）。

- A.349 人
- B.870 人
- C.1219 人
- D.1480 人

119. 本次调查中，有创业打算的毕业生能承担的创业资金额度低于 10 万元的人数是（ ）人。

A.344

B.268

C.249

D.193

120. 关于本次调查，下列判断正确的是（ ）。

A.受访男生人数比女生少

B.有 25.3%的受访者因害怕风险而不打算创业

C.至少有 168 名受访者因更愿意在体面的单位上班而不打算创业

D.有超过 1 成的打算创业的毕业生能承受 50 万元以上的创业资金额度

