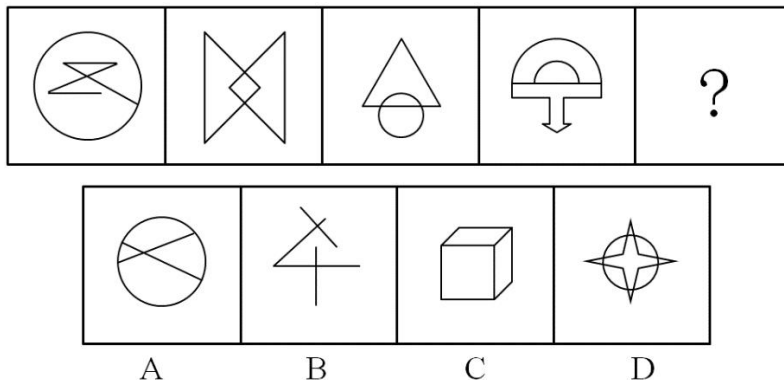


每日一练

1. 从所给的四个选项中，选择最合适的一个填入问号处，使之呈现一定的规律性：



【答案】B

【解析】第一步，观察特征。

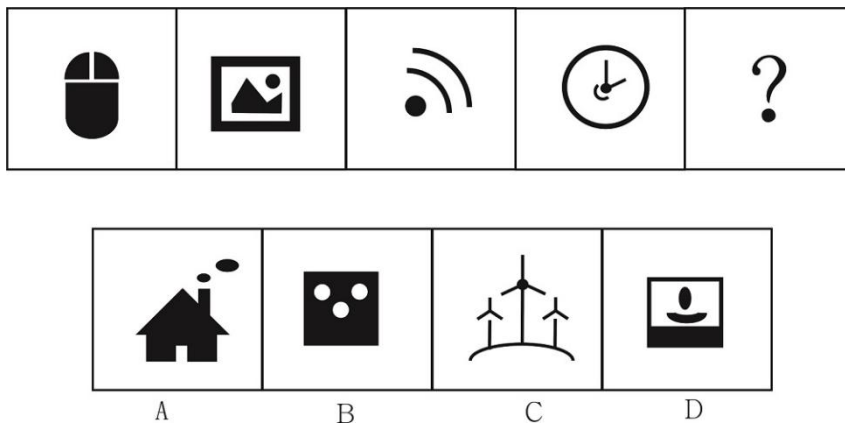
组成元素不同，优先考虑数量类或属性类。题干图形中有折线，考虑数角。

第二步，一条式，从左到右找规律。

题干前四个图形中锐角的个数依次为 5、4、3、2，呈等差数列，所以问号处的图形中应有 1 个锐角，只有 B 项符合。

因此，选择 B 选项。

2. 从所给的四个选项中，选择最合适的一个填入问号处，使之呈现一定的规律性：



【答案】C

【解析】第一步，观察特征。

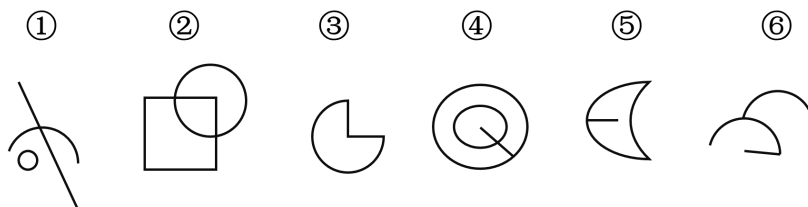
图形组成不同，考虑数量类。

第二步，一条式，从左向右找规律。

图形均有三部分，且为开放图形、封闭图形交替出现，问号处应选择一个三部分的开放图形，排除 B、D 项。继续观察，开放图形均为轴对称图形，只有 C 项符合。

因此，选择 C 选项。

3. 把下面的六个图形分为两类，使每一类图形都有各自的共同特征或规律，分类正确的一项是：



- A. ①②④，③⑤⑥ B. ①④⑥，②③⑤
C. ①②③，④⑤⑥ D. ①⑤⑥，②③④

【答案】D

【解析】第一步，观察特征。

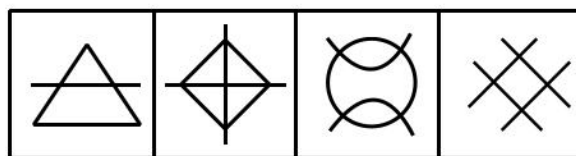
组成元素不同，优先考虑数量类或属性类。图形中均存在曲线和直线，且均有交点，考虑曲直交点。

第二步，根据规律进行分组。

图形①⑤⑥中曲直交点的数量为 1，图形②③④中曲直交点的数量为 2，分为两组。

因此，选择 D 选项。

4. 请从所给的四个选项中，选择最合适的一个填入问号处，使之呈现一定的规律性：



A B C D

【答案】A

【解析】第一步，观察特征。

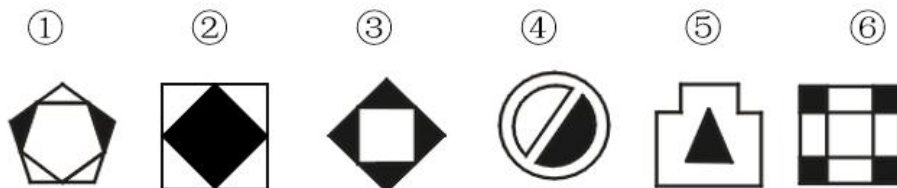
图形组成不同，优先考虑数量类或属性类，同时题干存在典型的一笔画特征图形，考虑一笔画。

第二步，一条式，从左到右找规律。

所给图形均为一笔画图形，故问号处图形应为一笔画图形，只有 A 项符合。

因此，选择 A 选项。

5. 把下面的六个图形分为两类，使每一类都有各自的共同特征或规律，分类正确的一项是：



- A. ①②③, ④⑤⑥ B. ①②④, ③⑤⑥
C. ①④⑤, ②③⑥ D. ①③④, ②⑤⑥

【答案】C

【解析】第一步，观察特征。

题干图形组成不同，且规整图形居多，考虑属性类。

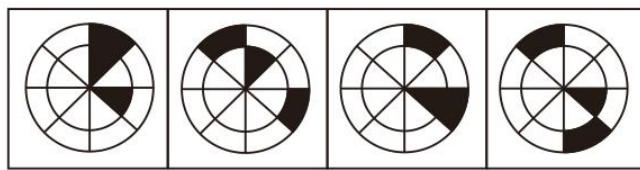
第二步，根据规律进行分组。

观察发现，①④⑤的对称轴仅有一条，②③⑥的对称轴有四条。

因此，选择C选项。

【拓展】解法二：①④⑤为仅轴对称图形，②③⑥为既轴对称图形又中心对称。

6. 从所给的四个选项中，选择最合适的一个填入问号处，使之呈现一定的规律性：



A B C D

【答案】A

【解析】第一步，观察特征。

图形组成相同，考虑动态位置。

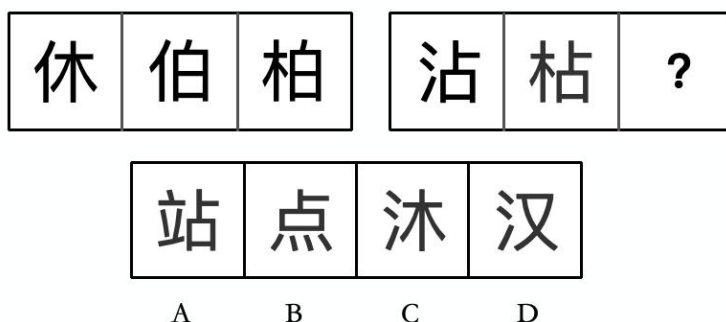
第二步，一条式，从左向右找规律。

外圈黑块1依次顺时针移动1、2、3格，呈等差递增规律，所以应将第四个图形中的黑块1顺时针移动4格，排除B、D项；进一步观察，内圈黑块2每次逆时针移动1格，黑块3每次沿对角线移动，只有A项符合。



因此，选择 A 选项。

7. 请从所给的四个选项中，选择最合适的一项填在问号处，使之呈现一定的规律性：



【答案】C

【解析】第一步，观察特征。

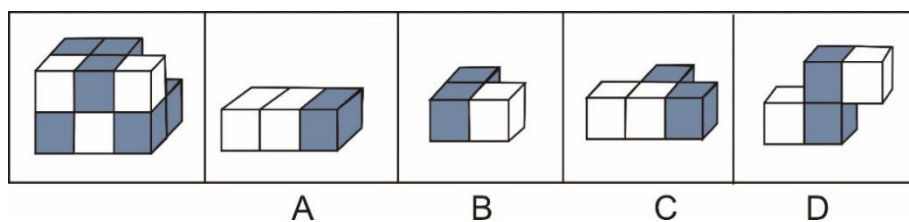
组成元素相似，优先考虑样式类。

第二步，两段式，第一段找规律，第二段应用规律。

第一段前两个图形进行去同求异得到第三幅图，第二段应用此规律，可得 C 选项中的汉字。

因此，选择 C 选项。

8. 下列各项中不可能是左图所示立体图形组成部分的是：



【答案】D

【解析】第一步，明确设问方式。

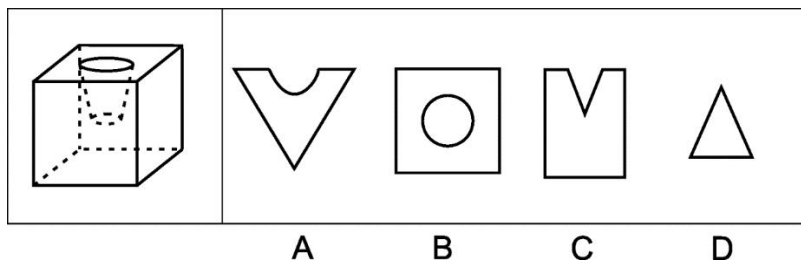
选择不可能是立体图形的组成部分的选项。

第二步，分析选项。

A、B、C 均可能是立体图形的组成部分。D 项，无论怎么放置，均不可能是立体图形的组成部分。

因此，选择 D 选项。

9. 如图所示，在一个正方体中挖空了一个圆台，则在下列选项中，**不可能**是该多面体截面图的是：



【答案】C

【解析】第一步，明确设问内容。

选择无法截出的选项。

第二步，分析选项。

A 项：斜切立方体并经过镂空的圆台，即可得到该选项；

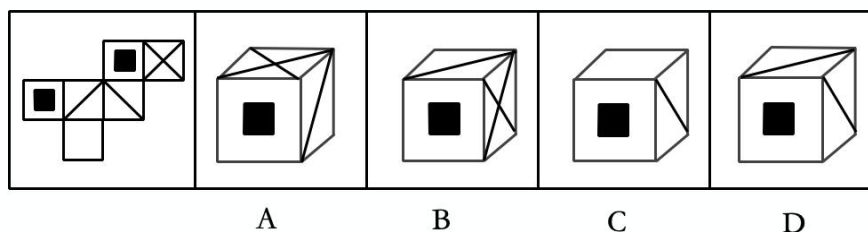
B 项：横切，经过镂空的圆台，即可得到该截面；

C 项：内部镂空的圆台无法得到三角形截面，无法截出；

D 项：斜切立方体的一角且不经过镂空的圆台，即可得到该选项。

因此，选择 C 选项。

10. 左边给定的是纸盒外表面的展开图，右边哪一项能由它折叠而成？请把它找出来。



【答案】A

【解析】第一步，本题考查六面体折纸盒。

第二步，分析选项。

A 项：三个面的相对位置关系及图案特征与展开图一致，正确；

B 项：三个面的公共点特征错误，排除；

C 项：三个面相对位置错误，排除；

D 项：该项两个对角线的面相对位置关系错误，排除。

因此，选择 A 选项。

11. 转移支付是指政府或企业无偿地支付给个人以增加其收入和购买力的费用。转移性收入就是指国家、单位、社会团体对居民家庭的各种转移支付和居民家庭间的收入转移。财产性收入指通过资本参与社会生产和生活活动所产生的收入，即家庭拥有的动产和不动产所获得的收入。

根据上述定义，以下判断正确的是：

- A. 小王通过努力工作，实现了升职加薪，他所获得的薪酬属于财产性收入
- B. 小张为自己和老公投保了重大疾病保险，生病后会获得赔偿，属于转移性支付
- C. 小李在父母去世后继承了大笔的遗产，继承的遗产属于财产性收入
- D. 许多单位都会每个月为员工缴纳养老保险，员工退休后获得的退休金属于转移性收入

【答案】D

【解析】第一步，根据提问方式，确定为选是题。

第二步，找关键信息。

转移支付是指政府或企业无偿地支付给个人以增加其收入和购买力的费用。

转移性收入：国家、单位、社会团体对居民家庭的各种转移支付和居民家庭间的收入转移。

财产性收入：通过资本参与社会生产和生活活动所产生的收入。即家庭拥有的动产和不动产所获得的收入。

第三步，辨析选项。

A项：工资收入不符合“家庭拥有的动产和不动产所获得的收入”，不符合财产性收入，错误；

B项：商业保险不符合“无偿地支付给个人”，不符合转移性支付，错误；

C项：遗产不符合“家庭拥有的动产和不动产”，不符合财产性收入，错误；

D项：退休金符合“单位对居民家庭的各种转移支付和居民家庭间的收入转移”，符合转移性收入，正确。

因此，选择D选项。

12. 直线制组织结构是最早且最简单的组织形式，又称军队组织形式，它是企业各级行政单位从上到下实行垂直领导，没有职能机构。

根据上述定义，下列使用了直线制组织结构的是：

A. 甲公司设立了华北大区、华南大区，两个大区自主核算成本，如果利润率下滑，第二年就会调整负责人

B. 乙公司从各个部门借调优秀员工，组成一个新的产品小组，他们既要听从新项目组的工作安排，也要向原来领导汇报工作进度

C. 丙公司的创始人是军人出身，要求员工令行禁止，他有一个核心的研发团队，会帮他把所有问题考虑周详，所有指令都是经过详细的探讨之后才会下达

D. 丁公司刚刚成立，负责人所有事务事必躬亲，每天忙得焦头烂额，好在各部门负责人上传下达很及时，员工积极性也很高，公司慢慢步入正轨

【答案】D

【解析】第一步，看提问方式，本题属于选是题。

第二步，找关键信息。

企业各级行政单位从上到下实行垂直领导，没有职能机构。

第三步，辨析选项。

A 项：甲公司成立多个大区，他们之间是平行关系，自负盈亏，没有“从上到下实行垂直领导”，不符合定义，排除；

B 项：新产品小组成员，受两个部门的管理，不是从上到下的垂直管理，不符合定义，排除；

C 项：丙公司的创始人有给他做参谋的团队，这属于职能部门，而这个部门不能直接下达命令，所以不是直接从上到下的管理，不符合定义，排除；

D 项：丁公司规模小，所有事务都是负责人牵头，没有职能部门，符合定义。

因此，选择 D 选项。

13. 社会调整，是指社会为了有秩序地进行生产和生活，通过一定的组织和方式把人们的各种社会活动纳入一定秩序范围的活动。从人们对社会关系的调整的发展过程来看，社会调整可以划分为两大类，即个别性调整和规范性调整。个别性调整就是按照针对具体人、具体事所确定的行为方式，对人们的行为进行的一次性调整。规范性调整就是针对某一类主体、某一类情况而使用的一般行为规则进行的重复性的调整。

根据上述定义，以下属于个别调整的是：

A. 针对偷盗、抢劫等危害社会的行为，制定了相应的法律予以处罚

B. 针对某地区出现的极其恶性的犯罪案例，法院做出了加重处罚的决定

C. 某培训机构针对 VIP 用户开展了一对一服务，为客户提供个性化、易操作的提分方法

D. 职员丁生育后无人帮忙带孩子，针对她的情况，公司特批丁可以居家办公

【答案】B

【解析】第一步，根据提问方式，确定为选是题。

第二步，找关键信息。

社会为了有秩序地进行生产和生活，通过一定的组织和方式把人们的各种社会活动纳入一定秩序范围的活动。按照针对具体人、具体事所确定的行为方式，对人们的行为进行的一次性调整。

第三步，辨析选项。

A 项：偷盗、抢劫是一类行为，不符合“按照针对具体人、具体事所确定的行为方式，对人们的行为进行的一次性调整。”，不符合定义；

B项：针对极其恶性案件加重处罚，符合“针对具体人、具体事所确定的行为方式，对人们的行为进行的一次性调整”，符合定义；

C项：培训机构提供提分方法，不是“为了有序进行生产和生活”，不符合定义；

D项：公司特批不是社会为了有序地进行生产和生活，不符合定义。

因此，选择B选项。

14. 假象是不符合事物本质的表面现象，也作“假相”。也可以说是现实生活中不存在的，肉眼看到或幻想到的，是由客观原因造成的。错觉是人们观察物体时，由于物体受到形、光、色的干扰，加上人们的生理、心理原因而误认物象，会产生与实际不符的判断性的视觉误差。

根据上述定义，下列现象中属于假象的是：

A. 杯弓蛇影

B. 书上的图形发生转动

C. 雨后彩虹

D. 海市蜃楼

【答案】D

【解析】第一步，看提问方式，本题属于选是题。

第二步，找关键信息。

多定义，考查“假象”，其关键信息为：

①不符合事物本质的表面现象；

②是由客观原因造成的。

第三步，辨析选项。

A项，“杯弓蛇影”是由心理原因导致，不是“由客观的原因造成的”，不符合定义；

B项，“书上的图形发生转动”是主观错觉，不是“由客观的原因造成的”，不符合定义；

C项，“雨后彩虹”属于一种正常的自然现象，并非“不符合事物本质的表面现象”，不符合定义；

D项，“海市蜃楼”是由于光的折射和全反射形成的自然现象，是实际生活中不存在的，并且是“由客观的原因造成的”，符合定义。

因此，选择D选项。

15. 责任分散效应，也称为旁观者效应，是指对某一件事来说，如果是单个个体被要求单独完成任务，责任感就会很强，会作出积极的反应。但如果是要求一个群体共同完成任务，群体中的每个个体的责任感就会很弱，面对困难或遇到责任往往会退缩。

根据上述定义，下列现象不可以用责任分散效应解释的是：

- A. 一个和尚挑水喝，两个和尚抬水喝，三个和尚没水喝
- B. 人来人往的马路上发生了车祸，却没一个人叫救护车
- C. 大学课堂上，对于老师的提问，所有同学都能回答，但都保持沉默，也不会感到羞愧
- D. 生态环境保护实行终身追责制

【答案】D

【解析】第一步，看提问方式，本题属于选非题。

第二步，找关键信息。

①如果是单个个体被要求单独完成任务，责任感就会很强，会作出积极的反应；

②如果是要求一个群体共同完成任务，群体中的每个个体的责任感就会很弱，面对困难或遇到责任往往会退缩。

第三步，辨析选项。

A项，和尚多了以后，每个个体的责任感会变弱，不愿承担挑水的责任，符合定义；

B项，路上的行人多了以后，所有人的责任感都会变弱，不愿去报警，符合定义；

C项，班级的学生都不回答老师的问题，作为一名学生的责任感变弱，符合定义；

D项，“环境追责制度”没有体现出责任感的变化，不符合定义。

因此，选择D选项。