



义务教育教科书

九年级

下册

历史  
与社会



人民教育出版社

义务教育教科书

# 历史与社会

九年级  
下册

人民教育出版社 课程教材研究所  
历史与社会课程教材研究开发中心 | 编著 |

人教版®

人民教育出版社

·北京·

总 主 编：朱明光  
本册主编：杨宁一

主要编写人员：朱明光 杨宁一 陈 涛 吴晓芳 芮 信 富 兵  
霍志玲 杨 梅 林辉锋 刘 彤 毛远臻

责任编辑：刘 彤  
美术编辑：李宏庆

封面设计：吕 旻 李宏庆  
版式设计：奇文云海·设计顾问  
插 图：李 旻（封面） 李宏庆 文鲁工作室  
地图绘制：中国地图出版集团教材出版分社  
图片提供：韩国学中央研究院等

义务教育教科书 历史与社会 九年级 下册

人民教育出版社 课程教材研究所 编著  
历史与社会课程教材研究开发中心

---

出 版 人民教育出版社  
(北京市海淀区中关村南大街 17 号院 1 号楼 邮编：100081)  
网 址 <http://www.pep.com.cn>  
重 印 ××× 出版社  
发 行 全国新华书店  
印 刷  
版 次 2018 年 12 月第 2 版  
印 次  
开 本 787 毫米 × 1092 毫米 1/16  
印 张 8  
字 数 134 千字  
书 号 ISBN 978-7-107-33360-6  
定 价 元  
定价批号：××号 审图号：GS(2019)605 号

---

版权所有·未经许可不得采用任何方式擅自复制或使  
用本产品任何部分·违者必究  
如发现内容质量问题，请登录中小学教材意见反馈平台：[jcyjfk.pep.com.cn](http://jcyjfk.pep.com.cn)  
如发现印、装质量问题，影响阅读，请与 ××× 联系调换。电话：×××-××××××××

# 目 录

第五单元 二战后的世界变化·····	1
第一课 两极格局的形成·····	2
第二课 当代资本主义的新变化·····	5
第三课 社会主义的发展与挫折·····	13
第四课 亚非拉地区的发展·····	17
综合探究五 聚焦文化软实力·····	23
第六单元 中国社会主义建设的探索 与改革开放的起步·····	27
第一课 新生政权的巩固 与社会主义制度的建立·····	28
第二课 艰辛探索与建设成就·····	34
第三课 改革开放的起步·····	38
第四课 民族区域自治地方的发展·····	43
第五课 “一国两制”与统一大业·····	47
第六课 独立自主的新中国外交·····	50
综合探究六 感受新中国的精神力量·····	54



第七单元 聚焦当代中国与世界的发展……59

第一课 坚持和发展中国特色社会主义……60

第二课 经济全球化……69

第三课 世界多极化趋势……72

第四课 当代科技革命与社会生活……77

综合探究七 认识“和平与发展”的  
时代主题……81

第八单元 共同面对前所未有的

全球性问题……87

第一课 不断变化的人口问题……88

第二课 日益严峻的资源问题……93

第三课 共同关注的环境问题……99

第四课 发展的选择……105

综合探究八 让历史告诉未来……113

附录一 中国历史大事年表（1949年至今）…118

附录二 世界历史大事年表（1945年至今）…120

附录三 本书重要词汇中英文对照表……121

## 第五单元

# 二战后的世界变化

第二次世界大战结束后，世界格局发生了巨大变化。

战后初期，美国成为资本主义世界的头号强国，而社会主义苏联是这一时期唯一能与美国抗衡的国家。美苏两国之间开始了长达数十年的冷战对峙局面。

第二次世界大战后，主要资本主义国家经济有新的发展，也面临新的问题。社会主义各国经济发展取得显著的成就，也面临改革的难题。亚非拉地区的许多国家，通过民族民主运动获得了独立，使世界殖民体系全面瓦解，将发展民族经济提上日程，但面临着区域动荡与冲突。



# 第一课

## 两极格局的形成

第二次世界大战后初期，美国为了遏制苏联和其他社会主义国家，开始推行冷战政策。冷战开始后，出现了分别以美苏为首的两大集团的斗争，世界长期处于两极对峙的紧张局面。

第二次世界大战后，美国成为世界上军事、经济实力最强大的国家，在世界各地建立了几百个军事基地，以及以美元为中心的资本主义国际贸易体系，称霸的欲望十分强烈。第二次世界大战后，社会主义的影响扩大，苏联的国际威望有了很大提高，被美国视为全球称霸的最大敌人。美国对苏联率先发动了冷战，苏联予以反击。美苏国家战略的对立和社会制度的巨大差异，使双方的对抗不断加剧。

1946年，英国前首相丘吉尔在访问美国期间发表了“铁幕演说”，拉开了冷战的序幕。1947年3月，美国总统杜鲁门在国会发表演说，要求国会拨款援助希腊和土耳其，在全球遏制共产主义。这篇演说提出的政策被称为“杜鲁门主义”。杜鲁门主义的出台，标志着美苏战时同盟关系正式破裂，冷战开始。冷战是指20世纪40年代中后期至80年代末90年代初，以美苏为首的两大集团之间逐步形成的既非战争又非和平的长期对峙与竞争状态。

从波罗的海的什切青到亚得里亚海边的的里雅斯特，一幅横贯欧洲大陆的铁幕已经降落下来。在这条线后面坐落着中欧和东欧古国的都城。华沙、柏林、布拉格、维也纳、布达佩斯、贝尔格莱德、布加勒斯特和索非亚——所有这些名城及其居民无一不处在苏联的势力范围之内……



丘吉尔

1947年，美国国务卿马歇尔提出“欧洲复兴计划”，即马歇尔计划，企图通过援助西欧恢复经济，稳定资本主义制度。马歇尔计划是杜鲁门主义的一次大规模运用，也是美国实施冷战政策的又一重要步骤。

纳粹法西斯政权垮台以后，美、苏、英、法四国分区占领了德国及其首都柏林。随着杜鲁门主义的出台，苏联与美、英、法在处理德国问题上的分歧越来越大。1948年2月，美、英、法三国计划将占领区合并，准备发行货币，筹建政权，引起苏联的抗议。6月，苏联切断西占区与柏林之间的水陆交通，停止向西柏林供应煤、电、食品等生活物资，美、英立即对苏联实行反封锁。“柏林危机”爆发。大约11个月后，美苏达成协议，双方同时解除封锁。

1949年9月，在美、英、法占领区成立了德意志联邦共和国，又称“联邦德国”或“西德”。10月，在苏占区成立了德意志民主共和国，又称“民主德国”或“东德”。从此，欧洲冷战对峙的局面基本形成。

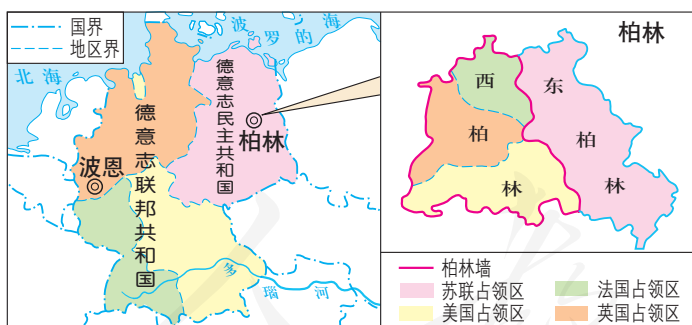


图5-1 四国分区占领德国和柏林

美国把欧洲看作全球战略的重点和遏制苏联的第一线，而尚未复苏的西欧各国也需要美国的援助。经过两年多的酝酿和磋商，1949年，美、英、法等12个国家在华盛顿成立了“北大西洋公约组织”，简称“北约”。《北大西洋公约》规定：任

何一个成员国如果受到武装攻击，缔约国将作出集体反应。

1955年，苏联同东欧7个社会主义国家在华沙成立了“华沙条约组织”，简称“华约”。《华沙条约》规定：任何一个成员国如果受到武装攻击，其他缔约国将以一切方式进行援助。



图5-2 北大西洋公约组织和华沙条约组织

📍 观察上图，说一说北约和华约成员的分布有什么特点。

美苏双方互相敌对，进而发展为两大集团的全面冷战对峙，两极格局形成。



### 阅读卡

#### 失道寡助——不得人心的美国霸权主义

冷战中，美国凭借强大的经济军事实力，推行全球霸权主义。但其霸权主义行径不得人心，屡屡受挫。20世纪六七十年代，美国深陷越南战争泥潭，越南抗击美国侵略的正义行动在世界上得到广泛的支持，美国国内爆发了大规模的反战运动，使美国最终被迫撤出越南，并进行全球战略收缩。

1973年，第四次中东战争爆发，阿拉伯石油输出国利用石油武器，与偏袒以色列的美国、西欧等国展开斗争，对以美国为首的西方国家造成了严重冲击。



图5-3 美国民众反战游行

📍 归纳冷战的特点，分析冷战对世界格局产生的影响。



# 第二课

## 当代资本主义的新变化

第二次世界大战后，美国成为资本主义世界的霸主，西欧和日本也从战争的废墟中恢复并发展起来，许多资本主义国家对国家经济进行了调整。

### 美国的发展

第二次世界大战期间，美国本土基本没有受到战争的直接影响，损失相对较小。不仅如此，它还因在战争中向同盟国提供各种物资而获利，经济实力居世界首位。战后初期，美国经济持续繁荣。



图5-4 粮食丰收后，人们不得不把过多的粮食堆放在大街上



投资高涨是美国经济繁荣的表现之一。从1949年到1957年，华尔街股市经历了历史上最长的一次牛市。在战后经济发展中，许多大型企业与大规模的跨国公司相继出现，美国成为世界上最重要的投资国家。

战后的美国加强政府在国家经济生活中的干预。政府制定了各种政策，如增加工人就业机会、改善居民住房条件、扩大教育援助、扶植农业发展等。

▶ 战后初期的美国，住房严重不足。在联邦政府提供高额房屋补贴的情况下，莱维特公司像福特公司生产汽车那样，创造了用流水线方式盖房子的方法，在短期内建造了许多住宅，住房问题得到缓解。



图5-5 “莱维特”式住宅

科技的发展同样为美国经济的持续繁荣作出了贡献。政府大力支持科学研究，对科技的投资一直居世界首位。在冷战格局下，政府不仅重视国防研究和基础研究，也注重科研成果的商品化。例如，将原本用于提高战斗机性能的喷气推进技术用于制造喷气式客机，引发了越洋飞行的彻底变革，纽约和伦敦之间的飞行时间缩短了一半。科技成果的应用为美国经济增长提供了动力。



图5-6 美国社会底层的贫困生活

▲ 许多美国中产阶级迁往郊区的新社区，享受着丰裕的物质生活。但不是每个人都能过上这样的好日子，在“富庶的社会”中，依然生活着许多穷人。



图5-7 马丁·路德·金发表演说

▲ 美国社会长期实行种族隔离制度，黑人受到极不公正的待遇。从20世纪50年代开始，黑人为争取与白人平等的社会地位和权利展开了斗争。1963年，马丁·路德·金在华盛顿发表了《我有一个梦想》的演说。

经历了20多年稳定发展之后，20世纪70年代中期，美国发生了经济危机，即使后来美国政府采取措施走出低谷，经济增速也大不如前。



### 阅读卡

#### 石油危机的震撼

20世纪50年代起，石油成为美国的主要能源。从中东进口的石油价格长期在每桶2美元以下，廉价的石油成为美国经济快速发展的重要动力之一。阿拉伯产油国对于低廉的油价早就不满。1973年，阿拉伯产油国对美国实行禁运，同时联合起来大幅度提高油价。在能源危机的冲击下，美国爆发了战后最严重的经济危机。美国国家安全事务助理曾发出这样的感慨：“有史以来，还没有一个由弱小国家组成的集团，能够迫使占人类绝大多数的其他国家的人民如此戏剧性地改变生活方式，而遭到的抗议却如此之少。”



图5-8 汽车排队加油

## 欧洲的联合

战后的西欧，元气大伤，满目疮痍，生活物资极度匮乏。

欧洲的经济状况威胁到整个资本主义世界。在马歇尔计划的援助下，到1950年，联邦德国、法国等西欧各国的经济基本恢复到战前水平。在恢复经济的同时，经历过多次战争的西欧各国，都在考虑如何才能更有效地避免战争、促进发展的问题。

1951年，法国、联邦德国、意大利、荷兰、比利时和卢森堡6个国家签署条约，宣告成立欧洲煤钢共同体，开启了欧洲联合的大门。1957年，6国又签订《罗马条约》，决定成立欧洲经济共同体和欧洲原子能共同体，次年条约正式生效。1967年，这三个组织合并为欧洲共同体，简称“欧共体”，总部设在比利时首都布鲁塞尔。



图5-9 《罗马条约》签字仪式



图5-10 欧洲联盟旗帜

欧共体的成立是欧洲经济一体化过程中的重要一步。欧共体筹备建立欧洲经济和货币同盟，并加强科技合作。经济上的一体化促进了这一地区经济的发展和实力的增强。欧共体的优势越来越明显，其成员国的数量也逐渐增多。

1993年，大部分西欧国家在欧共体的基础上组成了欧洲联盟，大大加快了欧洲一体化的进程。



## 日本成为经济大国

1945年8月，美国占领日本。美国在对日占领初期推行非军事化和民主化改革。冷战前后，为遏制共产主义，美国放弃对日本的惩罚性措施，扶持日本的经济复兴和政治重建。



图5-11 驻日盟军最高统帅麦克阿瑟（左）与日本裕仁天皇



图5-12 战后初期美国援助日本的物资

20世纪50年代的朝鲜战争，不仅为日本带来了美军的军需订货及驻日美军各种消费“特需”，促使日本经济活跃起来，还极大地刺激了日本出口贸易。美国对日本经济的援助政策，帮助日本很快在战争的废墟上重新发展起来。

结合战后世界格局，想一想美国为什么要大力扶持日本经济。



### 阅读卡

#### “已不是战后”

1955年，日本稻米大丰收，粮价下跌，成为“消费者最满意”的一年。除进出口贸易外，日本经济的主要指标已大大超过战前最高水平。日本经济以恢复为目的的任务已经完成。1956年，日本政府公布的经济白皮书中说：“现在已不是战后。我们现在面临着一个完全不同于过去的局面。在恢复中求增长的时代已经结束，今后的增长要靠现代化来支撑，而现代化的进步也由于迅速而稳定的增长开始成为可能。”

20世纪50年代中期到70年代初，日本经济保持了发达国家最高的增长速度。1968年，日本成为资本主义世界仅次于美国的经济大国。

在日本经济发展过程中，政府把大力引进国外先进技术作为一项国策，引进技术的数量超过了世界上任何一个国家。日本缩小了与美国之间的技术差距，并在钢铁、汽车、家用电器等生产技术上处于世界领先地位。

日本引进技术的另一大特点是在引进的基础上加以改进和发展，使之更加完善。例如，半导体技术是美国人的发明，美国以此制造飞船、导弹，日本则用它制造收音机、电子表。美国的太阳能技术刚刚走出实验室，日本就生产出了太阳能计算器。日本企业界说，这些技术是“美国开花，日本结果”。

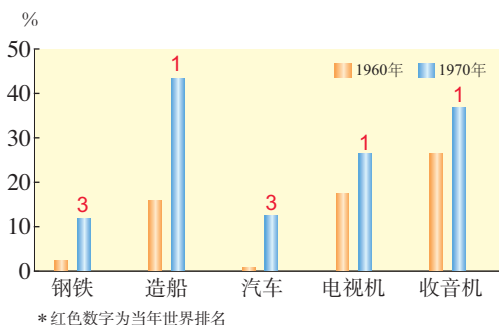


图5-13 1960年和1970年日本产品在全球产量中的比例

说一说，日本引进国外先进技术有哪些特点。

你是如何理解“美国开花，日本结果”这句话的？

对教育的高度重视也是推动日本经济发展的一个重要原因。日本政府把教育作为战后重建的原动力，在经济极端困难的情况下，仍然保持对教育的高投入，并实行九年义务教育制度。日本投降不到半个月，就宣布学校复课。从1947年开始，学校免费供应学生午餐。家长们也节衣缩食，把将钱花在子女教育上看作是最好的投资。



始建于20世纪60年代的新干线是日本铁路技术的骄傲，也是日本经济高速发展的象征。

图5-14 疾驰的新干线列车

归纳一下，促使战后日本迅速发展成经济大国的因素有哪些？

1964年，东京成功举办了夏季奥运会。在奥运会的刺激下，日本经济出现新一轮增长。

20世纪70年代以后，受资本主义世界经济危机的影响，日本的发展速度逐渐放慢，但仍保持较为稳定的增长。80年代，一度出现的金融投机导致了“繁荣”局面，但这种泡沫经济很快破裂，日本陷入了经济发展停滞时期。

在经济飞速发展的同时，日本社会和传统文化也受到冲击，产生了许多新的问题。“老年人自杀、中年人‘蒸发’、青年人犯罪”是对20世纪50年代中期以后日本社会问题的形象概括。环境污染也是日本经济发展过程中产生的问题。

## 主要资本主义国家经济政策的调整

第二次世界大战后，在生产力发展和其他因素的推动下，主要资本主义国家调整了经济政策。

美国延续了罗斯福新政的做法，继续推行运用国家权力积极干预经济的政策。英、法等欧洲资本主义国家也相继加强国家在经济生活中的作用。

自1945年起，英国颁布一系列国有化法令，把一批重要的企业收归国有，其中包括煤炭、电气、交通运输等基础工业和银行。

法国在实行国有化之外，还由国家制定指导性的经济计划，宏观规划国民经济发展目标和措施。

主要资本主义国家采取这些措施力图稳定经济，避免再次出现20世纪二三十年代经济大危机那样的动荡，为私人垄断资本的发展提供了保障。在美国，资本超过100亿美元的垄断公司1960年只有1家，1980年增加到19家。



图5-15 1946年被国有化的法兰西银行

第二次世界大战后，西方资本主义国家还建立起比较完善的社会保障制度。其中，英国的社会保障制度比较典型，被称为“福利国家”，福利政策覆盖领域较为广泛，包括失业保险、免费医疗、养老金及教育补贴等。社会保障制度呈现出普及化、全民化的特点，普通民众也能够受益，缓解了社会矛盾，使社会相对稳定。



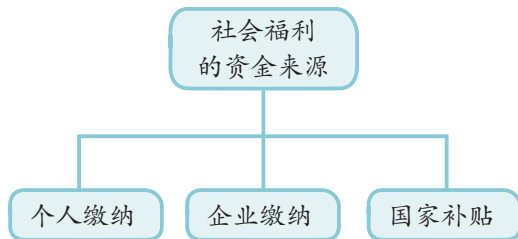


图5-16 社会福利的资金来源示意图

但是，社会福利的过度发展，也使这些国家不同程度地患上“福利病”。例如，出现了国家财政赤字扩大、企业负担过重等问题，部分民众工作积极性下降，国家生产和国民收入增长缓慢。与此同时，富有者的财富以更快的速度增长，贫富差距加大。



图5-17 午后休闲的希腊人



图5-18 法国反对提高退休年龄的游行

▲ 希腊政府一贯实行高福利政策。到海边晒太阳、聊天，是希腊人最平常的午后休闲。费用高、名目繁多的社会福利，给希腊政府造成沉重负担。近年来始于希腊的债务危机，就是欧洲高福利弊病的一面镜子。

战后主要资本主义国家经济政策的调整在一定程度上有利于经济的发展，但并未消除资本主义的固有矛盾。20世纪70年代，主要资本主义国家爆发了第二次世界大战后最严重的一次经济危机。

③ **资料** 20世纪70年代，资本主义国家爆发的经济危机依然是生产过剩的危机。危机过后，一方面生产发展停滞，另一方面通货膨胀严重，物价持续上涨，被称为“经济滞胀”，一时成为资本主义国家的顽疾。

④ 第二次世界大战后主要资本主义国家经济政策调整有何作用？

④ 探讨一下主要资本主义国家发生经济滞胀的原因。

# 第三课

## 社会主义的发展与挫折

两极格局下的苏联和东欧国家的社会主义建设取得了巨大成就，也遇到一些问题。20世纪80年代末90年代初，东欧剧变、苏联解体，国际共产主义运动遭受重大挫折，极大地影响了国际形势的发展。

第二次世界大战后，东欧、亚洲和拉丁美洲等地出现一些社会主义国家，如：东欧的民主德国、南斯拉夫、波兰等；亚洲的中国、朝鲜、越南等；拉丁美洲的古巴。社会主义力量逐渐壮大，改变了世界政治的版图。

1949年，苏联同保加利亚、匈牙利、波兰、罗马尼亚、捷克斯洛伐克等国家建立了经济互助委员会，简称“经互会”。在苏联的帮助下，东欧国家通过经互会克服了战后经济困难，并按照苏联模式发展经济。

1949年，中华人民共和国成立后不久，苏联就与中国建立了外交关系，这对新中国是很重要的支持。1950年，中苏缔结了《中苏友好同盟互助条约》，加强了社会主义阵营的力量。

1953年，斯大林逝世。不久，赫鲁晓夫上台执政。赫鲁晓夫在经济上进行了一些改革，如：发动垦荒运动；发展饲料生产，广种玉米；取消农产品的义务交售制，改行收购制；改革工业管理体制；等等。但是，赫鲁晓夫的改革没有从根本上解决苏联模式高度集中的经济体制的弊端，并且存在严重偏差。



图5-19 苏联城市青年出发参加垦荒



图5-20 苏联宇航员加加林

- 第二次世界大战结束后，苏联在核技术和空间技术等领域取得了重大成就。1954年，苏联建成世界上第一座核电站。1957年，苏联成功发射世界上第一颗人造地球卫星。1961年，苏联宇航员加加林驾驶苏联第一艘载人宇宙飞船“东方一号”进入太空，后安全返回地面，为世界载人航天事业的发展作出了重要贡献。

1964年，勃列日涅夫开始执政。勃列日涅夫在经济上推行“新政策”，要求加速科技进步、完善经济管理体制和加强经济刺激。在他执政期间，苏联经济一度发展较快，综合国力达到顶峰。但是，改革仍然没有从根本上突破高度集中的计划经济体制。为了同美国展开军备竞赛，苏联把科技进步的重心放在军事方面，国民经济呈现出畸形发展状态。苏联的一些重工业产品产量居世界首位，常规武器、核武器、航天技术可以同美国抗衡，但它的轻工业产品和新兴产业明显落后。

1985年，戈尔巴乔夫担任苏联领导人。不久，他开始实施加速经济改革的方案，但直到1988年，总体效果仍然不佳。戈尔巴乔夫又转向政治体制改革，取消苏共的领导地位，实行多党制，倡导“公开性”和“政治多元化”，这些措施使人们的思想发生混乱，无政府状态蔓延，局势迅速失控。各加盟共和国的分离趋势也随之加剧。



图5-21 苏联食品短缺，人们排队购买食品

- 1990年，苏联经济出现严重滑坡，消费品全面短缺，人民生活水平不断下降，民族矛盾激化。同年，立陶宛首先宣布独立，拉脱维亚等5个加盟共和国也要求退出苏联。

20世纪50年代开始，东欧各国社会主义建设取得巨大成就，综合国力迅速增强，人民生活水平不断提高。20世纪60年代以后，东欧各国的社会主义建设出现了不同程度的曲折，虽然进行了一些改革，但成效不大。同时，西方国家对苏联和东欧社会主义国家加紧推行“和平演变”战略。20世纪80年代，受戈尔巴乔夫改革的影响，东欧政局激烈动荡。在短短的两三年里，东欧各国放弃了社会主义制度，在政治上实行议会民主制和多党制，在经济上实行私有化基础上的市场经济。



图5-22 东欧剧变

- 除了德国统一外，还有哪些东欧国家的版图发生了变化？比较一下剧变前后的东欧版图，从地图上找出这些国家并说出它们的名称。



1991年8月19日，8名苏共高级官员发动政变，试图维护原联盟体制，但不到3天，即宣告失败。这次事件后，戈尔巴乔夫辞去苏共中央总书记职务。俄罗斯领导人叶利钦控制了全局，苏联的分裂进一步加快。同年12月26日，苏联解体。

▶ 1991年12月8日，白俄罗斯、俄罗斯和乌克兰3个苏联加盟共和国的领导人签署《独立国家联合体协议》，决定成立独立国家联合体。12月21日，除立陶宛、拉脱维亚、爱沙尼亚和格鲁吉亚外，苏联其他11个加盟共和国领导人在哈萨克斯坦的阿拉木图签署了《阿拉木图宣言》，宣告成立独立国家联合体及苏联停止存在。



图5-23 独立国家联合体(截至2004年12月)

苏联的解体，使世界上第一个社会主义国家不复存在，这是世界社会主义运动遭受的重大挫折。苏联的失败，只是高度集中的计划经济的“苏联模式”的失败，并不是社会主义制度的失败，20世纪80年代后，中国特色社会主义的巨大成功，充分证明了社会主义的强大生命力。如今，中国特色社会主义进入新时代，意味着科学社会主义在21世纪的中国焕发出强大生机活力，在世界上高高举起了中国特色社会主义伟大旗帜。



### 阅读卡

#### 邓小平谈世界社会主义运动的挫折

在世界社会主义运动遇到严重挫折的时候，邓小平坚信“世界上赞成马克思主义的人会多起来的，因为马克思主义是科学”。他以资本主义代替封建主义发生过多次王朝复辟的历史事实为例，满怀信心地指出：“一些国家出现严重曲折，社会主义好像被削弱了，但人民经受锻炼，从中吸收教训，将促使社会主义向着更加健康的方向发展。”

# 第四课

## 亚非拉地区的发展

世界殖民体系在民族民主运动的冲击下全面崩溃，亚非拉地区的许多国家纷纷取得独立，它们维护国家主权、振兴民族经济，改变了旧的国际政治经济秩序。100余个新生发展中国家的出现，使世界政治版图、世界格局发生了具有重大意义的变化。

### 殖民体系的瓦解

亚非拉国家长期处于西方列强的殖民统治之下，发展受到严重阻碍。20世纪40年代，亚洲首先掀起民族解放运动的浪潮。朝鲜、中国等国家相继走上社会主义道路，其他国家也先后获得独立。印度作为最大的殖民地国家，它的独立对帝国主义殖民体系产生了巨大冲击。五六十年代，民族独立运动席卷非洲和拉丁美洲，导致了殖民体系的最终瓦解。

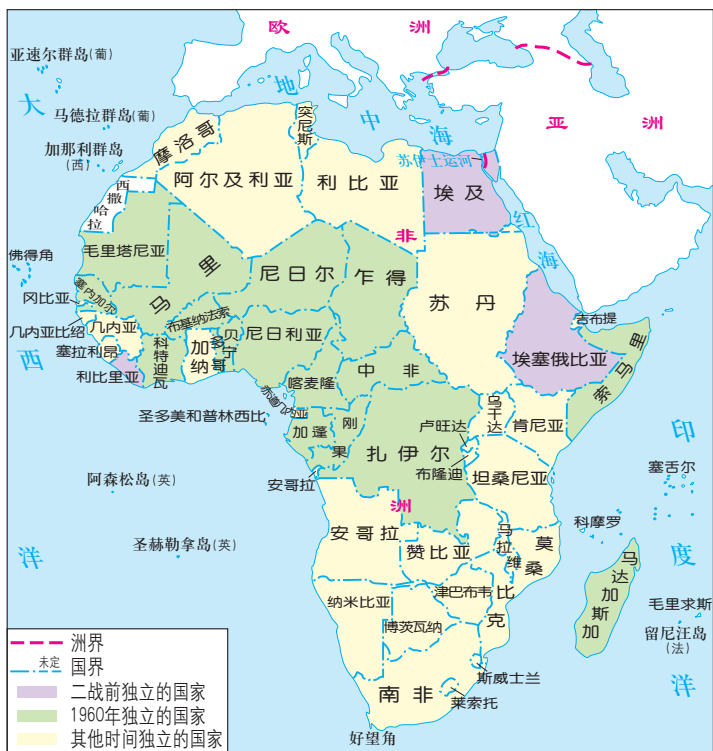
非洲的民族独立和解放运动最先在北非展开。以纳赛尔为首的革命力量，推翻了英国控制的埃及傀儡政权，赢得埃及的真正独立。1956年，埃及宣布将苏伊士运河收归国有，英国和法国的势力彻底退出埃及。



埃及独立后，苏伊士运河仍被英国和法国控制。纳赛尔政府宣布将苏伊士运河收归国有，令英法大为恼怒，遂联合以色列，武力威胁埃及。不久，苏伊士运河战争爆发。在埃及人民的反抗和国际社会的压力下，英法被迫停火，以色列军队也被迫撤退。埃及人民的斗争取得了完全胜利。

图5-24 埃及人民包围英军坦克





此后，整个非洲大陆响起独立的呼声。1960年，有17个非洲国家独立，这一年被称为“非洲年”。非洲人民的独立运动，基本摧毁了英法等国在非洲的殖民统治。1990年纳米比亚的独立，标志着所有非洲国家都摆脱了殖民主义的枷锁。

图5-25 非洲大陆的独立进程  
(截至1990年)

- ① 回顾20世纪初的世界格局，说一说非洲曾遭受哪些国家的殖民统治。
- ① 在地图上找出较早和最后独立的非洲国家。
- ① 指出苏伊士运河的位置，说一说英法控制苏伊士运河的目的是什么。为什么埃及一定要收回苏伊士运河？

第二次世界大战结束时，绝大多数拉丁美洲国家获得独立已经有一百多年，但它们长期受美国、英国的影响和控制。1959年，古巴通过武装斗争，推翻了美国扶植的傀儡政权，走上了社会主义道路。古巴革命的胜利极大地鼓舞了拉丁美洲的民族民主运动。在古巴革命的影响下，巴拿马爆发了多次大规模示威活动，要求收回巴拿马运河区的主权。



### 阅读卡

#### 巴拿马运河

巴拿马运河连接大西洋和太平洋，是一条重要的航运通道。1903年，美国强迫巴拿马签订不平等条约，将运河区变成在巴拿马的“国中之国”，在这里悬挂美国国旗，施行美国法律，建立美国的军事基地。美国付给巴拿马的“租金”仅占其取得的运河船只通行费的1%。

1964年，一名巴拿马学生在运河区升起巴拿马国旗，遭到美军枪杀，引发了巴拿马规模空前的反美浪潮。

经过艰苦的谈判和抗争，1977年，巴拿马与美国签署新的运河条约。条约规定，巴拿马可以逐步参与运河的管理工作，运河区内的海关、邮政、司法等事务由巴拿马负责；1999年12月31日条约期满，巴拿马对运河区拥有主权；等等。自2000年1月1日起，巴拿马正式成为这条国际水道名副其实的主人。



图5-26 今日巴拿马运河

📍 查找地图，说一说巴拿马运河在地理位置上的重要性。据此，谈一谈收回运河区主权对巴拿马的意义。

摆脱殖民枷锁后，新兴的民族独立国家面临维护民族独立、发展民族经济的共同任务。1955年，亚非会议在印度尼西亚的万隆举行。这是独立后的亚非国家第一次在没有西方殖民国家参加的情况下，讨论亚非地区重大问题的国际会议。它表明亚非国家已作为一支新兴的政治力量登上了国际舞台，激励着正在蓬勃发展的民族独立运动。



图5-27 周恩来在亚非会议上发言

为巩固已获得的政治独立，部分亚洲国家和地区振兴、发展民族经济，进行了现代化改革。20世纪六七十年代，一些国家抓住机遇，大力发展劳动密集型产业，迅速转变为新兴的现代化国家。



📍 很多亚非拉国家独立后，经济上并未完全摆脱发达国家的控制，长期面临发展困境。1964年，在第一届联合国贸易和发展会议上，77个发展中国家发表了《七十七国联合宣言》，要求改变不平等的国际经济秩序。七十七国集团后来发展到100多个成员国，它们争取建立平等、公正、合理的国际经济新秩序的斗争，表达了广大发展中国家的现代化追求。

图5-28 七十七国集团会议

## 动荡的中东

中东地区自古以来就是东西方交流的要道。这里曾是世界上古老的两河流域文明、尼罗河流域文明的发祥地，也是犹太教、基督教、伊斯兰教的发源地，耶路撒冷是这三种宗教根据各自的传说尊奉的圣地。历史上，许多民族都曾在此繁衍生息。不同的宗教信仰和文化传统，造就了中东地区文明历程的复杂多样。



图5-29 耶路撒冷



### 阅读卡

#### 中东地区

中东泛指从地中海东岸到伊朗的广大区域以及非洲北部的部分地区。这里战略地位重要，如苏伊士运河沟通了大西洋和印度洋；红海是苏伊士运河的门户，更是苏伊士运河通向印度洋的通道。



图5-30 中东地区示意图

中东大部分地区气候炎热干燥，降水稀少，水资源极其匮乏。为争夺水资源的使用权，中东各国间的冲突不断。这里蕴藏着丰富的石油资源，使其成为政治、经济和军事的敏感地区。在半个多世纪里，中东经常处在战火之中，和平进程举步维艰。



巴勒斯坦问题是影响中东和平的最大问题。它是在漫长的历史过程中逐渐形成的，是阿拉伯国家与以色列矛盾的症结所在。

巴勒斯坦地区位于地中海、死海和约旦河谷之间，面积2万多平方千米，是广大阿拉伯国家的中心，有“中东心脏”之称。这一地区曾是古代犹太人的栖息之地。后因外族征服，犹太人国家灭亡。犹太人背井离乡，流散到世界各地。此后，巴勒斯坦地区逐渐成为阿拉伯人居住地。

第一次世界大战后，英国获得了对巴勒斯坦地区的“委任统治权”。散居在世界各地的犹太人兴起了犹太复国主义运动，并得到英国、美国的大力支持。越来越多的犹太人来到巴勒斯坦地区，他们与当地阿拉伯人在土地、水资源等问题上的矛盾日益加深。



图5-31 1947年犹太人到达巴勒斯坦

为了解决历史遗留问题，1947年，联合国大会通过了关于巴勒斯坦地区实行“分治”、建立一个犹太国家和一个阿拉伯国家的决议。

1948年，犹太人国家以色列国建立，英国宣布结束在巴勒斯坦的“委任统治”。阿拉伯国家抵制以色列国的建立，第一次中东战争爆发。结果，以色列占领了联合国划给巴勒斯坦“阿拉伯国”的大片土地，控制了巴勒斯坦大部分地区，90多万巴勒斯坦阿拉伯人失去家园，沦为难民。

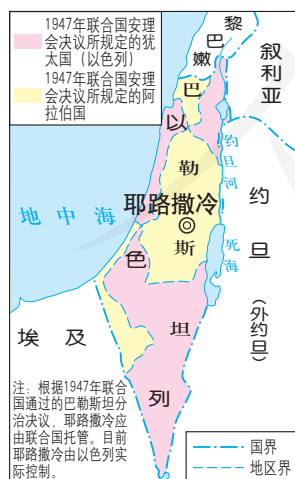


图5-32 联合国大会关于阿以分治的决议划定的巴勒斯坦地区

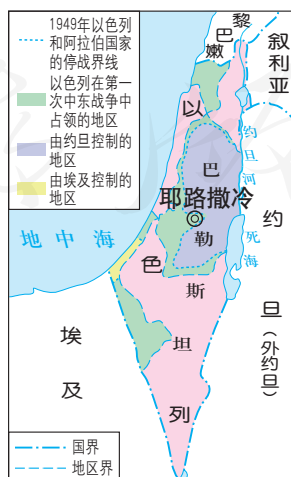


图5-33 第一次中东战争后的巴勒斯坦地区

此后，阿拉伯国家与以色列之间的矛盾激化，又爆发四次战争，中东局势更加动荡不安。20世纪70年代后期，中东和平进程出现转机。此后，阿以各方在联合国安理会有关决议的基础上，基本接受了“土地换和平”的原则。



图5-34 频繁的冲突

1993年，在距巴勒斯坦和以色列第一次交火45年后，双方终于达成共识，决定暂时停火，以和谈方式解决国家之间的争端。但这场和谈持续了7年之久，却未能达成和平协议，最终在2000年9月以一场大规模流血冲突收场。巴以和平进程中断，目前双方仍处于对峙之中。

一直以来，巴以地区暴力冲突不断，局势愈加动荡，引起国际社会的高度关注。中东和平之路虽不平坦，但通过谈判政治解决中东问题的原则已为国际社会普遍接受。

- ③ **资料** 1994年，以色列总理拉宾在接受诺贝尔和平奖时说：“阿拉伯民族和以色列民族都经历了苦难、痛苦和丧失亲人的滋味。……我们面临的是更加困难和更加危险的任务。在华盛顿的一次握手并不能马上使一个世纪以来积累的仇恨烟消云散。鼓敲得再动听，也掩盖不住流血。和平要人们慢慢地、日复一日地、逐步地去建立。”1995年，拉宾在一次集会上被犹太极端分子刺杀身亡。
- ④ 运用地图，从地理位置、自然条件、宗教信仰、国际环境等角度，分析造成巴以冲突的多种因素。
- ⑤ 拉宾的话表明巴以两国在和平之路上的何种期望？拉宾的遇刺又说明了什么问题？

# 综合探究五

## 聚焦文化软实力

世界格局的变化，实际上反映了各国综合国力的消长。人类历史的发展进入现代社会，文化与经济、政治相互交融的特点日益显现，在综合国力竞争中的地位和作用越来越重要。而这种趋势，在第二次世界大战之后表现得尤为明显。因此，我们关注现代社会的历史进程，就不能不探讨文化与综合国力之间的关系——文化的力量深深熔铸在国家的生命力、创造力和凝聚力之中，成为综合国力的重要标志。

### 衡量国力，什么更重要

⑩ **论点1：**粟也者，民之所归也；粟也者，财之所归也；粟也者，地之所归也。粟多，则天下之物尽至矣。故舜一徙成邑，二徙成都，三徙成国。舜非严刑罚重禁令，而民归之矣。去者必害，从者必利也。先王者，善为民除害兴利，故天下之民归之。所谓兴利者，利农事也；所谓除害者，禁害农事也。农事胜则入粟多，入粟多则国富，国富则安乡重家，安乡重家则虽变俗易习、驱众移民，至于杀之，而民不恶也。此务粟之功也。  
——《管子》

⑪ **论点2：**大家都熟知商鞅变法的历史。商鞅认为：“百人农、一人居者，王；十人农、一人居者，强；半农、半居者，危”，“圣人知治国之要，故令民归心于农。”



图5-35 废井田，开阡陌

④ 结合《管子》中的内容，说一说，商鞅判断国势盛衰的根据与其变法的内容有什么关系。





韩国的现代化过程，充分展现了文化在综合国力中的作用。韩国深受儒家文化的影响，已经将儒家文化深深融入本民族文化之中，成为民族文化的一部分。韩国人崇尚教育，将其视为国家发展的基本动力，但在日本的殖民统治下，韩国的文盲率达到了78%。后几经努力，1958年，韩国的文盲率下降到4%。在教育投入上，1984年韩国的教育经费占政府财政总投入的13.3%，1993年达到22.3%，遥遥领先于美国、日本、法国等国家。儒家文化造就的集团意识、忠诚奉献精神、勤勉节俭作风在韩国现代化过程中都发挥了巨大作用。

📌 韩国现代化的成就为我们认识综合国力提供了哪些新的视角？

## 文化软实力面面观

软实力是20世纪80年代出现的一个新概念，通常是指该国传统文化、价值观念、意识形态等文化因素对内发挥的凝聚力、动员力、精神动力和对外产生的渗透力、吸引力和说服力，教育是提高国民素质、增强文化软实力的基础。在当今世界，文化软实力显示出越来越重要的作用。

习近平总书记高度重视我国软实力的提升，指出“提高国家文化软实力，关系‘两个一百年’奋斗目标和中华民族伟大复兴中国梦的实现”“核心价值观是文化软实力的灵魂、文化软实力建设的重点”“中华优秀传统文化是中华民族的突出优势，是我们最深厚的文化软实力”。

- 📌 回顾本单元所学，你认为在各国现代化进程中，有哪些史实能够说明文化软实力起到提升综合国力的作用。
- 📌 在提升我国的综合实力特别是软实力方面，谈谈你的想法。



## 自我测评

1. 根据下列事件发生的时间，制作冷战的年代尺，并说明冷战的突出特点。

马歇尔计划提出	德国分裂	杜鲁门主义出台
华约成立	北约成立	苏联解体

2. 回顾战后各主要资本主义国家的发展情况，写出下列国家或地区经济发展的主要特点。

美国： .....

日本： .....

欧洲： .....

3. 回顾罗斯福新政中的社会保障措施，说一说第二次世界大战后西方发达国家的社会福利有哪些新的特点。

4. 以德国为例，分析其分裂与统一的多种因素，进而说明第二次世界大战后世界格局的变化。

分裂的时间： ..... 原因： .....

统一的时间： ..... 原因： .....

5. 结合最新的媒体报道，看一看哪些中东国家出现的频率比较高，因何事被报道。根据已学知识，从地理位置、自然条件、文化传统、民族宗教等方面着手，探讨造成这一地区长期动荡不安的多种因素。

人教版®

## 第六单元

# 中国社会主义建设的探索 与改革开放的起步

建立中国共产党、成立中华人民共和国、推进改革开放和中国特色社会主义事业，是近代以来实现中华民族伟大复兴的三大里程碑。

新中国成立后，巩固人民民主政权，建立社会主义基本制度，推进社会主义建设，完成了中华民族有史以来最为广泛而深刻的社会变革，为当代中国一切发展进步奠定了根本政治前提和制度基础。社会主义中国在艰辛探索中曲折前行，实现了中华民族从“东亚病夫”到站起来的伟大飞跃。这一伟大飞跃的事实证明，只有社会主义才能救中国。

进入改革开放和社会主义现代化建设新时期，开创中国特色社会主义的伟大实践，使中国大踏步赶上了时代。改革开放作为决定当代中国命运的关键抉择，使中国人民的面貌、社会主义中国的面貌发生了前所未有的变化，实现了中华民族从站起来到富起来的伟大飞跃。这一伟大飞跃的事实证明，只有中国特色社会主义才能发展中国。

实现中华民族伟大复兴，是一场接力跑，我们要一棒接着一棒跑下去，每一代人都要为下一代人跑出一个好成绩。





# 第一课

## 新生政权的巩固 与社会主义制度的建立

中华人民共和国成立时，面临着严峻的内外形势。中国共产党领导中国人民进行抗美援朝战争，开展土地改革运动，巩固新生的人民政权，实施第一个五年计划，确立人民代表大会制度，进行社会主义改造。1956年，社会主义改造完成，社会主义基本制度建立起来，我国开始进入社会主义初级阶段。

### 巩固新生政权

1950年6月，朝鲜内战爆发。美国出兵进行武装干涉，发动对朝鲜的全面战争。以美军为主的“联合国军”不顾中国的警告，越过“三八线”，战火一直烧到中朝边境的鸭绿江边；美军飞机入侵中国领空，轰炸扫射中国东北边境城市；美国第七舰队入侵中国台湾海峡，阻止人民解放军解放台湾。美国的侵略活动严重威胁中国的安全。对此，中国政府庄严宣布：“中国人民热爱和平，但是为了保卫和平，从不也永不害怕反抗侵略战争。中国人民决不能容忍外国的侵略，也不能听任帝国主义者对自己的邻人肆行侵略而置之不理。”

为了保家卫国，应朝鲜民主主义人民共和国的请求，1950年10月，根据中央决定，以彭德怀为司令员的中国人民志愿军开赴朝鲜前线，同朝鲜军民一起抗击美国侵略者。

美国根本没有料到中国会出兵参战。“联合国军”总司令麦克阿瑟扬言要在两个星期内结束朝鲜战争。中国人民志愿军同朝鲜军民并肩作战，连续发动五次大规模战役，把侵略军赶回到“三八线”附近。



图6-1 中国人民志愿军跨过鸭绿江



图6-2 上甘岭战役

1952年10月，“联合国军”发动了上甘岭战役。在面积不足4平方千米的土地上，猛烈的炮火攻击使山头几乎被削低2米。志愿军依托坑道工事，不断反击，牢牢地坚守阵地。志愿军战士黄继光在冲向敌人中心火力点时，手榴弹用尽且身体多处负伤。危急关头，他用胸膛堵住了敌人的机枪射口，为后续反击部队的冲锋开辟了道路，而他却英勇牺牲。

中国人民志愿军在抗美援朝战争中，发扬高度的爱国主义、革命英雄主义和国际主义精神，被誉为“最可爱的人”。由于他们和朝鲜军民的英勇战斗，1953年7月，美国被迫在停战协定上签字，中朝人民取得反侵略战争的胜利。抗美援朝战争的胜利，为我国的经济建设赢得一个相对稳定的和平环境，进一步巩固了新生政权，大大提高了我国的国际地位。



图6-3 朝鲜战争的作战双方在板门店签署停战协定的场景

新中国成立后，新解放区尚未进行土地改革。地主人均占有耕地为贫雇农的二三十倍，农村存在着大量无地和少地的农民。这种状况严重阻碍农村经济和中国社会的发展。广大农民迫切要求进行土地改革，获得土地。

1950年，中央人民政府颁布《中华人民共和国土地改革法》，在新解放区分批分期陆续进行土地改革。它规定废除地主阶级封建剥削的土地所有制，实行农民的土地所有制。具体做法是：没收地主的土地，分给无地或少地的农民耕种；同时也分给地主一份，让他们自己耕种，在劳动中改造自己。到1952年底，除一部分民族地区外，土地改革在全国大陆基本完成。约3亿无地或少地农民分到了约7亿亩土地和大量农具、牲畜、房屋等；农民再也不用向地主缴纳地租。



图6-4 向农民宣传土地改革法



图6-5 农民丈量分配土地

土地改革的完成，彻底废除了中国延续2 000多年的封建土地所有制，消灭了地主阶级。农民翻了身，得到了土地，成为土地的主人。这使得人民政权更加巩固，也大大解放了农村的生产力。农业生产获得迅速恢复和发展，为国家的工业化建设准备了条件。

## 社会主义制度的确立

中华人民共和国成立初期，面对我国缺乏大机器制造业和现代技术装备的状况，毛泽东感慨地说：“现在我们能造什么？能造桌子椅子，能造茶壶茶碗，能种粮食，还能磨成面粉，还能造纸，但是，一辆汽车、一架飞机、一辆坦克、一辆拖拉机都不能造。”新中国的大规模经济建设，就是在这样的基础上起步的。

为了有计划地进行社会主义建设，我国政府编制了发展国民经济的第一个五年计划。它的基本任务是：集中主要力量发展重工业，建立国家工业化和国防现代化的初步基础；相应地发展交通运输业、轻工业、农业和商业；相应地培养建设人才；等等。第一个五年计划从1953年开始执行。

第一个五年计划期间，我国以苏联帮助兴建的156个项目为中心，先后施工一万多个工业项目。钢铁、煤炭、电力、机械制造等各个领域快速发展。在各行各业劳动者苦干实干的辛勤劳动下，到1957年底，第一个五年计划的绝大部分指标大幅度超额完成，特别是工业和交通运输业喜报频传。同时，以苏联援建的工业项目为中心，我国工业布局得到改善。从此，我国开始改变工业落后的面貌，向社会主义工业化迈进。

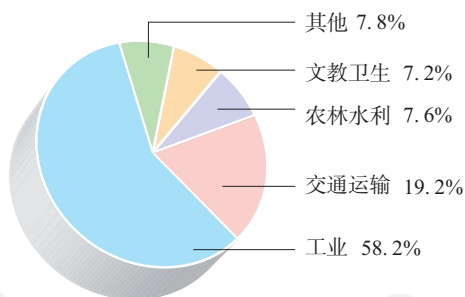


图6-6 “一五”计划国家基本建设投资分配



鞍山钢铁公司“三大工程”——大型轧钢厂、无缝钢管厂和七号炼铁炉的建设最受人们的关注。1953年底，“三大工程”相继竣工。



中国汽车工业的摇篮——第一汽车制造厂在长春兴建。1956年7月，从总装备线上开出了第一辆国产解放牌汽车，就此结束了中国不能制造汽车的历史。



川藏公路、青藏公路、新藏公路的修建，密切了西南、西北广大地区同全国各地的联系。



1957年，“一桥飞架南北，天堑变通途”。长江上第一座铁路公路两用大桥——武汉长江大桥建成通车。



中国制造的第一批喷气式歼击机

图6-7“一五”期间建设成就示意图

- ④ 联系巩固新生政权的相关内容，想一想，“一五”计划是在什么样的背景下展开的。
- ④ 结合图表和示意图，说一说“一五”计划的建设成就主要表现在哪些方面。
- ④ 你认为“一五”计划完成后，毛泽东曾感慨的问题解决了吗？试举例说明。



随着经济建设的发展，我国的民主政治建设也加紧进行。在全国人民普选的基础上，1954年9月，第一届全国人民代表大会第一次会议在北京召开。全国人民代表聚集一堂，共商国是。大会通过了《中华人民共和国宪法》。这是我国第一部社会主义类型的宪法，也是我国有史以来真正反映人民利益的宪法。宪法规定，中华人民共和国全国人民代表大会是最高国家权力机关。这就以国家根本法的形式确定了人民代表大会制度。



图6-8 人民代表步入第一届全国人民代表大会第一次会议会场



图6-9 《中华人民共和国宪法》精装本封面和表决票样

大会选举毛泽东为中华人民共和国主席，朱德为副主席，刘少奇为第一届全国人民代表大会常务委员会委员长；决定周恩来为国务院总理。

全国人民代表大会的召开，标志着人民代表大会制度的确立。人民代表大会制度是我国的根本政治制度，为社会主义民主政治建设奠定了基础。

**资料** “中华人民共和国的一切权力属于人民。人民行使权力的机关是全国人民代表大会和地方各级人民代表大会。”“全国人民代表大会、地方各级人民代表大会和其他国家机关，一律实行民主集中制。”“中华人民共和国全国人民代表大会是最高国家权力机关。”  
——《中华人民共和国宪法》（1954年）

**结合材料，谈谈你对人民代表大会制度的认识。**

土地改革以后，农民分到了土地，农业生产得到恢复和发展。但是，我国的农业仍然是一家一户分散经营的。当时农民普遍缺乏生产工具、资金，一家一户难以解决水利问题，难以抵御自然灾害，不能合理使用耕地，也不能使用先进的机械化农具。这就影响到农业生产的发展，农产品满足不了国家工业化建设的需要。农民也有进行互助合作的要求。为此，国家对农业进行社会主义改造，主要是把分散的个体农民组织起来，引导他们参加农业生产合作社，走集体化和共同富裕的社会主义道路。

农业合作化的优越性，促使农民踊跃参加合作社。农业合作化开始时实行自愿互利的原则，通过典型示范逐步推广。它经历了由农业互助组、初级农业生产合作社到高级农业生产合作社三个阶段。1955年，全国掀起农业合作化的高潮。第二年，全国绝大多数农户参加了农业生产合作社。



图6-10 农业生产合作社的社员在劳动

农业合作化运动，推动了手工业的社会主义改造。1956年，90%以上的个体手工业者参加了手工业生产合作社。

1954年，国家还通过公私合营的方式，逐步对资本主义工商业进行社会主义改造。在改造过程中，国家对资本家占有的生产资料实行赎买政策，即按全行业公私合营时资本家的资本发给定息。这种赎买政策，实现了和平过渡，是中国社会主义改造的创举。

到1956年底，国家基本上完成了对农业、手工业和资本主义工商业的社会主义改造，实现了生产资料私有制向社会主义公有制的转变。社会主义基本制度在我国建立起来。这是中国历史上最深刻的社会变革。我国从此进入社会主义初级阶段。但在社会主义改造工作的后期，也存在着要求过急、工作过粗、改变过快等缺点。



图6-11 上海市信大祥绸布商店庆祝公私合营

# 第二课

## 艰辛探索与建设成就

社会主义基本制度的建立，是中国历史上的大事，也是中国人民多年以来的追求。面对前所未有的社会主义建设事业，中国共产党领导中国人民开始了艰辛探索，取得了一系列巨大成就，但在探索过程中也出现了曲折和失误。

1956年9月，中国共产党在北京召开第八次全国代表大会。根据社会主义基本制度已经在我国建立起来的新形势，大会分析了当时国内的主要矛盾，指出党和人民的主要任务是集中力量把我国尽快地从落后的农业国变为先进的工业国。中共八大以后，中国开始全面的大规模的社会主义建设。



图6-12 中共八大会场

我们国内的主要矛盾，已经是人民对于建立先进的工业国的要求同落后的农业国的现实之间的矛盾，已经是人民对于经济文化迅速发展的需要同当前经济文化不能满足人民需要的状况之间的矛盾。

——《中国共产党第八次全国代表大会关于政治报告的决议》

1958年，中共八大二次会议提出“鼓足干劲、力争上游、多快好省地建设社会主义”的总路线。接着，全国掀起了“大跃进”的高潮和人民公社化运动。“大跃进”和人民公社化运动反映了人民群众迫切要求改变我国经济落后状况的愿望，但急于求成，忽视了客观的经济规律。加上当时自然灾害严重等因素，1959年至1961年，我国的国民经济发生严重困难。

为扭转困难局面，中共中央开始调整国民经济，提出了“调整、巩固、充实、提高”的方针，于1961年初开始实施。到1965年，国民经济调整的任务基本完成，工农业生产得到恢复和发展，呈现出物价稳定、市场繁荣的新面貌。



图6-13 “七千人大会”期间，毛泽东、刘少奇、周恩来、朱德、陈云、邓小平在一起

- ▲ 1962年1月11日至2月7日，中共中央在北京召开扩大的中央工作会议，参加会议的共有7 118人。这次会议通常被称为“七千人大会”，是中国共产党成立以来举行的规模最大的一次工作会议。“七千人大会”比较系统地初步总结了“大跃进”以来经济建设工作的基本经验教训。会议对待缺点和错误比较实事求是的态度，以及发扬民主和自我批评的精神，给全党以鼓舞，增强了全党团结奋斗、战胜困难的信心。这次大会对推动国民经济全面调整起到了积极作用。



20世纪60年代中期，毛泽东认为党和国家面临着资本主义复辟的危险。为此，他强调“以阶级斗争为纲”，想通过发动“文化大革命”来防止资本主义复辟。1966年夏，“文化大革命”全面发动起来。

陈伯达、江青、康生、张春桥等人组成的中央文革小组，成为“文化大革命”的实际指挥部。他们趁机煽动“打倒一切，全面内战”，许多地方出现造反派组织打、砸、抢事件，学校停课、工厂停工“闹革命”。一些党政机关受到冲击，大批各级领导干部和知识分子遭到批判和揪斗，民主与法制受到践踏，社会和生产秩序陷于混乱。国家主席刘少奇被诬蔑为“叛徒、内奸、工贼”，遭受了残酷迫害，成为“文化大革命”中最大的冤案。

全国动乱局面引起老一辈革命家的严重忧虑和愤怒。他们对江青等人的倒行逆施进行针锋相对的斗争，但遭到了压制和打击。在极端困难的条件下，周恩来和许多干部坚持党和国家的日常工作，尽量减少“文化大革命”造成的损失。

“文化大革命”开始后，在林彪周围形成了一个反革命集团，阴谋策动反革命政变，夺取最高权力。毛泽东、周恩来机智地粉碎了他们的阴谋。1971年9月13日，林彪等人慌忙外逃，在蒙古人民共和国温都尔汗机毁人亡，这就是“九一三事件”。林彪反革命集团被粉碎。

“文化大革命”中，江青、王洪文、张春桥、姚文元等人逐渐勾结起来，进行篡党夺权的阴谋活动。毛泽东多次批评他们，说他们是“四人帮”。1976年9月，毛泽东与世长辞，全国人民无限悲痛。江青反革命集团加紧夺取党和国家最高领导权的阴谋活动。10月，华国锋、叶剑英等代表中央采取断然措施，将“四人帮”隔离审查，一举粉碎江青反革命集团，结束了长达十年之久的“文化大革命”。



#### 阅读卡

#### 四五运动

1976年周恩来逝世后，上百万群众来到天安门广场，悼念周恩来，声讨“四人帮”。4月5日，活动遭到“四人帮”的镇压。这就是“四五运动”。这场运动为后来粉碎“四人帮”奠定了群众基础。

实践证明，“文化大革命”不是任何意义上的革命或社会进步，而是一场由领导者错误发动，被反革命集团利用，给党、国家和各族人民带来严重灾难的内乱。它的发动，有复杂的社会历史原因。社会主义国家的历史很短，我们党对什么是社会主义、怎样建设社会主义没有完全搞清楚，因而在探索中走了弯路。人世间没有一帆风顺的事业，世界历史总是在跌宕起伏的曲折过程中前进的。



图6-14 庆祝粉碎“四人帮”

- ④ 从经济、社会、教育文化等方面，了解“文化大革命”的危害，并分析它对我国现代化进程的影响。

全面的社会主义建设事业开始后，中国人民在中国共产党的领导下，以高昂的热情投入社会主义建设事业，艰苦奋斗，克服了重重困难，取得了巨大成就。

工业生产能力和技术水平大大提高，建成一大批大中型项目。武汉、包头两大钢铁基地，大庆油田、胜利油田和大港油田，都是这个时期建设起来的。到1965年，我国实现了原油和石油产品的全部自给。工业布局有了明显改善，原有的沿海工业基地得到加强，广大内地也新建了不同规模的现代工业。新兴的电子工业、原子能工业、航天工业从无到有地发展起来。交通方面，修建了兰新、兰青、包兰等铁路。水利建设也取得很大成绩。我国首先完成了人工合成结晶牛胰岛素，这在世界上居于领先地位。同时，国防尖端技术取得了巨大进展。我国初步形成了独立的、比较完整的工业体系和国民经济体系，为现代化建设打下了坚实的物质基础。

在“文化大革命”期间，我国国民经济出现较大起伏，但在党和人民的共同努力下，农业、工业交通、基本建设和科学技术等方面在艰难中仍然取得重要进展。在科技方面，1967年6月，我国成功爆炸了第一颗氢弹；1970年4月，我国成功发射了第一颗人造地球卫星；1973年，我国在世界上首次培育成功强优势的籼型杂交水稻。当然，这一切决不是“文化大革命”的成果，如果没有“文化大革命”，社会主义建设事业会取得大得多的成就。

# 第三课 改革开放的起步

中共十一届三中全会的召开，使中国进入改革开放和社会主义现代化建设的新时期。从那时起，从农村到城市，全面改革的进程势不可当地展开了，从沿海到内地，对外开放的大门毅然决然地打开了。

## 伟大的历史性转折

“文化大革命”结束后，国家的政治生活、经济发展、教育文化等各个领域的问题堆积如山，人们的思想也比较混乱。拨乱反正的任务非常艰巨。

1977年2月，《人民日报》《红旗》杂志和《解放军报》发表社论，公开提出“凡是毛主席作出的决策，我们都坚决维护，凡是毛主席的指示，我们始终不渝地遵循”的方针。这一方针后来被称为“两个凡是”，它的推行引起强烈不满。

1978年5月，一篇名为《实践是检验真理的唯一标准》的文章发表。文章重申了社会实践是检验真理的唯一标准，从理论上根本否定了“两个凡是”。围绕真理标准问题，全社会展开了一场大讨论。这是一场深刻的思想解放运动。它使人们认识到，只有实践才是检验真理的唯一标准。

在历史的转折关头，人们急切地期待走出一条新的社会主义发展道路。




图6-15《光明日报》发表的《实践是检验真理的唯一标准》



③ **资料1** 20世纪70年代初，劳动生产率增长的各种因素中，科学技术的贡献率在美国高达72%，在苏联达到66.7%。美国的科研人员有120万，苏联有90万，中国只有20多万。



图6-16 邓小平参观日本的汽车公司

④ **资料2** 1978年10月，邓小平访问日本。在一家汽车公司，他了解到这里每个工人每年能生产94辆汽车，而我国最先进的汽车制造厂，每个工人每年只能生产1辆汽车。在观看自动化程度先进的机器人焊接生产线时，邓小平感慨地说：“我懂得什么是现代化了。”

⑤ 根据资料，联系战后各国的发展历程，谈一谈中国在社会主义现代化进程中面临的一些问题。

1978年12月，中共十一届三中全会在北京召开。全会以邓小平的《解放思想，实事求是，团结一致向前看》重要讲话为指导，决定停止使用“以阶级斗争为纲”的错误口号，作出把党和国家工作重心转移到经济建设上来、实行改革开放的历史性决策。



图6-17 中共十一届三中全会会场



图6-18 邓小平在中共十一届三中全会上

中共十一届三中全会是新中国成立以来党的历史上具有深远意义的伟大转折，开启了改革开放和社会主义现代化建设新时期。这次会议实际上形成了以邓小平为核心的党的第二代中央领导集体。中共十一届三中全会以后，中国共产党在思想、政治、组织等方面进行全面拨乱反正。

⑥ 有人将中共十一届三中全会称为“新时期的遵义会议”。请你归纳一下，全会从哪几个方面实现了历史性转变。





图6-19 刘少奇追悼大会

伴随着思想解放的巨大潮流，平反冤假错案的工作在全国全面展开。“文化大革命”中受到迫害的各级党、政、军机关于部陆续得到平反，受到打击、诬陷或迫害的民主人士和知识分子等也恢复了名誉。1980年，中共中央决定撤销“文化大革命”中强加给刘少奇的种种罪名，恢复其名誉，使中华人民共和国成立以来最大的冤案得到平反。1981年，中共十一届六中全会召开，通过了《中国共产党中央委员会关于建国以来党的若干历史问题的决议》，标志着中国共产党在指导思想上的拨乱反正胜利完成。

## 改革开放的推进

中共十一届三中全会后，改革的浪潮首先从农村掀起。农村改革的主要做法，就是实行以包干到户等为主要形式的家庭联产承包责任制。这种形式的家庭联产承包责任制，最初为安徽省凤阳县小岗村等地的农民采用，被称为“中国农民的伟大创造”。

1978年，安徽省遭遇大旱，粮食减产严重。安徽省委决定把土地借给农民耕种，以渡难关。年底，凤阳县小岗村18户农民冒着风险悄悄搞起了“大包干”。



图6-20 “大包干”带头人合影

**资料** 小岗村曾是个“吃粮靠返销，花钱靠救济，生产靠贷款”的“三靠村”，很多生产队由队长带头，拿着盖上公章的介绍信，打起凤阳花鼓，集体外出乞讨。“大包干”后，第一个秋收就比上年增产6倍多，农民获得了粮食、油料大丰收，并首次向国家缴纳公粮，还了贷款。

想一想，小岗村农民实行“大包干”的原因有哪些，小岗村的变化又说明了什么。



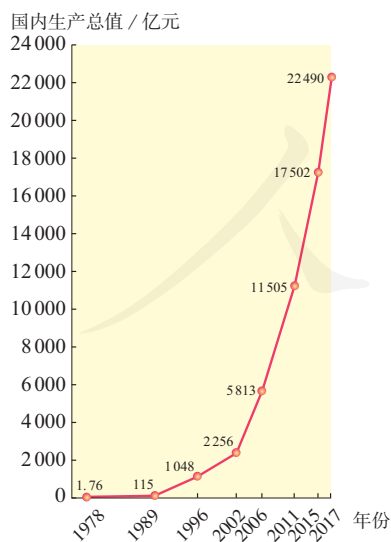
图6-21 获得丰收的小岗村农民踊跃缴纳公粮

在中央的支持和倡导下，家庭联产承包责任制逐步在全国推开，到1983年，已基本在全国农村普遍实行。家庭联产承包责任制激发了农民的劳动热情，带来农村生产力的大解放，农业生产和农民收入均有很大提高。随着农业生产向专业化、商品化、社会化发展，农村乡镇企业也迅速发展起来，为农民致富和实现现代化开辟了一条新路。

对外开放首先从沿海地区推行。1980年，我国在广东的深圳、珠海、汕头和福建的厦门设立经济特区。它们通过国家给予的优惠经济政策，以多种形式吸收外国资本，学习国外的先进技术和经营管理方法，扩大对外经济交流，打开了对外开放的窗口。



图6-22 深圳新貌



深圳作为最早的经济特区，是我国对外开放的“试验田”。特区的设立，吸引了全国各地的人们来这里创业。短短几年时间，深圳就从昔日的边陲小镇快速发展成一座现代化城市，外国人惊呼深圳是“一夜崛起之城”。深圳的发展，是对外开放的缩影。

观察左图，说一说改革开放以来，深圳市的国内生产总值从不足2亿元到突破100亿元，从100亿元到突破1 000亿元，从1 000亿元到2 000亿元、5 000亿元、11 000亿元、17 000亿元和22 000亿元各用了几年时间。

讨论一下，这些变化说明了什么问题。

图6-23 1978—2017年深圳的国内生产总值

1984年，中国进一步开放了大连、天津、青岛、上海、福州、广州等14个沿海港口城市。1985年，中国又把长江三角洲、珠江三角洲和闽南三角地区开辟为沿海经济开放区，随后将经济开放区扩展到辽东半岛、山东半岛及其他沿海地区的一些市县。1988年，建立海南经济特区。1990年，上海浦东开发区也建立起来。

目前，我国对外开放已从沿海地区向内地发展，逐渐形成了“经济特区—沿海开放城市—沿海经济开放区—内地”这样一个全方位、多层次、宽领域的对外开放格局。

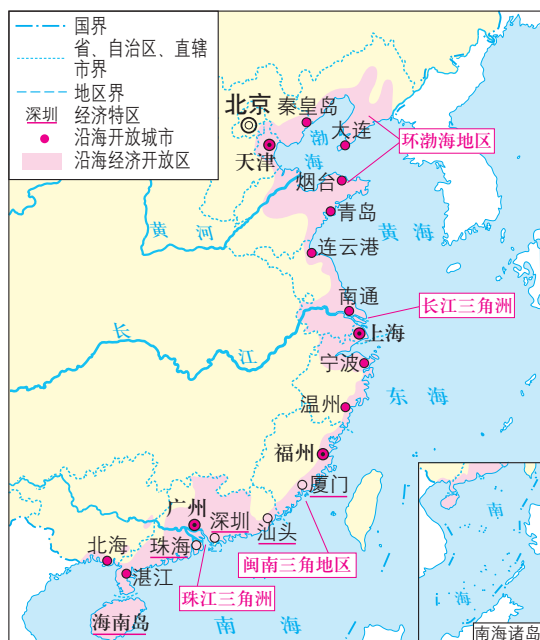


图6-24 早期对外开放地区示意图



图6-25 上海浦东

20世纪80年代，位于上海黄浦江东岸的浦东大部分地区还是阡陌纵横的田野。上海人中流传着“宁要浦西一张床，不要浦东一间房”的说法。1990年宣布开发浦东后，这里迅速崛起。浦东开发带动了上海以及长江三角洲和整个长江流域经济的新飞跃，是20世纪90年代改革开放取得显著成就的重要标志。

- 位于我国东南沿海的广东、福建两省是对外开放的前沿阵地。这里是重要的侨乡，毗邻香港、澳门，与台湾隔海相望，历史上一直有对外经济交往的传统，实行对外开放、加快经济发展步伐有着得天独厚的条件。
- 观察地图，结合经济特区的设立，说一说早期对外开放城市在地理位置上的特点。想一想，为什么要从沿海地区开始实行对外开放。

1984年，中共十二届三中全会通过了《中共中央关于经济体制改革的决定》（以下简称《决定》）。《决定》突破把计划经济同商品经济对立起来的传统观念，确认我国的社会主义经济是“公有制基础上的有计划的商品经济”，我国的改革是社会主义制度的自我完善和发展。这次全会后，我国迈出了经济体制改革由农村转向城市的关键性一步，以城市为重点的经济改革全面展开。



# 第四课

## 民族区域自治地方的发展

新中国的成立，实现了各民族一律平等。民族区域自治地方的发展，见证了国内各民族的共同繁荣、空前团结。各族人民在平等团结互助和谐的关系中共同发展。

我国是一个统一的多民族国家，居住着56个民族。其中，汉族人口最多，约占全国人口总数的91.1%；另外55个民族人口较少，约占全国人口总数的8.9%，一般称为“少数民族”。在长期的历史发展中，各民族在政治、经济、文化上形成了相互依存、不可分离的关系。

根据我国民族问题的历史特点和现实情况，中国共产党将民族区域自治制度确立为解决我国民族问题的基本政策。民族区域自治制度是在国家统一领导下，各少数民族聚居的地方实行区域自治，设立自治机关，行使自治权的制度。

民族区域自治制度是我国的一项基本政治制度。1949年通过的《中国人民政治协商会议共同纲领》，将实行民族区域自治作为一项基本政治制度确定下来。后来，民族区域自治制度被载入宪法。1984年，《中华人民共和国民族区域自治法》颁布实施。



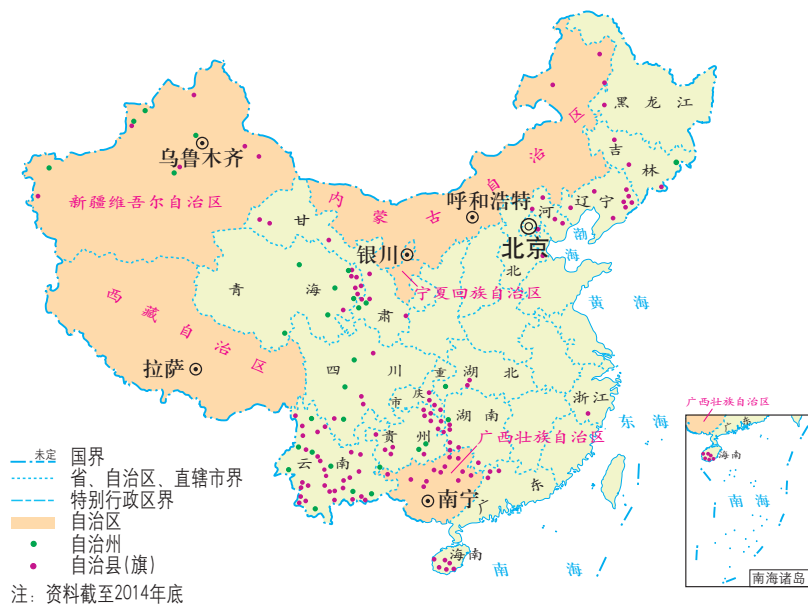


图 6-26 民族区域自治示意图

- ▲ 1947年5月，中国第一个自治区——内蒙古自治区诞生。从此，民族区域自治这个解决民族问题的“中国模式”，开始在中华大地普遍实施。如今，全国已建立了5个自治区、30个自治州、100多个自治县（旗）。
- ⬆ 说一说，我国的少数民族主要集中在哪些地区，有哪几级民族自治地方。
- ⬆ 想一想，在中国这样一个地域辽阔、民族众多的国家，实行民族区域自治制度具有怎样的意义。

实行民族区域自治，从制度和政策层面保障了少数民族公民享有平等自由权利以及经济、社会、文化权利。这对维护民族团结、巩固祖国统一和促进民族地区发展具有重大意义，为实现各民族共同发展、共同富裕奠定了基础。

新中国成立前，由于历史和地理的原因，我国各民族发展很不平衡，很多少数民族的生产力水平落后。新中国成立后，党和政府在民族地区因地制宜，进行一系列的民主改革和社会主义改造，废除了剥削和压迫，各族人民翻身做主人，迈进了社会主义社会。



### 阅读卡

#### 西藏地区的民主改革

民族区域自治制度的确立，使各族人民平等地享受着同样的政治权利。1959年，中央人民政府开始在西藏地区进行民主改革，废除政教合一的封建农奴制度，解放了百万农奴和奴隶，建立人民民主政权。民主改革使西藏人民在政治、经济和社会等各方面获得了解放，西藏的社会面貌焕然一新。

国家实行各民族共同发展的政策，民族地区实现了跨越式发展。随着这些地区经济的发展，各少数民族人民的生活水平和文化水平都有很大提高。国家还不断推出各种扶持政策和优惠措施，各省市、各部门也提供无私援助，促进各民族共同繁荣发展。各民族也根据本民族地区的实际情况，发挥自身优势，发展经济，取得了很大成就。民族地区经济有了长足发展，已经成为我国国民经济的重要组成部分。

民族自治地方经济发展概况

年份	农业总产值 (亿元)	工业总产值 (亿元)
1952年	46.5	11.4
1978年	155.6	212.1
2016年	17 646.0	70 362.9



图6-27 在广西南宁举行的中国—东盟博览会

从20世纪90年代初的沿边开放战略，到边境贸易促进政策，以及“十二五”时期的“兴边富民”行动规划，曾经的边远地区正逐步发展成如今的开放前沿。广西壮族自治区这个全国唯一的沿海、沿边、沿江自治区，已成为中国与东盟合作的前沿地带。

各少数民族丰富多彩的文化是辉煌灿烂的中华文明的组成部分。水族水书、蒙古族长调民歌等都是前人留下的宝贵遗产。国家重视少数民族文化的保护与发展，尊重少数民族的宗教信仰和风俗习惯，保护少数民族的历史文化遗产。国家还有组织、有计划地开展了少数民族古籍文献的搜集、整理和出版工作，取得了很大成绩。这些措施对少数民族文化的传承和发展具有重要意义。



图6-28 维吾尔族人民表演木卡姆

20世纪末，中央决定进行西部大开发。西部大开发战略覆盖了5个自治区、27个自治州和83个自治县，还有3个自治州参照享受西部大开发优惠政策。西部大开发为民族地区的加快发展创造了巨大的历史机遇。西部大开发以来，在基础设施、科技教育和文化卫生事业等方面建设了一大批项目，极大地带动了民族地区的经济社会发展。2006年，青藏铁路全线通车，大大加强了祖国内地与边疆地区的联系，促进了青海、西藏地区的经济社会发展。

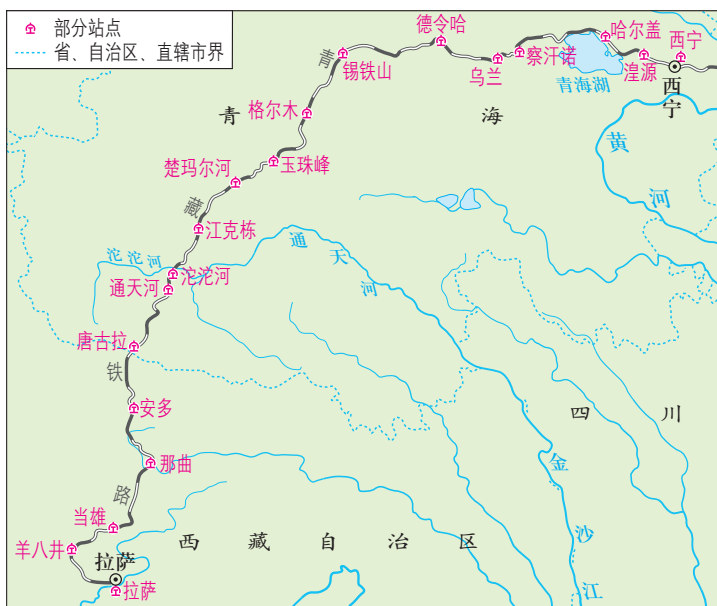


图6-29 青藏铁路线路图

① 结合以上描述，从多个角度归纳民族区域自治地方的发展。此外，你还能举出哪些方面的实例？

在中华民族大家庭中，各民族交往交流交融，汉族离不开少数民族，少数民族离不开汉族，各少数民族之间也互相离不开。无论遇到多少困难和风险，民族区域自治制度都是民族平等与民族和谐的保证，促进各民族共同团结奋斗、共同繁荣发展。

③ 资料 云南省是我国自治州、自治县最多的省份。早在西双版纳傣族自治州筹建的时候，傣族、佤族、拉祜族、哈尼族等少数民族代表就用朴实的语言表达了民族团结的愿望：“我们要像糯米粑粑一样团结得不可分开。”……

- ④ 根据资料和自己在生活中的感受，说一说各族人民是如何团结、和睦相处的。
- ⑤ 联系中国历史上各民族交往交流的史实，谈谈你对铸牢中华民族共同体意识的认识。

# 第五课

## “一国两制”与统一大业

台湾问题、香港问题和澳门问题，是历史遗留问题。为了实现祖国的统一大业，在邓小平的倡导下，我国政府逐步确立了“和平统一、一国两制”的基本方针。“一国两制”最早是针对解决台湾问题提出的，但首先运用于解决香港、澳门问题的实践中。港澳相继回归祖国与回归后的繁荣稳定，不仅丰富了“一国两制”的实践，也对解决台湾问题产生了积极影响。解决台湾问题，实现祖国完全统一，是不可阻挡的历史进程。



图6-30 邓小平会见撒切尔夫人

维护国家主权和领土完整，实现祖国完全统一，是全体中华儿女共同愿望，是中华民族根本利益所在。20世纪80年代前后，推进祖国的完全统一提上议事日程。邓小平从维护祖国和中华民族根本利益出发，创造性地提出“一国两制”的伟大构想，即在祖国统一的前提下，国家的主体坚持

社会主义制度，同时在台湾、香港、澳门保持原有的资本主义制度和生活方式长期不变，享有高度的自治权。

“一国两制”构想的提出，为香港和澳门回归祖国开辟了途径。1984年，经过数轮谈判，中英两国政府签署关于香港问题的联合声明，明确中国政府将于1997年7月1日对香港恢复行使主权。1987年，中葡两国政府签署关于澳门问题的联合声明，明确中国政府将于1999年12月20日对澳门恢复行使主权。



图6-31 中英香港政权交接仪式



图6-32 中葡澳门政权交接仪式



香港、澳门相继回归祖国，标志着中国人民洗雪国耻，在完成祖国统一大业的道路上迈出了重要一步。

在“一国两制”“港人治港”“澳人治澳”、高度自治的方针下，回归后的香港、澳门走上了同内地优势互补、共同发展的道路。2006年，我国国民经济和社会发展的“十一五规划”首次把香港、澳门纳入国家发展的蓝图。今天的香港、澳门，经济更加繁荣，民主有序发展，民众安居乐业，社会保持稳定，呈现出一派欣欣向荣的景象。

⑩ **资料1** 香港、澳门回归后发生了许多变化。但是，走在街头，似乎又都没有改变。有人说，改变，意味着进步与成长；不变，则是对历史与现实的尊重。

⑪ **资料2** 在香港和澳门，很多人都经历了这样一个情感历程：回归前，他们“背靠世界，面向内地”；回归后，他们“背靠内地，面向国际”。

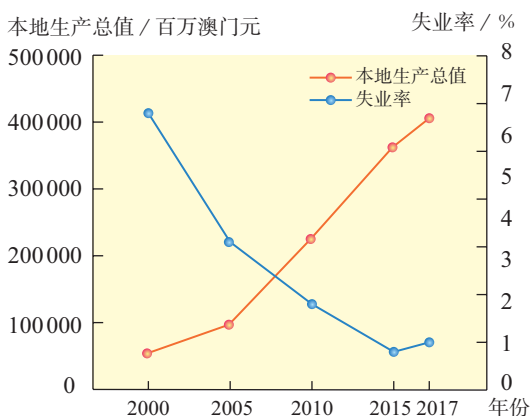


图6-33 澳门回归后的部分经济指标

⑫ 结合以上资料，谈一谈你对香港和澳门“变”与“不变”的看法。

台湾是我国领土不可分割的一部分。1949年以来，中国共产党、中国政府、中国人民始终把解决台湾问题、实现祖国完全统一作为矢志不渝的历史任务。改革开放以后，党和政府确立了和平统一祖国的大政方针。不久，在邓小平提出“一国两制”科学构想的基础上，形成了“和平统一、一国两制”的对台基本方针，并采取了一系列措施，推动台海形势从紧张对峙走向缓和改善、进而走上和平发展道路，两岸关系不断取得突破性进展。



图6-34 两岸在农业领域的交流

⑬ 自1987年开始，两岸经济、贸易、文化交往日益频繁。海峡两岸同胞近40年的隔绝状态终于被打破，两岸关系发生了历史性的变化。

20世纪90年代初，台湾和祖国大陆分别成立民间团体——海峡交流基金会和海峡两岸关系协会。两岸授权这两个民间团体开始进行经济性、事务性商谈和政治对话。1992年11月，两会就如何表述坚持一个中国原则的问题，达成“海峡两岸同属一个中国，共同努力谋求国家统一”的共识，后被称为“九二共识”。海峡两岸关系的发展迈出了历史性的重要一步。1995年1月，江泽民针对两岸关系新情况，提出了发展两岸关系、推进祖国和平统一的八项主张。

在反对“台独”和坚持一个中国原则的基础上，两岸关系经历种种风云变幻，不断取得进展。2005年，中国国民党主席连战率团访问祖国大陆。胡锦涛会见连战一行，双方重申坚持“九二共识”，反对“台独”，主张台海和平稳定。国共两党最高领导人的会见，促进了两岸关系的新发展。

2008年11月，两岸达成空运直航、海运直航、邮政合作等协议。随后，两岸同时举行“三通”启动仪式。此后，两岸人民的联系更密切、感情更融洽、合作更深化。



图6-35 汪辜会谈



图6-36 两岸开通空运直航

- ◀ 2008年12月15日，中断了几十年的海峡两岸直接通航、通邮和通商全面启动。两岸“三通时代”的来临，意味着两岸真正进入一日生活圈。
- ⬆ 全面、直接、双向的“三通”给两岸人民的交往与生活带来哪些便利，对两岸关系的发展又产生了怎样的影响？

2015年11月，中共中央总书记、国家主席习近平同台湾方面领导人马英九在新加坡会面。在会面中，双方就进一步推进两岸关系和平发展交换了意见。这次会面是1949年以来两岸最高领导人的首次会面，翻开了两岸关系历史性的一页。

台湾是中国一部分、两岸同属一个中国的历史和法理事实，是任何人任何势力都无法改变的。只要 we 和衷共济、共同奋斗，就一定能够完成祖国统一大业。

# 第六课

## 独立自主的新中国外交

中华人民共和国的成立，揭开了中国对外关系的新篇章。面对纷繁变幻的国际形势，中国始终坚持独立自主的和平外交政策，积极开展外交工作，在国际事务中发挥着越来越重要的作用，为维护世界和平与促进共同发展作出了巨大贡献。

1949年上半年，根据中国的历史和现实以及当时的国际环境，毛泽东形象地提出了三条外交方针：“另起炉灶”，就是不承认国民党政府建立的旧的屈辱的外交关系，而要在新的基础上同各国另行建立新的平等外交关系；“打扫干净屋子再请客”，就是要首先清除帝国主义在中国的残余势力，取缔帝国主义在华的一切特权，然后再考虑同西方国家建立外交关系；“一边倒”，就是坚定地站在社会主义国家一边，联合一切爱好和平的国家，反对帝国主义的侵略政策。

开国大典上，毛泽东向全世界宣告：“本政府为代表中华人民共和国全国人民的唯一合法政府。凡愿遵守平等、互利及相互尊重领土主权等项原则的任何外国政府，本政府均愿与之建立外交关系。”

中华人民共和国成立后，政府展开积极的外交活动，第一年里就同苏联等十几个国家建立了外交关系，为恢复经济建设创造了一个好的外部环境。而美国等一些帝国主义国家对新中国采取敌视态度，实行外交孤立，不与中国建交，并对中国实行经济封锁和禁运。



图6-37 毛泽东和斯大林





图6-38 周恩来访问缅甸

1953年底，周恩来在接见印度代表团时，首次提出和平共处五项原则，作为处理两国关系的原则。和平共处五项原则现在表述为互相尊重主权和领土完整、互不侵犯、互不干涉内政、平等互利、和平共处。第二年，周恩来访问印度和缅甸，分别与印度总理尼赫鲁、缅甸总理吴努发表联合声明，双方一致同意以和平共处五项原则作为指导中印、中缅关系的基本原则。在三国总理的积极倡导下，和平共处五项原则在国际上产生深远影响，被世界上越来越多的国家接受，成为处理国与国之间关系的基本准则。

新中国积极发展与亚非国家的友好关系。1955年，周恩来率中国代表团参加在印度尼西亚万隆召开的亚非会议。周恩来提出“求同存异”的方针，促进了会议的圆满成功，加强了中国同亚非各国的团结与合作。

📌 结合冷战时期的世界格局，解释新中国成立初期为什么要实行“一边倒”的外交方针。

联合国成立于1945年，是由主权国家组成的国际组织。中国是创始会员国之一，也是联合国安理会常任理事国之一，当时由国民政府代表中国。中华人民共和国成立后，作为代表中国的唯一合法政府，理应享有联合国的合法席位。但是，当时中国在联合国的席位仍由台湾国民党当局占据。

为争取恢复合法席位，中华人民共和国进行了长期努力，得到越来越多国家的支持。1971年10月，第26届联合国大会通过决议，恢复中华人民共和国在联合国的一切合法权利，并立即把台湾国民党当局的代表从联合国及其所属一切机构中驱逐出去。五星红旗从此飘扬在联合国总部前，这是中国外交的重大胜利。作为联合国安理会常任理事国之一，中国积极参与国际事务，发挥了重要作用。



图6-39 联合国总部前飘扬的五星红旗



20世纪70年代，面对迅速变化的世界形势，美国调整了外交政策，开始寻求改善与中国的关系。而此时的中国，也需要打开外交新局面。改善中美关系成为两国共同的要求。



### 阅读卡

#### “小球转动大球”的乒乓外交

1971年3月，在日本举行的世界乒乓球锦标赛上，美国乒乓球队表达了访华的愿望，中国对此积极回应。4月10日，美国乒乓球队应邀访华。这是新中国成立后首次来访的美国代表团。中美以这种方式接触令世界瞩目，使两国关系翻开了一个新篇章。随后，美国总统尼克松发表讲话：“我们已经打开了坚冰，……我希望在某个时候以某种身份……访问中国大陆。”



图6-40 美国乒乓球代表团游览长城

1972年2月，美国总统尼克松访华。中美双方经过会谈，在上海发表《联合公报》，两国关系开始走向正常化。1979年，中美正式建立外交关系。美国承认只有一个中国，台湾是中国领土的一部分，承认中华人民共和国是中国的唯一合法政府。

中美关系的改善，促进了中日关系的缓和。1972年，日本首相田中角荣访华，中日两国实现了邦交正常化。此后，许多国家纷纷与中国建立外交关系，出现了与中国建交的热潮。

20世纪80年代中期，邓小平根据世界经济与政治发生的重大变化，提出和平与发展已经成为当代世界的两大问题。他同时指出：实现四个现代化，搞好改革和开放，在国内要有安定团结的政治局面，在国际上需要一个和平环境，根据这个情况提出了我们的对外政策。那就是反对霸权主义，维护世界和平，增进国际合作，促进共同繁荣。



图6-41 毛泽东会见美国总统尼克松

在这一思想指导下，我国奉行独立自主的和平外交政策，坚持在和平共处五项原则的基础上，同其他国家发展友好合作关系。我国不同任何大国结盟，也不支持它们一方反对另一方。对于所有国际事务都从中国人民的根本利益出发，根据事情本身的是非曲直，独立自主地决定自己的态度和政策。

同时，改革开放以后，我国注重改善和发展与周边国家的睦邻友好关系，注重加强同发展中国家的政治经济合作，力争中美、中日关系稳定发展，逐步实现中苏关系正常化，积极发展与欧盟国家的关系。

▶ 20世纪60年代开始，中苏两国关系一步步恶化。60年代末，两国之间爆发严重的流血冲突，关系破裂。80年代初，苏联主动改善与中国的关系，多次公开表示希望中苏关系早日实现正常化。1989年，邓小平会见来访的苏联领导人戈尔巴乔夫，两国关系进入正常化轨道。



图6-42 邓小平会见戈尔巴乔夫

中国积极发展全球伙伴关系，秉持共商共建共享的全球治理观，顺应和平、发展、合作、共赢的时代潮流，积极参与全球治理体系改革和建设，推动构建人类命运共同体。中国积极拓展多边外交，加强与联合国的合作，为解决区域性争端、维护世界和平与建立一个公正合理的世界新秩序而努力。中国广泛参与多边经济、社会领域的活动，在环境、粮食、预防犯罪、禁毒、难民、妇女等全球性问题上发挥了积极作用。

中国特色大国外交全面推进，形成全方位、多层次、立体化的外交布局。坚持以对话解决争端、以协商化解分歧，尊重各国人民自主选择发展道路的权利，维护国际公平正义。如今，中国参加了100多个政府间国际组织的工作，发挥了负责任大国的作用，为全球治理体系的改革和建设，不断贡献中国智慧和力量。

# 综合探究六

## 感受新中国的精神力量

回放新中国建设、改革的历史镜头，我们不难看到，成长中的共和国拥有坚不可摧的精神力量。只有真切感受到这种精神力量，才能真正读懂新中国发生沧桑巨变的历史篇章。

### 新中国的召唤

中华民族伟大复兴是近代以来亿万中国人民的伟大梦想。新中国的成立为实现这一梦想奠定了坚实的基础。大批身在海外的科学家，毅然放弃国外优越的工作环境和生活条件，先后回到祖国。以李四光、钱学森、华罗庚等为代表的一大批知识分子纷纷回国，投身新中国的建设。



图6-43 毛泽东与海外归来的钱学森交谈

#### 镜头一：为了“同胞能过上有尊严的幸福生活”

在美国生活多年的钱学森，有着很高的社会地位和优越的生活条件。然而，这一切都无法吸引他。新中国成立后，为了给祖国和人民效力，钱学森毅然决定回国。美国政府想方设法阻止钱学森回国，羁绊其达5年之久，这些都没能动摇钱学森回国的决心。回国前，钱学森说出了自己的心声：“今后我将竭尽全力，和中国人民一道建设自己的国家，使我的同胞能过上有尊严的幸福生活。”

议一议，新中国为什么成为科学家们圆梦的选择。

- ④ 像钱学森一样，中华人民共和国成立初期归国的科学家们，许多人都为国家建设作出了突出贡献。讲一个你知道的科学家故事，与大家分享。
- ④ 今天，数以万计的留学归国人员坚持中国特色社会主义道路自信、理论自信、制度自信、文化自信，以脚踏实地的行动将先进知识与我国实际情况相结合，造福国家和人民群众。有人说：“学成回国是每一个海外学子应该做的，学成不回国才应该问个为什么。”你如何理解这句话？

## 信仰的力量

在新中国的成长历程中，每个时期都涌现出有代表性的英雄模范人物。一方面，他们在各自的生活和工作中，凭借感人的事迹成为楷模，彰显时代精神；另一方面，他们都矢志不渝地坚守共同的理想信念，展示了以爱国主义为核心的民族精神。这种民族精神始终是新中国的脊梁和骄傲，陪伴着新中国成长。人民有信仰，国家才有力量，民族才有希望。



图6-44 雷锋给孩子们讲革命传统故事



图6-45 王进喜和工人们用身体搅拌水泥，制伏井喷

### 镜头二：甘当螺丝钉——雷锋精神

雷锋是原沈阳军区一名普通的解放军战士。他在平凡的岗位上，以“甘当螺丝钉”的精神，全心全意为人民服务。他经常利用节假日到车站、码头、工地上帮忙，尽全力帮助周围有困难的人。1962年，年仅22岁的雷锋因公殉职。毛泽东向全国人民发出了“向雷锋同志学习”的号召。

### 镜头三：艰苦创业——铁人精神

国庆10周年前夕，黑龙江省发现了大油田，即大庆油田。在大庆油田石油勘探开发大会战最艰苦的时期，以王进喜为代表的石油工人，形成了体现中国工人阶级风貌的铁人精神。在吊车不够用的情况下，王进喜带领全队工人用滚杠加撬杠，靠双手和肩膀，奋战三天三夜把60多吨重的钻机运到井场。要开钻了，可水管还没有接通，王进喜和大家破冰取水，用脸盆、水桶一盆盆、一桶桶地往井场端了50吨水。在重重困难面前，王进喜带领全队苦干实干，打出了大庆第一口喷油井。



- ④ 从雷锋和王进喜的故事中，你能感受到他们身上蕴藏着怎样的精神力量？
- ④ 结合这一时期中国社会的发展，谈一谈这种精神对推动新中国的建设发挥了何种作用。

面对超级大国的武力威胁和核讹诈，20世纪50年代开始，我国决定发展以“两弹一星”为核心的国防尖端科学技术，着手研制原子弹、导弹和人造地球卫星。一大批杰出的科学家和科技人员奔赴甘肃酒泉、新疆罗布泊等地的戈壁荒滩、深山峡谷建立基地，秘密开展研制工作。基地的生活条件极为艰苦，盛夏地面温度高达60多摄氏度，刮起风来飞沙走石，狂风能把帐篷掀起。科研人员克服难以想象的困难，默默无闻地工作，有的甚至献出了宝贵的生命。

#### 镜头四：自力更生——“两弹一星”精神



图6-46 我国第一颗原子弹爆炸成功

研制原子弹初期，我国曾得到苏联的技术援助。中苏关系恶化后，苏联撤走了全部在华专家并带走所有图纸资料。当时，有的外国人嘲讽：“在原子的领域中，你们中国人的大脑还是真空的。”参与研制的科学家邓稼先说：“真空有什么？天底下的路都是从无到有走出来的。”就是靠着这种信念，我国在技术基础薄弱而又得不到外部支持的情况下，于20世纪60年代相继制造出原子弹、导弹和氢弹，70年代初发射了人造地球卫星。“两弹一星”（原子弹、导弹和人造地球卫星）的研制是中华人民共和国最初几十年科技实力发展的标志性事件。

- ④ 今天，我国反对任何形式的核武器扩散，但在20世纪六七十年代，我们为什么要研制原子弹？
- ④ 结合“两弹一星”研制的各种主客观条件，说一说你对“两弹一星”精神的理解。

## 新时期的时代精神

1979年，中国的改革开放走上了破冰之旅。邓小平提出试办沿海经济特区的构想。他说：“我看可以划出一块地方，就叫作特区。中央没有钱，要你们自己去搞，杀出一条血路来。”这块地方，就是深圳。深圳作为中国改革开放的试验田和基地，不仅创造了发展的奇迹，更弘扬了以改革创新为核心的时代精神。



图6-47 象征深圳精神的拓荒牛

### 镜头五：敢为人先——“深圳速度”

1992年，邓小平到南方视察，来到深圳，他兴致勃勃地登上了国贸大厦的旋转餐厅。深圳人建造这座大厦，曾创造了世界建筑史上前所未有的“深圳速度”——三天盖一层楼！登高远望，视线所及，仅一河之隔的香港摩天大楼影影绰绰，同深圳的高层楼宇相映成趣。邓小平高兴地说，深圳发展得这么快，是靠实干干出来的。

邓小平在南方谈话中强调：“改革开放胆子要大一些，敢于试验”“看准了的，就大胆地试，大胆地闯。深圳的重要经验就是敢闯。没有一点闯的精神，没有一点‘冒’的精神，没有一股气呀、劲呀，就走不出一条好路，走不出一条新路，就干不出新的事业。”抓改革，促创新，要保持定力、勇于担当，以迎难而上的干劲破旧立新，打开一片发展的新天地。

- ① 回顾深圳特区的发展历程，说一说邓小平倡导的深圳精神的实质是什么，新时期的时代精神有哪些特点。
- ② 请你收集更多的案例，说一说民族精神和时代精神是如何推动中华民族伟大复兴的。



## 自我测评

1. 查找一个特区或沿海开放城市的资料，从人口、国内生产总值、城市建设、民生等方面，了解它在改革开放前后发生的变化，感受对外开放给区域发展带来的影响。

2. 阅读下面的资料，进一步认识在“一个中国”原则下的台湾问题。

- 1895年，日本强迫清朝政府签订不平等的《马关条约》，强占台湾及其附属岛屿。
- 1941年，中国政府在《中国对日宣战布告》中昭告各国，中国废止包括《马关条约》在内的一切涉及中日关系的条约、协定、合同，并将收复台湾。
- 1943年，中、美、英三国政府发表的《开罗宣言》规定，日本应将所窃取于中国的包括东北、台湾、澎湖列岛等在内的领土，归还中国。
- 1945年，中、美、英三国共同签署，后来又有苏联参加的《波茨坦公告》规定：“开罗宣言之条件必将实施。”同年8月，日本宣布投降，随后在《日本投降条款》中承诺“忠诚履行《波茨坦公告》各项规定之义务”。10月25日，中国政府收复台湾、澎湖列岛，重新恢复对台湾行使主权。
- 1949年，国民党退守台湾。

(1) 在解决台湾问题过程中，台湾分裂势力蓄意破坏“一个中国”原则。请你以“盼统一、反‘台独’”为题，从以下方面说明统一是大势所趋。

- 台湾与祖国大陆在历史、文化传统上的联系
- 两岸人民对祖国统一的想法
- 中国对台湾的有关政策
- 其他：.....

(2) 批判“台独”分子分裂祖国的主要观点和无耻行径。

3. 2020年，十三届全国人大常委会第二十次会议表决通过《中华人民共和国香港特别行政区维护国家安全法》，并列入《中华人民共和国香港特别行政区基本法》附件三，在香港特别行政区公布实施。请你了解相关信息，说一说《中华人民共和国香港特别行政区维护国家安全法》将带来哪些影响。

# 第七单元

## 聚焦当代中国与世界的發展

从开启新时期到跨入新世纪，再到中国特色社会主义进入新时代，这是中国发展新的历史方位，意味着近代以来久经磨难的中华民族迎来了从站起来、富起来到强起来的伟大飞跃。新时代，是在新的历史条件下继续夺取中国特色社会主义伟大胜利的时代，是决胜全面建成小康社会、进而全面建设社会主义现代化强国的时代，是全国各族人民团结奋斗、不断创造美好生活、逐步实现全体人民共同富裕的时代，是全体中华儿女勠力同心、奋力实现中华民族伟大复兴中国梦的时代，是中国日益走近世界舞台中央、不断为人类作出更大贡献的时代。

当今世界正处在大发展大变革大调整时期，和平与发展仍然是时代的主题。面对世界多极化、经济全球化、社会信息化、文化多样化，中国将高举和平、发展、合作、共赢的旗帜，坚持和平发展道路，积极促进“一带一路”国际合作，推动构建人类命运共同体。中国将积极参与全球治理体系变革和建设，为世界贡献更多中国智慧、中国方案、中国力量。





# 第一课

## 坚持和发展中国特色社会主义

在改革开放的伟大实践和接力探索中，中国共产党领导中国人民开辟了中国特色社会主义道路，逐渐形成了邓小平理论、“三个代表”重要思想、科学发展观、习近平新时代中国特色社会主义思想。中国共产党第十八次全国代表大会以来，中国特色社会主义进入新时代，以习近平同志为核心的党中央，接过历史的接力棒，总揽全局、运筹帷幄、励精图治，汇聚起为中华民族伟大复兴而奋斗的强大力量，实现了中国发展的历史性跨越。

### 高举中国特色社会主义伟大旗帜

中共十一届三中全会后，邓小平领导中国共产党作出一系列重大决策，把改革开放和社会主义现代化建设一步一步推向前进。1982年，在中国共产党第十二次全国代表大会上，邓小平明确提出：我们的现代化建设，必须从中国的实际出发。“把马克思主义的普遍真理同我国的具体实际结合起来，走自己的道路，建设有中国特色的社会主义”。1987年，中国共产党第十三次全国代表大会系统阐述了社会主义初级阶段的理论，明确概括了党在社会主义初级阶段的基本路线，即以经济建设为中心，坚持四项基本原则，坚持改革开放。

1992年，邓小平到南方视察，多次发表谈话，进一步解放了人们的思想，对建设中国特色社会主义产生了深远影响。



图7-1 邓小平在中国共产党第十二次全国代表大会上致开幕词

③ **资料** 改革开放迈不开步子，不敢闯，说来说去就是怕资本主义的东西多了，走了资本主义道路。要害是姓“资”还是姓“社”的问题。判断的标准，应该主要看是否有利于发展社会主义社会的生产力，是否有利于增强社会主义国家的综合国力，是否有利于提高人民的生活水平。

——邓小平《在武昌、深圳、珠海、上海等地的谈话要点》

④ 结合资料，谈谈邓小平南方谈话对改革开放的影响。

邓小平是中国社会主义改革开放和现代化建设的总设计师。邓小平最重要的贡献，是他带领党和人民开创了中国特色社会主义道路，创立了邓小平理论。这一理论，科学回答了建设中国特色社会主义的一系列基本问题，是马克思主义在中国发展的新阶段。1992年召开的中国共产党第十四次全国代表大会，提出必须用邓小平建设有中国特色社会主义理论武装全党。

1997年，在中国共产党第十五次全国代表大会上，江泽民作了《高举邓小平理论伟大旗帜，把建设有中国特色社会主义事业全面推向二十一世纪》的报告。大会通过的党章规定：中国共产党以马克思列宁主义、毛泽东思想、邓小平理论作为自己的行动指南。把邓小平理论确立为党的指导思想，对建设中国特色社会主义具有重要意义。

2002年，中国共产党第十六次全国代表大会在北京召开。江泽民在会上作了《全面建设小康社会，开创中国特色社会主义事业新局面》的报告。



图7-2 江泽民在中国共产党第十六次全国代表大会上作报告

⑤ 中共十六大提出的奋斗目标是：在本世纪头二十年，集中力量，全面建设惠及十几亿人口的更高水平的小康社会，使经济更加发展、民主更加健全、科教更加进步、文化更加繁荣、社会更加和谐、人民生活更加殷实。经过这一阶段的建设，再继续奋斗几十年，到本世纪中叶基本实现现代化，把我国建设成为富强民主文明的社会主义国家。

在中共十六大上，“三个代表”重要思想被确立为中国共产党的指导思想。“三个代表”重要思想的具体内容为中国共产党要始终代表中国先进生产力的发展要求，代表中国先进文化的前进方向，代表中国最广大人民的根本利益。它进一步回答了什么是社会主义、怎样建设社会主义的问题，创造性地回答了建设什么样的党、怎样建设党的问题。

2007年，中国共产党第十七次全国代表大会在北京召开。胡锦涛在会上作了《高举中国特色社会主义伟大旗帜，为夺取全面建设小康社会新胜利而奋斗》的报告。

► 中共十七大的主题是：高举中国特色社会主义伟大旗帜，以邓小平理论和“三个代表”重要思想为指导，深入贯彻落实科学发展观，继续解放思想，坚持改革开放，推动科学发展，促进社会和谐，为夺取全面建设小康社会新胜利而奋斗。



图7-3 胡锦涛在中国共产党第十七次全国代表大会上作报告

科学发展观是坚持以人为本，全面、协调、可持续的发展观，对新形势下实现什么样的发展、怎样发展等重大问题作出了新的科学回答，是马克思主义关于发展的世界观和方法论的集中体现。

2012年，中国共产党第十八次全国代表大会在北京举行。

在中共十八大上，科学发展观被确立为中国共产党的指导思想。中共十八大提出了夺取中国特色社会主义新胜利的基本要求，确定了全面建成小康社会和全面深化改革开放的目标，对新的时代条件下推进中国特色社会主义事业作出了全面部署，对全面提高党的建设科学化水平提出了明确要求。

中共十八大选举产生了新一届中央委员会。在中共十八届一中全会上，习近平当选为中共中央总书记。

- ▶ 中共十八大的主题是：高举中国特色社会主义伟大旗帜，以邓小平理论、“三个代表”重要思想、科学发展观为指导，解放思想，改革开放，凝聚力量，攻坚克难，坚定不移沿着中国特色社会主义道路前进，为全面建成小康社会而奋斗。

图7-4 习近平在中国共产党第十八届中央委员会第一次全体会议上讲话



2017年，中国共产党第十九次全国代表大会在北京召开。会议对新时代中国特色社会主义发展作出了战略安排，提出从现在到2020年，是全面建成小康社会决胜期。从2020年到本世纪中叶可以分两个阶段来安排：从2020年到2035年，在全面建成小康社会的基础上，再奋斗15年，基本实现社会主义现代化；从2035年到本世纪中叶，在基本实现现代化的基础上，再奋斗15年，把我国建成富强民主文明和谐美丽的社会主义现代化强国。



- ▶ 中共十九大的主题是：不忘初心，牢记使命，高举中国特色社会主义伟大旗帜，决胜全面建成小康社会，夺取新时代中国特色社会主义伟大胜利，为实现中华民族伟大复兴的中国梦不懈奋斗。

图7-5 中国共产党第十九次全国代表大会

习近平在会上作了题为《决胜全面建成小康社会，夺取新时代中国特色社会主义伟大胜利》的报告。报告指出，经过长期努力，中国特色社会主义进入了新时代，这是我国发展新的历史方位。我国社会主要矛盾已经转化为人民日益增长的美好生活需要和不平衡不充分的发展之间的矛盾。

在中共十九大上，习近平新时代中国特色社会主义思想被确立为中国共产党必须长期坚持的指导思想。习近平新时代中国特色社会主义思想是当代中国马克思主义、二十一世纪马克思主义，是中华文化和中国精神的时代精华，实现了马克思主义中国化新的飞跃。中国共产党确立习近平同志党中央的核心、全党的核心地位，确立习近平新时代中国特色社会主义思想的指导地位，反映了全党全军全国各族人民共同心愿，对新时代党和国家事业发展、对推进中华民族伟大复兴历史进程具有决定性意义。



## 中国发展的历史性跨越

如今，我国已经全面建成了小康社会，解决了绝对贫困问题。回顾中国特色社会主义的建设历程，总有那么一些难忘的镜头，令人倍感自豪。

### 镜头1

科学家袁隆平带领科研小组攻克难关，首次培育成功强优势的籼型杂交水稻。杂交水稻的推广，为我国粮食增产和解决我国这样一个人口大国的吃饭问题发挥了重要作用。



### 镜头3

1908年，《天津青年》杂志的一篇文章里提出：何时能在中国举办一次奥运会？此后，中国人追求奋斗了整整一百年。2008年，第二十九届夏季奥运会在我国成功举办，中华民族终于实现了百年奥运梦。



图7-6 中国发展的历史性跨越组图

📌 归纳这些历史镜头，说一说它们从哪些方面反映了改革开放以来我国取得的成就。



### 镜头2

1986年，《中华人民共和国义务教育法》颁布实施。2006年，修订后的《中华人民共和国义务教育法》明确规定，“实施义务教育，不收学费、杂费”。经过多年奋斗，我国已跻身免费义务教育水平较高的国家行列。



### 镜头4

2017年5月，“一带一路”国际合作高峰论坛在北京召开。“一带一路”，即“丝绸之路经济带”和“21世纪海上丝绸之路”。它东牵亚太经济圈，西接欧洲经济圈，穿越非洲，环连亚欧，为世界经济发展提供了新的机遇。

我国的经济体制改革，经历了从计划经济体制到社会主义市场经济体制，再到使市场在资源配置中起决定作用和更好发挥政府作用的进程。



图7-7 中国共产党第十四次全国代表大会

- 1992年，中共十四大明确提出要建立社会主义市场经济体制。1993年，中共十四届三中全会通过《中共中央关于建立社会主义市场经济体制若干问题的决定》，指出：社会主义市场经济体制是同社会主义基本制度结合在一起的，建立社会主义市场经济体制，就是要使市场在国家宏观调控下对资源配置起基础性作用。

伴随着这一进程，我国经济建设持续高速发展，用几十年时间走完了发达国家几百年走过的工业化历程。现在，我国主要农产品产量跃居世界前列，建立了全世界最完整的现代工业体系，已成为制造业第一大国、货物贸易第一大国、商品消费第二大国、外资流入第二大国。中国人民在富起来、强起来的征程上迈出了决定性的步伐。

中国的和平发展推动了中国国际地位和国际影响力的显著提升，中国在国际事务中的作用日益重要。

- 中非合作论坛是中国和非洲友好国家集体对话的重要平台。它表达了中非在新形势下共同应对经济全球化挑战，促进共同发展的愿望。该论坛开创了南南合作的成功范例。



图7-8 中非合作论坛北京峰会

- 2001年，中国、俄罗斯、哈萨克斯坦、吉尔吉斯斯坦、塔吉克斯坦和乌兹别克斯坦六国在上海举行会议，签署了《上海合作组织成立宣言》。上海合作组织是一个新型区域合作组织，成员国之间的合作包括军事、政治、经济、能源等多个领域。



图7-9 上海合作组织的联合反恐演习

中国举办亚太经合组织领导人非正式会议、二十国集团领导人会晤、金砖国家领导人会晤、亚信峰会等重要国际会议，促进国际合作。同时，中国提出“一带一路”倡议，发起成立亚洲基础设施投资银行等新兴多边金融机构，推动人类命运共同体建设，积极参与制定海洋、极地、网络、外空、核安全、反腐败、气候变化等新兴领域治理规则，日益成为国际社会公认的世界和平的建设者、全球发展的贡献者、国际秩序的维护者。

我国不断推进国防和军队现代化，推进人民军队实现革命性重塑，武器装备取得历史性突破，治军方式发生根本性转变，革命化现代化正规化水平显著提高，人民军队维护国家主权、安全、发展利益的能力显著增强，成为保卫人民幸福生活、保卫祖国与世界和平牢不可破的强大力量。

- 我国海军武器装备不断更新换代，现代化水平有了明显提高，由水面舰艇部队、海军航空兵、海军陆战队等多兵种组成，活动范围也逐步扩大。2012年9月，我国第一艘航空母舰“辽宁号”交接入列。
- 空军的现代化建设有了新的飞跃，我国自行研制和引进了一批新型飞机，成为保卫祖国领空的钢铁卫士。2018年2月，中国自主研发的新一代隐身战斗机歼-20开始列装空军作战部队，标志着空军向空天一体、攻防兼备的目标迈出了新的步伐。
- 导弹部队也有新的发展。1966年组建的第二炮兵部队于2015年更名为火箭军。它装备了东风系列弹道导弹和长剑巡航导弹等，是中国战略威慑的核心力量和大国地位的战略支撑，是维护国家安全的重要基石。




图7-10 在内蒙古的朱日和训练基地举行庆祝中国人民解放军建军90周年阅兵



中华人民共和国成立后，尤其是改革开放以来，国家投入巨额资金改善交通条件，并取得巨大成就。截至2016年底，中国铁路营业里程居世界第二位，高铁营业里程居世界第一位。公路运输也获得较快发展，高速公路里程已居世界前列。全国建立起比较密集的公路网，在黄河、长江等急流阻隔的江河上架设了一座座公路大桥，许多偏远闭塞的山区也通了公路。



图7-11 道路四通八达



图7-12 行驶中的“复兴号”中国标准动车组

现在，全国各大城市和一些中等城市、旅游胜地都有航线，并与世界许多国家的大城市设有直通航线，中国已成为世界民航大国。城市道路建设也发展迅速，很多城市大力发展轨道交通，改善城市交通状况。铁路、公路、民用航空、水运和地下轨道交通建设飞速发展，已形成综合交通运输网。

改革开放后，电信产业快速发展。如今，我国的电信网络规模和用户数均居全球第一，发展速度也位居世界前列。在全国大多数地区，移动电话的使用十分普遍。

中国的互联网虽然起步较晚，但发展迅速。中国的网民规模不断扩大，互联网普及率越来越高。通信事业的发展和通信方式的变迁，使信息的传递变得快捷、简便，深刻地改变着人们的思想观念和生活方式。



纵观改革开放新时期的历史进程，人们感受最深的就是生活发生了前所未有的变化。从家庭财产的稳定增长到衣食住行用条件的明显改善，从休闲娱乐方式的极大丰富到教育卫生状况的快速改善，老百姓的物质生活与文化追求，都有了质的飞跃。



图7-13 美丽乡村



图7-14 河北省雄安新区居民小区

改革开放后，人们的衣着变得丰富多彩起来。服饰已经不仅仅是御寒的工具，更是人们展示个性的方式。十几亿人口的吃饭问题基本上得到了解决，人们不但能“吃饱”，而且还要“吃好”，讲究营养均衡、粗细搭配，绿色食品等科学卫生的概念也日益深入人心。人均住房面积扩大，室内装修和居住环境明显改善。这一切，都见证了中国的发展实现了历史性跨越。

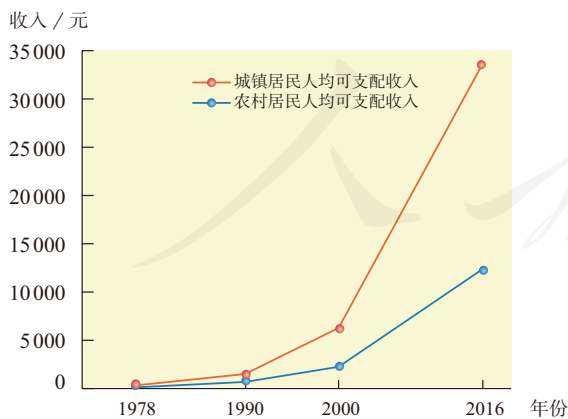


图7-15 1978—2016年城乡居民人均可支配收入

改革开放以来，城乡居民收入不断增加，消费总量不断增长，消费结构也不断优化。随着人民生活水平的提高，休闲娱乐成为人们日常生活的一部分。人们开始注重和享受文化、旅游、健身等多种休闲生活，生活方式发生了很大变化。

## 第二课

# 经济全球化

日新月异的科技进步，深刻地改变了当代社会生活和世界的面貌。经济全球化已经成为世界的基本特征之一。面对经济全球化，世界贸易组织担当着制定世界市场规则的角色。中国成功加入世界贸易组织，在经济全球化浪潮中扮演着越来越重要的角色。

进入20世纪，特别是90年代以后，资本、原材料和劳动力等方面的国际流动日益频繁，经济领域的全球化大大加快，整个世界的生产、销售、贸易与人员往来都呈现出崭新的局面。

- ▶ 日常生活中，人们处处都能感受到经济全球化的影响。以棒球手套为例，美国的棒球手套大部分从日本进口，日本用来制造手套的牛皮在巴西鞣制加工，而巴西又在美国进口生牛皮。

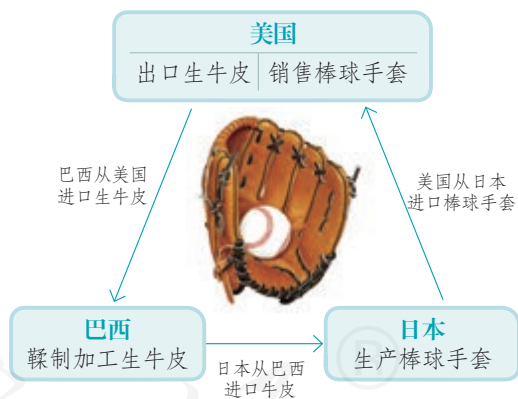


图7-16 棒球手套的生产

在经济全球化加速的进程中，科学技术的日新月异发挥了巨大的推动作用。新型交通工具和通信工具的不断出现，大大缩短了人员交流的时空距离，并为全球范围内的经济活动提供便利条件；信息技术的发展，使人们能够克服地域的限制，国际间的电子邮递、电子商务等应运而生，世界各地的联系越来越紧密。

冷战的结束为经济全球化进程消除了障碍。各国的经济往来日益增多，越来越多的国家实行市场经济体制，这些因素都推动了经济全球化的加速。1992年，联合国秘书长在联合国日致辞中说：“第一个真正的全球化的时代已经到来。”

经济全球化促进了国际贸易的迅速发展，国际投资也不断扩大，贸易额迅猛增长。贸易全球化极大地改善了人们的生活，无论身居何处，人们都可以方便地购买到来自世界各地的产品。林林总总的国际品牌背后，有一张巨大的研制开发、生产、销售的网络在支撑和运转。这张能够延伸到世界各个角落的“网”，就是跨国公司。跨国公司的投资和贸易网络将世界经济编织成一个整体，有力地促进着生产、流通和消费的全球化。

③ 资料 假设一名美国人花1万美元从下面这家汽车公司购买一辆该公司生产的汽车，他的消费包含了图示中的各种费用。

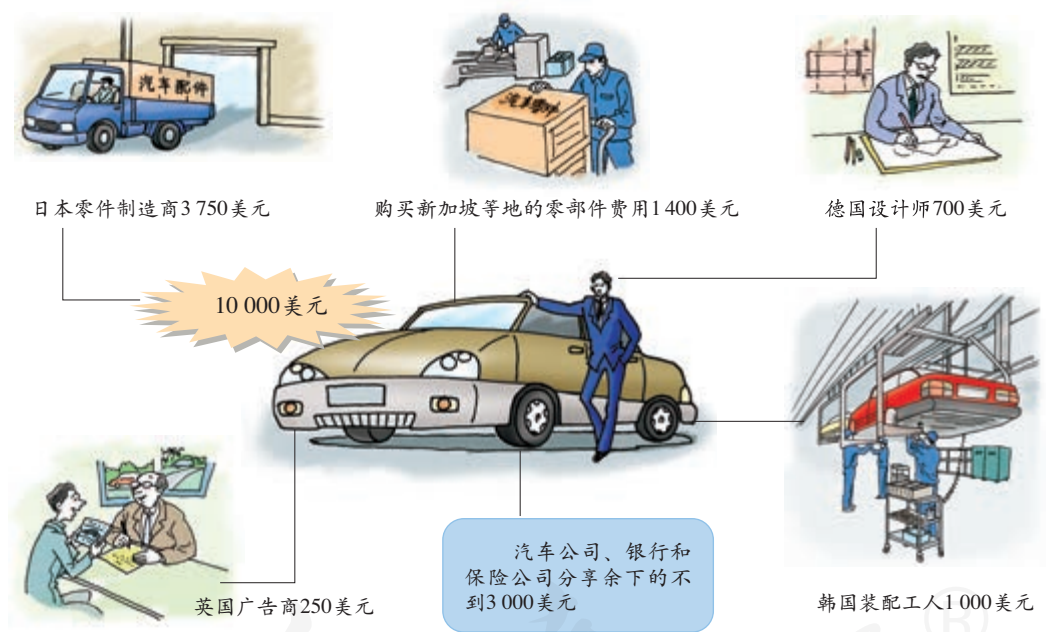


图7-17 汽车的生产

- ④ 请你根据图示，说一说这家汽车公司的生产经营有哪些特点。
- ④ 为什么20世纪90年代以来经济领域的全球化得以迅速发展？你认为有哪些因素在共同起作用？
- ④ 某些发达国家的跨国公司具有控制、掠夺发展中国家的一面，对此你怎么看？

伴随经济全球化深入发展，国际经济合作和竞争格局也发生百年未遇的变局。比如，世界经济发展失衡、治理困境等问题更加突出，“逆全球化”思潮涌动，保护主义倾向上升，等等。但经济全球化是时代大潮，其发展大势不可逆转。

1995年，在贸易全球化的推动下，世界贸易组织（英文缩写“WTO”）成立。世界贸易组织是处理世界贸易问题的重要国际组织，负责制定和监督执行多边贸易规则，组织多边贸易谈判，解决各成员间的贸易争端。



世界贸易组织的前身是关税与贸易总协定。世界贸易组织总部设于瑞士的日内瓦。截至2016年7月，世界贸易组织成员达到164个。

图7-18 世界贸易组织总部

2001年12月，在经过长达15年艰难曲折的谈判历程后，中国成为世界贸易组织的成员。中国加入世界贸易组织，标志着中国这个世界上最大的发展中国家，逐渐融入全球经济体系，参与全球范围内的竞争。



2001年11月，在卡塔尔首都多哈召开的世界贸易组织第四届部长级会议上，举行了中国加入世界贸易组织签字仪式。

图7-19 中国加入世界贸易组织签字仪式

查找中国加入世界贸易组织后的相关案例，说明中国参与制定并运用市场规则对经济发展发挥的作用。

近年来，中国积极支持和参与世界贸易组织改革，致力于构建更高水平的国际经贸规则。例如：同冰岛、瑞士签署自由贸易协定；推动中澳、中日韩等自贸区谈判；推动同美国、欧盟商签双边投资协定；推动达成“巴厘一揽子协定”；等等。

如今，中国日益走近世界舞台中央，同国际社会的互动空前紧密，是世界开放发展的受益者，也是世界开放发展的贡献者。中国促进贸易和投资自由化、便利化，旗帜鲜明反对保护主义，推动经济全球化朝着更加开放、包容、普惠、平衡、共赢的方向发展。



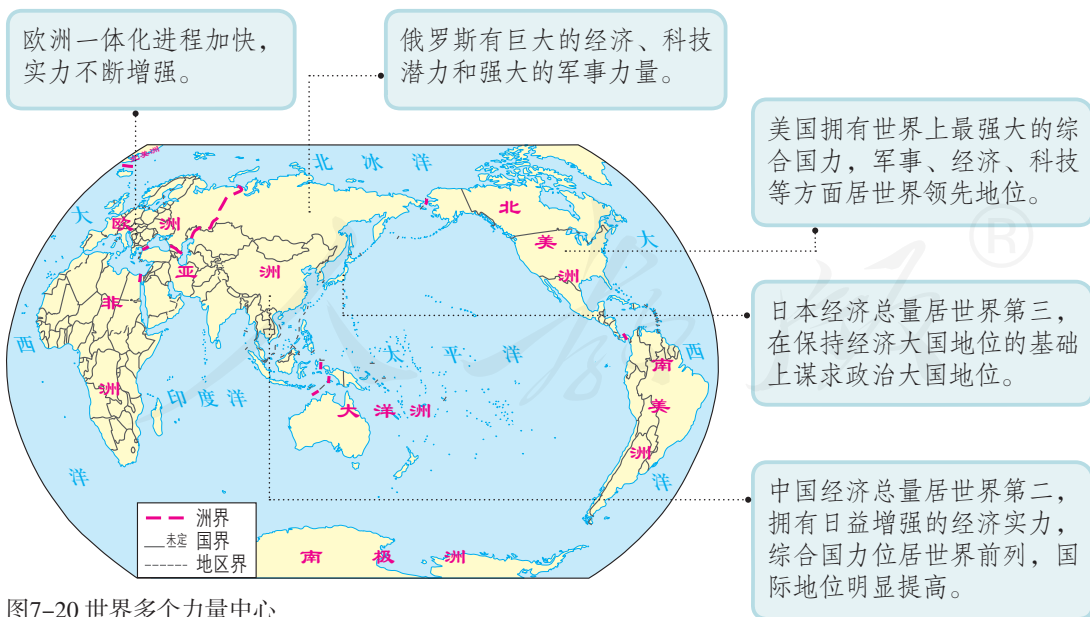
# 第三课

## 世界多极化趋势

冷战结束后，美国一超独霸。进入21世纪，世界多极化趋势加快。欧洲联盟是多极化进程中一个重要的国际组织；联合国作为多极世界中各国共同制定世界规则的机构，在维护世界和平、促进共同发展方面发挥的作用日益显著；中国作为一个负责任的发展中大国，推动建设人类命运共同体。

### 世界多极化

苏联解体后，美国成为唯一的超级大国。美国认为自己“最有能力领导这个世界”，企图凭借强大的经济、军事和科技力量，建立一个以美国为主导的“单极世界”。但是，欧盟、日本、中国和俄罗斯等一些具备较强综合实力的国家联盟或国家也在国际和地区事务中发挥着重要作用，推动世界朝着多极化方向发展。

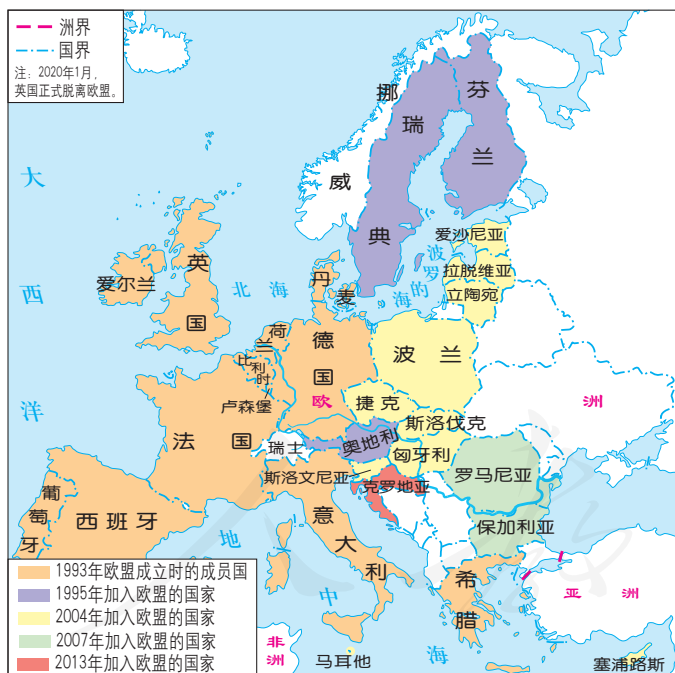


- 结合图示，说一说多极化趋势中，各个力量中心的突出特点是什么。
- 除了上述力量中心外，印度、巴西、东盟、非盟等国家和国际组织在世界多极化趋势中又扮演着怎样的角色？

冷战结束后，在“一超多强”的格局中，欧洲扮演着重要的角色。

1992年，12个欧共同体国家在荷兰的马斯特里赫特签署了《欧洲联盟条约》。条约规定，在欧共体的基础上，欧洲联盟通过加强经济和社会的协调与建立经济和货币联盟，促进经济、社会平衡和持续的进步；推行共同的外交、安全政策；加强司法、内政的合作等。

1993年，条约生效，欧洲联盟成立，它标志着这个组织从单一的经济实体向经济—政治实体发展。此后，欧盟扩充和完善了共同市场，发行欧元，签署欧洲宪法，规模不断扩大。今天的欧盟已成为世界上经济实力最强、一体化程度最高的经济和政治集团。



- 20世纪70年代以来，欧共同体国家在一系列国际问题上采取共同立场。例如，在反恐、消除贫困、发展经济等方面步调一致；在许多重要的国际组织和国际会议上采取联合行动，使得欧洲在国际政治讲坛上的声音越来越响亮。

- 阅读地图，了解欧盟成立前后成员国数量的变化。
- 思考一下，2004年以后加入欧盟的国家在地理位置上有什么特点，它表明了怎样的一种趋势。

欧盟成立后，欧洲的实力进一步增强，地位进一步提高。它希望摆脱对美国的依赖，发出自己的声音，在国际事务中发挥日益重要的作用。日本也在积极谋求政治大国地位。中国通过改革开放，经济快速发展，国家综合实力显著增强。2010年，中国的经济规模已居世界第二，仅次于美国。近年来，中国经济对世界经济的发展贡献率达到三分之一以上。中国的和平崛起对世界格局产生了重大影响。俄罗斯地大物博，在度过苏联解体的社会动荡期后，凭借丰富的自然资源进行国家复兴，力求在国际舞台上扮演更重要的角色。广大发展中国家的人口占全世界人口总数的四分之三，它们的总体实力在不断增强，国际影响不断扩大，成为推动世界多极化趋势发展的一支不可忽视的力量。

▶ 1967年《曼谷宣言》的发布正式宣告东南亚国家联盟成立。东盟国家锐意进取，团结协作，建成亚洲第一个次区域共同体，形成以东盟为中心的区域合作架构。东盟日渐成为维护地区和平稳定、促进区域一体化和世界多极化的重要力量。



图7-22 东盟标志

## 联合国与日益走近世界舞台中央的中国

联合国是世界人民反法西斯战争胜利的产物。在雅尔塔会议上，成立联合国是重要内容之一。1945年6月，中、苏、美、英等国代表签署《联合国宪章》。宪章于当年10月24日生效，这一天成为联合国的誕生日。



图7-23 《联合国宪章》签字仪式

《联合国宪章》明确规定，联合国作为协调各国行动的中心，宗旨是维护国际和平与安全，发展各国之间的友好关系，促进国际合作。为此，联合国及其会员国应遵循以下原则：所有会员国主权平等并履行它们依宪章规定所承担的义务，用和平的方法解决国际争端，对联合国依照宪章采取的行动应尽力给予协助，禁止对其他国家进行武力威胁或使用武力等。

联合国安全理事会，简称“联合国安理会”，担负着维护国际和平与安全的主要责任。现在，安理会由中国、法国、俄罗斯、英国、美国5个常任理事国和10个非常任理事国组成，常任理事国拥有否决权。联合国秘书处是联合国各机构的行政秘书事务机构。



图7-24 位于美国纽约的联合国总部



图7-25 联合国旗帜

- 1947年，联合国大会通过了联合国旗帜的决议。旗帜正中是一个白色的联合国徽记。徽记是一幅从北极看去的世界地图，地图上标有陆地和海洋、经线和纬线；地图底部和左右两侧为橄榄枝环。
- 结合联合国成立的背景，说一说，徽记上的世界地图和橄榄枝分别象征着什么。

联合国在其发展历程中，曾走过曲折的道路。20世纪60年代以后，大批新独立的国家先后加入联合国，对联合国地位和作用的变化产生了深远影响。随着世界多极化趋势的不断加强，联合国在维护世界和平、缓和国际紧张局势和解决地区冲突等方面，发挥了积极作用。



图7-26 联合国安理会召开会议

根据联合国安理会或联合国大会的决议，联合国可以向冲突地区派出军事人员，以恢复并维持和平。以联合国名义派出的武装力量，被称为“联合国维持和平部队”。在一些情况下，联合国秘书长还亲自前往冲突地区斡旋。这些维和行动有助于控制局部冲突的升级。

联合国还在推动各国发展、保护环境、促进妇女权利、打击恐怖主义、保护人权等方面进行了不懈的努力，取得了很大成就。在当今多极化世界中，联合国为各国表达自己的意愿和立场提供了舞台，弥合了众多分歧，仍然是实践多边主义的最佳场所。截至2012年，联合国已经拥有193个会员国。今天的联合国，是世界上最具有影响力、规模最大和最重要的国际组织。



- ▶ 联合国教科文组织是联合国的组织机构之一，它通过教育、科学、文化、传播与信息，促进建设和平、消除贫困、可持续发展和文化之间的对话。例如，在促进文化多样性方面，联合国教科文组织通过了《保护世界文化和自然遗产公约》《保护和促进文化表现形式多样性公约》等一系列公约，以保护人类有形和无形的共同遗产。



图7-27 联合国教科文组织在中国召开第28届世界遗产大会

中国作为联合国的创始国及安理会的五个常任理事国之一，一贯遵循联合国宪章的宗旨和原则，积极参加联合国及其专门机构有利于世界和平与发展的活动，为联合国的事业作出了重要贡献。联合国也为中国走向世界、参与国际事务、扩大国际合作提供了广阔的多边舞台。通过联合国，中国履行自己的国际义务，承担共同的国际责任，发挥负责任大国的作用，不断贡献中国智慧和力量。

- 中国普遍参与了联合国经济、安全、文化、人权、环境、裁军及发展等不同领域的活动及其条约机制，几乎加入了联合国所有的专门机构、附属组织和相关组织。
- 中国签署了多项国际人权条约和各项重要的多边条约，加入了国际人权、环境及裁军机制。
- 中国于1990年开始参加联合国的维和行动。截至2018年，中国已经参加了20多次联合国维和行动，累计派出维和官兵3万多人，是联合国安理会常任理事国中派遣维和人员最多的国家。
- 中国在联合国的角色和地位日益重要。以发展援助为例，中国经历了从“不接受联合国发展援助”到“受援大国”，再到“捐助国”的变化。



图7-28 中国维和人员在非洲勘察道路

- ③ **资料** 2017年3月17日，联合国安理会以15票赞成，一致通过关于阿富汗问题第2344号决议，呼吁国际社会凝聚援助阿富汗共识，通过“一带一路”建设等加强区域经济合作，敦促各方为“一带一路”建设提供安全保障环境、加强发展政策战略对接、推进互联互通务实合作等。决议强调，应本着合作共赢精神推进地区合作，以有效促进阿富汗及地区安全、稳定和发展，构建人类命运共同体。
- ④ **想一想**，为什么我国能在联合国发挥重大作用，贡献中国智慧对全球发展具有怎样的重要性。

# 第四课

## 当代科技革命与社会生活

20世纪四五十年代以来，人类历史上出现了以电子计算机为代表、以信息技术为标志的第三次科技革命。这场科技革命推动了社会生产力的空前发展，引发了各个领域的变革。伴随着社会信息化的进程，人们的社会生活也发生着广泛而深刻的变化。在这场伟大的变革中，勤劳智慧的中国人民取得了令世人瞩目的成绩。

20世纪中期以来，在前两次工业革命的基础上，科学技术的发展突飞猛进。人类在信息技术、空间技术等诸多领域取得了重大突破。

1946年，世界上第一台电子计算机在美国诞生。以电子计算机的发明和广泛应用为核心的第三次科技革命迅速扩展到发达国家，并逐渐向发展中国家延伸，最终形成了世界范围内的科技革命。



图7-29 世界上第一台电子计算机



### 阅读卡

#### 孕育第三次科技革命的条件

19世纪科学革命的巨大成就为第三次科技革命提供了理论基础，科学与技术的结合更加紧密。两次世界大战、冷战以及和平条件下的激烈国际竞争，成为科学技术发展的强有力的刺激因素和巨大杠杆；科学技术的社会化，各国政府有组织的大规模投入和有计划的开发，为科学技术的加速发展创造了条件。

自电子计算机诞生后，世界各国都在持续不断地研制功能更强大、效率更高的计算机。计算机的体积日益轻巧，存储容量不断增大，运行速度更是大大提升。

▶ 超级计算机是计算机中功能最强、运算速度最快、存储容量最大的一类计算机，多用于国家高科技领域和尖端技术研究，是一个国家科技发展水平和综合国力的重要标志。它对国家安全、经济和社会发展具有举足轻重的意义。2016年6月，在法兰克福世界超级计算机大会上，中国的“神威·太湖之光”超级计算机系统登上榜单之首。截至2017年11月，“神威·太湖之光”连续四次获得全球超级计算机500强冠军。




图7-30 “神威·太湖之光”超级计算机

与此同时，以计算机网络为核心的信息技术迅猛发展。20世纪90年代以来，随着互联网和数字通信的发展，人们的活动范围也得到了极大的拓展，世界成了一个“地球村”。今天，互连网络遍及全球，人类社会已步入信息时代。

▶ 互联网是由若干计算机网络相互连接而成的网络，因特网是目前全球最大的一个计算机互联网。20世纪90年代，科学家伯纳斯·李发明了万维网（World Wide Web，缩写为“WWW”）并宣布万维网完全免费，不申请专利权，使“上网”不再是专业人员的“特权”。万维网是互联网中的一种信息服务系统，方便用户搜索和浏览各种信息。互联网因此得以迅速普及，数以亿计的普通人能够方便地使用网络资源。

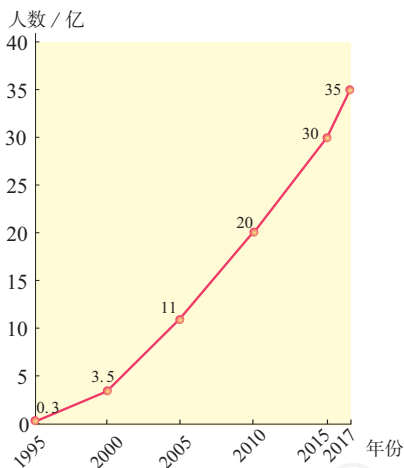


图7-31 互联网全球用户人数的变化

计算机网络将世界各地联结成一个整体，不仅极大地拓展了人类的生活空间，还对人类经济活动产生了直接影响，推进了全球经济的一体化。但随着互联网的发展，网络安全问题也日益凸显，引起社会的广泛关注。

- ① 在日常生活中，你会使用哪种电子产品登录互联网，主要目的是什么？
- ① 结合自己的感受，说一说互联网给人类的生产生活带来的便利。
- ① 网络技术的广泛应用也引发了各种各样的讨论，如发布不良信息、网络诈骗等。就此，谈一谈你的看法。

20世纪50年代以来，空间技术的发展使人类实现了飞向太空的梦想。人造地球卫星、载人宇宙飞船、航天飞机等，都极大地推动了人类对宇宙空间的探索。这些探索不仅发展了空间科学技术，也带动了相关科学技术的发展。



图7-32 翟志刚出舱活动

20世纪90年代，中国明确作出实施载人航天工程的重大战略决策，并不断取得历史性突破。2003年，我国第一艘载人飞船神舟五号发射，航天员杨利伟乘坐飞船升入太空，并成功返回地面。我国成为世界上第三个独立掌握载人航天基础技术的国家。2008年9月，神舟七号载人飞船升入太空，航天员翟志刚成功完成出舱任务，实现了太空行走。如今，中国向着建设空间站的目标稳步迈进。



图7-33 “天眼”望远镜

2016年9月，有超级“天眼”之称的500米口径球面射电望远镜建成，这是具有我国自主知识产权、世界最大单口径、最灵敏的射电望远镜。2017年10月，“天眼”望远镜在银河系内发现6颗新的脉冲星，实现了我国在该领域的突破，在国际天文领域引起了强烈反响。

当今世界，以大数据、人工智能、云计算为代表的新一代技术产业不断发展。世界经济论坛创始人克劳斯·施瓦布提出，我们当前正处在第四次工业革命的开端，技术和数字化将会改变一切，各项重大技术创新即将在全球范围内掀起巨变。

- ④ **资料** 第四次工业革命始于世纪之交，是在数字革命的基础上发展起来的，其特点是：同过去相比，互联网变得无所不在，移动性大幅提高；传感器体积变得更小、性能更强大、成本也更低；与此同时，人工智能和机器学习也开始崭露锋芒。
- ④ 大数据、人工智能、云计算等新技术的应用使人们的日常生活发生哪些新变化？
- ④ 第四次工业革命将给世界带来怎样的影响？



科学技术的发展深刻改变着人们的思维、生产、生活和学习方式。人们不仅更加注重改善、提高物质生活的品质，也越来越重视丰富自己的精神文化生活。这使学习等非物质消费的支出呈上升趋势，需求呈现多样化、多层次、多方面的特点。



图7-34 科技发展给社会生活带来变化

科学技术日新月异，知识经济方兴未艾，知识总量呈几何级数增长，知识更新速度大大加快。人的一生，只有进行不间断的、持续的充电，才能不间断地、持续地释放能量。知识就是力量，知识可以改变一个人的命运，也可以改变一个民族、一个国家的命运。古今中外，传承知识、创新知识、学习知识、运用知识，始终与历史进步相伴、与社会发展共存，是人类提高自己的重要阶梯，是国家发展兴盛的重要基础。人类依靠学习走到今天，也必然要依靠学习走向未来。

- ⑩ **资料1** 联合国教科文组织的埃德加·富尔先生预言：“未来的文盲，不再是不识字的人，而是没有学会怎样学习的人。”
- ⑩ **资料2** 习近平在《之江新语》中指出：“我们一定要强化活到老、学到老的思想，主动来一场‘学习的革命’，切实把外在的要求转化为内在的自觉，成为自己的一种兴趣、一种习惯、一种精神需要、一种生活方式。”
- ① **说一说**，构建学习型社会的意义是什么。

# 综合探究七

## 认识“和平与发展”的时代主题

如果把20世纪上半叶称为“战争与革命”的年代，那么第二次世界大战结束后，特别是冷战结束以后，“和平与发展”成为时代的主题。这不仅表现为人们对和平与发展的强烈渴望，更因为世界格局发生了巨大变化。但是，和平与发展成为时代主题，并不等于和平与发展已经得到保障。当经济全球化、世界多极化、社会信息化、文化多样化已成为当今世界的基本特征时，和平与发展这两大主题，更成为我们共同关注的问题。

### “和平与发展”为何成为时代的主题

20世纪上半叶给我们留下了太深的战争与革命的记忆。在两极格局下的冷战时期，战争的阴影依然挥之不去。

#### 掠影一：世界人民反对战争的呼声空前高涨

我们在这里向你们提出的，是一个严峻的、可怕的、无法回避的问题：我们要置人类于末日，还是人类该弃绝战争？

首先，东西方之间的任何协议，就消除紧张局势来说都是有益的。其次，销毁热核武器，如果双方都有诚意去这样做了，就会减轻对珍珠港式突然袭击的那种恐惧。要是你们能这样做，展示在面前的是通向新乐园的道路；要是你们不能这样做，那么摆在你们面前的就是普遍死亡的道路。

——《罗素—爱因斯坦宣言》，1955年7月

⑩ **资料** 越南战争期间，反战运动在全美各地的大学校园高涨。一份受总统委托由学者完成的调查报告指出：对学生来说，和平就是“立即停止屠杀”；对政府而言，和平就是确保越南南部的“正义”与“和平”，战争必须继续进行。总统相信只有把战争进行下去，才能维护“国家的名誉”，而大多数学生认为正是越南战争损害了国家的名誉。

① 看到美国大学生和总统对和平的不同观点，你会作出什么解释？

## 掠影二：世界各地期盼发展的要求空前强烈

**发展中国家：**我们有资源与人力。我们需要的只是一个机会，一个可以将本国融入世界经济的机会，一个享受全球化机遇的机会。

**发达国家：**如果不实现“良政”，发展中国家永远不可能体会到全球化给它们带来的最大机遇，即消除它们与发达国家之间差距的机遇。

发展中国家呼吁建立公平、公正、开放和非歧视的多边国际贸易体制，希望加强和发挥联合国的作用，反对“日益强化的单边主义”和任何建立损害发展中国家利益的新体制的企图。

① 在你看来，“和平”与“发展”这两个主题有什么关联？

① 在这两大主题中，你是否赞同“发展”是核心问题，理由是什么？

## “和平与发展”面临的挑战

第二次世界大战结束以后，爱好和平的人们极力避免新的世界大战的爆发。但是，局部战争与地区冲突从未停息。从朝鲜半岛的崇山峻岭到伊朗的广袤沙漠，从越南的茂密丛林到波斯湾的钻井油田，此起彼伏的战火伴随人类社会走进21世纪，和平与发展的良好愿望不断面临新的挑战。

▶ 1999年，以美国为首的北约打着“人权高于主权”的幌子，越过联合国安理会，对南斯拉夫社会主义联邦共和国进行了持续78天的轰炸。2003年，美国及其盟国发起推翻伊拉克政府的战争。根据2008年1月世界卫生组织联合伊拉克政府发布的报告，战争造成的平民死亡人数在10.4万至22.3万之间，上百万人失去家园。战争还给伊拉克和全球经济造成巨大损失。



图7-35 伊拉克战争

⬆ 根据你所了解的情况，填写下方空白处。

- 朝鲜战争，1950—1953年
- 越南战争，1961—1975年
- 两伊战争，1980—1988年
- 海湾战争，1991年
- 科索沃战争，1999年
- 伊拉克战争，2003年

• .....  
• .....

⬆ 结合史实，说一说造成局部战争爆发的因素有哪些。

军备竞赛、军事入侵、种族冲突以及边界纠纷等，都是传统安全问题。冷战结束后，恐怖主义、武器扩散、跨国犯罪等非传统安全问题更加凸显，涉及的领域日益广泛。一些触目惊心的事件提醒人们，非传统安全问题对和平与发展的危害可能会比传统安全问题还要大。



▶ 2001年9月11日，恐怖分子劫持3架飞机，分别撞向纽约的标志性建筑世界贸易中心双塔大楼和美国国防部所在地五角大楼。恐怖分子劫持的第四架飞机坠落在宾夕法尼亚州。这一事件导致世贸双塔倒塌和五角大楼严重受损，近3 000人死亡或失踪，经济损失达数千亿美元。

图7-36 遭到袭击的纽约世贸中心双塔大楼



对于冷战结束后非传统安全问题的日益突出，人们给出了各自的解读。

- ⑩ **视点1** 世界多极化使传统安全问题的威胁减少了，但资源短缺、环境污染、宗教极端主义、恐怖主义、民族分裂主义等威胁更加凸显出来。
  - ⑪ **视点2** 经济全球化使国家之间相互依存度不断提高，但相伴而来的还有逐渐加剧的、世界性的不平等和两极分化，由此引发一些国家内部的危机和动乱。
  - ⑫ **视点3** 全球信息网络的高速发展，为犯罪活动的国际化、恐怖主义的全球化提供了便利条件。
- ⑬ 确定你特别关注的一个视点，并提供你的例证，阐述你的理由。

2006年，联合国大会一致通过了有关在全球范围内打击恐怖主义的《全球反恐战略》。总体和平，局部战乱，是当今世界的基本态势。但两次世界大战的惨痛经历和大量核武器存在的现实，每时每刻都在提醒人们要维护和平。

当代国际关系中的发展问题，突出地表现为发达国家和发展中国家之间的关系问题。第二次世界大战结束后，世界经济快速发展，其规模和影响前所未有的。但是，经济发展的成果远未惠及所有的国家和人民，当今世界仍然是一个贫富差距悬殊的世界。



图7-37 等待领取食物的非洲儿童

- ⑭ 国际货币基金组织在一份报告中指出，整个世界带着有史以来最悬殊的贫富差距进入了21世纪。根据联合国的标准，最不发达国家1971年为24个，1981年为39个，2015年则为48个。这些国家大部分在非洲，其中近半数的国家每人每天的生活费不足1美元。

⑮ 导致发达国家和发展中国家贫富差距巨大的原因有很多。请你结合所学知识，说一说除了下列原因外，还有哪些原因。

- 一些发展中国家在获得独立后长期处于战乱状态
- 发展中国家缺少推动经济发展的资金和技术
- 从历史的角度看， .....
- 从国际贸易的角度看， .....
- .....

## 走和平发展道路 构建人类命运共同体

人类只有一个地球，共有一个家园。没有哪个国家能够独自应对人类面临的各种挑战，也没有哪个国家能够退回到自我封闭的孤岛。世界各国要以负责任的精神同舟共济，共同维护和促进世界和平与发展。

世界繁荣稳定是中国的机遇，中国发展也是世界的机遇。中国高举和平、发展、合作、共赢的旗帜，恪守维护世界和平、促进共同发展的外交政策宗旨，推动建设相互尊重、公平正义、合作共赢的新型国际关系。中国发展为广大发展中国家走向现代化提供了成功经验、展现了光明前景，是促进世界和平与发展的强大力量。中国将坚定不移走和平发展道路，并希望与世界各国共同构建和平、发展、繁荣的人类命运共同体，建设持久和平、普遍安全、共同繁荣、开放包容、清洁美丽的世界。

**观点1** 和平发展理念深植于中国传统文化，“以和为贵”“天下太平”等理念代代相传。2 100多年前，中国人就开通了丝绸之路，推动东西方平等开展文明交流，留下了互利合作的足迹，沿路各国人民均受益匪浅。

**观点2** 和平发展理念是根据当今世界的发展大势提出的，超越了国家和自我中心，顺应了时代潮流。

④ 你认为中国在构建人类命运共同体的过程中应扮演什么角色，发挥什么作用？



### 阅读卡

#### 构建人类命运共同体

中共十八大以来，习近平着眼于世界格局和发展大势，提出“人类命运共同体”的新理念，并在多个场合阐述了这一理念。

2015年9月28日，习近平出席第70届联合国大会一般性辩论，发表了题为《携手构建合作共赢新伙伴，同心打造人类命运共同体》的重要讲话，强调要构建以合作共赢为核心的新型国际关系，打造人类命运共同体。习近平在讲话中指出，实现此目标需要我们从以下几方面努力：要建立平等相待、互商互谅的伙伴关系；要营造公道正义、共建共享的安全格局；要谋求开放创新、包容互惠的发展前景；要促进和而不同、兼收并蓄的文明交流；要构筑尊崇自然、绿色发展的生态体系。中国打造人类命运共同体的倡议引起国际社会的热烈反响，对当代国际关系的影响积极而深远。

2017年2月，联合国社会发展委员会第55届会议协商一致通过“非洲发展新伙伴关系的社会层面”决议，“构建人类命运共同体”理念首次被写入联合国决议中。



## 自我测评

1. 在你的记忆中，还有哪些历史镜头特别能够见证改革开放的伟大成就？请举例说明。

- 2010年上海世博会

- .....
- .....
- .....

2. 坚持对外开放是中国的基本国策，习近平总书记多次提及“开放”。2018年4月10日，习近平在博鳌亚洲论坛2018年年会开幕式上发表主旨演讲时强调“中国开放的大门不会关闭，只会越开越大！”“人类社会发展的历史告诉我们，开放带来进步，封闭必然落后。”请你结合本单元所学内容，思考我国提高开放型经济水平的的原因。

3. 有人说，在经济全球化发展趋势的大海中，发达国家和发展中国家都在同一条船上。也有人说，在当今世界，发展中国家染上了伤寒，发达国家也会得感冒。就此，谈一谈你对经济全球化的看法。

4. 联合国儿童基金会、国际货币基金组织、世界粮食计划署、联合国环境规划署、人权理事会、妇女地位委员会等，都是联合国的下属机构或专门机构。请你登录联合国中文网站，了解联合国参与的国际事务，体会联合国在多极化世界中发挥的作用。

5. 回顾前两次工业革命和第三次科技革命，填写下表。通过比较，说一说三次技术革命各自的特点，感受科学技术的日新月异。

项目	时间	工业 / 科技发展 领先国家	主要技术 / 发明成果	主要工业 / 科技种类
工业革命				
第二次 工业革命				
第三次 科技革命				

## 第八单元

# 共同面对前所未有的全球性问题

纵观人类文明发展史，生态兴则文明兴，生态衰则文明衰。站在新的历史起点上，聚焦生态环境问题，人类正面临前所未有的挑战，是一荣俱荣、一损俱损的命运共同体。我们既要立足于中国的发展，树立以人民为中心的新发展理念，又要着眼于构建人类命运共同体，同世界各国并肩同行，共同建设美丽地球家园。

建设生态文明，必须协调人口、资源、环境的关系，只有遵循新发展理念，形成绿色发展方式和生活方式，才能走上全面、可持续的发展道路，行稳致远，让子孙后代既能享有丰富的物质财富，又能遥望星空、看见青山、闻到花香。选择绿色发展，既是我们对人类文明历程的反思，又是我们对当前幸福生活的守望，更是我们对未来社会进步的担当。

人教版®





# 第一课

## 不断变化的人口问题

自人类诞生以来，世界人口就一直处于不断的发展变化中，既有长时期的缓慢增长，又经历了快速增长甚至是急速增长的阶段。人口的发展变化对世界的自然、社会、经济和文化等各个方面产生了巨大的影响。

### 世界人口的数量变化

世界人口的数量，自有记录以来，总趋势在不断增长。在不同历史时期，人口数量增长的特点是有差异的。工业革命之前，世界人口缓慢增长；工业革命以后，世界人口增长的速度大大加快。尤其是第二次世界大战结束后，大多数发展中国家的人口迅猛增长，使世界人口总量急剧增加。

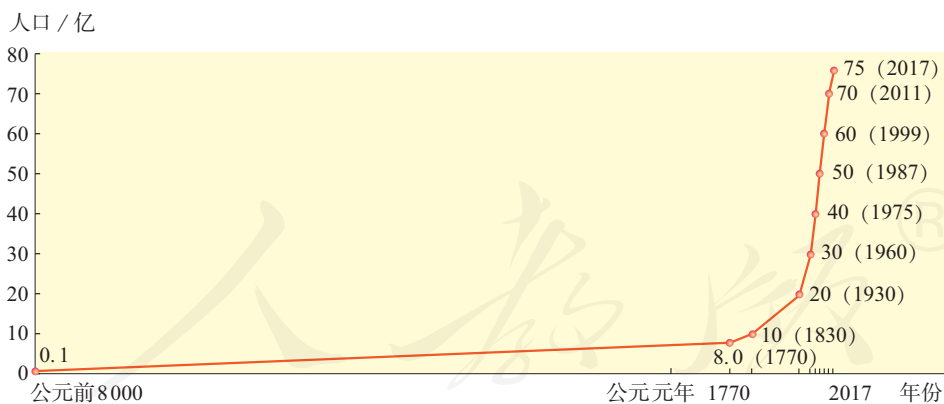


图8-1 世界人口的增长

- ④ 根据图中的数据，计算世界人口每增加10亿所需要的时间，说一说从计算结果中，你发现了什么。

世界人口的自然增长速度，通常用人口自然增长率来表示。人口自然增长率越高，人口的增长速度越快。就目前来看，发达国家的人口自然增长率普遍较低，发展中国家的人口自然增长率则普遍较高。



### 阅读卡

#### 人口自然增长率

人口自然增长率是由人口出生率和人口死亡率决定的。人口出生率是一个国家或地区一年内出生婴儿数占总人口的比例，通常用千分数表示。人口死亡率是一个国家或地区一年内死亡人数占总人口的比例，通常也用千分数表示。

$$\text{人口出生率} = \frac{\text{年内出生人数}}{\text{总人口}} \times 1000\text{‰} \quad \text{人口死亡率} = \frac{\text{年内死亡人数}}{\text{总人口}} \times 1000\text{‰}$$

$$\text{人口自然增长率} = \text{人口出生率} - \text{人口死亡率}$$

一个地区的人口增长，除了受到自然增长影响外，还与人口迁移有很大关系。当今社会，人们寻求新居住地的迁出、迁入活动十分普遍。人口迁移既有跨国家和地区的跨国人口迁移，也有在一国范围内的国内人口迁移。

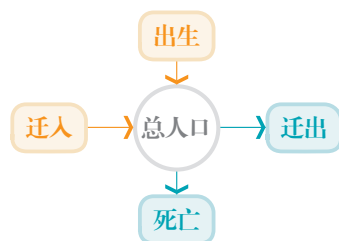


图8-2 人口数量变化示意图

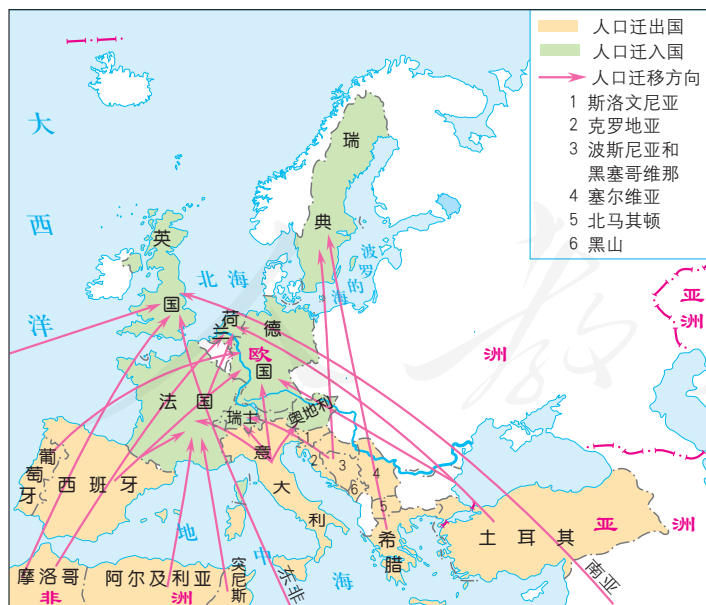


图8-3 第二次世界大战后欧洲的人口迁移

- ④ 根据地图，指出人口迁入地、人口迁出地分别包括哪些国家和地区。
- ④ 说一说，图中的人口迁移对欧洲人口数量的影响。
- ④ 这些地区人口的迁入或迁出会对该地区的发展带来哪些方面的影响，请至少列举三个方面。

世界人口自然增长的状况，在不同国家和地区是有差异的，因而不同国家和地区遇到的人口问题也不完全相同。

③ **资料1** 印度是世界第二人口大国，2017年人口已突破13亿。人口的快速增长，不仅导致印度土地负担过重，还使住房、教育、就业等形势严峻。



图8-4 用水紧张



图8-5 拥挤的火车

③ **资料2** 联合国规定：一个国家或地区60岁及以上人口所占比重达到或超过总人口的10%，或者65岁及以上人口所占比重达到或超过总人口的7%，这个国家或地区就进入老龄化社会。

③ **资料3** 在日本，人们的寿命越来越长，人口出生率却不断下降。2020年，日本65岁及以上人口占总人口的比例为28.7%，位居全球第一。老龄人口增多，劳动力减少，会严重影响国家经济的发展。

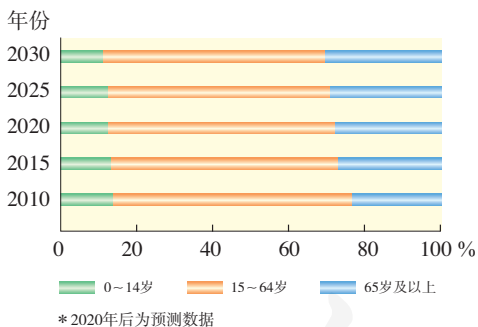


图8-6 日本人口年龄结构的变化



图8-7 日本的老年人

④ 根据以上资料，描述印度和日本人口增长的特点；分析不同的人口增长情况给两个国家分别带来了哪些问题。

人口增长过快，会不断引发人口与资源、环境、发展之间的矛盾，诸如粮食供应不足、就业问题严重、人民生活贫困等；人口增长过缓甚至负增长，以及老龄化社会的出现，也会对国家经济发展造成负面影响。因此，一个地区保持合理的人口数量和人口增长速度，有利于经济和社会的发展。

## 我国的人口与发展

我国是世界上人口最多的国家。从20世纪70年代开始，我国全面推行计划生育政策，并将计划生育确立为基本国策。40多年来，我国的人口规模和结构发生了巨大变化，人口素质大幅提高。

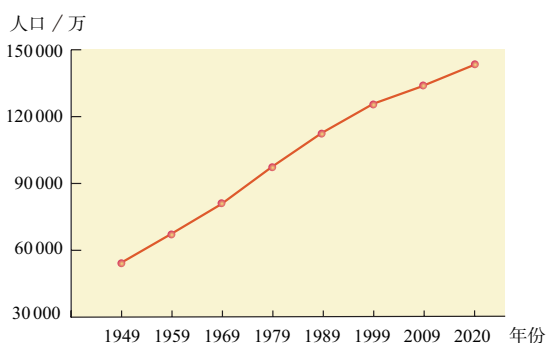


图8-8 1949年以来我国人口数量的变化

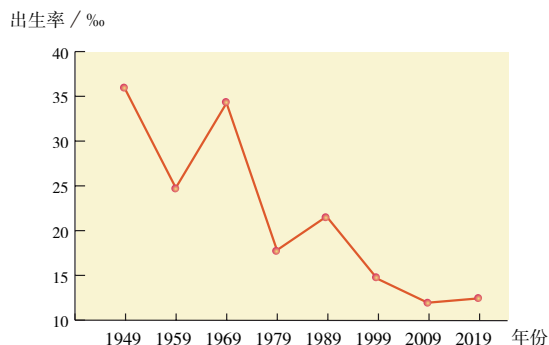


图8-9 1949年以来我国人口出生率的变化

### 国民文化素质的变化

国民文化素质的指标	1982年	2017年
受过高中及以上教育的比重	10.9%	35.0%
受过大专及以上教育的比重	不足1%	15.5%
文盲的比重	34.5%	4.9%
6岁以上人口平均受教育年限	5.2年	9.3年

### 人口健康水平的变化

人口健康水平的指标	1982年	2017年
婴儿死亡率	34.7‰	6.8‰
人口平均预期寿命	67.8岁	76.7岁

📌 根据上面的图表，描述我国人口变化的总趋势。



#### 阅读卡

#### 人口与人手

人是生产者，可以对各种资源进行加工，制造生产工具，创造更多的财富。如果人口过少，尤其是缺少劳动人口，资源不能被充分开发利用，经济就难以发展。人又是消费者，要满足人们衣食住行用的基本需要，必将消耗大量的资源。如果人口过多，增长过快，生产出来的财富大部分会被新增加的人口消费掉，自然环境就会因负担太重遭到破坏，经济发展受到制约。我国许多自然资源的总量和工农业产品的产量都居世界前列，但用庞大的人口总数平均下来，人均占有量就低于世界平均水平。



进入21世纪，我国人口总量增长势头明显减弱，劳动适龄人口总数开始减少，随着人均寿命的增长，老龄化程度不断加深。我国处于社会主义初级阶段，在经济发展水平还不够高的情况下，老年人口的数量增长过快，会给社会发展带来很大压力。

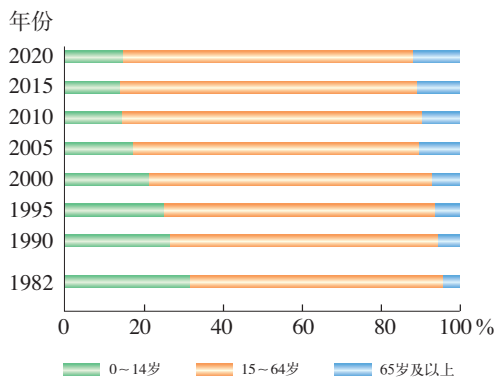


图8-10 1982年以来我国人口年龄结构的变化

⑩ **资料** 我国独居老人和空巢老人的数量增速加快，比重增高。随着我国城市化进程的推进，家庭模式中传统的三世同堂越来越少，越来越多的家庭趋于小型化。同时，城市生活的快节奏，使得年轻子女陪伴父母的时间变少。我国传统的家庭养老功能正在逐渐弱化。

- ① 我国0~14岁人口在总人口中的比例变化趋势如何？65岁及以上人口在总人口中的比例变化趋势如何？这种变化会带来哪些问题？
- ② 在当前的国情条件下，我国的老龄化会给社会发展带来哪些问题？
- ③ 联系生活实际，说说国家和社会为应对老龄化问题采取了哪些措施。

国家把应对人口老龄化和促进经济社会发展相结合，努力挖掘人口老龄化给国家发展带来的活力和机遇，在满足老年人口需求的同时，解决人口老龄化带来的问题。

- ④ 近年来，我国很多地区创新服务理念，着力建设一批社区养老服务站，提供生活护理、保健巡诊等一站式居家养老服务。



图8-11 社区养老服务站

为顺应人口与经济社会发展的新形势，促进人口均衡发展，我国不断完善生育政策。

# 第二课

## 日益严峻的资源问题

随着社会的发展，人类开发利用自然资源的强度越来越大，范围越来越广。特别是全球人口的急剧增长和经济的快速发展，使人类对自然资源的需求与日俱增，人类由此面临自然资源短缺和耗竭的严峻挑战。解决当前的资源危机，是全球的共同课题。

### 世界面临的资源问题

人类的生活和生产离不开土地、阳光、水、森林和矿产。种植粮食，需要土地、阳光和水；制造机器，需要开采铁矿，冶炼钢铁；照明，需要用煤、石油或水能发电；制造家具和纸张，需要木材。这些在大自然中对人类有利用价值的物质和能量，都是自然资源。



图8-12 自然资源与人们的生产生活

自然资源分为两类：一类是可再生资源，一类是非可再生资源。可再生资源，是指那些在较短时间内即可再生，或是可以循环使用的资源。非可再生资源，是指那些形成、再生过程非常缓慢，相对于人类历史而言，几乎不可再生，用一点就少一点点的资源。

根据以上描述，说一说下列资源中，哪些是可再生资源，哪些是非可再生资源。  
土地资源      生物资源      煤炭      石油      水资源      气候资源

自然资源是人类安身立命的基本条件。人类自诞生以来，就一刻也没有停止过对自然资源的获取。在农业社会，人们主要依靠土地、阳光和水等自然资源进行农业生产。进入工业社会，人们把埋藏在地下的矿产资源开采出来，作为原料和燃料投入工业生产，同时也加大对其他自然资源的开发利用程度。在工业化进程中，很多发达的资本主义国家对自然资源，特别是能源资源的消耗量急剧上升，是世界上的能源消费大国。例如，美国2004年已经证实本国的石油储量为2 940千万桶，年产量为260千万桶，而实际年消费量为750千万桶。可见，发达国家在发展过程中消耗了大量能源，对世界能源的消耗负有重要责任。

当人类对自然资源的获取速度超过了自然资源的补给、再生和增殖速度时，就会出现自然资源短缺的问题。尤其是非可再生资源，其蕴藏量不再增加，对它们开采的过程就是耗尽的过程。此外，自然资源分布不均、与地区经济发展不匹配等问题，也会造成区域性资源短缺。




图8-13 全球商业性捕鱼



### 阅读卡

#### 瑙鲁的磷酸盐矿

瑙鲁是南太平洋西部岛国，陆地面积约21平方千米，属于热带雨林气候。千万年来，无数海鸟栖息在小岛上，留下了大量的鸟粪，形成一层厚达10米的磷酸盐（优质肥料），全岛五分之三的面积被磷酸盐所覆盖。自1888年瑙鲁成为德国的殖民地后，这个岛国就开始了被掠夺的命运。如今，岛上大部分磷酸盐矿已被开采，雨林也因采矿遭到严重破坏。

面对当前的资源短缺问题，世界各国都在积极采取措施，合理地开发利用自然资源。“开源”与“节流”是解决自然资源短缺问题的重要措施。“开源”的方法有很多，如增加自然资源的探明储量、扩展自然资源的开发范围、研制自然资源的替代品等。“节流”的方法也多种多样，如开发节能产品、降低生产与生活对资源的消耗、重视废弃物的回收利用等。

### 世界各国积极开发新能源

美国、澳大利亚和冰岛等国利用太阳能、风能、潮汐能和地热能等新能源发电，减少煤炭使用量。



因能源绝大部分依赖进口，德国十分注重节约能源。图中的房屋屋顶的太阳能板不仅能满足家庭能耗，还提高了房屋的保温性能。

日本制定了一系列法律法规推行废弃物的循环利用。图为东京街头的垃圾分类回收桶。

图8-14 资源的“开源”与“节流”

- ① 你如何看待生产生活中资源的“节流”措施？
- ② 收集更多有关资源“开源”与“节流”的信息。
- ③ 在日常生活中，你是如何做到“开源”与“节流”的？

在自然资源的“开源”与“节流”过程中，科学技术具有至关重要的作用。科学技术水平的提高，不仅可以扩大资源开发的范围和种类，增加自然资源的探明储量，还能提高资源的利用效率。



## 应对我国的资源问题

我国幅员辽阔，自然环境多样，自然资源总量丰富，种类相当齐全。我国的土地、水、水能、森林、矿产资源的总量均居世界前列，但我国人口众多，自然资源的人均占有量远低于世界平均水平。

总体来看，我国自然资源的空间分布是不均衡的。这种不均衡对工农业生产的布局 and 区域经济的发展都会产生重大影响。

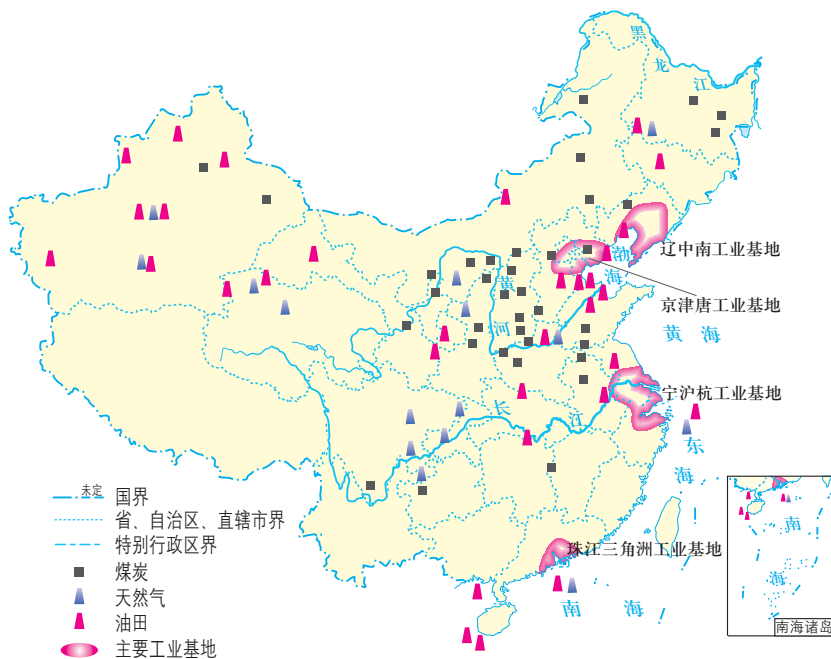


图8-15 中国煤炭资源、油气资源和主要工业基地的分布

① 读图，说一说我国煤炭资源、油气资源以及主要工业基地的分布集中在哪些地区。

- 煤炭资源： .....
- 油气资源： .....
- 主要工业基地： .....

② 我国煤炭资源和油气资源的分布格局，既有有利的一面，也有不利的一面。请结合下面的观点，说一说你的看法。



图8-16 江西的铜业生产基地



图8-17 资源短缺的新闻报道

**观点1:** 我国矿产资源相对集中，有利于在资源集中地区大规模开采，形成全国性的重要矿产基地。江西是我国最大的铜矿基地，铜矿资源丰富，已探明的铜工业储量占全国铜工业储量的三分之一。

**观点2:** 我国矿产资源分布不均，很多资源富集地的资源消耗能力有限，而有些资源储量较少的地区对资源的需求量很大。

为了改变一些地区的资源短缺状况，我国实施了自然资源的跨区域调配工程。西气东输工程，就是把西部地区丰富的天然气资源调往能源相对短缺的东部地区。工程的实施，不仅带动了西部地区的资源开发，还满足了东部地区的能源需求，同时促进了东西部地区经济的发展和人们生活水平的提高等。



图8-18 中国天然气的分布及西气东输线路

③ **资料** 东部地区，尤其是长江三角洲地区，人口稠密，工业、交通密集，是燃料的高消耗地区。以前，该地区长期以煤炭为主要能源，是大气污染和酸雨的重灾区。

④ 观察图中的西气东输线路，说一说，西气东输一线工程的目的地是哪里，这一地区的人口、经济发展有什么特点，对能源的需求是怎样的。

⑤ 总结归纳西气东输工程对西部地区和东部地区的意义。

资源的合理开发、调配，对平衡自然资源空间分布不均，缓解区域自然资源短缺起着重大作用。但是对资源短缺的地区来说，不能将解决资源问题的出路完全依赖于资源的调配。立足自身的自然特点和优势，寻求合理开发利用资源的方式是一条可行的出路。

在进行资源跨区域调配工程的同时，我国也积极开发利用太阳能、风能等清洁能源，在安全的前提下稳步发展核能，同时建立以节能、节材、节水、节地为中心的工农业生产和城乡居民生活服务体系。



图8-19 节水农业



图8-20 节水标志

⑥ 绿色的圆形代表地球，象征节约用水是保护地球环境的重要措施。标志中的白色部分像一只手托起一滴水。手是“节水”的拼音首字母“JS”的变形，寓意节水，表示节水需要公众参与，鼓励人们从我做起，人人动手节约每一滴水；手又像一条蜿蜒的河流，象征滴水汇成江河。

⑦ 收集近期的新闻报道，说说我国各行各业采取了哪些节约资源的措施，取得了怎样的成效。

⑧ 说说在生活中可以采取哪些措施节约资源。

区域的发展要充分考虑本身的资源条件，按照资源状况统筹社会发展的总体布局。这样，区域之间自然条件的差别，会促使各地积极建立开发利用资源的不同模式，形成各展所长、优势互补的区域发展特色。

# 第三课

## 共同关注的环境问题

人类为了生存与发展，一直在运用自己的劳动与智慧，不断地改造自然。在创造和改善自己的生存条件时，人类活动会影响到周边的自然环境，产生一系列环境问题。解决全球性的环境问题，需要世界各国的通力合作。

### 愈演愈烈的环境问题

人们在开发利用自然资源的过程中，会影响人类和其他生物生存的环境。这种影响在自然环境的承载能力以内，人类就能与自然环境保持相对协调的关系；当这种影响超出了自然环境的承载能力，人类与自然环境之间就会产生矛盾，出现各种各样的环境问题。环境问题自古就有，但其具体内容随着社会发展有所不同，影响程度和范围也有巨大差异。



图8-21 狩猎图



图8-22 农耕图



图8-23 现代都市

- ④ 结合上面的图片，运用已学知识，说一说史前社会、农业社会和工业社会人类的活动各有什么特点，是否会产生环境问题。如果有，请举例说明。
- ④ 根据上述分析，总结环境问题的变化呈现出怎样的特点。



工业革命以来，工农业生产迅速发展，大机器、汽车、合成材料、农药和化肥的广泛使用，使废弃物和有害物质的排放越来越多，超过了自然环境的自净能力，区域性的环境污染和生态破坏时有发生。



### 阅读卡

#### 20世纪重要环境公害事件

1930年，比利时马斯河谷烟雾事件，一周内有60多人死亡。

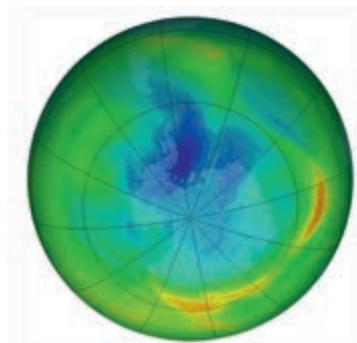
1948年，美国多诺拉烟雾事件，导致5 000余人发病。

1952年，英国伦敦烟雾事件，几天内死亡人数较常年同期约多4 000人。

1953—1956年，日本水俣湾汞污染事件，导致近千人死亡。

1968年，日本米糠油事件，中毒者超过5 000人。

随着全球人口数量的急剧增加，各种大规模的环境问题层出不穷。温室效应、臭氧层破坏、酸雨、物种灭绝、土地荒漠化、森林锐减、固体废弃物污染等大范围的和全球性环境危机，危及全人类的生存和发展。



1979年

2017年

图8-24 南极上方的臭氧空洞对比图

人类向大气中排放的大量氟氯烃破坏了臭氧层中的臭氧，使其吸收紫外线的能力大大降低，人类健康和生态环境因此受到严重危害。

全球平均气温/°C

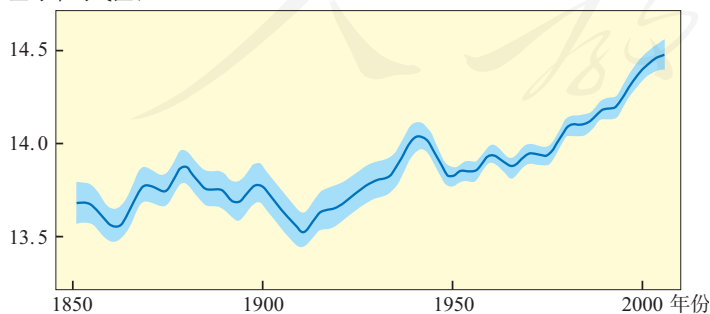


图8-25 1850—2000年全球平均气温的变化

据观测，一个半世纪以来，全球平均气温上升了0.3~0.6°C。这不仅造成南北两极冰盖融化，海平面上升，还引发了土壤盐渍化等一系列生态环境问题。



- 美国北部边境地区燃煤发电厂排放出的大量污染物在自然条件的影响下，越境飘移到加拿大，形成远距离的跨界酸雨。酸雨严重污染了加拿大的森林、湖泊和农作物，引起两国持续多年的争端。

图8-26 加拿大关于酸雨危害的警示牌

- 根据以上资料，分析这些环境问题影响的范围有什么特点，会造成哪些危害。
  - 对人体健康： .....
  - 对经济发展： .....
  - 对生态环境： .....
  - .....
- 你还知道哪些全球性的环境问题？选择其中的一个问题，收集相关资料，说一说为什么称其为全球性环境问题。

其实，很多全球性的环境问题已经不是单纯的环境问题，而是与国家的政治、经济和安全紧密地联系在一起。应对全球性的环境问题，单靠某个国家或地区很难解决，需要世界各国的通力合作。各国在密切关注本国环境问题的同时，也应对区域性和全球性的环境问题予以充分重视。

- 《巴黎协定》是国际上具有法律约束力的二氧化碳减排文件，该协定为2020年后全球应对气候变化行动作出安排。它不仅是世界各国对解决气候变化问题的承诺与责任，更体现了各国在全球性环境问题上的合作。



图8-27 《巴黎协定》签署仪式

- 截至2016年，已经有170多个国家签署了《巴黎协定》。这说明了什么？
- 世界各国都在积极采取措施削减二氧化碳的排放量，把你知道的也补充进来。
  - 中国把“节能减排”纳入国家发展规划
  - .....

## 加快改善我国的生态环境

当前的中国，正处于工业化快速发展阶段，环境问题也不同程度地存在。我国的环境问题既有生态环境问题，也有环境污染问题。荒漠化和水土流失是我国主要的生态环境问题；工业生产中的废气、废水及固体废弃物污染，则是我国面对的主要环境污染问题。



图8-28 正在荒漠化的草原

- 由于过度开垦或过度放牧，我国西北地区部分草原退化严重，形成大面积荒漠化土地。

- 未达标的工业污水、城乡居民生活废水及沿岸农田中的剩余农药等进入河道，会造成河水污染。



图8-29 遭受污染的河水

- 你知道我国还存在哪些生态环境问题和环境污染问题？各选择其中一项，说说其危害。
  - 生态环境问题：.....
  - 环境污染问题：.....
- 你生活的地区是否也存在环境问题？说说其给当地环境和发展带来的危害。

环境问题不仅危害人们的健康，制约我国的经济发展，还影响社会安定，成为威胁中华民族生存与发展的重大问题。为保护和改善环境，防治污染和其他公害，保障公众健康，推进生态文明建设，促进经济社会可持续发展，国家制定了《中华人民共和国环境保护法》，并把保护环境列为基本国策。



图8-30 新环保法

近年来，国家加大环境综合治理的力度，因地制宜地进行生态环境建设。我国的生态文明建设取得显著成效，美丽中国揭开新的篇章。



图8-31 昔日“黄沙遮天日，飞鸟无栖树”的塞罕坝



图8-32 今日“蓝天白云游，绿野无尽头”的塞罕坝

- ▲ 塞罕坝林场的建设者们在塞北荒原上，艰苦奋斗、拼搏奉献，成功营造了全国面积最大的集中连片的人工林，创造了荒原变林海的人间奇迹，被第三届联合国环境大会授予“地球卫士奖”。塞罕坝的森林覆盖率从18%提高到80%，恢复了森林、草原、湿地等多种生态系统。
- ④ 塞罕坝林场的建设者们为什么能获得“地球卫士奖”的荣誉？
- ④ “塞罕坝精神”对我国其他地区的生态环境建设有什么意义？
- ④ 你还知道哪些生态环境恢复的案例？查找相关资料，说说它们是怎样取得成功的。



图8-33 1998年的滇池



图8-34 2018年的滇池

- ▲ 近十几年来，国家高度重视云南滇池的水污染防治工作，共投入资金上千亿元，并综合运用工程技术、生物技术、信息技术、自动化控制等各种手段进行治理。如今，滇池污染持续减轻，水质不断改善，生物多样性逐渐恢复。



④ 从滇池的治理，我们可以看出，治理环境污染离不开各方面的支持。

- 需要投入大量的资金

- 需要.....

- 需要.....

- .....

④ 滇池的彻底治理，还有很长的路要走。你认为最重要的是什么？

④ 在新闻媒体上，我们经常见到这样的字眼，如“蓝天保卫战”“清水进行时”“净土在行动”“五水共治”。选择其中一个方面，查找相关资料，然后和其他同学分享一下。

目前，我国环境形势依然不容乐观，人民日益增长的对美好生态环境的需求，还不能得到充分的满足。我国的生态文明建设是一个长期的过程，离不开每个人的参与和努力。从自身做起，从小事做起，每个人的一小步，都是迈向美丽中国的一大步。

生态环境是生存之本、发展之源。我们必须树立尊重自然、顺应自然、保护自然的生态文明理念，把生态文明建设放在突出地位，努力建设美丽中国，实现中华民族永续发展。与此同时，中国还积极参与全球生态环境建设，成为全球生态文明建设的重要参与者、贡献者和引领者，主张加快构筑尊崇自然、绿色发展的生态体系，共建清洁美丽的世界。



### 阅读卡

#### 人类发展十字路口前的中国主张

应对气候变化等全球性环境问题，中国拿出了方案，更做出了成绩。2018年，习近平主席在二十国集团领导人第十三次峰会上呼吁：“我们应该继续本着构建人类命运共同体的责任感，为应对气候变化国际合作提供政治推动力。”峰会期间，习主席还向世界昭告了人类历史发展路口前的中国主张：“中方始终相信，多边主义是最符合各国人民利益的必由之路。面对层出不穷的全球性挑战，各国除了加强多边合作，没有更好的选择。我提出构建人类命运共同体，倡议共建‘一带一路’，就是在反复思考世界各国应如何在千差万别的利益和诉求中实现共商共享、和而不同、合作共赢。”中国负责任大国的担当，赢得了峰会绝大多数与会方的支持及赞赏，这番发言展现了中国为世界贡献的新智慧、新力量。

④ 请你查找资料，说一说中国在解决人口、资源、环境和发展等全球性问题上，贡献了哪些中国智慧和方案。

# 第四课

## 发展的选择

20世纪以来，工业化在促进物质文明发展的同时，也带来了一系列环境问题。人类社会在反思以经济增长为目标的传统发展模式后，提出了协调人口、资源、环境与发展的可持续发展观。中国坚持创新、协调、绿色、开放、共享的发展理念，消除贫困，走上生产发展、生活富裕、生态良好的文明发展之路。

### 可持续发展与新发展理念

人口（Population）、资源（Resources）、环境（Environment）与发展（Development）问题，简称为“PRED问题”。人口的快速增长、自然资源的短缺、生态环境的恶化等问题与人类社会的发展之间存在着错综复杂的关系。



图8-35 巴西亚马孙热带雨林地区开发计划示意图



图8-36 遭受破坏的热带雨林

20世纪中期以后，巴西政府为了应对人口快速增长和经济发展对资源的需求，开始在亚马孙热带雨林地区实施大规模的修路计划和开发计划。随后几十年，大量人口移入，人们在这里毁林烧荒，开辟大型牧场，种植各类经济作物。热带地区的土壤失去了雨林的保护，不断受到侵蚀，肥力迅速下降，这些土地最终被废弃。森林被大量砍伐和生活废弃物的排放对生态环境造成了极大的破坏，使当地居民生活陷入困境。

④ 亚马孙热带雨林地区的人口、资源、环境与发展发生了怎样的变化？它们之间又是如何相互影响的？请仿照示例用箭头标示出来。

人口快速增长

人口

资源

环境

发展

20世纪中期以后出现的一系列人口、资源与环境问题，迫使人们重新审视以前的经济行为和发展观。人们认识到，只有通过协调发展才能解决这些问题，实现人类社会的可持续发展。



### 阅读卡

#### “可持续发展”的由来

20世纪60年代以来，人们开始关注世界范围内的环境污染问题。随后，提出了可持续发展的概念。1987年，联合国环境与发展委员会在《我们共同的未来》报告中，首次明确提出可持续发展的定义，促进了国际社会对可持续发展的认识。1992年，联合国环境与发展大会通过了一个全球范围内可持续发展的行动计划——《21世纪议程》。该计划涵盖了减少资源浪费、保护生物多样性，以及促进可持续农业等众多议题。

可持续发展指的是既满足当代人的需求，又不对后代人满足其需求的能力构成危害的发展。它要求不同国家和地区的人们都有平等发展的机会，人与自然和谐共处，能够认识到自己对自然、社会和子孙后代应负的责任。可持续发展包含生态可持续发展、经济可持续发展和社会可持续发展，三个方面缺一不可。

生态环境系统为人类社会提供各种资源，是人类社会发展的自然基础；经济发展需要与生态环境相协调，不能以牺牲环境作为发展的代价；社会发展过程中需要兼顾地区公平、代际公平，追求社会公平。

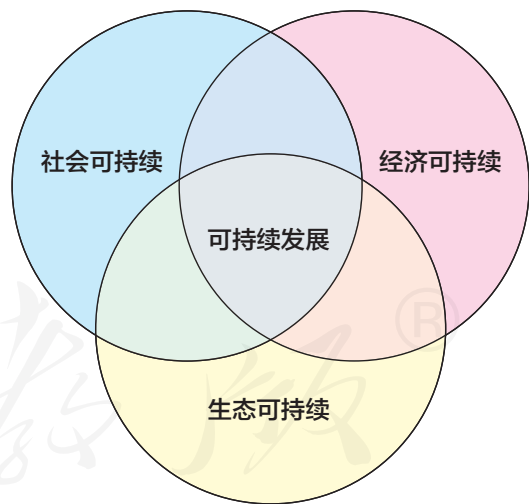


图8-37 可持续发展示意图

中国政府积极响应国际社会的号召，根据中国的国情，坚持创新、协调、绿色、开放、共享的新发展理念，不断朝着更高质量、更有效率、更加公平、更可持续的方向前进。

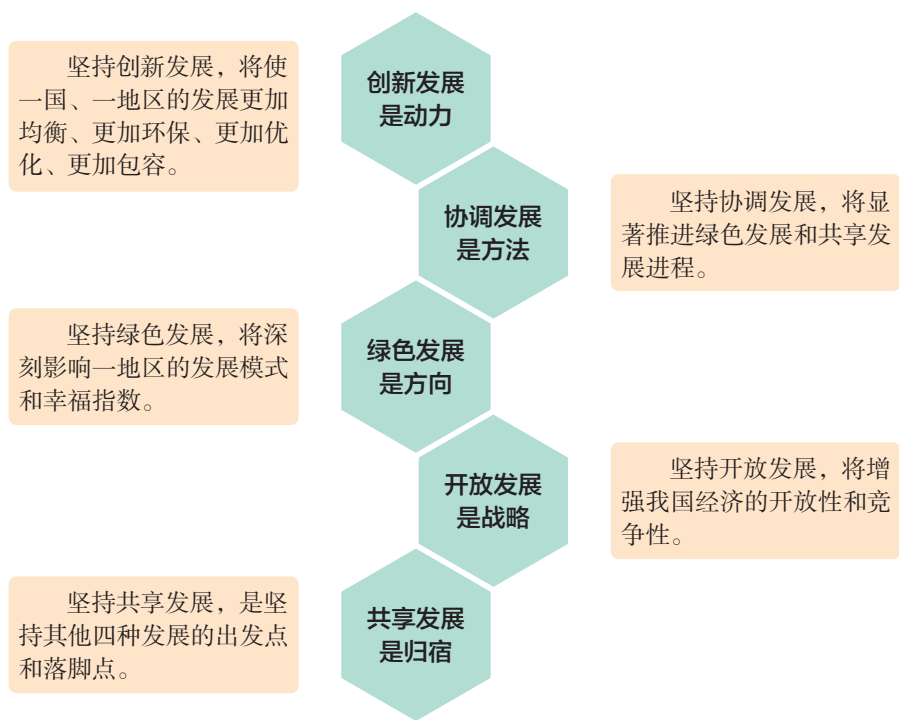


图8-38 五大新发展理念示意

③ **资料** 为建设美丽长江，长江上游七省(自治区、直辖市)注重预防监督，突出综合治理，创新体制机制，促进水土资源可持续利用，初步形成了水土保持与经济发展同步推进、生态保护与民生福祉同步改善的良好局面，经济建设与生态保护协调发展的良好态势基本形成。七省(自治区、直辖市)稳步推进坡耕地水土流失综合治理、国家水土保持重点工程等项目建设，结合精准扶贫和美丽乡村建设，注重将退耕还林工程、国土整治、生态移民等项目向水土流失严重地区集中实施，建设高效生态农业生产基地，着力改善农村生产生活条件，加快项目区生态修复，促进农村经济发展与生态保护协同推进。各地因地制宜打造了一批生态保护型、生态经济型、生态清洁型小流域，乡村面貌焕然一新。

④ 结合建设美丽长江的行动，谈一谈你对新发展理念的理解。

我们要坚持创新、协调、绿色、开放、共享的发展理念，树立“绿水青山就是金山银山”的意识，坚持可持续发展，坚定走生产发展、生活富裕、生态良好的文明发展道路，加快建设资源节约型、环境友好型社会，形成人与自然和谐发展现代化建设新格局，推进美丽中国建设，为全球生态安全作出新贡献。



## 因地制宜谋发展

我国幅员辽阔、人口众多，各地在自然条件、历史基础、社会经济发展水平等方面存在着较大差别，由此形成了显著的区域发展差异。根据全国各地的自然条件、经济基础、发展水平和对外开放程度，可把全国划分为东部地区、中部地区、西部地区、东北地区四大地区。

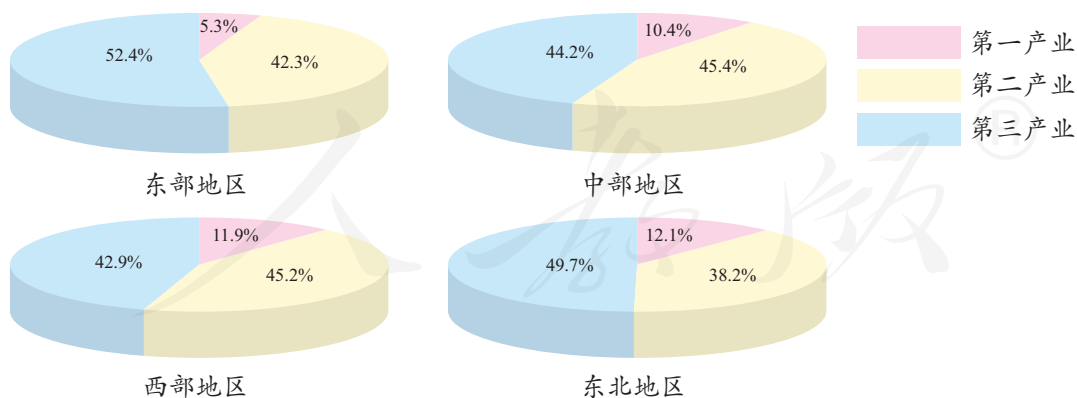


图8-39 中国的四大地区及其三大产业的比例

- ① 你的家乡位于哪一地区？
- ② 根据上图说说四大地区经济发展的特点。





## 阅读卡

### 长江三角洲的城市群

长江三角洲地区交通发达，城市密集，形成了由一个中心（上海）、四个副中心（南京、苏州、杭州、宁波）以及其他众多大、中、小城市组成的城市群。2010年，国家制定了《长江三角洲地区区域规划》，提出要发挥上海的龙头作用，努力提升南京、苏州、无锡、杭州、宁波等区域性中心城市的国际化水平，使之成为我国最具活力和国际竞争力的世界级城市群。



图8-42 长江三角洲的城市群

除了工农业生产外，金融业、旅游业等方面的经济活动，在区域发展中的作用也日益凸显，甚至成为一些地区的支柱产业。各地应充分考虑当地的环境条件，发展独具特色的金融业和旅游业。



图8-43 海南岛自然风光

▲ 海南岛地处我国与东南亚各国交往的十字路口。这里交通便利，气候宜人，拥有海水、阳光、沙滩、森林、温泉、热带物产和少数民族风情等丰富而独特的热带海岛旅游资源。在自由开放的政策下，海南岛正朝着建设国际旅游岛的方向迈进。

“银行比米铺多”，是人们对香港金融业发展最通俗的概括。香港共有一千多家银行。世界排名100位之内的银行多数在香港设有办事机构，24小时昼夜不停地与世界各地进行业务往来。



▲ 香港地处交通要冲；在时区上可以承接欧美金融市场的交易时间；拥有能够满足各种金融服务和巨额资金调动的现代化交易与通信设施及政策支持。这些，造就了香港国际金融中心的地位。

为了更好地发挥各地优势，不同区域还可以开展区域合作，实现互利共赢。例如，依托长江“黄金水道”，优化沿江城镇和产业布局，实现长江上、中、下游区域的互动合作；推进京津冀协同发展，建设以首都为核心的世界级城市群；推进“一带一路”建设，统筹国内外区域开发与国际经济合作。

## 向贫困宣战

贫困是很多地区环境恶化的主要原因，而环境恶化又会严重阻碍这些地区的发展。因此，消除贫困既是实现区域可持续发展的重要途径，也是重要目标。



**阅读卡**

2030年可持续发展目标

### 可持续发展目标

2015年，联合国发展峰会通过了《2030年可持续发展议程》，设定了2016—2030年世界可持续发展的总目标。该议程提出了17个可持续发展目标，第一个目标就是消除贫困。



在党和政府的主导下，在改革开放奠定的坚实的物质基础之上，我国建立了全社会共同参与的多元主体的社会扶贫体系，并实施了富有成效的脱贫策略。



图8-44 我国的扶贫体系

图8-45 我国农村脱贫策略举例

如今，我国的脱贫攻坚战取得了全面胜利，现行标准下的农村贫困人口全部脱贫。从全球范围看，中国减贫规模大，速度快，是最早实现联合国千年发展目标中减贫目标的发展中国家，为全球减贫事业作出了重大贡献，提供了宝贵经验。



从我国各地实际来看，区域性整体贫困得到解决，完成了消除绝对贫困的任务，贫困地区农村居民生活水平显著提高，农村基础设施和公共服务明显改善，贫困地区的社会面貌发生了深刻变化。



图8-48 今日十八洞村

▲ 十八洞村位于湖南湘西土家族苗族自治州花垣县。当地政府依据本地特殊的自然条件和人文特色，帮助村民发展猕猴桃种植、黄牛养殖、苗绣织锦加工、劳务输出和乡村游五大产业。如今，曾经深度贫困的十八洞村实现整村脱贫摘帽。



图8-49 闽宁镇村民的新居

▲ 宁夏回族自治区银川市永宁县闽宁镇引进福建的企业、人才和资金，通过产业主导、消化富余劳动力的方式，让老百姓学习技能，告别贫困，在沙滩上打造出了一片绿色的“金窝窝”。

④ 收集我国贫困地区脱贫的实例，选择其中一两项减贫机制，谈谈你的感想。

贫困不是单个国家或区域的问题，而是全球面临的挑战。只有在人类命运共同体新理念下，推动世界各国从安全格局、经济发展和生态建设等方面作出努力，让各国在更加公平公正的环境中发展，全球贫困问题才有可能得到切实有效的解决。

# 综合探究八

## 让历史告诉未来

如何看待自身的价值，如何认识过去的历史，如何把握今天的生活，如何选择未来的发展，在我们对这门课程的学习即将完成之际，回看走过的路，比较别人的路，远眺前行的路，就会对这些问题有新的感悟。

### 沧桑之变，历史告诉了我们什么

#### 启示一：人类社会的历程是怎样的

纵观人类社会发展的进程和趋势，社会生产力是最活跃、最革命的因素，总处在不断进步的变化中，是社会发展的最终决定力量。有什么样的生产力，就要求有什么样的生产关系与之相适应；社会生产力发展了，社会生产关系就要相应地发生变化，整个社会的面貌和人们的思想观念也随之改变。正是生产力与生产关系相互作用的社会基本矛盾的运动，推动人类社会从低级向高级发展前进，社会形态从原始社会、奴隶社会、封建社会、资本主义社会到社会主义和共产主义依次更替，这是我们观察和理解人类社会发展阶段根本观点。

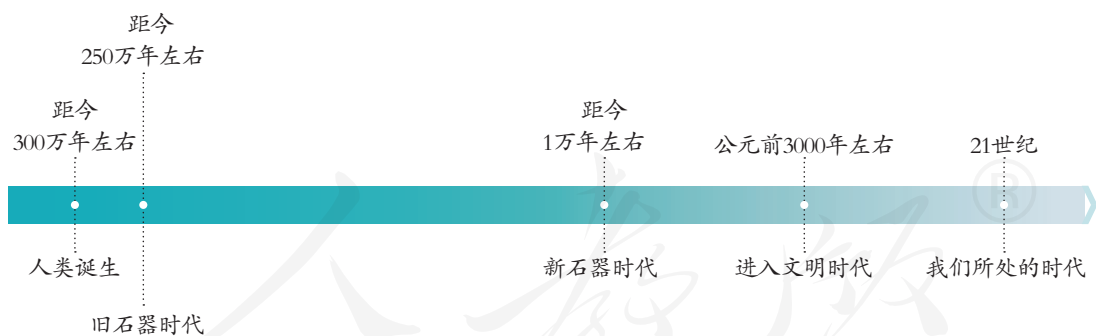
聚焦社会制度的形式、社会变革的方式、发展程度的差距，没有任何国家或地区的历史发展过程是一模一样的。以中国特色社会主义为例，它是在改革开放的伟大实践中得来的，是在中华人民共和国成立以来的持续探索中得来的，是在党成立以来领导全国各族人民进行的长期奋斗中得来的，是在近代以来中华民族的历史进程中得来的，是在对悠久的中华文明的传承发展中得来的，是党和人民历经千辛万苦、付出各种代价取得的宝贵成果。

- ④ 结合所学知识，阐述有关人类社会发展历程的根本观点。
- ④ 探究地理环境、文化传统、外部影响等因素对一个国家或地区发展有什么作用。
- ④ 如何看待中国特色社会主义的科学真理性和历史必然性。

### 启示二：谁在推动人类社会的进步

- ④ **资料1** 1999年秋天，英国广播公司评选过去一千年对世界影响最大的历史人物。经过互联网上的反复评选，马克思排在第一，爱因斯坦排在第二。
- ④ **资料2** 英国诗人亚历山大·波普用形象的语言描述牛顿的贡献：“自然界和自然界的定律隐藏在黑暗中，上帝说：‘让牛顿去吧！’于是一切成为光明。”
- ④ 马克思被列为千年伟人之首说明了什么？在你看来，还有谁可列入千年伟人之列？理由是什么？
- ④ **资料3** 梁启超认为，大人物“心理之动进稍易其轨，而全部历史可以改观”。他还说：“试思中国全部历史如失一孔子，失一秦始皇，失一汉武帝，……其局面当何如？”
- ④ 谁是创造人类历史的根本力量？人们对梁启超的观点一直有着很大争论。请你对此发表自己的见解。
- ④ 通过三年的学习，你对历史还有哪些感悟？

## 共同关注，我们处在什么样的时代



史前时代的漫漫旅程，经历了逾百万年。人类进入文明时代仅仅五六千年的时间，虽然它不过是人类历史的六百分之一，但发展变化远远超过了以往。尤其是工业革命以来，社会发展呈现出加速度的趋势，反映出科学技术的强大推动力。在刚刚过去的一百年里，人类文明达到了以往任何时代不可比拟的高度——过去怎么能够料想到人类拥有如此巨大的智慧和能力呢？





图8-50 原始人生活场景复原



图8-51 美国硅谷街景

- ▶ 美国加利福尼亚州硅谷是科技创新的基地，集中了近万家高科技公司。

- ④ 结合上面两幅图片，说一说在历史长河中，人类的社会生活有哪些变化，又带给你怎样的感受。
- ④ “我从哪里来？要到哪里去？”回答这两个问题，都需要确定“我现在在哪里”。描述一下你所处时代的特征。

回溯往昔，人类发展取得了巨大成就，放眼未来，世界正面临前所未有之大变局。习近平总书记强调，前进道路从来不会是一片坦途，必然会面对各种重大挑战、重大风险、重大阻力、重大矛盾，必须进行具有许多新的历史特点的伟大斗争。当今世界，问题与挑战并存，我们应携手并肩，砥砺前行。



### ④ 焦点1：粮食安全

随着世界人口的增长，出现了粮食紧缺的严重问题，甚至导致粮食危机。20世纪70年代至今，粮食危机此起彼伏。人口增长、耕地减少与气候变化是威胁粮食安全的几个重要因素。

图8-52 干旱加重了非洲一些国家的粮食危机



## ③ 焦点2：疾病传播

艾滋病是目前全球最危险的疾病之一，全世界有超过3 000万人感染艾滋病。艾滋病的迅猛扩散已经成为全球不得不共同面对的危机和挑战。



图8-53 世界卫生组织网站对艾滋病的介绍

④ 请你结合所学知识，从以下方面展开论述。

- 从社会发展的角度，说明人类面临哪些问题和挑战。
- 从国际关系的角度，说明人类面临哪些问题和挑战。
- 从人与自然关系的角度，说明人类面临哪些问题和挑战。

## 走向未来，我们应该怎样做

请你收集、梳理相关信息，填写下列表格，思考人类的生活因此会受到什么影响。

你所关注的国内和国际发生的重大事件	关注的理由

结合表格，以“小故事，大时代”为题，阐述自己的感悟。

- ④ 以史为鉴，你认为受到关注的事件应该如何解决？它同你生活的时代有什么关联？
- ④ 你如何才能参与其中，在成就一件好事的同时，感受一种使命、担当一份责任？
- ④ 阐释自己做了什么、能做什么、该做什么的理由，由此表明：尽管我们年轻，即使我们不是英雄，我们依然是历史的创造者。
- ④ 回顾历史，是为了开拓美好的未来，你准备好了吗？



## 自我测评

1. 以下关于人口的描述，哪些是正确的？用数据或案例加以论证。

- A. 世界人口总数一直在持续增长
- B. 一些发达国家人口数量出现负增长
- C. 一些发展中国家人口数量增长过快
- D. 中国的人口面临着数量、质量和结构等多方面的问题

2. 徐州市是我国重要的煤炭产地，也是江苏省唯一的煤炭基地。煤炭的开发，使矿区及周边地区生态环境日益恶化：昔日“鱼跃谷香”的情景一去不复返，甚至出现粮食颗粒无收的现象；地表发生严重的塌陷；等等。2008年以来，政府为治理塌陷地区采用了一条全新思路——利用废弃采煤塌陷地兴建生态湿地公园。

- (1) 徐州的煤炭资源对本省和周边地区的经济建设有什么意义？
- (2) 煤炭资源的开发产生了哪些资源与环境问题？请至少列举三个方面。
- (3) 像徐州这样的资源型城市的转型是必然的吗？说一说你对这个问题的看法。

3. 调查本地10年前和现在的人口、资源、环境与发展情况，完成下表。然后结合本地在自然、人文条件等方面的特点，说一说应该如何发挥本地优势，因地制宜地发展经济。

项目	10年前	现在
人口		
资源		
环境		
发展		

人教版®

## 中国历史大事年表

1949年至今

1949年	中华人民共和国成立
1950年	中国人民志愿军赴朝鲜作战
1952年底	土地改革基本完成
1953年	第一个五年计划开始实施 抗美援朝战争结束
1954年	第一届全国人民代表大会召开，《中华人民共和国宪法》颁布
1956年	三大改造基本完成，社会主义基本制度建立 中国共产党第八次全国代表大会召开
1958年	“大跃进”运动、人民公社化运动
1964年	中国第一颗原子弹爆炸成功
1966年	“文化大革命”开始
1971年	中华人民共和国在联合国的合法席位得到恢复
1972年	中美关系开始走向正常化 中日正式建立外交关系
1976年	江青反革命集团被粉碎，“文化大革命”结束
1978年	中共十一届三中全会召开，我国进入改革开放 历史新时期
1979年	中美正式建立外交关系



1980年	深圳、珠海、汕头和厦门经济特区建立
1992年	中国共产党第十四次全国代表大会提出建立社会主义市场经济体制
1997年	香港回归祖国
1999年	澳门回归祖国
2001年	中国加入世界贸易组织
2008年	中国成功举办第二十九届夏季奥运会
2012年	中国共产党第十八次全国代表大会召开
2017年	中国共产党第十九次全国代表大会召开



## 世界历史大事年表

1945年至今

1945年	联合国正式成立
1946年	世界上第一台电子计算机诞生
1947年	杜鲁门主义出台
1949年	北大西洋公约组织成立
	德国分裂为德意志联邦共和国和德意志民主共和国
1955年	华沙条约组织成立
	亚非会议召开
1956年	埃及宣布将苏伊士运河收归国有
1960年	“非洲年”
1967年	欧洲共同体成立
20世纪80年代末	东欧剧变
1990年	德国统一
1991年	华沙条约组织解散
	苏联解体
1993年	欧洲联盟成立
1995年	世界贸易组织成立
2000年	巴拿马收回巴拿马运河区主权
2001年	美国遭受“9·11”恐怖袭击
2017年	世界人口突破75亿

## 本书重要词汇中英文对照表

(按文中出现先后排序)

冷战 Cold War	科技革命 scientific and technical revolution
杜鲁门主义 Truman Doctrine	和平与发展 peace and development
马歇尔计划 Marshall Plan	恐怖主义 terrorism
北大西洋公约组织 North Atlantic Treaty Organization	自然增长率 natural growth rate
华沙条约组织 Warsaw Treaty Organization	可持续发展 sustainable development
越南战争 Vietnam War	人口迁移 population migration
福利国家 welfare state	老龄化社会 aging society
东欧剧变 drastic changes in Eastern Europe	可再生资源 renewable resource
苏联解体 breakdown of the Soviet Union	非可再生资源 non-renewable resource
经济全球化 economic globalization	温室效应 greenhouse effect
世界贸易组织 World Trade Organization	南极臭氧洞 ozone hole over the South Pole
欧洲联盟 European Union	水土流失 water and soil loss
联合国 United Nations	荒漠化 desertification
《联合国宪章》 <i>The Charter of the United Nations</i>	生态系统 ecosystem

人教版®



# 后 记

本册教科书是人民教育出版社课程教材研究所历史与社会课程教材研究开发中心依据教育部《义务教育历史与社会课程标准》（2011年版）编写的，经教育部2013年审查通过。

本册教科书集中反映了基础教育教科书研究与实验的成果，凝聚了参与课改实验的教育专家、学科专家、教研人员以及一线教师的集体智慧。在此，特别感谢龙平平、徐蓝、蒋梅鑫、高翠莲等专家为本册教科书的编写提出宝贵意见。此外，还感谢所有对这册教科书的编写、出版提供过帮助与支持的同仁和社会各界朋友，以及整体设计艺术指导吕敬人等先生。

本册教科书出版之前，我们通过多种渠道与教科书选用作品（包括照片、画作）的作者进行了联系，得到了他们的大力支持。对此，我们表示衷心的感谢！但仍有部分作者未能取得联系，恳请入选作品的作者与我们联系，以便支付稿酬。

我们真诚地希望广大教师、学生及家长在使用本册教科书的过程中提出宝贵意见，并将这些意见和建议及时反馈给我们。让我们携起手来，共同完成义务教育教材建设工作！

联系方式

电 话：010-58758550

电子邮箱：jcfk@pep.com.cn

人 教 版<sup>®</sup>

人民教育出版社 课程教材研究所  
历史与社会课程教材研究开发中心  
2014年10月







YIWU JIAOYU JIAOKESHU  
LISHI YU SHEHUI

历史与社会

九年级 下册

人教版®



绿色印刷产品

ISBN 978-7-107-13340-6



定价： 元