



义务教育教科书

数学

SHUXUE

一年级 下册



北京出版社




义务教育教科书

数学

SHUXUE

一年级 下册

北京教育科学研究院 编



北京出版社

前言

亲爱的同学：

很高兴和你一起步入数学学习之旅！

在数学之旅中你会遇到很多数学问题和能够运用数学知识解决的实际问题。开动脑筋，认真思考，你就会成功地解决这些问题，相信你一定会在这个过程中感受到快乐的！

我们一起出发吧！

学习新知识



“小蘑菇”是你的好朋友！它会把新的数学知识和思想、方法带给你。



试一试

拿出勇气“试一试”吧，你会更上一层楼！



练一练

通过“练一练”，你会丰富并加深对自己所学内容的理解。

整理与复习

回顾与反思

通过“回顾与反思”，你可以巩固和消化所学知识。更重要的是，希望你能自己再提出一些问题，并和同学们继续交流！

这部分的习题能帮你使用所学知识解决问题，并提高你综合解决问题的能力呢。加油呀！



目 录



一 认识100以内的数····· 2



二 加法和减法（一）····· 18




三 认识人民币····· 43



 旅游购物····· 50



四 加法和减法（二）····· 52



五 认识图形····· 75

六 分类..... 83



七 数学百花园..... 88

1	2	3	4	5	6	7	8	9	10
11									
21									
31									
41									
51									
61									
71									
81									
91									



八 总复习..... 90



附页..... 97

一 认识100以内的数



生活中你还见过哪些比20大的数?



1. 数数 数的组成



① 数一数有多少本书。

一、二、三……
每10本放一摞。



……二十七、二十八、
二十九、三十……




……九十七、九十八、
九十九……

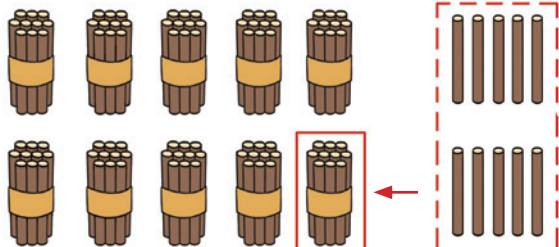


我用小棒来表示
书的本数。

9个十和9个一，
合起来是九十九。



九十九根再添上1
根是一百根。




这里有10个十。

可以换成1个百。

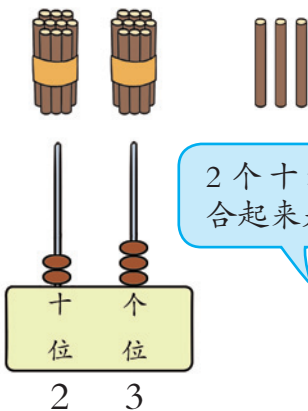


10个十是一百。



一共有多少只鸽子？

摆一摆，拨一拨。



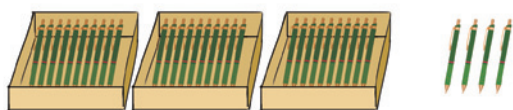
2个十和3个一，合起来是23。



练一练


1. 数一数。

(1)



一共有多少支笔？

(2)



一共有多少瓶墨水？

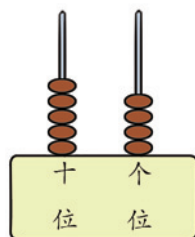
2. 填一填，说一说。

(1)



() 个十和 () 个一，合起来是 () 。

(2)



五十四里面有 () 个十和 () 个一。

3. 在下面各数后面连续数出五个数。

四十五

五十七


六十六

八十八



练习一

1. 数一数，有多少只瓢虫。



2. 对口令：下面各数继续往后数一个数应该是几？

七十九

四十九

二十九

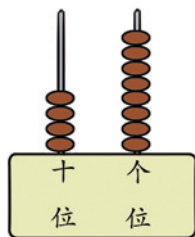
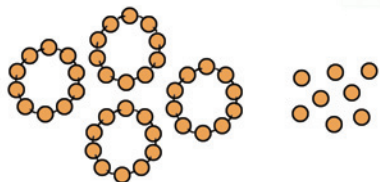
五十九

九十九

3. 数一数，教室里一共有多少张桌子，有多少把椅子。

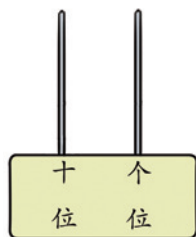
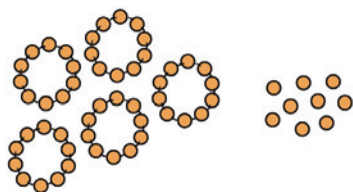
4. 数一数，画一画，填一填。

(1)



() 个十和 () 个一，合起来是四十八。

(2)



() 个十和 () 个一，合起来是五十九。

5. 说出下面的数。


(1) 我们的祖国有_____个民族。

(2) 我们班共有_____名同学，其中男同学有_____名，女同学有_____名。

6. 数一数，说一说。



有多少个●，有多少个●？



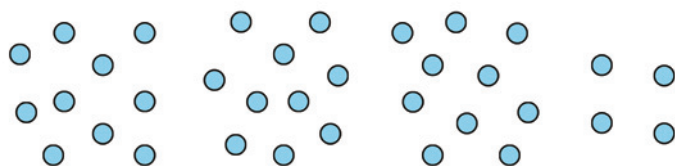
你是怎么数的？



- (1) ●的个数是由 () 个十和 () 个一组成的。
- (2) ●的个数是由 () 个十和 () 个一组成的。
- (3) ●和●一共有 () 个，这个数是由 () 个十组成的。

你还能提出什么问题？

7. 估一估，圈一圈，说一说。



() 个十和 () 个一组成 () 。

8. 随手抓一把曲别针，先估一估有多少个，再数一数有多少个。

9. 估一估。



右边瓶子里可能有……



50 颗糖 () 颗糖



2. 读数 写数



有多少根小棒？

百 十 个
位 位 位

写作：1 0 0
读作：一百

十 个
位 位

写作：2 3
读作：二十三

2 在十位上表示2个十，
3 在个位上表示3个一。



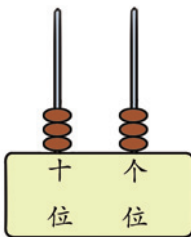
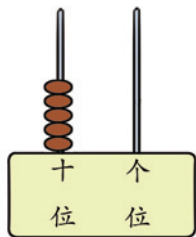
从右边起，第三位是百位。

读数、写数都从高位起。



试一试

1. 看图写数。




33 的十位上的
3 表示什么？
个位上的 3 表
示什么？



写作：() ()

2. 你说数，我写数。



3. 数的顺序和大小比较



百 数 表

1								10
	12							19
		23					28	
			34	35	36	37		
			44			47		
			54			57		
			64	65	66	67		
		73					78	
	82							89
91								100

- (1) 按照数的顺序，在空格里填数。
- (2) 涂一涂，圈一圈。

把十位是5的数涂成黄色。



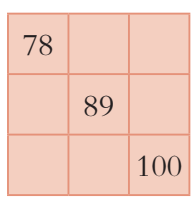
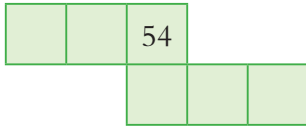
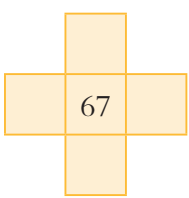
把个位是6的数涂成蓝色。



把十位和个位上数字相同的两位数圈起来。



- (3) 上表中，从 () 到 () 是一位数，从 () 到 () 是两位数，100是 () 位数。
- (4) 观察上表，你还有哪些发现？
- (5) 根据上面的百数表，在□里填数。

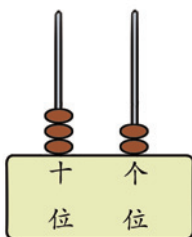





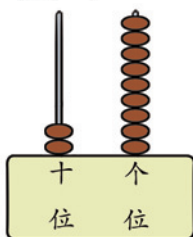

2 谁拔的萝卜更多?



我拔了32个萝卜。



我拔了29个萝卜。



32的十位是3，
29的十位是2。

十位上的数字大，
这个数就大。十
位上相同……

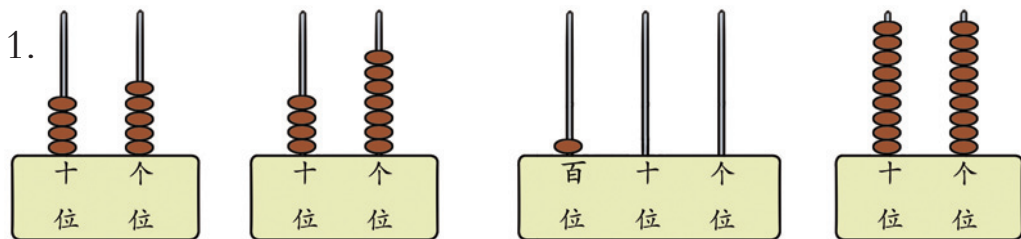


$$32 > 29$$

还可以怎么想?



试一试



2. 在○里填上“>”“<”或“=”。

$$51 \bigcirc 49$$

$$78 \bigcirc 100$$

$$38 \bigcirc 38$$

3. 同桌分别说两个数，比较它们的大小，并说一说是怎么比的。




练一练

1. 按照数的顺序填一填。

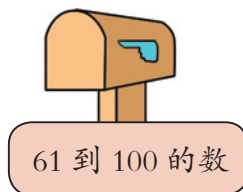
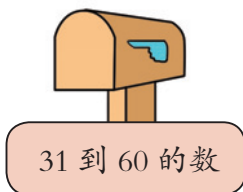
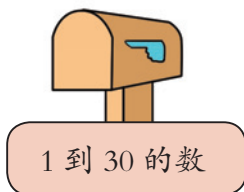
(1)



(2)



2. 放在哪个信箱里?



3.



第_____号车厢的人数最多, 第_____号车厢的人数最少。

第_____号车厢的人数比第_____号车厢的人数少, 但比第_____号车厢的人数多。

4. (1) 写出3个个位是2的两位数, 按从小到大的顺序排列。

$$\square < \square < \square$$

(2) 写出3个十位是2的两位数, 按从大到小的顺序排列。

$$\square > \square > \square$$



3

中国奥运健儿获得金牌数量如下表。

	第 24 届	第 25 届	第 26 届	第 27 届	第 28 届	第 29 届	第 30 届
金牌 块数	5	16	16	28	32	51	38



5 块比 51 块少得多。


32 块比 28 块多一些。



还可以怎么说？你能提出什么问题？

说一说。

1.



() 比 () 多一些，
() 比 () 少得多。


还可以怎么说？

2.

如果我们班坐①号车有空座位，坐②号车座位不够用。那么，我们班可能有()人。



准乘 35 人。



准乘 40 人。

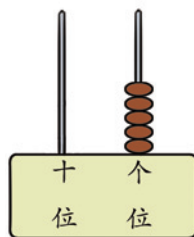
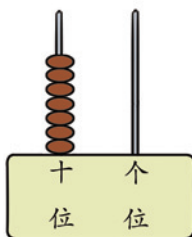
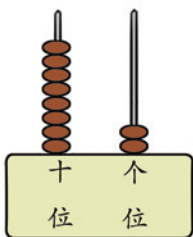
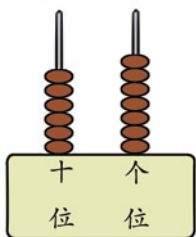


练习二

1. 按顺序填数。

51	52	53	54					60
61					67			
		73					79	
				85		88		
	92				96			100

2. 看图写数。



3. 在合适答案后面的 里画“√”。



大象摘的苹果比小猴摘的……

小刺猬摘的苹果比大象摘的……

多一些。

少一些。

多得多。

少得多。

还可以怎样说?

4. 猜一猜。



我们班有女生18人。

男生不够25人，但是比女生人数多一些。



男生可能有多少人? 在 里面画“√”。

19人

17人

22人

28人



5. 餐厅人满，服务员给等候吃饭的人发号，按号的顺序等位置。张叔叔拿到的是32号，王阿姨拿到的是29号。谁先轮到？




6. 有桃汁25箱。

矿泉水的箱数比桃汁的多一些。



矿泉水



桃汁

橘汁的箱数比桃汁的多得多。




橘汁

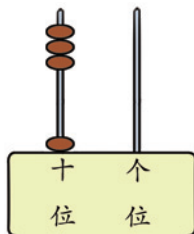



矿泉水可能有多少箱？在（ ）里面画“√”。橘汁可能有多少箱？在（ ）里面画“△”。

30箱（ ） 24箱（ ） 54箱（ ）

7. 按顺序连线。





一共有多少盆花？



10、20、30、40。

1个十加3个十是4个十。




$$10+30=40 \text{ (盆)}$$

试一试

1. $40-10=$

2.

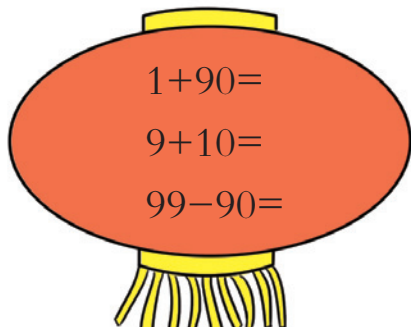
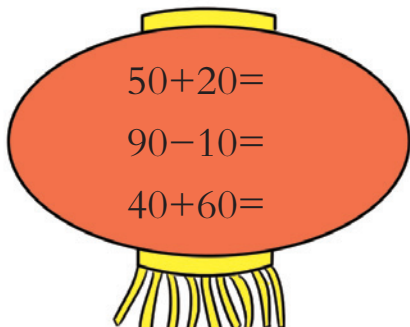


$$40 + 5 = \square$$

$$\square - \square = \square$$

$$\square - \square = \square$$

3. 计算，并给自己打分。



答对灯笼上的一道题得10分，我一共得了_____分。



练习三

1. 找朋友。

6个十加1个十。

2个十与7个一合起来。

从55里去掉5。

从28里去掉2个十。

从100里去掉70。

2. $\square + 20 = 50$ $40 + \square = 46$ $\square + 5 = 35$
 $62 - \square = 60$ $\square - 40 = 30$ $48 - \square = 8$

3. 商店有 30辆，
 20辆。

商店共有玩具车多少辆？

4. 比一比，说一说。

$6+3=$ $7-4=$ $8+2=$
 $60+30=$ $70-40=$ $80+20=$

5. 说一说。

$80 + \square = \square$

整理与复习

回顾与反思

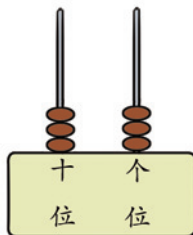


我知道 100 里面有 10 个十。

我会用多种方法数数。




我知道 100 页的书大约有多厚。



.....

你还有哪些问题想和同学交流？

1. 先估计有多少颗糖，再圈一圈，数一数。



2. 说一说，怎样取书。

一摞书有 10 本。



(1) 班领取 30 本。

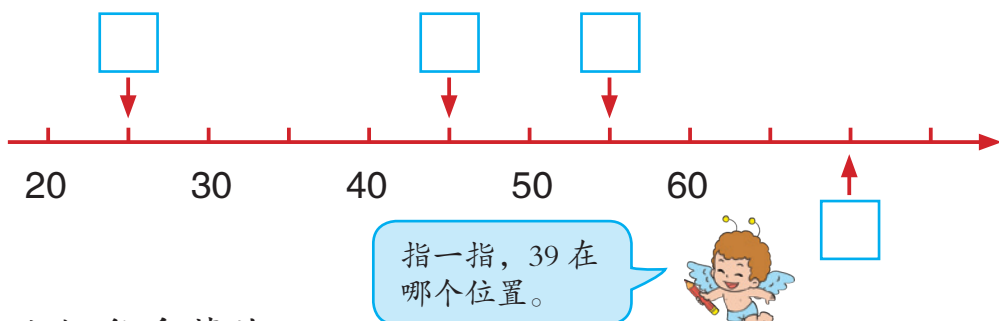


(2) 班领取 34 本。






3. 在□里填上合适的数。

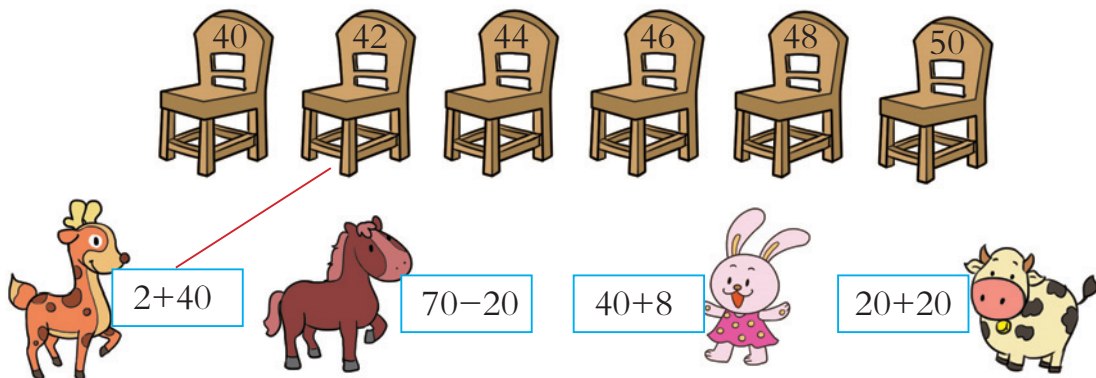


4. 小松鼠采蘑菇。




() > () > () > () > () > ()

5. 找座位。



6. 36个小朋友排队坐小火车，每节车厢坐10个人，需要几节车厢才够用？



二 加法和减法（一）

我们的阅览室



又买来 20 本书。





1. 两位数加、减整十数



1 书架上有45本书。

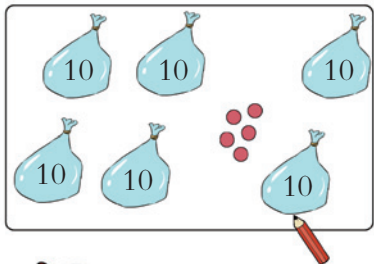


又买来 20 本书。



现在一共有多少本书？

$$45 + 20 = \square \text{ (本)}$$



4 个十加 2 个十是 6 个十，再加 5 个一，是 65。

$$40 + 20 = 60$$

$$60 + 5 = 65$$



还可以怎样列式？



十个十个接着数，55、65。

试一试

我有 30 朵黄花。



我有 28 朵红花。



一共有多少朵花？

$$\square \bigcirc \square = \square \text{ (朵)}$$



练一练

1. 想一想，算一算。



$32 + 40 =$

$32 + 20 =$


$52 + 10 =$

$43 + 30 =$

$70 + 26 =$

$14 + 60 =$

2 阅览室有故事书78本。




还剩多少本书?

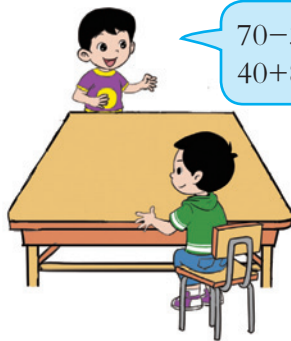
$$78 - 30 = \square \text{ (本)}$$

先自己算一算,再和同学说说你的算法。

7个十减3个十还剩4个十,再加8个一,是48。

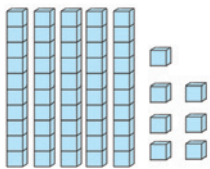


$$\begin{aligned} 70 - 30 &= 40 \\ 40 + 8 &= 48 \end{aligned}$$



练一练

1. 想一想,算一算。



$57 - 20 =$

$57 - 40 =$

$33 - 10 =$

$89 - 50 =$

$62 - 20 =$

$54 - 30 =$

3. 商店有38个气球。

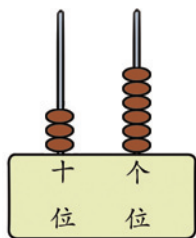


还剩多少个?

$$\square \bigcirc \square = \square \text{ (个)}$$

练习四


1.



$36+20=$

$36-20=$


2. 花园里有64盆花。



还剩多少盆？

$\square \bigcirc \square = \square \text{ (盆)}$

3.



一共有多少个？

$\square \bigcirc \square = \square \text{ (个)}$

4.

$12+70=$

$89-60=$

$11+60=$

$96-80=$

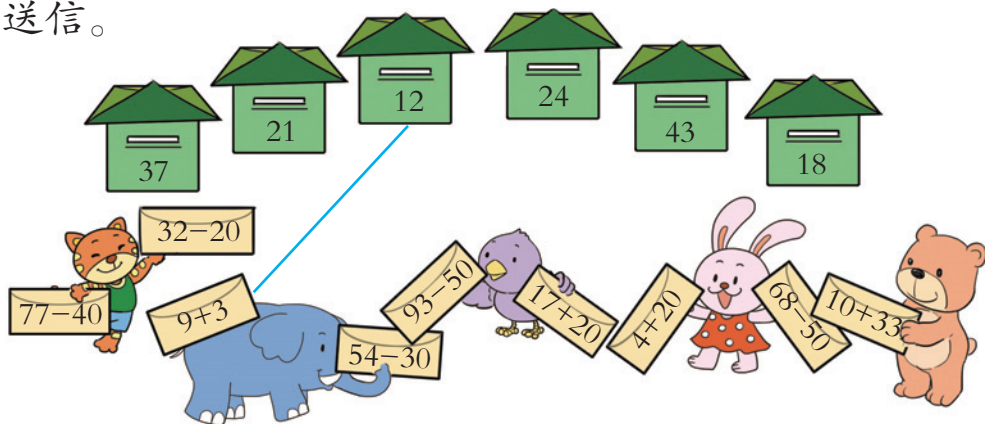
$58-50=$

$44+30=$

$74-30=$

$20+29=$


5. 送信。





6. 小象吃香蕉, 上午吃了25根, 下午吃了20根。

一天吃了多少根?



$$\square \bigcirc \square = \square \text{ (根)}$$

7. 公共汽车上原有28人, 到站下去8人, 又上来10人。



现在车上的人比28人多了还是少了?



8. 小力要写24个毛笔字。



已经写了10个, 还要写多少个?

$$\square \bigcirc \square = \square \text{ (个)}$$

9. 在○里填上“>”“<”或“=”。

$40+57 \bigcirc 79$

$93-30 \bigcirc 70$

$54-20 \bigcirc 14+20$

10.

10个	15个	50个

(1) 和一共有多少个? $\square \bigcirc \square = \square \text{ (个)}$

(2) 和一共有多少个? $\square \bigcirc \square = \square \text{ (个)}$


你还能提出哪些问题?



3 女生的人数多，还是男生的人数多？多多少人？




比一比。



女生有 () 人，男生有 () 人。
女生比男生多多少人？

$$9 - 7 = \square \text{ (人)}$$

试一试



比 少 () 个。

比 多 () 个。

$$\square - \square = \square \text{ (个)}$$

练一练




比 多 () 个。

比 少 () 个。

$$\square - \square = \square \text{ (个)}$$



2.



白兔有 () 只,
灰兔有 () 只。

白兔和灰兔相差多少只?

$$\square \bigcirc \square = \square \quad (\quad)$$

3.



红金鱼

20条

? 条




黑金鱼

39条

黑金鱼比红金鱼多多少条?

$$\square \bigcirc \square = \square \quad (\quad)$$

4.




电冰箱比电视机少卖多少台?

$$\square \bigcirc \square = \square \quad (\quad)$$

练习五

1.




有 () 只母鸡,
有 () 只公鸡。

母鸡比公鸡多多少只?

$$\square \bigcirc \square = \square \quad (\quad)$$

2. $40+36=$ $75-20=$ $5+30=$ $88-8=$
 $15-8=$ $94-40=$ $22+50=$ $20+60=$
3. 一年级开展投沙包比赛。



各班得分如下:

(1) 班	(2) 班
40 分	45 分

(1) 班和 (2) 班一共得了多少分?

$$\square \bigcirc \square = \square \quad (\quad)$$

(1) 班比 (2) 班少得多少分?

$$\square \bigcirc \square = \square \quad (\quad)$$

4. 同学们收集废电池。




谁收集得多? 多收集多少节?

$$\square \bigcirc \square = \square \quad (\quad)$$



5. 接力赛。



6. $17+30+20=$

$40+26-6=$

$3+50-10=$

$53-40+40=$

$94-20-70=$

$75-20+30=$

7. 王老师买跳绳。

我买 50 根跳绳。

只有 30 根了。



还差多少根跳绳?


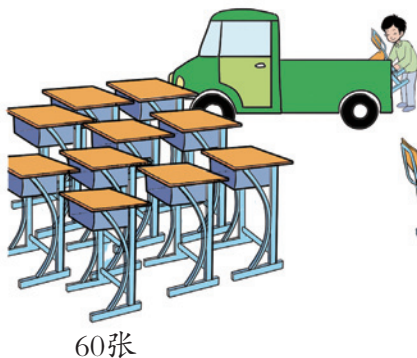
$\square \bigcirc \square = \square$ (根)

8. 3个班的同学美化校园, 种松树15棵、桃树20棵。他们一共种了多少棵树?

$\square \bigcirc \square = \square$ (棵)



9.



一张桌子配一把椅子, 能配()套桌椅。全部配成套, 还需要多少张桌子?

$\square \bigcirc \square = \square$ (张)

2. 两位数加、减一位数



我借了6本连环画。




还剩42本连环画。



原来有多少本连环画？

$$42+6=\square \text{ (本)}$$



一个一个接着数，
43、44、45、46、
47、48。

$$2+6=8$$

$$40+8=48$$



还可以怎样算？



练一练

1. 想一想，算一算。



$23+3=$

$5+23=$

2. $3+63=$

$50+7=$

$75+3=$


$4+44=$

3. 有一箱苹果，分给班里42个学生，每人一个还剩4个。这箱苹果有多少个？

$$\square \bigcirc \square = \square \text{ ()}$$

2 小兔拔了49个萝卜，运走了一车。

还剩6个。



运走了多少个萝卜？

$$49 - 6 = \square \text{ (个)}$$

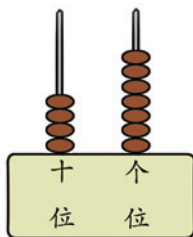
说一说你是怎么算的。

$$\begin{aligned} 9 - 6 &= 3 \\ 40 + 3 &= 43 \end{aligned}$$



练一练

1. 想一想，算一算。



$47 - 3 =$

$47 - 30 =$


$26 - 4 =$

$74 - 2 =$

$48 - 7 =$

$39 - 5 =$

3.



喝了一个星期后，还剩3袋，喝了多少袋？

$$\square \bigcirc \square = \square \text{ (袋)}$$

4. 学校田径队有28人，其中女生有5人，男生有多少人？

$$\square \bigcirc \square = \square \text{ ()}$$

练习六

1.

它可是计算的好帮手啊!



$26+3=$

$26-3=$

$38-5=$

$33+6=$

2. 停车场原有37辆车。



开走一些，
还剩5辆。



开走多少辆?

$\square \bigcirc \square = \square \text{ (辆)}$

3. 学校上午安装了31台计算机。



下午再安装8
台就完成了。

学校要安装多少台计算机?

$\square \bigcirc \square = \square \text{ ()}$

$88-5=$

$60+3=$

$7+21=$

$66-2=$

$97+2=$

$59-6=$

$37-3=$

$5+23=$

$49-8=$

$75-4=$

$82+6=$

$38-4=$

5. 小雨家有一些邮票，寄信用去7张。



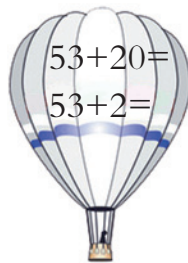
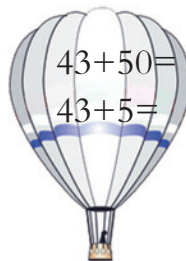
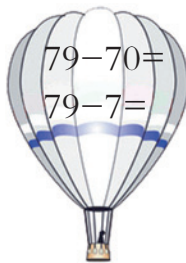
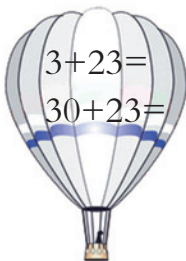

还剩下22张。

小雨家原有多少张邮票?



$\square \bigcirc \square = \square \text{ ()}$



6.



7. 填表。

		一共
3只	56只	()只

你还能提出什么问题? 会列式计算吗?

8. 仓库里有95箱梨。




(1) 运走多少箱?

$$\square \bigcirc \square = \square \text{ (箱)}$$

(2) 还想再运走50箱, 够不够?

9.

我有40元。

(1) 买1个  和1辆  用多少元? $\square \bigcirc \square = \square$ (元)(2) 要买1个  还差多少元? $\square \bigcirc \square = \square$ (元)(3) 估计一下, 如果要买1个  和1盒  , 钱够不够。



还回来 4 本书。



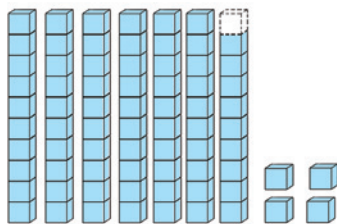
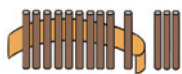
现在有多少本书？

$$69+4=\square \text{ (本)}$$

说说你是怎样算的。



10 根捆成一捆。



$$\begin{aligned} 9+4 &= 13 \\ 60+13 &= 73 \end{aligned}$$

$$\begin{aligned} 69+1 &= 70 \\ 70+3 &= 73 \end{aligned}$$



$$\begin{aligned} \text{把 } 69 \text{ 看成 } 70. \\ 70+4 &= 74 \\ 74-1 &= 73 \end{aligned}$$



还可以怎样算？



练一练

1. 想一想，算一算。



$56+4=$

$56+7=$

计算有困难，可以怎么做？



2. 填空。

(1) 35加3的和里面有 () 个十。

(2) 35加7的和里面有 () 个十。



3. $43+9=$

$4+36=$

$64+8=$

$7+26=$

4. $6+4=$

$7+8=$

$16+4=$

$27+8=$

$36+4=$

$47+8=$

$46+4=$

$67+8=$

你发现了什么?



$$\begin{array}{r}
 \begin{array}{|c|c|} \hline 46 & 8 \\ \hline 7 & 53 \\ \hline \end{array} \\
 + \\
 \hline
 \end{array}
 \begin{array}{l}
 (\quad) \\
 (\quad) \\
 (\quad) (\quad)
 \end{array}$$

$$\begin{array}{r}
 \begin{array}{|c|c|} \hline 29 & 5 \\ \hline 4 & 37 \\ \hline \end{array} \\
 + \\
 \hline
 \end{array}
 \begin{array}{l}
 (\quad) \\
 (\quad) \\
 (\quad) (\quad)
 \end{array}$$

6.

我给小兔送去5个。

这里还有38个。



原来一共有多少个?

$$\square \bigcirc \square = \square (\quad)$$

7. 学校要买34台计算机。先买了15台, 又买了9台, 两次共买了多少台?



练习七

1. $26+7=$ $2+39=$ $6+18=$ $48+5=$
 $26+3=$ $57+5=$ $29+4=$ $9+83=$

2.

运来了 37 筐西红柿。




西红柿和冬瓜一共运来多少筐？

$\square \circ \square = \square$ (筐)

3.

一共包了 49 个饺子。

这里面有我包的 7 个。



妈妈包了多少个饺子？

$\square \circ \square = \square$ ()

4. 哪道题错了？把它改正过来。



5. 数学游戏。

我有两位数的卡片。



我有一位数的卡片。

每人出一张做加法，看谁做得对。



6. 夹豆比赛。



	小军	小飞	小兰
第一次	9个	9个	10个
第二次	15个	19个	13个

(1) 先估计一下, 谁夹的豆最多。再算一算他夹了多少个。


$$\square \bigcirc \square = \square \quad (\quad)$$

(2) 小军第一次比第二次少夹几个?

$$\square \bigcirc \square = \square \quad (\quad)$$


你再提一个问题, 请小组同学回答。

7. 上哪辆车?



8.

我买两个玩具
花了45元。



她可能买了哪两个玩具?



$$\square \bigcirc \square = 45 \quad (\text{元})$$



思考题


★和▲各代表什么数?

$$\star + \star = 40$$

$$\star = (\quad)$$

$$\blacktriangle - \star = 72$$

$$\blacktriangle = (\quad)$$



书柜里有9本字典。



连环画有多少本？

$$57 - 9 = \square \text{ (本)}$$



7根减9根不够减，打开一捆再减。

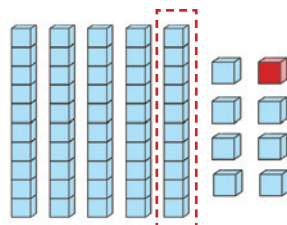
$$17 - 9 = 8$$

$$40 + 8 = 48$$



$$10 - 9 = 1$$

$$47 + 1 = 48$$



$$57 - 10 = 47$$

$$47 + 1 = 48$$

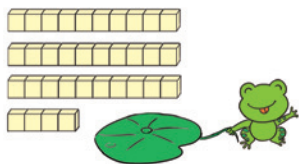


还可以怎样算？




练一练

1. 想一想，算一算。



$$34 - 7 =$$

$$34 - 9 =$$



$$26 - 8 =$$

$$26 - 5 =$$

$$2. \quad 11 - 3 =$$

$$21 - 3 =$$

$$61 - 3 =$$

$$91 - 3 =$$

$$15 - 8 =$$

$$35 - 8 =$$

$$65 - 8 =$$

$$95 - 8 =$$

你发现了什么？





3. 估计一下, 哪些题的结果比50小, 请在横线上画“√”。然后再在□中写出每道题的结果。

$53-8= \square \text{ —}$

$64-6= \square \text{ —}$



$56-9= \square \text{ —}$

$50-4= \square \text{ —}$

$55-7= \square \text{ —}$

$56-5= \square \text{ —}$

4. 按要求画图。




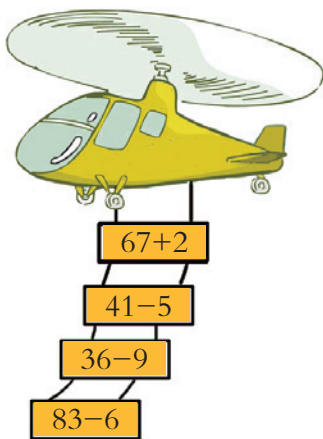
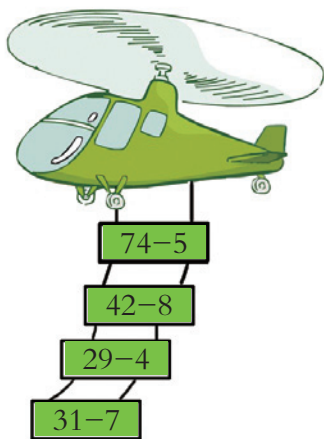
在得数是76的
车下画“○”。



在得数是58的
车下画“□”。

在得数是45的
车下画“△”。

5. 上飞机。



练习八

1. $43-8=$ $34-9=$ $57-3=$ $73-7=$
 $24-5=$ $81-2=$ $92-6=$ $65-9=$

2.

得数大于50的, 在这里集合。

得数小于40的, 在这里集合。

$24-9$ $43-8$ $73-6$ $54-7$
 $63-5$ $32-4$ $91-5$ $56-4$ $22-3$

谁找不到集合的地方?

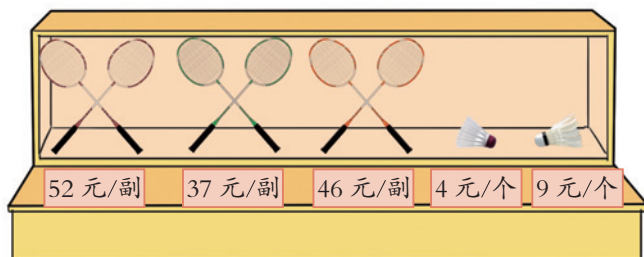
3. 先填空, 再列式计算。

老师今年 () 岁, 你今年 () 岁, 老师比你大多少岁?

\bigcirc = (岁)



4. 小雨有60元钱, 想买一副羽毛球拍和一个羽毛球。



可以怎么买?
要花多少钱?



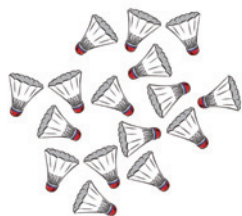


5. 在正确的算式后面画“√”。

(1) 学校原来有一些羽毛球, 又买来30个, 现在有56个。原来有多少个?

$$30+56=86 \text{ (个)} \quad (\quad)$$

$$56-30=26 \text{ (个)} \quad (\quad)$$



(2) 2名老师和63名同学去参观。其中有30名男同学, 女同学有多少名?

$$63-30=33 \text{ (名)} \quad (\quad)$$

$$2+63-30=35 \text{ (名)} \quad (\quad)$$



6. 学校开运动会。



一年级	二年级	三年级	四年级	五年级	六年级
9人	15人	20人	28人		30人

(1) 一年级和二年级共有多少人参加运动会?

$$\square \bigcirc \square = \square \quad (\quad)$$

(2) 三年级和四年级相差多少人?

$$\square \bigcirc \square = \square \quad (\quad)$$

(3) 五年级和六年级一共有62人参加, 五年级有多少人参加?

$$\square \bigcirc \square = \square \quad (\quad)$$

你还能提出什么问题?



思考题

学校买来63本书, 发给一年级8本, 发给二年级20本。你能提出什么问题, 会列式计算吗?

整理与复习

回顾与反思



计算一道题可以用不同的方法。

摆学具、画图是数学学习的好帮手。



数大了，计算要更仔细。




.....



你还有哪些问题想和同学交流？

1.

先算 $6+8=14$ ，再算.....














这些是加法题，那些是.....

4减7不够减，用.....

你还学到了什么？

- | | | | |
|-------------|---------|----------|----------|
| 2. $64-40=$ | $2+47=$ | $51-9=$ | $32+4=$ |
| $7+26=$ | $82-8=$ | $30+15=$ | $94-6=$ |
| $44-4=$ | $56+4=$ | $67-2=$ | $11+80=$ |

3. 他们喜欢什么体育活动？

 $84+2=$	 $70-8=$	 $95-40=$	 $9+35=$	 $56-3=$	 $25+30=$
					

4. 一个新建小区要盖26座楼。



已经盖好了9座。

还要盖多少座? $\square \bigcirc \square = \square$ (座)

5. 游园。

(1)



船上还剩27人。

49棵

7棵


原来船上有多少人?

$\square \bigcirc \square = \square$ (人)

两种树相差多少棵?

$\square \bigcirc \square = \square$ (棵)

(2)




有23名学生、2名老师，每人一瓶矿泉水。买一箱矿泉水够吗?

24瓶
24瓶

$\square \bigcirc \square = \square$ ()

你还能提出什么问题?

6. 投包游戏。



弟弟比姐姐少得多少分? $\square \bigcirc \square = \square$ ()

弟弟和姐姐一共得了多少分? $\square \bigcirc \square = \square$ ()

7. 在○里填上“>”“<”或“=”。

$26+50 \bigcirc 78$

$63-6 \bigcirc 50+7$

$90 \bigcirc 7+20$

$43-20 \bigcirc 32$

$5+37 \bigcirc 60-5$

$20-2 \bigcirc 24-8$

8. $76-9-30=$

$27+50-60=$

$70-40+40=$

$48-20+5=$

$62+9+10=$

$56-5-8=$

9. 买书。

我有50元，买一本书应该找回多少元？



我的钱正好买两本。



女孩有多少元？

$\square \bigcirc \square = \square$ ()

$\square \bigcirc \square = \square$ ()



思考题

同学们擦椅子，先擦了16把，还剩30把没擦。后来又擦了10把，这时还剩多少把没擦？





三 认识人民币





买东西要用人民币，我们要爱护人民币。

分一分，认一认。



人民币的单位是元、角、分。





2


数一数。

1分1分地数，数到10分是1角。



1角=10分

1角1角地数，数到10角是1元。



1元=10角



练一练



1. 换一换。




还可以怎样换？

2. 想一想。

(1) () 个  是  。

(2)  相当于 () 张  。



1 根冰棍 1 元 5 角。

我买 1 根。

1 元 5 角 = 15 角

1 元是 10 角，
1 元 5 角是 15 角。



试一试



13 角 = () 元 () 角

你是怎么想的？



练一练



() 角 () 分 = () 分



() 元 () 角 = () 角



() 分 = () 角 () 分



() 角 = () 元 () 角



果汁

1.10 元/盒

1元1角



矿泉水

0.80 元/瓶

8角



牛奶

2.50 元/盒

2元5角



糖果

6.00 元/瓶

6元

(1) 买1盒  和1瓶  ，需要多少钱？

1元1角+8角=1元9角

(2) 买1盒  和1瓶  ，需要多少钱？



5角加8角是1元3角。

2元5角+8角=3元3角

你还能提出什么问题？



试一试

1元5角+4角= () 元 () 角

1元6角+7角= () 元 () 角

你是怎么算的？



练一练





0.50 元/个





1.40 元/个



0.70 元/个

(1) 买1个  和1个  一共多少钱？

() 角+ () 元 () 角= () 元 () 角

(2) 买1个  和1个  一共多少钱？

() 元 () 角+ () 角= () 元 () 角



5. 说一说。

(1)



8元/筒



小明买1筒薯片，应找回多少钱？

(2)



10元/个



小朋友买1个球拍，可以怎样付钱？

6.



60元/个

(1) 妈妈给小刚买一个书包，如果用10元一张的人民币，应付()张。

(2) 如果妈妈用一张100元的人民币买这个书包，应找回()元。

7.



5元/盒




3.80元/袋



2.30元/支



小明

(1) 买1盒  和1袋  一共多少元？(2) 买1袋  和1支  一共多少元？

(3) 如果上面的文具各买一件，小明带的钱够不够？你是怎么想的？



旅游购物



1. 填一填。

1瓶 _____ 角，1瓶 _____ 元。


1袋 _____ 元 _____ 角，1袋 _____ 元 _____ 角。

2. 说一说。

(1) 买1袋 可以怎样付钱？ 付了6元，应找回多少钱？

(2) 用4元钱可以买些什么？

(3) 你想买些什么，可以怎样付钱？



1. 填一填。

买的商品 (编号)	数量 (个)	每个价钱 (元)	付出钱数 (元)	应找回的钱数 (元)
①			20	
③			50	
④			100	

2. 说一说。

我买 1 个  和 1 个 , 50 元钱够吗?



我有 100 元钱, 最多可以买几个  ?



请你再提出一个数学问题, 并尝试解决。

四 加法和减法（二）

快乐的课外生活



你能提出什么数学问题？

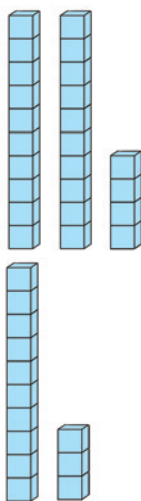


1. 两位数加、减两位数

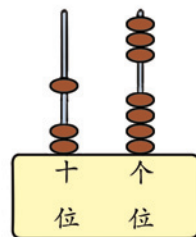


画画的一共有多少人?

男生	女生
24人	13人




$$24 + 13 = \square \text{ (人)}$$



$$\begin{aligned} 20 + 10 &= 30 \\ 4 + 3 &= 7 \\ 30 + 7 &= 37 \end{aligned}$$



$$\begin{aligned} 24 + 10 &= 34 \\ 34 + 3 &= 37 \end{aligned}$$



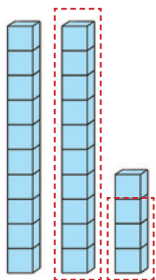


男生比女生多多少人？

$$24 - 13 = \square \text{ (人)}$$



我会用计数器帮着算！



$$20 - 10 = 10$$

$$4 - 3 = 1$$

$$10 + 1 = 11$$

	十	个
	2	4
-	1	3
	1	1



$$24 - 10 = 14$$

$$14 - 3 = 11$$



相同数位对齐……

试一试

$4 + 42$

$36 - 31$

$63 - 23$



练一练

1. 口算。

$21 + 37 =$

$24 + 32 =$

$35 + 23 =$

$5 + 44 =$

$28 - 15 =$

$26 - 23 =$

$84 - 24 =$

$57 - 45 =$



2. 用竖式计算。

$43+26$

$54+23$

$4+33$

$87-82$

$69-7$

$74-34$

3. 原来有21条鱼。

又倒进 13 条。

现在鱼缸里有多少条鱼?

$\square \bigcirc \square = \square$ (条)



4.

我拍了 56 下。

我拍了 23 下。



立立比宁宁多拍多少下?

5.



45 元/件





32 元/条



27 元/条



66 元/条

(1) 买1件  和1条  共需多少元?(2) 1条  比1条  贵多少元?(3) 妈妈有50元,再添多少元,就可以买1条  了?
你还能提出什么问题?



我们有 27 人。

我们比跳舞的多 5 人。



拉小提琴的有多少人？

跳舞

27人

拉琴


5人

$$27 + 5 = 32 \text{ (人)}$$

试一试

我们有 25 只。

我们比鸡少 13 只。



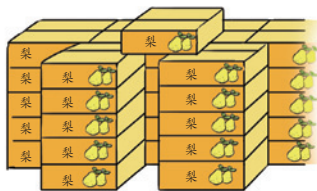

鸭子有多少只？

$$\square \bigcirc \square = \square \text{ ()}$$




练一练

1. 苹果34箱。



梨比苹果
多 13 箱。



梨有多少箱？

$$\square \bigcirc \square = \square \quad (\quad)$$

2.



我捉了 39 条虫子。

我比妈妈少捉
14 条虫子。



小啄木鸟捉了多少条虫子？

$$\square \bigcirc \square = \square \quad (\quad)$$

3.



我比小方多
看 12 页。

我比小方少
看 15 页。

我看了 27 页。



小光看了多少页？

你还能提出什么问题？

练习十

1. 用竖式计算。

$46+23$

$4+44$


$76-34$

$72+7$

$38-35$

$87-57$

2. 小猫钓鱼。



3. 口算。

$12+21=$

$23+32=$

$34+43=$

$13+31=$

$24+42=$

$35+53=$

你发现了什么？你能再写出几个这样的算式吗？



4.



48元/个



比 便宜 32 元。



多少元？

$\square \bigcirc \square = \square \text{ ()}$

5.

兔比猴多 13 只。



猴有 46 只。



鹿比猴少 15 只。



(1) 兔有多少只？

$\square \bigcirc \square = \square \text{ ()}$

(2) 鹿有多少只？

$\square \bigcirc \square = \square \text{ ()}$



6.



32元/只



56元/辆



()元/架

(1) 1只  比1辆  便宜多少元?(2) 1架  比1辆  贵11元, 1架  多少元?(3) 买1只  和1架  , 100元够吗?

你还能提出什么问题?

7. 错在哪里? 请你帮忙改正。

$$\begin{array}{r} 26+32=49 \\ 26 \\ + 23 \\ \hline 49 \end{array}$$

$$\begin{array}{r} 3+70=100 \\ 3 \\ + 70 \\ \hline 100 \end{array}$$

$$\begin{array}{r} 34-4=3 \\ 34 \\ - 4 \\ \hline 3 \end{array}$$

8.



我比小力妈妈大4岁。



我比妈妈小28岁。



爸爸()岁

妈妈39岁

小力()岁

9. 在()里填上合适的数。

() + 20 = 50 () - 20 = 30 50 - () = 20

40 + () = 46 46 - () = 6 () - 6 = 40



思考题

被盖住的数字分别是几?

$$\begin{array}{r} \text{梨} \quad 4 \\ + 2 \quad \text{苹果} \\ \hline 8 \quad 8 \end{array}$$

$$\begin{array}{r} 8 \quad \text{草莓} \\ - \text{草莓} \quad 2 \\ \hline 3 \quad 0 \end{array}$$

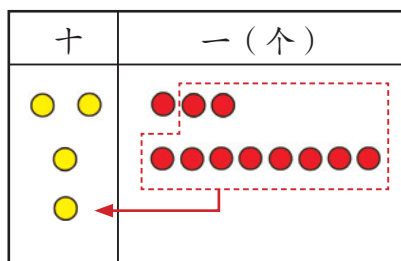
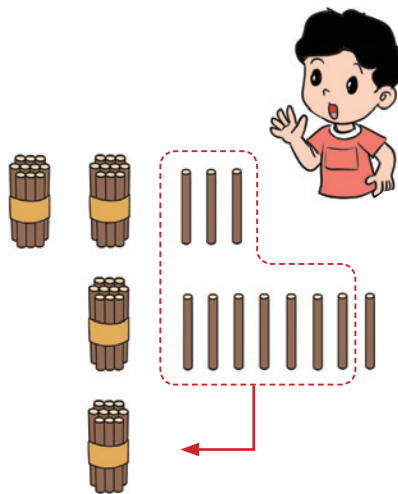
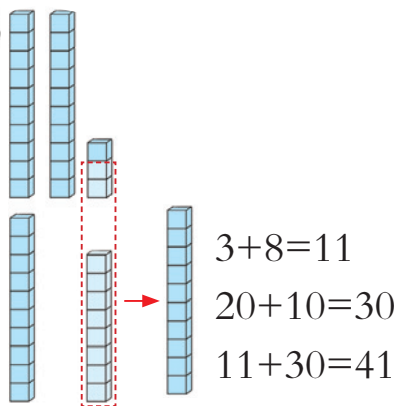
$$\begin{array}{r} 7 \quad \text{橙子} \\ - \text{桃子} \quad 3 \\ \hline \quad 2 \end{array}$$



场内	场外
23 人	18 人

一共有多少人?

$$23 + 18 = \square \text{ (人)}$$



十	个	
2	3	
+	1	8
4	1	

从个位加起，个位相加满 10，向十位进 1。





练一练

1. 口算。

$28+9=$

$24+33=$

$7+37=$

$20+34=$

$35+24=$

$56+42=$

$63+8=$

$45+6=$

2. 用竖式计算。

$38+27$

$36+49$

$45+25$

3. 学校买来一些气球。



布置会场要用28个。



还剩17个。

学校买来多少个气球?

$\square \bigcirc \square = \square (\quad)$

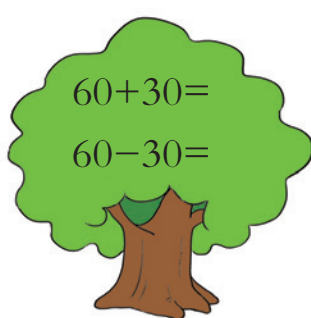
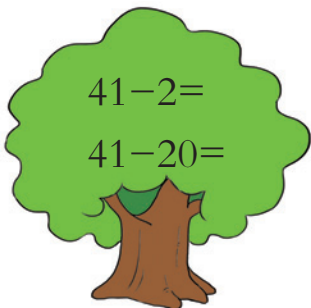
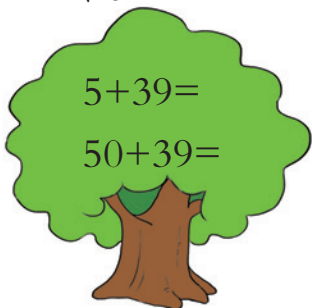
4.  27元,  比  贵39元。  多少元?

$\square \bigcirc \square = \square (\quad)$

估计一下, 100元买这两样物品够不够。

练习十一

1. 口算。



2. 用竖式计算。

$$26+39$$

$$47+25$$

$$31+29$$

3. 下面是一年级各班学生参加运动会的人数表。

	(1)班	(2)班	(3)班
男生(人)	19	21	17
女生(人)	18	19	18

(1) 先估计一下, 哪个班参加运动会的人数最多。

(2) 参加运动会的学生, (1)班有()人, (2)班有()人, (3)班有()人。

(3) 参加运动会的男生有()人, 女生有()人。

你还能提出什么问题?



4. 居委会发放环保袋。发出49个以后, 还有24个。



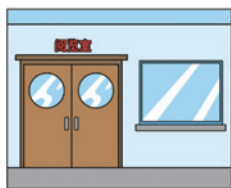
居委会原来有多少个环保袋?

- 5.



小明看一本故事书。第一天看了25页, 第二天比第一天多看了17页。第二天看了多少页?

6. 阅览室有56本故事书。



科技书比故事书多28本。



科技书有多少本?



思考题

同学们放学排队。从前面数, 王红是第6个, 李英是第15个, 李英后面还有8人。

- (1) 这队共有 () 人。
 (2) 王红和李英之间有 () 人。





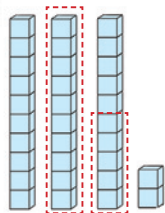
拉小提琴的
有 32 人。



其中女生有
15 人。

男生有多少人？

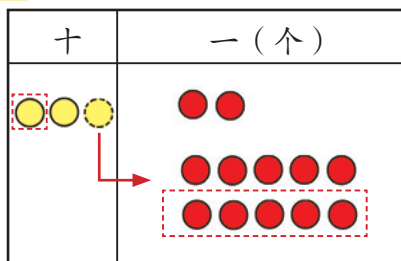
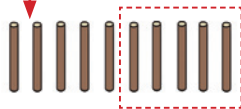
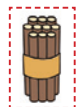
$$32 - 15 = \square \text{ (人)}$$



$$20 - 10 = 10$$

$$12 - 5 = 7$$

$$10 + 7 = 17$$



十	个
3	2
-	15
1	7



从个位减起，个位不够
减时，把十位的 1 个十
换成 10 个一再减。






练一练

1. 猜一猜, 得数的十位是几。

十位是“5”。



$34+35$

$44-14$

$46-18$

$19+37$

$25+35$

$62-18$

$44+27$

$59-16$

2. 用竖式计算。

$63-38$


$81-8$

$78-26$

$70-66$

$62-54$

$82-59$

3. 水果店有65个 , 卖了一些后, 还剩下28个。卖了多少个?

$\square \bigcirc \square = \square \quad (\quad)$



4. 一把椅子比一张桌子便宜17元。一把椅子多少元?

$\square \bigcirc \square = \square \quad (\quad)$

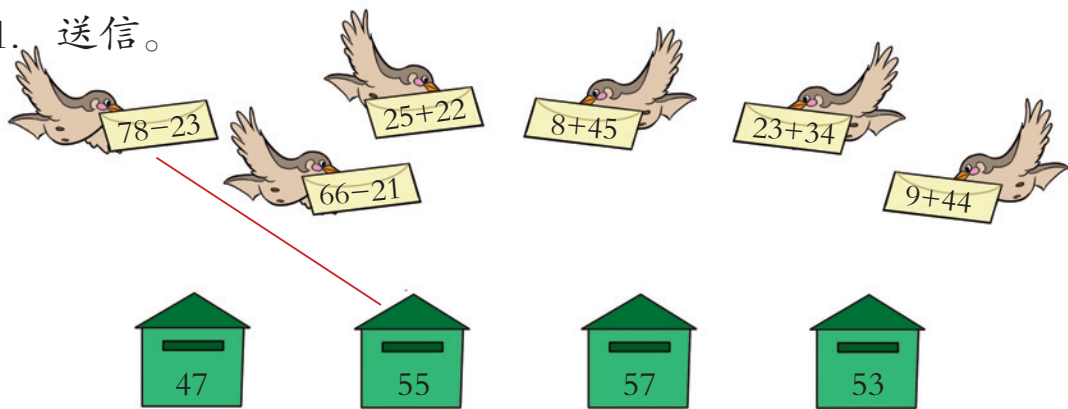


52元/张

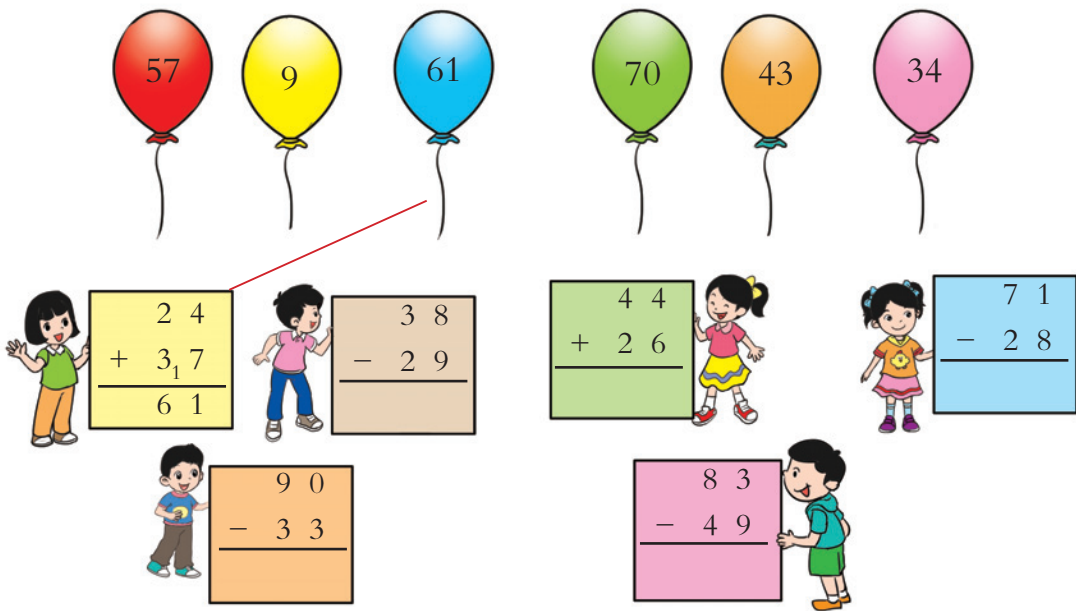


练习十二

1. 送信。



2. 发气球。




3. 用竖式计算。

$$71 - 68$$

$$28 + 59$$

$$90 - 46$$

4.



原来有 73 个。

摘下 28 个。

还剩多少个？

$$\square \bigcirc \square = \square \quad (\quad)$$





5.

我比他多
5块。

() 块

25块

6. 先计算再填表。

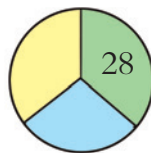
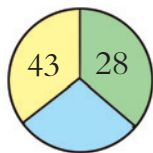
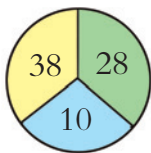
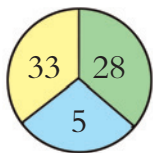
47人	26人		

(1) 拍球的比跑步的少19人。拍球的有多少人?

(2) 跳绳的比跳远的多8人。跳绳的有多少人?

你还能提出什么问题?

7. 看一看,想一想,再填数。



思考题

被盖住的数字分别是几?


$$\begin{array}{r} 3 \text{ (red flower)} \\ + \text{ (blue flower)} 7 \\ \hline 62 \end{array}$$

$$\begin{array}{r} 7 \text{ (pink flower)} \\ - \text{ (yellow flower)} 8 \\ \hline 22 \end{array}$$

$$\begin{array}{r} \text{ (orange flower)} 1 \\ - \text{ (purple flower)} \text{ (green flower)} \\ \hline 8 \end{array}$$

2. 两位数加、减两位数混合运算

① 三种花一共种了多少棵？



茉莉花

菊花

凤仙花

茉莉花	菊花	凤仙花
32 棵	27 棵	26 棵

$$32+27+26= \square \text{ (棵)}$$



$$\begin{array}{r} 32 \\ + 27 \\ \hline 59 \end{array}$$

$$\begin{array}{r} 59 \\ + 216 \\ \hline 85 \end{array}$$

$$\begin{array}{r} 32 \\ + 27 \\ \hline 59 \\ + 216 \\ \hline 85 \end{array}$$



口算：32+27=59

$$\begin{array}{r} 59 \\ + 216 \\ \hline 85 \end{array}$$

我也可以这样列式：32+26+27



你喜欢怎样算？



试一试



还剩多少棵？

上午用了 15 棵，
下午用了 17 棵。



15 棵

17 棵

? 棵

62 棵



练一练

1.

咱们班同学一共带来53本书。

其他书有多少本?

科普书有13本。

故事书有35本。



2.



(1) 买1件 、1件  和1条  共花多少元?

$$\square \bigcirc \square \bigcirc \square = \square \quad (\quad)$$

(2) 妈妈带100元, 买1件  和1件  后还剩多少元?

$$\square \bigcirc \square \bigcirc \square = \square \quad (\quad)$$

你还能提出什么问题?

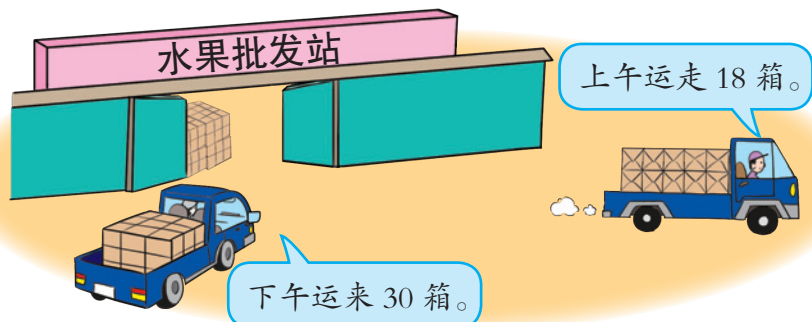
3. 用竖式计算。

$$35+16+23$$

$$98-28-35$$



原来有62箱水果。



水果批发站现在有多少箱水果？



$$62 - 18 + 30 = 74 \text{ (箱)}$$



$$\begin{array}{r} \overset{\cdot}{6} 2 \\ - 1 8 \\ \hline 4 4 \end{array} \quad \begin{array}{r} 4 4 \\ + 3 0 \\ \hline 7 4 \end{array}$$

$$\begin{array}{r} \overset{\cdot}{6} 2 \\ - 1 8 \\ \hline 4 4 \\ + 3 0 \\ \hline 7 4 \end{array}$$



$$\begin{array}{r} \overset{\cdot}{6} 2 \\ - 1 8 \\ \hline 4 4 \end{array} \quad \text{口算:} \quad 44 + 30 = 74$$

我也可以这样列式： $62 + 30 - 18$



你喜欢怎样算？

试一试



原来有 82 本书。

又买来 13 本书。

借走 28 本书。



现在图书柜里有多少本书？



练一练

1. $85 - 30 + 5 =$

$52 - 8 + 20 =$

$45 + 7 - 32 =$


2. 用竖式计算。

$81 - 46 + 15$

$90 - 24 - 36$

$36 + 25 - 29$

3.



估计一下, 现在船上的人数比原来的多还是少。现在船上有多少人?

$$\square \bigcirc \square \bigcirc \square = \square (\quad)$$

整理与复习

回顾与反思



画图既可以帮着列式，又可以帮着计算。

我会用竖式计算 $48+27$ 这样的题。



算之前先估计一下。


计算后要注意认真检查。



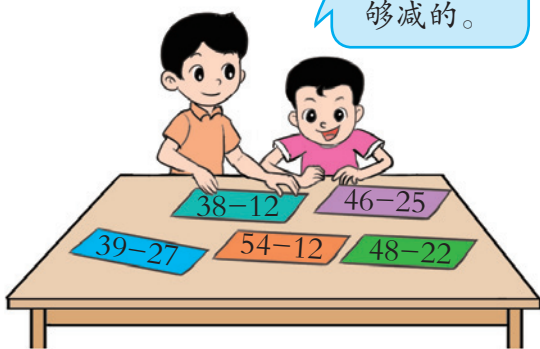
你还有哪些问题想和同学交流？

1.

这是个位相加不满十的。



这是个位够减的。



我整理个位相加满十的。



$$\begin{array}{r} 27 \\ + 31 \\ \hline 65 \end{array}$$

我整理个位不够减的。

$$\begin{array}{r} \overset{\cdot}{4}2 \\ - 28 \\ \hline 14 \end{array}$$



用竖式计算时，应该注意什么？





2. 口算。

$23+15=$

$24+25=$

$2+22=$

$18+31=$

$39-26=$

$37-27=$

$78-63=$

$55-33=$

3. 在 ○ 里填上 “>” “<” 或 “=”。

$25+36 \bigcirc 36+25$

$40-15 \bigcirc 40-16$

$42-34 \bigcirc 43-34$

$57+27 \bigcirc 57+29$

4. 帮小猫找家。

$$\begin{array}{r} 62 \\ -36 \\ \hline \end{array}$$

$$\begin{array}{r} 28 \\ +25 \\ \hline \end{array}$$

$$\begin{array}{r} 81 \\ -18 \\ \hline \end{array}$$

House 1: 26
 House 2: 63
 House 3: 53

$$29+38-41$$

$$\begin{array}{r} 36 \\ +27 \\ \hline 63 \end{array}$$

$$\begin{array}{r} 50 \\ -24 \\ \hline \end{array}$$

$$\begin{array}{r} 92 \\ -39 \\ \hline \end{array}$$

$$91-24-14$$

5. 用竖式计算。

$18+39$

$43+28$

$5+55$

$61-27+35$

$45+36-19$

$90-34-27$

6.



() 元



() 元



28元

(1) 比 贵14元, () 元。

(2) 比 便宜26元, () 元。

(3) 买 、、 各一双共花 () 元。

你还能提出什么问题?

7. (1) 妈妈带了100元。估计一下, 够买哪两种食品。

(2) 买哪两种食品剩下的钱最多? 剩多少元?

(3) 买哪些食品100元正好花完?



8. 同学们参加运动会。

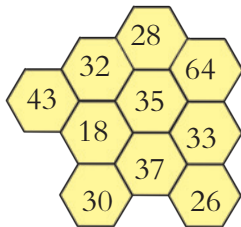
19人	18人	13人	25人	12人	13人

乘车去运动场, 每辆车最多可以坐50人。哪些运动队合乘一辆车最合适?





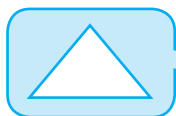
思考题

画一条线, 使这条线通过的三个数的和是100。





五 认识图形



你都看到了什么？

这些物品上，哪个面的形状和上面的图形一样？






做一做。



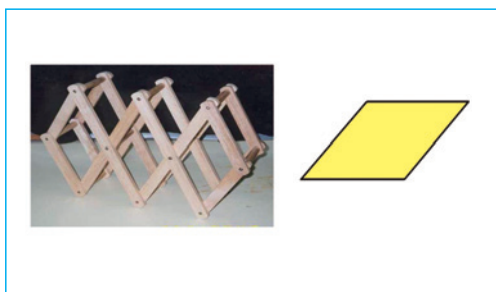
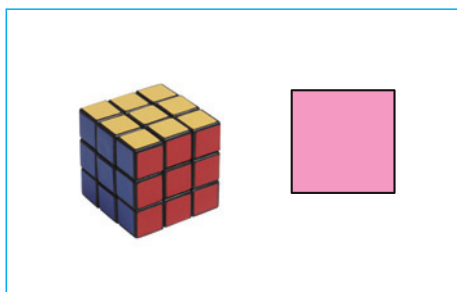


分一分。





练一练

1. 说说这些物品的表面有没有你认识的图形。生活中还有哪些物品的表面也有这些图形？




2. 连一连。



长方形 三角形 正方形 平行四边形 圆

3. 数一数。



图形					
个数					

数学游戏

闯关——看谁的心灵手更巧。

你能闯过这两关吗？



第一关

1.



你能把这张纸剪成正方形吗？

2.

把这张正方形的纸剪成大小和形状完全相同的两个三角形。

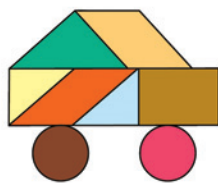
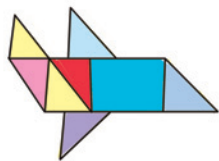
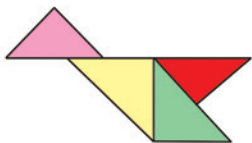



3.

把其中一张三角形的纸分成两个一模一样的三角形。



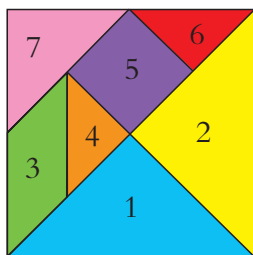
第二关



这些拼图分别像什么？



神奇的七巧板



这是一副七巧板，它可奇妙了，能拼出很多图形呢！



认一认，七巧板中有哪些图形。



5号是正方形，我用这样的纸折过小风车。

3号图形是……

7号是三角形。



1. 填一填。

七巧板是由_____种图形组成的，其中有_____个是三角形，_____号图是正方形，_____号图是平行四边形。

2. 用七巧板拼拼摆摆。




用七巧板中的两块能拼出什么图形呢？

我拼出一条小鱼。



我拼成了一座小房子。

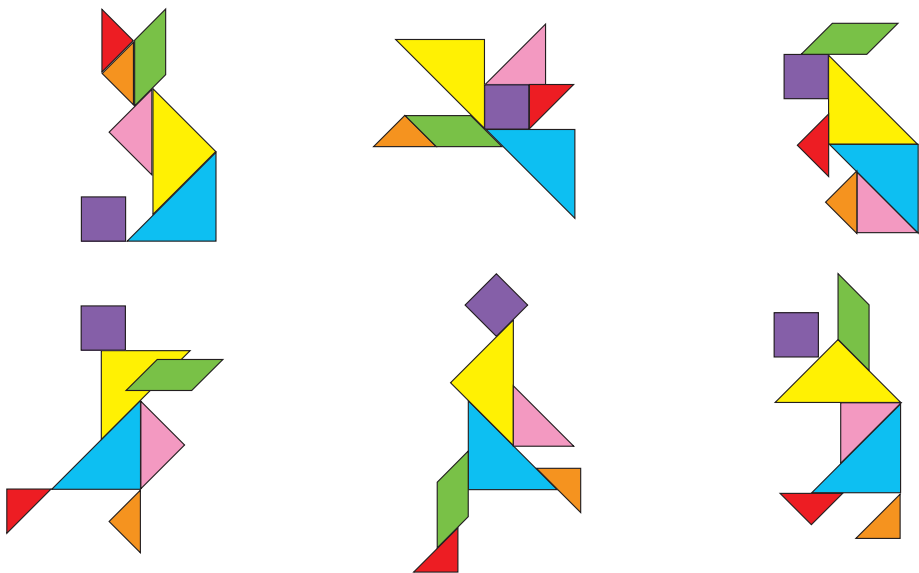


用七巧板中任意的三块还能拼出什么图形？小组的同学都有哪些不同的拼法？

知识窗

在我国，七巧板已经有几千年的历史了。它由七块板组成，最早只是一种益智玩具，后来演变为拼图板玩具。

3. 用一副或两副七巧板可以拼出很多美丽的图案。



看，上面这些拼摆出来的图案像什么？



让我们也来大显身手吧！



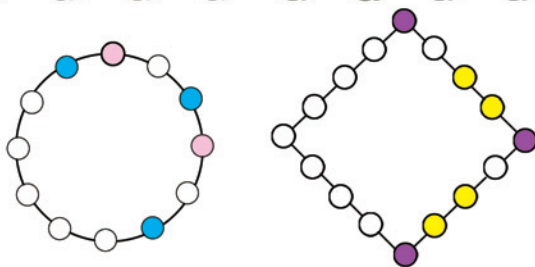
我的创作天地



探索规律



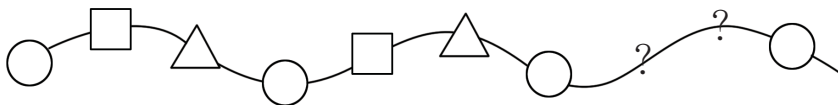
1. 先找规律，再涂色。



2. 自己有规律地涂色。




3. 找规律，画出“？”处的图。



4.



我排哪儿合适?

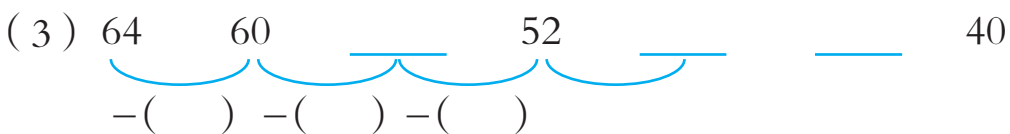
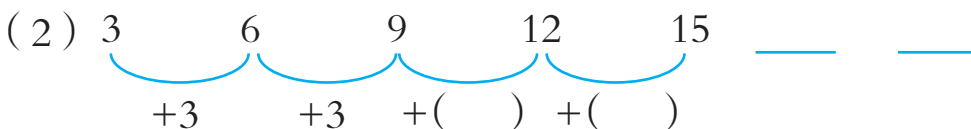


我站哪儿好呢?

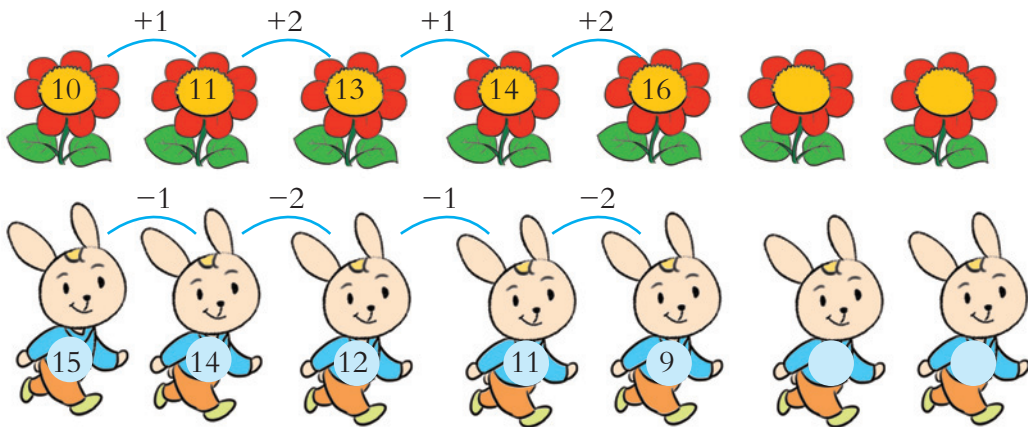
5.



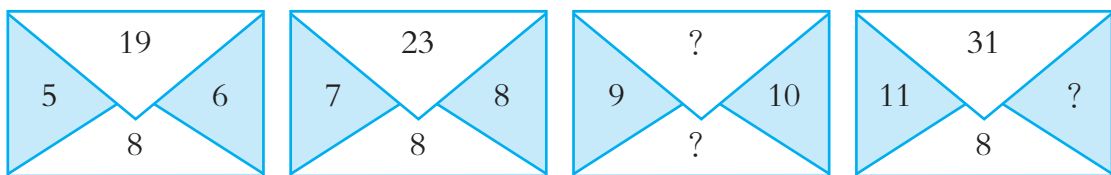
6. 填一填。



7. 填上合适的数。



8. 在“?”处填上合适的数。






六 分 类



小东的爷爷、奶奶今年6月份要去某地旅游，他们先找来这个地区去年6月份的天气记录（如下表），请你帮忙将这些信息进行分类整理。

下面是某地区去年6月份的天气记录：

1	2	3	4	5	6	7	8	9	10
11	12	13	14	15	16	17	18	19	20
21	22	23	24	25	26	27	28	29	30



我先分一分，再数一数。


() 天	() 天	() 天



哪种天气最多？晴天比雨天多多少天？



2 经过某路口的车辆如下：



分两类，这些车可以怎样分呢？

我按汽车、自行车来分。



我按颜色分。



可以把分类的结果整理一下。

类别	汽车	自行车	颜色	黄色	蓝色
辆数	14	10	辆数	9	15

还可以怎样分？

试一试

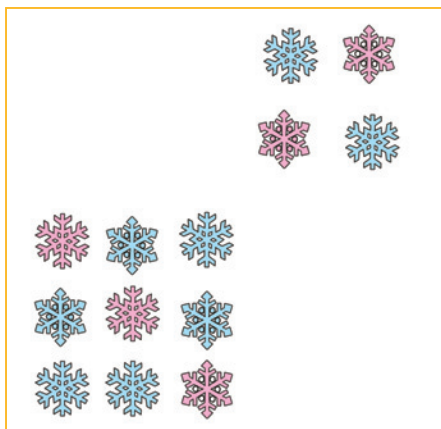
如果把全班同学分成两组，可以怎么分？你能在表中把分组的结果表示出来吗？

人数		



练一练

1. (1) 按小雪花的形状分一分，在下面涂一涂、填一填。



() 个


() 个

(2) 按小雪花的颜色分一分，填一填。

	() 个
	() 个

2. 将12名同学按出生的四个不同季节分一分，再涂一涂、填一填。

编号	季节	编号	季节	编号	季节
①		⑤		⑨	
②		⑥		⑩	
③		⑦		⑪	
④		⑧		⑫	



























	春		夏		秋		冬
() 人		() 人		() 人		() 人	

练习十三

1. 调查班里两组同学最喜欢上的一门课程，把结果记录在下表中。

语文	数学	美术	体育	科学
()人	()人	()人	()人	()人

2. 一年级(2)班每个同学最喜欢的小动物贴在下面表中，根据这些信息进行分类整理并回答问题。

(1) 喜欢  的有 () 人，喜欢  的有 () 人。

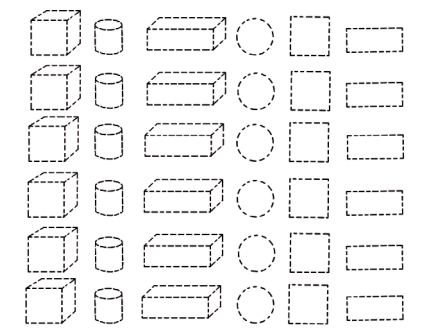
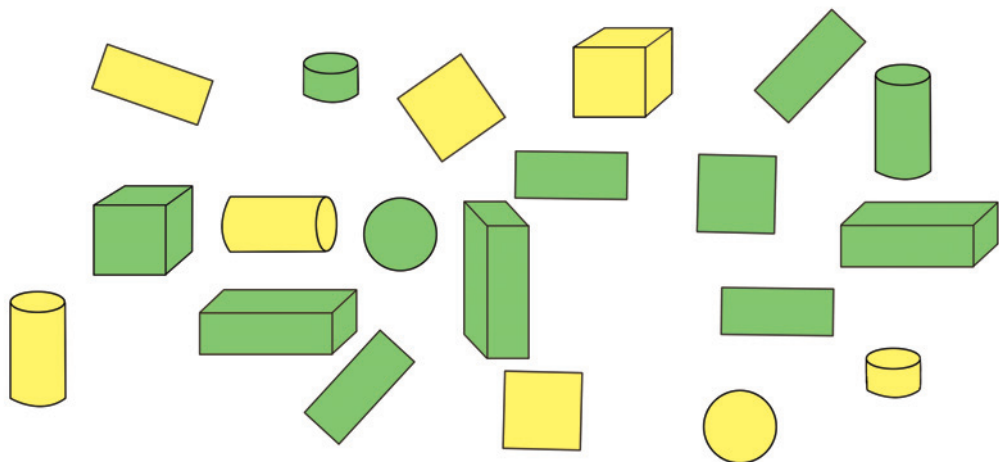
(2) 喜欢 () 的人数最多，有 () 人。

如果学校组织去动物园参观，你能给老师提出什么建议？



3. 分类整理下面的图形。

(1) 按形状分一分、涂一涂，再填一填。



○ () 个	□ () 个
□ () 个	○ () 个
□ () 个	□ () 个



(2) 如果把这些图形分成两组，可以怎样分？

你还能提出什么问题？

4. 了解全班同学最喜欢读哪类书。

你是怎么分类整理出来的？



七 数学百花园

百数表

35 这个数
在第 4 行的
第 5 个。



1	2	3	4	5	6	7	8	9	10
11									
21									
31				35					
41									
51									
61									
71									
81									
91									

58、85 这
两个数应
分别填在
哪个格？



蓝色部分盖住的是哪个数？绿
色部分盖住的数分别是多少？



	2								10
		23							
									49
				55					
61									
						77			
		93							99

13 在哪个颜
色的区域？




89 在哪个颜
色的区域？

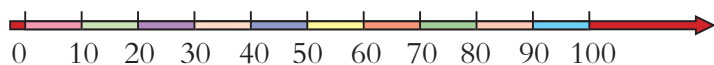




1	2	3	4	5	6	7	8	9	10
11	12	13	14	15	16	17	18	19	20
21	22	23	24	25	26	27	28	29	30
31	32	33	34	35	36	37	38	39	40
41	42	43	44	45	46	47	48	49	50
51	52	53	54	55	56	57	58	59	60
61	62	63	64	65	66	67	68	69	70
71	72	73	74	75	76	77	78	79	80
81	82	83	84	85	86	87	88	89	90
91	92	93	94	95	96	97	98	99	100



紫色部分的长方形表示哪些数？



看一看：从10到20，从20到30，从30到40……它们之间的长度有什么特点？为什么？
指一指：89这个数大约在什么位置？
说一说：大于60的数在哪儿？小于60的数呢？

八 总 复 习

【整理与复习】


数的认识

1. 按顺序填数。

				92	94			
	90				50			

2. 填一填。

(1)



() 元 () 根 | () 个

(2) 47里面有()个十和()个一。

(3) 一个数个位上是3, 十位上是6, 这个数是()。

(4) 78后面第3个数是()。

(5) 一个数比67大, 比70小, 这个数可能是()或()。

3. 找朋友。





加法和减法

$$\begin{array}{cccc}
 4. \quad 20+6= & 8+21= & 86-40= & 43-40= \\
 38-3= & 53-30= & 58+4= & 70-30= \\
 32-5= & 39-25= & 24+43= & 40+60=
 \end{array}$$

5. 用竖式计算。

$65+34$

$96-26$

$38+46-55$

$72-58$

$64+27$

$92-87+49$

6. 在○里填上“>”“<”或“=”。

$32+8 \bigcirc 41$

$12+54 \bigcirc 62$


$30+15 \bigcirc 45-3$

$51-4 \bigcirc 11$

$72-50 \bigcirc 32$

$96-0 \bigcirc 66+30$

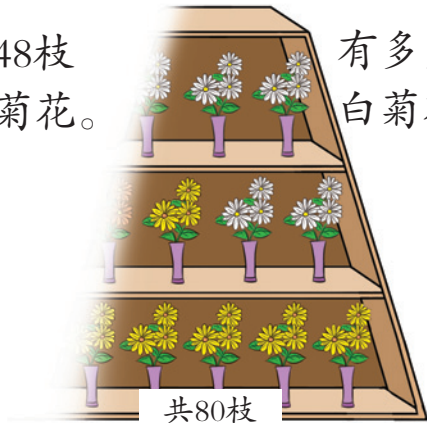
7. 连一连，看哪只猫捉的老鼠多。



解决问题

8. 说一说，算一算。

有48枝
黄菊花。



有多少枝
白菊花？

我吃了26只
蚊子。

我比你多吃
了15只。



大蜻蜓吃了多少只蚊子？

9. 小明一家去吃饭。



找您4元。

给你80元。

吃饭花了多少元？

10. 同学们劳动。李老师买来矿泉水，发给全班42人每人一瓶，还剩6瓶。买来矿泉水多少瓶？

11. 妈妈带了70元去超市。




买鱼花了26元，买虾
花了32元。

妈妈一共花了多少元？



12. 生物小组养灰兔 24 只。



你能提出什么数学问题？请解答出来。

13. 下面是 3 名同学托球比赛的成绩。先估计一下，谁有可能得第一，再把表格补充完整。

	王平	李月	张元
第一次（下）	26	24	
第二次（下）	18		28
第三次（下）	29	27	23
总数（下）		80	76

常见的量

14. 10 角 = () 元 1 元 5 角 = () 角
 16 分 = () 角 () 分 1 角 8 分 = () 分

15.



12.00 元/个



0.40 元/本



6.40 元/支



1.80 元/支


(1) 小强买1支 ，可以怎样付钱？


(2) 方方买1本  和1支 ，需要多少钱？

你还能提出什么问题？

16.



(1) 小兰有40元，买1个  后还剩多少元？

(2) 1架  比1辆  贵多少元？

(3) 1个  比1辆  便宜多少元？

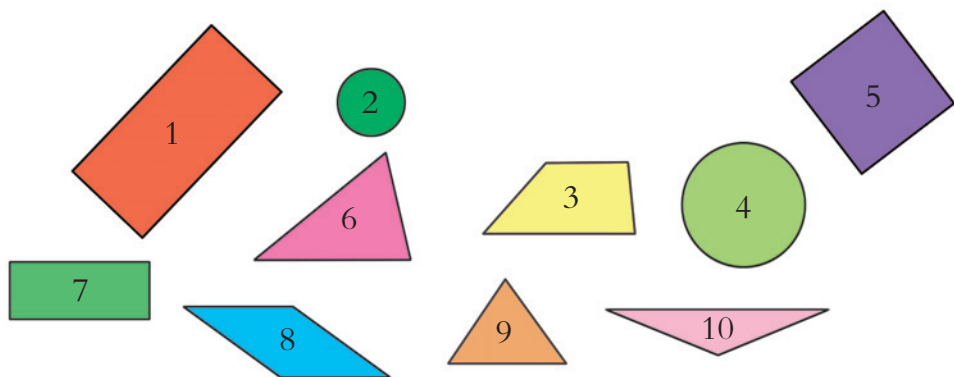
(4) 至少要花多少钱，才能买到两种玩具？

(5) 军军有60元，可以买到哪些玩具？



认识图形

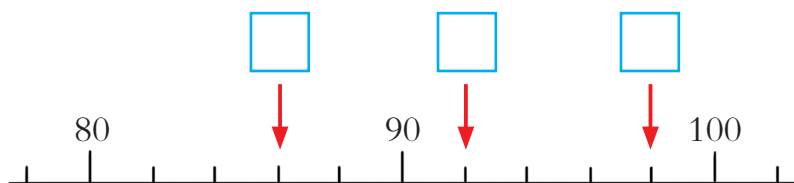
17. 把序号填在横线上。



上面图形中，_____是长方形，正方形是_____，三角形是_____，平行四边形是_____，圆是_____。

【问题与思考】

1. 在□里填上合适的数。



2. 在合适的答案下面画“√”。



冬冬

我的课外书比
29本多一些。

冬冬可能有多少本？

25本	35本	80本



梅梅

我的课外书比
50本少得多。

梅梅可能有多少本？

45本	40本	24本

3. 先计算，再找规律。

$$\begin{array}{r} 21 \\ -12 \\ \hline \end{array}$$

$$\begin{array}{r} 54 \\ -45 \\ \hline \end{array}$$

$$\begin{array}{r} 43 \\ -34 \\ \hline \end{array}$$

$$\begin{array}{r} 32 \\ -23 \\ \hline \end{array}$$

$$\begin{array}{r} 31 \\ -13 \\ \hline \end{array}$$

$$\begin{array}{r} 64 \\ -46 \\ \hline \end{array}$$

$$\begin{array}{r} 42 \\ -24 \\ \hline \end{array}$$

$$\begin{array}{r} 53 \\ -35 \\ \hline \end{array}$$

你发现了什么？你能再写出几道差是9或18的算式吗？

- 用一副七巧板，你能拼出几个不同的三角形、正方形和长方形？试试看。
- 美化环境。





3

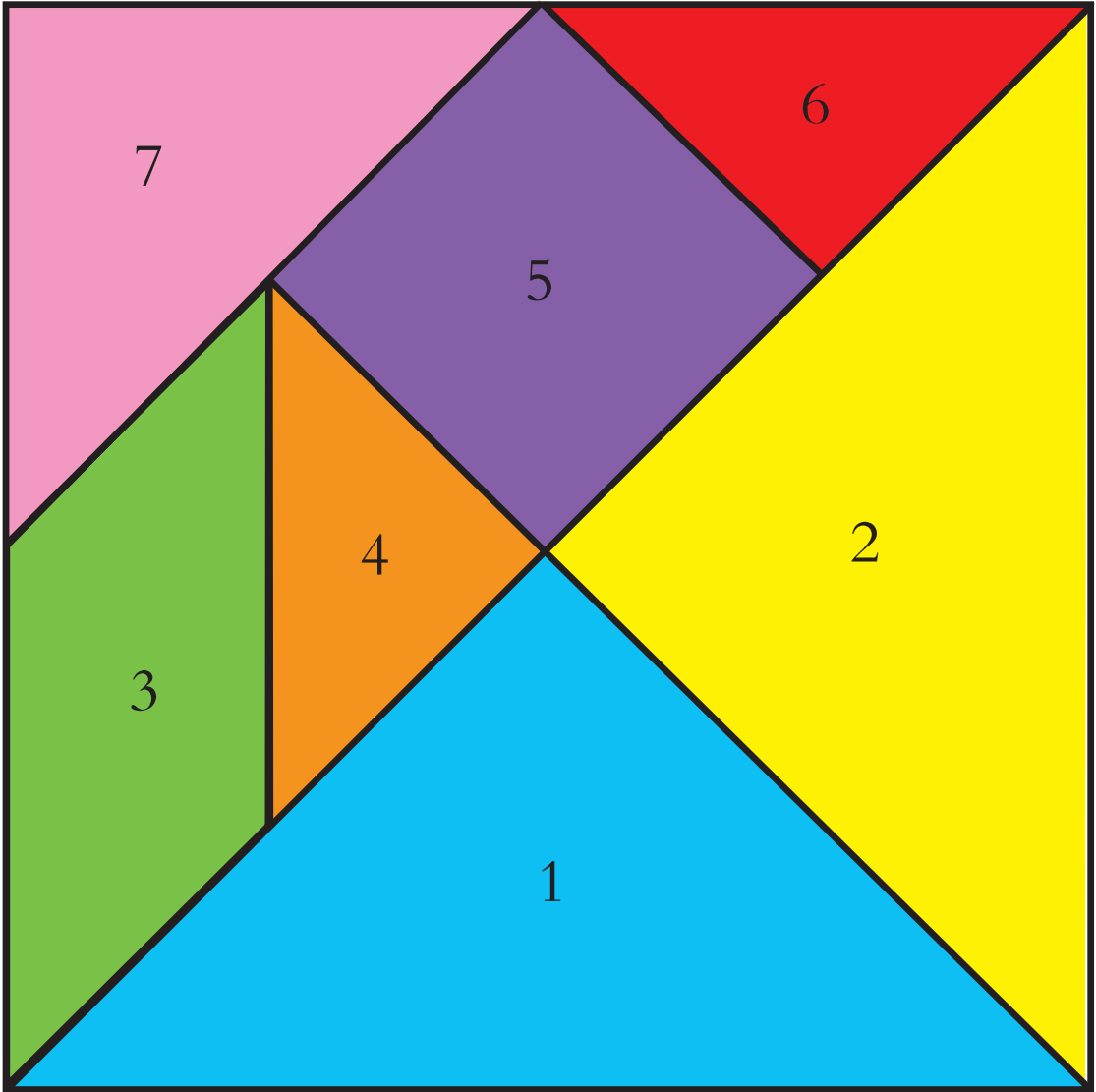


2



附页

附页





绿色印刷产品

定价：00.00元