


2022 年河南省选调生招录考试 模拟卷（四）



第一部分 客观题

1. 关于中央经济工作会议确定明年的重点任务，下列说法**错误**的是：

- A. 强化国家战略科技力量，充分发挥国家作为重大科技创新组织者的作用
- B. 我国二氧化碳排放力争 2030 年前达到峰值
- C. 坚持扩大内需这个战略目标，形成强大国内市场是构建新发展格局的重要支撑
- D. 强化反垄断和防止资本无序扩张

2. 关于检举控告的渠道，下列说法正确的有几个：

①向纪检监察机关邮寄信件反映；②到纪检监察机关指定的接待场所当面反映；③拨打纪检监察机关检举控告电话反映；④在纪检监察机关门口拉横幅反映；⑤向纪检监察机关的检举控告网站、微信公众平台、手机客户端等网络举报受理平台发送电子材料反映

- A. 两个
- B. 三个
- C. 四个
- D. 五个

3. 关于中央全面依法治国工作会议，下列说法**错误**的是：

- A. 要坚持党对全面依法治国的领导
- B. 推进全面依法治国，根本目的是依法保障人民权益
- C. 中国特色社会主义法治道路本质上是中国特色社会主义道路在法治领域的具体体现
- D. 必须以科学理论为指导，加强实践思维

4. 关于《党委（党组）落实全面从严治党主体责任规定》，下列说法**错误**的是：

- A. 地方党委应当把党的政治建设摆在首位，把党的思想建设作为基础性建设来抓
- B. 党委（党组）每半年应当至少召开 1 次常委会会议，专题研究全面从严治党工作
- C. 党的建设工作领导小组是党委抓全面从严治党的议事协调机构
- D. 党委办公厅是党委抓全面从严治党的派出机关

5. 关于各种节日，下列说法**错误**的是：

- A. 国际护士节是为纪念现代护理学科的创始人弗洛伦斯·南丁格尔的节日
- B. 2021 年是中国人民警察节设立并执行的第二年
- C. 每年农历秋分为中国农民丰收节
- D. 2020 年 8 月 19 日第 3 个中国医师节的主题是“弘扬抗疫精神，护佑人民健康”

6. 关于我国古都，下列说法正确的是：

- A. 九朝古都、龙兴之地指的是太原市
- B. 五朝古都指的是安阳市

- C. 十朝都会指的是邢台市 D. 七朝古都指的是南京市
7. 关于《中华人民共和国公职人员政务处分法》，下列说法正确的是：
- A. 基层群众性自治组织中从事管理的人员不属于本法管辖范围
- B. 已经退休的公职人员退休前或者退休后有违法行为的不再给予政务处分
- C. 政务处分与处分是相同的概念
- D. 公职人员受到撤职的政务处分后，在处分期满后自动恢复之前的职位
8. 关于《刑法》，下列说法正确的是：
- A. 小张十三岁以残忍手段故意杀害小李无需负刑事责任
- B. 小王用安全锤对行驶中的公交车的驾驶人员进行攻击会被判处三年到五年的有期徒刑
- C. 某公司老板强令他人违章冒险作业发生重大事故，该老板仅负民事责任
- D. 药品使用单位的人员明知是假药而提供给他人使用的，可能会被判处七年有期徒刑
9. 关于《民法典》，下列说法正确的是：
- A. 债务人放弃其债权无偿处分财产权益，影响债权实现，债权人可以请求人民法院撤销债务人的行为
- B. 撤销权自债权人知道或者应当知道撤销事由之日起两年内行使
- C. 债权人行使撤销权的必要费用由其自身承担
- D. 债权人的债权到期前，债权人可以随时代为向破产管理人申报
10. 关于长征系列运载火箭，下列说法正确的是：
- A. 长征八号是中国新一代中型中低轨道两级液体捆绑式运载火箭
- B. 到目前为止，长征系列运载火箭一共有八种型号在役
- C. 长征系列运载火箭现在已经发展到第三代
- D. 神舟五号飞船的发射任务由长征一号运载火箭承担
11. 关于《民法典》，下列说法正确的是：
- A. 债权人为二人以上，部分债权人不可以请求债务人履行债务
- B. 实际承担债务超过自己份额的连带债务人，无法追偿自己多支出的份额
- C. 合同生效后，当事人变更法人代表不影响履行合同义务
- D. 当事人互负债务，必须按先后顺序履行
12. 关于建设现代中央银行制度，下列说法**错误**的是：
- A. 建设现代中央银行制度是推进国家治理体系和治理能力现代化的重大任务

- B. 建设金融基础设施服务体系是现代中央银行制度的一部分
- C. 推进金融双向开放是建设现代中央银行制度的重大举措之一
- D. 中国人民银行从建立之初起就开始专门行使中央银行职能

13. 长洲知县江盈科在平远堂旧址建五贤祠，下列作品作者同属“五贤”，其中与其他三位所属朝代不同的是：

- A. 《西塞山》
- B. 《琵琶行》
- C. 《陋室铭》
- D. 《五代史阙文》

14. 关于生活中的常识，下列说法正确的是：

- A. 医用面膜并不意味着每个人都需要使用
- B. 喝了未煮熟的豆浆会导致死亡
- C. 塑料暴露于高温条件下产生的化学物质能引起癌症
- D. 化学合成染料有毒，即使是符合国家标准生产的衣服也有毒

15. 关于诺如病毒，下列说法正确的是：

- A. 诺如病毒基因单一，不会重复感染
- B. 诺如病毒目前没有疫苗和特效药
- C. 诺如病毒只以肠道传播
- D. 感染诺如病毒后需要使用抗生素治疗

16. 关于耳聋，下列说法正确的是：

- A. 耳蜗是将震动信号转化为声音的器官
- B. 所有的耳聋都是因为耳蜗内的毛细胞死亡或者功能障碍
- C. 人工耳蜗包括耳蜗内的植入体和体外机
- D. 将人工耳蜗植入体内就可以让耳聋患者完全恢复

17. 关于核电技术，下列说法正确的是：

- A. 核电站是利用核聚变反应所释放的能量产生电能的发电厂
- B. 核电技术是由核能转换为电能
- C. 在 2020 年我国三代核电技术“国和一号”完成研发
- D. 福建宁德核电站是中国自行设计、建造和运营管理的第一座 30 万千瓦压水堆核电站

站

18. 关于全面推进健康中国建设的重大意义，下列说法**错误**的是：

- A. 全面推进健康中国建设是关系我国现代化建设全局的战略任务

B. 党的十七大以来，以习近平同志为核心的党中央把保障人民健康摆在优先发展的战略地位

C. 全面推进健康中国建设是保障人民享有幸福安康生活的内在要求

D. 全面推进健康中国建设是维护国家公共安全的重要保障

19. 关于中国古代四大名桥与其所在的城市，下列说法**错误**的是：

A. 洛阳桥——泉州市

B. 卢沟桥——北京市

C. 广济桥——梅州市

D. 赵州桥——石家庄市

20. 关于《中华人民共和国预防未成年人犯罪法》，下列属于本法所称不良行为的是：

①吸烟、饮酒；②多次旷课、逃学；③沉迷网络；④辱骂他人

A. ①②④

B. ②③④

C. ①③④

D. ①②③

21. “数九”又称“冬九九”，是我国的一种传统民间习俗。“数九”从每年_____开始，每九天为一九。

A. 冬至

B. 小寒

C. 大寒

D. 立冬

22. “马革裹尸”多指军人战死于沙场，形容为国作战，决心为国捐躯的意志。这一成语典故的主人公是：

A. 马超

B. 马援

C. 刘备

D. 刘勰

23. 某美容院老板卢某不明确告知消费者商品价格，未经消费者同意，给消费者使用多种美容产品，并索要高额费用。则卢某的行为涉嫌构成：

A. 诈骗罪

B. 非法经营罪

C. 强迫交易罪

D. 抢夺罪

24. 下列名画根据创作时间先后顺序排列正确的一组是：

①《富春山居图》

②《洛神赋图》

③《清明上河图》

④《韩熙载夜宴图》

A. ①②④③

B. ③①②④

C. ②④③①

D. ④①②③

25. 对于新冠疫情的防控，习近平总书记多次提到加强疫情防控必须慎终如始，对疫情的警惕性不能降低”。其中“慎终如始”出自：

- A. 《周易》
C. 《孟子》
- B. 《韩非子》
D. 《老子》

26. 下列作者、作品、人物搭配正确的是：

- A. 吴承恩——《红楼梦》——林黛玉
C. 巴金——《家》——刘若兰
- B. 施耐庵——《水浒传》——林冲
D. 鲁迅——《孔乙己》——闰土

27. “离离原上草，一岁一枯荣。野火烧不尽，春风吹又生。”下列古语蕴含的哲理与上述观点相似的是：

- A. 不识庐山真面目，只缘身在此山中
C. 无可奈何花落去，似曾相识燕归来
- B. 知屋漏者在宇下，知政失者在草野
D. 问渠哪得清如许，为有源头活水来

28. 新发明尤其是互联网的发展改变了我们的生活，同时出现了很多新的职业。下列职业按出现先后排列正确的是：

- A. 电话接线员——火车司机——空姐——网络编辑员
B. 火车司机——电话接线员——空姐——网络编辑员
C. 空姐——电话接线员——火车司机——网络编辑员
D. 电话接线员——空姐——火车司机——网络编辑员

29. 2021年1月11日，习近平总书记在省部级主要领导干部学习贯彻党的十九届五中全会精神专题研讨班上强调，准确把握新发展阶段，深入贯彻新发展理念，加快构建新发展格局，推动“十四五”时期高质量发展，确保全面建设社会主义现代化国家开好局、起好步。

下列关于“新发展格局”说法，正确的是：

- A. 以扩大内需为主，加强国际贸易合作
B. 以国际贸易为主导，促进国内经济转型升级
C. 以出口贸易为导向，推动经济全球化发展步伐
D. 以国内大循环为主体、国内国际双循环相互促进

30. _____是我国魏晋南北朝时期“笔记小说”的代表作，是我国最早的一部文言志人小说集。

- A. 《世说新语》
C. 《海国图志》
- B. 《梦溪笔谈》
D. 《聊斋志异》

31. 某酒精溶液的浓度为10%，若向该酒精溶液中加入酒精20克后的浓度是向该酒精溶液中加入水20克后的2倍，那么原酒精溶液中水的质量是多少克：

- A. 90
B. 180

意亮相”2000多个日夜_____，北京冬奥会竞赛场馆全面完工，工程建设完成了多项科技攻关，_____了国内空白。

填入横线处的词语最恰当的一组是：

- A. 承前启后 填补 B. 披荆斩棘 弥补
C. 风雨兼程 填补 D. 继往开来 弥补

38. 面对检察履职服务经济社会高质量发展、检察公益诉讼拓展新领域等新要求新任务，检察机关必须_____人民群众在民主、法治、公平、正义、安全、环境等方面的更高期待，不断_____自己的差距和不足，努力建设中国特色社会主义现代化检察队伍，为全面建成法治中国_____起磅礴伟力。

填入横线处的词语最恰当的一项是：

- A. 对标 查找 汇聚
B. 立足 审视 凝聚
C. 重视 查找 凝聚
D. 审视 发现 铸就

39. 近年来，我国坚持走绿色发展之路，逐渐改变了传统的“大量生产、大量消耗、大量排放”的生产模式和消费模式，使资源、生产、消费等要素相匹配相适应。但在一些地区，对绿色发展的认识仍然存在不同程度的误区。比如，有的地区气候干旱，却大量栽种对湿度有较高要求的植被，导致植被成活率较低；有的甚至单纯为了制造所谓“景观”，过度抽取地下水实施灌溉……倘若不考虑实际情况和长期规划就大搞所谓的绿化工程，不仅不可能达到预期目的，还会加重地方财政负担，造成不必要的浪费，甚至反过来会对地方生态环境造成消极影响。只有按规律办事，坚持因地制宜、适财而为，不急功近利，相应的绿化工程才能建得好、有作用、得民心。否则就会滑向形式主义，沦为“形象工程”。

这段文字主要强调：

- A. 应避免绿化工程变成形式主义和面子工程
B. 立足长远、因地制宜是搞绿化工程的关键
C. 进一步完善和规范各地生态环境治理行为
D. 绿色发展之路应立足于正确的认识和规划

40. 如今，提到科普书，尤其是原创科普书，最知名的仍是60年前少年儿童出版社出版的《十万个为什么》，由于名气过于响亮，目前同名书就有百余种，从中亦可一窥我国科普书原创乏力，同质化严重的问题。综观近年来我国的科普书市场，销量位居前列的多是引

进版图书，原创科普书籍籍籍无名。这是因为，目前我国科普图书的译著达不到母语的水平，对读者缺乏吸引力。市场和出版方不愿承担高投入低产出的风险，多会选择国外的成熟科普图书。此外，一些有科普情怀的作家也很难得到相应的回报。因此，无论是公共书展还是私人书架，我国原创优质科普书“缺席”是常态。

这段文字意在强调：

- A. 亟需出台政策支持国内原创科普书市场
- B. 我国科普书籍原创力匮乏且同质化严重
- C. 科普作家著书应当适应读者与市场需求
- D. 多方解决我国原创科普书“缺席”问题

41. 无需“近身”接触的智能无人安检机、智能红外线“测温门”、低密度“分散式”候车乘车环境……在 2021 年春运旅途中，伴随各类“无接触”设备的普及与使用，科技对传统春运的改变在疫情防控的大背景下愈发突出。从进门候车到出站返家，“无接触”等科技成果的不断应用，不仅带来效率上的提升，更为疫情防控需要创造了安全条件，从各个方面与春运实现无缝对接，让“流动中国”更加丰富多彩、活力四射。

最适合做这段文字标题的是：

- A. 疫情中的“流动中国”
- B. 春运，我们无忧出行
- C. 无接触：“有备而来”
- D. 科技加持，让春运更安全

42. 莫言说晚熟是一个内涵很丰富的概念。从艺术的角度来讲，一位作家或者一位艺术家如果过早地定型了、成熟了，我想他的创作之路也就走到了终点。从这个意义说，你不希望自己过早成熟，而是希望自己晚熟，使艺术生命能够保持得更久一些。

这段文字意在说明：

- A. 晚熟是个内涵丰富的概念
- B. 艺术家不能过早成熟
- C. 晚熟是评价艺术家成就的一项标准
- D. 艺术家应该尽可能让自己晚熟

43. ①传统书房是一个实用性与仪式感并重的文人自娱空间，现代书房同时还是办公室在家中的延伸

②一些经典的文化用品如文房四宝，迄今为止仍然是书房中的重要物品，与其相关陈设的造型虽然简洁，但其选材备料却极其挑剔

③相对于堂屋的井然有序，传统中式住宅里的书房则是另一番景致

④传统书房用品中最典型的莫过于笔筒，竹雕、石刻、木制或者漆绘者比比皆是

⑤它是书写、阅读、对弈、焚香、抚琴和品鉴文玩的安静场所，也是陶冶性情，修养身心的“幽谷”

⑥因尺寸适宜，所以各种工艺技法都可以在上面获得施展的空间，从薄意到多层雕刻，从镂空到彩绘，应有尽有

将以上 6 个句子重新排列，语序正确的是：

A. ③⑤①②④⑥

B. ①⑤③④⑥②

C. ③①④②⑥⑤

D. ①③④⑥⑤②

44. _____。这是因为一方面，公众具有了高度自觉，彼此之间也能实现严格监督；另一方面，公共场所在引导和约束功能上充分起到了主导性，公共服务机构率先实施，其他市场主体和商业机构纷纷跟进，专人进行引导，对不遵守规则的行为进行劝导等措施，特殊时期的特殊举措，起到了立竿见影的效果。只是，长久看来，受我国群体关系和公共交流习惯所限，“一米线”作为公共规则被长期落实，还面临着极大挑战。

填入划横线处最恰当的一项是：

A. 落实“一米线”还面临着诸多挑战

B. “一米线”能得到落实主要是因为公民的高度自觉

C. “一米线”在疫情较为严重的时候，得到了很好地执行

D. “一米线”作为公共规则，我们必须遵守

45. 中国海洋石油天然气资源十分丰富，但其大多数都埋藏于深水区，相应的油气勘探开发工作面临着“入地、下海”许多难题和工程技术挑战。历经多年的探索与实践，我国海洋深水钻探工程已经实现了从浅水（水深 300 米以内）到超深水（水深超过 1500 米）的跨越，并在南海发现了丰富的天然气及其水合物资源，亟待进行安全高效开发，因而对相应的开发工程模式及其技术支撑体系提出了重大需求。海洋深水区（以下简称深海）油气资源勘探开发日趋活跃，如墨西哥湾、西非、巴西、北海、澳大利亚及中国南海等深水海域。近 10 年来，全球的重大油气发现一多半都来自深海，深海将成为油气资源的重要接替区之一。

下列说法符合原文的是：

A. 中国石油天然气主要埋藏于深海

B. 我国已经具备在深海开采油气的基本条件

C. 深海已经成为油气资源的重要接替区


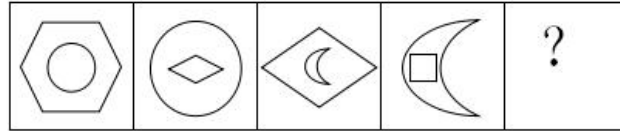
D. 深水钻井技术亟待利用

46. 令尊：家父
- A. 令堂：家内
B. 令郎：犬子
C. 令爱：令媛
D. 家严：家慈
47. 打哈哈：敷衍了事
- A. 唱双簧：紧密配合
B. 唱白脸：积极鼓励
C. 铁公鸡：顽固不化
D. 纸老虎：千疮百孔
48. 大彻大悟：鬼迷心窍
- A. 粗茶淡饭：纸醉金迷
B. 一针见血：言必有中
C. 管中窥豹：以点带面
D. 十室九空：饿殍枕藉
49. 木材：图书
- A. 塑料：笔
B. 水滴：大海
C. 尼龙：牙刷
D. 短袖：衣服
50. 《龟虽寿》：曹操
- A. 《铜雀台赋》：曹丕
B. 《短歌行》：白居易
C. 《长恨歌》：李白
D. 《洛神赋》：曹植
51. 桌椅：木材：家具
- A. 龙井：茶叶：绿茶
B. 衣帽：棉花：服饰
C. 唇釉：唇膏：化妆品
D. 土豆粉：土豆：食物
52. 汽车：运输：发动机
- A. 空调：调温：压缩机
B. 电脑：散热：CPU
C. 投影仪：投影：电
D. 房子：居住：窗户
53. 哈密瓜：佛手瓜：甜瓜
- A. 美洲狮：白虎：金虎
B. 越野车：新能源汽车：摩托车
C. 马岛鼠：袋鼠：瞎鼠
D. 八仙桌：实木桌：餐桌
54. 学校 对于 () 相当于 机场 对于 ()
- A. 教师；机长
B. 学生；乘客
C. 教书；寄存
D. 食堂；秩序
55. 瘦肉精 对于 () 相当于 () 对于 奶粉
- A. 脂肪；蛋白质
B. 肌肉；营养
C. 猪肉；三聚氰胺
D. 饲料；牛奶

二、图形推理，请按照每道题的答题要求作答。



请开始答题：

56. 请从以下四个选项中，选择一个最合适的填入问号处，使其呈现一定的规律性：



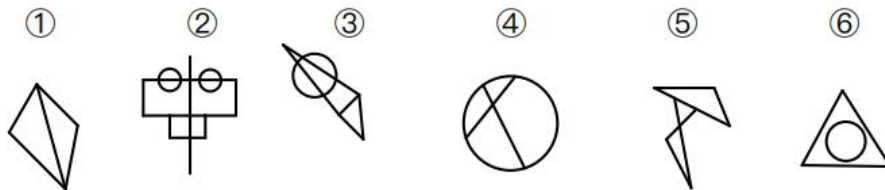
A B C D

57. 请从以下四个选项中，选择一个最合适的填入问号处，使其呈现一定的规律性：



A B C D

58. 把下面的六个图形分为两类，使每一类图形都有各自的共同特征或规律，分类正确的一项是：



- A. ①③④，②⑤⑥
- B. ①②④，③⑤⑥
- C. ①④⑤，②③⑥
- D. ①③⑤，②④⑥

59. 把下面的六个图形分为两类，使每一类图形都有各自的共同特征或规律，分类正确的一项是：

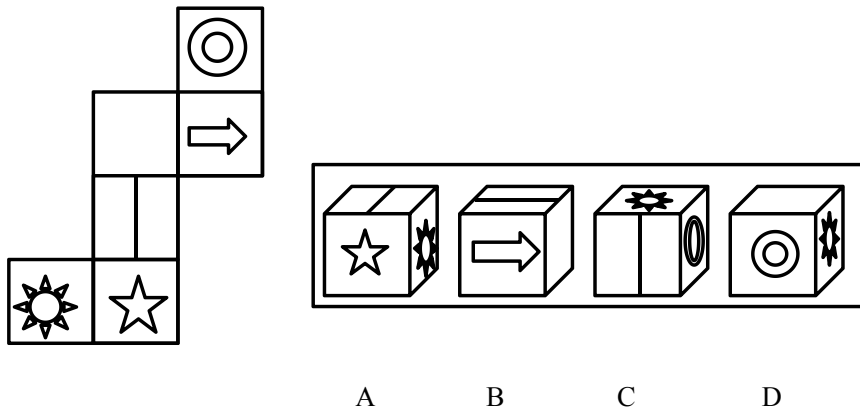


- A. ①④⑥，②③⑤
- B. ①③⑥，②④⑤

C. ①②③, ④⑤⑥

D. ①②④, ③⑤⑥

60. 左边给定的是纸盒的外表面，下面哪一项能由它所折叠而成？



二、定义判断。每道题先给出一个定义，然后列出四种情况，要求你严格依据定义，从四个备选项中选出一个最符合或最不符合该定义的答案。注意：假设这个定义是正确的，不容置疑的。

请开始答题：

61. 在一定的语言环境中，利用词的多义或同音的条件，有意使语句具有两种意思，言在此而意在彼，这一种修辞手法叫做双关。

根据上述定义，下列诗句属于“双关”的是：

- A. 不知细叶谁裁出，二月春风似剪刀 B. 桃花潭水深千尺，不及汪伦送我情
C. 东边日出西边雨，道是无晴却有晴 D. 山重水复疑无路，柳暗花明又一村

62. 代位继承是本位继承的对称。被继承人的子女先于被继承人死亡或被宣告死亡，被继承人的子女的晚辈直系亲属代替被继承人子女的继承顺序，继承被继承人子女的应继承的遗产份额的制度。转继承，是指继承人在被继承人死亡之后，遗产分割之前，因为某种缘故尚未实际取得遗产而死亡或被宣告死亡，其应继承份额转由他的法定继承人继承。

根据上述定义，下列属于转继承的是：

- A. 老王的儿子在一次航空意外中丧生，老王白发人送黑发人，将自己的一处房产留给了孙子
B. 小赵刚刚嫁入豪门不久，富商老公因病去世，在继承遗产之前，小赵也突然暴毙，遗产由小赵的父母继承
C. 老李在老伴去世后伤心过度，没过多久也郁郁而终，他们的财产由老李的女儿继承
D. 富商老丁一生没有子嗣，人到中年收养了一个孩子，老丁去世后，其财产由收养的孩子继承

63. 环境激素，又可以称为内分泌干扰物质、环境荷尔蒙或环境雌激素等，是指由于人类的生产、生活而释放到环境中的，影响人体和动物体内正常激素水平的外源性化学物质。环境激素的摄取，会引起性早熟。

根据上述定义，下列属于环境激素的是：

- A. 甲村的孩子有很多都吃同一品牌的奶粉，长大后很多孩子智力出现了问题，后经检测，该奶粉中含有某种化学物质
- B. 乙地位于河流的下游，当地部分男孩子在7岁左右就长出了胡须，后经诊断发现是源于上游某化工厂排放的化学物质
- C. 小李患有严重疾病，只能采取激素疗法治疗，天长日久之后他出现了发福等不良反应
- D. 老赵与好友去山林探险，发现了一块颜色特异的石头，回家后他与朋友先后出现了异常反应

64. 替罪羊理论指对由挫折引起侵犯时转移攻击目标的现象。由挫折引起侵犯行为并非总是指向于挫折制造者，有时也指向于其他人或其他事物，即所谓的目标转移。当一个人由于某种原因而不能对侵犯者或挫折制造者还击时，往往找一个替代者发泄。挫折或烦恼的来源不明，也可能出现蓄意寻找一个对象把自己的不幸归咎于他而加以攻击。替罪羊往往是一个弱者。这种目标转移在于寻找一个替代者以满足自己的防卫侵犯，消除挫折或烦恼。

根据上述定义，下列不符合替罪羊理论的是：

- A. 甲的孩子被车撞伤，肇事司机拒不下车，径自驾车离开，甲抓起一块石头，狠狠砸向肇事司机的车辆
- B. 乙在工作中遇到了不公平待遇，心情郁闷，回家之后对自己的孩子大吼大叫
- C. 丙被公司辞退后，愤愤不平，走在街上时突然攻击了一名迎面走过来的女性
- D. 丁走路时玩手机，不小心踩到狗粪，十分气愤，一脚踢开了迎面跑来的一只小猫

65. 活动营销是城市营销的有效手段。通常是指城市有计划、有目的的策划或申办某项大型节会、赛事、论坛等形式的活动，并围绕活动的策划和组织对城市的文化进行挖掘、对城市的基础设施进行改造、对城市的环境进行优化、对城市形象和品牌进行宣传推广，最终借助活动促进城市经济的发展和品牌价值的提升。

根据上述定义，以下不属于城市活动营销的是：

- A. 广州借助亚运会对城市基础设施进行改造，同时对城市环境进行治理，彻底改变了原有的“脏、乱、差”等现象

B. 某地举办“世界小姐”大赛，吸引了无数公司投入广告宣传品牌，并在世界上树立了良好的城市形象

C. 某城市利用其文化历史，宣传文化旅游产品，吸引更多的人来当地旅游，了解了历史，增加了城市收入

D. 北京为举办 2008 年奥运会，修建了许多公园和场馆，这些公园和场馆在赛后被用于市民文化生活

66. 外部不经济是指某些企业或个人因其它企业和个人的经济活动而受到不利影响，又不能从造成这些影响的企业和个人那里得到补偿的经济现象。

根据上述定义，下列属于外部不经济的是：

A. 某人不听劝阻，在密闭的公共场合抽烟，造成与其共处一室的人咳嗽不止

B. 某不知名画手几年前的作品被某网红抄袭，被网友发现后，意外令画手翻红

C. 为树立良好形象，公司强制要求员工拿出价值不小于 1000 元的物品，以公司名义捐给灾区

D. 河流上游的化工厂将污水排入河流中，河流下游的渔业养殖户鱼塘被污染，却没得到赔偿

67. 社会调整，是指社会为了有秩序地进行生产和生活，通过一定的组织和方式把人们的各种社会活动纳入一定秩序范围的活动。从人们对社会关系的调整的发展过程来看，社会调整可以划分为两大类，即个别性调整和规范性调整。个别性调整就是按照针对具体人、具体事所确定的行为方式，对人们的行为进行的一次性调整。规范性调整就是针对某一类主体、某一类情况而使用的一般行为规则进行的重复性的调整。

根据上述定义，以下属于个别调整的是：

A. 针对偷盗、抢劫等危害社会的行为，制定了相应的法律予以处罚

B. 针对某地区出现的极其恶性的犯罪案例，法院做出了加重处罚的决定

C. 某培训机构针对 VIP 用户开展了一对一服务，为客户提供个性化、易操作的提分方法

D. 职员丁生育后无人帮忙带孩子，针对她的情况，公司特批丁可以居家办公

68. 边缘学科是指与两种或两种以上不同领域的知识体系有密切联系，并借助它们的成果而发展起来的综合性学科门类。边缘学科的生成一般有两种情况。一种是某些重大的科研课题涉及到两个或两个以上学科领域，在研究过程中，便在这些相关领域的结合部产生了新兴学科。另一种情况，是运用一门学科的理论和方法去研究另一学科领域的问题，也会形成

一些边缘学科。

根据上述定义，以下不属于边缘学科的是：

- A. 技术经济
- B. 仿生学
- C. 地质学
- D. 天体物理学

69. 保质期是消费者购买食品时最关注的信息。许多人把它当作了“安全保障”，觉得“没过期”就安全，“过期了”就有害。这些想法和问题，其实都是源于对“保质期”的误解。保质期并不是食品的安全指标。

以下哪项为真，最能支持上述观点？

- A. 生鲜食材易滋生细菌，存放时间稍长会不安全，但罐装食品即使过期了也不会变得不安全
- B. 食品的变质是一个连续渐变的过程，食品成分或者其中的细菌，不会依据人为规定的保质期而变化
- C. 保质期其实是厂家对于食品的风味、口感、等方面给消费者做出的保证，过期只是意味着商家不再担保
- D. 食品能够保存多长时间，与食品的种类和配方有关，还与生产工艺密切相关，同一种食品，技术好、生产规范的厂家可以实现更长的保质期

70. 疫情发生以来，世界形势发生了很大的变化，但只要粮食不出大问题，中国的事就稳得住。历史经验告诉我们，一旦发生大饥荒，有钱也没用。解决 13 亿人的吃饭问题，只有坚持立足国内。农业基础稳固，农村和谐稳定，农民安居乐业，整个大局就有保障。

以上陈述如果为真，以下哪项不可能为假？

- A. 如果粮食出了大问题，我国的大局就会受到动摇
- B. 或者发生了大饥荒，或者没有钱
- C. 如果大局没有得到保障，但农村和谐稳定，则农业基础稳固与农民安居乐业不能同时存在
- D. 只要立足国内，就能解决吃饭问题，中国的事就能稳得住

71. 2019 年，一个国际研究小组在格陵兰冰盖旁安营扎寨了三个月，使用传感器实时测量了一个大集水区（面积 $>600\text{km}^2$ ）融水径流中的甲烷含量。测算结果显示，仅仅从格陵兰冰盖这一小片区域释放到大气中的甲烷就多达 6 吨。甲烷是一种强大的温室气体，其增温潜势是二氧化碳的 28 倍，也有研究者表示，正是全球变暖导致了甲烷大规模排放。

以下哪项如果为真，最能支持研究者的结论？

餐后训练效果，结果发现：两种运动方式的脂肪氧化水平相近。也就是说，总体减脂效果没有差异。

下列哪项如果为真，最能质疑上述论点？

- A. 在空腹状态下训练，容易发生低血糖
- B. 空腹运动会增加人的疲劳感，非常影响运动体验和锻炼效果
- C. 空腹时体内血糖较低，从而迫使身体动用脂肪供能
- D. 脂肪氧化水平可以直接反映减脂效果

75. 微波不会对人致癌，也不会让食物产生致癌物质。甚至，它还有助于避免致癌物的产生。对于鱼、肉等食物来说，传统加热尤其是烧烤炸等方式容易导致肉变焦，从而产生一些致癌物。2004年发表的一篇科学综述介绍了这类致癌物的产生以及致癌性，最后指出：用微波炉加热可以有效降低这类致癌物的产生。

下列哪项如果为真，最能质疑上述论点？

- A. 因为微波是一种辐射，所以许多人自然而然地认为它会致癌
- B. 电波和可见光不会致癌，所以频率介于它们之间的微波也不会致癌
- C. 吃微波炉加热过的食物，容易导致癌症、荷尔蒙失调、淋巴和消化系统紊乱、血液和免疫力异常
- D. 微波辐射指微波的能量可以发射出去，跟放射性同位素产生的辐射不一样，放射性同位素在衰变过程中会放射出粒子，所以它们能让生物体产生癌变

【资料】公司欲安排甲、乙、丙3名保安下周5个工作日的值班，关于具体的工作安排，需要满足以下条件：

- ①星期三和星期四均不是甲值班；
- ②除非乙星期二值班，否则丙不会被安排星期四值班；
- ③每人至少值班一天，每天只能有一人值班。
- ④星期五值班的人，不能仅星期五值班。

76. 以下关于甲、乙、丙三人的值班安排，符合上述要求的是：

- A. 甲：星期一；乙：星期三、星期五；丙：星期二、星期四
- B. 甲：星期二、星期五；乙：星期三、星期四；丙：星期一
- C. 甲：星期一、星期三；乙：星期四、星期五；丙：星期二
- D. 甲：星期一；乙：星期二、星期三、星期四；丙：星期五

77. 以下哪几天的值班任务不可能均由乙完成？

- A. 星期一、星期三、星期五
- B. 星期二、星期三、星期五
- C. 星期二、星期四、星期五
- D. 星期一、星期四、星期五

根据以下材料，回答 78~82 题

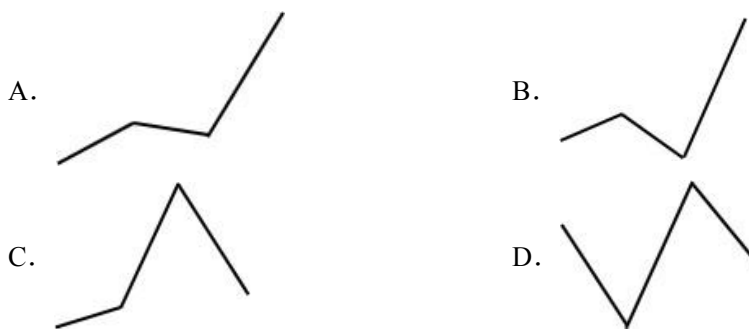
2018 年第一季度—2020 年第二季度我国集成电路进出口情况

时间	出口数量 (亿个)	出口金额 (亿元)	进口数量 (亿个)	进口金额 (亿元)
2018 年第一季度	477	1169	924	4536
2018 年第二季度	560	1297	1034	4853
2018 年第三季度	600	1517	1242	5896
2018 年第四季度	534	1608	976	5299
2019 年第一季度	460	1490	865	4429
2019 年第二季度	530	1614	1064	4906
2019 年第三季度	584	1929	1214	5787
2019 年第四季度	613	1975	1308	5957
2020 年第一季度	532	1668	1161	5023
2020 年第二季度	594	1873	1262	5819

78. 2020 年上半年，我国集成电路的进口单价约为多少元/个：

- A. 4.1
- B. 4.3
- C. 4.5
- D. 4.6

79. 以下哪个折线图能反映 2019 年各个季度进出口贸易额同比增量的变化趋势：



80. 2019 年哪个季度我国集成电路的出口数量占全年出口数量的比重同比有所上升：

- A. 第一季度
- B. 第二季度

- C. 第三季度
D. 第四季度
81. 2018 年第四季度，我国集成电路进口单价约是出口单价的多少倍：
A. 1.4
B. 1.6
C. 1.8
D. 2.0
82. 能够从上述资料中推出的是：
A. 2019 年我国集成电路进口数量同比增长超过 250 亿个
B. 2020 年第二季度我国集成电路进口数量占进出口总量的比重高于 70%
C. 2018 年我国集成电路进口单价低于出口单价
D. 2019 年下半年我国集成电路进口总量不足出口总量的 2 倍

第二部分 主观题

案例分析

材料 1

人力资源社会保障部、国家发展改革委、农业农村部等 15 部门联合出台《关于做好当前农民工就业创业工作的意见》将进一步集成政策措施，集聚资源要素，集合公共服务，做好农民工就业创业工作。J 县组织部到上海、深圳等地区进行政策宣讲，通过“展板+展位+实物”形式对特色项目进行了详细展示推介，搭建起企业家回乡投资发展的桥梁。各区（市）县带来的特产让在外务工人员品尝到家乡味道，感受到浓浓乡情。

J 县成立发展回引经济工作协调领导小组，每年到广东、福建等地实地考察和了解金堂籍在外务工和创业人员返乡意愿和需求。他们开通农民工创业绿色通道，各乡镇（街道）利用春节外出务工人员返乡集中时段，组织召开座谈会，鼓励外出务工人员返乡就业创业。深圳创业者杨宗彬，他看到蜀葵，认为这是有故乡记忆的花，租了一个山种植蜀葵。J 县与中国农科院、深圳华大基因等科研院所深度合作，选派县乡管理人员、专业技术人员和农业经理人到校学习深造，建成省级食用菌工程技术研究中心等科创载体 23 个，国家蛋鸡十大良种繁育基地等成果转化载体 36 个。他们还与省农科院共建全省首个羊肚菌人工驯化核心示范基地，带动周边农户每亩增收 2 万余元。

J 县发挥国家首席科学家、省市科研院所、县镇农技队伍、新型经营主体等“四级”产业发展技术服务体系作用，有针对性地开展“黑山羊新品系选育”“油橄榄地方品种培育”等创业创新项目 100 余项，获得国家授权创业创新专利 300 余项，科技成果 50 余项。J 县建成菁蓉智创港、创业创新服务中心、孵化园区等孵化共享平台，在各乡镇（街道）、涉农

村（社区）分别建成服务中心和服务站，搭建创业者与政府、服务机构、金融机构交流对接平台，孵化创业创新项目，培养创业创新人才。

J县在淮口镇、竹篙镇设置县人力资源分市场；在各乡镇（街道）和全部村（社区）建立就业和社会保障服务中心（站），实现了市—县—乡（镇）—村（社区）四级联网。他们成立工业园区就业社保服务中心、金堂县驻东莞就业社保服务工作站，构建统筹城乡就业的人力资源市场服务网络，积极为回乡创业企业提供保姆式服务。

J县拓宽农民工创业者融资渠道，建立“银政企”三方联席机制，搭建以县邮政储蓄银行、农商银行为重点，市县中小担保公司为支撑的融资服务平台，从贷款额度、还贷时间和抵押物范围上放宽限制，为返乡下乡创业创新提供创业担保贷款。

83.请结合材料1，简单概括J县推进农村农业创业创新的主要做法。要求：不超过300字，15分。

材料作文

材料2

6月2日，华为发布包括手机、智能手表、平板电脑在内的多款搭载 HarmonyOS2（鸿蒙操作系统）的新产品。同时宣布，旗下多款设备将陆续启动 HarmonyOS2 升级。“万物互联时代，没有人会是一座孤岛。”发布会结束之际，华为常务董事、消费者业务 CEO 余承东语气激昂地表示。

万物互联时代，作为底层连接的操作系统，重要性不言而喻。借助一套软件操作系统，传统制造业可以更容易生产出智能硬件，极大降低迈向“智能制造”的门槛。一旦万物互联的智能应用能够打通，将给各行各业带来巨大的效能提升。

“我们不是做一个安卓或 IOS 的替代品。”在华为鸿蒙负责人王成录看来，如果没有本质差别，很难建立起新的生态链；一个新系统要成功，关键是抓住产业转型的时机。“物联网飞速发展，带来未来 10 年产业变革期，这将是企业相关技术创新的历史性机遇”。“一定要让生态长在自己的地基上。”王成录说。

在这个百年未有之大变局当中，中国最大的优势便是团结一心，国产手机操作系统的问世，需要更多国人的支持与包容。只有汇聚我们的力量，才能培养出更多更好的创新型企业，为中国的崛起贡献力量。

84. “给定资料2”划线句子写道：“万物互联时代，没有人会是一座孤岛。”“一定要让生态长在自己的地基上。”请结合你对这两句话的思考，自选角度，联系实际，自拟题目，

角度自选，写一篇文章。（25分）

要求：（1）观点明确，见解深刻；（2）参考“给定资料”，但不拘泥于“给定资料”；（3）思路清晰，语言流畅；（4）字数 800-1000 字。



扫描二维码，关注后，回复【**选调模拟**】获取答案解析！

