

2022 年河南省选调生招录考试 模拟卷（一）



第一部分 客观题

1. 数字货币、加密货币最近成为市场的热点话题。下列有关说法不正确的是：
 - A. 我国法定数字货币的研发于 2019 年启动
 - B. 央行的数字货币在中国定义为 M0
 - C. 央行数字货币利率可成为新的货币政策工具
 - D. 开展数字货币研究的机构是中国人民银行数字货币研究所
2. 下列有关公务员的说法正确的是：
 - A. 16 岁的王某已经能够独立生活，可以报考公务员
 - B. 李某曾被开除中国共产党党籍，他将无法被录用为公务员
 - C. 公务员小赵被降级处分，处分期满解除后恢复原级别
 - D. 小张的大姨夫是 A 市公安局局长，他的二姨夫可以担任 A 市教育局局长
3. 宪法是我国的根本大法，下列说法不符合我国宪法规定的是：
 - A. 我们国家依然在推行计划生育政策
 - B. 我国年满十八周岁的公民不一定具有选举权
 - C. 县级人民代表大会和它们的常务委员会可以制定地方性法规
 - D. 全国人民代表大会有权罢免中华人民共和国主席
4. 2019 年 12 月 1 日开始施行《中华人民共和国疫苗管理法》，下列相关说法正确的是：
 - A. 本法所称疫苗，是指用于人体免疫接种的预防性生物制品，即免疫规划疫苗
 - B. 疫苗受试者为无民事行为能力人的，应当取得其监护人的书面知情同意
 - C. 开展疫苗临床试验，应当经省级药品监督管理部门依法批准
 - D. 疫苗接种单位接种规划疫苗不得收取任何费用
5. 下列说法中正确的是：
 - A. 我国被称为“陶都”的城市是景德镇
 - B. 植物细胞生命活动的动力来自叶绿体分解有机物所释放的能量
 - C. 中医将水果分为寒性水果、热性水果和温性水果，荔枝属于寒性水果
 - D. 光的“三原色”是绿色、红色和蓝色
6. 下列有关我国历史上人口迁移的说法错误的是：
 - A. 永嘉之乱是中国古代第一次人口大迁徙的高峰
 - B. 安史之乱之后，南方经济逐渐开始超过北方

- C. 明末清初，有大量人口从湖广迁入四川
- D. 闯关东的“关”指的是位于河南灵宝的崤关
7. 下列不属于“唐宋八大家”之作的是：
- A. 烟销日出不见人，欸乃一声山水绿
- B. 山寺钟鸣昼已昏，渔梁渡头争渡喧
- C. 幽人只采黄精去，不见春山鹿养茸
- D. 乱条犹未变初黄，倚得东风势便狂
8. 下面是对我国一份古代历史文献的描述：记载了一千多条大小河流及有关的历史遗迹、人物掌故、神话传说等，该书还记录了不少碑刻墨迹和渔歌民谣，文笔绚烂，语言清丽，具有较高的文学价值。这部文献是：
- A. 《山海经》B. 《水经注》
- C. 《齐民要术》D. 《治河方略》
9. 下列文学作品、作者和朝代对应正确的是：
- A. 《滕王阁序》——王勃——宋代
- B. 《别董大》——岑参——唐代
- C. 《忆江南》——白居易——唐代
- D. 《冬夜读书示子聿》——杜甫——唐代
10. 关于中国古代文化常识，下列表述正确的是：
- A. “春秋三传”指的是《左传》、《谷梁传》、《吕氏春秋》
- B. “小李杜”指的是李商隐、杜甫
- C. 同属于儒家学派的孟子和荀子在人性的观点上是对立的
- D. “月上柳梢头，人约黄昏后”指的是七夕节
11. 中国的地方戏曲有些非常经典的曲目，比如《梁山伯与祝英台》《天仙配》《穆桂英挂帅》《刘巧儿》。它们分别属于：
- A. 越剧、花鼓戏、吕剧、昆曲
- B. 昆曲、豫剧、粤剧、黄梅戏
- C. 吕剧、粤剧、评剧、花鼓戏
- D. 越剧、黄梅戏、豫剧、评剧
12. 下列文字或作品采用的字体按照先后顺序排列正确的是：
- ①会稽刻石 ②钟鼎文 ③楷书千字文 ④兰亭集序

- A. ①②③④
- B. ①②④③
- C. ②①③④
- D. ②①④③

13. 下列名句的作者与其所代表的思想流派对应正确的是：

- A. 夫唯不争，故天下莫能与之争——兵家
- B. 天地与我并生，万物与我合一——墨家
- C. 穷则独善其身，达则兼善天下——道家
- D. 儒以文乱法，侠以武犯禁——法家

14. 鲁迅先生在下列哪部著作中采用了夹叙夹议的方法，以青少年时代的生活经历为线索，真实生动地叙写了自己从农村到城镇，从家庭到社会，从国内到国外的一组生活经历，抒发了对往昔亲友和师长的怀念之情，同时也对旧势力、旧文化进行了嘲讽和抨击：

- A. 《朝花夕拾》
- B. 《狂人日记》
- C. 《彷徨》
- D. 《野草》

15. 下列过程中运用到的气体与其他三项不同的是：

- A. 面包制作过程中使用酵母使面包松软
- B. 为了制作舞台效果利用干冰营造烟雾
- C. 用于迅速冷冻或作为深度制冷剂
- D. 碳酸饮料在打开时产生的气泡

16. 下列与真菌有关的说法正确的是：

- A. 酱油、醋、啤酒的制造过程中主要使用的都是真菌
- B. 真菌细胞有细胞壁，其主要成分与植物细胞不同，与细菌细胞相同
- C. 用于提取青霉素的青霉菌是一种真菌
- D. 真菌只能进行无性繁殖

17. 下列关于热射病的说法，不正确的是：

- A. 热射病是一种中枢神经系统受损的急症，严重时危及生命
- B. 热射病通常发生在夏季高温、无风、高湿的天气
- C. 热射病患者出现的轻或中度肝、肾衰竭可完全恢复
- D. 热射病患者可进食含盐饮料、食用生冷瓜果，以补充水和电解质，降低体温

18. 下列有关法官的说法错误的是：

- A. 担任法官需要年满 23 周岁
- B. 法官不得兼任企事业单位的职务

- C. 法官离任后，不得以律师身份担任诉讼代理人
- D. 法官的年度考核结果分为优秀、称职、不称职三个等次
19. 下列表述中，正确的是：
- A. 推动能源生产和产业革命是保障能源安全、促进人与自然和谐共生的治本之策
- B. 机器人大量投入使用可能会造成结构性失业
- C. 进口贸易大于出口贸易会造成贸易顺差
- D. 经济萧条时期因供给不足会造成周期性失业
20. 下列诗句是与酒有关的包括：
- ①天运苟如此，且进杯中物
- ②引壶觞以自酌，眄庭柯以怡颜
- ③何以解忧，唯有杜康
- ④平生于物元无取，消受山中水一杯
- A. ①②③
- B. ①③④
- C. ②③④
- D. ①②③④
21. 下列说法最有可能错误的是：
- A. 慈禧太后在颐和园看电影
- B. 里根总统在白宫使用电脑办公
- C. 朱元璋在欣赏自己收藏的唐伯虎画作《落霞孤鹜图》
- D. 康熙命令宫廷御厨做了一道西红柿炒鸡蛋
22. 下列关于全国人大常委会的职权，说法错误的是：
- A. 制定人民警察法
- B. 改变国务院制定的同法律相抵触的命令
- C. 任免国家监察委员会副主任、委员
- D. 决定宁夏回族自治区进入紧急状态
23. 根据《中华人民共和国土地管理法》，下列说法中正确的是：
- A. 农民对集体所有的土地享有所有权
- B. 农村和城市郊区的土地，属于农民集体所有
- C. 宅基地和自留地、山地，属于农民集体所有
- D. 城市市区的土地属于国家所有
24. 下列表述中，正确的是：

- A. 公安机关对高铁霸座男进行人身拘束属于行政处罚
- B. 复议期间必须停止执行
- C. 行政复议不可以委托代理人
- D. 可以口头提出复议申请

25. 下列会议不属于第二次世界大战期间的是：

- A. 德黑兰会议
- B. 华盛顿会议
- C. 开罗会议
- D. 波茨坦会议

26. 下列名言按时间排列顺序正确的是：

- ①吾尝终日而思矣，不如须臾之所学也
- ②大巧若拙，大辩若讷
- ③为往圣继绝学，为万世开太平
- ④知善知恶是良知，为善去恶是格物

- A. ②①③④
- B. ①②③④
- C. ②①④③
- D. ①②④③

27. 下列诗句的内容与送别友人无关的是：

- A. 别日南鸿才北去，今朝北雁又南飞
- B. 莫愁前路无知己，天下谁人不识君
- C. 桃花潭水深千尺，不及汪伦送我情
- D. 山回路转不见君，雪上空留马行处

28. 为维护奴隶制统治秩序，西周统治者制定出整套礼制，规定了森严的等级差别。关于“藏礼于器”，表述正确的是：

- A. 一些用于祭祀和宴饮的器物，被赋予特殊的等级意义
- B. “鼎”自产生以来，一直是重要的礼器器种
- C. “天子九鼎，诸侯七，大夫三”是统治权威的象征
- D. “礼崩乐坏”指随着奴隶制度的衰微，奴隶获得了身份自由

29. 下列关于细胞壁的说法错误的是：

- A. 虽然细菌有细胞壁，但细菌不是植物
- B. 少数藻类如隐藻、裸藻没有细胞壁
- C. 所有动物细胞都没有细胞壁
- D. 所有高等植物细胞都具有细胞壁

30. 下列关于生活常识的说法，不正确的是：

- A. 人在发烧时食欲降低，主要是因为运动减少，能量消耗较低
- B. 熬骨头汤时，加入食醋能帮助人体吸收钙
- C. 黄瓜拌花生不属于健康的饮食搭配
- D. 男子剃须时，可以用牙膏代替肥皂

31. 某超市购进 600 元的苹果分三天售出，第一天按一定利润率销售了 $\frac{1}{3}$ ，第二天打八折销售了 50 千克，第三天以成本价将剩下的 $\frac{1}{4}$ 苹果售出，最后一共收入 950 元。问这批苹果第一天定价的利润率为多少：

- A. 58%
- B. 100%
- C. 158%
- D. 200%

32. 老张和老王在长 400 米的环形跑道上散步，两人同时同地同向出发，十分钟后，老王超过老张一圈。此时，老张提高速度至原来的 2 倍，六分钟后超过老王，再次相遇后，老王提速为原来的两倍，请问老王第三次追上老张还需多少分钟：

- A. 5
- B. 3
- C. 6
- D. 4

33. 一项工程，甲乙丙丁四个工程队单独做各需要 24、16、15、12 天完成，现两两分组，组成效率最为接近的两组，问快的组比慢的组早多久完成工作：

- A. $\frac{100}{93}$ 天
- B. $\frac{8}{31}$ 天
- C. $\frac{44}{15}$ 天
- D. 5 天

34. 某小组共有 12 人，其中男生比女生多 2 人，从中选出 5 人参加知识竞答大赛，大赛要求至少有 2 名女性，请问一共有多少种选派方法：

- A. 196
- B. 368
- C. 484
- D. 596

35. 某蔬菜中间商新进一批含水量为 80% 的蔬菜 1 吨，第二天发现蔬菜变为 900 公斤，问在只考虑水分蒸发的情况下，按同样的蒸发量，至少再过几天水分含量低于 60%（不足一天按一天算）：

- A. 4
- B. 5
- C. 6
- D. 7

36. 今日中国，改革开放的步伐更为坚定。就在 6 月 3 日，“工业和信息化部将于近期

发放 5G 商用牌照”的最新消息引人关注。其中，“_____地欢迎国内外企业”“共同分享我国 5G 发展成果”等，展现了中国按照既定节奏深化改革、扩大开放的定力和_____。

依次填入划横线部分最恰当的一项是：

- A. 一如既往 胸怀 B. 一成不变 旷达
C. 始终如一 笃定 D. 不遗余力 气量

37. 他的那种对于知识的热爱和追求，那种对摒弃知识的学说的憎恶和_____，那种追求知识而不顾一切的_____，那种博采万方的宏大_____，不能不使人联想到几乎与他同时代的英国哲学家弗兰西斯·培根。

依次填入划横线部分最恰当的一项是：

- A. 唾弃 胸襟 勇猛 B. 轻视 洒脱 力量
C. 鄙夷 勇气 胸怀 D. 抵制 决断 胆识

38. 回想起地震受灾时的情形，巴桑依然历历在目。惊恐万分的他被眼前的一幕触动：摇摇欲坠的房子里，一位生命垂危的藏族老阿妈动弹不得，几名解放军战士冒着生命危险冲了进去，在救出老人的一刹那，房子在他们身后轰然_____……从那一刻起，巴桑心中的从军报国梦，犹如地平线上跳动的朝阳，喷薄而出。这年夏天，达曼新村首次接到适龄青年参军的通知。巴桑_____，和另两名达曼青年一道入伍，开启了军旅生涯。“我是中国人民解放军……”入伍宣誓让 18 岁的巴桑热血沸腾，_____。

填入横线部分最恰当的一项是：

- A. 倒塌 得陇望蜀 心潮澎湃 B. 坍塌 如愿以偿 夜不能寐
C. 垮塌 壮志未酬 百感交集 D. 崩塌 大功毕成 彻夜难眠

39. 甲骨文是现存中国王朝时期最古老的一种成熟文字，至今审读和鉴赏这些古色古香的文字，仍让人内心空灵宁静，有情不自禁的敬畏感。但现代人理解和接受甲骨文有点困难，甚至根本无法识别这些上古时代的文字。如今，甲骨文手机表情包已经成为斗图圈的“新宠”。意蕴深远的传统文化符号竟与“神马、有木有”等网络流行词产生了一系列“化学反应”。设计者将几何化的甲骨文字转化成更加直观形象的动物，再配上时尚的网络用语，整组表情就像是一套五彩的、可爱的甲骨文动态识字卡片，让每个甲骨文字的图案意义跃然眼前。这套表情包的设计者陈楠说：“甲骨文的设计与推广应该是结合当下的，活化的，不希望把它塑造成高深莫测拒人千里的文化符号。”

最适合做这段文字的标题是：

- A. 打通文化隔膜，复兴传承中华优秀传统文化

- B. 古色古香的甲骨文的“现代华丽大变身”
- C. 甲骨文表情包让传统文化符号“活”起来
- D. 传统文化的创造性转化、创新性发展之路

40. 身为马克思主义研究者与育人者，郑德荣说，我们党史工作者，是在为中国共产党写红色家谱，今天入了这个门，就必须成为坚定的马克思主义信仰者，不管什么情况，都要立场坚定，对党忠诚。这样的观点，郑德荣不仅对学生讲，也对老师们讲，对周边的人讲。经常接触郑德荣的同事们都知道，先生有个永久牌与飞鸽牌的论断，非常形象。他说，我们做教师的，尤其是文科教师，无论课堂教学、学术研究，还是资政建言，都要做永久牌，就是持之以恒地用马克思主义的立场观点方法作指导，不要做飞鸽牌。他常说，你讲的东西，首先自己要信，如果你自己都不信，谁还能信？

文段中提到的“飞鸽牌”指的是：

- A. 暂时承担马克思主义研究任务的人
- B. 注定早晚飞走，工作得过且过的人
- C. 立场不坚定的马克思主义研究者
- D. 中华老字号，重点商标保护品牌

41. 古人云：“明者因时而变，知者随事而制。”天地之间万事万物都是“变动不居，周流六虚，上下无常，刚柔相易”的。固有的思维、政策或模式，无论过去多么盛行，倘若不能与时俱进，终会有“明日黄花蝶也愁”的一天，正所谓“常制不可以待变化，一涂不可以应万方”。由此可见，“变”是绝对的、必然的，是人力无法撼动的，犹如大江东流不舍昼夜。对于党员干部而言，在纷繁复杂的变化面前，“惟变所适”才是永恒不变的主题，才能跟上时代的发展与社会的进步。

对这段文字概括最准确的是：

- A. 党员干部要做到“适变”
- B. 变是绝对的，不以人力为转移
- C. 惟有厉行求变才能走在时代前列
- D. 新时代党员干部更应主动求新求变

42. 在西澳大利亚沙克贝一带生活着数量众多的印度-太平洋宽吻海豚，而且这里的海豚有一种独特的技能：它们中有些海豚在觅食时，会把海洋生物海绵做套戴在自己的吻上起到保护作用，这样就能到更深的水域捕食。有趣的是，那些掌握海绵觅食技能的雄海豚更愿意花时间与同样掌握这一本领的雄海豚来往，它们之间的交情主要是由于都掌握同样的觅食技能、同样的爱好，而并非是因为双方是“近亲”或其他原因。这些雄海豚之间的“友谊”可持续数十年，形成“海绵同盟”。

这段文字意在表达：

- A. 交朋友要有志同道合的价值观
- B. 海豚交朋友也讲究趣味相投

- C. “近亲”并非海豚交友的标准 D. “海绵同盟”的友谊可持续数十年

43. 从全球范围看，海洋垃圾污染已成为人类面临的最紧迫的全球性挑战之一。专家们认为，海洋垃圾的危害性主要表现在_____。海洋垃圾易被海洋生物吞食，损害内脏、阻塞肠道，甚至导致动物窒息死亡。科学家已在多种海洋生物（如海鸟、海鱼、海龟等）的内脏中发现了塑料垃圾。部分海鸟、海鱼还喜欢特定颜色和形状的塑料颗粒，经常误食。有的海洋垃圾如破旧渔网等，则很容易缠住大型海洋哺乳动物，造成“幽灵捕捞”。不一而足，对脆弱的海洋生态系统构成致命威胁。

填入划横线部分最恰当的一句是：

- A. 污染海洋环境，破坏海洋生态系统
B. 增加经食物链传播的可能性，危及人类健康
C. 加快海洋物种迁移，导致攻击性外来物种传播
D. 大量海洋塑料垃圾，正给海鸟带来一场深重灾难

44. ①最重要的是，StyleGAN 依靠的是无监督式学习，可以无需人类帮助，自动掌握如何剥离图片的不同特征

②生成式对抗网络是一种通过神经网络“左右互搏”的方式，让人工智能系统自主学习会如何生成十分逼真的图片、视频、音频等输出的机器学习技巧

③在维持 ProGAN 判别器和损失函数不变的前提下，掌控和规划图像合成过程，在一定程度上解决了黑箱问题，而且还提升了合成图像的清晰度和稳定性

④StyleGAN 则是一种更先进的生成式对抗网络，是此前英伟达 ProGAN 模型的升级版

⑤生成式对抗网络也在去年被《麻省理工科技评论》评为“2018 年十大突破性技术”之一

⑥说到 StyleGAN，首先要提一下生成式对抗网络（GAN）

将以上句子重新排列，语序最恰当的一项是：

- A. ⑥②④①③⑤ B. ②④①⑤③⑥
C. ②①⑤③⑥④ D. ⑥②⑤④③①

45. 儿科医疗向专科精细化发展，可以为患儿提供更精准的诊疗，也有利学术研究的深入和学科细分。但是，儿科临床的一大特点是以常见病、多发病诊疗为主。在儿科医院庞大的门诊人群中，多数是感冒、发热、腹泻等常见病患者，而这些疾病综合医院儿科医生完全可以诊治。而且综合性医院儿科属“全科性质”，对于一些儿童疾病的并发症具有能够快速理清病因并给予对症治疗的特点。患儿扎堆儿童专科医院，医务人员疲于应对普通患儿，势

必会影响其诊疗专注程度，也不利于提高业务水平。因此，在儿科专科化发展过程中，如果没有强大的“中坚力量”支撑，不仅儿科常见病诊疗出现困局成为必然，儿科专科发展也会受到影响。

对这段文字理解正确的一项是：

- A. 文段中的“中坚力量”指的是儿童专科医院
- B. 综合医院治疗儿童常见病、多发病优于专科医院
- C. 儿科发展需要专科细化，更需综合医院支撑和引领
- D. 综合性医院凭临床和学术实力雄厚优势适合设立儿科

46. 美式咖啡：摩卡咖啡

- A. 站：坐
- B. 直接：间接
- C. 三角形：四边形
- D. 是：非

47. 主板 对于 () 相当于 () 对于 树

- A. 电容器：树叶
- B. 二极管：森林
- C. 主机：草
- D. 金属：树干

48. 深入：浅出

- A. 好逸：恶劳
- B. 柳暗：花明
- C. 绿肥：红瘦
- D. 纸短：情长

49. 轮胎：自行车：交通工具

- A. 木头：衣柜：家具
- B. 树叶：树干：森林
- C. 屏幕：手机：通讯设备
- D. 花瓣：花朵：花坛

50. () 对于 新闻 相当于 () 对于 景色

- A. 电视：景区
- B. 紧急：秀丽
- C. 播报：壮观
- D. 观众：绘画

51. 毛笔：墨汁

- A. 螺丝：纽扣
- B. 理发剪：头发
- C. 汽车：能源
- D. 氧化反应：氧

52. 蛇：爬行动物：鳞片

- A. 猴：大脑：灵长类动物
- B. 狗：泰迪：腿
- C. 猪：哺乳动物：尾巴
- D. 鼠：啮齿类动物：小

53. 水泥 对于 () 相当于 () 对于 咖啡

- A. 硬化：牛奶
- B. 搅拌：烘焙
- C. 土木建筑：咖啡豆
- D. 建材：饮品

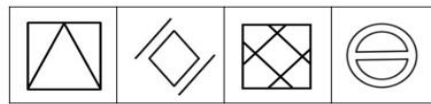
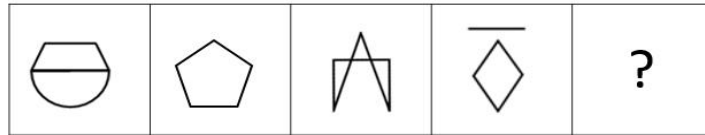
54. 直尺：文具：长度

- A. 杆秤：秤：重量
- B. 酒精灯：酒精：加热
- C. 炒锅：厨具：炒菜
- D. 沙发：家居：客厅

55. 采购：加工：销售

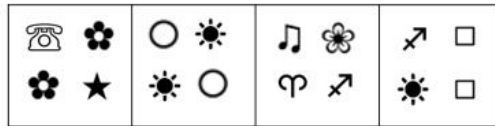
- A. 相知：相识：相恋
- B. 报警：接警：出警
- C. 烘焙：发酵：搅拌
- D. 思考：思路：思绪

56. 从所给的四个选项中，选择最合适的一个填入问号处，使之呈现一定的规律性：



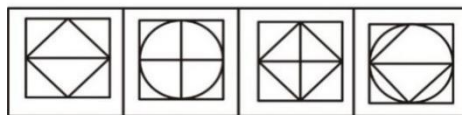
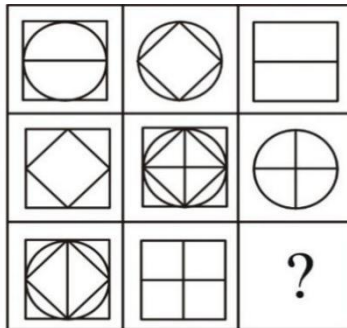
A B C D

57. 从所给的四个选项中，选择最合适的一个填入问号处，使之呈现一定的规律性：



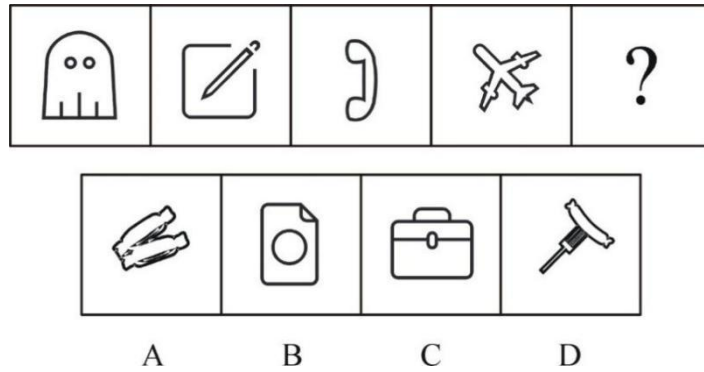
A B C D

58. 从所给的四个选项中，选择最合适的一个填入问号处，使之呈现一定的规律性：

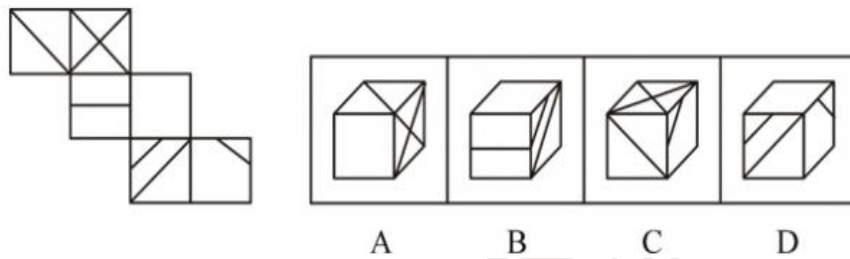


A B C D

59. 从所给的四个选项中，选择最合适的一个填入问号处，使之呈现一定的规律性：



60. 左边给定的是纸盒的外表面，右边哪一项能由它折叠而成？



61. 诉诸怜悯是一种仅仅以认定某人某事值得怜悯、同情并以之为论据来进行论证所引起的谬误。

根据上述定义，下列不符合“诉诸怜悯”的是：

- A. “因为他家庭困难所以原谅他吧”
- B. “上有老下有小的就放过他吧”
- C. “他不知道大牛的妻子生病了”
- D. “他都残疾了你们还忍心罚他啊”

62. 病理性赌博是指频繁出现反复发作的赌博行为已占个人生活的主导地位，且对其社会、职业、财产，以及家庭价值观念与义务都造成损害。

根据上述定义，下列符合“病理性赌博”的是：

- A. 过年的时候家住成都的小刘与亲戚玩起了麻将,最终将赢得的钱给了小外甥
- B. 小赵经常在头脑中想象自己拥有赌神一样的技能,能在赌桌上呼风唤雨
- C. 秦先生一年来买彩票共花费上百万元,花光了所有积蓄,一期不买就会心痒难耐
- D. 在看世界杯的时候,小李跟人打赌,结果赌输了,因此郁郁寡欢了一周

63. 最初印象是指初次对人知觉时形成的印象往往最为深刻，在以后的人际知觉或人际交往时不断在头脑中出现，并制约着新的印象。

根据上述定义，以下符合最初印象的是：

A. 小王被领养前出生在一个小山村并在那里生活了三年，即使现在长大了仍然能够回忆起儿时山村的景象

B. 某热衷慈善的明星因酒驾被捕，曝光后粉丝对其印象一落千丈，即使后来仍坚持做慈善也难改粉丝对他的印象

C. 小刘面试时着装不正式，虽然后来被录用并努力工作认真，但当时面试他的领导每月总以小刘工作态度不端正为由绩效打分很低

D. 大学生小李刚入学的时候沉迷游戏，后来专心考研就很少打游戏了，最终考上了理想的大学

64. 合理化作用又称文饰作用，自我防御机制的一种，指用一种自我能接受、超我能宽恕的理由来代替自己行为的真实动机或理由。用于为自己的失败或者错误找辩护托词，而否认自己的理性不能容忍的真正动机、需要和欲望，以避免精神上的痛苦。

根据上述定义，下列属于合理化作用的是：

A. 小明参加数学竞赛取得第一名，他对其他同学说是自己运气好

B. 小张和女朋友吵架了，女朋友要和小张分手，小张说是自己不好，苦苦哀求

C. 由于小刘现在的收入不高，同学聚会看到其他同学都比自己收入高，小刘暗下决心要努力挣钱

D. 小王竞聘工作时没有达到用人单位的要求，知道结果时对朋友说是自己不想去，没有好好发挥

65. 爆款是指在商品销售中，供不应求，销售量很高的商品。通常所说的卖的很多，人气很高的商品。广泛应用于网店、实物店铺。

根据上述定义，下列属于爆款的是：

A. 某影视公司制作了一部网络剧，题材新颖，引起了大量网友的热议和追捧

B. 某知名设计师为一家奢侈品牌设计了一款女包，还未推出，就被预订一空

C. 某明星机场街拍在网上曝光后，其佩戴的帽子由于极具风格吸引粉丝购买

D. 网上一款“驱蚊器”因效果佳，人们争相购买，从而使多家网店商品脱销

66. 偏正短语又叫偏正词组，是由修饰语和中心语组成，结构成分之间有修饰与被修饰关系的短语；动词、名词、形容词与它们前面起修饰作用的成份组成的短语。名词前的修饰成份是定语；偏正短语包括定中短语与状中短语。定中短语也叫“体词性偏正短语”。

根据上述定义，以下属于体词性偏正短语的是：

A. 广阔天地

B. 独立思考

- C. 团结互助
- D. 调查研究

67. 所谓社会惰化，是指个人与群体其他成员一起完成某种事情时，或个人活动时有人在场，往往个人所付出的努力比单独时偏少，不如单干时出力多，个人的活动积极性与效率下降的现象，也称之为社会惰化作用，另也叫社会干扰、社会致弱、社会逍遥、社会懈怠。

根据上述定义，以下不符合社会惰化的是：

A. 在前苏联，私有土地占总农用地的 1%，但产量却是农业总产量的 27%

B. 个体在独自骑自行车的情况下时速是每小时 24 英里，而在与他人同时骑自行车的情况下时速是每小时 32.5 英里

C. 一个和尚挑水吃，两个和尚抬水吃，三个和尚没水吃

D. 拔河比赛中一个人拉时平均出力 63 公斤；三个人群体拉时，平均出力是 53.5 公斤

68. 糖果效应是指为了长远的、更大的利益而自愿延缓或者放弃目前的、较小的满足。

从小时候的自控、判断、自信的小实验中能预测出他长大后个性的效应，就叫迟延满足效应或称糖果效应。

根据上述定义，下列体现糖果效应的是：

A. 怀孕的小舟为了宝宝的健康打消了吃垃圾食品的念头

B. 放学后小静决定劳逸结合，先看电视后写作业

C. 珍妮把自己喜欢的糖果让给了哥哥

D. 妈妈为了让儿子专心学习，把电视遥控器藏了起来

69. 某大学生宿舍有四名学生，关于即将到来的暑假活动安排四个人做了如下讨论：

甲：我觉得利用假期集体旅游比较不错。

乙：如果集体旅游，那么也要一起勤工俭学赚取旅游经费。

丙：集体旅游的想法不错应该执行，勤工俭学就算了吧。

丁：我是觉得还是要勤工俭学的。

后来四个人在暑假里的真实行动证明这次讨论只有一个人的意见是对的，由此可知：

A. 四人一起集体旅游但没有勤工俭学

B. 四人一起勤工俭学但没有集体旅游

C. 四人一起勤工俭学并且也集体旅游

D. 四人既没勤工俭学也没有集体旅游

70. 在 20 世纪 90 年代和 21 世纪初，美国的调查显示，花更多时间上网的青少年更可能出现抑郁和焦虑的情况。如今，青少年花在手机等电子设备上的时间越来越长。因此我们

经常会听到这样的观点，电子设备和社交媒体给年轻人造成了负面影响。

以下哪项如果正确，能够削弱上述观点：

- A. 如今的青少年会使用数字交流的方式，分享亲密感情、表达感情、安排见面和活动
- B. 和家庭富裕的青少年比，来自低收入家庭的青少年，每天花在电子设备上的时间要多3个小时左右
- C. 在现实生活中遇到更多逆境的青少年，在使用智能手机的过程中，更容易受到负面影响
- D. 超过90%的美国青少年每天都在上网，但他们大多数的时间都是在玩游戏

71. 人为什么会变老？人怎样会长寿？这些答案就隐藏在人的细胞之中。人体由细胞组成，细胞不停地分裂来实现更新换代。“海夫利克极限”理论指出，人类体内细胞在分裂56次之后就会因自产毒素而消亡。当人的全部细胞停止分裂，新陈代谢也会停止，人就走到了生命的尽头，而细胞56次分裂的上限次数就是由细胞中的端粒决定的。

由此可以推出：

- A. 如果能够避免端粒的过度磨损，就能够实现健康长寿
- B. 人们需要通过改良生活习惯，来保持端粒的健康状态
- C. 人类的年龄、身体状况等都会影响端粒的数量或长度
- D. 人体的细胞分裂是一个持续的过程，但并不是无限的

72. 《哈佛商业评论》的一篇文章介绍了一项新的研究成果，研究人员在一家韩国电商企业以前后对比的方式，分析了工位变化对员工个体创新和销售业绩的影响，研究发现，那些换了工位、与不熟悉的同事坐在一起的员工，平均每天创造的收入比搬之前的平均水平高出40%，创新能力也更强。

以下哪项如果正确，最能支持上述研究发现：

- A. 当你对具体工作领域足够了解后，认识新人和接受新任务会让你更有创造力
- B. 空间上的接近能提升同事之间的信任度，促进有价值的知识和新信息的分享
- C. 每个办公室都有好座位和坏座位，经常更换员工的工位，可以消除不公平感
- D. 调整工位能够让员工从心理上的舒适区进入学习区，保持危机感和创新精神

73. 澳大利亚与日本多所高校联合，利用一种高敏感度质谱分析技术，通过检测血液样本中的贝塔淀粉样蛋白含量，可在早期检测阿尔茨海默症，准确率可以达到90%。据此科研人员预测，此种方法将被广泛用于检测早期“阿尔茨海默症”。

下列哪项如果为真，最能削弱上述观点：

- A. 血液样本检测方法费用低，病人及家属可以承受
- B. 血液样本检测的方法操作方便，易于普遍推广
- C. 血液样本检测在实验中取得成功，但无法临床运用
- D. 相较于以往的方法，血液样本检测对患者无创伤

74. 某电商的主要产品是笔记本电脑，主要销售区域是京津冀地区，今年开始销往西部偏远地区，但是半年下来，发现西部偏远地区的销售额远高于其主营区域-京津冀地区。

以下哪个选项能够解释上述现象：

- A. 西部地区用户对笔记本电脑需求量很大，反而京津冀地区虽然人数多，但是需求量小很多
- B. 该电商为用户配备了良好的售后服务，深受客户欢迎
- C. 相比于其他电商，该电商不仅配备了“次日达”“当日达”等快速物流服务，也为客户提供免费上门取货的退换货服务
- D. 该电商销售的笔记本电脑价格实惠，性能较优，深受西部地区人们的喜爱

75. 美国营养学家对含有相同能量的 17 份食物进行研究后发现，最容易让人产生饱腹感的是燕麦饼和草莓酸奶，而巧克力甜饼和奶油蛋糕最不容易让人觉得饱。这一结果让人觉得很意外，因为大部分消费者都本能地认为，含油脂多的食物更容易饱。至于其中的原因，专家在对以上食物的成分进行分析后得出结论：在热量同等的情况下，脂肪含量越高的食物越不容易让人觉得饱，而蛋白质含量较高的食物则容易让人觉得饱。

以下哪项如果为真，能够加强上述论证：

- A. 脂肪含量高的食物容易使人患高血压或高血脂，人们应该控制自己的脂肪摄入量
- B. 有研究证明在热量同等时，人们吃米饭就会有饱腹感，但是吃油炸食品却依然会感到饥饿
- C. 人们更偏向于脂肪含量高的食物，比如薯片、炸鸡等，因为它们味道很好
- D. 想要减肥的人们应该少吃油炸食品，多运动，多食用水果蔬菜，健康减重

76. 生产手机的甲和乙公司，甲公司接到的售后电话数量是乙公司的 2 倍。由此可得，甲公司生产的手机质量没有乙公司生产的手机质量要好。

以下最能反驳上述结论的是：

- A. 乙公司的手机外形相对来说更好看
- B. 甲公司比乙公司的设计水平更高
- C. 甲公司客服电话工作人员比乙公司多

D. 使用甲公司手机人数是乙公司的 3 倍

77. 某公司为了增进团队凝聚力，领导决定周天开展拓展活动，条件如下：

- (1) 如果全员同意，我们就出去郊游；
- (2) 如果当天下雨，我们就不出去郊游；
- (3) 如果不出去郊游，我们就组织室内篮球赛

假定上面的陈述属实，实际情况当天我们去郊游了，则下面哪项必定为真：

I. 全员同意

II. 没有下雨

III. 不组织室内球赛

A. 仅 I

B. 仅 II

C. 仅 I, III

D. I, II, III

根据以下资料，回答 78~82 题。

2020 年全国粮食总产量为 13390 亿斤，比上年增长 0.9%，粮食生产再获丰收，产量连续 6 年保持在 1.3 万亿斤以上。各地加大对粮食生产的支持力度，层层压实粮食生产责任，积极落实各项补贴政策，提高农民种粮积极性，粮食播种面积止跌回升。全国粮食播种面积 17.52 亿亩，增长 0.6%。

稻谷播种面积增加，玉米持平，小麦减少。2020 年，全国谷物播种面积 14.69 亿亩，增长 0.1%。其中，稻谷 4.51 亿亩，增长 1.3%。面对突如其来的新冠肺炎疫情，为确保粮食安全稳定生产，国家加大对水稻生产的扶持力度，落实各项支农惠农、种粮补贴、粮食最低收购价等政策，全年双季稻播种面积比上年度增加 756 万亩，增长 5.3%，成为粮食播种面积扩大的主要原因。玉米播种面积基本稳定。受华北地下水超采区实施季节性休耕限采及市场需求等因素影响，小麦播种面积比上年减少 522 万亩。

豆类面积大幅增加，薯类面积稳中有增。2020 年，全国豆类播种面积 1.74 亿亩，比上年增长 4.7%。受大豆振兴计划政策带动，大豆播种面积 1.48 亿亩，比上年增长 5.9%。2020 年，全国薯类播种面积 1.08 亿亩，比上年增长 1.0%。

2020 年，夏粮和早稻产量分别为 2857 亿斤和 546 亿斤，比上年增长 25 亿斤和 21 亿斤；秋粮产量 9987 亿斤，增加 67 亿斤。全年粮食总产量达到 13390 亿斤，增长 0.9%。全国谷物产量 12335 亿斤，增长 0.5%。其中，稻谷产量 4237 亿斤，增长 1.1%；小麦产量 2685 亿斤，增长 0.5%；玉米产量 5213 亿斤，比上年减少 2 亿斤。2020 年，豆类产量 458 亿斤，增长 7.3%。其中，大豆产量 392 亿斤，增长 8.3%。薯类产量 597 亿斤，增长 3.6%。

78. 2019年，全国双季稻播种面积约为多少万亩：
- A. 13745 B. 14264
- C. 14824 D. 15120
79. 2020年，全国稻谷产量占谷物产量的比重相较上年约：
- A. 提高0.6个百分点 B. 降低0.6个百分点
- C. 提高0.2个百分点 D. 降低0.2个百分点
80. 2020年，下列选项中，哪种农作物产量的同比增量最大：
- A. 稻谷 B. 小麦
- C. 大豆 D. 薯类
81. 下列选项中，按照2020年单位面积产量的同比增速从小到大排序正确的是：
- A. 大豆，稻谷，薯类 B. 稻谷，薯类，大豆
- C. 薯类，大豆，稻谷 D. 稻谷，大豆，薯类
82. 能够从上述资料中推出的是：
- A. “十三五”期间，我国粮食总产量在6.5万斤以上
- B. 2019年，全国秋粮产量超过夏粮产量的4倍
- C. 2020年，全国稻谷和小麦的总产量占谷物产量的六成多
- D. 2019年，全国谷物的单位面积产量不到850斤/亩

第二部分 主观题

材料一：

在第七个国家扶贫日到来之际,中共中央总书记、国家主席、中央军委主席习近平对脱贫攻坚工作作出重要指示强调,2020年是决胜全面建成小康社会、决战脱贫攻坚之年。面对新冠肺炎疫情和严重洪涝灾害的考验,党中央坚定如期完成脱贫攻坚目标决心不动摇,全党全社会勠力同心真抓实干,贫困地区广大干部群众顽强奋斗攻坚克难,脱贫攻坚取得决定性成就。现在脱贫攻坚到了最后阶段,各级党委和政府务必保持攻坚态势,善始善终,善作善成,不获全胜决不收兵。

83. 结合材料,请分析说明中国共产党为什么致力于减贫行动,字数不超过100字。(6分)

材料二：

当前少数基层干部出现只对上负责、不对下负责的现象。只想着领导满意不顾及群众所盼；纸面上花团锦簇，实际上无所作为；眼睛光盯着上面，不理睬现实。

今年4月，中共中央办公厅发文要求“决不做自以为领导满意却让群众失望的事”。近日，中共中央办公厅印发《关于巩固深化“不忘初心、牢记使命”主题教育成果的意见》，再次强调了这句话。

84. 结合材料，请分析“只想领导满意”“却让群众失望”的深层次原因，字数不超过200字。（9分）

材料三：

2019年12月1日，中央纪委国家监委公开曝光，在主题教育期间查处的8期典型案例，又有不少干部倒在了违规吃喝和吃拿卡要上。

其中，“在巡视组进驻当晚，28名干部顶风吃喝”一案，令人瞩目。

2019年12月3日，江苏省常州市通报了专项整治“烟卡”行动的成果，29家单位党员干部上交“烟卡”273张，退交违规资金129.63万元。

“烟卡”上印有编号，注明了“价值×千元”或“某某品牌香烟×条”等信息，方便小巧、包装“体面”，其“准现金”功能，在一些人眼中成了违规收送礼品礼金、甚至在至进行利益输送的工具。

常州市中级人民法院执行局原局长谢某某，先后收受“烟卡”40余万元，占到其涉密果金的三分之一以上。每张“烟卡”能兑换少则五条、十条，多则数十条香烟。经过整治，党员干部对““烟卡”就是“腐败卡”、收卡就是收现金”的观点，已形成共识。

到2019年12月4日，中央八项规定出台整7周年。7年来，全国共查处31.7万起违反中央八项规定精神问题，主要集中在违规发放津补贴或福利、违规配备使用公务用车、违规收送礼品礼金、违规公款吃喝及大办婚丧喜庆五类表现，且这五类问题共22.3万起，占全部问题比重70.2%。

在严肃查处下，面上的不正之风基本刹住，党风、政风、社风不断好转。但也要看到，一些违规违纪行为“升级翻新”，出现了一些新动向新表现。比如“不吃公款吃老板”，通过微信、电子转账等方式收送礼金，公车私用等等，这反映出“四风”问题具有顽固性、复杂性，反弹回潮的隐患依然存在。

85. 请根据以上材料写一篇议论文，题目自拟。（25分）

要求：观点明确，立意深刻，论证充实，结构完整，800-1000 字。



扫描二维码，关注后，回复【**选调模拟**】获取答案解析！

