

2020 年 1107 中国人民银行招聘笔试真题解析

第一部分 常识判断

1.2020 年政府工作报告中指出，积极的财政政策要更加积极有为。关于这一政策，下列说法错误的是（ ）。

- A.发行 1 亿元抗疫特别国债
- B.基本民生支出只增不减
- C.中央本级支出安排与上年持平
- D.财政赤字规模比去年增加 1 万亿元

【答案】C。2020 年政府工作报告中指出，积极的财政政策要更加积极有为。今年赤字率拟按 3.6%以上安排，财政赤字规模比去年增加 1 万亿元（D 项正确），同时发行 1 万亿元抗疫特别国债（A 项正确，此处需注意，选项设置不严谨，或许漏了“万”字，本题是单选题，优选更明显错误的 C 项）。这是特殊时期的特殊举措。上述 2 万亿元全部转给地方，建立特殊转移支付机制，资金直达市县基层、直接惠企利民，主要用于保就业、保基本民生、保市场主体，包括支持减税降费、减租降息、扩大消费和投资等，强化公共财政属性，决不允许截留挪用。要大力优化财政支出结构，基本民生支出只增不减（B 项正确），重点领域支出要切实保障，一般性支出要坚决压减，严禁新建楼堂馆所，严禁铺张浪费。各级政府必须真正过紧日子，中央政府要带头，中央本级支出安排负增长，其中非急需非刚性支出压减 50%以上（C 项错误）。各类结余、沉淀资金要应收尽收、重新安排。要大力提质增效，各项支出务必精打细算，一定要把每一笔钱都用在刀刃上、紧要处，一定要让市场主体和人民群众有真真切切的感受。故本题正确答案选 C。

2.《中共中央 国务院关于新时代加快完善社会主义市场经济体制的意见》2020 年 5 月发布。其中提出，要坚持公有制为主体、多种所有制经济共同发展，增强微观主体活力。下列表述与这一政策不相符的是（ ）。

- A.构建有效竞争的电力市场，有序放开发用电计划和竞争性环节电价
- B.增加面向中小企业的金融服务供给，合理控制社区银行等中小金融机构的数量
- C.支持符合条件的混合所有制企业建立骨干员工持股、上市公司股权激励等中长期激励机制

D.对处于充分竞争领域的国有经济，通过资本化、证券化等方式优化国有资本配置，提高国有资本收益

【答案】B。B项：根据《中共中央 国务院关于新时代加快完善社会主义市场经济体制的意见》（四）营造支持非公有制经济高质量发展的制度环境。健全支持民营经济、外商投资企业发展的市场、政策、法治和社会环境，进一步激发活力和创造力。在要素获取、准入许可、经营运行、政府采购和招投标等方面对各类所有制企业平等对待，破除制约市场竞争的各类障碍和隐性壁垒，营造各种所有制主体依法平等使用资源要素、公开公平公正参与竞争、同等受到法律保护的市场环境。完善支持非公有制经济进入电力、油气等领域的实施细则和具体办法，大幅放宽服务业领域市场准入，向社会资本释放更大发展空间。健全支持中小企业发展制度，增加面向中小企业的金融服务供给，支持发展民营银行、社区银行等中小金融机构。完善民营企业融资增信支持体系。健全民营企业直接融资支持制度。健全清理和防止拖欠民营企业中小企业账款长效机制，营造有利于化解民营企业之间债务问题的市场环境。完善构建亲清政商关系的政策体系，建立规范化机制化政企沟通渠道，鼓励民营企业参与实施重大国家战略。B项错误，当选。C项：根据《中共中央 国务院关于新时代加快完善社会主义市场经济体制的意见》（二）积极稳妥推进国有企业混合所有制改革。在深入开展重点领域混合所有制改革试点基础上，按照完善治理、强化激励、突出主业、提高效率要求，推进混合所有制改革，规范有序发展混合所有制经济。对充分竞争领域的国家出资企业和国有资本运营公司出资企业，探索将部分国有股权转化为优先股，强化国有资本收益功能。支持符合条件的混合所有制企业建立骨干员工持股、上市公司股权激励、科技型企业股权和分红激励等中长期激励机制。深化国有企业改革，加快完善国有企业法人治理结构和市场化经营机制，健全经理层任期制和契约化管理，完善中国特色现代企业制度。对混合所有制企业，探索建立有别于国有独资、全资公司的治理机制和监管制度。对国有资本不再绝对控股的混合所有制企业，探索实施更加灵活高效的监管制度。C项正确，排除。D项：根据《中共中央 国务院关于新时代加快完善社会主义市场经济体制的意见》（一）推进国有经济布局优化和结构调整。坚持有进有退、有所为有所不为，推动国有资本更多投向关系国计民生的重要领域和关系国家经济命脉、科技、国防、安全等领域，服务国家战略目标，增强国有经济竞争力、创新力、控制力、影响力、抗风险能力，做强做优做大国有资本，有效防止国有资产流失。对处于充分竞争领域的国有经济，通过资本化、证券化等方式优化国有资本配置，提高国有资本收益。进一步完善和加强国有资产监管，有效发挥国有资本投资、运

营公司功能作用，坚持一企一策，成熟一个推动一个，运行一个成功一个，盘活存量国有资本，促进国有资产保值增值。D项正确，排除。故本题正确答案选B。

3.关于毛泽东同志的重要著作，下列说法错误的是（ ）。

- A.《论持久战》系统阐释了解放战争的总方针
- B.《中国革命和中国共产党》第一次提出新民主主义革命的科学概念
- C.《实践论》借用马克思主义的认识论观点揭露党内的教条主义和经验主义
- D.《矛盾论》运用唯物辩证法总结了中国共产党领导中国革命斗争的实践经验

【答案】A。《论持久战》是无产阶级革命家毛泽东于1938年5月26日至6月3日在延安抗日战争研究会上的演讲稿，是关于中国抗日战争方针的军事政治著作，《论持久战》论证了抗战的发展规律，阐明了争取抗战胜利的道路，批判了对抗战的各种错误认识。该著作从思想上武装了全党全军和人民群众，坚定了中国人民争取抗战胜利的信心，是指导全国抗战的理论纲领。A项错误，当选。C项：《实践论》是毛泽东关于马克思主义认识论的代表著作。写成于1937年7月。由于中国共产党内的教条主义和经验主义的错误思想，使中国革命在1931~1934年遭受极大的损失。《实践论》就是作者借用马克思主义的认识论观点揭露党内的教条主义和经验主义，特别是教条主义的主观主义错误而写的。C项正确，排除。D项：《矛盾论》是毛泽东哲学代表著作。该书运用唯物辩证法总结了中国共产党领导中国革命斗争的实践经验，从两种宇宙观、矛盾的普遍性、矛盾的特殊性、主要的矛盾和次要的矛盾方面、矛盾诸方面的同一性和斗争性、对抗在矛盾中的地位等方面，深刻地阐述了对立统一规律。D项正确，排除。故本题正确答案选A。

4.关于国内生产总值（GDP）的说法，下列正确的是（ ）。

- A.GDP是计算期内的存量价值
- B.GDP测度的是中间产品和最终产品的价值
- C.GDP是一国范围内生产的最终产品的市场价值
- D.GDP是一定时期内（通常为一年）所售卖掉的最终产品价值

【答案】C。国内生产总值（GDP）是用最终产品和服务来计量的，即最终产品和服务在该时期的最终出售价值。一般根据产品的实际用途，可以把产品分为中间产品和最终产品。所谓最终产品，是指在一定时期内生产的可供人们直接消费或者使用的物品和服务。这部分产品已经到达生产的最后阶段，不能再作为原料或半成品投入其他产品和劳务的生产过程中去，如消费品、资本品等，一般在最终消费品市场上进行销售。中间产品是指为了再加工或者转卖用于供别种产品生产使用的物品和劳务，如原材料、燃料等。GDP必须按当期最终

产品计算，中间产品不能计入，否则会造成重复计算。另外，GDP是计算期内生产的最终产品价值，因而是流量而不是存量。由此可知，ABD项错误，排除；C项正确，当选。故本题正确答案选C。

5.根据《中华人民共和国商业银行法》，下列关于商业银行的说法错误的是（ ）。

- A.在我国境内不得从事信托投资和证券经营业务
- B.不得向商业银行的董事、管理人员等关系人发放任何贷款
- C.对同一借款人的贷款余额与商业银行资本余额的比例不得超过百分之十
- D.办理个人储蓄存款业务应遵循存款自愿、取款自由、存款有息、为存款人保密的原则

【答案】B。根据《中华人民共和国商业银行法》第四十条，商业银行不得向关系人发放信用贷款；向关系人发放担保贷款的条件不得优于其他借款人同类贷款的条件。前款所称关系人是指：（一）商业银行的董事、监事、管理人员、信贷业务人员及其近亲属；（二）前项所列人员投资或者担任高级管理职务的公司、企业和其他经济组织。B项错误，当选。C项：根据《中华人民共和国商业银行法》第三十九条，商业银行贷款，应当遵守下列资产负债比例管理的规定：（三）对同一借款人的贷款余额与商业银行资本余额的比例不得超过百分之十；C项正确，排除。D项：根据《中华人民共和国商业银行法》第二十九条，商业银行办理个人储蓄存款业务，应当遵循存款自愿、取款自由、存款有息、为存款人保密的原则。对个人储蓄存款，商业银行有权拒绝任何单位或者个人查询、冻结、扣划，但法律另有规定的除外。D项正确，排除。故本题正确答案选B。

6.下列与我国选举制度有关的说法，正确的是（ ）。

- A.17岁的高中生张某在选举区人大代表时享有选举权
- B.某省各级人大代表的选举工作，一律采用无记名投票的方法
- C.某乡镇选举委员会在每次选举前都对选民的选举资格进行登记确认
- D.35岁的选民王某在外打工，其村选举乡人民代表，王某书面委托14岁的儿子代为投票

【答案】B。根据《选举法》第四十条，全国和地方各级人民代表大会代表的选举，一律采用无记名投票的方法。选举时应当设有秘密写票处。B项正确，当选。C项：根据《选举法》第二十七条，选民登记按选区进行，经登记确认的选民资格长期有效。每次选举前对上次选民登记以后新满十八周岁的、被剥夺政治权利期满后恢复政治权利的选民，予以登记。对选民经登记后迁出原选区的，列入新迁入的选区的选民名单；对死亡的和依照法律被剥夺政治权利的人，从选民名单上除名。C项错误，排除。D项：根据《选举法》第四十二条，

选民如果在选举期间外出，经选举委员会同意，可以书面委托其他选民代为投票。每一选民接受的委托不得超过三人，并应当按照委托人的意愿代为投票。14岁的儿子不是选民，不能代为投票。D项错误，排除。故本题正确答案选B。

7.孙某下落不明已满两年，下列不能向法院申请宣告其为失踪人的是（ ）。

- A.孙某的妻子
- B.孙某的合伙人
- C.孙某的债权人
- D.孙某的工作单位

【答案】D。根据《民法总则》第四十条，自然人下落不明满二年的，利害关系人可以向人民法院申请宣告该自然人为失踪人。根据《民法通则》第二十条，公民下落不明满二年的，利害关系人可以向人民法院申请宣告他为失踪人。战争期间下落不明的，下落不明的时间从战争结束之日起计算。《最高人民法院关于贯彻执行〈中华人民共和国民法通则〉若干问题的意见》第二十四条，申请宣告失踪的利害关系人，包括被申请宣告失踪人的配偶、父母、子女、兄弟姐妹、祖父母、外祖父母、孙子女、外孙子女以及其他与被申请人有民事权利义务关系的人。本题中A项失踪人的配偶、BC项是与被申请人有民事权利义务关系的人，可以向人民法院申请宣告其为失踪人，D项没有这个权利。故本题正确答案选D。

8.油菜是我国主要的油料作物之一，下列与之相关的说法错误的是（ ）。

- A.在我国种植面积仅次于花生
- B.分为冬油菜和春油菜两种
- C.油菜籽具有转化为生物能源的优势
- D.长江流域是我国传统的油菜种植区

【答案】A。油菜是我国种植面积最大的油料作物，产量占到全国油料总产量的一半以上，长江流域是中国最大的油菜产区。花生的种植面积仅次于油菜。故本题正确答案选A。

9.下列选项中的物态与其余三项不同的是（ ）。

- A.雨后湖边的“白气笼罩”
- B.做饭时看到的“炊烟袅袅”
- C.烧开水时的“白气蒸腾”
- D.利用干冰形成的“烟雾缭绕”

【答案】B。A项：雨后湖边的“白气笼罩”，是水蒸气液化成了小水珠；B项：做饭时看到的“炊烟袅袅”，是烟灰的颗粒物扩散到空气中；C项：烧开水时的“白气蒸腾”，是

水蒸气在空气汇中遇冷液化形成了小水珠。D项：利用干冰形成的“烟雾缭绕”，是干冰（固态的二氧化碳）在常温下迅速升华吸收热量，致使空气的温度降低，空气中的水蒸气遇冷液化形成“烟雾缭绕”。ACD项都是液化现象，B项是颗粒物的扩散，与其他三项不同。故本题正确答案选B。

10.下列火灾及灭火工具，对应正确的是（ ）。

- A.图书馆起火——二氧化碳灭火器
- B.氯化钾着火——泡沫灭火器
- C.金属钠着火——高压水枪
- D.爆竹爆炸——沙土覆盖

【答案】A。二氧化碳灭火器有流动性好、喷射率高、不腐蚀容器和不易变质等优良性能，灭火之后二氧化碳就扩散了，不会对着火的物体造成污损。图书馆起火，用二氧化碳灭火器，不会对书籍造成损坏。A项对应正确，当选。C项：金属钠着火严禁用水灭火，这是因为金属钠和水会反应生成氢气，燃烧就更剧烈了。C项对应错误，排除。D项：用沙土盖压爆炸物品极易增加爆炸威力，如果爆炸物爆炸，会使沙土颗粒以很大的速度向四周散射，就像散弹枪一样，增加射击覆盖范围。D项错误，排除。故本题正确答案选A。

第二部分 言语理解与表达

11.学术的严谨性不容挑战，勇于承认错误比_____强得多。个别造假现象并不可怕，可怕的是对涉嫌造假的大事化小，这是对科学尊严和学术原则的践踏。真实才是科学研究的生命线。

填入横线部分最恰当的一项是（ ）。

- A.讳莫如深
- B.文过饰非
- C.沽名钓誉
- D.闪烁其词

【答案】B。第一步，分析语境。根据“勇于承认错误比.....强得多”“可怕的是对涉嫌造假的大事化小，这是对科学尊严和学术原则的践踏”，可知学术的严谨性需要勇于承认错误，而非一味的掩盖错误。第二步，对比选项。A项“讳莫如深”指把事情隐瞒得很紧；C项“沽名钓誉”指使用各种不正当手段以谋取好的名声和荣誉；D项“闪烁其词”指不肯

透露真相或有意回避要害问题。三者均不符合文意，排除 A 项、C 项和 D 项。B 项“文过饰非”指掩饰犯下的过失和错误，符合语境。故本题正确答案选 B。

12.自无人机开始走向战场，发达国家便开始不断尝试将集群作战的_____应用于无人机，目的是通过数量优势对敌方目标形成非对称突然袭击，以智能化集群控制技术为_____的无人机“蜂群”在作战中的应用日益受到重视。

填入横线部分最恰当的一项是（ ）。

- A.理念 支撑
- B.精神 核心
- C.宗旨 基础
- D.策略 目标

【答案】A。第一步，分析第一空。根据文意，要将“集群作战”应用于无人机，即“集群作战”是一种作战方式。A 项“理念”指思想，观念；D 项“策略”指善于灵活运用适合当时情况的斗争方式和方法。A 项和 D 项均符合文意。B 项“精神”指人的意识、思维活动和一般心理状态，与“集群作战”搭配不当，排除 B 项。C 项“宗旨”指主要的目的和意图，语义不符，排除 C 项。第二步，分析第二空。根据文意，无人机“蜂群”是依靠智能化集群控制技术得以实现的。A 项“支撑”指维持，符合文意。D 项“目标”指射击、攻击或寻求的对象；想要达到的境地或标准。D 项语义不符，排除。故本题正确答案选 A。

13.8000 年前的史前社会，虽然物质文化和精神文化层面取得了显著进步，但是整体上还是较为平等的原始社会。刚刚出现了社会分工和分化的 _____，远远没有达到明显的阶层分化，更不要提阶级的出现和国家的产生。所以，当时的社会只是文明的开始，距离进入文明社会还相当_____。

填入横线部分最恰当的一项是（ ）。

- A.征兆 漫长
- B.端倪 遥远
- C.萌芽 曲折
- D.趋势 艰难

【答案】B。第一步，分析第一空，填入的词语照应“刚刚出现”。A 项“征兆”指征候，先兆；B 项“端倪”指事情的眉目，头绪，边际；C 项“萌芽”比喻事物刚发生。三者均符合语境。D 项“趋势”指事物发展的动向，不能够照应“刚刚出现”，排除 D 项。第二步，分析第二空。根据“远远没有达到明显的阶层分化，更不要提阶级的出现和国家的产

生”可知，当时社会距离文明社会还比较“远”，且填入的词语修饰“距离”。A项“漫长”指绵延得很长（多指道路、时间等），语义不符，排除A项。D项“艰难”指困难，语义不符，排除D项。B项“遥远”指很远，符合文意。故本题正确答案选B。

14.算法主导的信息推荐技术，很容易自动_____掉“不感兴趣”“不认同”的信息，实现“看我想看，听我想听”，但久而久之，信息接收维度就会变窄，咨询获取渠道变得_____，人们在信息交互中就会形成特定的兴趣习惯，从而深陷“信息茧房”的桎梏。

填入横线部分最恰当的一项是（ ）。

- A.过滤 单一
- B.剔除 有限
- C.屏蔽 固化
- D.筛选 贫乏

【答案】A。第一步，突破口在第二空。根据“信息接收维度就会变窄”“形成特定的兴趣习惯”和“深陷‘信息茧房’的桎梏”可知，咨询获取渠道也会变“窄”，最后就变成了“特定”的“桎梏”，语义程度很重。A项“单一”指只有一种，符合文段的语义程度。B项“有限”指数量不多；程度不高；C项“固化”指变固定（多用于抽象事物）；D项“贫乏”指缺少；不丰富。B项、C项和D项语义程度都较“单一”轻，排除。答案锁定A选项。第二步，验证第一空。“过滤”体现出对“信息”进行分离，符合文意。故本题正确答案选A。

15.热衷消费的风潮，正在大学生甚至高中生之间迅速_____。无处不在的消费推广信息，更早地影响到了这些尚处在价值观形成期的年轻人。而校园里极为密切的人际关系，更助推了消费主义这一浪潮的流行，让很多学生对这些象征着“潮流”消费品_____。

填入横线部分最恰当的一项是（ ）。

- A.扩散 爱不释手
- B.传播 心驰神往
- C.风靡 奉若神明
- D.蔓延 趋之若鹜

【答案】D。第一步，突破口在第二空。根据“热衷消费的风潮”和“影响到了这些尚处在价值观形成期的年轻人”可知，文段的感情色彩偏消极。A项“爱不释手”因喜爱某物而舍不得放下；B项“心驰神往”心神飞到（向往的地方）。A项和B项与文段感情色彩不符，排除。C项“奉若神明”指盲目崇拜对方，像迷信的人敬奉神一样，与“消费品”搭

配不当，排除 C 项。D 项“趋之若鹜”比喻争相追逐不正当的事物，符合文意。答案锁定 D 选项。第二步，验证第一空。“蔓延”像蔓草一样不断向周围扩展，符合文意。故本题正确答案选 D。

16.敦煌壁画过于超脱，《洛神赋图》耽于浪漫，能够借以_____历史原貌的，唯有传世佳作《清明上河图》，北宋都城汴梁的市井风俗，仿佛肉眼可见的“烟火气”，一次次冲破历史的“次元壁”，引人沉醉，不知归处。人们甚至将其制成巨幅的电子动画，图的无非就是四个字：_____。

填入横线部分最恰当的一项是（ ）。

- A.想象 历历在目
- B.推敲 身临其境
- C.恢复 一饱眼福
- D.重现 渐入佳境

【答案】B。第一步，突破口在第二空。照应“仿佛肉眼可见的”“一次次冲破历史的‘次元壁’”。文段意思是《清明上河图》可以让我们仿佛回到北宋时期。B 项“身临其境”指亲自到了那个境地，符合语境。A 项“历历在目”指远方的景物看得清清楚楚，或过去的事情清清楚楚地重现在眼前，不照应“次元壁”，排除 A 项。C 项“一饱眼福”形容看到了不易见到的美好事物；D 项“渐入佳境”比喻境况逐渐好转或兴趣逐渐浓厚。二者均不照应语境，排除 C 项和 D 项。答案锁定 B 选项。第二步，验证第一空。“推敲历史原貌”，符合文意。故本题正确答案选 B。

17.如今，呈现在公众视野中的古典园林已经异化，从私家园林变成了公共景点，如盆景般_____在城市里。游人不断地涌进来，带着一种_____的心态漫游在昔日的世界，短暂而快速地与园林发生关系。因此，我想要_____，园林只是城市化中的盆景点缀吗？一个臻于顶峰的古代文明，与当代生活有什么关联？

填入横线部分最恰当的一项是（ ）。

- A.散落 猎奇 探究
- B.隐匿 坦然 质疑
- C.分散 好奇 追问
- D.藏匿 漠然 反思

【答案】A。第一步，照应“公共景点”，B 项“隐匿”和 D 项“藏匿”均有隐藏，躲起来的意思，不照应“公共景点”，排除 B 项和 D 项。第二步，再看第三空。根据文意，

后面的问题是作者根据前面的情况想要去得知答案的。C项“追问”指追根究底地查问，多次的问，文中并无此语境，排除C项。A项“探究”意思是探索追究或研究，符合文意。答案锁定A选项。第三步，验证第二空。“散落”对应“点缀”，符合文意。故本题正确答案选A。

18. 上世纪80年代以来，主要发达国家兴起了一场以新公共管理为标志的行政改革运动，其中的一个内容，就是_____全民、社会都参与到公共服务供给中来。政府可以通过契约化、民营化等形式，把公共服务的生产交由市场和社会力量来_____通过鼓励私人投资和经营公共服务行业，_____市场竞争机制，提高公共服务水平和效率。

填入横线部分最恰当的一项是（ ）。

- A. 号召 保障 深化
- B. 鼓励 完成 完善
- C. 激发 负责 规范
- D. 主张 承担 引入

【答案】D。第一步，突破口在第三空。文段意思是通过鼓励私人投资和经营公共服务行业，打破以往都是政府行为的状态。A项“深化”、B项“完善”和C项“规范”均侧重已经有了竞争之后的行为，而文段意思是开始有竞争，故D项“引入”符合文意。答案锁定D选项。第二步，验证第一空和第二空。“主张”指提倡、扶持；对某种行动提出见解，符合文意。“承担生产活动”搭配得当。故本题正确答案选D。

19. 英国作为现代资本主义的发源地，是现代商业文明的_____，拥有强大的商业传统。通过《泡沫法案》和《公司法》后，英国公司有了运行的规范和依据，注册成立公司变得非常_____。1773年成立的伦敦证券交易所是世界上最_____的证券交易所，正是在这里，英国为成为“日不落帝国”完成了资本积累。

填入横线部分最恰当的一项是（ ）。

- A. 肇始者 成熟 著名
- B. 拓荒者 常见 繁忙
- C. 奠基者 容易 古老
- D. 佼佼者 普遍 庞大

【答案】C。第一步，分析第一空。照应“发源地”，即开始的地方。D项“佼佼者”侧重突出，优秀，不符合文意，排除D项。第二步，分析第二空。文段意思是有了规范和依据后，注册公司变得很简单。B项“常见”和C项“容易”均符合文意。A项“成熟”

意思是长大，成长，泛指生物体发育到完备的阶段，或事物或行为发展到完善的程度，不符合文意，排除 A 项。第三步，分析第三空。照应“1773 年”，意思是伦敦证券交易所是第一家。C 项“古老”符合文意。B 项“繁忙”，文中没有忙碌的语境，不符合文意，排除 B 项。故本题正确答案选 C。

20.中国古代章回小说发端于明代的历史演义，而历史演义的兴起又与宋元以来《资治通鉴》的简约化、通俗化_____。以往学者们在_____历史演义之生成时，一般多强调民间讲史与纪传体类史书的孕育之功，却较少关注《资治通鉴》的影响。实际上，正是《资治通鉴》的不断通俗化，才_____出明代的历史演义创作热。

填入横线部分最恰当的一项是（ ）。

- A.密不可分 追溯 萌发
- B.并行不悖 分析 培养
- C.息息相关 探讨 催生
- D.如影随形 回顾 激发

【答案】C。第一步，分析第一空。文段意思是历史演义的兴起和《资治通鉴》的简约化、通俗化有关系。A 项“密不可分”形容十分紧密，不可分割，语义过重，排除 A 项。C 项“息息相关”侧重二者之间有关系，符合文意。B 项“并行不悖”指同时进行，不相冲突；D 项“如影随形”比喻两个人关系亲密，常在一起。二者均不符合文意，排除 B 项和 D 项。答案锁定 C 选项。第二步，验证第二空和第三空。“探讨历史演义之生成”“催生历史演义创作热”均符合文意。故本题正确答案选 C。

21.在标准的经济学理论中，所谓“决策”就是给定约束条件下最大化目标。这样的决策模式或许符合大部分人的行为方式，但与真正的企业家决策相距甚远。对企业家来说，条件不是给定的，而是可以改变的。他们不仅试图改变资源和技术约束，甚至试图改变人们的偏好。正因为如此，他们才成为经济增长的推动力。

这段文字着重解释了（ ）。

- A.经济学中的决策概念
- B.普通人决策的一般机制
- C.企业家与普通人决策的异同
- D.企业家推动经济增长的原因

【答案】D。第一步，分析文段。文段首句介绍了“决策”在标准经济学中的含义。接着介绍了企业家决策却并不是如此，而是有其不同之处。尾句引出文段的主旨句“正因为如

此，他们才能成为经济增长的推动力”。即文段的论述主体是“企业家”，强调企业家推动经济增长的原因在于其决策模式。第二步，对比选项。D项是对文段主旨句的同义替换。故本题正确答案选D。

22.古代战争水平不高，崇山峻岭、长河大川都是天然的防守工事，因此岭南山地、四川盆地、山西高原等，都是地理条件极佳的割据区域。“五经”之一的《易经》中说：“天险不可升也，地险山川丘陵也。王公设险以守其国，险之时用大矣哉。”这一思想在古代政治家、军事家心中根深蒂固，所以诸葛亮在《隆中对》中劝刘备占据益州，骨子里的思想就是，倘若刘备不能进而逐鹿中原，也可退而为一国之君。事实果然如此，蜀汉虽然既弱且小，竟能与魏、吴鼎足而三，就是因为益州北有秦岭、东有巫山作为屏障，内有沃野千里的盆地，具备长期固守的条件。

这段文字意在（ ）。

- A.说明《易经》对古代军事思想的影响
- B.论证诸葛亮《隆中对》策略的合理性
- C.强调地理条件在古代战争中的重要意义
- D.分析三国时魏、蜀、吴鼎立的现实基础

【答案】C。第一步，分析文段。文段首句提出核心观点古代战争水平不高，地理条件对战争来讲发挥着很大的作用。下文通过《易经》《隆中对》进行举例论证。即文段为“总一分”结构，首句为主旨句。第二步，对比选项。C项是对文段主旨句的同义替换，符合文段意图。故本题正确答案选C。

23.长期以来，中国的水果市场存在一个奇怪的难题：消费者买难而果农卖难，消费者买得贵而果农卖得贱。果贱伤农，果贵伤消费者，之所以出现这一现象，是因为水果价格在一定程度上背离了价值。当前，中国70%的农产品严重依赖传统的线下渠道。具体来说，生长在田地里的水果想要到达城市消费者手中，需要经过产地、购销商、产地批发市场、销地批发市场、农贸市场，最后才到消费者手中。这就意味着，消费者为“贵族水果”付出的并非水果的真实价值，而是夹杂了各种中间商利润和营销费用。

作者通过这段文字最想说的是（ ）。

- A.破解水果市场的难题需从销售渠道方面入手
- B.不应该让消费者继续为水果的高额利润买单
- C.消费者应理性看待偏离价值的“贵族水果”
- D.“果贱伤农”的根本原因在于销售环节过多

【答案】A。第一步，分析文段。文段开篇提出中国水果市场存在的难题——果贱伤农，果贵伤消费者。接着分析问题产生的原因，主要是由于大部分水果严重依赖传统的线下销售渠道，中间商费用和营销费用增加了水果的成本。即文段结构为“提出问题—分析原因”，文段的重点在于问题本身。第二步，对比选项。A项是对针对问题原因提出的解决对策，符合文段意图。故本题正确答案选A。

24.与阿拉伯人和波斯人相比，建立了奥斯曼帝国的突厥人在皈依伊斯兰教之后，就投入圣战之中。他们从担任雇佣兵的时代开始，就善于接受新式武器，比如火器、大炮等。1453年奥斯曼帝国攻破东罗马帝国首都君士坦丁堡的城墙，就有赖于引入乌尔班大炮。此时，他们在欧洲的对手们依然采用古老的方式、带着浪漫主义的精神作战，对奥斯曼人的战斗技巧，出色的纪律性，以及他们的训练、情报系统和战术一无所知，对轻装上阵的步兵和骑在马背上的弓箭手会有怎样的机动性也不熟悉，这使得奥斯曼人在最初的几个世纪里可以横扫欧亚大陆。

这段文字意在强调（ ）。

- A.东罗马帝国的崩溃是合力作用的结果
- B.武器装备改变了欧亚大陆的历史进程
- C.奥斯曼帝国的军事力量遥遥领先于对手
- D.东西两大帝国的对抗根源在于宗教信仰

【答案】C。第一步，分析文段。文段先介绍了奥斯曼帝国在皈依伊斯兰教之后就投入圣战，他们非常善于接受各种新式武器。而奥斯曼帝国的对手们却依旧很保守，对奥斯曼帝国的作战技巧、战术等并不知晓，使得奥斯曼帝国在一段时期内非常厉害。即文段的论述主体是“奥斯曼帝国”，强调其军事实力强于其对手国家。第二步，对比选项。C项符合文段重点。故本题正确答案选C。

25.在中国文学发展史上，每一文体都有它的鼎盛时代，诗、词、曲、赋和散文都曾引领风骚，都曾显示过一种文体的优越和不可超越。但同样无可避免的是，这些辉煌过的文体也终于与自己的衰落不期而遇。于是，曾辉煌又衰落的文体被作为文学史的知识在大学课堂讲授，被作为一种修养甚至识别民族身份的符号而确认和存在。它们是具有具体可感的历史，通过这些文体的辉煌和衰落，我们认知了民族文化的源远流长。因此，一种文体的衰落是不可避免的，它只能以“历史”的方式获得存活。

这段文字可以用来回答下列哪一问题？（ ）

- A.文学经典著作有何价值

- B.长篇小说为何辉煌不再
- C.怎样评价当前的文学创作
- D.时代发展对文学有何影响

【答案】B。第一步，分析文段。文段开篇提出中国文学发展史上，每一种文体都有它的鼎盛时代，并通过转折指出这些文体经历过辉煌之后也遭遇了衰落。接着指出通过这些文体，我们可以感知历史、感知民族文化。尾句通过“因此”总结全文，即一种文体的衰落是不可避免的，它只能以“历史”的方式获得存活，即每一种文体都会衰落，都会成为历史。第二步，对比选项。该文段可以回答B选项，“长篇小说”属于文体之一，“为何不在辉煌”符合文段讨论的话题。故本题正确答案选B。

26.有些人很容易入睡，并且不分场合地睡睡睡，这种人可能患有“发作性嗜睡症”。患者夜间睡眠不完整，常常醒来；即使晚上睡眠充足，白天仍会觉得很困，常常不分时间、地点地又睡着了。由于患者的睡眠结构异于常人，一旦入眠就直接进入快速动眼期睡眠，而不是正常人那样经过深度睡眠方才进入。该病的主要原因是大脑内食欲肽(下丘脑泌素)变少。食欲肽能让人更好地保持在清醒的状态，缺少则会导致人的睡眠和清醒状态轻易转换。这种物质变少，大多源于自身免疫系统紊乱。目前该症尚无根治方法，可通过行为治疗或刺激性药物改善症状。

关于“发作性嗜睡症”，下列说法与上文相符的是（ ）。

- A.生物钟明显呈现昼夜颠倒状况
- B.表现为难以进入深度睡眠阶段
- C.行为治疗比药物治疗效果更好
- D.病人大脑出现生理方面的异常

【答案】D。第一步，分析文段，将选项和原文一一对应。第二步，对比选项。A项、B项和C项文段均未提及，属于无中生有。D项对应“该病的主要原因是大脑内食欲肽(下丘脑泌素)变少”，正确。故本题正确答案选D。

27.从概率来看，父母给孩子取名字时，越想取得时尚清新，往往越是同名最多；过度集中于流行元素，也会导致父母取名时想象空间相对有限。因此，很多父母给孩子取名时自以为的“得意之作”，凑拢起来看，反而就是烂大街的“所见略同”之作，这就是几十年来教室里“一声呼、几人应”的常规现象。孩子的名字，对孩子来说只是符号，对起名的父母来说却是满满的寄托。一代人所取的名字，受其所处时代氛围的影响，其实是一代人的寄托。而恰恰，越是时代性、时尚性的，越具局限性。

最适合做这段文字标题的是（ ）。

- A.流行元素，还是陈词滥调
- B.越清新时尚，越大概率“撞名”
- C.一呼N应，你的名字还是你的吗
- D.名字扎堆，谁限制了父母的想象力

【答案】D。第一步，分析文段。文段先通过一个并列关系指出父母在给孩子取名字时越追求时尚清新、流行元素，越容易出现重名，导致父母取名时想象空间有限，接着通过“因此”引出一个现象，父母给孩子取的名字多为重名，最后指出孩子的名字是父母的寄托，而一代人所取的名字其实是一代人的寄托，而时代性、时尚性更具有局限性。文段的核心话题是重名和父母。第二步，对比选项。D项是文段重点的同义替换，适合做文段标题。故本题正确答案选D。

28.①一组数字显示，1995年美国有26%的婴儿是家庭中的第三胎，到2004年，这个比例达到28%

②中国走在东亚国家雁阵式增长的道路上，城镇化水平的提升势必消灭城乡差别，令全社会倾向于选择少生优生的养育模式

③当人类摆脱了马尔萨斯描述的挣扎于生存线上的“零和”增长模式后，大数量繁殖以保障种族繁衍的模式被高质量模式取代，人类倾向于少生优生

④人口逆趋势增长，全球唯一可资借鉴的先例来自美国

⑤这就决定了我们很难在人口下滑的曲线上取得彻底的逆转

⑥当人类富裕到一定程度，摆脱了每日奔波劳碌的工薪生活模式，还是有可能唤醒深植于基因中的生育本能的

根据语意逻辑，对上述句子排序最恰当的是（ ）。

- A.①⑥④③②⑤
- B.②⑤⑥④①③
- C.③②⑤④⑥①
- D.④①⑤⑥③②

【答案】C。第一步，观察选项特征，确定首句。③句提到人类倾向于少生优生，②句提到中国倾向于选择少生优生的养育模式，两者话题一致，且②句是对③句的举例论证，故③②绑定，排除B项。④句先提出先例是美国，①句是具体的论述，故④句应该在①句的

前面，排除 A 项。第二步，对比 C 项和 D 项。⑤句可以作为突破口，其中的“我们”应该指的是我国，而不能指代美国，排除 D 项。故本题正确答案选 C。

29.①我们都知道，竹子虽然高大坚硬，但和竹柏等木本植物相比，茎干结构完全不同

②禾本科的祖先最早生活在森林中，低矮的草本它们是它们最初的形态

③竹子源自禾草，它是禾本科中形态较为进化的一类

④关于竹的成语很多，“竹柏异心”便是形容表象相似而志向相左，这句成语源自《楚辞》

⑤它们一类走向寒冷干旱，成为草原的主人，另一类选择了温暖湿润，因为趋同演化，身型也变得与树木一样高大

⑥白垩纪晚期，气候发生大改变，大片森林因为气候变迁而消失，生活在森林中的禾本祖先获得了发展空间

根据语意逻辑，对上述句子排序最恰当的是（ ）。

A.①②③⑥⑤④

B.②⑥③⑤④①

C.③⑤①④⑥②

D.④①③②⑥⑤

【答案】D。第一步，观察选项特征，确定首句。首句不好判断。第二步，寻找原文突破口。⑤句中出现代词“它们”，找到其指代对象，选项分别为⑥⑤绑定和③⑤绑定。③句提到了竹子这一个主体，衔接⑤句不合适；⑥句提到“禾本祖先”这一话题，发展空间即对应⑤句的内容，⑥⑤绑定合适。排除 B 项和 C 项。第三步，对比 A 项和 D 项。②⑥两句都提到了“禾本祖先”这一话题，应该绑定在一起，排除 A 项。故本题正确答案选 D。

30.传说时代的事迹，或许有的是从远古口耳相传下来，到西周以后才被陆续加以记录，但也不排除更多是由远古文本传承译写而来，在传说译写的过程中难免错漏虚夸或神话化。

_____，但我们应当对古代文献有足够的敬畏和同情之心，没有十足把握，不要轻易言伪，更不能因为传说中有神话色彩，就轻易将其归为神话。

根据语意逻辑，填入横线处最恰当的句子是（ ）。

A.考古是研究传说时代古史的重要基础

B.对待传说时代的古史必须十分谨慎

C.去伪存真，自然是研究者应该做的

D.对文献真实性的考证，是公认的难题

【答案】C。第一步，分析横线处的上下文语境。文段先通过一个转折关系指出传说时代的事迹不排除是由远古文本传承译写而来的，横线后进行转折指出我们应对古代文献有敬畏和同情之心，不能轻易言伪，更不能轻易将其归为神话。转折前后语义相反相对，应该指出我们需要对古代文献进行验伪。第二步，对比选项。C项符合上述语境。故本题正确答案选C。

第三部分 数量关系

31.某人徒步旅行，第一天他走完了全程的25%；第二天，他走完了所剩距离的 $\frac{1}{3}$ ；第三天又走了剩下距离的25%；最后一天他走了剩下距离的一半，至此，距离终点还有15公里。则他实际一共走了多少公里？（ ）

- A.60
- B.65
- C.75
- D.80

【答案】B。设全程为 x 公里，第一天他走完了全程的25%，即 $\frac{1}{4}x$ ，剩余 $\frac{3}{4}x$ ；第二天，他走完了所剩距离的 $\frac{1}{3}$ ，即 $\frac{3}{4}x \times \frac{1}{3} = \frac{1}{4}x$ ，剩余 $x - \frac{1}{4}x - \frac{1}{4}x = \frac{1}{2}x$ ；第三天又走了剩下距离的25%，即 $\frac{1}{2}x \times \frac{1}{4} = \frac{1}{8}x$ ，剩余 $\frac{1}{2}x - \frac{1}{8}x = \frac{3}{8}x$ ；最后一天他走了剩下距离的一半，即 $\frac{3}{8}x \times \frac{1}{2} = \frac{3}{16}x$ ，剩余 $\frac{3}{16}x$ ，至此，距离终点还有15公里，则 $\frac{3}{16}x = 15$ ， $x = 80$ 公里，他实际一共走了 $80 - 15 = 65$ 公里。故本题正确答案选B。

32.一艘游轮在距岸边3000海里处发生海难，一艘救生快艇率先赶去救援，3小时到达海难地点，医疗救护船在救生快艇出发1小时后前往海难点，每小时行驶200海里，快艇到达海难地点后会先载一定数量的遇险者回医疗船救治，之后再返回救援现场，营救下一批遇险者，直至医疗救护船赶到海难地点。请问，当医疗船赶到出事地点时，救生快艇共运行了多少海里？

- A.15000
- B.16000

C.17000

D.18000

【答案】B。一艘游轮在距岸边 3000 海里处发生海难，一艘救生快艇率先赶去救援，3 小时到达海难地点，快艇的速度为每小时 1000 海里；医疗救护船在救生快艇出发 1 小时后前往海难点，则快艇先运行了 1000 海里，医疗救护船每小时行驶 200 海里，当医疗船赶到

出事地点时，又经过 $\frac{3000}{200}=15$ 小时，快艇又运行 $1000 \times 15 = 15000$ 海里，救生快艇共运行了 $1000 + 15000 = 16000$ 海里。故本题正确答案选 B。

33.甲、乙两个工厂生产某种设备，产能均为 x 件/天.已知甲先开始生产，且 4 月 3 日结束后乙的累计产量和 4 月 11 日结束后甲的累计产量之和为 $30x$ 件。已知 4 月 6 日结束后，甲和乙的累计产量之比为 4:3,问甲是从哪一天开始生产的? ()

A.3 月 20 日

B.3 月 21 日

C.3 月 22 日

D.3 月 23 日

【答案】C。4 月 3 日结束，乙 4 月累计产量为 $3x$ 、4 月 11 日结束，甲 4 月累计产量为 $11x$ ，合计为 $14x$ ，可知两工厂 3 月合计生产 16 天，设甲 3 月生产 a 天、乙为 $16-a$ 天，根据 4 月 6 日结束后，甲和乙的累计产量之比为 4:3 列方程： $a+6:16-a+6=4:3$ ，解得 $a=10$ ，即甲 3 月工作 10 天，甲是 3 月 22 日开始生产的。故本题正确答案选 C。

34.某种商品的利润是其售价的 40%，如每件降价 60 元出售，每天的销量将增加 1 倍，每天的利润总额将增加 20%。该商品某天打八折销售，当天利润总额在 1 万元以上。问当天这批商品可能的最低销量在以下哪个范围内? ()

A.不到 100 件

B.100-125 件之间

C.126-150 件之间

D.超过 150 件

【答案】A。设售价为 x ，则利润为 $0.4x$ 、成本为 $0.6x$ ，如每件降价 60 元出售，每天的销量将增加 1 倍，每天的利润总额将增加 20%，设原来销量为 n ，列方程： $1.2 \times 0.4x \times n = (0.4x - 60) \times 2n$ ，解得 $x = 375$ 元。该商品某天打八折销售，每件利润为 $375 \times 0.4 = 150$

元，若当天利润总额在 1 万元以上，则当天这批商品可能的最低销量为 $\frac{10000}{150} \approx 66.7$ 件。

故本题正确答案选 A。

35. 在 4×4 的空表格中随机选择三个空格，分别填上数 1.2.3，要求每行、每列分别最多只能填一个数字，问总共的填写方式（ ）。

- A. 不到 100 种
- B. 在 100-200 种之间
- C. 在 201-400 种之间
- D. 超过 400 种

【答案】D。 4×4 的空表格中随机选择三个空格，分别填上数 1.2.3，要求每行、每列分别最多只能填一个数字，第一个数字有 C_{16}^1 种选择方法、第二个数字有 C_9^1 种选择方法、第三个数字有 C_4^1 种选择方法，总共的填写方式有 $16 \times 9 \times 4 = 576$ 种。故本题正确答案选 D。

36. 某企业有 5 个分公司，其中 3 个位于华北，1 个位于华东，1 个位于华南。该企业将 3 名实习生分别随机安排至任一个分公司实习，且华东分公司只安排 1 名实习生的概率（ ）。

- A. 低于 30%
- B. 在 30%~40%之间
- C. 在 40%~ 50%之间
- D. 高于 50%

【答案】B。该企业将 3 名实习生分别随机安排至任一个分公司实习，且华东分公司只

安排 1 名实习生的概率为 $\frac{C_3^1 \times 4^2}{5^3} = \frac{48}{125} \approx 34.8\%$ 。故本题正确答案选 B。

37. 一个长方形，它的长和宽都是小于 10 的自然数。如果用宽作分子，长作分母，那么所得的分数值比 $\frac{3}{10}$ 要大，比 $\frac{1}{2}$ 要小。那么满足上述条件的长方形共有多少个？（ ）

- A. 3
- B. 5
- C. 6
- D. 7

【答案】D。分子、分母是均小于 10 的自然数，且数值介于 $\frac{3}{10}$ — $\frac{1}{2}$ 之间，枚举如下：
 (9、3)、(9、4)、(8、3)、(7、3)、(6、2)、(5、2)、(3、1)，共 7 个。
 故本题正确答案选 D。

38.某企业分配 5 个地区的市场推广经费.其中华北地区分得总经费的 20%，华东地区和华南地区分得的经费相同，都是东北地区经费的 2 倍，西部地区分得的经费比华北地区少 100 万元，比东北地区多 400 万元。问华南地区分得的经费比西部地区多多少万元？（ ）

- A.300
- B.400
- C.500
- D.600

【答案】B 根据华北地区分得总经费的 20%，设总金额为 $5x$ 。各区经费如下表：

	华北	华东	华南	东北	西部
经费	x	$2x-1000$	$2x-1000$	$x-100-400$	$x-100$

根据总经费为 $5x$ 列方程： $x+2x-1000+2x-1000+x-500+x-100=5x$ ，解得 $x=1300$ 万元。则华南地区分得的经费比西部地区多 $2x-1000-(x-100)=x-900=400$ 万元。故本题正确答案选 B。

39.某企业安排所有职工去爱国主义教育基地参观。如果安排可乘坐 24 名乘客的中型客车，则所有车都正好坐满人；如果安排可乘坐 40 名乘客的大型客车，则至少需要 9 辆且有 1 辆车坐不满。问该企业如果安排可乘坐 10 名乘客的商务车运送所有职工且最多允许有 1 辆车坐不满，问未做满的车上有多少名乘客？（ ）

- A.2
- B.4
- C.6
- D.8

【答案】C。如果安排可乘坐 24 名乘客的中型客车，则所有车都正好坐满人，可知总人数是 24 的倍数；如果安排可乘坐 40 名乘客的大型客车，则至少需要 9 辆且有 1 辆车坐不满，则 $40 \times 8 < \text{总人数} < 40 \times 9$ ；320—360 之间是 24 倍数的数字为 336，则总人数为 336 人。

问该企业如果安排可乘坐 10 名乘客的商务车运送所有职工且最多允许有 1 辆车坐不满，则

$\frac{336}{10} = 33 \cdots 6$
未做满的车上有 10 名乘客。故本题正确答案选 C。

40. 甲比乙大 6 岁，2018 年丙的年龄是乙年龄的 3 倍，2022 年甲和乙的年龄之和与丙的年龄相同。问哪一年丙的年龄是乙年龄的 6 倍？（ ）

A. 2010

B. 2012

C. 2014

D. 2016

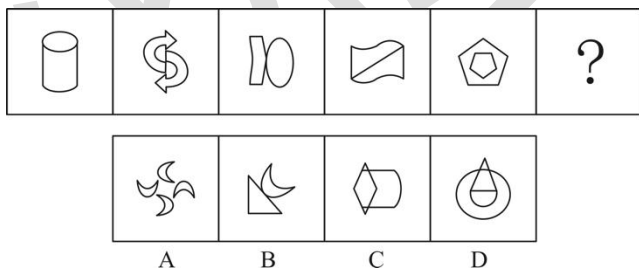
【答案】B。设 2018 年乙的年龄为 a 岁，如下表：

	甲	乙	丙
2018 年	$a+6$	a	$3a$
2022 年	$a+10$	$a+4$	$3a+4$

根据 2022 年甲和乙的年龄之和与丙的年龄相同，列方程： $a+10+a+4=3a+4$ ，解得 $a=10$ ，则 2018 年乙 10 岁、丙 30 岁。设 n 年前，丙的年龄是乙的 6 倍，列方程 $6 \times (10-n) = 30-n$ ，解得 $n=6$ ，即 6 年前 $2018-6=2012$ 年。故本题正确答案选 B。

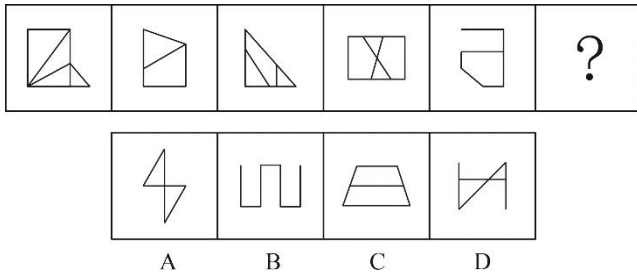
第四部分 判断推理

41. 选出最合适的一项填入问号处，使之呈现一定的规律（ ）。



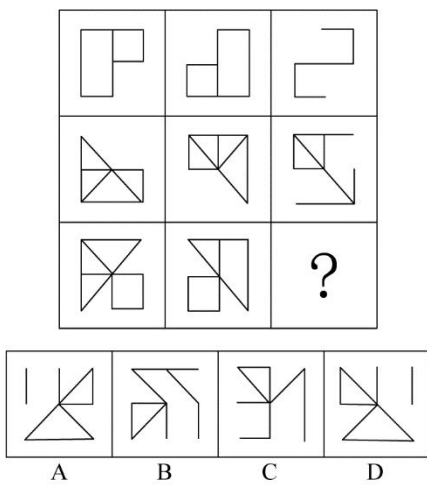
【答案】A。第一步，观察特征。图形组成不同，优先考虑数量类或属性类。第二步，一条式，从左到右找规律。图形组成规整，考虑对称属性，所给图形分别为轴对称、中心对称、轴对称、中心对称、轴对称，不同对称种类交替出现，故问号处应为中心对称图形，只有 A 项符合。故本题正确答案选 A。

42. 选出最合适的一项填入问号处，使之呈现一定的规律（ ）。



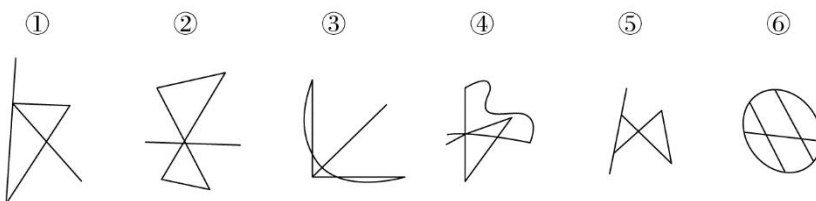
【答案】B。第一步，观察特征。图形组成不同，优先考虑数量类或属性类。第二步，一条式，从左到右找规律。所给图形包含三角形居多，优先考虑数角，其中直角的数量分别为1、2、3、4、5，故问号处应为6个直角的图形，只有B项符合。故本题正确答案选B。

43.找出最合适的一项填入问号处，使之呈现一定的规律（ ）。



【答案】B。第一步，观察特征。图形组成相似，优先考虑样式类。第二步，九宫格，优先纵横找规律。第一行，前两图进行求异运算，然后再左右翻转，得到图3，经验证，第二行符合该规律，将此规律应用到第三行，只有B项符合。故本题正确答案选B。

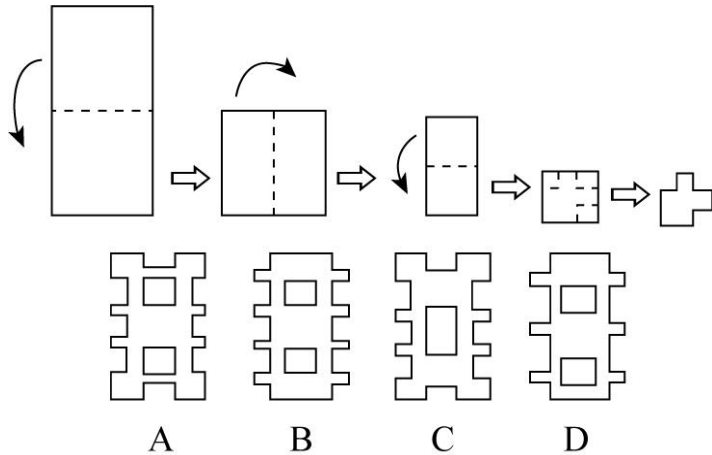
44.把下面的六个图形分为两类，使每一类都有各自的共同特征或规律，分类正确的一项是（ ）。



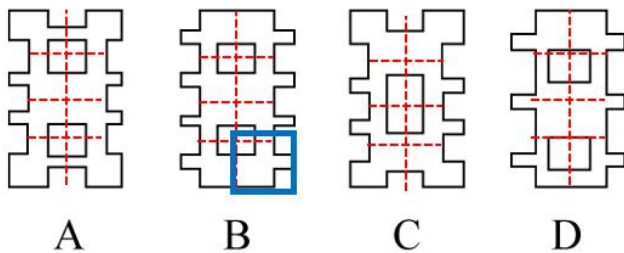
- A. ①③④,②⑤⑥
- B. ①③⑥,②④⑤
- C. ①②⑤,③④⑥
- D. ①④⑤,②③⑥

【答案】C。第一步，观察特征。图形组成不同，优先考虑数量类或属性类。第二步，根据规律进行分组。所给图形均由线条组成，其中①②⑤均为直线图形，③④⑥均为有直有曲图形。故本题正确答案选 C。

45.将长方形纸片按所示步骤裁剪，再展开，所得图案是（ ）。



【答案】B。第一步，本题考查折纸类。第二步，分析选项。可以将四个选项结合题干把相应的折痕画出来，看右下角是否符合题干折之后的最后一个图形，如下图：



只有 B 项符合。故本题正确答案选 B。

46.投石：问路

A.格物：致知

B.隔靴：搔痒

C.隔岸：观火

D.扪心：自问

【答案】A。第一步，确定题干逻辑关系。“投石”的目的是为了“问路”，二者属于目的对应关系。第二步，辨析选项。A 项：“格物”的目的是为了“致知”，二者属于目的对应关系，与题干的逻辑关系一致，符合；B 项：“隔靴”与“搔痒”属于并列关系，排除；C 项：“隔岸”与“观火”属于并列关系，排除；D 项：“扪心”与“自问”属于并列关系，排除。故本题正确答案选 A。

47.花猫：宠物 交叉

A.野山菌：山货

B.水鸟：珍禽

C.林蛙：蟾蜍

D.当归：中药

【答案】B。第一步，确定题干逻辑关系。有的“花猫”是“宠物”，二者属于交叉关系。第二步，辨析选项。A项：“野山菌”是一种“山货”，二者属于包容关系中的种属关系，排除；B项：有的“水鸟”是“珍禽”，二者属于交叉关系，与题干的逻辑关系一致，符合；C项：“林蛙”与“蟾蜍”属于并列关系，排除；D项：“当归”是一种“中药”，二者属于包容关系中的种属关系，排除。故本题正确答案选B。

48.木屋：木材：建筑

A.冰箱：压缩机：家电

B.米酒：米：大米饭

C.绣花鞋：绣线：服饰

D.煤炭：煤矿：矿物质

【答案】C。第一步，确定题干逻辑关系。“木材”是“木屋”的原材料，二者属于原材料对应关系，“木屋”是“建筑”，二者属于包容关系中的种属关系。第二步，辨析选项。A项：“压缩机”是“冰箱”的组成部分，二者属于包容关系中的组成关系，排除；B项：“米”是“米酒”和“大米饭”的原材料，都属于原材料对应关系，排除；C项：“绣线”是“绣花鞋”的原材料，二者属于原材料对应关系，“绣花鞋”是“服饰”，二者属于包容关系中的种属关系，符合；D项：“煤矿”产出“煤炭”，二者属于地点对应关系，排除。故本题正确答案选C。

49.事物属性：特有属性：共同属性

A.火山：火山锥：火山口

B.离子：阳离子：阴离子

C.水：固态水：液态水

D.期刊：月刊：季刊

【答案】B。第一步，确定题干逻辑关系。“事物属性”包括“特有属性”和“共同属性”，二者与“事物属性”属于包容关系中的种属关系，二者属于并列关系中的矛盾关系。第二步，辨析选项。A项：“火山锥”与“火山口”是“火山”的组成部分，二者与“火山”属于包容关系中的组成关系，排除；B项：“离子”包括“阳离子”和“阴离子”，二者与

“离子”属于包容关系中的种属关系，二者属于并列关系中的矛盾关系；C项：“固态水”和“液态水”都是水的一种形态，二者与“水”属于包容关系中的种属关系，但除“固态水”和“液态水”之外还有气态水，所以二者属于并列关系中的反对关系，排除；D项：“月刊”和“季刊”都是“期刊”，二者与“期刊”属于包容关系中的种属关系，二者属于并列关系中的反对关系，排除。故本题正确答案选B。

50.2017年对于()相当于()对于破折号

- A.21世纪 行文
- B.2017年1月 符号
- C.猴年 一
- D.2016年 省略号

【答案】D。分别将选项代入题干，确定逻辑关系A项：“2017年”是“21世纪”，二者属于包容关系中的种属关系，“行文”“破折号”无逻辑关系，前后逻辑关系不一致，排除；B项：“2017年1月”是“2017年”的组成部分，二者属于包容关系中的组成关系，“破折号”是一种“符号”，二者属于包容关系中的种属关系，但词语前后顺序不一致，排除；C项：“2017年”不是“猴年”，二者无逻辑关系，“一”是“破折号”，二者属于全同关系，前后逻辑关系不一致，排除；D项：“2017年”与“2016年”属于并列关系，“省略号”与“破折号”属于包并列关系，符合。故本题正确答案选D。

51.棒槌式”理财特指个人理财时资产配置不合理，风险管理不当，或极端保守，把绝大部分资产投入银行储蓄；或极端激进，把绝大部分资产投入在期货股票等投机市场上。

根据上述定义，下列属于“棒槌式”理财的是（ ）。

- A.工薪族小李每月工资两万元，除去少量日常开支，其余全部存入银行
- B.王先生的公司去年净利润15亿元，今年将其全部投入到新的项目中
- C.张明看好今年股市，动员亲戚朋友踊跃入市，自己也接连购进三万股
- D.明星吴某每次拿到片酬之后都全部投资房地产，在全国各地都有置业

【答案】A。第一步，看提问方式，本题属于选是题。第二步，找关键信息。①个人理财；②极端保守，把绝大部分资产投入银行储蓄；③极端激进，把绝大部分资产投入在期货股票等投机市场上。第三步，辨析选项。A项：小李除去少量日常开支，都存入银行，符合“极端保守，把绝大部分资产投入银行储蓄”，符合定义；B项：公司的盈利投入新项目中，不符合“个人理财”，不符合定义；C项：张明自己购进三万股，但是不明确这三万股的价

值是否占了他资产的大部分，不符合定义；D项：明星的片酬占其资产的比例不明确，且投资房地产，不符合“投入在期货股票等投机市场上”，不符合定义。故本题正确答案选A。

52.广告逆反现象是指某些消费者对某个广告活动的刺激产生与广告目的相对的或相反的情绪体验和行为倾向。通常是当刺激超过了消费者个体心理接受的阈限或达到饱和时所产生的与刺激意义相反的心理体验和行为反应。

根据上述定义,下列属于广告逆反现象的是()。

A.某野生动物保护广告中,大量渲染野生动物被杀害的残忍和血腥,激发了受众对皮草及皮质饰品厂商的反感,联合抵制类似商品

B.某养生保健饮料广告中,因病卧床不起的老人饮用该饮料后参加了马拉松比赛,观众对该饮料的“神奇效果”嗤之以鼻

C.某女性用品的广告中,刻画了恋爱中不负责任的男性和独立自强的女性形象,遭到广大男性观众的抵制

D.某大学制作的宣传片夸大其词,伪造该校世界排名,不少人看过之后强烈指责该校的虚假宣传

【答案】B。第一步，看提问方式，本题属于选是题。第二步，找关键信息。①某些消费者；②对某个广告活动的刺激产生与广告目的相对的或相反的情绪体验和行为倾向。第三步，辨析选项。A项：野生动物保护广告的目的就是呼吁大家抵制购买野生动物产品，受众最终抵制皮草产品与广告的预期一致，不符合定义；B项：保健饮料的广告出现了夸张的效果，观众嗤之以鼻，符合关键信息②，符合定义；C项：女性用品的消费者是女性，而广告让男性观众抵制，不符合关键信息②，不符合定义；D项：观看大学宣传片的人不属于“消费者”，不符合定义。故本题正确答案选B。

53.稀释保护效应是指对于任何一个捕食动物的攻击来说,猎物群越大,其中每一个个体被猎杀的机会也就越小,这样,动物个体就会由于同其他同种动物生活在一起而得到保护。

根据上述定义,下列没有反映稀释保护效应的是()。

A.一个由100只斑马组成的斑马群,其中每只斑马在每次受到攻击时被猎杀的概率只有1%

B.织巢鸟生活在大群体中,在受到攻击时群体会很快散开,由于目标较多,攻击者一时无所适从

C.鸵鸟社群的增大虽然可能使目标扩大,但却可以大大减少每个个体被狮子吃掉的可能性,因为狮子每次只会集中攻击一只鸵鸟

D.麝牛遇到狼群时,会围成一圈,身体强壮的麝牛在最外圈,用角对着狼群,把容易受到攻击的个体保护在中间,提高了幼崽的存活率

【答案】D。第一步,看提问方式,本题属于选非题。第二步,找关键信息。猎物群越大,其中每一个个体被猎杀的机会也就越小。第三步,辨析选项。A项:100只斑马属于“猎物群大”,每只斑马收到猎杀的概率只有1%,符合“每一个个体被猎杀的机会小”,符合定义;B项:大群体受到攻击时散开,攻击者一时无所适从,符合“每一个个体被猎杀的机会小”,符合定义;C项:鸵鸟群可以减少每个个体被吃掉的可能性,符合“每一个个体被猎杀的机会小”,符合定义;D项:提高幼崽的存活率,不符合“每一个个体”,不符合定义。故本题正确答案选D。

54.自来水哲学是指商家将品质优良的商品,用消费者能承受的价格,像自来水一样源源不断地向顾客提供,自来水哲学的核心是努力为顾客服务,通过多种手段,把原来只能供少数人享受的奢侈品变成普通大众也能享受的普及品。

根据上述定义,下列没有体现自来水哲学的是()。

A.某公司开发出售价只有原先50%的扫地机器人,并允许分期付款,获得了源源不断的客户

B.某电脑生产商通过直销模式,消除中间成本,降低价格,让更多人买到自己想要的电脑

C.18世纪,巧克力仅在高档场所售卖,后来某生产商在火车站安装了自动贩卖机,人们只需投入一枚硬币即可获得一小包巧克力

D.两家豪华汽车厂商打价格战,竞相压低汽车价格,吸引了众多消费者前来买车

【答案】D。第一步,看提问方式,本题属于选非题。第二步,找关键信息。商家将品质优良的商品,用消费者能承受的价格,像自来水一样源源不断地向顾客提供,通过多种手段,把原来只能供少数人享受的奢侈品变成普通大众也能享受的普及品。第三步,辨析选项。A项:降低扫地机器人的价格,且可以分期付款,就可以有更多人买得起机器人,客户源源不断,符合定义;B项:电脑降低价格,符合“将品质优良的商品,用消费者能承受的价格”,让更多人买到想要的电脑,符合“变成普通大众也能享受的普及品”,符合定义;C项:巧克力原来在高档场所售卖,说明不是普通大众可以享受的,后来在火车站投一枚硬币就可以购买,符合“把原来只能供少数人享受的奢侈品变成普通大众也能享受的普及品”,符合定义;D项:两家公司压低价格,目的是吸引客户,而没有体现出“源源不断地向顾客提供,把原来只能供少数人享受的奢侈品变成普通大众也能享受的普及品”,不符合定义。故本题正确答案选D。

55.战略管理是指企业根据对经营条件和外部环境的分析,确定企业总的经营宗旨和经营目标,并且制定一种或几种有效的战略,使企业达到经营宗旨和经营目标所采取的一系列管理决策和行动。

根据上述定义,下列没有体现战略管理的是()。

- A.甲企业结合自身优势,计划与某互联网公司合作以提升自己的竞争力
- B.为了扩大影响力,乙培训机构组织工作人员深入各高校开办公益讲座
- C.经济下滑时,丙企业销售部积极拓展营销渠道,企业效益大幅提升
- D.丁企业与某地方政府签订合作协议,扩大业务规模并增加了就业岗位

【答案】B。第一步,看提问方式,本题属于选非题。第二步,找关键信息。①企业根据对经营条件和外部环境的分析;②确定企业总的经营宗旨和经营目标;③制定一种或几种有效的战略,使企业达到经营宗旨和经营目标所采取的一系列管理决策和行动。第三步,辨析选项。A项:结合自身优势,符合关键信息①,合作提升竞争力,符合关键信息③,符合定义;B项:扩大影响力不是最终的“经营目标”,不符合定义;C项:经济下滑,符合“外部环境”,丙提升效益,符合关键信息③,符合定义;D项:丁扩大业务规模,符合关键信息③,符合定义。故本题正确答案选B。

56.一项研究发现,在寒武纪早期距今5.24亿年至5.14亿年之间的1000万年时间内,也就是寒武纪生命大爆发的高峰时期,海水中碳和硫同位素值发生的同步波动的次数和幅度,与动物化石多样性变化的次数和幅度在时间上高度吻合。而在距今5.14亿年之后的大约200万年间,碳和硫同位素之间的变化则是不同步的,这一时间内发生了全球性寒武纪动物群的大灭绝。研究人员据此认为,氧气含量是控制寒武纪生命大爆发到大灭绝进程的关键因素。

下列最可能是上述论证的前提的是()。

- A.寒武纪生命大爆发到大灭绝与海水中碳、硫同位素变化存在相关性
- B.氧气是寒武纪早期距今5.24亿年至5.14亿年间生命大爆发的条件
- C.海水中碳、硫同位素变化幅度实际上反映了氧气含量的变化幅度
- D.发生在距今5.14亿年左右的寒武纪动物群大灭绝事件是海水缺氧造成的

【答案】C。第一步,确定题型。根据提问方式中出现“前提”,确定为加强论证。第二步,找论点和论据。论点:氧气含量是控制寒武纪生命大爆发到大灭绝进程的关键因素。论据:寒武纪生命大爆发的高峰时期,海水中碳和硫同位素值发生的同步波动的次数和幅度,与动物化石多样性变化的次数和幅度在时间上高度吻合。而在距今5.14亿年之后的大约200万年间,碳和硫同位素之间的变化则是不同步的,这一时间内发生了全球性寒武纪动物群的大

灭绝。第三步，辨析选项。A项：无关选项。指出寒武纪生命大爆发到大灭绝与海水中碳、硫同位素变化存在相关性，没有指出与氧气含量的关系，无法加强。B项：无关选项。只指出了氧气与寒武纪早期生命大爆发之间的关系，没有指出氧气与大灭绝之间的关系，无法加强。C项：建立联系。在论据中碳、硫同位素变化幅度与论点的氧气含量之间建立了联系，可以加强。D项：无关选项。只指出大灭绝事件与海水缺氧之间的关系，没有指出大爆发期间与氧气之间的关系，无法加强。故本题正确答案选C。

57.化肥中含有农作物所需的营养元素,有助于提高农作物的产量。在过去五年中,S村村民开始使用化肥种植大蒜,大蒜年均产量比此前平均提高10%。可以说,在过去五年中,使用化肥增加了村民的收入。

下列选项如果为真,最能支持上述结论的是()。

- A.S村近五年大蒜收购价格保持不变,年均销量超过五年前
- B.S村村民使用化肥种植玉米后,玉米产量大幅增加
- C.S村村民除了种植大蒜外,还种植其他类型的农作物
- D.由于化肥价格逐年上涨,S村村民购买化肥的花销大幅增加

【答案】A。第一步，确定题型。根据提问方式中出现“支持”，确定为加强论证。第二步，找论点和论据。论点：在过去五年中,使用化肥增加了村民的收入。论据：在过去五年中, S村村民开始使用化肥种植大蒜,大蒜年均产量比此前平均提高10%。第三步，辨析选项。A项：增加论据。指出价格不变，销量超过五年前，二者相乘可以得到收入增加，可以加强。B项：不明确项。只指出了产量增加，没有提到价格，无法确定收入是否增加，无法加强。C项：无关选项。指出种植的农作物种类，无法得到收入是否增加，无法加强。D项：无关选项。只指出买化肥的成本增加，但无法得知收入是否增加，无法加强。故本题正确答案选A。

58.丁某：甲方案好在哪里?好在它能解决问题。为什么说甲方案比乙方案好?因为乙方案有些解决不了的问题,甲方案能解决。

下列选项如果为真,最能反驳丁某论证的是()。

- A.甲、乙方案都存在一些自身无法解决的问题
- B.乙方案也能解决一些甲方案无法解决的问题
- C.甲、乙方案都存在超越于其他方案的独特优势
- D.如果一种方案能解决问题,那么这种方案就是好的

【答案】B。第一步，确定题型。根据提问方式中出现“反驳”，确定为削弱论证第二步，找论点和论据。论点：甲方案好在哪里?好在它能解决问题。论据：为什么说甲方案比乙方案好?因为乙方案有些解决不了的问题,甲方案能解决。第三步，辨析选项。A项：无关选项。指出甲乙都有无法解决的问题，无法确定甲方案好坏，无法削弱。B项：增加反向论据。指出乙方案能解决甲方案无法解决的一些问题，所以乙方案比甲方案好，可以削弱。C项：无关选项。指出甲乙都有优势，无法确定甲方案好坏，无法削弱。D项：建立联系。在解决方案与方案是好的之间建立联系，可以加强。故本题正确答案选B。

59.目前海水淡化有两种技术,一种是多级闪蒸法,通过一系列热交换将一部分水快速加热成水蒸气;还有一种是反渗透法,利用高压泵让海水通过反渗透膜,去除离子和颗粒,使之成为饮用水。最近某大学研发出分子滤网技术,通过改进的石墨烯氧化物滤膜(一种让一些分子通过并挡住其他分子的选透性薄膜)可在过滤水的同时拦截盐离子,专家称这种技术有望取代现有技术成为海水淡化的重要途径。

下列选项如果为真,无法支持上述专家观点的是()。

- A.石墨烯氧化物滤膜可以在实验室中以低成本制造出来
- B.现有两种海水淡化技术都会产生大量废水,处理废水需消耗大量能源
- C.现有的海水淡化方法属于能源密集型,会对环境产生负面影响
- D.石墨烯氧化物滤膜浸入水中时会迅速膨胀,海水中的钠和镁离子就可以通过

【答案】D。第一步，确定题型。根据提问方式中出现“无法支持”，确定为加强论证选非题。第二步，找论点和论据。论点：专家称这种技术有望取代现有技术成为海水淡化的重要途径。论据：无。第三步，辨析选项。A项：增加论据。指出石墨烯氧化物滤膜成本低，所以有望取代现有技术，可以加强。B项：增加论据。指出现有技术处理废水需要消耗能源，所以可能被取代，可以加强。C项：增加论据。指出现有技术对环境有负面影响，所以可能被取代，可以加强。D项：无关选项。只指出石墨烯氧化物滤膜的作用原理，没有指出其优越性，无法加强。故本题正确答案选D。

60.某餐厅有张、王、李三位厨师,张厨师擅长做白切鸡、烧鹅和烤乳猪,王厨师擅长做烧鹅、梅菜扣肉和清蒸石斑鱼,李厨师擅长做梅菜扣肉和清蒸石斑鱼,这五道菜也是该餐厅的招牌菜。该餐厅承办了一次重要的宴会,宴会上要有这五道菜。为了保证菜品的质量,按照三位厨师各自擅长的菜式进行了分工,每位厨师最多只能做两道招牌菜。

根据上述条件,可以推出()。

- A.李厨师必须做梅菜扣肉和清蒸石斑鱼,王厨师必须做烧鹅

B.王厨师必须做烧鹅和梅菜扣肉,李厨师必须做清蒸石斑鱼

C.王厨师必须做清蒸石斑鱼,李厨师必须做梅菜扣肉

D.张厨师必须做白切鸡和烤乳猪,王厨师必须做烧鹅

【答案】D。第一步,确定题型。题干有信息匹配特征,确定为分析推理。第二步,分析条件,进行推理。由条件可知,张厨师擅长的白切鸡和烤乳猪是其他两位厨师所没有的,结合条件“每位厨师最多只能做两道招牌菜”,可知张厨师必须做白切鸡和烤乳猪;张厨师擅长的烧鹅是与王厨师一致的,所以要保证最后“宴会上要有这五道菜”,王厨师必须做烧鹅。故本题正确答案选D。

第五部分 资料分析

所给出的图、表、文字或综合性资料均有若干个问题要你回答。你应根据资料提供的信息进行分析、比较、计算和判断处理。

请开始答题:

一、根据以下资料,回答61—65题。

(一)

2015—2018年各季度A地区政府消费开支

单位:亿元

		政府消费开支	雇员报酬	购买货品及服务	非参与商业活动 政府部门售予住户 及企业的销售额
2015年	第1季度	591.57	372.76	282.68	63.87
	第2季度	555.32	404.81	212.31	61.80
	第3季度	578.77	397.90	241.50	60.63
	第4季度	586.97	396.36	253.97	63.36
2016年	第1季度	632.66	396.14	302.38	65.86
	第2季度	597.31	434.66	227.23	64.58
	第3季度	621.84	426.01	256.79	60.96
	第4季度	627.92	420.60	272.66	65.34
2017年	第1季度	673.39	420.27	322.87	69.75

	第 2 季度	628.63	451.90	242.44	65.71
	第 3 季度	655.38	448.05	273.52	66.19
	第 4 季度	657.34	441.98	284.40	69.04
	2018 年	第 1 季度	715.91	443.54	344.47
	第 2 季度	675.25	483.76	261.47	69.98
	第 3 季度	702.91	476.93	294.54	68.56
	第 4 季度	715.73	474.76	311.68	70.71

注：政府消费开支=雇员报酬+购买货品及服务—非参与商业活动政府部门售予住户及企业的销售额

61.2018 年四个季度中，A 地区政府消费开支同比增量最大的是（ ）。

- A.第 1 季度
- B.第 2 季度
- C.第 3 季度
- D.第 4 季度

【答案】D。定位表格材料“政府消费开支”。根据增长量=现期量-基期量，数据本身不大，对数据简单取整处理，代入数据可得 2018 年 4 个季度 A 地区政府消费开支同比增量分别为：1 季度， $716-673=43$ （亿元）；2 季度， $675-629=46$ （亿元）；3 季度， $703-655=48$ （亿元）；4 季度， $716-657=59$ （亿元），则同比增量最大的是第 4 季度。故本题正确答案选 D。

62.2015~2018 年，A 地区年度雇员报酬总支出平均每年约增长多少亿元？（ ）

- A.102
- B.166
- C.249
- D.307

【答案】A。定位表格材料“雇员报酬”。根据年均增长量 $=\frac{\text{末期量}-\text{初期量}}{\text{相差年数}}$ ，初期为 2015 年，末期为 2018 年，相差年数为 3，数据本身不大，对数据简单取整处理，代入数据可得

$$\frac{444+484+477+475-(373+405+398+396)}{3} = \frac{(444-373)+(484-405)+(477-398)+(475-396)}{3} = \frac{71+79+79+79}{3} =$$

$\frac{308}{3}$ ，直除首两位商 10，A 选项符合。故本题正确答案选 A。

63.2015~2018 年间，同一年内 A 地区非参与商业活动政府部门售予住户及企业的销售额最高和最低的季度，销售额相差超过 4 亿元的年份有多少个？（ ）

- A.1
- B.2
- C.3
- D.4

【答案】B。定位表格材料“非参与商业活动政府部门售予住户及企业的销售额”。由表可知，同一年内 A 地区非参与商业活动政府部门售予住户及企业的销售额最高和最低的季度销售额相差分别为：2015 年 $63.87-60.63<4$ ，2016 年 $65.86-60.96>4$ ，2017 年 $69.75-65.71>4$ ，2018 年 $72.10-68.56<4$ ，则相差超过 4 亿元的年份时 2016 年和 2017 年，共 2 个。故本题正确答案选 B。

64.2015~2018 年间，A 地区政府上、下半年购买货品及服务开支差额最大的年份是（ ）。

- A.2015 年
- B.2016 年
- C.2017 年
- D.2018 年

【答案】C。定位表格材料“购买货品及服务”。上下半年差额最大，用大数据一小数据即可，数据本身不大，对数据简单取整处理，代入数据可得 A 地区政府上、下半年购买货品及服务开支差额分别为：2015 年， $(242+254)-(283+212)=1$ （亿元）；2016 年， $(257+273)-(302+227)=1$ （亿元）；2017 年， $(323+242)-(284+274)=7$ （亿元）；2018 年， $(295+312)-(344+261)=2$ （亿元）。则差额最大的年份时 2017 年。故本题正确答案选 C。

65.关于 A 地区政府消费开支，能够从上述资料中推出的是（ ）。

- A.2015 年，雇员报酬占政府消费开支的比重低于 60%
- B.2018 年，雇员报酬金额比购买货品及服务金额高 800 多亿元
- C.2017 年下半年，购买货品及服务金额是非参与商业活动政府部门售予住户及企业的销售额的不到 4 倍
- D.2016 年上半年，非参与商业活动政府部门售予住户及企业的销售额比上一个半年增长了 6 亿多元

【答案】D。A选项，现期比重计算。定位表格材料“2015年”，根据比重 $\frac{\text{部分量}}{\text{整体量}}$ ，对数据简单取整处理，可得雇员报酬占政府消费开支的比重，2015年第1季度 $\frac{373}{592}>60\%$ ，第2季度 $\frac{405}{555}>60\%$ ，第3季度 $\frac{398}{579}>60\%$ ，第4季度 $\frac{396}{587}>60\%$ ，4个季度比重均高于60%，根据混合比重口诀，整体比重介于各部分比重之间，可知2015年比重高于60%，错误。B选项，简单计算中的和差类。定位表格材料“2018年”，对数据简单取整处理，可得雇员报酬金额比购买货品及服务金额高 $(444+484+477+475)-(344+261+295+312)=(444-344)+(484-261)+(477-295)+(475-312)=100+223+182+163=668$ （亿元），不到800亿元，错误。C选项，现期倍数计算。定位表格材料“2017年”，对数据简单取整处理，可得2017年下半年，购买货品及服务金额是非参与商业活动政府部门售予住户及企业的销售额的 $\frac{274+284}{66+69}=\frac{558}{135}$ ，直除首位商4，超过4倍，错误。D选项，简单计算中的和差类。定位表格材料“2015年、2016年”，2016年上半年的上一个半年，即2015年下半年，代入数据可得2016年上半年，非参与商业活动政府部门售予住户及企业的销售额比上一个半年增长了 $(65.86+64.58)-(60.63+63.36)=5.23+1.22=6.45$ （亿元），即6亿多元，正确。故本题正确答案选D。

二、根据以下资料，回答66—70题。

(二)

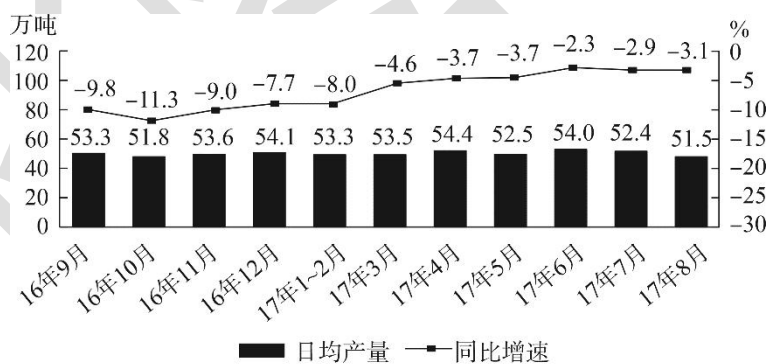


图1 2016年9月~2017年8月我国日均原油产量

2017年8月份，进口原油3398万吨，同比增长3.4%，进口量比7月份减少76万吨，增速比7月份回落8.4个百分点。1—8月份，进口原油2.8亿吨，同比增长12.2%，增速比1—7月份回落1.4个百分点。

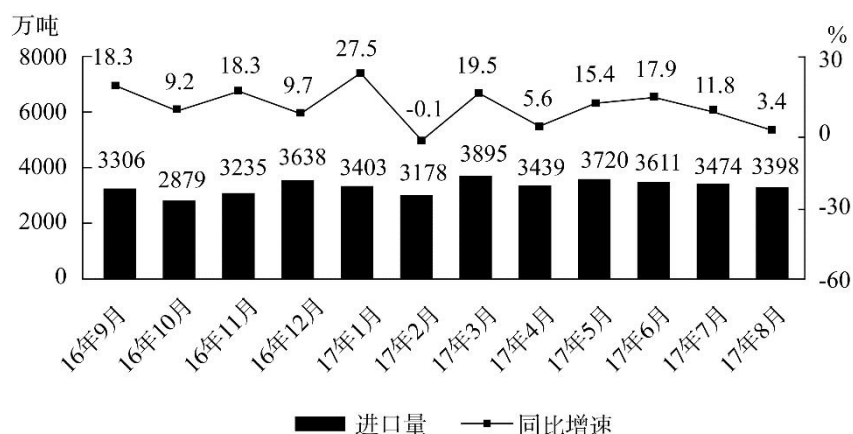


图2 2016年9月—2017年8月我国原油进口量

66.2016年9—12月，有几个月我国原油产量高于1600万吨？（ ）

- A.1
- B.2
- C.3
- D.4

【答案】C。定位图1。根据总数=平均数×总个数，根据9—12月的天数分别为30、31、30、31天，则2016年9—12月，各月我国原油产量分别为： $53.3 \times 30 = 1599$ （万吨）、 $51.8 \times 31 = 1605.8$ （万吨）、 $53.6 \times 30 = 1608$ （万吨）、 $54.1 \times 31 = 1677.1$ （万吨）。满足高于1600万吨的有3个月。故本题正确答案选C。

67.2017年3—8月间我国原油产量同比降幅最小的月份，当月原油产量环比约（ ）。

- A.下降了0.5%
- B.下降了3.0%
- C.上升了0.6%
- D.上升了2.9%

【答案】A。定位图1。直接读数可得，2017年3—8月，我国原油产量同比降幅最小的是6月（降幅为2.3%）。根据总数=平均数×总个数，可得6月产量为 $54.0 \times 30 = 1620$ （万吨）<5月的产量为 $52.5 \times 31 = 1627.5$ （万吨），则环比下降，排除C、D选项。根据减少率=（基期量-现期量）/基期量，可得2016年6月我国原油产量环比约下降 $(1627.5 - 1620) / 1627.5 = 7.5 / 1627.5$ ，直除首位商4。故本题正确答案选A。

68.2017年1季度，我国原油进口量约比上一季度上升了（ ）。

- A.500多万吨
- B.700多万吨

C.900 多万吨

D.超过 1000 万吨

【答案】B。定位图 2。选项为范围类选项，考虑截位舍相同处理数据，又根据增长量=现期量-基期量，可得 2017 年 1 季度，我国原油进口量约比上一季度多 $(340+318+390) - (288+324+364) = 72$ ，即约多了 720 万吨。故本题正确答案选 B。

69.2016 年 9 月—2017 年 8 月间我国原油进口量环比上升最快的月份，当月原油进口量约是产量的多少倍？（ ）

A.1.9

B.2.1

C.2.4

D.2.6

【答案】C。定位图 1 和图 2。根据基期量=现期量/(1+增长率)，可得 2016 年 8 月我国原油进口量为 $3398 / (1+3.4\%) \approx 3398 - 3398 \times 3.4\% \approx 3398 - 116 = 3282$ (万吨)。根据增长率比较，如果基期量相差不大，可以用增长量替代增长率进行比较。又根据加减法考虑截位舍相同处理数据，可得 2016 年 9 月—2017 年 8 月中，我国原油进口量环比上升的月份中，各月的增长量分别为：16 年 9 月 $(331-328=3)$ 、16 年 11 月 $(324-288=36)$ 、16 年 12 月 $(364-324=40)$ 、17 年 3 月 $(390-318=72)$ 、17 年 5 月 $(372-344=28)$ ，环比增长量最大的月份是 17 年 3 月，则 17 年 3 月的环比上升最快。根据总数=平均数×总个数，可得 17 年 3 月我国原油产量为 $53.5 \times 31 = 1658.5$ (万吨)。根据选项数据首位相同，第二位不同，分母从左向右截取前三位，可得该月原油进口量是产量的 $3895/166$ ，直除首两位商 23。故本题正确答案选 C。

70.能够从上述资料中推出的是（ ）。

A.2017 年 4 月原油产量高于上月水平

B.2015 年 10 月原油日均产量在 46—47 万吨之间

C.2017 年 1—2 月，原油进口量高于上年同期水平

D.2017 年 3—8 月间，原油日均产量最低的两个月份进口量也最低

【答案】C。A 选项，现期平均数比较，定位图 1，根据总数=平均数×总个数，可得 2017 年 3 月和 4 月我国原油产量分别为： $53.5 \times 31 = 1658.5$ (万吨)、 $54.4 \times 30 = 1632$ (万吨)，4 月产量低于 3 月，错误。B 选项，基期量计算，定位图 1，根据基期量=现期量/(1+增长率)，可得 2015 年 10 月我国原油产量日均产量为 $51.8 / (1-11.3\%) > 51.8$ (万吨)，错

误。C选项，混合增长率计算，定位图2。根据混合增长率比较口诀，“整体增长率介于部分之间，且靠近基数较大的一边”，又根据1月（3403万吨）>2月（3178万吨），可得2017年1—2月，我国原油进口量的增长率 $> (27.5\% - 0.1\%) / 2 > 0$ ，则高于上年同期水平，正确。D选项，直接读数，定位图1和图2。2017年3—8月间，原油日均产量最低的两个月份分别为7月和8月；2017年3—8月，原油进口量最低的两个月份分别为4月和8月，不一致，错误。故本题正确答案选C。

华图教育