

1、（单选题）习近平总书记在党的十九大报告中明确要求“打造共建共享的社会治理格局”。下列不属于社会治理措施的是：

- A.加强平安中国建设
- B.加强社区治理体系建设
- C.加强国家安全体系建设
- D.加强预防和化解社会矛盾机制建设

收起解析

展开全部解析

收藏

纠错

正确答案：C，我的选择：C。回答正确

统计

答题时间：100秒，全站正确率：52%，易错项：A。

解析

第一步，本题考查时事政治并选错误项。

第二步，社会治理是在各级党委和政府的统一领导下，组织和依靠各部门、各单位的人民群众的力量，运用政治的、经济的、行政的、法律的、文化的、教育的等多种手段，通过加强打击、防范、教育、管理、建设、改造等方面的工作，解决社会治安问题，实现从根本上预防和打击违法犯罪，维护治安秩序，保障社会稳定的社会系统工程。平安中国建设、社区治理体系建设、预防和化解社会矛盾机制建设都属于社会治理的措施。国家安全体系建设属于国家安全，不属于社会治理的范畴。

因此，选择C选项。

拓展

A项：习近平总书记在党的十九大报告中明确要求“打造共建共享的社会治理格局”，指出，树立安全发展理念，弘扬生命至上、安全第一的思想，健全公共安全体系，完善安全生产责任制，坚决遏制重特大安全事故，提升防灾减灾救灾能力，属于平安中国建设内容。

B项：习近平总书记在党的十九大报告中明确要求“打造共建共享的社会治理格局”，指出，加强社区治理体系建设，推动社会治理重心向基层下移，发挥社会组织作用，实现政府治理和社会调节、居民自治良性互动。

C项：国家安全是国家的基本利益，是一个国家处于没有危险的客观状态，即国家没有外部的威胁和侵害，也没有内部的混乱和疾患的状态。当代国家安全包括11个方面的基本内容，即国民安全、领土安全、主权安全、政治安全、军事安全、经济安全、文化安全、科技安全、生态安全、信息安全和核安全。《中华人民共和国国家安全法》第69条规定，国家健全国家安全保障体系，增强维护国家安全的能力。

D项：习近平总书记在党的十九大报告中明确要求“打造共建共享的社会治理格局”，指出，加强预防和化解社会矛盾机制建设，正确处理人民内部矛盾。

考点

常识判断

政治

时政

来源

2018年0421四川公务员考试《行测》真题第2题、2018年0421黑龙江公务员考试《行测》真题（偏远地区）第1题、2018年0421黑龙江公务员考试《行测》真题（公检法）第1题

2、（单选题）中国共产党第十九届中央委员会第二次全体会议于2018年1月18日至19

日在北京召开，会议的主要议程是：

- A.研究党和政府机构改革的重大问题
- B.讨论修改宪法部分内容的建议
- C.研究全面从严治党的重大问题
- D.研究制定国民经济发展计划

收起解析

展开全部解析

收藏

纠错

正确答案：B，我的选择：尚未作答。回答错误

统计

答题时间：0 秒，全站正确率：31%，易错项：C。

解析

第一步，本题考查十九届二中全会的议程。

第二步，中国共产党第十九届中央委员会第二次全体会议，于 2018 年 1 月 18 日至 19 日在北京举行，全会审议通过了《中共中央关于修改宪法部分内容的建议》。

因此，选择 B 选项。

拓展

A 项：2018 年 2 月 26 日至 28 日，中国共产党第十九届中央委员会第三次全体会议在北京举行。审议通过了《中共中央关于深化党和国家机构改革的决定》和《深化党和国家机构改革方案》。

C 项：2016 年 10 月 24 日至 27 日，中国共产党第十八届中央委员会第六次全体会议在北京举行。会议的主要议程是，中共中央政治局向中央委员会报告工作，研究全面从严治党重大问题，制定新形势下党内政治生活若干准则，修订《中国共产党党内监督条例（试行）》。审议通过了《关于新形势下党内政治生活的若干准则》和《中国共产党党内监督条例》，审议通过了《关于召开党的第十九次全国代表大会的决议》。

D 项：2015 年 10 月 26 日至 29 日，中国共产党第十八届中央委员会第五次全体会议在北京召开。会议审议通过了《中共中央关于制定国民经济和社会发展第十三个五年规划的建议》。

考点

常识判断

政治

时政

来源

2018 年 0421 内蒙古公务员考试《行测》真题第 25 题、2018 年 0421 山西公务员考试《行测》真题第 1 题、2018 年 0421 新疆公务员考试《行测》真题第 3 题、2018 年 0421 湖北公务员考试《行测》真题第 1 题、2018 年 0421 重庆公务员考试《行测》真题第 1 题、2018 年 0421 黑龙江公务员考试《行测》真题（偏远地区）第 2 题、2018 年 0421 黑龙江公务员考试《行测》真题（公检法）第 2 题、2018 年 0421 黑龙江公务员考试《行测》真题（省直）第 2 题

3 、（单选题）关于税收，下列说法错误的是：

- A.涉及税收的制度只能由法律来规定
- B.履行纳税义务是公民享有其他权利的前提条件
- C.企业在缴纳增值税时应当扣除企业的经营成本
- D.小王抽奖获得的 10 万元奖金应当缴纳个人所得税

收起解析

展开全部解析

收藏

纠错

正确答案：B，我的选择：尚未作答。回答错误

统计

答题时间：0 秒，全站正确率：34%，易错题：A。

解析

第一步，本题考查税收知识并选错误项。

第二步，《中华人民共和国宪法》第 56 条规定，中华人民共和国公民有依照法律纳税的义务。依法纳税是公民的基本义务，但是并不是取得其他权利的前提条件。

因此，选择 B 选项。

拓展

A 项：税收的本质是国家为满足社会公共需要，凭借公共权力，按照法律所规定的标准和程序，参与国民收入分配，强制取得财政收入所形成的一种特殊分配关系。税收制度是指国家（政府）以法律形式确定的各种课税方法的总称，是政府税务机关向纳税人征税的法律依据，也是纳税人履行纳税义务的法律规范。所以涉及税收的制度只能由法律来规定。

C 项：增值税是以商品（含应税劳务）在流转过程中产生的增值额作为计税依据而征收的一种流转税。从计税原理上说，增值税是对商品生产、流通、劳务服务中多个环节的新增价值或商品的附加值征收的一种流转税。企业的经营成本是项目评估中资金的现金流量表中的项目之一，是企业总成本扣除固定资产折旧费、流动资金利息净支出后的成本。企业经营成本不属于商品价值增值部分，所以，企业在缴纳增值税时需要扣除企业的经营成本。

D 项：《中华人民共和国个人所得税法》第 2 条第 9 项规定，偶然所得应当缴纳个人所得税。《中华人民共和国个人所得税法实施条例》第 6 条第 9 项规定，偶然所得是指个人得奖、中奖、中彩以及其他偶然性质的所得。小王抽奖获得的 10 万元奖金，属于中奖性质的偶然所得，应当缴纳个人所得税。

考点

常识判断

经济

微观经济

来源

2018 年 0421 四川公务员考试《行测》真题第 6 题、2018 年 0421 黑龙江公务员考试《行测》真题（公检法）第 3 题

4 、（单选题）下列文学作品没有使用方言的是：

- A.《海上花列传》（韩邦庆）
- B.《凤凰涅槃》（郭沫若）
- C.《秦腔》（贾平凹）
- D.《白鹿原》（陈忠实）

收起解析

展开全部解析

收藏

纠错

正确答案：B，我的选择：尚未作答。回答错误

统计

答题时间：0 秒，全站正确率：63%，易错项：A。

解析

第一步，本题考查文学作品对方言的使用并选错误项。

第二步，《凤凰涅槃》由郭沫若创作，发表于 1920 年，以凤凰的传说为素材，体现了反帝反封建的五四精神，是现代文学史上最优秀的诗作之一。作品使用的是白话文，没有使用方言。

因此，选择 B 选项。

拓展

A 项：《海上花列传》的作者是韩邦庆，写的是清末中国上海十里洋场中的妓院生活，是近代吴语文学的代表，是中国第一部方言小说。

C 项：《秦腔》的作者是贾平凹，主要内容以秦腔戏曲、农民与土地的关系两条线展开，故事发生在陕西省丹凤县，文中使用了商洛方言。

D 项：《白鹿原》的作者是陈忠实，以陕西关中地区白鹿原上的白鹿村为缩影，讲述白姓和鹿姓两大家族祖孙三代的恩怨纷争，文中使用了关中方言。

考点

常识判断

人文

文学

来源

2018 年 0421 内蒙古公务员考试《行测》真题第 4 题、2018 年 0421 安徽公务员考试《行测》真题第 5 题、2018 年 0421 湖南公务员考试《行测》真题第 8 题、2018 年 0421 重庆公务员考试《行测》真题第 18 题、2018 年 0421 黑龙江公务员考试《行测》真题（偏远地区）第 3 题、2018 年 0421 黑龙江公务员考试《行测》真题（公检法）第 4 题、2018 年 0421 黑龙江公务员考试《行测》真题（省直）第 3 题

5、（单选题）宗教对文学艺术的创作影响深远，下列未受宗教影响的作品是：

- A.大仲马的《基督山伯爵》
- B.达·芬奇的《最后的晚餐》
- C.米开朗基罗的《大卫》
- D.柴可夫斯基的《天鹅湖》

收起解析

展开全部解析

收藏

纠错

正确答案：D，我的选择：尚未作答。回答错误

统计

答题时间：0 秒，全站正确率：70%，易错项：C。

解析

第一步，本题考查的是文学知识并选错误项。

第二步，彼得·伊里奇·柴可夫斯基是十九世纪伟大的俄罗斯作曲家、音乐教育家，被誉为伟大的“俄罗斯音乐大师”和“旋律大师”。柴可夫斯基的芭蕾舞剧《天鹅湖》取材于德国中世纪的民间传说，即恶魔把美丽的少女变作天鹅，但爱情和正义的力量最终战胜邪恶的故事。《天鹅湖》未受宗教影响。

因此，选择 D 选项。

拓展

A 项：《基督山伯爵》是通俗历史小说，是法国著名作家大仲马的代表作，主人公是爱德蒙·邓蒂斯。从表面上看似乎是一部讲述报恩复仇的故事，其实隐藏着深厚的宗教情节，特别是在表面的复仇故事下表达了基督教的爱，从主人公复仇时行为思想的变化，体现出了其爱的精神从旧约精神到新约精神的转变。

B 项：达芬奇的《最后的晚餐》取材于《新约圣经》，以《圣经》中耶稣跟十二门徒共进最后一次晚餐为题材，《圣经》是犹太教、基督教的经典。因此，作品受到基督教的影响。

C 项：米开朗基罗是意大利文艺复兴时期伟大的绘画家、雕塑家、建筑师和诗人，文艺复兴时期雕塑艺术最高峰的代表，与拉斐尔和达芬奇并称为文艺复兴后三杰。米开朗基罗的《大卫》，被视为西方美术史上最优秀的男性人体雕像之一。大部份关于大卫的记载都出自《塔纳赫》中的《撒母耳记》，《撒母耳记》是《圣经》旧约的一卷书，记载了以色列王国第一位国王扫罗和第二位国王大卫执政期间的历史。《大卫》也受到基督教的影响。

考点

常识判断

人文

文学

来源

2018 年 0421 四川公务员考试《行测》真题第 8 题、2018 年 0421 黑龙江公务员考试《行测》真题（偏远地区）第 5 题、2018 年 0421 黑龙江公务员考试《行测》真题（公检法）第 5 题 6、（单选题）下列事件按时间先后顺序排列正确的是：

- ①中国女排获得里约奥运会女排比赛冠军
- ②中国（上海）自由贸易实验区正式设立
- ③第九届金砖国家领导人会晤在厦门举行
- ④我国举行纪念中国人民抗日战争暨世界反法西斯战争胜利 70 周年阅兵式

A.②③①④

B.④①②③

C.②④①③

D.②①③④

收起解析

展开全部解析

收藏

纠错

正确答案：C，我的选择：尚未作答。回答错误

统计

答题时间：0 秒，全站正确率：29%，易错项：D。

解析

第一步，本题考查中国史上重大历史事件的时间排序。

第二步，①2016 年 8 月 21 日，里约奥运会上，中国女排 3：1 击败塞尔维亚队夺得冠军。

②中国（上海）自由贸易实验区于 2013 年 9 月 29 日正式成立。③2017 年 9 月 4 日，金砖

国家领导人第九次会晤在厦门国际会议中心举行。④2015 年 9 月 3 日，是中国首个法定的

“中国人民抗日战争胜利纪念日”，我国举行了纪念中国人民抗日战争暨世界反法西斯战争胜利 70 周年阅兵式。故正确的时间顺序是②④①③。

因此，选择 C 选项。

考点

常识判断

历史

中国史

来源

2018年0421内蒙古公务员考试《行测》真题第8题、2018年0421天津公务员考试《行测》真题第20题、2018年0421安徽公务员考试《行测》真题第10题、2018年0421山西公务员考试《行测》真题第20题、2018年0421新疆公务员考试《行测》真题第20题、2018年0421河北公务员考试《行测》真题第18题、2018年0421湖北公务员考试《行测》真题第20题、2018年0421重庆公务员考试《行测》真题第20题、2018年0421黑龙江公务员考试《行测》真题（偏远地区）第19题、2018年0421黑龙江公务员考试《行测》真题（公检法）第6题、2018年0421黑龙江公务员考试《行测》真题（省直）第4题

7、（单选题）2014年，万某开了一家网店，专门销售各类知名品牌的鞋服等商品，后经相关品牌的权利人发现并鉴定万某销售的商品均系仿冒其注册商标的产品。在上述案例中，相关品牌的权利人不可以：

- A.要求工商部门对万某的行为进行查处
- B.没收万某销售的侵权商品
- C.向法院起诉主张赔偿
- D.与万某进行协商解决

收起解析

展开全部解析

收藏

纠错

正确答案：B，我的选择：尚未作答。回答错误

统计

答题时间：0秒，全站正确率：79%，易错项：D。

解析

第一步，本题考查经济法知识并选错误项。

第二步，没收的含义是指将个人的财、物等违法违规所得罚没，收缴。在司法实践中有以下几种不同的情形：（1）刑罚的一种，即没收财产；（2）诉讼上的一种强制措施，如对罪犯用于犯罪活动的本人财物予以没收；（3）行政管理上的一种强制措施，如对违反治安管理的人用于违法活动的本人所有的工具予以没收；（4）行政处罚的一种，如没收违反药品管理法生产、销售的药品。由此可见，能够实施没收的主体需为法律所规定，而不是随意的个体，故品牌权利人无权对万某销售的侵权商品没收。

因此，选择B选项。

拓展

《中华人民共和国商标法》第60条规定，由于商标侵权引起纠纷的，可以协商解决，也可以由商标注册人或者利害关系人可以向人民法院起诉，也可以请求工商行政管理部门处理。故A项、C项和D项均可取。

考点

常识判断

法律

经济法

来源

2018年0421黑龙江公务员考试《行测》真题（偏远地区）第15题、2018年0421黑龙江

公务员考试《行测》真题（公检法）第7题

8、（单选题）对于债务主体关系，如果实际通货膨胀率高于预期的水平，则下列说法正确的是：

- A.债务人和债权人都受损
- B.债务人和债权人都受益
- C.债权人受损，债务人受益
- D.债务人受损，债权人受益

收起解析

展开全部解析

收藏

纠错

正确答案：C，我的选择：尚未作答。回答错误

统计

答题时间：0秒，全站正确率：69%，易错题：A。

解析

第一步，本题考查通货膨胀。

第二步，通货膨胀指的是流通中的货币量超过实际需要的货币量而引起的货币贬值和物价水平全面而持续的上涨，其实质是社会总需求大于社会总供给。如果通货膨胀率高于预测的水平，那么意味着货币贬值更严重。但是，债务人向债权人还款的数量，并没有随着通货膨胀率的提高而增加，由于货币贬值，债权人实际得到的货币的购买力已大不如前，故债权人实际利益会受损。债务人借钱时货币的购买力要高于还钱时的购买力，故债务人实际上得到了更多的利益。

因此，选择C选项。

拓展

通货紧缩是指流通中的货币量少于实际需要的货币量而引起的货币升值和物价水平的下跌，长期的货币紧缩会抑制投资与生产，导致失业率升高及经济衰退。

考点

常识判断

经济

微观经济

来源

2018年0421四川公务员考试《行测》真题第5题、2018年0421黑龙江公务员考试《行测》真题（偏远地区）第12题、2018年0421黑龙江公务员考试《行测》真题（公检法）第8题

9、（单选题）下列名句与体现的哲学原理对应错误的是：

- A.士别三日，当刮目相看——事物是发展变化的
- B.流水不腐，户枢不蠹——运动是物质的根本属性
- C.唇齿相依，唇亡齿寒——事物是普遍联系的
- D.不识庐山真面目，只缘身在此山中——真理是具体且多元的

收起解析

展开全部解析

收藏

纠错

正确答案：D，我的选择：尚未作答。回答错误

统计

答题时间：0 秒，全站正确率：70%，易错项：B。

解析

第一步，本题考查哲学知识并选错误项。

第二步，“不识庐山真面目，只缘身在此山中”的含义是说身在庐山之中，难以看到庐山的全貌，只有跳出庐山，站在高处才能纵览整个庐山。这说明由于人们所处的地位不同，看问题的出发点不同，对客观事物的认识难免有一定的片面性；要认识事物的真相与全貌，必须超越狭小的范围，摆脱主观成见，形成对事情全面整体的认识。该诗句与真理无关。而且真理是客观的，真理只有一个，不是多元的，“真理是具体且多元的”本身说法是错误的。因此，选择 D 选项。

拓展

A 项：“士别三日，当刮目相看”的意思是比喻即使三日不见，别人已有进步，即不能再用老眼光去看人。这说明事物是变化发展的，对应正确。

B 项：“流水不腐，户枢不蠹”的意思是常流的水不发臭，常转的门轴不遭虫蛀。比喻经常运动，生命力才能持久，才有旺盛的活力。这说明运动是物质的根本属性，对应正确。

C 项：“唇齿相依，唇亡齿寒”的意思是唇没有了，牙齿就寒冷，比喻双方息息相关，荣辱与共。这说明事物是普遍联系的，对应正确。

考点

常识判断

政治

哲学

来源

2018 年 0421 黑龙江公务员考试《行测》真题（偏远地区）第 7 题、2018 年 0421 黑龙江公务员考试《行测》真题（公检法）第 9 题

10 、（单选题）下列生活常识中，表述错误的是：

- A. 药物大多饭后服用，是为了减少对胃肠道的刺激
- B. 大米久泡，会使无机盐和可溶性维生素溶于水而损失
- C. 经常用冷水刷牙，容易导致牙龈出血，牙髓痉挛等疾病
- D. 发烧时喝茶能辅助降温，因为茶叶所含的茶碱能降低人体温度

收起解析

展开全部解析

收藏

纠错

正确答案：D，我的选择：尚未作答。回答错误

统计

答题时间：0 秒，全站正确率：66%，易错项：C。

解析

第一步，本题考查生活常识并选错误项。

第二步，发烧时不宜饮茶，因为茶叶中所含茶碱有促进中枢神经兴奋作用，还可以使血管扩张，加快血液循环，增强肌肉收缩能力，有强心的功效，能增高人体温度，使药物的降温作用大减以至消失。

因此，选择 D 选项。

拓展

A 项：对胃肠粘膜有刺激性的药物，如常见的很多止痛药物、铁剂等，饭后服可减轻其对胃

肠粘膜的刺激性；如果饭前服用可引起消化道出血等并发症。

B 项：大米久泡会使米粒中的无机盐和可溶性维生素的一部分溶于水中，再经淘洗，损失更大。

C 项：冷水刷牙容易造成牙龈萎缩，牙齿松动，减短牙齿寿命，长此以往，会导致牙龈出血和牙髓痉挛等疾病。

考点

常识判断

科技

生活常识

来源

2018 年 0421 四川公务员考试《行测》真题第 13 题、2018 年 0421 黑龙江公务员考试《行测》真题（偏远地区）第 9 题、2018 年 0421 黑龙江公务员考试《行测》真题（公检法）第 10 题

11 、（单选题）某患者深夜因剧烈的关节疼痛而惊醒，触摸其手足多个关节，发现有黄白色晶体隆起。造成这种症状的代谢改变最有可能是：

- A.糖的无氧分解增强，生成过多乳酸
- B.嘌呤核苷酸分解增强，生成过多尿酸
- C.肝中脂肪酸氧化增强，生成大量酮体
- D.氨基酸脱氨基作用增强，生成大量尿素

收起解析

展开全部解析

收藏

纠错

正确答案：B，我的选择：尚未作答。回答错误

统计

答题时间：0 秒，全站正确率：51%，易错项：C。

解析

第一步，本题考查晶体性关节炎的表现及成因相关知识。

第二步，根据题干，某患者有关节疼痛，黄白色晶体隆起等表现症状，可断定此患者患有晶体性关节炎。此病的表现为：每年会发作数次，出现慢性关节症状，手足关节活动受限。手足出现增大的痛风石并排出白垩样尿酸盐结晶碎块。血液中尿酸长期增高是痛风发生的关键原因。人体尿酸主要来源于两个方面：（1）人体细胞内蛋白质分解代谢产生的核酸和其它嘌呤类化合物，经一些酶的作用而生成内源性尿酸。（2）食物中所含的嘌呤类化合物、核酸及核蛋白成分，经过消化与吸收后，经一些酶的作用生成外源性尿酸。

因此，选择 B 选项。

拓展

A 项：乳酸的产生主要由于人体突然进行高强度运动。人体产生大量乳酸会使人肌肉酸痛，可通过按摩或者其他全身运动把乳酸消耗掉。

C 项：在普通情况下人类的大脑只能用葡萄糖提供能量，所以人类在低血糖的情况下会头脑发昏，甚至站立不稳。在身体严重缺乏葡萄糖一段时间之后，肝脏利用脂肪酸生成酮体，酮体进入大脑作提供能量。如果人体内酮体太多会导致酮体堆积在血管中。表现为：血液中 PH 值降低，二氧化碳结合率减低，供氧不足，呼吸加快，精神不振，烦躁不安，嗜睡，甚至发生呕吐、腹痛、恶心等症状。

D 项：蛋白质摄入过多会导致体内氨基酸脱氨基作用增强，生成大量的尿素。尿素的分解物

经由肾小球和肾小管排出体外。如果人长期食用高蛋白的饮食结构，将会导致肾脏的负担过重引起肾脏发生病变。

考点

常识判断

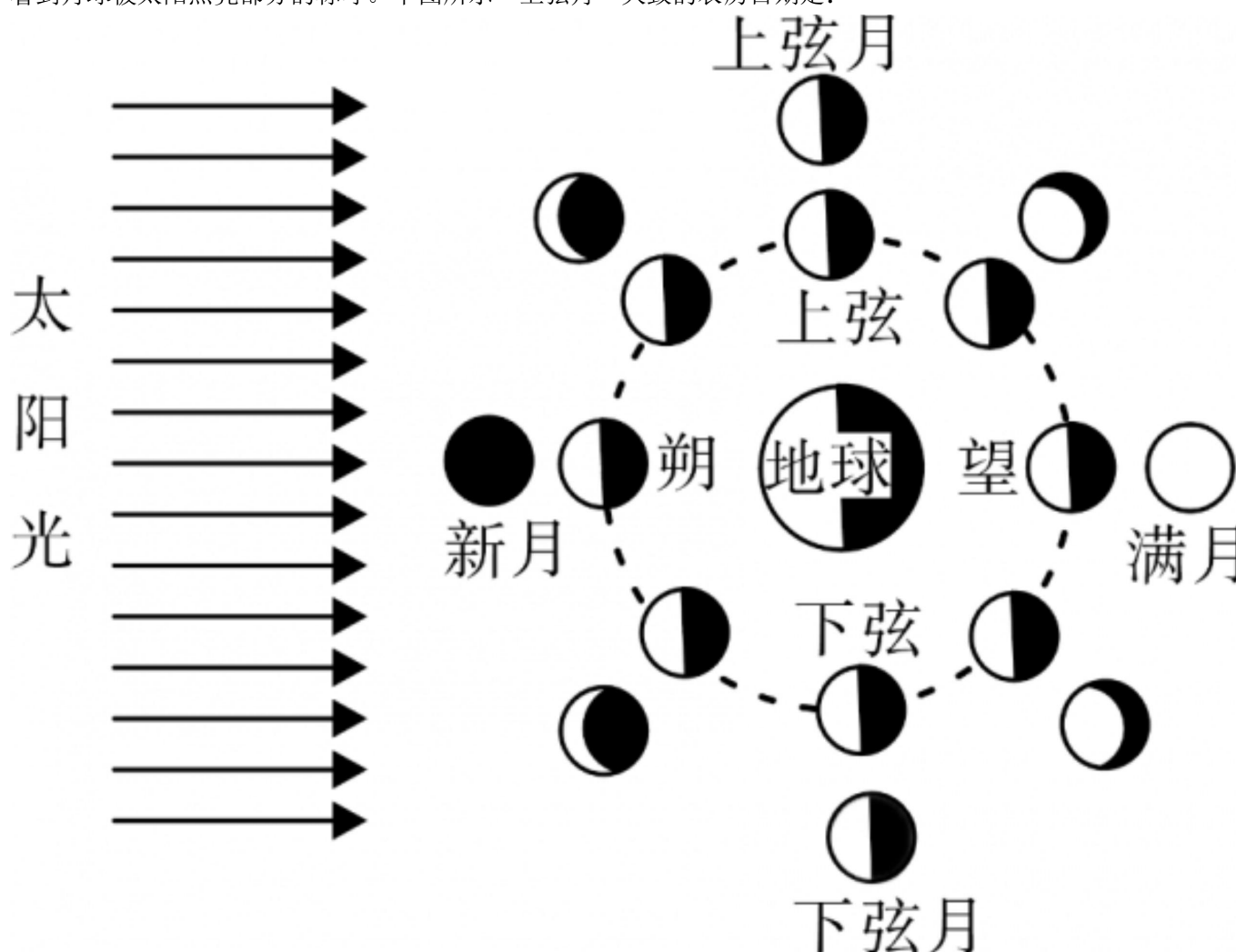
科技

生物学

来源

2018年0421内蒙古公务员考试《行测》真题第11题、2018年0421天津公务员考试《行测》真题第12题、2018年0421安徽公务员考试《行测》真题第13题、2018年0421河北公务员考试《行测》真题第8题、2018年0421湖北公务员考试《行测》真题第5题、2018年0421湖南公务员考试《行测》真题第14题、2018年0421重庆公务员考试《行测》真题第8题、2018年0421青海公务员考试《行测》真题第6题、2018年0421黑龙江公务员考试《行测》真题（公检法）第11题

12、（单选题）“人有悲欢离合，月有阴晴圆缺”，圆缺就是指“月相变化”，即地球上看到月球被太阳照亮部分的称呼。下图所示“上弦月”大致的农历日期是：



- A.初一、初二
- B.初七、初八
- C.十五、十六
- D.廿二、廿三

收起解析

展开全部解析

收藏

纠错

正确答案：B，我的选择：尚未作答。回答错误

统计

答题时间：0 秒，全站正确率：63%，易错题：A。

解析

第一步，本题考查月相变化。

第二步，每月农历初七、初八，月亮上半夜自偏西面出来，月面朝西的状态，称为上弦月。因此，选择 B 选项。

拓展

A 项：新月是一种天文现象，是指在农历的每月初一，当月亮运行到太阳与地球之间时，月亮以黑暗的一面对着地球，并且与太阳同升同落，在地球上看不见月球的情况。所以，初一、初二对应的是新月。

C 项：满月是指月和太阳的黄经差达到 180 度时的瞬间（也称望），以及此时的月相（也称望月）。农历的十五、十六会出现满月。

D 项：在农历每月二十二、二十三日，因为只能看到月亮东边的半圆，所以叫“下弦月”。

补充月相变化歌：初一新月不可见，只缘身陷日地中。初七初八上弦月，半轮圆月面朝西。满月出在十五六，地球一肩挑日月。二十二三下弦月，月面朝东下半夜。

考点

常识判断

科技

地理国情

来源

2018 年 0421 天津公务员考试《行测》真题第 4 题、2018 年 0421 山西公务员考试《行测》真题第 4 题、2018 年 0421 新疆公务员考试《行测》真题第 12 题、2018 年 0421 河北公务员考试《行测》真题第 2 题、2018 年 0421 湖北公务员考试《行测》真题第 4 题、2018 年 0421 重庆公务员考试《行测》真题第 3 题、2018 年 0421 黑龙江公务员考试《行测》真题（公检法）第 12 题

13 、（单选题）下列选项不属于航空航天中货运飞船主要任务的是：

- A. 货运飞船发射升空完成后，会与空间站自动或人工交会对接
- B. 货运飞船进行空间站实验和技术试验，将获取的研究数据回传
- C. 货运飞船为空间站补加推进剂以及空气，带来饮水、食物等补给物资
- D. 货运飞船可充当空间站的“垃圾桶”，将站内废弃物搬运至货运飞船

收起解析

展开全部解析

收藏

纠错

正确答案：B，我的选择：尚未作答。回答错误

统计

答题时间：0 秒，全站正确率：52%，易错题：D。

解析

第一步，本题考查科技成就并选错误项。

第二步，货运飞船是一种专门运送货物到达太空的航天器，其主要任务：一是补给空间站的推进剂消耗、空气泄漏，运送空间站维修和更换设备，延长空间站的在轨飞行寿命；二是运送航天员工作和生活用品，保障空间站航天员在轨中长期驻留和工作；三是运送空间科学实验设备和用品，支持和保障空间站具备开展较大规模空间科学实验与应用的条件。不包括将获取的研究数据回传。

因此，选择 B 选项。

考点

常识判断

科技

科技成就

来源

2018 年 0421 内蒙古公务员考试《行测》真题第 16 题、2018 年 0421 天津公务员考试《行测》真题第 15 题、2018 年 0421 安徽公务员考试《行测》真题第 19 题、2018 年 0421 山西公务员考试《行测》真题第 16 题、2018 年 0421 新疆公务员考试《行测》真题第 22 题、2018 年 0421 河北公务员考试《行测》真题第 12 题、2018 年 0421 湖北公务员考试《行测》真题第 15 题、2018 年 0421 湖南公务员考试《行测》真题第 19 题、2018 年 0421 青海公务员考试《行测》真题第 9 题、2018 年 0421 黑龙江公务员考试《行测》真题（公检法）第 13 题、2018 年 0421 黑龙江公务员考试《行测》真题（省直）第 19 题

14 、（单选题）下列现象的物理解释错误的是：

- A.大银幕观影——光的漫折射
- B.铁轨铺在枕木上——减少压强
- C.露珠成球状——液体表面张力
- D.高压锅蒸煮食物——升高水的沸点

收起解析

展开全部解析

收藏

纠错

正确答案：A，我的选择：尚未作答。回答错误

统计

答题时间：0 秒，全站正确率：38%，易错项：D。

解析

第一步，本题考查物理知识并选错误项。

第二步，电影是将画面投影到专用的幕布上面，放映电影用的幕布，最初由白布制成，后多使用涂有硫酸钡或金属粉末的布坯或塑料制成的漫反射银幕。由此可见，观看电影的原理是利用了光的漫反射，而非漫折射。

因此，选择 A 选项。

拓展

B 项：压强=压力/受力面积，当压力一定的情况下，增大受力面积将减少压强。铁轨铺在枕木上面可以增大受力面积，减少压强。

C 项：作用于液体表面，使液体表面积缩小的力，称为液体表面张力。露珠变成球状正是液体表面张力的作用形成的。

D 项：沸点指纯物质在 1 个标准大气压下沸腾时的温度，也就是液体的饱和蒸气压与外界压强相等时的温度。当液体所受的压强增大时，它的沸点升高；压强减小时，沸点降低。高压锅利用液体在较高气压下沸点会提升这一物理原理，对水施加压力，使水可以达到较高温度

而不沸腾，以加快炖煮食物的效率，用它可以将被蒸煮的食物加热到 100°C 以上，在高海拔地区，使用高压锅可避免水沸点降低而不易煮熟食物的问题。

考点

常识判断

科技

物理

来源

2018 年 0421 黑龙江公务员考试《行测》真题（公检法）第 14 题

15 、（单选题）以下著名建筑物中所处地球纬线最长的是：

- A.长城
- B.自由女神像
- C.狮身人面像
- D.比萨斜塔

收起解析

展开全部解析

收藏

纠错

正确答案：C，我的选择：尚未作答。回答错误

统计

答题时间：0 秒，全站正确率：46%，易错项：A。

解析

第一步，本题考查建筑与纬线的关系。

第二步，纬线是地球表面某点随地球自转所形成的轨迹，纬线成圈状，纬线圈的大小不等，赤道为最大的纬线圈，从赤道向两极纬线圈逐渐缩小，到南、北两极缩小为点。也就是说，低纬度地区的纬线较长，高纬度地区的纬线较短。埃及的狮身人面像位于北纬 30° 左右，是四个选项中纬度最低的，故纬线最长。

因此，选择 C 选项。

拓展

A 项：中国长城位于北纬 36° 至北纬 46° 附近，比狮身人面像的纬度要高，纬线较短。

B 项：纽约的自由女神像位于北纬 40° 左右，比狮身人面像的纬度要高，纬线较短。

D 项：意大利比萨斜塔位于北纬 43° 左右，比狮身人面像的纬度要高，纬线较短。

考点

常识判断

科技

地理国情

来源

2018 年 0421 黑龙江公务员考试《行测》真题（公检法）第 15 题

16 、（单选题）下列我国古代绘画理论名句所表达的美学理念与其他三项不同的是：

- A.到处云山是我师
- B.搜尽奇峰打草稿
- C.论画以形似，见与儿童邻
- D.吾师心，心师目，目师华山

收起解析

展开全部解析

收藏

纠错

正确答案：C，我的选择：尚未作答。回答错误

统计

答题时间：0秒，全站正确率：58%，易错项：B。

解析

第一步，本题考查绘画创作理论并选错误项。

第二步，四个选项的绘画理论名句体现了对绘画的两种不同态度。A项、B项、D项认为绘画要从大自然中寻找素材，向客观世界学习。C项则认为绘画不应该追求形似，而应该注重意蕴和神似，只追求形似，还只是孩子一样的见解。这与其他三项的观点不同。

因此，选择C选项。

拓展

A项：意思是白云和山峦都是我的老师。体现学习自然的理念。

B项：意思是看遍奇峰怪石作为绘画的草稿。体现学习自然的理念。

D项：意思是我学习我的心和眼睛的感觉，而我的这些感觉都来源于华山这个客观实在。体现学习自然的理念。

考点

常识判断

人文

艺术

来源

2018年0421天津公务员考试《行测》真题第14题、2018年0421安徽公务员考试《行测》真题第9题、2018年0421山西公务员考试《行测》真题第13题、2018年0421河北公务员考试《行测》真题第9题、2018年0421湖南公务员考试《行测》真题第12题、2018年0421重庆公务员考试《行测》真题第17题、2018年0421青海公务员考试《行测》真题第8题、2018年0421黑龙江公务员考试《行测》真题（公检法）第16题、2018年0421黑龙江公务员考试《行测》真题（省直）第13题

17、（单选题）下列情形中保险公司须承担给付或赔偿保险金的是：

- A.定期寿险合同到期时，被保险人仍生存
- B.在终身寿险中，受益人故意造成被保险人死亡
- C.在意外伤害保险有效期内，被保险人突发心脏病死亡
- D.在投保重大疾病保险时，投保人故意隐瞒其有先天性疾病

收起解析

展开全部解析

收藏

纠错

正确答案：B，我的选择：尚未作答。回答错误

统计

答题时间：0秒，全站正确率：14%，易错项：C。

解析

第一步，本题考查保险法知识。

第二步，《保险法》第43条规定，受益人故意造成被保险人死亡、伤残、疾病的，或者故意杀害被保险人未遂的，该受益人丧失受益权。若有多名受益人，一名受益人的故意伤害行为，仅仅是该受益人无权领取保险金，其他受益人仍然可以领取保险金。如果全部受益人都

丧失了收益权，那么保险金就作为被保人的遗产处理，不会导致保单终止，保险公司仍需要承担给付或赔偿保险金。因此，在终身寿险中，受益人故意造成被保险人死亡的，该受益人丧失受益权，但是保险公司仍然需要承担给付或赔偿保险金责任。

因此，选择 B 选项。

拓展

A 项：定期寿险，是指在保险合同约定的期间内，如果被保险人死亡或全残，则保险公司按照约定的保险金额给付保险金，若保险期限届满被保险人健在，则保险合同自然终止，保险公司不再承担保险责任，并且不退回保险费，因此不当选。

C 项：意外伤害保险合同是指在保险期间内被保险人因外来的、突发的、非本意的事故造成死亡、伤残时，保险人按合同约定向被保险人或其受益人给付保险金的一种人身保险合同。目前意外伤害保险合同的除外责任包括：（1）故意自杀；（2）疾病；（3）犯罪行为；（4）冒险行为；（5）服毒；（6）煤气；（7）酗酒；（8）战争及类似战争所造成的伤害及死亡；（9）核辐射所造成的伤害。突发心脏病属于疾病，是意外保险合同除外责任的情形，因此不当选。

D 项：《保险法》第 16 条规定，订立保险合同，保险人就保险标的或者被保险人的有关情况提出询问的，投保人应当如实告知。投保人故意或者因重大过失未履行前款规定的如实告知义务，足以影响保险人决定是否同意承保或者提高保险费率的，保险人有权解除合同。前款规定的合同解除权，自保险人知道有解除事由之日起，超过三十日不行使而消灭。自合同成立之日起超过二年的，保险人不得解除合同；发生保险事故的，保险人应当承担赔偿或者给付保险金的责任。投保人故意不履行如实告知义务的，保险人对于合同解除前发生的保险事故，不承担赔偿或者给付保险金的责任，并不退还保险费。题干中，并未标明时间上是 30 天还是 2 年，因此，不属于必然赔偿保险金情形，仅仅是存在赔偿的可能性，因此不当选。

考点

常识判断

法律

法律其它

来源

2018 年 0421 天津公务员考试《行测》真题第 18 题、2018 年 0421 安徽公务员考试《行测》真题第 3 题、2018 年 0421 新疆公务员考试《行测》真题第 25 题、2018 年 0421 河北公务员考试《行测》真题第 15 题、2018 年 0421 湖北公务员考试《行测》真题第 17 题、2018 年 0421 青海公务员考试《行测》真题第 11 题、2018 年 0421 黑龙江公务员考试《行测》真题（偏远地区）第 16 题、2018 年 0421 黑龙江公务员考试《行测》真题（公检法）第 17 题、2018 年 0421 黑龙江公务员考试《行测》真题（省直）第 15 题

18 、（单选题）下列行为构成盗窃罪的是：

- A. 张某无意间将李某埋藏在屋外树下的 10 万元现金挖出，并占为己有，拒不交出
- B. 胡某在任邮政局营业员期间，盗取储户的存折密码，然后冒充储户在取款凭单上签字，提取现金 40 余万元
- C. 张某在给客户的维修网络过程中获知该客户的网游账号和密码，后张某和其朋友利用该账号和密码在网吧玩网游，共消费 3000 余元
- D. 赵某意欲窃走丁某的手提包，在其刚拿到手提包准备离开时被丁某发现。丁某当即抓住手提包，但因力气比较小，最终手提包还是被赵某夺走

收起解析

展开全部解析

收藏

纠错

正确答案：C，我的选择：尚未作答。回答错误

统计

答题时间：0 秒，全站正确率：35%，易错项：B。

解析

第一步，本题考查盗窃罪。

第二步，《中华人民共和国刑法》第 264 条规定，盗窃公私财物，数额较大的，或者多次盗窃、入户盗窃、携带凶器盗窃、扒窃的，属于盗窃罪。根据 2013 年 4 月 4 日实施的《最高人民法院、最高人民检察院关于办理盗窃刑事案件适用法律若干问题的解释》第 1 条的规定，盗窃公私财物价值一千元至三千元以上、三万元至十万元以上、三十万元至五十万元以上的，应当分别认定为刑法第 264 条规定的“数额较大”、“数额巨大”、“数额特别巨大”。而 C 选项张某在给客户维修网络过程中，获知他人游戏账号，并且消费 3000 余元，属于盗窃罪。

因此，选择 C 选项

拓展

A 项：《中华人民共和国刑法》第 270 条规定，侵占罪是指以非法占有为目的，将代为保管的他人财物、遗忘物或者埋藏物非法占为己有，数额较大，拒不交还的行为。张某无意间将李某埋藏的 10 万现金挖出，并占为己有，拒不交出，构成侵占罪。

B 项：《中华人民共和国刑法》第 266 条规定，诈骗罪是指以非法占有为目的，用虚构事实或者隐瞒真相的方法，骗取数额较大的公私财物的行为。胡某在盗取储户的存折密码，然后冒充储户在取款凭单上签字，提取现金 40 余万元，属于诈骗罪的构成要件。

D 项：《中华人民共和国刑法》第 267 条规定，抢夺公私财物，数额较大的，或者多次抢夺的行为属于抢夺罪。赵某开始是想盗窃丁某的手提包，被丁某发现也只是将丁某的手提包夺走，主观上只是为了抢夺财物，其行为构成了抢夺罪。

考点

常识判断

法律

刑法

来源

2018 年 0421 四川公务员考试《行测》真题第 4 题、2018 年 0421 黑龙江公务员考试《行测》真题（公检法）第 18 题

19 、（单选题）下列情形不可能发生在中国宋代的是：

- A. 农户张三用铁犁耕地
- B. 士兵李四用火药攻城
- C. 商人王五用交子订货
- D. 厨师赵六用番茄制酱

收起解析

展开全部解析

收藏

纠错

正确答案：D，我的选择：尚未作答。回答错误

统计

答题时间：0 秒，全站正确率：75%，易错项：B。

解析

第一步，本题考查中国史并选错误项。

第二步，番茄原产于南美洲，明代传入中国，宋代不可能用番茄制酱。

因此，选择 D 选项。

拓展

A 项：铁犁最早出现在中国的春秋战国时期，宋代可以用铁犁耕地。

B 项：火药是我国四大发明之一，在隋唐时期发明，唐朝末年，火药已被用于军事。

C 项：我国最早的纸币交子就是出现在宋代。

考点

常识判断

历史

中国史

来源

2018 年 0421 四川公务员考试《行测》真题第 9 题、2018 年 0421 黑龙江公务员考试《行测》真题（偏远地区）第 14 题、2018 年 0421 黑龙江公务员考试《行测》真题（公检法）第 19 题

20 、（单选题）关于中国古代书画艺术作品不正确的是：

A.《清明上河图》描绘了北宋京城汴梁繁华景象

B.《快雪时晴帖》曾被乾隆收藏于三希堂

C.《步辇图》与松赞干布迎娶文成公主史实有关

D.《洛神赋图》是吴道子根据曹植名篇《洛神赋》创作而成

收起解析

展开全部解析

收藏

纠错

正确答案：D，我的选择：尚未作答。回答错误

统计

答题时间：0 秒，全站正确率：31%，易错项：B。

解析

第一步，本题考查书画艺术并选错误项。

第二步，《洛神赋图》是东晋画家顾恺之根据曹植名篇《洛神赋》创作而成的作品，并非吴道子的作品。

因此，选择 D 选项。

拓展

A 项：《清明上河图》是中国十大传世名画之一，为北宋风俗画，是北宋画家张择端仅见的存世精品，属国宝级文物，现藏于北京故宫博物院。这幅画作生动记录了中国十二世纪北宋都城东京（又称汴京，今河南开封）的城市面貌和当时社会各阶层人民的生活状况，是北宋时期都城汴京当年繁荣的见证，也是北宋城市经济情况的写照。

B 项：《快雪时晴帖》传为东晋书法家王羲之创作的行书书法作品，纸本墨迹，现收藏于台北故宫博物院。清乾隆十一年（1746 年）进入内府，乾隆将此帖与王献之《中秋帖》、王洵《伯远帖》同贮于养心殿温室内的三希堂。

C 项：《步辇图》是唐朝画家阎立本的名作之一，内容反映的是吐蕃（今西藏）王松赞干布迎娶文成公主入藏的故事，它是汉藏民族友好情谊的历史见证。

考点

常识判断

人文

艺术

来源

2018年0421黑龙江公务员考试《行测》真题（公检法）第20题

21、（单选题）艺术人类学的田野调查，是将调查事项作为一个整体，从形式到内涵，由表及里，_____，考察其艺术语境、渊源、内涵、象征、法则及其实际发挥的社会功能，同时更关注艺术事项的主体，并从中发现他们独特的艺术审美和文化价值。

填入划横线部分最恰当的一项是：

A.由浅到深

B.深入浅出

C.条分缕析

D.逐层论证

收起解析

展开全部解析

收藏

纠错

正确答案：B，我的选择：尚未作答。回答错误

统计

答题时间：0秒，全站正确率：20%，易错题：A。

解析

第一步，分析语境。“形式到内涵”“由表及里”都指从表面现象看到本质。横线处填写的词语要与前文构成并列关系，意思应相近，因此也应阐述“形式”与“内涵”或者“表面”与“本质”的关系。

第二步，辨析选项。A项“由浅到深”指逐步深入，强调的是一种程度的变化。C项“条分缕析”形容分析得很细致、很有条理。D项“逐层论证”指从不同的角度、方面去论证观点。A项、C项和D项都没有提到“形式”与“内涵”或“表面”与“本质”的关系。B项“深入浅出”指言论或文章的主题深刻，但在语言文字的表达方式上却浅显易懂。“主题”是“内涵”“本质”，“表达方式”是“形式”“表面”。

因此，选择B选项。

考点

言语理解与表达

逻辑填空

成语辨析

来源

2018年0421安徽公务员考试《行测》真题第21题、2018年0421新疆公务员考试《行测》真题第26题、2018年0421河北公务员考试《行测》真题第37题、2018年0421湖南公务员考试《行测》真题第37题、2018年0421重庆公务员考试《行测》真题第25题、2018年0421黑龙江公务员考试《行测》真题（公检法）第21题、2018年0421黑龙江公务员考试《行测》真题（省直）第21题

22、（单选题）要做出正确经济预测，并不容易，某些独到的经济学家亦可以凭先见之明赢得掌声；反之，如果先前做出的大胆假设落空，往往会变成_____的笑话。

填入划横线部分最恰当的一项是：

A.荒腔走板

- B.颜面尽失
- C.人尽皆知
- D.哗众取宠

收起解析

展开全部解析

收藏

纠错

正确答案：A，我的选择：尚未作答。回答错误

统计

答题时间：0 秒，全站正确率：28%，易错项：D。

解析

第一步，分析语境，前文说某些独到的经济学家可以凭正确的“先见之明”赢得掌声，“反之”表示前后语义相反，横线处填入的成语形容的是“笑话”并且与“先前做出的大胆假设落空”相对应。

第二步，辨析选项。A项“荒腔走板”原意是指演员唱曲音调不准、不和板眼，现多用来比喻说话离题或举动超出适当尺度，符合语境。B项“颜面尽失”一般说“令人颜面尽失”，主语为人，形容“笑话”不恰当，不符合语境，排除B项。C项“人尽皆知”指人人知道，这里强调的是大胆假设落空，而不是人们都知道，不符合语境，排除C项。D项“哗众取宠”指以浮夸的言论迎合群众，骗取群众的信赖和支持，不符合语境，排除D项。

因此，选择A选项。

考点

言语理解与表达

逻辑填空

成语辨析

来源

2018年0421黑龙江公务员考试《行测》真题（公检法）第22题

23、（单选题）古代中国数秘术与古希腊数秘术的区别在于，前者侧重解象，后者侧重数术。中国的数秘术后来发展成了更具意义的宇宙形而上学，与算术渐行渐远，_____。

填入划横线部分最恰当的一项是：

- A.南辕北辙
- B.分道扬镳
- C.缘木求鱼
- D.背道而驰

收起解析

展开全部解析

收藏

纠错

正确答案：B，我的选择：尚未作答。回答错误

统计

答题时间：0 秒，全站正确率：62%，易错项：D。

解析

第一步，分析语境。根据文段内容“前者侧重解象，后者侧重数术”“中国的数秘术后来发展成了宇宙形而上学，与算术渐行渐远”可知，中国的数秘术和算术一开始是一回事，后来二者走上了不同的道路。

第二步，辨析选项。A项“南辕北辙”指目的和行动不一致，是同一个主体的行动和目的，而文段“中国的数秘术”和“算术”是两个主体，不符合语境，排除A项。B项“分道扬镳”指分路而行，比喻目标不同，各走各的路或各干各的事，符合语境。C项“缘木求鱼”比喻方向或办法不对头，不可能达到目的，不符合语境，排除C项。D项“背道而驰”比喻方向和目的完全相反，语义程度过重，排除D项。

因此，选择B选项。

考点

言语理解与表达

逻辑填空

成语辨析

来源

2018年0421内蒙古公务员考试《行测》真题第48题、2018年0421天津公务员考试《行测》真题第23题、2018年0421山西公务员考试《行测》真题第22题、2018年0421河北公务员考试《行测》真题第38题、2018年0421湖北公务员考试《行测》真题第32题、2018年0421湖南公务员考试《行测》真题第38题、2018年0421重庆公务员考试《行测》真题第22题、2018年0421黑龙江公务员考试《行测》真题（偏远地区）第22题、2018年0421黑龙江公务员考试《行测》真题（公检法）第23题、2018年0421黑龙江公务员考试《行测》真题（省直）第23题

24、（单选题）国家主席习近平在G20汉堡峰会上对全球经济治理的建议极具针对性。加强宏观政策_____，有助于促进各方_____，避免沟通不畅或是以邻为壑，进而打造开放共赢的合作模式。

依次填入划横线部分最恰当的一项是：

- A.协调 互动
- B.调控 互通
- C.沟通 联动
- D.交流 联通

收起解析

展开全部解析

收藏

纠错

正确答案：C，我的选择：尚未作答。回答错误

统计

答题时间：0秒，全站正确率：18%，易错题：B。

解析

第一步，分析第一空。根据下文“避免沟通不畅或是以邻为壑”可知，文段强调的是“沟通交流”。A项“协调”指和谐一致，配合得当或使……配合得当；B项“调控”是调节、控制的意思。二者均不符合语境，排除A项和B项。

第二步，分析第二空。根据“进而打造开放共赢的合作模式”可知，应该是促进各方的相互配合。C项“联动”原意是指若干个相关联的事物，一个运动或变化时，其他的也跟着运动或变化，即联合行动，符合文段中提到的“打造开放共赢的合作模式”这个语境。D项“联通”指接连而又相通，不符合上述语境，排除D项。

因此，选择C选项。

拓展

互通：互相沟通、交换。

考点

言语理解与表达

逻辑填空

实词辨析

来源

2018 年 0421 内蒙古公务员考试《行测》真题第 47 题、2018 年 0421 山西公务员考试《行测》真题第 32 题、2018 年 0421 河北公务员考试《行测》真题第 28 题、2018 年 0421 湖北公务员考试《行测》真题第 25 题、2018 年 0421 重庆公务员考试《行测》真题第 36 题、2018 年 0421 青海公务员考试《行测》真题第 33 题、2018 年 0421 黑龙江公务员考试《行测》真题（公检法）第 24 题、2018 年 0421 黑龙江公务员考试《行测》真题（省直）第 24 题

25 、（单选题）欧盟委员会发布消息称，回顾全球“金融危机”以来的_____，欧盟采取得当的_____，有效地控制住了危机的蔓延与发展，从而在最近几年取得了经济持续增长的佳绩。

依次填入划横线部分最恰当的一项是：

- A.历史 办法
- B.历程 措施
- C.经历 手段
- D.经过 举措

收起解析

展开全部解析

收藏

纠错

正确答案：B，我的选择：尚未作答。回答错误

统计

答题时间：0 秒，全站正确率：87%，易错题：D。

解析

第一步，分析第一空。根据“回顾”和“‘金融危机’以来的”可知，该空需要与“回顾”搭配，且表示一种发展的过程。A 项“历史”侧重过去的经历或事实，不能与“以来的”搭配，不符合语境，排除 A 项。C 项“经历”指亲身见过、做过或遭受过的事，主语是人，文段修饰的对象是全球危机，不符合语境，排除 C 项。D 项“经过”指经历的过程，作名词时常用于口语，如事情的经过，与文段语体色彩不一致，排除 D 项。B 项“历程”指“经历的过程”，符合语境。答案锁定 B 选项。

第二步，验证第二空。“措施”指的是针对情况采取的处理办法，文段中有针对的对象，即“危机的蔓延与发展”，故“措施”放在文段中符合语境。

因此，选择 B 选项。

拓展

举措：举动；措施。手段：①为达到某种目的而采取的具体方法；②本领；能耐；③待人处世所用的不正当的方法。

考点

言语理解与表达

逻辑填空

实词辨析

来源

2018 年 0421 内蒙古公务员考试《行测》真题第 50 题、2018 年 0421 天津公务员考试《行

测》真题第 32 题、2018 年 0421 山西公务员考试《行测》真题第 35 题、2018 年 0421 河北公务员考试《行测》真题第 31 题、2018 年 0421 湖北公务员考试《行测》真题第 28 题、2018 年 0421 重庆公务员考试《行测》真题第 24 题、2018 年 0421 黑龙江公务员考试《行测》真题（偏远地区）第 25 题、2018 年 0421 黑龙江公务员考试《行测》真题（公检法）第 25 题、2018 年 0421 黑龙江公务员考试《行测》真题（省直）第 25 题

26 、（单选题）土豆放置在潮湿环境中容易发芽。土豆发芽后会产生一种毒素叫做龙葵碱。龙葵碱对胃肠道黏膜有较强的刺激性，会产生_____效果，对中枢神经有麻痹作用。中毒的主要症状为胃痛加剧，恶心、呕吐，呼吸困难、急促，伴随全身虚弱_____，严重者可导致死亡。

依次填入划横线部分最恰当的一项是：

- A.消蚀 无力
- B.销蚀 衰微
- C.侵蚀 乏力
- D.腐蚀 衰竭

收起解析

展开全部解析

收藏

纠错

正确答案：D，我的选择：尚未作答。回答错误

统计

答题时间：0 秒，全站正确率：26%，易错项：C。

解析

第一步，分析第一空。第一空讲的是龙葵碱对胃肠道黏膜的作用，会破坏胃肠道黏膜。B 项“销蚀”指消损腐蚀；D 项“腐蚀”指通过化学作用，使物体逐渐消损破坏。两者均符合语境。A 项“消蚀”指由于风或其他气候因素所致的侵蚀而使地面降低；C 项“侵蚀”指逐渐侵害使变坏。两者都不符合语境，排除 A 项和 C 项。

第二步，分析第二空。第二空讲的是中毒症状，中毒后全身应该是因病而生理机能极度衰弱。D 项“衰竭”指由于疾病严重而生理机能极度减弱，符合语境。B 项“衰微”指（国家、民族等）衰弱，不兴旺，不符合语境，排除 B 项。

因此，选择 D 选项。

拓展

无力：①没有力量（多用于抽象事物）；②没有气力。乏力：①身体疲倦，没有力气；②没有能力；能力不足。

考点

言语理解与表达

逻辑填空

实词辨析

来源

2018 年 0421 内蒙古公务员考试《行测》真题第 46 题、2018 年 0421 山西公务员考试《行测》真题第 31 题、2018 年 0421 河北公务员考试《行测》真题第 27 题、2018 年 0421 湖南公务员考试《行测》真题第 27 题、2018 年 0421 黑龙江公务员考试《行测》真题（公检法）第 26 题

27 、（单选题）泥石流的_____依赖于三个危险因素：沉积物中的粘土、大量的水快速涌入以及山区的地势差异。发生泥石流时，地上的各种大小石头和泥，小到直径只有零点几

微米的黏土，大到数十厘米乃至更大的巨型漂砾，都有可能_____在泥石流中“泥沙俱下”。
依次填入划横线部分最恰当的一项是：

- A. 诱发 裹挟
- B. 成因 汇集
- C. 出现 夹杂
- D. 引发 聚集

收起解析

展开全部解析

收藏

纠错

正确答案：A，我的选择：尚未作答。回答错误

统计

答题时间：0 秒，全站正确率：56%，易错项：C。

解析

第一步，突破口在第二空。根据“大量的水快速涌入”“小到……都有可能_____到泥石流中‘泥沙俱下’”可知，所填的词语含有“卷入”的意思。B项“汇集”指聚集；C项“夹杂”指掺杂，混杂；D项“聚集”指凑在一起。三者都没有卷入的意思，排除B项、C项和D项。A项“裹挟”指风、流水等把别的东西卷入，使随着移动，符合语境。答案锁定A选项。

第二步，验证第一空。“诱发”有致使发生的意思，填入横线处是说明泥石流发生的因素，符合文意。

因此，选择A选项。

拓展

诱发：①诱导启发；②由一种导致发生另一种。成因：事物形成的原因。引发：引起；触发。

考点

言语理解与表达

逻辑填空

实词辨析

来源

2018年0421内蒙古公务员考试《行测》真题第30题、2018年0421天津公务员考试《行测》真题第27题、2018年0421安徽公务员考试《行测》真题第26题、2018年0421山西公务员考试《行测》真题第26题、2018年0421新疆公务员考试《行测》真题第29题、2018年0421河北公务员考试《行测》真题第22题、2018年0421湖北公务员考试《行测》真题第21题、2018年0421湖南公务员考试《行测》真题第22题、2018年0421重庆公务员考试《行测》真题第31题、2018年0421青海公务员考试《行测》真题第25题、2018年0421黑龙江公务员考试《行测》真题（公检法）第27题、2018年0421黑龙江公务员考试《行测》真题（省直）第30题

28、（单选题）崇尚和平、和睦、和谐的理念，深深植根于中华民族绵延五千余载的_____文明。中国人民从苦难中走过来，深知和平的珍贵、发展的_____，怕的就是动荡，求的就是稳定，盼的就是天下太平。

依次填入划横线部分最恰当的一项是：

- A. 古老 意义
- B. 悠久 价值
- C. 辉煌 重要

D.灿烂 方向

收起解析

展开全部解析

收藏

纠错

正确答案：B，我的选择：尚未作答。回答错误

统计

答题时间：0 秒，全站正确率：47%，易错项：A。

解析

第一步，分析第一空。根据“绵延五千余载”可知，第一个空应填入能体现该文明传承下来且时间很久的词语。对比四个选项，只有B项“悠久”有传承及时间长久之意。A项“古老”指陈旧的，时代久远的，体现不出“绵延”这层含义，排除A项。C项“辉煌”指光辉灿烂的，杰出的；D项“灿烂”指光彩鲜明耀眼。两者均不能体现时间久，排除C项和D项。答案锁定B选项。

第二步，验证第二空。“和平的珍贵、发展的_____”这句话是由顿号隔开的并列结构，故横线处所填词语要与“珍贵”相关，“价值”符合语境。

因此，选择B选项。

拓展

意义：①语言文字或其他信号所表示的内容；②价值；作用。价值：①体现在商品里的社会必要劳动；②用途或积极作用。

考点

言语理解与表达

逻辑填空

实词辨析

来源

2018年0421内蒙古公务员考试《行测》真题第44题、2018年0421天津公务员考试《行测》真题第21题、2018年0421山西公务员考试《行测》真题第29题、2018年0421新疆公务员考试《行测》真题第28题、2018年0421河北公务员考试《行测》真题第25题、2018年0421湖北公务员考试《行测》真题第22题、2018年0421青海公务员考试《行测》真题第21题、2018年0421黑龙江公务员考试《行测》真题（公检法）第28题、2018年0421黑龙江公务员考试《行测》真题（省直）第29题

29、（单选题）历史上许多学问大家都以文风清新、文字通达著称。然而当下学界，文风_____问题突出。拗口难懂的学术文章不仅使普通大众_____，甚至令同行学者“不忍卒读”。

依次填入划横线部分最恰当的一项是：

- A.生硬 深恶痛绝
- B.艰深 退避三舍
- C.粗鄙 望而生畏
- D.晦涩 敬而远之

收起解析

展开全部解析

收藏

纠错

正确答案：D，我的选择：尚未作答。回答错误

统计

答题时间：0 秒，全站正确率：72%，易错题：C。

解析

第一步，突破口为第二空。根据“不仅……甚至……”可知第二空要比“不忍卒读”的程度要轻，A项“深恶痛绝”和C项“望而生畏”的程度比“不忍卒读”的语义程度更重，排除A项和C项。B项“退避三舍”强调为了避免冲突而主动的退让，形容“普通大众对学术文章的态度”不恰当，排除B项。D项“敬而远之”意为尊敬却有所顾虑不愿接近，符合大众对于拗口难懂的学术文章的态度。锁定D项。

第二步，验证第一空。“文风晦涩”与“拗口难懂”相对应，符合语境。

因此，选择D选项。

考点

言语理解与表达

逻辑填空

实词与成语综合考查

来源

2018年0421黑龙江公务员考试《行测》真题（偏远地区）第30题、2018年0421黑龙江公务员考试《行测》真题（公检法）第29题

30、（单选题）细胞表面的磷脂酰丝氨酸是促进HIV与细胞融合的重要辅因子，是HIV入侵细胞过程中的“_____”目标，若这一目标不存在了，则会影响HIV的入侵。因此，_____外源性磷脂酰丝氨酸，或抑制TMEM16F蛋白，就会抑制病毒蛋白的介导融合，从而阻止HIV对细胞的感染。

依次填入划横线部分最恰当的一项是：

- A. 绑架 阻断
- B. 绑定 阻止
- C. 锁定 阻拦
- D. 捆绑 阻隔

收起解析

展开全部解析

收藏

纠错

正确答案：A，我的选择：尚未作答。回答错误

统计

答题时间：0 秒，全站正确率：44%，易错题：C。

解析

第一步，分析第一空。根据“磷脂酰丝氨酸是促进HIV与细胞融合的重要辅因子”和“若这一目标不存在了，则会影响HIV的入侵”，第一空应体现HIV入侵细胞和磷脂酰丝氨酸绑在一起的含义。C项“锁定”指使东西固定不动，没有“绑在一起”的意思，排除C项。

第二步，分析第二空。根据后文提示信息“就会抑制病毒蛋白的介导融合，从而阻止HIV对细胞的感染”，可知填入第二空的词要达到“阻止”的效果。A项“阻断”侧重中断其发展，符合语境。B项“阻止”与后文语义重复。D项“阻隔”指两地之间不能相通或不易来往。不符合语境，排除D项。

因此，选择A选项。

拓展

绑架：用暴力把人劫走。锁定：①使固定不动；②最终确定；③紧跟定；④不能修改。

考点

言语理解与表达

逻辑填空

实词辨析

来源

2018 年 0421 天津公务员考试《行测》真题第 30 题、2018 年 0421 湖北公务员考试《行测》真题第 24 题、2018 年 0421 湖南公务员考试《行测》真题第 35 题、2018 年 0421 重庆公务员考试《行测》真题第 35 题、2018 年 0421 青海公务员考试《行测》真题第 27 题、2018 年 0421 黑龙江公务员考试《行测》真题（公检法）第 30 题

31 、（单选题）跟其他射电望远镜一样，中国大射电望远镜最主要的两大科学目标是_____宇宙中的中性氢和观测脉冲星，前者是研究宇宙大尺度物理学，以_____宇宙起源和演化，后者是研究极端状态下的物质结构与物理规律。

依次填入划横线部分最恰当的一项是：

A.巡弋 探究

B.巡查 探讨

C.巡视 探索

D.巡访 探寻

收起解析

展开全部解析

收藏

纠错

正确答案：C，我的选择：尚未作答。回答错误

统计

答题时间：0 秒，全站正确率：45%，易错题：A。

解析

第一步，分析第一空。所填的词语应体现射电望远镜的作用，“射电望远镜”一般是用来观察事物的，所填的词语应含有“看”的意思。A 项“巡弋”指军舰在水域巡逻，不能与“射电望远镜”搭配，排除 A 项。B 项“巡查”指来往各处查看，搭配对象多是人，不与“射电望远镜”搭配，排除 B 项。C 项“巡视”有观察意思，符合语境，保留 C 项。D 项“巡访”指巡查察访，搭配对象多是人，不能与“射电望远镜”搭配，排除 D 项。答案锁定 C 项。

第二步，验证第二空。“探索”指探寻、求索，代入第二空，搭配通顺，语义明确。

因此，选择 C 选项。

拓展

探究：探索研究。探讨：探索研讨。探寻：探索寻找。

考点

言语理解与表达

逻辑填空

实词辨析

来源

2018 年 0421 天津公务员考试《行测》真题第 29 题、2018 年 0421 重庆公务员考试《行测》真题第 34 题、2018 年 0421 青海公务员考试《行测》真题第 26 题、2018 年 0421 黑龙江公务员考试《行测》真题（公检法）第 31 题

32 、（单选题）这部著作把对历史文化追索的触角更深入地探触到历史时空的幽微之处，更敏锐地_____虽然缥缈却血脉相连的文化遗产，让远逝的鸿影显现出朦胧的真相，使冰

冷荒漠的历史有了人性的_____。他将华夏祖先的图腾放置在人类文明进步的历史大背景中予以_____，在历史与现实之间辗转反侧、抒发见解，带给我们新的思考。

依次填入划横线部分最恰当的一项是：

- A.感知 温度 观照
- B.揭示 弱点 洞察
- C.探究 纠葛 揣度
- D.体悟 温暖 臆想

收起解析

展开全部解析

收藏

纠错

正确答案：A，我的选择：尚未作答。回答错误

统计

答题时间：0 秒，全站正确率：71%，易错题：D。

解析

第一步，分析第一空。根据提示信息“触角”可知，第一空所填入的词语有“触角带来的感觉”之意，且能够修饰“文化遗产”，B项的“揭示”与“文化遗产”搭配不当，排除B项。

第二步，分析第二空。填入的词语应与横线前的“冰冷荒漠”形成对比关系，A项的“温度”和D项的“温暖”，均可对应“冰冷荒漠”，符合语境。C项的“纠葛”与“冰冷荒漠”无法形成语义相反、感情倾向相反的关系，排除C项。

第三步，分析第三空。文段想要表达此著作将祖先的图腾结合历史背景予以客观思考。D项的“臆想”指主观想象，多用于消极语境，与文段语义不符且感情倾向不一致，排除D项。

A项的“观照”指显示、反映，也指仔细观察，审视，符合语境。

因此，选择A选项。

考点

言语理解与表达

逻辑填空

实词辨析

来源

2018年0421山西公务员考试《行测》真题第38题、2018年0421湖北公务员考试《行测》真题第31题、2018年0421湖南公务员考试《行测》真题第50题、2018年0421重庆公务员考试《行测》真题第39题、2018年0421青海公务员考试《行测》真题第32题、2018年0421黑龙江公务员考试《行测》真题（偏远地区）第35题、2018年0421黑龙江公务员考试《行测》真题（公检法）第32题

33、（单选题）文化研究日益成为一个渗透各学科的“_____”，几乎任何学科都可以搭上文化研究的快车，加上文化研究的课题常常与现实问题紧密相关，当今世界新问题_____，新课题发展不断，导致文化研究发展的庞大与不可节制。虽然文化研究如今依然风头强劲，其研究本身臃肿不堪已是事实，急需瘦身。

依次填入划横线部分最恰当的一项是：

- A.万金油 接二连三
- B.万花筒 此起彼伏
- C.巨无霸 层出不穷
- D.杂货铺 日新月异

收起解析

展开全部解析

收藏

纠错

正确答案：C，我的选择：尚未作答。回答错误

统计

答题时间：0秒，全站正确率：39%，易错项：A。

解析

第一步，突破口在第二空。根据“新课题发展不断”可知当今世界新问题很多，不断出现，能够体现的只有C项“层出不穷”。A项“接二连三”形容连接不断，但用法不当，不能直接作谓语，通常表述为“接二连三地出现”。B项“此起彼伏”指的是这里起来，那里落下，常常搭配的对象为“掌声或声音”，不能搭配“新问题”。D项“日新月异”指的是每天都在更新，每月都有变化。指发展或进步迅速，不断出现新事物、新气象，感情色彩积极，与“新问题”的感情色彩不符，不能搭配。因此，答案锁定C项。

第二步，验证第一空。根据“几乎任何学科都可以搭上文化研究的快车”“与现实问题紧密相关”表明，文化研究涉及领域多，作用多，渗透各学科。C项的“巨无霸”指的是在同类中最强或最大的人或事物，用来形容文化研究的重要性，符合语境。

因此，选择C选项。

拓展

万金油：形容一种人，各个领域的知识和事情都懂，在哪里都能很好的适应，能胜任种种工作，善于应对各种突发事件。万花筒：一种光学玩具，只要往筒眼里一看，就会出现一朵美丽的“花”样，将它稍微转一下，又会出现另一种花的图案，所以叫“万花筒”。杂货铺：售卖各种日用零星货物的店铺。

考点

言语理解与表达

逻辑填空

实词与成语综合考查

来源

2018年0421黑龙江公务员考试《行测》真题（公检法）第33题

34、（单选题）世界上很多国家和地区的传统手工艺，比如制作某种手工工艺的_____，某种食品的配方和制作方式等，多由家族代代传承，每一代或多或少都有所改进，日臻完善，成为整个家族赖以_____的根本，这种产品逐渐成为当地响当当的文化符号。

依次填入划横线部分最恰当的一项是：

- A.秘技 薪火相传
- B.诀窍 安身立命
- C.秘诀 安居乐业
- D.窍门 兴旺发达

收起解析

展开全部解析

收藏

纠错

正确答案：B，我的选择：尚未作答。回答错误

统计

答题时间：0秒，全站正确率：46%，易错项：A。

解析

第一步，突破口在第二空。文段说的是传统手艺经过传承，每一代改进，日臻完善，成为整个家族的根本。A项“薪火相传”古时候比喻形骸有尽而精神不灭，后人用来比喻学问和技艺代代相传，不能与横线前的“家族”搭配。B项“安身立命”指生活有着落，精神有所寄托，符合语境。C项“安居乐业”指安定愉快地生活和劳动。D项“兴旺发达”指事物或事业充分发展、欣欣向荣的景象。C项和D项均与“赖以”不搭配，可以排除。答案锁定B项。第二步，验证第一空。“诀窍”指关键性的好办法，符合文意。

因此，选择B选项。

拓展

秘技：指秘密的技法，不能外传。秘诀：不为人知的解决问题的巧妙方法。窍门：解决问题的有效法子。

考点

言语理解与表达

逻辑填空

实词与成语综合考查

来源

2018年0421黑龙江公务员考试《行测》真题（公检法）第34题

35、（单选题）在全球化的视野下，每个城市都与世界上其他地区发生着直接或间接的联系。这就使得中国城市的发展不能_____，隔绝与其他地区的联系。现代城市的发展越来越趋向于多元化，每个城市都_____自己的特征，形成特色鲜明的城市单位，这意味着城市之间的互补性增强，城市之间除竞争以外更多的是合作关系。

依次填入划横线部分最恰当的一项是：

- A.闭门造车 强调
- B.画地为牢 突出
- C.停滞不前 依赖
- D.固步自封 立足

收起解析

展开全部解析

收藏

纠错

正确答案：D，我的选择：尚未作答。回答错误

统计

答题时间：0秒，全站正确率：32%，易错题：A。

解析

第一步，分析第一空。根据文段中“每个城市都与世界上其他地区发生着直接或间接的联系”和后文解释性语句“隔绝与其他地区的联系”可知，横线处强调中国的发展不能将自己封闭起来，要与外面联系。A项“闭门造车”指关起门来造车子，比喻脱离实际，不与外界交流，只凭主观办事。B项“画地为牢”指在地上画一个圈当做监狱，比喻只许在指定的范围内活动。D项“固步自封”指限制在一定范围内，比喻守着老一套，不求进步。A项、B项和D项均符合语境。C项“停滞不前”指停止下来，不继续前进，未能体现隔绝的含义，且中国城市还在发展，排除C项。

第二步，分析第二空。根据“形成特色鲜明的城市单位”可知应该是建立在自身的特征基础之上才能形成鲜明特色的。A项“强调”意思是特别提出、着重提出；B项“突出”指超过一般地显露出来。两者均不符合语境，可排除A项和B项。D项“立足”指处于某种立场，符合语境。

因此，选择 D 选项。

考点

言语理解与表达

逻辑填空

实词与成语综合考查

来源

2018 年 0421 四川公务员考试《行测》真题第 19 题、2018 年 0421 黑龙江公务员考试《行测》真题（公检法）第 35 题

36 、（单选题）市场放缓，有实力的车企调整对策，使得自主品牌车企在乘用车市场的表现呈现出两极分化的态势。长安、长城这样趋于成熟的自主品牌车企开始_____、越走越好，但也有一些企业走到了生死存亡的关头，已到_____的地步。

依次填入划横线部分最恰当的一项是：

A.势如破竹 如履薄冰

B.所向披靡 进退维谷

C.如日中天 如临深渊

D.激流勇进 骑虎难下

收起解析

展开全部解析

收藏

纠错

正确答案：A，我的选择：尚未作答。回答错误

统计

答题时间：0 秒，全站正确率：41%，易错项：C。

解析

第一步，分析第一空。从“越走越好”可知成熟的自主品牌车企正在不断发展，还没有达到最好的程度。A 项“势如破竹”比喻节节胜利，毫无阻碍。B 项“所向披靡”比喻力量所达到的地方，一切障碍全被扫除。D 项“激流勇进”形容在险境中积极进取，不退缩。A 项、B 项和 D 项均符合文意，能够体现出成熟自主品牌车企良好的发展之势。C 项“如日中天”比喻事物正发展到十分兴盛的阶段，而文段强调的是正在发展，不符合语境，排除 C 项。第二步，分析第二空。从“也有一些企业走到了生死存亡的关头”可知，已到非常严重的地步。A 项“如履薄冰”指像走在薄冰上一样，比喻行事极为谨慎，符合这些企业的处境。B 项“进退维谷”和 D 项“骑虎难下”均表示陷于进退两难的地步，文段并非强调两难的境地，排除 B 项和 D 项。

因此，选择 A 选项。

拓展

如临深渊：如同处于深渊边缘一般。比喻存有戒心，行事极为谨慎。

考点

言语理解与表达

逻辑填空

成语辨析

来源

2018 年 0421 四川公务员考试《行测》真题第 24 题、2018 年 0421 黑龙江公务员考试《行测》真题（公检法）第 36 题

37 、（单选题）改革开放以来，我国文艺创作迎来了新的春天，产生了大量_____的优

秀作品。同时也不能否认，在文艺创作方面，存在着有数量缺质量、有“高原”缺“高峰”的现象，存在着抄袭模仿、_____的问题。精品之所以“精”，就在于其思想精深、艺术精湛、制作精良。文艺工作者要_____，随着时代生活创新，以自己的艺术个性进行创新。依次填入划横线部分最恰当的一项是：

- A.脍炙人口 千篇一律 志存高远
- B.家喻户晓 泥沙俱下 标新立异
- C.良莠不齐 照猫画虎 精耕细作
- D.喜闻乐见 因循守旧 与时俱进

收起解析

展开全部解析

收藏

纠错

正确答案：A，我的选择：尚未作答。回答错误

统计

答题时间：0秒，全站正确率：47%，易错项：D。

解析

第一步，分析第一空。横线处所填入的词语要与“优秀作品”搭配。A项“脍炙人口”比喻好的诗文受到人们的称赞和传诵。B项“家喻户晓”指家家户户都知道，形容人所共知。D项“喜闻乐见”指喜欢听，乐意看，指很受欢迎。三者均符合文段积极的感情色彩。C项“良莠不齐”指的是好的坏的混杂在一起，与“优秀作品”矛盾，排除C项。

第二步，分析第二空。通过顿号可知，所填入的词语与“抄袭模仿”为并列关系，需要填入语义相近的成语。A项“千篇一律”指一千篇文章都一个样，指文章公式化，也比喻办事按一个格式，非常机械。与“抄袭模仿”意思相近，强调模式化，可构成并列关系。B项“泥沙俱下”指好的坏的混杂在一起，D项“因循守旧”指死守老一套，缺乏创新的精神，两者均无法与“抄袭模仿”形成并列关系，排除B项和D项。答案锁定A项。

第三步，验证第三空。“志存高远”指立志很高远，有雄心壮志，符合语境。

因此，选择A选项。

拓展

照猫画虎：比喻照着样子模仿。标新立异：提出新的见解，表示与众不同。精耕细作：指农业上认真细致地耕作。与时俱进：随着时代的发展而不断发展、前进。

考点

言语理解与表达

逻辑填空

成语辨析

来源

2018年0421四川公务员考试《行测》真题第28题、2018年0421黑龙江公务员考试《行测》真题（偏远地区）第32题、2018年0421黑龙江公务员考试《行测》真题（公检法）第37题

38、（单选题）我们是有着五千年文明传承的东方大国，儒家的“仁义礼智信”思想_____于民族精髓之中，社会主义核心价值观正是在_____传统思想精华的基础上应运而生。当下，改革释放出的红利推动中国经济的迅猛发展，与此同时，物欲膨胀带来的拜金主义、享乐主义、个人主义等一系列负面影响也_____着文明底线。

依次填入划横线部分最恰当的一项是：

- A.扎根 吸收 触碰

- B.孕育 继承 挑战
- C.深植 汲取 冲击
- D.蕴藏 提炼 腐蚀

收起解析

展开全部解析

收藏

纠错

正确答案：C，我的选择：尚未作答。回答错误

统计

答题时间：0 秒，全站正确率：68%，易错题：A。

解析

第一步，分析第一空。文段强调我国是历史悠久的文明古国，儒家思想对我们的影响很深，因此第一空应含有“深”的含义，且要与“精髓”搭配。A项“扎根”和C项“深植”通过语素“扎”“深”可得知，两者均可体现儒家思想的影响深远，且可搭配“精髓”。B项“孕育”指怀胎生育，比喻既存的事物中酝酿着新事物，往往搭配“生命”，排除B项。D项“蕴藏”指蓄积而未显露或未发掘，一般搭配“能量”，排除D项。

第二步，分析第三空。A项“触碰”指接触，触摸到某物或者逐渐熟悉，开始了解，学习，涉及到某物。语义程度较轻，无法照应“一系列负面影响”，排除A项。C项“冲击”比喻干扰或打击使受到影响，与“底线”一词搭配，符合语境。

第三步，验证第二空。“汲取精华”搭配合理，符合语境。

因此，选择C选项。

拓展

腐蚀：通过化学作用，使物体逐渐消损破坏；使人在坏的思想、行为、环境等因素影响下逐渐变质堕落。

考点

言语理解与表达

逻辑填空

实词辨析

来源

2018年0421四川公务员考试《行测》真题第26题、2018年0421黑龙江公务员考试《行测》真题（偏远地区）第34题、2018年0421黑龙江公务员考试《行测》真题（公检法）第38题

39、（单选题）在人类的脑海中，“科学”除了创造丰富的物质财富以外，往往扮演了“真实”与“客观”的化身。如果这一切被_____，后果不堪设想。那么，我们需要_____的是，在刚刚过去的那个世纪里，是谁扣动了科学危机的扳机？

依次填入划横线部分最恰当的一项是：

- A.颠覆 厘清
- B.推倒 分清
- C.颠仆 辨清
- D.推翻 厘正

收起解析

展开全部解析

收藏

纠错

正确答案：A，我的选择：尚未作答。回答错误

统计

答题时间：0 秒，全站正确率：72%，易错项：D。

解析

第一步，分析第一空。根据“在人类的脑海中……”可知，“这一切”指代脑海中的观念、想法。C项“颠仆”指跌倒、跌落，不能与观念搭配，排除C项。A项“颠覆”指推翻，摧毁、灭亡；B项“推倒”指推翻；D项“推翻”指根本否定已有的说法、计划、决定等。三者均可与“观念”搭配，符合文意。

第二步，分析第二空。根据“在刚刚过去的那个世纪里，是谁扣动了科学危机的扳机”可知，第二空词语应表示弄清楚的意思。A项“厘清”指梳理清楚，符合文意。B项“分清”指把两者区别清楚，其后常跟两个或两个以上的主体，如分清是非，分清对错等，不符合文意，排除B项。D项“厘正”指订正、改正，不符合文意，排除D项。

因此，选择A选项。

拓展

推倒：①向前用力使物体倒下；②压倒；③犹推翻，谓否定已有的说法、计划、决定等。推翻：①用武力打垮旧的政权，使局面彻底改变；②根本否定已有的说法、计划、决定等。辨清：指把两者辨别清楚。

考点

言语理解与表达

逻辑填空

实词辨析

来源

2018年0421内蒙古公务员考试《行测》真题第41题、2018年0421天津公务员考试《行测》真题第25题、2018年0421山西公务员考试《行测》真题第24题、2018年0421青海公务员考试《行测》真题第24题、2018年0421黑龙江公务员考试《行测》真题（偏远地区）第24题、2018年0421黑龙江公务员考试《行测》真题（公检法）第39题

40、（单选题）中国传统菜肴对于烹调方法极为讲究，而且长期以来，由于物产和风俗的差异，各地的饮食习惯和品味爱好_____，_____的烹调技术经过历代人民的创造，形成了丰富多彩的地方菜系。

依次填入划横线部分最恰当的一项是：

- A.迥然不同 源远流长
- B.天差地别 积厚流光
- C.殊途同归 连绵不断
- D.如出一辙 博大精深

收起解析

展开全部解析

收藏

纠错

正确答案：A，我的选择：尚未作答。回答错误

统计

答题时间：0 秒，全站正确率：79%，易错项：B。

解析

第一步，分析第一空。根据“由于物产和风俗的差异”可知，第一个空的词语形容“各地的饮食习惯和品味爱好”不同。A项“迥然不同”形容差别很大，一点儿也不相同；B项“天

差地别”形容两种或多种事物之间的差距很大，就像天和地之间的距离一样。二者均符合文意。C项“殊途同归”比喻采取不同的方法而得到相同的结果；D项“如出一辙”比喻两件事情非常相似。二者均不符合文意，排除C项和D项。

第二步，分析第二空。根据“经过历代人民的创造”可知，“烹调技术”的历史悠久。A项“源远流长”常比喻历史悠久，根底深厚，符合文意。B项“积厚流光”指为积累的功业越深厚，则流传给后人的恩德越广，与“烹调技术”搭配不当，排除B项。

因此，选择A选项。

拓展

连绵不断：形容连续不止，从不中断。博大精深：形容思想和学识广博高深。

考点

言语理解与表达

逻辑填空

成语辨析

来源

2018年0421内蒙古公务员考试《行测》真题第31题、2018年0421天津公务员考试《行测》真题第26题、2018年0421安徽公务员考试《行测》真题第27题、2018年0421山西公务员考试《行测》真题第25题、2018年0421河北公务员考试《行测》真题第21题、2018年0421湖北公务员考试《行测》真题第33题、2018年0421湖南公务员考试《行测》真题第21题、2018年0421重庆公务员考试《行测》真题第30题、2018年0421黑龙江公务员考试《行测》真题（偏远地区）第28题、2018年0421黑龙江公务员考试《行测》真题（公检法）第40题、2018年0421黑龙江公务员考试《行测》真题（省直）第27题

41、（单选题）全社会要形成抵制网络不良信息的“防火墙”。网络文化产品直接面向社会公众，经营者是否违法经营，受众最先知道、最有发言权。对网络文化产业进行监管要依靠群众、发动群众。应健全群众举报体系，构建严密的社会监督网络，使网络文化产业发展中的违法行为无藏身之地；引导和教育广大网民增强鉴别能力，面对形形色色的网络文化产品保持清醒头脑，不受骗上当，不误入歧途；帮助网民提高自身道德修养，从思想上打造铜墙铁壁，自觉抵制通过网络传播的不良信息。

这段文字意在强调：

- A.对网络文化产业进行监管要构建监督网络
- B.对网络文化产业进行监管要依靠群众力量
- C.网络文化产业经营者要自觉抵制不良信息
- D.网络文化产业经营者要主动接受群众监管

收起解析

展开全部解析

收藏

纠错

正确答案：B，我的选择：尚未作答。回答错误

统计

答题时间：0秒，全站正确率：77%，易错项：A。

解析

第一步，分析文段。文段第一、二句主要强调社会群众在网络文化产品监督过程中的重要性。然后提出“对网络文化产业进行监管要依靠群众、发动群众”。随后，分别从“建立群众举报体系”“提高网民鉴别能力”以及“提高网民自身道德修养”三个层面进行进一步说明如何“依靠群众、发动群众”。文段是“分—总—分”结构，主旨句是第三句。

第二步，对比选项。B项是对文段主旨句的同义替换，符合文段意图。

因此，选择B选项。

拓展

A项：对网络文化产业进行监管要构建监督网络，片面。C项和D项：“网络文化产业经营者”偏离文段主体“网络文化产业”。

考点

言语理解与表达

片段阅读

意图判断 一般类

来源

2018年0421内蒙古公务员考试《行测》真题第37题、2018年0421安徽公务员考试《行测》真题第38题、2018年0421山西公务员考试《行测》真题第46题、2018年0421新疆公务员考试《行测》真题第43题、2018年0421河北公务员考试《行测》真题第42题、2018年0421湖北公务员考试《行测》真题第44题、2018年0421湖南公务员考试《行测》真题第42题、2018年0421青海公务员考试《行测》真题第51题、2018年0421黑龙江公务员考试《行测》真题（公检法）第41题、2018年0421黑龙江公务员考试《行测》真题（省直）第48题

42、（单选题）近年来，高空坠物事件屡有发生，受到社会广泛关注。不可否认，法律层面的规定，避免了高空坠物发生后出现索赔难的情形，确保了被侵权人的合法权益得到切实保护。然而，侵权责任法律的规定，明显具有滞后性。也就是说只有发生侵害行为后，法律才会介入。那么，当侵权行为发生后，伤害或死亡悲剧已经发生，根本无法实现亡羊补牢的效果。因此，如何强化法律的前置性功能，让法律成为高空坠物的安全防护网，是解决问题的关键所在。

下列说法与这段文字的主旨无关的是：

- A.强化立法源头设计，有效避免高空坠物
- B.高空坠物侵权法律责任规定还不够完善
- C.有关高空坠物的法律存在明显的滞后性
- D.筑牢安全防护网，让法律成为“事前诸葛”

收起解析

展开全部解析

收藏

纠错

正确答案：D，我的选择：尚未作答。回答错误

统计

答题时间：0秒，全站正确率：32%，易错项：B。

解析

第一步，分析文段。文段首句为背景介绍，高空坠物事件时有发生，受到社会关注。第二句指出法律层面的规定可以保护高空坠物被侵权人的合法权益。接下来通过转折关联词“然而”指出，侵权责任法律的规定存在滞后性。最后通过结论引导词“因此”引出文段主旨句“如何强化法律的前置功能性，让法律成为高空坠物的安全防护网，是解决问题的关键所在”。文段是“分—总”结构，文段主体是“法律”和“高空坠物”。

第二步，对比选项。D项没有涉及主体“高空坠物”，其它三项都是围绕“法律”和“高空坠物”展开。

因此，选择D选项。

考点

言语理解与表达

片段阅读

主旨概括

来源

2018 年 0421 内蒙古公务员考试《行测》真题第 40 题、2018 年 0421 天津公务员考试《行测》真题第 45 题、2018 年 0421 安徽公务员考试《行测》真题第 42 题、2018 年 0421 山西公务员考试《行测》真题第 51 题、2018 年 0421 新疆公务员考试《行测》真题第 47 题、2018 年 0421 河北公务员考试《行测》真题第 47 题、2018 年 0421 湖北公务员考试《行测》真题第 50 题、2018 年 0421 湖南公务员考试《行测》真题第 47 题、2018 年 0421 重庆公务员考试《行测》真题第 46 题、2018 年 0421 青海公务员考试《行测》真题第 44 题、2018 年 0421 黑龙江公务员考试《行测》真题（公检法）第 42 题、2018 年 0421 黑龙江公务员考试《行测》真题（省直）第 51 题

43 、（单选题）2017 年某调查报告显示，超过 8 成居民家庭认为阅读是孩子认识世界、获取知识的重要途径，超过 6 成认为阅读对于孩子养成爱学习习惯、养成健康性格具有重要意义。在实际生活中，超过 3 成的受访居民家庭未成年子女能够做到每天阅读，超 6 成孩子每次阅读时间在半小时至 1 小时之间。但只有 3 成受访家长经常陪子女阅读，近 6 成家庭是让孩子自己阅读。有意思的是，虽然父母们自己已经被手机、电脑、电视占据了太多时间，却有 13.63%的家长希望借助阅读挤压孩子玩电子产品、看电视的时间。

下列选项最适合做文字标题的是：

- A. “中国家长高度认同阅读对于子女成长的价值”
- B. “放下手机，才能陪孩子阅读”
- C. “你看手机，孩子看书？”
- D. “阅读，不只关于书本”

收起解析

展开全部解析

收藏

纠错

正确答案：B，我的选择：尚未作答。回答错误

统计

答题时间：0 秒，全站正确率：47%，易错题：C。

解析

第一步，分析文段。文段前三句介绍目前家庭里孩子阅读的现状，然后由“但”引出“只有 3 成受访家长经常陪子女阅读，近 6 成家庭是让孩子自己阅读”，接着用“有意思的是”进一步说明父母被手机占据了大部分的时间，没有时间陪孩子阅读。文段是“分—总”结构，主旨句为最后一句。

第二步，对比选项。B 项是针对主旨提出的对策，可以作为文段的标题。

因此，选择 B 选项。

拓展

A 项和 D 项：未围绕“手机等影响家长陪孩子阅读”这一话题。C 项：仅围绕问题，不如 B 项对策恰当。

考点

言语理解与表达

片段阅读

标题选择

来源

2018 年 0421 内蒙古公务员考试《行测》真题第 39 题、2018 年 0421 天津公务员考试《行测》真题第 52 题、2018 年 0421 安徽公务员考试《行测》真题第 39 题、2018 年 0421 山西公务员考试《行测》真题第 57 题、2018 年 0421 新疆公务员考试《行测》真题第 44 题、2018 年 0421 河北公务员考试《行测》真题第 54 题、2018 年 0421 重庆公务员考试《行测》真题第 51 题、2018 年 0421 青海公务员考试《行测》真题第 47 题、2018 年 0421 黑龙江公务员考试《行测》真题（偏远地区）第 39 题、2018 年 0421 黑龙江公务员考试《行测》真题（公检法）第 43 题、2018 年 0421 黑龙江公务员考试《行测》真题（省直）第 49 题

44 、（单选题）当前我国城市建设面临经济发展与产业结构调整、环境保护、社会治理模式、民生保障等多方面矛盾，建设智慧城市是大势所趋。我国在智慧城市的很多应用方面已经走在了世界前列，像网约车、共享单车等。但也存在一些问题，如顶层设计不足、缺乏体系性规划与创新等。另外，智慧城市建设有许多方面没有考虑到与市民切身相关的问题，市民的感知度并不明显。如何把智慧城市建设和市民利益结合起来，注重群众需求，是推进智慧城市建设和解决智慧城市落地问题的关键。

这段文字意在强调：

- A.我国智慧城市建设已走在世界前列
- B.智慧城市建设面临许多综合性问题
- C.建设智慧城市可以解决城市建设诸多矛盾
- D.建设智慧城市要接地气与群众需求相联系

收起解析

展开全部解析

收藏

纠错

正确答案：D，我的选择：尚未作答。回答错误

统计

答题时间：0 秒，全站正确率：74%，易错题：B。

解析

第一步，分析文段。文段先通过“当前”介绍了“我国城市建设面临着的一系列矛盾”这一背景，进而引出“建设智慧城市”这一话题，并指出我国在智慧城市方面的应用。接着通过转折词“但是”和“另外”指出智慧城市建设存在着一些问题，最后通过“如何”“关键”等词提出文段的重点。文段为“提出问题—解决问题”的结构，重点在最后一句，主要讲的是“智慧城市建设要考虑市民利益，注重群众需求”。

第二步，对比选项。D 项是文段重点的同义替换。

因此，选择 D 选项。

拓展

A 项、B 项和 C 项：对应前文分析问题的部分，非重点。

考点

言语理解与表达

片段阅读

意图判断 一般类

来源

2018 年 0421 内蒙古公务员考试《行测》真题第 59 题、2018 年 0421 天津公务员考试《行测》真题第 53 题、2018 年 0421 山西公务员考试《行测》真题第 58 题、2018 年 0421 新疆

公务员考试《行测》真题第 50 题、2018 年 0421 河北公务员考试《行测》真题第 55 题、2018 年 0421 湖南公务员考试《行测》真题第 54 题、2018 年 0421 重庆公务员考试《行测》真题第 56 题、2018 年 0421 黑龙江公务员考试《行测》真题（偏远地区）第 46 题、2018 年 0421 黑龙江公务员考试《行测》真题（公检法）第 44 题

45 、（单选题）小时候熟记的古诗文，长大以后也很难忘记，即使长时间不用，但只要一提起，与之相关的记忆便会不由自主地流露出来。这种扎根在脑海深处的诗词印象，是浸透在血液之中的古文积淀，这就是“童子功”的厉害之处。因此，我们要从小诵读古诗文，让中华优秀传统文化内化于心。古人云，“_____”，想要练就古诗文的“童子功”，必须要多读多记，才会烂熟于心，出口成章。若是腹内草莽，必然不可能口吐莲花，诗词大会舞台上，选手们精彩表现的背后，又何尝不是他们从小的阅读背诵和长年的储存积累。填入划横线部分最恰当的一项是：

- A.读书破万卷，下笔如有神
- B.书犹药也，善读之可以医愚
- C.问渠那得清如许，为有源头活水来
- D.熟读唐诗三百首，不会作诗也会吟

收起解析

展开全部解析

收藏

纠错

正确答案：D，我的选择：尚未作答。回答错误

统计

答题时间：0 秒，全站正确率：79%，易错题：A。

解析

第一步，分析横线处的上下文语境。横线位于文段中间，所填句子应承上启下。文段首先指出小时候熟记的古诗文历经较长时间依然有深刻记忆，接着“因此”引导结论，强调我们要从小诵读古诗文。横线处引用诗句，后文进一步解释，应强调要练就古诗文的“童子功”。综合上下文可知，横线处所填句子应强调多诵读诗文的重要性。

第二步，对比选项。D 项强调要熟读背诵古诗，符合上述语境。

因此，选择 D 选项。

拓展

A 项：强调阅读与写作之间的关系。B 项：强调善于读书对心灵的积极效用。C 项：强调人如果要心灵澄明，就得不断地获取新知识、丰富自己，侧重不断学习。

考点

言语理解与表达

语句表达

语句填空

来源

2018 年 0421 天津公务员考试《行测》真题第 55 题、2018 年 0421 安徽公务员考试《行测》真题第 32 题、2018 年 0421 山西公务员考试《行测》真题第 60 题、2018 年 0421 河北公务员考试《行测》真题第 58 题、2018 年 0421 湖南公务员考试《行测》真题第 57 题、2018 年 0421 重庆公务员考试《行测》真题第 53 题、2018 年 0421 青海公务员考试《行测》真题第 49 题、2018 年 0421 黑龙江公务员考试《行测》真题（公检法）第 45 题、2018 年 0421 黑龙江公务员考试《行测》真题（省直）第 44 题

46 、（单选题）作为一种购物方式，“秒杀”带来全新体验，却也留下了复杂况味。转瞬

之间，有惊喜也有失望，有欢乐也有忧愁。心理学家说，“秒杀”也是一次心理测验，淡然处之者自得其乐，而那些渴望“一击即中”、希望“马上就有”、总想“付出少收益大的”，则容易陷入纠结的泥沼。看来，“秒杀”可以有，但“秒杀心态”值得商榷。

下列否定“秒杀心态”的诗句是：

- A.白发无凭吾老矣，青春不再汝知乎
- B.人生得意须尽欢，莫使金樽空对月
- C.大鹏一日同风起，扶摇直上九万里
- D.千淘万漉虽辛苦，吹尽黄沙始到金

收起解析

展开全部解析

收藏

纠错

正确答案：D，我的选择：尚未作答。回答错误

统计

答题时间：0秒，全站正确率：53%，易错题：B。

解析

第一步，定位原文。“秒杀心态”出现在文段结尾处，需要结合前面的语境内容理解其含义。根据“一击即中”“马上就有”“付出少收益大”等信息，可得知“秒杀心态”指一种急功近利的心理。而否定秒杀心理，则需要体现出相反的意思，即长久持续的坚持、专注和努力。第二步，对比选项。D项“千淘万漉虽辛苦，吹尽黄沙始到金”指淘金要经过千遍万遍的过滤，要历尽千辛万苦，最终才能淘尽泥沙，得到闪闪发光的黄金。强调要经历辛苦才能取得收获，和“秒杀心态”体现的急功近利心理语义相反，符合文意。

因此，选择D选项。

拓展

A项：“白发无凭吾老矣，青春不再汝知乎”意思是白发虽然不能代表什么，但我已经老了，青春过去不再回来，比喻要珍惜时间，奋发图强。B项：“人生得意须尽欢，莫使金樽空对月”意思是人活在世上就要尽情的享受欢乐，不要使自己的酒杯只对着月亮，强调要及时行乐。C项：“大鹏一日同风起，扶摇直上九万里”意思是大鹏总有一天会和风飞起，凭借风力直上九天云外。三个句子均不可体现长久坚持的含义，不能否定“秒杀心理”。

考点

言语理解与表达

片段阅读

词句理解

来源

2018年0421黑龙江公务员考试《行测》真题（偏远地区）第49题、2018年0421黑龙江公务员考试《行测》真题（公检法）第46题

47、（单选题）安全数据显示，2017年上半年，PC端总计拦截病毒10亿次，病毒总体数量环比2016年下半年增长30%；相较于2016年第二季度的病毒拦截量增长23.7%。2017年上半年手机病毒感染用户数为1.09亿，同比减少45.67%，与2015年和2016年上半年相比均有所下降。但2017年上半年手机安全软件有效查杀的病毒次数却达到6.93亿次，同比增长124.24%，比2016年上半年多了1倍多。此外，二维码扫描成为2017年上半年主流病毒的渠道来源，占比高达20.80%。

这段文字我们可以推出：

A.2017年上半年，移动端的病毒情况较上年改善

- B.2017 年上半年，手机病毒主要来自二维码扫描
- C.2017 年上半年，手机病毒的传播渠道日益多样
- D.2017 年上半年，PC 端病毒情况比移动端更严峻

收起解析

展开全部解析

收藏

纠错

正确答案：B，我的选择：尚未作答。回答错误

统计

答题时间：0 秒，全站正确率：42%，易错题：A。

解析

第一步，分析文段，将选项与文段一一对应。

第二步，辨析选项。A 项对应“2017 年上半年手机病毒感染用户数为 1.09 亿，同比减少 45.67%”，可知 2017 年上半年移动端的病毒情况较 2016 上半年有改善，而不是“较上年”改善，属于偷换概念。B 项对应“二维码扫描为 2017 上半年主流病毒的渠道来源”，正确。C 项无中生有，“传播渠道日益多样”文中没有论述。D 项无中生有，文段只是列举了 PC 端拦截病毒的次数和手机端查杀病毒的次数，没有被查杀的病毒情况如何文段未提及，故“PC 端病毒情况比移动端更严峻”无从得出。

因此，选择 B 选项。

考点

言语理解与表达

片段阅读

细节理解

来源

2018 年 0421 内蒙古公务员考试《行测》真题第 60 题、2018 年 0421 湖北公务员考试《行测》真题第 36 题、2018 年 0421 重庆公务员考试《行测》真题第 60 题、2018 年 0421 青海公务员考试《行测》真题第 50 题、2018 年 0421 黑龙江公务员考试《行测》真题（公检法）第 47 题

48 、（单选题）没有 18 世纪的蒸汽机和纺织机也就没有工业革命；没有 19 世纪的电气技术和汽车，没有 20 世纪的半导体集成电路以及生物制药，互联网，也就没有今天众多的新产业和极大丰富的产品。但是，21 世纪智能化手机能和蒸汽机、汽车相比吗？今天的很多技术虽然改变了生活方式，但没有带来新的动力和产业的巨变；许多高科技公司，虽然抢眼风光，但对经济的实际影响并不像社会关注的那么大。我们面对的不单单是金融危机，其实也是一场产业危机和创新性危机。

这段文字表达了作者：

- A.对创新性危机引发金融危机的警惕
- B.对新技术革命不如传统技术的遗憾
- C.对缺乏提供经济的重大创新的忧虑
- D.对产业发展缺乏革命性创新的批评

收起解析

展开全部解析

收藏

纠错

正确答案：D，我的选择：尚未作答。回答错误

统计

答题时间：0 秒，全站正确率：39%，易错题：C。

解析

第一步，分析文段。文段开篇通过并列分句指出 18 世纪蒸汽机和纺织机带来工业革命，19 世纪的电气技术和 20 世纪的互联网带来了新的产业和产品，共同表明科技带来了巨变。紧接着通过转折关联词“但是”提出自己的疑问，质疑 21 世纪智能手机带来的影响。最后作出了回答，表明当下的技术没有带来新的动力和产业的巨变。可见作者对于当下的技术变革持有否定态度。文段为“分—总”结构，重点句在于后文的设问句“但是 21 世纪的智能化手机……吗……不单单……其实也是……”。

第二步，对比选项。本文重点内容主要表达了新技术没有带动产业的变化，对于产业危机和创新性危机并无助益，D 项是对文段主旨句的同义替换。

因此，选择 D 选项。

拓展

A 项：文段并未提及，属于无中生有。B 项：对应文段主旨句之前的信息，非重点。C 项：文段侧重强调“产业危机”，“经济”偏离话题。

考点

言语理解与表达

片段阅读

主旨概括

来源

2018 年 0421 四川公务员考试《行测》真题第 32 题、2018 年 0421 黑龙江公务员考试《行测》真题（偏远地区）第 41 题、2018 年 0421 黑龙江公务员考试《行测》真题（公检法）第 48 题

49、（单选题）“微时代”的媒介技术革新与融合，同样改变和重塑着人们的审美感知方式，传统艺术审美活动的固有流程与常规秩序几乎被颠覆一新。德国美学家本雅明所崇尚的“灵韵”艺术的原真性与神圣性亦消失殆尽，艺术审美的世俗化与民主化程度愈来愈高。可以说，自马塞尔·杜尚的现成品艺术以来，被逐渐缝合的艺术与生活在微时代实现了进一步的融合互渗。这不仅表现在艺术的鉴赏只需通过手指在智能手机上的简单点击或滑动即可实现，艺术接受的场所不再局限于美术馆、博物馆、剧院或影院等传统艺术空间而扩大至移动网络信号覆盖的所有区域；更重要的是，艺术创造不再为少数精英们独享，数字媒介技术带来的专业门槛和诸种成本的降低，使越来越多的人实现了由单纯的艺术接受者向艺术创作者的身份转变。

这段文字意在说明：

- A. 数字技术条件下的艺术鉴赏有哪些实现途径
- B. “微时代”艺术审美的大众化程度愈来愈高
- C. 智能手机已成为人们艺术创造和欣赏的重要媒介
- D. “微时代”的媒介技术对审美活动产生了颠覆性影响

收起解析

展开全部解析

收藏

纠错

正确答案：D，我的选择：尚未作答。回答错误

统计

答题时间：0 秒，全站正确率：66%，易错题：B。

解析

第一步，分析文段。文段先指出“微时代”的媒介技术颠覆了传统的艺术审美活动，然后列举了本雅明和杜尚的例子进行论证，最后通过分号连接的并列结构介绍了这种颠覆表现在哪。文段为“总一分”结构，首句是主旨句，强调“微时代”的媒介技术颠覆了传统的艺术审美活动。

第二步，对比选项。D项是文段主旨句的同义替换，符合文段意图。

因此，选择D选项。

拓展

A项：“实现途径”对应分号连接的并列结构的前半部分，片面且非重点。B项：文段说的是“世俗化与民主化”，选项偷换为“大众化”，且对应举例论证的部分，非重点。C项：“智能手机”不是文段探讨的重点。

考点

言语理解与表达

片段阅读

意图判断 一般类

来源

2018年0421四川公务员考试《行测》真题第40题、2018年0421黑龙江公务员考试《行测》真题（公检法）第49题

50、（单选题）在亚利桑那大学的一项研究中，研究人员将参与者对自己习惯的看法跟他们丢弃垃圾所提供的记录进行了对比，结果发现：人们常常声称自己省吃俭用，但实际并非如此；人们常常吃垃圾食品，但自己并不承认。在牛羊肉的消费上富裕家庭报告的消费量比实际消费量少，或许为了显示他们的饮食健康；而贫困家庭所报告的消费量比实际多，也许是为满足他们多吃的愿望。

这段文字意在说明：

- A.垃圾记录比本人陈述更能真实反映行为习惯
- B.人们往往无法正确评估自己丢弃垃圾的行为
- C.经济状况可能对人们的消费主张产生一定影响
- D.消费观念会在一定程度上影响人们的饮食习惯

收起解析

展开全部解析

收藏

纠错

正确答案：A，我的选择：尚未作答。回答错误

统计

答题时间：0秒，全站正确率：56%，易错项：C。

解析

第一步，分析文段。文段首先提出亚利桑那大学做了一项“参与者对自己习惯的看法跟他们丢弃垃圾所提供的记录进行对比”的研究，后面接着通过一系列的研究结果指出，人们对自己习惯的看法和他们丢弃垃圾的真实记录是不一致的，说明垃圾记录更客观真实。

第二步，对比选项。A项为重点的同义替换，符合文段意图。

因此，选择A选项。

拓展

B项：文段并没有提到“评估丢弃垃圾的行为”，且文段重点强调垃圾记录比人们的习惯看法更真实。C项和D项：“消费影响”和“饮食习惯”，表述片面，且未涉及文段主体“垃

圾”。

考点

言语理解与表达

片段阅读

意图判断 一般类

来源

2018年0421四川公务员考试《行测》真题第31题、2018年0421黑龙江公务员考试《行测》真题（偏远地区）第38题、2018年0421黑龙江公务员考试《行测》真题（公检法）第50题

- 51、（单选题）①这不仅表明了工业社会对于文化生产的接管、改造和重新规划，而且，技术的意义开始占据前所未有的份额
②电影的诞生是技术介入艺术的里程碑事件
③技术始终是文化生产的组成部分
④尽管如此，技术从未扮演艺术的主角
⑤庄子、杜甫、苏东坡，《窦娥冤》《红楼梦》，这些经典令人敬重的原因是深刻的思想和洞察力，而不是由于书写于竹简，上演于舞台，或者印刷在书本里
⑥从青铜铸鼎、笔墨纸砚到瓦舍勾栏的兴盛、印刷时代的降临，艺术符号的制作及其传播从来没有离开技术的支持

将上述6个句子重新排列，语序正确的是：

- A.③⑤④⑥②①
B.⑥⑤④②①③
C.③⑥④⑤②①
D.⑥④⑤③②①

收起解析

展开全部解析

收藏

纠错

正确答案：C，我的选择：尚未作答。回答错误

统计

答题时间：0秒，全站正确率：58%，易错项：D。

解析

第一步，观察选项特征，确定首句。首句为③句和⑥句，③句提出观点，引出“技术”话题，⑥句通过具体事例对观点加以论证。根据行文逻辑，先引出话题，在具体论述，故③句在前，⑥句在后的排序，故③更适合做首句，排除B项和D项。

第二步，观察A项和C项，发现③后面分别跟了⑤和⑥句，在第一步判定首句时已经证明⑥是对③的进一步补充，且根据话题一致原则，两句应衔接紧密，故③⑥是可以放在一起的，答案锁定C项。反观③⑤发现，⑤在讲经典令人敬重的原因，而③的话题是技术，话题衔接不够紧密，故排除A项。

因此，选择C选项。

考点

言语理解与表达

语句表达

语句排序

来源

2018年0421天津公务员考试《行测》真题第50题、2018年0421山西公务员考试《行测》真题第56题、2018年0421河北公务员考试《行测》真题第52题、2018年0421湖北公务员考试《行测》真题第54题、2018年0421湖南公务员考试《行测》真题第51题、2018年0421青海公务员考试《行测》真题第46题、2018年0421黑龙江公务员考试《行测》真题（偏远地区）第45题、2018年0421黑龙江公务员考试《行测》真题（公检法）第51题复合题

①切割成相同大小隔间的写字楼，吃住挤在6平方米的年轻人，月收入过万但需苦练720小时的工作流程——这就是网红工厂的生态。通过新老主播连麦、互刷礼物、买热门等推广手段，经纪公司“制造”出了千千万万个同质化的赚钱机器。但这种枯燥辛苦的生活并没有阻挡更多人涌入这一行业的热情。调查显示，2017年粉丝规模在10万人以上的中国网红人数较2016年增长了，超过一半的“95后”向往的新兴职业就是网红或主播。

②十几年前，人们用明星制造和造星工厂来形容庞大的明星产业链，现在，当媒介不仅仅局限于电影电视这一大小银幕，互联网孵化的网红工厂应运而生。舆论对“工厂”这个词汇的使用，看似不经意，实际上内含着对文化趋势的敏锐认识和隐性忧虑。

③对于现代商业所带来的拜物教和文化景观，法兰克福学派的批判哲学家们最早使用了“文化工业”这一词汇。文化工业的出现，使得文化产品按“标准化”“一律化”模式大批量制造，最终带来了“伪个性化”的盛行。它将统一行为方式和审美方式强加于人，使商业文化中的人变成了“单面人”。

④网红的产生和迅速地批量复制，就是一个制造稳定套路的过程。而且这个过程并不是单一的，还和其他工业联系在一起，形成了一个“套路丛”。以下信息可以提供一些参考：中国整形美容手术以每年超过的速度增长，整形美容已成为继房地产、汽车销售、旅游之后的第四大服务行业；与此同时，“修图软件”“自拍神器”“美颜相机”等自拍APP商机不断、热钱涌入，近年自带美颜和滤镜功能的手机相继上市。“颜值经济”已经结构化，互相论证着彼此的合理性。

⑤“颜值经济”带来的最直接结果是，“美”已经被符号化。美容院的批量改造和网红主播的展示，对当下的审美观念产生了巨大影响：“美”等于削尖了的下巴、满溢玻尿酸的苹果肌、美瞳巨眼、从上而下45度角的镜头成像。这两三年以来，很多网络论坛和公众号都掀起了对八、九十年代明星的怀旧风，从反面说明了网红潮所带来的审美压抑。

⑥更深层的影响还在于，这个过程带来一种双向规训，不仅是对粉丝的规训，也是对网红主播自身的规训。这就是，人人展示个性，但同质化的展示成为了最大的共性；人人设计“人设”，而这种将人单向化、纯粹化的设计成为了最庸常的套路；貌似提供了最坦然直接交流的直播，但实际上却“披挂”了层层伪饰。哲学学者指出的“伪个性化”，正由网红工业集中呈现出来。

⑦在文化里，任何的“单一”和“模式”都值得警惕。因为人的潜能一旦被统一规定到一种既定的文化形式中，就会造成对人的丰富本质的否定。如果在社会的文化生活中，除了一种套路外已经没有其他选择，那就已经到了该去审视这种文化的时候了。

打开资料

52、（单选题）下面这段文字最适合放在文中的哪个位置？

通俗点说就是，文化生活全是套路，所谓个性，不过是选择这个套路还是那个套路。

- A.④和⑤中间
- B.③和④中间
- C.②和③中间
- D.①和②中间

收起解析

展开全部解析

收藏

纠错

正确答案：B，我的选择：尚未作答。回答错误

统计

答题时间：0秒，全站正确率：70%，易错项：A。

解析

第一步，分析补充文章。本题为变型的语句填空类题目，应结合原话内容和特征，使填入句子和原文段保持话题一致，从而确定该句话在文段中的具体位置。根据“通俗点说就是，文化生活全是套路”可知，前文应阐述文化生活方面存在的问题，且后文应围绕“套路”展开论述。

第二步，分析原文语境。③之后介绍了文化工业出现的问题，即“带来了‘伪个性化’的盛行，使商业文化中的人变成了‘单面人’”，即是阐述文化生活方面的问题。④之后阐述了网红的产生过程就是一个套路的过程，围绕“套路”这一话题展开论述，故这段文字应放在③和④中间，承上启下，对应B项。A项、C项和D项的位置不能与这段文字形成对应，均排除。

因此，选择B选项。

考点

言语理解与表达

篇章阅读

语句填空

来源

2018年0421黑龙江公务员考试《行测》真题（公检法）第52题、2018年0421黑龙江公务员考试《行测》真题（省直）第57题

53、（单选题）下列不属于“网红工业”特征的是：

A.批量化

B.个性化

C.标准化

D.模式化

收起解析

展开全部解析

收藏

纠错

正确答案：B，我的选择：尚未作答。回答错误

统计

答题时间：0秒，全站正确率：72%，易错项：C。

解析

第一步，定位原文。网红工业的特征主要体现在第一、三、四自然段。

第二步，对比选项。根据第四段“网红的产生和迅速地批量复制”可知，“批量化”属于“网红工业”的特征，排除A项。根据第三段“文化工业的出现，使得文化产品按“标准化”“一律化”模式大批量制造，最终带来了“伪个性化”的盛行可知，“网红工业”属于“文化工业”，“伪个性化”即指“网红工业”没有个性化，B项不属于“网红工业”特征。根据第一段“通过新老主播连麦……等推广手段……‘制造’出了千千万万个同质化的赚钱机器”，第③段“文化工业的出现，使得文化产品按‘标准化’‘一律化’模式大批量制造”

可知，“标准化”属于“网红工业”的特征，排除 C 项。根据第④段“网红的产生和迅速地批量复制，就是一个制造稳定套路的过程”可知，“套路”即“模式化”，属于“网红工业”的特征，排除 D 项。

因此，选择 B 选项。

考点

言语理解与表达

篇章阅读

细节查找

来源

2018 年 0421 黑龙江公务员考试《行测》真题（公检法）第 53 题、2018 年 0421 黑龙江公务员考试《行测》真题（省直）第 58 题

54 、（单选题）这篇文章意在：

- A.批判网红潮所呈现的套路化的文化生活
- B.反思由“颜值经济”产生的明星产业链
- C.揭露网红工业对人们审美的压抑
- D.描述现代商业所带来的审美异化

收起解析

展开全部解析

收藏

纠错

正确答案：A，我的选择：尚未作答。回答错误

统计

答题时间：0 秒，全站正确率：73%，易错项：D。

解析

第一步，分析文章。整篇文章围绕网红现象进行论述，说明了网红现象的发展过程以及该现象背后体现的文化弊端，最后一段提出了作者对网红现象的消极态度，希望公众加以警惕，不应该遵循这种套路式的文化生活，应该对其加以审视。最后一段作者的观点为整篇文章的重点。

第二步，对比选项。A 项是对文段重点内容的同义替换。

因此，选择 A 选项。

拓展

B 项和 C 项：“颜值经济”“审美压抑”均对应第五段的表述，非重点，且没有提到文段的核心话题“套路化的文化生活”。D 项：“描述”为客观陈述，不能体现作者对于套路化的网红潮的批判态度。

考点

言语理解与表达

篇章阅读

意图判断

来源

2018 年 0421 黑龙江公务员考试《行测》真题（公检法）第 54 题、2018 年 0421 黑龙江公务员考试《行测》真题（省直）第 59 题

55 、（单选题）下列最适合做本文标题的是：

- A.720 小时：网红是怎样炼成的
- B.“文化工业”的前世今生

C. “单面人”：网红时代的文化景观

D.网红的商业化之路

收起解析

展开全部解析

收藏

纠错

正确答案：C，我的选择：尚未作答。回答错误

统计

答题时间：0 秒，全站正确率：62%，易错项：D。

解析

第一步，分析文章。文段首先介绍了网红工厂的生态，接着指出舆论对于“工厂”这一词汇的使用内含着对文化趋势的认识和忧虑，后文指出文化工业的影响，即其出现使商业文化中的人变成了“单面人”，接着对其进行详细解释，最后强调文化里任何的“单一”都值得警惕，故文段围绕文化中的“单面人”这一话题展开，重点是提醒公众警惕单一化和模式化的文化。

第二步，对比选项。C项是对文段重点的同义替换。

因此，选择C选项。

拓展

A项：“720小时”为话题引入部分，非重点。B项：“文化工业”偏离文章核心话题，且“前世今生”为“单面人”的产生原因，非重点。D项：“网红的商业化之路”非重点，文段重在说明网红背后所反映的问题。

考点

言语理解与表达

篇章阅读

标题选择

来源

2018年0421黑龙江公务员考试《行测》真题（公检法）第55题、2018年0421黑龙江公务员考试《行测》真题（省直）第60题

56、（单选题）一条笔直的林荫道两旁种植着梧桐树，同侧道路每两棵梧桐树间距50米。林某每天早上七点半穿过林荫道步行去上班，工作地点恰好在林荫道尽头。经测试，他每分钟步行70步，每步大约50厘米，每天早上八点准时到达工作地点。那么，这条林荫道两旁栽种的梧桐树共有多少棵？

A.21

B.22

C.42

D.44

收起解析

展开全部解析

收藏

纠错

正确答案：D，我的选择：尚未作答。回答错误

统计

答题时间：0 秒，全站正确率：37%，易错项：B。

解析

第一步，本题考查植树问题。

第二步，林某每天步行半个小时即 30 分钟，每步 50 厘米即 0.5 米，则林荫道长为 $0.5 \times 70 \times 30 = 1050$ （米）。

第三步，根据线型植树公式得，单侧种植 $\frac{1050}{50} + 1 = 22$ （棵），两旁共栽种 $22 \times 2 = 44$ （棵）梧桐树。

因此，选择 D 选项。

考点

数量关系

数学运算

植树问题

来源

2018 年 0421 内蒙古公务员考试《行测》真题第 61 题、2018 年 0421 天津公务员考试《行测》真题第 56 题、2018 年 0421 新疆公务员考试《行测》真题第 58 题、2018 年 0421 湖南公务员考试《行测》真题第 61 题、2018 年 0421 重庆公务员考试《行测》真题第 66 题、2018 年 0421 黑龙江公务员考试《行测》真题（偏远地区）第 51 题、2018 年 0421 黑龙江公务员考试《行测》真题（公检法）第 56 题、2018 年 0421 黑龙江公务员考试《行测》真题（省直）第 71 题

57、（单选题）6 月 1 日当天小张用去其当月手机上网套餐流量的 15%，2 日用去 8MB。这时用去的流量和套餐内剩下的流量之比为一比三。如小张从三日开始，每天使用 6MB 流量。小张 6 月使用的套餐外手机流量为多少 MB？

A.80

B.96

C.108

D.128

收起解析

展开全部解析

收藏

纠错

正确答案：C，我的选择：尚未作答。回答错误

统计

答题时间：0 秒，全站正确率：68%，易错项：B。

解析

第一步，本题考查基础应用题，用方程法解题。

第二步，设套餐总量为 xMB，由用去的流量和套餐内剩下的流量之比为一比三得到用去的

流量占了套餐总量的 $\frac{1}{4}$ 。故可列方程 $0.15x + 8 = 0.25x$ ，解得 $x = 80$ 。

第三步，6 月份使用流量共 $28 \times 6 + 80 \times \frac{1}{4} = 188$ MB，则超了 $188 - 80 = 108$ MB。

因此，选择 C 选项。

考点

数量关系

数学运算

基础应用题

来源

2018 年 0421 四川公务员考试《行测》真题第 48 题、2018 年 0421 黑龙江公务员考试《行测》真题（公检法）第 57 题

58 、（单选题）甲乙两车早上分别同时从 A、B 两地出发，驶向对方所在城市，在分别到达对方城市并各自花费一小时卸货后，立刻出发以原速返回出发地。甲车的速度为 60 千米/小时，乙车的速度为 40 千米/小时。两地之间相距 480 千米。两车第二次相遇距离两车早上出发经过了多少个小时？

A.13.4

B.14.4

C.15.4

D.16.4

收起解析

展开全部解析

收藏

纠错

正确答案：C，我的选择：尚未作答。回答错误

统计

答题时间：0 秒，全站正确率：62%，易错项：B。

解析

第一步，本题考查行程问题，属于相遇追及类，用多次相遇公式解题。

第二步，根据“分别同时从 A、B 两地出发”、“两车第二次相遇”，可知考查的是两端出发的多次相遇问题，公式为 $(v_1 + v_2)t = (2n - 1)s$ ，s 为 AB 两地的距离，t 为出发后第 n 次相遇的时间，n 指的是相遇的次数。

第三步，代入数据 $(60 + 40)t = (2 \times 2 - 1) \times 480$ ，解得 $t = 14.4$ ，考虑一小时的卸货时间，总共经过了 $14.4 + 1 = 15.4$ （小时）。

因此，选择 C 选项。

考点

数量关系

数学运算

行程问题 相遇追及类

来源

2018 年 0421 四川公务员考试《行测》真题第 46 题、2018 年 0421 黑龙江公务员考试《行测》真题（公检法）第 58 题

59 、（单选题）从 A 地到 B 地为上坡路。自行车选手从 A 地出发按 A-B-A-B 的路线行进，

全程平均速度为从 B 地出发按 B-A-B-A 的路线行进的全程平均速度的 $\frac{4}{5}$ 。如自行车选手在上坡路与下坡路上分别以固定速度匀速骑行，问他上坡的速度是下坡速度的？

A. $\frac{1}{2}$

B. $\frac{1}{3}$

C. $\frac{2}{3}$

3
D. $\frac{1}{5}$

收起解析

展开全部解析

收藏

纠错

正确答案：A，我的选择：尚未作答。回答错误

统计

答题时间：0 秒，全站正确率：34%，易错项：C。

解析

解法一：第一步，本题考查行程问题，属于基本行程类，用比例法解题。

第二步， $S=VT$ ，当 S 一定的时候， VT 成反比，两次行程的平均速度之比是 $4:5$ ，故两次行程所用时间之比是 $5:4$ 。即自行车选手一共骑了 9 份的时间，一共骑了三个来回，那么一个来回的时间是 3 份。A-B-A-B 包含了一个来回和一个上坡，共用 5 份的时间，那么上坡时间为 2 份，可知下坡时间为 1 份。那么上下坡的速度之比与时间成反比，为 $1:2$ 。

因此，选择 A 选项。

解法二：第一步，本题考查行程问题，属于基本行程类，用比例法解题。

第二步， $S=VT$ ，当 S 一定的时候， VT 成反比，两次行程的平均速度之比是 $4:5$ ，故两次行程所用时间之比 $T_1:T_2=5:4$ 。设一个下坡的时间是 1，一个上坡的时间是 n ，则上坡速

度是下坡速度的 $\frac{1}{n}$ 。

第三步，A-B-A-B 的过程经历了 2 个上坡和 1 个下坡，则 $T_1=2n+1$ ；B-A-B-A 的过程经历了 2 个下坡和 1 个上坡，则 $T_2=2+n$ ，而 $T_1:T_2=5:4=(2n+1):(2+n)$ ，解得 $n=2$ ，

则上坡速度是下坡速度的 $\frac{1}{2}$ 。

因此，选择 A 选项。

考点

数量关系

数学运算

行程问题 基本行程类

来源

2018 年 0421 四川公务员考试《行测》真题第 53 题、2018 年 0421 黑龙江公务员考试《行测》真题（偏远地区）第 55 题、2018 年 0421 黑龙江公务员考试《行测》真题（公检法）第 59 题

60、（单选题）若干名天使投资人对某个需求资金 120 万的创业项目表达出投资意向，并计划每人以相同的金额投资该项目。但实际投资时有 2 人退出，剩下的每个人需要多投资 10 万元，才能满足该项目的资金需求。问实际投资这一项目的有多少人？

A.3

B.4

C.6

D.8

收起解析

展开全部解析

收藏

纠错

正确答案：B，我的选择：尚未作答。回答错误

统计

答题时间：0 秒，全站正确率：46%，易错项：C。

解析

第一步，本题考查基础应用题，用代入排除法解题。

第二步，代入 A 选项，则 $\frac{120}{3} = 40$ （万/人），原来 $\frac{120}{3+2} = 24$ （万/人），不满足题意，

排除；代入 B 选项，则 $\frac{120}{4} = 30$ （万/人），原来 $\frac{120}{4+2} = 20$ （万/人），满足题意。

因此，选择 B 选项。

考点

数量关系

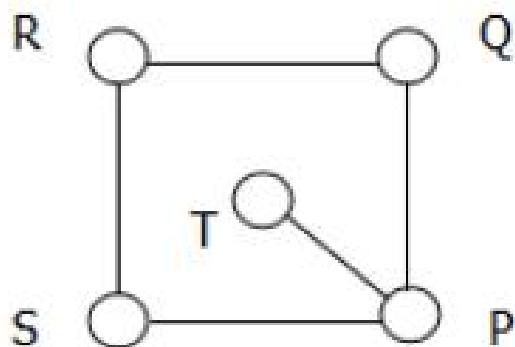
数学运算

基础应用题

来源

2018 年 0421 四川公务员考试《行测》真题第 50 题、2018 年 0421 黑龙江公务员考试《行测》真题（偏远地区）第 58 题、2018 年 0421 黑龙江公务员考试《行测》真题（公检法）第 60 题

61、（单选题）如图所示，五个圆相连，现在用三种不同颜色分别给每个圆涂色，要求相连接的两个圆不能涂同种颜色，则共有多少种不同的涂色方法？



A.36

B.72

C.112

D.144

收起解析

展开全部解析

收藏

纠错

正确答案：A，我的选择：尚未作答。回答错误

统计

答题时间：0 秒，全站正确率：41%，易错项：B。

解析

第一步，本题考查排列组合问题，属于基础排列组合。

第二步，T 可以从 3 种颜色任选一种，共有 3 种，则 P 点从剩余 2 种颜色任选一种，共有 2 种，剩余三个点分类讨论：

(1) Q 和 S 颜色相同，从 P 点剩余的的两个颜色进行选择，2 种方式；R 从剩下 Q 剩下的两种颜色进行选择，2 种方式。

(2) Q 和 S 颜色不同，从 P 点剩余的的两个颜色进行选择，2 种方式；R 从剩下 Q、S 剩下的 1 颜色进行选择，1 种方式。

共有 $2 \times 2 + 2 \times 1 = 6$ 。

第三步，一共有 $3 \times 2 \times 6 = 36$ （种）。

因此，选择 A 选项。

考点

数量关系

数学运算

排列组合问题 基础排列组合

来源

2018 年 0421 黑龙江公务员考试《行测》真题（偏远地区）第 56 题、2018 年 0421 黑龙江公务员考试《行测》真题（公检法）第 61 题

62 、（单选题）某实验室通过测评 I 和 II 来核定产品的等级：两项测评都不合格的为次品，仅一项测评合格的为中品，两项测评都合格的为优品。某批产品只有测评 I 合格的产品数是优品数的 2 倍，测评 I 合格和测评 II 合格的产品数之比为 6 : 5。若该批产品次品率为 10%，则该批产品的优品率为：

A.10%

B.15%

C.20%

D.25%

收起解析

展开全部解析

收藏

纠错

正确答案：C，我的选择：尚未作答。回答错误

统计

答题时间：0 秒，全站正确率：51%，易错项：B。

解析

第一步，本题考查容斥问题，属于二集合容斥类。

第二步，赋值优品数为 2，则只有测评 I 合格的为 4，那么测评 I 合格的为 6。根据合格之比为 6 : 5，可推知测评 II 合格的为 5，则只有测评 II 合格的为 $5 - 2 = 3$ ，那么合格的为 $6 + 5 - 2 = 9$ ，由产品次品率为 10%，可知合格率为 90%。则不合格产品为 1，总数为 10。

第三步，该产品的优品率为 $\frac{2}{10} = 20\%$ 。

因此，选择 C 选项。

考点

数量关系

数学运算

容斥问题 二集合容斥类

来源

2018 年 0421 天津公务员考试《行测》真题第 61 题、2018 年 0421 安徽公务员考试《行测》真题第 53 题、2018 年 0421 新疆公务员考试《行测》真题第 63 题、2018 年 0421 河北公务员考试《行测》真题第 68 题、2018 年 0421 湖北公务员考试《行测》真题第 65 题、2018 年 0421 湖南公务员考试《行测》真题第 67 题、2018 年 0421 黑龙江公务员考试《行测》真题（公检法）第 62 题、2018 年 0421 黑龙江公务员考试《行测》真题（省直）第 68 题 63 、（单选题）甲、乙、丙三所学校的学生被安排在周一至周五参观某革命纪念馆。纪念馆每天最多只能安排一所学校，其中甲学校连续参观两天，其余学校均只参观一天，那么共有多少种安排方法？

A.12

B.24

C.36

D.60

收起解析

展开全部解析

收藏

纠错

正确答案：B，我的选择：尚未作答。回答错误

统计

答题时间：0 秒，全站正确率：57%，易错项：C。

解析

解法一：

第一步，本题考查排列组合问题，属于基础排列组合。

第二步，首先，甲要连续参观两天（周一周二、周二周三、周三周四、周四周五）有 4 种方式，其次，乙、丙从剩余 3 天中选出 2 天参观，情况数有 A_3^2 种。

第三步，共有 $4 \times A_3^2 = 24$ （种）。

因此，选择 B 选项。

解法二：

第一步，本题考查排列组合问题。

第二步，甲连续参观 2 天，可将 2 天进行捆绑，则题目转化为在 4 个时间里挑出 3 个时间进行排列，有 $A_4^3 = 24$ （种）。

因此，选择 B 选项。

考点

数量关系

数学运算

排列组合问题 基础排列组合

来源

2018 年 0421 天津公务员考试《行测》真题第 58 题、2018 年 0421 山西公务员考试《行测》真题第 63 题、2018 年 0421 新疆公务员考试《行测》真题第 56 题、2018 年 0421 河北公

员考试《行测》真题第 65 题、2018 年 0421 湖北公务员考试《行测》真题第 61 题、2018 年 0421 湖南公务员考试《行测》真题第 68 题、2018 年 0421 重庆公务员考试《行测》真题第 64 题、2018 年 0421 黑龙江公务员考试《行测》真题（偏远地区）第 63 题、2018 年 0421 黑龙江公务员考试《行测》真题（公检法）第 63 题、2018 年 0421 黑龙江公务员考试《行测》真题（省直）第 65 题

64 、（单选题）某苗木公司准备出售一批苗木，如果每株以 4 元出售，可卖出 20 万株，若苗木单价每提高 0.4 元，就会少卖 10000 株，问在最佳定价的情况下，该公司最大收入是多少万元？

- A.60
- B.80
- C.90
- D.100

收起解析

展开全部解析

收藏

纠错

正确答案：C，我的选择：尚未作答。回答错误

统计

答题时间：0 秒，全站正确率：65%，易错项：B。

解析

解法一：第一步，本题考查经济利润问题，属于最值优化类。

第二步，设提高了 n 个 0.4 元，总收入为 y 万元，则 $y = (4 + 0.4n) \times (20 - 1 \times n) = -0.4n$

$^2 + 4n + 80$ ，当 $n = -\frac{b}{2a} = \frac{4}{0.8} = 5$ 时， y 取最大值。

第三步，当售价提高 $0.4 \times 5 = 2$ （元），销量为 $20 - 5 = 15$ （万株），最大收入是 $(4 + 2) \times 15 = 90$ （万元）。

因此，选择 C 选项。

解法二：第一步，本题考查经济利润问题，属于最值优化类。

第二步，设提高了 n 个 0.4 元，总收入为 y 万元，则 $y = (4 + 0.4n) \times (20 - 1 \times n) = 0.4(10 + n) \times (20 - n)$ ，在 $10 + n = 20 - n$ 时， y 可取得最大值，此时解得 $n = 5$ ，则 $y = (4 + 0.4 \times 5) \times (20 - 5) = 6 \times 15 = 90$ （万元）。

因此，选择 C 选项。

考点

数量关系

数学运算

经济利润问题 最值优化类

来源

2018 年 0421 内蒙古公务员考试《行测》真题第 66 题、2018 年 0421 天津公务员考试《行测》真题第 60 题、2018 年 0421 安徽公务员考试《行测》真题第 52 题、2018 年 0421 山西公务员考试《行测》真题第 65 题、2018 年 0421 新疆公务员考试《行测》真题第 62 题、2018 年 0421 河北公务员考试《行测》真题第 67 题、2018 年 0421 湖北公务员考试《行测》真题第 57 题、2018 年 0421 湖南公务员考试《行测》真题第 70 题、2018 年 0421 重庆公务员考试《行测》真题第 69 题、2018 年 0421 黑龙江公务员考试《行测》真题（公检法）第 64 题、2018 年 0421 黑龙江公务员考试《行测》真题（省直）第 67 题

65、（单选题）一直升机在海上救援行动中搜索到遇险者方位后通知快艇，快艇立即朝遇险者直线驶去。此时，直升机距离海平面的垂直高度 200 米，从机上看，遇险者在正南方向，俯角（朝下看时视线与水平面的夹角）为 30° ，快艇在正东方向，俯角为 45° 。若忽略当时风向、潮流等其它因素，且假定遇险者位置不变，则快艇以 60 千米/小时的速度匀速前进需要多长时间才能到达遇险者的位置？

A.21 秒

B.22 秒

C.23 秒

D.24 秒

收起解析

展开全部解析

收藏

纠错

正确答案：D，我的选择：尚未作答。回答错误

统计

答题时间：0 秒，全站正确率：31%，易错项：B。

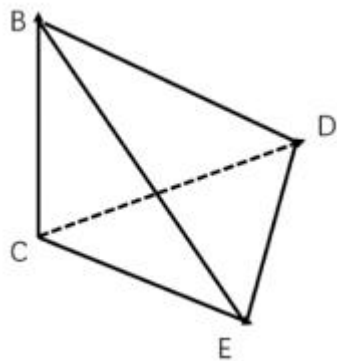
解析

第一步，本题考查几何问题，属于立体几何类。

第二步，根据题意，做出如下立体图，则 $BC=200$ 米， $\angle BEC=30^\circ$ ， $\angle BDC=45^\circ$ ， $\angle DCE=90^\circ$ ， $\angle BCD=90^\circ$ ， $\angle BCE=90^\circ$ ，而 1 米/秒 $=3.6$ 千米/小时，在直角三角形 BCE 中，

$\frac{BC}{CE} = \frac{1}{\sqrt{3}}$ ， $CE=200\sqrt{3}$ （米）。在直角三角形 BCD 中， $DC=BC=200$ （米）。在直角三

角形 DCE 中， $DE = \sqrt{DC^2 + CE^2} = 400$ （米）。



第三步，则所用时间为： $400 \div \frac{60}{3.6} = 24$ （秒）。

因此，选择 D 选项。

考点

数量关系

数学运算

几何问题 立体几何类

来源

2018 年 0421 安徽公务员考试《行测》真题第 49 题、2018 年 0421 新疆公务员考试《行测》

真题第 61 题、2018 年 0421 河北公务员考试《行测》真题第 64 题、2018 年 0421 湖北公务员考试《行测》真题第 60 题、2018 年 0421 湖南公务员考试《行测》真题第 69 题、2018 年 0421 黑龙江公务员考试《行测》真题（偏远地区）第 59 题、2018 年 0421 黑龙江公务员考试《行测》真题（公检法）第 65 题、2018 年 0421 黑龙江公务员考试《行测》真题（省直）第 64 题

66 、（单选题）加油站营业时间为每日 1 时到午夜 12 时。且在每日停业的 1 小时中进货 1 万升 92 号汽油。某月一日开始营业时有 92 号汽油库存 4 万升。当日销售 92 号汽油 1 万升，但由于周边车流量增加，每日 92 号汽油销量都比上一日增加 1000 升。问该加油站如不增加每日进货量，92 号汽油将在哪一日售罄？

- A.8 日
- B.9 日
- C.10 日
- D.11 日

收起解析

展开全部解析

收藏

纠错

正确答案：B，我的选择：尚未作答。回答错误

统计

答题时间：0 秒，全站正确率：42%，易错题：C。

解析

第一步，本题考查基础应用题，用枚举法解题。

第二步，使用枚举法，列表如下：

	1	2	3	4	5	6	7	8	9
原始	4								
进货		1	1	1	1	1	1	1	1
销售	1	1.1	1.2	1.3	1.4	1.5	1.6	1.7	1.8
剩余	3	2.9	2.7	2.4	2.0	1.5	0.9	0.2	-0.6

根据表格可知，92 号汽油将在 9 日售罄。

因此，选择 B 选项。

考点

数量关系

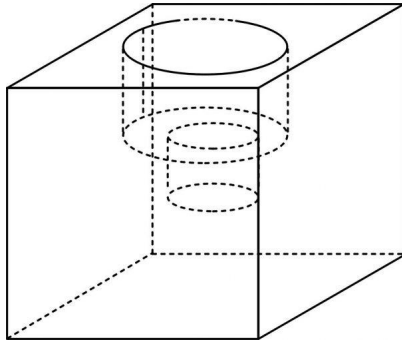
数学运算

基础应用题

来源

2018 年 0421 四川公务员考试《行测》真题第 54 题、2018 年 0421 黑龙江公务员考试《行测》真题（公检法）第 66 题、2018 年 0421 黑龙江公务员考试《行测》真题（省直）第 74 题

67 、（单选题）小庄要制作一个工业模具。他在一个边长 4 厘米的正方体上表面正中心位置向下挖掉一个直径 2 厘米、高 2 厘米的圆柱体，接着再向下挖掉一个直径 1 厘米、高 1 厘米的小圆柱体（如右图所示）。那么，该模具的表面积约为多少平方厘米？



A.82.8

B.108.6

C.111.7

D.114.8

收起解析

展开全部解析

收藏

纠错

正确答案：C，我的选择：尚未作答。回答错误

统计

答题时间：0秒，全站正确率：47%，易错项：B。

解析

第一步，本题考查几何问题，属于立体几何类。

第二步，该模具表面积可分为三个部分：

①将所有圆柱体的底面补到正方体上表面，正方体的表面积为： $4 \times 4 \times 6 = 96$ （平方厘米）；

②大圆柱体的侧面积为： $2\pi \times 1 \times 2 = 4\pi$ （平方厘米）；

③小圆柱体的侧面积为： $2\pi \times 0.5 \times 1 = \pi$ （平方厘米）。

第三步，该模具的表面积为 $96 + 4\pi + \pi \approx 111.7$ （平方厘米）（取 $\pi \approx 3.14$ ）。

因此，选择C选项。

考点

数量关系

数学运算

几何问题 立体几何类

来源

2018年0421内蒙古公务员考试《行测》真题第64题、2018年0421天津公务员考试《行测》真题第57题、2018年0421安徽公务员考试《行测》真题第60题、2018年0421山西公务员考试《行测》真题第62题、2018年0421河北公务员考试《行测》真题第62题、2018年0421湖北公务员考试《行测》真题第63题、2018年0421湖南公务员考试《行测》真题第64题、2018年0421重庆公务员考试《行测》真题第61题、2018年0421黑龙江公务员考试《行测》真题（偏远地区）第65题、2018年0421黑龙江公务员考试《行测》真题（公检法）第67题、2018年0421黑龙江公务员考试《行测》真题（省直）第62题

68、（单选题）10个相同的盒子中分别装有1—10个球，任意两个盒子中的球数都不相同，小李分三次，每次取出若干个盒子，每次取出的盒子中的球数之和都是上一次的3倍，且最后剩下一个盒子。剩下的盒子中有多少个球？

A.9

B.6

C.5

D.3

收起解析

展开全部解析

收藏

纠错

正确答案：D，我的选择：尚未作答。回答错误

统计

答题时间：0 秒，全站正确率：33%，易错项：C。

解析

第一步，本题考查其他杂题。

第二步，设第一次取出的球数之和为 x ，则第二次为 $3x$ ，第三次为 $9x$ 。最后剩下的盒子球数为 y 。

第三步，所有球的数字之和为 $1+2+3+4+5+6+7+8+9+10=55$ 。则有 $x+3x+9x+y=55$ ，化简为 $13x+y=55$ 。

第四步，使用代入排除法，只有 D 项 $y=3$ 代入，解得 $x=4$ ，满足题意。

因此，选择 D 选项。

考点

数量关系

数学运算

基础应用题

来源

2018 年 0421 四川公务员考试《行测》真题第 55 题、2018 年 0421 黑龙江公务员考试《行测》真题（偏远地区）第 64 题、2018 年 0421 黑龙江公务员考试《行测》真题（公检法）第 68 题

69 、（单选题）某水渠长 100 米，截面为等腰梯形，其中渠面宽 2 米，渠底宽 1 米，渠深 2 米。因突降暴雨，水深由 1 米涨至 1.8 米。则水渠水量增加了：

A.112 立方米

B.136 立方米

C.272 立方米

D.324 立方米

收起解析

展开全部解析

收藏

纠错

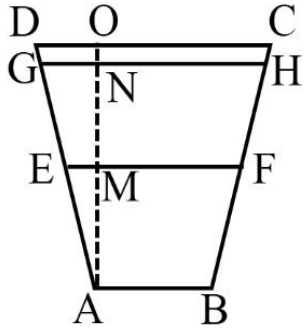
正确答案：B，我的选择：尚未作答。回答错误

统计

答题时间：0 秒，全站正确率：46%，易错项：C。

解析

第一步，本题考查几何问题，属于立体几何类。



第二步，由题意可知， $AB = 1$ ， $CD = 2$ ，可推知 $EF = \frac{AB + CD}{2} = 1.5$ ，那么 $EM = \frac{1.5 - 1}{2} = 0.25$ 。根据 $\triangle AEM$ 与 $\triangle AGN$ 相似，可知 $\frac{EM}{GN} = \frac{AM}{AN}$ ，即 $\frac{0.25}{GN} = \frac{1}{1.8}$ ，解得 $GN = 0.45$ ，则 $GH = 1.9$ 。

第三步，水渠水量增加了 $(1.5 + 1.9) \times 0.8 \div 2 \times 100 = 136$ （立方米）。

因此，选择 B 选项。

考点

数量关系

数学运算

几何问题 立体几何类

来源

2018 年 0421 内蒙古公务员考试《行测》真题第 68 题、2018 年 0421 天津公务员考试《行测》真题第 63 题、2018 年 0421 安徽公务员考试《行测》真题第 54 题、2018 年 0421 新疆公务员考试《行测》真题第 68 题、2018 年 0421 河北公务员考试《行测》真题第 70 题、2018 年 0421 湖北公务员考试《行测》真题第 66 题、2018 年 0421 湖南公务员考试《行测》真题第 66 题、2018 年 0421 重庆公务员考试《行测》真题第 62 题、2018 年 0421 青海公务员考试《行测》真题第 60 题、2018 年 0421 黑龙江公务员考试《行测》真题（公检法）第 69 题、2018 年 0421 黑龙江公务员考试《行测》真题（省直）第 70 题

70、（单选题）一个班级组织跑步比赛，共设 100 米、200 米、400 米三个项目。班级有 50 人，报名参加 100 米比赛的有 27 人，参加 200 米比赛的有 25 人，参加 400 米比赛的有 21 人。如果每人最多只能报名参加 2 项比赛，那么该班最多有多少人未报名参赛？

A.11

B.12

C.13

D.14

收起解析

展开全部解析

收藏

纠错

正确答案：C，我的选择：尚未作答。回答错误

统计

答题时间：0 秒，全站正确率：49%，易错项：B。

解析

第一步，本题考查容斥问题，用最值思维解题。

第二步，班级总数为 50 人，要想使未报名的最多，反向构造报名的人数最少。报名人次一定，则需要每人报名次数最多。由题意每人都可以最多报名 2 项，那么报名人数最少为 $(27 + 25 + 21) \div 2 = 36.5$ ，取整为 37 人。

第三步，未报名人数为 $50 - 37 = 13$ （人）。

因此，选择 C 选项。

考点

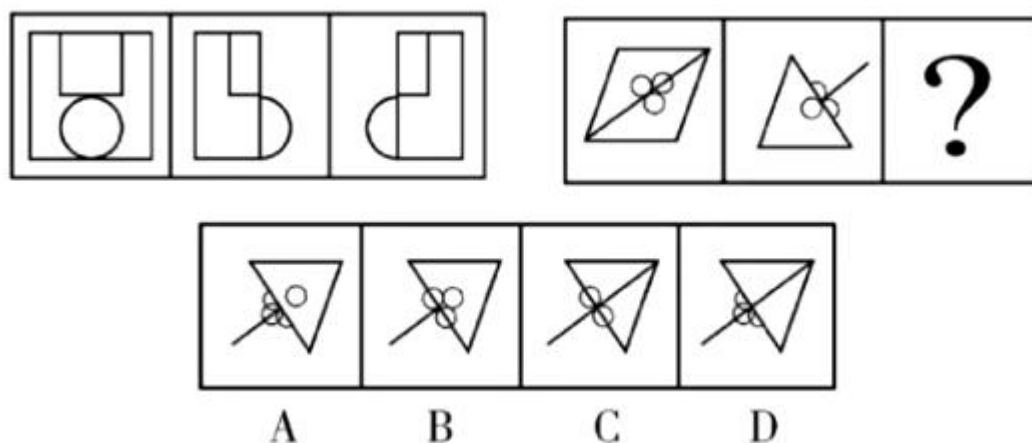
数量关系

数学运算

容斥问题 三集合容斥类

来源

2018 年 0421 内蒙古公务员考试《行测》真题第 69 题、2018 年 0421 安徽公务员考试《行测》真题第 58 题、2018 年 0421 山西公务员考试《行测》真题第 70 题、2018 年 0421 新疆公务员考试《行测》真题第 67 题、2018 年 0421 湖北公务员考试《行测》真题第 69 题、2018 年 0421 青海公务员考试《行测》真题第 64 题、2018 年 0421 黑龙江公务员考试《行测》真题（公检法）第 70 题、2018 年 0421 黑龙江公务员考试《行测》真题（省直）第 72 题 71、（单选题）从所给的四个选项中，选择最合适的一个填入问号处，使之呈现一定的规律性：



A.如上图所示

B.如上图所示

C.如上图所示

D.如上图所示

收起解析

展开全部解析

收藏

纠错

正确答案：A，我的选择：尚未作答。回答错误

统计

答题时间：0 秒，全站正确率：54%，易错项：B。

解析

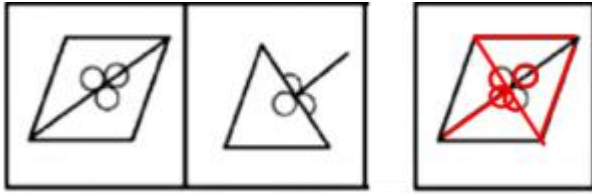
第一步，观察特征。

组成元素相似，前两个图形与第三个图形均有部分相似，优先考虑样式类运算。

第二步，两段式，第一段找规律，第二段应用规律。

第一段中，图 1 与图 2 去同求异得到图 3，第二段中，图 1 与图 2 去同求异，如图所示，只

有 A 项符合。



因此，选择 A 选项。

考点

判断推理

图形推理

样式类 运算 异

来源

2018 年 0421 黑龙江公务员考试《行测》真题（偏远地区）第 66 题、2018 年 0421 黑龙江
 公务员考试《行测》真题（公检法）第 71 题

72 、（单选题）从所给的四个选项中，选择最合适的一个填入问号处，使之呈现一定的规
 律性：



A B C D

A.如上图所示

B.如上图所示

C.如上图所示

D.如上图所示

收起解析

展开全部解析

收藏

纠错

正确答案：B，我的选择：尚未作答。回答错误

统计

答题时间：0 秒，全站正确率：75%，易错项：A。

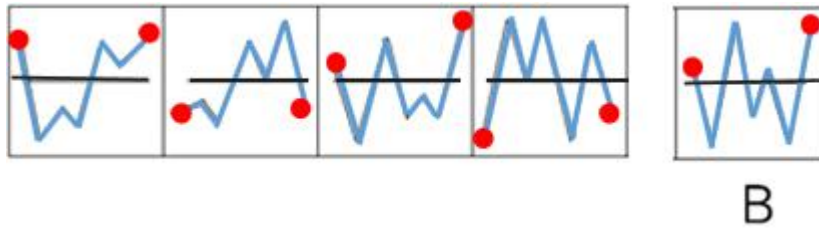
解析

第一步，观察特征。

组成元素不同，优先考虑数量类或属性类。且每个图形均有封闭区间，考虑数面。

第二步，一条式，从左到右找规律。

题干中面的个数依次为 1、2、3、4、？，呈等差规律，问号处面的个数应为 5，排除 C 项、
 D 项。观察题干，横线将折线分成上下两部分，折线端点所在位置依次为：上、下、上、下、？，
 呈现周期变化，问号处折线端点应该在横线之上。如图所示，只有 B 项符合。



因此，选择 B 选项。

拓展

规律二：通过数面排除 C 项、D 项后，观察题干图形，图一中横线以上面的数量 < 横线以下面的数量，图二中横线以上面的数量 > 横线以下面的数量，图三中横线以上面的数量 < 横线以下面的数量，图四中横线以上面的数量 > 横线以下面的数量，所以图五中横线以上面的数量 < 横线以下面的数量。只有 B 项符合。

考点

判断推理


图形推理

数量类 面

来源

2018 年 0421 四川公务员考试《行测》真题第 56 题、2018 年 0421 黑龙江公务员考试《行测》真题（偏远地区）第 67 题、2018 年 0421 黑龙江公务员考试《行测》真题（公检法）第 72 题

73 、（单选题）从所给的四个选项中，选择最合适的一个填入问号处，使之呈现一定的规律性：



A.如上图所示

B.如上图所示

C.如上图所示

D.如上图所示

收起解析

展开全部解析

收藏

纠错

正确答案：C，我的选择：尚未作答。回答错误

统计

答题时间：0 秒，全站正确率：67%，易错项：B。


解析

第一步，观察特征。

组成元素相同，每幅图形都是小九宫格里有黑块、灰块，且黑块、灰块发生明显位置变化，考虑平移。

第二步，九宫格，横向规律较为常见，优先考虑。

对题干图形标号，如下图所示。第一行，黑块 1 顺时针依次移动一格，灰块 2 向左依次移动一格，黑块 3 逆时针依次移动 1 格。第二行验证规律，黑块 1 顺时针依次移动一格，灰块 2 向左依次移动一格，黑块 3 逆时针依次移动 1 格。第三行应用规律，只有 C 项符合。



因此，选择 C 选项。

考点

判断推理

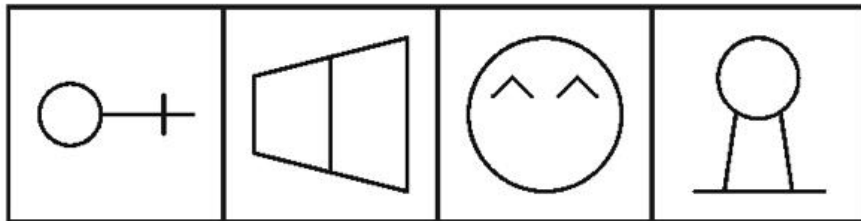
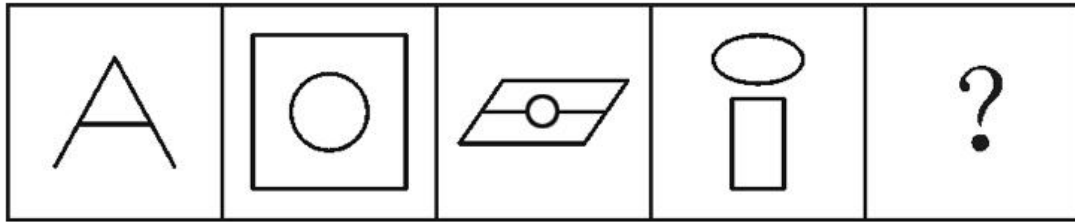
图形推理

位置类 动态位置 平移

来源

2018 年 0421 四川公务员考试《行测》真题第 58 题、2018 年 0421 黑龙江公务员考试《行测》真题（偏远地区）第 68 题、2018 年 0421 黑龙江公务员考试《行测》真题（公检法）第 73 题

74 、（单选题）从所给的四个选项中，选择最合适的一个填入问号处，使之呈现一定的规律性：



A

B

C

D

- A.如上图所示
- B.如上图所示
- C.如上图所示
- D.如上图所示

收起解析

展开全部解析

收藏

纠错

正确答案：A，我的选择：尚未作答。回答错误

统计

答题时间：0 秒，全站正确率：57%，易错项：D。

解析

第一步，观察特征。

组成元素不同，优先考虑数量类或属性类。“A”是常考的两笔画图形，考虑数笔画。

第二步，一条式，从左到右找规律。

题干图形的笔画数均为 2，四个选项笔画数分别为：2、1、3、3，只有 A 项符合。

因此，选择 A 选项。

考点

判断推理

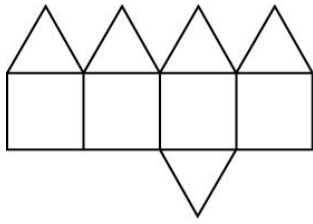
图形推理

数量类 线

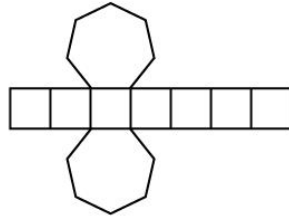
来源

2018 年 0421 内蒙古公务员考试《行测》真题第 75 题、2018 年 0421 天津公务员考试《行测》真题第 68 题、2018 年 0421 安徽公务员考试《行测》真题第 81 题、2018 年 0421 新疆公务员考试《行测》真题第 74 题、2018 年 0421 湖北公务员考试《行测》真题第 71 题、2018 年 0421 重庆公务员考试《行测》真题第 73 题、2018 年 0421 青海公务员考试《行测》真题第 68 题、2018 年 0421 黑龙江公务员考试《行测》真题（公检法）第 74 题、2018 年 0421 黑龙江公务员考试《行测》真题（省直）第 78 题

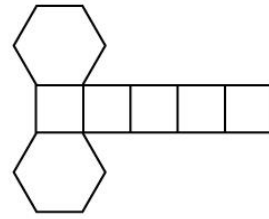
75 、（单选题）下列图形能够折叠成完整封闭的立体几何结构的一项是：



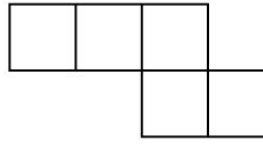
A



B



C



D

A.如上图所示

B.如上图所示

C.如上图所示

D.如上图所示

收起解析

展开全部解析

收藏

纠错

正确答案：B，我的选择：尚未作答。回答错误

统计

答题时间：0 秒，全站正确率：71%，易错项：C。

解析

第一步，明确设问内容。

要求选择能够折叠成完整封闭的立体几何结构的一项。

第二步，分析选项。

A 项：上半部分和中间部分可以折叠成一个没有底面的四棱锥，但是选项中的下半部分不能补全底面，因此不能折叠成完整封闭的立体几何结构，排除；

B 项：可以折叠成七棱柱，因此能折叠成完整封闭的立体几何结构，正确；

C 项：可以折叠成缺少一个面的正六棱柱，因此不能折叠成完整封闭的立体几何结构，排除；

D 项：五个面无法折成封闭的六面体，排除。

因此，选择 B 选项。

考点

判断推理

图形推理

立体类 多面体

来源

2018 年 0421 内蒙古公务员考试《行测》真题第 71 题、2018 年 0421 天津公务员考试《行测》真题第 66 题、2018 年 0421 山西公务员考试《行测》真题第 71 题、2018 年 0421 新疆公务员考试《行测》真题第 71 题、2018 年 0421 河北公务员考试《行测》真题第 79 题、2018 年 0421 湖北公务员考试《行测》真题第 73 题、2018 年 0421 湖南公务员考试《行测》真题第 74 题、2018 年 0421 重庆公务员考试《行测》真题第 71 题、2018 年 0421 青海公务员考试《行测》真题第 66 题、2018 年 0421 黑龙江公务员考试《行测》真题（公检法）第 75 题、2018 年 0421 黑龙江公务员考试《行测》真题（省直）第 80 题

76 、（单选题）在企业活动中，库存有多种类型。装运库存是指在价值链末端工厂的库房里，那些已经准备好可以随时出货的产品。在途库存又称中转库存，指尚未到达目的地，正处于运输状态或等待运输状态而储备在运输工具中的库存。

根据上述定义,下列选项属于在途库存的是:

- A.小张给自己网购了一件毛衣,下单两天后查知该毛衣已到某中转站
- B.某高速服务区内一辆大货车满载着 A 超市从 B 地采购的各类毛巾
- C.某皮鞋厂的卡车里,堆满了该厂用于制造新款皮鞋的牛皮
- D.某公司在城南的自有库房中存放着给城北门店销售的玩具

收起解析

展开全部解析

收藏

纠错

正确答案: B, 我的选择: 尚未作答。回答错误

统计

答题时间: 0 秒, 全站正确率: 75%, 易错题: A。

解析

第一步,看提问方式,本题属于选是题。

第二步,找关键信息。

多定义,考查“在途库存”,其关键信息如下:

- ①尚未达到目的地,正处于运输状态或等待运输状态;
- ②储备在运输工具中的库存。

第三步,辨析选项。

A 项:网购的一件毛衣,已经到达某中转站,中转站是具体的地点而不是运输工具,不属于“尚未达到目的地,正处于运输状态或等待运输状态”和“储备在运输工具中的库存”,不符合定义;

B 项:大货车上载满 A 超市从 B 地采购的毛巾,货车在高速公路上运输,属于“尚未达到目的地,正处于运输状态或等待运输状态”,且毛巾在大货车上,属于“储备在运输工具中的库存”,符合定义;

C 项:皮鞋厂的卡车上,运输的是牛皮,是材料,不是皮鞋,牛皮不属于皮鞋厂的“产品库存”,不符合定义;

D 项:玩具放在库房中,不属于“尚未达到目的地,正处于运输状态或等待运输状态”,也不属于“储备在运输工具中的库存”,不符合定义。

因此,选择 B 选项。

考点

判断推理

定义判断

多定义

来源

2018 年 0421 内蒙古公务员考试《行测》真题第 87 题、2018 年 0421 天津公务员考试《行测》真题第 78 题、2018 年 0421 安徽公务员考试《行测》真题第 77 题、2018 年 0421 山西公务员考试《行测》真题第 82 题、2018 年 0421 新疆公务员考试《行测》真题第 80 题、2018 年 0421 河北公务员考试《行测》真题第 84 题、2018 年 0421 湖北公务员考试《行测》真题第 82 题、2018 年 0421 湖南公务员考试《行测》真题第 79 题、2018 年 0421 重庆公务员考试《行测》真题第 85 题、2018 年 0421 青海公务员考试《行测》真题第 80 题、2018 年 0421 黑龙江公务员考试《行测》真题(公检法)第 76 题、2018 年 0421 黑龙江公务员考试《行测》真题(省直)第 86 题

77、(单选题)情感广告是诉诸于消费者的情绪或情感反应,传达商品带给他们的附加值

或情绪满足的一种广告策略。这种情绪在消费者心目中的价值可能远远超出商品本身，从而使消费者形成积极的品牌态度。

根据上述定义，下列广告语不属于情感广告的是：

- A.某品牌饮料广告语：“××可乐，中国人自己的可乐！”
- B.某品牌啤酒进入东南亚市场的广告语：“好不好，家乡水。”
- C.某品牌纸尿裤广告语：“宝宝天天好心情，妈妈一定更美丽。”
- D.某品牌润肤露广告语：“为了肌肤柔美润舒，请使用××润肤露。”

收起解析

展开全部解析

收藏

纠错

正确答案：D，我的选择：尚未作答。回答错误

统计

答题时间：0 秒，全站正确率：86%，易错项：C。

解析

第一步，看提问方式，本题属于选非题。

第二步，找关键信息。

①诉诸消费者的情绪或情感反应；

②传达商品带给他们的附加值或情绪满足。

第三步，辨析选项。

A 项：中国人自己的可乐，体现的是国家认同感和爱国之情，属于“诉诸消费者的情绪或情感反应”，符合定义；

B 项：家乡两个字，体现的是对家乡的情感，属于“诉诸消费者的情绪或情感反应”，符合定义；

C 项：宝宝天天好心情，体现的是消费者对于孩子得到舒适情感的满足，妈妈更美丽，体现的是妈妈自我情感的满足，属于“诉诸消费者的情绪或情感反应”，符合定义；

D 项：为了肌肤柔美润舒，正是商品本身应该有的价值，不属于“传达商品带给他们的附加值”，也不属于“诉诸消费者的情绪或情感反应”，不符合定义。

因此，选择 D 选项。

考点

判断推理

定义判断

单定义

来源

2018 年 0421 内蒙古公务员考试《行测》真题第 82 题、2018 年 0421 天津公务员考试《行测》真题第 73 题、2018 年 0421 安徽公务员考试《行测》真题第 72 题、2018 年 0421 山西公务员考试《行测》真题第 77 题、2018 年 0421 新疆公务员考试《行测》真题第 82 题、2018 年 0421 河北公务员考试《行测》真题第 90 题、2018 年 0421 湖北公务员考试《行测》真题第 76 题、2018 年 0421 湖南公务员考试《行测》真题第 85 题、2018 年 0421 重庆公务员考试《行测》真题第 79 题、2018 年 0421 黑龙江公务员考试《行测》真题（公检法）第 77 题、2018 年 0421 黑龙江公务员考试《行测》真题（省直）第 81 题

78 、（单选题）间接正犯又称为间接实行犯，是指利用他人为道具而实施犯罪的实行行为，利用者通过支配被利用者的工具行为实现自己的犯罪意图，利用者与被利用者不构成共同犯罪，它包括以下两种情况：一是利用无刑事责任能力人犯罪；二是利用他人过失或不知情的

行为犯罪。

根据上述定义，下列甲的行为属于间接正犯的是：

- A.甲挑唆乙与丙的关系，致使乙一怒之下将丙打成重伤，甲、乙、丙均为完全刑事责任能力人
- B.甲教唆精神病人乙用刀砍伤与其素有仇怨的丙，甲、丙为完全刑事责任能力人，乙为无刑事责任能力人
- C.甲派员工乙殴打一直欠钱不还的丙，并允诺给其好处，乙随后将丙打伤。甲、乙、丙均为完全刑事责任能力人
- D.甲让自己尚未成年的孩子乙诬告丙，未想到乙捏造的事实正是丙客观存在的事实，甲、丙为完全刑事责任能力人，乙为无刑事责任能力人

收起解析

展开全部解析

收藏

纠错

正确答案：B，我的选择：尚未作答。回答错误

统计

答题时间：0 秒，全站正确率：86%，易错题：D。

解析

第一步，看提问方式，本题属于选是题。

第二步，找关键信息。

- ①利用他人为道具而实施犯罪的实行行为；
- ②利用无刑事责任能力人犯罪；
- ③利用他人过失或不知情的行为犯罪。

第三步，辨析选项。

A 项：甲挑唆乙与丙，使得乙打丙，乙是完全刑事责任能力人，且乙是在知情的情况下，甲的行为不符合“利用无刑事责任能力人犯罪”或“利用他人过失或不知情的行为犯罪”，不符合定义；

B 项：甲教唆乙砍丙，符合“利用他人为道具，实施犯罪”，精神病人乙是无刑事责任能力人，符合“利用无刑事责任能力人犯罪”，符合定义；

C 项：甲派员工乙打丙，乙是完全刑事责任能力人，且乙是在知情的情况下，甲的行为不符合“利用无刑事责任能力人犯罪”或“利用他人过失或不知情的行为犯罪”，不符合定义；

D 项：甲让孩子乙诬告丙，孩子乙确实是无刑事责任能力人，但捏造的事实正是客观存在的，不属于犯罪，不符合“利用无刑事责任能力人犯罪”，不符合定义。

因此，选择 B 选项。

拓展

完全刑事责任能力，是指行为人达到法定刑事责任年龄并且精神正常而具有辨认和控制自己行为的能力。完全刑事责任能力人应当对自己的犯罪行为负刑事责任。中国刑法规定，年满 16 周岁并且具有辨认能力和控制能力的人，是具有完全刑事责任能力的人。根据现代刑事立法的规定，完全无刑事责任能力人一般指两类人：一是未达责任年龄的幼年人；二是因为精神疾病而没有刑法所要求的辨认或控制自己行为能力的人。

不具备刑事责任能力者即使实施了客观上危害社会的行为，也不能成为犯罪主体，不能被迫追究刑事责任。

考点

判断推理

定义判断

单定义

来源

2018 年 0421 四川公务员考试《行测》真题第 61 题、2018 年 0421 黑龙江公务员考试《行测》真题（偏远地区）第 73 题、2018 年 0421 黑龙江公务员考试《行测》真题（公检法）第 78 题

79 、（单选题）不征税收入是指专门从事特定目的，从性质和根源上不属于营利性活动带来的经济利益，不负有纳税义务并不作为应纳税所得额组成部分的收入，比如财政拨款，行政事业性收费等；免税收入是纳税人应税收入的重要组成部分，只是国家为了实现某些经济和社会目标，在特定时期或对特定项目取得的经济利益给予的税收优惠照顾，而在一定时期又可能恢复征税的收入。

根据上述定义，下列说法错误的是：

- A.某农产品企业获得了当地政府对农业加工产品的专项财政补贴，该补贴属于不征税收入
- B.国家规定，企业技术转让所得年净收入在 30 万元以下的，暂免征收所得税，因此这部分所得属于免税收入
- C.为鼓励纳税人积极购买国债，国家规定国债所得利息收入暂不计入应纳税所得额，不征收企业所得税，因此国债利息收入属于不征税收入
- D.为鼓励高新技术企业自主创新，政府规定，在近两年内对这类企业研发产品的销售收入暂不收税，因此企业在研发产品上的销售收入属于免税收入

收起解析

展开全部解析

收藏

纠错

正确答案：C，我的选择：尚未作答。回答错误

统计

答题时间：0 秒，全站正确率：59%，易错项：A。

解析

第一步，看提问方式，本题属于选非题。

第二步，找关键信息。

多定义，考查“不征税收入”和“免税收入”，其关键信息如下：

（1）不征税收入：①专门从事特定目的；②不属于营利性活动带来的经济利益。

（2）免税收入：①国家为了实现某些经济和社会目标；②在特定时期或对特定项目取得的经济利益给予的税收优惠照顾，一定时期又可能恢复征税的收入。

第三步，辨析选项。

A 项：某农产品企业，符合“专门从事特定目的”，当地政府对农业加工产品的专项财政补贴属于“财政拨款”，即“不属于盈利性活动带来的经济利益”，属于不征税收入，说法正确；

B 项：对企业技术转让所得年净收入暂免征收所得税，属于“国家为了实现某些经济和社会目标，在特定时期或对特定项目取得的经济利益给予的税收优惠照顾，一定时期又可能恢复征税的收入”，属于免税收入，说法正确；

C 项：为鼓励纳税人积极购买国债，属于“国家为了实现某些经济和社会目标”，国债所得利息收入暂不计入应纳税所得额，属于“在特定时期或对特定项目取得的经济利益给予的税收优惠照顾”，且“暂不计入”符合“一定时期又可能恢复征税”，属于免税收入，说法错误；

D项：为鼓励高新技术企业自主创新，在近两年内对这类企业研发产品的销售收入暂不收税，属于“国家为了实现某些经济和社会目标，在特定时期或对特定项目取得的经济利益给予的税收优惠照顾”，只是说近两年，符合“一定时期又可能恢复征税”，属于免税收入，说法正确。

因此，选择C选项。

考点

判断推理

定义判断

多定义

来源

2018年0421四川公务员考试《行测》真题第62题、2018年0421黑龙江公务员考试《行测》真题（偏远地区）第76题、2018年0421黑龙江公务员考试《行测》真题（公检法）第79题、2018年0421黑龙江公务员考试《行测》真题（省直）第90题

80、（单选题）信息腐败指的是手中掌握有公共权力的人，借用自身的权力获得某些特殊信息，然后由自己或其代理人利用这些垄断信息从事某些牟利活动的一种违法乱纪行为。

根据上述定义，下列涉及信息腐败的是：

- A.市政府某局干部为了个人升迁，贿赂有关人员，多次修改个人档案信息
- B.某法学院教授为了将其负责的研究生班办成品牌，私自使用秘密窃取的某资格考试试卷对该班学生进行辅导
- C.省科技厅王处长离职后到某公司就职，他将自己研究的某项技术加以创新，为该公司开发出极具市场竞争力的新产品
- D.副区长龙某将工程招标报名情况、投标企业业绩要求、中标方式等秘密信息泄露给某投标企业，并收受该企业50余万元

收起解析

展开全部解析

收藏

纠错

正确答案：D，我的选择：尚未作答。回答错误

统计

答题时间：0秒，全站正确率：86%，易错项：B。

解析

第一步，看提问方式，本题属于选是题。

第二步，找关键信息。

- ①手中掌握有公共权力的人；
- ②借用自身的权力获得某些特殊信息；
- ③从事某些牟利活动；
- ④违法乱纪行为。

第三步，辨析选项。

A项：为了个人升迁而修改信息，不符合“借用自身的权力获得某些特殊信息”，不符合定义；

B项：法学院教授不符合“手中掌握有公共权力的人”，不符合定义；

C项：离职后对技术加以创新，是合法的，不是“违法乱纪行为”，不符合定义；

D项：副区长是“手中掌握有公共权力的人”，利用职务将秘密信息泄露给企业，属于“借用自身的权力获得某些特殊信息”，收取50万元，体现了利用职务之便牟利，属于“违法

乱纪行为”，符合定义。

因此，选择 D 选项。

考点

判断推理

定义判断

单定义

来源

2018 年 0421 四川公务员考试《行测》真题第 63 题、2018 年 0421 黑龙江公务员考试《行测》真题（偏远地区）第 77 题、2018 年 0421 黑龙江公务员考试《行测》真题（公检法）第 80 题

81 、（单选题）刺激泛化是指条件作用的形成使有机体习得了对某一刺激做出特定反应的行为，因此也就可能对类似的刺激做出同样的行为反应。刺激分化是通过选择性强化和消退使有机体学会对条件刺激和与条件刺激相类似的刺激做出不同的行为反应。

根据上述定义，下列说法不正确的是：

- A. “一朝被蛇咬，十年怕井绳”属于刺激泛化
- B. “横看成岭侧成峰，远近高低各不同”属于刺激分化
- C. 为突出品牌，厂家对包装进行独特设计，力图使顾客产生刺激分化
- D. 某品牌牙膏创成名牌后，生产商将其生产的化妆品也以同品牌命名，利用的是顾客的刺激泛化

收起解析

展开全部解析

收藏

纠错

正确答案：B，我的选择：尚未作答。回答错误

统计

答题时间：0 秒，全站正确率：59%，易错项：C。

解析

第一步，看提问方式，本题属于选非题。

第二步，找关键信息。

多定义，考查“刺激泛化”和“刺激分化”，其关键信息如下：

①刺激泛化：对类似刺激做出相同的行为反应；

②刺激分化：对条件刺激和与条件刺激相类似的刺激做出不同的行为反应。

第三步，辨析选项。

A 项：被蛇咬后对蛇产生恐惧，进而对与蛇类似的井绳产生恐惧，体现了“对类似刺激做出相同的行为反应”，符合刺激泛化定义，说法正确；

B 项：从不同角度和远近看庐山，庐山都呈现出各种不同的样子，未体现“条件刺激和与条件刺激相类似的刺激”，不符合刺激泛化和刺激分化定义，说法错误；

C 项：厂家对包装进行独特设计，提高自己产品的辨识度，更好地区分开自己的产品和其他的产品，体现了“对条件刺激和与条件刺激相类似的刺激做出不同的行为反应”，符合刺激分化定义，说法正确；

D 项：某品牌牙膏创成名牌，生产商将其生产的化妆品也以同品牌命名，生产商想通过品牌连锁效应，利用消费者对其牙膏的喜爱和购买倾向，让消费者对其同名化妆品也产生喜爱和购买倾向，体现了“对类似刺激做出相同的行为反应”，符合刺激泛化定义，说法正确。

因此，选择 B 选项。

考点

判断推理

定义判断

多定义

来源

2018年0421安徽公务员考试《行测》真题第75题、2018年0421山西公务员考试《行测》真题第83题、2018年0421河北公务员考试《行测》真题第85题、2018年0421湖北公务员考试《行测》真题第84题、2018年0421湖南公务员考试《行测》真题第80题、2018年0421重庆公务员考试《行测》真题第77题、2018年0421青海公务员考试《行测》真题第82题、2018年0421黑龙江公务员考试《行测》真题（偏远地区）第78题、2018年0421黑龙江公务员考试《行测》真题（公检法）第81题、2018年0421黑龙江公务员考试《行测》真题（省直）第88题

82、（单选题）在决断之前，每个事物的价值在决策者心目中大致相近，则难于决断其优劣；但在作出选择之后，决策者对这些事物的态度评价就发生了改变。这种现象叫作决断后效应。

根据上述定义，下列现象属于决断后效应的是：

- A.某职员对自己的去留一筹莫展，一番考量之后他认为留下来要面对许多复杂关系，不如重新开创新天地
- B.某女士对各有优劣的两个品牌手机难以抉择，最后她从经济角度考虑选择其中一款，可到货后发现这款有色差
- C.某老师对选A还是B去参加比赛犹豫不决，班长建议选B。事后，老师认为选B完全正确，因为B最终夺得冠军
- D.某学生填报志愿时对报甲大学还是乙大学犹豫不决，最后他听从老师建议选择了甲大学，从此觉得甲大学优于乙大学

收起解析

展开全部解析

收藏

纠错

正确答案：D，我的选择：尚未作答。回答错误

统计

答题时间：0秒，全站正确率：67%，易错题：B。

解析

第一步，看提问方式，本题属于选是题。

第二步，找关键信息。

①决断之前，难于决断其优劣；

②作出选择之后，决策者对这些事物的态度评价就发生了变化。

第三步，辨析选项。

A项：某职员对自己的去留一筹莫展，属于“决断之前，难于决断其优劣”，但是其决定出去开创新天地后对于原本去留的评价态度未明确，不属于“作出选择之后，决策者对这些事物的态度评价就发生了变化”，不符合定义；

B项：某女士对各有优劣的两个品牌手机难以抉择，属于“决断之前，难于决断其优劣”，但是从经济角度考虑选择其中一款，可到货后发现这款有色差，描述的是事实，未体现“作出选择之后，决策者对这些事物的态度评价就发生了变化”，不符合定义；

C项：某老师对选A还是B去参加比赛犹豫不决，属于“决断之前，难于决断其优劣”，但

是老师认为选 B 完全正确是基于结果得出的评价，不是自己主观的判定，不属于“作出选择之后，决策者对这些事物的态度评价就发生了变化”，不符合定义；

D 项：某学生填报志愿时对报甲大学还是乙大学犹豫不决，属于“决断之前，难于决断其优劣”，最后他选择了甲大学，并从此觉得甲大学优于乙大学，属于“作出选择之后，决策者对这些事物的态度评价就发生了变化”，符合定义。

因此，选择 D 选项。

考点

判断推理

定义判断

单定义

来源

2018 年 0421 内蒙古公务员考试《行测》真题第 81 题、2018 年 0421 天津公务员考试《行测》真题第 72 题、2018 年 0421 安徽公务员考试《行测》真题第 80 题、2018 年 0421 新疆公务员考试《行测》真题第 83 题、2018 年 0421 河北公务员考试《行测》真题第 89 题、2018 年 0421 湖北公务员考试《行测》真题第 79 题、2018 年 0421 湖南公务员考试《行测》真题第 84 题、2018 年 0421 重庆公务员考试《行测》真题第 81 题、2018 年 0421 青海公务员考试《行测》真题第 75 题、2018 年 0421 黑龙江公务员考试《行测》真题（公检法）第 82 题、2018 年 0421 黑龙江公务员考试《行测》真题（省直）第 84 题

83 、（单选题）地震震级是通过仪器给出地震大小的一种量度，是划分震源放出能量大小的等级，地震所释放的能量越大，地震震级也越大，每一次地震只有一个震级。地震烈度表示地震对地表及工程建筑物影响的强弱程度，是在没有仪器记录的情况下，凭地震时人们的感受或地震发生后器物反应的程度、工程建筑物的破坏程度、地表的变化状况而定的一种宏观尺度。

根据上述定义，下列说法正确的是：

- A.地震震级越大，地震烈度相应越强
- B.一次地震只有一个震级，一个烈度
- C.距震源越近，震级越大，烈度越强
- D.地表破坏越严重说明地震烈度越强

收起解析

展开全部解析

收藏

纠错

正确答案：D，我的选择：尚未作答。回答错误

统计

答题时间：0 秒，全站正确率：69%，易错项：C。

解析

第一步，看提问方式，本题属于选是题。

第二步，找关键信息。

①地震震级：根据地震所释放的能量确定的，地震释放的能量越大，地震震级也越大，每一次地震只有一个震级；

②地震烈度：根据地震对地表及工程建筑物影响的强弱程度确定的。

第三步，辨析选项。

A 项：地震震级越大，地震烈度不一定越强，因为地震烈度与地震震级和震源深度都有关，震级很大，如果震源很深，地震烈度可能不大，说法错误；

B项：一次地震只有一个震级，这是正确的，但一次地震的地震烈度可能有好几个，由于距离震源距离不同，同一个地震对地表的破坏程度是不一样的，说法错误；

C项：距震源越近，烈度越强，这是正确的，但是地震震级与距离震源的远近无关，与“地震震级是根据地震所释放的能量确定的，地震释放的能量越大，地震震级也越大，每一次地震只有一个震级”不符，说法错误；

D项：地震烈度是根据地震对地表及工程建筑物影响的强弱程度确定的，因此地表破坏越严重说明地震烈度越强，说法正确。

因此，选择D选项。

考点

判断推理

定义判断

多定义

来源

2018年0421内蒙古公务员考试《行测》真题第88题、2018年0421天津公务员考试《行测》真题第79题、2018年0421山西公务员考试《行测》真题第84题、2018年0421新疆公务员考试《行测》真题第84题、2018年0421河北公务员考试《行测》真题第86题、2018年0421湖北公务员考试《行测》真题第85题、2018年0421湖南公务员考试《行测》真题第81题、2018年0421福建公务员考试《行测》真题第84题、2018年0421青海公务员考试《行测》真题第81题、2018年0421黑龙江公务员考试《行测》真题（公检法）第83题、2018年0421黑龙江公务员考试《行测》真题（省直）第87题

84、（单选题）水体旅游是人们前往水体及周边区域以寻求愉悦为主要目的的一种具有社会、休闲和消费属性的短期经历，目前已逐渐成为人们休闲时尚与区域旅游开发的重要载体。水体旅游资源是指水域（水体）及相关联的岸地、岛屿、林草、建筑等能对人产生吸引力的自然景观和人文景观。

根据上述定义，下列选项不属于水体旅游资源的是：

- A.武夷山“九曲溪”两旁随处可见历代文人墨客的题词
- B.秦淮河岸的街道上，有一座建于明代的“江南贡院”
- C.某森林公园建有一个放养着上千条锦鲤的“放生池”
- D.某大厦矗立于长江岸边，成为游客拍照留念的背景

收起解析

展开全部解析

收藏

纠错

正确答案：C，我的选择：尚未作答。回答错误

统计

答题时间：0秒，全站正确率：60%，易错项：D。

解析

第一步，看提问方式，本题属于选非题。

第二步，找关键信息。

多定义，考查“水体旅游资源”，其关键信息如下：

- ①水域（水体）及相关联的岸地、岛屿、林草、建筑等；
- ②能对人产生吸引力的自然景观和人文景观。

第三步，辨析选项。

A项：九曲溪属于“水域（水体）”，九曲溪两侧的墨客的题词，属于“水域相关联的建筑”

以及“能对人产生吸引力的人文景观”，符合定义；

B项：秦淮河属于“水域（水体）”，河岸上的江南贡院，属于“水域相关联的建筑”以及“能对人产生吸引力的人文景观”，符合定义；

C项：森林公园中的放生池是人工建造产物，不属于“水域（水体）及相关联的岸地、岛屿、林草、建筑等”，不符合定义；

D项：长江属于“水域（水体）”，岸边的大厦，属于“水域相关联的建筑”以及“能对人产生吸引力的人文景观”，符合定义。

因此，选择C选项。

拓展

水域是指江河、湖泊、运河、渠道、水库、水塘及其管理范围和水工设施，不包括海域和在耕地上开挖的鱼塘。

考点

判断推理

定义判断

多定义

来源

2018年0421天津公务员考试《行测》真题第80题、2018年0421安徽公务员考试《行测》真题第79题、2018年0421山西公务员考试《行测》真题第85题、2018年0421新疆公务员考试《行测》真题第85题、2018年0421河北公务员考试《行测》真题第87题、2018年0421湖北公务员考试《行测》真题第83题、2018年0421湖南公务员考试《行测》真题第82题、2018年0421重庆公务员考试《行测》真题第80题、2018年0421黑龙江公务员考试《行测》真题（公检法）第84题、2018年0421黑龙江公务员考试《行测》真题（省直）第83题

85、（单选题）回弹效应是指通过技术进步提高能源使用效率，节约了能源消费，但技术进步的同时也会促进经济规模的扩大，对能源产生新的需求，从而部分、甚至完全地抵消所节约的能源。

根据上述定义，下列选项可以有效控制回弹效应的是：

- A. 发动机效率提升降低了行车成本，更多人选择以车代步
- B. 厂商进一步提高能源效率，利润增加，生产出更多产品
- C. 太阳能热水器热销，慢慢取代传统电热水器
- D. 现在越来越多的消费者购买节能型家用电器

收起解析

展开全部解析

收藏

纠错

正确答案：C，我的选择：尚未作答。回答错误

统计

答题时间：0秒，全站正确率：49%，易错项：B。

解析

第一步，看提问方式，本题属于选是题。

第二步，找关键信息。

①通过技术进步提高能源使用效率，节约了能源消费；

②技术进步的同时促进经济规模的扩大，对能源产生新的需求，从而抵消所节约的能源。

第三步，辨析选项。

A项：发动机效率提升降低了行车成本，属于“通过技术进步提高能源使用效率，节约了能源消费”，更多人以车代步，属于“技术进步的同时促进经济规模的扩大，对能源产生新的需求，从而抵消所节约的能源”，符合回弹效应，不能控制回弹效应；

B项：厂商进一步提高能源效率，属于“通过技术进步提高能源使用效率，节约了能源消费”，生产出更多产品，属于“技术进步的同时促进经济规模的扩大，对能源产生新的需求，从而抵消所节约的能源”，符合回弹效应，不能控制回弹效应；

C项：使用太阳能热水器会节约能源，而用太阳能热水器取代传统电热水器，不会“对化石能源产生新的需求”，不属于“抵消太阳能所节约的能源”的后果，能够控制回弹效应；

D项：节能型家电，属于“通过技术进步提高能源使用效率，节约了能源消费”，被越来越多的人购买，属于“技术进步的同时促进经济规模的扩大，对能源产生新的需求，从而抵消所节约的能源”，符合回弹效应，不能控制回弹效应。

因此，选择C选项。

考点

判断推理

定义判断

单定义

来源

2018年0421内蒙古公务员考试《行测》真题第85题、2018年0421宁夏公务员考试《行测》真题第70题、2018年0421安徽公务员考试《行测》真题第74题、2018年0421新疆公务员考试《行测》真题第78题、2018年0421重庆公务员考试《行测》真题第83题、2018年0421青海公务员考试《行测》真题第83题、2018年0421黑龙江公务员考试《行测》真题（公检法）第85题、2018年0421黑龙江公务员考试《行测》真题（省直）第85题

86、（单选题）仪态万方：美丽多姿

A.风度翩翩：富富有余

B.腰缠万贯：富甲一方

C.其貌不扬：荣华富贵

D.仪表堂堂：身无长物

收起解析

展开全部解析

收藏

纠错

正确答案：B，我的选择：尚未作答。回答错误

统计

答题时间：0秒，全站正确率：89%，易错项：A。

解析

第一步，确定题干逻辑关系。

“仪态万方”形容容貌、姿态各方面都很美，“美丽多姿”也是形容姿态很美，二者属于近义关系。

第二步，辨析选项。

A项：“风度翩翩”形容举止洒脱，气质不凡，“富富有余”形容东西量多，满足需要外还有富余，二者无明显逻辑关系，排除；

B项：“腰缠万贯”形容人极富有，“富甲一方”指拥有的财物在某地方上居第一位，比喻十分富有，二者属于近义关系，与题干逻辑关系一致，符合；

C项：“其貌不扬”指人的外貌不漂亮，“荣华富贵”比喻兴盛或显达，形容有钱有势，二

者无明显逻辑关系，排除；

D项：“仪表堂堂”形容人外表端正、举止大方、姿态威严，“身无长物”意为除自身外没有多余的东西，借以形容贫穷，二者无明显逻辑关系，排除。

因此，选择B选项。

考点

判断推理

类比推理

语义关系 近义

来源

2018年0421内蒙古公务员考试《行测》真题第90题、2018年0421山西公务员考试《行测》真题第89题、2018年0421河北公务员考试《行测》真题第98题、2018年0421湖北公务员考试《行测》真题第87题、2018年0421湖南公务员考试《行测》真题第93题、2018年0421青海公务员考试《行测》真题第94题、2018年0421黑龙江公务员考试《行测》真题（公检法）第86题、2018年0421黑龙江公务员考试《行测》真题（省直）第91题

87、（单选题）西子湖：曹娥江

A.美人蕉：老婆饼

B.东坡肉：五柳鱼

C.女儿红：祖母绿

D.狮子头：凤凰胆

收起解析

展开全部解析

收藏

纠错

正确答案：B，我的选择：尚未作答。回答错误

统计

答题时间：0秒，全站正确率：67%，易错项：C。

解析

第一步，确定题干逻辑关系。

“西子湖”即杭州西湖，得名于我国四大美女之一的西施；“曹娥江”是汇入钱塘江的最大支流，因东汉少女曹娥入江救父而得名，二者都是水域，属于并列关系，且均得名于某一人物。

第二步，辨析选项。

A项：“美人蕉”是一种多年生的草本植物，“老婆饼”是一种食物，二者不属于并列关系，排除。

B项：“东坡肉”是眉山和江南地区的特色传统名菜，相传为北宋词人苏东坡所创制；“五柳鱼”是一道四川名菜，得名于“五柳先生”陶渊明，二者都是菜肴，属于并列关系，且均得名于某一人物，与题干逻辑关系一致，符合。

C项：“女儿红”是糯米酒的一种，“祖母绿”被称为绿宝石之王，是国际珠宝界公认的四大名贵宝石之一，二者不属于并列关系，排除。

D项：“狮子头”是中国江苏省扬州淮扬菜系中的一道传统菜肴，“凤凰胆”是一种天然玉石珠，大小如鸡卵，通体红如火，二者不属于并列关系，排除。

因此，选择B选项。

拓展

五柳鱼：相传杜甫在吃这道菜时，说“陶渊明先生是我们敬佩的先贤，而这鱼背覆有五颜六

色的丝，很像柳叶，就叫‘五柳鱼’吧”，故此名流传下来。

女儿红：主要产于中国浙江绍兴一带的名酒，早在宋代，绍兴就是有名的酒产地，绍兴人家里生了女儿，等到孩子满月时，就会选酒数坛，泥封坛口，埋于地下或藏于地窖内，待到女儿出嫁时取出招待亲朋客人，由此得名“女儿红”。

考点

判断推理

类比推理

外延关系 并列

来源

2018年0421天津公务员考试《行测》真题第82题、2018年0421山西公务员考试《行测》真题第87题、2018年0421湖北公务员考试《行测》真题第86题、2018年0421湖南公务员考试《行测》真题第90题、2018年0421重庆公务员考试《行测》真题第88题、2018年0421青海公务员考试《行测》真题第85题、2018年0421黑龙江公务员考试《行测》真题（偏远地区）第82题、2018年0421黑龙江公务员考试《行测》真题（公检法）第87题、2018年0421黑龙江公务员考试《行测》真题（省直）第93题

88、（单选题）风霜雨雪：雾里看花

- A.春夏秋冬：踏雪寻梅
- B.金木火土：水中望月
- C.桃李杏橘：青梅煮酒
- D.梅兰竹菊：茜窗画眉

收起解析

展开全部解析

收藏

纠错

正确答案：B，我的选择：尚未作答。回答错误

统计

答题时间：0秒，全站正确率：69%，易错题：C。

解析

第一步，确定题干逻辑关系。

“风”“霜”“雨”“雪”均属于自然现象，属于并列关系，“雾里看花”是指在雾中看花，且“雾”也属于自然现象，与“风”“霜”“雨”“雪”属于并列关系。

第二步，辨析选项。

A项：“春”“夏”“秋”“冬”均属于季节，属于并列关系，“踏雪寻梅”形容文人雅士赏爱风景苦心作诗的情致，“踏”不是一种季节，排除；

B项：“金”“木”“火”“土”均属于五行，属于并列关系，“水中望月”是指在水中看月亮，且“水”也属于五行之一，与“金”“木”“火”“土”属于并列关系，与题干逻辑关系一致，符合；

C项：“桃”“李”“杏”“橘”均属于水果，属于并列关系，“青梅煮酒”是指用青梅煮酒，“青”不是一种水果，排除；

D项：“梅”“兰”“竹”“菊”被称为“四君子”，均属于中国文人感物喻志的象征，属于并列关系，“茜窗画眉”是指在窗前画眉，“茜”指茜草，不是一种感物喻志的象征，排除。

因此，选择B选项。

考点

判断推理

类比推理

外延关系 并列

来源

2018年0421天津公务员考试《行测》真题第83题、2018年0421安徽公务员考试《行测》真题第62题、2018年0421山西公务员考试《行测》真题第88题、2018年0421河北公务员考试《行测》真题第97题、2018年0421青海公务员考试《行测》真题第86题、2018年0421黑龙江公务员考试《行测》真题（偏远地区）第83题、2018年0421黑龙江公务员考试《行测》真题（公检法）第88题、2018年0421黑龙江公务员考试《行测》真题（省直）第92题

89、（单选题）常规问题：非常规问题：问题

A.期中考试：期末考试：考试

B.顶层设计：基层落实：管理

C.豪华装修：简单装修：装修

D.转基因油：非转基因油：油

收起解析

展开全部解析

收藏

纠错

正确答案：D，我的选择：尚未作答。回答错误

统计

答题时间：0秒，全站正确率：86%，易错项：C。

解析

第一步，确定题干逻辑关系。

“常规问题”和“非常规问题”属于并列关系中的矛盾关系，且都属于“问题”，二者与“问题”属于包容关系中的种属关系。

第二步，辨析选项。

A项：除了“期中考试”和“期末考试”，还有月考、摸底考试等，所以“期中考试”和“期末考试”属于并列关系中的反对关系，排除；

B项：除了“顶层设计”和“基层落实”，还有中层管理，所以“顶层设计”和“基层落实”属于并列关系中的反对关系，排除；

C项：除了“豪华装修”和“简单装修”，还有中等装修，所以“豪华装修”和“简单装修”属于并列关系中的反对关系，排除；

D项：“转基因油”和“非转基因油”属于并列关系中的矛盾关系，且都属于“油”，二者与“油”属于包容关系中的种属关系，与题干逻辑关系一致，符合。

因此，选择D选项。

考点

判断推理

类比推理

外延关系 并列

来源

2018年0421四川公务员考试《行测》真题第74题、2018年0421黑龙江公务员考试《行测》真题（偏远地区）第84题、2018年0421黑龙江公务员考试《行测》真题（公检法）第89题

90 、（单选题） 演员：公园：演出

- A.谣言：微信：查处
- B.股民：股市：投资
- C.士兵：战争：升迁
- D.信息：卫星：定位

收起解析

展开全部解析

收藏

纠错

正确答案：B，我的选择：尚未作答。回答错误

统计

答题时间：0 秒，全站正确率：91%，易错项：C。

解析

第一步，确定题干逻辑关系。

“演员”在“公园”里“演出”，“演员”是人物，“公园”是地点，“演出”是行为，三者属于对应关系。

第二步，辨析选项。

A 项：“谣言”在“微信”里散播会被“查处”，但“谣言”不是人物，排除；

B 项：“股民”在“股市”里“投资”，“股民”是人物，“股市”是地点，“投资”是行为，三者属于对应关系，与题干逻辑关系一致，符合；

C 项：“士兵”参与“战争”，但“升迁”不是“士兵”在“战争”中的主要行为，排除；

D 项：“卫星”分为人造卫星和天然卫星，人造“卫星”可以传递“信息”，与题干对应方式不同，排除。

因此，选择 B 选项。

考点

判断推理

类比推理

内涵关系 对应

来源

2018 年 0421 内蒙古公务员考试《行测》真题第 94 题、2018 年 0421 安徽公务员考试《行测》真题第 64 题、2018 年 0421 山西公务员考试《行测》真题第 92 题、2018 年 0421 新疆公务员考试《行测》真题第 97 题、2018 年 0421 河北公务员考试《行测》真题第 92 题、2018 年 0421 湖北公务员考试《行测》真题第 91 题、2018 年 0421 湖南公务员考试《行测》真题第 87 题、2018 年 0421 青海公务员考试《行测》真题第 95 题、2018 年 0421 黑龙江公务员考试《行测》真题（公检法）第 90 题、2018 年 0421 黑龙江公务员考试《行测》真题（省直）第 95 题

91 、（单选题） 骡子：耕畜：犁地

- A.基因：生命：遗传
- B.衙役：衙门：当差
- C.鸬鹚：水鸟：捕鱼
- D.恒星：宇宙：发光

收起解析

展开全部解析

收藏

纠错

正确答案：C，我的选择：尚未作答。回答错误

统计

答题时间：0 秒，全站正确率：87%，易错项：B。

解析

第一步，确定题干逻辑关系。

“骡子”是“耕畜”的一种，二者属于包容关系中的种属关系，“骡子”具有“犁地”的功能，二者属于功能对应关系。

第二步，辨析选项。

A 项：“基因”是具有“遗传”效应的 DNA 片段，二者属于对应关系，“生命”具有“遗传”特征，二者属于对应关系，排除；

B 项：“衙役”是“衙门”里的差役，二者属于工作地点对应关系，“衙役”与“当差”属于主谓关系，排除；

C 项：“鸬鹚”是“水鸟”的一种，二者属于包容关系中的种属关系，“鸬鹚”具有“捕鱼”的功能，二者属于功能对应关系，与题干逻辑关系一致，符合；

D 项：“恒星”是“宇宙”的一部分，二者属于包容关系中的组成关系，“恒星”与“发光”属于属性关系，排除。

因此，选择 C 选项。

考点

判断推理

类比推理

外延关系 包容

来源

2018 年 0421 内蒙古公务员考试《行测》真题第 91 题、2018 年 0421 天津公务员考试《行测》真题第 84 题、2018 年 0421 安徽公务员考试《行测》真题第 63 题、2018 年 0421 山西公务员考试《行测》真题第 90 题、2018 年 0421 新疆公务员考试《行测》真题第 102 题、2018 年 0421 河北公务员考试《行测》真题第 99 题、2018 年 0421 湖北公务员考试《行测》真题第 89 题、2018 年 0421 湖南公务员考试《行测》真题第 94 题、2018 年 0421 青海公务员考试《行测》真题第 87 题、2018 年 0421 黑龙江公务员考试《行测》真题（公检法）第 91 题、2018 年 0421 黑龙江公务员考试《行测》真题（省直）第 96 题

92 、（单选题）团扇：羽毛扇：舞蹈扇

A.宣纸：餐巾纸：铜版纸

B.圈椅：实木椅：办公椅

C.排球：羽毛球：乒乓球

D.墨镜：老花镜：显微镜

收起解析

展开全部解析

收藏

纠错

正确答案：B，我的选择：尚未作答。回答错误

统计

答题时间：0 秒，全站正确率：69%，易错项：C。

解析

第一步，确定题干逻辑关系。

“团扇”是以形状命名的；“羽毛扇”是由“羽毛”做成的扇子，是以材质命名的；“舞蹈扇”是跳舞的时候使用的扇子，是以功能命名的，两两之间均属于交叉关系。

第二步，辨析选项。

A项：“宣纸”以产地命名的；“餐巾纸”是用餐的时候用的纸，是以功能命名的；“铜版纸”是以工具命名的，三者属于并列关系，排除。

B项：“圈椅”是以形状命名的；“实木椅”是用实木做成的椅子，是以材质命名的；“办公椅”是用来办公的椅子，是以功能命名的，两两之间属于交叉关系，与题干逻辑关系一致，符合。

C项：“排球”是以队列的分布命名的；“羽毛球”是以材质命名的；“乒乓球”是拟声词，直接音译过来的，三者属于并列关系，排除。

D项：“墨镜”以颜色命名；“老花镜”和“显微镜”都是以功能命名；“墨镜”和“老花镜”都是眼镜，二者属于并列关系，排除。

因此，选择B选项。

拓展

团扇是一种圆形有柄的扇子，“团”是圆形的意思。

宣纸是中国传统的古典书画用纸，始于唐代、产于泾县，因唐代泾县隶属宣州管辖，故得名宣纸。

铜版纸是俗称，正式名称应该是印刷涂料纸，关于其命名来源，因为当初在欧洲拿这种纸来印刷精美的名画时，晒制所用的是铜版腐蚀的印版，故把用于铜版印刷的美术用纸叫作铜版纸。

圈椅是靠背和扶手接连形成的半圆形椅子，“圈”是圆形的意思。

排球：最早的排球场上是16人，4人一排，站成4排进行比赛，因此被形象地称为“排球”。

墨镜又称为“太阳镜”，太阳照射下一般呈墨色，是根据颜色命名的。

考点

判断推理

类比推理

外延关系 交叉

来源

2018年0421内蒙古公务员考试《行测》真题第92题、2018年0421天津公务员考试《行测》真题第85题、2018年0421安徽公务员考试《行测》真题第66题、2018年0421山西公务员考试《行测》真题第91题、2018年0421新疆公务员考试《行测》真题第100题、2018年0421河北公务员考试《行测》真题第100题、2018年0421湖南公务员考试《行测》真题第95题、2018年0421重庆公务员考试《行测》真题第89题、2018年0421青海公务员考试《行测》真题第88题、2018年0421黑龙江公务员考试《行测》真题（偏远地区）第87题、2018年0421黑龙江公务员考试《行测》真题（公检法）第92题、2018年0421黑龙江公务员考试《行测》真题（省直）第97题

93、（单选题）火药：鞭炮：二踢脚

A.乌铁：刀具：三棱刀

B.红砖：建筑：四合院

C.清水：白酒：五粮液

D.杉木：乐器：六弦琴

收起解析

展开全部解析

收藏

纠错

正确答案：C，我的选择：尚未作答。回答错误

统计

答题时间：0 秒，全站正确率：39%，易错项：A。

解析

第一步，确定题干逻辑关系。

“火药”是制作“鞭炮”的原材料，而且是必需的材料，二者属于原材料对应关系，“二踢脚”是双响爆竹，是“鞭炮”的一种，二者属于包容关系中的种属关系。

第二步，辨析选项。

A 项：“乌铁”是“刀具”的原材料之一，但不是必需的材料，“刀具”的原材料还可以是不锈钢、陶瓷等，排除；

B 项：“红砖”是“建筑”的原材料之一，但不是必需的材料，“建筑”的原材料还可以是玻璃、水泥等，排除；

C 项：“清水”是“白酒”的原材料，而且是必需的材料，二者属于原材料对应关系，“五粮液”是一种“白酒”，二者属于包容关系中的种属关系，与题干逻辑关系一致，符合；

D 项：“杉木”是“乐器”的原材料之一，但不是必需的材料，铜管“乐器”的原材料是金属，而不是“杉木”，排除。

因此，选择 C 选项。

考点

判断推理

类比推理

外延关系 包容

来源

2018 年 0421 内蒙古公务员考试《行测》真题第 95 题、2018 年 0421 天津公务员考试《行测》真题第 87 题、2018 年 0421 安徽公务员考试《行测》真题第 68 题、2018 年 0421 新疆公务员考试《行测》真题第 99 题、2018 年 0421 河北公务员考试《行测》真题第 93 题、2018 年 0421 湖北公务员考试《行测》真题第 90 题、2018 年 0421 湖南公务员考试《行测》真题第 88 题、2018 年 0421 青海公务员考试《行测》真题第 90 题、2018 年 0421 黑龙江公务员考试《行测》真题（公检法）第 93 题、2018 年 0421 黑龙江公务员考试《行测》真题（省直）第 98 题

94 、（单选题）钟表 之于 （ ） 相当于 （ ） 之于 排字工

A.时间；印刷工

B.刻度；线装书

C.更夫；打印机

D.油纸；修理工

收起解析

展开全部解析

收藏

纠错

正确答案：C，我的选择：尚未作答。回答错误

统计

答题时间：0 秒，全站正确率：79%，易错项：B。

解析

分别将选项代入题干，确定逻辑关系。

A项：“钟表”是计量“时间”的工具，二者属于对应关系，“印刷工”与“排字工”均为职业，二者属于并列关系，前后逻辑关系不一致，排除；

B项：“钟表”上有“刻度”，二者属于对应关系，“线装书”与“排字工”无明显逻辑关系，前后逻辑关系不一致，排除；

C项：“钟表”与“更夫”的作用都是告知时间，二者属于现代工具取代了古代职业的对应关系；“打印机”与“排字工”的作用都是打印，二者属于现代工具取代了古代职业的对应关系，前后逻辑关系一致，符合；

D项：“钟表”与“油纸”无明显逻辑关系，“修理工”与“排字工”均为职业，二者属于并列关系，前后逻辑关系不一致，排除。

因此，选择C选项。

考点

判断推理

类比推理

内涵关系 对应

来源

2018年0421内蒙古公务员考试《行测》真题第98题、2018年0421天津公务员考试《行测》真题第89题、2018年0421安徽公务员考试《行测》真题第69题、2018年0421新疆公务员考试《行测》真题第105题、2018年0421河北公务员考试《行测》真题第96题、2018年0421湖北公务员考试《行测》真题第95题、2018年0421湖南公务员考试《行测》真题第91题、2018年0421青海公务员考试《行测》真题第92题、2018年0421黑龙江公务员考试《行测》真题（公检法）第94题、2018年0421黑龙江公务员考试《行测》真题（省直）第100题

95、（单选题）（ ）之于风油精相当于碳酸之于（ ）

A.薄荷脑；可乐

B.清凉；陈醋

C.叶绿素；花露水

D.液体；二氧化碳

收起解析

展开全部解析

收藏

纠错

正确答案：A，我的选择：尚未作答。回答错误

统计

答题时间：0秒，全站正确率：90%，易错项：D。

解析

分别将选项代入题干，确定逻辑关系。

A项：“薄荷脑”是“风油精”的主要成分，二者属于包容关系中的组成关系，“碳酸”是“可乐”的主要成分，二者属于包容关系中的组成关系，前后逻辑关系一致，符合；

B项：“风油精”有“清凉”的作用，二者属于功能对应关系，“碳酸”与“陈醋”无明显逻辑关系，前后逻辑关系不一致，排除；

C项：“叶绿素”与“风油精”无明显逻辑关系，“碳酸”与“花露水”无明显逻辑关系，排除；

D项：“风油精”是一种“液体”，二者属于包容关系中的种属关系，“二氧化碳”溶于水生成“碳酸”，二者属于对应关系，前后逻辑关系不一致，排除。

因此，选择 A 选项。

考点

判断推理

类比推理

外延关系 包容

来源

2018 年 0421 天津公务员考试《行测》真题第 90 题、2018 年 0421 安徽公务员考试《行测》真题第 70 题、2018 年 0421 山西公务员考试《行测》真题第 95 题、2018 年 0421 新疆公务员考试《行测》真题第 103 题、2018 年 0421 湖北公务员考试《行测》真题第 93 题、2018 年 0421 湖南公务员考试《行测》真题第 92 题、2018 年 0421 重庆公务员考试《行测》真题第 86 题、2018 年 0421 黑龙江公务员考试《行测》真题（公检法）第 95 题、2018 年 0421 黑龙江公务员考试《行测》真题（省直）第 99 题

96 、（单选题）近日，有动物实验研究发现，在正常饮食中加入一定剂量的苦瓜水提取物可降低 II 型糖尿病小鼠的高血糖，这是由于苦瓜中含有一种类似胰岛素的物质，能够降低血糖，有人因此认为，II 型糖尿病患者多吃苦瓜有助于降低血糖水平。

以下哪项如果为真，最能质疑上述论证？

- A. 苦瓜含糖量低，对血糖的影响小
- B. 日常食用的苦瓜中，苦瓜水提取物含量极少
- C. 苦瓜水提取物可能会导致血清总蛋白轻微降低
- D. 苦瓜水提取物对 I 型糖尿病小鼠的血糖无显著影响

收起解析

展开全部解析

收藏

纠错

正确答案：B，我的选择：尚未作答。回答错误

统计

答题时间：0 秒，全站正确率：70%，易错题：D。

解析

第一步，确定题型。

根据提问方式中的“质疑”，确定为削弱论证。

第二步，找论点和论据。

论点：II 型糖尿病患者多吃苦瓜有助于降低血糖水平。

论据：正常饮食中加入一定剂量的苦瓜水提取物可降低 II 型糖尿病小鼠的高血糖，这由于苦瓜中含有一种类似胰岛素的物质，能够降低血糖。

第三步，辨析选项。

A 项：无关选项。苦瓜本身含糖量的高低，与苦瓜是否有降低血糖的作用无关，论题不一致，排除。

B 项：增加反向论据。日常食用的苦瓜中，苦瓜水提取物极少，意思是就算吃了苦瓜，也不能得到这种物质，即无法达到降低血糖的作用，具有削弱作用。

C 项：无关选项。苦瓜水是否会导致血清总蛋白降低，与能否降低血糖水平无关，论题不一致，排除。

D 项：无关选项。苦瓜水提取物对 I 型糖尿病无显著影响，与苦瓜能否降低 II 型糖尿病患者血糖无关，论题不一致，排除。

因此，选择 B 选项。

考点

判断推理

逻辑判断

削弱论证

来源

2018年0421四川公务员考试《行测》真题第82题、2018年0421黑龙江公务员考试《行测》真题（公检法）第96题

97、（单选题）在大量的信息中容易迷失是人性的弱点。那些不管是有用的还是没用的，全部想要收集到的完美主义者，是不能很好地分析信息的。克服这一点的关键就是，养成明确的“目标意识”。尽可能瞄准自己想要的信息收集，为了防止主观臆断和先入为主，必须把信息的收集和判断这两个工作分开。如果信息的数量庞大，就要进行再次乃至多次的检验。由此可以推出：

- A.不能很好地分析信息的人都是完美主义者
- B.养成明确的“目标意识”，才不容易在大量的信息中迷失
- C.把信息的收集和判断这两个工作分开，就能够防止主观臆断
- D.如果信息的数量不大，就不需要进行再次乃至多次的检验

收起解析

展开全部解析

收藏

纠错

正确答案：B，我的选择：尚未作答。回答错误

统计

答题时间：0秒，全站正确率：77%，易错项：C。

解析

第一步，确定题型。

根据题干关联词“如果……就……”，确定为翻译推理。

第二步，翻译题干。

- ①完美主义者→不能很好分析信息
- ②克服容易迷失→养成明确的“目标意识”
- ③防止主观臆断和先入为主→把信息的收集和判断分开
- ④信息数量大→进行再次乃至多次的检验

第三步，进行推理。

A项：“不能很好地分析信息”是对①的“肯后”，肯后推不出必然结论，排除；

B项：可翻译为：不容易在大量的信息中迷失→养成“目标意识”，与②表述一致，可以推出；

C项：“把信息的收集和判断这两个工作分开”是对③的“肯后”，肯后推不出必然结论，排除；

D项：“信息的数量不大”是对④的“否前”，否前推不出必然结论，排除。

因此，选择B选项。

考点

判断推理

逻辑判断

翻译推理

来源

2018年0421四川公务员考试《行测》真题第79题、2018年0421黑龙江公务员考试《行测》真题（偏远地区）第95题、2018年0421黑龙江公务员考试《行测》真题（公检法）第97题

98、（单选题）近年来，一种儿童天赋基因检测在家长圈里流行起来，提供这种检测的公司声称，他们通过唾液获取儿童的基因，就能分析出儿童具有哪些“特长”，如音乐天赋、数学天赋、交际能力、长跑能力、抗压能力等，不少家长纷纷花高价为孩子做了这种检测，他们认为通过这种检测，可以有的放矢地去开发儿童的天赋和潜能，不再需要通过尝试过多的兴趣班来挖掘儿童的特长。

以下哪项如果为真，最能削弱上述父母的观点？

- A.有些教师也可以根据自身的经验有的放矢地开发儿童的天赋和潜能
- B.相比于儿童天赋基因检测，肥胖基因、癌症基因检测具有更强的科学依据
- C.天赋是多基因共同调控的结果，目前很难准确地界定哪些基因对哪些天赋有影响
- D.有的商家按全基因组检测收费，但只做单一或者某几个基因的检测，家长们很难区分出来

收起解析

展开全部解析

收藏

纠错

正确答案：C，我的选择：尚未作答。回答错误

统计

答题时间：0秒，全站正确率：87%，易错题：D。

解析

第一步，确定题型。

根据提问方式中的“削弱”，确定为削弱论证。

第二步，找论点和论据。

论点：通过这种检测，可以有的放矢地去开发儿童的天赋和潜能，不再需要通过尝试过多的兴趣班来挖掘儿童的特长。

论据：提供检测的公司声称，他们通过唾液获取儿童的基因，就能分析出儿童具有哪些“特长”。

第三步，辨析选项。

A项：无关选项。教师也能开发儿童天赋，与此种检测能否开发儿童天赋之间无直接联系，论题不一致，排除。

B项：无关选项。肥胖基因、癌症基因检测具有更强的科学依据，与此种检测能否开发儿童天赋之间无直接联系，论题不一致，排除。

C项：切断联系。公司声称的检测是通过检测基因来验证的，选项直接指出无法确定哪些基因对天赋有影响，切断检测与天赋之间的联系，具有削弱作用。

D项：无关选项。商家按全基因组检测收费，与能否用此种检测开发儿童天赋无关，论题不一致，排除。

因此，选择C选项。

考点

判断推理

逻辑判断

削弱论证

来源

2018年0421四川公务员考试《行测》真题第83题、2018年0421黑龙江公务员考试《行

测》真题（公检法）第 98 题

99、（单选题）我国在西南地区进行的页岩气勘探获得重大成果，估算天然气资源量达千亿立方米，这是我国首次在四川盆地以外的南方复杂构造区取得页岩气勘探的重大突破。有专家称该地有望成为新的工业气田，可以满足上千万居民的生活和工农业发展的用气需求，促进经济发展。

该专家观点成立的假设前提是：

- A. 南方复杂的地质构造有利于天然气生成
- B. 凡是勘探到的天然气都能顺利开采出来
- C. 我国目前天然气产量无法满足实际需求
- D. 天然气作为清洁能源是促进经济发展的重要动力

收起解析

展开全部解析

收藏

纠错

正确答案：B，我的选择：尚未作答。回答错误

统计

答题时间：0 秒，全站正确率：80%，易错题：D。

解析

第一步，确定题型。

根据提问方式中的“前提”，确定为加强论证。

第二步，找论点和论据。

论点：该地有望成为新的工业气田，可以满足上千万居民的生活和工农业发展的用气需求，促进经济发展。

论据：我国在西南地区进行的页岩气勘探获得重大成果，估算天然气资源量达千亿立方米，这是我国首次在四川盆地以外的南方复杂构造区取得页岩气勘探的重大突破。

第三步，辨析选项。

A 项：无关选项。运用否定代入法，如果南方复杂的地质构造不利于天然气的生成，也并不影响将已勘探到的天然气加以利用以满足需求、促进发展的结论，因此不是必要前提，论题不一致，排除。

B 项：建立联系。论据中指出勘探出了大量的页岩气，论点强调的是应用的情况。论点和论据不完全一致，需要进行建立联系，即勘探到的都可以开采出来进行应用，是专家观点成立的假设前提，具有加强作用。

C 项：无关选项。目前天然气产量的情况并不影响该地区成为新的工业气田的结论，论题不一致，排除。

D 项：无关选项。运用否定代入法，就算天然气并不是促进经济发展的重要动力，但仍然有可能得到该地有望成为新的工业气田的结论，因此不是必要前提，论题不一致，排除。

因此，选择 B 选项。

考点

判断推理

逻辑判断

加强论证

来源

2018 年 0421 内蒙古公务员考试《行测》真题第 105 题、2018 年 0421 天津公务员考试《行测》真题第 97 题、2018 年 0421 安徽公务员考试《行测》真题第 93 题、2018 年 0421 山西

公务员考试《行测》真题第 103 题、2018 年 0421 新疆公务员考试《行测》真题第 90 题、2018 年 0421 河北公务员考试《行测》真题第 107 题、2018 年 0421 湖北公务员考试《行测》真题第 105 题、2018 年 0421 湖南公务员考试《行测》真题第 104 题、2018 年 0421 重庆公务员考试《行测》真题第 99 题、2018 年 0421 青海公务员考试《行测》真题第 101 题、2018 年 0421 黑龙江公务员考试《行测》真题（公检法）第 99 题、2018 年 0421 黑龙江公务员考试《行测》真题（省直）第 105 题

100 、（单选题）月球潮汐力与地球上的地震、海啸、火山爆发等自然灾害存在明显相关性的说法是可疑的，因为每年自然灾害很多，而“超级月亮”每 14 个月才一次，即便考虑月球经过近地点，每个月也只有一次。部分学者会找出一些和“超级月亮”出现时间相隔不远的灾害来论证，这显然缺乏证据支撑，也忽略了大量事例，比如月球在远地点前后发生的灾害。基于大量关于地震和月球关系数据的研究表明，地震发生频率和月球经过近地点没有统计上的相关性，因此说月球潮汐力会引发地震显然缺乏可靠证据。

由此可以推出：

- A.月球潮汐力与月球在远地点前后发生的地震具有相关性
- B.月球潮汐力与月球经过近地点发生的地震具有因果关系
- C.月球潮汐力与地震之间的关系需要在时间和空间上综合分析
- D.地震触发机制有多种因素，但月球潮汐力的作用效果较明显

收起解析

展开全部解析

收藏

纠错

正确答案：C，我的选择：尚未作答。回答错误

统计

答题时间：0 秒，全站正确率：83%，易错项：B。

解析

第一步，确定题型。

根据提问方式及题干特点，确定为归纳推理。

第二步，辨析选项。

A 项：根据题干“忽略了大量事例，比如月球在远地点前后发生的灾害”，说明二者没有相关性，排除；

B 项：根据题干“地震发生频率和月球经过近地点没有统计上的相关性”，说明二者没有因果关系，排除；

C 项：题干第一句提到“月球潮汐力与地球上地震、海啸、火山爆发等自然灾害存在明显相关性的说法是可疑的”，然后又在时间层面、空间层面举出例证说明“月球潮汐力会引起地震显然缺乏可靠证据”，故“月球潮汐力与地震之间的关系需要在时间和空间上综合分析”可以推出；

D 项：根据题干结论“因此说月球潮汐力会引起地震显然缺乏可靠证据”，无法推出月球潮汐力对于地震的作用效果明显，排除。

因此，选择 C 选项。

考点

判断推理

逻辑判断

归纳推理

来源

2018年0421天津公务员考试《行测》真题第99题、2018年0421山西公务员考试《行测》真题第104题、2018年0421河北公务员考试《行测》真题第108题、2018年0421湖北公务员考试《行测》真题第102题、2018年0421湖南公务员考试《行测》真题第103题、2018年0421重庆公务员考试《行测》真题第100题、2018年0421青海公务员考试《行测》真题第103题、2018年0421黑龙江公务员考试《行测》真题（公检法）第100题、2018年0421黑龙江公务员考试《行测》真题（省直）第106题

101、（单选题）如果央行允许人民币继续贬值，那么市场对于人民币贬值的预期就容易强化。如果市场形成较强的人民币贬值预期，大量的资金就会流出我国。资金流出我国，不仅会强化这种人民币的贬值预期，导致更多的资金流出我国，而且可能会导致我国资产价格全面下跌，继而可能引爆金融市场的区域性风险及系统性风险，这些都是我们不愿意看到且不允许出现的情况。

由此可以推出：

- A.货币持续贬值会导致资产全面下跌
- B.资金流失严重会出现货币贬值预期
- C.央行不会允许人民币继续贬值
- D.我国将重点着手干预资金外流

收起解析

展开全部解析

收藏

纠错

正确答案：C，我的选择：尚未作答。回答错误

统计

答题时间：0秒，全站正确率：61%，易错项：A。

解析

第一步，确定题型。

根据题干关联词“如果……那么……”，确定为翻译推理。

第二步，翻译题干。

①央行允许人民币继续贬值→贬值预期强化

②较强的贬值预期→大量资金会流出我国

③资金流出我国→强化贬值预期且更多资金流出我国且可能导致资产价格全面下降且可能引爆金融市场的风险

④我们不允许出现这些情况，这些情况指的是：贬值预期且更多资金流出我国且可能导致资产价格全面下降且可能引爆金融市场的风险

第三步，进行推理。

A项：根据②③递推可得：“货币持续贬值可能导致资产全面下跌”，而不是“会导致资产全面下跌”，无法推出，排除；

B项：根据③可得：“资金流失严重会强化货币贬值预期”，而不是“出现货币贬值预期”，无法推出，排除；

C项：条件④“我们不允许出现这些情况”是对③的“否后”，根据“否后必否前”，可得到“资金不会流出我国”，进而结合①②及“否后必否前”推出：“央行不会允许人民币继续贬值”，可以推出；

D项：题干中并未提及“重点着手干预资金外流”，无法推出，排除。

因此，选择C选项。

考点

判断推理

逻辑判断

翻译推理

来源

2018年0421内蒙古公务员考试《行测》真题第101题、2018年0421天津公务员考试《行测》真题第94题、2018年0421安徽公务员考试《行测》真题第88题、2018年0421山西公务员考试《行测》真题第102题、2018年0421新疆公务员考试《行测》真题第86题、2018年0421河北公务员考试《行测》真题第102题、2018年0421湖北公务员考试《行测》真题第98题、2018年0421湖南公务员考试《行测》真题第97题、2018年0421重庆公务员考试《行测》真题第96题、2018年0421青海公务员考试《行测》真题第99题、2018年0421黑龙江公务员考试《行测》真题（公检法）第101题、2018年0421黑龙江公务员考试《行测》真题（省直）第103题

102、（单选题）某地发生一起爆炸案，经侦查得到以下线索：

- （1）如果甲不是爆炸案元凶，那么乙就是爆炸案元凶；
- （2）甲和乙都不是爆炸案元凶；
- （3）乙和丙是爆炸案元凶。

经进一步侦查发现前述三条线索只有一条是假的，由此一定可以推出：

- A.甲是爆炸案元凶
- B.丙是爆炸案元凶
- C.甲不是爆炸案元凶
- D.乙不是爆炸案元凶

收起解析

展开全部解析

收藏

纠错

正确答案：B，我的选择：尚未作答。回答错误

统计

答题时间：0秒，全站正确率：51%，易错项：C。

解析

第一步，确定题型。

题干有若干论断和真假限定，确定为真假推理。

第二步，找关系。

条件（1）即“ \neg 甲 \rightarrow 乙”和条件（2）即“ \neg 甲且 \neg 乙”为矛盾关系。

第三步，看其余。

根据矛盾关系的特性“必有一真，必有一假”及题干“只有一条是假的”的真假限定，假话一定在条件（1）和条件（2）之中，那么其余信息为真。

根据条件（3）为真，可得到，乙和丙是爆炸案元凶。

因此，选择B选项。

考点

判断推理

逻辑判断

真假推理

来源

2018年0421黑龙江公务员考试《行测》真题（公检法）第102题

103 、（单选题）一个人如果是智者，那么他一定是一位谦虚的人，即一个人只有认识到自己的不足，他才会谦虚，但是，如果一个人听不进别人的意见，那么他就不会认识到自己的不足。

由此可以推出：

- A.一个人如果认识到自己的不足，他就是一位智者
- B.一个人如果听不进别人的意见，他就是一位智者
- C.一个人如果听得进别人的意见，他就会认识到自己的不足
- D.一个人如果认识不到自己的不足，他一定听不进别人的意见

收起解析

展开全部解析

收藏

纠错

正确答案：B，我的选择：尚未作答。回答错误

统计

答题时间：0 秒，全站正确率：66%，易错项：C。

解析

第一步，确定题型。

根据题干关联词“如果……就……”，确定为翻译推理。

第二步，翻译题干。

①智者→谦虚

②谦虚→认识到自己的不足

③听不进别人的意见→不会认识到自己的不足

第三步，进行推理。

A 项：由①②递推可得“智者→认识到自己的不足”，“认识到自己的不足”是对该式的“肯后”，肯后推不出必然结论，排除；

B 项：由①②③递推可得“智者→听进别人的意见”，“听不进别人的意见”是对该式的“否后”，根据“否后必否前”，可以推出；

C 项：“听得进别人的意见”是对③的“否前”，否前推不出必然结论，排除；

D 项：“认识不到自己的不足”是对③“肯后”，肯后推不出必然结论，排除。

因此，选择 B 选项。

考点

判断推理

逻辑判断

翻译推理

来源

2018 年 0421 四川公务员考试《行测》真题第 84 题、2018 年 0421 黑龙江公务员考试《行测》真题（偏远地区）第 98 题、2018 年 0421 黑龙江公务员考试《行测》真题（公检法）第 103 题

104 、（单选题）母亲年龄是唐氏综合征筛查所考虑的风险因素之一。一般认为，母亲年龄越大，宝宝出现遗传异常的风险就越高。当卵子里有一条多余的 21 号染色体时，胎儿就会出现唐氏综合征。随着女性年龄的增长，出现此类异常的风险也随之升高。最近，一些专家开始对这种筛查方法提出质疑，认为遗传异常并不仅仅只是女方年龄的问题。

以下哪项如果为真，最能支持上述专家质疑？

A.现代人因为环境以及生活习惯影响，容易产生基因突变，即便是健康夫妇也有生育“唐氏

儿”的风险

B.子宫基本不会随着年龄增长发生变化，只要激素水平充足，年老妇女的子宫也能够正常养育胎儿

C.造成宝宝精神健康问题的重点似乎并不在于母亲的“绝对年龄”，而在于父亲与母亲的“相对年龄”

D.精子的 21 号染色体也可能粘连多余的遗传物质，父亲的年龄越大，制造精子过程出错的概率就越高

收起解析

展开全部解析

收藏

纠错

正确答案：D，我的选择：尚未作答。回答错误

统计

答题时间：0 秒，全站正确率：58%，易错项：C。

解析

第一步，确定题型。

根据提问方式中的“支持”，确定为加强论证。

第二步，找论点和论据。

论点：遗传异常并不仅仅只是女方年龄的问题。

论据：无。

第三步，辨析选项。

A 项：不明确项。专家的观点其实也包含“女方年龄”会导致胎儿出现唐氏综合征的风险，只不过筛查方式不能仅通过筛查女性的年龄，但是该项指出是“环境及生活习惯的影响”会导致出现“唐氏儿”，无法明确支持该专家隐含的观点，不具有加强作用。

B 项：无关选项。只是提到子宫不会受年龄的影响，并未提到年龄和唐氏综合征风险之间的关系，论题不一致，排除。

C 项：无关选项。只是提到“父亲和母亲的‘相对年龄’会造成宝宝精神健康问题”与唐氏综合征无关，论题不一致，排除。

D 项：增加论据。指出父亲的年龄越大，也会出现 21 号染色体粘连多余遗传物质导致制造精子过程出错的概率，说明筛查唐氏综合征还需要考虑男方年龄，而非只是考虑女方年龄，具有加强作用。

因此，选择 D 选项。

考点

判断推理

逻辑判断

加强论证

来源

2018 年 0421 天津公务员考试《行测》真题第 91 题、2018 年 0421 新疆公务员考试《行测》真题第 92 题、2018 年 0421 河北公务员考试《行测》真题第 110 题、2018 年 0421 湖北公务员考试《行测》真题第 99 题、2018 年 0421 湖南公务员考试《行测》真题第 101 题、2018 年 0421 重庆公务员考试《行测》真题第 91 题、2018 年 0421 青海公务员考试《行测》真题第 96 题、2018 年 0421 黑龙江公务员考试《行测》真题（偏远地区）第 96 题、2018 年 0421 黑龙江公务员考试《行测》真题（公检法）第 104 题、2018 年 0421 黑龙江公务员考试《行测》真题（省直）第 109 题

2015 年末，我国规模以上高技术制造业共有企业 26894 家，比 2010 年增加 1077 家；占规模以上制造业企业数的比重为 7.8%，比 2010 年提高 1.3 个百分点。

2015 年末，我国高技术制造业从业人员 1293.7 万人，比 2010 年增长 36.9%，占全部制造业从业人员的比重为 15.1%，比 2010 年提高 2.9 个百分点。

2015 年我国高技术制造业实现主营业务收入 116048.9 亿元，比 2010 年增长 108.2%；占全部制造业企业的比重为 12.8%，比 2010 年提高 0.8 个百分点。2015 年，我国高技术制造业实现利润总额 7233.7 亿元，比 2010 年增长 165.5%，增幅比其他制造业平均水平高出 11.5 个百分点；高技术制造业利润总额占全部制造业的比重为 13.1%，比 2010 年提高 0.5 个百分点。

2015 年，我国规模以上高技术制造业投入研发经费 2034.3 亿元，比 2010 年增长 178.2%，增幅比其他制造业平均水平高 8.7 个百分点。2015 年我国高技术制造业申请发明专利 7.4 万件，比 2010 年增长 179%；实现新产品销售收入 3.1 万亿元，比 2010 年增长 127%。

打开资料

105 、（单选题）2010 年，我国高技术制造业实现新产品销售收入约多少万亿元？

A.1.4

B.1.5

C.1.6

D.1.7

收起解析

展开全部解析

收藏

纠错

正确答案：A，我的选择：尚未作答。回答错误

统计

答题时间：0 秒，全站正确率：80%，易错题：B。

解析

第一步，本题考查基期量计算问题。

第二步，定位最后一段文字材料“2015 年实现新产品销售收入 3.1 万亿元，比 2010 年增长 127%”。

第三步，根据基期量=现期量/（1+增长率），由于选项出现了首位相同但第二位不同的情

况，由于分母本身就三位，故不再截位，可得 $\frac{3.1}{2.27}$ ，直除首两位商 13，与 A 选项最为接近。因此，选择 A 选项。

考点

资料分析

基期与现期

基期量 基期量计算

来源

2018 年 0421 四川公务员考试《行测》真题第 88 题、2018 年 0421 黑龙江公务员考试《行测》真题（偏远地区）第 111 题、2018 年 0421 黑龙江公务员考试《行测》真题（公检法）第 106 题

106 、（单选题）与 2010 年相比，2015 年下列高技术制造业的指标中哪项增长最快？

A.利润总额

B.新产品销售收入

C.主营业务收入

D.申请发明专利数

收起解析

展开全部解析

收藏

纠错

正确答案：D，我的选择：尚未作答。回答错误

统计

答题时间：0秒，全站正确率：81%，易错项：C。

解析

第一步，本题考查增长率读数比较问题。

第二步，定位第三、四段文字材料“2015年我国高技术制造业实现主营业务收入116048.9亿元，比2010年增长108.2%……我国高技术制造业实现利润总额7233.7亿元，比2010年增长165.5%……2015年我国高技术制造业申请发明专利7.4万件，比2010年增长179%；实现新产品销售收入3.1万亿元，比2010年增长127%”。

第三步，读数比较可知，增长最快的为申请发明专利数（179%）。

因此，选择D选项。

考点

资料分析

增长率

增长率比较类 增长率读数比较

来源

2018年0421四川公务员考试《行测》真题第89题、2018年0421黑龙江公务员考试《行测》真题（偏远地区）第112题、2018年0421黑龙江公务员考试《行测》真题（公检法）第107题

107、（单选题）2015年，我国高技术制造业实现主营业务收入比2010年增加约多少万亿元？

A.5

B.6

C.7

D.8

收起解析

展开全部解析

收藏

纠错

正确答案：B，我的选择：尚未作答。回答错误

统计

答题时间：0秒，全站正确率：74%，易错项：A。

解析

第一步，本题考查已知现期量与增长率的增长量计算问题。

第二步，定位第三段文字材料“2015年我国高技术制造业实现主营业务收入116048.9亿元，比2010年增长108.2%”。

第三步，根据增长量=（现期量×增长率）/（1+增长率），116048.9亿元≈11.6万亿元，

$108.2\% \approx 110\% \approx \frac{1}{0.9}$ ，利用增长量计算n+1原则，可得 $\frac{11.6}{0.9+1} \approx 6.1$ （万亿元）。

因此，选择 B 选项。

考点

资料分析

增长量

增长量计算 已知现期量与增长率

来源

2018 年 0421 四川公务员考试《行测》真题第 86 题、2018 年 0421 黑龙江公务员考试《行测》真题（偏远地区）第 113 题、2018 年 0421 黑龙江公务员考试《行测》真题（公检法）第 108 题

108 、（单选题）2010 年，我国制造业实现利润总额约多少万亿元？

A.1.3

B.1.7

C.2.2

D.2.8

收起解析

展开全部解析

收藏

纠错

正确答案：C，我的选择：尚未作答。回答错误

统计

答题时间：0 秒，全站正确率：50%，易错项：D。

解析

第一步，本题考查求整体量问题。

第二步，定位第三段文字材料“2015 年我国高技术制造业实现利润总额 7233.7 亿元，比 2010 年增长 165.5%；高技术制造业利润总额占全部制造业的比重为 13.1%，比 2010 年提高 0.5 个百分点”。

第三步，根据基期量=现期量/（1+增长率）以及整体量=部分量/比重，2010 年比重为 13.1%—0.5%=12.6%，选项出现首位相同，但第二位不同的情况，对分子取整，分母从左向右截取

前三位可得 $\frac{7234}{2.66} \div 12.6\% \approx \frac{7234 \times 8}{2.66} = \frac{57872}{2.66}$ ，直除首两位商 21，与 C 选项最为接近。

因此，选择 C 选项。

考点

资料分析

比重

现期比重计算 求整体量

来源

2018 年 0421 四川公务员考试《行测》真题第 87 题、2018 年 0421 黑龙江公务员考试《行测》真题（偏远地区）第 114 题、2018 年 0421 黑龙江公务员考试《行测》真题（公检法）第 109 题

109 、（单选题）根据上述资料，下列说法错误的是：

A.2010 年，我国高技术制造业中申请发明专利达 3 万件

B.2010 年末，高技术制造业从业人员占全国制造业从业人员的比重为 12.2%

C.2015 年末，我国规模以上制造企业数是规模以上高技术制造企业数的 10 倍以上

D.2015 年，我国规模以上高技术制造业投入的研发经费比 2010 年增加了 1000 亿元以上

收起解析

展开全部解析

收藏

纠错

正确答案：A，我的选择：尚未作答。回答错误

统计

答题时间：0 秒，全站正确率：66%，易错项：C。

解析

第一步，本题考查综合分析问题，且需选出错误的一项。

第二步，A 选项，基期量计算，定位最后一段文字材料“2015 年我国高技术制造业申请发明专利 7.4 万件，比 2010 年增长 179%”。根据基期量=现期量/(1+增长率)，可得 $\frac{7.4}{2.79} < 3$ （万件），错误。

B 选项，和差类简单计算，定位第二段文字材料“2015 年末，我国高技术制造业从业人员 1293.7 万人，比 2010 年增长 36.9%，占全部制造业从业人员的比重为 15.1%，比 2010 年提高 2.9 个百分点”。2010 年比重为 15.1% - 2.9% = 12.2%，正确。

C 选项，现期倍数计算，定位第一段文字材料“2015 年末，我国规模以上高技术制造业共有企业 26894 家，比 2010 年增加 1077 家，占规模以上制造业企业数的比重为 7.8%”。规

模以上制造企业数与规模以上高技术制造企业数的倍数关系为 $\frac{1}{7.8\%} > 10$ ，正确。

D 选项，已知现期量与增长率的增长量计算，定位最后一段文字材料“2015 年，我国规模以上高技术制造业投入研发经费 2034.3 亿元，比 2010 年增长 178.2%”。根据增长量=（现期量×增长率）/（1+增长率），数据简单取整，可得 $\frac{2034 \times 1.78}{2.78} > \frac{2000 \times 1.78}{2.78} > 1000$ （亿元），正确。

因此，选择 A 选项。

考点

资料分析

综合分析类

综合分析

来源

2018 年 0421 四川公务员考试《行测》真题第 90 题、2018 年 0421 黑龙江公务员考试《行测》真题（偏远地区）第 115 题、2018 年 0421 黑龙江公务员考试《行测》真题（公检法）第 110 题

复合题

2017 年上半年，全国居民人均可支配收入 12932 元，比上年同期名义增长 8.8%，其中，城镇居民人均可支配收入 18322 元，增长 8.1%（以下如无特别说明，均为同比名义增长）；农村居民人均可支配收入 6562 元，增长 8.5%。

按收入来源分，2017 年上半年，全国居民人均工资性收入 7435 元，增长 8.6%，占全国居民人均可支配收入的比重为 57.5%；人均经营净收入 2117 元，增长 5.9%，占全国居民人均可支配收入的比重为 16.4%；人均财产净收入 1056 元，增长 9.6%，占全国居民人均可支配收入的比重为 8.2%；人均转移净收入 2324 元，增长 11.9%，占全国居民人均可支配收入的比重为 18.0%。

2017 年上半年全国居民消费支出主要数据

指标	水平(元)	增长率(%)
全国居民人均消费支出	8834	7.6
按消费类别分:		
食品烟酒	2678	5.6
衣着	668	2.4
居住	1919	8.3
生活用品及服务	535	6.5
交通通信	1211	9.6
教育文化娱乐	869	10
医疗保健	718	11.9
其他用品和服务	236	11.9

打开资料

110 、（单选题）2016 年上半年，城镇居民人均可支配收入约为多少万元？

A.1.4

B.1.7

C.2.1

D.2.3

收起解析

展开全部解析

收藏

纠错

正确答案：B，我的选择：尚未作答。回答错误

统计

答题时间：0 秒，全站正确率：83%，易错项：A。

解析

第一步，本题考查基期量计算。

第二步，定位文字材料第一段“2017 年上半年，城镇居民人均可支配收入 18322 元，增长 8.1%”。

第三步，根据基期量=现期量/(1+增长率)，由于选项出现首位相同，第二位不同的情况，

分母从左向右截取前三位，可得 2016 年上半年城镇居民人均可支配收入为 $\frac{18322}{1.08}$ ，直除首两位商接近 17。

因此，选择 B 选项。

考点

资料分析

基期与现期

基期量 基期量计算

来源

2018 年 0421 内蒙古公务员考试《行测》真题第 116 题、2018 年 0421 天津公务员考试《行测》真题第 106 题、2018 年 0421 山西公务员考试《行测》真题第 106 题、2018 年 0421 新疆公务员考试《行测》真题第 111 题、2018 年 0421 河北公务员考试《行测》真题第 126 题、2018 年 0421 湖北公务员考试《行测》真题第 106 题、2018 年 0421 湖南公务员考试《行测》

真题第 110 题、2018 年 0421 青海公务员考试《行测》真题第 111 题、2018 年 0421 黑龙江公务员考试《行测》真题（公检法）第 111 题、2018 年 0421 黑龙江公务员考试《行测》真题（省直）第 116 题

111 、（单选题）2016 年上半年，全国居民人均工资性收入占全国居民人均可支配收入的比重约为：

- A.53.6%
- B.57.6%
- C.60.6%
- D.63.6%

收起解析

展开全部解析

收藏

纠错

正确答案：B，我的选择：尚未作答。回答错误

统计

答题时间：0 秒，全站正确率：62%，易错项：A。

解析

第一步，本题考查基期比重计算。

第二步，定位文字材料第一、二段“2017 年上半年，全国居民人均可支配收入 12932 元，比上年同期名义增长 8.8%……2017 年上半年，全国居民人均工资性收入 7435 元，增长 8.6%，占全国居民人均可支配收入的比重为 57.5%”。

第三步，根据基期比重 = $\frac{A}{B} \times \frac{1+b}{1+a}$ ，代入基期比重公式，复杂计算， $57.5\% \times \frac{1.088}{1.086}$ ，略大于 57.5%，B 选项最接近。

因此，选择 B 选项。

考点

资料分析

比重

基期比重计算

来源

2018 年 0421 内蒙古公务员考试《行测》真题第 118 题、2018 年 0421 天津公务员考试《行测》真题第 107 题、2018 年 0421 山西公务员考试《行测》真题第 107 题、2018 年 0421 新疆公务员考试《行测》真题第 112 题、2018 年 0421 河北公务员考试《行测》真题第 127 题、2018 年 0421 湖南公务员考试《行测》真题第 109 题、2018 年 0421 重庆公务员考试《行测》真题第 117 题、2018 年 0421 青海公务员考试《行测》真题第 112 题、2018 年 0421 黑龙江公务员考试《行测》真题（公检法）第 112 题、2018 年 0421 黑龙江公务员考试《行测》真题（省直）第 117 题

112 、（单选题）2017 年上半年，人均财产净收入比上年增加多少元？

- A.92
- B.102
- C.112
- D.122

收起解析

展开全部解析

收藏

纠错

正确答案：A，我的选择：尚未作答。回答错误

统计

答题时间：0 秒，全站正确率：64%，易错项：B。

解析

第一步，本题考查增长量计算中已知现期量与增长率。

第二步，定位第二段文字材料，2017 年上半年，人均财产净收入 1056 元，增长 9.6%。

第三步，根据增长量=（现期量×增长率）/（1+增长率）， $9.6\% \approx \frac{1}{10.5}$ ，利用增长量计算 n+1 原则，得 2017 年上半年，人均财产净收入比上年增加了 $\frac{1056}{10.5 + 1} = \frac{1056}{11.5}$ ，直除首位商 9。

因此，选择 A 选项。

考点

资料分析

增长量

增长量计算 已知现期量与增长率

来源

2018 年 0421 内蒙古公务员考试《行测》真题第 117 题、2018 年 0421 天津公务员考试《行测》真题第 108 题、2018 年 0421 山西公务员考试《行测》真题第 108 题、2018 年 0421 河北公务员考试《行测》真题第 128 题、2018 年 0421 湖北公务员考试《行测》真题第 108 题、2018 年 0421 湖南公务员考试《行测》真题第 108 题、2018 年 0421 重庆公务员考试《行测》真题第 116 题、2018 年 0421 黑龙江公务员考试《行测》真题（公检法）第 113 题、2018 年 0421 黑龙江公务员考试《行测》真题（省直）第 118 题

113 、（单选题）2017 年上半年,全国居民消费支出主要数据按消费类别分,下列哪一个经济指标值最大?

- A.居住水平占全国居民人均消费支出水平比重
- B.食品烟酒水平占全国居民人均消费支出水平比重
- C.交通通信水平占全国居民人均消费支出水平比重
- D.医疗保健水平占全国居民人均消费支出水平比重

收起解析

展开全部解析

收藏

纠错

正确答案：B，我的选择：尚未作答。回答错误

统计

答题时间：0 秒，全站正确率：80%，易错项：A。

解析

第一步，本题考查比重比较。

第二步，定位表格材料“水平”一行。

第三步，根据比重=部分量/整体量，由于整体量都是全国居民人均消费支出，故比重比较可转化为部分量直接读数比较，其中食品烟酒支出量最大为 2678 元，故食品烟酒水平占全国居民人均消费支出水平比重最大。

因此，选择 B 选项。

考点

资料分析

比重

比重比较

来源

2018 年 0421 新疆公务员考试《行测》真题第 115 题、2018 年 0421 河北公务员考试《行测》真题第 130 题、2018 年 0421 湖北公务员考试《行测》真题第 110 题、2018 年 0421 湖南公务员考试《行测》真题第 106 题、2018 年 0421 重庆公务员考试《行测》真题第 120 题、2018 年 0421 青海公务员考试《行测》真题第 115 题、2018 年 0421 黑龙江公务员考试《行测》真题（公检法）第 114 题

114 、（单选题）关于 2017 年上半年全国居民收入和消费支出主要数据情况，下列说法正确的是：

- A.居住消费支出同比增长率高于医疗保健消费支出同比增长率
- B.人均财产净收入同比增长率低于人均经营净收入同比增长率
- C.城镇居民人均可支配收入超过农村居民人均可支配收入的 3 倍
- D.生活用品及服务消费支出水平不足交通通信消费支出水平的二分之一

收起解析

展开全部解析

收藏

纠错

正确答案：D，我的选择：尚未作答。回答错误

统计

答题时间：0 秒，全站正确率：71%，易错题：B。

解析

第一步，本题考查综合分析，且需选出正确的一项。

第二步，A 选项，增长率读数比较，定位表格“增长率”一行，2017 年上半年居住消费支出同比增长率（8.3%）低于医疗保健消费支出同比增长率（11.9%），错误。

B 选项，简单比较，定位文字材料第二段，2017 年上半年人均财产净收入同比增长率（9.6%）高于人均经营净收入同比增长率（5.9%），错误。

C 选项，倍数计算，定位文字材料第一段，“2017 年上半年，城镇居民人均可支配收入 18322 元……农村居民人均可支配收入 6562 元”，城镇居民人均可支配收入不到农村居民人均可支配收入的 3 倍（ $18322 < 6562 \times 3$ ），错误。

D 选项，倍数计算，定位表格“水平”一行，生活用品及服务消费支出为 535 元，交通通信

消费支出为 1211 元， $535 < 1211 \times \frac{1}{2} = 605.5$ （元），正确。

因此，选择 D 选项。

考点

资料分析

综合分析类

综合分析

来源

2018 年 0421 内蒙古公务员考试《行测》真题第 120 题、2018 年 0421 天津公务员考试《行测》真题第 110 题、2018 年 0421 山西公务员考试《行测》真题第 110 题、2018 年 0421 新

疆公务员考试《行测》真题第 114 题、2018 年 0421 河北公务员考试《行测》真题第 129 题、2018 年 0421 湖北公务员考试《行测》真题第 109 题、2018 年 0421 湖南公务员考试《行测》真题第 107 题、2018 年 0421 重庆公务员考试《行测》真题第 118 题、2018 年 0421 青海公务员考试《行测》真题第 114 题、2018 年 0421 黑龙江公务员考试《行测》真题（公检法）第 115 题、2018 年 0421 黑龙江公务员考试《行测》真题（省直）第 120 题
复合题

2012—2015 年我国 GDP 和研究与试验发展（R&D）经费支出统计表（单位：亿元）

分类	2012 年	2013 年	2014 年	2015 年
国内生产总值	540367.0	595244.0	643974.0	689051.0
全国研究与试验发展（R&D）经费支出	10298.4	11846.6	13015.6	14169.1
按活动类型分				
基础研究	498.8	555.0	613.5	716.1
应用研究	1162.0	1269.1	1398.5	1528.1
试验发展	8637.6	10022.5	11003.6	11925.1
按执行部门分				
企业	7842.2	9075.8	10060.6	10881.1
政府属研究机构	1548.9	1781.4	1926.2	2136.1
高校	780.6	856.7	898.1	998.6

打开资料

115 、（单选题）2013—2015 年，试验发展经费支出年平均增加：

- A.不到 800 亿元
- B.800 多亿元
- C.900 多亿元
- D.1000 亿元以上

收起解析

展开全部解析

收藏

纠错

正确答案：C，我的选择：尚未作答。回答错误

统计

答题时间：0 秒，全站正确率：34%，易错项：D。

解析

第一步，本题考查年均增长量计算问题。

第二步，定位表格“试验发展”数据。2013 年为 10022.5 亿元，2015 年为 11925.1 亿元。

第三步，根据年均增长量=（末期量-初期量）/相差年数，分子减法运算考虑截位舍相同并

保留量级，可得 $\frac{11900 - 10000}{2} = \frac{1900}{2} = 950$ （亿元），即 900 多亿元。

因此，选择 C 选项。

考点

资料分析

增长量

年均增长量计算

来源

2018 年 0421 四川公务员考试《行测》真题第 91 题、2018 年 0421 黑龙江公务员考试《行测》真题（偏远地区）第 116 题、2018 年 0421 黑龙江公务员考试《行测》真题（公检法）第 116 题

116 、（单选题）2013—2015 年间，企业研究与试验发展经费支出同比增量大于 1000 亿元的年份有几个？

A.0

B.1

C.2

D.3

收起解析

展开全部解析

收藏

纠错

正确答案：B，我的选择：尚未作答。回答错误

统计

答题时间：0 秒，全站正确率：53%，易错项：D。

解析

第一步，本题考查增长量做差比较。

第二步，定位表格“企业”数据。

第三步，根据增长量=现期量-基期量，若增长量>1000，则现期量>基期量+1000，仅通过对基期量千位上加 1 和现期量比较即可，则增长量大于 1000 亿元的只有 2013 年，共计 1 年。

因此，选择 B 选项。

考点

资料分析

增长量

增长量比较 增长量做差比较

来源

2018 年 0421 四川公务员考试《行测》真题第 93 题、2018 年 0421 黑龙江公务员考试《行测》真题（偏远地区）第 117 题、2018 年 0421 黑龙江公务员考试《行测》真题（公检法）第 117 题

117 、（单选题）2015 年，我国研究与试验发展经费投入强度（研究与试验发展经费支出与国内生产总值之比）约为：

A.1.6%

B.2.1%

C.2.6%

D.3.1%

收起解析

展开全部解析

收藏

纠错

正确答案：B，我的选择：尚未作答。回答错误

统计

答题时间：0秒，全站正确率：80%，易错项：C。

解析

第一步，本题考查现期比值计算问题。

第二步，定位表格材料，2015年全国研究与试验发展（R&D）经费支出为14169.9亿元，国内生产总值为689052.0亿元。

第三步，由于选项出现首位相同但第二位不同的情况，分母从左向右截取前三位，分子取整

$$\frac{14170}{689}$$

处理可得 $\frac{14170}{689}$ ，直除首两位商20，与B选项最为接近。

因此，选择B选项。

考点

资料分析

比重

现期比值计算

来源

2018年0421四川公务员考试《行测》真题第92题、2018年0421黑龙江公务员考试《行测》真题（偏远地区）第118题、2018年0421黑龙江公务员考试《行测》真题（公检法）第118题

118、（单选题）2012—2015年，基础研究经费支出占全国研究与试验发展经费支出比重最大的年份是：

A.2012年

B.2013年

C.2014年

D.2015年

收起解析

展开全部解析

收藏

纠错

正确答案：D，我的选择：尚未作答。回答错误

统计

答题时间：0秒，全站正确率：70%，易错项：B。

解析

第一步，本题考查比重比较问题。

第二步，定位表格“基础研究、全国研究与试验发展（R&D）经费支出”数据。

第三步，根据比重=部分量/整体量，比较类问题，将分母从左向右截取前三位，分子简单取

$$\frac{499}{103} \quad \frac{555}{118} \quad \frac{614}{130} \quad \frac{716}{142}$$

整可得2012—2015年比重分别为 $\frac{499}{103}$ 、 $\frac{555}{118}$ 、 $\frac{614}{130}$ 、 $\frac{716}{142}$ ，分数值量级一致，直除首位分别商4、4、4、5，则2015年比重最大。

因此，选择D选项。

考点

资料分析

比重

比重比较

来源

2018年0421四川公务员考试《行测》真题第94题、2018年0421黑龙江公务员考试《行测》真题（偏远地区）第119题、2018年0421黑龙江公务员考试《行测》真题（公检法）第119题

119、（单选题）根据材料，下列选项错误的是：

A.2012—2015年，基础研究经费支出平均不到600亿元

B.2013—2015年，应用研究经费支出年增量逐年增大

C.2015年，企业的研究与试验发展经费比政府属研究机构高5倍多

D.2012—2015年，我国高校的研究与试验发展经费支出呈逐年递增趋势

收起解析

展开全部解析

收藏

纠错

正确答案：C，我的选择：尚未作答。回答错误

统计

答题时间：0秒，全站正确率：55%，易错项：B。

解析

第一步，本题考查综合分析问题，且需选出错误的一项。

第二步，A选项，求单平均数，定位表格“基础研究”数据。根据平均数=总数/总个数，多个数据求平均利用中间值法，将数据简单取整并选取600为参照值，可得

$$600 + \frac{-101 - 45 + 14 + 116}{4} < 600 \quad (\text{亿元}), \text{正确。}$$

B选项，增长量做差比较，定位表格“应用研究”数据。根据增长量=现期量-基期量，可得2013—2015年增长量分别为1269.1-1162=107.1（亿元），1398.5-1269.1=129.4（亿元），1528.7-1398.5=130.2（亿元），逐年增大，正确。

C选项，增长率计算，定位表格材料，2015年企业为10881.3亿元，政府为2136.5亿元。

根据增长率=（现期量-基期量）/基期量，对数据简单取整可得 $\frac{10881 - 2137}{2137} = \frac{8744}{2137}$ ，直除首位商4，错误。

D选项，读数比较，定位表格“高校”数据。读数可知，呈逐年增长的趋势，正确。

因此，选择C选项。

考点

资料分析

综合分析类

综合分析

来源

2018年0421四川公务员考试《行测》真题第95题、2018年0421黑龙江公务员考试《行测》真题（偏远地区）第120题、2018年0421黑龙江公务员考试《行测》真题（公检法）第120题

复合题

2016年，我国全年完成邮电业务收入总量43344亿元，比上年增长52.7%。其中，邮政

业务收入 7397 亿元，增长 45.7%；电信业务收入 35947 亿元，增长 54.2%。邮政业全年完成邮政函件业务 36.2 亿件，包裹业务 0.3 亿件，快递业务量 312.8 亿件；快递业务收入总量 3974 亿元。电信业全年新增移动电话交换机容量 7318 万户，达到 218384 万户。2016 年末全国电话用户总数 152856 万户（电话包括固定电话和移动电话两种），其中移动电话用户 132193 万户。移动电话普及率上升至 96.2 部/百人。固定互联网宽带接入用户 29721 万户，比上年增加 3774 万户，其中固定互联网光纤宽带接入用户 22766 万户，比上年增加 7941 万户；移动宽带用户 94075 万户，增加 23464 万户，移动互联网接入流量 93.6 亿 G，比上年增长 123.7%。互联网上网人数 7.31 亿人，增加 4299 万人，其中手机上网人数 6.95 亿人，增加 7550 万人。互联网普及率达到 53.2%，其中农村地区互联网普及率达到 33.1%。软件信息技术服务业完成软件业务收入 48511 亿元，比上年增长 14.9%。



打开资料

120 、（单选题）2016 年我国快递业务收入总量占邮电业务收入总量的比重为：

- A.8.17%
- B.9.17%
- C.10.17%
- D.11.17%

收起解析

展开全部解析

收藏

纠错

正确答案：B，我的选择：尚未作答。回答错误

统计

答题时间：0 秒，全站正确率：83%，易错项：C。

解析

第一步，本题考查现期比重计算中求比重。

第二步，定位前半部分文字材料“2016 年，我国全年完成邮电业务收入总量 43344 亿元……快递业务收入总量 3974 亿元”。

第三步，根据比重=部分量/整体量，存在选项首位相同，第二位不同的情况，分母从左向右

$$\frac{3974}{43344}$$

截取前三位，代入可得 433，直除首位商 9。

因此，选择 B 选项。

考点

资料分析

比重

现期比重计算 求比重

来源

2018 年 0421 天津公务员考试《行测》真题第 116 题、2018 年 0421 安徽公务员考试《行测》真题第 106 题、2018 年 0421 山西公务员考试《行测》真题第 116 题、2018 年 0421 新疆公务员考试《行测》真题第 116 题、2018 年 0421 湖北公务员考试《行测》真题第 116 题、2018 年 0421 青海公务员考试《行测》真题第 116 题、2018 年 0421 黑龙江公务员考试《行测》真题（公检法）第 121 题、2018 年 0421 黑龙江公务员考试《行测》真题（省直）第 126 题 121 、（单选题）2013—2016 年期间，我国移动宽带用户数同比增长最快的年份是：

A.2013 年

B.2014 年

C.2015 年

D.2016 年

收起解析

展开全部解析

收藏

纠错

正确答案：A，我的选择：尚未作答。回答错误

统计

答题时间：0 秒，全站正确率：60%，易错题：D。

解析

第一步，本题考查增长率计算比较。

第二步，定位柱状图。

第三步，解法一：根据增长率=（现期量-基期量）/基期量，柱状图中数据数量级相同，比较类问题，将分母从左向右截取前三位，分子减法计算截位舍相同，可得 2013—2016 年

的增长率分别为 $\frac{402-233}{233} = \frac{169}{233}$ 、 $\frac{583-402}{402} = \frac{181}{402}$ 、 $\frac{706-583}{583} = \frac{123}{583}$ 、 $\frac{941-706}{706} = \frac{235}{706}$ ，结果量级一致，直除首位分别为：7、4、2、3，则增速最快的为 2013 年。

因此，选择 A 选项。

解法二：根据增长率=（现期量/基期量）-1，可以用“现期量/基期量”这个倍数来替代增长率进行比较大小。计算 2013—2016 年这个倍数发现：相较于 2014—2016 年的 1 倍多，2013 年的倍数更接近 2 倍，则增速最快的为 2013 年。

因此，选择 A 选项。

考点

资料分析

增长率

增长率比较类 增长率计算比较

来源

2018 年 0421 天津公务员考试《行测》真题第 117 题、2018 年 0421 安徽公务员考试《行测》真题第 107 题、2018 年 0421 山西公务员考试《行测》真题第 117 题、2018 年 0421 新疆公

务员考试《行测》真题第 117 题、2018 年 0421 河北公务员考试《行测》真题第 116 题、2018 年 0421 湖北公务员考试《行测》真题第 118 题、2018 年 0421 湖南公务员考试《行测》真题第 116 题、2018 年 0421 重庆公务员考试《行测》真题第 112 题、2018 年 0421 青海公务员考试《行测》真题第 117 题、2018 年 0421 黑龙江公务员考试《行测》真题（公检法）第 122 题、2018 年 0421 黑龙江公务员考试《行测》真题（省直）第 127 题
122 、（单选题）2015 年我国电信业务收入比邮政业务收入多：

- A.14235 亿元
- B.16235 亿元
- C.18235 亿元
- D.20235 亿元

收起解析

展开全部解析

收藏

纠错

正确答案：C，我的选择：尚未作答。回答错误

统计

答题时间：0 秒，全站正确率：68%，易错题：B。

解析

第一步，本题考查基期量和差计算问题。

第二步，定位文字材料“2016 年，邮政业务收入 7397 亿元，增长 45.7%；电信业务收入 35947 亿元，增长 54.2%”。

第三步，根据基期量=现期量/（1+增长率），由于选项出现了首位相同但第二位不同的情

况，分母从左向右截取前三位，可得 $\frac{35947}{1.54} - \frac{7397}{1.46} \approx 23342 - 5066 = 18276$ （亿元），与 C 选项最为接近。

因此，选择 C 选项。

考点

资料分析

基期与现期

基期量 基期量和差计算

来源

2018 年 0421 天津公务员考试《行测》真题第 118 题、2018 年 0421 安徽公务员考试《行测》真题第 108 题、2018 年 0421 河北公务员考试《行测》真题第 117 题、2018 年 0421 湖南公务员考试《行测》真题第 117 题、2018 年 0421 重庆公务员考试《行测》真题第 111 题、2018 年 0421 黑龙江公务员考试《行测》真题（公检法）第 123 题、2018 年 0421 黑龙江公务员考试《行测》真题（省直）第 128 题

123 、（单选题）2012—2016 年期间，我国固定互联网宽带接入用户的平均数是：

- A.18425 万户
- B.22425 万户
- C.25425 万户
- D.27425 万户

收起解析

展开全部解析

收藏

纠错

正确答案：B，我的选择：尚未作答。回答错误

统计

答题时间：0 秒，全站正确率：74%，易错题：C。

解析

第一步，本题考查现期平均数计算中求单平均数。

第二步，定位柱状图。

第三步，解法一：观察选项与柱状图，2012—2016 年共有 5 年，小于 18425 的仅有 1 个（且差别不大），排除 A 选项；大于 27425 的仅有 1 个（且差别不大），排除 D 选项；大于 25425 的有两个，但是小于 25425 的有三个（且差别较大），故 $18425 < \text{平均数} < 25425$ 。观察选项，仅 B 选项符合。

因此，选择 B 选项。

解法二：多个数据求平均利用中间值法，观察柱状图并结合选项，出现了首位相同的选项，将数据进行截位舍相同处理可得：175、189、200、259、297，这 5 个数据几乎都在 200 附

近，取 200 作为参照值，平均数 $= 200 + \frac{-25 - 11 + 0 + 59 + 97}{5} = 200 + 24 = 224$ 。观察选项，B 选项最接近。

因此，选择 B 选项。

考点

资料分析

平均数

现期平均数计算 单平均数

来源

2018 年 0421 安徽公务员考试《行测》真题第 109 题、2018 年 0421 山西公务员考试《行测》真题第 118 题、2018 年 0421 新疆公务员考试《行测》真题第 118 题、2018 年 0421 河北公务员考试《行测》真题第 118 题、2018 年 0421 湖北公务员考试《行测》真题第 119 题、2018 年 0421 湖南公务员考试《行测》真题第 118 题、2018 年 0421 重庆公务员考试《行测》真题第 113 题、2018 年 0421 青海公务员考试《行测》真题第 118 题、2018 年 0421 黑龙江公务员考试《行测》真题（公检法）第 124 题、2018 年 0421 黑龙江公务员考试《行测》真题（省直）第 129 题

124 、（单选题）关于我国邮电业务情况的说明，下列说法正确的是：

- A.2015 年末，我国固定互联网光纤宽带接入用户与移动宽带用户的差额低于 50000 户
- B.2016 年固定互联网宽带接入用户同比增长率高于移动宽带用户增长率
- C.2016 年末，我国使用固定电话的总人数比移动电话的多
- D.2016 年我国城市地区互联网普及率已超过一半

收起解析

展开全部解析

收藏

纠错

正确答案：D，我的选择：尚未作答。回答错误

统计

答题时间：0 秒，全站正确率：54%，易错题：A。

解析

第一步，本题考查综合分析问题，且需选出正确的一项。

第二步，A选项，基期量比较，定位文字材料“2016年，固定互联网光纤宽带接入用户22766万户，比上年增加7941万户”与柱状图“2015年移动宽带用户70611万户”，根据基期量=现期量-增长量，可得2015年末我国固定互联网光纤宽带接入用户 $22766-7941=14825$ （万户），移动宽带用户70611万户，做差可得 $70611-14825=55786$ （万户），远高于50000户（单位陷阱），错误。

B选项，增长率计算比较，定位文字材料“2016年，固定互联网宽带接入用户29721万户，比上年增加3774万户；移动宽带用户94075万户，增加23464万户”，根据增长率=增长量/基期量，比较类问题，将分母从左向右截取前三位，分子取整代入可得，2016年固定互

联网宽带接入用户增长率为 $\frac{3774}{25900}$ ，移动宽带用户增长率为 $\frac{23464}{70600}$ ，结果数量级一致，直除首位分别商1、3，故固定互联网宽带接入用户同比增长率低于移动宽带用户增长率，错误。

C选项，简单计算和差类，定位文字材料“2016年末全国电话用户总数152856万户，移动电话用户132193万户”，将数据截位舍相同处理可得：全国电话用户153，移动电话132，则固定电话用户总数为 $153-132=21$ ，固定电话用户数小于移动电话用户数，错误。

D选项，比重计算，定位文字材料“2016年，互联网普及率达到53.2%，其中农村地区互联网普及率达到33.1%”，根据混合比重口诀（整体比重介于部分比重之间，且偏向基数大的一侧），农村互联网普及率（33.1%）小于全国的互联网普及率（53.2%），则城市互联网普及率必然大于53.2%，所以普及率超过一半，正确。

因此，选择D选项。

考点

资料分析

综合分析类

综合分析

来源

2018年0421天津公务员考试《行测》真题第120题、2018年0421安徽公务员考试《行测》真题第110题、2018年0421山西公务员考试《行测》真题第120题、2018年0421新疆公务员考试《行测》真题第120题、2018年0421河北公务员考试《行测》真题第120题、2018年0421湖北公务员考试《行测》真题第120题、2018年0421湖南公务员考试《行测》真题第120题、2018年0421重庆公务员考试《行测》真题第115题、2018年0421青海公务员考试《行测》真题第120题、2018年0421黑龙江公务员考试《行测》真题（公检法）第125题、2018年0421黑龙江公务员考试《行测》真题（省直）第130题