

2021特岗教师招聘考试

易错考点60

DI LI

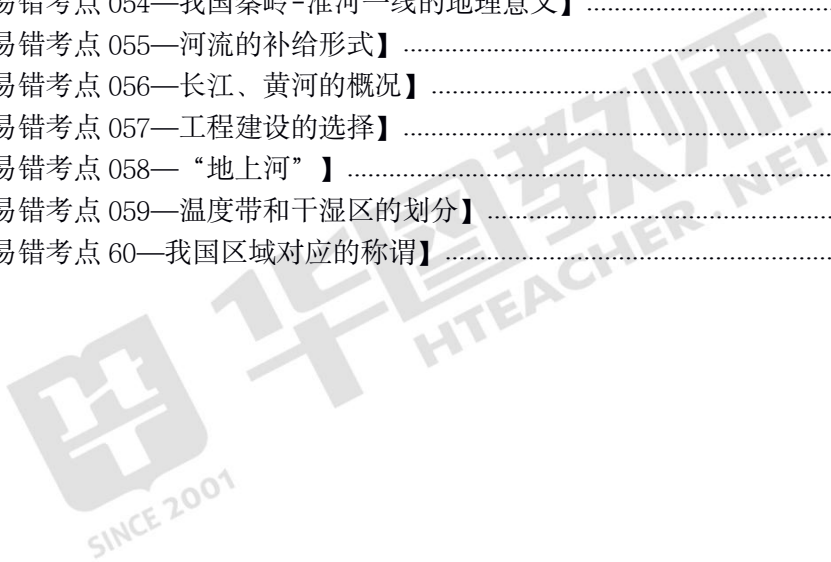
地理

地

目录

第一部分 自然地理	3
【易错考点 001—地图三要素之方向】	3
【易错考点 002—时间计算】	3
【易错考点 003—锋面气旋】	4
【易错考点 004—气候类型判断】	5
【易错考点 005—地球公转的地理意义】	5
【易错考点 006—风化作用】	6
【易错考点 007—气压带和风带】	7
【易错考点 008—大气的垂直分布】	8
【易错考点 009—太阳对地球的影响】	8
【易错考点 010—冷锋和暖锋的判断】	9
【易错考点 011—河流补给类型之冰雪或季节性积雪融水补给】	10
【易错考点 012—六大板块的位置】	10
【易错考点 013—外力作用的主要表现形式】	10
【易错考点 014—区分洪积扇和三角洲】	11
【易错考点 015—近日点和远日点】	12
【易错考点 016—岩层新老关系判断】	13
【易错考点 017—大气的热源】	13
【易错考点 018—三大类岩石的特征】	14
【易错考点 019—地形图中的通视问题】	15
【易错考点 020—我国河流的分布】	16
【易错考点 021—谚语中的地理知识】	16
【易错考点 022—地跨两洲的国家如何划分哪个洲】	17
【易错考点 023—世界洋流的分布规律】	18
【易错考点 024—岩石圈的范围】	19
【易错考点 025—雪线】	19
第二部分 人文地理	20
【易错考点 026—不同国家的优势农作物分布】	20
【易错考点 027—农业发展模式的区分】	21
【易错考点 028—地理信息技术】	23
【易错考点 029—我国著名的山的旅游景点】	23
【易错考点 030—我国的熟制和农作物的分布】	24
【易错考点 031—影响工业的主要区位因素】	25
【易错考点 032—桥梁和隧道的优势对比】	26
【易错考点 033—影响人口迁移的因素中的社会经济因素】	27
【易错考点 034—商业网点布局的区位要求】	27
【易错考点 035—人口自然增长率】	28
【易错考点 036—农业区位因素的改造】	28
【易错考点 037—影响城市地域结构的因素】	29
【易错考点 038—平面正三角形坐标图的判读方法】	29
【易错考点 039—光照于热量的区别】	30
【易错考点 040—农业中对土壤覆盖的作用】	31

第三部分 世界地理.....	31
【易错考点 041—大洲的分界线】	31
【易错考点 042—美洲大陆的特点】	32
【易错考点 043—六大板块的名称及分布】	33
【易错考点 044—世界气候类型的分布】	34
【易错考点 045—世界人种和宗教的分布】	36
【易错考点 046—房屋建筑与地理环境的关系】	37
【易错考点 047—世界重要国际组织标志】	38
【易错考点 049—沙特阿拉伯的概况】	39
【易错考点 050—世界区域地理说法】	40
第四部分 中国地理.....	40
【易错考点 051—行政区划】	40
【易错考点 052—我国民族的数量及其分布】	42
【易错考点 053—重要的分界线】	42
【易错考点 054—我国秦岭-淮河一线的地理意义】	43
【易错考点 055—河流的补给形式】	44
【易错考点 056—长江、黄河的概况】	45
【易错考点 057—工程建设的选择】	45
【易错考点 058—“地上河”】	46
【易错考点 059—温度带和干湿区的划分】	47
【易错考点 60—我国区域对应的称谓】	47



地理教师特岗考试易错考点精选 60

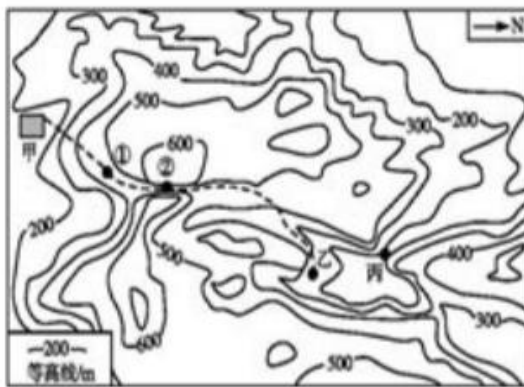
第一部分 自然地理

【易错考点 001—地图三要素之方向】

在一幅地图上判断方向，首先要看是否有经纬网或指向标，如果有经纬网，则根据经纬线的走向判断（经线指示南北方向，纬线指示东西方向）；如果有指向标，则根据**指向标的箭头方向**来判断（一般箭头指向北方）；在宇宙空间中，如地球公转示意图中，只有东西方向，且方向根据地球公转的情况来判断（地球公转的方向是自西向东）；在没有经纬网和指向标的情况下，按照一般规律来判断（面对地图，上北下南，左西右东）。

易错指数：★★★★

【真题过关·单选】甲地附近某学校开展野外考察，甲、乙之间虚线是进行路线，则该行进过程中的路线方向为（ ）。



- A. 东北—西南
- B. 西北—东南
- C. 东南—西北
- D. 西南—东北

【答案】D。由题可知在甲附近展开考察，按照虚线的轨迹，则是由甲地到乙地，但要注意的，此时并不能按照“上北下南”的方向进行判断，而是按照途中所给的指北针的方向进行判读。根据指向标，行进路线整体为西南向东北。故本题选择D。

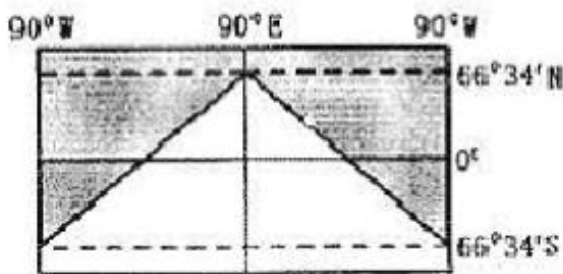
【易错考点 002—时间计算】

(1) 常见有关地方时的信息:某地一日内太阳高度最大、某地一日中物影最短、某地白天的正午时刻、位于平分昼半球的经线上等信息均表示该地所在的地方时为 12: 00。

(2) 地方时计算的公式为：所求地点的地方时=已知地点的地方时±两地的经度差×4分钟/1°。注意在遵循“东加西减”“同侧相减，异侧相加”时，已知地点与所在地点都在东经度（或西经度）相减，否则两地的经度差是两地经度数相加。

易错指数：★★

【真题过关·填空】此时，90°E的区时是__月__日__时，北京时间是__时。



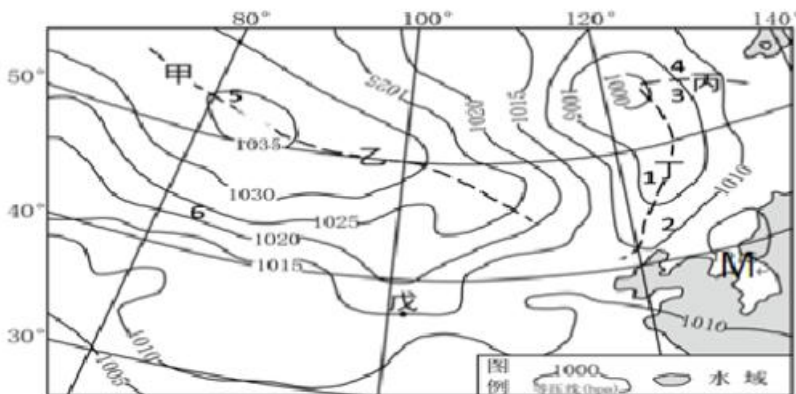
【答案】12 22 12 14。由图看出90°E为周半球的中央经线，地方时为12时，即90°E的区时就是12时，此时北极圈以北为极昼，日期应为12月22日。北京时间为经度120°上的地方时，根据经度差可知北京与该地相差30°，即两小时，又因为北京的位置更偏东，故北京时间为14时。故本题答案是12 22 12 14。

【易错考点 003—锋面气旋】

锋面一般形成于锋面气旋的低压槽中，高压脊处的气流是辐散的而不会形成锋面。在锋面气旋中，要判断冷锋和暖锋，这里有一个简单的规律：锋面气旋（南北半球都是如此）中，左侧的为冷锋，右侧的为暖锋，南北半球的差异在于锋前锋后的位置相反。

易错指数：★★★

下图为某地区12月1日11时“海平面气压分布图（单位：hPa）”。根据材料，完成下列题。



甲乙丙丁有可能出现冷锋的是_____。

【答案】丁。由于锋面一般形成于锋面气旋的低压槽中，所以只能在丁和丙中判断，锋

面气旋左侧是冷锋，所以出现冷锋的是丁。故本题为丁。

【易错考点 004—气候类型判断】

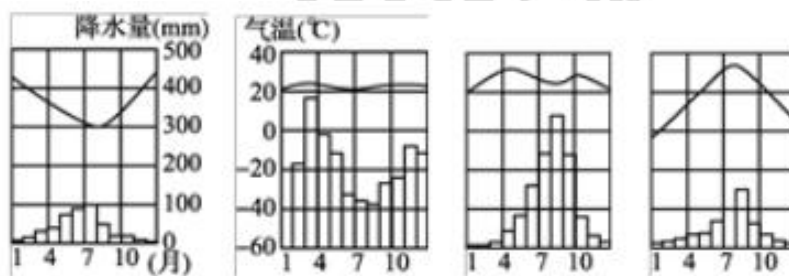
气候由气温和降水两个方面组成，所以气候类型的判断，事实上是对气温、降水统计资料形成过程和结果的分析 and 总结，常见形式有：

- (1) 根据气候要素统计数据，判断气候类型。
- (2) 根据各月气温曲线和降水柱状图，判断气候类型。
- (3) 根据气温和降水的坐标图，判断气候类型。
- (4) 根据经纬网图、海陆轮廓图，判断气候类型。

解答读图分析题一方面要搞清坐标或点的含义，另一方面还要在图上进行必要的测算，最后根据气温、降水的分布特征及两者的配合情况，确定气候类型。

易错指数：★★★

【真题过关·单选】读下列四种气候类型降水量柱状图和气温曲线图，对四种气候类型的判断，正确的是()。



【答案】D。本题考查气候类型的判断。根据气温和降水的特征可知，①雨热不同期，为地中海气候；②全年高温多雨，为热带雨林气候；③全年高温，分旱雨两季，为热带季风气候；④冬季寒冷少雨，夏季高温多雨，为温带季风气候。综合选项，ABC 错误；D 对。故本题选 D。

【易错考点 005—地球公转的地理意义】

1. 昼夜长短：

(1) 昼夜长短分布：太阳直射点在哪个半球，哪个半球就昼长夜短，且越向该半球的高纬度地区白昼时间越长。太阳直射点所在半球的极点周围出现极昼现象；

(2) 昼夜长短变化：太阳直射点向哪个半球移动，哪个半球就昼变长夜变短；且纬度越高，昼夜长短变化幅度越大；

(3) 日出日落：太阳直射北半球，东北日出，西北日落；太阳直射赤道，正东日出，正

西日落；太阳直射南半球，东南日出，西南日落。

2.正午太阳高度： $H = 90^\circ - \text{两点纬度差}$

易错指数：★★

【真题过关·单选】2018年8月25日，“金牛座”龙门机床(总重量约200吨)从德国出发，于2018年10月9日抵达上海参展。该机床加工的零部件精度可控制在4微米，适应于汽车、航天航空等领域。“金牛座”龙门铣从德国出发抵达上海期间（ ）。



- A.北京白昼渐短，夜晚渐长
- B.北极圈内极昼范围不断扩大
- C.柏林正午太阳高度角逐渐变大
- D.正值我国南方油菜收获期

【答案】A。本题考查的是地球的运动及其地理现象。德国出发抵达上海时间从2018年8月25日到2018年10月9日，此时太阳直射点从北向南，由北半球越过赤道到达南半球。处于北半球的北京白昼渐短，夜晚渐长，A正确。北极圈内极昼范围不断缩小，B错误。柏林位于北半球，正午太阳高度角逐渐减小，C错误。我国南方油菜9月底种植，5月底收获，D错误。故本题选A。

【易错考点 006—风化作用】

风化作用是指地表或接近地表的坚硬岩石、矿物与大气、水及生物接触过程中产生物理、化学变化而在原地形成松散堆积物的全过程。根据风化作用的因素和性质可将其分为三种类型：物理风化作用、化学风化作用、生物风化作用。

注意此外植物根系的生长，洞穴动物的活动、植物体死亡后分解形成的腐植酸对岩石的分解都可以改变岩石的状态与成分。

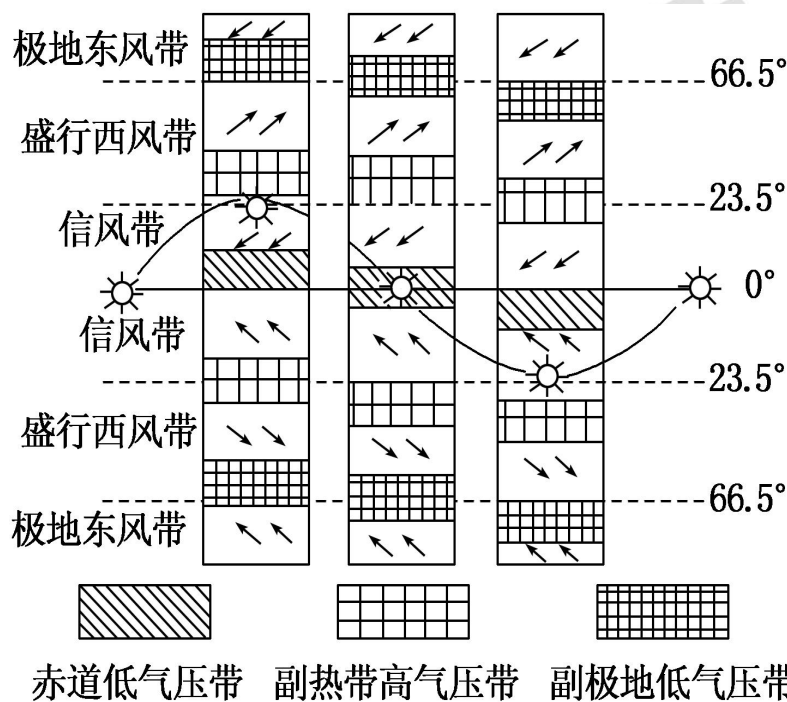
易错指数：★★★★

【真题过关·单选】人们担心植被会破坏城墙，是因为植被的（ ）。

- A. 光合作用
- B. 风化作用
- C. 呼吸作用
- D. 侵蚀作用

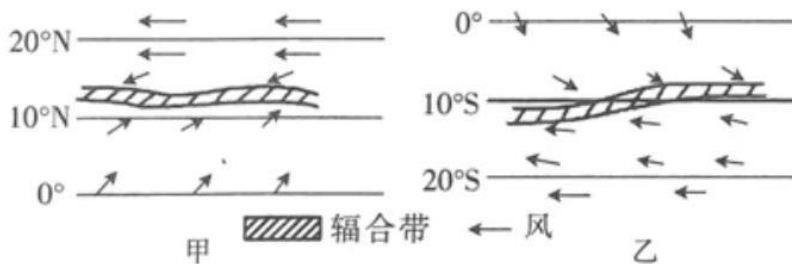
【答案】B。人们担心植被会破坏城墙，是因为植被的风化作用，植被生长使城墙的风化速度加快，B对。植被的光合作用、呼吸作用对城墙没有破坏作用，A、C错。植被生长不是侵蚀作用，D错。故本题选B。

【易错考点 007—气压带和风带】



易错指数：★★★★

【真题过关·单选】热带辐合带是南北半球气流汇合的地带，主要分为季风辐合带和信风辐合带。季风辐合带是指在北半球夏季，西南季风与东北信风相遇而形成的热带辐合带；信风辐合带是指东南信风直接和越过赤道的东北信风相遇组成的辐合带。图示辐合带的主要分布区（ ）。



- A. 气压较高
- B. 多晴朗天气
- C. 多大风
- D. 多上升气流

【答案】D。本题通过对热带辐合带的介绍考查考生知识迁移能力和综合思维能力，以及气压带风带的成因。气流辐合区空气被迫抬升，盛行上升气流，往往多阴雨天气。辐合带是南北半球气流汇合的地带，因此其气压较低，多上升气流(水平运动较弱)，多阴雨天气。故本题选D。

【易错考点 008—大气的垂直分布】

大气层	分布范围	特征		
对流层	0~12km	随着高度的增高而降低 0.6 °C /100m	厚度因纬度和季节的不同而不同 (夏厚冬薄)	对流运动显著
平流层	对流层之上至 50~60km	随着高度的增高而升高	水平运动	臭氧层在 20~30km 处
中间层	平流层顶部至 80 千米	气温随高度的增加而降低	高空对流运动	
热层 (电离层)	中间层顶部至 800 千米	气温随高度的增加而增加	大部分分子以离子态存在，可以反射无线电波	
散逸层	800 千米以上	空气十分稀薄，常有大气粒子散逸到星际空间		

易错指数: ★★★

【真题过关·判断】在大气层中，气温都是随海拔的升高而降低 ()。

【答案】错误。在对流层和中间层的气温是随着高度的增高而降低，但是在平流层和热层的气温是随海拔的升高而增加。故本题错误。

【易错考点 009—太阳对地球的影响】

1.太阳辐射对地球的影响

- (1) 为地球生物的生长发育提供光和热
- (2) 为地球提供动力和能源

(3) 影响地理环境的形成和变化

2. 太阳活动对地球的影响

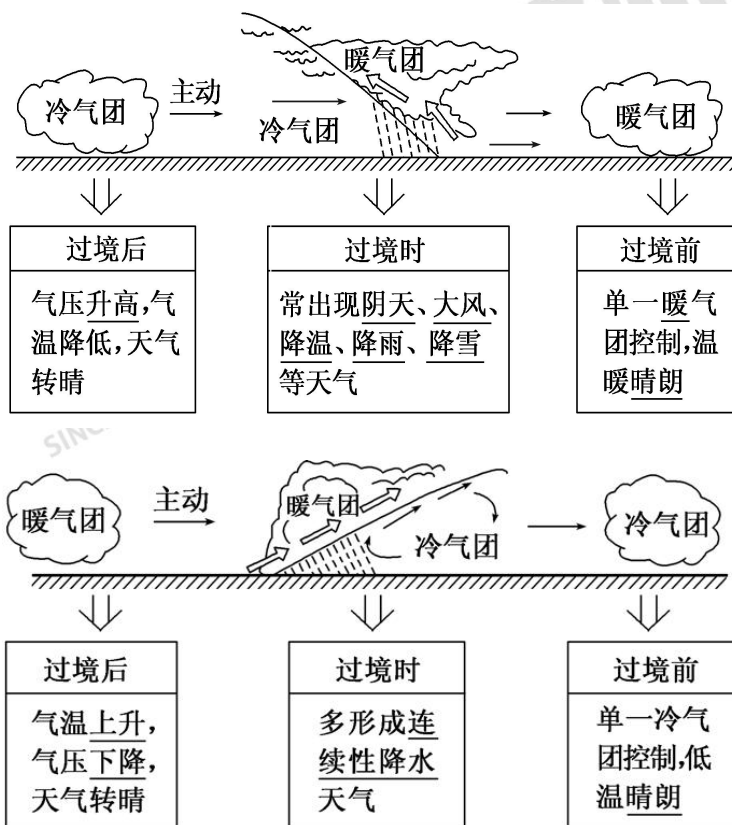
太阳外部结构		太阳活动	主要标志	对地球影响
由里向外	光球	黑子	黑子	无线电短波通讯
	色球	日珥、耀斑	耀斑	
	日冕	太阳风		磁暴、极光、诱发自然灾害

易错指数: ★★★★★

【真题过关·判断】“万物生长靠太阳”体现了太阳活动对地球的深刻影响。()。

【答案】错误。太阳辐射能是我们生活和生产所用太阳灶、太阳能热水器、太阳能电站的主要能量来源，“万物生长靠太阳”体现了太阳辐射对地球的意义，不是太阳活动。故本题错误。

【易错考点 010—冷锋和暖锋的判断】



易错指数: ★★★★★

【真题过关·单选】下列天气现象中与冷锋活动有关的是 ()。

- A. 我国北方地区夏季的暴雨
- B. 长江中下游地区的梅雨
- C. 台风带来的降水
- D. 一场春雨一场暖

【答案】A。冷锋过境前气温高、气压低、天气晴，过境时常出现大风、雨雪、降温天气，过境后气温下降、气压升高、天气转晴，雨区主要位于冷锋锋后。A选项，我国北方夏季的暴雨、北方地区沙尘暴天气、冬季爆发的寒潮都是由冷锋形成的，正确；B选项，长江中下游地区的梅雨天气是由准静止锋形成的；C选项，台风主要是由热带气旋形成的；D选项，一场春雨一场暖是由暖锋形成的，不符合题意。故本题选A。

【易错考点 011—河流补给类型之冰雪或季节性积雪融水补给】

补给类型	补给季节	补给特点	我国主要分布地区
季节性积雪融水补给	春季	有明显的季节性	东北地区
永久性冰川积雪融水补给	主要在夏季	有明显的季节、日变化	西北和青藏高原地区

易错指数：★★★

【真题过关·判断】我国东北地区的春汛属于永久性冰川积雪融水补给（ ）。

【答案】错误。东北地区由两汛，春汛和夏汛。其春汛的补给类型是季节性积雪融水补给。故本题错误。

【易错考点 012—六大板块的位置】

美洲板块、太平洋板块、亚欧板块、印度洋板块、非洲板块、南极洲板块在大洲大洋上的位置。

易错指数：★★★

【真题过关·单选】下列板块中绝大部分位于海洋的是（ ）。

- A. 非洲板块 B. 印度洋板块
C. 太平洋板块 D. 美洲板块

【答案】C。以上四个板块中，绝大部分位于海洋的是太平洋板块，该板块除一些小岛屿外，其余全部是海洋。故本题选C。

【易错考点 013—外力作用的主要表现形式】

作用	对地貌的影响	分布地区
风力侵蚀	形成风蚀洼地、风蚀柱、风蚀蘑菇、风蚀城堡、戈壁等	干旱/半干旱地区（如雅丹地貌）和沿海地区
流水侵蚀	使谷地、河床加深加宽，形成“V”型谷，使坡面破碎，形成沟壑纵横的地表形态；	湿润、半湿润地区（如长江三峡、黄土高原地表的千沟万壑、瀑布）

侵蚀	溶蚀	形成漏斗、地下暗河、溶洞、石林、峰林等喀斯特地貌，一般地表崎岖，地表水易渗漏	可溶性岩石（石灰岩）分布地区（如桂林山水、路南石林、瑶琳仙境）
冰川剥蚀		形成冰斗、角峰、“U”型谷、冰蚀平原、冰蚀洼地（北美五大湖、“千湖之国”芬兰）等	冰川分布的高山和高纬度地区（如挪威峡湾、中欧—东欧平原）
海浪侵蚀		形成海蚀柱、海蚀崖、海蚀穴、海蚀拱桥等海蚀地貌	滨海地带

易错指数：★★★



【真题过关·单选】下图是位于我国吉林松原市乾安县西部，大布苏湖（为盐碱湖）东岸的“泥林”景观，这里有两级阶地，整体高出湖面 50 米，沟壑纵横、泉水众多、锯齿狼牙、奇峰林立，气势磅礴，像一座森严古城堡。垛口连绵，影若将士扶望守城，严阵以待。其景色奇特、千奇百态、变幻莫测，是潜蚀地貌的典型代表。潜蚀地貌形成的主要外力作用是（ ）。



- A. 风力作用
- B. 流水作用
- C. 生物作用
- D. 冰川作用

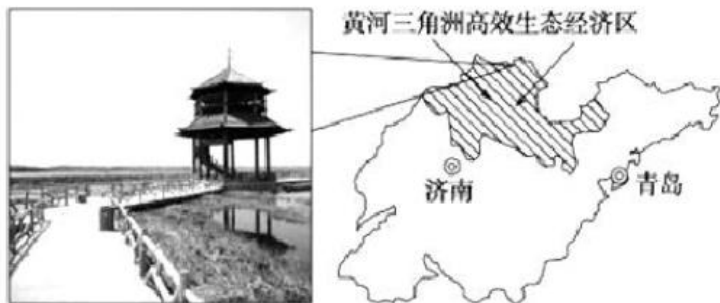
【答案】B。根据材料信息可知，该地貌形成于河流阶地且区域泉水多、沟壑纵横，是流水潜蚀地貌的表现。故本题选 B。

【易错考点 014—区分洪积扇和三角洲】

堆积地貌	分布	地貌特点	图示
洪（冲）积扇	山前	以谷口为顶呈扇形，冲积扇顶端到边缘地势逐渐降低，堆积物颗粒由粗变细	
三角洲	河口地区	多呈三角形，地势平坦，河网稠密，河道由分汊顶点向海洋方向呈放射状	

易错指数：★★★★

【真题过关·单选】黄河三角洲位于渤海南部黄河入海口沿岸地区，包括山东省的东营、滨州和潍坊、德州、淄博、烟台市的部分地区。读“黄河三角洲高效生态经济区示意图”和“黄河三角洲景观示意图”，回答问题。



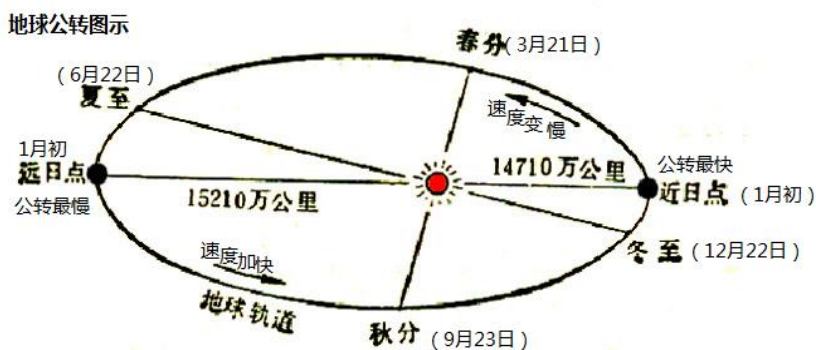
三角洲与冲积扇是河流作用形成的重要地表形态，对冲积扇、三角洲分布位置的叙述，正确的是（ ）。

- A. 冲积扇分布在干旱、半干旱地区
- B. 三角洲位于河流入海、入湖口附近
- C. 冲积扇位于河流出山口附近
- D. 三角洲只分布在湿润、半湿润地区

【答案】C。冲积扇是河流流出山口时，流速降低，泥沙沉积形成的，所以应分布在河流的出山口处；三角洲是河流在入海和入湖处流速降低，泥沙沉积形成的，所以应位于河流入海、入湖口附近，干旱和半干旱地区也有分布。故本题选C。

【易错考点 015—近日点和远日点】

注意近日点、远日点的日期和夏至日、冬至日的区别。



易错指数：★★★

【真题过关·单选】2020年4月8日22时，小明在上海观赏了“超级月亮”。下图为“月亮视直径最大与最小时的对比示意图”。从天体运动位置看，此时“超级月亮”（ ）。

- A. 月球位于远地点附近
- B. 月球位于近地点附近
- C. 地月系位于远日点附近
- D. 地月系位于近日点附近

【答案】B。月球围绕地球公转，其公转轨道是椭圆轨道，地球位于其中一个焦点上，“超

级月亮”比平常看起来更大、更亮，说明此时月球位于公转轨道的近地点附近，离地球距离较近，A 错误，B 正确；地月系位于近日点或远日点对于“超级月亮”没有影响，C、D 错误。故本题选 B。

【易错考点 016—岩层新老关系判断】

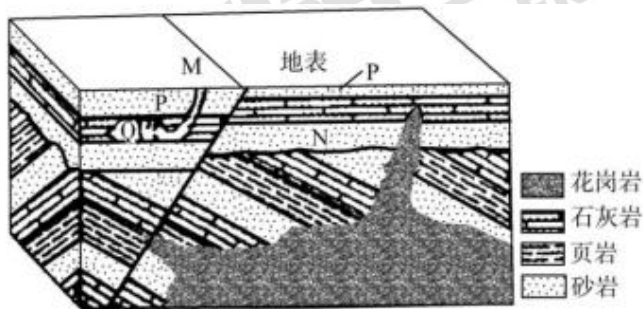
(1) 根据地层层序律确定:一般岩层**越老**,其位置**越靠下**,岩层**越新**,其位置**越靠上**,即越接近地表。

(2) 根据生物进化规律判断:由于生物进化总是由简单到复杂,由低级到高级,因此保存复杂、高级生物化石的岩层总比那些保存简单、低级生物化石的岩层新。

(3) 根据岩层的接触关系确定:岩浆岩可以按照其与沉积岩的关系来判断,喷出岩的形成晚于其所切穿的岩层,侵入岩**晚于**其所在的岩层。变质岩是在变质作用下形成的,多是在岩浆活动的影响下形成的,因而变质岩的形成**晚于**与其相邻的岩浆岩。

易错指数: ★★★

【真题过关·单选】下图为某地地质构造示意图。其中地质事件发生的先后顺序是()。



- A. 岩浆侵入、N 岩层形成、断层形成
- B. N 岩层形成、岩浆侵入、断层形成
- C. 断层形成、N 岩层形成、岩浆侵入
- D. N 岩层形成、断层形成、岩浆侵入

【答案】D。中地质事件发生的先后顺序是 N 岩层先形成,之后有 P 岩层形成。各沉积岩层都有明显错动位移,说明断层形成的晚。花岗岩没有位移,说明形成在断层之后。故本题选 D。

【易错考点 017—大气的热源】

大气的直接热源是地面辐射、根本热源是太阳辐射。地面辐射是长波辐射，太阳辐射是短波辐射。

易错指数: ★★★

【真题过关·单选】图是某市 7 月气温日变化和地面热量收支平衡曲线。

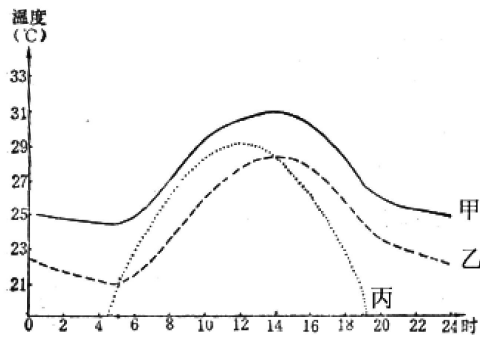


图 13 某市 7 月气温日变化和地面热量收支平衡

图中的三条曲线分别是地面长波辐射、太阳短波辐射、气温，他们对应顺序正确的是 ()。

- A. 甲、乙、丙 B. 乙、甲、丙
 C. 乙、丙、甲 D. 甲、丙、乙

【答案】 C。由于地面吸收长波辐射，因此地面长波辐射和气温具有一致性，在甲乙中选择。因此，丙为太阳短波辐射。又因为气温是大气吸收地面的长波辐射增温，所以气温的温度应地域地面长波辐射的温度，所以甲地面长波辐射，乙是气温。故本题选 C。

性岩，橄榄岩属于超基性岩。故本题选 D。

高为乙、甲、丙，选 C。故本题选 C。

【易错考点 018—三大类岩石的特征】

岩石	成因	特征	代表岩石
岩浆岩	岩浆喷出后冷凝	具有气孔和流纹	玄武岩
	岩浆侵入冷凝	坚硬、致密	花岗岩
沉积岩	外力作用后的沉积物经成岩作用形成	层理构造、可能有化石	砾岩、砂岩、页岩、石灰岩
变质岩	原岩经变质作用形成	残留原岩结构、构造	大理石、石英岩、板岩、片麻岩

易错指数: ★★★

【真题过关·单选】 泰姬陵的建筑材料主要是白色大理石，按成因分，大理岩属于 ()。

- A. 喷出岩 B. 侵入岩
 C. 沉积岩 D. 变质岩

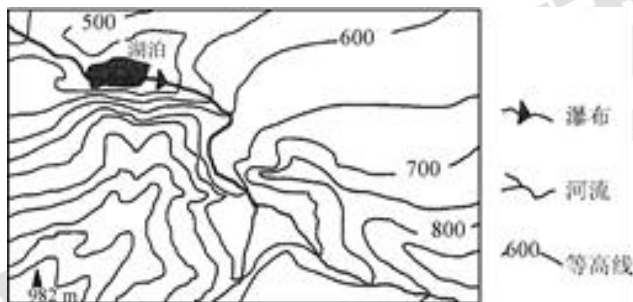
【答案】D。因为泰姬陵的建筑材料主要是白色大理石，根据三大类岩石的特征可知，大理石属于变质岩。故本题选D。

【易错考点 019—地形图中的通视问题】

在等高线地形图中，判断两点之间能否通视主要看两个方面：一是看两点间有无山脊阻挡，无山脊阻挡则可以通视；二是看两点间是凸坡还是凹坡。若等高线上密下疏，则坡度上陡下缓，为一个凹坡，可以通视。若等高线上疏下密，则坡度上缓下陡，为一个凸坡，不能通视。通视问题既可以通过看等高线的形状来判断，也可以通过作地形剖面图来解决。

易错指数：★★★★

【真题过关·单选】右图为我国南方某地的等高线地形图。以下关于该区域特征的说法，不正确的是（ ）。



- A. 以低山丘陵为主
- B. 干流自东南向西北流
- C. 在最高处能观察整个湖面
- D. 植被以常绿阔叶林为主

【答案】B。根据图中等高线，该地区海拔均高于500米，因此地形以低山丘陵为主，故A选项正确；河流由高处向低处流，可判断河流干流方向为自东南向西北，故B选项正确；题干中已知该地区为我国南方地区，因此植被以常绿阔叶林为主，故D正确；图中最高点为西南角的山峰，由于山峰与湖泊之间存在山脊，因此在最高处无法观察整个湖面，故B错误。故本题选B。

【易错考点 020—我国河流的分布】



易错指数：★★★

【真题过关·单选】下图4省区中的河流分别是（ ）。

- A. 甲图中的河流为额尔齐斯河
- B. 乙图中的河流为珠江
- C. 丙图中的河流为淮河
- D. 丁图中的河流为黄河



【答案】B。通过对四省的准确定位，可以推断出该省的有关河流，所以甲是塔里木河，乙图中的河流为珠江，丙是黄河，丁是长江。说法正确的是B。故本题选B。

【易错考点 021—谚语中的地理知识】

- (1) “四季无寒暑，一雨便知秋”描述的是四季如春的云贵地区气候特征；
- (2) “日中万影正，夕中万影倾”描述的是太阳高度的周日变化，日中指正午，夕中指傍晚；
- (3) “地无三里平，天无三日晴”描述的是云贵高原的自然环境特点；
- (4) “冬天麦盖三层被，来年枕着馒头睡”主要适用于华北地区冬小麦区；
- (5) “高处不胜寒”此句说明随海拔高度的增加，气温逐渐降低；
- (6) “山明水净夜来霜，数树深红出浅黄。”描写深秋晴朗的夜晚，天空云少，大气逆辐

射弱。

(7)“冷眼向洋看世界，热风吹雨洒江天”此诗句说明夏季来自太平洋的热带海洋气团给我国带来丰沛的降水。

易错指数：★★★

【真题过关·单选】下列选项中的谚语与地理知识正确匹配的是（ ）。

- A. “四季无寒暑，一雨变成秋”描述的是华北地区的气候特征
- B. “日中万影正，夕中万影倾”描述的是太阳高度的周日变化
- C. “地无三里平，天无三日晴”描述的是青藏高原的环境特点
- D. “冬天麦盖三层被，来年枕着馒头睡”主要适用于东北地区

【答案】B。本题主要考查学生对我国区域地理环境特征的理解掌握。“四季无寒暑，一雨便知秋”描述的是四季如春的云贵地区气候特征，华北地区气候特征是夏季高温多雨，冬季寒冷干燥，故A错误；“日中万影正，夕中万影倾”描述的是太阳高度的周日变化，日中指正午，夕中指傍晚，故B正确；“地无三里平，天无三日晴”描述的是云贵高原的自然环境特点，故C错误；“冬天麦盖三层被，来年枕着馒头睡”主要适用于华北地区冬小麦区，东北地区是春小麦，故D错误。故本题选B。

【易错考点 022—地跨两洲的国家如何划分哪个洲】

地跨两个大洲的国家，在确定所属洲时，并不是看首都在哪的，而是看文化上更接近哪个地方。

比如俄罗斯的是欧洲国家，是因为俄罗斯人是斯拉夫人，文化政治中心都在处于欧洲的莫斯科，所以属于欧洲。土耳其的是首都是在亚洲的安卡拉，但是它是属于欧洲国家，土耳其在文化历史上是以前的突厥人，突厥人西迁后，就开始想欧洲靠拢，整个中亚加上高加索地区在并入苏联后基本上全部划入欧洲范围。以色列，虽然地处西亚，但是以色列的文化与周围的阿拉伯国家相去甚远，相反却跟欧洲相近，所以以色列属于欧洲国家。

易错指数：★★★

【真题过关·单选】俄罗斯是地跨亚欧两洲的国家，下列关于俄罗斯的叙述，错误的是（ ）。

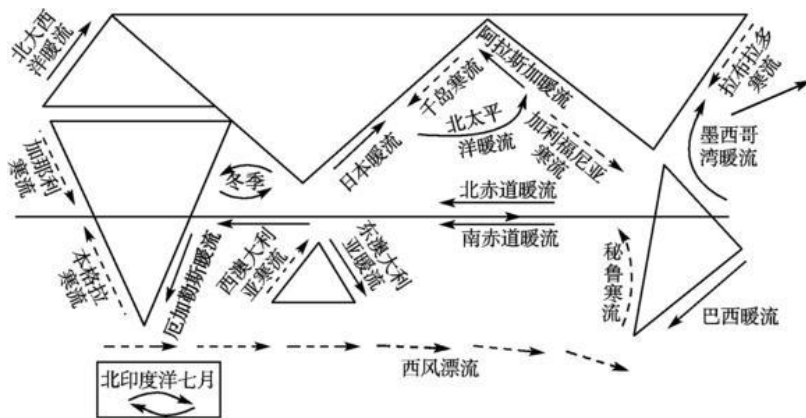
- A. 俄罗斯和我国一样，都属于亚洲国家
- B. 俄罗斯由于纬度位置高，大部分地区冬季寒冷而漫长，夏季温暖而短促
- C. 俄罗斯自然资源丰富，重工业发达

D. 俄罗斯交通部门齐全，铁路、公路、航空等运输均很发达

【答案】A。本题考查世界地理俄罗斯知识点。俄罗斯属于欧洲国家，故本题选A。

【易错考点 023—世界洋流的分布规律】

在世界洋流系统中，北印度洋海区因受季风环流的控制，洋流流向在一年中具有明显的季节变化，大致“夏季呈顺时针，冬季呈逆时针”，而其他海区洋流在一年中的流向基本保持不变。正因为北印度洋海区的这一特殊性，该海区的航运、污染物扩散、气候等都表现出明显的季节性变化。



易错指数：★★★

【真题过关·单选】索科特拉岛曾经与非洲的索马里半岛相连，岛上有许多奇特的动植物，右下图是索科特拉岛位置图。某年七月，一艘油轮在该岛以东附近海域泄露大量原油，油污带可能漂向（ ）。

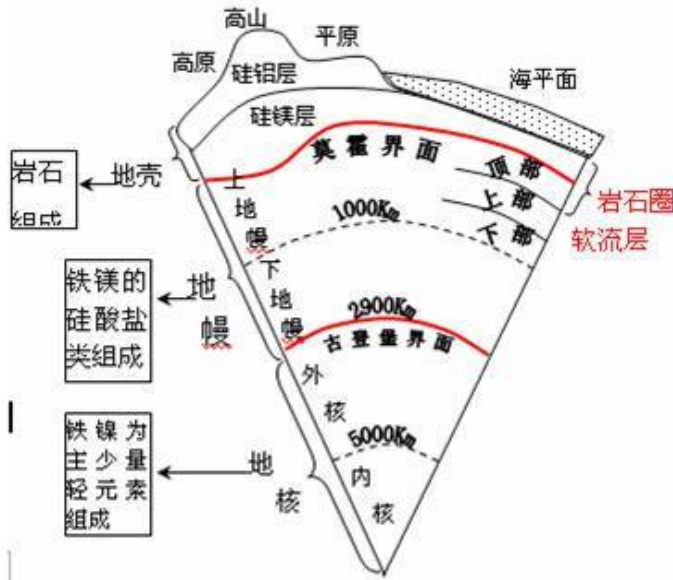


- A. 印度西海岸
- B. 澳大利亚西海岸
- C. 非洲东海岸
- D. 越南东海岸

【答案】A。本题考查世界洋流的分布规律。北印度洋为季风洋流，7月份北印度洋海区盛行西南风，在西南风的吹拂下，海水自西向东流动，所以在索科特拉岛以东附近海域泄漏大量原油，油污带会随着洋流向东漂流，到达印度西海岸海域。故本题选A。

【易错考点 024—岩石圈的范围】

注意区分岩浆发源地的位置和岩石圈的范围。上地幔的软流层是岩浆的源地，地壳和上地幔顶部合称岩石圈。



易错指数：★★

【真题过关·判断】软流层以上的地幔与地壳构成地球的岩石圈（ ）。

【答案】正确。上地幔顶部（软流层以上）和地壳合起来是岩石圈。故本题正确。故本题正确。

【易错考点 025—雪线】

雪线常年积雪带的下界，即年降雪量与年消融量相等的平衡线。其分布高度主要决定于气温、降水量和坡度、坡向等条件。

从气温来看：温度高时雪线也高。从降水来看：降水量越大，雪线越低；降水量越少，雪线越高。从山势来看看，陡峻的山地，积雪易下滑，不利于积雪保存，雪线偏高；坡度较小的山地，有利于积雪沉积，雪线偏低。从坡向来看：向阳坡接受的太阳辐射量较多，气温偏高，雪融化较快，雪线位置较高；背阳坡接受的太阳辐射量较少，气温偏低，雪线位置也较低。对于北半球而言，南坡、西坡日照多，冰雪消融量大，雪线偏高，而北坡和东坡的雪线位置较低。

易错指数：★★★

【真题过关·单选】梅里雪山位于横断山区，雪线高度 4000 米左右。该山雪线相对较低的主要原因是（ ）。

- A. 地形抬升,降水丰富
 B. 纬度低,气温比较高
 C. 距海远,降水比较少
 D. 山坡陡,冰雪下移快

【答案】A。本题考查气候相关知识。影响雪线的主要因素是降水和气温,降水丰富、气温低,雪线较低。梅里雪山位于横断山区,来自印度洋的湿润气流受地形抬升形成丰富的降水,因此雪线较低;纬度低,气温比较高以及距海远,降水少会导致雪线较高;山坡陡、冰雪下移快与雪线形成无关。故本题选A。

第二部分 人文地理

【易错考点 026—不同国家的优势农作物分布】

(1) 中国华北、东北和西北部分地区,中南半岛的山地、丘陵,印度德干高原和西部,巴基斯坦、阿富汗,尼罗河和两河流域,粮食作物以小麦为主;

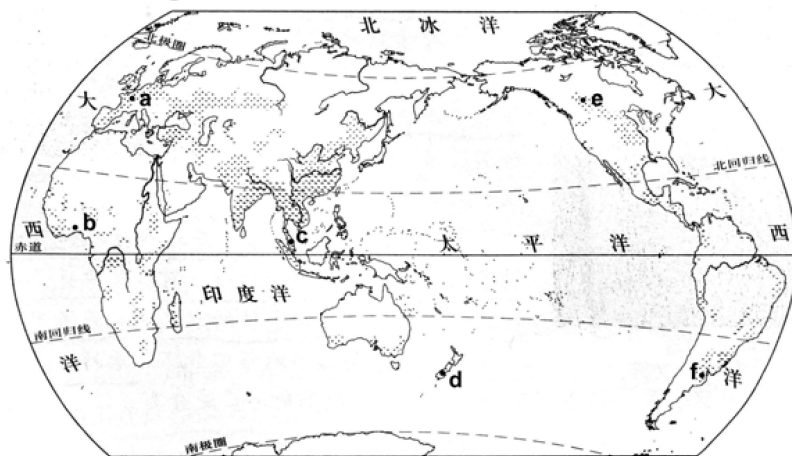
(2) 拉丁美洲、东南亚、南亚以及撒哈拉以南非洲,优势作物如天然橡胶、咖啡、可可、茶等;

(3) 欧洲、北美、南非、澳大利亚以及新西兰等地,优势作物为小麦、玉米等;

(4) 美国、加拿大、阿根廷、澳大利亚、俄罗斯、乌克兰等国和我国的东北、西北地区,优势作物小麦和玉米。

易错指数: ★★★

【真题过关·单选】图上所标 a—f 中对应国家和优势农作物正确的是 ()。



- A. b—法国、咖啡
 B. c—印度尼西亚、稻米
 C. d—新西兰、棉花
 D. e—加拿大、小麦

【答案】D。b 是传统旱作农业,分布于中国华北、东北和西北部分地区,中南半岛的山

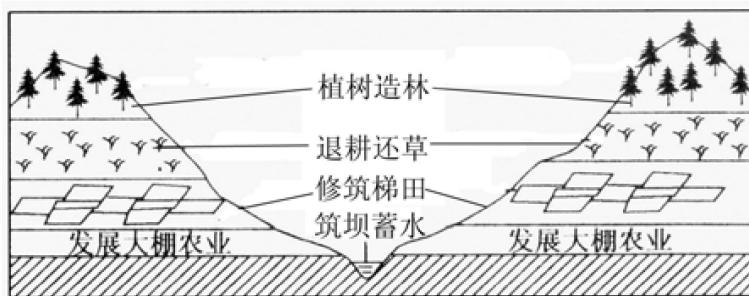
地、丘陵，印度德干高原和西部，巴基斯坦、阿富汗，尼罗河和两河流域，粮食作物以小麦为主；c是热带种植园农业，广泛分布在拉丁美洲、东南亚、南亚以及撒哈拉以南非洲，优势作物如天然橡胶、咖啡、可可、茶等；d是混合农业，主要分布在欧洲、北美、南非、澳大利亚以及新西兰等地，优势作物为小麦、玉米等；e是商品谷物农业，主要分布在美国、加拿大、阿根廷、澳大利亚、俄罗斯、乌克兰等国和我国的东北、西北地区，优势作物小麦和玉米。故本题选D。

【易错考点 027—农业发展模式的区分】

- (1) 节水农业主要是指推广应用节水新技术，如微灌、喷灌等技术，以节约水资源；
- (2) 蔗基鱼塘是指鱼与蔗综合经营，就是在鱼池边种甘蔗，以蔗叶和蔗尾（顶端幼嫩部分）喂鱼，塘泥作蔗地的肥料的模式；
- (3) 桑基鱼塘是池中养鱼、池埂种桑的一种综合养鱼方式；
- (4) 小流域综合治理模式是指以小流域为单元，合理安排农、林、牧、副各业用地，布置水土保持农业耕作措施、林草措施与工程措施，形成综合的防治措施体系。

易错指数：★★★

【真题过关·单选】定西位于甘肃省中部，在“西部大开发”中，因地制宜总结出的一套如图所示的山川治理开发模式。该开发模式为（ ）。



- A. 节水农业开发模式
- B. 蔗基鱼塘模式
- C. 桑基鱼塘模式
- D. 小流域综合治理模式

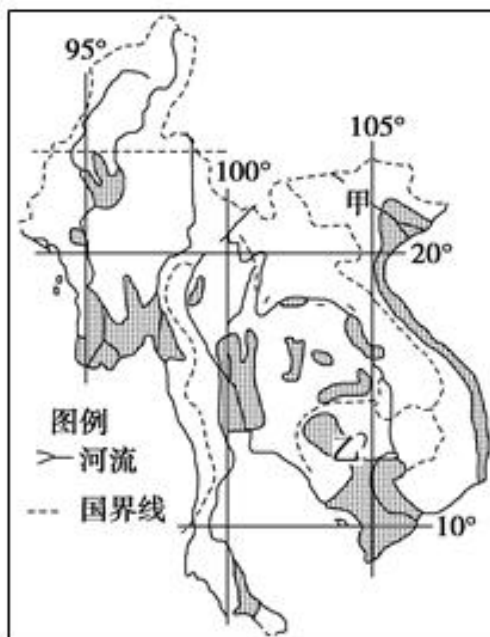
【答案】D。节水农业主要是指推广应用节水新技术，如微灌、喷灌等技术，以节约水资源。蔗基鱼塘是指鱼与蔗综合经营，就是在鱼池边种甘蔗，以蔗叶和蔗尾（顶端幼嫩部分）喂鱼，塘泥作蔗地的肥料的模式。桑基鱼塘是池中养鱼、池埂种桑的一种综合养鱼方式。小流域综合治理模式是指以小流域为单元，合理安排农、林、牧、副各业用地，布置水土保持农业耕作措施、林草措施与工程措施，形成综合的防治措施体系。故本题选D。

【易错考点 044—东南亚主要农作物及其分布】

农作物		国家	特征
粮食作物	<u>水稻</u>	泰国、越南、缅甸	重要的稻米出口国
	橡胶	<u>泰国</u>	世界最大的橡胶生产国
经济作物	椰子	菲律宾 <u>印度尼西亚</u>	世界最大的椰子 <u>出口国</u> 世界最大的椰子生产国
	油棕	<u>马来西亚</u>	世界最大的油棕生产国
	蕉麻	菲律宾	世界最大的蕉麻生产国

易错指数：★★★

【真题过关·单选】图中阴影部分表示该地区某种农作物的主要产区，该农作物及其有利的农业生产条件是()。



- A. 亚麻，地形平坦、交通便利
- B. 水稻，雨热同期、劳动力丰富廉价
- C. 茶叶，光热充足、土壤排水良好
- D. 小麦，水源充足、政策支持

【答案】B。图中阴影部分表示该地区某种农作物为水稻，该地热带季风气候（雨热同期）是发展水稻种植的有利的自然条件，劳动力丰富廉价是有利的社会经济条件，所以答案选择B。故本题选B。

【易错考点 028—地理信息技术】

项目	遥感 (RS)	全球定位系统 (GPS)	地理信息系统 (GIS)
概念	利用一定的技术装备在航天器或航天器上对地物进行感知	利用卫星在全球范围内实时进行导航、定位的系统	专门处理地理空间数据的计算机系统
特点	探测范围大、获得资料速度快、受地面限制少、获取信息大、应用广	全能型、全球性、全天候、连续性和实时性	图形化、可视化、及时更新信息
应用	资源调查、灾害监测、环境监测等	军事、交通、旅游探险、紧急救援等方面	测绘、资源管理、环境保护、城乡规划等

易错指数：★★★

【真题过关·单选】下图是我国“嫦娥一号”传回的月球表面三维景观图。“嫦娥一号”发回的月球表面三维景观图，主要采用的现代信息技术是（ ）。




图 7 月球表面三维景观图

- A. 全球定位系统
- B. 遥感
- C. 地理信息系统
- D. 数字影像技术

【答案】B。“嫦娥一号”在绕月轨道上对月球探测属于获取信息，应用的主要是遥感技术。故本题选 B。

【易错考点 029—我国著名的山的旅游景点】

(1) 泰山，又名岱山、岱宗、岱岳、东岳、泰岳，为中国著名的五岳之一，位于山东省中部。

(2) 黄山，中华十大名山，天下第一奇山，位于安徽省南部黄山市境内。

三熟或一年两熟，冬小麦、棉花等；

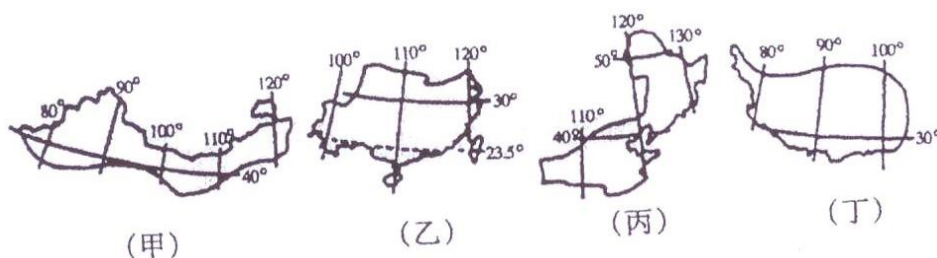
(4) 亚热带（秦岭-淮河以南、青藏高原以东，积温 4500~8000℃）：一年两熟到三熟，水稻等；

(5) 热带（滇、粤、台的南部和海南省，积温 > 8000℃）：一年三熟，水稻等；

(6) 高原气候区（青藏高原，积温 < 2000℃）：一年一熟，青稞等。

易错指数：★★★

【真题过关·单选】关于四大地理区域的气候，叙述正确的是（ ）。



- A. 甲图气候干旱，以畜牧业为主 B. 乙图大部分地区农作物一年一熟
 C. 丙图主要种植小麦和油菜 D. 丁图日照充足，适宜种植各种粮食植物

【答案】A。通过上题的定位，甲地在我国的西北地区，因为深居内陆，所以气候干旱，农业方面主要以干旱性农作物的种植的畜牧业为主。乙是一年两熟到三熟，丙种小麦和甜菜，丁种植青稞。所以 A 选项正确。故本题选 A。

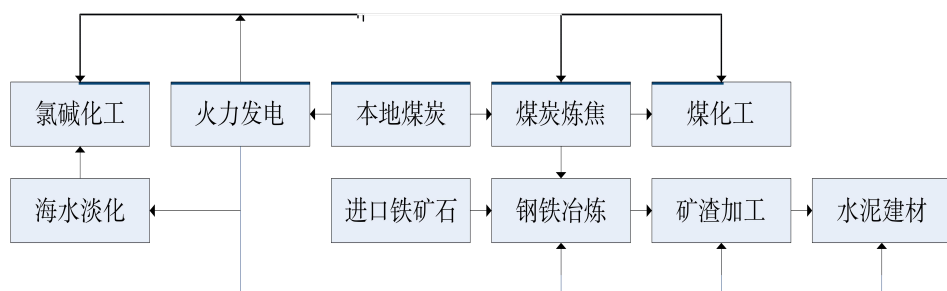
【易错考点 031—影响工业的主要区位因素】

(1) 自然因素：土地、原料、能源（动力）、水源、环境等；

(2) 社会经济因素：劳动力、市场、交通运输、政策、科技等。

易错指数：★★★

【真题过关·单选】读下面“某工业地域生产示意图”，下列工业区位因素中，在图中没有直接体现出的是（ ）。



A. 动力因素

B. 交通因素

C.市场因素

D.技术因素

【答案】C。根据图中的信息可以看出，体现了动力因素（发电），交通因素（进口铁矿石），技术因素（化工），唯一没有体现的市场因素。故本题选C。

【易错考点 032—桥梁和隧道的优势对比】

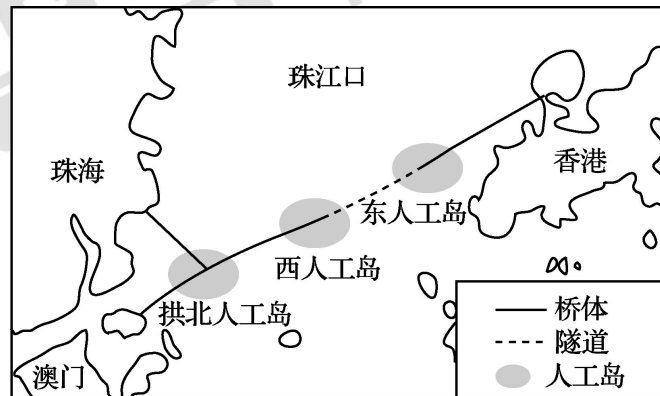
通常情况下，工程界更偏爱于桥梁的建设，因为相对于隧道，桥梁工程的地质勘察工作要求低于隧道，行车条件好，时速可达100公里，在行车条件和运营维护方面较隧道占有较大优势。而且，隧道的地质勘察工作量大、时间长、投资多、受地质条件制约大，有一定的工程地质风险，其造价也高于桥梁工程。

但是，海洋水文气象对桥梁行车有一定影响，桥梁施工时对船只航行也有一定干扰。而隧道可以不受自然气候的影响，不影响海上空间的使用，加强区域间的协作发展。

易错指数：★★★★

【真题过关·单选】2018年10月23日港珠澳大桥开通仪式在广东珠海举行。港珠澳大桥全长约55公里，为目前世界上最长的跨海大桥。其中工程量最大、技术难度最高的一段是“桥—岛—隧”集群的主体工程。下图为港珠澳大桥示意图。

读图回答：部分路段“以隧代桥”的主要原因是（ ）。



A.降低建设成本

B.提高运行速度

C.预留海运通道

D.避开台风威胁

【答案】C。本题考查交通运输相关知识。部分建设“以桥代路”的主要原因是预留海运通道，避免大桥影响海面运输，港珠澳大桥通车后，珠海进一步发展，可以与港澳经济融合发展，加强区域间的分工协作。C正确。隧道建设增加建设成本，A错误；限速会降低运行速度，B错；有的路段在海面上，避开台风威胁不是主要原因，D错。故本题选C。

【答案】D。本题考查的是商业网点布局。大型购物中心布点需考虑市场和交通通达度，因此需要参考交通图层和人口图层。故本题选D。

【易错考点 035—人口自然增长率】

人口的自然增长率，是反映人口发展速度和制定人口计划的重要指标，也是计划生育统计中的一个重要指标，它表明人口自然增长的程度和趋势。若当全年出生人数超过死亡人数时，人口自然增长率为正值，当全年死亡人数超过出生人数时，则为负值。

易错指数：★★★

【真题过关·判断】人口自然增长率最高时，人口自然增长最快，人口数量达到顶峰。（ ）。

【答案】错误。人口自然增长率最高时，人口自然增长最快，但人口数量还在快速增长中，不会达到顶峰。当人口自然增长率减少为零时，人口总数不再增长，人口数量达到顶峰。故本题错误。

【易错考点 036—农业区位因素的改造】

人类对农业区位因素的改造举例：

- (1) 对土壤的改造：用石灰中和酸性；用沙子改变黏性；增施有机肥提高土壤肥力；
- (2) 对地形的改造：东南丘陵的梯田发展立体农业；珠江三角洲的“基塘农业”等；
- (3) 对热量（气候因素）的改造：温室大棚、地膜覆盖、挂果保鲜等；
- (4) 对水源的改造：喷灌滴灌等节水农业改造水源。

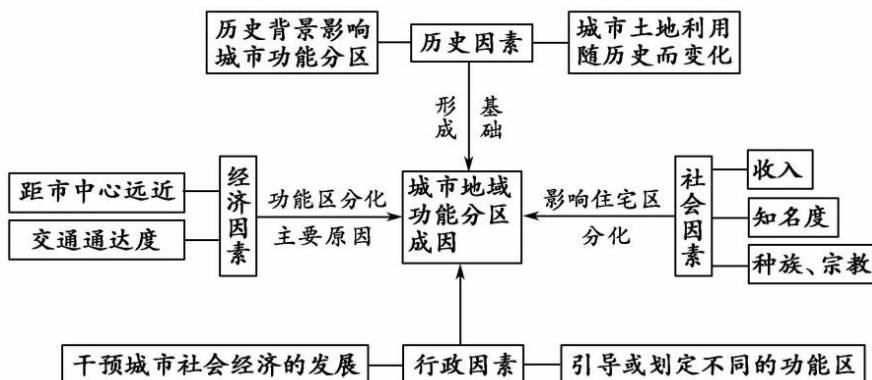
易错指数：★★★

【真题过关·单选】“花果同树”是一种特殊的农业景观。果农选择晚熟的柑橘、脐橙品种，利用当地自然条件和“挂果保鲜”技术，把部分果实通过“留树保鲜”，使鲜花和果实同时出现在果树上，供人们观赏。实现“花果同树”规模经营的主导因素是（ ）。

- | | |
|------|------|
| A.品种 | B.市场 |
| C.气候 | D.技术 |

【答案】B。欧洲最大的港口为鹿特丹，亚洲最大的港口为上海，故依次经过②英吉利海峡；①直布罗陀海峡；④马六甲海峡；③台湾海峡。故本题选B。

【易错考点 037—影响城市地域结构的因素】



易错指数: ★★★

【真题过关·单选】随着城市内部空间结构不断调整，巴黎圣母院仍然耸立在城市中心的原因是（ ）。

- A. 气候适宜，环境优美
- B. 经济发展，低价升高
- C. 历史渊源，地域文化
- D. 地势低平，便于维修

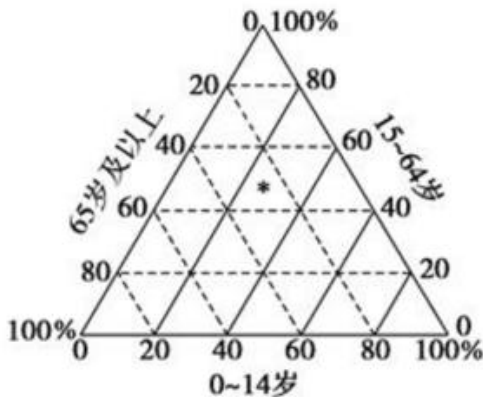
【答案】C。巴黎圣母院建设时间早，历史悠久，为巴黎市著名景观，是当地地域文化的体现，故本题选 C。

【易错考点 038—平面正三角形坐标图的判读方法】

- (1) 沿着三个坐标轴数值增大的方向画出三个箭头。
- (2) 过图中标出的点，分别画出与上述三个箭头平行且延伸方向一致的三条斜线。
- (3) 该平行线与该坐标轴相交的那个点所反映出的数据即为该点在该坐标轴上的数据。

易错指数: ★★★

【真题过关·单选】下图中国的星号表示某国的人口年龄状况，其中 0-14 岁人口的比重约是（ ）。



确。材料中没有提及温度信息,且温度稳定,即温差小,不利于提升蔬菜品质,则②错误;用人工照明、机器人需要消耗更多能源,则④错误。故本题选 C。

【易错考点 040—农业中对土壤覆盖的作用】

在农业生产活动中,常常用到一些措施对土壤的覆盖,一定程度上起到:减少地面热量损失、降低霜冻寒潮危害、降低土壤温度等,需要根据作物的习性具体分析。

易错指数: ★★★★★

【真题过关·单选】荔枝性喜温暖,需水量大,对温度的要求是年均温 18~26℃,不耐冰雪霜冻和极端高温,夏季,当地农民常用绿肥、田间杂草、作物茎秆等覆盖于荔枝树下的主要目的可能是 ()

- A.减少地面热量损失
 B.增加大气降水
 C.降低霜冻寒潮危害
 D.降低土壤温度

【答案】D。夏季气温高,用绿肥、田间杂草、作物茎秆等覆盖于荔枝树下,可以减少阳光强烈直射地面,从而降低土温,利于其生长。同时绿肥、田间杂草、作物茎秆腐烂进入土壤,又可以增加土壤有机质,增强土壤肥力。关键点拨荔枝不耐“极端高温”,则特色措施目的在于减轻高温。故本题选 D。

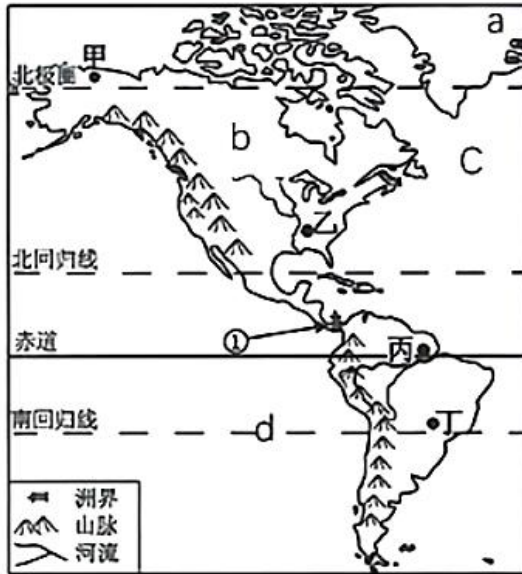
第三部分 世界地理

【易错考点 041—大洲的分界线】

七大洲分界线: (1) 亚洲与欧洲的分界: 乌拉尔山脉、乌拉尔河、里海、高加索山脉、黑海、土耳其海峡; (2) 亚洲与非洲的分界: 苏伊士运河、红海、曼德海峡 (3) 亚洲与北美洲的分界: 白令海峡; (4) 亚洲与大洋洲的分界: 帝汶海、阿拉弗拉海; (5) 欧洲与非洲的分界: 直布罗陀海峡; (6) 欧洲与北美洲的分界: 丹麦海峡; (7) 北美洲与南美洲的分界: 巴拿马运河; (8) 南美洲与南极洲的分界: 德雷克海峡。

易错指数: ★★★★★

【真题过关·单选】南北美洲的洲界①是 ()。



A. 白令海峡

B. 巴拿马运河

C. 苏伊士运河

D. 土耳其海峡

【答案】B。南北美洲的分界线是巴拿马运河，它是一条人工运河，白令海峡是亚洲和北美洲的分界线，苏伊士运河是亚洲和非洲的分界线，土耳其海峡是亚洲和欧洲的分界线，故ACD不符合题意。故本题选B。

【易错考点 042—美洲大陆的特点】

(1) 北美洲地形特点:三大南北纵列带(东为落基山脉，西为阿巴拉契亚山脉中部为中央大平原)；格陵兰岛--世界最大岛屿；五大湖--世界最大淡水湖群（冰川作用）；密西西比河--北美洲最长河世界第四长河，自北向南流入墨西哥湾。

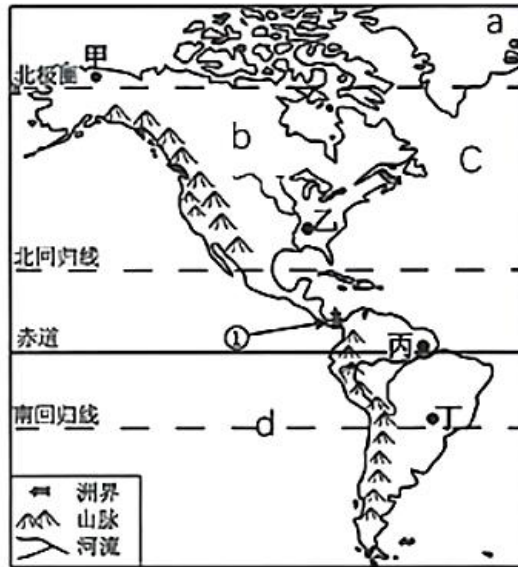
(2) 南美洲地形特点:西部是世界最长的安第斯山脉，东部平原高原相间分布；亚马孙平原--世界最大的平原；巴西高原--世界最大的高原；亚马孙河--世界流量最大的河流，自西向东流入大西洋。

(3) 北美洲气候特点:气候复杂多样(跨寒温热三带，温带大陆性气候为主)；太平洋沿岸气候带呈狭长形(地形因素，落基山脉阻挡)

(4) 南美洲气候特点:南美洲以热带气候为主(热带雨林气候、热带草原气候)；地形对气候影响大（太平洋沿岸气候狭长分布、基多终年凉爽）。

易错指数：★★★

【真题过关·单选】下列对美洲大陆地点描述有误的是（ ）。



- A. 甲地位于北极圈内，可见极光等自然现象
- B. 乙地有世界第四长河
- C. 丙地是世界最大的热带雨林区
- D. 丁地是世界海拔最高的高原

【答案】D。读图可以看出，甲地位于北极圈以北，可以看见极光等自然现象。乙地是位于美国中部的中央平原，世界第四长河--密西西比河流经该平原。丙地位于南美洲的北部，此处的亚马孙平原上有世界上最大的热带雨林区--亚马孙雨林。丁地巴西高原是世界上面积最大的高原，世界上海拔最高的高原是青藏高原，故D错误。故本题选D。

【易错考点 043—六大板块的名称及分布】

要注意区分六大板块的名称及其和大洲、大洋的名称的异同，尤其要注意的是板块所包含的大洲大洋范围。

全球岩石圈六大板块



易错指数: ★★★

【真题过关·单选】珠穆朗玛峰由两大板块碰撞挤压形成，这两大板块是（ ）。

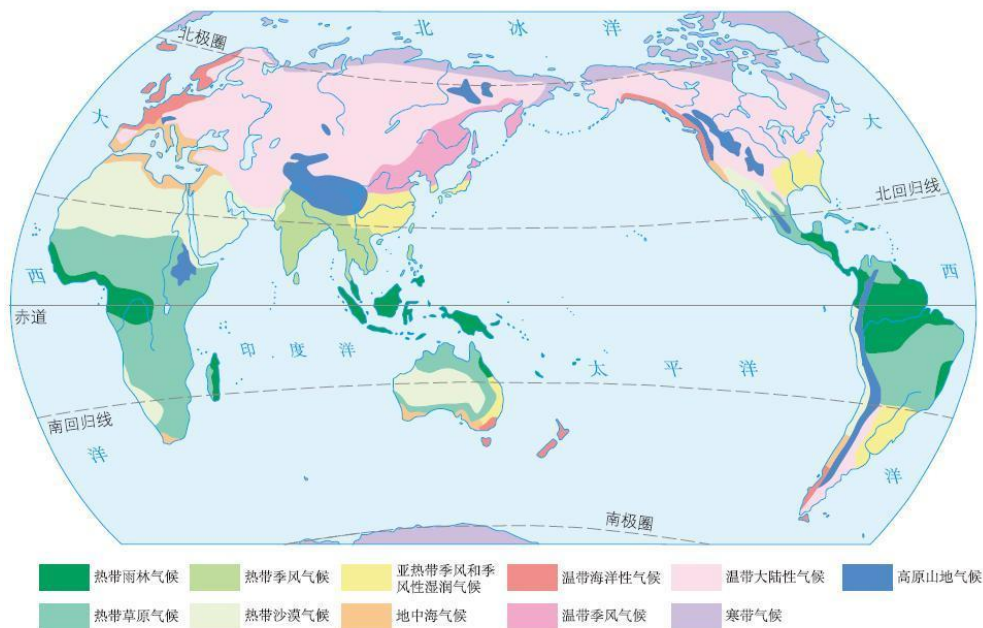
A. 印度洋板块与太平洋板块 B. 亚欧板块与太平洋板块

C. 亚欧板块与非洲板块 D. 亚欧板块与印度洋板块

【答案】D。根据六大板块的分布可知，珠穆朗玛峰位于亚欧板块和印度洋板块之间，是这两个板块碰撞挤压形成的。故选D。故本题选D。

【易错考点 044—世界气候类型的分布】

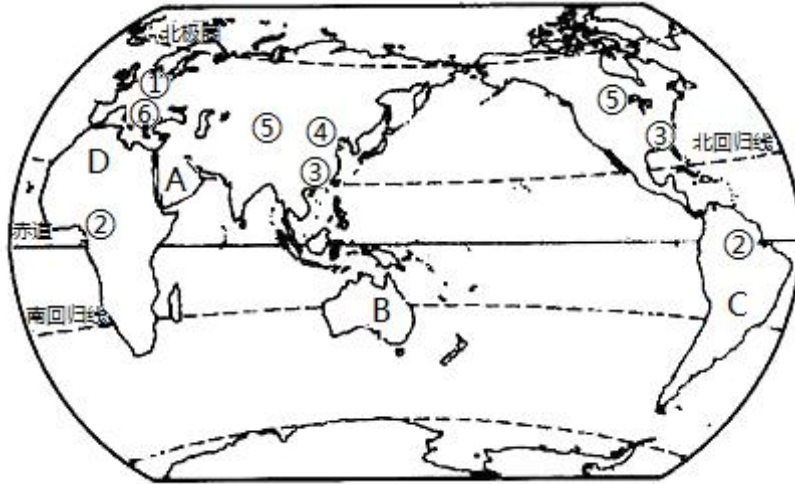
掌握世界气候类型的分布，理解其特点和原因。



世界气候类型的分布

易错指数：★★★

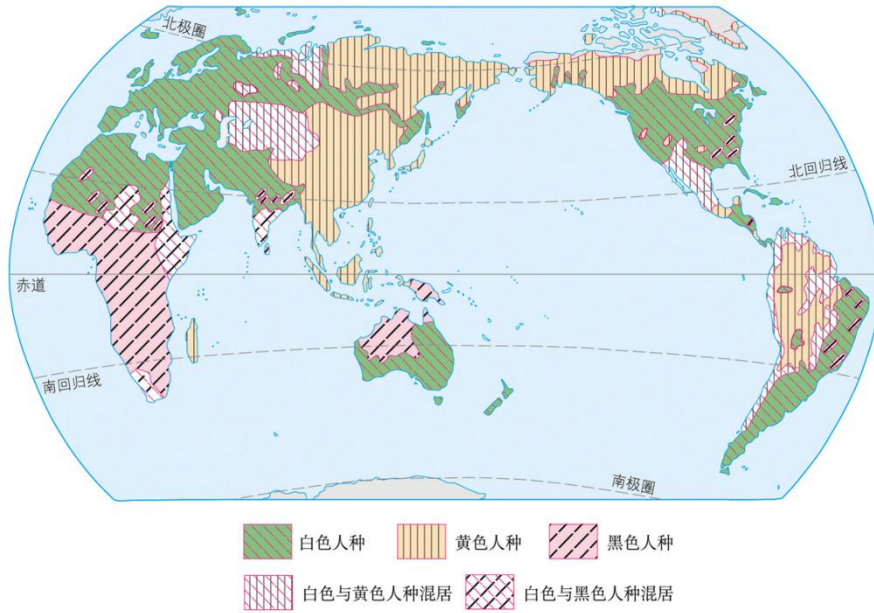
【真题过关·单选】图中①②③④⑤⑥是不同气候类型的分布地区，在下列叙述中，正确的是（ ）。



- A. ①处和③处为常年温暖湿润型的气候
- B. ⑥处的气候特点是夏季炎热干燥，冬季温和多雨
- C. ③处与④处的气候特征在冬季的最大差别是降水多少不同
- D. ②处的气候类型是热带沙漠气候

【答案】B。从世界气候类型图可以看出，①为温带海洋性气候，②为热带雨林气候，③为亚热带季风气候，④为温带季风气候，⑤为温带大陆性气候，⑥为地中海气候，所以B正确。故本题选B。

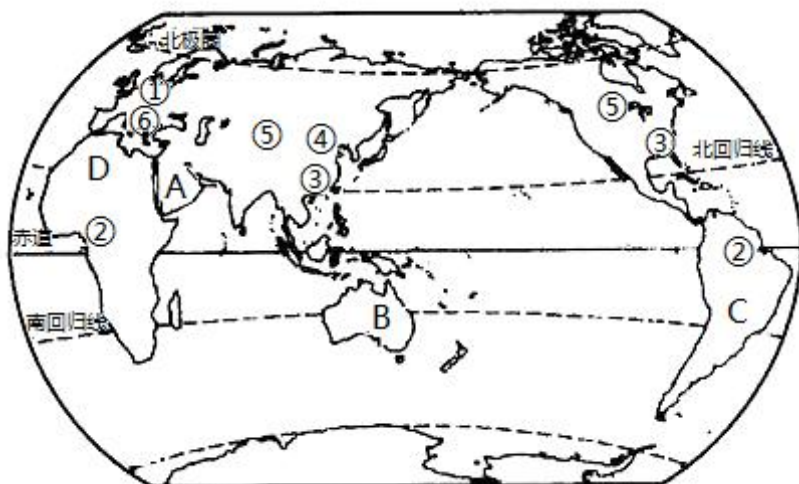
【易错考点 045—世界人种和宗教的分布】



三大宗教	分布地区	建筑名称	建筑风格
基督教	欧洲、美洲、大洋洲	教堂	多尖顶的钟楼
伊斯兰教	亚洲的西部和东南部、非洲的北部和东部	清真寺	多圆顶的塔尖
佛教	亚洲的东部和东南部	庙宇	多佛塔

易错指数：★★★

【真题过关·单选】图中的A处为世界上面积最大的半岛，B为世界上面积最小的大陆，下列叙述中，正确的是（ ）。



- A. 半岛居民的人种为白色人种，信奉伊斯兰教
- B. 半岛与非洲相邻，与非洲的分界线是巴拿马运河
- C. 大陆的东侧为大西洋，西侧为印度洋
- D. 我国到南极洲进行科学考察必经 B 大陆，这是因为该大陆离南极洲距离最近

【答案】A。从图中可以看出，A 为阿拉伯半岛，为世界上面积最大的半岛，居民多为白色人种，信奉伊斯兰教；A 半岛与非洲相邻，与非洲的分界线是苏伊士运河，B 为澳大利亚大陆，为世界上面积最小的大陆，该大陆东侧为印度洋，西侧为太平洋，南美洲距离南极洲最近。故本题选 A。

【易错考点 046—房屋建筑与地理环境的关系】

- (1) 北极冰屋具有很低矮，无窗户的特点，防寒保暖。
- (2) 东南亚的高架屋具有墙薄的特点，通风散热防潮湿。
- (3) 西亚民居具有墙厚、窗小的特点，主要是为了防止太阳辐射，防止风沙的作用。
- (4) 欧洲北部木屋，屋顶坡度大，主要是为了减轻积雪对房顶的压力，采用木质主要是为了防寒保暖。

易错指数：★★★

【真题过关·单选】“房屋具有墙厚、窗小的特点”，此民居是（ ）。



北极附近—冰屋

A.



东南亚—高架屋

B.



西亚—碉楼

C.



欧洲北部—木屋

D.

【答案】C。北极冰屋具有很低矮，无窗户的特点，防寒保暖，A 错误。东南亚的高架屋具有墙薄的特点，通风散热防潮湿，B 错误。西亚民居具有墙厚、窗小的特点，主要是为了防止太阳辐射，防止风沙的作用，C 正确。欧洲北部木屋，屋顶坡度大，主要是为了减轻积雪对房顶的压力，采用木质主要是为了防寒保暖，D 错误。故本题选 C。

【易错考点 047—世界重要国际组织标志】



联合国会徽



世界贸易组织



世界银行



欧洲联盟



东南亚国家联盟



亚太经合组织

易错指数：★★★

【真题过关·单选】2018 年 11 月 17 日至 18 日亚太经济合作组织领导人会议在巴布亚新几内亚举行。该组织是亚洲—太平洋地区级别最高、影响最大的区域性经济组织。下列标志

中，属于该组织标志的是（ ）。



A.



B.



C.



D.

【答案】B。亚太经合组织是亚洲—太平洋地区级别最高、影响最大的区域性经济组织，以上四个组织标志中，A是东南亚国家联盟标志，B是亚太经合组织的标志，C是关注儿童基金会标志，D是世界贸易组织标志。故本题选B。

【易错考点 049—沙特阿拉伯的概况】

沙特阿拉伯以“石油王国”著称，是世界上石油储量、产量和销售量最多的国家之一，居民主要是白色人种，官方语言是阿拉伯语。中东等因为石油蕴藏量高而富裕的国家文盲率太高，沙特的文盲率在20%左右、科技水平太低，所以包括沙特在内的中东的石油富国都算不上是“发达国家”。

易错指数：★★★

【真题过关·单选】2017年3月，中国与沙特阿拉伯签署了《中沙联合声明》。下列对沙特阿拉伯描述正确的是（ ）。

- A. 该国居民主要是黑色人种，官方语言是西班牙语
- B. 位于波斯湾地区，石油资源取之不尽、用之不竭
- C. 可耕地少，水资源缺乏，严重影响了农业的发展
- D. 畜牧业发展迅速，大量出口羊毛，成为富裕国家

【答案】C。沙特阿拉伯的居民主要是白色人种，官方语言是阿拉伯语。位于波斯湾西岸地区，石油资源丰富，但不是取之不尽，用之不竭的；该国属于热带沙漠气候，可耕地少，水资源缺乏，严重影响了农业的发展；农业以畜牧业为主，但是以出口石油为主，仍然是发展中国家。故本题选C。

【易错考点 050—世界区域地理说法】

南极地区有“白色荒漠”之称；美国有“民族大熔炉”之称；中东有“世界油库”之称；俄罗斯有“世界加油站”之称；东南亚有“十字路口”之称。

易错指数：★★★

【真题过关·单选】小明关于世界区域地理说法错误的是（ ）。

- A. 南极地区是“白色荒漠” B. 美国是“民族大熔炉”
C. 中东是“世界加油站” D. 东南亚“十字路口”的位置

【答案】C。南极地区看上去白茫茫一片，但实际上南极地区降水量很小，只是由于气候严寒每年降落的少量的雪难以消融，所以有“白色荒漠”之称，A正确。美国是一个移民国家，因此有“民族大熔炉”之称，B正确。中东被成为“世界油库”，与“世界加油站”很相近，但实际上有“世界加油站”之称的是俄罗斯，C错误。东南亚位于亚洲和大洋洲连线、印度洋与太平洋连线的交叉点上，因而有“十字路口”的位置。故本题选C。

第四部分 中国地理

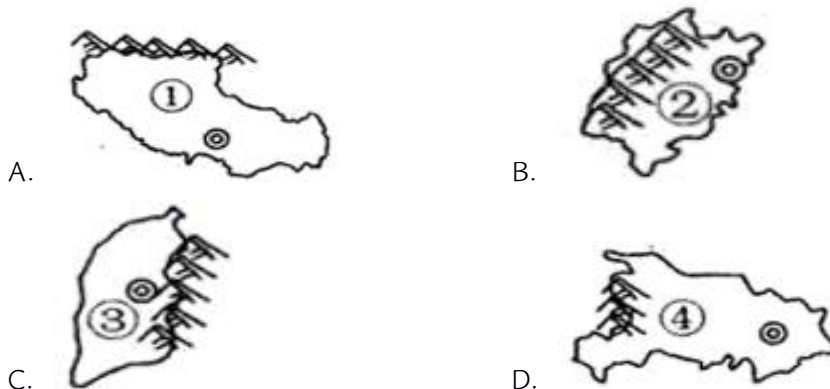
【易错考点 051—行政区划】

需要记住各省的轮廓，以及与山脉和河流的相对位置关系。



易错指数：★★★

【真题过关·单选】新冠肺炎疫情爆发后,全国各地纷纷调拨人力物力驰援湖北省。下图四个省级行政区表示湖北省的是 ()。



【答案】D。根据各省的轮廓以及对应的山地,可以分析出,A是西藏自治区,北部是昆仑山,A错误。B是福建省,西部是武夷山,B错误。C是山西省,东部是太行山,C错误。

D 是湖北省，西部是巫山，D 正确。故本题选 D。

【易错考点 052—我国民族的数量及其分布】

1. 中国是一个统一的多民族社会主义国家，共 56 个民族，各民族大杂居、小聚居；
2. 汉族人口最多，分布遍及全国，集中在东部、中部；
3. 少数民族中人口最多的是**壮族**（满、回、苗、维吾尔、彝、土家、蒙古、藏），少数民族集中分布在西南、西北、东北等边疆地区的**云南**（我国少数民族最多的省份）、贵州、广西、新疆等省份。

易错指数：★★★

【真题过关·单选】下列关于我国民族表述正确的是（ ）。

- A. 除汉族外的其他民族统称为少数民族
- B. 少数民族与汉族的分布，界限十分明显
- C. 少数民族只占全国人口的 8%，其分布地区占全国的 10%
- D. 少数民族中人口最多的是珞巴族。

【答案】A。本题考查我国民族的构成。我国有 56 个民族，汉族人口占 92%，除汉族外的其他 55 个民族只占全国人口的 8%，人数相对较少，被统称为少数民族；我国民族分布具有“大散居”的特点，少数民族与汉族的分布，界限并不明显；少数民族中人口最多的是壮族。故本题选 A。

【易错考点 053—重要的分界线】

- (1) 第一阶梯和第二阶梯界限：昆仑山、祁连山和横断山脉。
- (2) 第二阶梯和第三阶梯界限：大兴安岭、太行山、巫山和雪峰山。
- (3) 季风区与非季风区界限：以大兴安岭、阴山、贺兰山为线，与 400 毫米等降水量线重合。
- (4) 人口密度界限：以黑龙江的黑河和云南的腾冲为基点，形成黑河——腾冲线，这条线东南人口稠密；该线西北人口稀疏。

易错指数：★★★

【真题过关·单选】下列山脉中，既是我国二、三级阶梯界线，又是季风区与非季风区界线，又是内外流域界线的山脉是（ ）。

- | | |
|--------|---------|
| A. 秦岭 | B. 太行山 |
| C. 祁连山 | D. 大兴安岭 |

【答案】D。大兴安岭—太行山—巫山—雪峰山是我国地势第二、三级阶梯的分界线；大兴安岭—阴山—贺兰山—巴颜喀拉山—冈底斯山是我国季风区和非季风区的分界线，内流域和外流域的分界线；大体沿大兴安岭—阴山—贺兰山—祁连山—巴颜喀拉山—冈底斯山一线，所以大兴安岭符合题意。故本题选D。

【易错考点 089—我国主要地形类型的占比】

我国五大地形类型都具备，具体来看我国各类型地形面积所占比例是：山地占 33%，高原占 26%，盆地占 19%，平原占 12%，丘陵占 10%。

易错指数：★★★★

【真题过关·单选】根据下图提示的信息，完成下面小题。



上图所示的我国主要地形类型，按面积从小到大排列正确的是（ ）。

- A. ①②③④ B. ④①③②
C. ②③④① D. ①④③②

【答案】D。根据图中的景观，可判断①为丘陵，②为山地，③为高原，④为盆地，我国地形类型中还有平原。丘陵约占陆地面积的 10%，山地约占 33%，高原约占 26%，盆地约占 19%，由小到大依次为①④③②。故本题选D。

【易错考点 054—我国秦岭-淮河一线的地理意义】

秦岭—淮河线是中国地理区分北方地区和南方地区的地理分界线。在此线的北面和南面，自然条件、地理风貌、农业生产或是人民生活习俗，均有明显不同。

部分地理意义：(1) 气温：①1 月份 0℃ 等温线②暖温带与亚热带分界线；(2) 降水：①年降水量 800mm 等降水量线。②湿润区与半湿润区分界线 (3) 气候：亚热带季风气候与温带季风气候、温带大陆性气候分界线；(4) 河流：该线以南的河流流量大、水位变化小、无结冰期、含沙量小；以北反之；(5) 植被：温带落叶阔叶林与亚热带常绿阔叶林分界线；(6) 种植业：①旱地农业与水田农业分界线。②农作物一年三熟、一年两熟与两年三熟、一年一熟分界线；(7) 中国地理区分北方地区与南方地区的分界线；(8) 黄土高原-华北平原与四川盆地-长江中下游平原分界线；(9) 民居平顶厚墙斜顶高墙。

易错指数：★★★

【真题过关·单选】大致与我国秦岭-淮河一线相吻合的是（ ）。

- ①一月份 0℃ 等温线
- ②湿润区和干旱区的分界线
- ③亚热带和暖温带的分界线
- ④400 毫米年等降水量线

- A. ①②
- B. ①③
- C. ②④
- D. ③④

【答案】B。秦岭、淮河一线是我国四大区域中，南方地区与北方地区的分界线；一月份 0℃ 等温线通过的地方；800mm 等降水量线通过的地方；温度带中，暖温带与亚热带分界线；干湿地区中，湿润区与半湿润区分界线；温带季风气候与亚热带季风气候分界线；亚热带常绿阔叶林与温带落叶阔叶林的分界线；耕地中水田和旱地的分界线等。所以，①③正确，②④错误。故本题选 B。

【易错考点 055—河流的补给形式】

补给类型	补给季节	补给特点	主要影响因素	我国主要分布地区
季节性积雪融水补给	春季	有明显的季节性	①气温高低②积雪多少 ③地形状况	东北地区
永久性冰川积雪融水补给	主要在夏季	有明显的季节、日变化	①太阳辐射②气温变化 ③积雪和冰川储量	西北和青藏高原地区
雨水补给	一般以夏秋两季为主	①时间集中②不连续性③水量变化大	①降水量的多少②降水量的季节分配③降水量的年际变化④流域面积的大小	普遍，尤以东部季风区最为典型
湖泊水补给	全年	①较稳定②湖泊以下河段起调节作用，延缓并削减洪峰	①取决于湖泊与河流水位的相对位置②降水	普遍
地下水补给	全年	①稳定②一般与河流有互补作用	①地下水补给区降水量 ②地下水位与河流水位的相互位置关系	普遍

易错指数：★★★

【真题过关·单选】我国某河流域的人们,越干旱越盼望出太阳。该河流是 ()。

- A. 额尔齐斯河
- B. 珠江
- C. 黑龙江
- D. 塔里木河

【答案】D。位于西北内陆塔里木盆地的塔里木河,由于这里远离海洋,降水稀少,河流水源主要来自天山和昆仑山的冰雪融水,天气越干旱,塔里木河流域的人们越盼望出太阳,其主要原因是出太阳后气温就会升高,冰雪融水就会增多。故本题选D。

【易错考点 056—长江、黄河的概况】

(1) 黄河发源于青藏高原巴颜喀拉山北麓的约古宗列盆地,自西向东分别流经青海、四川、甘肃、宁夏、内蒙古、陕西、山西、河南及山东9个省(自治区),最后流入渤海。重要的支流有:汾河、洮河、渭河等。

(2) 长江发源于青藏高原的唐古拉山脉各拉丹冬峰西南侧。干流流经青海省、西藏自治区、四川省、云南省、重庆市、湖北省、湖南省、江西省、安徽省、江苏省、上海市共11个省级行政区,于崇明岛以东注入东海。重要的支流有:岷江、嘉陵江、湘江等。

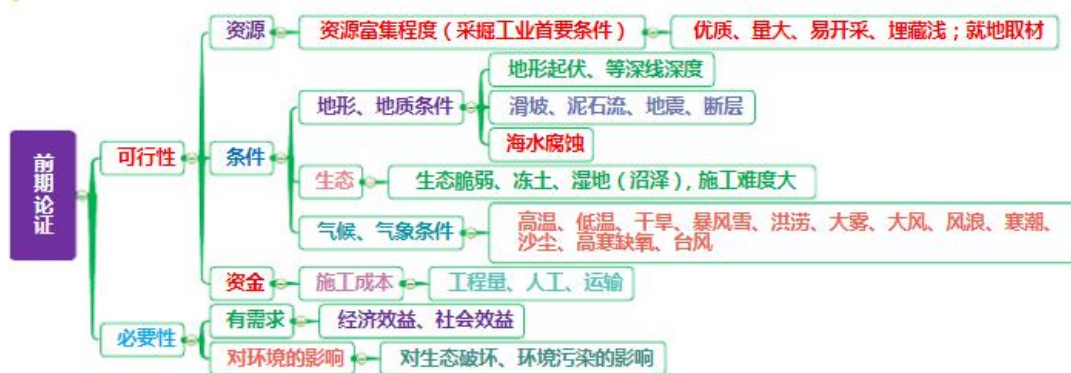
易错指数：★★★

【真题过关·单选】成语“泾渭分明”中的泾河和渭河属于下列哪一条河流水系 ()。

- A. 长江
- B. 黄河
- C. 珠江
- D. 黑龙江

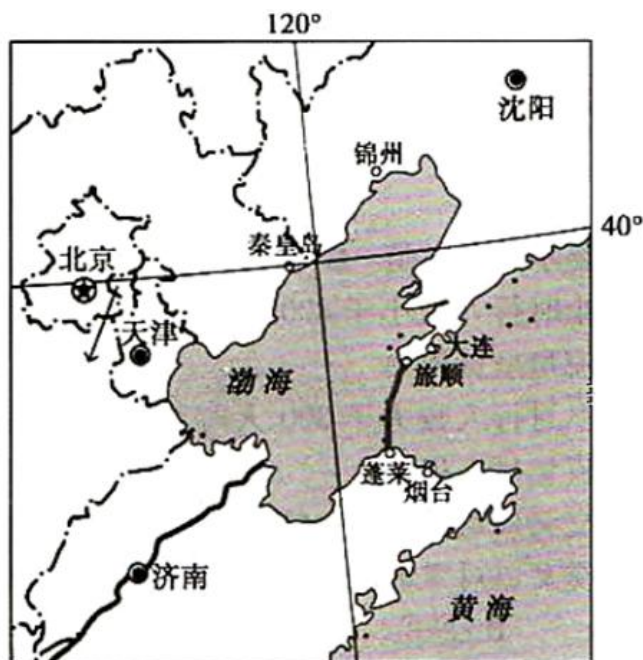
【答案】B。黄河中游段水位落差大,这里有著名的壶口瀑布和三门峡。沿途接纳了汾河、渭河等来自黄土高原上的重要支流,水量大增,同时也带来大量泥沙。故本题选B。

【易错考点 057—工程建设的选择】



易错指数：★★★★

【真题过关·单选】渤海海峡跨海通道战略规划研究项目在全隧道、全桥梁、南桥北隧这三种可选择的海峡通道形式中，工程院专家建议采用全隧道形式。



渤海湾海底隧道大致路线图

在全隧道、全桥梁、南桥北隧这三种可选择的海峡通道形式中，专家建议采用全隧道形式，主要原因是该方案（ ）。

- A. 投资最少
- B. 线路最短
- C. 建设难度小
- D. 受海浪侵蚀小

【答案】D。读图可知，无论是全隧道、全桥梁、南桥北隧，这三种形式投资都很大，线路都最短建设难度小都很大，可选择专家建议采用全隧道形式，主要原因是该方案位于海面以下，受海浪侵蚀小。故本题选D。

【易错考点 058—“地上河”】

河床高出两岸地面的河，又称“地上河”。流域来源于沙量很大的河流，在河谷开阔，比较平缓的中、下游，泥沙大量堆积，河床不断抬高，水位相应上升。为了防止水害，两岸大堤随之不断加高，年长日久，河床高出两岸地面，成为“悬河”。

从桃花峪到入海口，流程 768 千米。每年大约有 4 亿吨泥沙淤积在黄河下游河道内，河床逐年升高。黄河下游是世界上著名的“悬河”，河床滩面高出背河地面一般 3-5 米。

易错指数：★★★

【真题过关·单选】黄河成为举世闻名的“地上河”，主要位于（ ）。

- A. 源头至兰州段
- B. 兰州至河口段

C.河口至桃花峪段

D.桃花峪至利津段

【答案】B。三江源地区中的“三江”是指长江、黄河和澜沧江，珠江发源于云贵高原，雅鲁藏布江发源于喜马拉雅山。故本题选B。

【易错考点 059—温度带和干湿区的划分】



易错指数：★★★

【真题过关·单选】按我国温度带和干湿区的划分，厦门属于（ ）。

- A. 暖温带、湿润地区
- B. 亚热带、湿润地区
- C. 亚热带、半湿润地区
- D. 暖温带、半湿润地区

【答案】B。厦门位于南方地区，从温度带看，厦门位于亚热带地区，从干湿地区看，厦门位于湿润地区。故正确的是B。

【易错考点 60—我国区域对应的称谓】

我国的一些区域对应的称谓，例如澳门有“海上花园”称号；“东方之珠”是指香港；“世界屋脊”是指青藏高原；塔里木盆地“干旱的宝地”；“白山黑水”是指东北三省同时也是我国的“重工业摇篮”；四川盆地有“天府之国”称号等。

易错指数：★★★

【真题过关·单选】下列区域与对应称谓相符的一组是（ ）。

- A. 台湾省 - “东方明珠” B. 三江源地区 - “世界屋脊”
C. 塔里木盆地 - “干旱的宝地” D. 长江三角洲 - “白山黑水”

【答案】C。“东方明珠”是指中国香港，“世界屋脊”是指青藏高原，塔里木盆地“干旱的宝地”，“白山黑水”是指东北三省。所以正确的是C。

