

版权所有
复制必究



2020 年天津市公安局招聘辅助警务人员 《行政职业能力测验》 模拟卷

重要提示

为维护您的个人权益，确保公务员考试的公平公正，请您协助我们监督考试实施工作。

本场考试规定：监考老师要向本考场全体考生展示题本密封情况，并邀请2名考生代表验封签字后，方能开启试卷袋。

二〇二〇年

准考证号

姓名

条形码粘贴处

请将此条形码揭下，
贴在答题卡指定位置

仅限华图教育内部教学使用！

注意事项

1. 本题本由给定资料与作答要求两部分构成。考试时限为 120 分钟。其中，阅读给定资料参考时限为 30 分钟，作答参考时限为 90 分钟。
2. 请在题本、答题卡指定位置上用黑色字迹的钢笔或签字笔填写自己的姓名和准考证号，并用 2B 铅笔在准考证号对应的数字上填涂。
3. 请用黑色字迹的钢笔或签字笔在答题卡上指定的区域内作答，超出答题区域的作答无效。
4. 待监考人员宣布考试开始后，你才可以开始答题。
5. 所有题目一律使用现代汉语作答。未按要求作答的，不得分。
6. 监考人员宣布考试结束时，考生应立即停止作答，将题本、答题卡和草稿纸都翻过来留在桌上，待监考人员确认数量无误、允许离开后，方可离开。

严禁折叠答题卡!

停! 请不要往下翻! 听候监考老师指示。

否则, 会影响你的成绩。

第一部分 常识判断

(共 20 题，参考时限 15 分钟)

根据题目要求，在四个选项中选出一个最恰当的答案。

请开始答题：

1. 农民说，幸福就是庄稼收成好，收入增加；职业经理人认为，最幸福的事情就是把公司做一个世界品牌；教师认为，培养出优秀学生就是最幸福的事。可见对幸福的诠释不同，这说明（ ）。
 - A. 价值判断依据事实，具有真理性
 - B. 价值判断因时而异，具有历史性
 - C. 价值判断因人而异，具有主观性
 - D. 价值判断没有规律，具有盲目性
2. 人的本质在其现实性上是一切社会关系的总和，就个人与社会的关系上看，人的价值在（ ）。
 - A. 实现马斯洛理论中第五层次的需求
 - B. 个人对社会的尊重与满足
 - C. 社会对个人的尊重与满足以及个人对社会的责任与贡献
 - D. 社会对个人的责任与贡献以及个人对社会的尊重与满足
3. 明朝中后期，倭寇不断侵扰我国东南沿海地区，当时的著名抗倭英雄是（ ）。
 - A. 张居正
 - B. 戚继光
 - C. 郑成功
 - D. 袁崇焕
4. 自 2011 年 9 月 1 日起，个人所得税工资薪金所得的费用扣除标准（即起征点）由 2000 元/月提高到 3500 元/月，这一调整有利于（ ）。
 - A. 促进分配公平
 - B. 鼓励多劳多得
 - C. 增加税收收入
 - D. 扩大征税范围
5. 下列省份不与河北省相邻的是（ ）。
 - A. 辽宁省
 - B. 内蒙古自治区
 - C. 湖北省
 - D. 山东省
6. 以下名茶与产地对应错误的一项是（ ）。

- A. 铁观音——安徽六安一带
 - B. 普洱茶——云南西双版纳一带
 - C. 大红袍——福建武夷山一带
 - D. 碧螺春——江苏太湖洞庭山一带
7. 下列说法错误的是：
- A. 成语“南橘北枳”与晏婴出使楚国有关
 - B. 苏武牧羊的地点在今天的贝加尔湖一带
 - C. 东汉使者班超同时也是《汉书》的作者
 - D. 西汉张骞与唐代鉴真出行的方向不同
8. 《共产党宣言》是科学社会主义第一个纲领性的文献。它的发表，标志着马克思主义诞生。《共产党宣言》被译成一二百种文字，出版 1000 多次。在人类文明史上有过许多传世名著，但没有哪一部能像《共产党宣言》这样牵动全世界最广大人民的心魄。2008 年是纪念《共产党宣言》公开发表（ ）。
- A. 130 年
 - B. 150 年
 - C. 160 年
 - D. 180 年
9. 下列说法中，不正确的是（ ）
- A. 轻轨和地铁的区别主要是运量不同
 - B. 隐形飞机运用“隐形”技术，躲避雷达侦测
 - C. 在能源领域中，一般所称的页岩气是指页岩中的天然气
 - D. 海浪主要是由地球自转形成的
10. 下列做法正确的是（ ）。
- A. 油锅起火后立即用水扑灭，并迅速熄灭炉火
 - B. 电路保险丝（片）熔断，用铜线代替以保护电器
 - C. 身上着火，就地打滚，或用厚重衣物覆盖压灭火苗
 - D. 停电的夜晚发现煤气泄漏后，点燃蜡烛查找泄漏原因
11. 中国最早的工艺百科全书是完成于 17 世纪 30 年代的《天工开物》。它的作者是（ ）。
- A. 徐霞客
 - B. 沈括

- C. 酈道元
D. 宋应星
12. 哪项不在中国地形的第二级阶梯上（ ）。
- A. 秦岭
B. 呼伦贝尔草原
C. 鄂尔多斯高原
D. 巴颜喀拉山
13. “中体西用”是洋务派处理中西文化关系的一种文化模式，一种文化心态。在洋务运动时期，下列不属于“中体西用”的内容的是（ ）
- A. 西方军事装备
B. 西方政治制度
C. 西方新式学堂
D. 西方科学技术
14. 李军是某单位的会计，他为了盗窃本单位保险柜里的现金而设法配制了保险柜的钥匙。后来李军在盗窃过程中因害怕被发现而将配制的钥匙丢弃，没有窃取现金。李军的行为属于（ ）。
- A. 犯罪预备
B. 犯罪既遂
C. 犯罪中止
D. 犯罪未遂
15. 下列诗句与其作者对应正确的是（ ）。
- A. 秦时明月汉时关，万里长征人未还——王昌龄
B. 黄沙百战穿金甲，不破楼兰终不还——李商隐
C. 葡萄美酒夜光杯，欲饮琵琶马上催——李白
D. 战士军前半死生，美人帐下犹歌舞——杜甫
16. 《资治通鉴》成书于（ ）。
- A. 西汉
B. 东汉
C. 北宋
D. 南宋
17. 对“一国两制”构想的正确解释是（ ）。

- C. 一致
D. 符合
22. 2014年6月23日，食品安全法修订草案将_____十二届全国人大常委会第九次会议审议。国家食药监管总局官员介绍，“重典治乱”成为本次修法的主导思想，将设立最严格的程序_____法律制度，建立最严格的法律责任制度，大幅提高企业违法成本，政府失职将被_____。
- 依次填入划横线部分最恰当的一项是：（ ）
- A. 递交 监视 训责
B. 提交 监管 问责
C. 提交 监管 谴责
D. 交付 监督 审问
23. 大乡绅的仆人可以指挥警察区区长，可以_____招摇过市——这都是民国五六年的事，并非前清君主专制时代。自己当时_____，看了一肚子气；可是当时_____，也只好让那口气憋着罢了。
- 填入横线处最恰当的是：（ ）
- A. 大模大样 血气方刚 人微言轻
B. 威风凛凛 血气方刚 人穷志短
C. 像模像样 年轻气盛 人微言轻
D. 昂首阔步 年轻气盛 人穷志短
24. 在当前的涨价风潮中，有的商品确系成本增加而导致的终端消费价格上涨，但是也有不少商品却属于无须涨价之列，只不过看到其他产品涨价，便想搭上涨价的顺风车，为自己_____私利。这种跟风涨价的势头，政府必须采取有力措施坚决_____。
- 填入横线处最恰当的是：（ ）
- A. 牟取 遏制
B. 谋取 遏制
C. 牟取 遏止
D. 谋取 遏止
25. 近年来，志愿者运动_____，说明我国经济获得长足发展之后，有了推行志愿者运动的_____。尽管初始稚步，但既然开始了，且方向正确，总会逐渐成熟。
- 填入横线处最恰当的是：（ ）
- A. 悄然兴起 条件
B. 方兴未艾 机制
C. 欣欣向荣 实力
D. 如火如荼 资本
26. 春天，雌蛾会发出一种气味，能将远在几百米外活动的雄蛾吸引过来。科学家们析取了这一气味物质，用此来_____雄蛾对雌蛾的追踪，并诱使它们飞进所设的捕网。这是一种_____害虫的有效的新方法。
- 依次填入划横线部分最恰当的一项是：（ ）。
- A. 监测 控制
B. 阻止 防治
C. 促成 捕捉
D. 扰乱 消灭
27. 随着时代变迁，摩天大楼能耗过大、维护成本过高、影响环境等多种弊端促使人们重新_____超高

建筑的必要性和合理性。世界上许多著名城市都对建设超高建筑持_____态度，并用严格的规划控制城市建筑高度，力求制订更为科学合理的城市规划，_____绿色宜居可持续的城市发展理念。

依次填入划横线部分最恰当的一项是：（ ）。

- A. 审视 谨慎 践行 B. 论证 反对 坚持
C. 反思 消极 扩大 D. 批判 保守 发展

28. 中央八项规定之所以取得成效，关键是中央政治局以身作则、_____。各级领导干部要充分认识自己在作风建设中的关键地位和重要作用，以及对党和国家前途命运的责任，以_____、如临深渊的小心和谨慎，对待自己的一言一行，一举一动，要带头改进作风，不是说给大家听，而是做给大家看、一级抓一级、一级带一级，层层_____。

填入横线处最恰当的一项是：（ ）

- A. 身先士卒 如箭在弦 真抓实干 B. 率先垂范 如履薄冰 求真务实
C. 严于律己 如临大敌 贯彻落实 D. 公平正直 小心翼翼 廉洁自律

29. 负面新闻并不是永远都制造_____，从商业角度看，负面宣传在某种情况下可以_____销售，尤其在公司和产品不知名的情况下。曾有研究者发现，如果某些书籍的作者让读者感觉_____，书被评为劣作却能起到相反的效果——它们的销量增加了 45%。

填入横线处最恰当的是：（ ）

- A. 防害 促进 亲切 B. 损失 带动 熟悉
C. 悲剧 刺激 陌生 D. 难题 提高 冷淡

30. 不充分的发展与发展带来的副作用，就这样在同一片土地上同时存在。这是中国的困境，也几乎是所有发展中国家共有的_____。就像每个月挣 100 块钱的人却不得不吃 10 块一斤的有机大米，其结果必然是饥饿。环保成本的高昂，激化了发达国家与发展中国家的冲突与矛盾，也成为许多地区在生态环境方面寅吃卯粮甚至_____的现实背景。

填入横线处最恰当的是：（ ）

- A. 尴尬 饮鸩止渴 B. 际遇 杀鸡取卵
C. 难题 涸泽而渔 D. 挑战 饥不择食

31. 对于吸引人才，地方政府最应该做的，是营造一个适合人才流动、有利人才成长的环境与空间，而不是直接参与、甚至_____企业的人才录用过程。其实，自由、公平的竞争本身就是对人才最好的回报，足够的成长空间才是_____吸引人才、留住人才的沃土。

填入横线处最恰当的是：（ ）

- A. 主导 长久 B. 干预 直接

- C. 破坏 长期 D. 影响 有效
32. 发展与壮大文化产业，既要盯着市场做文章，_____文化生产部门的自我生存能力，最大限度地让文化产品增值；又不能唯市场是从，一味_____市场低层次需求，让那些格调不高的文化产品大行其道。
- 填入横线处最恰当的是：（ ）
- A. 扩大 限制 B. 维护 满足
C. 提高 降低 D. 增强 迎合
33. 自张爱玲在大洋彼岸以自己独特的方式_____告别人世至今，张爱玲研究已经_____，海峡两岸三地出版的张爱玲传记、张爱玲研究专著和张爱玲评论汇编接连不断。
- 填入横线处最恰当的是：（ ）
- A. 悄然 蔚为大观 B. 悄悄 汗牛充栋
C. 悄然 汗牛充栋 D. 悄悄 蔚为大观
34. 欧元区永久性救助工具——欧洲稳定机制规定，救助资金只提供给欧元区成员国政府。当然，受援国政府可以____，再用这笔钱救助本国银行，其后果是对银行业的救助资金最终仍会____到政府头上，导致受援国主权债务增加。
- 依次填入画横线部分最恰当的一项是：（ ）。
- A. 顺水推舟 转嫁 B. 因地制宜 转移
C. 因势利导 转变 D. 就地取材 转换
35. 在这里，作家的人格显得_____。无论是历史还是现实或者是最普遍的底层生活，都在他们的笔下幻化为一种真实人生的存在，一种精神的存在，一种被称为“心灵史”的存在。他们_____于历史与现实之间，心甘情愿地进行着漫长而苦涩的精神之旅，既充实又富有。
- 填入划横线部分最恰当的一项是：（ ）
- A. 微乎其微 踟蹰 B. 举足轻重 徜徉
C. 至关重要 彷徨 D. 无关大局 徘徊
36. 随着市场经济潮流的冲击和社会不良风气的影响，有些人开始注重名和利，而学术则变成了谋取名利的工具。为了能够尽早地脱颖而出，有些学人甚至完全放弃学术之追求真理性认识的本然功能，将学术批判变成自我彰显的“噱头”，于是，专批名人、伟人，借助媒体虚造声势，以致钻进为批判而批判的死胡同。不难想象，当这种现象泛化为普遍之时，必将是学术死亡之日。
- 这段文字意在表明：
- A. 当学术批判发展为普遍之时，将是学术死亡之日

D. 史传文学是文学性与史学价值的对立统一

40. 城市好比一个巨大的海绵，劳动力就像城乡之间流动的水，当经济处于上行期，经济扩张会吸纳更多的劳动力。当经济处于下行期，经济衰退又将这些劳动力挤回了农村。正是中国城乡二元结构所引发的海绵效应，在此次金融危机中发挥着就业缓冲器的作用。但这种海绵效应是不可持续的，因为中国的一个基本国情就是农业剩余劳动力要向城市进行转移。

这段文字意在说明：（ ）

- A. 经济衰退影响了中国的城市化进程
 - B. 城乡二元结构减弱了经济衰退的影响
 - C. 不能过分依赖海绵效应的就业缓冲作用
 - D. 农村劳动力不应成为经济衰退中的牺牲品
41. 当今时代，随着娱乐业的发展和电子产品的出现，多样化的娱乐生活和碎片化的手机浏览侵占了人的大部分空闲时间，“静下心来阅读一本书”则被排到时间表的最末端。阅读与碎片化信息浏览的区别无须赘述，阅读让人沉静、沉淀。而阅读正是浮躁时代所稀缺的品质，也是一个理性民族所需要的品质。

这段文字意在强调：（ ）

- A. 碎片化信息阅读是浮躁时代的产物
 - B. 阅读和碎片化浏览有根本区别
 - C. 当今时代需要推动国民阅读
 - D. “静下心来阅读一本书”在当今时代已非常难得
42. 有人说，传统小说是依赖经验的写作，而网络小说是依赖想象的写作。看来，这两种写作需要找到一个结合点，依赖经验的写作需要吸纳网络小说的想象，而依赖想象的写作则需要糅入传统小说中丰厚充实的经验。因此，当今的文学要从原创力日益萎缩的窘境中走出来，作家们增加生活经验的积累应该是一个非常关键的举措。但这还只是由经验通往原创力的第一步，接下来必须在体验上进行认真的修炼，使生活经验转化为心灵体验，使客观的经验世界转化为作家主观的心灵世界。

这段文字重点强调的是：（ ）

- A. 如何转化经验吸纳想象
 - B. 怎样找到传统和网络小说的结合点
 - C. 作家应该如何不断地积累生活经验
 - D. 如何提高文学的原创力
43. 维也纳浓厚的音乐气氛和丰富的音乐源泉，不仅孕育诞生了许多伟大的音乐作品，还哺育了不少音乐天才。在音乐史上名垂千古的“交响乐之父”、古典主义音乐的卓越创始人海顿，就是在维也纳谱写了大量的交响乐，从而名扬全球的。和海顿同时代的莫扎特，他的那些流芳百世的作品，基本

上也是在维也纳居住的时候谱写的。音乐艺术的一代宗师贝多芬虽然生在德国，却是在维也纳向海顿学习作曲并一举成名的。歌曲之王舒伯特，则完完全全生在维也纳，长在维也纳。

下列说法与这段文字意思不符的一项是：（ ）

- A. 莫扎特的作品大部分是在维也纳创作的
- B. 海顿是“交响乐之父”、古典主义音乐的创始人
- C. 贝多芬在维也纳向海顿学习过作曲
- D. 生长在维也纳的舒伯特是歌曲之王

44. 从科学史看，理论再伟大，只有在特定的范围内才是正确的。标准模型虽然即将被证实，但其依然位于微观世界，无法解释宏观世界中的万有引力。《新科学家》撰文写道：“希格斯玻色子（也称为‘上帝粒子’）是标准模型的最后一块拼图，但我们知道，这个模型之外，还有其它的粒子和力。”这意味着，尽管“上帝粒子”可能是验证标准模型最后一块拼图，但它绝对不是人类认识宇宙真理的最后一块拼图。

与这段文字不相符的一项是：（ ）

- A. “上帝粒子”一旦得到确认，标准模式可能就此得到证实
- B. 即使“上帝粒子”得到确认，我们认识宇宙任务仍未完成
- C. 标准模型即使得到证实，但它也绝不会是宇宙的最终真理
- D. “上帝粒子”如果不存在，说明标准模型之外还有其它粒子

45. 许多度假胜地，例如鼎鼎大名的夏威夷，完全是由火山喷出的熔岩堆积形成的，直到今天，夏威夷火山群的面积还在不断扩大。岩浆中含有大量微量元素，风化之后形成的土壤异常肥沃，造福了当地的百姓。火山岩干净且透水，火山区的水质一流，是众多天然矿泉水基地。此外，火山区还蕴藏着在碍矿产，比如黄金、钻石等。在科学上，火山上还是研究板块构造很好的载体，这旨板块漂移学说最有利的证明之一。

这段文字主要介绍：

- A. 夏威夷成为旅游胜地的原因
- B. 火山的经济、生活与科学价值
- C. 板块漂移学说的研究思路
- D. 火山岩与土壤、水质的关系

46. 苏州曾经是经济兴盛、文化发达、人才荟萃之地。明末清初以后，苏州士绅除少数人发生身份和观念转化外，多数人的传统观念仍根深蒂固。而作为社会主流的士绅观念和意识往往通过各种渠道浸润展延，严重影响一般民众。正因如此，晚清苏州民风靡弱闲散，生活节奏缓慢，缺乏早期现代化

必需的紧迫感与开拓精神。清末及民国初期，苏州人很少愿意将资本投入到现代实业中，以至于苏州钱庄吸收的存款在当地难以消纳，不得不转向外埠寻求出路。

这段文字主要介绍了：（ ）

- A. 清末苏州资金消纳的途径与方式
- B. 苏州民众在士绅观念影响下的转变
- C. 民国初期苏州实业发展衰落的原因
- D. 士绅观念制约了近代苏州的现代化进程

47. 炮制技术被认为是中医药的核心技术，也是中医独有的传统技能，掌握它就等于掌握中医药市场。国外企业通常通过在我国开办饮片加工厂、聘请国内炮制专家“偷学”炮制技术，目前这样的外资企业达到几十家。这是因为，一些地方政府对国家在特殊领域的规定并不了解，无从管起；还有一些地方政府虽明知这些规定，但为了经济指标，对此不管不顾。调查表明，国内实际饮片厂数量比国家药监局公布的多几百家。

这段文字意在表明：（ ）

- A. 国家应加强对炮制技术保密工作的管理
- B. 政府应加强对设立中药饮片厂的资格审查
- C. 我国中医药行业的发展受到外资企业的威胁
- D. 地方政府应加强对中医药行业相关规定的了解

48. 有项购物实验，先让购物者看一些他们喜爱的物品，或者厌恶的物品，以改变他们的情绪，然后再展示一些普通物品的图片，让购物者在其中进行选择。结果发现，受积极情绪控制的受试者，能够很快做出购买决定，且他们的决定更不容易被其他原因所改变。

这段文字意在说明：（ ）

- A. 心情愉快能让购物者做出快而不易变更的决定
- B. 提示售货员切不可让顾客购物时产生厌恶情绪
- C. 购物者看他们喜爱的物品会很快做出购买决定
- D. 情绪不好的购物者会很快改变他们的购买决定

49. 拥有 120 年历史的道琼斯通讯社宣布，聘请新华在线在中国独家代理其信息产品。这意味着，今后国内新闻媒体和政府机构同步使用道琼斯中文语言财经消息、评论成为可能。据悉，道琼斯通讯社以其独立、领先的财经新闻闻名于世，每 24 小时发布 8000 多则市场消息。此次，新华在线专门推出“引擎计划”，为道琼斯服务中国本土开路。它入乡随俗，接受国内个别用户的财政信息服务要求。

最适合做上面一段新闻标题的是：（ ）

- A. 道琼斯通讯社大力拓展中国市场
- B. 道琼斯通讯社以其独立、快捷的信息赢得了中国的市场
- C. 道琼斯通讯社以其独特的服务和本土化的战略满足用户的信息需求
- D. 新华在线为道琼斯代理信息发布

50. 生物柴油一直被誉为是减少我们对化石燃料的依赖的可能的解决办法。最近通过大肠杆菌进行的试验已经暗示，这种细菌可能是把植物成功转变成生物柴油的关键。目前大部分采用生物柴油的车辆使用的都是经过再加工的食用油，这种原材料非常昂贵，而且也很稀缺，因此很难进行大规模商业生产。如果生物柴油能对现实生活产生不可磨灭的真正影响，它就必须直接起源于植物。斯坦福大学的研究人员现在表示，生产价格低廉的植物生物柴油的化学过程很快就会变成现实。

目前以食用油为原材料的生物柴油很难大规模生产，主要原因是（ ）。

- A. 市场的认可度不高
- B. 生产技术尚不成熟
- C. 原材料昂贵而稀缺
- D. 无法用于现有车型

51. 在美国的电影院线，无论是重磅大片，还是低成本运作，票价都是相同的。这看上去并不符合“需求大小决定价格高低”的经济学理论。有研究人员指出，任何一家影院同期上映的所有电影票价均相同，这一现象形成于上世纪 70 年代，不仅电影业如此，体育赛事和演出也都遵循这一规律。虽然在某些时候和某些地区，机动定价能够使电影公司和院线获得更高的收益，但对于影院来说，保持不同电影的票价相同仍然利大于弊。

这段文字接下来最有可能讲述的是：（ ）

- A. 不同电影票价相同对影院更有利的原因
- B. 美国电影行业确定票价的主要参考因素
- C. 电影制作成本和观众需求与影片定价的关系
- D. 体育赛事和演出等其他行业票价的形成规律

52. 政府每出台一项经济政策，都会改变某些利益集团的收益预期。出于自利，这些利益集团总会试图通过各种行为选择，来抵消政策对他们造成的损失。此时如果政府果真因此而改变原有的政策，其结果不仅使政府出台的政策失效，更严重的是使政府的经济调控能力因丧失公信力而不断下降。

这段文字主要论述了：（ ）

- A. 政府制定经济政策遇到的阻力
- B. 政府要对其制定的政策持续贯彻
- C. 制定经济政策时必须考虑到的因素
- D. 政府对宏观经济的调控能力

53. 唐卡是极富藏族文化特色的一种绘画形式，自吐蕃王朝兴起至今已有 1300 多年的历史，是雪域高

原的文化瑰宝。它的题材除宗教外，还有历史和民俗内容，故又被称为了解西藏的“百科全书”。所以，想要了解西藏的历史，除了正襟危坐地阅读严谨但略显呆板的史书外，你还可以选择一种惬意和愉悦的方式——欣赏唐卡，与众多的古人对话，想象曾经的历史事件，体味藏族人丰富的精神世界，了解独特的藏族民俗，这是一个让历史变得立体可感的过程。

这段文字意在说明：（ ）

- A. 唐卡可以给大家提供一种惬意轻松的了解西藏的方式
 - B. 唐卡中记录了独特的藏族民俗和曾经的历史事件
 - C. 唐卡是了解西藏文化和历史的“百科全书”式的绘画形式
 - D. 唐卡是极富藏族文化特色且历史悠久的一种绘画形式
54. 与相声在传媒中的冷清相比，周末相声俱乐部的火爆与人气，颇耐人寻味。在民众中诞生和成长的艺术，只有回到群众，回归生活，才能获得新的生命力。这种回归，如果没有与观众面对面的交流与切磋，失去了舞台的实践和锤炼，没有观众心领神会的捧腹大笑和心心相印的理解沟通，是不会达到的。

对这段文字概括最准确的是：（ ）

- A. 生活实践是相声创作的源泉
 - B. 传统的相声表演形式亟须改变
 - C. 回归观众是相声俱乐部火爆的原因
 - D. 相声只有重返民间舞台才能重获新生
55. 我国在由生存型社会向发展型社会的历史性过渡中，“生存性”压力明显减弱，“发展性”压力全面凸显。主要表现在经济持续快速增长与资源环境约束的矛盾；经济快速增长的巨大潜力同经济增长的体制机制存在缺陷的矛盾；经济总量、物质财富的不断增长与城乡差距、贫富差距扩大的矛盾；全社会公共服务需求全面快速增长与基本公共产品短缺的矛盾；经济发展、社会进步同公共治理滞后的矛盾。

对这段文字理解不正确的一项是（ ）。

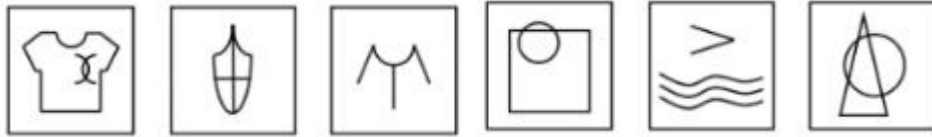
- A. 我国正在由生存型社会向发展型社会过渡
- B. 我国存在经济持续快速增长与资源环境约束的矛盾
- C. 我国存在经济总量、物质财富的不断增长与城乡差距、贫富差距扩大的矛盾
- D. 我国社会“生存性”压力已不复存在

※※※第二部分结束，请继续做第三部分！※※※

第三部分 数量关系

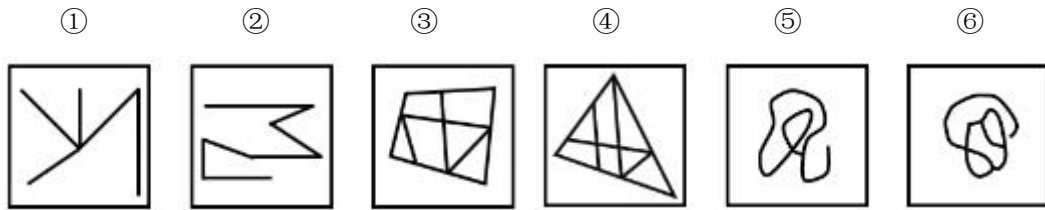
（共 10 题，参考时限 15 分钟）

在这部分试题中，每道题呈现一段表述数字关系的文字，要求你迅速、准确地计算出答案。




- A. ①②④, ③⑤⑥ B. ①②⑤, ③④⑥
C. ①③⑥, ②④⑤ D. ①⑤⑥, ②③④

68. 把下面的六个图形分为两类, 使每一类图形都有各自的共同特征或规律, 分类正确的一项是: ()

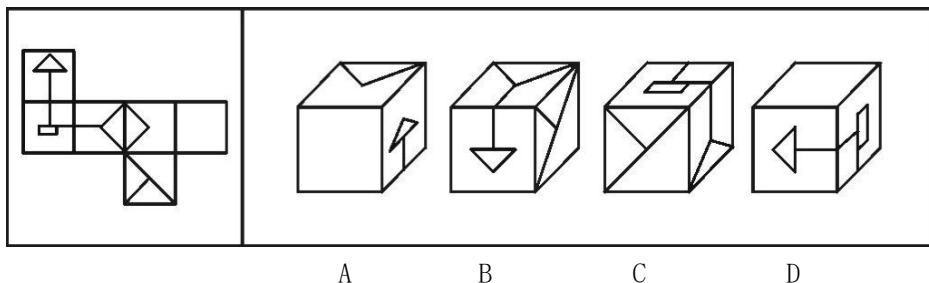


- A. ①②③, ④⑤⑥ B. ①③⑤, ②④⑥
C. ①②⑥, ③④⑤ D. ①④⑥, ②③⑤

69. 从所给的四个选项中, 选择最合适的一个填入问号处, 使之呈现一定的规律性: ()



70. 以下是给定纸盒的外表面, 下列哪一个纸盒能由以上外表面折叠而成? ()



二、定义判断。每道题先给出定义, 然后列出四种情况, 要求你严格依据定义, 从中选出一个最符合或最不符合该定义的答案。注意: 假设这个定义是正确的, 不容置疑的。

请开始答题:

71. 手表定律是指一个人有一只表时, 可以知道现在是几点钟, 而当他同时拥有两只显示时间不一致的

表时却无法确定。两只表并不能告诉一个人更准确的时间，反而会使看表的人失去准确判断时间的信心。

根据上述定义，以下选项中所述内容不属于手表定律的是：（ ）

- A. 在两个显示不同路线的导航系统的指挥下，驾驶员会感到非常慌张
- B. 对于一个任务，目标应尽量明确，评价体系应尽量单一具体
- C. 一个人走入超市，想买些什么，但是又不是很确定，最后什么也没有买
- D. 一个人如果同时选择两种不同的价值观，他的行为很可能会陷于混乱

72. 预防成本是指为预防不良产品或服务出现而支付的成本。它包括计划与管理系统的、人员训练、品质管制过程，以及加强对设计和生产两阶段的注意以减少不良产品出现的机率所产生的种种成本，这类成本一般都发生在生产之前。

根据上述定义，下列不属于“预防成本”的是：（ ）

- A. 某家具公司为搜集产品质量情报并对资料进行分析研究所支付的费用
- B. 某汽车厂商针对新型跑车的设计方案进行评价、试制和质量评审所支付的费用
- C. 某手机企业为改进手机品质在公司设立“产品升级奖”所产生的费用
- D. 某购物网站定期举办特惠活动，期间印制宣传手册或影像资料所花费的广告费用

73. 双避冲突又称负负冲突，是动机冲突的一种，指同时有两个可能对个体具有威胁性、不利的事发生，两种都想躲避，但受条件限制，只能避开一种，接受一种，个体在作抉择时内心产生矛盾和痛苦。

根据上述定义，下列面临的情境中属于双避冲突的是：（ ）

- A. 高不成，低不就
- B. 狡兔死，良犬烹
- C. 士可杀，不可辱
- D. 前有狼，后有虎

74. 专利间接侵权是指，行为人的行为本身并不直接侵犯他人的专利，但却教唆、帮助或诱导他人实施专利侵权行为。

根据上述定义，下列哪项属于专利间接侵权？（ ）

- A. 王某通过个人关系购买了甲公司发动机设备，该设备已申请国家专利，之后经甲公司许可转售给乙公司
- B. 李某购买了一批已申请专利的用于浇筑系统的模具，在购买前他和生产该模具的公司签订了相关合同
- C. 宋某将某外文小说译成中文后，以第一作者身份出版该小说，从中获利一百万元

D. 甲公司遇到技术问题后委托乙公司解决，并暗示乙公司技术人员采用了丙公司的专利技术，但未告知丙公司

75. 反事实思维通常是在头脑中对已经发生了的事件进行否定，然后表征为原本可能发生但现实并未发生的心理活动。根据发生的方向可将反事实思维分为上行反事实思维和下行反事实思维。上行反事实思维，是对过去已经发生了的事件，想象如果满足某种条件，就有可能出现比真实结果好的结果；下行反事实思维，是对于过去已经发生了的事件，想象如果满足某种条件，就有可能出现比真实结果坏的结果。

根据上述定义，下列属于下行反事实思维的是：（ ）

- A. 要是当时好好复习，这次考试就可以通过了
- B. 如果我发挥得稍微差一点，就与奖牌失之交臂了
- C. 如果祖父还活着，他一定不愿意看到今天这个局面
- D. 如果没有带这么多东西的话，我们现在就可以跑得快点

76. 互助游是指有旅游意向的双方利用互联网等媒介中的人脉关系交换旅游资源，相互提供帮助而实现旅游的方式，达到双方都能降低旅游成本、实现深入体验旅游的目的。

根据上述定义，下列涉及互助游的是：（ ）

- A. 小张在北京读书，利用暑假时间到同学所在的城市旅游，期间住在同学的宿舍
- B. 小王家住南京，准备到西藏旅游，邀请家住西安的网友同行，分摊支出，旅途中互相帮助
- C. 小刘住在北京，在桂林旅游期间住在网友家里，对方到北京旅游时，自己也向对方提供住宿
- D. 小赵住在上海，到海南旅行，食宿与行程均有朋友安排负责，小赵返沪后邀请朋友到上海玩

77. 把一个漂亮的鸟笼挂在房间最显眼的地方，过不了几天，主人必定会做出下面两个选择之一：把鸟笼扔掉，或者买一只鸟回来放在鸟笼里，因为这比无休止地向别人解释和说明挂一个空鸟笼要轻松得多，这就是鸟笼逻辑。并不一定每一个鸟笼里应该装进一只鸟，但可惜的是人们总是受制于惯性思维，不知变通，难以突破常规，逃不出这个逻辑的局限。

根据上述定义，下列没有反映鸟笼逻辑的是：（ ）

- A. 大多数年轻人都认为结婚要先置办新房
- B. 大学毕业生一般都选择先就业再择业，待职业发展成熟后再考虑创业
- C. 楚国人想要偷袭宋国，派人先在河里做标记，晚上河水突然上涨，楚国人依然沿着原来的标记渡水，结果淹死了不少兵士
- D. 乌鸦为了喝到瓶子里的水，把衔到的小石子放到瓶子里，使没装满水的瓶子里地水位得到上升，最终它喝到了水

78. 产品责任,是指产品在使用过程中因其缺陷(包括设计缺陷,制造缺陷和警示说明缺陷)而造成用户、消费者或公众的人身伤亡或财产损失时,依法应当由产品供给方(包括制造者、销售者、修理者等)承担的民事损害赔偿责任。

根据上述定义,以下情况明确属于产品供给方承担产品责任的是:()

- A. 某高架桥因使用不达标准的钢筋导致坍塌造成行人受伤
- B. 未经过敏皮试的患者在注射青霉素之后死亡
- C. 市民购买酸奶后未冷藏,饮用后生病住院
- D. 某婴儿误食成人维生素导致急性中毒

79. 负性制裁:是指社会以消极性手段对违反社会规范的社会成员所进行的惩治方式,其特点是强迫性,迫使社会成员认识到不遵守社会规范所承担的不良后果。

根据上述定义,下列不属于负性制裁的是:()

- A. 甲因入室行凶抢劫,被判处死刑
- B. 乙因不孝顺父母,受到邻里谴责
- C. 丙因不当行为,被单位警告处分
- D. 丁因严重违反校纪,被开除学籍

80. 如果概念 B 所表达的对象均在概念 A 所表达的范围之内,概念 A 所表达的对象有些在概念 B 所表达的范围之内,有些不在概念 B 所表达的范围之内,则称概念 A 与概念 B 之间存在真包含关系。

根据上述定义,下列哪项中加黑的两个概念是真包含关系?()

- A. 启明星就是金星
- B. 榕树在很多城市被作为行道树
- C. 植物有时候也会表现出类似动物的行为
- D. 科学包括多种学科,例如气象学、遗传学等

三、类比推理。每道题先给出一组相关的词,要求你在备选答案中找出一组与之在逻辑关系上最为贴近、相似或匹配的词。

请开始答题:

81. 灯塔 之于 () 相当于 () 之于 腐败

- A. 暗礁 金钱
- B. 船只 贪官
- C. 导航 预防
- D. 危险 监督

82. 烟灰:烟灰缸

- A. 黑板：黑板擦
B. 鼠标：鼠标垫
C. 首饰：首饰盒
D. 领带：领带夹
83. 口试：笔试：招聘
A. 摄影：购物：旅游
B. 招标：中标：建设
C. 批发：零售：销售
D. 出口：内销：商品
84. 电源：充电
A. 吃饱：创作
B. 教室：讲授
C. 下雨：凉快
D. 面粉：面条
85. () 之于 钢琴 相当于 马褂 之于 ()
A. 羌笛 长袍
B. 胡琴 西服
C. 京剧 长裙
D. 琴键 唐装
86. 小麦：麦穗：麦粒
A. 车子：车轮：轮胎
B. 棋类：围棋：棋子
C. 学校：教室：学生
D. 房子：房间：卧室
87. 汉文帝：刘恒：文景之治
A. 宋太祖：赵匡胤：杯酒释兵权
B. 唐太宗：李世民：贞观之治
C. 清圣祖：爱新觉罗·玄烨：康乾盛世
D. 秦始皇：嬴政：焚书坑儒
88. 插图 对于 () 相当于 () 对于 小说
A. 漫画 散文
B. 图画 语言
C. 正文 文学
D. 读物 序言
89. 实验员：试管：工具
A. 司机：公交车：交通工具
B. 农民：水稻：作物
C. 职员：电脑：科技
D. 雕塑家：雕塑：艺术品
90. 坚若磐石 对于 () 相当于 () 对于 良心
A. 信心 落井下石
B. 品质 铁石心肠
C. 懦弱 金石为开
D. 意志 知恩图报

四、逻辑判断。每道题给出一段陈述，这段陈述被假设是正确的，不容置疑的，要求你根据这段陈述，选择一个答案。注意：正确的答案应与所给的陈述相符合，不需要任何附加说明即可以从陈述

中直接推出。

请开始答题：

91. 研究显示，黑、灰色汽车是盗贼的最爱，亮色汽车很少被问津，白色汽车失窃率最低。心理学家分析认为，偷车贼往往有“黑暗型人格”，选择和自己性格颜色相反的汽车倒卖，让他们感觉不踏实。相比新款或豪车而言，盗车贼偏好有着三年车龄左右的大众车型，这种车保值且好转手。

根据上文，最有可能推出的是：（ ）

- A. 三年车龄的红色大众车型最易被盗
- B. 暗色系汽车在二手车市场最为畅销
- C. 崭新的白色豪华汽车不容易被盗
- D. 最畅销的车型也是最易被盗的车型

92. 某科研机构研发了一项神经刺激技术，他们在实验中对一批滑雪选手实施了该刺激，持续数周后发现，相比未接受刺激的选手，接受刺激选手的跳跃能力和协调能力分别提高了 10%和 15%，本国体育部门计划与该机构合作，在滑雪运动员的训练比赛中推广使用这一技术。

以下哪项为真，最能质疑该国体育部门的计划？（ ）

- A. 未接受刺激的运动员通过正常训练也能提高跳跃能力和协调性
- B. 这项合作会增加该国体育部门的经费支出
- C. 该国是传统滑雪强国，滑雪成绩长期处于世界领先地位
- D. 这项技术会降低运动员的专注力，而专注力是能力发挥的前提

93. 根据经济学家最新的研究显示，年收入在 10000 美元以下时，随着家庭收入的增加，家庭成员的幸福感会明显增强。但是，一旦年收入达到 10000 美元以上，即使经济持续繁荣，家庭收入持续增加，家庭成员幸福感的增强却很缓慢。

根据上述观点，可以推出：（ ）

- A. 年收入不足 10000 美元的家庭可能会更加幸福
- B. 研究显示，幸福感与金钱之间并没有直接关系
- C. 调查表明，幸福感随家庭年收入的增加而增加
- D. 收入 10000 美元以上的家庭将面临幸福感危机

94. 某单位的孔、陈、孟、刘 4 人需要分配到甲、乙、丙、丁 4 个村庄开展扶贫工作，每人各去一个村庄。根据工作需要，分配满足如下条件：

- (1) 若孔去甲村庄，则刘去丁村庄；
- (2) 要么陈去乙村庄，要么孟去丙村庄，两者仅有一项成立；

(3) 孟去丁村庄。

如果上述条件均得到满足，则可以得出以下哪项？（ ）

- A. 孔去丙村庄，刘去甲村庄
- B. 孔去甲村庄，刘去丙村庄
- C. 孔去丙村庄，刘去乙村庄
- D. 孔去乙村庄，刘去丙村庄

95. 茶叶是中国人喜爱的健康饮品。一般人将茶叶冲泡饮用几次之后，就将喝剩的茶叶倒掉。某专家对此指出，其实茶叶中能够溶解于水的物质是有限的，大量有营养的物质仍然保留在茶叶中，白白倒掉实在可惜，人们应该将喝剩的茶叶吃掉。

以下哪项如果为真，最能反驳该专家的观点？（ ）

- A. 茶叶中许多没有营养的物质也不能溶于水
- B. 茶叶中含有茶叶碱和微量元素，可以提神醒脑
- C. 一般人喝茶已成为习惯，并非为了吸收营养物质
- D. 很多人将喝剩的茶叶留下来做茶饼、茶叶蛋等

96. 科特迪瓦原始森林中的黑猩猩用木头或石头充当“锤子”。然后把核桃放在一个可作为砧板的石头上，用力砸开，吃到里面的果仁。因此，黑猩猩是会使用工具的动物。以上结论是建立在哪项假设的基础上？（ ）

- A. 某学者观察了一些黑猩猩，发现这些黑猩猩都会使用工具
- B. 把一些黑猩猩分成了两组，给他们不同的食物，最后发现这两组的黑猩猩都能吃到食物
- C. 科特迪瓦原始森林中的黑猩猩能代表全世界所有的黑猩猩
- D. 大部分黑猩猩可以吃到充足的食物，如果不是十分饥饿就不会去吃麻烦又费事的核桃

97. 所有来自中国的留学生，都住在校园内；所有住在校园内的学生，都必须参加运动会；有些中国留学生加入了学生会；有些心理专业的学生也加入了学生会；所有心理学专业的学生都没有参加运动会。

由此不能推出以下哪项结论？（ ）

- A. 所有中国留学生都参加了运动会
- B. 没有一个心理学专业的学生住在校园内
- C. 有些中国留学生是学心理学专业的
- D. 有些学生会成员没有参加运动会

98. 北京市为缓解交通高压力实行机动车辆现行政策，每辆机动车周一到周五都要限行一天，周末不限

行。某公司有 A、B、C、D、E 五辆车，保证每天至少有四辆车可以上路行驶。已知：E 车周四限行，B 车昨天限行，从今天算起，A、C 两车连续四天都能上路行驶，E 车明天可以上路。

由此可知，下列推测一定正确的是：（ ）

- A. 今天是周六
- B. 今天是周四
- C. A 车周三限行
- D. C 车周五限行

99. 与普通消费品以产品成本为基础的定价方式相异，奢侈品品牌通常会根据不同的市场期望值制定出欧洲、美国、亚洲 3 个不同的零售价格区域。在以法国、意大利为主要原产地的欧洲，奢侈品的定价往往最低。而欧洲品牌到了美国市场，通常也只会把价格稍微提高一些，因为那里的消费者对奢侈品的消费心理已经成熟。而在亚洲市场，奢侈品品牌的定价是最高的。

以下哪项最能解释奢侈品品牌在亚洲市场定价最高这一现象？（ ）

- A. 亚洲远离奢侈品品牌原产地，物流成本高
- B. 亚洲地区的人工及店铺租金等经营成本相对较高
- C. 亚洲市场的消费者对奢侈品品牌怀有过高的期望值
- D. 亚洲市场拥有比欧洲、美国市场更为庞大的奢侈品消费群体

100. 从“阿拉伯之春”到“冰桶挑战”，互联网在许多事件中都是活动人士和组织者的有效工具。但最新数据显示，从总体上看，互联网却削弱而不是提高了人们的政治参与度。

以下哪项如果为真，最能支持上述结论？（ ）

- A. 互联网让人们很容易只阅读自己认同的人发布的消息和观点
- B. 每天多次登陆社交媒体网站的人，在现实里与朋友交谈中，愿意就政治问题发表意见的概率，与其他人相比低一半
- C. 研究人员调查了人们对斯诺登揭露政府监控项目一事的看法，结果持赞成和反对立场的美国人数量相当
- D. 受教育程度较低的人，更有可能在网络上畅所欲言；而受教育程度较高的人，则更倾向于在网络上保持沉默，同时在家人或朋友中表达自己的观点

※※※第四部分结束，请继续做第五部分！※※※

第五部分 资料分析

（共 20 题，参考时限 20 分钟）

所给出的文字和图表资料均有几个问题需要回答。请你根据资料提供的信息进行分析、比较，作

C. 4

D. 5

104. 如果 2014 年安徽省的棉花单位面积产量能够达到全国平均水平，那么其棉花总产量将达到约多少万吨？（ ）

A. 30

B. 26

C. 39

D. 35

105. 关于 2014 年棉花生产情况，能够从上述资料中推出的是：（ ）

A. 山东棉花总产量和单位面积产量均为全国第二

B. 河南棉花播种面积和单位面积产量均高于湖南

C. 全国播种面积比 2013 年多 126 千公顷

D. 新疆棉花产量占全国总产量的一半以上

（二）根据以下资料，回答 106~110 题。

2013 年，某省工业企业全年实现主营业务收入 37864 亿元、税金 1680 亿元、利润 2080 亿元，分别增长 19.1%、19.4%、26.4%，分别高出全国 7.9、8.4、14.2 个百分点。该省工业企业主营业务收入占全国工业的 3.7%，比上年提高 0.3 个百分点。百户重点企业主营业务收入、税金、利润分别增长 10.2%、11.1%、20.8%，分别占全省工业的 29.5%、51%、27.6%。

2013 年，汽车行业实现主营业务收入 4538 亿元，增长 23.1%；实现利润 416.6 亿元，增长 19.9%；税金 225.3 亿元，增长 50%。销售利润率（利润占主营业务收入的比重）攀升至 9.2%。

食品（含烟草）实现主营业务收入 6359 亿元，增长 20.8%，增速同比放缓 9.2 个百分点，实现利润 398 亿元，增长 34.5%；工业税金 506.2 亿元，增长 11.4%。

钢铁行业实现主营业务收入 3510 亿元，增长 1.8%，利润总额 34.6 亿元，增长 18.8%，行业销售利润率仅 1%。

石化行业主营业务收入 5138 亿元，增长 18.8%；实现利润 204.2 亿元，增长 38.1%。子行业中，石油加工业净亏损 0.2 亿元，同比减亏 13.6 亿元；化工行业全年利润增长 31.6%，扭转上半年利润下降局面；石油开采业净亏损 8.6 亿元，橡胶塑料行业利润增长 29.1%。

建材行业实现主营业务收入 2412 亿元，增长 27.1%；实现利润 167.2 亿元，增长 51.6%。

机械行业实现主营业务收入 3886 亿元，增长 26.6%；实现利润 191.6 亿元，增长 23.8%。其中，电气机械（家电）利润增长 38.5%，专用设备利润增长 22.1%，船舶行业利润增长 18.9%。

106. 2013 年全国工业企业主营业务收入约为多少万亿元？（ ）

A. 84

B. 90

C. 97

D. 102

107. 2013 年全国工业企业的税金增速比利润增速（ ）。
A. 低 1.2 个百分点
B. 低 5.8 个百分点
C. 高 7.0 个百分点
D. 高 8.4 个百分点
108. 2013 年该省工业企业的哪项信息，能够从上述资料中直接推出？（ ）
A. 工业企业利润占全国工业企业利润总额的比重
B. 船舶行业主营业务收入占机械行业的比重
C. 橡胶塑料行业工业企业实现利润额
D. 百户重点企业的总体销售利润率
109. 2013 年该省以下行业利润增速从高到低排序正确的是（ ）。
A. 石化行业，建材行业，机械行业
B. 建材行业，石化行业，机械行业
C. 汽车行业，食品（含烟草）行业，钢铁行业
D. 食品（含烟草）行业，钢铁行业，汽车行业
110. 能够从上述资料中推出的是（ ）。
A. 2012 年该省食品（含烟草）行业主营业务收入同比增速 11.6%
B. 2012 年该省工业企业税金总额中，汽车行业所占比重超过 15%
C. 2013 年该省建材行业的销售利润率高于 2012 年水平
D. 2012 年该省石油加工业净亏损 13.4 亿元

（三）根据以下资料，回答 111~115 题。

2010 年，我国进出口贸易总额为 29727.6 亿美元，同比增长 34.7%。

2010 年，我国机电产品出口 9334.3 亿美元，同比增加 30.9%；高新技术产品出口 4924.1 亿美元，同比增长 30.7%。船舶、汽车零部件出口保持较快增长，其中船舶出口同比增长的 44.5%，汽车零部件出口同比增长 44.1%。

2010 年，机电产品进口额达到 6603.1 亿美元，同比增长 34.4%，高新技术产品进出口额达到 4126.1 亿美元，同比增长 33.2%。

2010 年我国进出口贸易情况

- A. 2012 年末全国群众文化机构共有从业人员 16 万多人
- B. 2013 年文艺活动的参加人数约是公益性讲座的 50 倍
- C. 2013 年全国人均群众文化设施建筑面积比 2006 年翻了一番
- D. 2013 年乡镇文化站占群众文化机构总数的比重高于上年水平