

2016 年吉县事业单位（考生回忆版试题）

公基部分

一、单选题（30 题每题 0.8 分共 24 分）

1. 习近平总书记在今年“七一”讲话中，用了八个（）来表达治党治国的执政理念。
 - A. “不忘过去，面向未来”
 - B. “不忘过去，继往开来”
 - C. “不忘初心，继续前进”
 - D. “不忘初心，继续前行”
2. 党的十八届五中全会提出了创新、协调、绿色、开放、共享的发展理念，并且把（）摆在国家发展全局的核心位置。
 - A. 协调
 - B. 绿色
 - C. 开放
 - D. 创新
3. 今年是几年红军长征胜利（）周年，毛泽东《七律·长征》，中与“金沙水拍云崖暖”对仗的下句是（）
 - A. 75 周年 大度横桥铁索寒
 - B. 75 周年 三军过后尽开颜
 - C. 80 周年 乌蒙磅礴走泥丸
 - D. 80 周年 大渡桥横铁索寒
4. 十八大的全称是（）
 - A. 中华人民共和国第十八次人民代表大会
 - B. 中国共产党第十八次全国代表大会
 - C. 中华人民共和国第十八届六中全会
 - D. 中国共产党第十八届六中全会
5. 科学发展观是按照“统筹城乡发展，统筹区域发展，统筹（）发展，统筹人与自然和谐发展，统筹国内发展和对外开放”的要求推进各项事业的改革和发展的一种方法论，是中国共产党的重大战略思想。
 - A. 政治社会
 - B. 经济社会
 - C. 文化社会
 - D. 精神社会
6. 下列对经济学名词的描述，错误的是（）
 - A. 生产者物价指数——是反映与居民生活有关的产品及劳务价格统计出来的物价变动指标
 - B. 恩格尔系数——是食品支出总额占个人消费支出总额的比重
 - C. 基尼系数——在全部居民收入中用于不平均分配的百分比
 - D. 通货膨胀——是货币（纸币）的发行量超过流通中实际货币需求量而引起的商品支出和劳务价格普遍和持续上涨的现象

详情咨询华图小姐姐：17735709693 微信同号

7. 我国是一个团结统一的多民族国家，构建和谐民族关系对我国意义重大，正确解决民族问题的基本原则是（）

- A. 实现各民族共同繁荣
- B. 实行民族区域自治制度
- C. 尊重和保障少数民族的合法权益 D.

在民族平等的基础上实现民族团结8.

真理的客观性是指（）

- A. 它是独立于人们意识之外的客观存在
- B. 它是社会发展规律
- C. 它的内容不依赖于人，不依赖于主体
- D. 它是自然界规律

9. 鲁迅在评《三国演义》时说：“至于写人，亦颇有失，以致欲写刘备之长厚而似伪，状诸葛之多智而近妖”这一评语蕴含的这里是（）

- A. 要区分事物的两重性
- B. 要把握事物的度
- C. 对事物既要肯定，又要否定
- D. 要从整体上把握事物

10. 先有工程设计图然后施工简称大楼，这一事实说明（）

- A. 意识产生物质
- B. 意识可以转化为物质
- C. 意识决定物质
- D. 意识创造物质

11. 人的价值之所以是社会价值和自我价值的统一，是由于人的存在具有两重性，这两重性是指（）

- A. 人既是作为个体而存在又作为社会成员而存在
- B. 人既具有自然性又具有社会性
- C. 人既存在正当的个人利益又存在自私观念
- D. 人既有社会性又有阶级性

12. “践行低碳生活，倡导绿色消费”是经济社会发展的必然趋势，绿色消费的核心是（）

- A. 节俭式消费
- B. 限制性消费 C.
- 可持续性消费D.

超前式消费

13. 中国特色社会主义制度的重要支柱和社会主义市场经济体制的根基是（）

- A. 公有制为主体，各种所有制经济共同发展的基本经济制度
- B. 统一开放，竞争有序的市场体系 C.
- 科学的宏观调控，有效的政府治理D.

良好的法治环境

14. 加快转变经济发展的关键是（）

- A. 发展公有制经济
- B. 深化改革

详情咨询华图小姐姐：17735709693 微信同号

-
- C. 发展非公有制经济
D. 实施创新驱动发展战略
15. 管理学中的“木桶原理”指的是在管理工作中要注意（）
A. 灵活性
B. 原则性
C. 程序性
D. 整体性
16. 判断一种生产关系是否先进的根本标志在于它是（）
A. 促进生产力发展还是阻碍生产力发展
B. 社会化大生产还是个体小生产
C. 生产资料公有制还是生产资料私有制
D. 封闭的自然经济还是开放的市场经济
17. 2011 年国家发改委对家乐福超市的价格欺骗行为作出：没收违法所得，并处违法所得 3 倍罚款，这给企业启示（）
A. 以市场为导向，努力调整经济结构
B. 承担社会责任，不以营利为目的
C. 坚持诚信经营，遵守法律和道德
D. 转变发展方式，努力降低生产成本
18. 行政机关的基本职能是（）
A. 立法
B. 守法
C. 执法
D. 监督
19. 调整平等主体的公民之间，法人之间，公民和法人之间的人身关系和财产关系的法律规范的总称是（）
A. 刑法
B. 民法
C. 行政法
D. 经济法
20. 税务机关依照法定的税种、税率对某企业征税，这一行为是（）
A. 自由裁量行政行为
B. 不要式行政行为
C. 双发行政行为
D. 羁束行政行为
21. 某工商行政管理局执法人员在查处一商贩强买强卖违法行为时，被该商贩持刀扎伤，执法人员为查明违法行凶事实，将该商贩带回工商局关押数日，下列对执法人员的评述哪项是正确的（）
A. 工商局应向法院提起行政诉讼
B. 部委规章明文授权，工商局有权拘押商贩
C. 工商行政管理机关是国家执法机关，有权对违法行凶人员采取拘押措施，构成犯罪的才移交法院
D. 工商局应及时将该商贩移交公安机关处理

详情咨询华图小姐姐：17735709693 微信同号

-
22. 先秦两汉时期成就最高、影响最大，通过人物描写来反映历史面貌的作品是（）
- A. 《左传》
B. 《史记》 C.
《国语》 D.
《战国策》
23. 中国古代历时最长的选官制度是（）
- A. 世卿世禄制
B. 察举制
C. 九品中正制
D. 科举制
24. 毛泽东的诗词《卜算子·咏梅》中有“已是悬崖百丈冰，犹有花枝俏”的名句。这种写作手法被称为（）
- A. 反衬
B. 双关
C. 对比
D. 渲染
25. 公文作者是指（）
- A. 签发人
B. 审核人
C. 撰写人 D.
发文机关
26. 中国人自古以来被称为“炎黄子孙”，其中“黄”指（）
- A. 黄色人种
B. 黄龙
C. 黄帝
D. 黄河
27. 下列不可能出现的天文现象（）
- A. 月全食
B. 日全食
C. 月环食
D. 日环食
28. 食用菌可供人类食用的大型真菌，世界第一大食用菌是（）
- A. 金针菇
B. 木耳
C. 蘑菇
D. 香菇
29. 城市民用天然气的主要成分是（）
- A. 甲烷
B. 一氧化碳
C. 硫化氢

详情咨询华图小姐姐：17735709693 微信同号

D. 乙烷

30. 大气中二氧化碳含量的逐年上升将导致（）现象。

A. 雨岛效应

B. 热岛效应 C.

温室效应 D.

臭氧层空洞

二、多选题（选出一个正确的组合，每题 1 分共 12 分）

31. 十八大报告指出，中国将加强同广大发展中国家的团结合作，支持扩大发展中国家在国际事物中的代表权和发言权。下列体现这一主张的是（）

①中国支持巴西代表担任世贸组织总干事②中国支持南非和印度在联合国发挥更大作用③中国支持欧盟在国际事物中发挥重要作用④中国支持亚太经合组织在区域发展中发挥作用

A. ①②

B. ①③

C. ②④

D. ③④

32. 碘是人体必需的元素，但是统一在食盐中添加碘的方式可能导致“补碘”过量，某些非缺碘地区增售无碘盐，人们可以根据具体情况自主调节摄碘量。该材料体现的哲理是（）

①做事情要掌握分寸②看问题要力求全面③具体问题要具体分析④做事情要突出重点

A. ①②③④

B. ①②③

C. ①③④

D. ②③④

33. 下列关于我国人口与民族的表述正确的组合项是（）

①我国是世界人口最多的国家②我国是一个有多种宗教的国家③我国各族的人口分布呈现大散居、小聚居，相互交错居住的特点④人口老龄化严重是我国独有的趋势

A. ①②③

B. ①②③④

C. ①②

D. ②③④

34. 市场经济运行的基本规律包括（）

①竞争规律②供求规律③价值规律④协作规律

A. ①②④

B. ①③④

C. ①②③

D. ①②③④

35. 民事代理是指代理人以被代理人的含义，在代理权限内与第三人进行民事法律行为，所产生的民事权利和民事义务直接由被代理人承受。下列属于民事代理行为的是（）

①丁受甲委托参加捐赠仪式，接受某公司对甲的赠予②丙受甲之托预定酒席一桌，后又退订违约且逾时③甲委托乙代写家书一封，信中涉及到兄弟分房问题④甲受乙之托代购轿车一台，并先刷自己的信用卡缴纳订金

详情咨询华图小姐姐：17735709693 微信同号

- A. ①②③④
- B. ①②④
- C. ①③④
- D. ②③④

36.

37. 许多政府部门纷纷开通微博，迅速成为政府发布权威信息并与社会公众零距离对话，全天候互动的重要平台。这有利于保障公众的

①知情权②表达权③参与权④监督权

- A. ①②③④
- B. ②③④
- C. ③④
- D. ②③

38. 在中国各个历史时期，山西涌现出许多政治家、军事家、文学家、历史学家。下列正确的是①春秋时期霸主之一——齐桓公②中国唯一女皇帝、唐代杰出政治家——武则天③被历代尊为“武圣”的关羽④古典小说《三国演义》作者罗贯中

- A. ①②③④
- B. ②③④
- C. ③④
- D. ②③

39. 下列属于五经的①《诗经》②《战国策》③《孟子》④《尚书》

- A. ①②③
- B. ①③
- C. ①④
- D. ②④

40. 大兴安岭在我国地理分界上的作用

①既是中温带和暖温带，又是高原和平原之间的分界线②既是季风区和非季风区，又是耕作区与畜牧区之间的分界线③既是地势第一、二阶梯，又是内、外流域之间的分界线④既是森林和草原，又是半湿润区和半干旱区之间的分界线

- A. ①②③
- B. ①④
- C. ②③
- D. ②④

41. 下列关于城市雾霾天气及其危害的说法正确的是（ ）

①雾霾的主要成分包括二氧化碳、氮氧化物和可吸入颗粒物②空气湿度很低时就会发生雾霾天气③雾霾天气会影响人体呼吸系统的正常工作④雾霾天气是心血管疾病患者的可怕杀手

- A. ①②③
- B. ①②③④
- C. ①③④
- D. ②③④

42. 新能源技术包括①核能技术②太阳能技术③地热能技术④海洋能技术

- A. ①②③
- B. ①②③④
- C. ①③④
- D. ②③④

三、判断题（每题 0.7 分，14 分）

- 43. 根据十八届六中全会会报，全面深化改革的重点是全面依法治国。
- 44. 人不能两次踏进同一条河流，这句格言中包含唯物辩证法的观点。
- 45. 在工作与生活中防止“过”与“不过”是量的把握。
- 46. LED 是固态半导体，可以直接把电能转化为光。
- 47. IP 与域名是意义对应的，域名不普遍使用。
- 48. 古代三元是指秀才、进士、状元。
- 49. 转变政府职能是处理好计划与市场的关系。
- 50. 取保候审、监视居住、拘留逮捕、拘传属于强制措施，劳改不属于强制措施。
- 51. 《离骚》是叙事诗篇。
- 52. 五岳是指泰山、衡山、恒山、华山、嵩山。
- 53. -62 缺

行测部分

言语（每题 1 分共 10 分）

63. 人文教育从表面上看，好像只是传授文史哲方面的知识，尤其是在现在的学科体制下，一切教育似乎都可以量化为客观知识和能力，如英语的等级考试。实际上人文教育是通过文史哲的学习，通过对人类千百年积累下来的成果的吸纳和认同，使学生有独立的人格意志，有丰富的想像力和创造性，有健全的判断能力和价值取向，有高尚的趣味和情操，有良好的修养和同情心，对个人、家庭、国家、天下有一种责任感，对人类的命运有一种担待。

这段话表达的主要观点是（ ）。

- A. 英语的等级考试是为大众所熟悉的一种人文教育
- B. 人文教育的主要内容是传授文史哲方面的知识
- C. 在目前的学科体制下，人文教育可以量化为客观知识和能力
- D. 人文教育的目的包括人性境界提升、人格塑造以及个人与社会价值实现

64. 在古典传统里，和谐的反面是千篇一律：“君子和而不同，小人同而不和”，所以和谐一个条件是对于多样性的认同。中国人甚至在孔子之前就有了对于和谐的经典认识与体现。中国古代的音乐艺术很发达，特别是一些中国乐器，像钟、磬、瑟等各种完全不同的乐器按照一定的韵律奏出动听的音乐，但如果只有一种乐器就十分单调。

对这段话概括最准确的是（ ）

- A. 和谐源于中国古典音乐
- B. 差异是和谐的必要条件
- C. 中国人很早就产生了和谐观念

详情咨询华图小姐姐：17735709693 微信同号

D. 音乐是对和谐的经典认识和体现

65. 今天，人们往往以外老虎一直都生活在山上，并不知道它们从平原退出的历史。唐宋时期，随着经济文化中心从黄河流域转移到长江流域，北方人口大量南迁，华南虎彻底退出平原地区。之后出现的“调虎离山”、“放虎归山”、“坐山观虎斗”等成语，表明当时人们已经误以为老虎是山地物种，并不知道老虎是因为人类活动侵犯而“被逼上山”的。对这文字的主旨概括最为准确的是（）

A. 澄清人们对老虎生活区域的认识误区

B. 描述老虎随人类活动退向山区的历史

C. 说明了老虎“被逼上山”的时代背景

D. 分析人类活动对老虎生存环境的影响

66. 在国外，很多遗传、传染类疾病属于公民隐私范畴，而在我国，有些机构随意披露公民这些隐私的现象还相当普遍，法律对此还缺乏相关的规定和有效的保护，导致这些隐私被披露后无法获得司法救济。通过这段话，作者想表达的是（）

A. 我国的有关机构应严格保护公民病情隐私

B. 我国公民的个人隐私保护意识还比较薄弱

C. 我国有关保护个人隐私的法律制度亟待完善

D. 在医疗方面，我国和其他国家还有一定差距

67. 社会焦虑突增导致青年社会责任感突减。社会环境的急剧变化，使处在竞争环境中的青年，不得不经常考虑个人的就业、住房、医疗、婚姻、教育……他们逐渐疏离社会，一种非正常的社会心理——“社会焦虑”由此产生。比如有些青年有一种对未来的潜在风险不可预测的“恐惧”和忧虑，形成一种无形的压力。对社会焦虑产生的原因理解不正确的是（）

A. 社会环境急剧变化

B. 个人就业、住房等问题

C. 对未来风险的不可预知

D. 社会责任感突减

68. 中国的老百姓无论怎样穷，怎样苦，也往往要从牙缝里挤出钱来，供孩子上学念书。他们很清楚只有这样才可能从根本上改变命运，才可能拥有未来。运用到国家政策层面，毫无疑问，教育只应该是公益事业，是烧钱的事业。这句话中“烧钱的事业”可以理解为（）

A. 教育是一项非常费钱的事业

B. 对教育应该投资而不应从中谋利

C. 对教育的投资有可能无法收回成本

D. 国家应该增加教育的投资力度

69. “人造美女”是最近非常抢眼的一个词。爱美之心人皆有之，丑小鸭变成白天鹅的梦想，通过整形美容手术就可以在短时间内成为现实，对每一位爱美女性来说，都是一种诱惑。目前，整形美容已成为诸多爱美女性增加个人靓丽指数的时尚选择。与此同时，也有许多女性为此付出了惨痛的代价……作为文章的引言，该文章最有可能谈的是（）

A. 整形美容的方法，原理和效果

B. 整形美容受到众多女性的青睐

C. 整形美容给女性生活带来的变化

D. 失败的整形美容所带来的痛苦

70. 略

详情咨询华图小姐姐：17735709693 微信同号

71. 新中国成立 60 年来，特别是党的十一届三中全会以来，在中国共产党正确领导和全国人民大力支持下，民族自治地区的各族干部群众团结奋斗，艰苦创业，使民族自治地区的面貌发生了历史性变化。我国的民族自治地区，经济发展、社会进步、文化繁荣、民生改善、民族团结、政通人和，正处于历史上最好的发展时期。上述材料体现的唯物辩证法道理是（ ）

- A. 正确的意识对事物的发展起促进作用
- B. 矛盾双方在一定条件下，各向自己相反的方向转化
- C. 要集中主要力量解决主要矛盾
- D. 事物的发展是内因和外因共同起作用的结果

72. 2014 年 10 月，到德国访问的李克强总理与默克尔总理互赠礼品。李克强总理赠送的礼品是一把鲁班锁。此锁是中国三名学生用德国数控机床花费 8 个小时制作完成的。这把鲁班锁（ ）

- A. 有价值没有使用价值
- B. 是用于交换的劳动产品
- C. 有使用价值没有价值
- D. 凝结着无差别的人类劳动

73. 缺

常识（0.7 每题共 7 分）

74. 有关人权，下列表述错误的是（ ）

- A. 人权是一个社会历史的范畴，不同社会、不同阶级有不同的人权观
- B. 人权的本质特征是自由平等，其实质内容和目标是人的生存与发展
- C. 享有人权的主体是所有的人，不仅包括单个的人，也包括人的结合
- D. 人权就是“人的权利”，是天赋的，和公民权是一回事

75. 被人们称为“诗仙”的是（ ）

- A. 杜甫
- B. 白居易
- C. 李白
- D. 王维

76. 《鲁宾逊漂流记》的作者是（ ）

- A. 柯南道尔
- B. 笛福
- C. 狄更斯
- D. 莎士比亚

77. 排序题

78. 缺

79. 社会主义核心价值观的基础是（ ）

- A. 马克思主义指导思想
- B. 中国特色社会主义共同理想
- C. 社会主义荣辱观
- D. 以爱国主义为核心的民族精神和以改革创新为核心的时代精神

80-81 缺

定义判断（每题 0.8 分共 8 分）

详情咨询华图小姐姐：17735709693 微信同号

82. 社会从众倾向是指当群体规范被成员接受以后就会成为控制和影响群体成员的手段，使成员在知觉、判断、信念和行为上表现出与群体中多数人相一致的现象。根据以上定义，下列情况中没有社会从众倾向的是()。

- A. 小李因工作进度慢而被同事们责难，他只好利用业余时间加班赶上
 - B. 学生小李认为张老师对自己的期望值太高了，但一想老师就是老师，他表面上还是接受了
 - C. 春节长假前，小王准备假期旅游，但看到同事们都打算回家团聚也决定先回家团聚
 - D. 刘先生在旅游时看到有几个游客自觉地收集垃圾保护环境，心里很赞赏，但自己却不好意思做
83. 借口就是承认活动本身是错的，但是当事人否认他应当承担责任，辩解则是承认应当对活动承担责任，但是当事人否认这项活动是错的。面对失败的事件时，人们使用借口以尽可能地减轻自己应当承担的责任，而人们使用辩解的目的是试图重新界定有争议的行动，使之看起来不至于太差。根据以上定义，下列属于辩解的是()

- A. 小李失去了一笔业务，给公司造成一定的损失，他说，这是由于他腿伤发作迟到了半个小时造成的
- B. 某部门工作出现失误，其负责人说：“他们决定时根本就没有征求我的意见，我对此一无所知。”
- C. 某国消费者对在包装中加入一氧化碳使肉类看起来红润新鲜的做法表示质疑，但该国食品管理局称这种做法“总体上”是安全的
- D. 某公司产品出现质量问题，声明说这是由于他们使用了其他公司生产的不合格部件造成的

84. 行政征用是地政机关为了公共利益和公共目的，依法强制获得公民、法人财产的使用权或所有权，并给予其合理补偿的一种行政法律制度。根据上述定义，下列不属于行政征用的是()

- 85. 两年前镇里建的一济开发园区用了杨军家的承包地，杨军经多次努力，终于拿到了合理的补偿
- 86. 某公安机关在破案时，由于情况紧急，使用了王某的摩托车，后来支付给王某一些费用
- 87. 一项国家重点工程项目需占用某市农民的土地，当地政府给予被征用土地的农民各种补偿费用与安置费，并对多余的劳动力进行了安置
- 88. 某地发生洪灾，为了抗洪，政府从几个建筑公司调集了沙子，给予他们一定的补偿
- 89. 可更新资源是指能够通过自然力以某一增长率保持或增加蕴藏量的自然资源。如太阳能、大气、水等，当代人消费的数量不会使后代人消费的数量减少；又如森林、各种野生动植物等，不人为破坏基本上持续稳定。根据上述定义，下列说法正确的是()

- 90. 春风吹绿了草原，草原是可更新资源
- 91. 煤由太阳能转化而形成，因此是可更新资源
- 92. 很多金属机械报废后可以回收，因此是可更新资源
- 93. 地球上的淡水资源已经非常稀少，属于不可更新资源
- 94. 企业信息化是指企业利用现代信息技术，通过深化开发和广泛利用信息资源，不断提高生产、经营、管理、决策效率和水平的过程。根据上述定义，下列不属于企业信息化的是()
- 95. 学校建立计算机网络平台使校内信息资源得到充分利用
- 96. 将全部企业业务乃至全部企业管理实现信息化的计算机集成制造系统
- 97. 将离散型和流程型生产的质量、设施、控制、数据和通信等结合起来，实现广泛的管理信息集成。
- 98. 制定原材料零部件采购加工计划，以保证能在规定的时间、地点得到需要的物料数量，并引进计算机进行辅助管理。
- 99. 许多上了年纪的老北京人都对小时候庙会上看到的绝活念念不忘，如今，这些绝活有了更为正式的称呼——民间艺术。然而，随着社会现代化进程加快，中国民俗文化面临前所未有的生存危机。

详情咨询华图小姐姐：17735709693 微信同号

城市环境不断变化，人们兴趣及爱好快速分流和转移，加上民间艺术人才逐渐消失，这一切都使民间艺术发展面临困境。从这段文字可以推出()

100. 市场化是民间艺术的出路

101. 民俗文化需要抢救性保护

102. 城市建设应突出文化特色

103. 应提高民间艺术人才的地位

104.88. 公司有人建议，只要员工都在承诺书上签字承诺不迟到，公司就取消上下班打卡制度。如果有人迟到那么所有员工的当月奖金均被扣除。公司采纳了建议，结果还是有员工迟到，但是，员工小刘仍拿到了当月奖金。

105. 从这段文字可以推出()

106. 小刘从未迟到过

107. 其他员工没有拿到奖金

108. 公司有人没在承诺书上签字

109. 迟到的人不是该公司的正式员工

110.89. 研究发现，人类利用婴儿和成人之间形态上的典型差异作为重要的行为线索。幼年的特征可以唤起成年人的慈爱和养育之心，许多动物的外形和行为具有人类婴儿的特征。人们被这样的动物所吸引，把它们培养成宠物。

111. 这一结论最适宜用来解释的现象是()

112. 某些对童年时代过分留恋的人会在穿衣打扮方面表现出明显幼稚化的倾向

113. 子女长大成人离开家后，老人们喜欢养宠物，寄托抚养之情，打发寂寞时光

114. 长期以来，迪斯尼的艺术家赋予温良可爱的卡通形象米老鼠越来越年轻化的外形

115. 在生活方面被过度照顾的孩子，心理成长会受到一定影响，往往表现的比较脆弱

116.90. 读者上网阅读各类网络小说已成为阅读新时尚，“点击率小说”在网络小说的基础上脱颖而出，成为一种新的出版模式。网络上的作品因为高点击率走红出版，网络写手可以获得版税。网站因为人气赚取高点击率；出版社因为高点击率和人气判断市场，赢得市场销售业绩。为了获得更高的点击率，有的专业写手甚至根据出版商的需要来写书。

117. 根据这段文字，无法推出的是()

118. A. 网络阅读将逐步取代传统的阅读模式

B. 点击率小说受到网站和出版商的大力欢迎

C. 网络写手必须满足读者需求，作品才会有较高的点击率

D. 点击率小说使网络写手、网站与出版社建立起“三赢”的出版模式

91. 在许多鸟群中，首先发现捕食者的鸟会发出警戒的叫声，于是鸟群散开，有一种理论认为，发出叫声的鸟通过将注意力吸引到自己身上而拯救了同伴，即为了鸟群的利益而自我牺牲。最能直接削弱上述结论的一项是()

A. 许多鸟群栖息时，会有一些鸟轮流担任警戒，危险时发出叫声，以此增加群体的生存机会

B. 喊叫的鸟想找到更为安全的位置，但是不敢擅自打破原有的队形，否则捕食者会发现脱离队形的单个鸟

详情咨询华图小姐姐：17735709693 微信同号

- C. 危险来临时，喊叫的鸟和同伴相比可能处于更安全的位置，它喊叫是为了提醒它的伴侣
D. 鸟群之间存在亲缘关系、同胞之间有相同的基因，喊叫的鸟虽然有可能牺牲自己，但却可以挽救更多的同胞，从而延续自己的基因。

92. 缺

数量关系（每题 1 分共 5 分）

93. 有 6 中不同颜色的小球，数量分别为 4, 6, 8, 9, 10, 11，将他们放在一个盒子里，那么，拿到相同颜色的球最多需要的次数为（）

- A. 6
- B. 7
- C. 11
- D. 12

94. 0, 1, 1, 2, 4, 7, 13, （）

- A. 22
- B. 23
- C. 24
- D. 25

95. $173*173*173-162*162*162=()$

- A. 926183
- B. 936185
- C. 926187
- D. 926189

96. 一个游泳池，甲管放满水需 6 小时，若甲、乙两管同时放水只需 4 小时。此时，甲管出了故障不能工作了。请计算：只用乙管放水，需要（）小时。

- A. 8
- B. 10
- C. 12
- D. 14

97. 有一、二、三块草地，他们的面积依次为 4 公顷、8 公顷、10 公顷。草地上的草一样厚、而且长势一样快。第一块草地可供 24 头牛吃 6 周，第二块草地可供 36 头牛吃 12 周。问：第三块草地可供 50 头牛吃（）周？

- A. 8
- B. 9
- C. 10
- D. 11

类比推理题（每题 0.7 共 7 分）

98. 松树对于（）相当于（）对于知识产权。

- A. 松果 知识
- B. 叔叔板材 商标权
- C. 植物 专利权
- D. 松树板材 权利

详情咨询华图小姐姐：17735709693 微信同号

99. 言而有信：言而无信：承诺

A. 童叟无欺：明码标价：交易B.

心满意足：贪心不足：满意C.

言之凿凿：口说无凭：证据D.

文思泉涌：搜索枯肠：知识100.

愚公移山：郑人买履

A. 杞人忧天：庖丁解牛

B. 弄巧成拙：囫囵吞枣

C. 邯郸学步：东施效颦

D. 凿壁偷光：田忌赛马

101. 负荆请罪：廉颇 A.

围魏救赵：孙武

B. 纸上谈兵：赵奢 C.

风声鹤唳：房玄龄D.

退避三色：重耳102.

金刚石：石墨 A. 氧

气：氮气

B. 生石灰：熟石灰

C. 红磷：白磷

D. 二氧化碳：干冰

103. 水果：苹果 A.

花卉：菊花

B. 鱼：鲸鱼 C.

大豆：高粱D.

粮食：蔬菜

104. 生病：吃药

A. 上课：请假 B.

经商：结婚 C.

桌子：电扇 D.

游泳：更衣105.

修辞：比喻A. 书

籍：报纸 B. 文

艺：宗教 C. 写

作：文章 D. 文

体：散文106. 农

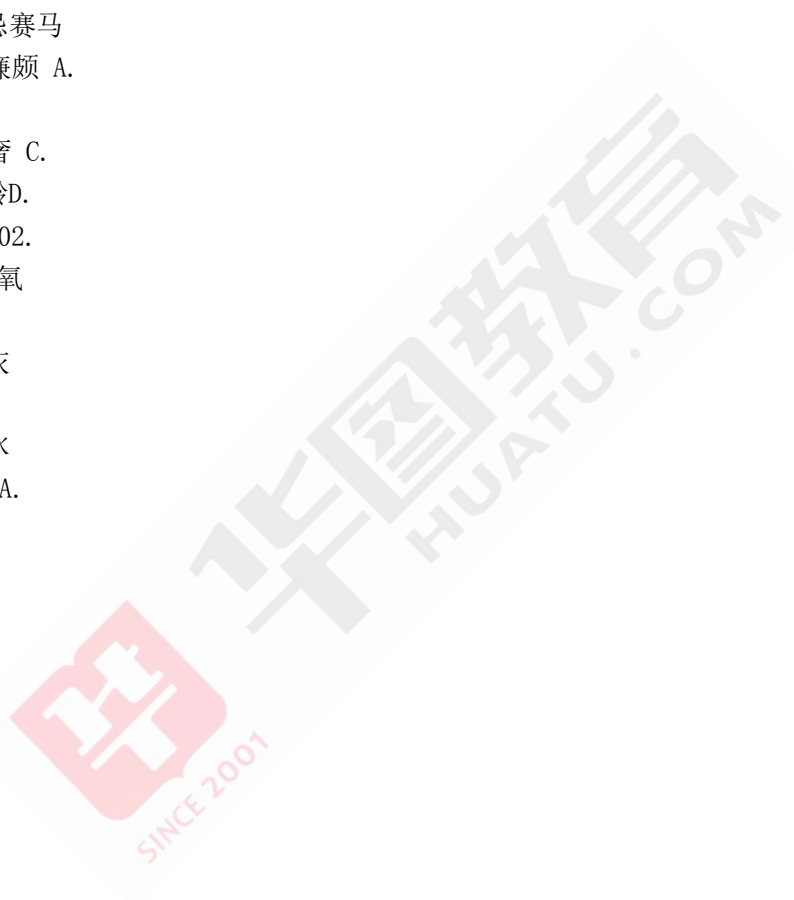
业：工业A. 劳动：

工资 B. 高级：

职称

C. 复印机：打印机

D. 土地：散文



详情咨询华图小姐姐：17735709693 微信同号

107. 鲁迅：《呐喊》

A. 河流：树木


B. 凡高：《向日葵》

C. 尼采：哲学家


D. 《竹鸡图》：齐白石

图形推理（每题 1 分共 5 分）

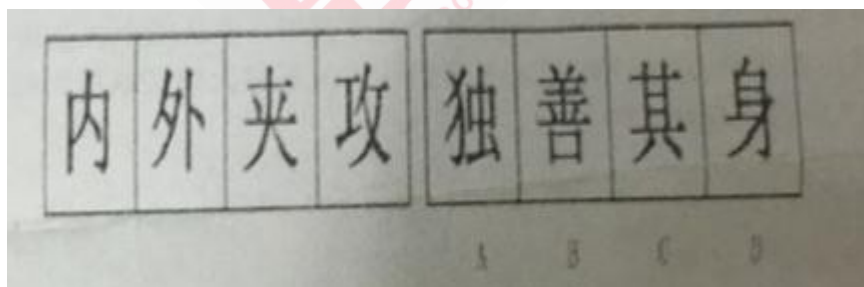
108.



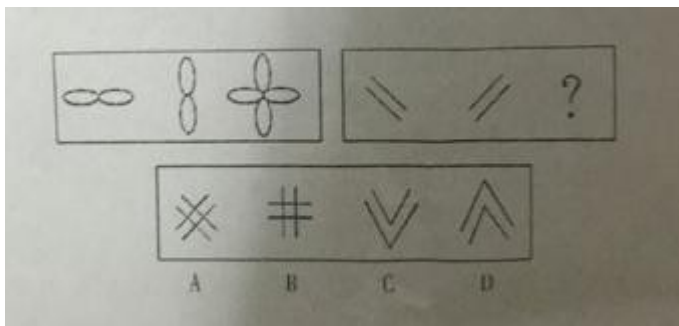
109.



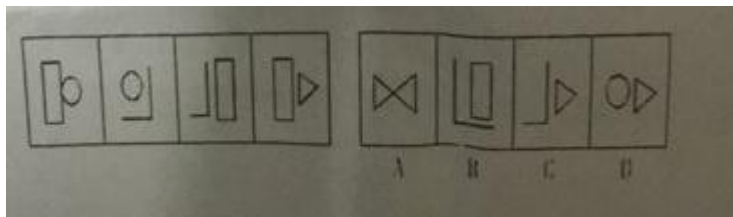
110.



111.



112.



资料分析（每题 0.8 共 8 分）

材料一：从垂直高度来看，世界人口分布的不平衡性十分明显。海拔 200 米以下的陆地面积占 27.8%，而居住在这一高度内的人口比重却占到 56.2% 200 米—500 米高度的陆地面积占全部陆地的 29.5%，而居住在这一高度内的人口为 24%，500 米—1000 米高度的陆地占总面积的 19%，人口占 11.6%。也就是说，世界人口 90%以上是居住在海拔 1000 米以下的比较低平的地区。尽管目前世界上最高的永久性居民已达海拔 5000 米的高度（南美洲的安第斯山区和我国西藏），最高城市也达到海拔 3976 米（玻利维亚的波托西）

113. 居住在海拔 200 米—500 米这一高度内的人口在总人口中所占的比例是：（ ）

- A. 56.2%
- B. 27.8%
- C. 24%
- D. 29.5%

114. 人口密度最大的是在哪一个高度的陆地上？

- A. 0—200 米
- B. 200 米—500 米
- C. 500 米—1000 米
- D. 1000 米以上

115. 世界上海拔最高的城市是：

- A. 我国的拉萨
- B. 南美洲的安第斯 C.
- 玻利维亚的波托西D.

日本的广岛

116. 居住在 1000 米以上高度的人口比重是

- A. 10%
- B. 8.2%

C. 11.6%

D. 9.3%

117. 海拔 200 米以上的陆地面积占总面积的比重为多大？

A. 56.2%

B. 27.8%

C. 72.2%

D. 25.5%

材料二：农林牧渔业总产值（单位亿元）

	2011 年 1 季度	2016 年 1 季度
农林牧渔总产值	3339.1	5810.8
农业	1010.7	1653.5
林业	61.5	223.1
牧业	1851.3	3049.1
渔业	377.2	658.4

118. 2011 年 1 季度，农林牧渔业中产值最高的是（ ）

A. 农业

B. 林业

C. 牧业

D. 渔业

119. 2016 年 2 季度，农林牧渔业中产值最低的是（ ）

A. 农业

B. 林业

C. 牧业

D. 渔业

120. 2011 年 1 季度，农业在总产值中占比（ ）

A. 33.3%

B. 30.3%

C. 20.3%

D. 35.3%

121. 2011-2016 年，农林牧渔业中产值增加最多的是（ ）

A. 农业

B. 林业

C. 牧业

D. 渔业

122. 2011-2016 年，林业平均增长逐年增加（ ）

A. 52.6%

B. 62.5%

C. 25.6%

D. 26.5%