

目 录

2019 年鹤壁市事业单位招聘考试真题 .....	1
第一部分 常识判断 .....	1
第二部分 言语理解与表达 .....	2
第三部分 数量关系 .....	15
第四部分 判断推理 .....	16
第五部分 资料分析 .....	23
2019 年开封市事业单位招聘考试真题 .....	29
第一部分 常识判断 .....	29
第二部分 言语理解与表达 .....	30
第三部分 数量关系 .....	38
第四部分 判断推理 .....	40
第五部分 资料分析 .....	51
2019 年三门峡市事业单位招聘考试真题 .....	57
第一部分 常识判断 .....	57
第二部分 言语理解与表达 .....	58
第三部分 数量关系 .....	70
第四部分 判断推理 .....	71
第五部分 资料分析 .....	79
2019 年河南省直二批事业单位招聘考试真题 .....	84
第一部分 言语理解与表达 .....	84
第二部分 数量关系 .....	94
第三部分 判断推理 .....	96
第四部分 常识判断 .....	104
第五部分 资料分析 .....	107
2019 年禹州市事业单位招聘考试真题 .....	112
第一部分 常识判断 .....	112
第二部分 言语理解与表达 .....	112
第三部分 数量关系 .....	116
第四部分 判断推理 .....	117
第五部分 资料分析 .....	121
2019 年郑东新区事业单位招聘考试真题 .....	124
第一部分 常识判断 .....	124
第二部分 言语理解与表达 .....	125
第三部分 数量关系 .....	134
第四部分 判断推理 .....	135
第五部分 资料分析 .....	142
2019 年郑州市航空港区事业单位招聘考试真题 .....	145
第一部分 言语理解与表达 .....	145
第二部分 数量关系 .....	155
第三部分 判断推理 .....	156
第四部分 常识判断 .....	165
第五部分 资料分析 .....	167

## 2019年鹤壁市事业单位招聘考试真题

### 第一部分 常识判断

1. 党的十九大报告指出，我国秉持（ ）的全球治理观，倡导国际关系民主化，坚持国家不分大小，强弱，贫富一律平等。
- A. 共建共融共享  
B. 互通互惠互利  
C. 和平合作共赢  
D. 共商共建共享
2. 2019年世界人工智能大会8月29日在上海开幕，本次大会的主题是：
- A. 人工智能赋能新时代  
B. 智联世界无限可能  
C. 创造互信共治的数字世界  
D. 发展数字经济 促进开放共享
3. 根据《中华人民共和国宪法》，下列表述正确的是：
- A. 我国国家机构实行政治协商制的原则  
B. 我国居民委员会是基层人民政府的派出机构  
C. 各少数民族聚居的地方实行区域自治，设立自治机关  
D. 全国人民代表大会和地方各级人民代表大会都由差额选举产生
4. 下列关于我国市场经济的表述，正确的是：
- A. 市场可以调动商品生产者、经营者的积极性  
B. 市场配置资源最大的优点是其具有公平性  
C. 现阶段我国收入分配制度是以生产要素分配为主体的  
D. 我国现代化建设中的突出矛盾是有效需求严重不足
5. 秦始皇创建我国第一个封建王朝后，统一了全国文字，该文字是：
- A. 行书  
B. 楷书  
C. 小篆  
D. 隶书
6. 绿茶是我国的主要茶类之一，下列属于绿茶品种的是：
- A. 六安瓜片  
B. 千两茶  
C. 君山银针  
D. 白毫银针
7. 以冰川积雪融水补给为主的河流，影响其流量的主要因素是：
- A. 降水量  
B. 气温  
C. 地下水补给量  
D. 湖泊水供应量
8. 下列诗句与“野火烧不尽，春风吹又生”蕴含哲理一致的是：
- A. 芳林新叶催旧叶，流水前波让后波  
B. 山重水复疑无路，柳暗花明又一村  
C. 长风破浪会有时，直挂云帆济沧海  
D. 竹外桃花三两枝，春江水暖鸭先知
9. 人们能看到光照射下的物体，是由于：

- A. 光的辐射                      B. 光的折射                      C. 光的散射                      D. 光的反射
10. 地震依据成因可分为多种类别，下列地震中破坏性最大的是：  
A. 构造地震                      B. 诱发地震                      C. 火山地震                      D. 陷落地震
11. 大气的臭氧层对人体具有一定益处，主要是因为臭氧层能吸收：  
A. 红外线                      B. 紫外线                      C. 二氧化碳                      D. 硫化物
12. 航天发射是一项极其复杂和庞大的系统工程，飞船发射时机的选择要考虑到各种各样可能影响到发射的因素，其中最关键最直接的决定性因素是：  
A. 气象因素                      B. 海拔因素                      C. 技术水平                      D. 地区地势
13. 下列关于医学常识的表述，错误的是：  
A. 皮肤轻微划伤后，血小板能起止血作用                      B. 口腔卫生不良可引起牙周炎等疾病  
C. 每天摄入食盐过多易导致高血压类疾病                      D. 气管炎能使人体嗅觉减退
14. 下列会议与其战略决策对应错误的是：  
A. 十一届三中全会——作出实行改革开放的重大决策  
B. 洛川会议——确定了建立抗日民族统一战线的政策  
C. 遵义会议——确立了以毛泽东为代表的新的中央正确领导  
D. 七届二中全会——指导中国由新民主主义向社会主义的转变
15. 下列文学常识表述，错误的是：  
A. 马致远的散曲代表作《天净沙·秋思》，被誉为“秋思之祖”  
B. 京剧脸谱中，红脸代表忠勇，黑脸代表猛智，黄脸和白脸代表凶诈  
C. “诸子百家”中对后世产生过重大影响的学派有儒家、道家、法家、墨家等  
D. 《论语》由春秋战国时期儒家学派创始人孔子所著，主要记录孔子及其弟子的言行

## 第二部分 言语理解与表达

16. 发展永无止境，改革未有穷期。40年\_\_\_\_\_让无数人实现了大写人生，让我们国家“赶上时代”。

填入划横线部分最恰当的是：

- A. 栉风沐雨                      B. 筚路蓝缕                      C. 励精图治                      D. 奋发图强

17. 20世纪中国散文，其基本面貌与唐宋古文、晚明小品、桐城文章大不一样，最明显的特征莫过于使用“白话”而不是“文言”。借“文白之争”来理解这个世纪文章风格的\_\_\_\_\_无疑是最直接也最简便的路径。从晚清到“五四”的白话文运动，大大\_\_\_\_\_了散文驰骋的天地。

依次填入划横线部分最恰当的是：

- A. 嬗变 拓展 B. 转变 拓宽 C. 改变 开辟 D. 转换 扩大

18. 在新零售时代，线上线下一盘货，服务产品一体化将长期、全面地影响物流业发展。未来\_\_\_\_\_共享IT平台，每一个人、每一辆车、每一个闲置的仓储库房，都有可能成为物流的共享环节，物流资源将像云计算一样，按需付费，\_\_\_\_\_的运力、仓储资源都有可能参与到社会化物流环节中。

依次填入划横线部分最恰当的是：

- A. 整合 智能化 B. 凭借 信息化 C. 依托 碎片化 D. 筑造 工业化

19. 今天的“三大件”究竟是什么？没有人能给出\_\_\_\_\_答案，这恰恰从一个侧面反映出时代的发展进步。当大众消费需求由模仿型、\_\_\_\_\_、排浪式向差异化、个性化，多元化升级，当不断翻新的“四大件”“五大件”乃至“N大件”进入人们的视野，美好生活的内涵变得更加丰富、更有品质。

依次填入划横线部分最恰当的是：

- A. 标准 同质化 B. 确切 平衡化 C. 准确 精细化 D. 规范 雷同化

20. 一个人在创作和欣赏时所表现的趣味，大半由资禀性情、身世经历和传统习尚三个因素决定。这三者都是很自然地套在一个人身上的，它们的影响有好有坏，不易也不必完全摆脱我们应该根据固有的资禀性情而加以磨砺\_\_\_\_\_，扩充身世经历而加以细心地体验，接收多方的传统习尚而\_\_\_\_\_。

能依次填入划横线部分最恰当的是：

- A. 锻炼 心领神会 B. 陶冶 融会贯通  
C. 熏陶 崭露头角 D. 锤炼 举一反三

21. 大数据杀熟这件事，基本还是各说各的理：消费者言之凿凿“这个可以有”，在线服务摊手表示“这个真没有”。回头看，2008年以来，爆料或控诉在线旅游、酒店、机票等电商平台的疑似“大数据杀熟”行为\_\_\_\_\_，但\_\_\_\_\_的是，迄今没有认定出一个板上钉钉的杀熟案例。

依次填入划横线部分最恰当的是：

- A. 举不胜举 特殊 B. 比比皆是 奇怪  
C. 不胜枚举 诡异 D. 不计其数 怪异

22. 在科技飞速发展的今天，大众文化需求不断\_\_\_\_\_，推动艺术与技术深度融合是\_\_\_\_\_。



27. 文学之于现实社会，从来都不是\_\_\_\_\_的点缀。不论是创作还是评论，抑或是作品传播与读者接受等，文学都能以其特有的力量\_\_\_\_\_地塑造我们的生活，这一点鲜明地体现在20世纪80年代的文学中。

依次填入划横线部分最恰当的是：

- A. 文人墨客 别具匠心                      B. 沽名钓誉 耳濡目染  
C. 吟风弄月 别出心裁                      D. 附庸风雅 潜移默化

28. 在中国影视产业迅猛发展的过程中，浮躁浅薄、\_\_\_\_\_的创作风气也逐渐滋生成长起来，所生产出来的影视作品泥沙俱下，既有思想性、艺术性俱佳的精品，也不乏\_\_\_\_\_，广受诟病的质量低劣之作。

依次填入划横线部分最恰当的是：

- A. 急于求成 敷衍了事                      B. 急功近利 偷工减料  
C. 好高骛远 粗制滥造                      D. 华而不实 得过且过

29. 纵观人类文明发展史，生态兴则文明兴，生态衰则文明衰。黄沙漫天的楼兰古城，是人类向大自然过度索取留下的深刻教训；\_\_\_\_\_一方的都江堰，记录下中国人\_\_\_\_\_利用自然的朴素智慧；新中国成立以来，三代塞罕坝人接力传承，创造了荒原变林海的人间奇迹。人类与生态环境互动的诸多事例，一遍遍警示和昭示我们：\_\_\_\_\_、竭泽而渔的发展方式已走到尽头，顺应自然、保护生态的绿色发展已是必然选择。

依次填入划横线部分最恰当的是：

- A. 滋润 恰当 釜底抽薪                      B. 润泽 妥善 杀鸡取卵  
C. 养育 适宜 以卵击石                      D. 滋养 稳妥 饮鸩止渴

30. 文人画，也称“士大夫写意画”，是画中带有文人情趣，画外流露出文人思想的绘画。多取材于山水、花鸟、梅兰竹菊和木石等，借以\_\_\_\_\_个人“性灵”，间亦寓有对民族压迫或对腐朽政治的\_\_\_\_\_之情。文人画具有文心、诗情、画意，区别于工匠画、院体画等，以它特有的“雅”\_\_\_\_\_。

依次填入划横线部分最恰当的是：

- A. 抒发 愤懑 独树一帜                      B. 表达 烦躁 别具一格  
C. 慰藉 忧愤 流传千古                      D. 体现 抑郁 标新立异

31. 新媒体时代，“最美书店”成为一个传播学上的噱头。人们会为巴黎的莎士比亚书店和花神咖啡馆\_\_\_\_\_，因为那里曾经有过海明威、萨特这样的文化人出没。即便是巴黎这样杰出的城市，也会因为这样的文化地标而多几分魅力。任何一个有文化的城市，都不是

靠大建设而\_\_\_\_\_的，而是靠这样的一个个书店，靠一个个文化人，经过漫长的\_\_\_\_\_，最终才能形成一个传统。

依次填入划横线部分最恰当的是：

- A. 沾沾自喜 举世闻名 积累                      B. 喋喋不休 驰名中外 沉淀  
C. 津津乐道 声名鹊起 积淀                      D. 流连忘返 名扬四海 积聚

32. 短小的片断并不追求很深的意义，而\_\_\_\_\_某种片刻的“感觉”。比如今天很多人常挂在嘴边的“爽”或“萌”。这当然说不上是高雅的趣味，但它确实已经是一种突然兴起并有着某种“主流化”趋势的现象，其中展现出来的活力\_\_\_\_\_。它所表现的一些积极内容、所传播“正能量”，能够与主流文化相兼容，也能让青少年群体\_\_\_\_\_，对他们的社会认同起到积极作用。

依次填入划横线部分最恰当的是：

- A. 关注 至关重要 乐在其中                      B. 强调 不可或缺 雅俗共赏  
C. 突出 不可估量 乐此不疲                      D. 注重 不容小觑 喜闻乐见

33. 从天安门一步步走进去，就如同置身于一幅大“手卷”里漫步。在时间持续的同时，空间也\_\_\_\_\_着“流动”。那些殿堂、楼门、廊庑虽然制作方法\_\_\_\_\_，然而每走几步，前瞻后顾、左睇右盼，那整个景色、轮廓、光影，却都在不断地改变着；一个接着一个新的画面出现在周围，\_\_\_\_\_。空间与时间，重复与变化的辩证统一在北京故宫中达到了最高的成就。

依次填入划横线部分最恰当的是：

- A. 连贯 如法炮制 变幻莫测                      B. 持续 异曲同工 焕然一新  
C. 连续 千篇一律 千变万化                      D. 陆续 大同小异 恍如隔世

34. 曾有一段时间，不少中小城市和基层单位，花费重金向全社会“招贤纳士”，在轰轰烈烈的优惠政策之下，一时间英才云集。但遗憾的是，引才成本不断攀升的同时，人才发挥作用情况却与预期\_\_\_\_\_。机制不活的无形羁绊、\_\_\_\_\_的人际关系、缺少公平竞争的环境、\_\_\_\_\_的发展空间……这些都让人才难以施展才干，最终导致人才再次远走高飞。

依次填入划横线部分最恰当的是：

- A. 相去甚远 盘根错节 捉襟见肘                      B. 截然不同 千丝万缕 应接不暇  
C. 大相径庭 扑朔迷离 入不敷出                      D. 背道而驰 风谲云诡 寸步难移

35. 眼下，脱贫攻坚战\_\_\_\_\_。决策层誓言，到2020年，我国现行标准下农村贫困人

口实现脱贫，贫困县全部摘帽，解决\_\_\_\_\_整体贫困。不少国家级贫困县纷传脱贫捷报，很多挂职乡村的党员干部为了最后的脱贫\_\_\_\_\_，这让我们想起今年李克强总理政府工作报告中的一句话：开展贫困地区控辍保学专项行动、明显降低辍学率，继续增加重点高校专项招收农村和贫困地区学生人数，用好教育这个阻断贫困代际传递的治本之策一言外之意，不重视乡村教育，贫困或将代际传递、\_\_\_\_\_。

依次填入划横线部分最恰当的是：

- A. 如火如荼    区域性    殚精竭虑    卷土重来
- B. 方兴未艾    整体性    呕心沥血    重起炉灶
- C. 热火朝天    多样性    通宵达旦    死灰复燃
- D. 欣欣向荣    综合性    废寝忘食    重蹈覆辙

36. 夷陵虫身体长条形，两侧对称，呈三叶形，具有明显的身体分节，也具有了前后和背腹的区别。从科学家对于夷陵虫的还原看，更像一棵麦穗，所以也称为“穗状夷陵虫”。而从某种意义上来说，它就是虾子、螃蟹等的祖先，也有可能是祖先的远亲。夷陵虫是目前在寒武纪之前发现的唯一身体分节，具有运动能力，并可以形成连续遗迹的两侧对称动物。夷陵虫的发现为两侧对称动物身体分节在埃迪卡拉纪的出现提供了直接的化石证据。这一新的化石证据表明在埃迪卡拉纪已出现了具有运动能力、并且身体分节的两侧对称后生动物。也就是说，将“寒武纪大爆发”出现此类动物群又至少向前推了一千万年。

上述文字不涉及夷陵虫的：

- A. 生物特征                      B. 生存时期                      C. 研究价值                      D. 活动区域

37. ①它的内在机制就是，人是观念的产物

②政治思潮通过影响关键角色，或者采取激进的革命，或者采取温和的社会运动，或者作为政策决定者去改变政策现状，从而影响政治走向

③政治思潮不但是一种政治学科和思想，还直接演化为国家政策和政治运动

④这是它的内在逻辑和理论背景

⑤自由化是一种政治思潮，而政治思潮与世界秩序的形成有着与生俱来的关系

将以上5个句子重新排列，语序正确的是：

- A. ③①②④⑤                      B. ②④①⑤③                      C. ⑤③①②④                      D. ②①③④⑤

38. 在古人眼里，“天下”不只是地理概念，更是一个政治概念。古人很早就确立“天下为公”的观念，同时认为“天下”可以建构为一个理想世界。如《吕氏春秋》称：“天下非一人之天下也，天下之天下也。阴阳之和，不长一类；甘露时雨，不私一物；万民之主，



不阿一人。”这种“天下为公”的认知,成为中华文化“天下观”一大基石。以“天下为公”构建理想世界,就是“大同”。

上述文字接下来最可能讲述的是:

- A. “天下”观念的产生与发展
- B. 古人天下观的具体内容
- C. 古人看待天下的方法论
- D. 如何建构天下大同的理想世界

39. 历史研究是学者的心智活动,所凭借者虽是“实”的史料,研究过程却不能没有“虚”的功夫。“历史”并非有了史料便可“不证自明”,主观的认识因素须参与其间。历史学者应在研究中明确基本学术思想,详尽而又严谨地展开论证过程。在现今史学界“实”尚差强“虚”远不足的情况下,强调研究中“虚”的一面,加强学者形而上功夫的自我训练,对提高中国历史研究的整体水平,或更具积极意义。

上述文字意在强调:

- A. 历史研究中“虚证”的重要价值
- B. 历史研究不能完全信奉史料记载
- C. 学者主观认识参与历史研究时要适度
- D. “虚”比“实”更能体现学者的水平

40. 工业数据是工业互联网采集、传输、存储、分析和应用的关键资源要素,并随着工业互联网创新发展战略的深入贯彻实施而不断被赋予新的使命,成为助推现代工业体系升级和支撑制造业数字化、网络化、智能化转型的基础动力。部署在生产制造现场的机器人能够通过大范围、深层次的工业数据采集,以及异构数据的协议转换与边缘处理,构建工业互联网的数据基础。主要分为三种方式:一是通过各类通信手段接入其他不同设备、系统和产品,采集海量数据;二是依托协议转换技术实现多源异构数据的归一化和边缘集成;三是搭载边缘计算功能实现底层数据的汇聚处理,并实现数据向云端平台的集成。

上述文字意在:

- A. 说明工业数据是工业智能的产生基础
- B. 说明机器人将推动工业互联网的发展
- C. 工业数据是加快工业互联网创新发展步伐的基础
- D. 未来机器人必然取代现有大部分职业

41. 事物都是不断发展、相互联系的,只有眼界非常宽阔,正确认识和积极顺应中国和世界发展大势,正确认识和妥善处理党和国家面临的大事,才能把握工作主动权,跟上时代前进步伐,推动事业顺利发展。党的十八大以来,以习近平同志为核心的党中央坚持运用马克思主义思想方法和工作方法,注重以普遍联系的观点观大势、谋大局。习近平总书记多次强调,要“善于观大势、谋大事,站在国内国际两个大局、党和国家工作大局、全面深化改

革全局来思考和研究问题”。

上述文字的主要观点是：

- A. 善于以普遍联系的观点谋划大局
- B. 善于用矛盾分析法认识发展中的问题
- C. 善于用发展的眼光审视历史、现实与未来
- D. 善于用辩证思维解决中国的实际问题

42. ①宋宣和三年，徽州府设立，辖歙县、休宁、婺源、祁门、黟县、绩溪六县，“徽州”的概念出现

②“靖康南渡”徽州遭遇了自魏晋“永嘉之乱”、唐末黄巢起义之后的第三次移民高潮，这块面积仅一万平方公里左右的土地，本是山多、地少、土瘠，却出现了“人稠”的现象，生存问题产生

③这是一片神奇的土地，位处江南，遥望东海，“东有大障山之固，西有浙岭之塞，南有江滩之险，北有黄山之阨”

④秦时始设黟、歙二县，西晋之后的新安时代到来，这块土地开始接受北方中原世家大族源源不断的迁入。

⑤然而，徽州时代的真正到来是在南宋以后。

⑥“前世不修，生在徽州”开始成为徽州人的千年之叹，创新与创业成了徽州人的宿命选择。

将以上6个句子重新排列，语序正确的是：

- A. ③④①⑤②⑥
- B. ③①⑤②⑥④
- C. ④①③⑤②⑥
- D. ⑤②⑥③④①

43. 家庭无处不课堂，要避免把家庭作为学校教育、学科学习的延伸课堂，实现家庭作为生活教育天然场所应有的价值，实施礼仪、德育、劳动教育、美育、食育、社会教育等重要内容。同时，家长要在生活中真正尊重儿童的主体性、信任并培养儿童参与的能力，家庭事务中不要忘记征求孩子的意见，听取孩子的想法；凡孩子力所能及的事，特别是自己的事让他自己做；同时，还要指导和示范给孩子如何帮助他人、关心集体、关心国家。

上述文字意在强调：

- A. 家庭教育不是学校教育的延伸
- B. 要发挥家庭教育对儿童成长的独特作用
- C. 家长要提供儿童可以充分参与的机会
- D. 家长的示范与引导对儿童成长至关重要

44. 2019年7月，中国世界遗产总数达到55处，与意大利并列世界第一。作为文明古国和自然景观丰富的大国，中国获得这样的荣誉当之无愧。由于世界遗产的深入人心，很多游客在规划旅行线路时“按图索骥”，优先选择世界遗产名录上的景区“打卡”。这或许无可厚非，因为绝大多数世界遗产，都伴随着世界一流的旅游资源。而且，对世界遗产的保护，与开展公众教育、文化传播和旅游功能并没有必然的冲突。不过，将世界遗产等同于对旅游景区的“认证”，也可能让人失望，因为世界遗产的评选并不是以旅游价值为标准的，而是旨在保护全人类公认的具有突出意义和普遍价值的文物古迹及自然景观。随着中国世界遗产名录的丰富，游客或许会觉得一些世界遗产“不那么好玩”。比如，今年新晋世界文化遗产的良渚古城遗址，其历史文化价值要远超所谓的“可玩性”。

上述文字主要讲的是：

- A. 世界遗产的评选与人们的旅游诉求不同
- B. “世界遗产热”体现了消费的盲目性
- C. 除了世界遗产，人们旅游可以有更多的选择
- D. 世界遗产评选备受政府和公众关注

45. 老人该不该在早高峰时搭乘公交车？这个本不该成为问题的问题，近年来却经常出现在社交媒体上。不少网友想要借此表达的自然是对老年人“抢占资源”的不满。然而，北京市推行了两年多的“北京通—养老助残卡”形成的数亿条大数据显示，老年人免费乘坐公交车不仅未对年轻人通勤高峰产生压力，反而有效提高了通勤低谷期公交运力的利用率。如果说这一结果令人感到吃惊，那么恰恰说明，公众对于老年人“浪费”公共资源的偏见，已经到了必须被纠正的地步。这种偏见的出现，归根结底，是因为老年人在公共领域，尤其是互联网上缺乏话语权，很难为自己辩护，这种力量的不平衡，只会加剧年轻人与老年人思想观念方面的进一步对立和分裂。

下列最符合上述观点的表述是：

- A. 对老年人的偏见有违社会发展的大趋势
- B. 用共赢的理念应对老龄化社会的新问题
- C. 老龄化社会是所有人必须面对的现实问题
- D. 关注老龄化的新特点社会才能健康发展

46. 在丝绸之路文化交流史上，中国文化在西方一直具有较高的地位。以“中国风”为例，500年前，欧洲大批传教士来华，回国后他们向欧洲人传播了中国文化。18世纪欧洲“启蒙运动”时，欧洲又掀起了一场“中国风”，既包含了琴棋书画等修身的艺术，又泛指一种

东方神韵，渗透到建筑和瓷器等外观设计里。事实上，当我们今天回顾历史可以发现，丝绸之路从一开始就是一条文明交流之路。古丝绸之路起始于商品交换，古代中国许多物质文化和发明创造通过丝绸之路传到西方后，对促进西方近现代科学的发展起到了积极作用。同时，近代西方天文学、数学和医学等知识，也通过丝绸之路传到中国。

上述文字意在说明：

- A. 欧洲传教士在古丝绸之路上的重要作用
- B. 古丝绸之路上的物质文化变迁
- C. 古丝绸之路商品交换的背后是文化沟通
- D. 西方为何一度兴盛“中国风”

47. 任何个体，不管教育程度如何，都有自己依赖的群体认知积累，群体认知积累就是知识。虽然知识系统会帮助我们认知和建构现实，但早期的知识积累使我们在以后的知识吸纳中有相当确定的指向性，从而会使我们对某一类群体的知识体系有特殊的认同。尽管我们博览群书，似乎是自由自在地在知识的海洋中遨游，但我们很难逃脱海流的影响。读书能拓展资源，从而增强自由选择范围；然而，如果我们不够开放，这也可能把我们捆绑在某个知识体系里，使你的观察和思考都出不了它划的圈圈，所吸纳到的新思维就极其有限。

根据这段文字，下列说法正确的是：

- A. 知识是指学校里学的或书本里印的知识
- B. 个体的群体认知积累相同，不受个体素质限制
- C. 独立、开放地读书，才能说书读得越多越好
- D. 通过读书获得思想独立的前提是要学会取舍

#### 【资料】

现代意义上的“国花”一词最早出现在19世纪的英国，指被用来作为国家象征或国家标志的花卉。在中国古代，并没有这样一种以花喻国的概念，但“国花”这一固定称谓在明代就已形成。最先使用这个词的是文人墨客，所指的对象恰恰就是牡丹。明朝中叶诗人李梦阳有首名为《牡丹盛开群友来看》的诗，其中“碧草春风筵席罢，何人道有国花存”两句，生动地记载了诗友们共赏牡丹、口称国花的情景。到了晚明，著名诗人王次回在赠友诗中直言“国花第一数姚黄，更共明珠字夜光”，姚黄是牡丹四大名品之一，以富丽堂皇著称，正与“国花”的说法相合。牡丹是黄河流域的花卉，而王次回出身浙江仕宦门第，一直交游活动均在江南，晚明江南士人族群在文化乃至政治意识上往往自成一家。这可以证明

\_\_\_\_\_。

清代以降，牡丹的国花身份更为广大士庶所熟知。到了崇尚华丽繁缛审美的晚清，牡丹作为贵族衣饰器物中常见的纹饰，地位节节高升，“国花”之号也由文人雅意上升为政治意识，被官方所承认。

民国之后，现代国家民族的概念兴起，人们逐渐建立起对国旗，国徽，国歌等政治文明礼仪的认知。然而，牡丹却没能延续这一尊贵地位。生长南国、品德高洁的梅花，因凌寒开放而衍生出勇敢、坚贞、反抗等人格特质，与争取民族独立的时代精神相契合，受到辛亥革命以来，仁人志士们的喜爱。与古人咏梅时多赞其暗香浮动、孤傲高洁的隐士精神不同，在民国时期，梅花最被强调的是不畏严寒，风骨磊落的烈士精神，正因如此，使得梅花这一历史受文化精英族群偏爱的“名士之花”具有更强的国民性。抗战期间，国运艰难，凌霜傲雪的梅花成为中华儿女正气凛然，坚毅不屈的心魂象征，寄托着人民苦尽甘来，胜利报春的意愿。新中国成立后，时代环境几经变革，国花却始终未有定论。

牡丹与梅花之争，其实是两种精神气魄之间的较量。牡丹象征着对繁荣富强的追求，梅花象征着在历史考验中的坚守。不同的时期，人们对于“国花”意义的认知和选择也各有侧重，这背后反映的是大多数人以何种心态来面对和评价当前的家国命运，而不仅仅是审美喜好的差异。

48. 填入文中画横线部分最恰当的是：

- A. 唐诗名句“唯有牡丹真国色”正是牡丹作为这一显官家中常见花的体现
- B. “国花牡丹”这一文化概念突破了地域意识，在大江南北间有了更普遍的认同感
- C. 经由士大夫文人的笔墨输扬，牡丹的国花之名逐渐深入人心，可以算是一种“官宣”
- D. 雍容华贵的牡丹得到了清朝王室的认可和喜爱，“国花”这一称谓也衍生出新的含义

49. 根据上述文字，下列表述正确的是：

- A. 将牡丹作为“国花”这一观念在唐朝已经出现
- B. 牡丹只能生长在黄河流域，在长江以南地区很难生存
- C. 牡丹与梅花之争主要体现了不同时期人们审美喜好的差异
- D. 清代以降，对于将牡丹作为国花的认同感超越了民族和社会阶层

50. 最适合上述文字的标题是：

- A. 国花小史
- B. 国花牡丹说法的来历
- C. 国花牡丹艳压群芳
- D. 牡丹与梅花：百年国花之争

【资料】

中国古代的尚象观念从《周易》开始。易象是中国文化的源头，也是审美意象的源头。伏羲通过对自然万物的仰观俯察，探索出了万物的变化规律，并取万物之意，创制出了分别代表天、地、水、火、风、雷、山、泽的八卦图，以象喻意。八卦如此，审美意象的创构同样如此两者都是“近取诸身，远取诸物”的结果。王羲之《兰亭集序》有“仰观宇宙之大，俯察品类之盛，所以游目骋怀，足以极视听之娱，信可乐也”的说法。这种游目骋怀，正是在俯仰体悟之间获得审美的愉悦。通过仰观俯察，主体在立象尽意之中进行审美的体悟和创造。①

中国自古以来的观物取象、立象尽意的体验方式和创造方式，是审美方式的体现。观物取象包含着审美的观照方式，其观其取，都体现了古人的尚象精神。立象尽意乃以象见意，突出了象的表意功能，在上古的器物和艺术创造中观物取象的目的在于制器和创构艺术意象

《周易系辞上》所谓“制器者尚其象”，《左传·宣公三年》所谓“铸鼎象物”，说的都是尚象制器从史前彩陶的造型和纹饰开始，中国的器物创造和艺术创造都体现了尚象的精神。②

汉字中包含着尚象的特征。汉字如画，是以象形表意为基础的文字，包含着意象的形态及其组合，体现了审美的思维方式。汉字都在不同程度上以象表意，是观物取象的产物，从自然和社会中提取物象和事象，充满着情趣和意味，借以表意，具有直观性和象征性的特点。在用字的过程中，主体常常使文字承载看主死的情意，使象与情意相统一。汉字在中国的形成、完善和使用，促进了尚象特征的确立和发展这种审美特点，尤其表现在作为文字运用的诗歌等文学作品中。③

审美的创造包括器物的创造和文学艺术的创造，取象于自然中的物象和社会生活中的事象，在此基础上主体能动地进行拟象，并且借想象力进行象的组合和创造。拟象在似与不似之间，增强了表达的张力，由此创构而成意象，同时在运用的过程中使象具有类比和象征的意味。早在史前时代，玉器、随器和岩画创造就为我们提供了大量意象创构的物化形态。其中的象生造型，往往带有象征的意味。意象创造的思想从《周易》的“观物取象”立象以尽意”开始，发展到南北朝《文心雕龙》“宽意象而运斤”，意象从而成为文学艺术的审美范畴。④

51. 下列文字最适合放在文中的位置是：

象是感性生动的，以其张力不断生成和创构。观物取象本身不仅是一种感悟方式，而且还借助想象力进行意象创构。同时，象还具有丰富的象征性，借助于虚实相生等手法，使丰

富的意味和情趣得以呈现。

- A. ①                      B. ②                      C. ③                      D. ④

52. 下列关于原文内容的理解和分析，正确的是：

A. 观物取象包含着审美的观照方式，立象尽意突出了象的表意功能，观物取象、立象尽意是审美方式的体现

B. 伏羲创制的八卦图与后世审美意象的创构都是采取以象喻意的方法，两者的结果都是“近取诸身，远取诸物”

C. 汉字尚象特征的确立和发展，取决于汉字在中国的形成、完善与使用，这在诗歌等文学作品中表现得尤其鲜明

D. 器物的创造和文学艺术的创造都是审美创造，都包含取象和拟象的过程，两者的区别在于有无借助想象力进行组合和创造

53. 下列对原文论证的相关分析，不正确的是：

A. 文章第一段用《兰亭集序》中的相关说法，论证俯仰体悟可获得审美愉悦的道理

B. 文章第二段引用《周易》和《左传》中的内容，论说观物取象是审美方式的体现

C. 文章以大量篇幅阐述象与审美的内在关联，强调了中华美学具有尚象精神的观点

D. 文章解说尚象观念缘起阐述取象、立象的审美方式、尚象的表现等，有条不紊

54. 根据原文内容，下列说法不正确的是：

A. 史前时代象生造型的意象往往带有象征意味，这表明这些意象创造超越了使用价值，都属于艺术创造

B. 如果象不能借助虚实相生等手法而产生丰富的象征性，那么人们在使用象时就难以把丰富的意味和情趣借助象得以呈现

C. 中国从《周易》开始就有了尚象观念，从史前彩陶的造型和纹饰开始就体现了尚象精神，这表明中华尚象传统历史悠久

D. 在使用汉字过程中，主体常常使文字承载着主观的情意，使象与情意相统一，这说明汉字的表意可以随汉字的使用而不断丰富

55. 根据原文内容，下列不属于象生造型的是：

A. 春秋时期的玉龙

B. 纯手工紫砂壶

C. 条带纹彩陶三足钵

D. 狩猎与采集者岩画

### 第三部分 数量关系

56. 甲、乙两辆汽车分别以不同的速度从A、B两地相对而行，途中相遇，相遇点距A地80km，相遇后两车继续以原速前进，到达对方出发地后两车立即返回，在途中第二次相遇，这时相遇地距A地50km。则A、B两地的距离是：

- A. 130km                      B. 145km                      C. 160km                      D. 175km

57. 修一条水渠，甲队独修12天完成，乙队独修18天完成。甲队单独做4天后，剩下的由甲乙两队合作完成。已知修这条水渠共得工程款7500元。则甲队得到的工程款是：

- A. 2500元                      B. 3500元                      C. 4500元                      D. 5500元

58. 用浓度为45%和5%的糖水配制成浓度为30%的糖水400g，则需要取5%的糖水多少？

- A. 100g                      B. 150g                      C. 200g                      D. 300g

59. 小华今年16岁，他叔叔的年龄在8年前是他的3倍，则今年小华叔叔的年龄是小华年龄的：

- A. 2倍                      B. 3倍                      C. 4倍                      D. 5倍

60. 在一次考试比赛中，规定每人报两门不同科目，分别有语文，数学，英语三科，其中报数学的有34人，报语文的有35人，报英语的有31人，则同时报考语文和数学的有：

- A. 15人                      B. 19人                      C. 24人                      D. 28人

61. 现有甲乙两个书架，甲书架上书的数量是乙书架上书的数量的 $\frac{4}{7}$ ，两个书架上各增加55本书后，甲书架上书的数量与乙书架上书的数量比是5：6。则原来甲书架上书的数量是：

- A. 20本                      B. 30本                      C. 35本                      D. 40本

62. 某商店有大小两桶酒，大桶有酒120kg，小桶有酒90kg，两桶酒卖出同样多的酒后，大桶剩下的酒正好是小桶剩下的酒的4倍。则小桶卖出的酒的量是：

- A. 20kg                      B. 45kg                      C. 60kg                      D. 80kg

63. 小君将自己收藏的画片送给幼儿园大班的小朋友们。如果每人分9张画片，还多12张，如果每人分10张刚好分完。则小君的画片共有：

- A. 100张                      B. 120张                      C. 130张                      D. 150张

64. 有5个数，它们的平均数是138，把这些数按照从小到大的顺序排列起来，前三个数的平均数是127，后三个数的平均数是148。则中间的数是：

- A. 129                      B. 130                      C. 135                      D. 143

65. 有一种商品，甲店进货价比乙店进货价便宜10%，甲店按照20%的利润定价，乙店按

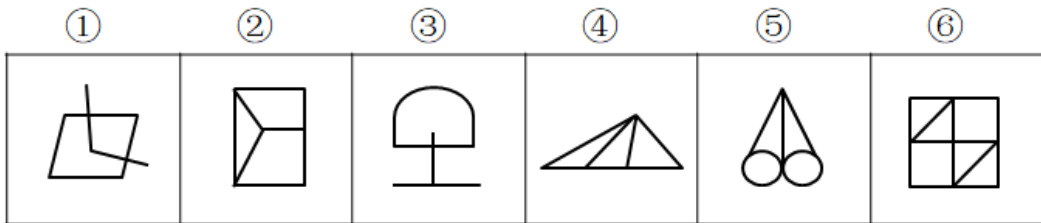


照15%的利润定价，甲店的定价比乙店的定价便宜11.2元。则甲店的进货价是：

- A. 108元                      B. 116元                      C. 144元                      D. 150元

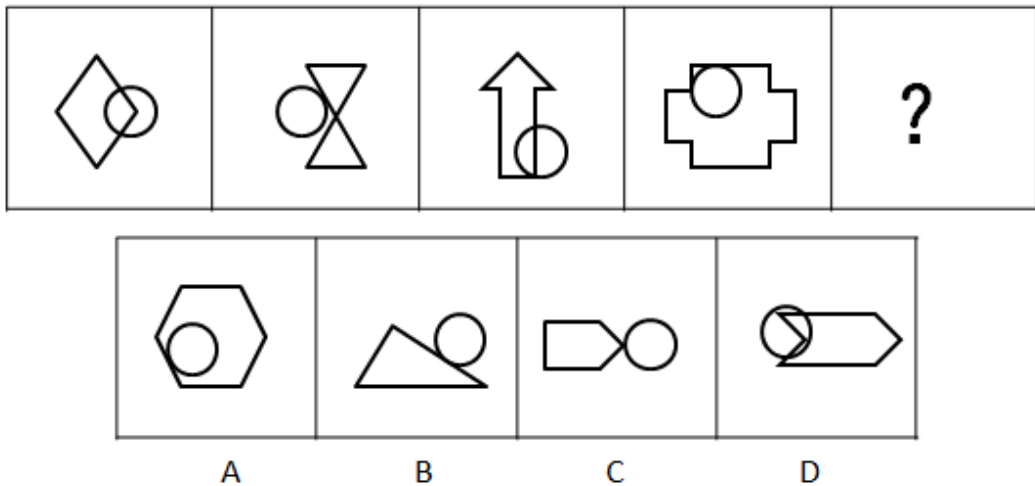
第四部分 判断推理

66. 把下列六个图形分为两类,使每一类图形都有各自的共同特征或规律,分类正确的是( ):



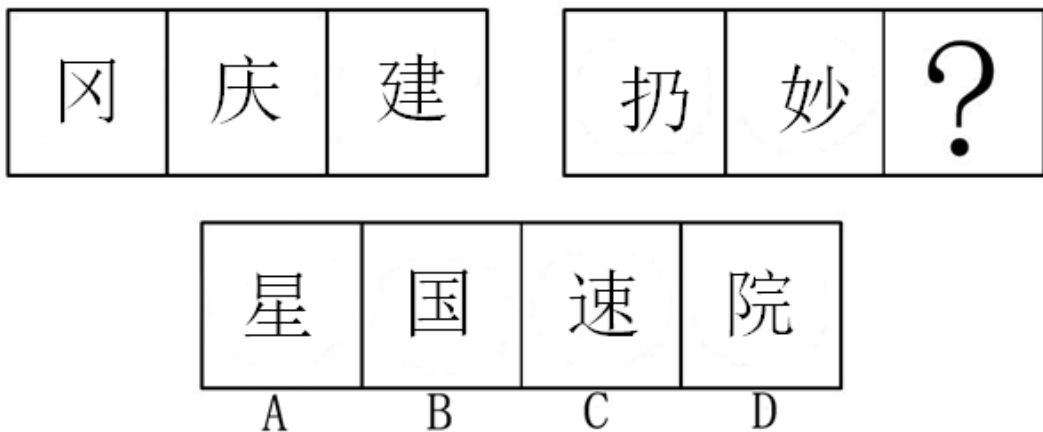
- A. ①②④, ③⑤⑥      B. ①③④, ②⑤⑥      C. ①④⑤, ②③⑥      D. ①④⑥, ②③⑤

67. 从所给的四个选项中,选择最合适的一个填入问号处,使之呈现一定的规律性( ):



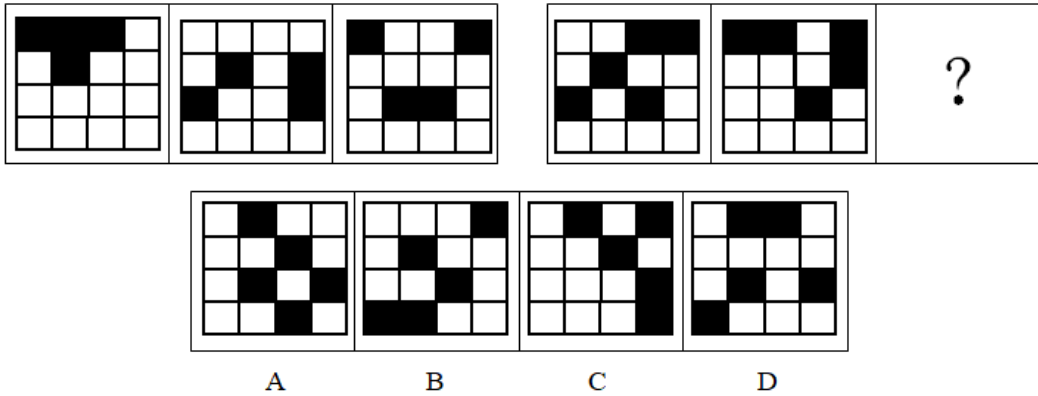
- A. 如上图所示      B. 如上图所示      C. 如上图所示      D. 如上图所示

68. 从所给的四个选项中,选择最合适的一个填入问号处,使之呈现一定的规律性( ):



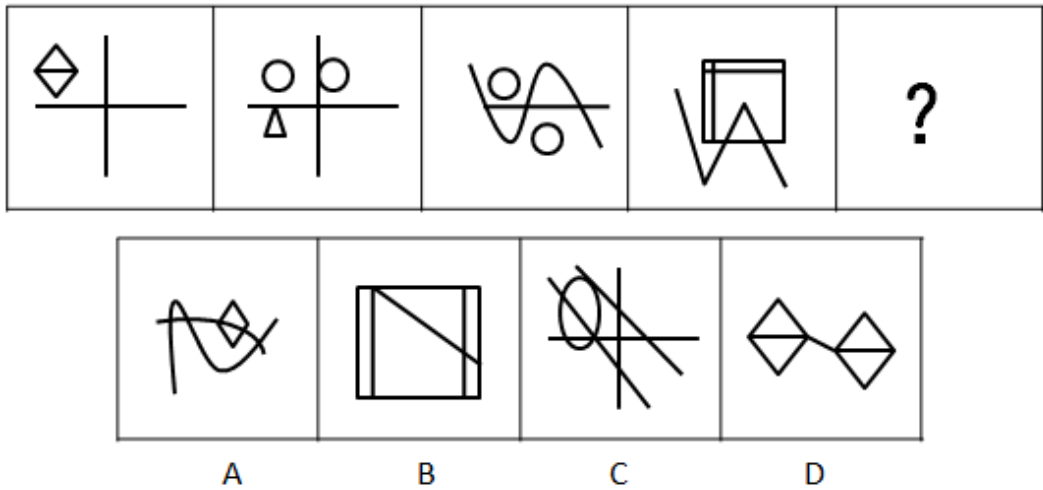
- A. 如上图所示      B. 如上图所示      C. 如上图所示      D. 如上图所示

69. 从所给的四个选项中, 选择最合适的一个填入问号处, 使之呈现一定的规律性( ):



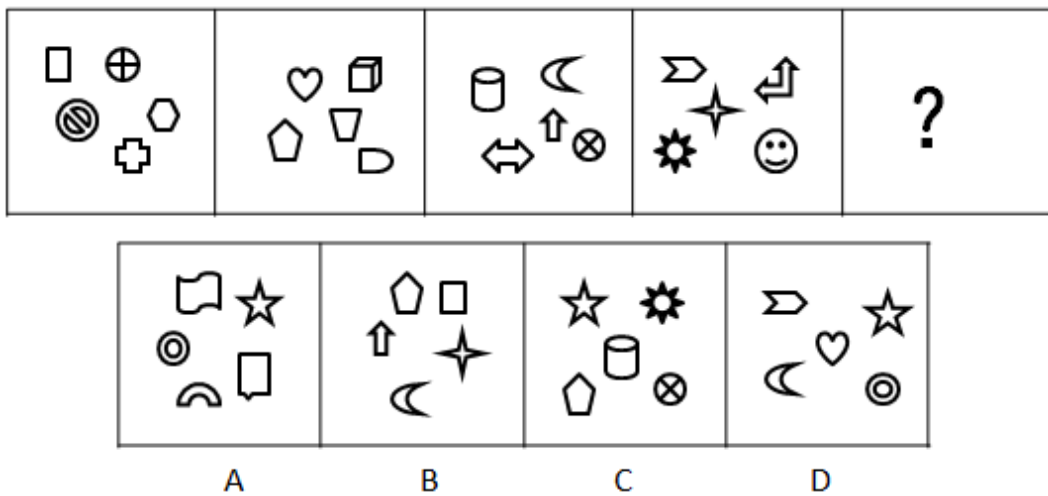
A. 如上图所示      B. 如上图所示      C. 如上图所示      D. 如上图所示

70. 从所给的四个选项中, 选择最合适的一个填入问号处, 使之呈现一定的规律性( ):



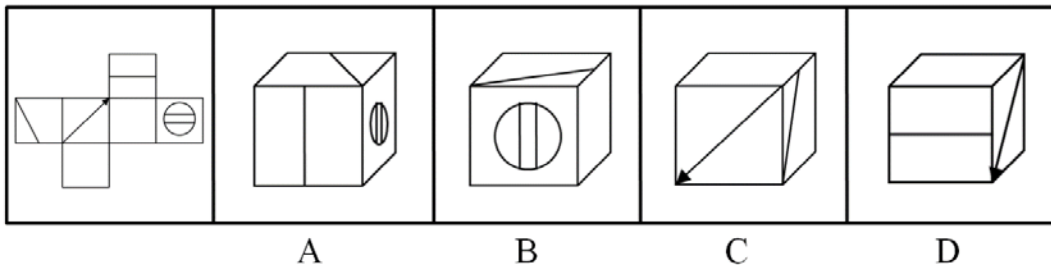
A. 如上图所示      B. 如上图所示      C. 如上图所示      D. 如上图所示

71. 从所给的四个选项中, 选择最合适的一个填入问号处, 使之呈现一定的规律性( ):



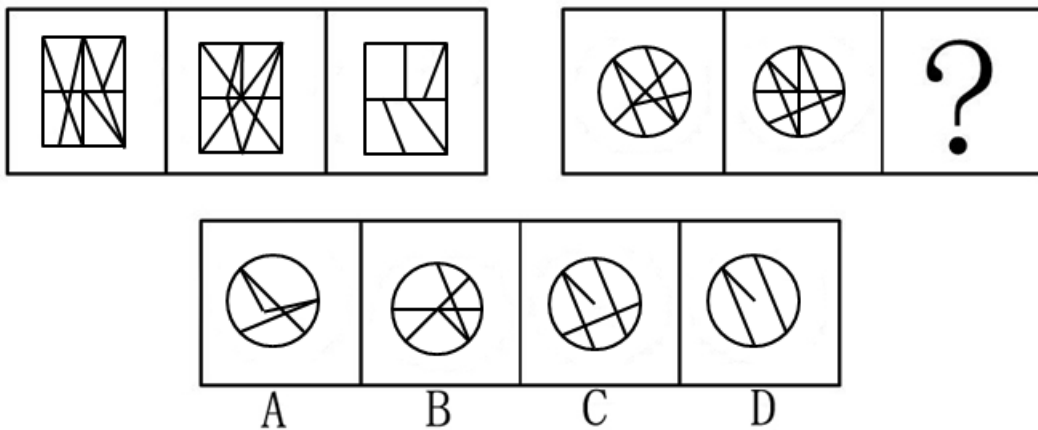
A. 如上图所示      B. 如上图所示      C. 如上图所示      D. 如上图所示

72. 下列四个选项中, 能由左边立体图形展开图折叠而成的是 ( ) :



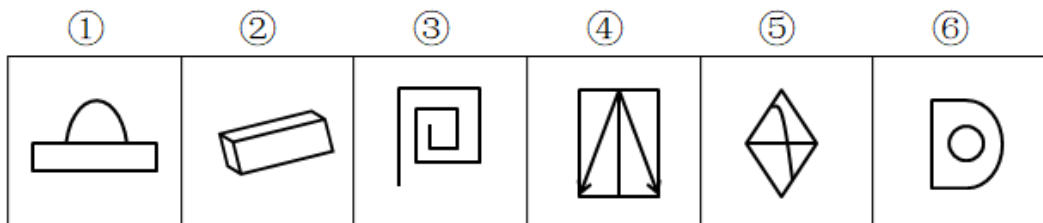
A. 如上图所示      B. 如上图所示      C. 如上图所示      D. 如上图所示

73. 从所给的四个选项中, 选择最合适的一个填入问号处, 使之呈现一定的规律性 ( ) :



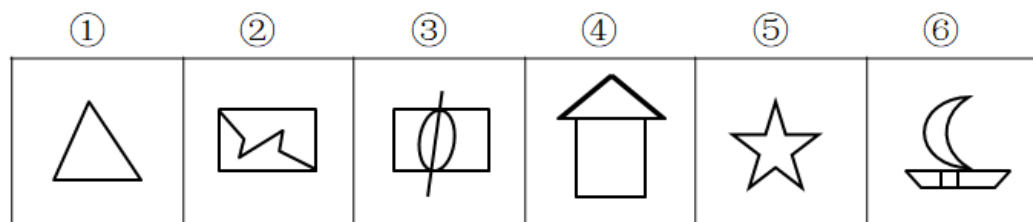
A. 如上图所示      B. 如上图所示      C. 如上图所示      D. 如上图所示

74. 把下列六个图形分为两类, 使每一类图形都有各自的共同特征或规律, 分类正确的是 ( ) :



A. ①②⑥, ③④⑤      B. ①②④, ③⑤⑥      C. ①④⑥, ②③⑤      D. ①⑤⑥, ②③④

75. 把下列六个图形分为两类, 使每一类图形都有各自的共同特征或规律, 分类正确的是 ( ) :



A. ①②⑤, ③④⑥      B. ①②④, ③⑤⑥      C. ①③⑤, ②④⑥      D. ①④⑥, ②③⑤

76. 在植物学上,植物组织是由来源相同和执行同一功能的一种或多种类型细胞集合而成的机构单位。

根据上述定义,下列属于植物组织的是:

- A. 番茄植株                      B. 番茄果实                      C. 番茄皮                      D. 番茄种子

77. 天体是指宇宙空间的物质的存在形式。

根据上述定义,下列属于天体的是:

- A. 天空中飞行的飞机                      B. 在太空运行的卫星  
C. 安全着陆的宇宙飞船                      D. 地球上的陨石

78. 信息资源管理是指对信息本身即信息内容实施管理的过程。

根据上述定义,下列不属于信息资源管理的是:

- A. 整理学习资料                      B. 生活垃圾的分类存放  
C. 整理听课笔记                      D. 整理计算机中的文件

79. 投资性房地产是指以赚取租金或资本增值为目的而持有的房地产。

根据上述定义,下列属于投资性房地产的是:

- A. 企业出租给本企业职工居住的宿舍  
B. 持有并准备增值后出售的房屋建筑物  
C. 房地产企业为销售而正在开发的商品房  
D. 持有并准备增值后转让的土地使用权

80. 不可抗力,是指在合同生效后,当事人不能预见、不能避免并且不能克服的客观情况。

根据上述定义,下列不属于不可抗力的是:

- A. 放射性污染  
B. 地震、飓风、台风或者火山活动  
C. 分包商人员造成的骚动、喧闹、混乱、罢工或停工  
D. 叛乱、恐怖主义、革命、暴动、军事政变、篡夺政权或内战

81. 寻衅滋事罪是指行为人为寻求刺激、发泄情绪、逞强耍横等,无事生非,进行扰乱破坏,情节恶劣的行为。

根据上述定义,下列可认定为寻衅滋事罪的是:

- A. 甲因宅基地纠纷将邻居家的电视机砸毁  
B. 乙因感情纠纷在路上随意殴打行人,情节恶劣

- C. 丙因债务纠纷将债务人的汽车偷走
- D. 丁因医患纠纷持刀挟持主治医生，情节恶劣

82. 社会助长作用又称社会促进现象，是指当他人 在场或与他人一起活动时，个体行为效率有提高的倾向。

根据上述定义，下列体现了社会助长作用的是：

- A. 学习比较复杂的材料时，单独一个人学习的成绩优于其他人在场情况下的成绩
- B. 为了检测知识掌握的牢固程度，小刘在复习完某一专题内容后会自主对着镜子进行模拟讲课的练习
- C. 辩论赛上，因为对方辩手提出了一个小亮从未考虑到的问题，导致小亮现场忘词，影响其正常水平的发挥
- D. 在课堂中进行探究活动时，分组探讨问题的学生，集思广益，更容易找到具有新颖性和创造性的问题解决办法

83. “隐性传播”是相对于“显性传播”而言的，是指在特定信息的传播过程中传播主体通过间接的、内隐的方式输出信息，使受众在潜移默化中受到暗示和感染，并逐步接受和认同信息内容的过程。

根据上述定义，下列古语中与“隐性传播”意思一致的是：

- A. 谈笑有鸿儒，往来无白丁
- B. 近朱者未必赤，近墨者未必黑
- C. 与善人居，如入芝兰之室，久而自芳也
- D. 出淤泥而不染，濯清涟而不妖

84. 丢块石头到水里，水波是逐步递减的，越向外冲击力越小，这就是“涟漪效应”

根据上述定义，下列体现了“涟漪效应”的是：

- A. 因某部电视剧而走红的明星L近期被曝出不配合海关检查，引发了舆论热潮
- B. 暴风雨来临之前，涉及区域的天气会发生变化，但暴风雨的中心地区反而是最宁静的
- C. 因兴奋在房室结区细跑传导速度较慢，传导延搁时间较长，所以才保证了心房和心室先后有序的收缩
- D. 现代国际社会中，一般来说市场开放程度小，处于全球化边缘的国家，受到危机的影响也小

85. 市场定位是指企业根据竞争者现有产品在市场上所处的位置，针对顾客对该类产品某些特征或属性的重视程度，强有力地塑造出本企业与众不同的、给人印象鲜明的个性或形

象，影响顾客对该产品的感受。

根据上述定义，下列涉及市场定位的是：

- A. 某品牌汽水为了迅速抢占市场，便趁着可乐的流行推出了“非可乐”的宣传方案
- B. 某酒厂商推出了一种低热量的“Lite”牌啤酒，将其定位为喝了不会发胖的啤酒
- C. 河南某报纸为转型发展，提出了“河南都市报市场，我们只是第二”的口号和目标
- D. 某汽车销售公司为提高市场知名度，在全国范围举行“一百万年薪营销总监”招聘活动

动

86. 问题：矛盾

- A. 感觉：知觉
- B. 书稿：小说
- C. 行动：思想
- D. 艺术：绘画

87. 投入：回报

- A. 虚拟：现实
- B. 伦理：价值
- C. 科技：先进
- D. 公平：效率

88. 公益：奉献

- A. 逃税：犯罪
- B. 知识：智慧
- C. 命令：执行
- D. 配置：资源

89. 差错：功亏一篑

- A. 关系：循规蹈矩
- B. 比较：并驾齐驱
- C. 才华：胸有成竹
- D. 坚韧：卧薪尝胆

90. 爱不释手：弃若敝履

- A. 镜花水月：杯弓蛇影
- B. 慢条斯理：雷厉风行
- C. 坐井观天：鼠目寸光
- D. 一丝不苟：粗枝大叶

91. 金融：货币：凭证

- A. 医疗：器械：工具
- B. 司法：法律：理论
- C. 建筑：地基：根基
- D. 音乐：乐谱：演奏

92. {a, b} : ∅ : {a}

- A. 化合物：混合物：纯净物
- B. 茶叶：毛尖：绿茶
- C. 直辖市：重庆市：上海市
- D. 学校：学生：教室

93. ( ) 对于 鲜花 相当于 塑造 对于 ( )

- A. 培育；钢铁
- B. 色彩；手法
- C. 植物；冶炼
- D. 百合；加工

94. 秩序对于 ( ) 相当于 ( ) 对于标准

- A. 规则；评判
- B. 破坏；制定
- C. 稳定；统一
- D. 遵守；执行

95. 震耳欲聋对于 ( ) 相当于 ( ) 对于比喻

- A. 震动；不可言喻  
B. 声音；恩重如山  
C. 音响；如释重负  
D. 夸张；绿草如茵

96. 货币具有支付功能，人民币是货币，所以人民币具有支付功能。

下列与上述推理方式一致的是：

- A. 有些商品物美价廉，因此有些便宜的商品是高质量的商品  
B. 所有上班族外出都乘坐地铁，小周上班时都乘坐地铁，所以小周是上班族  
C. 艺术专业的学生都是多才多艺的，小张是艺术专业的学生，所以小张多才多艺  
D. 三好学生都遵守校规校纪，有些学生遵守校规校纪，所以有些学生是三好学生

97. 在一次业务考核中，甲乙丙三人每人参与行政、销售、翻译考核中的一项。已知：甲参与的考核不要用外语；参与翻译考核的是翻译部唯一的男职工；丙是女职工，没有参与销售考核。

则甲乙丙参与的考核分别是：

- A. 翻译、销售、行政  
B. 销售、行政、翻译  
C. 翻译、行政、销售  
D. 销售、翻译、行政

98. 有研究者对1280名年龄在4岁左右的志愿者进行追踪研究。试验初始时，测试结果显示34人体重正常（BM30）。6年后测试显示，在超重者中，BM每增加一个单位，大脑皮层就变薄0.098毫米。该研究得出结论：大脑随着年龄增长逐渐衰老，身体肥胖则会加速大脑衰老进程。

下列哪项如果为真，最能削弱上述结论？

- A. 大脑皮层的厚度减少往往导致智力降低和认知能力下降  
B. 吸烟可加速大脑衰老，被试者中的超重者都具有多年的吸烟习惯  
C. 65岁以前体重超标、腰围粗、肚子大都可能会使大脑皮层变薄  
D. 大脑皮层变薄、脑灰质减少是导致老年痴呆风险增加的主要原因之一

99. 诈骗电话最主要的特征就是呼出频次过高，发送短信过多，这是不法分子广泛撒网的主要方式。因此，有电信公司将平均日拨100余个电话的设置为电信网络诈骗电话，并将其停机。

下列哪项如果为真，最能质疑上述电信公司做法的合理性？

- A. 诈骗电话利用非实名电话或改号电话实施呼叫，以避免被停机  
B. 快递员、物业人员、民警等的电话需要多频次呼出，但不是诈骗电话  
C. 电信及金融机构全面、严格、精准地落实实名制才能彻底打击电信诈骗

D. 对公共服务电话进行停机或作“诈骗”“骚扰”等标记会导致难以挽回的损失

100. 研究表明, 创新在经济社会发展中的作用日益突出, 谁在创新方面占据优势, 谁就能够在经济发展上掌握主动。

下列哪项如果为真, 最能支持题干的观点?

- A. 创新是现实经济中的惯例化和常规化的活动
- B. 亚洲一些国家长期跟随欧美国家的科研导向, 也取得了巨大进步
- C. 整个社会对创新活动的投入较高, 重要产出的国际技术竞争力增强
- D. 全球经济论坛指出, 最具创新精神的国家, 其全球经济竞争力一直名列前茅

101. 下列哪项列出的是书架与对应书籍可能的组合?

- A. 甲书架就政治类、哲学类; 乙书架放经济类、科技类; 丙书架放文化类、历史类
- B. 甲书架放经济类、哲学类; 乙书架放文化类、历史类; 丙书架放政治类、科技类
- C. 甲书架就政治类、历史类; 乙书架放经济类、哲学类; 丙书架放文化类、科技类
- D. 甲书架放文化类、哲学类; 乙书架放经济类、科技类; 丙书架放政治类、历史类

102. 如果甲书架放文化类和哲学类, 则:

- A. 丙书架放科技类
- B. 乙书架放经济类
- C. 政治类和科技类放到同一书架上
- D. 经济类和历史类放到同一书架上

103. 如果丙书架放经济类、历史类书籍, 甲书架上可放置的书籍种类是:

- A. 政治类和哲学类
- B. 政治类和科技类
- C. 文化类和哲学类
- D. 文化类和科技类

104. 丙书架上不可能放置的书籍组合是:

- A. 经济类和科技类
- B. 经济类和文化类
- C. 科技类和哲学类
- D. 政治类和科技类

105. 乙书架上不可能放置的书籍组合是:

- A. 政治类和哲学类
- B. 文化类和哲学类
- C. 经济类和文化类
- D. 经济类和历史类

## 第五部分 资料分析

### 【资料】

2019年7月, 全国原煤产量3.2亿吨, 增速比上月加快1.8个百分点; 日均产量1039万吨,



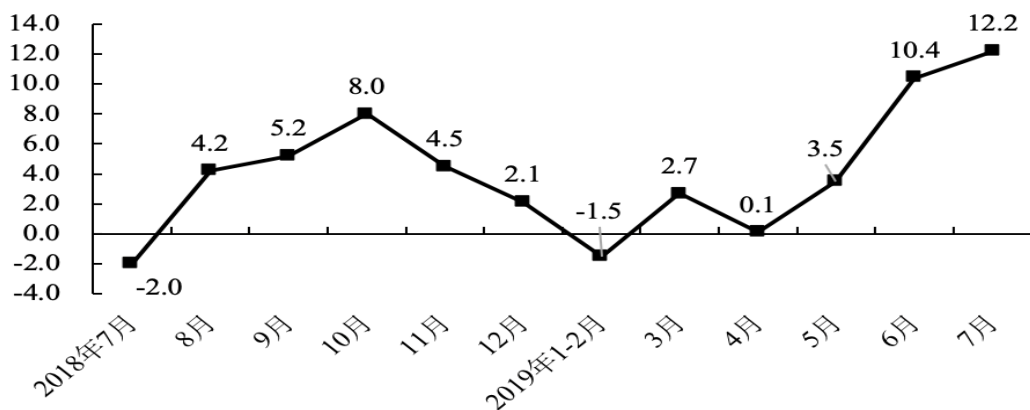
比上月减少72万吨。2019年1—7月，全国原煤产量20.9亿吨，同比增长4.3%。2019年7月，全国进口煤炭3289万吨，同比增长13.4%，比上月增加579万吨；2019年1—7月，全国进口煤炭18736万吨，同比增长7.0%。

2019年7月，全国生产原油1629万吨，同比增长2.5%，增速比上月加快1.5个百分点；日均产量52.5万吨，比上月减少1.2万吨，2019年1—7月，全国生产原油11131万吨，同比增长1.0%。

2019年7月，全国进口原油4104万吨，同比增长13.9%，比上月增加146万吨。2019年1—7月，全国进口原油28564万吨，同比增长9.5%。

2019年7月，全国加工原油5260万吨，同比增长4.0%，增速比上月回落3.7个百分点。日均加工169.7万吨，比上月减少9.3万吨，2019年1—7月，全国加工原油36973万吨，同比增长5.6%。2019年7月，全国生产天然气139亿立方米，同比增长6.1%，增速比上月回落7.0个百分点；日均产量4.5亿立方米，比上月减少0.1亿立方米。2019年1—7月，全国生产天然气1003亿立方米，同比增长9.7%。2019年7月，全国进口天然气789万吨，同比增长7.0%，比上月增加37万吨；2019年1—7月，全国进口天然气5474万吨，同比增长10.8%。

2019年7月，全国发电6573亿千瓦时，同比增长0.6%，增速较上月回落22个百分点；日均发电212.0亿千瓦时，比上月增加17.5亿千瓦时。2019年1—7月，全国发电4.0万亿千瓦时，同比增长3.0%。分品种看，2019年7月，全国火电、风电增速由正转负，水电略有放缓，核电、太阳能发电加快，其中，火电，风电分别下降1.6%和10.8%，上月分别增长0.1%和11.9%；水电增长6.3%，增速比上月放缓0.6个百分点；核电、太阳能发电分别增长18.2%和13.2%，分别加快0.4和5.8个百分点。



2018年7月—2019年7月全国原煤产量同比增速月度走势图

106. 2019年6月，全国原煤产量约为：

- A. 2.5亿吨                      B. 2.6亿吨                      C. 2.8亿吨                      D. 3.3亿吨

107. 2018年, 第一、二季度全国进口煤炭:
- A. 14221万吨            B. 14610万吨            C. 15447万吨            D. 15836万吨
108. 2019年7月, 各类能源同比增长速度按由大到小的顺序排列正确的是:
- A. 进口原油、进口煤炭、原煤产量、加工原油  
B. 生产天然气、进口天然气、进口原油、加工原油  
C. 水电、太阳能发电、进口原油、原煤产量  
D. 太阳能发电、核能发电、火电、风电
109. 2019年3—7月, 全国原煤产量每月高于上年同期的有:
- A. 2个                    B. 3个                    C. 4个                    D. 5个
110. 下列能从上述资料推出的是:
- A. 2018年, 全国煤炭产量最高的月份是10月份  
B. 2019年6月, 全国日均发电约1945亿千瓦时  
C. 2018年1—7月, 全国进口原油约为26086万吨  
D. 2019年1—7月, 全国加工原油约是全国进口原油的2倍

**【资料】**

2019年全国夏粮播种面积26354千公顷(39531万亩), 比2018年下降1.3%。其中夏收谷物播种面积23414千公顷(35120万亩), 比2018年下降1.8%; 谷物中小麦播种面积22984千公顷(34477万亩), 比2018年下降1.8%。

2019年全国夏粮单位面积产量5378.3公斤/公顷(358.6公斤/亩), 比2018年增长3.5%。其中, 夏收谷物单位面积产量372公斤/亩, 比2018年增长39%; 谷物中小麦单位面积产量380.1公斤/亩, 比2018年增长3.9%。

2019年全国夏粮总产量14174万吨(2835亿斤), 比2018年增长2.1%。其中夏收谷物产量13248万吨(2650亿斤), 比2018年增加260.8万吨(52.2亿斤), 增长2.0%; 谷物中小麦产量13106万吨(2621亿斤), 比2018年增长2.1%。

2019年各地区夏粮产量

	播种面积 (千公顷)	总产量 (万吨)	每公顷产量 (公斤)
全国总计	26354.0	14174.1	5378.3
北京	8.2	4.5	5427.6
天津	101.1	60.5	5980.0
河北	2346.7	1476.6	6292.1
山西	554.8	227.7	4103.6
上海	10.9	6.2	5747.1
江苏	2451.1	1356.6	5534.9
浙江	127.4	47.5	3729.0
安徽	2836.4	1657.0	5842.1
福建	53.2	23.1	4329.4
江西	70.2	26.3	3747.9
山东	4002.7	2553.3	6378.9
河南	5718.7	3745.4	6549.4
湖北	1253.7	457.0	3645.1
湖南	102.5	41.3	4043.7
广东	135.9	63.6	4684.2
广西	104.6	20.0	1915.4
海南	22.7	9.9	4359.4
重庆	375.7	120.1	3197.7
四川	1103.4	422.9	3806.0
贵州	826.2	233.9	2836.0
云南	974.1	243.6	2500.8
陕西	1104.3	420.3	3806.0
甘肃	881.3	327.2	3712.7
宁夏	119.3	36.6	3064.2
新疆	1068.8	593.0	5548.4

注：1、甘肃，宁夏，新疆部分地区小麦收获尚未完成，3省区的数据为预计数。

2、因计算机自动进位原因，分省合计数与全国数略有差异

111. 2019年全国夏粮播种面积比2018年全国夏粮播种面积减少：

- A. 348.9万亩      B. 432.1万亩      C. 520.7万亩      D. 619.7万亩

112. 2018年全国夏粮谷物中小麦单位面积产量约为：

- A. 5349公斤/公顷      B. 5487公斤/公顷      C. 5548公斤/公顷      D. 5642公斤/公顷

113. 2019年各地区夏粮产量播种面积最大的地区约占全国夏粮播种面积的：

- A. 15.1%      B. 21.7%      C. 22.5%      D. 26.1%

114. 2019年各地区夏粮产量每亩产量最高的地区是：

- A. 河南      B. 河北      C. 新疆      D. 山东

115. 下列能从上述资料推出的是:

- A. 2019年全国夏粮总产量约比2018年增加58.3亿斤
- B. 2019年夏粮产量较2018年增长最少的是谷物中小麦产量
- C. 2018年播种面积中,小麦播种面积占夏粮播种面积的85.6%
- D. 2018年夏收谷物单位产量约为377.2公斤/亩

**【资料】**

2019年上半年邮政行业运行情况显示,上半年,邮政行业业务收入(不包括邮政储蓄银行直接营业收入)累计完成4528.6亿元,同比增长21.1%;业务总量累计完成7158.5亿元,同比增长29.5%。

6月份,全行业业务收入完成816.6亿元,同比增长22%;业务总量完成1369.1亿元,同比增长35.8%。

上半年,邮政服务业务总量累计完成1183.2亿元,同比增长20%;邮政寄递服务业务量累计完成119.3亿件,同比增长0.5%;邮政寄递服务业务收入累计完成209.4亿元,同比增长7.1%。

6月份,邮政服务业务总量完成198.2亿元,同比增长22.9%;邮政寄递服务业务量完成19.7亿件,同比增长1.1%;邮政寄递服务业务收入完成32.7亿元,同比增长8.9%。

上半年,邮政函件业务累计完成11.5亿件,同比下降21.5%;包裹业务累计完成1083.7万件,同比下降11%;报纸业务累计完成83.8亿份,同比下降3.3%;杂志业务累计完成3.9亿份,同比下降5%;汇兑业务累计完成918.8万笔,同比下降32.6%。

上半年,全国快递服务企业业务量累计完成277.6亿件,同比增长25.7%;业务收入累计完成3396.7亿元,同比增长23.7%。其中,同城业务量累计完成50.8亿件,同比下降0.2%;异地业务量累计完成220.4亿件,同比增长33.9%;国际/港澳台业务量累计完成6.3亿件,同比增长21.2%。

6月份,全国快递服务企业业务量完成54.6亿件,同比增长29.1%;业务收入完成643.2亿元,同比增长26.5%。

116. 2018年上半年,邮政行业全行业业务收入约为:

- A. 3462.1亿元
- B. 3684亿元
- C. 3739.6亿元
- D. 3978.8亿元

117. 2019年6月邮政寄递服务业务收入约占2019年上半年邮政寄递服务业务收入的:

- A. 13.5%
- B. 15.6%
- C. 16.6%
- D. 18.6%

118. 2019年上半年,报纸业务累计完成约比2018年同期减少:

- A. 1.1亿份                      B. 1.6亿份                      C. 2.1亿份                      D. 2.9亿份

119. 下列能够正确描述2019年上半年国际港澳台、同城、异地累计完成业务量的统计图是：



A.



B.



C.



D.

120. 下列不能从上述资料推出的是：

- A. 2018年上半年，邮政函件累计完成业务量约为14.6亿件
- B. 2018年上半年，全国快递服务企业累计完成业务量约为220.8亿件
- C. 2019年上半年，包裹业务累计完成业务量约比去年同期增加1339万件
- D. 2019年上半年，邮政寄递服务业务收入约占2019年邮政行业业务收入的4.6%

## 2019 年开封市事业单位招聘考试真题

### 第一部分 常识判断

(在每小题的四个备选答案中,只有一个最符合题目要求,请将正确的答案的代码填涂在答题卡的相应位置上,不选,错选该小题均不得分)

1. 2019 年 1 月 2 日,《告( ) 同胞书》发表 40 周年纪念会在北京人民大会堂隆重举行,中共中央总书记,国家主席,中央军委主席习近平出席纪念会并发表重要讲话。

- A. 香港                      B. 澳门                      C. 台湾                      D. 海外华侨

2. 由于大陆和海洋在一年之中增热和冷却程度不同,在大陆和海洋之间大范围的有规律改变的风,称为季风。对于季风下来说法错误的是( )

- A. 随着风向的变化,天气和气候也发生明显的变化,  
B. 中国古称信风,意为这种风的方向随着季节而变,  
C. 亚洲地区冬季盛行西北季风,夏季盛行西南季风  
D. 季风现象是否明确,和大陆所在纬度位置没有关系

3. 2019 年 2 月 26 日,国家退役军人( )中心在北京正式挂牌成立,该中心主要承担退役军人就业,创业扶持,优抚帮扶,走访慰问,信访扶持,权益保障等事务性工作,是退役军人服务保障体系的重要组成部分。

- A. 服务                      B. 保障                      C. 就业                      D. 信访

4. 1978 年 12 月 18 日,中国共产党召开十一届三中全会,开启了( )和社会主义现代化的伟大征程

- A. 加入 WTO                      B. 市场经济                      C. 改革开放                      D. 国企改革

5. 如果一个生态系统受到的外界干扰,超出它本身的自动调节能力,就会破坏生态平衡,带来严重后果,以下行为中,会破坏生态平衡的是( )

- A. 在某草原全年持续放牧                      B. 在某农田多年种植小麦  
C. 在某鱼塘常年养鱼捕鱼                      D. 在某林场采伐老死树木

6. 2018 年 11 月 30 日,习近平主席出席在阿根廷举行的( )领导人第十三次峰会并对该国进行国事访问

- A. 金砖国家                      B. 二十四国集团                      C. 上合组织                      D. 七国集团

7. 地球是一个略扁的正球体,以恒定速度绕地轴由西向东自转,越靠近赤道,发射卫星时借助地球自转获得的向东的线速度越大,使用相同的火箭可以将更重的物品送入太空,

因此在（ ）设立发射场是更加经济的选择

- A. 低纬度地区      B. 高纬度地区      C. 低经度地区      D. 高经度地区

8. 据统计，每年5月至10月是汽车自燃的高峰期，消防部门曾对机动车自燃事故进行过分析，其中小轿车火灾居多，占40%以上；行驶状态下发生火灾居多，占70%左右；火灾原因以电线短路居多，占60%以上。对此，下列说法不正确的是（ ）

- A. 汽车燃烧3分钟内，在可控的情况下可以自己灭火  
B. 如果燃烧超过3分钟，要选择弃车逃生，并求助消防部门  
C. 因会形成空气对流，导致火势喷发，灭火时不能打开引擎盖  
D. 灭火时可以打开引擎盖，但要事先把灭火器准备好

9. 甲和乙是好朋友，均为成年人，某日，两人相约去水库钓鱼，水库并未设置警示标志，他们就随意站在台阶上，突然鱼上钩了，由于鱼大的原因，他们在拉鱼竿的过程中，乙一不小心掉到了水里，溺水身亡，对此，下列说法正确的是（ ）

- A. 水库属于对公众开放的公共场所，对乙的身亡水库管理者应负责任  
B. 甲和乙结伴同行，甲没保护好乙，应对乙的身亡负主要责任  
C. 乙作为成年人，应清楚到水库钓鱼的危险性，应对自己行为负责  
D. 水库管理者、甲和乙，三方共同为乙的身亡负责

10. 关于比特币，下列说法错误的是（ ）

- A. 比特币挖矿机就是用于赚取比特币的计算机，计算机下载挖矿软件然后运行特定算法，与远方服务器通讯后可得到相应比特币，是获取比特币的方式之一  
B. 比特币（Bitcoin）是一种由开源的P2P软件产生的网络虚拟货币  
C. 并不是任何一台电脑都能成为挖矿机的  
D. 比特币的发行和交易的完成是通过挖矿来实现的，它以一个确定的但不断减慢的速率被铸造出来

## 第二部分 言语理解与表达

（在每小题的四个备选答案中，只有一个最符合题目要求，请将正确的答案的代码填涂在答题卡上的三个位置上。不选，错选该小题均不得分）

11. 统计造假既是老问题，也是大难题，一些地方政绩观扭曲，法治观落后，通过非法行政干预给统计数据库“往来”，“抹油”。更有甚者，设立虚高指标倒逼各级层层加码，（ ）直接向企业下达数据造假任务。由此可见，统计造假（ ）是一个关乎统计数据真实准确的经济问题，（ ）关乎统计法权威的法治问题，更是对党忠诚与否的党性问题

- A. 甚至，不仅，而且  
B. 乃至，虽然，可是  
C. 并且，尽管，毕竟  
D. 骤然，不但，并且

12. 家长开跑车接送孩子，这属于家长的权利，只要没有在接送孩子时故意炫耀，也（ ），总不能要求家长专门再买一辆车来接送孩子，老师的态度应该是（ ），对所有家长，学生（ ），要培养孩子自立自强，提醒家长注意培养孩子正确的财富观。

- A. 无伤大雅，审时度势，比量齐观  
B. 无可厚非，不卑不亢，一视同仁  
C. 按部就班，宠辱不惊，不分畛域  
D. 不足挂齿，纵横捭阖，量才录用

13. 有一种伤害叫“我给你带了点旅游纪念品”。不仅国内景区的旅游纪念品（ ），在国外热门景点，也充斥着中国产的旅游纪念品，甚至不用出国，就能在网上买到所谓“旅游纪念品”。这些旅游纪念品大多在浙江义乌等地生产，加工，出货，以至于有人（ ），“义乌人民出去旅游一定没啥意思吧，毕竟纪念品都是从你们那拿货的。”

- A. 千篇一律，调侃  
B. 别树一帜，嘲讽  
C. 五花八门，揶揄  
D. 如出一辙，夸赞

14. “儿童血铅第一案”被央视曝光，其危害无疑（ ）。按理说在这种情况下，受害民众的维权应该比较顺利才对。然而，实际情况却（ ），这令人感到十分遗憾。不过，受害者家属如今终于“守得云开见月明”，也有不容忽视的积极意义。

- A. 举足轻重，救经引足  
B. 至关重要，适得其反  
C. 如火如荼，拖泥带水  
D. 不容小觑，事与愿违

15. 消费是国情的一面镜子。有钱才能消费，有保障才敢消费，这依然是（ ）的道理，做大消费蛋糕，（ ）是要充实人民群众的钱袋子。

- A. 玉律金科，情理之中  
B. 颠扑不破，归根到底  
C. 毋庸置疑，情理之中  
D. 集腋成裘，归根到底

16. 应该关注到不同群体的消费意愿差异，从制度层面精准发力以（ ）消费能力。要下决心解决好房地产问题，坚决（ ）房价上涨，（ ）购房对消费产生的挤出效应。

- A. 激发，遏制，缓和  
B. 控制，制止，减轻  
C. 激活，遏制，缓解  
D. 管控，阻挠，舒缓

17. “今夜月明人尽，望不知思秋，秋思落谁家。”在中国人的精神星空中，始终高悬着一轮（ ）的中秋圆月。映照大家对佳节所深蕴的文化价值的认同，（ ）的是我们爱国爱家的家国情怀，（ ）的是新时代中国特色社会主义的文化沃土。

- A. 亘古不变，寄托，培植  
B. 无可比拟，依附，孕育





为监督机构能（ ），织密防线，有些可能无法提前预判预防，及时查处，还需要消费者绷紧防范风险这根弦。

- A. 各执己见屡见不鲜有备无患  
B. 各执一词层出不穷防患未然  
C. 各行其道司空见惯未焚徙薪  
D. 聚讼不已遍地开花遇新防萌

24. 大理洱海治污，这两年动静颇大，无论是（ ）全年封湖禁渔，还是一口气关停上千家客栈，都展示了地方主政者的治污（ ）。洱海需要保护，污染需要治理，这是（ ）的，但在此期间的一些治污手段和做法，也是争议缠身，这次上演的铲蒜风波，是为最新一例。

- A. 实施 决心 拭目以待  
B. 执行 声势 无可厚非  
C. 推行 魄力 毋庸置疑  
D. 施行 信心 不置可否

25. 惩戒骗子，治理软文发布平台，有些问题不容规避：其一，（ ）的软文平台究竟由谁来管，治理主题亟待明确；其二，软文广告既能存在于各类平台之中，那么相关方是否也应当承担连带责任，其三，很多网站稀里糊涂的发不了软文，是否应（ ）更深层次的追问范糊涂的原因

- A. 百花齐放，抛砖引玉，  
B. 遍地开花，举一反三，  
C. 层出不穷，触类旁通  
D. 屡见不鲜，群策群力

26. 某市提出，发展租赁型职工集体宿舍，增加供给。规范管理、加强保障，为的就是更好的解决城市务工人员的住宿问题，这些年，对进城务工者来说，“住”的难题始终存在，有些人进入工业企业单位，不“包吃包住”，就得自己找住处，特别是在保洁，物业，餐饮等服务行业中，从业者大都居无定所飘来飘去，随着服务业比重的提升以及城镇化进程的推进，这一问题将更为凸显，近年来不少城市相继采取了整治群租房，改进城中村等措施，这有利于城市改善面貌、维护公共安全、实现长远发展，但客观上也一定程度减少了低价住房供给，导致一些打工者不得不搬离城市中心，住的越来越远，乃至每天通勤往返数十公里，生活质量大打折扣，这段文字最合适的标题是（ ）

- A. 集体宿舍，又“回来”了  
B. 给打工者一张舒适的床  
C. 展望未来，租赁型集体宿舍落了地  
D. 地尽其能，物尽其用

27. 每年十一黄金周过后，舆论场上都会出现一波呼吁增加法定节假日，增设黄金周的声浪，这种舆论声浪主要有两股力量汇成。其一是广大劳动者的朴素愿望，其二则是各路专家的建言献策，对许多上班族而言，现有的假期机构难以充分满足其需求，人们之所以日复一日地抛出“增设假期”，也是基于现实需求。在这个问题上上班族们快了绝非对休假贪得

无厌，许多专门研究休假问题的专家对此都持认同态度，近日北京外国语大学文创产业研究中心旅游研究所所长刘思敏就在接受采访时强调，现下休假结构不合理，可探亲访友、出门旅游的长假过于稀缺，作者接下来最有可能讲述的是？

- A. 解决“低质量假期”的预想
- B. 带薪年假可以解决休假结构不合理
- C. 休假结构不合理，导致人们感到“假慌”
- D. 如何让带薪年假制度全面落实？

28. 假期间，不少游客选择在民宿住宿，订单量和评价是最重要的参考依据，但是记者调查发现无论订单数量还是评价内容都有可能是刷出来的，这几年民宿很火，预计到 2020 年市场交易规模有望达到 500 亿元，市场潜力可见一斑，刷单是民宿行业暗藏的一颗毒瘤，必须引起重视。民宿刷单并非第一次进入公共舆论视线，去年央视就有报道云南丽江有不少客栈实行网络刷单，利用虚假网络宣传误导消费者。有业内人士就透露当前一些民宿客栈的从业者日均花费在刷单上的成本可能高达上千元，期间的猫腻让人咋舌。作者接下来最不可能讲述的是？

- A. 加大惩治其法律法规的执行力度
- B. 外部力量倒逼平台落实把关责任
- C. 逐步出台和完善民族的管理办法
- D. 刷单现象扭曲市场竞争机制。

29. ①一只苍蝇会毁了一盘好菜，好端端的革命檄文成了穿越网文，足以拉低整个博物馆的品味。

②博物馆是为公众提供知识、教育和欣赏的专业文化机构，是积淀人类文明的圣地，丰富的馆藏、专业的介绍当属最基本的要求。

③因此渭南市博物馆推出了《讨陈檄文》与历史完全不同的消息一经传出，遂即引发公众关注。

④民国初期革命将将领的檄文引用的竟然是近百年后的网络文章，博物馆如此“穿越”，也是醉了

- ⑤民国陕西名将胡景记发表的《讨陈檄文》是民国护法运动时期一篇流传甚广的文献。
- ⑥这篇檄文标志着陕西靖国军讨陈（陈世藩）讨段（段祺瑞）（均是皖系军阀）的开始。
- ⑦而在当时，他也密切配合了全国的护法运动。

- A. ⑥⑦④①⑤②③
- B. ⑤⑥①②③⑦④
- C. ⑤⑥⑦④①②③
- D. ⑦④⑤⑥①②③

30. 海外的中餐馆，佐餐调料必备“番茄酱”。据说这是中餐厨师迎合外国人口味的诀

窍。在“文化走出去”的实践中，有很多这样的“番茄酱”。例如，常驻比利时的华侨经常建言来这里进行文化推广的中方演出公司，一定要在演出的曲目里加入《蓝精灵之歌》。每当这首曲目响起，不论以何种方式演奏或演唱，都会得到当地观众雷鸣般的掌声和全体起立致敬。这样的“番茄酱”不是小心机，而是对对方文化和习惯的尊重，才有了“敬人者，人恒敬之”的效果。

对这段文字的主旨理解最准确的是：

- A. 中餐西做是海外中餐馆在开拓市场和转型升级方面长期探索而获得的成功法宝
- B. 重塑中国文化自信，大力推动中国文化走出去，已经成为时代课题
- C. 中国元素走世界，可以从“中餐西做”的模式里获取一剂破题良方
- D. 我们在“中国文化走出去”过程中所做的调整、适应，也是一种创新

31. ①陕北乡村里把剪花好的妇女称为“花匠”

②在北方乡村，几乎每个妇女都会剪纸

③日常生活的需求造就了北方乡村庞大的剪纸传承人群——妇女

④陕北俗语曰：“会生娃的，就会剪花。”

⑤北方许多节日中都习惯使用剪纸，婚丧俗中也会使用剪纸

⑥剪纸也体现着一个女人的人格价值，剪花好的女人会受到其他妇女的尊重

将上述文字进行排列，语序正确的一项是：

- A. ②①④⑥⑤③
- B. ⑤③②④①⑥
- C. ③②①④⑤⑥
- D. ⑥④⑤③②①

32. 节假日综合症是人们在假期之后出现的各种生理或心理表现，例如在节后的几天里感觉厌倦，提不起精神，上班和学习效率低，甚至有不明原因的恶心、神经衰弱等。北京大学医学部公共卫生学院教授马冠生建议，节后饮食可以适当减少肉类的摄入，多吃谷类食物和绿色蔬菜，不过马冠生还强调“‘只吃素食有利于健康’也是不科学的，因为如果吃得过于清淡，也会造成微量营养素和优质蛋白质的摄入量不足。”另外，有预防节假日综合症经验的白领跳跳（化名）对中新网表示，节后适度运动可重新获取元气，比如进行一些有氧运动，跑步、打球等，让自己心跳加速、出出汗，就能让自己状态快速回来，尤其是胃口大好。

以下说法，符合文意的是：

- A. 节假日综合症是人们在假期之后出现的各种生理表现
- B. 专家建议缓解节假日综合症要减少肉类摄入，增加谷类食物和水果的摄入量

- C. 节后为缓解节假日综合症一味吃素，也会导致身体中微量元素和蛋白质的摄入不足
- D. 节假日之后可进行有氧运动，如跑步、打篮球等运动可帮助我们的身体恢复状态

33. 市场回暖让钢铁业迎来了休养生息的宝贵契机，在这个当口，千万别被价格上涨冲昏了头脑。要抑制产能扩张的冲动、把握好产量增加的节奏，避免重蹈产能过剩的覆辙。同时也要抓住有利时机，把过去几年没能力、没精力做的事情尽快抓起来。比如积极盘活现有资产、处置不良资产、压缩资金占用，把负债率降下去，以便日后轻装上阵；又如应加强技术创新、提升产品性能、拓展高端品种，以期为未来发展增添动力。最紧要的任务之一是加大环保投入、实现绿色发展。

这段文字的主旨是：

- A. 钢铁企业应当保持清醒，防止“头脑过热”
- B. 钢铁价波动可能带来市场变化
- C. 抓紧上升时机，推进供给侧改革
- D. 轻装上阵持续绿色健康发展

34. 吃着涪陵榨菜，喝着二锅头，出门共享单车，购物拼多多……在有些人看来，时下这些挂在不少人嘴上的口头禅所映射的问题是，因为口袋瘪了，许多老百姓不得不购买和消费那些低价商品，用学术语言来说就是国内市场出现了消费降级。

接下来作者最有可能论述的是：

- A. 选择低价使用商品是消费心态的升级
- B. 强化消费升级的持续动能
- C. 支撑市场出现的消费降级的事实依据
- D. 国内市场消费升级趋势不可逆转

35. 同样加一箱汽油，乙醇汽油会让汽车行驶的距离少跑几十千米，主要原因在于乙醇的热值只有汽油的 61%，混合后必然会降低整体热值，也意味着相同单位体积的两种汽油，乙醇汽油的发动机做功更少，汽车行驶的距离自然也就缩短。不过，这种差距并不大。美国对两种汽油的巡航能力进行过 16 万千米的对比试验，跑相同的里程，乙醇汽油比普通汽油增加油耗 3%-4%。如果乙醇汽油的价格不降低，甚至比普通汽油更高，再加上乙醇在燃烧后不仅产出水和二氧化碳，还会产生乙酸，对汽车金属部件有腐蚀作用，排出的尾气中水分也比较多，对排气管也可能造成损耗，以及在相同的储存条件下，乙醇汽油比普通汽油更容易变质，并且其含水量超标之后还会发生液相分离，对发动机和油路系统也可能造成损害。

这段文字的中心意思是：

- A. 乙醇汽油会损耗汽车部件  
B. 使用乙醇汽油消费者将增加用车成本  
C. 普通汽油比乙醇汽油的油耗要小  
D. 乙醇汽油车的瓶颈需要技术改善

36. 遍布城市大街小巷的垃圾桶一般都会分成两类：一个专收可回收垃圾，一个专收不可回收垃圾。但真正能够将可回收的与不可回收的垃圾分开的人，少之又少。近些年，国家在环保方面的政策和措施不断出台。垃圾分类就是推动环境保护的一个重要手段。但这远远不够。应该培养民众垃圾分类的意识让民众学会辨别垃圾，认识并享受到垃圾分类的好处，鼓励民众积极参与到垃圾分类实践中。在全社会取得支持垃圾分类的共识。

文章最恰当的标题：

- A. 来一场垃圾分类的全民教育  
B. 垃圾分类就是推动环境保护的重要手段  
C. 解决垃圾分类刻不容缓  
D. 环保事业是每个人的责任

37. 中消协发布 2016 年全国消协组织受理汽车产品投诉情况分析，2016 年，全国消费者协会投诉与咨询信息系统共录入受理汽车产品（含零部件）投诉 15247 件。从投诉性质分析，售后服务投诉 4164 件，合同投诉 3748 件，质量投诉 3670 件，价格投诉 486 件，安全投诉 69 件，虚假宣传投诉 182 件，假冒投诉 144 件，人格尊严投诉 13 件，计量投诉 9 件，其他投诉 3178 件。

与这段文字文意相符的是：

- A. 从投诉数量来看，消费者的维权意识更强  
B. 售后服务、合同、质量方面的投诉占总投诉量的绝大部分  
C. 中国汽车的总体质量堪忧  
D. 所有投诉均获得了较好的解决

38. 如果将阿里巴巴视为中国企业履行社会责任的样本，基本能看到企业社会责任在中国的发展路径。早在 2006 年，新颁布实施的公司法，首次明确企业公司从事经营活动，必须“承担社会责任”。至此，企业社会责任不仅是“道德血液”，法律亦有了标示性规定，2006 年也被认为是中国企业社会责任元年。十多年过去，舆论及公众对企业社会责任有了更多元的考量。就像美国学者詹姆士·穆尔在《竞争的衰亡》中提出的“商业生态系统”一样，企业社会责任，越来越成为立体而丰盈的生态概念。

接下来作者最有可能论述的是：

- A. 阿里巴巴是如何履行社会责任的

- B. 中国企业应怎样履行社会责任
- C. 中国企业履行社会责任的现状
- D. 美国优秀企业的经验

39. 国际话语权是国家文化软实力的重要组成部分。当前，我国国际话语权的提升仍然面临诸多掣肘，主要表现有：在回应国际舆论对我国政策的歪曲和对我国制度的抹黑上比较乏力，“有理说不清”；在国际舆论议题设置上缺乏足够能力，常常只能被动接受；在外交政策的实行与国际责任的承担上，我们做得合理合法合情，却经常遭到西方的无端指责，这段文字主要是想说明？

- A. 缺
- B. 缺
- C. 缺
- D. 敌强我弱的国际舆论格局仍未改变。

40. 多边主义是在三个或三个以上国家间协调国家政策与行动的国际交往活动，它蕴含着国家之间要通过协议来达到非歧视性规则和秩序的要求，强调各方在处理对外关系是约束自身行为，以谈判方式协调彼此利益合作解决有关问题，当前世界主要的多边机构。有联合国国际货币基金组织，世界银行，世界贸易组织等多边主义，体现平等协商，开放包容，合作共赢等精神，这些精神已越来越成为国际社会的共识，对世界和平与发展具有重大意义，这段文字主要是想说明？

- A. 我国坚定维护多边贸易体制
- B. 规则多边主义是世界秩序稳定的重要基础
- C. 多边主义符合时代潮流是大势所趋
- D. 多边主义体现的是国际社会的共识

### 第三部分 数量关系

（在每小题的四个备选答案中，只有一个最符合题目要求，请将正确答案的代码填涂在答题卡的相应位置上，不选、错选，该小题均不得分。）

数字推理（给你一个数列，但其中缺少一项，要求你仔细观察数列的排列规律，然后从四个供选择的选项中选择你认为最合理的一项来填补空缺项，使之符合原数列的排列规律。）

41. 6, 13, 19, 32, 51, ( )
- A. 55
  - B. 57
  - C. 83
  - D. 68

42. 1, 2, 3, 4, 1, 8, 27, ( )  
A. 54                      B. 64                      C. 73                      D. 84
43. 17, 27, 40, 57, 80, ( )  
A. 98                      B. 82                      C. 110                      D. 113
44. 874562, 26547, 7452, 257, ( )  
A. 75                      B. 78                      C. 25                      D. 27
45. 1, 3, 5, 7, 1, 9, 125, ( )  
A. 343                      B. 240                      C. 49                      D. 81
46. 0, 4, 14, 32, 60, ( )  
A. 100                      B. 120                      C. 80                      D. 90
47. 143, 521, 1232, 602, 71, ( )  
A. 124                      B. 513                      C. 206                      D. 423
48. ( )64, 81, 32, 1  
A. 94                      B. 102                      C. 25                      D. 78
49. ( ), 49, 144, 289, 484  
A. 1                      B. 4                      C. 9                      D. 11
50. 7, 26, 33, 59, 92, ( )  
A. 151                      B. 163                      C. 175                      D. 188

数学运算(在这部分试题中, 每道试题呈现一段表述数字关系的文字, 要求你迅速准确地计算出答案)

51. 某单位订购了 335 本学习周报杂志, 发给 3 个楼层共有 10 个部门, 要求每个楼层至少发 100 本, 每个部门至少发 15 本。那么发的最多的那个部门最多发 ( ) 本?

- A. 135                      B. 145                      C. 126                      D. 116

51. 银行周测试试卷共 50 题, 每题 2 分, 答对的话可得 2 分, 答错扣除 2 分, 不答扣除 1 分, 小刘是单位职员, 他共得了 83 分, 那么这次考试他答对了 ( ) 题?

- A. 43                      B. 44                      C. 45                      D. 46

53. 小冯将自己的公会福利金 200 元按照一年期存入银行, 到期后取出来 100 元给儿子买玩具, 剩下的 100 元和应得的利息又按一年期存入, 若存款的年利率保持不变, 这样到期后可得本金和利息共 132 元, 这种存款的年利率是:

- A. 8%                      B. 10%                      C. 15%                      D. 20%



54. 一个电动车厂为了生产电动车, 编号依次为 101, 103, 105, ..., 则编号为 303 的电动车是第 ( ) 辆?

- A. 102                      B. 103                      C. 104                      D. 105

55. 小张骑着自行车和小刘骑着电动车在铁路旁行驶, 小张速度为 18 千米/小时, 小刘速度为 54 千米/小时, 这时有一列火车从后面开来, 火车通过小张用时 15 秒, 通过小刘用时 18 秒。火车的车身长度是 ( ) 米。

- A. 740                      B. 830                      C. 900                      D. 1600

56. 一根卷尺对折三次后, 从中间剪断, 共剪成 ( ) 段?

- A. 5                          B. 8                          C. 9                          D. 12

57. 老师要和学生拍照片, 共六人, 如果班长和老师必须站中间, 班里一对双胞胎要站在一起, 一共有 ( ) 种排列方式。

- A. 14                      B. 15                      C. 16                      D. 18

58. 新玛特商场周年庆, 进行促销活动, 提供两种“满减”优惠券: 满 200 元减 50 元, 满 500 元减 100 元, 另外, 在使用了满 500 元减 100 元的优惠券后还能再打九折, 一次减 50 元购物只能使用其中一张优惠券。小刘使用了优惠券后, 在此网店购物一共花费了 350 元, 则他购买了原价为 ( ) 元的商品。

- A. 400                      B. 385                      C. 530                      D. 560

59. 一瓶美容精华液, 每天敷脸时使用 6 毫升, 8 天后使用了全部精华液的 10%, 假如每天使用的量不变, 则余下的精华液 ( ) 天能使用完。

- A. 68                      B. 72                      C. 84                      D. 93

60. 某单位要翻修会议室, 总预算为 25 万元, 计划十二天完成, 后经调整, 缩短了三天, 实际花费比总预算节省了 30%。已知材料费用占节省费用的 40%, 工人工时费占节省费用的 40%, 则材料比工人工时少花费 ( ) 元。

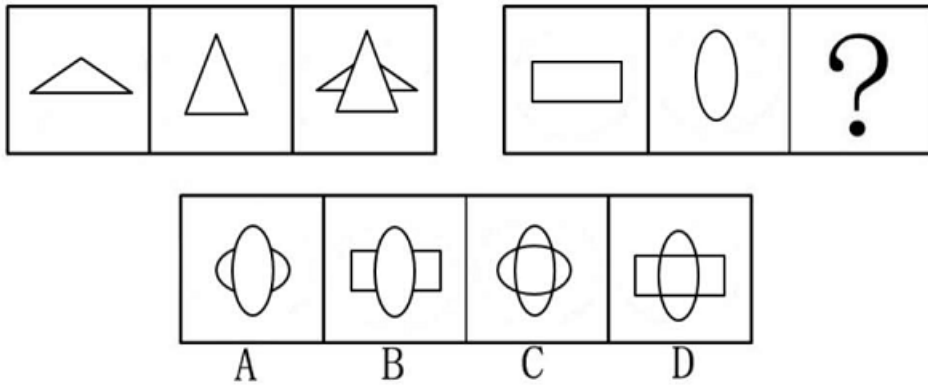
- A. 3540                      B. 3680                      C. 3750                      D. 3800

#### 第四部分 判断推理

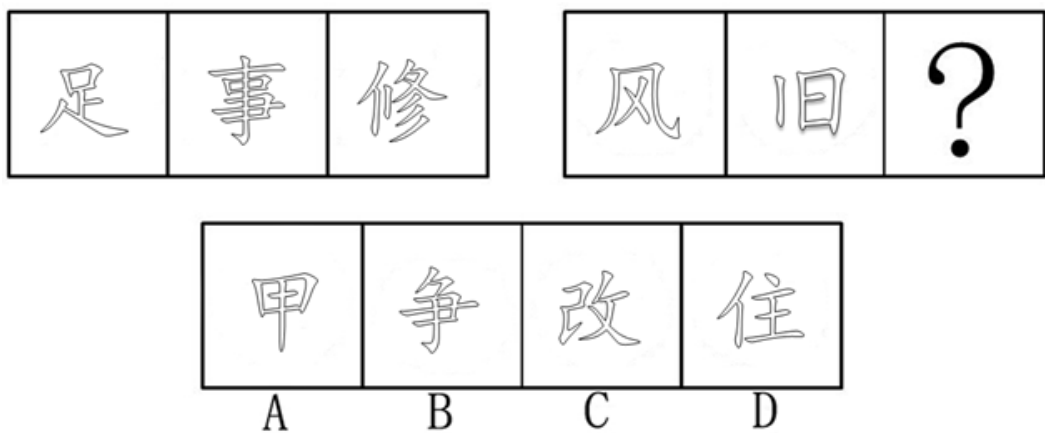
(在每小题的四个备选答案中, 只有一个最符合题目要求, 请将正确答案的代码填涂在答题卡的相应位置上, 不选、错选该小题均不得分。)

图形推理(每道题包含两套图形和可供选择的 4 个图形。这两套图形具有某种相似性, 也存在某种差异。要求你从四个选项中选择你认为最适合取代问号的一个。正确的答案应不仅使两套图形表现出最大的相似性, 而且使第二套图形也表现出自己的特征)

61. 从所给的四个选项中，选择最合适的一个填入问号处，使之呈现一定的规律性：

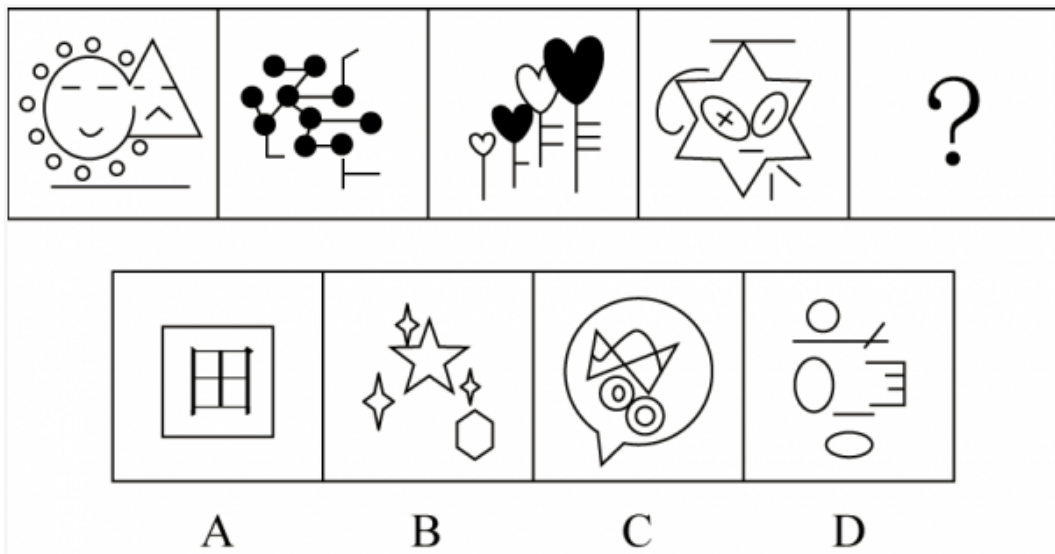


62. 从所给的四个选项中选择最合适的一个填入问号处，使之呈现一定的规律性。



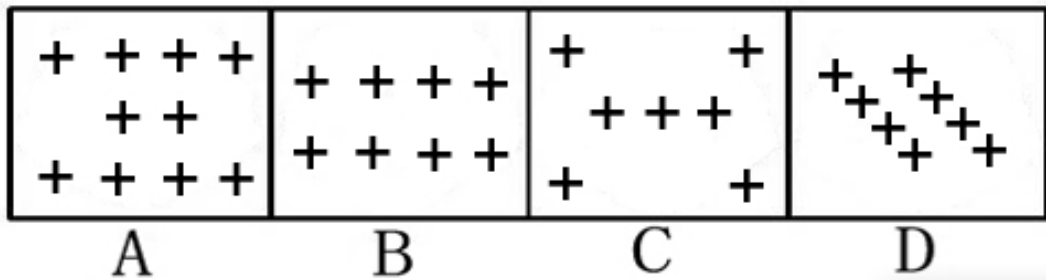

A. 如上图所示      B. 如上图所示      C. 如上图所示      D. 如上图所示

63. 从所给四个选项中选择最合适的一个填入问号处，使之呈现一定的规律性。



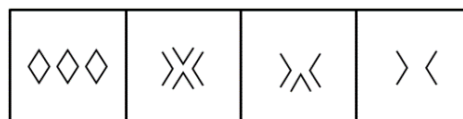
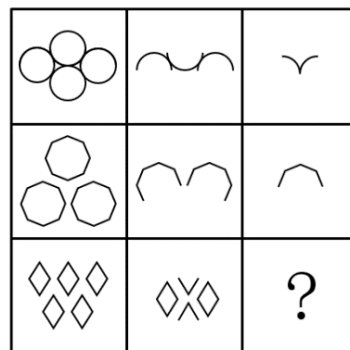
A. 如上图所示      B. 如上图所示      C. 如上图所示      D. 如上图所示

64. 从所给的四个选项中选择最合适的一个填入问号处使之呈现一定的规律性。



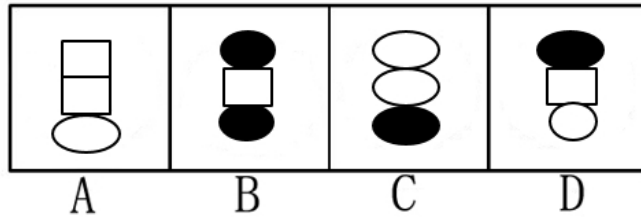
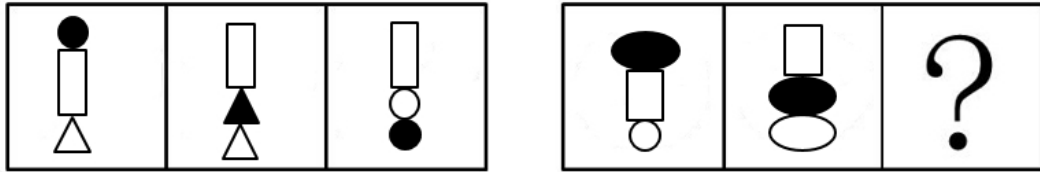
A. 如上图所示      B. 如上图所示      C. 如上图所示      D. 如上图所示

65. 从所给的四个选项中, 选择最合适的一个填入问号处, 使之呈现一定的规律性:



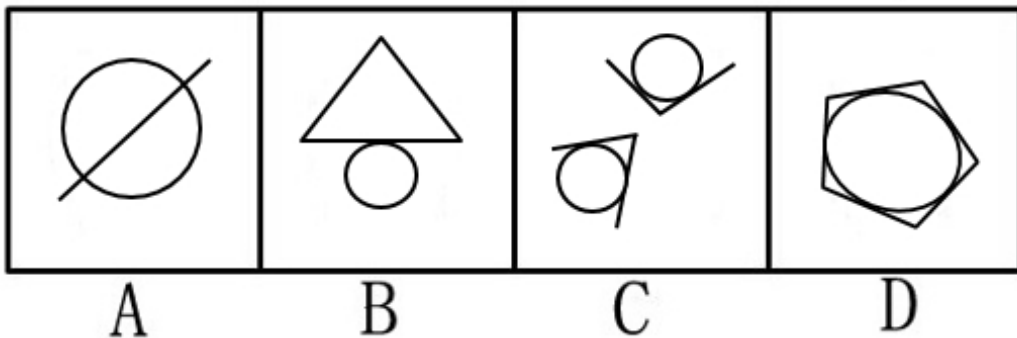
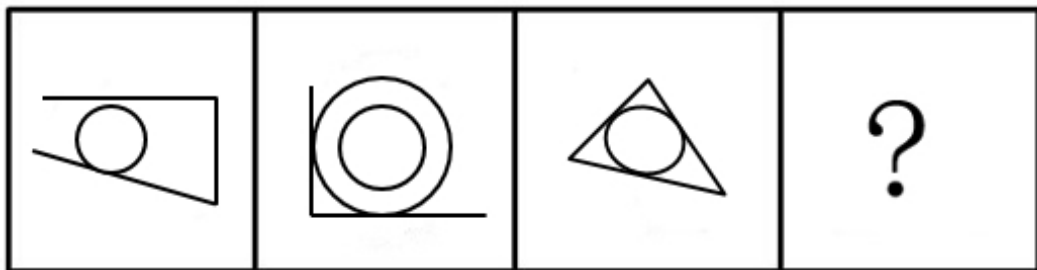
A. 如上图所示      B. 如上图所示      C. 如上图所示      D. 如上图所示

66. 从所给的四个选项中, 选择最合适的一个填入问号处, 使之呈现一定的规律性:



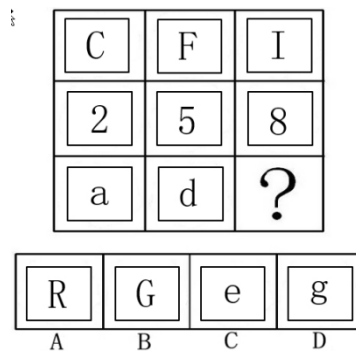
- A. 如上图所示      B. 如上图所示      C. 如上图所示      D. 如上图所示

67. 从所给的四个选项中, 选择最合适的一个填入问号处, 使之呈现一定的规律性:



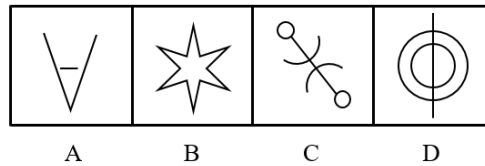

- A. 如上图所示      B. 如上图所示      C. 如上图所示      D. 如上图所示

68. 从所给的四个选项中, 选择最合适的一个填入问号处, 使之呈现一定的规律性:



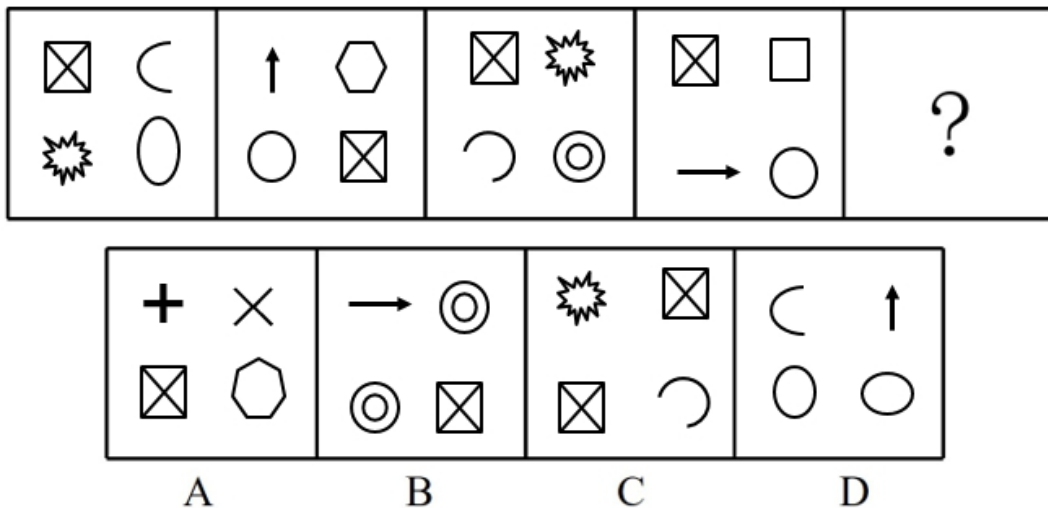
- A. 如上图所示      B. 如上图所示      C. 如上图所示      D. 如上图所示

69. 从所给的四个选项中, 选择最合适的一个填入问号处, 使之呈现一定的规律性:



- A. 如上图所示      B. 如上图所示      C. 如上图所示      D. 如上图所示

70. 从所给的四个选项中, 选择最合适的一个填入问号处, 使之呈现一定的规律性:



- A. 如上图所示      B. 如上图所示      C. 如上图所示      D. 如上图所示

**定义判断** (每道题先给出一个概念的定义, 然后分别列出四种行为, 要求你严格依据定义从中这出一个最符合或最不符合该定义的答案。注意, 假设这个定义是正确的。不容置疑的)

71. 边界效应, 是推人们喜爱逗留在区域的边缘, 而区域开敞的中间地带是最后的这择。一般来说, 边界是众多信息汇聚的地方。它具有异质性, 是变化的所在, 容易产生特殊的现象, 受到人们的关注。

根据上述定义, 下列属于边界效应的是

- A. 通常看电视的时候喜欢躺在沙发边  
B. 小李每次开会都选择靠边的位置坐下

- C. 小张上地铁后走向了人比较少的座位
- D. 小王每次和孩子下围棋总喜欢从角落开始布棋子

72. 相机调控，是指政府根据市场情况和各项调节措施的特点，灵活机动地决定和选择当前究竟应采用哪一种或哪几种政策措施

根据上述定义，下列选项能体现相机调控的是（ ）

- A. 新个税法正式实施，新设 6 项专项附加扣除
- B. 全面启动实施全国范围内统一的城乡居民医保制度，为城乡居民提供方便快捷的服务
- C. 制定计划生育扶助保障补助国家基础标准，独生子女补助标准提高
- D. 根据一二三四线城市房地产市场的不同特点，制定了有针对性的契税房贷政策

73. 刻板效应，又称定型效应，是指人们对某类社会对象形成了固定的印象，并对以后有关该类对象的直觉产生强烈的影响

下列各项属于刻板效应的是（ ）

- A. 在你心目中一直属于无德无才的同学升官了，让你非常惊讶
- B. 有句老话叫“猫来穷，狗来富”
- C. 一些人始终认为 80 后独生子女都是自私的
- D. 某学科老师灵活书本知识，给学生留下了好印象。

74. 信用卡，是指商业银行或者其他金融机构发行的具有消费支付信用贷款、转账、结算、存取现金等全部功能或者部分功能的电子支付卡

根据上述定义，下列关于信用卡的使用，说法正确的是

- A. 这个月记不清借了多少，大体还是那么多数字，就算没还够也只差很少，利息也很少
- B. 信用卡可以借钱，我收入很低，因此申请信用卡对我帮助很大
- C. 信用卡有最低还款额度，因此我借了很多钱还上的时候，只要还最低额度就够了
- D. 信用卡可以透支取现，所以碰到急事我可以取一些现金出来用，这时对我很方便

75. 企业战略联盟是两个或两个以上的经济实体（一般指企业，如果企业间的某续部门达成联盟关系，也使用此定义）为了实现特定的战略目标而采取的共担风险、共享利益的长期联合与合作协议。

根据上述定义，下列属于企业战略联盟的是

- A. 小张将自己的发明专利授权某公司长期使用。所得利润按协议分配
- B. 英国汽车公司为了增加市场份额与日本汽车公司合作，相互传递技术、共同研究开发，开拓欧洲市场

C. 某职业技术学校为了促进学生就业和某化工公司合作实习。学生毕业后可直接上岗就业

D. 医院和医疗器械公司签订合同，所有器械均由此器械公司提供

76. 晕轮效应，是指在人际交往过程中形成的一种夸大的图象，就像是日、月的光辉。在云雾的作用下扩大到四周，无成一束光环。晕轮效应常表现在个体评价他人时的一种以偏概全的倾向，也就是说当个体对某个人的某种特征形成好或坏的印象后，还倾向于据此推论该人其他方面的特征。

根据上述定义，下列属于晕轮效应的是

A. 小王经常偷东西被告，但是由于他在班里学习成绩很好，老师一直评他为“三好学生”

B. 《三国演义》中曾与诸葛亮齐名的庞统去拜见孙权，“权见其人浓眉掀鼻，黑面短髯、形容古怪，心中不喜”

C. 小张刚进入到社团，社团同学都帮助过他，小张认为社团所有人都对他很好

D. 小孙的唱歌功底很好，但是在一次单位晚会中却发挥失常，大家都说他见不得场面。

77. 同类群体影响力：是指人们对他人（尤其是类似群体）的行为总会作出某种反应；类似程度越高，影响力越大。比如对某种良好行为规范大力宣传，往往会成为所谓的“磁心”，吸引人们效仿。

根据上述定义，下列不属于同类群体影响力的是

A 小李自从从数学班升级到奥数班以后，在同学的带领下，学习的积极性明显提升

B 论文抄袭是一种学术欺诈行为，在一些大学里为了升学率竟然愈演愈烈

C 某市要求有电动车的市民必须到定点单位办理相关手续

D. 某市政府对跳水救了孩子的小王进行了大力精神和物质奖励，该市见义勇为的情形越来越多

78. 视觉隐喻，指经过特别设计的视觉画面具有隐喻的功能，此时形象不再单纯是日常生活中的物体。而具有规定情境中的某种含义。

根据上述定义，下列不属于视觉隐喻的是：

A. 黑帮电影在枪战前设计放飞和平鸽以对比平静中潜藏的杀机

B. 许多公司将标志的主色调设定为蓝色以暗示企业的稳重可靠

C. 梵高的《星空》以粗犷夸张的线条体现了画家躁动不安的情感

D. 动物摄影师拍摄弱肉强食的纪录片并配音介绍其所体现的丛林法则

79. 规模经济是指由于生产专业化水平的提高等原因, 使企业的单位成本下降, 从而形成企业的长期平均成本随着产量的增加而递减的经济; 范围经济是指由企业通过扩大经营范围, 增加产品种类, 生产两种或两种以上产品而引起单位成本降低的经济。

根据上述定义, 下列选项中不属于范围经济的是:

- A. 某酒厂生产多种度数白酒, 发现研发、生产、销售的成本比分别生产一种度数要低
- B. 某广告公司做平面广告时利润非常少, 于是公司拓展新业务, 开始接拍各类宣传片, 结果人员成本降低, 企业抗风险能力也增强了
- C. 某手机厂引进了新的进口芯片, 生产效率明显提高, 成本降低
- D. 某小微贷款企业原来只经营单一业务, 在面临财务危机后进行了改革, 混合经营理财、投资、保险等不同业务, 整体效益增加

80. 暗示效应是指在无对抗的条件下用含蓄、抽象诱导的间接方法对人们的心理和行为产生影响, 从而诱导人们按照一定的方式去行动或接受一定的意见, 使其思想、行为与暗示者期望的目标相符合。一般说来, 儿童比成人更容易接受暗示。

根据上述定义, 下列没有体现暗示效应的一项是:

- A. 班主任王老师经常在集体场合对一些学生好的行为进行表扬
- B. 某酒厂在超市将自己生产的酒摆放在两种国际名酒之间, 结果销量大增
- C. 越是名校, 得到的投资建设越多; 不出名的学校, 几乎得不到什么投资建设
- D. 与直接回答“喜欢什么水果”相比, 孩子们更倾向于从“喜欢橘子还是香蕉”中选择

### 类比推理

81、汽车：轮胎（ ）

- A. 水杯：水
- B. 花盆：叶子
- C. 电脑：鼠标
- D. 铅笔：笔芯

82、政府：官员（ ）

- A. 司机：乘客
- B. 主持人：播音
- C. 酒店：旅游
- D. 项目：工程师

83、投掷：石头（ ）

- A. 火箭：发射
- B. 书写：钢笔
- C. 鸟语：花香
- D. 性格：古怪

84、风俗：习惯（ ）

- A. 旅游：放松
- B. 跳高：跳跃
- C. 试卷：考试
- D. 电脑：购物

85、水果：香蕉（ ）

- A. 香梨：芒果
- B. 大海：长江
- C. 适用房：商品房
- D. 山：高阳山

86、视频：播放：软件（ ）



- A. 基金：投资：账户                      B. 水果：农民：种植  
C. 超市：付款：二维码                    D. 鼠标：双击：电脑
- 87、发表对于（ ），相当于（ ）对于海报  
A. 期刊 社区                      B. 文字 图片                      C. 论文 张贴                      D. 表达 设计
- 88、钱钟书：《围城》  
A. 歌德：《威尼斯商人》                      B. 莎士比亚：《仲夏夜之梦》  
C. 《野草》：鲁迅                      D. 宋钢：《兄弟》
- 89，牡丹富：贵花  
A. 韩松：耐冬                      B. 茶花：帝女花                      C. 水仙花：天葱                      D. 康乃馨：亲情
- 90、护照：证件：身份  
A. 电视：媒体：消息                      B. 权利：人民：服务  
C. 车间：生产：工程师                      D. 学生证：通行证：学生

**逻辑判断**

91. 班会开始前十分钟，小张发现有学生没有提前到会。

如果这个命题为真，则下列陈述不能断定真假的是：

- I. 小王是第一个提前到班的学生  
II. 班会主持人小杨提前到会了  
III. 不是所有的学生都提前到班
- A. I 和 II                      B. I、II、III                      C. I 和 III                      D. 只有 I

92. 一直以来，作为“三公消费”的重要组成部分，公车消费受到社会的极大关注。公车消费不规范导致的公车私用行为，耗费巨额公帑，被群众称为“车轮上的腐败”，为社会所深恶痛绝。公车私用导致的“车轮腐败”，对公共部门的形象造成极大自戕，更撕裂了干群之间的紧密联系，成为将公共部门拖向“塔西佗陷阱”的勾魂索，严重剥蚀了政府和群众之间的公信力基石。

根据这段文字，不能推出的是：

- A. 群众反腐意识提高导致公车消费受到社会的关注  
B. 人民群众对公车私用的现象深恶痛绝  
C. 公车私用损害干部与群众之间的关系  
D. 公车私用侵蚀政府与群众之间公信力的基石

93. 只有解决好就业问题，才能真正消除贫困。因此，在社会救助制度中，不仅要对社会

会救助对象提供金钱和实物的救助,而且要对其提供就业援助服务,变下游干预为上游干预,促进受救助者自力更生、自食其力,最终摆脱贫困。将“输血式”救助与“造血式”帮扶有机结合,将物质救助和提供综合性服务有机结合,将救助政策与扶贫政策以及促进就业政策有机结合,建立新型城镇贫困人口就业援助制度,是解决我国城镇贫困人口问题的根本出路。

根据这段文字,可以推出的是:

- A. 消除贫困只能靠解决好就业问题
- B. 建立就业援助制度就能解决贫困
- C. 我国社会救助制度极其不完善
- D. 新型贫困人口就业援助制度是解决贫困的关键

94. 教育部门积极推行“学校后勤社会化”改革,很多初、高中学校都不再直接经营食堂,而是把校内食堂承包给了个人或餐饮企业来经营。学校食堂对外承包,一是可以为学校创收;二是可以利用社会资源,更好地为师生在食堂就餐提供优质的服务,满足师生在饮食上的不同需求。

根据这段文字,可以推出的是:

- A. 食堂外包是学校后勤社会化方式之一
- B. 我国初、高中学校都实行后勤社会化
- C. 提供优质的就餐服务须利用社会资源
- D. 满足不同的饮食需求须外包学校食堂

95. “独立电影”一词来源于英文“Independent Film”,也被称为独立制片电影。最初,独立电影只是好莱坞电影的专有名词,是相对主流电影而言由创作者自己筹资拍摄的低成本电影。这类电影的共同点在于创作者在摄制过程中拥有最高的创作操控权利。正因为此,独立电影常常呈现出比主流电影更加多元化的创作面貌。独立电影的核心始终是独立精神,不受制于商业机制,不以盈利为第一目的,以创作者的个人表达为主,追求创作的自主与自由。

根据以上文字,可以推出的是:

- A. 在独立电影摄制过程中创作者拥有创作操控权利
- B. 只有好莱坞电影才能使用“独立电影”这一名词
- C. 独立电影是指由创作者自己筹资拍摄的电影
- D. 独立电影不需要考虑盈利

96. 喜爱旅游的人通常比不喜爱旅游的人心情愉悦,因此,多外出旅游有助于让人心情

愉悦。

如果下列选项为真，则最能构成对上述结论质疑的是：

- A. 旅游需要一笔不小的花销，会造成经济负担
- B. 外出旅游的人通常都是心情愉悦的乐天派
- C. 在旅游前需要做好功课，这是一项繁杂的工作
- D. 不少人没有很多时间外出旅游

97. 饮料中的大量甜味素进入人体后（尤其是儿童）很难降解，进而影响造血功能，因此儿童喝饮料过多易导致白血病。

如果下列选项为真，则最能构成对上述结论质疑的是：

- A. 白血病的诱因与感染、化学因素、放射因素和遗传因素有关
- B. 部分儿童的身体机能对甜味素的降解较好
- C. 并非所有患白血病的儿童都喝饮料
- D. 现在很多饮料不添加甜味素

98. 选择鸡蛋时应尽可能选择白色外壳的鸡蛋，因为白壳鸡蛋的蛋白质含量更高。

如果下列选项为真，则最能构成对上述结论质疑的是：

- A. 大部分鸡蛋的颜色处于深色和白色之间
- B. 蛋壳颜色的形成后于蛋内物质的形成
- C. 白皮鸡蛋的个头一般比其他鸡蛋略小
- D. 各人对鸡蛋蛋白质的吸收程度不同

99. 某技工学校进行班会大赛，赛前学生们对参赛的一班、二班、三班和四班的成绩做了三种估计：①三班获得冠军，二班获得亚军；②三班获得亚军，四班得第三名；③一班获亚军，四班得第四名。然而，实际的比赛结果显示以上三种估计中，每种均对了一半，错了一半。

由此推出，比赛结果一到四名的顺序为：

- A. 第四班、第二班、第一班、第三班
- B. 第三班、第一班、第四班、第二班
- C. 第一班、第二班、第三班、第四班
- D. 第三班、第四班、第二班、第一班

100. 河南大学艺术专业有 42 名同学，关于这些同学，小张小李小赵有如下讨论：

小张说：有些同学是河南人

小李说：牛牛不是河南人

小赵说：有些同学不是河南人

然而三个人只有一个为真，以下哪个选项为真？

- A. 42 名同学都是河南人
- B. 有些同学不是河南人
- C. 牛牛不是河南人
- D. 42 名同学都不是河南人

## 第五部分 资料分析

本部分包括文字、图示和表格三种类型的题目，你应根据提供的资料信息进行分析、比较、计算、处理。

### 一、根据材料一，回答 101-105 题。

2018 年 1—2 月份，社会消费品零售总额 61082 亿元，同比名义增长 9.7%。其中，限额以上单位消费品零售额 23242 亿元，增长 8.3%。

一、消费品市场较为活跃，社会消费品零售总额增速比上年同期有所加快。

从同比看，1-2 月份，社会消费品零售总额 61082 亿元，同比增长 9.7%，增速比上年同期加快 0.2 个百分点。从环比看，剔除季节因素，1 月、2 月分别增长 0.59%和 0.76%。

二、网上零售蓬勃发展，增速继续加快

1-2 月份，全国网上零售额 12271 亿元，同比增长 37.3%，比上年同期提高 5.4 个百分点。其中，实物商品零售额 9073 亿元，增长 35.6%，比社会消费品零售总额增速高 25.9 个百分点，比上年同期提高 10.1 个百分点。

三、消费结构加快转型，升级类商品零售快速增长

部分与消费升级相关商品继续保持较快增长。1-2 月份，限额以上单位化妆品、家用电器等商品同比分别增长 12.5%和 9.2%，分别比上年同期加快 1.9 和 3.6 个百分点，通讯器材类商品同比增长 10.7%，保持两位数较快增长。

汽车类商品增速提高是社会消费品零售总额增速加快的主要因素。受上年同期基数较低等因素影响，1-2 月份，限额以上单位汽车类商品增速明显回升，同比增长 9.7%，拉高社会消费品零售总额增速约 1.1 个百分点。

基本生活类商品继续平稳增长。1-2 月份，限额以上单位服装鞋帽、针、纺织品类，日用品类商品同比分别增长 7.7%和 10.1%，分别比上年同期加快 1.6 和 0.9 个百分点，粮油食品类增长 9.7%，与上年同期持平。

受上年同期增速较高等因素影响，文化类商品和部分居住类商品增速有所回落。1-2月份，限额以上单位文化办公、书报杂志类商品零售额同比下降；家具和建筑及装潢材料类商品同比增速分别比上年同期回落 3.3 和 6.1 个百分点。

101. 2017 年 1-2 月，社会消费零售总额同比增速为：

- A. 8.7%                      B. 9.5%                      C. 6.9%                      D. 7.8%

102. 2018 年 1-2 月份，实物商品零售额占全国网上零售总额的比重为：

- A. 20%                      B. 26%                      C. 35%                      D. 74%

103. 2018 年 1-2 月份，全国网上零售额比上年增长了（ ）亿元？

- A. 3315                      B. 2800                      C. 2600                      D. 2500

104. 2017 年 1-2 月，同比增速最快的是：

- A. 日用品类  
B. 限额以上的化妆品  
C. 限额以上的家用电器  
D. 限额以上单位服装鞋帽、针、纺织品类

105. 根据 2018 年 1-2 月数据，下列说法不正确的是：

- A. 各类商品的同比增长速度均高于去年同期  
B. 家具同比增速比上年同期回落 3.3 个百分点  
C. 1-2 月份，限额以上单位化妆品比上年同期加快 1.9 百分点  
D. 日用品类商品比上年同期加快 0.9 个百分点

二、根据材料二，回答 106-110 题。

图13 2014-2018年快递业务量及其增长速度



106. 快递业务量与去年相比，增长量最大的年份是：

A. 2016 年                      B. 2017 年                      C. 2018 年                      D. 2015 年

107. 2014-2018 年快递业务量平均每年约收发 ( ) 亿件?

A. 312                              B. 313                              C. 299                              D. 287

108. 2017 年快递业务量比 2016 年增长了约:

A. 20%                              B. 28%                              C. 30%                              D. 35%

109. 2018 年比 2015 年快递业务量增长了 ( ) 亿件

A. 295.3                              B. 314.9                              C. 289.7                              D. 300.4

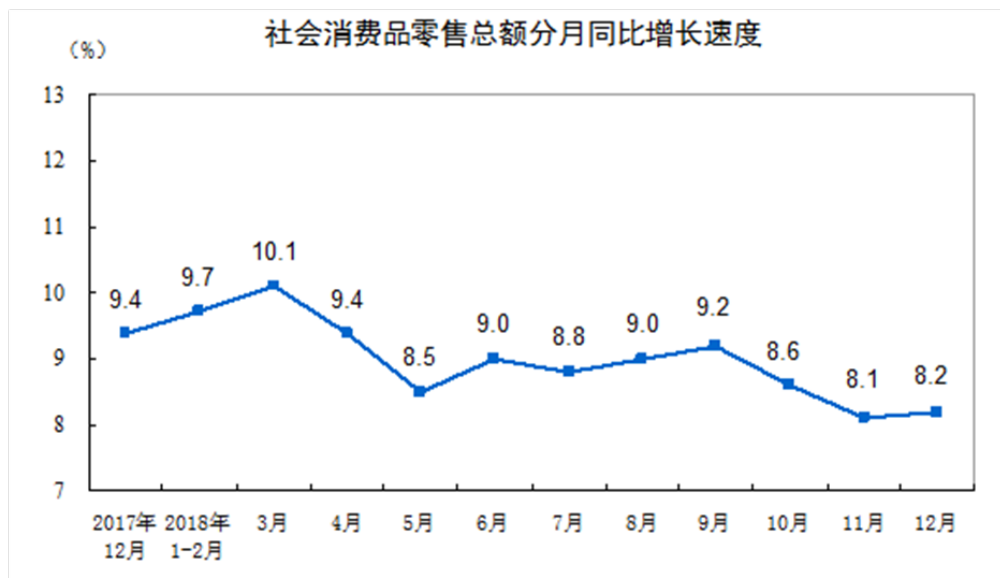
110. 下列说法不正确的是:

- A. 快递业务量增速最大的是 2014 年                      B. 快递业务量增速最少的是 2017 年  
C. 快递业务量数值最大的是 2018 年                      D. 快递业务量数值最少的是 2014 年

**三、根据材料三，回答 111-115 题。**

2018 年 1-12 月，社会消费品零售总额 380987 亿元，比上年增长 9.0% (扣除价格因素实际增长 6.9%，以下除特殊说明外均为名义增长)，增速比 1-11 月略低 0.1 个百分点。其中，限额以上单位消费品零售额 145311 亿元，增长 5.7%。

2018 年 12 月份，社会消费品零售总额 35893 亿元，同比名义增长 8.2%，增速比 11 月份提高 0.1 个百分点。其中，限额以上单位消费品零售额 15084 亿元，增长 2.4%。



按经营单位所在地分，2018 年城镇消费品零售额 325637 亿元，比上年增长 8.8%；乡村消费品零售额 55350 亿元，增长 10.1%。其中，12 月份城镇消费品零售额 30329 亿元，同比增长 8.0%；乡村消费品零售额 5565 亿元，增长 9.3%。

按消费类型分，2018 年餐饮收入 42716 亿元，比上年增长 9.5%；商品零售 338271 亿元，

增长 8.9%。其中，12 月份餐饮收入 4422 亿元，同比增长 9.0%；商品零售 31472 亿元，增长 8.0%。

在商品零售中，2018 年限额以上单位商品零售 136075 亿元，比上年增长 5.7%。其中，12 月份限额以上单位商品零售 14175 亿元，同比增长 2.2%。

2018 年，全国网上零售额 90065 亿元，比上年增长 23.9%。其中，实物商品网上零售额 70198 亿元，增长 25.4%，占社会消费品零售总额的比重为 18.4%；在实物商品网上零售额中，吃、穿和用类商品分别增长 33.8%、22.0%和 25.9%。

2018 年，限额以上零售业单位中的超市、百货店、专业店和专卖店零售额比上年分别增长 6.8%、3.2%、6.2%和 1.8%。

2018年社会消费品零售总额主要数据

指 标	12月		1-12月	
	绝对量 (亿元)	同比增长 (%)	绝对量 (亿元)	同比增长 (%)
社会消费品零售总额	35893	8.2	380987	9.0
其中：限额以上单位消费品零售额	15084	2.4	145311	5.7
其中：实物商品网上零售额	-	-	70198	25.4
按经营地分				
城镇	30329	8.0	325637	8.8
乡村	5565	9.3	55350	10.1
按消费类型分				
餐饮收入	4422	9.0	42716	9.5
其中：限额以上单位餐饮收入	909	5.5	9236	6.4
商品零售	31472	8.0	338271	8.9
其中：限额以上单位商品零售	14175	2.2	136075	5.7
粮油、食品类	1403	11.3	13776	10.2
饮料类	187	9.2	2040	9.0
烟酒类	394	8.4	3873	7.4
服装鞋帽、针纺织品类	1541	7.4	13707	8.0
化妆品类	247	1.9	2619	9.6
金银珠宝类	276	2.3	2758	7.4
日用品类	545	16.8	5392	13.7
家用电器和音像器材类	936	13.9	8863	8.9
中西药品类	574	10.6	5593	9.4
文化办公用品类	386	-4.0	3264	3.0
家具类	251	12.7	2250	10.1
通讯器材类	406	-0.9	4371	7.1
石油及制品类	1736	5.8	19541	13.3
汽车类	4268	-8.5	38948	-2.4
建筑及装潢材料类	280	8.6	2498	8.1

注：1.此表速度均为未扣除价格因素的名义增速；  
2.此表中部分数据因四舍五入的原因，存在总计与分项合计不等的情况。

111. 2018 年 11 月份，全国社会消费品零售总额同比增长了约：

- A. 8.1%                      B. 8.2%                      C. 8.3%                      D. 8.4%

112. 从全国社会消费零售总额中，餐饮收入比商品零售同比增长的幅度是：

- A. 高 0.3 个百分点                      B. 高 0.6 个百分点  
C. 低 0.6 个百分点                      D. 低 0.3 个百分点

113. 从消费类型看, 2018年1-12月, 商品零售总额同比增速最大的是:
- A. 金银珠宝类      B. 汽车类      C. 石油及制品类      D. 日用品类
114. 从消费类型看, 2018年12月份, 商品零售总额同比变化量最大的是:
- A. 烟酒类      B. 石油及制品类      C. 汽车类      D. 家具类
115. 从消费类型看, 2018年12月份, 商品零售总额涨跌幅在7%以上的是:
- A. 汽车类      B. 文化办公用品类
- C. 金银珠宝类      D. 限额以上单位餐饮收入

#### 四、根据材料四, 回答116-120题。

2018年3月份, 全国居民消费价格同比上涨2.1%。其中, 城市上涨2.1%, 农村上涨1.9%; 食品价格上涨2.1%, 非食品价上涨2.1%; 消费品价格上涨1.6%, 服务价格上涨2.8%。一季度, 全国居民消费价格总水平比去年同期上涨2.1%。

3月份, 全国居民消费价格环比下降1.1%。其中, 城市下降1.1%, 农村下降1.2%; 食品价格下降4.2%, 非食品价格下降0.4%; 消费品价格下降1.4%, 服务价格下降0.7%。

食品烟酒价格同比上涨2.0%, 影响居民消费价格指数(CPI)上涨约0.61个百分点。其中, 蛋类价格上涨17.6%, 影响CPI上涨约0.09个百分点; 鲜菜价格上涨8.8%, 影响CPI上涨约0.22个百分点; 鲜果价格上涨7.4%, 影响CPI上涨约0.13个百分点; 水产品价格上涨5.6%, 影响CPI上涨约0.10个百分点; 畜肉类价格下降6.1%, 影响CPI下降约0.29个百分点(猪肉价格下降12.0%, 影响CPI下降约0.32个百分点)。

其他七大类价格同比均上涨。其中, 医疗保健、居住、教育文化和娱乐价格分别上涨5.7%、2.2%和2.2%, 生活用品及服务、其他用品和服务价格分别上涨1.6%和1.2%, 衣着、交通和通信价格分别上涨1.1%和0.3%。

食品烟酒价格环比下降2.8%, 影响CPI下降约0.85个百分点。其中, 鲜菜价格下降14.8%, 影响CPI下降约0.45个百分点; 畜肉类价格下降5.4%, 影响CPI下降约0.24个百分点(猪肉价格下降8.4%, 影响CPI下降约0.21个百分点); 蛋类、水产品、鲜果价格分别下降7.9%、3.2%和2.4%, 合计影响CPI下降约0.15个百分点。

其他七大类价格环比三涨四降。其中, 衣着、居住、医疗保健价格分别上涨0.6%、0.2%和0.2%; 教育文化和娱乐、交通和通信价格分别下降1.6%和1.5%, 其他用品和服务、生活用品及服务价格分别下降0.5%和0.2%。

116. 2018年3月份, 全国居民消费价格中食品烟酒价格同比上涨的有( )种。
- A. 2      B. 3      C. 4      D. 5



117. 2018年3月份,全国居民消费价格中其他七大类价格环比上涨的是:
- A. 交通和通讯价格    B. 医疗保健    C. 教育文化和娱乐    D. 生活用品
118. 2018年3月份,全国居民消费价格中食品烟酒价格同比上涨幅度最大的是:
- A. 蛋价    B. 鲜菜价格    C. 水产品价格    D. 鲜果价格
119. 2018年3月份,全国居民消费价格中食品烟酒价格对CPI上涨影响最大的是:
- A. 蛋价    B. 鲜菜价格    C. 水产品价格    D. 鲜果价格
120. 下列说法正确的是:
- A. 2018年3月份,全国居民消费价格涨幅城市比农村低
- B. 2018年3月份,全国居民消费价格同比环比均出现上涨
- C. 2018年3月份,全国居民消费价格消费品价格涨幅比服务价格低
- D. 2018年3月份,全国居民消费价格食品价格涨幅比非食品价格高

## 2019 年三门峡市事业单位招聘考试真题

### 第一部分 常识判断

- 2019 年，国际篮联篮球世界杯于 8 月 30 日晚正式拉开序幕，本届篮球世界杯吉祥物是：  
A. 梦之子                      B. 速虎                      C. 篮篮                      D. 球球
- 被誉为“中国天眼”的 500 米口径球面射电望远镜（FAST）投入使用近三年，截至目前，“中国天眼”已发现 93 颗被确认为新发现的脉冲星，脉冲星属于：  
A. 白矮星                      B. 中子星                      C. 恒星                      D. 超新星
- 刘先生户籍在合肥，单位派其常在深圳工作，三年后他辞职到上海发展并在上海买房居住一年半，现因犯病在北京治疗 15 个月。根据民法总则规定，刘先生的住所应当是：  
A. 合肥                      B. 深圳                      C. 上海                      D. 北京
- 2019 年 9 月 1 日，在波兰维隆当天举行的第二次世界大战爆发 80 周年纪念仪式上，德国总统施泰因迈尔请求波兰原谅。下列战役，不是发生于二战期间的是：  
A. 法国战役                      B. 莫斯科保卫战                      C. 凡尔登战役                      D. 柏林战役
- 由于对地区经济的发展起着极其重要的作用，被人们形象地喻为经济发展的“先行官”的是：  
A. 农业                      B. 工业                      C. 旅游业                      D. 交通运输业
- 在中国革命紧急关头及时向党和全国人民指明斗争方向，使党在革命中前进了一大步，从大革命失败向土地革命战争兴起的转折点是：  
A. 八七会议                      B. 遵义会议                      C. 古田会议                      D. 宁都会议
- 根据《危险化学品目录》，下列属于危险化学品的是：  
A. 乙醚                      B. 氯化钠                      C. 氯化钾                      D. 白矾
- 青藏高原与长江中下游平原的纬度相近，但是青藏高原气温较低的主要原因是：  
A. 冰雪度盖                      B. 地势较高                      C. 湖泊分布广                      D. 与海距离远
- 政府为了扶持农业，对农产品规定了高于其均衡价格的支持价格，为了维持该支持价格，政府可采取的措施是：  
A. 实行农产品配给                      B. 收购多余的农产品  
C. 对农业生产者予以补贴                      D. 增加对农产品的税收
- 下列不属于军事航天技术主要内容的是：

- A. 航天器的制造  
B. 侦察监视技术  
C. 航天遥感和空间通信  
D. 空间工业技术

11. 享有电视剧《琅琊榜》信息网络传播权的北京爱奇艺科技有限公司（下称“爱奇艺”）以未经许可盗播为由，将暴风集团股份有限公司（下称“暴风集团”）诉至法院，法院经审理后认为，暴风集团应承担赔偿爱奇艺经济损失的法律责任，法院作出上述判决依据的法律是：

- A. 《中华人民共和国播放权法》  
B. 《中华人民共和国防盗版法》  
C. 《中华人民共和国广播权法》  
D. 《中华人民共和国著作权法》

12. 根据物理常识判断，下列现象所运用的原理与其他三项不同的是：

- A. 划船时，要用船桨向后拔水  
B. 短跑比赛起跑时，脚向后下方蹬地  
C. 火箭垂直向上起飞时，向下方喷气  
D. 足球运动员向球门方向用力顶球

13. 下列选项与“问渠哪得清如许，为有源头活水来”，蕴含哲理相似的是：

- A. 不识庐山真面目，只缘身在此山中  
B. 遥知不是雪，为有暗香来  
C. 长江后浪推前浪，世上今人胜古人  
D. 青山遮不住，毕竟东流去

14. 散光是一种常见的视力缺陷，发生散光后，光无法聚焦这一缺陷的形成原因是：

- A. 角膜或晶状体弯曲度不均匀  
B. 眼球前后径过短  
C. 视网膜与晶状体间的距离过长  
D. 角膜弯曲度变小

15. 下列关于法律常识的表述不正确的是：

- A. 依法设立的营利法人，由登记机关发给营利法人营业执照  
B. 非法人组织是不具有法人资格，但是能够进行专业服务的组织  
C. 民事主体从事民事活动，不得违反法律，不得违背公序良俗  
D. 因保护他人民事权益，使自己受到损害的，由侵权人承担相应民事责任

## 第二部分 言语理解与表达

16. 语言是成人的童话，许多优秀的作家，虽然年纪很大了，但他们的作品语言丝毫不感受不到耄耋之年的\_\_\_\_\_，反而多了一些活泼与生动。

填入划横线部分最恰当的一项是：

- A. 老气横秋  
B. 老态龙钟  
C. 萎靡不振  
D. 昏昏欲睡

17. 中国几千年的历史博大精深，世界上没有哪个民族的历史如此纷繁复杂，读《品史录》，从\_\_\_\_\_推己心念，实现自行自悟，在这个意义上讲，《品史录》具有文史价值，更有阅读价值。

填入划横线部分最恰当的一项是：

- A. 一知半解                      B. 窥豹一斑                      C. 井底之蛙                      D. 孤陋寡闻

18. 征信机制建设正在司法，交通，金融，旅游市场等诸多领域全面铺开，呈现出一种\_\_\_\_\_的趋势，也已经释放出了惩戒威慑，教育，防范功能，取得了明显的成效，进一步\_\_\_\_\_了诚信底线。约束和倒逼市场主体、民众增强诚信意识，规范了相关行为。

依次填入划横线部分最恰当的一项是：

- A. 百花齐放    夯实                                      B. 遍地开花    提升  
C. 势不可当    拓宽                                      D. 蒸蒸日上    收紧

19. 在科学普及领域，当前人民急需的是\_\_\_\_\_面向重大民生需求的科普知识，需要科普科幻期刊，为人民追求美好生活的向往提供科学的、高质量的内容，素材和阅读体验，提高科普活动的\_\_\_\_\_。

依次填入划横线部分最恰当的一项是：

- A. 获取    融入感                      B. 明确    成就感                      C. 获得    参与感                      D. 获得    幸福感

20. 作家写作往往率性而为，评论家可指出其作品的优劣，避免其“灯下黑”，历史上有不少作家都是在评论家\_\_\_\_\_中被发掘发现，从而青史留名的。因而作家对文学评论家总是\_\_\_\_\_的认为他们是伯乐，是知音。

依次填入划横线部分最恰当的一项是：

- A. 剥丝抽茧    尊敬                                      B. 点石成金    崇拜  
C. 慧眼如炬    推崇                                      D. 披沙拣金    景仰

21. 新颖的创意激发了年轻一代了解传统文化的\_\_\_\_\_，当传统文化再次被激活，光彩焕发时，他也穿越时空，为我们创新创业提供了资源和灵感，青春是\_\_\_\_\_的创造力和活力，当这股力量与中华优秀传统文化相互融合，二者定能交相辉映，携手向前。

依次填入划横线部分最恰当的一项是：

- A. 动力    层出不穷                                      B. 兴趣    日新月异  
C. 热情    取之不竭                                      D. 潜力    无穷无尽

22. 随着人工智能技术突飞猛进，生活中的“刷脸”应用也是越来越常见。手机支付，高铁安检，入住宾馆或是上班打卡，刷脸已经\_\_\_\_\_，甚至在商城购物时，衣帽间前刷一刷脸，AI（人工智能）就能根据用户画像向你\_\_\_\_\_推荐个性化的服饰搭配。

依次填入横线部分最恰当的一项是：

- A. 屡见不鲜    精准                                      B. 司空见惯    恰当

- C. 习以为常 准确 D. 不足为奇 自动

23. 农村生活污水治理是当前农村\_\_\_\_\_整治的突出短板,根据农村特点分区分类选择治理模式和技术,\_\_\_\_\_推进,久久为功。

依次填入横线部分最恰当的一项是:

- A. 生活环境 逐步 B. 居住环境 层层  
C. 人居环境 梯次 D. 生态环境 渐次

24. 新时代中国青年“严私德”要涵养\_\_\_\_\_止于至善的品质,增强学习\_\_\_\_\_,勤于学习,敏于求知,博学广才,学以致用,充实知识储备,筑牢事业根基,是自己的思维视野、思想观念,认识水平跟上越来越快的时代发展。

依次填入划横线部分最恰当的一项是:

- A. 励精图治 自觉性 B. 自强不息 紧迫感  
C. 艰苦奋斗 针对性 D. 百折不挠 责任感

25. 随着智能手机的普及,手机已成为青少年学生接触网络最重要的工具。为了阻断网络对青少年的不良影响,家长,学校和社会做着各种努力。但现实是,无论如何\_\_\_\_\_,无论把那些抢夺青少年的游戏、网络不良信息描述成怎样的洪水猛兽,青少年仍然\_\_\_\_\_地向着手机靠拢。

依次填入划横线部分最恰当的一项是:

- A. 苦口婆心 铤而走险 B. 耳提面命 充耳不闻  
C. 围追堵截 义无反顾 D. 防微杜渐 孤注一掷

26. 古风音乐的文辞,无论是大历史的宏阔,还是小人物的悲欢,往往出于现代人对古代的梦想与建构。所以,脱离具体的历史语境,夹杂着神怪小说,玄幻游戏,甚至\_\_\_\_\_的爱情故事,堆砌辞藻的“大杂烩”作品时有出现。换句话说,“古风”走红,\_\_\_\_\_的作品也就有了可乘之机,尤须受众提高鉴别能力。

依次填入横线部分最恰当的一项是:

- A. 矫揉造作 滥竽充数 B. 无病呻吟 鱼目混珠  
C. 良莠不齐 鱼龙混杂 D. 拾人牙慧 泥沙俱下

27. 宿舍对学生学习成长的重要性,\_\_\_\_\_。一个宿舍就是一个小社会,如果舍友之间和谐相处,友爱,互助,亲如兄弟,姐妹。那么留给他们的不仅仅是一段美好的校园时光,还会给他们的学习、生活带来很大的帮助,如果同宿舍舍友之间矛盾重重,摩擦不断,那么这样的学生生活,必然会让人\_\_\_\_\_。

依次填入划横线部分最恰当的一项是：

- A. 显而易见 心力交瘁 B. 不言而喻 身心俱疲  
C. 毋庸赘述 疲惫不堪 D. 有目共睹 心烦意乱

28. 标签盛行的地方，理性则易于枯萎，在将对方以及自己的思维极端化的背后，标签是认知者的\_\_\_\_\_，以及对\_\_\_\_\_式教条的渴望，而公民的理性乃至德性，需要好的制度来\_\_\_\_\_。

依次填入划横线部分最恰当的一项是：

- A. 懒散 墨守成规 滋润 B. 散漫 固步自封 维护  
C. 懈怠 按部就班 培养 D. 懒惰 一劳永逸 滋养

29. 法学作为一门社会科学，也需要在内容上实现相互开放，发现内部各个领域之间\_\_\_\_\_，其实是法学发展的大碍，饭碗法学，不仅\_\_\_\_\_研究者去全面认识人类社会活动的机会，而且排除了法律人去培养自己跨学科认识能力的\_\_\_\_\_。

依次填入划横线部分最恰当的一项是：

- A. 戒备森严 阻挡 复杂性 B. 铜墙铁壁 杜绝 成长性  
C. 固若金汤 根绝 综合性 D. 森严壁垒 阻碍 可能性

30. 大学作为一个迈入社会过渡阶段，为学生们提供了一段增强本领、磨炼意志的时间，在这里，没有了家长的庇护和帮助，新生们逐渐学会\_\_\_\_\_。家长同孩子一起去报道，除了确保路上行程安全以外，不必做到\_\_\_\_\_，诸如办理入学手续，整理收拾宿舍等，都可以放手让孩子自己去做，增加他们的\_\_\_\_\_，锻炼他们处事能力，减少对父母的依赖。

依次填入划横线部分最恰当的是：

- A. 自力更生 面面俱到 独立性 B. 独当一面 一应俱全 自主性  
C. 自食其力 两全其美 主动性 D. 自给自足 八面玲珑 适应性

31. 对于书法，苏轼主张“书初无意佳乃佳尔”，黄庭坚不以“天然自工”来赞美，以其作品《黄州寒食帖》来说，写得\_\_\_\_\_，一气呵成，其中字体大小的变换，方度轻重的形制与节奏的缓急等，都是\_\_\_\_\_，毫无做作之态，然而即使这件\_\_\_\_\_的作品，其韵味也与《兰亭集序》不大一样。

依次填入划横线部分最恰当的是：

- A. 行云流水 信手拈来 浑然天成 B. 洋洋洒洒 信马由缰 难能可贵  
C. 笔走龙蛇 得心应手 炉火纯青 D. 挥洒自如 游刃有余 无与伦比

32. 2019年4月，来自全球19个国家的40余名重要政要嘉宾，知名音乐企业代表和

音乐艺术人士\_\_\_\_\_，第八届音乐之都城市大会在成都正式开幕，“音域会”创始人沙恩夏皮罗直言，“成都的城市规划和文化令人\_\_\_\_\_，相信这届大会将是最棒的！”如此表达绝不是\_\_\_\_\_，而是对成都由衷的赞关和期许。

依次填入划横线部分最恰当的是：

- A. 济济一堂 瞠目结舌 耸人听闻 B. 群贤毕集 赞不绝口 言不由衷  
C. 高朋满座 喜出望外 言过其实 D. 座无虚席 百感交集 溢美之语

33. 近百年来，话剧，歌剧等戏剧样式传到中国，其\_\_\_\_\_仍然是讲好一个故事，戏剧这个靠故事\_\_\_\_\_的文艺样式，该故事的能力就更需要技高一筹。中国历史上的名剧《赵氏孤儿》《窦娥冤》《长生殿》《桃花扇》《牡丹庭》《西湘记》等，哪一个不是因故事讲得\_\_\_\_\_、精彩绝伦，而放射出了永久照耀历史，社会，生命，人性的精神与思想光芒的？

依次填入画横线部分最恰当的是：

- A. 根本 安家立业 别出心裁 B. 本质 流传千古 引人入胜  
C. 实质 百世流芳 可歌可泣 D. 核心 安身立命 感天动地

34. 这是古城里的一条小街，过去这里显然驻扎过守城的军队，有一排排的营房为证，现在这里正在建筑仿古的街市和民居，已频成气候了，秦砖汉瓦，\_\_\_\_\_，虽没有皇家气象，却也称得上是\_\_\_\_\_。在最前面靠近港口的地方，还立有一个牌坊，上书一副对联，“市井里尽染六朝烟水气，布衣将相共写千古大文章”，此联内容很好，有\_\_\_\_\_之妙。

依次填入画横线部分最恰当的是：

- A. 金碧辉煌 富丽堂皇 妙笔生花 B. 雕梁画栋 美轮美奂 巧夺天工  
C. 雕栏玉砌 精雕细刻 独具匠心 D. 珠光宝气 竹苞松茂 鬼斧神工

35. 20世纪90年代，云南白药这个\_\_\_\_\_的“疗伤圣药”，几乎在人们视野中消失，直到把老秘方运用到新载体上才\_\_\_\_\_，把白药加入创可贴，云南白药以止血，镇痛，消炎，重创的优势收复被美国“邦迪”占领的阵地，把白药加入牙膏，云南白药以防治口腔溃疡，牙龈肿痛等疗效，迅速与国外牙膏品牌\_\_\_\_\_。

依次填入划横线部分最恰当的是：

- A. 好整以暇 脱胎换骨 各有千秋 B. 鼎鼎大名 拨云见雾 平起平坐  
C. 闻名遐迩 浴火重生 平分秋色 D. 举世闻名 枯木逢春 分庭抗礼

36. 工业互联网是推动高质量发展的国家战略性新型基础设施，具有大范围、多场景、低时延、高可靠的典型特征，需要集中投入和着眼长期回报；工业互联网的建设目标，是要

围绕陆、海、空、天形成全维度覆盖。面向虚拟世界与物理世界打通全领域连接，针对人类生产生活提供全方位支撑，目前，工业互联网正在两化融合与智能制造的基础上持续扩大和升级，从内部拓展到外部，从串行上升到并列，从线性发展到非线性进一步促进大数量云计算、人工智能，5G 等新一代信息技术与制造业的深度融合。

上述文字不涉及工业互联网的：

- A. 建设意义                      B. 建设目标                      C. 发展趋势                      D. 核心机制

37. ①没有理由成为失去精神自我，四处漂泊的流浪国家

②更没有理由成为依附西方，寄人篱下的“香蕉共和国”

③作为世界上唯一未曾断裂的文明，中华文明构成社会主义核心价值观的文化基础，是涵养社会主义核心价值观的精神宝库

④一言以蔽之，中国拥有五千年的文明传承，比世界上任何一个民族有理由，有自信支撑起我们民族的文化自信

⑤每一社会的核心价值观都有固有的文化根脉

⑥作为一个生长于五千年文明沃土中的古老国度，中国没有理由成为一个物质崛起、精神塌陷的坡脚国家

将以上 6 个句子重新排列，语序正确的是：

- A. ③⑥①④②⑤                      B. ④①②⑤③⑥                      C. ⑤③⑥①②④                      D. ⑥③①②④⑤

38. 智慧来自于我们的生活，工作和训练，来自于我们对世界细致的观察与发现，来自于我们的终生学习。我们不但要读书学知识，还要读社会这本无字的书，在这个高速发展的时代个人的智量往往很有限，为了做出最有价值的发明创造，我们更需要重视团队的智慧，这就要求我们以最开放的心态，与各行各业的人交流，与和自己意见不同的人交流，与比自己经验丰富的人交流，与学识和理论修养更深的人交流。

下列文字与上述文字意思一致的是：

- A. 一个人可以走很远，一群人才能走到最远  
B. 书山有路勤为径，学海无涯苦作舟  
C. 一个发明加上另一个发明，等于两个发明  
D. 学而不思则罔，思而不学则殆

39. 人口老龄化是一个世界性挑战，我国近三年每年新增 60 岁及以上人口已超 1000 万，预计 2030 年我国 60 岁以上老年人口将达到 2.43 亿，2050 年将达 4.8 亿，最迫切的问题是解决我国养老服务供给短板，高质量发展我国养老服务业直接关系到广大人民群众根本利益和



社会长期稳定，也会对我国经济发展产生推动作用。

上述文字接下来最不可能讲述的是：

- A. 人口老龄化对中国与世界带来的影响
- B. 通过机制创新推进养老服务高质量发展
- C. 党中央，国务院高度重视人口老龄化工作的
- D. 如何提高我国养老服务资源配置效率

40. 应急逃生是一个极为复杂的系统，航天发射逃逸技术也成为评判一个国家航天实力的“试金石”。航天逃逸的每个环节都相互影响、相互制约，不仅需要故障诊断系统在最短时间内确认故障并发出指令，也对各类设备和航天员自身素质提出了很高要求。一旦航天发射逃逸过程中任一环节出现差错，都会让整个救生过程功亏一篑。人类历史上第一次成功实现高空救生，发生在1975年4月苏联“联盟-18A”飞船准备与“礼炮”号空间站对接时。当火箭飞到144千米高度时，火箭制导系统突然发生故障，导致其偏离轨道并带着飞船开始翻滚。逃逸系统紧急启动，使飞船返回舱与火箭分离。飞船按照返回程序，载着航天员降落到离发射场1600千米之外的西伯利亚西部山区。看似匆忙的“逃逸行动”，其中却包含着诸多精心设计的“大学问”。

最符合上述文字的标题是：

- A. 载人航天的首道“安全阀”
- B. 逃离险境的“诺亚方舟”
- C. 太空之旅“步步惊心”
- D. 逃逸系统上演“生死时速”

41. 作为新媒体技术的网络直播，短视频+直播具有很大的优势。较于传统的传播方式，网络直播生产成本低、技术门槛低、传播速度快、变现能力快、社交能力强，为广大网民提供了展示自我的平台，激发了普通大众的创造力，近年来，“直播+教育—直播+公益—直播+扶贫—直播+非遗”等模式也日臻成熟，网络直播的社会价值日益凸显，取得了良好的社会效益，2017年网友直播了南京云锦、龙泉青瓷、古琴艺术等多项非遗项目，观看人数近3000万，网友纷纷点赞，吸引更多人关注，参与到非遗传承中来。

上述文字意在：

- A. 说明网络直播的独特优势
- B. 解析网络直播火热的原因
- C. 表明正面引导舆论的重要性

D. 强调发挥网络直播的积极作用

42. 书法的书卷气, 以及艺术风格等, 皆与文本背后的人文精神息息相关。文本缺位的书法, 是不完整的书法。对于书法的价值判断, 尽管在传统文化和现代文化中有一定程度的调整, 但其文化根本并没有动摇。书法艺术一直承担着“载道”的功能, 优秀书法“对于内身而说, 足以陶冶人心, 有‘修身’之力; 对于社会而言, 则有移风易俗、感化人心之效”。以《兰亭集序》《祭侄文稿》等为代表的书法经典, 均是笔墨与文辞交相辉映的产物, 其中蕴含着家国情怀, 民族风骨、人文精神, 体现着书家的文化修养与艺术素养, 至今熠熠生辉。

上述文字的主要观点是:

- A. 文本是书法的灵魂所系
- B. 书法的价值评判标准并未改变
- C. 优秀书法具有“载道”的社会功能
- D. 书法既包括文字载体也包括人文精神

43. 在传统金融理论里, 货币的国家化是一种惯例, 货币是以国家信用背书, 并且以国家主权强制力来保障实施的一种交易凭证。近代以来已经为各国主权所控制, 但是近百年来, 主权国家超发、滥发货币, 常常导致严重的通货膨胀, 使国民财富遭受损失和经济社会动荡不安。很多经济学家对此表示了不满, 也试图提出新的解决方案, 其中最具代表性的理论是由哈耶克提出的货币非国家化。他指出让企业来发行货币, 或让其他市场主体来发行货币。这种设想曾经激发了很多人的想象, 但是一直没有找到实现的方案, 直到比特币的横空出世, 让人们又看到了哈耶克的货币非国家化主张实现的希望。

根据这段文字, 下列说法正确的是:

- A. 比特币的出现证明了经济学家哈耶克所提理论的正确性
- B. 大多数经济学家都主张由实体空间转向发行数字加密货币
- C. 当前, 传统货币理论乃至整个金融理论遭受了巨大的挑战
- D. 在主权国家控制之下的信用货币超发问题是其自身无法克服的

44. 夜间文旅经济是夜间经济与文旅经济的结合, 是将文化与旅游作为重要元素植入夜间经济。因此, 相对于文旅经济, 夜间文旅经济能延长游客在旅游地的滞留时间, 自然有助于拉动一个地方的文旅消费, 调查数据显示, 夜间的旅游收入占到全部收入的三分之一至一半, 但是, 夜间旅游不只是简单地坐坐观赏游轮, 或逛逛当地餐饮夜市, 游客文化消费已经成为夜间旅游的重要取向, 日前来看, 许多地方夜间文化旅游还停留在引导游客看一场歌舞演出, 或者看一次反映当地历史文化的纪录片与电影上, 夜间文旅消费市场需继续增大产品

供给。

上述文字意在强调：

- A. 夜间文旅项目要形成产品与游客互动的新格局
- B. 夜间文旅经济能够提升夜间经济的层次与水平
- C. 夜间文化旅游需要寻找正确的表达载体与方式
- D. 游客文化旅游费的特点在白天与夜间区别明显

45. 网络安全风险的形成，既有技术不完备或系统漏洞等客观原因，也有相关主体不当行为或恶意行为等主观原因，同时还受到政治，经济和社会等方面不确定因素的影响，因此\_\_\_\_\_。系统优化、漏洞修复、数据加密、身份认证等技术治理手段可以成为维护网络安全的直接策略，但却无法有效回应和调节其背后的社会关系冲突和利益博弈，也因缺乏普遍性和强制性的制度依据而难以全面落实，因此，维护网络安全不仅需要技术理性也需要制度理性，法律治理与技术治理是网络安全治理一体之两翼。

填入画横线部分最恰当的是：

- A. 网络安全问题不只是技术问题，还是社会关系冲突在网络空间的反映
- B. 网络安全法律治理体系需要基于技术规律和法治规律进行层次化构建
- C. 明确网络空间主体权利义务与责任，以法律手段调节网络空间活动十分有必要
- D. 网络安全治理事关国家安全和经济社会发展的大局，是网络空间治理的首要任务

46. 科技伦理是科技活动必须遵守的价值准则，毫无疑问，科技伦理已成为国际社会高度重视的共同议题。当科学技术的能量越来越大，把控不好它的危险也总在日益加剧。如果任其无约束地发展，它的潜在成果既有可能造福人类，也有可能毁坏人类的生存与社会秩序。特别是，基因编辑技术，人工智能技术、辅助生殖技术等前沿科技迅猛发展在给人类带来巨大福祉的同时，也不断突破着人类的伦理底线和价值尺度，基因编辑婴儿等重大科技伦理事件时有发生。如何让科学始终向善，是人类亟须解决的问题。

上述文字意在强调：

- A. 科技伦理的底线不容突破
- B. 科技伦理常常落后于科技发展
- C. 科技的能量越大，危害也就越大
- D. 要加强科技伦理制度化建设

47. ①然而在我国，中药实际上大都处于非处方药管理状态，容易购买，并且常常缺乏医生指导，随意使用，从而导致肝损伤

②调查显示,从 1989—2015 年 26 年间何首乌制剂所致的药物肝损伤文献报道,发现 73.2%存在不合理用药情况,如违背中医理论错用生首乌,超常规用量、超服用疗程,不当配伍,多药合用,不注意监测肝功能等

③药物本身固有的毒性以及个人体质问题,是包括中药在内的所有药物性肝损伤主要发病用机制

④不管是中草药还是西药,都应在医生和药师的指导下合理用药

⑤以何首乌为例,生何首乌小毒,经九蒸九晒炮制过之后,其肝毒性大为减小,称为制首乌,两者无论功效还是服用剂量均有很大不同

⑥这当中 62.8%的患者是自行服药,仅 8%的患者是在医生指导下服药

将以上 6 个句子重新排列,语序正确的是:

- A. ③④①⑤②⑥      B. ③①⑤②⑥④      C. ④①③⑤②⑥      D. ⑤②⑥③④①

【资料】

鲜花的颜色很多是因为鲜花中含有各种色素,这其中最主要的是花青素和类胡萝卜素。花青素是形成鲜花色泽最主要的色素,它就像一条变色龙,对温度、酸碱度很敏感,只要周围环境稍一变化,它就会随之发生改变。遇到酸性物质时,它会变成红色,酸性愈强,颜色愈红;在中性溶液中,它呈现紫色;遇到碱性物质时,它会变成蓝色,碱性较强时,则变成蓝黑色。有些白花,如菊花,萎谢之前微染红色,说明这时它也含有少量的花青素。更为神奇的是,有些鲜花的颜色可以一日三变,如牵牛花的花瓣在清晨是粉红色,之后变成紫红,最后变成蓝色,这也是因为一日之内花瓣细胞液的酸碱度和温度发生了变化,花青素随之变化所致。万紫千红,原来都是花青素在不同的酸碱反应中呈现出来的颜色。

如果鲜花的颜色是黄色、橙黄色、橙红色,那是因为这些花里含有类胡萝卜素。类胡萝卜素是广泛存在于花瓣中的第二类色素,这种色素色如其名,呈现出的色彩类似胡萝卜的颜色。目前已经发现的类胡萝卜素有 600 多种,不同种类的类胡萝卜素能使花显出黄色、橙黄色、橙红色等。此外,影响鲜花颜色的色素还有类黄酮、醌类色素、甜菜色素等。

人工选择大大丰富了鲜花的颜色,并且能够在较短时间内取得显著成果。如牡丹,其最早花色只有粉红一种,经过人工栽培,在北宋中叶,几十年功夫就由粉红创造出深红、肉红、紫色、墨紫、黄色、白色等各种颜色;又如虞美人,经过人工培养,目前花色已经有红色、黄色、橙色、白色、蓝色等。所以,多种颜色的鲜花既是大自然的杰作,也是人工培育的成果。

48. 文字首段意在说明鲜花中的花青素具有:

- A. 挥发性                      B. 敏感性                      C. 多样性                      D. 稳定性

49. 根据上述文字, 下列表述正确的是:

- A. 花青素的使用最早可追溯至北宋时期  
B. 花青素的变化主要受温度与土壤酸碱度的影响  
C. 鲜花见黄色和橙黄色主要因为其中含有胡萝卜素  
D. 多种颜色的鲜花既是大自然的杰作, 也是人工培育的成果

50. 最适合上述文字的标题是:

- A. 鲜花为什么有多种颜色?  
B. 你所不知道的色素作用  
C. 花青素的神奇传用  
D. 鲜花颜色的演绎之路

**【资料】**

根据以下材料, 回答 51-55 题

新批评“反讽”理论的主要阐述者是布鲁克斯。用他的说法: “语境对一个陈述语的明显的歪曲, 我们称之为反讽”。显然, 这是一个非常宽泛的定义。“反讽”概念的目的仍然是揭示语义在文学文本中复杂变化。根据新批评“文学性”观念, 文学文本的基本特征是语义朦胧和语义多重。“反讽”这一语言现象正好符合这一文学定义。正因为这个原因, “反讽”就成为新批评最常用的概念之一, ①

从语义学立场来看, “反讽”本是指一种“正话反说”或“所言非所指”的语言现象。在“反讽”中, 字面上的意义有所不同甚至截然对立。根据语言学观念, 任何一个符号都存在于一定的语境当中, 符号的意义会因语境而产生变化。“反讽”产生的原理同样如此。在“反讽”现象当中, 语言符号巧妙地使用某个特定的语境, 从而让一个符号不再表达其本义, 而是表达另一个完全相反的意义。这样, 一个“反讽”就产生了, ②

从符号学能指与所指构造角度看, “反讽”实际上是一个符号能指与所指的断裂情形。语言本是一种约定俗成的符号体系。能指与所指的关系是确定不移的、无可更改的。然而, “反讽”的出现却使一个符号的能指不再指向其约定俗成的固定所指, 而指向另一个能指, ③

不难看出, “反讽”的实质仍然是语义的变形化和复杂化。在新批评看来, “反讽”是文学特性的重要表现之一, 也是形成文学特性的重要手段之一。

在西方文学批评史上, “反讽”一向被认为是一种偶然使用的语言技巧, 或至多是一种

修辞格。新批评则将“反讽”上升到文学特性的高度，将它视为语义变化的典型现象，从而使之成为文学文本的根本属性。维姆萨特与布鲁克斯在其合著的批评史中坚持将新批评改名为“反讽诗学”(ironic poetics)。关于“反讽”，他们明确指出：“我们可以把‘反讽’看成一种认知的原理，‘反讽’原理延伸而为矛盾的原理，进而扩张成为语象与语象结构的普遍原理。”既然“反讽”是一种语义变化，尤其是字面义与真实义的矛盾状态，那么其语义结构一定会表现为多种不同的构成形态。赵毅衡先生在《新批评》一书中曾把“反讽”分为“克制叙述”“夸大叙述”“正话反说”“疑问式反讽”“复义反讽”“悖论反讽”“浪漫反讽”和人物主题与语言风格上的“宏观反讽”等多种类型。无论何种“反讽”类型，都呈现出语义叠加和语义多重的特征。它大大增加了文本的语义层次，有力地强化了语言的可感性，④

51. 下列文字最适合放在文中的位置是：

科学文本对语言的使用就完全合乎语言的约定规则和编码原则，坚决避免出现能指与所指的断裂，文学文本则有意采用各种手法来违反语言的约定规则，从而使文学文本成为语义朦胧和复杂的符号系统

- A. ①                      B. ②                      C. ③                      D. ④

52. 下列关于原文内容的表述，不正确的是：

- A. 在反讽中，字面意义与要表达的意义不宜完全冲突
- B. 反讽不只是语言技巧，是“文学性”特点和手段的统一
- C. 反讽能使语义变得复杂，因而新批评常常使用这一概念
- D. 语言是约定俗成的符号体系，文学文本却常常突破约定规则

53. 下列理解和分析，不符合原文意思的是：

- A. 一个符号所指的与其能指的不一致情况，使语义变得丰富和复杂
- B. 新批评认为反讽是文学文本的根本属性，它的地位高于语言的表达技巧
- C. 文本的语义层次和语言可感性，都来源于反讽呈现出语义结构上的不同形态和类型
- D. 科学文本语言必须遵循能指与所指的统一，因为科学文本的意义必须是明确和单一的

54. 下列理解和分析，不符合原文意思的是：

- A. 文章从语义学和符号学两个角度论证了“反讽”的特征在于“正话反说”或能指非所指
- B. 文章用科学文本与文学文本对比，是为了突出文学文本语言的“语义朦胧和复杂”
- C. 文章推进一层，论述了新批评将“反讽”上升到“文学性”高度，提高了反讽的地位

D. 文章列举《新批评》中多种“反讽”类型,以证“反讽”具有语义叠加和语义多重的特征

55. 根据原文内容,下列例子不属于典型反讽的是:

A. 《范进中举》中,中举本是一件令范进无比荣耀的事,但他发疯了

B. 面对别人的挑衅:“我从不给傻子让路。”萧伯纳却很绅士地说:“我正好相反”

C. 电影《举起手来》用一种轻松诙谐的手法来表现日本侵略者的残暴和中国人民的反抗精神

D. 马克·吐温的小说《竞选州长》中,“我”在参加一次竞选活动中所遭受到的种种骇人听闻的诬蔑和打击

### 第三部分 数量关系

56. 某商品标价为进价的 5 倍,现将标价打五折后使销量增加 7 倍,则这一折扣会使利润增加的倍数是:

A. 1 倍

B. 2 倍

C. 3 倍

D. 4 倍

57. 某工人上午完成了加工零件任务量的  $\frac{1}{3}$ , 下午先是完成了  $\frac{1}{4}$ , 与同事交流技术问题后又下班前加速完成了 50 个零件, 完成了一天的全部任务, 则这一天所需完成加工的零件数量是:

A. 100 个

B. 120 个

C. 140 个

D. 160 个

58. 小朋友分苹果, 若每人分 3 个, 则差 3 个; 若每人分两个, 则余 15 个, 则人数和苹果数分别是:

A. 16 个, 48 个

B. 25 个, 63 个

C. 19 个, 50 个

D. 18 个, 51 个

59. 一艘小船以相同的动力在水中行驶, 顺风行驶 1000 米用了 10 分钟。在同样的风速下, 逆风行驶 800 米, 也用了 10 分钟。则在无风时, 该船行驶 900 米的时间是:

A. 8 分钟

B. 10 分钟

C. 12.5 分钟

D. 15 分钟

60. 小张购买铅笔、圆珠笔、油性笔三种笔, 铅笔 0.8 元/支, 圆珠笔 1 元/支, 油性笔 2 元/支, 共花费 12 元, 则小张买到三种笔的数量总和最少是:

A. 7 支

B. 8 支

C. 9 支

D. 10 支

61. 小王骑自行车以 300 米/分钟的速度沿公共汽车路线前进, 当他超过始发站 7200 米时, 一辆公共汽车以 600 米/分钟的速度从始发站出发。已知公共汽车每行 3 分钟到达一站, 停车 1 分钟, 则公共汽车追上小王用的时间是:

A. 26 分钟

B. 37 分钟

C. 40 分钟

D. 46 分钟

62. 2010年9月7日是星期二，则2020年3月7日是：

- A. 星期四                      B. 星期五                      C. 星期六                      D. 星期天

63. 老王和小王两人的年龄之和正好是80岁，老王对小王说：“我像你这么大时，你的年龄正好是我年龄的一半”。则小王今年的年龄是：

- A. 32岁                      B. 45岁                      C. 48岁                      D. 58岁

64. 牧场上有一片牧草，可供27头牛吃6天，或者供23头牛吃9天。如果牧草每天匀速生长，可供21头牛吃：

- A. 12天                      B. 15天                      C. 20天                      D. 25天

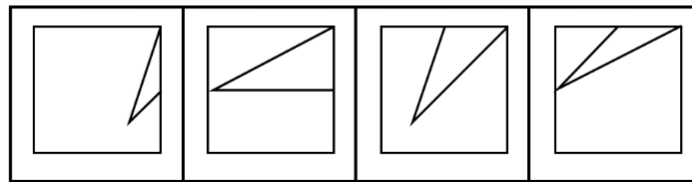
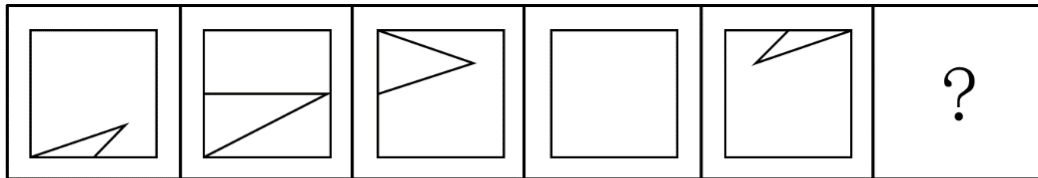
65. 如右图所示，将一个大长方形用两条平行于两条边的线分成四个大小不等的长方形，其中三个小长方形的面积如图所示，第四个长方形的面积是：

6	14
?	35

- A. 8                      B. 15                      C. 18                      D. 20

#### 第四部分 判断推理

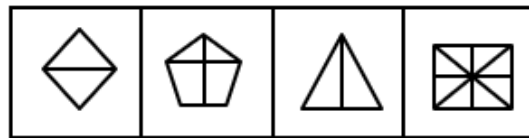

66. 从所给的四个选项中选择最合适的一个填入问号处，使之呈现一定的规律性：



- A. 如上图所示                      B. 如上图所示                      C. 如上图所示                      D. 如上图所示

67. 从所给的四个选项中选择最合适的一个填入问号处，使之呈现一定的规律性：

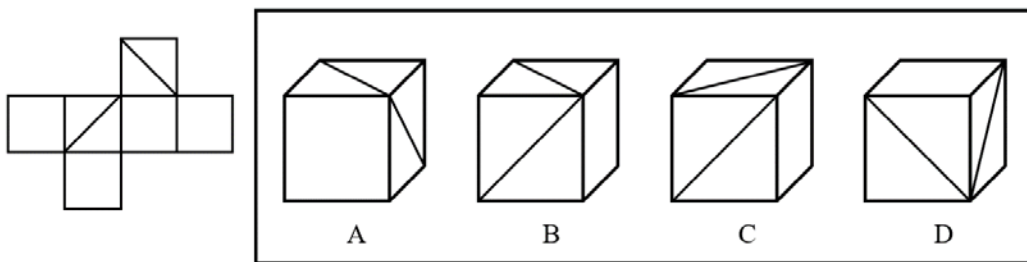




A B C D

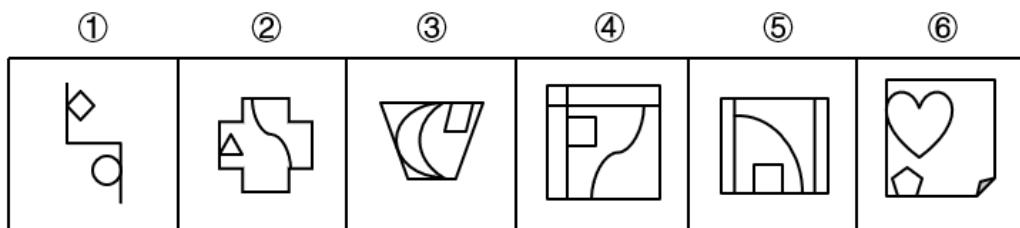
- A. 如上图所示      B. 如上图所示      C. 如上图所示      D. 如上图所示

68. 左边给定的是纸盒的外表面, 右边哪一项能由它折叠而成?



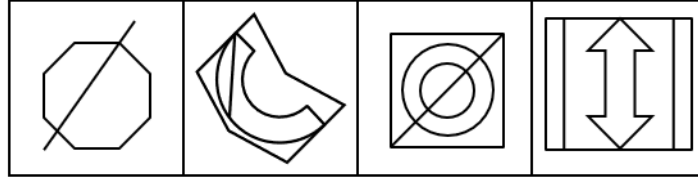
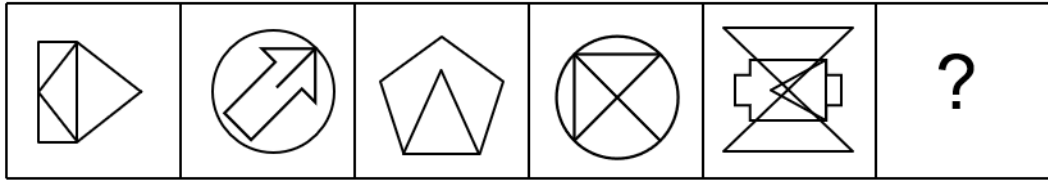
- A. 如上图所示      B. 如上图所示      C. 如上图所示      D. 如上图所示

69. 把下列六个图形分为两类, 使每一类图形都有各自的共同特征或规律分类, 分类正确的是 ( )



- A. ①②③, ④⑤⑥      B. ①②④, ③⑤⑥      C. ①③⑥, ②④⑤      D. ①⑤⑥, ②③④

70. 从所给的四个选项中选择最合适的一个填入问号处, 使之呈现一定的规律性:



A

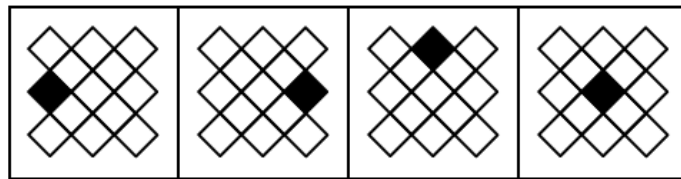

B

C

D

A. 如上图所示      B. 如上图所示      C. 如上图所示      D. 如上图所示

71. 从所给的四个选项中选择最合适的一个填入问号处，使之呈现一定的规律性：



A


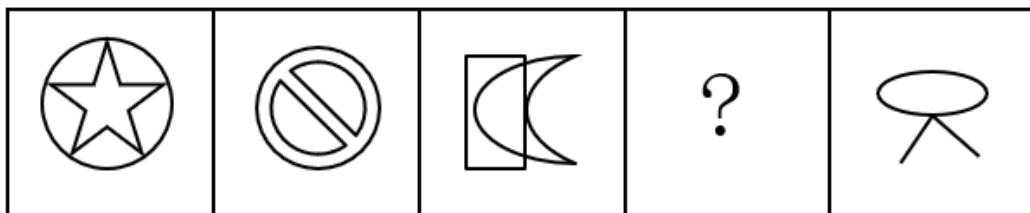
B

C

D

A. 如上图所示      B. 如上图所示      C. 如上图所示      D. 如上图所示

72. 从所给的四个选项中选择最合适的一个填入问号处，使之呈现一定的规律性：



A

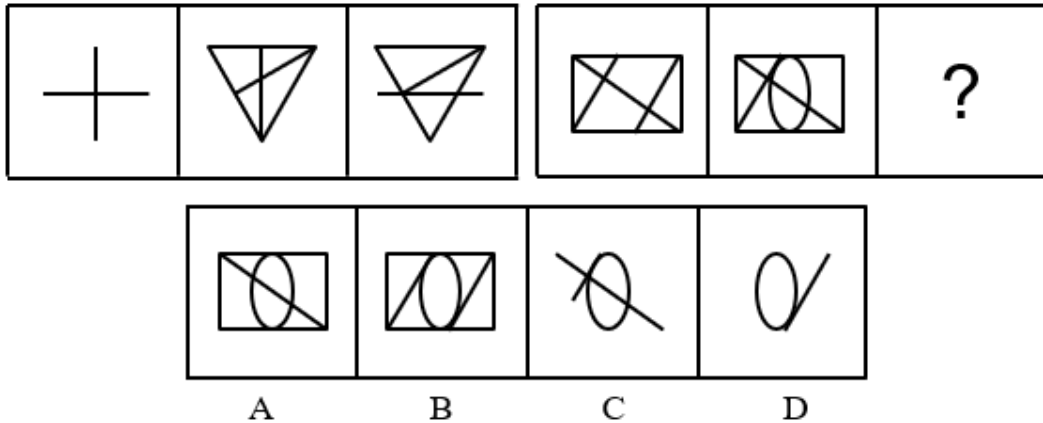
B

C

D

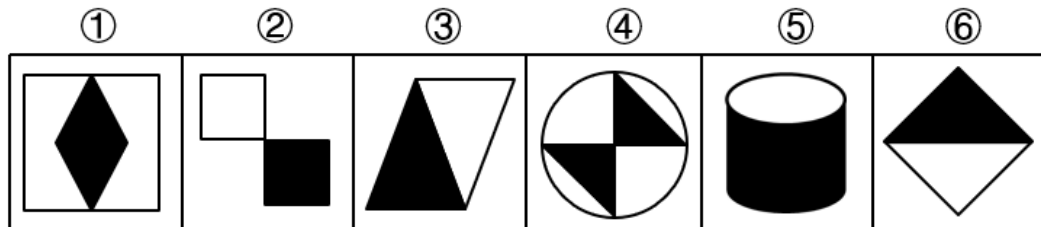
A. 如上图所示      B. 如上图所示      C. 如上图所示      D. 如上图所示

73. 从所给的四个选项中选择最合适的一个填入问号处，使之呈现一定的规律性：



- A. 如上图所示      B. 如上图所示      C. 如上图所示      D. 如上图所示

74. 把下列六个图形分为两类,使每一类图形都有各自的共同特征或规律分类,分类正确的是 ( )



- A. ①②③, ④⑤⑥      B. ①④⑤, ②③⑥      C. ①④⑥, ②③⑤      D. ①③④, ②⑤⑥

75. 商业广告是以盈利为目的的广告,主要通过传播媒介所进行的有关商品、劳务、市场、观念等方面的广告传播活动。

根据上述定义,下列属于商业广告的是:

- A. 求职广告      B. 公益广告      C. 企业形象广告      D. 招聘广告

76. 职务犯罪是指国家机关、国有公司、企业事业单位、人民团体工作人员利用已有职权,贪污、贿赂、徇私舞弊、滥用职权、玩忽职守,侵犯公民人身权利、民主权利,破坏国家对公务活动的规章规范,依照刑法应当予以刑事处罚的犯罪。

根据上述定义,下列不属于职务犯罪的是:

- A. 侵占罪      B. 贪污罪      C. 滥用职权罪      D. 挪用公款罪

77. 知觉的整体性指人根据自己的知识经验,把直接作用于感官的客观事物的多种属性整合为统一整体的过程。

根据上述定义,下列体现知觉整体性的是:

- A. 望梅止渴      B. 一叶知秋      C. 老马识途      D. 爱屋及乌

78. 所谓吉芬商品就是在其他因素不改变的情况下,当商品价格上升时,需求量增加,

价格下降时，需求量减少。

根据上述定义，下列属于吉芬商品的是：

- A. 昂贵的珠宝文物字画
- B. 食盐等日常必需品
- C. 汽油滤芯等易耗品
- D. 网上教育等无形商品

79. 宾语前置是普遍存在于句子中的一种语法现象，一般都包括：否定句中代词宾语前置、疑问句中代词宾语前置等。大多宾语前置，要具备两个条件：一是宾语必须是代词。二是有宾语前置的标志“之、是”出现。

根据上述定义，下列不属于宾语前置的是：

- A. 三岁贯汝，莫我肯顾
- B. 余是以记之
- C. 古之人不余欺也
- D. 楚人有涉江者

80. 概念技能是指一种洞察既定环境复杂程度的能力和减少这种复杂性的能力。

根据上述定义，下列利用了概念技能的是：

- A. 教研室主任组织教师顺利完成教学任务
- B. 领导用人所长，调动下属积极性
- C. 单位领导从各部门利益出发，作出决策
- D. 单位领导做出照顾各部门利益的决策

81. 检察一体原则是指各级检察机关、检察官依法构成统一的整体，下级检察机关、下级检察官应当根据上级检察机关、上级检察官的批示和命令开展工作。

根据上述定义，下列表述正确的是：

- A. 各级检察院实行检察委员会领导下的检察长负责制
- B. 在执行检察职能时，相关检察院有协助检察院办案的义务
- C. 上级检察院可建议而不可直接变更、撤销下级检察院的决定
- D. 检察官之间在职务关系上可相互承继而不可相互移转和代理

82. 知情同意指患者对自己的病情和医生据此作出的诊断和治疗方案明了和认可。

根据上述定义，下列属于知情权的是：

- A. 小甲的宠物狗身患绝症，已经无法治疗，小甲为宠物狗选择安乐死
- B. 小乙的父亲突然中风，需要手术，医生告诉小乙，术后可能有后遗症
- C. 小丙食物中毒昏迷，醒来后医生告知他今后三个月都要饮食清淡
- D. 小丁突发急性阑尾炎，医生告知必须手术，不然会有生命危险，小丁选择手术治疗

83. 三级差别定价指企业把市场分为两个或多个不同的子市场，并将同一种商品在不同的子市场上按不同价格销售的定价方式。通常是，对价格弹性不足的消费者的索取高价，对价格弹性充足的消费者索取较低的价格。

根据上述定义，下列属于三级差别定价的是：

- A. 在批发市场，商户一次性拿货 200 件以上，可给予八折优惠
- B. 某旅游景点，一般参观门票为 50 元，中小学学生价格为 25 元
- C. 某保险公司的产品，根据被保人的年龄不同而采取不同的定价方式
- D. 某饭店包间的定价，无论人数多少统一定最低价格为 999 元

84. 权力暗示：指基于职务地位、业务能力、人格魅力而产生的对组织机构外部成员的影响力。

根据上述定义，下列不属于权力暗示的是：

- A. 学生小聪擅长电子竞技，学校组织参加比赛时总请他协助指导
- B. 街坊邻居遇到大小纠纷，总会请处事公平的退伍军人老赵来主持公道
- C. 教育局李主任长期研究教师的专业发展，亲友们常常向他请教孩子的教育问题
- D. 张教授是企业管理咨询领域的专家，不少企业遇到相关问题，都会向他请教解决方法

85. 轮值：制度

- A. 小说：文学
- B. 代码：程序
- C. 竞争：比赛
- D. 生物：植物

86. 摄影：监控

- A. 审核：校对
- B. 采访：访谈
- C. 提问：教学
- D. 治疗：试验

87. 领域：术语

- A. 交通：运输
- B. 调研：报告
- C. 消费：支出
- D. 层次：标准

88. 化险为夷：惊天动地

- A. 黑白分明：虎头蛇尾
- B. 前因后果：深入浅出
- C. 轻重缓急：生死存亡
- D. 承上启下：起死回生

89. 情绪：急火攻心

- A. 态度：举重若轻
- B. 神态：眉飞色舞
- C. 容貌：雍容华贵
- D. 吸引：目不转睛

90. 衣领：衣袖：衣服

- A. 莲蓬：荷叶：荷花
- B. 手机：电池：导航
- C. 交子：硬币：纸币
- D. 银行：存款：贷款

91. 课题：申报：结项

- A. 汽车：设计：生产
- B. 桥梁：施工：通行
- C. 钢铁：提炼：锻造
- D. 投资：考察：决策

92. 评判 对于 ( ) 相当于 ( ) 对于 资源  
A. 但是; 整合 B. 预测; 优势 C. 结果; 配置 D. 准确; 公平

93. 国防 对于 ( ) 相当于 ( ) 对于 医生  
A. 军事; 医学 B. 国家; 治疗 C. 战争; 健康 D. 抵御; 手术

94. 刻舟求剑 对于 ( ) 相当于 ( ) 对于 平面镜成像

A. 水流; 光线 B. 掩耳盗铃; 光沿直线传播  
C. 运动; 静止 D. 参照物; 镜花水月

95. 所有条件适宜的环境都能使苹果树结出果实, 但是 M 地区的苹果树没有结出果实, 所以 M 地区的环境不适宜。

下列与上述推理方式相同的是:

A. 所有的学生都有学生证, 小刚是一名大学生, 所以他有学生证  
B. 某金融投资公司的员工综合素质都比较高, 小李的综合素质高, 所以小李是该公司的员工

C. 所有获得一等奖的选手都是受欢迎的选手, 小赵没有获得一等奖, 所以他不受欢迎  
D. 所有优秀律师都具有良好的逻辑思维, 小刘没有良好的逻辑思维, 所以他不是优秀的律师

96. 关于某次篮球锦标赛, 小周、小吴、小郑、小蒋四人作出如下猜测: 小周说: 北美国家的篮球队夺得冠军; 小吴说: 欧洲国家的篮球队夺得冠军; 小郑说: 加拿大队夺得冠军; 小蒋说: 意大利队不是冠军, 比赛结果公布后, 四人中只有一人猜测错误。

此人是:

A. 小周 B. 小吴 C. 小郑 D. 小蒋

97. 有人认为, 要解决城市的交通问题, 唯一有效的方法是增加交警数量, 有研究者分别对 E、F、G 三地的调查发现, 三地的交警数量或比例大致相同, 但交通状况存在明显的区别。

下列哪项最准确地断定了上述调查在题干的论证中所起到的作用?

A. 说明要解决城市交通乱象, 必须增加交警数量  
B. 说明可以依靠其他部门力量缓解城市交通压力  
C. 说明交警数量不是影响城市交通状况的唯一要素  
D. 说明一个城市的交通状况和交警的数量没有关系

98. 人们坐地铁前安检所受到的辐射小于体检时拍胸片 X 光检查的辐射量, 体检时拍胸片的辐射量对身体的影响极其微弱, 所以, 地铁安检人员没必要担心该职业会对健康带来的隐形危害。

下列哪项如果为真, 最能削弱上述结论?

- A. X 射线是地铁安检设备产生的辐射之一
- B. 地铁安检设备的辐射同时对安检人员和乘客产生影响
- C. 长期或多次受到辐射时, 辐射对人体产生的负面影响较大
- D. 体检时拍胸片受到的辐射对人体无影响, 但是辐射对人体依然有害

99. 近期有研究结果显示, 中年血压升高可能会影响到数十年后的大脑健康, 据此, 有人认为, 有必要在更早的阶段加强监测血压。

下列哪项如果为真, 最能支持上述观点?

- A. 人们在 70 岁时出现脑部血管损伤迹象与轻微中风存在关联
- B. 受试人群中, 53 岁时血压上升并在 43 岁至 53 岁期间经历较快血压增幅
- C. 清晨血压高可加快动脉粥样硬化进展, 增加左心室肥厚发生率及中风发作风险
- D. 在中年以前加强监测血压, 并依血压情况加以调整, 能降低大脑疾病发生率

【来源】2019.9.7 河南省三门峡市市直部分事业考试《行测》真题第 100 题

【资料】

某高校近期招聘 7 名辅导员, 甲、乙、丙、丁、戊、己和庚, 其中一名辅导员分到体育学院, 三名分配到文学院, 另外三名分配到化学院, 分配条件如下, 丙和庚必须分配到一个学院; 甲和乙不能分配到一个学院; 如果己分配到化学院, 就分配戊至文学院; 分配甲至文学院。

100. 下列分配方案可能完全满足分配要求的是:

- A. 体育学院: 戊      文学院: 甲, 丙和庚      化学院: 乙, 丁和己
- B. 体育学院: 戊      文学院: 乙, 丁和己      化学院: 甲, 丙和庚
- C. 体育学院: 己      文学院: 甲, 乙和丙      化学院: 丁, 庚和戊
- D. 体育学院: 己      文学院: 甲, 丁和戊      化学院: 乙, 丙和庚

101. 下列哪项是不可能分配至文学院的所有辅导员的名单?

- A. 甲, 丁和乙      B. 乙和庚      C. 丙和庚      D. 己

102. 下列哪项如果为真, 能够完全确定七名辅导员的所属院系?

- A. 甲和戊分配至文学院      B. 乙和庚分配至化学院

C. 乙和戊分配至化学学院 D. 乙和戊分配至文学院

103. 下列辅导员不可能一起分配至化学学院的是:

A. 乙和丁 B. 乙和己 C. 乙和庚 D. 丙和戊

104. 如果已没有分配至文学院, 下列可能为真的是?

A. 戊和乙分配至文学院 B. 丙和戊分配至化学学院  
C. 甲和庚分配至文学院 D. 丙和戊分配至文学院

## 第五部分 资料分析

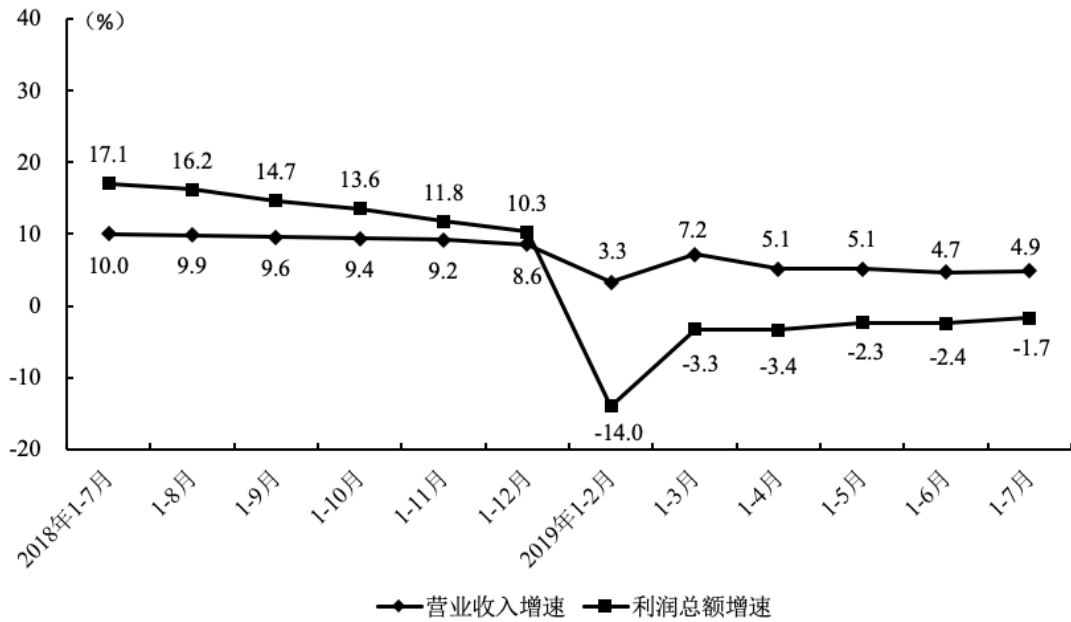
### 【资料】

2019年1—7月份,全国规模以上工业企业实现利润总额34977.0亿元,同比下降1.7%,降幅比1—6月份收窄0.7个百分点。2019年1—7月份,规模以上工业企业中,国有控股企业实现利润总额10837.4亿元,同比下降8.1%;股份制企业实现利润总额25033.0亿元,增长0.6%;外商及港澳台商投资企业实现利润总额8502.4亿元,下降6.9%;私营企业实现利润总额8849.1亿元,增长7.0%。

2019年1—7月份,采矿业实现利润总额3354.4亿元,同比增长4.2%;制造业实现利润总额28773.7亿元,下降3.4%;电力、热力、燃气及水生产和供应业实现利润总额2848.9亿元,增长10.6%。

2019年1—7月份,在41个工业大类行业中,29个行业利润总额同比增加,12个行业减少。主要行业利润情况如下:电气机械和器材制造业利润总额同比增长15.6%,专用设备制造业增长14.3%,石油和天然气开采业增长12.9%,电力、热力生产和供应业增长12.2%,非金属矿物制品业增长10.8%,有色金属冶炼和压延加工业增长6.0%,通用设备制造业增长5.1%,农副食品加工业增长0.9%,纺织业增长0.1%,石油、煤炭及其他燃料加工业下降50.6%,黑色金属冶炼和压延加工业下降25.1%,煤炭开采和洗选业下降3.8%,汽车制造业下降23.2%,化学原料和化学制品制造业下降11.6%,计算机、通信和其他电子设备制造业下降6.3%。





2018年1—7月至2019年1—7月各月累计营业收入与利润总额同比增速

105. 2018年1—7月，全国规模以上工业企业利润总额约为：
- A. 3.52万亿元      B. 3.56万亿元      C. 4.09万亿元      D. 5.6万亿元
106. 2018年1—7月，股份制企业实现利润总额约为私营企业实现利润总额的：
- A. 2倍      B. 2.5倍      C. 3倍      D. 4倍
107. 下列时间中累计营业收入同比增速最快的是：
- A. 2018年1—8月      B. 2018年1—12月      C. 2019年1—3月      D. 2019年1—7月
108. 下列关于2019年1—7月行业利润同比增速由大到小的排序，正确的是：
- A. 化学原料和化学制品制造业，煤炭开采和洗选业，纺织业
- B. 汽车制造业，有色金属冶炼和压延加工业，通用设备制造业
- C. 电气机械和器材制造业、专用设备制造业，石油和天然气开采业
- D. 黑色金属冶炼和压延加工业，专用设备制造业，化学原料和化学制品制造业
109. 下列能由上述资料推出的是：
- A. 2018年1—7月，外商及港澳台商投资企业实现利润总额约为9032.5亿元
- B. 2018年1—6月，全国规模以上工业企业实现利润总额34977.0亿元，同比下降1%
- C. 2019年1—2月，全国规模以上工业企业实现利润总额降低的原因是冬季需求量骤减
- D. 2019年1—7月，电力、热力、燃气及水生产和供应业实现利润总额同比增长273亿元

元

【资料】

2018年，全国共投入研究与试验发展（R&D）经费19677.9亿元，同比增长11.8%；研究与试验发展（R&D）经费投入强度（与国内生产总值之比）为2.19%，比上年提高0.04个百分点。按研究与试验发展（R&D）人员全时工作量计算的人均经费为44.9万元，比上年增加1.3万元。

分活动类型看，全国基础研究经费1090.4亿元，比上年增长11.8%；应用研究经费2190.9亿元，增长18.5%；试验发展经费16396.7亿元，增长10.9%。基础研究、应用研究和试验发展经费所占比重分别为5.5%、11.1%和83.3%。

分活动主体看，各类企业经费支出15233.7亿元，比上年增长11.5%；政府属研究机构经费支出2691.7亿元，增长10.5%；高等学校经费支出1457.9亿元，增长15.2%。企业、政府属研究机构、高等学校经费支出所占比重分别为77.4%、13.7%和7.4%。

2018年各地区研究与试验发展（R&D）经费情况

地 区	R&D 经费 (亿元)	R&D 经费投入强度 (%)
全 国	19677.9	2.19
北 京	1870.8	6.17
天 津	492.4	2.62
河 北	499.7	1.39
山 西	175.8	1.05
内 蒙 古	129.2	0.75
辽 宁	460.1	1.82
吉 林	115.0	0.76
黑 龙 江	135.0	0.83
上 海	1359.2	4.16
江 苏	2504.4	2.70
浙 江	1445.7	2.57
安 徽	649.0	2.16
福 建	642.8	1.80
江 西	310.7	1.41
山 东	1643.3	2.15
河 南	671.5	1.40
湖 北	822.1	2.09
湖 南	658.3	1.81
广 东	2704.7	2.78
广 西	144.9	0.71
海 南	26.9	0.56
重 庆	410.2	2.01
四 川	737.1	1.81
贵 州	121.6	0.82
云 南	187.3	1.05
西 藏	3.7	0.25
陕 西	532.4	2.18
甘 肃	97.1	1.18
青 海	17.3	0.60
宁 夏	45.6	1.23
新 疆	64.3	0.53

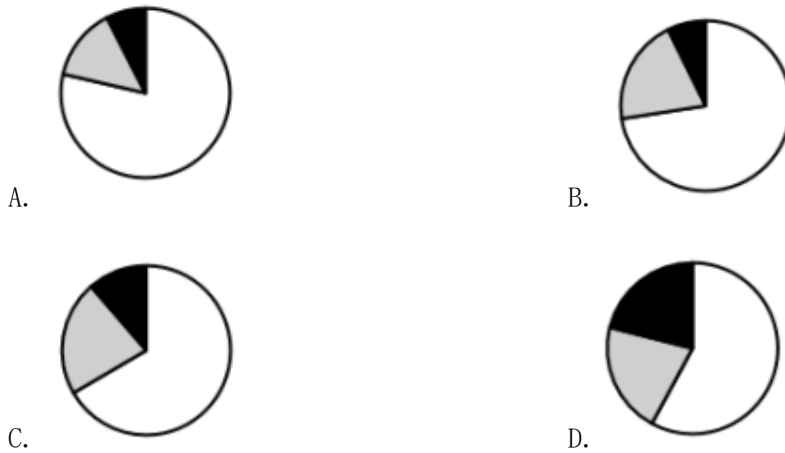
110. 2017年全国共投入研究与试验发展（R&D）经费约为：

- A. 17308 亿元      B. 17601 亿元      C. 19601 亿元      D. 22000 亿元

111. 2018年，研究与试验发展（R&D）经费投入超过千亿元的省（市）有：

- A. 5 个      B. 6 个      C. 7 个      D. 8 个

112. 下列能够正确描述 2018 年企业、政府属研究机构、高等学校经费支出经费占比的统计图图是：



113. 下列地区中，2018 年投入研究与试验发展（R&D）经费相差最大的是：  
A. 天津与湖北      B. 河南与浙江      C. 江苏与山东      D. 广东与北京

114. 下列能从上述资料中推出的是：

- A. 2018 年国内生产总值约为 898.5 万亿元
- B. 各活动类型中，2018 年经费增长量最大的类型是应用研究经费
- C. 2018 年上海的研究与试验发展（R&D）经费投入约是安徽省的 2 倍
- D. 按 2018 年全国共投入研究与试验发展（R&D）经费的增速计算，2019 年全国投入约 24 万亿元

**【资料】**

2019 年上半年，全国居民人均可支配收入 15294 元，比上年同期增长 8.8%。其中，城镇居民人均可支配收入 21342 元，增长 8.0%；农村居民人均可支配收入 7778 元，增长 8.9%。

2019 年上半年，城镇居民人均可支配收入中位数 19536 元，增长 8.2%，是平均数的 91.5%；农村居民人均可支配收入中位数 6601 元，增长 9.2%，是平均数的 84.9%。

按收入来源分，2019 年上半年，全国居民人均工资性收入 8793 元，增长 8.7%；人均经营净收入 2467 元，增长 8.9%；人均财产净收入 1321 元，增长 13.2%，占可支配收入的比重为 8.6%；人均转移净收入 2715 元，占可支配收入的比重为 17.7%。

2019 年上半年，全国居民人均消费支出 10330 元，比上年同期增长 7.5%。其中，城镇居民人均消费支出 13565 元，增长 6.4%，农村居民人均消费支出 6310 元，增长 8.7%。

2019 年上半年，全国居民人均食品烟酒消费支出 2950 元，增长 4.8%，占人均消费支出的比重为 28.6%；人均衣着费支出 731 元，增长 3.0%，占人均消费支出的比重为 7.1%；人

均居住消费支出 2389 元，增长 10.8%，占人均消费支出的比重为 23.1%；人均生活用品及服务消费支出 621 元，增长 3.8%，占人均消费支出的比重为 6.0%；人均交通通信消费支出 1387 元，增长 7.8%，占人均消费支出的比重为 13.4%；人均教育文化娱乐消费支出 1003 元，增长 10.9%，占人均消费支出的比重为 10.0%；人均医疗保健消费支出 941 元，增长 9.5%，占人均消费支出的比重为 9.1%；人均其他用品及服务消费支出 278 元，增长 9.8%，占人均消费支出的比重为 2.7%。

115. 2019 年上半年，全国居民人均可支配收入与上年相比增加了：

- A. 1156 元                      B. 1169 元                      C. 1237 元                      D. 1346 元

116. 2019 年上半年，全国居民人均工资性收入约占可支配收入的：

- A. 32.3%                      B. 42.8%                      C. 50.6%                      D. 57.5%

117. 2019 年上半年，全国居民人均消费支出最多的是：

- A. 居住消费                      B. 食品烟酒消费                      C. 教育文化娱乐消费                      D. 交通通信消费

118. 2019 年上半年，全国居民人均工资性收入约是人均转移净收入的：

- A. 3.2 倍                      B. 3.3 倍                      C. 4.2 倍                      D. 4.3 倍

119. 下列能从上述资料推出的是（     ）。

- A. 2019 年上半年，我国农村居民的恩格尔系数为 28.6%  
B. 2019 年上半年，居民人均可支配收入中位数为 13068.5 元  
C. 2019 年上半年，全国居民人均教育文化娱乐消费支出增长最快  
D. 2019 年上半年，全国居民人均工资性收入占可支配收入的 16.1%

## 2019年河南省直二批事业单位招聘考试真题

### 第一部分 言语理解与表达

1. 我国幅员辽阔，各个地区的自然条件、地理环境和物产资源有很大的\_\_\_\_\_，这是各地人民的饮食品种和口味习惯不同的物质基础和先决条件。俗话说：“靠山吃山，靠水吃水。”这个道理是\_\_\_\_\_的，但是社会的发展，政治、经济、文化中心的形成和转移，也是地方菜系的促成和催化因素。

填入横线处的词语最恰当的一项是：

- A. 分别 无庸置疑                      B. 差异 无可挑剔  
C. 差别 毋庸置疑                      D. 区别 无容置疑

2. 在希腊，一棵石柱在一千年前倒在那里，今天绝不会有人去把它扶立起来，因为这是历史的本来面目。当然他们又不是对这些先人的创造\_\_\_\_\_。常常会有一些文物医生拿着针管来，为一些正在开裂的石头注射加固剂，或者定期清洗现代工业\_\_\_\_\_的酸雨给这些石头带来的污迹。

填入横线处的词语最恰当的一项是：

- A. 不理不管 造成                      B. 漠然视之 合成  
C. 不闻不问 形成                      D. 漠不关心 化成

3. 赵武灵王是无愧于英雄的称号的。秦始皇以全国的人力物力仅仅连接原有的秦、燕、赵的长城并加以增补，就引起了\_\_\_\_\_。不知从什么时候起，在秦始皇面前就站着一个孟姜女，\_\_\_\_\_这条举世闻名的万里长城。而赵武灵王以小小的赵国，在当时的物质和技术条件下，竟能完成这样一个巨大的国防工程而没有挨骂，不能不令人惊叹。

填入横线处的词语最恰当的一项是：

- A. 怨声载道 哭诉                      B. 天怒人怨 指控  
C. 民怨沸腾 控诉                      D. 人神共愤 控告

4. 产权是所有制的\_\_\_\_\_，健全归属明晰、权责明确、保护严格、流转顺畅的现代产权制度。公有制经济财产权不可侵犯，非公有制经济财产权同样不可侵犯。国家保护各种所有制经济产权和合法权益，保证各种所有制经济依法平等使用生产要素，公开、公平正参与市场竞争，同等受到法律保护，依法\_\_\_\_\_各种所有制经济。

依次填入划横线部分最恰当的一项是：

- A. 基础 监督      B. 核心 监管      C. 前提 保护      D. 中心 管理

5. 权力意志作为一种希望获得自我强化、乘获自我正当性的存在，本身具有极大的张力，必然借助包括司法程序在内的一切制度工具来实现自己的\_\_\_\_\_。但是现在问题在于司法程序同样是一种权力，承载着第三方执法的全民\_\_\_\_\_，本身自有一套理性存焉。借由司法程序来实现权力意志，则权力意志需与后者达成\_\_\_\_\_，不可完全无自主品格\_\_\_\_\_。

填入横线处的词语最恰当的一项是：

- A. 计划 期望 谅解 听之任之
- B. 意图 期待 妥协 予取予夺
- C. 愿望 裁决 共识 咎由自取
- D. 声音 规则 一致 豪取强夺

6. 西方科学传统起源于希腊，它的关键词是理性。我们可以注意到，在西方思想史上，哲学和科学永远都\_\_\_\_\_在一起，许多时候甚至没法区别。西方历史上第一个哲学家也是第一个科学家，西方的科学家做大了\_\_\_\_\_就是哲学家。

填入横线处的词语最恰当的一项是：

- A. 纠缠 必然 B. 结合 肯定 C. 融洽 可能 D. 搅和 必须

7. 以罗列抽象概念\_\_\_\_\_实际研究，以抽象词语\_\_\_\_\_具体问题，是最常见的过度解释现象。只要违反科学工作的一般准则，都会成为不靠谱解释。而坚持实事求是，戒绝虚妄，谨慎判断，才是艺术批评的可取态度。

依次填入划横线部分最恰当的一项是

- A. 替换 遮蔽 B. 替代 蒙蔽 C. 偷换 代替 D. 代替 遮掩

8. 张鉴墙的艺术与其他艺术家创作\_\_\_\_\_，他的艺术简单而又深刻，充分运用了他以前就秉承的减法原则，以致于提升了当代艺术的艺术功能。他尽可能地把艺术的题材内容压缩到一个最低的点，以致沿着这个点伸展下去就会导致虚无，但神奇的是，他又在不经意间\_\_\_\_\_，随时地捕捉到一种破除它的艺术奥秘。

依次填入划横线部分最恰当的一项是：

- A. 大相径庭 千回百转 B. 异曲同工 兜兜转转
- C. 迥然不同 曲径通幽 D. 同声相求 别有洞天

9. 始自民国五年（1916）的大前门香烟陪伴了无数普通人的无聊生活。近百年世事\_\_\_\_\_，曾与之齐名的老刀、大英、三炮台等香烟已然\_\_\_\_\_，大前门却即将迎来百年诞辰。

依次填入划横线部分最恰当的一项是：

- A. 变迁 消散      B. 沉浮 淹没      C. 起伏 消弭      D. 跌宕 湮没

10. 表态是一种统一的思想、形成共识的形式，必要的表态\_\_\_\_\_。尤其是当面对重大政治活动和艰难险重任务时，向上级表示鲜明态度，表明认识、决心和打算是必须的。然而，表态的目的是贯彻落实，需要干部在落实中作出表率，\_\_\_\_\_见诸实效。如果只表态不表率，就是一种哗众取宠的作秀行为和弄虚作假的不良作风。

依次填入划横线部分最恰当的一项是：

- A. 无可厚非      以上率下                      B. 无可非议      率先垂范  
C. 无可厚非      身先士卒                      D. 振奋人心      上行下效

11. 年轻人需要读名著，因为它是我们祖先的文化记忆。从某种意义上说，“这是一代人对一代人的精神遗言，是将死的老人对刚刚开始生活的青年人的\_\_\_\_\_，是准备去休息的士兵向前来换哨的士兵的命令”。阅读名著就是阅读时代，阅读生活，借由它，我们\_\_\_\_\_历史，继承文化的血脉。

依次填入划横线部分最恰当的一项是：

- A. 嘱托 走进      B. 寄托 回望      C. 忠告 穿透      D. 教导 记住

12. NTLive（英国国家戏剧现场）突破原有传播范围，对真正的戏剧市场会不会造成冲击？从某种程度上看，这是科技发展的大势所趋，戏剧现场影像是否会对戏剧本身产生负面影响，甚至摧毁真正的戏剧，而前去现场观看是否意味着一种\_\_\_\_\_、对戏剧艺术的背叛，从本质上讲，都是一个新生事物在出现时会出现的\_\_\_\_\_。

依次填入划横线部分最恰当的一项是：

- A. 堕落 质疑      B. 享乐 批评      C. 遗忘 反驳      D. 怀疑 迷惘

13. 当今世界正在发生深刻复杂变化，和平与发展仍然是时代主题。国与国之间利益交融、\_\_\_\_\_，促进世界各国共同发展是时代思维。更好地\_\_\_\_\_国内国际两个大局，坚持开放的发展、合作的发展、共赢的发展，实为正道。

依次填入划横线部分最恰当的一项是：

- A. 互利共赢      兼顾                      B. 息息相关      规划  
C. 休戚与共      统筹                      D. 互惠共赢      把握

14. 1966年邢台地震，周恩来总理慰问群众时，特意请群众转过身来，背风站立，自己迎着风讲话。姿态的变化中，蕴含着对人民的\_\_\_\_\_、对群众的\_\_\_\_\_、对权力的\_\_\_\_\_。今天，无论大小事情，无论何时何地，都要密切血肉联系、造福人民群众，更是

共产党人的立身之本、凝聚人心的深厚之基。

依次填入划横线部分最恰当的一项是：

- A. 尊敬      热爱      自省                      B. 尊重      厚意      约束  
C. 热爱      感情      敬畏                      D. 敬畏      深情      自律

15. 今天的“新集体生活”更加开放、更加自由、个性更加鲜明。在网络的土壤中，即便是荒腔走板的歌声，也可能因触动隐秘的心弦而得到共鸣。只是，这样的个性张扬，虽为文化土层的培育提供了更大空间，却也“既有繁花，亦生稗草”，让互联网文化显得颇为芜杂。微信公众号不乏“揭秘”“爆料”“有染”等吸引眼球的劲爆词汇，更有“30岁以前要明白”“中国人转起来”等或浓或淡的心灵鸡汤……这些内容尽管无伤大雅，却也难免让人担心它们背后日渐贫血的心灵。

这段文字意在说明：

- A. 网络中个性的张扬往往导致似是而非的伪文化大行其道，让人真假难辨  
B. 网络作为“新集体生活”空间，其中的文化鱼龙混杂，这需要公众辨别  
C. 当今世界网络这种“新集体生活”更加开放、更加自由、个性更加鲜明  
D. 互联网文化的特点就是芜杂，难免让人担心微信公众号背后的价值走向

16. 价值观体现民族和时代的特点，并成为不同民族文化和不同时代文化的最重要特征。一定社会文化蕴含的价值观往往反映不同民族的诉求，受制于特定的时代、制度和实践。在中国传统文化中，也出现过重视人际和谐、尊重自然等价值观念，至今为人们所重视。资本主义社会条件下的机器大生产和市场经济消除了等级制和人身依附关系，既催生了“自由、平等、博爱”口号，也培育了拜金主义、个人主义和自由主义等价值观念。

\_\_\_\_\_。

填入横线上最恰当的是：

- A. 这些价值观都带有民族和时代的印记              B. 这些特征都是民族和时代具有的标志  
C. 这些价值观都因为民族的差异而不同              D. 这些价值观都具有着各自不同的特征

17. 全国人大教科文卫委员会委员马力对社会上流行举办奢华婚礼深有感触。有人婚礼花费上百万元，周围一些年轻人甚至表示害怕办婚礼。马力认为，我们应该追求婚姻的实质，而不要过于浮躁，追求表面上的东西。北京大学教授张颐武认为，从文化传统角度来看，亚洲国家高度重视家庭价值，婚姻是家庭稳定的关键。在特别重视这种关系的亚洲各国，如果不举办盛大婚礼对于家族来说是一种不礼貌。从另一方面来说，炫耀性消费在亚洲国家比较有影响力。他说，有些人举办奢华婚礼还有为了在亲友之间显示实力和身份地位的心态，但



过于奢华的婚礼无论对于举办婚礼的人还是参加婚礼的人来说其实都是不堪重负的。《朝鲜日报》称，婚礼应打造成具有美的文化体验日，而追求豪华的、比起实际内容更注重外表和包装，这显然是本末倒置。

这段话意在说明：

- A. 奢华婚礼给举办者和参加者都带来了沉重负担
- B. 举办奢华婚礼和重视家庭价值的传统文化有关
- C. 举办奢华的婚礼并不意味着更高贵、更有价值
- D. 举办奢华的婚礼是炫耀性消费的表现形式之一

18. 人工智能和人类心灵最根本的差异在哪里呢？人工智能可以模拟人类心灵的很多重要特征，比如自主性。但这仅仅是模仿，因为自主性概念本质上是排斥模仿的。而且，自主性还会涉及我们的行动和自我意识，而自我意识对于人工智能来说又很难实现，因为数据的完全共享性与自我意识的个体性难以兼容。另外，我们的认知、知觉和行动模块里面又存在现象性。即使我们了解清楚了大脑的一切构造，在我们的物理世界里面也无法做出这种现象性的东西来，这就是所谓的意识的“难问题”。

这段文字说明：

- A. 人工智能可以模仿人类，但不能替代人类思考
- B. 人工智能不能全部替代人类心灵，但有自主性
- C. 人工智能可以模仿人类的个体性
- D. 人工智能和人类心灵的根本差异

19. 宋人一方面提倡家庭治生，另一方面提倡辩证的节俭，量入为出是其基本原则。宋人把俭朴当作自家的优良传统使之代代相传。赵鼎认为节俭是人最高尚的行为。节俭不是吝啬，袁采提倡节俭，要量力而行，尤其是个人日常生活，“丰俭随其财力，则不谓之费；不量财力而为之，或虽财力可办，而过于侈靡，近于不急皆妄费也”。至于公益事业，则要尽力而为，不要吝惜财产，如“乡人有纠率钱物以造桥修路及打造渡航者，宜随力助之。不可谓舍财不见获福而不为”。

以下说法与原文不一致的是：

- A. 宋人节俭分对象，对个人生活和对公益事业的标准不一样
- B. 宋人对待造桥修路与家庭生活一样，都保持着节俭的习惯
- C. 宋人把俭朴当作自家的优良传统，根据个人财力适量花费
- D. 宋人认为节俭并没有统一的标准，量入为出是最应坚持的

20. ①在推动改革发展过程中，领导干部应当坚守怎样的人文精神
- ②用文化视角做项目，以人文情怀抓发展，让发展成果绽放人文的光辉
- ③笔者认为，在领导干部的精神世界里，至少应该具有“人本、和谐、传承、关爱、担当”
- ④古今中外人文精神内涵丰富，包罗万象，核心定义表现为对人的价值、尊严的关切和维护，对人类精神文化遗存的珍视和传承，对理想人格的推崇和塑造上，主观题一律
- ⑤即以人为本、和谐共存、传承历史、关爱民生、担当责任，这也是领导干部应该坚守的人文精神内涵
- ⑥领导干部不仅要把人文精神内化于心，更要外化于行，把它真正融会贯通到推动发展的实践中去

将以上 6 个句子重新排列，语序正确的是：

- A. ①④⑤②③⑥      B. ⑥①⑤③④②      C. ④①③⑤⑥②      D. ②⑥①⑤④③

21. 收入分配的不平等，收入差距的扩大，无论是从社会公正、社会稳定，还是从经济效率来看，均是不理想的。如果改变了收入分配的不平等，整个国民经济的福利水平会提高。但是收入分配的机械平等，可能有损于经济的效率。政府的作用便在于进行无损于资源最佳分配和经济收入的再分配。政府在经济管理中，可以使用税收、转移开支或者直接干预市场机制，以改变收入分配的不平等。

这段文字意在强调：

- A. 平等与效率的协调关系到一个国家的发展与稳定
- B. 政府在社会经济发展中起着资源配置的作用
- C. 既不能让社会收入差距过大，影响社会公正，也不能要有损经济效率的机械平等
- D. 既要改变收入分配的不平等，又要促进经济的效率，这需要政府把握住干预的“度”

22. 在现代社会中，相对于金钱财富、权力地位以及社会关系，教育更有助于开放平等的社会流动与地位获得。青年学生通过接受教育，积累知识、技能、经验与才干等等，以使自己在寻找工作、职业变换、身份地位的改变等社会流动的过程中具有较强的竞争力。然而如今“蚁族”的出现和蔓延，或明或暗地表述了另一种事实与逻辑，它反映了在当今社会流动与地位获得的过程中，教育所铺架的向上流动的阶梯出现了明显的短路和断线。

通过上述文字，作者想要表达的主要观点是：

- A. “蚁族”的出现隐喻着教育在促进社会公平方面存在着很多问题
- B. “蚁族”的出现隐喻着教育在促进社会平等流动方面出现了问题

- C. 教育是“蚁族”获得开放平等的社会流动和身份地位的主要途径
- D. 平等开放与普适化的教育是青年学生获得社会流动的基本的途径

23. 长期以来传统光学照相技术进步的基本指向,就是不惜工本地提高对局部物像的还原能力。但是引入数码制式以后,照相就发生了一个维度上的重要变化:一方面,传统的局部成像和解析能力的提高依然需要继续不断致力。但是同时却引入了一整套更重要的指标,这就是如何使局部的“成像”更便捷地融入整个社会的信息共享体系,更方便转化为其它环境场景之中依然充分有效的信息资源。

下列说法与上述文字不符的是:

- A. 传统光学照相技术注重提高对局部物像的还原能力
- B. 数码制式导致照相技术在维度上发生了重要的变化
- C. 数码制式更侧重于使局部的“成像”融入信息共享体系
- D. 数码制式对传统的局部成像和解析能力的提高不再重视

24. 外交级别一般分为五级:盟国、大使级、代办级、断交和战争状态。《维也纳外交关系公约》中确定的国家外交关系只有大使级和公使级两种,大使和公使都是一个国家元首派向驻在国的国家代表。目前基本没有公使级别的外交关系,公使仅仅是作为一个外交等级的标志保留。而外交降级一般是通过驱逐大使,从大使级降为代办级关系。所谓代办,顾名思义,就是一个国家的外交部部长向另一个国家的外交部部长派出的联络代表。严格的说,代办并不是真正意义上的外交官,也不是一种衔级,而是一个职务。两个国家之间由于种种原因没有通过合乎国际法的方式建立外交关系,而实际又需要有所往来,就可以通过这个途径。

以下与原文意思符合的是:

- A. 代办作为本国外交部部长派出的联络代表与他国进行往来
- B. 外交降级也指从公使级别外交关系向下降级
- C. 合乎国际法的方式建立外交关系中没有盟国和公使级两种
- D. 断交和战争状态是两国关系降至冰点的表现

25. 从社会传播规律看,人们总是先接受一些概念而后才探求背后的逻辑体系,其中还存在另一个变量——故事,因此核心价值体系的传播进路应该是:概念—故事—体系。商业传播领域的一些经验具有一定的普遍性:“受众只给传播者几个词的机会表达自己”,“这些词是有生命力的,即故事化”。因此,有必要通过严密论证,基于核心价值体系的表述萃取若干概念,并从大众生活中找到激活这些概念的故事框架。

下列说法不符合文意的是：

- A. 把概念故事化是社会传播的很重要的方法
- B. 先导入概念再诠释体系才是核心价值体系传播的正确路径
- C. 核心价值体系的传播方法可借鉴商业传播领域的经验
- D. 社会传播与商业传播的规律各有其特殊性且顺序不同

26. 从根本上讲，中国经济“一枝独秀”是推动人民币升值的内在原因。经验表明，任何国家在经济起飞时都难免要经历本币升值的过程。中国经济增长持续吸引了国际资本流入，从而推动了外汇储备增长，迫使中央银行投放基础货币，导致国内通胀压力增加；但治理通胀需要紧缩货币，又迫使中央银行“放任”本币升值，通胀与升值相互推动，可能会形成恶性循环。

对这段文字概括最准确的是：

- A. 经验表明，人民币升值在所难免
- B. 人民币面临长期缓慢升值的压力
- C. 经济增长推动外汇储备持续增长
- D. 人民币升值原因是中国经济起飞

27. 生物技术具有鲜明的军民两用性，正在对社会发展产生重大影响。解决人类面临的人口膨胀、环境污染、能源短缺等问题都需要生物技术大显身手。\_\_\_\_\_。它可以为作战人员提供更好的生命支持，提高部队的作战能力和生存能力；制造高性能的仿生、隐身、伪装等生物材料，提高武器平台的生存能力。

填入横线处最恰当的是：

- A. 与此同时，生物技术在军事上也发挥着至关重要的作用
- B. 生物技术将成为解决目前人类所面临危机的最有力武器
- C. 在军事上，生物技术同样有着广阔的应用范围和巨大的应用潜力
- D. 现代生物技术的发展，为从根本上解决这些问题提供了无限希望

28. ①不过，想一夜解决老问题一天跨入新阶段，也不可能。中国的改革本身就是循着由易而难、先试点后推广、先局部后全局的顺序展开

②改革，非改不可、不革不行，这已成为中国上下的基本共识。改革是发展的总开关，是解决一切民生难题的总钥匙

③也正因为需要“时间窗口”，改革才更需要科学的顶层设计和精确的末端治理。越是艰难的改革，越需要掌握好节奏、把握好节点

④的确，改革发展没有速成班。追求速成，最终还得补课。不管是教育资源的均衡配置，还是养老保险的高水平全覆盖，都需要一个漫长的蓄力过程

⑤但是，需要“时间窗口”，并不意味着可以坐着等果子掉下来。不管是异地就医问题的解决，还是食品安全信心的重建，都需要在探索中不断前行

⑥更何况，我们的基本国情基本矛盾也决定了很多问题的解决不可能是那么轻易的事  
将以上句子重新排列，最恰当的一项是：

- A. ③②④①⑥⑤      B. ④②③⑥①⑤      C. ②①④⑥⑤③      D. ⑥②④⑤③①

29. 前 30 年的改革历程，中国解决了做大蛋糕和“先富”的问题；今后，在继续做大蛋糕的同时，要解决好分蛋糕和“共富”的问题。毋庸赘言，从教育、医疗到住房、养老，从收入分配到社会保障，当前改革面临的问题，大多与公平正义有关。改革是最大的红利，但如果红利难以体现到群众切身利益上，改革就不能获得广泛的群众基础。发展是硬道理，但如果发展成果不能惠及广大群众，发展就不能获得持续的内生动力。

这段文字意在说明：

- A. “公平正义”不仅是推进改革的目标，更是改革成功的前提  
B. 改革和发展都关乎群众最根本的利益  
C. 改革和发展的出发点和宗旨都应是普通群众的利益  
D. 改革的红利不能体现到群众切身利益上，改革就会失去群众基础

30. 通过认真阅读小说，我在年轻的时候学会了认真对待生活。文学小说显示，我们实际上具有影响事件发展的能力，我们个人的决定可以塑造我们的生活，因此我们应该认真对待生活。在封闭或半封闭的社会，个人的选择是有限的，小说艺术处于落后状态。但是只要小说艺术在这些社会中得到发展，它就会邀请人们思考自己的生活，而且它能实现这一点就是通过小心翼翼地构造有关个人的人格特性、感知和抉择的文学叙述。当我们摆脱传统叙述，开始阅读小说，我们逐渐感到我们自己的世界和我们的选择可以和历史事件、国际战争以及国王、帕夏、军队、政府的决定一样重要——而且更为不同凡响的是，我们的感知和思想拥有的潜能比所有这些都更有趣。

对上述文字理解正确的是：

- A. 认真阅读小说的人都会认真对待生活      B. 意在强调小说的功能是思考社会人生  
C. 小说艺术和社会制度没有必然的关系      D. 阅读小说可以改变一个人的生活观念

31. 有意追求晦涩繁复的语言形式的行为，作为写作者个人爱好是无可厚非的，但不能作为艺术批评写作的范例。这不仅因为艰难晦涩影响传播效果，也因为那样写过于容易，即

有如学者所说，写文章深入浅出者庸，浅入深出者无，深入深出者难，深入浅出者更难。由此可知，能把艺术批评写到让普通人看不懂，不是因为学问高深，而是因为学问不足，以至于不能化繁为简，而只会化简为繁。

与以上段落观点不一致的是：

- A. 文风晦涩折射出来的是作者的一知半解和语言能力的欠缺
- B. 写出来的文章应当容易阅读，也就容易传播，这是一般的规则
- C. 深入浅出是写文章的最高境界，而糟糕的则是浅入浅出
- D. 晦涩难懂的艺术评论不仅比较容易，也会影响传播效果

32. 存在与生存是一对既相互区别又相互联系的概念。一方面，存在与生存彼此差异。存在主要是对世界万物之根的追寻，而生存则主要是对宇宙间生命及其相关物的生成与创造过程的把握；存在与生存具有不同的特点，并且在人的生活信仰的形成、对世界的认识及实践中起着不同的作用。另一方面，两者又相互联系。存在是指整个世界的起始，是万物的根源，生存则是指生命世界的基础，人的生存更是人的现实世界的基础。人在世界中真正存在的问题，只不过是一个寻求和解决如何生存及其发展的问题。生存以超越存在为根据，并且由超越存在所给予。

对这段文字理解不正确的是：

- A. 现实世界中，存在是生存的基础，存在是有层次的，生存是存在的内核
- B. 万物与世界之间，存在是根源；生命与世界之间，生存是纽带
- C. 生存是一个不断超越的过程，生存是发展的基础，发展是生存的方向
- D. 人的存在是人生的第一要义，也是人的第一大需要，人必须活的有价值

33. 克莱夫·贝尔说：“好的美术批评会使我看到一幅画中最初没有感动我而被忽略的东西，致使我获得了审美感受，承认它是件艺术品。”这里的决定条件已不是作品本身，而是对作品的评论。从这个角度也能说明艺术批评不是创作的附庸，而是有独立价值的创造，艺术作品只是为这种创作提供素材，而不能对艺术批评起绝对支配作用。艺术家创造作品，艺术批评家通过研究作品而创造意义，只要不是南辕北辙和无中生有，创造意义就是批评的意义。

这段话的主旨是：

- A. 艺术批评与创作一样有独立的价值
- B. 好的艺术批评能给读者更多的意义
- C. 能让观众获得审美感受的决定条件是艺术批评

D. 艺术家创造作品，艺术批评家创造作品的意义

34. 人类非常善于适应气候变化，然而动物却并非如此。当它们的栖居地发生不可逆转的变化时——雨林枯竭或热带地区清凉的山区变得酷热——动物也许就会灭绝。《科学》杂志上一项最近的研究展示了上述情形是如何发生的。罗伯特·科尔韦尔分析了热带地区近 2000 种的植物、昆虫和真菌的数据。热带地区的生物往往不能通过前往北方或南方来逃避不断升高的气温；相反，它们不得不去较高的海拔地带以寻找较低的气温。这意味着我们将可能会看到科学家所称的“物种多样性”的减少。与此同时，已经生活在最高海拔的物种或许除了灭绝以外已无路可逃。生活在哥斯达黎加高海拔云雾林中的金蟾蜍就突然消失了。

从上面这段话中可以看出，面对气温升高，热带野生生物会：

- A. 适应已改变的栖息地  
B. 迁移到寒冷地带  
C. 被迫走向灭绝  
D. 出现物种多样性的减少

## 第二部分 数量关系

35. 11, 39, 85, ( ), 231

- A. 121                      B. 149                      C. 178                      D. 202

36. 9, 13, 22, 38, 63, ( )

- A. 87                      B. 99                      C. 121                      D. 138

37. 7, -4, 21, -26, 71, ( )

- A. -116                      B. -120                      C. -158                      D. -169

38. 1.2, 3.3, 6.5, 11.7, 18.11, ( )

- A. 22.31                      B. 25.12                      C. 27.21                      D. 29.13

39. 42, 50, 46, 48, 54, 44, 66, ( )

- A. 52                      B. 42                      C. 38                      D. 26

40. 某警卫处有战士 24 人，随机每 3 人一班，轮流值班，每 6 小时换班一次，某 3 人同值一班后，到下次这 3 人再同值班，最长需 ( ) 天。

- A. 362                      B. 384                      C. 506                      D. 528

41. 吴昊爸爸将 40000 元投入到某基金公司进行一年期的理财活动，一年后赎回其中的 20000 元（无赎回费用），将剩下的 20000 元与收益继续在该公司按一年期进行理财活动。第二年后全部赎回（无赎回费用），取得 23164.04 元的结算。那么该基金公司的年化收益率是 ( )。

- A. 4.5%                      B. 4.7%                      C. 5.0%                      D. 5.1%

42. 在某次象棋公开赛的初赛中，每个选手都与其他选手比赛一局，每局获胜者得 2 分，失败者不得分，若出现平局则双方各得 1 分。四位棋迷统计了初赛中全部选手的得分，总数分别是 504, 505, 506, 507。经核实只有一位棋迷统计正确，那么这次比赛共有（ ）名选手。

- A. 22                      B. 23                      C. 24                      D. 25

43. 爸爸与儿子在一环形操场上从某一点同时同向匀速跑步，爸爸的速度是儿子的 3 倍，3 分钟 20 秒后父子首次相遇，此时儿子还需要跑 300 米才第一次回到出发点，那么爸爸的速度是（ ）米/分。

- A. 250                      B. 260                      C. 270                      D. 280

44. 小张和小李都要从甲地到乙地，甲、乙两地相距 54 千米，他们只有一辆自行车，约定分别各骑一段路，他们骑车速度是 15 千米/小时，小张和小李步行速度分别是 3 千米/小时、4 千米/小时，小张先步行，小李先骑车同时从甲地出发，为了使两人同时到达乙地，小李骑自行车到甲、乙之间的丙地。把自行车寄放在丙地留给小李，然后改为步行至乙地。丙地离甲地（ ）千米。

- A. 18                      B. 30                      C. 24                      D. 22

45. 黎越市从去年 7 月 1 日起调整居民用燃气价格，每立方米上涨三分之一。某户居民去年 6 月的燃气费是 16.8 元，8 月的燃气费是 32 元，并且 8 月的用气量比 6 月的用气量多  $3\text{m}^3$ 。那么该市居民用燃气价格每立方米调整了（ ）元。

- A. 0.6                      B. 0.8                      C. 1.0                      D. 1.2

46. 在对八年级五班同学进行最喜爱的动漫人物调查中，有 37 人喜爱机器猫，32 人喜爱喜羊羊，28 人既喜爱机器猫又喜爱喜羊羊，11 人既不喜欢机器猫也不喜欢喜羊羊。那么该班有学生（ ）人。

- A. 49                      B. 50                      C. 52                      D. 55

47. 已知一盒奇趣蛋有 12 个，其中 4 个内赠“复仇者联盟”的小玩具。如果 6 个小朋友每人从中拿走一个，那么至少有 1 个小朋友拿到内赠“复仇者联盟”小玩具奇趣蛋的概率是：

- A.  $21/22$                       B.  $23/24$                       C.  $32/33$                       D.  $71/72$

48. 有一水井，连续不断地涌出泉水，每分钟涌出的水相当于现有井水的  $1/200$ ，如果按照不涌出泉水算，把现有井水抽完，单用甲抽水机要 40 分钟，比单用乙抽水机用得时间少  $1/5$ 。实际上在不断涌出泉水，那么同时开动甲、乙两台抽水机要（ ）分钟才能把井



水抽完。

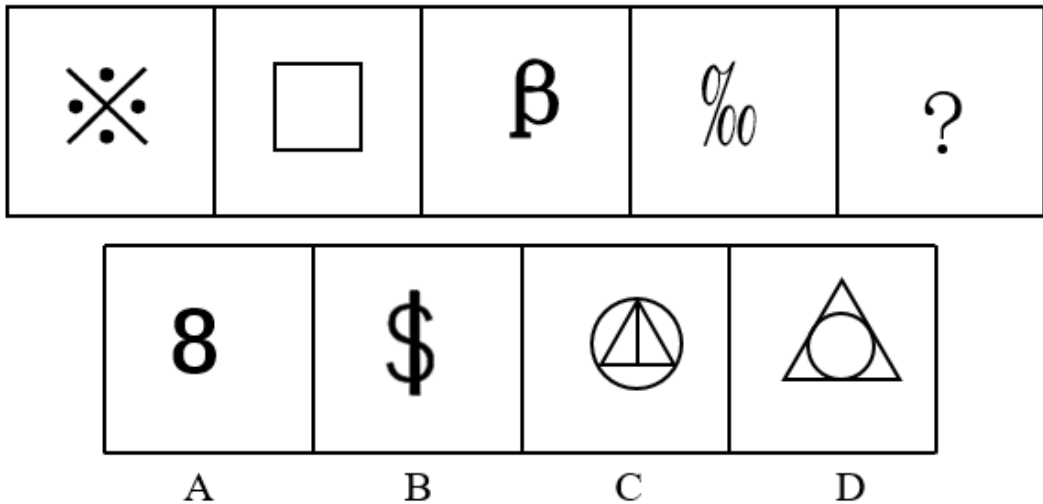
- A. 25                      B. 20                      C. 24                      D. 28

49. 一个时钟从2点30分开始，它再经过（ ）分钟，时针正好与分针重合。

- A.  $41\frac{4}{11}$                       B.  $41\frac{7}{11}$                       C.  $46\frac{4}{11}$                       D.  $46\frac{7}{11}$

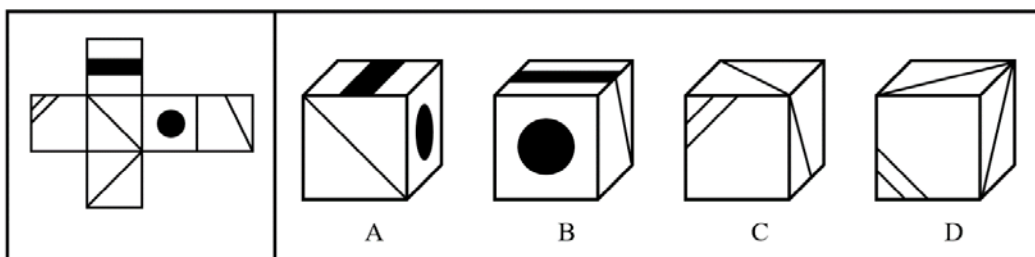
### 第三部分 判断推理

50. 从所给的四个选项中选择最合适的一个填入问号处，使之呈现一定的规律性：



- A. 如上图所示                      B. 如上图所示                      C. 如上图所示                      D. 如上图所示

51. 左边给定的是纸盒的外表面，右边哪一项能由它折叠而成？



- A. 如上图所示                      B. 如上图所示                      C. 如上图所示                      D. 如上图所示

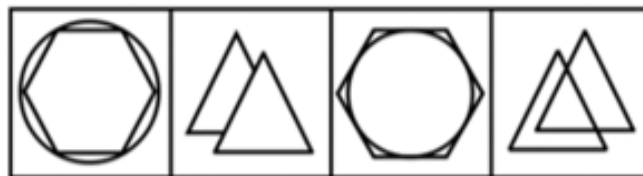

52. 从所给的四个选项中选择最合适的一个填入问号处，使之呈现一定的规律性：



A                      B                      C                      D

A. 如上图所示      B. 如上图所示      C. 如上图所示      D. 如上图所示

53. 从所给的四个选项中选择最合适的一个填入问号处, 使之呈现一定的规律性:



A                      B                      C                      D

A. 如上图所示      B. 如上图所示      C. 如上图所示      D. 如上图所示

54. 把下面的六个图形分为两类, 使每一类图形都有各自的共同特征或规律, 分类正确的一项是:



A. ①②③, ④⑤⑥      B. ①④⑤, ②③⑥      C. ①②④, ③⑤⑥      D. ①④⑥, ②③⑤

55. 结果加重犯, 也称加重结果犯, 是指实施基本犯罪构成要件的行为, 发生基本犯罪构成要件以外的加重结果, 因而刑法规定加重刑罚的犯罪形态。

根据上述定义, 下列属于结果加重犯的是:

A. 非法拘禁他人或者以其他方法非法剥夺他人人身自由的, 处三年以下有期徒刑、拘役、

管制或者剥夺政治权利；致人重伤的，处三年以上十年以下有期徒刑；致人死亡的，处十年以上有期徒刑

B. 非法搜查他人身体、住宅，或者非法侵入他人住宅的，处三年以下有期徒刑或者拘役，司法工作人员滥用职权，犯前款罪的，从重处罚

C. 未经本人同意摘取其器官，或者摘取不满十八周岁的人的器官的，依照故意伤害罪、故意杀人罪的规定定罪处罚

D. 收买被拐卖的妇女又出卖的，依照拐卖妇女罪的规定定罪处罚

56. 经营性资产是在生产和流通中能够为社会提供商品或劳务的资产。经营性资产的使用单位是具有法人地位的企业，其运营要以追求经济效益为原则。从会计角度看，主要是指企业因盈利目的而持有，且实际也具有盈利能力的资产。

根据上述定义，下列不属于经营性资产的是：

A. 某手机大厂积压的手机

B. 建设中尚未投入使用的机场

C. 某金融公司应收账款

D. 某国家重点实验室新购入的设备和器材

57. 印象管理指个体为了使他人形成对自己积极的、正面的印象而在他人面前展示自我的努力。

根据上述定义，下列不属于印象管理的是：

A. 小张喜欢在异性面前高谈阔论，引起大家的注意和赞赏

B. 开会时小陈通过各种途径努力使领导对自己感觉良好

C. 淘淘在幼儿园十分淘气，老师说了很多次他还是如此

D. 小王从穿着到言行都会尽量让自己看起来更像个淑女

58. 一般累犯，是指被判处有期徒刑以上刑罚的犯罪分子，刑罚执行完毕或者赦免以后，在 5 年内再犯应当判处有期徒刑以上刑罚之罪的情况，但过失犯罪和不满 18 周岁的人犯罪的除外。

根据上述定义，下列情形中构成一般累犯的是：

A. 宫某系 1990 年生人，2006 年因犯故意杀人罪被判处有期徒刑五年，2011 年刑满释放，2015 年因抢劫被抓

B. 何某 2010 年因犯过失损坏交通工具罪被判处有期徒刑三年，2013 年刑满释放，2016 年因诈骗被抓

C. 孙某 2010 年因犯受贿罪被判处有期徒刑三年，2013 年刑满释放，2019 年因合同诈骗被抓

D. 曹某 2010 年因犯盗窃罪被判处有期徒刑三年，2013 年刑满释放，2016 年因绑架儿童被抓

59. 侵权责任,是指行为人违反法律规定的义务而应当承担的法律后果。侵权责任的形式、范围都由法律明确规定而不允许当事人协商改变。

根据上述定义,下列情形中产生侵权责任的是:

A. 李某行车速度过快,撞上了前边车辆,保险公司赔付给李某自己的车辆维修费用

B. 李某行车速度过快,撞上了前边车辆,赔付给对方的车辆维修费用

C. 连降暴雨引发泥石流,赵某的房屋被冲塌

D. 柳某去银行 ATM 机取钱时,ATM 机系统出现错误,柳某取得现金 1 万元,账户上只扣除了一元钱

60. 座右铭本来指写出来放在座位边上用来激励、警戒、约束自己行为的格言警句,后来把一个人铭记在心或经常自我提醒的一句或少数几句格言警句也叫做座右铭。

根据上述定义,下列语句中不适合用作座右铭的是:

A. 有猷有为有守,多福多寿多男

B. 无道人之短,无说己之长

C. 人不可有傲气,但不可无傲骨

D. 淡泊明志,宁静致远

61. 人耳对一个声音的感受性会因另一个声音的存在而发生改变。一个声音能被人耳听到的最低值会因另一个声音的出现而提高,这种现象就是听觉掩蔽。

根据上述定义,下列属于听觉掩蔽的是:

A. 吵闹的课间,老师必须大声说话,同学才能听到

B. 安静的房间内,我们能听到闹钟的滴答声

C. 长时间带耳机听音乐,我们会觉得听到的音乐声越来越小

D. 人类无法听到蝙蝠等动物发出的超声波

62. 知觉是人脑对直接作用于感觉器官的事物整体的反映,是对感觉信息的组织和解释过程。知觉过程的心理规律,可以归纳为知觉的四个基本特性,即知觉的选择性、整体性、理解性和恒常性。当知觉对象的物理特性在一定范围内发生了变化的时候,知觉形象并不因此发生相应的变化。知觉的这种特性称为知觉的恒常性。

根据上述定义,下列不属于知觉恒常性的是:

A. 教师讲课时大都站在讲台上,有时也会走到学生的座位旁,教师在教室的不同位置时,

其形象在学生眼中的成像大小是不同的，但学生看到的教师的大小却是不变的

B. 在强光下煤块反射的光量远远大于暗处粉笔所反射的光量，但我们仍把煤块知觉为黑的，粉笔知觉为白的

C. 一辆公共汽车，不论从正面看还是侧面看，我们知觉到的公共汽车的形状不会改变

D. 陈大姐是个善于观察的人，她发现在晴朗的夜晚月亮很亮时星星比较少

63. 复合平等理论，是一种实现社会公平的设想，它认为任何一个领域的优势都不应当构成对整个社会的垄断，因此应将不同的社会领域尽可能区隔开来，允许各个领域有各自的优胜者，但要防止某个领域的优势越界扩张到其他领域。

根据上述定义，下列说法中最符合复合平等理论的是：

A. 三百六十行，行行出状元

B. 你可以选择做官，你也可以选择挣钱，但你不能选择通过做官来挣钱

C. 凡有的，还要加倍给他，叫他多余；没有的，连他所有的也要夺过来

D. 术业有专攻，隔行如隔山

64. 类型抽样也称分层抽样，先按一定标志对总体各单位进行分类，然后分别从每一类中按随机原则抽取一定单位构成样本。前提是对总体先有一定的认识，有辅助信息可资利用，这种信息和所研究的标志值大小有密切关系，可以作为分类的标志。

根据上述定义，下列属于类型抽样的是：

A. 工业产品质量抽查按时间顺序取样

B. 产品质量抽查按加工车床型号分类

C. 家庭调查按街道的门牌号码抽取调查户

D. 报告者抽样若干个专家，认为这些专家的想法反映了全体专家的普遍意见

65. 西安：秦岭

A. 北京：燕山

B. 济南：千佛山

C. 南京：紫金山

D. 长沙：岳麓山

66. 天主教：东正教

A. 白莲教：全真教

B. 逊尼派：什叶派

C. 摩尼教：祆教

D. 锡克教：耆那教

教

67. 老子：庄子：列子

A. 孙子：告子：韩非子

B. 墨子：管子：鬼谷子

C. 孔子：孟子：荀子

D. 晏子：惠子：淮南子

68. 人身权：财产权

- A. 形成权：所有权  
B. 不安抗辩权：同时履行抗辩权  
C. 人格权：担保物权  
D. 身份权：隐私权

69. 城市土地：国家

- A. 手机：张三  
B. 耕地：农户  
C. 出租屋：租户  
D. 宅基地：集体

70. 房屋：租金

- A. 桃树：桃子  
B. 奶牛：牛奶  
C. 黄牛：牛黄  
D. 彩票：奖品

71. 喜鹊：鸭子：天鹅

- A. 麻雀：鸡：鹅  
B. 燕子：企鹅：海鸥

- C. 鸵鸟：鸳鸯：丹顶鹤  
D. 老鹰：鸽子：大雁

72. 范进：《儒林外史》

- A. 高鹗：《红楼梦》  
B. 吴承恩：《西游记》  
C. 诸葛亮：《三国志》  
D. 林冲：《水浒传》

73. 刑罚：主刑

- A. 主刑：附加刑  
B. 刑罚：附加刑  
C. 刑罚：民事责任  
D. 有期徒刑：无期徒刑

74. 武松：《水浒传》：《金瓶梅》

- A. 哪吒：《封神演义》：《西游记》  
B. 傅彩云：《海上花列传》：《孽海花》

- C. 冯梦龙：《警世通言》：《醒世恒言》  
D. 林之洋：《镜花缘》：《醒世姻缘传》

75. 在开发针对成人的药物和疫苗时,科学界和医药行业使用的实验鼠因为生长环境太干净,导致免疫系统不够强大,在许多方面与成人的免疫系统并不匹配,因而不是最好的动物模型,野生鼠或许更适合。

以下哪项如果为真,不能支持上述结论?

- A. 目前技术无法对实验鼠模拟出野生鼠的一些免疫特性  
B. 无菌环境下长大的小鼠的免疫系统更接近于人类婴儿  
C. 将实验鼠与野生鼠关在一处,两周后近两成实验鼠死于感染  
D. 野生鼠生长环境不同,不易找到初始身体状况相同的野生鼠

76. 近年来,我国海外代购业务量快速增长,代购者们通常从海外购买产品,通过各种渠道避开关税,再卖给内地顾客,从中牟利,却让政府损失了税收收入。某专家由此指出,政府应

该严厉打击海外代购行为。

以下哪项如果为真,最能支持上述专家的观点?

- A. 近期,有位空乘服务员因在网上开设海外代购店而被我国地方法院判定为走私罪
- B. 去年,我国奢侈品海外代购规模几乎是国内门店销售额的一半,这些交易大多避开关税
- C. 国内民众的消费需求提高是伴随我国经济发展而产生的正常现象,应以此为契机促进国内同类消费品产业的升级
- D. 海外代购提升了人民的生活水准,满足了国内部分民众对于品质生活的需求

77. P2P 网贷行业想谋求更好的发展,将信息披露贯彻到网贷平台日常经营活动中去,这成为每一个企业的必由之路。

下列最能削弱上述论述的是:

- A. P2P 网贷平台跑路、非法集资事件屡屡发生,使得政府对平台合规的监管更加趋于严格
- B. 既然 P2P 网贷平台做的是金融信息服务,作为信息中介,平等、公开就是平台生存的原则
- C. 信息披露制度的作用是提高平台的透明度,投资人会受益于信披制度,但不利于网贷平台的发展
- D. 就国内而言,目前除了上市公司外,还没有其他行业过多要求信息披露,而对于互联网金融的信息披露则一直被提倡

78. 复活节岛是位于太平洋上的一座孤岛。在报道中,复活节岛文明的衰落常作为一个警世故事,讲述人类肆意采伐棕榈树林,致使肥沃的土壤流失,最终导致岛中食物短缺,文明自此衰落。然而近日有专家提出,复活节岛文明的衰落与树木砍伐并无必然联系。

以下哪项如果为真,最能支持上述专家的观点?

- A. 考古发现,当岛上最后的树木(棕榈树)被砍伐之后,仍有大量原住居民生活着,其农业耕作的水平没有下降
- B. 大约公元 1200 年,岛上居民开始砍伐棕榈树,用于建造木船,运送大型石质雕像
- C. 花粉分析表明,早在公元 800 年,森林的毁灭就已经开始,岛屿地层中的大棕榈树和其他树木的花粉越来越少
- D. 1772 年荷兰殖民者开始登陆复活节岛,并对当地居民进行奴役,那时岛上的土著人口是 4000 人,到 1875 年时仅有 200 人

79. 人的寿命长短与心率之间有很大关系。研究发现在正常范围内, 心率越慢人越长寿。而高血压患者往往忽视对心率的监测。当高血压患者心率大于每分 84 次时, 会比心率低于每分钟 65 次的患者增加一倍罹患冠心病的风险; 而心率每分钟大于 79 次的高血压患者其死亡风险相对于小于这个数值的患者而言会增加 89%。因此, 高血压患者控制血压的同时, 也要做到心率控制。

由此可以推出:

- A. 高血压患者往往只注意到了从血糖、血脂等方面全面管理血压, 却忽视了对心率的管理
- B. 正常范围内心率较快的高血压患者, 继发其他疾病的风险更高
- C. 对于高血压患者来说, 当静息心率大于每分钟 84 次时就应该进行心率管理了
- D. 同时患高血压和冠心病的患者其对目标心率的要求会比单方面的高血压患者更高

80. 可可中富含一种叫做黄烷醇的物质。在一项研究中, 37 位 50-69 岁的被试连续 3 个月每天都喝一杯特别配置的可可饮料。其中 A 组喝的饮料中含有比较多的黄烷醇, B 组喝的饮料中则去除了这种成分。结果发现, A 组被试的记忆力得到了明显的提高, 脑部扫描显示, 他们大脑中海马齿状回部位的血液流量提高了。研究者据此推测, 老年人可以多吃巧克力以恢复因年纪增长而衰退的记忆力。

以下哪项如果为真, 不能反驳研究人员的结论?

- A. 一般而言, 记忆力衰退很难通过改变食谱而逆转
- B. 大部分制造巧克力的方法会导致黄烷醇的损失
- C. A 组大脑中更为活跃的海马体主要负责短期记忆
- D. 研究所用的特制饮料所含黄烷醇远高于一般可可食品

81. 惠子曰: “子非鱼, 安知鱼之乐?” 庄子曰: “子非我, 安知我不知鱼之乐?”

以下选项与题干的论证方式相同的是:

- A. 我们必须大力发展经济, 因为我们要实现四个现代化, 而如果要实现四个现代化, 须大力发展经济
- B. “南沙群岛离 F 国近, 就应该属于 F 国。” “你们国家所在地区离中国近, 你们 F 国也应该属于中国。”
- C. 一个老人告诉医生他的右腿疼, 医生说: “这是上了年纪的缘故。” 老人说: “不对呀, 我的左腿和右腿年纪一样大, 但是左腿不疼啊。”
- D. 在某些国家, 无神论传播极高, 自杀率也很高, 因此, 失去对上帝的信任是导致自杀的



原因

82. 人人都喜欢丰衣足食、酒足饭饱,然而,英国伦敦大学健康老化研究所称其通过统计发现,食量减少 40%,能让寿命延长 20 年。所以,如果你想长寿,请减少食量、保持饥饿。

以下哪项如果为真,最能支持上述结论?

- A. 有一些团体严格遵守只吃素食的饮食原则,他们的寿命比全球平均寿命长
- B. 食物摄入量较少时,人体可产生一种酮基分子来减缓血管系统的细胞老化
- C. 统计发现,粮食缺乏使全球每年有 300 万以上的人因为饥饿而死亡
- D. 有关专家表示,影响人体寿命长短的决定性因素是遗传基因

83. 某硕士班同学举办毕业 20 周年聚会,联络人王宁说班里有同学不能参加。班长说:“我看 513 宿舍的 4 名同学秋菊、阿春、秀秀和楠楠最多有两人能参加。”团支书说:“班长,我觉得你说得不对。”

如果团支书说得不对,则下列哪项必定为假?

- A. 秋菊、阿春、秀秀和楠楠四人中有两人能参加
- B. 秋菊、阿春、秀秀和楠楠四人都不能参加
- C. 秋菊、阿春、秀秀和楠楠四人都能参加
- D. 如果秋菊、阿春都参加,那么秀秀和楠楠也都能参加

84. “父母皆祸害”是 2008 年豆瓣网上成立的一个小组,目前该小组成员已超过 10 万人。在这个小组中,成员自诩为“小白菜”,“控制欲、冷暴力、生活方式冲突”是“小白菜”们最不能忍受的父母们的“三宗罪”。他们声讨父母最多的是:“我做的决定,必须不违反他们的意愿才能算数,我的观念必须是他们所能认同的。”

“小白菜”们声讨父母的逻辑起点是:

- A. 年轻一代不需要无私的父母之爱
- B. 所谓的父母之爱只是专制的象征
- C. 父母只是把自己未实现的愿望寄托在孩子身上
- D. 父母不是永远正确的

#### 第四部分 常识判断

85. 我国最大的结晶盐湖是:

- A. 运城盐湖
- B. 茶卡盐湖
- C. 察尔汗盐湖
- D. 柯柯盐湖

86. 下列有关地球公转运动的描述正确的是:

- A. 1 月初地球位于近日点处时公转速度最慢

- B. 7月初地球位于远日点处时公转速度最快
- C. 从元旦到“六一”儿童节，公转逐渐变慢
- D. 从“十一”国庆节到元旦期间，公转逐渐变慢
87. 下列有关煤气中毒的说法合理的是：
- A. 煤燃烧时消耗了大部分的氧气，产生的二氧化碳使人中毒死亡
- B. 煤不完全燃烧产生的一氧化碳与人体血液中的血红蛋白结合难以分离从而缺氧窒息
- C. 煤中含有硫元素燃烧产生二氧化硫有毒气体使人中毒死亡
- D. 煤燃烧产生的硫化氢使人窒息死亡
88. 下列有关我国科举制度表述错误的是：
- A. 隋文帝开始用分科考试的方法来选拔官员
- B. 隋炀帝时正式设置进士科，标志着我国科举制正式诞生
- C. 唐太宗时，诗赋成为进士科主要考试内容
- D. 武则天时，开设了殿试和武举
89. 下列关于我国石窟艺术的表述不正确的是：
- A. 石窟艺术是佛教艺术的一个组成部分，开始是由古印度传来的
- B. 北魏时期在山西大同开凿了云冈石窟
- C. 洛阳的龙门石窟又称千佛洞
- D. 敦煌莫高窟在甘肃西部
90. 下列有关元朝统治的表述不正确的是：
- A. 元世祖时创立了行省制度
- B. 今河南省在元朝时归河南江北行省管理
- C. 元政府在中央设置宣政院，管理西藏事务
- D. 元朝时设置台湾府，加强对琉球的管辖
91. 下列关于我国华北平原地区的描述正确的是：
- A. 分布在我国地势的第二级阶梯上
- B. 春季温暖降水多，夏季高温多雨
- C. 秋季少雨温差大，冬季寒冷干燥
- D. 主要农作物为玉米、棉花、水稻
92. 下列关于东南亚的叙述错误的是：
- A. 东南亚地处亚洲与非洲、太平洋与印度洋之间的“十字路口”

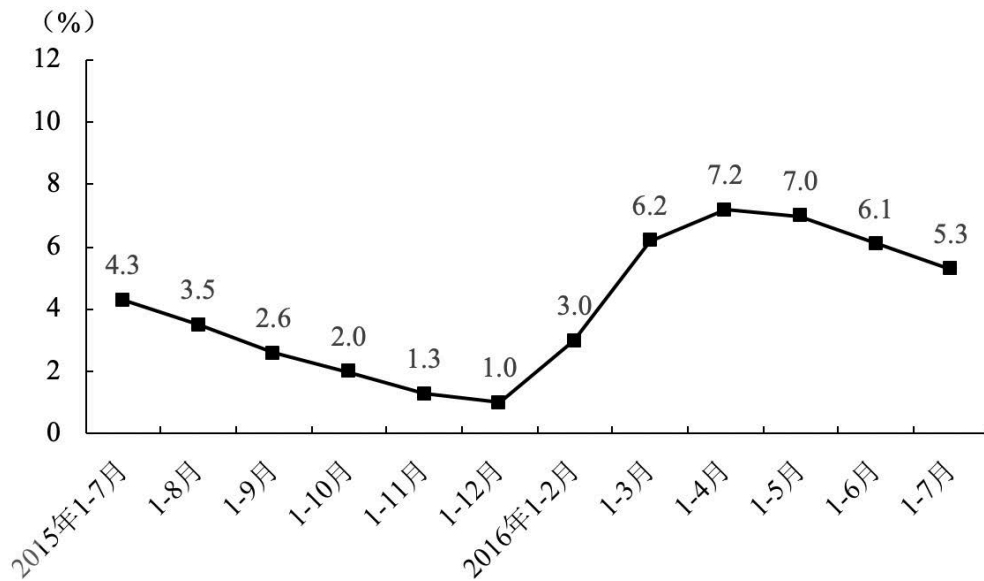
- B. 马六甲海峡是从欧洲、非洲向东航行到东南亚、东亚各港口最短航线的必经之地
- C. 东南亚是世界上华人和华侨分布最集中的地区之一
- D. 主要气候类型是热带雨林气候和热带季风气候
93. 下列有关明清文化成就表述不正确的是：
- A. 《牡丹亭》通过爱情故事，批判了吃人的封建礼教
- B. 京剧是以徽剧、汉调为基础，形成的一个新的剧种
- C. 徐渭的书法，兼有“颜骨赵姿”之美
- D. 郑燮的画主要以兰、竹、石为对象
94. 下列关于对红军第五次反“围剿”失败的最主要原因分析正确的是：
- A. 主张“御敌于国门之外”
- B. 进攻受挫后采取消极防御方针
- C. “左”倾错误的进一步发展
- D. 丧失了与福建十九路军的合作良机
95. 下列关于第一次世界大战期间中国民族资产阶级经济状况的表述正确的是：
- A. 在中国社会经济中居于主导地位
- B. 形成了重工业为主导的工业体系
- C. 以面粉业等轻工业为主，畸形发展
- D. 在主要工业部门方面超过了外国资本
96. 下列关于近代铁路交通发展的表述不正确的是：
- A. 中国出现的第一条正式投入运营的铁路是美国人修筑的淞沪铁路
- B. 近代俄国人在东北修筑的铁路是中东铁路
- C. 中国人自行设计和施工的第一条铁路是京张铁路
- D. 加快人们的出行速度，促进了商品的流通
97. 1985年，在长江三峡地区发现的距今204万年的（ ）化石，是我国迄今为止所发现的史前时期最早的古人类化石。
- A. 山顶洞人                      B. 马家窑人                      C. 巫山人                      D. 仰韶人
98. 下列关于国际联盟的表述不正确的是：
- A. 国际联盟是第一次世界大战后建立的第一个世界性组织
- B. 国际联盟的基本宗旨是维护和平，实现集体安全
- C. 国际联盟形成的决议实行“全体一致”的原则

- D. 国际联盟的存在给世界带来了持久的和平
99. 下列关于列宁的主要贡献，表述不正确的是：
- A. 发表“四月提纲”，为俄国革命指明了方向
- B. 领导十月革命，建立了苏俄政权
- C. 实行“新经济政策”，恢复了国民经济
- D. 完成两个五年计划，使苏联由农业国变成工业国

### 第五部分 资料分析

#### 【资料】

2016年1—7月份，全国房地产开发投资55361亿元，同比名义增长5.3%，增速比1—6月份回落0.8个百分点。其中，住宅投资36981亿元，增长4.5%，增速回落1.1个百分点。住宅投资占房地产开发投资的比重为66.8%。



全国房地产开发投资增速

1—7月份，东部地区房地产开发投资31201亿元，同比增长3.4%，增速比1—6月份回落1.2个百分点；中部地区投资11881亿元，增长10.2%，增速提高0.2个百分点；西部地区投资12279亿元，增长5.9%，增速回落0.6个百分点。

1—7月份，房地产开发企业房屋施工面积685606万平方米，同比增长4.8%，增速比1—6月份回落0.2个百分点。其中，住宅施工面积470142万平方米，增长3.1%。房屋新开工面积92944万平方米，增长13.7%，增速回落1.2个百分点。其中，住宅新开工面积64102万

平方米，增长 13.1%。房屋竣工面积 45904 万平方米，增长 21.3%，增速提高 1.3 个百分点。其中，住宅竣工面积 33782 万平方米，增长 20.3%。

1—7 月份，房地产开发企业土地购置面积 11167 万平方米，同比下降 7.8%，降幅比 1—6 月份扩大 4.8 个百分点；土地成交价款 3848 亿元，增长 7.1%，增速回落 3.1 个百分点。

100. 与上年同期相比，2016 年 1—7 月份全国房地产开发投资中住宅投资额约增加了：

- A. 1592 亿元            B. 1594 亿元            C. 1664 亿元            D. 1667 亿元

101. 2016 年 1—7 月份，西部地区房地产开发投资额占全国房地产开发投资额的比重约为：

- A. 23.8%                B. 22.1%                C. 22.2%                D. 22.6%

102. 下列选项中，上年同期相比，2016 年 1—7 月份面积增量最大的为：

- A. 住宅施工面积        B. 房屋新开工面积        C. 住宅新开工面积        D. 房屋竣工面积

103. 2015 年 1—7 月份，房地产开发企业土地购置面积约为：

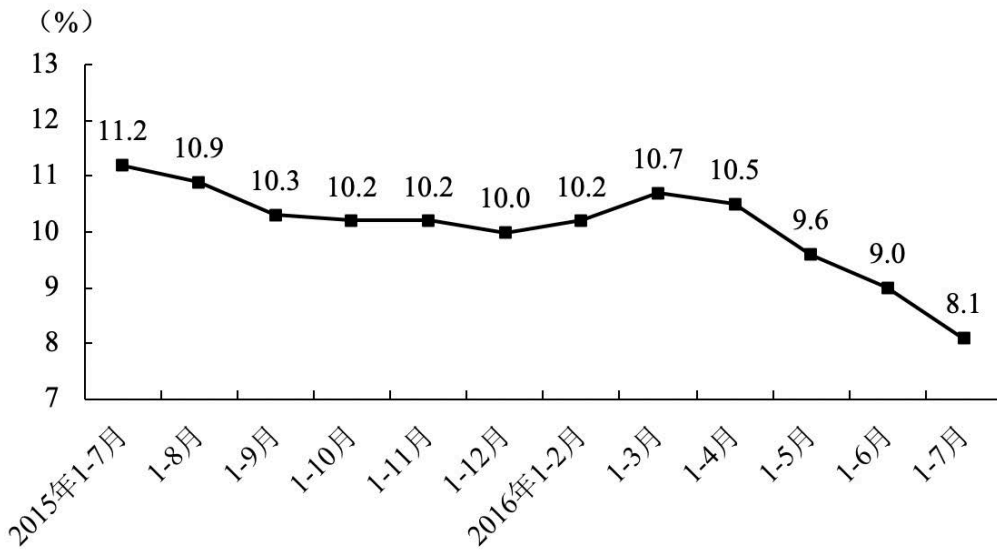
- A. 12118.7 万平方米                                B. 12111.7 万平方米  
C. 12111.8 万平方米                                D. 12118.8 万平方米

104. 以下说法正确的是：

- A. 2015 年 1—8 月全国房地产开发投资增速比 2015 年 1—7 月提升 0.8 个百分点  
B. 2015 年 1—12 月全国房地产开发投资增速比 2015 年 1—11 月回落 0.1 个百分点  
C. 2016 年 1—4 月全国房地产开发投资增速比 2016 年 1—3 月提升 1.0 个百分点  
D. 2016 年 1—6 月全国房地产开发投资增速比 2016 年 1—5 月回落 0.8 个百分点

**【资料】**

2016 年 1—7 月份，全国固定资产投资（不含农户）311694 亿元，同比增长 8.1%，增速比 1—6 月份回落 0.9 个百分点。从环比速度看，7 月份固定资产投资（不含农户）增长 0.31%。



固定资产投资（不含农户）同比增速

分产业看，第一产业投资 9336 亿元，同比增长 20.6%，增速比 1—6 月份回落 0.5 个百分点；第二产业投资 122996 亿元，增长 3.5%，增速回落 0.9 个百分点；第三产业投资 179362 亿元，增长 10.8%，增速回落 0.9 个百分点。

第二产业中，工业投资 120603 亿元，同比增长 3.4%，增速比 1—6 月份回落 0.8 个百分点；其中，采矿业投资 5138 亿元，下降 22.9%，降幅扩大 3.2 个百分点；制造业投资 99619 亿元，增长 3.0%，增速回落 0.3 个百分点；电力、热力、燃气及水生产和供应业投资 15845 亿元，增长 19.9%，增速回落 2.6 个百分点。

第三产业中，基础设施投资（不含电力、热力、燃气及水生产和供应业）59602 亿元，同比增长 19.6%，增速比 1—6 月份回落 1.3 个百分点。其中，水利管理业投资增长 23.9%，增速回落 3.2 个百分点；公共设施管理业投资增长 24.8%，增速回落 1.8 个百分点；道路运输业投资增长 13.7%，增速加快 0.2 个百分点；铁路运输业投资增长 9.5%，增速加快 0.5 个百分点。

105. 2016 年 1—7 月份，全国固定资产投资（不含农户）同比增量约为（ ）亿元。

- A. 288338.6      B. 288337.5      C. 23355.4      D. 23355.8

106. 2015 年 1—7 月份，第一产业投资占全国固定资产投资的比重约为：

- A. 2.68%      B. 2.67%      C. 26.8%      D. 26.9%

107. 在工业投资中，与上年同期相比，2016 年 1—7 月份增量最大的是：

- A. 采矿业投资  
B. 制造业投资

C. 电力、热力、燃气及水生产和供应业投资品

D. 无法确定

108. 2015 年 1—7 月份，第三产业基础设施投资（不含电力、燃气及水生产和供应业）为（ ）亿元。

A. 49832

B. 49838

C. 49834

D. 49933

109. 以下说法正确的是：

A. 2015 年 1—12 月固定资产投资（不含农户）同比增速比 2015 年 1—11 月提升 0.2 个百分点

B. 2015 年 1—9 月固定资产投资（不含农户）同比增速比 2015 年 1—8 月回落 0.7 个百分点

C. 2016 年 1—5 月固定资产投资（不含农户）同比增速比 2016 年 1—4 月提升 0.9 个百分点

D. 2016 年 1—4 月固定资产投资（不含农户）同比增速比 2016 年 1—3 月回落 0.2 个百分点

**【资料】**

7 月份，全国规模以上工业增加值按可比价格计算同比增长 6.0%，增速比上月回落 0.2 个百分点，与上年同期持平；环比增长 0.52%，比上月加快 0.02 个百分点。分经济类型看，国有控股企业增加值同比增长 2.9%，集体企业下降 1.5%，股份制企业增长 6.3%，外商及港澳台商投资企业增长 5.1%。分三大门类看，采矿业增加值同比下降 3.1%，制造业增长 7.0%，电力、热力、燃气及水生产和供应业增长 7.4%。工业结构继续优化，高技术产业和装备制造业增加值同比分别增长 12.2% 和 10.7%，增速分别比上月加快 0.6 和 1.9 个百分点，比规模以上工业加快 6.2 和 4.7 个百分点。规模以上工业企业产销率达到 97.6%。1—7 月份，规模以上工业增加值同比增长 6.0%。

7 月份，规模以上工业企业实现利润总额 5230.1 亿元，同比增长 11%，增速比 6 月份加快 5.9 个百分点。1—6 月份，全国规模以上工业企业实现利润总额 29998 亿元，同比增长 6.2%。规模以上工业企业每百元主营业务收入中的成本为 85.79 元，比上年同期减少 0.21 元；主营业务收入利润率为 5.68%，比上年同期提高 0.19 个百分点。6 月末，产成品存货同比下降 1.9%，连续 3 个月下降。

7 月份，社会消费品零售总额 26827 亿元，同比名义增长 10.2%，增速比上月回落 0.4 个百分点，比上年同期回落 0.3 个百分点（扣除价格因素实际增长 9.8%）。其中，限额以上

单位消费品零售额 11806 亿元，增长 7.3%。按经营单位所在地分，城镇消费品零售额 23126 亿元，同比增长 10.1%，乡村消费品零售额 3701 亿元，增长 10.7%。按消费类型分，餐饮收入 2884 亿元，同比增长 10.9%，商品零售 23944 亿元，增长 10.1%，其中限额以上单位商品零售 11058 亿元，增长 7.4%。同比增长较快的有：粮油、食品类增长 10.6%，饮料类增长 12.6%，日用品增长 10.4%，家用电器和音像器材增长 11.5%，家具增长 13.6%，通讯器材增长 11.6%，建筑及装潢材料增长 15.0%。从环比看，7 月份社会消费品零售总额比上月增长 0.75%，1—7 月份，社会消费品零售总额同比增长 10.3%。

1—7 月份，全国网上零售额 26268 亿元，同比增长 27.5%。其中，实物商品网上零售额 21239 亿元，增长 26.1%，占社会消费品零售总额的比重为 11.6%。

110. 7 月份，下列经济指标中同比增长最快的是：

- A. 全国规模以上工业增加值
- B. 全国规模以上工业企业利润总额
- C. 城镇消费品零售额
- D. 社会消费品零售总额

111. 上年 1—6 月份，全国规模以上工业企业实现利润总额约为（ ）亿元。

- A. 31980.8
- B. 28246.7
- C. 28247.6
- D. 28248.5

112. 上年 7 月份，限额以上单位消费品零售额占社会消费品零售总额比重约为：

- A. 45.2%
- B. 43.2%
- C. 45.8%
- D. 45.3%

113. 1—7 月份，社会消费品零售总额约为（ ）亿元。

- A. 226448
- B. 226449
- C. 183095
- D. 183097

114. 以下说法正确的是：

A. 从经济类型看，7 月份国有控股企业、集体企业、股份制企业、外商及港澳台商投资企业增加值均为正数

B. 按经营单位所在地分，7 月份城镇消费品零售额小于乡村消费品零售额

C. 7 月份粮油、食品类零售额增速高于建筑及装潢材料零售额增速

D. 1—7 月份，规模以上工业增加值同比增长 6 个百分点



## 2019 年禹州市事业单位招聘考试真题

### 第一部分 常识判断

- 下列有关计算机运算速度衡量指标的描述中，正确的是：
  - MIPS 大的机器一定比 MIPS 小的机器快
  - CPU 的主频越高，速度越快
  - 执行不同的程序，测得的同台计算机的 CPI 可能不同
  - CPU 执行程序的时间就是观测到的用户程序的执行时间
- 我国的探月工程共分三个阶段，目前我国探月工程所处阶段及实现的任务是：
  - “绕”，主要任务是研制和发射月球探测卫星，实施绕月探测
  - “落”，主要任务是进行首次月球软着陆和自动巡视勘测
  - “取”，主要任务是进行首次月球样品自动取样
  - “回”，主要任务是进行首次月球样品自动取样返回
- 2019 年 9 月 8 日至 16 日，中华人民共和国第十一届少数民族传统体育运动会将在郑州市举行，这是中国民族运动会第一次在中部地区举办。运动会设有多个竞赛项目和表演项目。下列有关竞赛项目的表述不正确的是：
  - 木球——回族传统体育项目
  - 蹴球起源于清代的“踢石球”，是我国古代蹴鞠运动的一种形式，在满、蒙、回等民族中较为流行
  - 独竹漂发源于赤水河流域的一种独特的黔北民间绝技，1935 年，红军四渡赤水时，就曾以独竹为舟渡过赤水河
  - 押加——也叫“骑竹马”，流行于湖南、湖北、贵州、云南、广东等省

### 第二部分 言语理解与表达

- 曹雪芹以前，没有人做过自叙传性质的小说。曹雪芹虽然勇敢地创始了，却也不敢\_\_\_\_\_说是自叙；所以他在第一回中吞吐含糊假托了空空道人和“石头”上的故事。  
填入划横线处最恰当的一项是：
  - 昭然若揭
  - 彰明较著
  - 明火执仗
  - 冠冕堂皇
- 在景区乱写乱画，这不仅是文明素质极低的表现，还是对规则的漠视和对公共利益的危害。执法部门及时亮剑，可谓\_\_\_\_\_。  
填入划横线处最恰当的一项是：

- A. 大快人心                      B. 拍手称快                      C. 皆大欢喜                      D. 大快朵颐

6. 依靠超前教育和焦虑营销这两个法宝，课外教培机构让家长和孩子一方面疲于奔命“赶场”，另一方面却又乐此不疲、沉醉其中。这种矛盾\_\_\_\_\_出当前教培市场的乱象，也直击家长们教育焦虑的痛点。课外教育培训拥有很大的市场，对其存在要客观看待，理性\_\_\_\_\_。但其中的乱象要治理，折射出的痛点更需解决。

依次填入划横线处最恰当的一项是：

- A. 反衬    分析                      B. 折射    解决                      C. 暴露    包容                      D. 透露    思考

7. 随着手机支付的\_\_\_\_\_，如何建立健全的手机支付的监管制度，既不伤害它的发展，又能避免出现扰乱金融秩序的风险，相关管理部门应\_\_\_\_\_。

依次填入划横线处最恰当的项是：

- A. 流行    居安思危                                      B. 普及    未雨绸缪  
C. 推广    有备无患                                      D. 普遍    防患未然

8. 天下为公是中国外交的胸怀。大道之行，天下为公。建国 70 年来中国与世界同行的\_\_\_\_\_证明，中国是世界之中国，中国发展进步离不开世界，世界和平繁荣也离不开中国，中国同世界是\_\_\_\_\_的命运共同体。

依次填入划横线处最恰当的项是：

- A. 过程    一脉相连                                      B. 历程    休戚与共  
C. 脚步    息息相关                                      D. 历史    休戚相关

9. 当下中国文艺创作要善于从古典文化的精髓中\_\_\_\_\_营养，从\_\_\_\_\_的典籍中找寻“中国好故事”。当然，继承传统不等于因循守旧，还要善于与现代技术和消费需求进行深入对接。

依次填入划横线处最恰当的项是：

- A. 吸收    恒河沙数                                      B. 汲取    浩如烟海  
C. 获得    星罗棋布                                      D. 吸取    鳞次栉比

10. “不忘初心，牢记使命”主题教育正在开展，如何开展好、如何有实效，是最为关键的问题。学习不能搞形式主义，不能\_\_\_\_\_。开展主题教育主要看实效，就要把学习教育贯穿始终，不断深化认识，增强\_\_\_\_\_。只要每次都有新进步、新体会，日积月累，就能领悟得越来越深。

依次填入划横线处最恰当的项是：

- A. 急于求成    自觉性                                      B. 急功近利    实效性

- C. 蜻蜓点水 针对性 D. 走马观花 主动性

11. 刷脸取厕纸，虽然能让泛道德批判绝迹，却未免有些\_\_\_\_\_。滥用厕纸的成本与自动刷脸机的成本无法比较，杀鸡用牛刀，显然是\_\_\_\_\_了。

依次填入划横线处最恰当的一项是：

- A. 物极必反 舍本逐末 B. 矫枉过正 买椟还珠  
C. 适得其反 轻重倒置 D. 过犹不及 本末倒置

12. 中国艺术的“简约”传统隐含了对于“炫技”的不屑。古代思想家认为，繁杂的技术具有炫目的\_\_\_\_\_，目迷五色可能干扰人们对于“道”的持续注视。他们\_\_\_\_\_地告诫“文胜质”可能导致的危险，这是古代思想家的人文情怀。当然，这并非号召艺术拒绝技术，而是敦促文化生产中慎地考虑技术的意义：如果不存在打动人心的主题，繁杂的技术只能沦为\_\_\_\_\_的形式。

依次填入划横线处最恰当的一项是：

- A. 误导性 屡次三番 大而无当 B. 蛊惑性 众口铄金 华而不实  
C. 迷惑性 众口一词 虚有其表 D. 干扰性 异口同声 哗众取宠

13. 阳春三月，桃花盛放，十里桃林让人\_\_\_\_\_。粉的恬静、红的奔放，远远近近，好不炫目。一些耐不住寂寞似地探出笑颜，一些\_\_\_\_\_极是娇柔，还有一些\_\_\_\_\_一副傲然的样子……凝望，回眸，沉醉，一簇簇明媚，一束束妖娆，竟让我想起远方的故人。

依次填入划横线处最恰当的一项是：

- A. 眼花缭乱 低眉顺眼 道貌岸然 B. 目不暇接 低眉颌首 正襟危坐  
C. 眼花缭乱 低眉颌首 正襟危坐 D. 目不暇接 低眉顺眼 道貌岸然

14. 《诗经》中五百年风物流转，\_\_\_\_\_，我们在其中看到了一种诵读有韵、赓续至今仍富\_\_\_\_\_的诗体形式。阅读《诗经》不会产生\_\_\_\_\_的经济效益，所能影响的人也非常有限，可是这是我们能做的对抗粗鄙文化的方式，这也是我们能做的文化传承的方式。

依次填入划横线处最恰当的一项是：

- A. 光怪陆离 生机 行之有效 B. 天光云影 活力 立竿见影  
C. 浮光掠影 魅力 卓有成效 D. 流光溢彩 韵味 吹糠见米

15. 街道上有许多小巷子，曲径幽深，连接着千家万户。在一条昏暗的小巷里，时常会飘出一缕缕醉人心魂的酒香。这里有一家酿酒作坊，每到傍晚，酒坊就开始\_\_\_\_\_佳露，深深的小巷也遮挡不了美酒的\_\_\_\_\_，它飘过大街，游过小巷，钻到人们异中。你不必四处寻找，只要躺在藤椅上，轻轻摇着扇子，那股香气便会悠悠到来，弥漫在你的周围，心儿

就\_\_\_\_\_地入定下来，这是种酒不醉人人自醉的愉悦感。

依次填入划横线处最恰当的项是：

- A. 孕育 味道 不由自主                      B. 酿造 香味 莫名其妙  
C. 酝酿 醇香 不知不觉                      D. 发酵 气味 出乎意料

16. ①诗人本应有范仲淹的“先天下之忧而忧，后天下之乐而乐”的博大胸襟，应有杜甫虽居茅屋却有“安得广厦千万间，大庇天下寒士俱欢颜”的悲悯情怀

②古语云：“诗者，天地之心。”诗人作为“天地之心”的创造者本应怀有“天地之心”

③继承与发扬风骨的关键在于诗人要有风骨，具体而言则是指诗人应秉持使命感与责任心

④究其原因就在于缺乏作为诗人的使命感与责任心

⑤然而当下许多诗人都缺少这种“风骨”

⑥但当下很多诗人沉溺于写“小我”的日常琐碎、鸡毛蒜皮，缺少大情怀大境界，更有甚者为了出版、发表、出名或赚取眼球、点击量、关注度，批量生产媚俗之作

将以上6个句子重新排列，语序正确的是

- A. ③②⑥④①⑤                      B. ②④⑤⑥③①                      C. ⑤②④⑥③①                      D. ⑤②①④⑥③

17. 俗语说：尊严的具体性不只表现在工作有岗位、生活有保障上，更表现在你可以自由、独立地存在，不会依附于强权，可以建立并实现你的自我价值。这样，\_\_\_\_\_。

填入划横线处最恰当的一句是：

A. 每个国民才是有尊严的国民，无数个有尊严的国民构成的国家才是真正有尊严的国家，才会真正赢得世界的尊重与敬重。

B. 国家才是有尊严的国家，每个国民才是有尊严的国民，才会真正赢得世界的尊重与敬重。

C. 才会赢得世界的尊重与敬重，才使每个国民成为有尊严的国民，国家才是真正有尊严的国家。

D. 每个国民才是有尊严的国民，才会真正赢得世界的尊重与敬重，国家才会由无数个有尊严的国民构成真正有尊严的国家。

18. 环境的恶化如杀虫剂的使用，其加速度如脱缰的烈马，勒也勒不住。既然政治层面还有改善的空间，改善就是必要的。可是，我不知道，是不是还有必要扫兴地说一句实话：改善的结果也是有限的，我们面对的问题，大部分来自难以克服的人性本身。

对上述文字概括最准确的是：

- A. 当今世界环境的恶化程度越来越严重
- B. 杀虫剂的使用进一步导致了环境的恶化
- C. 仅通过政治层面的改善并不能解决环境问题
- D. 只要还有改善的余地，我们都要积极的争取

### 第三部分 数量关系

19. 四个学生进行数字游戏，规则为：在 1, 2, 3, ……，55, 56 这 56 个自然数中，相邻两个数之间任意添加“+”或“-”号，然后求其代数和，四个人得到的结果分别是 11, 279, 1340, 1634，老师检查后指出，只有一个结果是正确的，则这个结果是：

- A. 11
- B. 1340
- C. 279
- D. 1634

20. 小张在批发市场选购了一批工艺品，在大年初一至初五的庙会上以 1.5 倍价格卖掉 60%，初六至初七两天以成本价卖掉 25%，初八当天将剩余货品全部清仓处理，最终小张盈利 33%，请问小张最终剩余清仓货品卖价是在原价的基础上打了（ ）折。

- A. 8
- B. 7.5
- C. 7
- D. 6.5

21. 小王家住电梯公寓的 3 楼，某天他下班回家发现停电只能爬楼梯回家。当小王用时 1 分钟到达家门口时，发现忘记带钥匙，于是只能继续向上爬楼梯到居住在同一栋楼的父母家取备用钥匙，小王以同样的速度上下楼梯，当他拿到钥匙后立刻返回 3 楼，已知他取钥匙用时 4 分钟。则小王父母家住在（ ）楼。

- A. 8
- B. 9
- C. 7
- D. 10

22. 某厂三台机器同时出了故障。修复这 3 台机器花费的时间分别为 5 分钟，6 分钟，8 分钟，每台机器停产 1 分钟给工厂造成经济损失 100 元，维修组依次维修了这 3 台机器，合理安排维修顺序能减少经济损失。则经济损失最小为（ ）元。

- A. 3000
- B. 1900
- C. 2400
- D. 3500

23. 有一对父子，4 年前父亲的年龄是儿子年龄的 4 倍，今年父亲年龄是儿子年龄的 3 倍，则（ ）年后，父亲的年龄是儿子年龄的 2 倍。

- A. 4
- B. 12
- C. 8
- D. 16

24. 红队和蓝队从相距 20km 的两地相向而行，裁判以 10km/h 的速度在两队之间往返联络。红队和蓝队出发半个小时后，裁判开始出发，已知红队的速度是 13km/h，蓝队是 12km/h，问当两队相遇时，裁判共行了（ ）千米。

- A. 8
- B. 4
- C. 5
- D. 3

25. 某化工厂需要建造一个仓库，根据市场调研分析，运费与工厂和仓库之间的距离成

成正比，仓储费与工厂和仓库之间的距离成反比。当工厂和仓库之间的距离为4千米时，运费为20万元，仓储费用为5万元；若要使运费与仓储费之和最小，那么工厂和仓库之间的距离应为：

- A. 2千米                      B. 3千米                      C. 4千米                      D. 5千米

26. 甲、乙两个工程队均参与某筑路工程，先由甲队筑路60千米，再由乙队完成剩下的筑路工程，已知乙队筑路总千米数是甲队筑路总千米数的 $\frac{4}{3}$ 倍，甲队比乙队多筑路20天。若甲、乙两队平均每天筑路千米数之比为5:8，则乙队平均每天筑路：

- A. 0.8千米                      B. 0.7千米                      C. 1.2千米                      D. 2.3千米

27. 一个容积为10升的量杯盛满纯酒精，第一次倒出x升酒精后，用水将量杯注满并搅拌均匀，第二次仍倒出x升溶液后再用水将量杯注满并搅拌均匀，此时量杯中的酒精溶液浓度为49%，则每次倒出的量x为：

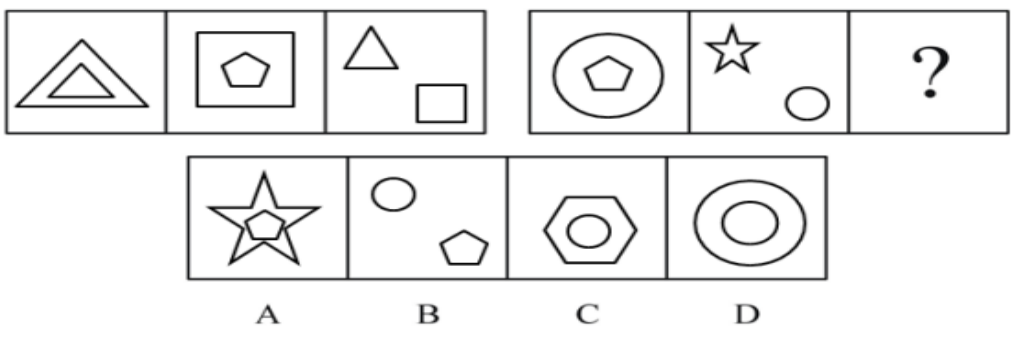
- A. 2.55升                      B. 3升                      C. 2.45升                      D. 4升

28. 航空部门规定旅客免费携带行李箱的长、宽、高之和不超过160厘米，某厂家生产符合该规定的行李箱，已知行李箱的高为30厘米，长与宽的比为3:2，则该行李箱的长的最大值为：

- A. 56厘米                      B. 72厘米                      C. 78厘米                      D. 81厘米

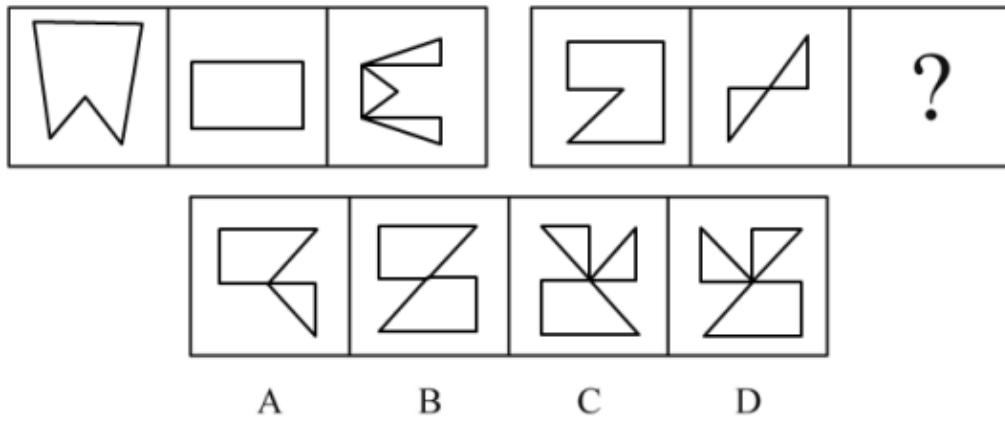
#### 第四部分 判断推理

29. 从所给的四个选项中，选择最适合的一个填入问号处，使呈现一定规律性：



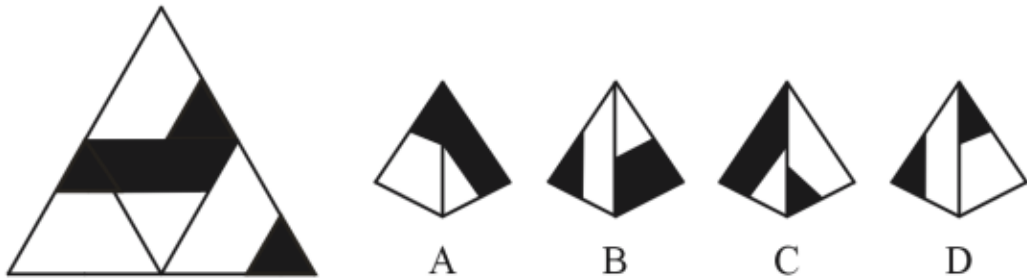
- A. 如上图所示                      B. 如上图所示                      C. 如上图所示                      D. 如上图所示

30. 从所给的四个选项中，选择最适合的一个填入问号处，使呈现一定规律性：



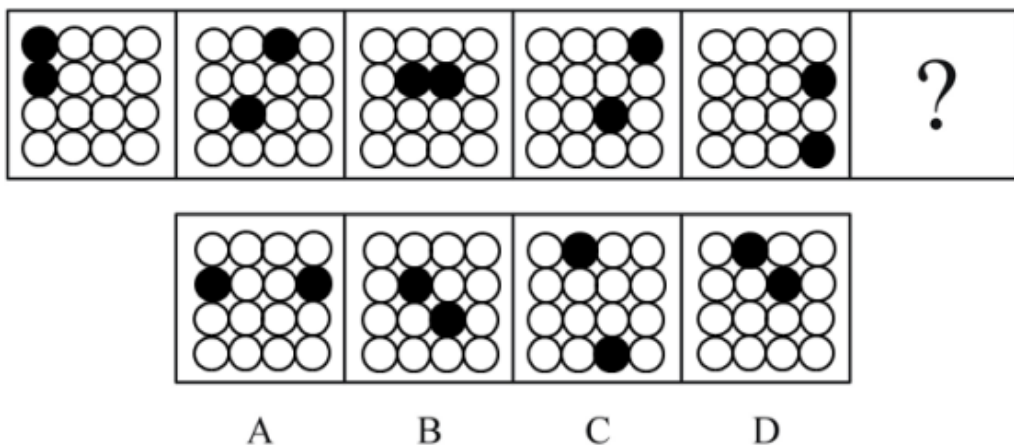
- A. 如上图所示      B. 如上图所示      C. 如上图所示      D. 如上图所示

31. 左边是四面体的展开图，下列哪项不能由此折叠而成？



- A. 如上图所示      B. 如上图所示      C. 如上图所示      D. 如上图所示

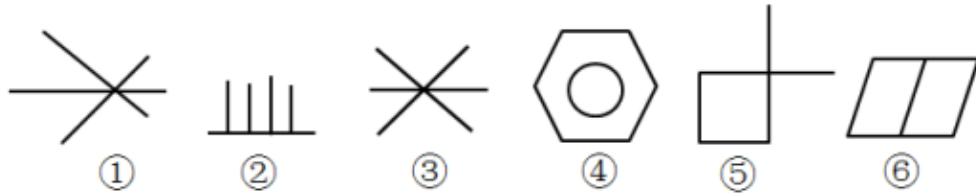
32. 从所给的四个选项中，选择最适合的一个填入问号处，使呈现一定规律性：



- A. 如上图所示      B. 如上图所示      C. 如上图所示      D. 如上图所示

33. 把下面的六个图形分为两类，使每一类图形都有各自的共同特征或规律，分类正确

的是：



- A. ①③⑤, ②④⑥    B. ①②④, ③⑤⑥    C. ①②⑥, ③④⑤    D. ①④⑥, ②③⑤

34. 浙江省诸暨市枫桥镇干部群众创造的“枫桥经验”，其精神实质是相信和依靠群众，加强基层民主，就地解决问题，实现和谐平安。

根据上述定义，下列做法符合“枫桥经验”的是：

- A. 村民直接投票选举镇政府领导干部    B. 用村规民约自治章程决定村级事务  
C. 通过村委会会议管理村里的日常事务    D. 用村务公开等形式监督村委会工作

35. 虚拟经济是指以金融系统为主要循环依托的直接以钱生钱的活动；实体经济是指物质产品、精神产品和服务的生产流通等经济活动。实体经济是经济中的硬件，虚拟经济是经济中的软件，它们是相互依存的关系。

根据上述定义，下列活动属于“虚拟经济”的是：

- A. 企业到西部投资办厂    B. 银行推出新的理财产品  
C. 我市大力发展“农家乐”旅游    D. 国家下拨社会保障专项资金

36. 双刃剑是指两面都有刃的剑，比喻同时具有利弊、得失等相对性质的某事物。

根据上述定义，下列选项中能够正确体现“双刃剑”现象的是：

- A. 人民币升值有利于我国商品对外出口，但不利于企业对外投资  
B. 求异心理引发的消费可以推功产品创新，也会带来盲目虚荣  
C. 非公有制经济的发展能扩大就业，却又削弱了公有制经济的主体地位  
D. 经济全球化推动生产力的发展，同时加剧全球经济的不稳定性

37. 犯罪未遂是指犯罪分子已经着手实行犯罪，由于犯罪分子意志以外的原因而未得逞。

根据上述定义，下列不属于犯罪未遂的是：

- A. 甲正在乙住宅内实施抢劫，忽然听到警车声音，以为是警察来抓自己，便被迫逃离现场  
B. 甲将乙打昏后拖入水中，以为乙必死无疑，但适逢过路人将乙救活  
C. 甲以为乙的口袋中有钱包，便将手伸进乙的口袋，但乙的口袋中并无钱包



D. 甲欲杀乙，埋伏在路旁开枪射击但未打中乙，甲枪内尚有弹，但担心杀人后被判处死刑，遂停止射击

38. 酌量性固定成本通常是指管理者的决策可以改变其支出数额的固定成本，一般由企业管理当局在每一会计年度开始前，制定年度开支预算，决定每项开支的多寡，以及新增或取消某项开支。

根据上述定义，下列选项不属于酌量性固定成本的是：

- A. 同达公司用于新产品的研究开发费用
- B. 才智公司用于新科研项目的广告宣传费用
- C. 云腾企业用于职工的培训费用
- D. 金立企业在生产产品和提供劳务过程中，直接从事产品生产的工人的工资及各种津贴

39. 杀鸡儆猴：抱薪救火

- A. 四海为家：随遇而安
- B. 赴汤蹈火：临危不惧
- C. 望梅止渴：缘木求鱼
- D. 醍醐灌顶：如雷贯耳

40. 手机：电磁波

- A. 磁铁：磁力
- B. 生态系统：营养级
- C. 感染：病毒
- D. 神经元：突触

41. 属性：特性：本质属性

- A. 教室：桌椅：黑板
- B. 宇宙：银河系：太阳系
- C. 学位：博士：研究生
- D. 文具：铅笔：钢笔

42. 奋斗：宝剑锋从磨砺出：梅花香自苦寒来

- A. 梦想：咬定青山不放松：立根原在破岩中
- B. 责任：夜阑卧听风吹雨：铁马冰河入梦来
- C. 隐忍：千里修书只为墙：让他三尺又何妨
- D. 创新：删繁就简三秋树：领异标新二月花

43. 赛场对于 ( ) 相当于 ( ) 对于 放牧

- A. 跑道；牧民
- B. 竞赛；草原
- C. 比赛；饲养
- D. 赛制；牧区

44. 坚持不懈对于 ( ) 相当于 ( ) 对于 理想

- A. 毅力；鸿鹄之志
- B. 恒心；浑浑噩噩
- C. 品质；老骥伏枥
- D. 作风；志存高远

45. 国家新闻出版总署等八大部委联合宣布，“网络游戏防沉迷系统”及配套的《网络游戏防沉迷系统实名认证方案》将于今年正式实施，未成年人玩网络游戏超过 5 小时，经验值和收益将计为 0。这方案的实施，将有效地防止未成年人沉迷于网络游戏。

以下哪项说法如果正确，能够最有力地削弱上述结论？

- A. “网络游戏防沉迷系统”的推出，意味着未成年人玩网络游戏得到了主管部门的允许，从而可以从秘密走向公开化
- B. “网络游戏防沉迷系统”对成年人不起作用，未成年人有可能冒用成年人身份或利用网上一些生成假身份证号码的工具登录网络游戏
- C. 许多未成年人只是偶尔玩玩网络游戏，防沉迷对他们并无作用
- D. 除网络游戏外，还有单机游戏、电视机上玩的 PS 游戏等，“网络游戏防沉迷系统”可能会使很多未成年人转向这些游戏

## 第五部分 资料分析

### 【资料】

2017—2018 年粮食播种面积及单位面积产量情况

	播种面积（千公顷）		单位产量（公斤/公顷）	
	2017 年	2018 年	2017 年	2018 年
一、分季节				
1.夏粮	27410	26703	5719	5197
2.早稻	5463	4791	5810	5967
3.秋粮	79346	85543	5619	5734
二、分品种				
1.谷物	92930	99685	6075	6121
其中：稻谷	30176	30189	6912	7027
小麦	23986	24268	5410	5416
玉米	35445	42129	6091	6108
2.豆类	10352	10171	1852	1882
3.薯类	8937	7180	3825	3978

46. 2017 年粮食播种面积约为多少千公顷？
- A. 112219                      B. 117037                      C. 143560                      D. 74589
47. 2018 年全国粮食总产量约是多少万吨？
- A. 63624                      B. 65787                      C. 76353                      D. 74589
48. 2018 年谷物播种面积与 2017 年相比：
- A. 约增长 7.3%              B. 约减少 7.3%              C. 约减少 1.1%              D. 约增长 1.1%
49. 2018 年全国粮食单位面积产量约为多少公斤/公顷？
- A. 5996                      B. 5780                      C. 5675                      D. 5621
50. 下列选项可以从材料中推出的是：
- A. 2017 年全国稻谷产量稍高于 2018 年的全国稻谷产量

- B. 2018 年的全国小麦产量占全国粮食总产量的两成左右  
C. 2017 年全国薯类播种面积超过总播种面积的 10%  
D. 全国粮食播种面积呈下降趋势

【资料】

2017 年 1—4 月份，全国社会消费品网上零售额 19180 亿元，同比增长 32.0%。其中，实物商品网上零售额 14617 亿元，增长 25.9%。在实物商品网上零售额中，吃、穿和用类商品零售额分别增长 19.3%，18.4%和 29.5%。

2017 年 4 月份社会消费品零售总额及同比增速

	4 月		1—4 月	
	金额 (亿元)	增速 (%)	金额 (亿元)	增速 (%)
社会消费品零售总额	27278	10.7	113102	10.2
其中：限额以上单位消费品零售额	12253	9.2	49765	8.2
按经营地分				
城镇	23483	10.4	96881	9.9
乡村	3795	12.6	16221	12.1
按消费类型分				
餐饮收入	2886	11.1	12082	10.9
其中：限额以上单位餐饮收入	721	8	2932	7.5
商品零售	24393	10.6	101020	10.1
其中：限额以上单位商品零售	11532	9.3	46832	8.3
其中：粮油、食品类	1174	12.6	5119	10.9
饮料类	175	14.2	708	13
烟酒类	310	8.9	1507	9.6
服装鞋帽、针纺织品	1126	10	4779	7.1
化妆品	176	7.7	784	9.4
金银珠宝	229	7.5	1028	7.8
日用品	414	8	1736	8.4
家用电器和音像器材	729	10.2	2758	8.6
中西药品	742	12.6	2894	11.2
文化办公用品	240	3.8	1006	12
家具	229	13.9	850	12.9
通讯器材	316	6.1	1322	9.8
石油及制品	1610	12.1	6330	12.8
汽车	3136	6.8	12402	3.4
建筑及装潢材料	265	13.4	957	14.4

51. 2017 年 1—4 月份，实物商品网上零售额占社会消费品零售总额的比重约为：  
A. 12.9%                      B. 29.4%                      C. 53.6%                      D. 76.2%
52. 2017 年 4 月份，城镇消费品零售额约是乡村消费品零售额的多少倍？

- A. 1.2 倍                      B. 5.2 倍                      C. 59 倍                      D. 6.2 倍

53. 2017 年 4 月份，表中各类商品限额以上单位零售额同比增量最多的是：

- A. 服装鞋帽、针纺织品                      B. 石油及制品  
C. 汽车                      D. 家用电器和音像器材

54. 2016 年 1—3 月份，限额以上单位消费品零售额的绝对量约为多少万亿元？

- A. 3.0                      B. 3.5                      C. 4.0                      D. 4.5

55. 能够从上述资料中推出的是：

- A. 2017 年 1—4 月份，限额以上单位餐饮收入同比增速快于限额以下单位餐饮收入  
B. 2017 年 1—4 月份，非实物类社会消费品网上零售额为 5000 多亿元  
C. 2017 年 4 月份，粮油、食品类限额以上单位商品零售额占限额以上单位商品零售总额的一成多  
D. 2017 年第一季度烟酒类限额以上单位商品零售额同比增速不超过 9.6%

## 2019年郑东新区事业单位招聘考试真题

### 第一部分 常识判断

- 1.2019年5月31日,习近平总书记在“不忘初心、牢记使命”主题教育工作会议上强调,开展“不忘初心、牢记使命”主题教育,要牢牢把握的总要求是守初心、担使命和( )
- A.找差距、抓落实 B.谋发展、谋复兴 C.敢担当、做表率 D.强本领、求突破
- 2.2019年4月28日,中国北京世界园艺博览会开幕.本次世界园艺博览会的主题是( )
- A.城市与自然和谐共生 B.让生活走进自然  
C.绿色生活,美丽家园 D.修复生态、实现资源型城市转型
- 3.2018年12月召开的中央经济工作会议指出,当前我国经济运行稳中有变、变中有忧.宏观政策要强化( )
- A.逆周期调节 B.总量调节 C.结构调整 D.直接调节
- 4.2019年6月5日,长征十一号运载火箭将技术试验卫星捕风一号A、B星等7颗卫星顺利送入预定轨道.这是我国首次固体运载火箭( )试验取得成功。
- A.垂直发射技术 B.移动发射技术 C.一箭多星发射技术 D.海上发射技术
- 5.被称为“冰上曲棍球”的冬奥会运动项目是( )
- A.冰壶 B.冰球 C.花样滑冰 D.俯式冰橇
- 6.下列历史事件发生的时间先后顺序,排列正确的是( )
- ①五四运动 ②十月革命 ③新文化运动 ④辛亥革命
- A.④②①③ B.③④②① C.②③①④ D.④③①②
- 7.核能是原子分裂或聚合时产生的能量,主要有三种形式:核聚变、核裂变、核衰变,其中核聚变的能量最大,下列核能利用均涉及核聚变的是( )
- A.核电站和氢弹 B.氢弹和原子弹  
C.太阳能和氢弹 D.太阳能和原子弹
- 8.根据《中华人民共和国道路交通安全法》,醉酒驾驶机动车的,由公安机关交通管理部门吊销机动车驾驶证,依法追究刑事责任,并且( )内不得重新取得机动。
- A.三年 B.五年 C.十年 D.终生
- 9.下列具有“清热解毒”功效的中药是( )。
- A.当归 B.白术 C.土茯苓 D.红花
- 10.下列童话故事出自安徒生的是( )。

- A.《灰姑娘》 B.《三只小猪》  
C.《爱丽丝梦游仙境》 D.《海的女儿》

11.在灾害发生时,下列对伤者采取的急救措施正确的是( )。

- A.骨折固定的原则是先包扎后因定再搬运  
B.休克患者应保持侧卧位,保持呼吸道畅通  
C.伤者动脉出血时,在受伤动脉近心端,采用指压止血法  
D.为心搏骤停患者争取心肺复苏的黄金时间应控制在 8 分钟以内

12.下列情形不适用《中华人民共和国外商投资法》的是( )。

- A.外国投资者单独或者与其他投资者共同在中国境内投资新建项目  
B.外国投资者单独或者与其他投资者共同在中国境内设立外商投资企业  
C.外国投资者取得中国境内企业的股份、股权、财产份额或者其他类似权益  
D.外国投资者取得中国企业在境外开办企业的股份、股权、财产份额或者其他类似权益

13.下列关于乡村振兴战略的表述,不正确的( )。

- A.要发挥农村基层党组织战斗堡垒作用,全面推进乡村振兴  
B.总要求产业兴旺、生态宜居、乡风建设、治理有效,生活富裕  
C.到 2020 年,乡村振兴取得重要进展,制度框架和政策体系基本形成  
D.到 2035 年,乡村全面振兴,农业强、农村美、农民富全面实现

14.戏曲是中国传统艺术之一,剧种繁多,表演形式多样,在世界戏剧史上独树一帜。下列关于中国戏曲的表述,不正确的是( )。

- A.中国五大戏曲剧种是:京剧、豫剧、越剧、黄梅戏、昆曲  
B.京剧又称“皮黄”,是中国的“国粹”,被列入“人类非物质文化遗产代表作名录”  
C.戏曲表演中有生、旦、净、丑的行当之分,生的名目泛指剧中男角  
D.昆曲被为“百戏之祖,百戏之师”,经典剧目有《霸王别姬》《长生殿》《牡丹亭》

15.下列关于夏季食品安全常识的表述,不正确的是( )。

- A.冰箱内存放食品一般冷藏温度为 0-4℃,冷冻温度-18℃以下  
B.凉菜要现吃现做,可适量加入生蒜或醋杀菌  
C.烹调好的食物注意及时冷藏。室温存放时间不超过 30 分钟  
D.蔬菜、水果类食品宜冷藏保鲜。与生肉、生鱼等分开保存

## 第二部分 言语理解与表达

16. 一个社会的原创精神,只有扎根在法治的土壤才可能茁壮成长。尽管今天传媒技术让

传播的“从一到万”变得\_\_\_\_\_，但最初“从零到一”的创作过程却始终是无数投入与心血的凝结。

填入画横线部分最恰当的一项是：

- A. 事半功倍            B. 轻而易举            C. 易如反掌            D. 唾手可得

17. 世界是多样的,文明是多彩的。以海纳百川的宽广胸怀打破文化交往的\_\_\_\_\_,以兼收并蓄的态度\_\_\_\_\_其他文明的养分,人类文明才能在交流互鉴中共同前进。

依次填入画横线部分最恰当的一项是:

- A. 屏障 吸收            B. 隔阂 摄取            C. 壁垒 汲取            D. 界限 接受

18. 近日,被网友戏称“鲁迅语录搜索引擎”的鲁迅博物馆资料查询在线检索系统火了,鲁迅语句一键查询、在线核对,让假名言\_\_\_\_\_。网络的自我净化非一之功,我们更应关注的是个人如何\_\_\_\_\_鱼龙混杂的名言警句,如何看待真假不一的网络信息。

依次填入画线部分最恰当的一项是:

- A. 不攻自破 辨别            B. 无地自容 识别  
C. 一览无余 分辨            D. 无处遁形 甄别

19. 所谓能力越大责任越大,巨头级别的企业在获得自身发展的同时,如何回馈社会,显示自身的社会责任感,是公众对其的期待,也是社会其的\_\_\_\_\_,而事实上,践行企业社会责任和谋求企业自身发展并不冲突。而是一种\_\_\_\_\_的关系,越来越多的企业意识到这一点,整个社会的发展就会形成一种良性循环。

依次填入画横线部分最恰当的一项是:

- A. 考验 相辅相成            B. 考查 取长补短  
C. 检验 相得益彰            D. 磨炼 互利互惠

20. 俗话讲,“家不以规矩则败,国不以规矩则衰”,惨痛教训史不绝书、\_\_\_\_\_。可仍有人\_\_\_\_\_“章不如条子、条子不如面子”遇到事习惯找人托关系、走捷径。殊不知,不守规者或许侥幸一时、得利一阵,表面上尝到甜头、办成了事,但从长远来看

早晚会跌大跟头、付出沉重的代价。

依次填入画横线部分最恰当的一项是:

- A. 不可胜数 遵从            B. 比比皆是 信奉  
C. 举不胜举 坚信            D. 司空见惯 笃信

21. 非遗是一种“慢文化”,非遗进校园也不应搞“快餐式”教学。唱做并举的戏曲,\_\_\_\_\_的工艺,刚柔相济的武术,掌握非一日之功。建立非遗进校园的长效机制,让孩

孩子们在近距离接触、深层次了解中读懂非遗，非遗课才不会变成\_\_\_\_\_的“兴趣班”。

依次填入画横线部分最恰当的一项是：

- A. 精雕细刻 浮光掠影                      B. 千锤百炼 走马观花  
C. 鬼斧神工 浅尝辄止                      D. 炉火纯青 蜻蜓点水

22. 曲高和寡，不意味着只能让“曲”走“低”，相反，可以通过努力，让“曲高”而“和众”。时下的《中国诗词大会》等电视节目的日渐流行，证明了这种努力的有效。当小选手们已经很有腔调地诵读“少小离家老大回，乡音无改鬓毛衰(cui)”之际，我们却要坐视某种文化上的\_\_\_\_\_，让孩子们忽然“衰(shuai)”“得\_\_\_\_\_”？让兢兢业业的广大语文教师失了准绳？让语言传承没了沉着有序步步相依？

依次填入画横线部分最恰当的一项是：

- A. 矫枉过正 不明所以                      B. 拨乱反正 大惑不解  
C. 背道而驰 一头雾水                      D. 釜底抽薪 不知所措

23. 有句话说得好，“请尊重负责你生命安全的人”。为什么要尊重负责你生命安全的人？答案\_\_\_\_\_。他们是在履职，这种履职不是私人化的，更不是\_\_\_\_\_，故意跟你过不去，而是在维护公共安全，在维护大众利益，在让这个社会变得更安全、更美好。

依次填入画横线部分最恰当的一项是：

- A. 显而易见 肆意妄为                      B. 毋庸置疑 喧宾夺主  
C. 不言而喻 哗众取宠                      D. 莫衷一是 强词夺理

24. 莫言的小说深得戏剧旨趣，不管是情节的关节处，还是场面、细节，经常生发出表演性，有时夸张，有时荒诞，有时魔幻，使得人物、叙述和语言始终\_\_\_\_\_。莫言获诺奖后的作品，以回忆往事为主，写法内敛含蓄，风格趋向写实，文字朴素节制，这与他过去长篇小说铺陈狂放的风格显然\_\_\_\_\_，与他过去中篇小说的内里张狂也有所区分。

依次填入画横线部分最恰当的一项是：

- A. 生机勃勃 相去甚远                      B. 恰如其分 判若鸿沟  
C. 朝气蓬勃 大相径庭                      D. 进退有度 天壤之别

25. 近些年，在一些重要的考试中，总有疑似泄题事件发生，即便是诸如考研等大型考试也难以幸免。一次两次是巧合，次数多了就不免让人\_\_\_\_\_。屡屡发生的泄题案中，似乎都少不了培训机构与“内鬼”\_\_\_\_\_的“精诚合作”。

依次填入画横线部分最恰当的一项是：

- A. 想入非非 风雨同舟                      B. 胡思乱想 齐心协力



- C. 夜不能寐 上下同心  
D. 浮想联翩 里应外合

26. 学习贵在应用。把\_\_\_\_\_的应急避险知识, 转化为危险来临时的行动力, 这是关键。所以, 对于避险知识的学习, 不能\_\_\_\_\_, 得多些实践和演练, 方能临危不乱、成功自救。

依次填入画横线部分最恰当的一项是:

- A. 倒背如流 徒有其表  
B. 铭记于心 纸上谈兵  
C. 了然于胸 泛泛而谈  
D. 记忆犹新 坐而论道

27. 近些年来, 我国网络版权保护取得的进步\_\_\_\_\_。但也要看到, 伴随着人工智能、云计算、大数据等新技术与网络聚合等商业模式的不断发展, 智能语言、网络直播、电子竞技等新业态\_\_\_\_\_。对网络版权保护提出更高的要求。

依次填入画横线部分最恰当的一项是:

- A. 有目共睹 层出不穷  
B. 一目了然 日新月异  
C. 众所周知 遍地开花  
D. 令人瞩目 数见不鲜

28. 从智能手机普及以来, 一根网线让互联网用户的手中都拥有了\_\_\_\_\_自我的麦克风, 也让更多人有了发声的机会。然而, 有些不法分子看到了可乘之机, 将各种低俗的信息\_\_\_\_\_于网络上的各个角落, 对网络上低俗内容保持高压监管\_\_\_\_\_。只有这样才能给公众一个风清气正的互联网空间。

依次填入画横线部分最恰当的一项是:

- A. 表达 藏匿 势在必行  
B. 展示 分部 迫在眉睫  
C. 展现 隐匿 刻不容缓  
D. 表现 散布 间不容发

29. 文化是一条持续不断且永不停顿的河流, 文学艺术必须从传统基石出发, 因为人类对艺术的认知与接受, 需要心理和情感的\_\_\_\_\_。如果简单地、\_\_\_\_\_地理解艺术创新, 误以为创新就是\_\_\_\_\_, 从零开始, 没有继承和守成, 文艺创作就会陷入误区。

依次填入画横线部分最恰当的一项是:

- A. 沉淀 囫囵吞枣 重整旗鼓  
B. 积淀 生吞活剥 另起炉灶  
C. 积累 按部就班 标新立异  
D. 聚集 一知半解 除旧布新

30. 数字阅读固然重要, 但长期手机刷屏阅读带来的问题也不少。首先, 碎拼化阅读有隐患。其次, “低质量”阅读\_\_\_\_\_。当然, 这不能\_\_\_\_\_。但就目前市面上电子阅读产品提供的一些内容而言, 大部分质量\_\_\_\_\_。更有不少文章错字连篇、病句不断, 甚至还有低俗的内容。

依次填入画横线部分最恰当的一项是:

- A. 大行其道 一概而论 参差不齐      B. 如日中天 等量齐观 名不副实  
C. 蔚然成风 以偏概全 良莠不齐      D. 方兴未艾 混为一谈 粗制滥造

31. 当今社会, 工作、生活的节奏越来越快, 飞机、高铁、手机、互联网, 使得人类的地理空间的感受有了很大变化。故家不见“乔木”, 取而代之的是钢筋水泥结构的高楼。城市风貌的大同小异, 语言、饮食、服饰之类好像也渐趋近似, 唐诗中说“君自故乡来, 应知故乡事”, 如今我们头脑中充满了关于国家, 关于世界乃至关于宇宙的知识, 对古乡历史文化却往往知之甚少。能够唤醒人能对“故家”“旧邦”情感的, 除了恒久不改的山峦河流, 可能就要数永远留着故乡烙印的地方文献了。

上述文字接下来最不可能讲述的是:

- A. 地方文献研究的典型      B. 地方文献的内容  
C. 研究地方文献的背景      D. 什么是地方文献

32. 当前, 全球 5G 正在进入商用部署的关键期, 坚持自主创新与开放合作相结合, 我国 5G 产业已建立竞争优势, 5G 标准是全球产业界共同参与定制的统一国际标准, 我国声明的标准必要专利占比超过 30%。在技术试验阶段, 诺基亚、爱立信、高通、英特尔等多家国外企业以深度参与, 在各方共同努力下, 我国 5G 已经具备商用基础。近期, 工业和信息化部将发放 5G 商用牌照, 我国将正式进入 5G 商用元年。

最适合上述文字的标题是:

- A. 全球 5G 正在进入商用部署的关键期      B. 工信部将于近期发放 5G 牌照  
C. 5G 提前商用, 背后的原因没那么简单      D. 我国与全球产业界共谋 5G 发展

33. ①商业的营销已创造了各式各样快捷的形式, 编织了全球的商业网

②因此商业的营销在经济发展中有举足轻重的地位

④科学技术、农业、工业的进步, 繁荣, 发达, 都有赖于商业的发展

④实现经济发展高质量、高效率的变革和发展, 离不开企业家主体的知识、道德、品格、智慧以及其价值观、经济观、审美观等精神的提升

⑤在当今互联网、物联网、大数据高速发展的信息智能时代, 世界不同国家间相互交往频繁

⑥企业家在国民经济发展中, 在产品质量、效用、动力、经销变革中, 展现出越来越大的活动力、创造力和竞争力

将以上 6 个句子重新排列, 语序正确的是:

- A. ⑤③①②⑥④      B. ③②⑤①⑥④      B. ⑥②⑤③④①      D. ⑤⑥④③①②

34. 公共场所,包括写字楼、餐厅、娱乐场所等,控烟监管鞭长莫及,禁烟工作很难见效。不过,比起公共场所控烟,更大的控烟盲点是二手烟。一手烟是吸烟者直接吸进体内的烟雾和有害物质,二手烟是指由烟草产品燃烧端释放出的,及由吸烟者呼出的烟草烟雾所形成的混合烟雾,也称被动吸烟或环境烟草烟雾。二手烟是吸烟者吸烟后残留在衣服、墙壁、地毯、家具、衣服、头发和皮肤等表面的烟草残留物。如果一人吸烟,与其接触的所有人都有可能吸到二手烟。中国吸烟人数有 3.17 亿,加上吸二手烟的 7.4 亿人,如果每个单位和家庭中都有吸烟者的话,蔓延到居住和活动空间中的二手烟可能会危害每个人。

上述文字意在说明:

- A. 公共场所控烟并非控烟的重点
- B. 二手烟产生的危害远超一手烟
- C. 二手烟的危害后果未引起重视
- D. 二手烟控烟盲点需成为视点与焦点

35. “一花独放不是春,百花齐放春满园”,在中国国家博物馆展厅里,日本陶瓷尼泊尔铜器、哈萨克斯坦挂毯,承载着各自的文化基因,跨越时空的界限,组成一幅多彩的亚洲文明图谱。世界文明因多元而美丽,因差异而精彩。所以,以平等包容的态度审视各国的优秀文化成果,以欣赏的眼光走进各有千秋的音乐、美术和语言,是文明对话的前提。

上述文字意在:

- A. 说明中国国家博物馆的重要国际地位
- B. 强调文明的艺术性主要在于相融相通
- C. 说明文明之美主要在于文明的多样性
- D. 强调保持包容心态接纳文明的重要性

36. 随着经济全球化的深入,世界范围内各国经济相互交织、相互影响、相互融合成统一的整体,形成“全球多边市场”、“全球统一市场”发达国家跨国公司以知识产权为核心打造出新的全球研发、生产网络。一方面,他们整合全球创新资源推进创新研发;另一方面,利用知识产权牢牢占据全球生产价值链上游的高附加值环节,在国家层面,发达国家正通过双边、多边自由贸易协定的形式打造新一轮全球知识产权保护高标准,以巩固全球价值链利益分配格局。

上述文字意在强调:

- A. 部分发达国家主导了国际知识产权规则的制定
- B. 知识产权已成为世界经济贸易体系的重要支柱
- C. 围绕国际规则和制度性话语权的竞争越来越激烈
- D. 知识产权制度是全球贸易合作的共识和通用规则

37. 在科技发展的历史上, 每逢新科技出现, 总会有人打着新科技的幌子, 搞骗局, 传谣言, 也有一些不法商家惯于玩概念、蹭热度, 开展所谓“借势营销”, 从早些年的“电脑算命”到“纳米按摩椅”, 再到这些年的“量子抗癌吊坠”“暗物质洗发水”“石墨烯内衣内裤”等, 当李鬼登堂入室, 李逵反而欲哭无门, 不但对社会生活, 不但对社会生活造成危害, 而且搞混了人们对科技创新的认识, 伤害人们对新科技的热情。只有把新科技的科普工作做到位, 才能避免骗局和谣言在科技发展之路上恶意“抢跑”, 从而为科技创新以及将其应用于生活营造良好的条件。

上述文字主要说明了:

- A. 科学普及应被放到与科技创新同等重要的位置
- B. 科学普及要注重科学知识, 科学史的介绍和传播
- C. 科学普及有利于帮助人们分辨“新科技”与“伪科技”
- D. 打破科技产品的神秘感才能发挥科技正确作

38. 自然骨不仅外观形态非常不规则, 而且内部结构也比较复杂, 不同部位的密度不一, 让人造骨在结构上模仿自然骨是极具挑战的。传统金属、高分子材料存在仿生结构不可控、力学性能不匹配、生物相容性差、无发育功能等术后并发症。为解决这一问题, 汪焰恩从打印材料入手, 将羟基磷灰石、黏合剂、细胞液、蛋白液(生长因子)等按照不同个体的骨骼性质, 对打印材料进行科学配比, 从而制作出最适合被植入个体的 3D 打印仿生骨。在配比材料、铺粉打印环节, 汪焰恩不仅研制了一套打印控制系统, 还攻克了打印的关键机械技术, 处于国际领先水平。

上述文字不涉及 3D 打印仿生骨的:

- A. 核心技术
- B. 性能优势
- C. 研发过程
- D. 学术地位

39. 西辽河流域、长江中下游地区及海岱地区这些新石器文化和新区衰落, 中原核心区稳步崛起, 中原中心趋势形成, 这是中国史前文化格局改变的历程。旧大陆西部传来的农作物和绵羊、山羊、黄牛和马等家畜, 显然对中国史前文化格局的改变起了作用。同时, 伴随着冶金技术的东传, 青铜铸造技术在中原地区扎根、发芽、开花和结果, 标志着青铜时代全球化的形成, 然而, 西来的新作物与家畜, 对于中原地区的产业仅为补充, 未起到多大的作用, 青铜时代的全球化对于中原的崛起作用有限。

根据上述文字, 下列说法正确的是:

- A. 中国新石器时代传统核心区文化衰落是历史必然
- B. 小农经济的发展更符合我国文化可持续发展的需要

- C. 西来的新作物与家畜对中原核心区优势的形成至关重要
- D. 青铜时代全球化并非中国史前文化格局改变的根本动因

40. 看金融，先要跳出金融看。中国与某些经济虚拟化、产业空心化的国家和地区不同，经济基本面由实体经济构筑，国内消费早已成为拉动增长最重要的引擎，产业结构不断优化调整、区域战略不断协调完善，完全具备了金融业风险防范的实业基础、物质基础。今年以来实体经济的平稳开局，更加有效支撑了金融市场的改革发展，印证了党中央对经济与金融的辩证关系的权威判断。我们相信，\_\_\_\_\_。

填入画横线部分最恰当的一句是：

- A. 中国完全有能力应对经贸摩擦，中国金融体系经得起外部变化冲击
- B. 我们拥有独特的政治和制度优势，这是应对各类风险挑战的坚强保证
- C. 随着金融造血能力的提升、输血渠道的畅通，韧性和安全性一定越来越强
- D. 随着金融供给侧改革发力，中国金融业高质量发展的安全屏障必然更加牢固

● 阅读下列材料，作答 41-45 题

创伤是动物在自然界中经常遇到的事件。在人类社会中，外科手术给身体造成的创伤，同样破坏了人机体的内环境稳定。为了生存，在亿万年的生物进化过程中，机体建立起对创伤的适应性反应，现时称之为全身炎症反应。创伤反应的目的是重新恢复内环境稳定。当创伤达到一定程度，它将不是局部的而是全身性事件，亦即所谓：“牵一发而动全身”。

“微创”外科一词顾名思义，要比“腔镜”“小切口”“小路径”“内镜”外科更为广泛，它是要达到造成最小的创伤(局部及全身)的外科，而不是限于哪一种方式或哪一种工具，可以说，微创外科是指在任何外科创伤应急情况下，达到最佳的内环境(局部及全身)。

外科学的发展总是离不开当时的科技背景，20 世纪后期，基于微电子学、光学，现代先进技术和工艺的发展，出现了内镜，腔镜技术，这为实现微创外科奠定了坚实的基础，内镜技术的发展，终于使外科能够有一“绿色通道”来实施，现代科学技术发展的特征是走向综合化、社会化，并且速度在加快，这是不可抗拒的，事实上，腹腔镜技长在妇产科中已出现多年，但由于器械上的原因迟迟未用，直到 1986 年计算机集成电路微型摄像机的出现，使腹腔镜显像发生了革命性变化。1987 年法国的普通外科及妇产科医生莫丽特，首次在腹腔镜下完成了首例胆囊切除术，奠定了腹腔镜外科的基础，此后，腹腔镜外科便有力地推动了微创外科的发展。

技术的实施服务于概念的运用，而新技术亦将引发新的概念，“外科微创化”作为贯彻于外科各领域的概念，将促使微创外科技术的全面发展，“微创”一直是外科学追求的境界，但以往无法克服小切口与显露不充分的矛盾，内镜技术引出新概念：小入路，有限制的充分显

露。完善的外科需要手术视野的完善显露,并不是需要大切口,内镜解决了手术入路并不改变外科实质。广义的微创外科,不管是采用何种方法,都应是缩小外科所带来的局部和全身的伤害性效应。所以微创外科概念并非只是限于内镜术和腹腔镜术,而应有更广阔的视野。

21 世纪的微创外科,前景是非常激动人心的。在这个信息时代,传统的外科操作可能被微创的准确的器械操作所代替,其趋向将从微创到无创的发展,外科医生可能从用手操作过渡到用计算机操作,可以完全不接触病人,实现从当前的腔镜手术,到机器人辅助的手术,再到远距离操纵的手术,当前发展很快的如虚拟技术、三维立体可视技术和计算机控制的机器人手术,可以比外科医生的手更为准确。科学技术的发展带来了由生物学、信息学和物理学互相融合的生物智能时代,但随之又会出现新问题——在 21 世纪外科医生该怎么办?

41. 下列关于“微创外科”技术的说明,不正确的是:

- A. 仅限于内镜外科和腹腔镜外科
- B. 在任何外科创伤应急情况下,达到最佳的内环境稳定
- C. 它是限于哪一种方式或工具的达到造成最小创的外科
- D. 缩小外科所带来的局部和全身的伤害性效应,而不管采用什么方法

42. 下列关于文段内容的理解,正确的是:

- A. 内镜技术为实现微创外科奠定了坚实的基础
- B. 内镜技术解决了外科手术的入路问题,从而改变了外科实质
- C. 内镜技术的发展使我们找到了微创外科由于器械影响而发展缓慢的症结所在
- D. 内镜技术的发展找到了解决微创外科研究中小切口与显露不充分的矛盾的方法

43. 根据原文提供的信息,下列判断正确的是:

A. “微创外科”是在腔镜、小切口、小路径、内镜外科基础上发展起来的,是外科学发展的基础

B. 由于虚拟技术、三维立体可视技术和计算机控制的机器人发展很快,因此,它们比外科医生的手术更为准确

C. “外科微创化”作为贯彻于外科各领域的概念,促使微创外科技术全面发展,并成为外科学追求的最高境界

D. 微创外科有广义和狭义之分,“21 世纪的微创外科,前景是非常激动人心的”即是针对广义的微创外科而言的

44. 下列说法不符合原文意思的是:

- A. 21 世纪是信息时代,微创的、准确的器械操作将代替传统的外科操作

- B. 随着生物智能时代的到来,会带来 21 世纪外科医生应该怎么办的新问题
- C. 科学的发展有力地推动了外科学的发展,腹腔镜技术的运用就说明了这一点
- D. 随着科学技术的迅猛发展,外科学将由微创发展到无创,外科医生可能由手工操作手术过渡到用计算机操作以至远距离操纵手术

45. 最适合上述材料的标题是:

- A. 外科“微创”技术发展纪实  
B. 科技背景下的外科学发展  
C. 外科学开启新“微创时代”  
D. 外科手术中的“微创”与“无创”

### 第三部分 数量关系

46. 将浓度分别 95%、50%的酒精溶液混合配成 75%的酒精溶液 1800 克,分别需要 95%,50%的酒精溶液各多少?

- A. 600 克、1200 克  
B. 1200 克、600 克  
C. 1000 克、800 克  
D. 900 克、900 克

47. 已知甲乙两地相距 540 千米,一辆汽车从甲地开往乙地,在前一半路程中平均速度是原计划的五分之四,故比原计划用时多 0.75 小时。若要保证按时到达乙地,则后一半路程的平均速度为:

- A. 96 千米/时  
B. 100 千米/时  
C. 108 千米/时  
D. 120 千米/时

48. 240 名学生中报文化课辅导班的与未报文化课辅导班的人数比是 5:3,报艺术辅导班的与未报艺术辅导班的人数比是 7:5,两类辅导班都报的有 86 人,则两类辅导班都没有报的人数是:

- A. 36 人  
B. 42 人  
C. 48 人  
D. 54 人

49. 有 10 个完全相同的白色小球,将其中 4 个涂成红色。从 10 个小球中随机取出 2 个小球,若其中一个为红色,则另一个也是红色的概率是:

- A. 0.1  
B. 0.15  
C. 0.2  
D. 0.25

50. 现有一批树苗,将其按固定间距栽满某个正方形规划区时剩余 80 棵树苗,若将此正方形规划区的周围各增加一行树苗,还缺少 11 棵树苗。则这一批树苗总数为:

- A. 2105 棵  
B. 2118 棵  
C. 2200 棵  
D. 2250 棵

51. 某商店以 400 元的价格进购一批音箱,按 480 元定价售出,每天可售出 8 台,若每降价 10 元,每天能多售出 4 台。若要每天取得最大利润,应将音箱定价为:

- A. 440 元  
B. 450 元  
C. 460 元  
D. 470 元

52. 一项工程,甲队单独做需 40 天完工,乙队单独做需 60 天完工。现甲乙两队合作,

从开始到完工共用了 32 天，期间甲队休息若干天，乙队工作 21 天后被调走。则甲队休息时间为：

- A. 3 天                      B. 4.5 天                      C. 5 天                      D. 6 天

53. 已知 2018 年 8 月 13 日是星期一，则 2019 年 9 月 13 日是：

- A. 星期一                      B. 星期二                      C. 星期五                      D. 星期日

54. 某车站进站口旅客排队等待检票，从开始检票到等候检票的队伍消失，同时开 4 个检票口需 30 分钟，同时开 6 个检票口需 15 分钟，如果同时开 8 个检票口，需多久？

- A. 9 分钟                      B. 10 分钟                      C. 11 分钟                      D. 12 分钟

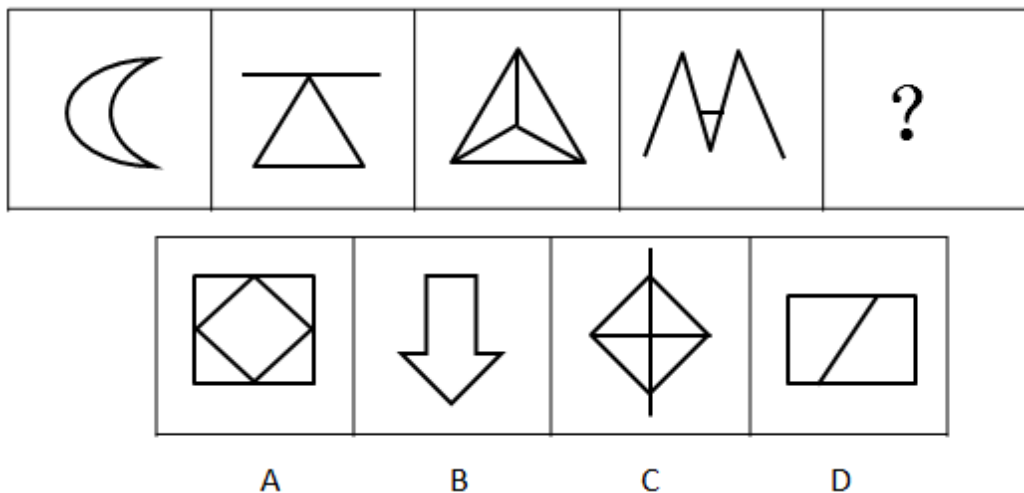
55. 某抽奖箱中放有 4 种卡片，一等奖卡片 3 张，二等奖卡片 5 张，三等奖卡片 10 张，参与卡片 20 张，若每次只能抽出一张卡片，若要保证 5 个人抽出的获奖等级相同，则至少需抽奖：

- A. 5 次                      B. 6 次                      C. 11 次                      D. 16 次

#### 第四部分 判断推理

##### 一、图形推理

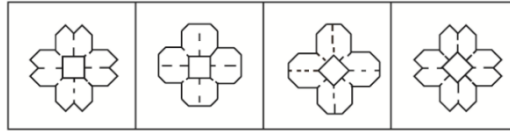
56. 从所给的四个选项，选择最合适的一个填在问号处，使之呈现一定的规律性（ ）



- A. 如上图所示                      B. 如上图所示                      C. 如上图所示                      D. 如上图所示

57. 将一张正方形纸对折成三角形，接着将三角形对折成小三角形，再将这个小三角形对折成更小的三角形。然后如下图所示，剪去 3 个等腰直角三角形后，将剩下的纸展开显示的图形是（ ）

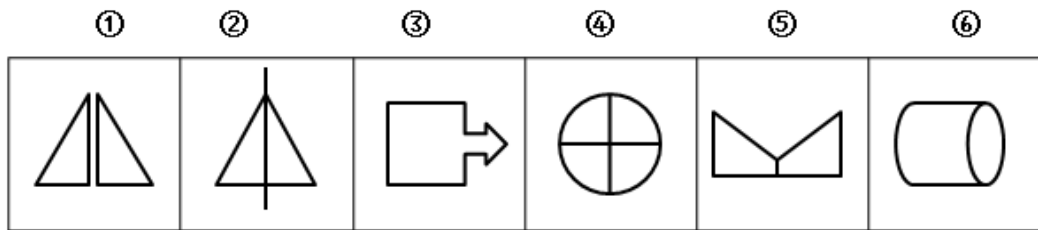




A B C D


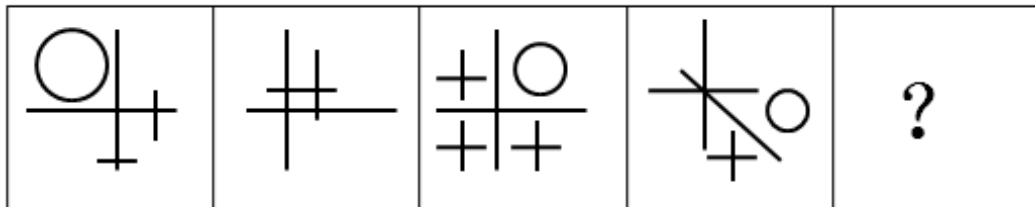
A. 如上图所示 B. 如上图所示 C. 如上图所示 D. 如上图所示

58. 将下列六个图形分为两类,使每一类都有各自的共同特征或规律,分类正确的是( )



A. 如上图所示 B. 如上图所示 C. 如上图所示 D. 如上图所示

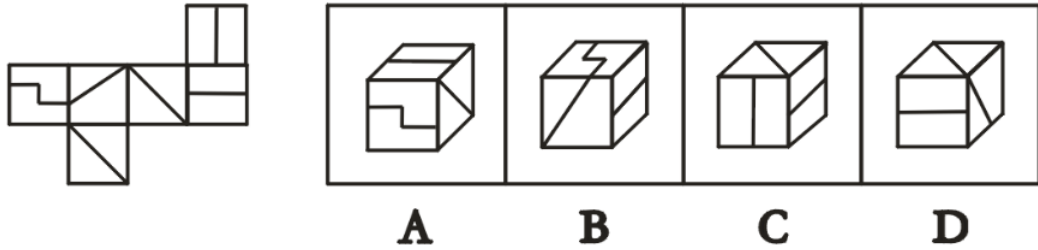
59. 从所给的四个选项中,选择最合适的一个填在问号处,使之呈现一定的规律性( )



A B C D

A. 如上图所示 B. 如上图所示 C. 如上图所示 D. 如上图所示

60. 下列四个选项中,能由左边立体图形展开图折叠而成的是( )



- A. 如上图所示      B. 如上图所示      C. 如上图所示      D. 如上图所示

二、定义判断

61. 投射效应是指将自己的特点归因到其他人身上的倾向。在认知和对他人形成印象时，以为他人也具备与自己相似特性的现象，把自己的感情、意志、特性投射到他人身上并强加于人。根据上述定义，下列属于投射效应的是（ ）

- A. 五十步笑百步      B. 吃不到葡萄说葡萄酸  
C. 世人皆醉我独醒      D. 慈母多败儿

62. 意思表示指当事人要使自己的内心意思产生法律效果，就必须将表现于外部，为行为相对人所了解。根据上述定义，下列行为未构成意思表示的是（ ）

- A. 甲将网购的新手机赠送给朋友      B. 乙决定在月底向公司提交离职申请书  
C. 丙在寻物启事中表示用 100 元作答谢金      D. 丁在自助购票机上购买车票

63. 主语是执行句子的行为或动作的主体，谓语是对主语动作或状态的陈述或说明，宾语则是指一个动作(动词)的接受者，当句子中的谓语部分包含两个动词，且对应两个不同的主语，即前一个谓语的宾语同时又作为后一个谓语的主语，符合这样格式的句子叫兼语句，根据上述定义，下列属于兼语句的是（ ）

- A. 项庄拔剑起舞      B. 上级派工作组检查工作  
C. 风吹草低现牛羊      D. 人不能两次踏进一条河流

64. 大数据杀熟是指在网络平台上，同样的商品或服务，老客户看到的价格反而比新客户要贵出许多的现象。根据上述定义，下列属于大数据杀熟行为的是（ ）

- A. 机票订票平台，消费者越早订票越便宜  
B. 一罐可乐，在超市只卖 2 元，在五星级酒店能卖 30 元  
C. 某行吸务网站，VIP 会员登录看到的酒店定价均高于普通用户看到的价格  
D. 网上购物平台在促销前先抬高所售物品价格，到促销日再大幅降价，制造优惠假象

65. 社会性处罚是指存在失信行为的人员所受到的与自身失信行为没有直接关联的来自其他部门的限制和处罚。根据上述定义，下列属于社会处罚的是（ ）

- A. 某企业因偷税漏税，账户被法院依法冻结
- B. 欠钱不还的“老赖”，其子女被限制就读高收费学校
- C. 因学术论文造假，翟某被北京电影学院学位评定委员会撤销博士学位
- D. 高铁霸座男被记入铁路征信体系，在一定期限内被限制乘坐火车

66. 横向交往和纵向交往是组织内员工通过人际互动构建社会资本过程的两种工具性交往风格。横向交往是指个体通过与自身同社会地位相似的群体建立广泛联系的过程；纵向交往是指个体能动地与社会中占据主导资源支配的群体建立关系的过程。

根据上述定义，下列属于横向交往的是( )

- A. 为得到领导提拔，小张逢年过节都会给领导送礼
- B. 厂长担心技术骨干刘师傅春节后不再来厂里上班，赠送了他往返机票
- C. 小张为了能顺利竞选上班长，主动和同学搞好关系，经常请他们吃饭
- D. 某家长为了让幼儿园老师多关照自己生病的孩子，给老师们发问候短信

67. 禀赋效应是指当人们一旦拥有某项物品后，对该物品价值的评价要高于未拥有之前的评价，根据上述定义，下列现象可以用禀赋效应来解释的是( )

- A. 某企业通过承诺加薪提高员工工作的积极主动性
- B. 小刘觉最近消费紧张，但她把看到促商品仍然会购买
- C. 小冯本以为买某款手机性价比低，购买使用后却觉得该手机物超所值
- D. 某供应商经常向不同生产厂家供应原材料，生产厂家也会选择不同的供应商

68. 环境胁迫是指环境对生物所处的生存状态产生的压力，分为急性环境胁迫和慢性环境胁迫，捕猎、干扰、水质的突变等可以引起急性环境胁迫，而环境逐渐恶化或高密度因素影响等会造成慢性环境胁迫。根据上述定义，下列属于慢性环境胁迫的是( )

- A. 酸雨落在植物叶片上，植物叶片出现黄褐斑并逐渐枯黄卷曲
- B. 暴雨洪涝灾害是植物体内水分失衡，植物叶片脱落，同时发生病虫害
- C. 在盐碱地生长的牧草长期演化逐渐适应环境，具备了一定的抗盐、防盐本领
- D. 夏季中高温可使植物的蛋白质变性，生物膜结构破损，体内生理生化代谢紊乱

69. 物理性爆炸指在一定空间内高压急骤释放所致的爆炸过程中，只发生物理变化而无化学或其他变化的爆炸，根据上述定义，下列属于物理性爆炸的是( )

- A. 被点燃的烟花爆竹发生的爆炸
- B. 在加油站拉开电闸时产生电火花，引起石油库爆炸
- C. 锅炉因受到腐蚀作用，壁厚度减小，承压能力降低而引起的爆炸

D. 锂电池在接触不良等情况下瞬间放电产生大量电流时引发的爆炸

70. 撇脂定价法即在产品刚进入市场时将价格定位在较高水平，取得相当的利润以尽快收回投资，然后随着时间的推移，再逐步降低价格使该产品进入弹性大的市场。

根据上述定义，下列运用撇脂定价法的是()

- A. 甲企业经过市场分析后，将其生产的洗化产品定在利于消费者接受的价位
- B. 乙企业生产的空调以优质高价进入市场，并不断优化生产方式降低成本与价格
- C. 丙企业根据消费者对商品价值的认知和理解程度形成的定价上限，确定其产品定价
- D. 丁企业的共享单车投放市场时，将其使用价格定在较低水平并推出一系列优惠券

### 三、类比推理

71. 天平:公斤 ( )

- A. 量尺:毫米
- B. 时间:分钟
- C. 电话:手机
- D. 学科:历史

72. 锦鲤:吉祥物 ( )

- A. 信分:文化
- B. 煤炭:能源
- C. 稀土:铀
- D. 蜡烛:光明

73. 显微镜:放大 ( )

- A. 消音器:安静
- B. 压力系:收缩
- C. 洒水车:除尘
- D. 下水道:排水

74. 达尔文:进化论 ( )

- A. 张仲景:辨证论治
- B. 圆周率:祖冲之
- C. 哥白尼:地心说
- D. 朱元璋:八股文

75. 明治维新:戊戌变法 ( )

- A. 勾股定理:欧氏几何
- B. 视若珍宝:惜字如金
- C. 文艺复兴:启蒙运动
- D. 釜底抽薪:暗度陈仓

76. 红酒:葡萄:酿造 ( )

- A. 棉花:棉子:种植
- B. 钢材:生铁:锻造
- C. 书籍:纸张:木材
- D. 电脑:芯片:程序

77. 消息:传播:大肆渲染 ( )

- A. 消费:投诉:据理力争
- B. 知识:传授:教书育人
- C. 疾病:治疗:药到病除
- D. 运动:体育:强身健体

78. 金融:银行:保险 ( )

- A. 职务:科员:主任
- B. 新闻:网络:报纸
- C. 商业:销售:采购
- D. 治安:警察:消防

79. 改革对于发展相当于( )对于( )

- A. 文字——语言      B. 学习——研究      C. 成长——挫折      D. 表达——沟通

80. 法院对于( )相当于( )对于绿化

- A. 审判——植树      B. 法官——园林      C. 诉讼——灌溉      D. 正义——环保

#### 四、逻辑判断

81. 在网络市场上盗版书籍的销量高于正版书籍。有研究者分析，这主要是因为价格上盗版书籍更有优势，所以在网络市场上更有销量。下列哪项是研究者作出分析的前提？

( )

- A. 盗版书籍的进货渠道更加通畅  
B. 盗版书籍的网络销售体系更加完善  
C. 正版书籍内容僵化，不能适应网络市场需求  
D. 价格是影响销量的重要因素

82. 若干名学生围坐在一张圆桌边，其中，1 名学生是海南人，2 名学生南方人，1 名学生是长春人，2 名学生只对绘画感兴趣，3 名学生只对唱歌感兴趣。若上述介绍涉及所有学生则下列关于学生人数的推断，正确的是( )

- A. 最少可能是 3 人，最多可能是 8 人      B. 最少可能是 5 人，最多可能是 8 人  
C. 最少可能是 5 人，最多可能是 9 人      D. 最少可能是 3 人，最多可能是 9 人

83. 某文学网站的编辑们写了许多文学方面评论文章，小周是其中一名编辑，所以她写了许多文学方面评论文章。下列与上述推理方式最相似的是( )

- A. 独立的数字是不能进行比较的，所以所有的数字之间都不能比较大小  
B. M 学校的学生选修了许多课程，小张是该校的学生，所以他选修了许多课程  
C. Z 师范院校的学生学习教育学课程，小赵是该校学生，所以小赵学习了教育学  
D. 所有机动车行驶都要遵守交通规则，小孙骑的是自行车，所以不需遵守交通规则

84. 据 2014-2018 年数据显示，东部地区 S 市因癌症死亡的人数比例高出全国城市平均值约 1 倍。但是据历史资料记载，S 市曾是癌症特别是肺癌的低发地。对此，研究者认为 S 市近年来对癌症的预防与治疗不够重视

下列哪项如果为真，最能削弱研究者结论？( )

- A. S 市气候环境适宜，较多癌症患者选择在 S 市调理疗养  
B. 近年来 S 市逐步提高医疗保障投入，完善癌症治疗设备  
C. S 市医院联合中医学研究所在探讨癌症发病机制方面取得突破进展  
D. 虽然全国癌症发病率逐年上升，但是 S 市的肺气肿发病率未超过 1%

85. 有研究表明, 人每天饮用超过 4 升水可能会中毒, 导致大脑功能受损甚至死亡。下列哪项如果为真, 最能支持上述结论? ( )

- A. 健康的肾脏在正常状态下每小时可以排出 800~1000 毫升的水
- B. 绝大部分健康人依据是否口渴进行饮水, 就可以充分满足所需水分摄入
- C. 肾脏来不及排出的多余水分会大量进入细胞, 导致低钠血症, 使脑组织受损
- D. 水只是体内代谢物的搬运工, 不是营养的物质来源, 喝水过多会导致身体水肿

86. 动物行为学研究者近期首次发现黑猩猩捕食折背龟, 黑猩猩能通过将食物坚硬向坚硬表面来打开一些食物, 如硬壳水果、蜗牛等。研究者认为, 该研究进一步印证了黑猩猩强大灵活的认知能力和潜在的未来规划能力, 下列除了哪项外。均能支持上述结论? ( )

- A. 已知黑猩猩会使用各种工具, 比如利用矛状工具捣弄洞内的猎物
- B. 黑猩猩先用手将龟壳砸向坚硬的表面, 然后爬到树上享受猎物
- C. 在 38 起捕食事件的 23 起中, 成功的黑猩猩与其它群落成员分享了猎物
- D. 黑猩猩属人科动物, 其祖先与人类祖先在约 600 万年前走上各自独立的演化道路

87. 现有 e、f、g、h、i、j 六名学生排成一排照相, 椅子从左到右顺序编号为 1、2、3、4、5、6 号, 已知 e 在 g 左侧的某把椅子上就坐; h 在 1 号或 6 号椅子上就坐; 3 号椅子上是 j 或是 i; f 紧挨着 i 的右侧就坐。则上述 6 名学生从左到右的就坐顺序是( )

- A. j. e. i. f. g. h
- B. h. j. e. i. f. g
- C. g. i. f. h. j. e
- D. i. e. j. f. g. h

●某公司技术研发处有 6 名骨干技术员: 甲、乙、丙、丁、戊、己。其中每名技术员在公司的 3 个研发项目中至少要参与其中一, 每个研发项目要三名成员, 已知: 6 名骨干技术员中只有一人参与 3 个项目; 甲, 乙不是同一个项目的成员; 丙、丁不是同一个项目的成员。

**根据上述材料, 作答 88~90 题**

88. 根据上述材料可以推出的是( )

- A. 甲参与的项目一定有丙
- B. 乙参与的项目一定有戊
- C. 丙可能参与 3 个项目
- D. 丁参与的项目中可能有己

89. 若在戊参与的项目中有丁, 则下列哪项一定为真? ( )

- A. 戊参与 3 个项目
- B. 丁参与 2 个项目
- C. 己参与的项目中有丁
- D. 甲、戊参与了同一个项目

90. 若甲、戊不在同一项目中, 则下列成员参与了同一个项目的是( )

- A. 甲、丙                      B. 甲、丁                      C. 丁、己                      D. 乙、戊

## 第五部分 资料分析

### 一、根据下列资料，作答 91-95 题。

2019 年 4 月，我国能源生产情况为规模以上工业原煤、原油、天然气和电力生产略有放缓，煤油气进口快速增长，原油加工增速加快，2019 年 4 月，原煤产量 2.9 亿吨，同比增长 0.1%，增速比上月回落 2.6 个百分点；日均产量 981 万吨，比上月增加 19 万吨，2019 年 1—4 月，原煤产量 11.1 亿吨，同比增长 0.6%。2019 年 4 月进口煤炭 2530 万吨，同比增长 13.6%，比上月增加 182 万吨；2019 年 1—4 月进口煤炭 9993 万吨，同比增长 1.7%

2019 年 4 月生产原油 1570 万吨，同比增长 0.6%，增速比上月回落 1.5 个百分点；日均产量 52.4 万吨比上月减少 1 万吨，2019 年 1—4 月，生产原油 6306 万吨，同比增长 0.6%。2019 年 4 月进口原油 4373 万吨，同比增长 10.8%，增速较上月加快 10.4 个百分点；2019 年 1—4 月原油进口量同比增长 8.9%。2019 年原油加工量同比增长 5.1%，增速比上月加快 1.9 个百分点；日均加工 173.7 万吨，比上月增加 2.6 万吨。2019 年 1—4 月份，原油加工量 20747 万吨，同比增长 4.7%。

2019 年 4 月份，生产天然气 141 亿立方米，同比增长 7.9%，增速比上月回落 1.9 个百分点；日均产量 4.7 亿立方米，比上月减少 0.2 亿立方米。2019 年 1—4 月份，生产天然气 581 亿立方米，同比增长 9.0%。4 月份，进口天然气 765 万吨，同比增长 12.2%；2019 年 1—4 月份，天然气进口量同比增长 16.4%。

2019 年 4 月份，发电 5440 亿千瓦时，同比增长 3.8%，增速较上月回落 1.6 个百分点；日均发电 181.3 亿千瓦时，比 3 月份减少 2.5 亿千瓦时。2019 年 1—4 月份，发电 2.2 万亿千瓦时，增长 4.1%。

91. 2019 年 4 月，原煤日均产量环比增速约为：

- A. 0.83%                      B. 1.50%                      C. 1.71%                      D. 1.98%

92. 2019 年 1-4 月生产的原油量比 2018 年同期约增加：

- A. 23 万吨                      B. 38 万吨                      C. 51 万吨                      D. 66 万吨

93. 2019 年 3 月进口煤炭量约占 2019 年第一季度进口煤炭总量的比重约为：

- A. 23.5%                      B. 27.8%                      C. 31.5%                      D. 34.1%

94. 2019 年 3 月发电量约为：

- A. 5345.3 亿千瓦时                      B. 5562.7 亿千瓦时

- C. 5667.8 亿千瓦时 D. 5826.2 亿千瓦时

95. 下列能从上述资料中推出的是:

- A. 2018 年 3 月原油加工量不足 5000 万吨  
B. 2018 年第一季度生产原油量约为 4707.4 万吨  
C. 2018 年 4 月天然气生产量约比天然气进口量多 620 万吨  
D. 2019 年 4 月能源产量环比增速最大的是日均发电量

**二、根据下列材料，作答 96-100 题。**

2018 年全国规模以上企业就业人员年平均工资为 68380 元，比上年增长 11.0%。其中，中层及以上管理人员 145125 元，增长 10.0%；专业技术人员 96703 元，增长 16.3%；办事人员和有关人员 63755 元，增长 9.5%；社会生产服务和生活服务人员 54945 元，增长 11.0%；生产制造及有关人员 55148 元，增长 8.8%。

**表1 2018年分地区分岗位就业人员年平均工资**

单位：元

地 区	全部就 业人员	中层及以上 管理人员	专业技 术人员	办事人员 和有关人员	社会生产服务 和生活服务人员	生产制造及 有关人员
合 计	68380	145125	96703	63755	54945	55148
东 部	74754	168503	109651	71556	60447	57202
中 部	56605	104652	72660	50708	44959	50466
西 部	62227	121718	84099	55169	48269	54241
东 北	61801	116748	73683	57039	52813	54024

**2018 年分行业分岗位就业人员年平均工资**



2018年分行业岗位就业人员年平均工资

行业	单位：元					
	全部就业	中层级以上管理人员	专业技术人员	办事员和有关人员	社会生产服务和生活服务人员	生产制造及有关人员
采矿业	76556	147377	97228	82671	53978	69789
制造业	64643	135643	93779	67192	65202	53927
电力、热力、燃气及水生产和供应业	100404	178098	119791	76634	73594	91663
建筑业	56743	105936	68760	48389	47197	51901
批发和零售业	71595	146750	93076	66207	51991	51188
交通运输、仓储和邮政业	82852	157088	123794	69360	78022	71319
住宿和餐饮业	45305	91708	56237	42955	38847	40014
信息传输、软件和信息技术服务业	141962	297189	167915	99850	86603	72231
房地产业	70428	236783	90881	59814	45206	47110
租赁和商务服务业	76196	236783	130274	70002	51147	52389
科学研究和技术服务	122040	237704	131522	80704	65229	66378
水利、环境和公共设施管理业	52198	125610	86656	52653	37758	48183
居民服务、修理和其他	46727	102699	64274	51411	38693	43306
教育	76207	142513	79955	65099	63724	48270
卫生和社会工作	76454	126480	79572	53631	49218	51632
文化、体育和娱乐行业	92624	169071	140727	78284	47225	53439

96. 与 2017 年同期相比，2018 年生产制造及有关人员的年平均工资约增加了：
- A. 4085.5 元                  B. 4460.5 元                  C. 5210.5 元                  D. 5523.5 元
97. 2018 年就业人员年平均工资最高岗位的约是最低岗位的：
- A. 1.63 倍                  B. 2.12 倍                  C. 2.27 倍                  D. 2.64 倍
98. 2018 年分地区就业人员年平均年平均工资最高的地区是：
- A. 东部地区                  B. 西部地区                  C. 中部地区                  D. 东北地区
99. 2018 年各行业全部就业人员年平均工资中高于全国平均水平的有：
- A. 9 个                  B. 10 个                  C. 11 个                  D. 12 个
100. 下列能从上述资料推出的是：
- A. 2018 年，分岗位就业人员年平均工资最低的行业是住宿和餐饮业
- B. 2018 年，全国规模以上企业年平均工资增长最多的岗位是中层及以上管理人员
- C. 2017 年，中部地区年平均工资最低的岗位是社会生产服务和生活服务人员
- D. 2017 年，全国规模以上企业年平均工资约比专业技术人员年平均工资低 2.1 万元

## 2019年郑州市航空港区事业单位招聘考试真题

### 第一部分 言语理解与表达

1. “语言的游戏”使一些人愕然。但从作家\_\_\_\_\_，变换组合各语言要素，创造永无固定模式的艺术语言来看，这位哲学大师的话是有道理的。

填入划横线部分最恰当的一项是：

- A. 处心积虑                  B. 殚精竭虑                  C. 费尽心机                  D. 呕心沥血

2. 《红楼梦》虽然描写的是\_\_\_\_\_之家的贵族生活，但文字雅化中亦见通俗，寻常口语运用得恰到好处，而且这样的内容正\_\_\_\_\_一般市井小民欲窥宫闱和上流社会秘闻的心理。

依次填入划横线部分最恰当的一项是：

- A. 纸醉金迷 投合                                  B. 锦衣玉食 契合  
C. 灯红酒绿 符合                                  D. 钟鸣鼎食 迎合

3. 心理活动虽然不能直接观察，但它不是\_\_\_\_\_的，它在头脑中产生，正如胃是消化器官一样，脑是心理的器官。

填入划横线部分最恰当的一项是：

- A. 无中生有                  B. 扑朔迷离                  C. 虚无缥缈                  D. 空穴来风

4. 所谓构思是指作家、艺术家在\_\_\_\_\_作品过程中所进行的思维活动。包括选取、提炼题材，酝酿、确定主题，探索最适当的表现形式和结构形式，在叙事作品中还要考虑人物活动与事件进展的布局等。

填入划横线部分最恰当的一项是：

- A. 孕育                          B. 构想                          C. 构造                          D. 创作

5. 解说词的文字语言是依附于画面的，文字语言的长度直接受画面的限制，因此，要做到画面与解说词的\_\_\_\_\_，不仅要注意解说词的创作要符合画面的内容，同时也要求在拍摄画面时有一定的文字创作稿作为画面内容的基础，否则拍摄的画面将会是\_\_\_\_\_的东西。

依次填入划横线部分最恰当的一项是：

- A. 浑然一体    乱七八糟                                  B. 水乳交融    杂乱无章  
C. 浑然天成    颠三倒四                                  D. 不分彼此    七零八落

6. 要保持对他人的行动和愿望的敏感性，势必要跟随潮流并时刻关注同龄人的集体趋

向。而外在世界总是\_\_\_\_\_的，因此他人导向者总是处在一种身心疲惫的\_\_\_\_\_之中，眼看目标即至，转而目标又化作他物，这种挂在驴前面的那串青草似乎只有一步之遥，但总是吃不着却又心有不甘的焦虑由此无处不在。

依次填入划横线部分最恰当的一项是：

- A. 变动不居 追逐                      B. 变化无常 追求  
C. 变幻莫测 追随                      D. 千变万化 求索

7. 改革开放以来，随着经济的互利推进和国共两党领导人的频繁交往，两岸的政治对立存在日\_\_\_\_\_，但不可否认的是两岸在政治问题上，在结束军事对立问题上仍远未解决，面对这些涉及国家、民族根本利益的重大问题，台湾国民党当局仍\_\_\_\_\_，台湾民进党依然顽固坚持“一边一国”的“台独”立场。

依次填入划横线部分最恰当的一项是：

- A. 消除 故步自封                      B. 消失 执迷不悟  
C. 消除 裹足不前                      D. 消失 冥顽不化

8. 有专家指出，从近代历史看，日本是一个\_\_\_\_\_的“战争专业户”。冷战结束以来，在日本多任右翼首相的努力下，日本“和平宪法”的外衣被一层层剥去。一旦日本成为独立的军事强国，甚至是有核国家，这给中国和世界带来怎样的威胁将是\_\_\_\_\_的。

依次填入划横线部分最恰当的一项是：

- A. 名副其实 不可预测                      B. 不折不扣 难以预料  
C. 彻头彻尾 不可估量                      D. 彻彻底底 难以估量

9. 1900年12月，当美、英、俄、日、德、意、奥、匈等11个帝国主义国家就八国联军之役联合向清政府提出《议和大纲》12条时，清廷的实际最高当权者西太后见大纲仍承认自己的地位，不由\_\_\_\_\_，在上谕中表示：“览所奏各条，曷胜感慨！……所有十二条大纲，立即照允。”那种追不及待地向列强取宠的奴颜婢膝溢于言表。向心功能弱化导致领导核体的非正常行为，给中国社会带来的严重后果是制度腐败、经济落后、文化\_\_\_\_\_，民族向心客体的吸引力几近丧失。

依次填入划横线部分最恰当的一项是：

- A. 感激涕零 衰微                      B. 乐以忘忧 萧条  
C. 喜出望外 凋零                      D. 大喜过望 凋敝

10. 在兴高采烈地为“第三次浪潮”欢欣鼓舞之后，我们发现能够在浪潮中乘风破浪自由畅游的只有“贵族国家”，而众多发展中国家面对汹涌澎湃的高新科技浪潮时却\_\_\_\_\_，

无所作为。

填入划横线部分最恰当的一项是：

- A. 举步维艰                      B. 无所适从                      C. 望而却步                      D. 不知所措

11. 从现有的考古资料上看，红色是人类较早使用的颜色。远古时期，人的血液所特有的红色被视为生命奥妙的基本特征，\_\_\_\_\_着原始人的灵魂观念。红色在十万年前的尼安德特人的葬礼上就已使用。我国山顶洞人在埋葬氏族的死者时，在其身上和周围撒上许多赤铁矿粉，意味着血液在周身流动，虽死犹生。这里红色所代表的生者的意念是\_\_\_\_\_的。

依次填入划横线部分最恰当的一项是：

- A. 承载 毋庸赘述                      B. 蕴含 不言而喻  
C. 寄托 显而易见                      D. 包孕 彰明较著

12. 艺术家个人的语言风格虽然具有相对的稳定性，但却不是\_\_\_\_\_的，应在创作实践中不断丰富、发展与超越。人的本质力量的丰富性、进化性，客观对象的无限性、多样性，欣赏者需求的多元性与发展性，都决定了艺术家应在拥有自己稳定的主导风格的基础上，具有更高超的\_\_\_\_\_艺术语言的本领，拥有丰富而多样的语言风格。

依次填入划横线部分最恰当的一项是：

- A. 一定不易 创造                      B. 一定之规 创作  
C. 一斥不复 运用                      D. 一成不变 驾驭

13. 文化的时代性和民族性，在传统文化身上表现得最为鲜明。各传统文化在其各自发生的当时，本系应运而生的，因而都起过积极作用。等到\_\_\_\_\_，他们或者与时俱进，演化出新的内容与形式；或者抱残守缺，固化为\_\_\_\_\_；也有的播迁他邦，重振雄风，礼失于野；也有的生不逢时，昙花一现，未老而先夭。

依次填入划横线部分最恰当的一项是：

- A. 时过境迁 明日黄花                      B. 物是人非 昨日黄花  
C. 沧海桑田 镜花水月                      D. 情随事迁 华屋山丘

14. 世界经济一体化的第一个后果是把市场的作用提升到了各项经济要素之首。在市场实现一体化之后，谁拥有市场谁就获得了持续发展的通行证。在这个历史背景下，控制市场无异于占领土地和控制居民，而且比传统的占领方式更不容易被\_\_\_\_\_，甚至会受到被进入者的\_\_\_\_\_。

依次填入划横线部分最恰当的一项是：

- A. 发现 拥护                      B. 察觉 欢迎                      C. 发觉 附和                      D. 感知 青睐

15. 书法在中国向来自成艺术，和图画有同等的身份，近来才有人怀疑它是否可以列于艺术，这般人大概是看到西方艺术史中向来不留位置给书法，所以觉得中国人看重书法有些\_\_\_\_\_。其实书法可列于艺术，是\_\_\_\_\_的，它可以表现性格和情趣。颜鲁公的字就像颜鲁公，赵孟頫的字就像赵孟頫。

依次填入划横线部分最恰当的一项是：

- A. 离谱 毫无疑问
- B. 离奇 无可置疑
- C. 猎奇 毋庸置疑
- D. 奇怪 不置可否

16. 文本是指作家创造的同读者发生关系之前的作品本身的自在状态；作品是指与读者构成对象性关系的东西，它已经突破了孤立的存在，是融会了读者的经验、情感和艺术趣味的审美对象。文本是以文字符号的形式储存着多种多样审美信息的硬载体；作品则是在具有鉴赏力的读者的阅读中，由作家和读者共同创造的审美信息的软载体。文本是一种永久性的存在，它独立于接受主体的感知之外，其存在不依赖于接受主体的审美经验，其结构形态也不会因人因事而发生变化；作品则依赖接受主体的积极介入，它只存在于读者的审美观和感受中，受接受主体的思想感情和心理结构的左右支配，是一种相对的、具体的存在。也就是说，\_\_\_\_\_。

填入划横线部分最恰当的一句是：

- A. 作品是被审美主体感知、规定和创造的文本
- B. 作品是和主体有着密切关联的一种存在形态
- C. 作品和文本之间存在着巨大的差异
- D. 文本更加客观，而作品则更加主观

17. 中国传统文化是一种伦理文化，强调以人为本、以社会为本，重视人与自然的和谐、人与人的和谐、人与社会的和谐。文化保守主义者倡导传统文化正是对当今社会环境恶化、人文精神危机等问题的反应。

这段文字的主要观点是：

- A. 以人为本的传统文化对现代社会的作用
- B. 文化保守主义汲取了传统文化的精义
- C. 文化保守主义肯定了传统文化的现代价值
- D. 传统文化对现代社会精神危机的解释作用

18. 王国维推崇李煜的词，因为李煜生于深宫之中，阅世浅，未受社会风气浸染，抒发

了人的真情至性。这种纯挚深邃之情，并不完全是个人的哀乐、一己的身世之感，而是一种通于人类的普遍的、永恒不变的情感。王国维把李煜词与宋徽宗词作比较，认为二者的境界“大小固不同”、根本原因还在于宋徽宗的词只写了一己的身世之感，没有超越个人的荣辱、悲苦，也就是说，徽宗未能摆脱世风的熏染；李煜则不同；俨然有释迦、基督担荷人类罪恶之意，其词似乎是不假思索吟唱出来的，纯然出自一颗赤子之心，完全超越了个人情感的狭小天地，进而“以人类之感情为一己之感情”，具有极大的普遍性和概括力，所以比宋徽宗词高出一个艺术品级。

这段文字主要说明：

- A. 王国维推崇李煜的词的原因
- B. 李煜的词比宋徽宗的词在艺术上成就更高
- C. 李煜的词为什么更有艺术价值
- D. 李煜的词具有极大的普遍性和概括性

19. 洪堡德在《论语语法形式的性质和汉语的特征》中指出：“在汉语的句子里，每个字排在哪儿要你斟酌，要 you 从各个不同的关系去考虑，然后才能往下读。由于思想联系是由这些关系产生的，因此这一纯粹的默想就代替了一部分语法。”

这段话意在强调：

- A. 在汉语的表达中，联想的作用尤为重要
- B. 在汉语的表达中，语序的作用尤为重要
- C. 在汉语的表达中，要考虑遣词造句
- D. 在汉语的表达中，要考虑语境关系

20. 超限逆反是指机体在接受过度刺激后出现的逃避反应，生物学与心理学的研究都已证明，对于任何刺激，包括能够给机体带来巨大满足的刺激，机体的接受能力都是有限的。当刺激量超过一定的最适当水平之后，刺激对机体的意义就会从满足转向伤害，这时机体就必须逃避该刺激，比如：美妙的音乐可以带给人享受，但音量过大则造成耳膜的痛觉和心脏的压力，人就必须躲避；美好的食品可以带给人满足，但过量后任何山珍海味都使人厌烦。很明显，一种刺激过量之后，所引起的机体反应会出现根本性的逆转，无论它原有怎样的价值和意义，都会变成无意义的消极刺激，不再引起个人的积极态度反应了。

根据这段文字，下列说法正确的是：

- A. 巨大满足的刺激会使机体出现超限逆反
- B. 超限逆反只和人类有关，和动物无关
- C. 没有超限逆反，机体可能会被相应的刺激致死
- D. 超限逆反对机体具有一定的保护作用

21. 要在制度层面实现生态文明的转向，就要求有完善的体制和较高的环境管理效率。要改变社会制度中不利于环境保护的体制和规范，建立自觉保护环境的机制，并按照公平原则平等地分配自然资源和环境责任，逐步建立有利于人与自然和谐共存的社会秩序。要改变当前社会中存在的重城市、轻农村的观念，从制度层面上向农村倾斜。在当今社会中，尽管政府部门在城市环境治理和保护方面取得了不错的成绩，但农村的环境问题似乎并没有获得政府部门的足够重视，农村环境监管基本处于盲区和半盲区状态，既缺乏配套的法律法规，又缺乏必要的资金投入和环保常识教育与宣传。

这段文字意在强调：

- A. 完善的制度才能真正保证生态文明的转向
- B. 当下农村急需相应的制度建设来保证生态文明建设
- C. 当前生态文明建设中重城市、轻农村的倾向需要纠正
- D. 环境建设需要完善的制度

22. 感知获得的表象由于情感的融入而获得新鲜的生命，表象开始活跃地重新组合，出现“浮想联翩”“神思飞飏”的状态，构成审美意象。这种情感性感知和想象的表象的融入，造成主客融合、物我同一，即通常所说的“移情”。审美情感在于它本身与感知、想象、理解的相互作用，而想象和理解的相互作用，则把感知到的表象加以去粗取精、去伪存真、由此及彼、由表及里的改造，既保留了现象中的具体性、鲜明性、生动性，又可以深刻地反映和认识事物的本质，从而构成审美感受中的理性认识。

对这段文字理解正确的是：

- A. 一旦出现审美意象，人就可以形成审美感知
- B. 审美情感是从审美感知过渡到审美想象的必要环节
- C. 审美想象和审美理解的互相作用让我们形成了审美情感
- D. 审美想象所形成的表象在审美情感的作用下构成审美意象

23. 随着生活质量提升和对生命意义的反思，\_\_\_\_\_，正是这种现代交通理念推动着汽车、火车、船舶、客运飞机技术的创新升级，各种保证安全的技术措施应运而生。特别是旅游、休闲业的发展，交通工具成了“第三住所”，对安全舒服性、准确性、温馨服务的要求更高。同时，节能环保要求是时代潮流，在交通建设、维护、材料、动力、服务等方面都把绿色指标作为刚性的要求。

填入划横线处最恰当的一项是：

- A. 现代人对安全、舒服的追求逐渐超越了对速度、效率的追求

- B. 现代人对交通和节能环保的认识也发生了天翻地覆的变化
- C. 追求安全、舒适和幸福感的现代出行理念悄然而生
- D. 追求速度、效率的传统交通理念逐步淡出现代人的主观意识

24. 非随意注意又被称为朝向反应,这是一种被动的无选择性的注意。引起非随意注意的刺激没有特异性,可以是各种各样的,但它必须具有新异性,即对个体而言是非同寻常的、意外的、突然的,而且这样的新异刺激必须达到足够的强度。非随意注意是一种反射行为,表现为机体中断正在进行着的活动,头面部甚至整个身体转向刺激源,通过眼耳等感官探究新异刺激的性质及其对机体的意义。此时机体处于紧张的准备状态,以应付可能出现的危险。如果新异刺激多次重复出现,而且对机体没有重要意义,则朝向反应就会逐渐减少,最后不再发生,这种现象称为习惯化。习惯化是机体对失去意义的刺激的一种积极的抑制,因为变换了刺激模式,朝向反应又会重新产生。

根据这段文字,下列说法正确的是:

- A. 非随意注意又被称为反射行为
- B. 习惯化会导致朝向反应的消失
- C. 新的刺激模式会导致非随意注意的产生
- D. 习惯化是审美疲劳的一种表现

25. ①社会冲突是一种内耗,如劳资冲突影响资方的投入积极性,同时影响劳方生产的积极性,进而影响生产的有序性和社会经济的发展等

②在社会经验中,我们能很容易感受到社会冲突所具有的那种负功能

③同时,社会冲突如果没有一个很好的控制机制,那它就会损害社会团结,严重的话,甚至导致社会解体

④但人们一般都不会喜欢冲突,认为冲突不是什么好事,习惯把冲突往坏处想

⑤任何一个社会都不可避免地存在冲突现象,完全和谐的社会是不存在的

⑥所以,社会冲突的负功能主要表现在它损害社会利益,损耗社会资源,损毁社会关系

⑦某些冲突的确会破坏群体的团结,导致特定社会结构的解体

将以上7个句子重新排列,语序正确的是:

- A. ①⑤④⑦②⑥③
- B. ⑤④⑥③②①⑦
- C. ⑤④⑥③②①⑦
- D. ⑤④⑦①②⑥③

26. 世界林业发达国家将70%的森林用于生态和社会服务功能,14%的森林指定用于生物多样性保护,多重效益综合经营,发挥了森林的多功能效益。进入新世纪,我国实施了林业分类经营,林种结构逐步得到调整,森林利用正由以木材利用为主向多功能效益转变,对满足人们对森林的多样化需求发挥了积极的作用。因此,今后我国要继续推进林业分类经营改



革，建立健全生态公益林补偿机制，并充分调动广大林农和社会各界发展林业的积极性，加快推进林权制度改革，协调发展林业生态体系、产业体系和生态文化体系。

这段话意在说明：

- A. 我国林业发展的规划
- B. 林业生态发展的现状
- C. 林业生态发展的方向
- D. 林业生态发展的成果

27. “读书破万卷，下笔如有神”这两句是至理名言。不过灵感的培养不必限于读书。人只要留心，处处都是学问。艺术家往往在他的艺术范围之外下功夫，在别种艺术之中玩索得一种意象，让它沉在潜意识里去酝酿一番，然后再用他的本行艺术的媒介把它翻译出来。吴道子生平得意的作品为洛阳天宁寺的神鬼，他在下笔之前，先请斐旻舞剑一曲给他看，在剑法中得到笔意。张旭是唐朝的草书大家，他常自道经验说：“始吾见公主担夫争路，而得笔法之意后见公孙氏舞剑器而得其神。”王羲之的书法相传是从看鹅掌拨水得来的。法国雕刻家罗丹也说：“你问我在什么地方学来的雕刻？在深山里看树，在路上看云，在雕刻室里研究模型学来的。我在到处学，只是不在学校里。”

对这段话概括最准确的是：

- A. 各门艺术的意象可触类旁通
- B. 文章写作的功夫在文章之外
- C. 学问不全是从读书中得到的
- D. 灵感的培养不必限于读书

28. 我国的周边安全值得重视。尽管近期在海域方面的纠葛较多，但我们还是要对安全环境有一个客观的全面的评估。概言之：确定因素多于不确定因素，认识到这一点，可避免模棱两可；总体因素高于局部因素，认识到这一点，可警惕以偏概全；直接因素重于间接因素，认识到这一点，便于区分轻重缓急；传统因素逊于非传统因素，认识到这点，有助于适应新形势；主流因素优于非主流因素，认识到这一点，不至于本末倒置；长远起作用因素强于暂时起作用因素，认识到这一点，可防止迁就眼前事变。鉴于此，\_\_\_\_\_。

填入划线处最恰当的一项是：

- A. 我国周边安全值得高度重视但目前还没达到硝烟四起、剑拔弩张的程度
- B. 当在海域方面发生冲突时首先要对双方冲突的因素做出详细的定性分析
- C. 我们可以得出我国周边安全环境当前处于一种相对安全稳定状态的结论
- D. 有理由说我国国际环境首先是周边安全环境中的有利因素大于不利因素

29. 在经济全球化、社会信息化的时代背景下，在境内因素与境外因素互相影响更加明显、传统安全因素与非传统安全因素相互交织更加明显、以及“虚拟社会”与现实社会相互作用更加明显的情况下，影响社会安全的不确定因素明显增多，难以预料的挑战和风险明显

加大。同时，在我国改革开放不断深化和社会主义市场经济加快发展的新形势下，我们的法制建设、思想教育和治安管理等方面工作还没有完全跟上，一些地方基层组织软弱涣散，群防群治工作受到削弱，社会治安治理措施没有落到实处。这些情况，使国家安全面临的形势更加复杂严峻。

这段话意在说明：

- A. 影响社会安全因素的变化
- B. 影响社会安全的因素较多
- C. 我国社会安全形势的复杂性
- D. 我国社会安全面临新挑战

30. 在多元的信息与意见环境中，相互之间只有言语的交流，没有具体的社会身份与权威作结论性。多元的信息与意见最后引向的可能不是共识而是各执己见的对垒，长期处于没有统一核心理念的网络社会，网民的原子化倾向将更趋恶化，个人在网络自由世界里获取自主性之后，紧接而至的是无主性的漂浮感。前网络时代的理想往往需要感情化，集体化与宗教化的方式投入，因此，以这种方式，人们获取的信仰往往坚不可摧，这正像刘胡兰人等一类的革命志士。由于缺乏现实可靠的权威，失去了舆论的集体压力和集体的感染作用，网络交流获取的信仰并不会很牢固。

这段文字意在强调：

- A. 网络环境存在危害性较大的弊端
- B. 网络与现实形成的信仰本质不同
- C. 造成网络环境信仰不坚定的原因
- D. 无核心理念的网络社会后果堪忧

31. 大众文化总是带有批量生产的痕迹，同类产品间缺乏明显的差异，就像流水线上出来的东西总是统一的，无个性的，千篇一律的。究其根本，这种统一化的社会效应，难免形成对物化意识的多重强调，从而使人们在清一色的认识中永远丧失自我，我国的文化产业无论从总量，质量还是速度效应，目前都处在发展的初级阶段，文化产品的雷同，主要是由文化生产创意的不足造成的，由于文化生产创意的不足，文化市场中的多元文化消费需求没有得到全面的关照，产品定位及功能单一，形成产业同构的现象。

这段话意在强调：

- A. 我国文化产业还处在起步阶段
- B. 我国文化产业结构发育不合理
- C. 我国文化产业发展缺乏创意
- D. 文化领域存在产业同构的现象

32. 行政边界的划分，大山（主脊线），大川（河道）皆为重要边界，而流域的边界则是分水岭，分水岭是指分隔相邻两个流域的山岭或者高地。河水从这里流向两个相反的方向。在自然界中，分水岭较多的是山岭，高原，但也可以是微缓起伏的平原和湖泊，甚至有的河流也可以分为两个流域的分水岭，中国境内流域面积排名前十的河流，除了内陆的塔里木河

及流经中国的雅鲁藏布江之外，其他河流均流经多个一级行政区域。历史时期以“山川形变”抑或“犬牙交错”所进行的行政边界划分，重在经济社会管理及政治，军事安全，而且辖区范围也要服从这一目的，所以尽管一级行政区划分面积呈扩大趋势，依然无法兼顾大中型流域的整体性。

最适合做这段话的标题是：

- A. 行政边界划分与流域整体性的忽视
- B. 行政区划分的历史局限性
- C. 流域的边界——分水岭
- D. 行政区划与流域的错位

33. 自然界中本无废物，一种物种的废弃物，就是另一种物种的养料。人从自然界中获取物质和能量，要使它们再回归到循环使用的系统中，尽可能减少浪费和破坏。环境文化认为，地球的资源是有限的，要使人類的物质财富持续增长，就必须改变传统工业文明的生产方式，实现“污染排放最小化、废物资源化和无害化”以最小成本获得最大的经济效益和环境效益，这便是循环经济。

这段文字意在强调：

- A. 大自然不是静态增长而是动态平衡的
- B. 大自然不是静态循环而是动态增长的
- C. 循环经济不是静态增长而是动态循环的
- D. 循环经济不是静态循环而是动态平衡的

34. 语言发明以前，古人是通过肢体语言、表情和声音来交流沟通。后来古人开始用图符、岩画等方式记录和交换信息。大约三千年前开始出现了文字。人类也发明了击鼓、鸣号、敲钟，或是烽火、标志信号等方式进行远距离的通信。古罗马人很早就已经知道鸽子具有归巢的本能。在体育竞赛过程中或结束时，通常放飞鸽子以示庆典和宣布胜利。中国利用信鸽鸿雁传书或许更早。在西夏与北宋的战争中，西夏军队利用信鸽做军事通信。

这段文字意在强调：

- A. 古代人类一直保持着传统自然的通信方式
- B. 古代人类的信息交流和远距离通信有种种不便
- C. 文字出现之前人类的交流主要依靠非语言符号
- D. 文字出现之前人类的远距离通信主要依靠信鸽

35. 世界上不存在抽象的社会，马克思在讲到社会时总在前面加上“处于一定历史发展阶段上的社会”等定语。社会只有具体的社会形态，即一定的经济基础以及与之相适应的上层建筑的统一。人类社会有史以来依次经历了五种基本社会形态，每一种社会形态都标志着

人类历史发展的一个特殊阶段。人类社会同自然界一样，不是凝固不变的，而是不断运动发展的。任何一种社会关系和社会状态，都不是永恒的，都有其产生、发展和灭亡的过程，有其由低级向高级转化的过程，总是处在不断的新陈代谢和自我更新的状态中。因此，\_\_\_\_\_。

填入划横线处最恰当的一句是：

- A. 社会是处于不停的变动之中的
- B. 不能用僵化的、固定的眼光来看待社会
- C. 任何社会都是具体的、历史的
- D. 不存在超验的、抽象的社会

## 第二部分 数量关系

36. 6, 24, 60, 120, ( )

- A. 140
- B. 180
- C. 200
- D. 210

37. 243, ( ), 9, 3, 3, 1

- A. 81
- B. 27
- C. 54
- D. 18

38. 4, 5, 11, 14, 22, ( )

- A. 24
- B. 27
- C. 31
- D. 33

39. -3, 0, 6, 18, 42, ( )

- A. 96
- B. 84
- C. 90
- D. 53

40. 5, 7, 10, 15, 23, 36, ( )

- A. 49
- B. 57
- C. 62
- D. 78

41. 有一些苹果和梨，苹果的数量是梨的4倍少2个。如果每次吃掉5个苹果和2个梨，当梨吃完时还剩下40个苹果。原来有( )个苹果。

- A. 130
- B. 120
- C. 110
- D. 100

42. 某剧团有50名演员，其中会唱京剧的有28人，会唱豫剧的有27人，会唱曲剧的有26人，既会唱京剧又会唱豫剧的有13人，既会唱豫剧又会唱曲剧的有12人，既会唱京剧又会唱曲剧的有14人，三种剧种都不会唱的有3人。则只会唱京剧的有( )人。

- A. 5
- B. 6
- C. 7
- D. 8

43. 某人去储蓄所取款，第一次取了存款数的一半还多5元，第二次取了余下的一半还少10元，这时还剩下125元。他原有存款( )元。

- A. 470
- B. 476
- C. 480
- D. 481

44. 小明参加学校运动会的1000米赛跑，他先以5米/秒的速度跑了一段路程，又以6米/

秒的速度跑完了剩余路程，一共花了3分10秒。他以6米/秒的速度跑了（ ）米。

- A. 300                      B. 250                      C. 400                      D. 500

45. 已知甲、乙两个烧杯底面积之比为3:2，且装有同种溶液，其中甲烧杯内溶液高5cm，乙烧杯内溶液高2cm。现往两个烧杯内分别加入相同量的同种溶液若干，直至两个烧杯内溶液高度相同为止。往乙烧杯中加入了（ ）cm高的溶液。

- A. 6                              B. 7                              C. 8                              D. 9

46. 小明早上从甲地出发匀速到乙地，一段时间后，小红从甲地以小明一半的速度匀速前往乙地，在上午10点时，小红走了10千米，他们继续前进，在小红到达小明上午10点到达的位置时，小明共走了55千米。那么，此时小红走了（ ）千米。

- A. 22                              B. 25                              C. 23                              D. 30

47. 某工厂的一只走时不准确的计时钟需要69分钟（标准时间）时针与分针重合一次。工人每天的正常工作时间是8小时，在此期间内，每工作1小时付给工资4元，而若超出规定时间加班，则每小时付给工资6元。如果一个工人照此钟工作8小时，那么他实际上应得到工资（ ）元。

- A. 39.2                              B. 38.4                              C. 34.6                              D. 35.5

48. 公司购买了一批电脑，从1到n的编号入库，随机抽取其中一台的编号后其余的编号之和是10000。随机抽取的这台编号是：

- A. 11                              B. 13                              C. 19                              D. 21

49. 甲、乙、丙三数分别为603，939，393。某数A除甲数所得余数是A除乙数所得余数的2倍，A除乙数所得余数是A除丙数所得余数的2倍。则A等于（ ）。

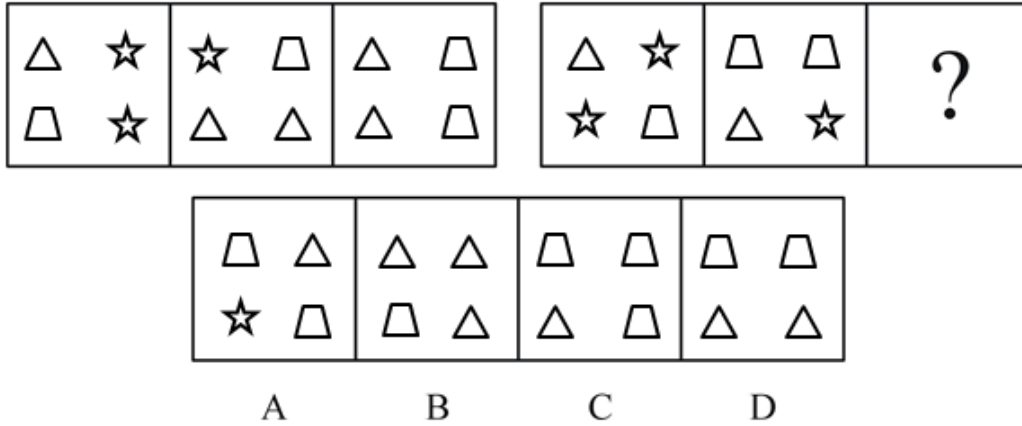
- A. 11                              B. 13                              C. 17                              D. 19

50. 小李参加某单位的入职测试，测试试题共24道题，做对一道题得9分，做错一道题扣7分，没做试题得0分，结果小李共得15分，那么小李共做了（ ）道题。

- A. 17                              B. 19                              C. 21                              D. 23

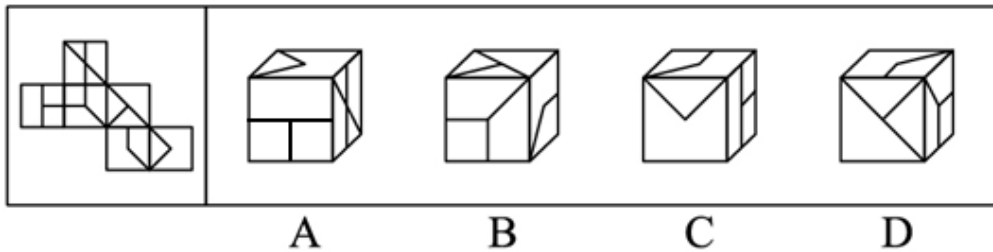
### 第三部分 判断推理

51. 请从四个选项中，选出最恰当的一项填入问号处，使之呈现一定的规律性：



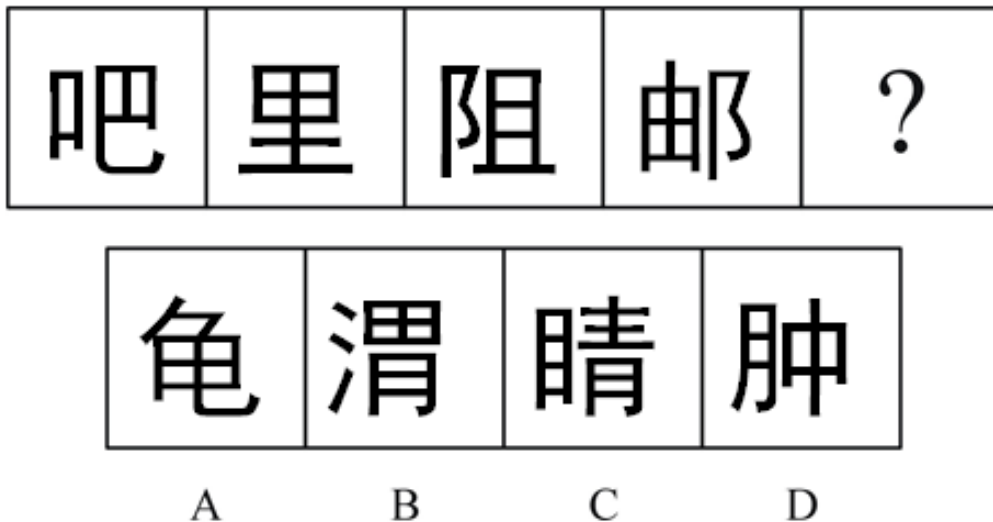
A. 如上图所示      B. 如上图所示      C. 如上图所示      D. 如上图所示

52. 左边给定的是纸盒的外表面, 右边哪一项能由它折叠而成 ( )



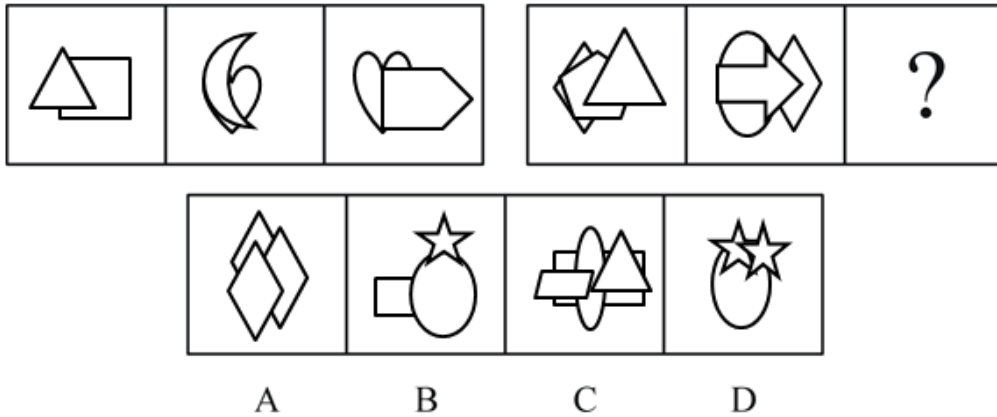
A. 如上图所示      B. 如上图所示      C. 如上图所示      D. 如上图所示

53. 请从四个选项中, 选出最恰当的一项填入问号处, 使之呈现一定的规律性:



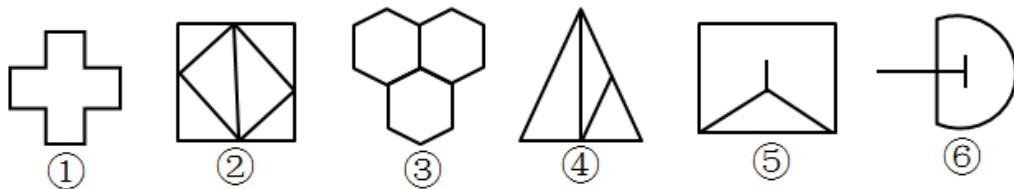
A. 如上图所示      B. 如上图所示      C. 如上图所示      D. 如上图所示

54. 请从四个选项中, 选出最恰当的一项填入问号处, 使之呈现一定的规律性:



- A. 如上图所示      B. 如上图所示      C. 如上图所示      D. 如上图所示

55. 把下面的六个图形分为两类,使每一类图形都有各自的共同特征或规律,分类正确的一项是:



- A. ①②③, ④⑤⑥      B. ①②⑤, ③④⑥      C. ①②④, ③⑤⑥      D. ①④⑥, ②③⑤

56. 皮格马利翁效应也被称为“比马龙效应”。暗示在本质上,人的情感和观念会不同程度地受到别人下意识的影响。人们会不自觉地接受自己喜欢、钦佩、信任和崇拜的人的影响和暗示。

根据上述定义,下列属于皮格马利翁效应的是:

- A. 东施捧心蹙眉
- B. 情侣之间默契的扶额动作
- C. 小东看完阅兵仪式,想去买一套军装
- D. 游击队员的英勇,鼓舞村民开始武装反抗日军

57. 间接故意,是指行为人明知自己的行为会发生危害社会的结果,并有意放任,以致发生这种结果的心理态度。

根据上述定义,下列属于间接故意的一项是:

- A. 李某由于邻居赵某经常辱骂她而怀恨在心,找人恐吓赵某,赵某由于惊吓过度而突发心脏病死亡
- B. 某日深夜,李某在家中听到外面有女子呼救,由于心里害怕没有出门察看,结果第二

天警方发现在李某家附近有一女子被害

- C. 李某在不知赵某正在维修机器的情况下合上了电闸，导致赵某触电身亡
- D. 李某高速驾驶中看到有一老人正在横穿马路，但没有减速，将老人撞成重伤

58. 商业贿赂行为，是指经营者在市场交易活动中，为争取交易机会，特别是为获得相对于竞争对手的市场优势，通过秘密给付财物或者其他报偿等不正当手段收买客户的负责人、雇员、合伙人、代理人和政府有关部门工作人员等能够影响市场交易的有关人员的行为。

根据上述定义，下列选项中属于商业贿赂行为的是：

- A. 某建筑商出资100万元建立孤儿院，树立良好社会形象，后来在市政府项目招标中中标
- B. 政府官员小工为其同学优先办理项目审批手续
- C. 医生李某高价购进国外医疗设备，提供设备的厂商为李某国外读书的女儿免费提供一年食宿
- D. 某品牌啤酒厂商在商场为其啤酒并不存在的功效做宣传

59. 模仿是指在无外界控制的条件下，个体受到他人行为的刺激，自觉或不自觉使自己的行为与他人相仿。

根据上述定义，下列哪一行为不属于模仿？

- A. 小王吃完冰激凌后准备把包装袋扔到垃圾桶里，当他看到公园里垃圾遍地，也把手中的冰激凌包装袋扔在了地上
- B. 小李觉得很多人穿的冲锋衣很好看，于是自己也买了一件来穿
- C. 小赵看到大家都在踊跃为灾区捐款，他也从自己的积蓄中拿出一些钱来支援灾区
- D. 小张和许多人一样认为巴西队是强队，他在世界杯巴西队对阵日本队的比赛前，买了巴西队胜利的足球彩票而心不安

60. 转继承是指继承人在继承开始后，遗产分割之前死亡，其应继承的遗产转由他的合法继承人继承的制度。

根据上述定义，下列行为是转继承的是：

- A. 胡大在继承父亲的遗产后明确表示自己继承的这些遗产将归其女儿胡小
- B. 俞达在接受其妻留下的巨额遗产后突遭不测，脑溢血死亡，因此其儿子方振依法继承了他的这一份遗产
- C. 王三在其爷爷刚死，其父刚继承这笔亿万元遗产时就雇凶暗杀了其父，从而继承了遗产



D. 李林刚立下遗嘱将全部财产由大儿子李国继承，李国就去世了，李林只好将遗产改由小儿子李洋继承

61. 隐性广告是指将产品或品牌及其代表性的视觉性符号，甚至服务性内容策略性地融入电影、电视剧或其他电视节目及其他传播内容中（隐藏于载体并与载体融为一体），使观众在接受传播内容的同时，不自觉地接受商品或品牌信息，继而达到广告主所期望的传播目的。

根据上述定义，下列属于隐性广告的是：

- A. 电视台在转播世界杯足球比赛中场休息时播放的某知名饮品的广告
- B. 某知名运动品牌赞助奥运会某国家体育代表团运动员的领奖服
- C. 某电子产品生产商赞助拍摄电影，电影放映前播放该产品广告
- D. 某电视台知名女主播穿着某品牌提供的服装参加亲戚的婚礼

62. 假相倚是指参与互动的双方主要对自己的计划作出反应，而很少取决于对方的反应，即双方反应都不依赖于对方行为。

根据上述定义，下列属于假相倚的是：

- A. 张经理认为他让销售员去开拓的业务并不难，但是仍有一些销售员迟迟打不开市场，当销售员要求张经理给予指导时，张经理给予严厉的批评
- B. 宫老师上课一直按备课计划照本宣科，学生则利用此时间完成其他课程的作业
- C. 张师傅按照司机的要求更换汽车轮胎，但他觉得车子的刹车片也必须更换，与司机讲明情况后，司机同意更换
- D. 小周同意按照出版社的意见修改小说，但希望保留原文的部分篇章，与出版社沟通后，出版社仍然不同意

63. 私分国有资产是指国家机关、国有公司、企业、事业单位、人民团体，违反国家规定，以单位名义将国有资产集体私分给个人，数额较大的行为。

下列行为属于私分国有资产罪的是：

- A. 某国有事业单位即将更换办公设备，该单位将价值20万元的原有电脑、办公桌等办公设备以一折的低价出售给单位员工
- B. 某国家机关处长将本单位公款10万元以单位名义借给朋友用于投资经营，结果朋友投资失败，无法归还，造成公款损失
- C. 某企业为感谢上级主管领导的器重和照顾，从单位利润中拿出10万元送给领导，主管领导收受

D. 某事业单位私设小金库，在与全体职工享受正常奖金分配后，该单位领导私分了剩余钱数，每人获得5万元

64. 立体农业是指农作物复合群体在时空上的充分利用，根据不同作物的不同特性，如高秆与矮秆、富光与耐阴、早熟与晚熟、深根与浅根、豆科与禾本科、利用它们在生长过程中的时空差，合理地实行科学的间种、套种、混种、轮种等配套种植，形成多种作物、多层次、多时序的立体交叉种植结构。

根据上述定义，下列属于立体农业的是：

- A. 甲在自己的玉米地里种大豆
- B. 乙在自己承包的鱼塘不但养鱼，还种植了很多莲藕
- C. 丙在南方某地区承包了十亩稻田，特意引种了高产的水稻新品种
- D. 丁前年承包了一座山，他在山上种植了大量苹果树，并在山上养殖了大量蜜蜂

65. 挑拨防卫是指故意挑逗他人对自己进行攻击，然后以“正当防卫”为借口对其加以侵害的行为。

根据上述定义，下列属于挑拨防卫的是：

- A. 某甲与某乙妻子通奸，被乙痛打，遂产生杀人报复之念。甲先到乙门口把乙妻叫出来，乙追出来便打，甲用匕首将乙捅死
- B. 王、赵二人争吵不休，王说：“你再骂，我就打你！”赵不甘示弱：“你打我试试。”于是二人打了起来
- C. 兄弟三人争夺一个家传古砚，老大一气之下将其摔碎，老二、老三一起殴打老大，老大奋起反抗

D. 一无业人员抢夺别人皮包时被抓住，遭到殴打，于是拼命还手，造成对方伤亡

66. 飞船：潜水器

- A. 插头：插座
- B. 麻将机：麻将
- C. 加湿器：电吹风
- D. 空调：冰箱

67. 甘蔗：甜菜

- A. 桃花：花蜜
- B. 钢管：钢架
- C. 水稻：大米
- D. 油菜籽：花生

68. 大学教师：教授

- A. 幼儿园：幼师
- B. 体育馆：羽毛球
- C. 有价证券：股票
- D. 电脑：平板电视

69. 缺月：满月

- A. 春雨：秋雨
- B. 夕阳：落日
- C. 长庚星：启明星
- D. 朝霞：晚霞

70. 《女神》：郭沫若

A. 《子夜》：老舍

B. 《桃花扇》：王实甫

C. 《论语》：孔子

D. 《牡丹亭》：汤显祖

71. 能量：焦耳

A. 质量：千克

B. 长度：千米

C. 体积：立方厘米

D. 电流：安培

72. 年号：历法：计时

A. 股票：基金：投资

B. 水坝：城墙：防洪

C. 火把：流星：照明

D. 手机：信函：洽谈

73. 禾苗：田野

A. 大海：轮船

B. 苍鹰：天空

C. 花朵：雨水

D. 学生：教师

74. 猎物：捕捉

A. 手电筒：照亮

B. 导航：目的地

C. 鱼竿：垂钓

D. 纪要：记录

75. 相敬如宾：举案齐眉

A. 雪中送炭：雪上加霜

B. 美轮美奂：色彩缤纷

C. 天长地久：表里如一

D. 巧夺天工：鬼斧神工

76. “本公司自1980年以来生产的轿车，至今仍有一半在公路上奔驰，其他公司自1980年以来生产的轿车，目前至多有1/3没有被淘汰”。该公司希望以此广告向消费者显示，该汽车公司生产的轿车的耐用性极佳。

以下哪项如果为真，能够最为有效地支持上述广告的观点？

A. 扣除通货膨胀的因素，该公司目前生产的新车的价格只比1980年生产的稍高一点

B. 该公司轿车的车主，经常都把车保养得很好

C. 自1980年以来，该公司在生产轿车上的改进远远小于其他公司对轿车的改进

D. 自1980年以来，该公司每年生产的轿车的数量没有显著增长

77. 网络咖啡屋或者是网吧，目前在都市非常流行，不少专家觉得这是一个很好的服务方向，很有市场前途。但实际上，网络咖啡屋和网吧的经营遇到了很多困难，其中之一就是电信部门网络服务基础收费太高，按照网络咖啡屋和网吧最初定的价格，就是加上酒水方面的利润，总体上也还是亏本。有些网络咖啡屋和网吧的经营者进行了量、本、利的计算后，准备全面提高网络服务和酒水的价格，来维持自身的生存和发展。

以下哪项如果为真，能有力地对上述措施提出质疑？

A. 在我们这样一个发展中国家，网络咖啡屋和网吧规模经营的进一步发展，有待于电信

部门降低收费标准，目前的标准超过世界上绝大部分国家和地区

B. 根据《计算机世界》的市场调研报告，68%的网络咖啡屋和网吧的常客很在意网络咖啡屋和网吧中网络服务的收费定价

C. 现在有些人到网络咖啡屋和网吧来是为了寻找出国信息或是爱好网络的朋友，甚至意中人，他们对收费的定价并不十分在意

D. 提价后的酒水价格，应当不高于其他类型咖啡屋和网吧的酒水价格，否则一批并不打算上网的顾客就会流失

78. 全国政协常委、著名社会学家、法律专家钟教授认为：我们应当制定全国性的政策，用立法的方式规定父母每日与未成年子女共处的时间下限。这样的法律能够减少子女平日的压力。因此，这样的法律也就能够使家庭幸福。

以下各项如果为真，哪项最能够加强上述的推论？

A. 父母有责任抚养好自己的孩子，这是社会对每一个公民的起码要求

B. 父母现在对孩子多一分关心，就会减少日后父母很多的操心

C. 这项政策的目标是降低孩子们在平日生活中的压力

D. 未成年孩子较高的压力水平是成长过程以及长大后家庭幸福很大的障碍

79. 一则公益广告劝告人们，酒后不要开车，直到你感到能安全驾驶的时候才开。然而，在医院进行的一项研究中，酒后立即被询问的对象往往低估他们恢复驾驶能力所需的时间。这个结果表明，在驾驶前饮酒的人很难遵循这个广告的劝告。

下列哪项如果为真，最强地支持了以上结论？

A. 对于很多人来说，如果他们计划饮酒的话，他们通常会事先安排不饮酒的人开车送他们回家

B. 医院中被研究的对象估计他们恢复驾驶的能力通常比其他饮酒的人更保守

C. 一些不得不开车回家的人就不饮酒

D. 医院研究的对象也被询问，恢复对安全驾驶不起重要作用的其他能力所需要的时间

80. 某年，国内某电视台在综合报道了当年的诺贝尔各奖项的获得者的消息后，做了以下评论：今年又有一位华裔科学家获得了诺贝尔物理学奖，这是中国人的骄傲。但是到目前为止，还没有中国人获得诺贝尔经济学奖和诺贝尔文学奖，看来中国在人文社会科学方面的研究与世界先进水平相比还有比较大的差距。

以上评论中所得出的结论最可能把以下哪项断定作为隐含的前提？

A. 包括经济学在内的人文社会科学研究与各国的文化传统有非常密切的关系

B. 中国的人文科学有先进的理论基础和雄厚的历史基础,目前和世界先进水平的差距在逐步缩小

C. 诺贝尔奖是衡量一个国家某个学科发展水平的重要标志

D. 诺贝尔奖的评比在原则上对所有人种是公平的,但实际上很难做到

**【资料】**

根据以下材料,回答81~82题

(单选题)某高校数学、物理、化学、管理、文秘、法学等6个专业毕业生要就业,现有东风、盛大、明泰三家公司前来学校招聘,已知,每家公司只招聘该校2至3个专业若干毕业生,且需要满足以下条件:

- (1) 招聘化学专业也招聘数学专业;
- (2) 盛大公司招聘的专业,东风公司也招聘;
- (3) 只有一家公司招聘文秘专业,且该公司没有招聘物理专业;
- (4) 如果盛大公司招聘管理专业,那么也招聘文秘专业。

81. 如果只有一家公司招聘物理专业,那么可以得出以下哪项?

- A. 东风公司招聘化学专业
- B. 盛大公司招聘管理专业
- C. 明泰公司招聘数学专业
- D. 东风公司招聘物理专业

82. 如果三家公司都招聘了三个专业若干毕业生,那么可以得出以下哪项?

- A. 东风公司招聘化学专业
- B. 盛大公司招聘法专业
- C. 明泰公司招聘化学专业
- D. 东风公司招聘数学专业

83. 《都市青年报》准备在5月4日青年节的时候推出一种订报有奖的营销活动。如果你在5月4日到6月1日之间订了下半年的《都市青年报》的话,你就可以免费获赠下半年的《都市广播电视导报》。推出这个活动之后,报社每天都在统计新订户的情况,结果非常失望。

以下哪项如果为真,最能够解释这项促销活动没能成功的原因?

- A. 根据邮局发行部门的统计,《都市广播电视导报》并不是一份十分有吸引力的报纸
- B. 根据一项调查的结果,《都市青年报》的订户中有些已经同时订了《都市广播电视导报》
- C. 《都市广播电视导报》的发行渠道很广,据统计,订户是《都市青年报》的2倍
- D. 《都市青年报》没有考虑很多人的订阅习惯。大多数报刊订户在去年底已经订了今年一年的《都市广播电视导报》

84. 一份教育部的调查报告指出,城市儿童的心理素质,特别是承受挫折的能力,普遍

比农村儿童较差，这是由城市儿童的生活条件一般比农村儿童较为优越造成的。一个长期从事儿童生理、心理研究的学者不同意此种看法。他认为城市儿童的心理素质较差是因为不能得到足够的新鲜空气和阳光。

以下哪项最为恰当地概括了上述学者的观点？

- A. 他对调查报告发现的差别提出了另一种解释
- B. 他指出了调查报告在操作方法上的错误
- C. 他蕴涵着一个超越调查报告的断定：城市成人的心理素质也比乡村成人较差
- D. 他蕴涵着一个针对调查报告的断定：目前乡村儿童的生活条件并不比城市差

85. 史密斯：根据《国际珍稀动物保护条例》的规定，杂种动物不属于该条例的保护对象。《国际珍稀动物保护条例》的保护对象中，包括赤狼。而最新的基因研究技术发现，一直被认为纯种物种的赤狼，实际上是山狗与灰狼杂交得到的。由于赤狼明显需要保护，所以，条例应当修改，使其也保护杂种动物。

张大中：您的观点不能成立。因为赤狼确实是山狗与灰狼的杂交种的话，那么即使现有的赤狼灭绝了。仍然可以通过山狗与灰狼的杂交来重新获得它。

下列哪项最为确切地概括了张大中与史密斯争论的焦点？

- A. 赤狼是否为山狗与灰狼的杂交种
- B. 《国际珍稀动物保护条例》的保护对象中，是否应当包括赤狼
- C. 《国际珍稀动物保护条例》的保护对象中，是否应当包括杂种动物
- D. 山狗与灰狼是否都是纯种动物

#### 第四部分 常识判断

86. 下列表述不正确的是：

- A. “克隆”技术是利用生物的性细胞进行繁殖的技术
- B. 美国发明家爱迪生制成了耐用的电灯泡
- C. 皮肤是人体最大的器官
- D. X射线照射可人工诱使遗传基因发生突变

87. 下列说法不正确的是：

- A. 世界上最早的天文学著作是战国时期的《甘石星经》
- B. 唐朝科学家僧一行是世界上用科学方法实测子午线长度的创始人
- C. 开普勒通过天文望远镜探测太阳系，提出“太阳中心说”
- D. 太阳活动的周期为十一年，主要标志是黑子和耀斑

88. 下列改善水质的做法不正确的是:

- A. 对于酸性废水和碱性废水, 可以采用中和法进行处理
- B. 明矾常用做混凝剂来除去水中很难用自然沉降法除去的细小悬浮颗粒
- C. 利用沉淀反应是除去水中重金属离子常用的方法
- D. 每种方法都有其特点和适用范围, 必须单独使用, 才能不至于引起交叉污染

89. 下列说法不正确的是:

- A. 配制果树灭菌剂波尔多液时要用硫酸铜
- B. 自制汽水可用小苏打、柠檬酸等
- C. 瓶装啤酒溶有大量二氧化碳气体
- D. 医用碘酒是由碘、水、酒精配制而成

90. 下列说法不正确的是:

- A. 袁隆平被誉为中国“杂交水稻之父”
- B. 冰的密度小于水的密度
- C. 青藏高原海拔高, 所以气温比同纬度地区低
- D. 需要加热的化学反应都是吸热反应

91. 下列历史人物中不属于“宋四家”的是:

- A. 苏轼
- B. 黄庭坚
- C. 欧阳修
- D. 米芾

92. 下列关于世界古代文化成就的表述不正确的是:

- A. 阿拉伯人是阿拉伯数字的发明者和传播者
- B. 埃及的象形文字对以后的字母文字产生了重要影响
- C. 世界三大宗教都创立于今天的亚洲地区
- D. 汉字是世界最古老文字之一

93. 下列有关第一次世界大战后果的表述不正确的是:

- A. 大战激化了交战国国内的矛盾
- B. 给交战国各国人民带来深重的灾难
- C. 产生了第一个社会主义国家
- D. 欧洲列强开始兴起

94. 下列说法不正确的是:

- A. 巴西和澳大利亚一样, 人口主要集中于其东南部
- B. 福建武夷山和江西龙虎山都是丹霞地貌的典型代表

- C. 天坛建筑群在1994年被联合国教科文组织列入《世界文化遗产名录》
- D. 日本地震频发，每年发生有感地震1000多次，是世界上地震最多的国家
95. 下列关于台风的叙述不正确的是：
- A. 按所属天气系统划分，台风属于低压系统
- B. 台风中心的台风眼区盛行上升气流
- C. 造成的主要危害是强风、特大暴雨和风暴潮
- D. 减轻台风灾害的主要措施是加强监测和预报
96. 下列有关地质灾害的叙述不正确的是：
- A. 滑坡、泥石流是常见的地质灾害类型      B. 滑坡与泥石流的成因相同、危害相同
- C. 滑坡、泥石流经常发生在山区              D. 滑坡和泥石流的发生与人类活动有关
97. 下列关于坦克的说法不正确的是：
- A. 坦克是德国人发明的
- B. 坦克在第一次索姆河战役中入实战
- C. 现代坦克可以攻击空中直升机
- D. 99式坦克是中国人民解放军的新一代主战坦克
98. 关于武则天统治的表述不正确的是：
- A. 武则天是我国史上唯一的女皇帝              B. 武则天晚年称帝，改国号为周
- C. 武则天当政期间经济发展缓慢              D. 人们称她的统治“政启开元，治宏贞观”
99. 巴尔扎克是一位著名的作家，下列关于巴尔扎克说法正确的是：
- A. 批评家根据他作品的特色，把他的作品总名定为《人间喜剧》
- B. 欧洲批判现实主义文学的奠基人
- C. 18世纪法国伟大的批判现实主义作家
- D. 是一位著名的戏剧作家
100. 下列关于小说《西游记》说法不正确的是：
- A. 是一部浪漫主义章回体小说              B. 小说故事发生的时代背景是唐朝
- C. 作者是明代小说家吴承恩              D. 小说以文言文写成

## 第五部分 资料分析

### 【资料】

根据海关统计数据，2017年1月—6月，我国五金制品行业累计完成进出口总额609.42亿美元，同比增长11.00%。其中：累计完成出口额500.64亿美元，同比增长12.30%，比去年



同期提高了21.32个百分点；累计完成进口额108.78亿美元，同比增长5.42%，比去年同期提高了9.69个百分点。1月—6月全行业累计实现对外贸易顺差391.86亿美元，较去年同期，贸易顺差增加了49.24亿美元。2017年1月—6月，五金制品各子行业按照累计进出口额大小排序依次为：建筑五金、工具五金、卫浴产品、日用五金、烹饪炊具及铝制品、锁具、燃气灶具、厨房设备、不锈钢制餐具、拉链和吸油烟机。其中，建筑五金、工具五金、卫浴产品和日用五金四个行业上半年累计进出口总额对全行业占比分别为32.78%、18.13%、13.53%和12.93%，建筑五金和工具五金两行业占比较去年同期有所提升，卫浴产品和日用五金两行业占比较去年同期略有下降。

2017年1月—6月，我国五金制品主要出口到美国、日本、德国、英国，香港、越南、韩国、印度、澳大利亚、俄罗斯联邦等共229个国家和地区。与去年同期相比新增贸易地区2个，减少贸易地区2个；进口来自于德国、日本、美国、韩国、台湾、意大利、法国、英国、马来西亚等151个国家或地区，与去年同期相比新增贸易国29个，减少贸易国22个。我国五金制品行业主要的对外贸易方式为一般贸易方式。2017年1月—6月，以一般贸易方式实现进出口贸易额420.69亿美元，同比增长9.83%。其中，以一般贸易方式出口342.41亿美元，同比增长9.55%，一般贸易方式进口额同比增长11.06%。

2017年1月—6月，全国五金行业完成累计出口额主要集中在广东、浙江、江苏、上海、山东、福建、河北、天津、辽宁、北京等地区，这些地区出口额合计占行业出口总额的95.68%；进口额主要集中在上海、江苏、广东、北京、山东、浙江、天津、辽宁、吉林、福建等地区，以上地区进口额合计占行业总进口额的89.96%。

101. 2017年上半年，五金制品各子行业中，（ ）行业累计进出口总额占全五金制品行业总额的比重为13.53%。

- A. 建筑五金  
B. 卫浴产品  
C. 日用五金  
D. 烹饪炊具及铝制品

102. 2016年上半年，一般贸易方式进口额为：

- A. 78.28亿美元  
B. 312.56亿美元  
C. 70.48亿美元  
D. 60.58亿美元

103. 2016年上半年，五金制品行业出口额比进口额高：

- A. 391.86亿美元  
B. 424.49亿美元  
C. 342.62亿美元  
D. 359.23亿美元

104. 2016上半年，我国五金制品进口贸易国或地区有：

- A. 144个  
B. 151个  
C. 158个  
D. 229个

105. 根据上述资料，下列说法正确的是：

- A. 2015年上半年、2016年上半年、2017年上半年我国五金制品行业进口额同比逐年增加
- B. 2016年上半年，卫浴产品进出口额占全行业的比重低于13.53%
- C. 2017年上半年，德国既是我国五金行业主要出口国也是我国五金行业主要进口国
- D. 2017年上半年，广东、江苏、上海、北京等地区进口额合计占行业总额的95.68%

**【资料】**

2015年，全省农业产业化经营总量6934.8亿元，比上年增长4.0%，比“十一五”末增长70.7%，年均增长11.3%。2015年，全省农业产业化经营率65.6%，比上年提高14个百分点，比“十一五”末提高7.0个百分点，年均提高1.4个百分点。

龙头经营组织固定资产净值达到11342亿元，比上年增长19.8%，比“十一五”末增长549%，年均增长91%。其中，龙头企业（集团）、专业市场和中介服务组织年均分别增长8.9%、12.7%和94%。龙头经营组织实现销售总额3637.8亿元，比上年增长5.5%，比“十一五”末增长71.4%，年均增长11.4%。其中，龙头企业（集团）、专业市场和中介服务组织年均分别增长10.9%、17.4%和8.3%。龙头经营组织实现利润406.3亿元，比上年增长9.2%，比“十一五”末增长71.9%，年均增长11.4%。其中，龙头企业（集团）、专业市场和中介服务组织年均分别增长9.4%、14.1%和11.7%。2015年，全省龙头企业固定资产净值1044.4亿元，比上年增长16.4%，比“十一五”末增长53.2%，年均增长8.9%；实现销售收入3296.7亿元，比上年增长4.4%，比“十一五”末增长67.9%，年均增长10.9%；从业人员达到38.7万人，比上年增长6.8%，比“十一五”末增长26.9%，年均增长4.9%；订单带动农户数602.4万户，比上年增长14.3%，比“十一五”末增长73.8%，年均增长11.7%。

全省农产品生产（加工）基地共实现销售产值3297.0亿元，比上年增长2.5%，比“十一五”末增长71.1%，年均增长11.3%。其中，种植业生产基地实现销售产值1646.4亿元，比上年增长3.0%，比“十一五”末增长71.3%，年均增长11.4%；养殖业生产基地实现销售产值1090.1亿元，比上年增长2.9%，比“十一五”末增长69.5%，年均增长11.1%；农产品加工基地实现销售产值560.5亿元，比上年增长0.1%，比“十一五”末增长73.7%，年均增长11.7%。农副产品转化率达到42.9%，比上年提高1.2个百分点，比“十一五”末提高7.0个百分点。

106. 2015年全省农业产业化经营总量比2014年多（ ）亿元。

- A. 277.4
- B. 287.3
- C. 266.7
- D. 257.6

107. 2014年龙头经营组织实现销售总额（ ）亿元。

- A. 3548.1
- B. 3549.2
- C. 3448.2
- D. 3456.1

108. 2015年种植业生产基地实现销售产值占全省农产品生产（加工）基地实现销售产

值的比重与上年相比:

- A. 增加了0.5个百分点  
B. 减少了0.5个百分点  
C. 增加了0.2个百分点  
D. 减少了0.2个百分点

109. 2015年龙头经营组织固定资产净值同比增速比龙头经营组织实现销售总额同比增速:

- A. 高14.3个百分点  
B. 低14.3个百分点  
C. 高24.8个百分点  
D. 低24.8个百分点

110. 下列说法正确的是:

- A. 2015年农产品加工基地实现销售产值占全省农产品生产(加工)基地实现销售产值的三分之一  
B. 2014年全省龙头企业从业人员小于35万人  
C. 2015年龙头经营组织实现利润低于2014年  
D. 2014年农副产品转化率达到41.7%

【资料】

2017年10月份,乘用车销量数据如下:

表1 德系车10月销量TOP10

序号	车型	2017年10月	10月同比	10月环比	2017年1至10月
1	捷达	38157	28.75%	11.40%	280164
2	途观	37971	75.60%	13.47%	171055
3	新桑塔纳	36831	27.93%	25.87%	226543
4	速腾	32094	-2.20%	-18.46%	273650
5	宝来	28014	-7.33%	11.05%	206576
6	朗逸	21377	-49.61%	-60.06%	364851
7	迈腾	17997	-9.92%	-14.34%	172296
8	大众全新POLO	17258	-3.94%	17.47%	142616
9	奥迪A6	14486	17.18%	4.92%	119131
10	高尔夫	14377	-4.60%	-13.63%	132435

十月份,捷达环比上升两个名次,夺得德系车销量冠军,共销售新车3.8万辆,九月第二的速腾十月表现不佳,跌至第四名,同比下降2.2%,环比下跌18.46%,途观十月销量同比大涨75.6%。环比上涨13.47%,位列第二。最让人意外的是德系车目前全年累计销量第一,单月徘徊前三甲的朗逸,十月销量仅2.1万辆,环比下降60%,同比下跌14.61%。

表 2 日系车 10 月销量 TOP10

序号	车型	2017 年 10 月	10 月同比	10 月环比	2017 年 1 至 10 月
1	轩逸	38514	-5.32%	-3.20%	320066
2	卡罗拉	25937	44.74%	-18.98%	282905
3	奇骏	20421	14.63%	19.64%	143485
4	本田 CR-V	17824	85.34%	-16.56%	139029
5	思域	17613	74.89%	11.78%	146364
6	雅阁	15646	-14.61%	5.49%	121369
7	马自达 3 Axela	14063	11.44%	-4.86%	113562
8	缤智	13647	-5.48%	7.33%	119096
9	逍客	12775	-12.34%	8.58%	126797
10	雷凌	11812	19.41%	-10.98%	104152

同德系朗逸一样，日系“常青树”卡罗拉10月销量环比也呈现大幅度下滑，虽然仍位列日系车排名第二，但环比下降了19个百分点。轩逸依然稳居冠军宝座，10月销量为3.85万辆，远超第二名的卡罗拉。紧接着是两款SUV车型：奇骏和本田CR—V，其中奇骏10月销量为20421辆，本田CR—V销量为17,824辆。本田XR—V十月销量未能突破万辆，跌出前十至日系车第19名。

111. 下列选项中，2017年10月销量与去年同期相比增加，但低于2017年9月销量的是：

- A. 途观                      B. 宝来                      C. 轩逸                      D. 雷凌

112. 2017年1—9月，德系车累计销量第一的车是：

- A. 轩逸                      B. 捷达                      C. 朗逸                      D. 速腾

113. 2017年10月，汽车销量环比增速最快的是：

- A. 途观                      B. 新桑塔纳                      C. 奇骏                      D. 本田CR—V

114. 2017年10月汽车销量占2017年1—10月份累计销量比重最大的是：

- A. 捷达                      B. 途观                      C. 新桑塔纳                      D. 奇骏

115. 根据上述资料，下列说法正确的是：

- A. 2017年10月，本田CR—V销量为17824辆，日系车排名第五  
 B. 2017年10月，日系车销量同比增长量最多的是卡罗拉  
 C. 2017年9月，德系车销量前三的依次是朗逸、速腾、捷达  
 D. 2017年9月，日系车销量前三的依次是轩逸、卡罗拉、奇骏



答案获取：加老师微信扫码回复：“甄选题库”