

第一部分 言语理解与表达

(共40题, 参考时限40分钟)

本部分包括表达与理解两方面的内容。请根据题目要求, 在四个选项中选出一个最恰当的答案。

请开始答题:

1. 近些年, 作为文化政策、资本扶植发展的重心, 国产动画被寄予了极大期望。然而, 动漫的土壤并不是随便撒些空壳烂籽就可以_____的。

填入划横线部分最恰当的一项是:

- A. 守株待兔
- B. 坐享其成
- C. 不劳而获
- D. 以逸待劳

2. 古代中国数秘术与古希腊数秘术的区别在于, 前者侧重解象, 后者侧重数术。中国的数秘术后来发展成了更具意义的宇宙形而上学, 与算术渐行渐远,_____。

填入划横线部分最恰当的一项是:

- A. 南辕北辙
- B. 分道扬镳
- C. 缘木求鱼
- D. 背道而驰

3. 家风是具有鲜明特征的家庭文化, 良好的家风是一个家庭最宝贵的精神财富, 也是每个家庭成员形成正确世界观、人生观、价值观的_____。家庭是人生的第一所学校, 良好家风是人生幸福生活的“第一组密码”。“积善之家, 必有余庆; 积不善之家, 必有余殃。”只有守住和_____好温暖的家庭, 才能有人生的成功。

依次填入划横线部分最恰当的一项是:

- A. 基点 庇护
- B. 基准 保护
- C. 基础 爱护
- D. 基石 呵护

4. 在人类的脑海中, “科学”除了创造丰富的物质财富以外, 往往扮演了“真实”与“客观”的化身。如果这一切被_____, 后果不堪设想。那么, 我们需要_____的是, 在刚刚过去的那个世纪里, 是谁扣动了科学危机的扳机?

依次填入划横线部分最恰当的一项是:

- A. 颠覆 厘清
- B. 推倒 分清
- C. 颠仆 辨清
- D. 推翻 厘正

5. 中国传统菜肴对于烹调方法极为讲究, 而且长期以来, 由于物产和风俗的差异, 各地的饮食习惯和品味爱好_____, _____的烹调技术经过历代人民的创造, 形成了丰富

多彩的地方菜系。

依次填入划横线部分最恰当的一项是：

- A. 迥然不同 源远流长 B. 天差地别 积厚流光
C. 殊途同归 连绵不断 D. 如出一辙 博大精深

6. 泥石流的_____依赖于三个危险因素：沉积物中的粘土、大量的水快速涌入以及山区的地势差异。发生泥石流时，地上的各种大小石头和泥，小到直径只有零点几微米的粘土，大到数十厘米乃至更大的巨型漂砾，都有可能_____在泥石流中“泥沙俱下”。

依次填入划横线部分最恰当的一项是：

- A. 诱发 裹挟 B. 成因 汇集
C. 出现 夹杂 D. 引发 聚集

7. 现代社会不少人喜欢名牌，把自己的精力消耗在追逐名牌这个事情上，而不是把精力放在_____自己上面。你被外在的物质的东西所奴役，就要不停地去满足这个外在的东西。节俭的品德不是让你过苦日子，而是要把自己的心_____，不被外在的东西牵着鼻子走。

- A. 提高 关上 B. 打扮 拴住
C. 武装 拢住 D. 提升 守住

8. 近年来，“图说我们的价值观”公益广告以开阔的视野、_____人心的作品和_____人心的力量，传播社会正能量，引起了社会各界的高度关注和观众的热烈反响。

依次填入划横线部分最恰当的一项是：

- A. 凝聚 汇聚 B. 深入 撼动
C. 温暖 感化 D. 鼓舞 激励

9. 崇尚和平、和睦、和谐的理念，深深植根于中华民族绵延五千余载的_____文明，中国人民从苦难中走过来，深知和平的珍贵、发展的_____，怕的就是动荡，求的就是稳定，盼的就是天下太平。

依次填入划横线部分最恰当的一项是：

- A. 古老 意义 B. 悠久 价值
C. 辉煌 重要 D. 灿烂 方向

10. 现在，死海的湖水正以每年超过1立方米的速率消失，而极为少见的巨大沙坑正以每年_____的速度形成，而且这个速度还可能继续加快。尽管官方没有公布沙坑的破坏程度，但许多电源线、公路以及活动住宅正被_____，甚至曾有游客掉入沙坑受伤。

依次填入划横线部分最恰当的一项是：

- A. 不计其数 淹没 B. 数不胜数 湮灭
C. 数以百计 吞噬 D. 不可胜数 毁灭

11. 土豆放置在潮湿环境中容易发芽，土豆发芽后会产生一种毒素叫做龙葵碱，龙葵碱

对胃肠道黏膜有较强的刺激性，会产生_____效果，对中枢神经有麻痹作用，中毒的主要症状为胃痛加剧，恶心、呕吐，呼吸困难、急促，伴随全身虚弱_____，严重者可导致死亡。

依次填入划横线部分最恰当的一项是：

- A. 消蚀 无力
B. 销蚀 衰微
C. 侵蚀 乏力
D. 腐蚀 衰竭

12. 国家主席习近平在G20环保会议上对全球经济治理的建议极具针对性。加强宏观政策_____,有助于促进各方_____,避免沟通不畅或是以邻为壑，进而打造开放共赢的合作模式。

依次填入划横线部分最恰当的一项是：

- A. 协调 互动
B. 调控 互通
C. 沟通 联动
D. 交流 联通

13. 当下，“网红食品”让一些美食爱好者_____。然而，朋友圈里的美食宣传往往真假莫辨，“网红食品”利用朋友圈熟人关系、口碑传播的社交特性推销产品，甚至_____营销公众号为其背书。

依次填入划横线部分最恰当的一项是：

- A. 接踵而来 鼓动
B. 蜂拥而至 发起
C. 亦步亦趋 策动
D. 趋之若鹜 发动

14. 每一项工业遗产都_____着城市社会发展的演变规律。实施对工业遗产的发掘保护、开发利用，对维护城市风貌、_____生机特色、克服千城一面的现象，具有重要意义。

依次填入划横线部分最恰当的一项是

- A. 凝结 保持
B. 凝集 保留
C. 凝聚 突出
D. 凝滞 凸显

15. 欧盟委员会发布消息称，回顾全球“金融危机”以来的_____，欧盟采取得当的_____,有效地控制住了危机的蔓延与发展，从而在最近几年取得了经济持续增长的佳绩。

依次填入划横线部分最恰当的一项是：

- A. 历史 办法
B. 历程 措施
C. 经历 手段
D. 经过 举措

16. 万众创新，需要不拘一格的包容，让各种类型的人才脱颖而出；需要自由宽松的环境，让各种新奇的探索互相_____；需要体制变革的_____，让全社会每一个细胞的生命活力充分_____。

依次填入划横线部分最恰当的一项是：

- A. 砥砺 激励 释放
B. 磨砺 激发 施展
C. 竞争 鼓励 发展
D. 磨合 鼓动 绽放

17. 总的来讲，“社会”在处理与国家的关系过程中强调其自主性的成长与释放，并_____了各种形式的自我保护运动。而且，“社会”也在改变其生存与发展策略，它不仅仅满足在国家为其_____的范围内行动，而且还通过与国家的主动接触与互动，_____与政府的相关性，并以协作或合作的方式参与社会问题的解决。

依次填入划横线部分最恰当的一项是：

- A. 展开 规定 保持
B. 拓展 制定 保护
C. 开展 划定 维持
D. 发展 制订 保障

18. 这部著作把对历史文化追索的触角更深入地探触到历史时空的幽微之处，更敏锐地_____虽然缥缈却血脉相连的文化遗产，让远逝的鸿影显现出朦胧的真相，使冰冷荒漠的历史有了人性的_____。他将华夏祖先的图腾放置在人类文明进步的历史大背景中予以_____，在历史与现实之间辗转反侧、抒发见解，带给我们新的思考。

依次填入划横线部分最恰当的一项

- A. 感知 温度 观照
B. 揭示 弱点 洞察
C. 探究 纠葛 揣度
D. 体悟 温暖 臆想

19. 科学的发展和进步往往_____于科学假说，科学理论发展的历史就是假说的形成、发展和假说之间的竞争、更迭的历史。面对茫茫人类历史源头，面对_____、虚虚实实的人类文明历史遗存，科学假说同样至关重要。他_____将历史、文化、人性、环境视角的“聚光灯”汇集在一起，形成了属于他的一盏“无影灯”，并以这样的视角照射幽暗的历史深处，从而解析出一些可能接近历史本源的朦胧真相。

依次填入划横线部分最恰当的一项是：

- A. 发轫 凤毛麟角 含英咀华
B. 肇始 吉光片羽 独辟蹊径
C. 滥觞 汗牛充栋 苦心孤诣
D. 开端 如火如荼 毛举细故

20. 巨大的投资热情 and 市场需求背后，短视频的发展短板令人担忧：内容创作新意_____，同质化严重；平台盈利模式_____，只顾短期盈利，长期规划不足；监管机制_____，版权保护缺位，低俗内容和创意抄袭大行其道。

依次填入划横线部分最恰当的一项是：

- A. 匮乏 缺乏 贫乏
B. 贫乏 缺乏 匮乏
C. 缺乏 匮乏 贫乏
D. 匮乏 贫乏 缺乏

21. 一线城市的高房价以及90后年轻人对生活品质的追求，催生了租赁公寓的兴起。租赁公寓迎合了年轻人的消费观念，租房由过去的不得已转变成享受生活的一种方式，据调查，虽然拥有自己的住房仍是90后的刚性需求，但他们当中只有30%愿意为了买房而降低生活质量；另有56%的90后不愿意买房，因为房贷过于沉重会降低生活质量。由此观之，这些更看重个人价值的90后，可能成为“不买房一代”。

这段文字意在强调：

- A. 许多90后不愿为了买房降低生活质量
- B. 90后年轻人未来的买房需求非常旺盛
- C. 租房是大多数人更易于接受的居住方式
- D. 城市高房价影响多数年轻人的购房意愿

22. 传统文化，其幽静深邃堪比深深庭院，正是因为有最单纯、最本初的文化热爱，路过之人才愿意叩开家门扉，一探究竟。以或萌或雅的方式吸引人来，只是极为关键的第一步。而最终决定大家能在这庭院之中停留多久的，还是文化本身的魅力。因此，判断文化创意产品是否成功，一条重要的原则就是看能否将_____融会贯通。

填入划横线部分最恰当的一项是：

- A. 幽静深邃的意蕴与单纯本初的文化热爱
- B. 传统文化的精神与国际潮流的一般走向
- C. 极为关键的萌感与停留心中的高雅文化
- D. 吸引人的巧妙形式与留住人的文化内核

23. 黑洞是爱因斯坦广义相对论最不祥的预言：过多物质或能量集中在一处，终将导致空间坍塌，像魔术师的外套一样吞进万物，万事万物皆逃不脱。直到40年前霍金博士宣称颠覆了黑洞——或者可能是彻底推翻了。他的方程式表明：黑洞不会永存。一段时间之后，它们会“泄掉”，然后爆炸成辐射和微粒。但是，有一个障碍：按照霍金的估算，黑洞崩塌时散出的辐射是随机的，落入其中的万事万物的“信息”大部分将被抹掉。这违反了现代物理学的一条原则：时间是可以扭转的，黑洞里发生过的事情可以重建。

这段文字的主旨是：

- A. 霍金发现了一条可以逃出黑洞的线索
- B. 黑洞终将“泄掉”，然后爆炸成辐射和微粒
- C. 霍金的研究结果彻底推翻了关于黑洞的预言
- D. 霍金破除了黑洞永存的预言却提出了新的挑战

24. 研究人员在大肠杆菌外面缠裹了一种叫做β氨基酯的人工合成聚合物，形成一种“细菌胶囊”。随后，将其插入抵抗肺炎球菌的蛋白质疫苗。实验证明，这种胶囊能被动或主动地瞄准一种特殊免疫细胞，它能提升人体免疫反应，具有很强的抗肺炎球菌疾病的能力。研究人员指出，这种胶囊疫苗成本低，使用便利，用这种胶囊输送疫苗能引发特定免疫反应，比现有接种疫苗效率更高，效果更好。

根据这段文字，下列说法正确的是：

- A. “细菌胶囊”核心是β氨基酯人工合成聚合物
- B. 无害的大肠杆菌能提升人体的免疫反应
- C. “细菌胶囊”对肺病治疗具有突出成效
- D. “细菌胶囊”或成为新型疫苗输送工具

25. 许多企业正遭遇来自网络罪犯前所未有的攻击。有数据显示，“想哭”病毒仅攻击网络一次，就能造成高达40亿美元的损失。网络罪犯擅长兜售自己成功的战略，他们将所谓的勒索软件当成一种服务，其中涉及一种许可软件，可冻结公司的电脑文件直至对方付款。这些黑客不一定是自由职业者，事实上，当今绝大多数灾难性的网络攻击都有某些组织的支持。遭受攻击的企业寻求执法人员帮助存在风险，因为不但企业费时费钱，而且会增加将敏感信息公之于众的风险。因此，_____。

填入划横线部分最恰当的一项是：

- A. 政府应该加强监管，帮助企业应对黑客攻击
- B. 企业为了减少损失，寻找私人网络安全公司
- C. 新的行业应运而生，网络安全成为热门行业
- D. 要将黑客绳之以法，减少网络罪犯攻击企业

26. 全社会要形成抵制网络不良信息的“防火墙”。网络文化产品直接面向社会公众，经营者是否违法经营，受众最先知道、最有发言权。对网络文化产业进行监管要依靠群众、发动群众。应健全群众举报体系，构建严密的社会监督网络，使网络文化产业发展中的违法行为无藏身之地；引导和教育广大网民增强鉴别能力，面对形形色色的网络文化产品保持清醒头脑，不受骗上当，不误入歧途；帮助网民提高自身道德修养，从思想上打造铜墙铁壁，自觉抵制通过网络传播的不良信息。

这段文字意在强调：

- A. 对网络文化产业进行监管要构建监督网络
- B. 对网络文化产业进行监管要依靠群众力量
- C. 网络文化产业经营者要自觉抵制不良信息
- D. 网络文化产业经营者要主动接受群众监管

27. 虽然说经营性养老机构的定价是放开的，政府不能够干预，但是，从保障购买者权益、稳定养老床位价格、规范市场秩序等角度来说，有关方面需要高度警惕这种销售床位的经营模式带来的种种问题。比方说，床位可以炒卖，既有可能背离了养老机构床位的属性——把养老服务变成一种投资形式，还有可能把养老机构床位的价格哄抬高，造成老人们买不起也住不起。另外，床位售价被炒高后很有可能会出现闲置浪费。总之，如果不加以规范，有可能重蹈中国楼市的炒房覆辙。

这段文字意在强调：

- A. 养老机构炒卖床位将带来各种问题
- B. 政府应当关注养老机构的床位定价
- C. 政府应当规范养老机构的经营模式
- D. 养老机构炒卖床位可能是变相炒房

28. 近年，研究人员研发出了一种“人造皮肤”，能够模仿健康年轻皮肤的特点，有望

成为人类的“第二层皮肤”。“人造皮肤”交叉融合了医学、生物、化学、材料、工程等多个学科,通过对材料的不断筛选、优化及临床测试,最终才取得这样的成果。现实中,类似的成果还有很多,比如通过心脏外科医生与电气工程学家及计算机科学家的紧密合作,利用3D打印将患者病变心脏的扫描成像转变成用于心脏手术的物理模型。历史上,任何一项医疗技术和医疗器械创新都并非是临床医生或某个学科专家单独完成的。基于临床问题的多学科交叉合作,才能真正实现医疗技术和医疗器械领域的自主创新。

这段文字意在强调:

- A. 医疗自主创新促进多学科合作
- B. 医疗领域的自主创新成果显著
- C. 医疗技术和医疗器械难以创新
- D. 医疗自主创新依托多学科合作

29. 文字是人类继语言之后的第二大发明。如果说,语言的出现使人类实现了由动物到人的转变,那么文字的发明,则使人类从原始社会的低级阶段上升到文明社会的高级阶段,从而使人们的生活发生了质的飞跃。文字是一个民族与国家文化传承与创新的基础,因此,

填入划横线部分最恰当的一项是:

- A. 在世界文化格局中,每一种文化都有它自己的渊源和特点
- B. 能够使用和传承自己本民族的文字,不仅是一种文化责任和文化能力,更是一种文化情怀和文化热爱
- C. 中国文字文化的演变具有非常清晰的传承谱系,这正是中华文明与世界其他文明的区别所在
- D. 正是有了汉字,才有了中国人自己的精神,才有了中国五千年绵延不绝光辉灿烂的文化

30. 水熊虫也叫水熊,是对缓步动物门生物的俗称,有记录的约有900余种,大多是世界性分布的。它们的体型极小,最小的只有50微米,而最大的则有1.4毫米,必须用显微镜才能看清。水熊虫是地球上已知生命力最强的生物,能在冷冻、水煮、风干的状态下存活,甚至能在真空中或者放射性射线下存活,而一旦将其放回到正常环境下,仍能恢复到正常状态。

这段文字旨在说明:

- A. 水熊虫是缓步动物门生物,种类繁多,分布性广
- B. 水熊虫体型非常小,使其易于在极端状态下存活
- C. 水熊虫生命力极强,在极端恶劣条件下也可存活
- D. 水熊虫可长时间放慢或停止自己的新陈代谢活动

31. 近年来,高空坠物事件屡有发生,受到社会广泛关注。不可否认,法律层面的规定,

避免了高空坠物发生后出现索赔难的情形,确保了被侵权人的合法权益得到切实保护。然而,侵权责任法律的规定,明显具有滞后性,也就是说只有发生侵害行为后,法律才会介入。那么,当侵权行为发生后,伤害或死亡悲剧已经发生,根本无法实现亡羊补牢的效果。因此,如何强化法律的前置性功能,让法律成为高空坠物的安全防护网,是解决问题的关键所在。

下列说法与这段文字的主旨无关的是:

- A. 强化立法源头设计,有效避免高空坠物
- B. 高空坠物侵权法律责任规定还不够完善
- C. 有关高空坠物的法律存在明显的滞后性
- D. 筑牢安全防护网,让法律成为“事前诸葛”

32. 20世纪30年代,图灵提出计算机能够思维的观点,主张凡是能够通过“图灵测试”的计算机就能够思维。所谓“图灵测试”,就是说一个人如果不能判断与之对话的隐藏主体是人还是机器,我们就不得不承认即便是机器也能思维。“图灵测试”能否判断机器的思维,_____。如果将思维定义为计算过程,那么计算机当然能够思维。这就是著名的“计算机隐喻”,即人是计算机,思维就是计算——这是计算表征主义的核心思想。

填入划横线部分最恰当的一项是:

- A. 取决于如何定义计算机
- B. 取决于思维的活动过程
- C. 取决于计算机的功能配备
- D. 取决于我们如何定义思维

33. 简单地说,综述主要是面向圈内人的,有时甚至主要是给业内同行看的,所以完全用纯专业的语言来叙述。但元科普著作就不一样,它的目标是本领域以外的人群,为此就需要由最了解这一行的人将知识的由来和背景,乃至科研的甘苦和心得,都梳理清楚,娓娓道来,这就是非亲历者所不能为的缘故。

这段文字意在说明:

- A. 综述与元科普的联系
- B. 综述与元科普的内涵
- C. 综述与元科普的共性
- D. 综述与元科普的区别

34. 当前,海水温度上升引发一系列白化事件,研究人员非常担心全球珊瑚的命运。研究人员发现,虫黄藻能够利用光合作用产生自己及其寄主所需的养分。当温度较高的海水导致珊瑚礁排出名为虫黄藻的共生藻类时,失去彩色藻类的珊瑚逐渐变为白色,白化现象便发生了。如果白化现象持续下去,等待珊瑚礁的便只有死亡。

由此我们可以推出:

- A. 限制大气温度上升至少会留给珊瑚礁一些时间去适应
- B. 全球气候变暖致使近海珊瑚礁系统越来越缓慢地钙化
- C. 气温持续上升将会导致发生白化事件的间隔越来越长
- D. 气温升高压力导致浅水珊瑚要到更深的水域寻求庇护

35. 为什么一些商品的供求关系会落入尴尬境地?为什么人们对中国品牌信心不足?

可见，这种营商理念下的商业模式，迷失了产业优化升级的方向，破坏了我国经济的微观基础，造成了供求的不匹配。

- ①如果一种产品利润极低，则肯定无法投入资金进行创新和提升品牌形象
- ②这一营商理念的问题在哪里呢
- ③在过去很长的一段时间里，我国企业实行的是低成本低利润扩张、追求市场份额最大化的做法
- ④我们知道，对于任何产品，只有存在合理利润，才有可能继续投入资金进行研发，促使产品更新换代，促使品牌深入人心
- ⑤这需要分析我国企业的营商理念与商业模式
- ⑥同时，极低利润基础上的低成本竞争极易导致假冒伪劣商品横行，这又进一步损害了品牌形象

将以上6个句子重新排列后插入横线中，语序正确的是：

- A. ②⑤③④①⑥
- B. ⑤③②④①⑥
- C. ⑤③②①⑥④
- D. ②⑤③①④⑥

36. ①这不仅表明了工业社会对于文化生产的接管、改造和重新规划，而且，技术的意义开始占据前所未有的份额

- ②电影的诞生是技术介入艺术的里程碑事件
- ③技术始终是文化生产的组成部分
- ④尽管如此，技术从未扮演艺术的主角
- ⑤庄子、杜甫、苏东坡，《窦娥冤》《红楼梦》，这些经典令人敬重的原因是深刻的思想和洞察力，而不是由于书写于竹简，上演于舞台，或者印刷在书本里
- ⑥从青铜铸鼎、笔墨纸砚到瓦舍勾栏的兴盛、印刷时代的降临，艺术符号的制作及其传播从来没有离开技术的支持

将上述6个句子重新排列，语序正确的是：

- A. ③⑤④⑥②①
- B. ⑥⑤④②①③
- C. ③⑥④⑤②①
- D. ⑥④⑤③②①

37. 2017年某调查报告显示，超过8成居民家庭认为阅读是孩子认识世界、获取知识的重要途径，超过6成认为阅读对于孩子养成爱学习习惯、养成健康性格具有重要意义。在实际生活中，超过3成的受访居民家庭未成年子女能够做到每天阅读，超6成孩子每次阅读时间在半小时至1小时之间。但只有3成受访家长经常陪子女阅读，近6成家庭是让孩子自己阅读。有意思的是，虽然父母们自己已经被手机、电脑、电视占据了太多时间，却有13.63%的家长希望借助阅读挤压孩子玩电子产品、看电视的时间。

下列选项最适合做文字标题的是：

- A. “中国家长高度认同阅读对于子女成长的价值”

- B. “放下手机，才能陪孩子阅读”
- C. “你看手机，孩子看书？”
- D. “阅读，不只关于书本”

38. 当前我国城市建设面临经济发展与产业结构调整、环境保护、社会治理模式、民生保障等多方面矛盾，建设智慧城市是大势所趋。我国在智慧城市的很多应用方面已经走在了世界前列，像网约车，共享单车等。但也存在一些问题，如顶层设计不足、缺乏体系性规划与创新等。另外，智慧城市建设有许多方面没有考虑到与市民切身相关的问题，市民的感知度并不明显。如何把智慧城市建设和市民利益结合起来，注重群众需求，是推进智慧城市建设和解决智慧城市落地问题的关键。

这段文字意在强调：

- A. 我国智慧城市建设已走在世界前列
- B. 智慧城市建设面临许多综合性问题
- C. 建设智慧城市可以解决城市建设诸多矛盾
- D. 建设智慧城市要接地气与群众需求相联系

39. 在中国城镇化进程中，传统戏曲面临着前所未有的生态变化。民间职业演出积极地适应农村娱乐需要，或者重新恢复传统民俗演剧形式，借助节庆礼俗，发挥戏曲传统的礼乐教化职能；或者与时俱进，以时尚流行的艺术元素充实戏曲本体，衍生出新的戏剧娱乐形态。体制内职业剧团在传统与创新中进行艺术传承，或者深入农村、送戏下乡，仍然维持在基层农村的演出；或者放弃农村，寻求多元的创新方式，勉力维持城市市场，导致戏曲在农村文化生活中趋于弱势和边缘。

这段文字意在说明：

- A. 戏曲艺术的传承与发展要寻求多元与时俱进
- B. 戏曲是传承和弘扬优秀传统文化的重要载体
- C. 政府要加大力度支持职业剧团在农村的演出
- D. 戏曲在农村的影响力出现了两极化发展趋势

40. 小时候熟记的古诗文，长大后也很难忘记，即使长时间不用，但只要一提起，与之相关的记忆便会不由自主地流露出来。这种扎根在脑海深处的诗词印象，是浸透在血液之中的古文积淀，这就是“童子功”的厉害之处。因此，我们要从小诵读古诗文，让中华传统文化内化于心。古人云，“_____”。想要练就古诗文的“童子功”，必须要多读多记，才会烂熟于心、出口成章。若是腹内草莽，必然不可能口吐莲花。诗词大会舞台上，选手们精彩表现的背后，又何尝不是他们从小的阅读背诵和长年的储存积累。

填入划横线部分最恰当的一项是：

- A. 读书破万卷，下笔如有神
- B. 书犹药也，善读之可以医愚

- C. 问渠哪得清如许，为有源头活水来
- D. 熟读唐诗三百首，不会作诗也会吟

※※※ 第一部分结束，请继续做第二部分！ ※※※



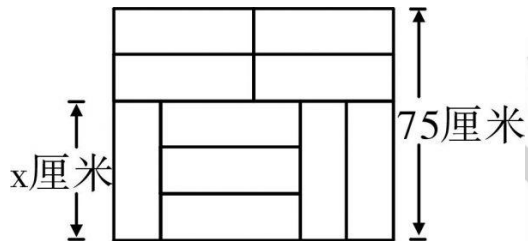
第二部分 数量关系

(共10题, 参考时限10分钟)

在这部分试题中, 每道试题呈现一段表述数字关系的文字, 要求你迅速、准确地计算出答案。

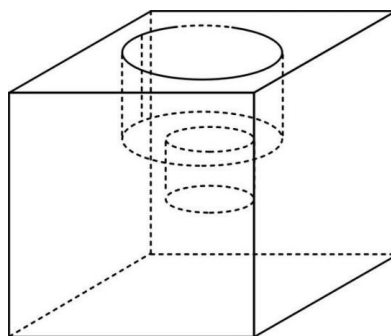
请开始答题:

41. 装修工人小郑用相同的长方形瓷砖装饰正方形墙面, 每10块瓷砖组成一个如右图所示的图案。小郑用这个图案恰好铺满该墙面, 那么, 他最少用了多少块瓷砖?



- A. 250
B. 300
C. 400
D. 450

42. 小庄要制作一个工业模具。他在一个边长4厘米的正方体上表面正中心位置向下挖掉一个直径2厘米、高2厘米的圆柱体, 接着再向下挖掉一个直径1厘米、高1厘米的小圆柱体(如右图所示)。那么, 该模具的表面积约为多少平方厘米?



- A. 82.8
B. 108.6
C. 111.7
D. 114.8

43. 甲、乙、丙三所学校的学生被安排在周一至周五参观某革命纪念馆。纪念馆每天最多只能安排一所学校, 其中甲学校连续参观两天, 其余学校均只参观一天, 那么共有多少种安排方法?

- A. 12种
B. 24种

- C. 36种
D. 60种

44. 甲、乙、丙、丁四人同时同地出发，绕一椭圆环形湖栈道行走，甲顺时针行走，其余三人逆时针行走，已知乙的行走速度为60米/分钟，丙的速度为48米/分钟，甲在出发6、7、8分钟时分别与乙、丙、丁三人相遇，求丁的行走速度是多少？

- A. 31米/分钟
B. 36米/分钟
C. 39米/分钟
D. 42米/分钟

45. 某苗木公司准备出售一批苗木，如果每株以4元出售，可卖出20万株，若苗木单价每提高0.4元，就会少卖10000株，问在最佳定价的情况下，该公司最大收入是多少万元？

- A. 60
B. 80
C. 90
D. 100

46. 某单位工会组织桥牌比赛，共有8人报名，随机组成4队，每队2人。那么，小王和小李恰好被分在同一队的概率是：

- A. $\frac{1}{7}$
B. $\frac{1}{14}$
C. $\frac{1}{21}$
D. $\frac{1}{28}$

47. 某村民要在屋顶建造一个长方体无盖贮水池，如果池底每平方米的造价为150元，池壁每平方米的造价为120元，那么要造一个深为3米、容积为48立方米的无盖贮水池最低造价是多少元？

- A. 6460
B. 7200
C. 8160
D. 9600

48. 某社团组织周末自驾游，集合后发现小王和小李未到。由于每辆小车载坐5人，按照现有车辆恰有1人坐不上车。为难之际，小王和小李分别开车赶到，于是所有人都坐上车，且每辆车人数均相同。那么，参加本次自驾游的小车数为：

- A. 6
B. 7
C. 8
D. 9

49. 某银行推出3年期和5年期的两种理财产品A和B。小王分别购买这两种产品各1万元，结果发现，按单利计算（即利息不产生收益），B产品平均年收益率比A产品多2个百分点，期满后，B产品总收益是A产品的2.5倍。那么，小王各花1万元购买A、B两种产品的平均年收益分别是：

- A. 400元和600元
B. 500元和700元
C. 600元和900元
D. 700元和900元

50. 一个班级组织跑步比赛，共设100米、200米、400米三个项目。班级有50人，报名参加100米比赛的有27人，参加200米比赛的有25人，参加400米比赛的有21人。如果每人最多只能报名参加2项比赛，那么该班最多有多少人未报名参赛？

A. 11

B. 12

C. 13

D. 14

※※※ 第二部分结束，请继续做第三部分！ ※※※



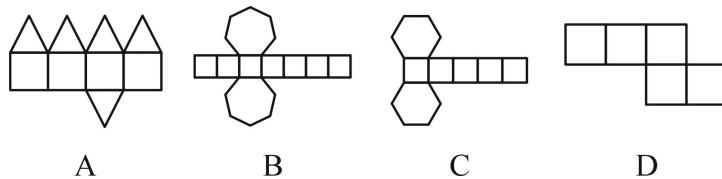
第三部分 判断推理

(共 35 题, 参考时限 40 分钟)

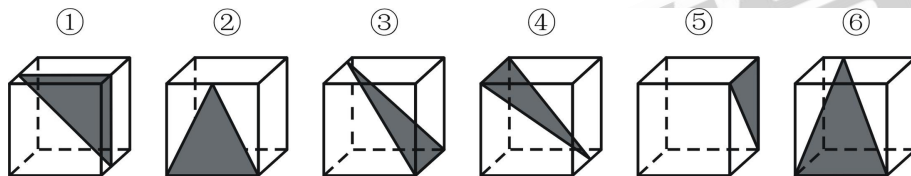
一、图形推理。请按每道题的答题要求作答。

请开始答题:

51. 下列哪个选项中的图形能够折叠成完整封闭的立体几何结构:

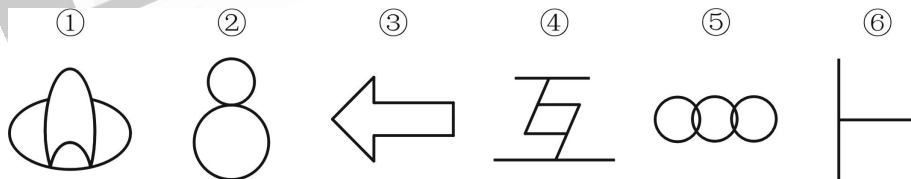


52. 从正方体中裁出如下图所示六个不同的三角形, 将其分为两类, 使每一类图形都有各自的共同特征或规律, 分类正确的一项是:



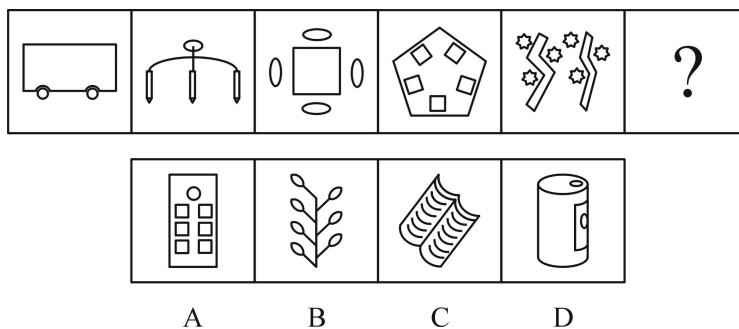
- A. ①②⑤, ③④⑥ B. ①⑤⑥, ②③④
C. ①③⑤, ②④⑥ D. ①②④, ③⑤⑥

53. 把下面的图形分为两类, 使每一类图形都有各自的共同特征或规律, 分类正确的一项是:

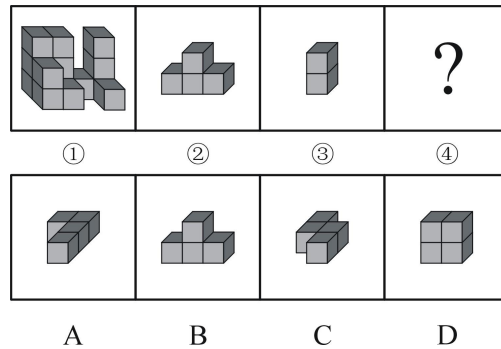


- A. ①④⑥, ②③⑤ B. ①③④, ②⑤⑥
C. ①②⑤, ③④⑥ D. ①③⑤, ②④⑥

54. 从所给四个选项中, 选择最合适的一个填入问号处, 使之呈现一定规律性:



55. 从所给的四个选项中, 选择最合适的一个填入问号处, 使下图中的立体图形①、②、③和④可组成一个完整的长方体:



二、定义判断。每道题先给出定义, 然后列出四种情况, 要求你严格依据定义, 从中选出一个最符合或最不符合该定义的答案。注意: 假设这个定义是正确的, 不容置疑的。

请开始答题:

56. 精准医疗是指以个体化医疗为基础, 通过基因组、蛋白质组等技术, 对大样本人群与特定疾病类型进行生物标记物的分析与鉴定、验证与应用, 从而精确寻找到疾病的原因和治疗的靶点, 最终实现对疾病和特定患者进行个性化精确治疗。

根据上述定义, 下列选项**不属于**精准医疗的是:

- A. 甲某罹患癌症, 医生对其基因进行全面检测并确定治疗方案
- B. 乙某近期反常头晕, 医生询问症状后就给其开了非处方药物
- C. 丙某在就医时称自己对某种药物过敏, 医生根据其过敏情况设计用药方案
- D. 丁某患失眠症到中医院就诊, 医生据“同病异治, 异病同治”的理念施治

57. 情感广告是诉诸于消费者的情绪或情感反应, 传达商品带给他们的附加值或情绪满足的一种广告策略。这种情绪在消费者心目中的价值可能远远超出商品本身, 从而使消费者形成积极的品牌态度。

根据上述定义, 下列广告语**不属于**情感广告的是:

- A. 某品牌饮料广告语: “××可乐, 中国人自己的可乐!”
- B. 某品牌啤酒进入东南亚市场的广告语: “好不好, 家乡水。”
- C. 某品牌纸尿裤广告语: “宝宝天天好心情, 妈妈一定更美丽。”
- D. 某品牌润肤露广告语: “为了肌肤柔美润舒, 请使用××润肤露。”

58. 理性预期指的是, 针对某个经济现象进行预期的时候, 如果人们是理性的, 那么他们会最大限度地充分利用所得到的信息来作出行动而不会犯系统性的错误。

根据上述定义, 下列属于理性预期的是:

- A. 省立医院分院一投入使用, 小陈就在附近开了一家水果店

- B. 老秦获悉某政策即将施行，凭着长期炒股的经验进行股票操作
- C. 传言说城南要建某重点中学分校，老刘立即在附近买了一套房子
- D. 小张得知其高考成绩在全省排第二十位，果断决定第一志愿报清华大学

59. 二维码是用某种特定的几何图形按一定规律，在平面分布的黑白相间的图形记录数据符号信息。在代码编制上利用“0”“1”比特流的概念，用若干与二进制相对应的几何形体来表示文字数值信息，通过图像输入设备或光电扫描设备自动识读，以实现信息自动处理。一个二维码所能表示的比特数是固定的，它包含的信息越多，则冗余度就越小；反之，冗余度就越大。

根据上述定义，下列选项**不符合**二维码内涵的是：

- A. 某种特定的几何图形按一定规律分布可以构成相应的二维码
- B. 二维码中图像代码的基本原理利用的是计算机的内部逻辑基础
- C. 把文字数值信息转化成与二进制相对应的几何形体，可供设备识读
- D. 二维码包含的信息量都很大，意味着在编码时需要尽量减少冗余度

60. 广义相对论是爱因斯坦以几何语言建立而成的引力理论，他将引力改描写成因时空中的物质与能量而弯曲的时空，以取代传统对于引力是一种力的看法，而这种时空曲率与处于时空中的物质与辐射的能量动量直接相关。

根据上述定义，下列选项中的现象**不涉及**广义相对论的是：

- A. 科学家在观察日全食时发现，光线经过太阳附近时会产生偏角弯曲
- B. 科学家发现，在强引力场中时钟要走得慢一些，因而从巨大质量的星体表面发射到地球的光线，会向光谱的红端移动
- C. 科学家发现，当一个星体足够致密时，其引力使时空中的区域极端扭曲以至光线都无法逸出，由此发现了黑洞的存在
- D. 麦哲伦航行时发现，驶向远方的船帆逐渐下沉，最后消失在视线中，而海平面似呈弯曲状，远处的海水似乎比近处的海水水位低

61. 绿色设计是指在整个产品周期内，着重考虑产品的环境属性，如可拆卸性、可回收性、可维护性、可重复利用性等，并将其作为设计目标，在满足环境保护条件的同时，保证产品的质量达到最优状态。

根据上述定义，下列选项符合绿色设计理念的是：

- A. 迪拜太阳村巧摆太阳能收集器以实现日照时间最大化
- B. 荷兰某化学品公司将健康环保作为公司重要的价值观
- C. 巴西流行利用绿色植物代替砖、石、钢筋水泥来砌墙
- D. 某学校将教室背景设计为浅绿色来保护孩子们的眼睛

62. 在企业活动中，库存有多种类型。装运库存是指在价值链末端工厂的库房里，那些已经准备好可以随时出货的产品。在途库存又称中转库存，指尚未到达目的地，正处于运输

状态或等待运输状态而储备在运输工具中的库存。

根据上述定义，下列选项属于在途库存的是：

- A. 小张给自己网购了一件毛衣，下单两天后查知该毛衣已到某中转站
- B. 某高速服务区内一辆大货车满载着 A 超市从 B 地采购的各类毛巾
- C. 某皮鞋厂的卡车里，堆满了该厂用于制造新款皮鞋的牛皮
- D. 某公司在城南的自有库房中存放着给城北门店销售的玩具

63. 刺激泛化是指条件作用的形成使有机体习得了对某一刺激做出特定反应的行为，因此也就可能对类似的刺激做出同样的行为反应。刺激分化是通过选择性强化和消退使有机体学会对条件刺激和与条件刺激相类似的刺激做出不同的行为反应。

根据上述定义，下列说法**不正确**的是：

- A. “一朝被蛇咬，十年怕井绳”属于刺激泛化
- B. “横看成岭侧成峰，远近高低各不同”属于刺激分化
- C. 为突出品牌，厂家对包装进行独特设计，力图使顾客产生刺激分化
- D. 某品牌牙膏创成名牌后，生产商将其生产的化妆品也以同品牌命名，利用的是顾客的刺激泛化

64. 地震震级是通过仪器给出地震大小的一种量度，是划分震源放出能量大小的等级，地震所释放的能量越大，地震震级也越大，每一次地震只有一个震级。地震烈度表示地震对地表及工程建筑物影响的强弱程度，是在没有仪器记录的情况下，凭地震时人们的感受或地震发生后器物反应的程度、工程建筑物的破坏程度、地表的变化状况而定的一种宏观尺度。

根据上述定义，下列说法正确的是：

- A. 地震震级越大，地震烈度相应越强
- B. 一次地震只有一个震级，一个烈度
- C. 距震源越近，震级越大，烈度越强
- D. 地表破坏越严重说明地震烈度越强

65. 水体旅游是人们前往水体及周边区域以寻求愉悦为主要目的的一种具有社会、休闲和消费属性的短期经历，目前已逐渐成为人们休闲时尚与区域旅游开发的重要载体。水体旅游资源是指水域（水体）及相关联的岸地、岛屿、林草、建筑等对人产生吸引力的自然景观和人文景观。

根据上述定义，下列选项**不属于**水体旅游资源的是：

- A. 武夷山“九曲溪”两旁随处可见历代文人墨客的题词
- B. 秦淮河岸的街道上，有一座建于明代的“江南贡院”
- C. 某森林公园建有一个放养着上千条锦鲤的“放生池”
- D. 某大厦矗立于长江岸边，成为游客拍照留念的背景

三、类比推理。每道题先给出一组相关的词，要求你在备选答案中找出一组与之在逻辑关系上最为贴近、相似或匹配的词。

请开始答题：

66. 青衿：读书人

A. 南冠：囚犯

C. 春蚕：奉献

67. 西子湖：曹娥江

A. 美人蕉：老婆饼

C. 女儿红：祖母绿

68. 风霜雨雪：雾里看花

A. 春夏秋冬：踏雪寻梅

C. 桃李杏橘：青梅煮酒

69. 仪态万方：美丽多姿

A. 风度翩翩：富富有余

C. 其貌不扬：荣华富贵

70. 骡子：耕畜：犁地

A. 基因：生命：遗传

C. 鸬鹚：水鸟：捕鱼

71. 团扇：羽毛扇：舞蹈扇

A. 宣纸：餐巾纸：铜版纸

C. 排球：羽毛球：乒乓球

72. 演员：公园：演出

A. 谣言：微信：查处

C. 士兵：战争：升迁

73. 春秋：寒暑：一年

A. 妇孺：老幼：生命

C. 东西：南北：方向

74. 纺车 之于 () 相当于 () 之于 联合收割机

A. 手摇；蒸汽机

C. 3D 织布机；曲辕犁

75. () 之于 风油精 相当于 碳酸 之于 ()

A. 薄荷脑；可乐

C. 叶绿素；花露水

B. 浮屠：寺庙

D. 袍泽：官员

B. 东坡肉：五柳鱼

D. 狮子头：凤凰胆

B. 金木火土：水中望月

D. 梅兰竹菊：茜窗画眉

B. 腰缠万贯：富甲一方

D. 仪表堂堂：身无长物

B. 衙役：衙门：当差

D. 恒星：宇宙：发光

B. 圈椅：实木椅：办公椅

D. 墨镜：老花镜：显微镜

B. 股民：股市：投资

D. 信息：卫星：定位

B. 荏苒：蹉跎：岁月

D. 冷热：干湿：温度

B. 织布；传动带

D. 自动打线车；发动机

B. 清凉；陈醋

D. 液体；二氧化碳

四、逻辑判断。每道题给出一段陈述，这段陈述被假设是正确的，不容置疑的。要求你根据这段陈述，选择一个答案。注意：正确的答案应与所给的陈述相符合，不需要任何附加说明即可以从陈述中直接推出。

请开始答题：

76. 研究人员在普遍使用的功能性磁共振成像技术(fMRI)专用软件中发现了算法错误。他们采集 499 名健康的人处于静息状态时的检查结果，发现其统计方法还需用真实呈现的病例加以验证。这意味着软件有时会错得离谱，就算大脑处于静止状态时也会显示有活动——软件显示出的活动是软件算法的产物，而非被研究大脑真的处于活跃状态。

以下哪项如果为真，最能支持上述结论？

- A. 研究结论可以经 fMRI 获得有关数据并通过相关程序编译出来
- B. fMRI 能捕捉脑部血流变化，但无法有效显示大脑是否处于活跃状态
- C. 目前普遍用来诊断脑部功能的 fMRI，软件的假阳性率达到 70%以上
- D. 只有 30%经 fMRI 专用软件获得的结果会进行验证性试验并进一步确认

77. 我们身体的生物钟系统会受到许多因素的影响，其中之一就是光照。研究表明，光照可以有效地欺骗大脑进入“白昼模式”，哪怕当时人的眼睛是闭着的也没关系。研究人员发现可以用光照疗法来帮助我们调整时差，包括持续光照和不同间隔的闪光，而每 10 秒一次持续仅 2 毫秒的闪光最有效。研究还发现，在睡眠时经历过“闪光处理”的人出现困意的周期会延后两个小时。

以下哪项如果为真，最能支持上述观点？

- A. 每次闪光间隙的黑暗都有助于让眼睛重启，从而恢复眼睛对光照的敏感
- B. 大部分睡眠时经历“闪光处理”的人的睡眠质量都不会受到闪光的影响
- C. 去时区早两小时的城市，启程日日出前两小时经光照疗法的人无时差感
- D. 依靠自身来调节时差耗时良久，大概平均每天只能倒过一个小时的时差

78. 甲、乙、丙三人大学毕业后选择从事各不相同的职业：教师、律师、工程师。其他同学做了如下猜测：

小李：甲是工程师，乙是教师。

小王：甲是教师，丙是工程师。

小方：甲是律师，乙是工程师。

后来证实，小李，小王和小方都只猜对了一半。那么，甲、乙、丙分别从事何种职业？

- A. 甲是教师，乙是律师，丙是工程师
- B. 甲是工程师，乙是律师，丙是教师
- C. 甲是律师，乙是工程师，丙是教师

D. 甲是律师，乙是教师，丙是工程师

79. 场所恐惧症主要表现为对某些特定环境的恐惧，如高处、广场、客观环境和拥挤的公共场所等，常以自发性惊恐发作开始，然后产生预期焦虑和回避行为，进而出现条件化的形成。一些临床研究表明，场所恐惧症患者常伴有惊恐发作。然而，有专家认为最初一次惊恐发作是场所恐惧症起病的必备条件，因而认为场所恐惧症是惊恐发作发展的后果，应归入惊恐障碍这一类别。

以下哪项如果为真，最能**质疑**上述专家观点？

- A. 场所恐惧症病程常有波动，许多患者可能短期好转甚至缓解
- B. 场所恐惧症可能与遗传有关，且与惊恐障碍存在一定联系
- C. 研究发现场所恐惧症起病多在 40 多岁，且病程趋向慢性
- D. 研究发现约 23% 患者的场所恐惧出现于惊恐发作以前

80. 某研究团队让两批测试者分别进入睡眠实验室里睡上一夜，第一批被安排睡得很晚，从而减少总睡眠时间；第二批被安排睡得较早，但在睡眠过程中多次被吵醒。第二晚过后，结果就已经显现：第二批测试者的积极情绪受到严重影响。他们的精力水平较低，同情心和友善度等积极情绪指数有所下滑。部分研究者据此认为，被吵醒导致了测试者无法得到足够的慢波睡眠，而慢波睡眠是恢复精力感的关键，但也有研究者对此项研究的可信度提出质疑。

以下哪项如果为真，最能**反驳**质疑者？

- A. 第一批测试者积极情绪的指数下滑程度不太明显
- B. 第二批测试者中大部分人长期以来情绪不够积极
- C. 两批测试者的健康状况和心理素质原本就很接近
- D. 两批测试者在参与睡眠实验前精力水平参差不齐

81. 东亚人看起来更谦虚，但心理学研究表明，和接受其他文化熏陶的人相比，他们也一样充满骄傲和自信。某研究团队招募了 40 名志愿者参与研究，其中一半来自东亚国家，剩下的来自西方国家。他们向这些志愿者展示大量正面和负面的词语，并询问他们哪些形容词适合自己。结果，志愿者们无论有什么样的文化背景，他们都倾向于用更多正面的形容词来描述自己，认为一些较为负面的特征不适合自己的。研究者认为，这表明参与测试的人无论具有何种文化背景，他们同样都有美化自己的动机。

以下哪项如果为真，最能**削弱**上述论证？

- A. 东亚人习惯负面评价自己，而西方人往往对自己的能力言过其实
- B. 当志愿者被要求用正面词汇形容自己时，他们的反应都是一样的
- C. 东亚人谦逊只是一种文化惯例，他们有着和西方人一样的自尊心
- D. 研究发现，无论来自何种文化背景，志愿者们的脑电波都很相似

82. 如果央行允许人民币继续贬值，那么市场对于人民币贬值的预期就容易强化。如果市场形成较强的人民币贬值预期，大量的资金就会流出我国。资金流出我国，不仅会强化这

种人民币的贬值预期，导致更多的资金流出我国，而且可能会导致我国资产价格全面下跌，继而可能引爆金融市场的区域性风险及系统性风险，这些都是我们不愿意看到且不允许出现的情况。

由此可以推出：

- A. 货币持续贬值会导致资产全面下跌
- B. 资金流失严重会出现货币贬值预期
- C. 央行不会允许人民币继续贬值
- D. 我国将重点着手干预资金外流

83. 我国在西南地区进行的页岩气勘探获得重大成果，估算天然气资源量达千亿立方米，这是我国首次在四川盆地以外的南方复杂构造区取得页岩气勘探的重大突破。有专家称该地有望成为新的工业气田，可以满足上千万居民的生活和工农业发展的用气需求，促进经济发展。

该专家观点成立的假设前提是：

- A. 南方复杂的地质构造有利于天然气生成
- B. 凡是勘探到的天然气都能顺利开采出来
- C. 我国目前天然气产量无法满足实际需求
- D. 天然气作为清洁能源是促进经济发展的重要动力

84. 月球潮汐力与地球上的地震、海啸、火山爆发等自然灾害存在明显相关性的说法是可疑的，因为每年自然灾害很多，而“超级月亮”每14个月才一次，即便考虑月球经过近地点，每个月也只有一次。部分学者会找出一些和“超级月亮”出现时间相隔不远的灾害来论证，这显然缺乏证据支撑，也忽略了大量事例，比如月球在远地点前后发生的灾害。基于大量关于地震和月球关系数据的研究表明，地震发生频率和月球经过近地点没有统计上的相关性，因此说月球潮汐力会引发地震显然缺乏可靠证据。

由此可以推出：

- A. 月球潮汐力与月球在远地点前后发生的地震具有相关性
- B. 月球潮汐力与月球经过近地点发生的地震具有因果关系
- C. 月球潮汐力与地震之间的关系需要在时间和空间上综合分析
- D. 地震触发机制有多种因素，但月球潮汐力的作用效果较明显

85. 色素主要为花色甙等酚类物质，它们的颜色构成了葡萄酒的色泽，并且给葡萄酒带来了它们自身的香气和细腻口感。陈年葡萄酒中的颜色主要来源于单宁。单宁除了给酒的色泽作出贡献外，还能作用于口腔产生一种苦涩感，从而促进人们的食欲。单宁含量过高，苦涩味重且酒质粗糙；含量过低则酒体软弱而淡薄。此外，单宁还能掩盖酸味，所以红葡萄酒由于含有丰富的单宁，其酸味明显小于白葡萄酒。

由此可以推出：

- A. 陈年葡萄酒会促进食欲，色泽来源于单宁
- B. 苦涩味重且酒质粗糙的酒必含有过多单宁
- C. 酒体软弱而淡薄的酒中单宁含量必然过低
- D. 单宁能影响酒的色泽和饮者的味觉及食欲

※※※ 第三部分结束，请继续做第四部分！ ※※※



第四部分 常识判断

(共 20 题, 参考时限 15 分钟)

根据题目要求, 在四个选项中选出一个最恰当的答案。

请开始答题:

86. 中国共产党第十九届中央委员会第二次全体会议于 2018 年 1 月 18 日至 19 日在北京召开, 会议的主要议程是:

- A. 研究制定国民经济发展计划
- B. 研究全面从严治党的重大问题
- C. 讨论修改宪法部分内容的建议
- D. 研究党和政府机构改革的重大问题

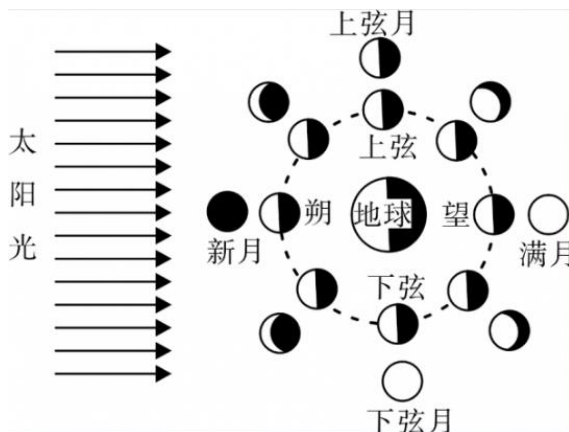
87. 古代许多人既有“名”又有“字”, 表字和本名的意义有联系。下列古代名人的表字和本名意义相近、互为辅助的是:

- A. 孟轲, 字子舆
- B. 朱熹, 字元晦
- C. 李白, 字太白
- D. 陆机, 字士衡

88. 下列教育家与其名言对应**不正确**的是:

- A. 孔子: “性相近也, 习相远也”
- B. 孟子: “尽信书, 则不如无书”
- C. 墨子: “道之所存, 师之所存”
- D. 荀子: “骐骥一跃, 不能十步; 驽马十驾, 功在不舍”

89. “人有悲欢离合, 月有阴晴圆缺”, 圆缺就是指“月相变化”, 即地球上看到月球被太阳照亮部分的称呼。右图所示“上弦月”大致的农历日期是:



- A. 初一、初二
B. 初七、初八
C. 十五、十六
D. 廿二、廿三

90. 下列关于我国城镇职工基本医疗保险（简称职工医保）的说法正确的是：

- A. 灵活就业人群不属于职工医保的覆盖范围
B. 退休职工满足一定条件可以不缴纳保险费
C. 用人单位缴纳的保险费不进入职工的个人账户
D. 职工医保是社会保险中的一种，不是强制保险

91. 面包制作过程中使用酵母主要是利用其哪一种特性？

- A. 酵母在生长过程中可合成蛋白
B. 酵母在生长过程中可分解淀粉
C. 酵母在生长过程中可产生乙醇
D. 酵母在生长过程中可产生二氧化碳

92. 通常情况下，使用高压锅可以大大缩短食物的烹煮时间，节约能源。下列对其所用物理原理解释正确的是：

- A. 锅内蒸汽的压强增大，导致水的沸点降低
B. 锅内水的沸点降低，导致蒸汽的压强增大
C. 锅内蒸汽的压强增大，导致水的沸点升高
D. 锅内水的沸点升高，导致蒸汽的压强增大

93. 下列现象的物理解释**错误**的是：

- A. 露珠呈球状——液体表面张力
B. 铁轨铺在枕木上——减少压强
C. 道路转弯镜——凸透镜对光发散
D. 微波炉烤面包——涡流感应加热

94. 下列四个节气所表示的含义**错误**的是：

- A. 处暑：炎热夏季即将到来
B. 惊蛰：天气回暖，春雷始鸣
C. 冬至：冬季最寒冷的日子开始
D. 小满：夏熟作物籽粒开始灌浆饱满但未成熟

95. 北回归线**没有**穿越下列哪一著名建筑所在的国家：



96. 下列古诗中涉及的历史事件，按先后顺序排列正确的是：

- ①千寻铁锁沉江底，一片降幡出石头
- ②剑外忽传收蓟北，初闻涕泪满衣裳
- ③千载琵琶作胡语，分明怨恨曲中论
- ④江东子弟多才俊，卷土重来未可知

- A. ①③④②
- B. ③④①②
- C. ②③④①
- D. ④③①②

97. 下列哪一成语的典故不是来自真实历史事件：

- A. 暗度陈仓
- B. 草木皆兵
- C. 逼上梁山
- D. 乐不思蜀

98. 下列我国古代绘画理论名句所表达的美学理念与其他三项**不同**的是：

- A. 到处云山是我师
- B. 搜尽奇峰打草稿
- C. 论画以形似，见与儿童邻
- D. 吾师心，心师目，目师华山

99. 下列著作与作者对应**不正确**的是：

- A. 《上帝之城》——奥古斯丁
- B. 《人性论》——萨特
- C. 《正义论》——罗尔斯
- D. 《理想国》——柏拉图

100. 下列药物**不适用**于清热利咽的是：

- A. 胖大海
- B. 板蓝根
- C. 片仔癀
- D. 珍珠粉

101. 下列选项**不属于**航空航天中货运飞船主要任务的是：

- A. 货运飞船发射升空完成后，会与空间站自动或人工交会对接
- B. 货运飞船进行空间站实验和技术试验，将获取的研究数据回传
- C. 货运飞船为空间站补加推进剂以及空气，带来饮水、食物等补给物资
- D. 货运飞船可充当空间站的“垃圾桶”，将站内废弃物品搬运至货运飞船

102. 下列关于我国金融常识的说法正确的是：

- A. 国债、股票、公司债券的投资风险依次递增
- B. 理财产品合同中的预期收益率是理财产品实际到期收益率
- C. 公众兑换票面残缺的人民币，要到中国人民银行指定的商业银行网点
- D. 自然人之间借贷如未约定利息，出借人欲主张支付利息，法院不予支持

103. “21 世纪金属”具有较高的强度、良好的抗氧化性和优异的耐腐蚀性，对人体无毒且无不良反应，被称为“亲生物金属”，可作为人造骨材料。下列关于“21 世纪金属”的说法正确的是：

- A. “21 世纪金属”是指钛和钛合金
- B. “21 世纪金属”只运用于航空航天领域
- C. “21 世纪金属”是一种新型石墨烯材料

D. “21 世纪金属”是 21 世纪发现的一种金属元素

104. 下列关于生活医学常识的说法错误的是：

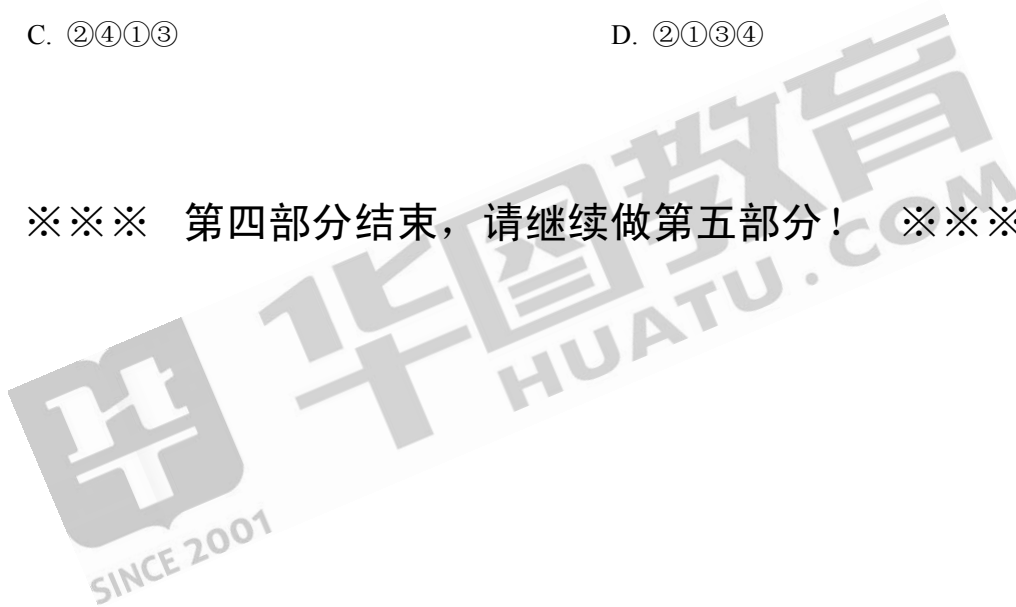
- A. 生理盐水的浓度是 9%
- B. 医用消毒酒精的浓度是 75%
- C. 儿童缺锌会导致生长发育迟缓，抵抗力差
- D. 剧烈运动后感觉全身酸痛是因为肌肉中生成了乳酸

105. 下列事件按时间先后顺序排列正确的是：

- ①中国女排获得里约奥运会女排比赛冠军
- ②中国（上海）自由贸易实验区正式设立
- ③第九届金砖国家领导人会晤在厦门举行
- ④我国举行纪念中国人民抗日战争暨世界反法西斯战争胜利 70 周年阅兵式

- A. ②③①④
- B. ④①②③
- C. ②④①③
- D. ②①③④

※※※ 第四部分结束，请继续做第五部分！ ※※※



第五部分 资料分析

(共15题, 参考时限15分钟)

所给出的图、表、文字或综合性资料均有若干个问题要你回答。你应根据资料提供的信息进行分析、比较、计算和判断处理。

请开始答题:

一、根据以下资料, 回答106~110题。

2017年上半年, 全国居民人均可支配收入12932元, 比上年同期名义增长8.8%, 其中, 城镇居民人均可支配收入18322元, 增长8.1% (以下如无特别说明, 均为同比名义增长); 农村居民人均可支配收入6562元, 增长8.5%。

按收入来源分, 2017年上半年, 全国居民人均工资性收入7435元, 增长8.6%, 占全国居民人均可支配收入的比重为57.5%; 人均经营净收入2117元, 增长5.9%, 占全国居民人均可支配收入的比重为16.4%; 人均财产净收入1056元, 增长9.6%, 占全国居民人均可支配收入的比重为8.2%; 人均转移净收入2324元, 增长11.9%, 占全国居民人均可支配收入的比重为18.0%。

2017年上半年全国消费支出主要数据

指标	水平(元)	增长率(%)
全国居民人均消费支出	8834	7.6
按消费类别分:		
食品烟酒	2678	5.6
衣着	668	2.4
居住	1919	8.3
生活用品及服务	535	6.5
交通通信	1211	9.6
教育文化娱乐	869	10
医疗保健	718	11.9
其他用品和服务	236	11.9

106. 2016年上半年, 城镇居民人均可支配收入约为多少万元?

- A. 1.4
- B. 1.7
- C. 2.1
- D. 2.3

107. 2016年上半年, 全国居民人均工资性收入占全国居民人均可支配收入的比重约为:

- A. 53.6%
- B. 57.6%
- C. 60.6%
- D. 63.6%

108. 2017年上半年，人均财产净收入比上年增加多少元？

- A. 92
- B. 102
- C. 112
- D. 122

109. 2017年上半年，全国居民消费支出主要数据按消费类别分，其指标的增长率超过全国居民人均消费支出水平增长率的有几个？

- A. 4
- B. 5
- C. 6
- D. 7

110. 关于2017年上半年全国居民收入和消费支出主要数据情况，下列说法正确的是：

- A. 生活用品及服务消费支出水平不足交通通信消费支出水平的二分之一
- B. 城镇居民人均可支配收入超过农村居民人均可支配收入的3倍
- C. 人均财产净收入同比增长率低于人均经营净收入同比增长率
- D. 居住消费支出同比增长率高于医疗保健消费支出同比增长率

二、根据以下资料，回答111~115题。

2017年第一季度，某省农林牧渔业增加值361.78亿元，比上年同期增长5.9%，高于上年同期0.2个百分点。具体情况如下：

该省种植业增加值119.21亿元，比上年同期增长8.2%，其中蔬菜种植面积358.80万亩，比上年同期增加18.23万亩，蔬菜产量471.42万吨，增长7.5%；茶叶种植面积679.53万亩，比上年同期增加19.79万亩，茶叶产量2.30万吨，增长19.4%。

该省林业增加值34.84亿元，比上年同期增长8.3%。

该省畜牧业增加值176.64亿元，比上年同期增长4.2%，增速比上年同期加快2.1个百分点。其中生猪存栏增速由上年同期的下降9.8%转为增长3.1%，出栏增速由上年同期的下降3.2%转为增长3.3%；猪牛羊禽肉产量67.80万吨，比上年同期增长3.1%；禽蛋产量5.33万吨，增长1.0%；牛奶产量1.40万吨，增长6.1%。

该省渔业增加值9.22亿元，比上年同期增长4.5%。全省水产品产量7.68万吨，比上年同期增长4.7%，其中，养殖水产品产量7.3万吨，增长4.7%。

该省农林牧渔服务业增加值21.87亿元，比上年同期增长3.8%。

111. 2015年第一季度，该省农林牧渔业增加值与下列哪一项最为接近？

- A. 320亿元
- B. 340亿元
- C. 360亿元
- D. 380亿元

112. 2016年第一季度，该省平均每亩蔬菜种植地产出蔬菜多少吨？

- A. 1.26
- B. 1.29
- C. 1.31
- D. 1.35

113. 2017年第一季度，该省生猪出栏增速比上年同期：

- A. 加快0.1%
- B. 加快6.5%
- C. 加快6.7%
- D. 加快12.9%

114. 2017年第一季度，该省占农林牧渔业增加值比重超过三成的包括：

- A. 种植业、渔业
- B. 林业、畜牧业
- C. 种植业、畜牧业
- D. 农林牧渔服务业、林业

115. 能够从上述资料中推出或计算出的是：

A. 若2017年该省林业增加值每个季度的环比增长率不低于10%，则2017年该省林业增加值将超过150亿元

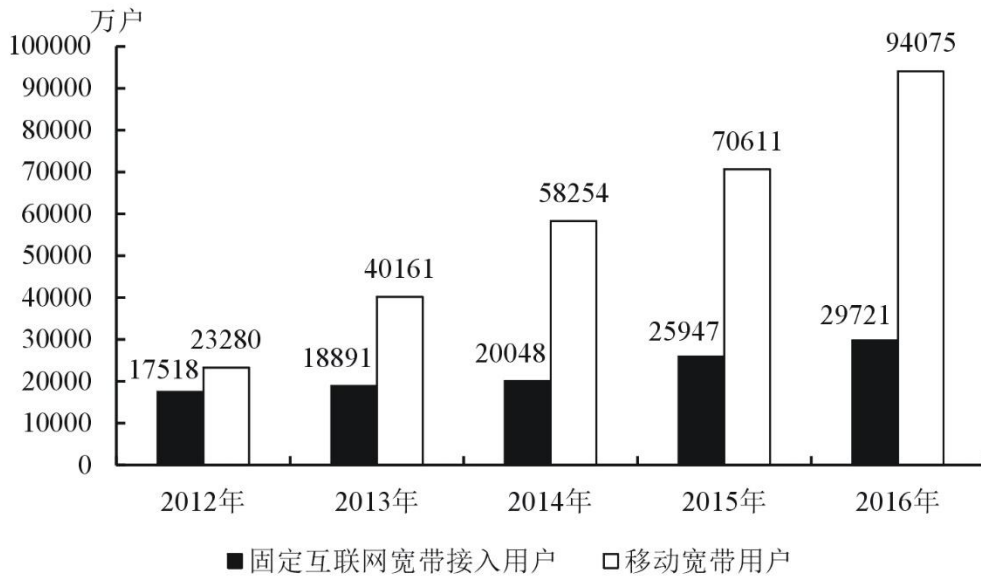
B. 2017年第一季度该省水产品产量中非养殖水产品产量与2016年第一季度持平

C. 2016年第一季度全国农林牧渔业增加值

D. 2017年该省农林牧渔服务业增加值

三、根据以下资料，回答116~120题。

2016年，我国全年完成邮电业务收入总量43344亿元，比上年增长52.7%。其中，邮政业务收入7397亿元，增长45.7%；电信业务总量35948亿元，增长54.2%。邮政业全年完成邮政函件业务36.2亿件，包裹业务0.3亿件，快递业务量312.8亿件；快递业务收入3974亿元。电信业全年新增移动电话交换机容量7318万户，达到218384万户。2016年末全国电话用户总数152856万户（电话包括固定电话和移动电话两种），其中移动电话用户132193万户。移动电话普及率上升至96.2部/百人。固定互联网宽带接入用户29721万户，比上年增长3774万户，其中固定互联网光纤宽带接入用户22766万户，比上年增长7941万户；移动宽带用户94075万户，增加23464万户。移动互联网接入流量93.6亿G，比上年增长123.7%。互联网上网人数7.31亿人，增加4299万人，其中手机上网人数6.95亿人，增加7550万人。互联网普及率达到53.2%，其中农村地区互联网普及率达到33.1%。软件和信息技术服务业完成软件业务收入48511亿元，比上年增长14.9%。



2012~2016年年末固定互联网宽带接入用户和移动宽带用户数

116. 2016年我国快递业务收入占邮电业务收入总量的比重为:

- A. 8.17%
- B. 9.17%
- C. 10.17%
- D. 11.17%

117. 2013~2016年期间, 我国移动宽带用户数同比增长最快的年份是:

- A. 2013年
- B. 2014年
- C. 2015年
- D. 2016年

118. 2012~2016年期间, 我国固定互联网宽带接入用户的平均数是:

- A. 18425万户
- B. 22425万户
- C. 25425万户
- D. 27425万户

119. 2016年末, 全国固定电话用户占电话用户总数的比重为:

- A. 13.52%
- B. 23.52%
- C. 33.52%
- D. 43.52%

120. 关于我国邮电业务情况的说明, 下列说法正确的是:

- A. 2016年我国城市地区互联网普及率已超过一半
- B. 2016年末, 我国使用固定电话的总人数比移动电话的多
- C. 2016年固定互联网宽带接入用户同比增长率高于移动宽带用户增长率
- D. 2015年末, 我国固定互联网光纤宽带接入用户与移动宽带用户的差额低于50000户

※※※

全部测验到此结束!

※※※