

目 录

言语习题.....	2
判断习题.....	23
数资习题.....	39
金融习题.....	60
经济习题.....	74
会计习题.....	88
公基习题.....	101
管理习题.....	118
英语习题.....	135

必
考
图
解
密
码

言语习题

1. 疫情防控期间以大数据为底层技术的健康码,成为人们日常生活和出行的“放心码”;无人机配备北斗高精度定位导航,高效执行喷药消毒、应急物资运输投送任务;全新人工智能诊断技术辅助医生快速、准确判读 CT 影像;宽带网络基础设施和云计算平台,不断吞吐着海量数据,支撑几亿人同上网课……科技竭尽所能帮助人们在与病毒的较量中胜出;与此同时,由应对疫情所催热的在线教育、远程办公等新业态、新模式,将依托人工智能和大数据等新技术进步发展,逐渐成为人们生活中的“常备品”。

这段文字意在()。

- A.探讨科技如何有效匹配民生需求和供给
- B.强调科技成果能够创造出巨大的社会价值
- C.说明科技成果在服务民生、惠及民生等方面的潜力
- D.解释有效发挥科技惠民生作用,重在精准“对接”

【答案】B。本文考查意图判断。从“与此同时”可知,本文为并列结构文段,并列之前主要概述科技在疫情防控期间帮助人们的成果体现,并列之后为疫情中催热的科技成果表现。B项符合,当选。A项未提及科技成果的价值,排除;C项为并列之前的内容,不够全面,排除;D项无中生有,排除。故本题正确答案选B。

2. 当前,由于政府决策、施策的事项纷繁复杂,各类矛盾交织、各种变量融合的情况比比皆是。缺乏数据支撑的决策特别是凭经验做出的决策,往往顾此失彼,科学性、前瞻性不够。政府应借助大数据手段,利用数据关联分析、数学建模、虚拟仿真乃至人工智能等技术,在基于广泛、大量数据的基础上进行模块化分析和政策模拟,为决策提供更为系统、准确、科学的参考依据,为决策实施提供更为全面、可靠的实时跟踪,推动政府决策由过去的经验型、估计型向数据分析型转变,最终实现政府决策机制再造。

这段文字意在强调()。

- A.大数据在政府治理方面应用前景广阔
- B.当前政府决策施策事项问题丛生
- C.以大数据助推政府决策科学化
- D.以大数据助推政务管理精准化

【答案】C。本题考查意图判断。分析文段，结构为“总分总”，重点在于对策，即政府应借助大数据手段，赋能决策。C项符合，当选。AB项并非对策，排除；D项并未提及“政务管理”，排除。故本题正确答案选C。

3. “以数据为关键生产要素、以科技为核心生产工具、以平台生态为主要生产方式的新金融理念正对商业银行的增长方式产生深远影响。商业银行需要通过数字化转型开启“第二发展曲线”。一方面，数字化转型能够快速捕捉市场需求的变化，准确把握经济的短板、企业和个人的痛点，精确分析经济数据和产业动态信息实现精准对接市场。另一方面，借助金融科技力量，打造场景化和智能化的金融产品，使金融服务更好惠及百姓民生，解决社会痛点。同时，数字化转型为商业银行提升风控能力提供了新思维、新模式和新手段，有助于提升智能风控水平。

上述文字意在说明（ ）。

- A. 商业银行有必要进行数字化转型以进一步适应数字经济时代的发展要求
- B. 商业银行开展数字化经营的必由路径
- C. 商业银行经营发展内生增长的需要促使商业银行开展数字化转型
- D. 外部环境变化和数字经济快速发展倒逼商业银行开展数字化转型

【答案】A。本题考查意图判断。分析文段，为“总分”结构，首先概述商业银行需要数字化转型，然后从两方面阐述数字化转型的好处。重点在于首句，主体为“数字化转型”，A项符合，当选，排除BCD项。故本题正确答案选A。

4. 如果科技工作者缺乏应有的科技伦理操守，就容易被资本力量、商业行为所裹挟。比如，一些网上商家滥用个人信息数据，进行差异定价的“大数据杀熟”，使市场伦理、商业伦理受到冲击。再如，滥用信息传播中的“算法”推荐，基于用户的行为数据判定其喜好，“投其所好”推送特定种类信息，制造“信息茧房”效应。又如，基于人工智能的AI换脸“深度伪造”等技术应用，可能威胁公民人身安全和金融安全。诸如此类的新兴技术滥用，突破了伦理边界、道德底线，甚至游走在违法犯罪的边缘。

这段文字意在说明（ ）。

- A. 科技伦理旨在从伦理准则层面关注科技工作者该不该做什么”
- B. 面对日益复杂的科技伦理问题，需要将其规范纳入制度和法律之中
- C. 科技伦理是科技活动必须遵守的价值准则
- D. 有关部门亟须加强科技伦理监管，完善相应的责任追究机制

【答案】B。本题考查意图判断。分析文段，为“总分总”结构。首句首先说明科技工作者需要坚守科技伦理操守，然后举了一系列例子说明，最后说新兴技术滥用突破了伦理边界、道德底线，甚至游走在违法犯罪的边缘。分析可得，文段重点在于对新兴技术滥用的问题，需要通过法律等渠道来进一步规范，B项符合，当选。ACD项都不符合文意，排除。故本题正确答案选B。

5. 经济社会发展演进、社会主要矛盾的变化，需要金融更具适应性、竞争力、普惠性；中国特色社会主义制度优越性的发挥、国家治理体系和治理能力的现代化，需要金融提供助力、主动作为。在传统金融体系中，长期以来对“三农”的金融支持服务还不够，农村、农业、农民的金融服务获得感不明显。传统金融体系受“短期绩效”“资本至上”以及“规模偏好”等观念的影响，对规模小抗风险能力差的中小企业、创业者的金融服务相对不足。建设银行自觉对标习近平总书记重要指示批示精神和党中央决策部署，从服务大局着眼、从解决社会民生“痛点”入手，以新金融探索实践努力提供更有针对性的金融解决方案。

这段文字主要介绍了（ ）。

- A.传统金融体系面临的问题
- B.市场对金融服务的新需求
- C.传统金融体系的新发展
- D.建设新金融的现实背景

【答案】D。本题考查主旨概括。分析文段，前面两句重点围绕金融的作用进行阐述；接着围绕传统金融发展存在的问题进行概述，最后总结建设银行以新金融探索实践努力。因此，本文的重点在于建设银行的新金融探索，故D项符合。ABC项都没有围绕“新金融”这一主体，排除。故本题正确答案选D。

6. 前不久有媒体报道称，某市一位老人乘公交车时因没有智能手机无法扫健康码而被司机拒载，此事引起人们关注。近年来，随着科技的发展，移动支付等服务的出现方便了广大消费者，但也有一些老年人觉得不太适应。在日常生活中，一些老年人因为不会使用智能手机而遇到问题正常现象，不该遭到冷遇和拒绝。现在，一些企业的产品和服务多站在年轻人角度设计。一些厂家商家为了节约人力成本，大规模使用智能服务终端代替人工服务，更让不少老年人感觉无所适从。

对这段文字的主旨概括最准确的是（ ）。

- A.让老年人适应智能化时代，社区、养老院、老年大学等组织和机构大有可为
- B.在推动智能化、信息化应用加快普及的同时，要充分考虑老年人的实际需求

- C.老年人的消费市场空间巨大，企业设计产品和服务时应考虑赢得更多的老年消费者
- D.面对日新月异的智能化时代，年轻人接受能力强，老年人适应能力相对较弱

【答案】B。本题考查主旨概括。分析文段，首先通过事例说明当前老年人关于不会使用智能手机收到的冷遇，然后提出观点“在日常生活中，一些老年人因为不会使用智能手机而遇到问题是正常现象，不该遭到冷遇和拒绝”，最后阐释观点的理由。根据本文的论述的主体是“老年人”，B项为正确项，当选。A项文中并没有提及“社区、养老院、老年大学”等组织和机构，排除；CD项曲解文意，排除。故本题正确答案选B。

7. 中科院博士做起知识分享博主，获得百万粉丝；互联网营销师用“网络带货”对接供需两端，成为新网…从被认为“不务正业”到获得社会认可，人们的职业选择更加灵活，就业空间更加广阔。一位从事互联网营销的年轻人说，体验了直播带货后，家人朋友都觉得他的职业有前途。从国家到社会，再到身边人，这些认可将坚定更多年轻人的就业信心，激发蓬勃的创业活力。

上述文字表达的主要意思是（ ）。

- A.新旧职业更迭中体现了社会发展活力
- B.新职业涌现体现着更包容的职业观
- C.随着时代发展，新职业层出不穷
- D.新职业成为时代变迁的印记

【答案】A。本题考查主旨概括。分析文段，结构为“分-总-分”，重点在于“人们的职业选择更加灵活，就业空间更加广阔”，A项符合，当选。B项“包容”文段并未提及，排除；CD项不符合文意，排除。故本题正确答案选A。

8. 近年来VR、AR、5G等数字技术在文旅产业被广泛使用，诞生了诸如虚拟现实景区、虚拟现实娱乐、数字博物馆等全新的文旅业态。随着数字技术进一步深入渗透，数字化将推动形成数字文旅新生态和数字化新型供应链，从而变革文旅产业发展的基础设施，改变文旅产业发展的商业模式，提高文旅产业有效供给水平，拓展文旅产业发展新空间。

这段文字主要说明的是（ ）。

- A.要改变文旅产业现状，推动新的商业模式，开拓更大空间，就必须发展数字技术
- B.数字技术是文旅产业的基础设施，需要加大建设力度
- C.数字技术已经改变并将继续推动文旅产业的商业模式和业态的发展
- D.在文旅产业中，有很多场景可以应用数字技术

【答案】C。文段前半段属于背景铺垫，指出数字技术在文旅产业的应用，接下来通过“从而”引出文段重点，阐述数字技术对于文旅产业商业模式的影响，C选项为重点句的同义替换。答案为C。A项，文段并没有说改变文旅产业的现状必须发展数字技术，而是说数字技术推动文旅产业的发展。B项“需要加大力度”无中生有。D项，“很多场景”是首句中的举例，排除。故本题正确答案选C。

9. 由于各个国家发展过程中的传统、文化等因素的差异性，国民幸福指数应当具有国家特色。指标体系要全面，构建该指标体系不仅要包括人类发展指数所反映的内容（人均GDP、预期寿命、教育成就），同时也应该把政府治理、环境适宜度、安全感、社会资本、收入分配等衡量发展的重要指标纳入其中。

从这段文字中可以推知以下正确的是（ ）。

- A.各个国家对“幸福”的定义是相同的
- B.如果一个国家人均GDP很高，但安全度很低，那么国民幸福指数也不一定很高
- C.每个国家的国民幸福指数是不可比较的
- D.国民幸福指数反映了个人生活的方方面面

【答案】B。“国民幸福指数应当具有国家特色”A选项与文意相悖，排除A。构建该指标体系不仅要包括人类发展指数所反映的内容（人均GDP、预期寿命、教育成就），同时也应该把政府治理、环境适宜度、安全感、社会资本、收入分配等衡量发展的重要指标纳入其中。所以安全度很低，那么国民幸福指数也不一定很高。B项正确。故本题正确答案选B。

10. 当只有一只眼睛可以看到猎物时，这意味着不可能进行立体定位。当两只眼睛都可以看到猎物时，这意味着动物利用了立体感，这使得它们在攻击时可以做出更快的决策。乌贼是已知的第二个可以使用立体视觉来感知距离的无脊椎动物。英国的科学家表明，螳螂也具有双眼深度感知能力，拥有立体视觉。

根据这段文字可以知道（ ）。

- A.螳螂是科学家所知道可以通过立体视觉捕获猎物的第一种无脊椎动物
- B.具有两只以上眼睛的动物能够更快地定位猎物的位置，从而更快地发动准确攻击
- C.要想捕猎物，除非动物具有立体视觉
- D.只有一只眼睛的动物是无法进行立体定位的

【答案】D。A项，文段提到乌贼是第二个，文中提及螳螂是第一个。B项，并非拥有两只眼睛可以发出更快的攻击，而是发出攻击时可以做出更快决策。C项过于绝对，并非只

有了立体视觉才能捕捉动物。D项，由“当只有一只眼睛可以看到猎物时，这意味着不可能进行立体定位”可知，D项符合文意。故本题正确答案选D。

11. 当植物暴露在干旱或有害昆虫、草食动物威胁中时，会表现出表型的改变，比如颜色、气味和形状的变化。它们所散发的挥发性有机化合物（VOCs）也会影响邻近的植物，导致这些植物抗性增强。然而，植物在受到胁迫压力下会发出声音的情况还没有得到充分研究。

基于这段文字，不能推出的项是（ ）。

- A. 有些植物对有害昆虫产生抗性是因为它们受到邻近植物的警告而产生的
- B. 并非所有植物在遭受威胁时都会发出声音用于自保
- C. 植物可以利用视觉与化学信号影响其他动植物的行为
- D. 植物虽然不能移动，但也并非是一个沉默的世界

【答案】C。文段提到“它们所散发的挥发性有机化合物也会影响邻近的植物”，并未提及视觉也会影响其他动植物的行为，无中生有。答案为C。A项，由“它们所散发的挥发性有机化合物（VOCs）也会影响邻近的植物，导致这些植物抗性增强。”可知正确；B项，文段说到“植物在受到胁迫压力下会发出声音的情况还没有得到充分研究”，所以并非所有植物都会发声自保。B项正确；D项，由整个文段可知，植物会进行改变表型，散发气味等活动，因而植物并非是沉默的世界。故本题正确答案选C。

12. 橡皮筋拉伸会发热，缩回后温度会降低，这是因为橡皮筋中的聚合物纤维是随机取向，当其受力拉伸时，纤维就会变成一致有序的取向，这就意味着熵的减少，当放松橡皮筋时，恢复成混乱的纤维排序就意味着更高的熵，也就意味着降温。利用这个原理，研究人员将橡胶、鱼线和镍钛合金等材料经过加捻以“拧麻花”的方式实现制冷，如果该技术能够商业化，将有望替代现在使用空气压缩制冷技术，降低制冷对温室效应的影响。

这段文字中，我们可以推知（ ）。

- A. “拧麻花”制冷方式仍处于理论构想阶段
- B. 只有纤维物质的形变才可以引起环境的温度变化
- C. “拧麻花”制冷方式对电能的消耗更小
- D. 熵增加的过程就是释放热量的过程

【答案】D。由文段中“恢复成混乱的纤维排序就意味着更高的熵，也就意味着降温。”可知熵增加会降温，降温会释放热量。答案为D。文段说到橡皮筋中聚合物纤维受力被拉伸或者缩回，熵会相应的减少或增高，以此发热或降温。但并非所有纤维类物质形变后都会引

起环境温度变化，B 错误。A 项，文段说“如果该技术能够商业化”，说明目前还无法商业化，并非处于理论构想阶段，A 项错误。C 项“对电能的消耗更小”属于无中生有。故本题正确答案选择 D。

13. 下列句子语序排列最连贯的是（ ）。

(1) 不少学校和旅行社还会组织学生参加多种多样的游学项目和夏令营，开阔视野、增长见识。

(2) 开学后，而没出过国的同学则融入不到出国同学的讨论中去，甚至还有被孤立之感，感到难堪。

(3) 关键还是要引导孩子们自强、自立、自信，将积极的愿望和目标内化为好好学习、努力向上的内生动力。

(4) 但这样的机会并不是所有同学都有，有的是因为家里的经济条件不允许，有的则因为家长工作繁忙。

(5) 近年来，随着生活水平的提高和公众对于行万里路的重视，走出国门的学生越来越多。

(6) 对教育者来说，该如何妥善处理好这些学生的心理落差，让孩子意识到没出过国并不丢人。

A. (2) (5) (4) (1) (6) (3)

B. (5) (1) (4) (2) (6) (3)

C. (5) (1) (2) (4) (3) (6)

D. (2) (6) (3) (5) (1) (4)

【答案】B。观察选项，确定首句，(5)属于引出话题，更适合作首句，故排除 A、D。(6)句属于提出问题，紧接着(3)作出回答，(3)应在(6)后，排除 C，B 项正确。故本题正确答案选 B。

14. 下列语句排序最为连贯的一项是（ ）。

(1) 大部分国家在军事上更重视信息化发展。

(2) 目前的卫星导航系统可以实现单兵实时定位，确认每支部队的位置，这对协调部队指挥以及战术运用更加有利。

(3) 因此，发展适合本国需要的导航系统已经成为了大国的战略之一。

(4) 如今早已跨入了信息化时代，任何领域都在逐渐向信息化发展。

(5) 另外，导弹这类精确制导武器，也需要卫星导航系统提供定位，再结合自身的设备不断修正航线，能击中目标。

(6) 正因如此，卫星导航系统变得越来越重要。

- A. (4) (6) (2) (5) (1) (3)
- B. (1) (6) (2) (5) (3) (4)
- C. (4) (1) (6) (2) (5) (3)
- D. (1) (2) (5) (4) (6) (3)

【答案】C。第一步，判定首句。首句存在(4)(1)两种情况，(1)属于补充性描述，不适宜作首句，故排除B、D。第二步，验证选项。(4)(1)两句都提到了“信息化”，话题一致，但A选项中(4)(6)不存在因果关系，排除A。故本题正确答案选择C。

15. 下列语句排序最为连贯的一项是()。

- (1) “斜杠青年”标榜了与传统时代不同的职业观。
- (2) 这种观念一方面激活了个体活力，另一方面也是社会宽容度提升的表现。
- (3) 但真正要成为受到社会认可的“斜杠青年”，却不是那么容易的。
- (4) “斜杠青年”，是多面手、多职业、跨界青年群体的代名词。
- (5) 职业不再是单一、稳定和保守不变的，而是可以在更多的岗位角色之间自由选择。
- (6) 不同角色的共存和转换，势必需要每个个体投入更多时间、精力。

- A. (1) (5) (2) (4) (3) (6)
- B. (1) (4) (5) (2) (6) (3)
- C. (4) (5) (2) (1) (6) (3)
- D. (4) (1) (5) (2) (3) (6)

【答案】D。首先，判定首句。(1)句讲“斜杠青年”的职业观，(4)句提出“斜杠青年”的概念，(4)更适合做首句。排除AB两项。第二步，验证选项。(3)句提出成为社会认可的“斜杠青年”不容易这个问题。(6)句提出对策。应该(3)在(6)前。排除C项。故本题正确答案选D。

16. 下列语句排序最为连贯的一项是()。

- (1) 互联网平台为学生提供免费上网渠道虽是好事，但借机推广网游就有点不厚道。
- (2) 作为市场化的互联网产品，直播平台吸引广大用户无可厚非，但不能背弃基本的市场伦理。
- (3) 未成年人要进行网络学习，先要浏览大量游戏、交友等无关信息。

(4) 据报道, 几家互联网平台利用免费提供的上网课渠道, 向未成年人推广网络游戏。

(5) 既然主动面向未成年人提供网课渠道, 互联网平台就应主动履行主体责任, 对不良信息进行有效屏蔽。

- A. (4) (2) (5) (1) (3)
- B. (2) (3) (1) (4) (5)
- C. (2) (5) (4) (3) (1)
- D. (4) (3) (1) (2) (5)

【答案】D。本题考查语句排序。观察首句, (2) 是针对现象指出问题, (4) 为举例说明问题, 相较而言, (4) 比 (2) 更符合首句特征, 排除 BC 项。观察 (3) 句, 主体为“未成年人”, 与 (4) 话题一致, 故 (4) (3) 相连, 排除 A 项。故本题正确答案选 D。

17. 下列语句排列最为连贯的一项是 ()。

(1) 中经“为政以德”的阐释, 最终成为此后中国传统社会的基本治国方略。

(2) “德主刑辅”始于先秦“明德慎罚”的观念。

(3) 这些思想对于坚持和完善中国特色社会主义制度、推进国家治理体系和治理能力现代化具有重要借鉴意义。

(4) 但仅有德治尚不足以达到国家有效治理的目标, 我国古人找到了另一把“钥匙”, 即法治。

(5) 德主刑辅、以德化人的德治主张, 是中华优秀传统文化的重要内容。

(6) “法者, 治之端也”, “徒善不足以为政, 徒法不能以自行”, 强调了法治的重要地位以及依法而治的重要意义。

- A. (5) (4) (6) (2) (1) (3)
- B. (5) (2) (1) (4) (6) (3)
- C. (2) (1) (4) (6) (3) (5)
- D. (2) (1) (5) (4) (3) (6)

【答案】B。首先, 判定首句。(5) 句先提出“德主刑辅”的主张, (2) 句开始说“德主刑辅的起源”, (5) 句先引入“德主刑辅”这一概念, 应为 (5) 为首句, 排除 CD。其次, 验证选项。(5) (2) 均在讨论“德主刑辅”的概念, 话题一致。故本题正确答案选 B。

18. 如果法律不能成为公民自卫的武器, 他们就没有武器; 如果法律不能保障公民合法的权利不受侵犯, 他们不会有权利; 如果法律总是出乎公民的意料成为威权的“贤内助”,

他们就形同被宣布不配拥有法律，只配拥有宿命；如果执法部门不做出以事实为依据，以法律为准绳的公正审判，_____。

填入划横线部分最恰当的一句是（ ）。

- A.政府的公信力会受到挑战
- B.惩恶扬善的功能就难以实现
- C.社会就不会有公正的立足之地
- D.公民就不会得到安全的保障

【答案】C。本题为语句衔接题，优先结合文段最后一句，如果执法部门不以事实为依据，不进行公平审判，会造成后果是缺乏公正，C项提到没有公正立足之地，符合语境。A项“政府公信力”；B项“惩恶扬善功能”；D项“安全保障”均不是不以事实为依据，不进行公平审判会造成的后果。故本题正确答案选C。

19. _____。传统的扶贫主要是从经济物质上进行。而贫困地区要改变贫穷落后的面貌，既要从经济物质上进行辅助，而贫困地区要改变贫穷落后的面貌，既要从经济上加强扶持，更需要加强智力开发。农耕文明时期的辛勤劳动精神，中华文化典籍中记载的孝敬、懂礼等教义，中国古代名门望族诞生的家风、家训，这些文化财富正是当前许多村落缺失的精神支柱。只有“我想发展、我要发展、我能发展”的自我定位、“我想脱贫、我要脱贫、我能脱贫”的自主意识，在帮扶支持下由精准“扶”贫到精准自我“脱”贫的思想观念转变才能完成“脱”的“任务”。

填入画横线部分最恰当的一项是（ ）。

- A.文化扶贫需要精准扶贫
- B.文化扶贫需要问题导向
- C.文化扶贫需要转变观念
- D.文化扶贫需要突出特色

【答案】C。空格出现在文段首句，作用在于总领全文。下文提到，扶贫不能直视从物质经济上进行帮助，还要加强智力开发。因此需要转变以往的只是进行物质帮扶的扶贫观念，转而物质和智力都重视。因此C项“转变观念”符合语境。答案为C。A项概括不全；B项，“问题导向”以及D项“突出特色”，均非文段强调的内容。故本题正确答案选C。

20. 当前，我国网信领域要求采用自主可控技术，产品，服务，系统的呼声越来越高，这里的“自主可控”强调的就是可控性。自主可控是实现网络安全的前提，换言之，_____。

因此，为了实现网络安全，首先要实现自主可控，再实现传统意义上的安全，最终再结合其他各种安全措施，达到保障网络安全的目标。

填入文段横线部分最恰当的一句是（ ）。

- A.采用自主可控的技术不等于实现了网络安全，但没有采用自主可控的技术一定不安全
- B.目前网络不安全是因为没有采用自主可控的技术
- C.自主可控技术是网络安全的一个充分条件但不是必要条件
- D.采用了自主可控的技术就一定能实现网络安全

【答案】A。文段空格之前说“自主可控是实现网络安全的前提”，因此自主可控只是前提，并不意味着采用自主可控的技术不等于实现了网络安全。由后文“为了实现网络安全，首先要实现自主可控”可知，没有采用自主可控的技术一定不安全，A项正确。B项可以承接上文，但不能启下；C项条件关系使用错误，应为“自主可控技术是网络安全的一个必要条件但不是充分条件”；D项过于绝对。故本题正确答案选A。

21. 许渊冲先生在《朗读者》一书的序言里说，人生最大的乐趣是发现美、创造美，这个乐趣是取之不尽用之不竭的，而美的乐趣来自阅读这些名篇佳作。是的，阅读不仅让人享受美，也是人之所以为文明人的一个根本。人，是这个地球上唯一能够用文字记录自己的生活与智慧，唯一能够通过阅读充盈自己的心灵、丰富自己的精神世界的生物。_____。

填入划线部分最恰当的一句（ ）。

- A.如何回归真正的阅读，让浮躁的心灵有安顿的地方，仍然是我们这个时代的重要课题
- B.一个人的精神发育史就是他的阅读史，一个民族的精神境界也取决于这个民族的阅读水平
- C.通过品读经典培养高尚的心灵，养成知识丰富、道德高尚、情趣健康的性灵，可以让
人生从浮躁走向宁静、从浅陋走向优雅
- D.因比，应该通过电视把那些伟大的思想、最美好的语篇、最优秀的著作介绍给成长中的孩子，给需要精神常养的少年，给需要过精神生活的成年人

【答案】B。本题考查语句衔接题。从文段可知，以许渊冲先生关于人生的感言出发引出文段主题：阅读经典名著的重要性，最后一句指出阅读对于充盈心灵、丰富精神世界的作用。B项与前文话题一致。答案为B。A项“回归阅读”并非前文谈论的重点；C项“浮躁走向宁静、从浅陋走向优雅”无中生有；D项“电视”文段未提。故本题正确答案选B。

22. 文学是人类继语言之后的第二大发明。如果说语言的出现使人类实现了由动物到人的转变，那么文学的发明，则使人类从原始社会的低级阶段上升到文明的高级阶段，从而使

人民的生活发生了质的飞越，文学是一个民族与国家文化传承与创新的基础，因此，_____。

A.在世界文化格局中，每一种文化都有它自己的渊源和特点

B.能够使用和传承自己本民族的文学，不仅是一种文化责任和文化能力，更是一种文化情怀和文化热爱

C.中国文学文化的演变具有非常清晰的传承体系，这正是中华文明与世界其他文明的区别所在

D.正是有了汉字，才有了中国人自己的精神，才有了中国五千年绵延不绝光辉灿烂的文化

【答案】B。首先，分析文段。文段先指出“文学”是人类继“语言”之后的一大发明，并将语言和文学对人类的不同影响进行对比，强调文学对人类的作用，即从低级阶段上升到高级阶段。之后继续讲文学的重要意义，也就是一个民族与国家文化传承和创新的基础，之后通过因此得出结论，所以横线处应呈现文字对文化传承和创新的重要意义。空格在文段尾部，并且前面有表示结论的引导词“因此”，故横线处要填入对前文内容的总结。B项中提及文字对文化继承和创新的重要意义，衔接恰当。答案为B。前文讲到“文学”以及“国家文化的传承与创新”，空格处应与上文内容衔接，A、D两项没有提到“文学”，排除。故本题正确答案选B。

23. 以李鸿章为领袖的洋务运动曾给中国带来富国强兵的希望，而经其手签订的各种丧权辱国条约却让中国陷入半封建半殖民地社会。正因如此，一百多年来，李鸿章头顶变换着救国、误国、卖国三顶帽子。对这样一个复杂的历史人物，只有给其一个更为精准的定位，才能更清晰地解读他的所作所为。而在如何定位上，诸多史学著作或抓小放大，或以偏概全，或就事论事，隔靴搔痒，雾里看花，_____。

填入画横线部分最恰当的一句是（ ）。

A.读者难有尽兴之感

B.有失公允之处颇多

C.真正的佳作甚为罕见

D.难以摘掉这三顶帽子

【答案】B。横线出现在尾句，一方面承接前文，另一方面起到概括总结的作用。文段首句阐述了李鸿章既给中国带来了好的作用，又给中国带来了不好的影响，接着指出李鸿章顶着救国、误国卖国的帽子，随后通过“只有…才…”重在强调要给李鸿章一个更为精准的

定位，尾句“而在如何定位上……依然围绕对李鸿章的‘定位’展开，由‘抓小放大、以偏概全、就事论事、隔靴搔痒、雾里看花’”可知，诸多史学著作对李鸿章的定位是不太客观和公正的，B项“有失公允”中“公”即“公平”，“允”即“恰当”，“有失公允”即评价、定位不当，“颇多”是对史学家们共性问题的概括性表述，当选。文段强调的是史学著作对李鸿章的定位，与A项的“读者”无关，排除；C项，由文段可知“诸多史学著作”对李鸿章的评判均较为片面，故难以称得上佳作，“真正的佳作”与尾句的话题不一致，排除。D项中的“摘掉这三顶帽子”并非作者强调的目的所在，作者希望给予精准定位而非简单地“摘掉帽子”，排除。故本题正确答案选B。

24. 互联网时代的版权保护需要更为灵活包容的政策措施，在保障原创者、版权人利益的同时，也为互联网开放、共享的内生动力预留空间。实际上，从早期在线下制售盗版书、光碟和录音带，到今天在线上点点鼠标、敲敲键盘，就能轻松复制他人智力成果，侵犯版权的困扰由来已久。有些拥有海量用户的媒体平台，自动转载他人新闻作品，既没获得授权也不标明来源。在互联网时代，如何防止“我辛苦种草，你免费放羊”的尴尬又不妨碍开放、共享的互联网精神，如何化解以互动传播为特点的新型传播方式与现有版权制度的冲突，这些都需要更为灵活包容的政策措施。

最适合做这段文字标题的是（ ）。

- A. 版权保护“呼唤”政策支持
- B. 网络版权保护中的“不破不立”
- C. 版权保护要立足网络特性
- D. 网络版权保护形势严峻

【答案】A。本文为总分总结构，文段首句提出了版权保护需要灵活地政策措施，文段接下来指出了版权受损给人带来的危害以及给人带来的困扰，文段尾句又指出了想要化解冲突，就需要灵活的政策。A项强调了版权需要政策支持，答案为A。B、C、D并未提及政策支持，故本题正确答案选A。

25. 为什么上班族在一到下午两点就失去了干活的动力？有研究发现，大脑专注于寻找奖赏，奖赏能带来动力，让人们持续工作。研究者使用fMRI扫描了参与者在三个时间点（上午十点，下午两点，晚上七点）的大脑活动，发现左侧豆状核在上午和晚上的活动最频繁，在午后最为安静。这个区域在奖赏处理和奖赏预期中发挥重要作用。脑部的变化在于大脑对什么时候能预期“奖赏”存在“预测误差”，奖励预期值的低潮在上午和晚上，所以需求奖

赏的动力会更高，人们会更加努力以期望获得奖赏。预期值在中午达到峰值，这时候人们就失去了努力的动力。

下面最适合本文的标题是（ ）。

- A. 预期奖赏不足，我选择偷懒
- B. 为什么一到下午就想偷懒
- C. 预期奖赏影响人们的工作动力
- D. 预期误差导致奖赏预期的差异

【答案】B。标题选择题。文段开篇以问句的形式引出话题，后文都是对这个问题的回答，也就是为什么人一到就失去了干活的动力，B选项属于同义替换。文段说的是奖励预期值低的时候，需求奖赏的动力会更高，人们会更加努力以期望获得奖赏，A选项与原文意思相悖，故排除A。CD都属于后文原因解释的一个部分，不能概括全文。故本题正确答案选B。

26. 引力波的存在打开了人们感知、了解、观察、认知和解释大千世界的更为广袤的空间。如果说，过去人类认识世界只是靠眼耳鼻舌身这些不同的感知窗口，然后靠大脑来合成这些不同感官感知到的事物的全貌，那么，引力波的被检测到就为人们认识世界打开了一扇或几扇大门，让人类能用其他的感知途径来更为全面和深刻地观察世界。

最适合做这段文字标题的是（ ）。

- A. 引力波的存在提供了新的思维视角
- B. 引力波：引力的作用以波动的形式传播
- C. 引力波：开拓人类认知的新世界
- D. 科学家终于探测到引力波

【答案】C。标题选择题。文段首先提出引力波的存在打开了广袤的空间，后文具体解释了引力波具体是如何做到打开新空间的，文段属于“总一分”结构，主旨句是第一句。对应选项C。是引力波的“发现”提供了新的思维视角，而不是引力波的“存在”提供新视角，故排除A。文段是讲引力波的意义，而不是强调科学家发现了引力波，也不是其作用以什么样的形式存在，BD选项无中生有，故排除BD。故本题正确答案选C。

27. 有媒体报道，某社区是一个成立只有3年多的新社区，常住居民3万多人，其中四分之三来自市内外，5.5%的居民来自外省市，对社区缺乏认同感和归属感，更没兴趣参与社区公共事务管理。针对这个问题，该社区将国学融入社区生活，以“耕、读、居、养、礼、

乐”为内容，密集开展“一平米菜园”、太极拳、负离子体验、小剧场等活动，让居民有了沟通交流的平台，邻里矛盾纠纷明显下降，治安环境明显改善。

如果请你给这则报道起个标题，下列选项中适宜的是（ ）。

- A.推广新“六艺”，党员发挥先锋模范作用
- B.政府提供贴心服务，做好社区“好管家”
- C.创新社会治理，撑起群众生活“幸福伞”
- D.普法宣传进万家，探索治安管理专业化

【答案】C。本题考查标题填入题。分析文段，可知C项“创新社会治理”符合“六艺”，撑起群众生活“幸福伞”可从“让居民有了沟通交流的平台，邻里矛盾纠纷明显下降，治安环境明显改善。”了解。A项“党员发挥先锋模范作用”无中生有；B项“政府”主体不对，应为“社区”；D项为众生有。故本题正确答案选C。

28. 中国原始彩陶的大批出现，是从约六千年前的仰韶文化到的三千年前的大汶口文化。从已发现的材料看，黄河流域，长红流域新石器时的彩陶，大体上可以按照区域归为中原地区彩陶，西北地区彩陶和东南沿海地区彩陶三类。这三个区域的彩陶，在器型、纹饰方面都有它的基本相异之处，从器型来看，中原地区多盆形、钵形西北地区多罐形壶形；长江中下游及沿海地区多鼎形、豆形和深腹罐。从纹饰来看，三者虽然都以动物、植物和编织为主，但是在图案的取材变化以及组织等方面有各自的特色，其相异程度是一看便知的。

文章最好的标题是（ ）。

- A.中国陶瓷艺术的初期形态
- B.远古时期的彩陶艺术
- C.彩陶的起源
- D.早期彩陶的地域差异辨析

【答案】D。本题为标题选择题，从文段可知，文段主要实在探讨三个地区的彩陶差异，分别从器型、纹饰方面阐述了它的相异之处，故D正确。A项扩大了话题范围，B、C未论及差异之处，排除。故本题正确答案选D。

29. 行业间频繁的间谍活动是商业竞争时代的典型特征，商业间谍在消费活动中非常盛行，它对亿元的营销活动和产品公布时间的正确与否起着关键作用。市场情报对商家来说极其重要，而情报的获得方式也很多样，一些公司选择雇佣双重间谍的方式，给一些企业带来了不可回的损失。所以目前不可忽视的问题是：合法的研究和不道德的甚至是不合法的间谍活动之间并没有一条明确的界限。

本文的最佳标题可以是（ ）。

- A.双重间谍盛行
- B.市场情报的重要性
- C.企业间的间谍活动
- D.市场竞争的决定因素

【答案】C。A项，双重间谍只是一些公司的选择，是分述部分的内容，不适合作为标题。B项，市场情报对商家很重要，但文段主要论述商业间谍活动，排除。C项，企业间的间谍活动是文段探讨的主体，正确。D项，市场竞争这一因素是间谍活动的原因之一，排除。故本题正确答案选C。

30. 当炫耀式旅游成了目的，扎堆往知名景点挤。也就在意料之中，其实旅游作为一种现代的生活方式，可以有多样化的功能。如果是为了教育，可以带孩子去看名山大川、古城遗迹，帮助他们了解国家的历史和文化传统；如果是为了休闲放松，可以去海边、深山，或者就近选择市郊的农家小院，能短暂逃避尘世喧嚣就好。理性面对旅游目的，寻找合适的度假所在，才是健康的旅游观念，才能更好地享受旅游的快乐。旅游观念转型升级旅游市场分化，人满为患的现象才可能消失，旅行中的快乐亦会更加醇厚。

根据这段文字，旅游观念的“转型升级”指的是（ ）。

- A.实现多样化的功能
- B.赋予旅游实际意义
- C.理性面对旅游目的
- D.享受旅行中的快乐

【答案】C。第一步，定位原文，“转型升级”出现在最后一句。第二步，分析“转型升级”的上下文语境。前文讲“理性面对旅游目的的好处”。后文讲“旅游观念转型升级带来的好处”。由此可知，前后文是并列关系，因此“旅游观念转型升级”对应“理性面对旅游目的”。答案为C。ABD三项均为旅游观念转型升级后带来的意义，可排除。故本题正确答案选择C。

31. 自我意识指的是个体对自己的心理思维及行为活动的内容、过程及结果的自我体验、自我认识自我调节。自我意识一般包括两个方面：一个是主体的我，即对自己身心活动的觉察，比如性格、能力和行为等；另一个是客体的我，即被觉察到的我，是个体在生活中作为客体被自我和他人所认识。自我意识的结构是从自我意识的知、情意二方面分析的，包括自我认识、自我体验和自我调节。自我认识是自我意识的认知成分，它是自我意识的首要成分，

主要包括自我感觉、自我观察、自我分析和自我评价。自我体验是自我意识在情感方面的表现，自尊心、自信心都是自我体验的具体内容。自我调节是自我意识的意志成分，包括自我检查、自我监督、自我控制等。

根据材料，自我意识是指（ ）。

- A.人对主体我和客体我认识的统一体
- B.人对外部世界及对他人和自己的认识
- C.人对思维活动结果的自我体验、自我认识和自我调节
- D.人生而具有的一种区别于动物的意识存在形式

【答案】A。文段提到“自我意识一般包括两个方面：一个是主体的我，另一个是客体的我”A项概括全面，答案为A。B项指的是另一个客体的我。C项，文段提到“自我意识的结构是从自我意识的知、情意二方面分析的，包括自我认识、自我体验和自我调节。”没有提及“思维活动结果。”D项，文段并未提及是否区别于动物。故本题正确答案选A。

32. 婴儿很早就表现出掌握环境的强烈愿望。由于控制动作的技能发展缓慢，所以他们的活动受到了限制。他们还没有足够的本领来支配环境以独立生存。在这个意义上，应该说他们是“不能自立”的。

在这段话中，说婴儿“不能自立”是指（ ）。

- A.他们完全不能够独立生存
- B.他们不能控制自己的动作
- C.他们仅有独立生存的意思
- D.他们没有适应环境的足够本领

【答案】A。结合原文的具体语境进行分析，原文中的表述为“在这个意义上”，因此我们要想了解“不能自立”的含义，必须明确是在哪个意义上得出的以下结论。很显然指靠前一句中的某些成分，事实上就是“他们还没有足够的本领来支配环境以独立生存”，换言之即婴儿完全不能独立地存活，从这个意义上讲不能自立，对应选项A。B项过于绝对，并非不能控制，而是控制动作的技能发展缓慢。故排除B。C项表述不准确，并非由于婴儿仅有独立存活的愿望就说婴儿不能自立，而是由于婴儿不能独立存活，才说其不能自立，故排除C。D项是以偏概全，并非婴儿活动受到他人限制才说婴儿不能自立，而是没有足够的本领独立生存才得出“不能自立”的观点，故排除D。故本题正确答案选A。

33. 人们为保护海龟采取了一系列措施，例如使用全球定位系统追踪他们的行踪、志愿者主动把孵化的幼龟送到海边、政府出面保护海龟的产卵场等。研究人员使用卫星设施跟踪

海龟的迁徙情况，试图弄清这些海龟常常穿越广阔海域洄游数千公里的原因，以让保护海龟措施的制定更加科学。这类定位跟踪研究能更清晰地认识海龟的活动规律，例如海龟在产卵期要产五六窝卵，每产一窝卵需要回到海中休息半个月，一旦知道海龟在产卵间隙回到海洋休息的活动范围，就可以确切地知道保护区范围应该有多大才合适；又如海龟产完卵后会去哪里？会走一条什么样路线？这些研究成果会让我们更明确应在哪些区域保护海龟。但是自然对人类公平的理念却漠不关心。实际上，如果没有额外的保护，海龟很有可能会永远消失。

结合上下文，对“自然对人类公平的理念漠不关心”这句话理解最精准的是（ ）。

- A.人类的干涉不会改变自然进程
- B.海龟的数量仍在不断减少
- C.海龟的现状不会因人类的保护而发生任何变化
- D.海龟的生存方式与人类无关

【答案】B。词句理解题。题干中的话定位于文段的倒数第二句，依据就近原则和符合逻辑关系，最后一句开头是实际上，显然是对前一句的承接，也就是补充，意思是没有保护的话，海龟都有可能消失，说明保护有些用，但数量依旧减少，排除AC项。D项表述绝对，排除，故本题正确答案选B。

34. 学习乐器依赖于对抽象概念（比如节奏）的理解，这种能力对于学好数学非常重要。但是数学与音乐之间确切地关系我们仍不得而知。以往有的研究将乐器训练与数学成绩关联起来，但是这种关系被高度质疑。比如，虽然与没学过音乐的学生相比，受过音乐训练的人有更高的数学成绩，但是并不是所有的研究都能找到二者之间的联系。并且研究也没排除其他干扰因素的影响：比如社会经济背景、动力、教育、家长参与等等。当然也有可能是其他认知因素影响了个体在音乐与数学的成就。有研究表明，二者之间的关联可能是由高级认知处理能力造成的。比如执行能力可以让人们适应不断变化的任务需求，是学术成就的强有力的预测手段，甚至比智力水平发挥的用处还大。而乐器学习能不断增强这种能力，比如根据不断变换的节拍与音符来改变动作。

上述材料中提到的高级认知处理能力是指（ ）。

- A.领导能力
- B.执行能力
- C.统筹能力
- D.变化能力

【答案】B。词句理解题。高级认知处理出现在倒数第二句，接着有“比如”的举例子提示词，说明是对前文的解释，后面均为“执行能力”的解释，提到“执行能力可以让人们适应不断变化的任务需求，是学术成就的强有力的预测手段，甚至比智力水平发挥的用处还大”，所以高级认知处理能力是指执行能力，答案为B。ACD在解释内容中都没有体现。故本题正确答案选B。

35. 填入括号中的词语最恰当的项是（ ）。

(1) 为了发现有创意的作品，出版社决定面向全国发出征文（ ），没想到短短的一个星期，就收到了几百份稿件。

(2) 没有确切的理由表明九零后就没有担当，恰恰相反，我们要敢于（ ）有能力、有胆略的人，而不能局限于他是哪一代的人。

- A. 启事 起用
- B. 启示 起用
- C. 启事 启用
- D. 启示 启用

【答案】A。第一空，启示是指对一些事和思想提醒或是提出注意以及指明发展方向和客观规律，有启发提示的意思；启事是指公开一些事情或事实，有向外界发布说明事情的意思。文段是发出征文的通知，与启发无关，故排除“启示”，排除B、D。第二空“起用”与“启用”都是动词，但是它们的意思和涉及的对象不同。起用意为“重新任用已辞职或免职的官员或提拔使用”，它的涉及主要对象是“人”。启用意为“开始使用”，它涉及的主要对象是“物”。故本题正确答案选A。

36. 填入括号中最恰当的一组词语是（ ）。

新冠疫情在全球传播蔓延，我国向国际社会提供力所能及的帮助，这种行为源于中国人民的（ ），源于对其他国家人民遭受疫情苦难的（ ），源于大国的责任和担当，绝非输出中国模式，更不是为谋求所谓的政治利益。

- A. 拳拳之心 感同身受
- B. 古道热肠 感同身受
- C. 古道热肠 情深意浓
- D. 拳拳之心 情深意浓

【答案】B。本题考查成语辨析。观察第一空，搭配的对象是中国人民的行为，AD项“拳拳之心”指赤诚、挚爱、勤勉、忠谨之初心，搭配的对象不符合。BC项“古道热肠”

意思是指待人真诚、热情，符合；观察第二空，C项“情浓意浓”是指情意浓厚，不符合；B项“感同身受”原指感激的心情如同亲身受到对方的恩惠一样（多用来代替别人表示谢意），现多指虽未亲身经历，但感受就同亲身经历过一样。符合原文意思，当选。故本题正确答案选B。

37. 填入括号处最恰当的一组词语是（ ）。

（1）就目前而言，进行详尽的市场调查，认清不同客户群体对产品功能的需求有何不同，有助于研发部门（ ）地对产品进行统一调整和优化。

（2）正是由于已经暴露的问题，公司管理层才要慎重考虑如何彻底整治，公司要做（ ）的事情，而不是头痛医头脚痛医脚。

- A.因地制宜 正本清源
- B.有的放矢 追本溯源
- C.有的放矢 正本清源
- D.因地制宜 追本溯源

【答案】C。第一空，文段提到针对客户不同的需求，研发部门可以有针对性的调整产品，“有的放矢”比喻说话做事有目的性，有针对性。符合语境，排除AD。第二空，“而”表示转折，转折后指出“头痛医通脚痛医脚”，侧重未能解决根本问题，空格应体现解决根本问题之意，“正本清源”是指从根本上加以整顿清理，符合语境。“追本溯源”指追究事物产生的根源，文段不是在寻找根源，而是侧重解决问题。故本题正确答案选C。

38. 填入括号中最恰当的词语是（ ）。

行走在路上，我的目光被橱窗内的摆设吸引住了，从外表看起来，这不过是一家普通的文印店，但店内摆设却是（ ），店主（ ），用废纸加上各种颜色，彼此搭配，做成人、树和房子等各种形状，透着轻松活泼的气氛。

- A.与众不同 独树一帜
- B.与众不同 别出心裁
- C.富丽堂皇 别出心裁
- D.富丽堂皇 独树一帜

【答案】A。第一空，空格位于“但”之后，但之前提到文具店很普通，转折后应为文具店并不普通，跟其他店铺不同，应为“与众不同”，“富丽堂皇”形容建筑物宏伟豪华。也形容诗文词藻华丽。而文段并无建筑宏伟或词藻华丽之意，排除C、D两项。第二空，“独树一帜”比喻与众不同，自成一派。“别出心裁”意思是表示与众不同的新观念或办法。用

来形容诗文、美术、建筑等的构思设想独具一格，与众不同。文段指店家自成一派，跟别人家都不一样，并非形容诗文、美术或建筑，排除 B 项。故本题正确答案选择 A。

39. 填入括号中最恰当的词语是（ ）。

(1) 洪峰未过，大坝岌岌可危，如何保证下游民众安全已经迫在眉睫，（ ）是将洪水引入废置的水库，转移下游民众。

(2) 民族主义在现代国家形成过程中起到了非常重要的作用，但对它与全球化的关系，与会专家（ ），莫衷一是。

- A. 万全之策 各执一端
- B. 万全之策 分道扬镳
- C. 当务之急 分道扬镳
- D. 当务之急 各执一端

【答案】D。第一空，由文段中“迫在眉睫”可知情况十分紧急，因此第一空应体现出“紧急”的含义，应为“当务之急”。“万全之策”意思是极其周到的计谋、办法。没有“紧急”的含义，排除 AB 两项。第二空，空格所填词语与“莫衷一是”表示并列，“莫衷一是”指各有各的意见、说法，不能得出一致的结论。“分道扬镳”意思是分路而行。比喻目标不同，各走各的路或各干各的事。文段是说意见不一致，而非行动。而“各执一端”指各自坚持各自的观点或道理。应为“各执一端”。排除 C 项。故本题正确答案选择 D。

40. 填入括号中的词语最恰当的一项是（ ）。

(1) 利用现代建筑科技，历史悠久的老城区得到了维护，整体（ ）。

(2) 行驶在这条横穿草原的天路上，我们（ ）能见到几处羊群，如同漂浮在绿色天空上的白云。

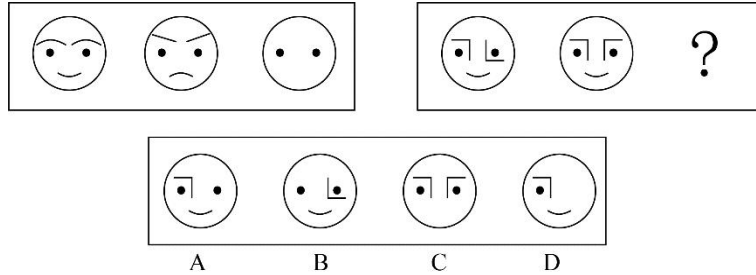
- A. 焕然一新 偶然
- B. 耳目一新 偶然
- C. 耳目一新 偶尔
- D. 焕然一新 偶尔

【答案】D。第一空，耳目一新，意思是听到的、看到的跟以前完全不同，令人感觉到很新鲜。形容事物的面貌有了显著的变化。焕然一新，指改变陈旧的面貌，呈现出崭新的样子。第二空，形容见到羊群的频率，后文提到羊群像天上的白云，说明肯定具有重复性。偶然是一般过去时即形容过去某一时刻不经意的突然发生的一件事。偶尔是一般现在时即在最

近一段时间内同一件事经常会发生，应填入“偶尔”，D项符合，ABC项错误。故本题正确答案选D。

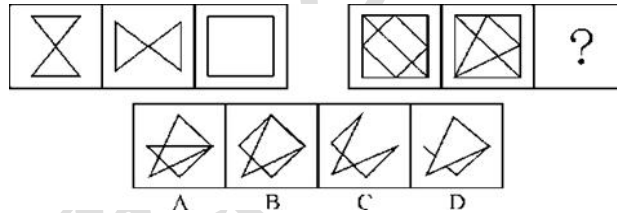
判断习题

1. 从所给的四个选项中，选择最合适的一个填入问号处，使之呈现一定的规律性()。



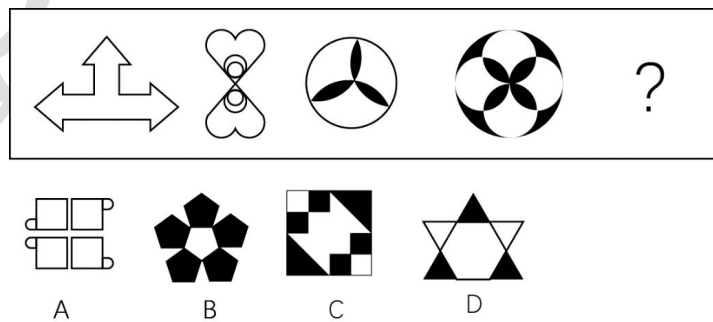
【答案】A。求同。第一段图形的前两个图形求同可得到第三个图，同理，第二段图形求同可知选项A正确；选项BCD均排除。故本题正确答案选A。

2. 从所给的四个选项中，选择最合适的一个填入问号处，使之呈现一定的规律性()。



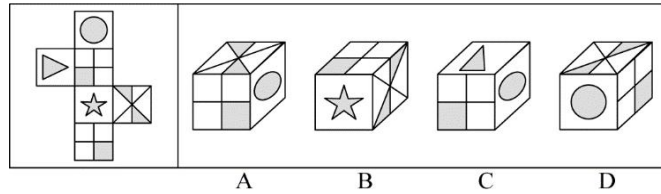
【答案】C。本题考查样式类运算—求异，也就是去掉图形相同的部分，留下不同的部分；显然，右边图形遵循同样的规律后，得到的图形将会如图C所示，故本题正确答案选C。

3. 根据规律填入问号处的图形是()。



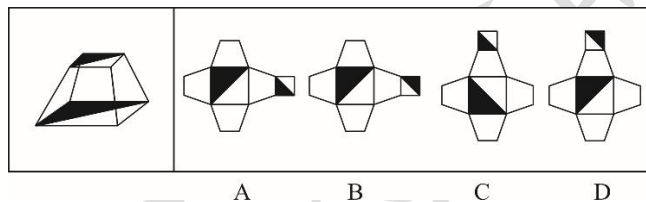
【答案】B。考察对称性，题干中图形均为轴对称，且对称轴数量为1、2、3、4，选择对称轴为5的图形，A选项有一条对称轴，排除，B选项五条对称轴，符合，C选项有两条对称轴，排除，D选项有一条对称轴，排除。故本题正确答案选B。

4. 左边给定的是纸盒的外表面，下列哪一项能有它折叠而成()。



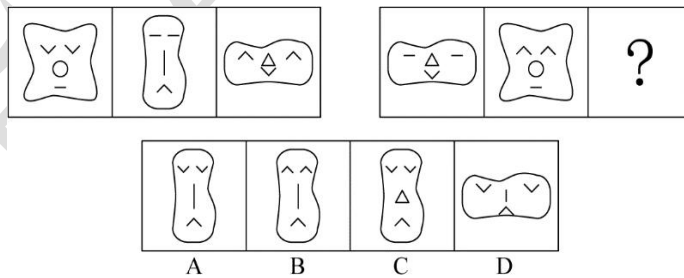
【答案】D。A项若“田”字面为原图面1，其与圆面的公共边为全白，但A项为半黑半白，错误。若“田”字面为原图面2，其与面3的公共边为半黑半白，但A项为全白，错误。故A项排除。B项原图中五角星面和面3之间的公共边与面3中上面的黑色三角形挨着，B项中五角星面和面3的公共边与面3中下面的黑色三角形挨着，因此和题干不符，排除。C项画边法，从三角形顶点边开始在三角形面上顺时针画边，原图三角形面与圆形面的公共边为边4，而C项三角形面与圆形面的公共边为边2，与题干不符，排除。故本题正确答案选D。

5. 右边哪一项能够折叠而成左边图形（ ）。



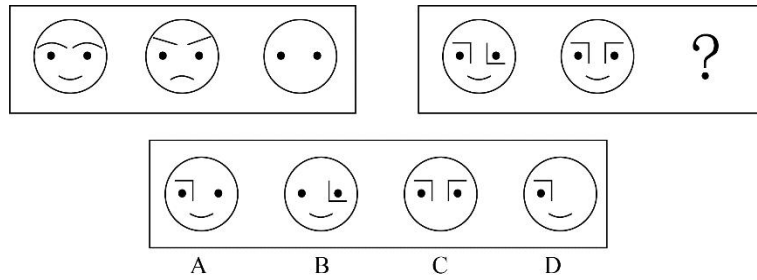
【答案】C。本题考查空间重构。观察题干中的上面图形和底面图形为相邻面，且内部黑色三角形属于平行关系，C选项符合题意。AB选项最右边面内部黑色三角形方向错误，排除；D选项最上面内部黑色三角形方向错误，排除。故本题正确答案选C。

6. 从所给的四个选项中，选择最合适的一个填入问号处，使之呈现一定的规律性（ ）。



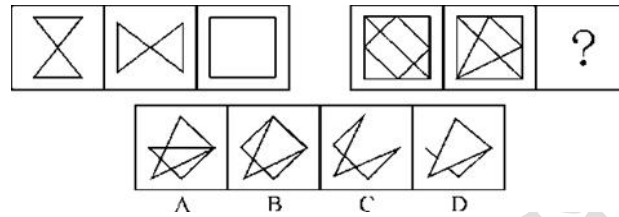
【答案】A。图形组成元素相似，考虑样式类。观察图形每组组成元素的种类和数量相同，排列次序不同。考察遍历，缺啥补啥，根据题干缺一个身材瘦长、眼睛开口方向向上、鼻子竖条，嘴巴开口方向向下，故本题正确答案选A。

7. 从所给的四个选项中，选择最合适的一个填入问号处，使之呈现一定的规律性（ ）。



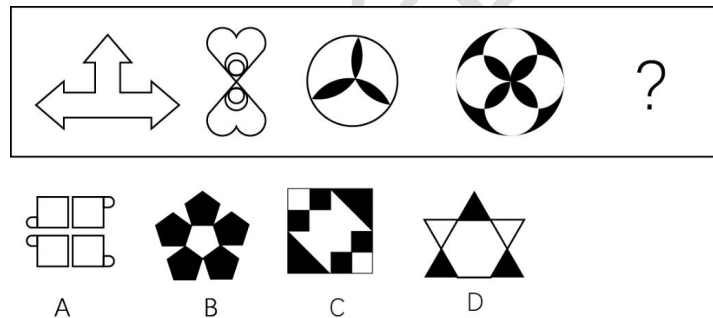
【答案】A。求同。第一段图形的前两个图形求同可得到第三个图，同理，第二段图形求同可知选项 A 正确；选项 BCD 均排除。故本题正确答案选 A。

8. 从所给的四个选项中，选择最合适的一个填入问号处，使之呈现一定的规律性()。



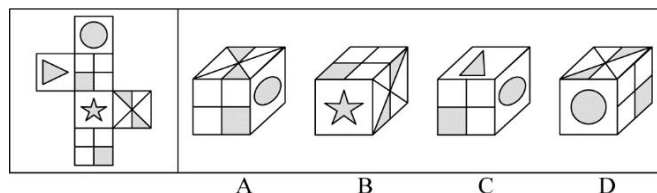
【答案】C。本题考查样式类运算一求异，也就是去掉图形相同的部分，留下不同的部分；显然，右边图形遵循同样的规律后，得到的图形将会如图 C 所示，故本题正确答案选 C。

9. 根据规律填入问号处的图形是()。



【答案】B。考察对称性，题干中图形均为轴对称，且对称轴数量为 1、2、3、4，选择对称轴为 5 的图形，A 选项有一条对称轴，排除，B 选项五条对称轴，符合，C 选项有两条对称轴，排除，D 选项有一条对称轴，排除。故本题正确答案选 B。

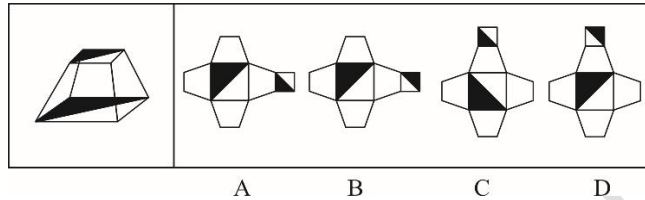
10. 左边给定的是纸盒的外表面，下列哪一项能有它折叠而成()。



【答案】D。A 项若“田”字面为原图面 1，其与圆面的公共边为全白，但 A 项为半黑半白，错误。若“田”字面为原图面 2，其与面 3 的公共边为半黑半白，但 A 项为全白，错误。故 A 项排除。B 项原图中五角星面和面 3 之间的公共边与面 3 中上面的黑色三角形挨

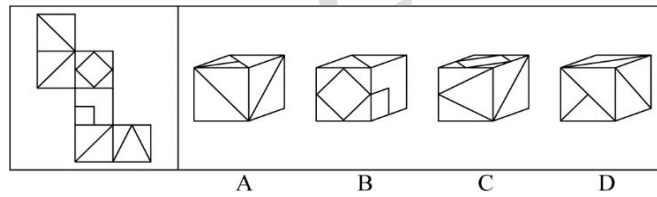
着，B项中五角星面和面3的公共边与面3中下面的黑色三角形挨着，因此和题干不符，排除。C项画边法，从三角形顶点边开始在三角形面上顺时针画边，原图三角形面与圆形面的公共边为边4，而C项三角形面与圆形面的公共边为边2，与题干不符，排除。故本题正确答案选D。

11. 右边哪一项能够折叠而成左边图形（ ）。



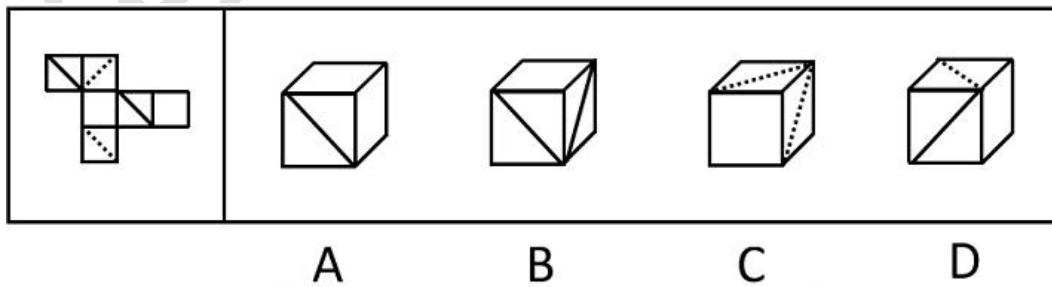
【答案】C。本题考查空间重构。观察题干中的上面图形和底面图形为相邻面，且内部黑色三角形属于平行关系，C选项符合题意。AB选项最右边面内部黑色三角形方向错误，排除；D选项最上面内部黑色三角形方向错误，排除。故本题正确答案选C。

12. 左边给定的是纸盒的外表面，下列哪一项能有它折叠而成（ ）。



【答案】C。图形旋转拼合和可知选项C正确；选项A，正上方图片在平面图形中不存在，可排除；选项B，时针方向错误，可排除；选项D，正前方图片在平面图形中不存在，可排除。故本题正确答案选C。

13. 左边给定的是纸盒的外表面，下列哪一项能有它折叠而成（ ）。



【答案】D。空间重构类，相对面排除；A项，两个空白面是相对面，不可能同时出现，排除；B项，两个斜线面是相对面，不可能同时出现，排除；C项，两个虚线面是相对面，不可能同时出现，排除；故本题正确答案选D。

14. 甲、乙、丙三人中一人是学考古的，一人是学文物保护的，一人是学文博的，已知：

①丙比学文博的年龄大

②甲和学文物保护的不同岁

③学文物保护的比乙年龄小

由此可以推出（ ）。

A.甲是学考古的，乙是学文物保护的，丙是学文博的

B.甲是学文物保护的，乙是学文博的，丙是学考古的

C.甲是学文博的，乙是学考古的，丙是学文物保护的

D.甲是学文博的，乙是学文物保护的，丙是学考古的

【答案】C。题干有明显的信息匹配特征，确定为分析推理。根据①可以知道，丙不是学文博的，排除 A；根据②可以知道，甲不是学文物保护的，排除 B。根据③可以知道，乙不是学文物保护的，排除 D。故本题正确答案选 C。

15. 张三、李四、王五、赵六四人参加歌手大赛第一季，赛前，评委预测他们的名次，A 评委说：“五王第一，张三第三。” B 评委说：“李四第一，赵六第四。” C 评委说：“赵六第二，王五第三。”结果发现，他们都只预测对了一半。由上可知，比赛的名次是（ ）。

A.赵六第一，李四第二，王五第三，张三第四

B.李四第一，赵六第二，张三第三，王五第四

C.张三第一，王五第二，李四第三，赵六第四

D.王五第一，张三第二，赵六第三，李四第四

【答案】B。题干有信息匹配特征，确定为分析推理。题干中无确定的真假信息，选项中信息匹配充分，考虑代入法。将 A 选项带入题干部分，只有 C 评委猜对一半，不符合题意，排除。将 B 选项带入题干部分，符合每位评委均猜对一半，正确。将 C 选项带入题干部分，只有 B 评委猜对一半，不符合题意，排除。将 D 选项带入题干部分，只有 A 评委猜对一半，不符合题意，排除。故本题正确答案选 B。

16. 已知甲乙丙三人的职业各不相同，分别是教练、司机、律师中的一种，当询问他们时，得到了如下回答，甲说：“我和教练不同岁。”乙说：“教练比我的年龄小。”丙说：“我比司机的年龄大。”如果他们所说都是真的，那下列描述中正确的是（ ）。

A.乙的职业是司机

B.甲的职业不是司机

C.乙比甲年龄大

D.丙比甲年龄小

【答案】C。题干有信息匹配特征，确定为分析推理。题干中“教练”被提到的次数最多，可考虑最大信息法进行推理。由甲和教练不同岁，教练比乙的年龄小可知，丙的职业是教练。又因为丙比司机年龄大，丙比乙的年龄小得出：甲是司机，则乙是律师。年龄大小比较为：乙大于丙大于甲。故本题正确答案选C。

17. 小丽、小花和小孙共用一间办公室。办公室的打印机不能用了。小丽说：“打印机不是缺墨了，也不是老旧坏了。”小花说：“打印机不是缺墨，而是传输数据线坏了。”小孙说：“打印机不是传输数据线坏了，而是缺墨了。”已知她们三个人当中，有一个人说对了，有一个人说错了，有一个人只说对了一半。

根据上述情况，以下哪项是真的（ ）。

- A.打印机的电源坏了
- B.打印机的传输数据线坏了
- C.打印机缺墨了
- D.打印机老旧坏了

【答案】C。本题考查分析推理，适合用代入法。A 代入进去小丽全对，小花只对了一半，小孙也对了一半，不符合题意，排除；B 项代入进去小丽全对，小花也全对，不符合题意，排除；C 项代入进去小丽对了一半，小花全错，小孙全对，符合题意；D 项代入进去小丽全错，小花对了一半，小孙也对了一半，不符合题意，排除。C 项正确，当选；ABC 项错误，排除。故本题正确答案选 C。

18. 在升达教育科技有限公司中，财务总监、市场部经理和软件工程师分别是白阳、张力和李强中的某一位。已知：市场部经理是个独生子，钱挣得最少；李强和张力的姐姐结婚了，钱挣得比财务总监多。根据以上陈述，下列对题干中三人的身份断定正确的是（ ）。

- A.白阳是财务总监，李强是软件工程师
- B.李强是软件工程师，张力是财务总监
- C.张力是财务总监，白阳是软件工程师
- D.白阳是市场部经理，李强是财务总监

【答案】B。根据题干，市场部经理钱挣得最少，李强挣得比财务总监多，因此，李强不是市场部经理也不是财务总监，则李强只能是软件工程师。又“市场部经理是个独生子”，而张力有姐姐，则张力不是市场部经理，即张力是财务总监，则白阳是市场部经理。选项中只有 B 项正确，ACD 都错误，故本题正确答案选 B。

19. 宋江、林冲和武松各自买了一辆汽车，分别是宝马、奥迪和陆虎。关于他们购买的 品牌，吴用有如下猜测“宋江选的是陆虎，林冲不会选奥迪，武松选的肯定不是陆虎”，但 是他只猜对了其中一个人的选择，由此可知（ ）。

- A. 宋江选的是奥迪，林冲选的是陆虎，武松选的是宝马
- B. 宋江选的是陆虎，林冲选的是奥迪，武松选的是宝马
- C. 宋江选的是奥迪，林冲选的是宝马，武松选的是陆虎
- D. 宋江选的是宝马，林冲选的是奥迪，武松选的是陆虎

【答案】C。分析推理题型，选项代入法，逐项排除。若 A 为真，吴用的猜测为 2 真 1 假，与题干只有 1 真矛盾，排除；若 B 为真，吴用的猜测为 2 真 1 假，与题干只有 1 真矛盾，排除；若 C 为真，吴用的猜测为 1 真 2 假，与题干一致，正确；若 D 正确，吴用的猜 测为 3 假，与题干只有 1 真矛盾，排除；故本题正确答案选 C。

20. 低碳生活，就是指在生活中要利用低碳的科技创新减少所消耗的能量，特别是二氧 化碳的排放量，从而低碳，减少对大气的污染，减缓生态恶化。主要是从节电、节气和回收 三个环节来改变生活细节。下列选项中不属于低碳生活做法的是（ ）。

- A. 王科新购入了一台新能源汽车，使出行更加环保
- B. 刘芳总是乘坐公共交通工具上班
- C. 王奶奶总是喜欢用用过的饮料瓶子装绿豆、红豆和黄豆
- D. 购物时，李玲总是喜欢用免费的纸袋装东西

【答案】D。本题考查定义判断是非题，题干中的关键信息有：①用低碳的科技创新减 少所消耗的能量，特别是二氧化碳的排放量；②从节电、节气和回收三个环节来改变生活细 节。其次比对选项，A 选项新能源汽车的使用可以减少二氧化碳的排放量，属于低碳生活， 排除；B 选项公共交通工具可以减少二氧化碳的排放量，属于低碳生活，排除；C 选项王奶 奶重复使用饮料瓶子达到废物利用，以减少二氧化碳的排放量，属于低碳生活，排除；D 选 项李玲总是用免费的纸袋装东西就希望着有不断的纸袋需要生产，会加剧生态恶化，不属于 低碳生活，符合题意。故本题正确答案选 D。

21. 结构性失业指劳动力的供给和需求不匹配所造成的失业，即经济结构变化引起的失 业。结构性失业是由经济变化导致的，这些经济变化引起特定市场和区域中的特定类型劳动 力的需求相对低于其供给。

根据以上定义，下列现象属于结构性失业的是（ ）。

- A. 某职工辞职考研

- B. 经济危机引发的失业率增加
- C. 传统产业对劳动者的需求减少，许多水泥厂、钢厂的工人下岗
- D. 许多欠发达国家不能提供足够岗位，存在大量失业人口

【答案】C。本题考查定义判断的选是题。题干中的关键信息为：①劳动力的供给和需求不匹配所造成的失业，②经济结构变化引起的失业。其次比对选项，A选项职工辞职考研没有体现劳动力的供给和需求不匹配，属于摩擦性失业，排除；B选项经济危机引发的失业率不符合②，属于周期性失业，排除；C选项传统产业对劳动者的需求减少导致许多工人下岗，符合①②，属于结构性失业；D选项欠发达国家存在大量失业人口是许多综合因素导致的，不符合①②，排除。故本题正确答案选C。

22. 稀缺效应是指人们因物以稀为贵，而引起的购买行为变化的现象，即当某件事情事物变得稀缺或者难以得到时。人们会认为此物更有价值，也更想得到。

根据上述定义，下列没有体现稀缺效应的是（ ）。

- A. 商店每天都挂着打折仅此一天的横幅，吸引大量顾客
- B. 某品牌手机实行网上预约销售限量抢购，结果供不应求
- C. 月底经济拮据的小张靠着去超市购买零七食品度日
- D. 男性在临近酒吧打烊时会认为女性的吸引力指数上升了

【答案】C。第一步，看提问方式，本题属于选非题。第二步，找关键信息。①人们因物以稀为贵，而引起的购买行为变化；②人们会认为稀缺物更有价值，也更想得到。第三步，辨析选项。C项：小张买临期食品是因经济拮据，并非临期食品“稀缺”，不属于“某件事情事物变得稀缺或者难以得到”，不符合定义；A项：打折仅此一天，体现出了打折商品的“稀缺”，吸引了大量顾客，属于“引起的购买行为变化”，符合定义；B项：手机限量，体现了手机供应量的“稀缺”，抢购属于“引起的购买行为变化”，符合定义；D项：临近酒吧打烊，顾客减少，女性顾客也相应减少，体现了“某件事情事物变得稀缺”，男性认为女性的吸引力指数上升，体现了“稀缺物更有价值，也更想得到”，符合定义。故本题正确答案选C。

23. 文饰作用指人们在受挫折后，会想出各种理由原谅自己，或者为自己的失败辩解的现象。

根据上述定义，下列不属于该类现象的一项是（ ）。

- A. 戈尔竞选美国总统失败后，抱怨美国司法制度不公正
- B. 小张没评上先进份子，他认为是自己与当评委的领导关系不好

C.氟派生意失败，股票暴跌，就吃安眠药想自杀

D.老师说漏嘴了，便解释说自己路上太匆忙，打乱思路了

【答案】C。第一步，看提问方式，本题属于选非题。第二步，找关键信息。受挫折后想出各种理由原谅自己或为自己的失败辩解。第三步，辨析选项。C项：生意失败，股票暴跌，就吃安眠药想自杀，未体现“想出各种理由原谅自己或为自己的失败辩解”，不符合定义；A项：竞选美国总统失败，而后将原因归结为美国司法制度不公正，属于“受挫折后想出各种理由原谅自己或为自己的失败辩解”，符合定义；B项：没评上先进分子，而后将原因归结为自己与评委关系不好，属于“受挫折后想出各种理由原谅自己或为自己的失败辩解”，符合定义；D项：因说漏嘴，而后将原因归结于自己路上太匆忙，打乱思路，属于“受挫折后想出各种理由原谅自己”，符合定义。故本题正确答案选C。

24. 行政不作为是行政机关对于公民、法人和其他组织的符合条件的申请依法应该实施某种行为或履行某种法定职责却无正当理由拒绝履行或拖延履行的行政违法行为。

根据上述定义，下列选项中不属于行政机关不作为的是（ ）。

A.王某要去所在地交通局告知有关汽车养路费收费标准，三个月未答复

B.陈某在某市住建局工作多年，符合职称评定条件，申请职称评定被拒绝

C.林某投诉某市医药公司贩卖假药，某市药监局以不属于主管范围而拒绝

D.何某因制止施工被打伤，公安机关以违章建筑无权处理不理睬

【答案】B。题目中的关键词是“行政机关”“对于公民、法人和其他组织的符合条件的申请依法应该实施某种行为或履行某种法定职责”“无正当理由拒绝履行或拖延履行”。B项陈某提出职称评定申请，符合定义中公民的申请，虽然职称评定被拒绝，但申请职称评定不属于该建设局“依法应该实施的行为”，也不属于“某种法定职责”，并且该行为是在行政机关及其内部职工之间发生的，不符合“行政违法行为”，因此不符合定义，当选；A项王某提出汽车养路费标准的告知申请，符合定义中公民的申请，交通局三个月未答复，交通局符合行政机关，且体现交通局本应依法履行却无正当理由拒绝或拖延履行，符合定义，排除；C项林某向药监局投诉某医药公司贩卖假药，符合定义中公民的申请，药监局符合行政机关，最终以不属于主管范围而拒绝，体现药监局本应依法履行却无正当理由拒绝履行，符合定义，排除；D项何某因制止违章建筑施工被打伤，公安机关以对违章建筑无权处理不理睬，由“不理睬”可以看出何某有诉求，体现公民的申请，公安机关属于行政机关，且体现出公安机关本应依法履行却无正当理由拒绝履行，符合定义，排除。故本题正确答案选B。

25. 沉锚效应，指的是人们对某事物做出判断时，易受第一印象或第一信息支配，就像沉入海底的锚一样把人们的思想固定在某处。第一印象和先入为主是其在社会生活中的表现形式。

根据上述定义，下列选项没有应用到沉锚效应的是（ ）。

A.一家粥店服务员为客人盛粥后总问：“加一个鸡蛋还是两个？”另家服务员总问“加不加鸡蛋？”头一家店日销售额总高于后一家

B.男孩邀请心仪女生说：“出去玩好吗？”女孩觉得拒绝好像很自然，答应显得太主动，所以说：“下次吧。”男孩认为女孩无意与他交往

C.邻居偷走华盛顿的马被发现拒不承认，华盛顿捂住马的双眼问邻居：“马哪只眼睛瞎的？”邻居说“右眼”，事实上，马的两只眼睛都没病

D.你去商场闲逛，导购小姐诱导说：“反正今天是出来买鞋的，甲或者乙很适合你的气质，请选一双吧。”然后你就挑选了其中一双。

【答案】B。题目的关键信息：①易受第一印象或第一信息支配；②第一印象和先入为主。B项男孩邀请女孩，但女孩觉得拒绝好像很自然，答应显得太主动，女孩自己有明确的想法，对男孩的第一印象或男孩的话并未“支配”女孩最终的选择，不符合定义；A项服务员的话“加一个鸡蛋还是两个”给客人传递的“第一信息”就是要加鸡蛋，“支配”了客人的选择，使得很多客人选择加鸡蛋，符合定义；C项华盛顿的话“马哪只眼是瞎的”给邻居传递的“第一信息”就是马的一只眼睛是瞎的，“支配”了邻居的选择，使邻居做出了马的右眼是瞎的回答，符合定义；D项导购小姐的话“反正今天是出来买鞋的，甲或者乙都很适合你的气质，请选一双吧”，给顾客传递的“第一信息”就是你一定要买鞋，“支配”了顾客的选择，使顾客做出了买鞋的决定，符合定义。故本题正确答案选B。

26. 登门槛效应，是指一个人一旦接受了他人的一个微不足道的要求，为了避免认知上的不协调，或想给他人以前后一致的印象，就有可能接受更大的要求，根据上述定义，符合登门槛效应的是（ ）。

A.无数歌手为了更好的在娱乐圈立足，除了不断增进自己的唱歌技术发售专辑之外，歌手们还会参加各大综艺和参演热门影视剧，增加自己的曝光度和热度

B.小明一开始只是每天上网玩游戏 1-2 个小时之后时间越来越长，从一天 2 小时到 3 小时再到 12 小时，整日沉迷于网络无法自拔

C.针对学习有困难的学生，老师不宜马上对其提出过高要求，而是先提出一个小要求，当学生达到要求后，再通过鼓励，逐步向其提出更高的要求，学生会更容易接受并力求达到

D.销售为了把产品更好的推广出去，会先跟客户提出一个很高的报价，客户不太同意的情况下，经过协调之后再降低

【答案】C。登门槛效应是由小及大的过程，先给对方小要求，当对方接受后，再提更大要求，可知选项 C 正确；选项 A，只是说明多角度增加曝光站稳脚步，没法体现由小及大；选项 B，体现的是玩乐时长，不是小大的关系；选项 D，是由大到小的过程，与题干相反。故本题正确答案选 C。

27. 跨栏定律是指一个人的成就大小往往取决于他所遇到困难的程度，竖在你面前的栏越高，你跳得也就越高

根据上述定义，下列不属于跨栏定律的是（ ）。

- A.一位患有红绿色盲的美术爱好者，发愤图强成为了一位颇有成就的美术家
- B.失去双臂的人的平衡感更强，双脚更灵巧
- C.金庸笔下幼年不幸的杨过成为了神雕大侠
- D.盲人的听觉、触觉、嗅觉都比一般人灵敏

【答案】C。C 项杨过之所以成为神雕大侠，也不是因为失去胳膊导致的成就，不符合题干；A 项是色盲的困难，成就了美术家；B 项是没有双臂的困难，成就了双腿更灵巧；D 项是盲人的困难，成就了灵敏的听觉、触觉、嗅觉。故本题正确答案选 C。

28. 地方性法规是有立法权的地方国家机关依法制定与发布的规范性文件。在中国，根据宪法和立法等有关法律的规定，省、自治区、直辖市、设区的人民代表大会及其常委会，根据本行政区域的具体情况和实际需要，在不同宪法、法律、行政法规相抵触的前提下有权制定地方性法规。

以下属于地方性法规的是（ ）。

- A.财政部制定并实施的《政府事业单位会计制度》
- B.全国人大制定的《会计法》
- C.国务院制定的《总会计师条例》
- D.安徽省十二届人大第三十三次会议表决通过的《安徽省信息化促进条例》

【答案】D。关键信息：①有立法权的地方国家机关；②规范性文件；③在不同宪法、法律、行政法规相抵触的前提下。第三步，辨析选项。D 项安徽省十二届人大属于“有立法权的地方国家机关”，《安徽省信息化促进条例》属于“规范性文件”，仅在珠海市范围内具有效力，并且“在不同宪法、法律、行政法规相抵触的前提下”，符合定义；A 项财政部并

非“地方国家机关”，不符合定义；B项全国人大并非“地方国家机关”，不符合定义；C项国务院，并非“地方国家机关”，不符合定义。故本题正确答案选D。

29. 垂直搜索引擎是针对某一个行业的专业搜索引擎，是对网页资源中的某类专门的信息进行一次整合，定向分字段抽取出需要的数据进行处理后再以某种形式返回给用户。根据上述定义，下列应用与垂直搜索引擎关系最为密切的是（ ）。

- A. 在某个购物网站上在线购买鞋子
- B. 登陆央视网站查询某个城市天气
- C. 用百度音乐搜索自己爱听的歌曲
- D. 在图书馆网站上查询该馆的藏书

【答案】C。垂直搜索引擎的定义关键词是：针对某一个行业、专业搜索引擎、网页资源的信息整合。C项符合所有定义要点，当选；A项并非针对某一行业，也未提及搜索，不符合定义，排除；B项是网站内部某个信息的查询，不是针对某一行业，也未涉及到信息整合，不符合定义，排除；D项属于网站内部搜索，不是针对某一个行业，并且整合的是图书实体资源信息而非网页资源信息，不符合定义，排除。故本题正确答案选C。

30. 某办公楼附近同时新开多家餐馆，为了争取顾客，他们纷纷派出推销员走进办公楼进行宣传，有两家餐馆都推出了免费试吃一周的活动，而其中一家餐馆推出了打折优惠的活动，并且这家餐馆的推销员向在办公楼里工作的人员说，那两家免费试吃的活动是陷阱，他们是靠无证经营获得运营成本的。

以下（ ）如果为真，最能质疑该餐馆推销员的宣传。

- A. 相关法律明确规定，餐馆不得无证经营
- B. 免费试吃活动是通过加大周边广告力度来获得运营成本的
- C. 推出免费试吃活动餐馆的餐食质量很差
- D. 很难保证餐饮价格优惠的餐馆不是无证经营

【答案】B。本题考查削弱论证。题干论点为：“那两家免费试吃的活动是陷阱，他们是靠无证经营获得运营成本的”。其次比对选项，A选项说相关法律明确规定，餐馆不得无证经营，但是实际上餐馆有没有无证经营不得而知，为不明确选项，排除；B选项说明免费试吃获得的商家是通过加大广告力度来获得运营成本的，意思不是靠无证经营获得运营成本的，直接否定了论点，可以削弱；C选项餐食质量差与论点无关，排除；D选项的主体是价格优惠的餐馆，与论点中的主体不一致，为无关项，排除。故本题正确答案选B。

31. 随着人口增加和经济发展, 现在我国不少城市都兴建起地铁。然而, 地铁的兴建并没有真正解决拥堵问题, 只是将拥堵由地上部分转移到地下, 在北上广等市的早高峰地铁、因过于拥挤导致上班迟到早已不是新鲜事。因此, 地铁并没有真正解决早高峰的拥堵问题。以下哪项如果为真, 最能削弱题目的结论? ()

- A. 有资料显示, 地铁的运力是地上交通远远不能比的, 相差至少 4~5 倍
- B. 相对能同时选择公交和地铁的上班族, 乘坐公交的迟到率远高于乘坐地铁的迟到率
- C. 地铁虽然速度快, 间隔时间短, 但对城市的覆盖范围是十分有限的
- D. 地铁的价值在于对沿线房产价格和商铺租金有明显的带动作用

【答案】B。本题考查削弱论证。题干论点为: “地铁并没有真正解决早高峰的拥堵问题”, 论据为: “拥堵由地上部分转移到地下, 在北上广等市的早高峰地铁、因过于拥挤导致上班迟到早已不是新鲜事”。A 项说地铁的运力与地上交通相差 4-5 倍, 但是实际地铁有没有解决早高峰拥堵问题没有明确说明, 属于不明确选项, 排除; B 项说公交的迟到率高于坐地铁的迟到率, 则说明不能通过题干中的论据得出论点, 属于拆桥选项, 可以削弱, 符合题意; C 选项说地铁对城市的覆盖范围有限说明确实没有解决早高峰拥堵问题, 有加强作用, 排除; D 选项地铁的价值与地铁有没有解决早高峰拥堵问题无关, 排除。故本题正确答案选 B。

32. 因偷盗, 抢劫或流氓罪入狱的刑满释放人员重新犯罪率, 要远远高于因索贿、受贿等职务犯罪入狱刑满释放人员。这说明, 在狱中对上述前一类罪犯教育改造的效果, 远不如对后一类罪犯。

- 以下哪项如果为真, 最能削弱上述论证 ()。
- A. 与其他类型的罪犯相比, 职务犯罪者往往有较高的文化水平
 - B. 对贪污, 受贿的刑事打击, 并没有有效地扼制腐败, 有些地方的腐败反而愈演愈烈
 - C. 刑满释放人员很难再得官职
 - D. 职务犯罪的罪犯在整个服刑犯中只占很小的比例。

【答案】C。本题属于削弱类题型, 本题的论点是: 在狱中对上述前一类罪犯教育改造的效果, 远不如对后一类罪犯。索贿、受贿等职务犯罪的条件是具有一定的职务和权力。C 项指出了这样一个事实, 即刑满释放人员很难再得到官职, 这说明职务犯罪的刑满释放人员失去犯罪条件是该现象的原因, 这就有力地削弱了题干的论证。A 选项, 无关选项, 题干中没有对比, 也没有说文化水平的问题; B 选项, 无关选项, 题干中并没有说愈演愈烈的问题,

排除；D选项，职务犯罪的罪犯在整个服刑犯中只占很小的比例，属于加强类选项，排除。故本题正确答案选C。

33. 近来，智能家电催发了行业企业的热情，纷纷投身其中。不仅许多互联网企业通过智能产品切入家电产业，传统制造企业更是不甘其后。家电业内人士指出，智能产品的推广和被认可尚需时日，家电企业仍需修炼好内功。

以下哪项如果为真，最能质疑家电业内人士的观点？（ ）

- A. 调查数据显示，目前有 87.5% 的用户对智能家电现状不满
- B. 智能化家电产品成为今夏市场的主打
- C. 满足家电的基本功能是对智能家电的核心要求
- D. 有些企业方面在智能化的大道上一路狂奔，一方面却在产品基本性能方面栽跟头

【答案】B。题干说智能家电需要认可。B选项，智能化家电产品成为今夏市场的主打，说明智能产品得到市场的认可，构成了对家电业内人士观点的质疑。正确；AD项是对家电业内人士观点的支持，错误；C项是无关选项，错误。故本题正确答案选B。

34. 粮食可以在收割前在期货市场进行交易。如果预测水稻产量不足，水稻期货价格就会上升；如果预测水稻丰收，水稻期货价格就会下降。假设今天早上，气象学家们预测从明天开始水稻产区会有适量降雨。因为充分的潮湿对目前水稻的生长非常重要，所以今天的水稻期货价格会大幅下降。下面哪项如果正确，最严重地削弱以上的观点（ ）。

- A. 农业专家们今天宣布，一种水稻病菌正在传播
- B. 本季度水稻期货价格的波动比上季度更加剧烈
- C. 气象学家们预测的明天的降雨估计很可能会延伸到谷物产区以外
- D. 在关键的授粉阶段没有接受足够潮湿的谷物不会取得丰收

【答案】A。本题属于削弱类题目。论点是：“今天的水稻期货价格会大幅下降”，理由是气象学家们预测从明天开始水稻产区会有适量降雨，水稻会丰收，水稻期货价格就会下降。A项恰恰削弱了题干的前提，即“病菌的传播会使水稻减产，所以水稻的价格不一定会下降”。选项C、D与水稻产量无关，故排除。选项D只是说缺少授粉的产量将降低，但是实际中并没有这样，或者说这是制约产量的一个因素，故排除。故本题正确答案选A。

35. 研究发现，市面上的X饮料的Y成分可以抑制鼻病毒。实验证实，鼻病毒是引发感冒的罪魁祸首。因此，经常喝X饮料的人将减少引发感冒的风险。

以下哪项如果为真，最能削弱上述观点（ ）。

- A. 不同条件下的实验，可以得出类似的结论

- B.已经感冒的患者喝了 X 饮料后并未发现病情好转
- C.Y 成分可以抑制鼻病毒，也可以对人的免疫系统产生负面作用
- D.Y 成分的作用可以被 X 饮料的 Z 成分中和

【答案】D。看问题是找出削弱论点的选项，考察削弱论证，看题干找出论点：经常喝 X 饮料的人将减少引发感冒的风险。看选项：A 项：通过实验证实论点正确，加强，不能削弱，排除；B 项：题干中说的是抑制病毒，不能治疗病毒，排除；C 项：Y 成分可以抑制病毒，也可以对人的免疫系统产生负面作用，但是只要可以抑制病毒就能证明题干的观点，至于引发的其他疾病不在考虑之列，排除；D 项：“Y 成分的作用可以被 X 饮料的 Z 成分中和”是指 X 饮料对于抑制鼻病毒没有任何作用。故本题正确答案选 D。

36. 大学生保姆已不再是新鲜事。一项调查显示，63%的被调查者赞成大学生当保姆，但是，问到自己家里是否会请大学生保姆时，却有近 60%的人表示“不会”。

以下哪项陈述如果为真，能够合理解释上述看似矛盾的现象（ ）。

- A.在选择“会请大学生当保姆”的人中，有 75%的人打算让大学生担任家教或秘书工作，只有 25%的人想让大学生从事家务劳动
- B.调查中有 62%的人表示只愿意付给大学生保姆 800 元到 1000 元左右的月薪
- C.赞成大学生当保姆的人中，有 69%的人认为做家政工作对大学生自身有益，只有 31%的人认为大学生保姆能提供更好的家政服务
- D.在不赞成大学生当保姆的人中，有 40%的人认为，学生实践应该选择与自己专业相关的领域

【答案】C。题干中的矛盾点在于“63%的被调查者赞成大学生当保姆”和“近 60%的人表示‘不会’请大学生到自己家里当保姆”。A 选项只解释了后一种情形，B 和 D 选项并未对矛盾点做出解释，C 选项中的“69%的人认为做家政工作对大学生自身有益”和“只有 31%的人认为大学生保姆能够提供更好的家政服务”分别对矛盾的两点做出了解释；故本题正确答案选 C。

37. 尽管大家开始抵制珍稀动物的皮草产品，但仍有家具制造商将珍稀动物的皮毛用于家具饰品。几年前专家发明了一种新的高仿合成皮草，受到了家居制造商广泛的好评。但从最近几年的统计看，各地为获取皮毛而对珍稀动物进行捕杀的活动却并没有减少。

以下哪一项正确，最有助于对“捕杀活动没有减少”进行解释（ ）。

- A.生产新的高仿合成皮草比生产原未的合成皮革的成本更低
- B.新的高仿合成皮革与动物皮毛的质地相似，很难区分

C.绝大部分珍稀动物的皮毛用在越来越流行的皮草服饰上

D.家居制造商在销售大的家居物件时，往往将家居饰品当作赠品免费送给购买者

【答案】C。根据提问方式“解释”，确定为原因解释。题干中的现象是：高仿合成皮草，受到了家具制造商广泛的好评，但各地为获取皮毛而对珍稀动物进行捕杀的活动却并没有减少。A项该项将新旧合成皮草的生产成本进行比较，与“获取皮毛”无关，排除；B项该项说明高仿合成皮草能很好地替代动物皮毛，可以减少对动物的捕杀，排除；C项该项说明虽然减少了家具饰品上动物皮毛的使用，但皮草服饰上对动物皮毛的需求却增加了，那么为获取皮毛进行的动物捕杀就不会减少，可以解释；D项“免费赠送家具饰品”与“获取皮毛”无关，排除。故本题正确答案选C。

38. 某市风景优美，气候宜人。该市晨曦路两侧开设的几乎全部都是老年疗养院，来自全国各地的很多老年人来此旅游、疗养。晨曦路只有很少几座居民住宅，但是晨曦路附近却有很多专门经营儿童用品的商店，而且生意还相当火爆。

下列哪一项是最能解释这一现象（ ）。

A.晨曦路附近的专门经营儿童用品的商店所出售的商品物美价廉

B.来此疗养的老人都是有子女带着孩子陪同的，他们需为孩子购买所需物品

C.居住在晨曦路的居民虽然不多，但孩子们之间经常互相赠送

D.晨曦路附近的儿童用品商店闹中取静购物环境良好

【答案】B。根据提问方式“最能解释这一现象”，确定为原因解释。题干现象为：晨曦路两侧几乎全部都是老年疗养院，居民也很少，但是却有很多专门经营儿童用品的商店。B项来疗养院的老人都有子女带着孩子陪同，有孩子对儿童用品就会有相应需求，使得当地店铺生意火爆，可以解释；A项儿童用品店的商品物美价廉，但是如果只有疗养院的老人，就没有人会去购买，无法做到生意火爆，不能解释，排除；C项当地居民不多，即使有孩子互赠礼物，也不会使很多商店生意火爆，不能解释，排除；D项购物环境再好，如果没有人需要，也不会生意火爆，不能解释，排除。故本题正确答案选B。

39. 如果电用完了，电动自行车就无法继续前行。我的电动自行车不能继续前行，因此，电一定用完了。

以下哪项推理与题干的最为类似？（ ）

A.如果姚明上场，中国队就一定能赢。中国队输了，所以，姚明肯定没上场

B.所有的条件我都可以接受，除非它明显不公平。这个条件我不能接受，因此，它明显不公平

C.如果晓莉努力学习，考试成绩就会很好。晓莉考试成绩不好，所有，晓莉没有努力学习

D.如果小美去过香港，她一定会购买高档化妆品。小美购买了高档化妆品，所以，小美去过香港

【答案】D。根据提问方式“推理与题干的最为类似”，判断本题为平行结构题型。题干推理形式为：“电用完→不能前行，不能前行→电用完”，肯后推肯前的推理形式。A项：姚上场→赢，¬赢→¬姚上场，否后推否前，与题干推理形式不同。B项：¬接受→¬公平，¬接受→¬公平，肯前推肯后，与题干推理形式不同。C项：努力学习→成绩好，¬成绩好→¬努力学习，否后推否前，与题干推理形式不同。D项：去过香港→买化妆品，买化妆品→去过香港，肯后推肯前，与题干推理形式相同，符合。故本题正确答案选D。

40. 经理：小张，这星期你怎么上班总是迟到？小张：经理，不要只盯着我哟！小李有时比我到的还要晚！以下哪项的对话方式与上述最为不同（ ）。

A.丈夫：老婆，你有没有觉得最近你特别爱发火？妻子：你什么意思！你有没有觉得最近你特别爱唠叨？

B.乘客：师傅，开车时你怎么还打手机啊？司机：你乱嚷什么！把我惹火了，一车人的安全你负责？

C.老师：小明，你最近上课怎么老不注意听课？学生：老师，我注意听讲但是听不懂！听不懂我怎么听？

D.顾客：老板，你们卖的馄饨里怎么有股怪味呢？老板：你是何居心！你是哪家馄饨店派来的捣蛋鬼？

【答案】C。题目讨论的对象发生了转移，经理说的小张迟到的问题，小张却将话题转移到小李身上。C项前后讨论的都是小明不听课的问题，没发生转移，当选；A项丈夫在说老婆爱发火的问题，老婆却反过来讨论丈夫爱发火，转移了，排除；B项乘客说司机打电话的问题，司机将话题转移到一车人的安全上，排除；D项顾客说馄饨问题，老板将话题转移到其它饭店上，排除。故本题正确答案选C。

数资习题

数量关系

1. 5, 6, 19, 33, (), 101

A.55

B.60

C.65

D.70

【答案】B。做差得到 1、13、14、(27)、41，此为多级数列，括号内应为 $33+27=60$ ，B 选项正确，A、C、D 选项错误。故本题正确答案选 B。

2. $1/5, 2/9, 3/13, 4/17, ()$

A.5/19

B.6/21

C.5/21

D.6/19

【答案】C。根据题干，可得 C 项正确；分子为自然数列：1, 2, 3, 4, (5)，分母是公差为 4 的等差数列，则 $17+4=21$ ，C 选项符合题意。A、B、D 选项错误。故本题正确答案选 C 项。

3. 128, (), 8, 2, 4, $1/2$

A.64

B.55

C.16

D.28

【答案】C。规律为 $8\div 2=4$ ， $2\div 4=1/2$ ，则括号内为 $128\div 8=16$ 。C 选项正确，A、B、D 选项错误。故本题正确答案选 C。

4. 1, 2, 7, -2, 29, ()

A.45

B.76

C.116

D.153

【答案】A。两两分组，做差取绝对值，则有 1, 9, ()，代入答案，我们发现，如果是 45，刚好得出 16，则这三个数分别是 1, 3, 4 的平方， $4=1+3$ ，可满足题意，A 选项正确，B、C、D 选项错误。故本题正确答案选 A。

5. -1, 1, 7, 25, 79, ()

A.121

B.241

C.243

D.254

【答案】B。根据题干-1, 1, 7, 25, 79, $-1=3^0-2$, $1=3^1-2$, $7=3^2-2$, $25=3^3-2$, $79=3^4-2$, 根据规律可推出下一项为 $3^5-2=241$, B 选项符合题意, A、C、D 选项错误。故本题正确答案选 B。

6. 5, 7, 9, 11, 13, ()

A.15

B.16

C.17

D.18

【答案】A。题干为公差为 2 的等差数列, 则括号内应为 $13+2=15$, A 选项正确, B、C、D 选项错误。故本题正确答案选 A。

7. 某品牌的葛粉进价为 20 元, 现降价 20% 卖出, 结果还获得进价 52% 的利润。那么, 该葛粉的定价是多少元? ()

A.36

B.37

C.38

D.39

【答案】C。第一步, 标记量化关系“降价”。第二步, 设定价为 x , “降价” 20% 后的价格为 $0.8x$, 获得进价 52% 的利润可知: $0.8x = 20 \times (1 + 52\%)$, 解得 $x = 38$ 元。故本题正确答案选 C。

8. 已知今年小明父母的年龄之和为 76 岁, 小明和他弟弟的年龄之和为 18 岁。三年后, 母亲的年龄是小明的三倍, 父亲的年龄是小明弟弟的四倍。问小明今年几岁? ()

A.11

B.12

C.13

D.14

【答案】A。第一步，标记量化关系“和”、“和”、“是”、“是”。第二步，根据“三年后，母亲的年龄是小明的三倍，父亲是弟弟的四倍”确定本题使用方程法，且考查 n 年之后年龄都加 n 岁。小明、弟弟、父亲、母亲的年龄如下：

	小明	弟弟	父亲	母亲
今年	x	y		
三年后	$x+3$	$y+3$	$4(y+3)$	$3(x+3)$

今年小明与弟弟年龄之和为 18，父母年龄之和为 76，那么三年后父母年龄之和应该为

$76+6=82$ ，可列方程得：
$$\begin{cases} x+y=18 \\ 4(y+3)+3(x+3)=82 \end{cases}$$
。第三步，解方程得： $x=11$ ， $y=7$ 。所

以小明今年 11 岁。故本题正确答案选 A。

9. 一个棱长为 6 的正方体木块，若在某一面挖出一个棱长为 $2 \times 3 \times 4$ 的长方体空间，则剩下部分的体积是挖出的长方体体积的多少倍？（ ）

- A.5
- B.6
- C.8
- D.9

【答案】C。正方体的体积为 $6 \times 6 \times 6 = 216$ ，长方体体积为 $2 \times 3 \times 4 = 24$ ，剩余的体积为 $216 - 24 = 192$ ， $192 \div 24 = 8$ 倍。故本题正确答案选 C。

10. 一辆汽车第一天行驶了 5 个小时，第二天行驶了 600 公里，第三天比第一天少行驶 200 公里，三天共行驶了 18 个小时。已知第一天的平均速度与三天全程的平均速度相同，问三天共行驶了多少公里？（ ）

- A.900
- B.800
- C.1100
- D.1000

【答案】A。第一步，本题考查行程问题。标记量化关系“少”、“共”、“相同”。第二步，设第一天的平均速度为 v ，根据“少”行驶 200 公里，可知第三天的行驶距离为 $5v - 200$ 公里，通过“共”和“相同”可列方程 $5v + 600 + 5v - 200 = 18v$ ，解得 $v = 50$ 。第三步，三天共行驶的距离为 $18 \times 50 = 900$ 公里。故本题正确答案选 A。

11. 工程队接到一项工程，投入 80 台挖掘机。如连续施工 30 天，每天工作 10 小时，正好按期完成。但施工过程中遭遇大暴雨，有 10 天时间无法施工。工期还剩 8 天时，工程队增派 70 台挖掘机并加班施工。问工程队若想按期完成，平均每天需多工作多少个小时？

()

A.2.5

B.3

C.1.5

D.2

【答案】D。第一步，本题考查工程问题，考查赋值法。标记量化关系“正好”、“增派”。第二步，赋值每台挖掘机的工作效率为 1，根据“正好”得工程总量为 $80 \times 30 \times 10 = 24000$ 。10 天未施工，即是要在剩余的 8 天中干完 $10 + 8 = 18$ 天的工程量。第三步， $80 \times 18 \times 10 = (80 + 70) \times 8 \times t$ ，解得 $t = 12$ 小时，故每天要多干 2 小时。故本题正确答案选 D。

12. 企业花费 600 万元升级生产线，升级后能耗费用降低了 10%，人工成本降低了 30%。如每天的产量不变，预计在 400 个工作日后收回成本。如果升级前人工成本为能耗费用的 3 倍，问升级后每天的人工成本比能耗费用高多少万元？()

A.1.8

B.2.4

C.1.2

D.1.5

【答案】A。第一步，题干中出现百分数，考查赋值法。标记量化关系“收回”、“倍”。第二步，赋值升级前能耗费用为 10 份，则人工费用为 30 份。列表如下：

	能耗	人工
升级前	10份	30份
升级后	9份	21份
节约	1份	9份

400 个工作日“收回”成本，意指 600 万的升级费用在 400 天内节约完成，也就是 $1 + 9 = 10$ 份， $10 \text{份} \times 400 = 600 \text{万}$ ，因此 10 份是 1.5 万。升级后每天的人工成本 21 份，比能耗费用 9 份高 12 份，12 份是 1.8 万。故本题正确答案选 A。

13. 手工制作一批元宵节花灯，甲、乙、丙三位师傅单独做，分别需要 40 小时、48 小时、60 小时完成。如果三位师傅共同制作 4 小时后，剩余任务由乙、丙一起完成，则乙在整个花灯制作过程中所投入的时间是（ ）。

- A.24 小时
- B.25 小时
- C.26 小时
- D.28 小时

【答案】A。第一步，题干中给出甲、乙、丙的工作时间，使用公倍数赋值法解题。第二步，赋值工作总量为 240，则甲的效率为 6，乙的效率为 5，丙的效率为 4，三个师傅共同制作 4 小时可以完成 $(6+5+4) \times 4=60$ 。则剩余任务为 180，由乙、丙一起完成，乙、丙一起完成效率为 $5+4=9$ ，需要 $\frac{180}{9}=20$ 小时。因此，乙投入的总时间为 $4+20=24$ （小时）。故本题正确答案选 A。

14. 建华中学共有 1600 名学生，其中喜欢乒乓球的有 1180 人，喜欢羽毛球的有 1360 人，喜欢篮球的有 1250 人，喜欢足球的有 1040 人，问以上四项球类运动都喜欢的至少有几？（ ）

- A.20 人
- B.30 人
- C.40 人
- D.50 人

【答案】B。第一步，标记量化关系“都”、“至少”。第二步，由“都”、“至少”可知，本题为多集合反向构造。解题步骤为：反向：不喜欢乒乓球的有 $1600-1180=420$ 人，同理，不喜欢羽毛球、篮球、足球的分别有 240、350、560 人。加和：不喜欢四项运动任意一项的人最多有 $420+240+350+560=1570$ 人。作差：故四项球类运动“都”喜欢的“至少”有 $1600-1570=30$ 人。故本题正确答案选 B。

15. 某班共有 8 名战士，现在从中挑出 4 人平均分成两个战斗小组分别参加射击和格斗考核，问共有多少种不同的方案？（ ）

- A.210
- B.420
- C.630

D.840

【答案】B。第一步，标记量化关系“平均分成”、“共”。第二步，根据“平均分成”确定4名战士参加考核，先从8名战士中挑出4人，共有 $C_8^4=70$ 种；然后从这4名战士中选择2人参加射击考核，共有 $C_4^2=6$ 种；最后从剩余的两名战士中选择2人参加格斗考核，共有 $C_2^2=1$ 种。第三步，因此，共有 $C_8^4 \times C_4^2 \times C_2^2 = 70 \times 6 \times 1 = 420$ 种。故本题正确答案选B。

16. 支付宝“周周乐”的游戏规则是给4张扑克牌（无大、小王），中二等奖要求有3张牌的花色、数字、顺序一致，剩下1张牌无要求，则中二等奖共有多少种情况？（ ）

A.202

B.204

C.206

D.208

【答案】B。第一步，本题考查基础排列组合。第二步，中二等奖要求有3张牌的花色、数字、顺序对上，另1张没有对上，从4张牌中选出3张有 $C_4^3=4$ 种可能，这3张由于要求对上，所以花色和数字都是唯一的，剩下一张牌要求不对上，也就是总计 $13 \times 4 = 52$ 张牌中，除了对的那张其他都可以选，有51种可能，所以全部种类数有 $C_4^3 \times 51 = 204$ 种。故本题正确答案选B。

17. 小明从家到地铁站需5分钟，乘坐地铁到单位需35分钟，某日，小明到达地铁站时发现未带地铁卡，于是回家取卡，取卡后发现此时再乘坐地铁必然迟到，于是决定打车，乘坐出租车所需的时间比地铁少20%，最终在8:28分打卡上班，若小明未忘记带卡，他本应在几点打卡？（ ）（取卡和等待地铁均时间忽略不计）

A.8:24

B.8:26

C.8:28

D.8:30

【答案】D。第一步，本题考查行程问题，属于基本行程类。第二步，小明从家到地铁站再回家，往返共需 $5 \times 2 = 10$ 分钟，乘坐出租车需 $35 \times (1 - 20\%) = 28$ 分钟，共耗时 $10 + 28 = 38$ 分钟，最终在8:28打卡，若小明未忘记带卡，走路加坐地铁共需 $5 + 35 = 40$ 分钟，则晚2分钟打卡。故本题正确答案选D。

18. 妈妈给了小红 60 元钱让她去水果店购买西瓜和苹果两种水果，其中苹果每千克 6 元，西瓜的单价为质数且为偶数，已知小红这两种水果都买了且数量都是整数并正好把钱都花完，问小红至少能买多少千克水果？（ ）

- A.9
- B.10
- C.11
- D.12

【答案】D。第一步，本题考查不定方程问题。第二步，西瓜的单价为质数且为偶数，质数中唯一的偶数为 2，所以西瓜为 2 元/千克，设苹果和西瓜各购买 x 和 y 千克，可得方程 $6x+2y=60$ ，化简为 $3x+y=30$ ，根据数字特性，30 和 $3x$ 均为 3 的倍数，所以 $2y$ 也必然为 3 的倍数即 y 为 3 的倍数，为了让小红购买的水果数量最少，则便宜的水果少买，所以西瓜的数量最少为 3 千克，剩下的钱还可以买 9 千克苹果，总共买了 $3+9=12$ 千克水果。故本题正确答案选 D。

19. 一项工程由甲、乙两个工程队来完成。在晴天，甲队单独完成需 48 天，乙队单独完成需 60 天；在雨天，甲队的工作效率要下降 40%，乙队的工作效率要下降 25%。6 月 1 日两队同时开工，耗时 30 天正好完成该工程，则 6 月有多少天是晴天？（ ）

- A.18
- B.20
- C.22
- D.24

【答案】B。第一步，本题考查工程问题中的时间类。第二步，赋值工程总量为 240，则晴天时甲队的效率为 $240 \div 48=5$ ，雨天时则为 $5 \times (1-40\%)=3$ ；晴天时乙队的效率为 $240 \div 60=4$ ，雨天时则为 $4 \times (1-25\%)=3$ 。设 6 月有 x 天为晴天，则有 $(5+4)x+(3+3) \times (30-x)=240$ ，解得 $x=20$ 。故本题正确答案选 B。

20. 小明、小红和小刚受班主任之托叠纸鹤共 1000 个，三人如果单独完成分别需要 10，20，50 天，现三人合作，但是整个过程中小明在工作之初离开了 7 天，小刚提前离开了 4 天，小红中间也休息了一段时间，最后整个工作耗时 14 天完成，则小红休息了多少天？（ ）

- A.11
- B.12

C.10

D.9

【答案】B。第一步，本题考查工程问题，属于时间类。第二步，三人每天分别做 100 个，50 个，20 个，小明一共干了 $14-7=7$ 天，小刚干了 $14-4=10$ 天，设小红干了 x 天，则 $7 \times 100 + 10 \times 20 + 50x = 1000$ ，解得 $x=2$ ，则小红休息了 $14-2=12$ 天。故本题正确答案选 B。

21. 某人分别以 80 万的相同价格出售两套房，一套房盈利 20%，另一套房盈利 30%，那么他从中获利约为（ ）。

A.31.5 万元

B.31.6 万元

C.31.7 万元

D.31.8 万元

【答案】D。第一套房屋的成本价为 $80/1.2$ 万元，第二套房屋的成本价为 $80/1.3$ 万元，因此两套房子共获利为 $(80/1.2) \times 0.2 + (80/1.3) \times 0.3 \approx 31.8$ 万元。D 选项正确，A、B、C 选错误。故本题正确答案选 D。

22. 某船从上游 A 港往下游 B 港，航速每小时 16 公里，船在静水中的速度是每小时 14 公里，问从 B 港返回 A 港的速度是多少？（ ）

A.12

B.15

C.18

D.20

【答案】A。从 A 港到 B 港是顺流而下，顺流速度=船速+水速=16，船速=14，则水速=2，从 B 港返回 A 港是逆流而上，逆流速度=船速-水速=14-2=12。A 选项正确，B、C、D 选项错误。故本题正确答案选 A。

23. 一次英语比赛共有 100 道题。A 每分钟做 3 道题，B 每做 5 道题比 A 少用 6 秒钟。那么 B 做完 100 道题时，A 做完了多少道题（ ）。

A.91

B.92

C.93

D.94

【答案】D。B 做完 100 道题比 A 少 $100/5 \times 6 = 120$ 秒即 2 分钟，说明 A 还需要 2 分钟才能做完 100 道题。2 分钟 A 可以做 6 道题，那么 A 做了 $100 - 6 = 94$ 道。D 选项正确，A、B、C 选错误。故本题正确答案选 D。

24. 某项工程，可由若干台机器在规定的时间内完成，如果增加 2 台机器，则只需用规定时间的 $7/8$ 就可做完；如果减少 2 台机器，那么就要推迟 $2/3$ 小时做完，现问：由一台机器去完成这项工程需要多少小时？（ ）

A.60

B.56

C.48

D.39

【答案】B。根据“如果增加 2 台机器，只需用规定时间的 $7/8$ 就可完成”，则原有时间 $1 \div 7/8 = 8/7$ ，则原有台数 $2 \div (8/7 - 1) = 14$ 台。又因为“如果减少 2 台机器，那么就要推迟 $2/3$ 小时做完”，则设原完成时间为 t ，则 $14t = 12(t - 2/3)$ ，解得 $t = 4$ ，则工作量为 $14 \times 4 = 56$ ，则一台机器需要 56 小时完成。故本题正确答案选 B。

25. 工作人员做成了一个长 60 厘米，宽 40 厘米，高 22 厘米的箱子，因丈量错误，长和宽均比设计尺寸多了 2 厘米，而高比设计尺寸少了 3 厘米，那么该箱子的表面积与设计时的表面积相差多少平方厘米？（ ）

A.4

B.20

C.8

D.40

【答案】C。根据题意，将箱子的长、宽、高数值代入表面积公式。计算得出，设计的箱子表面积为 $(60 \times 40 + 60 \times 22 + 40 \times 22) \times 2 = 9200$ 平方厘米。根据条件“长和宽均比设计尺寸多了 2 厘米，而高比设计尺寸少了 3 厘米”可知，长为 $60 - 2 = 58$ 、宽为 $40 - 2 = 38$ 、高则为 $22 + 3 = 25$ ，所以这个基础上得出的表面积为 $(58 \times 38 + 58 \times 25 + 38 \times 25) \times 2 = 9208$ 平方厘米，前后相差 $9208 - 9200 = 8$ 平方厘米。C 选项正确，A、B、D 选项错误。故本题正确答案选 C。

资料分析

2019 年全国规模以上文化及相关产业企业营业收入情况

	绝对额（亿元）	比上年增长 （%）	所占比重（%）
总 计	86624	7.0	100.0
按行业类别分			
新闻信息服务	6800	23.0	7.9
内容创作生产	18585	6.1	21.5
创意设计服务	12276	11.3	14.2
文化传播渠道	11005	7.9	12.7
文化投资运营	221	13.8	0.3
文化娱乐休闲服务	1583	6.5	1.8
文化辅助生产和中介 服务	13899	0.9	16.0
文化装备生产	5722	2.2	6.6
文化消费终端生产	16532	5.5	19.1
按产业类型分			
文化制造业	36739	3.2	42.4
文化批发和零售业	14726	4.4	17.0
文化服务业	35159	12.4	40.6
按领域分			
文化核心领域	50471	9.8	58.3
文化相关领域	36153	3.2	41.7
按区域分			
东部地区	63702	6.1	73.5
中部地区	13620	8.4	15.7
西部地区	8393	11.8	9.7
东北地区	909	1.5	1.0

注：1.表中速度均为未扣除价格因素的名义增速。

2.表中部分数据因四舍五入的原因，存在总计与分项合计不等的情况。

26. 2019年,全国规模以上文化及相关产业企业营业收入绝对额的同比增量约为()亿元。

- A.5100
- B.5667
- C.6100
- D.6667

【答案】B。第一步,本题考查增长量计算。第二步,定位表格,可知现期量为86624

亿元,同比增长率为7%。根据公式 $\text{增长量} = \frac{\text{现期量}}{1+r} \times r = \frac{\text{现期量}}{n+1}$, 可得, 增长量

$\frac{86624}{14+1} \approx 5776$ ($7\% = \frac{1}{14}$), 与B项最接近。故本题正确答案选B。

27. 2018年文化传播渠道收入的绝对额是文化投资运营的()倍。

- A.50.3
- B.54.1
- C.52.5
- D.56.2

【答案】C。第一步,本题考查基期倍数计算。第二步,定位表格,可知两者的现期量

以及增长率分别为:11005亿元和221亿元以及7.9%和13.8%。根据基期倍数公式: $\frac{A}{B} \times \frac{1+b}{1+a}$,

可得所求倍数为 $\frac{11005}{221} \times \frac{1+13.8\%}{1+7.9\%} \approx 52.5$ 。故本题正确答案选C。

28. 按领域分,文化核心领域的收入额的同比增量是文化相关领域收入额的()倍。

- A.4.3
- B.4.9
- C.5.3
- D.5.9

【答案】A。第一步,本题考查增长量的倍数计算。第二步,定位表格,可知文化核心领域的收入额和文化相关领域收入额的现期量分别为50471亿元和36153亿元,增长率分别

为 9.8% 和 3.2%。根据增长量计算公式： $\text{增长量} = \frac{\text{现期量}}{1+r} \times r = \frac{\text{现期量}}{n+1}$ ，可知所求倍数为 $\frac{50471}{10+1} \div \frac{36153}{30+1} = \frac{50471}{36153} \times \frac{31}{11} \approx 1.4 \times 3 = 4.2$ ($9.8\% \approx \frac{1}{10}$, $3.2\% \approx \frac{1}{30}$)。故本题正确答案选 A。

29. 按行业类别分，全国规模以上文化及相关产业企业营业收入绝对额的同比增量最大的类别是（ ）。

- A. 文化消费终端生产
- B. 文化娱乐休闲服务
- C. 文化投资运营
- D. 文化装备生产

【答案】A。第一步，本题考查增长量比较。第二步，定位表格，根据增长量比较大小的口诀：“大大则大，一大一小看乘积”。可得，显然文化消费终端生产“ $16532 \times 5.5\%$ ”最大。故本题正确答案选 A。

30. 根据材料所给信息，2019 年以下选项中正确的是（ ）。

- A. 按行业类别来看，所有行业所占的比重均超过一成
- B. 按产业类型分，文化制造业收入绝对额的同比增量大于文化服务业
- C. 按领域分，文化相关领域收入绝对额的同比增量不到 1000 亿元
- D. 按区域分，东部地区规模以上文化及相关产业企业营业收入对全国的贡献最大

【答案】D。本题考查综合分析，且需选出正确的一项。A 选项，读数比较，定位表格，可得新闻信息服务、文化投资运营、文化娱乐休闲服务文化装备生产的比重小于 10%，不到一成，错误。B 选项，增长量比较，定位表格，根据增长量比较大小的口诀：“大大则大，一大一小看乘积”，可知文化制造业收入绝对额的同比增量小于文化服务业，错误。C 选项，增长量计算，定位表格，根据 $\text{增长量} = \frac{\text{现期量}}{1+r} \times r = \frac{\text{现期量}}{n+1}$ ，计算可得增长量明显大于 1000，错误。D 选项，增长贡献率比较，只需比较部分增长量大小即可，而根据增长量比较大小的口诀：“大大则大，一大一小看乘积”，东部地区的同比增量明显最大，正确。故本题正确答案选 D。

据对全国 6.0 万家规模以上文化及相关产业企业调查，2020 年前三季度，上述企业实现营业收入 66119 亿元，按可比口径计算，比上年同期下降 0.6%，降幅比上年收窄 5.6 个百分点；文化新业态特征较为明显的 16 个行业小类实现营业收入 21229 亿元，增长 21.9%。

分行业类别看，在文化及相关产业9个行业中，新闻信息服务营业收入6434亿元，同比增长17.0%；创意设计服务10276亿元，增长9.0%；内容创作生产15855亿元，增长4.1%；文化消费终端生产12549亿元，增长0.8%；文化投资运营298亿元，增长0.2%。其余4个行业虽仍为负增长，但降幅明显收窄。

分产业类型看，文化制造业营业收入25566亿元，同比下降3.8%，降幅较上半年收窄5.7个百分点；文化批发和零售业10122亿元，下降10.0%，降幅收窄7.7个百分点；文化服务业30430亿元，增长6.0%，增速提高4.3个百分点。

分领域看，文化核心领域营业收入40423亿元，增速由上半年下降4.0%转为增长1.5%；文化相关领域25696亿元，下降3.8%，降幅收窄5.6个百分点。

分区域看，西部地区实现营业收入5865亿元，增速由上半年下降2.4%转为增长0.9%；东部、中部和东北地区分别为50305亿元、9385亿元和564亿元，分别下降0.4%、1.5%和15.9%，降幅分别收窄5.9、5.2和3.9个百分点。

2020年前三季度全国规模以上文化及相关产业企业营业收入情况

	绝对额	比上年同期增长 (%)		所占 比重
	(亿元)	前三季度	上半年	(%)
总 计	66119	-0.6	-6.2	100.0
按行业类别分				
新闻信息服务	6434	17.0	13.4	9.7
内容创作生产	15855	4.1	-0.3	24.0
创意设计服务	10276	9.0	3.3	15.5
文化传播渠道	6878	-16.5	-24.4	10.4
文化投资运营	298	0.2	-1.9	0.5
文化娱乐休闲服务	683	-39.9	-48.8	1.0
文化辅助生产和中介服务	9171	-9.5	-13.3	13.9
文化装备生产	3975	-3.4	-10.0	6.0
文化消费终端生产	12549	0.8	-5.9	19.0
按产业类型分				
文化制造业	25566	-3.8	-9.5	38.7
文化批发和零售业	10122	-10.0	-17.7	15.3
文化服务业	30430	6.0	1.7	46.0
按领域分				
文化核心领域	40423	1.5	-4.0	61.1
文化相关领域	25696	-3.8	-9.4	38.9
按区域分				
东部地区	50305	-0.4	-6.3	76.1
中部地区	9385	-1.5	-6.7	14.2
西部地区	5865	0.9	-2.4	8.9
东北地区	564	-15.9	-19.8	0.9

注：1.表中速度均为未扣除价格因素的名义增速。

2.表中部分数据因四舍五入，存在总计与分项合计不等的情况。

31. 2019年前三季度，全国新闻信息服务企业的营业收入约为（ ）亿元。

A.5340.22

B.5499.14

C.5673.72

D.7527.78

【答案】B。本题考查基期量计算。根据材料第二段“新闻信息服务营业收入 6434 亿元，同比增长 17.0%”，利用公式 $6463 \div (1+17.0\%)$ ，首两位分别是 54。B 选项符合题意，ACD 选项错误。故本题正确答案选 B。

32. 2020年前三季度，全国规模以上文化及相关产业企业营业收入最高的行业是（ ）。

A.文化消费终端生产

B.新闻信息服务

C.内容创作生产

D.文体投资运营

【答案】C。本题考查简单读数。根据材料第二段“新闻信息服务营业收入 6434 亿元，同比增长 17.0%；内容创作生产 15855 亿元，增长 4.1%；文化消费终端生产 12549 亿元，增长 0.8%；文化投资运营 298 亿元，增长 0.2%”，最大的是：内容创作生产 15855 亿元。C 选项符合题意，ABD 选项错误。故本题正确答案选 C。

33. 2020年前三季度，东部地区在全国规模以上文化及相关产业企业营业收入所占的比例约为（ ）。

A.76.1%

B.38.67%

C.14.5%

D.8.9%

【答案】A。本题考查比重计算。根据材料第五段“东部、中部和东北地区分别为 50305 亿元、9385 亿元和 564 亿元”以及第一段“2020年前三季度全国规模以上文化及相关产业企业营业收入 66119 亿元”，利用公式 $50305 \div 66119$ ，首位上是 7。A 选项符合题意，BCD 选项错误。故本题正确答案选 A。

34. 2020年上半年，全国规模以上文化及相关产业企业营业收入增长最快的地区（ ）。

- A.东部地区
- B.中部地区
- C.西部地区
- D.东北地区

【答案】C。本题考查简单度数。根据材料最后一段“西部地区实现营业收入 5865 亿元，增速由上半年下降 2.4% 转为增长 0.9%；东部、中部和东北地区分别为 50305 亿元、9385 亿元和 564 亿元，分别下降 0.4%、1.5% 和 15.9%”，增速最大的是西部地区 0.9%。C 选项符合题意，ABD 选项错误。故本题正确答案选 C。

35. 根据以上资料，下列说法正确的是（ ）。

- A.2020 年前三季度，全国规模以上文化及相关产业企业营业收入绝对额比上年同期高
- B.2020 年前三季度，全国规模以上文化及相关产业文化服务业营业收入所占比重相当于文化批发和零售业的三倍
- C.2020 年前三季度，全国规模以上文化及相关产业企业营业收入增长最快的是文化娱乐休闲服务业
- D.东北地区的文化及相关产业发展在全国处于领先地位

【答案】B。本题考查综合分析。

A 选项，根据材料“2020 年前三季度，上述企业实现营业收入 66119 亿元，按可比口径计算，比上年同期下降 0.6%”，与上年比营业收入下降，A 错误。

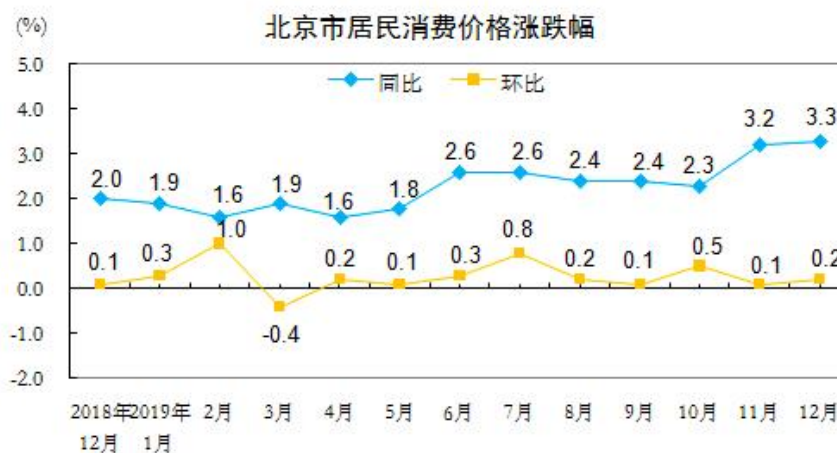
B 选项，根据材料“文化批发和零售业 10122 亿元；文化服务业 30430 亿元”， $30430 \div 10122$ 约等于 3，B 正确。

C 选项，根据表格数据，文化娱乐休闲的增长率是负的 39.9%，并不是增长最快的，C 错误。

D 选项，根据材料“分区域看，西部地区实现营业收入 5865 亿元，增速由上半年下降 2.4% 转为增长 0.9%；东部、中部和东北地区分别为 50305 亿元、9385 亿元和 564 亿元，分别下降 0.4%、1.5% 和 15.9%，降幅分别收窄 5.9、5.2 和 3.9 个百分点”，以及表 1 中各区域所占比重，可知东北地区发展不属于领先地位，D 错误。

B 选项符合题意，ACD 选项错误。故本题正确答案选 B。

2019年12月份,北京居民消费价格总水平同比上涨3.3%,其中,消费品价格上涨3.4%,服务价格上涨3.1%。12月份,北京市居民消费价格总水平环比上涨0.2%,其中,消费品价格上涨0.5%,服务价格下降0.1%。

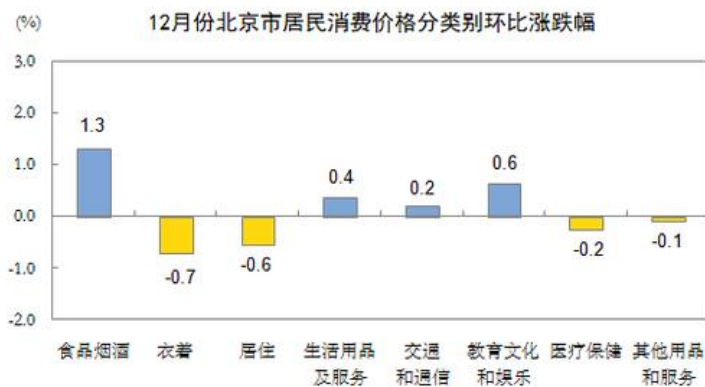


12月份,食品烟酒价格同比上涨9.1%,影响CPI上涨约2.29个百分点。其中,畜肉类价格上涨48.6%,影响CPI上涨约1.50个百分点(猪肉价格上涨97.3%,影响CPI上涨约1.1个百分点);禽肉类价格上涨20.5%,影响CPI上涨约0.12个百分点;鲜菜价格上涨16.0%,影响CPI上涨约0.30个百分点;蛋类价格上涨3.6%,影响CPI上涨约0.02个百分点;鲜果价格下降9.1%,影响CPI下降约0.18个百分点,水产品价格下降0.7%,影响CPI下降约0.01个百分点

其中:医疗保健、其他用品和服务、居住、衣着、教育文化和娱乐价格分别上涨13.4%、4.3%、0.5%、0.3%和0.1%;生活用品及服务、交通和通信价格分别下降2.0%和1.1%。

12月份,食品烟酒价格环比上涨1.3%,影响CPI上涨约0.35个百分点。其中,鲜菜价格上涨23.6%,影响CPI上涨0.40个百分点;鲜果价格上涨1.7%,影响CPI上涨约0.03个百分点;蛋类价格下降6.6%,影响CPI下降约0.03个百分点;禽肉价格下降3.1%,影响CPI下降约0.14个百分点,(猪肉价格下降7.1%,影响CPI下降约0.17个百分点);水产品价格下降0.7%,影响CPI下降约0.01个百分点。

其中:教育文化和娱乐生活用品及服务、交通和通信价格分别上涨0.6%、0.4%和0.2%;衣着、居住、医疗保健、其他用品和服务价格分别下降0.7%、0.6%、0.2%和0.1%。



	12月	1-12月
	环比涨跌幅 (%)	
居民消费价格	0.2	2.3
其中：食品价格	1.6	6.2
非食品价格	0	1.8
其中：消费品价格	0.5	2.2
服务价格	-0.1	2.5
分类别		
一、食品烟酒	1.3	5.2
粮食	-0.2	-0.4
食用油	0.1	-0.4
鲜菜	23.8	0.7
畜肉类	-3.1	20.9
其中：肉类	-7.1	41.2
牛肉	0.4	9.9
羊肉	0.6	10.3
水产品	-0.7	-1.6
蛋类	-8.6	3.8
奶类	1.9	1.0
鲜果	1.7	11.2
烟草	0.1	-0.1

酒类	-0.3	-1.1	1.1
二、衣着	-0.7	0.3	1.9
服装	-1.1	0.4	2.7
衣着加工服务费	0.4	9.1	9.1
鞋类	-0.1	-0.9	-0.6
三、居住	-0.6	0.5	1.3
租赁房房租	-0.6	0.7	1.7
水电燃料	0.0	0.0	1.1
四、生活用品及服务	0.4	-2.0	-0.3
家用器具	0.5	10.3	-4.8
家庭服务	1.9	6.6	5.6
五、交通和通信	0.2	-1.1	-2.2
交通工具	-0.5	-3.7	-2.8
交通工具用燃料	1.3	0.6	-5.8
交通工具使用和维修	2.3	2.7	3.2
通信工具	0.5	10.9	-4.1
通信服务	0.3	0.4	-5.2
邮递服务	0.0	0.0	0.0
六、教育文化和娱乐	0.6	0.1	1.1
教育服务	0.2	1.7	3.0
旅游	2.6	0.3	1.6
七、医疗保健	-0.2	13.4	8.4
中药	0.0	1.9	2.2
西药	0.0	0.5	2.7
医疗服务	0.0	39.6	21.8
八、其他用品和服务	-0.1	4.3	3.2

36. 根据资料，下列说法中正确的一项是（ ）。

A.与 2019 年 11 月相比，当年 12 月份从北京租房的费用明显上涨了

B.2019年12月份北京鞋类的平均价格水平出现环比上升，同比下降的情况

C.2019年12月份北京平均房租水平相比于1月份高

D.2019年12月份，虽然交通工具价格同比下降，但交通工具用燃料价格同比升了

【答案】D。A选项，由表格可知2019年12月份的租赁房房租的环比增速为-0.6%说明相比于11月份，费用下降，A选项错误；B选项，由表中数据可知12月份鞋类的价格环比增速为-0.1%，环比下降，同比增速为-0.9%，同比也是下降，B选项错误；C选项，根据表中数据无法得到12月份相比于1月份的增速，故无法得到其平均房租水平相比于1月份高，C选项错误；D选项，由表中数据可知交通工具价格同比增速为-3.7%，同比下降，但是燃料价格同比增速为0.6%，同比上升，D选项正确。故本题正确答案选D。

37. 根据材料可知，下列说法中不正确的一项是（ ）。

A.就环比来看，12月份，鲜菜价格对消费价格总水平的影响要大于鲜果价格

B.就同比来看，12月份，食品烟酒价格对消费价格总水平的影响要大于蛋类、畜肉类

C.不管是从同比看还是从环比看，2019年12月北京市居民消费价格涨跌幅度都是该年度内最高的

D.2018年北京市北京衣着价格环比下降，但同比价格上涨

【答案】A。A选项，由表中数据可得鲜菜价格环比增速为23.8%，鲜果价格环比增速为1.7%，鲜菜的变动幅度要更大，对消费价格总水平的影响要更大，A选项正确；B选项，表中数据可知，烟类价格同比增速为-0.3%，酒类价格同比增速为-1.1%，蛋类价格同比增速为3.8%，畜肉类价格同比增速为48.6%，烟酒类的变动幅度小于蛋类和畜肉类，因此影响更小，B选项错误；C选项，由图1数据可知12月份同比涨跌幅最高，但是环比涨跌幅不是最高的，C选项错误；D选项，材料仅能得到12月份衣着价格的同比与环比变动，但得不到2018年的，对2018年而言同比与环比数据一致都是1-12月增速1.9%，价格是上升的，本项属于范围错误，D选项错误。故本题正确答案选A。

38. 从资料可知，下列行业中，2019年1-12月份价格上涨了有（ ）个。

(1) 食品烟酒；(2) 医疗健康；(3) 居住；(4) 教育文化及娱乐；(5) 交通和通信；(6) 生活用品及服务；(7) 衣着；(8) 其他用品和服务。

A.4

B.3

C.7

D.6

【答案】D。（1）食品烟酒增速为 5.2%，价格上涨；（2）医疗健康增速为 8.4%，价格上涨；（3）居住增速为 1.3%，价格上涨；（4）教育文化及娱乐增速为 1%，价格上涨；（5）交通和通信增速-2.8%，价格下跌；（6）生活用品及服务增速为-0.3%，价格下跌；（7）衣着增速为 1.9%，价格上涨；（8）其他用品和服务增速为 3.2%，价格上涨。共有 6 个价格上涨，故本题正确答案选 D。

39. 2019 年全年北京市居民消费价格总水平比去年同比上涨（ ）个百分点。

A.2.2

B.2.0

C.2.1

D.2.3

【答案】D。表格第一行即为居民价格水平整体的变化，全年增速即为 1-12 月涨跌幅为 2.3%，因此 2019 年全年北京市居民消费价格总水平比去年同比上涨 2.3 个百分点。故本题正确答案选 D。

40. 2019 年 1-12 月份北京市居民消费价格环比涨跌情况的说法中正确的是（ ）。

（1）全年 2 月份上涨幅度最大，3 月份出现全年最大幅度下跌，极可能是受到春季因素影响

（2）全年环比价格震动幅度没有超过 1 个百分点

（3）全年环比价格整体呈现震动上行下降的趋势

A.只有（2）和（3）

B.只有（1）和（2）

C.三项说法都对

D.只有（1）和（3）

【答案】A。（1）由图 1 可知全年 2 月份环比上涨幅度最大为 1%，3 月份最大幅度下跌为-0.4%，是否是春季影响从文章中无法推出，（1）错误；（2）由图 1 可知全年涨跌幅最大的是二月，为 1%，因此没有超过 1 个百分点，（2）正确；（3）从图中数据可知 1 月环比增速为 0.3%，12 月环比增速为 0.2%，过程中有过上升，但最终相较于 1 月增速更低，整体年初的增速更高，年末增速更低，因此是震动上行下降的趋势，（3）正确。因此只有（2）和（3）是正确的。故本题正确答案选 A。

金融习题

单项选择题

1. 随着国内金融市场发生变化，各类理财产品获得了更好的发展机遇。但是，理财产品的根本还是债权，特别是在我国不再实行刚性兑付后，债券违约，理财产品收益变脸等伤害消费者的事情屡见不鲜。这描述的是理财产品的（ ）。

- A.法律风险
- B.市场风险
- C.信用风险
- D.声誉风险

【答案】C。理财产品不再刚性兑付，债券违约、理财产品收益变脸等说明债务人未能够按合同约定履行义务或履行义务的质量发生了变化而使债权人遭受损失，这属于信用风险，故C项正确，ABD错误。故本题正确答案选C。

2. 下列不具有货币发行权的是（ ）。

- A.中国人民银行
- B.欧洲中央银行
- C.美联储
- D.香港金融管理局

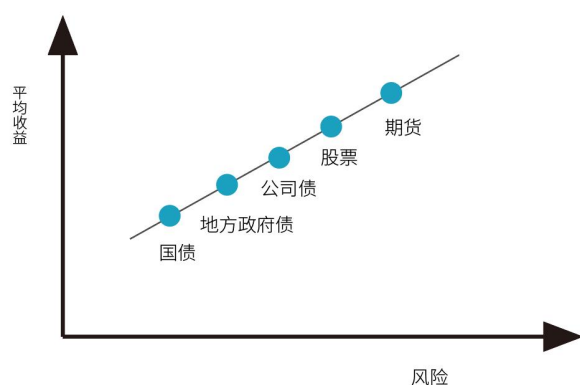
【答案】D。香港金融管理局主要负责货币发行的监管与外汇基金的管理，具体的货币发行由三家商业银行（汇丰银行、渣打银行和中国银行）负责执行，D项当选；中国人民银行具有人民币发行权，欧洲中央银行掌控欧元发行权，美联储具有美元发行权，ABC项排除。故本题正确答案选D。

3. 某日，央行支出100亿元购买政府债券，设该购买行为提供的货币供应量为a，提供的基础货币为b，货币乘数为c，则从理论上说，以下关系中正确的是（ ）。

- A. $a=100c$
- B. $ac>b$
- C. $a>bc$
- D. $b=100c$

【答案】A。央行购买政府债券 100 亿元，该购买行为提高的基础货币 $b=100$ ，货币供应量=基础货币*货币乘数，根据题干条件，货币供应量 $a=b*c=100c$ ，A 项当选，BCD 项排除。故本题正确答案选 A。

4. 做好资产配置之前，需要对各类资产的收益风险特征有所了解。下图中列出了一些资产的收益特征。根据该图，基金的位置是（ ）。



- A. 股票、期货之间
- B. 国债、地方政府债之间
- C. 地方政府债、公司债之间
- D. 公司债、股票之间

【答案】D。基金的风险与收益介于公司债券和股票之间，故 D 项正确，ABC 错误。故本题正确答案选 D。

5. 下列关于资产需求的观点中，正确的是（ ）。

- (1) 假定其他因素不变，财富的增长会增加对资产的需求数量
- (2) 在其他因素不变的情况下，某一资产相对其他替代性资产的预期回报率下降会增加对该资产的需求数量
- (3) 假定其他因素不变，如果一种资产相对其他替代性资产的风险增大，则对该资产的需求数量会相应减少

- A. 只有 (1) 和 (3)
- B. 三个观点都正确
- C. 只有 (2) 和 (3)
- D. 只有 (1) 和 (2)

【答案】A。资产需求的决定因素主要取决于以下四个：①财富：指个人拥有的全部资源，假定其他因素不变，财富的增长会增加对资产的需求数量。②预期回报率：即预期下一

个阶段的回报率，在其他因素不变的情况下，某一资产相对于其他替代性资产的预期回报率上升会增加对该资产的需求数量。③风险：假定其他因素不变，如果一种资产相对其他替代性资产的风险增大，则对该资产的需求数量会相应减少。④流动性：假定其他因素不变，一种资产相对于其他替代性资产的流动性越强，就越受到人们的青睐，对它的需求量也随之增加。综上，（1）说法正确；（2）说法错误，应该是“减少对该资产的需求数量”；（3）说法正确。故本题正确答案选 A。

6. 长期巨额贸易顺差并非好事，从经济学角度看，它会导致哪种情况出现？（ ）

- A. 本国失业率增加
- B. 外汇流入增多，本币面临升值压力
- C. 本国国内物资供应相对增加，出现商品供不应求的情形
- D. 本国货币供应小于需求

【答案】B。长期巨额贸易顺差会导致外汇的收入大于支出，外汇流入增加，本币面临升值压力，故 B 项正确；顺差可能是本国出口较多带来的，可以拉动国内就业，失业率可能降低，故 A 项错误；顺差可能是本国出口较多带来的，可能导致国内物资供应减少，故 C 项错误；顺差时本币面临升值压力，为了平衡汇率，一国央行可能会收购外汇，增加本币的供应，可能导致货币供应大于需求，故 D 项错误。故本题正确答案选 B。

7. 金本位制下，（ ）是决定两国货币汇率的基础。

- A. 货币含金量
- B. 铸币平价
- C. 中心汇率
- D. 货币实际购买力

【答案】B。金本位制就是以黄金为本位币的货币制度。在金本位制下，每单位的货币价值等于若干重量的黄金（即货币含金量）；当不同国家使用金本位时，国家之间的汇率由它们各自货币的含金量之比，即铸币平价来决定，B 项正确，ACD 不符合题意。故本题正确答案选 B。

8. 2021 年被人们所熟知的经营贷、消费贷属于商业银行的资产业务，除了它们，商业银行的资产业务还有（ ）。

- A. 支付结算
- B. 备用信用证
- C. 吸收存款

D.购买金融债

【答案】D。商业银行的资产业务是资金运用的业务，包含现金、贷款、贴现和证券投资，购买金融债属于证券投资，故 D 项正确；支付结算和备用信用证属于表外业务，故 AB 错误；吸收存款属于负债业务，故 C 项错误。故本题正确答案选 D。

9. 以下属于短期信用工具的是（ ）。

A.政府公债

B.国库券

C.企业中长期债券

D.股票

【答案】B。短期信用工具通常指的是期限在一年以内的金融工具，也可以被称作货币市场工具。短期信用工具主要包括各类票据、可转让存单以及国库券，故选项 B 说法正确；政府公债分为短期、中期和长期，故 A 选项错误；企业中长期债券明确提到了时间是中长期，与题意不符，故选项 C 错误；股票无明确的存续期，故选项 D 错误。故本题正确答案选 B。

10. 小张是某银行的理财经理，该银行新推出了一款非保本浮动收益理财产品，在此之前，有一款与之类似的产品年收益达到了 5%，于是小张向客户介绍，该产品是一款投资理财产品，预期收益可达 5%，下列对该行为描述正确的是（ ）。

A.历史不能代表未来，小张的推荐容易误导客户，违反了销售人员需要客观真实地向客户介绍银行产品和服务原则

B.小张的介绍，简洁明了抓住了产品的特点，值得借鉴

C.小张的介绍透露了银行产品内部信息，违反了商业保密原则

D.详细的介绍突出了该产品的优势，且进行了有效的风险提示，客户更容易接受

【答案】A。非保本浮动收益理财产品是不保本的，因此需要向客户提示风险，另外浮动收益表明该款产品的收益是不确定的，不能根据历史情况来向客户推销。向客户推荐产品或提供服务时，应当根据监管规定要求，对所推荐的产品及服务涉及的法律风险、政策风险及市场风险等进行充分的提示，对客户提出的问题应当本着诚实作用的原则答复。A 选项对该行为描述正确，符合题意，当选；BCD 选项不符合题意。故本题正确答案选 A。

11. 李某是一家银行的客户经理，他的下列行为中没有违反银行业从业人员职业操守规定的是（ ）。

A.知道其部门同事有受贿行为，但由于不属于同一部门，因此不予劝阻

- B.周末将有存有客户资料的办公用笔记本电脑带回家用于娱乐和游戏
- C.某企业财务人员向其了解本公司法人在该银行的私人存款情况，李某予以拒绝
- D.利用职务便利，为朋友办事，朋友以一定财务作为回报

【答案】C。李某知道其部门同事有受贿行为，即使不属于同一部门，也应予以劝阻，A选项错误，排除；李某周末不应将有存有客户资料的办公用笔记本电脑带回家用于娱乐和游戏，B选项错误，排除；某企业财务人员向其了解本公司法人在该银行的私人存款情况，李某予以拒绝，C选项正确，当选；李某不应利用职务便利，为朋友办事，朋友以一定财务作为回报，D选项错误，排除。故本题正确答案选C。

12. 假设存在两种债券 X 和 Y，面值均为 1000 元。以下说法正确的是（ ）。

债券	息票率 (%)	发行价 (元)
x	5.5	800
y	7.0	1300

- A.正常情况下，债券 X 的到期收益率与息票率相等
- B.正常情况下，债券 X 的到期收益率比息票率低
- C.正常情况下，债券 Y 的到期收益率与息票率相等
- D.正常情况下，债券 Y 的到期收益率比息票率低

【答案】D。折价发行是发行价格低于票面金额，X 属于折价发行，息票率低于到期收益率；溢价发行是发行价格大于票面金额，Y 属于溢价发行，息票率高于到期收益率。故 D 项当选；ABC 不当选。故本题正确答案选 D。

13. 各国在制定汇率时必须选择某一国货币作为主要对比对象，这种货币被称为关键货币。根据本国货币与关键货币实际价值的对比，制定出对它的汇率，这个汇率就是（ ）。

- A.浮动汇率
- B.基本汇率
- C.套算汇率
- D.固定汇率

【答案】B。根据本国货币与关键货币实际价值的对比，制定出对它的汇率，这个汇率就是基本汇率。一般美元是国际支付中使用较多的货币，各国都把美元当作制定汇率的主要货币，常把对美元的汇率作为基本汇率。故 B 项当选；ACD 不当选。故本题正确答案选 B。

14. 根据《中国人民银行法》，下列事项中，中国人民银行可以实施的是（ ）。

- A.对政府财政透支

- B.在公开市场上买卖金融债券
- C.向各级政府提供贷款
- D.直接认购国债

【答案】B。B项，第二十三条中国人民银行为执行货币政策，可以运用下列货币政策工具：在公开市场上买卖国债、其他政府债券和金融债券及外汇，当选；AC项，第三十条中国人民银行不得向地方政府、各级政府部门提供贷款，不当选；D项，第二十九条中国人民银行不得对政府财政透支，不得直接认购、包销国债和其他政府债券，不当选。故本题正确答案选B。

15. 在个人贷款业务中，确定贷款价格时的“贴水”指的是（ ）。
- A.商业银行为补偿贷款风险向借款人征收的费用
 - B.中央银行向商业银行就通胀率给出的货币补偿
 - C.商业银行向借款人让渡的贷款优惠
 - D.中央银行向借款人就通胀率给出的货币补偿

【答案】C。贴水贷款指用于从事微利项目的小额担保贷款，由市财政据实全额贴息，借款人本人贷款期内不支付利息，贴水最长不超过两年，展期不贴。故本题正确答案选C。

16. 下列属于商业银行派生存款的是（ ）。
- A.丁将一万元转账给朋友丙应急
 - B.甲将十万元存入银行定期账户
 - C.乙从银行账户中取出五万元
 - D.丙将从银行贷出的五十万重新存入银行活期账户

【答案】D。派生存款是指商业银行通过发放贷款、购买有价证券等方式创造的存款。商业银行吸收到原始存款后，只按规定留一部分作现金准备应付提存，其余部分可用于放款和投资。在广泛使用非现金结算的条件下，取得银行贷款或投资款项的客户并不支取现金，而是转入其银行存款账户。这样就在原始存款的基础上，形成了一笔新的存款。接受这笔新存款的商业银行，除保留一部分作准备金外，其余部分又可用于放款和投资，从而又派生出存款。这个过程继续下去，就可以创造出大量的派生存款。D正确，ABC错误。故本题正确答案选D。

17. 中央银行调高法定存款准备金率时，市场的反应通常是（ ）。
- A.商业银行可用资金增多，贷款下降，导致货币供应量减少
 - B.商业银行可用资金增多，贷款上升，导致货币供应量增多

C.商业银行可用资金减少，贷款下降，导致货币供应量减少

D.商业银行可用资金减少，贷款上升，导致货币供应量增多

【答案】C。中央银行调高法定存款准备金率时，商业银行缴存央行的法定存款准备金增多，商业银行的可用资金减少，放贷资金减少，贷款下降，市场上的货币供给减少，故C项正确，ABD错误。故本题正确答案选C。

18. 在其他因素不变的条件下，如果商品价格总额增加1倍，则流通中的货币需求量将会（ ）。

A.增加2倍

B.增加1倍

C.减少1倍

D.不变

【答案】B。按照马克思货币需求理论： $M=PQ/V$ ，式中：M为执行流通手段职能的货币量；P代表商品价格水平；Q代表待售商品数量；PQ代表商品价格总额；V代表货币的流通速度。PQ代表商品价格总额，当PQ增加1倍时，货币需求量M也将增加1倍，故B项正确，ACD错误。故本题正确答案选B。

19. 金融资产M、X、Y、Z之间的相关函数如下，M与X的相关系数为1，M与Y的相关系数为0.5，M与Z的相关系数为0.4，所有资产的期望收益率都为7%，标准差为15%，如果目前的资产都有M组成，只允许选取X、Y和Z中的一种资产组成组合投资，作为理性投资者应选择（ ）。

A.都可以

B.Z

C.Y

D.X

【答案】B。当组合的相关系数为1时，风险降低得不明显，组合的风险介于各种资产各自的风险之间；当组合的相关系数为-1时，风险降低很明显；当组合的相关系数为-1到1之间时，风险低于各种资产标准差的简单加权平均值。对比各组相关系数，其中Z的相关系数为0.4，风险降低最为明显，故本题正确答案选B。

20. 商业银行的业务性质要求其必须维持存款人贷款人和整个市场的信心，因此从这个意义上讲，以下哪个风险对于商业银行经济价值构成最大的威胁？（ ）

- A.声誉
- B.信用
- C.操作
- D.市场

【答案】A。商业银行通常将声誉风险看作是对其市场价值最大的威胁，因为商业银行的业务性质要求它维持存款人、贷款人和整个市场的信心，A项正确，BCD项错误。故本题正确答案选A。

21. 以下哪项不属于商业银行展业三原则（ ）。

- A.了解你的客户
- B.尽职调查
- C.了解你的优势
- D.了解你的业务

【答案】C。“了解你的客户”、“了解你的业务”、“尽职尽责”，合成商业银行“展业三原则”，ABD项正确，C项错误。本题选非，故本题正确答案选C。

22. 甲乙丙丁四家商业银行的现金漏损率依次提高，它在不考虑其他因素是哪家银行创造派生存款货币的能力更强（ ）。

- A.丙
- B.丁
- C.乙
- D.甲

【答案】D。存款乘数与现金漏损率成反比，故现金漏损率越小，存款总额越大，创造派生存款的能力越强，D项正确，ABC项错误。故本题正确答案选D。

23. 下列理财业务中，客户等级最高，服务种类最为齐全的是（ ）。

- A.理财顾问服务
- B.理财计划服务
- C.私人银行服务
- D.财富管理服务

【答案】C。私人银行客户等级最高，服务种类最为齐全，故C选项正确；从客户等级来看，理财业务客户范围相对较广，但服务种类相对较窄，故AB选项错误；财富管理客户

等级高于理财业务客户但低于私人银行客户，服务种类超过理财业务客户但是少于私人银行业务客户，故 D 选项错误。故本题正确答案选 C。

24. 个人活期储蓄存款按年度结息，存款在存期内遇利率调整，按（ ）计付利息。

- A. 结息日挂牌公告的活期利率
- B. 存单开户日挂牌公告的利率
- C. 清户日挂牌公告的活期利率
- D. 支取日挂牌公告的利率

【答案】A。活期储蓄存款在存入期间遇有利率调整，按结息日挂牌公告的活期储蓄存款利率计算利息，故 A 选项正确；定期储蓄存款在存期内遇有利率调整，按存单开户日挂牌公告相应的定期储蓄存款利率计付利息，故 B 选项错误；全部支取活期储蓄存款，按清户日挂牌公告的活期储蓄存款利率计付利息，故 C 选项错误；未到期的定期储蓄存款，全部提前支取的，按支取日挂牌公告的活期储蓄存款利率计付利息，故 D 选项错误。故本题正确答案选 A。

25. 根据《商业银行资本管理办法（试行）》关于商业银行各级资本的说法正确的是哪项？（ ）

- A. 商业银行进行资本规划时，应优先考虑补充二级资本
- B. 商业银行二级资本的目标是在逆经济周期情况下吸收损失
- C. 发行普通股和提高留存利润是商业银行补充资本的重要手段
- D. 商业银行的一级资本的目标是在破产清算情况下吸收损失

【答案】C。根据《商业银行资本管理办法（试行）》银行资本包括核心资本与二级资本，核心资本包括实收资本或普通股、资本公积、盈余公积、一般风险准备、未分配利润等。发行普通股和提高留存利润是商业银行补充资本的重要手段，故 C 选项正确；在制定资本规划时，商业银行应当优先考虑补充核心一级资本，增强内部资本积累能力，完善资本结构，提高资本质量，故 A 选项错误；一级资本工具的目标是在持续经营前提下吸收损失，而二级资本目标是在破产清算情况下吸收损失，承担风险与吸收损失的能力相对更差，故 BD 选项错误；故本题正确答案选 C。

26. 下列关于大额存单特点的说法中，正确的一项是（ ）。

- A. 均不能在二级市场流通
- B. 均不能提前支取
- C. 均是固定利率，避免利率波动

D.均记名，以发行人信誉担保

【答案】B。大额存单是指由银行业存款类金融机构面向个人、非金融企业、机关团体等发行的一种大额存款凭证，最早产生于 20 世纪 60 年代的美国。大额存单的特性在于可以在二级市场流通转让；不可以提前支取；有固定的利率，也有浮动利率；可以不记名转让。故 B 项正确，ACD 项均错误。故本题正确答案选 B。

27. 在下列选项中，由于他国内部政治环境或国际关系等因素的不确定性变化而导致本国经济主体发生损失的可能性，其风险属于（ ）。

- A.关联风险
- B.政治风险
- C.主体风险
- D.国家风险

【答案】B。政治风险是指商业银行受特定国家的政治动荡等不利因素影响，无法正常收回在该国的金融资产而遭受损失的风险，所以 B 项正确；关联风险是指因相关产业或相关市场的变化而导致经济主体未来收益变化的不确定性，所以 A 项错误；主体风险是指参与金融活动的主体不同，导致未来收益变化的不确定性，所以 C 项错误；国家风险指在国际经济活动中，由于国家的主权行为所引起的造成损失的可能性，所以 D 项错误。故本题正确答案选 B。

28. 资本市场又称长期资金市场，是金融市场的重要组成部分。货币市场是指期限在一年以内的金融交易的市場。下列关于两类市场的说法中错误的是（ ）。

- A.债券不属于资本市场交易工具
- B.股票、债券属于资本市场交易工具
- C.资本市场主要以筹集运用长期资金为特点
- D.货币市场的交易工具有“准货币”的性质

【答案】A。债券属于资本市场交易工具，A 项当选；资本市场的交易工具是较长期的有价证券如股票、债券等，长期的有价证券大都具有投资性质，所以资本市场主要以筹集运用长期资金为特点，BC 项排除；货币市场的交易工具是较短期（1 年以内）的票据的有价证券，一般具有“准货币”的性质，流通性强，安全性大，D 项排除。故本题正确答案选 A。

29. （ ）基金，股份相对固定，一般不向投资者增发新股或赎回旧股。

- A.开放型
- B.契约型

C.公司型

D.封闭型

【答案】D。基金根据是否可随时赎回，分为封闭型基金和开放式基金。封闭型基金有固定的存续期，是相对于开放式基金而言的，是指基金规模在发行前已确定，在发行完毕后和规定的期限内，基金规模固定不变的投资基金，在存续期间基金的总体规模固定，故 D 项正确；开放式基金的概念是相对于封闭式基金而言的，它是指基金规模不固定，基金单位可随时向投资者出售，也可应投资者要求买回的运作方式，故 A 项错误；按组织形式不同分为契约型基金和开放式基金，故 BC 错误。故本题正确答案选 D。

30. 如果 PPP 理论成立，单纯从物价和货币购买力的关系来看，如果物价指数上升 20%，则货币购买力（ ）。

A.上升 20%

B.下降 20%

C.上升 16.7%

D.下降 16.7%

【答案】D。物价指数上升，则货币的购买力贬值，纸币贬值 $=1-1/\text{物价指数}=1-1/(1+20\%)=16.7\%$ ，故 D 正确，B 错误；因为是本币贬值，排除 AC 项，故 AC 项错误。故本题正确答案选 D。

多项选择题

31. 债券按发行主体不同分为（ ）。

A.政府债券

B.公司债券

C.固定利率债券

D.金融债券

【答案】ABD。根据发行主体的不同，债券发行主体可以分为政府债券、金融债券和公司债券。政府债券的发行主体是政府，根据不同级次的政府，还可以进一步分为中央政府债券和地方政府债券。金融债券的发行主体是银行或非银行金融机构。公司债券的发行主体是股份公司，故选项 ABD 说法正确。选项 C 中提到的固定利率债券是按照利率是否可浮动来做分类，不符合题意，故选项 C 错误。故本题正确答案选 ABD。

32. 下列关于银行安全性指标的说法中，正确的有（ ）。

- A.不良贷款拨备覆盖率指标有利于观察银行的拨备政策
- B.一般而言，不良贷款率低，说明银行不能收回的贷款占总贷款的比例小
- C.按风险程度可将贷款划分为正常、关注、次级、可疑、损失五类，其中后三类合称为不良贷款
- D.资本充足率反映一家银行的整体资本稳健水平

【答案】ABCD。不良贷款拨备覆盖率是衡量银行对不良贷款进行账务处理时，所持审慎性高低的重要指标。该指标有利于观察银行的拨备政策，A选项正确；不良贷款率不良贷款率，指金融机构不良贷款占总贷款余额的比重。不良贷款率高，可能无法收回的贷款占总贷款的比例越大。不良贷款率低，说明金融机构不能收回贷款占总贷款的比例越小，B选项正确；贷款五级分类是指商业银行依据借款人的实际还款能力进行贷款质量的五级分类。即按风险程度将贷款划分为五类：正常、关注、次级、可疑、损失，后三种为不良贷款，C选项正确；资本充足率是商业银行资本总额与风险加权资产的比值，反映的是一家商业银行的整体资本稳健水平，D选项正确。故本题正确答案选ABCD。

33. 个人贷款的还款方式较为灵活，包括（ ）。

- A.等额本金还款法
- B.等额累进还款法
- C.等额本息还款法
- D.等比累进还款法

【答案】ABCD。目前，各商业银行的个人贷款可以采取灵活多样的还款方式，如等额本息还款法、等额本金还款法、等比累进还款法、等额累进还款法及组合还款法等多种方法，而且客户还可以根据自己的需求和还款能力的变化情况，与贷款银行协商后改变还款方式。故本题正确答案选ABCD。

34. 中央经济工作会议提出，2021年货币政策要“稳”字当头，保持好正常货币政策空间的可持续性。下列关于央行三大货币政策工具的说法，不正确的有（ ）。

- A.再贴现政策有利于进行经常性、连续性操作
- B.法定存款准备金率是央行调节货币供给量的有效工具
- C.再贴现政策不利于发挥央行最后贷款人的作用
- D.公开市场业务传导机制快，其影响经过很短时间就能显现

【答案】ACD。选项A，再贴现政策对中央银行来说，是买进商业银行持有的票据，流出现实货币，扩大货币供应量的货币政策，但其主动权在商业银行，故无法做到经常性与

连续性，A 项说法不正确。选项 B，法定存款准备金率是指一国中央银行规定的商业银行和存款金融机构必须缴存中央银行的法定准备金占其存款总额的比率。调节法定存款准备金率，是国家调节货币政策的有效方法，B 项说法正确。选项 C，再贴现率政策的优点为发挥央行最后贷款人的作用，选项 C 说法不正确。选项 D，公开市场业务需要通过证券市场来作用，从而将政策效率来传递到金融市场，相对来说经过时间较长，无法快速显现效果，选项 D 说法不正确。故本题正确答案选 ACD。

35. 提高直接融资比重，对于深化金融供给侧结构性改革、加快构建新发展格局等具有十分重要的意义。以下属于直接融资的有（ ）。

- A. 发行股票
- B. 发行国债
- C. 银行贷款
- D. 商业本票

【答案】ABD。直接融资是间接融资的对称，指没有金融中介机构介入的资金融通方式。在这种融资方式下，在一定时期内，资金盈余单位通过直接与资金需求单位协议，或在金融市场上购买资金需求单位所发行的有价证券，将货币资金提供给需求单位使用。直接融资的工具主要有商业票据、直接借贷凭证、股票、以及债券等。选项 A、B、D 均属于直接融资方式。选项 C 均属于间接融资方式（间接融资工具主要包括：贷款、银行承兑汇票、信用证等）。故本题正确答案选 ABD。

36. 金融市场的类型按交易中介可以划分（ ）。

- A. 直接金融市场
- B. 间接金融市场
- C. 发行市场
- D. 流通市场
- E. 有形市场

【答案】AB。金融市场按照交易中介可以分为直接金融市场和间接金融市场，故 AB 正确；金融市场按发行的程序分为发行市场和流通市场，故 CD 错误；金融市场按照交易场所分为有形市场和无形市场，故 E 错误。故本题正确答案选 AB。

37. 中间业务作为商业银行金融服务能力和产品创新能力的集中体现，伴随并见证了商业银行发展壮大的过程。下列属于商业银行中间业务的有（ ）。

- A. 代理保险业务

B. 票据贴现业务

C. 投行咨询业务

D. 基金托管业务

【答案】ACD。银行中间业务是商业银行为客户办理支付和其他委托事项而收取手续费的业务的总称。具体业务主要有：①支付结算类业务；②银行卡业务；③代理类业务；④担保承诺类业务；⑤交易类业务；⑥投资银行类业务；⑦基金托管业务；⑧其他类。选项 A 属于代理类业务，选项 B 属于银行资产业务（银行引用其资产的业务，包括投资和放款等），选项 C 属于投资银行类业务，选项 D 属于基金托管业务，选项 ACD 均属于中间业务大类中的具体业务类别。故本题正确答案选 ACD。

38. 关于商业银行贷款风险分类说法正确的是（ ）。

A. 按照贷款风险程度的不同，贷款实行五级分类，其中后两类为不良贷款

B. 次级贷款的特征是借款人无法足额偿还贷款本息，即使执行担保，也要造成较大损失

C. 尽管借款人目前有能力偿还贷款本息，但存在一些可能对偿还产生不利影响的因素，符合此特征的贷款应归为关注类贷款

D. 可疑贷款属于不良贷款

【答案】CD。贷款五级分类是指商业银行依据借款人的实际还款能力进行贷款质量的五级分类。即按风险程度将贷款划分为五类：正常、关注、次级、可疑、损失，后三种为不良贷款。正常贷款：借款人能够履行合同，一直能正常还本付息，不存在任何影响贷款本息及时全额偿还的消极因素，银行对借款人按时足额偿还贷款本息有充分把握。贷款损失的概率为 0；关注贷款：尽管借款人有能力偿还贷款本息，但存在一些可能对偿还产生不利影响的因素，如这些因素继续下去，借款人的偿还能力受到影响，贷款损失的概率不会超过 5%；次级贷款：借款人的还款能力出现明显问题，完全依靠其正常营业收入无法足额偿还贷款本息，需要通过处分资产或对外融资乃至执行抵押担保来还款付息。贷款损失的概率在 30%-50%；可疑贷款：借款人无法足额偿还贷款本息，即使执行抵押或担保，也肯定要造成一部分损失，只是因为存在借款人重组、兼并、合并、抵押物处理和未决诉讼等特定因素，损失金额的多少还不能确定，贷款损失的概率在 50%-75%之间；损失贷款：指借款人已无偿还本息的可能，无论采取什么措施和履行什么程序，贷款都注定要损失了，或者虽然能收回极少部分，但其价值也是微乎其微，从银行的角度看，也没有意义和必要再将其作为银行资产在账目上保留下来，对于这类贷款在履行了必要的法律程序之后应立即予以注销，其贷

款损失的概率在 75%-100%。A 选项，应该是后三类为不良贷款，排除；B 选项为可疑贷款，排除。故本题正确答案选 CD。

39. “不可能三角”定理指出，一国不可能同时实现三个目标，只能选择其中两个。以下属于该定理的三个目标的是（ ）。

- A. 货币政策独立性
- B. 财政政策独立性
- C. 资本自由流动
- D. 汇率稳定

【答案】ACD。三元悖论又称为不可能三角。根据蒙代尔的三元悖论，一国的经济目标有三种：①各国货币政策的独立性；②汇率的稳定性；③资本的完全流动性。这三者，一国只能三选其二，而不可能三者兼得。故本题正确答案选 ACD。

40. 下列选项中，属于原生的金融工具的有（ ）。

- A. 存单
- B. 货币
- C. 远期
- D. 股票
- E. 债券

【答案】ABDE。原生的金融工具一般是指股票、债券、存单、货币等，故 ABDE 正确；金融衍生工具是从原生性金融工具派生出来的金融工具，其价值依赖于基础标的资产。在形式上均表现为合约，目前较为流行的金融衍生工具合约主要有远期、期货、期权和互换，故 C 错误。故本题正确答案选 ABDE。

经济习题

单项选择题

1. 如果消费函数为 $c=100+0.8(y-t)$ ，并且税收和政府购买支出同时增加 1 美元，则均衡收入将（ ）。

- A. 保持不变
- B. 增加 3 美元
- C. 增加 1 美元

D.下降 4 美元

【答案】C。政府购买支出乘数为： $k_g = \frac{1}{1-\beta} = 5$ ，税收乘数为 $k_t = -\frac{\beta}{1-\beta} = 4$ ，所以说收和政府购买支出同时增加 1 美元时，政府购买支出增加导致收入增加 5 美元，而税收增加导致收入减少 4 美元，故总体来看收入增加 1 美元，故 C 项正确，ABD 错误。故本题正确答案选 C。

2. 关于宏观经济政策的选择，下列说法中错误的是（ ）。

A.当经济陷入流动性陷阱时，建议采用财政政策而非货币政策

B.当挤出效应很明显时，采取货币政策更能够成功

C.在古典世界里，应该采用货币政策而不是财政政策

D.在古典世界里，给定的货币数量的变化对收入水平的影响最小

【答案】D。在古典世界里，LM 曲线垂直，此时给定的货币数量的变化对收入水平的影响最大，此时通过向右移动垂直的 LM 曲线可以使得国民收入大幅增加，而移动 IS 曲线却不能够影响收入水平，故 D 项说法错误，C 项说法正确；当经济处于流动性陷阱时，即 LM 曲线处于水平状态时，财政政策效果非常显著，故 A 项说法正确；政府支出增加时会产生挤出效应，当挤出效应比较明显时，采用货币政策刺激经济的效果更好，故 B 项说法正确。本题选非，故本题正确答案选 D。

3. 关于吉芬商品说法正确的是（ ）。

A.替代效应与价格同方向变动

B.收入效应与价格呈反方向变动

C.总效应与价格呈同方向变动

D.需求曲线向右下方倾斜

【答案】C。吉芬商品的收入效应大于替代效应，故总效应与价格同向变动，故 C 项正确；吉芬商品是一种特殊的低档品，其替代效应跟正常商品一样与价格呈反向变动关系，故 A 项错误；作为低档商品其收入效应与价格正相关，故 B 项错误；需求曲线反映总效应，故需求曲线形状为向右上方倾斜，故 D 项错误。故本题正确答案选 C。

4. 苹果产品已经风靡全球，但是有消费者发现，2014 年 9 月 10 发布的 iPhone6（64G）零售价最便宜的地区是美国，只要 4596 元人民币（折合），而最贵的法国，需要 6502 元人民币（折合），两者相差的价格高达 1906 元人民币，这属于（ ）。

A.一级价格歧视

B.二级价格歧视

C.三级价格歧视

D.差别定价策略

【答案】C。对同一种产品在不同的市场上收取不同的价格，是三级价格歧视，故 C 项正确、ABD 错误。故本题正确答案选 C。

5. 已知某企业生产的商品价格为 10 元，平均成本 11 元，平均可变成本 8 元，则该企业在短期内（ ）。

A.停止生产且亏损

B.继续生产且有利润

C.继续生产且亏损

D.停止生产且不亏损

【答案】C。根据商品价格大于平均可变成本小于平均成本，即 $8 < 10 < 11$ ，厂商这时生产虽然有亏损，但其全部收益弥补全部可变成本以后还有剩余，以弥补在短期内总是存在的不变成本的一部分，故 C 项正确、ABD 错误。故本题正确答案选 C。

6. 假定规模报酬不变，在单位时间里增加了 20% 的劳动使用量，但保持资金量不变，则产出量将（ ）。

A.增加 20%

B.减少 20%

C.增加小于 20%

D.题意含糊，无法计算

【答案】C。规模报酬不变时，产量与要素的增加同比例变动。在题干中，在单位时间里增加了 20% 的劳动使用量，如果同时保持资金量也增加 20%，产出量将增加 20%，但是由于资金量没有变化，所以产出的增加会小于 20%，故 C 项正确、ABD 错误。故本题正确答案选 C。

7. 直线型需求曲线的斜率不变，因此其价格弹性也不变，（ ）。

A.正确

B.不正确

C.有时正确，有时不正确

D.难以确定

【答案】B。由需求价格点弹性公式 $E_p = dQ/dP * P/Q$ 可知，虽然直线型的需求曲线斜率是固定不变的，但是每一点的 P 和 Q 都是唯一的，因此每一点的需求价格弹性都是不相同的，故 B 项正确，ACD 项错误。故本题正确答案选 B。

8. 对于生产函数 $Q=f(L, K)$ ，理性的生产者选择的生产区域应是（ ）。

- A.MP>AP 阶段
- B.MP 下降阶段
- C.MP 与 AP 的交点起至 MP 与横轴交点止
- D.MP>0 阶段

【答案】C。本题考查生产理论中的短期生产理论。理性的生产者选择的在第二个区域进行生产，AP 和 MP 递减且大于零的阶段，即为 AP 和 MP 曲线的交点起至 MP 与横轴交点为止。因此选择 C 选项。A 选项：MP>AP 阶段是在第一个区域。B 选项：下降阶段也包括第三区域，MP<0 的区域。D 选项：MP>0 阶段包括第一和第二区域。故本题正确答案选 C。

9. 在度量通货膨胀的重要指标中，衡量制造商和农场主向商店出售商品的价格指数是（ ）。

- A.批发物价指数（WPI）
- B.消费者价格指数（CPI）
- C.零售物价指数（RPI）
- D.生产者价格指数（PPI）

【答案】D。A 项，批发物价指数（WPI）是“零售物价指数”的对称，反映不同时期商品批发价格水平变动趋势和程度的经济指标，可观察批发物价变动对生产和零售的影响，不当选；B 项，消费者价格指数（CPI）是对一个固定的消费品篮子价格的衡量，主要反映消费者支付商品和劳务的价格变化情况，也是一种度量通货膨胀水平的工具，不当选；C 项，零售物价指数（RPI）是指以现金或信用卡形式支付的零售商品的价格指数，不当选。D 项，生产者价格指数（PPI）是衡量制造商和农场主向商店出售商品的价格指数。它主要反映生产资料的价格变化状况，用于衡量各种商品在不同生产阶段的成本价格变化情况，当选。故本题正确答案选 D。

10. 消费品 a 和消费品 b 的消费效用函数为 $\min\{2a, b\}$ ，则这两种消费品对消费者来说属于（ ）。

- A.替代比例 1:2

- B.完全替代品
- C.完全互补品
- D.替代比例 2:1

【答案】C。根据消费效用函数 $\min\{2a,b\}$ ，我们可以知道一单位的 b 需要搭配两单位的 a ，即按 2: 1 的固定不变的比例同时被使用，属于完全互补品，故 C 项正确，ABD 项错误。故本题正确答案选 C。

11. 下列哪项陈述正确？（ ）

- A.所有的低档品都是吉芬商品，所有的吉芬商品都是低档品
- B.所有的低档品都是吉芬商品，但不是所有的吉芬商品都是低档品
- C.所有的吉芬商品都是低档品，但不是所有的低档品都是吉芬商品
- D.上述说法都不正确，因为在低档品和吉芬商品之间没有确定的关系

【答案】C。低档品的特征是其消费数量随着收入增加而减少，故收入效应为正，吉芬物品是特殊的低档品，特殊在收入效应大于替代效应，即所有的吉芬商品都是低档品，但不是所有的低档品都是吉芬商品，故 C 项正确，ABD 错误。故本题正确答案选 C。

12. 在影响需求价格弹性的因素中，时间因素与商品需求价格弹性大小的关系是（ ）。

- A.两者间的关系需要根据具体商品才能判定
- B.时间越长，商品需求价格弹性越小
- C.时间越短，商品需求价格弹性越小
- D.两者间不存在任何关系

【答案】A。大多数商品，长期需求比短期需求富有价格弹性，耐用消费品的短期弹性大于长期需求的弹性。对于大多数商品来说，长期需求比短期需求更富有弹性。原因之一就是人们需要较长的时间才能改变他们的消费习惯，另一个原因是人们对某一种商品的需求可能与另一种商品的存量有关，后者只能慢慢的变化。对于耐用消费品，如汽车，如果价格上升，消费者最初不会购买新车，因此，汽车的年需求量会急剧下降。而从长期来看，人们必须购买新车来替换已报废的旧车，所以对汽车的年需求量会逐步上扬，故耐用消费品的短期弹性大于长期需求的弹性。A 项正确，当选；BCD 项错误，排除。故本题正确答案选 A。

13. 关于乘数效应，下列表述错误的是（ ）。

- A.乘数是指总需求的增加所引起的国民收入增加的倍数
- B.乘数效应的大小取决于边际消费倾向的高低
- C.边际消费倾向越高，乘数效应就越小

D.边际消费倾向越低，乘数效应就越小

【答案】C。投资乘数等于 $1 \div (1 - \text{边际消费倾向})$ ，所以边际消费倾向越高，乘数效应就越高，C 错误。乘数是指总需求的增加所引起的国民收入增加的倍数，A 正确。乘数效应的大小取决于边际消费倾向的高低，B 正确。边际消费倾向越低，乘数效应就越小，D 正确。故本题正确答案选 C。

14. 关于无差异曲线，下列表述错误的是（ ）。

- A.无差异曲线是一条表示能够给消费者带来相同满足程度的两种商品的所有组合的曲线
- B.这条曲线上所有各点的两种商品的组合带给消费者的满足程度是完全相同的
- C.消费者对这条曲线上各个点的偏好程度是无差异的
- D.无差异曲线离原点越近，消费者的偏好程度越高

【答案】D。无差异曲线离原点越近，消费者的偏好程度越低，D 错误。无差异曲线是一条表示能够给消费者带来相同满足程度的两种商品的所有组合的曲线，A 正确。无差异曲线上所有各点的两种商品的组合带给消费者的满足程度是完全相同的，B 正确。消费者对这条曲线上各个点的偏好程度是无差异的，C 正确。故本题正确答案选 D。

15. 产出增加、利率不确定是财政政策和货币政策混合使用的哪种方式产生的结果？（ ）

- A.紧缩性财政政策和扩张性货币政策
- B.扩张性财政政策和扩张性货币政策
- C.紧缩性财政政策和紧缩性货币政策
- D.扩张性财政政策和紧缩性货币政策

【答案】B。扩张性财政政策和扩张性货币政策引起产出增加，利率可能上升、下降或不变，故 B 项正确；紧缩性财政政策和扩张性货币政策一定会导致利率的下降，但产出可能增加、减少或不变，故 A 项错误；紧缩性财政政策和紧缩性货币政策一定会引起产出减少，但利率变化具有不确定性，故 C 项错误；扩张性财政政策和紧缩性货币政策一定会引起利率的上升，但产出的变化具有不确定性，故 D 项错误。故本题正确答案选 B。

16. 若中央银行在公开市场上大量抛售有价证券，意味着货币政策（ ）。

- A.放松
- B.收紧
- C.不变

D.不一定

【答案】B。中央银行在公开市场上大量抛售有价证券时，减少了货币供应量，意味着货币政策收紧，B项当选，ACD项排除。故本题正确答案选B。

17. 由于信息不对称，银行贷款发放后，（ ）的存在将会使银行资产风险加大。

A.柠檬问题

B.搭便车问题

C.逆向选择

D.道德风险

【答案】D。由于信息不对称，银行贷款发放后，道德风险的存在将会使银行资产风险加大，D项当选；柠檬市场也称次品市场，是指信息不对称的市场，即市场中，产品的卖方对产品的质量拥有比买方更多的信息，A项排除；由于公共物品的非排他性通常导致搭便车问题，B项排除；逆向选择是由于事前的信息不对称所导致的市场资源配置扭曲的现象，贷款发放前可能存在逆向选择，C项排除。故本题正确答案选D。

18. 对于吉芬物品，其替代效应和收入效应，分别与价格成（ ）变动。

A.同向、同向

B.同向、反向

C.反向、同向

D.反向、反向

【答案】C。吉芬物品是一种特殊的低档品，吉芬品的替代效应和价格成反方向变动，收入效应和价格成同方向变动。C项，当选；ABD项，不当选。故本题正确答案选C。

19. 关于价格歧视基本条件的说法，正确的是（ ）。

A.同一产品可以在不同市场之间流动

B.消费者必须具有相同的需求价格弹性

C.垄断者生产的产品必须是耐用品

D.不同市场必须有效地隔离开

【答案】D。实行价格歧视的基本条件是：第一，必须有可能根据不同的需求价格弹性划分出两组或两组以上的不同购买者；第二，市场必须能够有效地隔离开，同一产品不能在不同市场之间流动。A项，同一产品不能在不同市场之间流动，不当选；B项，消费者必须具有不同的需求价格弹性，不当选；C项，非耐用品在满足一定的条件下，也可以实行价格歧视，不当选；D项，不同市场必须有效地隔离开，当选。故本题正确答案选D。

20. 下列关于通货膨胀的表述，正确的是（ ）。

- A. 是经济中货币供应量少于客观需要量的现象
- B. 是在社会总需求小于总供给情况下发生的
- C. 对稳定经济会产生有利影响
- D. 是货币失衡、物价不稳定的一种表现

【答案】D。通货膨胀是货币发行量超过流通中的实际货币需求量而引起的商品和劳务的价格普遍和持续增长的现象，它是货币失衡、物价不稳定的一种表现，A项排除，D项当选；通货膨胀时社会总需求大于社会总供给，B项排除；通货膨胀整体上看不利于稳定经济，价格上升会降低实际收入等，C项排除。故本题正确答案选D。

21. 垄断、外部影响、（ ）和信息的不完全性这四项事实破坏了完全竞争赖以存在的基础，因此，资源配置不能够达到最优状态。

- A. 公共物品
- B. 技术进步
- C. 交易成本
- D. 过分投入

【答案】A。垄断、外部性、公共物品和信息不对称是造成市场失灵的原因。A正确，BCD错误。故本题正确答案选A。

22. 下列各项中，属于经济周期中的衰退或萧条阶段可能出现的特征的是（ ）。

- A. 投资持续增长
- B. 企业利润水平下降
- C. 产量不断扩大
- D. 就业机会增多

【答案】B。在经济的衰退或萧条时期，伴随着经济增长速度的持续下滑，投资活动萎缩，生产发展缓慢，甚至出现停滞或下降，产品滞销，就业机会减少，失业率提高，企业利润水平下降，亏损、破产企业的数量增多，居民收入和消费水平呈不同程度的下降趋势，故B项正确，ACD错误。故本题正确答案选B。

23. 根据凯恩斯货币需求理论，货币需求与利率水平（ ）。

- A. 正相关
- B. 负相关
- C. 不相关

D.无法确定

【答案】B。根据凯恩斯的货币需求理论，货币需求与利率水平负相关，与收入水平正相关。故 B 项，当选；ACD 项，不当选。故本题正确答案选 B。

24. 自发投资支出增加 20 亿元，IS 曲线（ ）。

A.向右移动 20 亿元

B.向左移动 20 亿元

C.向右移动支出乘数乘以 20 亿元

D.向左移动支出乘数乘以 20 亿元

【答案】C。自发投资支出增加 20 亿元，IS 曲线向右移动，移动的量等于投资乘数乘以 20 亿元，故 C 项正确；ABD 错误。故本题正确答案选 C。

25. （ ）可以作为划分“高档品”和“必需品”的标准。

A.边际成本曲线

B.需求收入弹性

C.需求价格弹性

D.交叉弹性系数

【答案】B。根据需求收入弹性的应用，可以概括出如果需求收入弹性大于 1，通常为高档品，如果需求收入弹性大于 0 且小于 1 为必需品，如果需求收入弹性小于 0 为低档品，因此需求收入弹性可以作为划分“高档品”和“必需品”的标准，故 B 项正确；边际成本指的是每一单位新增生产的产品（或者购买的产品）带来的总成本的增量，表示的是产量和成本增量之间的关系，故 A 项错误；需求价格弹性的大小同总收益的变动有一定关联性，故 C 项错误；根据交叉弹性系数可以判断两种商品之间的关系，若 $e_{xy} > 0$ ，则这两种商品为替代品，若 $e_{xy} < 0$ ，则这两种商品为互补品，若 $e_{xy} = 0$ ，则这两种商品为独立品，故 D 项错误。故本题正确答案选 B。

26. 设某家庭的消费为 y ，可支配收入为 x ，消费函数 $y=3000+0.8x$ ，则当 $x=20000$ 时，该家庭的储蓄是（ ）。

A.3000

B.2000

C.1000

D.5000

【答案】C。根据凯恩斯的绝对收入理论，当可支配收入 $x=20000$ 时，消费函数 $y=3000+0.8x=3000+0.8*20000=19000$ ，故储蓄=收入-消费=20000-19000=1000。故本题正确答案选 C。

27. 石油等重要能源价格上涨所引发的通货膨胀属于（ ）。

- A.需求拉动通货膨胀
- B.惯性通货膨胀
- C.经济型通货膨胀
- D.成本推进型通货膨胀

【答案】D。石油等能源属于原材料，对于企业来说，是属于成本的范畴，因此它们价格的上升会引发的通货膨胀属于成本推动型，故 D 项正确。A 选项，需求拉动的通胀是需求过多，导致供给不足而引起的物价上涨，从而引起通货膨胀，排除；B 选项，惯性通货膨胀是在一定条件下（如垄断）通货膨胀取得一种自动推进势头或倾向，商品和劳务价值循环追逐，交替上升，形成了非正式的指数化，排除；C 选项，没有经济型通货膨胀这个术语，排除。故本题正确答案选 D。

28. 少数几家厂商控制整个市场产品生产和销售的这样一种市场组织，称为（ ）。

- A.完全竞争市场
- B.垄断竞争市场
- C.垄断市场
- D.寡头市场

【答案】D。少数几家厂商控制了产品的生产是寡头市场的特征，D 正确；完全竞争市场和垄断竞争市场厂商数量非常多，A、B 错误；垄断市场上只有唯一一家厂商，C 错误。故本题正确答案选 D。

29. 厂商在提供一定数量的某种产品时，实际接受的总支付和愿意接受的最小总支付之间的差额，称为（ ）。

- A.机会成本
- B.消费者剩余
- C.生产者剩余
- D.边际收益

【答案】C。生产者剩余是指厂商实际接受的总支付与愿意接受的最小总支付之差，C 正确；机会成本是指将资源投入某种用途而放弃的其他选择中可能带来的最大收入，A 错误；

消费者剩余是指消费者愿意支付的总价与实际支付之差，B 错误；边际收益是指增加一个单位的产量带来的总收益的增加，D 错误。故本题正确答案选 C。

30. 财政政策的挤出效应是指（ ）。

- A. 缩小财政支出时会导致私人投资增加
- B. 扩大财政支出时会导致私人投资减少
- C. 扩大财政支出时会导致进出口减少
- D. 扩大财政支出时会导致进出口增加

【答案】B。财政政策的挤出效应是指政府支出增加所引起的私人消费或投资降低的效果，B 项当选，ACD 项排除。故本题正确答案选 B。

多项选择题

31. 下面哪个不是简单国民收入决定理论的基本假设？（ ）。

- A. 折旧和公司未分配利润为 0
- B. 投资为一常数
- C. 存在供给限制
- D. 三部门经济

【答案】CD。简单国民收入决定理论的基本假设包括：（1）是两部门经济（居民消费和储蓄，企业生产和投资）；（2）没有供给限制（存在资源闲置，物价不变，这是凯恩斯主义的基本出发点）；（3）折旧和公司未分配利润为零；（4）投资为一常数，也就是企业自主决定投资，不受利率和产量变动的的影响。故排除 AB 选项，故本题正确答案选 CD。

32. 下面关于边际技术替代率的说法正确的是（ ）。

- A. 等产量曲线上某一点的边际技术替代率就是等产量曲线在该点斜率的绝对值
- B. 边际技术替代率还可以表示为两要素的边际产量之比
- C. 边际技术替代率递减
- D. 边际报酬递减

【答案】ABC。边际技术替代率是维持产量不变的条件下，增加一单位某种生产要素投入量时，所必须减少的另一种要素的投入量， $MRTS_{LK} = \left| \frac{\Delta K}{\Delta L} \right| = -\frac{\Delta K}{\Delta L} = \frac{MP_L}{MP_K}$ ，故 AB 项正确；在维持产量不变的条件下，不断增加某种生产要素投入量时，每一单位的这种生产要素所能替代的另一种生产要素的数量是递减的，即边际技术替代率递减规律，故 C 项正确；边际报酬递减规律指的是在技术水平不变的条件下，连续等量地把一种可变要素增加到其他

生产要素上，在该要素投入量小于某一特定值时，它所带来的边际产量是递增的；当该要素的连续投入量超过某一特定值时，它所带来的边际产量是递减的，显然同边际技术替代率无关，故 D 项错误。故本题正确答案选 ABC。

33. 若完全竞争厂商的短期成本函数为 $STC=Q^3-3Q^2+120Q$ ，当产品市场价格为 120 时，关于厂商利润最大化的产量和利润正确的是（ ）。

- A.产量为 2
- B.利润为 4
- C.产量为 1
- D.利润为 6

【答案】AB。已知 $STC=Q^3-3Q^2+120Q$ ，求导可得 $SMC=3Q^2-6Q+120$ 。根据完全竞争厂商实现利润最大化的原则 $P=SMC$ ，且已知 $P=120$ ，所以 $3Q^2-6Q+120=120$ ，求得 $Q=2$ ；将 $Q=2$ 代入利润公式： $\pi=TR-STC=P \cdot Q-STC$ ，求得利润 $\pi=4$ ，故 AB 项正确，CD 项错误。故本题正确答案选 AB。

34. 表示社会分配公平程度的分析工具是（ ）。

- A.菲利普斯曲线
- B.洛伦兹曲线
- C.基尼系数
- D.国民消费曲线

【答案】BC。洛伦兹曲线是衡量社会收入或财富的平等与不平等程度的曲线，曲线越弯曲，表示收入分配越不平等，故 B 项正确；基尼系数是根据洛伦兹曲线提出的一个衡量分配不平等程度的指标，值越小表明收入分配越平均，值越大表明收入分配越不平均，故 C 项正确；菲利普斯曲线反映了失业率和通货膨胀率之间反向变动的关系，故 A 项错误；国民消费曲线表示国民收入和消费之间关系的曲线，故 D 项错误。故本题正确答案选 BC。

35. 下表是我国对应年份、城镇及农村的恩格尔系数（%）：

年份	1989	1997	2002	2014	2020
城镇	54.5	46.6	37.7	36.1	29.2
农村	54.8	51.1	46.2	40.2	39.7

从表中可知（ ）。

- A.城镇地区不同职业人群收入差距小于农村地区

- B. 城镇地区贫富分化程度弱于农村
- C. 城镇地区比农村更加富裕
- D. 我国城镇、农村居民的收入持续提高

【答案】CD。从上表数据分析可以看出，同年城镇地区的恩格尔系数均小于农村地区的恩格尔系数，恩格尔系数越小就越富裕，显然城镇地区比农村更加富裕，C项当选；横向观察城镇地区和农村地区的恩格尔系数发现均呈现下降趋势，显然我国城镇、农村居民的收入持续提高，D项当选；表中数据未涉及不同职业的分析，A项排除；基尼系数可以衡量贫富分化程度，但表中无此数据，所以无从推出城镇地区贫富分化程度弱于农村，B项排除。故本题正确答案选CD。

36. 平均成本曲线AC与边际成本曲线MC交于AC的最低点，下列判断正确的有()。
- A. 在交点的左边， $MC < AC$ ，增加一个单位的产量，可以使平均成本减少
 - B. 在交点的左边， $MC < AC$ ，增加一个单位的产量，可以使平均成本增加
 - C. 在交点的右边， $MC > AC$ ，增加一个单位的产量，可以使平均成本增加
 - D. 在交点的右边， $MC > AC$ ，增加一个单位的产量，可以使平均成本减少

【答案】AC。在交点的左边， $MC < AC$ ，增加一个单位的产量，可以使平均成本减少，A项当选，B项排除；在交点的右边， $MC > AC$ ，增加一个单位的产量，可以使平均成本增加，C项当选，D项排除。故本题正确答案选AC。

37. 在IS-LM曲线中，两线交点处意味着()。
- A. 总产出=总需求
 - B. 物价水平=收入水平
 - C. 货币供应量=货币需求量
 - D. 进口额=出口额

【答案】AC。在IS-LM曲线中，两线交点处意味着产品市场和货币市场同时达到均衡的状态，此时总产出等于总需求，货币供应量=货币需求量，AC项当选，BD项排除。故本题正确答案选AC。

38. 需求价格弹性能够反映需求量变动对价格变动的大小程度，以下说法正确的有()。
- A. 当需求缺乏弹性时，表现为 $E > 1$
 - B. 若某种商品是富有弹性的，则价格越高，总收益越高
 - C. 羽毛球拍和羽毛球这两种之间的交叉弹性为负

D.商品在家庭支出中占比大小影响需求弹性

【答案】CD。需求价格弹性表示一定时期内一种商品的需求量变动对于该商品的价格变动的反应程度。当需求缺乏弹性时，其需求价格弹性系数在 0 到 1 之间，A 项错误。商品富有弹性时，应当采取降价提高总收入的策略（降价带来的销量增加的部分大于单位产品降价损失的部分），B 项错误。羽毛球拍与羽毛球之间的关系为互补品关系，互补品之间的交叉弹性系数为负，C 项正确。影响需求价格弹性的因素：（1）相似替代品的可获得性；（2）产品的性质（必需品或奢侈品）；（3）商品用途的广泛性；（4）商品消费支出在消费者预算支出中所占的比重（家庭支出占比）；（5）消费者调整需求量的时间。选项 D 正确。故本题正确答案选 CD。

39. 关于长期总供给曲线，下列说法正确的有（ ）。

- A.是一条垂直线
- B.意味着社会达到充分就业状态
- C.社会上不存在失业
- D.是潜在产量线

【答案】ABD。长期总供给曲线是一条垂直线，是潜在的产量线，它意味着社会达到充分就业状态，但并不意味着社会上不存在失业，会存在一部分摩擦性失业和自愿失业，故 ABD 项正确，C 项错误。故本题正确答案选 ABD。

40. 截止 2020 年 12 月底，某汽车厂商生产的 3X 系列轿车全年销量同比增长 159%，那么，下列事实中，有助于解释销量增加的有（ ）。

- A.竞争对手同级别轿车的价格下降较多
- B.市场传闻该系列轿车 2021 年 1 月价格上调 20%
- C.该系列轿车的价格下降较多
- D.2020 年居民平均收入较往年相比下降 8%

【答案】BC。预期价格上涨，当前需求量增加，未来需求量下降，如果市场传闻该系列轿车 2021 年 1 月价格上调 20%，当前的需求量即汽车的销售量会增加，B 项当选；其他条件不变，该系列轿车的价格下降较多，该系列轿车的销售量也会增加，C 项当选；竞争对手同级别轿车的价格下降较多会导致该系列轿车的需求量下降较多，A 项排除；2020 年居民平均收入较往年相比下降 8%会导致该系列轿车的需求量下降而不是增加，D 项排除。故本题正确答案选 BC。

会计习题

单项选择题

1. 下列不属于原始凭证填制规范要求的是（ ）。

- A. 外文发票必须翻译为中文
- B. 大写金额到元的，后面写上“正”或“整”字
- C. 大写与小写金额必须相符
- D. 从外部取得的原始凭证，必须盖有填制单位的公章

【答案】A。外文发票不需要必须翻译成中文，故 A 项正确；中文大写金额数字到元为止的，在元之后，应写整（或正）字，在角之后可以不写整（或正）字，大写金额数字有分的，分后面不写整（或正）字，故 B 项错误；原始凭证要求大写与小写金额必须相符，故 C 项错误；从外部取得的原始凭证，必须要有填制单位的公章，故 D 项错误。故本题正确答案选 A。

2. “待摊费用”账户用于核算（ ）。

- A. 前期已经发生应由本期支付的费用
- B. 预先收取但应由以后各受益期负担的费用
- C. 预先提取已经发生但尚未支付的费用
- D. 已经发生但应由以后各受益期负担的费用

【答案】D。待摊费用账户指已经支出但应由本期和以后各期分别负担的各项费用，选项 ABC 不符合题意，故本题正确答案选 D。

3. 甲公司 2019 年 12 月 1 日购入生产设备一台，入账价格为 200000 元，采用年数总和法摊销，预计净残值 5000 元，预计使用年限 5 年。2020 年 12 月 31 日，该生产设备的可收回金额为 120000 元，则 2020 年底，该设备的账面价值为（ ）。

- A. 120000
- B. 135000
- C. 150000
- D. 161000

【答案】A。2020 年 12 月 31 日生产设备账面价值=200000-(200000-5000)×5/15=135000（元），账面价值高于可收回金额时，将其差额计提减值损失，确认减值准备，因此确认后的价值为 120000 元。因此选项 BCD 错误，故本题正确答案选 A。

4. 下列不属于损益类科目的是（ ）。

- A. 主营业务收入
- B. 投资收益
- C. 递延收益
- D. 税金及附加

【答案】C。递延收益属于负债类科目，C选项错误；主营业务收入、投资收益、税金及附加均为损益类科目，ABD选项正确；本题为选非题，故本题正确答案选C。

5. 对于盘亏的固定资产，按规定程序批准后确认为当期损益，应定义为（ ）账户的借方。

- A. 待处理财产损益
- B. 营业外支出
- C. 累计折旧
- D. 固定资产清理

【答案】B。对于盘亏的固定资产，按规定程序批准后确认为当期损益，应定义为营业外支出账户的借方。而不是在待处理财产损益、累计折旧、固定资产清理的借方，选项ACD错误，故本题正确答案选B。

6. 收入类账户期末结账后，其余额是（ ）。

- A. 贷方
- B. 借方
- C. 借方或贷方
- D. 无金额

【答案】D。收入类账户期末无余额，故ABC选项错误，故本题正确答案选D。

7. 资产负债表下列项目中，需根据明细账科目余额分析填列的是（ ）。

- A. 交易性金融资产
- B. 预收账款
- C. 资本公积
- D. 应付职工薪酬

【答案】B。资产负债表项目中，交易性金融资产、资本公积、应付职工薪酬按总账余额直接填列，A、C、D选项错误；预收账款、预付账款、应收账款、应付账款则按明细账余额计算填列，故本题正确答案选B。

8. 原始凭证因格式不同分为通用凭证和专用凭证，下列选项中，属于通用凭证的是（ ）。

- A. 行政单位收费票据
- B. 收料单
- C. 工资发放汇总表
- D. 审查单

【答案】A。通用凭证指由有关部门统一印制，在一定范围内使用的具有统一格式和使用方法的原始凭证，行政单位收费票据属于通用凭证，故选项 A 正确；收料单、工资发放汇总表、出差审批单是专用凭证，故选项 BCD 均错误。故本题正确答案选 A。

9. 下列账务处理程序中，适合规模较小，经济业务较少类型使用的是（ ）。

- A. 记账凭证汇总表账务处理程序
- B. 汇总记账凭证账务处理程序
- C. 科目汇总表账务处理程序
- D. 记账凭证账务处理程序

【答案】D。账务处理程序按照登记总账的依据不同分为记账凭证账务处理程序、汇总记账凭证账务处理程序、科目汇总表账务处理程序。汇总记账凭证账务处理程序减轻登记总分类账的工作量，账户间对应关系一目了然，适用于规模较大、经济业务比较多的单位，故选项 B 错误；选项 A 记账凭证汇总表账务处理程序又称科目汇总表账务处理程序，科目汇总表账务处理程序减轻工作量，可做到试算平衡，适用于经纪业务多的单位，故选项 AC 错误；规模小、经济业务不多的企业采用记账凭证账务处理程序，记录详细、易于理解。故本题正确答案选 D。

10. 在可预见的未来，甲公司将会按当前的规模和状态进行经营下去，不会停业也不会大规模削减业务，这说明甲公司中会计处理时满足（ ）的条件。

- A. 会计主体假设
- B. 持续经营假设
- C. 会计分期假设
- D. 货币计量假设

【答案】B。持续经营指在可以预见的将来，企业将会按当前的规模和状态继续经营下去，不会停业，也不会大规模削减业务。A 选项会计主体是会计确认、计量和报告的空间范围，即会计核算和监督的特定单位或组织。C 选项会计期间分为年度和中期：中期指短于一

个完整的会计年度的报告期间。D 选项货币计量是指会计主体在会计确认、计量和报告时以货币作为计量尺度，反映会计主体的财务状况和经营成果。故本题正确答案选 B。

11. 能够及时反映各种存货收入，发出和结存情况，便于及时查明资金盘点盈亏的原因的是（ ）。

- A. 收付实现制
- B. 权责发生制
- C. 实地盘存制
- D. 永续盘存制

【答案】D。A 选项、B 选项属于会计记账基础，是指确定一个会计期间的收入与费用，从而确定损益的标准，有权责发生制（应计制）和收付实现制（现金制）两种。C 选项实地盘存制是平时根据有关会计凭证，只登记财产物资的增加数，不登记减少数，月末或一定时期可根据期末盘点资料，弄清各种财物的实有数额，然后再根据“期初结存+本期增加数=本期实存数+本期减少数”的公式，倒算出本期减少数额，即：“以存计耗”，“以存计销”，并记入有关明细账中的一种物资盘存管理制度。D 选项永续盘存制亦称“账面盘存制”，是平时对企业单位各项财产物资分别设立明细账，根据会计凭证连续记载其增减变化并随时结出余额的一种管理制度，这种盘存制，能从账簿资料中及时反映出企业各项财产、物资的结存数额，为及时掌握企业单位财产增减变动情况和余额提供可靠依据，以便加强单位财产物资的管理。当发生库存溢余或短缺，可以查明原因，及时纠正。故本题正确答案选 D。

12. 会计人员记账后，发现一笔“应付账款”应记 350 000 元，错记 35 000 元，会计科目和摘要等无误，则会计人员最恰当的处理方式为（ ）。

- A. 在总金额后加上一个“0”使金额变为 350 0000 元
- B. 用红线划掉借记金额后直接更正为 350 000 元
- C. 补记科目和方向相同，金额为 315 000 元
- D. 用红字冲销原来记录的金额 35 000 元

【答案】C。记账后发现记账凭证和账簿记录中应借、应贷会计科目无误，只是所记金额小于应记金额，采用补充登记法。选项 ABD 不符合题干表述，故本题正确答案选 C。

13. 甲公司与乙公司签订了 50 万元的销售合同，甲公司在签订合同当日收到乙公司 10 万元定金，甲公司会计人员把 10 万元定金作为销售收入进行核算。这违反了会计信息质量要求的（ ）原则。

- A. 可靠性

- B.相关性
- C.收付实现制
- D.权责发生制

【答案】A。可靠性要求企业应当以实际发生的交易或者事项为依据进行确认、计量和报告，保证会计信息真实可靠、内容完整。B选项相关性要求企业提供的会计信息应当与财务报告使用者的经济决策需要相关，有助于财务报告使用者对企业过去、现在的情况做出评价，对外来的情况作出预测。C选项与D选项基于会计分期产生了当期与其他期间的区别，从而形成了权责发生制和收付实现制，属于会计核算基础。故本题正确答案选A。

14. 甲公司发行股票 3000 万股，每股面值 1 元，每股发行价格是 2 元，支付手续费 10 万元，支付佣金 54 万元，此业务应计入“资本公积-股本溢价”账户（ ）万元。

- A.3 000
- B.2 990
- C.2 946
- D.2 936

【答案】D。发行股票的手续费、佣金应冲减资本公积。会计分录如下：

借：其他货币资金 6000

贷：股本 3000

资本公积—股本溢价 3000

借：资本公积—股本溢价 64

贷：银行存款 64

选项 ABC 均错误，故本题正确答案选 D。

15. 假如某小企业采用完全的收付实现制记账基础来进行会计核算，在实际发生时无法进行记录反映的经济业务是（ ）。

- A.销售商品取得一笔现金
- B.商品已发出，销售收入尚未收到
- C.投资人投入一笔现金
- D.以现金支付雇员的工薪

【答案】B。收付实现制是以款项是否已经收到或付出作为计算标准，来确定本期收益和费用的一种方法。凡在本期内实际收到或付出的一切款项，无论其发生时间早晚或是否应该由本期承担，均作为本期的收益和费用处理。本题“商品已发出，销售收入尚未收到”因

款项尚未收到,在实际发生时无法记录该经济业务。选项 ACD:“销售商品取得一笔现金”、“投资人投入一笔现金”、“以现金支付雇员的工薪”均已发生款项的收付,所以在收付实现制下可以记录经济业务。故本题正确答案选 B。

16. 关于记账基础与会计确认的说法,不正确的是()。

- A.权责发生制记账基础下,收入和支出的发生期与收益的归属期可能不一致
- B.收付实现制记账基础下,收入和支出的发生期与收益的归属期始终保持一致
- C.记账基础是收入和费用的确认方法,它也必然影响资产和负债的确认
- D.记账基础是收入与费用的确认方法,所以资产和负债的确认与其无关

【答案】D。记账基础构成了确认收入和费用的基础,也进一步构成了资产和负债的确认基础。权责发生制指凡是应属本期的收入和费用,不论其款项是否收到或付出,都作为本期的收入和费用处理;反之,凡不属于本期的收入和费用,即使款项在本期收到或付出,也不应作为本期的收入和费用处理。因此,在权责发生制下,收入和支出的发生期与收益的归属期可能不一致。收付实现制,又称现金制或实收实付制是以现金收到或付出为标准,来记录收入的实现和费用的发生。收入和费用的归属期间将与现金收支行为的发生与否,紧密地联系在一起。因此,在收付实现制记账基础下,收入和支出的发生期与收益的归属期始终保持一致。选项 ABC 均正确,本题为选非题,故本题正确答案选 D。

17. 关于凭证的说法,正确的是()。

- A.限额领料单是累计凭证
- B.限额领料单是汇总凭证
- C.增值税专用发票是记账凭证
- D.银行存款金额调节表是原始凭证

【答案】A。累计凭证是指在一定时期内多次记录发生的同类型经济业务的原始凭证。限额领料单在限额之内可以多次使用,所以属于累计凭证,故选项 A 正确,选项 B 错误;选项 C 属于原始凭证而非记账凭证,错误;原始凭证可以作为记账凭证的依据,选项 D “银行存款余额调节表”只起对账作用,不属于原始凭证。“银行存款余额调节表”编制的目的是检查账簿记录的正确性,不可据以调整银行存款日记账的记录。故本题正确答案选 A。

18. 某企业 2018 年期初账面资产总计 180 万元,期末账面资产 200 万元,负债 40 万元,2018 年度期间内发生费用 80 万元,实现利润总额 30 万元。则该企业 2018 年末所有者权益是()。

- A.120 万元

B.190 万元

C.160 万元

D.140 万元

【答案】C。本题考查基本会计等式，资产=负债+所有者权益。年末所有者权益=年末资产-年末负债=200-40=160（万元）。期初资产=期初负债+期初所有者权益。期末资产=期末负债+期末所有者权益。选项 ABD 均计算错误，故本题正确答案选 C。

19. 按照借贷记账法，不应计入资产负债表中的“存货”项目的是（ ）。

A. “在建工程”账户的余额

B. “生产成本”账户的余额

C. “材料采购”账户的余额

D. “原材料”账户的余额

【答案】A。“在建工程”账户的余额不应计入“存货”项目。“存货”项目应根据“材料采购”、“原材料”、“周转材料”、“库存商品”、“发出商品”、“委托加工物资”、“委托代销商品”、“受托代销商品”、“生产成本”等科目的期末余额合计，减去“受托代销商品款”、“存货跌价准备”等科目期末余额后的金额填列。注意区分“存货”与“工程物资”。存货，是指企业在日常活动中持有以备出售的产成品或商品、处在生产过程中的在产品、在生产过程或提供劳务过程中耗用的材料、物料等。工程物资科目核算企业为在建工程准备的各种物资的价值，包括工程用材料、尚未安装的设备以及为生产准备的工器具等。选项 BCD 均应计入“存货”项目，故本题正确答案选 A。

20. 下列各项中，引起企业资产和负债要素同时发生增减变动的经济业务是（ ）。

A. 职工以现金方式向企业归还个人借款

B. 企业从银行借入短期借款

C. 企业收到股东投资款

D. 企业以盈余公积转增股本

【答案】B。B 选项，从银行借入短期借款，会导致企业负债和资产总额增加。A 选项“职工以现金方式向企业归还个人借款”引起“库存现金”增加、“其他应收款”减少，资产内部一增一减。C 选项“企业收到股东投资款”引起所有者权益增加、资产增加。D 选项“企业以盈余公积转增股本”引起所有者权益内部一增一减。故本题正确答案选 B。

21. 某企业收到新股东张强以现金投入的资本 200 万元，但原股东与张强协商，张强只在注册资本享有 150 万元的份额，超过的其股份权益的数额 50 万元应计入（ ）进行核算。

- A. 实收资本
- B. 资本公积
- C. 盈余公积
- D. 投资收益

【答案】B。企业收到投资者出资超过其注册资本或股本中所占份额的部分，作为资本溢价或股本溢价，在“资本公积”科目核算。B 项当选。实收资本（或股本）是指投资者按照企业章程或合同、协议的约定，实际投入企业并依法进行注册的资本，它体现了所有者对企业的基本产权关系。资本公积是投资者的出资中超出其在注册资本中所占份额的部分，以及直接计入所有者权益的利得和损失，它不直接表明所有者对企业的基本产权关系。选项 ACD 均错误，故本题正确答案选 B。

22. 原始凭证不得涂改、刮擦、挖补，对于金额有错误的原始凭证，正确的处理方法是（ ）。

- A. 由出具单位重开
- B. 由出具单位在凭证上更正并由经办人员签名
- C. 由出具单位在凭证上更正并加盖出具单位印章
- D. 由出具单位在凭证上更正并由出具单位负责人签名

【答案】A。原始凭证金额有错误的不得更正，只能由原始凭证出具单位重开。A 项当选。为了规范原始凭证的内容，明确相关人员的经济责任，防止利用原始凭证进行舞弊，修订后的《会计法》第十四条第四款增加了对原始凭证错误更正的规定：一是原始凭证记载的各项内容均不得涂改，随意涂改原始凭证即为无效凭证，不能作为填制记账凭证或登记会计账簿的依据。二是原始凭证所记载的内容有错误的，应当由出具单位重开或者更正，更正工作必须由原始凭证出具单位进行，并在更正处应当加盖出具单位印章；重新开具原始凭证也应当由原始凭证出具单位进行。三是原始凭证金额有错误的不得更正，只能由原始凭证出具单位重开。因为原始凭证上的金额是反映经济业务事项情况的最重要数据，如果允许随便更改，易产生舞弊，不利于保证原始凭证的质量。四是原始凭证开具单位应当依法开具准确无误的原始凭证，对于填制有误的原始凭证，负有更正和重新开具的法律义务，不得拒绝。选项 BCD 均错误，故本题正确答案选 A。

23. 制造费用属于（ ）类账户。

- A. 费用
- B. 损益
- C. 成本
- D. 负债

【答案】C。制造费用是成本，虽然制造费用带“费用”这两个字，但实际上属于成本类科目，故 C 选项正确，其余 ABD 三项错误。故本题正确答案选 C。

24. 根据我国企业会计制度规定，资产负债表采用（ ）结构。

- A. 单步式
- B. 多步式
- C. 账户式
- D. 报告式

【答案】C。《企业会计准则第 30 号——财务报表列报》规定，我国的资产负债表采用账户式。根据财务报表信息列报的可比性要求：财务报表至少应当提供所有列报项目上一可比会计期间的比较数据。资产负债表要填列“年初余额”和“期末余额”两栏，故 C 选项正确。AB 两项是利润表的结构，故 AB 两项错误。D 选项虽然是资产负债表格式，但是我国并不采用，故 D 选项错误。故本题正确答案选 C。

25. 经过对账，如果开户单位账面余额与银行分户账余额不符，可通过（ ）核对出差额，进行查对。

- A. 调节表
- B. 余额调节表
- C. 未达账项调节表
- D. 银行对账单

【答案】B。银行存款余额调节表主要目的是在于核对企业账目与银行账目的差异，也用于检查企业与银行账目的差错。调节后的余额是该企业对账日银行实际可用的存款数额。银行存款余额调节表，是在银行对账单余额与企业账面余额的基础上，各自加上对方已收、本单位未收账项数额，减去对方已付、本单位未付账项数额，以调整双方余额使其一致的一种调节方法，故 B 选项正确，其余 ACD 三项错误。故本题正确答案选 B。

26. 银行存款余额调节表的作用是（ ）。

- A. 调节企业“银行存款日记账”余额的凭证

- B.调节“银行对账单”余额的凭证
- C.核对企业和银行的账簿记录
- D.更正银行存款日记账错误的凭证

【答案】C。银行存款余额调节表可作为银行存款科目的附列资料保存。该表主要目的是在于核对企业账目与银行账目的差异，也用于检查企业与银行账目的差错，故C选项正确。银行存款余额调节表和银行对账单都不能作为调整账簿记录的原始凭证，故ABD三项错误。调节后的余额是该企业对账日银行实际可用的存款数额。故本题正确答案选C。

27. 以下不属于企业收入的是（ ）。

- A.提供劳务所获得的收入
- B.销售商品所获得的收入
- C.出租机器设备获得的收入
- D.出售固定资产获得的净收益

【答案】D。收入，是指企业在日常活动中形成的、会导致所有者权益增加的、与所有者投入资本无关的经济利益的总流入，包括销售商品收入、提供劳务收入和让渡资产使用权收入，出售固定资产获得的净收益计入资产处置收益，故D不属于收入，ABC属于收入。故本题正确答案选D。

28. 借贷记账法的记账规则是（ ）。

- A.“有借必有贷，借贷必相等”
- B.增加数计入借方，减少数计入贷方
- C.以货币为主要计量单位
- D.《企业会计准则》

【答案】A。借贷记账法的记账规则是“有借必有贷，借贷必相等”，故A选项正确。B选项跟记账规则无关，故B选项错误。C选项是会计基本假设，故C选项错误。D选项是会计准则与本题无关，故D选项错误。故本题正确答案选A。

29. 下列项目中能够引起企业所有者权益减少的是（ ）。

- A.股东大会宣布派发现金股利
- B.提取法定盈余公积
- C.资本公积转增股本
- D.提取任意盈余公积

【答案】A。股东大会宣布派发现金股利，所有者权益减少，负债增加，故 A 选项正确。提取任意盈余公积、以资本公积转增资本和提取法定盈余公积都是在所有者权益内部发生增减，故 BCD 三项排除。故本题正确答案选 A。

30. 某企业资产总额为 100 万元，发生下列三笔经济业务：①向银行借款 25 万元存入银行。②用银行存款偿还债务 15 万元。③收回应收账款 6 万元存入银行。此三笔业务发生后其资产总额为（ ）。

- A.110 万元
- B.116 万元
- C.96 万元
- D.90 万元

【答案】A。业务发生后的资产总额=100+25-15=110（万元）。收回应收账款 6 万存入银行，应收账款总额减少，银行存款总额增加，资产总额不变，故 A 选项正确，其余 BCD 三项计算有误。故本题正确答案选 A。

多项选择题

31. 下列各项中，属于期间费用核算内容的是（ ）。

- A.生产成本
- B.管理费用
- C.销售费用
- D.财务费用

【答案】BCD。期间费用包含销售费用、管理费用、财务费用这三个，故 BCD 三项正确。生产成本虽也是支出但它是产品成本而非费用。成本是对象化了的费用，故 A 选项错误。故本题正确答案选 BCD。

32. 根据权责发生制原则，下列各项中应计入本期的收入和费用的是（ ）。

- A.本期销售货款收存银行
- B.上期销售货款本期收存银行
- C.本期预收下期货款存入银行
- D.计提本期固定资产折旧费

【答案】AD。凡是在本期内已经收到和已经发生或应当负担的一切费用，不论其款项是否收到或付出，都作为本期的收入和费用处理；反之，凡是不属于本期的收入和费用，即

使款项在本期收到或付出，也不应作为本期的收入和费用处理。选项 A，属于本期收入；选项 B，属于上期收入；选项 C，属于下期收入；选项 D，确认为本期的费用。故本题正确答案选 AD。

33. 下列各项中属于某公司的所有者权益的项目有（ ）。

- A.投入资本
- B.资本公积金
- C.盈余公积金
- D.都不正确

【答案】ABC。选项 A 是实收资本，选项 B 是资本公积，选项 C 是盈余公积，这三项都属于所有者权益的项目。故本题正确答案选 ABC。

34. 负债要素的定义包括（ ）。

- A.负债是由现在的交易或事项引起的偿债义务
- B.负债是由过去的交易或事项形成的现时义务
- C.负债是由将来的交易或事项引起的偿债义务
- D.负债将导致经济利益流出企业

【答案】BD。负债的定义是：由过去的交易或者事项所形成的，预期会导致经济利益流出的现时义务，故此题选择 BD。由过去的交易或者事项所形成的，所以 AC 不选。故本题正确答案选 BD。

35. 关于总分类会计科目与明细分类会计科目表述正确的是（ ）。

- A.明细分类会计科目概括地反映会计对象的具体内容
- B.总分类会计科目详细地反映会计对象的具体内容
- C.总分类会计科目对明细分类科目具有控制作用
- D.明细分类会计科目是对总分类会计科目的补充和说明

【答案】CD。总分类科目是概括地反映会计对象的具体内容，明细分类科目是详细反映会计对象的具体内容，故 C 选项正确。总分类科目对明细分类科目具有统驭和控制作用，而明细分类科目是对总分类科目的补充和说明，故 D 选项正确，其余 AB 两项错误。故本题正确答案选 CD。

36. 下列表述中，正确反映借贷记账特点的有（ ）。

- A.以“借”“贷”作为记账符号
- B.根据会计科目所反映的经济内容，来决定记账方向

C.记账规则是“有借必有贷，借贷必相等”

D.可以进行发生额试算平衡和余额试算平衡

【答案】ABCD。借贷记账法是以“借”和“贷”作为记账符号，标明记账方向，故 A 选项正确。记账方向由经济业务的性质决定，故 B 选项正确。采用“有借必有贷，借贷必相等”的记账规则进行记账，故 C 选项正确。由于借贷记账法是建立在资产=权益的基础之上，并且采用“有借必有贷，借贷必相等”的记账规则因此，借贷方金额的合计应当一致，可以进行试算平衡，故 D 选项正确。故本题正确答案选 ABCD。

37. 下列项目中，反映企业财务状况的会计要素有（ ）。

A.资产

B.收入

C.负债

D.费用

【答案】AC。本题考查会计要素。选项 AC，反映财务状况的要素是资产、负债、所有者权益，选项 AC 是本题选项。选项 BD，反映经营成果的要素是收入、费用、利润，选项 BD 不是本题选项。故本题正确答案选 AC。

38. 下列关于固定资产会计处理的表述中，正确的有（ ）。

A.企业以出包方式建造固定资产发生的待摊支出应分摊计入各项固定资产的成本

B.盘盈的固定资产应按重置成本计量，并先通过“待处理财产损益”科目核算

C.管理用固定资产发生的日常修理费应计入管理费用

D.已投入使用的机器设备才能计提折旧

【答案】AC。A 项，企业以出包方式建造固定资产发生的待摊支出应分摊计入各项固定资产的成本，当选；B 项，应作为前期差错处理，通过“以前年度损益调整”科目核算，不当选；C 项，管理用固定资产发生的日常修理费应计入管理费用，当选；D 项，未投入使用但由企业拥有或控制的设备也能计提折旧，不当选。故本题正确答案选 AC。

39. 企业进行库存现金清查时发现库存现金短缺 100 元，应由出纳员赔偿。按照企业会计制度，账务处理正确的是（ ）。

A.借：待处理财产损益 100

贷：库存现金 100

B.借：其他应收款 100

贷：库存现金 100

C.借：营业外支出 100
 贷：库存现金 100

D.借：其他应收款 100
 贷：待处理财产损益 100

【答案】AD。库存现金短缺应由责任人赔偿的部分应该记入“其他应收款”科目。按照企业会计制度的规定要先通过“待处理财产损益”科目核算，然后再转入“其他应收款”科目，故AD两项正确。BC两项不是库存现金清查时涉及的分录，故BC两项错误。故本题正确答案选AD。

40. 下列关于固定资产计提折旧的表述，正确的有（ ）

- A.提前报废的固定资产不再补提折旧
- B.固定资产折旧方法一经确定不得改变
- C.已提足折旧但仍继续使用的固定资产不再计提折旧
- D.自行建造的固定资产应自办理竣工决算时开始计提折旧

【答案】AC。提前报废的固定资产不再补提折旧，因此A正确。固定资产折旧方法一经确定，不得随意变更，如果确实需要变更的，作为会计估计变更处理，因此B错误。已提足折旧但仍继续使用的固定资产不再计提折旧，因此C正确。自行建造的固定资产应自完工之日起开始计提折旧，尚未办理竣工结算的应暂估入账，因此D错误。故本题正确答案选AC。

公基习题

单项选择题

1. 下列不属于董事会职能的是（ ）。

- A.制定公司发展目标
- B.挑选总经理
- C.确定产品采购计划
- D.决定利润分配

【答案】C。根据《公司法》第46条，董事会对股东会负责，行使下列职权：（1）召集股东会会议，并向股东会报告工作；（2）执行股东会的决议；（3）决定公司的经营计划和投资方案；（4）制订公司的年度财务预算方案、决算方案；（5）制订公司的利润分配方

案和弥补亏损方案；（6）制订公司增加或者减少注册资本以及发行公司债券的方案；（7）制订公司合并、分立、解散或者变更公司形式的方案；（8）决定公司内部管理机构的设置；（9）决定聘任或者解聘公司经理及其报酬事项，并根据经理的提名决定聘任或者解聘公司副经理、财务负责人及其报酬事项；（10）制定公司的基本管理制度；（11）公司章程规定的其他职权。可见，A项对应上述第（3）、（4）等项，B项对应上述第（9）项，D项对应上述第（5）项，都属于董事会职能。本题选非，故本题正确答案选C。

2. 根据民法典的相关规定，下列不属于无效民事法律行为的是（ ）。

- A. 违背公序良俗的民事法律行为
- B. 九周岁未成年人实施的民事法律行为
- C. 行为人与相对人恶意串通，损害他人合法权益的民事法律行为
- D. 行为人与相对人以虚假的意思表示实施的民事法律行为

【答案】B。根据《民法典》，限制民事行为能力人实施的纯获利益的民事法律行为或者与其年龄、智力、精神健康状况相适应的民事法律行为有效；实施的其他民事法律行为经法定代理人同意或者追认后有效。B项：九周岁未成年人属于限制民事行为能力人，其实施的民事法律行为，则为有效或者效力待定。B项不属于无效民事法律行为，当选。A项：根据《民法典》，违背公序良俗的民事法律行为无效。A项符合本条内容，属于无效民事法律行为，但不符合题意，不当选。C项：根据《民法典》，行为人与相对人恶意串通，损害他人合法权益的民事法律行为无效。C项符合本条内容，属于无效民事法律行为，但不符合题意，不当选。D项：根据《民法典》，行为人与相对人以虚假的意思表示实施的民事法律行为无效。D项符合本条内容，属于无效民事法律行为，但不符合题意，不当选。故本题正确答案选B。

3. 甲向乙发出订立合同意思表示，乙收到消息后立即向甲回复，称完全同意甲的合同订立条件，并请求甲按要求发货，下列说法正确的是（ ）。

- A. 甲的意思表示属于要约邀请
- B. 甲乙之间合同并未成立
- C. 乙无权请求甲按其意思表示内容发货
- D. 乙回复属于承诺

【答案】D。根据《民法典》，承诺是受要约人同意要约的意思表示。题干中乙收到消息后回复甲，称完全同意甲的合同订立条件，是对甲的要约表示同意，乙的回复属于承诺。D项符合题意，当选。A项：根据《民法典》，要约是希望和他人订立合同的意思表示，该

意思表示应当符合下列规定：①内容具体确定；②表明经受要约人承诺，要约人即受该意思表示约束。根据《民法典》，要约邀请是希望他人向自己发出要约的意思表示。寄送的价目表、拍卖公告、招标公告、招股说明书、商业广告等为要约邀请。题干中“甲向乙发出订立合同意思表示”，该意思表示属于要约而不是要约邀请，A项说法错误，不符合题意，不当选。B项：根据《民法典》，承诺生效时合同成立。根据《民法典》第二十六条，承诺通知到达要约人时生效。题干中“乙收到消息后立即向甲回复……”，乙的回复属于承诺，承诺到达甲时生效，合同成立。B项说法错误，不符合题意，不当选。C项：甲乙之间的合同成立，乙有权请求甲按其意思表示内容发货。C项说法错误，不符合题意，不当选。故本题正确答案选D。

4. 张三以其个人名义依法申请，并领取了个体工商户营业执照，专门从事活鱼批发生意。因业务量大，张三的妻子父母全部参与并合伙经营。后张三为扩大经营规模，遂向李四借款10万元，因为市场波动较大，后张三出现巨额亏损，无法偿还该笔债务，根据《民法典》规定，该笔债务应当由（ ）承担。

- A.张三及妻子
- B.张三、张三妻、张三父母共同
- C.张三父母
- D.张三

【答案】B。根据《民法典》，非法人组织是不具有法人资格，但是能够依法以自己的名义从事民事活动的组织。非法人组织包括个人独资企业、合伙企业、不具有法人资格的专业服务机构等。根据《民法典》，非法人组织的财产不足以清偿债务的，其出资人或者设立人承担无限责任。法律另有规定的，依照其规定。题目中张三、张三的妻子和父母均为合伙人，均需承担无限责任，因此，该笔债务应当由张三、张三妻、张三父母共同承担。B项符合题意，当选。故本题正确答案选B。

5. 下列四个人对法律的看法，正确的是（ ）。

- A.小李在图书馆大声说话，读者制止他时他说：“这是我的权利和自由，别人无权干涉”
- B.小陈在阻止歹徒行窃时将对方重伤致死，小陈说：“我犯的是防卫过当罪，应该从轻处罚”
- C.小张在获得五一劳动奖章时自豪地说：“劳动最光荣，中国公民都有劳动和休息的权利”
- D.双十一期间小王秒杀了一件1元的电脑，商家不得以设置错误为由不发货

【答案】D。D项正确：《电子商务法》第49条规定：电子商务经营者发布的商品或者服务信息符合要约条件的，用户选择该商品或者服务并提交订单成功，合同成立。当事人另有约定的，从其约定。电子商务经营者不得以格式条款等方式约定消费者支付价款后合同不成立；格式条款等含有该内容的，其内容无效。因此，商家不得以设置错误为由不发货。A项错误：《中华人民共和国宪法》第51条规定，中华人民共和国公民在行使自由和权利的时候，不得损害国家的、社会的、集体的利益和其他公民的合法的自由和权利。小李在图书馆内大声说话的行为显然影响了图书馆的阅读环境，损害了其他读者的利益。因此，小李明的说法是错误的。B项错误：在我国刑法中，防卫过当并不是一个独立的罪名。小陈说他犯的是防卫过当罪是错误的。防卫过当只是刑法理论上的一个说法，但是并不能认为刑法上没有明文规定这个罪就不承担刑事责任了。C项错误：《宪法》第42条规定，中华人民共和国公民有劳动的权利和义务。第43条规定，中华人民共和国劳动者有休息的权利。因此所有公民都有劳动的权利，但不是所有公民都有休息的权利，只有劳动者具有休息的权利。故本题正确答案选D。

6. 公司的监事可以由下列（ ）人员担任。

- A. 独立董事
- B. 职工代表
- C. 董事
- D. 高级管理人员

【答案】B。《公司法》第五十一条：监事会应当包括股东代表和适当比例的公司职工代表，其中职工代表的比例不得低于三分之一，具体比例由公司章程规定。监事会中的职工代表由公司职工通过职工代表大会、职工大会或者其他形式民主选举产生。董事、高级管理人员不得兼任监事。B项可以担任监事，ACD不得兼任监事。故本题正确答案选B。

7. 张先生向公司登记机关申请设立登记注册资金为100万元的有限责任公司，后经查实张先生使用了虚假的材料，并且虚报了注册资本。公司登记机关将对其（ ）。

- A. 处以虚报注册资本金额百分之十以上百分之二十以下的罚款
- B. 拘留
- C. 进行批评教育
- D. 处以虚报注册资本金额百分之五以上百分之十五以下的罚款

【答案】D。《公司法》第一百九十八条：违反本法规定，虚报注册资本、提交虚假材料或者采取其他欺诈手段隐瞒重要事实取得公司登记的，由公司登记机关责令改正，对虚报

注册资本的公司，处以虚报注册资本金额百分之五以上百分之十五以下的罚款；对提交虚假材料或者采取其他欺诈手段隐瞒重要事实的公司，处以五万元以上五十万元以下的罚款；情节严重的，撤销公司登记或者吊销营业执照。故本题正确答案选 D。

8. 《民法典》中关于法定代表人的说法不正确的是（ ）。

- A. 法定代表人以法人名义从事的民事活动，其法律后果由法人承受
- B. 法人章程对法定代表人的限制，不得对抗善意相对人
- C. 股东会对法定代表人的限制，不得对抗善意相对人
- D. 法定代表人因执行职务造成他人损害的，由法定代表人承担民事责任

【答案】D。《民法典》第六十一条，依照法律或者法人章程的规定，代表法人从事民事活动的负责人，为法人的法定代表人。法定代表人以法人名义从事的民事活动，其法律后果由法人承受。法人章程或者法人权力机构对法定代表人代表权的限制，不得对抗善意相对人。所以 ABC 说法正确。《民法典》第六十二条，法定代表人因执行职务造成他人损害的，由法人承担民事责任。法人承担民事责任后，依照法律或者法人章程的规定，可以向有过错的法定代表人追偿。D 说法错误。本题选非，故本题正确答案选 D。

9. 甲与乙订立了一份买卖合同，价款 100 万元，甲向乙支付 10 万元定金。因甲方不能履行合同，引起违约，造成乙方 25 万元的损失，合同约定的违约金为合同价款的 15%，根据《民法典》相关规定，对乙方的权利描述正确的是（ ）。

- A. 有权不返还甲方定金，无权提出其他要求
- B. 有权不返还甲方定金，有权要求甲方赔偿实际损失超过定金部分差额
- C. 有权不返还甲方定金并要求甲方支付违约金
- D. 有权要求甲方赔偿实际损失并支付违约金

【答案】B。根据《民法典》的规定，甲乙订立买卖合同时，对定金条款合违约金条款只能择其一适用，故 C 项错误；若适用定金条款，还可要求对方承担不超过其所遭受损失的赔偿金，故 A 项错误，B 项正确；若适用违约金条款，则不能再要求对方赔偿实际损失，故 D 项错误。故本题正确答案选 B。

10. 《民法典》规定，主债权债务合同无效的，担保合同（ ），但是法律另有规定的除外。

- A. 效力不受影响
- B. 无效
- C. 效力待定

D.以上答案都不对

【答案】B。根据《民法典》第三百八十八条第一款，设立担保物权，应当依照本法和其他法律的规定订立担保合同。担保合同包括抵押合同、质押合同和其他具有担保功能的合同。担保合同是主债权债务合同的从合同。主债权债务合同无效的，担保合同无效，但是法律另有规定的除外。故本题正确答案选B。

11. 《民法典》规定，同一财产既设立抵押权又设立质权的，拍卖、变卖该财产所得的价款按（ ）确定清偿顺序。

- A.抵押权人优于质权人
- B.质权人优于抵押权人
- C.按照登记、交付的时间先后
- D.按照抵押合同、质押合同生效时间先后

【答案】C。本题考查民法典知识。根据《民法典》第四百一十五条 同一财产既设立抵押权又设立质权的，拍卖、变卖该财产所得的价款按照登记、交付的时间先后确定清偿顺序。故本题正确答案选C。

12. 下列关于陆地和海洋的叙述正确的是（ ）。

- A.赤道贯穿所有七大洲
- B.海洋互相连通，陆地被海洋分割
- C.海洋的面积远小于陆地
- D.最大的陆地是非洲大陆

【答案】B。B项：全球海洋面积远远大于陆地面积，海洋相互连通，陆地被海洋分割。B项正确，当选；A项：七大洲有亚洲、欧洲、北美洲、南美洲、非洲、大洋洲、南极洲。赤道穿过的大洲有四个：非洲、南美洲、亚洲、大洋洲。A项错误，不当选。C项：全球海洋面积远远大于陆地面积。地球总表面积约为5.1亿平方公里，海洋约占地球表面积的71%，陆地约占地球表面积的29%。C项错误，不当选。D项：最大的陆地是亚欧大陆，面积达5000多万平方千米。非洲大陆，是世界第二大陆，面积约3000万平方千米（不包括附近岛屿）。D项错误，不当选。故本题正确答案选B。

13. 我国民间所说的黎明时分的启明星和傍晚时分的长庚星都是指（ ）。

- A.水星
- B.土星
- C.火星

D.金星

【答案】D。启明星就是金星。金星在我国古代又称启明星或者长庚星。在黎明时出现叫启明星，而在黄昏时出现则叫做长庚星。金星因为轨道在地球轨道内侧，所以只能在黎明或黄昏时看到，半夜的时候是不可能看到金星。故D正确，其余三项错误，故本题正确答案选D。

14. 以下说法中不正确的是（ ）。

A.在地球上的能源中，地热能仅次于太阳辐射能，排在第二位

B.太阳能、风能、地热能、潮汐能以及生物质能都是可再生能源

C.三聚氰胺是一种含氮杂环有机化工原料，主要用于做密胺塑料

D.1 纳米等于二十亿分之一米，约为 4—5 个原子排列起来的长度

【答案】D。纳米（nm），即为毫微米，是长度的度量单位。1 纳米=10 的负 9 次方米，即十亿分之一米，约等于 4—5 个原子排列起来的长度。D 项“1 纳米等于二十亿分之一米”表述错误，与题意相符，当选。A 项：太阳辐射能又称太阳辐射热，是地球外部的全球性能源，太阳辐射热控制着大气层、水圈、生物圈及岩石圈发生的各种生物作用、化学作用及其它作用，成为地球表面风化、剥蚀等外力作用所需要的能量。地球上的能源中，太阳辐射能是排在第一位的。地热能是由地壳抽取的天然热能，这种能量来自地球内部的熔岩，并以热力形式存在，是引致火山爆发及地震的能量，地热能仅次于太阳辐射能，排在第二位，A 项说法正确，不符合题意，不当选。B 项：可再生能源为来自大自然的能源，例如太阳能、风能、潮汐能、地热能、生物质能等，是取之不尽，用之不竭的能源，是相对于会穷尽的不可再生能源的一种能源，对环境无害或危害极小。B 项说法正确，不符合题意，不当选。C 项：三聚氰胺，俗称密胺、蛋白精，是一种三嗪类含氮杂环有机化合物，被用作化工原料。它是白色单斜晶体，几乎无味，微溶于水（3.1g/L 常温），可溶于甲醇、甲醛、乙酸、热乙二醇、甘油、吡啶等，不溶于丙酮、醚类、对身体有害，不可用于食品加工或食品添加物，主要用于做密胺塑料。C 项说法正确，不符合题意，不当选。本题选非，故本题正确答案选 D。

15. 关于节气常识，下列说法不正确的是（ ）。

A.夏至，太阳直射北回归线，南半球白昼时间最短

B.冬至，北半球一年中影子最短，白昼时间最短

C.春分、秋分昼夜等长，白露是北半球昼夜温差最大的时间

D.从立春开始，立春在每年的 2 月 4 日左右，每个月两个节气

【答案】B。B 项：冬至这天，太阳运行至黄经 270°，太阳几乎直射南回归线（又称

为冬至线), 阳光对北半球最为倾斜。因此, 北半球一年中影子最长, 而非最短, 冬至日是北半球各地一年中白昼最短的一天, 并且越往北白昼越短。B 项说法错误。A 项: 夏至, 在每年公历 6 月 20 日, 或 21 日, 或 22 日。夏至这天, 太阳运行至黄经 90 度, 太阳几乎直射北回归线, 此时, 北半球各地的白昼时间达到全年最长, 南半球各地白昼时间达到全年最短。说法正确, 因此 A 项不符合题意。C 项: 春分、秋分时太阳直射赤道, 南北半球都昼夜等长, 白露此时天气转凉, 昼夜温差可达十多度, 是北半球昼夜温差最大的时段。说法正确, 因此 C 项不符合题意。D 项: 二十四节气以立春为首, 一年有二十四个节气, 计十二个节和十二个气。即一个月之内有一节一气, 如果仅从数字二十四来看, 一个月占两个, 说法正确, 因此 D 项不符合题意。本题选非, 故本题正确答案选 B。

16. 关于太阳, 下列说法不正确的是 ()。

- A. 目前已经进入衰老时期
- B. 通过核聚变来释放能量
- C. 所产生的能量主要靠辐射方式传播
- D. 是太阳系中唯一会发光的天体

【答案】A。A 项: 太阳是一颗恒星, 寿命大致为 100 亿年, 目前太阳大约 45.7 亿岁。在大约 50 至 60 亿年之后, 太阳内部的氢元素几乎会全部消耗尽, 将会由氢核聚变变为氦聚变, 进入衰老期, 太阳的核心将发生坍缩, 目前太阳仍处于“青年期”, 所以 A 项错误, 符合题意。B 项: 从化学组成来看, 现在太阳质量的大约四分之三是氢, 剩下的几乎都是氦, 采用核聚变的方式向太空释放光和热, B 项正确, 不符合题意。C 项: 太阳所产生的能量主要靠辐射方式传播, C 项正确, 不符合题意。D 项: 太阳是太阳系的中心天体, 占有太阳系总体质量的 99.86%。太阳是位于太阳系中唯一的恒星和会发光的天体, D 项正确, 不符合题意。恒星是由等离子气态物质组成的, 能自己发光发热的球状或类球状天体。本题选非, 故本题正确答案选 A。

17. 下列不同朝代的官名与其在当时的职能对应不正确的一项是 ()。

- A. 清朝按察使-主管一省巡查、吏治刑法
- B. 唐朝户部尚书-主管国家经济、赋役、户口
- C. 汉朝执金吾-主管起草诏书、发文、备皇帝询
- D. 明朝鸿胪寺卿-主管朝会、筵席、祭祀

【答案】C。执金吾 (yù), 西汉末年时率禁兵保卫京城和宫城的官员, 本名中尉。其所属兵卒也称为北军, 地位较高, 光武帝在民间时, 曾说“仕宦当作执金吾, 娶妻当得阴丽

华”。并非起草诏令的文官。C项错误，但符合题意，当选。A项：按察使，正三品官名，主要负责司法工作，主要任务是赴各道巡察，考核吏治，主管一个省范围的刑法之事，相当于现代的省级公、检、法机关。A项正确，但不符合题意，不当选。B项：唐朝户部尚书掌管全国土地、赋税、户籍、军需、俸禄、粮饷、财政收支等。B项正确，但不符合题意，不当选。D项：明朝鸿胪寺卿掌管朝会、筵席、祭祀等。D项正确，但不符合题意，不当选。本题选非，故本题正确答案选C。

18. 成语“蓬荜生辉”中的“蓬荜”是对（ ）指称。

- A.自己的豪宅
- B.自己的陋居
- C.对方的豪宅
- D.对方的陋居

【答案】B。蓬荜生辉，指某事物或人使寒门增添光辉，形容贵客来访令主人感到增光不少。出自元·秦简夫《剪发待宾》“贵脚踏于贱地，蓬荜生光”。蓬荜解释为编蓬草、荆竹为门，多用来形容自己的陋居。B项符合题意，当选。故本题正确答案选B。

19. 以画虾著称的画家是（ ）。

- A.齐白石
- B.徐悲鸿
- C.吴冠中
- D.张大千

【答案】A。A项：齐白石画虾堪称画坛一绝。齐白石通过毕生的观察，力求深入表现虾的形神特征。除此之外齐白石擅画花鸟、虫鱼、山水、人物，笔墨雄浑滋润，色彩浓艳明快，造型简练生动，意境醇厚朴实。A项正确。B项：徐悲鸿以画马著称，擅长人物、走兽、花鸟，主张现实主义，强调国画改革融入西画技法，作画主张光线、造型，讲求对象的解剖结构、骨骼的准确把握，并强调作品的思想内涵，对当时中国画坛影响甚大。所作国画彩墨浑成，尤以奔马享名于世。B项错误。C项：吴冠中以风景油画著称，擅长表现江南水乡景色，如初春的新绿、薄薄的雾霭、水边村舍、黑瓦白墙，主要擅长画桥。他终生致力于油画民族化及中国画现代化之探索，实践着“油画民族化”、“中国画现代化”的创作理念，形成了鲜明的艺术特色。C项错误。D项：张大千以泼墨画著称，特别在山水画方面卓有成就。后旅居海外，画风工写结合，重彩、水墨融为一体，尤其是泼墨与泼彩，开创了新的艺术风格。D项错误。故本题正确答案选A。

20. 周恩来题写的“千古奇冤，江南一叶，同室操戈，相煎何急”所反映的历史事件是（ ）。

- A.卢沟桥事变
- B.皖南事变
- C.中原突围
- D.红军长征

【答案】B。1941年1月5日，根据蒋介石命令，新四军军长叶挺率领新四军军部教导团及第三支队共九千余人由安徽泾县云岭起程北移，次日行至茂林地区，即遭国民党七个师八万多人的包围，袭击。新四军被迫还击，激战至十三日。面临全军覆没之际，叶挺执行组织的决定，前往国民党顽军上官云相处交涉。上官云相将叶挺扣留，并加紧对新四军的攻击，至十四日夜新四军除一千余人突出重围外，大部壮烈牺牲或被俘。1月17日国民党当局诬陷新四军“叛变”，并宣布取消其番号。这就是国民党顽固派蓄谋制造的震惊中外的“皖南事变”。南方局书记周恩来以极其悲愤的心情在《新华日报》上题词：“为江南死国难者致哀”和“千古奇冤，江南一叶，同室操戈，相煎何急！？”揭露“皖南事变”的真相。由此可知，B项当选。故本题正确答案选B。

21. 虚拟专用网络（VPN）的功能不包括（ ）。

- A.加密数据
- B.访问控制
- C.身份认证和信息认证
- D.网络连接

【答案】D。D：网络连接是路由器的主要功能，不是VPN的功能。A：加密数据，以保证通过公网传输的信息即使被他人截获也不会泄露。B：提供访问控制，不同的用户有不同的访问权限。C：信息认证和身份认证，保证信息的完整性、合法性，并能鉴别用户的身份。ABC都属于VNP的功能，故本题正确答案选D。

22. 光纤通信是利用光波在光导纤维中传递各种信息，以下不属于光纤通信特点的是（ ）。

- A.传输损耗高
- B.通信容量大
- C.抗干扰能力强
- D.保密性能好

【答案】A。光纤通信是以光波作为信息载体，以光纤作为传输媒介的一种通信方式。光纤通信的特点有：巨大的传输容量、极低的传输损耗、抗电磁干扰、信道串扰小、保密性好、光缆尺寸小、重量轻、可绕性好等。本题选非，故本题正确答案选 A。

23. 通常所说计算机上的 U 盘标准接口是（ ）。

A.UPS

B.USP

C.UBS

D.USB

【答案】D。D 项：通用串行总线（Universal Serial Bus，USB）是连接外部设备的一个串口总线标准，用于规范电脑与外部设备的连接和通信，是应用在计算机领域的接口技术。通常所说计算机上的 U 盘标准接口是 USB。A 项：UPS（Uninterrupted Power Supply），即不间断电源，是将蓄电池与主机相连接，通过主机逆变器模块电路将直流电转换成市电的系统设备。主要用于给单台计算机、计算机网络系统或其它电力电子设备如电磁阀、压力变送器等提供稳定、不间断的电力供应。A 项不合题意，不当选。B 项：USP 是 50 年代初由美国人罗瑟·里夫斯提出的一个理论，要求向消费者说一个“独特的销售主张”（Unique Selling Proposition），简称 USP 理论，又可称为创意理论。其特点是必须向受众陈述产品的特点，同时这个特点必须是独特的、必须能够引起销售。B 项不合题意，不当选。C 项：UBS 是瑞银集团（Union Bank of Switzerland）的英文简称。瑞银集团是欧洲最大的金融控股集团，总部设在瑞士苏黎世，遍布全球所有主要金融中心。C 项不合题意，不当选。故本题正确答案选 D。

24. 在 Word2010 中，用于“插入”和“改写”状态的切换键是（ ）。

A.End

B.Home

C.Insert

D.Delete

【答案】C。C 项：在 Word2010 中切换“插入”和“改写”状态有 2 个最简单的方法：①按键盘上的“Insert”键进行切换。②用鼠标单击“插入”或“改写”字样进行切换。A 项：在 Word2010 中，如果要将光标移到其所在的那行文字的末尾，应该使用 End 键。A 项不符合题意，不当选。B 项：在 Word2010 中，如果要将光标移到其所在的那行文字的行首，应该使用 Home 键。B 项不符合题意，不当选。D 项：在 Word2010 中 Delete 可以用来删除

光标后面的字符。D项不符合题意，不当选。故本题正确答案选C。

25. 下列关于无线通信的说法，错误的是（ ）。

- A.无线通信的传输介质是电磁波
- B.5G技术需要的基站数量比4G少
- C.蓝牙是一种安全性较高的无线通信技术
- D.我国二代身份证使用了无线射频识别技术

【答案】B。B项：5G的频谱要远高于4G，按照衰减的公式，频率越大衰减越大，因此5G基站的密度就要比4G的高，也就是5G技术需要的基站数量比4G多。B项错误，但符合题意，当选。A项：无线传输介质是指利用各种波长的电磁波充当传输媒体的传输介质。无线传输所使用的频段很广，人们现在已经利用了好几个波段进行通信，目前多采用无线电波、微波、红外线和激光等。A项正确，但不符合题意，不当选。C项：蓝牙是一种设备之间进行无线通信的技术，可实现固定设备、移动设备和个人局域网之间的短距离数据交换，蓝牙可连接多个设备，克服了数据同步的难题。蓝牙使用AES-128CCM加密算法进行数据包加密和认证，故具有较高安全性。C项正确，但不符合题意，不当选。D项：无线射频识别技术作为一项目前最先进的自动识别和数据采集技术，被公认为21世纪十大重要技术之一。第二代身份证使用了最先进的无线射频识别技术，在身份证内嵌入了无线射频识别逻辑加密芯片，具有高可靠性、高安全性、高性价比等特点。正是运用这一技术，使得第二代身份证成为一张智能卡，截至目前，基本完成了国内IC卡身份证的换发工作。D项正确，但不符合题意，不当选。本题选非，故本题正确答案选B。

26. 用户在使用云服务时，如果和云服务商签订了隐私协议，以下做法正确的是（ ）。

- A.有隐私协议就不需要另外的安全措施
- B.有隐私协议就不必采用安全性太强的措施
- C.先自己对敏感和隐私信息进行加密，后上传到云中
- D.先上传到云中，然后由云服务商对敏感和隐私信息进行加密

【答案】C。用户在用云服务时，如果和云服务商签订了隐私协议，需要先自己对敏感和隐私信息进行加密，后上传到云中。因为隐私协议只是一种保护隐私的手段，但不能保证个人隐私完全不泄露，因此，最好自行将自己的隐私信息进行更多的保护加密。C项正确。故本题正确答案选C。

27. 关于“人工智能”的理解，下列表述正确的是（ ）。

- ①人工智能就是人的智能

②人工智能在本质上是对人的思维的模仿，并不就是人的智能本身

③人工智能最终会超越人的智能

④人工智能的出现不仅在于解放了人的智力，而且为研究人脑的意识活动提供了新的方法和途径

A.①③

B.①④

C.②③

D.②④

【答案】D。人工智能（AI）是研究、开发用于模拟、延伸和扩展人的智能的理论、方法、技术及应用系统的一门新的技术科学。人工智能并不是人的智能，更不会超过人的智能，只不过是类似于人的思维的“机器思维”，就本质而言是对人的思维信息的模拟。①③项错误，②项正确。人工智能的出现不仅在于解放了人的智力，而且为研究人脑的意识活动提供了新的方法和途径，此外，在需要使用数学计算机工具解决问题的学科，AI提供了有力帮助，更重要的是，AI有助于人类最终认识自身智能的形成。④项正确。可见，①③项错误，排除；②④项正确，当选。因此，D项正确，当选。故本题正确答案选D。

28. 如果结点A有3个兄弟，而且B是A的双亲，则B的度是（ ）。

A.3

B.4

C.5

D.1

【答案】B。度的定义是：结点拥有的子树的个数。因为结点A有3个兄弟，那么算上本身，双亲B存在的3个子树，度为4。故本题正确答案选B。

29. 下载软件前，甲看了一下计算机的系统类型，显示的是：“64位操作系统，基于x64的处理器”。这里的“x64”指的是（ ）。

A.处理器的架构

B.CPU的型号

C.电脑已安装的内存

D.生产厂商是英特尔

【答案】A。A项，“64位操作系统，基于x64的处理器”。这里的“x64”指的是处理器的架构，当选。B项，CPU的型号一般表示为I3、I5和I7等，不当选。C项，电脑已安

装的内存一般表示为 2G 或者 4G，不当选。D 项，生产厂商若为英特尔则表示为 Intel，故本题正确答案选 A。

30. 下列有关文件扩展名的说法正确的是（ ）。

- A.EXT 是数据文件的扩展名
- B.DOC 是 word 文件的扩张名
- C.EXT 是备份文件的扩展名
- D.WAN 是视频文件的扩展名

【答案】B。EXT 是延伸文件系统，故 AC 项错误；DOC 是 word 文件的扩张名，故 B 项正确；WAN 是广域网的缩写，故 D 项错误。故本题正确答案选 B。

多项选择题

31. 根据《民法典》的规定，以下情形中，撤销权未消灭的是（ ）。

- A.当事人自知道或者应当知道撤销事由起一年内没有行使撤销权
- B.重大误解的当事人自知道或者应当知道撤销事由之日起六十日内没有行使撤销权
- C.当事人知道撤销事由后以自己的行为表明放弃撤销权
- D.当事人受胁迫，自胁迫行为终止之日起六个月内没有行使撤销权

【答案】BD。根据《民法典》第一百五十二条，有下列情形之一的，撤销权消灭：（一）当事人自知道或者应当知道撤销事由之日起一年内、重大误解的当事人自知道或者应当知道撤销事由之日起九十日内没有行使撤销权；（二）当事人受胁迫，自胁迫行为终止之日起一年内没有行使撤销权；（三）当事人知道撤销事由后明确表示或者以自己的行为表明放弃撤销权。当事人自民事法律行为发生之日起五年内没有行使撤销权的，撤销权消灭。所以 AC 属于撤销权消灭的情形。本题选非，故本题正确答案选 BD。

32. 用人单位不得解除劳动合同的情形（ ）。

- A.在单位患职业病的
- B.女职工在哺乳期间的
- C.不能胜任本单位工作的
- D.已在本单位工作满 15 年，且离退休不到 5 年的

【答案】ABD。根据《劳动合同法》第四十二条，用人单位不得解除劳动合同的情形：（一）从事接触职业病危害作业的劳动者未进行离岗前职业健康检查，或者疑似职业病病人在诊断或者医学观察期间的；（二）在本单位患职业病或者因工负伤并被确认丧失或者部分

丧失劳动能力的；（三）患病或者非因工负伤，在规定的医疗期内的；（四）女职工在孕期、产期、哺乳期的；（五）在本单位连续工作满十五年，且距法定退休年龄不足五年的；（六）法律、行政法规规定的其他情形。C项：根据《劳动合同法》第四十条第二项，有下列情形之一的，用人单位提前三十日以书面形式通知劳动者本人或者额外支付劳动者一个月工资后，可以解除劳动合同：劳动者不能胜任工作，经过培训或者调整工作岗位，仍不能胜任工作的。C项不属于用人单位不得解除劳动合同的情形，不符合题意，不当选。故本题正确答案选 ABD。

33. 关于可撤销民事行为，下列说法中正确的是（ ）。

- A. 行为人对行为内容有重大误解的是可撤销的民事行为
- B. 显失公平的行为是可撤销的民事行为
- C. 当事人请求变更的，人民法院或者仲裁机构可以撤销
- D. 可撤销民事行为一经撤销，自始无效

【答案】ABD。A项：根据《民法典》，基于重大误解实施的民事法律行为，行为人有权请求人民法院或者仲裁机构予以撤销。A项正确。B项：根据《民法典》，一方利用对方处于危困状态、缺乏判断能力等情形，致使民事法律行为成立时显失公平的，受损害方有权请求人民法院或者仲裁机构予以撤销。B项正确。D项：根据《民法典》，无效的或者被撤销的民事法律行为自始没有法律约束力。D项正确。C项：根据《民法典》，民事法律行为自成立时生效，但是法律另有规定或者当事人另有约定的除外。行为人非依法律规定或者未经对方同意，不得擅自变更或者解除民事法律行为。《民法典》当中并未规定当事人请求变更时，可以撤销的规定。C项错误。故本题正确答案选 ABD。

34. 李某将电脑遗失在火车站候车室，被旅客王某捡到，下列说法不符合法律规定的是（ ）。

- A. 王某可将电脑交给执勤警察，也可以自己用
- B. 王某联系李某后声称可以返还，但要求李某支付 50 元快递费
- C. 李某登报悬赏 3000 元寻找电脑，王某表示愿意归还，但李某以悬赏金额过高为由只同意支付 1000 元
- D. 王某将电脑交给公安机关，公安机关发布招领公告，经过一年无人认领，电脑应归王某所有

【答案】ACD。A项：根据《民法典》，拾得遗失物应当返还原权利人。拾得人应当及时通知权利人领取，或者送交公安等有关部门。因此，交给执勤警察是合理的，但是自己

用是不合法律规定的，A 选项错误，当选。C 项：根据《民法典》，权利人悬赏寻找遗失物的，领取遗失物时应当按照承诺履行义务。因此题干中，权利人李某应当付 3000 元，C 选项错误，当选。D 项：根据《民法典》，遗失物自发布招领公告之日起一年内无人认领的，归国家所有。因此 D 选项“电脑应归王某所有”的说法错误，当选。B 项：根据《民法典》，没有法定的或者约定的义务，为避免他人利益受损失而进行管理的人，有权请求受益人偿还由此支出的必要费用。所以王某联系李某后声称可以返还，但要求李某支付 50 元快递费的行为是合法的。因此 B 选项正确，不当选。本题选非，故本题正确答案选 ACD。

35. 根据《民法典》的规定，下列关于物权变动的表述中，正确的有（ ）。

- A. 因人民法院的判决取得物权的，自判决生效时发生法律效力
- B. 因受遗赠取得物权的，自受遗赠开始时发生法律效力
- C. 因合法建造取得物权的，自登记之日起发生法律效力
- D. 因拆除房屋等事实行为消灭物权的，自事实行为成就时发生法律效力

【答案】AD。A 项正确：《民法典》第二百二十九条 因人民法院、仲裁机构的法律文书或者人民政府的征收决定等，导致物权设立、变更、转让或者消灭的，自法律文书或者征收决定等生效时发生法律效力。B 项错误：《民法典》第二百三十条 因继承取得物权的，自继承开始时发生法律效力。民法典删除了遗赠适用这条。C 项错误，D 项正确：《民法典》第二百三十一条 因合法建造、拆除房屋等事实行为设立或者消灭物权的，自事实行为成就时发生法律效力。故本题正确答案选 AD。

36. 下列关于 ICMP 的说法正确的是（ ）。

- A. ICMP 工作在物理层
- B. ICMP 用于在 IP 主机、路由器之间传递控制信息和差错报告
- C. ICMP 传输的信息包括控制信息和用户数据
- D. ICMP 信息封装在 IP 数据包中

【答案】BCD。ICMP 是 TCP/IP 协议族的一个子协议，用于在 IP 主机、路由器之间传递控制消息。控制消息是指网络通不通、主机是否可达、路由是否可用等网络本身的消息。这些控制消息虽然并不传输用户数据，但是对于用户数据的传递起着重要的作用。A 项，ICMP 位于网络层，不当选，故本题正确答案选 BCD。

37. Java 设计模式主要分为三大类：创建型、结构型和行为型，下列属于创建型模式的是（ ）。

- A. 原型模式

- B.单例模式
- C.组合模式
- D.工厂方法模式

【答案】ABD。创建型包括：单例模式、抽象工厂、原型模式、工厂方法和建造模式，C项，组合模式属于结构型，不当选，故本题正确答案选 ABD。

38. 下列选项中，没涉及唐太宗李世民的历史事件是（ ）。

- A.杯酒释兵权
- B.玄武门之变
- C.贞观之治
- D.文景之治

【答案】AD。A项：杯酒释兵权是指宋朝初期，宋太祖赵匡胤为了加强中央集权，同时避免其他将领也“黄袍加身”，篡夺自己的政权，所以赵匡胤通过一次酒宴，以威胁利诱的方式，要求高阶军官们交出兵权，故A项与唐太宗李世民无关。D项：文景之治是指西汉文帝、汉景帝统治时期出现的治世，故D项与唐太宗李世民无关。B项：玄武门之变是唐高祖武德九年，由当时的秦王李世民在首都长安皇宫玄武门附近发动的一次流血政变，B项与李世民有关，不符合题意。C项：贞观是唐太宗李世民的年号，“贞观之治”是形容唐太宗在位期间的清明政治，C项与李世民有关，不符合题意。故本题正确答案选 AD。

39. 下列小说属于鲁迅作品的有（ ）。

- A.《子夜》
- B.《彷徨》
- C.《泯灭》
- D.《阿Q正传》

【答案】BD。B项：《彷徨》是近代文学家鲁迅创作的小说集，于1926年8月由北京北新书局初版，列为作者所编的《乌合丛书》之一，后编入《鲁迅全集》。B项符合题意，当选。D项：《阿Q正传》是鲁迅创作的中篇小说，创作于1921年12月，最初发表于北京《晨报副刊》，后收入小说集《呐喊》。D项符合题意，当选。因此，选择BD选项。A项：《子夜》，原名《夕阳》，中国现代长篇小说，约30万字。茅盾于1931年10月开始创作，至1932年12月5日完稿，共十九章。有些章节分别在《小说月报》和《文学月报》上发表过。半个多世纪以来，《子夜》不仅在中国拥有广泛的读者，且被译成英、德、俄、日等十几种文字，产生了广泛的国际影响。A项不是鲁迅的作品，不当选。C项：《泯灭》是中国

物资出版社 2007 年 5 月出版的图书，作者是梁晓声。本书讲述的是民国时期青少年的成长故事。C 项不是鲁迅的作品，不当选。故本题正确答案选 BD。

40. 下列关于二十四节气与生产生活关系说法正确的是（ ）。

- A. “夏满芒夏暑相连”包含了六个节气
- B. 惊蛰后树木生根发芽，是林果嫁接的最佳时期
- C. 小暑过后长江以南将进入雨季，梅雨汛期开始
- D. 清明后自然由阴转阳，这时要注意清泻肝火

【答案】ABD。A 项：“夏满芒夏暑相连”包含了立夏、小满、芒种、夏至、小暑和大暑六个节气。A 项正确，当选。B 项：果树嫁接通常选择在春季进行，最佳嫁接时间段是每年的惊蛰到春分之间，芽苞还未萌发的时候，嫁接成活率高。嫁接时间不能过早，因为气温低，果树生长活性差，接穗的成活率不高。嫁接时间不能过迟，芽苞萌动生长，会散发大量的水分，影响接穗的成活率。B 项正确，当选。D 项：清明在每年的 4 月 5 日（阳历）前后，此时天气晴朗，草木繁茂。清明后雨水增多，自然由阴转阳，要注意清泻肝火，以防肝气升发太过或肝火上炎。D 项正确，当选。因此，选择 ABD 选项。C 项：小暑一般在每年的 7 月 6-8 日，此时长江中下游地区梅雨结束，进入伏旱，而华北、东北地区进入雨季。C 项错误，不当选。故本题正确答案选 ABD。

管理习题

单项选择题

1. 具有系统的全面管理的技能是指管理者的（ ）。
- A. 技术技能
 - B. 人际技能
 - C. 概念技能
 - D. 学习技能

【答案】C。管理者应具备的技能有三类，技术技能、人际技能和概念技能。技术技能是指使用某一专业领域内有关的工作程序、技术、知识和方法完成组织任务的能力。对基层管理人员较重要，故 A 选项错误；人际技能是处理与人事关系有关的技能，即理解、激励他人并与其他人共事的能力。此能力对高、中、低层管理人员都重要，故 B 选项错误；概念技能指能够洞察组织与环境相互影响的复杂性，并在此基础上加以分析、判断、抽象、概括

并迅速做出正确决断的能力。管理者所处层次越高越需要概念技能。因此，具有系统的全面管理的技能是指管理者的概念技能，故 C 选项正确；D 选项本身不存在，故排除。故本题正确答案选 C。

2. 张伟是一大型商场的CEO，近期经过调查发现：商场基层员工近期工作效率下滑，缺勤率上升，工作积极性下降，基层员工与客户的争吵事件也在呈上升趋势，员工普遍反映：工作枯燥乏味，没有挑战性与职业生涯规划，无法有效施展自己的才华；沟通机会较少，缺少集体活动，没有有效的沟通平台，大龄未婚职工人数日渐上升。员工的这些情况反映出在高层次需要没有得到满足时，对低层次的需要就会显得更加渴望。这符合（ ）的观点。

- A. 奥尔德弗 ERG 理论
- B. 赫茨伯格双因素理论
- C. 马斯洛需求层次理论
- D. 麦克利兰三重需求理论

【答案】A。美国耶鲁大学的克雷顿·奥尔德弗在马斯洛提出的需要层次理论的基础上，提出了一种新的人本主义需要理论。奥尔德弗认为，人们共存在 3 种核心的需要，即生存的需要、相互关系的需要和成长发展的需要，因而这一理论被称为 ERG 理论。ERG 理论认为当较高层次需求不能得到满足的时候，对满足较低层次需求的欲望就会加强，这就是奥尔德弗提出的“挫折—退化”理论。故 A 选项正确；赫茨伯格双因素理论，他研究发现使职工感到满意的都是属于工作本身或工作内容方面的；使职工感到不满的，都是属于工作环境或工作关系方面的，故 B 选项错误；马斯洛需求层次理论认为某一层次的需要相对满足了，就会向高一层次发展，追求更高层次的需要就成为驱使行为的动力，故 C 选项错误；麦克利兰理论从权力需要、交往需要和成就需要三重需要出发，故 D 选项错误。故本题正确答案选 A。

3. 有家工厂最近进行车间布局的重新规划，根据工艺流程和现有厂房的条件共有 10 种方案可供选择，厂长办公会上提出要选择一种最经济的方案，在这种情况下，车间布局的安排问题属于（ ）。

- A. 非肯定型决策
- B. 肯定型决策
- C. 风险型决策
- D. 纯计划问题，与决策无关

【答案】B。肯定型决策，即确定型决策，是指决策者知道自然状态的发生，每个方案只有一个结构。根据题意得知，有 10 种方案可供选择，厂长办公会上提出要选择一种，属于肯定型决策，故 B 选项正确；非肯定型决策，即不确定型决策，指决策者可能不知道有多少种自然状态，不知道每种自然状态发生的概率，故 A 选项错误；风险型决策指自然状态不止一种，决策者不知道哪种自然状态会发生，但知道有多少种自然状态以及每种自然状态发生的概率，故 C 选项错误；D 选项本身说法错误。故本题正确答案选 B。

4. 保证在组织中“事事有人做”属于管理的（ ）。

- A.计划职能
- B.组织职能
- C.领导职能
- D.控制职能

【答案】B。组织是指围绕一定目标，设置并建立组织结构，安排群体成员的职位，确定其职责、权限及其相互关系，从而使其具有较高效率的群体的管理行为或者管理过程。因此能保证在组织中“事事有人做”，属于管理的组织职能，故 B 选项正确；计划是对组织在未来一段时间的目标和实现目标途径的策划与安排，故 A 选项错误；领导职能是指导和影响群体或组织成员为实现群体或组织目标而做出努力和贡献的过程或艺术，故 C 选项错误；控制职能是按照既定的标准，检查和衡量管理工作是否按计划进行，若有偏差就要分析原因，发出指令，并做出改进，故 D 选项错误。故本题正确答案选 B。

5. 制定工资报酬时应该考虑的首要因素是（ ）。

- A.激励因素
- B.保健因素
- C.需求因素
- D.公平因素

【答案】D。管理学认为，只有公平的报酬，才能使职工感到满意和起到激励作用。报酬是否公平，职工们不只是看绝对值，还要进行社会比较，和他人比较，和自己的过去比较。因此制定工资原则的首要因素是公平因素。在保证公平的基础上进行一定程度的奖励，故 D 选项正确；ABC 选项属于内容激励理论，不符合题意，故 ABC 选项错误。故本题正确答案选 D。

6. （ ）认为不存在一种“普适”的领导方式，领导工作强烈地受到领导者所处的客观环境的影响。这种理论的启示是领导者要根据所处的客观环境选择具体的领导方式。

- A.权变理论
- B.行为科学理论
- C.期望理论
- D.强化理论

【答案】A。权变理论认为不存在一种“普适”的领导方式，领导工作强烈地受到领导者所处的客观环境的影响。这种理论的启示是领导者要根据所处的客观环境选择具体的领导方式，故 A 选项正确；行为科学理论是通过对人的心理活动的研究，掌握人们行为的规律，从中寻找对待员工的新方法和提高劳动效率的途径，故 B 选项错误；期望理论说明，人的积极性被调动的大小取决于期望值与效价的乘积。故 C 选项错误；强化理论是美国心理学家和行为科学家斯金纳等人提出的一种理论，这种理论观点主张对激励进行针对性的刺激，认为人的行为是其所获刺激的函数。如果这种刺激对他有利，则这种行为就会重复出现，若对他无利，这种行为就会减弱直至消逝，故 D 错误。故本题正确答案选 A。

7. 以下哪种领导方式认为只要职工精神愉快，生产自然会好。这种管理的结果可能很脆弱，一旦和谐的人际关系受到了影响，生产成绩就会随之下降（ ）。

- A.9.1 型方式（任务型）
- B.1.9 型方式（乡村俱乐部型）
- C.5.5 型方式（中庸之道型）
- D.9.9 型方式（团队型）

【答案】B。A 选项是指只注重任务的完成，不重视人的因素。这种领导方式是一种专权式的领导，下属只能奉命行事，故 A 选项错误；B 选项与 9.1 型相反，即特别关心职工。这种管理的结果可能很脆弱，一旦和谐的人际关系受到了影响，生产成绩就会随之下降，故 B 选项正确；C 选项既不过于重视人的因素，也不过于重视任务因素，努力保持和谐和妥协，以免顾此失彼。故 C 选项错误；D 选项对生产和人的关心都达到了最高点。在 9.9 型方式下，职工在工作上希望相互协助，共同努力去实现企业目标；领导者诚心诚意地关心职工，努力使职工在完成组织目标的同时，满足个人需要，故 D 选项错误。故本题正确答案选 B。

8. 组织文化作为一种自组织系统具有很多特定的功能，（ ）是组织文化通过培育组织成员的认同感和归属感，建立起成员与组织之间的相互信任和依存关系，使个人的行为、思想、感情、信念、习惯以及沟通方式与整个组织有机结合在一起，形成相对稳固的文化氛围，凝聚成一种无形的合力。

- A.适应功能

- B.整合功能
- C.导向功能
- D.发展功能

【答案】B。A选项适用功能是组织文化能从根本上改变员工的旧有价值观念，建立起新的价值观念，使之适应组织外部环境的变化要求，故A选项错误；B选项整合功能是组织文化通过培育组织成员的认同感和归属感，建立起成员与组织之间的相互信任和依存关系，使个人的行为、思想、感情、信念、习惯以及沟通方式与整个组织有机结合在一起，形成相对稳固的文化氛围，凝聚成一种无形的合力，故B选项正确；C选项导向功能是通过组织的共同价值观不断地向各人价值观渗透和内化，使组织自动生成一套自我调控机制，以一种适应性文化引导着组织的行为和活动，故C选项错误；D发展功能是组织在不断的不断发展过程中所形成的文化积淀，通过无数次的辐射、反馈和强化，会随着实践的发展而不断地更新和优化，推动组织文化从一个高度向另一个高度迈进，故D选项错误。故本题正确答案选B。

9. 控制工作的基本步骤不包括（ ）。

- A.拟定标准
- B.衡量成效
- C.纠正偏差
- D.事后跟踪

【答案】D。控制工作的基本步骤包括拟定标准、衡量成效、纠正偏差。A选项拟定标准、B选项衡量成效、C选项纠正偏差均属于基本步骤，故错误；D选项事后跟踪不属于基本步骤，故D选项正确。故本题正确答案选D。

10. （ ）职能本身并没有某种特有的表现形式，总是在与其他管理职能的结合中表现自身的存在与价值。

- A.计划
- B.组织
- C.领导
- D.控制

【答案】C。计划职能是指对企业未来活动确定目标和规定实现目标的途径和方法，不符合题意，故A选项错误；组织职能是指根据企业目标和计划，对执行计划的各种要素及其相互关系进行配置，协调和组合，是计划任务得以落实，不符合题意，故B选项错误；领导职能是指利用组织赋予的权利去指挥、影响、激励组织成员为实现目标而努力工作的具

有很强艺术性的管理活动过程,可以理解为在与其他管理职能的结合中表现自身的存在与价值,符合题意,故 C 选项正确;控制职能是指根据目标和标准对企业的各选项活动进行监督和检查,以消除实际和标准的差异,保证计划目标的实现,不符合题意,故 D 选项错误;故本题正确答案选 C。

11. 下列说法正确的是 ()。

- A.控制工作开展的前提条件是建立控制标准
- B.衡量绩效是控制活动的最终目的
- C.成语所说的“亡羊补牢”就属于现场控制
- D.进行控制时标准的制定应当越高越好

【答案】A。控制工作开展的前提条件是建立控制标准,表述无误,故 A 选项正确;控制活动的最终目的是实现组织目标,故 B 选项错误;“亡羊补牢”属于反馈控制,故 C 选项错误;D 选项制定控制标准不是越高越好,故 D 选项错误。故本题正确答案选 A。

12. 下列属于现场控制的是 ()。

- A.外科实习医生在第一次作手术时需要有经验丰富的医生在手术过程中对其进行指导
- B.某企业到了 5 月底,发现甲产品第二季度的生产计划才完成了 55%,便采取日夜轮班的方式以完成计划
- C.某企业发现甲产品供大于求,价格下降,立即决定停止生产
- D.某公司制定了选拔和考核员工的严格标准

【答案】A。A 选项外科实习医生在第一次作手术时需要有经验丰富的医生在手术过程中对其进行指导是现场控制,故 A 选项正确;B 选项某企业到了 5 月底,发现甲产品第二季度的生产计划才完成了 55%,便采取日夜轮班的方式以完成计划为预先控制,故 B 选项错误;C 选项某企业发现甲产品供大于求,价格下降,立即决定停止生产为事后控制,故 C 选项错误;D 选项某公司制定了选拔和考核员工的严格标准,从控制的角度讲,这是事前控制,故 D 选项错误。故本题正确答案选 A。

13. 关于Y式沟通的特点,以下选项中不正确的是 ()。

- A.信息传递和解决问题的速度较快,组织控制比较严格
- B.由于信息中间环节多,可能使上级不了解下级的真实情况
- C.组织成员之间缺少直接和横向沟通,不能越级沟通
- D.包括节点在内,全体成员的满意程度比较高

【答案】D。本题考察 Y 式沟通。Y 式沟通一个纵向沟通网络，一个成员位于沟通内的中心，成为沟通的媒介。Y 式沟通的优点是集中化程度高，较有组织性，信息传递和解决问题的速度较快，组织控制比较严格，A 项描述正确；缺点是组织成员之间缺少直接和横向沟通，信息中间环节多，不能越级沟通 B、C 描述正确。除节点外，全体成员的满意程度比较低，组织气氛大都不和谐。D 项错误。本题选择错误项，故本题正确答案选 D。

14. 下列哪一选项不是按照控制时点和控制手段实施的位置不同对控制的分类？

()

- A.前馈控制
- B.自我控制
- C.同期控制
- D.反馈控制

【答案】B。按照控制时点和控制手段实施的位置不同对控制的分类为前馈控制、同期控制、反馈控制。本题为选非题，故 ACD 选项错误；B 选项自我控制，符合题意，故 B 选项正确。故本题正确答案选 B。

15. 不确定型决策方法中，哪个是对“首先找出各个方案的最小收益值，然后选择最小收益值中最大的那个方案为最优方案”这个方法的描述？()

- A.等概率决策法
- B.乐观（大中取大法）决策法
- C.折衷决策法
- D.悲观（小中取大法）决策法

【答案】D。悲观原则也叫“小中取大”或“坏中求好”法。决策者在最差自然状态下选择“最大收益”的方案，故 D 选项正确；等概率决策是当决策人在决策过程中，不能肯定哪种状态容易出现，哪种状态不容易出现时，可以一视同仁，认为各种状态出现的可能性是相等的，故 A 选项错误；乐观（大中取大法）决策法是决策者找出各方案在各种自然状态下的最大收益值，进行比较，找出在最有利自然状态下能够带来最大收益的方案作为决策实施方案，故 B 选项错误；折衷决策法是指根据决策者的估计，制定最好自然状态的乐观系数 α ，制定最差自然状态的悲观系数 β ，（ $\alpha + \beta = 1$ ），求加权期望值，从中选出期望值最大的方案，故 C 选项错误。故本题正确答案选 D。

16. 美国社会心理学家马斯洛提出人类的多种需要可以分为五个层次，被称为马斯洛需求层次理论，其中最高层次的需求是()。

- A.尊重的需要
- B.自我实现的需要
- C.社交的需要
- D.安全的需要

【答案】B。马斯洛需求层次理论当中，按照需求层次由低到高排序为：生理需要、安全需要、社会需要、尊重需要、自我实现的需要。自我实现的需要即为最高层次的需求，包括个人成长、发挥个人潜能、实现个人理想等，故 B 选项正确；尊重需要为次高层次需要，包括内在的尊重（自尊心、成就感等）和外在的尊重（地位、认同、受重视等），故 A 选项错误；社会需要为第三层次需要，包括情感、归属、被接纳、友谊等需要，故 C 选项错误；安全需要为第二层次需要，包括保证身心避免受到伤害等需要，故 D 选项错误；故本题正确答案选 B。

17. 在决策中，可以进行自由畅谈、延迟评判、禁止批评、追求数量的集体决策方法称为（ ）。

- A.名义小组技术
- B.德尔菲法
- C.头脑风暴法
- D.快速决策分析法

【答案】C。名义小组技术是在决策过程中对群体成员的讨论或人际沟通加以限制，但群体成员是独立思考的，故 A 选项错误；德尔菲法是包括若干专家和企业预测组织者，按照规定的程序，背靠背地征询专家对未来市场的意见或者判断，然后进行预测的方法，故 B 选项错误；快速决策分析法是从决策问题的整体出发，充分运用决策者的主观认识能力，经验直觉等等，故 D 选项错误；头脑风暴法是针对解决的问题，相关专家或人员聚在一起，在宽松的范围中，敞开思路，畅所欲言，寻求多种决策思路，特点是倡导创新思维。英国心理学家奥斯本提出头脑风暴法四选项原则，分别是：各自发表自己的意见，对别人的建议不做评论；建议不必深思熟虑，越多越好；鼓励独立思考，奇思妙想；可以补充和完善已有的建议使它更具说服力，故 C 选项正确。故本题正确答案选 C。

18. 某企业选项目讨论组现有5个人之间依次联络和沟通。其中，每个人都可同时与两侧的人沟通信息。在沟通中，组织的集中化程度和领导人的预测程度都较低；但组织内民主气氛较浓，团体的成员具有一定的满意度。上述文字符合下列哪一个沟通方式？（ ）

- A.链式

- B.Y 式
- C.全通道式
- D.环式

【答案】D。链式是一个平行网络，其中居于两端的人只能与内侧的一个成员联系，居中的人则可分别与两人沟通信息，故 A 选项错误；Y 式沟通网络是指主管人员的工作任务十分繁重，需要有人选择信息，提供决策依据，而又要对组织实行有效的控制，故 B 选项错误；全通道式沟通是一个开放式的网络系统，每个成员之间都有一定的联系，沟通渠道很多，成员满意度较高，故 C 选项错误；环式沟通是一个封闭式控制结构，每个人都可同时与两侧的人沟通，在此网络中，畅通渠道不多，组织中成员具有比较一致的满意度，组织士气高昂。故 D 选项正确。故本题正确答案选 D。

19. 下列表述中哪一选项不符合授权的类型？（ ）

- A.对所授权力、责任等均有明确规定与交代，被授权人必须严格遵守，不得有任何逾越
- B.给予被授权人的权力限度和权力容量比较模糊
- C.只指示一个大纲或轮廓，让被授权人有较大的自由做随机应变的处理
- D.将过分集中的权力，依据下属经营管理能力的差异，授予不等的权力和相应的责任

【答案】D。授权的类型共分为四类，刚性授权、柔性授权、惰性授权、模糊授权。其中，A 选项表述的是刚性授权。B 选项表述的是模糊授权。C 选项体现的是柔性授权。因此，ABC 选项都属于授权的类型，不符合题意，故 ABC 选项错误；D 选项是对授权的原则的表述，视能授权原则是指为顺应市场瞬息万变的情势，将过分集中的权力，依据下属经营管理能力的差异，授予不等的权力和与之相应的责任，故 D 选项正确。故本题正确答案选 D。

20. 上级对下级的工作范围、内容、应达到的绩效目标都有详细规定，这种授权类型是（ ）。

- A.刚性授权
- B.柔性授权
- C.模糊授权
- D.惰性授权

【答案】A。根据授权的具体内容，可以将领导者的授权划分为刚性授权、柔性授权、惰性授权和模糊授权。刚性授权是上级对下级的工作范围、内容、应达到的绩效目标都应有详细规定，故 A 选项正确；柔性授权一般适用于下列情况：下属精明强干；所处理事务复杂多变；领导者对情况不甚清楚，需要充分发挥下属主动性和创造性。故 B 选项错误；模

糊授权是授权者只指示任务和目标，被授权者自由去选择完成的具体途径，故 C 选项错误；惰性授权是领导者把自己不愿处理的纷乱繁琐事务委托给下属处理，故 D 选项错误。故本题正确答案选 A。

21. 现代企业制度的基本特征不包括（ ）。

- A. 厂长负责制
- B. 产权清晰
- C. 权责分明
- D. 政企分开

【答案】A。现代企业制度定义为以市场经济为基础，以企业法人制度为主体，以公司制度为核心，以产权清晰、权责明确、政企分开、管理科学为条件的新型企业制度。故 BCD 选项错误；厂长负责制，是指企业的生产经营和行政管理工作由厂长统一领导，全面负责的一种企业内部领导制度，是我国企业法的一项基本原则，与题意相符，故 A 选项正确。故本题正确答案选 A。

22. 管理者在制定决策时，会选择花费代价小且能取得最大效益的方案，这遵循了下列哪一个决策原则（ ）。

- A. 信息原则
- B. 效益原则
- C. 反馈原则
- D. 预测原则

【答案】B。决策原则是指决策必须遵循的指导原理和行为准则。决策具有以下七个原则：满意原则、系统原则、信息原则、预测原则、比较优选原则、反馈原则和效益原则。信息原则是指信息是决策的基础，对信息的要求是准确、完整、及时，有的信息还要求保密，故 A 选项错误；效益原则是指选出的方案要有明显经济效益、社会效益、生态效益。选出的方案要花费代价小，而取得的效果大，故 B 选项正确；反馈原则是指对决策实施跟踪反馈，及时进行控制调节，使决策实现，故 C 选项错误；预测原则是指科学的预测是决策可靠性保证，也是选择实施途径的重要方法，故 D 选项错误。故本题正确答案选 B。

23. 一种动态编制计划的方法，在每次编制或调整计划时，均将计划按时间顺序向前推进一个计划期，即向前滚动一次，按照制订的选项目计划进行施工，对保证选项目的顺利完成具有十分重要的意义。这属于下列哪一种计划编制方法（ ）。

- A.线性规划法
- B.甘特图法
- C.滚动计划法
- D.网络技术法

【答案】C。线性规划法是辅助人们进行科学管理的一种数学方法，广泛应用于军事作战、经济分析、经营管理和工程技术等方面，故 A 选项错误；甘特图法是对各选项活动完成情况的了解，调整工作顺序和时间以完成任务，故 B 选项错误；滚动计划法根据一定时期计划的执行情况，考虑企业内外环境条件的变化，调整和修订出来的计划，并相应地将计划期顺延一个时期，把计划和长期计划结合起来的一种编制计划的方法，故 C 选项正确；网络技术法是指运用网络图来表达计划中的各个工作之间的先后顺序和相互关系，计算网络时间，确定关键工序和路线，制定和优化计划方案，故 D 选项错误。故本题正确答案选 C。

24. “木桶原理”是指一个木桶想盛满水，必须每块木板都一样平齐且无破损，如果这只桶的木板中有一块不齐或者某块木板下面有破洞，这个桶就无法盛满水。在计划工作原理中，又被称为（ ）。

- A.许诺原理
- B.限定因素原理
- C.灵活性原理
- D.改变航道原理

【答案】B。许诺原理是指任何一选项计划都是对完成某项工作所做出的许诺，许诺越大，所需的时间越长，实现目标的可能性就越小，故 A 选项错误；指在计划工作中，越是能够了解和找到对达到所要求目标起限制性和决定性作用的因素，就越是能准确地、客观地选择可行的方案，题干中若其中一块木板很短，则此木桶的盛水量就被限制，该短板就成了这个木桶盛水量的“限制因素”，故 B 选项正确；计划必须具有灵活性，即当出现意外情况时，有能力改变方向而不必花太大的代价，故 C 选项错误；改变航道原理是指计划工作为将来承诺得越多，管理者定期地检查现状和前景，以及为保证所要达到的目标而重新制订计划就越重要，故 D 选项错误。故本题正确答案选 B。

25. 把从投资开始到收回投资的时间作为计划工作期限，许诺任务越多，计划时期越长，预测能力就越耗费。若计划期限越长，越影响准确性。企业中常用的投资回收率是应用了哪一个原理（ ）。

- A. 许诺原理
- B. 灵活性原理
- C. 改变航道原理
- D. 限定因素原理

【答案】A。许诺原理是指任何一选项计划都是对完成某项工作所做出的许诺，许诺越大，所需的时间越长，实现目标的可能性就越小，故 A 选项符合；计划必须具有灵活性，即当出现意外情况时，有能力改变方向而不必花太大的代价，故 B 选项错误；改变航道原理是指计划的总目标不变，但实现目标的进程可以因情的变化随时改变，故 C 选项错误；限定因素原理是指主管人员越是能够了解对达到目标起主要限制作用的因素，就越能够有针对性地、有效地拟定各种行动方案，故 D 选项错误。故本题正确答案选 A。

26. 目标管理体现了现代管理的哲学思想，是领导者与下属之间双向互动的过程，下列哪一选项不属于目标管理法的优点（ ）。

- A. 直接反映员工的工作内容
- B. 未在不同部门和员工之间设立统一目标
- C. 目标管理的过程是员工共同参与的过程
- D. 改进组织结构的职责分工

【答案】B。A 选项目标管理法的评价标准直接反映员工的工作内容，结果易于观测，所以很少出现评价失误，也适合对员工提供建议，进行反馈和辅导，属于目标管理的优点，故 A 错误；目标管理法没有在不同部门、不同员工之间设立统一目标，因此难以对员工和不同部门之间的工作绩效横向比较，不能为以后的晋升决策提供依据，这是目标管理法的缺点，故 B 正确；由于目标管理的过程是员工共同参与的过程，因此，员工工作积极性提高，增强了责任心和事业心，属于目标管理的优点，故 C 选项错误；目标管理有助于改进组织结构的职责分工。由于组织目标的成果和责任力图划归一个职位或部门，容易发现授权不足与职责不清等缺陷，属于目标管理的优点，故 D 选项错误。故本题正确答案选 B。

27. 在管理发展史上，首次重视“资本所有者与企业管理者分离”的时期是（ ）。

- A. 传统管理思想阶段
- B. 科学管理思想阶段
- C. 行为科学思想阶段
- D. 现代管理思想阶段

【答案】B。泰勒提出的科学管理理论主要包括作业管理和组织管理。其中在组织管理中，强调计划职能与执行职能相分离。他主张把计划职能从工人的工作中分离出来，工人只负责按照计划部门制定的操作方法和指令，使用规定的标准化工具进行作业，故 B 选项符合题意；早期管理思想的代表人物是亚当·斯密，代表作《国富论》中提到了劳动分工和“经济人”观点，故 A 选项错误；行为科学主要研究人的行为产生、发展和相互转化的规律，以便预测人的行为和控制人的行为，故 C 选项错误；现代管理思想阶段最大的特点就是学派林立，美国著名管理学家哈罗德·孔茨认为当时林林总总共有十一个学派：经验主义管理流派，人际关系学派、组织行为学派、社会系统学派等，故 D 选项错误。故本题正确答案选 B。

28. 根据麦格雷戈的理论，有人希望有正规化的组织与规章条例来要求自己的工作，而不愿参与问题的决策，这种人欢迎以（ ）指导管理工作。

- A.X 理论
- B.Y 理论
- C.超 Y 理论
- D.Z 理论

【答案】A。X 理论的观点：一般人天生好逸恶劳，人生来就以自我为中心，缺乏进取心，逃避责任，甘愿听从指挥，没有创造性，物质利益放在首位，故 A 选项正确；Y 理论认为，人天生并不是好逸恶劳，是能够主动承担责任，并且大多数人都具有一定的想象力、独创性和创造力，故 B 选项错误；超 Y 理论是一种主张权宜应变的经营管理理论。实质上是要求将工作、组织、个人、环境等因素作最佳的配合，故 C 选项错误；Z 理论的提出是鉴于美国企业面临着日本企业的严重挑战。认为一切企业的成功都离不开信任、敏感和亲密，因此主张以坦白、开放、沟通作为基本原则来实行民主管理，故 D 选项错误。故本题正确答案选 A。

29. 根据赫茨伯格的“双因素理论”，（ ）可以防止把激励因素变成保健因素，同时挖掘和提升保健因素的激励作用。

- A.采用差别计件工资制度
- B.将奖金转换为津贴，按工作年限分配
- C.暗示下属，将来要提升他们
- D.培养大家“只低头拉车不抬头看路”的勤奋工作意识

【答案】C。赫兹伯格认为存在着两种不同类型的激励因素。一类是能促使人们产生工作满意感的因素，称为激励因素；另一类是促使人们不产生不满的因素，称为保健因素。激励因素的改善，往往能给员工以很大程度的激励，产生工作的满意感，有助于充分调动员工的积极性。保健因素系指和工作环境或条件相关的因素，这些因素处理不当，或者说这类需要得不到基本的满足，会导致员工的不满，甚至严重挫伤其积极性；反之，满足这些需要则只能防止员工产生不满情绪。C项当选；AB项属于保健因素，排除；D项不属于激励理论的内容。故本题正确答案选C。

30. 沟通是管理的一项重要职能，有效沟通的基础是（ ）。

- A.沟通双方有共同的目标
- B.沟通双方相互信任
- C.计划
- D.信息

【答案】B。提高沟通效率和效果，提供给管理者的建议有六条：第一，拥有诚信宽容的沟通心态；第二，培养有效倾听技能；第三，进行双向互应的交流沟通；第四，体态语言有效配合；第五，采取因人而异的沟通方式；第六，实现上下左右前后互通。其中，第一条建议是解决管理者的心态问题，第二至第六条建议是帮助管理者解决管理和生活里面的沟通技能问题。B项正确，当选。ACD项错误，排除。故本题正确答案选B。

多项选择题

31. 按照X理论的观点（ ）。

- A.凭借宽容和信任可以改进工作
- B.人们都有从事生产的基本需要
- C.人天生懒惰、需要激励
- D.金钱比地位重要

【答案】CD。X理论认为人是经济人，一般人天生好逸恶劳，逃避生产，宽容和信任不会让人努力工作，故AB选项错误；同时提出人生来就以自我为中心，漠视组织的要求，缺乏进取心，逃避责任，物质利益放在首位，故CD选项正确。故本题正确答案选CD。

32. 下列关于初始决策和追踪决策的表述正确的是（ ）。

- A.从决策的重要性分类，经营决策可分为初始决策和追踪决策
- B.初始决策是零起点决策，追踪决策又称为非零点决策

C.追踪决策是初始决策的必然发展趋势

D.初始决策是基础

【答案】BCD。按决策的重要性分类，经营决策可分为战略决策、战术决策和业务决策。按决策的阶段不同，可分为初始决策和追踪决策，故 A 选项表述错误；初始决策是零起点决策，是有关活动尚未受影响的决策，是决策的基础阶段。追踪决策又称非零点决策，是组织环境发生变化后的决策，是初始决策的必然发展趋势，故 BCD 选项表述正确。故本题正确答案选 BCD。

33. 造成沟通中客观障碍的因素包括（ ）。

A.空间距离

B.沟通方式选择不当

C.双方在知识、经验水平上的差距过大

D.沟通信息过量

E.组织结构不合理

【答案】ADE。沟通障碍的形式：（1）客观障碍：空间距离；组织规模；民族文化差异；信息流失。（2）主观障碍：信息发布者与接受者由于自身条件、所处地位、个人感受、表达能力、判断力等因素导致沟通联络出现的障碍。传送者障碍：目的不明。表达模糊。选择失误。形式不当。接受者障碍：过度加工；知觉偏差。心理障碍。思想差异。ADE 项是客观因素，当选；BC 项是主观因素，排除。故本题正确答案选 ADE。

34. 关于组织变革，下列说法正确的有（ ）。

A.组织变革的根本动因，是外部环境变了

B.不变革的组织是没有生命力的，必然会灭亡

C.盲目的变革同样会使组织灭亡，甚至更快

D.人员变革不属于组织变革的范畴

E.社会政治经济法律因素，有可能成为组织变革的动力

【答案】ABCE。组织变革的外部动因是推动组织变革的根本动因；组织变革的内部动因是促成组织变革的直接动因。A 项正确。组织的内外外部环境在变，组织也要进行变革，但是变革的形式要符合组织自身的实际情况，BC 项正确；组织变革的内容：（一）以人员为中心的变革；（二）以任务、技术为中心的变革；（三）以组织结构为中心的变革；（四）以适应组织环境为中心的变革，D 项错误，排除；社会政治经济法律因素，有可能成为组织变革的动力，这种说法正确，E 项当选。故本题正确答案选 ABCE。

35. 计划职能是指管理者预测未来、确定目标、制定实现这些目标的行动方针的过程，下列哪些属于计划的作用？（ ）

- A. 计划为控制提供了标准和依据
- B. 计划能使组织更加完善
- C. 通过计划可以促使管理者展望未来
- D. 计划可以规避风险，减少损失

【答案】ACD。计划的作用体现在四个方面，为落实和协调组织活动提供保证、明确组织成员行动的方向和方式、为组织资源筹措和整合提供依据、可以增强管理的预见性，规避风险，减少损失。故 ACD 选项表述正确；计划是未来活动所在的安排，不会使组织机构更完善，所以 B 选项错误。故本题正确答案选 ACD。

36. 对企业来说，确定管理幅度需考虑下列哪些因素？（ ）

- A. 计划制定的完善程度
- B. 工作任务的复杂程度
- C. 企业员工的经验和知识水平
- D. 完成工作任务需要的协调程度

【答案】ABCD。管理幅度，是指在一个组织结构中，一名领导者直接领导的下属人员的数目。确定管理幅度需考虑：计划制定的完善程度，即工作人员都明确各自的目标和任务，主管人员不必花费过多的精力和时间从事指导和纠正偏差，那么主管人员的管理幅度可以增大，管理层次就相对少一些，故 A 选项正确；若主管人员经常面临的任务较复杂，解决起来较困难，则他直接管辖的人数不宜过多；反之，可增大管理幅度。故 B 选项正确；当管理人员的自身素质较强，管理经验丰富，在不降低效率的前提下，可适当增加其工作量，加大管理幅度，故 C 选项正确；一个组织的工作任务要求各部门或一个部门内部需要协调的程度高，则应减少管理幅度。故 D 选项正确。故本题正确答案选 ABCD。

37. 基于公平理论，当员工感到不公平时，可能会采取的行为是（ ）。

- A. 改变自己的投入
- B. 改变自己的产出
- C. 改变自我认识
- D. 改变对其他人的看法

【答案】ABCD。本题考查的是公平理论的内容。公平理论认为，当员工感到不公平时，你可以预计他们会采取以下六种选择中的一种：（1）改变自己的投入；（2）改变自己的产

出；（3）歪曲对自我的认知；（4）歪曲对他人的认知；（5）选择其他参照对象；（6）离开该领域。故 ABCD 选项均正确。故本题正确答案选 ABCD。

38. 领导权变理论中的菲德勒权变理论提出了领导风格分为关系取向和任务取向。该理论的特点包括（ ）。

- A. 在最有利的情况下，采取以任务为中心的领导方式，效果要好
- B. 在最有利的情况下，采取以人为中心的领导方式，效果要好
- C. 在中间状态下，采取以任务为中心的领导方式，效果要好
- D. 在最不利的情况下，采取以任务为中心的领导方式，效果要好
- E. 处于中间状态的环境采用“以人为中心”的宽容型领导方式，效果较好

【答案】ADE。菲德勒模型是“权变理论”的第一个领导模型，将领导风格分为：关系取向与任务取向。情境处于有利和最为不利状态时，采用“任务导向型”；情境处于中间状态时，适宜采用“关系导向型”，故 ADE 选项符合题意；BC 选项表述错误。故本题正确答案选 ADE。

39. 孔茨认为，目标管理是一个全面的管理系统，它用系统的方法，使许多管理活动结合起来，并且有意识地高效实现组织目标和个人目标。一个完整的目标管理过程应包括（ ）。

- A. 制定目标
- B. 明确组织的作用
- C. 执行目标
- D. 成果评价、实行奖惩

【答案】ABCD。本题考查的是目标管理法。目标管理过程首先要制定目标，包括确定组织的总体目标和各部门的分目标，故 A 正确；然后要明确组织的作用，理想情况下，每个目标和子目标都应有某一个人的明确责任，故 B 正确；明确组织作用后，组织中各层次，各部门的成员为达成分目标，必须从事一定的活动，活动中必须利用一定的资源，故 C 正确；执行目标后，进行成果评价，成果评价既是实行奖惩的依据，也是上下级、同级部门沟通的机会，同时还是自我控制和自我激励的手段，故 D 正确；除此之外，目标管理过程的最后一步是制定新目标并开始新的目标管理循环。故本题正确答案选 ABCD。

40. 期望价值理论认为，要调动职工积极性，必须处理好的关系是（ ）。

- A. 奖励与满足个人需要的关系
- B. 绩效与奖励的关系

C.个人努力与绩效的关系

D.个人目标与整体目标的关系

【答案】ABC。本题考查的是期望价值理论的内容。期望价值理论认为，要调动职工积极性，必须处理好的关系是绩效与奖励的关系、个人努力与绩效的关系、奖励与满足个人需要的关系，故ABC选项正确；D选项目标与调动积极性无关，故排除。故本题正确答案选ABC。

英语习题

阅读理解

Passage 1

New research from Cornerstone On Demand and Harvard Business School suggests that rearranging desks or sitting next to someone with a complementary work style can be a cost-effective way to inject energy and efficiency into the workday.

We may be more satisfied with our jobs than we were a decade ago—at least according to Gallup's research. But employee engagement and retention continue to be among the top challenge companies face around the world, per a report from Deloitte on global human resource trends. That's because disengaged workers come with a hefty price tag. Gallup estimates that the U.S. economy loses up to \$550 billion per year when productivity flags as a result of unhappy employees.

In what they describe as the first study of "spatial management," the researchers analyzed data from the more than 2,000 workers at a large technology company with several locations across the U.S. and Europe over two years.

They discovered that seating the right types of workers together led to increased productivity and profits. The proper proximity, they write, "has been shown to generate up to a 15% increase in organizational performance. For an organization of 2,000 workers, strategic seating planning could add an estimated \$1 million per annum to profit."

Their analysis measured performance as well as a definitive metric for "**spillover**" for each employee—the term the researchers used to measure the combined performance of everyone seated around a given employee.

The study looked at three types of employees: "Productive," "Generalists," and "Quality" workers. The researchers defined productive workers as very productive but lacking in quality. Quality workers produce superior quality but aren't as productive. And generalists are average in both areas.

"If you sit a strong and a weak performer next to each other, the weaker employee performs much better, and the stronger employee's performance doesn't decline much at all," Housman tells Fast Company. He advises lower performers to try and sit next to strong performers.

1. The word "flag" in paragraph 2 is closest in meaning to: ().
 - A. mark
 - B. diminish
 - C. increase
 - D. signal

【答案】B。定位到第二段 Gallup estimates that the U.S. economy loses up to \$550 billion per year when productivity flags as a result of unhappy employees.根据句意“盖洛普估计，当员工不开心导致生产力下降时，美国经济每年损失高达 5500 亿美元”，可知划线词在这里描述的是生产力的下降、减弱或者衰退。选项 A：标记；选项 B：减少；选项 C：增加；选项 D：标志。故本题正确答案选 B。

2. What did the research from Cornerstone On Demand and Harvard Business School find out? ()
 - A. Healthy competitions among workers can boost profits.
 - B. Managers should carefully arrange the seats for employees.
 - C. Paring right types of workers together can boost productivity.
 - D. Workers with similar personalities should sit together.

【答案】B。根据关键词定位至首段 New research...suggests that rearranging desks or sitting next to someone...can be a cost-effective way to inject energy and efficiency into the workday.可知得出的结论是：坐在工作风格互补的人旁边，是一种可以为工作日注入能量和效率的经济有效的方法。所以主体词应当是与“座位”有关，选项 A：员工之间的良性竞争可以提高利润，并非研究结果；选项 B：管理者应该仔细为员工安排座位，主体词表达正确；选项 C：把合适的员工放在一起可以提高生产率，看似无误，但是主体词并非是文中所提到的座位安

排,这是易错项;选项 D:性格相似的员工应该坐在一起,文中提到的是相似工作风格的人,而非性格。结合选项可知 B 项表达更符合文意。故本题正确答案选 B。

3. According to the last paragraph, which of the following statement is correct? ()

- A. Positive performances have a stronger spillover than negative performances.
- B. Seating has nothing to do with employees' performances.
- C. The stronger employees' performances will be affected if they sit near weak performers.
- D. Negative performances have a stronger spillover than positive performances.

【答案】A。定位至文中末段可知描述的是:如果你把一个表现优秀的员工和一个表现不佳的员工放在一起,较弱的员工会表现得更好,而较强的员工的表现根本不会下降太多。可得出能力较强的人可以带动身边能力较弱的人,并且自身不会受到大影响。选项 A:积极的表现比消极的表现具有更强的溢出效应,表述正确;选项 B:座位与员工的表现无关,与文意完全相反;选项 C:表现较好的员工如果坐在表现较差的员工旁边,他们的表现就会受到影响,表述与文意相反;选项 D:负面表现比正面表现具有更强的溢出效应,表述相反。故本题正确答案选 A。

4. What can be inferred from paragraph 2? ()

- A. Most employees are unhappy about their jobs.
- B. Managers are trying hard to engage the workers.
- C. People have higher demands for jobs today.
- D. It is hard to keep the employees.

【答案】B。根据 We may be more satisfied with our jobs than we were a decade ago 可知我们对工作的满意度要比十年前的高,选项 A:当前大多数员工对自己的工作不满意,表达不符合文意。根据 But employee engagement and retention continue to be among the top challenge companies face around the world 可知目前员工的敬业度和留任率仍然是最大的挑战之一,选项 D:留住员工很难,则是文中直接表达的内容。根据 That's because disengaged workers come with a hefty price tag.可知原因在于员工在工作中的不投入会带来巨大的代价。再结合最后一句可知当员工不开心导致生产力下降时,经济每年损失高达 5500 亿美元。选项 B:管理者们正努力使工人们参与进来,可知是文中暗示的表达;选项 C:现在人们对工作有更高的要求,文中并未提及。故本题正确答案选 B。

5. What does "spillover" mean?()

- A. The combined performance of workers seated in a certain area.

- B. The consequence of workers sitting together.
- C. The performance of a worker who is surrounded by a group of employees.
- D. The indirect effect of a public expenditure.

【答案】A。定位至原文段 Their analysis measured performance as well as a definitive metric for “spillover” for each employee—the term the researchers used to measure the combined performance of everyone seated around a given employee. 根据其所在句子结构可知，破折号之后的内容就是对 spillover 的解释说明，即“研究人员可以用这个词来衡量坐在特定员工周围的所有人的综合表现”。选项 A：坐在某一特定区域的工作人员的综合表现，表达符合文意；选项 B：员工们坐在一起的结果，表述片面；选项 C：被一群员工包围的员工的表演，表述主体错误，不是某一个人的表现，而是所有人的表现；选项 D：公共支出的间接影响，属于无中生有。故本题正确答案选 A。

Passage 2

You need a new automatic coffeemaker. Several are on display-different prices, different features- but you can't find a clerk. Finally one moves stealthily, trying to avoid eye contact. You collar him, but he knows even less about coffeemakers than you do.

You stand at the watch counter, waiting to look at an expensive wristwatch. Two young clerks are chatting animatedly to each other at the cash register. You clear your throat, but they keep talking. At last one of them turns to help you. Her forced smile says you're intruding.

You call a department store's customer-service line. A recording tells you, “Your call is important to us.” Then comes the elevator music. Five minutes later you're still waiting.

Retailing is big business in the world. Every day millions of transactions take place in millions of stores across the world, which is conducive to the prosperity of purchases. But why do those encounters with sales people continue to bother us so?

A market survey investigated what they considered the most important aspect of customer service, consumers ranked staff courtesy, helpfulness and knowledgeability at the top. The investigation also showed that while a third of consumers have a store in mind when shopping for a specific item, nine times out of ten the customer leaves that store empty-handed. Over half of those customers say they did not buy the item because of the store's poor service or selection.

There are some reasons to explain the poor service that annoys us. The root of the problem is a lack of respect for the customer. Even though shoppers are now educated on the self-service

culture, most told us that while uncomfortable with “aggressive” salespeople, they still expect a courteous recognition. “There is no excuse for salespeople to ignore shoppers,” says John Williams, senior partner of the J.C. Williams Group. “Shoppers tell us they want to be acknowledged even if it’s just a wave or a smile.”

Then, stores are losing customers-and sales-because people are fed up having to search for a clerk. Many retailers made the mistake of cutting staff to the bone to save costs. Sales have suffered as frustrated customers have defected. Besides, salespeople are unknowledgeable and untrained. But some CEOs note that they are implementing customer-service programs aimed at salespeople.

Last but not least, the sad fact is stores can get away with poor customer service because we let them. Studies confirm what shoppers and customer-oriented retailers instinctively know: Shopping is a social experience, not merely the transfer of goods. Good customer service will build up a harmonious community of shopper and business.

6. What can we infer according to the text? ()
- A. Sales persons need training.
 - B. Shopping is social experience.
 - C. people keep looking for clerks.
 - D. Interaction may be used to improve custom services.

【答案】D。推断题。A项：销售人员需要培训；B项：购物是一种社会经验；C项：人们一直在寻找职员；D项：交互可用于改进顾客服务。通读全文发现是在论述客户服务，其中大篇幅是在说服务质量不好，最后一段又说到要建立一个良好的客户服务。故本题正确答案选D。

7. “You clear your throat” in paragraph 2 means ().
- A. You got a cough
 - B. You would like to draw the others’ attention
 - C. You are nervous before speaking
 - D. You feel upset

【答案】B。含义题。Two young clerks are chatting animatedly to each other at the cash register. You clear your throat, but they keep talking. 根据这句话可知清嗓子是为了引起柜员的注意，B项正确。故本题正确答案选B。

8. “Courteous” is opposite to ().

- A. conducive
- B. frustrated
- C. aggressive
- D. expensive

【答案】C。定位第六段 Even though shoppers are now educated on the self-service culture, most told us that while uncomfortable with “aggressive” salespeople, they still expect a courteous recognition. 尽管购物者现在接受了有关自助服务文化的教育，但大多数人告诉我们，尽管他们对“咄咄逼人”的销售人员感到不舒服，但他们仍然希望得到礼貌的认可。可知 courteous 跟 aggressive 语义相反相对。A 项：有意的；B 项：挫败的；D 项：昂贵的。故本题正确答案选 C。

9. () customers have an idea of the stores before shopping.

- A. 1/3
- B. 9/10
- C. over 1/2
- D. 1/5

【答案】A。定位第五段 The investigation also showed that while a third of consumers have a store in mind when shopping for a specific item, nine times out of ten the customer leaves that store empty-handed. 尽管有三分之一的消费者在购买某一特定商品时心里有一家商店，但十有八九的消费者会空手而归。可知 A 项正确。故本题正确答案选 A。

10. “Collar” in paragraph 1 is the equivalent of ().

- A. “to seize”
- B. “to talk”
- C. “a necklace”
- D. “part of garment”

【答案】A。定位第一段 but you can't find a clerk. Finally one moves stealthily, trying to avoid eye contact. You collar him, but he knows even less about coffeemakers than you do. 可知 collar 是动词，所以排除 CD。But 转折后是在说找不到一个店员，好不容易从身旁经过一个，抓住问了一下还没你懂得多，所以 A 项正确。故本题正确答案选 A。

Passage 3

What attracts customers? Obviously the quality of a product does, but visual images contribute a great deal. It is not only the image provided by the packaging that counts but the whole corporate identity of the company.

There are now many products and services on the market which are similar in content though produced by different companies. It is vital, therefore, for a company to distinguish itself from its competitors by having a strong company image which is immediately recognizable.

Logos are part of this image. They are symbols which often include a name or initials to identify a company. The logo establishes a visual identity for the company, just as different groups of young people express their identity through hairstyles and clothes. All groups from all cultures and throughout the ages have used colors and symbols to show their identity.

In different cultures, different colors carry different meanings. Some colors may be connected with coldness in one culture and with warmth in another; some colors represent life in one culture but death in another. International companies have, therefore, to make sure that their logos will not be misunderstood or misinterpreted in different countries.

Many companies have, over the years, renewed their logos to fit in with contemporary design and to present more powerful images. Company logos can be emotive and can inspire loyalty by influencing the subconscious. Some logos incorporate an idea of the product; the steering wheel in the Mercedes logo, for example, and the airplane tail of Alitalia.

Logos are used on letterheads, packaging and brochures as well as on the product itself. They may also appear in newspapers or on television as part of an advertising campaign.

Companies need to have a strong corporate identity. The logo helps to promote this image and to fix in the minds of the consumers. Logos, therefore, need to be original and to have impact and style.

11. According to the passage, what can attract customer' s eyes? ()

- A. Quality of the product
- B. The corporate identity
- C. Packaging images
- D. All of above

【答案】D。定位第一段 Obviously the quality of a product does, but visual images contribute a great deal. It is not only the image provided by the packaging that counts but the whole

corporate identity of the company. 很明显，产品的质量是很重要的，但是视觉形象也很重要。重要的不仅是包装所提供的形象，还有公司的整个企业形象。可知 ABC 都包含。故本题正确答案选 D。

12. You probably find a logo of a big company ().

- A. In the social media platform.
- B. On the letterheads and packages.
- C. Advertisements on TV.
- D. All of above.

【答案】D。定位倒数第二段 Logos are used on letterheads, packaging and brochures as well as on the product itself. They may also appear in newspapers or on television as part of an advertising campaign. 商标不仅用在产品本身上，也用在信头、包装和宣传册上。它们也可能作为广告活动的一部分出现在报纸或电视上，所以 ABC 都有提及。A 项：在社交媒体平台上；B 项：在信头和包装上；C 项：电视广告。故本题正确答案选 D。

13. The steering wheel in the Mercedes logo and the airplane tail of Alitalia are ().

- A. the examples of giving people idea of the products by using the images
- B. the examples of logos which are emotive and can inspire loyalty
- C. the examples of logos which fit in with contemporary design
- D. None of above

【答案】D。题干问奔驰商标上的方向盘和意大利航空公司的飞机尾部是…定位倒数第三段 Some logos incorporate an idea of the product; the steering wheel in the Mercedes logo, for example, and the airplane tail of Alitalia 有些商标融合了产品的理念，例如，奔驰商标上的方向盘和意大利航空公司的飞机尾部，可知主要是融合产品。A 项：使用图片让人们了解产品的例子；B 项：商标的例子是感性的，可以激发忠诚；C 项：符合当代设计的标志的例子；D 项：以上皆非。ABC 都没有体现融合，BC 是段首的表述，非重点。故本题正确答案选 D。

14. The passage supplies information that would answer which of the following question?
()

- A. What attracts customers?
- B. What' s in the image?
- C. What' s in a logo?
- D. None of above

【答案】C。通读全文可知，文章的主体词是 logo，主要在讲公司 logo 的重要性。排除 AB，没有围绕 logo 写。C 项是 Logo 里有什么，也就是 logo 的重要性，故本题正确答案选 C。

15. () are used to show the () of the company.

- A. hair style and clothes; image
- B. hair style and clothes; corporate identity
- C. colors and symbols; culture and identity
- D. colors and symbols; taste and mission

【答案】C。定位第三段 The logo establishes a visual identity for the company, just as different groups of young people express their identity through hairstyles and clothes. All groups from all cultures and throughout the ages have used colors and symbols to show their identity. 就像不同群体的年轻人通过发型和服装来表达他们的身份一样。来自不同文化和时代的所有群体都使用颜色和符号来表明他们的身份。可知 AB 第二个空应该是 identity，排除；D 项口味和任务无中生有。故本题正确答案选 C。

Passage 4

UC Berkeley professors have previously used YouTube videos as a guide for robots to learn various motions such as jumping or dancing, while Google has trained robots to understand depth and motion.

In a collaboration between Google Brain, Intel Corporation and the University of California, Berkeley, researchers applied that knowledge to their latest project, Motion2Vec, in which videos of actual surgical procedures are used for instruction. In a recently released research paper, researchers outline how they used YouTube videos to train a two-armed da Vinci robot to insert needles and perform sutures on a cloth device.

The medical team relied on Siamese networks, a deep-learning setup that incorporates two or more networks sharing the same data. The system is optimal for comparing and assessing relationships between datasets. Such networks have been used in the past for facial detection. Ken Goldberg, a physician who heads the UC Berkeley laboratory, explains YouTube is a rich source of instructional materials for it.

"YouTube gets 500 hours of new material every minute. It's an incredible repository," he said. "Any human can watch almost any one of those videos and make sense of it a robot currently

just see it as a stream of pixels. So the goal of this work is to try and make sense of those pixels. That is to look at the video, analyze it, and ... be able to segment the videos into meaningful sequences. "videos to train its AI engine to perform the procedure. That claim a success.

For the suture task, the team needed only 78 instructional medical videos to train its AI engine to perform they a success rate of 85 percent. This means that robots can eventually undertake some of the more basic, repetitive tasks in surgical procedures and allow surgeons to focus their time and energy on the more exacting steps.

"We didn't consider too far," Goldberg said. "What we're moving towards is the ability for a surgeon, who would be watching the system to indicate where they want a row of sutures, convey that they want six overhand sutures," Goldberg said. "Then the robot would essentially start doing that and the surgeon would be able to little bit so that they could then be more rested and able to focus on more complex or nuanced parts of the surgery.

Machine learning has contributed much to biotechnology in recent years. The ability of AI to rapidly process huge volumes of data has yielded progress in detecting lung cancer and stroke risk based on CAT scans, calculating risk of heart disease and cardiac arrest based on EKG and MRI imagery, classifying skin lesions from photos and detecting signs of diabetic distress in eye images.

And here in the middle of a pandemic, AI is helping scientists find drugs that may curb the spread of COVID-19 and eventually find a cure and a vaccine.

16. How does Google train the robots?()

- A. Through the use of instructional videos.
- B. By Programming code.
- C. By Implanting chip in them.
- D. By using a deep-learning setup.

【答案】A。根据题干关键词可以定位至第一段，UC Berkeley professors have previously used YouTube videos as a guide for robots ... while Google has trained robots to understand depth and motion. You Tu be 视频作为机器人学习跳跃或舞蹈等各种动作的指导，可知，谷歌主要通过 you tu be 的视频来教授机器人。故本题正确答案选 A。

17. What does "it" refer to according to the passage?()

- A. The deep-learning setup

B. Siamese networks

C. Dataset

D. Facial detection

【答案】C。根据题干可定位至第三段第一句和最后一句，The system is optimal for comparing and assessing relationships between datasets. ... explains YouTube is a rich source of instructional materials for it. 结合上下文可知，it 指的是数据集，即 dataset。故本题正确答案选 C。

18. Which of the following is true according to the passage? ()

A. Segmenting the videos into meaningful pixels is conducive to robots learning.

B. 78 medical videos are used to train robots to perform simple surgical procedures.

C. Robots ultimately play a more auxiliary role in surgery.

D. Robots can make sense of pixels and get instructions from them.

【答案】A。A 项：根据关键词 segment 和 meaningful pixel 可以定位至第四段，Any human can watch almost any one of those videos and make sense of it a robot currently just see it as a stream of pixels. 可知，任何一个人都可以观看其中的任何一段视频并且理解其中的意思，而机器人目前只是将其视为一串像素。正确；B 项：根据关键词 78 定位至第五段，the team needed only 78 instructional medical videos to train its AI engine to perform they a success rate of 85 percent. the team needed only 78 instructional medical videos to train its AI engine to perform they a success rate of 85 percent. 可知 B 项错误；C 项和 D 项在文中没有提及。故本题正确答案选 A。

19. The italic paragraph can be better used to answer which of the following questions? ()

A. What is the gap between robots and surgeons?

B. Will robots replace surgeons soon?

C. How can robots help doctors perform surgery?

D. What surgical skills do we need to further train these robots?

【答案】A。根据题干可定位至第六段，结合文段内容，可知文段主要说明了机器人和外科医生的不同之处，A 项正确。故本题正确答案选 A。

20. AI has been successfully used for the following functions except ().

A. disclosing lung cancer and stroke risk

- B. detecting signs of diabetic distress.
- C. finding a cure and a vaccine for a pandemic
- D. estimating the probability of cardiac arrest

【答案】B。A 项：根据关键词 lung cancer and stroke risk 定位至第七段，The ability of AI to rapidly process huge volumes of data has yielded progress in detecting lung cancer and stroke risk based on CAT scan... AI 的能力迅速处理大量的数据产生了检测肺癌进展基于 CAT 扫描和中风的风险；B 项：根据关键词 diabetic distress 定位至第七段，从照片和皮肤损伤分类检测糖尿病眼裂缝图像的迹象；C 项：根据关键词 vaccine 定位至最后一段，curb the spread of COVID-19 and eventually find a cure and a vaccine.在疫情大流行之际，人工智能正在帮助科学家们找到可能遏制 COVID-19 传播的药物，并最终找到治疗方法和疫苗；D 项：根据关键词可以定位至 cardiac arrest 定位至第七段，calculating risk of heart disease and cardiac arrest based on EKG and MRI imagery, ... 心脏病和心脏骤停的风险计算基于心电图和 MRI 图像。可知只有 B 项并不属于 AI 的能力。故本题正确答案选 B。

Passage 5

King Juan Carlos of Spain once insisted kings don't abdicate, they die in their sleep. But embarrassing scandals and the popularity of the republican left in the recent Euro-elections have forced him to eat his words and stand down. So, does the Spanish crisis suggest that monarchy is seeing its last days? Does that mean the uniting is on the wall for all European royals, with their magnificent uniforms and majestic lifestyles?

The Spanish case previous arguments both for and against monarchy when public opinion is particularly polarized, as it was following the end of the France regime, monarchs can rise above "mere" politics and "embody" a spirit of national unity.

It is this apparent transcendence of politics that explains monarchs continuing popularity as heads of states. And so, the Middle East expected, Europe is the most monarch-infested region in the world, with 10 kingdoms not counting Vatican city and Andorra. But unlike their absolutist counterparts in the Gulf and Asia, most royal families have survived because they allow voters to avoid the difficult search for a non-controversial but respect public figure.

Even so, kings and queens undoubtedly have a downside, symbolic of national unity as they claim to be, their very history-and sometimes the way they behave today-embodies outdated and indefensible privileges and inequalities. At a time when Thomas Piketty and other ecumenists are

warning of rising inequality and the increasing power of inherited wealth, it is bizarre that wealthy aristocratic families should still be the symbolic heart of modern democratic families should still be the symbolic heart of modern democratic states. The most successful monarchies strive to abandon or hide their old aristocratic ways. Prince and princess have day-jobs and ride bicycles, not horses (or helicopters). Even so, these are wealthy families who party with the international 1%, and media intrusiveness makes it increasingly difficult to maintain the right image.

While Europe's monarchies will no doubt be smart enough to strive for some time to come, it is the British royals who have most to fear from the Spanish example.

It is only the Queen who has preserved the monarchy reputation with her rather ordinary (if well-healed) granny style. The danger will come with Charles, who has both an expensive taste of lifestyle and a pretty hierarchical view of the world. He has failed to understand that monarchies have largely survived because they provide a service-as non-controversial and non-political heads of state. Charles ought to know that as English history shows, it is kings of republicans, who are the monarchy's worst enemies.

21. According to the first two paragraphs, King Juan Carl of Spain ().

- A. used to enjoy high public support
- B. was unpopular among European royals
- C. eased his relationship with his rivals
- D. ended his reign in embarrassment

【答案】D。根据关键词 King Juan Carlos of Spain 定位到第一段第一和第二句：But embarrassing scandals...have forced him to eat his words and stand down.这句话中 stand down 译为：放弃席位，可以推出他食言且退位。其余三个选项：过去受到民众的高度支持、在欧洲皇室中不受欢迎、缓和了与对手的关系，都是无中生有项，文中均未提到。根据“但是令人窘迫的丑闻以及在最近欧洲选举中所呈现的共和制的盛行都迫使他食言且退位”可知。故本题正确答案选 D。

22. Monarchs are kept as head of state in Europe mostly ().

- A. owing to their undoubted and respectable status
- B. to achieve a balance between tradition and reality
- C. to give voters more public figures to look up to
- D. due to their everlasting political embodiment

【答案】A。根据关键词定位到第三段第一句 it is this apparent ...that explains ...as heads of state.可知原因在于优越性，而这种优越性指的是上一段所提到的 monarchs can rise above “mere” politics and “embody” a spirit of national unity. “君主能超越单纯的政治而成为国家统一的精神代表”，选项 D 表述错误，表达过于绝对。第三句 most royal families have survived because they allow voters to avoid the difficult search for a non-controversial but respect public figure.说明“欧洲大多数皇室能生存下来是因为他们让选民不用经历磨难就找到一个不受争议而备受尊重的公众人物”，这也表明了大多数皇室是不受争议且备受尊重的，进一步解释了他们能持续当首脑的原因，故本题正确答案选 A。

23. Which of the following is shown to be odd, according to Paragraph 4? ()

- A. Aristocrats' excessive reliance on inherited wealth.
- B. The role of the nobility in modern democracies.
- C. The simple lifestyle of the aristocratic families.
- D. The nobility's adherence to their privileges.

【答案】B。根据关键词定位到第四段最后一句话...it is bizarre that wealthy aristocratic families should still be the symbolic heart of modern democratic states: 奇怪的是，富裕贵族家庭仍然处于现代民主国家的核心地位。因此选项 B: the role of the nobility in modern democracies 是对原文内容的同义替换。故本题正确答案选 B。

24. The British royals “have most to fear” because Charles ().

- A. takes a tough line on political issues.
- B. fails to adapt himself to his future role.
- C. takes republicans as his potential allies.
- D. fails to change his lifestyle as advised.

【答案】B。根据关键词 have most of fear 定位到第六段，Charles 定位到最后一段的第二句，根据 Charles 后面 who 引导定语从句 who has both an expensive taste of lifestyle and ... world 可知文中指查尔斯王子生活奢侈且坚持持有非常贵族的世界观，并没有认识到君主之所以存在是因为他们提供了服务：作为不受争议且不具政治性的国家首脑，这暗示了查尔斯王子并没有做到这一点。故本题正确答案选 B。

25. Which of the following is the best title of the text? ()

- A. Carlos, Glory and Disgrace Combined
- B. Carlos, a Lesson for All European Monarchs

C. Charles, Slow to React to the Coming Threats

D. Charles, Anxious to Succeed to the Throne

【答案】B。着眼全文可知通篇都在围绕 monarchs 展开，文章第一段由 Carlos 引出当今君主制面临的危机，因此可知 Carlos 为主体词，且全文都是在讲述欧洲贵族相关的内容，所以 a Lesson for All European Monarchs 是对全文内容的精确概括。故本题正确答案选 B。

Passage 6

It is reported that, Stan Lee, the legendary writer, editor and publisher of Marvel Comics whose fantabulous creations made him a real-life superhero to comic book lovers everywhere, has died. He was 95.

Lee began in the business in 1939 and created or co-created Black Panther, Spider-Man, the X-Men, the Mighty Thor, Iron Man, the Fantastic Four, the Incredible Hulk, Daredevil and Ant-Man, among countless other characters.

On his own and through his work with frequent writer collaborators Jack Kirby, Steve Ditko and others, Lee catapulted Marvel from a tiny venture into the world's No. 1 publisher of comic books and, later, a multimedia giant.

“I used to think what I did was not very important,” he told the media in April 2014. “People are building bridges and engaging in medical research, and here I was doing stories about fictional people who do extraordinary, crazy things and wear costumes. But I suppose I have come to realize that entertainment is not easily dismissed.”

Lee's fame and influence as the face and figurehead of Marvel, even in his nonagenarian years, remained considerable. Beginning in the 1960s, Lee punched up his Marvel superheroes with personality, not just power. Until then, comic book headliners like those of DC Comics were square and well-adjusted, but his heroes had human foibles and hang-ups: Peter Parker/Spider-Man, for example, fretted about his dandruff and was confused about dating. The evildoers were a mess of psychological complexity.

“His stories taught me that even superheroes like Spider-Man and the Incredible Hulk have ego deficiencies and girl problems and do not live in their fantasies 24 hours a day,” Gene Simmons of Kiss said in a 1979 interview. “Through the honesty of guys like Spider-Man, I learned about the shades of gray in human nature.”

“J.C. Lee and all of Stan Lee’s friends and colleagues want to thank all of his fans and well-wishers for their kind words and condolences,” a family statement read.

“He worked tirelessly his whole life creating great characters for the world to enjoy. He wanted to inspire our imagination and for us to all use it to make the world a better place. His legacy will live on forever.”

26. What can we learn from paragraph 1? ()

- A. Stan Lee is a real-life superhero to everyone.
- B. Stan Lee is a legendary person in the field of comics.
- C. Marvel Comics is founded by Stan Lee alone.
- D. Stan Lee is just a normal editor and writer to comic book lovers.

【答案】B。定位至第一段，结合选项关键词进行判断。根据 Stan Lee, the legendary writer, editor and publisher of Marvel Comics 可以推出斯坦李是漫画界的传奇人物，选项 B 表述正确；根据 creations made him a real-life superhero to comic book lovers everywhere 可知斯坦李对各地的漫画爱好者而言是真实的超级英雄，选项 A 将范围夸大，而选项 D 描述有误；第一段并没有提到漫威漫画公司是斯坦李独自创立的，属于无中生有，无法推出。故本题正确答案选 B。

27. How did Marvel Comics become a multimedia giant from a tiny venture? ()

- A. With the help of some millionaires.
- B. Lee did it all by himself.
- C. By the effort of Lee and other frequent writer collaborators.
- D. Not mentioned

【答案】C。根据题干关键词 multimedia giant 定位至第三段首句 On his own and through his work with frequent writer collaborators Jack Kirby, Steve Ditko and others, Lee catapulted Marvel...可知漫威漫画公司的蜕变不光凭借的是斯坦李自己的作品，还有和其他作者的合作才一起使得公司成为多媒体巨头，选项 D 首先排除。选项 A：在数名百万富翁的帮助下，表述无中生有；选项 B：斯坦李的一己之力，表述片面；选项 C：在斯坦李和其他合作作者的努力下，表述正确。故本题正确答案选 C。

28. What can be inferred from paragraph four? ()

- A. Comic work is not important.
- B. Lee thinks what he does is completely meaningless.

C. Now Lee realizes that the entertainment of comic works is also important.

D. Lee's doing stories about fictional people is crazy.

【答案】C。定位至第四段可知描述的是斯坦李告诉媒体他之前认为他所做的工作和其他工作相比没有那么重要,但是最后他意识到娱乐也不是那么容易就可以被忽视掉。选项 A: 漫画不重要,时态表述有误,且重要的信息是 but 之后的句意;选项 B: 斯坦李认为他所做的工作没有任何意义,表述错误;选项 C: 如今斯坦李意识到娱乐也很重要;选项 D: 斯坦李虚构的人物故事很疯狂,表述片面。故本题正确答案选 C。

29. What does the underlined word “foibles” mean? ()

A. emotions

B. behaviors

C. thoughts

D. weakness

【答案】D。定位至第五段 his heroes had human foibles and hang-ups: Peter Parker/Spider-Man, for example, fretted about his dandruff and was confused about dating.通过划线词后的冒号可知句中 spider man 举例是为了证明他创作的英雄人物也有人类的 foibles,例中提到蜘蛛侠会为头皮屑抓狂,也会为约会而困惑。选项 A: 情绪;选项 B: 行为;选项 C: 想法;选项 D: 弱点。结合选项可以猜出 foible 在这里指的是人类的弱点,故本题正确答案选 D。

30. Which of the following titles is the best for this passage? ()

A. Superheroes in comic books

B. A Legendary comic book Star: Stan Lee

C. Marvel Comics

D. No one is perfect

【答案】B。主旨题遵循首尾段落原则,第一段提到斯坦李的逝世以及他的盛名,接着描述了他的在漫画界的成就,最后提到其他人对斯坦李的评价,可以得知文章都是在讲述这位传奇漫画作家。选项 ACD 均是对文中细节的描述,不宜当标题。故本题正确答案选 B。

Passage 7

Beijing opted against wading directly into the social media storm over alleged insults by a co-founder of Italian fashion house Dolce & Gabbana, calling instead for the outside world to understand the Chinese public's view on the issue. “This incident is not a diplomatic issue

essentially and the Chinese side does not wish to escalate it into one,” foreign ministry spokesman Geng Shuang said on Thursday.

“Instead of asking the foreign ministry spokesperson, it is better to ask the ordinary people in China to see how they view this issue.” Geng’s statement came as Chinese celebrities, online retail platforms and consumers turned their back on the brand after co-founder Stefano Gabbana allegedly described China as “a country of s***”.

The social media storm that followed even prompted the Changan Sword, the WeChat account of the Central Politics and Law Commission of the Communist Party’s Central Committee, to bring its weight to bear. On Thursday, it said alleged remarks by Stefano Gabbana on Instagram “provoked Chinese citizens”. It also criticized a Dolce & Gabbana social media advert released on Sunday that patronized Chinese people for eating with chopsticks. “Respect is the foundation for exchange.” the commission said. And yes, any remarks that cross the line will not be accepted in any country.

31. What happened according to paragraph 1? ()

- A. A co-founder of Dolce & Gabbana insulted China on the social media.
- B. There is a diplomatic issue between Italian and China.
- C. Dolce & Gabbana evoked a diplomatic issue.
- D. Italian side also made a statement about the incident.

【答案】A。根据第一段内容可知描述的是杜嘉班纳联合创始人辱华事件，根据首句可知选项 A 表述正确。根据 This incident is not a diplomatic issue…可知选项 BC 均表述有误。选项 D：意大利方也关于该事件发表了声明，但是文中首段并未提及意大利的官方做法。故本题正确答案选 A。

32. What was the Dolce & Gabbana social media advert criticized for? ()

- A. It was released to mock Chinese people.
- B. It provoked Chinese citizens.
- C. It described Chinese people eating with chopsticks with sardonic amusement.
- D. It made fun of Chinese people.

【答案】C。根据题干关键词 Dolce & Gabbana social media advert 定位至第三段 It also criticized a Dolce & Gabbana social media advert…patronized Chinese people for eating with chopsticks.可知 C 项表述正确。选项 A：它的社交媒体广告的发布主要是为了嘲弄中国人，

根据文章内容可知表述过于极端，同理选项 D 也表述有误；选项 B：它激怒了中国民众，这是杜嘉班纳宣传广告发布之后的结果，并非原因。故本题正确答案选 C。

33. What is Changan Sword according to the passage? ()

- A. A kind of sword.
- B. An official WeChat account.
- C. A normal WeChat account.
- D. A screen name of someone.

【答案】B。根据题干关键词 Changan Sword 定位至第三段 Changan Sword, the WeChat account of the Central Politics and Law Commission of the Communist Party's Central Committee...可知《长安剑》是中共中央政法委员会的官方微信公众号，所以 B 选项表述正确。选项 A：一种剑；选项 C：一个普通的微信账户；选项 D：某人的网名。故本题正确答案选 B。

34. According to Changan Sword, we can learn that ().

- A. Dolce & Gabbana even becomes more popular than before.
- B. Chinese people will turn their back on the brand.
- C. Respect is not the base line for a country.
- D. Any remarks without respect will not be accepted by any country.

【答案】D。结合文章末段最后所提到的 any remarks that cross the line will not be accepted in any country 可知 D 项表述正确。选项 A 表述完全错误；选项 B 时态有误，是已经进行品牌抵制，而不是将要进行品牌抵制；选项 C 表述有误，根据文章最后提到的 Respect is the foundation for exchange 可知尊重就是底线。故本题正确答案选 D。

35. What's the author's attitude toward the incident? ()

- A. indifferent
- B. upbeat
- C. opposed
- D. objective

【答案】C。根据文章的内容可知作者在描述杜嘉班纳的辱华风暴之后，一直在描述中方的官方回应和民间的品牌抵制，最后落脚点在尊重对一个国家的重要性。可见作者本身对于这一事件还是持反对的态度的。选项 A：冷漠的；选项 B：乐观的；选项 C：反对的；选项 D：客观的。故本题正确答案选 C。

Passage 8

While one in five people in China have symptoms of a sleep disorder, only one in 10 who exercise regularly report problems sleeping, according to a study released on Thursday by the Chinese Sleep Research Society.

The COVID-19 epidemic has also deepened the divide in sleeping patterns between couch potatoes and regular exercisers, as people who lead **sedentary lifestyles** and often sleep badly are less inclined to work out due to travel restrictions, causing further **kerfuffle** to their circadian rhythms, the study said.

Experts said the results provide a strong impetus for people suffering persistent sleep disorders, such as insomnia, irregular breathing and frequent nightmares, to incorporate more exercise into their lives or upgrade their workout regimes.

Sleep disorders and insufficient sleeping hours have become more prominent in China in recent years. Acute insomnia turning into chronic insomnia has to do with a common mistake people make after a night or two of poor sleep. Even among those who have struggled for years with insomnia, many continue to employ this same counterproductive strategy.

Experts said that the common, insomnia-perpetuating error that most people commit is that they try to make up for lost sleep; they take naps, they go to bed early, and they sleep in late. "All of this contributes to sleep dysregulation." Ellit, one of the experts suggested that they should not try to make up for lost sleep. Instead, they should stick to their usual sleep-wake routine even on days when they're exhausted and dying for a nap or a sleep-in. "I tell people to be awake in the service of sleep," he says. "If you build up enough sleep debt, sooner or later that will be enough to force you into deep and prolonged sleep. The ship will right itself."

The study also found that exercising for at least half an hour daily, doing more full-body cardio exercises such as swimming and boxing, and working out more in the morning, are some of the key factors that contribute to high-quality sleep at night. Those who incorporate weight lifting in their workout plans find it easier to pull themselves out of bed every morning after waking up, the study said. People who prefer ball sports, planking and sit-ups report longer periods of slow-wave sleep, or deep sleep, it said.

36. Which of the following is the reason of turning acute insomnia to chronic insomnia?

()

- A. Irregular breathing.
- B. Taking naps for lost sleep.
- C. Frequently staying up late.
- D. A night or two of poor sleep.

【答案】B。细节题。以下哪一个是急性失眠转变为慢性失眠的原因？定位到原文第四段 Acute insomnia turning into chronic insomnia has to do with a common mistake people make after a night or two of poor sleep.可知急性失眠症转变为慢性失眠症与人们在一两个晚上睡眠不好后犯的一个常见错误有关。由此可知 D 项错误，一两晚睡眠不好并不是原因。而这个“常见错误”在第五段开头 Experts said that the common, insomnia-perpetuating error.....they try to make up for lost sleep; they take naps, they go to bed early, and they sleep in late. "All of this contributes to sleep dysregulation."可以看出专家指出人们常犯的错误的打盹、早睡和晚睡，而这些都会导致睡眠失调。因此 B 项符合。选项 A：呼吸不规则；选项 B：用打盹儿来弥补失去的睡眠；选项 C：经常熬夜；选项 D：一两个晚上睡眠不好。AC 项都未提及，无中生有。故本题正确答案选 B。

37. Who are easier to get up every day? ()
- A. People regularly do ball sports.
 - B. People regularly do some weight lifting.
 - C. People do more full-body cardio.
 - D. People exercise for more than an hour a day.

【答案】B。细节题。谁每天更容易起床？通过 easier to get up every day 定位到原文最后一段 Those who incorporate weight lifting in their workout plans find it easier to pull themselves out of bed every morning after waking up, the study said.可知研究表明，那些将举重纳入锻炼计划的人发现每天早上醒来后更容易从床上爬起来。所以 B 项正确。选项 A：人们经常进行球类运动；同样在最后一段，喜欢球类运动的人，其慢波睡眠或深度睡眠时间更长；选项 B：人们经常举重；选项 C：人们做更多的全身有氧运动；最后一段提到全身有氧运动是促成夜间高质量睡眠的关键因素之一；选项 D：人们每天锻炼超过一小时；原文没有提及。故本题正确答案选 B。

38. What is Ellit's suggestion for sleep-disordered people? ()
- A. Building up enough sleep debt.
 - B. Doing exercises.

C. Building new sleep-wake routine.

D. Making up for lost sleep.

【答案】A。细节题。Ellit 对睡眠紊乱的人有什么建议？定位到倒数第二段.....suggested that they should not try to make up for lost sleep. Instead, they should stick to their usual sleep-wake routine even on days.....If you build up enough sleep debt, sooner or later that will be enough to force you into deep and prolonged sleep. The ship will right itself."可知其建议睡眠紊乱的人不应该试图弥补失去的睡眠,如果积累了足够的睡眠负债,这个问题自然会得到解决。所以 A 项正确。选项 A: 积累足够的睡眠负债; 选项 B: 做运动; 选项 C: 建立新的睡眠-觉醒程序; 选项 D: 弥补失去的睡眠。BCD 项都不符合原文。故本题正确答案选 A。

39. What does "kerfuffle" mean in the second paragraph? ()

A. Benefit

B. Disruption

C. Damage

D. Implication

【答案】B。含义题。第二段的 kerfuffle 是什么意思,定位到原文第二段 as people who lead sedentary lifestyles and often sleep badly are less inclined to work out due to travel restrictions, causing further kerfuffle to their circadian rhythms.可知文中指出由于旅行受限和缺乏锻炼,导致他们的昼夜节律进一步混乱。由下段也可知这让人们有了睡眠障碍,所以应该是 B 项扰乱,打乱。选项 A: 利益、好处、救济金; 选项 B: 扰乱、打乱、中断; 选项 C: 损害、损毁; 选项 D: 含义、暗示、牵连。而 kerfuffle 本意为混乱,弄乱。故本题正确答案选 B。

40. What does "sedentary lifestyles" mean in the passage? ()

A. Suffering sleep disorders.

B. Keeping regular exercises.

C. Remaining sitting and moving less.

D. Travelling a lot.

【答案】C。含义题。定位到原文第二段.....as people who lead **sedentary lifestyles** and often sleep badly are less inclined to work out due to travel restrictions, causing further kerfuffle to their circadian rhythms.可知研究表明, COVID-19 的流行也加深了电视迷和经常锻炼的人在睡眠模式上的分歧,因为那些习惯.....并且经常睡眠不好的人由于旅行限制而不太锻炼,

从而导致他们的昼夜节律进一步紊乱。是由 and 连接的，而 and 后面表达的是睡眠不好的人旅行受限，可以得知 and 前面也是在说运动得少。因此 C 项符合。选项 A：患有睡眠障碍；选项 B：保持规律的锻炼；选项 C：久坐少动；选项 D：经常旅行。而 sedentary lifestyles 意为久坐的生活方式。故本题正确答案选 C。

必
考
点
全
集