

2020年1016建设银行招聘笔试真题解析

第一单元 综合知识

一、单项选择题（每小题1分，共75分，每小题只有一个正确答案）

1.中国建设银行董事长田国立表示，银行属于服务业，要实实在在服务国家社会发展、回应市场需求和客户期盼。新金融要与新时代发展相匹配，这反映了我国经济社会的结构性变化。突如其来的新冠肺炎疫情是一次压力测试，更是新金融的试金石，客观上_____了银行数字化转型的步伐。田国立说，“数字金融不是简单将传统金融业务从线下搬到线上，我们常说金融是实体经济的活水，当前需要以数字技术_____金融水利工程，引流灌溉实体经济的田间阡陌，提升金融服务的直达性和公平性。”

依次填入划横线部分最恰当的一项是（ ）。

- A.促进 重修
- B.促进 打造
- C.加速 打造
- D.加速 重修

【答案】D。本题考查实词辨析。观察第一空，搭配的对象是“步伐”，AB项“促进”不符合，排除；第二空，搭配的对象是“金融水利工程”，C项“打造”不符合，排除。因此，本题正确答案选择D项。

2.经济社会发展演进、社会主要矛盾的变化，需要金融更具适应性、竞争力、普惠性；中国特色社会主义制度优越性的发挥、国家治理体系和治理能力的现代化，需要金融提供助力、主动作为。在传统金融体系中，长期以来对“三农的金融支持服务还不够，农村、农业、农民的金融服务获得感不明显。传统金融体系受”短期绩效”资本至上”以及“规模偏好”等观念的影响，对规模小抗风险能力差的中小企业、创业者的金融服务相对不足。建设银行自觉对标习近平总书记重要指示批示精神和党中央决策部署，从服务大局着眼、从解决社会民生痛点”入手，以新金融探索实践努力提供更有针对性的金融解决方案。

这段文字主要介绍了（ ）。

- A.传统金融体系面临的问题
- B.市场对金融服务的新需求
- C.传统金融体系的新发展
- D.建设新金融的现实背景

【答案】D。本题考查主旨概括。分析文段，前面两句重点围绕金融的作用进行阐述；接着围绕传统金融发展存在的问题进行概述，最后总结建设银行以新金融探索实践努力。因此，本文的重点在于建设银行的新金融探索，故D项符合。ABC项都没有围绕“新金融”这一主体，排除。因此，本题正确答案应选D项。

3.生长在非洲大草原上的灰犀牛，身躯庞大;给人一种行动迟缓、安全无害的错觉，从而时常忽略了危险的存在——当灰犀牛被触怒发起攻击时，却会体现出惊人的爆发力，阻止它的概率接近于零，最终引发破坏性极强的灾难。概率大、破坏力强是灰犀牛”事件最重要的特征。很多危机事件，与其说是“黑天鹅”，不如说更像是“灰犀牛”。它们并非发端于不可预测的小概率事件(“黑天鹅”，而是大概率、高风险事件(灰犀牛”)不断演化的结果，这些风险的存在早就广为人知，却由于体制或认识的局限，没有得到积极防范和应对，最终升级为全面的系统性危机。

根据上述文字，下列说法正确的是()。

- A.许多“黑天鹅”事件背后都隐藏着灰犀牛”危机
- B.“灰犀牛”和”黑天鹅”事件没有明显区别，一定条件下可以互相转化
- C.“黑天鹅”和“灰犀牛”事件都是严重的无法防范的危机事件
- D.与“灰犀牛“相对，“黑天鹅”是指破坏性不强的小概率事件

【答案】B。本题考查细节理解题。从“很多危机事件，与其说是“黑天鹅”，不如说更像是“灰犀牛”可知B项符合；AC项无中生有，排除。D项“黑天鹅”的破坏性不强特点无中生有，不符合逻辑，排除。因此，本题应选B项。

4.一个国家、一个民族对节俭和浪费的态度，体现其价值标准和文明程度。党的十八大以来，经过努力，公款餐饮浪费行为得到有效遏制，全党全社会厉行节约的良好风尚正在形成。同时也应看到，在公款餐饮浪费现象明显减少的同时，私人餐饮浪费现象仍然存在，有的甚至触目惊心、令人痛心。餐饮浪费绝不是单纯的个人行为，会侵蚀社会资源，损害公共利益。运用法律手段制止餐饮浪费行为，必须将制度落细落实于日常工作和生活中，让制度”动“起来、执行”硬”起来、惩戒“强”起来，在全社会形成良好的饮食习惯，实现法律效果与社会效果的统一。

作者通过这段文字意在说明()。

- A.通过躬行节俭实现从“要我节约”到“我要节约”的转变
- B.培养节约习惯既要靠法律制度硬约束，又要靠宣传教育软教化”
- C.法治是解决浪费问题、树立节约新风的重要方式

D.艰苦奋斗、勤俭节约是中华民族的传统美德

【答案】B。本题考查意图判断题。分析文段，首先概述节约和浪费的态度，接着以十八大时代背景来概述当前餐饮浪费存在的问题，最后以法律手段制止餐饮浪费行为。重点在于对策，故B项符合；A项文中并未提及，排除；CD项并非对策，且不符合文段重点，排除。因此，本题正确答案应选B项。

5.探讨逆城镇化问题，首先要规范界定其概念，这是学术研究和政策决策的基础。城镇化是整体与局部、宏观与微观统的现象，想象中的逆城镇化同样如此。逆城镇化就是在总体上对城镇化的一种逆反运动，逆城镇化主要是假设含义，不是指单纯局部现象，更不是毫不相干的局部现象。城镇化发展至今，国外城市发展中偶尔的逆反现象不足以说明事实上存在逆城镇化，我国更不存在所谓的特殊逆城镇化。

下列选项与原文不符的是（ ）。

- A.国外城市发展中出现过的逆反现象说明逆城镇化是存在的
- B.逆城镇化是一种整体与局部、宏观与微观统的现象
- C.规范界定逆城镇化的概念是探讨逆城镇化的前提
- D.我国至今仍然未出现所谓的特殊逆城镇化现象

【答案】A。本题考查细节理解题。从“国外城市发展中偶尔的逆反现象不足以说明事实上存在逆城镇化”可知A项错误。BCD项皆是文段的正确表述。本题为选非题，因此，本题正确答案应选A项。

6.前不久有媒体报道称，某市一位老人乘公交车时因没有智能手机无法扫健康码而被司机拒载，此事引起人们关注。近年来，随着科技的发展，移动支付等服务的出现方便了广大消费者，但也有一些老年人觉得不太适应。在日常生活中，一些老年人因为不会使用智能手机而遇到问题正常现象，不该遭到冷遇和拒绝。现在，一些企业的产品和服务多站在年轻人角度设计。一些厂家商家为了节约人力成本，大规模使用智能服务终端代替人工服务，更让不少老年人感觉无所适从。

对这段文字的主旨概括最准确的是（ ）。

- A.让老年人适应智能化时代，社区、养老院、老年大学等组织和机构大有可为
- B.在推动智能化、信息化应用加快普及的同时，要充分考虑老年人的实际需求
- C.老年人的消费市场空间巨大，企业设计产品和服务时应考虑赢得更多的老年消费者
- D.面对日新月异的智能化时代，年轻人接受能力强，老年人适应能力相且对较弱

【答案】B。本题考查主旨概括。分析文段，首先通过事例说明当前老年人关于不会使

用智能手机收到的冷遇，然后提出观点“在日常生活中，一些老年人因为不会使用智能手机而遇到问题是正常现象，不该遭到冷遇和拒绝”，最后阐释观点的理由。根据本文的论述的主体是“老年人”，B项为正确项，当选。A项文中并没有提及“社区、养老院、老年大学”等组织和机构，排除；CD项曲解文意，排除。因此，本题应选B项。

7.科技创新对经济社会发展和百姓生活的影响力与日俱增，金融无疑是对科技进步最敏感、被科技成果改变最多的行业之一。轻点手机扫码即可完成付款，无接触移动支付已成市场主流；很多贷款业务的办理时间从“以天计“缩短到”以分钟计“，大量过去很难得到贷款的小微企业顺利得到支持，融资成本还有所下降；技术手段让数据多跑腿，越来越多的银行业务足不出户就能办理，效率大大提高。_____。

填入划横线部分最恰当的一项是（ ）。

- A.凡此种种，都体现了科技为金融行业带来的深刻变化
- B.金融业所提供的金融产品越来越丰富，如同汨汨清泉滋润了很多科技型小微企业
- C.科技“含金量”高的新兴产业迅猛发展，这离不开金融业的有力支持
- D.金融是科技创新的应用者和受益者，也是科技创新的重要参与者和推动者

【答案】A。本题考查语句衔接。分析文段，结构为“总分总”，首先概述金融是科技进步最敏感、被改变最后的行业之一；其次分析改变的例子。划线句子为尾句，起总结全文作用，即科技对金融的影响，A项符合，当选。BCD项不符合文意，排除。因此，本题正确答案应选A项。

8.15世纪地理大发现以来，经济全球化从最初的涓涓细流不断汇聚成席卷全球的滚滚浪潮，是历史逻辑、实践逻辑和理论逻辑演进的必然结果。但近年来，一些国家单边主义、孤立主义、保护主义沉渣泛起，经济全球化遭遇逆风和回头浪。特别是此次蔓延全球的新冠肺炎疫情，使国际交流和人员贸易往来受到阻滞，全球产业链和供应链遭到重大冲击。有人抛出“全球化已经终结”的论调逆全球化思潮泛起。世界上没有十全十美的事物，经济全球化在促进商品和资本流动、科技和文明进步、各国人民交往的同时，也存在经济全球化的红利分配不均衡、全球治理体系变革滞后于经济全球化进程、经济全球化与文化包容互鉴之间存在不协调等一些值得重视的矛盾和问题。

可见，作者对经济全球化的态度是（ ）。

- A.理性
- B.肯定
- C.否定

D.无法判断

【答案】A。本题考查态度观点题。从尾句可知，作者对于经济全球化的态度是理性的，既肯定了经济全球化的，又对其存在问题进行概述。A项符合，当选，排除BCD项。因此，本题正确答案应选A项。

9.大数据时代的到来，商业银行在业务发展、风险防控及管理决策等领域频繁使用模型已是不可逆转的趋势。与此同时，最新模型技术发展突飞猛进，银行使用的模型日益复杂。模型应用范围变广和模型复杂度提升，给银行带来了新型风险来源模型风险。近年来，全球银行业由于模型使用不当、设计不当等原因造成的模型风险损失案例屡有发生，最高甚至产生过上亿或上十亿美金的损失。

这段文字接下来最可能先介绍的是（ ）。

- A.国内外银行业模型风险损失案例剖析
- B.防范模型风险对于银行业经营管理的意义
- C.我国商业银行在模型风险管理方面采取的措施
- D.发达国家或地区在模型风险管理方面的成熟经验

【答案】A。本题考查下文推断题。重点观察尾句，从“由于模型使用不当、设计不当等原因造成的模型风险损失案例屡有发生”可知，下文应该围绕这些损失的案例进行阐述，A项符合，当选，排除BCD项，因此，本题正确答案应选A项。

10.疫情防控期间以大数据为底层技术的健康码，成为人们日常生活和出行的“放心码”；无人机配备北斗高精度定位导航，高效执行喷药消毒、应急物资运输投送任务；全新人工智能诊断技术辅助医生快速、准确判读CT影像；宽带网络基础设施和云计算平台，不断吞吐着海量数据，支撑几亿人同上网课……科技竭尽所能帮助人们在与病毒的较量中胜出；与此同时，由应对疫情所催热的在线教育、远程办公等新业态、新模式，将依托人工智能和大数据等新技术进步发展，逐渐成为人们生活中的“常备品”。

这段文字意在（ ）。

- A.探讨科技如何有效匹配民生需求和供给
- B.强调科技成果能够创造出巨大的社会价值
- C.说明科技成果在服务民生、惠及民生等方面的潜力
- D.解释有效发挥科技惠民生作用，重在精准”对接”

【答案】B。本文考查意图判断。从“与此同时”可知，本文为并列结构文段，并列之前主要概述科技在疫情防控期间帮助人们的成果体现，并列之后为疫情中催热的科技成果表

现。B项符合，当选。A项未提及科技成果的价值，排除；C项为并列之前的内容，不够全面，排除；D项无中生有，排除。因此，本题正确答案应选B项。

11.在京张高铁的智能化运营中，最亮眼的莫过于列车的全自动驾驶设计。自动驾驶功能把驾驶员从繁杂的操作中解放出来，让他们能更关注行车的安全工作。以复兴号动车组平台为基础，设计者研发了工作状态自感知、运行故障自诊断、导向安全自决策的智能动车组。智能动车组是一对双胞胎，车头分别模拟鹰隼和旗鱼的形状，具有优越的空气动力学性能和漂亮的外观。京张高铁首次采用我国自主研发的北斗卫星导航系统，为建设、运营、调度、维护、应急全流程提供智能化服务。线路实时“体检”系统，可以将全线每一个桥梁、车站，每一处钢轨，通过传感器连接至电脑。零件是否老化、路基是否沉降、照明是否损坏，都能一目了然。未来，京张高铁10个车站将有同个大脑”，通过这个大脑”，工作人员在控制室就可以实现客站灯光、温度、湿度等设备管理、应急指挥等。

下列不属于京张高铁智能化优势的一项是（ ）。

- A.车头的动力性能优越且外形美观
- B.自动驾驶功能提高了行车安全性
- C.各高铁站能够实现统控制管理
- D.“体检”系统可实现全线路实时监测

【答案】C。本题考查细节查找。从“具有优越的空气动力学性能和漂亮的外观”可知A项正确；从“自动驾驶功能把驾驶员从繁杂的操作中解放出来，让他们能更关注行车的安全工作”可知B项正确；从线路实时“体检”系统，可以将全线每一个桥梁、车站，每一处钢轨，通过传感器连接至电脑”可知D项正确。C项无中生有。本题为选非题，因此，本题正确答案应选C项。

12.鲁彦的《听潮》中海在我们脚下沉吟着，诗人一般，那声音仿佛是朦胧的月光和玫瑰的晨衰那样温柔，又像是情人的蜜语那样芳醇。

下列句子中与划横线处句子的修辞手法相同的是（ ）。

- A.两岸的豆麦和河底的水草所散发出来的清香，夹杂在水气中扑面的吹来，月色便朦胧在这水气里（鲁迅《社戏》）
- B.这里的气味，倒是很好闻的。万顷芦苇，且又是在夏季青森森一片时，空气里满是清香（曹文轩《孤独之旅》）
- C.这里除了光彩，还有淡淡的芳香，香气似乎也是浅紫色的，梦幻一般轻轻地笼罩着我（宗璞《紫藤萝瀑布》）

D.风里带来些新翻的泥土的气息.混着青草味儿,还有各种花的香,都在微微润湿的空气里酝酿(朱自清《春》)

【答案】C。本题考查修辞手法。从划线句子可知,修辞手法为比喻。C项符合,当选。ABD项的修辞手法都不是比喻,排除。因此,本题正确答案应选C项。

13.当前,由于政府决策、施策的事项纷繁复杂,各类矛盾交织、各种变量融合的情况比比皆是。缺乏数据支撑的决策特别是凭经验做出的决策,往往顾此失彼,科学性、前瞻性不够。政府应借助大数据手段,利用数据关联分析、数学建模、虚拟仿真乃至人工智能等技术,在基于广泛、大量数据的基础上进行模块化分析和政策模拟,为决策提供更为系统、准确、科学的参考依据,为决策实施提供更为全面、可靠的实时跟踪,推动政府决策由过去的经验型、估计型向数据分析型转变,最终实现政府决策机制再造。

这段文字意在强调()。

- A.大数据在政府治理方面应用前景广阔
- B.当前政府决策施策事项问题丛生
- C.以大数据助推政府决策科学化
- D.以大数据助推政务管理精准化

【答案】C。本题考查意图判断。分析文段,结构为“总分总”,重点在于对策,即政府应借助大数据手段,赋能决策。C项符合,当选。AB项并非对策,排除;D项并未提及“政务管理”,排除。因此,本题正确答案应选C项。

14.中科院博士做起知识分享博主,获得百万粉丝;互联网营销师用“网络带货”对接供需两端,成为新网...从被认为“不务正业”到获得社会认可,人们的职业选择更加灵活,就业空间更加广阔。一位从事互联网营销的年轻人说,体验了直播带货后,家人朋友都觉得他的职业有前途。从国家到社会,再到身边人,这些认可将坚定更多年轻人的就业信心,激发蓬勃的创业活力。

上述文字表达的主要意思是()。

- A.新旧职业更迭中体现了社会发展活力
- B.新职业涌现体现着更包容的职业观
- C.随着时代发展,新职业层出不穷
- D.新职业成为时代变迁的印记

【答案】A。本题考查主旨概括。分析文段,结构为“分-总-分”,重点在于“人们的职业选择更加灵活,就业空间更加广阔”,A项符合,当选。B项“包容”文段并未提及,排

除；CD 项不符合文意，排除。因此，本题正确答案应选 A 项。

15. (1) 国际社会应该树立人类命运共同体意识，守望相助、携手合作，共同应对风险挑战，共建更加繁荣美好世界

(2) 任何自私自利、嫁祸他人、颠倒是非、混淆黑白的做法，不仅会对本国和本国人民造成伤害，而且会给世界各国人民带来伤害

(3) 新冠肺炎疫情以一种特殊形式告诫世人，人类是休戚与共的命运共同体，国际社会比以往任何时候都更需要团结合作，更需要维护多边主义，更需要坚持国际公正和道义

(4) 正是一次次齐心协力、携手前行，人类社会才一次次战胜重大疫情

(5) 没有哪个国家能够独自应对人类面临的各种挑战，也没有哪个国家能够退回到自我封闭的孤岛

(6) 一部人类文明史，也是一部同疾病和灾难的斗争史

将以上 6 个句子重新排列，语序正确的是 ()。

A. (3) (2) (5) (1) (6) (4)

B. (6) (4) (3) (5) (2) (1)

C. (2) (1) (3) (5) (6) (4)

D. (3) (4) (1) (6) (5) (2)

【答案】B。本题考查语句排序题。观察首项，(2) 为解释项，不适合当首句，排除 C 项；(3) 相较于 (6)，(6) 为提出观点，更符合首句特征。验证 B 项，(6) (4) (3) 可以捆绑，排除 AD 项。因此，本题正确答案应选 B 项。

16. “以数据为关键生产要素、以科技为核心生产工具、以平台生态为主要生产方式的新金融理念正对商业银行的增长方式产生深远影响。商业银行需要通过数字化转型开启“第二发展曲线”。一方面，数字化转型能够快速捕捉市场需求的变化，准确把握经济的短板、企业和个人的痛点，精确分析经济数据和产业动态信息实现精准对接市场。另一方面，借助金融科技力量，打造场景化和智能化的金融产品，使金融服务更好惠及百姓民生，解决社会痛点。同时，数字化转型为商业银行提升风控能力提供了新思维、新模式和新手段，有助于提升智能风控水平。

上述文字意在说明 ()。

A. 商业银行有必要进行数字化转型以进一步适应数字经济时代的发展要求

B. 商业银行开展数字化经营的必由路径

C. 商业银行经营发展内生增长的需要促使商业银行开展数字化转型

D.外部环境变化和数字经济快速发展倒逼商业银行开展数字化转型

【答案】A。本题考查意图判断。分析文段，为“总分”结构，首先概述商业银行需要数字化转型，然后从两方面阐述数字化转型的好处。重点在于首句，主体为“数字化转型”，A项符合，当选，排除BCD项。因此，本题正确答案应选A项。

17.如果科技工作者缺乏应有的科技伦理操守，就容易被资本力量、商业行为所黑挟。比如，一些网上商家滥用个人信息数据，进行差异定价的“大数据杀熟”，使市场伦理、商业伦理受到冲击。再如，滥用信息传播中的“算法”推荐，基于用户的行为数据判定其喜好。“投其所好”推送特定种类信息，制造“信息茧房”效应。又如，基于人工智能的AI换脸“深度伪造”等技术应用，可能威胁公民人身安全和金融安全。诸如此类的新兴技术滥用，突破了伦理边界、道德底线，甚至游走在违法犯罪的边缘。

这段文字意在说明（ ）。

- A.科技伦理旨在从伦理准则层面关注科技工作者该不该做什么”
- B.面对日益复杂的科技伦理问题，需要将其规范纳入制度和法律之中
- C.科技伦理是科技活动必须遵守的价值准则
- D.有关部门亟须加强科技伦理监管，完善相应的责任追究机制

【答案】B。本题考查意图判断。分析文段，为“总分总”结构。首句首先说明科技工作者需要坚守科技伦理操守，然后举了一系列例子说明，最后说新兴技术滥用突破了伦理边界、道德底线，甚至游走在违法犯罪的边缘。分析可得，文段重点在于对新兴技术滥用的问题，需要通过法律等渠道来进一步规范，B项符合，当选。ACD项都不符合文意，排除。因此，本题正确答案应选B项。

18.4、7、16、23、36、（）、64

- A.48
- B.51
- C.47
- D.46

【答案】C。两两做差得到二级数列3，9，7，13，再做差得到三级数列6，-2，6，下一项应为-2，则二级数列下一项为13+(-2)=11，括号内应为36+11=47。故本题正确答案选C。

19.2，6/7，12/13，20/19，（）

- A.1

B.4/5

C.7/3

D.6/5

【答案】D。反约分2变为2/1，则数列变为2/1，6/7，12/13，20/19，()，分子的规律为两两做差得到4，6，8，下一项应为10，则括号内分子应为20+10=30，分母是公差为6的等差数列，下一项为25，因此括号内为30/25=6/5。故本题正确答案选D。

20.-4，3，10，17，24，()

A.39

B.31

C.33

D.30

【答案】B。数列为公差为7的等差数列，则下一项应为24+7=31。故本题正确答案选B。

21.84，64，47，33，()，14

A.12

B.14

C.22

D.24

【答案】C。两两做差得到-20，-17，-14，此为公差为3的等差数列，下一项应为-11，则括号内应为33+(-11)=22。故本题正确答案选C。

22.1，1，2，6，()

A.23

B.24

C.22

D.21

【答案】B。两两做商得到1，2，3，下一项应为4，则括号内应为6×4=24。故本题正确答案选B。

23.1/4，1，4，16()

A.64

B.196

C.32

D.256

【答案】A。题干为公比为4的等比数列，则下一项应为 $16 \times 4 = 64$ 。故本题正确答案选A。

24.1, 2, 3, 7, 22, ()

A.165

B.155

C.100

D.133

【答案】B。题干规律为 $3=1 \times 2+1$, $7=2 \times 3+1$, $22=3 \times 7+1$, 括号内应为 $7 \times 22+1=155$ 。故本题正确答案选B。

25.某公路上有相距108千米的A、B两个车站某日16点整，甲、乙两辆汽车分别从A、B两站同时出发，相向而行。已知甲车速度为45千米时，乙车速度为36千米时，则两车相遇的时间是()

A.17时20分

B.16时20分

C.16时50分

D.17时30分

【答案】A。设过了t小时两车相遇，则 $(45+36)t=108$, $t=4/3$ 小时，出发时是16点整，则相遇时为 $16+4/3=17$ 时20分。故本题正确答案选A。

26.对某单位的100名员工进行调查，结果发现他们喜欢看球赛、戏剧和电影。其中58人喜欢看球赛，38人喜欢看戏剧，52人喜欢看电影，既喜欢看球赛又喜欢看戏剧的有18人，既喜欢看戏剧又喜欢看电影的有16人，三种都喜欢看的有12人，则只喜欢看电影的有()人。

A.30

B.36

C.22

D.28

【答案】C。设既喜欢看球赛又喜欢看电影的有X人，根据三集合容斥原理公式有： $58+38+52-18-16-X+12=100$ ，解得 $X=26$ 。只喜欢看电影的人数=喜欢看电影的人数-(既喜欢

看球赛又喜欢看电影的人数+既喜欢看戏剧又喜欢看电影的人数-三项都喜欢的人数) $=52-(26+16-12)=22$ 。故本题正确答案选 C。

27.为培养批精通英语、素质优良、适合到墙外机构工作的国际化人才，建设银行拟于近期举办国际化人才英语脱产强化培训班。经过报名、简历筛选、资格审查等环节，共有 50 名员平进入笔试环节,笔试包括银行英语和英文写作两部分。银行英语及格的有 40 人，英文写作及格的有 25 人，则银行英语未及格但英文写作及格者（ ）。

- A.至少有 10 人
- B.至少有 15 人
- C.至多有 30 人
- D.有 20 人

【答案】A。设银行英语与英文写作都及格的最多有 x 人，则有 $50=40+25-x$ ，解得 $x=15$ ，则银行英语未及格但英文写作及格者最少有 $25-15=10$ 。故本题正确答案选 A。

28.建行大学网聚英才"网点负责人能力提升学习项目由微课导学、案例赋能、云端课堂、线下导学、拓展学习五部分组成。某学员要先后学完这五个部分,若微课导学和案例赋能不可连续进行,则该学员的学习顺序的选择有（ ）种。

- A.24
- B.96
- C.120
- D.72

【答案】D。另外三门先安排，共有 $A(3,3)=6$ 种，另外两门插空放入，则有 $A(2,4)=12$ 种，因此共有 $6 \times 12=72$ 种顺序。故本题正确答案选 D。

29.为了更好地培养发展员工，现对甲、乙两个部门进行人员调动。已知甲部门男女比例是 1:3，乙部男女比例是 2:3，从甲部中抽出女员工的 $\frac{1}{6}$ 调到乙部门，再从乙部门中抽出男员工的 $\frac{1}{4}$ 调到甲部门，这时甲、乙两部总人数相等。则调动前（ ）。

- A.甲部门员工总数少于乙部门员工总数
- B.甲部门男员工人数是乙部门男员工人数的一半
- C.甲部门女员工人数与乙部门女员工人数相等
- D.甲部门女员工人数是乙部门男员工人数的 2 倍

【答案】D。因为甲部门男女比例为 1:3，且由“从甲部中抽出女员工的 $\frac{1}{6}$ 调到乙部门”可知，甲部门女生人数是 6 的倍数，因此男女比至少为 2:6，设甲部门有 $8x$ 人，则男生 $2x$ ，

女生 $6x$ ；同理，乙部门由于“乙部男女比例是 2:3”且“从乙部门中抽出男员工的 $\frac{1}{4}$ 调到甲部门”可知，乙部门男生一定是 4 的倍数，则男女人数比是 4:6，设乙部门 $10y$ 人，则男生 $4y$ ，女生 $6y$ 。则有 $8x-x+y=10y-y+x$ ，则 $6x=8y$ 。 $6x$ 是甲部门女员工人数， $8y$ 是乙部门男员工人数的 2 倍，因此 D 选项甲部门女员工人数是乙部门男员工人数的 2 倍的表述正确。故本题正确答案选 D。

30.甲乙丙丁四个分行足球队举行足球循环赛（即每两个队都要比赛场），胜一场得 3 分，平一场得 1 分，负场得 0 分。已知：比赛结束后四个队的得分都是奇数；甲队总分第一，乙队恰有两场平局，并且其中一场是与丙队平局。则丁队得分为（ ）分。

- A.1
- B.7
- C.3
- D.5

【答案】C。单循环赛四支队伍，每支队伍赛三场，乙队两场平局 2 分，要得到得分是奇数，必须另一场胜利，得 3 分，因此乙队得分 5 分，甲队是第一则可以是胜 3 场得 9 分，或者胜两场平一场的 7 分，若是 9 分，则说明甲胜了乙，但是由前面推理可知乙没有输过，因此甲不能是 9 分，只能是 7 分；则可以甲乙平局，甲胜丙，甲胜丁，乙丙平局，乙胜丁，丙丁之间要想保住两队都是奇数，且丙一平一输已经有 1 分，丁已经输两场目前 0 分，则丙丁之间只能丁胜得 3 分。故本题正确答案选 C。

31.第三届中国国际进口博览会将于 2020 年 11 月 5 日至 10 日在上海举办。博览会期间，将有 5 名志愿者被分配到 3 个不同的展区参加服务工作，则每个展区至少分配一名志愿者的方案有（ ）种。

- A.300
- B.150
- C.540
- D.180

【答案】B。安排方式有 $(1, 1, 3)$ 或 $(2, 2, 1)$ 两种分配方式， $(1, 1, 3)$ 有 $C(3,5) \times A(3,3) = 10 \times 6 = 60$ 种， $(2, 2, 1)$ 有 $(C(2,5) \times C(2,3)) / A(2,2) \times A(3,3) = 90$ 种，共有 $60 + 90 = 150$ 种方案。故本题正确答案选 B。

32.甲乙丙三位员工承担某新产品的开发任务。若由这三人独立工作，甲需要 15 小时，乙需要 10 小时，丙需要 8 小时，因整体工作需要，现轮流安排三人做开发，每人每次工作 1

小时。则完成该任务的最合理的安排顺序比最不合理的安排顺序节约了()分钟。

- A.35
- B.42
- C.12
- D.28

【答案】A。赋总量为 120，则甲的效率为 8，乙的效率为 12，丙的效率为 15，把三人依次工作一小时看作一个完整的周期，每周期 3 小时，每周期工作量为 $8+12+15=35$ ，则有 $120\div 35=3\cdots 15$ ，按照最合理的安排顺序，由丙、乙、甲的顺序做，还需要丙再做一小时，若按最不合理的顺序，由甲、乙、丙顺序做，还需要甲做一小时，乙再做 $(15-8)/12=7/12$ 小时即 35 分钟。故本题正确答案选 A。

33.某款智能台灯按定价出售，每个可以获得 45 元的利润。现在按定价的八五折出售 8 个，按定价每个减价 35 元出售 12 个，所能获得的利润一样。则这款台灯每个定价为()元。

- A.200
- B.180
- C.100
- D.120

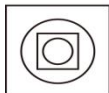

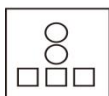
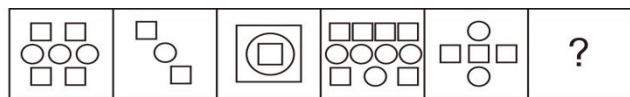
【答案】A。设定价为 x ，减价 35 元即每个获得 10 元的利润，因此 $10\times 12=0.85x\times 8-(x-45)\times 8$ ，解得 $x=200$ 。故本题正确答案选 A。

34.某银行公司业务部有男员工 6 名，女员工 4 名，现以随机抽签的形式选取 3 人参加全行的演讲比赛，则抽到 1 名男员工 2 名女员工的概率在以下哪个范围之内？()

- A.高于 35%
- B.15%-25%
- C.25%-35%
- D.低于 15%

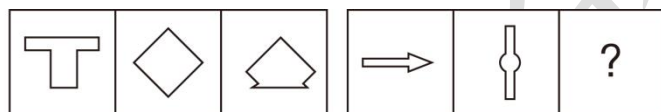
【答案】C。抽到 1 名男员工有 $C(1,6)=6$ 种，抽到 2 名女员工有 $C(2,4)=6$ 种，总共有 $C(3,10)=120$ 种，则抽到 1 名男员工 2 名女员工的概率为 $(6\times 6)/120=30\%$ ，因此在 25%-35%。故本题正确答案选 C。

35.根据规律，填入问号处正确的一项是()。



【答案】A。本题考查数量类，题干中方框的个数方 4，2，2，6，3，圆的个数分别为 3，1，1，5，2，方框的个数均比圆的个数多 1 个，按照此规律只有 A 符合题意；B 选项是圆比方框多 1，排除；C 选项是圆比方框多 1，排除；D 选项圆与方框个数相同，排除。故本题正确答案为 A。

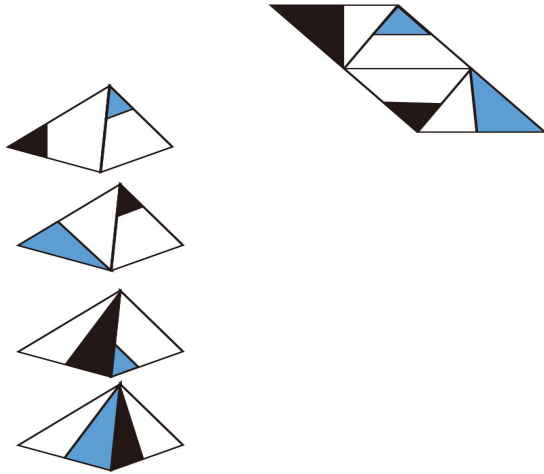
36. 根据规律，填入问号处的图片是（ ）。



【答案】C。本题考查属性类。观察题干特征发现图形元素凌乱但是都呈现出了对称性，第一行均为竖轴对称，第二行均为横轴对称，只有 C 为横轴对称，符合题意。A 为中心对称，排除；B 为竖轴对称，排除；D 为非对称，排除。故本题正确答案为 C。

37. 根据规律，填入问号处的图片是（ ）。

37. 一个纸盒外表面的展开图如下，以下哪项能由它折叠而成？（ ）



【答案】B。本题考查空间重构。题干中的 A 的黑小三角底边应该和蓝小三角的底边为公共边，A 选项中是和蓝小三角的斜边为公共边了，排除；C 选项大黑三角形应该是空白边和右边的面相邻，排除；D 选项应该是两个面的底边为相邻面，排除，B 符合题意。故本题正确答案为 B。

38. 四名外出务工人员谈论起疫情过后的去向问题。

张强：“如果我去省城打工，那么王壮就不去了。”

李刚：“我或王壮至少有一人不去省城打工。”

赵能：“李刚和王壮都去省城打工。”

王壮：“张强去省城打工。”

这四人中只有一人说的与实际情况不符。据此，可以判断以下成立的是（ ）。

- A. 李刚说了假话
- B. 王壮说了假话
- C. 张强说了假话
- D. 赵能说了假话

【答案】D。本题考查真假推理。张强：张 \rightarrow -王；李刚：李 \rightarrow -李或-王；赵能：李且王；王壮：张。李刚和赵能说的话为矛盾关系，矛盾关系必有一真一假，题干说只有一个人说假话，则假话在李刚和赵能说的话当中，则张强和王壮说的话必然为真，所以张强去省城打工了，所以根据张强说的王壮没有去打工，所以赵能说假话，排除 ABC，D 符合题意。故本题正确答案为 D。

39. 某市实现高质量发展的关键在于，通过推动当地制造业的发展，建立健全现代化产业体系。该市产业园区的建设发展对建立健全现代化产业体系至关重要，因此也是推动实现

高质量发展的关键。下列选项中，与上述推论过程结构最为类似的是（ ）。

A.与传统育苗方式相比，组织育苗是一种更为高效的组织快繁方式。因此引进组织育苗技术很有意义

B.公路网络不发达会导致交通落后，而交通落后已经成为制约乡镇加快发展的最大瓶颈。因此，乡镇要加快发展，必须加强路网建设

C.打好三大攻坚战是全面建成小康社会的前提条件，也是实现高质量发展的必备基础。所以，打好三大攻坚战才能实现经济社会的全面发展

D.所有战略性新兴领域的产品均为高尖端产品，某公司的产品广泛应用于新型材料等战略性新兴产业领域。因此，该公司是一家高尖端制造企业

【答案】D。本题考查平行结构，题干的逻辑关系为实现高质量发展→建立健全现代化产业体系，建立健全现代化→产业园区，所以实现高质量发展的建设→产业园区，D选项为某公司的产品→战略性新兴产业领域，战略性新兴产业领域→高尖端产品，所以某公司的产→高尖端制造企业，与题干一致符合题意。A选项与……相比，与题干不一致，排除；B选项公路网络不发达→交通落后，交通落后→制约乡镇加快发展，乡镇加快发展→加强路网建设，与题干不一致，排除；C选项全面建成小康社会→打好三大攻坚战，高质量发展→打好三大攻坚战，经济社会的全面发展→打好三大攻坚战，与题干不一致，排除。故本题正确答案为D。

40.某县计划发展甜叶菊、香椿、阳荷姜以及茶叶四种扶贫项目。四种扶贫项目的种植面积大小不一，且需要满足以下条件：（1）要么甜叶菊种植面积最大，要么阳荷姜种植面积最大；（2）如果甜叶菊的种植面积最大，香椿的种植面积便最小。如果香椿的种植面积大于茶叶，一定可以推出的是（ ）。

A.阳荷姜种植面积大于茶叶种植面积

B.茶叶种植面积大于阳荷姜种植面积

C.甜叶菊种植面积大于茶叶种植面积

D.甜叶菊种植面积小于香椿种植面积

【答案】A。（1）要么甜叶菊种植面积最大，要么阳荷姜种植面积最大；（2）甜叶菊的种植面积最大→香椿的种植面积最小。已知香椿的种植面积大于茶叶，则香椿的种植面积不是最小，所以甜叶菊的种植面积不是最大，所以根据（1）阳荷姜种植面积最大，所以A阳荷姜种植面积大于茶叶种植面积正确，排除BCD。故本题正确答案选A。

41.我国家长们对儿童阅读越来越重视，大多数家长希望孩子多读书读好书。2019年，某市70.3%的家庭中有父母陪孩子读书的习惯，亲子阅读的图书量比2018年提高了1.8个

百分点，时长也比上年有所增加。但是，2019年该市的儿童人均图书阅读量仅为4.72本，比2018年还下降了0.6个百分点。以下哪项如果为真，最能解释上述现象？（ ）

- A.在亲子阅读中很多孩子习惯“听书”，这种情况2019年末计算在内
- B.大多数“80后”、“90后”家长都受过高等教育，比较看重亲子阅读的意义
- C.近年来孩子课业负担较重，对课外阅读很多人是“心有余而时不足”
- D.父母在手机、电脑上的电子阅读一直未纳入儿童图书阅读的考虑范围

【答案】A。题干现象：2019年亲子阅读的图书量比2018年提高了1.8个百分点，但该市儿童人均图书阅读量仅为4.72本，比2018年下降了0.6个百分点。题干现象存在2个矛盾即①亲子阅读图书量提高，但②儿童人均图书阅读量降低，故要解释题干现象，选项就需要解释上述两点。A项，亲子阅读中孩子习惯听书，而这种情况没有被计算在图书阅读量内，首先解释了亲子阅读图书量提高的原因，又解释了因为孩子听的书没有计算在图书阅读量内，所以亲子阅读的图书量提高而儿童人均图书阅读量反而下降，可以解释。C项，孩子课业负担重，对课外阅读心有余而时不足，说明孩子因为课业没有时间课外阅读，可以解释儿童人均图书阅读量下降，但无法解释亲子阅读图书量提高，不能解释。B项，家长看中亲子阅读的意义，可以解释亲子阅读图书量提高，但没有提及儿童人均图书阅读量下降的原因，不能解释。D项，选项强调的是父母的阅读，没有涉及到亲子阅读，且选项说的是一直没有纳入考虑范围，说明2018年和2019年都没有计算在内，不能解释。故本题正确答案选A。

42.某银行人力资源部新录用2020年毕业生张小龙、李烁、李安，他们各自的籍贯为江苏、安徽、浙江中的某个省。甲、乙、丙三人对他们的籍贯有如下猜测：

- 甲：张小龙是浙江人，李烁是安徽人，李安也是浙江人；
- 乙：张小龙是浙江人，李烁是江苏人，李安不是江苏人；
- 丙：张小龙是江苏人，李烁是浙江人，李安也是江苏人；

已知对张小龙、李烁、李安的籍贯，上述三人均猜对1个，猜错2个。根据以上信息，以下哪项是可能的？（ ）

- A.张小龙是江苏人，李烁是安徽人，李安是浙江人
- B.张小龙是江苏人，李烁是安徽人，李安是安徽人
- C.张小龙是浙江人，李烁是江苏人，李安是江苏人
- D.张小龙是安徽人，李烁是浙江人，李安是江苏人

【答案】B。本题考查分析推理。题干明确了三人均猜对1个，猜错2个，所以可以使用选项代入做排除，将A选项代入题干甲猜对2个，排除；B选项代入进去甲乙丙三人均

猜对 1 个，猜错 2 个，符合题意；C 选项代入进去乙猜对 2 个，猜错 1 个，排除；D 选项代入进去甲全错，排除。故本题正确答案为 B。

43.某分行公司业务部甲、乙、丙、丁四人计划在 6 至 9 月中分别选择一个月休年假，但部门人手短缺，一个月中不能有两个人同时休假。甲要求不要安排在 9 月，乙提出只能安排在 7、8 月，丙表示 6 月或 8 月都可以，丁不希望安排在 6 月。若四人的要求均得到满足，则可以推出以下哪项？（ ）

- A.如果乙安排在 7 月，那么丙安排在 6 月
- B.只要丙不在 6 月，乙一定会在 7 月
- C.如果丙安排在 8 月，那么甲安排在 7 月
- D.甲只能安排在 6 月或者 7 月

【答案】B。根据题干丙在 6 或 8 月，乙在 7 或 8 月，只要丙不在 6 月，丙一定在 8 月，乙一定会在 7 月。B 符合题意，排除 ACD。故本题正确答案为 B。

44.算法歧视是以算法为手段实施的歧视，主要指在大数据背景下、依靠机器计算的自动决策系统在对数据主体做出决策分析时，由于数据和算法本身不具有中立性或者隐含错误、被人为操控等原因，对数据主体进行差别对待，造成歧视性后果。根据上述定义，下列不属于算法歧视的是（ ）。

- A.某搜索引擎中，相比搜索白人的名字，搜索黑人的名字更容易出现暗示具有犯罪历史的内容
- B.某招聘网站的筛选简历系统，在同等条件下，男性求职者通过简历筛选的概率是女性求职者的 8 倍
- C.某高校经济学专业根据学生的高考成绩高低来编排他们的学号
- D.某电商网站同一款洗衣机，对老用户报价 2600 元，对新用户仅报价 2100 元

【答案】C。题干中的算法歧视定义提到数据和算法本身不具有中立性或者隐含错误、被人为操控等原因对数据主体进行差别对待造成歧视性后果，ABD 均符合定义，对白人黑人、男性女性、新老用户造成了歧视。只有 C 选项没有在大数据背景下，且没有对数据主体进行差别对待，造成歧视性后果，不属于定义，故本题正确答案为 C。

45.建设银行某网点的员工都参加了专业技术职务等级考试，关于他们的考试结果有如下判断：（1）该网点不可能有员工没通过；（2）该网点的朱斌以高分通过；（3）该网点有的员工没通过；（4）并非该网点所有员工都没有通过。假设上述判断只有两个是对的，则以下哪项能从上述判断中必然推出（ ）。

- A.该网点的所有员工都没有通过专业技术职务等级考试
- B.该网点的朱斌通过了专业技术职务等级考试
- C.该网点的有些员工通过了专业技术职务等级考试
- D.该网点的所有员工通过了专业技术职务等级考试

【答案】C。本题考查真假推理。(1)所有都通过了和(3)有的没有通过是矛盾关系必有一真一假，题干说两真两假，则另外的一真一假在(2)(4)之中，(2)朱斌通过了一→(4)有的通过了，所有(2)为假，即朱斌没通过，所以(3)为真，(1)为假，(4)为真，所以C有些通过了正确。故本题正确答案为C。

46.10月1日，电影《我和我的家乡》在全国各大影院火热上映。钱勇、孙悦、李志、王刚四人商量去不去看这部电影，他们之间有如下对话：

钱勇：孙悦去我才去；

孙悦：李志去我才去；

李志：钱勇不去我就不去；

王刚：孙悦不去我就不去。

最终四人中有人去看了这部电影，有人没去看这部电影，则没有去看这部电影的人一定是()。

- A.王刚
- B.钱勇
- C.孙悦
- D.李志

【答案】A。钱：钱→孙，孙：孙→李，李：-钱→-李，王：-孙→-王，使用选项代入做排除，B选项钱勇不去代入进去题干-钱→-李，-李→-孙，-孙→-王，所有人都没去看电影，排除；C选项孙悦不去代入进去题干-孙→-钱，-钱→-李，-李→-孙，-孙→-王，所有人都没去看电影，排除；D选项李志不去代入进去题干去-李→-孙，-孙→-王，-孙→-钱所有人都没去看电影，排除；A选王刚不去代入进去属于肯后，肯后推可能，有的人去看了有的人没看，符合题意，故本题正确答案为A。

47、近来，智能家电催发了行业企业的热情，纷纷投身其中。不仅许多互联网企业通过智能产品切入家电产业,传统制造企业更是不甘其后。家电业内人士指出，智能产品的推广和被认可尚需时日,家电企业仍需修炼好内功。

以下哪项如果为真，最能质疑家电业内人士的观点？

- A、调查数据显示,目前有 87.5%的用户对智能家电现状不满
- B、智能化家电产品成为今夏市场的主打
- C、满足家电的基本功能是对智能家电的核心要求
- D、有些企业方面在智能化的大道上一路狂奔,一方面却在产品基本性能方面栽跟头

【答案】B。题干说智能家电需要认可。B选项,智能化家电产品成为今夏市场的主打,说明智能产品得到市场的认可,构成了对家电业内人士观点的质疑。正确;AD项是对家电业内人士观点的支持,错误;C项是无关选项,错误。故本题正确答案为B。

48、有人认为,只有建立良好的制度机制,才能从根本上杜绝腐败。然而,在中国社会,一种风气一旦形成,再强大的制度也会被它撕破。“正人心而后正天下”,要想从根本上解决问题,必须以“正人心”为根本。只有人心正,才能消除腐败之风和功利之风,反腐制度才能真正建立并得以有效执行。以下哪项陈述是上述论证所依赖的假设?()

- A 腐败之风和功利之风的形成不是由制度不完善或执行不严格造成的
- B 任何社会都有腐败,无论用什么方法都只能削弱腐败而不能根除它
- C 移风易俗的有效办法是选贤任能、缩小贫富分化和以义取利的教育
- D 制度是端正人心的根本,有了反腐制度并严格执行,风气就会改变

【答案】A。题干论点:只有人心正,才能消除腐败之风和功利之风,反腐制度才能真正建立并得以有效执行。增加假设条件,腐败之风和功利之风的形成不是由制度不完善或执行不严格造成的,是由人心不正造成,A项符合假设条件,正确;BCD项不符合题干论点假设条件,错误。故本题正确答案为A。

49、甲、乙、丙均为某大学的知名教授,三人分别研究心理学、医学、经济学,并且研究心理学的比甲的学术成果多,乙的学术成果与研究经济学的学术成果相当,研究经济学的学术成果比丙的研究成果少。由此可以推出三人的研究方向是()。

- A、甲研究经济学,乙研究医学,丙研究心理学
- B、甲研究医学,乙研究经济学,丙研究心理学
- C、甲研究心理学,乙研究经济学,丙研究医学
- D、甲研究心理学,乙研究医学,丙研究经济学

【答案】A。本题可以使用排除法。由题意可知,研究心理学的比甲的学术成果多,说明甲不是研究心理学,排除C项;乙的学术成果与研究经济学的学术成果相当,研究经济学的学术成果比丙的研究成果少,说明乙、丙不是研究经济学,排除BD项。故本题正确答案为A。

50、通识教育重在帮助学生掌握尽可能全面的基础知识,即帮助学生了解各个学科领域的基本常识;而人文教育则重在培育学生了解生活世界的意义,并对自己及他人行为的价值和意义做出合理的判断,形成“智识”。因此有专家指出,相比较而言,人文教育对个人未来生活的影响会更大一些。以下哪项如果为真,最能支持上述专家的断言? ()

A、“知识”是事实判断,“智识”是价值判断,两者不能相互替代

B、没有知识,人依然可以活下去;但如果没有价值和意义的追求,人只能成为没有灵魂的躯壳

C、当今我国有些大学开设的通识教育课程要远远多于人文教育课程

D、没有知识就会失去应对未来生活挑战的勇气,而错误的价值可能会误导人的生活

【答案】B。专家观点:人文教育对个人未来生活的影响会更大一些。B项,没有知识,人;可以活下去;但如果没有价值和意义的追求,人只能成为没有灵魂的躯壳。说明了人文教育的重要性,支持了专家观点,正确。A项,“知识”与“智识”两者不能相互替代,说明二者同样重要,质疑了专家观点,错误;C项,为无关选项,错误。D项,说明知识比人文教育的重要性,质疑了专家观点,错误。故本题正确答案为B。

资料分析

2020年5月份,社会消费品零售总额31973亿元,同比下降2.8%(扣除价格因素实际下降3.7%,以下除特殊说明外均为名义增长),降幅比上月收窄4.7个百分点。其中,除汽车以外的消费品零售额28597亿元,下降3.5%。1-5月份,社会消费品零售总额138730亿元,同比下降13.5%。其中,除汽车以外的消费品零售额125946亿元,下降13.0%。2020年5月份社会消费品零售总额主要数据如下表所示:

指标	5月		1-5月	
	绝对量 (亿元)	同比 增长(%)	绝对量 (亿元)	同比 增长(%)
社会消费品零售总额	31973	-2.8	138730	-13.5
其中:除汽车以外的消费品零售额	28597	-3.5	125946	-13.0
其中:限额以上单位消费品零售额	11664	1.3	49317	-12.7
其中:限额以上单位消费品零售额	-	-	33739	11.5

其中：实物商品网上零售额				
按经营地分				
城镇	278814092	-2.8	12094	-13.5
乡村		-3.2	18437	-13.0
按消费类型分				
餐饮收入	3013	-18.9	11346	-36.5
其中：限额以上单位餐饮收入	645	-15.4	2434	-33.9
商品零售	28959	-0.8	11346	-36.5
其中：限额以上单位商品零售	11020	2.5	46884	-11.2
粮油、食品类	1160	11.4	6206	13.4
饮料类	183	16.7	819	8.5
烟酒类	283	10.4	1392	-6.3
服装鞋帽、针纺织品类	1018	-0.6	4067	-23.5
化妆品类	270	12.9	1149	-4.9
金银珠宝类	203	-3.9	785	-26.8
日用品类	525	17.3	2311	2.5
家用电器和音像器材类	738	4.3	2746	-18.4
中西药品类	431	7.3	2077	4.9
文化办公用品类	238	1.9	1162	-0.3
家具类	134	3.0	495	-17.5
通讯器材类	380	11.4	1831	2.3
石油及制品类	1448	-14.0	6443	-19.6
汽车类	3376	3.5	1278	-17.0
建筑及装潢材料类	146	1.9	5552	-14.3

51.2020年1-5月，粮油、食品类商品零售额同比增加（ ）亿元。

- A.334.3
- B.674.5
- C.224.2
- D.733.3

【答案】D。 $6206 \times 13.4\% \div (1+13.4\%) \approx 733.3$ 。故本题正确答案选 D。

52.2020 年 5 月，下列四类商品零售中，同比降幅高于商品零售的是（ ）。

- A.烟酒类
- B.金银珠宝类
- C.服装鞋帽、纺织品类
- D.文化办公用品类

【答案】B。直接读数，2020 年 5 月商品零售降幅为 0.8%，金银珠宝类降幅为 3.9%。

故本题正确答案选 B。

53.2019 年 5 月，城镇消费品零售额比乡村消费品零售额约多（ ）倍。

- A.6
- B.4
- C.8
- D.5

【答案】A。 $[27881 \div (1-2.8\%)] \div [4092 \div (1-3.2\%)] \approx 6.8$ ，所以大概多 6 倍。故本题正确答案选 A。

54.2020 年 1-5 月，非限额以上单位餐饮月收入为（ ）亿元。

- A.1566.4
- B.2770.4
- C.1782.4
- D.2530.4

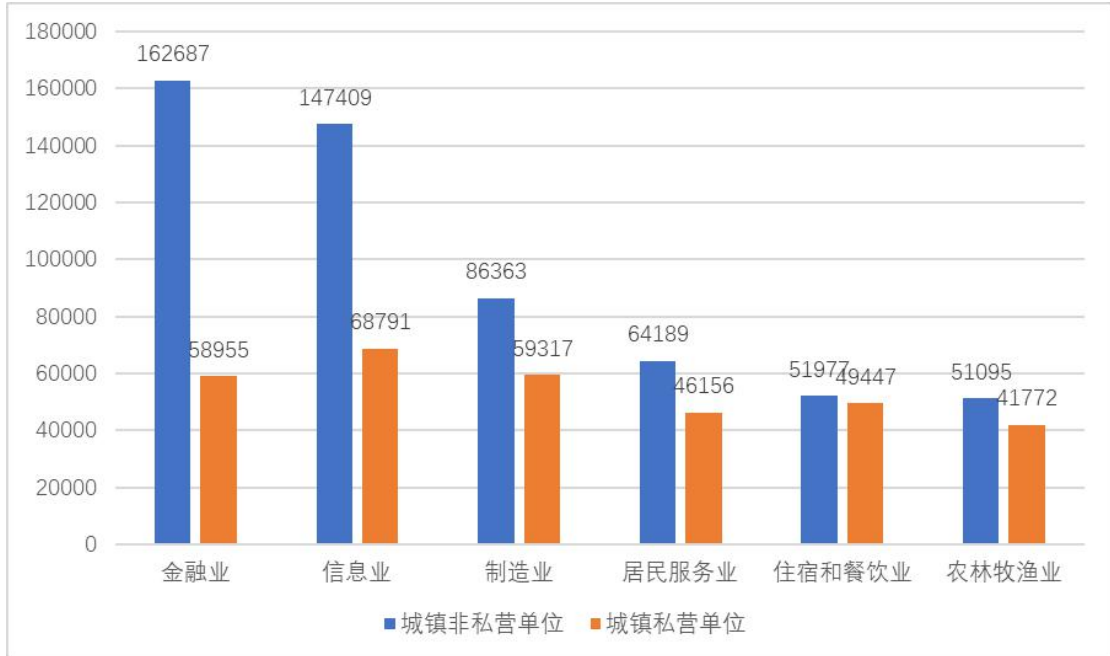
【答案】C。 $(11346-2434) \div 5 \approx 1782$ 。故本题正确答案选 C。

55.根据上述给定资料，下列表述错误的是（ ）。

- A.2020 年 1-5 月，实物商品网上零售额占社会消费品零售总额的比重低于 20%
- B.2020 年 5 月，限额以上单位消费品零售额占社会消费品零售总额的三成以上
- C.2020 年 1-5 月，所有商品零售类别中粮油、食品类增速最高
- D.2020 年 5 月，建筑及装潢材料的零售额同比增长不多于 5 亿元

【答案】A。 $33739 \div 138730 > 20\%$ ，故 A 错误； $11664 \div 31973 > 30\%$ ，故 B 正确；直接读数可知 2020 年 1-5 月，粮油、食品类增速为 13.4%，是最高的，故 C 正确； $146 \times 1.9\% \div (1+1.9\%) < 5$ ，故 D 正确。故本题正确答案选 A。

某省统计局 2020 年 6 月发布了该省 2019 年城镇非私营单位和城镇私营单位就业人员年平均工资统计数据。根据年度统计调查结果，2019 年该省城镇非私营单位就业人员年平均工资为 96527 元，城镇私营单位就业人员年平均工资为 58322 元，其中六大行业的城镇就业人员年平均工资情况如下图所示：



56. 六大行业城镇非私营单位就业人员年平均工资约为 ()。

- A. 104000
- B. 74000
- C. 94000
- D. 84000

【答案】C。 $(162687+147409+86363+64189+51977+51095) \div 6 \approx 93953$ 。故本题正确答案选 C。

57. 六大行业中，城镇私营单位与城镇非私营单位年平均工资差距最大的行业，其差距为 () 元。

- A. 2530
- B. 27049
- C. 78618
- D. 103732

【答案】D。根据高度差可以看出，收入差距最大的一定在金融业和电信业之间，分别是 $162687-58955 > 100000$ 、 $147409-68791 < 80000$ 。故本题正确答案选 D。

58.城镇非私营单位就业人员中，在年平均工资方面，最高的行业约是最低的行业的（ ）倍。

- A.5
- B.2
- C.3
- D.4

【答案】C。 $162687 \div 51095 \approx 3$ 。故本题正确答案选 C。

59.居民服务业中，城镇非私营单位就业人员比私营单位就业人员年平均工资约高（ ）。

- A.25%
- B.50%
- C.40%
- D.65%

【答案】C。 $(64189-46156) \div 46156 \approx 39.1\%$ 。故本题正确答案选 C。

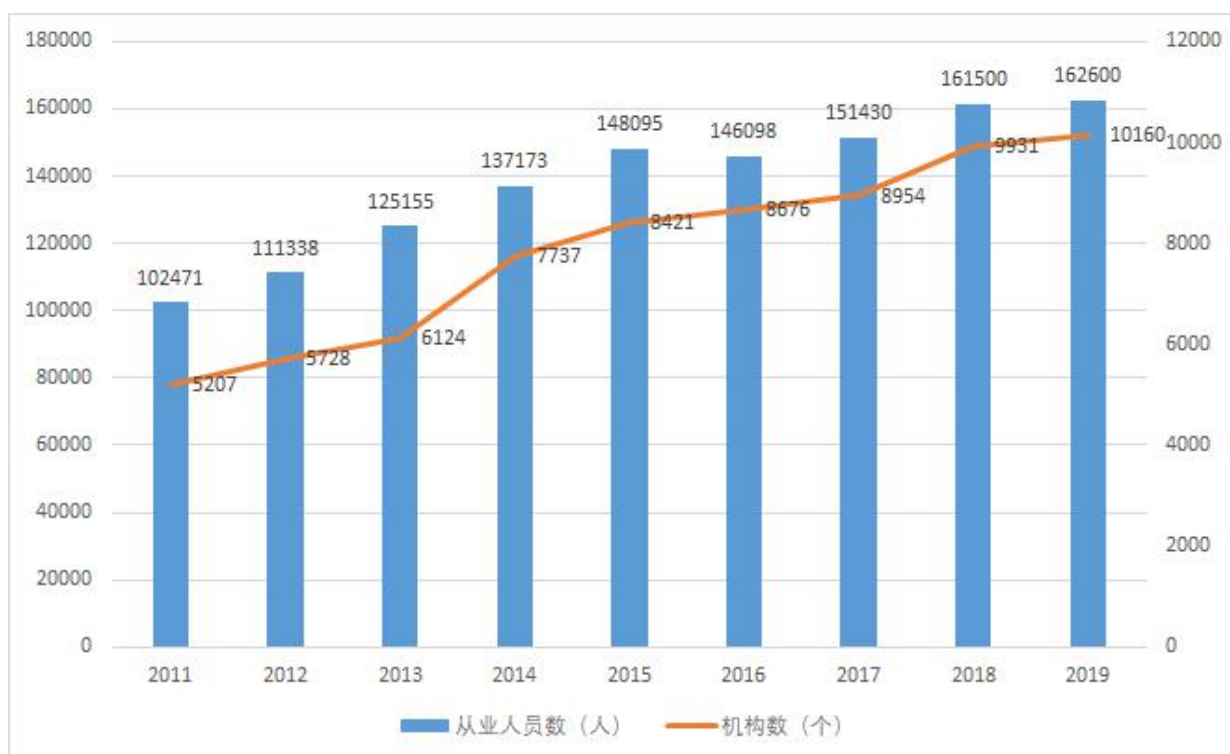
60.根据上述资料，下列说法有误的是（ ）。

- A.城镇私营单位中，制造业与金融业就业人员年平均工资差距最小
- B.城镇非私营单位就业人员收入高，福利待遇好
- C.六大行业中，农林牧渔业就业人员年平均工资是最低的
- D.城镇非私营单位就业人员的年平均工资差距明显大于城镇私营单位就业人员

【答案】B。城镇私营单位中，制造业与金融业就业人员年平均工资高度差最小，故 A 正确；材料给的数据都是年均收入，并未提及福利待遇，故 B 错误；直接读数可知六大行业中，不管是城镇私营单位还是城镇非私营单位，农林牧渔业就业人员年平均工资都是最低的，故 C 正确；直接读数可知，城镇私营单位就业人员的年平均工资都在 41000-69000 之间，而城镇非私营单位就业人员的年平均工资都在 51000-163000 之间，跨度更大，故 D 正确。故本题正确答案选 B。

2019 年末，全国共有名类文物机构 10160 个，比上年末增加 229 个。其中，文物保护管理机构 3550 个，占 34.9%；博物馆 4918 个，占 48.4%。全国文物机构从业人员 16.26 万人，比上年末增加 0.11 万人。其中，高级职称占 6.0%，中级职称占 12.7%。全国文物机构拥有文物藏品 4960.61 万件，比上年末增长 2.3%。其中，博物馆文物藏品 3754.25 万件，文物商

店文物藏品 751.40 万件。



61.2019 年末全国文物机构从业人员中，不具备中高级职称的有（ ）。

- A.13.22 万人
- B.12.46 万人
- C.14.89 万人
- D.15.28 万人

【答案】A。[1- (6%+12.7%)]×16.26≈13.22。故本题正确答案选 A。

62.2019 年末全国博物馆文物藏品、文物商店文物藏品占全国文物机构文物藏品的比重之差为（ ）。

- A.55.2 个百分点
- B.60.5 个百分点
- C.66.3 个百分点
- D.53.6 个百分点

【答案】B。(3754.25-751.4)÷4960.61≈60.53%。故本题正确答案选 B。

63.2011-2019 年全国文物机构数增加最多的年份是（ ）。

- A.2012 年
- B.2016 年
- C.2018 年

D.2014 年

【答案】D。2012、2014、2016 和 2018 年全国文物机构数的增长量依次是： $5728-5207=521$ 、 $7737-6124=1613$ 、 $8676-8421=255$ 、 $9931-8954=977$ ，所以最大的是 2014 年。故本题正确答案选 D。

64.2015-2019 年全国文物机构从业人员年均增加（ ）。

A.3626 人

B.2901 人

C.5085 人

D.6097 人

【答案】A。 $(162600-148095) \div 4 \approx 3626.3$ 。故本题正确答案选 A。

65.从上述材料不能推出的是（ ）。

A.2019 年末全国博物馆数量比文物保护管理机构数量多

B.2018 年末全国文物机构从业人员比上年末增加 1100 人

C.2019 年末全国文物机构拥有文物藏品比上年末增加 100 万件以上

D.2012-2019 年全国文物机构数呈逐年增加的态势

【答案】B。读数可知 2019 年末全国博物馆数量为 4918，文物保护管理机构数量为 3550，故 A 正确； $161500-151430=10070$ 而非 1100，故 B 错误； $4960.61 \times 2.3\% \div (1+2.3\%) \approx 111.5$ 万，故 C 正确；看图可知 2012-2019 年全国文物机构数越来越大，故 D 正确。故本题正确答案选 B。

66.根据《中华人民共和国传染病防治法》、《突发公共卫生事件应急条例》等法律法规，在疫情期间，公民有获得疫情信息的权利、获得救治的权利等，但也应当履行疏散、隔离、封锁和人身活动范围限制的义务。可见（ ）。

A.公民的权利与义务是统一的

B.先履行义务才能保障享有权利

C.公民在法律面前一律平等

D.公民的权利和义务都不能放弃

【答案】A。公民在疫情期间有可享有的权利，同时也要履行义务，体现的就是公民的权利与义务是统一的，不会单独存在权利或者义务。答案为 A。

67.密码的应用已经渗透到社会生产生活各个方面，从保密通信、军事指挥，到涉及国民经济的金融交易、防伪税控,再到涉及公民权益的电子支付、网上办事等，密码都在背后

发挥着基础支撑作用。2020年1月1日,《中华人民共和国密码法》正式施行。密码法是我国密码领域的综合性、基础性法律,填补了密码领域长期存在的法律空白。下列有关《中华人民共和国密码法》的说法中不正确的一项是()。

A.密码法的施行有利于规范密码应用和管理,提升密码工作法治化水平,保障国家网络和信息安全

B.密码法规定,密码分为核心密码、普通密码和商用密码,其中商用密码用于保护不属于国家秘密的信息

C.生活中常用的手机开机密码、微信支付密码、银行卡取款密码等,都属于密码法里的“密码”范畴

D.密码法所称密码,是指采用特定变换的方法对信息等进行加密保护、安全认证的技术、产品和服务

【答案】C。《中华人民共和国密码法》是为了规范密码应用和管理,促进密码事业发展,保障网络与信息安全,维护国家安全和社会公共利益,保护公民、法人和其他组织的合法权益,制定的法律,故A项正确;根据《密码法》第一章第六条规定,国家对密码实行分类管理。密码分为核心密码、普通密码和商用密码;根据《密码法》第一章第八条规定,商用密码用于保护不属于国家秘密的信息,故B项正确;根据《密码法》第一章第二条规定,本法所称密码,是指采用特定变换的方法对信息等进行加密保护、安全认证的技术、产品和服务,故C项错误,D项正确。本题为选非题,答案为C。

68.《中华人民共和国民法典》将于2021年1月1日起施行。这是新中国第一部以法典命名的法律,开启了我国法典编纂立法的先河。民法典共7编、1260条,依次为总则编、物权编、合同编、人格权编、婚姻家庭编、继承编、侵权责任编以及附则。在民法典中,()是贯穿始终的立法精神。

A.正义 团结

B.公正 和谐

C.权利 民主

D.平等 保护

【答案】D。在民法典草案中,“平等”与“保护”是贯穿始终的立法精神。彰显了权利本位的法治精神和以人为本的法治理念,体现了中国特色和时代要求,反映了建设生态文明的时代发展要求。

69.银行客户经理要加强信息保密工作,严格按照规章制度和流程要求办理相关查询业务。

下列有关信息保密的说法中，不正确的是()。

- A.不得随意透露客户的资料和交易信息
- B.应当妥善保存客户资料及其交易信息档案
- C.可将客户信息用于未经客户许可的其他目的
- D.在离职后也要遵守信息保密协议的约束

【答案】C。对于银行职员来说，妥善保存客户资料和交易信息档案，不随意透露，哪怕是离职后也要遵守信息保密协议的约束，这个是责任也是义务，在没经过客户准许的前提下不允许将客户资料和信息用于其他目的。答案为C。

70.晏子曰：“道在为人，而失在为己。为人者重，自为者轻。”这启示我们实现人生价值，需要()。

- A.坚持正确价值观，为社会做贡献
- B.充分发挥主观能动性,顽强拼搏
- C.努力发展自己,全面提高个人素质
- D.积极参加实践,在劳动中创造价值

【答案】A。晏子这句话出自春秋时期晏子的《晏子春秋》，意思是得道在于为他人，而失道在于只为自己;为他人的人是高贵的，只为自己的人是低贱的。这句话告诫我们应当树立正确的价值观，不能自私自利，要为他人着想，积极为社会做贡献，奉献自我。答案为A。

71.建设银行某分行“十佳青年”获得者表示做好本职工作，要把一点一滴的小事做好，把一分一秒的时间抓住，实现人生价值，永无止境追求自我完善，做到立足平凡，绽放光彩。这主要体现了职业道德中()的要求。

- A.诚实守信
- B.服务群众
- C.爱岗敬业
- D.办事公道

【答案】C。在获奖感言中提到做好本职工作就是要做好点点滴滴的小事，自我完善，在平凡中绽放光彩，体现了职业道德中的爱岗敬业。答案选C。

72.7月30日，中共中央政治局召开会议,分析研究当前经济形势，部署下半年经济工作。会议指出，当前经济形势仍然复杂严峻，要加快形成()的新发展格局。

- A.以国内大循环为主、国内国际双循环为辅

- B.以国内大循环为主、国际大循环为辅
- C.以国内大循环为主体、国内国际双循环相互促进
- D.以国际大循环为主体、国内国际双循环相互促进

【答案】C。7月30日，中共中央政治局召开会议，会议分析研究当前经济形势，部署下半年经济工作。中共中央总书记习近平主持会议。会议指出，当前经济形势仍然复杂严峻，不稳定性不确定性较大，我们遇到的很多问题是中长期的，必须从持久战的角度加以认识，加快形成以国内大循环为主体、国内国际双循环相互促进的新发展格局，建立疫情防控和经济社会发展工作中长期协调机制，坚持结构调整的战略方向，更多依靠科技创新，完善宏观调控跨周期设计和调节，实现稳增长和防风险长期均衡。答案选C。

73.2020年《政府工作报告》指出,今年要优先(),努力实现全面建成小康社会目标任务。

- A.稳就业稳增长
- B.稳就业保民生
- C.稳金融保民生
- D.稳金融稳预期

【答案】B。5月22日，李克强总理代表国务院在十三届全国人大三次会议上作《政府工作报告》。《2020年政府工作报告》指出，今年要优先稳就业保民生，坚决打赢脱贫攻坚战，努力实现全面建成小康社会目标任务。答案选B。

74.在2020年“中国航天日”启动仪式上，备受关注的中国首次火星探测任务名称、任务标识正式公布。我国首次火星探测任务命名为()，首次火星探测任务标识是()。

- A.银河一号 嫦娥奔月
- B.天眼一号 鹊桥相会
- C.天宫一号 夸父逐日
- D.天问一号 揽星九天

【答案】D。中国首次火星探测任务名称为“天问一号”，以“揽星九天”作为工程的任务标识。答案选D。

75.党的十九大提出,实施乡村振兴战略。2020年政府工作报告中提出,落实脱贫攻坚和乡村振兴举措,保障重要农产品供给,提高农民生活水平。下列各项中不属于这一战略具体措施的是()。

- A.加大剩余贫困县和贫困村攻坚力度,对外出务工劳动力,要在就业地稳岗就业

- B.接续推进脱贫与乡村振兴有效衔接,全力让脱贫群众迈向富裕
- C.增加专项债券投入,支持现代农业设施、饮水安全工程和人居环境整治
- D.全面启动“十三五”易地扶贫搬迁规划建设任务,加强后续扶持

【答案】B。题目问的是具体措施,B项没有具体措施,答案为B。

二、多项选择题(每小题1分,共5分,每小题只有一个正确答案)

76.坚持依法治国和以德治国相结合,是中国特色社会主义法治道路的鲜明特点。法律和道德都具有()的作用,在国家治理中都有其地位和功能。

- A.维护社会秩序
- B.减少社会矛盾
- C.调节社会关系
- D.规范社会行为

【答案】ACD。法律与道德同属为经济基础服务的上层建筑,本质是相同的,但产生方式、实施方式、表现形式、调整范围和功能作用是不同的。习近平总书记指出,法律是成文的道德,道德是内心的法律。法律和道德都具有规范社会行为、调节社会关系、维护社会秩序的作用,在国家治理中都有其不同的地位和功能。答案为ACD。

77.张富清是中国建设银行湖北省分行来凤县支行的离休干部。他曾在部队冲锋陷阵、九死一生,立下赫赫战功;他曾隐藏功名,到最艰苦、最困难的地方默默奉献。60多年来,他刻意尘封功绩,连自己的亲生儿女也不知情。直到2018年底在退役军人信息采集时,张富清的事迹被发现,这段英雄往事重现在人们面前。习近平总书记对其先进事迹作出重要批示:“老英雄60多年深藏功名,一辈子坚守初心、不改本色,事迹感人。在部队,他保家卫国;到地方,他为民造福。他用自己的朴实纯粹、淡泊名利书写了精彩人生。”张富清的先进事迹对新时代广大青年的启示有()。

- A.淡泊名利,坚守平凡的工作岗位
- B.坚定理想信念,提高思想道德修养
- C.弘扬奉献精神,积极投身为人民服务的实践
- D.牢固树立爱国主义情怀,积极响应国家号召

【答案】ABCD。张富清事迹给到广大青年的启示:他默默奉献,淡泊名利,坚守自己的岗位,在最艰苦最困难的地方,也没有动摇他为人民服务的信念,他保家卫国的爱国主义情怀也值得广大青年学习。

78.2020年政府工作报告指出,要重点支持既促消费惠民生又调结构增后劲的“两新一

重”建设。“两新一重”是指()。

- A.交通、水利等重大工程建设
- B.新型基础设施建设
- C.新型城镇化建设
- D.社会主义新农村建设

【答案】ABC。2020年5月22日，国务院总理李克强在发布的2020年国务院政府工作报告中提出，重点支持“两新一重”建设。两新一重，即新型基础设施建设，新型城镇化建设，交通、水利等重大工程建设。答案为ABC。

79.党的十九届四中全会提出，“健全劳动、资本、土地、知识、技术、管理、数据等生产要素由市场评价贡献、按贡献决定报酬的机制”。2020年4月9日颁布的《关于构建更加完善的要素市场化配置体制机制的意见》也提出“加快培育数据要素市场”。上述举措有利于()。

- A.发挥市场在资源配置中的决定性作用，提高数据资源利用效率
- B.推动数字经济的发展,发展战略性新兴产业
- C.完善按劳分配制度，实现数据要素的价值
- D.激发人们开发和利用数据的积极性，缩小居民收入差距

【答案】ACD。加快培育数据要素市场，就是优化数据资源的配置和利用效率，更大地去实现数据要素的价值，发挥数据要素的作用来改善居民生活，缩小居民收入差距。选ACD。

80.新冠肺炎疫情发生后,党中央高度重视，习近平总书记时刻关注疫情形势，把疫情防控作为头等大事来抓，亲自指挥、亲自部署，提出()的总要求。

- A.坚定信心
- B.精准施策
- C.同舟共济
- D.科学防治

【答案】ABCD。2月19日，习近平总书记主持召开中央政治局常委会会议，听取疫情防控工作汇报，研究统筹做好疫情防控和经济社会发展工作，决定将有关意见提请中央政治局会议审议。会议指出，新冠肺炎疫情发生后，党中央高度重视，习近平总书记时刻关注疫情形势，把疫情防控作为头等大事来抓，亲自指挥、亲自部署，提出坚定信心、同舟共济、科学防治、精准施策的总要求。答案为ABCD。

第二单元 职业测试

一、单项选择题（每小题 1 分，共 40 分，每小题只有一个正确答案）

1.2020 年 2 月，经国务院批准，综合考虑粮食生产成本、市场供求、国内外市场价格和产业发展等因素，国家对 2020 年生产的早稻、中晚灿稻和粳稻等粮食产品采取支持价格政策，制定了相应的收购价格。一般而言，为避免量增价跌、防止谷贱伤农，按照经济学中的“支持价格”原理，政府应该（ ）。

- A. 出台粮食最低收购价政策
- B. 出台粮食最高收购价政策
- C. 出台粮食市场收购价政策
- D. 出台粮食平均收购价政策

【答案】A。粮食最低收购价政策是为保护农民利益、保障粮食市场供应实施的粮食价格调控政策。是为解决“工农”问题，实施工业反哺农业而采取的重要手段。A 正确，BCD 错误。故本题正确答案选 A。

2.2019 年诺贝尔经济学奖颁给了在减轻全球贫困方面的实验性做法有突出贡献的几位学者，他们提出，反贫困理论和举措需要与人们基本的生活实践相结合。以下哪种方法是上述思想最直接的体现（ ）。

- A. 主要依靠物资捐赠解决贫困问题
- B. 通过短视频直播带货为基层扶贫
- C. 主要依靠转移支付等财政政策调节解决贫困问题
- D. 通过建立复杂的经济学发展模型减轻贫困

【答案】B。反贫困理论和举措需要与人们基本的生活实践相结合，通过短视频直播带货为基层扶贫符合人们基本的生活实践。B 正确，ACD 错误。故本题正确答案选 B。

3.在完全竞争市场上，已知某企业的产量是 500 单位，总收益是 500 元，总成本是 800 元，总不变成本是 200 元。边际成本是 1 元，按照利润最大化原则，该企业应（ ）。

- A. 维持现状
- B. 增加产量
- C. 停止生产
- D. 减少产量

【答案】C。完全竞争市场上， $P=MR$ 三线合一，又因为利润最大化原则 $P=MR=MC=1$ ， $Q=500$ ， $TC=800$ ， $TFC=200$ ，所以得出 $AC=TC/Q=1.6$ ， $AVC=TVC/Q=(800-200)/500=1.2$ ，

所以得出 $P < AVC$ ，厂商应该立即停产。C 正确，ABD 错误。故本题正确答案选 C。

4.在突如其来的新冠肺炎疫情冲击下，很多商品的消费需求大幅度下滑，若从需求价格弹性的角度分析，下列商品中受到冲击最小的是（ ）。

- A.食盐
- B.化妆品
- C.金银首饰
- D.衣帽服饰

【答案】A。受到冲击最小的是需求价格弹性最小的，食盐属于生活必需品，需求价格弹性最小，所以受到冲击也最小。A 正确，BCD 错误。故本题正确答案选 A。

5.习近平总书记强调，在对外关系中，我们要奉行双赢、多赢、共赢的新理念，摒弃你输我赢、赢者通吃的旧思维。从经济学的角度分析，下列说法正确的是（ ）。

- A.“多赢共赢”体现的是负和博弈
- B.“双赢共赢”体现的是智猪博弈
- C.“你输我赢”体现的是零和博弈
- D.“赢者通吃”体现的是正和博弈

【答案】C。负和博弈，是指双方冲突和斗争的结果，是所得小于所失，就是我们通常所说的其结果的总和为负数。它既包括一种两败俱伤的情况，这种情况下结果双方都有不同程度的损失；他也包括另一种“胜者”取得的利益小于“败者”承受的损失的博弈，A 错误。

“智猪博弈”是一个著名的纳什均衡的例子。假设猪圈里有一头大猪、一头小猪。猪圈的一头有猪食槽，另一头安装着控制猪食供应的按钮，按一下按钮会有 10 个单位的猪食进槽，但是谁按按钮就会首先付出 2 个单位的成本。按钮和猪食槽在相反位置，按按钮的猪要付出 2 个单位的成本，并且丧失了先到槽边进食的机会。若小猪先到槽边进食，因为缺乏竞争，进食的速度一般，最终大小猪吃到食物的比率是 6:4；若同时到槽边进食，大猪进食速度加快，最终大小猪收益比是 7:3；若大猪先到槽边进食，大猪会霸占剩余所有猪食，最终大小猪收益比 9:1。那么，在两头猪都有智慧的前提下，最终结果是：小猪选择等待，大猪去按按钮，B 错误。

零和博弈，又称零和游戏，与非零和博弈相对，是博弈论的一个概念，属非合作博弈。它是指参与博弈的各方，在严格竞争下，一方的收益必然意味着另一方的损失，博弈各方的收益和损失相加总和永远为“零”，双方不存在合作的可能，C 正确。

合作博弈亦称为正和博弈，是指博弈双方的利益都有所增加，或者至少是一方的利益增

加，而另一方的利益不受损害，因而整个社会的利益有所增加的，D 错误。

C 正确，ABD 错误。故本题正确答案选 C。

6.2020 年 8 月，财政部发布《2020 年上半年中国财政政策执行情况报告》。报告指出，今年积极的财政政策措施概括起来主要是做好四个“对冲”，具体包括增加政府投资、加大减税降费力度、加大转移支付力度、发行 1 万亿元抗疫特别国债等。这些举措主要是在发挥（ ）的作用。

- A.财政赤字有利于提高财政收入
- B.财政赤字有助于促进资源合理配置
- C.财政促进经济平稳运行
- D.财政促进经济结构优化

【答案】C。积极的财政政策可以刺激经济，促进经济平稳运行，C 正确。财政赤字不利于提高财政收入，A 错误。BD 不是此次财政政策的主要作用，排除。C 正确，ABD 错误。故本题正确答案选 C。

7.自动稳定器又称内在稳定器，是经济系统自身所存在的一种会减少各种干扰对国家收入冲击的机制，能够在经济繁荣时期自动抑制通货膨胀，在经济衰退时期自动减轻萧条。下列关于自动稳定器作用的说法错误的是（ ）。

- A.可能影响积极财政政策的效果
- B.自发地缓和经济波动
- C.可以通过政府支出的指数化来消除其负面影响
- D.长期会造成财政拖累作用

【答案】C。关于政府可以通过财政自动稳定器作用的发挥缩小经济波动的认识，理论界认为自动稳定器的运行主要以税收和支出形式的漏出效应缩小了凯恩斯乘数，A 正确。自动稳定器自发地缓和经济波动，B 正确。指数化政策是指按通货膨胀指数来调整有关变量的名义价格，以便使其实际值保持不变的的政策，指数化不一定可以消除负面影响，C 错误，当选。自动稳定器主要通过下述三项制度得到发挥：税收的自动变化、政府支出的自动变化、农产品价格维持制度，所以长期会造成财政拖累作用，D 正确。C 错误，ABD 正确。本题选非，故本题正确答案选 C。

8.投资者在相同投资收益条件下往往偏好短期债券的高流动性，债券发行方也愿意为长期债券提供风险溢价，同时降低发行费用。但当出现利率期限倒挂结构时，债券的价格预期会发生变化。关于利率期限倒挂，以下说法正确的是（ ）。

- A. 债券利率 R 与债券到期期限无关
- B. 债券利率 R 与债券到期期限 t 呈反比
- C. 债券利率 R 与债券到期期限 t 呈非线性关系
- D. 债券利率 R 与债券到期期限 t 呈正比

【答案】D。由于债券价格的波动性与其到期期限的长短相关，期限越长，市场利率变动时其价格波动幅度也越大，债券的利率风险也越大。因此，到期期限对债券收益率也将产生显著影响，投资者一般会对长期债券要求更高的收益率。D 正确，ABC 错误。故本题正确答案选 D。

9. 为切实帮助企业渡过难关，提振经济发展信心，激活被疫情抑制的消费需求，郑州市发放了 4 亿元消费券，具体分为社会消费券和红利性消费券两类。其中，红利性消费券针对低保、低收入、特困、优抚等四类救助对象发放，每人 500 元。对于发放红利性消费券，下列说法正确的是（ ）。

- A. 发放红利性消费券有利于实现消费升级，刺激经济增长
- B. 发放红利性消费券是完善我国分配制度的重要举措
- C. 发放红利性消费券是政府运用货币政策刺激消费的手段
- D. 发放红利性消费券有利于促进社会公平，稳定人民生活

【答案】A。发放红利性消费券有利于实现消费升级，刺激经济增长，A 正确。发放红利性消费券对我国分配制度没有太大影响，B 错误。发放红利性消费券是政府运用财政政策刺激消费的手段，C 错误。发放红利性消费券不利于促进社会公平，稳定人民生活，D 错误。A 正确，BCD 错误。故本题正确答案选 A。

10. 证券投资需要规避证券的各种风险，投资者回避信用风险的最好方法是（ ）。

- A. 适当参考证券信用评级的结果
- B. 投资于证券投资基金
- C. 增大对债券的投资比例
- D. 分散化投资

【答案】A。信用级别高的证券信用风险小；信用级别越低，违约的可能性越大。投资者回避信用风险的最好方法是适当参考证券信用评级的结果。A 正确，BCD 错误。故本题正确答案选 A。

11. 习近平总书记多次强调，金融稳则经济稳，要坚决守住系统性金融风险底线。银行所面临的各类风险中，系统性风险特征最明显的风险类别是（ ）。

- A. 声誉风险
- B. 市场风险
- C. 流动性风险
- D. 信用风险

【答案】B。由于市场风险主要来自所属经济体系，因此具有明显的系统性风险特征，难以通过分散化投资完全消除。国际金融机构通常采取分散投资于多国金融市场的方式来降低系统性风险。B 正确，ACD 错误。故本题正确答案选 B。

12. 中国人民银行不断创新和运用货币政策工具，以达到既定货币政策目标。下列各项中不属于传统货币政策工具的是（ ）。

- A. 发行国债
- B. 调整存款准备金率
- C. 公开市场操作
- D. 再贴现政策

【答案】A。传统货币政策工具包括法定存款准备金率、再贴现率和公开市场业务，所以 A 选项不属于传统货币政策工具。A 正确，BCD 错误。故本题正确答案选 A。

13. M_2 又称为广义货币供给量，是判断宏观信用松紧环境的常用指标，在各国有不同的统计口径。根据中国人民银行的规定，以下不属于 M_2 的是（ ）。

- A. 活期存款
- B. 流通中现金
- C. 银行准备金
- D. 定期存款

【答案】C。 M_2 也叫广义货币， $M_2 = M_1 + \text{定期存款} + \text{储蓄存款} = \text{通货} + \text{活期存款} + \text{定期存款} + \text{储蓄存款}$ ，ABD 排除。C 正确，ABD 错误。故本题正确答案选 C。

14. 商业银行现金类资产收益较低，但是具有较高的流动性。下列不属于商业银行现金类资产的是（ ）。

- A. 法定存款准备金
- B. 同业存放款项
- C. 存放同业款项
- D. 超额存款准备金

【答案】B。商业银行现金类资产包括：（1）库存现金。库存现金是指商业银行保存在

业务款中的现钞和硬币。(2)准备金存款。准备金存款是指商业银行存放在中央银行的资金，包括法定存款准备金和超额存款准备金，AD 正确，排除。(3)存放同业。存放同业是指商业银行存放在除中央银行以外的代理行的存款，C 正确，排除。(4)结算在途资金。B 错误，ACD 正确。本题选非，故本题正确答案选 B。

15.为贯彻落实房住不炒的政策，各地政府纷纷出台措施，对首套房和套房的信贷政策进行差异化处理，如提高二套房的首付比例。这样的举措属于（ ）。

- A.间接性货币政策工具
- B.一般性货币政策工具
- C.选择性货币政策工具
- D.直接性货币政策工具

【答案】C。信用间接控制工具，指中央银行凭借其在金融体制中的特殊地位，通过与金融机构之间的磋商、宣传等，指导其信用活动，以控制信用，其方式主要有窗口指导、道义劝告，A 错误。一般性货币政策工具指中央银行所采用的、对整个金融系统的货币信用扩张与紧缩产生全面性或一般性影响的手段，是最主要的货币政策工具，包括：①存款准备金制度②再贴现政策③公开市场业务，B 错误。选择性货币政策工具是指中央银行针对某些特殊的经济领域或特殊用途的信贷而采用的信用调节工具。主要有以下几种：（一）消费者信用控制（二）证券市场信用控制（三）不动产信用控制：指中央银行对商业银行等金融机构在房地产方面放款的限制。主要目的是为了抑制房地产投机。（四）优惠利率。题干属于不动产信用控制，C 正确。信用直接控制工具，指中央银行依法对商业银行创造信用的业务进行直接干预而采取的各种措施，主要有信用分配、直接干预、流动性比率、利率限制、特种贷款，D 错误。C 正确，ABD 错误。故本题正确答案选 C。

16.下列选项中，不能代表企业偿债能力的指标是（ ）。

- A.应收账款周转率
- B.速动比率
- C.利息保障倍数
- D.流动比率

【答案】A。应收账款周转率反映企业的营运能力，故 A 项正确；利息保障倍数反映企业的长期偿债能力，故 C 项错误；速动比率和流动比率反映企业的短期偿债能力，故选项 BD 错误。故本题正确答案选 A。

17.当企业处于衰退期，其主营业务现金流入不敷出，企业为了还债不得不收回投资以

弥补现金流的不足,这类企业的经营活动已经发出危险信号,如果投资现金流入是投资资产的变现,说明企业很可能已经处于破产边缘,应高度警惕。以下()现金流组合,最符合上述情况。

	经营活动	投资活动	筹资活动
A	-	+	-
B	+	+	-
C	-	-	+
D	-	-	-

- A.组合 A
B.组合 D
C.组合 B
D.组合 C

【答案】A。经营活动现金流入小于流出,所以经营活动现金净流量为负,故 B 项错误;同时企业为了还债不得不大规模收回投资以弥补资金的不足,投资活动现金净流量为正数,筹资为负,故选项 CD 错误。故本题正确答案选 A。

18.企业财务数据的真实性核查,是信贷业务贷前调查的重要环节之一。客户经理小王通过第三方渠道了解到,某目标企业客户在其财务报告对外发布之后,发现一个期末存货被夸大的重大错误。则这个错误对已经发布的年报会产生什么影响?()

- A.低估流动资产 低估毛利润 低估总资产
B.高估流动资产 低估毛利润 低估总资产
C.低估流动资产 高估毛利润 高估总资产
D.高估流动资产 高估毛利润 高估总资产

【答案】D。期末存货被夸大,存货属于流动资产,因此会高估流动资产,进而影响总资产,毛利润也同时增加,故选项 ABC 错误。故本题正确答案选 D。

19.客户经理小王在贷后检查中发现,2019 年底,他负责的某上市公司客户,其股东替该上市公司偿还一笔应付账款 1500 万元,经济实质表明属于对企业的资本性投入。则下列处理中,正确的是()。

- A.公司应付账款减少,资本公积——其他资本公积增加
B.公司应付账款减少,货币资金增加

C.公司应付账款减少,资本公积——股本溢价增加

D.公司应付账款减少,营业外收入增加

【答案】C。偿还应付账款,故应付账款减少,经济实质表明属于对企业的资本性投入,又是上市公司,故资本公积-股本溢价增加。故选项 ABD 错误。故本题正确答案选 C。

20.下列表述中,错误的一项是()。

A.损益表中的利润总额直接反映了企业的经营成果

B.企业所有者权益大,说明其经营实力强

C.运用趋势分析法,不需要考虑前后会计政策的一致性

D.经营活动现金流是企业最根本、可靠、可持续的还款来源

【答案】C。对于计算趋势指数的财报数据,财报使用者同样要注意比较前后期的会计政策、会计估计的一致性,如果会计政策、会计估计不一致,那么趋势指数也会失去比较的实际意义。故本题正确答案为 C。

21.由于销售迅速增长,某企业需要扩大产能,希望从甲银行借款购置设备。甲银行从乙银行拆入一笔资金,并将其发放给该企业。针对该笔贷款,根据《商业银行法》,以下说法正确的是()。

A.不合适,该笔贷款的利差匹配不合理

B.合适,该笔贷款的款项期限匹配合理

C.不合适,该笔贷款的款项期限不匹配

D.合适,该笔贷款的利差匹配合理

【答案】C。拆入款项是短期资金来源,需要迅速偿还,而购置设备贷款属于中长期贷款,不用拆入资金来支持。ABD 不当选。故本题正确答案选 C。

22.甲公司购买乙公司办公桌 200 张,于 2020 年 8 月 20 日向乙公司签发金额为 25 万元的支票一张。当该支票持票人于 2020 年 9 月 3 日向银行行使付款请求权时,下列说法正确的是()。

A.如果甲公司的银行存款只有 10 万元,银行不可以拒绝付款

B.若出票人甲公司在票据上记载“不得转让”,乙公司在收到票据后又背书转让给了丁公司,该转让行为有效但丁公司不可以享有票据权利

C.若该支票已经背书转让给丙公司,则甲公司可以乙公司交付的办公桌质量存在瑕疵为抗辩理由要求银行拒绝向丙付款

D.若该支票已经背书转让给丙公司,丙公司恰好欠支票付款人某银行 25 万元到期贷款,

则该银行可以提出抗辩而拒绝付款

【答案】D。B选项丙公司依然享有票据权利，只是丙公司只能向乙进行追偿。C选项甲公司不可以质量存在瑕疵为理由要求银行拒绝向丙付款。A银行可以拒绝付款。ABC不当选。故本题正确答案选D。

23.华为公司总裁任正非在2020年一次面向内部战略预备队队员和新员工座谈会的讲话中，谈到“我们不需要每个员工都去阅读公司的总战略，不要关注太大的事情....不在其位，不谋其政.....战略是太复杂的问题，几句话是讲不清楚的,你积累到定时候，一定会心领神会...”上述讲话:背后的内涵是不同的管理层级所需的管理技能类型存在差别。任正非所讲的对公司总战略、复杂的问题的理解等，体现的是何种管理技能? ()。

- A.概念技能
- B.技术技能
- C.领导技能
- D.人际技能

【答案】A。A项，概念技能是指一种洞察既定环境复杂程度的能力和减少这种复杂性的能力，当选。B项，技术技能是指管理者掌握与运用某一专业领域内的知识、技术和方法的能力，不当选。C项，三大技能不包括领导技能，不当选。D项，人际技能是指管理者处理人事关系的能力，即理解激励他人并与其他人共事的能力，主要包括领导能力、影响能力和协调能力，不当选。故本题正确答案选A。

24.关于银行客户经理的营销技巧，以下说法正确的是 ()。

- A.客户经理的营销技巧应以客户需求为基础
- B.客户经理在营销前可以不用进行准备，主要看客户经理随机应变的能力
- C.客户经理对客户的产品配置可以不遵循产品风险测试及产品适合度评估
- D.客户经理营销技巧的高低体现在能否完成产品销售

【答案】A。B项，客户经理在营销前需要做好充分准备，不当选。C项，客户经理在进行产品配置时应该做好评估和测试工作，不当选。D项，营销技巧的高低不在于是否完成销售任务，不当选。故本题正确答案选A。

25.体验式经济时代的到来改变了传统的营销方式，体验营销包含感官、情感、思考、行动、关联五个要素。建设银行推出5G试点银行，通过数字IP形象“班克”、仿真机器人“小龙女”带给客户充满科技感的视听体验，这属于以上五个要素中的 ()。

- A.情感

- B.感官
- C.关联
- D.行动

【答案】B。数字 IP 形象“班克”和仿真机器人“小龙女”主要强调视听体验，故本题正确答案选 B。

26.去年底中国建设银行的鼠年金钞营销活动在各渠道全面铺开，除了常规的客户经理渠道、柜面渠道、电子渠道之外，还创造性地通过“腾讯儿童”在朋友圈推送视频页广告，这种全新的营销模式被称为（ ）。

- A.全域营销
- B.视频营销
- C.线上营销
- D.微信营销

【答案】D。在朋友圈进行推广属于微信营销，故本题正确答案选 D。

27.人工智能的目的是让机器能够（ ），以实现某些脑力劳动的机械化。

- A.具有完全的智能
- B.和人脑一样考虑问题
- C.模拟、延伸和扩展人的智能
- D.完全代替人

【答案】C。人工智能(Artificial Intelligence, AI)有时也称作机器智能，是指由人工制造出来的系统所表现出来的智能，主要是为了模拟、延伸和扩展人的智能。故本题正确答案选 C。

28.随着移动互联网、云计算、大数据、人工智能、物联网、区块链等为代表的新兴数字技术的不断发展，人类社会已然迈入数字时代。下列关于新兴数字技术的说法中，错误的是（ ）。

A.区块链通过哈希算法、P2P 网络通信、共识机制等基础技术,形成防篡改、去中心化、自动履约等功能特征

B.5G 具有超高数据速率、大规模连接、低时延、高可靠性等特征，将渗透、影响到社会许多行业

C.物联网具有连通性、技术性、智能性、嵌入性等特征，主要包括无线射频识别技术、传感器技术、智能技术和纳米技术等

D.AR 是一种虚拟现实技术，它由计算机生成交互式三维动态场景，给用户带来沉浸式体验

【答案】D。AR 是 Augmented Reality 的字母缩写，中文名字是“增强现实”，是一种全新人机交互技术。通过 AR 技术，让参与者与虚拟对象进行实时互动，从而获得一种奇妙的视觉体验，而且能够突破空间、时间以及其它客观限制，感受到在真实世界中无法亲身经历的体验。VR 是虚拟现实，D 项是 VR 的概念。故本题正确答案选 D。

29.算法是一个程序的灵魂，是软件最核心的部分，例如人工智能等，算法也是其根本核心。以下哪项不属于算法的基本特征（ ）。

- A.输入
- B.输出
- C.可行性
- D.无穷性

【答案】D。一个算法应该具有以下五个重要的特征：有穷性(Finiteness)算法的有穷性是指算法必须能在执行有限个步骤之后终止；确切性(Definiteness)算法的每一步骤必须有确切的定义；输入项(Input)一个算法有 0 个或多个输入，以刻画运算对象的初始情况，所谓 0 个输入是指算法本身定出了初始条件；输出项(Output)一个算法有一个或多个输出，以反映对输入数据加工后的结果。没有输出的算法是毫无意义的；可行性(Effectiveness)算法中执行的任何计算步骤都是可以分解为基本的可执行的操作步骤，即每个计算步骤都可以在有限时间内完成（也称之为有效性）。没有无穷性。故本题正确答案选 D。

30.大数据预处理指的是在进行数据分析之前，先对采集到的原始数据所进行的一系列操作，旨在提高数据质量，为后期分析工作奠定基础。大数据预处理不包括以下哪一项？（ ）。

- A.数据规约
- B.数据采集
- C.数据转换
- D.数据清理

【答案】B。大数据预处理的方法包括：数据清理：数据清理例程通过填写缺失的值、光滑噪声数据、识别或删除离群点并解决不一致性来“清理”数据。主要是达到如下目标：格式标准化，异常数据清除，错误纠正，重复数据的清除。

数据集成：数据集成例程将多个数据源中的数据结合起来并统一存储，建立数据仓库的

过程实际上就是数据集成。

数据变换：通过平滑聚集，数据概化，规范化等方式将数据转换成适用于数据挖掘的形式。

数据规约：数据挖掘时往往数据量非常大，在少量数据上进行挖掘分析需要很长的时间，数据归约技术可以用来得到数据集的归约表示，它小得多，但仍然接近于保持原数据的完整性，并结果与归约前结果相同或几乎相同。没有数据采集。故本题正确答案选 B。

31. () 反映数据的精细化程度，越精细化的数据价值越高。

- A.颗粒度
- B.关联度
- C.规模
- D.活性

【答案】A。颗粒度反映数据的精细化程度，越精细化的数据价值越高。故本题正确答案选 A。

32. 2019 年初，高某进行了如下四种投资：

甲方案：用三万元购买某公司股票 3000 股，年终时，该公司按照每股 0.5 元进行现金分红，年底时又以每股 12 元全部卖出。

乙方案：用两万元人民币，在汇率为一欧元等于十元人民币时买入欧元，再将欧元存入德国某一银行中，定期年利率为 3%年底到期后换为人民币。当时汇率为一欧元=12 人民币。

丙方案：用六万元买入某公司债券，年底获得收益 1.2 万元。

丁方案：将 50 万元存入银行，一年定期利率为基准利率 4%的基础上上浮 30%年底到期后全部取出。

年底高某对自己上述四种投资方案进行了梳理，不考虑其他因素，四种投资方案，年化收益率最高的为 ()

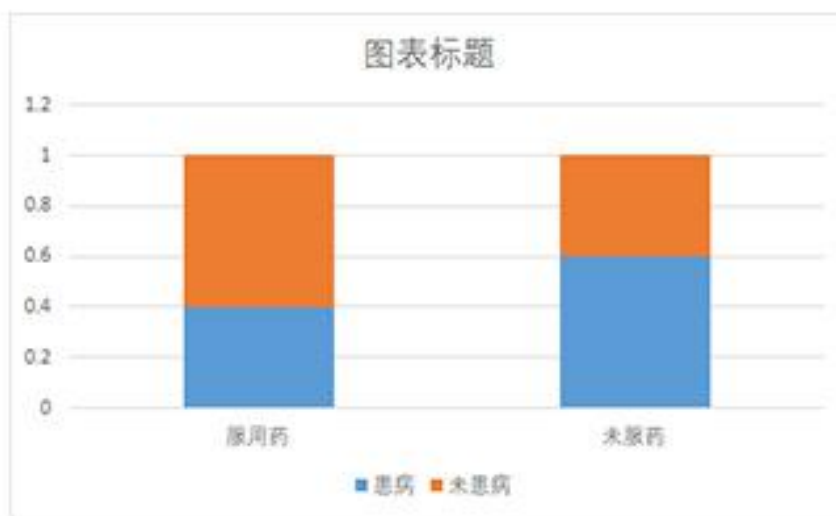
- A.乙
- B.丙
- C.甲
- D.丁

【答案】C。年化收益率是指投资期限为一年所获的收益率。即，年化收益率=[(投资内收益 / 本金) / 投资天数] * 365 × 100%。A 项，年化收益率=【2000*3%*12+2000*(12-10)】/20000=23.6%，不当选。B 项，年化收益率=12000/60000=20%，不当选。C 项，年化收益率

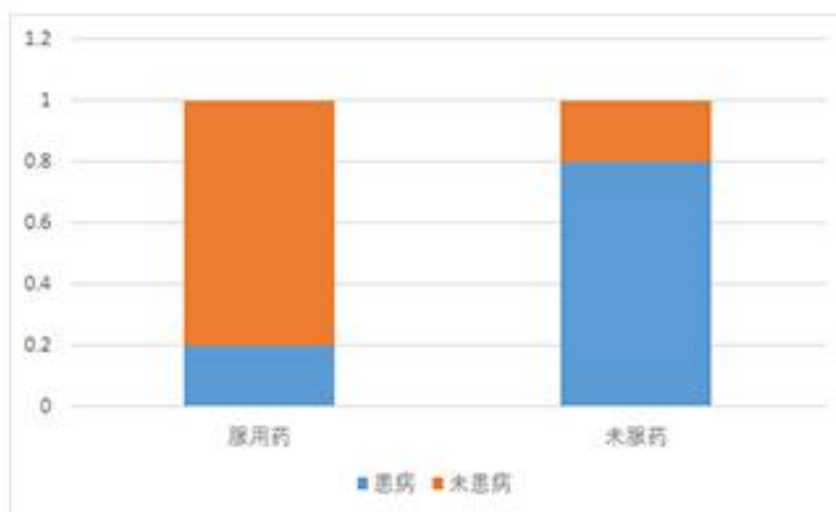
= $\frac{3000 \times 0.5 + 3000 \times (12 - 10)}{30000} = 25\%$ ，当选。D项，年化收益率 = $4\% \times 1.3 = 5.2\%$ ，不当选。故本题正确答案选 C。

33. 世卫组织数据显示，当前全球新冠病毒候选疫苗为 182 个，临床试验为 36 个，未考虑 A B 2 种药物预防新冠肺炎的效果，某机构研究进行了动物实验，分别得到如下图所示的等高条形图

药物A



药物B



根据图中信息，下列各项中说法最准确的一项为，

- A. 药物 B 的预防效果优于药物 A 的预防效果,
- B. 药物 AB 对该疾病均有显著的预防效果,
- C. 药物 AB 对该疾病均没有预防效果,
- D. 预防效果。药物 A 优于药物 B 的预防效果

【答案】A。该条形图是等高条形图，无论药物 A 还是药物 B 服药后患病比例都有所下降，因此均有预防效果，但是药物 A 服药之后患病病例下降幅度小于药物 B 服药后下降比例，说明药物 B 的预防效果优于药物 A，相较于 B 选项，A 选项更为准确，C、D 选项错误。故本题正确答案选 A。

34. 金融资产 M X Y Z 之间的相关函数如下，M X 的相关系数为 1，M 与 Y 的相关系数为 0.5，M 与 Z 的相关系数为 0.4，所有资产的期望收益率都为 7%，标准差为 15%，如果目前的资产都有 M 组成，只允许选取 X Y Z 中的一种资产组成组合投资，作为理性投资者应选择（ ）。

- A. 都可以
- B. Z
- C. Y
- D. X

【答案】B。当组合的相关系数为 1 时，风险降低得不明显，组合的风险介于各种资产各自的风险之间；当组合的相关系数为-1 时，风险降低很明显；当组合的相关系数为-1 到 1 之间时，风险低于各种资产标准差的简单加权平均值。对比各组相关系数，其中 Z 的相关系数为 0.4，风险降低最为明显，故本题正确答案选 B。

35. 在市场调研中，抽样调查虽然是非全面调查，但他的目的却在于取得反映总体情况的信息资料，因而也可以起到全面调查的作用，并且实现低成本投入，在其他条件相同的情况下，下列哪种抽样方法及抽样误差较小？样本代表性较好（ ）

- A. 机械
- B. 整群
- C. 简单随机
- D. 类型抽样

【答案】D。分层抽样法也叫类型抽样法。它是从一个可以分成不同子总体（或称为层）的总体中，按规定的比例从不同层中随机抽取样品（个体）的方法。这种方法的优点是，样本的代表性比较好，抽样误差比较小，故本题正确答案选 D。

36.下列不适合采用回归分析方法进行研究的是()。

A.某手机公司要推出一款新手机，市场部研究价格变动与销量之间的关系，从而为手机设置更加合理的价位，

B.了解某款汽车限制与使用年限的关系，从二手车市场获取该款车型的使用年限和销售价格数据，

C.知名调查机构调查总统大选前总统候选人的支持率，

D.父母的身高对其子女可能产生一定影响，研究父母身高与子女身高之间的关系

【答案】C。回归分析法指利用数据统计原理，对大量统计数据进行数学处理，并确定因变量与某些自变量的相关关系，建立一个相关性较好的回归方程（函数表达式），并加以外推，用于预测今后的因变量的变化的分析方法。C项中的支持率并没有自变量和因变量，故无法使用回归分析法。故本题正确答案选C。

37.中国建设银行在全行营业网点中开展启动()建设工作？打造服务民生的新品牌，重点为环卫工人出租车司机交通警察城管快递员等户外劳动者老弱病残孕走私儿童考生等特殊关爱群体及其他需求社会公众提供惠民服务。

A.温暖屋

B.劳动者港湾

C.建设蓝港湾

D.爱心角

【答案】B。“发展为了人民、发展依靠人民、发展成果由人民所共享。”为落实党的十九大精神和国家普惠金融战略做出的重要部署，让改革发展成果更多惠及全体人民，尤其是广大普通劳动者，增强人民群众的获得感、幸福感，近日，建设银行在全行网点启动“劳动者港湾”建设工作，进一步促进网点服务资源开放共享，增强网点服务社会能力，打造服务民生的新品牌，为新时代金融普惠大众提供新抓手，为共同建设美好生活探索新模式。故本题正确答案选B。

38.中国建设银行依托自主金融科技平台()，大力推广疫情期间数字化运营和服务，积极为地方政府企事业单位提供疫情防控相关线上服务和技术解决方案，推出创新。集成应用国家防控健康码，助力城乡构建防控线上加线下立体防控体系。

A.建行龙财富

B.裕龙天下服务点

C.建行智慧社区管理平台

D.善融商务

【答案】D。善融商务是中国建设银行推出的以专业化金融服务为依托的电子商务金融服务平台，融资金流、信息流和物流为一体，为客户提供信息发布、在线交易、支付结算、分期付款、融资贷款、资金托管、房地产交易等全方位的专业服务。新冠疫情发生以来，居民的日常生活面临诸多不便。社区封闭式管理使买菜更为困难。建设银行善融商务急民众之所急，上线“善融商务菜篮子”，积极发挥银行电商优势，以金融科技赋能，开辟绿色通道，提供便民服务。故本题正确答案选 D。

39.2020 年 7 月 20 日，在做好防控疫情的基础上，建行大学 2022 年度（ ）万名学子暑期下乡实践云启动仪式在贵阳举行云启动仪式后，全国万余名学子开启了为期一个月的暑期下乡实践活动，通过线上加线下方式，送金融知识扶贫政策卫生知识稻香村跟岗锻炼，感知民生，积极推进产教融合一体赋能社会。

- A.金智慧正-富裕乡村
- B.金智裕贫-赋能乡村
- C.金智慧民-乡村振兴
- D.金智慧学-智慧赋能

【答案】C。7 月 20 日，在做好疫情防控的基础上，建行大学 2020 年度“金智慧民—乡村振兴”万名学子暑期下乡实践云启动仪式在贵阳举行。故本题正确答案选 C。

40.中国建设银行的经营理念是（ ）。

- A.鼓励开放宽容审慎
- B.以市场为导向，以客户为中心
- C.客户至上，注重细节
- D.全员主动合规合规创造价值

【答案】B。中国建设银行的经营理念为“以市场为导向、以客户为中心”；服务理念为“客户至上、注重细节”；风险理念为“了解客户、理解市场、全员参与、抓住关键”；人才理念为“注重综合素质、突出业绩实效”。故本题正确答案选 B。

二、多项选择题（每小题 1 分，共 25 分，每小题只有一个正确答案）

41.2020 年 7 月，中国制造业采购经理指数（PMI）为 51.1%，较上月上升 0.2 个百分点，经济回升向好发展。作为监测生产活动的前沿指标，PMI 在经济趋势预测中具有重要参考作用。关于 PMI，以下说法正确的有（ ）。

- A.PMI 是国际上通用的监测宏观经济走势的先行性指标之一

B.在 PMI 的分类指数中，权重最大的是原材料库存指数

C.我国的 PMI 是一个综合指数，由 5 个扩散指数（分类指数）加权计算而成

D.一般而言，PMI 高于 50%时，反映制造业经济扩张；低于 50%时，反映制造业经济收缩

【答案】ACD。采购经理指数（PMI），是国际上通用的监测宏观经济走势的先行性指数之一，具有较强的预测、预警作用，A 选项正确；PMI 是个综合指数，由生产、新订单、原材料库存、从业人员、供应商配送时间 5 个分类指数加权平均而成，C 选项正确；这 5 个分类指数以及它的权重，依据它们对经济先行影响程度而确定。由于供应商配送时间是逆序指数，在计算 PMI 时进行逆序计算。PMI 的计算公式为： $PMI = \text{新订单指数} \times 30\% + \text{生产指数} \times 25\% + \text{从业人员指数} \times 20\% + (100 - \text{供应商配送时间指数}) \times 15\% + \text{主要原材料库存} \times 10\%$ ，B 选项错误；PMI 通常以 50%作为经济强弱的分界点，PMI 高于 50%时，反映制造业经济扩张；低于 50%，则反映制造业经济收缩，D 选项正确。ACD 选项符合题意，B 选项错误。故本题正确答案选 ACD。

42.如果将若干长短不一的木板箍成个水桶，其盛水量不是取决于最长的木板，而是最短的那块木板，这就是“木桶效应”。有人将木桶效应进步引申，认为木桶的盛水量不仅取决于最短的木板，还取决于木板与木板之间存在的缝隙。这对于我们实现经济的高质量发展有何启示（ ）。

A.重视解决社会公平正义问题，逐步实现共同富裕

B.坚持发挥市场在完善社会保障中的决定性作用

C.把创新作为发展的第一动力和创造财富的源泉

D.促进城乡区域协调发展、促进经济社会协调发展

【答案】AD。根据“木桶效应”可知，实现经济的高质量发展，必须促进城乡区域协调发展、促进经济社会协调发展，实现社会的公平正义，实现共同富裕，AD 选项正确；完善社会保障，属于政府的经济职能，政府在完善社会保障方面发挥着决定性作用，B 选项错误；创新是经济发展的第一动力，但不是创造财富的源泉，劳动是创造财富的源泉，C 选项错误。故本题正确答案选 AD。

43.封闭式基金与开放式基金的区别在于（ ）。

A.基金单位交易方式和价格计算标准不同

B.投资者身份不同

C.投资策略不同

D.期限和发行规模限制不同

【答案】ACD。封闭式基金与开放式基金有以下主要区别：①期限不同；②发行规模限制不同；③基金份额交易方式不同；④基金份额的交易价格计算标准不同；⑤基金份额资产净值公布的时间不同；⑥交易费用不同；⑦投资策略不同。ACD 选项符合题意，B 选项错误。故本题正确答案选 ACD。

44.关于恩格尔曲线和恩格尔定律的说法中，正确的有（ ）。

- A.随着人们收入的增加，用于食品支出的部分在人们生活支出中所占比例将下降
- B.随着人们收入的增加，用于住宅和穿着方面的支出比例将显著增加
- C.恩格尔曲线可以由消费者收入供给曲线推导出
- D.随着人们收入的增加，用于住宅和穿着方面的支出比例将基本不变

【答案】AD。恩格尔定律主要内容是：①随着家庭收入的增加，家庭用于购买食品的支出占家庭收入的比重就会下降；②随着家庭收入的增加，家庭用于住宅建筑和家务经营的支出占家庭收入的比重大体不变；③随着家庭收入的增加，家庭用于其他方面的支出和储蓄占家庭收入的比重就会上升，AD 选项正确，B 选项错误；恩格尔曲线表示消费者在每一收入水平对某种商品的需求量。由消费者的收入—消费曲线可以推导出消费者的恩格尔曲线，C 选项错误。故本题正确答案选 AD。

45.经济过热，容易产生泡沫，导致供大于求，这是西方经济学家总结美国 1929 年大萧条和 2008 年次贷危机的主要教训之一。在经济过热时，为了放缓经济发展速度，减少需求，政府可采取相机抉择的财政政策。在以下措施中，不属于上述财政政策的有（ ）。

- A.降低税率
- B.提高财政补贴
- C.降低法定存款准备金率
- D.提高税率

【答案】ABC。在经济过热、存在通货膨胀时，政府要通过减少财政支出、增加税收等，控制总需求，抑制通货膨胀，因此应降低财政补贴，提高税率；降低法定存款准备金率属于货币政策，不属于财政政策。ABC 选项符合题意，D 选项错误。故本题正确答案选 ABC。

46.8 月 25 日起，建设银行、工商银行等大型商业银行开始对批量转换范围内的个人住房贷款，按照相关规则统一调整为贷款市场报价利率（LPR）定价方式，其它银行也发布了类似的转换通知。下列关于 LPR 的说法中，正确的有（ ）。

- A.LPR 对于提升货币政策传导效率、降低企业融资成本、加大对实体经济支持力度具

有重要意义

B.LPR 能够为金融部门实施宏观调控提供重要参考,有利于让稳健的货币政策更加灵活适度,更好满足实体经济发展需求

C.5 年期以上 LPR 主要为银行发放住房抵押贷款等长期贷款的利率定价提供参考

D.LPR 市场化程度更高,灵活性更强,能够更加灵敏地反映市场上资金供求变化,已经成为银行对贷款定价的主要参考

【答案】ABCD。改革后, LPR 的市场化程度明显提高,对于提升货币政策传导效率、降低企业融资成本、加大对实体经济支持力度具有重要意义, A 选项正确; LPR 能够反映资金供求状况,为金融部门实施宏观调控提供重要参考,有利于让稳健的货币政策更加灵活适度,更好满足实体经济发展需求, B 选项正确;改革后,央行提出明确要求,各银行在新发放的贷款中主要参考 LPR 定价,并在浮动利率贷款合同中采用 LPR 作为定价基准。其中,5 年期以上 LPR 主要为银行发放住房抵押贷款等长期贷款的利率定价提供参考, C 选项正确;改革后的 LPR,市场化程度更高,灵活性更强,能够更加灵敏地反映市场上资金供求变化,已经成为银行对贷款定价的主要参考, D 选项正确。故本题正确答案选 ABCD。

47.在财政分配中涉及帕累托最优原理的运用,帕累托最优是指在不使任何人境况变坏的情况下,也不可能再使某些人的处境变好。理论上,当达到帕累托最优时,以下说法正确的有()。

- A.帕累托改进是达到帕累托最优的路径和方法
- B.达到帕累托最优时,也同时达到利润最大化
- C.达到帕累托最优时,也同时达到交换的最优
- D.帕累托最优是指没有进行帕累托改进余地的状态

【答案】ACD。帕累托最优的状态就是不可能再有更多的帕累托改进的余地,即帕累托改进是达到帕累托最优的路径和方法, AD 选项正确;一般来说实现帕累托最优应该同时满足以下三个条件:①交换的最优条件:即使再交易,个人也不能从中得到更大的利益。此时对任意两个消费者,任意两种商品的边际替代率是相同的,且两个消费者的效用同时得到最大化。②生产的最优条件:这个经济体必须在自己的生产可能性边界上。此时对任意两个生产不同产品的生产者,需要投入的两种生产要素的边际技术替代率是相同的,且两个生产者的产量同时得到最大化。③交换和生产的最优条件:经济体产出产品的组合必须反映消费者的偏好。此时任意两种商品之间的边际替代率必须与任何生产者在这两种商品之间的边际产品转换率相同, C 选项正确;不完全竞争的利润最大化状况没有达到帕累托最优,存在帕

累托改进的余地，B选项错误。故本题正确答案选ACD。

48.2020年7月14日，银保监会通报了影子银行和交叉金融业务的突出问题，强调需重视影子银行回潮现象。根据国际金融稳定理事会对“影子银行”做出的界定，下列属于“影子银行”监管范畴的有（ ）。

- A.典当行
- B.金融租赁公司
- C.担保公司
- D.小额贷款公司

【答案】ABCD。按照金融稳定理事会的定义，影子银行是指游离于银行监管体系之外、可能引发系统性风险和监管套利等问题的信用中介体系。中国的“影子银行”包含两部分，一部分主要包括银行业内不受监管的证券化活动，以银信合作为主要代表，还包括委托贷款、小额贷款公司、担保公司、信托公司、财务公司和金融租赁公司等进行的“储蓄转投资”业务；另一部分为不受监管的民间金融，主要包括地下钱庄、民间借贷、典当行等。ABCD选项符合题意。故本题正确答案选ABCD。

49.2020年8月，商务部官网发布《关于印发全面深化服务贸易创新发展试点总体方案的通知》，其中公布了数字人民币试点地区，这让数字人民币再度引发人们的关注。以下有关数字人民币的说法中，正确的有（ ）。

- A.与比特币不同，央行数字人民币具有国家信用
- B.数字人民币可以看做是数字化的人民币现金，功能、属性与纸钞一样
- C.数字人民币与支付宝、微信支付、建行龙支付类似，是央行层面的支付手段
- D.在我国广大居民消费习惯各有不同，现金支付、非现金支付将长期共存

【答案】ABD。从货币属性看，比特币等“虚拟货币”本质上并非货币。央行数字货币是基于国家信用、由央行发行的法定数字货币，A选项正确；数字货币的功能和属性跟纸钞完全一样，只不过它的形态是数字化的，简单地说，人民银行数字货币可以看做是数字化的人民币现金，B选项正确；它不依托于银行账户和支付账户，只要用户装有数字货币钱包即可使用。央行的数字货币使用最新的双离线技术，即使在没有手机信号的情况下，依然可以使用，C选项错误；未来央行数字货币会替代一部分的现金，但不会全部取代纸币。在我国纸币将长期存在，我们的用户习惯也各有不同，现金支付、非现金支付将长期共存。故本题正确答案选ABD。

50.已知某国货币升值，以下可能发生的情形有（ ）。

- A.投资者预期本币升值、资本回流，促进汇率进一步上升
- B.该国物价上涨趋势得以延缓
- C.投资者预期本币贬值、资本外流，致使汇率有所回落
- D.该国进口增加、出口减少

【答案】ABD。一国货币升值会吸引各国投资者在利益的驱动下投资各种金融资产，导致投机型短期资金，即热钱，大量流入本国市场，C选项错误，A选项正确；一国货币升值，可以导致进口商品价格下降，使国内物价水平降低；同时国内产品价格相对国外同类产品有所提高，导致出口下降，国内出口需求降低可以使国内物价水平下降。进口商品增加，出口商品减少，贸易顺差降低，还可以减轻外汇占款的压力，所以说货币升值有助于缓解国内通胀压力，BD选项正确。故本题正确答案选ABD。

51.基本存款账户是存款人的主办账户。下列关于基本存款账户的表述中，正确的有（ ）。

- A.基本存款账户可以用于借款、现金缴存或其他结算需要
- B.工资、奖金的发放禁止从基本存款账户中支取
- C.异地常设机构可以申请开立基本存款账户
- D.一个单位只能开立一个基本存款账户

【答案】CD。一般存款账户简称一般户，是指存款人因借款或其他结算需要，在基本存款账户开户银行以外的银行营业机构开立的银行结算账户，A选项错误；工资、奖金和现金的支取，应通过基本存款账户办理，B选项错误；《人民币银行结算账户管理办法》规定，下列存款人，可以申请开立基本存款账户：企业法人、非法人企业、机关单位、团级（含）以上军队、武警部队及分散执勤的支（分）队、社会团体、民办非企业组织、异地常设机构、外国驻华机构、个体工商户、居民委员会、村民委员会、社区委员会、单位设立的独立核算的附属机构、其他组织，C选项错误；基本存款账户：存款单位的现金支取，只能通过基本存款账户办理。一个单位只能选择一家银行的一个营业机构开立一个基本存款账户，不得同时开立多个基本存款账户，D选项正确。故本题正确答案选CD。

52.下列反映企业盈利能力的指标有（ ）

- A.净资产收益率
- B.销售净利率
- C.主营业务利润率
- D.资产报酬率

【答案】ABCD。净资产收益率=（净利润÷平均所有者权益）×100%，故 A 项正确；销售净利率=净利润÷销售收入，故 B 项正确；主营业务利润率是指企业一定时期主营业务利润同主营业务收入净额的比率，反映企业主营业务的获利能力，故 C 项正确；资产报酬率又称总资产利润率、总资产回报率、资产总额利润率，资产报酬率=（净利润+利息费用+所得税）/平均资产总额×100%，用以评价企业运用全部资产的总体获利能力，故 D 项正确。故本题正确答案选 ABCD。

53.甲公司向乙公司购买一批电子产品，甲公司签发一张汇票给乙公司，乙公司将该汇票背书购与丙公司。后甲公司发现乙公司提供的电子产品为假冒伪劣产品。下列选项正确的有（ ）。

- A.该票据有效
- B.该票据无效
- C.甲公司可以拒绝向丙公司付款
- D.甲公司不可以拒绝丙公司的票据权利请求

【答案】AD。票据法规定票据效力不受货物的质量影响，丙公司正当取得票据权利。故选项 BC 错误。故本题正确答案选 AD。

54.下列关于银行安全性指标的说法中，正确的有（ ）。

- A.不良贷款拨备覆盖率指标有利于观察银行的拨备政策
- B.一般而言，不良贷款率低，说明银行不能收回的贷款占总贷款的比例小
- C.按风险程度可将贷款划分为正常、关注、次级、可疑、损失五类，其中后三类合称为不良贷款
- D.资本充足率反映一家银行的整体资本稳健水平

【答案】ABCD。不良贷款拨备覆盖率是衡量银行对不良贷款进行账务处理时,所持审慎性高低的重要指标。该指标有利于观察银行的拨备政策，A 选项正确；不良贷款率不良贷款率,指金融机构不良贷款占总贷款余额的比重。不良贷款率高，可能无法收回的贷款占总贷款的比例越大。不良贷款率低，说明金融机构不能收回贷款占总贷款的比例越小，B 选项正确；贷款五级分类是指商业银行依据借款人的实际还款能力进行贷款质量的五级分类。即按风险程度将贷款划分为五类：正常、关注、次级、可疑、损失，后三种为不良贷款，C 选项正确；资本充足率是商业银行资本总额与风险加权资产的比值，反映的是一家商业银行的整体资本稳健水平，D 选项正确。故本题正确答案选 ABCD。

55.当前，人工智能、移动互联网、传感器和社会协作系统等在不断颠覆人们的生活，

工作和沟通方式。数字化给管理者带来的效率提升是显而易见的，但随之带来的信息超载，也给管理者带来不小的沟通障碍。除了信息超载，管理者还面临哪些有效沟通的障碍？

()

- A.防卫
- B.情绪
- C.民族文化
- D.过滤

【答案】BCD。有效沟通，就是通过听、说、读、写等载体，通过演讲、会见、对话、讨论、信件等方式将思维准确、恰当地表达出来，以促使对方接受。达成有效沟通须具备两个必要条件：首先，信息发送者清晰地表达信息的内涵，以便信息接收者能确切理解；其次，信息发送者重视信息接收者的反应并根据其反应及时修正信息的传递。其中，有效沟通的主要障碍包括：从主观角度去理解（过滤）、选择性知觉、个人情绪的影响、语言（年龄、教育、文化背景）、非语言提示、和跳跃性的推论。故本题正确答案选 BCD。

56.撇序定价法是一种在产品生命周期的最初阶段，把产品的价格定得很高，以攫取最大利润的定价方法。下列哪些情形适用撇脂定价法？

- A.与同类产品差异性较大
- B.市场需求对价格不敏感
- C.市场需求水平低
- D.消费者购买力强

【答案】ABD。撇脂定价法是指在产品生命周期的最初阶段把产品价格定得很高，以求最大利润，尽快收回投资。这是对市场的一种榨取，就像从牛奶中撇取奶油一样。撇脂式定价法只在一定条件下有意义。产品必须符合以下条件才适用于撇脂定价法：

第一，市场上存在一批购买力很强、并且对价格不敏感的消费者；

第二，这样的一批消费者的数量足够多，企业有厚利可图；

第三，暂时没有竞争对手推出同样的产品，本企业的产品具有明显的差异化优势；

第四，当有竞争对手加入时，本企业有能力转换定价方法，通过提高性价比来提高竞争力；

第五，本企业的品牌在市场上有传统的影响力。

故本题正确答案选 ABD。

57、如果把大数据比作一种产业，这种产业实现盈利的关键，在于提高对数据的“加工

能力”，通过“加工”实现数据的“增值”。这里的“加工”主要包括（ ）。

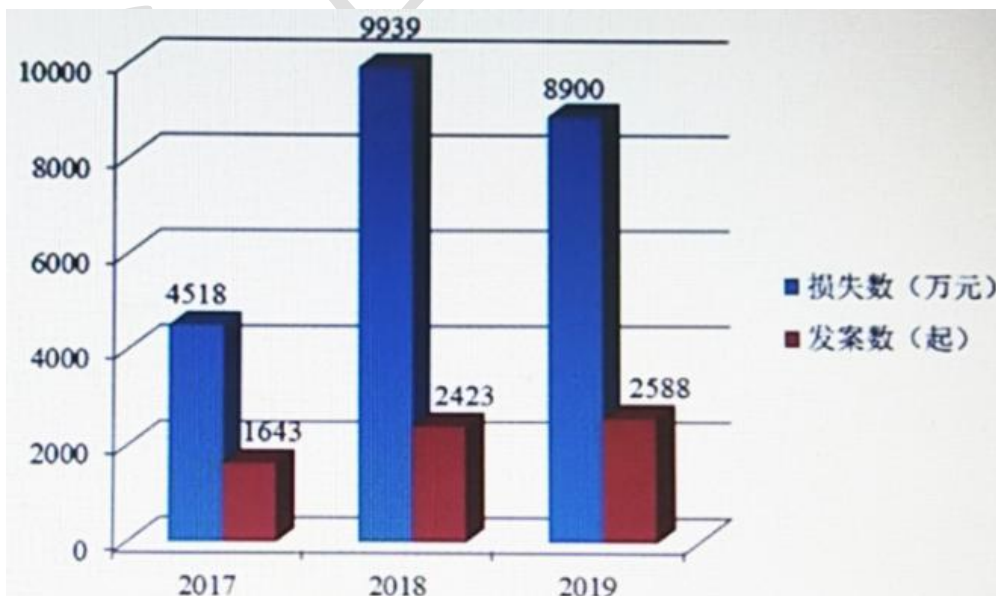
- A. 预测性分析
- B. 数据挖掘算法
- C. 语义引擎
- D. 可视化分析

【答案】ABCD。大数据分析的5个方向：可视化分析，数据挖掘算法，预测性分析能力，语义引擎，数据质量和数据管理等。故本题正确答案选ABCD。

58. 北斗卫星导航系统是我国迄今为止规模最大、覆盖范围最广、服务性能要求最高的巨型复杂航天系统，具有性能指标高，技术体制新、国产化程度高、批产组网、用户范围广等特点。北斗卫星导航可以应用的领域有（ ）。

- A. 自动驾驶
- B. 形变监测
- C. 精准农业
- D. 国土测绘

【答案】ABD。北斗卫星导航系统入选的9项应用案例分别为：“北斗水电站大坝形变监测应用”、“北斗农机自动驾驶应用”、“基于北斗的驾驶人考训应用”、“印度尼西亚土地确权应用”、“科威特建筑施工形变监测应用”、“乌干达国土测绘应用”、“马尔代夫海上打桩应用”、“老挝土地确权应用”、“北斗地基增强系统”。故本题正确答案选ABD。



59. 从上图的数据来看，下列选项表述正确的有（ ）。

- A. 2017年至2018年电信网络诈骗犯罪案件发案数上升率达到了20%以上

B.2018 年以后电信网络诈骗的增长趋势并没有得到遏制

C.2017 年至 2018 年电信网络诈骗发案增长率比 2018 年至 2019 年的电信网络诈骗发案增长率高 60%

D.2018 年相比较 2017 年来看,电信网络诈骗犯罪中单起案件的平均损失金额明显上升

【答案】D。A 选项,2017 年至 2018 年电信网络诈骗犯罪案件发案数上升率为 $(2423-1643)/1643 \approx 47.47\%$, A 选项错误; B 选项,从柱形图可以看出发案数的上升速度下降,损失数下降,因此得到 2018 年以后电信网络诈骗的增长趋势得到遏制, B 选项错误; C 选项,2018 年至 2019 年的电信网络诈骗发案增长率为 $(2588-2423)/2423 \approx 6.8\%$ 。而 2017 年至 2018 年电信网络诈骗发案增长率约为 47.47%, 2017 年至 2018 年电信网络诈骗发案增长率是 2018 年至 2019 年的电信网络诈骗发案增长率约 8 倍,不是高 60%, C 选项错误; D 选项,2017 年单起案件的平均损失金额为 $4518/1643 \approx 2.75$ 万元, 2018 年单起案件的平均损失金额为 $9939/2423=4.10$ 万元, 2018 年相较于 2017 年明显上升, D 选项正确。故本题正确答案选 D。

60、下列关于大数据特点的判断中,正确的有()。

A、某公司每天大约处理几十亿次搜索请求,数据最达几十 PB,这体现了大数据具有规模大的特征

B、随着物联网技术的发展,数值数据、文本数据、图形图像数据、音频视频数据、空间数据等数据类型不断涌现,这体现了大数据具有数据类型多样的特征

C、交通视频监控每天都会产生大量视频数据,可对于交通事故的责任认定而言,只有车辆出现违章或发生事故时的视频才有价值,大量其他数据并无价值,这体现了大数据价值密度低的特征

D、某年“双十一”在一分钟内交易额就突破了 10 亿元,而这背后是大量支付与交易数据的即时处理,这体现了大数据处理速度快的特征

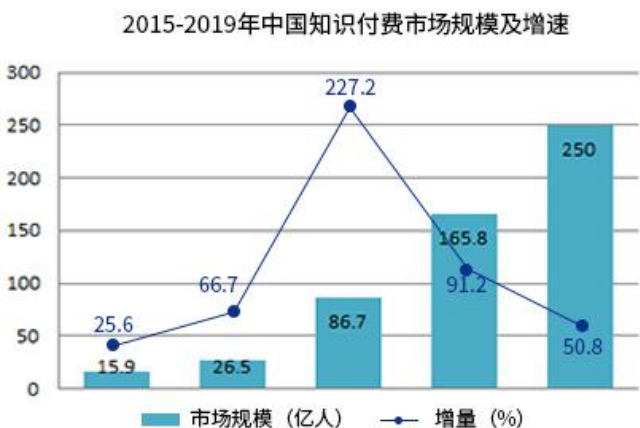
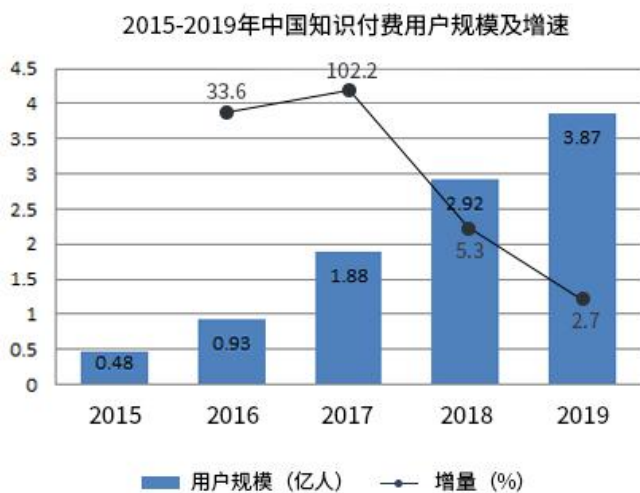
【答案】ABCD。大数据特征:业界通常用 4 个 V(即 Volume、Variety、Value、Velocity)来概括大数据的特征。1.Volume:数据量大,包括采集、存储和计算的量都非常大。大数据的起始计量单位至少是 P(1000 个 T)、E(100 万个 T)或 Z(10 亿个 T)。大数据最显著的特征是数据规模大。

2.Variety:种类和来源多样化。包括结构化、半结构化和非结构化数据,具体表现为网络日志、音频、视频、图片、地理位置信息等等,多类型的数据对数据的处理能力提出了更高的要求。

3.Value:数据价值密度相对较低。随着互联网以及物联网的广泛应用,信息感知无处不

在，信息海量，但价值密度较低，如何结合业务逻辑并通过强大的机器算法来挖掘数据价值，是大数据时代最需要解决的问题。

4.Velocity:数据增长速度快，处理速度也快，时效性要求高。比如搜索引擎要求几分钟前的新闻能够被用户查询到，个性化推荐算法尽可能要求实时完成推荐。这是大数据区别于传统数据挖掘的显著特征。故本题正确答案选 ABCD。



61.根据图中信息，下列各项中，说法正确的有（ ）。

- A.不考虑其他因素，如保持 2019 年增速不变，预计 2020 年我国知识付费市场规模有望突破 350 亿元
- B.2015~2019 年我国知识付费市场规模不断扩大，增速在 2017 年达到最快后逐步放缓
- C.2015~2019 年我国知识付费用户规模不断扩大，增长迅速
- D.不考虑其他因素，如保持 2019 年增速不变，预计 2020 年我国知识付费用户规模有望突破 4 亿人

【答案】B。A选项，如保持2019年增速不变，预计2020年我国知识付费市场规模约为 $250 \times (1+50.8\%) = 377$ 亿元，不是突破350亿元，A选项错误；B选项，增速应该在2017年达到最快，后逐步放缓，B选项正确；C选项，2018与2019年知识付费用户规模增速较缓慢，C选项错误；D选项，如保持2019年增速不变，预计2020年我国知识付费用户规模将为 $3.87 \times (1+2.7\%) \approx 3.97$ 亿人，没有突破4亿人，D选项错误。故本题正确答案选B。

62、中国建设银行的核心价值观是（ ）。

- A、创造
- B、稳健
- C、诚实
- D、公正

【答案】ABCD。中国建设银行的核心价值观是诚实、公正、稳健、创造。故本题正确答案选ABCD。

63、今年以来，面对突如其来的新冠肺炎疫情冲击，中国建设银行积极发挥大行作用，围绕“六稳”工作和“六保”任务，支持服务经济社会发展和满足人民群众的金融需求，持续发力（ ）“三大战略”，积极探索数字化经营模式，为疫后生产恢复和经济社会发展贡献金融力量。

- A.普惠金融
- B.住房租赁
- C.国际业务
- D.金融科技

【答案】ABD。今年以来，建行面对突如其来的新冠肺炎疫情冲击，建设银行积极发挥大行作用，主动作为，以习近平总书记提出的“三个能力”建设为根本遵循，全力投身抗疫和助力复工复产，围绕“六稳”工作和“六保”任务，支持服务经济社会发展和满足人民群众的金融需求，持续发力住房租赁、普惠金融、金融科技“三大战略”，积极探索数字化经营模式，为疫后生产恢复和经济社会发展贡献金融力量。故本题正确答案选ABD。

64、以下有关中国建设银行所获荣誉的说法中，正确的有（ ）。

A.2020年8月28日，《亚洲银行家》杂志举办2020年度中国奖项计划颁奖典礼，中国建设银行被授予“Cutoian Bank of the Year in China(Mega Bank)”中国年度托管银行(大型银行)奖项，成为唯一获得该奖项的中资银行

B.2020年7月17日，中国银行业协会通报表彰2019年中国银行业社会责任百佳评估

获奖情况，中国建设银行在助力打赢“三大攻坚战、精准扶贫、抗击疫情等方面的努力，得到了监管机构和社会各界的致认可，荣获最具含金量的综合类大奖助力打赢三大攻坚战成效奖”等五项大奖

C.2020年7月1日，英国《银行家》杂志发布2020年“全球银行1000强最新榜单，中国建设银行连续七年稳列前茅，位居榜单第二位

D.2020年9月5日，中国建设银行凭借全球撮合家智能跨境撮合平台，荣获2020年中国国际服务贸易交易会“全球服务示范案例”奖项，并作为银行业唯一受邀代表，在现场进行了示范案例分享交流

【答案】ABCD。8月28日，由国际权威金融类杂志《亚洲银行家》举办的“2020年度中国奖项计划”颁奖典礼在深圳举行，中国建设银行在颁奖典礼上荣获七项大奖：建行被授予“Custodian Bank of the Year in China (Mega Bank)中国年度托管银行（大型银行）”奖项，成为唯一获得该奖项的中资银行。故A项说法正确；7月17日，中国银行业协会通报表彰了2019年中国银行业社会责任百佳评估获奖单位及个人。中国建设银行在助力打赢“三大攻坚战”、精准扶贫、抗击疫情等方面的努力，得到了监管机构和社会各界的一致认可，荣获五项大奖，包含最具含金量的综合类大奖“助力打赢‘三大攻坚战’成效奖”，以及单项奖“最佳精准扶贫贡献奖”，故B项说法正确；7月1日，英国《银行家》杂志发布了“2020年全球银行1000强”榜单，今年中国共有143家银行进入1000强，仅次于美国。英国《银行家》杂志发布了2020年“全球银行1000强”最新榜单，中国共有143家银行进入1000强。中国建设银行连续七年稳列前茅，位居榜单第二位。故C项说法正确；9月5日，2020年中国国际服务贸易交易会示范案例交流会暨颁奖典礼在北京国家会议中心举行。中国建设银行凭借“全球撮合家”智能跨境撮合平台，荣获本届服贸会“全球服务示范案例”奖项，并作为银行业唯一受邀代表，在现场进行了示范案例分享交流。故D项说法正确。故本题正确答案选ABCD。

65、2020年上半年，中国建设银行统筹疫情防控和支持经济社会发展，服务实体经济质效提升。下列有关中国建设银行半年经营发展情况的描述中，正确的有()。

A.稳步推动海外业务发展和境外商业银行机构网络建设，不断提升全球化客户服务能力和参与国际竞争能力

B.坚持优化信贷结构,巩固基础设施领域优势，提升普惠金融占比，促进绿色金融、战略新兴产业稳步发展，支持制造业改造升级

C.与各级政府广泛合作开展智慧政务建设,通过安心养老、建融慧学、建融智医、党群

服务、智慧政法等平台场景建设，助力解决政府痛点、社会堵点和民生难点

D.着力构建数字化经营新模式，逐步实现客户精准画像和全面洞察，稳步推进投资理财平台建设，不断创新智能投顾服务，个人客户和资金基础不断夯实

【答案】ABCD。目前，建行基本完成在全球主要金融中心的布局并具备了 24 小时不间断服务能力；海外机构网络和资产规模不断扩大，业务转型深入推进并取得积极成效，完成了海外核心及周边系统在全行自设机构的推广；境内外联动日益深化，形成了相对成熟的多种联动产品；在业务经营、风险管理、内部控制、人才培养等方面积累了丰富经验，为未来的可持续发展奠定了坚实基础。故 A 项说法正确；今年以来，建行面对突如其来的新冠肺炎疫情冲击，积极发挥大行作用，通过持续优化信贷结构，重点支持实体经济关键领域，助力经济恢复，实现稳增长与防风险的均衡协调，夯实长期发展基础。故 B 项说法正确；近年来，建行开展机构业务平台建设，通过善行宗教，安心养老，建融慧学，建融智医，党群服务，智慧政法等平台场景建设，助力解决政府痛点，社会堵点和民生难点。上半年与 28 个省级和 144 个地市级政府签订智慧政务战略合作协议。故 C 项说法正确；根据中报，建行着力构建数字化经营新模式，逐步实现客户精准画像和全面洞察，稳步推进投资理财平台建设，不断创新智能投顾服务，个人客户和资金基础不断夯实。故 D 项说法正确。故本题正确答案选 ABCD。

第三单元 英语

一、阅读理解（每小题 1 分，共 15 分，每小题只有一个正确答案）

Passage 1

The COVID-19 pandemic spawned predictions that stay-at-home orders would eventually deliver a baby bump. Yet far from having more children than usual, Americans are expecting fewer.

In bedrooms across the U.S., couples are making decisions that, in the aggregate, could prove as consequential for the long-term health of our economy as those taken by policymakers in Washington. Fewer children now means fewer consumers, workers, and taxpayers in the future. In other words, a smaller economy than otherwise - though also a smaller environmental footprint, which brings its own rewards.

Wolfgang Lutz, an Austrian demographer, warned in 2006 that European nations were at risk of falling into a “fertility trap” in which there are fewer women alive to have babies; smaller

families become the social norm; and low population growth reduces economic growth, fostering a pessimism that further suppresses the birthrate.

At the time Lutz raised the alarm, the US seemed well clear of such a trap, with a total fertility rate of 2.1 children per women, what demographers call the replacement rate, VS. 1.5 for the European Union. Now that the US rate is below 1.7, that's no longer assured.

Unromantic as it sounds, planning a family is a numbers exercise that factors in the age of the would-be mother, access to affordable child care, college costs, income, and job security. Toss in a national health emergency and an economic crisis that invites comparisons to the Great Depression, and the benefits of parenthood no longer pencil out for many. The Guttmacher Institute surveyed about 2,000 American women in late April and early May and found that 34% wanted to delay pregnancy or have fewer children as a result of the pandemic. That outweighed the 17% who said they wanted children sooner or more of them.

In June the Brookings Institution released a study predicting the U.S. is headed for “a large, lasting baby bust.” Its researchers forecast there will be 300,000 to 500,000 fewer children born in the U.S. in 2021 than there would have been absent the crisis, which amounts to a decrease of roughly 10% from 2019. That means the number of babies never born is likely to greatly exceed the number of Americans who've died from coronavirus, which is now about 150,000. The effect on population will be longer lasting as well: Many of the babies who aren't being born would have lived into the 22nd century.

1. The underlined sentence in the second paragraph “In bedrooms across the U.S by policymakers in Washington.” tells us that ().

- A. having more children will be good for American economy in the long run.
- B. American couples are more important than government.
- C. American bedrooms will determine the health of its economy.
- D. policymakers will demand couples to have more babies.

【答案】C。句子含义猜测题。分析划线处前后部分内容，可知 fewer children 较少的孩子会让美国经济发展得更好一些。AD 选项错在 more，与原文表述相反。B 项：美国的夫妻比政府更重要；原文没有提及。句意：为在美国各地的卧室里，夫妻们正在做决定，总的来说，这些决定可能会证明对美国经济的长期健康具有重要意义，正如华盛顿的决策者所做的那样。故正确答案选 C。

2. Planning to have babies need to consider many factors except ().

- A. affordable child care
- B. happy marriage
- C. income
- D. stable employment

【答案】B。是非题，选择错误的一项。通过关键词 *planning to have babies* 定位到第五段开头 *Unromantic as it sounds, planning a family is a numbers exercise that factors in the age of the would-be mother, access to affordable child care, college costs, income, and job security.* 可知，A 项：可负担得起的儿童医疗；B 项：幸福的婚姻；C 项：收入；D 项：稳定的就业。ACD 三项均有提到，只有 B 项没有包括在内。故正确答案选 B。

3. Lower birthrate means that ().

- A. environment will be further damaged.
- B. there will be more job vacancies.
- C. economic growth will be reduced.
- D. crimes will be lower.

【答案】C。细节理解题。通过 *lower birthrate* 低生育率，可定位到第三段最后 *.....and low population growth reduces economic growth, fostering a pessimism that further suppresses the birthrate.* 可知 C 项正确。A 项：环境进一步破坏；B 项：有大量职位空缺；C 项：经济增长将会下降；D 项：犯罪率将减少。ABD 均没有提到。故正确答案选 C。

4. The study made by Bookings Institution indicates that ().

- A. more babies should be born because lots have died from the coronavirus.
- B. US will face a decrease of new babies.
- C. 30,000 to 50,000 children will be born in 2021 in the US.
- D. the population decrease is temporary.

【答案】B。细节题。通过关键词 *Booking Institution* 可以定位到最后一段 *In June the Brookings Institutionthere will be 300,000 to 500,000 fewer children born in the U.S. in 2021 than there would have been absent the crisis, which amounts to a decrease of roughly 10% from 2019.....The effect on population will be longer lasting as well.* 可知研究人员预测，2021 年美国出生的儿童数量将比没有危机时少 30 万至 50 万人（C 项排除），这相当于比 2019 年减少了约 10%。这意味着未出生的婴儿数量很可能会大大超过死于冠状病毒的美国人的数

量，即新生儿数量减少，对人口的影响也将持续更长时间。A 项：由于太多人死于新冠病毒，所以应该有大量婴儿出生；原文没有相关表述；B 项：美国将面临新生儿减少的问题；D 项：人口减少是暂时的；与原文 lasting 正好相反。故正确答案选 B。

5. According to the article, which of the following statements is true? ()

A. most American women chose to be pregnant despite of the coronavirus.

B. the number of people died from the coronavirus is higher than the number of the new born babies.

C. without the pandemic, more babies will be born in 2021.

D. the birthrate in European nations is higher than that of America now.

【答案】B。推断题。由最后一段内容可以得出 B 项死于冠状病毒的人数高于新生儿的数量，是正确的。A 项：大多数美国妇女不顾冠状病毒选择怀孕；由原文第五段……34% wanted to delay pregnancy or have fewer children as a result of the pandemic. That outweighed the 17% who said they wanted children sooner or more of them. 可知在新冠疫情期间，大多数女性不愿生孩子；C 项：没有疫情，2021 年会有更多婴儿出生；文章最后一句是说在 22 世纪，时间错误；D 项：现在欧洲国家生育率高于美国；原文没有提及。故正确答案选 B。

Passage 2

As companies including Facebook, Google, Amazon, and Walmart see plateauing user numbers at home and escalating tensions between the U.S. and China's tech industry, they're looking more closely at India . Although the South Asian nation has long had more potential than payoff its hundreds of millions of digital neophytes hunger for everything from streams of Bollywood films to boxes of breakfast cereal from online grocers. The coronavirus pandemic has hurt growth, but it's done little to slow global interest in a country that's on track to overtake Germany and Japan to become the world's No.3 economy by 2039.

This year's investment rush began in January when Amazon.com Inc . founder Jeff Bezos, declared "the 21st century will be India's" and announced a \$1 billion investment to help small businesses there track inventory, sales, and accounts. In July, Sundar Pichai, CEO of Google parent Alphabet Inc . , pledged \$10 billion to digitize India, including a \$4.5 billion investment in Jio. The next day, Walmart Inc. said it would spend \$1.2 billion on its Indian subsidiary, Flipkart, which faces growing competition from Amazon and, yes, Jio.

Until the arrival of Jio, which means "live" in Hindi, foreigners dominated India's tech sector. The country is Facebook's biggest national market, with 328 million social network accounts and more than 400 million subscribers to its WhatsApp messaging service. Amazon controls almost a third of e-commerce there, with more than 500,000 small businesses using its platforms. Netflix Inc. and Amazon Prime dominate video streaming.

Jio is poised to challenge those companies and more. Since its founding just four years ago, it's built a 4G network covering virtually every corner of India and become its leading mobile phone carrier. To keep customers glued to their handsets, it offers shopping, movie and music streaming, videoconferencing, and online news, and it's expanding into banking, e-learning, and apps for farmers. "Few companies have the potential to transform a country's digital ecosystem in the way Jio Platforms is doing in India," KKR & Co. Boss Henry Kravis said in a note after committing \$1.5 billion.

Jio's rise worries some market watchers. Its cutthroat wireless data pricing and packages that offer free voice calls dramatically expanded internet access but helped drive a half-dozen rivals out of business. With its formidable bank account and ties to industry giants, Jio is ready to become a Big Tech player in its own right, says Urvashi Aneja, director of technology consultant Tandem Research. Jio's expansion, combined with economic fallout from the pandemic, could allow it to crowd out smaller players by giving preference to its own services, Aneja says. "Regulators need to ensure that Jio doesn't grow into a monopoly," she says.

Reliance boss Ambani hasn't publicly addressed those concerns, but he envisions a buoyant future for Jio. In recent years it has bought or invested in more than 20 startups in education, e-commerce, health care, and more. In May, Jio launched a grocery delivery service in 200 cities that it plans to link with millions of mom and pop stores, allowing customers to see what's in stock and place orders for speedy delivery.

6. What does the underlined word "plateauing" mean in the first paragraph? ()

- A. deteriorating
- B. stagnating
- C. skyrocketing
- D. Increasing

【答案】D。根据关键词定位至第一段第一句话，As companies including Facebook, Google, Amazon, ... they're looking more closely at India.根据后半句 and 之后的信息内容可判断出来，用户的数量应该是不断增加的，排除 AB。C 项强调“猛增”，排除。故正确答案是选项 D。

7. The underlined sentence "The coronavirus pandemic..... economy by 2039." in the first paragraph tells us that ().

- A. India will be the world third largest economy very soon.
- B. global investors are optimistic about the market of India.
- C. Germany and Japan are quite interested in investing in India.
- D. India's economic growth has not been impacted by the pandemic.

【答案】B。A 项：根据关键词 India 和 third 定位至第一段结尾，but it's done little to slow global interest in a country that's on track to overtake Germany and Japan to become the world's No.3 economy by 2039.可知，A 项错误，原文中说印度有望成为第三大经济体，但没说很快成为；C 项：根据关键词 Germany, Japan and India 定位至第一段结尾，原文强调的是全球对印度感兴趣，并不只有德国和日本，错误；D 项：根据关键词 India 和 pandemic 定位至第一段结尾，疫情对全球经济都造成了一定的影响，不可能对印度没有影响，错误。故正确答案是选项 B。

8. Among the following companies, which is not mentioned to have invested in India this year?().

- A. Google
- B. Amazon
- C. Walmart
- D. Microsoft

【答案】D。结合题干和选项，可以定位至文章第二段。A 项：In July, Sundar Pichai, CEO of Google parent Alphabet Inc. , pledged \$10 billion to digitize India,including a \$4.5 billion investment in Jio. 谷歌母公司 Alphabet 的首席执行长皮查伊承诺斥资 100 亿美元实现印度的数字化；B 项：This year's investment rush began in January when Amazon.com Inc. founder Jeff Bezos, declared "the 21st century will be India's"...亚马逊公司创始人杰夫·贝佐斯宣布“21 世纪将属于印度”，并宣布投资 10 亿美元帮助印度小企业跟踪库存、销售和账目；C 项：The next day, Walmart Inc.said it would spend \$1.2 billion on its Indian subsidiary, Flipkart, which faces

growing competition from Amazon and, yes, Jio.沃尔玛(Walmart inc.)宣布将斥资 12 亿美元收购其印度子公司 Flipkart。因此可知，只有微软没有投资印度。故正确答案是选项 D。

9. Foreign companies face challenges from Jio not because ().

- A. it has extended its business to banking and e-learning.
- B. the government banned some foreign companies to protect the local one.
- C. its 4G network has a very wide coverage in India.
- D. it provides shopping, movie and music streaming to its customers.

【答案】B。A 项：根据关键词可以定位至第四段，and it's expanding into banking, e-learning, and apps for farmers. 它还在向银行、电子学习和农民应用程序等领域扩张，正确；C 项：根据关键词 4G 和 India 定位至第四段，Since its founding just four years ago, it's built a 4G network covering virtually every corner of India and become its leading mobile phone carrier. 自四年前成立以来，它已经建立了覆盖印度几乎每个角落的 4G 网络，并成为印度领先的移动电话运营商，正确；D 项：根据关键词 shopping, movie and music 可以定位至第四段，To keep customers glued to their handsets, it offers shopping, movie and music streaming, videoconferencing, and online news, 为了让顾客把注意力集中在手机上，它提供购物、电影和音乐流媒体、视频会议和在线新闻等服务，正确。可知只有 B 项没有提到，并不是属于外国公司面临挑战的原因。故正确答案是选项 B。

10. Jio's business has covered many fields except ().

- A. insurance
- B. healthcare
- C. education
- D. grocery delivery service

【答案】A。根据选项作为关键词定位至原文最后一段，In recent years it has bought or invested in more than 20 startups in education, e-commerce, health care, and more. In May, Jio launched a grocery delivery service in 200 cities...可知，只有 A 项 insurance 不是 Jio 涉及的服务范围。故正确答案是选项 A。

Passage 3

When financiers and governments redesigned the financial system in order to make it safer after the debacle of 2007-09, most of them imagined that a shock as bad as the subprime fiasco would be a generation away. In fact it arrived only a decade so later. Lockdowns have led to a

savage recession that is expected to produce huge loan losses as firm's and households suffer. So are too-big-to fail banks really safer?

The latest stress tests conducted by the Federal Reserve suggest the answer in America is "yes". On June 25th the Fed released the results of its annual exercise, which compares banks' buffers with the losses they would face in a downturn. In a pessimistic "u-shape" scenario, in which the economy faces prolonged social distancing and repeated outbreaks of the virus, the Fed reckons that banks would face total losses of over \$700bn on their collective loan book. The hit is well above the worst case of \$465bn that was envisaged in 2009, when the Fed did its first stress test. Happily, the Fed concludes, in this u-shape scenario the banking system's total core-capital ratio would fall from the present 12% to a sill-passable 8%.

One way to give yourself nightmares is to imagine that nothing had changed at the banks and they were still run with the skimpy capital levels they had at the end of 2008. We have used the Fed's data to make a rough estimate of the impact today's loan losses would have had. If an unreformed banking system had faced this year's u-shape scenario, its total core-capital ratio would have potentially dropped to 1.5%, with several big banks' figures touching zero-i.e, technical insolvency. Faced with this, depositors and counterparties would have fled, in a full scale bank run. The taxpayer bail-out in this parallel universe might have been even bigger than in the financial crisis. Instead, the banking system's new resilience means that customers and investors did not rush to withdraw funds as in 2007-09. Banks were seen as safe. Lenders in turn have had the resources to extend overdrafts to firms in need.

Don't sleep easy yet, though. Risky activities have migrated beyond the banking system. The result is that even though taxpayers, \$6 have not had to bail out banks, they have once again been exposed to huge potential losses. The Fed has made purchases in, and extended implicit guarantees to, many markets -including those for junk bonds and exchange-traded funds- and is also lending directly to firms. Another worry is that the banking system outside America is less solid. Most European banks have reasonable capital ratios but are far less profitably than American banks, because they are inefficient and face lower interest rates and fragmented markets. The boss of one of the largest warns that though the shock so far has been manageable, a second wave of COVID-19 infections this year or next will be "a major test for the financial sector".

11. What can we infer from the first paragraph? ()

- A. The financial system was rebuilt after the 2008 financial crisis.
- B. Lockdowns burdened the recession.
- C. The too- big-to-fail banks might not be safer.
- D. The subprime crisis would not repeat.

【答案】C。A项：根据关键词 2008 和 financial system 定位至第一段第一句，When financiers and governments redesigned the financial system in order to make it safer after the debacle of 2007-09, 在 2007-09 年金融危机之后，金融家和政府重新设计了金融体系，以使其更加安全。可知 A 项只是其中一个细节点，排除；B 项：根据关键词 lockdowns 定位至第一段，Lockdowns have led to a savage recession that is expected to produce huge loan losses...封锁导致了一场严重的经济衰退。可知 B 项也只是其中一个细节点，排除；D 项：根据关键词 subprime 定位至第一段，most of them imagined that a shock as bad as the subprime fiasco would be a generation away.大多数人以为，像次贷危机那样严重的冲击将在一代人之后发生。可知，D 项与原文信息相矛盾。C 项可根据首段第一句和最后一句得出，并且频频出现关键词 safe。故正确答案是选项 C。

12. According to the Fed, ()
- A. banks should limit the lending to unqualified borrowers.
 - B. the total losses of banks will be less than losses in 2009.
 - C. banks in America are safe.
 - D. the core-capital ratio will fall to an astonishing level.

【答案】C。根据题干关键词 Fed 定位至第二段和第三段。A 项：原文中未提到；B 项：根据关键词 2009 和 the total losses 定位至第二段，...the Fed reckons that banks would face total losses of over \$700bn on their collective loan book. The hit is well above the worst case of \$465bn that was envisaged in 2009, ...可知，银行的总损失高于 2009 年的损失，选项与原文矛盾；C 项：根据关键词 America, banks and safe 定位至第三段，Instead, the banking system's new resilience means ... to withdraw funds as in 2007-09. Banks were seen as safe. 可知 C 项正确；D 项：根据关键词 core-capital 定位至第二段最后一句，Happily, the Fed concludes, in this u-shape scenario the banking system's total core-capital ratio would fall from the present 12% to a sill-passable 8%.银行系统的总核心资本比率将从目前的 12%降至勉强过当的 8%。可知总核心资本虽然会降低，但下降的概率较小，并不是令人惊讶的程度。故正确答案是选项 C。

13. What does the underlined word "skimpy" in the third paragraph mean?()

- A. old
- B. adequate
- C. crafty
- D. Insufficient

【答案】D。根据关键词可以定位至文章第三段第一句话，One way to give yourself nightmares is to imagine that nothing had changed at the banks and they were still run with the skimpy capital levels they had at the end of 2008.根据前文关键词 nightmares, nothing 以及并列关联词 and 可判断出来，前后应该是意义一致，因此这个词是属于贬义词，四个选项中只有 D 是贬义词。AC 项都是中性词，B 项是褒义词。故正确答案是选项 D。

14. "Don't sleep easy yet, though", because ().
- A. risks are not only limited to the banking system.
 - B. the second wave of COVID-19 is inevitable.
 - C. the banking system in America is much more fragile than elsewhere.
 - D. European banks have low capital ratios.

【答案】A。根据题干可以定位至文章最后一段第一句话，Don't sleep easy yet, though. Risky activities have migrated beyond the banking system. The result is that even though taxpayers,...不过，不要轻易入睡。风险活动已经转移到银行系统之外。其结果是，尽管纳税人不必动用 6 美元来救助银行，但银行再次面临巨大的潜在损失。根据文章内容可以判断出 the result 之前是原因，故正确答案是选项 A。

15. According to the article, which one of the following statements is false? ()
- A. American banks are more profitable than European banks.
 - B. If the banking system has not changed, some big banks' core-capital ratio would have fallen to zero.
 - C. A bail-out is in the planning as did in the financial crisis.
 - D. Depositors did not rush to withdraw money in this "u-shape"scenario.

【答案】C。A 项：根据关键词 American 和 European 定位至最后一段，Most European banks have reasonable capital ratios but are far less profitably than American banks, ... 大多数欧洲银行有合理的资本比率，但盈利远不如美国银行，因为它们效率低下，面临更低的利率和分散的市场。正确；B 项：根据关键词 core-capital ratio 和 zero 定位至第三段，If an unreformed banking system had faced this year's u-shape scenario, ... with several big banks' figures touching

zero-ie, technical insolvency. 如果一个未经改革的银行体系面临今年 u 型的局面, 那么其核心资本比率可能会下降到 1.5%, 几家大银行的数字可能会接近零——即技术性破产。正确; C 项: 根据关键词 bail-out 可以定位至第三段, The taxpayer bail-out in this parallel universe might have been even bigger than in the financial crisis. 在这个平行宇宙中, 纳税人的纾困规模可能比金融危机时还要大。可知, 纾困并不是计划之中。错误; D 项: 根据关键词 depositor 和 u-shape 定位至第三段结尾处, 面对这样的技术性破产, 反而银行会更加安全, 所以存储人不会急于取钱。正确。题目要求选择错误的, 故正确答案是选项 C。

必
考
点
金
融