

事业单位考试《职业能力测试》模拟试题（二）

第一部分 言语理解与表达

1. 网络文学开启了大众写作的热潮，也在改变着当代文学创作的_____，特别是网络文学潜在的“对话性”，是区别传统文学的根本所在。有学者认为，互联网平台的在线性和_____，使得这样的对话更为便捷和真实，这是传统文学所不具备的。

依次填入划横线处最恰当的一项是：

- A. 传统 交互性
- B. 模式 直观性
- C. 趋势 开放性
- D. 版图 及时性

2. 咳嗽涉及病因众多，临床诊治咳嗽有时很困难，也是每个临床医生经常碰到的难题，但如果分清楚原因，对症下药，效果则_____。

依次填入划横线处最恰当的一项是：

- A. 药到病除
- B. 立竿见影
- C. 不言自明
- D. 事半功倍

3. 以鸟类迁徙为话题的纪录片《迁徙的鸟》向我们完美展示了一个自然界的奇迹。虽然大部分地表已被人类改造得_____，但在天空中，鸟儿仍是主角，无论雪鹅、野鸭还是云雀，都自有其尊严。“我们需要与自然界和平相处，因为人类不可能_____地生活在这个地球上。”

依次填入划横线处最恰当的一项是：

- A. 面目全非 孤单
- B. 支离破碎 傲慢
- C. 元气大伤 自私
- D. 体无完肤 麻木

4. 社会的和谐，是以人与人之间的爱即仁爱为_____基础的，也是以执政者怀抱民本

思想执政为民，惠及民生为基础的。可以说，正是传统仁爱思想和民本思想的有力_____，才确保了中华民族 5000 年历史的_____。

依次填入划横线处最恰当的一项是：

- A. 思想 维护 革故鼎新
- B. 情感 维系 绵延不绝
- C. 精神 维持 历久弥新
- D. 理论 维稳 山高水长

5. 中国制造业超越美国指日可待，中国 GDP 超越美国也将在这一代中国人的有生之年变为现实。这两个超越凝聚了几代中国人的奋斗，当然意义巨大。但过分陶醉，就会变自信自大，进而_____。毕竟，物质产出只是硬实力，历史上，船坚炮利的国家甚多，基业长青的却少有，_____更多在“软实力”而不在“硬实力”。

依次填入划横线处最恰当的一项是：

- A. 妄自尊大 关键
- B. 忘乎所以 秘密
- C. 目中无人 原因
- D. 趾高气扬 秘诀

6. 我国著名语言学家罗常培说过：语言文字是一个民族文化的结晶。这个民族过去的文化靠着它来流传。未来的文化也仗着它来_____，我们可以从诸多文字现象中，如汉字的造字、构词，汉字词义的形成和_____中找寻中国文化形成与发展的理据。

依次填入划横线处最恰当的一项是：

- A. 推进 演变
- B. 提升 演进
- C. 弘扬 变迁
- D. 推动 变革

7. 中国古代的四大发明——火药、指南针、造纸术和印刷术，通过丝绸之路传播到了全世界，中国政府_____古代经验，助推肩负新四大发明的中国企业进军海外，不过想要席卷全球，他们不仅要像在中国国内一样具备_____，还要符合世界各地的风俗习惯。

依次填入划横线处最恰当的一项是：

- A. 总结 通用性

- B. 借鉴 便利性
- C. 发挥 实用性
- D. 积累 趣味性

8. 在人类文明史上，古埃及人和两河流域的苏美尔人，都曾创造过古老的文字。然而，随着时间的流逝，这些文字早已消亡。时至今日，_____的古老文字，唯有中国人创立的汉字。作为伟大的汉文化的载体和媒介，汉字依然_____，堪称当今世界上最有生命力的文字之一。

依次填入划横线处最恰当的一项是：

- A. 硕果仅存 长盛不衰
- B. 凤毛麟角 源远流长
- C. 出类拔萃 博大精深
- D. 鹤立鸡群 方兴未艾

9. 在当代漆器制作中，仅仅拥有对材料实验的冒险精神是不够的，对漆器制作传统的沉潜钻研_____。对创作者而言，漆艺的美学精神和社会价值是否已经_____，漆艺家是否掌握漆的自身语言去创作具有生命力的独特艺术作品，这些都给漆艺家提出了新挑战。

依次填入划横线处最恰当的一项是：

- A. 不可偏废 了然于胸
- B. 迫在眉睫 与时俱进
- C. 不可或缺 内化于心
- D. 势在必行 融为一体

10. “当真相还在穿鞋，谣言已环游世界，”在当今信息传播高度发达的时代。这句名言可谓_____。科学类流言往往是披着科学外衣的伪科学，内容中常出现很多专业用语，或引用国外科学期刊内容，看似引经据典，其实却_____。科学类流言经常会反复传播，即使已被科学界和传统媒体辟谣。很多人抱着“宁可信其有”的心态，客观上存在“_____”的效应。

依次填入划横线处最恰当的一项是：

- A. 一语中的 偷梁换柱 众口铄金
- B. 一言蔽之 故弄玄虚 以讹传讹
- C. 一语成谶 移花接木 三人成虎

D. 一针见血 信口开河 风声鹤唳

11. 翻开《红楼梦》的任何一个篇章，往往都能使人_____一个重要的原因，恐怕就在于《红楼梦》创造了各种各样引人入胜的艺术_____

依次填入划横线处最恰当的一项是：

- A. 乐不思蜀 境地
- B. 流连忘返 境界
- C. 乐不思蜀 境界
- D. 流连忘返 境地

12. 一般人对身边的事物只看到特别触目的部分，有的人比别的人看到的多一些，然而能把视觉范围内的事物全部都看到的人却_____。

依次填入划横线处最恰当的一项是：

- A. 凤毛麟角
- B. 九牛一毛
- C. 寥寥无几
- D. 恒河沙数

13. 今天的中国，历经 30 多年的快速发展，一些地方富起来了，一些行业变强壮了，一些大城市够现代了。睹物看景，虽然油然而生自豪感与自信心是正常的，_____。到偏远山村去，到贫困地区去，到困难群众家里去，我们就会冷静得多。

依次填入划横线处最恰当的一项是：

- A. 中国的发展速度已经大大超过了一般发展中国家
- B. 然而自信能带领我们走向成功
- C. 但若因此而头脑发热、变得自满自大却是危险的
- D. 很多时候需要冷静

14. 尽管生物燃料是一个先进的、好的概念，但并不能想当然、盲目地将之视为“清洁能源”，在大力提倡生物燃料之前应对其生产方式及其广泛使用的后果进行充分的研究，否则便有可能“好心办坏事”_____

依次填入划横线处最恰当的一项是：

- A. 南辕北辙

- B. 分道扬镳
- C. 各行其是
- D. 缘木求鱼

15. 电视评论的犀利和深刻是主持人思想创造性的外化，主持人只有具备思想的创造性，才能将观点转化为_____发人深省的评说。

依次填入划横线处最恰当的一项是：

- A. 深入浅出
- B. 知微见著
- C. 举世闻名
- D. 鞭辟入里

16. 菜籽油含有亚油酸、亚麻酸、花生酸等三种人体_____的脂肪酸，还有油酸。菜籽油能_____胆固醇在小肠的吸收，还能促进肝内胆固醇的降解和排出，因此，对_____心血管病的发生有一定作用。

依次填入划横线处最恰当的一项是：

- A. 必须 抑止 防治
- B. 必须 抑制 防止
- C. 必需 抑止 防治
- D. 必需 抑制 防止

17. 笔名满天下而原名湮没无闻者，事实上等于_____。人家给咱们介绍一位沈雁冰先生，不如介绍茅盾来得响亮；介绍一位谢婉莹女士，不如介绍冰心来得_____等到自己也肯公然承认名叫茅盾或冰心的时候，仍不失为行不更名、坐不改姓的好汉。千秋万岁后，非但真假难辨，而且_____

依次填入划横线处最恰当的一项是：

- A. 改名换姓 大名鼎鼎 弄巧成拙
- B. 移花接木 如雷贯耳 弄巧成拙
- C. 改名换姓 如雷贯耳 弄假成真
- D. 移花接木 大名鼎鼎 弄假成真

18. 在温哥华冬奥会花样滑冰双人滑比赛中，中国选手申雪赵宏博_____以 216.57 分的总成绩夺得冠军，让国人很振奋。

依次填入划横线处最恰当的一项是：

- A. 不负众望
- B. 不孚众望
- C. 平步青云
- D. 声名鹊起

19. 领导干部应该深入群众，和群众打成一片，真正_____民情。

依次填入划横线处最恰当的一项是：

- A. 体察
- B. 体恤
- C. 体贴
- D. 体验

20. 随着电扇、空调的_____，炎炎夏日中人们手摇蒲扇纳凉的情景已经很难看到了，但_____、瑰丽多彩的中国扇文化，却一直传承至今，成为人们记忆中绚丽无比的一道风景。

依次填入划横线处最恰当的一项是：

- A. 出现 享誉中外
- B. 普及 源远流长
- C. 使用 喜闻乐见
- D. 发明 异彩纷呈

21. 中外合拍片对中方和好莱坞电影工厂均有好处，但是由于存在文化环境和审美趣味的差异，中国元素很难与好莱坞电影_____，为了照顾全球影迷的欣赏口味，好莱坞电影只能减少中国元素的份量，因此，仅针对中国内地市场的“中国特供版”便_____。

依次填入划横线部分最恰当的一项是：

- A. 契合 粉墨登场
- B. 协调 东山再起
- C. 融合 应运而生
- D. 匹配 大行其道

22. 经过一段时间的侦察，公安人员在工业园附近，一举_____了这个特大地下制毒工厂。

填入括号最恰当的一项是（ ）。

- A. 查处
- B. 整顿
- C. 捣毁
- D. 拆毁

23. 音乐是声音中最早进入电影的一个艺术_____，它向来以擅长表现感情、_____气氛而受到编创人员的喜爱。

依次填入划横线处最恰当的一项是：

- A. 环节 烘托
- B. 元素 营造
- C. 手段 打造
- D. 形式 衬托

24. 信念是人的生命得以闪光的火花，信念的火花一旦熄灭，人的生命就不再有闪光点了，人的生命如不以信念为_____，将会逐渐萎缩以至_____。

依次填入划横线处最恰当的一项是：

- A. 前提 干涸
- B. 基础 消亡
- C. 基石 枯竭
- D. 依托 枯槁

25. 不少作家把人生比作登山，_____就是登上山顶略事休息徘徊的那一刹那。此前是“快乐地努力向前走”，此后则“别有一般滋味”的“想回家”；此前是“路上有好多块绊脚石，曾把自己磕碰得鼻青脸肿”，此后则“前面是下坡路，好走得多”。“下坡路”也罢，“想回家”也罢，都是一种_____的心态。一切都不过如此，没什么稀奇的，不值得大惊小怪，也不值得苦苦追求。

依次填入划横线处最恰当的一项是：

- A. 中年 过来人
- B. 老年 过来人
- C. 中年 成功者
- D. 老年 成功者

26. 正是由于中国等亚洲国家对日本当时（麦克阿瑟统治期）比现在问题更严重的历史

教科书_____，错过了_____影响的最佳时机，新一代日本人长成了，问题才更_____了。

依次填入划横线处最恰当的一项是：

- A. 熟视无睹 实行 复杂
- B. 沉默不语 实行 棘手
- C. 沉默不语 施加 棘手
- D. 熟视无睹 施加 复杂

27. 对于民俗文化，只要当地政府给予正确的扶持和引导，充分挖掘并赋予崭新的内容，民俗文化就能焕发出新的光彩，显示出强大的生命力。然而，一些地方在挖掘民俗文化的过程中，却将那些陈旧陋习“发扬光大”，这是与继承发扬民俗文化的理念相违背的。

下列表述最符合作者想表达的观点是：

- A. 民俗文化的光彩历久弥新
- B. 政府的正确领导是继承民俗文化的关键
- C. 传承民俗文化也应移风易俗
- D. 民俗文化中存在一些陈旧陋习

28. 技术开发与应用在人类历史发展中一直扮演着举足轻重的角色。蒸汽机的改良，发电机的出现，核技术的运用，电脑的发明无一不深刻改变了人类社会的存在方式。不过技术对社会的影响似乎从来就没有延伸到对人格的塑造上来，技术在绝大多数人看来，只能成为人的对象和工具，至少它不会直接改变人类之间关系的模式，但是麻省理工学院社会学教授雪莉·特克尔并不这么认为。

这段文字接下来最可能讨论：

- A. 雪莉·特克尔教授对技术发展持悲观态度
- B. 技术对人的影响如何延伸到改变人际关系
- C. 回顾技术影响人类发展的演变历程
- D. 被技术改变的人类该何去何从

29. 近日，科学家通过研究发现我们的宇宙可能是超流体，这说明我们可能生活在“水下”，新的研究显示时空可能是性质如同流体的质态，可以认为是一种超流体，该物质与其他物质不同，但可以为光子提供一个新的介质，就像声音在空气中传播一样，有研究人员认为如果这种可能“承载”光子运动的介质存在，那么其粘度应该为零，这将为我们开启一个新的理论，通过量子引力论来解释这奇怪的现象。

根据这段话，下列选项理解正确的是：

- A. 时空是一种固体
- B. 声音不可以在空气中传播
- C. 我们可能生活在海洋之中
- D. 可“承载”光子运动的介质可能存在

30. ①成为健身达人、追剧狂魔、手游玩家也是让人劳神的“小目标”

②手机、汽车减轻了沟通之苦，但网络社交、保养停放令人伤神

③所以，值得思考的是：如何忙的充实、忙的有效，让忙碌真正加快前进的步伐

④在现代社会，人们看似从重复劳动中被解放出来，但物质的丰富、生活的多彩令人目不暇接

⑤五颜六色的生活，是时代进步的馈赠，但某种意义上也是忙碌的源头

⑥稍不小心，朝着目标阔步而去的忙碌，就会变成无头苍蝇式的庸碌，甚至带来低效混沌的“拖延症”

将以上六个句子重新排列语序正确的是（ ）。

- A. ②①⑤④⑥③
- B. ④②①⑤⑥③
- C. ②①④⑤③⑥
- D. ④③⑤①⑥②

31. ①这座音乐之城的真正的天才便在于把所有这些矛盾对立都和谐地融为一体，变成一新型的，独特的东西，变成奥地利的，维也纳的东西

②它把极不相同的互相矛盾的各种力量吸收进来，使之情绪缓和，心情舒畅，感到宽慰

③这座城市赋有兼容并包的能力，具有接受外来影响的特殊感觉

④在这里，在这种精神和解的气氛中生活极为惬意

⑤在宫廷里、在贵族当中，在民间，德意志的和斯拉夫的、匈牙利的、西班牙的、佛兰德尔的因素都融合在血液里

⑥这个城市的每一个市民都无意识地教育成为一个超民族的人，一个世界主义者，一个世界公民

将以上 6 个句子重新排列，语序正确的是（ ）。

- A. ③②④①⑥⑤

- B. ⑤①③②④⑥
- C. ①②④③⑤⑥
- D. ⑤③④①②⑥

32. 有人也许认为，“写文章只要不妨害所表达的义理，材料细节有点出入是无所谓的。”

义理是文章的灵魂，大凡写文章，不会不关注这一点。这种关注就应包含对支撑义理的材料
的审慎核查与选用。

对划横线文字理解最准确的是：

- A. 批评了只重视表达义理，但是不重视材料真实性的错误认识
- B. 肯定了既重视义理的表达，也重视材料细节必须真实的主张
- C. 批评了借口不妨害表达义理，而忽视材料真实性的错误认识
- D. 肯定了材料对表达义理的作用，不主张苛求材料细节的真实

33. 无论原著多么丰富精彩，文学经其改编成电视剧都是一次再创作。电视剧要尽可能地呈现原著复杂而沉重的主题，也要通过改编使片段式的故事汇成线条式的人物命运，古老土地的历史变迁，民族生存的生命反思，儒家文化的辉煌与没落、人性欲望的压抑与张扬……文学经典的主题，必须经由改编之手重新诠释，而且，无论怎么改，情节的推进，人物的塑造，剧情的发展，其本身都要符合人物内在的行为逻辑。

关于文学经典改编成电视剧的原则，文中没有涉及：

- A. 要突出文学经典的主题
- B. 要有比较明确的主线
- C. 应具有合理的内在逻辑
- D. 要使用必要的夸张手法

34. 当我们在承受某些心理痛苦——比如孤独、社会孤立、自我怀疑、负面情绪、觉得人生无意义时，怀旧可以起到应对机制的作用。这些烦恼使大脑开始筛选自己的记忆库，总结出一些有特定叙事特色的片段。我们通过怀旧，让过去的成功经历和亲密的人际关系重新浮出水面，那些时候我们的生活有安全感也有秩序。心理学家解释道：“你在向自己重申‘我做过很棒的事情’，也希望这句话能预测未来的发展。‘虽然我现在不甚确定，但看看我的过去，就知道我是个可爱的人。我命中注定要成就大事。’”

下列说法与原文不符的是：

- A. 怀旧会让我们逃避现实

- B. 怀旧是我们前进的动力
- C. 怀旧有情感缓冲的作用
- D. 怀旧能使我们变得乐观

35. “万物生长靠太阳”，没有太阳就没有地球的一切。太阳是距离地球最近的恒星，地球受到太阳的引力作用，它强大的引力控制着大小行星、彗星等天体的运动。它孕育了地球文明，并且始终影响着地球生物。人类生存的地理环境中，有大气、水、生物等要素，这些要素本身和要素之间是在不断变化的，其根本动力就是太阳辐射。太阳辐射是太阳对地球最大、也是最重要的贡献。

这段文字主要说明了：

- A. 太阳对地球有重要的贡献
- B. 太阳辐射是太阳对地球的最大贡献
- C. 太阳孕育了地球文明
- D. 太阳影响地球生物

36. 著名的教育学家约翰·亨利希·裴斯泰洛齐曾强调说，对不听话的注意力进行训练，“绝对是一切教育的根本目的”。如今，现代认知科学的结果也证明了这点。神经科学研究就为我们带来了好消息：专注力可以像肌肉一样通过训练得到提高。常常专注做事的人，长期如此便会取得更多的成就，也会更有效率，即使这个人已经上了年纪。

该段文字最想表达的是：

- A. 专注一定会取得更多的成就
- B. 专注是可以训练的
- C. 神经科学研究对专注有了更深的研究
- D. 上了年纪的人也会取得成就

37. 艺术如何现代化是当代画家面临的重大命题。“江山代有才人出，各领风骚数百年。”每个时代都有不同的艺术表现对象和形式，也给画家提供了无尽的素材和灵感。笔墨当随时代，艺术才能回到肥沃的土壤，也才会有凝聚时代精神的煌煌大作。

这段文字中，作者的主要观点是：

- A. 每个时代都有其代表艺术家
- B. 当代画家应该做到艺术现代化
- C. 时代赋予艺术表现的多样性

D. 画家创作时要学习前人精神

38. 2008 年冬天，美国有超过三分之一的商业蜂箱出现了蜂群崩溃症候群。某些蜂群中的所有工蜂突然消失或死亡，导致蜂窝中只剩下孤独的蜂王。这种综合症已经传到了欧洲许多国家，如法国、比利时、意大利、葡萄牙和西班牙等。如果没有这些蜜蜂，许多与人类生活密切相关的作物也将无法存在，如大豆、棉花、杏、葡萄、苹果、向日葵等。全球几乎三分之一的食物都与蜜蜂的行为有关。如果它们灭绝，随之而来的将是食物紧缺、饥饿、暴力和骚乱等严重社会问题。

下列无法从原文推出的是：

- A. 缺乏食物是工蜂消失的主要原因
- B. 美国的蜂群崩溃症候群早于欧洲
- C. 蜂群崩溃症候群会导致严重的社会问题
- D. 蜂王比工蜂对蜂群崩溃症候群有更强的抵抗力

39. 金字塔的建造者，不会是奴隶，应该是一批欢快的自由人！第一个作出这种预言的，是瑞士钟表匠塔·布克。1560 年，他在埃及的金字塔游历时，便作出了这种预言。

对上文内容概括最准确的是：

- A. 建造金字塔的是一批快乐的自由人
- B. 瑞士钟表匠塔·布克认为建造金字塔的是自由人
- C. 1560 年瑞士钟表匠塔·布克预言建造金字塔的是自由人
- D. 1560 年塔·布克在游历金字塔时预言建造金字塔的是利齿龇牙犬内丹上人

40. 黏性观点是指那些不费力气就被人牢牢记住的观点，比如“双鸟在林不如一鸟在手”这句谚语，曾经流传了 2500 年之久，跨越文化和语言的界隅无人为之广告宣传，完全靠自己的力量长盛不衰，面对具有共同标准的语境，谚语能为人们的行为提供经验教训，有助于指导其做出决策，同时说法精炼，意义深远，容易被人记住，所以就属于黏性观点。

这段文字主要说明：

- A. 什么是黏性观点
- B. 谚语有什么价值
- C. 黏性观点能跨越文化界限
- D. 谚语的作用使其长盛不衰

第二部分 常识判断

41. 《关于完善农村土地所有权承包权经营权分置办法的意见》指出，完善“三权分置”办法，不断探索农村土地集体所有制的有效实现形式，落实()，稳定()，放活()，充分发挥“三权”的各自功能和整体效用，形成层次分明、结构合理、平等保护的格局。

- A. 农户承包权 流转经营权 土地使用权
- B. 流转经营权 集体所有权 土地使用权
- C. 农户承包权 集体所有权 土地经营权
- D. 集体所有权 农户承包权 土地经营权

42. 2019年7月6日，中国的()在阿塞拜疆巴库举行的世界遗产大会上获准列入《世界遗产名录》。至此，中国世界遗产总数已达55处，位居世界第一。

- A. 良渚古城遗址
- B. 黄(渤)海候鸟栖息地
- C. 梵净山
- D. 鼓浪屿

43. 在青年人中，流行着这样的一句话：“要做一个 nice 的人，也要做一个耐撕的人”。做一个“耐撕”的人，应当具备的辩证法思想有()

- A. 坚定发展的前进性和曲折性统一
- B. 发挥主观能动性与尊重规律相结合
- C. 量的积累必然会引起质变的发生
- D. 实践和创造是成就梦想的根本途径

44. 革命战争年代，毛泽东同志就说过，必须“用社会科学来了解社会，改造社会，进行社会革命”。社会科学改造社会说明了()。

- A. 实践是认识的基础
- B. 认识是实践的来源
- C. 实践决定认识
- D. 认识反作用于实践

45. 美国乡村建设在为农村带来发展机遇与动力的同时，也陆续出现一些问题，有些地方缺少科学规划，不是静下心来寻找自己的特色，而是盲目采取复制模式，结果破坏了农村

原有风貌和特点，导致“千村一面”，造成这种现象是因为在发展过程中没有（ ）。

- A. 从实际出发，具体问题具体分析
- B. 把尊重客观规律和发挥主观能动性结合起来
- C. 抓住重点和集中主要力量解决主要矛盾
- D. 坚持适度原则，控制量变的限度

46. “水本原说”由古希腊米利都学派的创始人泰勒斯提出，他认为“水生万物，万物复归于水”，水是万物的本原。泰勒斯观点属于（ ）

- A. 朴素唯物主义
- B. 唯心主义
- C. 辩证唯物主义
- D. 形而上学的唯物主义

47. 我国有博大精深的优秀传统文化，它能增强中国人的骨气和底气，是我们最深厚的文化软实力。下列能够体现我国传统文化精髓的是（ ）

- ① “自强不息”的奋斗精神
- ② “精忠报国”的爱国情怀
- ③ “天下兴亡，匹夫有责”的担当意识
- ④ “以人为本”“民惟邦本”的治国理念

- A. ①③④
- B. ①②③④
- C. ①②④
- D. ①②③

48. 下列说法符合乡村治理内容的是（ ）

- ①健全自治、法治、德治相结合的乡村治理体系
- ②构建共商共建共享的社会治理格局
- ③走中国特色社会主义乡村善治之路
- ④建设充满活力、和谐有序的乡村社会

- A. ①②③
- B. ①②④
- C. ②③④

D. ①③④

49. 西方文艺复兴时期，人文主义精神提出以人为中心而不是以（ ）为中心，肯定人的价值和尊严。

- A. 皇帝
- B. 教主
- C. 神
- D. 军团长

50. 世界上的大国关系仍然充斥着碰撞、合作及其背后不断加强的相互依存。其中最大的亮点无疑是由中国所倡导的新型大国关系逐渐得到更大范围的认可。这表明（ ）

- ①国家利益是国家间合作的基础
- ②中国是维护国际和平与稳定的坚定力量
- ③竞争、合作与冲突依旧是国际关系的基本形式
- ④中国在国际竞争中的主导作用越来越突出

- A. ①④
- B. ①③
- C. ②③
- D. ②④

51. 以下（ ）作品不是我国近现代作家老舍所作。

- A. 《骆驼祥子》
- B. 《茶馆》
- C. 《阿Q正传》
- D. 《四世同堂》

52. 在完善“三权分置”办法过程中，要充分维护农民集体各项权能，发挥土地集体所有的优势和作用。下列说法不正确的是（ ）

- A. 有权对承包农户和经营主体使用承包地进行监督
- B. 有权因自然灾害严重毁损等特殊情形依法调整承包地
- C. 农民集体有权依法转让集体土地，任何组织和个人不得非法干预
- D. 采取措施防止和纠正长期抛荒、毁损土地、非法改变土地用途

53. 根据我国《宪法》的规定，下列说法不正确的是（ ）

- A. 城市的土地属于国家所有
- B. 农村和城市郊区的土地，除由法律规定属于国家所有的以外，属于集体所有
- C. 矿产、水流、海域、森林专属于国家所有
- D. 宅基地、自留地、自留山属于集体所有
54. 下列选项中的甲不构成犯罪的是（ ）
- A. 甲明知乙有配偶而与之异地登记结婚
- B. 甲从乙处购买总面额为 10 万元的假币
- C. 甲倒车时将乙撞成轻伤并负事故全部责任
- D. 甲冒充警察骗取乙 500 元谎称帮其买火车票
55. 甲预谋杀乙，将乙所驾车辆的刹车油管扎裂。数日后，乙开车出门，遇紧急情况需要制动时，因刹车油漏光，刹车失灵，车辆撞到路边大树，乙受轻伤。甲的行为构成（ ）
- A. 故意杀人罪
- B. 破坏交通工具罪
- C. 故意伤害罪
- D. 以危险方法危害公共安全罪
56. 1848 年 2 月 24 日，马克思和恩格斯合著的《共产党宣言》在（ ）正式出版。
- A. 延安
- B. 圣彼得堡
- C. 莫斯科
- D. 伦敦
57. 下列属于法律基本原则的是（ ）。
- A. 罪刑法定原则
- B. 诚实信用原则
- C. 法律面前人人平等原则
- D. 罪责刑相当原则
58. 下列不能提起行政复议的行为是（ ）
- A. 市政府倡导市民尽可能选择公共交通工具出行
- B. 工商部门对李某申请的营业执照不予批准
- C. 城管大队认为张某的房子是违章建筑，要拆除

D. 公安部门认定陈某聚众闹事，对其进行罚款

59. 张某和刘某夫妇育有 1 子 1 女，其子张一娶妻后生子张三，其女张二已嫁至邻村。

张某死后遗产有房屋 4 间，则对张某的遗产无权参与继承的是（ ）

- A. 刘某
- B. 张一
- C. 张二
- D. 张三

60. 习近平指出：“当代中国的伟大社会变革，不是简单延续我国历史的母版，不是简单套用马克思主义的经典作家设想的模板，不是其他国家社会主义实践的再版，也不是国外现代化发展的翻版。”这说明（ ）

- A. 社会主义基本原则会随着时代发展发生变革
- B. 科学社会主义要同本国具体实际结合起来
- C. 马克思主义在中国已经发生了根本的变化
- D. 实践中才会出现适用于所有国家的理论

61. 恩格斯说：“社会一有技术上的需要，则这种需要就会比十所大学更能把科学推向前进”。这句话表明（ ）

- A. 大学是创新的主体
- B. 市场是创新的主体
- C. 企业是创新的主体
- D. 群众是创新的主体

62. 公信力是政府的影响力与号召力。它是政府行政能力的客观结果，也是人民群众对政府的评价，反映人民群众对政府的满意度和信任度。下列措施属于政府提高公信力的是（ ）

- ①召开党外人士座谈会，共商该市经济和社会发展的
- ②市建设委员会落实科学发展观，推进市民广场绿色工程建设
- ③各政府部门积极履行职责，不断强化自身市场竞争主体角色
- ④各职能部门按《行政许可法》规定，继续推进审批方式改革

- A. ①②
- B. ①③

C. ②④

D. ③④

63. “一带一路”东部连接快速发展的中国，西部连接发达的欧洲，而中部是亟待发展的中亚、南亚等地区，东、中、西部的经济具有互补性，具体表现是（ ）

- A. 东部产能增强，需要加强对外合作
- B. 中亚油气匮乏，需要扩大能源进口
- C. 南亚农业发达，需要扩大粮食出口
- D. 西部经济发达，需要引进大量人才

64. 公元 643 年，玄奘从印度佛教中心那烂陀寺取真经回到长安后，创作了（ ）十二卷，记述他西游经历的 110 个国家及传闻的 28 个国家的山川、地邑、物产、习俗等。

- A. 《悟空》
- B. 《西游记》
- C. 《大般若经》
- D. 《大唐西域记》

65. 大三学生小红暑假期间受邀到某饭馆做帮工。某日，前来就餐的客人很多，小红在端汤时，不慎将在店内玩耍的 5 岁男孩小可烫伤。关于小可的损伤，下列说法正确的是（ ）

- A. 由小红赔偿，因为小可是被其烫伤的
- B. 由饭馆赔偿，因为小红是在饭馆做帮工
- C. 由饭馆与小红的父母共同承担，因为饭馆雇佣了小红，而小红的父母未尽到监护责任
- D. 由小红与小红的父母共同承担，因为小红是直接责任人，而小红的父母未尽到监护责任

66. 以下几个实验现象，能说明声音产生原因的是（ ）

- A. 放在玻璃钟罩内的电铃正在发声，若从玻璃钟罩内抽气，铃声明显减弱
- B. 把正在发声的收音机密封在塑料袋里，放入水中，仍能听到收音机发出的声音
- C. 拉小提琴时，琴弦的松紧程度不同，发出的声音不相同
- D. 拨动吉他的琴弦时，琴弦看上去好像变粗了，同时发出声音

67. “繁枝容易纷纷落，嫩蕊商量细细开”出自（ ）。

- A. 杜甫《春望》

- B. 李白《将进酒》
- C. 杜甫《江畔独步寻花七绝句》
- D. 刘禹锡《陋室铭》
68. 现在手机和平板使用的防刮的“大猩猩”玻璃的主要成分是（ ）。
- A. 二氧化硅
- B. 氧化钠
- C. 氧化钙
- D. 氧化镁
69. 广播技术在日常生活中应用得非常广泛，下列关于广播表述不正确的是（ ）
- A. 我们通常所说的 FM 指调频制广播
- B. 听众可通过调节频段来选择节目
- C. 广播信号传播速度大于声波
- D. 雷雨天对收听广播没有任何影响
70. 下列关于中国古代著名科技文献的说法错误的是（ ）
- A. 《授时历》——元代郭守敬等天文学家修订的历法
- B. 《营造法式》——我国古代最完整的建筑技术书籍
- C. 《伤寒杂病论》——药王孙思邈确立了中医临床基本原则
- D. 《天工开物》——世界上第一部关于农业和手工业生产的综合性著作

第三部分 数量关系

71. 某高校艺术学院分音乐系和美术系两个系别，已知学院男生人数占总人数的 30%，且音乐系男女生人数之比为 1: 3，美术系男女生人数之比为 2: 3，问音乐系和美术系的总人数之比为多少（ ）
- A. 5: 2
- B. 5: 1
- C. 3: 1
- D. 2: 1
72. 有 6 种颜色的小球，数量分别为 4, 6, 8, 9, 11, 10，将它们放在一个盒子里，那

么，拿到相同颜色的球最多需要的次数为（ ）

- A. 6
- B. 12
- C. 11
- D. 7

73. 有 135 人参加某单位的招聘，31 人有英语证书和普通话证书，37 人有英语证书和计算机证书，16 人有普通话证书和计算机证书，其中一部分人有三种证书，而一部分人则只有一种证书。该单位要求必须至少有两种上述证书的应聘者才有资格参加面试。问至少有多少人不能参加面试（ ）

- A. 51
- B. 50
- C. 53
- D. 52

74. 女儿今年的年龄是母亲年龄的 $\frac{1}{4}$ ，40 年后女儿的是母亲的 $\frac{2}{3}$ 。问当女儿年龄是母亲年龄的 $\frac{1}{2}$ 时是公元多少年（假设今年是 2013 年）（ ）

- A. 2021
- B. 2022
- C. 2026
- D. 2029

75. 某单位有职工 15 人，其中业务人员 9 人，现要从整个单位选出 3 人参加培训，要求其中业务人员的人数不以少于非业务人员的人数。问有多少种不同的选人方法（ ）

- A. 156
- B. 216
- C. 240
- D. 300

76. 2016 年 5 月 1 日是星期日，请推算 2015 年 6 月 1 日是星期几？（ ）

- A. 星期一
- B. 星期二
- C. 星期三

D. 星期四

77. 一项工作由师傅单独做要 10 天，由徒弟单独做要 12 天，现由两人共同做，中途师傅请假 1 天，则完成需要（ ）天

A.6

B.7

C.8

D.9

78. 甲、乙二人分别同时从 A、B 两地出发相向匀速而行，两人相遇之后，甲又经过了 2 个小时到达 B 地；乙又经过 4 个半小时到达 A 地，若他们到达后立即调头，当他们再次相遇时，距他们第一次相遇经过了多少个小时？

A. 5

B. 5.5

C. 6

D. 6.5

79. 汽车以每小时 54 千米的速度笔直地开向峭壁，驾驶员按一声喇叭，6 秒后听到回声，已知声音的速度是每秒 340 米，问听到回声时，汽车离峭壁的距离是多少米？

A. 975

B. 1020

C. 1065

D. 1155

80. 车库中有 10 个相连的空车位，有 3 辆车开进车库并随机停在这 10 个车位上，问剩下的空位中正好只有 5 个相连空位的概率为（ ）

A. 小于 10%

B. 10%

C. 20%

D. 大于 20%


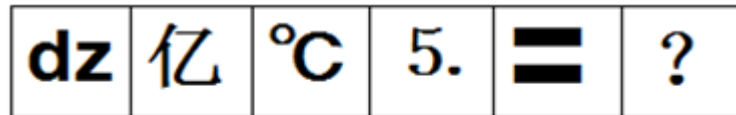
第四部分 判断推理

81. 从所给的四个选项中，选择最合适的一个填入问号处，使之呈现一定的规律性：




A B C D

82. 从所给的四个选项中，选择最合适的一个填入问号处，使之呈现一定的规律性：



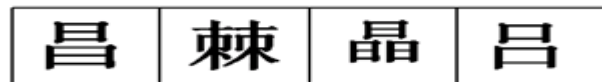
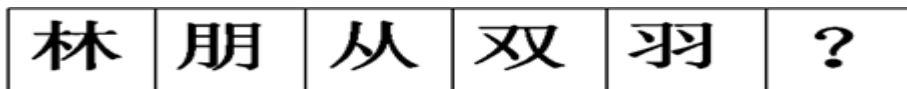
A B C D

83. 从所给的四个选项中，选择最合适的一个填入问号处，使之呈现一定的规律性：



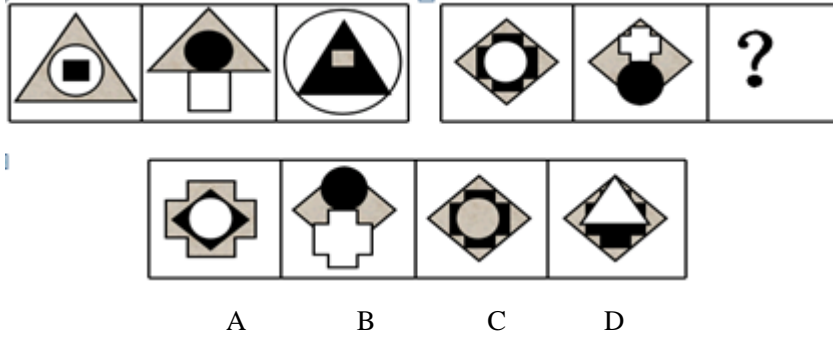
A B C D

84. 从所给的四个选项中，选择最合适的一个填入问号处，使之呈现一定的规律性：



A B C D

85. 从所给的四个选项中，选择最合适的一个填入问号处，使之呈现一定的规律性：



86. 房子：窗户

A. 权利：金钱

B. 水果：萝卜

C. 飞机：宇宙

D. 汽车：轮胎

87. 浙江：杭州：安徽

A. 湖北：武汉：北京

B. 福建：厦门：上海

C. 江苏：南昌：哈尔滨

D. 吉林：长春：沈阳

88. 工人：农民

A. 清香：浓郁

B. 老师：学生

C. 车间：工人

D. 教师：医生

89. 汽油：去渍

A. 盐：杀菌

B. 双氧水：消毒

C. 洗衣服：去渍

D. 酱油：调味

90. 背水一战：韩信

A. 宝刀未老：赵云

B. 约法三章：刘邦

- C. 才高八斗：李白
- D. 一身是胆：黄忠

91. 酝酿效应是指当一个人长时间致力于解决某一个问题而又百思不得其解时，如果他暂时停下来去做别的事情，一段时间之后，他可能会忽然想到解决的办法。

根据上述定义，以下属于酝酿效应的是：

- A. 小李找某份文件一直没找到，过了两个小时后他发现了那份文件
- B. 某修理人员在修理电视时查阅了大量线路图，终于修好了电视
- C. 王同学写毕业论文时遇到了困难，几天后他参加学术会议时得到很多相关的信息，并且理清了思路
- D. 某研究人员申请了一个项目迟迟没有得到相关部门的批复，他转而研究别的课题，几个月后该项目得到了批准

92. 共享经济指借助网络第三方平台，基于闲置资金使用权的暂时性转移，实现生产要素的社会化，提高存量资产的使用效率以创造更多价值，促进社会经济的可持续发展。

根据上述定义，下列经济活动不属于共享经济的有：

- A. 王某从某网络平台订车去飞机场，方便快捷
- B. 张某从某网络平台购买外卖美食，在家享受美味
- C. 李基从某网络平台贷款炒股，获得了预期收益
- D. 马某旅行前从某网络平台预订民宿，抵达后入住

93. 商品差价是指同一商品由于流通环节、质量、购销地区与季节不同而形成的价格差额。

根据该定义，下列属于商品差价的选项是：

- A. 猪肉加工成香肠后价格上升
- B. 五粮液酒和茅台酒的价格不同
- C. 在合肥买 2018 版高配昂科威汽车比在北京买要便宜
- D. 冬季的金针菇比夏季的平菇贵

94. 种群是指在一定空间和时间的同种生物个体的总和。下列不属于种群的一项是：

- A. 森林里的鸟
- B. 一片草原上的波尔山羊
- C. 一个蚁巢里的白蚁

D. 一块地里的小麦

95. 皮格马利翁效应是指当某人获得他人信任和期望时，便会产生积极向上的动力，更加努力地实现他人对自己的期望。根据此定义，下列属于皮格马利翁效应的是：

A. 小丽从小就想当歌唱家，在老师的严格要求和训练下，加之自身十分的努力，长大后终于实现了自己的梦想

B. 平时总爱自暴自弃的小阳，在老师和父母的鼓励辅助下，最终考取了名牌大学

C. 豫剧大师常香玉拥有一颗拳拳爱国之心，经过 180 多场义演，常香玉带领着剧社实现了捐一架飞机的意愿

D. 张亮的事业心非常强，工作中总是兢兢业业、任劳任怨

96. 烟草业仍然是有利可图的。在中国，尽管今年吸烟者中成人人数减少，烟草生产商销售的烟草总量还是增加了。

以下哪项不能用来解释烟草销售量的增长和吸烟者中成人人数的减少：

A. 今年中，开始吸烟的妇女数量多于戒烟的男子数量。

B. 今年中，开始吸烟的少年数量多于同期戒烟的成人数量。

C. 今年，非吸烟者中咀嚼烟草及嗅鼻烟的人多于戒烟者。

D. 今年和往年相比，那些有长年吸烟史的人平均消费了更多的烟草。

97. 实践表明多媒体课件进行教学能够提高教学效果。即使课件做得过于简单，只是传统的板书的“搬家”，未能真正实现多媒体的功效，也可以起到节省时间的作用。 以下哪一项陈述是上面的论证所依赖的假设？

A. 采用多媒体课件教学比使用传统的板书教学有明显的优势

B. 将板书的内容移入课件不会降低传统板书在教学中的功效

C. 有些教师使用的课件过于简单，不能真正发挥多媒体的功效

D. 用多媒体课件代替传统的板书可以节省写板书的时间

98. 有调查表明，四川人比广东人更喜欢吃辣椒，由此可推：

A. 爱吃辣椒的一定是四川人

B. 广东人不能吃辣椒

C. 四川人比广东人更适合吃辣椒

D. 四川人和广东人一样适合吃辣椒

99. 某珠宝店失窃，甲、乙、丙、丁四人涉嫌被拘审。四人的口供如下：

甲：案犯是丙。

乙：丁是罪犯。

丙：如果我作案，那么丁是主犯。

丁：作案的不是我。

四个口供中只有一个是假的，

如果上述断定为真，那么以下哪项是真的：

- A. 说假话的是甲，作案的是乙。
- B. 说假话的是丁，作案的是丙和丁。
- C. 说假话的是乙，作案的是丙。
- D. 说假话的是丙，作案的是丙。

100. 世界级的马拉松选手每天跑步都不超过 6 小时。一名选手每天跑步超过 6 小时，因此他不是一名世界级马拉松选手。

以下哪项与上文推理形式相同：

- A. 跳远运动员每天早晨跑步。如果某人早晨跑步，那么他是跳远运动员
- B. 如果每日只睡 4 小时，对身体不利。研究表明，最有价值的睡眠都发生在入睡后的第 5 个小时。
- C. 家长和小孩做游戏时，小孩更高兴。因此，家长应该多作游戏。
- D. 油漆三小时内都不会干。某涂料在三小时内干了，所以它不是油漆。

第五部分 资料分析

一、根据所给资料，回答下列问题。

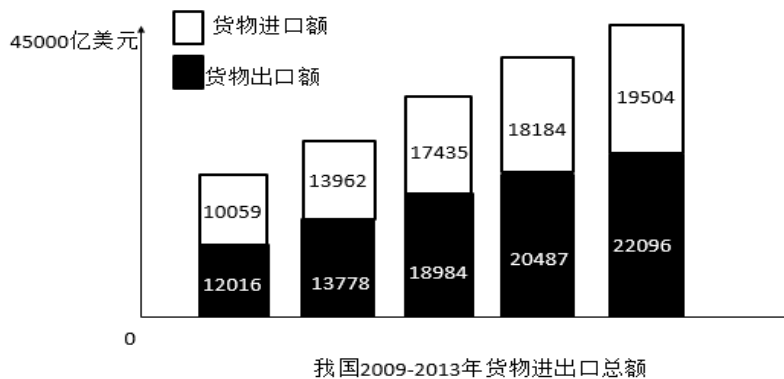


表1 我国2013年货物进出口总额及其增长速度（单位：亿美元）

指标	绝对数	比上年增长%
货物进出口总额	41600	7.6
货物出口额	22096	7.9
其中：一般贸易	10875	10.1
加工贸易	8605	-0.3
其中：机电产品	2652	7.3
高新技术产品	6603	9.8
货物进口额	19504	7.3
其中：一般贸易	11099	8.6
加工贸易	4970	3.3
其中：机电产品	8400	7.3
高新技术产品	5582	10.1
进出口差额（出口减进口）	2592	?

表2 我国2013年年对主要国家和地区货物进出口总额及其增长速度（单位：亿美元）

国家和地区	出口额	比上年增长%	进口额	比上年增长
欧盟	3390	1.1	2200	3.7
美国	3684	4.7	1525	14.8
东盟	2441	19.5	1996	1.9
中国香港	3848	19	162	-9.3
日本	1503	-0.9	1623	-8.7
韩国	912	4	1831	8.5
中国台湾	406	10.5	1566	18.5
俄罗斯	496	12.6	396	-10.2
印度	484	1.6	170	-9.6

101. 表1中的“？”为（ ）

- A. 12.5
- B. 67.3
- C. 112.5
- D. 167.3

102. 2013年，我国对俄罗斯的进口额比2012年减少了（ ）亿美元。

- A. 10.2
- B. 27.0
- C. 36.7
- D. 45.0

103. 根据上述资料，2013年进出口差额最小的是（ ）

- A. 一般贸易
- B. 加工贸易

C. 机电产品

D. 高新技术产品

104. 根据上述资料，下列说法正确的是（ ）

A. 2012 年，一般贸易、加工贸易的出口额都大于进口额

B. 2012 年，机电产品，高新技术产品出口额都大于进口额

C. 2012 年，我国对于日本的出口额大于进口额。

D. 2012 年，我国对东盟的出口额大于进口额

105. 根据上述资料，下列说法不正确的是（ ）

A. 2009 年-2013 年，货物进口额逐年增长

B. 2009 年-2013 年，货物出口额逐年增长

C. 2009 年-2013 年，货物进出口差额逐年增长

D. 2009 年-2013 年，货物进出口总额逐年增长

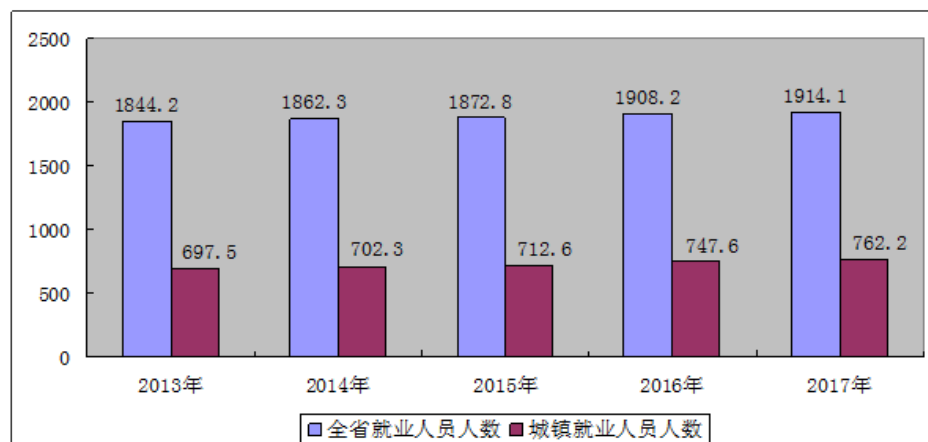
二、根据所给资料，回答下列问题。

截止 2017 年末全省就业人员 1914.1 万人，比上年末增加 5.9 万人；其中城镇就业人员 762.2 万人，比上年末增加 14.5 万人。全省就业人员中，第一产业就业人员占 35.0%；第二产业就业人员占 25.3%；第三产业就业人员占 39.7%。

2017 年全省农民工总量 517.7 万人，比上年增加 15.9 万人，其中外出农民工 182.1 万人。

图 1 近五年全省就业人员年末人数

单位：万人



全年城镇新增就业人数 51.80 万人，城镇失业人员再就业人数 17.18 万人，就业困难人员就业人数 4.76 万人。年末城镇登记失业人数为 26.53 万人，城镇登记失业率为 3.43%。全

年全省共帮助 2100 户零就业家庭实现每户至少一人就业。组织 600 名高校毕业生到基层从事“三支一扶”服务。

图 2 近五年全省城镇新增就业人数

单位：万人

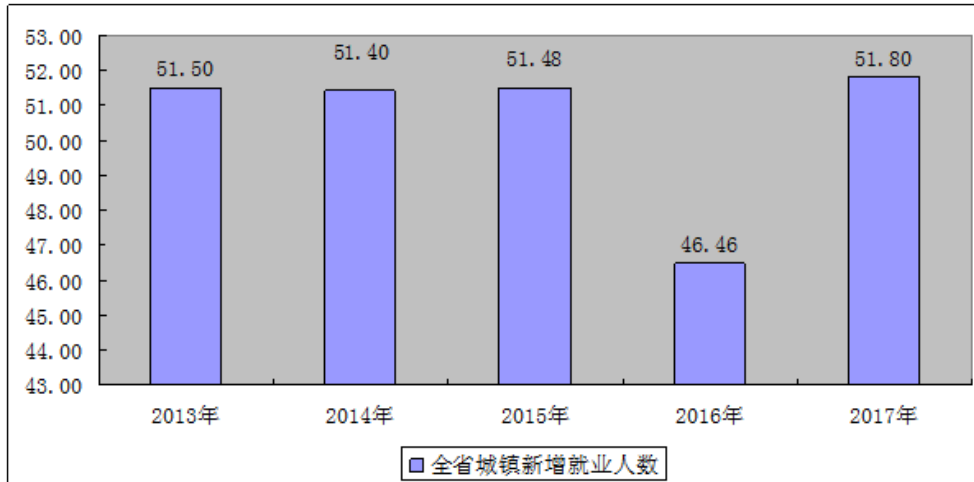
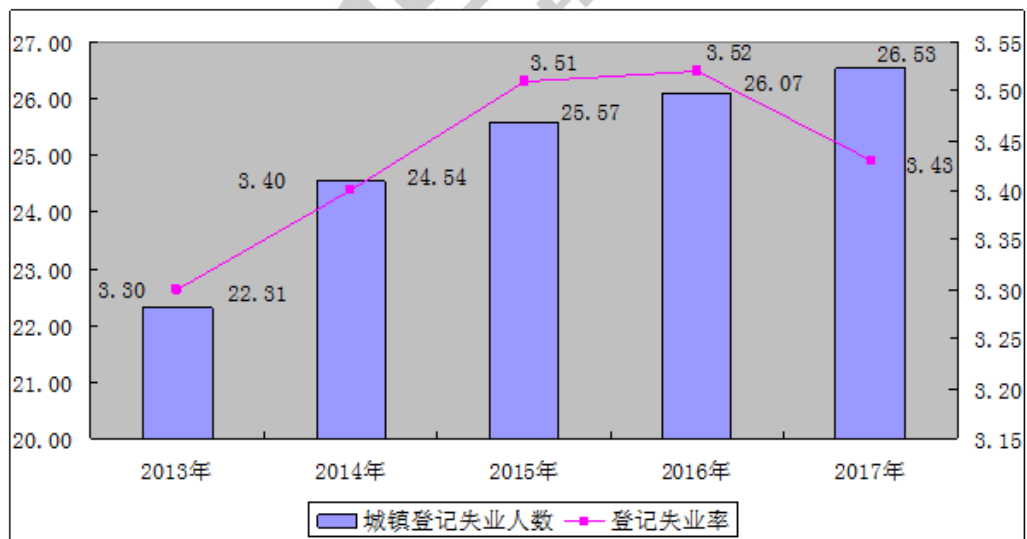


图 3 近五年城镇登记失业人数及登记失业率

单位：万人，%



截至 2017 年底，全行业共有人力资源服务机构 539 家，从业人员 5889 人，实现营业收入 38.76 亿元。2017 年，共为 12.24 万家次用人单位提供了人力资源服务，帮助 77.99 万劳动者实现了求职择业和流动服务。

106. 2017 年末，全省就业人员比上年增加（ ）万人

A. 5.9

B. 5.4

C. 4.3

D. 4.6

107. 2017 年全省在家农民工务工（ ）万人。

A. 182.1

B. 335.6

C. 501.8

D. 198

108. 2017 年末城镇登记失业率为（ ）。

A. 3.43%

B. 3.51%

C. 3.52%

D. 4.11%

109. 下列说法错误的是（ ）

A. 截至 2017 年底，全行业共有人力资源服务机构 539 家，从业人员 5998 人。

B. 2017 年，共为 12.24 万家次用人单位提供了人力资源服务，帮助 77.99 万劳动者实现了求职择业和流动服务。

C. 2017 年全年全省共帮助 2100 户零就业家庭实现每户至少一人就业。组织 600 名高校毕业生到基层从事“三支一扶”服务。

D. 全省就业人员中，第一产业就业人员占 35.0%；第二产业就业人员占 25.3%；第三产业就业人员占 39.7%。

110. 全省就业人员中，（ ）产业人员占比最高

A. 第一产业

B. 第二产业

C. 第三产业

D. 第四产业

三、根据所给资料，回答下列问题。

专业	2015 年		2016 年	
	毕业人数	在校人数	毕业人数	在校人数
哲学	9	54	10	66

经济学	573	3599	659	4664
法学	615	3879	800	4748
教育学	526	3745	798	4703
文学	1578	10593	1985	13683
历史学	102	534	98	556
理学	1158	7163	1315	8522
工学	3491	24912	4598	30850
农学	285	1860	363	2160
医学	626	5294	795	6566
管理学	1399	10275	1932	13817

111. 2016 年该市高校学生在校人数最多的专业是（ ）

- A. 经济学
- B. 教育学
- C. 文学
- D. 工学

112. 2015 年的毕业生中，文学专业所占的比例大概是（ ）

- A. 10%
- B. 12%
- C. 15%
- D. 18%

113. 下列说法正确的是（ ）

- A. 与 2015 年相比，2016 年各专业毕业人数都有不同程度的上升
- B. 2015 年在校人数较多的三个专业占当年总在校人数大半
- C. 与 2015 年相比，2016 年理学专业毕业生的增长率比法学的高
- D. 与 2015 年相比，2016 年文学专业在校人数的增长率比管理学的高

114. 2016 年与 2015 年相比，在校生增长率超过 25% 的专业有（ ）个

- A. 3
- B. 4

C. 5

D. 6

115. 与 2015 相比，2016 年毕业人数增长率最高的专业是（ ）

A. 经济学

B. 管理学

C. 教育学

D. 历史学

四、根据所给资料，回答下列问题。

国家工商总局公布的数据显示，2009 年第一季度，全国工商行政管理机关共查处各类违法违章案件 68202 件，同比下降 29.98%；其中立案查处案件 49654 件，同比下降 32.26%，案件总值 33.57 亿元，同比下降 21.26%，罚没金额 3.33 亿元，同比下降 39.49%。

从违法法规看，违反企业登记管理法规案件 9216 件，同比下降 38.54%；违反产品质量法规案件 6760 件，同比下降 27.51%；违反反不正当竞争法规案件 4944 件，同比增长 6.51%；违反商标法规案件 4119 件，同比下降 21.93%；违反广告法规案件 2141 件，同比下降 24.27%；违反消费者权益保护法规案件 1644 件，下降 13.66%；违反合同法规案件 156 件，同比下降 57.02%。

从违法主体看，在立案查处的案件中，个体工商户案件 22142 件，同比下降 22.73%；自然人案件 12472 件，同比下降 49.04%；公司案件 6521 件，同比下降 21.73%；私营企业案件 3975 件，同比下降 22.27%；集体企业案件 728 件，同比下降 45.26%。

116. 若保持同比下降率不变，预计 2010 年第一季度全国立案查处案件数将（ ）。

A. 接近 4.8 万

B. 接近 3.4 万

C. 接近 1.6 万

D. 接近 2.1 万

117. 2009 年第一季度，违反产品质量法规案件减少量是违反商标法规案件减少量的几倍？（ ）

A. 1.25

B. 1.56

C. 1.77

D. 2.22

118. 2009 年第一季度，各类违法主体占立案查处案件比重的最高值与最低值相差多少？

()

A. 43.13%

B. 36.62%

C. 31.40%

D. 26.67%

119. 下列说法与资料相符的有几个？()

(1) 2009 年第一季度，罚没金额同比下降率大于案件总值同比下降率

(2) 2008 年第一季度，违反合同法规案件为 353 件

(3) 2009 年第一季度，公司案件数大于私营企业案件与集体企业案件数之和

A. 0

B. 1

C. 2

D. 3

120. 根据上述资料，以下描述不正确的是()。

A. 2009 年第一季度，自然人案件与集体企业案件同比下降均超过 40%

B. 2009 年第一季度，违反广告法规案件占各类违法违章案件的比重为 3.14%

C. 2009 年第一季度，违反各类法规案件与去年同期相比均有下降

D. 2009 年第一季度，违反反不正当竞争法规案件数量大约是违反消费者权益保护法规

案件数量的 3 倍