

2021 年广西三支一扶招募考试笔试试题

一、单选 30 题，0.8 分，1-30 题（公基）

1.减税降费是激发市场活力、释放发展潜能的重要举措。下列关于减税降费的说法中，错误的是（ ）。

- A.有利于稳定就业
- B.是支持企业发展最有效的方式
- C.有利于促进居民消费
- D.有利于优化经济结构

【答案】D

【解析】减税降费可以增加企业和个人的可支配收入，所以是最有效的方式。企业有更多的资金就能够雇佣更多的人进行生产，降低裁员的风险。个人可支配收入提高了可以促进居民个人的消费。

2.____是我国社会主义职业道德的核心思想？

- A.为人民服务
- B.集体主义
- C.爱岗敬业
- D.无私奉献

【答案】A

【解析】社会主义职业道德的五项基本规范,即“爱岗敬业、诚实守信、办事公道、服务群众、奉献社会”。其中,为人民服务是社会主义职业道德的核心规范,它是贯穿于全社会共同的职业道德之中的基本精神。社会主义职业道德的基本原则是集体主义。

3.下列从业人民的做法中，正确的是？

- A.当群众不了解政策时，直接按照政策要求直接帮其办理业务
- B.面对群众咨询时，言语要简练，问一答一，不问不答
- C.接待群众时，应语速适中，让群众听的清楚、明白
- D.与群众交谈时，要轻声细语，让其感受到亲切感

【答案】C

【解析】群众不了解政策时需要向群众解释清楚政策内容，获得群众的理解和认可。要主动帮助群众解决问题。与群众交谈时音量语速要适中，清晰、简洁明了。

5.我国从____年开始实施三支一扶？

- A.2005
- B.2006
- C.2007
- D.2010

【答案】B

【解析】三支一扶计划的政策依据是国家人事部 2006 年颁布的第 16 号文件《关于组织开展高校毕业生到农村基层从事支教、支农、支医和扶贫工作的通知》

广西水果产量排名全国第____。

- A.1

- B.2
- C.3
- D.5

【答案】C

【解析】2020年，广西水果总产量全国排名第3，仅次于山东、河南。

三支一扶第四阶段（2021-2025年）的主要内容是：

- A.支农、支教、支医和扶贫
- B.支农、支教、支医和帮扶乡村振兴

【答案】B

【解析】人社部会同中组部、教育部、财政部、水利部、农业农村部、国家卫生健康委、国家乡村振兴局、国家林草局、团中央等部门印发通知，决定于2021年至2025年实施第四轮高校毕业生“三支一扶”（支教、支农、支医和帮扶乡村振兴）计划。

张阿姨单身至今，膝下无儿无女，现在她想要收养一名男孩子，请问张阿姨的年龄要大于被收养男孩子__岁？

- A.20
- B.30
- C.40
- D.50

【答案】C

【解析】《中华人民共和国民法典》第一千一百零二条 【无配偶者收养异性子女】无配偶者收养异性子女的，收养人与被收养人的年龄应当相差四十周岁以上。

2021年中央一号文件的主要内容包括（）

- A.农业科技创新
- B.城乡建设一体化
- C.农业现代化
- D.乡村振兴战略

【答案】C

【解析】中央一号文件《中共中央国务院关于全面推进乡村振兴加快农业农村现代化的意见》全文共包括5个部分，分别是：总体要求、实现巩固拓展脱贫攻坚成果同乡村振兴有效衔接、加快推进农业现代化、大力实施乡村建设行动、加强党对“三农”工作的全面领导。

天问一号任务火星车的名字

- A.麒麟
- B.祝融
- C.赤兔

D.哪吒

【答案】B

【解析】2021年04月24日在“2021中国航天日开幕启动仪式”上我国首辆火星车名称揭晓，经全球征名、专家评审、网络投票等层层遴选，最终“祝融号”脱颖而出。

二、多选 15题 1分，15题，31-45题（公基）

习近平总书记指出，只有坚持思想建党、理论强党，不忘初心才能更加自觉，担当使命才能更加坚定，要把学习贯彻党的创新理论作为思想武装的重中之重，并同学习党史、新中国史、改革开放史、社会主义发展史结合起来。学习四史，要学习哪四史？

A.党史

B.新中国史

C.改革开放史

D.社会主义发展史

【答案】ABCD

【解析】四史具体包括：党史、新中国史、改革开放史、社会主义发展史。

习近平总书记在庆祝中国共产党成立100周年大会上的重要讲话中指出：“一百年前，中国共产党的先驱们创建了中国共产党，形成了_____的伟大建党精神，这是中国共产党的精神之源。”

A.坚持真理、坚守理想

B.践行初心、担当使命

C.不怕牺牲、英勇斗争

D.对党忠诚、不负人民

【答案】ABCD

【解析】伟大建党精神指的是：坚持真理、坚守理想；践行初心、担当使命；不怕牺牲、英勇斗争；对党忠诚、不负人民。

34.以下属于十三五期间取得的成就是？

A.中国经济结构日益优化

B.财政收入持续增加

C.中国构建全方位开放新格局

D.中国科技创新量质齐升

【答案】ABCD

【解析】十三五期间取得的重大成就：中国经济结构日益优化；财政收入持续增加 支出重点用于民生；8亿亩农田为粮食安全提供保障；中国构建全方位开放新格局；中国科技创新量质齐升等。

41.下列关于公文各要素的说法中，不正确的有：

A.上行文的发文序列要居左空1字编排

B.标题有两行的，应当居中等宽排列

C.公文首页应出现正文

D.下行文应标注签发人姓名

【答案】BD

【解析】发文序列一般编排在发文机关标志下空二行、居中排布，但是上行文发文序列居左空一字排列、且与右边签发人最后一个名字在同一行。标题有多行的可以齐肩式排列，也可以倒梯形排列。下行文不用签发人姓名，上行文才需要。

三、言语理解与表达

54.虽然和蔗糖相比，甜高粱的甜味有些寡淡，但在水果短缺的年代里它也提供了_____的味觉体验。

填入划横线部分最恰当的一项是（ ）。

- A.独一无二
- B.举世无双
- C.无与伦比
- D.赞不绝口

【答案】C

解析：逻辑填空题，前后转折关系，前面说甜高粱寡淡，转折之后应该夸甜高粱味道好，独一无二和举世无双都表示，没有第二个可以相比的，意思不符合排除A和B，赞不绝口通常搭配人，排除D，无与伦比是指非常好，意识相符，因此选择C。

55.乡村规划_____是多规合一的实用性规划，_____是面向未来的创新性规划。依次填入划横线部分最恰当的一项是（ ）。

- A.既 也
- B.并非 而
- C.不仅 而且
- D.不但 更

【答案】A

解析：逻辑填空题，实用性规划与创新性规划不是相反意思，因此排除B，C与D均为递进关系，反推可知一个题不能有两个答案，代入A，正确。因此选择A。

56.我们愿意以最大诚意、尽最大努力争取和平统一的前景，也有_____的意志、_____的信心、_____的能力挫败任何形式的“台独”分裂图谋。

依次填入划横线部分最恰当的一项是(

- A.坚强 充足 足够
- B.坚定 充分 足够
- C.坚定 充足 实足
- D.坚强 充分 实足

【答案】B

解析：逻辑填空题，考察固定搭配。第二空入手，排除充足一般指的是分量够，不形容抽象的“信心”，排除A和C，实足是指确实足数的意思，“能力”不可数，排除D，因此正确答案B。

57.微信朋友圈给我们带来了更大的社交空间，但并不是自由自在的个人小天地，_____要想经营好这份自媒体，需要细心探索其中的新法则。

填入划横线部分最恰当的一项是（ ）。

- A.而是人来人往的熟熟人社区
- B.也不是人山人海的大集市
- C.更不是个人的后花园
- D.或是私密的保险柜

【答案】C

解析：语句填空题，前文并不是，关联词的搭配，在选项B和C中选择，通过后文的对策说的是需要新的法则，说明横线处的内容不是个人的后花园，就是不是自己熟悉的环境。所以选择C。

58. 流行语的诞生、传播和消亡，本来是语言正常的新陈代谢，_____但是网络时代极大提升了了流行语变化的速率，我们要留心的不仅是它们对语言规范的影响，更要警惕它们对思维方式的冲击。慎重对待语言，就是慎重对待我们的思想。

填入划横线部分最恰当的一项是（ ）。

- A.无需外界干预
- B.这种新陈代谢一直在进行着
- C.就像大自然中的循环规律
- D.不会对语言规范带来影响

【答案】D

解析：语句填空题，保持话题一致，但是转折后，描述的是新的变化，后文给出对策是语言规范的变化要警惕，所以，应该保持话题一致，选择D选项。

第9页 共26页

59. 下列句子中，有歧义的一句是（ ）。

- A.她瞒着老师和同学悄悄地把教室打扫得干干净净。
- B.教育寄托着亿万家庭对美好生活的期盼，建设教育强国是中华民族伟大复兴的基础工程。
- C.通常认为，正步最初是19世纪初期普鲁士军队在阅兵中使用的。
- D.工人和农民都是国家的主人。

【答案】A

A选项，歧义句，他瞒着老师和同学这里歧义，有两种表达，他瞒着老师和瞒着同学；他瞒着老师。

60. 下列句子中，有语病的一句是（ ）

- A. “政治要强”的要求，是对思政课教师提出的首位要求，也是思政课教师最鲜亮的本色。
- B. 安置点按照“美丽乡村”建设要求，规范了猪舍、鸡舍养殖场地，实行污水统一处理。
- C. 在减肥的过程中，如果一点碳水化合物都不吃，这种做法是不可取的。
- D. 由于思想水平不高以及文字表达能力差的限制，他犯错误是难免的。

正确答案：D

解析：D选项语义重复，“能力差”和“的限制”两者表述重复，故该句有语病。其它选项没有语病，所以选择D选项。

61.下列句子中，没有语病的一句是（ ）。

- A.无需再长期注射干扰素，只要口服这两款直接抗病毒药物，即可在 12 周内清除病毒，超过 90%以上的患者可实现治愈。
- B.他的一番“心里话”引起择国上下对“三农”问题的聚焦和中央的高度重视，也在监利县引发一场声势浩大的改革。
- C.他们发现，共生舞适合不同身体条件的人一起跳，也处强调自觉、自愿、平等，非常适合推广残障融合。
- D.许多保健食品企业从来除备着自己的产品正确定位，总是混淆“保健功能”与“治疗功能”。

正确答案：D

解析：A 选项“超过”和以上语义重复；B 选项“举国上下”和“中央”，前者包含后者，语句成分赘余；C 选项句式杂糅，“他们发现共生舞……适合一起跳”和“共生舞处处强调……”是两个句式，两个主语，拆分才能通顺。D 选项无语病，故选 D。

62 下列句子中，没有语病的一句是（ ）。

- A.由于矿场大多建立在水电站附近的原因。直接将水电站果的电接过来，电价很低。
- B.2015 年 12 月中旬左右，拼好货进行了千万美金级 B 轮融资，主要投资方为高融资本与 IDG。
- C.业界一致公认的是，在这个新兴的市场，充满挑战的不仅是未来各家的玩法，更是人才的战争。

正确答案：C

解析：A 选项“由于”和“的原因”两者语义重复；B 选项“中旬”和“左右”两个词都属于约数词，语义重复；D 选项句式杂糅，“业界公认新兴市场充满挑战”和新市场的挑战不仅是……更是……”是两个句子，原句子有两个主语，“业界公认……人才……竞争”句式表述不合理。C 选项无语病，故选 C。

63.实体店经营状况不佳，早已成为不争的事实。尤其在一些地方，受店铺租金成本上涨、电商和微商冲击等因素影响，实体店纷纷陷入生存危机。但是，实体店并非没有抵御之计，只要肯动脑筋，前途依然充满阳光。

由此，可推知作者紧接着将要介绍（ ）

- A.实体店如何应对生存危机
B.实体店的经营现状
C.电商和微商的经营模式
D.影响实体店生存的因素

答案：A

解析：

转折之前提到了实体店经营状况不佳，以及经营状况不佳的原因是什么，转折之后说到实体店还是有抵御之计的，那么接下来将要说到有哪一些抵御之计，所以对应选项选的是 A。

64.早在 2003 年，哈里斯参选美国旧金山地方检察官时，为深入当地华社争取支持，由华裔友人父亲起了一个中文姓名——“贺锦丽”。此举经美国中文媒体的广泛报道，不仅为她竞选造势，也开了当地非华裔政界人士起“官方中文姓名”的先河。根据上文，“此举”具体指的是（ ）。

- A.哈里斯成为第一个其官方中文姓名的政客
B.哈里斯参加旧金山地方检察官选举
C.为了得到旧金山华社的支持，哈里斯起了一个中文姓名

D.哈里斯利用中文姓名参加竞选

64. 答案:D

解析:

“此举”定位在文段的第二行，“此举”指代前文的内容，就是“哈里斯参选美国旧金山地方检察官时，为深入当地华社争取支持，由华一有人父亲起了一个中文名字”，所以说对应文段选项的 D 选项。A 选项没有提到哈里斯的中文名与竞选的关系，B 选项也没有相关的主体，C 选项说的是为了得到旧金山华社的支持，哈里斯起了一个中文姓名，文中说，这个中文姓名是由华裔友人父亲起的，而不是哈里斯起的，所以选的是 D 选项。

65.研究人员在美国洛杉矶 10 所学校中筛选出 2587 名此前未表现出“注意力缺陷多动障碍（俗称多动症）”症状的青少年，年龄 15 到 16 岁，并跟踪此后两年间他们对 14 种数字媒体平台的使用情况，每 6 个月调查一次。研究涉及的数字媒体包括社交媒体、流媒体、短信、音乐下载和在线聊天等形式。结果显示，在经常使用至少 7 种数字媒体平台的约 120 名青少年中，出现多动症状的比例达到 10%左右；相比而言，不常使用数字媒体平台的青少年中，4.6%表现出此类症状，这一比例与正常水平接近。

根据以上文字，下列说法正确的是（ ）。

- A.经常使用数字媒体平台的青少年会出现多动症状
- B.青少年沉迷数字媒体平台可能增加患多动症的风险
- C.数字媒体平台会对人体产生很多不良影响
- D.美国约有 4.6%的青少年患有多动症

答案:B

解析:

这道题是细节理解题，A 选项对应文段“研究涉及的数字媒体，包括社交媒体等等聊天模式，结果显示，在经常使用至少 7 种数字媒体平台，约 120 名青少年中，出现多动症状的比例达到 10%左右”，并没有说经常使用数字媒体平台的青少年就一定会出现多动症状，所以 A 选项错误。C 选项数字媒体平台会对人体产生很多不良影响，文段主要是围绕多动症这个症状来进行调查，C 选项表述模糊错误。D 选项，美国约有 4.6%的青少年患有多动症，对应文段最后一句，“不常使用数字媒体平台的青少年中 4.6%表现出此类症状，这一比例与正常水平接近”，所以 D 无中生有，错误。B 选项可能增加患多动症的风险，正确。

66.加拿大麦克马斯特大学等机构的研究人员对此的 172 观察性研究进行了系统性综合分析，这些研究评估了保持人际距离、口罩以及护目用具能否在预防新冠病毒以及引起严重急性呼吸综合征（SARS）和中东呼吸综合征（MERS）的病毒传播方面发挥实质作用。结果显示，保持至少 1 米的人际距离能降低新冠病毒感染风险。研究指出，佩戴口罩、护目用具等防护用品可能有助医护人员以及普通人降低感染新冠病毒的风险。研究人员同时指出，人们不应该仅仅依赖这些防护措施，还要注意保持勤洗手等卫生习惯。根据以上文字，下列说法正确的是（ ）

- A.保持足够的人际距离可降低新冠病毒感染风险
- B.通过保持人际距离、佩戴口罩及护目用具等措施，能有效阻止各类传染病的传播
- C. 注意个人清洁卫生可以避免感染新冠病毒
- D. 医护人员必须与患者保持人际距离，并佩戴口罩

【答案】A

【解析】选项 A 对应原文“保持至少 1 米的人际距离能降低新冠病毒感染风险”，故正确。选项 B 偷换概念，原文提及了这些防护措施可能有助降低感染新冠病毒的风险，但不能仅仅依

赖这些防护措施。选项 C 过于绝对，仅凭注意个人卫生清洁还不能就避免被感染。选项 D 无中生有，原文未提及。

67.国际奥委会主席巴赫 18 日提出 40 点改革提议，其核心内容包括压缩赛事开支，这让 2020 年东京奥运会组委会看到了大量调整比赛场馆安排的“绿灯”。国际奥委会协调委员会主席科茨目前正在东京视察奥运会筹备情况，他表示：“国际奥委会支持东京奥运会组委会的比赛地点调整计划，这有助于压缩高昂的新场馆建设开支，正符合巴赫的改革理念。”东京申办奥运会时承诺，东京奥运会比赛将在 31 处场馆进行，其中 28 场馆将分布在奥运村 8 公里半径内。但现在为了节约开支，东京显然不想继续履行这一承诺。通过将比赛安排在更远的现有设施内进行，组委会可以大量节约成本。

下列最适合做这段文字标题的是（ ）

- A. 东京奥运会大量调整比赛场馆
- B. 巴赫对东京奥组委提出多点改革提议
- C. 科茨在东京视察奥运会筹备情况
- D. D.东京奥运会将压缩开支

【答案】D

【解析】新闻类的标题选择题，可以直接提炼首句导语内容获得文章主旨，然后根据主旨选择合适的标题。文段首句提及东京奥运会组委将调整比赛场馆来大量压缩开支，后几句内容也围绕节约开支展开，因此选 D。ABC 都不能体现“节约开支”的核心话题。

68.翻开《诗经》，我们会觉得汉语多么美好，看看那些诗意的词汇：暮春三月，江南草长，杂花生树，群莺乱飞...能够生活在这样的国家，使用这样一种语言，我与有荣焉。但是，今天的汉语，让我有一种想逃亡的感觉。当我打开网络，看到粗言秽语，甚至怨愤与谩骂时，真的感到非常痛心。可是，我们是有过《诗经》的民族，我们是有过诗意表达的民族，我们今天仍然需要、也有权利去要求精致的语言。我们需要诗歌，我们需要意义，我们需要生活，我们不光需要面包，还需要玫瑰。这段文字中，作者意在表达（ ）。

- A. 《诗经》曾为我们展现过汉语言的优美
- B. 无论何时，我们都需要精致而优美的语言
- C. 随着网络的发展，生活中的语言变得越来越鄙俗
- D. 如今的语言只有“面包”没有“玫瑰”

【答案】B

【解析】意图判断题，要根据文段主旨来判断意图。文段前两句讲述由《诗经》而体验到了汉语言的诗意与优美，转折后表现出当今汉语言表达缺乏诗意、粗鄙低俗的问题，然后引出了呼吁的对策，也是文段主旨，即现今仍需要精致优美的汉语言，意在言内，主旨即意图，因此同义替换选 B 选项“无论何时，我们都需要精致而优美的语言”。A 项来自原文开头，非重点。C 项跟 D 项都仅仅只是问题的表述。

四、文章阅读（阅读下列文字，回答 69~73 题。请从四个选项中，选择一个最符合题意的选项。本大题共 5 小题，每小题 0.8 分，共 4 分。）

“躺平族”青年作为一个群体代称，正在引发讨论。与拼搏努力争取成功相对，“躺平族”在各种压力面前选择逃避。相比奋斗的收获，他们更愿意过与世无争的生活，甚至一躺了之。这种自外于传统主流观念的青年处世方式，值得引起社会的重视。

特定文化现象的出现往往根源于经济社会的转型。20世纪70年代，欧美国家面临高失业叠加高通胀的经济“滞胀”危机，“朋克”文化在承受巨大压力的社会底层中迅速兴起壮大，年轻人以简单的音乐结构、非主流的着装和无所顾忌的言语方式等表达对现实生活的抗争。在经历了20世纪90年代经济泡沫的破裂之后，日本开始了长时间的经济停滞，催生了不出社会、自我封闭的“蛰居族”，并逐渐形成了大前研一笔下的“低欲望社会”；而在2008年全球金融危机深度影响全球经济的背景下，不上学、不工作、不进修的“尼特族”日益发展壮大，逐步演变为当下世界性的社会问题。

“躺平族”的兴起也有着深层次的经济社会常器，一方面，当下中国正在经历经济转型发展的关键时期，随着经济增长换挡降速和产业结构深度调整，行业发展空间受限，竞争更加激烈，最终反映到个人层面工作和生活上的“内卷”上。另一方面，中国巨大的经济发展成就为多元化的生活方式选择了条件。在物质相对丰裕的当下，人们可以有选择地放慢脚步，以相对舒适的工作方式换取足够的生活条件，或者依靠前期积累安逸度日。由此，那些思维活跃、不拘泥于传统的青年，自然会想到换一种轻松的生活方式——“躺平”。而与真正付诸行动在身体上躺平的人群相比，那些在岗位上早早失去斗志，消极应对工作的精神躺平者可能也不在少数。

然而，“躺平族”显然对于经济社会发展有很多不利。当前我国的经济发展面临着人口老龄化等多方面挑战，实现高质量发展的目标离不开青年的创造性贡献。相较于“未富先老”这一特殊历史背景促成的客观趋势，“未富先躺”这一现实问题带来的主观倾向同样需要引起我们警惕。关注“躺平族”，让“躺平族”愿意奋斗，对于面临转型发展任务的我国尤为必要。

当然，这绝非要对“躺平族”进行批判与苛责。出于身心考量选择舒适生活理应得到理解，经过充分思考选择慢节奏生活也需得到更多尊重。基于现实环境自主做出适合个人的生活选择，本身就是社会发展成就的一方面体现。引导“躺平族”奋斗，更多是需要从_____和积极的社会价值取向角度出发，通过国家、社会和学校等各方共同努力，给予这些青年更多的关怀。

奋斗的机会最终来源于经济发展本身。个人奋斗与经济发展相辅相成，国家采取鼓励创新创业、培育新的经济增长点等多方面政策举措，是推动经济转型和高质量发展的重要途径，也相应能够为人们提供更多的工作和成功机会。而打通经济高质量发展和个人奋斗的良性循环，需要在制度上更加重视营造公平竞争的市场环境，进一步打破制约企业积极性的制度壁垒，释放行业发展空间，推动不同行业、不同性质的企业平等地进入创新领域、把握创新机遇、收获创新成果。

奋斗的动力离不开积极理性的价值观引导。以积极的价值观增强青年奋斗的动力社会和媒体应更多关注平凡中的伟大，宣传脚踏实地爱岗敬业的身边人，推崇在普通岗位上做出可责成绩的工匠们，赞美在各个领域默默奉献价值的劳动者；企业应充分重视各类型工作岗位的价值，在合理安排薪酬和晋升机制的基础上，更加重视青年的归属感和自我实现动机，让不同岗位员工的劳力都能得到应有的认可，让奋斗者收获满意的成果。而作为思想引领的重中之重，学校教育应始终坚持正确的价值观导向，强化劳动教育，引导学生认同劳动本身的价值促进在青年当中达成劳动光荣的共识，引导青年惜韶华、奋发有为。

69. 填入文章划横线部分最恰当的一项是（ ）

- A. 经济发展本身
- B. 创造奋斗的机会
- C. 培育良好的工作环境
- D. 提供更多的就业岗位

69【答案】A

解析：根据话题一致，躺平族本身是社会发展的一部分，所以选A。

70. 下列对“躺平族”的理解中，不正确的是（ ）。

- A. 他们经常会逃避各种压力
- B. 表达了青年人对现实生活的抗争
- C. 除了身体上的躺平还有精神上的躺平
- D. 是一种非传统主流观念的青年处世方式

70. 【答案】B

解析：第一段中，他们愿意过与世无争的生活

71. 下列对原文内容的理解和分析中，正确的是（ ）

- A. "躺平族"的兴起实质上是一个世界性的社会问题
- B. 相比于"未富先老"这一客观趋势，"未富先躺"更应引起人们警惕
- C. 对于"躺平族"，作者的态度是不能批判与苛责，而是要理解与尊重
- D. 个人奋斗与经济发展相辅相成，国家需采取更多更好的政策举措，来实现二者的良性循环

71. 【答案】B

材料中第4段，未富先躺这一现实问题带来的主观倾向同样要引起重视，没有提到更重视。

72. 下列对原文论证的相关分析中，不正确的是（ ）

- A. 文章在论证"躺平族"兴起的背景时，将其与"朋克"文化、"蛰居族"和"尼特族"做了对比
- B. 文章从中国经济转型和多元化的生活方式两个方面论证了"躺平族"兴起的经济社会背景
- C. "躺平族"会对我国经济社会发展带来多不利，尤其是给人口老龄化带来挑战
- D. 文段最后从社会、企业、学校的角度论证了如何引导青年树立积极理性的价值观

72. 【答案】C

材料中没有提到老龄化影响。

73. 下列最适合做这篇文章标题的是（ ）

- A. "躺平族"的兴起与发展
- B. 经济社会发展的绊脚石——"躺平族"
- C. 给予"躺平族"更多的理解和关怀
- D. 引导"躺平族"珍惜韶华奋发有为

73. 【答案】D

引导躺平族奋发有为，是最后引出的对策，也是这篇材料描述的目的。

五、类比推理（先给出一组相关的词，要求你在四个选项中找到一组与之在逻辑关系上最为贴近或相似的词。本大题共10小题，每小题0.8分，共8分。）

74. 创造:历史

下列选项正确的是（ ）

- A. 发展:经济
- B. 和谐:社会
- C. 发扬:光大
- D. 生产:积累

【答案】A

【解析】第一步，确定题干逻辑关系。

“创造”与“历史”属于动宾关系。

第二步，辨析选项。

A项：“发展”与“经济”属于动宾关系，与题干逻辑关系一致，符合；

B项：“和谐”与“社会”属于偏正关系，排除；

C项：“发扬”与“光大”属于近义关系，排除；

D项：“生产”指出产，与“积累”属于反义关系，排除。

因此，选择A选项。

75. 削笔刀:铅笔

下列选项正确的是（ ）

A. 插座:插头

B. 碟子:菜肴

C. 压路机:路面

D. 马达:汽油

【答案】C

【解析】

题干逻辑关系：削笔刀是削铅笔的工具，一一对应关系。

A项：插座与插头是配套使用的对应关系，排除；

B项：碟子是装菜肴的器具，但是除了装菜肴之外，碟子还可以用来装其他东西，故不是一一对应；

C项：压路机是压路面的工具，一一对应关系，符合；

D项：马达与汽油没有逻辑关系，排除；

因此，选择C选项。

76. 第一书记:大学生

下列选项正确的是（ ）

A. 食物:庄稼

B. 大炮:武器

C. 故宫:乾清宫

D. 桔子:有机水果

【答案】D

【解析】题干逻辑关系：有的第一书记是大学生，有的大学生是第一书记，交叉关系

- A 项：食物的原材料来自庄稼，对应关系，与题干逻辑关系不符，排除；
- B 项：大炮是武器中的一种，种属关系，与题干逻辑关系不符，排除；
- C 项：乾清宫是故宫内廷正殿，内廷后三宫之一，组成关系，与题干逻辑关系不符，排除；
- D 项：有的桔子是有机水果，有的有机水果是桔子，交叉关系，与题干逻辑关系一致，符合。
- 因此，选择 D 选项。

77. 电灯泡:蜡烛

下列选项正确的是（ ）

- A. 手机:电话
- B. 微信:短信
- C. 电风扇:空调
- D. 电动车:自行车

【答案】D

【解析】

电题干逻辑关系：灯泡与蜡烛都具有照明的功能，且先有蜡烛后有电灯泡，发展时代存在先后顺序；

- A 项：手机是电话中的一种，种属关系，排除；
- B 项：微信从一种小程序，短信是发送信息的一种形式，与题干逻辑关系不一致；
- C 项：电风扇和空调都具有降温的功能，但词语前后位置不一致；
- D 项：电动车和自行车都具有骑行的功能，且先有自行车后有电动车，发展时代存在先后顺序。
- 因此，选择 D 选项。

78. 亡羊补牢:风险

下列选项正确的是（ ）

- A. 狡兔三窟:方法
- B. 买椟还珠:取舍
- C. 息事宁人:纠纷
- D. 精兵简政:效率

【答案】C

【解析】题干逻辑关系：亡羊补牢的目的是减少风险，对应关系。

- A 项：狡兔三窟是形容方法多；
B 项：买椟还珠比喻取舍不当；
C 项：息事宁人的目的是减少纠纷；
D 项：精兵简政指缩小机构，精简人员，精兵简政是为了提高效率。
因此，选择 C 选项。

79. 如坐针毡:处之泰然
下列选项正确的是（ ）

- A. 一无是处:百无一用
B. 物是人非:亘古不变
C. 一丝不苟:粗心大意
D. 如沐春风:春风得意

【答案】C

【解析】如坐针毡指像坐在插着针的毡子上，形容心神不定，坐立不安。处之泰然形容自理事情沉着镇定。也指对待问题毫不在意。二者为反义关系。

A 项：一无是处比喻一个人或物没有一点用处。百无一用指百样之中无一有用的，形容毫无用处。二者为近义关系，排除；

B 项：物是人非指东西还是原来的东西，可是人已不是原来的人了，多用于表达事过境迁。亘古不变的意思是从古至今永远也不会改变。二者不是反义关系。

C 项：一丝不苟指做事认真细致，一点儿不马虎。粗心大意的意思是指做事马虎，不细心。二者是反义关系。

D 项：如沐春风比喻同品德高尚且有学识的人相处并受到熏陶，犹言和高人相处，就像受到春风的吹拂一般。春风得意旧时形容考中进士后的兴奋心情。后形容职位升迁顺利。二者无逻辑关系。

因此，选项 C 选项。

80. 《三国演义》:曹操:典韦
下列选项正确的是（ ）

- A. 《红楼梦》:贾宝玉:林黛玉
B. 《水浒传》:宋江:关胜
C. 《西游记》:孙悟空:唐僧
D. 《封神演义》:李靖:哪吒

【答案】B

【解析】曹操与典韦都是《三国演义》的人物，且典韦是曹操的手下。

- A 项：贾宝玉与林黛玉都是《红楼梦》的人物，但两人不是上下级关系。
- B 项：宋江与关胜都是《水浒传》的人物，关胜是宋江的手下，与题干逻辑关系一致；
- C 项：孙悟空与唐僧都是《西游记》的人物，但孙悟空是唐僧的徒弟，上下级关系位置不一致；
- D 项：李靖与哪吒都是《封神演义》的人物，两人是父子关系。
- 因此，选择 B 选项。

81. 酸奶:生牛乳:益生菌
下列选项正确的是 ()
- A. 饺子:面皮:肉馅
- B. 道路:沥青:水泥
- C. 电视机:遥控器:音量
- D. 电脑:键盘:鼠标

【答案】A

【解析】

题干逻辑关系：酸奶是以生牛乳为原料，有的酸奶里面含有益生菌的成分。

- A 项：饺子是以面皮为原料，有的饺子里面含有肉馅；
- B 项：道路的原材料包含沥青和水泥；
- C 项：遥控器可以控制电视播放电视剧；
- D 项：键盘和鼠标是电脑的一部分，组成关系。

因此，选择 A 选项。

82. 消毒柜:杀菌:碗筷
下列选项正确的是 ()
- A. 料理机:刨冰:榨果汁
- B. 订书机:装订:订书钉
- C. 流水线:作业:工人
- D. 净水机:过滤:水

【答案】D

【解析】

题干逻辑关系：消毒柜是给碗筷杀菌的家电。

- A 项：刨冰是名词，排除；
- B 项：订书机是给书籍装订的工具，逻辑关系不符；

C项：流水线是工人作业的一种方式，排除
 D项：净水器是给水过滤的家电，符合题干逻辑关系。
 因此，选择D选项。

83、夸张:烽火连三月，家书抵万金 下列选项正确的是（ ）

- A.排比:不知细叶谁裁出，二月春风似剪刀
- B.借代:本是同根生，相煎何太急
- C.拟人:白雪却嫌春色晚，故穿庭树作飞花
- D.双关:冰霜正惨凄，终岁常端正

【答案】C

【解析】

A项：“知细叶谁裁出，二月春风似剪刀”把春风比喻为“剪刀”，“裁”字运用了拟人的手法，运用比喻和拟人，排除；

B项：“本是同根生，相煎何太急”运用了比喻修辞手法。诗人用“相煎”比喻兄弟之间的自相残杀，排除；

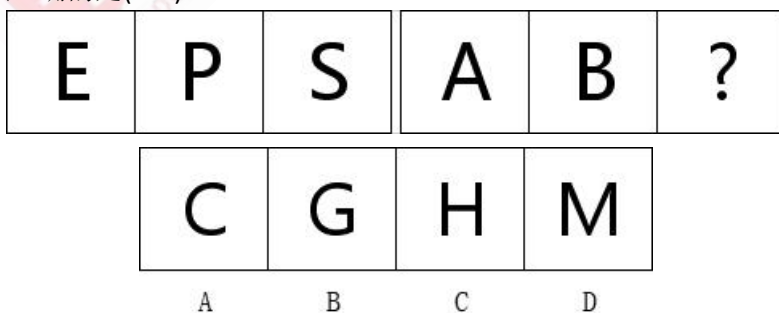
C项：“白雪却嫌春色晚，故穿庭树作飞花”使用拟人的修辞手法，把冰冷的雪花写得有情有义，如花美丽，表达了向往美好事物，愿为美好事物出力的情怀，符合；

D项：象征手法，用松树象征自己的志趣、情操和希望，排除。

因此，选择C选项。

六、图形推理(从所给的四个选项中，选择最合适的一项填入问号处，使之呈现一定的规律性。本大题共5小题，每小题0.8分，共4分。)

84、下列选项正确的是()



【答案】A

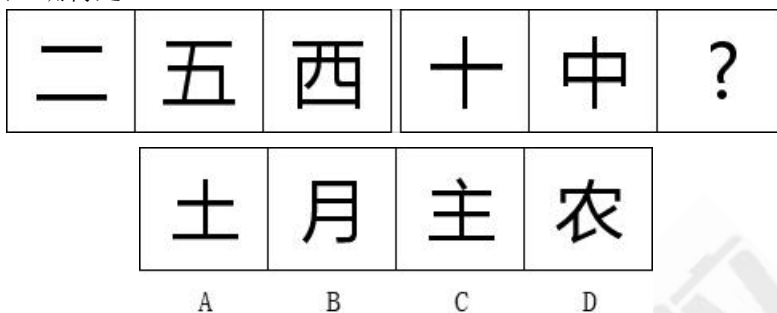
【解析】

前三幅图分别为直线图形，曲直图形，曲线图形，后两幅图分别为直线图形，曲直图

形，故应该找曲线图形，即 A 选项。

因此，选择 A 选项。

85、下列选项正确得是（ ）。

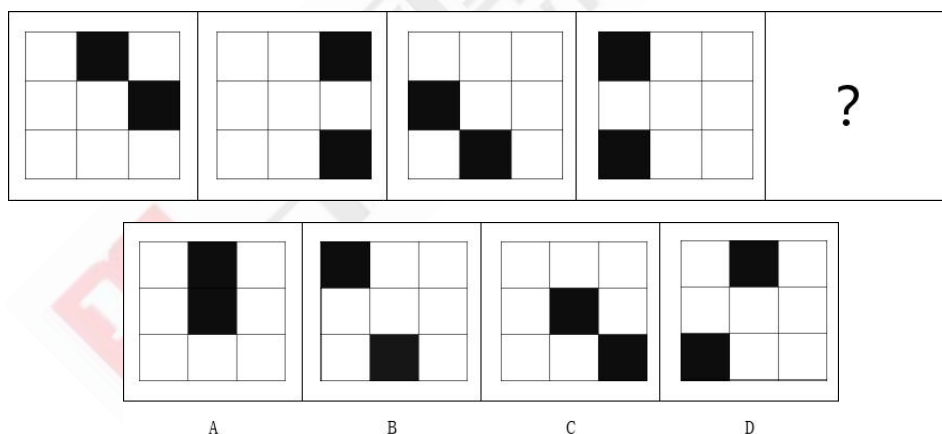


【答案】D

【解析】前三幅图的笔画分别为：2 笔，4 笔，6 笔，后两幅图的笔画为 2 笔，4 笔，故问号处应填入 6 笔的图形，只有 D 项符合。

因此，选择 D 选项。

86、下列选项正确的是（ ）。



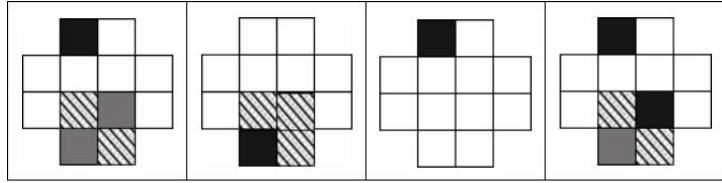
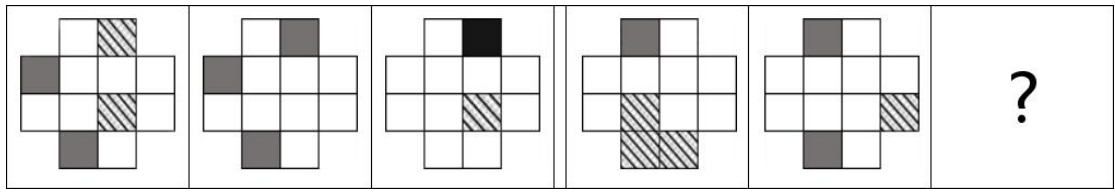
【答案】C

【解析】

元素相同，但不存在明显的位置移动的关系，因此不是平移，再观察发现图一与图三两个小黑方块存在点连接，图二与图四两个小黑方块不存在连接，即两个小黑方块点连接与不连接交替出现，故问号处应该找小黑方块点连接的图形，C 选项符合。

因此，选择 C 选项。

87、下列选项正确的是（ ）。



A

B

C

D

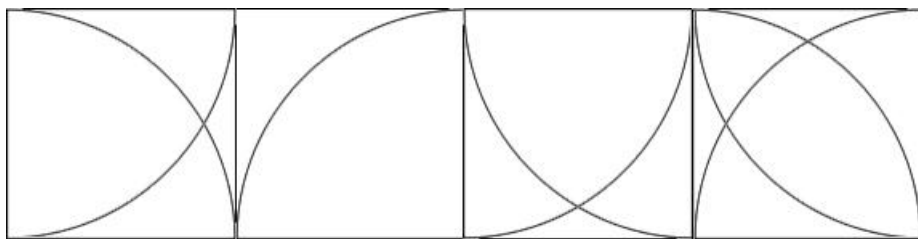
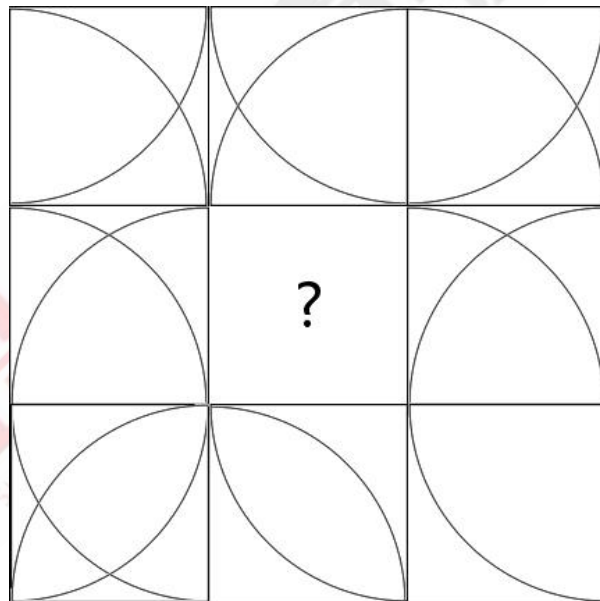
【答案】B

【解析】

元素组成相似，考虑样式类的规律，灰+灰=白，将此规律应用到后三幅图中，只有B选项符合。

因此，选择B选项。

88、下列选项正确的是（ ）。



A

B

C

D

【答案】C

【解析】

九宫格横行找规律，第一横行都为横轴对称的图形，第三横行都为斜轴对称的图形，第二横行的两个图形为竖轴对称的图形，故问号处应填入竖轴对称的图形。因此，选择C选项。

七、定义判断(每道题先给一个概念的定义，然后分别列出四种情况，要求你严格依据定义，从中选出一个最符合或最不符合该定义的选项。注意:假设这个定义是正确的，不容置疑的。本大题共6小题，每小题0.8分，共4.8分。)

89.电报式语言:是指儿童在2岁至4岁间所说的一种语言，句子只由名词和动词组成。它在具体语境中能被人理解，起到正常的交流作用。

根据上述定义，下列不属于电报式语言的是()

- A. 爸爸，玩
- B. 妈妈，讲故事，坐下
- C. 叔叔阿姨，我很想你们
- D. 奶奶，想，电视

【答案】C

【解析】

C项构成了完整的句子，句子成分不止包含名词和动词，故选C选项。

90.路西法效应:是指受到特定情境或氛围的影响，人的性格、思维方式、行为方式表现出来的不可思议的一面。

根据上述定义，下列符合路西法效应的是()。

- A.甲从小就很蛮横，从小学到高中，每到一所新学校一段时间后，就开始欺负周围弱小的同学
- B.乙考上研究生后，学习更加努力，并准备毕业后继续攻读博士
- C.丙原本性格和善，但在加入到传销组织后，其处事方式变得暴力、凶残
- D.丁上大学后没有认识的朋友，又因为学业压力大，所以他很少与人交流

【答案】C

【解析】

A项:甲从小就蛮横，没有体现出受到特定情境或氛围的影响，不符合;

B项:乙没有表现出不可思议的一面;

C项:丙受到传销组织的特定情境或氛围的影响，处事方式变得暴力、凶残，体

现出行为方式表现出来不可思议，符合；

D项：丁没有表现出不可思议的一面。

因此，选择C选项。

91. 习得性无助：是指个体经历某种学习、工作后，在面临不可控的情境时形成无论怎样努力也无法改变事情结果的不可控认知，继而导致放弃努力的一种心理状态。

根据上述定义，下列属于习得性无助的是（ ）

- A. 销售经理甲每次和客户商谈前都做了充足的准备，但最后都因各种原因没有谈妥而导致客户流失，他因此觉得自己运气不好，不适合做销售工作
- B. 乙在小时候被老鼠咬过，长大后一见到老鼠就害怕
- C. 丙毕业后希望进入世界 500 强企业工作。去一家外企实习后，他发现企业的工作环境并不适合自己，于是决定参加公务员考试
- D. 丁看到很多同事因为不能按时完成工作而受到领导的批评，便产生了焦虑情绪

【答案】A

【解析】

A项：甲觉得自己运气不好，属于不可控的情境，符合题干关键词；

B项：没有体现出乙放弃努力；

C项：丙是对自身有了新的认识，不属于放弃努力；

D项：丁产生了焦虑情绪，也没有体现出丁放弃努力。

因此，选择A选项。

92. 音叉效应：是指对于某些事物，对其作用的力度不在于大小，而关键在于找准它的脉搏。因为这种效应的存在，有时只是微小的扰动，就能带来巨大的影响。

根据上述定义，下列未体现音叉效应的是（ ）

- A. 在雪山上大喊一声，就能造成雪崩
- B. 当选择的音叉振动频率和玻璃的谐振频率一致时，高脚玻璃杯就会裂成碎片
- C. 某部爱国主义电影虽然没有邀请大明星参演，但因为其真实地反映了新中国建立初期的艰辛历程，激起了大众的爱国情怀，引发全民热议
- D. 将几乎相等的两个数据输入一个数学方程，计算得出的两条曲线不久就分道扬镳

【答案】D

【解析】

ABC选项都体现出了微小的扰动就能带来巨大的影响。D选项没有体现出题干的关键词。

93. 错觉：是指人们观察物体时，由于物体受到形、光、色的干扰，加上人们的生理、心理原因而误认物象，产生与实际不符的判断性视觉误差。

根据上述定义，下列不属于错觉的是（ ）。

- A. 甲在电影院放映厅内焦急地等待恋人。由于光线昏暗，他将某人错当成是自己的恋人而迎上去打招呼
- B. 公司附近新开了一家服装店。晚上，乙下班路过该服装店时，把橱窗里的模特误看成真人而被吓了一跳
- C. 杯弓蛇影
- D. 丁吃了毒菌后产生幻觉，以为病床上有很多老鼠，不停地驱赶

【答案】D

【解析】

A 项：由于光线昏暗，甲将某人错当成自己的恋人，符合“观察物体时由于物体受到形、光、色的干扰，加上人们生理、心理原因”，属于“误认物象，产生与实际不符的判断”，符合定义；

B 项：晚上乙将模特误认为是真人，符合“观察物体时由于物体受到形、光、色的干扰，加上人们生理、心理原因”，属于“误认物象，产生与实际不符的判断”，符合定义；

C 项：从杯子中看弓的倒影，符合“观察物体时由于物体受到形、光、色的干扰，加上人们生理、心理原因”，被认为是蛇，属于“误认物象，产生与实际不符的判断”，符合定义；

D 项：丁吃了毒菌产生幻觉是自身的原因以为床上有老鼠，不符合“观察物体时由于物体受到形、光、色的干扰，加上人们生理、心理原因”，不符合定义。

因此，选择 D 选项。

94. 挤出效应：是指在一个相对平面的市场或家庭中，由于供给、需求有新的增加，导致部分资金从原来的预支中挤出，而流入到新的商品中。

根据上述定义，下列属于挤出效应的是（）

- A. 市推行绿色出行月，市民们很少开车上班，使得 A 市该月石油消费量锐减
- B. 小侯到外地旅游，由于临时多玩了两天，导致没有余钱给亲友们购买纪念品
- C. 小刘的孩子出生后，由于抚养孩子的花销较大，他便从准备投入股市的资金中抽出部分用于购买各类婴幼儿用品
- D. 由于汽车降价，小周购买一辆新车比预算少花了 5000 元，于是他用这笔钱买了台新手机

【答案】C

【解析】

A 项：没有体现出关键词“由于供给、需求有新的增加，导致部分资金从原来的预支中挤出，而流入到新的市场中”；

B 项：没有体现出关键词“由于供给、需求有新的增加，导致部分资金从原来的

预支中挤出，而流入到新的市场中”；

C项：“由于孩子开销大”体现出“由于供给、需求有新的增加”，小刘从准备投入股市的资金中抽摺部分购买各类婴幼儿用品体现出“导致部分资金从原来的预支中挤出，而流入到新的市场中”，符合定义；

D项：小周是在节省了开支的情况下购买的新手机，不符合“由于供给、需求有新的增加”；

因此，选择C选项。

八、演绎推理（每题给出一段陈述，这段陈述被假设是正确的，不容置疑的。要求你根据这段陈述，选择一个最符合题意的选项。本大题共6小题，每小题0.8分，共4.8分。）

95. 有人认为，餐饮广告是造成粮食浪费的根本原因。但是，某市自2010年以来一直禁止餐饮广告，但该市粮食浪费的现象却和那些不禁止餐饮广告的城市一样严重。如果以上陈述为真，最能支持的结论的是()

- A. 只有公益广告才能减少粮食浪费现象
- B. 餐饮广告不是造成粮食浪费的唯一原因
- C. 如果不禁止餐饮广告，该市粮食浪费的现象将比现在更严重
- D. 无论餐饮行业是否做广告，都不会影响成年人的饮食消费

【答案】B

【解析】

题干结论：餐饮广告不是造成粮食浪费的根本原因。

A项：该项讨论的是公益广告与减少粮食浪费的关系，题干讨论的是餐饮广告与粮食浪费的关系，无关；

B项：与题干所表达的结论是一致的，符合；

C项：该项说明餐饮广告是造成粮食浪费的根本原因，与题干结论相反；

D项：该项讨论成年人的饮食消费，与题干话题不一致。

因此，选择B选项。

96. 营养学家研究表明，某病症患者往往缺乏微量元素A。而通过服用微量元素A补充剂，可有效改善人体状况。因此专家认为，可以通过服用微量元素A补充剂来治疗该病症。如果以上观点成立，其假设的前提条件是()

- A. 在人们的日常饮食中，摄入的微量元素A较少
- B. 缺乏微量元素A是引起该病症的主要原因
- C. 微量元素A不易被人体吸收
- D. 过量补充微量元素A会导致其他疾病

【答案】A

【解析】

论点：可以通过补充微量元素 A 补充剂来治疗该病症。

论据：病患者缺乏微量元素 A，而通过服用微量元素 A 补充剂可以有效改善人体状况。

A 项：在人们日常饮食中，摄入的微量元素 A 较少，说明通过日常饮食无法满足微量元素 A，即可以通过服用微量元素 A 补充剂来改善该病症，是必要的前提条件；

B 项：该项讨论的是引起该病症的主要原因，而题干论点讨论的是可服用微量元素 A 补充剂来治疗病症的话题，无关；

C 项：若微量元素 A 不易被人体吸收，则服用微量元素 A 补充剂也达不到补充微量元素 A 的效果，削弱；

D 项：该项讨论过量补充微量元素 A 的结果，与题干论点无关。

因此，选择 A 选项。

97. 某单位从甲、乙、丙、丁四人中选出一人到某村担任驻村干部。同事张、王、李三人有以下猜测：张：“我认为不会选甲。”王：“乙农村工作经验丰富，肯定选他。”李：“丙手头工作最多，不会选他去。”

如果张、王、李三人中只有一人的猜测正确，则到该村担任驻村干部的是()

- A. 甲 B. 乙 C. 丙 D. 无法确定

【答案】D

【解析】

翻译题干：(1) \neg 甲 (2) 乙 (3) \neg 丙

若 (2) 正确，则 (1) (3) 也正确，题干明确只有 1 个人预测正确，故 (2) 错误，则得出不是乙；(1) (3) 中必有一真一假；若 (1) 真 (3) 假，则得出是丙；若 (1) 假 (3) 真，则得出是甲，但仍不能确定到底是谁。

因此，选择 D 选项。

98. 某次乡村振兴会议上，小李遇到了甲、乙、丙 3 个人。在聊天中他了解到：3 人中一位是教师、一位是农业技术人员、一位是医生；甲和农业技术人员不同岁，农业技术人员年龄比乙小，丙年龄比医生大。

根据上述信息，可以推出()。

- A. 甲是教师，乙是医生，丙是农业技术人员
B. 甲是农业技术人员，乙是医生，丙是教师
C. 甲是医生，乙是教师，丙是农业技术人员

D. 甲是医生，乙是农业技术人员，丙是教师

【答案】C

【解析】

由“甲和农业技术人员不同岁”可知甲不是农业技术人员，排除 B 选项；

由“农业技术人员比乙小”可知乙不是农业技术人员，排除 D 选项；

因甲和乙都不是农业技术人员，故丙是农业技术人员，由“农业技术人员比乙小”可得：农业技术人员（丙） $<$ 乙；由“丙的年龄比医生大”可得：医生 $<$ 农业技术人员（丙），故医生是甲，乙为教师。

因此，选择 C 选项。

99. 某寝室全员参加了教师资格考试，考后他们有如下预测：（1）寝室有些人没有考过；（2）寝室所有人都考过了；（3）寝室有些人考过了；（4）舍长考过了。考试结果出来后，发现上述预测只有两个是正确的，则下列说法正确的是（ ）

- A. 舍长考过了
- B. 寝室所有人都考过了
- C. 寝室所有人都没有考过
- D. 寝室有些人考过了，但也有些人没有考过

【答案】D

【解析】

（1）与（2）存在矛盾关系，必然存在一真一假，因题干只有 2 个是正确的，故（3）（4）当中必然存在一真一假。若（4）为真，则（3）也为真，故（4）为假，（3）为真。由（4）为假可知，舍长没考过，即可推出（1）有些人没有考过为真，即 D 选项符合。

因此，选择 D 选项。

100. 返乡农民工陈某参加当地人社局举办的职业技能培训班，有烹饪、桑蚕养殖、编织、汽修、果树种植、食材与营养六个培训班供选择。但他所报的培训班必须满足以下条件：（1）如果报烹饪班，那么就不能报汽修班，但要报食材与营养班；（2）只有不报果树种植班时，才报桑蚕养殖班或编织班；（3）如果不报编织班，那么也不报食材与营养班；（4）烹饪一直是自己想学习的，一定要报该培训班。

由此，可以推出陈某（ ）。

- A. 报了桑蚕养殖班和编织班
- B. 没有报汽修班和编织班
- C. 报了烹饪班和桑蚕养殖班

D.报了食材与营养班，但没报果树种植班

【答案】D

【解析】

翻译题干：（1）烹饪→¬汽修且食材且营养（2）桑蚕或编织→¬果树（3）¬编织→¬食材且¬营养（4）烹饪

（4）烹饪是对（1）前件的肯定，肯前必肯后，故不能报汽修，但要报食材与营养班；报食材与营养班是对（3）后件的否定，否后必否前，故报编织；报编织是对（2）桑蚕或编织的肯定，肯前必肯后，故不报果树种植班。

因此，选择D选项。

九、数字推理(给你一个数列，但其中缺少一项，要求你仔细观察数列的排列规律，然后从四个选项中选择最合理的一个选项，来填补空缺项，使之符合原数列的排列规律本大题共4小题，每小题0.8分，共3.2分。)

101.19, 21, 24, (), 33。

A.26 B.28

C. 30 D.31

【答案】B

【解析】第一步，本题考查数字推理中等差数列。

第二步，观察数据，逐渐缓慢增加，考虑做差。

第三步后项减前项，结果分别是2,3,(4),5。考虑相减之后为等差数列。因此括号中的数值应该是28。因此，选择B选项。

102.50, 102, 206, 414, ()

A.645

B.760

C.830

D.920

【答案】C

【解析】第一步，本题考查数字推理中的等比数列。

第二步，观察数列，数据增加较快，前后项有明显的倍数关系。

第三步， $102=50\times 2+2$ ， $206=102\times 2+2$ ， $414=206\times 2+2$ ，因此，括号中的数= $414\times 2+2=830$ 。因此，选择C选项。

103.0.2, 3.2, 10.2, 25.2, ()

A.46.2

B.50.2

C.54.2

D.56.2

【答案】D

【解析】第一步，本题考查数字推理中的多级数列。

第二步，观察数列，都是分数，且小数部分都是2，和选项一致，考虑把小数点符号理解为分隔符，因此，只需要考虑整数部分的数据即可。

第三步，整数部分，后项减前项，分别是3,7,15,（），没有什么规律，继续做差，后项减前项依次是4,8（），呈现等比数列关系。因此后面是16，继续往回反推可知，括号里面的数据应该是56.2。因此，选择D选项。

104.6, 7, 9, 13, 13, 21, 18, 31,

A.20

B.24

C. 27

D.31

【答案】B

【解析】第一步，本题考查数字推理中多重数列。

第二步，观察数列，加上括号一共是9项，项数比较多，考虑多重数列。根据方法，先隔项再分组。

第三步，隔项看，奇数项依次是6,9,13,18,（），做差依次为3,4,5,（6）。另外偶数项分别为7,13,21,31，做差分别是6,8,10，也符合等差数列特征。因此括号内的数据为18+6=24。因此，选择B选项。

十、数学运算（在这部分试题中，每道试题是现一段表述数字关系的文字。要求你迅速、准确地计算出答案并选择一个正确选项。本大题共6小题，每小题0.8分，共4.8分。）

105.103x113x123x 133x143x.....x203 乘积的个位数是（）

A、1

B、3

C、7

D、9

【答案】C

【解析】本题属于基础计算里的周期循环问题，几个尾数是3的数相乘，其末尾为3、9、7、1、3、9、7、1.....以3、9、7、1为一个周期的数，题目中一共有11个数相乘，所以其尾数为7，选择C选项。

106.下列四个算式中，计算结果最大的是

A. 2016 x 2022+2022

B.2018x2021+2021

C. 2019 x2020+2020

D.2020x2019+2019

【答案】C

【解析】第一步，本题考查数学运算中的基础运算题。

第二步，观察选项，都是有乘和加，相乘的数只有A选项加起来是4038，另外3项加起来都是4039。当和相同的是，相乘的两个数据越接近，结果越大。因此，排除A和B。

第三步，C和D选项前面相乘的结果是一致的，加和项，C是2020，比D的2019大，因此，计算结果最大的是C选项。

因此，选择 C 选项。

107. 每箱荔枝按照成本价的 1.5 倍销售，盈利 20 元，则一箱荔枝的售价为()元。

- A.60
- B.50
- C.40
- D.30

【答案】A

【解析】第一步，本题考查数学运算中的经济利润问题。

第二步，假设成本价为 x 元，那么售价是成本价的 1.5 倍，则售价为 $1.5x$ 元。根据利润公式，利润=售价-成本，即 $20=1.5x-x$ 。解得 $x=40$ 元。

第三步，计算售价，售价= $1.5x=60$ 元。

因此选择 A 选项。

108. 小李、老李父子二人分别在市场购买火龙果苗和百香果苗两种树苗。已知：他们两人购买树苗的总数相同，小李购买的火龙果苗和百香果苗的数量比为 1:3，老李则为 2:1。如果将他们两人购买的果苗混合，火龙果苗和百香果苗的数量比为 ()

- A.1:3
- B. 2:5
- C:9:11
- D.11:13

【答案】D

【解析】设小李购买火龙果苗为 x 则其购买百香果苗为 $3x$ ，设老李购买的火龙果苗为 $2y$ ，则其购买的百香果苗为 y 。小李和老李购买树苗的总数相同，所以可得 $x + 3x = 2y + y$ ，即

$x = \frac{3}{4}y$ ，混合后的比例为 $\frac{x+2y}{3x+y} = \frac{\frac{3}{4}y+2y}{\frac{9}{4}y+y} = \frac{11}{13}$ ，故本题选择 D 选项。

109. 为庆祝中国共产党成立 100 周年，老师安排学生在校园主干道的一边插彩旗。开始时，学生每隔 3 米插一面，当插到第 10 面时，发现彩旗不够，于是改为每 4 米插一面。重插时，除第一面彩旗外，还有 () 不需要移动位置。

- A.第二面和第六面
- B.第三面和第七面
- C.第四面和第八面
- D.第五面和第九面

【答案】D

【解析】每隔 3 米插一面旗，也是每 3 米插一面旗帜，共 10 面旗帜，旗帜有 9 个空，即 10 面旗帜插的总长度=9 空 $3=27$ 米。后面改为每 4 米插一面旗帜，如果原来的旗帜不变这其中的距离应该是 3 和 4 的最小公倍数，即 12 米。故与第 1 面旗帜相聚 12 米的是第 5 面旗帜，结合选项，选择 D 选项。

110. 小金和小颜一起在果园摘金桔。已知：他们每天工作 8 小时，小金采摘的速度是小颜采摘速度的 1.2 倍，小金比小颜晚一天开始工作，6 天后他们完成了金桔的采摘工作。那么，如果每天工作的时长不变，小金独自一人完成金桔的采摘工作需要()天。

- A.8
- B.10

C.12

D.14

【答案】B

【解析】本题考查工程问题，赋值小颜的采摘速度为5，则小金的为6。由题意可知总的工作量=5*6+6*5=60，则小金单独完成需要的时间为：60/6=10，故本题的答案选择B选项。

十一、资料分析(下列资料均有五个问题要你回答，你应根据资料提供的信息进行分析、比较、计算和判断处理，然后选出一个最符合题意的选项。本大题共10小题，111~115题每小题0.8分，116~120题每小题1分，共9分。)

(一) 根据所给的资料，回答111~115题。

2020年我国第四季度和全年GDP分行业(部分)统计情况表

行业	第四季度		全年	
	生产值(亿元)	同比增速(%)	生产值(亿元)	同比增速(%)
总计	296298	6.5	1015986	2.3
农林牧渔业	30824	4.2	81104	3.1
工业	89843	6.9	313071	2.4
建筑业	24654	6.6	72296	3.5
批发和零售业	28279	6.3	95686	-1.3
交通运输、仓储和邮政业	12002	7.6	41562	0.5
住宿和餐饮业	5267	2.7	15971	-13.1
金融业	20729	7.0	84070	7.1
房地产业	20903	6.7	74553	2.1
租赁和商务服务业	9512	2.2	31616	-5.3

111.2020年全年我国住宿和餐饮业、金融业生产值之和占总GDP的比重约为()。

A.10%

B.15%

C.17%

D.20%

【答案】A

【解析】本题考查现期比重计算问题。定位表格材料后两行，2020年，住宿和餐饮业

生产值为15971亿元，金融业生产值为84070亿元。根据比重= $\frac{\text{部分}}{\text{整体}} = \frac{15971+84070}{1015986}$ ，观察

选项首位数字相同，第二位不同，分母从左向右截取前三位，分子加法计算考虑截位舍相同

可得 $\frac{2+8}{102} \approx 10\%$ ，因此，选择A选项。

112.上表中，2020年前三季度生产值同比增速低于全年的行业有()个

- A.6
- B.7
- C.8
- D.9

【答案】C

【解析】本题考查混合增长率计算，定位表格材料第三列和最后一列，根据混合增长率口诀，整体增速介于部分之间，全年=前三季度+第四季度，要求前三季度产值同比增速低于全年，只需第四季度的增速比全年的增速大即可。表格当中，除了金融业第四季度的增速为7.0%低于全年增速的7.1%之外，其它行业都符合，所以总共有8个行业满足。因此，选择C选项。

113.2019年前三季度我国GDP约为()万亿元。

- A.68.3
- B.71.5
- C.72.0
- D.73.8

【答案】B

【解析】本题考查基期量差的计算。定位表格第一行，2020年全年生产值为1015986，增速为2.3%，第四季度为296298，增速为6.5%。根据 $\text{基期量} = \frac{\text{现期量}}{1+\text{增长率}}$ ，可得2019年前三

季度我国GDP约为 $\frac{1015986}{1+2.3\%} - \frac{296298}{1+6.5\%} \approx 714929$ ，即约等于71.5万亿元。

114.若保持2020年的增速，()年建筑业的生产值开始超过房地产业。

- A.2021
- B.2022
- C.2023
- D.2024

【解析】第一步，本题考查年均增长率基础上现期值大小比较

第二步，定位表格“建筑业全年生产值72996亿元，同比增速3.5%，房地产业全年生产值74553，同比增速2.1%”。

第三步，结合公式，现期=基期(1+增长率)ⁿ，要求建筑产业生产值超过房地产业，则建筑产业>房地产业，结合数据带入公式，72996(1+3.5%)ⁿ>74553(1+2.1%)ⁿ，结合

选项说明 n 最大为 4, 所以 $1+r < 10$, 因此 $(1+r)^n = 1+nr$, 因此, 结果即为 72996

$(1+n3.5\%) > 74533 (1+n2.1\%)$, 即 $72996+2555n > 74553+1565n$, 所得 $n = 1.57$,

年不能取小数, 所以 n 取 2, 结合选项选 B 选项

因此, 本题为 B 选项

115、根据以上资料, 可以推出 ()。

A.2020 年我国租赁和商务服务业月均生产值不足 0.25 万亿元

B.2020 年第四季度生产值同比增长最多的行业是交通运输、仓储和邮政业

C.虽然受到新冠疫情的影响, 但 2020 年第四季度我国各主要行业均实现了正增长

D.2020 年金融业每个季度的生产值同比增速均在 7.0%左右

【解析】第一步, 本题考查综合分析能力

A 选项, 考察平均数, 定位表格“租赁和商务服务业全年产值 31616 亿元”, 月均为 31616

$\div 12 = 2635$ 亿元, 大于 0.25 万亿元。A 选项错误

B 选项, 考察增长量比较, 根据增长量口诀“大大则大, 一大一小看乘积”可知第四季度增

长量最大的是工业。B 选项错误

C 选项, 考察现期量变化判断, 根据表格中第四季度生产值及同比增速可知, 所有增速均为

正数, 所以可知我国各主要行业均实现了正增长。C 选项正确。

D 选项, 考察增长率判断, 由表格可知金融业第四季度产值及同比增速和全年产值及同比增

速, 其中增速第四季度为 7.0%, 全年为 7.1%, 因为缺少其他三个季度的具体值及描述,

故无法判断每个季度的产值均在 7%左右。D 选项错误

因此, 本题为 C 选项

(二)根据所给的资料, 回答 116~120 题

2020 年全年广西全区粮食种植面积 2806 千公顷, 比上年增加 59 千公顷。甘蔗种植面积 874.83 千公顷, 减少 15.4 千公顷。油料种植面积 262.2 千公顷, 增加 8.56 千公顷。蔬菜种植面积 1535.92 千公顷, 增加 50.76 千公顷。木薯种植面积 173.77 千公顷, 减少 4.28 千公顷。果园面积 1352.57 千公顷, 增加 20.76 千公顷。桑园面积 198.81 千公顷, 增加 1.92 千公顷。

2020 年全年全区粮食总产量 1370 万吨, 比上年增加 38 万吨, 增长 2.9%。其中, 春

收粮食产量 26.0 万吨，增长 30.0%；早稻产量 476.8 万吨，增长 5.3%；秋粮产量 867.3 万吨，增长 0.9%。全年谷物产量 1290.9 万吨，增长 2.5%。其中，稻谷产量 1013.8 万吨，增长 2.2%；玉米产量 273.3 万吨，增长 4.6%。

2020 年全年全区油料产量 73.88 万吨，比上年增长 3.2%。甘蔗产量 7412.47 万吨，下降 1.0%。蔬菜产量(含食用菌)3830.77 万吨，增长 5.4%。园林水果产量 2461.11 万吨，增长 15.0%。

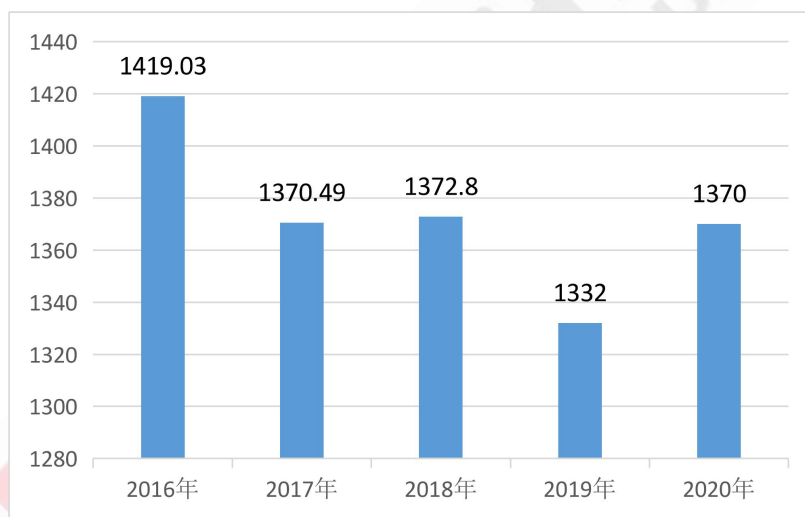
2020 年全年全区猪牛羊禽肉产量 371.3 万吨，与上年基本持平。其中，猪肉产量 174.1 万吨，下降 9.4%；牛肉产量 13.6 万吨，增长 9.7%；羊肉产量 3.6 万吨，增长 5.3%；禽肉产量 179.9 万吨，增长 10.5%。禽蛋产量 26.7 万吨，增长 6.4%；牛奶产量 11.2 万吨，增长 28.4%。全年生猪出栏 2281.2 万头，比上年下降 9.0%，年末生猪存栏 1828.3 万头，比上年末增长 14.3%。全年蚕茧产量 37.4 万吨，比上年下降 0.6%。

2020 年全年全区水产品产量 343.96 万吨，比上年增长 1.1%。其中，海水产品产量 199.07 万吨，增长 0.7%。

2020 年全年全区木材产量 3600 万立方米，比上年增长 2.9%。天然松脂 72.41 万吨，增长 0.4%。油茶籽 29.94 万吨，增长 14.5%。

图:2016-2020 年广西粮食产量

万吨



2016-2020 年广西粮食作物播种面积数据表(单位:千公顷)

年份	2016	2017	2018	2019	2020
面积	2897.14	2853.06	2802.12	2747	2806

116. 2019 年，我区稻谷产量约为()万吨。

- A. 989.1
- B. 992.0
- C. 995.1
- D. 1259.4

【答案】B

【解题思路】

第一步，根据题意判定是基期量计算。

第二步，定位第二段寻找数据。

第三步，读取数据，稻谷产量 1013.8 吨，增长率 2.2%，已知现期量和增长率，求基

期量： $\frac{1013.8}{1+2.2\%}=991.97$ 吨。

因此，选择 B 选项。

【拓展】无

【标签】

【知识点】基期量计算

【难度】中等

【本题结束】

117. 2020 年，我区平均每公顷油料的产量与上年相比（）

- A. 减少 1.2%左右
- B. 减少 2%以上
- C. 增长 1.5%以上
- D. 基本一致

【答案】C

【解题思路】

第一步，标记题干增长多少，后面跟着百分号，属于增长率问题。

第二步，第一段和第三段寻找材料，2020 年油料面积 262.2 千公顷，增加 8.56 千公顷，油料产量 73.88 吨，比上年增长了 3.2%。

第三步，算出每公顷油料的现期量： $73.88/262.2=0.3$ ，基期量： $(73.88/1.032)/(262.2-8.56)=0.282$ 。超过了 1.5%。快速判定，基本一致是在 1%以内，根据材料一定是增长趋势，所以排除 ACD，也可以选 C。

因此，选择 C 选项。

【拓展】无

【标签】

【知识点】增长率计算

【难度】中等

【本题结束】

118. 从 2017 年到 2020 年，我区粮食作物播种面积同比变化超过 2%的年份有（）个

- A. 0
- B. 1
- C. 2
- D. 3

【答案】B

【解题思路】

第一步，标记求超过 2% 的年份数，属于综合分析题

第二步，定位播种面积表格，告诉了我们连续的现期量和基期量，只需要按照现期量=基期量×(1+R)的公式进行逐一计算即可。

第三步，2017 年增长 2% 之后的现期量为：2910.12，超过了 2018 年真实现期量，所以 2017 年变化没有超过 2%，同理可推：2019 年没有超过，2020 年超过。

因此，选择 B 选项。

【拓展】无

【标签】

【知识点】综合分析题

【难度】中等

【本题结束】

119. 2019 年，我区猪肉产量约比禽肉产量（）

- A. 多 29.4 万吨
- B. 多 25.8 万吨
- C. 多 13.3 万吨
- D. 少 5.8 万吨

【答案】A

【解析】

基期量比较

2020 年猪肉产量 174.1 万吨，下降 9.4%。禽肉产量 179.9 万吨，增长 10.5%；选项首位相同，第二位不同，保留分母至第三位。

现期量之差为：174.1-179.9=-5.8，故排除 D 选项

2019 年猪肉产量：174.1/(1-9.4%)=174.1/0.906=174.1/0.906；174.1/0.906=192.1；

2019 年禽肉产量：179.9/(1+10.5%)=179.9/1.11=162.1；

故 19 年猪肉比禽肉：192.1-162.1=30；选项 A 最接近，

故选 A

120. 根据以上资料，下列说法正确的是（）

- A. “十三五”期间，我区粮食产量逐年减少的趋势直至 2020 年才得到遏制
- B. 2020 年全年，我区海水产品产量占全区水产品产量六成以上
- C. 2017 年，我区单位面积粮食产量约为 4.8 吨/公顷
- D. 按照 2020 年的增速，2021 年我区油茶籽的产量将超过 35 万吨

【答案】C

【解析】综合分析题

选项 A：“逐年”易错点，我区粮食产量在 2018 年同比上涨；故 A 选项错误；

选项 B：现期比重问题；部分除以整体算起来麻烦，用整体乘以比重得到部分和资料中数据作比较 343.96*60%比 344*0.6=198.4 略小（放缩），198.4 小于 199.07；故小于 6 成；故 B 选项错误；

选项 C: 平均数计算, 后除前: 产量除以面积, 资料数据单位和选项数据单位要换算, 带入数据: $(1370.39 \times 10000) / (2853.06 \times 1000) = 4.80$; C 选项正确;

选项 D: 计算现期量, 对数据进行放大, $29.94 \times (1 + 14.5\%)$ 约小于 $30 \times 1.15 = 34.5$ 万吨, 34.5 小于 35 万吨, 故选项 D 错误;



华图事业单位
SYDW.HUATU.COM