



华图事业单位
SYDW.HUATU.COM

2023全国事业单位联考

能力测评卷（三）

2023全国事业单位联考职测能力测评卷（三）

第一部分 常识判断

1. 2022年10月16日，习近平代表第十九届中央委员会向党的二十大作报告，其中提到（ ）是全面建设社会主义现代化国家的首要任务。
- A.科技创新
B.发展实体经济
C.高质量发展
D.扎实推进共同富裕
2. 2022年10月3日，国务院办公厅印发《关于加快推进“一件事一次办”打造政务服务升级版的指导意见》。下列相关表述不正确的是：
- A.优化政务服务是加快构建新发展格局、建设人民满意的服务型政府的重要支撑
B.从企业和群众实际需求出发，实现企业和群众办事向“一地、一窗、一次”转变
C.按照“谁审批、谁监管，谁主管、谁监管”的原则，严格落实有关部门监管责任
D.2025年底前，完成企业和个人政务服务“一件事一次办”事项基础清单中的任务
3. 中共七届二中全会对于迎接中国革命在全国的胜利以及新中国的建设事业都具有重要指导作用。下列有关七届二中全会的认识有误的是：
- A.全会是解放战争时期中共召开的唯一的一次中央全会
B.全会作出了党的工作重心由乡村转移到城市的决定
C.全会冲破长期“左”的错误和严重束缚，彻底否定“两个凡是”的错误方针
D.全会提出务必使同志们保持谦虚谨慎不骄不躁的作风、务必使同志们保持艰苦奋斗的作风
4. 从1922年到2022年，中国共产主义青年团走过了百年征程。下列关于中国共产主义青年团表述正确的是：
- ①党的一大专门研究了建立和发展青年团的问题
②中国共产主义青年团于1922年5月在上海宣告成立
③中国共产主义青年团是中国共产党的助手和后备军
④团员加入共产党后，应该办理离团手续
- A.①③
B.②③
C.①②③
D.②③④

5. 如果你能够穿越到秦朝，有可能看到的情形是：

- A. 客栈里旅客在吃花生
- B. 妇女们边聊天边剪窗花
- C. 士兵使用铁制武器打仗
- D. 官员认真研读《过秦论》

6. 关于我国历史上著名的事件，下列说法正确的是：

- A. 官渡之战为三国鼎立奠定了基础
- B. 《南京条约》的签订标志中国已完全沦为半殖民地半封建社会
- C. 大型圆雕石刻“马踏匈奴”纪念的是西汉时期杰出的军事家卫青
- D. 辽沈战役结束后，中国人民解放军首次在兵力数量方面超越国民党军队

7. 下列关于我国政治制度的说法，错误的是：

- A. 西周分封制分封的主要对象是王室子弟、同姓亲族和异姓功臣
- B. 秦始皇时期在中央创设的中枢权力机构是三省六部
- C. 推恩令要求各诸侯所管辖的区域由其长子、次子、三子共同继承
- D. 北魏孝文帝创立三长制，以抑制豪强隐匿户口和逃避租调徭役

8. 甲、乙是国内主要的化妆品生产企业，其生产的化妆品占国内市场份额的90%。下列甲、乙公司的做法，合法的有几项？

- ① 甲公司在化妆品包装盒上印制建议零售价格
- ② 乙公司要求销售乙化妆品的商家不得销售甲的化妆品
- ③ 甲、乙公司为了抵制丙公司在化妆品市场上的竞争，联合以低于成本的价格销售化妆品
- ④ 因丁公司在代理销售乙公司化妆品过程中经常因违规行为受到投诉，乙公司拒绝与其交易

- A. 1项
- B. 2项
- C. 3项
- D. 4项

9. 根据《中华人民共和国监察官法》，下列说法错误的是：

- A. 监察官等级分为13级，国家监察委员会主任为总监察官
- B. 监察官离任3年内不得从事与监察和司法工作相关联且可能发生利益冲突的职业
- C. 被给予严重警告、撤销党内职务、留党察看、开除党籍的不得担任监察官
- D. 王某和李某是夫妻，二人可以同时担任某市监察委员会不同部门的监察官

10. 根据我国刑法的相关规定，下列认识正确的是：

- A. 甲将共享单车上的二维码换成手机病毒二维码非法获利，甲构成盗窃罪
- B. 乙将年老多病的母亲带至当地的荒山之中扔弃，乙构成遗弃罪

- C.某国企的总经理丙利用职务之便将该公司的巨额资金占为己有，丙构成挪用公款罪
- D.丁乘坐公交车时与司机发生争执抢夺方向盘，丁构成以危险方法危害公共安全罪

11. 关于《中华人民共和国宪法》，下列有关说法正确的是：

- A.公民的私有财产不受侵犯，国家依照法律规定保护公民的私有财产权和继承权
- B.森林、山岭、草原、荒地、滩涂，除法律规定属于国家所有的以外，属于集体所有
- C.农村和城市郊区的土地，除法律规定属于集体所有的以外，属于国家所有
- D.国家保障国有经济的巩固和发展，矿藏、水流、城市的土地属于国家专有

12. 下列著名画家与其国籍、作品的对应关系均正确的一项是：

- ①毕加索——德国——《格尔尼卡》
- ②梵高——西班牙——《亚威农少女》
- ③米开朗基罗——意大利——《创世纪》
- ④莫奈——法国——《干草堆》

- A.①②
- B.①③
- C.②④
- D.③④

13. 《史记》被列为“二十四史”之首，对后世史学和文学的发展都产生了深远影响。以下关于《史记》的表述正确的是：

- A.《史记》是中国历史上第一部编年体通史
- B.《史记》与《资治通鉴》并称为“史学双璧”
- C.东汉班超评价为“其文直，其事核，不虚美，不隐恶”
- D.《史记》与《汉书》《晋书》《三国志》合称“前四史”

14. 下列文学作品与其创作时代对应关系正确的是：

- A.《归去来兮辞》《使至塞上》——唐代
- B.《文心雕龙》《兰亭序》——魏晋南北朝
- C.《荷塘月色》《废都》——中国现代
- D.《岳阳楼记》《饮水词》——宋代

15. 苏绣，是苏州地区刺绣产品的总称，为江苏省苏州市民间传统美术。苏绣起源于苏州，是四大名绣之一，国家级非物质文化遗产之一。关于苏绣，下列说法正确的是：

- A.苏绣的特点是：平、齐、细、密、和、光、顺、匀
- B.明代是苏绣全盛时期
- C.苏绣与“京绣、粤绣、蜀绣”为中国四大名绣
- D.苏绣的代表作是《百鸟朝凤》

16. 京剧脸谱，是一种具有中国文化特色的特殊化妆方法。由于每个历史人物或某一种类型的人物都有一种大概的谱式，就像唱歌、奏乐都要按照乐谱一样，所以称为“脸谱”。不同的脸谱代表不同的人物性格，下列对应错误的是：

- A.红脸——关羽——忠诚正义
- B.黄脸——典韦——骁勇凶猛
- C.黑脸——张飞——刚正不阿
- D.粉脸——王彦章——顽强暴躁

17. 若遇到突发事件，下列做法不正确的有几项？

- ①发现有人触电，应迅速用手将触电者拉离电源
- ②手臂不小心被烫伤，应立即脱下衣服后涂抹药品
- ③在半山腰遇见森林火灾时，应迅速向山顶奔跑逃生
- ④发生胸腹损伤事故时，应该扶病人坐起来好好休息

- A.1项
- B.2项
- C.3项
- D.4项

18. “神舟”系列载人飞船是我国载人航天工程的重要组成部分。关于“神舟”系列载人飞船，下列说法错误的是：

- A.2003年神舟五号成功将我国首位航天员杨利伟送入太空
- B.2012年神舟九号完成我国首次载人空间交会对接
- C.2022年神舟十四号执行空间站阶段首次载人飞行任务
- D.神舟一号至神舟十四号载人飞船都是在甘肃酒泉发射升空

19. 2022年9月30日，党和国家领导人习近平、韩正等在北京人民大会堂会见C919大型客机项目团队代表并参观项目成果展览。关于C919，下列认识正确的是：

- A.C919是中国自行研制的具有自主知识产权的大型喷气式民用飞机
- B.C919于2017年5月5日在广州白云机场成功首飞
- C.C919的第一个9寓意天长地久，代表了吉祥
- D.C919与运-10、鲲龙-600并称为国产大飞机“三剑客”

20. 生物多样性是描述自然界多样性程度的一个内容广泛的概念，通常包括遗传多样性、物种多样性和生态系统多样性三个组成部分。下列说法错误的是：

- A.任何一个物种或一个生物个体都保存着大量的遗传基因，可被看作是一个基因库
- B.物种多样性是衡量一定地区生物资源丰富程度的一个客观指标
- C.生态系统是各种生物与其周围环境所构成的自然综合体

D.一个物种所包含的基因越丰富，它对环境的适应能力越弱

第二部分 言语理解与表达

21. 12元的时薪，1个月校内勤工助学时长还不能超过40小时，干满1个月还赚不到500块，对于困难学生无异于_____。

填入横线部分最恰当的一项是：

- A.杯水车薪
- B.手到病除
- C.粥少僧多
- D.力济九区

22. 垃圾分类工作是一项系统工程，一要优化垃圾分类标准，制定全国统一的垃圾分类规则；二要_____，充分考虑城乡等不同地区之间的经济社会发展水平，制定合理的工作推进计划；三要健全垃圾分类机制，完善法律法规，形成规范的制度和道德约束。

填入横线部分最恰当的一项是：

- A.因地制宜
- B.因势利导
- C.因利乘便
- D.因材施教

23. 天桥桥南洼地常_____不通，乾隆皇帝派人疏渠，成效显著。嘉庆“林清之变”后，钦天监说乾隆时疏浚天桥沟渠致使“水火相争”，才导致奇变。于是“即用两岸积土，将河泊六处一律培垫”，城南之惬意_____不再。道光元年，两御碑亭因失修也被拆除。

依次填入划横线部分最恰当的一项是：

- A.淤积 胜景
- B.堵塞 盛景
- C.闭塞 盛景
- D.淤塞 胜景

24. 很多生活服务业新工种是自传统业态_____而来，但却游离于政府对母行业的监管之外，处于“无准入门槛，无服务标准，无主管单位”的三无状态。专家提示，新业态从业者参加培训、报考证书时要仔细_____，消费者要注意核实服务提供主体的经营资质，确保自身权益不受侵害。

依次填入划横线部分最恰当的一项是：

- A.蜕变 鉴别
- B.派生 甄选
- C.衍生 甄别
- D.演变 辨别

25. 人脸识别技术的快速推广,亦令脸部信息成为人们的又一独特“身份证”。其重要性与敏感性都_____。但在现行法律中,对此新技术的应用,既无法律的特定授权,亦无对采集者的权力限定。什么机构可采集这类信息、是否有使用的前提与范围限制等,均无相关法规_____。

依次填入划横线部分最恰当的一项是:

- A.不言自明 取舍
- B.显而易见 规范
- C.毋庸置疑 监管
- D.不言而喻 界定

26. 目前糖豆APP整体服务的用户累计超过2亿中老年人,每月开展的线下活动超过4000场,月度_____的线下用户超过50万人次。看起来更加细分的图文创作市场,也因大量中老年人的参与而_____。

依次填入划横线部分最恰当的一项是:

- A.涵盖 如日中天
- B.覆盖 异军突起
- C.包括 应运而生
- D.囊括 蓬勃发展

27. 这首受到周恩来总理称赞的《我们走在大路上》,创作于1963年。那时,我国经济建设遇到严重困难,人民勒紧裤腰带,团结一心渡难关。这首歌唱出了共产党追求理想、_____把社会主义建设好的坚强信念;唱出了全体人民意气风发、斗志昂扬,在建设社会主义大路上阔步前行的豪迈_____。

依次填入划横线部分最恰当的一项是:

- A.白手起家 气度
- B.胼手胝足 气质
- C.勇往直前 气派
- D.披荆斩棘 气概

28. 每个摄影类别都有其伟大之处,人文纪实题材更具社会意义,风光摄影则通过影像展示大自然的_____。平日面对生活、工作的压力与烦恼,我希望能有一项纯粹的爱好将我_____现实生活的琐碎与喧嚣,看到诗和远方。

依次填入划横线部分最恰当的一项是:

- A.壮美 抽离
- B.秀丽 剥离
- C.威力 割裂
- D.风韵 拆分

29. 曾经一幅或几幅作品名扬天下的大家比比皆是,如雷贯耳,然而周令钊却始终选择_____。“他就是那么朴实、厚道、谦和的人。我以为,一位真正的人民艺术家,一定是位老实人。因为只有这样,才会不图名、不图利、不取巧,_____,辛勤耕耘,一生信奉艺术为人民服务。”黄永玉如此评价老朋友。

依次填入划横线部分最恰当的一项是：

- A. 默默无声 脚踏实地
- B. 名满天下 精雕细琢
- C. 无名小卒 按部就班
- D. 默默无闻 墨守成规

30. 明代称妫河为妫川或溪河，明人对其_____重新做了勘察，认定它源于海陀山。明嘉靖《隆庆志》记述的文字比《魏土地记》更详实_____。“妫川，一名‘溪河’，在州城南百余步。源自大海陀山中，曲折东流，出古城山口里余入地，自龙湾突出，折而西流，经州境，合沽河，至猪窝入洋河。”

依次填入划横线部分最恰当的一项是：

- A. 发祥地 笃定
- B. 汇聚地 简单
- C. 策源地 准确
- D. 发源地 确切

31. 中国共产党诞生于民族危难之际，历经百年革命之_____，在艰难困苦中净化灵魂、在浴血奋战中磨砺意志。艰苦奋斗是中国共产党与生俱来的优秀品质。中国共产党精神谱系能够_____、生生不息，就是因为中国共产党人始终保持革命者的大无畏奋斗精神，就是因为党和人民不懈的艰苦奋斗和接续的拼搏进取。

依次填入划横线部分最恰当的一项是：

- A. 淬炼 一脉相承
- B. 淬炼 一成不变
- C. 凝练 不谋而合
- D. 凝练 薪火相传

32. 受疫情影响，近两年不少演出选择线上直播，取得了不错的成绩。但是相对电影、歌曲等大众化、产品化的文艺作品而言，舞剧受演出条件和观众群体等因素影响，人们对其搬上“云端”能否觅得知音抱有_____态度。此次《醒狮》与《丝路花雨》的成功给出了两个答案：一是高雅艺术并非_____，在广大群众中也有强大的影响力；二是被疫情困住的只是线下演出形式，而不是演出市场，群众的文化消费需求仍然_____。

填入横线部分最恰当的一项是：

- A. 质疑 格格不入 强烈
- B. 疑虑 曲高和寡 旺盛
- C. 怀疑 一枝独秀 强盛
- D. 置疑 阳春白雪 热烈

33. 2022年8月9日，美国将所谓《芯片和科学法案》签署成法。其中所包含的限制中美正常科技合作的条款，胁迫芯片企业选边站队，反映出浓重的零和博弈思维。美国大搞不公平竞争的错误做法与市场经济原

则和经济全球化大势_____。破解美国芯片产业困境的真正方法，当是实行市场开放、维护自由贸易并开展全球合作。然而，美国反其道而行之，企图搞“小圈子”，足见该法_____。在业界分析人士看来，该法对美国芯片产业的_____作用将十分有限。

填入横线部分最恰当的一项是：

- A.南辕北辙 存心不良 打压
- B.东趋西步 别有用心 压制
- C.背道而驰 包藏祸心 提振
- D.风流云散 不可告人 振兴

34. “节用”是对待物质财货的一种态度，即节约使用财货，_____不必要的财货消耗。“节用”常特指为政者不滥用自己所掌握的权力_____民财，以满足自己的需求或行铺张浪费之事。为政者的“节用”体现着对百姓的关爱。儒家、墨家等不同学派都有“节用”的主张，但对于节省的标准和_____，各家有着不同的认识。

填入横线处的词语最恰当的一项是：

- A.降低 获取 手段
- B.减少 攫取 尺度
- C.增加 牟取 门槛
- D.提高 谋取 保障

35. 法律应该_____，_____公众对社会安全的正当诉求，适应当下未成年人的体力、心智发展水平，不宜_____。比如，可以引进“弹性刑事责任年龄”，英国法律规定是14岁以上就必须承担刑事责任。依次填入划横线部分最恰当的一项是：

- A.推陈出新 满足 泥古不化
- B.因地制宜 应付 固步自封
- C.与时俱进 应对 刻舟求剑
- D.开拓创新 治理 拾人牙慧

36. 随着短视频的发展，短视频创业成为一个风口。一些大学生在当网红、实现经济自由的憧憬中，掉入精心设计的校园短视频创业陷阱。以“流量王”骗局为例，所谓的创业导师会要求大学生通过缴纳会费的方式加盟项目，从流量中获取提成。实际上，“流量王”不过是各类骗局的冰山一角，在各大短视频平台搜索“校园创业”，仍可发现大量此类分享大学生创业项目的账号，五花八门。

这段文字意在强调：

- A.校园短视频创业不能变成陷阱
- B.小心各类“流量王”网络骗局
- C.校园短视频创业骗局五花八门
- D.学校应加大校园创业监管力度

37. 所谓“无症状感染者”，是指和已受到感染的病人有密切接触，已经受到感染但没有明显症状表现特征的人，如果不通过专门检测，一般很难被发现。无症状感染者具有“传播的隐匿性”“症状的主观性”“发现的局限性”等特点，只有对无症状感染者强化监测监控，才能将其传播疫情的风险降到最低。国家卫生健康委宣布，4月1日起将无症状感染者情况列入每日通报，接到无症状感染者报告以后，要在24小时内完成个案调查。无症状感染者须集中隔离14天，其密切接触者也要集中隔离观察，如果出现临床症状，要及时转为确诊病例。

这段文字意在说明：

- A. 加强对无症状感染者监控的必要性
- B. 发现难度大是疫情传播的主要原因
- C. 公开透明的疫情通报是降低风险的有效手段
- D. 无症状感染引起了卫健委的高度重视

38. 人们常用“白菜价”来形容一件物品的价格十分实惠。然而，近期有网友反映某地百货有限公司售卖的白菜等蔬菜价格“太夸张了”。从网友发布的照片来看，白菜的单价为每公斤32元，一棵白菜售价77.9元；同样令人咂舌的还有卷心菜，单价为每公斤36元，一棵也要近80元。白菜贵过猪肉。即便是有机蔬菜，这样的高价也是离谱的。更何况，_____。据调查，汪某以蔬菜专业合作社名义与百货公司签订联销合同，在后者设置专柜。汪某将从农贸市场和生鲜小店等处购入的普通蔬菜进行分拣、包装后，贴上专门的标识后，摇身一变成为“合作社自产直销”精品蔬菜，价格也扶摇直上。

填入画横线部分最恰当的一句是：

- A. 白菜作为蔬菜并不能像肉类一样给人体提供足够的营养
- B. 所谓“天价白菜”不过是打着精品高端的旗号招摇撞骗
- C. “天价白菜”事件一经报道，立即引发消费者的高度关注
- D. “天价白菜”严重违反了《价格违法行为行政处罚规定》

39. 人权是一定历史条件的产物，人权只能随着历史的发展而发展。习近平总书记指出：“民主和人权是人类共同追求，同时必须尊重各国人民自主选择本国发展道路的权利。”“履不必同，期于适足；治不必同，期于利民。”脱离实际、全盘照搬别国制度模式，不仅会水土不服，而且会带来灾难性后果，最终受害的还是广大人民群众。

根据本文，“履不必同，期于适足；治不必同，期于利民”中的“履”和“足”分别指：

- A. 发展道路 本国国情
- B. 发展道路 人民群众
- C. 人权 本国国情
- D. 人权 人民群众

40. 哮喘是由基因和环境互相影响、相互作用引起的一种疾病。其中，60%至70%的患者为过敏性哮喘。易患哮喘的人群受遗传因素影响，在家族亲缘中有过敏性疾病的人有25%至50%的遗传倾向。哮喘患者多有过敏性鼻炎、湿疹或荨麻疹等过敏性疾病。哮喘发作时可由于气道狭窄程度的不同表现出不同的主诉症状，如咳嗽、胸闷、气促、喘息等。哮喘的症状是反复发作性的喘息、气促，伴或不伴胸闷或咳嗽，以夜

间及凌晨多发生，常与接触变应原、冷空气、物理或化学性刺激、上呼吸道感染和运动等有关，这些症状可经过治疗后缓解或自行缓解。缓解期可以像正常人一样无任何症状。

下列说法与原文相符的一项是：

- A.大部分的哮喘病患者都是过敏性哮喘
- B.哮喘病的症状是反复发作性的喘息等但不会有过敏反应
- C.哮喘发病受环境因素刺激多发于白天
- D.哮喘患者发病后不用经过治疗可以自行缓解

41. 是“灰犀牛”事件，还是“黑天鹅”事件，发生前都有细微的征兆和迹象，要以“时时放心不下”的责任感，切实抓好当前民航安全工作。西藏航空一航班在重庆江北国际机场起飞时，偏出跑道后起火，机上人员紧急撤离，造成40余名旅客轻伤。民航生产活动发生了飞机场内拖移机务被碾压身亡、飞机降落跑道外接地、起落架安全销未取下导致飞机返航等多起不安全事件。这些不安全事件及MU5735航班空难，严重影响了国内旅客对民航安全的信心，也反馈了当前中国民航安全生产亟需重视细节之处，一个细节疏忽可能会导致一起不安全事件的发生，飞机一旦发生事故，所造成的人员伤亡和财产损失往往难以估量。最适合做本文标题的一项是：

- A.民航安全要切实抓好
- B.民航空难危害极大
- C.民航空难是“灰犀牛”还是“黑天鹅”
- D.与民航空难说“不”

42. 近年来，随着Z世代消费能力的提升，国潮产品在日常的消费场景中越来越受到推崇。他们将中国本土的传统文化元素融入到日常生活消费场景之中，展现出了相当丰富的内涵。本质上，这种现象背后其实是Z世代个性化消费需求的崛起，并在市场经济的语境下，创造了新的消费潮流。他们迫切希望中国的传统文化元素能够进入到日常的消费场景之中，并且能够占据一席之地，进而树立在日常领域的文化自信。这段文字的主要内容是：

- A.Z世代树立起了的文化自信
- B.Z世代为什么追捧国潮消费
- C.Z世代的消费能力极其旺盛
- D.Z世代带领了新的文化潮流

43. 酒是人类生活中的主要饮料之一。中国制酒历史源远流长，品种繁多，名酒荟萃，享誉中外。黄酒是世界上最古老的酒类之一，约在三千多年前，商周时代，中国人独创酒曲复式发酵法，开始大量酿制黄酒。约一千年前的宋代，中国人发明了蒸馏法，从此，白酒成为中国人饮用的主要酒类。酒渗透于整个中华五千年的文明史中，从文学艺术创作、文化娱乐到饮食烹饪、养生保健等各方面在中国人生活中都占有重要的位置。但与中国酒文化一样久远的是中国酒桌上的劝酒、酗酒等丑陋文化，称之为中国酒桌文化，是酒文化发展过程中形成的畸型陋习。

下列哪个选项最有可能衔接给定文段：

- A.吃饭的时候要注意餐桌礼仪，这是中华礼仪文明的传承

- B. “感情深、一口闷，感情浅、舔一舔，感情铁、喝吐血”让人们耳熟能详
- C.酒就像是必不可少的调剂品一般，可以起到调节气氛的作用
- D.红酒在很久以前就已经存在，甚至能追溯到旧石器时代

44. ①大家都知道，筑墙需要水泥、沙子、砖头，缺一不可。血小板在人体中的作用就类似筑墙时用的沙子的角色，是凝血的关键环节

②血小板是干什么用的呢？我们可以用一个筑墙的例子来打个比方

③此外，还有特发性血小板减少性紫癜，也会导致血小板减少

④白血病、系统性红斑狼疮都可能导致血小板减少类似表现；肝病（如肝硬化）也会有血小板减少、牙龈出血的表现

⑤凝血酶类就好比水泥，红细胞类似砖头。没有沙子，墙筑不起来，即便勉强筑起来了也不牢固

⑥有很多种原因可能导致血小板减少。如脾功能亢进会吞噬血小板，继而导致出血

将以上6个句子重新排列，语序正确的是：

- A.⑥⑤④③②①
- B.②①⑤⑥④③
- C.②⑤⑥④③①
- D.⑥③②①⑤④

45. ①造成了“碱性体质更容易生儿子”等言论的流传

②因其迎合了部分人对待饮食和健康的某种心理，加上一些保健品商贩的推波助澜，经过反复的传播和再加工，俨然成为了一条流行的“医学常识”

③比如人体血液正常的pH值是7.35~7.45超出这个范围，就是疾病状态，需要针对性治疗

④也就是说，pH值异常是疾病的结果，而非导致疾病的原因

⑤人体调节酸碱平衡的机制非常复杂，但体液酸碱度总体上是十分稳定的，仅仅依靠吃某些食物就产生明显的改变几乎不可能的事情

⑥人体酸碱体质说是一条流传甚广的理论，这一理论认为人类的大部分疾病都是由酸碱体质造成的

将以上6个句子重新排列，语序正确的是：

- A.⑥②①⑤③④
- B.⑤③④⑥②①
- C.⑥⑤②①③④
- D.⑤①②⑥④③

第三部分 数量关系

46. 有10个队参加足球比赛，已知已经比赛了11场比赛，则比赛场次数最多的那个队至少赛了几场？

- A.6
- B.5
- C.4
- D.3

47. 临近国庆假期，某火车票售票大厅站满等待买票的旅客，为维护售票大厅的秩序，旅客排队以等速度进入大厅按次序买票，买到票的旅客及时离开大厅。照此安排，如果开4个售票窗口，5小时可使大厅内所有旅客买到票；如果开6个售票窗口，3小时可使大厅内所有旅客买到票，假设每个窗口售票速度相同。由于售票大厅入口处旅客速度增加到原速度的2倍，为了在2小时内使大厅中所有旅客买到票，按这样的安排至少应开售票窗口数（ ）个。

- A.7
- B.8
- C.9
- D.10

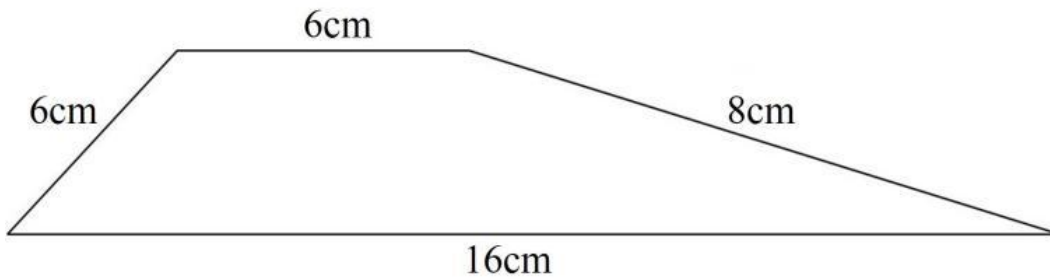
48. 扶贫干部小孙某日需要走访村内6个贫困户A、B、C、D、E和F。由于A和F两个贫困户相距较远，故走访次序不能相邻，且贫困户B不能第一个走访。问走访顺序有多少种不同的安排方式？

- A.360
- B.388
- C.408
- D.480

49. 小刘早上8:00从工厂出发去菜市场进购一批蔬菜，全程保持匀速并于9:00到达。半个小时采购结束时，小刘以原速度返回工厂，在行驶四分之一的距离后，将速度降低10km/h，并于10:40到达工厂。则工厂与菜市场的距离为多少千米？

- A.50
- B.55
- C.60
- D.65

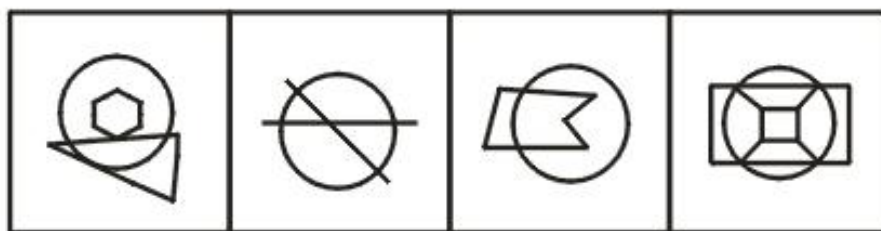
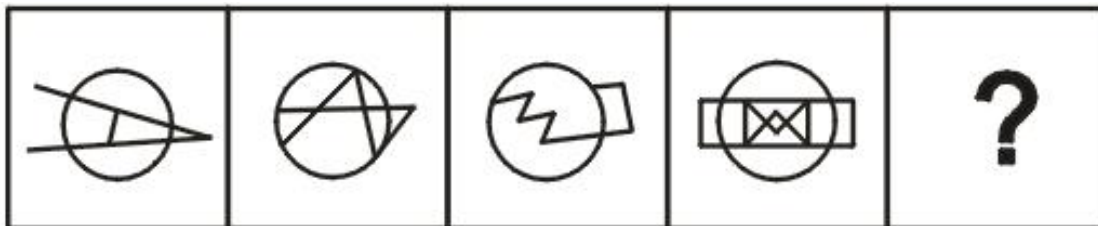
50. 如图所示，梯形的上底和下底分别为6厘米、16厘米，两条腰分别为6厘米、8厘米，则该梯形的面积为（ ）平方厘米。



- A.38.6
- B.45.6
- C.52.8
- D.62.8

第四部分 判断推理



51. 从所给四个选项中，选出最合适的一个填入问号处，使之呈现一定的规律性：



A **B** **C** **D**

- A.如图所示
- B.如图所示
- C.如图所示
- D.如图所示

52. 选择最合适的一项填入问号处，使之呈现一定的规律性：



A

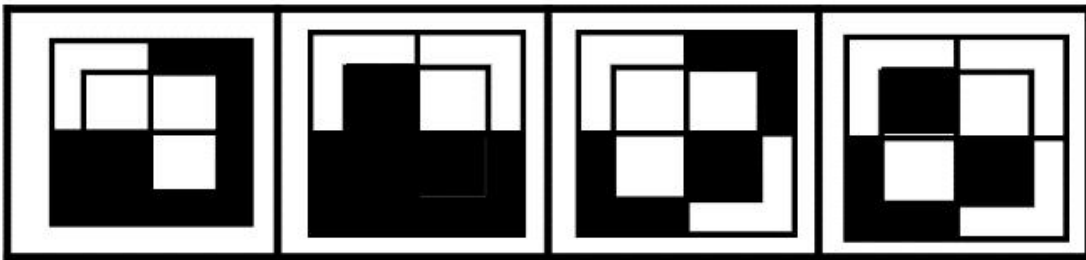

B

C

D

- A.如图所示
B.如图所示
C.如图所示
D.如图所示

53. 从所给的四个选项中，选择最合适的一个填入问号处，使之呈现一定的规律性：



A

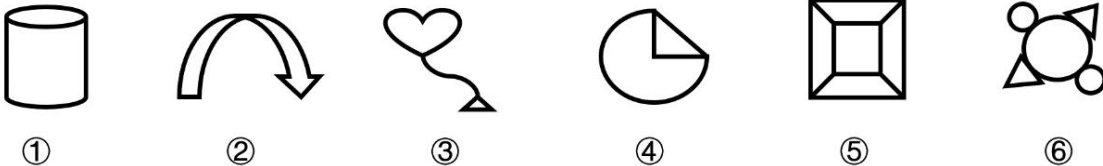
B

C

D

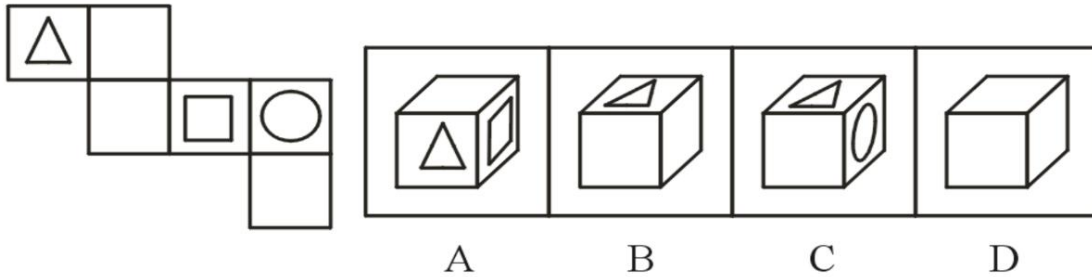
- A.如上图所示
- B.如上图所示
- C.如上图所示
- D.如上图所示

54. 把下面的六个图形分为两类，使每一类都有各自的共同特征或规律，分类正确的一项是：



- A.①②③, ④⑤⑥
- B.①④⑤, ②③⑥
- C.①③④, ②⑤⑥
- D.①④⑥, ②③⑤

55. 左边给定的是纸盒的外表面，下面哪一项能由它折叠而成？



- A.如上图所示
- B.如上图所示
- C.如上图所示
- D.如上图所示

56. D.杜根是美国橄榄球联合会前主席，他曾经提出这样一个说法：强者未必是胜利者，而胜利迟早都属于有信心的人。这就是心理学上的“杜根定律”。换句话说，你若仅仅接受最好的，你最后得到的常常也就是最好的，只要你有自信。一个人胜任一件事，85%取决于态度，15%取决于智力，所以一个人的成败取决于他是否自信，假如这个人自卑的，那自卑就会扼杀他的聪明才智，消磨他的意志。简言之就是信心决定成败。

根据上述定义，以下不符合杜根定律的是：

- A.有一个人经常出差，经常买不到坐票。可是无论长途短途，无论车上多挤，他总能找到座位。他的办法其实很简单，就是坚定地一节车厢一节车厢找过去
- B.个人想成为什么，他就会成为什么。自己认为被打倒了，那么你就真的会被打倒了
- C.如果你想成功，但认为自己没有实力，那么你一定不会成功。如果你认为自己会失败，那么你一定失败。不信你可以这样做一次试试看，结果不外乎如此
- D.天才就是1%的灵感加上99%的汗水，但那1%的灵感是最重要的，甚至比那99%的汗水都要重要

57. 注意是一个心理学概念，属于认知过程的一部分，是一种导致局部刺激的意识水平提高的知觉的选择性的集中。根据注意的功能，注意可分为：（1）持续性注意，指注意在一定时间内保持在某个客体或活动上，也叫注意的稳定性。（2）分配性注意，是指个体在同一时间内对两种或两种以上的刺激物进行注意，或将注意分配到不同的活动中。（3）选择性注意，是指个体在同时呈现的两种或两种以上的刺激中选择一种进行注意，而忽略另外的刺激。

根据上述定义，下列属于选择性注意的是：

- A.弈秋，通国之善弈者也。使弈秋诲二人弈，其一人专心致志、一人虽听之一心以为有鸿鹄将至
- B.邹孟轲母，号孟母。其舍近墓。孟子之少也，嬉游为墓间之事，踊跃筑埋
- C.李白逢老嫗方磨铁杵，问之，曰“欲作针。”太白感其意，还卒業
- D.晋孙康，京兆人，性敏好学。家贫，灯无油，于冬月尝映雪读书，而不觉寒

58. 为了突出主要事物，用类似的事物或反面的、有差别的事物作陪衬，这种“烘云托月”的修辞手法叫

衬托。运用衬托手法，能突出主体，或渲染主体，使之形象鲜明，给人以深刻的感受。正衬，用类似的事物衬托所描绘的事物。反衬，用相反或相异的事物衬托所描绘的事物。

根据上述定义，以下说法正确的是：

- A. “桃花潭水深千尺，不及汪伦送我情”运用了反衬的手法
- B. “忽如一夜春风来，千树万树梨花开”运用了正衬的手法
- C. “蝉噪林愈静，鸟鸣山更幽”运用了正衬的手法
- D. “天可老，海能翻，除此恨难”运用了反衬的手法

59. 心理学家把面临可察觉的威胁时处理焦虑的努力称为应对策略。问题中心策略，是直接关注问题，以克服焦虑。情绪中心策略，是去减轻伴随问题而来的情绪压力。回避策略，则是通过把引发焦虑的情境排除在意识之外来处理他们的焦虑。

根据上述定义，以下应用了回避策略的是：

- A.小贝即将毕业，却还没有得到可用的实验数据，他的师兄劝他多和朋友们聊聊天交流一下情感，也可以多找老师请教
- B.小颐遭遇职业瓶颈，她觉得自己最近太累了，需要好好休息一下，打算去国外度个假，分散一下注意力
- C.小朵正在考研二战，可是英语和数学分数仍不理想，她决定给自己制定每日学习计划，并向有经验的前辈们寻求帮助
- D.小琳每周都去养老院做义工，为老人们义务演出，陪他们聊天，缓解老人的孤独和焦虑

60. 种族歧视是指一个人对除本身所属的人种以外的人种，采取一种蔑视、讨厌及排斥的态度，并且在言论行为上表现出来。

根据上述定义，以下属于种族歧视的是：

- A.二战期间希特勒认为自己所属的日耳曼民族是一个十分优秀的民族，是文明的传播者和创造者，德国美好的未来就在明天，而自己最终也能称霸世界
- B.某些西方学者认为日本的文化大多数从中国吸收，甚至他们的文字都来源于汉字，他们先进的科技也一样来源于西方，日本这样没有底蕴的国家发展不会好到哪里去
- C.在某国精英大学的入学标准中，亚裔的SAT成绩必须比黑人高出450分（满分1600分），而同样的成绩下，非裔被录取的机会是亚裔的三倍，白人是亚裔的十倍
- D.把狗毒死，甚至把小猫装进塑料袋闷死扔掉，诸如此类的事在某国根本不是什么新闻，常有外国人把他们称作未开化的野蛮人，坚决抵制这种虐待动物的国家

61. 中止协议是指目标公司与潜在收购者达成协议，收购者在一段时间内不再增持目标公司的股票，如需出售这些股票目标公司有优先购买的选择。这样的协议通常在收购方已持有目标公司大量股票并形成收购威胁时签署，目标公司往往会承诺溢价回购股票。

根据上述定义，以下属于中止协议的是：

- A.只要乙公司同意不再收购股票，甲公司愿意以远高于市场价的5.58亿美元回购10%股票，要乙公司承诺三年内不采取任何收购或试图收购甲公司的举动
- B.在乙公司的收购压力下，甲公司剥离了非核心业务，裁减了2400人，使公司股票的每股收益提高了50%

C.乙公司目前股价为25元，甲公司为获得乙公司的核心技术，想要取得乙公司的股权，以28元每股向乙公司股东收购股票

D.甲公司原本筹划购买乙公司股权，但实施细则尚未明确，只能待条件成熟后，再继续推进通过上市公司控股权转让、筹划发行股份等方式购买乙公司100%股权事宜

62. 借字法即借用其他字交待谜底。这是字谜中采用最多的一种方法，大致有以下几类：①合成法：由两个以上的字合成谜底。②加字法：交待谜底加上一字所组成的字，用以暗示谜底。③减字法：交待一字减去一字（或两字）即为谜底。

①一字十八口——杏

②有耳听不见——龙

③池中无水——也

关于谜语的猜法下列判断正确的是：

A.①合成法，②加字法，③减字法

B.①合成法，②减字法，③加字法

C.①加字法，②合成法，③减字法

D.①减字法，②合成法，③加字法

63. 大雁群在迁徙时，飞行中一只大雁的羽翼能借助前一只大雁的羽翼所产生的动力，使飞行省力，这就是所谓的“雁阵效应”。“雁阵效应”带给我们的启示是：靠着团结协作精神，才使得候鸟凌空翱翔，完成长途迁徙。

根据上述定义，以下符合雁阵效应启示的是：

A.李某具有非常卓越的领导才能，部门同事都对他毕恭毕敬

B.小王刚到公司对工作流程不熟悉，幸亏有HR组织的培训

C.在一次危机中，各部门上下齐心共同渡过了难关

D.经过学长学姐的帮助，小敏顺利考进了事业单位

64. 品牌寄生即将寄生企业的产品或服务寄生于宿主的品牌上。品牌声誉往往是企业通过精密的制造、大量的广告宣传、良好的售后服务而在广大消费者心目中渐渐树立起来的产品形象或企业形象，它的建立成本高，而且是一项无形资产，通过品牌的寄生可以以低成本的方式迅速提升品牌知名度与美誉度。当然生产同类产品的厂家也可以在宿主允许的条件下使用宿主的商标品牌。

根据上述定义，下列体现品牌寄生的是：

A.某汽车生产商拓宽思路，不仅生产汽车还生产相应的汽车配件

B.1984年洛杉矶奥运会，柯达赞助转播奥运会的美国国家广播公司，成为该媒体转播美国径赛实况的赞助商

C.甲公司某品牌借助薯片成功打出知名度之后，乙公司生产的该品牌的纸巾也慢慢出现在市场上

D.某超市进行促销活动，买五袋方便面送另一厂家的泡面碗

65. 属加种差是一种常用的定义方法，又称真实定义、实质定义。定义项是由被定义概念的邻近的属和种

差所组成的定义。它的公式是：被定义项=种差+邻近的属。用属加种差方法下定义时，首先应找出被定义项邻近的属概念，即确定它属于哪一个类，然后，把被定义项所反映的对象同该属概念下的其他并列种概念进行比较，找出被定义项所反映的对象不同于其他种概念所反映的对象的特有属性，即种差，最后把属和种差有机地结合起来。

根据上述定义，以下符合属加种差定义方法的是：

- A.燃烧是用两块干木头长时间使劲摩擦所产生的一种现象
- B.人是能够制造和使用生产工具的动物
- C.椅子是一种有靠背、有的还有扶手的供人坐着的家电
- D.米是光在真空中在 $1/299792458$ 秒所传播的距离

66. 金刚石：坚硬

- A.开水瓶：保温
- B.保险箱：安全
- C.自行车：轮胎
- D.加减法：乘除法

67. 破壁机：刀片

- A.牙签：竹子
- B.青蛙：尾巴
- C.燕窝：滋补
- D.苹果：果核

68. 王勃：滕王阁序：唐代

- A.刘禹锡：小石潭记：唐代
- B.欧阳修：醉翁亭记：北宋
- C.王安石：伤仲永：明代
- D.陶渊明：桃花源记：南宋

69. 奠基：修建：竣工

- A.申请：审查：许可
- B.启动：驾驶：抵达
- C.录取：就读：毕业
- D.面试：考察：入职

70. 奇数：自然数

- A.空调：风扇
- B.医用酒精：乙醇
- C.名胜古迹：建筑

D.白银：黄金

71. 学士帽：学士袍：学士服

A.法务部：公司：公司法

B.镜头：快门：相机

C.新闻：导语：结语

D.诗歌：小说：散文

72. 指南针：导航仪：卫星

A.烽火台：检测仪：雷达

B.信件：手机：通讯

C.马车：汽车：运输

D.竹排：帆船：风力

73. 金属：武器：攻击

A.玻璃：眼镜：装饰

B.塑料：相机：拍摄

C.轮胎：汽车：污染

D.食醋：小苏打：杀菌

74. 胰岛素 对于 () 相当于 () 对于 体重

A.激素；身高

B.血糖；运动

C.糖尿病；肥胖症

D.氨基酸；脂肪

75. () 对于 浮屠 相当于 逻辑 对于 ()

A.伦理；周延

B.风俗；三段论

C.宗教；外延

D.佛学；认识论

76. 正值NBA75周年庆，有人在赛季中段就根据往年的夺冠情况得出这样的结论：只要球队的球星足够多，那么这支球队的成绩就越好。

如果以下各项为真，哪项最能质疑上述结论？

A.孟菲斯灰熊队的球星并不是很多，但是它今年的成绩很不错

B.布鲁克林篮网队的球星有很多，但是它今年的成绩不太如人意

C.菲尼克斯太阳队有好几个球星，成绩也很好

D.俄克拉荷马雷霆队里没有几个球星，今年排名垫底了

77. 某高校为了培养学生的创新精神，积极鼓励学生参加青少年机器人大赛，其中A班的甜甜、明明、媛媛、苏苏进入了决赛并有人获得了冠军。班主任在询问他们情况时，他们作了如下回答：

甜甜说：明明是冠军；

明明说：冠军是媛媛；

媛媛说：冠军不是明明就是甜甜；

苏苏说：冠军是明明或者媛媛。

结果他们四人中只有一位同学的描述与事实相符。

根据上述判断，下列哪项一定为假：

A.媛媛说的是真话

B.明明不是冠军

C.甜甜不是冠军

D.苏苏说的是假话

78. 根据美国得克萨斯大学休斯顿健康科学中心的最新研究，每天使用蘑菇提取物有助于免疫系统清除人类乳头瘤病毒（HPV）感染。这项研究的对象是至少有两年持续高危HPV病史的女性。治疗组的患者先接受了6个月的AHCC补充治疗，然后接受了6个月的安慰剂治疗。安慰剂组的患者则接受了为期12个月的安慰剂治疗。结果发现，在治疗组的22名患者中，有14名（63.6%）HPV转为阴性。

以下哪项如果为真，最能支持上述的研究结果？

A.这项研究已经发表在《肿瘤学前沿》杂志上了

B.AHCC补充剂是安全的，AHCC是一种特有的蘑菇提取物

C.2018年约有4300万人感染HPV，其中许多人是十几岁到二十出头的人

D.除了观察等待之外，我们没有其他有效的治疗方法来治疗持续性的HPV感染

79. 有研究表明日照充足的夏天人们每天可减少20卡路里的能量摄入，天气炎热使人更愿意喝水和吃水分多的新鲜蔬果。因此，夏天比冬天更适合减肥。

以下哪项如果为真，最不能支持上述结论？

A.减脂主动性是减脂成功的第一个必要条件

B.高温天气限制了人们对高热量食物的摄入，同时充足的日照可以合成充足的维生素D，有助于抑制增重

C.身体在冬天为了御寒会加快脂肪合成，夏天人体的新陈代谢加快，不会有过多热量剩余转化为脂肪

D.夏天人们的食欲会普遍下降，会比冬天摄入更少的热量

80. 当前，很多人生活不规律，饮食不节制，导致口腔异味严重，这一问题成为不少人的烦恼，苦于找不到好的解决办法，即使经常嚼口香糖，也收效甚微。近来，有专家在研究中发现，茶叶可以有效抑制口腔异味。

以下各项如果为真，最能支持上述发现的是：

A.口腔异味发生的原因之一是食物渣屑残留在口中，经口水分解发酵发出难闻的味道

- B.茶叶中的多酚类物质可以暂时减少口腔中的硫化物，而且可以杀灭口腔内大多数导致口臭的细菌
- C.很多祛除口臭的牙膏中会添加茶香因子，对于去除口腔异味有明显作用
- D.茶叶具有清火、调理的作用，能有效减缓肺热、胃火

81. 大熊猫体型肥硕似熊、丰腴富态，头圆尾短，头躯长12-18米，尾长10-12厘米。体重80-120千克，最重可达180千克，其生活条件必须在海拔2600-3500米、竹林茂密、气温低于20°C的地方。据甘肃某县动物保护部门调查某地没有大熊猫在此生活的迹象。

根据上述内容，下列哪项可以推出？

- A.该地气温高于20°C
- B.只要竹林茂密就会有熊猫的存在
- C.该地处于海拔2600-3500米
- D.该地区温度可能不适于熊猫生存

82. 儿童过敏性鼻炎即儿童变应性鼻炎是变态反应性鼻炎的简称。变应性鼻炎是儿童极为常见的一种慢性鼻黏膜充血的疾病，导致变应性鼻炎的变应原多为吸入性抗原，以尘螨和花粉最为常见，18个月龄婴儿可因接触尘螨导致变应性鼻炎。变应性鼻炎已经成为儿童主要的呼吸道炎性疾病，我国儿童变应性鼻炎患病率为15.79%，严重影响患儿注意力、活动能力及睡眠质量，影响其在学校及日常生活中的表现，亦有可能增加哮喘发病风险。

由此可以推出：

- A.儿童变应性鼻炎对患儿生理及生活都会造成较大影响，也是儿童最常见的疾病
- B.只有18个月及以上儿童才会由于接触尘螨而患变应性鼻炎
- C.多种因素均会导致儿童患变应性鼻炎，日常生活中接触花粉和尘螨都有可能导致儿童患变应性鼻炎
- D.为避免成人患变应性鼻炎，日常生活中应避免接触花粉和尘螨

83. 90%的爸爸认为，自己能很好地照顾孩子。实际上孩子的妈妈认为爸爸不了解孩子的行为和需求，医护人员认为爸爸不了解孩子的健康状况，爸爸们因此经常受到他们的批评。

以下哪项如果为真，能够解释这一现象？

- A.爸爸和妈妈养育方式有分歧很常见。爸爸和孩子打闹时可以帮孩子熟练地使用自己的力量，保持平衡，妈妈则从安全角度出发会限制爸爸与孩子的游戏
- B.很多妈妈在孕期就已经看书、上课、读科普，储备好了各种育儿知识，而很多爸爸则迟迟没有进入角色，拖拖拉拉地什么准备都没做好，真正上手时就鸡飞狗跳、人仰马翻
- C.在带娃的过程中，爸爸们受到批评后，对自己的“育儿能力”评价越来越低。久而久之，他们认为育儿是一项“自己不适合/不胜任”的任务，只想逃避，根本不想再尝试
- D.爸爸们本来就在育儿上缺乏信心，想要寻求他们心目中的育儿专家——也就是妈妈的认可，但爸爸带娃时处处细节都需要妈妈指示，妈妈们不得不直接批评，并配以白眼、叹气和摇头

84. 1862年是绝望的一年，Turner家的孩子一个接一个地染上神秘怪病，在短短几个月时间内相继死去，

他们变得极度衰弱、无法吞咽，在砷中毒的痛苦中离开了人世。医生最终发现，杀死他们的，是装饰在她家卧室墙上的绿色壁纸。

以下哪项如果为真，最能支持医生的发现？

- A. Turner家的壁纸被大片地撕扯下来，它被孩子们拿来玩耍，并被吃进了嘴里
- B. 当时的很多案例表明，只是住进贴了含砷壁纸的房间就足以让人出现头痛、喉咙痛、恶心、头晕、眼睛发炎等一系列中毒症状
- C. 瑞典化学家得到一种翠绿色颜料——铜的亚砷酸氢盐，有很强的毒性，只要几百毫克就可以置人于死地，当时的绿色印花壁纸中都含有大量的这种颜料
- D. 一位长期使用有毒砷颜料制作壁纸的年轻女工，呕吐着绿色的水，眼睛和手指都变成了绿色，在死前的几个小时里每过几分钟就会抽搐

85. 人们用苯硫脲（PTC）和一种类似的苦味物质丙基硫脲嘧啶（PROP）进行了各种各样的味觉实验。结果发现，这种苦味感知差异的现象很普遍，而且和基因差异有明确的联系。总的来说，大约有70%的人容易尝出这类物质的苦味，剩下30%左右是这种苦味的“味盲”。这些味觉差异和苦味味觉感受器TAS2R38的基因差异有关。当然味觉敏感与否也受后天因素的影响，比如说吸烟。硫代葡萄糖苷拥有和它们类似的苦味化学结构，它存在于西兰花、卷心菜、抱子甘蓝等蔬菜当中。有一些研究发现，在PTC和PROP的苦味测试中表现敏感的人，也更容易感受到蔬菜的苦味，这也影响着人们对食物的选择。

由此可以推出：

- A. 硫代葡萄糖苷存在于绝大多数的蔬菜中
- B. 全世界大约有30%的人尝不出食物的苦味
- C. 基因和后天因素都会对人们的味觉敏感度产生影响
- D. 对苦味敏感的人大都不爱吃西兰花、抱子甘蓝等蔬菜

第五部分 资料分析

【资料】

2017年货物运输总量479亿吨，比上年增长9.3%。货物运输周转量196130亿吨公里，增长5.1%。全年规模以上港口完成货物吞吐量126亿吨，比上年增长6.4%，其中外贸货物吞吐量40亿吨，增长5.7%。规模以上港口集装箱吞吐量23680万标准箱，增长8.3%。

2017年各种运输方式完成货物运输量及其增长速度

指标	单位	绝对数	比上年增长(%)
货物运输总量	亿吨	479.4	9.3
铁路	亿吨	36.9	10.7
公路	亿吨	368.0	10.1
水运	亿吨	66.6	4.3
民航	万吨	705.8	5.7
管道	亿吨	7.9	7.3
货物运输周转量	亿吨公里	196130.4	5.1
铁路	亿吨公里	26962.2	13.3
公路	亿吨公里	66712.5	9.2
水运	亿吨公里	97455.0	0.1
民航	亿吨公里	243.5	9.5
管道	亿吨公里	4757.2	13.4

全年旅客运输总量185亿人次，比上年下降2.6%。旅客运输周转量32813亿人公里，增长5.0%。

86. 2016年，每吨货物的平均运输距离约为多少公里？

- A.244
- B.410
- C.356
- D.426

87. 2016年我国货物运输总量最大的运输方式是：

- A.民航
- B.公路
- C.铁路
- D.水运

88. 哪种运输方式在2017年货物运输总量占当年货物运输总量的比重高于上年?

- A.铁路和公路
- B.铁路和管道
- C.公路和民航
- D.铁路和民航

89. 2016年公路运输周转量比铁路运输周转量约高出多少万亿吨公里?

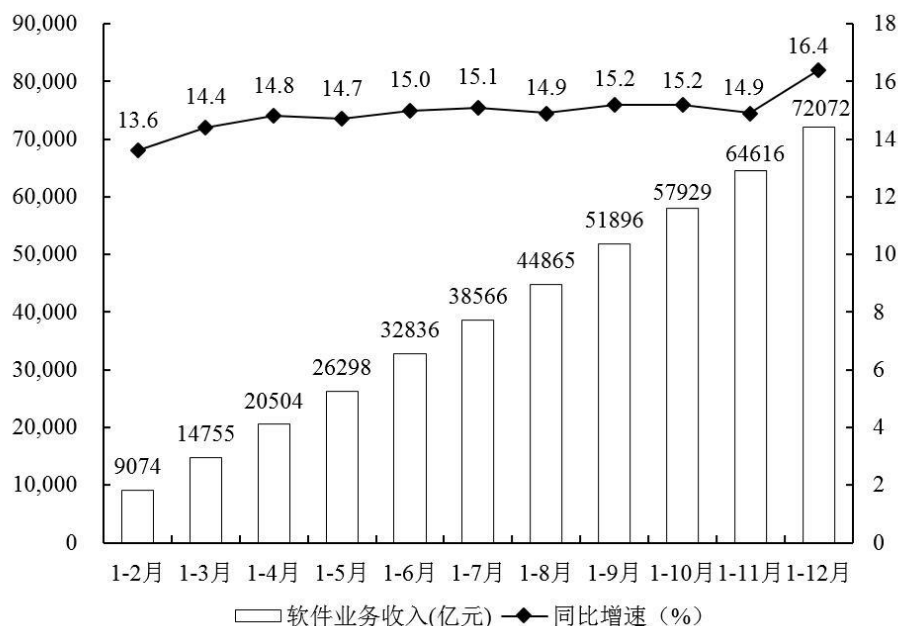
- A.1.58
- B.2.39
- C.3.73
- D.5.25

90. 下列说法错误的是:

- A.2017年外贸货物吞吐量占规模以上港口完成货物吞吐量的比重超过30%
- B.2017年管道货运量占总体的比重高于管道周转量占总体的比重
- C.2017年铁路货物运输总量同比增量高于水运货物运输总量同比增量
- D.2017年每人次的平均运输距离的同比增幅接近8%

【资料】

2019年,我国软件业共完成软件业务收入72072亿元,比上年增长16.4%,增速同比提高4.0个百分点。分领域看,软件产品、信息技术服务、信息安全、嵌入式系统软件四类收入占比分别为28.9%、60.5%、1.8%和8.8%。以云计算、大数据技术为基础的平台类运营技术服务收入21965亿元,同比增长31.2%。其中,典型云服务和大数据服务收入达3284亿元,同比增长49.8%,提供服务的企业达2977家。2019年,软件业实现利润总额9835亿元,比上年增长9.7%。



2019年我国软件业完成软件业务收入累计情况

91. 2017年我国软件业共完成软件业务收入约为多少亿元?

- A.33291
- B.49316
- C.55087
- D.61918

92. 2019年我国软件业完成软件业务收入最高的季度是:

- A.第一季度
- B.第二季度
- C.第三季度
- D.第四季度

93. 2019年下列月份中我国软件业完成软件业务收入环比增速最高的是:

- A.4月
- B.6月
- C.5月
- D.7月

94. 2019年我国以云计算、大数据技术为基础的平台类运营技术服务收入占信息技术服务收入的比重约为:

- A.30.5%
- B.42.3%
- C.45.6%
- D.50.4%

95. 能够从上述资料中推出的是:

- A.2019年3—10月, 我国软件业完成软件业务收入当月同比增速大于累计同比增速的有5个
- B.2019年, 我国典型云服务和大数据服务收入同比增长低于1000亿元
- C.2019年, 我国软件业务收入利润率同比有所上升
- D.2019年下半年我国软件业务月均收入约比上半年高6540亿元

【资料】

2022年8月份, 规模以上工业原煤、天然气、电力生产保持增长, 原油同比下降。与7月份相比, 原煤、天然气增速放缓, 原油由升转降, 发电量增速加快。

8月份, 生产原煤3.7亿吨, 与上月基本持平, 同比增长8.1%, 增速比上月回落8.0个百分点, 日均产量1195万吨。进口煤炭2946万吨, 同比增长5.0%, 上月为下降21.8%。

1—8月份, 生产原煤29.3亿吨, 同比增长11.0%。进口煤炭16798万吨, 同比下降14.9%。

原油生产略有下降, 进口保持下降。8月份, 生产原油1694万吨, 同比下降0.2%, 上月为增长3.0%, 日

均产量54.6万吨。进口原油4035万吨，同比下降9.4%，降幅比上月收窄0.1个百分点。

1—8月份，生产原油13694万吨，同比增长3.2%。进口原油33018万吨，同比下降4.7%。

原油加工量降幅有所收窄。8月份，加工原油5366万吨，同比下降6.5%，降幅比上月收窄2.3个百分点，日均加工173.1万吨。1—8月份，加工原油43489万吨，同比下降6.3%。

天然气生产增速有所放缓，进口降幅扩大。8月份，生产天然气170亿立方米，同比增长6.3%，增速比上月放缓1.9个百分点，日均产量5.5亿立方米。进口天然气885万吨，同比下降15.2%，降幅比上月扩大9.1个百分点。

1—8月份，生产天然气1437亿立方米，同比增长5.5%。进口天然气7105万吨，同比下降10.2%。

96. 2021年7月，原煤生产（ ）亿吨。

A.3.2

B.3.4

C.3.7

D.4.0

97. 2021年1-7月，月均进口煤炭（ ）万吨

A.1979

B.2419

C.2099

D.2214

98. 2022年8月，原油产量比7月（ ）

A.多1.4万吨

B.多3.4万吨

C.多56万吨

D.少3.4万吨

99. 2022年7月，以下品类中，增长最快的是（ ）

A.进口原油

B.加工原油

C.生产天然气

D.进口天然气

100. 以下选项中正确的是（ ）

A.2022年7月份，加工原油同比下降4.2%

B.2022年8月进口煤炭比6月降低18%

C.2022年8月，生产原油是生产原煤的458倍

D.2022年1-8月，生产原油同比增长约425万吨



华图事业单位

SYDW.HUATU.COM

SINCE 2001



2023全国事业单位联考

能力测评卷（三）

答案和解析



2023全国事业单位联考职测能力测评卷（三）

答案和解析

第一部分 常识判断

1.

【答案】C

【解析】

第一步，本题考查时政并选正确项。

第二步，2022年10月16日，中国共产党第二十次全国代表大会在人民大会堂开幕。习近平代表第十九届中央委员会向大会作了题为《高举中国特色社会主义伟大旗帜 为全面建设社会主义现代化国家而团结奋斗》的报告。其中提到高质量发展是全面建设社会主义现代化国家的首要任务。发展是党执政兴国的第一要务。没有坚实的物质技术基础，就不可能全面建成社会主义现代化强国。

因此，选择C选项。

2.

【答案】D

【解析】

第一步，本题考查时政并选错误项。

第二步，《意见》提出，工作目标。2022年底前，各地区要建立部门协同、整体联动的工作机制，完成企业和个人政务服务“一件事一次办”事项基础清单中的任务，并结合各地实际拓展本地区“一件事一次办”事项范围。2025年底前，各地区“一件事一次办”事项范围进一步扩大，服务领域进一步拓展，企业和个人全生命周期重要阶段涉及的更多政务服务事项实现“一件事一次办”，打造政务服务升级版，更好满足企业和群众办事需求。应该是“2022年”，而不是“2025年”。D项错误。

因此，选择D选项。

【拓展】

A项：《意见》提出，优化政务服务是加快转变政府职能、深化“放管服”改革、持续优化营商环境的重要内容，是加快构建新发展格局、建设人民满意的服务型政府的重要支撑。A项正确。

B项：《意见》提出，坚持需求导向。从企业和群众实际需求出发，聚焦企业和个人全生命周期涉及面广、办理量大、办理频率高、办理时间相对集中的政务服务事项，实行“一件事一次办”，实现企业和群众办事由“多地、多窗、多次”向“一地、一窗、一次”转变，最大程度利企便民。B项正确。

C项：《意见》提出，坚持依法监管。按照“谁审批、谁监管，谁主管、谁监管”的原则，在推进“一件事一次办”过程中，强化审管衔接，严格落实有关部门监管责任，健全各司其职、各负其责、相互配合、齐抓共管的协同监管机制，确保事有人管、责有人负，实现无缝衔接。C项正确。

3.

【答案】C

【解析】

第一步，本题考查中共党史知识并选错误项。

第二步，1978年12月，十一届三中全会在北京举行。全会冲破长期“左”的错误和严重束缚，彻底否定“两个凡是”的错误方针，高度评价关于真理标准讨论，重新确立了党的实事求是的思想路线。应该是十一届三中全会，而不是七届二中全会。C项错误。

因此，选择C选项。

【拓展】

A项：七届二中全会于1949年3月在河北省平山县西柏坡举行，是解放战争时期中共召开的唯一的一次中央全会，会议作出的各项政策规定，不仅对迎接中国革命在全国的胜利，而且对新中国的建设事业，都具有重要指导作用。A项正确。

B项：七届二中全会着重讨论了党的工作重心的战略转移，即工作重心由乡村转移到城市的问题。在新中国诞生的前夕，在党的工作重心面临由农村向城市转变，新民主主义革命即将在全国取得胜利，中国共产党即将成为执政党的历史性时刻，怎样保证党在新的历史条件下永不变色，顺利地适应工作重心的转变，担负好新的历史重任，是摆在党中央领导集体和全党面前的重大课题。B项正确。

D项：七届二中全会首次提出加强党的建设，提出“两个务必”——务必使同志们保持谦虚谨慎不骄不躁的作风、务必使同志们保持艰苦奋斗的作风，党的建设是一个伟大工程。D项正确。

4.

【答案】A

【解析】

第一步，本题考查中国共产主义青年团有关知识。

第二步，①：1921年7月，中国共产党召开了第一次全国代表大会，研究了在各地建立和发展社会主义青年团作为党的预备学校问题，决定了吸收优秀团员入党的办法。“一大”后，中央和各地党组织派了大批党员去开展团的工作。①正确。

②：1922年5月5日至5月10日，中国社会主义青年团第一次全国代表大会在广州召开，标志中国青年团组织的正式成立。应该是广州，而不是上海。②错误。

③：中国共产主义青年团是中国共产党领导的先进青年的群团组织，是广大青年在实践中学习中国特色社会主义和共产主义的学校，是中国共产党的助手和后备军。③正确。

④：团员年满二十八周岁，没有担任团内职务，应该办理离团手续。

团员加入共产党以后仍保留团籍，年满二十八周岁，没有在团内担任职务，不再保留团籍。由此可知，团员加入共产党无需办理离团手续。④错误。

故①③正确。

因此，选择A选项。

5.

【答案】C

【解析】

第一步，本题考查中国史知识。

第二步，春秋战国时代中国已经普遍使用铁。秦朝在春秋战国之后，故士兵使用铁制武器打仗有可能发生。C项正确。

因此，选择C选项。

【拓展】

A项：花生是在明朝传入我国。秦朝在明朝之前，客栈里旅客在吃花生不可能发生。A项错误。

B项：窗花是贴在窗纸或窗户玻璃上的剪纸。造纸术发明于西汉时期、改进于东汉时期。秦朝在西汉之前，故妇女们边聊天边剪窗花不可能发生。B项错误。

D项：《过秦论》是西汉贾谊政论文的代表作，分上中下三篇。全文从各个方面分析秦王朝的过失。秦朝在西汉之前，故官员认真研读《过秦论》不可能发生。D项错误。

6.

【答案】D

【解析】

第一步，本题考查中国史知识。

第二步，辽沈战役于1948年9月12日开始，同年11月2日结束，共历时52天。战役结束后，中国人民解放军首次在兵力数量方面超越国民党军队。解放了东北全境。D项正确。

因此，选择D选项。

【拓展】

A项：赤壁之战，是指东汉末年孙权、刘备联军于建安十三年（公元208年）在长江赤壁（今湖北省赤壁市西北）一带大破曹操大军的战役。此战为而后三国鼎立奠定了基础。应该是赤壁之战，而不是官渡之战。A项错误。

B项：《辛丑条约》是中国清政府代表奕劻、李鸿章与英、美、俄、法、德、意、日、奥、比、西、荷十一国外交代表，在义和团运动失败、八国联军攻入北京后，于光绪二十七年（辛丑年）七月二十五日（1901年9月7日）在北京签订的不平等条约。《辛丑条约》的签订，表明清政府已完全成为帝国主义统治中国的工具，标志着中国已完全沦为半殖民地半封建社会。应该是《辛丑条约》，而不是《南京条约》。B项错误。

C项：霍去病，西汉名将、军事家、民族英雄，用兵灵活，注重方略，不拘古法，善于长途奔袭、快速突袭和大迂回、大穿插、歼灭战，为汉武帝时期的军事扩张做出重大贡献。霍去病墓位于陕西省兴平市茂陵东北一公里处，是汉武帝刘彻的重要陪葬墓。墓前列立着大型圆雕石刻“马踏匈奴”。应该是霍去病，而不是卫青。C项错误。

7.

【答案】B

【解析】

第一步，本题考查中国史并选错误项。

第二步，秦始皇时期在中央创设的中枢权力机构是三公九卿制，三公分别为：丞相、太尉、御史大夫，九卿指的是奉常、郎中令、卫尉、宗正、太仆、廷尉、典客、治粟内史、少府。三省六部制是中国古代封建社会一套组织严密的中央官制，它始于隋朝五省六曹制，确立于隋朝，完善于唐朝，此后一直到清末，六部制基本沿袭未改。三省指中书省、门下省、尚书省，六部指尚书省下属的吏部、户部、礼部、兵部、刑部、工部。应该是“三公九卿”，而不是“三省六部”。B项错误。

因此，选择B选项。

【拓展】

A项：分封制，是中国古代分封诸侯的制度。商代已开始分封诸侯，称号有侯和伯。西周灭商后，便大规模地以封地连同居民分赏王室子弟、同姓亲族和异姓功臣，诸侯在其封国内享有世袭统治权，也有服从天子命令、定期朝贡、提供军赋和力役、维护周室安全的责任。A项正确。

C项：西汉汉武帝时期的推恩令，要求由以前的各诸侯所管辖的区域只由其长子继承，改为其长子、次子、三子共同继承，后来根据这项政令，诸侯国被越分越小，汉武帝再趁机削弱其势力。C项正确。

D项：北魏孝文帝接受汉族地主李冲的建议，于太和十年（公元486年）废除宗主督护制，创立三长制，以抑制豪强隐匿户口和逃避租调徭役，并直接控制基层政权组织。三长制即五家立一邻长，五邻立一里长，五里立一党长。D项正确。

8.

【答案】B

【解析】

第一步，本题考查法律知识。

第二步，根据《反垄断法》第24条第2项，有下列情形之一的，可以推定经营者具有市场支配地位：两个经营者在相关市场的市场份额合计达到三分之二的。本题中，甲乙两企业生产的化妆品占国内市场份额高达90%，推定甲、乙具有市场支配地位。

根据《反垄断法》第22条第1款，禁止具有市场支配地位的经营者从事下列滥用市场支配地位的行为：

- (一) 以不公平的高价销售商品或者以不公平的低价购买商品；
- (二) 没有正当理由，以低于成本的价格销售商品；
- (三) 没有正当理由，拒绝与交易相对人进行交易；
- (四) 没有正当理由，限定交易相对人只能与其进行交易或者只能与其指定的经营者进行交易；
- (五) 没有正当理由搭售商品，或者在交易时附加其他不合理的交易条件；
- (六) 没有正当理由，对条件相同的交易相对人在交易价格等交易条件上实行差别待遇；
- (七) 国务院反垄断执法机构认定的其他滥用市场支配地位的行为。

综上，甲乙公司已经形成市场支配地位，

根据（四），②排除；

根据（二），③排除。

①建议零售价出现之初的本意是避免商家擅自抬高商品零售价格，用以维护产品的品牌形象，也能为消费

者提供一个参照价格，它的制定属于一种提议性质的企业行为。建议零售价的做法是一种“建议”，而不是“强制”，并没有违反法律。

④丁公司的行为有损乙公司的形象，乙公司拒绝与其交易的行为正当。

故有2项正确。

因此，选择B选项。

9.

【答案】C

【解析】

第一步，本题考查法律并选错误项。

第二步，《中华人民共和国监察官法》第13条规定，有下列情形之一的，不得担任监察官：

（一）因犯罪受过刑事处罚，以及因犯罪情节轻微被人民检察院依法作出不起诉决定或者被人民法院依法免于刑事处罚的；

（二）被撤销中国共产党党内职务、留党察看、开除党籍的；

（三）被撤职或者开除公职的；

（四）被依法列为失信联合惩戒对象的；

（五）配偶已移居国（境）外，或者没有配偶但是子女均已移居国（境）外的；

（六）法律规定的其他情形。

根据（二），C项没有严重警告，表述错误。

因此，选择C选项。

【拓展】

A项：《中华人民共和国监察官法》第25条规定，监察官等级分为十三级，依次为总监察官、一级副总监察官、二级副总监察官，一级高级监察官、二级高级监察官、三级高级监察官、四级高级监察官，一级监察官、二级监察官、三级监察官、四级监察官、五级监察官、六级监察官。第26条规定，国家监察委员会主任为总监察官。A项正确。

B项：《中华人民共和国监察官法》第49条第1款规定，监察官离任三年内，不得从事与监察和司法工作相关联且可能发生利益冲突的职业。B项正确。

D项：《中华人民共和国监察官法》第24条规定，监察官之间有夫妻关系、直系血亲关系、三代以内旁系血亲以及近姻亲关系的，不得同时担任下列职务：

（一）同一监察委员会的主任、副主任、委员，上述人员和其他监察官；

（二）监察委员会机关同一部门的监察官；

（三）同一派驻机构、派出机构或者其他监察机构的监察官；

（四）上下相邻两级监察委员会的主任、副主任、委员。

根据（二），D项正确。

10.

【答案】A

【解析】

第一步，本题考查法律知识。

第二步，盗窃罪是指以非法占有为目的，盗窃公私财物数额较大或者多次盗窃、入户盗窃、携带凶器盗窃、扒窃公私财物的行为。本题中，甲以非法占有为目的，利用偷换二维码的手段方式，秘密窃取他人财物的行为构成盗窃罪。A项正确。

因此，选择A选项。

【拓展】

B项：遗弃罪是指负有扶养义务的人，对年老、年幼、患病或者其他没有独立生活能力的人实施拒绝扶养，情节恶劣，从而构成的犯罪。故意杀人罪是指故意非法剥夺他人生命的行为。遗弃罪在客观方面一般是将被被害人遗弃于能够获得救助的场所。故意杀人罪在客观方面则是将被被害人放置于不能获得救助的地方。本题中，乙将年老多病的母亲带至当地的荒山之中扔弃，属于将其放置于不能获得救助的地方，构成故意杀人罪，而不是遗弃罪。B项错误。

C项：挪用公款罪是指国家工作人员利用职务上的便利，实施挪用公款归个人使用，进行非法活动，或者挪用公款数额较大、进行营利活动，或者挪用公款数额较大、超过三个月未还，从而构成的犯罪。《刑法》第382条规定，【贪污罪】国家工作人员利用职务上的便利，侵吞、窃取、骗取或者其他手段非法占有公共财物的，是贪污罪。受国家机关、国有公司、企业、事业单位、人民团体委托管理、经营国有财产的人员，利用职务上的便利，侵吞、窃取、骗取或者其他手段非法占有国有财物的，以贪污论。本题中，丙作为国企的总经理，经营国有财产，利用职务之便占有公司资金，而国企资金属于国有财物，所以赵某的行为构成贪污罪，而不是挪用公款罪。C项错误。

D项：以危险方法危害公共安全罪是指故意使用放火、决水、爆炸、投放危险物质以外的危险方法危害公共安全的行为。妨害安全驾驶罪是指对行驶中的公共交通工具的驾驶人员使用暴力或者抢控驾驶操纵装置，干扰公共交通工具正常行驶，危及公共安全的行为。本题中，丁乘坐公交车时与司机发生争执抢夺方向盘，构成妨害安全驾驶罪，而不是以危险方法危害公共安全罪。D项错误。

11.

【答案】D

【解析】

第一步，本题考查宪法知识。

第二步，根据《中华人民共和国宪法》第9条，矿藏、水流、森林、山岭、草原、荒地、滩涂等自然资源，都属于国家所有，即全民所有；由法律规定属于集体所有的森林和山岭、草原、荒地、滩涂除外。第10条，城市的土地属于国家所有。D项正确。

因此，选择D选项。

【拓展】

A项：根据《中华人民共和国宪法》第13条，公民的合法的私有财产不受侵犯。国家依照法律规定保护公民的私有财产权和继承权。国家为了公共利益的需要，可以依照法律规定对公民的私有财产实行征收或者征用并给予补偿。应该是“公民的合法的私有财产”，而不是“公民的私有财产”。A项错误。

B项：根据《中华人民共和国宪法》第9条，矿藏、水流、森林、山岭、草原、荒地、滩涂等自然资源，都

属于国家所有，即全民所有；由法律规定属于集体所有的森林和山岭、草原、荒地、滩涂除外。B项错误。
C项：根据《中华人民共和国宪法》第10条，城市的土地属于国家所有。农村和城市郊区的土地，除由法律规定属于国家所有的以外，属于集体所有。C项错误。

12.

【答案】D

【解析】

第一步，本题考查人文知识。

第二步，①：毕加索，西班牙画家、雕塑家，是现代艺术的创始人，西方现代派绘画的主要代表。代表作品有《格尔尼卡》《和平鸽》《亚威农少女》《生命》。国籍对应错误。

②：梵高，荷兰后印象派画家。代表作有《星月夜》、自画像系列、向日葵系列等。《亚威农少女》是由西班牙画家毕加索创作于1907年的一幅油画。国籍、作品均对应错误。

③：米开朗基罗，又译“米开朗琪罗”，意大利文艺复兴时期伟大的绘画家、雕塑家、建筑师和诗人，文艺复兴时期雕塑艺术最高峰的代表。代表作有《大卫》《创世纪》等。对应正确。

④：莫奈，法国画家，被誉为“印象派领导者”，是印象派代表人物和创始人之一。代表作有《日出·印象》《睡莲》《干草堆》等。对应正确。

故③④正确。

因此，选择D选项。

13.

【答案】B

【解析】

第一步，本题考查文学知识。

第二步，《史记》与《资治通鉴》并称为“史学双璧”，司马迁与司马光并称“史界两司马”。B项正确。

因此，选择B选项。

【拓展】

A项：《史记》是中国历史上第一部纪传体通史，作品中撰写了上至上古传说中的黄帝时代，下至汉武帝太初四年间共3000多年的历史。应该是纪传体，而不是编年体。A项错误。

C项：东汉历史学家班固评价为“其文直，其事核，不虚美，不隐恶”。应该是班固，而不是班超。C项错误。

D项：《史记》与《汉书》《后汉书》《三国志》合称“前四史”。应该是《后汉书》，而不是《晋书》。D项错误。

14.

【答案】B

【解析】

第一步，本题考查文学知识。

第二步，《文心雕龙》是南朝文学理论家刘勰创作的文学理论著作。《兰亭序》是晋代书圣王羲之在浙江

绍兴兰渚山下以文会友，写出“天下第一行书”。B项对应正确。

因此，选择B选项。

【拓展】

A项：《归去来兮辞》是东晋文学家陶渊明创作的抒情小赋。《使至塞上》是唐代诗人王维奉命赴边疆慰问将士途中创作的记行诗。A项对应错误。

C项：“现代”指的是1919年到1949年，以五四运动为启始，揭开了新民主主义的序幕，宣告无产阶级走上了历史舞台。“当代”指的是1949年新中国成立至今的时间。《荷塘月色》是中国现代文学家朱自清任教清华大学时创作的散文。《废都》是中国当代作家贾平凹创作的长篇小说。C项对应错误。

D项：《岳阳楼记》是北宋文学家范仲淹于庆历六年应好友巴陵郡太守滕子京之请为重修岳阳楼而创作的一篇散文。《饮水词》是清初词人纳兰性德词作的一本词集。D项对应错误。

15.

【答案】A

【解析】

第一步，本题考查人文常识。

第二步，苏绣具有“平、齐、细、密、和、光、顺、匀”的特点。“平”指绣面平展；“齐”指图案边缘齐整；“细”指用针细巧，绣线精细；“密”指线条排列紧凑，不露针迹；“和”指设色适宜；“光”指光彩夺目，色泽鲜明；“顺”指丝理圆转自如；“匀”指线条精细均匀，疏密一致。A项正确。

因此，选择A选项。

【拓展】

B项：清代是“苏绣”的全盛时期。B项错误。

C项：清代确立了“苏绣、湘绣、粤绣、蜀绣”为中国四大名绣。C项错误。

D项：苏绣代表作双面绣《猫》，湘绣代表作《狮虎》，粤绣代表作《百鸟朝凤》，蜀绣代表作《芙蓉鲤鱼》。D项错误。

16.

【答案】D

【解析】

第一步，本题考查人文常识并选错误项。

第二步，粉红色脸谱一般代表着有正义感的老人，忠勇老将，代表人物廉颇。王彦章，顽强暴躁的人物性格一般使用绿色脸谱。D项对应错误。

因此，选择D选项。

【拓展】

A项：红色一般表现忠贞、英勇的人物性格，多为正面角色，例如关公等。A项对应正确。

B项：黄色一般代表骁勇、凶猛的人物，例如宇文成都、典韦等。B项对应正确。

C项：黑色一般表现正直、无私、刚直不阿的人物形象，例如包公、张飞等。C项对应正确。

17.

【答案】D

【解析】

第一步，本题考查生活常识并选错误项。

第二步，①：当发现有人触电时，一定要保持冷静，头脑清醒，不要惊慌，应立即将电源关闭或者拔掉电源插头，如果无法找到电源，一定要用干燥的木棍或者可以绝缘不导电的物体，将电线挑开，让触电者脱离电源。严禁直接用手直接接触触电的人，有可能自己也会发生触电，在救人的同时，要确保自己的生命安全。①错误。

②：被烫伤后，应立即脱离热源，用凉水持续冲洗受伤部位，大约半小时，以加快受伤部位散热来减轻疼痛。不要强行脱下衣服，不要拍打患处，切忌自行涂抹有颜色的物品及药品。②错误。

③：在半山腰遇见森林火灾时，要快速向山下跑，通常火势向上蔓延的速度要比人跑得快得多，火头会跑到你的前面。③错误。

④：胸腹受伤后，为了避免二次伤害及保证伤者呼吸顺畅，应使病人平躺。④错误。

故4项均不正确。

因此，选择D选项。

18.

【答案】C

【解析】

第一步，本题考查科技成就并选错误项。

第二步，神舟十二号，为中国载人航天工程发射的第十二艘飞船，是空间站关键技术验证阶段第四次飞行任务，也是空间站阶段首次载人飞行任务。神舟十二号于2021年6月17日在酒泉卫星发射中心点火发射，发射取得圆满成功。应该是2021年神舟十二号，而不是2022年神舟十四号。C项错误。

因此，选择C选项。

【拓展】

A项：2003年10月15日，杨利伟乘坐由长征二号F火箭运载的神舟五号飞船首次进入太空，成为我国进入太空的第一人。A项正确。

B项：神舟九号，是中国的第四次载人航天飞行任务，也是中国首次载人交会对接任务。于2012年6月16日发射升空，进入预定轨道，于2012年6月29日返回舱在内蒙古主着陆场安全着陆，完成与天宫一号载人交会对接任务。B项正确。

D项：酒泉卫星发射中心是中国创建最早、规模最大的综合型导弹、卫星发射中心，测试及发射长征系列运载火箭、中低轨道的各种试验卫星、应用卫星、载人飞船和火箭导弹的主要基地。神舟一号至神舟十四号载人飞船都是在甘肃酒泉发射升空。D项正确。

19.

【答案】C

【解析】

第一步，本题考查科技成就。

第二步，C既是“COMAC”的第一个字母，也是中国的英文名称“CHINA”的第一个字母，体现了大型客机是国家的意志、人民的期望；9寓意天长地久，代表了吉祥；19寓意飞机最大载客量192人，包含了大飞机的技术水平。C项正确。

因此，选择C选项。

【拓展】

A项：C919飞机，是中国按照国际民航规章自行研制、具有自主知识产权的大型喷气式民用飞机。应该是民用，而不是军用。A项错误。

B项：2017年5月5日C919在上海浦东机场圆满首飞。应该是上海浦东机场，而不是广州白云机场。B项错误。

D项：C919与运-20、鲲龙-600并称为国产大飞机“三剑客”。应该是运-20，而不是运-10。D项错误。

20.

【答案】D

【解析】

第一步，本题考查生物学并选错误项。

第二步，一个物种所包含的基因越丰富，它对环境的适应能力越强。基因的多样性是生命进化和物种分化的基础。D项错误。

因此，选择D选项。

【拓展】

A项：遗传多样性是生物多样性的重要组成部分。广义的遗传多样性是指地球上生物所携带的各种遗传信息的总和。这些遗传信息储存在生物个体的基因之中。因此，遗传多样性也就是生物的遗传基因的多样性。任何一个物种或一个生物个体都保存着大量的遗传基因，因此，可被看作是一个基因库。A项正确。

B项：物种多样性是指地球上动物、植物、微生物等生物种类的丰富程度。物种多样性包括两个方面，其一是指一定区域内的物种丰富程度，可称为区域物种多样性；其二是生态学方面的物种分布的均匀程度，可称为生态多样性或群落物种多样性。物种多样性是衡量一定地区生物资源丰富程度的一个客观指标。B项正确。

C项：生态系统是各种生物与其周围环境所构成的自然综合体。所有的物种都是生态系统的组成部分。在生态系统之中，不仅各个物种之间相互依赖，彼此制约，而且生物与其周围的各种环境因子也是相互作用的。C项正确。

第二部分 言语理解与表达

21.

【答案】A

【解析】

第一步，分析语境。文段主要谈论贫困学生“勤工助学”时薪少，时长短，赚得少。通过“还赚不到500块”“无异于”等关键信息，可知勤工俭学获得的“补助”对贫困学生来说帮助很有限，解决不了问题。

第二步，辨析选项。A项“杯水车薪”比喻力量太小，解决不了问题，符合文意。B项“手到病除”比喻工作做得很好，解决问题迅速，与文意正好相反。C项“粥少僧多”比喻人多东西少而不够分，文段没有体现申请“勤工助学”的人多钱不够分，而是突出“勤工助学”获得的钱少，对困难学生帮助有限。D项“力济九区”解释为凭自己的力量周济全国民众，与文意不符。

因此，选择A选项。

22.

【答案】A

【解析】

第一步，分析语境。所填词语照应“充分考虑城乡等不同地区之间的经济社会发展水平，制定合理的工作推进计划”。

第二步，辨析选项。A项“因地制宜”指根据当地的实际情况，制定适当的措施，符合语境。B项“因势利导”意思是顺着事情发展的趋势，向有利于实现目的的方向加以引导，该词侧重强调引导，文段无引导的意思，排除B项。C项“因利乘便”强调凭借有利的形势。文段中描述的显然不属于有利的形势，排除C项。D项“因材施教”指的是要根据每个学生的特点来有针对性地进行教学，不符合语境，排除D项。

因此，选择A选项。

23.

【答案】D

【解析】

第一步，突破口在第二空。填入词语与“惬意”对应，“惬意”指满意；称心。A项和B项“胜景”指优美的风景，与文意相符。C项和D项“盛景”指盛大的景象，侧重盛大，文中并未体现“盛大”之意，与文意不符，排除B项和C项。

第二步，分析第一空。填入词语与“不通”连用，意思相近，且搭配“洼地”。A项“淤积”指（水里的泥沙等）沉积，与“洼地”搭配不当，排除。D项“淤塞”指淤积阻塞不能畅通，符合文意。

因此，选择D选项。

【拓展】

堵塞：阻塞，使不通。闭塞：①堵住。②交通不便利；风气不开通。③消息不灵通。

24.

【答案】C

【解析】

第一步，分析第一空。根据“很多生活服务业新工种是自传统业态_____而来”可知，填入词语想表达的意思是，“新工种”是从原有“传统业态”产生的新的东西，“传统业态”依然存在。B项“派生”指从主要事物发展中分化出来。C项“衍生”指指演变而产生，从母体物质得到的新物。两者均符合文意。A项“蜕变”指发生质的变化（多指向坏的方面转化），语义偏消极，与文意不符，排除A项。D项“演变”指指逐渐的发展变化，一般指同一事物前后发生变化，与文意不符，排除D项。

第二步，分析第二空。根据“要仔细……，消费者要注意……”可知，填入词语与“核实”语义相近。“核实”指审核是否属实。C项“甄别”指鉴别，区别，强调认真、慎重地鉴别，审查辨别额（优劣）；考核鉴定（能力、品质等），符合文意。B项“甄选”指甄别选择，在审查鉴别（真假优劣）之后选择，强调选择性和自主性，文中未体现选择，与文意不符，排除。

因此，选择C选项。

【拓展】

鉴别：辨别；识别（真假好坏）。辨别：指分辨区别。

25.

【答案】D

【解析】

第一步，突破口在第二空。根据“无对采集者的权力限定”“什么机构可采集这类信息、是否有使用的前提与范围限制等”可知，填入词语应与“限定”意思相近。“限定”指在范围、数量等方面加以规定。D项“界定”指划定界限；确定所属范围，符合文意。A项“取舍”指采取或舍弃；选择。B项“规范”指约定俗成或明文规定的标准。C项“监管”指从旁密切察看并管理；察看、督促并管理。三者均与文意不符。答案锁定B选项。

第二步，带入验证第一空。D项“不言而喻”指不必说就能明白，符合文意。

因此，选择D选项。

【拓展】

不言自明：不用说话就能明白。显而易见：形容事情、道理非常明显，极容易看得清楚。毋庸置疑：事实明显或理由充分，根本就没有怀疑的余地。

26.

【答案】B

【解析】

第一步，分析第一空。根据“月度_____的线下用户超过50万人次”可知，文段要表达的是“糖豆APP”涉及到的意思。A项“涵盖”指包容、覆盖；B项“覆盖”指遮盖。二者均符合文意，用在此处均可以表示涉及或影响到的范围。C项“包括”指包含；D项“囊括”意为全部包罗在里面，也泛指包含了一切事物。二者置于此处语义不符，因为“糖豆APP”无法包括“线下用户”，排除C项和D项。

第二步，分析第二空。根据“因大量中老年人的参与而”可知，填入词语应形容“图文创作市场”发展快速的意思。A项“如日中天”比喻事物正发展到最兴盛的阶段，文中未体现最兴盛阶段的意思，不符合文

意，排除。B项“异军突起”比喻另一支新的力量突然出现，符合文意。

因此，选择B选项。

【拓展】

应运而生：人或事物适应时机、潮流而出现。蓬勃发展：发展的势态很迅速，很积极，很向上。

27.

【答案】D

【解析】

第一步，分析第一空。根据“经济建设遇到严重困难，人民勒紧裤腰带，团结一心渡难关”可知，填入词语应与“严重困难”“难关”对应。A项“白手起家”形容在没有基础和条件很差的情况下自力更生，艰苦创业。文中未体现没有条件的意思，与文意不符，排除A项。B项“胼手胝足”形容长期地辛勤劳动。C项“勇往直前”指勇敢地一直向前进。两者均未体现应对“困难”和“难关”，排除。D项“披荆斩棘”比喻扫除前进中的困难和障碍，符合文意。锁定答案D选项。

第二步，带入验证第二空。“豪迈气概”符合文意。

因此，选择D选项。

【拓展】

气度：指人的气魄和度量。气质：①人的一种比较稳定的个性特征，与“脾气”、“性情”相近，如活泼、沉默、好动、浮躁等。②泛指人的风格、气度。气派：指人或某些事物所表现出的气势。②（形）有精神；神气。气概：在对待重大问题上表现出来的态度、举动或气势。豪迈：气魄大，勇气足。

28.

【答案】A

【解析】

第一步，分析第一空。根据“风光摄影则通过影像展示大自然的”可知，填入词语想表达大自然风景好的意思。A项“壮美”指雄壮美丽。B项“秀丽”形容清秀美丽。两者均符合文意。C项“威力”指使人畏惧的强大力量。D项“风韵”指风度和姿态或指诗文、书画的风格、韵味。两者均不能与“风光”对应，与文意不符，排除。

第二步，分析第二空。根据“有一项纯粹的爱好将我_____现实生活的琐碎与喧嚣，看到诗和远方”可知，填入词语应含有分开的意思。A项“抽离”指把你自己从某事或某种处境中解脱出来中脱离出来，符合文意。B项“剥离”指（组织、皮层、覆盖物等）脱落，一般指整体的某一部分从整体中分开，文中“我”和“生活的琐碎与喧嚣”并不是一个紧密整体，与文意不符，排除。

因此，选择A选项。

【拓展】

风光：风景；景象。割裂：把统一的或有联系的事物分割开。拆分：分离。

29.

【答案】A

【解析】

第一步，分析第一空。根据转折关系可知，填入词语与“如雷贯耳”语义相反。A项“默默无声”指静静的丝毫不出声。D项“默默无闻”形容没有名声，不为人们所知道。两者均符合文意。B项“名满天下”指名声遍传天下。形容名声极大，与文意不符，排除B项。C项“无名小卒”指比喻地位低没有名望的人，用法不当，应为选择成为无名小卒，排除C项。

第二步，分析第二空。根据“不图名、不图利、不取巧”可知，填入词语应含有踏实的意思。A项“脚踏实地”比喻做事踏实认真，实事求是而不浮夸，符合文意。D项“墨守成规”指形容思想保守，按老规矩办事，不求改进，语义偏消极，与文意不符，排除。

因此，选择A选项。

【拓展】

精雕细琢：精心细致的雕刻琢磨，形容做事仔细用心，多指艺术品的创作。按部就班：遵循一定的程序。

30.

【答案】D

【解析】

第一步，分析第一空。根据“认定它源于海陀山”可知，填入词语与“起源”对应。A项“发祥地”和D项“发源地”指民族、历史、文化、革命运动、某种政治思潮等起源的地方。A项和D项均符合文意。B项“汇聚地”指聚集、会聚在一起的地方，与文意不符，排除。C项“策源地”指战争、社会运动等策动、起源的地方，与“妫河”搭配不当，排除。

第二步，分析第二空。填入词语应与“详实”对应，且与“文字”搭配。“详实”指详尽而真实。A项“笃定”形容心里踏实，有把握，与“文字”搭配不当，排除。D项“确切”指准确，体现定位信息准确，符合文意。

因此，选择D选项。

【拓展】

准确：严格符合事实、标准或真实情况。

31.

【答案】A

【解析】

第一步，分析第一空。该空搭配“革命”且需照应“净化”“磨砺”。“淬炼”指反复经受考验，磨练，锻炼，多用于抽象事物，符合语境。“凝练”指简洁而无铺张赘言，不符合语境，排除C项和D项。

第二步，分析第二空。填入词语与“生生不息”并列。B项“一成不变”指一经形成，不再改变，与文意不符，排除。A项“一脉相承”指由一个血统或一个派别世代相传承袭下来，比喻人或事物间的传承关系，符合文意。

因此，选择A选项。

【拓展】

生生不息：孳生繁衍而不停止。不谋而合：事前没有商量过而彼此意见或行动却完全一致。薪火相传：1.意思是比喻学问和技艺代代相传。2.比喻师生授受不绝，或种族、血统、文化精神的传承，绵延不尽。

32.

【答案】B

【解析】

第一步，分析第一空。文段要表达的意思是人们对舞剧搬上“云端”能否觅得知音还是抱有怀疑的态度。D项“置疑”表示怀疑，但多用于否定句式，排除D项。其余三项均符合文意。

第二步，分析第二空。根据“一是高雅艺术并非_____，在广大群众中也有强大的影响力”可知，高雅艺术并非融入不了民众。B项“曲高和寡”指曲调高深，能跟着唱的人很少，比喻言论或艺术作品不通俗，能理解或欣赏的人很少，符合文意。A项“格格不入”形容彼此思想不协调，想法不相容；C项“一枝独秀”指在同类事物中最为突出，最为优秀。二者语义不符，排除A项和C项。答案锁定B选项。

第三步，验证第三空。“群众的文化消费需求仍然旺盛”符合文意。

因此，选择B选项。

33.

【答案】C

【解析】

第一步，先分析第三空。根据文段可知，美国出台《芯片和科学法案》的本意肯定是好的，希望该法发挥积极作用，但积极作用很有限。“提振”和“振兴”均可以表示积极作用，符合文意。“打压”“压制”与文意相悖，排除A项和B项。

第二步，分析第一空。文段要表达的意思是美国大搞不公平竞争的错误做法与市场经济原则和经济全球化大势相反。C项“背道而驰”比喻行动方向和所要达到的目标完全相反，符合文意。D项“风流云散”指像风一样流动，如云一样散开，比喻原来在一起的人四下离散，语义不符，排除D项。答案锁定C选项。

第三步，分析第二空。“包藏祸心”指内心怀着害人的坏主意，“足见该法包藏祸心”符合文意。

因此，选择C选项。

【拓展】

南辕北辙：比喻行动和目的正好相反。东趋西步：指相背而行。存心不良：指存着坏心眼。不可告人：不能告诉别人，多指不正当的打算或计谋不敢公开说出来。别有用心：言论或行动中另有不可告人的企图。

包藏祸心：内心怀着害人的坏主意，形容外表不露声色暗中害人。

34.

【答案】B

【解析】

第一步，分析第一空。根据“即节约使用财货，_____不必要的财货消耗”可知，第一空要表达的意思与“节约”相近，形容节省。C项“增加”与D项“提高”形容比原来更多，与文意相反，排除C项和D项。

第二步，分析第二空。根据“不滥用自己所掌握的权力_____民财，以满足自己的需求或行铺张浪费之事”可知，第二空指为政者不利用权力不正当的获取钱财，满足自己的需要，第二空倾向偏消极。A项“获取”形容获得，为中性词，B项“攫取”指抓取、拿取或掠取，色彩偏于消极，更符合文意。答案锁定B选项。

第三步，验证第三空。B项“尺度”与标准意思相近，符合文意。

因此，选择B选项。

【拓展】

获取：获得；猎取。谋取：设法取得。手段：采用某种方法以达到某一目的。尺度：标准。门槛：比喻标准或条件。保障：保护防卫生命、财产、权利等不受侵害。

35.

【答案】C

【解析】

第一步，分析第一空。根据“适应当下未成年人的体力、心智发展水平”可知，填入词语想表达根据当下情况进行调整的意思。A项“推陈出新”指去掉旧事物的糟粕，吸取其精华，使它以新的面目出现，文中未体现“推陈”，与文意不符，排除。B项“因地制宜”指根据各地的具体情况，采取行之适当的措施，“因地”未有体现，与文意不符，排除。C项“与时俱进”指与时间一起前进，形容不断进取，永不停滞。D项“开拓创新”意思是指人们为了发展的需要，运用已知的信息，不断突破常规，发现或创造某种新颖、独特的有社会价值或个人价值的新事物、新思想的活动，符合文意。

第二步，分析第二空。填入词语与“诉求”搭配。C项“应对”指采取措施，积极应付，符合文意。D项“治理”指管理，处理，符合文意。

第三步，分析第三空。根据“比如，可以引进‘弹性刑事责任年龄’，英国法律规定是14岁以上就必须承担刑事责任”可知，填入词语与“弹性”相对，应含有不变之意。D项“拾人牙慧”比喻抄袭、套用别人的语言和文字，当作自己的话，与文意不符，排除。C项“刻舟求剑”比喻办事刻板拘泥，不知根据实际情况处理问题，符合文意。

因此，选择C选项。

【拓展】

应付：①设法对待或处置。②敷衍了事；不认真。③将就；凑合。治理：①统治；管理②处理；整修。泥古不化：拘泥于古代的成规或古人的说法，而不知灵活运用。固步自封：自己停留在原地。比喻保守，安于现状，不求进步。

36.

【答案】A

【解析】

第一步，分析文段。文段先通过背景铺垫引出当今短视频创业很流行。然后提出一些大学生掉入校园短视频创业的陷阱中这个问题。后文通过“流量王”的例子论证短视频创业的骗局很繁杂。因此，主旨句为第二句话，文段为“分—总—分”结构。意图题优选针对问题提的对策项，也就是不能掉入校园短视频创业的陷阱。

第二步，对比选项。A项符合文段意图。B项“流量王”是原文例子，非重点。C项属于问题的同义替换，不是对策。D项“校园监管”在原文中没有出现，话题不一致。

因此，选择A选项。

【拓展】

文段出处：光明时评《校园短视频创业不能变成陷阱》

37.

【答案】A

【解析】

第一步，分析文段。文段首先论述什么是无症状感染者及无症状感染者的特点，之后指出加强对无症状感染者的监测监管可将疫情传播的风险降到最低，最后通过国家卫健委进一步说明加强监管的重要性。文段结构为“分—总—分”，文段重点为对无症状感染者监管这一观点。

第二步，对比选项。A项是对文段重点的同义替换，符合文段意图。

因此，选择A选项。

【拓展】

B项：文段没有论述疫情传播的原因，属于无中生有。C项：为卫健委对加强监管重要性的解释说明，分句内容，非重点。D项：文段重点论述对无症状感染者该如何降低风险，而非卫健委对无症状感染者的态度，偏离文段重点。

文段出处：《筑牢无症状感染者疫情传播“防火墙”》

38.

【答案】B

【解析】

第一步，分析横线处的上下文语境。横线位于“更何况”的后面，应当与上文“即便是有机蔬菜，这样的高价也是离谱的”构成递进关系，指出更离谱的事情。根据下文的调查可知，这里的“天价白菜”并不是真正的精品蔬菜，而是“将从农贸市场和生鲜小店等处购入的普通蔬菜进行分拣、包装后，贴上专门的标识后，摇身一变成成为‘合作社自产直销’精品蔬菜”，可见更离谱的事情便是“天价白菜”本身是普通蔬菜伪装的精品蔬菜。

第二步，对比选项。B项符合文段语境。

因此，选择B选项。

【拓展】

A项、C项和D项：均未提及“‘天价白菜’本身是普通蔬菜伪装的精品蔬菜”这一话题，与文段上下文话题不一致。

文段出处：北京青年报《“天价白菜”顶格处罚的警示意义》

39.

【答案】C

【解析】

第一步，定位原文，“履”和“足”出现在第三句“履不必同，期于适足；治不必同，期于利民”，该句的意思是鞋子不必相同，期待的是它能适合脚；治理的方法不必相同，期待的是它能有利于人民。比喻重要的是要找到一条适合自己的路。根据文段，这里讲的是人权不能脱离国家实际情况。故“履”指人权，“足”指国家实际情况。

第二步，对比选项。C项符合上述信息。

因此，选择C选项。

【拓展】

文段出处：光明网《中国的人权愿景与发展路径》

40.

【答案】A

【解析】

第一步，分析文段，将选项与原文一一对应。

第二步，辨析选项。A项对应“60%至70%的患者为过敏性哮喘”，符合文意。B项对应“哮喘患者多有过敏性鼻炎、湿疹或荨麻疹等过敏性疾病”，以及“哮喘的症状是反复发作性的喘息、气促，伴或不伴胸闷或咳嗽”，不符合文意。C项对应“以夜间及凌晨多发生，常与接触变应原、冷空气、物理或化学性刺激、上呼吸道感染和运动等有关”，不符合文意。D项对应“这些症状可经过治疗后缓解或自行缓解。缓解期可以像正常人一样无任何症状”，不符合文意。

因此，选择A选项。

【拓展】

文段出处：《哮喘患者如何急救》

41.

【答案】A

【解析】

第一步，分析文段。首句提出观点“要以‘时时放心不下’的责任感，切实抓好当前民航安全工作”。后文通过举例论证解释说明，文段列举了民航的一些不安全事件以及其影响，最后再次强调飞机事故造成的损失重大。文段为“总-分”结构。

第二步，对比选项。A项“民航安全要切实抓好”对应文段的主旨句，适合作为文段的标题。其余三项均偏离主旨句的内容。

因此，选择A选项。

【拓展】

文段出处：光明网《光明网评论员：民航安全生产细节不容忽视》

42.

【答案】B

【解析】

第一步，分析文段。文段首先使用背景铺垫说明国潮产品越来越受推崇。再解释Z世代的作用是将传统元素融入了日常生活，最后再分析这种现象产生的原因是什么。文段结构为“分—总—分”，主旨句论述的是国潮大受Z世代欢迎的原因。

第二步，对比选项。B项为主旨句的同义替换。A项强调“文化自信”，非重点。C项为首句背景的内容，偏离重点。D项“新的文化潮流”无中生有。

因此，选择B选项。

43.

【答案】B

【解析】

第一步，快速浏览文段，重点分析尾句，判别文段话题落脚点。文段首先以中国酒文化的历史渊源引出话题，接着通过“但”转折词话锋一转，引出了新的话题，现在酒文化已经发展到了畸形陋习了。文段话题落在尾句，主要说了酒文化发展到了畸形陋习。

第二步，对比选项。B项符合语境，是对酒文化成为陋习后的一些例子。其余三项均没有围绕后面的酒文化陋习来进行论述。

因此，选择B选项。

44.

【答案】B

【解析】

第一步，观察选项特征，确定首句。⑥句介绍“有很多原因可能导致血小板减少”并举例。②句提出问题“血小板是干什么用的呢”，引出血小板的用途这一话题，并用筑墙的例子来类比。⑥②句均可以放在首句，首句无法确定。

第二步，分析句子之间的内在联系。①句和⑤句均提到“筑墙”这一话题，与②句话题一致，且⑤句中的“沙子”指①句中提到的“血小板”，①句应当在⑤句的前面。②①⑤适合捆绑在一起，排除A项和C项。

③④句均罗列血小板减少的原因，是对⑥句的例证。③句中的“还”表示补充说明，应当放在④句的后面，

⑥④③适合捆绑在一起，排除D项。

因此，选择B选项。

【拓展】

文段出处：北京青年报《小小牙龈出血 怎么还要做骨髓穿刺？》

45.

【答案】A

【解析】

第一步，观察选项，判断首句。⑥句说人体酸碱体质是流传甚广的一条理论，引出话题，可做首句。⑤句说调节酸碱平衡的机制非常复杂，应该先提出话题“人体酸碱体质”，再论述如何调节。即⑥在⑤之前，可排除B项和D项。

第二步，对比A项和C项。看⑥后是②还是⑤，②句中“其”指代的是“酸碱体质说”，故②应在⑥句之后，且强调的是这一理论流行的原因，⑥②应紧密相连，排除C项。答案锁定A选项。

第三步，验证A项。根据行文脉络可知，文段先通过流言引出话题，接着给出科学回答，整体语义通顺连贯。

因此，选择A选项。

第三部分 数量关系

46.

【答案】D

【解析】

第一步，本题考查最值问题。

第二步，比赛共进行了11场比赛，可知参赛的队次共 $11 \times 2 = 22$ 个，题中要求比赛场次最多的那个队要尽可能少，故其余队要尽可能多，极端的情况是将参赛队次平均分到每个队，即平均分配， $22 \div 10 = 2 \dots 2$ ，故比赛场次最多的那个队至少赛 $2 + 1 = 3$ （场）。

因此，选择D选项。

47.

【答案】D

【解析】

第一步，本题考查牛吃草问题。

第二步，设大厅原有旅客人数为 y ，大厅入口处旅客增加速度为 x ，根据牛吃草公式可得方程组 $y = (4 - x) \times 5$ ， $y = (6 - x) \times 3$ ，联立求解 $y = 15$ ， $x = 1$ 。

第三步，根据入口处旅客速度增加到原速度的2倍，可得现速度为 $1 \times 2 = 2$ 。设在2小时内使大厅中所有旅客买到票至少应开售票窗口数为 N ，则 $15 = (N - 2) \times 2$ ，解得 $N = 9.5$ （个），问至少向上取整，至少需要10个。

因此，选择D选项。

48.

【答案】C

【解析】

第一步，本题考查排列组合问题，属于方法技巧类。

第二步，先考虑B，C，D，E，四户的排列方式为 $A_4^4 = 4 \times 3 \times 2 \times 1 = 24$ 种情况；由于A和F不能相邻，所以用插空法，有 $A_5^2 = 5 \times 4 = 20$ 种情况；总共有 $24 \times 20 = 480$ 种。

第三步，B在第一个走访的排列方式有 $A_3^3 \times A_4^2 = 3 \times 2 \times 1 \times 4 \times 3 = 72$ 种，利用逆向公式：所求情况数 = 全部情况数 - 反面情况数，可得贫困户B不能第一个走访的情况有 $480 - 72 = 408$ 种。

因此，选择C选项。

49.

【答案】B

【解析】

第一步，本题考查行程问题，属于基本行程类，用比例法解题。

第二步，由早上8点从工厂出发，9点到达菜市场，可知花了1小时，到了菜市场又花了半个小时采购，即9:30从菜市场出发，于10:40到达工厂，则从菜市场到工厂花费70分钟，已知返回途中前四分之一路程的速度为来时的速度，用时 $60 \times \frac{1}{4} = 15$ 分钟，说明返回途中后四分之三的路程用时为 $70 - 15 = 55$ （分钟）。

第三步，考虑返回途中后四分之三的路程，降速前后时间之比为45:55，由于路程相同，可知速度之比为55:45，相差10份对应10km/h，则原来的速度为55 km/h，故工厂与菜市场的距离为 $55 \times 1 = 55$ km。因此，选择B选项。

50.

【答案】C

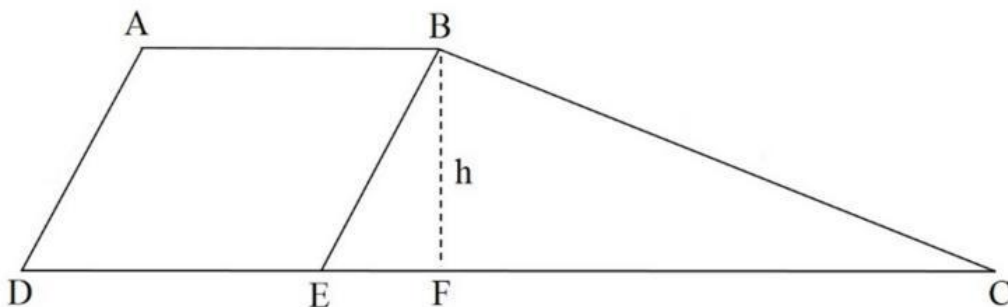
【解析】

第一步，本题考查几何问题，属于平面几何类。

第二步，如图，过点B作 $BE \parallel AD$ ，过点B作梯形的高BF，设 $BF = h$ ，由题意可知，四边形ABED为平行四边形，故 $BE = 6$ cm， $DE = 6$ cm，则 $EC = 16 - 6 = 10$ cm。三角形EBC三条边分别为6, 8, 10，(6, 8, 10)

$$h = \frac{6 \times 8}{10} = 4.8$$

是一组勾股数，故三角形EBC为直角三角形，根据面积公式可知



$$\frac{(6 + 16) \times 4.8}{2} = 52.8$$

第三步，故梯形的面积为 (平方厘米)。

因此，选择C选项。

第四部分 判断推理

51.

【答案】A

【解析】

第一步，观察特征。

图形组成凌乱，考虑属性类或数量类规律。每个图中均含有圆且圆和直线相交特征明显，优先考虑数圆内、圆上和圆外交点。

第二步，一条式，从左到右按顺序观察。

第一个图中圆内、圆上、圆外交点个数分别为2、4、1；第二个图中圆内、圆上、圆外交点个数分别为2、5、1；第三个图中圆内、圆上、圆外交点个数分别为4、3、2；第四个图中圆内、圆上、圆外交点个数分别为8、4、4。图形圆内交点个数是圆外交点个数的2倍，只有A选项符合。

因此，选择A选项。

52.

【答案】C

【解析】

第一步，观察特征。

组成元素不同，图形较为规整，考虑属性类中的对称性。

第二步，九宫格，优先考虑横向找规律。

第一行图形对称轴数量分别为1、3、5，第二行图形对称轴数量分别为0、2、4，对称轴数量呈等差规律，第三行图形对称轴数量为3、5、？，因此问号处选择7条对称轴的图形，只有C选项符合。

因此，选择C选项。

53.

【答案】A

【解析】

第一步，观察特征。

组成元素相似，并且所有图形外部轮廓相同，相同位置上颜色填充不同，优先考虑定义叠加。

第二步，九宫格，横向规律较为常见，优先考虑。

根据第一行和第二行确定相加规则为：白+黑=黑，黑+白=黑，白+白=白，第三行应用此规则，只有A选项符合。

因此，选择A选项

54.

【答案】B

【解析】

第一步，观察特征。

六个图形均由多个元素组成并彼此相连，考虑连接方式。

第二步，根据规律进行分组。

图形①④⑤均为线相连，图形②③⑥均为点相连，分为两组。

因此，选择B选项。

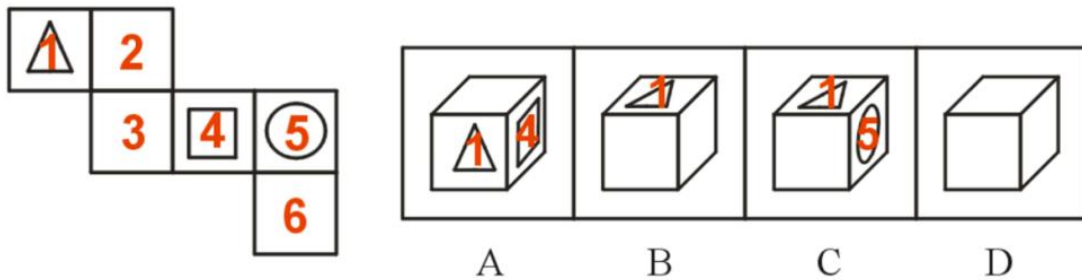
55.

【答案】B

【解析】

第一步，本题考查六面体折纸盒。

对题干及选项的面标号，如下图所示：



第二步，分析选项。

项。

A项：面1和面4为相对面，在立体图形中不能同时出现，排除；

B项：位置关系与题干一致，正确；

C项：此项面1的右边为面5，题干中面1的右边应该为面2，排除；

D项：面1和面4为相对面，在此项中同时没有出现，排除。

因此，选择B选项。

56.

【答案】D

【解析】

第一步，看提问方式，本题属于选非题。

第二步，找关键信息。

强者未必是胜利者，而胜利迟早都属于有信心的人。

第三步，辨析选项。

A项：“坚定地一节车厢一节车厢找过去”体现了他有信心，符合定义；

B项：“个人想成为什么，他就会成为什么”体现了他有信心，符合定义；

C项：体现了“一个人的成败取决于他是否自信，假如这个人是自卑的，那自卑就会扼杀他的聪明才智，消磨他的意志”，符合定义；

D项：强调的是灵感的重要性，而不是信心，不符合定义。

因此，选择D选项。

57.

【答案】D

【解析】

第一步，看提问方式，本题属于选是题。

第二步，找关键信息。

多定义，考查“选择性注意”，其关键信息如下：

是指个体在同时呈现的两种或两种以上的刺激中选择一种进行注意，而忽略另外的刺激。

第三步，辨析选项。

A项：一人专心致志，另一个人虽然也在听弈秋的教导，却一心以为有天鹅要飞来，并未体现“选择一种进行注意，而忽略另外的刺激”，不符合定义；

B项：孟子受到外界的刺激而去模仿，并未体现“选择一种进行注意，而忽略另外的刺激”，不符合定义；

C项：李白受到“铁杵磨成针”的触动，并未体现“选择一种进行注意，而忽略另外的刺激”，不符合定义；

D项：孙康映雪读书，而不感觉冷，体现“选择一种进行注意，而忽略另外的刺激”，符合定义。

因此，选择D选项。

58.

【答案】D

【解析】

第一步，看提问方式，本题属于选是题。

第二步，多定义，关键信息如下：

(1) 正衬：用类似的事物衬托所描绘的事物；

(2) 反衬：用相反或相异的事物衬托所描绘的事物。

第三步，辨析选项。

A项，以桃花潭的水深衬托出跟汪伦的友情更深，运用了正衬的手法，说法错误；

B项，以梨花比喻雪花，未运用正衬或反衬，说法错误；

C项，以声响来衬托静，运用了反衬的手法，说法错误；

D项，以“天可老”“海能翻”反衬“此恨”难消，说法正确。

因此，选择D选项。

59.

【答案】B

【解析】

第一步，看提问方式，本题属于选是题。

第二步，找关键信息。

多定义，考查“回避策略”：

通过把引发焦虑的情境排除在意识之外来处理他们的焦虑。

第三步，辨析选项。

A项：找老师请教，说明仍在考虑实验问题，不属于“把引发焦虑的情境排除在意识之外”，不符合定义；

B项：休息、度假、分散注意力，说明暂时不考虑工作，体现了“通过把引发焦虑的情境排除在意识之外来处理他们的焦虑”，符合定义；

C项：制定每日学习计划，并寻求帮助，说明仍在努力准备考研，不属于“把引发焦虑的情境排除在意识

之外”，不符合定义；

D项：小琳去养老院做义工，未体现她的焦虑，不符合定义。

因此，选择B选项。

60.

【答案】C

【解析】

第一步，看提问方式，本题属于选是题。

第二步，找关键信息。

①对除本身所属的人种外的人种；

②采取一种蔑视、讨厌及排斥的态度，并且在言论行为上表现出来。

第三步，辨析选项。

A项，认为自己所属民族十分优秀，未涉及“对除本身所属的人种外的人种”的态度，不符合定义；

B项：某些西方学者认为日本没有底蕴，发展不好，是某些人对一个国家的看法，不涉及“对除本身所属的人种外的人种”，不符合定义；

C项：亚裔的成绩必须比黑人高出450分，同样的成绩下，非裔被录取的机会是亚裔的三倍，白人是亚裔的十倍，体现出对亚裔的“蔑视、讨厌及排斥的态度”，符合定义；

D项：外国人把他们称作未开化的野蛮人，坚决抵制，是某些人对一个国家的看法，不涉及“对除本身所属的人种外的人种”，不符合定义。

因此，选择C选项。

61.

【答案】A

【解析】

第一步，看提问方式，本题属于选是题。

第二步，找关键信息。

①收购者在一段时间内不再增持目标公司的股票；

②目标公司往往会承诺溢价回购股票。

第三步，辨析选项。

A项：乙公司同意不再收购股票，三年内不采取任何收购或试图收购甲公司的举动，体现了“收购者在一段时间内不再增持目标公司的股票”，甲公司支付5.58亿美元回购10%股票，体现了“目标公司往往会承诺溢价回购股票”，符合定义；

B项：在乙公司的收购压力下，甲公司收益提高，未体现“收购者在一段时间内不再增持目标公司的股票”，也未体现甲公司“回购股票”，不符合定义；

C项：甲公司高于市场价向乙公司股东收购股票，未体现“收购者在一段时间内不再增持目标公司的股票”，也未体现乙公司“回购股票”，不符合定义；

D项：甲公司待条件成熟后再继续购买乙公司股权，未体现乙公司“回购股票”，不符合定义。

因此，选择A选项。

62.

【答案】A

【解析】

第一步，根据提问方式，确定为选是题。

第二步，找关键信息。

①合成法：由两个以上的字合成谜底。

②加字法：交待谜底加上一字所组成的字，用以暗示谜底。

③减字法：交待一字减去一字（或两字）即为谜底。

第三步，辨析选项。

①涉及到“十”、“八”、“口”三个字，属于合成法。

②“龙”加上“耳”就变成聋，即听不见，所以属于加字法。

③池减去水之后变成也，属于减字法。

因此，选择A选项。

63.

【答案】C

【解析】

第一步，看提问方式，本题属于选是题。

第二步，找关键信息。

靠着团结协作精神，才使得候鸟凌空翱翔，完成长途迁徙。

第三步，辨析选项。

A项：没有体现团结协作，不符合定义；

B项：体现了HR组织的培训帮助了新员工，但没有体现团结协作完成长途迁徙，不符合定义；

C项：体现了团结协作共渡难关，符合定义；

D项：学长学姐的帮助没有体现团结协作完成长途迁徙，不符合定义。

因此，选择C选项。

64.

【答案】C

【解析】

第一步，看提问方式，本题属于选是题。

第二步，找关键信息。

将寄生企业的产品或服务寄生于宿主的品牌上。

第三步，辨析选项。

A项：没有体现两个企业，不符合定义；

B项：没有体现品牌，不符合定义；

C项：乙公司将自己的纸巾寄生在甲公司的品牌上，符合定义；

D项：没有说明方便面是否有品牌，不符合定义。
因此，选择C选项。

65.

【答案】B

【解析】

第一步，看提问方式，本题属于选是题。

第二步，找关键信息。

被定义项=种差+邻近的属。

第三步，辨析选项。

A项：“现象”不是燃烧邻近的属，也没有体现种差，不符合定义；

B项：“动物”符合邻近的属，“能够制造和使用生产工具”属于种差，符合定义；

C项：椅子不是“家电”，不符合定义；

D项：没有体现邻近的属，不符合定义。

因此，选择B选项。

66.

【答案】B

【解析】

第一步，确定题干逻辑关系。

“金刚石”是“坚硬”的，“坚硬”是属性，二者属于属性关系。

第二步，辨析选项。

A项：“保温”是“开水瓶”的功能，二者属于功能对应关系，排除；

B项：“安全”是“保险箱”的属性，二者属于属性关系，与题干逻辑关系一致，符合；

C项：“轮胎”是“自行车”的组成部分，二者属于组成关系，排除；

D项：“加减法”和“乘法”都是数学运算方法，二者属于并列关系，排除。

因此，选择B选项。

67.

【答案】D

【解析】

第一步，确定题干逻辑关系。

“刀片”是“破壁机”的组成部分，组成关系。

第二步，辨析选项。

A项：“竹子”是“牙签”的原材料，原材料与成品的对应关系，排除；

B项：“青蛙”是两栖动物，没有“尾巴”，排除；

C项：“燕窝”具有“滋补”的功能，功能的对应关系，排除；

D项：“果核”是“苹果”的组成部分，组成关系，与题干逻辑关系一致，符合。

因此，选择D选项。

68.

【答案】B

【解析】

第一步，确定题干逻辑关系。

“滕王阁序”是“王勃”写的，“王勃”是“唐代”诗人，所以题干是作者，作品和朝代的对应关系。

第二步，辨析选项。

A项：“小石潭记”是柳宗元写的，作者不是“刘禹锡”，与题干逻辑关系不一致，排除；

B项：“醉翁亭记”是“欧阳修”写的，“欧阳修”是“北宋”的，与题干逻辑关系一致，符合；

C项：“伤仲永”是“王安石”写的，但“王安石”是北宋的，与题干逻辑关系不一致，排除；

D项：“桃花源记”是“陶渊明”写的，但“陶渊明”是东晋的，与题干逻辑关系不一致，排除。

因此，选择B选项。

69.

【答案】B

【解析】

第一步，确定题干逻辑关系。

先“奠基”，后“修建”，最后“竣工”，三者为时间先后顺序关系，且主体一致，均为施工方。

第二步，辨析选项。

A项：先“申请”，后“审查”，最后“许可”，三者为时间先后顺序关系，但“审查”与“申请”的主体不一致，与题干逻辑关系不一致，排除；

B项：先“启动”，后“驾驶”，最后“抵达”，三者为时间先后顺序关系，且主体一致，均为司机，与题干逻辑关系一致；

C项：先“录取”，后“就读”，最后“毕业”，三者为时间先后顺序关系，但“录取”主体为学校，“就读”和“毕业”主体为学生，与题干逻辑关系不一致，排除；

D项：“面试”是一种“考察”方式，为种属关系，与题干逻辑关系不一致，排除。

因此，选择B选项。

70.

【答案】C

【解析】

第一步，确定题干逻辑关系。

有的“奇数”是“自然数”，有的“自然数”是“奇数”，二者属于交叉关系。

第二步，辨析选项。

- A项：“空调”与“风扇”都有调节温度的功能，二者属于对应关系，排除；
B项：“医用酒精”含有“乙醇”成分，二者为组成关系，排除；
C项：有的“名胜古迹”是“建筑”，有的“建筑”是“名胜古迹”，二者属于交叉关系。
与题干逻辑关系一致；
D项：“白银”与“黄金”是两种金属，二者为并列关系，排除。
因此，选择C选项。

71.

【答案】B

【解析】

第一步，确定题干逻辑关系。

“学士服”由“学士帽”、流苏、“学士袍”、垂布等组成，“学士帽”与“学士袍”属于并列关系，二者与“学士服”属于包容关系中的组成关系。

第二步，辨析选项。

A项：“法务部”是“公司”的组成部分，排除；

B项：“相机”由“镜头”、取景器、“快门”、光圈等组成，“镜头”与“快门”属于并列关系，二者与“相机”属于包容关系中的组成关系，与题干逻辑关系一致，符合；

C项：“新闻”在结构上一般包括标题、“导语”、主体、“结语”和背景五部分，“导语”与“结语”是“新闻”的组成部分，但顺序与题干不一致，排除；

D项：“诗歌”“小说”“散文”是常见的文学体裁，三者属于并列关系，排除。

因此，选择B选项。

72.

【答案】D

【解析】

第一步，确定题干逻辑关系。

“指南针”和“导航仪”都具有指示方向的功能，并且“导航仪”需要借助“卫星”才能发挥作用。

第二步，辨析选项。

A项：“烽火台”和“检测仪”功能不同，排除；

B项：“信件”和“手机”都具有“通讯”的功能，排除；

C项：“马车”和“汽车”都具有“运输”的功能，排除；

D项：“竹排”和“帆船”都具有运输的功能，并且“帆船”需要借助“风力”才能发挥作用，与题干逻辑关系一致，符合。

因此，选择D选项。

73.

【答案】B

【解析】

第一步，确定题干逻辑关系。

“金属”可以作为“武器”的原材料，二者属于原材料对应关系，“武器”具有“攻击”的功能，二者属于主要功能对应关系。

第二步，辨析选项。

A项：“玻璃”可以作为“眼镜”的原材料，二者属于原材料对应关系，“眼镜”的主要功能是修正视力、保护眼睛，并非“装饰”，与题干逻辑关系不一致，排除；

B项：“塑料”可以作为“相机”的原材料，二者属于原材料对应关系，“相机”具有“拍摄”的功能，二者属于主要功能对应关系，与题干逻辑关系一致，符合；

C项：“轮胎”是“汽车”的组成部分，二者属于组成关系，“汽车”的功能不是“污染”，与题干逻辑关系不一致，排除；

D项：“食醋”和“小苏打”是并列关系，且二者的主要功能并非“杀菌”，与题干逻辑关系不一致，排除。

因此，选择B选项。

74.

【答案】B

【解析】

分别将选项代入题干，确定逻辑关系。

A项：“胰岛素”是“激素”，二者属于种属关系，“身高”和“体重”是两项数据，二者属于并列关系，前后逻辑关系不一致，排除；

B项：“胰岛素”可以降低“血糖”，“运动”可以降低“体重”，二者均属于对应关系，前后逻辑关系一致，符合；

C项：“胰岛素”可以治疗“糖尿病”，二者属于功能对应关系，患有“肥胖症”，“体重”会过重，二者属于对应关系，但对应方式不同，排除；

D项：“胰岛素”是由“氨基酸”组成的，二者是组成关系，“体重”和“脂肪”没有明显逻辑关系，前后逻辑关系不一致，排除。

因此，选择B选项。

75.

【答案】C

【解析】

分别将选项代入题干，确定逻辑关系。

A项，“伦理”和“浮屠”无明显逻辑关系，“周延”是“逻辑”学科中的范畴，前后逻辑关系不一致，排除；

B项，“风俗”和“浮屠”无明显逻辑关系，“三段论”是“逻辑”学科中的范畴，前后逻辑关系不一致，排除；

C项，“浮屠”是“宗教”领域的范畴，“外延”是“逻辑”学科中的范畴，前后逻辑关系一致，符合；

D项，“浮屠”是“佛学”领域的范围，“认识论”不是“逻辑”学科中的范畴，前后逻辑关系不一致，排除。

因此，选择C选项。

76.

【答案】B

【解析】

第一步，确定题型。

根据提问方式中的“质疑”，确定为削弱论证。

第二步，找论点和论据。

论点：只要球队的球星足够多，那么这支球队的成绩就越好（可翻译为：球星多→成绩好，其中“成绩好”属于必要条件）。

论据：无。

第三步，辨析选项。

A项：无关选项。该项可翻译为：球星不多且成绩好，不能削弱，排除。

B项：否定论点。该项可翻译为：球星多且成绩不好，是对论点的直接否定，可以削弱。

C项：增加论据。该项可翻译为：球星多且成绩好，是对论点的举例论证，可以加强，排除。

D项：无关选项，该项可翻译为：球星不多且成绩不好，不能削弱，排除。

因此，选择B选项。

【拓展】

无

77.

【答案】C

【解析】

第一步，确定题型。

题干中有若干论断和真假限定，确定为真假推理。

第二步，找关系，看其余。

若甜甜和明明说的为真，则苏苏说的一定为真，与已知条件“他们四人中只有一位同学的描述与事实相符”矛盾，所以甜甜、明明说的是假话，同时明明和媛媛不是冠军，这样的话苏苏也说假话，那么说真话的是媛媛，且冠军是甜甜。

因此，选择C选项。

78.

【答案】B

【解析】

第一步，确定题型。

根据提问方式中的“能支持”，确定为加强论证选是题。

第二步，找论点和论据。

论点：每天使用蘑菇提取物有助于免疫系统清除人类乳头瘤病毒（HPV）感染。

论据：治疗组的患者先接受了6个月的AHCC补充治疗，然后接受了6个月的安慰剂治疗。安慰剂组的患者则接受了为期12个月的安慰剂治疗。结果发现，在治疗组的22名患者中，有14名（63.6%）HPV转为阴性。

第三步，辨析选项。

A项：无关选项。选项说明该研究发表在杂志上，与论点话题不一致，不能加强。

B项：建立联系。论点说明使用蘑菇提取物有助于免疫系统清除人类乳头瘤病毒（HPV）感染，论据在做研究的过程中使用的是AHCC补充治疗，选项中把AHCC补充剂和蘑菇提取物之间建立联系，具有加强作用。

C项：无关选项。选项强调的是感染HPV的数量和人群有哪些，而论点强调的是蘑菇提取物有助于免疫系统清除人类乳头瘤病毒（HPV）感染，论题不一致，不能加强。

D项：无关选项。选项强调的是有没有其他有效的治疗方法来治疗持续性的HPV感染，而论点强调的是蘑菇提取物有助于免疫系统清除人类乳头瘤病毒（HPV）感染，论题不一致，不能加强。

因此，选择B选项。

79.

【答案】A

【解析】

第一步，确定题型。

根据提问方式中的“最不能支持”，确定为加强论证选非题。

第二步，找论点和论据。

论点：夏天比冬天更适合减肥。

论据：夏天人们每天可减少20卡路里的能量摄入，天气炎热使人更愿意喝水和吃水分多的新鲜蔬果。

第三步，辨析选项。

A项：无关选项。该项讨论的是减肥的必要条件，话题不一致，不具有加强作用。

B项：加强论据。该项说明高温限制高热量食物的摄入，充足的日照也有助于抑制增重，支持了原有论据，能够加强。

C项：补充论据。该项说明夏天代谢加快，而冬天会加速脂肪的合成，因此夏天更适合减肥，能够加强，排除。

D项：加强论据。该项说明夏天人们食欲下降，会摄入更少的热量，因此夏天更适合减肥，能够加强，排除。

因此，选择A选项。

80.

【答案】B

【解析】

第一步，确定题型。

根据提问方式中的“最能支持”，确定为加强论证。

第二步，找论点和论据。

论点：茶叶可以有效抑制口腔异味。

论据：无。

第三步，辨析选项。

A项：无关选项。说明口腔异味发生的一种原因，但并未提及茶叶是否可以抑制口腔异味，论题不一致，为无关项，排除。

B项：增加论据。解释说明茶叶为何能抑制口腔异味，补充论据，可以加强。

C项：不明确项。说明很多祛除口臭的牙膏中添加茶香因子，但是否是茶香因子发生祛除口臭的作用不明确，且茶香因子和茶叶的关系也不明确，无法加强，排除。

D项：无关选项。说明茶叶在清火、调理等方面的作用，但未说明对抑制口腔异味的作用，论题不一致，为无关项，排除。

因此，选择B选项。

81.

【答案】D

【解析】

第一步，确定题型。

根据题干关联词“……必须……”等，确定为翻译推理。

第二步，翻译题干。

①大熊猫生活→海拔2600-3500米且竹林茂密且气温低于20°C。

第三步，进行推理。

“没有大熊猫在此生活的迹象”为对①的“否前”，根据否前无必然结论，可知D项的“可能”说法正确。因此，选择D选项。

82.

【答案】C

【解析】

第一步，确定题型。

提问方式问“由此可以推出”，且题干中无明显逻辑关联词，因此为归纳推理题。

第二步，辨析选项。

A项：文段中只说儿童变应性鼻炎是儿童极为常见的疾病之一，并未与其它疾病的常见程度进行比较，故排除；

B项：文段中只说18个月龄婴儿可因接触尘螨导致变应性鼻炎，并未表明只有18个月才会由于接触尘螨而患该病，“只有……才……”过于绝对，排除；

C项：文中说导致变应性鼻炎的变应原多为吸入性抗原，以尘螨和花粉最为常见，因此说明患此病的因素较多，其中在吸入性抗原中以花粉和尘螨较为常见，可以推出；

D项：文段主要强调儿童变应性鼻炎，并未提及成人，无法得出，排除。

因此，选择C选项。

83.

【答案】A

【解析】

第一步，确定题型。

根据提问方式中的“解释”，确定为原因解释。

第二步，分析题干。

题干现象为：爸爸们认为自己能很好地照顾孩子，妈妈们和医护人员认为爸爸不能很好地照顾孩子。

第三步，辨析选项。

A项：爸爸和妈妈养育方式有分歧，爸爸和孩子打闹时玩的游戏很受孩子欢迎，因此爸爸们认为自己能很好地照顾孩子，而妈妈们从安全角度限制游戏，说明妈妈认为爸爸不能很好地照顾孩子，能够解释；

B项：妈妈们育儿知识充分，爸爸们准备不足，不能解释为什么爸爸认为自己能很好地照顾孩子；

C项：爸爸们受批评后会认为自己不适合育儿，于是逃避育儿，不能解释为什么爸爸们认为自己能很好地照顾孩子；

D项：爸爸们在育儿上缺乏信心，需要妈妈指示，妈妈们进行批评，不能解释为什么爸爸们认为自己能很好地照顾孩子。

因此，选择A选项。

84.

【答案】C

【解析】

第一步，确定题型。

根据提问方式中的“支持”，确定为加强论证。

第二步，找论点和论据。

论点：杀死他们的，是装饰在她家卧室墙上的绿色壁纸。

论据：Turner家的孩子一个接一个地染上神秘怪病，在短短几个月时间内相继死去，他们变得极度衰弱、无法吞咽，在砷中毒的痛苦中离开了人世。

第三步，辨析选项。

A项：不明确选项。孩子们吃墙纸，不确定墙纸会不会对孩子的健康造成伤害，不具有支持作用。

B项：不明确选项。使用含砷壁纸会引起中毒现象，但是否会导致死亡不明确，不具有支持作用。

C项：建立联系。绿色的含砷颜料毒性强，只要几百毫克就可以置人于死地，当时被用于制作印花壁纸，在孩子中毒死亡和壁纸之间建立联系，具有支持作用。

D项：增加论据。举例说明接触含有毒砷颜料的壁纸会导致死亡，具有支持作用。

第四步，强弱比较。

C项建立联系的力度强于D项举例加强的力度。

因此，选择C选项。

85.

【答案】C

【解析】

第一步，判定题型。

根据题干特征和提问方式，确定为归纳推理。

第二步，辨析选项。

A项：题干表述为硫代葡萄糖苷存在于西兰花、卷心菜、抱子甘蓝等蔬菜当中，不等于存在于绝大多数的蔬菜中，表述过于绝对，排除；

B项：题干表述为“30%左右是这种苦味的‘味盲’”，即只是对PTC和PROP不敏感，未涉及所有食物的苦味，排除；

C项：根据“这些味觉差异和苦味味觉感受器TAS2R38的基因差异有关。当然味觉敏感与否也受后天因素的影响，比如说吸烟”，可以推出；

D项：题干表述为对苦味的敏感会影响人们对食物的选择，未涉及不爱吃这些蔬菜，排除。

因此，选择C选项。

第五部分 资料分析

86.

【答案】D

【解析】

第一步，本题考查基期平均数计算。

第二步，货物平均运输距离 = 货物周转量/货物运输量，则2016年，每吨货物的平均运输距离为

$$\frac{196130}{1 + 5.1\%} \div \frac{479}{1 + 9.3\%} = \frac{196130}{479} \times \frac{1 + 9.3\%}{1 + 5.1\%} \approx 410 \times 1^+,$$

, 结合选项, 只有D

项符合。

因此，选择D选项。

87.

【答案】B

【解析】

第一步，本题考查基期量比较。

第二步，由于民航的单位是万吨，首先排除。对于公路、铁路和水运三种运输方式的增长率相差不大，而现期值之间的倍数关系很明显，可以推知公路的运输总量在2016年最高。

因此，选择B选项。

88.

【答案】A

【解析】

第一步，本题考查两期比重比较。

第二步，根据结论，当部分的增速大于整体的增速时，比重上升。观察表格的上半部分，2017年只有铁

路 (10.7%) 和公路 (10.1%) 两种运输方式的增速高于总的货物运输总量的增速 (9.3%)。因此, 选择A选项。

89.

【答案】C

【解析】

第一步, 本题考查基期量和差计算。

第二步, 2016年公路运输周转量比铁路运输周转量高

$$\frac{6.67}{1+9.2\%} - \frac{2.70}{1+13.3\%} \approx 6.1 - 2.4 = 3.7$$

因此, 选择C选项。

90.

【答案】B

【解析】

第一步, 本题考查综合分析。

第二步, A选项, 2017年外贸货物吞吐量占规模以上港口完成货物吞吐量的比重 $\frac{40}{126} > 30\%$, 正确。

B选项, 2017年管道货运量占总体的比重为 $\frac{7.9}{479.4} < 2\%$, 管道周转量占总体的比重为

$$\frac{4757.2}{196130.4} > 2\%$$

, 错误。

C选项, 增长量比较可以采用“现期量×增长率”估算, $36.9 \times 10.7\% > 66.6 \times 4.3\%$, 可知铁路货运量的同比增量较高, 正确。

D选项, 平均数的增长率, 平均运输距离 = 周转量/运输量, 旅客运输总量的同比增速为-2.6%, 旅客运输周转量的同比增速为5.0%, 2017年每人次的平均运输距离的同比增幅为

$$\frac{5.0\% - (-2.6\%)}{1 - 2.6\%} = \frac{7.6\%}{1 - 2.6\%} = 7.8\%$$

, 接近8%, 正确。

因此, 选择B选项。

91.

【答案】C

【解析】

第一步, 本题考查间隔基期量计算。

第二步, 定位文字材料第一段可知, “2019年, 我国软件业共完成软件业务收入72072亿元, 比上年增

长16.4%，增速同比提高4.0个百分点”。

第三步，2018年我国软件业共完成软件业务收入比上年增长16.4% - 4.0%=12.4%，根据两期间隔增长率

$R = r_1 + r_2 + r_1 \times r_2$ ，2019年软件业务收入比2017年增长16.4%+12.4%+16.4%×12.4%≈
28.8%+2%=30.8%，则2017年我国软件业共完成软件业务收入为 $\frac{72072}{1 + 30.8\%} \approx \frac{72072}{1.3}$ ，直除首位商5，对应C项。

因此，选择C选项。

92.

【答案】D

【解析】

第一步，本题考查简单比较中的和差比较。

第二步，定位柱状图，2019年1—3月、1—6月、1—9月、1—12月累计完成软件业务收入分别为14755、32836、51896、72072亿元。

第三步，题目为比较类，选项无数据，加减计算截取前三位，各季度分别为：148，328 - 148 = 180，519 - 328 = 191，721 - 519 = 202，故收入最高的季度为第四季度。

因此，选择D选项。

93.

【答案】B

【解析】

第一步，本题考查增长率计算比较。

第二步，定位柱状图。

$$= \frac{\text{现期量} - \text{基期量}}{\text{基期量}}$$

第三步，根据增长率，数据位数较多，截位处理数据。代入数据可得4

$$\frac{(2050 - 1476) - (1476 - 907)}{1476 - 907} = \frac{5}{569} < 1\%$$

月， ; 5月，

$$\frac{(2630 - 2050) - (2050 - 1476)}{2050 - 1476} = \frac{6}{574} \approx 1\%$$

; 6月，

$$\frac{(3284 - 2630) - (2630 - 2050)}{2630 - 2050} = \frac{74}{580} > 10\%$$

; 7月，

$$\frac{(3857 - 3284) - (3284 - 2630)}{3284 - 2630} < 0$$

。显然环比增速最高为6月。

因此，选择B选项。

94.

【答案】D

【解析】

第一步，本题考查现期比重计算。

第二步，定位文字材料，2019年，我国软件业共完成软件业务收入72072亿元，分领域看，信息技术服务占比为60.5%。以云计算、大数据技术为基础的平台类运营技术服务收入21965亿元，同比增长31.2%。

$$= \frac{\text{部分量}}{\text{整体量}}$$

第三步，根据比重，部分量 = 整体量 × 比重，截位处理数据，可得2019年我国以云计算、大数据技术为基础的平台类运营技术服务收入占信息技术服务收入的比重为

$$\frac{220}{721 \times 60.5\%} \approx \frac{220}{436}, \text{直除首两位商} 50.$$

因此，选择D选项。

95.

【答案】A

【解析】

第一步，本题考查综合分析问题，且需选出正确的一项。

第二步，A选项，混合增长率比较，定位表格，根据混合增长率口诀，整体增速介于各个部分之间，偏向基数较大的一方。2019年1—3月 = 2019年1—2月 + 2019年3月，2019年1—2月 (13.6%) < 2019年1—3月 (14.4%) < 2019年3月，满足；求当月增速大于累计增速，即转为求累计增速大于上月累计增速即可，由此可知，满足题意的有3月、4月、6月、7月、9月，共5个月，正确。

B选项，增长量计算，定位文字材料，2019年典型云服务和大数据服务收入达3284亿元，同比增长49.8%，

$$49.8\% \approx \frac{1}{2}, \text{利用增长量计算} n+1 \text{原则, 所求增长量为 } \frac{3284}{1+2} > 1000 \text{ (亿元), 并非低于, 错误.}$$

C选项，利润率比较，定位文字材料，利润率 = $\frac{\text{利润}}{\text{收入}}$ ，可按照两期利润率比较的结论得出，由于利润的增长率9.7% < 软件业务收入的增长率16.4%，故2019年，我国软件业务收入利润率同比有所下降，错误。

D选项，平均数计算，定位表格，2019年1—6月、1—12月累计完成软件业务收入分别为32836、72072亿元。下半年 (7—12月) 软件业务收入为72072 - 32836 = 39236 (亿元)，则下半年我国软件业务月

$$\text{均收入约比上半年高 } \frac{39236 - 32836}{6} = \frac{6400}{6} < 6540 \text{ (亿元), 错误.}$$

因此，选择A选项。

96.

【答案】A

【解析】

第一步，本题考查基期量计算。

第二步，定位材料第二段“8月份，生产原煤3.7亿吨，与上月基本持平，同比增长8.1%，增速比上月回落8.0个百分点”，2022年7月产煤3.7亿吨，同比增长 $8.1\%+8\%=16.1\%$ ，因此，2021年7月产煤 $3.7/1.161\approx 3.2$ 。

因此，选择A选项。

97.

【答案】B

【解析】

第一步，本题考查基期平均数计算。

第二步，定位文字材料第二三段“进口煤炭2946万吨，同比增长5.0%”和“1—8月份，生产原煤29.3亿吨，同比增长11.0%。进口煤炭16798万吨，同比下降14.9%”，2021年1-7月进口煤 $16798/(1-14.9\%)-2946/(1+5\%)\approx 16934$ ，月均为 $16934/7\approx 2419$ 。

因此，选择B选项。

98.

【答案】A

【解析】

第一步，本题考查简单计算中的和差类。

第二步，定位材料第四段“8月份，生产原油1694万吨，同比下降0.2%，上月为增长3.0%，日均产量54.6万吨”，可知7月产量为 $54.6\times 31=1692.6$ ，比8月份少1.4。

因此，选择A选项。

99.

【答案】C

【解析】

第一步，本题考查增长率读数比较。

第二步，定位文字材料，容易发现，进口原油，加工原油和进口天然气均为下降，而生产天然气为增加。

因此，选择C选项。

100.

【答案】D

【解析】

第一步，本题考查综合分析。

第二步，A选项，加工原油的降幅应为 $6.5\%+2.3\%=8.8\%$ ，错误；

B选项，8月与6月作比较，需要知道环比增长率，材料中给的是同比增长率，错误；

C选项，定位材料，2022年8月，生产原煤3.7亿吨，生产原油1694万吨，原煤比原油多，错误；

D选项，定位材料“1—8月份，生产原油13694万吨，同比增长3.2%”， $3.2\% \approx 1/31$ ，根据n+1原则，增长量约为 $13694/32 \approx 428$ ，正确。

因此，选择D选项。

