



华图事业单位
SYDW.HUATU.COM

2023全国事业单位联考

能力测评卷（一）

2023全国事业单位联考职测能力测评卷（一）

常识判断

1. 中国共产党第二十次全国代表大会于2022年10月16日在北京召开。下列有关党的二十大说法正确的有几项：

- ①党的二十大，是我们党进入全面建设社会主义现代化国家、向第二个百年奋斗目标进军新征程的重要时刻召开的一次十分重要的代表大会
- ②大会将选举产生新一届中央委员会和中央纪律检查委员会
- ③党的二十大代表的选举要严格资格条件，坚持把政治标准放在首位
- ④党的二十大代表名额共2296名，由全国38个选举单位选举产生

- A.1项
- B.2项
- C.3项
- D.4项

2. 2022年8月16日，是焦裕禄同志诞辰100周年的日子，焦裕禄同志身上所展现的崇高精神永远值得我们学习，下列伟大人物与其相关精神对应不正确的是：

- A.焦裕禄——亲民爱民、艰苦奋斗、科学求实、迎难而上、无私奉献
- B.张思德——全心全意为人民服务
- C.王进喜——爱国、创业、求实、奉献
- D.孔繁森——特别能吃苦、特别能战斗、特别能攻关、特别能奉献

3. 2022年8月17日，文化和旅游部介绍，我国有着深厚丰富的非物质文化遗产资源，目前，我国已有42个“非遗”项目被列入联合国教科文组织非遗名录、名册，数量位居世界第一。下列我国人类非物质文化遗产代表作按列入时间先后排序正确的是：

- ①太极拳
 - ②中医针灸
 - ③端午节
 - ④二十四节气
- A.②③④①
 - B.③②④①
 - C.③①④②
 - D.③②①④

4. 当地时间9月16日，国家主席习近平出席上海合作组织成员国元首理事会第二十二次会议并发表重要讲

话。指出，今年适逢上海合作组织宪章签署（ ）， 成员国长期睦邻友好合作条约签署（ ）。

- A.10周年 10周年
- B.15周年 15周年
- C.20周年 10周年
- D.20周年 15周年

5. 关于马克思主义中国化的几次飞跃，说法正确的是：

- ①毛泽东思想是马克思主义中国化的第一次历史性飞跃
- ②关于真理标准问题讨论是马克思主义中国化的第二次飞跃
- ③中国特色社会主义理论体系，实现了马克思主义中国化的第三次飞跃
- ④习近平新时代中国特色社会主义思想，实现了马克思主义中国化新的飞跃

- A.①②
- B.①④
- C.①②④
- D.①③④

6. 关于太阳系相关常识，下列说法错误的是：

- A.彗星的尾巴主要是灰尘和气体
- B.八大行星中，木星的体积最大，水星的体积最小
- C.1个天文单位的距离为地球和太阳之间的平均距离
- D.恒星是由炽热的气体组成的球状或类球状天体，不能自己发光

7. 下列说法错误的是：

- A.2022年6月5日，神舟十四号载人飞船成功发射，这是中国空间站任务转入建造阶段后的首次飞行任务
- B.1961年4月12日，航天员尤里·加加林首次飞入太空，在远地点为301公里的轨道上绕地球一周，开启太空探索新纪元
- C.1961年5月5日，阿兰·谢泼德乘坐“自由7号”宇宙飞船，在距地面115英里的空间进行了15分钟的飞行
- D.1971年4月19日，世界上第一个空间站“礼炮”1号发射

8. 以下关于茶的说法错误的是：

- A.“茶”字的起源最早见于我国《神农本草经》一书
- B.红茶是半发酵茶，乌龙茶是全发酵茶
- C.《茶经》被称为茶叶的百科全书，作者为唐代陆羽
- D.茶多酚能够抑制自由基的活性，可以作为食品防腐剂

9. 下列新技术与其特征对应不正确的是：

- A.元宇宙——现实世界平行、反作用于现实世界、多种高技术综合

- B.云计算——超大规模、虚拟化、高可扩展性、按需服务
- C.大数据——海量的数据规模、多样的数据类型、数据价值密度高
- D.区块链——分布式数据存储、点对点传输、共识机制、加密算法

10. 化学与我们的生活是息息相关的，下列说法中正确的是：

- A.为防止月饼等食物氧化变质，常在包装袋里放入烧碱
- B.“青蒿一握，以水二升渍，绞取汁”，屠呦呦对青蒿素的提取属于化学变化
- C.油锅中滴入水滴会产生爆裂声并把热油溅起，这是因为水和油发生了化学反应
- D.维生素C有较强的还原性，高温烹饪青菜会导致其维生素C流失

11. 下列关于人体的说法正确的是：

- A.人体中含量最多的金属元素是钠
- B.钙是构成牙齿和骨骼的主要成分
- C.蛋白质是占细胞干重第二多的物质
- D.锌能参与血红蛋白的合成，维持红细胞代谢

12. “二十四节气”是古代农耕文明的产物，是中华民族悠久历史文化的重要组成部分。下列关于“二十四节气”的说法错误的是：

- A.“小阳春”是指立冬至小雪之间风和日丽、温暖舒适的天气
- B.霜降是冬季的第一个节气，有天气渐冷，初霜出现的意思
- C.惊蛰是二十四节气中唯一以动物昆虫习性命名的节气
- D.谷雨作为春季最后一个节气，雨水增多，南方地区人们忙着插秧播种

13. 关于传统文化，下列对应错误的是：

- A.古人称“宫、商、角、徵、羽”这五个从低到高排列的音级为“五音”
- B.儒家典籍“五经”为《诗经》《尚书》《礼记》《乐记》《春秋》的合称
- C.古代社稷坛所用的“五色土”是指“青、红、黄、白、黑”五色的土
- D.古代民间传说中的“五毒”为蜈蚣、毒蛇、蝎子、壁虎、蟾蜍

14. 近代以来中国被迫签订了许多不平等条约，下列不平等条约按照时间先后顺序排列正确的是：

- ①《黄埔条约》②《南京条约》③《辛丑条约》④《璦琿条约》⑤《马关条约》
- A.②①④⑤③
- B.②①④③⑤
- C.②③①④⑤
- D.②①⑤④③

15. 下列诗人与其称号和代表作的对应关系不正确的是：

- A.刘禹锡——诗豪——《陋室铭》

- B.李贺——诗鬼——《雁门太守行》
- C.王维——诗佛——《登鹳雀楼》
- D.杜甫——诗圣——《石壕吏》

16. 《中华人民共和国农产品质量安全法》2022年9月2日第十三届全国人民代表大会常务委员会第三十六次会议修订，于2023年1月1日起施行。根据本法，以下哪种情形的农产品，不得销售：

- ①含有国家禁止使用的农药、兽药或者其他化合物
 - ②农药、兽药等化学物质残留或者含有的重金属等有毒有害物质不符合农产品质量安全标准
 - ③含有的致病性寄生虫、微生物或者生物毒素不符合农产品质量安全标准
 - ④死因不明的动物及其产品
- A.①
 - B.①②
 - C.①②③
 - D.①②③④

17. 2022年9月2日第十三届全国人民代表大会常务委员会第三十六次会议通过了《中华人民共和国反电信网络诈骗法》，于2022年12月1日起施行。下列相关说法不正确的是：

- A.电信业务经营者应当依法全面落实电话用户真实身份信息登记制度
- B.可以根据需要无限办理电话卡
- C.新闻、广播、电视、等单位，应当面向社会有针对性地开展反电信网络诈骗宣传教育
- D.任何单位和个人不得非法买卖、出租、出借电话卡

18. 下列是由全国人民代表大会选举产生的是：

- ①中华人民共和国主席②最高人民法院院长③国家监察委员会主任④最高人民检察院检察长⑤中华人民共和国副主席
- A.②③④⑤
 - B.①③④⑤
 - C.①②③④
 - D.①②③④⑤

19. 党的百年历史当中有许多值得我们纪念的历史事件，下列选项所代表的历史事件排序正确的是：

- ①毛泽东思想写入党章
 - ②国共第一次合作形成
 - ③中国共产党从幼年达到成熟
 - ④两个务必的提出
- A.②③①④
 - B.②①③④
 - C.②①④③

D.②④①③

20. 皮肤指披覆在人体的表层，直接与外界环境相接触的组织。下列有关皮肤的表述错误的是：

- A.皮肤是人体最大的器官
- B.腋窝和面部的皮肤最厚
- C.皮肤分为三层：表皮层、真皮层和皮下组织
- D.皮肤上有很密的各种走向的凹下沟纹称为皮沟

言语理解与表达

21. 优秀现实题材作品为什么深入人心？重要原因在于此类作品_____着关注人民心声、关心生活实际的创作态度。把人民作为文艺表现的主体，把人民作为文艺审美的鉴赏家和评判者，把满足人民精神文化需求作为创作的出发点和落脚点，文艺才能感动人、触动人心，_____和发挥正能量。

填入横线处的词语最恰当的一项是：

- A.操持 创造
- B.操持 积聚
- C.秉持 凝聚
- D.秉持 迸发

22. 习近平法治思想坚持全面地而不是片面地、系统地而不是_____地、联系地而不是_____地处理全面依法治国面临的实践问题，从整体上明确坚持依法治国、依法执政、依法行政共同推进，法治国家、法治政府、法治社会一体建设，形成全面依法治国的工作布局。

填入横线处的词语最恰当的一项是：

- A.零乱 脱节
- B.繁芜 隔离
- C.零散 孤立
- D.零碎 隔阂

23. 乡村建设是实施乡村振兴战略的重要任务，也是国家现代化建设的重要内容。党的十九大提出实施乡村振兴战略，全面_____了中国乡村发展的美好未来，把促进农业农村发展提上了_____的高度。

填入横线处的词语最恰当的一项是：

- A.规划 无与伦比
- B.擘画 前所未有
- C.展望 空前绝后
- D.安排 亘古未有

24. 近年来，各地举办了形式多样的国家安全宣传教育活动，推动总体国家安全观深入人心，维护国家安全的民心基础更加_____。_____是人民群众最基本、最普遍的愿望。

填入横线处的词语最恰当的一项是：

- A.结实 海晏河清
- B.坚韧 物阜民安
- C.牢固 偃武修文
- D.巩固 国泰民安

25. 中方承建的蒙巴萨油码头竣工仪式举行，肯尼亚总统肯雅塔亲临现场，并有感而发：“总有一些人喜欢对我们_____，而中国则是以实际行动帮助我们推进经济社会发展议程”“中国从不_____地告诉我们应该怎么做，这正是非中合作的独特之处”。

填入横线处的词语最恰当的一项是：

- A.循循善诱 盛气凌人
- B.指手画脚 居高临下
- C.雪中送炭 趾高气昂
- D.品头论足 虚张声势

26. 七里桥、武陵桥、长胜桥……泛舟穿紫河，船过一个个彩绘桥洞，恍惚间，_____《桃花源记》中渔人穿过山口，进入“_____”的人间仙境。

填入横线处的词语最恰当的一项是：

- A.好像 茅塞顿开
- B.似乎 百感交集
- C.貌似 心潮澎湃
- D.犹如 豁然开朗

27. 在统筹推进新冠肺炎疫情防控和经济社会发展工作部署会议上，习近平总书记勉励出席会议的党员干部，要增强忧患意识，“时刻保持_____的谨慎、_____的敏锐”。凡事从最坏处准备，才能努力争取最好的结果。

填入横线处的词语最恰当的一项是：

- A.居安思危 一叶知秋
- B.如履薄冰 见叶知秋
- C.谨小慎微 以管窥豹
- D.左支右绌 见微知著

28. 医者，仁心也”，治病救人，是医生的天职。治理过度医疗这个沉疴顽疾既要下猛药，更要_____，才能_____。

填入横线处的词语最恰当的一项是：

- A.循序渐进 事倍功半
- B.量体裁衣 有的放矢
- C.对症下药 药到病除

D.标本兼治 妙手回春

29. 绿色和平组织东亚分部核专家肖恩·伯尼在接受本报记者采访时说：“日本政府将核废水排入海洋将会带来很多问题，势必严重污染海洋环境，不仅是日本周边海域，整个太平洋乃至整个地球海洋环境都会受到影响。日本政府不愿花费时间、金钱，科学处理核废水，却_____想把核废水一排了之，这种做法_____。”

填入横线处的词语最恰当的一项是：

- A.挖空心思 无法承受
- B.惨淡经营 难以承受
- C.费尽心机 不可接受
- D.苦心孤诣 难以接受

30. 在庆祝中国共产党成立100周年活动中，我省将运用群众_____的方式、便于参与的平台、乐于接受的_____，最大限度_____群众参与活动的积极性。

填入横线部分最恰当的一项是：

- A.交口称誉 途径 调节
- B.喜闻乐见 渠道 调动
- C.耳熟能详 方式 调度
- D.脍炙人口 方法 调整

31. 舒曼高度_____中国为全球减贫事业发展作出的贡献。他表示，中国历史性解决绝对贫困问题，并为其他国家减贫提供支持，积极_____落实联合国2030年可持续发展议程。在减贫、医疗卫生、环境保护及应对气候变化等议题上，中国积极开展国际合作，有力推动全球共同发展。“在这些全球性议题上，中国是_____的合作伙伴。”

依次填入划线部分最恰当的一项是：

- A.评论 促进 大有可为
- B.评判 鼓吹 至关重要
- C.评价 推动 不可或缺
- D.评估 鞭策 无可非议

32. 纵观当今世界，我们正面临一个百年未有之大变局，世界贫富分化加剧，中国提出“一带一路”合作倡议，就是从和合共生的中国传统文化中_____智慧，我们不谋求弱肉强食、_____的发展，而是主张世界各国_____、共生共荣，致力于推动经济全球化朝着更加开放、包容、普惠、平衡、共赢的方向发展，让世界各国人民都能够共享发展的成果。

填入横线处的词语最恰当的一项是：

- A.规整 自以为是 并行不悖
- B.获取 僵李代桃 共享共计
- C.汲取 以邻为壑 求同存异

D.吸纳 各自为政 齐头并进

33. 言情小说中，扇子是高频出现的传情道具，可撕，可咬，可指指戳戳，可_____：比如陈经济送了一把湘妃竹的扇子给潘金莲；可_____：《源氏物语》里，源氏公子是用一把扇子来置放夕颜花的，因为，“这花的枝条很脆弱，不好用手拿的”，真是“薄命花”。正如书里那些命相寒薄的女子。可_____：《枕草子》里的人，当然也是用扇的，有个并不太熟的男人，早起推门入户，就拿自己的扇子去够清少纳言枕边的扇子，不过后者没搭理他。

填入横线处的词语最恰当的一项是：

- A.定情 无情 煽情
- B.调情 伤情 试情
- C.抒情 薄情 殉情
- D.绝情 深情 寡情

34. 家人一起学、师生同参与、朋友共讨论，重言传、重身教、重引导、重沟通，在日常学习生活中加深对党的历史和把握，更有助于他们在_____中树立理想、砥砺品格。_____青少年的爱党爱国爱社会主义情感，把红色基因_____好，定能引导更多“小树苗”成长为“参天大树”，确保红色江山永不变色。

依次填入划横线部分最恰当的一项是：

- A.潜移默化 培养 发扬
- B.耳濡目染 厚植 传承
- C.言传身教 培育 传扬
- D.耳提面命 培植 传播

35. 新形势下要大力实施海外赤子为国服务行动计划，加强对留学人员的创业指导，加速留学回国人员文化_____，让留学人员回国从“水土不服”到“_____”。要大力营造任人唯贤、尊重人才的氛围，和留学归国人员交心凝心，给予留学归国人才充分包容、充分信任，正确处理一致性和多样性的关系，找到“最大公约数”，画出“最美同心圆”。只有这样，才能使得“归国潮”高潮迭起，_____，风景不断，让人才强国建设和实现两个一百年奋斗目标更加充满希望。

填入划横线部分最恰当的一项是：

- A.渗透 家喻户晓 生生不息
- B.交流 安土重迁 此起彼伏
- C.融合 落地生根 源源不竭
- D.交融 安家落户 滔滔不绝

36. 近年来，各地农村将发展农家乐作为村民致富的重要途径，大多在改造自家住房的同时将闲置房间出租，提供简单住宿餐饮服务。但体验过后不难发现，农家乐从客房布置到管理服务，再到餐饮内容，基本主打乡村“土”特色，在游客投诉中，“吃饭苍蝇乱飞”“睡觉床品不干净”“农家院落卫生状况堪忧”等问题比比皆是。随着消费者消费升级，旅游业发展更倾向于现代设施与各种生活场景的交融。对乡村民

宿的要求并非仅限于体验乡村生活，而是既要有乡村生活的恬静和悠然，也要有现代服务的舒适和卫生。事实上，从各大平台搜索结果发现，当前民宿已经呈现出分化，较高品质的民宿即使价格偏高仍有市场，会早早被预定，而那些品质较低民宿却无人问津。

文段的标题是：

- A. 民宿市场乱象丛生
- B. 民宿市场呼唤更多更有品质的产品
- C. 旅游业应如何发展
- D. 发展农家乐是村民致富的重要途径

37. 走路是一种有氧运动。快走可以产生肌肉和心血管适应，从而提高全身耐力性运动能力、心脏收缩能力，以及改善心肺功能。同时，步行可以起到减脂的作用。有研究表明，成年人每天步行30分钟，可增加热量消耗30%，每天步行一公里，每月可减少约0.3公斤的脂肪。对于需要减肥和强身健体的人群非常有用。走路还可以改善机体代谢，降低糖尿病、高血脂发生的可能。另外，每天坚持走路还可以改善睡眠、舒缓情绪。

文段主要表达：

- A. 走路对健康的益处有很多
- B. 走路健身需要持之以恒
- C. 走路运动量应适度
- D. 走路是最好的运动

38. 近年来，淋巴瘤发病率逐年升高，我国淋巴瘤的新发患者每年已超过10万人。淋巴瘤作为我国常见的十大恶性肿瘤之一，是起源于淋巴造血系统的恶性肿瘤，发病率约为5/10万，分为非霍奇金淋巴瘤和霍奇金淋巴瘤两类，城市发病率高于农村。从临床上看，男性略大于女性，该病常见于中老年人。淋巴肿大绝大多数是炎症引起的，没有证据证明，淋巴结或者扁桃体经常肿大发炎就更容易患上淋巴瘤。

对文段理解不正确的是：

- A. 淋巴瘤是起源于淋巴造血系统的恶性肿瘤
- B. 淋巴瘤常见于中老年人
- C. 淋巴瘤分为非霍奇金淋巴瘤和霍奇金淋巴瘤两类
- D. 扁桃体经常肿大发炎就更容易患上淋巴瘤

39. 作为生活必需品的食盐，最近这段时间，迎来了众多五颜六色的“进口小伙伴”——喜马拉雅粉盐、波斯蓝盐、美国夏威夷黑盐、法国灰盐、盐之花等进口网红盐竞相登场，在各大电商平台上热卖。不过，这些包装精美、形色各异、自带异域风情的进口盐价格奇高。那么，我们常吃的普通精制盐和进口高价盐究竟有什么区别？高价进口盐真的物有所值吗？对此，中国农业大学食品科学与营养工程学院教授、中国食品科技学会理事范志红表示，无论是常见的精制盐还是进口网红盐，其主要成分都是氯化钠，差异不大，部分进口盐确实能够提供更多的矿物质，其也能被人体所吸收。不过，通过平衡膳食，人们也能够摄取进口网红盐中所含有的钙、镁、钾等矿物质。

作者对进口网红盐的态度是：

- A.与普通精制盐差异不大
- B.能提供更多的矿物质
- C.比普通盐更健康
- D.看不出作者态度

40. 食品边角料直接报废会造成食品浪费，如果生产、销售商家手续齐全，正规经营，低价销售也是厉行节约之举。但事实上，食品生产加工企业为了控制成本，都会尽量减少边角料的产生。市场上充斥着大量的食品边角料，是混入过期食品的“问题食品”，或没有食品合格证的“三无”产品，食品安全风险不容小觑。此外，即使是正规厂家出品的食品边角料，如果改变了包装、储存、运输等方式，也可能影响原来的保质期，增加变质风险。因此，消费者要理性谨慎消费。

文段主要想表达的是：

- A.食用食品边角料有风险
- B.建议广大消费者应理智消费
- C.呼吁消费者要谨慎购买食品边角料
- D.商家不应低价销售食品边角料

41. 少数民族传统技艺是中华民族文化重要的组成部分之一，是各族人民劳动与智慧创造的结晶，更是铸牢中华民族共同体意识的重要载体。然而，随着经济社会的不断发展，尤其是现代生产生活方式，给少数民族文化传承保护和发展工作带来了不少的冲击，许多民间技艺面临着核心内容流失严重、技艺失传，民族特色减弱，传承人才断层等挑战。如何保护好、传承好、利用好这些珍贵的少数民族传统技艺成为摆在人们面前的一道难题。

文段接下来最可能讲的是：

- A.大众对少数民族传统技艺不够了解
- B.社会对少数民族文化传承保护工作的影响
- C.保护和传承好少数民族传统技艺的方法
- D.少数民族传统技艺有何价值

42. 看到成绩的同时，_____。一方面，我国生态环境保护结构性、根源性、趋势性压力尚未根本缓解，生态环境稳中向好的基础还不稳固，法律实施不到位的问题依然存在。另一方面，虽然群众身边的污水垃圾等突出环境问题得到有效解决，城镇生活中固废、危废、医废安全有效处置和资源化利用取得了积极进展，人居环境明显改善，但离“无废城市”、美丽乡村还有较远的路要走。推进生态文明建设，关键要靠最严格制度最严密法治提供的坚实保障，也离不开全社会不断提升的生态环保意识。法治建设与生态理念相得益彰、相互促进，将形成增强群众生态获得感的强大合力。

填入横线处恰当的是：

- A.也要把控质量关
- B.问题也不容忽视
- C.更要形成强大震慑
- D.也要敢于动真碰硬

43. 近年来依法惩治金融犯罪取得了不小成绩，但金融犯罪形势依然严峻。从近年审理情况看，金融犯罪案件主要有案件数量多、涉案金额大、犯罪手段隐蔽性强的新情况、新特点。比如，非法集资刑事案件持续高位运行，大要案高发频发，涉案金额巨大，涉及集资参与人众多；又如，操纵证券、期货市场、内幕交易、利用未公开信息交易（俗称“老鼠仓”）犯罪不断发生，犯罪手段、方式方法更加隐蔽、多样。从这个意义上说，针对不同类型的金融犯罪，找准犯罪特点，健全办案机制，加大惩治力度，才能在有力震慑犯罪的基础上守护人民群众“钱袋子”安全。

文段的意图是：

- A.应针对不同类型的金融犯罪对症下药
- B.金融犯罪形势严峻
- C.金融犯罪出现了新情况、新特点
- D.打击金融犯罪刻不容缓

44. ①其实，能量守恒定律你是无法推翻的

②为什么饿得前心贴后背，就是瘦不下来？

③你的困扰可能来自于另一个因素——能量补偿机制

④人体的总能量平衡取决于能量摄入和能量消耗两部分

⑤所谓能量补偿机制，就是身体想尽各种方法努力维持能量平衡，尽量避免出现能量负平衡

将以上句子重新排列，语序最恰当的一项是：

- A.②①③⑤④
- B.①②③④⑤
- C.③⑤④②①
- D.④⑤①②③

45. ①可使牙膏具有相应的功效，如：添加氟化物可以发挥一定的防龋功效等

②起到辅助清洁作用的半固体制剂。摩擦剂是牙膏的主要原料

③随着牙膏技术的创新，在普通牙膏中添加相应的功效成分

④但应注意的是，任何牙膏都无法治疗口腔疾病

⑤在刷牙时，牙膏中的摩擦剂通过牙刷的刷毛在牙齿表面进行摩擦而达到清洁、去除牙渍的作用

⑥牙膏通常是指以刷牙的方式作用于人体牙齿表面

将以上6个句子重新排列，语序正确的是：

- A.③⑥②⑤①④
- B.③①⑥④⑤②
- C.⑥②⑤③①④
- D.⑥④⑤②③①

数量关系

46. 某商店有甲、乙两种饮料，甲饮料的利润率是30%，乙饮料的利润率是10%，已知3月甲的销量为乙的 $\frac{3}{4}$ ，并且两者总利润相同。问甲饮料的成本与乙饮料的成本之比为：

- A.3 : 7
- B.5 : 6
- C.4 : 9
- D.2 : 1

47. 由于疫情解封超市人流量增大，现已知如果安排8名收银员结账20分钟可以结完，如果安排6名收银员结账40分钟可以结完。假设每分钟前来排队的人数相对稳定，问如果要保证15分钟必须结完，最少需要安排多少名收银员结账？

- A.11
- B.7
- C.9
- D.10

48. 现在道路两旁需要每隔10米种一棵树，甲先种3天后甲乙再一起种4天完成种树总数量的60%，甲乙每天种树的数量之比为4:5，且甲每天比乙少种2棵。则这条道路总长为多少米？

- A.790
- B.800
- C.1590
- D.1600

49. 某单位针对5名实习生组织了1次转正考试，试卷采用百分制，且最终得分通过四舍五入保留整数部分。考试结果出来后，经过统计五人的平均成绩为85分，并且5人得分不同，第一名得分是最后一名的1.2倍，那么最后一名得分最少是多少分？

- A.78
- B.75
- C.72
- D.70

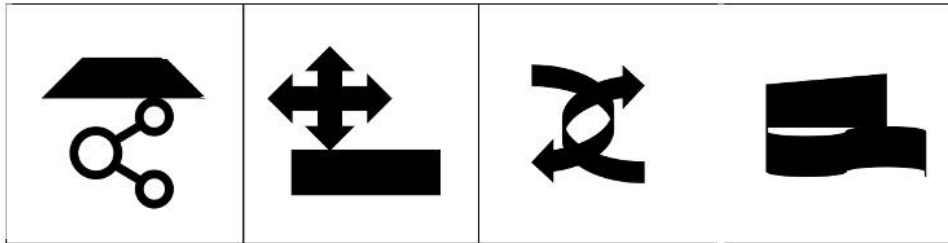
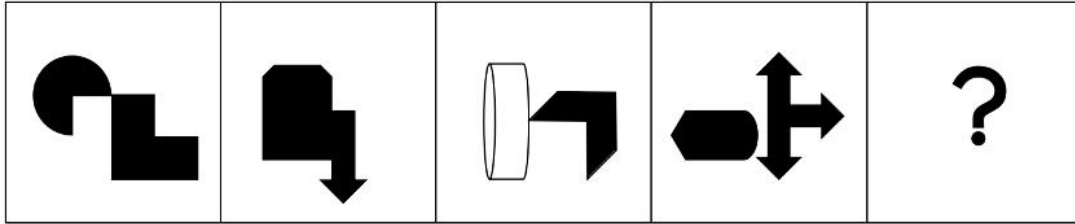
50. 地面上有一个半径为30厘米的圆盘，盘中有些许水珠，水平转动圆盘将水珠快速甩出，水珠沿着圆盘边缘的切线方向飞出，从飞出的这一点到水珠落地的直线距离为40厘米，则水珠落地点与圆盘中心的距离是（ ）米。

- A.0.5

- B.50
- C.0.6
- D.60

判断推理

51. 从所给的四个选项中，选择最合适的一个填入问号处，使之呈现一定的规律性：



A

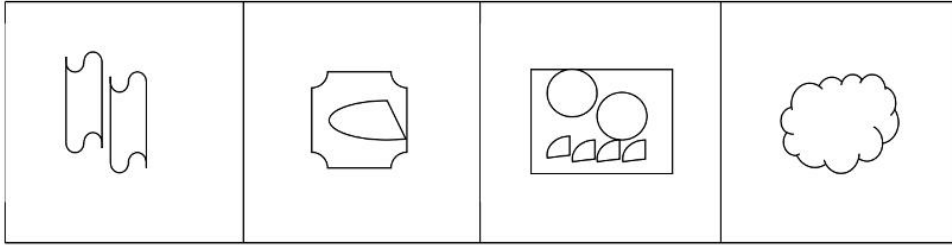
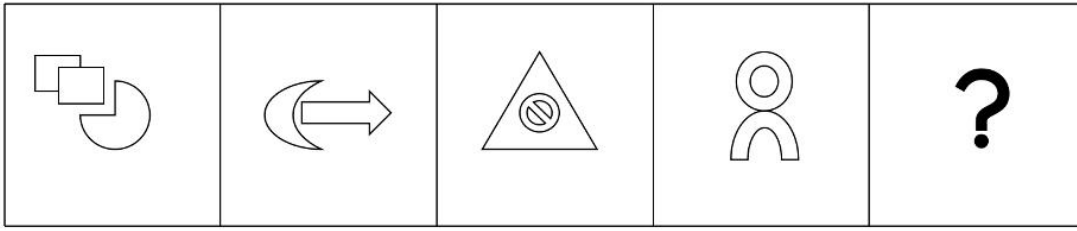
B

C

D

- A.如上图所示
- B.如上图所示
- C.如上图所示
- D.如上图所示

52. 从所给的四个选项中，选择最合适的一个填入问号处，使之呈现一定的规律性：



A

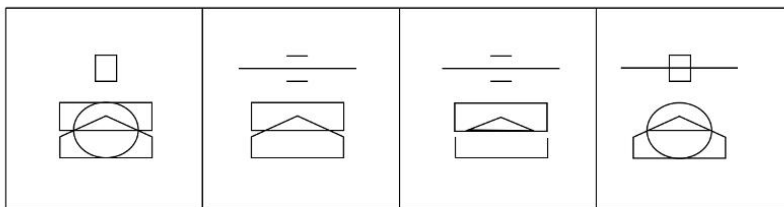
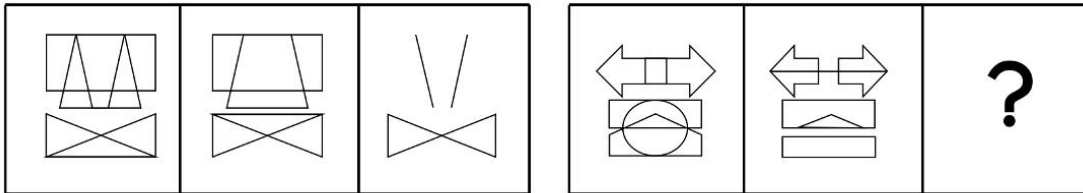
B

C

D

- A.如上图所示
- B.如上图所示
- C.如上图所示
- D.如上图所示

53. 从所给的四个选项中，选择最合适的一个填入问号处，使之呈现一定的规律性：



A

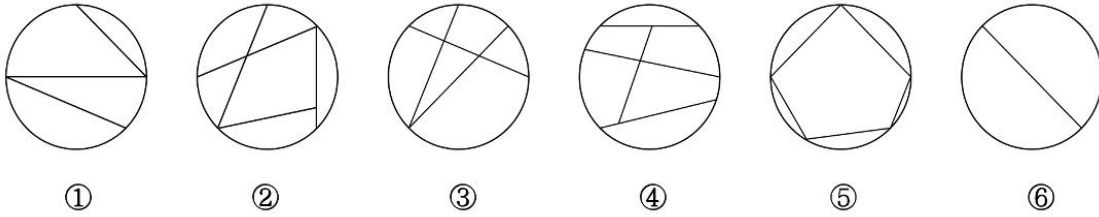
B

C

D

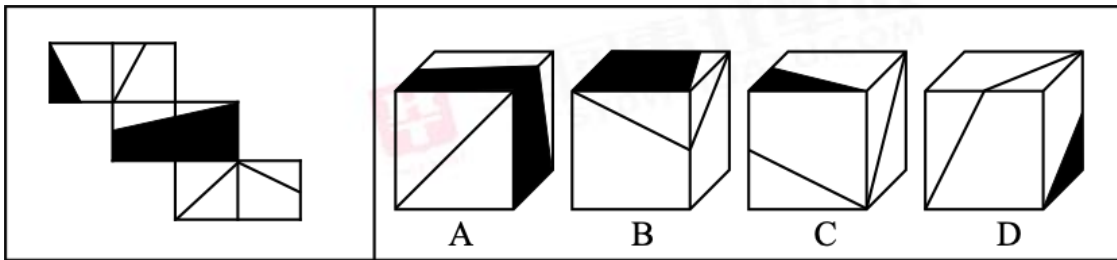
- A.如上图所示
- B.如上图所示
- C.如上图所示
- D.如上图所示

54. 把下面的六个图形分为两类，使每一类图形都有各自的共同特征或规律，分类正确的一项是：



- A.①④⑥, ②③⑤
 B.①③⑥, ②④⑤
 C.①③④, ②⑤⑥
 D.①④⑤, ②③⑥

55. 左边是给定纸盒外表面的展开图, 右边哪一项能由它折叠而成?



- A.如上图所示
 B.如上图所示
 C.如上图所示
 D.如上图所示

56. 内源性抑郁是指一个正常人平时出现情绪不高, 极度低落, 对大多数事物都丧失兴趣。是由于躯体因素引起的抑郁发作, 生物学特征明显, 主要表现为: 情绪低落, 压抑苦闷, 消极悲观, 自责自疚, 动作迟缓等。

根据上述定义, 下列属于出现内源性抑郁的是:

- A.老张由于遭到车祸后手脚行动不便, 出行都要靠轮椅, 故茶不思饭不想, 每天自怨自艾只能唉声叹气
 B.小阳的父亲在得知自己身患胃癌晚期的时候, 已经放弃治疗, 连医生给开的药物都不吃了
 C.阿忙每天对任何事都提不起兴趣, 觉着自己就是最无用的, 每天消极度日, 就连身体状况也每况愈下, 常常忘事
 D.当强强被喜欢的女生拒绝后, 每日郁郁寡欢, 对任何事提不起兴趣

57. 应激障碍是过度刺激造成的精神创伤, 从而损害身心健康。主要包括急性应激障碍、创伤后应激障碍、适应障碍等。急性应激障碍是指个人突然遭受强烈精神刺激后立即出现的, 持续短暂的应激反应, 一般受到刺激后几分钟或者几小时内起病, 大部分一周左右就会痊愈。创伤后应激障碍是指个人遭受强烈刺激后延迟出现的、持久的应激反应, 是应激障碍里比较严重的一种。适应障碍是个体经历较轻, 较持久的刺激(例如移居外地, 地位变化等)后出现的应激反应。

根据上述定义, 下列属于创伤后应激障碍的是:

- A.萌萌在荡秋千时重重地摔了下来, 后来常在梦中梦到从高处坠落, 自此以后再也不敢荡秋千了

- B.雷雷在跟随父母移民到加拿大之后，经常在凌晨四点就会自然醒，然后辗转难眠
- C.阿花小时候去郊区游玩时被蛇咬过，从此再也不想去郊区郊游了
- D.妻子在听到丈夫战死沙场的消息后，当场晕倒并发烧了一周后才缓过神来

58. 反对关系分为上反对关系和下反对关系。上反对关系是指对于同一事物的描述，除了A、B之外，还存在其他情况，且A、B是不相交的，此时A、B为上反对关系。下反对关系是指对于同一事物的描述，只分A、B两种情况，且A、B有交集，此时A、B为下反对关系。下反对的意义在于：互为下反对关系的两个命题“必有一真，可以同真”。直言命题间的下反对关系主要考察的是“有些是和有些非”。

根据上述定义，下列属于下反对关系的是：

- A.绝大部分公民梦想移民海外和所有公民都在移民海外
- B.有一部分公民正在移民海外和有些公民没有移民海外
- C.所有公民都是中国国籍和所有公民都不是中国国籍
- D.有些公民是中国国籍和所有公民都不是中国国籍

59. 揭短营销策略是指在营销中，不一味地宣扬产品的优点，反而承认产品的不足，给消费者一种真诚的形象和较高的企业信誉，它是一种通过暴露自己的短处或是不足来进行营销的手段。虽然在表面上揭露了企业的短处，但实际上是对商品的客观评价。

根据上述定义，下列选项属于揭短营销策略的是：

- A.小摊的摊主故意叫卖自己的菠萝酸到掉牙，引得路人围满了小摊竞相品尝
- B.某宝上的一家店铺卖一款主打睡衣，与此同时揭露另外一家同行的睡衣质量问题
- C.崂山景区附近的商家都在店面门口放置一个免费自助喝酒机，借此吸引游客驻足
- D.索尼推出新款照相机的同时，也在发布会上向大众说明此次镜头的聚焦没有上一代强

60. 精致穷，源自网络流行语，形容一种普遍发生在年轻人群体中的生活方式。虽然钱赚的不多，但并没有因此而放弃追求精致，为了自己所向往的生活和喜欢的东西变穷，穷的明明白白，也活得开心闪亮。

根据上述定义，下列体现了精致穷的是：

- A.父母为了供唯一的女儿出国留学，把家里的积蓄都用上了，老两口现在就过着平淡却知足的日子
- B.很多月薪几千的妙龄女生却过着月薪上万的生活，不惜用花呗信用卡等超前消费，经常发一些在星级酒店的照片，或高档餐厅的菜品，整天活在快乐氛围下
- C.小张是互联网大厂的一名IT工程师，收入不菲，为了还房贷，每天过着紧衣缩食的生活
- D.公园们的大爷大妈们不惜花高额价钱也会买下古董市场的一些精致物件带回家作为艺术品观赏

61. 假想防卫是指行为人由于主观认识上的错误，误为有不法侵害的存在，实施防卫行为结果造成损害的行为。

根据上述定义，下列情形中不属于假想防卫的是：

- A.一对情侣吵架，结果路人误会以为光天化日之下强奸，将男子打伤
- B.夜晚门口有人徘徊，王某以为是不法分子将其打倒，实际是便衣警察执勤
- C.李某认为自己最近运气不好是赵某诅咒，寻找机会将其打了一顿

D.最近刘某的汽车多次被破窗盗窃，下班时发现有人在车旁故将其打伤，结果是同时等待搭车回家的同事

62. “群租房”指租房者把毛坯房子分割成一个个独立的房间，再简单装饰装潢一下，然后以便宜价格把房子出租给很多人的现象。“合租房”是指至少两人一起租住一间或一套住房，共同分担房租的现象。

下列选项中属于合租房的是：

- A.小王和小李租房过程中碰到，达成协议一起租住一套房，共同分担房租
- B.大力买了一套房，但由于暂时闲置，将其出租给几个年轻人
- C.小红朋友租到一间130平米的房间，然后将其中一个小隔间低价租给小红
- D.玲玲通过中介联系到房主租到一个小卧室

63. 塔西佗陷阱是古罗马塔西佗在评价一位罗马皇帝时所说的话：“一旦皇帝成了人们憎恨的对象，他做的好事和坏事就同样会引起人们对他的憎恶”。之后被中国学者引申为一种社会现象，指当人们认为一个人坏的时候或者当一个政府组织失去公信力的时候，无论这个人或者政府组织说什么，民众都会认为是假的，无论这个人或者政府组织做什么，民众都会认为做的不对。

按照上述定义，以下哪项涉及塔西佗陷阱？

- A.舌战群儒
- B.烽火戏诸侯
- C.风声鹤唳
- D.狐假虎威

64. 行政诉讼，是指公民、法人或者其他组织认为行使国家行政权的机关和组织及其工作人员所实施的具体行政行为，侵犯了其合法权益，依法向人民法院起诉，人民法院在当事人及其他诉讼参与人的参加下，依法对被诉具体行政行为进行审查并做出裁判，从而解决行政争议的制度。行政诉讼第三人，指同提起行政诉讼的行为有利害关系，因而参加到他人正在进行的行政诉讼中的公民、法人和其他组织。

根据以上定义，下列关于“行政诉讼第三人”的判断正确的是：

- A.某路段发生车祸，行人将司机告上法庭，目击者为行政诉讼第三人
- B.某公司不满工商部门的处罚而提起诉讼，公司法人作为行政诉讼第三人
- C.老张因为逃避交警惩罚而驾车撞倒刘某，则刘某为行政诉讼第三人
- D.某公司对税务机关罚款决定不服提起诉讼，会计为行政诉讼第三人

65. 划分是以事物对象的一定属性为标准，将一个属概念分成若干个种概念，以达到明确其外延的逻辑方法；分解是把一个整体事物分成各个组成部分的逻辑方法。

根据上述定义，下列属于分解的是：

- A.法律可分为成文法和不成文法
- B.人可分为老年人、中年人、青年人、少年儿童和婴儿
- C.地球可分为东半球、西半球
- D.小说可分为长篇小说、中篇小说和短篇小说

66. 物腐：虫生

- A.流清：源清
- B.春华：秋实
- C.过河：拆桥
- D.抱薪：救火

67. 纪录片：译制片

- A.主观题：选答题
- B.戏剧：歌剧
- C.甲壳纲动物：节肢动物
- D.科学：技术

68. 上行下效：异曲同工

- A.俯首帖耳：左右逢源
- B.前仆后继：黑牛白角
- C.耳濡目染：耳提面命
- D.动若脱兔：静如寒蝉

69. 金蝉：知了猴：节肢动物

- A.山楂：红果：蔷薇
- B.石榴：番石榴：桃金娘
- C.春季：春节：节气
- D.正月：孟春：农历

70. 科学家：研发：药品

- A.农民：锄头：农田
- B.修理工：修理：扳手
- C.司机：驾驶：客车
- D.导购员：敲定：售价

71. 不可再生能源：可再生能源：植物

- A.植物：动物：老虎
- B.守法行为：违法行为：酒驾
- C.部队：学校：中学
- D.工人：农民：果农

72. 胸式呼吸：腹式呼吸：复合性呼吸

- A.热带：南温带：北温带
- B.胜诉：败诉：撤诉
- C.胜：负：平
- D.有期徒刑：无期徒刑：死刑

73. 豹子 对于 () 相当于 () 对于 病毒

- A.敏捷；微小
- B.猎人；医生
- C.母豹；微生物
- D.狮子；核酸

74. 安培 对于 () 相当于 () 对于 电压表

- A.电流；电压
- B.A；V
- C.毫安；仪器
- D.电流表；伏特

75. 故人西辞黄鹤楼 对于 () 相当于 () 对于 怀古

- A.伤感；曾经沧海难为水
- B.送别；折戟沉沙铁未销
- C.离别；烟花三月下扬州
- D.感怀；江枫渔火对愁眠

76. 美国国立卫生研究院 (NIA) 的RafaeldeCabo博士团队在权威生物学期刊《Cell》子刊发文表示：间歇性禁食或是维持人们年轻的关键。细胞在进入饥饿状态时，会自发清理身体垃圾，维持健康。这项实验采用随机对照模式，研究人员将292只健康小鼠分为3组，分别采用随意进食、一天一顿、一天一顿且额外减少30%热量的不同饮食模式。连续喂养20个月后，研究结果显示，在满足机体需求的情况下，吃的越少，细胞状态越年轻，小鼠生存期也越长。与随意进食相比，一天只吃一顿的小鼠胰岛素抵抗减弱，生存期延长了11%，而一天只吃一顿且额外减少30%热量的小鼠生存期更是延长了28%。

以下哪项为真，最能支持上述研究？

- A.研究人员在与人类基因相似度超95%的猴子身上重复了此项实验，结果与之前几乎完全一致
- B.一日三餐都被视为标准的生活规律，吃好喝好，才能健康长寿
- C.通过热量限制调节线粒体网络，挨饿时，细胞为了节省能量，会开启“自助模式”，帮助清除受损老化细胞，促进细胞新生，使线粒体保持年轻而有效防止衰老
- D.人类正处于寿命质量和长度都空前提高的变革前沿，很快健康寿命将远远超过100岁

77. 据外媒报道，如果前一天没有好好休息，那么第二天学习或上班都会没精神，严重者甚至吃饭娱乐都

提不起兴趣，相信很多朋友有过这样的经历。而科学家发现，这样的生物特性在蚊子身上也会体现。近日，美国辛辛那提大学的研究团队发现，睡眠不足的蚊子在第二天会选择补觉，而吃饭（咬人）反而变得不重要。

以下哪项为真，最能反驳上述研究？

- A.据世界卫生组织，蚊子比任何其他动物带给人类的痛苦都多，仅疟疾一项，每年就导致超过40万人死亡，因此，了解蚊子的生活规律，有可能找到更好方法来对抗蚊子
- B.蚊子通过人体的热量、气味、运动等感知人类，因此研究人员专门找了一个安静区域，将房间内的蚊子和人类隔开，并记录蚊子的睡眠行为
- C.只有四分之一的睡眠不足的蚊子对食物感兴趣，总体而言，食欲下降了54%，尽管雌性蚊子需要血液来产卵，但在睡眠不足的情况下，它们更愿意去补觉
- D.蚊子睡眠不足时，也要吃饭保持体能，它们的后腿会下垂进而维持身体所需平衡，咬人是它们与生俱来的天性

78. 漫威《美国队长》电影中，主角史蒂夫·罗杰斯原本是一个瘦弱多病的矮小子，结果接受了超级血清注射，被改造成了健壮的肌肉男，甚至能和“神族”抗衡。

然而这不仅仅是电影中的幻想，现实中也有可能实现类似的效果。据cnBeta报道，近日日本广岛大学的研究人员发现，冬眠黑熊的血清中存在可以防止肌肉萎缩的独特因子，这能让它们在半年左右的冬眠过程中，肌肉几乎不会出现任何萎缩，依然保持原来的凶悍。科学家们研究了这一现象，虽然不能像美国队长一样变成超级英雄，但这种因子可能会有助于人类维持肌肉质量，并且有希望能找到治疗肥胖症和肌肉萎缩的新方法。

以下哪项为真，最能支持上述结论？

- A.存在于冬眠熊血清中的“某种因子”会调节培养的人类骨骼肌细胞中的蛋白质代谢，并有助于维持肌肉质量
- B.这种因子的鉴定还没有实现，他们下一步将探索确定抑制这种关键蛋白的激素和途径
- C.作为对比，我们人类在不活动的几周内就会开始失去肌肉质量
- D.科学家们对斑马鱼等其他冬眠生物的研究则暗示了人们可能找到能够忍受恶劣环境的方法

79. 现在，运动已经成为了一种重要的保持年轻和健康的方法。适当的锻炼对维持大脑和身体的协调、消除疲劳、预防亚健康、延长寿命都有很大的作用。但是如果锻炼过度，身体抵抗力会降低，从而引发多种疾病。一份来自哈佛大学的研究指南中指出，每周保持锻炼3到10小时，死亡风险最低。

以下哪项为真，最能支持上述结论？

- A.美国人运动指导书推荐每周至少进行每周保持150至300分钟的中等强度运动、每周75至150分钟的剧烈运动或两者的等效组合
- B.现在的研究表明，最合适的锻炼强度应该是指南建议时间的2到4倍，并且在4倍推荐锻炼时间以上的情况下，死亡风险并不会进一步降低
- C.与未进行适度锻炼的人相比，达到指南建议的最低强度可减少20%至21%的全因死亡危险，心血管疾病死亡风险降低了22%至25%、非心血管疾病死亡风险降低了19%至20%。在中度锻炼时间为推荐量的2~4倍时，死亡率下降3%~13%
- D.研究显示，最好的一周锻炼强度应是美国运动指导原则的2-4倍，只有达到了这个标准，才能强身健体，

延年益寿，但如果超出了推荐量的四倍，那就是过度运动，对身体也有一定的伤害

80. 桌子上摆着纸盒子、塑料盒子以及铁盒子。纸盒子上写着一句话“镯子不在此盒子内”，塑料盒子上写着一句话“镯子在纸盒子中”，铁盒子上也写着一句话“镯子不在此盒中”。

首饰店老板说了事实，只有一个盒子里有镯子，并且三个盒子上的话只有一句是真的，则：

- A. 镯子在纸盒子中
- B. 推不出镯子到底在哪个盒子中
- C. 镯子在塑料盒子中
- D. 镯子在铁盒子中

81. 在某高校年终会汇演结束时，学生对表演的节目进行了投票，投票结果显示，来自文学院的学生都认为第一个节目是最好的，而来自历史学院的学生则都认为第六个节目最佳。小赵把票投给了第一个节目。

基于上述事实，可以断定以下哪项为真？

- A. 小赵来自文学院
- B. 小赵并不来自文学院
- C. 小赵来自历史学院
- D. 小赵并不来自历史学院

82. 某大学的学生来自不同国家，小张和小娜是这个学校的学生，所以，小张和小娜来自不同国家。

下列选项中所犯的逻辑错误与上述推理最为相似的是：

- A. 父母爱打扮的孩子都爱美，小明很爱美，所以小明的父母爱打扮
- B. 动物是人类的朋友，蟑螂是动物，所以，蟑螂是人类的朋友
- C. 想要当老师就要有教师资格证，我又不想当老师，何必考教师资格证
- D. 人贵有恒心，你没有恒心，因此，你算不得是人

83. IUCN从1963年起编制国际自然保护联盟濒危物种红色名录，这个名录根据严格的准则去评估数以千计物种及亚种的绝种风险，形成目前全球动植物物种保护现状最全面的名录。当地时间12月10日，IUCN红色名录更新，新近31种物种被宣布灭绝。但在我国有许多保护动物根本没有灭绝风险。

以下哪项如果为真，最能解释上述现象？

- A. 网纹蟒，在美国泛滥成灾，当地为了消灭网纹蟒绞尽脑汁，但是我国却一直在努力保护
- B. 一些动物因为本身的皮毛可以制衣或者身体某部位存在药用价值而经常受到盗猎的威胁
- C. 驼鹿在很多国家都比较常见，甚至经常被汽车撞倒，而在我国，驼鹿却属于国家一级保护动物
- D. 很多动物是生态链中重要的一环，在当地生态链中充当着重要角色，因此需要保护当地生态链中不可缺少的物种

84. 美国国内的疫情愈发严重，各国疫苗的研发也在紧锣密鼓的进行。美国食品和药物管理局（FDA）给新冠疫苗的审批设置了一个清晰的门槛：参与者必须能够证明受试者组接种疫苗后，在降低感染和疾病风

险方面，只要疫苗有效性大于50%，就可以上市。新闻一出，国内公知纷纷应和：美国疫苗只要有效性大于50%就上市，可以减少病毒传播，体现了美国的体制优越性。

以下选项如果为真，最能反驳这些公知观点的是：

- A.美国的感染人数已经突破900万，死亡人数超过23万，其中单日最高新增患者多达9万
- B.中国4款疫苗在各国进入III期临床试验阶段，至今接种6万余人没有发生严重不良反应
- C.国内的公知凭借读过的几篇文章就对并不了解的国际局势进行评论，全然不顾文章是否具有逻辑性
- D.疫苗大规模注射，以为疫苗有效而实际无效的人数多达50%，他们会更加放肆的聚集，这将加剧传染速度

85. “名媛”一词成功登上各大媒体的热搜排行榜，“名媛”一般是指那些出身名门、有才貌、又经常出入时尚社交场的美女。因为很多“名媛”都会嫁入豪门，所以为了能增加他们和真正的有钱人相识的机会，很多收入一般的普通年轻人频繁出入高端场所，通过透支消费或拼单的形式包装自己，再利用社交软件向身边的人展示自己的“优越生活”。有网友认为：年轻人应该以打拼自己的事业为重，不要做“嫁入豪门”这种不切实际的梦。

以下选项如果为真，最能支持上述网友观点的是：

- A.嫁入豪门后，生活水平虽然得到了保障，但生活习惯也会发生很大的变化
- B.有些年轻人会6人拼单下午茶、15人拼单魔都顶级酒店、40人团购豪华套房
- C.普通人嫁入豪门的可能性极低，只有自己打拼事业才能实现自己的人生价值
- D.在一些一线城市，通过炫富行为包装自己已经成为很多年轻人的生活方式

资料分析

【资料】

2021年J省地区生产总值58887.41亿元，比上年增长6.3%。其中，第一产业增加值5620.82亿元，比上年增长6.4%；第二产业增加值24331.65亿元，增长4.1%；第三产业增加值28934.93亿元，增长8.1%。全年人均地区生产总值59410元，比上年增长6.4%。

全年全省粮食种植面积10772.31千公顷，比上年增加33.52千公顷，其中小麦种植面积5690.69千公顷，增加17.02千公顷；玉米种植面积3853.33千公顷，增加34.32千公顷。油料种植面积1604.37千公顷，增加6.83千公顷，其中花生种植面积1292.93千公顷，增加31.09千公顷。蔬菜种植面积1758.07千公顷，增加4.29千公顷。

全年全省粮食产量6544.19万吨，比上年减少281.61万吨，减产4.1%。其中，夏粮产量3803.19万吨，增产1.3%；秋粮产量2741.00万吨，减产10.8%。小麦产量3802.81万吨，增产1.3%；玉米产量2051.73万吨，减产12.4%。

全年全省猪牛羊禽肉总产量641.17万吨，比上年增长19.1%。其中，猪肉产量426.78万吨，增长31.4%；牛肉产量35.53万吨，下降3.2%；羊肉产量28.87万吨，增长0.8%；禽肉产量149.98万吨，增长1.3%。禽蛋产量446.42万吨，下降0.7%。牛奶产量212.15万吨，增长1.0%。年末生猪存栏4392.29万头，比上年末增长13.0%；全年生猪出栏5802.77万头，比上年增长34.6%。

86. 2020年J省第三产业增加值比第二产业约多:

- A.4603亿元
- B.3394亿元
- C.2868亿元
- D.2356亿元

87. 2021年J省常住人口约为:

- A.0.95亿人
- B.0.97亿人
- C.0.99亿人
- D.1.07亿人

88. 2020年J省小麦种植面积约占粮食种植面积的:

- A.52.8%
- B.56.5%
- C.62.6%
- D.66.4%

89. 2021年J省小麦产量同比增量约比玉米:

- A.少242万吨
- B.多242万吨
- C.少339万吨
- D.多339万吨

90. 能够从上述资料中推出的是:

- A.2021年J省三次产业中, 在地区生产总值中占比同比上升的有3个
- B.2021年J省秋粮产量同比增速比夏粮产量低9.5个百分点
- C.2021年J省猪肉产量同比增加110万吨
- D.2021年J省禽肉产量比羊肉产量约多4.2倍

2022年2月份M省限额以上单位消费品零售额

| | 2月 | | 1-2月 | |
|--------------|-------------|-------------|-------------|-------------|
| | 绝对量 (亿元) | 同比增长 (%) | 绝对量 (亿元) | 同比增长 (%) |
| 限额以上单位消费品零售额 | 316.3 | 8.3 | 782.6 | 30.8 |
| 按销售单位所在地分 | | | | |
| 城镇 | 304.0 | 7.7 | 750.8 | 31.6 |
| 乡村 | 12.2 | 25.8 | 31.7 | 13.9 |
| 限额以上单位商品零售额 | 308.2 | 7.7 | 765.4 | 30.4 |
| 粮油、食品类 | 35.8 | -18.8 | 91.1 | 5.4 |
| 饮料类 | 5.7 | -17.8 | 14.6 | 12.7 |
| 烟酒类 | 9.7 | -21.4 | 30.6 | 26.9 |
| 化妆品类 | 4.9 | -30.7 | 11.9 | -11.6 |
| 日用品类 | 11.5 | -15.0 | 26.8 | 0.5 |
| 中西药品类 | 15.1 | 16.9 | 33.4 | 10.5 |
| 文化办公用品类 | 7.8 | 317 | 15.7 | 302.8 |
| 通讯器材类 | 10.0 | 36.3 | 24.1 | 79.1 |
| 石油及制品类 | 34.3 | 42.3 | 74.7 | 48.4 |
| 建筑及装潢材料类 | 0.3 | -12.0 | 0.6 | -16.3 |
| 机电产品及设备类 | 0.1 | 11.7 | 0.2 | 29.3 |
| 汽车类 | 104.8 | 16.1 | 265.6 | 36.7 |

91. 2021年2月M省限额以上单位消费品零售额约为:

- A.597亿元
- B.348亿元
- C.292亿元
- D.327亿元

92. 2022年1-2月, M省粮油、食品类零售额同比增长量约是饮料类的:

- A.4.2倍
- B.3.5倍
- C.1.6倍
- D.2.8倍

93. 2021年2月, M省城镇限额以上单位消费品零售额约为农村的:

- A.24.9倍
- B.29.1倍
- C.35.6倍
- D.39.8倍

94. 表中M省限额以上单位商品零售额中, 2022年2月零售额高于1月的有:

- A.0类

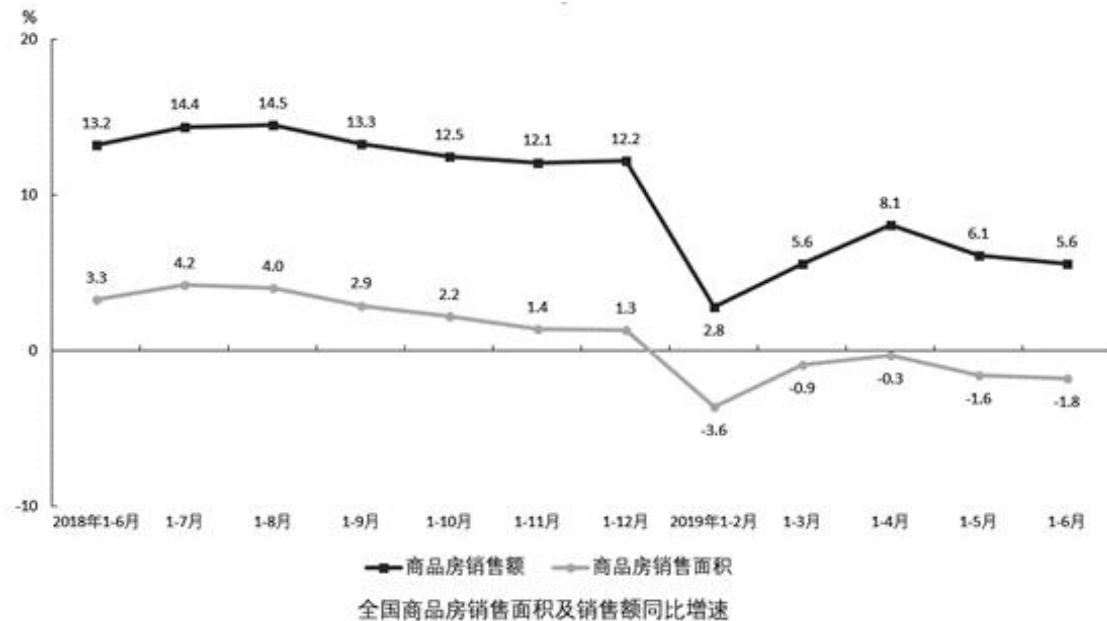
- B.1类
- C.2类
- D.3类

95. 能够从上述资料中推出的是:

- A.M省限额以上单位商品零售额中, 2022年2月同比提高的有5类
- B.2022年1-2月, 表格中, 在M省限额以上单位商品零售额中占比同比上升的商品有4类
- C.2022年1月, M省中西药类同比增速为12%
- D.2022年2月, M省汽车类零售额比石油及制品类约多3倍

【资料】

2019年1—6月份, 商品房销售面积75786万平方米, 同比下降1.8%, 降幅比1—5月份扩大0.2个百分点。其中, 住宅销售面积下降1.0%, 办公楼销售面积下降10.0%, 商业营业用房销售面积下降12.3%。商品房销售额70698亿元, 增长5.6%, 增速回落0.5个百分点。其中, 住宅销售额增长8.4%, 办公楼销售额下降12.5%, 商业营业用房销售额下降10.0%。



1—6月份, 东部地区商品房销售面积30144万平方米, 同比下降4.6%, 降幅比1—5月份收窄0.9个百分点; 销售额37716亿元, 增长4.7%, 增速加快0.1个百分点。中部地区商品房销售面积21481万平方米, 下降0.5%, 1—5月份为增长0.1%; 销售额15353亿元, 增长6.1%, 增速回落0.1个百分点。西部地区商品房销售面积21099万平方米, 增长2.3%, 增速回落1.5个百分点; 销售额15178亿元, 增长8.4%, 增速回落2.4个百分点。东北地区商品房销售面积3063万平方米, 下降8.3%, 降幅扩大0.2个百分点; 销售额2451亿元, 增长0.9%, 增速回落1.4个百分点。

6月末, 商品房待售面积50162万平方米, 比5月末减少766万平方米。其中, 住宅待售面积减少672万平方米, 办公楼待售面积增加16万平方米, 商业营业用房待售面积减少74万平方米。

96. 2019年上半年, 商品房销售额约比2017年同期增长了 () 亿元。

- A.3749

- B.7006
- C.11556
- D.7855

97. 2019年1—5月，西部地区商品房单位面积销售额约比上年同期增长了：

- A.5.3%
- B.6.0%
- C.6.7%
- D.7.2%

98. 2018年上半年，东部地区商品房单位面积销售额约为（ ）元/平方米。

- A.10732
- B.11400
- C.12512
- D.13732

99. 2019年上半年，各地区商品房销售面积同比增量从低到高依次为：

- A.东北地区、西部地区、中部地区、东部地区
- B.中部地区、东北地区、东部地区、西部地区
- C.东部地区、中部地区、东北地区、西部地区
- D.东部地区、东北地区、中部地区、西部地区

100. 根据上述材料，可以推出的是：

- A.2019年6月末，商品房待售面积环比约下降了1.55%
- B.2019年1—5月，东部地区商品房销售面积同比下降3.7%
- C.2019年上半年，东北地区商品房单位面积销售额较上年同期有所降低
- D.2018年下半年，全国商品房销售面积同比增速最快的是7月

2023全国事业单位联考职测能力测评卷（一）

答案和解析

常识判断

1.

【答案】D

【解析】

第一步，本题考查时政知识。

第二步，①②项：中国共产党第二十次全国代表大会是在全党全国各族人民迈上全面建设社会主义现代化国家新征程、向第二个百年奋斗目标进军的关键时刻召开的一次十分重要的大会。大会将选举产生新一届中央委员会和中央纪律检查委员会。①②项正确。

③项：根据习近平总书记重要指示精神和《关于党的二十大代表选举工作的通知》要求，选举单位严把人选政治关，坚持把政治标准放在首位，突出考察人选的理想信念、政治品格和道德修养，着重了解人选政治判断力、政治领悟力、政治执行力，增强“四个意识”、坚定“四个自信”、做到“两个维护”等方面的表现情况，防止把政治上的两面人选进来。③项正确。

④项：在以习近平同志为核心的党中央坚强领导下，党的二十大代表选举工作已经顺利完成。全国各选举单位分别召开党代表大会或党代表会议，选举产生了2296名出席党的二十大代表。④项正确。

故4项均正确。

因此，选择D选项。

2.

【答案】D

【解析】

第一步，本题考查时政并选错误项。

第二步，老西藏精神也被称为孔繁森精神，被高度概括为“特别能吃苦、特别能战斗、特别能忍耐、特别能团结、特别能奉献”。而“特别能吃苦、特别能战斗、特别能攻关、特别能奉献”是载人航天精神。D项错误。

因此，选择D选项。

【拓展】

A项：“焦裕禄精神”是一种向焦裕禄同志学习的精神，被习近平总书记概括为“亲民爱民、艰苦奋斗、科学求实、迎难而上、无私奉献”。A项正确。

B项：张思德精神，2021年9月，党中央批准了中央宣传部梳理的第一批纳入中国共产党人精神谱系的伟大精神，张思德精神被纳入。张思德精神被高度概括为“全心全意为人民服务”。B项正确。

C项：铁人精神是对王进喜崇高思想、优秀品德的高度概括，体现了我国工人阶级精神风貌和中华民族传统美德的完美结合，铁人精神被高度概括为“爱国、创业、求实、奉献”。C项正确。

3.

【答案】B

【解析】

第一步，本题考查时政。

第二步，①：太极拳，列入年份是2020年。

②：中医针灸，列入年份是2010年。

③：端午节，列入年份是2009年。

④：二十四节气，列入年份是2016年。

故正确排序是③②④①。

因此，选择B选项。

4.

【答案】D

【解析】

第一步，本题考查时政知识。

第二步，当地时间9月16日，国家主席习近平在撒马尔罕国际会议中心出席上海合作组织成员国元首理事会第二十二次会议并发表重要讲话。今年适逢上海合作组织宪章签署20周年，成员国长期睦邻友好合作条约签署15周年。这些年来，本组织成员国以这两份纲领性文件为思想基石和行动指南，逐步成功探索出一条新型国际组织成长壮大之路，积累形成了一系列富有启示意义的重要成功经验。

因此，选择D选项。

5.

【答案】B

【解析】

第一步，本题考查时政知识。

第二步，①项：马克思主义与中国实际相结合产生了两次历史性飞跃，结出了两大理论硕果。第一次历史性飞跃发生在新民主主义革命时期，其理论成果是毛泽东思想的形成；第二次历史性飞跃发生在党的十一届三中全会之后，其理论成果是中国特色社会主义理论体系。①项正确。

④项：《中共中央关于党的百年奋斗重大成就和历史经验的决议》明确指出，习近平新时代中国特色社会主义思想是当代中国马克思主义、二十一世纪马克思主义，是中华文化和中国精神的时代精华，实现了马克思主义中国化新的飞跃。④项正确。

因此，选择B选项。

6.

【答案】D

【解析】

第一步，本题考查太阳系相关知识并选错误项。

第二步，恒星是由发光等离子体（主要是氢、氦和微量的较重元素）构成的巨型球体，恒星可以自己发光。其之所以能够发光，是因为恒星内部在不停地进行剧烈的核聚变反应，它所发出的星光就是核聚变的产物，是来自恒星内部的电磁辐射。D项说法错误。

因此，选择D选项。

【拓展】

A项：彗星是指进入太阳系内亮度和形状会随日距变化而变化的绕日运动的天体，分为彗核、彗发、彗尾三部分。彗核是彗星最中心、最本质、最主要的部分，一般认为是固体，由石块、铁、尘埃及氨、甲烷、冰块组成。彗发是彗核周围由气体和尘埃组成星球状的雾状物。彗尾被认为是由气体和尘埃组成。A项正确。

B项：八大行星中，体积最大的是木星，最小的是水星；离地球最近的是金星，最远的是海王星；平均密度最大的是地球，最小的是土星；自转周期最长的是金星，最短的是木星；公转最快的是水星，最慢的是海王星。B项正确。

C项：天文单位是天文学中计量天体之间距离的一种单位，其数值取地球和太阳之间的平均距离。C项正确。

7.

【答案】A

【解析】

第一步，本题考查科技史知识并选错误项。

第二步，神舟十四号，简称“神十四”，为中国载人航天工程发射的第十四艘飞船。是中国空间站建造阶段第二次飞行任务，也是该阶段首次载人飞行任务，航天员乘组将在轨工作生活6个月。A项说法错误。

因此，选择A选项。

【拓展】

B项：1961年4月12日东方一号发射升空，尤里·加加林成为第一个进入外层空间的人，亦是第一个进入地球轨道的人。在远地点为301公里的轨道上绕地球一周，开启太空探索新纪元。B项正确。

C项：1961年5月5日上午10时34分，37岁的海军中校阿兰·谢泼德乘坐红石火箭携带的自由7号宇宙飞船上天，在距地面115英里的空间进行了15分钟的飞行，这次飞行使他成为第一个进入太空的美国人。C项正确。

D项：礼炮—1号空间站是苏联首个太空站，也是人类历史上首个太空站，于1971年4月19日发射升空。

D项正确。

8.

【答案】B

【解析】

第一步，本题考查茶叶知识并选错误项。

第二步，红茶，属于全发酵茶，是以适宜的茶树新芽叶为原料，经萎凋、揉捻（切）、发酵、干燥等一系列工艺过程精制而成的茶。乌龙茶，属于半发酵茶，是经过采摘、萎凋、摇青、炒青、揉捻、烘焙等工序后制出的品质优异的茶类。B项说法错误。

因此，选择B选项。

【拓展】

A项：《神农本草经》中“神农尝百草，日遇七十二毒，得茶而解之”，是“茶”字首次出现。A项正确。

C项：《茶经》是中国乃至世界现存最早、最完整、最全面介绍茶的第一部专著，被誉为“茶叶百科全书”，由唐代陆羽所著。C项正确。

D项：茶多酚用作食品防腐剂，原理为茶多酚能清除有害自由基，抑制自由基的活性。它对葡萄球菌、大肠杆菌、枯草杆菌等有抑制作用。D项正确。

9.

【答案】C

【解析】

第一步，本题考查信息技术并选错误项。

第二步，大数据，或称巨量资料，指的是所涉及的资料量规模巨大到无法透过主流软件工具，在合理时间内达到撷取、管理、处理、并整理成为帮助企业经营决策更积极目的的资讯。大数据的5V特点（IBM提出）：Volume（大量）、Velocity（高速）、Variety（多样）、Value（低价值密度）、Veracity（真实性）。故大数据对应的是“数据价值密度低”而不是“数据价值密度高”，C项错误。

因此，选择C选项。

【拓展】

A项：元宇宙是人类运用数字技术构建的，由现实世界映射或超越现实世界，可与现实世界交互的虚拟世界，具备新型社会体系的数字生活空间。与现实世界平行、反作用于现实世界、多种高技术综合，是元宇宙的三大特征。A项正确。

B项：云计算指的是通过网络“云”将巨大的数据计算处理程序分解成无数个小程序，然后，通过多部服务器组成的系统进行处理和分析这些小程序得到结果并返回给用户。具有超大规模、虚拟度高、高可扩展性、按需服务等特点。B项正确。

D项：区块链是分布式数据存储、点对点传输、共识机制、加密算法等计算机技术的新型应用模式。D项正确。

10.

【答案】D

【解析】

第一步，本题考查生物化学知识。

第二步，维生素C，又称维他命C，是一种多羟基化合物。维生素C具有很强的还原性，很容易被氧化成脱氢维生素C。所以高温烹煮青菜很容易受热被氧化，从而会破坏维生素C。D项正确。

因此，选择D选项。

【拓展】

A项：为防止月饼等富脂食品因被氧化而变质，常在包装袋中放入的试剂是铁粉。因为铁粉能吸收氧气、水。而烧碱也就是氢氧化钠，具有强碱性、腐蚀性，而且不会与氧气反应。所以烧碱不适合作月饼等食物的抗氧化剂。A项错误。

B项：对青蒿素的提取利用的是萃取原理，萃取过程中没有新的物质生成，属于物理变化，而不是化学变化。萃取原理是利用溶质在两个互不相溶的液相中溶解度的差是而将液体混合物分离开来。B项错误。

C项：油锅中滴入水滴会产生爆裂声并把热油溅起不是发生了化学反应，而是热油的温度高于水的沸点100°C，当水滴在油中，水的密度比油的密度大，沉入油中并迅速沸腾，所以会把热油溅起来，并发生爆裂声。C项错误。

11.

【答案】B

【解析】

第一步，本题考查生物学知识。

第二步，钙是骨骼和牙齿的主要成分。骨骼的成分由30%的有机质和70%无机质所组成，而70%的无机质当中磷酸钙占了95%。钙质约占骨骼的65%-70%，是骨的主要成分。B项说法正确。

因此，选择B选项。

【拓展】

A项：人体中含量占前五位的元素是氧、碳、氢、氮、钙，其中含量最多的金属元素是钙元素。应该是“钙”，而不是“钠”。A项错误。

C项：细胞脱水后称取的重量是细胞的干重，其中含量最多的是蛋白质。应该是“最多”，而不是“第二多”。C项错误。

D项：人体中含有铁元素，+2价的亚铁离子是血红蛋白的重要组成成分，用于氧气的运输。而锌有帮助生长发育、智力发育、提高免疫力的作用。应该是“铁”，而不是“锌”。D项错误。

12.

【答案】B

【解析】

第一步，本题考查二十四节气并选错误项。

第二步，霜降，是二十四节气中的第十八个节气，秋季的最后一个节气。斗指戌；太阳黄经为210°；于每年公历10月23—24日交节。进入霜降节气后，深秋景象明显，冷空气南下越来越频繁。霜降不是表示“降霜”，而是表示气温骤降、昼夜温差大。B项说法错误。

因此，选择B选项。

【拓展】

A项：小阳春，时节气候名，指的是孟冬（立冬至小雪节令）期间一段温暖如春的天气，在此期间一些果树会开二次花，呈现出好似春三月的暖和天气。在民间，有“十月小阳春”之说。A项正确。

C项：惊蛰，又名“启蛰”，是二十四节气中的第三个节气。惊蛰时节，春气萌动，大自然有了新的活力。所谓“春雷惊百虫”，是指惊蛰时节，春雷始鸣，惊醒蛰伏于地下越冬的蛰虫。惊蛰节气的标志性特征是春雷乍动、万物生机盎然。C项正确。

D项：谷雨，春季的最后一个节气。取自“雨生百谷”之意，此时降水明显增加，正是播种的好时机。D项正确。

13.

【答案】B

【解析】

第一步，本题考查文化常识并选错误项。

第二步，五经一般指儒家典籍《诗经》《尚书》《礼记》《周易》《春秋》的合称，为历代儒客学子核心研习书经。《诗》温柔宽厚，《书》疏通知远，《乐》广博易良，《易》洁静精微，《礼》恭俭庄敬；《春秋》属词比事。B项说法错误。

因此，选择B选项。

【拓展】

A项：五声音阶，汉族古代音律。就是按五度的相生顺序，从宫音开始到羽音，依次为：宫—商—角—徵—羽；如按音高顺序排列，即为：1、2、3、5、6（宫、商、角、徵、羽）。唐代时使用“合、四、乙、尺、工”。五声音阶，古代文献通常称为“五声”“五音”等。中国传统乐学理论对“音阶”这个现代概念，常分别从“音”“律”“声”等不同角度揭示其内涵。A项正确。

C项：五色土是指青、红、黄、白、黑五种颜色纯天然土壤。五色土是华夏传统文化的典型符号，数千年来被赋予无限美好的寓意。以五色土建成的社稷坛包含着古代人对土地的崇拜，五种颜色的土壤，由全国各地纳贡交来，以表明“普天之下，莫非王土”之意。C项正确。

D项：古时我国中原地区民间传说中的“五毒”是五种动物，它们应该分别是蜈蚣、毒蛇、蝎子、壁虎和蟾蜍。D项正确。

14.

【答案】A

【解析】

第一步，本题考查中国史。

第二步，①《黄埔条约》又称《五口贸易章程：海关税则》，是1844年（道光二十四年）10月24日清廷与法国在广州黄埔签订的不平等条约，也是法国侵略中国的第一个不平等条约。

②《南京条约》是中国近代史上第一个不平等条约，该约于1842年8月29日由清廷代表耆英、伊里布、牛鉴与英国代表璞鼎查在停泊于南京下关江面的英舰皋华丽号上签订，标志着第一次鸦片战争的结束。

③《辛丑条约》亦称“辛丑各国和约”“北京议定书”，是中国清政府代表李鸿章与英、美、俄、法、德、意、日、奥、比、西、荷十一国外交代表，在义和团运动失败、八国联军攻入北京后，于光绪二十七年（辛丑年）七月二十五日（1901年9月7日）在北京签订的不平等条约。

④《璦琿条约》，又称《璦琿城和约》，是俄罗斯东西伯利亚总督尼古拉·尼古拉耶维奇·穆拉维约夫和清朝黑龙江将军奕山于1858年5月28日（咸丰八年四月十六日）在璦琿（今黑龙江省黑河市爱辉区）签订的不平等条约。

⑤《马关条约》是中国清朝政府和日本明治政府于1895年4月17日在日本马关签订的不平等条约，原名《马关新约》，日本称为《下关条约》或《日清讲和条约》。综上，正确顺序为②①④⑤③。

因此，选择A选项。

15.

【答案】C

【解析】

第一步，本题考查文学。

第二步，王维，字摩诘，号摩诘居士。王维参禅悟理，精通诗书音画，多咏山水田园，与孟浩然合称“王孟”，因笃诚奉佛，有“诗佛”之称。代表作《使至塞上》《送元二使安西》等。《登鹳雀楼》是唐代诗人王之涣的代表作。C项错误。

因此，选择C选项。

【拓展】

A项：刘禹锡，字梦得，唐朝时期大臣、文学家、哲学家，有“诗豪”之称。刘禹锡诗文俱佳，涉猎题材广泛，留下《陋室铭》《竹枝词》《杨柳枝词》《乌衣巷》等名篇。A项正确。

B项：李贺，字长吉，唐朝中期浪漫主义诗人。诗作想象极为丰富，引用神话传说，托古寓今，后人誉为“诗鬼”。代表作《雁门太守行》。B项正确。

D项：杜甫，字子美，自号少陵野老，唐代伟大的现实主义诗人，与李白合称“李杜”。杜甫在中国古典诗歌中的影响非常深远，被后世尊称为“诗圣”，他的诗被称为“诗史”。代表作《石壕吏》《新安吏》《潼关吏》。D项正确。

16.

【答案】D

【解析】

第一步，本题考查法律。

第二步，根据《中华人民共和国农产品质量安全法》第36条有下列情形之一的农产品，不得销售：

- (一) 含有国家禁止使用的农药、兽药或者其他化合物；
- (二) 农药、兽药等化学物质残留或者含有的重金属等有毒有害物质不符合农产品质量安全标准；
- (三) 含有的致病性寄生虫、微生物或者生物毒素不符合农产品质量安全标准；
- (四) 未按照国家有关强制性标准以及其他农产品质量安全规定使用保鲜剂、防腐剂、添加剂、包装材料等，或者使用的保鲜剂、防腐剂、添加剂、包装材料等不符合国家有关强制性标准以及其他质量安全规定；
- (五) 病死、毒死或者死因不明的动物及其产品；
- (六) 其他不符合农产品质量安全标准的情形。对前款规定不得销售的农产品，应当依照法律、法规的规定进行处置。①②③④均属于不得销售的农产品情形。

因此，选择D选项。

17.

【答案】B

【解析】

第一步，本题考查法律并选错误项。

第二步，《中华人民共和国反电信网络诈骗法》第10条，办理电话卡不得超出国家有关规定限制的数量。

B项“无限办理”说法错误。

因此，选择B选项。

【拓展】

A项：《中华人民共和国反电信网络诈骗法》第9条，电信业务经营者应当依法全面落实电话用户真实身

份信息登记制度。A项正确。

C项：《中华人民共和国反电信网络诈骗法》第30条，新闻、广播、电视、文化、互联网信息服务等单位，应当面向社会有针对性地开展反电信网络诈骗宣传教育。C项正确。

D项：《中华人民共和国反电信网络诈骗法》第31条，任何单位和个人不得非法买卖、出租、出借电话卡、物联网卡、电信线路、短信端口、银行账户、支付账户、互联网账号等，不得提供实名核验帮助；不得假冒他人身份或者虚构代理关系开立上述卡、账户、账号等。D项正确。

18.

【答案】D

【解析】

第一步，本题考查宪法。

第二步，根据《中华人民共和国宪法》第62条规定：全国人民代表大会行使下列职权：

- (一) 选举中华人民共和国主席、副主席；
- (二) 根据中华人民共和国主席的提名，决定国务院总理的人选；根据国务院总理的提名，决定国务院副总理、国务委员、各部部长、各委员会主任、审计长、秘书长的人选；
- (三) 选举中央军事委员会主席；根据中央军事委员会主席的提名，决定中央军事委员会其他组成人员的人选；
- (四) 选举国家监察委员会主任；
- (五) 选举最高人民法院院长；
- (六) 选举最高人民检察院检察长；①②③④⑤均是由全国人民代表大会选举产生的。

因此，选择D选项。

19.

【答案】A

【解析】

第一步，本题考查中共党史。

第二步，①中国共产党第七次全国代表大会于1945年4月23日至6月11日在延安杨家岭中央大礼堂举行。确立毛泽东思想为党的指导思想并写入党章。

②中国国民党第一次全国代表大会于1924年1月20日至30日在广州举行。中国国民党第一次全国代表大会的召开，标志着国民党改组的完成和第一次国共合作的正式形成。

③遵义会议是指1935年1月中共中央政治局在贵州遵义召开的独立自主地解决中国革命问题的一次极其重要的扩大会议。它在极端危险的时刻，挽救了党和红军，是中国共产党历史上一个生死攸关的转折点，标志着中国共产党从幼年达到成熟。

④中国共产党七届二中全会于1949年3月5日—13日在河北省平山县西柏坡举行，七届二中全会首次提出加强党的建设，提出“两个务必”——务必使同志们保持谦虚谨慎不骄不躁的作风、务必使同志们保持艰苦奋斗的作风。

故正确顺序为②③①④。

因此，选择A选项。

20.

【答案】B

【解析】

第一步，本题考查生物知识并选错误项。

第二步，全身各处皮肤的厚度不同，背部、项部、手掌和足底等处最厚，腋窝和面部最薄。B项错误，当选。

因此，选择B选项。

【拓展】

A项：皮肤覆盖全身表面，是人体最大的器官，约占体重的16%。A项正确，不当选。

C项：皮肤一共分为三层，即表皮层、真皮层和皮下组织。C项正确，不当选。

D项：皮肤上有很密的各种走向的凹下沟纹，称为皮沟。皮沟间大小不等的菱形或多角形的隆起部分为皮嵴，它们在指腹构成指纹。D项正确，不当选。

言语理解与表达

21.

【答案】C

【解析】

第一步，分析第一空。该空与“态度”搭配。“操持”指负责办某件事，料理，不能与“态度”搭配，排除A项和B项。“秉持”指持有，具有，符合语境。

第二步，分析第二空。该空搭配“正能量”且与“发挥”并列。“发挥”指把内在的性能、作用、力量尽量表现出来。C项“凝聚”指聚集，符合语境。D项“迸发”指由内向外猛然喷发，与“发挥”语义重复，排除。

因此，选择C选项。

【拓展】

积聚：逐渐聚集，积累集聚。

22.

【答案】C

【解析】

第一步，分析第一空。根据“全面地而不是片面地”可知，该空与“系统”形成反向照应。“系统”指同类事物按一定关系组成的整体或有条理的，连贯的。A项“零乱”指散乱；B项“繁芜”指文字多而杂乱，没有条理。二者均不符合语境。C项“零散”指分得很散，不集中；D项“零碎”指琐细，细碎。二者均符合语境。

第二步，分析第二空。该空与“联系”形成反向照应。“联系”指彼此接上关系。C项“孤立”指同其他事物不相联系，符合语境。D项“隔阂”指彼此有意见，思想有距离，不符合语境。

因此，选择C选项。

23.

【答案】B

【解析】

第一步，分析第一空。该空搭配“美好未来”。A项“规划”指长远的发展计划；B项“擘画”指计划，布置。二者均符合语境。C项“展望”指向远处看，比喻对于事物发展前途的推测或观察，词意不符合语境。D项“安排”指有条理地处理，安置，与“美好未来”搭配不当。

第二步，分析第二空。该空搭配“高度”。B项“前所未有”指从来没有过的，符合语境。A项“无与伦比”指事物非常完美，没有能跟它相比的，程度过重，排除。

因此，选择B选项。

【拓展】

空前绝后：从前没有过，此后也不会有。多用来形容某种成就或盛况，带有夸张赞叹的意味。亘古未有：从古到今都不曾有。

24.

【答案】D

【解析】

第一步，分析第一空。该空搭配“民心基础”。A项“结实”指坚固耐用，身体健壮；B项“坚韧”指坚固而又有韧性。二者均与“基础”搭配不当。C项“牢固”指牢靠坚固；D项“巩固”指牢固、结实。二者均符合语境。

第二步，分析第二空。该空填入成语为人民群众最基本、最普遍的愿望。D项“国泰民安”指国家太平，人民安乐，符合语境。C项“偃武修文”指停止武事，振兴文教，指停止战斗，不符合语境。

因此，选择D选项。

【拓展】

海晏河清：黄河水清了，大海没有浪了。比喻天下太平。物阜民安：物产丰富，人民安乐。

25.

【答案】B

【解析】

第一步，分析第一空。该空表达“一些人对我们的做法”，与后文“中国以实际行动帮助我们”形成转折。B项“指手画脚”形容一边说话一边比画，也形容乱加批评或随意发号施令；D项“品头论足”指无聊的人随便谈论妇女的容貌，也比喻在小节上多方挑剔。二者均符合语境。A项“循循善诱”指善于有步骤地进行引导，善于引导别人进行学习；C项“雪中送炭”意思是指在下雪天给人送炭取暖，比喻在别人急需时给以物质上或精神上的帮助。二者均含褒义，不符合该空消极的感情色彩。

第二步，分析第二空。根据“这正是非中合作的独特之处”可知，语境色彩积极，肯定中国的做法。B项“居高临下”指占据高处，俯视下面，形容占据的地势非常有利，符合语境。D项“虚张声势”指假装出强大的气势，假造声势，借以吓人，不符合语境。

因此，选择B选项。

【拓展】

盛气凌人：傲慢的气势逼人。趾高气昂：走路时脚抬得很高，神气十足。形容骄傲自满，得意忘形的样子。

26.

【答案】D

【解析】

第一步，突破口在第二空。填入的词语想表达的意思是穿过山口变得开阔起来，含有积极色彩。A项“茅塞顿开”形容受到启发，一下子理解领会了道理。通常用来形容“思路”，排除A项。B项“百感交集”指各种感触交织在一起，形容感触很多，心情复杂。不符合文意，排除B项。C项“心潮澎湃”指心里像浪潮翻腾，形容心情十分激动，不能平静。结合前后语境可以看出整个文段并没有体现出作者心情激动之意，排除C项。D项“豁然开朗”指由狭窄幽暗突然变得宽阔明亮的样子。常常比喻突然领悟了一个道理，心情十分舒畅。符合文意。锁定答案为D选项。

第二步，验证第一空。“犹如”指如同，好像，符合文意。

因此，选择D选项。

27.

【答案】B

【解析】

第一步，分析第一空。根据“时刻保持_____的谨慎”可知，该空表达语义与“谨慎”一致。B项“如履薄冰”比喻随时都会发生危险，做事极为小心谨慎；C项“谨小慎微”指谨慎小心。二者均符合文意。A项“居安思危”指在安逸的环境里，要时刻考虑到危险降临；D项“左支右绌”指力量不足，应付了这方面，那方面又出了问题。二者均不符合文意，排除A项和D项。

第二步，分析第二空。根据“_____的敏锐”可知，第二个空所填成语应表达与“敏锐”相近的语义。B项“见叶知秋”指从一片树叶的凋落，知道秋天的到来，比喻通过个别的细微的迹象，可以看到整个形势的发展趋向与结果，符合文意。C项“以管窥豹”指用竹管看豹，只能见其身上的一斑。比喻目光狭隘，见识短浅，不符合文意，排除C项。

因此，选择B选项。

28.

【答案】C

【解析】

第一步，分析第一空。根据“治理过度医疗这个沉痾顽疾既要下猛药，更要_____”可知，第一个空所填成语应和“下猛药”语义相近，且程度更重。C项“对症下药”比喻针对具体情况决定解决问题的办法，符合语境。A项“循序渐进”指按照一定的步骤逐渐深入或提高；B项“量体裁衣”比喻根据实际情况办事；D项“标本兼治”指的是对事物的枝节和根本都加以治理。三者均无法和“下猛药”构成语义一致，排除A项、B项和D项。答案锁定C选项。

第二步，验证第二空。C项“药到病除”指药一到疾病就消除。符合文意。

因此，选择C选项。

29.

【答案】C

【解析】

第一步，分析第一空。根据“日本政府不愿花费时间、金钱，科学处理核废水”，可知第一个空所填成语语义偏消极。A项“挖空心思”和C项“费尽心机”均为用尽计谋做坏事之意，感情色彩偏消极，符合语境。B项“惨淡经营”指辛辛苦苦经营筹划；D项“苦心造诣”指苦心钻研，到了别人所达不到的地步。也指为寻求解决问题的办法而煞费苦心。二者感情倾向均不符合语境，排除B项和D项。

第二步，分析第二空。根据“这种做法_____”可知，第二个空所填成语搭配“做法”。A项“无法承受”指接近他承受的极限，无论从生理还是心理，都负担不起了，搭配不当，排除A项。C项“不可接受”指对事情结果不能接受或难以接受，符合文意。

因此，选择C选项。

30.

【答案】B

【解析】

第一步，分析第一空。根据“运用群众_____的方式、便于参与的平台”，可知第一空所填成语形容能够让老百姓喜欢的愿意参与的方式。A项“交口称誉”意为异口同声地称赞；B项“喜闻乐见”指喜欢听、乐意看，很受欢迎。二者均符合文意。C项“耳熟能详”指听得多了，能够说得很清楚、很详细，侧重的是“熟悉”，语义不符。D项“脍炙人口”比喻人人都赞美和传诵好的诗文或事物，一般搭配“诗文”，搭配不当。二者均不符合文意，排除C项和D项。

第二步，分析第三空。根据“最大限度_____群众参与活动的积极性”可知，第三空所填实词语义搭配“积极性”。A项“调节”指在一定的数量或程度范围内进行调整、节制，使符合要求，与“积极性”搭配不当，排除A项。B项“调动”指调集发动，符合文意。答案锁定B选项。

第三步，验证第二空。B项“渠道”指延长、伸展、扩展，符合文意。

因此，选择B选项。

31.

【答案】C

【解析】

第一步，分析第一空。根据“舒曼高度_____中国为全球减贫事业发展作出的贡献”可知，第一个空所填实词应表达舒曼对中国的贡献的评价。A项“评论”指批评或议论；C项“评价”指对一件事或人物进行判断、分析后的结论。二者均符合文意。B项“评判”指判定胜败优劣；D项“评估”指评价，估计。二者均不符合文意，排除B项和D项。

第二步，分析第三空。根据“中国是_____的合作伙伴”，可知第三个空所填成语表达中国是很重要的合作伙伴之意。A项“大有可为”形容有很好的发展前景，不符合文意，排除。C项“不可或缺”表示非常重要，不能有一点点的缺失，不能少一点。符合文意。答案锁定C选项。

第三步，验证第二空。第二空所填词语修饰“落实联合国2030年可持续发展议程”。C项“推动”指使事

物前进或发展，符合文意。

因此，选择C选项。

【拓展】

无可非议：指没有什么可以指摘的，表示言行合乎情理。至关重要：指相当地重要，要紧关头是不可缺少的。

32.

【答案】C

【解析】

第一步，突破口第二空。第二空与“弱肉强食”是并列关系，“弱肉强食”指弱的被强的吞并，产生的竞争关系。A项“自以为是”指认为自己的看法和做法都正确，不接受别人的意见，常用来形容人的品性，与文段无关，排除。B项“僵李代桃”比喻代人受罪责或以此代彼，无竞争关系，排除。C项“以邻为壑”比喻把困难或灾祸推给别人，凡将祸害嫁于邻国或他人身上，皆可用此语形容，符合语境。D项“各自为政”比喻不考虑全局，各搞一套，与文段的竞争关系无关，排除。答案锁定C选项。

第二步，验证第一空和第三空。第一空，“汲取”指吸收，摄取，“汲取智慧”搭配得当，符合文意。第三空，“求同存异”指寻找共同点，不同点各自保留，为处理双方关系的一种原则和方法，可以与“共生共荣”构成并列。

因此，选择C选项。

【拓展】

并行不悖：同时进行，不相冲突。齐头并进：指不分先后地一齐前进或同时进行。

33.

【答案】B

【解析】

第一步，分析文段，从第三空入手比较容易，冒号后面解释说明“说太熟的男人，早起推门入户，就拿自己的扇子去够清少纳言枕边的扇子，不过后者没搭理他”，这是一种试探。A项“煽情”指以文字、言语、动作等煽动人内心的情绪；C项“殉情”指为爱情而死的行为；D项“寡情”指薄情，缺少情义。三者均不符合文段语境，排除。B项“试情”有试探之意，符合语境。答案锁定B项。

第二步，验证第一空和第二空。“调情”指男女之间进行嬉笑。“伤情”指伤感。二者符合文意。

因此，选择B选项。

34.

【答案】B

【解析】

第一步，分析第一空。根据“在日常学习生活中加深对党的历史的理解和把握”可知，学生在日常生活和学习中都能接触到党史，故该空所填成语应当有不知不觉被影响的意思。A项“潜移默化”指人的思想、性格在不知不觉中受到感染、影响而发生变化。符合文意，保留。B项“耳濡目染”指经常听到、看到，不知不觉受到影响。符合文意，保留。C项“言传身教”指一面口头传授，一面行动上以身作则。本文的主语是“学生”，因此不符合文意，排除。D项“耳提面命”形容对人教诲恳切，要求严格。不符合文意，

排除。

第二步，分析第三空。该空搭配“红色基因”，根据“定能引导更多‘小树苗’成长为‘参天大树’，确保红色江山永不变色”可知，文段强调基因的代代传承。故B项“传承”更符合文意。

第三步，验证第二空。B项“厚植”指深厚地培育，多用于比喻加强、加深积累。与“社会主义情感”搭配得当。

因此，选择B选项。

35.

【答案】C

【解析】

第一步，分析第一空。根据“加速留学回国人员文化_____，让留学人员回国从‘水土不服’到‘_____’”“和留学归国人员交心凝心，给予留学归国人才充分包容、充分信任，正确处理一致性和多样性的关系”可知，第一空意思是“让留学回国人员融入祖国文化”。A项“渗透”比喻某种事物或势力逐渐进入其他方面，体现的是单向关系，文段是两者之间的相互作用，不符合语境，排除。“交流”“融合”“交融”都能体现文化间的融合，符合文意。

第二步，分析第二空。根据“从……到”可知，本空指归国人员从不适应到适应的过程。B项“安土重迁”指安于本乡本土，不愿轻易迁移，不符合语境，排除B项。C项“落地生根”比喻长期安家落户，或切切实实、一心一意地做好所从事的工作；D项“安家落户”意思是到一个新地方安家，长期居住。二者均符合语境。

第三步，分析第三空。根据“高潮迭起，_____，风景不断”可知，本空应该指的是“留学人员不断回国”。D项“滔滔不绝”形容话很多，说起来没个完，与“归国潮”搭配不当，排除D选项。C项“源源不断”形容接连不断，没有尽头，与下文“风景不断”呼应，符合文意。

因此，选择C选项。

36.

【答案】B

【解析】

第一步，分析文段。文段先通过背景铺垫引出话题，之后通过转折词指出农家乐存在很多问题，并提到对民宿的要求并非仅限于体验乡村生活，而是既要有乡村生活的恬静和悠然，也要有现代服务的舒适和卫生，尾句通过“事实上”指出，较高品质的民宿即使价格偏高仍有市场。故文段重点在强调民宿应提高品质。

第二步，对比选项。B项是对文段重点的概括。

因此，选择B选项。

【拓展】

A项和D项：非重点。C项：未提及“民宿”。

37.

【答案】A

【解析】

第一步，分析文段。文段首句引出“走路”的话题，之后从几个方面介绍走路的好处。故文段的重点是介绍走路对健康有诸多益处。

第二步，对比选项。A项是对文段并列内容的概括。

因此，选择A选项。

【拓展】

B项、C项和D项：“需要持之以恒”“应适度”“最好”均属于无中生有。

38.

【答案】D

【解析】

第一步，阅读文段，将选项与原文一一对应。

第二步，对比选项。A项对应“淋巴瘤作为我国常见的十大恶性肿瘤之一，是起源于淋巴造血系统的恶性肿瘤”；B项对应“从临床上讲，男性略大于女性，该病常见于中老年人”；C项对应“分为非霍奇金淋巴瘤和霍奇金淋巴瘤两类”。三者均符合原文。D项对应“淋巴结肿大绝大多数是炎症引起的，没有证据证明，淋巴结或者扁桃体经常肿大发炎就更容易患上淋巴瘤”，表述错误。

因此，选择D选项。

39.

【答案】D

【解析】

第一步，阅读文段，把握作者态度。根据“中国农业大学食品科学与营养工程学院教授、中国食品科技学会理事范志红表示”可知，文中介绍的是别人观点，作者并未明确表态。

第二步，对比选项。D项符合作者态度。

因此，选择D选项。

40.

【答案】C

【解析】

第一步，分析文段。文段先引出食品边角料的话题，指出市场上充斥着大量的食品边角料，都是有问题的食品，会存在食品安全风险，也会有变质风险等，尾句通过“因此”给出结论，即“消费者要理性谨慎消费”。尾句是文段的主旨句。

第二步，对比选项。C项是对文段主旨句的同义替换。

因此，选择C选项。

【拓展】

A项：为问题阐述，非重点。B项：未提及话题“边角料”。D项：属于无中生有。

41.

【答案】C

【解析】

第一步，分析文段，找到文段的话题落脚点。文段先介绍少数民族传统技艺是什么，然后指出现代生产生活方式，给少数民族文化传承保护和发展工作带来了不少的冲击，尾句提到如何保护好、传承好、利用好少数民族传统技艺是难题，故文段话题落脚点为尾句。

第二步，对比选项。C项是文段接下来最可能阐述的内容。

因此，选择C选项。

【拓展】

A项：属于无中生有。B项和D项：均为前文内容，后文不会再论述。

42.

【答案】B

【解析】

第一步，分析横线处的前后文语境。横线前指出“看到成绩的同时”，横线后提到两方面问题，故根据话题一致可知，横线处应提到“问题”的话题。

第二步，对比选项。B项与语境话题一致。

因此，选择B选项。

43.

【答案】A

【解析】

第一步，阅读文段。文段首句指出金融犯罪形势严峻，第二句提到出现了一些新情况，新特点，之后进行举例，尾句通过“从这个意义上说”引出结论句，通过必要条件强调要针对不同类型的金融犯罪，找准犯罪特点，健全办案机制，加大惩治力度。尾句的对策是文段的主旨句。

第二步，对比选项。A项是对文段主旨句的同义替换。

因此，选择A选项。

【拓展】

B项和C项：非重点。D项：“刻不容缓”偏离文段主旨。

44.

【答案】A

【解析】

第一步，观察选项特征，确定首句。①句中包含转折关联词“其实”，不适合做首句，排除B项。②句引出问题“为什么饿得前心贴后背，就是瘦不下来”，适合做首句，保留。③句中提到“你的困扰”可知，前文应包含“困扰”的相关内容，不适合做首句，排除C项。④句提到“人体的总能量平衡”，可以作首句，保留。

第二步，对比A项和D项，寻找其他捆绑项。③句和⑤句都提到“能量补偿机制”，话题一致，故③⑤的紧密度较高，锁定答案为A项。

第三步，验证A选项。逻辑清晰，语句连贯。

因此，选择A选项。

45.

【答案】C

【解析】

第一步，观察选项特征，确定首句。⑥句指出牙膏的作用方式；③句通过背景铺垫，介绍了普通牙膏中添加相应的功效成分。根据行文，应先引出话题，在分析话题，故⑥句作为首句的几率较大，排除A项和B项。

第二步，寻找捆绑项。⑥句提到牙膏的作用，②句具体解释牙膏的具体作用，⑥②衔接紧密。答案锁定C选项。

第三步，验证C选项。逻辑清晰，语句连贯。

因此，选择C选项。

数量关系

46.

【答案】C

【解析】

第一步，本题考查经济利润问题中的利润率折扣类。

第二步，设甲饮料成本 x ，则利润 $0.3x$ ，乙饮料成本 y ，则乙利润 $0.1y$ 。由甲的销量为乙的 $\frac{3}{4}$ ，赋值甲销量3，则乙销量4。根据两者总利润相同，列方程 $0.3x \times 3 = 0.1y \times 4$ ，则 $x : y = 4 : 9$ ，故甲饮料的成本与乙饮料的成本之比为4 : 9。

因此，选择C选项。

47.

【答案】D

【解析】

第一步，本题考查牛吃草问题。

第二步，根据牛吃草公式 $y = (N - X) \times T$ ，代入数据得 $y = (8 - X) \times 20$ ， $y = (6 - X) \times 40$ ，解得 $x = 4$ ， $y = 80$ 。再次代入公式 $80 = (N - 4) \times 15$ ，解得 $N = 9.3^+$ ，所以最少需要安排10名收银员结账，才能保证15分钟内结完。

因此，选择D选项。

48.

【答案】A

【解析】

第一步，本题考查植树问题。

第二步，设甲乙每天分别种树 $4x$ 、 $5x$ 棵，可列方程： $5x - 4x = 2$ ，解得 $x = 2$ ，故甲每天种8棵，乙每天种10棵。由“甲先种3天后甲乙再一起种4天完成种树总数量的60%”可得种树的总数量为 $[3 \times 8 + 4 \times (8 + 10)] \div 60\% = 160$ (棵)，单侧种树 $160 \div 2 = 80$ (棵)。设道路的总长为 s ，则由植树公式可列式子： $80 = s/10 + 1$ ，解得 $s = 790$ (米)。

因此，选择A选项。

49.

【答案】B

【解析】

第一步，本题考查最值问题中的数列构造类，用方程法解题。

第二步，通过“五人的平均成绩为85分”可得，5人得分总和是 $85 \times 5 = 425$ 分。设最后一名得分为 x ，则第一名为 $1.2x$ 。最后一名想要最少，则其他人得分尽量多。构造如下表：

| 第一名 | 第二名 | 第三名 | 第四名 | 第五名 | 合计 |
|--------|------------|------------|------------|-----|-----|
| $1.2x$ | $1.2x - 1$ | $1.2x - 2$ | $1.2x - 3$ | x | 425 |

通过表格可得：

$1.2x + 1.2x - 1 + 1.2x - 2 + 1.2x - 3 + x = 425$ ，解得 $x \approx 74.3$ 。所以最后一名得分最少为75分。

因此，选择B选项。

50.

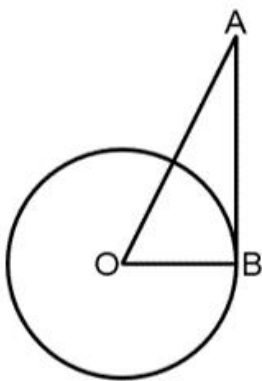
【答案】A

【解析】

第一步，本题考查几何问题中的平面几何类。

第二步，从俯视图看，如图， $OB = 30$ 厘米，由于AB是水珠飞出的距离，则 $AB = 40$ 厘米，根据勾股定理 $AO^2 = AB^2 + OB^2 = 50$ 厘米，所以 $AO = 50$ 厘米，则水珠落地点与圆盘中心的距离是50厘米=0.5米。

因此，选择A选项。



判断推理

51.

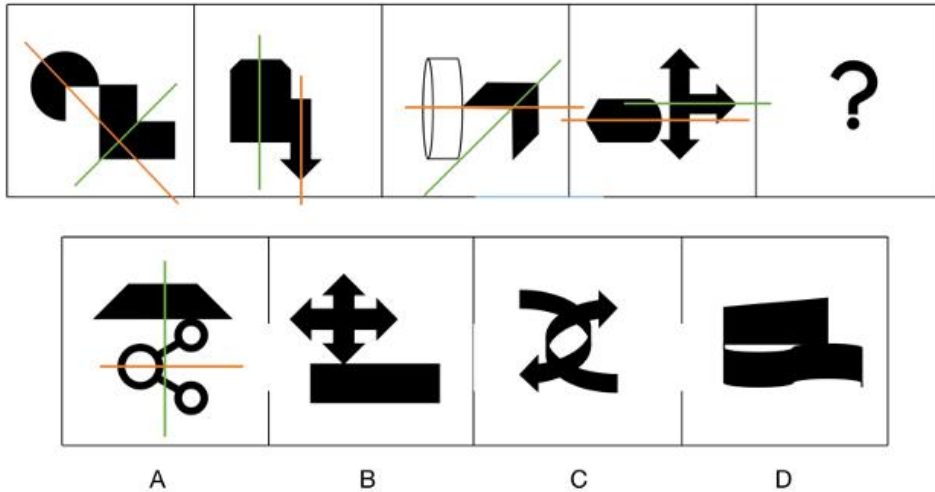
【答案】A

【解析】

第一步，观察特征。

题干图形规整，考虑对称性。

第二步，一段式，从左到右找规律。两个小图形对称轴方向分别为，垂直，平行，呈45度，平行，问号处选择垂直，只有A项符合。



因此，选择A选项。

52.

【答案】B

【解析】

第一步，观察特征。

图形组成不同，考虑数量类或者属性类，图中出现单一的曲线条，考虑数曲线。

第二步，一条式，从左到右找规律。

题干每幅图中曲线条数依次为1、2、3、4、？，呈现等差数列，问号处应选一个曲线条数为5的图形，只有B项符合。

因此，选择B选项。

53.

【答案】C

【解析】

第一步，观察特征。

图形元素组成相似，优先考虑样式类。

第二步，两段式，第一段找规律，第二段用规律。

题干图形由两部分组成，优先上下两部分各进行观察。第一段中，上半部分去同求异；下半部分去异求同。

第二段用规律，只有C项符合。

因此，选择C选项。

54.

【答案】A

【解析】

第一步，观察特征。

组成元素不同，优先考虑数量类或属性类。图形封闭区间较多，考虑数面的个数。

第二步，分组分类，根据规律进行分组。

题干图形都有圆，考虑圆上的点和面的综合规律。①④⑥面的个数与圆上点的个数相同，②③⑤面的个数与圆上点的个数相差1，分为两组。

因此，选择A选项。

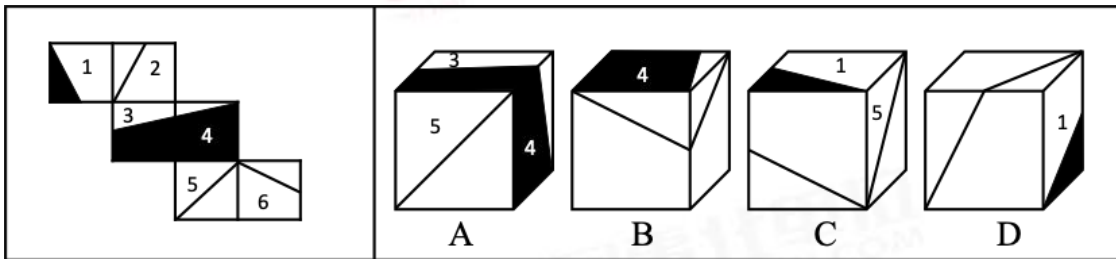
55.

【答案】D

【解析】

第一步，本题考查折纸盒。

对展开图中的各面进行编号，如下图所示：



第二步，分析选项。

项。

A项：题干面3、面4和面5的公共点没有引出面5的对角线，选项面3、面4和面5的公共点引出1条对角线，排除；

B项：题干面4和面6公共边经过面4黑色部分和面6直角三角形的长直角边，所以选项前面的面是面6，题干面2和面4的公共边经过面2的直角梯形的边，选项面2和面4的公共边经过面2的直角三角形，排除；

C项：题干面2和面5是相对面，所以选项前面的面不能是面2，只能是面6，题干面1和面6的公共边没有经过面1黑色直角三角形的直角边，而选项面1和面6的公共边经过面1中小黑三角形的直角边，排除；

D项：选项面1、面2和面6三个面之间的关系符合题干展开图，正确。

因此，选择D选项。

56.

【答案】C

【解析】

第一步，根据提问方式，确定为选是题。

第二步，找关键信息。

①一个正常人平时出现情绪不高，极度低落，对大多数事物都丧失兴趣；

②由于躯体因素引起的抑郁发作，生物学特征明显，主要表现为：情绪低落，压抑苦闷，消极悲观，自责自疚，动作迟缓等。

第三步，辨析选项。

A项：老张是由于遭到车祸后，才郁郁寡欢自怨自艾，不符合定义①，不符合定义；

B项：小阳的父亲是胃癌晚期患者，不符合定义①，不符合定义；

C项：阿忙每天对任何事都提不起兴趣，符合关键信息①，就连身体状况也每况愈下，常常忘事，符合关键信息②，符合定义；

D项：强强是被喜欢的女生拒绝后，事出有因，才会出现“每日郁郁寡欢，对任何事提不起兴趣”，不符合关键信息①和②，不符合定义。

因此，选择C选项。

57.

【答案】A

【解析】

第一步，看提问方式，本题属于选是题。

第二步，找关键信息。

多定义，考查“创伤后应激障碍”，关键信息如下：

个人遭受强烈刺激后延迟出现的、持久的应激反应。

第三步，辨析选项

A项：荡秋千时摔了下来，属于“个人遭受强烈刺激后”，常梦到从高处坠落，是“延迟出现的、持久的应激反应”，符合定义；

B项：移民海外后，凌晨四点醒并睡不着属于生物钟还未调整，属于适应障碍范畴，不符合定义；

C项：经历了在郊区被蛇咬的创伤之后再也不到郊区郊游，是有意识的选择，不属于“延迟出现的、持久的应激反应”，不符合定义；

D项：妻子听到丈夫战死沙场属于“个人突然遭受强烈精神刺激”，当场晕倒并发烧了一周后才缓过神来，符合“几分钟或者几小时内起病，大部分一周左右就会痊愈”，属于急性应激障碍，不符合定义。

因此，选择A选项。

58.

【答案】B

【解析】

第一步，看提问方式，本题属于选是题。

第二步，找关键信息。

多定义，考查“下反对关系”，关键信息如下：

(1) 互为下反对关系的两个命题“必有一真，可以同真”；

(2) 主要考察的是“有些是和有些非”。

第三步，辨析选项

A项：绝大部分和所有公民都在，不符合定义；

B项：有一部分（有些）公民是和有些公民没有（非）移民海外，符合定义；

C项：所有公民都是和所有公民都不是，属于上反对关系，不符合定义；

D项：有些公民是和所有公民都不是，不符合定义。

因此，选择B选项。

59.

【答案】D

【解析】

第一步，看提问方式，本题属于选是题。

第二步，找关键信息。

- ①不一味地宣扬产品的优点，反而承认产品的不足；
- ②一种通过暴露自己的短处或是不足来进行营销的手段；
- ③表面上揭露了企业的短处，但实际上是对商品的客观评价。

第三步，辨析选项。

A项：摊主故意叫卖菠萝酸不是客观评价，是主观品尝后的评价，不符合定义；

B项：揭露另外一家同行店铺不是暴露自己的短处，不符合定义；

C项：免费自助喝酒机，通过这种营销方式来吸引游客驻足品尝是主观感受，不符合定义；

D项：向大众说明新产品的镜头没有上一代强，符合暴露自己的短处，实际上是对商品的客观评价，符合定义。

因此，选择D选项。

60.

【答案】B

【解析】

第一步，看提问方式，本题属于选是题。

第二步，找关键信息。

- ①普遍发生在年轻人群体中的生活方式；
- ②钱赚的不多却为了自己向往的生活和喜欢的东西变穷，穷的明明白白，也活得开心闪亮。

第三步，辨析选项。

A项：父母为供独子出国留学的花销，父母不符合年轻人，也不是为了自己向往的生活，不符合定义；

B项：妙龄女生符合定义①，用花呗等超前消费，追求星级酒店和高档餐厅菜品，活在快乐氛围下，符合定义②，符合定义；

C项：小张是为了还房贷过着紧衣缩食的日子，不符合定义；

D项：公园们的大爷大妈们不符合年轻人群体，不符合定义。

因此，选择B选项。

61.

【答案】C

【解析】

第一步，看提问方式，本题属于选非题。

第二步，找关键信息。

- ①主观认识上的错误;
- ②误认为有不法侵害的存在;
- ③实施防卫行为结果造成损害的行为。

第三步，辨析选项。

A项：误以为有强奸行为，打伤男子属于假想防卫，符合定义；

B项：误以为有犯罪分子属于假想防卫，符合定义；

C项：迷信不属于假想防卫，不符合定义；

D项：将同事误以为是盗窃犯属于假想防卫，符合定义。

因此，选择C选项。

62.

【答案】A

【解析】

第一步，根据提问方式，确定为选是题。

第二步，找关键信息。

“群租房”的关键词为“租房者”“分割成独立的房间”“以便宜价格”“租给很多人”。

“合租房”的关键词为“至少两人”“租住一件或一套房”“共同分担房租”。

第三步，辨析选项。

A项：符合题干中的关键信息，当选；

B项：该项不确定出租是怎么出租的，是一间一套还是隔间，排除；

C项：小红朋友为租房者，一个小隔间低价租给小红属于以便宜的价格出租，属于群租房；

D项：没有体现两个人的信息，排除。

因此，选择A选项。

63.

【答案】B

【解析】

第一步，根据提问方式，确定为选是题。

第二步，找关键信息。

①当人们认为一个人坏的时候或者当一个政府组织，

②失去公信力的时候，

③无论这个人或者政府组织说什么，民众都会认为是假的，无论这个人或者政府组织做什么，民众都会认为做的不对。

第三步，辨析选项。

A项：舌战群儒典故并未体现出一个人或政府失去公信力，排除；

B项：烽火戏诸侯典故中周幽王失去诸侯的信任，最终亡国，符合定义；

C项：风声鹤唳描述逃跑时狼狈的样子，不涉及定义。

D项：狐假虎威形容仰仗他人的权势来欺压，不涉及定义。

因此，选择B选项。

【拓展】

舌战群儒：指同很多人辩论，并驳倒对方。故事讲述诸葛亮为联盟孙权抵抗曹操的过程中遭到东吴诸谋士的责难，最后都被诸葛亮一一反驳，哑口无言。

烽火戏诸侯：指西周末年的历史事件。周幽王为博褒姒（bāo sī）一笑，点燃了烽火台，戏弄了诸侯。褒姒看了果然哈哈大笑。周幽王很高兴，因而又多次点燃烽火。导致诸侯们都不相信烽火，也就渐渐不来了。后来犬戎攻破镐京，杀死周幽王。周幽王的儿子周平王东迁，开始了东周时期。

风声鹤唳：形容惊慌恐惧。奔逃的路上，远处山上郁郁葱葱的树木被风吹得簌簌作响，高度紧张的前秦士兵以为那是晋军的追兵，越发拼命逃窜，这可真是“风声鹤唳，草木皆兵。”前秦从此一蹶不振，很快走向灭亡。

狐假虎威：狐假虎威原义是狐狸假借老虎的威势吓唬百兽，后比喻仰仗或倚仗别人的权势来欺压、恐吓人。

64.

【答案】D

【解析】

第一步，看提问方式，本题属于选是题。

第二步，找关键信息。

多定义，考查“行政诉讼第三人”，关键信息如下：

①认为行使国家行政权的机关和组织及其工作人员所实施的具体行政行为，侵犯了其合法权益，依法向人民法院起诉；

②同提起行政诉讼的行为有利害关系；

③参加到他人正在进行的行政诉讼中。

第三步，辨析选项。

A项：“将司机告上法庭”不符合“认为国家行政机关和组织及工作人员”，且“目击者”不符合“有利害关系”，排除；

B项：“公司法人”属于发起行政诉讼的主体，不符合“参加到他人正在进行的行政诉讼中”，排除；

C项：选项没有涉及到诉讼，即不存在行政诉讼第三人，排除；

D项：对税务机关罚款决定不服，符合关键信息①，会计和二者的诉讼关系存在利害关系，符合定义。

因此，选择D选项。

65.

【答案】C

【解析】

第一步，看提问方式，本题属于选是题。

第二步，找关键信息。

把一个整体事物分成各个组成部分。

第三步，辨析选项。

A项：属于种属关系，不符合定义；

B项：属于种属关系，不符合定义；

C项：属于整体与部分的关系，符合定义；

D项：属于种属关系，不符合定义。

因此，选择C选项。

66.

【答案】B

【解析】

第一步，确定题干逻辑关系。

“物腐虫生”指东西腐烂了，才会长虫子。指祸患是由内部原因引起的。比喻事物本身有了弱点，然后外物才得以乘隙而入。“物腐”是原因，“虫生”是结果。二者属于因果对应关系。

第二步，辨析选项。

A项：“源清流清”是指源头的水清，下游的水自然就清。比喻因果相连，事物的本原好，其发展和结局也就好；或领导贤明，其下属也廉洁。“源清”是因，“流清”是果，但词语顺序相反，排除；

B项：“春华秋实”意思是春天开花，秋天结果。比喻人的文采和德行。现也比喻学习有成果。“春华”是因，“秋实”是果，与题干逻辑关系一致，符合；

C项：“过河拆桥”指过河后便拆掉桥；比喻达到目的后，就把曾经帮助自己的人一脚踢开。“过河”“拆桥”属于时间顺承对应关系，排除；

D项：“抱薪救火”比喻因为方法错误，虽然有心解决问题，结果却使问题更加严重。“抱薪”是方式，“救火”是目的，二者属于目的方式对应关系，排除。

因此，选择B选项。

67.

【答案】A

【解析】

第一步，确定题干逻辑关系。

有的“纪录片”是“译制片”，有的“译制片”是“纪录片”，二者是交叉关系。

第二步，辨析选项。

A项：有的“主观题”是“选答题”，有的“选答题”是“主观题”，二者属于交叉关系，与题干逻辑关系一致，符合；

B项：“戏剧”按照表演形式可以分为“歌剧”、话剧、诗剧、戏曲等，二者是包容关系，排除；

C项：“甲壳纲动物”属于“节肢动物”门的一纲，二者属于包容关系中的种属关系，排除；

D项：“科学”和“技术”二者属于并列关系，排除。

因此，选择A选项。

【拓展】

译制片最早叫“翻版片”，又叫“翻译片”。广义的译制片就是指将原版影片的对白或解说翻译成另一种语言后，以该种语言配音混录或叠加字幕后的影片。狭义的译制片单纯指的是配音混录后的影片。

科学是反映和认识客观的过程;而技术则是要有所发明、实现发明的手段。科学旨在回答“是什么”、“为什么”,因而要解释因果性和揭示可能性;技术则关心“做什么”、“怎么做”,因而要给出具体的操作方法。

68.

【答案】B

【解析】

第一步,确定题干逻辑关系。

“上行下效”意思是上面或上辈的人怎样做,下面的人学着怎样做(多指不好的事)。“异曲同工”意思是不同的曲调演得同样好,比喻不同的人的辞章或言论同样精彩,或者不同的做法收到同样的效果。二者无明显逻辑关系。但是“上”和“下”,“异”和“同”属于反义词。

第二步,辨析选项。

A项:“俯首帖耳”形容非常驯服恭顺(含贬义)，“左右逢源”比喻事情无论怎么做都很顺利,也比喻人办事圆滑。“俯”的反义词是仰,“左右”是反义词,位置不一致,排除;

B项:“前仆后继”意思是前面的倒下了,后面的紧跟上,用来形容不怕牺牲。“黑牛白角”形容办事务必要遵循一定的客观规律。二者无明显逻辑关系,但“前”和“后”是反义,“黑”和“白”是反义,与题干逻辑关系一致,当选;

C项:“耳濡目染”意思是常听常看,无形中受到影响。“耳提面命”指不但当面告诉他,而且揪着他的耳朵向他讲。形容严厉而又恳切地教导。二者无明显逻辑关系,“耳目”和“耳面”也并非反义词,排除;

D项:“动若脱兔,静如寒蝉”指军队未行动时像未出嫁的姑娘那样持重,一行动就像飞跑的兔子那样敏捷。其中“动”和“静”是反义关系,与题干逻辑关系不一致,排除。

因此,选择B选项。

69.

【答案】D

【解析】

第一步,确定题干逻辑关系。

“金蝉”俗名又叫“知了猴”,属于“节肢动物”,前两词是全同关系,与第三词属于种属关系。

第二步,辨析选项。

A项:“山楂”与“红果”是全同关系,属于蔷薇科山楂属,与“蔷薇”无明显逻辑关系,排除;

B项:“石榴”和“番石榴”是并列关系,排除;

C项:“春季”是季节,“春节”是节日,与“节气”无明显逻辑关系,排除;

D项:“正月”又叫做柳月、“孟春”、初月、新月、开岁、端月等,前两词是全同关系,与“农历”属于种属关系,符合。

因此,选择D选项。

70.

【答案】C

【解析】

第一步，确定题干逻辑关系。

“科学家”“研发”“药品”，三者属于主谓宾关系。

第二步，辨析选项。

A项：“农民”用“锄头”在“农田”里干活，三者属于对应关系，与题干逻辑关系不一致，排除；

B项：“维修工”用“扳手”“修理”，“扳手”是工具，与题干逻辑关系不一致，排除；

C项：“司机”“驾驶”“客车”，三者属于主谓宾关系，符合；

D项：“导购员”不能“敲定”“售价”，排除。

因此，选择C选项。

71.

【答案】B

【解析】

第一步，确定题干逻辑关系。

“不可再生能源”与“可再生能源”为矛盾关系，“植物”属于“可再生能源”，属于种属关系。

第二步，辨析选项。

A项：“植物”与“动物”属于反对关系，与题干逻辑关系不一致，排除；

B项：“守法行为”与“违法行为”为矛盾关系，“酒驾”属于“违法行为”，属于种属关系，与题干逻辑关系一致，符合；

C项：“部队”与“学校”属于反对关系，与题干逻辑关系不一致，排除；

D项：“工人”与“农民”属于反对关系，与题干逻辑关系不一致，排除。

因此，选择B选项。

72.

【答案】C

【解析】

第一步，确定题干逻辑关系。

呼吸类型一般分为三类，即“胸式呼吸”“腹式呼吸”和“复合性呼吸”，三者属于并列关系，且只有这三类。

第二步，辨析选项。

A项：按纬度划分为五个温度带，即“热带”“南温带”“北温带”“南寒带”“北寒带”，三者属于并列关系，但不只有这三类，排除；

B项：已结行政案件的诉讼结果分为：“胜诉”“败诉”“撤诉”与终止提供，三者属于并列关系，但不只有这三类，排除；

C项：“胜”“负”“平”都是比赛的结果，三者属于并列关系，且比赛结果只有这三类，与题干逻辑关系一致，符合；

D项：中国刑法规定的主刑包括：管制、拘役、“有期徒刑”“无期徒刑”“死刑”五种，三者属于并列关系，但不只有这三类，排除。

因此，选择C选项。

73.

【答案】C

【解析】

分别将选项代入题干，确定逻辑关系。

A项：“敏捷”可以修饰“豹子”，二者属于偏正关系，“微小”可以修饰“病毒”，二者属于偏正关系，但前后词语顺序不一致，排除；

B项：“猎人”猎杀“豹子”，二者属于主宾关系，“医生”与“病毒”无明显逻辑关系，前后逻辑关系不一致，排除；

C项：“母豹”是“豹子”，二者属于包容关系中的种属关系，“病毒”属于“微生物”，二者属于包容关系中的种属关系，前后逻辑关系一致，符合；

D项：“豹子”与“狮子”都属于哺乳动物，二者属于并列关系，“病毒”主要由“核酸”和蛋白质外壳组成，二者属于包容关系中的组成关系，前后逻辑关系不一致，排除。

因此，选择C选项。

74.

【答案】D

【解析】

分别将选项代入题干，确定逻辑关系。

A项：“安培”是国际单位制中表示“电流”的基本单位，二者属于对应关系，“电压表”是测量“电压”的一种仪器，二者属于对应关系，前后逻辑关系不一致，排除；

B项：“安培”是国际单位制中表示“电流”的基本单位，简称安，符号A，二者属于全同关系，电压的国际单位制为伏特（“V”，简称伏），而不是“电压表”，前后逻辑关系不一致，排除；

C项：比“安培”小的电流可以用“毫安”（mA）、微安（ μ A）等单位表示，二者属于并列关系，“电压表”是测量电压的一种“仪器”，二者属于包容关系中的种属关系，前后逻辑关系不一致，排除；

D项：“电流表”是指用来测量交、直流电路中电流的仪表，电流值以“安培”为标准单位；“电压表”是测量电压的一种仪器，电压的单位是“伏特”，前后逻辑关系一致，符合。

因此，选择D选项。

75.

【答案】B

【解析】

分别将选项代入题干，确定逻辑关系。

A项：“故人西辞黄鹤楼”出自唐代李白的《黄鹤楼送孟浩然之广陵》，意思是友人在黄鹤楼与我辞别，表达的是送别，惜别之情，与“伤感”无关；“曾经沧海难为水”出自元稹的《离思五首·其四》，以沧海之水隐喻爱情之深广笃厚，见过大海，别处的水就难以看上了，除了诗人所念、钟爱的女子，再也没有能使我动情的女子了，表达“悼亡”之情，与“怀古”无关，排除；

B项：“故人西辞黄鹤楼”表达“送别”之情，二者属于对应关系；“折戟沉沙铁未销”出自唐代杜牧的《赤壁》意思是一支折断了的铁戟（古代兵器）沉没在水底的沙中还没有销蚀掉，表达“怀古”之情，二者属于对应关系，前后逻辑关系一致，符合；

C项：“故人西辞黄鹤楼”表达的是“离别”之情，二者属于对应关系，“烟花三月下扬州”出自唐代李白的《黄鹤楼送孟浩然之广陵》，意思是在这柳絮如烟、繁花似锦的阳春三月去扬州远游，与“怀古”无关，排除；

D项：“故人西辞黄鹤楼”与“感怀”无关，“江枫渔火对愁眠”出自张继的《枫桥夜泊》，意思是对着江边枫树和渔火忧愁而眠，表达伤感之情，与“怀古”无关，排除。

因此，选择B选项。

76.

【答案】C

【解析】

第一步，确定题型。

根据提问方式中的“支持”，确定为加强论证。

第二步，找论点和论据。

论点：间歇性禁食或是维持人们年轻的关键。

论据：研究人员将292只健康小鼠分为3组，分别采用随意进食、一天一顿、一天一顿且额外减少30%热量的不同饮食模式。连续喂养20个月后，研究结果显示，在满足人体需求的情况下，吃的越少，细胞状态越年轻，小鼠生存期也越长。与随意进食相比，一天只吃一顿的小鼠胰岛素抵抗减弱，生存期延长了11%，而一天只吃一顿且额外减少30%热量的小鼠生存期更是延长了28%。

第三步，辨析选项。

A项：无关选项。该项在讨论猴子上的话题，与人类无关，话题不一致。

B项：不明确项。该项说长寿，但是长寿和年轻之间的关系不得而知，不能加强。。

C项：增加新论据。该项在解释原理，如何保持年轻，防止衰老。

D项：无关选项。寿命超过100岁与人们通过间歇性饮食保持年轻无关。

因此，选择C选项。

77.

【答案】D

【解析】

第一步，确定题型。

根据提问方式中的“反驳”，确定为削弱论证。

第二步，找论点和论据。

论点：睡眠不足的蚊子在第二天会选择补觉，而吃饭（咬人）反而变得不重要。

论据：无

第三步，辨析选项。

A项：无关选项。该项在讨论如何对抗蚊子和蚊子对人类的危害，话题不一致。

B项：无关选项。该项说该如何记录蚊子的睡眠行为，与论题无关。

C项：增加新论据。该项指出仅有四分之一的蚊子对食物感兴趣，整体更愿意去补觉，可以加强。

D项：否定论点。该项在说蚊子即使睡眠不足也要吃饭保持体能维稳状态，吃饭是与生俱来的天性，可以削弱。

因此，选择D选项。

78.

【答案】A

【解析】

第一步，确定题型。

根据提问方式中的“支持”，确定为加强论证。

第二步，找论点和论据。

论点：虽然不能像美国队长一样变成超级英雄，但这种因子可能会有助于人类维持肌肉质量，并且有希望能找到治疗肥胖症和肌肉萎缩的新方法。

论据：冬眠黑熊的血清中存在可以防止肌肉萎缩的独特因子，这能让它们在半年左右的冬眠过程中，肌肉几乎不会出现任何萎缩，依然保持原来的凶悍。

第三步，辨析选项。

A项：建立联系。该项在论点与论据之间建立联系指出存在于血清中的该因子会调节人类骨骼肌中的蛋白质进而维持肌肉质量，可以加强。

B项：无关选项。该项说这种因子的鉴定尚未实现，会持续研究，与论题无关。

C项：无关选项。该项说与人类对比下，不活动会失去肌肉质量，话题无关。

D项：无关选项。该项是在说人们是否会忍受恶劣环境，与论题不一致。

因此，选择A选项。

79.

【答案】C

【解析】

第一步，确定题型。

根据提问方式中的“支持”，确定为加强论证。

第二步，找论点和论据。

论点：每周保持锻炼3到10小时，死亡风险最低。

论据：无。

第三步，辨析选项。

A项：无关选项。该项讨论的是推荐中度和强度的组合锻炼时间，话题不一致。

B项：否定论点。该项说明时间要达到现在的2~4倍以上，死亡风险也不会进一步降低，可以削弱。

C项：增加新论据。该项在与未进行适度端锻炼的人相比，各种与死亡相关的疾病死亡风险降低，可以加强。

D项：不明确项。该项是说过度运动会对身体有一定的伤害，但是与死亡率之间的关系不清楚，不能加强。因此，选择C选项。

80.

【答案】D

【解析】

第一步，确定题型。

题干具有若干论断和真假限定，确定为真假推理。

第二步，找关系。

纸盒子和塑料盒子上的话属于矛盾关系。

第三步，看其余。

矛盾关系必有一真，必有一假，由于只有一句话是真的，则铁盒子上的话是假话，故绳子在铁盒子中。

因此，选择D选项。

81.

【答案】D

【解析】

第一步，确定题型。

根据题干关联词“……都……”，确定为翻译推理。

第二步，翻译题干，进行推理。

①文学院→第一个节目；

②历史学院→第六个节目；

③小赵把票投给了第一个节目。

第三步，进行推理

③是对①的“肯后”，根据“肯后”无必然结论，排除A、B项；

③是对②的“否后”，根据“否后必否前”，可知：小赵不是历史学院。

因此，选择D选项。

82.

【答案】B

【解析】

第一步，确定题型。

提问方式中“上述推理最为相似”，确定为平行结构。

第二步，分析题干。

题干所犯的逻辑错误为“偷换概念”，即题干中某大学的学生中的“学生”是集合概念，指学生的整体，而这个学校的学生中的“学生”是普遍概念，是指任何一个学生。

第三步，辨析选项。

A项：该项可以翻译为： $A \rightarrow B$ ， $C \rightarrow B$ ，所以 $C \rightarrow A$ ，由此可知所犯错误为“肯后推肯前”，与题干所犯错误不同，排除；

B项：该项中出现两次的“动物”不是一个概念，前者出现时表达的是集合概念，后者出现时是普遍概念，所犯错误为“偷换概念”，与题干一致，符合；

C项：该项可以翻译为： $A \rightarrow B$ ， $C \rightarrow \text{非}A$ ，所以 $C \rightarrow \text{非}B$ ，由此可知所犯错误为“否后推否前”，与题干所犯错误不同，排除；

D项：人贵有恒心，意思是如果一个人有恒心，那么就非常不容易，可翻译为：恒心 \rightarrow 一个人非常不容易，没有恒心属于否前，推不出任何结论，与题干所犯错误不同，排除。

因此，选择B选项。

83.

【答案】D

【解析】

第一步，确定题型。

根据提问方式中的“解释”，确定为原因解释。

第二步，分析题干。

题干要解释的现象是：新近31种物种被宣布灭绝。但在我国有许多保护动物根本没有灭绝风险。

第三步，辨析选项。

A项：举例子说明在外国一些泛滥的动物在我国仍在保护，但是没有解释具体的原因，排除；

B项：说明动物面临威胁的原因，但与题干要解释的现象无关，不能解释题干现象，排除；

C项：说明驼鹿在我国受保护但是在外国很多，但无法解释保护的原因，排除；

D项：说明是否保护动物可能跟物种的数量无关，要看它在生态链中的作用，能够解释题干现象。

因此，选择D选项。

84.

【答案】D

【解析】

第一步，确定题型。

根据提问方式中的“反驳”，确定为削弱论证。

第二步，找论点和论据。

论点：美国疫苗只要有效性大于50%就上市，可以减少病毒传播，体现了美国的体制优越性。

论据：无。

第三步，辨析选项。

A项：无关选项。选项表明美国的感染人数巨大，死亡人数众多，与论点话题不一致，排除。

B项：无关选项。选项表明中国的疫苗稳定性，和选项话题不一致，不能反驳，排除。

C项：无关选项。选项表明国内的很多公知不去考查信息是否属实，和论点中制度的优越与否无关，排除。

D项：增加反向论据。选项表明提前上市会使得病毒的传播更迅速，而达不到减少病毒传播的效果，可以反驳。

因此，选择D选项。

85.

【答案】C

【解析】

第一步，确定题型。

根据提问方式中的“支持”，确定为加强论证。

第二步，找论点和论据。

论点：年轻人应该以打拼自己的事业为重，不要做“嫁入豪门”这种不切实际的梦。

论据：很多收入一般的普通年轻人频繁出入高端场所，通过透支消费或拼单的形式包装自己，再利用社交软件向身边的人展示自己的“优越生活”。

第三步，辨析选项。

A项：无关选项。选项表明嫁入豪门后的生活会怎么样，与论点话题不一致，不能支持，排除。

B项：增加论据。选项表明有些年轻人会6人拼单下午茶、15人拼单魔都顶级酒店、40人团购豪华套房，拼单的形式包装自己，加强论据。

C项：建立联系。选项表明嫁入豪门的可能性很低，只有通过自己打拼才能实现自己的人生价值，可以支持。

D项：无关选项。选项讨论的是炫富行为已经很普遍，和年轻人应该怎么做话题不一致，不能支持，排除。

第四步，强度比较。

建立联系的加强力度强于增加论据，所以C项强于B项。

因此，选择C选项。

资料分析

86.

【答案】B

【解析】

第一步，本题考查基期量中基期量和差计算。

第二步，定位第一段文字材料“2021年J省第二产业增加值24331.65亿元，增长4.1%；第三产业增加值

28934.93亿元，增长8.1%”。

现期量

第三步，根据基期量 = $\frac{\text{现期量}}{1 + \text{增长率}}$ ，观察选项出现首位相同，第二位不同的情况，对分子保持不变、分母从左向右截取前三位，代入数据可得2020年J省第三产业增加值比第二产业多

$$\frac{28934.93}{1 + 8.1\%} - \frac{24331.65}{1 + 4.1\%} \approx \frac{28934.93}{1.08} - 24332 + 24000 \times 4\% \approx 26800 - 23400 = 3400 \text{ 亿元}$$

与B选项最为接近。

因此，选择B选项。

87.

【答案】C

【解析】

第一步，本题考查现期平均数计算中的单平均数。

第二步，定位第一段文字材料“2021年J省地区生产总值58887.41亿元，全年人均地区生产总值59410元”。

第三步，根据平均数 = 总数/总个数，可得总个数 = 总数/平均数，观察选项出现首位相同，第二位不同，将分子保持不变，分母四舍五入截取前三位，代入数据可得2021年J省常住人口约为

$$\frac{58887.41 \text{ 亿元}}{59400 \text{ 元}}$$

，单位换算仅影响结果量级且选项量级均相同，故无需考虑单位换算过程，直除

首两位商为99，C选项最适合。

因此，选择C选项。

88.

【答案】A

【解析】

第一步，本题考查比重中的基期比重计算。

第二步，定位第二段文字材料“2021年J省粮食种植面积10772.31千公顷，比上年增加33.52千公顷，其中小麦种植面积5690.69千公顷，增加17.02千公顷”。

第三步，根据比重 = 部分/整体，观察选项出现首位相同，第二位不同，将数据四舍五入截取前三位可得，

$$2020 \text{ 年 } J \text{ 省 } \text{小麦种植面积占粮食种植面积的比重} = \frac{5690.69 - 17.02}{10772.31 - 33.52} \approx \frac{569 - 2}{108 - 0} = \frac{567}{108}$$

直除首两位商52，A选项最接近。

因此，选择A选项。

89.

【答案】D

【解析】

第一步，本题考查其他计算。

第二步，定位第三段文字材料“2021年J省小麦产量3802.81万吨，增产1.3%；玉米产量2051.73万吨，减产12.4%”。

第三步， $1.3\% \approx 1/77$ ，根据增长量计算 $n+1$ 原则，可得2021年J省小麦产量同比增量为

$$\frac{3802.81}{77+1} \approx \frac{3803}{78}$$

≈ 50 万吨； $12.4\% \approx 1/8$ ，根据减少量计算 $n-1$ 原则，可得2021年J省玉米产量

$$\frac{2051.73}{8-1} \approx \frac{2052}{7}$$

同比减少量为 ≈ 300 万吨，则2021年J省小麦产量同比增量比玉米多 $50 - (-300) = 350$ 万吨，与D选项最接近。

因此，选择D选项。

90.

【答案】D

【解析】

第一步，本题考查综合分析问题，且需选出能推出的一项。

第二步，A选项，两期比重比较。定位第一段文字材料“2021年J省地区生产总值比上年增长6.3%。其中，第一产业增加值比上年增长6.4%；第二产业增加值增长4.1%；第三产业增加值增长8.1%”，根据两期比重比较口诀，部分增速大于整体增速，则比重上升；反之，比重下降，2021年J省地区生产总值比上年增长为6.3%，而增速大于6.3%的有第一产业增加值（6.4%）和第三产业增加值（8.1%），共2个，错误。B选项，简单计算中的和差类。定位第三段文字材料“2021年J省夏粮产量增产1.3%；秋粮产量减产10.8%”，则2021年J省秋粮产量同比增速比夏粮产量低 $1.3\% - (-10.8\%) = 12.1\%$ ，错误。

C选项，增长量计算中的已知现期量和增长率。定位第四段文字材料“2021年J省猪肉产量426.78万吨，

增长31.4%”， $31.4\% < 33.3\% \approx \frac{1}{3}$ ，根据增长量计算 $n+1$ 原则，可得2021年J省猪肉产量同

比增量 $< \frac{426.78}{3+1} \approx 107$ 万吨，错误。

D选项，现期倍数计算。定位第四段文字材料“2021年J省羊肉产量28.87万吨；禽肉产量149.98万吨”，

2021年J省禽肉产量比羊肉产量多 $\frac{149.98}{28.87} - 1 \approx 5.2 - 1 = 4.2$ 倍，正确。

因此，选择D选项。

91.

【答案】C

【解析】

第一步，本题考查基期量中基期量计算。

第二步，定位表格，“2022年2月M省限额以上单位消费品零售额为316.3亿元，同比增速为8.3%”。

第三步，根据基期量 = 现期量 / (1 + 增长率)，可得2021年2月M省限额以上单位消费品零售额约为

$$\frac{316.3}{1 + 8.3\%} \approx \frac{316.3}{1.08} \approx 290, \text{ 与C选项最为接近。}$$

因此，选择C选项。

92.

【答案】D

【解析】

第一步，本题考查增长量与倍数杂糅。

第二步，定位表格，“2022年1-2月粮油、食品类零售额为91.1亿元，同比增速为5.4%，饮料类零售额为14.6亿元，同比增速为12.7%”。

第三步， $5.4\% \approx \frac{1}{19}$ ， $12.7\% \approx \frac{1}{8}$ ，根据增长量计算n+1原则，可得2022年1-2月，M省

$$\frac{91.1}{19 + 1} \div \frac{14.6}{8 + 1} \approx \frac{91}{20} \times \frac{9}{15} \approx 2.7$$

粮油、食品类零售额同比增长量约是饮料类的 2.7 倍，与D

选项最接近。

因此，选择D选项。

93.

【答案】B

【解析】

第一步，本题考查倍数中的基期倍数计算。

第二步，定位表格，“2022年2月城镇限额以上消费品零售额为304亿元，同比增速为7.7%；乡村限额以上消费品零售额为12.2亿元，同比增速为25.8%”。

第三步，根据基期倍数 = $\frac{A}{B} \times \frac{1 + b}{1 + a}$ ，可得2021年2月，M省城镇限额以上单位消费品零售额约为

$$\frac{304}{12.2} \times \frac{1 + 25.8\%}{1 + 7.7\%} \approx 24.9 \times \left(1 + \frac{25.8\% - 7.7\%}{1 + 7.7\%} \right) \approx 24.9 \times (1 + 16.8\%)$$

$$\approx 24.9 + 24.9 \times \frac{1}{6} = 24.9 + 4.15 = 29.05 \text{ 倍，B选项最接近。}$$

因此，选择B选项。

94.

【答案】A

【解析】

第一步，本题考查简单比较中的和差比较。

第二步，定位表格中“各类限额以上单位商品2月和1-2月零售额”。

第三步，2月零售额 > 1月零售额，即2月零售额 > 1-2月零售额 ÷ 2，比较可知，表中各类限额以上单位商品零售额中，2022年2月零售额均 ≤ 1-2月零售额 ÷ 2，因此，2022年2月零售额高于1月的有0类。

因此，选择A选项。

95.

【答案】B

【解析】

第一步，本题考查综合分析问题，且需选出能推出的一项。

第二步，A选项，简单比较中读数比较。定位表格“M省各类限额以上单位商品零售额2月同比增速”。2月限额以上单位商品零售额同比提高即同比增速 > 0，读数可知，2月限额以上单位商品零售额同比增速 > 0的有中西药品类 (16.9%)、文化办公用品类 (31.7%)、通讯器材类 (36.3%)、石油及制品类 (42.3%)、机电产品及设备类 (11.7%) 和汽车类 (16.1%)，共6类，错误。

B选项，两期比重比较。定位表格“M省限额以上单位商品零售额及所属各类商品零售额1-2月同比增速”，根据两期比重比较口诀，部分增速大于整体增速，则比重上升；反之，比重下降，M省限额以上单位商品零售额1-2月同比增速为30.4%，而增速大于30.4%的有文化办公用品类 (30.2.8%)、通讯器材类 (79.1%)、石油及制品类 (48.4%) 及汽车类 (36.7%)，共4类，正确。

C选项，混合增长率比较。定位表格“2022年2月中西药品类零售额同比增速为16.9%，1-2月同比增速为10.5%”，可用混合增长率方法解题，根据整体增速介于部分增速之间，可知，1月增速 < 1-2月增速 (10.5%) < 16.9%，可知，1月同比增速应小于10.5%，错误。

D选项，现期倍数计算。定位表格“2022年2月汽车类零售额为104.8亿元，石油及制品类零售额为34.3

亿元”，故2022年2月M省汽车类零售额比石油及制品类约多 $\frac{104.8}{34.3} - 1 \approx 3 - 1 = 2$ 倍，错误。

因此，选择B选项。

96.

【答案】C

【解析】

第一步，本题考查间隔增长量计算问题。

第二步，定位文字和折线图，“2019年1—6月份，商品房销售额70698亿元，增长5.6%”，2018年1—6月增速为13.2%。

第三步，根据间隔增长率 $R=r_1+r_2+r_1 \times r_2$ ， $r_1=5.6%$ ， $r_2=13.2%$ ，代入数据可得 $R=5.6%+13.2%+5.6%$

$\times 13.2% \approx 18.8%+0.78% \approx 19.58%$ ， $19.58% \approx \frac{1}{5}$ ，根据增长量计算 $n+1$ 原则，可得2019年上半年，

70698

商品房销售额约比2017年同期增长了 $\frac{5+1}{5}$ ，直除首两位商11。
因此，选择C选项。

97.

【答案】C

【解析】

第一步，本题考查平均数增长率计算问题。

第二步，定位材料第二段，“2019年1—6月份，西部地区商品房销售面积21099万平方米，增长2.3%，增速回落1.5个百分点；销售额15178亿元，增长8.4%，增速回落2.4个百分点”。

第三步，单位面积销售额 = $\frac{\text{销售额}}{\text{面积}}$ ，2019年1—5月，西部地区商品房销售额增速为8.4% + 2.4% = 10.8%，销售面积增速为2.3% + 1.5% = 3.8%，根据平均数增长率 = $\frac{a-b}{1+b}$ ，代入可得 $\frac{10.8\% - 3.8\%}{1 + 3.8\%} = \frac{7\%}{1.038}$ ，直除首两位商67，C选项符合。

因此，选择C选项。

98.

【答案】B

【解析】

第一步，本题考查基期平均数计算问题。

第二步，定位文字第二段，“2019年1—6月份，东部地区商品房销售面积30144万平方米，同比下降4.6%，降幅比1—5月份收窄0.9个百分点；销售额37716亿元，增长4.7%”。

第三步，根据基期平均数 = $\frac{A}{B} \times \frac{1+b}{1+a}$ ，选项首位相同，第二位不同，分母从左向右截取前三位，代入数据可得 $\frac{377}{301} \times \frac{1-4.6\%}{1+4.7\%}$ ，前半部分 $\frac{377}{301} \approx 1.2525$ 万元/平方米，即12525元/平方米， $12525 \times \frac{1-4.6\%}{1+4.7\%} \approx 12525 \times (1-9.3\%) = 12525 - 12525 \times 9.3\% \approx 12525 - 1125 = 11400$ 元/平方米。

因此，选择B选项。

99.

【答案】D

【解析】

第一步，本题考查增长量公式比较问题。

第二步,定位文字第二段,“2019年1—6月份,东部地区商品房销售面积30144万平方米,同比下降4.6%;中部地区商品房销售面积21481万平方米,下降0.5%;西部地区商品房销售面积21099万平方米,增长2.3%;东北地区商品房销售面积3063万平方米,下降8.3%”。

第三步,四个地区中,只有西部地区增长率为正数,则同比增长量最高的是西部地区,排除A选项;根据增长量比较口诀,大大则大,一大一小看乘积,减少量看|现期量×r|即可,可得减少量东部地区|30144×(-4.6%)|>东北地区|3063×(-8.3%)|>中部地区|21481×0.5%|,则同比增量从低到高依次为东部地区、东北地区、中部地区、西部地区。

因此,选择D选项。

100.

【答案】D

【解析】

第一步,本题考查综合分析问题,且需选出正确的一项。

第二步,A选项,增长率计算。定位文字第三段,“6月末,商品房待售面积50162万平方米,比5月末减少766万平方米”,根据减少率=

$$\frac{\text{减少量}}{\text{基期量}}, \text{代入数据可得}$$

$$\frac{766}{50162+766} = \frac{766}{50928} \approx 1.50\%$$

,即下降了1.50%,错误。

B选项,简单计算。定位文字第二段,“1—6月份,东部地区商品房销售面积30144万平方米,同比下降4.6%,降幅比1—5月份收窄0.9个百分点”,可得2019年1—5月同比增长率为 $-(4.6\%+0.9\%)=-5.5\%$,即下降5.5%,错误。

C选项,两期平均数比较。定位文字二段,“东北地区商品房销售面积3063万平方米,下降8.3%,降幅扩大0.2个百分点;销售额2451亿元,增长0.9%,增速回落1.4个百分点”,单位面积销售额=

$$\frac{\text{销售额}}{\text{面积}}$$

,根据两期平均数比较口诀,分子增长率大于分母增长率,则平均数上升,反之则下降,销售额增速0.9%>销售面积增速-8.3%,单位面积销售额较上年同期上升,错误。

D选项,混合增长率。定位折线图,根据混合增长率口诀,整体增速介于各部分增速之间,1—7月=1—6月+7月,可知2018年1—6月增速3.3%<1—7月增速4.2%<7月增速,则2018年7月同比增速>4.2%;同理,可知其余月份同比增速均小于4.2%,则7月同比增速最高,正确。

因此,选择D选项。