

一、单项选择题(请从四个选项中，选择一个最符合题的选项。本大题共 30 小题，每小题 0.8 共 24 分。)

1. 精准扶贫的关键是() 。

- A. 精确识别 B. 精确帮扶 C. 精确管理 D. 精准考核

答案：B

【解析】精准帮扶，这是精准扶贫的关键。贫困居民识别出来以后，针对扶贫对象的贫困情况定责任人和帮扶措施，确保帮扶效果。故本题的正确答案为 B 项。

2. 让贫困地区的孩子们接受() 教育，是扶贫开发的重要任务，也是阻断贫困代际传递的重要途径。

- A. 普通 B. 职业 C. 良好 D. 优质

答案：C

【解析】2015 年教师节之际，习近平 9 日给“国培计划（2014）”北京师范大学贵州研修班全体参训教师回信指出，到 2020 年全面建成小康社会，最艰巨的任务在贫困地区，我们必须补上这个短板。扶贫必扶智。让贫困地区的孩子们接受良好教育，是扶贫开发的重要任务，也是阻断贫困代际传递的重要途径。故本题的正确答案为 C 项。

3. 做好精准扶贫工作，必须增强导向引领。注重从() 的一线考验干部、识别干部，把在扶贫开发中作出的实绩作为选拔使用干部的重要依据。

- A. 重点工作 B. 难点工作 C. 领导工作 D. 基层工作

答案：D

【解析】做好精准扶贫工作，必须增强导向引领。注重从基层工作的一线考验干部、识别干部，把在扶贫开发中作出的实绩作为选拔使用干部的重要依据。故本题的正确答案为 D 项。

4. 习近平总书记强调，贫困县摘帽后，要继续完成剩余贫困人口脱贫任务，实现已脱贫人口的稳定脱贫。要把防止返贫放在重要位置，做到摘帽不摘() 。

- A. 监管 B. 责任 C. 政策 D. 帮扶

答案： B

【解析】习近平在重庆考察并主持召开解决“两不愁三保障”突出问题座谈会，他指出，脱贫既要看数量，更要看质量。要严把贫困退出关，严格执行退出的标准和程序，确保脱真贫、真脱贫。要把防止返贫摆在重要位置，适时组织对脱贫人口开展“回头看”。贫困县摘帽后，要继续完成剩余贫困人口脱贫任务，实现已脱贫人口的稳定脱贫。贫困县党政正职要保持稳定，做到摘帽不摘责任。脱贫攻坚主要政策要继续执行，做到摘帽不摘政策。扶贫工作队不能撤，做到摘帽不摘帮扶。要把防止返贫放在重要位置，做到摘帽不摘监管。要保持政策稳定性、连续性。故本题的正确答案为 B 项。

5. 下列不符合广西贫困村退出标准的是()。

- A. 有基本医疗保障 B. 有安全饮水
C. 有路通村屯 D. 贫困发生率低于 10%

答案： D

【解析】《广西壮族自治区人民政府办公厅关于进一步调整精准脱贫摘帽标准及认定程序的通知》指出，贫困村脱贫摘帽标准按照“十一有一低于”执行。“十一有”指有特色产业、有住房保障、有基本医疗保障、有义务教育保障、有安全饮水、有路通村屯、有电用、有基本公共服务、有电视看、有村集体经济收入、有好的“两委”班子；“一低于”指贫困发生率低于 3%。故本题的正确答案为 D 项。

6. 做好脱贫攻坚工作，要坚持扶贫与() 相结合,加强贫困地区职业教育和技能培训，加强开发式扶贫与保障性扶贫统筹衔接，着力解决“一兜了之”和部分贫困人口等靠要问题，增强贫困群众内生动力和自我发展能力。

- A. 教育 B. 就业保障 C. 贫困补助 D. 扶志扶智

答案： D

【解析】2019 年中央一号文件指出，坚持扶贫与扶志扶智相结合，加强贫困地区职业教育和技能培训，加强开发式扶贫与保障性扶贫统筹衔接，着力解决“一兜了之”和部分贫困人口等靠要问题，增强贫困群众内生动力和自我发展能力。

故本题的正确答案为 D 项。

7. 习近平总书记指出，要把（ ） 要求贯穿脱贫攻坚全过程，深化扶贫领域腐败和作风问题专项治理。

- A. 全面建成小康社会 B. 全面从严治党
C. 全面依法治国 D. 全面深化改革

答案： B

【解析】习近平总书记 2019 年 3 月 7 日在参加十三届全国人大二次会议甘肃代表团审议时强调，脱贫攻坚任务能否完成，关键在人，关键在干部队伍作风。要把全面从严治党要求贯穿脱贫攻坚全过程，强化作风建设，确保扶贫工作务实、脱贫过程扎实、脱贫结果真实。故本题的正确答案为 B 项。

8. 脱贫既要看数量，更要看质量。要严把贫困退出关，严格执行退出的标准和程序，确保（ ）。

- A. 贫困人口全部脱贫 B. 提前完成脱贫任务
C. 脱真贫、真脱贫 D. 政策公开、过程公开、结果公开

答案： C

【解析】习近平 4 月 15 日至 17 日在重庆考察，主持召开解决“两不愁三保障”突出问题座谈会并发表重要讲话。他强调，脱贫既要看数量，更要看质量。要严把贫困退出关，严格执行退出的标准和程序，确保脱真贫、真脱贫。故本题的正确答案为 C 项。

9. 我国农村实行的家庭联产承包责任制是从（ ）开始的。

- A. 安徽省 B. 广东省 C. 江西省 D. 湖南省

答案： A

【解析】十一届三中全会后，经济体制改革首先在农村展开，安徽的小岗村率先实行了“包产到户”的生产责任制，故本题的正确答案为 A 项。

10. 2019 年中央一号文件指出，实施重要农产品保障战略。将稻谷、小麦作为必保品种，稳定()生产，确保谷物基本自给、口粮绝对安全。

- A. 大豆 B. 高粱 C. 玉米 D. 红薯

答案： C

【解析】2019 年中央一号文件指出，实施重要农产品保障战略。加强顶层设计和系统规划，立足国内保障粮食等重要农产品供给，统筹用好国际国内两个市场、两种资源，科学确定国内重要农产品保障水平，健全保障体系，提高国内安全保障能力。将稻谷、小麦作为必保品种，稳定玉米生产，确保谷物基本自给、口粮绝对安全。故本题的正确答案为 C 项。

11. 习近平强调，要全面贯彻新时代中国特色社会主义思想 and 党的十九大精神，加强党对“三农”工作的领导，坚持把解决“三农”问题作为全党工作的重中之重，坚持()， 巩固发展农业农村好形势。

- A. 农民农村快速发展 B. 农业农村高速发展
C. 农民农业快速发展 D. 农业农村优先发展

答案： D

【解析】中央农村工作会议 28 日至 29 日在北京召开。习近平强调，要全面贯彻新时代中国特色社会主义思想 and 党的十九大精神，加强党对“三农”工作的领导，坚持把解决“三农”问题作为全党工作的重中之重，坚持农业农村优先发展，牢牢掌握稳中求进总基调，落实高质量发展要求，深入实施乡村振兴战略，对标全面建成小康社会必须完成的硬任务。故本题选择 D 项。

12. 全面加强农村基层组织建设，要建立第一书记派驻长效工作机制，全面向()、软弱涣散村和集体经济空壳村派出第一书记，并向乡村振兴任务重的村拓展。

- A. 脱贫村 B. 贫困村 C. 示范村 D. 富裕村

答案： B

【解析】2019 年中央一号文件指出，强化农村基层党组织作用中要抓实建强农村基层党组织，以提升组织力为重点，突出政治功能，持续加强农村基层党组织体系建设。建立第一书记派驻长效工作机制，全面向贫困村、软弱涣散村和集体

经济空壳村派出第一书记，并向乡村振兴任务重的村拓展。

13. 下列不属于公文主体部分的是()

- A. 主送机关 B. 成文日期 C 抄送机关 D. 标题

答案：C

【解析】根据2012年实施的《党政机关公文格式》规定，版心内的公文格式各要素划分为版头、主体、版记三部分。公文首页红色分隔线以上的部分称为版头；公文首页红色分隔线（不含）以下、公文末页首条分隔线（不含）以上的部分称为主体；公文末页首条分隔线以下、末条分隔线以上的部分称为版记。标题、主送机关、成文日期都属于主体部分的格式要素，但抄送机关属于版记部分的格式要素。故本题选择C项。

14. 下列公文文种中，属于上行文的是()

- A. 决定 B. 请示 C. 通报 D. 批复

答案：B

【解析】公文的种类包括命令、决定、决议、指示、公告、布告、通告、通知、通报、报告、请示、批复、函、会议纪要等。按照行文方向可划分为上行文、平行文和下行文三类。上行文就是指下级机关、下级业务部门向它所属的上级领导机关和上级业务主管部门所发送的公文，例如请示、报告。平行文就是指同级机关或者不相隶属的，没有领导与指导关系的机关之间的一种行文，例如“函”。下行文就是指上级领导机关对所属的下级机关的一种行文。决定、通知、通报、公报、批复等。故本题选择B项。

15. x x 市人民政府宣布失效一批市政府文件，宜使用() 行文。

- A. 决定 B. 命令 C. 通知 D. 公告

答案：A

【解析】根据《2012年党政机关公文处理工作条例》的规定，决定是“适用于对重要事项作出决策和部署、奖惩有关单位和人员、变更或者撤销下级机关不适当的决定事项”的公文。宣布失效一批市政府的文件，应当使用“决定”行文，

例如国务院 2015 年 12 月印发了《关于宣布失效一批国务院文件的决定》。故本题选择 A 项。

16. 下列公文发文机关标志不正确的是()。

- A. x x 省人民政府 B. x x 省人民政府文件
C. xx 省人民政府办公厅文件 D. x x 省人民政府财政厅文件

答案： A

【解析】发文机关标志由发文机关全称或者规范化简称加“文件”二字组成，对于一些特定的公文可以使用发文机关全称或者规范化简称，不加“文件”组成，例如一些特定的函件或纪要。一般情况下，正式下发的文件都要加“文件”二字。故本题选择 A 项。

17. 在我国，()是依法治国的主体 和力量源泉。

- A. 国家 B. 政府 C. 人民 D. 宪法

答案： C

【解析】人民是依法治国的主体和力量源泉，这是由我国的国体和政体决定的。中国人民在依法治国中的主体地位，同中国共产党在依法治国中的领导地位一样，都是由我国宪法确定的，并且是内在统一的。故本题选择 C 项。

18. 《中华人民共和国民法总则》规定， 监护天应当按照()的原则履行监护职责。

- A. 自愿 B. 利益最大化
C. 最有利于被监护人 D. 保护监护人利益

答案： C【解析】根据《民法总则》的规定，监护人应当按照最有利于被监护人的原则履行监护职责。监护人除为维护被监护人利益外，不得处分被监护人的财产。未成年人的监护人履行监护职责，在作出与被监护人利益有关的决定时，应当根据被监护人的年龄和智力状况，尊重被监护人的真实意愿。故本题选择 C 项。

19. 党的十九大报告指出，深化司法体制综合配套改革，全面落实司法()，努力让人民群众在每一个司法案件中感受到公平正义。

- A. 主体制 B. 责任制 C. 公平性 D. 严谨性

答案：B

【解析】党的十九大报告明确指出：“深化司法体制综合配套改革，全面落实司法责任制，努力让人民群众在每一个司法案件中感受到公平正义。”故本题选择B项

20. 上级拨给某县 50 万元扶贫款, 该县县长将这笔款项用于单位购买汽车。该县长的行为构成()

- A. 挪用公款罪 B. 挪用资金罪
C. 挪用特定款物罪 D. 职务侵占罪

答案：C

【解析】根据《中华人民共和国刑法》第二百七十三条的规定，挪用特定款物罪，是指违反特定款物专用的财经管理制度，挪用国家用于救灾、抢险、防汛、优抚、扶贫、移民、救济款物，情节严重，致使国家和人民群众利益遭受重大损害的行为。挪用特定款物罪的犯罪对象是特定的，是用于救灾、抢险、防汛、扶贫、优抚、移民、救济的款物，这些特定款物必须专用，既可以是钱，也可以是物。本罪的主体是单位。本罪在主观方面表现为故意。即明知是国家救灾、抢险、防汛、优抚、扶贫、移民、救济款物而故意挪用，过失不能构成本罪。故本题选择C项。

21. 17 岁的张某独自居住，并在本镇的玩具厂做临时工，每月收入 800 元。为了上班方便，他在征利父母同意后从李某处买了一台电动车。不久后，张某因患精神分裂症丧失了民事行为能力，张某父母说将电动车退还给李某，并要求李某返还钱款。在本案中，张某与李某之间的买卖()

- A. 无效，因为张某在买卖发生时未满 18 岁
B. 有效，因为张某在买卖发生时已可视为完全民事行为能力人
C. 无效，因为张某丧失了民事行为能力

D. 有效，因为张某在买卖发生前已经征得了父母的同意

答案：B

【解析】根据《民法总则》第十八条规定，十六周岁以上的未成年人，以自己的劳动收入为主要生活来源的，视为完全民事行为能力人。完全民事行为能力人在自愿、平等、合法的前提下的所进行的民事行为有效。故本题选择B。

22. 为深入贯彻落实党的十九大部署和习近平总书记重要指示精神，保障人民安居乐业、社会安定有序、国家长治久安，进一步巩固党的执政基础，党中央、国务院决定自2018年1月开始在全国开展()。

- A. 减税降费 B. 户籍制度改革 C. 爱国主义教育 D. 扫黑除恶专项斗争

答案：D

【解析】2018年1月，中共中央、国务院发出《关于开展扫黑除恶专项斗争的通知》。《通知》指出，为深入贯彻落实党的十九大部署和习近平总书记重要指示精神，保障人民安居乐业、社会安定有序、国家长治久安，进一步巩固党的执政基础，党中央、国务院决定，在全国开展扫黑除恶专项斗争。故本题选择D。

23. 指导党和人民实现中华民族伟大复兴的正确理论是()。

- A. 中国特色社会主义文化 B. 中国特色社会主义理论体系
C. 马克思列宁主义 D. 习近平新时代中国特色社会主义思想

答案：B

【解析】十九大指出，中国特色社会主义理论体系，是指导党和人民实现中华民族伟大复兴的正确理论。故本题选择B。

24. 2019年5月，在广西南宁举行的国际赛事是()。

- A. 第二届南宁国际马拉松比赛 B. 2019年苏迪曼杯世界羽毛球混合团体锦标赛
C. 2019年中国杯国际足球锦标赛 D. 第二届环广西公路自行车世界巡回赛

答案：B

【解析】2019年5月19日，苏迪曼杯世界羽毛球混合团体锦标赛在广西南宁打响。南宁是继北京、广州、青岛、东莞之后，第五座举办苏迪曼杯的中国城市。

故本题选择 B。

25. 下列不属于广西壮族自治区人民政府 2019 年 4 月正式批准摘帽的国家级贫困县是()。

- A. 龙胜各族自治县 B. 田东县
C. 金秀瑶族自治县 D. 南宁市邕宁区

答案： D

【解析】《广西壮族自治区人民政府关于同意龙胜各族自治县等 14 个贫困县脱贫摘帽的批复》（桂政函〔2019〕52 号）指出，同意龙胜各族自治县、资源县、田阳县、田东县、西林县、富川瑶族自治县、金秀瑶族自治县、宁明县、大新县、苍梧县、平果县、河池市金城江区、天峨县、武宣县等 14 个贫困县脱贫摘帽。D 项不在此列，故本题选择 D。

26. 2019 年 4 月 23 日，中共中央总书记、国家主席、中央军委主席习近平出席在青岛举行的庆祝人民海军成立()周年海上阅兵活动。

- A. 60 B. 70 C. 90 D. 100

答案： B

【解析】2019 年 4 月 22 日至 25 日海军成立 70 周年多国海军活动于在青岛及附近海空域举行。故本题选择 B。

27. 2019 中国北京世界园艺博览会于 4 月 28 日开幕。此次世园会的办会主题是()。

- A. 绿色生活美丽家园 B. 都市与自然
C. 让生活走进自然 D. 绿色城市开放共享

答案： A

【解析】2019 年中国北京世界园艺博览会的办会主题是“绿色生活 美丽家园”。“绿色生活”就是以园艺为媒介，人们尊重自然、保护自然、融入自然，牢固树立绿色、低碳、环保的生产生活理念。“美丽家园”就是要全面践行科学发展观，加快资源节约型和环境友好型社会建设，促进世界园艺事业大发展、大繁荣，共

同建设多姿多彩的美好家园。

28. 2019年5月7日，住房和城乡建设部、国家发展改革委、财政部、自然资源部共同印发了《关于进一步规范发展公租房的意见》，就完善()，进一步规范发展公租房作出部署。

- A. 城镇住房保障体系 B. 农村住房保障体系
C. 城镇租房保障体系 D. 农村租房保障体系

答案： A

【解析】四部门关于进一步规范发展公租房的意见中指出，要加快完善主要由配租型的公租房和配售型的共有产权住房构成的城镇住房保障体系，多渠道满足住房困难群众的基本住房需要。故本题选择 A。

29. 2019年5月13日，中共中央政治局召开会议，决定从今年6月开始，在全党自上而下分两批开展()主题教育，推动全党更加自觉地为新时代党的历史使命而努力奋斗。

- A. “不忘初心、中华复兴” B. “不忘初心、牢记使命”
C. “不忘初心、砥砺前行” D. “牢记初心、勇担使命”

答案： B

【解析】中共中央政治局5月13日召开会议，决定从今年6月开始，在全党自上而下分两批开展“不忘初心、牢记使命”主题教育。根本任务是深入学习贯彻习近平新时代中国特色社会主义思想，锤炼忠诚干净担当的政治品格，团结带领全国各族人民为实现伟大梦想共同奋斗。这故本题选择 B。

30. 2019年5月20日，中共中央国务院印发的《关于深化改革加强食品安全工作的意见》指出，必须深化改革创新，用最严谨的标准、最严格的监管、最严厉的处罚、最严肃的()，进一步加强食品安全工作，确保人民群众“舌尖上的安全”

- A. 考核 B. 整改 C. 问责 D. 监控

答案： C

【解析】《中共中央国务院印发关于深化改革加强食品安全工作的意见》指出，食品安全关系人民群众身体健康和生命安全，关系中华民族未来。党的十九大报告明确提出实施食品安全战略，让人民吃得放心。人民日益增长的美好生活需要对加强食品安全工作提出了新的更高要求。必须深化改革创新，用最严谨的标准、最严格的监管、最严厉的处罚、最严肃的问责，进一步加强食品安全工作，确保人民群众“舌尖上的安全”。故本题选择 C。

二、多项选择题(请从四个选项中，选择两个或两个以上符合题意的选项，多选、少选均不得分。本大题共 15 小题，每小题 1 分，共 15 分。)

31. 下列不能纳入建档立卡贫困户的家庭有()

- A. 干部家庭 B. 有商品房的家庭
C. 有小轿车的家庭 D. 有工商注册登记的家庭

答案：ABCD

【解析】有小轿车、有商品房、有国家公职人员、有工商注册登记的“四有人员”家庭不能纳入建档立卡贫困户。故本题的正确答案为 ABCD。

32. 扶贫工作必须坚持(), 坚持专项扶贫、行业扶贫、社会扶贫“三位一体”大扶贫格局。

- A. 因地制宜 B. 科学规划 C. 分类指导 D. 因势利导

答案：ABCD

【解析】习近平总书记十分重视扶贫脱贫的精准性，2012 年 12 月，他在河北阜平县考察时提出了扶贫开发要坚持因地制宜、科学规划、分类指导、因势利导的思想。2015 年 6 月 18 日，在部分省区市党委主要负责同志座谈会上强调扶贫开发是全党全社会的共同责任，要动员和凝聚全社会力量广泛参与。要坚持专项扶贫、行业扶贫、社会扶贫等多方力量、多种举措有机结合和互为支撑的“三位一体”大扶贫格局，健全东西部协作、党政机关定点扶贫机制，广泛调动社会各界参与扶贫开发积极性。故本题的正确答案为 ABCD。

33. 2019年4月，习近平总书记在重庆考察时强调，（ ）是防止老百姓因病返贫的要保障。

- A. 基本医保 B. 职工养老保险 C. 大病保险 D. 医疗救助

答案：ACD

【解析】习近平指出，基本医保、大病保险、医疗救助是防止老百姓因病返贫的重要保障。这个兜底作用很关键。脱贫攻坚明年就要收官，要把工作往深里做、往实里做，重点做好那些尚未脱贫或因病因伤返贫群众的工作，加快完善低保、医保、医疗救助等相关扶持和保障措施，用制度体系保障贫困群众真脱贫、稳脱贫。故本题的正确答案为ACD。

34. 决战决胜脱贫攻坚，要主攻深度贫困地区，各级财政应优先加大“三区三州”脱贫攻坚资金投入。其中，“三州”是指（ ）。

- A. 青海的玉树州 B. 甘肃的临夏州 C. 四川的凉山州 D. 云南的怒江州

答案：BCD

【解析】三区三州的“三区”是指西藏、新疆南疆四地州和四省藏区；“三州”是指甘肃的临夏州、四川的凉山州和云南的怒江州，是国家层面的深度贫困地区。故本题的正确答案为BCD。

35. 2018年中央经济工作会议强调，要建立实施乡村振兴战略领导责任制，实行（ ）的工作机制。

- A. 中央统筹 B. 省负总责 C. 市县抓落实 D. 村委会主执行

答案：ABC

【解析】2018年中央农村工作会议强调，要建立实施乡村振兴战略领导责任制，实行中央统筹、省负总责、市县抓落实的工作机制。故本题的正确答案为ABC。

36. 抓好农村人居环境整治三年行动，要深入学习推广浙江“千村示范、万村整治”工程经验，全面推开以（ ）为重点的农村人居环境整治，确保到2020年实现农村人居环境阶段性明显改善。

- A. 农村垃圾污水治理 B. 厕所革命 C. “四好农村路”建设 D. 村容村貌提升

答案： ABD

【解析】2019年中央一号文件指出，抓好农村人居环境整治三年行动。深入学习推广浙江“千村示范、万村整治”工程经验，全面推开以农村垃圾污水治理、厕所革命和村容村貌提升为重点的农村人居环境整治，确保到2020年实现农村人居环境阶段性明显改善，村庄环境基本干净整洁有序，村民环境与健康意识普遍增强。故本题选择ABD。

37. 下列应标注于公文版头左上角的公文要素有()。

A. 份号 B. 紧急程度 C. 发文字号 D. 密级和保密期限

答案： ABD

【解析】根据《党政机关公文格式》的规定，如需标注份号，一般用6位3号阿拉伯数字，顶格编排在版心左上角第一行。如需标注密级和保密期限，一般用3号黑体字，顶格编排在版心左上角第二行；保密期限中的数字用阿拉伯数字标注。如需标注紧急程度，一般用3号黑体字，顶格编排在版心左上角；如需同时标注份号、密级和保密期限、紧急程度，按照份号、密级和保密期限、紧急程度的顺序自上而下分行排列。发文字号编排在发文机关标志下空二行位置，居中排布。上行文的发文字号居左空一字编排，与最后一个签发人姓名处在同一行。份号、密级和保密期限、紧急程度都是位于版头左上角的格式要素，但是发文字号不是。故本题选择ABD。

38. 公文登记的作用有()。

A. 便于检查和检索文件 B. 便于管理和保护文件，防止积压和丢失
C. 便于文件的统计和催办工作 D. 作为核对与交接文件的凭据

答案： ABCD

【解析】公文的登记是将需要登记的文件在收文登记簿上编号和记载文件的来源、去向，以保证文件的收受和处理。公文的登记是收文办理的重要程序，也是公文处理工作的基础。公文登记的作用有：1. 便于管理和保护文件，防止积压和丢失；2. 便于检查和检索文件；3. 便于文件的统计和催办工作；4. 作为核对与交接文件

的凭据；5. 公文登记的原则：方便文件的运转和管理。故本题选择 ABCD。

39. 依据《中华人民共和国行政诉讼法》的规定，人民法院审理行政案件，以（）为依据。

- A. 法律 B. 行政法规 C. 地方性法规 D. 规章

答案： ABC

【解析】根据《中华人民共和国行政诉讼法》第六十三条的规定，人民法院审理行政案件，以法律和行政法规、地方性法规为依据。地方性法规适用于本行政区域内发生的行政案件。 人民法院审理民族自治地方的行政案件，并以该民族自治地方的自治条例和单行条例为依据。 人民法院审理行政案件，参照规章。故本题选择 ABC。

40. 甲与乙签订了一份购买协议，约定如果甲的母亲死亡，则甲将车子卖给乙。该民事行为（）。

- A. 既未成立，也未生效 B. 已成立，但未生效
C. 已成立并已生效 D. 是附期限的民事行为

答案： BD

【解析】附期限民事法律行为中的期限是必然性的事实，因为期限是肯定要到来的。本题中，双方约定，甲母死亡，甲将车子卖给乙。甲母死亡应为期限，因为甲母是肯定要死亡的，该事实是必然到来的。甲母死亡作为所附期限，附期限的民事法律行为已经成立，但未生效，其生效条件就是期限的到来。故本题选择 BD。

41. 用人单位招用劳动者时，下列做法不正确的有（）。

- A. 如实告知劳动者职业危害
B. 在帮员工办理入职手续时，可以暂时扣押员工的居民身份证
C. 如实告知劳动者劳动报酬
D. 用人单位在用工三个月后与员工签订书面劳动合同

答案： BD

【解析】《劳动合同法》第八条规定，用人单位招用劳动者时，应当如实告知劳动者工作内容、工作条件、工作地点、职业危害、安全生产状况、劳动报酬，以及劳动者要求了解的其他情况；用人单位有权了解劳动者与劳动合同直接相关的基本情况，劳动者应当如实说明。《劳动合同法》第九条规定，用人单位招用劳动者，不得扣押劳动者的居民身份证和其他证件，不得要求劳动者提供担保或者以其他名义向劳动者收取财物。《劳动合同法》第十条规定，建立劳动关系，应当订立书面劳动合同。已建立劳动关系，未同时订立书面劳动合同的，应当自用工之日起一个月内订立书面劳动合同。用人单位与劳动者在用工前订立劳动合同的，劳动关系自用工之日起建立。由此可见 BD 项做法不符合法律规定，故本题选择 BD。

42. 我国已经成立的自由贸易试验区有()。

- A. 中国(海南)自由贸易试验区 B. 中国(广西)自由贸易试验区
c. 中国(天津)自由贸易试验区 D. 中国(河南)自由贸易试验区

答案：ACD

【解析】2013年9月-2018年4月，国务院先后批复成立中国(上海)自由贸易试验区、中国(广东)自由贸易试验区、中国(天津)自由贸易试验区、中国(福建)自由贸易试验区、中国(辽宁)自由贸易试验区、中国(浙江)自由贸易试验区、中国(河南)自由贸易试验区、中国(湖北)自由贸易试验区、中国(重庆)自由贸易试验区、中国(四川)自由贸易试验区、中国(陕西)自由贸易试验区、中国(海南)自由贸易试验区。据2019年5月消息，广西将积极申报中国(广西)自由贸易试验区，支持国家级经济技术开发区、高新技术产业开发区开展自贸试验区相关改革试点。故本题选择ACD。

43. “十三五”时期，制约广西发展的最主要因素有()。

- A. 创新能力不足 B. 人才紧缺 C. 脱贫攻坚 D. 民族纷争

答案：AB

【解析】2016年2月22日，《广西壮族自治区国民经济和社会发展第十三个五年规划纲要》正式发布。从规划纲要来看，“十三五”时期，广西壮族自治区最

大的挑战是实现经济持续较快发展，最强的制约是创新能力不足和人才紧缺，最突出的短板是脱贫攻坚和民生改善，最硬的任务是实现“两个建成”尤其是全面建成小康社会目标。故本题选择 AB。

44. 国家主席习近平在纪念五四运动 100 周年大会上勉励新时代中国青年树立远大理想，热爱伟大祖

A. 扭当时代责任 B. 勇于砥砺奋斗 C. 练就过硬本领 D. 锤炼品德修为

答案： ABCD

【解析】习近平在讲话中指出，新时代中国青年运动的主题，新时代中国青年运动的方向，新时代中国青年的使命，就是坚持中国共产党的领导，同人民一道，为实现“两个一百年”奋斗目标、实现中华民族伟大复兴的中国梦而奋斗。对新时代中国青年提出六点要求，即新时代中国青年要树立远大理想，新时代中国青年要热爱伟大祖国，新时代中国青年要担负时代责任，新时代中国青年要勇于砥砺奋斗，新时代中国青年要练就过硬本领，新时代中国青年要锤炼品德修为。故本题选择 ABCD。

45. 2019 年 5 月 15 日，国家主席习近平在北京国家会议中心出席亚洲文明对话大会开幕式，并发表题为《深化文明交流互鉴共建亚洲命运共同体》的主旨演讲。习近平主席提出的主张有（ ）。

坚持相互尊重、平等相待 B. 坚持美人之美、美美与共
C. 坚持开放包容、互学互鉴 D. 坚持与时俱进、创新发展

答案： ABCD

【解析】亚洲文明对话大会 2019 年 5 月 15 日开幕。在亚洲文明对话大会开幕式上，习近平提出 4 点主张，即：第一，坚持相互尊重、平等相待；第二，坚持美人之美、美美与共；第三，坚持开放包容、互学互鉴；第四，坚持与时俱进、创新发展。故本题的正确答案为 ABCD。

46. 通俗地说，页岩气就是_____在页岩层中的天然气。填入划横线部分最恰当的项是（ ）。

- A. 收藏 B. 典藏 C. 蕴藏 D. 蕴含

参考答案：C

解析：

题干语境意为页岩层中有天然气资源。蕴藏是蓄积深藏未露，契合天然气藏于岩层之下的情境。A：收藏的动作发出者应该是人，搭配不当；B：典藏用于值得收藏的经典的珍藏品；D：蕴含的意思是包含在内，多用于文学领域。

47. 从科学研究的角度来描写一种语法现象或规则，应该_____精确到让一部电子计算机操纵起来也能辨析毫厘而且百试不爽。填入划横线部分最恰当的一项是（ ）。

- A. 细致 B. 细密 C. 细究 D. 细心

参考答案：A

解析：根据语意分析，科学的角度描写应具备客观、严谨、准确的特点，只有行文表达准确规范，计算机操纵才具备可行性。细致指办事精细周密或事物细密精致，符合语境。细密指质地精致或书画用笔细腻或文章结构严密；细究是细致深入地探究；细心则形容人心思细密；均无法体现科学角度表述的准确性。

48. 人生旅程并不是一帆风顺的，逆境、失意会经常伴随着我们，但人性的_____往往在不如意中才显示出来。填入划横线部分最恰当的一项是（ ）。

- A. 绚丽 B. 闪耀 C. 光彩 D. 光辉

参考答案：D

解析：题干强调的是只有历经磨难，才能锻造出坚韧、沉着、冷静等良好品格，而这些就是人性的闪光点。“人性的光辉”是固定搭配，故选D。绚丽指色彩鲜艳夺目，闪耀指耀眼、闪烁的意思；光彩，指光荣，或者明亮而华丽，也有光芒的含义。

49. 他是新英格兰的先知，又是探索者，既接受，又_____，秉性娴静而又终日碌碌，喜欢“古板严肃，正言厉色”。填入划横线部分最恰当的一项是（ ）。

- A. 扬弃 B. 抛弃 C. 舍弃 D. 摒弃

参考答案：A

答案解析：语境分析文段主要论述了“他”是先知、探索者，感情倾向上比较积极，扬弃是对原有事物既要抛弃其消极因素，又要保留、发扬其积极因素。抛弃、舍弃、摒弃都是把不好的东西给舍弃，不符合语境。答案选 A 项。

50. 六月是一片飘荡着骊歌的天空，很多故事都没有来得及上演，就被匆匆的时光淹没，只剩下一丝浮云，一丝伤感，_____地印刻在了记忆的最柔软处。填入划横线部分最恰当的一项是（ ）。

- A. 悠然 B. 悄然 C. 自然 D. 突然

参考答案：B

答案解析：语境分析文段主要论述六月面临着离别，时间匆匆，很多故事来不及发生，留下一些伤感印在记忆深处。悠然是指安闲、闲适的样子；悄然指形容安静而无声；自然是指自由发展，不经人力干预，文段未体现人力干预；突然指在短促的时间里发生，出乎意外，语境中没有突然发生的意思。只有 B 项符合语境。

51. 战士们排成方阵，_____走过天安门广场，接受首长的检阅。

填入划横线部分最恰当的一项是（ ）。

- A. 高视阔步 B. 神采飞扬 C. 勇往直前 D. 昂首阔步

参考答案：D

答案解析：语境分析横线处应填一成语形容战士们意气风发、意气昂扬走过天安门广场。高视阔步指的是眼睛向上看，迈着大步走路，形容举动不凡或态度傲慢。神采飞扬，意指脸上的神态焕发有神。勇往直前指勇敢地一直无畏地前进，多用于形容一个人勇敢。昂首阔步形容精神振奋，意气昂扬。四个选项中只有 D 符合语境。

52. 这副肖像画真是画得_____，栩栩如生，就像这画中的人站在眼前一样的鲜活。填入划横线部分最恰当的一项是（ ）。

- A. 绘声绘色 B. 惟妙惟肖 C. 活灵活现 D. 生动传神

参考答案：B

解析：横线后面是逗号，表并列，也就是说横线部分内容与栩栩如生形成语义并列，栩栩如生指艺术形象非常逼真，如同活的一样；惟妙惟肖指描写或模仿得非

常逼真；绘声绘色形容叙述得生动。活灵活现形容神情逼真，使人感到好像亲眼看到一般；生动传神形容描写的很到位。A、B、D均不符合。

53. 奇幻的动物世界、风格可爱的涂鸦作品与时尚大片结合，_____的想象力被展现得淋漓尽致。

填入划横线部分最恰当的项是()。

- A. 挥洒自如 B. 无拘无束 C. 天马行空 D. 龙飞凤舞

参考答案：C

解析：空格内容搭配的是想象力，选C，指思维同寻常跳跃。挥洒自如形容画画、写字、作文，运笔能随心所欲。无拘无束形容自由自在，没有牵挂。龙飞凤舞原形容山势的蜿蜒雄壮，后也形容书法笔势有力，灵活舒展。

54. 生活是一位____的长者，是一位_____的老师，它常常春风化雨，润物无声地为我们指点迷津，给我们人生的启迪。

依次填入划横线部分最恰当的一项是()。

- A. 睿智 博学 B. 明智 博学 C. 睿智 博爱 D. 明智 博爱

参考答案：A

解析：根据“它常常春风化雨，润物无声地为我们指点迷津，给我们人生的启迪。”可知“生活”是学识丰富的，才能给予我们指导和启迪。空格处要体现“知识丰富”的意思，根据句式，两空也属于语义并列，睿智和博学都有学识广的意思，所以选A。睿智指见识多，卓越，富有远见，聪慧。明智指观察敏锐而判断正确；领悟恰当中肯之点和重要之点的能力。博学指学识渊博，知道的多，了解的广，知识丰富。博爱指广泛地爱一切人，特别是对朋友或同胞的爱；兼爱。

55. 走过春的田野，越过夏的激流，来到秋天就是安静____的世界。秋天，虽没有玫瑰的芳香，却有秋菊的_____，没有繁花似锦，却有硕果累累。依次填入划横线部分最恰当的一项是()。

- A. 吉祥 淡然 B. 祥和 淡雅 C. 慈祥 淡然 D. 详实 淡雅

参考答案：B

答案解析：文段横线要填的实词应该可以修饰“秋天”，辨析选项可以发现只有B选项“祥和”符合，A选项“吉祥”是吉利的意思，祝福语，C选项“慈祥”指老年人温和的态度和神色，形容老年人，D选项“详实”，指详细而准确，通常形容材料、内容等。因此答案选A项。

56. 下列各句中，没有语病的一句是()。

- A. 老师夸耀我们班上的纪律好。
- B. 要加强对该市文物和旅游业的保护和改革。
- C. 我们要理解和运用学过的词语。
- D. 大雁塔附近的曲江游览区风景很美观。

参考答案：C

答案解析：A选项“夸耀”是名词，老师后面是跟动词，不能跟名词；B选项缺少主语；D选项“风景”应该是美丽，不应该是美观。所以答案选C。

57. 下列各句中，没有语病的一句是()。

- A. 我回想起过去的往事。
- B. 近日，秘鲁北部发生7.8级地震。
- C. 小明不但认真学习，而且成绩很好。
- D. 老师用和蔼的语气和慈祥的目光注视着我们。

参考答案：B

答案解析：A选项“过去的”三个字，它们与后面的“往”是重复的；C选项错误使用递进关系，此句应是因果关系；D选项“语气”不能“注视”，搭配不到。所以答案选“B”。

58. 下列各句中，没有语病的一句是()。

- A. 文件对经济领域中的问题，从理论上和政策上作了详细的规定和深刻的说明。
- B. 电子计算机的广泛应用，要求我们必须尽快提高和造就一批专业技术人员
- C. 科学发展到今天，谁也不能否认地球不是围绕太阳转这个简单的事实。

D. 面对人生的大起大落，他依然能淡定从容。

参考答案：D

解析：A 搭配不当，“理论上”“深刻说明”是抽象的，“政策上”“详细规定”是具体的，不能杂糅在一起，应改为“在政策上作了详细规定，在理论上作了深刻说明”。B 搭配不当，提高无法搭配人员。C 句式杂糅，双重否定就会变成肯定，应该改为“谁也不能否认地球围绕太阳转这个简单的事实”。所以选 D。

59. 下列各句中，没有语病的一句是（ ）。

A. 新种的成熟期比旧种早熟十天。

B. 我虽然和他只有一面之缘，但从他那里学到了许多东西。

C. 这个文化站已成为教育和帮助后进青年，挽救和培养失足青年的场所。

D. 我们的报刊、杂志、电视和一切出版物，更有责任作出表率，杜绝用字不规范的现象。

参考答案：B

解析：A 语义重复，应改为“新种的成熟期比旧种早十天”或“新种比旧种早熟十天”。C 搭配不当，“挽救和培养”构成并列短语，但“培养”“失足青年”不合事理，不能搭配。应删掉“和培养”。D 归类不当，电视不属于出版物，且报刊、杂志、电视和一切出版物无法形成并列关系，应改为“我们的报刊、杂志等一切出版物”。

60. 下列句子中，没有语病的一句是（ ）。

A. 目前我国儿童青少年总体近视发病形势严峻，且低年龄段近视问题突出。

B. 如果我国不能缓解人口增长对水土资源构成的巨大负担，那么环境的恶化将会危及社会经济的可持续发展。

C. 本着“传承优良传统、体现时代精神”为原则，部分专家学者在广泛征集意见的基础上提炼出鲜明、精辟、简洁、通俗的“广东精神”表述语。

D. 对在如何使学生掌握现代化生活所必需的知识这一问题上，该校的老师作过深入细致的研究。

参考答案：A

解析：B 搭配不当，“缓解……负担”动宾不搭配，应将“负担”改为“压力”。C 介词使用不当，应改为“本着‘传承优良传统、体现时代精神’的原则”。D

滥用介词，应改为“对如何使学生掌握现代化生活所必需的知识这一问题”。

第二部分职业能力倾向测验

61. 领导干部在工作中即使遇到难以解决的困难, 只要跟群众说清楚、讲明白, 群众也大都能够理解。“一言不实, 百事皆虚”, 领导干部要对党的事业负责、对人民利益负责、对自己的职责负责, 坚持讲实话。这段话意在强调领导干部要()。

- A. 讲实话 B. 敢于负责 C. 善于说话 D. 处理好与群众的关系

答案: A

解析: 文段为分总的行文脉络结构。首句为主旨句, 主要论述的内容是领导干部说话要“说清楚、讲明白”, 第二句为“分”, 进一步用援引观点以及解释论述领导干部说话要“实”。因此 A 符合。文段主旨句未涉及“负责”、说话的技巧所以 B、C 排除; D 没有体现“说”, 也排除。

62. 衡量乡村是否振兴, 最重要的标志是看能否让乡村留得住人才, 吸引到人才。成都乡村振兴五年计划提出要培育新型职业农民、乡村工匠和农业职业经理人, 还要通过建设国家农业高新技术产业开发区和农业科技创新中心引进培育聚集加快现代农业农村发展的高端人才。这段话的主旨是()。

- A. 乡村如何留住人才
B. 成都乡村留住人才的主要做法
C. 人才振兴是乡村振兴的保障
D. 乡村振兴应该留住哪些人才

答案: A

解析: 文段为“总分”行文脉络结构。首句是主旨句, 主要论述乡村振兴的最重要标准是留住人才, 吸引人才。第二句通过举成都作为例子论述乡村要留住人才、吸引人才。所以选 A。B 为例子, 不是文段的重点, 排除; C, 文段的主旨句未体现“人才”是保障, 排除; D, 文段的主旨句未体现应该留“哪些人才”, 排除。

63. 有人反映：磨洋工的人一个任务总干不完，而高效工作的人领导会再次加派任务，于是导致忙的越来越忙、闲的越来越闲，但收入还差不多。如何让员工各显其能，如何最大限度激发员工的工作积极性？关键要形成周密的考核方法、合理的激励制度。与其盯着过程，不如兼顾结果；与其要求大家“钉在工位上”，不如使用更弹性的工作机制。保证多劳者多得，拒绝让“伪装多劳者”多得，方能从根子上扫除形式主义加班的土壤。这段话意在说明（ ）。

- A. 高效率工作的人越来越忙的原因
- B. 导致员工收入水平相差不大的主要原因
- C. 要健全考核方法，完善激励机制
- D. 要兼顾工作结果，建立更具弹性的工作机制

答案：C

解析：文段第一句通过“有人反映”交代背景忙的人越来越忙，闲的人越来越闲，收入差不多。紧接着提出问题：如何让员工各显其能，如何最大限度激发员工的工作积极性。第三句是根据文段的背景以及问题提出对策：关键要形成周密的考核方法、合理的激励制度。文段最后几句话是进一步解释考核方法、制度的积极意义。所以文段的重点是第三句的对策句。所以选C。A、B为第一句背景铺垫；D为解释说明。

64. 面对“熊孩子”，教师不敢管、不想管的现象令人忧心。为此，社会各界强烈呼吁恢复教育惩戒权。事实上，落实教育惩戒权与惩治“严师”并不矛盾。爱是教育的灵魂，教育惩戒的前提是对学生的真爱，真心爱护学生的老师绝不会滥施惩戒。而只盯着学生分数的“严师”，则是目中无“人”，“为了学生好”的背后是一颗扭曲了的功利心。这样的“严师”被严惩，不值得惋惜。

作者通过这段话表达的主要观点是（ ）。

- A. 要恢复教育惩戒权
- B. 落实教育惩戒权与惩治“严师”并不矛盾
- C. 要严惩只顾功利的“严师”
- D. 爱是教育的灵魂，教师要真心关爱学生

答案：B

解析：首句先提出问题：教师对“熊孩子”不敢管、不想管的现象令人堪忧。接着第二句说明社会呼吁“教育惩戒权”。再通过转折关系“事实上”提出作者的观点：落实教育惩戒权与惩治“严师”并不矛盾。后文再进一步论述“教育惩戒权”与“严师”之间不存在矛盾。因此B当选。A未提及教师，排除；C、D为解释说明部分内容，也没有提及“惩戒权”，排除；

65. 网络医托往往通过搜索引擎的竞价排名，获得靠前推荐，从而触达患者。相关监管部门要夯实搜索公司的主体责任，堵住网络医托现身的搜索通道。对以“医托”等不正当手段招揽患者的“问题医院”，有关部门须加强监管与惩戒，斩断非法牟利的利益链接，让网络医托失去滋生和蔓延的空间。

这段话意在强调()。

- A. 网络医托的竞价排名方法
- B. 网络医托现身的搜索通道
- C. 监管部门要惩罚“问题医院”
- D. 监管部门要铲除网络医托滋生和蔓延的土壤

答案 D

解析：第一步，分析文段，文段第一句讲网络医托存在的问题，第二句讲监管部门要采取的措施是夯实搜索公司的主体责任，第三句讲要对“问题医院”加强监管和惩戒。文段结构为“分-总”后两句对策是重点。

第二步，对比选项。D项是对文段后两句的概括。

因此，选择D选项。拓展A项和B项主体为网络医托与文段后两句主体监管部门不一致，排除。C项为文段后两句对策之一，不能全面概括，排除。

66. 对开车玩手机入刑的讨论，相比观念上的争论，当下更需要讨论的是操作层面的实现。酒驾可以通过抽血化验血液中的酒精含量判断。相比之下，开车时发短信、刷微信的行为比较隐蔽，取证存在一定的难度。这一点倒可以借鉴日本，只要司机手里拿着手机，就会被视为使用手机。

这段话意在说明()。

- A. 开车玩手机入刑的必要性

- B. 开车玩手机入刑的可行性
- C. 开车玩手机的隐蔽性
- D. 开车玩手机是否入刑要向日本学习

答案 B

解析：第一步，分析文段，第一句引出玩手机入刑面临讨论的问题，第二句说明酒驾有判断依据，第三句说明玩手机入刑存在取证困难的问题。第四句，为日本判断玩手机入刑的依据是只要手里拿着手机就被视为使用。故全文为提出问题-解决问题“分-总”结构，最后一句是重点。第二步，对比选项，B选项为最后一句的同意替换。

67. 正是对美好未来的共同期待和憧憬，让来自不同文明背景的人们相遇、相知、相亲。文明对话，具有改变人们认知的力量。这种力量，不是源于居高临下的所谓“优越感”，而是基于不同文明之间平等相待、相互交融、取长补短、共同进步的包容精神。

这段话的主旨是()。

- A. 文明对话的重要性
- B. 不同文明背景的人们相遇、相知、相亲的原因
- C. 文明对话可以改变人们的认知
- D. 文明对话的力量源泉

答案 D

解析：第一步，分析文段，第一句讲不同文明的人如何在一起。第二句讲文明对话具有的作用。第三句，“这种力量”指代前面一句，可概括上文，通过反向并列强调文明对话的力量基于包容精神。故全文为“分-总”结构，最后一句是重点。第二步，对比选项 D 是对最后一句的同意替换。

拓展

B 选项主体与文段主体“文明对话”不一致，A 和 C 选项没有提到力量来源。

68. 从阅读的视觉体验来看，可以说墨水屏电子书和普通的纸质书比较接近，具有类似阅读纸质书一般的感觉，对眼睛的影响比较小，但是这并不代表使用墨水屏电子书就可以“任性”。不管是用液晶屏还是墨水屏阅读，都要尊重眼睛本身的生理特点，不能长时间近距离用眼。

这段文字意在强调()。

- A. 墨水屏电子书可以和纸质书相媲美
- B. 墨水屏电子书对眼睛的影响比较小
- C. 阅读电子书应该选择墨水屏
- D. 不管阅读何种电子书，都需要注意护眼

答案：D

解析：第一步，分析文段。文段第一句指出墨水屏电子书虽然对眼睛的影响比较小，但也不能“任性”。最后一句得出最终结论：不管是用液晶屏还是墨水屏阅读，都要尊重眼睛本身的生理特点，不能长时间近距离用眼。文段是“分—总”结构，主旨句是最后一句。

第二步，对比选项。D项是对主旨句的同义替换，符合文段意图。

因此，选择D选项。

69. 患有肝炎的患者，肝功能低下，肝脏制造的凝血酶也会随之减少。凝血酶具有帮助创口止血的功能，如果这种酶的数量变少，人体的凝血功能就会变差，在洗牙过程中就可能会造成出血不止，进而增大创口被感染的可能性。所以在洗牙之前医生才会询问患者是否患有肝炎。

这段文字意在说明()。

- A. 肝炎患者禁止洗牙
- B. 洗牙前医生询问患者是否患有肝炎的原因
- C. 洗牙可能产生的危害
- D. 肝炎患者的凝血功能有障碍是凝血酶不足导致的

答案：B

解析：第一步，分析文段。文段第一句指出肝炎患者的凝血酶会减少，第二句指出凝血酶和洗牙的关系。最后一句通过“所以”引出最终结论：洗牙之前医生才会询问患者是否患有肝炎。文段是“分—总”结构，主旨句是最后一句。

第二步，对比选项。B项是对主旨句的同义替换，符合文段意图。

70. 时代在变，只有经常到青年中去，深入了解青年，掌握青年的思想动态、价值取向、行为方式，才能成为青年愿意讲真话、交真心、诉真情的知心朋友，才可能引导青年、影响青年。走近青年，还要努力理解青年。让正确的价值观在

青年心里植根,并以不间断的言传身教来加以强化,从课堂到社会再到网络,有青年的地方就应该有青年工作的阵地,才能真正成为青年信得过、靠得住、离不开的知心人。

下列最适合做这段文字标题的是()。

- A. 做青年朋友的知心人
- B. 做青年工作的热心人
- C 做青年群众的引路人
- D. 做青年成长的助推人

答案: A

解析: 第一步,分析文段。文段第一句通过必要条件句,强调做青年的知心朋友。第二、三句再次强调青年离不开知心人。分段是分-分结构。

第二步,对比选项。A项是对文段的概括,适合作为文段标题。

因此,选择A选项。

四、文段阅读(阅读下列文字,回答71-75题,请从四个选项中,选择一个最符合题意的选项。本大题共5小题,每小题0.8分,共4分。)

丝绸之路是一条连接亚欧大陆的文明之路。这条道路在空间上的地理坐标是复杂的,可以是陆地、海洋,也可以是大漠、草原;关于起始端点的表述也存在着不确定性,可以是两个不同的大陆,也可以是同一个大陆的东亚、南亚、中亚或西亚,或是具体的国家。从时间上看,在张骞开通西域这一标志性的节点之前,丝绸之路上的欧亚文明交汇已然存在,而且这种不同种族、地域之间的文明对话,似乎是一条永恒的时光之河,历经数千年延续至今而奔流不息。

丝绸之路文明在形成发展过程中拥有一个复杂的动力系统,政治、经济、文化在不同层面发挥着主导,引领的作用,因此,这一文明具有深厚的内涵。它可以体现为举足轻重的国家安全战略选择,如汉朝开始对西域与对匈奴的战争、大唐对突厥的战争。它也可以视为早期全球化的经贸之路,丝绸之路把中国农民的桑蚕养殖、丝绸生产与中亚、两亚商人的物流运输等以市场的形式链接起来,现代自由主义的经济方式在这条经济带上起到了主导作用。与政治、经济活动相比,丝绸之路的文化融合对于中华文明的丰富和发展具有更重要的价值。如佛教文化自汉代传入中国,扎根开花完成了异域宗教思想的首次中国化。唐初唐太宗明确

提出要把源自西城的燕乐，与汉民族的传统雅乐一并纳入宫廷音乐，朝野莫不为之风靡。在唐王朝的广间疆城里，这种多样性、包容性的国家文化政策的实施，把中华文明推向了新的境界。

丝绸之路推动了中国文化地理空间不停滞的运动和延展。黑格尔曾经从政治制度、社会结构等角度提出，中华文明是一种相对封闭、静止、缺少变化的文明形态，这一观点似乎是偏颇的。从丝绸之路的研究看，中华文明在运动形态和内在规律上都有许多值得深入探讨的问题。如果把汉代丝绸之路的开辟作为一座分水岭，之前是中国本土文明的内在碰撞与交融，华夏与夷狄戎蛮至迟在春秋战国时期逐渐走向了民族和政治经济文化的大融合之后，中华文明的历史演化进程由于外来新的文化元素的加入而变得更加活跃和精彩。丝绸之路改变了中国人的日常生活，葡萄、石榴等进入了中原腹地的村镇农田；那些与周秦迥异的西域汗血宝马不仅出现在汉武帝恣肆驰骋的军阵，也装点了汉代人的精神世界。

研究丝绸之路中国“放眼看世界”的历史轨迹，对于实施新丝绸之路“一带一路”倡议提供了重要参照。这是在经济全球化和国内经济发展新常态大背景下推出的新的国家举措。这一倡议是政治、经济、文化等因素相互交织的协作发展，也是国内相关联地区优化经济文化发展空间的重大机遇。研究新丝绸之路的规划及实施，要注重经济带和文化带的复合，一体化发展，注重更好地统筹国内不同区域的改革创新实现共赢发展。这既是历史丝绸之路的重要经验，也应是新丝绸之路建设的现实选择。

71. 下列对于中华文明的丰富和发展具有最重要价值的是丝绸之路的()。

- A. 政治融合 B. 经济融合 c. 文化融合 D. 军事融合

答案 B

解析：找出题干中关键词，对于中华文明的丰富和发展具有最重要价值，然后定位原文，位于第二段的第六行，与政治、经济活动相比，丝绸之路的文化融合对于中华文明的丰富和发展具有更重要的价值。所以答案应该是文化融合的 B 选项。

72. 黑格尔任认为，“中华文明是一种相对封闭、静止、缺少变化的文明形态”。

作者认为一观点()。

- A. 不够理性 B. 具有历史性 c. 有失公允 D. 过于偏激

答案： B

解析：找出题干中的关键词，是黑格尔的观点，定位到第三段，第三段的第一行提到黑格尔曾经从政治制度、社会结构等角度提出，中华文明是一种相对封闭、静止、缺少变化的文明形态，这一观点似乎是偏颇的。从丝绸之路的研究看，中华文明在运动形态和内在规律上都有许多值得深入探讨的问题。可以看出，中华文明是一个发展的过程，黑格尔只是站在当时的历史时代看待问题的。

73. 原文中“这是在经济全球化和国内经济发展新常态大背景下推出的新的国家举措”指的是()。

- A. 实施新丝绸之路“一带一路”倡议
- B. 统筹国内不同区域的改革创新
- C. 政治、经济、文化协作发展
- D. 研究丝绸之路中国“放眼看世界”的历史轨迹

答案 A

解析：找出题干中关键词，这是在经济全球化和国内经济发展新常态大背景下推出的新的国家举措，这句话出现了代词这，只要找到代词这所指代的内容，那么答案即出来，定位到最后一段，既然是新常态下提出来的，所以应该是新的内容，因此应该是实施新丝绸之路“一带一路”倡议。

74. 下列关于原文内容的理解和分析中，正确的是()。

- A. 中亚地区没有桑蚕养殖
- B. 唐代燕乐的兴盛促进了丝绸之路文化的融合
- C. 葡萄在汉代以前就已传入中原
- D. 汉代之前丝路文化融合主要局限于中国本土之内

答案 D

解析：细节题，需要我们一一对位每个选项，并对比原句，A 选项，中亚地区没有桑蚕养殖，定位到第二段，丝绸之路把中国农民的桑蚕养殖、丝绸生产与中亚、两亚商人的物流运输等以市场的形式链接起来，中国的桑蚕引入后，后期就有了，因此表述不准确；B 唐代燕乐的兴盛促进了丝绸之路文化的融合，定位到第二段，唐初唐太宗明确提出要把源自西城的燕乐，与汉民族的传统雅乐一并纳入宫廷音乐，朝野莫不为之风靡。促进了发展，不是融合，因果关系错误。C 葡萄在汉代

以前就已传入中原，定位第三段，是汉代的丝绸之路传入的，所以不是汉代以前。D 汉代之前丝路文化融合主要局限于中国本土之内定位到第三段，如果把汉代丝绸之路的开辟作为一座分水岭，之前是中国本土文明的内在碰撞与交融。所以 D 选项是正确的。

75. 根据原文内容，下列说法正确的是()。

- A. 丝绸之路虽然已经有两千多年的历史，但是至今人们也并不清楚它在地理上的坐标
- B. 如果没有丝绸之路，中国百姓的生活中就不会出现葡萄、石榴等物品
- C. 丝绸之路上的欧亚文明交汇以张骞开通西域为标志性节点
- D. 丝绸之路是沟通不同文明的重要纽带，丝绸之路上各民族、地域间的文明交流从未断绝

答案：A

解析：A 选项，定位到第一段，丝绸之路是一条连接亚欧大陆的文明之路。这条道路在空间上的地理坐标是复杂的，可见，目前我们是不清楚的；B 选项定位到第三段，说法过于绝对，也可能会有其他方式会把葡萄石榴带过来；C 选项在张骞开通西域这一标志性的节点之前，丝绸之路上的欧亚文明交汇已然存在，因此 C 表述错误；D 选项从未断绝，表述绝对。

五、数字推理(给你一个数列，但其中缺少一项，要求你仔细观察数列的排列规律，然后从四个选项中选择最合理的一个选项，来填补空缺项，使之符合原数列的排列规律。本大题共 3 小题，每小题 0.8 分，共 2.4 分。)

76. $1/2, 2/3, 3/4, 4/5, 5/6, ()$ 。

- A. $7/10$
- B. $6/7$
- C. $7/8$
- D. $8/9$

【答案】B

【解析】数列规律：分数数列。分子分母都是以 1 位公差的等差数列，所以括号内的分数分子为 6，分母为 7，选 B。

77. 23, 13, 28, 8, 33, 3, 38, ()。

- A. -2 B. -1 C. 0 D. 43

【答案】A

【解析】数列规律：多级数列。奇数列为公差为5的等差数列，偶数列为公差为-5的等差数列。所以括号内应是 $3-5=-2$ ，选A。

78. 74, 38, 18, 10, 4, ()。

- A. 1 B. 2 C. 3 D. 4

【答案】C

【解析】数列规律：递推数列。前两项作差再除以2得到第三项， $(74-38)/2=18$ ， $(38-18)/2=10$ ……所以括号内应填 $(10-4)/2=3$ 。选C

六、数学运算(在这部分试题中，每道试题呈现一段表述数字关系的文字。要求你迅速、准确地计算出答案并选择一个正确选项。本大题共5小题，每小题0.8分，共4分。)

79. $49000 \div 125 \div 8$ 的值是()。

- A. 32 B. 32.5 C. 49 D. 49.5

【答案】C

【解析】基础计算。 $49000 / (125 \times 8) = 49$ ，选C。 $(125 \times 8 = 1000)$

80. 某村委随机抽取100名村民调查其种植果树的情况，其中62人种有荔枝树，34人种有芒果树，11人同时种有荔枝树和芒果树。则这两种果树都没种的有()人。

- A. 8 B. 12 C. 15 D. 21

【答案】C

【解析】二集合容斥问题。根据二集合容斥的公式：总数=A+B-AB+非AB，设两种都没种的人数为X。可得 $100=62+34-11+X$ ，根据尾数计算，X的尾数为5，选C。

81. 某次知识竞赛的规则是参赛选手原始得分为 0，每抢答一题，答对加 4 分，答错扣 2 分。小王共抢答了 25 题，最终得分是 76 分，则他共答错了() 题。

- A. 2 B. 4 C. 6 D. 7

【答案】B

【解析】基础方程。设答错题为 x ，则答对为 $25-x$ ，可列方程： $4 \times (25-x) - 2x = 76$ ，解得 $x=4$ 。

82. 张某在某村承包了一个长方形的鱼塘，该鱼塘的长宽比为 2: 1，在比例尺为 1 : 500 的地图上量得其周长为 30 厘米，则该鱼塘的实际面积是() 平方米。

- A. 625 B. 1250 C. 2500 D. 5000

【答案】B

【解析】几何问题。设鱼塘的宽为 x ，则长为 $2x$ 。根据长方形的周长= $2 \times (\text{长} + \text{宽})$ ，可列方程为 $2 \times 3x = 30$ ，解得 $x=5$ ，则 $2x=10$ 。则实际宽为： $5 \times 500 = 2500$ 厘米=25 米，实际长为： $10 \times 500 = 5000$ 厘米=50 米。所以根据面积=长 \times 宽，则鱼塘的实际面积为 $25 \times 50 = 1250$ 。

83. 在某一定浓度的溶液中加入水，每次加水的量相同，第一次加水后溶液浓度为 12%，第二次加水后溶液浓度为 8%，则第三次加水后溶液浓度为() 。

- A. 4% B. 5% C. 6% D. 7%

【答案】C

【解析】溶液问题。可用赋值法。因为溶质不变，所以赋值溶质为 12 和 8 的公倍数，即 24，则可列：

$$\text{浓度} = \frac{\text{溶质}}{\text{溶液}}$$

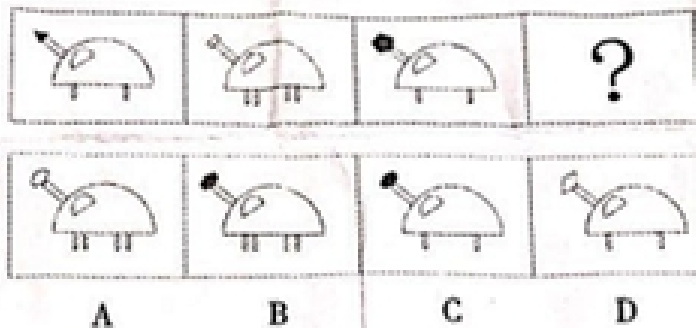
$$12\% = \frac{24}{200}$$

$$8\% = \frac{24}{300}$$

$$X\% = \frac{24}{400}$$

所以第三次溶液能读 $X\%=6\%$ 。

84. 下列选项正确的是 ()。



【答案】A

【解析】第一步，观察特征。

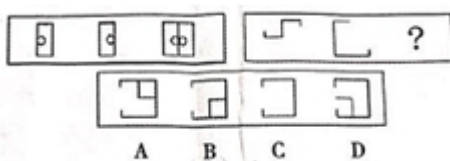
组成元素相似，优先考虑属性类。

第二步，一条式，从左到右找规律。

题干图形的下面部分线条数为 1, 2, 1, ?，为交替出现的图形因此问号处图形的下面部分为两条线，因此排除 CD 选项，左上角小图形为黑白色图形相交，只有项符合。

因此，选择 A 选项。

85. 下列选项正确的是 ()。



【答案】A

【解析】第一步，观察特征。

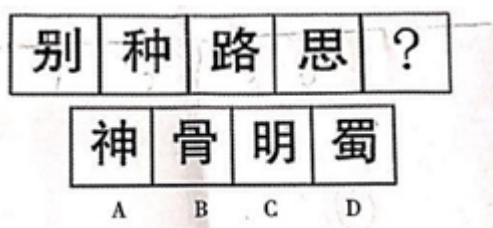
组成元素相似，优先考虑样式类。

第二步，两段式，前三个图形找规律。

前两个图形分别进行 180 度旋转后再叠加构成第三个图形，后一段图形运用该规律，只有 A 项符合。

因此，选择 A 选项。

86. 下列选项正确的是()。



【答案】D

【解析】第一步，观察特征。

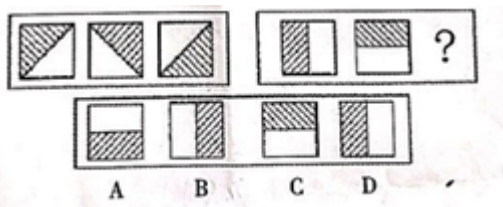
组成元素凌乱，优先考虑数量类。

第二步，一条式，从左到右找规律。

题干图形都存在封闭空间，考虑封闭空间的数量，为 1, 2, 3, 4, ?，故问号处应该为 5 个封闭空间，只有 D 项符合。

因此，选择 D 选项。

87. 下列选项正确的是()。



【答案】B

【解析】第一步，观察特征。

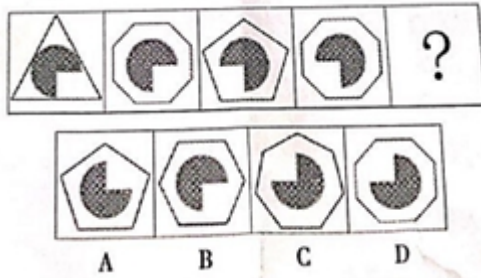
组成元素相同位置类题型。

第二步，两段式，前三个图形找规律。

左边三个图形每次旋转 90°，后一段图形运用该规律，只有 B 项符合。

因此，选择 B 选项。

88. 下列选项正确的是 ()。



【答案】C

【解析】第一步，观察特征。

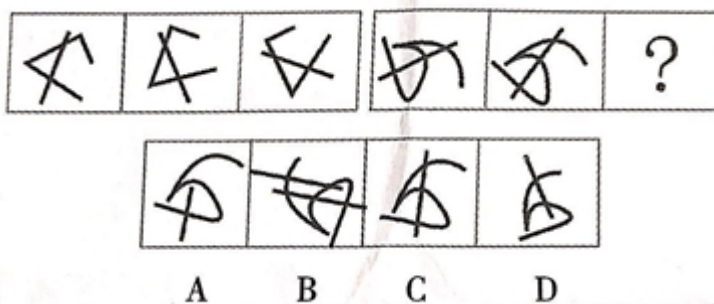
外部图形数量特征明显，优先考虑数量类。

第二步，一条式，从左到右找规律。

外部图形呈现一定数量规律，3、8、5、8、7，奇偶相间排列，等差与常数相间排列；内部图形画对称轴，第一，三个图豁口部分对应三角形对着顶点，后面对着边，二四两个图画出来对称轴都是经过的边，所以最后一个应该找豁口对着顶点，另一个对着边，综合内外图形规律。

因此，选择 C 选项。

89. 下列选项正确的是 ()。



【答案】C

【解析】第一步，观察特征。

组成元素相同位置类题型。

第二步，两段式，前三个图形找规律。

左边三个图形每次旋转一定角度；图形的封闭区间个数一致。

因此，选择 C 选项。

90. 单方民事法律行为:是指根据民事主体一方的意思表示即可成立的法律行为。

依据上述定义，下列不属于单方民事法律行为的是()。

- A. 立遗嘱 B. 委托授权 C. 放弃继承 D. 买卖合同

【答案】D

【解析】第一步，看提问方式，本题属于选非题。

第二步，找关键信息。

一方的意思表示即可成立，

D 选项：买卖合同需要民事主体双方的意思表示才能成立，不符合题干关键词。

因此，选择 D 选项。

91. 种群:是指在一定空间和时间内的同种生物个体的总和。

根据上述定义，下列属于种群的是()。

- A. 一个蜂巢里的蜂 B. 一个农场里的果蔬
C. 一个森林里的鸟类 D. 邕江里的鱼

【答案】A

【解析】第一步，看提问方式，本题属于选是题。

第二步，找关键信息。

同种生物个体，

A 选项：是只有蜂这一种生物个体，符合题干要求，当选；

B 选项：水果和蔬菜不是同种生物，不符合题干关键词，排除；

C 选项：包含不同种类的鸟，不符合题干关键词，排除；

D 选项：包含不同种类鱼，不符合题干关键词，排除。

因此，选择 A 选项。

92. 集体消费方式:是指全社会、地区、集体范围内为满足共同需要而进行的消费活动。

根据上述定义，下列不属于集体消费方式的是()。

- A. 兴办学校 B. 公租房建设 C. 5G 网络建设 D. 节假日与朋友去旅游

【答案】D

【解析】第一步，看提问方式，本题属于选非题。

第二步，找关键信息。

全社会、地区、集体范围内，

D 选项：范围只限于朋友之间，不符合题干关键词。

因此，选择 D 选项。

93. 隐性知识:是指高度个性化、难以格式化且难以转移的知识。

根据上述定义，下列属于隐性知识的是()。

- A. 小刘掌握的化肥检验技术 B. 张师傅掌握的汽车维修技术
C. 赵经理积累多年的管理经验 D. 李明掌握的某奥数题目的解题方法

【答案】C

【解析】第一步，看提问方式，本题属于选是题。

第二步，找关键信息。

隐性知识：高度个性化、难以格式化且难以转移的知识。

A 项：化肥检验技术是可以转移的知识，不符合题干关键词，排除；

B 项：汽车维修技术是可以转移的知识，不符合题干关键词，排除；

C 项：积累多年的管理经验是符合高度个性化、难以格式化且难以转移的知识，当选；

D 项：奥数题目的解题方法是可以转移的知识，不符合题干关键词，排除；

因此，选择 C 选项。

94. 漏税:是指纳税人并非故意未缴或者少缴税款的行为。

根据上述定义，下列属于漏税行为的是()。

- A. 纳税人虚增成本以少缴纳应纳税款

- B. 纳税人瞒报应税项目以少缴纳应纳税款
- C. 纳税人销毁账册票据以少缴纳应纳税款
- D. 纳税人因粗心大意错用税率导致少计应税项目

【答案】D

【解析】第一步，看提问方式，本题属于选是题。

第二步，找关键信息。

漏说：纳税人并非故意未缴或者少缴税款。

- A 项：属于故意少缴，不符合题干关键词，排除；
 - B 项：属于故意少缴，不符合题干关键词，排除；
 - C 项：属于故意少缴，不符合题干关键词，排除；
 - D 项：因粗心大意并非故意，符合题干关键词，当选；
- 因此，选择 D 选项。

95. 旅游商品：是指旅游者在旅游活动中出于非商业性目的而购买的实物性商品，它不包含维持旅游活动所必需的生活用品。

根据上述定义，下列属于旅游商品的是（ ）。

- A. 张某计划去欧洲旅游，他提前在网上买了一个行李箱
- B. 小颖在泰国旅游时发现了一款便宜又好用的防晒霜，于是多买几瓶带回去送给朋友
- C. 李某一行人登雪山时，请了一名当地的村民做向导
- D. 慧慧到某地旅游入住酒店后，发现酒店未提供拖鞋，于是她下楼去买了一双

【答案】B

【解析】第一步，看提问方式，本题属于选是题。

第二步，找关键信息。

- ①旅游活动中非商业性目的而购买的实物性商品
- ②不包含维持旅游活动所必需的生活用品

A 项：不属于旅游活动中，不符合题干关键词，排除；

B项：防晒霜属于非商业性目的而购买的实物性商品，符合题干关键词，当选；

C项：向导不属于实物性商品，不符合题干关键词，排除；

D项：拖鞋是所必需的生活用品，不符合题干关键词，排除；

因此，选择B选项。

九、类比推理(先给出一组相关的词，要求你在四个选项中找到一组与之在逻辑关系上最为贴近或相似的词。本大题共7小题，每小题0.8分，共5.6分。)

96. 教室:自习 正确的选项是()

A. 食堂:用餐 B. 书本:封皮 C. 莲花:池塘 D. 文章:杂志

【答案】A.

【解析】

第一步，确定题干逻辑关系。

“自习”对应的场所是“教室”

第二步，辨析选项。

A项：“用餐”的场所是“食堂”，属于对应关系，选择；

B项：“书本”和“封皮”，二者属于包容关系中的组成关系，排除；

C项：“莲花”和“池塘”，二者属于对应关系，但池塘不是动词，排除；

D项：“杂志”中可以有“文章”，但不是场所对应，排除；

因此，选择A选项。

97. 农民工:城市 正确的选项是()

A. 学生:老师 B. 总经理:员工 C. 知青:农村 D. 厨师:餐馆

【答案】C.

【解析】

第一步，确定题干逻辑关系。

“城市”里有“农名工”

第二步，辨析选项。

A项：“学生”和“老师”，是并列关系，排除；

- B项：“总经理”和“员工”，二者属于并列关系，排除；
C项：“农村”里有“知青”，选择；
D项：餐馆“”中可以有“厨师”，但跟城市比。农村会更加合理，排除；
因此，选择C选项。

98. 手电筒:照明 正确的选项是()。

- A. 汉堡包:食物 B. 卷尺:长度 C. 报纸:文字 D. 寒冬:冰冷

【答案】B.

【解析】

第一步，确定题干逻辑关系。

“手电筒”可以“照明”

第二步，辨析选项。

- A项：“汉堡”是“食物”一种，属于包含关系，排除；
B项：“卷尺”可以测“长度”，选择；
C项：“报纸”中“文字”，二者属于组成关系，排除；
D项：“寒冬”的属性“冰冷”，排除；
因此，选择B选项。

99. 武术:迷踪拳 正确的选项是()

- A. 田径:竞走 B. 排球:网球 C. 射箭:射击 D. 举重:摔跤

【答案】A.

【解析】

第一步，确定题干逻辑关系。

“迷踪拳”是“武术”的一种

第二步，辨析选项。

- A项：“竞争”是“田径的一种”，属于包含关系，选择；
B项：“排球”和“网球”，二者属于并列关系，排除；
C项：“射箭”是“射击”的一种，但位置不正确，排除；
D项：“举重”和“摔跤”，是并列关系，排除；

因此，选择 A 选项。

100. 手机:视频 正确的选项是()

- A. 毛笔:书写 B. 电脑:游戏 C. 工作:工资 D. 灭火:水

【答案】 B.

【解析】

第一步，确定题干逻辑关系。

“手机”可以是“视频”载体

第二步，辨析选项。

A 项：“毛笔”功能是“书写”，属于对应关系，但不是载体关系，排除；

B 项：“电脑”可以是“游戏”载体，二者对应关系，选择；

C 项：“工作”可以有“工资”，二者属于对应关系，但不是载体关系，排除；

D 项：“灭火”需要“水”，排除；

因此，选择 B 选项。

101. 接受:拒绝 正确的选项是()。

- A. 复杂:深奥 B. 欢喜:悲伤 C. 城市:乡村 D. 苏州:园林

【答案】 B.

【解析】

第一步，确定题干逻辑关系。

“接受”和“拒绝”是反义

第二步，辨析选项。

A 项：“复杂”和“深奥”，是近义，排除；

B 项：“喜欢”和“悲伤”，是反义，选择；

C 项：“城市”和“乡村”，二者属并列关系，排除；

D 项：“苏州”中可以有“园林”，排除；

因此，选择 B 选项。

102. 观众:电视:新闻 正确的选项是()。

- A. 工人:工厂:纪律 B. 电工:电笔:电线
C. 学生:教师:知识 D. 消费者:消费指南:优惠信息

【答案】D

【解析】

第一步，确定题干逻辑关系。

“观众”通过“电视”看新闻

第二步，辨析选项。

A项：“工人”在“工厂”生产，排除；

B项：“电工”用“电笔”测电线，排除；

C项：“教师”和“学生”，二者属于并列关系，排除；

D项：“消费者”通过“消费指南”看优惠信息，选择；

因此，选择D选项。

103. 甲、乙、丙三人，一位是文学家，一位是数学家，一位是艺术家。已知：丙比艺术家年龄大，甲和数学家不同岁，数学家比乙年龄小。由此，可以推知()。

- A. 甲不是艺术家 B. 数学家比甲年龄小
C. 数学家比文学家年龄大 D. 艺术家年龄最小

【解析】D

第一步，确定题型。

题干有信息匹配特征，确定为分析推理。

第二步，分析条件，进行推理。

根据丙比艺术家年龄大可知(1)丙不是艺术家；根据甲和数学家不同岁可知(2)甲不是数学家；根据数学家比乙年龄小可知(3)数学家不是乙。

根据条件(2)和(3)可知，数学家不是甲乙，数学家是丙。根据数学家比乙年龄小可知(4)丙比乙年龄小。根据丙比艺术家年龄大可知乙》丙》艺术家。

因此，选择D选项。

104. 在某乡镇的调查显示:大部分村干部具有较高的养殖技术,部分村民有追星倾向,有较高养殖技术的人当中存在追星族,追星族中男性青年占了相当的比例。

由此可知()。

- A. 追星族中有村干部
B. 村干部中有男性青年
C. 追星族中有人具有较高的养殖技术
D. 有较高养殖技术的人中大部分是男性青年

【答案】A

【解析】

第一步,确定题型。

根据题干关键词“有……都……”,确定为集合推理。

第二步,翻译题干。

根据大部分村干部具有较高的养殖技术可翻译为:(1)有的村干部→较高养殖技术。

根据有较高养殖技术的人当中存在追星族可翻译为:(2)较高养殖技术→存在追星族。

根据(1)和(2)可知(3)有的村干部→存在追星族,即追星族中有村干部。

因此,选择A选项。

105. 某酒店有三种房型,按房间面积大小依次分为豪华套房、双人房、单人房。甲、乙、丙三人同时入住该酒店并自由选择房型,已知:甲不是住单人房就是住豪华套房;乙住的不是豪华套房;丙住的房间面积比乙住的房间面积小。

- A. 甲住的是豪华套房
B. 乙住的是双人房
C. 丙住的是双人房
D. 甲、丙两人都住单人房

【答案】A

【解析】

第一步,确定题型。

题干有信息匹配特征，确定为分析推理。

第二步，分析条件，进行推理。

根据丙住的房间面积比乙住的房间面积小可知（1）丙不是住豪华房；再根据乙住的不是豪华套房可知（2）甲住豪华房。

因此，选择 A 选项。

106. 某中学有一部分实习教师，按学校的规定，实习教师一个月只能上 8 节课。小李在该中学任教，她每月上 8 节课。

- A. 小李是实习教师 B. 有一部分一个月只上 8 节课的是实习教师
C. 小李不是实习教师 D. 除实习教师外，其他教师每月课时量都超过 8 节

【答案】B

【解析】

第一步，确定题型。

题干有信息匹配特征，确定为分析推理。

第二步，分析条件，进行推理。

根据实习教师一个月只能上 8 节课可知有一部分一个月只上 8 节课的是实习教师。

因此，选择 B 选项。

107. 某些银行家是大学数学系的毕业生，因此某些大学数学系的毕业生对计算业务很有研究。如果（ ）为真，则能保证上述论断的正确性。

- A. 某些对计算业务很有研究的银行家不是大学数学系毕业的
B. 所有对计算业务很有研究的人都是银行家
C. 某些银行家不是大学数学系的毕业生，而是学金融的
D. 所有银行家都对计算业务很有研究

【答案】D

【解析】

第一步，确定题型。

题干和选项中出现“所有”和“某些”这样类型的表述，确定为集合推理。

第二步，分析条件，进行推理。

根据集合推理中的换位法则，“有些A是B”等于“有些B是A”，可以把“某些银行家是大学数学系的毕业生”换位成“些大学数学系的毕业生是银行家”，结论中需要得到“某些大学数学系的毕业生对计算业务很有研究”，所以根据地推原则，只需要保证“所有银行家都对计算业务很有研究”即可。

因此，选择D选项。

108. 目前的大学生普遍缺乏艺术素养，根据某省教育厅对部分高校最近的一次调查表明，大学生中喜欢艺术课程教育的只占被调查人数的13%，以下最能削弱上述观点的是（ ）

- A. 大学生缺少对艺术课程的了解，不懂得怎样去选课
- B. 有些大学生既喜欢艺术课程，有对公共性艺术教育的其他方面感兴趣
- C. 喜欢艺术课程与公共性艺术教育不是一回事，不要以偏概全
- D. 13%正好说明培养大学生对艺术课程的兴趣大有潜力

【答案】C

【解析】

第一步，确定题型。

根据提问方式中的“削弱”，确定为削弱论证。

第二步，找论点和论据。

论点：目前的大学生普遍缺乏艺术素养。

论据：大学生中喜欢艺术课程教育的只占被调查人数的13%。

第三步，辨析选项。

A项：无关选项。大学生缺少对艺术课程的了解，不懂得怎样去选课与论点大学生缺乏艺术素养是不同话题，排除。

B项：增加反向论据。说明有些大学生是喜欢艺术课程的，对于论点大学生缺乏艺术素养有削弱力度。

C项：断开联系项。该项说明论据中的喜欢艺术课程人数的多少与是否接受艺术教育无关，也就说明不能仅仅用艺术课程来代表大学生是否缺乏艺术素养，因为属于断开联系。

D项：无关选项。培养大学生对艺术课程的兴趣与论点目前的大学生普遍缺乏艺术素养无关。

比较 BC，断开联系强于增加反向论据

因此，选择 C 选项。

109. 某公司的财务部门共有 15 名员工，已知①有人熟悉税法 ②有人不熟悉税法
③财务部小李不熟悉税法，若这三句话中只有一句为真，那么（ ）

- A. 15 人都熟悉税法
- B. 15 人都不熟悉税法
- C. 仅有 1 人熟悉税法
- D. 仅有 1 人不熟悉税法

【答案】A

【解析】

第一步，确定题型。

题干出现三个命题并且设问中说只有一真，确定为真假推理。

第二步，分析条件，进行推理。

反对关系的特征中说“两个有的，必有一真”，因此①②两句话中必有一真，设问中说三句话中只有一句为真，那真话必在①②之间，因此，第③句即为假话，可得财务部小李熟悉税法，故第①句有人熟悉税法为真话，设问中说三句话中只有一句为真，故第②句有人不熟悉税法为假话，因此其矛盾命题所有人都熟悉税法为真。

因此，选择 A 选项。

110. 在大学的某班级里，大部分来自北方的同学都喜欢吃煎饼，所有南方同学都喜欢吃螺蛳粉，而所有喜欢吃煎饼的同学都不喜欢吃螺蛳粉，如果上述为真，下列必为真的是（ ）

- ①该班有些北方同学喜欢吃螺蛳粉
- ②该班有些北方同学不喜欢吃螺蛳粉
- ③该班南方同学都不喜欢吃煎饼

- A. ②
- B. ①②
- C. ②③
- D. ①③

【答案】C

【解析】

第一步，确定题型。

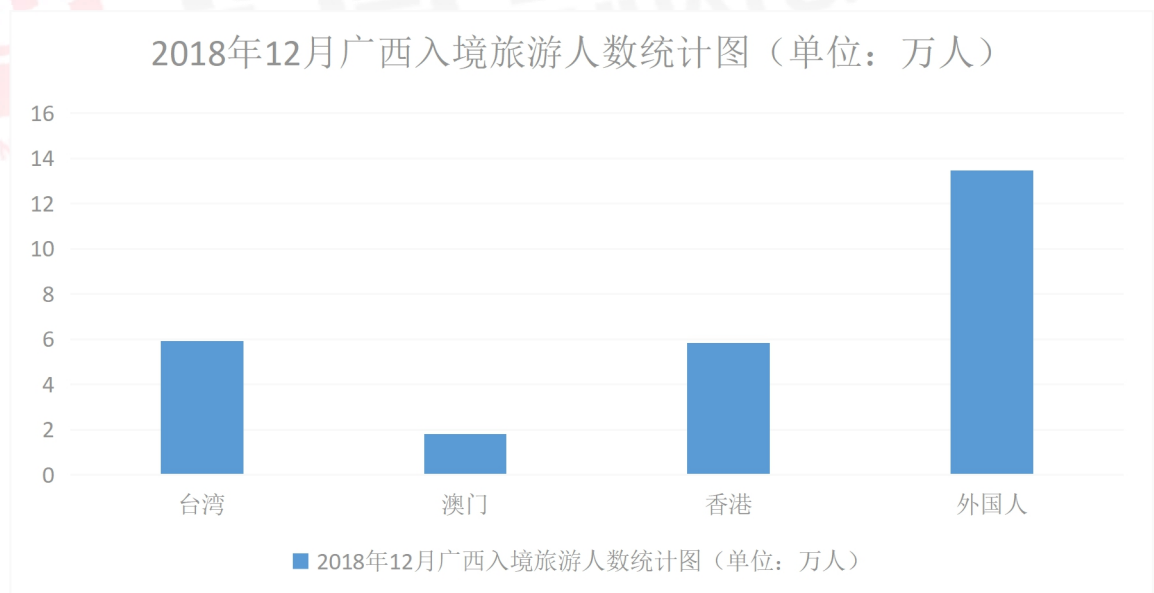
题干和选项中出现“所有”和“有些”这样类型的表述，确定为集合推理。

第二步，分析条件，进行推理。

题干中说“大部分来自北方的同学都喜欢吃煎饼”，“所有喜欢吃煎饼的同学都不喜欢吃螺蛳粉”，因此可得“大部分来自北方的同学不喜欢吃螺蛳粉”，所以②该班有些北方同学不喜欢吃螺蛳粉一定正确。根据集合推理中的换位法则，“所有A不是B”等于“所有B不是A”，可以把“所有喜欢吃煎饼的同学都不喜欢吃螺蛳粉”换位成“所有喜欢螺蛳粉的同学都不喜欢吃煎饼”，又因为题干中说“所有南方同学都喜欢吃螺蛳粉”，所以可得“所有南方同学都不喜欢吃煎饼”，故③该班南方同学都不喜欢吃煎饼一定正确。而①该班有些北方同学喜欢吃螺蛳粉无法推知。

因此，选择C选项。

十一、根据下列图表，解答以下问题



111. 根据上述图表，求 2018 年 12 月广西入境旅游总人数为（ ）万人。

- A. 26.99 B. 27.59 C. 31.58 D. 36.79

【答案】A

【解析】简单加法约算。台湾近乎为6万，澳门为近2万，香港近6万，根据第二题可确定外国人数为近乎为13.53万，所以总数一定 $< 6+2+6+13.53=27.53$ ，选A。

112. 2018年12月广西入境旅游人数中，外国人比台湾同胞人数多（ ）万人。

- A. 6.63 B. 7.53 C. 8.41 D. 11.25

【答案】B

【解析】简单减法约算。台湾尤其靠近6万人，外国人13万多，所以相减应该是7万多，选B。同时可知，外国人的确切人数应该尤其靠近 $6万+7.53万=13.53$ 万。

113. 2018年12月广西入境旅游人数中，港澳台同胞比外国人比（ ）

- A. 多0.09万 B. 相等 C. 少0.09万 D. 少0.19万

【答案】C

【解析】简单倍数。根据第一题选项可知总数为26.99万，根据第二题可知外国人近似为13.53万，所以港澳台近似为 $26.99-13.53=13.46$ 万，所以港澳台比外国人少 $|13.46-13.53|=-0.07$ ，结合选项，选C。

114. 2018年12月广西入境旅游人数中，香港人数是澳门的（ ）倍

- A. 2.3 B. 2.9 C. 3.2 D. 4.4

【答案】C

【解析】简单倍数计算。香港人数很接近6万，澳门人数比较接近2万，所以肯定超过3倍，选C。

115. 2018年12月广西入境旅游人数中，台湾同胞的人数占总人数的比例为（ ）

- A. 11% B. 15% C. 19% D. 22%

【答案】D

【解析】比重计算。台湾人数近乎为 6 万，总人数为 26.99 万，所以占比为 $6/26.99 \approx 22\%$ ，选 D。

十二、根据下列图表，解答以下问题

中国 2018 年进出口总值 30.51 万亿元人民币，比 2017 年增长 9.7%。其中，出口同比增长 7.1%，进口同比增长 12.9%。

2018 年，我国民营企业进出口 12.1 万亿元，增长 12.9%，占我国进出口总值的 39.7%，比 2017 年提升 1.1 个百分点。其中，出口 7.87 万亿元，增长 10.4%，占出口总值的 48%，比重提升 1.4 个百分点，继续保持第一大出口主体地位；进口 4.23 万亿元，增长 18.1%。机电产品出口占比提升，出口商品结构持续优化。同期，外商投资企业进出口 12.99 万亿元，增长 4.3%，占 42.6%；国有企业进出口 5.3 万亿元，增长 16.8%，占 17.4%。

2018 年，我国机电产品出口 9.65 万亿元，增长 7.9%，占我国出口总值的 58.8%，比 2017 年提升 0.4 个百分点。其中，汽车出口增长 8.3%，手机出口增长 9.8%。同期，服装、玩具等 7 大类劳动密集型产品合计出口 3.12 万亿元，增长 1.2%，占出口总值的 19%。原油、天然气和铜等大宗商品进口量价齐升，铁矿砂和大豆进口量有所减少。2018 年，我国进口原油 4.62 亿吨，增加 10.1%；天然气 9039 万吨，增加 31.9%；成品油 3348 万吨，增加 13%；铜 530 万吨，增加 12.9%。此外，进口铁矿砂 10.64 亿吨，减少 1%；大豆 8803 万吨，减少 7.9%。初步测算，全年我国进口价格总体上涨 6.1%。其中，原油上涨 30%，成品油上涨 20%，天然气上涨 22.9%，铜上涨 3.2%。

116. 2018 年，我国外贸进出口总值比 2017 年约多（ ）万亿元人民币。

- A. 2.23 B. 2.41 C. 2.70 D. 2.96

【答案】C

【解析】增长量计算。定位第一段。进出口总值现期量为 30.51 万亿，增长

率为 9.7%，根据 $\text{增长量} = \frac{\text{现期量}}{1 + \text{增长率}} \times \text{增长率}$ ，可列式 $\text{增长量} = \frac{30.51}{1 + 9.7\%} \times 9.7\% \approx$

27. 所以选 C。

117. 2017年，我国民营企业进出口总值比外商投资企业进出口总值约（ ）
万亿元人民币。

- A. 少 0.9 B. 多 0.9 C. 少 1.74 D. 多 1.74

【答案】C

【解析】基期量计算。定位第二段。

解法一：根据 $\text{基期量} = \frac{\text{现期量}}{1 + \text{增长率}}$ ，可得，2017年民营企业进出口总值为 $\frac{12.1}{1 + 12.9\%} \approx 10.7$ ，2017年外商投资企业进出口总值为 $\frac{12.99}{1 + 4.3\%} \approx 12.45$ ，则 $10.7 - 12.45 = -1.74$ ，所以选 C。

解法二：比较民营企业和外商投资企业进出口总值的基期量，可通过分数比较得知民营 < 外商，排除 B、D；又民营的增长率大于外商的增长率，故民营的基期量变化幅度大于外商，故 $|2017\text{年民营} - 2017\text{年外商}| > |2018\text{年民营} - 2018\text{年外商}| = |12.1 - 12.99| = 0.89$ ，根据选项，可以确定选 C。

118. 2018年，我国机电产品出口总值约占我国出口总值的（ B ）。

- A. 68.5% B. 58.8% C. 54.7% D. 31.6%

【答案】B

【解析】直接读数。定位第三段第一句。“2018年，我国机电产品出口 9.65 万亿元，增长 7.9%，占我国出口总值的 58.8%”。选择 B。

119. 2018年，我国天然气进口增加率比原油和铜的进口增加率之和多（ ）
个百分点。

- A. 8.9 B. 18.9 C. 19 D. 21.8

【答案】A

【解析】简单计算。定位第三段。天然气的增长率为 31.9%，原油为 10.1%，铜为 12.9%， $31.9\% - (10.1\% + 12.9\%) = 8.9\%$ ，即 8.9 个百分点，选 A。

120. 下列说法错误的是()。

A. 与 2017 年相比，2018 年我国一般贸易进出口总值增加，占我国进出口总值的比重上升

B. 与 2017 年相比，2018 年我国民营企业进口总值增长，占我国进口总值的比重上升

C. 与 2017 年相比，2018 年我国机电产品出口总值增长，占我国出口总值的比重上升

D. 2017 年，我国进口天然气比进口成品油多 4805 万吨

【答案】D

【解析】

A. 材料未给一般贸易进出口总值相关数据，无法确定。

B. 民营企业进口总值增长率 $18.1\% > 0$ ，则进出口总值增长；我国进口总值增长率 12.9% ， $18.1\% > 12.9\%$ ，所以民营企业进出口总值所占比重上升，B 选项正确。

C. 机电产品出口总值增长率 $7.9\% > 0$ ，则出口总值增长；我国出口总值增长率 7.1% ， $7.9\% > 7.1\%$ ，所以机电产品出口总值所占比重上升，C 选项正确。

D. 2017 年天然气进口量为 $\frac{9039}{1+31.9\%} \approx 6853$ ，成品油进口量为 $\frac{3348}{1+13\%} \approx 2963$ ，

故 2017 年天然气进口量比成品油多 $6853-2963=3890$ ，D 选项错误。

故选 D。