

《职业能力倾向测试 C 类》

第一部分 常识判断

(共 20 题，参考时限 10 分钟)

根据题目要求，在四个选项中选出一个最恰当的答案。

请开始答题：

1. 习总书记指出，扶贫开发工作已进入“啃硬骨头、攻坚拔寨”的冲刺期。各级党委和政府必须增强紧迫感和主动性，在扶贫攻坚上进一步理清思路，强化责任，采取力度更大、针对性更强、作用更直接、效果更可持续的措施，特别要在（ ）上下更大工夫。

- A. 精准扶贫、精准脱贫
- B. 分类指导，保障民生
- C. 扶贫攻坚、共建小康
- D. 精确帮扶，共享和谐

2. 根据我国宪法和有关法律的规定，下列表述错误的是（ ）

A. 地方人大常委会有权撤销本级人民政府制定的不适当的规章

B. 授权机关有权撤销被授权机关制定的超越授权范围或者违背授权目的的法规，必要时可以撤销授权

C. 全国人大常委会无权改变或者撤销国务院制定的同宪法、法律相抵触的行政法规

D. 国务院有权改变或者撤销不适当的部门规章和地方政府规章

3. 甲委托乙购买相机，乙去购买时，正值该品牌相机举行有奖销售活动，乙购买相机后按规定得了 4 张抽奖券，但未把这 4 张抽奖券交给甲，后来开奖，其中一张奖券中了一等奖，获得彩电一台，这台彩电应当（ ）

- A. 归甲、乙二人共有
- B. 归乙所有
- C. 归甲所有，但应适当奖励乙
- D. 归甲所有

4. W 公司在 A 地区设立甲分公司经营物流业务，并在 B 地区设立乙全资子公司，经营建材业务。因经营不善，乙公司欠下银行 2000 万的债务，根据材料，下列说法正确的是

()

- A. 如果乙公司不能清偿债务, w 公司有义务为其清偿债务
- B. 如果乙公司不能清偿债务, 甲公司有义务为其清偿债务
- C. 乙公司是独立的法人, 仅以其全部财产向债权人承担债务, w 公司和甲公司没有义务为其清偿

D. 甲公司和乙公司具有同样的独立法人资格

5. 根据我国现行宪法规定, 下列选项中, 办理职务违法和职务犯罪案件的行政机关是

()

- A. 审判机关
- B. 监察机关
- C. 检察机关
- D. 执法部门

6. 中国第五个南极科考站——()于 2018 年 2 月 7 日在恩克斯堡岛正式选址奠基。中国第 34 次南极科考队在岛上举行了简短而隆重的奠基仪式。

- A. 长城新站
- B. 中山新站
- C. 罗斯海新站
- D. 泰山新站

7. 我国首颗 X 射线天文卫星()正式交付使用, 意味着我国高能天文研究进入空间观测的新阶段。

- A. 张衡
- B. 慧眼
- C. 墨子
- D. 悟空

8. 下列有关原子的说法中正确的是()

- A. 原子都是由质子、中子和核外电子构成的
- B. 原子的类别是由原子核内的质子数所决定的
- C. 原子中不存在带电微粒, 因而整个原子不显电性
- D. 原子的质量主要集中在质子和电子上

9. 在制药时, 为从溶液中提取抗菌素, 要用加热的方法使水沸腾而除去水分, 但抗菌

素不能在超过 80°C 的温度下提取，应采取的方法是（ ）

- A. 降低容器内的气压，使水的沸点低于 80°C
- B. 缩短加热沸腾的时间
- C. 增加容器内的气压，使水的沸点低于 80°C
- D. 用微火加热使其沸腾

10. 用超市里专用的饺子面粉包成的饺子，吃起来特别有“劲道”，这是因为这种面粉里“面筋”含量高。“面筋”是种子成分的（ ）

- A. 淀粉
- B. 蛋白质
- C. 脂肪
- D. 无机盐

11. 老张作为一名高级管理者受雇于某大型企业，其才华和学识得到了公司上下的认可，可是今年来，他越来越不满足，因为好多想法不能实现。根据马斯洛的需要层次理论。对于目前的老张来说，其激励因素是（ ）

- A. 自我实现的需要
- B. 社交的需要
- C. 尊重的需要
- D. 安全的需要

12. “丝绸之路”是连接古代中国与中亚西亚的重要通道，对中国与周边国家的贸易文化交往有着极其重要的作用以下关于“丝绸之路”的说法不正确的是（ ）

- A. “丝绸之路”是由德国地理学家李希霍芬首先命名的
- B. “丝绸之路”是东汉班超出使西域之后逐步开辟而成
- C. 玄奘法师取经时的路线经过了“丝绸之路”
- D. 唐朝时期，菠菜经“丝绸之路”传入中国

13. 道德两字连用始于荀子（ ）篇，“故学至于礼而止矣，夫是之谓道德之极”

- A. 《劝学》
- B. 《儒效》
- C. 《强国》
- D. 《义兵》

14. 下列诗句与节日对应有误的是（ ）

- A. 风雨梨花寒食过，几家坟上子孙来——清明节
- B. 不效艾符趋习俗，但祈蒲酒话升平——端午节
- C. 今日登高樽酒里，不知能有菊花无——中秋节
- D. 风雨夜深人散尽，孤灯犹唤卖汤元——元宵节

15. “白日放歌须纵酒，青春作伴好还乡”是杜甫听到叛乱平息时写下的诗句。这里的“叛乱”是指（ ）

- A. 七国之乱
- B. 玄武门之变
- C. 安史之乱
- D. 靖难之乱

16. 大气层的臭氧层主要以（ ）打击双原子的氧气，把它分为两个原子，然后每个原子和没有分裂的氧合并成臭氧。

- A. 红外线
- B. 激光
- C. 可见光
- D. 紫外线

17. 地球表面的绿色植物通过光合作用，将太阳的辐射能量转化成能被其他生物利用的有机化合能。下面的说法错误的是（ ）

- A. 光合作用吸收的主要是太阳光中的绿光
- B. 植物的绿色是反射了太阳光中的绿光
- C. 不同植物的光合作用效率是不一样的
- D. 植物在不同时间的光合作用效率不一样

18. 云雾的形成对地面温度的影响是（ ）

- A. 云雾可能增大地球昼夜温差
- B. 云雾可能减少地球昼夜温差
- C. 云雾整体上提高了地球的温度
- D. 云雾整体上降低了地球的温度

19. “克隆”是英文单词 Clone 的音译，其原意是（ ）

- A. 有性繁殖
- B. 重新组合

- C. 无性繁殖
 - D. 体外受孕
20. 关于计算机，下列说法不正确的是（ ）
- A. 平板电脑属于微型计算机
 - B. 计算机断电后内存中的信息会丢失
 - C. 计算机的性能并非完全依赖于 CPU
 - D. 机器语言可以被计算机硬件直接执行

第二部分 言语理解与表达

（共 25 题，参考时限 20 分钟）

本部分包括表达与理解两方面的内容。请根据题目要求，在四个选项中选出一个最恰当的答案。

请开始答题：

21. 当人工智能开始渗透至制造业的生态链条中，人工成本优势变得不那么重要的时候，“印度制造”是否_____？至少在这个时点上，巨大的资金似乎并没有惠及到“印度制造”在海外的竞争力，全球经济放缓，印度出口几乎在莫迪推出“印度制造”规划后反而下降了。

（ ）

- A. 一蹶不振
- B. 生不逢时
- C. 纸上谈兵
- D. 江河日下

22. 习近平总书记在纪念邓小平同志诞辰 110 周年座谈会指出，正是由于有邓小平同志大力倡导和全力推进的改革开放，中国特色社会主义才能_____，中国人民才能过上小康生活，中华民族和中华人民共和国才能以新的姿态_____于世界。（ ）

- A. 方兴未艾 耸峙
- B. 欣欣向荣 屹立
- C. 朝气蓬勃 耸立
- D. 扶摇直上 挺拔

23. 很多人认为动力是一块馅饼，会从天而降，幸运地砸在自己头上，他们_____到自己缺少动力，却还在_____，期望动力在哪天能无缘由地突然撞到自己身上。（ ）

- A. 认识 望眼欲穿
- B. 意识 守株待兔
- C. 体会 浮想联翩
- D. 考虑 翘首以盼

24. 从表面看，曹七巧不过是遗老家庭里的一种牺牲品，_____的宗法社会里_____渣滓，但命运偏偏要教渣滓当续命汤，不但要做她儿女的母亲，还要做她媳妇的婆婆，——把旁人的命运交在她手里。（ ）

- A. 迂腐 不屑一顾
- B. 传统 不值一提
- C. 没落 微不足道
- D. 落后 可有可无

25. 官员容不容得有个性？对于这个问题，不同官员早已用不同表现来作答，有人喜欢闷声求稳，有人追求高调发声，_____地活动在大众视线里，又反过来被社会_____地认可，毫无疑问的是，在当代社会，个性官员已经算不得新鲜事。

依次填入划横线部分最恰当的一项是（ ）

- A. 五花八门 熟视无睹
- B. 各显神通 漠不关心
- C. 求同存异 习以为常
- D. 截然不同 悄无声息

26. 人的争强好胜分两种，一种是跟自己争，一种是跟别人抢，与天斗与地斗固然其乐无穷然而因他人的看法而_____的，胜利和失败同样是短暂且_____的，千万别回头、回头就能看到一场空。

依次填入划横线部分最恰当的一项是（ ）

- A. 人云亦云 鄙夷
- B. 草木皆兵 虚妄
- C. 亦步亦趋 空洞
- D. 不知所措 缥缈

27. 丹麦人_____工作与生活的平衡，这种闲散的态度令人_____。这种态度产生了重

要的结果——既有积极的一面（幸福感很强），也有消极的一面（有时候需要鼓足干劲，全力以赴）。

- A. 关注 匪夷所思
- B. 重视 肃然起敬
- C. 坚持 惊叹不已
- D. 注重 耳目一新

28. 在理想主义者看来，大千世界里的人和物，行为和事件，国家和宗教，都不是在漫长的岁月中一点一滴地___起来的，而是一幅画，一幅让心灵去___感悟的画。

依次填入划横线部分最恰当的一项是（ ）

- A. 积累 冥想
- B. 积攒 沉思
- C. 构筑 想象
- D. 堆积 意想

29. 在我们赖以生存的绿色星球上，___着几块色彩斑斓的陆地，那是地球上的五大洲，在陆地中间___着辽阔的蓝色水域，那是地球的四大洋。这里有生命存在，生物活跃在多彩的生态系统中，它们___这个星球以绿色的情调和生命的意义。（ ）

- A. 嵌入 布满 呈献
- B. 镶嵌 充盈 赋予
- C. 勾勒 填充 馈赠
- D. 勾画 覆盖 给予

30. “四风”问题的形成是一个长期的过程，具有反复性和顽固性，其背后是_____的陈旧观念_____的“潜规则”、_____的利益纠结。（ ）

- A. 根深蒂固 习以为常 错综复杂
- B. 盘根错节 习以为常 扑朔迷离
- C. 盘根错节 司空见惯 扑朔迷离
- D. 根深蒂固 司空见惯 错综复杂

31. 彭定康任总督期间的香港，公共财政状况良好，有大量盈余，但在这个时代，香港财富显然不能用“传统”手段划归英国，于是彭定康决定根据香港高级公务员英国国籍人士比较多的有利条件，决定给公务员大幅度提高薪水。本意而言，实在和养廉没有多大关系，因此不能将香港当成高薪养廉，这样的政策是为谁的利益服务，一目了然。

这段文字意在（ ）

- A. 揭露香港高薪养廉政策的事实真相
- B. 阐述香港高薪养廉政策的历史渊源
- C. 批判英国殖民者的卑劣行径
- D. 讽刺利用职权谋取私利的腐败行为

32. 正如中世纪无法解决骑士精神和基督教的矛盾，现代社会也无法解决自由和平等的冲突。但这也不是什么缺点。像这样的矛盾，本来就是每个人类文化无法避免的，甚至还可以说是文化的引擎，为人类带来创意、提供动力。就像两个不和谐音可以让音乐往前走，人类不同的想法、概念和价值观也能逼着我们思考、批评、重新评价。一切要求一致，反而让心灵呆滞。

这段文字意在说明（ ）

- A. 人类永远不可能达成一致
- B. 矛盾冲突是社会进步的动力源泉
- C. 冲突有时候也是一种优点
- D. 心灵需要各式各样的观点来充实

33. 由贫穷到富裕，由少数人富裕到共同富裕，是社会进步的标志之一。每个人的富裕程度一定意义上决定了社会财富的拥有量：个人的财富一定程度上也是社会财富的一部分。个人私财在受法律保护的同时，也受到来自社会道德的制约：用于公益、慈善事业得到社会舆论的褒扬，相反，大肆浪费或炫耀式消费则受到社会的鄙视。

这段文字的主要意思是（ ）

- A. 个人财富促进社会前进
- B. 个人富裕与社会财富关系紧密
- C. 正确使用个人财富至关重要
- D. 个人的财富、行为受到社会道德的制约

34. 住房公积金是职工缴存的长期储金，是一项社会福利。住房公积金制度实际上是一种住房保障制度，是住房分配货币化的一种形式。个人住房公积金贷款是以住房公积金为资金来源，向参加住房公积金制度的职工发放的，定向用于购买、建造、翻建、大修自有住房的专项住房消费贷款。凡缴存住房公积金的职工，都可以申请住房公积金贷款。这段话主要阐述了（ ）

- A. 住房公积金制度的特点

- B. 住房公积金贷款的由来
- C. 住房公积金和公积金贷款的目的和受惠面
- D. 住房公积金制度和公积金贷款的内在联系

35. 在任何时代都是宗教精神使人切实地希望世界更美好,使人追寻普世真理。宗教教给人普世价值观,不断告诉人们“世俗的价值观是错误的”。也就是说,宗教精神从古到今都含有改变人们世界观的革命运动精神。

最能概括上述文字主旨的是,宗教()

- A. 无时无刻不存在我们的生活中
- B. 是全人类追求幸福的思想动力
- C. 始终影响着人们对世界的看法
- D. 让我们不停的困扰在对错之中

36. ①世界主要成文法国家在上世纪或者更早就完成了民法典的制定,大陆法国家最具代表性的著名民法典《德国民法典》分别诞生于1804年和1900年。

②由于《民法通则》《合同法》《物权法》等民事基本法律的制定时间和时代背景不同,存在规范缺失、规范重复、概念混乱的现象,再加上庞杂的司法解释,导致民事法律缺失统一性和明确性。

③中国迟迟没有自己的民法典无疑是一个缺憾,1986年通过的《民法通则》只能看作缩略版的民法典,以及越来越显示出不合时宜之处。

④民法是调整自然人、法人和其他组织之间的人身关系和财产关系,调整社会生活关系和商品经济关系的基本法。

⑤无论从彰显大国的时代精神、法治文明还是司法实践的角度,民法典都不可或缺。

⑥尽管随着《合同法》《物权法》《侵权责任法》《婚姻法》《收养法》《继承法》等一系列民事法律相继出台,中国的民法体系已经初步建立,走出了一条“单行法加司法解释”的立法模式,但欠缺民法总则使得整个民法体系缺乏统领性和整合性的基本逻辑。

将上述6个句子重新排列语序正确的是()

- A. ⑤①③④②⑥
- B. ⑤④②③①⑥
- C. ②④⑤③①⑥
- D. ①④③⑥②⑤

37. 依次填入原文横线处的语句,衔接最恰当的一组是()

竹子清丽俊逸、挺拔凌云的姿质令风流名士们沉醉痴迷。_____戴凯之的《竹谱》正是在这种风气下诞生的

- ①对竹啸吟终日不辍者亦有之
- ②一时间，闻好竹即远涉造访者有之
- ③这一时期，文人雅士赞竹赋竹，蔚然成风
- ④种竹十顷栖居林中者有之
- ⑤王徽之甚至声称：不可一日无此君

- A. ③⑤②④①
- B. ②①④③⑤
- C. ②④①⑤③
- D. ③②④①⑤

38. 从更围观的角度来看，在行业产业链上，向上，快递业支撑了电商的蓬勃发展，为中国经济带来了阿里巴巴等国际性巨头公司，同时更使电商平台上数百万中小商家们的创业梦想成为可能，快递业的存在，使得庞大的全国市场在创业者面前不在遥不可及；向下，快递业也改变了无数普通人的生活方式，人们足不出户就可以享受到货物到家的快捷，这样的场景在 20 年前多少都还显得有些科幻色彩。

这段文字的主旨是（ ）

- A. 快递业对生产、生活各领域产生巨大影响
- B. 快递业必须明确下一阶段的发展方向
- C. 快递业、电子商务和现代生活之间密不可分
- D. 快递业对未来产业审计起到基础性作用

39. 2008 年至 2014 年，奥巴马花了 6 年时间才把美国失业率从 9.6% 下降到 5.6%，但是，_____。这是因为，一方面美国统计失业人数只统计正在求职的，而不统计放弃求职的，这就把大量啃老族，吃老本族排除在外，另一方面美国新增就业种类增长最快的是临时工作，兼职工作和底薪工作。这些行业的员工要忍受没有工会保护，受老板最低工资盘剥和频繁求职等痛苦，而且职业前景预期极为灰暗。

填入划横线部分最为恰当的一句是（ ）

- A. 这一漫长的过程使美国民众无比痛苦
- B. 这只是经济危机状态下的应急措施和妥协之举
- C. 失业率的降低并不能反映百姓经济收入的真实情况
- D. 在全球经济大环境不景气的情况美国不可能独善其身

40. 我们苦恼困惑于男孩成长中看起来无解的社会环境问题时，家庭教育提供了另一条路径。专家告诉我们，如果算上所有的节假日，男孩在家庭中呆的时间超过学校，因此家庭教育的作用弥足珍贵。亲人对孩子天性的认可、理解，可以让孩子在外部世界的挫败感中获

得安慰。而父性角色可以帮助孩子在家庭中建立良好的规则感，这是他进入社会最好的情感资源。

这段文字接下来最有可能讲的是（ ）

- A. 如何进行合适的家庭教育
- B. 男孩具有怎样的天性和特点
- C. 规则意识是家庭教育的重要内容
- D. 父亲如何扮演自己的角色

41. 从春秋战国时期，人们用土圭测量正午太阳照射下其影子长度的方法确定冬至、夏至、春分、秋分；秦汉时期，人们根据太阳在黄道上的位置变化以及引起的地面气候的演变次序划分出二十四节气……历经两千多年时间的沉淀，二十四节气因其反映了季节、气候、物候等自然现象的规律，内涵丰富，至今仍被运用在人们的生产生活中。

这段文字主要介绍的是（ ）

- A. 二十四节气的起源
- B. 二十四节气的确定方法
- C. 二十四节气的发展和演进
- D. 二十四节气的功能和价值

42. 在中国历史上，官和诗的关系一直就很密切。尽管诗歌最早来自于民间，然而从把《诗》列入“五经”之后，它就成了上层社会官宦子弟的必修课，成为官场应对交流的基本功。孔子曰：“不学诗，无以言。”魏晋以下，唐宋元明清，我们知道的大诗人基本都是各级官吏，作诗填词是他们从政为官必备的能力，更是他们智慧、素养和文化品位的体现。就拿诗的鼎盛时期唐朝来讲，科举考生为了求得赏识，考前要呈献自己的作品，叫做“行卷”，行卷的内容就包括古诗、律诗、词赋、骈文等。白居易的“野火烧不尽，春风吹又生”就是行卷中的诗句。

这段文字主要说明了（ ）

- A. 古代的诗人大多同时也是一方官吏
- B. 作诗是古代的官员必备的素质和能力
- C. 历史上诗文化与官文化是息息相关的
- D. 古代诗歌的兴起、发展都离不开官吏

43. 水分是花卉生存和繁衍的必要条件，合理浇水是养花成功的关键，花卉的种类、环境及气候的不同，需水情况有很大差异。家庭养花，尤其是客厅中室内花卉，由于没有阳光

直射，花卉蒸腾作用较弱，不能浇水过勤，否则，土壤经常处于渍水状态，根系会室室而死，浇水过多过勤是许多家庭养花不成功的重要原因。一般而言，置阳台的花卉多浇，室内的花卉少浇；气温炎热时多浇，气温凉爽时少浇，草本多浇，木本少浇，并按照干湿交替进行，即在土壤相对较干时才浇水，每次浇水要浇至盆底有水渗出为止。

这段文字主要介绍了（ ）

- A. 室内养花不成功的主要原因
- B. 对花卉合理浇水的具体种类
- C. 花卉养殖应根据具体情况合理浇水
- D. 浇水过勤对花卉有不良的影响

44. 长时间跑步，或者长跑，跟其他任何运动一样，都需要练习、耐心和毅力。需要做出足够的奉献，有决心突破极限。很多人都习惯坚持同一种跑法，这很常见。但是，根据美国运动医学学会注册教练的观点，固守陈规会影响进步。日复一日跑同一条路，也可能限制运动效果。专家建议跑山路以增加挑战性，因为上路能测试你的脚踝到膝盖再到髌关节的稳定性，道路的不平整会迫使你成为更强壮的跑步者。每周跑两次山路，可以使你在成为强壮的山路跑手后，在平地跑得更快。肌肉通过上下山坡的锻炼后，平路简直就是“小儿科。”

这段文字意在说明（ ）

- A. 跑步不仅可以锻炼身体还能够增长心智
- B. 任何事情都不能固守陈规，需要创新
- C. 跑步的目的在于锻炼数量和种类更多的肌肉
- D. 在不同类型的路面跑步更能够强身健体

45. ①同样的饮酒速度，用不含酒精的饮料勾兑过的酒能减慢酒精吸收
②同时它还能促进酒精进入小肠的速度，增加酒精在小肠中的吸收
③碳酸饮料富含二氧化碳气体，能使胃部迅速膨胀，增加胃吸收酒精的面积
④在这个过程中，如能减慢酒精的吸收，就可以延缓醉酒
⑤饮酒后，酒精可以慢慢地经胃壁或小肠吸收进入血液
⑥但使用碳酸饮料进行饮酒的勾兑需要格外当心

将以上 6 个句子重新排列，语序正确的是（ ）

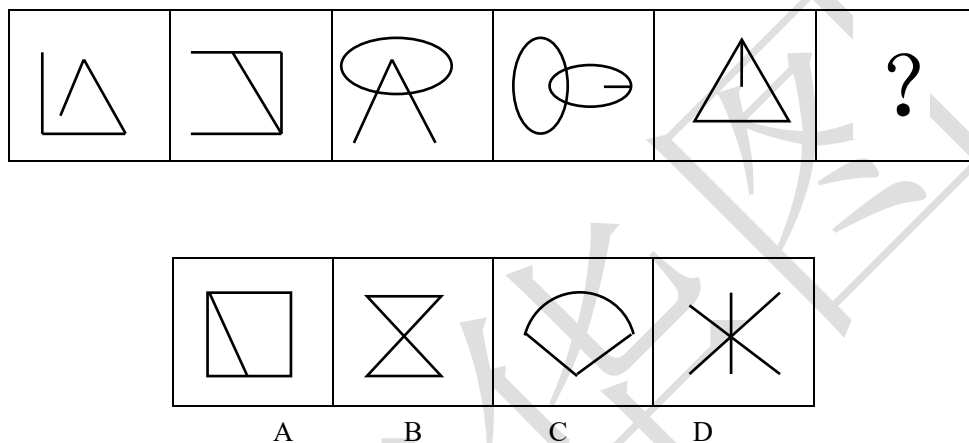
- A. ①④⑥③⑤②
- B. ⑤①⑥③④②
- C. ①⑥⑤④③②
- D. ⑤④①⑥③②

第三部分 判断推理

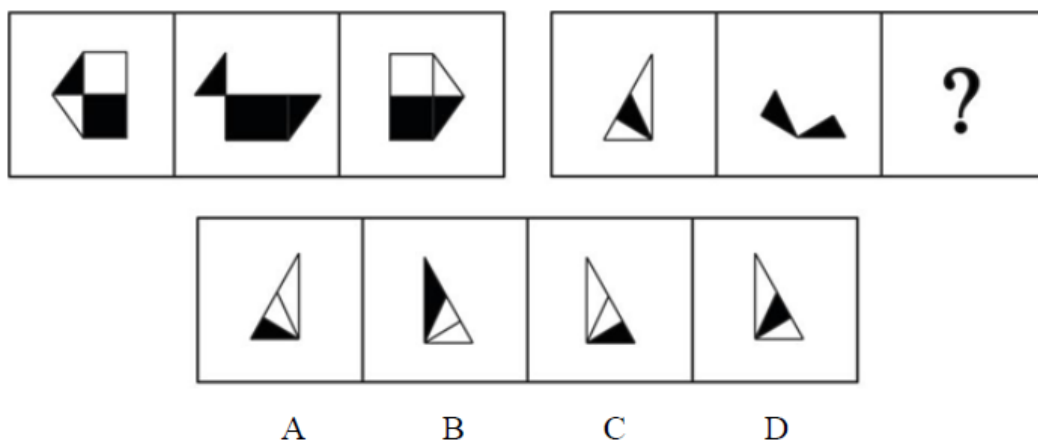
(共 35 题，参考时限 25 分钟)

一、图形推理。请按每道题的答题要求作答。

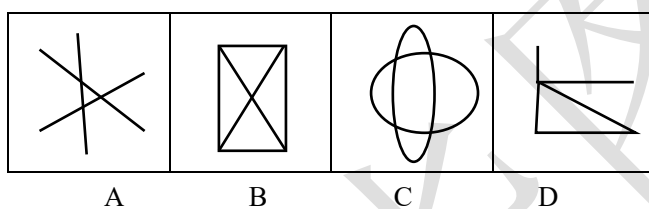
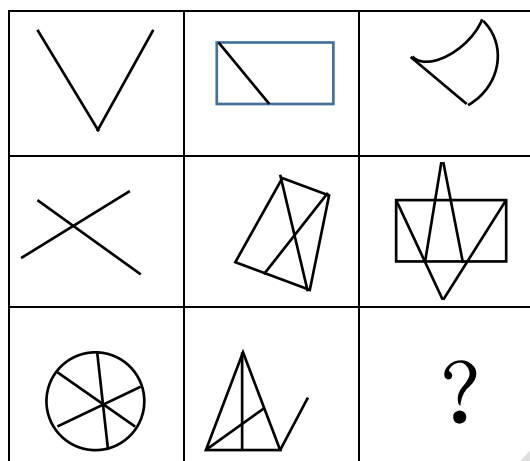
46. 请从所给的四个选项中，选出一个填入问号处，使之呈现一定的规律性。()



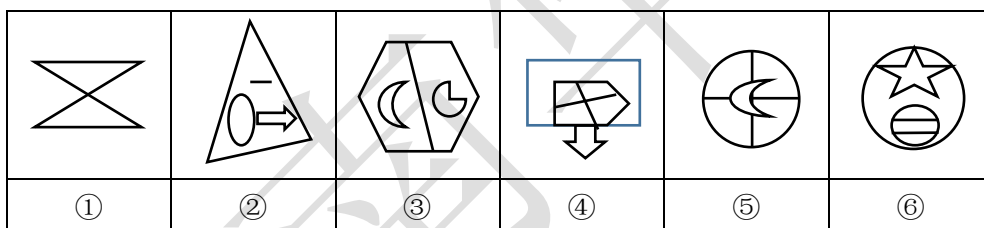
47. 从所给出的四个选项中，选择最合适的一项填入问号处，使之呈现一定规律性。()



48. 请从从所给的四个选项中，选出一个填入问号处，使之呈现一定的规律性。()

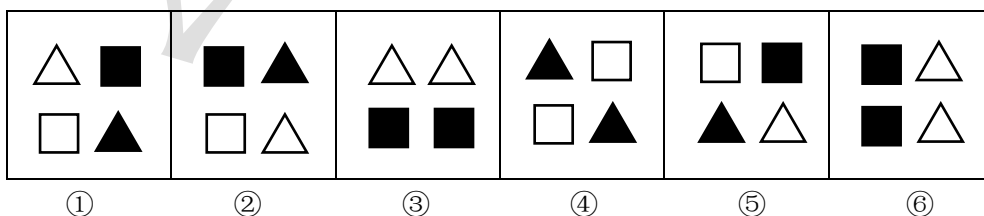


49. 以下哪两个图形调换位置之后, 所有的图形能呈现出一定的规律性? ()



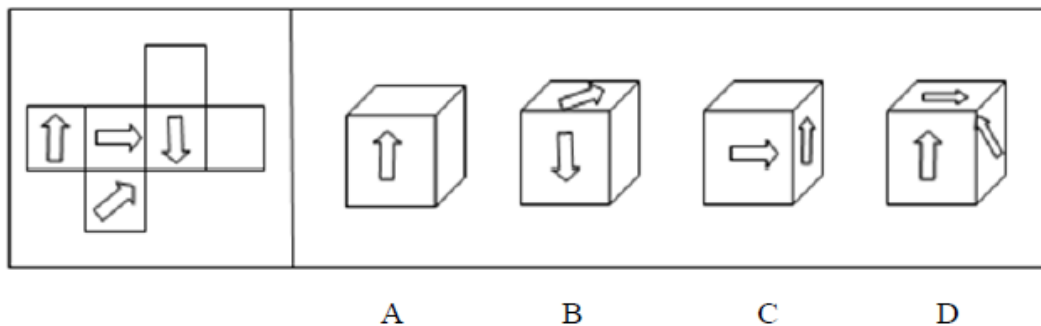
- A. ①和② B. ②和③
C. ③和④ D. ④和⑤

50. 把下面的六个图形分为两类, 使每一类图形都有各自的共同特征或者规律, 分类正确的一项是 ()

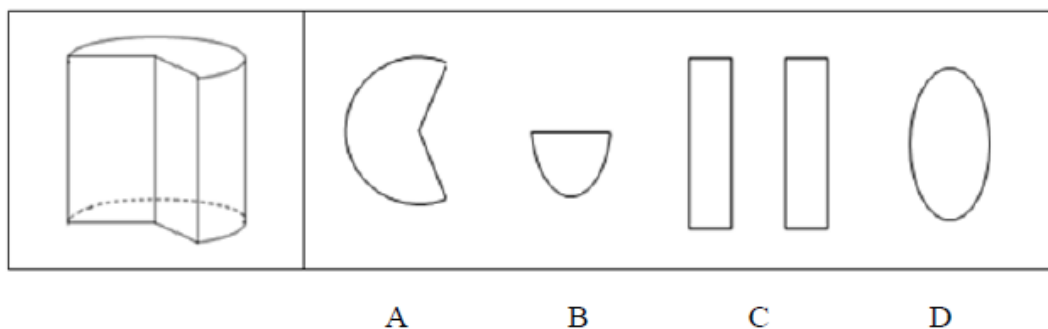


- A. ①②③, ④⑤⑥ B. ①②⑤, ③④⑥
C. ①③④, ②⑤⑥ D. ①④⑤, ②③⑥

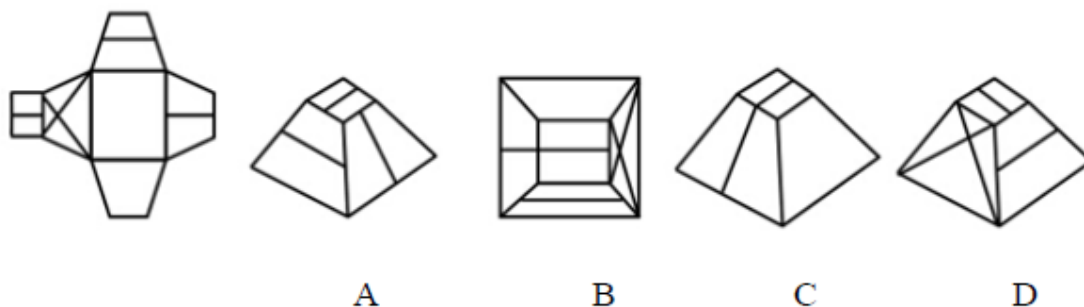
51. 下面四个所给的选项中, 哪一个选项的立体图形能由左边给定的图形折成? ()



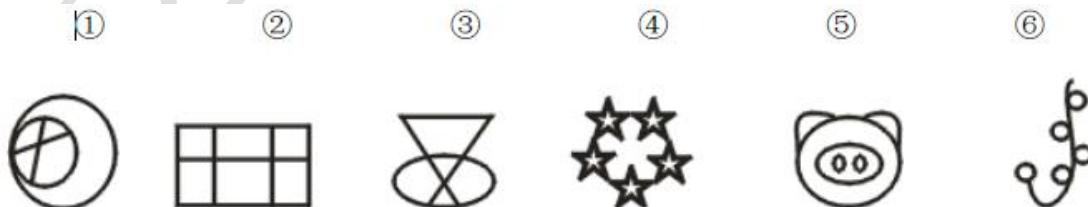
52. 将该立体图形沿任意一面剖开, 以下哪个不可能是它的截面? ()



53. 左边给定的是纸盒的外表面, 下列哪一项能由它折叠而成? ()

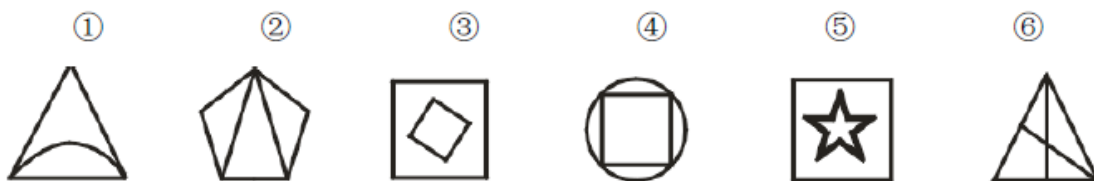


54. 把下面的六个图形分成两类, 使每一类图形都有各自的共同特征或规律, 分类正确的一项是 ()



- A. ①②⑤, ③④⑥ B. ①③④, ②⑤⑥
 D. ①③⑥, ②④⑤ D. ①④⑤, ②③⑥

55. 把下面的六个图形分成两类, 使每一类图形都有各自的共同特征或规律, 分类正确的一项是 ()



- A. ①②③, ④⑤⑥ B. ①②⑥, ③④⑤
 C. ①⑤⑥, ②③④ D. ①③④, ②⑤⑥

二、定义判断。每道题先给出定义，然后列出四种情况，要求你严格依据定义，从中选出一个最符合或最不符合该定义的答案。注意：假设这个定义是正确的、不容置疑的。

56. 职业枯竭，是指人们在自己长期从事的工作压力之下，产生身心能量被工作耗尽的感觉。

根据上述定义，下列属于职业枯竭的是（ ）

- A. 甲每天白天要上班，晚上还要照顾小孩和老人，身心疲惫
 B. 小李刚刚参加工作，感觉单位工作节奏很快，领导要求很高，时常感觉跟不上节奏
 C. 某钢厂工人看到自己工厂面临倒闭，感觉自己的前途渺茫
 D. 老张在单位既要负责办案，又要负责综合文稿撰写，经常加班加点，感觉非常劳累

57. 直觉营销，一种为了在任何地方产生可度量的反应和（或）这项交易而使用一种或多种广告媒体相互作用的市场营销体系。

根据以上定义，下列不属于直觉营销的是（ ）

- A. 汽车 4S 店通过试驾推销产品
 B. 某商品常年在某电视购物台参加电视购物节目
 C. 近年兴起的微商十分火爆，刷爆了朋友圈
 D. 某省新华书店通过电话及邮件向省内各工业企业、科研机构、高校等单位发放《中国标准图书目录》，回应率高，常年运作，收入可观

58. 相对剥夺感：是指人们在与那些既和自己地位相近，又不完全等同于自己的人或群体作比较时，由价值期待和价值能力不一致的认知所产生的一种心理状态。

根据以上定义，下列属于相对剥夺感的是（ ）

- A. 作为新人的谢某看到单位的一位老同事不断得到各项荣誉奖励，心中羡慕之情油然而生
 B. 王某退休前是单位的老总，前拥后呼的人员很多，退休后没人在其身边了，王某感到非常的冷清

C. 王某看到不如自己的大学同学现如今能够在核心期刊上多次发表论文，而自己却屡试不第，不免感到有些失落

D. 小学生张某上学后，发现同桌用的文具、穿的衣服都和自己一样，于是非常生气

59. 正常菌群：是指正常人体体表及外界相通的腔道中存在着多种微生物，正常情况下它们与宿主间以及它们之间保持相对平衡，通常对人体有益无害，称为正常菌群。

根据上述定义，下列不属于正常菌群的是（ ）

A. 人皮肤表面的葡萄球菌、类白喉棒状杆菌、绿脓杆菌

B. 人口腔里的卡他球菌、各种链球菌、肺炎克雷伯菌

C. 人鼻子里像葡萄串一样聚集的金色葡萄球菌，鼻腔深处的链球菌

D. 人结肠中的可引起痢疾的溶组织内阿米巴菌

60. 翻转课堂教学模式：是指重新调整课堂内外的时间，将学习的决定权从教师转移给学生。在这种教学模式下，教师不再占用课堂的时间来讲授信息，这些信息需要学生在课外通过观看视频、听播客等方式自主学习。在课堂时间内，教师主要进行问题辅导，或者对实验过程中有困难的学生提供帮助，使得学生能更专注于主动学习。

根据上述定义，下列属于翻转课堂教学模式的是（ ）

A. 教师布置学生在课后阅读一道案例并要求查阅相关资料，在课堂上由教师主持学生进行分组讨论

B. 学生在课前预习教材的内容，记录下遇到的疑难问题，教师在课堂讲授后的剩余时间与同学们一起讨论所记录的难题

C. 教师布置学生在课余时间自行设计下次实验课的操作步骤，学生在课堂上展示自己的实验步骤，教师进行点评计分

D. 学生在课外完成课程教材的阅读，教师在课堂上通过对学生讨论和学生提出的问题

三、类比推理。每道题先给出一组相关的词，要求你在备选答案中找出一组与之在逻辑关系上最为贴近、相似或匹配的词。

61. 赶尽杀绝：斩草除根

A. 出类拔萃：青出于蓝

B. 空穴来风：无中生有

C. 风声鹤唳：草木皆兵

D. 耳熟能详：历历在目

62. 超速：交警：处罚

- A. 犯规: 裁判员: 禁赛 B. 超载: 路政: 卸货
C. 故障: 工程师: 维修 D. 作弊: 学生: 重修
63. () 对于 心花怒放 相当于 勤奋 对于 ()
A. 心情 一曝十寒 B. 激动 妄自菲薄
C. 高兴 废寝忘食 D. 难受 指日可待
64. 旧时王谢堂前燕 对于 () 相当于 () 对于 杭州
A. 南京 月中山寺寻桂子
B. 西安 二十四桥明月夜
C. 洛阳 淮水东边旧时月
D. 开封 月落乌啼霜满天
65. 蜂蜜: 甘甜
A. 道路: 畅通 B. 技术: 高超
C. 雨林: 潮湿 D. 资源: 丰富
66. 望梅止渴: 曹操
A. 鞠躬尽瘁: 岳飞 B. 四面楚歌: 刘邦
C. 指鹿为马: 赵括 D. 东窗事发: 秦桧
67. 灯泡: 台灯
A. 手机: 电话 B. 水: 矿泉水
C. 纸张: 打印机 D. 木门: 房间
68. 馒头: 面点: 食物
A. 砖石: 珠宝: 矿物 B. 香樟: 木材: 森林
C. 普洱: 茶具: 器皿 D. 冰箱: 家电: 电器
69. 入侵者: 战俘
A. 流浪者: 乞讨 B. 独裁者: 庸君
C. 失败者: 成功 D. 竞争者: 对手
70. 春城 对于 () 相当于 () 对于 山城
A. 南宁: 秦岭 B. 昆明: 重庆
C. 大理: 贵州 D. 广州: 株洲

四、逻辑判断。每道题给出一段陈述，这段陈述被假设是正确的、不容置疑的。要求你

根据这段陈述，选择一个答案。注意：正确的答案应与所给的陈述相符合，不需要任何附加说明即可从陈述中直接退出。

71. 税务部门检查发现，家具批发市场中并非所有商户都有偷税行为。如果上述调查的结论是真实的，那么以下一定正确的是（ ）

- A. 所有商户都没有偷税行为
- B. 有的商户没有偷税行为
- C. 并非有的商户没有偷税行为
- D. 多数商户都有偷税行为

72. 王考官说：“所有的考生都查验过身份证，所以没有查验过身份证的都不是考生。”

以下哪项和王考官的推理结构最为相似？（ ）

- A. 所有已经发表过的论文都认真校对过，所以认真校对过的论文都已经发表了
- B. 所有修剪过的果树长势都非常旺盛，所以没有修剪过的果树长势都不旺盛
- C. 所有的真理都经过实践的检验，所以没有经过实践检验的都不是真理
- D. 所有关闭的工厂都没有创新精神，所以没有创新精神的工厂都关闭了

73. A、B、C 三人从法学院毕业后，一人去了律所，一人去了法院，一人去了检察院，甲、乙、丙三人做了一下猜测（ ）

甲：A 去了律所，B 去了法院

乙：A 去了法院，C 去了律所

丙：A 去了检察院，B 去了律所。

如果甲、乙、丙三人的猜测都只对了一半，那么以下哪项为真？（ ）

- A. A 去了律所，B 去了检察院，C 去了法院
- B. A 去了律所，B 去了法院，C 去了检察院
- C. A 去了检察院，B 去了法院，C 去了律所
- D. A 去了法院，B 去了律所，C 去了检察院

74. 甲、乙、丙、丁、戊五人去了泳池游泳，游完上岸后都发现自己穿的拖鞋不是下水前那双。已知甲穿的拖鞋不是丁和乙的，乙穿的拖鞋不是丙和丁的，丙穿的拖鞋不是戊和乙的，丁穿的拖鞋不是丙和戊的，戊穿的拖鞋不是丁和甲的，另外没有两个人互相穿了对方的拖鞋，那么谁穿了乙的拖鞋？（ ）

- A. 甲
- B. 丙
- C. 丁
- D. 戊

75. 狂犬病是一种对人、畜危害很大的传染病。人、畜如果被病犬咬伤，感染上病毒就

会发病，且发病无一例外地死亡。医学研究表明：被病犬咬伤后 24 小时内注射狂犬病疫苗，可大大降低发病几率。

根据以上资料可以推出（ ）

- A. 被病犬咬伤后就会感染狂犬病毒
- B. 被病犬咬伤 24 小时内注射狂犬病毒疫苗就不会死亡
- C. 狂犬病毒在人体内的潜伏期很久，有时长达几十年
- D. 部分人在被病犬咬伤 24 小时内注射狂犬疫苗后，仍会死亡

76. 我国是世界产绒大国，山羊绒产量占世界的四分之三左右。但是有专家认为这并不是件好事，建议压缩山羊数量，最终绝养。

以下哪项最可能是专家的建议基于的理由？（ ）

- A. 山羊绒制品对人体健康有害，市场需求会大大下降
- B. 山羊会因为失去羊绒受冻而死，这是不人道的
- C. 山羊生活习性差，会严重破坏生态平衡
- D. 山羊绒生产周期长，且市场价格不稳定，很容易亏本

77. 最近几年，外科医生数量的增长超过了外科手术数量的增长，而许多原来必须履行的外科手术现在又可以用内科治疗取代，这样，使得现在每个外科医生每年做的手术数量平均下降四分之一。如果这种趋势不改善，那么，外科手术的水平和不可避免的会下降。

上述论述基于以下哪个假设？（ ）

- A. 大部分外科手术中，刚工作的外科医生表现和工作多年的差不多
- B. 外科医生必须要经常做手术才能保持较高的技术水平
- C. 最近几年，外科医生的平均学历越来越高
- D. 大部分外科手术都集中在几个经验丰富的医生手上

78. 中国睡眠研究会日前发布了《2017 中国青年睡眠现状报告》，调查范围纳入了 10 岁至 45 岁的人群，共调查了近 6 万人。从整体的睡眠状况来看，76%的受访者表示入睡困难，其中超过 13%的人甚至感觉处在痛苦状态。专家指出压力大、焦虑是睡不好的罪魁祸首。

以下哪项如果为真，最能支持专家的结论？（ ）

- A. 不少失眠者长时间使用电子产品
- B. 大城市的人睡眠质量明显比小县城的差
- C. 失眠群体主要集中在 25-40 岁
- D. 高收入人群睡眠质量比低收入人群差

79. 最近一份调查报告声称，名人家族中才能出众者是普通人家族的 23 倍。由此可以推出人的素质主要由遗传决定的。

以下哪项如果为真，最能削弱上述结论？（ ）

- A. 社会上普遍有这样的认识，一两的遗传胜过一吨的教育
- B. “家无三代兴”，所有家族都避免不了兴衰轮回的历史规律
- C. 普通人家族中才能出众者往往比名人家族对社会贡献更大
- D. 一个人能否才能出众主要取决于他的成长环境好坏、接受教育程度高低等因素

80. 最近一项问卷调查报告表示，在 3500 份问卷调查中，有 83% 的老年人说自己非常喜欢看“跑男”这个娱乐节目。由此调查小组得出结论：老年人对“跑男”这个节目不感兴趣的说法是不正确的。

以下哪项如果为真，最能削弱上述结论？（ ）

- A. 多数老年人不爱看娱乐节目，且拒绝参加问卷调查
- B. 该问卷缺乏权威性，其准确性值得商榷
- C. 问卷调查有明显的倾向性暗示，影响真实性
- D. 大多数参加问卷调查的老年人还喜欢看其他娱乐节目

第四部分 综合分析

（共 20 题，参考时限 35 分钟）

一、数学方法，在这部分试题中，每道题呈现一段表述数字关系的文字，要求你迅速、准确地计算出答案。

请开始答题：

81. 某单位向希望工程捐款，其中部门领导每人捐 50 元。普通员工每人捐 20 元。某部门所有人员共捐款 320 元，已知该部门总人数超过 10 人，该部门可能有几名部门领导？

（ ）

- A.1
- B.2
- C.3
- D.4

82. 一个圆形牧场面积为 3 平方公里。牧民骑马以每小时 18 公里速度围牧场外沿巡视一圈，约需要几分钟？（ ）

- A.12
- B.18
- C.20
- D.24

83. 60 名员工投票从甲、乙、丙三人中评选出最佳员工，选举时每人只能投票选举一人，得票最多的人当选。开票中途累计，前 30 张选票中，甲得 15 票，乙得 10 票，丙得 5 票。问在尚未统计的选票中，甲至少再得多少票就一定当选（ ）

- A.15 B.13 C.10 D.8

84. 有纯液态酒精一桶，倒出 10 升后用水灌满，再倒出混合液 5 升，再用水灌满。这时酒精浓度为 72%。则桶容量为（ ）升。

- A.60 B.50 C.45 D.40

85. 甲、乙两种商品，其成本价共 100 元。如果甲、乙商品分别按 30%和 20%利润定价，并以定价的 90%出售，全部售出后共获得利润 14.3 元，则甲商品的成本价是（ ）

- A.55 B.60 C.70 D.48

86. 双十一期间小王在网上买了 16 元一袋的纸巾、10 元一支的牙刷和 7 元一瓶的洗手液若干，共花了 150 元。如果他买的每一样物品数量都不同，纸巾数量最多而洗手液最少，那么他买的牙刷数量比洗手液多几个？（ ）

- A. 1 B. 2 C. 3 D. 4

87. 军训时，某班学生站成一排，从一开始报数，除了小李以外其他人报的数之和减去小李报的数恰好等于 50，问该班共有多少学生？（ ）

- A. 10 B. 11 C. 12 D. 13

二、策略制定、所给出的资料有若干个问题要你回答。你应依据资料提供的信息进行分析、判断、计算并选择解决问题的最优途径。

请开始答题：

某厂家生产两种类型的零件甲和乙。该厂每周会准备 660 千克钢材、300 千克铁和 7500 元资金预算。

(1) 生产 100 个甲零件需要 100 千克钢材和 5 千克铁；生产 100 个乙零件需要 60 千克钢材和 2.5 千克铁。

(2) 每种类型的零件加工需要 10 元的劳动成本。

(3) 工厂每季度（每月按四周计算）所用钢材从郊外某仓库运来。现有 4 种运输车，具体情况如下表：

运输车类型	载重	1 吨及以下部分收费	1 吨以上部分收费
-------	----	------------	-----------

A 型	1 吨	20 元/吨	20 元/吨
B 型	1.2 吨	18 元/吨	28 元/吨
C 型	1.5 吨	24 元/吨	12 元/吨
D 型	2 吨	14 元/吨	29 元/吨

88. 若某月初步预计共需要 2 吨钢材，每次运输都满载（除了最后一次），则在单独使用一种类型运输车的情况下，请问选择哪种类型的运输车最划算？（ ）

- A. A 型
 B. B 型
 C. C 型
 D. D 型

89. 要使剩余的钢材和铁最少，该厂每周应生产两种零件各多少件？（ ）

- A. 660, 0
 B. 600, 100
 C. 540, 200
 D. 588, 120

90. 若不要求每次运输都满载，则使用 B 型运输车，每季度运输钢材费用最低为多少元？（ ）

- A. 152.64
 B. 136.87
 C. 142.56
 D. 154.38

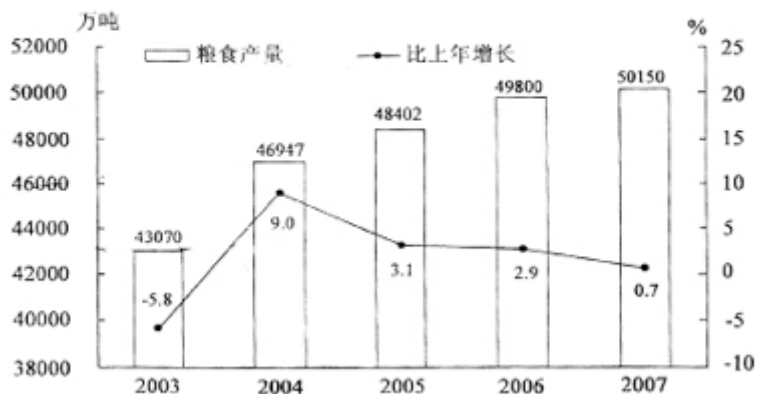
三、资料分析。所给出的综合性资料有若干问题要你回答。你应根据资料提供的信息进行分析、比较、计算和判断处理。

请开始答题：

2007 年我国粮食种植面积 10553 万公顷，比上年增加 70 万公顷；棉花种植面积 559 万公顷，增加 7 万公顷；油料种植面积 1094 万公顷，减少 60 万公顷；糖料种植面积 167 万公顷，增加 10 万公顷。

全年粮食产量 50150 万吨，比上年增加 350 万吨，增产 0.7%，其中，夏粮产量 11534 万吨，增产 1.3%；早稻产量 3196 万吨，增产 0.3%；秋粮产量 35420 万吨，增产 0.6%。

2003—2007 年全国粮食产量及其增长速度统计图

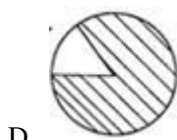
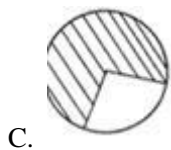
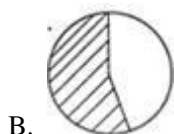


全年棉花产量 760 万吨，比上年增产 1.3%。油料产量 2461 万吨，减产 4.2%。糖料产量 11110 万吨，增产 11.4%。烤烟产量 239 万吨，减产 3.9%。茶叶产量 114 万吨，增产 10.9%。

全年肉类总产量 6800 万吨，比上年减少 3.5%。其中，猪肉减少 9.2%；牛、羊肉分别增长 6.1% 和 5.8%。全年水产品产量 4737 万吨，增长 3.3%。全年木材产量 6974 万立方米，增长 5.5%。

91. 2002 年我国的粮食产量约为 ()
- A. 45722 万吨
B. 44965 万吨
C. 44761 万吨
D. 40709 万吨
92. 2007 年我国粮食的平均亩产量约为 (1 公顷=15 亩) ()
- A. 475 公斤
B. 416 公斤
C. 368 公斤
D. 317 公斤
93. 下列阴影部分最能体现 2006 年秋粮产量占当年粮食产量比重的是 ()





94. 能够从上述资料中推出的是 ()

- A. 2005 年我国粮食的种植面积
- B. 2005 年我国早稻的产量
- C. 2006 年我国茶叶的产量
- D. 2006 年我国猪肉的产量

95. 以下说法中，正确的有 ()

- I. 2003—2007 年我国的粮食产量是逐年增长的
- II. 2006 年我国的棉花产量不足 750 万吨
- III. 2006 年我国的油料产量超过 2500 万吨
- IV. 2006 年我国的水产品产量不足 4500 万吨

- A. 1 个
- B. 2 个
- C. 3 个
- D. 4 个

四、实验设计。所给出的实验设计均有若干问题要你回答。你应根据提供的信息进行分析、比较、判断和处理。

请开始答题：

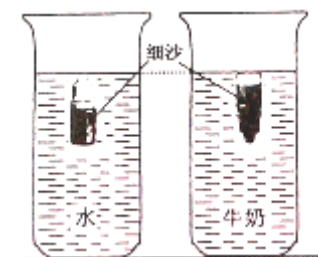
小明在探究“物体在液体中下沉的快慢与哪些因素有关”的实验中作出了以下猜想：

猜想一：物体下沉快慢与物体的质量有关；

猜想二：物体下沉快慢与液体种类有关。

他用到的器材有：天平、秒表、圆柱形玻璃容器、小瓶、细沙、水、牛奶。他的实验方法是：在小瓶中装入细沙，分别使小瓶从液面处由静止开始下沉至容器底部。小瓶在水和牛

奶中的下沉情况如图所示：



实验结果：

小明经过时间，记录的实验数据如下表：

实验序号	液体	小瓶总质量 m/g	下沉时间 t/s
1	水	20	1.53
2		30	1.3
3	牛奶	20	1.7
4		30	1.45

96. 下些列选项中，哪项不是实验中小瓶内装细沙的目的（ ）
- A. 成本较低
B. 小瓶竖直在液体中
C. 确保小瓶能够下沉
D. 方便调节小瓶整体重量
97. 实验中，通过判断小瓶下沉的快慢的依据是（ ）
- A. 小瓶的整体重量
B. 比较下沉时间
C. 小瓶所在液体性质
D. 液体温度
98. 分析比较实验序号 1、2(或 3、4)的数据，小明可以得出的结论是（ ）
- A. 小瓶下沉的快慢与液体种类有关
B. 小瓶下沉的快慢小瓶质量有关

- C. 物体下沉时间越短，下沉速度越快
- D. 下沉的深度相同时，下沉时间越长
99. 分析比较实验序号 1、3(或 2、4)的数据，小明可以得出的结论是()
- A. 小瓶下沉的快慢与液体种类有关
- B. 小瓶下沉的快慢小瓶质量有关
- C. 物体下沉时间越短，下沉速度越快
- D. 下沉的深度相同时，下沉时间越长
100. 分析比较实验序号 1、3(或 2、4)的数据，小明得出有关的结论，请你结合小明的实验过程分析，这一结论不可靠的原因？()
- A. 液体深度不够
- B. 牛奶浓度未测定
- C. 未控制小瓶的形状、体积相同
- D. 实验应在真空条件下进行