

2017年6月3日事业单位统考 职业能力倾向测验(A类)试卷

注意事项

一、此项测验分为五个部分,共100小题,总时限90分钟,各部分不单独计时,但都给出参考时限,供答题时合理分配时间。

二、请按照要求在答题卡上填写好自己的姓名,涂写好准考证号,严禁折叠答题卡。

三、必须在答题卡上答题;在题本上答题,一律无效。

四、监考老师宣布考试开始时,方可答题,宣布考试结束时,应立即停止答题。题本、答题卡、草稿纸一律留在桌上,待监考老师确认数量无误,允许离开后,方可离开考场。

如果你违反了以上任何一项要求,都将影响你的成绩。

五、在这项测验中,可能有些试题较难,因此你不要在一道题上思考时间太久,遇到不会答的题目,可先跳过去,如果有时间再去思考,否则,你可能没有时间完成后面的题目。

六、试题答错不倒扣分。



SINCE 2001

华图教育
HUATU.COM

第一部分 常识判断 (共20题,参考时限10分钟)

根据题目要求,在四个选项中选出一个最恰当的答案。

请开始答题:

1.下列关于我国法治建设的事件,按时间先后排序正确的是:

- ①把国家尊重和保障人权载入宪法
- ②提出依法治国的基本治国方略
- ③形成中国特色社会主义法律体系
- ④提出走中国特色社会主义法治道路的命题

- A.②①③④
- B.③①④②
- C.①②③④
- D.④②①③

2.下列与“十三五”规划纲要有关的说法不正确的是:

- A.2020年国内生产总值和城乡居民人均收入要比2010年翻一番
- B.首次提出供给侧结构性改革
- C.贯穿创新、协调、绿色、开放、共享五大发展理念
- D.首度将加强生态文明建设纳入任务目标

3.下列有关法律文件的说法错误的是:

- A.《汉谟拉比法典》是迄今最早最完整的成文法典

B.《拿破仑法典》是资产阶级国家第一部民法典

C.《查士丁尼法典》是罗马法集大成者

D.《大宪章》是美国的根本大法

4.刘某拾得一部手机。关于该手机的所有权,下列说法符合法律规定的是:

A.若张某明知手机系刘某拾得,但支付了合理价款,便可取得手机所有权

B.若张某获得手机系刘某无偿赠与,但因其误以为手机系刘某购买所得,故而张某可以取得手机所有权

C.失主赵某知道手机在张某手中三年后,仍然有权向张某追回手机

D.若张某通过拍卖购得该手机,失主赵某为追回手机应向张某支付费用

5.根据《中华人民共和国民事诉讼法》的规定,人民法院可以裁定先予执行的案件不包括:

A.周小东诉张三索要精神损害赔偿一案

B.赵大妈诉其子李四索要赡养费一案

C.牛小亮诉其父牛二索要抚养费一案

D.郑大山诉王贵索要劳动报酬一案

6.关于离婚案件,下列说法错误的是:

A.离婚案件的当事人可以委托诉讼代理人进行诉讼,本人非必要的情况下无须出庭

B.判决不准离婚和调解和好的离婚案件,没有新情况、新理由的,原告六个月内又起诉的,不予受理

C.当事人对已发生法律效力解除婚姻关系的判决、调解书,不得申请再审

D.对调解和好的离婚案件,人民法院可以不制作调解书

7.关于刻板印象,下列说法正确的是:

A.全部都是负面的

B.总是一成不变的

C.和歧视无关

D.完全忽视个体区别

8.下列有关艺术的说法错误的是:

A.《念奴娇·赤壁怀古》的作者是著名书法家

B.歌剧《图兰朵》中使用了中国民歌《茉莉花》的旋律

C.顾恺之、吴道子和郑板桥都以人物画著称

D.古代“七音”是在“五音”基础上增加变宫、变徵

9.下列情形不可能发生在明朝的是:

A.王阳明讲解“致良知”学说

B.汤显祖的《牡丹亭》广泛演出

C.章回体小说《西游记》成书

D.《四库全书》编纂完成

10.关于我国古代货币,下列说法错误的是:

A.宋代铸造货币的机构称为钱监

B.西汉曾经允许民间私人铸造货币

C.我国古代各类政权铸币的文字均采用汉文

D.唐代以前的货币文字不可能采用“瘦金体”

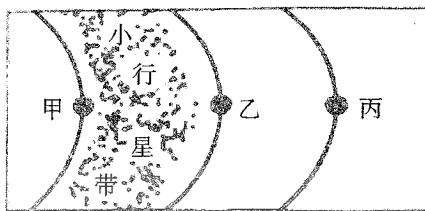
11.下列历史事件与发生朝代对应错误的是:

- A.澶渊之盟——北宋
- B.马邑之谋——西汉
- C.白登之围——唐朝
- D.土木之变——明朝

12.下列观点与所属流派对应正确的是:

- A.得道者多助,失道者寡助——兵家
- B.窃钩者诛,窃国者为诸侯——法家
- C.不患寡而患不均,不患贫而患不安——儒家
- D.明主之国,无书简之文,以法为教;无先王之语,以吏为师——墨家

13.关于太阳系局部图,下列说法错误的是:



- A.甲行星是“好奇号”探测器的目的地
- B.乙行星拥有的卫星数量最多
- C.丙行星有光环
- D.启明星位于丙行星的外围

14.关于我国著名水系,下列说法正确的是:

- A.长江流经安徽和江西
- B.黄河最终注入黄海
- C.澜沧江为东西走向
- D.珠江发源于青藏高原

15.关于洋流,下列说法错误的是:

- A.从低纬度流向高纬度的洋流是暖流
- B.寒流对所流经的海岸有降温增湿的作用
- C.寒暖流交汇是形成大型渔场的重要条件
- D.洋流有助于海水净化,也会扩大污染范围

16.关于地质景观,下列说法正确的是:

- A.丹霞地貌是由火山喷发形成的
- B.桂林山水是著名的喀斯特景观
- C.黄山山体主要由碳酸盐岩构成
- D.金华双龙洞的成因是风蚀作用

17.下列哪一个 IP 地址是不可能存在的?

- A.198.163.0.2
- B.256.134.7.8
- C.201.202.34.9
- D.136.64.17.5

18.下列关于运动的说法错误的是:

- A.游泳对膝关节的损伤比长跑小
- B.俯卧撑能锻炼到腰部及腹部肌肉
- C.杠铃卧推训练到的部位包括胸大肌
- D.蝶泳在所有泳姿中最能锻炼腿部肌肉

19.硬水是指含有较多钙、镁、铁、锰等的可溶性盐类的水。关于硬水,下列说法正确的是:

- A.井水、泉水一般都属于硬水
- B.用硬水洗衣服会增强洗涤效果
- C.硬水的 pH 值一般小于 6
- D.活性炭或石英砂可以软化硬水

20.下列环境污染中,与燃煤没有直接关系的是:

- A.酸雨
- B.温室效应
- C.臭氧层破坏
- D.可吸入颗粒物增加

第二部分 言语理解与表达 (共 20 题,参考时限 20 分钟)

本部分包括表达与理解两方面的内容。请根据题目要求,在四个选项中选出一个最恰当的答案。

请开始答题:

21.胡适和鲁迅都属于中国第一代现代知识分子、新文化运动的发起者、坚定的西化论者,“五四”之后,两人却_____,各自深深地卷入现实政治斗争。无论是思想还是性格,他们都形成鲜明对照。在后人眼里,一个被视作自由知识分子的代表,一个被视作激进知识分子的代表。

填入画横线部分最恰当的一项是:

- A.分庭抗礼
- B.各行其是
- C.不欢而散
- D.分道扬镳

22.除藏书外,藏书楼的另一个重要功能,就是作为藏书家及文人学者校勘书籍、读书研究的主要场所。为了使藏书内容准确,没有舛误,他们将多种刊本进行比对,通过勘订,改正原书中的错处,以免_____。

填入画横线部分最恰当的一项是:

- A.以讹传讹
- B.误人子弟
- C.谬以千里
- D.混淆是非

23.从符号化到数字化,信息在人类进化和文明发展中的重要性毋庸置疑。如果说符号化产生了知识的“宝库”,那么作为数字化的产物,大数据将成为人类的“超级矿藏”,其资源性、基础性与战略性的价值已经_____。为应对大数据时代的到来,国际竞争正在悄然展开。

填入画横线部分最恰当的一项是:

- A.略胜一筹
- B.今非昔比
- C.不可胜数
- D.初露峥嵘

24.在今天的全球化浪潮中,中国社会的对外开放程度与对外交流密度前所未有。与此同时,互联网及数字化媒介的普及,使知识与信息进一步覆盖到更广大的群体,阅读的_____进一步降低。一块块移动电子屏,让书籍_____,极大地拓展了阅读的时间与空间。

填入画横线部分最恰当的一项是:

- A.成本 改头换面
- B.条件 一目了然
- C.门槛 触手可及
- D.标杆 俯拾即是

25.农产品市场几乎每隔几年就会来个“姜你军”“蒜你狠”,媒体似乎也_____地年年跟进,说法也经年不变,无非是有人像炒房一样“炒菜”,哄抬物价,但每次都是_____,带大家云里雾里走一趟了事。

填入画横线部分最恰当的一项是:

- A.追根究底 含糊其辞 B.乐此不疲 语焉不详
C.趋之若鹜 浅尝辄止 D.连篇累牍 轻描淡写

26.声音由听觉加工,图像识别则由视觉分管。音乐和绘画是不同感官的艺术形式,应该没有相互_____的可能。不过,有人却能“看到”身边的音乐,并且将旋律凝固到画板上。许多研究机构也正在进行“声音视觉化”的尝试,在不久的将来,人们也许就能从真正意义上_____音乐的“色彩”。

填入画横线部分最恰当的一项是:

- A.转化 表达 B.代替 展现
C.转换 观赏 D.替换 感受

27.新诗发展的一个重要艺术趋势,是作者越来越追求复杂和多元的表达方式,这使得读者对诗歌的阅读与接受,也越来越多了一些_____和障碍。就这一类表现方法复杂的新诗而言,诗的创造者与接受者在理解上出现了_____。

填入画横线部分最恰当的一项是:

- A.隔膜 鸿沟 B.阻力 分歧
C.迷惑 误会 D.干扰 偏见

28.人工智能听起来很遥远,其实已经_____到我们的日常工作和生活中了。人工智能的应用,让生活更便捷、更有乐趣,节约时间、解放体力,甚至未来机器将_____人类进行一些基础性的劳作,这个场景令人憧憬。

填入画横线部分最恰当的一项是:

- A.渗透 替代 B.融入 协助
C.深入 取代 D.运用 辅助

29.台风形成于赤道地区的温暖水域。当潮湿、温暖的空气开始上升的时候,会产生一个低压区,进而_____周围更多的暖湿空气。温暖的空气在上升的过程中开始旋转,温度开始_____,冷凝生成云团,释放出热量,进一步_____上升运动。在这种正反馈机理的促进下,气旋不断加强,最终形成巨大的台风。

填入画横线部分最恰当的一项是:

- A.释放 变化 促进 B.凝聚 稳定 抑制
C.汇集 提升 配合 D.吸引 下降 加快

30.近代科学的成功表现于,它不仅把意图完全从自然现象中剥离,而且明智地意识到,意图是_____的,剥离了意图的自然现象有一种方法可以刻画:数学语言。从此以后,经典科学一路高歌猛进,而以意识、意图为研究对象的心理学则_____。多亏有了磁共振扫描技术,大脑活动才可以被记录下来,于是对思维的研究可以成为一门_____学科。

填入画横线部分最恰当的一项是:

- A.模棱两可 踟蹰不前 基础性
B.捉摸不定 步履蹒跚 实证性

- C.变幻无常 如履薄冰 实验性
- D.高深莫测 抱残守缺 理论性

31. 在一些英语国家,人们长期以来存在语言优越感,其外语能力并不能令人满意。比如,在第二次世界大战后,因为英语地位优越,美国人一直很自负,不重视外语人才的培养,结果在伊拉克战争中吃了亏。类似的经验教训启示我们,不应只把眼睛盯在英语等少数几种使用范围广泛、使用人数众多的语言上。国家在制定语言人才培养政策时,要有统筹规划的意识,应充分考虑各国、各民族的语言和文化,像保护濒危动物和生物多样性那样保护濒危语言、保护文化多样性。

这段文字意在强调:

- A.应以尊重、谦虚的态度面对语言的多样性
- B.国家的语言政策应当与时俱进、不断调整
- C.保护濒危语言是语言政策制定的重要目标
- D.制定语言人才培养计划应有更全面的考虑

32. 科举是一种复杂的文化现象。然而,在现代中国人对传统事物的看法中,科举大概也是被误解最深的制度。我们不应忽略科举制的历史性,试想在传统社会,能构想出其他更好的选才制度来吗?古代的中国统治者和许多文化巨人并不是没有看到科举制的局限和弊端,也不都是因循守旧之辈。但经过反复比较,最后还是选择了科举制,这实际上是一种择善而从。古代一些学者批评科举取士并不等于反对科举制度。从古代到近代的学者对科举制的批判主要是对应试现象、对考试内容和形式的批判,特别是对八股取士的批判,很少有人否定科举制本身。

这段文字意在强调:

- A.古代学者对科举制的肯定多过否定
- B.科举制的弊端并非来自其制度本身
- C.科举制是当时历史条件下的理性选择
- D.应从现实情况出发多角度评价科举制

33. 过去的营销是漏斗效应,传统媒体上的广告让受众从很宽的漏斗口进入,买单的到了漏斗的底端。网红的营销则是涟漪效应,每个波纹和波纹之间会有碰撞,影响面更宽,影响的深度更深。网红通过树立个人品牌、贯彻自我的生活方式吸引粉丝,粉丝可能对传统广告是排斥的,但是乐于模仿偶像而消费。在社交平台上,粉丝之间的沟通渠道打通了,他们甚至不仅仅购物,而且乐于把自己的喜好传播给别人,每一次点赞、评论、转发,涟漪就扩散一次。

这段文字主要介绍:

- A.传统营销与网络营销模式的区别
- B.社交平台中网红与粉丝的互动模式
- C.粉丝在网络时代的消费特征
- D.网红营销影响巨大的原因

34. 书法既然是艺术活动,当然不能缺少技艺,但是由于大众的参与,书法最强调的不是技艺而是修养。对修养的强调,实际上是强调人格在内部的提升。书法由此而成为伦理与审美融合在一起的活动。中国文化中“游于艺”的思想,其目的是通过艺事让人格臻于完善。在“游于艺”的机制中,书法成为理想的手段。

这段文字主要说的是:

- A.“游于艺”的思想强调内在人格的提升

- B. 书法是将伦理与审美合为一体的活动
- C. 书法艺术强调人格修养与技艺的共同提升
- D. 书法作为一种艺术活动意在提高人的修养

35. 市场会不断创造诱惑让你花钱, 每一个橱窗、货架都是大量市场实验的最优方案。很常见的例子, 为何鸡蛋、牛奶被放到超市的深处? 因为这是人们最普遍的购买需求, 你不得不穿过一排又一排货架, 不知不觉买了很多计划外的东西。

下列哪种做法能作为本文观点的佐证?

- A. 当消费者浏览网页时, 他的喜好已被电商悄悄记录
- B. 商场为吸引顾客而精心营造舒适优雅的购物环境
- C. 售楼员安排多位顾客同时看房而制造紧迫感, 使其匆忙做出决定
- D. 商家制造一个又一个节日来鼓动消费者购物

36. ①所以, 现在除了传统哲学, 教育、法律等学科也纷纷从哲学层面进行研究思考, 显示了哲学揭示本质、认识规律的巨大魅力

②无论什么事情, 一经哲学思维的过滤, 就能呈现出本质性和深刻性

③哲学总是从历史和现实两个视角不断拷问事物的必然性和合理性, 其对事物的肯定理解中总是包含否定理解, 包含对事物必然灭亡的理解

④这种反思和批判让哲学披上了一件永不生锈的铠甲, 哲学也因此具有前瞻性、创新性和生机勃勃的魅力

⑤哲学发端于人类对事物本质永不停歇的探求和追问, 既不满足于表象的感知, 也不停留在经验层面, 总是追问现象之后的本质、偶然之中的必然

⑥哲学魅力还表现在它的反思和批判功能上

将以上 6 个句子重新排列, 语序正确的是:

- A. ⑤②①⑥③④
- B. ⑤③⑥④②①
- C. ②⑤③①⑥④
- D. ②③⑤⑥④①

37. ①18 世纪, 人们在哥伦比亚玛雅文明遗产中发现了一个极像现代飞机的黄金制品

②航空专家认真辨认和研究, 得出了完全不同于前人的结论

③在 900 年前, 玛雅文明突然神秘消失, 为后人留下了许多未解之谜

④当时的考古学家认为, 这是一种以鸟或鱼为原型制作的饰物, 并没有给予其更多的关注

⑤他们认为, 那是一种飞机模型, 与现代飞机模型极为相似

⑥到了 20 世纪末, 人们在厄瓜多尔南部的一个地下隧道中, 又先后发现了两个用黄金制成的类似物品

将以上 6 个句子重新排列, 语序正确的是:

- A. ①⑤⑥④②③
- B. ③⑥⑤①②④
- C. ③①④⑥②⑤
- D. ①④③②⑤⑥

38. 古老的问答文化中间与答的形式和寻问、拷问、追问, 都孕育着我们今天的谜语这种文化形式的各种要素。在神话思维的追问下, 远古的先人们一点点地积累起关于世界的解答, 这也成为后来人类思维与意识的模式和底层文化。当先人们要将这些知识传授给他们的下一代时, 儿童游戏中的谜语形式便诞生了。后人又把先人们的文化问答通过新颖、曲折、变形的游戏问答加以传授和衔接, 谜语便应运而生了。设问与回答是后世猜谜活动的本体, 一切谜语文化

都是从这里出发的。

这段文字主要说的是：

- A.人类思维模式深受问答文化的影响
- B.谜语传承了先人对世界的认识和解答
- C.谜语文化源于古老的问答文化
- D.儿童游戏是古代知识传授的重要方式

39.宝石颜色有三个影响要素,即光源、宝石和观察者。不同的光源具有不同的光谱能量分布,因而照射到宝石上会使宝石呈现出不同的颜色;宝石由于自身内部的致色离子对光源光波的选择性吸收、反射、透射而呈现出不同的颜色;对于观察者而言,虽然人眼具有对可见光的灵敏分辨力,但对具体波长可见光的感知是因人而异的。也就是说,对同一宝石品种与观察者来说,_____。

填入画横线部分最恰当的一句是：

- A.宝石颜色会随照明光源的不同而发生改变
- B.标准光源的选定对宝石颜色评价尤为关键
- C.提高观察者可对可见光的灵敏分辨力十分必要
- D.选择透光性好的宝石能获得更高的市场利润

40.在古代琳琅满目的冷兵器家族中,剑历来有“百兵之君”的美誉,尤其在春秋群雄并起的历史时期,曾经出现了几把极具传奇色彩的稀世宝剑,它们中既有用来刺杀君主的鱼肠剑,也有导致两国战争的湛泸剑,而古籍《越绝书》中所记载的泰阿宝剑更是有神剑一挥、三军破败的传奇故事。巧合的是,这些传说的神兵利器都是出自一个叫龙泉的地方。

这段文字接下来最有可能谈论的是：

- A.龙泉出宝剑的原因
- B.鱼肠剑的真实性
- C.龙泉宝剑在当代的价值
- D.为什么宝剑有“百兵之君”的美誉

第三部分 数量关系

(共 10 题,参考时限 10 分钟)

在这部分试题中,每道题呈现一段表述数字关系的文字,要求你迅速、准确地计算出答案。

请开始答题：

41.某蛋糕房销售 A、B 两种糕点,其单价均为 8 元,单个净利润分别为 3 元和 4 元。推广期两种糕点均六折出售。如某天出售 X 个糕点,问其中至少要有多少个 B 糕点才能保证不亏本?

- A.0.2X
- B.0.25X
- C.0.75X
- D.0.8X

42.某车间有 50 名工人装配零件,男工每人装配 4 个,女工每人装配 2 个,最终男工装配的零件数比女工多 20 个。车间准备从男工和女工中各任意选择 1 名参加技能比赛,问共有多少种不同的组合?

- A.400
- B.500
- C.600
- D.800

43.9个人参加知识竞赛,前五名和后五名平均分相差16分,除第五名外其余8人的分数成等差数列。问前两名的分差为多少?

- A.1 B.2 C.4 D.5

44.A、B两地之间的公路中有 $\frac{1}{3}$ 的距离为平路,其余为上坡路或下坡路,甲、乙两车从A地出发开往B地。甲车在平路、上坡路和下坡路的速度相同,而乙车在平路上的速度和甲车相同,在上坡路和下坡路的速度分别为平路的50%和150%,结果甲、乙两车均用1.5小时到达B地。问甲车从B地返回A地所用的时间比乙车少多少分钟?

- A.10 B.20
C.30 D.40

45.甲和乙进行9局5胜制的台球比赛,结果甲只用了7局就战胜了乙,问在两人所有可能的比赛结果中,甲至少连胜三局的概率为:

- A. $\frac{4}{5}$ B. $\frac{6}{7}$ C. $\frac{13}{15}$ D. $\frac{16}{21}$

46.总公司派出若干人员组成5个工作组到下属公司进行巡查,其中,甲组的人数是总人数的14%,乙组人数是总人数的 $\frac{1}{4}$,丙组人数是甲、乙两组人数之和的 $\frac{2}{3}$,丁组人数是甲、丙两组人数之差的2倍,且其中有三个组的人数正好是连续的偶数。问甲组比戊组多多少人?

- A.4 B.6
C.10 D.18

47.水果店要把256个苹果装进纸箱,现有能装12个苹果和能装18个苹果的两种纸箱,问最少要补充多少个苹果才能正好将一定数量的纸箱装满?

- A.0 B.2
C.4 D.6

48.单独完成某项工程,甲队需要36天,乙队需要30天,丙队需要32天。如果安排合作施工,按照甲乙、乙丙、丙甲、甲乙……的顺序按天轮转,问完成这项工作时,甲工作了多少天?

- A.11天整 B.11天多
C.12天整 D.12天多

49.2016年间,甲、乙、丙、丁四个教研室共在学术期刊上发表文章28篇,已知甲发表的文章数不到10篇且不少于乙。乙发表的文章数不少于丙,丙发表的文章数不少于丁,丁发表的文章数是奇数。问每个教研室发表的文章数有多少种不同的可能性?

- A.4 B.6
C.8 D.10

50.教育局原计划组织200多名教师组成若干支人数相等的支教队下乡服务。后为了扩大支教范围,决定增设1支支教队,并将每支支教队的人数增加4人,而实际派出的教师总人数正好是原计划的1.5倍。那么原计划组成多少支支教队?

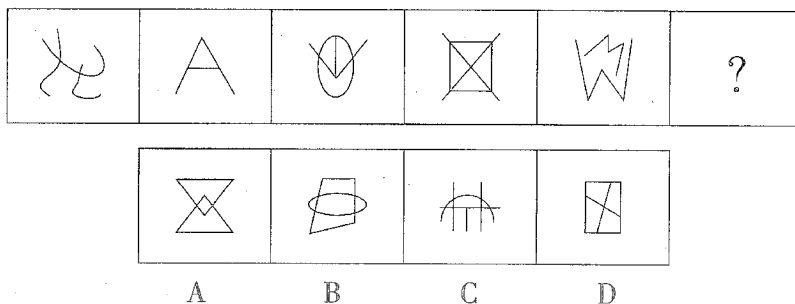
- A.24 B.26
C.28 D.30

第四部分 判断推理
(共 35 题, 参考时限 35 分钟)

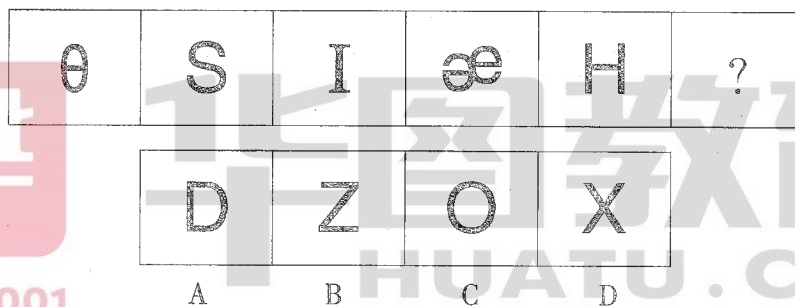
一、图形推理。请按每道题的答题要求作答。

请开始答题:

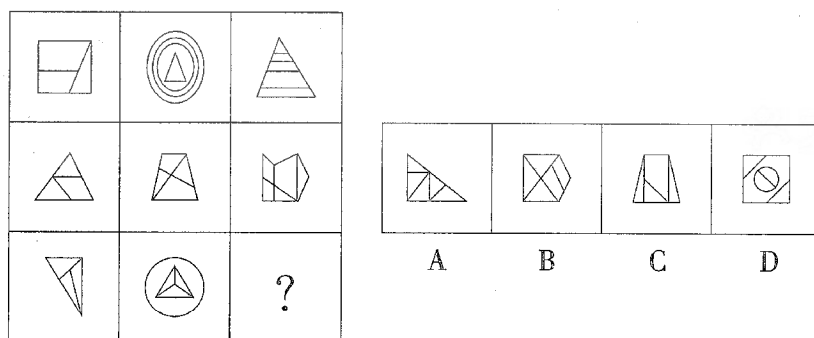
51. 从所给的四个选项中选择最合适的一个填入问号处, 使之呈现一定的规律。




52. 从所给的四个选项中选择最合适的一个填入问号处, 使之呈现一定的规律。



53. 从所给的四个选项中选择最合适的一个填入问号处, 使之呈现一定的规律。



54. 把下面的六个图形分成两类, 使每一类图形都有各自的共同特征或规律, 分类正确的一项是:



A. ①②③, ④⑤⑥

B. ①⑤⑥, ②③④

C. ①④⑥, ②③⑤

D. ①③⑥, ②④⑤

55.把下面的六个图形分成两类,使每一类图形都有各自的共同特征或规律,分类正确的一项是:



- A.①③⑤,②④⑥
 B.①④⑤,②③⑥
 C.①④⑥,②③⑤
 D.①②③,④⑤⑥

二、定义判断。每道题先给出定义,然后列出四种情况,要求你严格依据定义,从中选出一个最符合或最不符合该定义的答案。注意:假设这个定义是正确的,不容置疑的。

请开始答题:

56.社会角色可以分为先赋角色和自致角色两种。先赋角色是指建立在血缘、遗传等先天或生理的因素基础上的社会角色。自致角色是指通过个人的活动与努力而获得的社会角色。

根据上述定义,下列属于先赋角色的是:

- A.妻子
 B.世袭贵族
 C.男同学
 D.少数民族人大代表

57.包庇罪是指明知是犯罪的人而为其提供隐藏处所、财物,或者帮助其逃匿,或者作假证明包庇的行为。但事前通谋的,以共同犯罪论处。

根据上述定义,下列可能构成包庇罪的是:

- A.李某与黄某等人商定,由黄某等人抢劫金店,由李某负责藏匿抢劫所得赃物。黄某等人抢劫得手后,李某将赃物藏于自家的仓库内
 B.张某盗窃了博物馆的一幅名画,将其藏于床下,被母亲发现,母亲询问张某,得知为盗窃所得,遂将该幅名画烧毁
 C.赵某被王某绑架,公安机关迅速侦破此案并成功解救赵某。后赵某收受王某亲属 20 万元,推翻了之前对王某不利的陈述,谎称是自愿和王某走的
 D.侯某是涉嫌杀人罪的犯罪嫌疑人于某的辩护律师,为获得高额的代理费用,侯某伪造大量证据,成功帮助于某脱罪

58.拈连是一种修辞手法,是指在叙述甲乙两个关联的事物时,把适用于甲事物的词语临时用于乙事物的一种修辞格。它使语言生动形象、寓意深刻、富于表现力,同时又巧妙地连接上下文,完成语义跳跃,具有简洁、明快、使语句连贯的功效。

根据上述定义,下列使用了拈连这一修辞手法的是:

- A.赶超,关键是时间,时间就是生命,时间就是速度,时间就是力量
 B.春风杨柳万千条,六亿神州尽舜尧
 C.你别看我耳朵聋,可我的心不聋
 D.花白胡子坐在墙角里吸旱烟

59.群体决策冒险是指群体比个体更富于冒险精神,相对于个人决策而言,群体倾向于选择获利大但成功率小的行为。当人们集合在一起时,比他们单独活动更富于冒险性。

根据上述定义,下列属于群体决策冒险的是:

- A.老王遭遇车祸,重伤昏迷。医生集体会诊,商讨出手术救治方案,并进行了全力抢救
- B.某国国会经投票表决后,正式出台了失业救济法案,该法案遭到在野党的强烈反对
- C.在选择容易考但名气小,还是难考但名气大的学校的问题上,小赵犹豫不决。家庭会议讨论后,大家选择了后者
- D.在一份创业时是否应当具有冒险精神的调查问卷上,80%以上的被调查者选择了“是”

60.行政赔偿是指行政主体在行使行政职权过程中侵犯行政相对人的合法权益并造成损害时,国家对此承担赔偿责任。行政赔偿的构成要件是:(1)行政主体,即侵权行为人必须是国家行政机关和法律、法规授权的组织;(2)行政职权行为,即行政主体必须实施了行政职权行为;(3)侵权并造成损害,即行政主体侵害行政相对人的合法权益并造成损害;(4)因果关系,即行政职权行为与损害之间存在因果关系。

根据上述定义,下列受害人不能要求行政赔偿的是:

- A.甲税务局因计算错误使某纳税人多缴纳了1万多元税款
- B.乙市政府聘请张某为清洁员,张某在清洁过程中不慎从楼梯上摔下,造成腿部骨折
- C.丙公安行政机关警察李某在抓捕犯罪嫌疑人时违法使用武器,造成嫌疑人重伤
- D.丁工商局违法吊销某个体工商户营业执照,致使其遭受经济损失5000多元

61.角色个性冲突是指社会角色所要求所期望的行为与个体本身的价值观或个性相悖时所产生的冲突。

根据上述定义,下列属于角色个性冲突的是:

- A.李教授是某高校外语学院院长,同时又是学校教授委员会成员,有时他需要对有利于学校发展但不利于学院的决定进行表决,他感到很矛盾
- B.小赵是个性格内向的人,却被公司安排在销售部门工作,需要和各式各样的人打交道,他觉得很不适应
- C.王医生是某医院的外科主任,工作非常繁忙,致使他很少有时间陪伴年幼的孩子,他觉得很歉疚
- D.老于是某车间主任,为赶生产进度,厂里要求老于安排车间的工人们加班,而工人们却不愿加班,老于感到很为难

62.逆向思维是对司空见惯的似乎已成定论的事物或观点反过来进行思考的一种思维方式。逆向思维敢于“反其道而思之”,让思维向对立面的方向发展,从问题的相反面深入地进行探索。

根据上述定义,以下哪项中没有使用逆向思维?

- A.袜子的根部往往最容易破,一厂家生产了无跟袜,投放市场后大受欢迎
- B.一位母亲整天愁眉苦脸,雨天,怕大儿子染的布没法晒干;晴天,又怕小儿子做的伞没有人买。一位邻居开导她,叫她反过来想:雨天,小儿子的伞生意做得红火;晴天,大儿子染的布很快就能晒干。结果,这位老母亲整天眉开眼笑
- C.一个准备进城的小八路从护城河的桥下钻出来,故意朝着城外走去,结果被卫兵喝止,顺利地进了城
- D.一富位翁发现母鸡生蛋后总是咯咯地叫,于是他经常模仿母鸡咯咯地叫,希望母鸡多下蛋

63.场合道德指的是人们在特定的公共社会关系中应遵循的道德准则和应具备的道德品质,是社会公共生活准则在特定场合的表现;职业道德指的是人们在一定职业生活中应遵循的道德规范,以及应具有的道德观念、情操品德等。

根据上述定义,以下哪项涉及职业道德?

- A.银行自助服务空间不允许抽烟
- B.男教师不允许蓄长发
- C.出租车司机不允许闯红灯
- D.阅览室不得大声喧哗

64.国际贸易按商品形式的不同,可分为有形贸易和无形贸易。有形贸易指的是买卖那些看得见、摸得着的物质性商品的活动;无形贸易指的是因劳务或其他非实物商品进出口而发生的收入与支出。

根据上述定义,以下哪项一定属于有形贸易?

- A.2014年上半年,中国液化天然气进口量 992.56 万吨,同比增长 19.06%
- B.2011年,中国某国际货运集团营业收入 1031.13 亿元
- C.据统计,2014年我国出境游破 1 亿人次,逆差超千亿美元
- D.某公司《2010年年度报告》显示,2010年实现海外投资净利润 515.6 亿美元,全年全球投资收益率达到 11.7%

65.趋同适应是指亲缘关系很远甚至完全不同的类群,长期生活在相似的环境中,在外貌形态、内部结构、生活特点、生理特征及发育等多方面表现出相似性,具有相同或相近的形态。

根据上述定义,下列属于趋同适应的是:

- A.豆科牧草根瘤能与固氮根瘤菌共生,将大气中的氮气合成含氮化合物,具有生物固氮功能,因此能改良草原土壤
- B.青蛙、鳄鱼和河马的鼻孔和眼睛都生长在头部上方的同一个水平,这使它们可以将鼻、眼露出水面,便于呼吸和观察水面情况
- C.黑核桃树种的树皮和果实含有氢化核桃酮,当这种物质被雨水冲到土中,即被氧化成核桃酮,这会导致黑核桃树下几乎没有草本植物
- D.生长在河洼地的牧草鸭茅,植株表现出高大、叶厚、色绿的特征,而生长于碎石堆的牧草鸭茅,植株表现出矮小、叶薄、色淡的特征

三、类比推理。每道题先给出一组相关的词,要求你在备选答案中找出一组与之在逻辑关系上最为贴近,相似或匹配的词。

请开始答题:

66.昼:夜

- A.分:秒
- B.男:女
- C.老:少
- D.矛:盾

67.沸腾:沸点

- A.航行:动力
- B.取暖:点火
- C.加热:融化
- D.联络:书信

- 68.黑匣子:飞机
- A.防护栏:工厂
B.集装箱:货轮
C.超新星:太空
D.记录仪:汽车
- 69.三角形:平行四边形
- A.正方形:平行线
B.圆形:扇形
C.线段:射线
D.梯形:五边形
- 70.失眠:睡眠:嗜睡
- A.失忆:记忆:回忆
B.苗条:体重:肥胖
C.抑郁:情绪:躁狂
D.厌食:食物:贪食
- 71.血缘:亲属:关系
- A.地域:民族:共同体
B.雇佣:企业:员工
C.公民:政府:国家
D.子女:夫妻:家庭
- 72.交警:处理违章:交规
- A.维修工:维修电器:合同
B.厨师:烹饪佳肴:菜单
C.保安员:维持秩序:规定
D.教师:备课:教案
- 73.起诉:应诉:审判
- A.违章:罚款:扣分
B.签约:招标:投标
C.阐述:反驳:评判
D.构思:写作:投稿
- 74.春雨对于()相当于()对于了解
- A.丰收 交流
B.春风 沟通
C.宝贵 途径
D.春天 座谈
- 75.诈骗罪对于()相当于()对于司法工作人员
- A.法官 法院
B.盗窃罪 证人
C.证据 被害人
D.罪名 检察官

四、逻辑判断。每道题给出一段陈述,这段陈述被假设是正确的,不容置疑的。要求你根据这段陈述,选择一个答案。

请开始答题:

76.有研究者认为,儿童缺钙会导致脾气暴躁,因此对于脾气暴躁的儿童应当补钙。但是,有反对者认为,儿童焦虑不安是导致脾气暴躁的原因。家长的溺爱、家庭教育缺乏一致性、父母对孩子要求过于严格以及遗传等因素都会导致儿童焦虑不安。因此心理因素才是导致儿童脾气暴躁的原因。

以下哪项如果为真,最能削弱反对者的观点?

- A.儿童缺钙会导致焦虑不安等心理现象
B.家长对孩子溺爱或要求过严是社会普遍现象
C.有些先天缺钙的儿童并没有表现出脾气暴躁
D.有些脾气暴躁的儿童经检查并不缺钙

77.有人认为,改革开放以来,我国城镇化水平大幅提升,城镇人口由1978年的1.72亿增加到了2011年的近7亿,城镇化率由1978年的17.92%上升到2011年的51.27%。城镇化快速

发展的同时,也是我国经济飞速增长的时期,因此城镇化的发展是我国经济增长的原因。

以下哪项如果为真,最能削弱这一论证?

- A.实际上,我国经济增长带来了城镇人口的增多和城镇化率的提高
- B.我国农村的生产方式、生活方式在逐步与城市接轨,逐渐实现城乡一体化
- C.相较于东南沿海地区,我国西部地区城镇化水平低,因此经济相对欠发达
- D.改革开放以来的城镇化进程,为我国经济长期高速增长提供了丰富的人力资源

78.有人认为,青少年犯罪是由家庭教育缺失导致的,青少年犯罪严重危害社会,而法律可以有效纠正家庭教育的缺失,因此法律可有效解决青少年犯罪问题。

以下哪项如果为真,最能削弱这一论证?

- A.对于较为轻微的危害社会行为,法律也有纠正作用
- B.家庭教育缺失并非是导致青少年犯罪的唯一原因
- C.青少年犯罪是全世界所有国家都存在的问题
- D.除纠正家庭教育缺失外,法律还有助于为被害人伸张正义

79.一项研究认为,海洋在类地行星演化以及气候调节中发挥着重要作用。研究人员表示,我们知道许多太阳系外行星都无法居住,它们的轨道或者太靠近恒星,或者距离恒星非常遥远,只有适当的轨道半径才有可能形成稳定的液态水。全球性海洋的存在对行星气候有较大的帮助,它使得行星表面温度的变化缓慢,这对生命的诞生有着积极意义。同时海洋还可以将热量导向行星上的各个区域,使得该行星有一个较大面积的可居住区域,适合生命演化。

以下哪项如果为真,最能支持研究人员的上述论证?

- A.不同行星的自转速率会影响该行星上的海洋环流模式,从而影响全球性的热传输
- B.火星距太阳轨道半径适中,但是火星上没有海洋,其表面温度变化范围较大,也没有生命存在

C.土卫六是太阳系中除地球外,唯一表面拥有稳定液态物质的天体。土卫六上的液体是甲烷和乙烷等碳氢化合物,可以作为生命起源的基础

D.地球上的生命需要水并不代表其他行星上的生命也需要水才能生存

80.某公司要招聘近千名新员工,有 1600 人通过初试。为了保证所聘用的员工能够胜任公司的相关工作,公司组织了一个庞大的胜任力考核委员会对这些通过初试的应聘人员进行考核。由于考核的严苛性,这些人中将有 40%被淘汰。即使如此,实际能力无法胜任工作的人中还是会有五分之一将通过这项考核而被公司录用。因此,通过胜任力考核的员工中有占通过初试者总数 10%的不胜任者。

上述论证最可能基于以下哪项假设?

- A.在新录用的员工中超过 90%的人是能够胜任该公司工作的
- B.通过胜任力考核的应聘人员在愿意到该公司工作的
- C.公司的初试环节不是非常严苛
- D.被淘汰的那 40%人员确实是不胜任者

81.某县支行在对其储户进行统计分析时发现,在该行存款 10 万元以上的大额储户中,有 55%的储户是城镇居民。该行某负责人由此向县领导建议:为了增加大额储户的比例,县政府应该鼓励农村居民向城镇转移。

以下哪项如果为真,最能质疑该负责人的建议?

- A.有很多农村居民更愿意将钱存入银行
- B.城镇居民由于消费水平高,通常会更积极努力工作
- C.该县农村居民平均存款额只有城镇居民的 70%
- D.该县城镇居民的比例超过 60%

82.人的寿命长短与心率之间有很大关系。研究发现在正常范围内,心率越慢的人越长寿。而高血压患者往往忽视对心率的监测,当高血压患者心率大于每分钟 84 次时,会比心率低于每分钟 65 次的患者增加一倍罹患冠心病的风险;而心率每分钟大于 79 次的高血压患者其死亡风险相对于小于这个数值的患者而言会增加 89%。因此,高血压患者控制血压的同时,也要做到心率控制。

由此可以推出:

- A.高血压患者往往只注意到了从血糖、血脂等方面全面管理血压,却忽视了对心率的管理
- B.对于高血压患者来说,当静息心率大于每分钟 84 次时就应当进行心率管理了
- C.同时患高血压和冠心病的患者其对目标心率的要求会比单方面的高血压患者更高
- D.正常范围内心率较快的高血压患者,继发其他疾病的风险更高

83.办张健身卡,请一名私人教练,这不再仅是成年人的时尚。“儿童健身”训练也悄然兴起。时尚的爸妈为孩子请个“私人健身教练”,量身定制健身方案。但是儿童私人健身教练并没有专业从业资格,大都从成人教练“转岗”,教学内容没有统一标准。有些教练使用不成熟的教学方法,反而使得儿童的健康受到危害,所以为儿童请私人教练弊大于利。

以下哪一事例最能支持上述论证?

- A.小红的父母为孩子选择了一对一的私人教练小王,这使得小红心理压力过大,对运动产生了恐惧
- B.教练小强使用成人的健身理念和方法去训练儿童,超强运动量使得儿童健康受到影响
- C.3~6 岁的孩子不适合做力量训练,所以教练小李选择了更适合儿童的柔韧性、灵敏性的训练
- D.教练小张向孩子解释萝卜跳是直腿跳,兔子跳是屈腿跳,引导孩子顺利完成了下肢爆发力的训练

84.在一项实验中,研究人员要求 12 名男性志愿者每晚只睡 4 小时,持续两周。研究者检测了志愿者血液内的饥饿激素的含量,结果发现该激素的水平跃升了 28%。与此同时,另一种叫瘦素的激素则减少了 18%。瘦素的作用是向大脑发出不需要进食的信号从而抑制饥饿。研究者发现志愿者的饥饿程度平均提高了 23%。研究人员认为,睡眠不足可能会导致肥胖。

以下哪项如果为真,最能支持上述结论?

- A.6~9 岁儿童每晚睡眠时间少于 10 小时,肥胖可能性会提高 1.5~2 倍
- B.研究表明,肥胖的人群平均睡眠时间比体重正常的人群要高出许多
- C.这 12 名男性志愿者在实验期间食欲没有表现出明显的变化
- D.12 名志愿者在实验之前的若干天睡眠质量都不太好

85.谈到大数据时,有一则故事经常被引用:一位男顾客到一家连锁店投诉,因为该店竟然给他读高中的女儿邮寄婴儿服装和孕妇服装的优惠券。后来,这位父亲与女儿进一步沟通发现,女儿真的已经怀孕了,于是致电道歉。该店解释说,他们发现女孩的购买记录中包括无味湿巾和补镁药品,而以往记录显示,孕妇购买这两种商品的比例高于一般人群,因此推测这位女

性顾客可能怀孕了。引用者认为,这个故事可以说明,“数据比人更了解人”。

以下哪项如果为真,最能反驳引用者的观点?

- A.无味湿纸巾和补镁药品跟怀孕没有因果关系,根据它们预测怀孕没有理论依据
- B.该店把孕妇优惠券寄到女孩家,揭露了她的隐私,并不了解她的真实需求
- C.女孩的妈妈其实早已察觉女儿的变化,但为了保护女儿,暂时没有告知父亲
- D.该店给很多客户都邮寄了孕妇优惠券,这些人绝大多数并不是孕妇

第五部分 资料分析

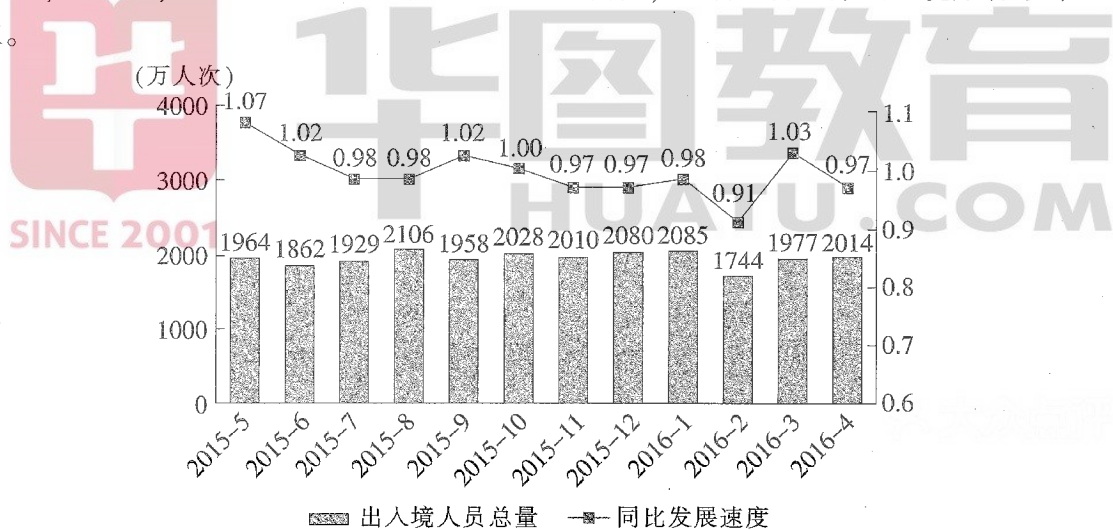
(共 15 题,参考时限 15 分钟)

所给出的图,表,文字或综合性资料均有若干个问题要你回答。你应根据资料提供的信息进行分析、比较、计算和判断处理。

请开始答题:

一、根据所给资料,回答 86~90 题。

2016 年 S 市口岸通关情况为:4 月口岸出入境车辆 131.2 万辆次,机场空港口岸出入境旅客 24 万人次;1—4 月,S 市口岸累计出入境车辆 495 万辆次,机场空港口岸出入境旅客累计 90.2 万人次。



2015 年 5 月—2016 年 4 月经 S 市出入境人员月度统计

注:同比发展速度指当期数值与上年同期数值之比。

86.2016 年一季度,平均每天约有多少车辆经 S 市口岸出入境?

- A.1.0 万辆次
- B.1.5 万辆次
- C.4.0 万辆次
- D.5.5 万辆次

87.2014 年 9—12 月,哪个月经 S 市口岸出入境人次数最高?

- A.9 月
- B.10 月
- C.11 月
- D.12 月

88.2015 年下半年,有几个月经 S 市口岸出入境人次数同时低于上月和上年同期水平?

- A.3
- B.2
- C.1
- D.0

89.2016年一季,经S市口岸出入境总人次较上一季约:

- A.增长了0.9%
- B.增长了1.7%
- C.降低了2.3%
- D.降低了5.1%

90.下列关于S市的说法,能够从上述资料中推出的是:

- A.2016年4月机场空港口岸出入境旅客入次数约占当月全部经口岸出入境人次的一成
- B.2015年四季度经口岸出入境入次数低于上年同期水平
- C.2014年7月经口岸出入境入次数低于上月水平
- D.图中经口岸出入境入次数最多和最少的月份在同一个自然年

二、根据所给资料,回答91~95题。

2016年一季,全国共发生票据业务0.74亿笔,金额46.16万亿元,同比分别下降34.98%和27.75%。其中,支票业务6814.38万笔,金额40.41万亿元,同比分别下降35.93%和29.48%;实际结算商业汇票业务412.72万笔,金额4.67万亿元,同比分别下降21.65%和11.70%;银行汇票业务57.00万笔,金额3353.89亿元,同比分别下降5.90%和16.43%;银行本票业务80.88万笔,金额7476.39亿元,同比分别下降29.34%和33.87%。

2016年一季,电子商业汇票系统出票41.36万笔,金额1.83万亿元,同比分别增长64.26%和91.15%;承兑42.64万笔,金额1.88万亿元,同比分别增长65.11%和90.65%;贴现16.04万笔,金额1.30万亿元,同比分别增长95.13%和131.67%;转贴现71.52万笔,金额11.85万亿元,同比分别增长338.16%和457.57%。

91.2016年一季全国票据业务平均每笔金额约比上年同期:

- A.上升了11%
- B.上升了6%
- C.下降了10%
- D.下降了5%

92.2016年一季平均每笔金额最高的票据业务类型是:

- A.支票业务
- B.实际结算商业汇票业务
- C.银行汇票业务
- D.银行本票业务

93.2015年一季电子商业汇票系统发生转贴现业务约多少万笔?

- A.9
- B.12
- C.16
- D.21

94.将不同类型的电子商业汇票系统业务按2016年一季总金额同比增速从高到低排列,以下正确的是:

- A.转贴现、承兑、贴现、出票
- B.转贴现、贴现、承兑、出票
- C.转贴现、承兑、出票、贴现
- D.转贴现、贴现、出票、承兑

95.关于 2016 年一季度票据业务和电子商业汇票业务,能够从上述资料中推出的是:

- A.电子商业汇票系统各项业务平均每笔金额均高于上年同期水平
- B.电子商业汇票系统出票业务平均每笔金额高于贴现业务
- C.票据业务数量同比降幅最高的是银行本票业务
- D.月均实际结算商业汇票业务金额超过 2 万亿元

三、根据所给资料,回答 96~100 题。

2016 年一季度,我国出口纺织纱线织物及制品、服装及衣着附件、家具及其零件、箱包及类似容器、鞋类、塑料制品、玩具等 7 大类传统劳动密集型产品(以下简称“传统劳动密集型产品”)共计 6225 亿元,比去年同期下降 1%(同期全国外贸出口总值降幅为 4.2%),占同期我国外贸出口总值的 20.7%。

一季度,我国以一般贸易方式出口传统劳动密集型产品下降 1.2%,占同期我国传统劳动密集型产品出口总值的 74.1%;以加工贸易方式出口 849.8 亿元,下降 8.6%,占 13.7%。此外,边境小额贸易出口 206.1 亿元,下降 19.3%。

一季度,我国传统劳动密集型产品的主要出口市场中,对美国出口 1303 亿元,增长 2.6%;对欧盟出口 1205 亿元,下降 3.3%;对东盟出口 731.3 亿元,下降 5.9%;对日本出口 470.9 亿元,增长 3.3%;对中国香港特别行政区出口 318.3 亿元,增长 16%;对韩国出口 188.3 亿元,增长 9.6%。

2016 年一季度我国传统劳动密集型产品出口统计表

商品品种	出口额(亿元)	增速(%)	占比(%)
合计	6225.2	-1.0	100.0
服装及衣着附件	2153.2	-1.7	34.6
纺织纱线织物及制品	1522.5	3.7	24.5
家具及其零件	755.4	-6.7	12.1
鞋类	712.6	-7.6	11.4
塑料制品	530.2	3.7	8.5
箱包及类似容器	360.9	-4.0	5.8
玩具	190.4	19.0	3.1

96.2016 年一季度我国外贸出口总值约为多少万亿元?

- A.2.3
- B.2.6
- C.3.0
- D.3.5

97.2016 年一季度,以一般贸易方式出口传统劳动密集型产品出口额约为多少万亿元?

- A.0.37
- B.0.41
- C.0.46
- D.0.52

98.2016 年一季度对美国、欧盟的出口金额约占传统劳动密集型产品出口总额的:

- A.40.8%
- B.40.6%
- C.40.5%
- D.40.3%

99.2016年第一季度7大类传统劳动密集型产品中,有几类的出口额占外贸出口总值的比重高于上年同期水平?

A.5

B.4

C.3

D.2

100.能够从上述材料中推出的是:

A.2016年一季度以加工贸易方式出口的金额约是边境小额贸易出口的6倍

B.2016年一季度传统劳动密集型产品对韩国的出口增幅大于对日本的出口增幅

C.2016年一季度传统劳动密集型产品各商品种类中同比出现负增长的有5种

D.2015年一季度家具及其零件的出口总额不到700亿元



华图教育
HUATU.COM

**2017年6月3日事业单位统考
职业能力倾向测验(A类)试卷参考答案及解析**



答案总览

1~5	ABDDA	6~10	ADCDC	11~15	CCDAB	16~20	BBDAC
21~25	DADCB	26~30	CAADB	31~35	DBDDD	36~40	ACCBA
41~45	ACDDA	46~50	BBACB	51~55	CBBBA	56~60	BCCCB
61~65	BDBAB	66~70	BADDD	71~75	ABCAD	76~80	AABBD
81~85	DBBAC	86~90	CDCDB	91~95	ABCDA	96~100	CCDAB



真题精解

1.【答案】A。解析:2004年3月14日,第十届全国人民代表大会第二次会议通过宪法修正案,首次将“人权”概念引入宪法,明确规定“国家尊重和保障人权”。1997年9月召开的中共十五大提出的党领导人民治理国家的基本方略,就是广大人民群众在党的领导下,依照宪法和法律规定,逐步实现社会主义民主的制度化、规范化、程序化,使这种制度和法律不因领导人的改变而改变,不因领导人看法和注意力的改变而改变。2011年3月10日,全国人民代表大会常务委员会委员长吴邦国同志向十一届全国人民代表大会四次会议作全国人大常委会工作报告时庄严宣布中国特色社会主义法律体系已经形成。2014年,党的十八届四中全会通过的《中共中央关于全面推进依法治国若干重大问题的决定》鲜明提出“坚持走中国特色社会主义法治道路、建设中国特色社会主义法治体系”的重大论断。按时间排序为②①③④。故本题答案选A。

2.【答案】B。解析:2015年11月,习近平总书记在中央财经领导小组第十一次会议上首次提出“着力加强供给侧结构性改革”。A、C、D三项说法均正确。故本题答案选B。

3.【答案】D。解析:《美利坚合众国宪法》,通称美国联邦宪法或美国宪法。它是美国的根本大法,奠定了美国政治制度的法律基础。《大宪章》是英国封建专制时期的宪法性文件之一,是1215年英国贵族胁迫约翰王在兰尼米德草原签署的文件,多数条款维护贵族和教士的权利。D项错误。故本题答案选D。

4.【答案】D。解析:《中华人民共和国物权法》第一百零六条规定,无处分权人将不动产或者动产转让给受让人的,所有权人有权追回;除法律另有规定外,符合下列情形的,受让人取得该不动产或者动产的所有权:(一)受让人受让该不动产或者动产时是善意的;(二)以合理的价格转让;(三)转让的不动产或者动产依照法律规定应当登记的已经登记,不需要登记的已经交付给受让人。受让人依照前款规定取得不动产或者动产的所有权的,原所有权人有权向无处分权人请求赔偿损失。A项当事人受让该手机时,不是善意的,故不适用善意取得;B项未以合理价格转让,不适用善意取得;第一百零七条规定,所有权人或者其他权利人有权追回遗失物。该遗失物通过转让被他人占有的,权利人有权向无处分权人请求损害赔偿,或者自知道或者应当知道受让人之日起二年内向受让人请求返还原物,但受让人通过拍卖或者向具有经营资格的经营者购得该遗失物的,权利人请求返还原物时应当支付受让人所付的费用。权利人向受让人支付所付费用后,有权向无处分权人追偿。C项请求返还原物的时间超过两年,不选。故本题答案选D。

5.【答案】A。解析:《中华人民共和国民事诉讼法》第一百零六条规定,人民法院对下列案件,根据当事人的申请,可以裁定先予执行:(一)追索赡养费、扶养费、抚育费、抚恤金、医疗费用的;(二)追索劳动报酬的;(三)因

情况紧急需要先予执行的。故 A 项所述精神损害赔偿的案件,不属于先予执行的范畴。故本题答案选 A。

6.【答案】A。解析:《中华人民共和国民事诉讼法》第六十二条规定,离婚案件有诉讼代理人的,本人除不能表达意思的以外,仍应出庭;确因特殊情况无法出庭的,必须向人民法院提交书面意见。故本题答案选 A。

7.【答案】D。解析:刻板印象即先入为主的印象,往往完全忽视个体区别,而且不轻易改变自己的想法。刻板印象有时候是负面的,会导致歧视和偏见的产生,但是,有时候刻板印象则有利于我们更快地领会和抓住周围世界的信息,帮助我们“组织、储存、使用与他人相关的信息”。刻板印象并非一成不变,由于社会条件的变化,刻板印象可能会随之改变。通常人们认为刻板印象和歧视密切相关,刻板印象的下一步就是歧视。故本题答案选 D。

8.【答案】C。解析:郑板桥一生只画兰、竹、石,自称“四时不谢之兰,百节长青之竹,万古不败之石,千秋不变之人”,并不以人物画著称,C 项错误。故本题答案选 C。

9.【答案】D。解析:《四库全书》是在清代乾隆皇帝的主持下,由纪昀等 360 多位高官、学者编撰,3800 多人抄写,耗时十三年编成的丛书,分经、史、子、集四部,故名四库。故本题答案选 D。

10.【答案】C。解析:我国古代各类政权铸币的文字并不都是汉文。西夏时期曾铸行过西夏文的货币,元、清时期货币上分别铸有八思巴文和满文。故本题答案选 C。

11.【答案】C。解析:白登之围是指公元前 200 年(汉高祖七年)汉高祖刘邦被匈奴围困于白登山(今山西省大同市东北马铺山)。故本题答案选 C。

12.【答案】C。解析:“得道者多助,失道者寡助”是孟子的名言,属于儒家流派;“窃钩者诛,窃国者为诸侯”是庄子的名言,属于道家流派;“不患寡而患不均,不患贫而患不安”是孔子的思想,属于儒家流派;“明主之国,无书简之文,以法为教;无先王之语,以吏为师”是韩非子的名言,属于法家流派。故本题答案选 C。

13.【答案】D。解析:根据图中所示,可知,甲行星是火星,乙行星是木星,丙行星是土星。火星是“好奇号”探测器的目的地,A 项说法正确;木星拥有的卫星数量最多,B 项说法正确;土星有光环,C 项说法正确;启明星,即金星,位于土星的内围,D 项说法错误。故本题答案选 D。

14.【答案】A。解析:长江发源于青藏高原的唐古拉山脉各拉丹冬峰西南侧,其干流流经青海、西藏、四川、云南、重庆、湖北、湖南、江西、安徽、江苏、上海 11 个省、自治区、直辖市。A 项说法正确;黄河最终注入渤海,B 项说法错误;澜沧江为南北走向,C 项说法错误;珠江发源于云贵高原,D 项说法错误。故本题答案选 A。

15.【答案】B。解析:寒流是指从高纬度流向低纬度的洋流。寒流的水温比它所到区域的水温低,能使经过的地方气温下降,降雨减少,因此对所流经的海岸有降温减湿的作用,B 项说法错误。A、C、D 三项说法均正确。故本题答案选 B。

16.【答案】B。解析:丹霞地貌是流水侵蚀形成的,A 项说法错误;桂林山水是著名的喀斯特景观,B 项说法正确;黄山山体主要由花岗岩构成,C 项说法错误;金华双龙洞属于溶洞,是水对可溶性岩石(碳酸盐岩、石膏、岩盐)进行以化学溶蚀作用为主而形成的地貌,D 项说法错误。故本题答案选 B。

17.【答案】B。解析:IP 地址是 32 位二进制数,为了便于记忆分为四段,每段八位,中间用小数点隔开。每段八位的二进制数转成十进制,大小为 0 至 255。B 项中 256 不可能存在。故本题答案选 B。

18.【答案】D。解析:在各类泳姿中,蝶泳主要锻炼胸部肌肉,而蛙泳主要是蹬、夹动作,这样的动作更多地用到大腿股四头肌,因此可以加强腿部的力量。D 项说法不正确,其他选项说法均正确。故本题答案选 D。

19.【答案】A。解析:井水、泉水中一般含有大量的矿物质成分,根据题干定义,它们一般属于硬水,A 项正确。硬水中的钙盐和镁盐能与洗涤剂的主要成分硬脂酸钠作用,生成不溶性的硬脂酸钙或镁,降低了洗涤效果,B 项说法错误。水的硬度与 pH 值大小没有直接关系,C 项说法错误。活性炭是一种多孔结构吸附能力很强的炭,可以吸收某些有害气体、色素、细菌和毒素,但对软化水的作用则不明显。石英砂是二氧化硅,是一种很稳定的氧化物,不能参与水中矿物质的化学反应,也无吸附性能,所以不能对水进行软化。D 项说法错误。故本题答案选 A。

20.【答案】C。解析:一般认为大气臭氧层被破坏是由于人类过多地使用氯氟烃类化学物质(用 CFCs 表示),煤不含此类物质。煤的主要组成元素是碳,还有少量的氢、氧、硫、氮、硅、铝、钙、铁等元素。燃烧煤炭,可产生大量二氧化碳和尘,会加重温室效应,而且增加空气中可吸入颗粒物。如果是高硫煤,还会产生二氧化硫污染,进

而加重酸雨。故本题答案选 C。

21.【答案】D。解析：由“都属于……”“一个被视作……的代表，一个被视作……的代表”可知，文段说的是胡适和鲁迅两人虽都属于中国第一代现代知识分子，但二者在“五四”之后却走上了不同的道路。“分庭抗礼”比喻双方平起平坐，实力相当，可以抗衡；“各行其是”指各自按照自己对的去做；“不欢而散”指很不愉快地分手；“分道扬镳”比喻因目标不同而各奔各的前程或各干各的事情。“分道扬镳”用于描述二者在人生道路上的不同选择最恰当。故本题选 D。

22.【答案】A。解析：句中所填词语应表示书籍中具有差错易导致的影响。“误人子弟”常指教师因无才或不负责而耽误后辈学生。适用对象不符，排除 B。“混淆是非”指故意把正确的说成错误的，把错误的说成正确的。书籍中的错误并非故意为之，排除 D。“以讹传讹”指把本来就不正确的话又错误地传出去，结果越传越错；“谬以千里”常与“差之毫厘”连用，强调有一点儿差错，也会造成很大的影响。此处表达图书存在错误并传播出去产生的影响，而不涉及错误的大小，故“以讹传讹”填入更恰当。故本题选 A。

23.【答案】D。解析：由“大数据将成为人类的‘超级矿藏’”可知，大数据的资源性、基础性和战略性的价值将随着矿藏的逐渐被发掘而进一步显现出来。此处不涉及大数据价值的今昔对比以及与知识价值的大小对比，排除 A、B 项。“不可胜数”形容数量非常多，而此处强调的是潜在价值大，排除 C。“初露峥嵘”指刚刚显露出锋芒、不平凡的迹象。这与大数据价值初步显露的语境相符。故本题选 D。

24.【答案】C。解析：第二空，文段是说移动电子屏的普及使得阅读突破了空间和时间的限制，变得更加方便。“改头换面”“一目了然”不符合语境，排除 A、B。第一空，“标杆”是测量的用具，比喻榜样；“门槛”比喻进入某范围的标准或条件。句意为互联网及数字化媒介的普及使阅读的载体变得更加多样化，阅读变得更加容易，条件降低了，“门槛”符合这一语境。故本题选 C。

25.【答案】B。解析：第一空，“趋之若鹜”形容许多人争着去追逐某种事物(含贬义)。用于描述媒体对农产品市场的报道，感情色彩不当，排除 C。“追根究底”形容报道的深入，与后句的“云里雾里走一趟了事”表述相悖，排除 A。“乐此不疲”形容对某事特别爱好而沉浸其中；“连篇累牍”形容叙述的篇幅过多、过长。对应“年年跟进，说法也经年不变”，此处强调的是媒体对这一话题很热衷，而非批判报道的内容不够精简。故本题选 B。

26.【答案】C。解析：第一空，由“将旋律凝固到画板上”可知，此处表达的是将听觉的音乐和视觉的绘画进行形式转变的意思，而非以一个替代另一个，排除 B、D。第二空，由“正在进行‘声音视觉化’的尝试”可知，这一尝试目的是要将听的音乐，通过看的形式表现，含有用眼睛看的意思的“观赏”填入恰合句意。故本题选 C。

27.【答案】A。解析：第二空，此处用来表达诗的创作与接受者在对新诗的理解上出现了不同之处，“误会”“偏见”不符合语境，排除 C、D。第一空，由“和”可知，此处所填词语应与“障碍”构成并列关系。与“阻力”相比，“隔膜”填入更恰当。故本题选 A。

28.【答案】A。解析：第二空，由“甚至”可知，此处所填词语应与前文构成递进关系。结合前文的“节约时间、解放体力”可知，“协助”“辅助”填入程度较轻，与句意不符，排除 B、D。第一空，对应“听起来很遥远”，含有潜移默化、不易被察觉意思的“渗透”填入更恰当，“深入”填入程度过重，排除 C。故本题选 A。

29.【答案】D。解析：第二空，由“冷凝生成云团”可知，此处应表示温度开始降低，只有 D 项的“下降”符合句意。第三空“加快”填入与后句的“正反馈机理”也对应恰当。第一空“吸引”填入也符合句意。故本题选 D。

30.【答案】B。解析：第二空，由“经典科学一路高歌猛进”可知，与其相对的心理学则发展缓慢。“如履薄冰”形容谨慎戒惧；“抱残守缺”形容保守不知改进。二者均不能与“高歌猛进”构成反义对应，排除 C、D。第三空，由“多亏有了磁共振扫描技术，大脑活动才可以被记录下来”可知，因为大脑活动可以被记录下来，所以对思维的研究就成为一门有切实科学依据的学科，“实证性”与此相符。“基础性”不能由此得出，排除 A。故本题选 B。

31.【答案】D。解析：文段首先由英语国家的语言优越感引出美国因为不重视外语人才的培养导致在伊拉克战争中吃亏的例子，然后以“类似的经验教训启示我们”提出文段观点——国家在制定语言人才培养政策时，要有统筹规划的意识。D 项是文段观点句的同义转述。A 项未涉及语言政策的制定，B 项的“与时俱进”文段未涉及，C 项的“保护濒危语言”非文段强调重点。故本题选 D。

32.【答案】B。解析：文段主要围绕对科举制的评价展开，从对科举制度的选择、学者对科举制度的批判重点

等方面说明科举制虽存在弊端,但并非来自于其制度本身。A项,古代学者对科举制的评价非文段重点,排除;C项属于论据的一部分,但并非文段重点;D项的“现实情况”“多角度评价”文段未体现。故本题选B。

33.【答案】D。解析:文段对比了过去的营销模式和网络营销模式的区别,通过对网络营销涟漪效应的介绍,论述了网络营销为什么会有如此大的影响力。A项偷换概念,文段说的是网络营销,而非网络营销;B、C项均为文段部分内容,未体现“网络营销”这一主题词。故本题选D。

34.【答案】D。解析:文段首先指出书法最重要的不是技艺而是修养,接着指出由于这一点书法成为伦理与审美融合在一起的活动,然后用中国文化中“游于艺”的思想来解读书法,得出书法是让人格臻于完美的理想手段。由此可知,文段强调了书法对于人的修养的提升作用。A项未提到“书法”这一主题词;B项未指出书法对修养的提升作用;C项把技艺与修养并列,与文段“最强调的不是技艺而是修养”不符。故本题选D。

35.【答案】D。解析:文段的观点为,市场会不断创造诱惑让你花钱,并以超市中鸡蛋、牛奶的摆放位置进行例证。能佐证文段观点的做法必须满足人们经不住诱惑而进行花钱。A、B项都不是消费者经不住诱惑而消费的方案;C项不是“经不住诱惑”而是“制造紧迫感”,也不符合文段观点。D项,“商家制造节日”是“创造诱惑”的手段,“鼓动消费者购物”与“让你花钱”的目的—致,故能佐证文段观点。故本题选D。

36.【答案】A。解析:⑤句以“哲学发端于”引出哲学的话题,比②句更适合作为首句,排除C、D。由⑥句的“哲学魅力还表现在”可知,其前文内容应提到“哲学魅力”,⑤③与此不符,排除B。①句末尾提到“哲学揭示本质、认识规律的巨大魅力”,①⑥衔接恰当。故本题选A。

37.【答案】C。解析:由①句的“18世纪”、③句的“900年前”、⑥句的“到了20世纪末”可知,三句的排列应遵循时间顺序,即顺序应为③、①、⑤,符合的只有C。验证C项,③句由玛雅文明消失留下许多未解之谜引出①句的“极像现代飞机的黄金制品”的话题,④句是当时考古学家的观点,⑥②⑤是航空专家的观点。故本题选C。

38.【答案】C。解析:文段为总分总结构。首句指出古老的问答文化中孕育着谜语文化形式的各种要素,然后具体阐述了问答文化如何发展,导致谜语的产生;最后重申观点——设问和问答是谜语文化的本体,一切谜语文化由此出发。由此可知,文段主要说的是谜语文化源于古老的问答文化,C项正确。A、D项均未提到“谜语”这一主题词;B项未指出问答文化与谜语文化的源流关系。故本题选C。

39.【答案】B。解析:文段提到了影响宝石颜色的三个要素——光源、宝石和观察者。末句指出,对同一宝石品种与观察者来说,这就意味着,影响宝石颜色的三个要素中宝石和观察者是确定的,这种情况下宝石的颜色主要受光源的影响。C项着眼于“观察者”、D项着眼于“宝石”,均与横线前二者确定的条件不符,排除。A项指出照明光源会影响宝石颜色,这一点前文已作了论述,末句不应再次强调,排除。故本题选B。

40.【答案】A。解析:文段首先指出在古代冷兵器时代,剑有“百兵之君”的美誉,并列举了几把稀世宝剑,末句说明这些传说中的神兵利器都出自龙泉。故文段的落脚点在“龙泉”这个地方,因此接下来要讲的内容必与“龙泉”相关,首先可排除离题的B、D。文段结尾说这些神兵利器都出自龙泉,按照行文逻辑,接下来最有可能说的是,龙泉为什么出宝剑,即A项。文段并没有讨论剑的价值问题,故C项的“当代价值”与文段衔接不上,排除C。故本题选A。

41.【答案】A。解析:由题意可知,糕点A、B的成本分别为5元、4元,售价均为4.8元。单个糕点A亏0.2元,糕点B赚0.8元,则出售糕点A和B的数量比为4:1时刚好不亏本,即出售糕点B的个数至少为0.2X才能保证不亏本。

42.【答案】C。解析:设男工、女工人数分别为 x 、 y ,根据题意可得 $x+y=50$, $4x-2y=20$,解得 $x=20$, $y=30$ 。男、女工中各选1人,不同的组合方式有 $C_{20}^1 C_{30}^1=600$ 种。

43.【答案】D。解析:求前两名的分差即求等差数列的公差。设第五名分数为 x ,其余8人分数为 a_1 、 a_2 、 a_3 、 a_4 、 a_5 、 a_6 、 a_7 、 a_8 ,且公差为 d 。根据题意有 $\frac{a_1+a_2+a_3+a_4+x}{5}-\frac{x+a_5+a_6+a_7+a_8}{5}=16$,即 $\frac{a_1-a_5+a_2-a_6+a_3-a_7+a_4-a_8}{5}-\frac{4d \times 4}{5}=16$,解得 $d=5$ 。答案选D。

44.【答案】D。解析:设甲车的速度一直为2,全程用时1.5小时,则A、B两地之间的距离为 $2 \times 1.5=3$,其中平

路的距离为 1。乙车上坡、平路、下坡的速度分别为 1、2、3, 设从 A 到 B 上坡路距离为 x , 则下坡路距离为 $2-x$, 根据乙车全程用时 1.5 小时可得, $\frac{1}{2} + \frac{x}{1} + \frac{2-x}{3} = 1.5$, 解得 $x=0.5$ 。从 B 返回 A 乙车比甲车多用的时间, 即为乙车从 B 到 A 比从 A 到 B 在坡路多用的时间, 得到 $\frac{1.5}{1} + \frac{0.5}{3} - \frac{0.5}{1} - \frac{1.5}{3} = \frac{2}{3}$ 小时=40 分钟。

45.【答案】A。解析:根据题干“甲只用 7 局就战胜了乙”, 则第 7 局一定是甲获胜, 那么前 6 局中甲胜 4 局的比赛结果共有 $C_6^4=15$ 种。考虑“甲至少连胜三局”的反面, 有 3 种情况, 分别是甲胜 1、2、4、5、7 局或 1、2、4、6、7 局或 1、3、4、6、7 局, 故甲至少连胜 3 局的概率为 $1 - \frac{3}{15} = \frac{4}{5}$ 。

46.【答案】B。解析:根据题意可知, 甲组人数占比为 14%, 乙组为 25%, 丙组为 $(14\%+25\%) \times \frac{2}{3} = 26\%$, 丁组为 $(26\%-14\%) \times 2 = 24\%$, 则戊组占比为 11%。已知有三组人数正好是连续的偶数, 只有乙、丙、丁三组的比例连续, 所以总人数为 200 人, 其中三组人数是连续偶数 48、50、52, 甲组比戊组多 $(14\%-11\%) \times 200 = 6$ 人。

47.【答案】B。解析: $12=6 \times 2, 18=6 \times 3$, 则只要苹果数量不小于 12 且能被 6 整除, 就正好将一定数量的纸箱装满。 $256 \div 6 = 42 \dots 4$, 再加 2 能被 6 整除, 即至少补充 2 个苹果正好装满一定数量的纸箱, 选 B。

48.【答案】A。解析:设工程量为 1440(36、30、32 的最小公倍数), 则甲队每天做 40, 乙队每天做 48, 丙队每天做 45。甲乙、乙丙、丙甲正好是一轮, 一轮做的工程量为 $(40+48+45) \times 2 = 266$, $1440 \div 266 = 5 \dots 110$, 甲乙一天做 $40+48=88$, 剩余 $110-88=22$ 的工程量乙丙需要不到一天的时间, 则甲工作的时间为 $5 \times 2 + 1 = 11$ 天。

49.【答案】C。解析:根据题意, $丁 \leq 丙 \leq 乙 \leq 甲 < 10$, $丁+丙+乙+甲=28$, 四个数相等时丁最大为 7, 又丁的文章数是奇数, 则丁只可以取 1、3、5、7, 甲可以取 7、8、9。

①当甲=9 时

丁=1, 乙+丙=18, 则乙、丙只能为(9, 9);

丁=3, 乙+丙=16, 则乙、丙可以取(8, 8)、(9, 7);

丁=5, 乙+丙=14, 则乙、丙可以取(7, 7)、(8, 6)、(9, 5);

丁=7, 乙+丙=12, 乙、丙没有符合的。

②当甲=8 时

丁=1, 乙+丙=19, 乙、丙没有符合的;

丁=3, 乙+丙=17, 乙、丙没有符合的;

丁=5, 乙+丙=15, 则乙、丙可以取(8, 7);

丁=7, 乙+丙=13, 乙、丙没有符合的。

③当甲=7 时, 丁只有取 7 才能符合且乙=丙=7。

综上, 共有 8 种不同的可能性。

50.【答案】B。解析:设原计划有 x 支支教队, 每队 y 人, 则扩大范围后有 $(x+1)$ 支, 每队 $(y+4)$ 人, 根据题意有 $(x+1)(y+4) = 1.5xy$, 化简得 $xy - 8x - 2y = 8$, 此式左边配项 $xy - 8x - 2y + 16 = 24$, 即 $(x-2)(y-8) = 24$, 结合选项来看, $x=26$ 符合题意为正确答案。 $(x-2)$ 为 24 的约数, x 为其他值时, 不能同时使 y 为整数和 $xy > 200$ 成立。

51.【答案】C。解析:题干图形的交点数依次为 2、3、4、5、6、(7), 只有 C 项符合。

52.【答案】B。解析:题干第一、三、五个图形既是轴对称图形又是中心对称图形, 第二、四、六个图形仅是中心对称图形, 选择 B 项。

53.【答案】B。解析:从每列来看, 第一列图形封闭区域数为 3, 第二列为 4, 第三列为 5, 排除 C 项; 再看每列图形中三角形封闭区域数, 均为 1、2、3, 只有 B 项符合。

54.【答案】B。解析:图形①⑤⑥中内部两条线构成锐角, 图形②③④中内部两条线构成直角。

55.【答案】A。解析:图形①③⑤为封闭图形, 图形②④⑥为开放图形。

56.【答案】B。解析:先赋角色定义的关键信息为:建立在血缘、遗传等先天的或生理的因素基础上。A 项妻子、C 项同学、D 项人大代表均不符合关键信息, 属于自致角色; B 项世袭贵族是因血缘关系而先天得来, 符合定

义。故答案选 B。

57.【答案】C。解析:包庇罪的定义要点为:①明知是犯罪的人;②为其提供隐藏处所、财物,或者帮助其逃匿,或者作假证明包庇;③事先未通谋。A项是事先通谋的,不符合③;B项是毁灭证据,不符合②;C项是通过作假证而包庇王某,符合定义;D项为委托人辩护脱罪,也不符合②。故答案选 C。

58.【答案】C。解析:拈连定义的关键信息为:把适用于甲事物的词语临时用于乙事物的修辞格。A项属于排比;B项只是景物描写,不符合定义;C项将本是形容耳朵的“聋”,用来形容“心”,符合定义;D项属于借代。故答案选 C。

59.【答案】C。解析:群体决策冒险的定义要点为:①群体比个体更具冒险精神;②倾向于选择获利大但成功率小的行为。A、B、D三项均不涉及哪个决策更冒险,也没有涉及获利大小或成功率大小,均不符合①②;C项相比个人选择时的犹豫不决,群体选择了获利大但成功率小的学校,符合定义。故答案选 C。

60.【答案】B。解析:根据行政赔偿的定义要点,B项张某在清洁过程中不慎摔伤不符合行政赔偿的构成要件(1)(2)(3)(4),不能要求行政赔偿。故答案选 B。

61.【答案】B。解析:角色个性冲突定义的关键信息为:所要求所期望的行为与个体本身的价值观或个性相悖产生冲突。B项销售人员一般被期望能够与各式各样的人很好地打交道,需要的是大方外向的性格,与小赵本身内向的性格相冲突,符合定义;A、C、D三项均没有体现出与个体本身价值观或个性的相悖,均不符合定义。故答案选 B。

62.【答案】D。解析:逆向思维定义的关键信息是:让思维向对立面方向发展,从问题的相反面深入地进行探索。D项思维是顺着事物发展的方向思考的,并没有向对立面发展,没有使用逆向思维;A、B、C三项均从问题的相反面思考,使用了逆向思维。故答案选 D。

63.【答案】B。解析:职业道德定义的关键信息为:人们在一定职业生活中应遵循的道德规范,以及应具有的道德观念、情操品德等。A、D两项涉及的是场合道德,而不是职业道德;B项是男性基于教师这个职业需遵循的道德规范,符合定义;C项不允许闯红灯是针对所有人的规范,不涉及职业生活,不符合定义。故答案选 B。

64.【答案】A。解析:有形贸易定义的关键信息为:买卖那些看得见、摸得着的物质性商品的活动。B项货运是一种服务、C项旅游是一种体验、D项是金钱投资,主要业务均不是物质性商品;A项中的商品液化天然气是物质性商品。故答案选 A。

65.【答案】B。解析:趋同适应的定义要点为:①不同的类群;②长期生活在相似的环境中;③具有相同或相近的形态。A项是豆科牧草的共同特征,与趋同适应无关,不符合定义。B项青蛙、鳄鱼等生活在相似的环境表现出相同或相近的形态,符合定义;C项不符合①②③;D项是同种植物,也不符合要点。故答案选 B。

66.【答案】B。解析:昼和夜是绝对反义词,男和女也是绝对反义词。故答案选 B。

67.【答案】A。解析:达到沸点是沸腾的必要条件,提供动力是航行的必要条件。故答案选 A。

68.【答案】D。解析:黑匣子会记录飞机的飞行过程,记录仪会记录汽车的行车过程。故答案选 D。

69.【答案】D。解析:三角形和平行四边形,梯形和五边形,均是由线段组成的平面图形,且后者比前者多一条边。故答案选 D。

70.【答案】D。解析:失眠一般指睡眠不足,嗜睡一般指睡眠过量,失眠、嗜睡与睡眠构成对应关系;厌食一般指食欲不振,食量不足,贪食一般指饮食过量,厌食、饮食与食物构成对应关系。C项抑郁和躁狂属于情绪的不同状态,为种属关系。故答案选 D。

71.【答案】A。解析:亲属是因婚姻、血缘或收养而产生的社会关系;民族是人们在历史上形成的一个有共同语言、共同地域、共同经济生活、共同心理素质的稳定的共同体。故答案选 A。

72.【答案】B。解析:交警根据交规处理违章,厨师根据菜单烹饪佳肴,且交警和交规,厨师和菜单都有特定的对应关系。C项规定和保安的对应性不强;D项教案是备课的一部分,是备课的成果之一。故答案选 B。

73.【答案】C。解析:起诉之后应诉,之后由第三方作出审判;阐述之后反驳,之后由第三方作出评判。故答案选 C。

74.【答案】A。解析:春雨有助于丰收,交流有助于了解。故答案选 A。

75.【答案】D。解析：诈骗罪是一种罪名，检察官是一类司法工作人员。故答案选 D。

76.【答案】A。解析：研究者认为缺钙导致儿童脾气暴躁，而反对者认为心理因素导致儿童脾气暴躁。A 项说明儿童焦虑不安等心理现象是缺钙引起的，即儿童脾气暴躁的原因归根结底还是缺钙，直接削弱了反对者的观点；B 项为无关项；C、D 两项在一定程度上削弱了研究者的观点，但不能削弱反对者的观点。故答案选 A。

77.【答案】A。解析：题干的观点是：城镇化的发展是我国经济增长的原因。A 项指出是经济增长带动了城镇化的发展，即题干推理属于因果倒置，有力地削弱了题干观点。B 项为无关项；C、D 两项对题干起到了支持作用。故答案选 A。

78.【答案】B。解析：题干的论证为，法律能够纠正家庭教育缺失，青少年犯罪由家庭教育缺失引起，因此法律可以有效解决青少年犯罪。B 项说明了家庭教育缺失并非导致青少年犯罪的唯一原因，还另有他因，所以法律并非能有效解决青少年犯罪问题，削弱了题干论证。A、C、D 三项均为无关项。故答案选 B。

79.【答案】B。解析：题干的观点为：海洋在类地行星演化以及气候调节中发挥着重要作用。A 项说明自转速率影响海洋的环流模式，从而影响全球的热传输，削弱了论证；B 项指出，虽然火星距太阳轨道适中，但却因为没有海洋而没有生命存在，即说明了海洋的重要作用，支持了题干观点；C、D 两项均为无关项。故答案选 B。

80.【答案】D。解析：题干由“这些人中将有 40%被淘汰。即使如此，实际能力无法胜任工作中的人中还是会有五分之一将通过这项考核而被公司录用”推出“通过胜任力考核的员工中有占通过初试者总数 10%的不胜任者”。如果上述结论成立，由“实际能力无法胜任工作中的人中还是会有五分之一将通过这项考核而被公司录用”和“通过胜任力考核的员工中有占通过初试者总数 10%的不胜任者”，可以得出实际无法胜任工作的人占初试者总数的 50%，因此只有淘汰的 40%确实是不能胜任者才可能得出结论，否则这个最终的比例将有误，因此 D 项是必需的假设。其他三项均为无关项，不是题干的假设。故答案选 D。

81.【答案】D。解析：题干中负责人的建议是：为了增加大额储户的比例，县政府应该鼓励农村居民向城镇转移。负责人的依据是统计分析发现在 10 万元以上的大额储户中，有 55%的储户是城镇居民。A、B 两项为无关项；C 项说明农村居民平均存款额低于城镇居民，无法削弱；D 项说明城镇居民本身就比农村居民多，且城镇居民 55%的大额储户占比还小于城镇居民人数占比 60%，质疑了负责人建议的合理性。故答案选 D。

82.【答案】B。解析：由题干只能推出高血压患者忽视了对心率的管理，但是并未提及如何进行血压管理，因此 A 项推不出；题干第二句明确说明了高血压患者心率大于每分钟 84 次时，罹患冠心病的风险高，而心率每分钟大于 79 次时死亡风险增加，可见大于 79 次就应当进行心率管理，那么大于 84 次就更应该进行心率管理，而 B 项静息心率大于 84 属于心率大于 84 的情况，故可以推出；C、D 两项题干也并未涉及，不能推出。故答案选 B。

83.【答案】B。解析：题干结论为：儿童私人教练弊大于利。B 项说明教练小强使用了成人的健身理念和方法训练儿童，使得儿童的健康受到影响，直接支持了题干论证。A 项小红对运动有恐惧，是由自身心理压力造成的，不能支持论证；C 项教练小李因材施教，削弱了论证；D 项没有体现儿童私人教练的弊端，不能支持题干。故答案选 B。

84.【答案】A。解析：题干中的结论为：睡眠不足可能会导致肥胖。论据为一项实验的研究结果。A 项为题干推理提供了新的论据，支持了结论。B、C 两项均削弱了结论；D 项为无关项。故答案选 A。

85.【答案】C。解析：题干中引用者的观点是：数据比人更了解人。引用者的论据为一则故事。A、B 两项为无关项；C 项女孩的母亲早已察觉女儿的变化，说明母亲了解女儿，即“人了解人”，所以根据题干推不出数据和人谁更了解人，质疑了题干观点；D 项说明邮寄孕妇优惠券有很大的随机性，并不是因为数据更了解人而正确邮寄，质疑了数据的可靠性，但只说明了数据的情况而没有涉及人的情况，不能反驳题干。故答案选 C。

86.【答案】C。解析：由文字材料可知，所求为 $(495-131.2) \div (31+29+31) \approx 360 \div 90 = 4.0$ 万辆次，选择 C。

87.【答案】D。解析：2014 年 9—12 月，经 S 市口岸出入境人次数分别为 $\frac{1958}{1.02}$ 、 $\frac{2028}{1.00}$ 、 $\frac{2010}{0.97}$ 、 $\frac{2080}{0.97}$ ，运用同位比较法可知，12 月经 S 市口岸出入境人次数最高，选 D。

88.【答案】C。解析：低于上月指条形图数据小于上月，低于上年同期指折线数据小于 1，观察图形，满足的只

有 11 月一个月份,选择 C。

89.【答案】D。解析:由条形图数据可知,所求为 $\frac{2085+1744+1977}{2028+2010+2080}-1 \approx \frac{21+17+20}{20+20+21}-1 \approx \frac{-3}{60}=-5\%$,D 最接近。

90.【答案】B。解析:A 项,2016 年 4 月机场空港口岸出入境旅客人次数为 24 万人次,当月全部经口岸出入境人次数的一成为 $2014 \times 0.1=201.4$,远大于 24,A 错误。

B 项,2015 年 10 月、11 月、12 月经口岸出入境人次数同比发展速度分别为 1、0.97、0.97,即 10 月与上年同期持平,11 月、12 月均低于上年同期水平,所以 2015 年四季度低于上年同期,B 正确。直接选择 B。

验证:C 项,2014 年 6、7 月经口岸出入境人次数分别为 $\frac{1862}{1.02}$ 、 $\frac{1929}{0.98}$ 万人次,显然 7 月的高于 6 月的,错误;D 项,2015 年 8 月经口岸出入境人次数最多,2016 年 2 月经口岸出入境人次数最少,不在同一个自然年,错误。

91.【答案】A。解析:2016 年一季度全国票据业务量及金额分别同比下降 34.98% 和 27.75%,则所求为 $\frac{34.98\%-27.75\%}{1-34.98\%} \approx \frac{7.2}{65} \approx 11\%$,选 A。

92.【答案】B。解析:根据文字材料第一段,注意统一单位,四个选项列式分别为 $\frac{40.41}{6814.38} = \frac{4.041}{681.438}$ 、 $\frac{4.67}{412.72}$ 、 $\frac{0.335389}{57.00} = \frac{3.35389}{570.0}$ 、 $\frac{0.747639}{80.88} = \frac{7.47639}{808.8}$,采用同位比较法简单估算可知,最大的是 $\frac{4.67}{412.72}$,答案选 B。

93.【答案】C。解析:根据文字材料第二段可知,2016 年一季度电子商业汇票系统发生转贴现业务 71.52 万笔,同比增长 338.16%,则所求为 $\frac{71.52}{1+338.16\%} \approx \frac{72}{4.4} = \frac{18}{1.1} = 16.X$,最接近的是 C 项。

94.【答案】D。解析:根据文字材料第二段可知,A 项中四个类型的金额同比增速依次为 457.57%、90.65%、131.67%、91.15%,则按从高到低排序正确的是 D 项。

95.【答案】A。解析:A 项,当金额同比增速 > 业务笔数同比增速时,平均每笔金额高于上年同期,根据文字材料第二段可知,均符合要求,正确,直接选 A。

验证:B 项,前者为 $\frac{1.83}{41.36}$,后者为 $\frac{1.3}{16.04}$,显然前者 < 后者,错误;C 项,根据文字材料第一段可知,降幅最高的是支票业务,错误;D 项,根据材料第一段可知,所求为 $4.67 \div 3 < 2$ 万亿元,错误。

96.【答案】C。解析:由材料第一段可知,2016 年一季度的传统劳动密集型产品出口额为 6225 亿元,占同期我国外贸出口总值的 20.7%,故 2016 年一季度的我国外贸出口总值为 $6225 \div 20.7\% \approx 6200 \div \frac{1}{5} = 6200 \times 5 = 31000$ 亿元 ≈ 3.0 万亿元,选 C。

97.【答案】C。解析:由材料第二段可知,2016 年一季度以一般贸易方式出口传统劳动密集型产品的出口额占同期传统劳动密集型产品出口总值的 74.1%,故所求为 $6225 \times 74.1\% \approx 62 \times 75 = 4650$ 亿元 = 0.465 万亿元,故 C 项最为接近。

98.【答案】D。解析:由材料第三段可知,2016 年一季度传统劳动密集型产品出口中,对美国为 1303 亿元,对欧盟为 1205 亿元,所求占比为 $(1303+1205) \div 6225 = \frac{2508}{6225} \approx \frac{25}{62} \approx 40.3\%$,故答案选 D。

99.【答案】A。解析:当分量的增速高于总量的增速时,比重高于上年同期水平。由第一段可知,2016 年一季度的全国外贸出口总值降幅为 4.2%,即增幅为 -4.2%,从表格中可以看出,服装及衣着附件、纺织纱线织物及制品、塑料制品、箱包及类似容器和玩具共 5 类产品增速大于 -4.2%,故答案选 A。

100.【答案】B。解析:A 项,由材料第二段可知,2016 年一季度加工贸易方式出口额为 849.8 亿元,边境小额贸易出口额为 206.1 亿元,显然 $\frac{849.8}{206.1} < 6$,A 项错误。

B项,由材料第三段可知,2016年一季度,对韩国出口的增长率为9.6%,对日本的出口增长率为3.3%,B项正确。直接选B。

验证:C项,由表格第三列可知,2016年一季度,各类产品出现负增长的有服装及衣着附件、家具及其零件、鞋类、箱包及类似容器共4种,C项错误;D项,由表格可知,2016年一季度家具及其零件出口额为755.4亿元,增速为-6.7%,故2015年一季度的家具及其零件出口额为 $\frac{755.4}{1-6.7\%}>755.4>700$ 亿元,D项错误。



华图教育
HUATU.COM