

1、（单选题）习近平总书记在中央政治局第十三次集体学习时强调，要精准有效处置重点领域风险，深化金融改革开放，增强金融服务\_\_\_\_\_能力，坚决打好防范化解包括金融风险在内的重大风险攻坚战，推动我国金融业健康发展。

- A.实体经济
- B.私营经济
- C.中小企业
- D.国有企业

收起解析

展开全部解析

收藏

纠错

正确答案：A，我的选择：尚未作答。回答错误

统计

答题时间：0秒，全站正确率：61%，易错题：C。

解析

第一步，本题考查时政知识。

第二步，中共中央政治局2019年2月22日下午就完善金融服务、防范金融风险举行第十三次集体学习。中共中央总书记习近平在主持学习时强调，要深化对国际国内金融形势的认识，正确把握金融本质，深化金融供给侧结构性改革，平衡好稳增长和防风险的关系，精准有效处置重点领域风险，深化金融改革开放，增强金融服务实体经济能力，坚决打好防范化解包括金融风险在内的重大风险攻坚战，推动我国金融业健康发展。

因此，选择A选项。

考点

常识判断

政治

时政

来源

2019年0420内蒙古公务员考试《行测》真题第1题、2019年0420天津公务员考试《行测》真题第46题、2019年0420安徽公务员考试《行测》真题第1题、2019年0420山西公务员考试《行测》真题第1题、2019年0420新疆公务员考试《行测》真题第1题、2019年0420江西公务员考试《行测》真题（乡镇）第1题、2019年0420江西公务员考试《行测》真题（县级以上）第1题、2019年0420湖北公务员考试《行测》真题第1题、2019年0420湖南公务员考试《行测》真题第86题、2019年0420黑龙江公务员考试《行测》真题（偏远地区）第1题、2019年0420黑龙江公务员考试《行测》真题（公检法）第1题、2019年0420黑龙江公务员考试《行测》真题（省直）第1题

2、（单选题）关于生态文明建设，下列说法正确的是：

- A.蓝天保卫战，是全面建成小康社会的三大攻坚战之一
- B.加快建构生态文明体系是解决污染问题的根本之策
- C.生态环境安全，是经济社会持续健康发展的重要保障
- D.地方政府主要领导是本行政区域生态环境保护第一责任人

收起解析

展开全部解析

收藏

纠错

正确答案：C，我的选择：尚未作答。回答错误

统计

答题时间：0 秒，全站正确率：60%，易错项：A。

解析

第一步，本题考查生态文明建设相关知识。

第二步，习近平总书记在 2018 年召开的全国生态环境保护大会上指出，要有效防范生态环境风险。生态环境安全是国家安全的重要组成部分，是经济社会持续健康发展的重要保障。因此，选择 C 选项。

拓展

A 项：防范化解重大风险、精准脱贫、污染防治，是习近平总书记提出的全面建成小康社会必须打好的三大攻坚战。

B 项：绿色发展是构建高质量现代化经济体系的必然要求,是解决污染问题的根本之策。

D 项：地方各级党委和政府主要领导是本行政区域生态环境保护第一责任人。

考点

常识判断

政治

时政

来源

2019 年 0420 陕西公务员考试《行测》真题第 3 题、2019 年 0420 黑龙江公务员考试《行测》真题（公检法）第 2 题

3 、（单选题）2018 年我国科技界取得了一系列重大成果，这些成果中不包括：

A.第二艘航母出海试航

B.嫦娥四号探测器发射成功

C.造岛神器“天鲲号”下水

D.国产大型水陆两栖飞机水上首飞

收起解析

展开全部解析

收藏

纠错

正确答案：C，我的选择：尚未作答。回答错误

统计

答题时间：0 秒，全站正确率：36%，易错项：D。

解析

第一步，本题考查 2018 年科技成果并选错误项。

第二步，2017 年 11 月 3 日，我国自主设计并建造的亚洲最大、最先进的绞吸挖泥船“天鲲号”在江苏启东成功下水，标志着中国疏浚装备研发建造能力进一步升级，已处于世界先进水平。

因此，选择 C 选项。

拓展

A 项：2018 年 5 月 12 日，我国第二艘航母从大连造船厂码头启航，赴相关海域执行海上试验任务。主要检测验证动力系统 etc 设备的可靠性和稳定性。

B 项：2018 年 12 月 8 日，我国在西昌卫星发射中心用长征三号乙运载火箭成功发射嫦娥四号探测器，开启了月球探测的新旅程。

D 项：2018 年 10 月 20 日，中国自主研制的大型水陆两栖飞机 AG600 在湖北荆门漳河机场

成功实现水上首飞。

考点

常识判断

政治

时政

来源

2019年0420内蒙古公务员考试《行测》真题第6题、2019年0420天津公务员考试《行测》真题第50题、2019年0420安徽公务员考试《行测》真题第7题、2019年0420山西公务员考试《行测》真题第5题、2019年0420新疆公务员考试《行测》真题第10题、2019年0420江西公务员考试《行测》真题（乡镇）第3题、2019年0420江西公务员考试《行测》真题（县级以上）第5题、2019年0420湖北公务员考试《行测》真题第5题、2019年0420湖南公务员考试《行测》真题第90题、2019年0420重庆公务员考试《行测》真题第3题、2019年0420黑龙江公务员考试《行测》真题（偏远地区）第6题、2019年0420黑龙江公务员考试《行测》真题（公检法）第3题、2019年0420黑龙江公务员考试《行测》真题（省直）第4题

4、（单选题）下列关于仿生生物学的应用对应关系不正确的是：

- A.子弹头列车——翠鸟
- B.发光纤维——萤火虫
- C.维克罗尼龙搭扣——苍耳
- D.全天然空调系统建筑——非洲白蚁巢穴

收起解析

展开全部解析

收藏

纠错

正确答案：B，我的选择：尚未作答。回答错误

统计

答题时间：0秒，全站正确率：29%，易错题：C。

解析

第一步，本题考查生活常识并选错误项。

第二步，发光纤维是指受到光和放射线的照射时，能发出比照射光波长更长的可见光的纤维。萤火虫有专门的发光细胞，细胞内部的化学物质与氧气发生反应从而进行发光。两者的发光原理不一样，不属于仿生生物学的应用。

因此，选择B选项。

拓展

A项：子弹头列车设计灵感来自翠鸟的喙。列车在高速行驶中，列车车头形成的风墙不仅仅会产生巨大的噪音，而且还会减慢列车的速度。而根据翠鸟喙部形状设计的新型列车车头可以消除这些问题，可以帮助列车能效提高20%。

C项：维克罗尼龙搭扣是由瑞士发明家乔治发明的，灵感来源于苍耳。苍耳身上带有一些小刺，这些小刺粘在有毛的裤子上，就会牢牢粘住，很难甩掉。乔治利用苍耳的原理，发明了尼龙搭扣。

D项：全天然空调系统建筑灵感来源于非洲白蚁的巢穴。白蚁建造的巢穴系统，即使在炎热干燥的非洲草原上，也可以使建筑内部总能保持恒温 and 湿润。设计师麦克研究了白蚁的巢穴，设计出了津巴布韦首都哈拉雷市的东门购物中心和办公大楼。

考点

常识判断

科技

生活常识

来源

2019年0420内蒙古公务员考试《行测》真题 第13题、2019年0420天津公务员考试《行测》真题第52题、2019年0420山西公务员考试《行测》真题第17题、2019年0420江西公务员考试《行测》真题（乡镇）第5题、2019年0420江西公务员考试《行测》真题（县级以上）第12题、2019年0420湖南公务员考试《行测》真题 第102题、2019年0420重庆公务员考试《行测》真题第6题、2019年0420陕西公务员考试《行测》真题第9题、2019年0420黑龙江公务员考试《行测》真题（公检法） 第4题、2019年0420黑龙江公务员考试《行测》真题（省直）第9题

5、（单选题）下列成语和人物的对应关系错误的是：

A.口蜜腹剑——李义府

B.十面埋伏——项羽

C.程门立雪——杨时

D.东床快婿——王羲之

收起解析

展开全部解析

收藏

纠错

正确答案：A，我的选择：尚未作答。回答错误

统计

答题时间：0秒，全站正确率：39%，易错项：D。

解析

第一步，本题考查历史人物并选错误项。

第二步，口蜜腹剑形容两面派的狡猾阴险，出自《资治通鉴·唐纪·玄宗天宝元年》中“世谓李林甫口有蜜，腹有剑”。李义府曾在唐高宗时期任宰相，因笑中有刀，被称为“李猫”。选项对应错误。

因此，选择A选项。

拓展

B项：秦朝末年楚汉之争时，项羽在垓下之战中失利，陷入十面埋伏，最终走投无路自刎于乌江。后有琵琶曲《十面埋伏》表现项羽大军被包围时的场景。故B说法正确。

C项：程门立雪出自《宋史·杨时传》，宋代著名理学家杨时与他的学友游酢向程颐拜师求学，适逢程颐打坐养神。天降大雪他俩也并没有惊动老师，而是恭恭敬敬侍立在门外等待老师醒来。后比喻非常尊敬老师。故C说法正确。

D项：东床快婿是东晋时期，重臣郗鉴欲挑选王氏子弟为婿，前往察看时，别人都仔细打扮了一番，只有一人坐于东床，神色自若地看书。郗鉴大赞，打听出此人即王羲之，便将女儿嫁给了他。后来用东床快婿指为人豁达、才能出众的女婿，是女婿的美称。故D说法正确。

考点

常识判断

历史

中国史

来源

2019年0420内蒙古公务员考试《行测》真题 第14题、2019年0420天津公务员考试《行

测》真题第 53 题、2019 年 0420 安徽公务员考试《行测》真题第 10 题、2019 年 0420 江西公务员考试《行测》真题（乡镇）第 7 题、2019 年 0420 湖北公务员考试《行测》真题 第 16 题、2019 年 0420 湖南公务员考试《行测》真题 第 89 题、2019 年 0420 重庆公务员考试《行测》真题第 7 题、2019 年 0420 黑龙江公务员考试《行测》真题（公检法） 第 5 题、2019 年 0420 黑龙江公务员考试《行测》真题（省直）第 10 题

6 、（单选题）下列历史事件与人物搭配正确的是：

- A.车同轨，书同文——周武王
- B.烽火四起戏诸侯——周宣王
- C.一骑红尘妃子笑——唐睿宗
- D.锦帆未落干戈起——隋炀帝

收起解析

展开全部解析

收藏

纠错

正确答案：D，我的选择：尚未作答。回答错误

统计

答题时间：0 秒，全站正确率：57%，易错项：B。

解析

第一步，本题考查文学常识。

第二步，“锦帆未落干戈起”意思是隋炀帝杨广出游的华丽锦帆还没有落下战争就已经开始了。隋炀帝开凿京杭大运河，耗费了大量的人力物力财力，民不聊生，起义军掀起推翻隋朝统治的浪潮。隋炀帝为炫耀自己开凿大运河的丰功伟绩，带上百官妃嫔乘船出游，结果奢华的旅程还没有结束，隋炀帝就被宇文化及所杀。

因此，选择 D 选项。

拓展

A 项：“车同轨，书同文”意思是统一文字，统一车辙，比喻国家统一。这是秦始皇完成统一大业后，改革旧制的重要内容。

B 项：烽火本是古代敌寇侵犯时的紧急军事报警信号。西周时周幽王为博得褒姒一笑，点燃烽火台戏弄诸侯，后来诸侯们不再相信烽火台的报警信号。

C 项：“一骑红尘妃子笑，无人知是荔枝来”出自杜牧的《过华清宫》，意思是杨贵妃喜欢荔枝，唐玄宗李隆基着人快马相运，描写了唐玄宗与杨贵妃骄奢淫逸的生活。

考点

常识判断

人文

文学

来源

2019 年 0420 天津公务员考试《行测》真题第 55 题、2019 年 0420 山西公务员考试《行测》真题第 18 题、2019 年 0420 江西公务员考试《行测》真题（县级以上）第 13 题、2019 年 0420 湖北公务员考试《行测》真题 第 8 题、2019 年 0420 重庆公务员考试《行测》真题第 9 题、2019 年 0420 黑龙江公务员考试《行测》真题（偏远地区）第 12 题、2019 年 0420 黑龙江公务员考试《行测》真题（公检法） 第 6 题、2019 年 0420 黑龙江公务员考试《行测》真题（省直）第 12 题

7 、（单选题）下列气体是人体能够产生的，能发挥抗炎、神经功能调节和血管松弛等作用，但若吸入过量会与血红素结合导致中毒的是：

- A.氨气
- B.硫化氢
- C.一氧化碳
- D.一氧化氮

收起解析

展开全部解析

收藏

纠错

正确答案：D，我的选择：尚未作答。回答错误

统计

答题时间：0 秒，全站正确率：25%，易错项：C。

解析

第一步，本题考查生物学常识。

第二步，人体可以产生一氧化氮，我们体内很多器官内都能分泌一氧化氮。一氧化氮具有抗炎、神经功能调节和松弛血管的作用。与一氧化碳相同，一氧化氮吸入过量会在血液中与血红蛋白中的血红素结合，阻断氧气和血红素的结合，使血红素丧失携氧的能力和作用，造成组织窒息，严重时会导致人死亡。

因此，选择D选项。

拓展

A项：人体可以产生氨气，消化道是产生氨气的主要部位。氨气被呼入肺后容易通过肺泡进入血液，与血红蛋白结合，破坏运氧功能。氨气没有抗炎、神经功能调节和血管松弛的作用。

B项：人体正常新陈代谢会产生硫化氢，硫化氢在标准状况下是一种易燃的酸性气体，无色，低浓度时有臭鸡蛋气味，浓度极低时便有硫磺味，有剧毒。硫化氢一般不与血红蛋白结合，硫化氢具有神经功能调节和松弛血管的作用，但不具有抗炎作用。

C项：人体不能产生一氧化碳。一氧化碳的主要生理作用包括神经功能调节和血管松弛，也可以通过抑制白细胞的运动、促进白细胞吞噬细菌、抑制白细胞释放炎细胞因子等发挥抗炎作用。一氧化碳吸入过量后，在血液中极易与血红蛋白中的血红素结合，阻断氧气和血红素的结合，使血红素丧失携氧的能力和作用，造成组织窒息，严重时死亡。

考点

常识判断

科技

生物学

来源

2019年0420内蒙古公务员考试《行测》真题第20题、2019年0420天津公务员考试《行测》真题第60题、2019年0420新疆公务员考试《行测》真题第14题、2019年0420江西公务员考试《行测》真题（乡镇）第9题、2019年0420江西公务员考试《行测》真题（县级以上）第21题、2019年0420湖北公务员考试《行测》真题第19题、2019年0420黑龙江公务员考试《行测》真题（公检法）第7题

8、（单选题）下列选项对“夏满芒夏暑相连”中节气的表述错误的是：

- A.“小满”表明了降水的时间和强度
- B.“芒种”反映了自然物候现象或农事活动
- C.“立夏”“夏至”体现了寒来暑往的季节变化
- D.“小暑”“大暑”表明了一年之中最热的时段

收起解析

展开全部解析

收藏

纠错

正确答案：A，我的选择：尚未作答。回答错误

统计

答题时间：0 秒，全站正确率：42%，易错项：C。

解析

第一步，本题考查人文其它并选错误项。

第二步，“小满”，二十四节气之一，夏季的第二个节气，其含义是夏熟作物的籽粒开始灌浆饱满，但还未成熟，只是小满，还未大满，常用来表明作物成熟、收成，并非表明降水的时间和强度。这道题 C 选项表述有瑕疵，夏至并没有“季节”变化。但是相比而言，A 选项错误的更加明显。

因此，选择 A 选项。

拓展

**B 项：**“芒种”，二十四节气中的第 9 个节气，意思是有芒的麦子快收，有芒的稻子可种。中国古代将芒种分为三候：“一候螳螂生；二候鹏始鸣；三候反舌无声。”此时中国长江中下游地区将进入多雨的黄梅时节。在这一节气中，螳螂在上一年深秋产的卵因感受到阴气初生而破壳生出小螳螂；喜阴的伯劳鸟开始在枝头出现，并且感阴而鸣；与此相反，能够学习其它鸟鸣叫的反舌鸟，却因感应到了阴气的出现而停止了鸣叫。“芒种”体现了自然物候或农事活动。

**C 项：**“立夏”是农历二十四节气中的第 7 个节气，表明夏季的开始；“夏至”，在每年公历 6 月 21 日或 22 日，夏至这天，太阳直射点在北回归线附近，此时，北半球太阳高度角最大，一年中影子最短，白昼时间最长。“立夏”“夏至”表示寒来暑往的季节变化。

**D 项：**“小暑”，是二十四节气之第十一个节气，指天气开始炎热，但还没到最热。“大暑”，二十四节气之第十二个节气，一年中最热的时期，气温最高，农作物生长最快，同时，很多地区的旱、涝、风灾等各种气象灾害也最为频繁。《月令七十二候集解》：“暑，热也，就热之中分为大小，月初为小，月中为大，今则热气犹大也。”故“小暑”“大暑”标明了一年之中最热的时段。

其他知识：二十四节气歌：春雨惊春清谷天，夏满芒夏暑相连。秋处露秋寒霜降，冬雪雪冬小大寒。

表示寒来暑往变化的有：立春、春分、立夏、夏至、立秋、秋分、立冬、冬至八个节气；

象征温度变化的有：小暑、大暑、处暑、小寒、大寒五个节气；

反映降水量的则是：雨水、谷雨、白露、寒露、霜降、小雪、大雪七个节气；

反应物候现象或农事活动的节气有：惊蛰、清明、小满、芒种四个节气。

考点

常识判断

人文

人文其它

来源

2019 年 0420 内蒙古公务员考试《行测》真题 第 23 题、2019 年 0420 天津公务员考试《行测》真题第 63 题、2019 年 0420 安徽公务员考试《行测》真题第 14 题、2019 年 0420 江西公务员考试《行测》真题（乡镇）第 6 题、2019 年 0420 江西公务员考试《行测》真题（县级以上）第 24 题、2019 年 0420 湖北公务员考试《行测》真题 第 7 题、2019 年 0420 湖南公务员考试《行测》真题 第 91 题、2019 年 0420 黑龙江公务员考试《行测》真题（公检法）

第 8 题、2019 年 0420 黑龙江公务员考试《行测》真题（省直）第 17 题

9、（单选题）下列有关工伤的说法正确的是：

- A.上下班途中遭受的交通事故伤害不可以定为工伤
- B.由于员工的重大过失造成的工伤，企业无需承担责任
- C.职工认为是工伤，但单位不认为是工伤的，由单位承担举证责任
- D.购买“五险”后，因工伤引起的所有费用可由工伤保险报销，公司不承担费用

收起解析

展开全部解析

收藏

纠错

正确答案：C，我的选择：尚未作答。回答错误

统计

答题时间：0 秒，全站正确率：59%，易错项：D。

解析

第一步，本题考查工伤赔偿责任。

第二步，《工伤保险条例》第 19 条规定，劳动保障行政部门受理工伤认定申请后，根据审核需要可以对事故伤害进行调查核实，用人单位、职工、工会组织、医疗机构以及有关部门应当予以协助。职工或者其直系亲属认为是工伤，用人单位不认为是工伤的，由用人单位承担举证责任

因此，选择 C 选项。

拓展

A 项：在上下班途中，受到交通事故伤害，只要是非本人主要责任的交通事故或者城市轨道交通、客运轮渡、火车事故伤害的，就能被认定为工伤。

B 项：单位承担的工伤责任是无过错责任，就算员工存在重大过错，只要职工所受伤害符合工伤条件，不论职工有无过失，单位都要承担责任。

D 项：《工伤保险条例》第 33 条第 1、3 款规定，职工因工作遭受事故伤害或者患职业病需要暂停工作接受工伤医疗的，在停工留薪期内，原工资福利待遇不变，由所在单位按月支付。生活不能自理的工伤职工在停工留薪期需要护理的，由所在单位负责。

考点

常识判断

法律

法律其它

来源

2019 年 0420 四川公务员考试《行测》真题第 3 题、2019 年 0420 黑龙江公务员考试《行测》真题（公检法）第 9 题

10、（单选题）下列关于我国河流的说法不正确的是：

- A.黑龙江是中国的内河
- B.长江最大的支流是汉江
- C.黄果树瀑布、桂林山水都位于珠江流域
- D.“大漠孤烟直、长河落日圆”中的“河”指黄河

收起解析

展开全部解析

收藏

纠错



正确答案：A，我的选择：尚未作答。回答错误

统计

答题时间：0秒，全站正确率：40%，易错项：C。

解析

第一步，本题考查人文常识并选错误项。

第二步，内河，亦称国内河流，是指从其发源地到河口完全位于一国境内的河流。黑龙江流域广阔，流域包括中国、俄罗斯、蒙古、朝鲜四国，不完全在中国之内，因而不是中国的内河。

因此，选择A选项。

拓展

B项：汉江是长江最长、最大的支流。

C项：珠江是中国南方的大河，流域覆盖滇、黔、桂、粤、湘、赣等省区、港澳地区及越南社会主义共和国的东北部，流域面积453690平方公里，其中我国境内面积442100平方公里。珠江流域旅游资源丰富，著名的黄果树瀑布、桂林山水都在珠江流域。

D项：“大漠孤烟直、长河落日圆”意为浩瀚沙漠中孤烟直上，无尽黄河上落日浑圆，“河”即指黄河。

我国的内河主要包括：海河、黄河、淮河、长江、珠江、辽河、松花江等。

与内河容易混淆的是内流河的概念，内流河也称内陆河，指由内陆山区降雨或高山融雪产生的、不能流入海洋、只能流入内陆湖泊或在内陆消失的河流。

考点

常识判断

科技

地理国情

来源

2019年0420四川公务员考试《行测》真题第6题、2019年0420黑龙江公务员考试《行测》真题（公检法）第10题

11、（单选题）下列有关京杭大运河的说法错误的是：

- A.隋唐大运河运输最多的商品是茶叶和盐
- B.“南水北调”的东线工程借助了京杭大运河
- C.明清大运河与隋唐大运河相比，不再经过洛阳
- D.是世界上开凿最早、长度最长的一条人工运河

收起解析

展开全部解析

收藏

纠错

正确答案：A，我的选择：尚未作答。回答错误

统计

答题时间：0秒，全站正确率：31%，易错项：C。

解析

第一步，本题考查人文常识并选错误项。

第二步，京杭大运河主要运输商品的有：南方的丝绸、茶叶、糖、竹、木、漆、陶瓷等，源源不断地运往北方，北方的松木、皮货、煤炭、杂品等也不断由运河南下。运输商品中没有盐，A项错误。

因此，选择A选项。

拓展

**B 项：**我国地势西高东低，大河多为自西向东流，南北流向的很少，故中国古代人民人工开凿了沟通南北交通的京杭运河。到了现代，南水北调工程东线方案又充分利用京杭运河河道作为输水通道，既使京杭运河的航运价值得到新的开发利用，同时也节省了南水北调工程的投资，减轻了环境破坏。

**C 项：**隋唐大运河以洛阳为中心，北至涿郡（今北京），南至余杭（今杭州）。包括广通渠，从长安至潼关东通黄河。以渭水为主要水源。通济渠，从洛阳沟通黄、淮两大河流的水运。山阳渎，北起淮水南岸的山阳（今江苏淮安市淮安区），径直向南，到江都（今扬州市）西南接长江。永济渠，在黄河以北。从洛阳对岸的沁河口向北，直通涿郡（今北京市境）。在十三世纪末元朝定都北京后，为了使南北相连，不再绕道洛阳，必须开凿运河把粮食从南方运到北方。为此先后开凿了三段河道，把原来以洛阳为中心的隋代横向运河，修筑成以大都为中心，南下直达杭州的纵向大运河，又新修“通惠河”，这样，新的京杭大运河比绕道洛阳的隋唐大运河缩短了九百多公里。明清沿用元朝时期的运河。

**D 项：**京杭大运河是世界上里程最长、工程最大的古代运河，也是最古老的运河之一，与长城、坎儿井并称为中国古代的三项伟大工程，并且使用至今，是中国古代劳动人民创造的一项伟大工程，是中国文化地位的象征之一。

考点

常识判断

人文

人文其它

来源

2019 年 0420 四川公务员考试《行测》真题第 8 题、2019 年 0420 黑龙江公务员考试《行测》真题（公检法） 第 11 题

12 、（单选题）下列关于绘画作品的描述错误的是：

- A. 《富春山居图》描绘的是初秋景色
- B. 《吃土豆的人》是梵高早期的代表作
- C. 《自由引导人民》取材于法国七月革命
- D. 《虢国夫人游春图》描写的是杨玉环出游

收起解析

展开全部解析

收藏

纠错

正确答案：D，我的选择：尚未作答。回答错误

统计

答题时间：0 秒，全站正确率：54%，易错项：A。

解析

第一步，本题考查艺术常识并选错误项。

第二步，《虢国夫人游春图》描绘的是唐朝天宝十一年（752 年），再现唐玄宗的宠妃杨玉环的三姊虢国夫人及其眷从盛装出游，“道路为（之）耻骇”的典型环境，并非杨玉环出游。因此，选择 D 选项。

拓展

**A 项：**《富春山居图》是元代画家黄公望创作的纸本水墨画，描写的是富春江两岸初秋景色，是中国十大传世名画之一，被誉为“画中之兰亭”，属国宝级文物。

**B 项：**《吃土豆的人》是梵高接触印象派之前的最重要作品，是其早期代表作品。

C项：《自由引导人民》是法国画家欧仁·德拉克罗瓦为纪念1830年法国七月革命而创作的一幅油画，该作品成为代表法兰西民族精神的标志。

考点

常识判断

人文

艺术

来源

2019年0420四川公务员考试《行测》真题第13题、2019年0420黑龙江公务员考试《行测》真题（公检法）第12题

13、（单选题）关于地球南北极，下列说法不正确的是：

- A.南极是地球上唯一没有永久居民的大陆
- B.每年6—8月是最适合去北极旅行的季节
- C.中国在南极建立了长城站、黄河站和昆仑站
- D.雪龙2号是我国自主建造的首艘极地破冰船

收起解析

展开全部解析

收藏

纠错

正确答案：C，我的选择：尚未作答。回答错误

统计

答题时间：0秒，全站正确率：45%，易错项：A。

解析

第一步，本题考查科技常识并选错误项。

第二步，南极建有四个：中国南极长城站、中国南极中山站、中国南极昆仑站和新建的中国南极泰山站，没有黄河站，C错误。罗斯海新站是中国第五个南极科考站，预计2022年建成。

因此，选择C选项。

拓展

A项：南极大陆是风暴最频繁、风力最大的大陆，风速在每小时100千米以上的大风在南极是经常可以遇到的。南极常年温度在-80~-60，是地球上唯一没有人员定居的大陆。

B项：每年6~8月北半球处于夏季，此时北极是极昼时间，冰雪逐渐消融，小溪出现潺潺的流水，天空变得明亮，植物披上了生命的绿色。因此，每年6~8月是最适合去北极旅行的季节。

D项：雪龙2号极地考察船是中国自主建造的首艘破冰船，是全球第一艘采用船艏、船艉双向破冰技术的极地科考破冰船。它能够在1.5米厚冰环境中连续破冰航行，交付使用后将填补我国在极地科考重大装备领域的空白。

考点

常识判断

科技

科技成就

来源

2019年0420四川公务员考试《行测》真题第15题、2019年0420黑龙江公务员考试《行测》真题（公检法）第13题

14、（单选题）下列关于全国经济普查的说法错误的是：

- A.根据《全国经济普查条例》的规定，经济普查每5年进行一次
- B.2019年1月1日，第四次全国经济普查现场登记工作正式启动
- C.普查取得的单位和个人资料，不作为对普查对象实施处罚的依据
- D.目的是全面调查我国第一、第二、第三产业的发展规模、布局和效益

收起解析

展开全部解析

收藏

纠错

正确答案：D，我的选择：尚未作答。回答错误

统计

答题时间：0秒，全站正确率：28%，易错项：C。

解析

第一步，本题考查全国经济普查并选错误项。

第二步，《全国经济普查条例》第2条规定，经济普查的目的，是为了全面掌握我国第二产业、第三产业的发展规模、结构和效益等情况，建立健全基本单位名录库及其数据库系统，为研究制定国民经济和社会发展规划，提高决策和管理水平奠定基础。

因此，选择D选项。

拓展

A项：《全国经济普查条例》第7条规定，经济普查每5年进行一次，标准时点为普查年份的12月31日。

B项：2018年9月12日，国家统计局在其官网公布了第四次全国经济普查宣传片。2019年1月1日零时，第四次全国经济普查现场登记工作正式启动。

C项：《全国经济普查条例》第33条规定，经济普查取得的单位和个人资料，严格限定用于经济普查的目的，不作为任何单位对经济普查对象实施处罚的依据。

考点

常识判断

经济

宏观经济

来源

2019年0420内蒙古公务员考试《行测》真题第8题、2019年0420山西公务员考试《行测》真题第6题、2019年0420新疆公务员考试《行测》真题第13题、2019年0420江西公务员考试《行测》真题（乡镇）第4题、2019年0420江西公务员考试《行测》真题（县级以上）第11题、2019年0420湖南公务员考试《行测》真题第99题、2019年0420重庆公务员考试《行测》真题第4题、2019年0420黑龙江公务员考试《行测》真题（公检法）第14题

15、（单选题）下列哪一种现象的物理原理不同于其他三项：

- A.水中的手指变粗
- B.池水看起来比实际的浅
- C.只有瞄准鱼的下方才能叉到鱼
- D.小明在宁静的湖边看见“云在水中飘”

收起解析

展开全部解析

收藏

纠错

正确答案：D，我的选择：尚未作答。回答错误

统计

答题时间：0秒，全站正确率：88%，易错项：C。

解析

第一步，本题考查光的反射和折射现象并选错误项。

第二步，光的反射是光从一种介质射向另一种介质的交界面时，一部分光返回原来介质中，使光的传播方向发生了改变的现象。光的反射包括镜面反射和漫反射。光的折射是光从一种介质斜射入另一种介质时，传播方向发生改变，从而使光线在不同介质的交界处发生偏折的现象。“云在水中飘”，水面相当于镜子，“云”在水面形成倒影，属于镜面反射，是光的反射现象。

因此，选择D选项。

拓展

A项：空气中的反射光射到水与空气的界面上时发生折射，入射角大于折射角，相当于一个凸透镜，对手指有放大作用，水中部分的手指看上去变粗，介质发生改变，属于折射。

B项：池底的反射光射到水与空气的界面上时发生折射。折射角大于入射角，而人的眼睛却会以射入眼睛的光线即折射光线的反向延长线作为自己感觉的依据。而折射光线的反向延长线要高于池底。所以池水的深度看上去比实际的浅，属于折射。

C项：瞄准鱼的下方才能叉到鱼，是由于光的折射现象造成的，水中鱼反射的光在水面处发生折射，折射角大于入射角，逆着折射光线看到的是鱼的虚像，真正的鱼在它的下方，所以只有对准下方才能叉到鱼。

考点

常识判断

科技

物理

来源

2019年0420内蒙古公务员考试《行测》真题第12题、2019年0420安徽公务员考试《行测》真题第16题、2019年0420新疆公务员考试《行测》真题第18题、2019年0420江西公务员考试《行测》真题（乡镇）第12题、2019年0420江西公务员考试《行测》真题（县级以上）第10题、2019年0420湖南公务员考试《行测》真题第96题、2019年0420黑龙江公务员考试《行测》真题（公检法）第15题

16、（单选题）根据《中华人民共和国刑法修正案（九）》，下列说法正确的是：

- A.组织恐怖活动培训的，处五年以上有期徒刑，并处罚金。
- B.代替他人或者让他人代替自己参加考试，处三年以下有期徒刑，并处或单处罚金
- C.在道路上醉酒驾驶机动车的驾驶人，处拘役，并处罚金
- D.多次扰乱国家机关工作秩序，经行政处罚后仍不改正，造成严重后果的，处三年以上有期徒刑，并处罚金

收起解析

展开全部解析

收藏

纠错

正确答案：C，我的选择：尚未作答。回答错误

统计

答题时间：0秒，全站正确率：37%，易错项：D。

解析

第一步，本题考查刑法修正案。

第二步，根据《刑法修正案（九）》第8条第1款规定：“将刑法第133条之一修改为：“在道路上驾驶机动车，有下列情形之一的，处拘役，并处罚金：（一）追逐竞驶，情节恶劣的；（二）醉酒驾驶机动车的；· · · · · ·”选项描述和法条相匹配。

因此，选择C选项。

拓展

A项：根据《刑法修正案（九）》第7条第2款规定：“第120条之二有下列情形之一的，处五年以下有期徒刑、拘役、管制或者剥夺政治权利，并处罚金；情节严重的，处五年以上有期徒刑，并处罚金或者没收财产：· · · · · ·（二）组织恐怖活动培训或者积极参加恐怖活动培训的；· · · · · ·”选项并没有说情节属于严重的情形，所以“以上”的说法错误。

B项：根据《刑法修正案（九）》第25条第4款规定：“代替他人或者让他人代替自己参加第一款规定的考试的（法律规定的国家考试），处拘役或者管制，并处或者单处罚金。”并不是“三年以下有期徒刑”，说法错误。

D项：根据《刑法修正案（九）》第31条第2款规定：“多次扰乱国家机关工作秩序，经行政处罚后仍不改正，造成严重后果的，处三年以下有期徒刑、拘役或者管制。”选项“以上”的说法错误。

考点

常识判断

法律

刑法

来源

2019年0420黑龙江公务员考试《行测》真题（公检法）第16题

17、（单选题）下列行为不可能负刑事责任的是：

- A.邮政工作人员私自开拆他人邮件
- B.驾驶机动车肇事逃逸
- C.在微信、微博等社交平台传播虚假信息造成严重后果
- D.将自己所有的资金用于放高利贷

收起解析

展开全部解析

收藏

纠错

正确答案：D，我的选择：尚未作答。回答错误

统计

答题时间：0秒，全站正确率：38%，易错项：A。

解析

第一步，本题考查我国刑法并选错误项。

第二步，高利贷本身属于民法问题，根据《合同法》第211条规定：“自然人之间的借款合同约定支付利息的，借款的利率不得违反国家有关限制借款利率的规定”。刑法中没有关于高利贷的罪名，只是规定了非法吸收公众存款罪。

因此，选择D选项。

拓展

A项：《邮政法》第71条规定，冒领、私自开拆、隐匿、毁弃或者非法检查他人邮件、快件，尚不构成犯罪的，依法予以治安管理处罚。根据《治安管理处罚法》第48条的规定，

对上述行为应处 5 日以下拘留或者 500 元以下罚款。另，对于私自开拆、隐匿、毁弃他人快件的行为人，应根据《刑法》第 252 条规定：“隐匿、毁弃或者非法开拆他人信件，侵犯公民通信自由权利，情节严重的，处一年以下有期徒刑或者拘役”等有关规定承担刑事责任。

**B 项：**《道路交通安全法》（2011 修正）第 99 条规定，造成交通事故后逃逸，尚不构成犯罪的，由公安机关交通管理部门处二百元以上二千元以下罚款，可以并处十五日以下拘留。另，第一百零一条 违反道路交通安全法、法规的规定，发生重大交通事故，构成犯罪的，依法追究刑事责任，并由公安机关交通管理部门吊销机动车驾驶证。所以 B 项做法有可能负刑事责任。

**C 项：**2015 年 11 月 1 日起正式实施的《刑法修正案（九）》规定：在微信、微博等社交平台传播虚假信息，造成严重后果的，处 3 年以上 7 年以下有期徒刑。所以 C 项做法需要承担刑事责任。

考点

常识判断

法律

刑法

来源

2019 年 0420 黑龙江公务员考试《行测》真题（公检法） 第 17 题

18 、（单选题）下列行为没有违反广告法的是：

A.某电视台养生节目推荐观众购买赞助商的按摩锤

B.某 6 岁童星代言著名厂商生产的学习机

C.某小学的校车车身上载有儿童手表的车体广告

D.某药品广告中已康复的患者分享自己的用药经历

收起解析

展开全部解析

收藏

纠错

正确答案：D，我的选择：尚未作答。回答错误

统计

答题时间：0 秒，全站正确率：43%，易错项：B。

解析

第一步，本题考查广告法并选错误项。

第二步，《广告法》第 16 条规定，医疗、药品、医疗器械广告不得含有下列内容：（一）表示功效、安全性的断言或者保证；（二）说明治愈率或者有效率；（三）与其他药品、医疗器械的功效和安全性或者其他医疗机构比较；（四）利用广告代言人作推荐、证明；（五）法律、行政法规规定禁止的其他内容。在本选项中，药品广告中只是用已康复的患者分享了自己的用药经历，其中并无表示功效、安全性的断言或者保证等违反《广告法》的行为。因此，选择 D 选项。

拓展

**A 项：**《广告法》第 19 条规定，广播电台、电视台、报刊音像出版单位、互联网信息服务提供者不得以介绍健康、养生知识等形式变相发布医疗、药品、医疗器械、保健食品广告。因此，该电视台养生节目推荐观众购买赞助商的按摩锤的行为违反《广告法》。

**B 项：**《广告法》第 38 条第 2 款规定，不得利用不满十周岁的未成年人作为广告代言人。因此，某 6 岁的童星代言学习机的行为违反了《广告法》。

**C 项：**《广告法》第 39 条规定，不得在中小学校、幼儿园内开展广告活动，不得利用中小

学生和幼儿的教材、教辅材料、练习册、文具、教具、校服、校车等发布或者变相发布广告，但公益广告除外。儿童手表不是公益广告。因此，某小学的校车车身上载有儿童手表的车体广告违反了《广告法》。

考点

常识判断

法律

法律其它

来源

2019 年 0420 黑龙江公务员考试《行测》真题（公检法） 第 18 题

19 、（单选题）甲乙二人于 2016 年 6 月 6 日登记结婚，半年后因感情不和协议离婚。下列财产中属于共同财产的是：

- A.甲婚前购买的汽车
- B.甲于 2016 年 10 月购买彩票，中奖 10 万元
- C.乙于 2014 年用父母钱全款购买的房子，用于婚后居住
- D.乙的祖父于 2016 年 6 月 1 日祝贺乙结婚，赠与乙的名人字画

收起解析

展开全部解析

收藏

纠错

正确答案：B，我的选择：尚未作答。回答错误

统计

答题时间：0 秒，全站正确率：90%，易错项：C。

解析

第一步，本题考查民法。

第二步，根据《婚姻法》第 17 条的规定，夫妻在婚姻关系存续期间所得的下列财产，归夫妻共同所有：（一）工资、奖金；（二）生产、经营的收益；（三）知识产权的收益；（四）继承或赠与所得的财产，但遗嘱或赠与合同中确定只归夫或妻一方的财产除外；（五）其他应当归共同所有的财产。夫妻对共同所有的财产，有平等的处理权。”甲于 2016 年 10 月购买彩票，中奖 10 万元属于婚后的财产，属于夫妻双方的共同财产。

因此，选择 B 选项。

拓展

A 项：甲婚前购买的汽车，属于甲婚前个人财产，不属于甲乙共同财产。

C 项：乙于 2014 年用父母钱全款购买的房子，用于婚后居住，但并没有说明这个房子写于谁名下，所以，不能算作夫妻双方共同财产。

D 项：乙的祖父赠与乙的名人字画，属于乙婚前个人财产，不属于甲乙共同财产。

考点

常识判断

法律

民法

来源

2019 年 0420 黑龙江公务员考试《行测》真题（公检法） 第 19 题

20 、（单选题）下列关于我国地方性法规的表述，正确的是：

- A.地方性法规特定情况下可由省、自治区和直辖市人民政府制定
- B.部分地方性法规可由设区的市的人民代表大会及其常务委员会制定



C.地方性法规只能由省、自治区和直辖市人民代表大会常务委员会制定

D.地方性法规必要时报全国人民代表大会常务委员会和国务院备案

收起解析

展开全部解析

收藏

纠错

正确答案：B，我的选择：尚未作答。回答错误

统计

答题时间：0 秒，全站正确率：29%，易错项：D。

解析

第一步，本题考查立法法。

第二步，《中华人民共和国立法法》第 72 条第 2 款规定，设区的市的人民代表大会及其常务委员会根据本市的具体情况和实际需要，在不同宪法、法律、行政法规和本省、自治区的地方性法规相抵触的前提下，可以对城乡建设与管理、环境保护、历史文化保护等方面的事项制定地方性法规，法律对设区的市制定地方性法规的事项另有规定的，从其规定。

因此，选择 B 选项。

拓展

A 项：《中华人民共和国立法法》第 72 条第 1 款规定，省、自治区、直辖市的人民代表大会及其常务委员会根据本行政区域的具体情况和实际需要，在不同宪法、法律、行政法规相抵触的前提下，可以制定地方性法规。《中华人民共和国立法法》第 82 条规定，省、自治区、直辖市和设区的市、自治州的人民政府，可以根据法律、行政法规和本省、自治区、直辖市的地方性法规，制定规章。即地方性法规可由省、自治区、直辖市的人民代表大会及其常务委员会制定，而省、自治区和直辖市人民政府制定的是规章，不能制定地方性法规。

C 项：设区的市的人民代表大会及其常务委员会也可制定地方性法规，而非只能由省、自治区、直辖市的人民代表大会及其常务委员会制定。

D 项：《中华人民共和国立法法》第 98 条第 2 项规定，省、自治区、直辖市的人民代表大会及其常务委员会制定的地方性法规，报全国人民代表大会常务委员会和国务院备案；设区的市、自治州的人民代表大会及其常务委员会制定的地方性法规，由省、自治区的人民代表大会常务委员会报全国人民代表大会常务委员会和国务院备案。而不是必要时报全国人民代表大会常务委员会和国务院备案。

解题技巧：矛盾选项选其一，B 项和 C 项意思矛盾，可二选其一。也可根据《宪法修正案》和《立法法》的规定，直接选择 B 选项。

考点

常识判断

法律

法律其它

来源

2019 年 0420 黑龙江公务员考试《行测》真题（偏远地区）第 2 题、2019 年 0420 黑龙江公务员考试《行测》真题（公检法）第 20 题、2019 年 0420 黑龙江公务员考试《行测》真题（省直）第 5 题

21 、（单选题）圈椅是明代家具中最为经典的制作。明代圈椅，造型古朴典雅，线条简洁流畅，制作技艺达到了\_\_\_\_\_的境地，“天圆地方”是中国人文化中\_\_\_\_\_的宇宙观，不但建筑受其影响，也\_\_\_\_\_到了家具的设计之中。

依次填入划横线部分最恰当的一项是：

- A.别有匠心 普遍 融合
- B.巧夺天工 特殊 融会
- C.炉火纯青 典型 融入
- D.入室升堂 独特 融化

收起解析

展开全部解析

收藏

纠错

正确答案：C，我的选择：尚未作答。回答错误

统计

答题时间：0 秒，全站正确率：84%，易错项：B。

解析

第一步，分析第一空。原文说制作技艺达到了一种境地，搭配对象是“技艺”。A项“别有匠心”指具有与众不同的巧妙的构思。常指文学艺术方面的构思，不能和“技艺”搭配，因此排除A项。B项“巧夺天工”指精巧的人工胜过天然形成的。形容技巧的高超，多指工艺美术，符合语境。C项“炉火纯青”比喻学问、技艺或办事达到了纯熟完美的地步，符合语境。D项“入室升堂”，谓登上厅堂，又进入内室。比喻学问由浅入深、循序渐进、达到更高的水平，也比喻学艺深得师传。不符合语境，排除D项。

第二步，分析第二空。天圆地方是古人对宇宙由来已久的认知，因此C项“典型”指足以代表某一类事物特性的标准形式，符合语境。B项“特殊”指特别，独一无二，不符合语境，排除B项。答案锁定C选项。

第三步，验证第三空。某种观念“融入”设计之中，符合语境。

因此，选择C选项。

考点

言语理解与表达

逻辑填空

实词与成语综合考查

来源

2019年0420安徽公务员考试《行测》真题第43题、2019年0420山西公务员考试《行测》真题第37题、2019年0420江西公务员考试《行测》真题（县级以上）第40题、2019年0420湖北公务员考试《行测》真题第36题、2019年0420湖南公务员考试《行测》真题第17题、2019年0420重庆公务员考试《行测》真题第37题、2019年0420陕西公务员考试《行测》真题第28题、2019年0420黑龙江公务员考试《行测》真题（公检法）第21题、2019年0420黑龙江公务员考试《行测》真题（省直）第25题

22、（单选题）科学已经成为当下社会的主流命题，无论从事什么工作都无法忽视它、绕过它。因此从某种程度来说，科学与艺术，或者说理性与感性的边界正在\_\_\_\_\_。艺术展上艺术家们摆弄起了宇宙爆炸、量子世界，而不少科学家也乐于把科学仪器下观察到的景象捕捉下来，展示到人们面前，其精美程度丝毫不亚于艺术家的加工描摹。

填入划横线部分最恰当的一项是：

- A.消遁
- B.消失
- C.消除
- D.消弭

收起解析

展开全部解析

收藏

纠错

正确答案：D，我的选择：尚未作答。回答错误

统计

答题时间：0秒，全站正确率：45%，易错项：B。

解析

第一步，分析语境。根据文段可知，该空搭配“边界”，且指理性与感性的边界越来越不清晰。

第二步，辨析选项。A项“消遁”指消失逃跑。题目并没有逃跑之意，排除A项。B项“消失”指事物逐渐减少以至没有或人、事物由近及远逐渐到看不见，侧重不复存在，过于绝对，排除B项。C项“消除”指使不存在、除去，其后应加宾语，排除C项。D项“消弭”指清除、消除某些不好的事情，可与“边界”搭配，且语体风格较为书面化，符合文段风格。因此，选择D选项。

考点

言语理解与表达

逻辑填空

实词辨析

来源

2019年0420内蒙古公务员考试《行测》真题第26题、2019年0420安徽公务员考试《行测》真题第36题、2019年0420山西公务员考试《行测》真题第23题、2019年0420江西公务员考试《行测》真题（乡镇）第39题、2019年0420重庆公务员考试《行测》真题第21题、2019年0420黑龙江公务员考试《行测》真题（公检法）第22题、2019年0420黑龙江公务员考试《行测》真题（省直）第21题

23、（单选题）互联网新技术新应用对文化产业进行全方位、全角度、全产业链的改造，释放数字化对文化产品发展的放大、叠加和倍增作用，推动互联网、移动网与文化之间形成\_\_\_\_\_的新形态。

填入划横线处最恰当的一项是：

- A.唇齿相依
- B.休戚与共
- C.同舟共济
- D.水乳交融

收起解析

展开全部解析

收藏

纠错

正确答案：D，我的选择：尚未作答。回答错误

统计

答题时间：0秒，全站正确率：51%，易错项：B。

解析

第一步，分析语境。根据“互联网新技术新应用对文化产业进行全方位、全角度、全产业链的改造……对文化产品发展的放大、叠加和倍增作用”可知，该空应体现“两者之间结合紧密、全方位融合”这一含义。

第二步，辨析选项。A项“唇齿相依”侧重指“互相依存，关系密切”，文段中并未体现互

联网与文化之间相互依存，不符语境，排除 A 项。B 项“休戚与共”侧重指“关系紧密，利害相同”，文段中并未体现互联网与文化之间存在利害关系，排除 B 项。C 项“同舟共济”侧重指“在艰险的处境中团结互助，共同战胜困难”，文段中并未体现困难，排除 C 项。D 项“水乳交融”侧重指“关系非常融洽或结合十分紧密”，符合语境。

因此，选择 D 选项。

考点

言语理解与表达

逻辑填空

成语辨析

来源

2019 年 0420 四川公务员考试《行测》真题第 18 题、2019 年 0420 黑龙江公务员考试《行测》真题（公检法）第 23 题

24、（单选题）某航天科工集团研制出的民航风切变预警系统，克服了预警难度大、精度低等现实问题，可以为飞机的起飞降落\_\_\_\_\_提供风切变预警信息，还能够提供机场未来 48 小时的天气预报。

填入划横线部分最恰当的一项是：

A.即时

B.及时

C.实时

D.适时

收起解析

展开全部解析

收藏

纠错

正确答案：C，我的选择：尚未作答。回答错误

统计

答题时间：0 秒，全站正确率：60%，易错题：B。

解析

第一步，分析语境。这段文字材料主要在论述民航风切变预警系统在提供天气预报方面的作用。根据“可以为飞机的起飞降落\_\_\_\_\_提供风切变预警信息，还能够提供机场未来 48 小时的天气预报”可知，民航风切变预警系统的作用是不仅在飞机起飞降落当下的整个过程中同步提供信息，还可以在未来 48 小时提供信息，因此横线所填词语需要表达当下同步的意思。

第二步，辨析词语。A 项“即时”意为当下立刻、马上；B 项“及时”意思是赶得上、来得及，正赶上时候，不拖延；D 项“适时”指的是合适的时宜，不早也不晚。三项都不能体现当下同步的意思，与语境不符，排除 A 项、B 项和 D 项。C 项“实时”的意思是与某事发生、发展过程的同时做某件事，常见搭配“实时报道”“实时定位”等，符合文意。

因此，选择 C 选项。

考点

言语理解与表达

逻辑填空

实词辨析

来源

2019 年 0420 内蒙古公务员考试《行测》真题第 27 题、2019 年 0420 江西公务员考试《行

测》真题（乡镇）第 28 题、2019 年 0420 江西公务员考试《行测》真题（县级以上）第 27 题、2019 年 0420 黑龙江公务员考试《行测》真题（公检法）第 24 题、2019 年 0420 黑龙江公务员考试《行测》真题（省直）第 22 题

25 、（单选题）如果初创企业一味盲目地追求产品开发和获取早期客户的速度，而忽略了产品质量的话，到时往往会\_\_\_\_\_。虽然表面看来产品是出来了，但是支撑产品的代码或硬件可能会变得难以维护和扩展，就算公司短期内看上去获得了成功，但产品里面的技术债务却积少成多，隐患也随之倍增，到时可能就会\_\_\_\_\_。

依次填入划横线部分最恰当的一项是：

- A.过犹不及 功亏一篑
- B.事与愿违 积重难返
- C.欲速不达 作茧自缚
- D.得不偿失 于事无补

收起解析

展开全部解析

收藏

纠错

正确答案：B，我的选择：尚未作答。回答错误

统计

答题时间：0 秒，全站正确率：45%，易错项：C。

解析

第一步，突破口在第二空。根据“产品里面的技术债务却积少成多，隐患也随之倍增”可知，所填词要表示“问题越积越多，不好解决”之意。A 项“功亏一篑”比喻做事情只差最后一点没能完成，含惋惜之意；C 项“作茧自缚”比喻自己使自己陷入困境；D 项“于事无补”指对事情毫无补益。三者均不能体现“问题越积越多，不好解决”之意，排除 A 项、C 项和 D 项。B 项“积重难返”多指恶习或弊端已发展到难以革除的地步，符合语境。答案锁定 B 选项。

第二步，验证第一空。“事与愿违”指事情的发展与愿望相反，符合前文的假设条件带来的结果，符合语境。

因此，选择 B 选项。

拓展

过犹不及：指事情做得过分了，就像做得不够一样，都是不好的。欲速不达：想求快速，反而不能达到目的。得不偿失：所得的利益补偿不了所受的损失。

考点

言语理解与表达

逻辑填空

成语辨析

来源

2019 年 0420 黑龙江公务员考试《行测》真题（公检法）第 25 题

26 、（单选题）关于科学革命的讨论\_\_\_\_\_于十七世纪。不过，其时革命尚在\_\_\_\_\_地展开，相关讨论的焦点集中在科学的本性，而未有所谓“科学革命史”的理解。到十九世纪，现代科学的基本模式逐渐定型，一些学者便回到现代科学的源头做起了编史和整理工作。依次填入划横线部分最恰当的一项是：

- A.滥觞 如火如荼
- B.起源 风起云涌

C.溯源 轰轰烈烈

D.发端 方兴未艾

收起解析

展开全部解析

收藏

纠错

正确答案：A，我的选择：尚未作答。回答错误

统计

答题时间：0 秒，全站正确率：36%，易错项：B。

解析

第一步，分析第一空。根据“其时革命尚在”“到十九世纪……基本模式逐渐定型”可知，第一空应体现开始、起源之意。A项“滥觞”原意是指江河发源的地方水很浅，只能浮起酒杯，后指事物的开始或起源，符合文意。B项“起源”符合文意。C项“溯源”指探求本源而追溯，比喻回首往事、探寻渊源，本空没有探求、探寻的意思，不符合文意，排除C项。D项“发端”指开始、起头，符合文意。

第二步，分析第二空。根据“……十七世纪”“……地展开”可知，第二空应该用来修饰在十七世纪时的展开程度。A项“如火如荼”原比喻军容之盛，现用来形容旺盛、热烈或激烈，符合文意。B项“风起云涌”形容雄浑磅礴之势；也比喻事物迅速发展，声势浩大，但是在十七世纪时并未体现快速发展的意思，不符合文意，排除B项。D项“方兴未艾”指事物正在发展，尚未达到止境或还没有停止，多形容新生事物正在蓬勃发展，但其不与“……地展开”搭配，不符合文意，排除D项。

因此，选择A选项。

拓展

轰轰烈烈：形容事业的兴旺，也形容声势浩大、气魄宏伟。

考点

言语理解与表达

逻辑填空

实词与成语综合考查

来源

2019年0420内蒙古公务员考试《行测》真题第29题、2019年0420天津公务员考试《行测》真题第13题、2019年0420山西公务员考试《行测》真题第24题、2019年0420江西公务员考试《行测》真题（县级以上）第41题、2019年0420湖北公务员考试《行测》真题第29题、2019年0420湖南公务员考试《行测》真题第7题、2019年0420重庆公务员考试《行测》真题第23题、2019年0420陕西公务员考试《行测》真题第23题、2019年0420黑龙江公务员考试《行测》真题（公检法）第26题、2019年0420黑龙江公务员考试《行测》真题（省直）第24题

27、（单选题）由于史料异常丰富、古今中西互相杂糅等因素，导致中国近代史愈研究愈错综纷纭，不知如何贯通。如果\_\_\_\_\_于从某一角度进行宏观叙述，又会自觉或不自觉地遗漏掉许多本不应忽视的人物、学说与史事，时移世易，便容易被有心之士以“恢复历史真相”为借口，将另一些或许本不能成为“主线”的因素聚焦放大，以史书为政论，\_\_\_\_\_，灌入自己心中的济世良方。

依次填入划横线部分最恰当的一项是：

A.纠结 偷梁换柱

B.拘泥 移花接木

C.立足 避重就轻

D.着眼 暗度陈仓

收起解析

展开全部解析

收藏

纠错

正确答案：D，我的选择：尚未作答。回答错误

统计

答题时间：0 秒，全站正确率：19%，易错项：B。

解析

第一步，分析第一空。文段首句指出由于史料丰富、古今中西杂糅等会导致中国近代史研究很复杂，第二句要表达的是如果仅从某一角度切入，就会遗漏一些重要信息。A项“纠结”指使陷入困惑或混乱状态，不符合文意，排除A项。B项“拘泥”指固执成见而不知变通；拘束，文中没有消极色彩，仅是客观表述“如果从某一个角度切入，会有问题”，排除B项。C项“立足”指站稳，比喻在一个地方安定下来，站稳脚跟；D项“着眼”指注目，考虑。二者均符合文意。

第二步，分析第二空。文中提到“以……为借口”及故意放大一些因素，以及“灌入自己心中的济世良方”，都有“故意骗人”的含义。C项“避重就轻”指回避重的责任，只拣轻的来承担，也指回避主要的问题，只谈无关重要的方面，无“欺骗”之意，排除C项。D项“暗度陈仓”指将真实的意图隐藏在表面的行动背后，用明显的行动迷惑对方，使敌人产生错觉，并忽略自己的真实意图，从而出奇制胜，符合文意。

因此，选择D选项。

拓展

偷梁换柱：比喻暗中玩弄手法，以假代真，以劣代优。移花接木：指把一种花木的枝条或嫩芽嫁接在另一种花木上。比喻暗中用手段更换人或事物来欺骗别人。

考点

言语理解与表达

逻辑填空

实词与成语综合考查

来源

2019年0420黑龙江公务员考试《行测》真题（公检法）第27题

28、（单选题）说起乡愁，那是一种\_\_\_\_\_的情怀，住在心中的故乡常常鲜活在那里。故乡是安放你的灵魂、温暖你的寂冷的地方，是接纳你的疲惫、抚慰你的忧伤的地方。翻开一页页被繁忙弄乱的过往，记忆中的余香总\_\_\_\_\_于儿时的故乡。

依次填入划横线部分最恰当的一项是：

A.难以割舍 回荡

B.与生俱来 氤氲

C.永生难忘 徜徉

D.刻骨铭心 徘徊

收起解析

展开全部解析

收藏

纠错

正确答案：B，我的选择：尚未作答。回答错误

统计

答题时间：0 秒，全站正确率：45%，易错项：A。

解析

第一步，分析第一空。根据“说起乡愁，那是一种\_\_\_\_\_的情怀，住在心中的故乡常常鲜活在那里”可知，横线处要填写的成语做“情怀”的定语，同时这种“情怀”和“乡愁”有关。A项“难以割舍”形容人对事或人的感情深，难以放弃或分开，符合文意。B项“与生俱来”指不依靠后天培养和教育，从一出生就拥有的特性或行为，“乡愁”正是人“与生俱来”的一种情怀，故乡是我们从出生开始就生活的地方，符合文意。C项“永生难忘”形容一辈子都难以忘记，形容某些事或人令人印象深刻，和“情怀”搭配不当，不符合文意，排除C项。D项“刻骨铭心”形容记忆深刻，永远不忘，符合文意。

第二步，分析第二空。修饰的对象是“余香”。A项“回荡”意思是连续的回声引起的震响。和“余香”搭配不当，排除A项。B项“氤氲”形容烟或气很盛；烟气、烟云弥漫的样子；气或光混合动荡的样子。“余香”正是一种“香气”，与“氤氲”搭配合适。D项“徘徊”比喻犹豫不决，与“余香”搭配不当，不符合文意，排除D项。

因此，选择B选项。

拓展

徜徉：①犹徘徊，盘旋往返；②犹彷徨，心神不宁貌；③安闲自得貌。

考点

言语理解与表达

逻辑填空

实词与成语综合考查

来源

2019年0420天津公务员考试《行测》真题第14题、2019年0420山西公务员考试《行测》真题第31题、2019年0420江西公务员考试《行测》真题（乡镇）第38题、2019年0420江西公务员考试《行测》真题（县级以上）第28题、2019年0420湖北公务员考试《行测》真题第31题、2019年0420陕西公务员考试《行测》真题第22题、2019年0420黑龙江公务员考试《行测》真题（公检法）第28题、2019年0420黑龙江公务员考试《行测》真题（省直）第26题

29、（单选题）马达加斯加这个被世界遗忘了很多年的孤岛，由于动画电影《马达加斯加》而意外走红，其实绝大部分人都没去过马达加斯加，只能从一些\_\_\_\_\_中构建自己心目中的那个世外桃源，和真实的马达加斯加往往\_\_\_\_\_。

依次填入划横线部分最恰当的一项是：

- A.道听途说 背道而驰
- B.只言片语 相去甚远
- C.细枝末节 大相径庭
- D.遗文逸事 截然不同

收起解析

展开全部解析

收藏

纠错

正确答案：B，我的选择：尚未作答。回答错误

统计

答题时间：0 秒，全站正确率：60%，易错项：D。

解析



第一步，分析第一空。根据“大部分人都没去过马达加斯加”可知，第一空要填的是一个从别人口中或者一些文字记载中知道的这个世外桃源。A项“道听途说”泛指没有根据的传闻，符合文意。B项“只言片语”指个别词句或片断的话，符合文意。C项“细枝末节”比喻事情或问题的细小而无关紧要的部分，不符合语境，故排除C选项。D项“遗文逸事”指未见记载的文献资料，符合文意。

第二步，分析第二空。由于大部分人没去过马达加斯加，所以在自己心中构建的世外桃源与真实的马达加斯加还是有很大差距的，但还没有到完全不同的程度。B项“相去甚远”指互相之间存在很大差异和距离，符合文意。A项“背道而驰”指两种事物的目的相反，而文段中只有一种事物，就是心中的和真实的马达加斯加不一样，故排除A项。D项“截然不同”指两件事情完全没有共同之处，语义过重，故排除D项。

因此，选择B选项。

考点

言语理解与表达

逻辑填空

成语辨析

来源

2019年0420四川公务员考试《行测》真题第21题、2019年0420黑龙江公务员考试《行测》真题（公检法）第29题

30、（单选题）为应对全球气候变暖，各国科学家都在开展地球科学研究。最近，有科学家在《科学》上发表论文提出缓解温室效应的两种方案。其中一种方案是在稍低于卷云自然形成的上层大气中加入微小的沙尘颗粒，以\_\_\_\_\_卷云的形成。卷云不同于会反射阳光的白云，而更像覆盖在地球上的毯子，困住从地球向太空辐射的热量，地球也就越来越\_\_\_\_\_。

依次填入划横线部分最恰当的一项是：

A.减少 冷

B.增加 冷

C.减少 热

D.增加 热

收起解析

展开全部解析

收藏

纠错

正确答案：C，我的选择：尚未作答。回答错误

统计

答题时间：0秒，全站正确率：52%，易错项：B。

解析

第一步，分析第一空。根据语境“缓解温室效应”“卷云不同于会反射阳光的白云，而更像覆盖在地球上的毯子，困住从地球向太空辐射的热量”可知，应减少卷云的形成，排除B项和D项。

第二步，分析第二空。根据“更像覆盖在地球上的毯子，困住从地球向太空辐射的热量”可知，地球会越来越热，排除A项。

因此，选择C选项。

拓展

增加：在原来的基础上添加。

考点

言语理解与表达

逻辑填空

实词辨析

来源

2019年0420内蒙古公务员考试《行测》真题 第31题、2019年0420天津公务员考试《行测》真题第16题、2019年0420新疆公务员考试《行测》真题第27题、2019年0420江西公务员考试《行测》真题（乡镇）第34题、2019年0420湖南公务员考试《行测》真题 第5题、2019年0420黑龙江公务员考试《行测》真题（公检法） 第30题

31、（单选题）连环画是大众艺术。然而，面对大众的需求，是迎合还是引导，也是连环画家必须面对的问题之一。回顾连环画从兴盛走向衰落的过程，不难发现，正是一些急功近利的出版商一味\_\_\_\_\_、迎合大众的喜好，重数量轻质量，导致大批读者和作者流失，造成了连环画长时间\_\_\_\_\_，最终淡出大众视野。

依次填入划横线部分最恰当的一项是

- A.揣摩 青黄不接
- B.琢磨 墨守成规
- C.研究 良莠不齐
- D.推敲 停滞不前

收起解析

展开全部解析

收藏

纠错

正确答案：A，我的选择：尚未作答。回答错误

统计

答题时间：0秒，全站正确率：50%，易错题：D。

解析

第一步，分析第一空。根据语境可知，该空应体现出急功近利的出版商的做法，且该做法与“迎合大众喜好”构成并列。D项“推敲”比喻斟酌字句，反复琢磨，不符合语境，排除D项。A项“揣摩”指反复思考推求；B项“琢磨”指思考；C项“研究”指探求事物真相或考虑商讨。三者均符合语境。

第二步，分析第二空。根据语境“导致大批读者和作者流失，最终淡出大众视野”可知，该空应体现出连环画受到影响，发展不好之意。A项“青黄不接”指陈粮已经吃完，新粮还未成熟，口粮接续不上。比喻财力、物力、人力暂时中断，可以体现连环画发展不好之意，符合语境。B项“墨守成规”形容死守老规矩，保守固执，不求改进，不能与“连环画”搭配，排除B项。C项“良莠不齐”比喻好人坏人夹杂在一起，不符合语境，排除C项。

因此，选择A选项。

拓展

停滞不前：停止下来，不继续前进。

考点

言语理解与表达

逻辑填空

实词与成语综合考查

来源

2019年0420黑龙江公务员考试《行测》真题（公检法） 第31题

32 、（单选题）纪录片《苏东坡》以苏东坡贬谪黄州四年的生活为横切面，\_\_\_\_\_其一生的心路历程，从文学、艺术、美食、情感等维度进行透视，多角度地\_\_\_\_\_其生命感悟、精神嬗变和艺术升华的过程，以及对中国传统文化产生的深远影响。同时，辅之以当今最新的研究成果，再现了一个最丰富、最接近本真的苏东坡形象。

依次填入划横线部分最恰当的一项是：

A.关照 阐释

B.记载 解说

C.记录 阐述

D.观照 解读

收起解析

展开全部解析

收藏

纠错

正确答案：D，我的选择：尚未作答。回答错误

统计

答题时间：0 秒，全站正确率：35%，易错项：C。

解析

第一步，分析第一空，根据“纪录片《苏东坡》以苏东坡贬谪黄州四年的生活为横切面，\_\_\_\_\_其一生的心路历程，从文学、艺术、美食、情感等维度进行透视”可知，文中要表达的意思是对苏东坡心路历程的全面展现。A项“关照”是关心照顾的意思，并没有体现对其心路历程的展现，不符合文意，排除A项。B项“记载”指把事情记录下来，也指记录事情的文字。而文段是纪录片，是动态的视频画面，并非是文字，排除B项。

第二步，分析第二空。根据“多角度地\_\_\_\_\_其生命感悟、精神嬗变和艺术升华的过程”可知，空格处填入的词语应该是对深层次内涵的剖析。C项“阐述”意为阐明陈述，详细地解释，述说，多是对客观状态的真实展现，并没有体现对内在深层次的剖析，排除C项。D项“解读”是对事物进行理解的过程或者结果。体现出对深层次内涵的剖析，多角度地解读其生命的感悟、精神嬗变和艺术升华的过程，符合文意。

因此，选择D选项。

考点

言语理解与表达

逻辑填空

实词辨析

来源

2019年0420内蒙古公务员考试《行测》真题 第35题、2019年0420天津公务员考试《行测》真题第18题、2019年0420山西公务员考试《行测》真题第25题、2019年0420江西公务员考试《行测》真题（县级以上）第30题、2019年0420湖北公务员考试《行测》真题 第23题、2019年0420湖南公务员考试《行测》真题 第20题、2019年0420重庆公务员考试《行测》真题第29题、2019年0420黑龙江公务员考试《行测》真题（公检法） 第32题、2019年0420黑龙江公务员考试《行测》真题（省直）第31题

33 、（单选题）胰岛素是由胰岛分泌的一种激素，功能是促进细胞\_\_\_\_\_葡萄糖。如果胰岛细胞受到损害，不能分泌足量胰岛素，那么人体血糖含量就会升高。多余的血糖会进入尿中，这就是糖尿病。糖尿病是一种对人体危害很大的慢性病，对于糖尿病患者来说，注射胰岛素显然是最\_\_\_\_\_的疗法。

依次填入画横线部分最恰当的一项是：

- A.合成 直接
- B.消耗 主流
- C.转化 简单
- D.分解 有效

收起解析

展开全部解析

收藏

纠错

正确答案：D，我的选择：尚未作答。回答错误

统计

答题时间：0 秒，全站正确率：89%，易错项：A。

解析

第一步，突破口在第二空。从“糖尿病是一种对人体危害很大的慢性病”可知，既然危害那么大，还是慢性病，所以显然不会一下子就治好了，治疗起来应该比较麻烦，所以“直接”和“简单”不符合语境，排除 A、C 两项。

第二步，分析第一空。根据“如果胰岛细胞受到损害，不能分泌足量胰岛素，那么人体血糖含量就会升高”，可知胰岛素的功能是使葡萄糖减少，故第一空要填入一个能体现减少或使葡萄糖不存在之意的词，B 项“消耗”一般搭配能量、精力、财力等，与“细胞”搭配不恰当，排除 B 项。D 项“分解”更符合生物学和化学层面的概念。

因此，选择 D 选项。

考点

言语理解与表达

逻辑填空

实词辨析

来源

2019 年 0420 四川公务员考试《行测》真题第 24 题、2019 年 0420 黑龙江公务员考试《行测》真题（公检法）第 33 题

34 、（单选题）夏季天气炎热，人很容易犯困、无精打采，这时不妨吃几颗葡萄来帮你提神、消除疲乏之意。因为在葡萄中含有丰富的葡萄糖成分，且很容易被人体吸收利用，从而为大脑供给所需能量，快速恢复大脑活力。同时，葡萄中还含有较多的氨基酸，能对神经产生良好的\_\_\_\_\_，帮助人体\_\_\_\_\_衰弱的神经，这也是提神醒脑的有效途径。

依次填入划横线部分最恰当的一项是：

- A.刺激 调理
- B.应激 调节
- C.激变 调整
- D.激发 调剂

收起解析

展开全部解析

收藏

纠错

正确答案：A，我的选择：尚未作答。回答错误

统计

答题时间：0 秒，全站正确率：56%，易错项：B。

解析

第一步，分析第一空。根据“产生良好的……”和“帮助人体”可知，该空应体现葡萄对神经起积极的作用。A项“刺激”可用于表示推动事物，使起积极的变化，符合语境。B项“应激”指对刺激产生反应；C项“激变”指急剧变化；D项“激发”指激励使奋起，均不符合语境，排除。答案锁定A选项。

第二步，验证第二空。“调理”可指调养、调护，与“神经”搭配得当，符合语境。

因此，选择A选项。

拓展

刺激：①现实的物体和现象作用于感觉器官；声、光、热等引起生物体活动或变化。②推动事物，使起积极的变化。③使人激动；使人精神上受到挫折或打击。激发：①激励使奋起。②使原子、电子等的能量由较低的状态变为能量较高的状态。调理：①调养；调护。②照料；管理。③管教；训练。④戏弄。调节：从数量上或程度上调整，使适合要求。调整：改变原有的情况，使适应客观环境和要求。调剂：①把多和少、忙和闲等加以适当的调整。②根据医生的处方配制药物。

考点

言语理解与表达

逻辑填空

实词辨析

来源

2019年0420内蒙古公务员考试《行测》真题第37题、2019年0420安徽公务员考试《行测》真题第42题、2019年0420江西公务员考试《行测》真题（乡镇）第32题、2019年0420湖北公务员考试《行测》真题第22题、2019年0420重庆公务员考试《行测》真题第31题、2019年0420黑龙江公务员考试《行测》真题（公检法）第34题

35、（单选题）20多年过去，原始创新，集成创新，引进消化吸收再创新，中国迅速缩短了同发达国家在信息领域的差距，成为了拥有国民最多的网络大国，一大批颇具竞争力的网信企业\_\_\_\_\_，一大批市场需求旺盛的新应用\_\_\_\_\_，引领着经济的转型升级，也倒逼着治理体系体制机制的改革创新。

依次填入画横线部分最恰当的一项是：

- A.如鱼得水 屡见不鲜
- B.异军突起 层出不穷
- C.崭露头角 比比皆是
- D.雨后春笋 数不胜数

收起解析

展开全部解析

收藏

纠错

正确答案：B，我的选择：尚未作答。回答错误

统计

答题时间：0秒，全站正确率：63%，易错项：C。

解析

第一步，分析第一空。根据前文“中国迅速缩短了同发达国家在信息领域的差距，成为了拥有国民最多的网络大国”的背景介绍，重点突出大量的网信企业具有相当大的竞争力，因此第一空要突出“新力量”。A项“如鱼得水”比喻得到跟自己十分投合的人或对自己很合适的环境；C项“崭露头角”指初显露优异的才能；D项“雨后春笋”形容新生事物迅速大量涌现出来。三者均不符合语境，排除A项、C项和D项。B项“异军突起”比喻与众不同的

新派别或新力量一下子崛起，体现具有新力量的网信企业的突然出现，符合语境。锁定答案为 B 项。

第二步，验证第二空，“层出不穷”指接连不断出现，没有穷尽，符合语境。

因此，选择 B 选项。

拓展

屡见不鲜：意思是常常见到，并不新奇。比比皆是：到处都是，形容非常常见。数不胜数：意思是数都数不过来。形容数量极多，很难计算。

考点

言语理解与表达

逻辑填空

成语辨析

来源

2019 年 0420 四川公务员考试《行测》真题第 26 题、2019 年 0420 黑龙江公务员考试《行测》真题（公检法）第 35 题

36、（单选题）极光多姿多彩，变化万千，任何彩笔都很难绘出那在严寒的两极空气中嬉戏无常、变幻莫测的炫目之光。在自然界中还没有哪种现象能与之\_\_\_\_\_。极光有时出现时间极短，犹如节日的焰火，在空中闪现一下就消失得无影无踪；有时却可以在苍穹之中\_\_\_\_\_几个小时；有时像一条彩带，有时像一团火焰，有时像一张五光十色的巨大银幕，仿佛上映一场球幕电影，给人视觉上极美的享受。

依次填入划横线部分最恰当的一项是：

A.抗衡 映照

B.媲美 辉映

C.相较 迤迳

D.匹敌 延宕

收起解析

展开全部解析

收藏

纠错

正确答案：B，我的选择：尚未作答。回答错误

统计

答题时间：0 秒，全站正确率：82%，易错题：C。

解析

第一步，分析第一空。根据前文“多姿多彩，变化万千，任何彩笔都很难绘出”可知，横线所填词语表达自然界中没有哪种现象能与极光相比较的意思。A 项“抗衡”指对抗，不相上下，不符文意。B 项“媲美”指美（好）的程度差不多；C 项“相较”指相比较和 D 项“匹敌”指对等、相当。三项均符合文意。

第二步，分析第二空。根据“有时出现时间极短，犹如节日的焰火，在空中闪现一下”可知，横线处填入词语应与“焰火闪现”相呼应，体现极光可以在苍穹中持续几小时的意思。B 项“辉映”指（光亮、彩色）照耀、映射，符合文意。C 项“迤迳”指曲折连绵，或指歌声和鸟鸣声的悠扬圆转，不符合文意，排除 C 项。D 项“延宕”指拖延，不符合文意，排除 D 项。

因此，选择 B 选项。

拓展

映照：显示。

考点

言语理解与表达

逻辑填空

实词辨析

来源

2019年0420内蒙古公务员考试《行测》真题 第40题、2019年0420天津公务员考试《行测》真题第20题、2019年0420山西公务员考试《行测》真题第27题、2019年0420江西公务员考试《行测》真题（乡镇）第31题、2019年0420江西公务员考试《行测》真题（县级以上）第36题、2019年0420湖北公务员考试《行测》真题 第26题、2019年0420重庆公务员考试《行测》真题第33题、2019年0420陕西公务员考试《行测》真题第26题、2019年0420黑龙江公务员考试《行测》真题（公检法） 第36题

37、（单选题）互联网发展初期，传统媒体出于新闻传播和培育新渠道的目的\_\_\_\_\_网络媒体进行转载，“拿来主义”成为各大平台的“潜规则”，但过去一年来，这个定律似乎正在被打破。网络媒体迎来内容创业的风潮，付费社区、音频问答、在线课程等知识付费产品表现抢眼，互联网内容付费\_\_\_\_\_。

依次填入划横线部分最恰当的一项是：

- A.支持 蔚然成风
- B.允许 方兴未艾
- C.默许 悄然兴起
- D.同意 深入人心

收起解析

展开全部解析

收藏

纠错

正确答案：C，我的选择：尚未作答。回答错误

统计

答题时间：0秒，全站正确率：71%，易错题：A。

解析

第一步，分析第一空。分析语境可知，传统媒体对于网络媒体转载行为虽然是不阻止的，但是传统媒体让网络媒体进行转载属于自己版权的内容，对于传统媒体来说并不情愿，而是出于新闻传播和培育新渠道的目的，且后文提出“拿来主义”成为“潜规则”，既然是“潜规则”就说明是隐藏的、不明说的规则。因此，传统媒体并不会明确表态为“支持”“允许”“同意”，而C项“默许”指心许，暗许，更符合语境。答案锁定C选项。

第二步，验证第二空。“悄然兴起”指不知不觉中某样事物开始流行或兴盛起来，表示知识付费行为开始出现，符合语境。

因此，选择C选项。

拓展

蔚然成风：形容一件事情逐渐发展、盛行，形成一种风气（多指好的）。方兴未艾：事物正在发展，尚未达到止境。深入人心：指思想、理论、学说、主张等被大家所深刻理解并拥护。

考点

言语理解与表达

逻辑填空

实词与成语综合考查

来源

2019 年 0420 四川公务员考试《行测》真题第 28 题、2019 年 0420 黑龙江公务员考试《行测》真题（公检法）第 37 题

38 、（单选题）打开书本，一股久违了的墨香扑面而来，摩挲纸张，淡淡的凹凸感非常舒服。味觉、视觉、触觉顿时都活泛起来，连脑细胞也显得格格外活跃。读累了，就闭眼歇一歇，顺便回味刚读过的情节，思考作者的\_\_\_\_\_；看到精彩的描写和精辟的议论，就反复重读、吟咏再三，读到妙处更是\_\_\_\_\_。

依次填入划横线部分最恰当的一项是：

- A.春秋笔法 弹冠相庆
- B.言外之意 低头折节
- C.弦外之音 额手称庆
- D.微言大义 击节赞叹

收起解析

展开全部解析

收藏

纠错

正确答案：D，我的选择：尚未作答。回答错误

统计

答题时间：0 秒，全站正确率：60%，易错项：C。

解析

第一步，突破口在第二空。空前的“更”表递进，递进前说“看到精彩的描写和精辟的议论，就反复重读、吟咏再三”，递进之后需要与上文语义相近、程度加重，强调对“妙处”的认同。A 项“弹冠相庆”比喻一个人做了官，其他人互相庆贺，将有官可做，含贬义；B 项“低头折节”指丧失气节，屈服于他人；C 项“额手称庆”表示庆幸。三者均与语境不符，排除 A 项、B 项和 C 项。而 D 项“击节赞叹”形容对别人作品的赞赏，符合语境。答案锁定 D 选项。

第二步，验证第一空。“微言大义”指含蓄微妙的言语，精深切要的义理，符合语境。

因此，选择 D 选项。

拓展

春秋笔法：相传孔子修《春秋》，一字含褒贬；后来称文章用笔曲折而意含褒贬的写作手法为春秋笔法。言外之意：话里暗含着的没有直接说出的意思。弦外之音：比喻言外之意，即在话里间接透露而没有明说的意思。额手称庆：双手合掌，举到额头，表示庆幸。

考点

言语理解与表达

逻辑填空

成语辨析

来源

2019 年 0420 天津公务员考试《行测》真题第 21 题、2019 年 0420 安徽公务员考试《行测》真题第 39 题、2019 年 0420 山西公务员考试《行测》真题第 35 题、2019 年 0420 江西公务员考试《行测》真题（乡镇）第 36 题、2019 年 0420 江西公务员考试《行测》真题（县级以上）第 38 题、2019 年 0420 湖北公务员考试《行测》真题第 33 题、2019 年 0420 湖南公务员考试《行测》真题第 1 题、2019 年 0420 重庆公务员考试《行测》真题第 36 题、2019 年 0420 陕西公务员考试《行测》真题第 35 题、2019 年 0420 黑龙江公务员考试《行测》真题（公检法）第 38 题、2019 年 0420 黑龙江公务员考试《行测》真题（省直）第 36 题  
39 、（单选题）舞台就是程式化和生活化的结合，过度的程式化表演会让观众觉得虚假，



过度的生活化表演又会让观众觉得\_\_\_\_\_，因此，要把握好程式化和生活化的\_\_\_\_\_，为观众呈现精彩有趣的戏曲艺术。

依次填入划横线部分最恰当的一项是：

- A.庸俗 程度
- B.随便 平衡
- C.琐碎 差异
- D.枯燥 重心

收起解析

展开全部解析

收藏

纠错

正确答案：B，我的选择：尚未作答。回答错误

统计

答题时间：0 秒，全站正确率：61%，易错项：A。

解析

第一步，分析第一空。根据“过度的程式化表演会让观众觉得虚假”可知，要填入的词语要体现“过度生活化”给观众带来的感觉，而“生活化”是贴近人类生存的各项活动，是我们日常生活中的油盐酱醋。A项“庸俗”指平庸粗俗，含有贬义，感情色彩过于消极，排除。B项“随便”和C项“琐碎”均体现了生活的特点，符合文意。D项“枯燥”指单调，无趣味，表述过于绝对，生活并不是没有趣味的，排除。

第二步，分析第二空。根据文意，根据前文“过度的程式化……”“过度的生活化……”给观众呈现的效果都是不佳的，所以就要把握“程式化”和“生活化”两者的关系，不能过于生活化也不能过于程式化。B项“平衡”指保持平衡，同等，符合文意。C项“差异”指区别，不同，不符合语境，排除C项。

因此，选择B选项。

拓展

程度：①指一切知识道德、能力、技巧、事物等高下的层次；②事物发展变化达到的状况。

重心：指事情的核心或主要部分。

考点

言语理解与表达

逻辑填空

实词辨析

来源

2019年0420黑龙江公务员考试《行测》真题（公检法）第39题

40、（单选题）资源稀缺会产生相应的认知机制，改变人们观察事物和做出决策的方式，长期的资源稀缺会形成稀缺心态，导致与稀缺资源有关的问题自动\_\_\_\_\_更多注意力，形成注意力“聚焦”。

填入划横线处最恰当的一项是：

- A.分散
- B.吸引
- C.集中
- D.分配

收起解析

展开全部解析

收藏

纠错

正确答案：B，我的选择：尚未作答。回答错误

统计

答题时间：0秒，全站正确率：70%，易错项：C。

解析

第一步，分析语境。根据“注意力‘聚焦’”可知，该空应体现“引起关注”这一含义。

第二步，辨析选项。A项“分散”指分在各处；不集中；D项“分配”指按比例分发。二者均没有体现“关注”的意思，排除A项和D项。C项“集中”侧重指“把分散的人、事物、力量等聚集起来；把意见、经验等归纳起来”，不符合语境，排除C项。B项“吸引”侧重指“把事物或别人的注意力引到自己方面来”，符合语境。

因此，选择B选项。

考点

言语理解与表达

逻辑填空

实词辨析

来源

2019年0420四川公务员考试《行测》真题第16题、2019年0420黑龙江公务员考试《行测》真题（公检法）第40题

41、（单选题）在原始社会，人们唱歌、跳舞，但是不写诗，因为那时候没有文字。同理，史前时代的人也演剧，而且有文字之后多数中国戏剧演员并不识字，戏剧演出主要是以口传心授的方式传承与传播的。然而长时间以来，人们陷入了文字与文献崇拜的陷阱不能自拔，乃至文献考据一直成为文学史、戏剧史研究中最受推崇、最有效接近历史真实的研究方法。如果戏剧史研究领域有“新材料”的话，那一定不仅仅是文献。

这段文字主要强调了：

- A.戏剧史研究要更新理念并创新研究方法
- B.戏剧史研究要对接传统研究并突破局限
- C.戏剧史研究既要重文献又要重考证考据
- D.戏剧史研究应扩大研究领域和研究方法

收起解析

展开全部解析

收藏

纠错

正确答案：A，我的选择：尚未作答。回答错误

统计

答题时间：0秒，全站正确率：29%，易错项：D。

解析

第一步，分析文段。文段前两句指出，由于没有文字，在原始社会人们唱歌、跳舞，但是不写诗，有了文字之后由于中国戏剧演员不识字，戏剧演剧主要是以口传心授的方式传承与传播，也就是人们并不靠文字进行传承。紧接着通过转折关联词“然而”指出问题，人们戏剧史的研究方法错误，过于依赖文字和文献。尾句通过假设给出文段的主旨句，“如果戏剧史研究领域有‘新材料’的话，那一定不仅仅是文献”，也就是戏剧史研究要有除了文献之外的新研究方法，跳出原来注重文字和文献的研究理念。

第二步，对比选项。A项符合文段主旨。

因此，选择 A 选项。

拓展

B 项：“对接传统研究”表述错误，文段明确指出“传统研究方法不正确”。C 项：“既要重文献又要重考证考据”与文意相悖。D 项：“扩大研究领域”错误，文段强调的是研究方法，研究领域一直是戏剧史。

考点

言语理解与表达

片段阅读

主旨概括

来源

2019 年 0420 天津公务员考试《行测》真题第 30 题、2019 年 0420 山西公务员考试《行测》真题第 48 题、2019 年 0420 江西公务员考试《行测》真题（县级以上）第 50 题、2019 年 0420 湖北公务员考试《行测》真题 第 45 题、2019 年 0420 湖南公务员考试《行测》真题 第 34 题、2019 年 0420 重庆公务员考试《行测》真题第 45 题、2019 年 0420 陕西公务员考试《行测》真题第 40 题、2019 年 0420 黑龙江公务员考试《行测》真题（公检法）第 41 题、2019 年 0420 黑龙江公务员考试《行测》真题（省直）第 43 题

42 、（单选题）中国当今的伦理学研究，至少有两种基本取向。一是接受西方的某些基本价值，按照西方的现代价值来探讨当代中国应该如何建构新的伦理与道德；另一种取向则是试图回归中国的传统价值，从儒家等传统思想中获得理论资源来重塑中国的伦理与道德。然而，目前的研究大都面临一个尴尬境地：理论与实践脱节。这些理论脱离实际太远，无法落地生根，对普通百姓的影响微乎其微。这其中的一个重要原因在于日常道德思维有其独有特点，如果忽略甚至违背这一特点，伦理学理论就很难为普通百姓理解和接受，形成日常的道德共识。

这段文字意在说明：

- A.日常道德思维的独有特点
- B.当今中国伦理学研究的瓶颈
- C.中国伦理学研究的基本取向
- D.伦理学研究应遵循的基本原则

收起解析

展开全部解析

收藏

纠错

正确答案：D，我的选择：尚未作答。回答错误

统计

答题时间：0 秒，全站正确率：33%，易错项：B。

解析

第一步，分析文段。文段先论述中国当今的伦理学研究有两种基本取向。接着转折提出目前伦理学研究存在的问题，即理论和实践脱节。然后分析其原因在于日常道德思维有其独有特点，最后通过反证提出对策，即不能忽略、违背“这一点”。“这一点”指的是日常道德思维有其独有特点。文段通过反面论证提出对策，即伦理学研究必须遵循一定的原则。

第二步，对比选项。D 项符合文段意图。

因此，选择 D 选项。

拓展

A 项：仅围绕原因论述，非重点。B 项：“瓶颈”无中生有。C 项：围绕转折前论述，非重

点。

考点

言语理解与表达

片段阅读

意图判断

来源

2019年0420黑龙江公务员考试《行测》真题（公检法）第42题

43、（单选题）新闻舆论的传播力就是把一个新闻内容在规定时间内有效地传播到应该接收的对象手上。传播力跟不上，新闻就失去了价值，就会成为旧闻。纸媒时代，传播手段依靠印刷来表达，依靠印刷品的物理移动形成传播，所以新闻的生产和配送是集中方式。互联网特别是移动互联网的兴起和飞速发展，新闻的生产正在从集中向分散转变，新闻配送速度则以比特的方式按光速传播。这种由技术变迁引发的“传播手段”的变化，要求科技传媒人必须不断研发新的新闻生产和新闻配送技术，方能满足传播力的需要。

这段文字意在说明：

- A.互联网时代的科技传媒人要满足传播力的新要求
- B.如今大众对新闻舆论传播力的要求越来越高
- C.互联网时代要求有更高的传播力与其相匹配
- D.新闻传播速度在互联网时代实现了升级

收起解析

展开全部解析

收藏

纠错

正确答案：A，我的选择：尚未作答。回答错误

统计

答题时间：0秒，全站正确率：60%，易错题：C。

解析

第一步，分析文段。文段首先介绍了什么是新闻舆论的传播力，接着提出传播力跟不上新闻就会失去价值。第三句介绍了纸媒时代的情况。接着引出互联网时代新闻的生产和配送速度都发生了变化。最后一句总结前文，提出媒体人必须不断研发新的新闻生产和新闻配送技术才能满足传播力的需要。文段主旨句为最后一句。

第二步，对比选项。主旨句同义替换对应A项。

因此，选择A选项。

拓展

B项：文段并没有提到“大众的要求”且缺少核心话题“科技传媒人”。C项：文段说的是科技传媒人必须不断研发新的新闻生产和新闻配送技术才能满足传播力的需要，并非要求更高的传播力，偷换话题。D项：“新闻传播速度”为前文铺垫内容的一部分，片面且非重点。

考点

言语理解与表达

片段阅读

意图判断

来源

2019年0420黑龙江公务员考试《行测》真题（公检法）第43题

44、（单选题）在智能化无人超市，客人从进门到出门，一举一动都会被数字化，并且被捕捉记录。这些信息回流到云端后，通过算法模型，可以得到许多非常有价值的信息：比如

男性顾客和女性顾客各自进店最集中的时间段是什么,哪些商品被拿起又放回去的频次最高等。甚至还能做出预测,比如,传感器感应到进店的女客人很多是穿高跟鞋的,敏锐的老板便会在女鞋区多放些半跟鞋垫和脚踝磨损修复霜。可见,数字化最终目的是实现商品供应链的优化以及店内货架与商品摆放的人性化。

这段文字主要介绍:

- A.智能无人零售让超市变得更加聪明、更加善解人意
- B.智能无人零售给线下实体商店的发展前景增添亮色
- C.智能无人零售能够对用户购买行为进行记录与描画
- D.智能无人零售给消费者所带来的更良好的购物体验

收起解析

展开全部解析

收藏

纠错

正确答案: A, 我的选择: 尚未作答。回答错误

统计

答题时间: 0 秒, 全站正确率: 56%, 易错题: D。

解析

第一步,分析文段。文段先介绍智能化无人超市的特点是客人从进门到出门,一举一动都会被数字化,并且被捕捉记录,接着指出信息回流到云端可以得到有价值的信息,并进行举例论证,尾句对前文进行总结,指出数字化最终目的是实现商品供应链的优化以及店内货架与商品摆放的人性化。文段为“分—总”结构,尾句是文段的主旨句,强调智能化无人超市的数字化对超市的积极作用。

第二步,对比选项。A项是对文段主旨句的同义替换。

因此,选择A选项。

拓展

B项:“发展前景”属于无中生有。C项:“进行记录与描画”是智能无人超市的特点,非重点。D项:“消费者”话题错误,文段尾句强调的是给“超市”所带来的好处,而非“消费者”。

考点

言语理解与表达

片段阅读

主旨概括

来源

2019年0420内蒙古公务员考试《行测》真题第49题、2019年0420天津公务员考试《行测》真题第32题、2019年0420安徽公务员考试《行测》真题第52题、2019年0420山西公务员考试《行测》真题第42题、2019年0420新疆公务员考试《行测》真题第42题、2019年0420江西公务员考试《行测》真题(乡镇)第53题、2019年0420江西公务员考试《行测》真题(县级以上)第49题、2019年0420湖北公务员考试《行测》真题第50题、2019年0420湖南公务员考试《行测》真题第27题、2019年0420重庆公务员考试《行测》真题第47题、2019年0420黑龙江公务员考试《行测》真题(公检法)第44题、2019年0420黑龙江公务员考试《行测》真题(省直)第45题

45、(单选题)“丝绸之路”是德国地理学家李希霍芬赋予汉代中国和中亚南部、西部以及印度之间以丝绸贸易为主的交通路线的名字。但随着学术研究的深入、考古发掘的进步,丝绸之路的含义越来越广,范围也越来越大。的确,丝绸之路早在汉代以前就存在于中西之

间，也不仅仅局限于中国与中亚、南亚的交往，还包括西亚、地中海地区以及海上丝路所连接的朝鲜半岛、日本、东南亚等地；贸易物品也不仅仅有丝绸，还有各种手工制品、植物、动物、艺术品等。“丝绸之路”正如同延伸开来的丝绸一样，有的线路清晰，有的断断续续；有时又像一张大网，时时出现绚烂的织锦。

这段文字意在说明：

- A. “丝绸之路”是东西方文明的交汇之路
- B. 考古新发现拓宽了“丝绸之路”的范围
- C. “丝绸之路”密切了沿线国家的贸易往来
- D. “丝绸之路”的含义和范围是不断变化的

收起解析

展开全部解析

收藏

纠错

正确答案：D，我的选择：尚未作答。回答错误

统计

答题时间：0 秒，全站正确率：60%，易错项：B。

解析

第一步，分析文段。文段首先指出“丝绸之路”的含义，然后通过转折关联词“但”引出文段的重点，即丝绸之路的含义越来越广，范围也越来越大。后文进一步论证丝绸之路的含义延伸到了西亚、地中海地区以及海上丝路所连接的朝鲜半岛、日本、东南亚等地，范围扩大到了各种手工制品、植物、动物、艺术品。

第二步，对比选项。D项是对主旨的同义替换，符合文意。A项是转折前的内容；B项只提到了范围扩大，少了含义变广；C项是解释论证的内容，非文段的重点。三者均不符合文意，排除。

因此，选择D选项。

考点

言语理解与表达

片段阅读

意图判断

来源

2019年0420四川公务员考试《行测》真题第33题、2019年0420黑龙江公务员考试《行测》真题（公检法）第45题

46、（单选题）传统家训家规是我国古代以家庭为范围的道德教育形式，也是中华道德文化传承的一种方式。我国历史上流传下来的家训家规，始作者多是文化名人或著名宦官，社会影响较为广泛。这些家训家规的功能远远超出对本家族的教育作用，而成为社会教育的一种独特形式，为社会提供了家庭教育范本和楷模。尤其是这些家训家规对其家族的繁衍发展起到了重要保障作用，容易引起后世更多人的关注和效法，从而使得这些家族内的训规成为道德教育的普遍教材。

这段文字意在说明：

- A. 传统家训家规的社会功能
- B. 传统家训家规的历史渊源
- C. 传统家训家规的历史影响
- D. 传统家训家规的教育作用

收起解析

展开全部解析

收藏

纠错

正确答案：A，我的选择：尚未作答。回答错误

统计

答题时间：0 秒，全站正确率：50%，易错项：D。

解析

第一步，分析文段。文段首句引出传统家训家规的话题。第二句提到家训家规的来源和社会影响。第三句用“而”重点强调家训家规对整个社会产生重要影响。第四句以家规家训成为道德教育的普遍教材，进一步补充说明家规家训的社会功能。文段重点是在说明传统家规家训的社会功能。

第二步，对比选项。A 项符合文段重点。

因此，选择 A 选项。

拓展

B 项：“历史渊源”对应第二句话，非文段重点。C 项：“历史影响”偏离重点。D 项：“教育作用”属于“社会功能”，范围缩小。

考点

言语理解与表达

片段阅读

意图判断

来源

2019 年 0420 天津公务员考试《行测》真题第 35 题、2019 年 0420 安徽公务员考试《行测》真题第 54 题、2019 年 0420 山西公务员考试《行测》真题第 51 题、2019 年 0420 新疆公务员考试《行测》真题第 41 题、2019 年 0420 江西公务员考试《行测》真题（乡镇）第 54 题、2019 年 0420 江西公务员考试《行测》真题（县级以上）第 62 题、2019 年 0420 重庆公务员考试《行测》真题第 52 题、2019 年 0420 陕西公务员考试《行测》真题第 41 题、2019 年 0420 黑龙江公务员考试《行测》真题（公检法）第 46 题、2019 年 0420 黑龙江公务员考试《行测》真题（省直）第 50 题

47、（单选题）“上海精神”将“互信”排在首位，充分体现了“和合”精神，这是因为不管是一个国家内部还是国与国之间，都是信任为先。《论语》中，子贡向孔子问政，在“足食”“足兵”“民信”三者之间，如何做选择？孔子认为“信”是优先的价值选择，因为“民无信不立”。“互信”的观念，超越了国际上流行的一般国际关系理念，让“做好邻居”深入人心。上合组织多年来的发展也充分证明了这一点。从最开始对于边界问题的成功解决，到应对恐怖主义、分裂主义和极端主义威胁，再到当前强调求同存异、合作共赢，“互信”是基础。

这段文字介绍了：

- A. “互信”对现今国际关系理念的超越
- B. 儒家思想对解决当前国际问题的启示
- C. 上合组织在国际舞台上发挥作用的基础
- D. “上海精神”强调“互信”的背景和意义

收起解析

展开全部解析

收藏

纠错

正确答案：D，我的选择：尚未作答。回答错误

统计

答题时间：0秒，全站正确率：66%，易错项：A。

解析

第一步，分析文段。第一步，分析文段。文段第一句先引出“上海精神”将“互信”排在首位，之后对其原因进行解释，并列举《论语》的例子进行补充，后三句强调“互信”是上合组织取得一系列成就的基础，因此整个文段的重点是在强调“上海精神”对于“互信”的重视。

第二步，对比选项。D项是对文整个文段的全面概括。

因此，选择D选项。

拓展

A项：为文段部分内容。B项和C项：主体不对，应该是“互信”。

考点

言语理解与表达

片段阅读

主旨概括

来源

2019年0420四川公务员考试《行测》真题第35题、2019年0420黑龙江公务员考试《行测》真题（公检法）第47题

48、（单选题）将不能量化的诗歌（以及纯文学）评价标准和人工智能的算法标准拼接在一起，本来就是一件不伦不类的事。人工智能在科学研究、生产劳动等方面的贡献，足以证明其本领之强，\_\_\_\_\_。人类也完全没必要拿自己的优势去跟人工智能的缺点比较，即使科技再发达，想必在未来很长的一段时间内，诗歌与文学的世界依然是人类情感和灵魂最佳的栖息地，守卫好我们的心灵家园，依然要靠人类自身的智慧与创造力。

填入划横线部分最恰当的一项是：

- A.毫无疑问将能够实现诗歌评价标准的量化
- B.完全可以取代人类智慧自主开展诗歌创作
- C.没必要和人类智慧在诗歌创作上一决高下
- D.却不能弥补人类智慧在诗歌创作上的缺陷

收起解析

展开全部解析

收藏

纠错

正确答案：C，我的选择：尚未作答。回答错误

统计

答题时间：0秒，全站正确率：57%，易错项：D。

解析

第一步，分析横线处的上下文语境。由横线前“人工智能……足以证明其本领之强”可知，横线前讲人工智能的好处；由横线后“人类也完全没必要拿自己的优势去跟人工智能的缺点相比较”中“也”可知，横线处要体现“比较”之意。

第二步，对比选项。C项有“比较”之意，符合语境。

因此，选择C选项。

拓展

A项、B项和D项：均无“比较”之意。



考点

言语理解与表达

语句表达

语句填空

来源

2019 年 0420 天津公务员考试《行测》真题第 38 题、2019 年 0420 新疆公务员考试《行测》真题第 44 题、2019 年 0420 江西公务员考试《行测》真题（县级以上）第 59 题、2019 年 0420 湖北公务员考试《行测》真题 第 41 题、2019 年 0420 湖南公务员考试《行测》真题 第 33 题、2019 年 0420 黑龙江公务员考试《行测》真题（公检法） 第 48 题、2019 年 0420 黑龙江公务员考试《行测》真题（省直）第 53 题

49 、（单选题）迄今为止，还没有任何一个通用智能系统能接近人类水平。“现有人工智能系统的通用性较差，这与其计算理论基础和系统设计原理有密不可分的关系。”图灵机模型取决于人对物理世界的认知程度，因此人限定了机器描述问题、解决问题的水平。冯·诺伊曼体系结构是存储程序式计算，程序也是预先设定好的，无法根据外界的变化和需求的变化进行自我演化。而我们的大脑却是一个出色的、能够长时间稳定工作的通用智能系统，不仅能举一反三，处理视觉、听觉、语言、学习、决策、推理、规划等各类问题，\_\_\_\_\_。

填入划横线部分最恰当的一项是：

- A.还具有区别于其他高级物种的丰富情感
- B.还能够主动调整与外界进行交流的方式
- C.还可以在与自然的交互中不断提高认知的程度
- D.还可以在学习和发育过程中不断自适应和进化

收起解析

展开全部解析

收藏

纠错

正确答案：D，我的选择：尚未作答。回答错误

统计

答题时间：0 秒，全站正确率：62%，易错项：C。

解析

第一步，分析横线处的语境。横线在文段的结尾，文段开始说迄今为止，还没有任何一个通用智能系统能接近人类水平，然后援引观点和举例说明智能系统无法进行自我演化。接着用“而”指出我们的大脑具有各种智能系统不具有的能力，横线处所填的内容应该总结全文，说明大脑具有自我演化能力。

第二步，对比选项。D 项符合语境话题。

因此，选择 D 选项。

拓展

A 项：文段没有比较人类与其他高级物种。B 项和 C 项：不能体现人类自我演化的能力。

考点

言语理解与表达

语句表达

语句填空

来源

2019 年 0420 四川公务员考试《行测》真题第 44 题、2019 年 0420 黑龙江公务员考试《行

测》真题（公检法）第 49 题

50 、（单选题）中国古代书画的许多旷世杰作都是一些尺幅很小的作品，但这并不妨碍后代书画家欣赏和膜拜。书画市场的火热吸引了大批对艺术品经验缺欠的新投资者加入。由于他们对书画的价值判断缺乏认知，误以为书画越大价值越高，便不加选择地购藏了一些毫无价值的“大作”，最终叫苦不迭，而一些书画家为了迎合这种市场喜好，就不再一心专注于作品的内在质量而求大，于是大而空、缺乏笔墨也使自己离真正的艺术创作距离越来越远。下列选项中说法正确的是：

- A.投资者大多对书画作品的价值缺乏认知
- B.古代书画作品的尺幅越小越具收藏价值
- C.部分艺术家的创作心态与市场价值密切相关
- D.现代书画作品的内在质量易受到市场的影响

收起解析

展开全部解析

收藏

纠错

正确答案：C，我的选择：尚未作答。回答错误

统计

答题时间：0 秒，全站正确率：51%，易错题：D。

解析

第一步，分析文段，将选项与文段一一对应。

第二步，辨析选项。A 项对应“书画市场的火热吸引了大批对艺术品经验欠缺的新投资者加入，由于他们对书画的价值判断缺乏认知”，属于偷换概念，排除。B 项对应“中国古代书画中的许多旷世杰作都是一些尺幅很小的作品”，并非越小越具有收藏价值，属于无中生有，排除。C 项对应“而一些书画家为了迎合这种市场喜好，亦不再一心专注于作品的内在质量，而是热衷于投其所好，盲目求大”，说明一些艺术家的创作心态受到市场价值影响，符合原文。D 项对应“而一些书画家为了迎合这种市场喜好，亦不再一心专注于作品的内在质量”，并非所有的书画家都受到影响，排除。

因此，选择 C 选项。

考点

言语理解与表达

片段阅读

细节理解

来源

2019 年 0420 黑龙江公务员考试《行测》真题（公检法）第 50 题

51 、（单选题）火箭是人类进入太空的最主要方式。为了探索和利用更深远的宇宙，世界航天强国纷纷启动重型运载火箭研制计划。中国航天人也加紧研制自己的重型运载火箭。重型火箭的运载能力将在现有的长征五号大型运载火箭基础上大幅提升，主要瞄准深空探测，月球转移轨道运载能力可达 50 吨，这样就可以满足未来建立月球基地，载人登月等方面的需求，并为我国火星探测和其他深空探测提供强大的运载平台。

这段文字主要介绍的是：

- A.火箭运输系统将迎来技术革新
- B.国际航天技术研究进入新阶段
- C.我国重型运载火箭的研制将为深空探测提供支撑
- D.各国大力研制重型运载火箭旨在搭建深空探测平台

收起解析

展开全部解析

收藏

纠错

正确答案：C，我的选择：尚未作答。回答错误

统计

答题时间：0秒，全站正确率：83%，易错项：D。

解析

第一步，分析文段。文段开篇引出话题“重型运载火箭”，然后引出文段主旨“中国也加紧研制重型运载火箭”，最后具体解释说明中国重型运载火箭如何推进深空探测。

第二步，对比选项。C项是对主旨的同义替换。

因此，选择C选项。

拓展

A项、B项和D项：均没有谈论“我国”的相关情况。

考点

言语理解与表达

片段阅读

主旨概括

来源

2019年0420四川公务员考试《行测》真题第40题、2019年0420黑龙江公务员考试《行测》真题（公检法）第51题

52、（单选题）中国接入国际互联网以来，互联网信息技术得到迅猛发展。在网络技术、移动芯片、智能终端、云计算、大数据、卫星导航等多个领域实现了重大突破，取得了一些显著的成就。网络技术自主创新能力显著增强，智能终端制造业加快赶超，不断培育新技术新应用形成新业态。但应该看到，与世界先进水平相比，我们还存在一定差距，目前世界局势波诡云谲，中国必须掌握核心技术，在新时代才能避免受制于人，掌握我国互联网发展的主动权。

这段文字意在说明：

- A.核心技术突破才是一个国家科技实力的彰显
- B.我们与世界先进水平之间依然存在一定差距
- C.互联网发展的主动权应掌握在我们自己手里
- D.新时代更需突破互联网核心技术这个“命门”

收起解析

展开全部解析

收藏

纠错

正确答案：D，我的选择：尚未作答。回答错误

统计

答题时间：0秒，全站正确率：53%，易错项：C。

解析

第一步，分析文段。文段首句指出我国互联网信息技术得到迅猛发展，第二、三句进一步解释我国互联网技术取得的成就和新发展，然后通过“但”进行转折，指出我国存在的问题，即与世界先进水平相比，我国还存在差距，最后提出对策，强调“中国必须掌握核心技术，

我国的互联网发展才不会受制于人”。文段是“分—总”结构，重点在尾句的对策上。

第二步，对比选项。D项是对文段主旨句的同义替换，符合文段意图。

因此，选择D选项。

拓展

A项：虽然谈到了“核心技术”，但文段重点是在谈对策应该掌握核心技术，而不是强调它的重要性，偏离文段重点。B项：只是提出问题部分，文段重点在对策上而非问题。C项：根据文段的对策“掌握核心技术”是掌握互联网主动权的关键，而C项“主动权应掌握在我们自己手里”与对策不符，且“应如何掌握主动权”表述不明确。

考点

言语理解与表达

片段阅读

意图判断

来源

2019年0420四川公务员考试《行测》真题第42题、2019年0420黑龙江公务员考试《行测》真题（公检法）第52题

53、（单选题）研究者认为，巨量的基性溢流玄武岩喷发至地表、火山喷发造成的温室气体浓度急剧升高、全球性的酸雨气候等为全球性陆地风化作用增强提供了必要的条件。大陆风化作用将地表巨量的离子和营养盐输送至海洋，引发海水的富营养化和海洋酸化，进而导致海水缺氧、透光带降低等危及当时海洋中生命生存的环境系统，这一效应积累到海洋生命所能承受的阈值后，最终引发海洋生态系统的崩溃并造成二叠纪末生命在短时间内大量灭绝。

根据这段文字，以下说法正确的是：

- A.火山爆发是二叠纪末生命灭绝的重要原因
- B.海洋酸化的直接原因是温室气体浓度急剧升高
- C.陆地风化作用的增强使得二叠纪末火山大规模爆发
- D.海水富营养化带来的海洋缺氧直接导致海洋生物的灭绝

收起解析

展开全部解析

收藏

纠错

正确答案：A，我的选择：尚未作答。回答错误

统计

答题时间：0秒，全站正确率：48%，易错项：D。

解析

第一步，分析文段，将选项与文段一一对应。

第二步，辨析选项。A项对应“火山喷发……为全球性陆地风化作用增强提供了必要的条件……并造成二叠纪末生命在短时间内大量灭绝”，符合文意。B项对应“大陆风化作用……引发海水的富营养化和海洋酸化”，偷换概念，错误。C项对应“大陆风化作用……这一效应积累……造成二叠纪末生命在短时间内大量灭绝”，其中“增强”属于无中生有，错误。D项对应“海洋生态系统的崩溃”，“海洋生物的灭绝”属于无中生有，错误。

因此，选择A选项。

考点

言语理解与表达

片段阅读

细节理解

来源

2019 年 0420 四川公务员考试《行测》真题第 37 题、2019 年 0420 黑龙江公务员考试《行测》真题（公检法）第 53 题

54 、（单选题）①就是在智育方面的学习，也往往是揣摩科场文体和应试技巧

②在科举制下讲求功利的应考之风，使科举制的选拔功能逐渐下降，走到了穷途末路

③科举是一个影响重大且利弊都十分显著的考试制度

④许多考生读书的唯一目的就是应试，学校多是片面追求中举及第率

⑤科举制度在使人们重视读书应举的同时，也造成了过分重视考试结果的功利主义价值观

⑥科举考试不仅成为教育的手段，也成了教育的目的

将以上 6 个句子重新排列，语序正确的是：

A.⑤②⑥③④①

B.⑥①⑤③②④

C.④①③②⑥⑤

D.③⑤⑥④①②

收起解析

展开全部解析

收藏

纠错

正确答案：D，我的选择：尚未作答。回答错误

统计

答题时间：0 秒，全站正确率：80%，易错题：A。

解析

第一步，观察选项特征，确定首句。首句分别是③句、④句、⑤句和⑥句。③句通过“科举是……”引出话题，同时指出“利弊都十分显著”。④句提到“片面追求中举及第率”，⑤句提到“造成了过分重视考试结果的功利主义价值观”，⑥句“科举考试不仅成为教育的手段，也成了教育的目的”，④句、⑤句和⑥句都在具体论述科举的弊端，不适合做首句，排除 A 项、B 项和 C 项，答案锁定 D 选项。

第二步，验证 D 项，③句先引出“科举”的话题，并指出科举有利有弊，紧接着通过⑤句、⑥句、④句和①句具体论述科举的弊端，最后通过前文，总结科举制度的结局“走到了穷途末路”，语句连贯，行文逻辑清晰。

因此，选择 D 选项。

考点

言语理解与表达

语句表达

语句排序

来源

2019 年 0420 黑龙江公务员考试《行测》真题（公检法）第 54 题

55 、（单选题）①凡是具有人文精神的作品，便是很好的教科书

②能培育人的认知能力和审美能力，提高人的精神素养，净化人的灵魂，给人以力量、智慧和愉悦

③早在先秦时代就有《诗经》的四言体和《楚辞》的骚体，尔后不断发展出各种体裁，到五四时期出现自由诗

④我国有“诗国”的美称，诗歌起源之早，数量之多，内容之丰富，艺术之精湛，对社会生

活影响之大，在世界文化史上都是罕见的

⑤无论是山水诗、田园诗、边塞诗，还是言志诗、爱情诗、哲理诗

⑥诗歌是我国文化艺术的瑰宝

将以上 6 个句子重新排列，语序正确的是：

A.⑥①⑤②④③

B.④③⑥⑤①②

C.④③⑤②⑥①

D.⑥③④①⑤②

收起解析

展开全部解析

收藏

纠错

正确答案：B，我的选择：尚未作答。回答错误

统计

答题时间：0 秒，全站正确率：56%，易错项：D。

解析

第一步，观察选项，④指出我国有“诗国”之称，并说明我国诗歌在多个方面有着重要的影响，⑥指出诗歌在我国文化艺术中的重要地位，难以确定首句。观察原文信息，⑤中有周遍条件关联词“无论”，表示不管在什么情况下都会产生同样的结果，与①中的“……便是”逻辑关系一致，⑤①适合捆绑。答案锁定 B 选项。

第二步，验证 B 项。④③⑥对我国诗歌的影响和历史渊源进行说明；⑤①指出不管是什么类型的诗歌，只要具有人文精神，都是好的教科书；②补充说明作为“很好的教科书”，诗歌带来的积极作用。全文语义通顺连贯。

因此，选择 B 选项。

考点

言语理解与表达

语句表达

语句排序

来源

2019 年 0420 山西公务员考试《行测》真题第 60 题、2019 年 0420 江西公务员考试《行测》真题（乡镇）第 60 题、2019 年 0420 湖南公务员考试《行测》真题 第 40 题、2019 年 0420 陕西公务员考试《行测》真题第 49 题、2019 年 0420 黑龙江公务员考试《行测》真题（公检法）第 55 题

56 、（单选题）林先生要将从故乡带回的一包泥土分成小包装送给占其朋友总数 30% 的老年朋友。在分包装过程中发现，如果每包 200 克，则缺少 500 克，如果每包 150 克，则多余 250 克。那么，林先生的朋友共有多少人？

A.15

B.30

C.50

D.100

收起解析

展开全部解析

收藏

纠错

正确答案：C，我的选择：尚未作答。回答错误

统计

答题时间：0 秒，全站正确率：60%，易错项：A。

解析

第一步，本题考查基础应用题，用方程法解题。

第二步，假设林先生的老年朋友为  $x$  人，根据泥土总量不变，可列方程， $200x-500=150x+250$ ，解得  $x=15$ （人）。

第三步，又根据题目给出的林先生老年朋友数为林先生朋友的 30%，即可知林先生朋友的人数为  $15 \div 30\% = 50$ （人）。

因此，选择 C 选项。

考点

数量关系

数学运算

基础应用题

来源

2019 年 0420 内蒙古公务员考试《行测》真题 第 61 题、2019 年 0420 天津公务员考试《行测》真题第 1 题、2019 年 0420 安徽公务员考试《行测》真题第 21 题、2019 年 0420 新疆公务员考试《行测》真题第 57 题、2019 年 0420 江西公务员考试《行测》真题（县级以上）第 69 题、2019 年 0420 湖北公务员考试《行测》真题 第 59 题、2019 年 0420 湖南公务员考试《行测》真题 第 42 题、2019 年 0420 重庆公务员考试《行测》真题第 61 题、2019 年 0420 黑龙江公务员考试《行测》真题（公检法） 第 56 题

57、（单选题）小林在距家 1.5 公里的工厂上班。一天，小林出发 10 分钟后，小林的父亲老林发现小林的手机没带，立即追出去，并在距离工厂 500 米的地方追上了他。如果老林追赶的速度比小林快 6 公里/小时，那么，下列关于小林速度  $x$ ，求值所列方程正确的是：

A.  $\frac{1}{x} - \frac{1}{x+6} = \frac{1}{6}$

B.  $\frac{1}{x} - \frac{1}{x+6} = 10$

C.  $\frac{1}{x+6} - \frac{1}{x} = \frac{1}{6}$

D.  $\frac{1}{x+6} - \frac{1}{x} = 10$

收起解析

展开全部解析

收藏

纠错

正确答案：A，我的选择：尚未作答。回答错误

统计

答题时间：0 秒，全站正确率：34%，易错项：B。

解析

第一步，本题考查基础行程问题，用公式法解题。

第二步，小林的速度为  $x$  公里/小时，则老林的速度为  $(x+6)$  公里/小时，10 分钟 =  $\frac{1}{6}$  小时，老林追上小林时距离工厂 500 米，可知两人都走了  $1.5 - 0.5 = 1$ （公里），但小林比老林多

$\frac{1}{6}$  小时，根据行程问题基础公式： $t = \frac{s}{v}$ ，可列方程： $\frac{1}{x} - \frac{1}{x+6} = \frac{1}{6}$ 。  
因此，选择 A 选项。

拓展

时间单位存在陷阱，应将 10 分钟转化成  $\frac{1}{6}$  小时，否则易错选成 B 选项。

考点

数量关系

数学运算

行程问题 基本行程类

来源

2019 年 0420 内蒙古公务员考试《行测》真题 第 69 题、2019 年 0420 安徽公务员考试《行测》真题第 26 题、2019 年 0420 山西公务员考试《行测》真题第 61 题、2019 年 0420 新疆公务员考试《行测》真题第 60 题、2019 年 0420 江西公务员考试《行测》真题（乡镇）第 64 题、2019 年 0420 江西公务员考试《行测》真题（县级以上）第 77 题、2019 年 0420 湖北公务员考试《行测》真题 第 70 题、2019 年 0420 黑龙江公务员考试《行测》真题（公检法） 第 57 题

58 、（单选题）商店购入一百多件 A 款服装，其单件进价为整数元，总进价为 1 万元，已知单件 B 款服装的定价为其进价的 1.6 倍，其进价为 A 款服装的 75%，销售每件 B 款服装的利润为 A 款服装的一半，某日商店以定价销售 A 款服装的总销售额超过 2500 元，问当天至少销售了多少件 A 款服装？

A.13

B.15

C.17

D.19

收起解析

展开全部解析

收藏

纠错

正确答案：C，我的选择：尚未作答。回答错误

统计

答题时间：0 秒，全站正确率：36%，易错项：B。

解析

第一步，本题考查经济利润问题。

第二步，推出 A 款服装有 125 件，进价为 80 元，B 款服装进价为  $80 \times 0.75 = 60$ （元），B 款服装定价为  $60 \times 1.6 = 96$ （元），利润为  $96 - 60 = 36$ （元），A 款服装利润为  $36 \times 2 = 72$ （元），所以 A 款服装售价为  $80 + 72 = 152$ （元）。

第三步，销售数量至少为  $2500 \div 152 = 16.4$ ，取整为 17 件。

因此，选择 C 选项。

考点

数量关系

数学运算

经济利润问题 利润率折扣类

来源



2019 年 0420 四川公务员考试《行测》真题第 48 题、2019 年 0420 黑龙江公务员考试《行测》真题（公检法） 第 58 题

59 、（单选题）2016 年某电子产品定价为  $n$  元/台，2017 年由于技术升级成本降低，定价降低 10%。每台产品利润提升 10%，2017 年全年销售这种产品的总利润较 2016 年增加了 21%，2017 年的销量比 2016 年：

- A.提升了不到 20%
- B.提升了 20%或以上
- C.降低了不到 20%
- D.降低了 20%或以上

收起解析

展开全部解析

收藏

纠错

正确答案：A，我的选择：尚未作答。回答错误

统计

答题时间：0 秒，全站正确率：40%，易错项：B。

解析

第一步，本题考查经济利润问题，用赋值法解题。

第二步，赋值 2016 年利润为 10，销量为 10。根据“每台产品利润提升 10%”，可得 2017 年每台产品利润为  $10 \times (1+10\%) = 11$ 。根据 2017 年总利润较 2016 年增加了 21%，2016 年总利润  $= 10 \times 10 = 100$ ，则 2017 年总利润  $= 100 \times (1+21\%) = 121$ ，根据总利润 = 单利润  $\times$  销量，

可得 2017 年销量  $= 121 \div 11 = 11$ ，则 2017 年销量较 2016 年提升了  $\frac{11 - 10}{10} = 10\%$ 。

因此，选择 A 选项。

拓展

本题中定价为  $n$  元/台，以及成本、定价的波动等，都是无效信息，考生不要在这里过多纠结

考点

数量关系

数学运算

经济利润问题 利润率折扣类

来源

2019 年 0420 四川公务员考试《行测》真题第 51 题、2019 年 0420 黑龙江公务员考试《行测》真题（公检法） 第 59 题

60 、（单选题）某次田径运动会中，选手参加各单项比赛计入所在团体总分的规则为：一等奖得 9 分，二等奖得 5 分，三等奖得 2 分。甲队共有 10 位选手参赛，均获奖。现知甲队最后总分为 61 分，问该队最多有几位选手获得一等奖？

- A.3
- B.4
- C.5
- D.6

收起解析

展开全部解析

收藏

纠错

正确答案：C，我的选择：尚未作答。回答错误

统计

答题时间：0 秒，全站正确率：58%，易错项：B。

解析

第一步， 本题考查不定方程问题，用代入排除法解不定方程。

第二步，设获得一等奖的有  $x$  位选手、获得二等奖的有  $y$  位选手、获得三等奖的有  $z$  位选手。根据共 10 位选手参赛和总分为 61 分，可列不定方程组： $x + y + z = 10$ ①， $9x + 5y + 2z = 61$ ②，②-① $\times 5$  可得： $4x - 3z = 11$ 。

第三步，问该队最多有几位选手获得一等奖，最值代入，优先代入 D 选项， $x=6$ ， $z$  无整数解，排除；代入 C 选项，若  $x=5$ ， $z=3$ ， $y=2$ ，满足题意。

因此，选择 C 选项。

考点

数量关系

数学运算

不定方程问题

来源

2019 年 0420 内蒙古公务员考试《行测》真题 第 68 题、2019 年 0420 天津公务员考试《行测》真题第 8 题、2019 年 0420 安徽公务员考试《行测》真题第 24 题、2019 年 0420 山西公务员考试《行测》真题第 63 题、2019 年 0420 新疆公务员考试《行测》真题第 68 题、2019 年 0420 江西公务员考试《行测》真题（县级以上）第 80 题、2019 年 0420 湖北公务员考试《行测》真题 第 69 题、2019 年 0420 湖南公务员考试《行测》真题 第 49 题、2019 年 0420 重庆公务员考试《行测》真题第 69 题、2019 年 0420 黑龙江公务员考试《行测》真题（公检法） 第 60 题、2019 年 0420 黑龙江公务员考试《行测》真题（省直）第 68 题

61 、（单选题）甲乙两人相约骑共享单车运动健身。停车点现有 9 辆单车，分属 3 个品牌，各有 2、3、4 辆。假如两人选择每一辆单车的概率相同，两人选到同一品牌单车的概率约为：

- A.  $\frac{1}{6}$
- B.  $\frac{2}{9}$
- C.  $\frac{5}{18}$
- D.  $\frac{1}{3}$

收起解析

展开全部解析

收藏

纠错

正确答案：C，我的选择：尚未作答。回答错误

统计

答题时间：0 秒，全站正确率：58%，易错项：B。

解析

解法一：

第一步， 本题考查概率问题，用排列组合法解题。

第二步，两人选到同一品牌单车可能是都选到第一个品牌，也可能是都选到第二个品牌，还可能是都选到第三个品牌。都选到第一个品牌有： $C_2^2=1$ （种）情况，都选到第二个品牌有： $C_3^2=3$ （种）情况，都选到第三个品牌有： $C_4^2=6$ ，那么选到同一品牌单车的概率为

$$= \frac{1+3+6}{C_9^2} = \frac{5}{18}。$$

因此，选择 C 选项。

解法二：

第一步， 本题考查概率问题，用分类、分步概率解题。

第二步，两人选到同一品牌单车可能是都选到第一个品牌，也可能是都选到第二个品牌，还可能是都选到第三个品牌。都选到第一个品牌的概率为： $\frac{2}{9} \times \frac{1}{8} = \frac{1}{36}$ ，都选到第二个品牌

的概率为： $\frac{3}{9} \times \frac{2}{8} = \frac{1}{12}$ ，都选到第三个品牌的概率为： $\frac{4}{9} \times \frac{3}{8} = \frac{1}{6}$ ，那么选到同一品牌

单车的概率为  $\frac{1}{36} + \frac{1}{12} + \frac{1}{6} = \frac{5}{18}$ 。

因此，选择 C 选项。

考点

数量关系

数学运算

概率问题 基本概率

来源

2019 年 0420 内蒙古公务员考试《行测》真题 第 67 题、2019 年 0420 安徽公务员考试《行测》真题第 23 题、2019 年 0420 新疆公务员考试《行测》真题第 66 题、2019 年 0420 江西公务员考试《行测》真题（县级以上）第 75 题、2019 年 0420 湖北公务员考试《行测》真题 第 66 题、2019 年 0420 黑龙江公务员考试《行测》真题（公检法） 第 61 题、2019 年 0420 黑龙江公务员考试《行测》真题（省直）第 66 题

62 、（单选题）小张从甲地出发匀速前往乙地，同时小李和小王从乙地出发匀速前往甲地，小张和小李在途中的丙地相遇，小张和小王在途中的丁相遇，已知小张的速度比小李快一半，小王的速度比小李慢一半，则丙丁两地之间的距离与甲乙之间的距离之比为：

A.2:15

B.1:4

C.3:20

D.1:15

收起解析

展开全部解析

收藏

纠错

正确答案：C，我的选择：尚未作答。回答错误

统计

答题时间：0 秒，全站正确率：43%，易错项：B。

解析

第一步，本题考查行程问题。

第二步，赋值小张的速度为 6，小李的速度为 4，小王的速度为 2，根据相遇追及公式， $S_{相} = (v_1 + v_2) \times t$ ，有  $S_{张李} = (6+4) \times t_1$ ， $S_{张王} = (6+2) \times t_2$ ， $S_{张王} = S_{张李}$ ，得  $5t_1 = 4t_2$ ，

$S_{丙丁} = 6(t_2 - t_1)$ ，代入得  $S_{丙丁} = \frac{3}{2}t_1$ ， $S_{甲乙} = 10t_1$ ；所以  $S_{丙丁}/S_{甲乙} = \frac{3}{20}$ 。

因此，选择 C 选项。

考点

数量关系

数学运算

行程问题 相遇追及类

来源

2019 年 0420 四川公务员考试《行测》真题第 52 题、2019 年 0420 黑龙江公务员考试《行测》真题（公检法）第 62 题

63、（单选题）某河道由于淤泥堆积影响到船只航行安全，现由工程队使用挖沙机进行清淤工作，清淤时上游河水又会带来新的泥沙。若使用 1 台挖沙机 300 天可完成清淤工作，使用 2 台挖沙机 100 天可完成清淤工作。为了尽快让河道恢复使用，上级部门要求工程队 25 天内完成河道全部清淤工作，那么工程队至少要有多少台挖沙机同时工作？

A.4

B.5

C.6

D.7

收起解析

展开全部解析

收藏

纠错

正确答案：D，我的选择：尚未作答。回答错误

统计

答题时间：0 秒，全站正确率：28%，易错项：B。

解析

第一步，本题考查牛吃草问题，用公式法解题。

第二步，设河道原来的淤泥堆积量为  $y$ ，每天上游河水带来新的淤泥量为  $x$ ，根据牛吃草问题公式： $y = (n-x) \times t$ ，可列方程组： $y = (1-x) \times 300$ ， $y = (2-x) \times 100$ ，解得  $x=0.5$ ， $y=150$ 。

第三步，设要想 25 天内完成清淤工作至少需要  $n$  台挖沙机，可列方程： $150 = (n-0.5) \times 25$ ，解得  $n=6.5$ ，即至少需要 7 台挖沙机。

因此，选择 D 选项。

考点

数量关系

数学运算

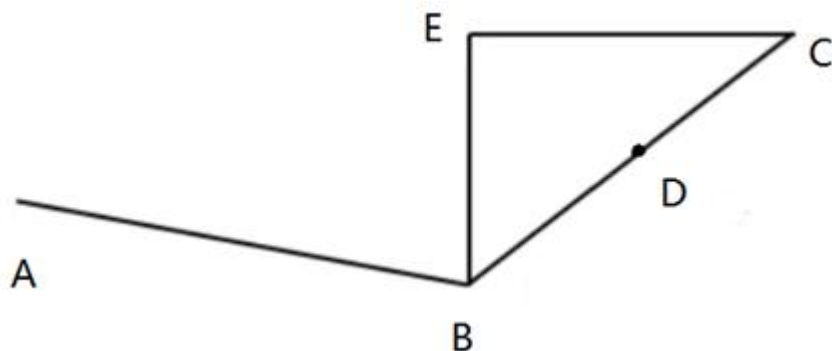
牛吃草问题

来源

2019 年 0420 安徽公务员考试《行测》真题第 33 题、2019 年 0420 新疆公务员考试《行测》真题第 64 题、2019 年 0420 江西公务员考试《行测》真题（乡镇）第 69 题、2019 年 0420 江西公务员考试《行测》真题（县级以上）第 73 题、2019 年 0420 湖北公务员考试《行测》

真题 第 68 题、2019 年 0420 湖南公务员考试《行测》真题 第 50 题、2019 年 0420 黑龙江公务员考试《行测》真题（公检法） 第 63 题、2019 年 0420 黑龙江公务员考试《行测》真题（省直）第 63 题

64 、（单选题）人行道 ABC，BC 长 286cm，D 为 BC 中点。AD 直线距离为 324cm，过 B 点做直线 BE，过 C 点做垂线与 BE 交于 E 点，问 AE 最小距离为多少？



- A.38cm
- B.168cm
- C.176cm
- D.181cm

收起解析

展开全部解析

收藏

纠错

正确答案：D，我的选择：尚未作答。回答错误

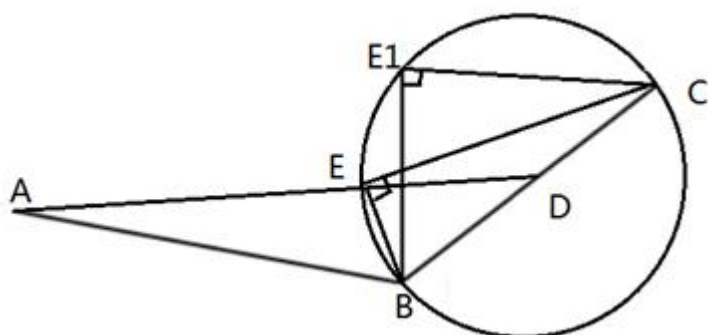
统计

答题时间：0 秒，全站正确率：22%，易错项：B。

解析

第一步，本题考查几何问题，属于平面几何类。

第二步，如图所示，E 点的轨迹应该是一个以 BC 为直径、D 为圆心的半圆。最短的距离为 AD 连线交圆于 E 点的 AE，此距离为  $324 - ED$ 。在直角三角形 BEC 中 DE 是斜边的中线，距离是斜边的一半即  $286 \div 2 = 143\text{cm}$ ，则最短距离为  $324 - 143 = 181\text{cm}$ 。



因此，选择 D 选项。

考点

数量关系

数学运算

几何问题 平面几何类

来源

2019 年 0420 黑龙江公务员考试《行测》真题（公检法） 第 64 题

65 、（单选题）一家早餐店只出售粥、馒头和包子。粥有三种：大米粥、小米粥和绿豆粥，每份 1 元；馒头有两种：红糖馒头和牛奶馒头，每个 2 元；包子只有一种三鲜大肉包，每个 3 元。陈某在这家店吃早餐，花了 4 元钱，假设陈某点的早餐不重样，问他吃到包子的概率是多少？

A.30%

B.35%

C.40%

D.45%

收起解析

展开全部解析

收藏

纠错

正确答案：A，我的选择：尚未作答。回答错误

统计

答题时间：0 秒，全站正确率：53%，易错题：B。

解析

第一步，本题考查基本概率问题。

第二步，由题可知，花费 4 元的组合为：

（1）先从 3 种粥类中选 2 种，然后再从 2 种馒头中选 1 种，共  $C_3^2 \times C_2^1 = 6$ （种）；

（2）先从 3 种粥类中选 1 种，然后再选 1 个三鲜大肉包，共  $C_3^1 \times 1 = 3$ （种）；

（3）选择 2 种馒头，共  $C_2^2 = 1$ （种）。

第三步，总情况共  $6+3+1=10$ （种）。吃到包子的情况数有 3 种，则概率为  $\frac{3}{10} = 30\%$ 。因此，选择 A 选项。

考点

数量关系

数学运算

概率问题 基本概率

来源

2019 年 0420 天津公务员考试《行测》真题第 5 题、2019 年 0420 新疆公务员考试《行测》真题第 63 题、2019 年 0420 江西公务员考试《行测》真题（乡镇）第 63 题、2019 年 0420 湖北公务员考试《行测》真题 第 65 题、2019 年 0420 重庆公务员考试《行测》真题第 67 题、2019 年 0420 黑龙江公务员考试《行测》真题（公检法） 第 65 题、2019 年 0420 黑龙江公务员考试《行测》真题（省直）第 62 题

66 、（单选题）太阳高度角是太阳光的入射方向和地平面之间的夹角。在正午时，太阳高度角为  $90^\circ - |\delta - \varphi|$ ， $\varphi$  为纬度， $\delta$  为太阳赤纬。已知小陈的身高为 180 厘米，他所在地的纬度为  $43^\circ$ ，当日太阳赤纬为  $13^\circ$ 。那么，在正午时他的影子长度约为：

- A.60 厘米
- B.90 厘米
- C.104 厘米
- D.208 厘米

收起解析

展开全部解析

收藏

纠错

正确答案：C，我的选择：尚未作答。回答错误

统计

答题时间：0 秒，全站正确率：50%，易错项：B。

解析

第一步，本题考查几何问题，属于平面几何类。

第二步，可根据公式算得太阳高度角为  $90^\circ - |13^\circ - 43^\circ| = 60^\circ$ 。人，影子与光线组成

一个直角三角形，人与光线夹角为  $30^\circ$ 。故影子长为  $180 \div \sqrt{3} \approx 104$  厘米。

因此，选择 C 选项。

考点

数量关系

数学运算

几何问题 平面几何类

来源

2019 年 0420 内蒙古公务员考试《行测》真题 第 62 题、2019 年 0420 安徽公务员考试《行测》真题第 32 题、2019 年 0420 江西公务员考试《行测》真题（乡镇）第 68 题、2019 年 0420 江西公务员考试《行测》真题（县级以上）第 67 题、2019 年 0420 湖北公务员考试《行测》真题 第 64 题、2019 年 0420 重庆公务员考试《行测》真题第 62 题、2019 年 0420 黑龙江公务员考试《行测》真题（公检法） 第 66 题

67、（单选题）小张、小李和小王三人以擂台形式打乒乓球，每局 2 人对打，输的人下一局轮空。半天下来，小张共打了 6 局，小王共打了 9 局，而小李轮空了 4 局。那么，小李一共打了多少局？

- A.5
- B.7
- C.9
- D.11

收起解析

展开全部解析

收藏

纠错

正确答案：B，我的选择：尚未作答。回答错误

统计

答题时间：0 秒，全站正确率：47%，易错项：C。

解析

第一步，本题考查比赛问题。

第二步，小李轮空了 4 局，说明这 4 局是小张和小王对打的，小张一共打了 6 局比赛，和

小王打了 4 局，说明和小李打了  $6-4=2$ （局）；同理小王打了 9 局，和小张打了 4 局，说明和小李打了  $9-4=5$ （局），那么小李一共打了  $2+5=7$ （局）。

因此，选择 B 选项。

考点

数量关系

数学运算

比赛问题

来源

2019 年 0420 安徽公务员考试《行测》真题第 29 题、2019 年 0420 新疆公务员考试《行测》真题第 59 题、2019 年 0420 江西公务员考试《行测》真题（乡镇）第 65 题、2019 年 0420 江西公务员考试《行测》真题（县级以上）第 66 题、2019 年 0420 湖北公务员考试《行测》真题 第 67 题、2019 年 0420 黑龙江公务员考试《行测》真题（公检法） 第 67 题

68 、（单选题）某楼盘的地下停车位，第一次开盘时平均价格为 15 万元/个；第二次开盘时，车位的销售量增加了一倍、销售额增加了 60%。那么，第二次开盘的车位平均价格为：

A.10 万元/个

B.11 万元/个

C.12 万元/个

D.13 万元/个

收起解析

展开全部解析

收藏

纠错

正确答案：C，我的选择：尚未作答。回答错误

统计

答题时间：0 秒，全站正确率：75%，易错项：B。

解析

解法一：

第一步，本题考查基础公式经济利润问题，用赋值法解题。

第二步，销售额=平均价格×销售量，已知第一次开盘平均价格为 15 万元/个，赋销售量为 1，则销售额为 15 万。第二次开盘时，销售量增加了一倍，即为 2，销售额增加了 60%，得销售额为  $15 \times (1+60\%) = 24$ （万元），故第二次开盘平均价格为  $24 \div 2 = 12$ （万元/个）。

因此，选择 C 选项。

解法二：

第一步，本题考查基础公式经济利润问题，用比例法解题。

第二步，第一次与第二次销售额之比为  $1 : 1.6 = 5 : 8$ ，销售量之比为  $1 : 2$ ，故平均价格之比为  $(5 \div 1) : (8 \div 2) = 5 : 4$ 。

第三步，已知第一次开盘平均价格为 15 万元/个，因此第二次开盘平均价格为 12 万元/个。

因此，选择 C 选项。

考点

数量关系

数学运算

经济利润问题 基础公式类

来源

2019 年 0420 安徽公务员考试《行测》真题第 30 题、2019 年 0420 新疆公务员考试《行测》



真题第 62 题、2019 年 0420 江西公务员考试《行测》真题（乡镇）第 71 题、2019 年 0420 江西公务员考试《行测》真题（县级以上）第 68 题、2019 年 0420 湖北公务员考试《行测》真题 第 58 题、2019 年 0420 湖南公务员考试《行测》真题 第 44 题、2019 年 0420 重庆公务员考试《行测》真题第 64 题、2019 年 0420 黑龙江公务员考试《行测》真题（公检法） 第 68 题

69 、（单选题）幼儿园老师设计了一个摸彩球游戏，在一个不透明的盒子里混放着红、黄两种颜色的小球，它们除了颜色不同，形状、大小均一致。已知随机摸取一个小球，摸到红球的概率为三分之一。如果从中先取出 3 红 7 黄共 10 个小球，再随机摸取一个小球，此时摸到红球的概率变为五分之二，那么原来盒中共有红球多少个？

- A.5
- B.10
- C.15
- D.20

收起解析

展开全部解析

收藏

纠错

正确答案：A，我的选择：尚未作答。回答错误

统计

答题时间：0 秒，全站正确率：44%，易错项：C。

解析

第一步， 本题考查概率问题，用方程法解题。

第二步， 设原来盒中有  $x$  个红球，那么原来盒中的总球数为  $3x$ 。取出 3 个红球和 7 个黄球后，盒中还剩  $(x-3)$  个红球，总球数变为  $(3x-10)$  个，根据此时摸到红球的概率为  $\frac{2}{5}$ ，

可列方程： $\frac{x-3}{3x-10} = \frac{2}{5}$ ，解得  $x=5$ ，即原来盒中有 5 个红球。

因此，选择 A 选项。

考点

数量关系

数学运算

概率问题 基本概率

来源

2019 年 0420 内蒙古公务员考试《行测》真题 第 64 题、2019 年 0420 天津公务员考试《行测》真题第 3 题、2019 年 0420 安徽公务员考试《行测》真题第 27 题、2019 年 0420 山西公务员考试《行测》真题第 64 题、2019 年 0420 江西公务员考试《行测》真题（乡镇）第 75 题、2019 年 0420 湖北公务员考试《行测》真题 第 61 题、2019 年 0420 湖南公务员考试《行测》真题 第 43 题、2019 年 0420 重庆公务员考试《行测》真题第 65 题、2019 年 0420 黑龙江公务员考试《行测》真题（公检法） 第 69 题

70 、（单选题）某公交站附近区域停放 A 型共享单车 4 辆，B 型单车 5 辆，C 型单车 6 辆，一公交车到站后下车的乘客随机选择其中 13 辆单车骑走，问 B 型和 C 型全部被骑走的概率在以下哪个范围内？

- A.在 10%以下
- B.在 10%—15%之间

C.在 15%—20%之间

D.在 20%以上

收起解析

展开全部解析

收藏

纠错

正确答案：A，我的选择：尚未作答。回答错误

统计

答题时间：0 秒，全站正确率：31%，易错项：B。

解析

第一步， 本题考查概率问题。

第二步， 一共有  $4+5+6=15$ （辆）单车，如果把 B 型和 C 型单车全部骑走，说明剩下的 2

辆都是 A 型单车，概率为  $\frac{C_4^2}{C_{15}^2} = \frac{2}{35} \approx 5.7\%$ ，在 10% 以下。

因此，选择 A 选项。

考点

数量关系

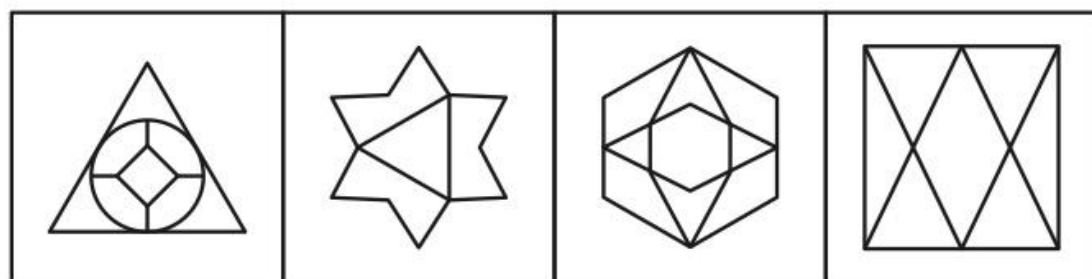
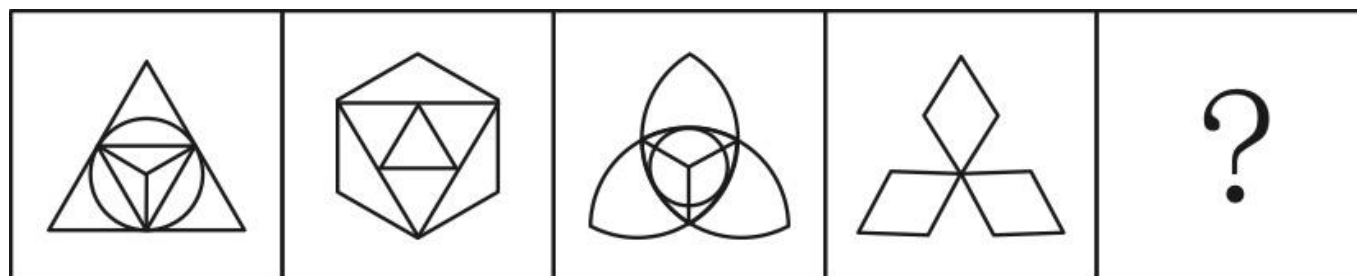
数学运算

概率问题 基本概率

来源

2019 年 0420 黑龙江公务员考试《行测》真题（公检法） 第 70 题

71 、（单选题）从所给的四个选项中，选择最合适的一个填入问号处，使之呈现一定的规律性：



A

B

C

D

A.如上图所示

B.如上图所示

C.如上图所示

D.如上图所示

收起解析

展开全部解析

收藏

纠错

正确答案：B，我的选择：尚未作答。回答错误

统计

答题时间：0 秒，全站正确率：36%，易错项：A。

解析

第一步，观察特征。

组成元素不同，优先考虑数量类或属性类。

第二步，一条式，从左到右找规律。

题干图形均为轴对称图形，对称轴的条数均为 3 条，则问号处应为有 3 条对称轴的图形，只有 B 项符合。

因此，选择 B 选项。

拓展

规律二：所给图形笔画数依次为 2、1、2、1、？，呈现周期规律，因此问号处为 2 笔画图形，D 项符合。比较两个规律。常数规律优于周期规律，因此选 B 项。

考点

判断推理

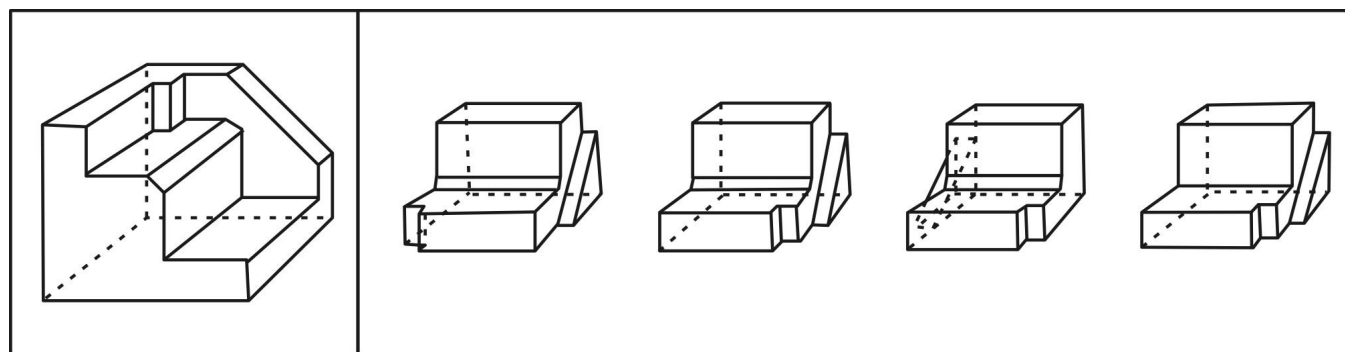
图形推理

属性类 对称性

来源

2019 年 0420 内蒙古公务员考试《行测》真题 第 76 题、2019 年 0420 天津公务员考试《行测》真题第 68 题、2019 年 0420 江西公务员考试《行测》真题（乡镇）第 76 题、2019 年 0420 江西公务员考试《行测》真题（县级以上）第 83 题、2019 年 0420 湖北公务员考试《行测》真题 第 73 题、2019 年 0420 湖南公务员考试《行测》真题 第 53 题、2019 年 0420 重庆公务员考试《行测》真题第 74 题、2019 年 0420 陕西公务员考试《行测》真题第 77 题、2019 年 0420 黑龙江公务员考试《行测》真题（公检法）第 71 题、2019 年 0420 黑龙江公务员考试《行测》真题（省直）第 74 题

72 、（单选题）正方体切掉一块后剩余部分如下图左侧所示，右侧哪一项是其切去部分的形状？



A

B

C

D

A.如上图所示

B.如上图所示

C.如上图所示

D.如上图所示

收起解析

展开全部解析

收藏

纠错

正确答案：B，我的选择：尚未作答。回答错误

统计

答题时间：0 秒，全站正确率：67%，易错项：C。

解析

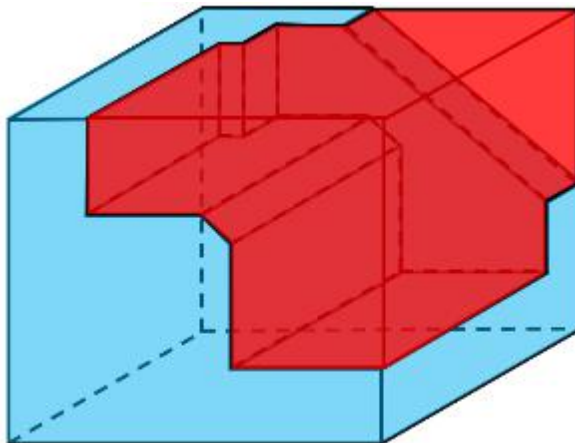
第一步，明确设问内容。

本题要求选出能够组成完整正方体的一项。

第二步，分析选项。

A 项：根据凹凸性原则，选项多面体中的斜三角应该和小长方体缺口在主体图形的一侧，排除；

B 项：根据凹凸性原则，选项能与题干多面体拼成正方体，如下图所示：



C 项：根据凹凸性原则，选项多面体中的斜三角应该和小长方体缺口在主体图形的一侧，排除；

D 项：根据凹凸性原则，选项中的两个大长方体拐角处应该有一个斜向的三棱柱，排除。因此，选择 B 选项。

考点

判断推理

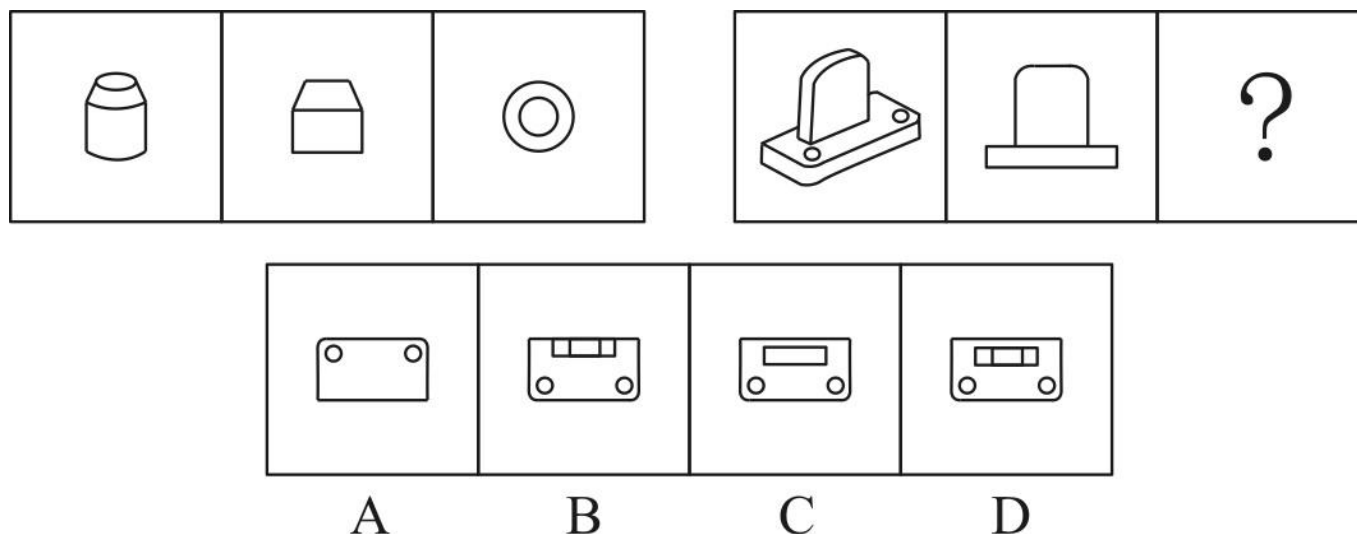
图形推理

立体类 拼合

来源

2019 年 0420 内蒙古公务员考试《行测》真题 第 78 题、2019 年 0420 天津公务员考试《行测》真题第 70 题、2019 年 0420 宁夏公务员考试《行测》真题第 70 题、2019 年 0420 山西公务员考试《行测》真题第 72 题、2019 年 0420 新疆公务员考试《行测》真题第 75 题、2019 年 0420 江西公务员考试《行测》真题（乡镇）第 77 题、2019 年 0420 江西公务员考试《行测》真题（县级以上）第 84 题、2019 年 0420 湖北公务员考试《行测》真题 第 76 题、2019 年 0420 陕西公务员考试《行测》真题第 80 题、2019 年 0420 黑龙江公务员考试《行测》真题（公检法）第 72 题、2019 年 0420 黑龙江公务员考试《行测》真题（省直）第 75 题 73 、（单选题）从所给的四个选项中，选择最合适的一个填入问号处，使之呈现一定的规

律性：



- A.如上图所示
- B.如上图所示
- C.如上图所示
- D.如上图所示

收起解析

展开全部解析

收藏

纠错

正确答案：C，我的选择：尚未作答。回答错误

统计

答题时间：0秒，全站正确率：74%，易错题：D。

解析

第一步，观察特征。

第一段中，图1为立体图形，图2、图3是平面图，图2、图3是从不同角度观察图1而得到，考虑立体视图。

第二步，两段式，第一段找规律，第二段应用规律。

第一段，图2、图3分别是图1的主视图和俯视图；第二段应用规律，问号处的图形应为图1的俯视图，只有C项符合。注意：由于竖直面上方两侧为平滑曲线图形，故不能出现D项中长方形的两个小竖线，只有C项符合。

因此，选择C选项。

考点

判断推理

图形推理

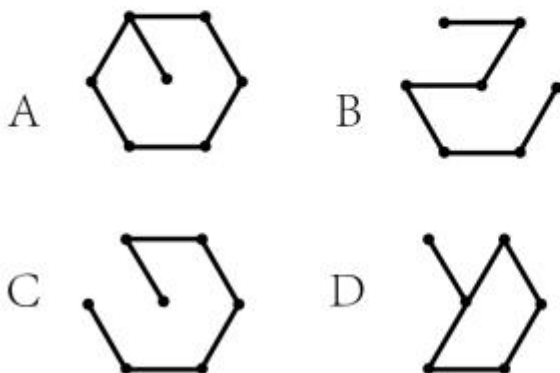
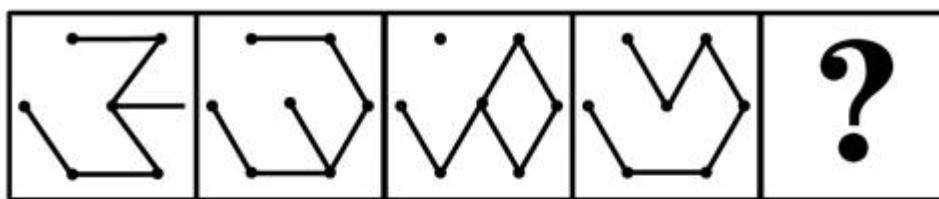
立体类 视图

来源

2019年0420内蒙古公务员考试《行测》真题第79题、2019年0420安徽公务员考试《行测》真题第75题、2019年0420江西公务员考试《行测》真题（县级以上）第85题、2019年0420湖北公务员考试《行测》真题第75题、2019年0420黑龙江公务员考试《行测》真题（公检法）第73题

74、（单选题）从所给的四个选项中，选择最合适的一个填入问号处，使之呈现一定的规

律性：



A.如上图所示

B.如上图所示

C.如上图所示

D.如上图所示

收起解析

展开全部解析

收藏

纠错

正确答案：B，我的选择：尚未作答。回答错误

统计

答题时间：0 秒，全站正确率：51%，易错项：C。

解析

第一步，观察特征。

组成元素相同，均有 6 条线段，线段的位置发生变化，优先考虑平移。

第二步，一条式，从左到右找规律。

从左向右，每次只有两条线段发生位置的移动，继续变化，只有 B 项符合。

因此，选择 B 选项。

考点

判断推理


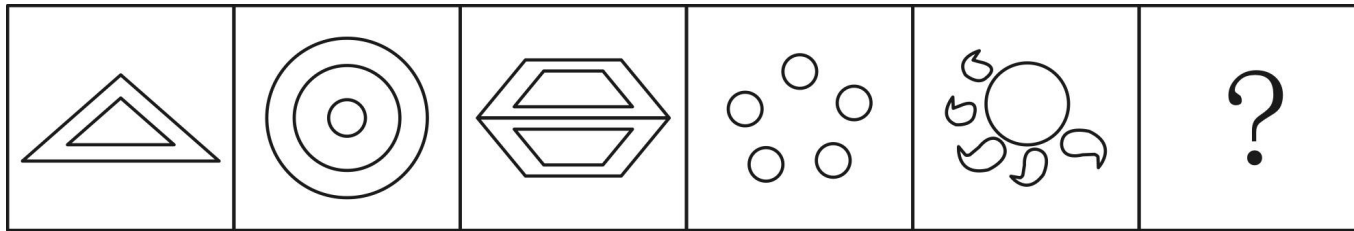
图形推理

位置类 动态位置 平移

来源

2019 年 0420 四川公务员考试《行测》真题第 56 题、2019 年 0420 黑龙江公务员考试《行测》真题（公检法）第 74 题

75 、（单选题）从所给的四个选项中，选择最合适的一个填入问号处，使之呈现一定的规律性：



A

B

C

D

A.如上图所示

B.如上图所示

C.如上图所示

D.如上图所示

收起解析

展开全部解析

收藏

纠错

正确答案：C，我的选择：尚未作答。回答错误

统计

答题时间：0 秒，全站正确率：88%，易错项：D。

解析

第一步，观察特征。

组成元素不同，优先考虑数量类或属性类。封闭空间特征明显，考虑数面。

第二步，一条式，从左到右找规律。

题干已知图形中面的个数依次为 2、3、4、5、6，呈等差规律，所以问号处的图形应有 7 个面，只有 C 项符合。

因此，选择 C 选项。

考点

判断推理

图形推理

数量类 面

来源

2019 年 0420 内蒙古公务员考试《行测》真题 第 75 题、2019 年 0420 安徽公务员考试《行测》真题第 72 题、2019 年 0420 山西公务员考试《行测》真题第 75 题、2019 年 0420 新疆公务员考试《行测》真题第 74 题、2019 年 0420 江西公务员考试《行测》真题（县级以上）第 82 题、2019 年 0420 湖南公务员考试《行测》真题 第 55 题、2019 年 0420 重庆公务员考试《行测》真题第 73 题、2019 年 0420 陕西公务员考试《行测》真题第 76 题、2019 年 0420 黑龙江公务员考试《行测》真题（公检法） 第 75 题

76 、（单选题）稻草人谬误，是在辩论或讨论中，有意或无意地曲解对方的论点，针对曲

解后的论点（替身稻草人）进行攻击，然后宣称已推翻对方论点的一种错误的论证方式。

根据上述定义，下列属于稻草人谬误的是：

A.甲：“我认为人都是自私的。”乙：“我不认为所有的人都是自私的，但我也不认为所有的人都不是自私的。”

B.甲：“我认为小孩不应该在大街上乱跑。”乙：“把小孩关在家里，他们呼吸不到新鲜空气，岂不是更加愚蠢吗？”

C.甲：“为什么我最近脸上总是长痘痘？”乙：“因为你上火了。”甲：“你怎么知道我上火？”乙：“因为你脸上总长痘痘。”

D.甲：“学习语言多听是最重要的。只要每天都听，过几个月自然就能听明白了。”乙：“可是我天天在家听英语，已经听了好几年了，现在还是听不懂。”

收起解析

展开全部解析

收藏

纠错

正确答案：B，我的选择：尚未作答。回答错误

统计

答题时间：0 秒，全站正确率：73%，易错项：D。

解析

第一步，看提问方式，本题属于选是题。

第二步，找关键信息。

①在辩论或讨论中，有意或无意地曲解对方的论点；

②针对曲解后的论点进行攻击；

③然后宣称已推翻对方论点。

第三步，辨析选项。

A 项：乙直接否定了甲的观点，未体现“有意或无意地曲解对方的论点”，不符合定义；

B 项：甲认为小孩子不应该乱跑，乙将甲的意思曲解为关在家里，体现“有意或无意地曲解对方的论点”，符合定义；

C 项：是甲乙的对答，未体现“有意或无意地曲解对方的论点”，不符合定义；

D 项：乙直接否定了甲的观点，未体现“有意或无意地曲解对方的论点”，不符合定义。

因此，选择 B 选项。

考点

判断推理

定义判断

单定义

来源

2019 年 0420 四川公务员考试《行测》真题第 61 题、2019 年 0420 黑龙江公务员考试《行测》真题（公检法）第 76 题

77 、（单选题）关怀强迫症指一个人特别需要别人依赖自己，总是爱向别人提供别人不需要的关怀。并且，这种人还强迫别人接受自己的关怀，从而使别人不能独立，当别人依赖自己的时候，他就会感到满足，感到自己有价值。这种症状会压抑人的神经，并同时给身边的亲朋好友甚至一般的同事带来诸多不便。

根据上述定义，下列属于关怀强迫症的是：

A. 张某说：“我一天没见到儿子就会发疯”

B. 李某连哄带骗让感冒的女儿吃下感冒药



C.刘某从小学到大学期间都住自己家里

D.王某在女儿就读的大学附近租房陪读

收起解析

展开全部解析

收藏

纠错

正确答案：D，我的选择：尚未作答。回答错误

统计

答题时间：0 秒，全站正确率：67%，易错项：A。

解析

第一步，看提问方式，本题属于选是题。

第二步，找关键信息。

①特别需要别人依赖自己；

②爱向别人提供别人不需要的关怀；

③强迫别人接受自己的关怀；

④使别人不能独立。

第三步，辨析选项。

A 项：一天没见到儿子会发疯，未体现“强迫儿子接受自己的关怀”并“使儿子不能独立”，不符合定义；

B 项：给女儿喂药是为了让女儿早日痊愈，提供的是女儿需要的关怀，不符合定义；

C 项：刘某住在自己家里，未体现有人“强迫刘某接受自己的关怀”并“使刘某不能独立”，不符合定义；

D 项：女儿已经成年，完全可以自己在大学生活，而王某在女儿大学附近陪读，说明王某“提供女儿不需要的关怀”，从而可能“使女儿不能独立”，符合定义。

因此，选择 D 选项。

考点

判断推理

定义判断

单定义

来源

2019 年 0420 内蒙古公务员考试《行测》真题 第 82 题、2019 年 0420 天津公务员考试《行测》真题第 74 题、2019 年 0420 安徽公务员考试《行测》真题第 79 题、2019 年 0420 山西公务员考试《行测》真题第 83 题、2019 年 0420 新疆公务员考试《行测》真题第 79 题、2019 年 0420 江西公务员考试《行测》真题（县级以上）第 88 题、2019 年 0420 湖南公务员考试《行测》真题 第 74 题、2019 年 0420 重庆公务员考试《行测》真题第 79 题、2019 年 0420 陕西公务员考试《行测》真题第 83 题、2019 年 0420 黑龙江公务员考试《行测》真题（偏远地区）第 74 题、2019 年 0420 黑龙江公务员考试《行测》真题（公检法）第 77 题、2019 年 0420 黑龙江公务员考试《行测》真题（省直）第 78 题

78 、（单选题）细分市场是根据地理因素、人口因素、心理因素和行为因素等划分某一产品的市场之后形成的市场。细分市场定价是指针对同一商品或服务，在不同的细分市场上定以不同的价格。

根据上述定义，下列属于市场细分定价的是：

A.母亲节当天康乃馨的售价比其他花高

B.在中国理发的收费比在美国理发的收费低很多

- C.同样一种水果，在拉萨的售价比在武汉的售价贵很多  
D.同样的物品，从北京寄到天津的收费比从北京寄到广州低

收起解析

展开全部解析

收藏

纠错

正确答案：C，我的选择：尚未作答。回答错误

统计

答题时间：0 秒，全站正确率：74%，易错题：A。

解析

第一步，看提问方式，本题属于选是题。

第二步，找关键信息。

多定义，考查“细分市场定价”，关键信息如下：

（1）细分市场：根据地理因素、人口因素、心理因素和行为因素等划分某一产品的市场之后形成的市场；

（2）细分市场定价：①同一商品或服务；②在不同的细分市场上定以不同的价格。

第三步，辨析选项。

A 项：康乃馨和其他花不属于“同一商品或服务”，不符合定义；

B 项：理发包括剪发、染发、烫发等多种服务，选项中比较的不明确是否属于“同一商品或服务”，不符合定义；

C 项：同样一种水果满足“同一商品”，拉萨和武汉是根据“地理因素”划分的市场，在拉萨和武汉的水果价格不同，满足“在不同的细分市场上定以不同的价格”，符合定义；

D 项：运费与邮寄的物品和距离有关，同样的物品从北京寄到天津的运费，和从北京寄到广州的运费不是“同一商品或服务”，不符合定义。

因此，选择 C 选项。

考点

判断推理

定义判断

多定义

来源

2019 年 0420 四川公务员考试《行测》真题第 63 题、2019 年 0420 黑龙江公务员考试《行测》真题（公检法）第 78 题

79 、（单选题）投射性认同指一个人诱导他人以一种限定的方式来作出反应的行为模式，体现在人际关系中，往往是甲方把内心中“好”或“坏”的客体投射到乙方身上，认为乙方“好”或“坏”，而乙方又接受了这一投射幻想，于是就以甲方所设想的方式来对待甲方，然后甲方又进一步验证了自己的假设，认为乙方就是他所认为的那样的人。

根据上述定义，下列选项属于投射性认同的是：

- A.寒门亦可出贵子  
B.严师方能出高徒  
C.虎父果然无犬子  
D.慈母自古多败儿

收起解析

展开全部解析

收藏

纠错

正确答案：C，我的选择：尚未作答。回答错误

统计

答题时间：0 秒，全站正确率：58%，易错题：B。

解析

第一步，看提问方式，本题属于选是题。

第二步，找关键信息。

①甲方认为乙方“好”或“坏”；

②乙方以甲方所设想的方式来对待甲方；

③甲方验证了自己的假设，认为乙方就是他所认为的那样的人。

第三步，辨析选项。

A 项：寒门亦可出贵子，说明甲方认为乙方（寒门之子）难以成功，但乙方最终取得成功，没有成为甲方所认为的那样的人，“亦”体现了甲方没有验证自己的假设，不符合定义；

B 项：严师方能出高徒，是观点性的表述，未体现“甲方验证了自己的假设”，不符合定义；

C 项：虎父果然无犬子，说明甲方认为乙方（虎父之子）会成功，且乙方最终确实取得成功，成为了甲方所认为的那样的人，“果然”体现了甲方验证了自己的假设，符合定义；

D 项：慈母自古多败儿，是观点性的表述，未体现“甲方验证了自己的假设”，不符合定义。

因此，选择 C 选项。

考点

判断推理

定义判断

单定义

来源

2019 年 0420 内蒙古公务员考试《行测》真题 第 81 题、2019 年 0420 天津公务员考试《行测》真题第 73 题、2019 年 0420 安徽公务员考试《行测》真题第 84 题、2019 年 0420 山西公务员考试《行测》真题第 82 题、2019 年 0420 新疆公务员考试《行测》真题第 78 题、2019 年 0420 江西公务员考试《行测》真题（乡镇）第 86 题、2019 年 0420 重庆公务员考试《行测》真题第 78 题、2019 年 0420 陕西公务员考试《行测》真题第 88 题、2019 年 0420 黑龙江公务员考试《行测》真题（公检法）第 79 题、2019 年 0420 黑龙江公务员考试《行测》真题（省直）第 77 题

80 、（单选题）交互抑制法主要是诱导患者暴露出导致神经症焦虑、恐惧的情境，并通过心理的放松状态来对抗这种焦虑情绪，从而达到消除焦虑或恐惧的目的。满灌疗法是鼓励患者直接接触引发恐惧、焦虑的情景，坚持到紧张感觉消失的一种快速行为治疗法。

下列对患乘车恐惧症的患者的治疗过程，使用了满灌疗法的是：

A.先试着让患者看汽车图片，进而坐上停止的汽车，然后坐上缓慢行驶的汽车，最后坐上快速行驶的汽车

B.让患者关注使自己焦虑、恐惧的思维活动，每当这些想法出现时，要求患者大声命令自己“停止”，从而使这些想法消失

C.将患者安置在汽车后座，驱车行驶数小时，使患者焦虑、恐惧的情绪逐渐减弱，直到患者完全习惯了乘车，不再感到恐惧

D.让患者想象自己正坐在一辆汽车的后座，想象产生较轻焦虑的情境，适应后再想象产生较高焦虑的情境，直到患者在最恐惧情境中能保持放松状态

收起解析

展开全部解析

收藏

纠错

正确答案：C，我的选择：尚未作答。回答错误

统计

答题时间：0 秒，全站正确率：80%，易错项：D。

解析

第一步，看提问方式，本题属于选是题。

第二步，找关键信息。

多定义，考查“满灌疗法”，其关键信息如下：

- ①鼓励患者直接接触引发恐惧、焦虑的情景；
- ②坚持到紧张感觉消失的一种快速行为治疗法。

第三步，辨析选项。

A 项：让患者看汽车图片、坐上停止的汽车，不属于“直接接触引发恐惧、焦虑的情景”，不符合定义；

B 项：让患者关注使自己焦虑、恐惧的思维活动，再命令自己“停止”，思维活动不属于“直接接触引发恐惧、焦虑的情景”，不符合定义；

C 项：将患者安置在汽车后座，驱车行驶，满足“鼓励患者直接接触引发恐惧、焦虑的情景”，数小时后，患者焦虑、恐惧的情绪逐渐减弱，直到患者完全习惯了乘车，不再感到恐惧，满足“坚持到紧张感觉消失”，符合定义；

D 项：想象产生较轻焦虑的情境，适应后再想象产生较高焦虑的情境，想象出情景不符合“直接接触引发恐惧、焦虑的情景”，不符合定义。

因此，选择 C 选项。

考点

判断推理

定义判断

多定义

来源

2019 年 0420 四川公务员考试《行测》真题第 64 题、2019 年 0420 黑龙江公务员考试《行测》真题（公检法）第 80 题

81 、（单选题）意志的活动过程会体现以下两大定律。其中，意志强度边际效应定律是指意志的强度随着自身行为的活动规模的增长而下降；意志强度时间衰减定律是指意志的强度随着自身行为的持续时间的增长而呈现负指数下降。

根据上述定义，下列选项最能体现意志强度时间衰减定律的是：

- A. 锲而舍之，朽木不折
- B. 为山九仞，功亏一篑
- C. 穷且益坚，不坠青云之志
- D. 一鼓作气，再而衰，三而竭

收起解析

展开全部解析

收藏

纠错

正确答案：D，我的选择：尚未作答。回答错误

统计

答题时间：0 秒，全站正确率：85%，易错项：B。

解析

第一步，看提问方式，本题属于选是题。

第二步，找关键信息。

多定义，考查“意志强度时间衰减”，其关键信息如下：

意志的强度随着自身行为的持续时间的增长而呈现负指数下降。

第三步，辨析选项。

A项：锲而舍之，朽木不折，意思是如果不坚持做一件事，就算是腐朽的木头也无法折断，未体现“随着持续时间的增长而下降”，不符合定义；

B项：为山九仞，功亏一篑，意思是堆九仞高的山，只缺一筐土而不能完成，比喻做事情只差最后一点没能完成，未体现“随着持续时间的增长而下降”，不符合定义；

C项：穷且益坚，不坠青云之志，意思是身处贫穷之境应更加坚韧，不能失去了凌云的志气，即在逆境当中也不能消沉放弃，未体现“随着持续时间的增长而下降”，不符合定义；

D项：一鼓作气，再而衰，三而竭，意思是第一次击鼓振作了勇气，第二次击鼓勇气低落，第三次击鼓勇气就枯竭了，体现了“意志的强度随着持续时间的增长而下降”，符合定义。

因此，选择D选项。

考点

判断推理

定义判断

多定义

来源

2019年0420内蒙古公务员考试《行测》真题第85题、2019年0420天津公务员考试《行测》真题第78题、2019年0420安徽公务员考试《行测》真题第78题、2019年0420山西公务员考试《行测》真题第77题、2019年0420江西公务员考试《行测》真题（县级以上）第91题、2019年0420湖北公务员考试《行测》真题第79题、2019年0420湖南公务员考试《行测》真题第70题、2019年0420重庆公务员考试《行测》真题第82题、2019年0420陕西公务员考试《行测》真题第84题、2019年0420黑龙江公务员考试《行测》真题（公检法）第81题、2019年0420黑龙江公务员考试《行测》真题（省直）第80题

82、（单选题）动机是人们行动的原因，它能唤起行动，使活动指向一定的目标。根据动机的来源可分为内在动机和外在动机，内在动机是指行为的目的是为了体验相应活动中带来的喜悦和满足；外在动机是指行为的目的是为了获得相应活动所带来的其他外在结果或者避免惩罚。

根据上述定义，下列行为中最可能体现内在动机的是：

- A.为了保持身体健康，小赵坚持锻炼身体
- B.张老师非常热爱他的职业，很享受教书育人的过程
- C.小芳参加游泳比赛获得了第一名，她为自己感到骄傲
- D.为了不让父母失望，小明非常努力地学习，争取考上理想的学校

收起解析

展开全部解析

收藏

纠错

正确答案：B，我的选择：尚未作答。回答错误

统计

答题时间：0秒，全站正确率：76%，易错项：C。

解析

第一步，看提问方式，本题属于选是题。

第二步，找关键信息。

多定义，考查“内在动机”，其关键信息如下：

行为的目的是为了体验相应活动中带来的喜悦和满足。

第三步，辨析选项。

A项：小赵锻炼身体是为了保持身体健康，而不是“为了体验相应活动中带来的喜悦和满足”，不符合定义；

B项：张老师热爱他的职业，很享受教书育人的过程，符合“行为的目的是为了体验相应活动中带来的喜悦和满足”，符合定义；

C项：获得了第一名，她为自己感到骄傲，不涉及“行为的目的”；

D项：小明努力学习是为了不让父母失望，而不是“为了体验相应活动中带来的喜悦和满足”，不符合定义。

因此，选择B选项。

考点

判断推理

定义判断

多定义

来源

2019年0420四川公务员考试《行测》真题第66题、2019年0420黑龙江公务员考试《行测》真题（公检法）第82题、2019年0420黑龙江公务员考试《行测》真题（省直）第85题

83、（单选题）消费滞后是指个人消费滞后于国家经济发展和个人家庭收入所应达到的平均消费水平。消费超前是指当下的收入水平不足以购买现在所需的产品或服务，以贷款、分期付款、预支等形式进行消费。

根据上述定义，下列属于消费超前的是：

A.职员小王以信用卡支付的形式在网上订购了火车票

B.大学生小李通过某借贷平台购买了某知名品牌电脑

C.退休工人老张名下有商品房和汽车，但坚持只用老式的直板手机

D.青年教师小刘有十万元定期存款未到期，向同事借了八万元买车

收起解析

展开全部解析

收藏

纠错

正确答案：B，我的选择：尚未作答。回答错误

统计

答题时间：0秒，全站正确率：88%，易错项：A。

解析

第一步，看提问方式，本题属于选是题。

第二步，找关键信息。

多定义，考查“消费超前”，其关键信息如下：

①当下的收入水平不足以购买现在所需的产品或服务；

②以贷款、分期付款、预支等形式进行消费。

第三步，辨析选项。

A项：职员小王以信用卡支付的形式在网上订购火车票，订购火车票是小王能够承担起的，

不能体现“当下的收入水平不足以购买现在所需的产品或服务”，不符合定义；

**B 项：**大学生小李通过某借贷平台购买了某知名品牌电脑，购买品牌电脑是大学生小李承担不起的，体现出“当下的收入水平不足以购买现在所需的产品或服务”，通过借贷平台，体现出“以贷款、分期付款、预支等形式进行消费”，符合定义；

**C 项：**退休工人老张名下有商品房和汽车，但坚持只用老式的直板手机，直板手机是老张能够承担起的，不能体现“当下的收入水平不足以购买现在所需的产品或服务”，不符合定义；

**D 项：**青年教师小刘有十万元定期存款未到期，向同事借了八万元买车，车的价值小于小刘的存款金额，小刘能够承担起，不能体现“当下的收入水平不足以购买现在所需的产品或服务”，不符合定义。

因此，选择 **B** 选项。

考点

判断推理

定义判断

多定义

来源

2019 年 0420 内蒙古公务员考试《行测》真题 第 87 题、2019 年 0420 安徽公务员考试《行测》真题第 77 题、2019 年 0420 山西公务员考试《行测》真题第 80 题、2019 年 0420 江西公务员考试《行测》真题（乡镇）第 81 题、2019 年 0420 江西公务员考试《行测》真题（县级以上）第 94 题、2019 年 0420 湖北公务员考试《行测》真题 第 82 题、2019 年 0420 湖南公务员考试《行测》真题 第 75 题、2019 年 0420 重庆公务员考试《行测》真题第 84 题、2019 年 0420 陕西公务员考试《行测》真题第 89 题、2019 年 0420 黑龙江公务员考试《行测》真题（公检法）第 83 题、2019 年 0420 黑龙江公务员考试《行测》真题（省直）第 83 题

**84**、（单选题）内隐记忆是指个体在无意识的情况下，过去经验对当前作业产生影响的，关于技术、过程或“如何做”的记忆。外显记忆是指需要有意识的努力才能使信息恢复的记忆。

根据上述定义，下列属于外显记忆的是：

- A.昨晚背诵的课文今天老师检查时还能隐约记得
- B.曾经在法国居住过，多年后在街上还能无意中听懂法国人的交谈
- C.做英语阅读理解书能一眼认出“猫”这个单词
- D.会骑自行车的人即便很久不骑，再骑车时也毫不费力

收起解析

展开全部解析

收藏

纠错

正确答案：A，我的选择：尚未作答。回答错误

统计

答题时间：0 秒，全站正确率：82%，易错项：C。

解析

第一步，看提问方式，本题属于选是题。

第二步，找关键信息。

多定义，考查“外显记忆”，其关键信息如下：

指需要有意识的努力才能使信息恢复的记忆。

第三步，辨析选项。

A 项：昨晚背诵的课文今天老师检查时还能隐约记得，回忆起背诵的课“需要有意识的努力”，符合“有意识的努力才能使信息恢复的记忆”，符合定义；

B 项：无意中听懂法国人的交谈，未涉及“需要有意识的努力”，不符合“需要有意识的努力才能使信息恢复的记忆”，不符合定义；

C 项：一眼能认出“猫”的单词，未涉及“需要有意识的努力”，不符合“需要有意识的努力才能使信息恢复的记忆”，不符合定义；

D 项：很久不骑自行车，再骑车毫不费力，未涉及“需要有意识的努力”，不符合“需要有意识的努力才能使信息恢复的记忆”，不符合定义。

因此，选择 A 选项。

考点

判断推理

定义判断

多定义

来源

2019 年 0420 黑龙江公务员考试《行测》真题（公检法） 第 84 题

85 、（单选题）犯罪目的是指犯罪人希望通过实施犯罪行为达到某种危害社会结果的心理态度，犯罪目的直接体现犯罪故意的内容是犯罪动机的具体指向。

根据上述定义，下列说法正确的是：

A.甲报复乙，致乙重伤，甲的犯罪目的是报复他人

B.甲嫉妒乙，偷乙的财产，甲的犯罪目的是占有乙的财物

C.甲为兄弟义气杀人，巩固友情是甲的犯罪目的

D.甲为吸毒资金实施抢劫，满足吸毒需要是甲的犯罪目的

收起解析

展开全部解析

收藏

纠错

正确答案：B，我的选择：尚未作答。回答错误

统计

答题时间：0 秒，全站正确率：21%，易错项：D。

解析

第一步，看提问方式，本题属于选是题。

第二步，找关键信息。

①希望通过实施犯罪行为达到某种危害社会结果的心理态度；

②直接体现犯罪故意的内容是犯罪动机的具体指向。

第三步，辨析选项。

A 项：“乙重伤”是甲的犯罪行为所达到的某种危害社会结果，即“乙重伤”是甲的犯罪目的，而非“报复他人”，说法错误；

B 项：“占有乙的财物”是甲偷盗行为所达到的某种危害社会结果，即甲的犯罪目的，说法正确；

C 项：“致人死亡”是甲杀人行为所达到的某种危害社会结果，即“致人死亡”是甲的犯罪目的，而非“巩固友情”，说法错误；

D 项：“获得财物”是甲抢劫行为所达到的某种危害社会结果，即“获得财物”是甲的犯罪目的，而非“满足吸毒需要”，说法错误。

因此，选择 B 选项。



考点

判断推理

定义判断

单定义

来源

2019 年 0420 黑龙江公务员考试《行测》真题（公检法） 第 85 题

86 、（单选题）雪：霜

A.荷花：莲花

B.国花：牡丹

C.雨滴：露珠

D.白鹤：仙鹤

收起解析

展开全部解析

收藏

纠错

正确答案：C，我的选择：尚未作答。回答错误

统计

答题时间：0 秒，全站正确率：82%，易错题：A。

解析

第一步，确定题干逻辑关系。

“雪”和“霜”都是天气现象，二者属于并列关系，且二者本质上都是水。

第二步，辨析选项。

A 项：“荷花”和“莲花”属于全同关系，排除；

B 项：中国“国花”尚未确定，有多个版本，其中梅花与“牡丹”成了有力的竞争者，与题干逻辑关系不一致，排除；

C 项：“雨滴”和“露珠”本质都是水，二者属于并列关系，与题干逻辑关系一致，符合；

D 项：“仙鹤”可以指丹顶鹤，与“白鹤”属于并列关系，但二者本质上均不是水，排除。

因此，选择 C 选项。

考点

判断推理

类比推理

外延关系 并列

来源

2019 年 0420 四川公务员考试《行测》真题第 69 题、2019 年 0420 黑龙江公务员考试《行测》真题（公检法） 第 86 题

87 、（单选题）玻璃幕墙：光污染

A.汽车尾气：酸雨

B.海上风暴：海啸

C.火山喷发：地震

D.空气消毒：臭氧

收起解析

展开全部解析

收藏

纠错

正确答案：A，我的选择：尚未作答。回答错误

统计

答题时间：0 秒，全站正确率：74%，易错题：B。

解析

第一步，确定题干逻辑关系。

“玻璃幕墙”会导致“光污染”，二者属于因果对应关系，并且“玻璃幕墙”属于人类社会的产物，“光污染”属于对自然界造成的污染。

第二步，辨析选项。

A 项：“汽车尾气”会导致“酸雨”，二者属于因果对应关系，“汽车尾气”是汽车使用时产生的废气，尾气中的二氧化硫达到一定浓度时容易导致“酸雨”的发生，并且“汽车尾气”属于人类社会的产物，“酸雨”属于对自然界造成的污染，与题干逻辑关系一致，符合；

B 项：“海上风暴”能够导致“海啸”，二者属于因果对应关系，但“海上风暴”非人为造成，排除；

C 项：“火山喷发”能够导致“地震”的发生，二者属于因果对应关系，但“火山喷发”非人为造成，排除；

D 项：“臭氧”可以用于“空气消毒”，二者属于功能对应关系，排除。

因此，选择 A 选项。

拓展

玻璃幕墙，是当代的一种新型墙体，它赋予建筑的最大特点是将建筑美学、建筑功能、建筑节能和建筑结构等因素有机地统一起来，建筑物从不同角度呈现出不同的色调，随阳光、月色、灯光的变化给人以动态的美，存在局限性，如光污染、能耗较大等问题。

考点

判断推理

类比推理

内涵关系 对应

来源

2019 年 0420 内蒙古公务员考试《行测》真题 第 90 题、2019 年 0420 天津公务员考试《行测》真题第 82 题、2019 年 0420 安徽公务员考试《行测》真题第 62 题、2019 年 0420 山西公务员考试《行测》真题第 87 题、2019 年 0420 新疆公务员考试《行测》真题第 97 题、2019 年 0420 江西公务员考试《行测》真题（乡镇）第 90 题、2019 年 0420 江西公务员考试《行测》真题（县级以上）第 97 题、2019 年 0420 湖北公务员考试《行测》真题 第 87 题、2019 年 0420 湖南公务员考试《行测》真题 第 57 题、2019 年 0420 重庆公务员考试《行测》真题第 87 题、2019 年 0420 黑龙江公务员考试《行测》真题（公检法）第 87 题、2019 年 0420 黑龙江公务员考试《行测》真题（省直）第 86 题

88 、（单选题）影视作品：电视剧

A.苹果：芒果

B.教师：职工

C.权利：金钱

D.树木：白杨

收起解析

展开全部解析

收藏

纠错

正确答案：D，我的选择：尚未作答。回答错误

统计

答题时间：0 秒，全站正确率：92%，易错题：B。

解析

第一步，确定题干逻辑关系。

“电视剧”是一种“影视作品”，二者属于包容关系中的种属关系。

第二步，辨析选项。

A 项：“苹果”和“芒果”都是水果，二者属于并列关系，排除；

B 项：“教师”是一种“职工”，二者属于包容关系中的种属关系，但词语顺序与题干不一致，排除；

C 项：“金钱”和“权利”属于并列关系，排除；

D 项：“白杨”是一种“树木”，二者属于包容关系中的种属关系，与题干逻辑关系一致，符合。

因此，选择 D 选项。

考点

判断推理

类比推理

外延关系 包容

来源

2019 年 0420 四川公务员考试《行测》真题第 71 题、2019 年 0420 黑龙江公务员考试《行测》真题（公检法）第 88 题

89 、（单选题）杀鸡：儆猴

A.得陇：望蜀

B.唇亡：齿寒

C.居安：思危

D.凿壁：偷光

收起解析

展开全部解析

收藏

纠错

正确答案：D，我的选择：尚未作答。回答错误

统计

答题时间：0 秒，全站正确率：75%，易错题：B。

解析

第一步，确定题干逻辑关系。

“杀鸡儆猴”指杀鸡给猴子看，比喻用惩罚一个人的办法来警告别的人。“杀鸡”的目的是“儆猴”，二者属于目的对应关系。

第二步，辨析选项。

A 项：“得陇望蜀”指已经取得陇右，还想攻取西蜀，比喻贪得无厌，“得陇”与“望蜀”不属于目的对应关系，排除；

B 项：“唇亡齿寒”指嘴唇没了，牙齿就会感到寒冷，比喻利害关系十分密切，“唇亡”与“齿寒”属于因果对应关系，排除；

C 项：“居安思危”指在平安稳定的时候要想到可能会出现危险灾难，“居安”与“思危”属于并列关系，排除；

D 项：“凿壁偷光”原指西汉匡衡凿穿墙壁引邻舍之烛光读书，后用来形容家贫而读书刻苦，

“凿壁”与“偷光”属于目的对应关系，与题干逻辑关系一致，符合。  
因此，选择 D 选项。

考点

判断推理

类比推理

内涵关系 对应

来源

2019 年 0420 黑龙江公务员考试《行测》真题（公检法） 第 89 题

90 、（单选题）投资：风险：收益

A.考试：作弊：提升

B.学习：疲劳：知识

C.决策：错误：正确

D.预警：误判：减灾

收起解析

展开全部解析

收藏

纠错

正确答案：D，我的选择：尚未作答。回答错误

统计

答题时间：0 秒，全站正确率：33%，易错项：C。

解析

第一步，确定题干逻辑关系。

“投资”具有“风险”，二者属于属性关系，“投资”的目的是获得“收益”，二者属于目的对应关系。

第二步，辨析选项。

A 项：“作弊”是“考试”过程中不符合规定的行为，二者属于对应关系，排除；

B 项：“学习”过程中可能会产生“疲劳”，二者属于结果对应关系，排除；

C 项：“错误”与“正确”是“决策”的结果，排除；

D 项：“预警”是指在灾害或灾难以及其他需要提防的危险发生之前，根据以往总结的规律或观测得到的可能性前兆，向相关部门发出紧急信号，报告危险情况，以避免危害在不知情或准备不足的情况下发生，从而最大程度的减轻危害所造成的损失的行为，“预警”会有“误判”，二者属于属性关系，“预警”的目的是“减灾”，二者属于目的对应关系，与题干逻辑关系一致，符合。

因此，选择 D 选项。

考点

判断推理

类比推理

内涵关系 属性

来源

2019 年 0420 四川公务员考试《行测》真题第 73 题、2019 年 0420 黑龙江公务员考试《行测》真题（公检法） 第 90 题

91 、（单选题）线性振动：非线性振动：振动

A.花瓣：花蕊：牵牛花

B.食肉动物：食草动物：动物

C.投资者：经营者：市场主体

D.主要矛盾：次要矛盾：矛盾

收起解析

展开全部解析

收藏

纠错

正确答案：D，我的选择：尚未作答。回答错误

统计

答题时间：0 秒，全站正确率：64%，易错项：B。

解析

第一步，确定题干逻辑关系。

“线性振动”与“非线性振动”均为“振动”，“线性振动”与“非线性振动”属于并列关系中的矛盾关系。

第二步，辨析选项。

A 项：“花瓣”和“花蕊”属于并列关系中的反对关系，排除；

B 项：“食草动物”与“食肉动物”均为动物，二者属于并列关系中的反对关系，排除；

C 项：“市场主体”包括劳动者、“投资者”和“经营者”，因此“投资者”与“经营者”属于并列关系中的反对关系，排除；

D 项：“主要矛盾”和“次要矛盾”均为“矛盾”，“主要矛盾”与“次要矛盾”属于并列关系中的矛盾关系，与题干逻辑关系一致，符合。

因此，选择 D 选项。

考点

判断推理

类比推理

外延关系 并列

来源

2019 年 0420 四川公务员考试《行测》真题第 75 题、2019 年 0420 黑龙江公务员考试《行测》真题（公检法）第 91 题

92 、（单选题）老字号：新品牌：传承

A.老传统：新花样：质疑

B.老配方：新工艺：创新

C.老问题：新思考：评价

D.老物件：新东西：区分

收起解析

展开全部解析

收藏

纠错

正确答案：B，我的选择：尚未作答。回答错误

统计

答题时间：0 秒，全站正确率：88%，易错项：C。

解析

第一步，确定题干逻辑关系。

“老字号”和“新品牌”都是品牌，二者属于并列关系，而且“老字号”需要“传承”。

第二步，辨析选项。

A项：“老传统”和“新花样”属于并列关系，但是“老传统”可以被“质疑”，而不是需要，排除；

B项：“老配方”和“新工艺”属于并列关系，而且“老配方”需要“创新”，与题干逻辑关系一致，符合；

C项：针对“老问题”可以有“新思考”，二者属于对应关系，且“老问题”与“评价”搭配不当，排除；

D项：“老物件”和“新东西”属于并列关系，二者可以“区分”开来，排除。

因此，选择B选项。

考点

判断推理

类比推理

外延关系 并列

来源

2019年0420内蒙古公务员考试《行测》真题第93题、2019年0420天津公务员考试《行测》真题第85题、2019年0420安徽公务员考试《行测》真题第65题、2019年0420山西公务员考试《行测》真题第89题、2019年0420新疆公务员考试《行测》真题第100题、2019年0420江西公务员考试《行测》真题（乡镇）第96题、2019年0420江西公务员考试《行测》真题（县级以上）第99题、2019年0420湖北公务员考试《行测》真题第88题、2019年0420重庆公务员考试《行测》真题第89题、2019年0420陕西公务员考试《行测》真题第91题、2019年0420黑龙江公务员考试《行测》真题（公检法）第92题、2019年0420黑龙江公务员考试《行测》真题（省直）第88题

93、（单选题）（ ）对于风险相当于精兵简政对于（ ）

A.亡羊补牢；效率

B.枕戈待旦；业绩

C.克己奉公；资源

D.曲突徙薪；成本

收起解析

展开全部解析

收藏

纠错

正确答案：D，我的选择：尚未作答。回答错误

统计

答题时间：0秒，全站正确率：37%，易错项：A。

解析

分别将选项代入题干，确定逻辑关系。

A项：“亡羊补牢”比喻出了问题以后想办法补救可以防止继续受损失，可以降低“风险”；“精兵简政”指精减人员，紧缩机构，可以提高“效率”，前后逻辑关系不一致，排除。

B项：“枕戈待旦”形容杀敌心情急切，毫不松懈，时刻准备迎战，与“风险”无明显逻辑关系；“精兵简政”与“业绩”无明显逻辑关系，前后逻辑关系不一致，排除。

C项：“克己奉公”指严格要求自己，一心为公，与“风险”无明显逻辑关系；“精兵简政”可以节约“资源”，二者属于对应关系，前后逻辑关系不一致，排除。

D项：“曲突徙薪”本指预防火灾，后亦比喻先采取措施，防患于未然，“曲突徙薪”可以减少“风险”；“精兵简政”可以减少“成本”，前后逻辑关系一致，符合。

因此，选择D选项。

考点

判断推理

类比推理

内涵关系 对应

来源

2019 年 0420 内蒙古公务员考试《行测》真题 第 97 题、2019 年 0420 安徽公务员考试《行测》真题第 70 题、2019 年 0420 山西公务员考试《行测》真题第 95 题、2019 年 0420 江西公务员考试《行测》真题（乡镇）第 91 题、2019 年 0420 江西公务员考试《行测》真题（县级以上）第 103 题、2019 年 0420 湖南公务员考试《行测》真题 第 63 题、2019 年 0420 黑龙江公务员考试《行测》真题（公检法） 第 93 题、2019 年 0420 黑龙江公务员考试《行测》真题（省直）第 91 题

94 、（单选题）巾帼 之于 （ ） 相当于 （ ） 之于 监狱

A.须眉；囚犯

B.英雄；犯罪

C.女子；铁窗

D.头饰；惩罚

收起解析

展开全部解析

收藏

纠错

正确答案：C，我的选择：尚未作答。回答错误

统计

答题时间：0 秒，全站正确率：72%，易错项：B。

解析

分别将选项代入题干，确定逻辑关系。

A 项：“巾帼”代指女子，“须眉”代指男人，二者属于并列关系，“囚犯”对应的场所是“监狱”，二者属于场所对应关系，前后逻辑关系不一致，排除；

B 项：有的“巾帼”是“英雄”，有的“英雄”是“巾帼”，二者属于交叉关系，“犯罪”后可能被关进“监狱”，二者属于对应关系，前后逻辑关系不一致，排除；

C 项：“巾帼”指代“女子”，二者属于象征关系，“铁窗”指代“监狱”，二者属于象征关系，前后逻辑关系一致，符合；

D 项：“巾帼”与“头饰”属于包容关系中的种属关系，“监狱”是接受“惩罚”的一处场所，二者属于对应关系，前后逻辑关系不一致，排除。

因此，选择 C 选项。

考点

判断推理

类比推理

语义关系 比喻象征

来源

2019 年 0420 天津公务员考试《行测》真题第 90 题、2019 年 0420 山西公务员考试《行测》真题第 92 题、2019 年 0420 湖北公务员考试《行测》真题 第 93 题、2019 年 0420 湖南公务员考试《行测》真题 第 64 题、2019 年 0420 重庆公务员考试《行测》真题第 90 题、2019 年 0420 陕西公务员考试《行测》真题第 100 题、2019 年 0420 黑龙江公务员考试《行测》真题（公检法） 第 94 题

95 、（单选题）荷花 对于（ ） 相当于（ ） 对于 地瓜

- A.荷叶；红薯
- B.池塘；土地
- C.莲藕；中药
- D.芙蕖；甘薯

收起解析

展开全部解析

收藏

纠错

正确答案：D，我的选择：尚未作答。回答错误

统计

答题时间：0 秒，全站正确率：82%，易错项：B。

解析

分别将选项代入题干，确定逻辑关系。

A 项：“荷花”作为花朵而言，与“荷叶”属于并列关系，“红薯”与“地瓜”属于全同关系，前后逻辑关系不一致，排除；

B 项：“荷花”作为植物而言，是种在“池塘”里的，“地瓜”是种在“土地”里的，但前后词语顺序不一致，排除；

C 项：“荷花”作为植物而言，是指多年生草本植物，“莲藕”是荷花的根，二者属于包容关系中的组成关系，“地瓜”可以作为“中药”，二者属于包容关系中的种属关系，前后逻辑关系不一致，排除；

D 项：“荷花”作为植物而言，古称“芙蕖”，二者属于全同关系，“甘薯”也称为“地瓜”，二者属于全同关系，前后逻辑关系一致，符合。

因此，选择 D 选项。

考点

判断推理

类比推理

外延关系 全同

来源

2019 年 0420 四川公务员考试《行测》真题第 77 题、2019 年 0420 黑龙江公务员考试《行测》真题（公检法） 第 95 题

96 、（单选题）红橙黄绿青蓝紫七个人站成一列，老师让七个人依次报数，根据报出的数字，首先让报到 3 的倍数的同学站到他前面两个同学之间；然后让报到 2 的倍数的同学从前向后依次站到身后两名同学的后面；最后让报到 4 的倍数的同学站到队伍的第一位，紫同学站到队伍的中间形成新的队伍。

由此可以推出：

- A.红和橙中间有两个人
- B.黄和绿中间有两个人
- C.蓝现在是队伍的第七位
- D.青现在是队伍的第五位

收起解析

展开全部解析

收藏

纠错



正确答案：A，我的选择：尚未作答。回答错误

统计

答题时间：0秒，全站正确率：30%，易错项：C。

解析

第一步，确定题型。

题干具有信息匹配特征，确定为分析推理。

第二步，分析条件，进行推理。

由题干条件可知，开始的顺序为：1-红、2-橙、3-黄、4-绿、5-青、6-蓝、7-紫；报到3的倍数的同学，即3-黄、6-蓝站到他前面两个同学之间后的顺序为红、黄、橙、绿、蓝、青、紫；报到2的倍数的同学，即2-橙、4-绿、6-蓝从前向后依次站到身后两名同学的后面后顺序为红、黄、橙、绿、蓝、青、紫；报到4的倍数的同学，即4-绿站到第一位后顺序为绿、红、黄、橙、蓝、青、紫，紫同学站到队伍中间后的顺序为绿、红、黄、紫、橙、蓝、青。由此可知只有A项符合。

因此，选择A选项。

考点

判断推理

逻辑判断

分析推理

来源

2019年0420黑龙江公务员考试《行测》真题（公检法）第96题

97、（不定项）长久以来，心理学家都支持“数学天赋论”：数学能力是人类自打娘胎里出来就有的能力，就连动物也有这种能力。他们认为存在一种天生的数学内核，通过自我慢慢发展，这种数学内核最后会“长”成我们所熟悉的一切数学能力，最近有反对者提出了不同的看法：数学能力没有天赋，只能是文化的产物。

以下各项如果为真，能够支持反对者看法的有：

- A.10~12个月的婴儿已经知道3个黑点和4个黑点是不一样的。
- B.数学是大脑的产物，而大脑的生长模式早已由基因“预设”
- C.经过人为训练的大猩猩、海豚和大象等动物能处理数学问题
- D.绝大多数的原始部落的居民只能表示5以下甚至更少的数量

收起解析

展开全部解析

收藏

纠错

正确答案：CD，我的选择：尚未作答。回答错误

统计

答题时间：0秒，全站正确率：41%，易错项：B。

解析

第一步，确定题型。

根据提问方式中的“支持”，确定为加强论证。

第二步，找论点和论据。

论点：数学能力没有天赋，只能是文化的产物。

论据：无。

第三步，辨析选项。

A项：削弱论点。“10~12个月的婴儿已经知道3个黑点和4个黑点是不一样的”，证明人

类自出生以来就具有一定的数学能力，具有削弱作用，排除。

B项：削弱论点。该项指出大脑的生长模式早已由基因“预设”，说明数学能力是有天赋的，具有削弱作用，排除。

C项：增加论据。大猩猩、海豚和大象等动物经过人为训练后能处理数学问题，说明数学能力是文化的产物，具有加强作用。

D项：增加论据。因为绝大多数的原始部落文化落后，而缺少文化教育导致人们的数学能力只能表示5以下甚至更少的数量，说明数学能力没有天赋，支持了反对者的论点，具有加强作用。

因此，选择CD选项。

拓展

参考原文《数学能力是人类固有的天赋？有人不这么看》

题干如下：

长久以来，心理学家都支持“数学天赋论”：数学能力是人类自打娘胎里出来就有的能力。有些研究发现，10~12个月的婴儿已经知道3个黑点和4个黑点是不一样的<sup>[2]</sup>，甚至有研究还发现，刚出生三四天的小宝宝就已经能辨别2和3的差别<sup>[3]</sup>。除了咿呀学语的婴儿，大猩猩、老鼠、鸟、猫、海豚、大象等动物也被证明能够处理数学问题<sup>[4]</sup>。无论是襁褓中的婴儿，还是远离“世俗”的动物，它们都没有机会接触系统的文化和教养，这些证据似乎说明数学能力是一种与感觉经验无关的天赋。

反对者在反对原观点时给出了三个主要理由，其中第二理由是本题的D选项，故D能够加强。

其次，数学天赋论忽视了原始社会居民的情况。目前的研究大多是以现代社会居民作为被试（特别是大学生），他们在实验中展现出了丰富多彩的数学能力。然而，原始社会居民的数学能力却十分匮乏。不像现代人的数学系统能表示10个以上数量（比如中文能数到10，英语能数到12），绝大多数的原始部落居民只能表示5以下的数量，更有一些部落的数学系统中只有1和2。这就说明，离开了现代社会这个大环境，人类的数学能力还仅仅停留在最原始的水平上。因此，原始社会中所缺少的文化因素，一定是数学能力发展的必要条件。

反对者的第三个理由是说“原来的看法认为来自自然界的动物也有数学能力”，但是，这些能够展现数学能力的动物其实“都接受过特别的训练”，也就是说，经过训练的动物不能证明“数学天赋论”。故C项也能加强反对者的观点。

最后，努涅斯认为当前动物研究的结果也存在过度推广。那些能在实验中展示数学才能的动物们，都接受过特别的训练。努涅斯在文中就列举了一项研究，为了学会识别简单的数字，猴子们学习了近四个月，尝试了20000余次，即使这样，它们的准确率也只能达到75%。而且，实验室环境也经过了精心布置，有很多细节都有利于动物们表现数字能力。然而，大自然中的动物从来没有接受过训练，它们的生活环境也没有任何人为因素。因此，实验室中的动物在多大程度上能代表全体动物们呢？这要打上一个问号。或许我们只能说，实验室中的动物才具有数学能力。

因此，选择CD选项。

考点

判断推理

逻辑判断

加强论证

来源

2019 年 0420 陕西公务员考试《行测》真题第 105 题

98 、（单选题）为什么有人乐于参加社交活动,结交朋友,有人却对此避之不及?有研究人员指出,与其他人相比,CD38 基因表达量较高,CD157 基因序列存在特定变异的人更乐于社交,所以两种基因影响了人的社交能力,但是,有反对者提出,人的社交能力是由位于人类 4 号染色体长臂 1 区的催产素决定的,不论是男性还是女性的大脑都能合成这种激素,它对人的社交能力有着重要影响。

以下哪项如果为真,最能削弱反对者的观点?

- A.CD38 和 CD157 基因控制着催产素的分泌
- B.催产素的分泌影响着人的共情能力、信任和慷慨程度等
- C.上述两种基因中哪一种对人的社交能力影响更大还不确定
- D.基因表达是否能影响行为,在很大程度上取决于人们所处的社会环境

收起解析

展开全部解析

收藏

纠错

正确答案: A, 我的选择: 尚未作答。回答错误

统计

答题时间: 0 秒, 全站正确率: 71%, 易错题: D。

解析

第一步, 确定题型。

根据提问方式中的“削弱”, 确定为削弱论证。

第二步, 找论点和论据。

论点: 人的社交能力是由位于人类 4 号染色体长臂 1 区的催产素决定的,不论是男性还是女性的大脑都能合成这种激素,它对人的社交能力有着重要影响。

论据: 无。

第三步, 辨析选项。

A 项: 增加反向论据。反对者认为不是 CD38 和 CD157 基因决定人的社交能力, 而是催产素, 而该项指出这两种基因控制着催产素的分泌, 说明最根本的原因还是 CD38 和 CD157 基因, 具有削弱作用。

B 项: 不明确项。该项指出催产素的分泌影响人的共情能力等, 但“共情能力”是否与论点中的社交能力有关并不明确, 不具有削弱作用。

C 项: 无关选项。该项讨论的是上述两种基因对人的社交能力影响力大小的比较, 与论点无关, 论题不一致, 排除。

D 项: 无关选项。该项讨论的基因是否影响行为取决于人们所处的社会环境, 与论点无关, 论题不一致, 排除。

因此, 选择 A 选项。

考点

判断推理

逻辑判断

削弱论证

来源

2019 年 0420 四川公务员考试《行测》真题第 80 题、2019 年 0420 黑龙江公务员考试《行测》真题（公检法）第 98 题

99、（单选题）近年来，意大利面被冠上导致肥胖的坏名声，因此很多人在面对这种地中海饮食时，都抱有一种又恨又爱的纠结心情。然而，意大利地中海神经病学研究所通过对 2.3 万人的研究发现，意大利面不像很多人想象的那样会导致体重增加。而且，意大利面非但不会导致肥胖，还可以起到相反的效果——降低体脂率。研究结果显示，如果人们能够适量摄入，并保证饮食多样性，意大利面对人们的身体健康大有裨益。

以下哪项如果为真，最能支持上述结论？

- A. 面条中所含碳水化合物是导致肥胖的重要因素
- B. 没有研究显示意大利面会导致人群肥胖率上升
- C. 地中海饮食采用的橄榄油对身体健康大有益处
- D. 酌量食用意大利面能够维持人们理想的体脂率

收起解析

展开全部解析

收藏

纠错

正确答案：D，我的选择：尚未作答。回答错误

统计

答题时间：0 秒，全站正确率：73%，易错项：B。

解析

第一步，确定题型。

根据提问方式中的“支持”，确定为加强论证。

第二步，找论点和论据。

论点：如果人们能够适量摄入并保证饮食多样性，意大利面对人们的身体健康大有裨益。

论据：无。

第三步，辨析选项。

A 项：增加反向论据。该项指出“面条导致肥胖”，故意大利面对人体的健康有害处，具有削弱作用。

B 项：不明确项。“没有研究显示”不代表实际情况也一定如此，故不明确，不具有加强作用。

C 项：不明确项。该项只是提到“地中海饮食”采用橄榄油，但并不确定意大利面一定也采用橄榄油，并且橄榄油对人体有益也不等于意大利面对人体有益，不具有加强作用。

D 项：增加论据。该项指出“酌量食用意大利面能够维持人们理想的体脂率”，说明对人体有益，具有加强作用。

因此，选择 D 选项。

考点

判断推理

逻辑判断

加强论证

来源

2019 年 0420 天津公务员考试《行测》真题第 93 题、2019 年 0420 安徽公务员考试《行测》真题第 90 题、2019 年 0420 新疆公务员考试《行测》真题第 89 题、2019 年 0420 江西公务员考试《行测》真题（乡镇）第 97 题、2019 年 0420 江西公务员考试《行测》真题（县级以上）第 107 题、2019 年 0420 重庆公务员考试《行测》真题第 92 题、2019 年 0420 黑龙

江公务员考试《行测》真题（公检法） 第 99 题、2019 年 0420 黑龙江公务员考试《行测》真题（省直）第 100 题

100 、（单选题）妈妈准备超市大减价活动日去购物，但她忘记活动的具体日期，于是她分别询问了如下五人，他们的回答分别是：

爷爷：是周末。

奶奶：是星期二、星期四或星期六中的一天。

爸爸：不对，是星期一。

儿子：是星期一、星期三、星期五或星期日中的一天。

女儿：是星期五。

如果这五个人中只有一个人说对了，那么超市大减价活动日可能是：

A.星期一

B.星期三

C.星期五

D.星期六

收起解析

展开全部解析

收藏

纠错

正确答案：B，我的选择：尚未作答。回答错误

统计

答题时间：0 秒，全站正确率：61%，易错题：D。

解析

第一步，确定题型。

题干有若干论断和真假限定，确定为真假推理。

第二步，找关系。

根据题干可知，奶奶和儿子说的话是矛盾关系，矛盾关系必有一真，必有一假。

第三步，看其余。

已知只有一人说对了，可知爷爷、爸爸、女儿所说均为假话。即不是周末、不是周一、不是周五，排除 A 项、C 项、D 项。

因此，选择 B 选项。

考点

判断推理

逻辑判断

真假推理

来源

2019 年 0420 黑龙江公务员考试《行测》真题（公检法） 第 100 题

101 、（单选题）牙医在治疗龋齿时，先要去除牙齿龋坏的部分，再填充材料以修补缺损的牙体。但是，10%至 15%的补牙会失败，且所用的填充物并不具备使牙齿自愈的功能，甚至还有副作用。有鉴于此，研究人员研发出一种用合成生物材料制成的填充物，可以刺激牙髓中干细胞的生长，修复受损部位。这种填充物能刺激干细胞的增殖，并分化成牙本质。如果未来补牙的填充物都用这样的再生材料制成，将降低补牙失败率，也可减少蛀牙患者治疗牙髓之苦。

由此可以推出：

A.未来人们将不再患上蛀牙病

- B.未来人们将不再受龋齿困扰
- C.新研发的补牙填充物能刺激受损牙齿自愈
- D.新研发的补牙填充物能促进牙本质的生长

收起解析

展开全部解析

收藏

纠错

正确答案：C，我的选择：尚未作答。回答错误

统计

答题时间：0 秒，全站正确率：43%，易错项：D。

解析

第一步，确定题型。

依据题干特征和提问方式，确定为归纳推理。

第二步，辨析选项。

- A 项：“未来人们将不再患上蛀牙病”表述过于绝对，从题干无法推出，排除；
- B 项：“未来人们将不再受龋齿困扰”表述过于绝对，从题干无法推出，排除；
- C 项：“可以刺激牙髓中干细胞的生长，修复受损部位”，是刺激受损的牙齿，从而到达自愈的过程，可以推出；
- D 项：题干中提到的是“刺激干细胞增殖，并分化成牙本质”而不是“促进牙本质的生长”，排除。

因此，选择 C 选项。

考点

判断推理

逻辑判断

归纳推理

来源

2019 年 0420 安徽公务员考试《行测》真题第 94 题、2019 年 0420 新疆公务员考试《行测》真题第 94 题、2019 年 0420 江西公务员考试《行测》真题（县级以上）第 112 题、2019 年 0420 湖北公务员考试《行测》真题 第 100 题、2019 年 0420 黑龙江公务员考试《行测》真题（公检法） 第 101 题

102 、（单选题）某研究团队招募了 53 名年龄在 45 岁到 64 岁之间的健康志愿者，参与一项为期两年的锻炼计划。结果发现，志愿者心脏健康指标特别是左心室功能有相应改善。这是由于左心室能将富含氧气的血液泵入大动脉，供应全身器官。缺乏运动和器官老化会使左心室肌肉收缩乏力。该研究团队认为，适当锻炼有助于逆转心肌老化带来的危害并降低心脏病发作风险。

以下哪项如果为真，最能支持上述结论？

- A.越年轻开始锻炼，越能降低心脏病发作的风险
- B.适当运动有助于提高氧气摄入量，增强代谢能力
- C.有心脏病史的人经过适当锻炼后心脏功能得到明显改善
- D.出现左心室肌肉硬化的中老年人中大多数日常锻炼量不足

收起解析

展开全部解析

收藏

纠错

正确答案：C，我的选择：尚未作答。回答错误

统计

答题时间：0 秒，全站正确率：62%，易错项：D。

解析

第一步，确定题型。

根据提问方式中的“支持”，确定为加强论证。

第二步，找论点和论据。

论点：适当锻炼有助于逆转心肌老化带来的危害并降低心脏病发作风险。

论据：某研究团队招募了 53 名年龄在 45 岁到 64 岁之间的健康志愿者，参与一项为期两年的锻炼计划。志愿者心脏健康指标特别是左心室功能有相应改善。这是由于左心室能将富含氧气的血液泵入大动脉，供应全身器官。缺乏运动和器官老化会使左心室肌肉收缩乏力。

第三步，辨析选项。

A 项：无关选项。论点的内容为“适当锻炼和心脏病之间的关系”，而该项讨论的是锻炼开始年龄和心脏病之间的关系，论题不一致，排除。

B 项：无关选项。该项讨论的是适当运动和代谢能力的关系，与论点无关，论题不一致，排除。

C 项：增加论据。题干指出有心脏病史的人锻炼后心脏功能得到改善，该项增加了内容说明锻炼有助于逆转心肌老化带来的危害并降低心脏病发作风险，具有加强作用。

D 项：无关选项。该项讨论的是锻炼不足之后的结果，而论点讨论的是适当锻炼的结果，论题不一致，排除。

因此，选择 C 选项。

考点

判断推理

逻辑判断

加强论证

来源

2019 年 0420 四川公务员考试《行测》真题第 83 题、2019 年 0420 黑龙江公务员考试《行测》真题（公检法）第 102 题

103 、（单选题）有研究声称：癌细胞怕热，高体温可以抗癌。人体最容易罹癌的器官包括肺、胃、大肠、乳腺等都是体温较低的部位，心脏之类的“高温器官”不容易得癌症。因此，可以用运动、喝热水、泡澡等方法提高体温来抗癌。

以下哪项如果为真，最能反驳上述论断？

A.受呼吸、饮食等影响，人的口腔温度一般比直肠温度低，而世界范围内直肠癌的发生率要高于口腔癌

B.人的体温存在精准的调控机制，基本保持平稳状态，体内各个脏器之间并没有什么明显的温度差异

C.热疗或许可以帮助放疗或一些化疗发挥更好的作用，但证明其可靠性的研究数据依然不足

D.心脏很少发生恶性肿瘤，是因为这里的心肌细胞不再进行分裂增殖，而与温度高低无关

收起解析

展开全部解析

收藏

纠错

正确答案：B，我的选择：尚未作答。回答错误

统计

答题时间：0 秒，全站正确率：46%，易错题：D。

解析

第一步，确定题型。

根据提问方式中的“反驳”，确定为削弱论证。

第二步，找论点和论据。

论点：可以用运动、喝热水、泡澡等方法提高体温来抗癌。

论据：癌细胞怕热，高体温可以抗癌，人体最容易罹患癌的器官包括肺、胃、大肠、乳腺等都是体温较低的部位，心脏之类的“高温器官”不容易得癌症。

第三步，辨析选项。

A 项：增加反向论据。该项以口腔和直肠为例来反驳题干论点，具有削弱作用。

B 项：否定论点。该项提到“人的体温存在精准的调控机制”，说明很难通过外在因素调整体温，同时“脏器之间没有明显的温度差异”，说明不同脏器之间罹癌率不同不是因为体温不同的原因，具有削弱作用。

C 项：不明确项。该项提到可靠性数据不足，但不能必然否定高温抗癌的说法，不具有削弱作用，排除。

D 项：削弱论据。该项提到心脏很少发生恶性肿瘤不是因为高温而是因为细胞不再分裂增殖，具有削弱作用。

第四步，强度比较。

A 项是以口腔、直肠作为反例来削弱论点，D 项是否定了论据的成立，而 B 项是直接否定了论点，削弱力度最强。

因此，选择 B 选项。

考点

判断推理

逻辑判断

削弱论证

来源

2019 年 0420 内蒙古公务员考试《行测》真题 第 104 题、2019 年 0420 天津公务员考试《行测》真题第 99 题、2019 年 0420 安徽公务员考试《行测》真题第 95 题、2019 年 0420 新疆公务员考试《行测》真题第 86 题、2019 年 0420 江西公务员考试《行测》真题（县级以上）第 113 题、2019 年 0420 湖北公务员考试《行测》真题 第 105 题、2019 年 0420 湖南公务员考试《行测》真题 第 76 题、2019 年 0420 重庆公务员考试《行测》真题第 99 题、2019 年 0420 黑龙江公务员考试《行测》真题（公检法）第 103 题、2019 年 0420 黑龙江公务员考试《行测》真题（省直）第 105 题

104 、（单选题）有人认为一个人的年龄越大，体内积累的自由基会越多，氧化造成的伤害就越多，最后就会衰老死亡，葡萄籽提取物中含有的原花青素能有效清除体内自由基，保护人体细胞组织免受自由基的氧化损伤。因此，多吃葡萄籽提取物可以抗氧化防衰老。

以下哪项论述如果为真，最能削弱上述论证？

- A.葡萄籽提取物中含有的多酚类物质易对肝脏造成损害
- B.各种蔬菜水果等日常食物中，含有的抗氧化物质也比较多
- C.年轻人、中年人和老年人体内的自由基浓度没有什么区别
- D.体内的歧化酶结合一部分自由基，会减轻其氧化造成的伤害

收起解析

展开全部解析

收藏



纠错

正确答案：C，我的选择：尚未作答。回答错误

统计

答题时间：0 秒，全站正确率：54%，易错项：A。

解析

第一步，确定题型。

根据提问方式中的“削弱”，确定为削弱论证。

第二步，找论点和论据。

论点：多吃葡萄籽提取物可以抗氧化抗衰老。

论据：葡萄籽提取物中含有的原花青素能有效清除体内自由基，保护人体细胞组织免受自由基的氧化损伤。

第三步，辨析选项。

A 项：无关选项。该项讨论的是葡萄籽提取物会对肝脏造成损害，与葡萄籽提取物是否有抗氧化抗衰老作用无关，论题不一致，排除。

B 项：无关选项。该项讨论的是日常食物中含有抗氧化物质，与葡萄籽提取物是否有抗氧化抗衰老作用无关，论题不一致，排除。

C 项：增加反向论据。该项指出年轻人、中年人和老年人体内的自由基浓度没有什么区别，可以说明自由基与衰老无关，因此多吃葡萄籽提取物也就不具有抗氧化抗衰老的作用，具有削弱作用。

D 项：无关选项。该项讨论的如何减轻歧化酶氧化造成的伤害，与葡萄籽提取物是否有抗氧化抗衰老作用无关，论题不一致，排除。

因此，选择 C 选项。

考点

判断推理

逻辑判断

削弱论证

来源

2019 年 0420 四川公务员考试《行测》真题第 84 题、2019 年 0420 黑龙江公务员考试《行测》真题（公检法）第 104 题

105 、（单选题）蛇纹岩土干燥、营养成分低，通常含有对大多数物种来说有毒的镍、铬等重金属元素。研究人员发现拟南芥属植物的一个种群生长在蛇纹岩土中，这对它们而言是非常极端的环境。有研究人员分析了这种拟南芥属植物的基因，认为它们是从生长于附近的亲缘属群中“借”了一些有利的基因，以帮助它们应对极端环境的。但是，有反对者认为这种拟南芥属植物是通过原有基因变异的方式获得遗传变异来适应环境的。

以下哪项如果为真，最能削弱反对者的观点？

- A.生长于蛇纹岩土中的其他植物都是完全独立地通过自然选择进行适应性进化的
- B.并未见到生长于非蛇纹岩土中的该种拟南芥属植物通过改变基因的方式获得遗传变异以适应环境
- C.生长于蛇纹岩土中的拟南芥属植物中检测出附近亲缘属植物的特征性基因片段，该基因片段增强了对重金属的耐受力
- D.未在生长于附近非蛇纹岩土中的植物中发现改变基因的现象

收起解析

展开全部解析

收藏

纠错

正确答案：C，我的选择：尚未作答。回答错误

统计

答题时间：0 秒，全站正确率：50%，易错题：B。

解析

第一步，确定题型。

根据提问方式中的“削弱”，确定为削弱论证。

第二步，找论点和论据。

论点：这种拟南芥植物是通过原有基因变异的方式获得遗传变异来适应环境的。

论据：无。

第三步，辨析选项。

A 项：无关选项。该项讨论的是生长于蛇纹岩土中的其他植物，而论点讨论的是拟南芥植物，论题不一致，排除。

B 项：无关选项。该项讨论的是生长于非蛇纹岩土中的该种拟南芥属植物如何适应环境，与论点无关，论题不一致，排除。

C 项：增加反向论据。该项指出生长于蛇纹岩土中的拟南芥属植物，能够从中检测出附近亲缘属植物的特征性基因片段，同时检测出的该基因片段增强了对重金属的耐受力，说明蛇纹岩土中的拟南芥属植物还是借助生长于附近的亲缘属群体中的有利基因应对极端环境的，而非是通过原有基因变异的方式获得遗传变异来适应环境的，具有削弱作用。

D 项：无关选项。该项讨论的是附近非蛇纹岩土中的植物，与论点中的拟南芥植物无关，论题不一致，排除。

因此，选择 C 选项。

考点

判断推理

逻辑判断

削弱论证

来源

2019 年 0420 黑龙江公务员考试《行测》真题（公检法） 第 105 题

复合题

2017 年我国成年国民图书阅读率为 59.1%，比上年增加 0.3 个百分点；报纸阅读率为 37.6%，比上年降低 2.1 个百分点；期刊阅读率为 25.3%，比上年增加 1 个百分点。

2017 年我国成年国民数字化阅读方式（网络在线阅读、手机阅读、电子阅读器阅读、平板电脑阅读等）的接触率为 73.0%。其中，网络在线阅读接触率为 59.7%，比上年增加 4.4 个百分点；手机阅读接触率为 71.0%，比上年增加 4.9 个百分点；电子阅读器阅读接触率为 14.3%，比上年增加 6.5 个百分点；平板电脑阅读接触率为 12.8%，比上年增加 2.2 个百分点。传统纸质媒介中，2017 年我国成年国民人均每天阅读纸质图书时长为 20.38 分钟，人均每天阅读报纸时长为 12.00 分钟，人均每天阅读期刊时长为 6.88 分钟。

2013 年至 2017 年我国成年国民各类出版物人均阅读量

	2013 年	2014 年	2015 年	2016 年	2017 年
纸质图书（本）	4.77	4.56	4.58	4.65	4.66
电子书（本）	2.48	3.22	3.26	3.21	3.12
报纸（份）	70.85	65.03	54.76	44.66	33.62
期刊（份）	5.51	6.07	4.91	3.44	3.81

打开资料

106 、（单选题）2016 年我国成年国民报纸阅读率比期刊阅读率高：

- A.11.1 个百分点
- B.12.3 个百分点
- C.15.4 个百分点
- D.17.5 个百分点

收起解析

展开全部解析

收藏

纠错

正确答案：C，我的选择：尚未作答。回答错误

统计

答题时间：0 秒，全站正确率：76%，易错项：B。

解析

第一步，本题考查简单计算中和差类。

第二步，定位文字材料第一段，“2017 年我国成年国民图书阅读率为 59.1%，比上年增加 0.3 个百分点；报纸阅读率为 37.6%，比上年降低 2.1 个百分点；期刊阅读率为 25.3%，比上年增加 1 个百分点”。

第三步，2016 年我国成年国民报纸阅读率为  $37.6\% + 2.1\% = 39.7\%$ ，期刊阅读率为  $25.3\% - 1\% = 24.3\%$ ，两者相差  $39.7\% - 24.3\% = 15.4\%$ ，即高 15.4 个百分点。

因此，选择 C 选项。

考点

资料分析

简单计算

和差类

来源

2019 年 0420 天津公务员考试《行测》真题第 116 题、2019 年 0420 新疆公务员考试《行测》真题第 116 题、2019 年 0420 江西公务员考试《行测》真题（乡镇）第 119 题、2019 年 0420 江西公务员考试《行测》真题（县级以上）第 126 题、2019 年 0420 湖北公务员考试《行测》真题 第 106 题、2019 年 0420 重庆公务员考试《行测》真题第 116 题、2019 年 0420 陕西公务员考试《行测》真题第 56 题、2019 年 0420 黑龙江公务员考试《行测》真题（公检法）第 106 题、2019 年 0420 黑龙江公务员考试《行测》真题（省直）第 121 题

107 、（单选题）2016 年我国成年国民数字化阅读四个方式的接触率按从高到低排列正确的是：

- A.网络在线阅读>手机阅读>电子阅读器阅读>平板电脑阅读
- B.手机阅读>网络在线阅读>电子阅读器阅读>平板电脑阅读
- C.网络在线阅读>手机阅读>平板电脑阅读>电子阅读器阅读
- D.手机阅读>网络在线阅读>平板电脑阅读>电子阅读器阅读

收起解析

展开全部解析

收藏

纠错

正确答案：D，我的选择：尚未作答。回答错误

统计

答题时间：0 秒，全站正确率：63%，易错项：B。

解析

第一步，本题考查简单排序比较。

第二步，定位文字材料第二段。“2017 年网络在线阅读接触率为 59.7%，比上年增加 4.4 个百分点；手机阅读接触率为 71.0%，比上年增加 4.9 个百分点；电子阅读器阅读接触率为 14.3%，比上年增加 6.5 个百分点；平板电脑阅读接触率为 12.8%，比上年增加 2.2 个百分点”。

第三步，2016 年网络在线阅读接触率为  $59.7\% - 4.4\% = 55.3\%$ ；手机阅读接触率为  $71.0\% - 4.9\% = 66.1\%$ ；电子阅读器阅读接触率为  $14.3\% - 6.5\% = 7.8\%$ ；平板电脑阅读接触率为  $12.8\% - 2.2\% = 10.6\%$ ，则正确排序为：手机阅读接触率 > 网络在线阅读接触率 > 平板电脑阅读接触率 > 电子阅读器阅读接触率。

因此，选择 D 选项。

考点

资料分析

简单比较

排序比较

来源

2019 年 0420 天津公务员考试《行测》真题第 117 题、2019 年 0420 山西公务员考试《行测》真题第 116 题、2019 年 0420 新疆公务员考试《行测》真题第 117 题、2019 年 0420 江西公务员考试《行测》真题（乡镇）第 120 题、2019 年 0420 湖北公务员考试《行测》真题第 108 题、2019 年 0420 湖南公务员考试《行测》真题第 106 题、2019 年 0420 陕西公务员考试《行测》真题第 57 题、2019 年 0420 黑龙江公务员考试《行测》真题（公检法）第 107 题、2019 年 0420 黑龙江公务员考试《行测》真题（省直）第 122 题

108 、（单选题）2017 年我国成年国民阅读一本纸质图书平均约需要：

A.20.8 小时

B.22.3 小时

C.24.1 小时

D.26.6 小时

收起解析

展开全部解析

收藏

纠错

正确答案：D，我的选择：尚未作答。回答错误

统计

答题时间：0 秒，全站正确率：41%，易错项：B。

解析

第一步，本题考查现期平均数计算中的求单平均数。

第二步，定位文字材料第三段，“2017 年我国成年国民人均每天阅读纸质图书时长为 20.38 分钟”，定位表格材料，2017 年我国成年国民纸质图书人均阅读量为 4.66 本。

第三步，根据平均数 = 总数 / 总个数，则 2017 年我国成年国民阅读一本纸质书的平均时长 = 阅读纸质书总时长 / 纸质书阅读量，选项与材料单位不一致，需考虑单位换算，则平均数 =

$$\frac{\frac{20.38}{60} \times 365}{4.66} \approx \frac{20 \times 6.1}{4.66} = 4.66, \text{ 直除首两位商 } 26。$$

因此，选择 D 选项。

考点

资料分析

平均数

现期平均数计算 单平均数

来源

2019 年 0420 山西公务员考试《行测》真题第 117 题、2019 年 0420 江西公务员考试《行测》真题（乡镇）第 118 题、2019 年 0420 江西公务员考试《行测》真题（县级以上）第 127 题、2019 年 0420 湖北公务员考试《行测》真题 第 109 题、2019 年 0420 湖南公务员考试《行测》真题 第 107 题、2019 年 0420 重庆公务员考试《行测》真题第 117 题、2019 年 0420 陕西公务员考试《行测》真题第 58 题、2019 年 0420 黑龙江公务员考试《行测》真题（公检法） 第 108 题、2019 年 0420 黑龙江公务员考试《行测》真题（省直）第 123 题

109 、（单选题）2013 年至 2017 年我国成年国民人均期刊阅读量超过这五年平均水平的年份有：

A.2 个

B.3 个

C.4 个

D.5 个

收起解析

展开全部解析

收藏

纠错

正确答案：B，我的选择：尚未作答。回答错误

统计

答题时间：0 秒，全站正确率：78%，易错项：A。

解析

第一步，本题考查现期平均数计算中的求单平均数。

第二步，定位表格材料“期刊”所在行。

第三步，根据平均数 = 总数 / 总个数，对数据进行截位处理，则五年平均水平约为  $\frac{5.5 + 6.1 + 4.9 + 3.4 + 3.8}{5} = \frac{23.7}{5} = 4.74$ 。超过这五年平均水平的年份有 2013 年（5.51 份）、

2014 年（6.07 份）、2015 年（4.91 份），共计 3 年。

因此，选择 B 选项。

考点

资料分析

平均数

现期平均数计算 单平均数

来源

2019 年 0420 天津公务员考试《行测》真题第 119 题、2019 年 0420 山西公务员考试《行测》真题第 119 题、2019 年 0420 新疆公务员考试《行测》真题第 119 题、2019 年 0420 江西公务员考试《行测》真题（乡镇）第 117 题、2019 年 0420 江西公务员考试《行测》真题（县级以上）第 129 题、2019 年 0420 湖北公务员考试《行测》真题 第 107 题、2019 年 0420 湖南公务员考试《行测》真题 第 109 题、2019 年 0420 重庆公务员考试《行测》真题第 119 题、2019 年 0420 陕西公务员考试《行测》真题第 59 题、2019 年 0420 黑龙江公务员考试《行测》真题（公检法） 第 109 题、2019 年 0420 黑龙江公务员考试《行测》真题（省直）

第 124 题

110 、（单选题）能够从上述资料中推出的是：

- A.2013 年至 2017 年我国成年国民人均电子书阅读量逐年上升
- B.2016 年我国成年国民图书阅读率低于当年网络在线阅读接触率
- C.2014 年至 2017 年我国成年国民人均期刊阅读量，增长率最高的年份为 2017 年
- D.2017 年我国成年国民人均每天阅读纸质图书时长低于阅读报纸与阅读期刊时长之和

收起解析

展开全部解析

收藏

纠错

正确答案：C，我的选择：尚未作答。回答错误

统计

答题时间：0 秒，全站正确率：57%，易错项：B。

解析

第一步，本题考查综合分析问题，且需选出正确的一项。

第二步，A 选项，读数比较，定位表格材料“电子书”所在行，2017 年（3.12）<2016 年（3.21），并非逐年上升，错误。

B 选项，和差类比较，定位文字材料第一段，2017 年我国成年国民图书阅读率为 59.1%，比上年增加 0.3 个百分点；2017 年我国网络在线阅读接触率为 59.7%，比上年增加 4.4 个百分点，则 2016 年我国成年国民阅读率为  $59.1\% - 0.3\% = 58.8\%$ ；2016 年网络在线阅读接触率为  $59.7\% - 4.4\% = 55.3\%$ ，则 2016 年国民图书阅读率大于网络在线阅读接触率，错误。

C 选项，增长率计算比较，定位表格材料，2015 年和 2016 年我国成年国民人均期刊阅读量是下降的，增速为负，只需要比较 2014 年和 2017 即可，根据增长率 =  $(\text{现期量} - \text{基期量}) /$

$$\frac{6.07 - 5.51}{5.51} = \frac{0.56}{5.51} \approx 10.2\%$$
，2017 年为  $\frac{3.81 - 3.44}{3.44} = \frac{0.37}{3.44} \approx 10.8\%$ ，2017 年的增长率是最高的，正确。

D 选项，简单比较，定位文字材料第三段“传统纸质媒介中，2017 年我国成年国民人均每天阅读纸质图书时长为 20.38 分钟，人均每天阅读报纸时长为 12.00 分钟，人均每天阅读期刊时长为 6.88 分钟”。 $20.38 > 12.00 + 6.88 = 18.88$ ，错误。

因此，选择 C 选项。

考点

资料分析

综合分析类

综合分析

来源

2019 年 0420 天津公务员考试《行测》真题第 120 题、2019 年 0420 山西公务员考试《行测》真题第 120 题、2019 年 0420 新疆公务员考试《行测》真题第 120 题、2019 年 0420 江西公务员考试《行测》真题（县级以上）第 130 题、2019 年 0420 湖北公务员考试《行测》真题第 110 题、2019 年 0420 湖南公务员考试《行测》真题第 110 题、2019 年 0420 重庆公务员考试《行测》真题第 120 题、2019 年 0420 陕西公务员考试《行测》真题第 60 题、2019 年 0420 黑龙江公务员考试《行测》真题（公检法）第 110 题、2019 年 0420 黑龙江公务员考试《行测》真题（省直）第 125 题

复合题

2011年至2017年我国服务进出口统计（金额单位：亿元人民币）

时间	进出口额		出口额		进口额	
	金额	同比(%)	金额	同比(%)	金额	同比(%)
2017年	46991	6.9	15407	10.7	31584	5.17
2016年	43947	7.9	13918	2.2	30030	10.7
2015年	40745	1.7	13617	1.2	27127	2.0
2014年	40053	18.3	13461	3.4	26591	27.9
2013年	33814	11.2	13020	2.5	20794	17.3
2012年	30422	2.2	12699	-4.5	17722	8.0
2011年	28875	15.4	12936	7.7	15939	22.5

2017年我国服务分类进出口统计（金额单位：亿元人民币）

服务类别	进出口		出口		进口	
	金额	同比(%)	金额	同比(%)	金额	同比(%)
加工服务	1235.0	-1.0	1223.0	-1.0	12.0	14.2
维护和维修服务	554.0	18.1	401.0	20.0	153.0	14.3
运输	8784.0	15.6	2506.0	12.0	6278.0	17.3
旅行	19826.0	-2.2	2615.0	-11.0	17210.0	-0.8
建筑	2197.0	57.8	1618.0	92.0	579.0	5.4
保险和养老金服务	976.0	-13.9	273.0	-1.0	703.0	-18.0
金融服务	359.0	3.0	250.0	17.0	109.0	-19.1
知识产权使用费	2252.0	34.7	322.0	315.0	1930.0	21.2
电信、计算机和信息服务	3171.0	22.1	1876.0	6.0	1295.0	55.0
其他商业服务	7051.0	4.8	4157.0	8.0	2895.0	0.4
个人、文化和娱乐服务	237.0	23.9	51.0	4.0	186.0	30.8
别处未提及的政府服务	348.0	28.5	115.0	43.0	233.0	22.3

（注：顺差是指在国际收支上，一定时期内收入大于支出的差额；逆差指的是在国际收支上，一定时期内支出大于收入的差额；表中同比数据为正的表示同比增长，同比数据为负的表示同比下降）

打开资料

111、（单选题）2011年至2017年，我国服务进出口逆差最大的年份是：

- A.2017年
- B.2016年
- C.2015年
- D.2014年

收起解析

展开全部解析

收藏

纠错

正确答案：A，我的选择：尚未作答。回答错误

统计

答题时间：0 秒，全站正确率：56%，易错项：B。

解析

第一步，本题考查简单比较中和差比较问题。

第二步，定位表 1。

第三步，根据注释“逆差指的是在国际收支上，一定时期内支出大于收入的差额”，A 选项，逆差为  $31584 - 15407 = 16177$ ；B 选项，逆差为  $30030 - 13918 = 16112$ ；C 选项，逆差为  $27127 - 13617 = 13510$ ；D 选项，逆差为  $26591 - 13461 = 13130$ 。比较可得，A 选项（16177）最大。

因此，选择 A 选项。

考点

资料分析

简单比较

和差比较

来源

2019 年 0420 内蒙古公务员考试《行测》真题 第 116 题、2019 年 0420 天津公务员考试《行测》真题第 111 题、2019 年 0420 安徽公务员考试《行测》真题第 101 题、2019 年 0420 江西公务员考试《行测》真题（乡镇）第 115 题、2019 年 0420 江西公务员考试《行测》真题（县级以上）第 131 题、2019 年 0420 湖北公务员考试《行测》真题 第 121 题、2019 年 0420 重庆公务员考试《行测》真题第 111 题、2019 年 0420 黑龙江公务员考试《行测》真题（公检法）第 111 题、2019 年 0420 黑龙江公务员考试《行测》真题（省直）第 116 题 112 、（单选题）2016 年我国保险和养老金服务进出口额约为：

A.857 亿元人民币

B.1112 亿元人民币

C.1134 亿元人民币

D.1158 亿元人民币

收起解析

展开全部解析

收藏

纠错

正确答案：C，我的选择：尚未作答。回答错误

统计

答题时间：0 秒，全站正确率：67%，易错项：B。

解析

第一步，本题考查基期量计算。

第二步，定位表格材料 2，“2017 年我国保险和养老金服务进出口额为 976 亿元人民币，同比增长 -13.9%”。

第三步，根据 基期量=现期量/（1+增长率），结合选项数据出现首两位相同，精确计算，

则 2016 年我国保险和养老金服务进出口额为  $\frac{976}{1 - 13.9\%} = \frac{976}{0.861}$ ，直除首三位商 113。



因此，选择 C 选项。

考点

资料分析

基期与现期

基期量 基期量计算

来源

2019 年 0420 内蒙古公务员考试《行测》真题 第 117 题、2019 年 0420 天津公务员考试《行测》真题第 112 题、2019 年 0420 安徽公务员考试《行测》真题第 102 题、2019 年 0420 江西公务员考试《行测》真题（乡镇）第 114 题、2019 年 0420 江西公务员考试《行测》真题（县级以上）第 132 题、2019 年 0420 湖北公务员考试《行测》真题 第 122 题、2019 年 0420 重庆公务员考试《行测》真题第 112 题、2019 年 0420 黑龙江公务员考试《行测》真题（公检法） 第 112 题、2019 年 0420 黑龙江公务员考试《行测》真题（省直）第 117 题 113 、（单选题）按照 2017 年的同比增速，2018 年知识产权使用费出口额约为：

A.992 亿元人民币

B.1014 亿元人民币

C.1336 亿元人民币

D.1588 亿元人民币

收起解析

展开全部解析

收藏

纠错

正确答案：C，我的选择：尚未作答。回答错误

统计

答题时间：0 秒，全站正确率：65%，易错项：B。

解析

第一步，本题考查现期量计算。

第二步，定位表 2。

第三步，根据 现期量 = 基期量 × (1 + 增长率)，可得所求现期量为  $322 \times (1 + 315\%) = 322 \times 4.15$ ，略大于  $322 \times 4 = 1288$ ，与选项 C 最接近。

因此，选择 C 选项。

考点

资料分析

基期与现期

现期量

来源

2019 年 0420 内蒙古公务员考试《行测》真题 第 118 题、2019 年 0420 安徽公务员考试《行测》真题第 103 题、2019 年 0420 江西公务员考试《行测》真题（乡镇）第 113 题、2019 年 0420 江西公务员考试《行测》真题（县级以上）第 133 题、2019 年 0420 湖北公务员考试《行测》真题 第 123 题、2019 年 0420 黑龙江公务员考试《行测》真题（公检法） 第 113 题、2019 年 0420 黑龙江公务员考试《行测》真题（省直）第 118 题

114 、（单选题）2016 年个人、文化和娱乐服务进口额占同期服务进口总额的比重约为：

A.0.1 个百分点

B.0.3 个百分点

C.0.5 个百分点

#### D.0.7 个百分点

收起解析

展开全部解析

收藏

纠错

正确答案：C，我的选择：尚未作答。回答错误

统计

答题时间：0 秒，全站正确率：57%，易错项：B。

解析

第一步，本题考查基期比重计算。

第二步，定位表格材料 1 中第二行数据，可知 2016 年服务进口额为 30030 亿元人民币，再定位表格材料 2 中倒数第二行最后两个数据，可知 2017 年个人、文化和娱乐服务进口额为 186.0 亿元人民币，其同比增长率为 30.8%。

第三步，根据  $\text{基期量} = \frac{\text{现期量}}{1 + \text{增长率}}$  及 2017 年个人、文化和娱乐服务进口额的相关数据，将分母从左向右截取前三位，代入数据可得 2016 年个人、文化和娱乐服务进口额

约为  $\frac{186}{1.31} \approx 142$ （亿元人民币）；再利用  $\text{比重} = \frac{\text{部分量}}{\text{整体量}}$ ，将分母从左向右截取前三

位可得  $\frac{142}{300}$ ，直除首位的商接近 5，与选项 C 最为接近。

因此，选择 C 选项。

考点

资料分析

比重

基期比重计算

来源

2019 年 0420 内蒙古公务员考试《行测》真题 第 119 题、2019 年 0420 天津公务员考试《行测》真题第 113 题、2019 年 0420 江西公务员考试《行测》真题（乡镇）第 112 题、2019 年 0420 重庆公务员考试《行测》真题第 113 题、2019 年 0420 黑龙江公务员考试《行测》真题（公检法）第 114 题、2019 年 0420 黑龙江公务员考试《行测》真题（省直）第 119 题

115 、（单选题）能够从上述资料中推出的是：

A.2011 年至 2017 年，我国进出口总是实现逆差

B.2016 年我国建筑服务进出口实现顺差 1039 亿元人民币

C.2017 年我国服务进出口中，其他商业服务进出口实现的顺差最多

D.2017 年我国服务进出口中，别处未提及的政府服务进出口占比最小

收起解析

展开全部解析

收藏

纠错

正确答案：C，我的选择：尚未作答。回答错误

统计

答题时间：0 秒，全站正确率：40%，易错项：A。

解析

第一步，本题考查综合分析问题，且需选出正确的一项。

第二步，A选项，无中生有，定位表格材料1，只给出2011—2017年我国服务业进出口一直处于逆差，但不是我国进出口一直处于逆差，无法判断，错误。

B选项，基期量和差计算，定位表格材料2，2017年我国建筑服务业进出口实现顺差=1618-579=1039（亿元人民币），则2016年顺差 $=\frac{1618}{1+92\%}-\frac{579}{1+5.4\%}<\frac{1618}{1+5.4\%}-\frac{579}{1+5.4\%}=\frac{1039}{1+5.4\%}$ ，即 $<\frac{1039}{1+5.4\%}<1039$ 亿元人民币，错误。

C选项，和差比较，定位表格材料2，2017年其他商业服务实现顺差=4157-2895=1262，较其他类别实现的顺差都多，正确。

D选项，比重比较，定位表格材料2，根据比重=部分量/整体量，整体量一致，则只需找部分量即可，即转化为读数比较，2017年，个人、文化和娱乐服务的进出口额237亿元人民币<别处未提及的政府服务的进出口额348亿元人民币，则别处未提及的政府服务的进出口额占比不是最小，错误。

因此，选择C选项。

考点

资料分析

综合分析类

综合分析

来源

2019年0420内蒙古公务员考试《行测》真题第120题、2019年0420天津公务员考试《行测》真题第115题、2019年0420安徽公务员考试《行测》真题第105题、2019年0420江西公务员考试《行测》真题（县级以上）第135题、2019年0420湖北公务员考试《行测》真题第125题、2019年0420重庆公务员考试《行测》真题第115题、2019年0420黑龙江公务员考试《行测》真题（公检法）第115题、2019年0420黑龙江公务员考试《行测》真题（省直）第120题

复合题

2018年1季度，全国粗钢产量21215万吨，同比增长5.4%，增速同比提高0.8个百分点；钢材产量24693万吨，增长4.7%，提高2.6个百分点；铁合金产量815万吨，增长9.4%，提高6.6个百分点；焦炭产量10285万吨，下降3.2%，去年同期为增长4.7%。

2018年1季度，钢材出口1515万吨，同比下降26.4%；进口345万吨，下降0.8%；铁矿砂进口27051万吨，下降0.1%；焦炭出口227万吨，增长13.4%。

2018年3月份，6.5mm高线、1.0mm冷轧板卷平均价格分别为3963元/吨和4741元/吨，比上月下跌121元/吨和66元/吨；20mm中板平均价格为4233元/吨，比上月上漲70元/吨。

2018年1季度，全国十种有色金属产量1339万吨，同比增长2.4%，增速同比回落6.6个百分点。其中，铜产量221万吨，增长8.7%，提高1.4个百分点；电解铝产量812万吨，增长0.3%，回落10.6个百分点；铅产量127万吨，增长11.1%，提高1.2个百分点；锌产量142万吨，增长1.7%，回落1.3个百分点；氧化铝产量1589万吨，下降6.1%，去年同期为增长19.9%。

2018年3月份，上海期货交易所当月期货铜、电解铝、铅、锌平均价格分别为52038元/吨、14103元/吨、18906元/吨和25797元/吨，比上月下跌1.9%、2.3%、2.4%和2.1%，同比上漲8.5%、1%、0.2%和11.4%。

打开资料

116、（单选题）将以下产品按2017年1季度产量同比增速从高到低排序，正确的是：

- A.铁合金>粗钢>钢材>焦炭
- B.粗钢>铁合金>钢材>焦炭
- C.钢材>粗钢>焦炭>铁合金
- D.焦炭>粗钢>铁合金>钢材

收起解析

展开全部解析

收藏

纠错

正确答案：D，我的选择：尚未作答。回答错误

统计

答题时间：0 秒，全站正确率：49%，易错项：B。

解析

第一步，本题考查增长率大小比较。

第二步，定位材料第一段。

第三步，2017 年 1 季度铁合金增速为  $9.4\% - 6.6\% = 2.8\% < \text{粗钢增速 } 5.4\% - 0.8\% = 4.6\%$ ，A 选项错误，排除；2017 年 1 季度钢材增速为  $4.7\% - 2.6\% = 2.1\% < \text{焦炭增速 } 4.7\%$ ，B 选项错误，排除；2017 年 1 季度钢材增速  $2.1\% < \text{粗钢 } 4.6\%$ ，C 选项错误，排除；只有 D 选项满足题意。

因此，选择 D 选项。

考点

资料分析

增长率

增长率比较类 增长率计算比较

来源

2019 年 0420 黑龙江公务员考试《行测》真题（公检法） 第 116 题

117 、（单选题）2018 年 2 月平均每吨 1.0mm 冷轧板卷价格比 20mm 中板：

- A.高 504 元
- B.高 512 元
- C.高 644 元
- D.低 662 元

收起解析

展开全部解析

收藏

纠错

正确答案：C，我的选择：尚未作答。回答错误

统计

答题时间：0 秒，全站正确率：80%，易错项：B。

解析

第一步，本题考查基期量计算中的基期量差值计算。

第二步，定位材料第三段。

第三步，根据基期量=现期量-增长量和基期量=现期量+减少量，可得 2018 年 2 月平均每吨 1.0mm 冷轧板价格为  $4741 + 66 = 4807$ （元），平均每吨 20mm 中板的价格为  $4233 - 70 = 4163$ （元），那么 2018 年 2 月平均每吨 1.0mm 冷轧板价格比 20mm 中板的价格高  $4807 - 4163 = 644$ （元）。

因此，选择 C 选项。

考点

资料分析

基期与现期

基期量 基期量和差计算

来源

2019 年 0420 黑龙江公务员考试《行测》真题（公检法） 第 117 题

118 、（单选题）2018 年 1 季度全国铜产量同比增量是同期锌产量同比增量的：

A.不到 2 倍

B.2—4 倍之间

C.4—6 倍之间

D.6 倍以上

收起解析

展开全部解析

收藏

纠错

正确答案：D，我的选择：尚未作答。回答错误

统计

答题时间：0 秒，全站正确率：46%，易错项：A。

解析

第一步，本题考查增长量与倍数杂糅计算问题。

第二步，定位第四段文字材料，2018 年 1 季度，全国十种有色金属产量 1339 万吨，同比增长 2.4%，增速同比回落 6.6 个百分点。其中，铜产量 221 万吨，增长 8.7%，提高 1.4 个百分点；锌产量 142 万吨，增长 1.7%，回落 1.3 个百分点。

第三步，根据增长量=（现期量×增长率）/（1+增长率）， $8.7\% \approx \frac{1}{11.5}$ ， $1.7\% \approx \frac{1}{59}$ ，根据增长量计算 n + 1 原则可得二者倍数关系为  $\frac{221}{12.5} \div \frac{142}{60} \approx 17.7 \times \frac{60}{142} = \frac{177}{142} \times 6 > 6$ 。

因此，选择 D 选项。

考点

资料分析

倍数

倍数杂糅计算 增长量与倍数杂糅

来源

2019 年 0420 黑龙江公务员考试《行测》真题（公检法） 第 118 题

119 、（单选题）某企业 2017 年 3 月和 2018 年 2 月以上海期货交易所当月均价分别购买价值 1280 万元的电解铝，则该企业第二次购买的量比第一次：

A.少不到 2%

B.少 2%以上

C.多不到 2%

D.多 2%以上

收起解析

展开全部解析

收藏

纠错

正确答案：B，我的选择：尚未作答。回答错误

统计

答题时间：0秒，全站正确率：27%，易错项：A。

解析

第一步，本题考查增长率计算问题。

第二步，定位第五段文字材料，2018年3月份，上海期货交易所当月期货铜、电解铝、铅、锌平均价格分别为52038元/吨、14103元/吨、18906元/吨和25797元/吨，比上月下跌1.9%、2.3%、2.4%和2.1%，同比上涨8.5%、1%、0.2%和11.4%。

第三步，根据购买量=总价/均价，增长率=现期量/基期量-1和基期量=现期量/(1+增长率)

可得：2018年2月量/2017年3月量-

$$1 = \frac{\frac{1280 \times 10^4}{1-2.3\%}}{\frac{14103}{1+1\%}} \div \frac{1280 \times 10^4}{\frac{14103}{1+1\%}} - 1 = \frac{1-2.3\%}{1+1\%} - 1 = \frac{-2.3\% - 1\%}{1+1\%} \approx -3.3\%$$

因此，选择B选项。

考点

资料分析

增长率

增长率计算类 增长率计算

来源

2019年0420黑龙江公务员考试《行测》真题（公检法）第119题

120、（单选题）能够从上述资料中推出的是：

- A.2018年1季度，钢材产量超过了粗钢、焦炭产量之和
- B.2017年1季度，钢材进出口总量突破了2000万吨
- C.2018年3月，钢材中6.5mm高线价格同比降低约3%
- D.2018年1季度，铜、铅、锌产量占十种有色金属产量比重均高于上年水平

收起解析

展开全部解析

收藏

纠错

正确答案：B，我的选择：尚未作答。回答错误

统计

答题时间：0秒，全站正确率：57%，易错项：C。

解析

第一步，本题考查综合分析问题，且需选出正确的一项。

第二步，A选项，和差类比较，定位第一段文字材料，2018年1季度，全国粗钢产量21215万吨，钢材产量24693万吨，焦炭产量10285万吨。24693<21215+10285，错误。

B选项，基期量和差，定位第二段文字材料，2018年1季度，钢材出口1515万吨，同比下降26.4%；进口345万吨，下降0.8%。根据基期量=现期量/(1+增长率)，2017年1季度，

钢材进出口总量为  $\frac{1515}{1-26.4\%} + \frac{345}{1-0.8\%}$ ，由于  $\frac{1515}{1-26.4\%} > 2000$ ，故钢材进出口总量>2000，正确。

C选项，材料中仅知道6.5mm高线均价与上月的关系，并不知道同比情况，无法判断，错

误。

D 选项，两期比重比较，定位第四段文字材料，2018 年 1 季度，全国十种有色金属产量同比增长 2.4%。其中，铜产量增长 8.7%；铅产量增长 11.1%；锌产量增长 1.7%。根据两期比重比较口诀，部分增速 > 整体增速，比重上升，反之下降。整体增速为 2.4%，部分增速分别为 8.7%，11.1%、1.7%、1.7% < 2.4%，其占比下降，故并非均高于上年水平，错误。

因此，选择 B 选项。

考点

资料分析

综合分析类

综合分析

来源

2019 年 0420 黑龙江公务员考试《行测》真题（公检法） 第 120 题

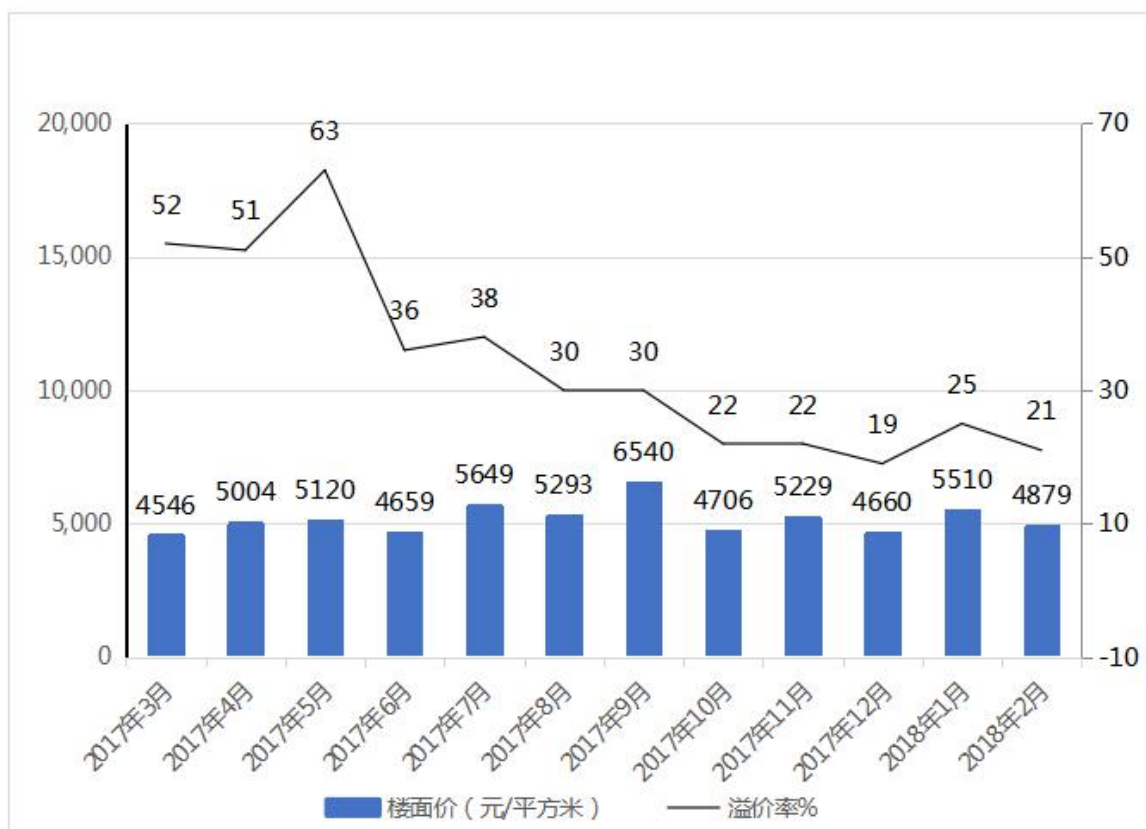
复合题

### 2017 年 3 月~2018 年 2 月全国住宅用地成交情况

时间	成交土地面积（百万平方米）	同比增长率%	容积率
2017 年 3 月	12.2	9.9	2.3
2017 年 4 月	9.9	-2.3	2.7
2017 年 5 月	10.4	-28.9	2.1
2017 年 6 月	22.6	65.8	2.3
2017 年 7 月	18.3	23	2.3
2017 年 8 月	19.3	9.9	2.3
2017 年 9 月	20.8	25.3	2.3
2017 年 10 月	26.1	117.6	2.2
2017 年 11 月	21.4	34.3	2.4
2017 年 12 月	37	8.8	2.3
2018 年 1 月	20.8	13.1	2.3
2018 年 2 月	16.4	-0.5	2.3

注：容积率=成交土地规划建筑面积/成交土地面积

2017年3月~2018年2月全国住宅用地楼面价及溢价率



注：楼面价=成交土地总价/成交土地规划建筑面积

溢价率=(住宅销售价格-楼面价)/楼面价

打开资料

121、(单选题) 2017年第二季度成交土地规划建筑面积:

- A.不到 0.8 亿平方米
- B.在 0.8~1.2 亿平方米之间
- C.在 1.2~1.6 亿平方米之间
- D.超过 1.6 亿平方米

收起解析

展开全部解析

收藏

纠错

正确答案: B, 我的选择: 尚未作答。回答错误

统计

答题时间: 0 秒, 全站正确率: 60%, 易错项: A。

解析

第一步, 本题考查比重问题中求部分量计算问题。

第二步, 定位表格材料, 2017年第二季度是2017年4月、5月、6月, 成交土地面积、容积率分别给出。

第三步, 容积率=成交土地规划建筑面积/成交土地面积, 求成交土地规划建筑面积=容积率×成交土地面积, 观察选项单位一致, 只需代入数据看计算结果, 分别求出4月、5月、6



月数据后相加， $9.9 \times 2.7 + 10.4 \times 2.1 + 22.6 \times 2.3 \approx 10 \times 2.7 + 10 \times 2.1 + 23 \times 2.3 \approx 101$ 。

因此，选择 B 选项。

考点

资料分析

比重

现期比重计算 求整体量

来源

2019 年 0420 四川公务员考试《行测》真题第 96 题、2019 年 0420 黑龙江公务员考试《行测》真题（公检法）第 121 题

122 、（单选题）2017 年第一季度成交土地面积：

- A.不到 0.3 亿平方米
- B.在 0.3~0.4 亿平方米
- C.在 0.4~0.5 亿平方米
- D.超过 0.5 亿平方米

收起解析

展开全部解析

收藏

纠错

正确答案：C，我的选择：尚未作答。回答错误

统计

答题时间：0 秒，全站正确率：62%，易错项：B。

解析

第一步，本题考查基期量和差计算。

第二步，定位表格材料，2017 年第一季度是 2017 年 1 月、2 月、3 月，3 月数据已知，2017 年 1 月、2 月的数据需要用 2018 年 1 月、2 月求基期。

第三步，根据基期量=现期量/（1+增长率），观察选项单位一致，只需代入数据，2017 年 1

月为  $\frac{20.8}{1 + 13.1\%} \approx 18.4$ （百万平方米），2017 年 2 月为  $\frac{16.4}{1 - 0.5\%} \approx 16.5$ （百万平方米）， $18.4 + 16.5 + 12.2 \approx 47$ （百万平方米）=0.47（亿平方米）。

因此，选择 C 选项。

考点

资料分析

基期与现期

基期量 基期量和差计算

来源

2019 年 0420 四川公务员考试《行测》真题第 97 题、2019 年 0420 黑龙江公务员考试《行测》真题（公检法）第 122 题

123 、（单选题）2017 年 3~6 月间，全国住宅销售价格最贵的月份是：

- A.3 月
- B.4 月
- C.5 月
- D.6 月

收起解析

展开全部解析

收藏

纠错

正确答案：C，我的选择：尚未作答。回答错误

统计

答题时间：0 秒，全站正确率：80%，易错项：B。

解析

第一步，本题考查其他比较。

第二步，定位图形材料可知：2017 年 3—6 月全国住宅用地楼面价与溢价率分别为：（4546、52%），（5004、51%），（5120、63%），（4659、36%）

第三步，根据注释部分公式：
$$\text{溢价率} = \frac{\text{住宅销售价格} - \text{楼面价}}{\text{楼面价}} = \frac{\text{住宅销售价格}}{\text{楼面价}} - 1$$
，则

住宅销售价格=楼面价×（1+溢价率）。观察数据可知，5 月份的楼面价与溢价率均最高，故 5 月份全国住宅销售价格最贵。

因此，选择 C 选项。

考点

资料分析

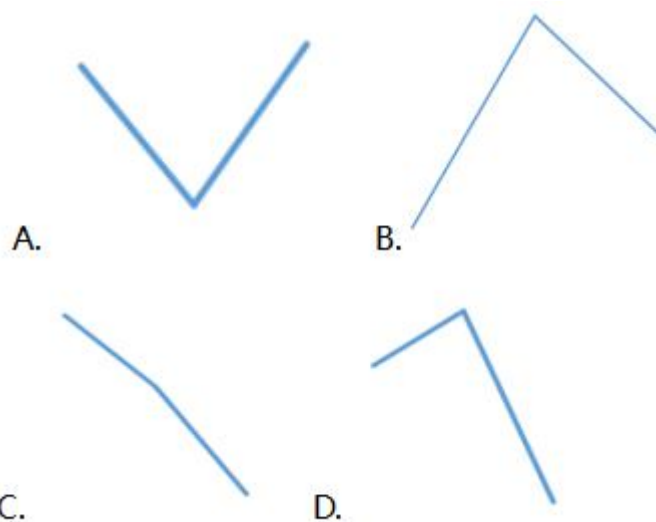
其他类

其他比较

来源

2019 年 0420 四川公务员考试《行测》真题第 98 题、2019 年 0420 黑龙江公务员考试《行测》真题（公检法）第 123 题

124 、（单选题）下列折线图中，能准确反映 2017 年第四季度各月全国住宅用地楼面价环比增长率变化趋势的是：



A.如上图所示

B.如上图所示

C.如上图所示

D.如上图所示

收起解析

展开全部解析

收藏

纠错

正确答案：B，我的选择：尚未作答。回答错误

统计

答题时间：0 秒，全站正确率：60%，易错项：D。

解析

第一步，本题考查增长率计算比较。

第二步，定位图形材料，2017 年第四季度是 10、11、12 月，环比数据 9 月 6540，10 月 4706，11 月 5229，12 月 4660。

第三步，10 月、12 月环比均下降，增长率为负，因此 11 月环比增速最大，选项 A、C 可以排除；再去比较 10 月和 12 月数据，根据增长率=（现期量/基期量）-1，可以使用“现期

量/基期量”这个倍数替代增长率进行比较，10 月  $\frac{4706}{6540}$ ，首位商 7；12 月  $\frac{4660}{5229}$ ，首位的高接近 9，则 10 月的环比增长率低于 12 月，因此在折线图上 10 月更低。

因此，选择 B 选项。

拓展

增长率的比较，需看具体正负号，无论题目中是否含有减少率，都可以直接采用“现期量/基期量”这个倍数来替代增长率进行比较。

考点

资料分析

增长率

增长率比较类 增长率计算比较

来源

2019 年 0420 四川公务员考试《行测》真题第 99 题、2019 年 0420 黑龙江公务员考试《行测》真题（公检法）第 124 题

125 、（单选题）能够从上述资料中推出的是：

A.2017 年 12 月，全国住宅销售价格高于 10 月水平

B.2017 年下半年，全国住宅用地成交土地面积环比下降的月份有且仅有 2 个

C.2017 年下半年，全国住宅用地成交土地面积最高和容积率最高的月份是同一个

D.2017 年下半年，全国住宅用地楼面价超过 5000 元/平方米的月份有且仅有 3 个

收起解析

展开全部解析

收藏

纠错

正确答案：B，我的选择：尚未作答。回答错误

统计

答题时间：0 秒，全站正确率：55%，易错项：C。

解析

第一步，本题考查综合分析问题，且需选出正确的一项。

第二步，A 选项，其他类比较。定位图形材料，根据注释部分公式可推导出：住宅销售价格=楼面价×（1+溢价率），则 2017 年 12 月全国住宅销售价格为  $4660 \times (1+19\%)$ ，10 月为  $4706 \times (1+22\%)$ ，因此，12 月 < 10 月，错误。

B 选项，读数比较。定位表格，2017 年下半年全国住宅用地成交土地面积环比下降的月份有 7 月、11 月，正确。

C 选项，读数比较。2017 年下半年全国住宅用地成交土地面积最高是 12 月，容积率最高是 11 月，错误。

D 选项，读数比较。2017 年下半年，全国住宅用地楼面价超过 5000 元/平方米的月份有 4 个，7、8、9、11 月，错误。

因此，选择 B 选项。

考点

资料分析

综合分析类

综合分析

来源

2019 年 0420 四川公务员考试《行测》真题第 100 题、2019 年 0420 黑龙江公务员考试《行测》真题（公检法）第 125 题