



扫码关注公众号了解更多国企招聘信息 扫码添加客服了解更多问题线上解答

2021 国家能源招聘考试

《行政职业能力测验》试卷一

重要提示：

为维护您的个人权益，确保考试的公平公正，请您协助我们监督考试实施工作。

本场考试规定：监考老师要向本考场全体考生展示题本密封情况，并邀请2名考生代表验封签字后，方能开启试卷袋。

二〇一九年

条
形
码

请将此条形码揭下，
贴在答题卡指定位置。

绝密资料 严禁翻印

准考证号

姓名

注意事项

一、此项测验分为五个部分，120 道题，总时限 120 分钟。各部分不分别计时，但都给出了参考时限，供答题时合理分配时间。

二、请按照要求在答题卡上填写好自己的姓名，涂写好准考证号，严禁折叠答题卡。

三、必须在答题卡上答题，在题本上答题，一律无效。

四、监考人员宣布考试开始时，方可答题，宣布考试结束时，应立即停止答题。

题本、答题卡、草稿纸一律留在桌上，待监考人员确认数量无误，允许离开后，方可离开考场。如果你违反了以上任何一项要求，都将影响你的成绩。

五、在这项测验中，可能有些试题较难，因此你不要在一道题上思考时间太久，遇到不会答的题目可先跳过去，如果有时间再去思考，否则，你可能没有时间完成后面的题目。

六、试题答错不倒扣分。

停！请不要往下翻！听候监考老师的指示。

否则，会影响你的成绩。

第一部分 常识判断

根据题目要求，从四个选项中选出一项最恰当的答案

1. 下列歌词中，不是创作于改革开放之后的是（ ）。

- A. 我们的未来，在希望的田野上
- B. 有一位老人在中国的南海边画了一个圈
- C. 总想对你表白我的心情是多么豪迈
- D. 我们走在大路上，意气风发斗志昂扬

2. 正如中央经济工作会议的判断，“稳中有变、变中有忧，外部环境严峻复杂”，如何顶住经济下行压力，稳妥化解各种风险矛盾挑战，是摆在我们面前的一道现实考题。对此，下列说法，不正确的是（ ）。

- A. 牢牢扭住高质量这个“根本要求”
- B. 高质量发展是长期、曲折、艰苦的任务
- C. 亟待化解风险、排除隐患，不能反复试错
- D. 高质量发展是一场持久战

3. 简政放权是全面深化改革的“先手棋”和转变政府职能的“当头炮”。下列措施中，未完全体现“简政放权”精神的是（ ）。

- A. 各级政务部门开放共享数据，保留独立的数据查询通道
- B. 通过购买企业服务等方式，推进智慧城市、智慧政府建设
- C. 加快对涉及信息共享急需的相关法规规章立改废
- D. 涉及国家安全、个人隐私等数据信息要确保安全

4. 下列行为中，属于具体行政行为的是（ ）。

- A. 某政府部门在核算一笔征迁补偿款时，误用了不相关的法律条文
- B. 某工商部门在对无证经营的某个体工商户做出行政处罚
- C. 某地市级人民政府制定规范性文件
- D. 某公安机关在对张某做出罚款的行政处罚决定书上未加盖公章

5. 某朝官员王锴通过贿赂企图兼任宰相。皇帝同意了王锴的请求，并下诏“锴可兼宰相”。

时任给事中的李藩行使职权，驳回诏书。由此推断，给事中隶属于（ ）

- A 唐朝的门下省
- B 宋朝的枢密院
- C 明朝的内阁
- D 清朝的军机处

6. 河南尹田歆的外甥王湛，以知人出名，田歆对他说：“如今应推举六名孝廉，多有贵戚书信相命，又不好违背，我想自己选一名名士以报效国家，你助我求之。”这体现了（ ）

- A. 地方无选举权
- B. 选拔官吏以品评为主

C. 察举制的弊端

D. 自上而下的选官方式

7. 李釜源撰《地图综要》（研究明代历史地理的重要资料）内卷：“楚故泽国，耕稔甚饶。一岁再获柴桑，吴越多仰给焉。”据此准确反映的是（ ）

A. “苏湖熟，天下足”逐渐演变为“湖广熟，天下足”

B. 江浙农村转种棉花等，粮食不能自给，需要湖广输入

C. 湖广地区在明代成为全国粮食重要产区

D. 经济重心转移湖广地区超过吴越

8. 元代《富春山居图》残卷分藏于海峡两岸。2010年初，两岸均有意联合展出该作品。

下列作品与《富春山居图》同属于一个朝代的是（ ）

A. 王希孟《千里江山图》

B. 吴镇《嘉禾八景图》

C. 顾恺之《洛神赋图》

D. 吴道子《送子天王图》

9. 《吕氏春秋·上农》在描述农耕之利时不无夸张地说，一个农夫耕种肥沃的土地可以养活九口人，耕种一般的土地也能养活五口人。战国时期农业收益的增加（ ）

A. 促进了个体小农经济的形成

B. 抑制了手工业和商业的发展

C. 导致畜力与铁制农具的使用

D. 阻碍了大土地所有制的成长

10. 女孩甲（8岁）与小男孩乙（12岁）放学后常结伴回家。一日，甲对乙讲：“听说我们回家途中的王家昨日买了一条狗，我们能否绕道回家？”乙答：“不要怕！被狗咬了我负责。”后甲和乙路经王家同时被狗咬伤住院。该案赔偿责任应如何承担？（ ）

A. 甲和乙明知有恶犬而不绕道，应自行承担责任

B. 乙自行承担责任，乙的家长和王家共同赔偿甲的损失

C. 王家承担全部赔偿责任

D. 甲、乙和王家均有过错，共同分担责任

11. 《洞穴奇案》中描述了这样一个案件：一群探险队员在一个山洞里遭遇崩塌，在抢救队伍挖通生命通道前，这些人即将饿死。经过抽签抓阄，抽到“死签”者被吃掉，其他人最终获救。根据我国法律规定，存活下来的探险队员（ ）。

A. 因自愿抽签、自愿选择，所以不承担任何责任

B. 构成故意杀人罪，但可酌情减轻处罚

C. 按生存权优先，属于紧急避险

D. 不承担刑事责任，但应承担民事赔偿责任

12. 2018年12月份全国居民消费价格指数同比上涨1.9%，工业生产者出厂价格指数同

比上涨 0.9%。下列关于通货膨胀的说法，正确的是（ ）

- A. 物价上涨，货币贬值
- B. 物价持续下跌，伴随经济衰退
- C. 提高人民的生活水平
- D. 社会总供给大于社会总需求

13. 下列俗语谚语所蕴含经济学原理与之对应错误的一项是（ ）

- A. 有得必有失——机会成本
- B. 三个和尚没水吃——搭便车
- C. 萝卜白菜各有所爱——偏好影响需求
- D. 谷贱伤农——需求富有弹性

14. 下列名言与出处，对应正确的是（ ）

- A. 《管子》：学而时习之，不亦说乎
- B. 《老子》：四海之内皆兄弟
- C. 《论语》：天行健，君子以自强不息
- D. 《庄子》：吾生也有涯，而知也无涯

15. 下列有关算盘的说法错误的是（ ）

- A. 古今中外的各式算盘大致可以分为沙盘类、算板类、穿珠算盘类三类。
- B. 沙盘是在桌面、石板等平板上，铺上细沙，人们用木棍等在细沙上写字、画图 and 计算。
- C. 算板是在板上刻上若干垂直的线纹，上面放置小石子（称为“算子”）来记数和计算。
- D. 穿珠算盘指中国算盘、日本算盘和俄罗斯算盘。日本算盘叫“十露盘”。

16. 下列人文常识说法错误的一项是（ ）

- A. 屈原是我国古代第一个伟大的爱国诗人
- B. 曹植是建安时期最负盛名的作家
- C. 陶渊明是中国文学史上第一人以自己的田园生活为内容进行诗歌创作
- D. 鲍照是南朝刘宋时期成就最高的诗人，其文赋对唐代诗人有很大影响

17. 下列诗句与其对应人物错误的一项是（ ）

- A. 妾自吴宫还越国，素衣千载无人识。当时心比金石坚，今日为君坚不得——西施
- B. 生乏黄金枉图画，死留青冢使人嗟——王昭君
- C. 回眸一笑百媚生，六宫粉黛无颜色——杨贵妃
- D. 云霞出没群峰外，鸥鸟浮沈一水间——貂蝉

18. 在改革开放四十周年大会的讲话中，习总书记提出了五四运动以来我国发生的三大历史性事件，也是实现中华民族伟大复兴的三大里程碑，以下哪项不属于三大里程碑（ ）。

- A. 中国共产党的建立
- B. 中华人民共和国的成立
- C. 推进改革开放和中国特色社会主义事业

D. 社会主义改造的完成

19. 遵义会议是中国共产党从幼稚走向成熟的标志，主要是指（ ）。

- A. 工作重心从城市转向农村
- B. 从克服右倾错误到克服“左”倾错误
- C. 中国革命由此转危为安
- D. 从受共产国际支配到独立解决党内问题

20. 中共“八大”和中共十一届三中全会（ ）。

- ①都体现了实事求是的精神
- ②都明确了经济建设这个中心任务
- ③都提出要实行改革开放
- ④这两个会议有一定的继承性

- A. ①②④
- B. ①②③
- C. ②③④
- D. ①③④

21. 根据《宪法》规定，下列表述不正确的是（ ）。

- A. 农村和城市郊区的土地，除由法律规定属于国家所有以外，属于集体所有
- B. 国务院有权批准省、自治区、直辖市的建置和区域划分
- C. 公民在年老、疾病或者丧失劳动能力的情况下，有从国家和社会获得物质帮助的权利
- D. 地方各级人民检察院对产生它的国家权力机关和上级人民检察院负责

22. 警方在一家餐馆内展开抓捕行动，由于犯罪嫌疑人暴力抵抗，餐馆部分物品在抓捕过程中被损坏，餐馆的营业秩序受到一定影响。关于餐馆的损失，下列说法中正确的是（ ）。

- A. 应由餐馆自行承担
- B. 应由实施抓捕的警察赔偿
- C. 应由犯罪嫌疑人赔偿
- D. 应由国家补偿

23. 甲某贩运假烟，驾车路过一个检查站，检查人员朱某正要登车检查时，甲某突然发动汽车夺路而逃，朱某抓住车门不放。甲某为了摆脱朱某，在疾驶后突然急刹车，朱某被摔倒在地，头部着地死亡。甲某对朱某死亡的心理态度是（ ）。

- A. 直接故意
- B. 间接故意
- C. 过于自信的过失
- D. 疏忽大意的过失

24. 王某在大街上遛狗。张某故意挑逗狗，之后跑掉，结果狗将路过的孙某咬伤，并继

续追赶孙某。王某为阻止狗继续伤人，在狗不听使唤的情况下，用木棍将狗的腿打断。对此，下列表述正确的是（ ）。

- A. 孙某可以向张某或王某要求赔偿
- B. 孙某只能向王某要求赔偿
- C. 孙某要求王某承担赔偿责任，必须证明王某存在过错
- D. 王某不能要求张某赔偿狗受伤的损失

25. 基本公共服务是由政府主导、保障全体公民生存和发展基本需要、与经济社会发展水平相适应的公共服务。下列关于基本公共服务说法错误的是（ ）。

- A. 基本公共服务均等化是指全体公民都能公平可及地获得大致均等的基本公共服务
- B. 其核心是促进机会均等，重点是保障人民群众得到基本公共服务的机会，
- C. 基本公共服务均等化是指公共服务的平均化
- D. 当前我国基本公共服务存在规模不足、质量不高、发展不平衡等短板

第二部分 言语理解

一、选词填空。从题后所给的四个选项中选出最适合文意的一项

26. 从现实来看，暗访之所以失灵，关键在于过程失真。有的暗访者_____，“坐着小车转，隔着玻璃看”；有的不想得罪人，编造数据交差了事；还有的双方_____互相配合，甚至闹出了“迎接暗访”的笑话……如果暗访本身经不起推敲，怎么可能查出真问题？

填入划横线部分最恰当的一项是：（ ）

- A. 浮光掠影 山鸣谷应
- B. 走马观花 心知肚明
- C. 入境问俗 无远弗届
- D. 浅尝辄止 瓜剖豆分

27. 当前，由人工智能引领的新一轮科技革命和产业变革_____。在移动互联网、大数据、超级计算、传感网、脑科学等新理论新技术_____下，人工智能呈现深度学习、跨界融合、人机协同、群智开放、自主操控等新_____，正在对经济发展、社会进步、全球治理等方面产生重大而深远的影响。

填入划横线部分最恰当的一项是：（ ）

- A. 今非昔比 策划 要素
- B. 欣欣向荣 推进 本质
- C. 方兴未艾 驱动 特征
- D. 如日中天 鞭策 理论

28. 中非传统友谊深厚，过去是并肩战斗的好兄弟，现在是共同发展的好伙伴。中非已成为_____的命运共同体和合作共赢的利益共同体。中非命运共同体在推动构建人类命运共同体的历史进程中走在了前列。

填入划横线部分最恰当的一项是：（ ）

- A. 如胶似漆
- B. 唇齿相依
- C. 水乳交融
- D. 休戚与共

29. 中国不打地缘博弈小算盘，不搞封闭排他小圈子，不做凌驾于人的强买强卖。只要各方_____和遵循共商共建共享的原则，就一定能增进合作、化解_____，把“一带一路”打造成为顺应经济全球化潮流的最广泛国际合作平台，让共建“一带一路”更好造福各国人民。

填入划横线部分最恰当的一项是：（ ）

- A. 坚守 危险
- B. 彰显 难题
- C. 秉持 分歧
- D. 尊崇 矛盾

30. “电子商务法和其他法律相比很复杂，涉及面广、规模大，而且作为新生事物其发展_____，很多事看不准。”全国人大财政经济委员会副主任委员尹中卿是电子商务法起草组的副组长，他表示在这种情况下，立法机关起草过程的确比较慎重。

填入划横线部分最恰当的一项是：（ ）

- A. 日新月异
- B. 一步登天
- C. 革故鼎新
- D. 白云苍狗

31. 建而不管、用而不精，是基层电子政务建设普遍存在的问题。各级各部门在政务 APP 建设上_____、各搞一套，既造成了公共资源的浪费，也徒令基层干部和办事群众难以适应、无从选择。

填入划横线部分最恰当的一项是：（ ）

- A. 各自为政
- B. 九龙治水
- C. 群龙无首
- D. 一盘散沙

32. “儿童血铅第一案”原被告达成调解不能算“胜诉”，一方面，相对于血铅对身体造成的不可逆的伤害，以及6年维权长跑的时间和金钱投入而言，4万~9万元的赔偿可谓_____；另一方面，艰难的维权路途和_____的拉锯战下，原本53名原告最终走完司法流程的也只剩下7人。

填入划横线部分最恰当的一项是：（ ）

- A. 雪中送炭 漫长

- B. 相濡以沫 拖沓
- C. 微不足道 持久
- D. 杯水车薪 冗长

33. 我国实行公有制为主体、多种所有制经济共同发展的基本经济制度，这一制度的最大优势是公有制经济与民营经济_____、相得益彰，有效_____了个人利益与社会共同利益的矛盾，确保共同富裕水平提高和经济平稳快速发展。

填入划横线部分最恰当的一项是：（ ）

- A. 相辅相成 克服
- B. 相伴相生 消除
- C. 并行不悖 抵制
- D. 齐头并进 解决

34. 中国特色社会主义民主更加注重民主的_____，确保人民当家作主，充分调动人民建设社会主义的_____，从而促进人的全面发展、社会全面进步。

填入划横线部分最恰当的一项是：（ ）

- A. 实质性 积极性
- B. 程序性 主动性
- C. 操作性 创造性
- D. 能动性 自觉性

35. 温子仁非常了解怎么调动观众的肾上腺素，海王什么时候该打斗，什么时候该落寞，什么时候需要浪漫，什么时候需要幽默……导演的安排已经达到_____之境。片中既有科技发达的超大海底城市，也有沧桑落寞的宫殿遗迹，既有_____的丛林瀑布，也有深不见底的黑暗海沟。

填入划横线部分最恰当的一项是：（ ）

- A. 目无全牛 美轮美奂
- B. 登堂入室 熠熠生辉
- C. 炉火纯青 引人入胜
- D. 登峰造极 出神入化

36. 值得注意的是，新媒体已经晋升为中国纪录片第三大市场主体。可见，新媒体在纪录片市场有与传统媒体_____之态势。伴随着互联网的播放平台而来的是90后和00后这些年轻的受众群体，能够获得他们的_____，说明作品《人生一串》至少在商业上便取得了成功。

填入划横线部分最恰当的一项是：（ ）

- A. 各有怀抱 尊崇
- B. 并行不悖 膜拜
- C. 分庭抗礼 青睐

D. 分道扬镳 拥戴

37. 一段时间以来，国际形势跌宕起伏，各种逆全球化思潮、民粹主义、单边主义、贸易霸凌主义_____。在这样的时代背景下，_____人类命运共同体不仅具有理念创新意义，更具有实践创新意义。

填入划横线部分最恰当的一项是：（ ）

A. 泛滥成灾 构想

B. 风靡一时 建造

C. 沸反盈天 建构

D. 甚嚣尘上 构建

38. 行业内部竞争已十分激烈，目前基金产品、销售渠道、策略同质化明显，能保持长期优秀投资业绩的基金公司更是_____。将来如何差异化发展，专攻自己_____的领域可能是公募下一步发展的方向。

填入划横线部分最恰当的一项是：（ ）

A. 凤毛麟角 擅长

B. 寥寥无几 难得

C. 吉光片羽 擅长

D. 寥若星辰 难得

39. 面对量大而分散的侵权者，音乐人想要单打独斗地维权有些_____；而对 KTV 经营者来说，曲库里的数万首歌曲，逐一去获得授权成本太高、难度太大。为了避免“你躲我追”的“版权攻防战”，音集协于 2008 年_____。（ ）

A. 捉襟见肘 水涨船高

B. 力所不逮 水到渠成

C. 力不从心 应运而生

D. 左支右绌 一日千里

40. 我们一定要把党的目标和人民的愿望结合起来，时刻_____以人民为中心的发展思想，不断提升农民群众在全面建成小康社会道路上的参与度、获得感、幸福感。红旗渠精神是我们党的性质和宗旨的集中体现，_____，永远不会过时。

填入划横线部分最恰当的一项是：（ ）

A. 遵循 历久弥新

B. 遵守 山高水长

C. 遵照 深入人心

D. 遵从 震古烁今

二、片段阅读。每道题包含一段文字，要求你从四个选项选出最恰当的一项，你的选择必须与题干要求相符合。

41. 新动能是什么？普通人也并不陌生。它是奔驰于街巷的新能源汽车，劲舞于戈壁的

风力叶片；是手机轻点就及时送达的高铁外卖、电商超市里现买现做的海鲜大餐；是远在千里的智慧工厂，也是近在身边的共享经济；它是“云”端的服务、“网”上的便捷，是新产业新业态新商业模式迸发的汨汨智慧，更是观察当代中国经济的一扇新窗。

以下对“新动能”理解正确的一项是：（ ）

- A. 日常生活离不开“新动能”
- B. 是科技发展的产物
- C. 是互联网时代的产物
- D. “新动能”助力中国发展

42. 我国的道路交通安全形势，有两个显著特点令人印象深刻。一个是交通规模大。据公安部交管局统计，近些年来我国机动车和驾驶人始终保持平稳增长，截至2018年11月，全国机动车保有量达3.25亿辆，机动车驾驶人达4.07亿人。另一个特点是管理精细化。交通管理部门积极作为，深化驾考、车检改革，着力加强人、车治理，源头防范“带病上路”；加强大数据、云计算等科技应用，努力让交通违法行为无处遁形。即便如此，再精细的管理也无法取代交通参与者的自律自觉，“总体平稳”之余仍有一些事故发生。

作者在这段文字当中主要表达的是：（ ）

- A. 利用科技成果加强交通管理
- B. 加大各类交通违章处罚力度
- C. 打击各类违法交通安全行为
- D. 培养市民交通安全出行意识

43. 从经济学的角度来看，低线市场确实是未来市场争夺的“红海”：一则，这是包括电商在内的一切消费市场的重要增长极，即庞大的增量市场，小镇青年们物质生存压力较小，虽然短期内货币支付的消费能力有限，但是消费意愿更为强烈，是冲动消费和潮流消费的主体之一；二则，政策红利持续释放，市场纵深与战略推进的结果，必会让农村市场和小镇青年成为撬动未来消费版图重构的重要支点。不过，在每家把低线市场视为肥肉磨刀霍霍的时候，还是要提醒这个市场的入局者和运营者：企业社会责任是越来越显性化的底线，低线市场也要听得见小镇青年的梦想。

这段文字意在说明：（ ）

- A. 低线市场将成消费的增长极
- B. 以企业家精神对待小镇青年
- C. 小镇青年的梦想也值得珍重
- D. 社会责任感不能在乡村缺位

44. 消费是拉动经济增长的一个重要方面。在贸易保护主义抬头、逆全球化思潮涌动的背景下，我国经济运行稳中有变，面临一些新问题新挑战。方此之时，促消费可说是稳增长的重要环节。最近一段时间，无论是扩大开放、推动消费升级，还是减税降费、发放个税“红包”，抑或是接连出台促进消费的政策，都实实在在地提升了消费能力、优化了消费环境，

有利于进一步激发居民消费潜力。特别是近期发布的相关意见和方案，显示出我国促进消费的政策思路正在发生转变，更加注重以市场经济的方式方法促进消费增长。

下列说法与原文**不相符**的是：（ ）

- A. 我国的消费政策要与时俱进
- B. 居民消费能够促进经济增长
- C. 消费可以保证经济稳定运行
- D. 当前我国经济发展面临挑战

45. 国有企业作为中国特色社会主义的重要物质基础和政治基础，承担着重大的责任和使命，当前最重要的任务，就是要坚决贯彻落实好党中央的各项决策部署。通过一段时间广泛调研，发现落实全国国有企业党的建设工作会议精神，很多企业还停留在完成规定动作层面，对于如何将党的建设与业务工作融合在一起，企业之间差别很大，有的企业思考还不深入，缺乏有效措施。

作者在这段文字中最想要传递的是：（ ）

- A. 国有企业要坚决落实党中央的决策
- B. 党建工作要切实落实到国企工作中
- C. 很多企业不重视中央的制定的政策
- D. 政策的制定和落实都需要实事求是

46. 继上海北京实施居民用机动车总量控制之后，其他一些城市也相继对民用机动车数量增长实施了标准不一的控制措施。对于人口集中的超大规模城市来说，制定和实施这种公共政策确是万般无奈之举，人们对此不满甚或愤懑，可人们也想不出控制总量的更好方法，也找不出在有限的城市道路上保持机动车数量与通行顺畅相平衡的办法。从公平和公正的角度而言，现行“后来者”抽签、摇号或者参拍的办法，与公共政策制定和实施的原则并非完全一致，因此难以做到手段与目的的统一，但其毕竟对阻止城市交通状况持续恶化起到些作用。

作者接下来最有可能说的是：（ ）

- A. 市民对控制机动车总量政策并不满意
- B. 该如何阻止城市交通状况的继续恶化
- C. 用行政手段维持机动车数量的合理性
- D. 现行的“后来者”抽签、摇号的流程

47. 都道“栽好梧桐树，引来金凤凰”，但怎么栽树、引什么凤，恐怕还要做更细致的工作。人才人才，重点在人，唯有拿出诚意，才能收获人心。人才的年龄经历、行业领域、等级层次各不相同，需求和关注点自然千差万别。假如说对于走出校门的毕业生来说，安家落户、收入保障是眼前“刚需”，那么对于小有成绩的精英骨干来说，子女教育，发展机遇和空间也许才是其重点关切，而更高级别的人才，考虑的则又大有不同。这就意味着如果我们的人才政策过于粗线条，只会“按不同平米数给租房补贴”，恐怕很难给到人才的心坎儿

上去。

作者在这段文字当中主要讨论的是：（ ）

- A. 应届生和社会人员需不同的安置政策
- B. “刚需”才是应届生考虑的首要因素
- C. 城市如何才能制定好吸引人才的政策
- D. 吸引“金凤凰”的关键在于因人制宜

48. 儿童受重视的程度，体现了文明发展的水平。儿童之所以是未来的希望，就是因为时间的不可逆性，使得人们只能将当下来不及做或完成不了的改进不足、提升文明等希望寄托在儿童身上。在此，文明理念以及是非观念的传承变得十分重要。此所谓传承，也并非只是说教，而是努力营造一个让儿童感受得到的符合文明本意和社会善意的客观环境。

这段文字的核心观点是：（ ）

- A. 社会对儿童的重视程度是社会文明的体现
- B. 良好的社会环境有利于青少年儿童的成长
- C. 传承并不在于说教而在于儿童的切身体会
- D. 文明观与是非观的传承对社会发展很重要

49. 近日，广州市政府常务会议近日审议通过了《广州市公共信用信息管理规定(草案)》，将众多不良行为纳入失信信息，主要包括：拒不执行人民法院、仲裁机构生效法律文书，依法进入强制执行程序的；无正当理由欠缴水、电、燃气等公用事业费，数额较大，经催告后超过6个月仍未缴纳的；坐公共交通工具时冒用他人证件、使用伪造证件乘车、霸占他人座位等妨碍公共交通秩序或者影响安全行驶的；符合出院或者转诊标准无正当理由滞留医疗机构、影响正常医疗秩序等行为的；参加国家、省或者本市组织的统一考试作弊的。

关于该草案的内容，**未提及**的是：（ ）

- A. 妨碍交通秩序的行为
- B. 拒缴水电气费的行为
- C. 影响医疗秩序的行为
- D. 骗取社会保险的行为

50. 芯片人才不是天上掉下来的，也要食人间烟火，要操心柴米油盐。一旦“钱景”堪忧、前景不明，结果就是大部分集成电路专业高校毕业生更愿意去互联网、计算机软件、IT服务、通信和房地产等行业。但问题是，芯片这个行当，绝对称得上国之重器。这些电子元器件在硅板上集合，最终成为承担着运算和存储的核心功能的电路模块。无论是军工抑或民用，几乎所有的电子设备都离不开芯片。

这段文字主要说的是：（ ）

- A. 芯片行业是我国的国之重器
- B. 对于芯片人才要提高其待遇
- C. 各行业的电子设备都需芯片

D. 芯片人才也需考虑柴米油盐

51. 日前，环球网在历经5年纵向研究后发布市场调查报告，显示受访者对自主品牌的正面印象净值从2015年的22.8%一路攀升至2019年的83.8%。自主品牌脱颖而出，在一些观察者眼里，一个重要因素是占据市场消费主力的90后和00后更有本土情怀，此外许多自主品牌有主动“触网”的新媒体优势，也有深入基层末梢的线下销售渠道，更容易接触各类消费者。进一步地说，自主品牌之所以从小到大、由弱走强，获得越来越多的信任和好感，重视质量和创新、勇于开放发展等原因其实更为关键。

这段文字重点说明的是：（ ）

- A. 消费者对国产商品好感增加的原因
- B. 只有深入基层才能赢得更多消费者
- C. 自主品牌越来越好的关键在于创新
- D. 网络成为厂家扩大利润的重要阵地

52. 水果与粮食和蔬菜不同，前者并非必需品，而后者是人们须臾不能离开的消费品。因此，在温饱之后，水果消费量及其品种，是衡量人们生活水平的重要指标之一。在保持人体所需养分平衡以及肌体健康方面，水果的摄取是不可或缺的。水果贵得吃不起了，这既是人们生活水平提高了的结果，也是人们的支付能力还不够高的标志，表现了人们日益增长的水果消费欲望和水果价格走高过高之间的不协调。

作者对水果价格贵的看法是：（ ）

- A. 反映了人们的支付能力与消费欲望之间的矛盾
- B. 水果消费是衡量人们生活水平的重要指标之一
- C. 虽不是必需品但对维持人体健康具有重要作用
- D. 虽不是必需品但价格应维持在合理水平范围内

53. 如今，每到一种水果蔬菜的丰收季，各地几乎都会爆出相关农产品低价贱卖依然处理不出去的问题，农产品滞销可谓屡见不鲜。面对大量不同种类需要被“解围”的农产品，电商企业恐怕也有心无力，不可能兼顾到每一种滞销的农产品。而且，本质上讲，之所以会产生滞销问题，是因为农产品在供给侧和需求侧出现了严重失衡，供给已远远超过需求，在这种情况下，电商出手虽然能在某种程度上缓解供需矛盾，但不能从根本上扭转失衡困局，不能从根本上消除滞销隐患。

作者在这段文字中主要想表达的是：（ ）

- A. 电商企业需要帮助农户从根本上解决问题
- B. 解决农产品滞销根本在于保证供求的平衡
- C. 水果蔬菜的滞销根源在于市场信息的滞后
- D. 低价贱卖农产品意味着市场上的供求失衡

54. ①只是我们大家都看不见、摸不着，就像我们人打个喷嚏、患个小感冒，但真正对我们影响很大的“重病”，是大地震。

- ②现在传媒很发达，所以我们感觉有很多地震。
③根据现在的仪器记录，全球每年大概有 500 万次地震发生。
④幸运的是，中国的大地震很少。
⑤但事实上是地震很多，大地震很少。
⑥微小地震、小地震，时时刻刻都在发生。（ ）

- A. ②⑤⑥①④③
B. ③②⑥④⑤①
C. ②⑤③⑥①④
D. ③①②⑥④⑤

55. 在中世纪的修道院里，僧侣们终日修行，倒不会在庙里藏个黄金屋。
_____。虽然书在今天已经是随处可见的读物，但如果把历史往前倒推几百年，书的制作成本和今日完全不可同日而语。一本书的每一个字全靠手抄，抄写员需要长期坐在一个毫无人体工程学可言的小凳子上长期伏案，借着自然光来抄书。尽管那个时候也有蜡烛，但火烛给书籍带来的风险让抄写员们宁可选择在白天工作。

填入划横线处最恰当的一句是：（ ）

- A. 僧侣们日常工作主要是读书
B. 因为终日修行才能赎回罪恶
C. 而是为中世纪神学添砖加瓦
D. 他们需要防止小偷偷走图书

第三部分 数量关系

一、数学运算。通过运算，选择最合适的一项。

56. 某食品加工厂原本有浓度为 20% 的盐水 36 千克，现在需要浓度为 55% 的盐水，已知盐的价格为 2 元/Kg，则再需买多少元钱的盐？（ ）

- A. 56
B. 58
C. 60
D. 62

57. 小明爷爷的年龄是一个两位数，将此两位数的数字交换得到的数就是小明爸爸的年龄，又知道他们的年龄的差是小明年龄的 4 倍，求小明的年龄？（ ）

- A. 8
B. 9
C. 10
D. 11

58. 某工厂甲、乙二人做一批零件分别需要 20 小时、30 小时，乙先做 5 小时后，为加快效率选择与甲合作，合作途中甲因为有急事耽误了 1 小时 40 分钟，最终甲比乙少做 2 个

零件，请问这批零件的总量有多少个？（ ）

- A. 28
- B. 30
- C. 32
- D. 36

59. 小何、小张、小潘、小李四位是刚进入单位的新人，由于周末需要每人轮流值班一天，假如 6 月 11 日星期日小何在单位值班，下一次小何周末值班是哪天？（ ）

- A. 6 月 18 日
- B. 6 月 24 日
- C. 6 月 25 日
- D. 7 月 1 日

60. 假如你是某景区工作人员，国庆节放假期间需要接待 3 个旅行团，有一个旅行团要连续参观 2 天，另两个旅行团参观 1 天，一共有多少种安排方法？（ ）

- A. 20
- B. 72
- C. 120
- D. 360

61. 一家工厂加工钢材，从一个多边形钢材切割下一块三角形钢材，加工后的钢材的内角和为 1080° ，原来的钢材是几边形？（ ）

- A. 8
- B. 7 或 8
- C. 8 或 9
- D. 7 或 8 或 9

62. 柯杰对战 Alphago 采用七局四胜制，已知双方棋力相当，每局获胜概率都是 50%，如果前四局 Alphago 已经赢得三场，则最后 Alphago 获胜的概率为？（ ）

- A. $1/2$
- B. $5/8$
- C. $3/4$
- D. $7/8$

63. 甲、乙二人以均匀的速度分别从 A、B 两地同时出发，相向而行，他们第一次相遇地点离 A 地 4 千米，相遇后二人继续前进，走到对方出发点后立即返回，在距 B 地 3 千米处第二次相遇，求两次相遇地点之间的距离为多少千米？（ ）

- A. 1
- B. 2
- C. 3

D. 4

64. 120盏亮着的电灯，各有一个拉线开关控制，按顺序编号为1、2、……120。将编号为2的倍数的灯各拉一下，再将编号为3的倍数的灯各拉一下，最后将编号为5的倍数的灯各拉一下，最后亮着的灯有多少盏？（ ）

A. 60

B. 62

C. 63

D. 64

65. 小李和哥哥从家步行去体育馆打羽毛球，已知哥哥每分钟比小李多走 20 米，25 分钟后哥哥到达体育馆，此时哥哥发现没有带球，于是立刻按原路返回取球，在离体育馆 300 米的地方遇到了小李则小李家距离体育馆的路程是多少米？（ ）

A. 1200

B. 1400

C. 1500

D. 1600

66. 小张和小李是同事，小张步行 1 公里需要 15 分钟，小李步行 1 公里需要 18 分钟，两人的家和单位在一条马路上，且单位位于小张小李家的中间，现在两人同时从他们共同的单位出发各自步行回家，两人同时到达相距 11 公里的各自家中，问小张家离单位的距离比小李家离单位的距离多多少？（ ）

A. 1 公里

B. 2 公里

C. 3 公里

D. 4 公里

67. 商店购买了一批新款耳机，按照成本的两倍定价出售，卖出了总数的一半，由于市场上的同类商品增多，后来又打 7.5 折出售，卖出了剩下数量的 80%，最后还剩一批尾货为了尽快处理回款，商家按照成本价卖出。当这批耳机全部卖出，总的利润率是多少？（ ）

A. 40%

B. 50%

C. 60%

D. 70%

68. 圣诞节某小店打算制作几种苹果福袋出售，将 8 个苹果放进 4 个福袋中，第一个福袋放 3 个苹果，第二个福袋放 1 个苹果，剩下两个福袋各装 2 个苹果，一共有多少种分配方法？（ ）

A. 320 种

B. 420 种

- C. 840 种
- D. 1680 种

69. 某商店买了三种不同色的月季花和四种不同色的郁金香装饰门店，要将两种花摆放一排，要求同一种花不能放在一起，问一共有多少种摆放方法？（ ）

- A. 120
- B. 144
- C. 256
- D. 1440

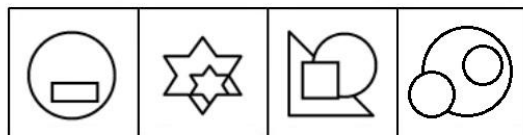

70. 某公司在座城市成立了分公司，打算在当地招聘新员工，第一个月通过校园招聘，录取的人数达到总需求量的 60% 的新员工，接下来几个月又陆续招聘了 35 人，最终所有录取的员工达到了总需求的 95%，现在将所有的员工分配到 5 个部门，最多的部门不超过 23 人，且各部门人数各不相同，问人数最少的部门最少有多少人？（ ）

- A. 8
- B. 9
- C. 10
- D. 11

第四部分 判断推理

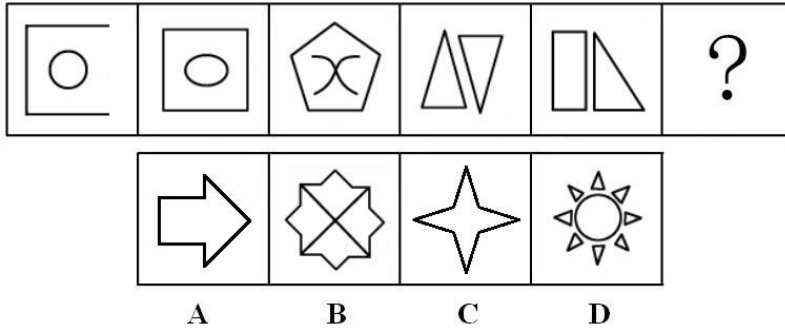
一、图形推理

71. 从所给的四个选项中，选择最合适的一个填入问号处，使之呈现一定的规律性（ ）。

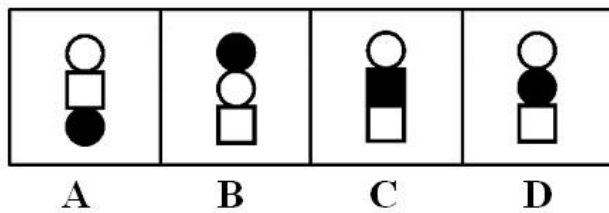



A B C D

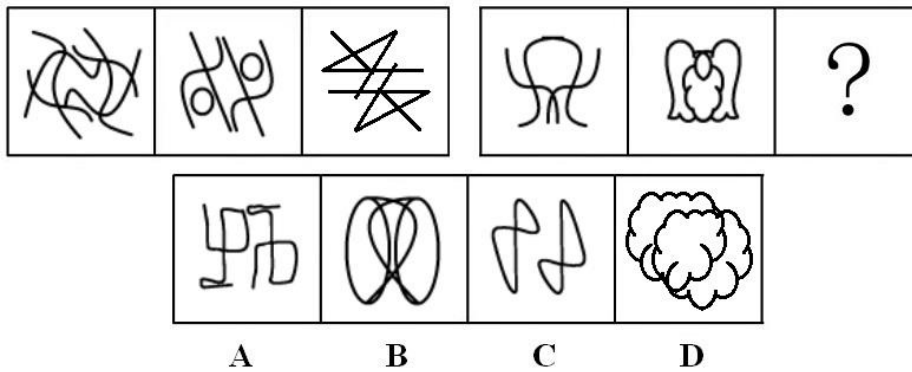
72. 从所给的四个选项中，选择最合适的一个填入问号处，使之呈现一定的规律性（ ）。



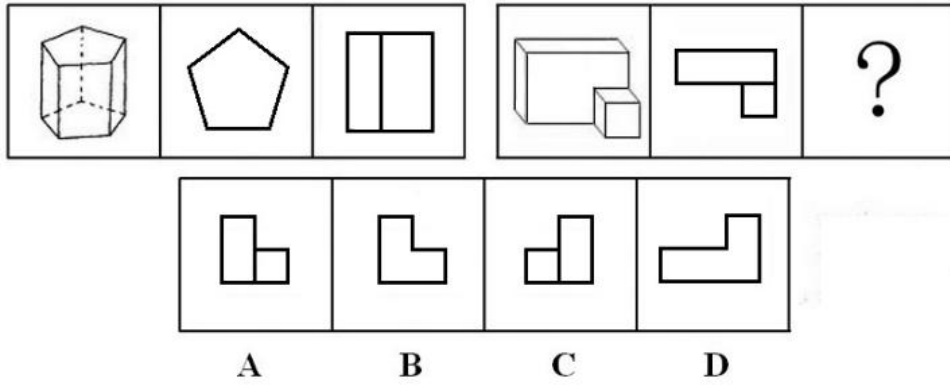
73. 从所给的四个选项中，选择最合适的一个填入问号处，使之呈现一定的规律性 ()。



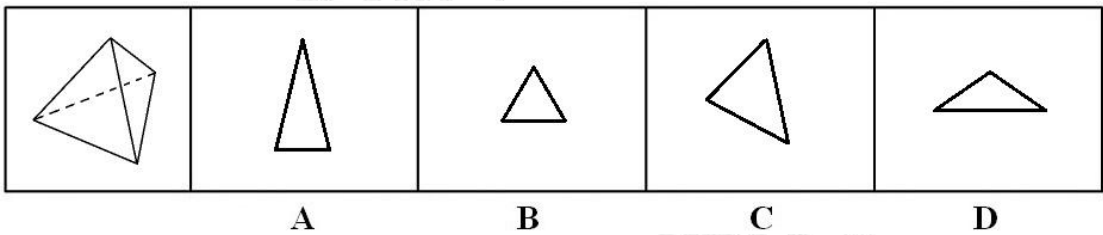
74. 从所给的四个选项中，选择最合适的一个填入问号处，使之呈现一定的规律性 ()。



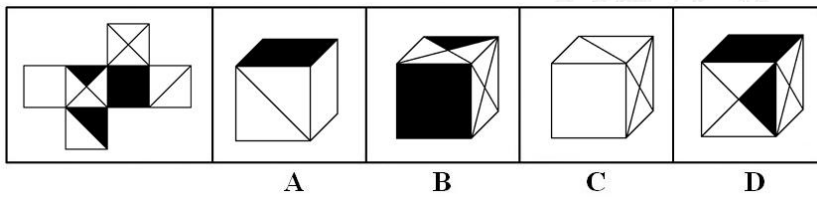
75. 从所给的四个选项中，选择最合适的一个填入问号处，使之呈现一定的规律性 ()。



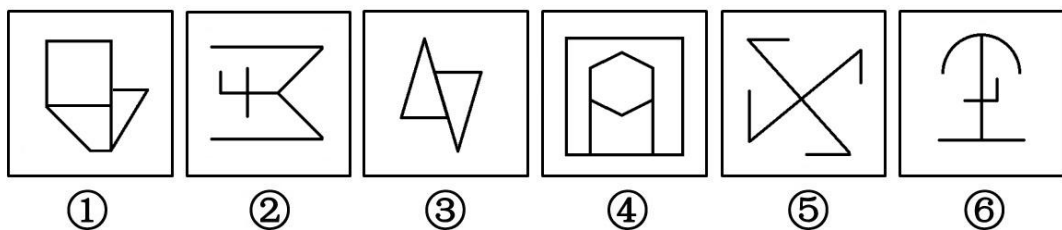
76. 左图是一个正四面体, 将其从任一面剖开, 下面哪一项不可能是该正四面体的截面?
()。



77. 左边给定的是纸盒的外表面, 下面哪一项能由它折叠而成? ()

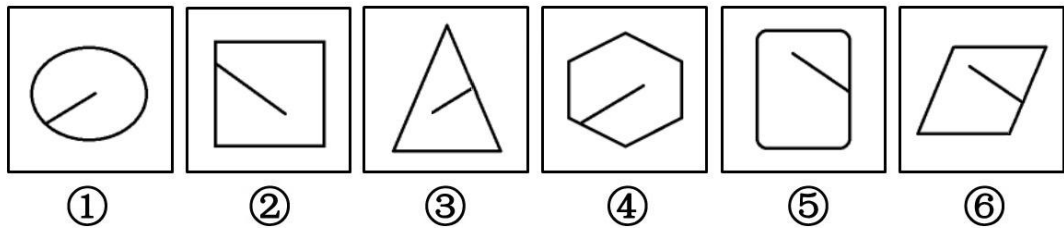


78. 把下面的六个图形分为两类, 使每一类图形都有各自的共同特征或规律, 分类正确的一项是 ()。



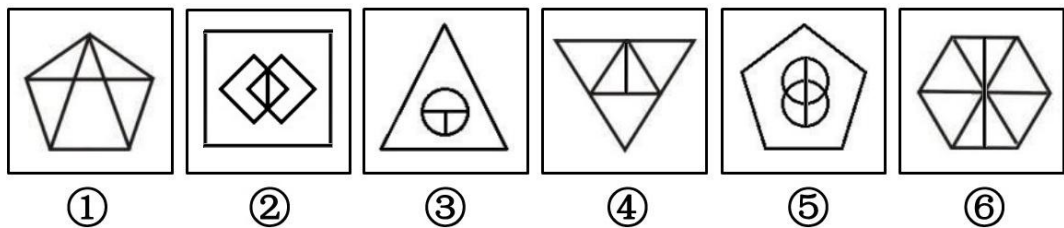
- A. ①②⑥, ③④⑤
- B. ①③④, ②⑤⑥
- C. ①②④, ③⑤⑥
- D. ①③⑥, ②④⑤

79. 把下面的六个图形分为两类, 使每一类图形都有各自的共同特征或规律, 分类正确的一项是 ()。



- A. ①③④, ②⑤⑥
- B. ①②⑤, ③④⑥
- C. ①②⑥, ③④⑤
- D. ①④⑤, ②③⑥

80. 把下面的六个图形分为两类, 使每一类图形都有各自的共同特征或规律, 分类正确的一项是 ()。



- A. ①②⑥, ③④⑤
- B. ①④⑤, ②③⑥
- C. ①②③, ④⑤⑥
- D. ①③⑥, ②④⑤

二、定义判断。

先给你一个概念的定义, 然后给出一组典型例证, 要求你从中选出最符合题意的一项。

注意: 假设这个定义是正确的, 不容置疑的。

81. 错觉是人们观察物体时, 由于物体受到形、光、色的干扰, 加上人们的生理、心理原因而误认物象, 会产生与实际不符的判断性的视觉误差。错觉是知觉的一种特殊形式, 它是在特定的条件下对客观事物的扭曲的知觉, 也就是把实际存在的事物被扭曲的感知为与实际事物完全不相符的事物。

根据上述定义, 下列哪项属于错觉? ()

- A. 每天上班时, 小区门口的保安都会和自己打招呼, 小丽觉得保安一定是对自己有好感
- B. 一个人在家时, 小伟闻到了一丝异味, 顺着找到厨房, 发现是煤气没有关好
- C. 衣服上横向的线条, 把人的目光引向左右, 使人的身材显得更丰满; 而竖向的线条, 把人的目光引向上下, 使人的身材显得更苗条
- D. 早上起床后拉开窗帘, 小刚被外面灿烂的阳光刺激的闭上了眼睛

82. 企业的不良资产是指企业尚未处理的资产净损失和潜亏(资金)挂帐, 以及按财务

会计制度规定应提未提资产减值准备的各类有问题资产预计损失金额。银行的不良资产也常称为不良债权，其中最主要的是不良贷款，是指银行顾客不能按期、按量归还本息的贷款。

根据上述定义，下列哪项属于银行的不良资产？（ ）

- A. 吴刚向自己的哥哥吴建借了六万块钱，但是一直不愿归还
- B. 章微把父亲遗产里的房子卖了，所得的一百万全部购买了银行的理财产品
- C. 钱峰的奶茶店周转不灵，通过金融中介向商业银行借了五万元，逾期三个月依然还不上
- D. 银行代理发行的纪念版人民币对外销售当天，门口排起了长长的队伍

83. 连锁经营是一种商业组织形式和经营制度，是指经营同类商品或服务的若干个企业，以一定的形式组成一个联合体，在整体规划下进行专业化分工，并在分工基础上实施集中化管理，把独立的经营活动组合成整体的规模经营，从而实现规模效益。特许经营是指特许经营权拥有者以合同约定的形式，允许被特许经营者有偿使用其名称、商标、专有技术、产品及运作管理经验等从事经营活动的商业经营模式。而被特许人获准使用由特许权人所有的或者控制的共同的商标、商号、企业形象、工作程序等。但由被特许人自己拥有或自行投资相当部分的企业。

根据上述定义，下列哪项属于特许经营？（ ）

- A. 某国际快餐品牌在全市有数十家分店，所使用的原材料都是由总部统一配送
- B. 某汽车生产企业根据顾客对象的不同，设立了不同的品牌，采用独立的销售渠道，从而应对差异化的需求
- C. 小蔡凭着祖传的手艺，做的烧饼声名远扬，于是他在闹市区开了一家分店
- D. 小白花了五万元的加盟费，获得了某奶茶品牌的使用权，以及制作奶茶的一系列配方，在品牌方的协助下，又投资十万元建立起了属于自己的奶茶店

84. 人力资源管理，是指在经济学与人本思想指导下，通过招聘、甄选、培训、报酬等管理形式对组织内外相关人力资源进行有效运用，满足组织当前及未来发展的需要，保证组织目标实现与成员发展的最大化的一系列活动的总称。就是预测组织人力资源需求并作出人力需求计划、招聘选择人员并进行有效组织、考核绩效支付报酬并进行有效激励、结合组织与个人需要进行有效开发以便实现最优组织绩效的全过程。

根据上述定义，下列哪项不属于人力资源管理的范畴？（ ）

- A. 公司的宿舍距离上班的地方比较远，很多新入职的员工大呼不便，甚至有了离职的念头
- B. 由于竞争对手的压力，市场的扩张，某金融公司决定对现有的技术人员进行再培训
- C. 公司的老员工觉得自己的薪水涨的太慢，天天消极怠工，连 CEO 也管不了他们
- D. 某公司为了扩大规模，需要引入几位有经验的管理人员

85. 鲁迅先生曾于 1927 年在《无声的中国》一文中写道：“中国人的性情总是喜欢调和、折中的，譬如你说，这屋子太暗，说在这里开一个天窗，大家一定是不允许的。但如果你主

张拆掉屋顶，他们就会来调和，愿意开天窗了。”这种先提出很大的要求来，接着提出较小、较少的要求，在心理学上被称为“拆屋效应”。

根据上述定义，下列哪项体现了拆屋效应？（ ）

- A. 华仔拿了压岁钱之后想买台新的笔记本电脑，被父亲拒绝了，华仔背着父亲买了回来
- B. 小美应聘时提出了月薪 5000 元的要求，公司只愿开出 3500 元，小美还是接受了
- C. 洛洛在夜市上看中了一条裙子，要价 300 元，洛洛还价 200，摊主不肯，只得做罢
- D. 阿丽想一个人去欧洲旅行，家里人不同意，于是阿丽提出想去北京，最终如愿以偿

三、类比推理。

请从四个选项中选出正确的一项，其关系与题干给出的词或词组的关系最为相似。

86. 曲棍球：棒球

- A. 排球：保龄球
- B. 羽毛球：铅球
- C. 乒乓球：冰球
- D. 橄榄球：水球

87. 男人：公务员

- A. 医生：护士
- B. 商人：动物
- C. 学生：研究生
- D. 女人：教师

88. 畅所欲言：各抒己见

- A. 费尽心机：狡兔三窟
- B. 草木皆兵：一见如故
- C. 见多识广：孤陋寡闻
- D. 本末倒置：舍本逐末

89. 鸚鵡：两栖动物

- A. 高血压：慢性病
- B. 茶壶：花瓶
- C. 海豹：哺乳动物
- D. 二锅头：葡萄酒

90. 高山：陆地

- A. 海沟：海洋
- B. 乌云：闪电
- C. 彩虹：雨水
- D. 电线：网络

91. 南京：金陵：建业

A. 北京：北平：燕京

B. 西安：长安：安庆

C. 姑苏：苏州：建康

D. 申城：上海：汴梁

92. 交通：指挥：交警

A. 工厂：修理：工人

B. 教师：教育：学生

C. 卫生：打扫：环卫工

D. 医生：抢救：病人

93. 窗帘：窗户：木材

A. 枕巾：枕头：棉花

B. 阳台：花盆：盆景

C. 桌布：书桌：玻璃

D. 皮鞋：凉鞋：鞋架

94. () 对于 树木 相当于 () 对于 姑娘

A. 坚固：幸运

B. 海洋：月亮

C. 高耸：美丽

D. 珍稀：温馨

95. 落花流水 对于 () 相当于 () 对于 舞枪弄棍

A. 电闪雷鸣；一心一意

B. 邯郸学步；负荆请罪

C. 绕梁三日；阳春白雪

D. 飞檐走壁；走马观花

四、逻辑判断。

每道题给出一段陈述，这段陈述假设是正确的、不容置疑的。请你根据这段陈述，选择一个答案。注意：正确的答案不需要任何附加说明即可以根据陈述必然推出。

96. 某跨国公司管理型人才的平均年薪为30万元，而技术型人才的平均年薪是26万元，公司所有员工的平均年薪是20万元。

如果以上信息是正确的，能够推出以下哪一项结论？()

A. 至少有一位员工的年薪比技术性人才的平均年薪低

B. 没有一位技术型人才的年薪比管理型人才的高

C. 至少有一半管理型人才的年薪比技术型人才的平均年薪高

D. 该跨国公司的管理型人才少于技术型人才

97. 某市政府在一年内三次降低买车按揭贷款的利率，因此很多想要买车的人准备进一

步观望利率能否再探新低，所以传统的汽车销售旺季“金9银10”汽车的销售量同比大幅下降。但有趣的是，在销售量大幅下降的同时，汽车市场成交的总金额却在快速上涨。

以下哪项如果为真，能解释这一矛盾现象？（ ）

A. 随着生活水平的提高，今年越来越多的人选择购买价格昂贵的豪车，而这些购买者几乎不会受到利率波动的影响

B. 受利率波动的影响，原本打算置换汽车的车主放弃了再买车的想法

C. 过去三年中，由于人们对汽车的需求，使得汽车的销售量一直在缓慢上涨

D. 受国际市场的影响，一年来汽车零件的价格不断波动

98. 某药品的配方有如下要求：

(1) 如果有 A 成分，那么也要有 B 成分；

(2) 如果没有 C 成分，那么必须有 D 成分；

(3) 乙醇和碳酸钙不能都有；

(4) 如果没有 A 成分而有 C 成分，则需要有乙醇。

如果有碳酸钙，则关于该配方的断定哪项为真？（ ）

A. 含有 C 成分

B. 没有 C 成分

C. 没有 B 成分和 D 成分

D. 含有 B 成分或 D 成分

99. 基础教育帮助未成年人了解各个普通学科的基本常识，能够保证他们步入社会前具备生存的能力；而高等教育则更重于让学生认识自己所生活的世界，引发思考和研究兴趣，还能对自己及外界价值和意义做出正确合理的判断，树立正确的世界观。因此有专家指出，两者比较的话，高等教育对个人更为重要。

以下哪项如果为真，最能证明上述专家判断的正确性？（ ）

A. 高等教育的快速发展，让高校毕业生的数量逐年增加

B. 基础教育和高等教育属于不同而教育范畴，两者没有可比性

C. 如果缺乏了生存的能力，思考和研究也就无从谈起

D. 缺乏常识的人依然可以在社会上存活，但如果连世界观都没有，人和行尸走肉就没有区别了

100. 在美职篮比赛中，运动员之间经常会用脏话辱骂对方，干扰了对方的思考，也能打击对方的士气。有人认为，这样的行为有违体育道德，也给观看比赛的观众留下了不好的印象，应该制定规则进行处罚。而反对者则认为，说脏话的行为并没有造成实质上的伤害，进行处罚完全是无稽之谈。

以下哪项可以成为反对者观点的前提？（ ）

A. 很多运动员说脏话是无意识的行为，并不想真正攻击对手

B. 电视观众在收看转播时根本听不到运动员说了什么

- C. 在比赛中，从来没有人对于对手的脏话提出质疑
- D. 比赛中，只有造成了实质伤害的行为，才需要被处罚

101. 很多人都声称自己曾经见过飞碟，美国的一所调查公司对市民所见到的“飞碟”现象进行研究，发现所有的“飞碟”现象均不能用现有的物理学理论进行分析说明。克莱森博士由此断言，市民们见到的飞碟都是幻觉。

- 以下哪项如果为真，最可能使博士的断言不成立？（ ）
- A. 幻觉都可以用现有的物理学理论进行分析说明
 - B. 所有幻觉都不能用现有的物理学理论进行分析说明
 - C. 现有的物理学理论还无法完全分析说明幻觉的形成机制
 - D. 有些幻觉不能用现有的物理学理论进行分析说明

102. 森林公园准备在甲乙丙丁四个区域种植四种不同的特色花草，每个区域选择一种。目前有郁金香、玫瑰、山茶和薰衣草可供选择。领导提出了以下两条要求：

- (1) 如果在甲区或者乙区种植玫瑰，那么在丁区不能种植薰衣草和山茶。
- (2) 丁区或甲区要种植郁金香或者玫瑰。

- 根据上述种植要求，如果丁区种植薰衣草，以下哪项一定为真？（ ）
- A. 丙区种植郁金香
 - B. 乙区种植山茶
 - C. 乙区种植郁金香
 - D. 丙区种植山茶

103. 地震局从去年开始响应号召，要求尽量减少办公用品的使用，规定每位工作人员只能按月领用所需的签字笔、打印纸和胶水等办公用品。年末统计时发现，单位在办公用品上的支出与上一年度相比减少约 28%。地震局领导由此得出：这项规定已经为单位节约了一大笔开销。

- 以下哪项如果为真，最能构成对领导推论的质疑？（ ）
- A. 气象局的工作人员数量和工作消耗与地震局几乎相同，没有刻意控制办公用品的使用，这方面的支出也少了近三成
 - B. 近年来国家号召无纸化办公，已经节约了很大一笔开支
 - C. 办公用品的使用规定是控制支出的有效手段，但暂时还没有严谨的数据报告表明规定能为单位节约开销
 - D. 林业局最近三年每年的办公用品支出与地震局差不多

104. 某高校学生会主席团成员有 7 名同学组成，其中有女同学有三人：张淼、李华和朱晶，男同学有四人：赵鹏、王涛、李宁和胡青。现要从这七名候选人中选出三人组成某委员会，且符合以下规则：李华和王涛不能同时入选，胡青不能与女性候选人同时入选。

- 如果赵鹏和李宁不入选，那么该委员会的组成有几种可能？（ ）
- A. 一种

- B. 两种
- C. 三种
- D. 四种

105. 小明中考的时候一共考了四门科目：语文、英语、数学、科学。语文和数学的成绩之和与另外两门科目的成绩之和相等，语文和科学的成绩之和大于另外两门科目的成绩之和，数学的成绩比语文和英语两门科目的成绩之和还高。

根据以上条件，小王四门科目的成绩从高到低依次是（ ）。

- A. 数学、科学、英语、语文
- B. 科学、数学、语文、英语
- C. 数学、科学、语文、英语
- D. 科学、数学、英语、语文

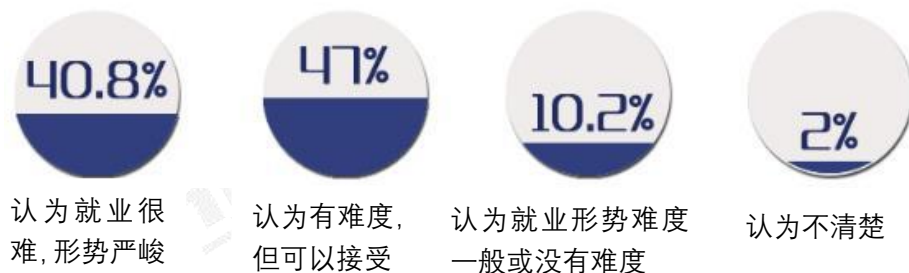
第五部分 资料分析

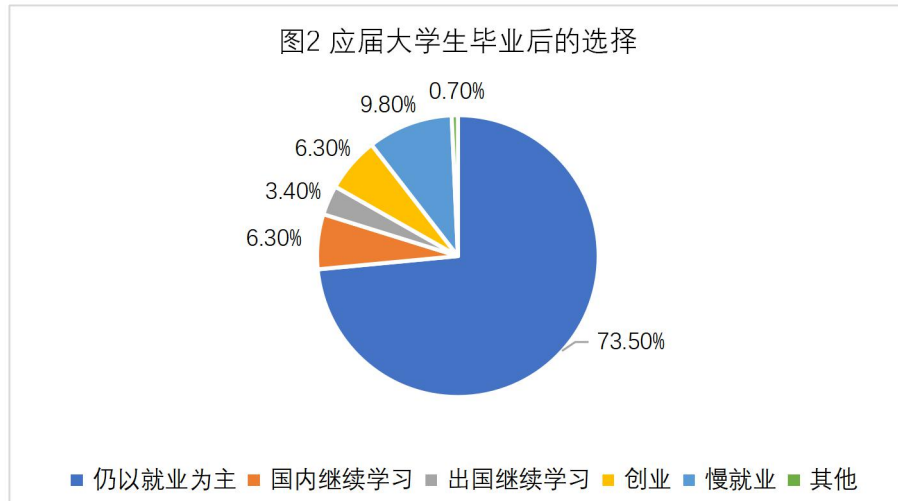
一、根据以下资料回答 106~110 题

大学生就业问题一直备受关注，今日，某求职网站对 2017 届应届毕业大学生求职情况做了调查，首先，对于城市的选择，应届大学生仍以大城市为主。其中 33.5% 的被调查者选择去一线城市奋斗，33.1% 的选择去新一线城市，而选择去二线城市、三线及以下城市的分别占 19% 和 14.4%。

其次，专业是否对口也是目前大学生择业的问题之一。541 名大学生选择了与专业不对口的工作，占此次被调查人数的 37.6%。医学、文学、工学专业，就业对口率较高，对口率分别为 84.2%、65.9%、65.2%；相对的教育学、理学、农学的对口率依次为 55.2%、48.5%、47.1%，对口率较低。此外，65.5% 的男生选择专业对口的工作，明显高于女生的 57.3%。

图 1 应届大学生的“就业感”





仍以就业为主 73.50% 国内继续学习 6.30% 出国继续学习 3.40% 创业 6.30% 慢就业 9.80% 其他 0.70%



106. 此次调查中，选择继续学习深造的应届大学生的比重比选择慢就业的（ ）
- A. 高 0.1 个百分点
 B. 高 1.5 个百分点
 C. 低 0.1 个百分点
 D. 低 1.5 个百分点

107. 此次调查中，选择去一线城市及新一线城市的大学生是选择其他城市的（ ）
- A. 2.1 倍
 B. 2.0 倍
 C. 1.9 倍
 D. 2.3 倍

108. 此次调查中，认为就业难（“认为就业很难”以及“认为有难度”）的应届大学生人数比“认为就业形势难度一般或没有难度”的多（ ）

- A. 1218 人
 B. 1053 人

C. 1304 人

D. 1116 人

109. 此次调查中，应届大学生毕业后的选择“仍以就业为主”的人数比其他的多（ ）

A. 632 人

B. 676 人

C. 763 人

D. 721 人

110. 此次调查中，下列判断不正确的是（ ）

A. 有超过一半的大学生希望在工作中能够学到新知识

B. 选择去三线及以下城市发展的大学生不到 200 人

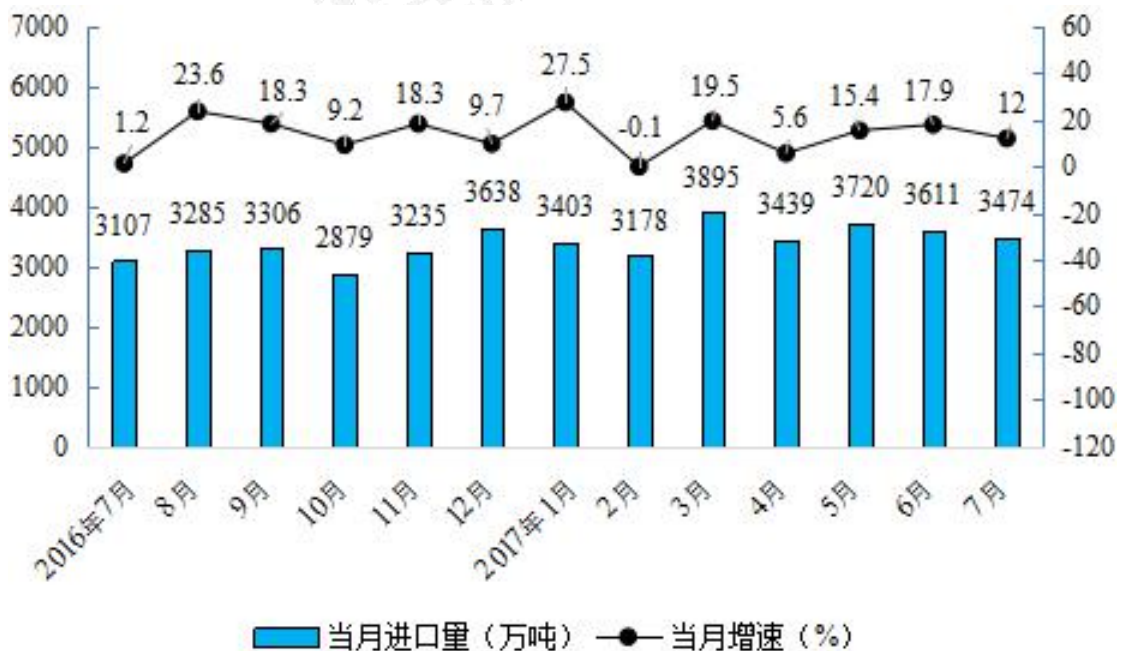
C. 男生人数多于女生

D. 2017 年全国有 795 万高校毕业生，按照此调查结果，将有约 50 万大学生选择创业

二、根据以下资料回答 111~115 题

2017 年 7 月份，全国原油产量 1624.9 万吨，同比下降 2.9%，降幅比 6 月份扩大 0.6 个百分点；日均产量 52.4 万吨，比 6 月份减少 1.6 万吨。1~7 月份，原油产量 11279.4 万吨，同比下降 4.8%，降幅比 1~6 月份收窄 0.3 个百分点。

原油进口量有所回落。7 月份，进口原油 3474 万吨，同比增长 12.0%，进口量比 6 月份减少 137 万吨，增速比 6 月份回落 5.9 个百分点。1~7 月份，进口原油 24708 万吨，同比增长 13.6%，增速比 1~6 月份回落 0.2 个百分点。



111. 2017 年 1~6 月全国原油产量的同比增速为：（ ）

A. -2.3%

B. -3.5%

C. -4.5%

D. -5.1%

112. 2016年6月原油进口量在1~6月原油进口量中所占比重为：（ ）

A. 12.5%

B. 17.6%

C. 21.2%

D. 33.3%

113. 下列月份中，原油进口量环比增速最快的是：（ ）

A. 2016年8月

B. 2016年12月

C. 2017年3月

D. 2017年5月

114. 2016年8月~2017年7月，原油进口量及同比增速均高于上月的月份有几个？
（ ）

A. 4

B. 5

C. 6

D. 7

115. 能够从上述资料中推出的是：（ ）

A. 2017年7月原油进口量比2015年7月翻了一番

B. 2017年第一季度月均原油进口量超过3500万吨

C. 2017年上半年原油进口量超过2.4亿吨

D. 2016年5~6月原油进口量超过6000万吨

三、根据以下资料，回答116~120题

2015年江苏省科技创新能力不断增强。区域创新能力连续七年保持全国第一。全省科技进步贡献率达60%，比上年提高1个百分点。全年授权专利25万件，其中发明专利3.6万件。全年共签订各类技术合同2.5万项，技术合同成交额达700亿元，比上年增长6.8%。全省企业共申请专利27.5万件。

科研投入比重提高。全社会研究与发展（R&D）活动经费1788亿元，占地区生产总值比重为2.55%，比上年提高0.05个百分点。全省从事科技活动人员120.3万人，其中研究与发展（R&D）人员74.6万人。全省拥有中国科学院和中国工程院院士96人。全省各类科学研究与技术开发机构中，政府部门属独立研究与开发机构达144个。全省已建国家和省级重点实验室97个，科技服务平台290个，工程技术研究中心2989个，企业院士工作站329个，经国家认定的技术中心95家。

教育事业全面发展。全省共有普通高校137所。普通高等教育本专科招生44.9万人，在校生171.6万人，毕业生48.4万人；研究生教育招生5.1万人，在校生15.6万人，毕业生4.3万人。高等教育毛入学率达52.3%，比上年提高1.3个百分点。全省中等职业教育在校生达68万人（不含技工学校）。九年义务教育巩固率100%，高中阶段教育毛入学率99.1%，基本普及高中阶段教育。特殊教育招生0.4万人，在校生2.3万人。全省共有幼儿园6759

所，比上年增加 1687 所；在园幼儿 250.7 万人，比上年增加 16.6 万人。

各类教育招生和在校生情况

| 指 标 | 招生数 | | 在校生数 | | 毕业生数 | |
|--------|-------------|---------------|-------------|---------------|-------------|---------------|
| | 绝对数 (万人) | 比上年增 长 (%) | 绝对数 (万人) | 比上年增 长 (%) | 绝对数 (万人) | 比上年增 长 (%) |
| 研究生教育 | 5.10 | 3.9 | 15.56 | 3.3 | 4.28 | 2.6 |
| 普通高等教育 | 44.86 | 0.8 | 171.57 | 1.0 | 48.41 | 1.1 |
| 普通高中教育 | 31.95 | -0.1 | 97.80 | -5.4 | 36.88 | -7.0 |
| 普通初中教育 | 63.43 | 2.7 | 186.72 | 0.8 | 61.21 | -0.4 |
| 小学教育 | 91.96 | 3.5 | 499.64 | 6.0 | 64.69 | 4.0 |

116. 2015 年江苏地区生产总值为多少亿元? ()

- A. 59600
- B. 70117
- C. 82664
- D. 89400

117. 2014 年江苏省普通高中教育在校生数为多少万人? ()

- A. 93
- B. 98
- C. 103
- D. 112

118. 2015 年江苏省技术合同成交额同比增长多少亿元? ()

- A. 40.9
- B. 48.8
- C. 52.3
- D. 44.5

119. 2014 年江苏省平均每所幼儿园有多少在园幼儿? ()

- A. 461
- B. 418
- C. 370
- D. 316

120. 根据所给材料，下列说法不正确的是 ()

- A. 2014 年高等教育毛入学率达 51%
- B. 2015 年全省研究与发展 (R&D) 人员占从事科技活动人员的比重超过 6 成
- C. 2014 年普通高等教育毕业生数低于 2014 年普通高中教育毕业生数

D. 2015 年江苏省各类教育招生人数超过 200 万人

