

2020天津公安辅警考试考前必看200题

公安知识点部分

1. 人民公安机关的性质是（ ）。
 - A. 我国人民民主专政政权中具有治安性质的行政武装力量与刑事司法力量
 - B. 我国人民民主专政政权中具有武装性质的行政治安力量和刑事、行政司法力量
 - C. 我国人民民主专政政权中具有治安性质的武装行政力量和刑事、行政司法力量
 - D. 我国人民民主专政政权中具有武装性质的治安行政力量和司法力量
2. 新中国成立之前人民公安机关的名称, 公安出现的时间排序正确的一组是（ ）。
 - A. 中央特科、国家政治保卫局、延安警察队、中央军委公安部
 - B. 国家政治保卫局、中央特科、延安警察队、中央军委公安部
 - C. 中央特科、中央军委公安部、延安警察队、国家政治保卫局
 - D. 国家政治保卫局、中央军委公安部、延安警察队、中央特科
3. 我党在中央机关设立的最早的保卫组织是（ ）。
 - A. 中央特科
 - B. 国家政治保卫局
 - C. 社会部
 - D. 陕甘宁边区人民警察
4. 国家主权和安全, 对进出我国国(边)境的外国人(包括无国籍人)和我国公民进行管理的人人民警察属于（ ）。
 - A. 边防警察
 - B. 治安警察
 - C. 外事警察
 - D. 巡逻警察
5. 国家要求警察必须与国体相一致, 与政体和国家意志相一致, 成为国家忠诚的（ ）工具。
 - A. 管理
 - B. 统治与管理
 - C. 管理与服务
 - D. 保卫
6. 为了确保党中央的安全, 在（ ）主持的中央特委的直接领导下, 于 1927 年 12 月在上海建立了中央特科。
 - A. 邓小平
 - B. 聂荣臻
 - C. 周恩来
 - D. 刘少奇
7. 公安机关民主职能的实质是（ ）。
 - A. 代表国家和人民对专政对象实行政治统治
 - B. 保卫人民民主专政的政权
 - C. 保障人民享有国家主人翁的地位和保障人民的利益
 - D. 保证人民依法参与国家事务的管理
8. 下列哪一项不属于巡警的主要职责?()。

- A. 维护交通秩序
B. 防止和处理交通事故
C. 接受公民报警
D. 劝解、制止公共场所发生的民间纠纷
9. 公安机关要及时向党委汇报重要的敌情、社情和治安情况，党委根据具体情况提出宏观性的决策意见，责成并督促政府和公安机关贯彻执行，这属于党对公安工作的()。
- A. 政治领导
B. 思想领导
C. 组织领导
D. 决策领导
10. 我国公安机关的基本职能是()。
- A. 专政职能和民主职能
B. 政治镇压职能和社会管理职能
C. 民主职能和社会管理职能
D. 社会管理职能和专政职能
11. 在我国，警察和军队、法庭、监狱一样，是国家的暴力工具，而这种暴力工具，主要是通过其()体现出来的。
- A. 阶级性
B. 武装性质
C. 历史性
D. 军事性
12. 治安案件的管辖由()规定。
- A. 国务院
B. 全国人大
C. 司法部门
D. 国务院公安部门
13. 公安机关是人民民主专政的重要工具，这是公安机关的()，也是它的根本属性。
- A. 武装属性
B. 行政属性
C. 刑事执法属性
D. 阶级属性
14. 警察的()，是指警察的社会效能和作用。
- A. 权力
B. 任务
C. 职能
D. 功效
15. 在一定路线或一定地段用巡逻方式进行勤务活动，履行维护辖区内的治安秩序。预防和制止治安案件和突发性事件；预防和制止犯罪行为；参加处置灾害性事故；维护交通秩序；接受公民报警；劝解、制止公共场所发生的民间纠纷；为社会和公民提供救助和服务等职责的人民警察属于()。
- A. 巡逻警察
B. 户籍警察
C. 消防警察
D. 治安警察
16. 公安机关（安全机关）是国家的刑事侦查机关，其组成体系包括公安部、公安厅（局）、公安处（局），公安分局，其中，公安分局设立于()
- A. 县、县级市或市辖区
B. 省辖市、自治州
C. 省、自治区、直辖市
D. 国务院
17. 属于公安机关紧急状态处置权的是()
- A. 发布通缉令
B. 强制隔离待定的入

- C. 紧急征用权
D. 执行管制权
18. 公安机关对特定的人、物、事、场所依法采取命令、禁止、取缔与许可等项行为，这都是()的权力形式。
- A. 治安行政处罚权
B. 治安行政强制权
C. 治安行政处罚权
D. 治安监督检查权
19. 公安机关权力所具有的特点表明公安机关权力是一种()。
- A. 警察职权
B. 以国家利益为核心的人民警察权利
C. 人民警察所拥有的特殊权力
D. 特殊的国家权力
20. 公安工作的根本原则是()。
- A. 坚持党对公安工作的绝对领导
B. 坚持党政分开原则
C. 坚持群众路线
D. 坚持社会治安综合治理
21. “三懂四会”中的“三懂”指的是()。
- A. 懂宣传发动、懂群众语言、懂沟通技巧
B. 懂群众心理、懂群众语言、懂调处纠纷
C. 懂群众心理、懂群众语言、懂化解矛盾
D. 懂群众心理、懂群众语言、懂沟通技巧
22. 一切依靠群众，这是公安工作的()。
- A. 根本态度
B. 根本原则
C. 根本方法
D. 根本政策
23. 从群众中来，到群众中去，是公安工作的()。
- A. 基本出发点
B. 基本方法
C. 基本方针
D. 基本原则
24. 进行公安队伍正规化建设，首先要加强思想政治建设，始终把()放在首位。
- A. 政治建警
B. 政治教育
C. 政治纪律
D. 政治表现
25. 严肃与谨慎相结合政策的总精神就是()。
- A. 不枉不纵
B. 严厉惩处
C. 争取多数从宽
D. 在惩办的前提下宽大
26. 为了确保党和国家领导人、来访的重要外宾以及对重大活动的现场安全要进行()。
- A. 警戒工作
B. 保卫工作
C. 警卫工作
D. 公共秩序管理工作
27. 公安机关充分运用现代化传播媒介，广泛地宣传、教育和发动广大人民群众，从而拓宽了警民联系的()。
- A. 新方法
B. 新渠道
C. 新方式
D. 新手段

28. 在依法执行公务的过程中，当事人因某些个人利益被触及，产生对立情绪，致使人民警察经常遭到无理的指责、谩骂，甚至遭到攻击。特别是有些人依仗权势，非法干预、阻挠人民警察依法执行公务，有的还对人民警察进行打击报复，威胁人民警察的生命安全，这体现了公安工作的（ ）。

- A. 复杂性
- B. 艰苦性
- C. 危险性
- D. 隐蔽性

29. 教育与处罚相结合是指导治安管理处罚的一项（ ）。

- A. 基本政策
- B. 基本技能
- C. 基本方法
- D. 基本职能

30. “三懂四会”属于（ ）。

- A. 群众工作理念
- B. 群众工作政策
- C. 群众工作方法
- D. 群众工作格局

31. 公安工作在战略战役部署与实施、法制与政策的结合、多部门横向协同等方面，应（ ）。

- A. 集中与分散相结合
- B. 强调分散
- C. 强调高度统一
- D. 根据具体情况决定集中或分散

32. 下列属于专门机关与广大群众相结合社会工程中警民结合形式的是（ ）。

- A. 公安机关警务督察队
- B. 派出所窗口服务
- C. 治安检查
- D. 流动治安派出所

33. 警务公开制度要求各级公安机关基层单位要将（ ）所需手续、程序、时限等印成“警民联系卡”“便民卡”或“明白卡”，或者设立电话查询服务业务，方便群众办事。

- A. 各种案件立案、侦查
- B. 群众常办事项
- C. 群众报案、求助
- D. 群众举报、申诉

34. 关于公开工作和秘密工作的关系，下列说法不正确的是（ ）。

- A. 秘密工作与公开工作是相辅相成的
- B. 秘密工作需要公开工作进行掩护，秘密工作寓于公开工作之中
- C. 鉴于工作对象的特殊性，公安工作应以秘密工作为主，公开工作为辅
- D. 公开工作需要秘密工作做后盾，并为秘密工作创造条件

35. 人民警察离休、退休的，其警衔（ ）。

- A. 不予保留
- B. 予以保留和配带
- C. 予以保留，但不得配带
- D. 视级别而定

36. 录用人民警察的原则有公开原则、（ ）、择优原则。

- A. 公正原则、平等原则 B. 公平原则、平等原则
C. 平等原则、竞争原则 D. 公正原则、严格原则
37. 下列情况中哪一种属于应当予以辞退的情形?()
- A. 连续两年考核被确定为不称职的 B. 违反规定使用武器、警械的
C. 不执行上级决定和命令的 D. 遇事推诿、消极怠工的
38. 阅警以公安机关人民警察队伍接受检阅为形式,充分展现公安机关人民警察()
- A. 优良的政治素质、良好的精神风貌和严明的组织纪律
B. 优良的政治素质、良好的精神风貌和强大的战斗力
C. 优良的政治素质、严明的组织纪律和强大的战斗力
D. 良好的精神风貌、严明的组织纪律和强大的战斗力
39. 根据《公安机关人民警察辞退办法》第三条的规定,下列情况中属于直接予以辞退的情形是()。
- A. 私自将警械、警服、警衔标志转借、赠送非人民警察
B. 遇事推诿,消极怠工,工作不负责任
C. 旷工或者无正当理由逾期不归连续超过 15 天
D. 经常迟到早退或者上班时间经常办私事
40. 人民警察义务是指人民警察在行使权力、履行职责过程中()作出或不得作出一定行为的约束。
- A. 允许 B. 必须
C. 可以 D. 需要
41. 警容风纪是指人民警察在着装、仪容、举止、()等方面的行为规范。
- A. 行为 B. 姿态
C. 礼节 D. 言谈
42. 关于人民警察辞退制度说法正确的是()。
- A. 辞退通常需征得被辞退人的同意
B. 辞退是公安机关法定的权力,公安机关有权辞退任何不适合在公安机关继续工作的人员
C. 辞退是公安机关对有违纪行为的公安民警的行政处分
D. 不合法定程序的辞退没有法律效力
43. 人民警察有下列哪一情形的,不应被辞退?()
- A. 符合录用人民警察的条件,但未按规定程序招收的
B. 在孕期、产期或者哺乳期内的

- C. 患严重疾病或者负伤的
D. 因公负伤致残的
44. 基于人民警察的性质，人民警察不得散布有损于国家声誉、形象和威信的口头或书面言论；不得参加国家明令取缔、禁止以及未依法得到批准的社会团体或其他组织。不得参加以反对国家为目的的集会、游行、示威等活动；不得参加罢工。这主要是对人民警察（ ）方面的要求。
- A. 政治纪律
B. 组织纪律
C. 行动纪律
D. 工作纪律
45. （ ）是区分人民警察等级、表明人民警察身份的称号、标志和国家给予人民警察的荣誉。
- A. 警标
B. 警阶
C. 警级
D. 警衔
46. 公安执法监督是保障公安机关及其人民警察（ ）的重要手段。
- A. 敬岗爱业，热情服务
B. 充分地行使权力
C. 依法行使监督权
D. 依法履行职责、行使职权
47. 根据《公安机关督察条例》的规定，督察机构对下级公安机关和本级公安机关所属各事业单位作出的错误决定、命令有权（ ）。
- A. 当场予以纠正
B. 提出批评、建议
C. 提起行政复议
D. 决定撤销或者变更
48. 各级人民代表大会及其常务委员会对公安机关及其人民警察的执法活动的监督权属于（ ），以宪法和法律为依据，具有极大的权威性。
- A. 国家监督权
B. 司法监督权
C. 行政监督权
D. 人民民主监督权
49. 根据《公安机关督察条例》的规定，县级以上地方各级人民政府公安机关督查机构实行（ ）。
- A. 派出机构建制
B. 处室建制
C. 队所建制
D. 队建制
50. 间接监督是不直接具有法律效力的监督，但可以按照（ ）向有权机关提出，通过有权机关对公安机关及其人民警察的违法违纪行为予以纠正。
- A. 个人意愿
B. 众人意愿
C. 法定条件
D. 民主程序
51. （ ）地方各级人民政府公安机关均设立督察机构。
- A. 省级以上
B. 地(市)级以上

- C. 县级以上
D. 全国
52. () 领导全国公安机关的督察工作。
- A. 公安部部长
B. 公安部督察委员会
C. 公安部党委
D. 公安部政治部
53. 法制部门监督是公安机关的法制部门代表 () 对下级公安机关、本级公安机关所属业务部门、派出机构及其人民警察的执法活动实施的监督。
- A. 人民政府
B. 本级公安机关
C. 上级公安机关
D. 同级人大
54. 公安行政复议是 () 认为公安机关的具体行政行为侵犯其合法权益，依法提出申请，由受理的公安机关进行审查和决定的活动。
- A. 公民
B. 法人
C. 其他组织
D. 公民、法人或其他组织
55. 下列哪种行为可以提出公安行政复议 ()
- A. 警告
B. 治安调解
C. 传唤
D. 口头批评教育
56. 公安赔偿是公安机关及其人民警察违法行使职权，侵犯公民、法人和其他组织的合法权益造成损害，由 () 承担的赔偿。
- A. 民警个人
B. 造成损害的个人或机关
C. 国家
D. 被侵害人
57. 公安赔偿是 () 的一种，包括公安行政赔偿和公安刑事赔偿。
- A. 民事赔偿
B. 国家赔偿
C. 行政赔偿
D. 刑事赔偿
58. 公安执法监督主体具有 ()
- A. 特定性
B. 广泛性
C. 多样性
D. 确定性
59. 公安执法监督是法律授权的机关以及公民和社会组织对 () 依法履行职责、行使职权的活动和遵守纪律的情况所实施的监督。
- A. 公安机关
B. 人民警察
C. 公安民警
D. 公安机关及其人民警察

法律部分

1. 社会主义法治理念的本质要求是（ ）。
 - A. 执法为民
 - B. 依法治国
 - C. 党的领导
 - D. 服务大局
2. 根据《宪法》规定，民族自治地方是指（ ）。
 - A. 自治区、自治县
 - B. 自治区、自治州、自治县
 - C. 自治区、自治县、民族乡
 - D. 自治州、自治县
3. 根据乙市政府整顿农贸市场的决定，乙市 B 区工商局和公安局对农贸市场进行检查，在检查过程中，因某个体户乱设摊点，给予其吊销营业执照的处罚，该个体户不服，申请复议。此案的复议机关是（ ）。
 - A. 乙市工商局或乙市公安局
 - B. 乙市公安局
 - C. 乙市工商局
 - D. 乙市政府
4. 以下给国家和人民造成特别严重危害，并且情节特别恶劣的危害国家安全的犯罪行为中，可以适用死刑的是（ ）。
 - A. 颠覆国家政权罪
 - B. 资助危害国家安全犯罪活动罪
 - C. 分裂国家罪
 - D. 叛逃罪
5. 王某与张某发生争执，王某被打成轻伤，于是向法院提起自诉。法庭审理中，张某提出，审判员郭某在开庭前违反法规与自诉人的母亲和哥哥见面，要求郭某回避，但王某的母亲和哥哥否认此事。法院院长经过审查作出驳回郭某回避的决定。下列何人有权要求对驳回决定进行复议？（ ）
 - A. 张某
 - B. 郭某
 - C. 张某的母亲
 - D. 王某
6. 气候变化的影响已对世界经济造成危害，这迫切需要我们强化行动以应对气候挑战。使用清洁能源，加强环境保护已刻不容缓。根据《环境保护法》，下列说法正确的是（ ）。
 - A. 对污染环境、破坏生态，损害社会公共利益的行为，任何公民和组织都可以向人民法院提起诉讼
 - B. 编制有关开发利用规划应当依法进行环境影响评价
 - C. 提起环境损害赔偿诉讼的时效期间为 2 年
 - D. 环境保护坚持预防优先、保护为主、综合治理、损害担责的原则

7. 中华人民共和国国务院，即中央人民政府，是最高国家权力机关的执行机关，是最高国家行政机关。它对（ ）负责并报告工作。

- A. 国务院常务会议
- B. 国务院总理
- C. 全国人民代表大会
- D. 中华人民共和国主席

8. 下列关于行政程序的表述正确的是（ ）。

- ①行政程序是法律程序的一种
- ②行政程序是行政机关实施行政行为必须遵循的方式、步骤、时间和顺序
- ③行政程序的核心价值在于制约行政权力
- ④行政程序和诉讼程序是完全不同的两种程序

- A. ①④
- B. ①②
- C. ②③④
- D. ①②③

9. 徐某冒充首长与各地党政干部电话联系，高价卖出所谓的“内部资料”，共谋得 50 万元以上的收入。法院应给徐某定罪为（ ）。

- A. 敲诈勒索罪
- B. 抢劫罪
- C. 诈骗罪
- D. 侵犯名誉罪

10. 下列民事诉讼案件不能适用简易程序审理的是（ ）。

- A. 当事人协议不适用简易程序的案件
- B. 起诉时被告被监禁的案件
- C. 发回重审案件
- D. 共同诉讼案件

11. 负责组织、协调、指导反垄断工作的国务院机构是（ ）。

- A. 反垄断委员会
- B. 国务院办公厅
- C. 反垄断执法机构
- D. 国务院法制办

12. “只是表明和记载经济关系的要求而已”，这句话表明了法的（ ）。

- A. 阶级性
- B. 国家意志性
- C. 物质制约性
- D. 规范性

13. “只是表明和记载经济关系的要求而已”，这句话表明了法的（ ）。

- A. 阶级性
- B. 国家意志性
- C. 物质制约性
- D. 规范性

14. 部门规章与地方政府规章之间对同一事项规定不一致时，由（ ）。

- A. 国务院提出意见
- B. 国务院裁决
- C. 全国人民代表大会常务委员会决定
- D. 部门与地方协商

15. 张某因对 A 直辖市人民政府作出的某一具体行政行为不服，决定申请行政复议，根据相关规定，受理其申请的行政复议机关是（ ）。
- A. 国务院
B. A 直辖市人民政府
C. 最高人民法院
D. A 直辖市人民法院
16. 我国刑法在溯及力问题上采取的原则是（ ）。
- A. 从旧原则
B. 从新原则
C. 从旧兼从轻原则
D. 从新兼从轻原则
17. 根据我国《刑事诉讼法》的规定，除法律特别规定的以外，公安机关负责对刑事案件的侦查、拘留、预审等；人民法院负责对刑事案件的审判；人民检察院负责检察、检察机关直接受理的案件的侦查、提起公诉等，此外还负责（ ）。
- A. 执行逮捕
B. 定罪量刑
C. 批准逮捕
D. 批准劳教
18. 国家开发银行属于（ ）。
- A. 民间信贷机构
B. 营利性银行
C. 政策性银行
D. 银行的银行
19. 甲的父亲在一次车祸中丧生，甲依法继承了其父亲的遗产。引起遗产继承这一法律关系发生的法律事实是（ ）。
- A. 车祸
B. 甲的父亲死亡
C. 甲未声明放弃继承权
D. 甲与其父之间存在合法的父子关系
20. 根据《宪法》的规定，决定特赦是（ ）的职责。
- A. 最高人民法院
B. 最高人民检察院
C. 全国人民代表大会
D. 全国人民代表大会常务委员会
21. 环保局局长调至建设局任局长一职，属于公务员交流制度中的（ ）制度。
- A. 调职
B. 挂职
C. 调任
D. 转任
22. 下列关于刑罚的说法正确的是（ ）。
- A. 主刑的种类有管制、拘留、有期徒刑、无期徒刑和死刑
B. 管制的期限为 3 个月以上 1 年以下
C. 超过 75 周岁的人以及怀孕的妇女均不适用死刑
D. 对被判处管制的犯罪分子，依法实行社区矫正

23. 方某因履行出庭作证义务而支出的下列费用，不在司法机关应当给予补助的范围内的是（ ）。
- A. 误工费
B. 住宿费
C. 就餐费
D. 交通费
24. 根据我国《政府采购法》的规定，政府采购应当采购本国货物、工程和服务，但也有例外。下列选项中，不属于例外的是（ ）。
- A. 需要采购的货物、工程或者服务无法以合理的商业条件获取
B. 需要采购的货物、工程或者服务在中国境内无法获取
C. 为在中国境外使用而进行的采购
D. 政府采购限额标准以上的货物、工程和服务的行为
25. 在当代中国法的渊源体系中占据核心地位的是（ ）。
- A. 法律
B. 宪法
C. 行政法规
D. 规章
26. 在全国人民代表大会常务委员会决定特别行政区进入紧急状态后，以下哪一机关可发布命令将有关全国性法律在特别行政区实施？（ ）
- A. 全国人民代表大会
B. 全国人民代表大会常务委员会
C. 国务院
D. 国家主席
27. 下列选项中，不属于行政强制措施的是（ ）。
- A. 民警将醉酒闹事的王某带至派出所约束到酒醒
B. 某区工商局将涉嫌销售假货的超市予以查封
C. 某区建交委将扣押的无照运营车辆予以拍卖
D. 某区城管执法大队对涉嫌乱摆摊的崔某的物品予以扣押
28. 甲、乙同在某农贸市场卖猪肉，一日，甲因抢了乙的顾客而被乙殴打，后被人拉开。甲极为窝火，回到自己的摊位，拿起切肉刀向乙胸部刺去，致乙死亡。甲的行为属于（ ）。
- A. 正当防卫
B. 防卫过当
C. 假想防卫
D. 事后防卫
29. 按特别程序审理的案件，有特殊情况需要延长的，应当由本院院长批准。以下不受该限制的案件是（ ）。
- A. 认定公民无民事行为能力或限制行为能力的案件
B. 认定财产无主的案件

- A. 尊重和维持了农民的民主权利
B. 使农民有了选举权和被选举权
C. 实现了农民的国家主人翁地位
D. 增强了基层政府依法行政的观念
37. 下列各项中，属于行政给付的是（ ）。
- A. 获得保险赔偿金
B. 因工伤得到抚恤金
C. 因重大发明获得国家奖金
D. 获得行政赔偿金
38. 下列哪种情形是犯罪未遂？（ ）
- A. 甲原本想打伤乙，欲实施暴力时发现乙身上有巨额现金，便拿走了现金，扬长而去，甲的行为属于故意伤害未遂
- B. 王某因情场失意，遂决定杀掉情敌张某，于是持刀尾随张某，王某行为属于故意杀人未遂
- C. 赵某在强奸李某的时候，遭到李某的强烈反抗，反被李某制服，赵某属于强奸未遂
- D. 丙从行驶的大卡车上盗窃了一箱货物，随后抛在路边，而后返回抛货地点没有找到，丙的行为属于盗窃未遂
39. 甲、乙、丙三人共同设立H有限责任公司，出资比例分别为70%、25%、5%。自2005年开始，公司的生产经营状况严重恶化，股东之间互不配合，不能作出任何有效决议，甲提议通过股权转让摆脱困境被其他股东拒绝。下列说法正确的是（ ）。
- A. 只有控股股东甲可以向法院请求解散公司
- B. 只有甲、乙可以向法院请求解散公司
- C. 甲、乙、丙中任何一人都可向法院请求解散公司
- D. 不应解散公司，而应通过收购股权方式解决问题
40. 下列关于法律规则和法律条文的说法正确的是（ ）。
- A. 一个法律条文对应一个法律规则
- B. 法律规则的逻辑结构包括假定条件、行为模式以及法律后果
- C. 法律后果是指法律规则中行为人的行为不符合行为模式时，应承担的违法后果
- D. 法律规则就是法律条文
41. 《宪法》规定公民的合法的私有财产不受侵犯。那么以下哪项属于公民的合法私有财产？（ ）
- A. 继承房屋
B. 坟地
C. 下属行贿的红包
D. 矿山
42. 下列关于身份证的说法正确的是（ ）。

- A. 公民申请领取和换领身份证均应缴纳工本费
- B. 补办身份证需申领人携带《居民户口簿》等物品亲自办理
- C. 年满 16 周岁的境内中国公民即可领取居民身份证
- D. 年龄不满 16 周岁的中国公民，不能领取居民身份证
43. 下列行为中存在共同犯罪的是（ ）。
- A. 小张与其妻子于情人节当天在家中进行烛光晚餐，不慎引发火灾，造成自家与邻居家重大财产损失
- B. 于某杀害了与其素有仇怨的李某，于某父亲知晓后帮助于某逃跑至外地躲避公安机关的追捕
- C. 甲、乙两人商量后共同潜入某富豪的家中盗窃，在窃得财物后，甲出于仇富心理不听乙的劝阻杀害了该富豪
- D. 孙某预谋开车撞死自己的“情敌”，尚未实施，其“情敌”就被酒后驾车的钱某撞死
44. 关于民事诉讼中有独立请求权第三人和无独立请求权第三人在诉讼权利与义务方面的下列表述中，哪一说法是错误的？（ ）
- A. 有独立请求权的第三人只能以起诉的方式参加诉讼，无独立请求权第三人以申请或经人民法院通知的方式参加诉讼
- B. 人民法院判决承担民事责任的第三人，有当事人的诉讼权利义务
- C. 有独立请求权的第三人、无独立请求权第三人的诉讼行为对本诉讼的当事人不发生法律效力
- D. 有独立请求权的第三人有上诉权，无独立请求权第三人无上诉权
45. 某国法律规定，新法律原则上不溯及既往，但是新法不认为是犯罪或者处刑较轻的，适用新法。那么，某国对于法的溯及力采用的是（ ）。
- A. 从旧兼从轻原则
- B. 从旧兼从重原则
- C. 从新兼从轻原则
- D. 从新兼从重原则
46. 《城市居民委员会组织法》赋予居民委员会协助政府工作的职能不包括（ ）。
- A. 社会治安
- B. 优抚救济
- C. 计划生育
- D. 发展经济
47. 根据《行政复议法》的规定，某企业对杭州市海关的行政处罚决定不服的，应向（ ）申请行政复议。
- A. 杭州市人民政府
- B. 浙江省人民政府

- C. 国务院
D. 国家海关总署
48. 王某伙同曹某将位于某市主干道几个价值 500 元的窨井盖偷走。两天后，该市突降暴雨，女大学生小奚在赶路时不慎跌入未盖井盖的下水道身亡。下述表述正确的有（ ）。
- A. 王某、曹某构成盗窃罪
B. 小奚家人可向王某、曹某提出侵权赔偿之诉
C. 王某、曹某对小奚的死亡是故意的
D. 小奚家人可向该市市政管理部门提出行政赔偿请求
49. 根据《劳动合同法》的规定，用人单位在裁减人员时，应当优先留用的人员不包括（ ）。
- A. 与本单位订立较长期限的固定期限劳动合同的
B. 与本单位订立无固定期限劳动合同的
C. 家庭无其他就业人员，有需要扶养的老人或者未成年人的
D. 在本单位患职业病或者因工负伤并被确认丧失或者部分丧失劳动能力的
50. 下列法律谚语与其蕴含的法学理念对应正确的是（ ）。
- A. 法律不保护权利上的睡眠者——法律对怠于主张权利的人冷漠无情
B. 任何人不得因思想受惩罚——人的思想不是法律调整的对象
C. 法院不能主动寻找案件——司法是权利救济的最后一道防线
D. 任何权利，如果不受法庭之保障，实际上便形同虚设——权利源于法庭保障
51. 《城市居民委员会组织法》赋予居民委员会协助政府工作的职能不包括（ ）。
- A. 社会治安
B. 优抚救济
C. 计划生育
D. 发展经济
52. 刘某因工伤问题提出工伤认定申请，甲机关受理此申请，经核实认定刘某不属于工伤，后刘某向乙机关提出行政复议，乙机关经审查决定维持甲机关的行政行为。刘某不服，决定提起诉讼。则此案的被告是（ ）。
- A. 甲机关
B. 乙机关
C. 甲机关和乙机关
D. 刘某的工作单位
53. 关于《刑法》的内容，下列说法不正确的是（ ）。
- A. 判处管制，可以根据犯罪情况，同时禁止犯罪分子在执行期间从事特定活动，进入特定区域、场所，接触特定的人
B. 数罪中有判处附加刑的，附加刑仍须执行，其中附加刑种类相同的，合并执行，种类不同的，分别执行

C. 在生产、销售的食品中掺入有毒、有害的非食品原料的，或者销售明知掺有有毒、有害的非食品原料的食品的，处 5 年以上 10 年以下有期徒刑，并处罚金

D. 宣告缓刑，可以根据犯罪情况，同时禁止犯罪分子在缓刑考验期限内从事特定活动，进入特定区域、场所，接触特定的人

54. 关于民事诉讼中有独立请求权第三人和无独立请求权第三人在诉讼权利与义务方面的下列表述中，哪一说法是错误的？（ ）

A. 有独立请求权的第三人只能以起诉的方式参加诉讼，无独立请求权第三人以申请或经人民法院通知的方式参加诉讼

B. 人民法院判决承担民事责任的第三人，有当事人的诉讼权利义务

C. 有独立请求权的第三人、无独立请求权第三人的诉讼行为对本诉讼的当事人不发生法律效力

D. 有独立请求权的第三人有上诉权，无独立请求权第三人无上诉权

55. 下列表述与其所包含的法的原则对应错误的是（ ）。

A. 中华人民共和国年满十八周岁的公民，不分民族、种族、性别、职业、家庭出身、宗教信仰、教育程度、财产状况、居住期限，都有选举权和被选举权；但是依照法律被剥夺政治权利的人除外——平等原则

B. 当事人可以根据自己的判断，去从事民事活动，国家一般不干预当事人的自由意志，充分尊重当事人的选择——自愿原则

C. 当事人在进行民事活动时遵循基本的交易道德，要秉持诚实，恪守承诺——诚实信用原则

D. 中华人民共和国公民在行使自由和权利的时候，不得损害国家的、社会的、集体的利益和其他公民的合法的自由和权利——公序良俗原则

56. 在宪政实践中，由特定机关对立法进行审查并处理的制度是（ ）。

A. 行政诉讼制度

B. 审判监督制度

C. 法律监督制度

D. 违宪审查制度

57. 丙县公安局因李某赌博，对其处以 300 元的罚款。李某不服，申请行政复议，本案的复议机关为（ ）。

A. 丙县公安局

B. 丙县人民法院

C. 丙县司法局

D. 丙县人民政府

58. 以下情节依法不以累犯论处的是（ ）。

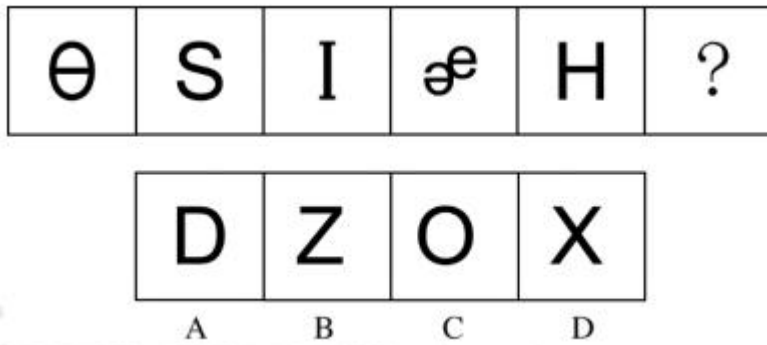
- A. 甲犯危害国家安全罪，释放出狱后蛰伏十年，再次与境外敌对势力勾结
 - B. 乙犯盗窃罪，刑满释放后第六年，又参与了一起集团盗窃
 - C. 丙参与恐怖主义骚乱，刑满释放八年后被揭露参与极端组织的破坏活动
 - D. 丁因组织黑社会性质的犯罪组织入狱，释放后第七年因相同罪名被指控
59. 下列情形中，终结诉讼的是（ ）。
- A. 一方当事人丧失诉讼行为能力，尚未确定法定代理人的
 - B. 被告死亡，有遗产，没有应当承担义务的人的
 - C. 追索抚养费案件的一方当事人死亡的
 - D. 建立收养关系案件的一方当事人死亡的

职业能力测试板块

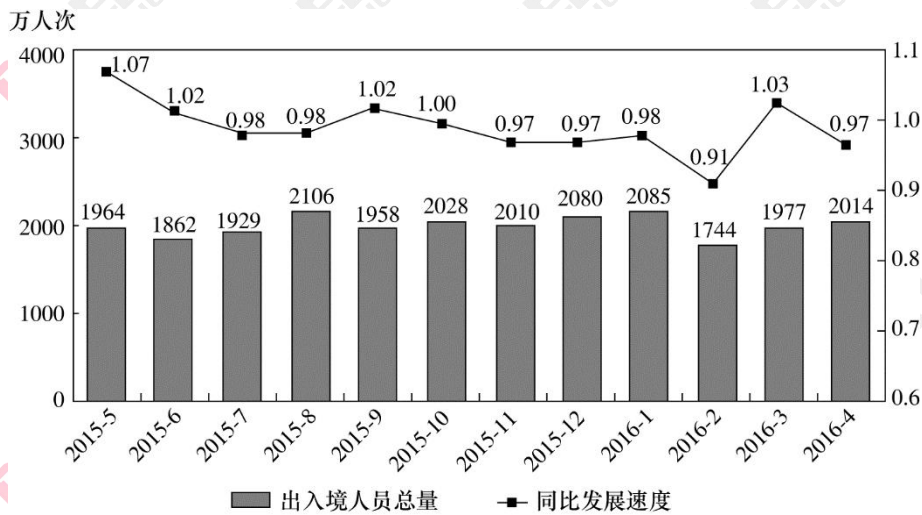
1. 下列关于我国法治建设的事件，按时间先后排序正确的是：
- ①把国家尊重和保障人权载入宪法
 - ②提出依法治国的基本治国方略
 - ③形成中国特色社会主义法律体系
 - ④提出走中国特色社会主义法治道路的命题
- A. ①②③④
 - B. ②①③④
 - C. ③①④②
 - D. ④②①③
2. 下列与“十三五”规划纲要有关的说法不正确的是：
- A. 首次提出供给侧结构性改革
 - B. 首度将加强生态文明建设纳入任务目标
 - C. 贯穿创新、协调、绿色、开放、共享五大发展理念
 - D. 2020年国内生产总值和城乡居民人均收入要比2010年翻一番
3. 下列有关法律文化的说法错误的是：
- A. 《汉谟拉比法典》是迄今最早最完整的成文法典
 - B. 《拿破仑法典》是资产阶级国家第一部民法典
 - C. 《查士丁尼法典》是罗马法集大成者
 - D. 《大宪章》是美国的根本大法
4. 刘某拾得一部手机。关于该手机的所有权，下列说法符合法律规定的是：

- A.失主赵某知道手机在张某手中三年后，仍然有权向张某追回手机
- B.若张某明知手机系刘某拾得，但支付了合理付款，便可取得手机所有权
- C.若张某通过拍卖购得该手机，失主赵某为追回手机应向张某支付费用
- D.若张某获得手机系刘某无偿赠与，但因其误以为手机系刘某购买所得故而张某可以取得手机所有权
- 5.根据民事诉讼法的规定，人民法院可以裁定先予执行的案件不包括：
- A.郑大山诉王贵索要劳动报酬一案 B.赵大妈诉其子李四索要赡养费一案
- C.牛小亮诉其父牛二索要抚养费一案 D.周小东诉张三索要精神损害赔偿一案
6. 关于离婚案件，下列说法错误的是：
- A. 离婚案件的当事人可以委托诉讼代理人进行诉讼，本人非必要的情况下无需出庭
- B. 判决不准离婚和调解和好的离婚案件，没有新情况、新理由的，原告六个月内又起诉的，不予受理
- C. 当事人对已发生法律效力解除婚姻关系的判决、调解书，不得申请再审
- D. 对调解和好的离婚案件，人民法院可以不制作调解书
- 7.关于刻板印象，下列说法正确的是：
- A. 全部都是负面的 B. 总是一成不变的
- C. 完全忽视个体区别 D. 和歧视无关
- 8.除藏书外，藏书楼的另一个重要功能，就是作为藏书家及文人学者校勘书籍、读书研究的主要场所，为了使藏书内容准确，没有舛误，他们将多种刊本进行比对，通过勘订，改正原书中的错处，以免_____。
- A. 以讹传讹 B. 误人子弟
- C. 谬以千里 D. 混淆是非
- 9.某车间有 50 名工人装配零件，男工每人装配 4 个，女工每人装配 2 个，最终男工装配的零件数比女工多 20 个，车间准备从男工和女工中各任意选择 1 名参加技能比赛，问共有多少种不同的组合？
- A. 400 B. 500
- C. 600 D. 800

10. 从所给的四个选项中选择最合适的一个填入问号处，使之呈现一定的规律。



11. . 2016年S市口岸通关情况为：4月份口岸出入境车辆131.2万辆次，机场空港口岸出入境旅客24万人次；1~4月，S市口岸累计出入境车辆495万辆次，机场空港口岸出入境旅客累计90.2万人次。



2015年5月~2016年4月经S市口岸出入境人员月度统计

注：同比发展速度指当期数值与上年同期数值之比。

2016年1季度，平均每天约有多少车辆经S市口岸出入境？

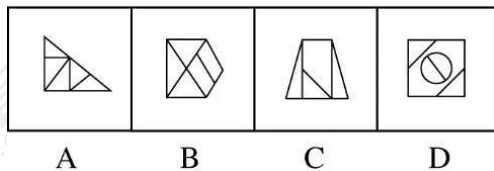

- A. 1.0万辆次
- B. 1.5万辆次
- C. 4.0万辆次
- D. 5.5万辆次

12. . 关于我国公民的基本权利和义务，下列说法错误的是

- A. 劳动是我国公民的基本权利和义务
- B. 公民住宅不受侵犯属于人身自由权
- C. 公民不履行宪法规定的义务会构成违宪
- D. 我国公民有受教育的权利和义务

13. 下列有关艺术的说活错误的是：

- A. 歌剧《图半朵》中使用了中国民歌《茉莉花》的旋律
- B. 古代“七音”是在“五音”基础上增加变宫、变徵
- C. 《念奴娇·赤壁怀古》的作者是著名书法家
- D. 顾恺之、吴道子和郑板桥都以人物画著称【难度】中等
14. 胡适和鲁迅都属于中国第一代现代知识分子，新文化运动的发起者，坚定的西化论者，“五四”之后，两人却_____，各自深深地卷入现实政斗争，无论是思想还是性格，他们都形成鲜明对照，在后人眼里，一个被视作自由知识分子的代 表，一个被视作激进知识分子的作表。
- A. 分庭抗礼
B. 各行其是
C. 不欢而散
D. 分道扬镳
15. 9 个人参加知识竞赛，前五名和后五名平均相差 16 分，除第五名外其余 8 人的分数成等差数列，问前两名的分差为多少？
- A. 1
B. 2
C. 4
D. 5
16. 从所给的四个选项中选择最合适的一个填入问号处，使之呈现一定的规律。



17. 下列情形不可能发生在明朝的是：
- A. 王阳明讲解“致良知”学说
B. 汤显祖的《牡丹亭》广泛演出
C. 《四库全书》编纂完成
D. 章回体小说《西游记》成书
18. 从符号化到数字化，信息在人类进化和文明发展中的重要性毋庸置疑。如果说符号化产生了知识的“宝库”，那么作为数字化的产物，大数据将成为人类的“超级矿藏”，其资源性、

基础性与战略性的价值已经_____。为应对大数据时代的到来，国际竞争正在悄然展开。

- A. 略胜一筹
- B. 初露峥嵘
- C. 不可胜数
- D. 今非昔比

19. 关于我国古代货币，下列说法错误的是：

- A. 宋代铸造货币的机构称为钱监
- B. 西汉曾经允许民间私人铸造货币
- C. 唐代以前的货币文字不可能采用“瘦金体”
- D. 我国古代各类政权铸币的文字均采用汉文

20. 下列历史事件与发生朝代对应错误的是：

- A. 澶渊之盟——北宋
- B. 马邑之谋——西汉
- C. 白登之围——唐朝
- D. 土木之变——明朝

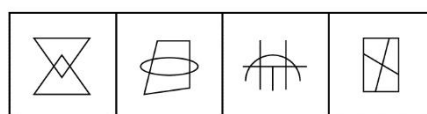
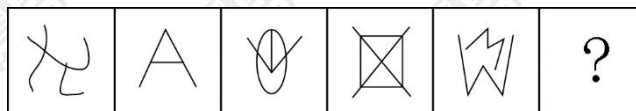
21. 在今天的全球化浪潮中，中国社会的对外开放程度与对外交流密度前所未有，与此同时，互联网及数字化媒介的普及，使知识与信息进一步覆盖到更广大的群体，阅读的_____进一步降低。一块块移动电子屏，让书籍_____极大地拓展了阅读的时间与空间。

- A. 标杆 俯拾即是
- B. 条件 一目了然
- C. 成本 改头换面
- D. 门槛 触手可及

22. AB 两地之间的公路中有 $\frac{1}{3}$ 的距离为平路，其余为上坡路或下坡路，甲乙两车从 A 地出发开往 B 地，甲车在平路、上坡路和下坡路的速度相同，而乙车在平路上的速度和甲车相同，在上坡路和下坡路的速度分别为平路的 50% 和 150%，结果甲乙两车均用 1.5 小时到达 B 地，问甲车从 B 地返回 A 地所用的时间比乙车少多少分钟？

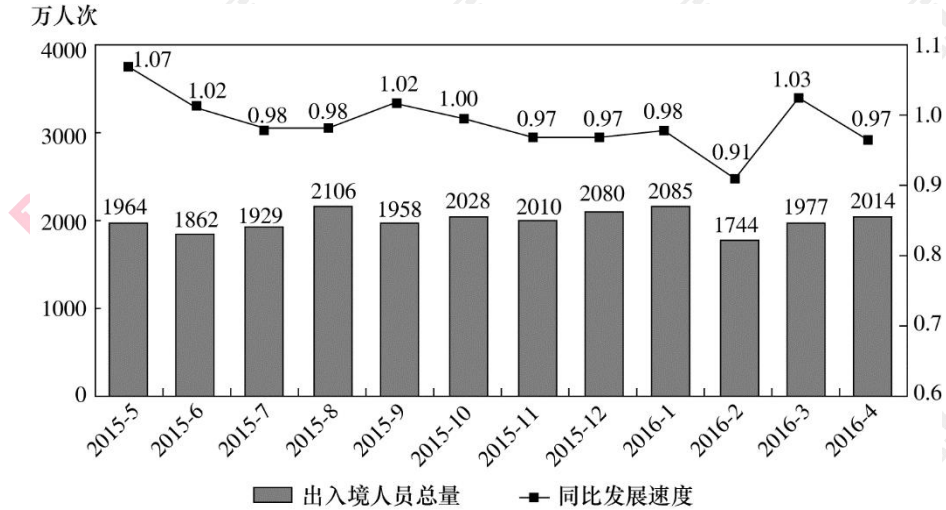
- A. 10
- B. 20
- C. 30
- D. 40

23. 从所给的四个选项中选择最合适的一个填入问号处，使之呈现一定的规律。



- A
- B
- C
- D

24. 2016年S市口岸通关情况为：4月份口岸出入境车辆131.2万辆次，机场空港口岸出入境旅客24万人次；1~4月，S市口岸累计出入境车辆495万辆次，机场空港口岸出入境旅客累计90.2万人次。2015年5月~2016年4月经S市口岸出入境人员月度统计



注：同比发展速度指当期数值与上年同期数值之比。

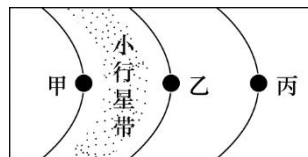
2014年9~12月间，哪个月经S市口岸出入境人次数最高？

- A. 9月
- B. 10月
- C. 11月
- D. 12月

25. 下列观点与所属流派对应正确的是：

- A. 不患寡而患不均，不患贫而患不安——儒家
- B. 得道者多助，失道者寡助——兵家
- C. 窃钩者诛，窃国者为诸侯——法家
- D. 明主之国，无书简之文，以法为教；王先五之语，以吏为师——墨家

26. 关于太阳系局部图，下列说法错误的是：



- A. 甲行星是“好奇号”探测器的目的地
- B. 乙行星拥有的卫星数量最多
- C. 丙行星有光环
- D. 启明星位于丙行星的外围

27. 在今天的全球化浪潮中，中国社会的对外开放程度与对外交流密度前所未有，与此同时，互联网及数字化媒介的普及，使知识与信息进一步覆盖到更广大的群体，阅读的_____进一步降低。一块块移动电子屏，让书籍_____极大地拓展了阅读的时间与空间。

- A. 标杆 俯拾即是
- B. 条件 一目了然
- C. 成本 改头换面
- D. 门槛 触手可及

28. 农产品市场几乎每隔几年就人来个“姜你军”“蒜你狠”，媒体似乎也_____地年年跟时，说法也经年不变，无非是有人像炒房一样“炒菜”哄抬物价，但每次都是_____，带大家云里雾里走一趟了事。

- A. 追根究底 含糊其辞
- B. 乐此不疲 语焉不详
- C. 趋之若鹜 浅尝辄止
- D. 连篇累牍 轻描淡写

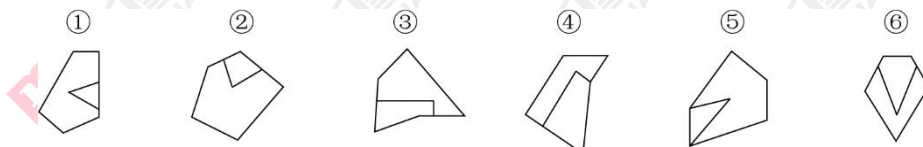
29. 甲和乙进行 9 局 5 胜制的台球比赛，结果甲只用了 7 局就战胜了乙，问在两人所有可能的比赛结果中，甲至少连胜三局的概率为：

- A. 4/5
- B. 6/7
- C. 13/15
- D. 16/21

30. 总公司派出若干人员组成 5 个工作组到下属公司进行追查。其中，甲组的人数是总人数的 14%，乙组人数是总人数的 1/4，丙组人数是甲乙两组人数之和的 2/3，丁组人数是甲丙两组人数之差的 2 部，且其中有三个组的人数正好是连续的偶数，问甲组比戊组多多少人？

- A. 4
- B. 6
- C. 10
- D. 18

31. 把下面的六个图形分成两类，使每一类图形都有各自的共同特征或规律，分类正确的一项是：



- A. ①②③, ④⑤⑥
- B. ①⑤⑥, ②③④
- C. ①④⑥, ②③⑤
- D. ①③⑥, ②④⑤

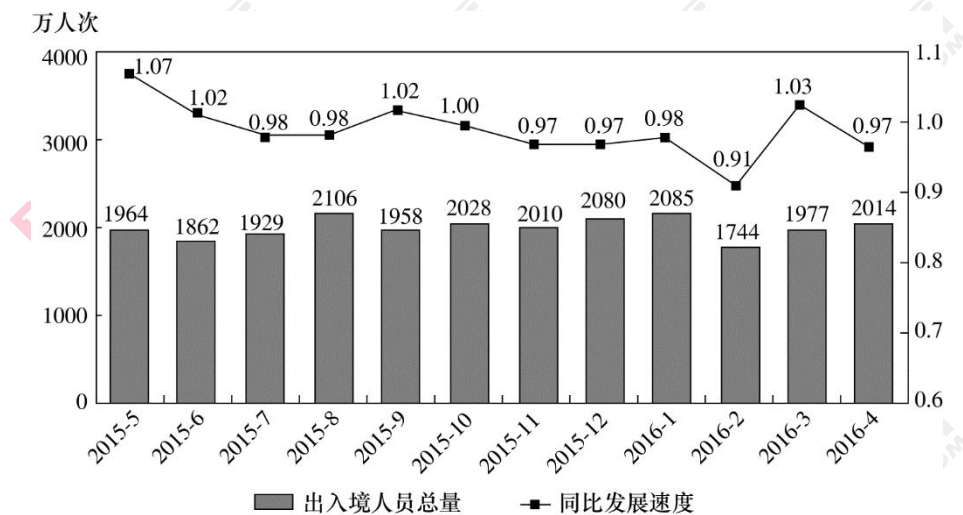
32. 把下面的六个图形分成两类，使每一类图形都有各自的共同特征或规律，分类正确的一项是：



- A. ①③⑤, ②④⑥
- B. ①④⑤, ②③⑥
- C. ①④⑥, ②③⑤
- D. ①②③, ④⑤⑥

根据所给资料，回答 33~34 题。

2016年S市口岸通关情况为：4月份口岸出入境车辆131.2万辆次，机场空港口岸出入境旅客24万人次；1~4月，S市口岸累计出入境车辆495万辆次，机场空港口岸出入境旅客累计90.2万人次。



2015年5月~2016年4月经S市口岸出入境人员月度统计

注：同比发展速度指当期数值与上年同期数值之比。

33. 2015年下半年，有几个月经S市口岸出入境人次数同时低于上月和上年同期水平？

- A. 3
- B. 2
- C. 1
- D. 0

34. 2016年1季度，经S市口岸出入境总人次较上一季度约：

- A. 增长了0.9%
- B. 增长了1.7%
- C. 降低了2.3%
- D. 降低了5.1%

35. 关于我国著名水系，下列说法正确的是：

- A. 黄河最终注入黄海
- B. 长江流经安徽和江西
- C. 澜沧江为东西走向
- D. 珠江发源于青藏高原

36. 关于洋流，下列说法错误的是：

- A. 寒流对所流经的海岸有降温增湿的作用
- B. 从低纬度流向高纬度的洋流是暖流
- C. 寒暖流交汇是形成大型渔场的重要条件
- D. 洋流有助于海水净化，也会扩大污染范围

37. 关于地质景观，下列说法正确的是：

- A. 丹霞地貌是由火山喷发形成的
- B. 黄山山体主要由碳酸盐岩构成

- C. 桂林山水是著名的喀斯特景观 D. 金华双龙洞的成因是风蚀作用

38. 声音由听觉加工，图像识别则由视觉分管。音乐和绘画是不同感官的艺术形式，应该没有相互____的可能。不过，有人却能“看到”身边的音乐，并且将旋律凝固到画板上。许多研究机构也正在进行“声音视觉化”的尝试，在不久的将来，人们也许就能从真正意义上____音乐的“色彩”。

- A. 转化 表达 B. 代替 展现
C. 替换 感受 D. 转换 观赏

39. 新诗发展的一个重要艺术趋势，是作者越来越追求复杂和多元的表达方式，这使得读者对诗歌的阅读与接受，也越来越多了一些____的障碍。就这一类表现方法复杂的新诗而言，诗的创造者与接受者在理解上出现了____。

- A. 隔膜 鸿沟 B. 阻力 分歧
C. 迷惑 误会 D. 干扰 偏见

40. 单独完成某项工程，甲队需要 36 天，乙队需要 30 天，丙队需要 32 天，如果安排合作施工，按照甲乙、乙丙、丙甲、甲乙……的顺序按天轮转，问完成这项工作时，甲工作了多少天？

- A. 11 天整 B. 11 天多
C. 12 天整 D. 12 天多

41. 水果店要把 256 个苹果装进纸箱，现有能装 12 个苹果和能装 18 个苹果的两种纸箱，问最少要补充多少个苹果才能正好将一定数量的纸箱装满？

- A. 0 B. 2
C. 4 D. 6

42. 社会角色可以分为先赋角色和自致角色两种。先赋角色是指建立在血缘、遗传等先天或生理的因素基础上的社会角色，自致角色是指通过个人的活动或努力而获得的社会角色。

根据上述定义，下列属于先赋角色的是：

- A. 妻子 B. 世袭贵族
C. 男同学 D. 少数民族人大代表

43. 包庇罪是指明知是犯罪的人而为其提供隐藏处所、财物，或者帮助其逃匿，或者作假证明包庇的行为。但事前通谋的，以共同犯罪论处。

根据上述定义，下列可能构成包庇罪的是：

- A. 李某与黄某等人商定，由黄某等人抢劫金店，由李某负责藏匿抢劫所得赃物。黄某

等人抢劫得手后，李某将脏物藏于自家的仓库内

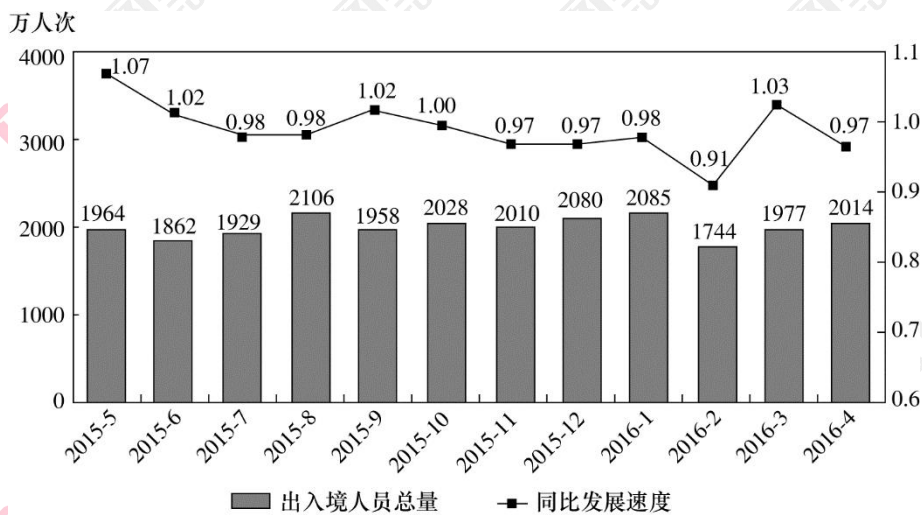
B. 张某盗窃了博物馆的一幅名画，将其藏于床下，被母亲发现，母亲询问张某，得知为盗窃所得，遂将该幅名画烧毁

C. 赵某被王某绑架，公安机关迅速侦破此案并成功解救赵某。后赵某接受王某亲属 20 万元，推翻了之前对王某不利的陈述，谎称是自愿和王某走的

D. 侯某是涉嫌杀人罪的犯罪嫌疑人于某的辩护律师，为获得高额的代理费用，侯某伪造了大量证据，成功帮助于某脱罪

根据所给资料，回答 44 题。

2016 年 S 市口岸通关情况为：4 月份口岸出入境车辆 131.2 万辆次，机场空港口岸出入境旅客 24 万人次；1~4 月，S 市口岸累计出入境车辆 495 万辆次，机场空港口岸出入境旅客累计 90.2 万人次。



2015 年 5 月~2016 年 4 月 S 市口岸出入境人员月度统计

注：同比发展速度指当期数值与上年同期数值之比。

44. 下列关于 S 市的说法，能够从上述资料中推出的是：

- A. 2016 年 4 月机场空港口岸出入境旅客人次约占当月全部经口岸出入境人次数的一成
- B. 2015 年四季度经口岸出入境人次低于上年同期水平
- C. 2014 年 7 月经口岸出入境人次低于上月水平
- D. 图中经口岸出入境人次最多和最少的月份在同一个自然年

45. 下列哪一个 IP 地址是不可能存在的？

- A. 198. 163. 0. 2
- B. 256. 134. 7. 8

C. 201. 202. 34. 9 D. 136. 64. 17. 5

46. 下列关于运动的说法错误的是:

- A. 蝶泳在所有泳姿中最能锻炼腿部肌肉 B. 杠铃卧推训练到的部位包括胸大肌
C. 俯卧撑能锻炼到腰部及腹部肌肉 D. 游泳对膝关节的损伤比长跑小

47. 人工智能听起来很遥远, 其实已经____到我们的日常工作和生活中了。人工智能的应用, 让生活更便捷、更有乐趣, 节约时间、解放体力, 甚至未来机器将____人类进行一些基础性的劳作, 这个场景令人憧憬。

- A. 渗透 替代 B. 融入 协助
C. 深入 取代 D. 运用 辅助

48. 台风形成于赤道地区的温暖水域。当潮湿、温暖的空气开始上升的时候, 会产生一个低压区, 进而____周围更多的暖湿空气。温暖的空气在上升的过程中开始旋转, 温度开始____, 冷凝生成云团, 释放出热量, 进一步____上升运动。在这种正反馈机理的促进下, 气旋不断加强, 最终形成巨大的台风。

- A. 释放 变化 促进 B. 吸引 下降 加快
C. 凝聚 稳定 抑制 D. 汇集 提升 配合

49. 2016年, 甲、乙、丙、丁四个教研室共在学术期刊上发表文章 28 篇, 已知甲发表的文章数不到 10 篇且不少于乙, 乙发表的文章数不少于丙, 丙发表的文章数不少于丁, 丁发表的文章数是奇数。问每个教研室发表的文章数有多少种不同的可能性?

- A. 4 B. 6
C. 8 D. 10

50. 教育局原计划组织 200 多名教师组成若干支人数相等的支教队下乡服务。后为了扩大支教范围, 决定增设 1 支支教队, 并将每支支教队的人数增加 4 人, 而实际派出的教师总人数正好是原计划的 1.5 倍。那么原计划组成多少支支教队?

- A. 24 B. 26
C. 28 D. 30

51. 拈连是一种修辞手法, 是指在叙述甲乙两个关联的事物时, 把适用于甲事物的词语临时用于乙事物的一种修辞格。它使语言生动形象、寓意深刻、富于表现力, 同时又巧妙地连接上下文, 完成语义跳跃, 具有简洁、明快、使语句连贯的功效。

根据上述定义, 下列使用了拈连这一修辞手法的是:

- A. 赶超, 关键是时间, 时间就是生命, 时间就是速度, 时间就是力量

- B. 春风杨柳万千条，六亿神州尽舜尧
- C. 你别看我耳朵聋，可我的心不聋
- D. 花白胡子坐在墙角里吸旱烟

52. 群体决策冒险是指群体比个体更富于冒险精神，相对于个人决策而言，群体倾向于选择获利大但成功率小的行为，当人们集合在一起时，比他们单独活动更富于冒险性。

根据上述定义，下列属于群体决策冒险的是：

- A. 在选择容易考但名气小，不审难考但名气大的学校的问题上，小赵犹豫不决。家庭会议讨论后，大家选择了后者
- B. 老王遭遇车祸，重伤昏迷，医生集体会诊，商讨出手术救治方案，并进行了全力抢救
- C. 某国国会经投票表决后，正式出台了失业救济法案，该法案遭到在野党的强烈反对
- D. 在一份创业时是否应当具有冒险精神的调查问卷上，80%以上的被调查者选择了“是”

材料分析：

根据材料回答问题：

2016年1季度，全国共发生票据业务0.74亿笔，金额46.16万亿元，同比分别下降34.98%和27.75%，其中，支票业务6814.38万笔，金额40.41万亿元，同比分别下降35.93%和29.48%；实际结算商业汇票业务412.72成笔，金额4.67万亿元，同比分别下降21.65%和11.70%；银行汇票业务57.00万笔，金额3353.89亿元，同比分别下降5.90%和16.43%；银行本票业务80.88万笔，金额7476.39亿元，同比分别下降29.34%和33.87%。

2016年1季度，电子商业汇票系统出票41.36万笔，金额1.83万亿元，同比分别增长64.26%和91.15%；承兑42.64万笔，金额1.88万亿元，同比分别增长65.11%和90.65%；贴现16.04万笔，金额1.30万亿元，同比分别增长95.13%和131.67%；转贴现71.52万笔，金额11.85万亿元，同比分别增长338.16%和457.57%。

53. 2016年1季度全国票据业务平均每笔金额约比上年同期：

- A. 上升了11%
- B. 上升了6%
- C. 下降了10%
- D. 下降了5%

54. 2016年1季度平均每笔金额最高的票据业务类型是：

- A. 支票业务
- B. 实际结算商业汇票业务
- C. 银行汇票业务
- D. 银行本票业务

55. 硬水是指含有较多钙、镁、铁、猛等的可溶性盐类的水，关于硬水，下列说法正确的是：

- A. 活性炭或石英砂可以软化硬水
- B. 用硬水洗衣服会增强洗涤效果
- C. 硬水的 pH 值一般小于 6
- D. 井水、泉水一般属于硬水

56. 下列环境污染中，与燃烧没有直接关系的是：

- A. 酸雨
- B. 臭氧层破坏
- C. 温室效应
- D. 可吸入颗粒物增加

57. 近代科学的成功表现于，它不仅把意图完全从自然现象中剥离，而且明智地意识到，意图是____的，剥离了意图的自然现象有一种方法可以刻画：数学语言。从此以后，经典科学一路高歌猛进，而以意识、意图为研究对象的心理学则____。多亏了磁共振扫描技术，大脑活动才可以被记录下来，于是对思维的研究可以成为一门____学科。

- A. 模棱两可 踟蹰不前 基础性
- B. 变幻无常 如履薄冰 实验性
- C. 捉摸不定 步履蹒跚 实证性
- D. 高深莫测 抱残守缺 理论性

58. 在一些英语国家，人们长期以来存在语言优越感，其外语能力并不能令人满意，比如，在第二次世界大战后，因为英语地位优越，美国人一直很自负，不重视外语人才的培养，结果在伊拉克战争中吃了亏。类似的经验教训启示我们，不应只把眼睛盯在英语等少数几种使用范围广泛，使用人数众多的语言上，国家在制定语言人才培养政策时，要有统筹规划的意识，应充分考虑各国、各民族的语言和文化，像保护濒危动物和生物多样性那样保护濒危语言、保护文化多样性。

这段文字意在强调：

- A. 应以尊重、谦虚的态度面对语言的多样性
- B. 国家的语言政策应当与时俱进、不断调整
- C. 保护濒危语言是语言政策制定的重要目标
- D. 制定语言人才培养计划应有更全面的考虑

59. 行政赔偿是指行政主体在行使行政职权过程中侵犯行政相对人的合法权益并造成损失时，国家对此承担赔偿责任。行政赔偿的构成要件是：（1）行政主体，即侵权行为人必须是国家行政机关和法律、法规授权的组织。（2）行政职权行为，即行政主体必须实施了行政职权行为。（3）侵权并造成损害，即行政主体侵害行政相对人的合法权益并造成损失。（4）因果关系，即行政职权行为与损害之间存在因果关系。

根据上述定义，下列受害人不能要求行政赔偿的是：

- A. 甲税务局因计算错误使某纳税人多缴纳了 1 万多元税款
- B. 乙市政府聘请张某为清洁员，张某在清洁过程中不慎从楼梯上摔下，造成腿部骨折

- C. 丙公安行政机关警察李某在抓捕犯罪嫌疑人时违法使用武器，造成嫌疑人重伤
- D. 丁工商局违法吊销某个体工商户营业执照，致使其遭受经济损失 5000 多元

60. 角色个性冲突是指社会角色所要求所期望的行为与个体本身的价值观或个性相悖时所产生的冲突。

根据上述定义，下列属于角色个性冲突的是：

- A. 小赵是个性格内向的人，却被公司安排在销售部门工作，需要和各式各样的人打交道，他觉得很不适应
- B. 李教授是某高校外语学院院长，同时又是学校教授委员会成员，有时他需要对利于学校发展但不利于学院的决定进行表决，他感到很矛盾
- C. 王医生是某医院的外科主任，工作非常繁忙，致使他很少有时间陪伴年幼的孩子，他觉得很歉疚
- D. 老于是某车间主任，为赶生产进度，厂里要求老于安排车间的工人加班，而工人们却不愿加班，老于感到很为难

资料分析

根据所给资料，回答问题。

2016年1季度，全国共发生票据业务0.74亿笔，金额46.16万亿元，同比分别下降34.98%和27.75%，其中，支票业务6814.38万笔，金额40.41万亿元，同比分别下降35.93%和29.48%；实际结算商业汇票业务412.72成笔，金额4.67万亿元，同比分别下降21.65%和11.70%；银行汇票业务57.00万笔，金额3353.89亿元，同比分别下降5.90%和16.43%；银行本票业务80.88万笔，金额7476.39亿元，同比分别下降29.34%和33.87%。

2016年1季度，电子商业汇票系统出票41.36万笔，金额1.83万亿元，同比分别增长64.26%和91.15%；承兑42.64万笔，金额1.88万亿元，同比分别增长65.11%和90.65%；贴现16.04万笔，金额1.30万亿元，同比分别增长95.13%和131.67%；转贴现71.52万笔，金额11.85万亿元，同比分别增长338.16%和457.57%。

61. 2015年1季度电子商业汇票系统发生转贴现业务约多少万笔？

- A. 9
- B. 12
- C. 16
- D. 21

62. 将不同类型的电子商业汇票系统业务按2016年1季度总金额同比增速从高到低排列，以下正确的是：

- A. 转贴现、承兑、贴现、出票
- B. 转贴现、贴现、承兑、出票

- C. 转贴现、承兑、出票、贴现 D. 转贴现、贴现、出票、承兑

63. 一个长方形菜地长 X 米，宽 Y 米，面积 Z 平方米， $Z=X+Y+3$ 。问 $X+Y$ 的值可能是 ()。

- A. 1 B. 3
C. 5 D. 7

64. 甲、乙二人分别同时从 A、B 两地出发相向匀速而行，两人相遇之后，甲又经过了 2 个小时到达 B 地；乙又经过 4 个半小时到达 A 地，若他们到达后都立即调头，当他们再次相遇时，距他们第一次相遇经过了多少个小时？ ()

- A. 5 B. 5.5
C. 6 D. 6.5

65. 科举是一种文化现象。然而，在现代中国人对传统事物的看法中，科举大概也是被误解最深的制度。我们不应忽略科举制的历史性，试想在传统社会，能构想出其他更好的选才制度来吗？古代的中国统治者和许多文化巨人并不是没有看到科举制的局限和弊端，也不都是因循守旧之辈。但经过反复比较，最后还是选择了科举制，这实际上是一种择善而从。古代一些学者批评科举取士并不等于反对科举制度。从古代到近代的学者对科举制的批判主要是对对应度现象、对考试内容和形式的批判，特别是对八股取士的批判，很少有人否定科举制本身。

这段文字意在强调：

- A. 古代学者对科举制的肯定多过否定 B. 科举制的弊端并非来自其制度本身
C. 科举制是当时历史条件下的理性选择 D. 应从现实情况出发多角度评价科举制

66. 过去的营销是漏斗效应，传统媒体上的广告让受众从很宽的漏斗口进入，买单的到了漏斗的底端。网红的营销则是涟漪效应，每个波纹和波纹之间会有碰撞，影响面更宽，影响的深度更深，网红通过树立个人品牌、贯彻自我的生活方式吸引粉丝，粉丝可能对传统广告是排斥的，但是乐于模仿偶像而消费。在社交平台上，粉丝之间的沟通渠道打通了，他们甚至不仅仅购物，而且乐于把自己的喜好传播给别人，每一次点赞、评论、转发，涟漪就扩散一次。

这段文字主要介绍：

- A. 网红营销影响巨大的原因 B. 粉丝在网络时代的消费特征
C. 传统营销与网络营销模式的区别 D. 社交平台中网红与粉丝的互动模式

67. 行政赔偿是指行政主体在行使行政职权过程中侵犯行政相对人的合法权益并造成损失时，国家对此承担赔偿责任。行政赔偿的构成要件是：(1) 行政主体，即侵权行为人必须是国家

行政机关和法律、法规授权的组织。(2) 行政职权行为, 即行政主体必须实施了行政职权行为。(3) 侵权并造成损害, 即行政主体侵害行政相对人的合法权益并造成损失。(4) 因果关系, 即行政职权行为与损害之间存在因果关系。

根据上述定义, 下列受害人不能要求行政赔偿的是:

- A. 甲税务局因计算错误使某纳税人多缴纳了 1 万多元税款
- B. 乙市政府聘请张某为清洁员, 张某在清洁过程中不慎从楼梯上摔下, 造成腿部骨折
- C. 丙公安行政机关警察李某在抓捕犯罪嫌疑人时违法使用武器, 造成嫌疑人重伤
- D. 丁工商局违法吊销某个体工商户营业执照, 致使其遭受经济损失 5000 多元

68. 角色个性冲突是指社会角色所要求所期望的行为与个体本身的价值观或个性相悖时所产生的冲突。

根据上述定义, 下列属于角色个性冲突的是:

- A. 小赵是个性格内向的人, 却被公司安排在销售部门工作, 需要和各式各样的人打交道, 他觉得很不适应
- B. 李教授是某高校外语学院院长, 同时又是学校教授委员会成员, 有时他需要对利于学校发展但不利于学院的决定进行表决, 他感到很矛盾
- C. 王医生是某医院的外科主任, 工作非常繁忙, 致使他很少有时间陪伴年幼的孩子, 他觉得很歉疚
- D. 老于是某车间主任, 为赶生产进度, 厂里要求老于安排车间的工人加班, 而工人们却不愿加班, 老于感到很为难

资料分析

2016年1季度, 全国共发生票据业务 0.74 亿笔, 金额 46.16 万亿元, 同比分别下降 34.98% 和 27.75%, 其中, 支票业务 6814.38 万笔, 金额 40.41 万亿元, 同比分别下降 35.93% 和 29.48%; 实际结算商业汇票业务 412.72 成笔, 金额 4.67 万亿元, 同比分别下降 21.65% 和 11.70%; 银行汇票业务 57.00 万笔, 金额 3353.89 亿元, 同比分别下降 5.90% 和 16.43%; 银行本票业务 80.88 万笔, 金额 7476.39 亿元, 同比分别下降 29.34% 和 33.87%。

2016年1季度, 电子商业汇票系统出票 41.36 万笔, 金额 1.83 万亿元, 同比分别增长 64.26% 和 91.15%; 承兑 42.64 万笔, 金额 1.88 万亿元, 同比分别增长 65.11% 和 90.65%; 贴现 16.04 万笔, 金额 1.30 万亿元, 同比分别增长 95.13% 和 131.67%; 转贴现 71.52 万笔, 金额 11.85 万亿元, 同比分别增长 338.16% 和 457.57%。

69. 关于 2016 年 1 季度票据业务和电子商业汇票业务, 能够从上述资料中推出的是:

- A. 电子商业汇票系统各项业务平均每笔金额均高于上年同期水平
B. 电子商业汇票系统出票业务平均每笔金额高于贴现业务
C. 票据业务数量同比降幅最高的是银行本票业务
D. 月均实际结算商业汇票业务金额超过 2 万亿元
70. 关于我国公民的基本权利和义务，下列说法错误的是
- A. 劳动是我国公民的基本权利和义务
B. 公民住宅不受侵犯属于人身自由权
C. 公民不履行宪法规定的义务会构成违宪
D. 我国公民有受教育的权利和义务
71. 关于我国土地制度，说法错误的是：
- A. 农村的土地归农民集体所有
B. 用来建设经济用房的行政拨用地的土地使用期限不确定
C. 现阶段严守 18 亿亩耕地的红线
D. 农村农民一户只能拥有一处宅基地
72. 根据我国刑法，下列情形构成犯罪的是：
- A. 甲将 1 岁多的女儿放到公园，被冻死了
B. 乙收留了孤儿未办理收养手续，将其抚养成人
C. 路人丙看到发生火灾不报警，火灾中 3 人死亡
D. 丁因工作中发生矛盾说要打同事，同事害怕而逃跑，在跑的过程中不小心死了
73. 汽车以每小时 54 千米的速度笔直地开向峭壁，驾驶员按一声喇叭，6 秒后听到回声，已知声音的速度是每秒 340 米，问听到回声时，汽车离峭壁的距离是多少米？（ ）
- A. 975
B. 1020
C. 1065
D. 1155
74. 车库中有 10 个相连的空车位，有 3 辆车开进车库并随机停在这 10 个车位上，问剩下的空位中正好只有 5 个相连空位的概率为（ ）。
- A. 小于 10%
B. 10%
C. 20%
D. 大于 20%
75. 书法既然是艺术活动，当然不能缺少技艺，但是由于大众的参与，书法最强调的不是技艺而是修养。对修养的强调，实际上是强调人格在内部的提升。书法由此而成为伦理与审美融合在一起的活动。中国文化中“游于艺”的思想，其目的是通过艺事让人格臻于完善。在“游于艺”的机制中，书法成为理想的手段。

这段文字主要说的是：

- A. “游于艺”的思想强调内在人格的提升
- B. 书法是将伦理与审美合为一体的活动
- C. 书法艺术强调人格修养与技艺的共同提升
- D. 书法作为一种艺术活动意在提高人的修养

76. 市场会不断创造诱惑让你花钱，每一个橱窗、货架都是大量市场实验的最优方案。很常见的例子，为何鸡蛋牛奶被放到超市的深处？因为这是人们最普遍的需求，你不得不穿过一排又一排货架，不知不觉买了很多计划外的东西。

下列哪种做法能作为本文观点的佐证？

- A. 售楼员安排多位顾客同时看房而制造紧迫感，使其匆忙做出决定
- B. 当消费者浏览网页时，他的喜好已被电商悄悄记录
- C. 商场为吸引顾客而精心营造舒适优雅的购物环境
- D. 商家制造一个又一个节日来鼓动消费者购物

77. 行政赔偿是指行政主体在行使行政职权过程中侵犯行政相对人的合法权益并造成损失时，国家对此承担赔偿责任。行政赔偿的构成要件是：（1）行政主体，即侵权行为人必须是国家行政机关和法律、法规授权的组织。（2）行政职权行为，即行政主体必须实施了行政职权行为。（3）侵权并造成损害，即行政主体侵害行政相对人的合法权益并造成损失。（4）因果关系，即行政职权行为与损害之间存在因果关系。

根据上述定义，下列受害人不能要求行政赔偿的是：

- A. 甲税务局因计算错误使某纳税人多缴纳了 1 万多元税款
- B. 乙市政府聘请张某为清洁员，张某在清洁过程中不慎从楼梯上摔下，造成腿部骨折
- C. 丙公安行政机关警察李某在抓捕犯罪嫌疑人时违法使用武器，造成嫌疑人重伤
- D. 丁工商局违法吊销某个体工商户营业执照，致使其遭受经济损失 5000 多元

78. 角色个性冲突是指社会角色所要求所期望的行为与个体本身的价值观或个性相悖时所产生的冲突。

根据上述定义，下列属于角色个性冲突的是：

- A. 小赵是个性格内向的人，却被公司安排在销售部门工作，需要和各式各样的人打交道，他觉得很不适应
- B. 李教授是某高校外语学院院长，同时又是学校教授委员会成员，有时他需要对利于学校发展但不利于学院的决定进行表决，他感到很矛盾
- C. 王医生是某医院的外科主任，工作非常繁忙，致使他很少有时间陪伴年幼的孩子，他

觉得很歉疚

D. 老于是某车间主任，为赶生产进度，厂里要求老于安排车间的工人加班，而工人们却不愿加班，老于感到很为难

资料分析

2016年一季度，我国出口纺织纱线织物及制品、服装及衣着附件、家具及其零件、箱包及类似容器、鞋类、塑料制品、玩具等7大类传统劳动密集型产品（以下简称“传统劳动密集型产品”）共计6225亿元，比去年同期下降1%（同期全国外贸出口总值降幅为4.2%），占同期我国外贸出口总值的20.7%。

一季度，我国以一般贸易方式出口传统劳动密集型产品下降1.2%，占同期我国传统劳动密集型产品出口总值的74.1%；以加工贸易方式出口849.8亿元，下降8.6%，占13.7%。此外，边境小额贸易出口206.1亿元，下降19.3%。

一季度，我国传统劳动密集型产品的主要出口市场中，对美国出口1303亿元，增长2.6%；对欧盟出口1205亿元，下降3.3%；对东盟出口731.3亿元，下降5.9%；对日本出口470.9亿元，增长3.3%；对香港特别行政区出口318.3亿元，增长16%；对韩国出口188.3亿元，增长9.6%。

2016年一季度我国传统劳动密集型产品出口统计表

商品品种	出口额（亿元）	增速（%）	占比（%）
合计	6225.2	-1.0	100.0
服装及衣着附件	2153.2	-1.7	34.6
纺织纱线织物及制品	1522.5	3.7	24.5
家具及其零件	755.4	-6.7	12.1
鞋类	712.6	-7.6	11.4
塑料制品	530.2	3.7	8.5
箱包及类似窗口	360.9	-4.0	5.8
玩具	190.4	19.0	3.1

79. 2016年一季度我国外贸出口总值约为多少万亿元？

- A. 2.3
- B. 2.6
- C. 3.0
- D. 3.5

80. 2016年一季度，以一般贸易方式出口传统劳动密集型产品出口额约为多少万亿元？

- A. 0.37
B. 0.41
C. 0.46
D. 0.52

81. 县级以上各级人民代表大会是县级以上地方国家权力机关，其职权不包括：

- A. 改变或撤销本级人大常委会不适当的决定
B. 选举并有权罢免本级人民法院院长
C. 批准本行政区域内的预算执行情况报告
D. 决定并宣布下一级行政区域进入紧急状态

82. 民事诉讼法规定了人民法院许可，证人可以通过书面证言、视听传输技术或者视听资料等方式作证的若干情形，下列不属于这些情形的是：

- A. 因健康原因不能出庭的
B. 因路途遥远、交通不便不能出庭的
C. 因经济困难不方便出庭的
D. 因自然灾害不能出庭的

83. 汽车以每小时 54 千米的速度笔直地开向峭壁，驾驶员按一声喇叭，6 秒后听到回声，已知声音的速度是每秒 340 米，问听到回声时，汽车离峭壁的距离是多少米？（）

- A. 975
B. 1020
C. 1065
D. 1155

84. 车库中有 10 个相连的空车位，有 3 辆车开进车库并随机停在这 10 个车位上，问剩下的空位中正好只有 5 个相连空位的概率为（）。

- A. 小于 10%
B. 10%
C. 20%
D. 大于 20%

85. ①18 世纪，人们在哥伦比亚玛雅文明遗产中发现了一个极像现代飞机的黄金制品

②航空专家认真辨认和研究，得出了完全不同于前人的结论

③在 900 年前，玛雅文明突然神秘消失，为后人留下了许多未解之谜

④当时的考古学家认为，这是一种以鸟或鱼为原型制作的饰物，并没有给予其更多的关注

注

⑤他们认为，那是一种飞机模型，与现代飞机模型极为相似

⑥到了 20 世纪末，人们在厄瓜多尔南部的一个地下隧道中，又先后发现了两个用黄金制成的类似物品

将以上 6 个句子重新排列，语序正确的是：

- A. ①⑤⑥④②③
B. ③⑥⑤①②④
C. ③①④⑥②③
D. ①④③②⑤⑥

86. ①所以，现在除了传统哲学，教育、法律等学科也纷纷从哲学层面进行研究思考，显示了哲学揭示本质、认识规律的巨大魅力

②无论什么事物，一经哲学思维的过滤，就能呈现出本质性和深刻性

③哲学总是从历史和现实两个视角不断拷问事物的必然性和合理性，其对事物的肯定理解中总是包含否理解，包含对事物必然灭亡的理解

④这种反思和批判让哲学披上了一件永不生锈的铠甲，哲学也因此具有前瞻性，创新性和生机勃勃的魅力

⑤哲学发端于人类对事物本质永不停歇的探求和追问，既不满足于表象的感知，也不停留在经验层面，总是追问现象之后的本质、偶然之中的必然

⑥哲学魅力还表现在它的反思和批判功能上

将以上 6 个句子重新排列，语序正确的是：

A. ⑤②①⑥③④

B. ⑤③⑥④②①

C. ②⑤③①⑥④

D. ②③⑤⑥④①

87. 行政赔偿是指行政主体在行使行政职权过程中侵犯行政相对人的合法权益并造成损失时，国家对此承担赔偿责任。行政赔偿的构成要件是：（1）行政主体，即侵权行为人必须是国家行政机关和法律、法规授权的组织。（2）行政职权行为，即行政主体必须实施了行政职权行为。（3）侵权并造成损害，即行政主体侵害行政相对人的合法权益并造成损失。（4）因果关系，即行政职权行为与损害之间存在因果关系。

根据上述定义，下列受害人不能要求行政赔偿的是：

A. 甲税务局因计算错误使某纳税人多缴纳了 1 万多元税款

B. 乙市政府聘请张某为清洁员，张某在清洁过程中不慎从楼梯上摔下，造成腿部骨折

C. 丙公安行政机关警察李某在抓捕犯罪嫌疑人时违法使用武器，造成嫌疑人重伤

D. 丁工商局违法吊销某个体工商户营业执照，致使其遭受经济损失 5000 多元

88. 角色个性冲突是指社会角色所要求所期望的行为与个体本身的价值观或个性相悖时所产生的冲突。

根据上述定义，下列属于角色个性冲突的是：

A. 小赵是个性格内向的人，却被公司安排在销售部门工作，需要和各式各样的人打交道，他觉得很不适应

B. 李教授是某高校外语学院院长，同时又是学校教授委员会成员，有时他需要对利于学校发展但不利于学院的决定进行表决，他感到很矛盾

C. 王医生是某医院的外科主任，工作非常繁忙，致使他很少有时间陪伴年幼的孩子，他觉得很歉疚

D. 老于是某车间主任，为赶生产进度，厂里要求老于安排车间的工人加班，而工人们却不愿加班，老于感到很为难

资料分析：

根据所给资料，回答。

2016 年一季度，我国出口纺织纱线织物及制品、服装及衣着附件、家具及其零件、箱包及类似容器、鞋类、塑料制品、玩具等 7 大类传统劳动密集型产品（以下简称“传统劳动密集型产品”）共计 6225 亿元，比去年同期下降 1%（同期全国外贸出口总值降幅为 4.2%），占同期我国外贸出口总值的 20.7%。

一季度，我国以一般贸易方式出口传统劳动密集型产品下降 1.2%，占同期我国传统劳动密集型产品出口总值的 74.1%；以加工贸易方式出口 849.8 亿元，下降 8.6%，占 13.7%。此外，边境小额贸易出口 206.1 亿元，下降 19.3%。

一季度，我国传统劳动密集型产品的主要出口市场中，对美国出口 1303 亿元，增长 2.6%；对欧盟出口 1205 亿元，下降 3.3%；对东盟出口 731.3 亿元，下降 5.9%；对日本出口 470.9 亿元，增长 3.3%；对香港特别行政区出口 318.3 亿元，增长 16%；对韩国出口 188.3 亿元，增长 9.6%。

89. 2016 年一季度对美国、欧盟的出口金额约占传统劳动密集型产品出口总额的：

- A. 40.8%
- B. 40.6%
- C. 40.5%
- D. 40.3%

90. 2016 年第一季度七大类传统劳动密集型产品中，有几类的出口额占外贸出口总值的比重高于上年水平？

- A. 5
- B. 4
- C. 3
- D. 2

91. 县级以上各级人民代表大会是县级以上地方国家权力机关，其职权不包括：

- A. 改变或撤销本级人大常委会不适当的决定
- B. 选举并有权罢免本级人民法院院长
- C. 批准本行政区域内的预算执行情况报告
- D. 决定并宣布下一级行政区域进入紧急状态

92. 民事诉讼法规定了人民法院许可，证人可以通过书面证言、视听传输技术或者视听资料

等方式作证的若干情形，下列不属于这些情形的是：

- A. 因健康原因不能出庭的
- B. 因路途遥远、交通不便不能出庭的
- C. 因经济困难不方便出庭的
- D. 因自然灾害不能出庭的

93. 甲和乙两名水平相当的选手打羽毛球，每一局每人的胜率都是 50%，如果两人连打五场，甲至少连胜三场的概率为（）。

- A. $1/4$
- B. $1/8$
- C. $1/16$
- D. $3/16$

94. 某公司销售的一种设备有一代和二代两种型号，二代设备比一代设备每台贵 5000 元。已知本月一代设备和二代设备的销售额分别为 30 万元和 15 万元，问一代设备最少比二代设备多卖了多少台？（）

- A. 3
- B. 7
- C. 9
- D. 20