

2021年度中央机关及其直属机构考试录用公务员
《行政职业能力测验》模拟试卷（市地级）

重要提示：

为维护您的个人权益，确保公务员考试的公平公正，请您协助我们监督考试实施工作。

本场考试规定：监考老师要向本考场全体考生展示题本密封情况，并邀请2名考生代表验封签字后，方能开启试卷袋。

仅限华图教育内部教学使用！

二〇二〇年

条
形
码

请将此条形码揭下，
贴在答题卡指定位置。

注意事项

一、此项测验分为五个部分，**130道题，总时限120分钟**。各部分不分别计时，但都给出了参考时限，供答题时合理分配时间。

二、请按照要求在答题卡上填写好自己的姓名，涂写好准考证号，严禁折叠答题卡。

三、必须在答题卡上答题；在题本上答题，一律无效。

四、监考人员宣布考试开始时，方可答题，宣布考试结束时，应立即停止答题。

题本、答题卡、草稿纸一律留在桌上，待监考人员确认数量无误，允许离开

后，方可离开考场。如果你违反了以上任何一项要求，都将影响你的成绩。

五、在这项测验中，可能有些试题较难，因此你不要在一道题上思考时间太久，遇到不会答的题目可先跳过去，如果有时间再去思考，否则，你可能没有时间完成后面的题目。

六、试题答错不倒扣分。

停! 请不要往下翻! 听候监考老师的指示。
否则，会影响你的成绩。

第一部分 常识判断

根据题目要求，在四个选项中选出一个最恰当的答案。

请开始答题：

1. 下列说法正确的是：

- A. 全面实施“二孩政策”于中共十八届四中全会提出
- B. 中共十四大把“依法治国”确定为党治国的基本方略
- C. “古田会议”确立了人民军队建设的基本原则
- D. “洛川会议”决定建立最广泛的抗日民族统一战线

2. 下列说法错误的是：

- A. 江西是我国第三个获批的内陆开放型试验区
- B. 我国是继美国之后世界上第二个实现HPV疫苗自主供应的国家
- C. “天问一号”是我国首次火星探测任务的名称
- D. 城区常住人口为300万以下的城市将全面取消落户限制

3. 下列历史事件按照时间先后排列正确的是：

- ①高平陵事变
- ②土木堡之变
- ③靖康之乱
- ④陈胜吴广起义

- A. ③④①②
- B. ②④③①
- C. ④①③②
- D. ①②④③

4. 下列语句与出处对应错误的是：

- A. 水能载舟，亦能覆舟—《荀子》
- B. 三军可夺帅也，匹夫不可夺志也—《论语》
- C. 见善则迁，有过则改—《周易》
- D. 勿以恶小而为之，勿以善小而不为—《孟子》

5. 下列与紧缩性财政政策无关的是：

- A. 提高税收
- B. 减少财政投资
- C. 公开市场业务
- D. 增加财政结余

6. 下列说法正确的是：

- A. 用力推车但没推动，是因为推力小于阻力
- B. 手电筒中运用到了凹透镜

C. 超导现象是指某些物体在真空中电阻变成零的现象

D. 折射光线与入射光的传播速度不同

7. 《中华人民共和国社区矫正法》于2019年12月28日在第十三届全国人民代表大会常务委员会第十五次会议通过，下列有关说法错误的是：

A. 社区矫正对象在多个地方居住的，可以确定经常居住地为执行地

B. 人民法院依法对社区矫正工作实行法律监督

C. 对无正当理由，未经批准离开所居住的市、县的社区矫正对象，可以使用电子定位装置

D. 被判处管制的社区矫正对象，应当自判决生效之日起十日内到执行地社区矫正机构报到

8. 下列案件中，属于犯罪中止的是：

A. 甲在乙的水里下毒，事后因惧怕法律制裁将乙送去医院抢救，乙因抢救无效而亡

B. 甲在实施强奸的过程中心生怜悯，最终放弃

C. 甲在准备作案工具时，得知乙出国了，决定暂时放弃杀害乙的计划

D. 甲在实施抢劫的过程中，被路人发现，于是落荒而逃

9. 下列说法正确的是：

A. 地方人民政府应当根据本行政区域森林资源保护发展的需要，建立林长制

B. 国家所有的森林资源的所有权由国务院代表国家行使

C. 县级以上人民政府主管部门负责确定林业植物及其产品的检疫性有害生物

D. 未经同意擅自改变林地用途的，需支付恢复植被和林业生产条件所需费用三倍以上

的罚款

10. 下列说法正确的是：

A. 新冠病毒感染的肺炎与鼠疫和霍乱同属于甲类传染病

B. 传染病暴发、流行时，停工、停业、停课必须上报国务院批准后，才能采取

C. 可能导致甲类传染病传播的菌种确需运输的，须经省级以上人民政府卫生行政部门批准

D. 疫情期间，卫生行政部门工作人员依法执行职务时，应当不少于3人

11. 下列说法正确的是：

A. 用人单位因濒临破产裁减人员，在3个月内录用人员的，应当优先录用被裁减人员

B. 工资可以以股票、分红等形式支付给劳动者

C. 劳动合同中应具备劳动合同终止的条件

D. 新建的劳动安全卫生设施应当在主体工程之前投入使用

12. 下列说法错误的是：

- A. “PPP”是指政府与社会为提供公共产品或服务而建立的公私合作模式
- B. “B2C”是直接面向消费者销售产品和服务商业零售模式
- C. “O2O”是让互联网成为线上交易的平台
- D. “G2C”是指政府通过电子网络系统为公民提供各种服务

13. 下列说法错误的是：

- A. 使用试电笔时手指不能碰到笔尾的金属帽
- B. 气体、液体、固体之间可以发生扩散现象
- C. 两艘船并排高速行驶时常常会相撞
- D. 呼气时，肺内气体体积减小，压强增大

14. 下列有关中药材的说法错误的是：

- A. 板蓝根性寒，可以清热解毒，治疗温毒发斑
- B. 黄芪有保肝、抗衰老和较广泛的抗菌作用，是国家二级保护植物
- C. 黄连用种子繁殖，有清热燥湿，泻火解毒的功效，其味极苦
- D. “金银花”的名字出自《本草纲目》，性甘寒气芳香，有抗炎、补虚疗风的功效

15. 关于纤维，下列说法错误的是：

- A. 天然纤维比化学纤维伸长能力小、吸湿性好
- B. 棉花和麻类的主要成分是蛋白质
- C. 可以用荧光法鉴别纤维，羊毛纤维呈淡黄色
- D. 尼龙属于人造纤维，无毒，耐磨性好

16. 下列说法错误的是：

- A. 胃酸过多时不能喝碳酸饮料，是因为碳酸饮料含有酸性物质
- B. 室内天然气泄露时，应立即打开排气扇
- C. “地沟油”经过加工处理后，可以用来制作生物柴油和乙醇
- D. 碘是智力元素，但过多食用碘并不能增进人的健康和提高智力水平

17. 下列表述正确的是：

- A. 抗生素可以杀灭病毒
- B. 疫苗主要作用是预防，不能治疗
- C. 猫叫综合症是由于染色体易位导致的
- D. 血小板在炎症反应和伤口愈合过程中起重要作用

18. 下列诗句所描述的节日按时间先后排序正确的是：

- ①清娥画扇中，春树郁金红
②月上柳梢头，人约黄昏后
③一阳初夏中大吕，谷粟为粥和豆煮
④九日黄花酒，登高会昔闻

- A. ②①④③
B. ①②④③
C. ③②④①
D. ②③④①

19. 关于秦岭，下列说法正确的是：

- A. “秦岭四宝”为大熊猫、金丝猴、羚羊、朱鹮
B. 秦岭—淮河一线是我国牧区与农耕区的分界线
C. 秦岭地区的铝矿储量亚洲第一
D. “西岳”在地理位置上与秦岭相接

20. 关于我国科技成就，下列说法错误的是：

- A. 2020年4月我国地面气象观测自动化改革由试运行调整为业务运行
B. 长征五号B运载火箭在海南文昌航天发射场首飞取得圆满成功
C. 东风-41机动洲际导弹在我国70周年阅兵式上首度亮相
D. 嫦娥四号中继星“鹊桥”海上测控任务是远望5号测量船执行

※※※ 第一部分结束，请继续做第二部分！ ※※※

第二部分 言语理解与表达

本部分包括表达与理解两方面的内容。请根据题目要求，在四个选项中选出一个最恰当的答案。

请开始答题：

21. 行走基层，时常看到一些地方的做法与国家政策不完全符合，“各吹各的号，各唱各的调”；时常听到一些基层干部说，“这是我们的土办法”。某些土政策甚至已经探入违规或者灰色地带。“土政策”看上去是基层复杂情况的“稳定器”，但若任其施为，则有可能变成基层深层纠纷的“_____”。

填入横线部分最恰当的一项是：

- A. 导火索
B. 衍生品
C. 试金石
D. 风向标

22. 没有什么比孩子的食品安全更叫人揪心的了，在放心奶都要“陪餐制”呵护的今天，在教育部、市场监督管理总局和卫生健康委联合印发《学校食品安全与营养健康管理规定》的当下，舆论对辣条安全稍微谨慎一些，显然也算不得是_____的事。

填入横线部分最恰当的一项是：

- A. 蟾宫折桂
B. 杯弓蛇影
C. 投鞭断流
D. 买椟还珠

23. 两会期间，国家市场监督管理总局局长张茅表示要把群众最关心、危害最大的食品、药品、儿童老年用品作为重点，实行最严格的监管、最严厉的处罚。监管不可谓不重视，法规不可谓不严厉，但_____诸多因素，落地起来殊非易事。根据某电商品牌的数据，2016年，该公司共排查出4495个销售额超过5万元起刑点的制售假线索，但通过公开信息能够确认已有刑事判决结果的比例不足1%。对于书皮之类的小玩意，法律的惩戒更是_____。

填入横线部分最恰当的一项是：

- A. 困于 力屈道穷
B. 囿于 力有不逮
C. 缘于 捉襟见肘
D. 由于 力不能及

24. 前几年，“众筹”热得发烫，“电影众筹”也站在了风口上，难免出现_____的局面。就像当初P2P，也是一个站上了风口的名词，让无数人倾囊而出，如今因为潮水退去，不断出现金融爆雷，甚至P2P本身已发生了质的变化。从高大上的“众筹电影”到“电影版票”，再到“跳票”，甚至涉嫌违法集资，“电影众筹”似乎也走上了一条_____的不归路。

填入横线部分最恰当的一项是：

- A. 泥沙俱下 每况愈下
B. 鱼龙混杂 世风日下
C. 牛骥同槽 日渐式微
D. 良莠不齐 势如破竹

25. 日前，珠峰无限期关闭的传闻在网络_____，在许多登山者心目中，珠峰是毕生“朝圣”的心愿，“无限期关闭”无疑令人惋惜。然而，新闻_____来得也很快，珠穆朗玛峰国家级自然保护区定日县管理分局局长次欧在接受媒体采访时说：“珠峰不存在什么‘无限期关停’的概念，只是游客的活动范围后撤到珠峰自然保护区的实验区内。”

填入横线部分最恰当的一项是：

- A. 漫延 掉转
B. 外溢 回转
C. 蔓延 反转
D. 扩散 反复

26. 尽管一些国家也意识到电动汽车的节能减排，但由于种种原因，一直_____。

英国伦敦目前只在4条公交线换成电动公交车，要实现公交车的电动化得等到2030年，美国纽约甚至把实现无排放公交车目标的时间定在2040年。大家在新能源汽车上有着同样的担心：电动汽车是否节能减排和环保？相对于燃油车的节能减排环保效果有多大，还持观望态度。或许，这正是世界上其他国家并未在电动车上面下功夫的主要原因，并且这个原因也让中国的一些城市_____。

填入横线部分最恰当的一项是：

- A. 踟蹰不前 驻足观望
- B. 心猿意马 画地为牢
- C. 三番四复 停滞不前
- D. 迟疑不决 固步自封

27. 虽然，通过提高购买门槛的方式来_____学生接触垃圾食品的部分途径，减少吃到垃圾食品的概率，是值得尝试的方法，但归根到底还是得依靠源头治理。今天辣条要在200米开外，明天方便面要在300米外才能销售，都不是长久之计。学校周围200米禁售是治标不治本，管住源头才是真道理，所谓_____，不如釜底抽薪。

填入横线部分最恰当的一项是：

- A. 斩断 矫枉过正
- B. 切断 扬汤止沸
- C. 截断 临渴掘井
- D. 割断 舍本逐末

28. 一些基层扶贫干部要_____心浮气躁心态，让_____、给钱给物式的行为少一点，让双脚双手插入泥土、推心置腹的交流时间多一点。

填入横线部分最恰当的一项是：

- A. 抛弃 浮光掠影
- B. 放弃 走马观花
- C. 摒弃 浅尝辄止
- D. 摈弃 蜻蜓点水

29. 高校毕业生一离校就想拿八千以上的月薪，这在很多人眼里显得_____，甚至产生鄙视心态。特别是在高校毕业生逐年增多，未就业大学生_____的当下，能找到一个饭碗，暂且养活自己已经是件幸事，谈何更高要求？其实，一味地给毕业生浇凉水倒显得有些“不地道”，即便现实再残酷，也应该允许年轻人有颗火热的心。

填入横线部分最恰当的一项是：

- A. 揠苗助长 待价而沽
- B. 不切实际 水涨船高
- C. 好高骛远 居高不下
- D. 利欲熏心 比比皆是

30. 当今世界正处于大发展大变革大调整时期，在全球思想文化相互_____中，中国提出的构建人类命运共同体思想得到了国际社会广泛认同和支持。但也应看到，构建人类命运共同体不会_____，仍有许多问题需要解决。

填入横线部分最恰当的一项是：

- A. 交融 一挥而就
- B. 激荡 一蹴而就

C. 融合 妙手偶得

D. 碰撞 立竿见影

31. 2019年春节贺岁电影中,《流浪地球》的票房独占鳌头,究其原因,就在于传递出人类命运共同体的宝贵理念。中国航天事业的发展不是巧合,中国航天成绩的取得不是_____。做新时代的追梦人,做浩瀚宇宙的探索者,一起向更深处的寰宇、更美好的未来_____。

填入横线部分最恰当的一项是:

A. 偶然 迸发

B. 意外 迸发

C. 突然 挺进

D. 随机 探索

32. 按理说,“打一针活百岁”这种低级谎言,稍具常识便可看穿,更见不得科普的阳光,而如“打一针活百岁”之类的骗术仍_____,是骗子看准抓住了老年群体认知上的落差。空前声势与规模的“严打”保健品欺诈风潮正在进行中,一些人依旧“_____”——骗子依旧在毫无底线地忽悠,被骗者依旧虔诚笃信地接受着忽悠,这个现象必须引起重视并采取策略应对。

填入横线部分最恰当的一项是:

A. 大行其道 固步自封

B. 屡试不爽 我行我素

C. 大张旗鼓 自行其是

D. 招摇过市 蝇营狗苟

33. 张家有钱一千万,邻居九个穷光蛋,放在一起平均算,每个都是过百万。这是坊间流传一句顺口溜,虽说该顺口溜有_____的成分,但我们从中不难窥见一个事实:平均数下被_____,的确是掩盖了大多数的穷光蛋。网友感叹自己又拖了平均工资的后腿,表面上看只是一句吐槽,实际上这背后至少包含了两层期待。一是,期待统计方法能够更加科学,统计数据能够更加贴近实际。二是,期待进一步_____工资制度,缩小过高的不合理差距。

填入横线部分最恰当的一项是:

A. 戏谑 增长 完善

B. 揶揄 拉高 深化

C. 夸张 减少 改善

D. 讽刺 收缩 修正

34. 在一些高校原本为方便师生、提高效率的信息化手段在实际管理和运营中却出现了过度倾向:一个个打着智能便捷、学分挂钩旗号的手机APP逐渐编织成一张网,将许多大学生_____其中,有的APP_____,存在不少漏洞;有的视学生市场为“唐僧肉”,投放各类奇葩广告……

填入横线部分最恰当的一项是:

A. 网罗 天马行空

B. 夹杂 敷衍了事

C. 包裹 荒渺难稽

D. 裹挟 粗制滥造

35. “熄灭了火之后，灰也是冷的。”雨果在《巴黎圣母院》中的这句话_____，为这座塞纳河畔辉煌教堂的悲怆预言。梦幻般的玫瑰花窗，史诗般的大型油画……这场大火若称之为人类文明的一场浩劫，亦不为过。

填入横线部分最恰当的一项是：

- A. 一语成谶
B. 一言蔽之
C. 一针见血
D. 一语中的

36. 中国现在有100多万乡村医生，他们分散在_____的农村，是老百姓的健康守门人，是健康中国在乡村的最广泛延伸。对这些直接关系到百姓获得感强不强的神经末梢，有关部门应该给予更多关注，财政上应该多_____一些，让他们有身份归属感、价值认同感和收入_____。

填入横线部分最恰当的一项是：

- A. 广泛 帮扶 提升
B. 广博 支出 补贴
C. 广袤 倾斜 保障
D. 广阔 补贴 保护

37. 中华民族5000多年文明史，_____着十分丰富的历史经验，包含着许多国家、社会、民族及个人的成与败、兴与衰、安与危、正与邪、荣与辱等方面的经验与教训。一些优秀的政治家总是能够善于从历史中借鉴、_____这些宝贵的经验教训，自我修正，防止_____。

填入横线部分最恰当的一项是：

- A. 蕴含 摄取 他山之石
B. 涵养 吸收 前车之鉴
C. 蕴涵 汲取 重蹈旧辙
D. 涵畜 吸取 囊中珍灿

38. 处理侵权没问题，_____家暴孩子的行为也很有必要，故对曝光家暴之举的处理，也严格按照法治精神妥善处理——对于侵权的依法处理没毛病，对于由此带出的打骂孩子行为，也要关注是否侵犯了孩子的权益，不能让“儿童利益优先”成为_____，而应有专门的组织介入，倾听孩子的声音，去公正地判断父母的管教方式是否_____。

填入横线部分最恰当的一项是：

- A. 遏止 海市蜃楼 违法
B. 遏止 无源之水 过甚
C. 遏制 空中楼阁 越界
D. 遏制 无稽之谈 偏激

39. 北京市公安局海淀分局日前发微博称，辖区内有几名老人_____了所谓的“以房养老项目”骗局，犯罪嫌疑人借“以房养老”之名实施_____房屋抵押贷款，上当受骗的老人将房产证处置权交给项目运营方，最初能每月收到高额的投资回报，但没过多久，就钱房两空。近年来，各种打着“以房养老”旗号的骗局_____，真正依

法合规的“以房养老”却少为人知。

填入横线部分最恰当的一项是：

- A. 陷入 违法 遍地开花
- B. 堕入 违章 摩肩接踵
- C. 落入 违规 层出不穷
- D. 介入 违纪 不断涌现

40. 西安、武汉等少数城市的电视问政，之所以能办出特色、办出声势，最根本的原因还是在于其是“真问”而非“假演”。主持人的现实追问既是作为媒体人的业务_____，也是一位普通市民的真情流露。“黑车问题是不会管还是不敢管？”诸如此类的逼问，直指问题关键、大胆_____积弊，很大程度上_____了民意愤懑。

填入横线部分最恰当的一项是：

- A. 担当 披露 疏解
- B. 担当 揭露 纾解
- C. 职责 发掘 缓解
- D. 职责 戳穿 融解

41. 在外卖平台上“薅羊毛”有两种表现形式，初级形式为恶意投诉实现退款，这种操作并无多高技术门槛，操作起来方便快捷，法律的风险相对较小。高级形式则利用软件生成号码享受优惠，这种方式难度较大，也涉嫌违反法律法规，情节严重者会被判处刑罚。不过，无论哪种“薅羊毛”形式，本质上都是以欺诈手段获利，无论是基于道德规定还是法律要求，都不能姑息迁就，而应当给予限制和惩戒。

这段文字意在强调：

- A. 外卖平台上“薅羊毛”的两种表现形式都涉嫌违法
- B. 对屡禁不止的恶意索赔须让实施诈骗者付出代价
- C. 要加大社会监督和法律普及，提高对“薅羊毛”的法治威力
- D. 对薅外卖平台“羊毛”的行为应及时惩戒

42. 目前各地文明祭扫的形势并不乐观，尽管每到清明之际，各级政府都发出文明祭扫的倡导书，相关的职能部门也加大了宣传和巡查力度，然而因不少祭扫者安全意识、法律意识相对淡薄，加之传统习俗的影响，以及法不责众的侥幸心理，依然忽视火灾安全风险和行为后果在山林里烧纸。在清明火灾高发的特殊期，需要以此为戒，进一步筑牢公共安全的防线。一方面要进一步通过法律宣传，结合案例宣讲，让公众心存敬畏并恪守法律底线；另一方面，应把移风易俗作为一项打基础，求长远的行动，改变传统的焚烧陋习，转变为用鲜花代替纸火，用电子网络、制作信件等别样的新式文明祭祀。

这段文字主要说明的是：

- A. 清明祭扫使防火形势异常严峻
- B. 清明祭扫需倡导新式文明祭祀
- C. 清明祭扫当以安全为第一要务

D. 清明祭扫需提升民众法律意识

43. 数据显示, 2017年底, 65岁及以上人群达1.58亿人, 占总人口11.4%, 发展“以房养老”对完善多层次社会保障体系、丰富养老保障资源而言, 具有积极意义。展望未来, 让真正的“以房养老”发挥作用, 还有很多工作亟待改进, 改善供给, 除了“扩量”, 更应“提质”。目前银行的“住房反按揭”业务几近停滞, 保险公司的“反向抵押保险”, 还没有第二家保险公司的业务跟进落地, 相对于需求端来说, 供给端还有很大的改进和提高的空间, 比如适应房价走势, 提高产品设计的灵活度, 在支付、计价、期限等方面进行改进。

这段文字主要说明的是:

- A. 发展“以房养老”具有重要意义
- B. “以房养老”的供给重在质量提升
- C. 银行和保险公司等机构需不断改进, 助力“以房养老”
- D. “供给端”的许多环节需求仍需改善

44. 假如没有秃鹫以及其他食腐鸟类, 荒野上将会堆满动物的尸体, 人间会变成真正的炼狱。不仅如此, 这些腐烂尸体还会传播疾病, 给动物以及人类带来难以估量的影响。也就是说, 正是由于秃鹫等鸟类及时清理了动物尸体, 才有了干净的荒野。秃鹫的食量惊人, 1分钟能吞下大约1公斤肉, 一群秃鹫在很短的时间内就能将一头牛吃得精光。腐烂的肉中一般会含有大量的细菌、病毒, 这种令其他动物望而却步的腐肉, 为何却成为秃鹫的饕餮大餐, 它们就不会中毒吗? 这其中的奥妙在于秃鹫拥有一个强大的胃, 可令其百毒不侵。

接下来最可能讲的是:

- A. 秃鹫为什么喜欢吃腐肉
- B. 秃鹫强大的免疫系统
- C. 秃鹫的胃为何使其百毒不侵
- D. 秃鹫对自然生态的重要意义

45. 星级酒店卫生乱象丛生, 与其高额收费和相关服务标准严重不符, 原因有很多, 既有酒店在卫生保洁上的投入不足, 也与酒店对卫生保洁工作不重视有关。但究其根源, 是星级酒店违法违规成本太低, 对星级酒店起不到应有的遏制和震慑作用。要有效治理星级酒店卫生乱象、消防安全乱象, 就必须切实提高其违法违规成本, 除了提高经济处罚标准之外, “摘星”应当成为一种标配性处罚手段。只要星级酒店被查实存在严重的卫生问题、消防安全问题, 就直接予以“摘星”, 不留讨价还价的余地, 倒逼星级酒店真正重视卫生和消防安全, 加大对卫生和消防安全上的投入, 切实保护旅客的合法权益,

让旅客住宿更安全、更舒适、更放心。

最适合做本文标题的一项是：

- A. 加强星级酒店卫生管理应动真格
- B. 治理酒店须提高其违法违规成本
- C. 星级酒店违法违规成本太低，对星级酒店起不到震慑作用
- D. “摘星”应成酒店治理标配

46. 植物压根就没有大脑，没有中枢神经系统，所以有意义的问题不是植物是否具有科学意义上的“智慧”，而是植物是否对周边的世界有敏锐的“意识”。研究表明，植物对视觉环境有意识，能够区分红光、蓝光、远红光和紫外线，分别做出相应的反应。植物对周围的气味环境有意识，能够对空气中飘荡的微量挥发物产生反应。植物知道什么时候被触碰，可以区分不同的触碰。植物对重力有意识，能够改变自己的形态以保证茎向上长，根向下伸。

这段文字主要说明的是：

- A. 植物有“智慧”
- B. 植物有“视觉”“嗅觉”和“触觉”
- C. 植物有“意识”
- D. 植物能够“感知”环境

47. 近日，中共中央办公厅印发《党政领导干部考核工作条例》。这是贯彻落实新时代党的建设总要求和新时代党的组织路线的最新成果，是做好新形势下干部考核工作的基本遵循，是激励广大干部担当作为、干事创业的制度保证。_____。要细化考核内容，增强考核的针对性，根据不同考核对象合理设置可衡量、可比较、能定责、可追责的考核指标；要改进方法手段，经常性、近距离、有原则接触干部，多渠道、多层次、多侧面了解干部，以事察人，知事识人，防止从抽象到抽象、凭感觉下结论，形成明确的考核结果，把真干假干、干多干少、干好干坏辨别出来，区分出优良中差，全面准确反映考核对象情况。

填入划横线部分最恰当的一句是：

- A. 治本在得人，得人在审举
- B. 抓好条例的贯彻落实，必须突出考准考实
- C. 条例的颁布实施，有助于加强和改进干部考核工作
- D. 干部考核不同于业务考核，其实质是政治考核

48. ①车坏了长期没人管，用户的诉求长期得不到回应，这样的企业即使在概念上“新而又新”，回答不了现实的问题，其实际寿命又能维持多久呢？

②在减少单车损耗的同时，寻求更精细化的运营之道，将自身的发展与社会的和谐融为一体，才是共享单车发展的题中之义

③长期以来，共享单车企业将自身视为互联网企业，将更多的精力放在烧钱吸纳用户、“讲故事”、努力谋求上市的“互联网打法”上，却忘记了自己也是实体经济企业的事实，忘记了街面上那些数以百万计的单车才是自己需要加以维护的产品，忘记了千千万万的用户才是自己需要善待的对象

④共享单车企业迫切需要“脱虚向实”了，涨价只是权宜之计，指望以牺牲用户利益的方式来换取自身生存，对企业发展而言只是治标不治本

⑤从这个角度而言，合理的“涨价”无可厚非，但涨价之余，共享单车企业也需要在运营方面好好反思一下了

⑥事实上，无论是企业还是普通用户，对共享单车的未来发展目标在本质上是一致的，都希望共享单车能长久运营下去，进一步方便人们的生活

将以上6个句子重新排列，语序正确的是：

- A. ③①⑤④②⑥
B. ③①⑤⑥④②
C. ⑥⑤③①④②
D. ⑥⑤②③①④

49. 在国民对阅读重视程度越来越高的当下，未成年人图书阅读率变低，是一个值得重视的问题。一直以来，媒体关注较多的也是成年人阅读问题，似乎具备理性思维的成年人的读书状况更能说明某些问题。但是，未成年人的阅读问题，却不只关乎读书本身，本质上是一个教育问题，尤其是家庭教育问题。未成年人的教育一般被划分为家庭教育、学校教育和社会教育三个层面，而家庭教育是人生三观教育的起点，是未成年人教育的重中之重。很多人之所以没有养成读书的习惯，首先就跟家庭教育的缺失密不可分。因此，_____。

填入划横线部分最恰当的一句是：

- A. 让孩子们爱上阅读，需要未成年人图书出版的高质量，以及教育评价体系的不断改进
B. 对于未成年人阅读，必须高度重视起来，想尽一切办法，提升未成年人的阅读率
C. 如何让孩子们爱上阅读，需要探索出一些有利于其阅读习惯的办法
D. 提高家庭教育中对阅读的重视度，用科学的方法引导孩子阅读显得尤为重要

50. 在血液中B细胞约占淋巴细胞总数的15%，固定在B细胞膜表面的免疫球蛋白，是抗原的特异性受体，当它们初次与某一个抗原接触而被致敏时，一部分B细胞即分化成熟为浆细胞，浆细胞即开始生成对该抗原特异的免疫球蛋白并将它们释放到周围的组织液中，这就是免疫抗体。只有当某些调节性因子，如由辅助性T细胞所释放的淋巴因

子和巨噬细胞释放的白细胞介素-1存在时，B细胞才能被抗原激活。浆细胞不再在血液中循环，在它们生存的2-3天时间里一直停留在组织中。

下列表述中，符合文意的一项是：

- A. 大多数抗原物质在刺激B细胞形成抗体过程中，需T细胞的协助
- B. B细胞初次与某一个抗原接触而被致敏时，一部分B细胞即分化成熟为浆细胞
- C. 浆细胞的生存时间很短暂，只有2-3天，是因为其不再在血液中循环
- D. B细胞被抗原激活是有前提条件的，如存在调节因子

51. 随着一些在线诊疗平台的出现，一些医生、专家线上坐诊，网友通过这些平台以免费或付费方式进行病情咨询、寻求治疗的建议等等，都属于网络问诊的范畴。但是还有一些疾病，还是要和患者面对面交流、观察、触摸，尤其是一些外科疾病，不能简单通过描述来判断病情，比如患者说肚子疼，那么哪里疼，他根本说不准，不同的痛点、痛感意味着不同的病情可能。即便一些在线诊疗平台也表示，网上问诊得到的医师回复，只能作为建议和参考，而不能作为正式诊断依据。多数在线医生给出咨询意见以后，也会建议患者到医院再去看医生。既然如此，患者最好只是把网络问诊的结果当做一种参考，而不能把其视为自己到医院求医问药的替代品，那样可能会耽误自己正常的诊疗，不利于身体健康的恢复。

这段文字意在强调：

- A. 网络问诊能提高医生技术价值
- B. 建议病患去正规医院就诊
- C. 网络问诊可以参考但切莫依赖
- D. 网络问诊弊病丛生，耽误正常诊疗

52. ①然而，“劳谦虚己，则附之者众；骄慢倨傲，则去之者多”

②对于网约车平台的安全管理漏洞、支付霸王条款、不提供电子收据等问题，工商、税务、消协等部门得拿出意见和办法来

③不可否认，网约车是利用“互联网+”优化交通运输资源、满足居民出行需求的、了不起的创新

④“互联网+”型服务商安身立命的基石是万千“草根”的拥护，一旦这些商业平台觉得自己翅膀硬了，可以对消费者不买账了，抛却谦恭姿态，漠视消费需求，总是一副“拿钱说话”的优越感，虽然眼下日子舒坦，但长远看，“钱程”堪忧

⑤保护消费者利益，不能全指望商家自省、自查、自纠，相关的监管必须到位

⑥它最终能冲破重重体制机制阻碍合法化，并迅速上规模，也是因为它获得了广大百姓的由衷喜爱和强力支持

将以上6个句子重新排列，语序正确的是：

- A. ③⑥①④⑤② B. ⑥①⑤②③④
C. ④③⑥①⑤② D. ④③①⑥②⑤

53. 北京打破“先来后到”，在就诊前将患者分为濒危、危重、急症和非急症四级，合理安排患者就诊顺序，优先处理急重病人，的确有利于让有限的急诊医疗资源更好地用于抢救危重患者。据报道，急诊先重后轻、分级就诊，本就是国际通行的惯例，国外很多医院执行严格的急诊分诊制度，哪些病人看急诊、哪些病人候诊、哪些病人约诊，都一清二楚。因此，北京推行急诊“分级就诊”，其实是回归急诊本义，必须让它们“急”起来，这才是对生命高度负责。

这段文字主要说明：

- A. 北京打破“先来后到”的就诊顺序，提高“准入门槛”
B. 国外很多医院执行严格的急诊分诊制度，值得借鉴
C. “分级就诊”利大于弊，有效提高了分诊率和救治率
D. “分级就诊”让急诊真正“急”起来

54. “烟草软文”在手机APP、互联网上泛滥成灾，除了手机APP、互联网平台没有尽到应有的审核责任之外，归根结底是监管的滞后和缺位。互联网上的烟草广告处于海量状态，仅“小红书”一款APP上就多达9万余条烟草营销信息，给监管带来挑战。而且，与传统广告形式相比，互联网平台上的烟草营销信息更多使用软性植入的方式，有更强的隐蔽性，给监管带来一定难度。保护国民健康，全社会都必须对互联网平台上的烟草营销信息、“烟草软文”说“不”，这就需要监管跟进，改变当前监管滞后格局。

这段文字意在说明：

- A. 互联网成烟草营销重灾区，需净化互联网环境
B. 小红书现烟草软文，处理不应止于“下线”
C. 涉烟草软文“下线”，还须控烟立法“上线”
D. 烟草软文泛滥，监管不能滞后

55. 在中国四大古典名著中，艺术成就最高的《红楼梦》，其“走出去”的难度就远大于《水浒传》《三国演义》和《西游记》。《红楼梦》对读者的中华文化素养设置了很高的门槛，远不像其他三大名著那样易于理解和接受。然而，中华文明的精华，并不是跌宕起伏的情节和扣人心弦的打斗，遗憾的是，尽管很多人倾注了大量心血，但《红楼梦》在海外普通读者中仍然应者寥寥。其根本原因在于海外普通读者尚不具备足够的中华文化素养，尚难理解《红楼梦》的“其中味”。

这段文字主要说明的是：

-
- A. 中国文化需要充分的培育“土壤”和氛围
 - B. 消除文化的隔阂会使《红楼梦》广泛传播
 - C. 《红楼梦》承载博大精深的中华文化
 - D. 《红楼梦》难以“走出去”的原因

56. 英雄主义在人类历史上由来已久，实际上已经成为一种能够反映东西方的文化现象，金庸的武侠世界和斯坦·李的漫威宇宙，都有很大的受众群体，而且持续时间达半个世纪以上。但金庸武侠世界与斯坦·李的漫威宇宙，无疑又有相当明显的差异。这种差异，很大程度上也来自于东西方文化本身对一些价值的理解不同。比如说，漫威宇宙的超级英雄，通常都会面对能力与责任的矛盾，不把这样的问题想清楚，就不足以成为一个成熟的英雄形象。而对金庸武侠里的主角来说，除了极少数如郭靖，出于一种模糊的自省，有了自己的“超能力”价值的终极追问，大部分情况下，对于“超能力”——或者高深武功的追求，是不言自明的。再比如，漫威宇宙中的超级英雄在主持正义时，通常会考虑到法律这个限制因素，某种意义上，他就是为了维护法律而行动，但在金庸的武侠世界，大部分武林人物不入世，经常不在意破坏既有法律。

这段文字意在说明：

- A. 英雄主义虽然存在文化差异，但是在某种意义上却跨越了文化界限
- B. 漫威英雄和金庸武侠最大的区别在于“人”对“法律”这一因素的考量
- C. 英雄主义是东西方的文化的现实缩影，金庸与斯坦·李是最好的例证
- D. 东西方文化理解认同的差异使金庸武侠世界与斯坦·李的漫威宇宙也存在差异

57. 400万年才形成的钟乳石，25秒被砸断偷走，想想就让人痛心，破坏行为不仅伤害景区，更是对公众利益的损害。而从视频中不难看出，这三名男子敲断钟乳石纯属恶意破坏，《治安管理处罚法》规定，刻画、涂污或者以其他方式故意损坏国家保护的文物、名胜古迹的，“处警告或者200元以下罚款；情节较重的，处5日以上10日以下拘留，并处200元以上500元以下罚款。”但显然，在目前的法律框架下，即便10日拘留、500元罚款的顶格处罚，对400万年高龄的钟乳石来说，也有些隔靴搔痒，而类似的失衡和无力感，我们并非首次感受到。

这段文字意在说明：

- A. 故意损坏国家保护文物的惩罚力度太轻
- B. 古老脆弱的钟乳石需要游客爱护
- C. 很有必要采取更严厉的惩罚来震慑“景区杀手”
- D. 400万年钟乳石被敲断偷走是对公众利益的损害

58. 过去和现在，中国在严查和打击酒驾和醉驾的强力执法模式下，才改变了国人

酒驾醉驾的行为方式和文化，今天，酒驾与醉驾是犯罪和羞耻，已经成为一种社会心理，并且逐渐深入人心，当然也让“喝酒不开车，开车不喝酒”成为人们的行为指南和原则。但是，驾车打手机等同于甚至猛于酒驾醉驾的观念并没有在中国深入人心，甚至谁也不在乎开车打手机，以为是小事一桩。

这段文字意在强调：

- A. 驾车行为方式和文化的巨大变化
- B. 改变酒驾和醉驾行为重在观念变更
- C. 改变开车打手机的观念需实施强力处罚
- D. 强力执法模式改变驾驶行为和文化

59. 近视不是一种正常状态，而是“影响人类健康的三大疾病之一”，轻则造成人们离开眼镜就无法正常生活，重则造成视觉能力退化，引发各种眼疾。中年以后病理性的近视姑且不论，青少年的近视加剧务必有效预防。小学低年级阶段应教会孩子保持正确坐姿，学会做眼保健操，养成良好习惯。教育部门和学校不妨在“护眼作业本”的基础上，做更多细致的工作。比如北京，为降低近视低龄趋势，投入1.1亿元改造中小学照明。多一点板书、提倡纸质作业、改善照明舒适度，至少不要动辄要求孩子在平板电脑上写作业，孩子们的视力环境才会更好一些。

下列表述中，符合文意的一项是：

- A. 近视会造成视觉能力退化，引发各种眼疾，需要引起警惕
- B. 改造中小学照明相较于教会孩子保持正确坐姿更重要
- C. 中年以后病理性的近视不用太引起重视
- D. 减少学生在平板电脑上做作业可预防近视

60. 如果从地球的视角看，十几万颗近地小行星在不远处高速穿梭，如同不远处的“枪林弹雨”，偶尔会有“子弹”飞来击中自己，虽然概率很小，但是会对全球环境、经济以及地缘政治造成严重灾难，是可能毁灭人类的重大潜在威胁。当天体抵达地球时，与地球的相对速度高达每秒十几甚至几十公里，其携带的巨大动能在短时间内急剧释放，发生空中爆炸或地面撞击。例如，2013年2月15日一颗直径约20米的小行星在俄罗斯车里雅宾斯克上空发生爆炸，间接造成3000余间建筑物受损，1600余人受伤，经济损失约2亿元人民币。而6500万年前一颗直径10公里的天体撞击在墨西哥尤卡坦半岛北部沿海的事件被认定是恐龙灭绝的直接原因。

最适合做本文标题的一项是：

- A. 警惕：地球的安全威胁
- B. 预防：小行星的“影响力”

C. 近地小行星：地球不得不防的“近邻”

D. 破解近地小行星是否会撞向地球

※※※ 第二部分结束，请继续做第三部分！ ※※※

第三部分 数量关系

在这部分试题中，每道试题呈现一段表述数字关系的文字，要求你迅速、准确地计算出答案。

请开始答题：

61. 某商店以每件100元的价格购进一批商品，售价为每件150元，当卖了这批商品的 $\frac{3}{4}$ 时，不仅收回了购买这批商品所付的款项，而且还获得利润7500元。此时，剩下的商品打8折销售完，则这批商品共获利多少元？

- A. 10000
B. 10500
C. 13500
D. 25500

62. 甲、乙、丙三人沿同一圆形小湖边同向匀速行走，在某时刻，甲、丙正好在小湖的正对面，乙与甲、丙距离相同。10分钟后，甲追上了乙；又过去了5分钟，甲追上了丙。问再过多少分钟，乙可以第二次追上丙？

- A. 15
B. 120
C. 135
D. 150

63. 某商店促销，购物满一定金额可进行抽奖。若要获得大奖，用户需集齐“光头强”“米老鼠”“葫芦娃”“喜羊羊”“灰太狼”五种卡片，且规定每人每天只能抽取1张，若每天抽中五种卡片的概率都不变，分别为20%、15%、30%、5%、25%，还有5%的概率抽到空白卡片。小李每天购物均满足规定金额且参与抽奖，则小李在6天内获得大奖的概率为：

- A. 1. 35%
B. 2. 70%
C. 6. 75%
D. 8. 10%

64. 某公司由若干人组成，分为A、B、C、D、E共5个部门。其中，A部门的人数是总人数的14%，B部门人数是其他部门人数之和的 $\frac{1}{3}$ ，C部门人数是A、B两部门人数之和的 $\frac{2}{3}$ ，且5个部门中有三个部门的人数正好是连续的偶数，问D、E两部门人数至少相差多少？

- A. 13
B. 26
C. 19
D. 38

65. 抽干一口井，在无渗水的情况下，用甲抽水机要20分钟，用乙抽水机要30分钟。

现因井底渗水，且每分钟渗水量相等，单独用甲抽水机30分钟正好抽干。那么，渗水情况下用两台抽水机合抽，多少分钟能把水抽干？

- A. 6
B. 15
C. 17
D. 18

66. 今年爷爷的年龄是孙子年龄的8倍，几年前爷爷的年龄是孙子年龄的10倍，几年以后，爷爷的年龄是孙子年龄的4倍。问今年孙子的年龄可能是：

- A. 7岁
B. 8岁
C. 9岁
D. 10岁

67. 某汽车坐垫加工厂生产某种汽车座垫，每套定价是140元，此时利润率为40%，每天可卖出120套。若在成本降低10%的情况下，售价在原定价基础上每降低1元，每天将多卖出4套。则该加工厂每天最多获利多少元？

- A. 6400
B. 6500
C. 4800
D. 4900

68. 某人将手机锁屏的六位数字密码忘记，只记得六个数字不重复且和为21，则此人最多尝试多少次可以成功解锁手机？

- A. 5040
B. 5760
C. 6480
D. 7200

69. 一个实心长方体模具，长、宽、高分别为6cm、8cm、10cm，从模具内挖一个圆锥，则圆锥的体积最大为多少立方厘米？

- A. 40π
B. 32π
C. 30π
D. 24π

70. 某单位共有100人为抗击疫情进行捐款。按规定普通员工每人捐款100元，中层员工每人捐款500元，高层员工每人捐献2000元。捐款结束后统计数额，捐款总额为25000元，且普通员工捐款额超过总捐款额的三成，则该单位高层员工人数为：

- A. 2
B. 4
C. 6
D. 8

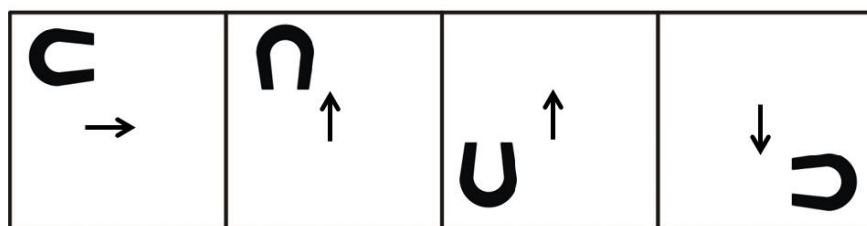
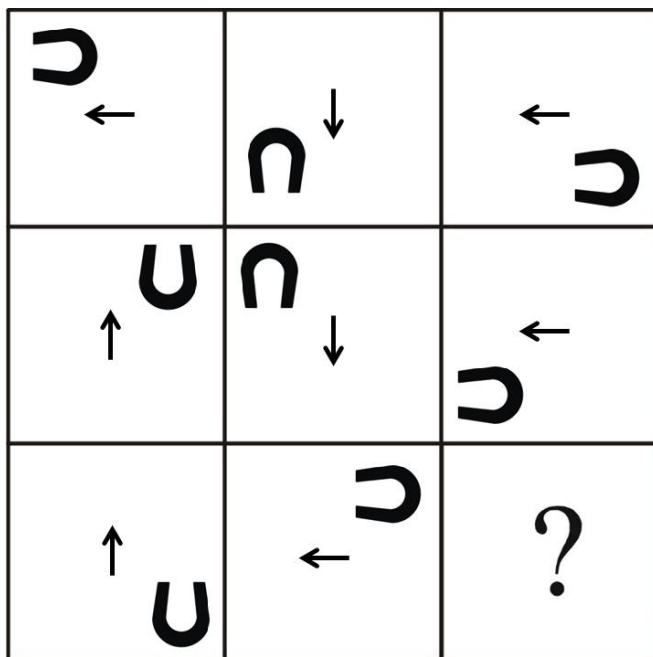
※※※ 第三部分结束，请继续做第四部分！ ※※※

第四部分 判断推理

一、图形推理。请按每道题的答题要求作答。

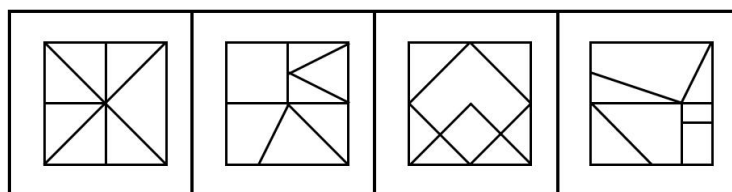
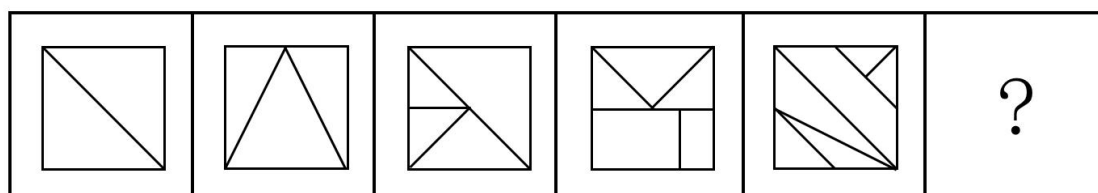
请开始答题：

71. 从所给的四个选项中，选择最合适的一个填入问号处，使之呈现一定的规律性：



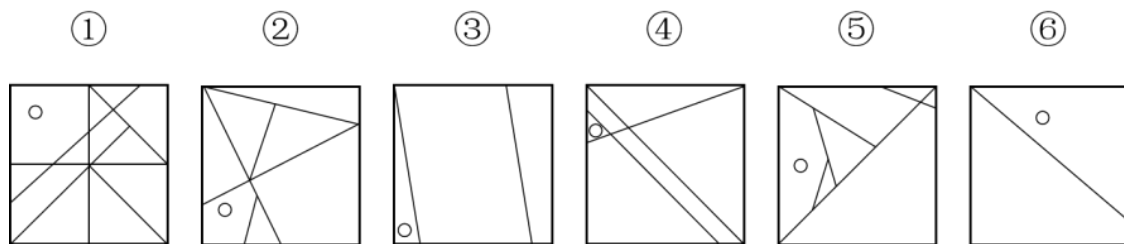
A B C D

72. 从所给的四个选项中，选择最合适的一个填入问号处，使之呈现一定的规律性：

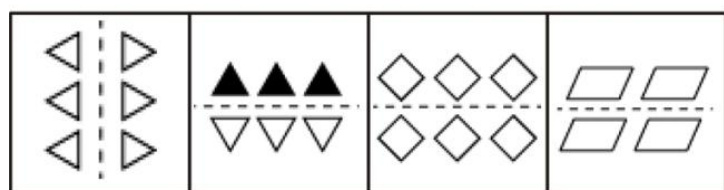



A B C D

73. 把下面的六个图形分为两类，使每一类图形都有各自的共同特征或规律，分类正确的一项是：

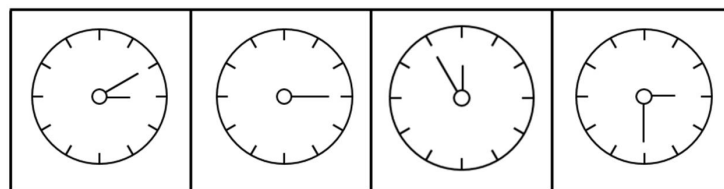



74. 从所给的四个选项中, 选择最合适的一个填入问号处, 使之呈现一定的规律性:



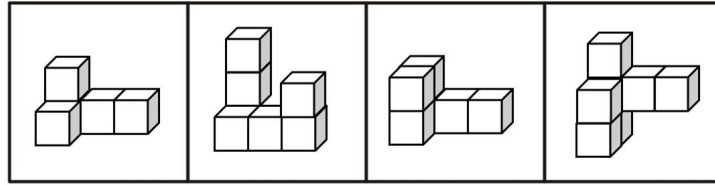
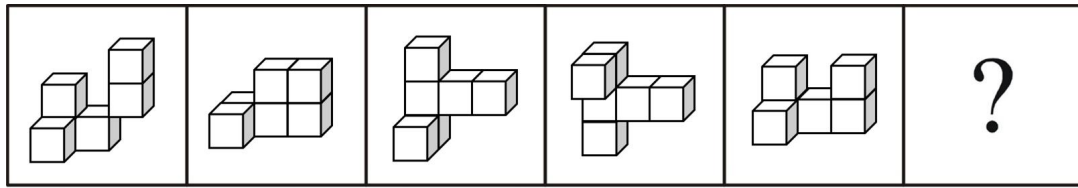
A B C D

75. 从所给的四个选项中, 选择最合适的一个填入问号处, 使之呈现一定的规律性:



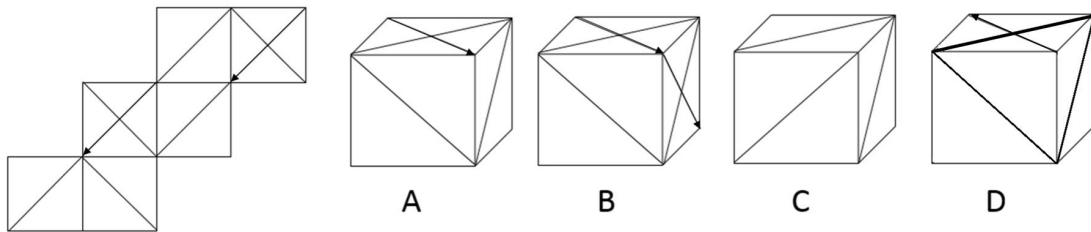
A B C D

76. 从所给的四个选项中, 选择最合适的一个填入问号处, 使之呈现一定的规律性:



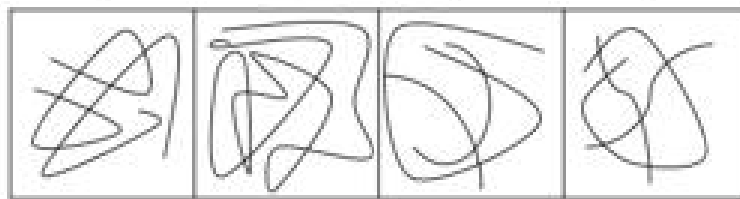
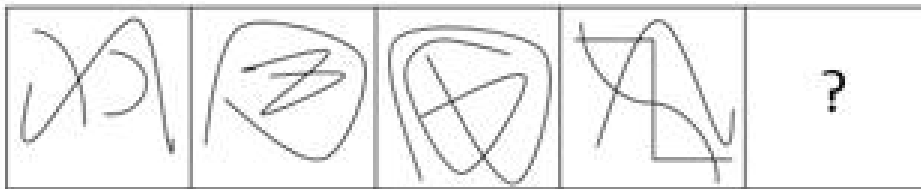
A B C D

77. 左边给定的是纸盒的外表面，下面哪一项能由它折叠而成？




A B C D

78. 从所给的四个选项中，选择最合适的一个填入问号处，使之呈现一定的规律性：



A B C D

79. 从所给的四个选项中，选择最合适的一个填入问号处，使之呈现一定的规律性：



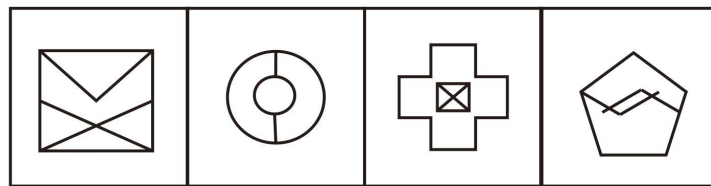
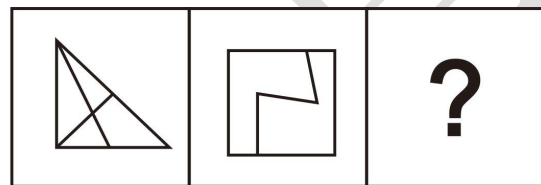
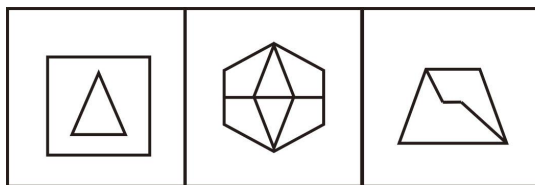
A

B

C

D

80. 请从所给的四个选项中，选择最合适的一项填在问号处，使之呈现一定的规律性：



A

B

C

D

二、定义判断。每道题先给出定义，然后列出四种情况，要求你严格依据定义，从中选出一个最符合或最不符合该定义的答案。注意：假设这个定义是正确的，不容置疑的。

请开始答题：

81. 危害国家安全罪，是指泄露机密信息，危害国家主权、领土完整和安全，分裂国家、颠覆人民民主专政的政权和推翻社会主义制度的行为。对于大多数危害国家安全的犯罪来说，不论是中国公民、外国公民或无国籍人，只要具有刑事责任能力且年满16周岁，都可以成为犯罪主体。

根据上述定义，下列选项**不属于**“危害国家安全罪”的是：

A. 童某多次到广州、湛江等地拍摄并潜入我军事基地，将其绘制成图案资料，并通过电话或传真方式报告给某国外组织

B. 吕某作为一名国家安全局的人员被境外组织绑架，威胁到自身及其家人的生命安

全，吕某遂将其所知均告知此组织

C. 通过在网上查阅资料，樊某将新闻报道中我国某即将下水的航空母舰的信息及图片整理成一套文档发送给了境外的朋友

D. 李某在境外旅行期间，在某处借阅了书籍，并将书籍中的反动内容摘抄下来带回国内，复印上百册，向周边人群散发

82. 绿色包装设计是以环境和资源为核心概念的包装设计过程。具体是指选用合适的绿色包装材料，即对生态环境和人类健康无害，能重复使用和再生，符合可持续发展的包装材料，运用绿色工艺手段，为包装商品进行结构造型或美化装饰设计。

根据上述定义，以下属于绿色包装设计的是：

A. 李某给自己孩子选择的衣服都是绿色生态棉制作的，穿着舒适又没有公害，而且有效减少宝宝的皮肤过敏情况

B. 小美在家人过生日时都会购买或亲手制作一份礼物，并用不同颜色的塑料包装纸进行精心地包装，有的时候还会将彩带做成蝴蝶结粘在礼物上

C. 某材料研究机构研究出了一种无菌方形纸盒，牛奶、水果等无需冷藏就可保鲜6个月，使用后可回收再利用，而且运输时能保护盒内食物不受挤压

D. 某地的传统美食对食材的选取要求特别高，必须选用有机蔬菜、肉类以及天然泉水等，以确保食物质量安全，让食客吃到放心、绿色、可口的美食

83. 系统误差是由某种确定原因引起的误差，一般有固定的方向和大小，重复测定时重复出现，包括有方法误差、仪器误差、试剂误差、操作误差，可用加校正值的方法减免。偶然误差是由不确定原因引起的误差，一般无固定的方向和大小，多次测定可以发现符合正态分布规律：绝对值大的误差出现的概率小，绝对值小的误差出现的概率大；正负偶然误差出现的概率大致相等，可用增加平行测定的次数，以平均值表示最后的结果减小偶然误差。

根据上述定义，下列选项属于“系统误差”的是：

A. 军人在射击训练的时候的瞄准误差

B. 使用天平称重时，砝码生锈产生的质量误差

C. 使用气相色谱仪时，温度变化引起的成像误差

D. 实验室中人员说话、走动引起的仪器波动导致的数据误差

84. 突发公共卫生事件，是指突然发生，造成或者可能造成社会公众健康严重损害的重大传染病疫情、群体性不明原因疾病、重大食物和职业中毒以及其他严重影响公众健康的事件。

根据上述定义，下列选项**不属于**“突发公共卫生事件”的是：

-
- A. 某地区城市下水管道内施工过程中发生煤气泄漏事故，50余名工人遇险
 - B. 某中学百余名学生午饭后严重腹泻，部分学生伴有中毒昏迷现象
 - C. 某市在入冬以前就因为受到寒流的影响导致全市上千人感冒
 - D. 某地出现多例我国已被消灭半年的高致病性传染病病例，并向周边地区扩散

85. 正式组织是指人们按照一定的规则，为完成某一共同的目标，正式组织起来的人群集合体，是具有一定结构、同一目标和特定功能的行为系统。它有明确的目标、任务、结构和相应的机构、职能和成员的权责关系以及成员活动的规范。非正式组织，是指以情感、兴趣、爱好和需要为基础，以满足个体的不同需要为纽带，没有正式文件规定的、自发形成的一种开放式的社会组织或团体。

根据上述定义，下列选项属于“非正式组织”的是：

- A. 一批由大学老师组成的足球社
- B. 某大学毕业生成立的科创公司
- C. 老李退休后经常和邻居们相约下棋
- D. 国务院医疗物资保障组

86. 理由不足效应是指当行为和认知出现冲突时，如果外部刺激不足以证明自己行为的合理性，如不能获得足够的报酬，就会通过内部心理活动、相信自己的所作所为，来证明自己行为的合理性以减少不协调。

根据上述定义，下列选项符合“理由不足效应”的是：

- A. 很多人通过网购的方式来采购生活用品，同样的商品，商家A的价格是100元，商家B的价格是30元，很多顾客在对比两家的商品以后，都觉得商家A的商品更精美
- B. 班长选举投票中，小明将宝贵的一票投给了大壮，而没有选择自己最好的朋友小庄，因为在他看来，大壮做事认真负责，而小庄油腔滑调，不适合为班级同学服务
- C. 某作家腐败卖国，支持她的粉丝在网络上为她辩护，但是后来随着她卖国证据的披露和面对质疑的闪烁其词，众多粉丝纷纷倒戈，表示以后不再支持该作家，加入到讨伐的队伍中
- D. 付给每个实验者200元让他们去传达一句谎言，他们安慰自己完成任务是为了钱，如果只付给每个人2元钱，实验者会逐渐认为自己传达的是一句真话

87. 知觉性选择是指个体根据自己的需要与兴趣，有目的地把某些刺激信息或刺激的具象物体作为对象而把其他事物作为背景进行组织加工的过程。

根据上述定义，下列选项属于“知觉性选择”的是：

- A. 问渠哪得清如许，为有源头活水来
- B. 桃花潭水深千尺，不及汪伦送我情

C. 回眸一笑百媚生，六宫粉黛无颜色

D. 春风得意马蹄疾，一日看尽长安花

88. 可获得性偏见，是指人们进行预测和决策时大多利用自己熟悉的或能够得到的信息，导致赋予那些易见的、容易记起的信息以过大的比重。

根据上述定义，下列选项符合“可获得性偏见”的是：

A. 发现同事中有几位男士使用白色手机、穿白色衣服，认为男性喜欢白色

B. 有经验的老师对于调皮的学生总能快速地找到相应的对策

C. 在等待了20分钟公交车后，虽然不知道还要等多久，但仍坚持等待公交车

D. 狼群在选择目标进行攻击时，会避开那些体型庞大的动物

89. 一次文献是人们直接以自己的生产、科研、社会活动等实践经验为依据生产出来的文献，也常被称为原始文献（或叫一级文献），其所记载的知识、信息比较新颖、具体、详尽。一次文献的内容要求有独创性，是作者本人的工作经验、观察或者实际研究成果，该种文献内容具有先进性和新颖性。

下列属于一次文献的是：

A. 小张在科学研讨会前投稿了一篇根据自己的实验结果撰写而成的英文论文，会议组要求小张在会上展示他的研究成果

B. 小李为了开展某一新课题，特意下载了数十篇国外的相关研究论文，总结了论文中的实验方法和实验结论，整理成一份文献综述

C. 小于在自己阅读名著的同时，会把自己的想法和感悟写在书的空白处，久而久之，他的朋友们都喜欢找他借书来阅读小于的批注

D. 小王创办了一本《xx时尚》杂志，邀请了著名的摄影师、模特和化妆师拍摄照片，并联系服装品牌的商家提供时尚服装

90. 动物被分为农场动物、实验动物、伴侣动物、工作动物、娱乐动物和野生动物六类。动物福利尤指动物的生存状况，在任何条件下享有如下五大自由：第一，享有不受饥渴的自由；第二，享有生活舒适的自由；第三，享有不受痛苦伤害和疾病的自由；第四，享有生活无恐惧和悲伤感的自由；第五，享有表达天性的自由。

根据上述定义，下列体现动物福利的是：

A. 某学校门口有很多卖小鸭子和小鸡的商贩，这些小鸭子和小鸡仔毛茸茸的，而且还是五颜六色的，但通常被买走几天后就会死去

B. 在各大动物园、海洋馆中，海豚表演都是一项极为火爆的活动，在节目中，海豚会展现各种高难度的动作，且常年被圈养在狭小的空间

C. 乌克兰有一批猪经过80多个小时的长途运输运抵法国，其实路途原本只需花费60

小时，但按法国规定，运输途中每六小时猪就要原地休息一次

D. 很多医学类、生物学类专业学生实验时没有按照要求操作，不打麻醉剂或者麻醉剂计量不够，在动物清醒的情况下就开始手术

三、类比推理。每道题先给出一组相关的词，要求你在备选答案中找出一组与之在逻辑关系上最为贴近、相似或匹配的词。

请开始答题：

91. 提纲挈领：要言不烦

A. 胁肩谄足：挨肩并足

C. 黄冠草履：衣冠不整

B. 不胫而走：不翼而飞

D. 膏车秣马：跋山涉水

92. 热干面：黄鹤楼：武汉

A. 豆汁儿：龙庆峡：北京

C. 羊肉泡馍：大雁塔：西安

B. 担担面：武侯祠：四川

D. 沙琪玛：楼兰古城：乌鲁木齐

93. 蛋白质：牛奶

A. 屏幕：手机

C. 钙：微量元素

B. 维生素C：山楂

D. 淀粉：菠菜

94. 香油：芝麻：麻酱

A. 馒头：酵母粉：面包

C. 黑胡椒：胡椒粉：白胡椒

B. 花生油：花生：食用油

D. 腐竹：大豆：豆豉

95. 氧化物：有毒气体：二氧化碳

A. 药材：植物：鹿茸

C. 民用飞机：喷气式飞机：短程飞机

B. 爬行动物：哺乳动物：鳄鱼

D. 青海湖：咸水湖：淡水湖

96. 儒家：道家：九家

A. 佛教：基督教：三教

C. 赋：兴：六义

B. 香葱：胡葱：葱

D. 铂金：彩金：黄金

97. 花：牡丹花：爆米花

A. 杯：茶杯：玻璃杯

C. 狗：柴狗：热狗

B. 虎：东北虎：爬山虎

D. 车：动车：火车

98. 松柏 对于 () 相当于 梅花 对于 ()

A. 高洁；兰花

C. 被子植物；维管植物

B. 松树；冬季

D. 坚贞；坚韧

99. 假言命题 对于 () 相当于 循环论证 对于 ()

- A. 选言命题；论点
B. 真假；错误
C. 条件命题；乞词魔术
D. 支命题；循环

100. 人杰地灵：地广人稀

- A. 鹬蚌相争：精卫填海
B. 卧虎藏龙：为民请命
C. 南来北往：花容月貌
D. 德高望重：地大物博

四、逻辑判断。每道题给出一段陈述，这段陈述被假设是正确的，不容置疑的。要求你根据这段陈述，选择一个答案。注意：正确的答案应与所给的陈述相符合，不需要任何附加说明即可以从陈述中直接推出。

请开始答题：

101. 上级决定在甲、乙、丙、丁、戊五位中选出奔赴疫区指导工作的专家，需满足以下几个条件：

- (1) 如果甲去，则乙和戊都不可以去；
(2) 除非丙不去，否则乙必须去；
(3) 只有丁不去，戊才不去。

根据以下条件，能得出“甲没有去疫区”的是：

- A. 丙不去疫区
B. 戊不去疫区
C. 丙和丁至少有一人去疫区
D. 乙和丁至少有一人不去疫区

102. 关于年底优秀员工的评选，公司决定在小张、小王、小李、小赵中选出两人，四人均发表了自己的观点：

- 小张：小王和小李都会当选；
小王：小李当选；
小李：我和小赵至少有一个当选；
小赵：小王和小李至少有一个不能当选。

评选结果公布以后，以上四种猜测中有两句是真的，两句是假的。

由此可以推出：

- A. 小张一定当选，且猜测错误
B. 小王一定不当选，且猜测错误
C. 小李一定当选，且猜测正确

D. 小赵一定当选，且猜测正确

103. 疫情期间，国家卫健委专家李兰娟院士称：75%的医用酒精可以杀灭冠状病毒，可以购买酒精用于家庭或工作环境中常接触物体的消毒。有公众号中的文章因此得出结论：冠状病毒怕酒精，饮用高度酒可以对抗病毒。

以下选项如果为真，最能削弱上述文章中观点的是：

- A. 医用酒精是外用的，酒精只有在外界环境中才能杀毒杀菌
- B. 饮用高度酒对身体有一定危害
- C. 食用白酒的浓度很少能达到75%
- D. 相同浓度的食用酒比医用酒精贵很多

104. 每当大的自然灾害发生，中国红十字会即开展社会募捐活动，为灾区筹集赈济物资、发放到受灾群众手中，派出医疗队到灾区服务。中国红十字会建有区域性的和省级的备灾救灾中心，储备救灾物资，培训救灾人员。近日，某市红十字会因为物资接收和分配出现重大问题而引起社会各界的广泛关注。党中央决定免去该市红十字会专职副会长的职务。

如果以下哪项为真，最能支持党中央的决定？

- A. 救援物资的接收和分配在赈灾救灾中有着极其重要的意义
- B. 专职副会长在此次物资的接收和分配过程中负主要责任
- C. 除专职副会长被免职，党组书记和党组成员均受到了党内处分
- D. 每次红十字会被爆出类似事件都会引发人们的信任危机

105. 随着物质生活水平的逐年提升，人们对生活品质的要求也越来越高，加湿器就是一类能有效提升生活品质的电器。市场上出售的加湿器品种繁多，包括超声波加湿器、纯净型加湿器、热蒸发型加湿器、浸入式电极型加湿器、冷雾式加湿器。某电器体验中心给出建议：在购买加湿器时应首选超声波加湿器。

以下哪项如果为真，不能支持上述建议？

- A. 超声波加湿器采用超声波高频震荡，频率为1.7MHz，对人体的辐射危害最小
- B. 超声波加湿器具有医疗雾化、冷敷浴面、清洗首饰等功能
- C. 经过产品比对：超声波加湿器的加湿强度最大，加湿效率最高，且加湿均匀
- D. 超声波加湿器具有节能、省电、使用寿命长等特点，是其他类型加湿器所无法比拟的

106~110题基于以下共同的题干：

某医院的外科病区有G、H、J、K、L、M和O七位护士，在他们4天的医院实习生活中，每天要安排两个人值班查房。要求这4天的人员安排不能重复，且恰好有一人值班两天。

此外，值班安排还须满足下列条件：

- (1) J只能排在H值班的次日。
- (2) 值班两天的那个人必须排在第四天，且不能排在第三天。
- (3) G必须与J和O中的某一个人排在同一天。
- (4) 第一天或第二天至少有一天安排K。
- (5) O必须排在第三天。

106. 以下哪两个人不能排在同一天？

- | | |
|--------|--------|
| A. H和K | B. H和M |
| C. J和O | D. K和L |

107. 以下哪个人必须排在第二天？

- | | |
|------|------|
| A. G | B. J |
| C. K | D. L |

108. 以下哪个人不能值两天班？

- | | |
|------|------|
| A. G | B. H |
| C. K | D. L |

109. 如果L值两天班，以下哪一个人必须与L排在同一天？

- | | |
|------|------|
| A. G | B. H |
| C. J | D. M |

110. 以下哪个人可以排在任意一天？

- | | |
|------|------|
| A. H | B. J |
| C. K | D. L |

※※※ 第四部分结束，请继续做第五部分！ ※※※

第五部分 资料分析

所给出的图、表、文字或综合性资料均有若干个问题要你回答。你应根据资料提供的信息进行分析、比较、计算和判断处理。

请开始答题：

一、根据以下资料，回答111~115题。

2019年全年S市实现地区生产总值23605.77亿元，按可比价格计算，比上年增长6.3%。分产业看，第一产业实现增加值1551.42亿元，增长3.6%；第二产业实现增加值9496.84亿元，增长6.4%；第三产业实现增加值12557.51亿元，增长6.4%。人均GDP达到

75828元，增长5.4%。

全年全市粮食生产总体稳定，粮食产量1075.2万吨，粮食单产每亩358.5公斤，比上年增长0.5%。其中：夏粮产量120.2万吨，比上年下降1.6%；秋粮产量955.0万吨，比上年下降0.2%。

全年出栏生猪1480.4万头，比上年下降15.8%；出栏牛54.9万头，增长0.8%；出栏羊449.4万只，增长0.5%；家禽出栏2.24亿只，增长5.0%。全年猪牛羊禽肉产量160.16万吨，比上年下降10.3%。其中，牛肉产量7.26万吨，增长0.8%；羊肉产量6.77万吨，增长0.2%；禽肉产量34.06万吨，增长5.3%；禽蛋产量43.52万吨，增长5.0%；猪肉产量112.07万吨，下降15.2%。

111. 2019年全年S市人口总数同比约：

- A. 上升了0.85%
- B. 上升了0.95%
- C. 下降了0.85%
- D. 下降了0.95%

112. 2018年S市第三产业增加值比第一产业增加值约多（ ）倍。

- A. 6.9
- B. 7.1
- C. 7.9
- D. 8.1

113. 2019年S市粮食种植面积约为（ ）万公顷。

- A. 3000
- B. 6000
- C. 200
- D. 400

114. 2019年S市猪牛羊禽肉（蛋）产量同比增量从高到低依次为：

- A. 猪肉、禽蛋、禽肉、牛肉、羊肉
- B. 禽蛋、禽肉、羊肉、牛肉、猪肉
- C. 禽肉、禽蛋、牛肉、羊肉、猪肉
- D. 禽蛋、禽肉、牛肉、羊肉、猪肉

115. 根据上述资料，下列说法正确的是：

- A. 2019年S市第三产业增加值占地区生产总值的比重较上年上升了0.1个百分点
- B. 2018年S市夏粮产量约为122.2万吨
- C. 2019年S市粮食产量比上年约下降1.4%
- D. 2019年S市家禽出栏量同比约增长了0.11万只

二、根据以下资料，回答116~120题。

2019年12月G省运输邮电主要统计指标完成情况

指标	单位	本月	本月止累计	本月比上年同 月增长 (%)	累计比上年同 期增长 (%)
货运量	万吨	43897	446050	5.0	5.0
铁路	万吨	785	8187	10.4	7.5
公路	万吨	31973	319279	4.6	4.8
水路	万吨	10275	108371	6.7	5.9
民航	万吨	23	238	15.3	5.6
管道	万吨	840	9974	- 4.4	- 0.8
货物周转量	亿吨公里	2960.79	29232.14	2.0	2.1
铁路	亿吨公里	29.35	297.35	11.6	11.0
公路	亿吨公里	457.15	4113.62	5.8	5.7
水路	亿吨公里	2446.52	24508.26	1.2	1.4
民航	亿吨公里	8.33	83.47	19.1	3.6
管道	亿吨公里	19.44	229.44	- 1.1	0.4
客运量	万人	12233	155770	- 3.5	0.7
铁路	万人	2807	38213	- 3.3	13.2
其中：高铁	万人	2405	31704	- 2.2	18.1
公路	万人	8112	101012	- 4.8	- 4.0
水路	万人	181	2614	- 3.5	- 5.8
民航	万人	1133	13931	5.4	7.9
旅客周转量	亿人公里	372.12	4764.82	2.0	5.8
铁路	亿人公里	67.83	1023.05	- 3.5	7.3
其中：高铁	亿人公里	49.76	696.92	0.6	14.7
公路	亿人公里	83.59	1092.97	- 3.6	- 2.5
水路	亿人公里	0.66	9.71	- 18.1	- 12.8
民航	亿人公里	220.04	2639.10	6.2	9.2

116. 2018年，G省高铁旅客客运量约为（ ）万人。

- A. 28007
B. 26868
C. 26845
D. 26420

117. 2019年1—11月，G省货物周转量占全年的比重高于上年同期的运输方式有几类？

- A. 1
B. 2
C. 3
D. 4

118. 2019年，G省铁路客运量的同比增长量与公路的相差（ ）万人。

- A. 247
B. 571
C. 8341
D. 8665

119. 2018年12月，G省普铁（除高铁外的铁路）客运量占铁路客运总量的比重约为：

C. 0.84%

D. -0.84%

123. 2020年4月份, 全国汽车零售额同比下降了约:

A. 1.0%

B. 2.5%

C. 6.7%

D. 7.4%

124. 2020年1—4月, 实物商品网上零售额占社会消费品零售总额的比重比上年同期约高了:

A. 1.5个百分点

B. 2.5个百分点

C. 4.5个百分点

D. 5.5个百分点

125. 根据上述材料, 以下能够推出的有几条?

①2019年下半年, 社会消费品零售总额同比增速不超过上月的月份有3个

②2019年4月, 城镇消费品零售额环比增速

③2020年一季度, 全国网上零售额同比增长0.9%

A. 0

B. 1

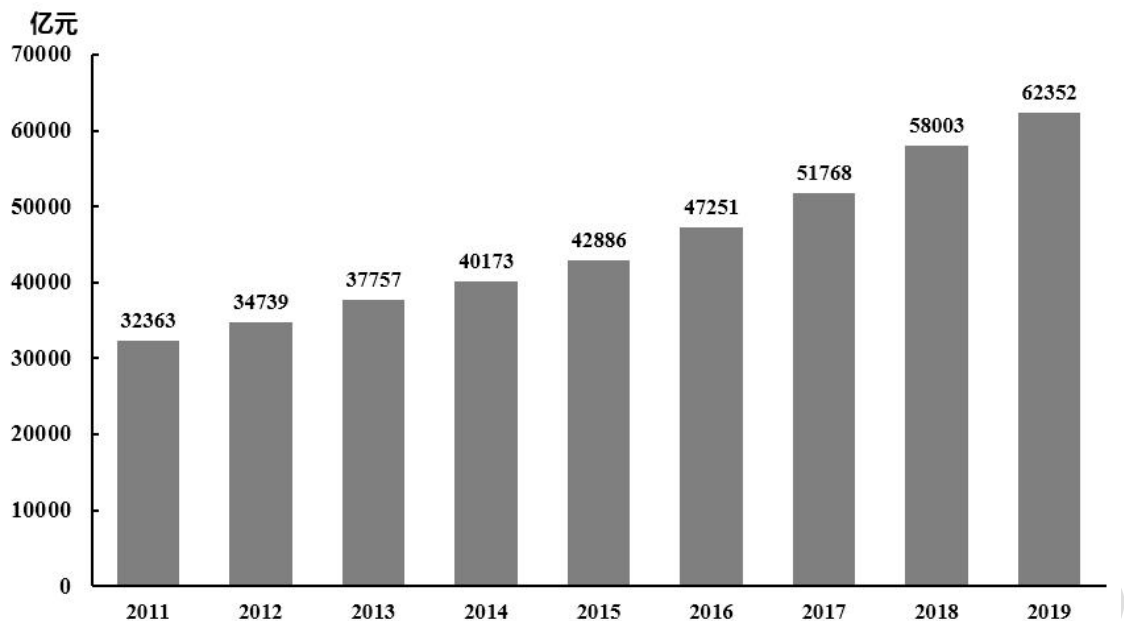
C. 2

D. 3

四、根据以下资料, 回答126~130题。

据2019年J省5%人口变动抽样调查推算, 年末全省常住人口5850万人。其中, 男性人口3005万人, 女性人口2845万人。全年出生率为10.51%, 死亡率为5.52%; 城镇化率为70.0%。

初步核算, 全年地区生产总值(GDP)62352亿元。其中, 第一产业增加值2097亿元, 第二产业增加值26567亿元, 同比增长5.9%, 第三产业增加值33688亿元, 同比增长7.8%, 三次产业增加值结构为3.4:42.6:54.0。



2011—2019年J省地区生产总值

126. 2019年J省常住人口中男性人口的占比比女性高约（ ）个百分点。

- A. 2.70
- B. 2.74
- C. 2.76
- D. 2.80

127. 若2020年同比增速较上年减半，则2020年J省地区生产总值约为（ ）亿元。

- A. 63472
- B. 64690
- C. 65254
- D. 67027

128. 以下各年份中，J省地区生产总值同比增长最快的是：

- A. 2016年
- B. 2017年
- C. 2018年
- D. 2019年

129. 若2011年地区生产总值同比增长9.0%，且图形给出的均为年末数据，则“十二五”期间，J省地区生产总值年均增加约（ ）亿元。

- A. 2105
- B. 2331
- C. 2639
- D. 3299

130. 根据上述资料，下列说法正确的是：

- A. 2019年，J省常住人口中城镇人口数不足4000万人
- B. 2019年，J省人口自然增长率为4.99%
- C. 2019年，J省第二产业增加值对GDP增长的贡献率约为43%
- D. 2018年，J省第三产业增加值占GDP的比重不到54%

※※※

全部测验到此结束！

※※※