

2021年度中央机关及其直属机构考试录用公务员
《行政职业能力测验》模拟试卷（副省级）

重要提示：

为维护您的个人权益，确保公务员考试的公平公正，请您协助我们监督考试实施工作。

本场考试规定：监考老师要向本考场全体考生展示题本密封情况，并邀请2名考生代表验封签字后，方能开启试卷袋。

仅限华图教育内部教学使用！

二〇二〇年

条
形
码

请将此条形码揭下，
贴在答题卡指定位置。

注意事项

一、此项测验分为五个部分，**135道题，总时限120分钟**。各部分不分别计时，但都给出了参考时限，供答题时合理分配时间。

二、请按照要求在答题卡上填写好自己的姓名，涂写好准考证号，严禁折叠答题卡。

三、必须在答题卡上答题；在题本上答题，一律无效。

四、监考人员宣布考试开始时，方可答题，宣布考试结束时，应立即停止答题。

题本、答题卡、草稿纸一律留在桌上，待监考人员确认数量无误，允许离开

后，方可离开考场。如果你违反了以上任何一项要求，都将影响你的成绩。

五、在这项测验中，可能有些试题较难，因此你不要在一道题上思考时间太久，遇到不会答的题目可先跳过去，如果有时间再去思考，否则，你可能没有时间完成后面的题目。

六、试题答错不倒扣分。

停! 请不要往下翻! 听候监考老师的指示。
否则, 会影响你的成绩。

第一部分 常识判断

根据题目要求，在四个选项中选出一个最恰当的答案。

请开始答题：

1. 下列不属于《国家中长期教育改革和发展规划纲要（2010-2020）》提出的到2020年我国教育改革发展战略目标的是：

- A. 基本实现教育现代化
- B. 深化管理体制改革
- C. 基本形成学习型社会
- D. 进入人力资源强国行列

2. 下列对应错误的是：

- A. 南京——太湖明珠
- B. 宁德——佛国仙都
- C. 长沙——媒体艺术之都
- D. 三明——古杉木王群

3. 下列人物都被授予改革先锋称号，对应错误的是：

- A. 李东生-免提电话
- B. 李保国-山区扶贫
- C. 孙永才-高速列车
- D. 林兰英-光纤之父

4. 下列说法错误的是：

- A. 2020年是《香港特别行政区基本法》颁布30周年
- B. 江西成为全国第三个获批的内陆开放型试验区
- C. 海南省三沙市设立西沙区、中沙区和南沙区3个区
- D. 黑龙江新发现的星球撞击遗迹陨石坑叫依兰陨石坑

5. 2020年1月，习近平总书记在“不忘初心、牢记使命”主题教育总结大会上发表了重要讲话，下列古语符合这次讲话主题的是：

- A. “不知有汉，无论魏晋”
- B. “鳧鹄远成美，薪刍前见凌”
- C. “志之所趋，无远弗届”
- D. “固时俗之工巧兮，偃规矩而改错”

6. 下列说法错误的是：

- A. 秦始皇帝陵出土的青铜车马被誉为“青铜之冠”
- B. 商朝后母戊鼎被史学界称为“臻于极致的青铜典范”
- C. 金沙村出土的太阳神鸟金饰为商周时期的金器
- D. 龙虎尊是商代的青铜器，被认定为国家一级文物

7. 下列说法错误的是：

- A. 需要提起公诉的案件，一律由人民检察院审查决定
- B. 大病医疗属于个人所得税专项附加扣除项目
- C. 国家秘密的保密期限已满的自行解密
- D. 阻碍执行紧急任务的消防车通行的应给予劳动教养处罚

8. 今年中央一号文件强调，对标全面建成小康社会加快补上农村基础设施和公共服务短板，下列措施能有效补上短板的是：

- A. 加强乡镇走读制学校建设
- B. 在黄河流域重点水域实行一年禁捕
- C. 发展农村居家式社区养老
- D. 扩大职业教育学校在农村招生规模

9. 2020年是全面打赢脱贫攻坚战收官之年，为成功攻克最后的堡垒，需要做好下列哪项工作：

- A. 严格执行贫困退出标准和程序
- B. 及时将新脱贫人口和新发生贫困人口纳入帮扶
- C. 强化教育扶贫、就业扶贫，深入开展生产扶贫
- D. 将脱贫任务纳入实施乡村振兴战略统筹安排

10. 下列有关说法错误的是：

- A. 臭氧层能使地球生物免遭紫外线伤害
- B. 发生地震时最先感到的地震波叫纵波
- C. 在太阳系中卫星最多的行星是木星
- D. 涨潮和落潮的主要原因是月球的引力

11. 下列有关国防基础知识的表述中，正确的是：

- A. 到2035年，基本实现机械化，信息化建设取得重大进展，战略能力有大的提升
- B. 中央军事委员会对国防活动实行统一领导
- C. 国家和社会对在国防活动中作出贡献的组织和个人，采取各种形式给予表彰和奖励

励

D. 全国人民代表大会依照国防法规定，决定战争和和平的问题

12. 以下说法错误的是：

- A. “咬定青山不放松，立根原在破岩中”描写的植物是竹子
- B. “布谷飞飞劝早耕，春锄扑扑趁春晴”描绘出一幅春耕图
- C. “儿童散学归来早，忙趁东风放纸鸢”描写的是初春情景
- D. “知否，知否？应是绿肥红瘦”中“红瘦”描写的是牡丹

13. 根据下列节日的日期按照时间先后排序，正确的是：

- ①中国航海日 ②中国航天日
- ③世界环境日 ④中国宪法日
- ⑤学雷锋纪念日 ⑥全民健身日

- A. ⑤②③①⑥④
- B. ⑤①⑥②③④
- C. ②①⑥⑤③④
- D. ②③①⑤⑥④

14. 下列说法描述错误的是：

- A. 除病毒外，组成生物体的基本单位是细胞
- B. 原子是构成物质的最小粒子
- C. 气体可压缩存储在钢瓶中是因为分子之间有间隔
- D. 干细胞有自我更新能力，被称为“万用细胞”

15. 下列关于中国地理国情，说法错误的是：

- A. 我国第一座试验性地热电站是西藏的羊八井地热电站
- B. 中国最大的岛屿是台湾岛
- C. 中国地质年龄最年轻的火山岛是南碇岛
- D. “桂林山水”属于喀斯特地貌

16. 下列遇险常识说法错误的是：

- A. 逃生时经过充满烟雾的路线，应该采用匍匐撤离的办法
- B. 暴雨过后山谷中若出现雷鸣般的声响，预示将会有泥石流发生
- C. 当车辆落入水中，首先用坚硬物敲碎前挡风玻璃
- D. 遇到电梯事故时要等待救援，不能强行推开电梯

17. 下列中药表述错误的是：

- A. 白术具有补脾健胃、燥湿利水、止汗、安胎等功能
- B. 小连翘具有安精神，定魂魄，止惊悸，除邪气的功效

C. 金银花具有抗炎解热、抗肿瘤、抗氧化等药理作用

D. 黄芩以根入药，味苦性寒，能清热燥湿、泻火解毒

18. 传染病是一种能够在人与人之间或人与动物之间相互传播并广泛流行的疾病，经过各种途径传染给另一个人或物种的感染病。下列有关传染病说法错误的是：

A. 水痘是由水痘带状疱疹病毒初次感染引起的急性传染病

B. 流感病毒主要通过空气中的飞沫、易感者与感染者之间的接触而传播

C. 中国目前的法定传染病有甲、乙、丙3类

D. 手足口病最主要易感人群是青少年

19. 下列说法错误的是：

A. 我国腺病毒载体疫苗是全球首个启动二期临床研究新冠疫苗品种

B. 我国是世界上第三个实现 HPV 疫苗自主供应的国家

C. 我国首次火星探测任务被命名为“天问一号”

D. 我国运-20是全球最大的民用运输机

20. 下列诗句与“中秋”无关的是：

A. 今夜月明人尽望，不知秋思落谁家

B. 但愿人长久，千里共婵娟

C. 此生此夜不长好，明月明年何处看

D. 吴质不眠倚桂树，露脚斜飞湿寒兔

※※※ 第一部分结束，请继续做第二部分！ ※※※

第二部分 言语理解与表达

本部分包括表达与理解两方面的内容。请根据题目要求，在四个选项中选出一个最恰当的答案。

请开始答题：

21. 从某种意义上说，治疗应当成为针对具体患者的一门艺术。人工智能应用于医疗领域，日渐吸引着更多产业投资。在新一轮科技革命和产业变革的背景下，只有立足于临床防治，充分运用各方面的有利条件，积极发展_____的个性疗法，才能让精准医疗造福更多的人。

填入横线部分最恰当的一项是：

A. 因材施教

B. 因人而异

C. 对症下药

D. 一针见血

22. 把从书中汲取到的醒悟带入生活，会有一种“一念既悟，众生是佛”的感受，所以此后看许多人和事从模糊走向清晰，发现许多现实的迷思都_____。

填入横线部分最恰当的一项是：

A. 一蹴而就

B. 迎刃而解

C. 触类旁通

D. 恍然大悟

23. 高校“网红课”的走红也给高校教学提出了更高要求。说到底，“网红课”的核心就是以学生为中心。要以“网红课”为目标，推出更受学生欢迎的教学方式，把学生吸引过来黏在课堂上，再用心研究学生_____的教学内容，引导学生在课堂上有所思，有收获，提高教学质量。只有这样，“网红课”才不至于_____，才能持之以恒地受到欢迎，成为传播知识的最佳载体。

填入横线部分最恰当的一项是：

A. 喜闻乐见 昙花一现

B. 口碑载道 否极泰来

C. 大快人心 烜赫一时

D. 雅俗共赏 好景不长

24. 作为马拉松历史最悠久的赛事之一，波士顿马拉松有着极其严格的报名门槛，也因此成了不少跑者_____的赛场。根据参赛规则，报名途径分为两种，一个是走慈善或赞助等直通通道，另一个是在规定时间内，在被认证的赛事上跑出相应的成绩达到抽签门槛。_____来讲，选手要么具备为赛事或公益做出贡献的“软实力”，要么就要有超出同龄人成绩的“硬实力”。

填入横线部分最恰当的一项是：

A. 心向往之 准确

B. 全神贯注 简单

C. 心驰神往 严格

D. 梦寐以求 通俗

25. 为了保护孩子的眼睛，浙江省教育厅等十一部门于近日发布《关于全面加强儿童青少年近视综合防控工作的意见》，力争降低近视发病率。为中小学生减负的声音_____，措施也接二连三，目的是引导素质教育，_____高考指挥棒之下的各种愈

演愈烈的加码行为。

填入横线部分最恰当的一项是：

- A. 此起彼伏 厘清
- B. 不绝于耳 纠偏
- C. 不绝如缕 遏制
- D. 震耳欲聋 纠正

26. 国人历来偏爱储蓄。实际上，月有阴晴圆缺，人有旦夕祸福，生活中难免遇到各种意外和风险，而商业保险则是_____风险、减少损失的最佳手段。“鸡蛋不能放到一个篮子里”，银行储蓄与购买保险是人们获得保障、化解风险的两个方面，也是金融业的两大支柱。二者_____。但存款是存款，保险是保险，二者各有侧重，不可混淆。

填入横线部分最恰当的一项是：

- A. 躲避 对立统一
- B. 抵御 相辅相成
- C. 控制 殊途同归
- D. 规避 相得益彰

27. 汉字不仅在中国本土得到统一和发展，而且_____到周边许多国家，在东亚和东南亚形成了广大的汉字文化圈。今天，我们在日本、韩国乃至东南亚的一些国家看到大街小巷和商号店铺皆是方块汉字，在越南河内参观文庙，看到刻着汉字的进士题名碑，看到孔子塑像后方悬挂的与曲阜孔庙一模一样的康熙题写的“至圣先师”匾额，一种亲切感和自豪感便_____，这难道不是汉字和中华文化神奇魅力的有力佐证吗？！

填入横线部分最恰当的一项是：

- A. 散布 应运而生
- B. 传播 油然而生
- C. 裹挟 情不自禁
- D. 传扬 身不由己

28. 70年的光辉岁月，中国正在_____世界舞台的中央。当我们从“弱国”走向“强国”之时，中国人的心态也悄然发生着改变。大国崛起的精神支撑，便是以道路自信、理论自信、制度自信和文化自信为核心的民族自信、国家自信。自信意味着拒绝过度敏感的自卑，不动辄因为无足轻重的小事上纲上线，裹挟他人，制造对立；自信还意味着拒绝盲目自大，不陶醉于既有成就中而_____。

填入横线部分最恰当的一项是：

-
- A. 站在 沾沾自喜
 - B. 走近 睥睨一切
 - C. 走向 流连忘返
 - D. 漫步 趾高气扬

29. 以前，由于思想观念落后、房屋老旧、缺乏产业、基础设施薄弱等原因，村民们守着一方好田土，却过着“望天收”的苦日子，深厚的文化底蕴“养在深闺人未识”。为了改变这一_____，2017年以来，石庄村抓住优势，把文化振兴作为乡村振兴的载体和抓手，_____省内外专业团队对进行乡村旅游全域规划，把石庄村打造成了集民俗体验、乡旅文化、美食民宿于一体的田园文化旅游综合体。

填入横线部分最恰当的一项是：

- A. 现状 邀请
- B. 状况 聘请
- C. 情况 呈请
- D. 趋势 延聘

30. 冯友兰在现实生活中，体现着他的哲学境界。正如哲学家任继愈先生说的那样：“同事们没有见过他发脾气，遇到不顺心的事，也没见他闹过情绪。他受到不公平的批判，从不_____，也未影响他的生活节奏。”我们可以从这些_____的学人风度中，找到一丝努力的方向，作为前行的力量。

填入横线部分最恰当的一项是：

- A. 暮气沉沉 瞠乎其后
- B. 灰心丧气 身先士卒
- C. 垂头丧气 垂范后世
- D. 倚老卖老 以身作则

31. 2017年多芬在美国Facebook上投放广告，内容是一位年轻黑人女性脱下T恤，_____成为白人女性。海外企业在美国发生这样种族歧视的事件，同样激怒民众，_____联合抵制。这说明，全人类都有的珍视的价值，不是金钱能够_____的，不是资本能够冒犯的，一旦触碰底线，必遭千夫所指、用脚投票。

填入横线部分最恰当的一项是：

- A. 摇身一变 遭遇 衡量
- B. 偷天换日 遭到 判断
- C. 鱼目混珠 遭受 评判
- D. 脱胎换骨 承受 估算

32. 当前，少数民族医药发展面临的首要难题是人才匮乏。有的少数民族医药以_____为主，强调个体经验的积累和体验型的学习方式。另外，资源流失让少数民族医药变得“罕见”。以黎医为例，秘方中有一些独特的药材日益稀少，如果不保护好，药材灭绝了，就算有再好的秘方也没有任何意义。因此，抢救濒危少数民族医药，就是与时间赛跑，_____。

填入横线部分最恰当的一项是：

- A. 口传心授 刻不容缓
- B. 口耳相传 至关重要
- C. 薪火相传 势在必行
- D. 薪尽火传 急如星火

33. 在新形势下，我国高度重视区域协调发展，提出了京津冀一体化、长江经济带、粤港澳大湾区、长三角经济一体化、成渝经济圈等诸多空间发展战略。要_____这些战略达到规划目标、取得成功，比较关键的就是要重视补短板、强弱项，_____过去协同发展中存在的障碍和瓶颈。

填入横线部分最恰当的一项是：

- A. 维持 摆脱
- B. 确保 跨越
- C. 保障 突破
- D. 支应 克服

34. 每逢“双十一”，各大购物网站就会早早地进行预热，领券、叠加、满减、预售、抢购……各种促销方式让人_____。付定金可打折、前2000名半价、分享返现、关注签到领代金券……为了获得最优价格，消费者需要完成一道道“烧脑”的数学逻辑题，还要识破一些商家先涨后降、变换规格等_____。有网友不禁感叹，“没点奥数功底，都不配过‘双十一’了！”。这种行为看似增加热度，实际上消费者却难以获得优质的体验服务，招致消费者的厌烦，也是必然的结果。

填入横线部分最恰当的一项是：

- A. 不堪重负 把戏
- B. 眼花缭乱 伎俩
- C. 顾此失彼 花招
- D. 目不暇接 手段

35. 逐渐升级的暴力冲突_____了社会的恐慌与无助，但暴徒们毁掉别人的家，其实也在变相捣毁自己的家。皮之不存，毛将焉附？拿笔者在港读书的朋友亲身经历来

说，面对人身安全随时受到威胁、日常生活基本瘫痪的现状，在港的内地学生连夜逃离，人们的幸福感、获得感_____下降。这座城市曾经的繁华与荣光在暴力焚毁下_____，而这，也是那些暴徒曾经的家，是曾经温暖的港湾，是无论艰难险阻都要回去的家。

填入横线部分最恰当的一项是：

- A. 加重 飞速 毁于一旦
- B. 造就 急速 黯淡无光
- C. 深化 迅猛 付之一炬
- D. 加剧 急剧 黯然失色

36. 作为网络纪录片的重要部分，Vlog带来了大量的“一手材料”和“口述历史”。当我们想了解异域他乡、不同人群，在场者、亲历者远比知名导演更有发言权。以Vlog为形式，每个人都可以成为纪录片的“编剧”和“主演”。自己的生活自己过，自己的生活自己拍。或许镜头摇摇晃晃，或许一镜到底毫无剪辑，或许设备不专业、技术不过关，但天然无雕饰的感觉恰恰最真实可信。与夸张搞笑、带有表演性质的短视频不同，技术门槛较低、第一人称纪实，有望让更多人参与到Vlog的创作中来。

下列哪一项不属于vlog的特点：

- A. 天然无雕饰
- B. 带有表演性质
- C. 技术门槛较低
- D. 第一人称纪实

37. 发展传统手工艺，有利于弘扬传统文化、助力经济发展，也有利于倡导工匠精神、引领社会风尚。在发展传统手工艺渐成潮流之时，如何科学规划发展路径、合理把握发展节奏，还需仔细研判、精心统筹。唯有既密切关注市场需求变化，又保持定力扶持有梦想的手艺人，既懂得营造氛围助推发展、又鼓励多出精品引领风尚，复兴传统手工艺才能从愿景成为现实，让传统手工艺在经济社会发展中发挥更大作用。

对这段文字概括准确的一项是：

- A. 应当努力让传统手工艺发挥更大作用
- B. 发展传统手工艺的重要意义
- C. 让传统手工艺助推经济社会发展的策略
- D. 应当大力扶持有梦想的手艺人

38. 网络文学在改变文学传统传播方式的同时，也在不断创新文学传播的传统路径，具有信息量大、传播范围广、创作发挥空间多等诸多优势。然而，凡事都有两面性，

网络文学创作因其优势突出，也造成网络原创知识产权维护难上加难，对网络抄袭的治理难度更加大。要知道，网络文学“洗稿”“融梗”与传统纸媒情境下的“抄袭”在具体界定上尚存在一定的差异：网络文学因其更新速度快、语言生成性强以及口语化特征明显等特点，很难确认一部网络文学作品是否在文字表述或故事情节上存在“抄袭”现象。

这段文字的主旨是：

- A. 应加大网络抄袭的治理力度
- B. 网络抄袭治理难度大
- C. 网络文学具有更新速度快、语言生成性强以及口语化特征明显等特点
- D. 网络文学改变了文学的传播方式

39. 在当前异彩纷呈的节目市场中，游戏竞技、户外游历和生活体验等娱乐化的主题内容常常占据着荧屏主调。相比之下，着眼于严肃主旨的节目品类显得有些“曲高和寡”。作为文化类节目重要分支之一的科学类节目，其助推科学大众化传播的立意对于社会意义重大，但受限于自身的专业性与传播难度，加之传统的科学类节目较为单一的表现形式，并没能充分释放出此类节目的趣味性与观赏性。因此，科学类节目若想摆脱枯燥的刻板印象，打开新局面，除了要在普及科学知识的社会观照方面继续深耕，还需让科学性和娱乐性有机互动，最终在寓教于乐中为大众喜闻乐见。

这段文字意在说明：

- A. “寓教于乐”应成为科学类节目的创新方向
- B. “娱乐性”是科学类节目所遵循的首要原则
- C. 科学类节目是当前文化类节目的重要分支之一
- D. 挖掘科学内在的娱乐属性才能让科学类节目为大众接受

40. ①传统的历史研究主要依据文字材料而不是图像，这跟图像流通的技术条件有关

②就此而言，我们对历史的理解和认识是受媒介环境或媒介场制约的，反过来，一旦史料的范围从文字扩展到图像领域，历史研究的方法和模式也势必随之发生变化

③在摄影技术发明之前，图像的复制受到很大限制，很难作为证据或史料使用

④在这个意义上，正是照相制版和远程传播技术的进步，才使图像克服流通障碍，获得了跟文字平起平坐乃至更高的地位，从而释放出作为历史证据的潜能

⑤图像证史，即把图像作为正式的历史材料或证据使用，反映了历史研究的新变化

⑥原因是，要让图像作为证据发挥作用，就必须把它们比较准确地复制、印刷出来，让读者和其他研究者看到

将以上句子重新排列，最恰当的一项是：

- A. ⑤①③⑥④②
- B. ②⑥⑤①③④
- C. ①⑤③④⑥②
- D. ④②①⑤③⑥

41. 制作腊叶植物标本的工艺于16世纪初在意大利发源，并很快找到了大显身手的空间。大航海时代的欧洲人一代又一代远赴世界各个角落，其中大部分满脑子只想着财宝和土地，但也有一些醉心于异域植物的奇妙，并采下它们制成标本，带回欧洲。那些年也是自然科学体系逐步建立的时期，植物学从传统的农艺、园艺中分离出来，与动物学、矿物学共同组成了探索自然的“博物学”，植物标本则由单纯的工艺与收藏演变为科研资料。另一方面，由于各类植物的区别不像鸟兽鱼虫那般了然，如何对越来越多的植物进行分类也日渐迫切。18世纪中叶，瑞典生物学家林奈借助所收藏的16000余份植物标本，出版了第一部正规的植物学著作《植物种志》，成为近代植物分类学诞生的标志。

下列说法符合文意的一项是：

- A. 从探索自然的角度来看，植物学比动物学、矿物学发挥的作用更大
- B. 在大航海时代，大部分欧洲人远赴世界各地的主要目的是追求财富
- C. 16世纪初，植物标本由重要的科研依据逐步演变为纯粹的工艺与收藏
- D. 第一部植物学著作《植物种志》中共收录了16000余份植物标本

42. ①针对侵害人难确定的老问题，最高法强调，要明确区分高空抛物和高空坠物，对于高空坠物构成犯罪的，也要依法定罪处罚，等等

②近年来，高空抛物、坠物伤人事件不断发生，被称为“悬在城市上空的痛”，成为困扰城市生活的一大顽疾

③《意见》明确指出，对故意高空抛物的，以危险方法危害公共安全罪、故意伤害罪或故意杀人罪论处

④这是切实贯彻以人民为中心的发展理念，维护民众“头顶上的安全”的体现，对各地各级司法机关办理高空抛物、坠物案件有着直接指导意义

⑤不用重典，无以治乱象，法治的威严也无从体现

将以上句子重新排列，语序最恰当的一项是：

- A. ②⑤③①④
- B. ⑤②③①④
- C. ③①④②⑤

D. ②⑤④③①

43. 如今, AI技术已经深入临床辅助诊断、医学影像、脑科学乃至中医学等医学领域的各个方面。以医学影像为例, 目前人工智能已经成功应用于肺部疾病、乳腺疾病、神经系统疾病、心血管系统疾病等方面。借助植根于大数据的人工智能算法, 医生能够显著提升疾病筛查和诊断的效率, 为科学制定治疗方案提供可靠的辅助。此外, 在新药研发过程中, 利用深度学习, 也可大大缩短研发周期、控制研发成本, 更好造福患者。在一些大医院, 新型医疗机器人常驻病房, 对病情监测、病患护理等发挥了独特作用。可以说, 人工智能的快速发展, 极大提高了医疗生产力。

这段文字意在说明:

- A. 人工智能前沿技术正在快速融入医疗领域
- B. 人工智能自诞生之日起, 就与医学密不可分
- C. 人工智能促进了医疗服务模式、健康管理理念的改变
- D. 医学研究的不断深入, 为人工智能发展开启了新的维度

44. 世界之变孕育着中国机遇, 也会暴露发展的短板。只有认清世界、认清自己, 才能在奔跑中调整呼吸、在竞赛中调整姿势。此时, 做好我们自己的事情, 就是要摸透国情、摸准规律、摸明态势, “_____”。哪里是优势、哪里是短板, 哪里强一些、哪里弱一点, 哪里动力足、哪里会疲软, 木桶的容量取决于那块短板, 我们要做的就是既补上短板又做长短板, 抓住一切机遇, 乘上发展的列车。

填入划横线部分最恰当的一项是:

- A. 短兵相接, 智者为王
- B. 狭路相逢, 勇者必胜
- C. 知己知彼, 百战不殆
- D. 勤学苦练, 敌弱我强

45. 事实上, 这个世界上没有一种“改变”与你无关, 而且往往是, 只有改变了自己, 才能改变世界。今年春节, 各地鞭炮燃放比起往年明显下降, 就因为不少人意识到了个人与环境的关系, 在主动调整自己的节庆方式。这是个好开头, 若能形成社会主流意识, 那环境保护才有可能成为整个社会的共识和行动。

最适合做这段文字标题的一项是:

- A. 改变世界
- B. 改变自己
- C. 改变环境
- D. 改变思维

46. 提到故宫，人们总要提到文创产品。确实，在故宫示范和推动下，现在文创蔚然成风。如果一家博物馆不开口讲文创，不推出一些文创产品，简直不好意思说自己从事文博了。单霁翔曾经透露，文创给故宫带来了15亿元的收入。而文创的价值，远远不止于推出了几款产品，挣到了多少钱，更重要的是用现代流行方式，活化宣传了传统文化。由活化出发，更能够看到故宫这些年来的变化。过去的故宫，说起来有很多世界之最，可又有几人能够看得到和感受得到？比如，故宫馆址宏大，但70%的区域竖起了“非开放区，观众止步”的牌子；故宫藏品多，但“90%的藏品都沉睡在库房里，谁都看不见”。而现在，还是那个故宫，却给人耳目一新的感觉。随着一栋栋古建筑被修缮，故宫的开放区从过去的30%，增加到2017年的80%。

下列说法符合文意的一项是：

- A. 截至2017年，文创产品让故宫共创收15亿元
- B. 故宫推出文创产品的种类之多位居全国博物馆之首
- C. 目前故宫博物院的藏品已经全部向公众开放
- D. 文创的重要价值在于以现代流行的方式活化宣传了传统文化

47. 自近代城市化进程开启以来，城市如何形成，走什么发展模式，怎样实现可持续发展，一直处在不断探索中。一个矿藏的开采，一条交通线的打通，一次源自顶层的战略设计，都可以造就一座城市。但是，城市毕竟是一个以经济和人文为生命的存在，有竞争就有分化，有发展就有衰落，有诞生就有消亡。城市兴衰再正常不过，关键是要紧抓时势机遇，努力探索高质量发展之路。如何实现更可持续、更加普惠包容的城市发展，越来越呈现出许多共有规律。

文段接下来最有可能论述的是：

- A. 各个国家在城市发展过程中探索的相同经验
- B. 如何实现可持续发展的城市化进程
- C. 如何实现更可持续、更加普惠包容的城市发展
- D. 更加可持续、普惠包容的城市发展所遵循的共同规律

48. 华兹华斯在著名的诗篇《无题》中说，“儿童乃是成人的父亲”，弥尔顿在《复乐园》第四卷第220—221行也有明确的阐释：“儿童预示成人，就像晨光预示白昼”。基于此，北京作家宁肯在回答“作家可不可以培养”时，也明确说，作家的某些部分是可以培养的——意识部分形成的“症候”一般来自于教育、阅读、知识、兴趣，而无意识部分的“症候”，主要形成于一个人的经历，特别是童年和青少年的成长经历，形成于这个阶段的深重而独特的个人感受，以及在内心的某种情结。所以，作家的独特性是不可以培养的，因为有什么样的力量能培养一个作家的童年和青少年呢？

这段文字意在说明：

- A. 童年与作家、童年与文学的关系是一种命脉关系
- B. 对于“作家可不可以培养”这个问题是见仁见智的
- C. 教育、阅读等可以培养作家的思想意识
- D. 一个人童年和青少年的成长经历是无可复制的

49. 一些西方学者以“为己”一词为依据，认为中华文化是利己文化，这显然是对中国古代典籍的误读。据知，“为己”一词始见于《论语》。在《宪问》中，就弟子所问古今学术差异这一问题，孔子答曰：“古之学者为己，今之学者为人。”何谓“为己”和“为人”？孔子未曾展开讲，这个问题是由随后的荀子解决的。在《劝学篇》中，荀子将“为己”之学定位为“君子之学”，而将“为人”之学称为“小人之学”。荀子的结论是：“古之学者为己，今之学者为人。君子之学也以美其身，小人之学也以为禽犊。”西汉经师孔安国取荀子之说以释《论语》，将“为己”训为“履而行之”，“为人”则解作“徒能言之”。魏晋时期，玄学家何晏著《论语集解》，以孔安国之说为基本依据。从此，把“为己”释作“履而行之”的经典解读一直为历代经师所传承。可见，中国古代典籍中的“为己”，乃是讲修为自己，是指学者个人的道德修持和践履。

这段文字意在说明：

- A. 西方学者认为中华文化是利己文化是一种错误的观点
- B. “为己”与“利己”全然不是一回事，不可混为一谈
- C. 对“为己”思想的经典解读一直为历代经师所传承
- D. 国人应该将“为己”思想传承下去，提升个人道德修养

50. 翻开任何一本健康杂志或者大众报纸的健康版，上面都充斥着长寿秘诀。这些秘诀无外乎就是生活规律、节制饮食、坚持运动等这些谁都明白的大道理。真实情况是，虽然每个人都希望自己长寿，但谁也不愿意为此牺牲自己的生活乐趣。因此，所有人都把希望寄托在科学家身上，幻想着只要买一粒神奇的药丸吃下去就能多活几年。奇怪的是，虽然大家都想吃到长寿药，但严肃的长寿研究却一直受到各方冷落。一来负责拨款的政府部门相信长寿研究短期内不可能有任何成果，花钱去研究这个纯属浪费；二来有能力资助科学研究的私人基金会则认为这个世界上还有很多远比长寿更值得研究的事情；三来多数百姓也觉得这些研究都是为少数富人服务的，普通人享受不到他们的成果。不过，长寿研究之所以发展缓慢，真正的原因还是因为研究难度太大了！

这段文字意在说明：

- A. 长寿研究发展缓慢的原因
- B. 长寿研究一直受到各界冷落

-
- C. 虽然长寿研究有极大难度，但是科学家不应放弃探索
D. 生活规律、节制饮食、坚持运动等才是真正的长寿秘诀

阅读以下文字，回答51-55题。

一年一度的春运即将到来。每年春节，许多在外地工作的人们都要提着大包小包，千里迢迢赶回家乡和家人团聚。近年来，“反向春运”悄然兴起。在城市打拼的上班族不再执着于抢春运回家的火车票，而是把父母和子女从老家接过来，一起在城里过年。

“反向春运”的出现，原因是多方面的。在客观上，有春运运输资源倒挂的因素。一票难求的情况下，一些人开始反其道而行之，换一种过年团聚的方式。在主观上，也折射出公众理念的转变。随着社会的发展，故土难离的观念逐渐淡化，越来越多的人开始认同，只要家人聚在一起，在哪里过都是团圆年。

“反向春运”虽然是自然形成的，意义却不容小觑。对于城市来说，更多的外来务工人员留城过年，可以避免劳动力短缺，保障春节期间商品和服务的正常供应。对于交通运输来说，不仅能有效缓解集中返乡的压力，还能在一定程度上利用春节期间被闲置的资源。对于外来务工人员来说，留在城市过年既逆向躲开了春运交通的高峰，又能让家人体会到自己所在城市的风光，还可以延长团聚的幸福时光。鉴于“反向春运”带来的多赢效应，有必要在公众自行选择的基础上加以因势利导，让“反向春运”成为趋势和潮流，释放出更大的正能量。

目前，鼓励“反向春运”已被写入春运工作指导意见，正式进入有关部门的决策视野。交通运输部门不再只是旁观者，而成为了推动者。推行回空方向列车票价优惠措施，无疑具有很强的吸引力，从农村到城市过年，火车票不仅好买而且还便宜，相信不少人都会_____，认真考虑今年在哪里过年。与票价优惠的实际价值相比，鼓励“反向春运”的导向价值更为重要，它向人们传递出积极信号，引导个体与社会同频_____，共同解决春运难题。

当然，鼓励“反向春运”不应是铁路部门的独角戏，而需要有关部门和全社会形成合力。首先，从交通来看，票价优惠不应限于火车票，公路、水运、民航都应积极推出优惠政策，在运用价格杠杆盘活运力资源的同时，提高反向团圆的性价比，让利于民。

其次，有关部门要精心准备文化大餐，发放各种旅游“礼包”，让反向春运一族不虚此行。团聚不是过年的唯一主题，人们更看重的是“年味”。公共文化设施和旅游景点不妨对外来务工人员及其家属免费或优惠开放，社区多组织开展丰富多彩的文化活动和联欢活动，提高娱乐性、群众性、参与性，让到城里过年的老人和留守儿童能够乐在其中。

此外更重要的是，要完善教育、医疗、社保等公共福利，帮助外来务工人员增强归

属感和认同感。“此心安处是吾乡”，如果外来务工人员真正融入这座城市，将之视为自己的第二故乡，反向过年就会成为一种常态。

51. 最适合填入划线部分的一组是：

- A. 度德量力 呼应
- B. 深思熟虑 共鸣
- C. 犹豫不决 合力
- D. 怦然心动 共振

52. 下列说法与原文不符的是：

- A. “反向春运”指把父母和子女从老家接过来，一起在城里过年
- B. 春运运输资源紧张是“反向春运”出现的原因之一
- C. 社会发展导致“安土重迁”的观念消失
- D. 公众理念的转变促进“反向春运”的产生

53. 下列说法与原文相符的是：

- A. 鼓励“反向春运”被写入春运工作指导意见
- B. “反向春运”主要靠铁路部门牵头
- C. 文化大餐是“反向春运”的主题
- D. “反向春运”成为了一种常态

54. 下列哪项不属于“反向春运”的优点：

- A. 避免城市春节期间出现劳动力短缺的问题
- B. 回空方向列车票价更加优惠
- C. 有效缓解交通运输集中返乡的压力
- D. 让家人体会到自己所在城市的风光

55. 最适合做这段文字标题的是：

- A. “反向春运”的多赢效应
- B. “反向春运”是文化本质主导下的正常现象
- C. 鼓励“反向春运”需要形成合力
- D. 此心安处是吾乡

阅读以下文字，回答56-60题。

①南北朝时期的书法体现出南北两地_____的审美趣味，两种类型在南北朝后期开始呈现出互为融合的趋势。公元581年，随着隋朝的建立，近二百年南北朝对峙格局的结束，两地书法融合速度加速，最终形成了较为统一的隋代书法风格。

②虽然只有短短的38年，但隋代书法却在中国书法史上有着重要的作用。作为强烈地域风格表现的南北朝书法向初唐书法变迁的转折点，对初唐书法的发展起到了先导和定向的作用。从总体上看，隋代书法逐步放弃了北朝书法那种欹侧之势和大刀阔斧的用笔，吸取了南朝书风的圆润温和特征，形成了独特的“隋楷”样式。虽然历时短暂，流传作品稀少，但却个性鲜明，成为今天了解楷书风格发展过程的一个重要节点和样本。

③检点这一时期的书法，可见多以碑刻传世，较为著名的有《董美人墓志》《曹植庙碑》和《龙藏寺碑》等。《董美人墓志》，清代时出土于陕西兴平，后被移至上海，不久原石毁佚，流传拓本较少。该墓志共21行，每行23字，楷书。从现存拓本中可见其书法结体端正，结构稳定，用笔虽然保留了部分北碑方笔的趣味，但与魏晋和南北朝时期楷书多少带有隶意的风格大不相同，显得端庄成熟。从风格看，初唐欧阳询楷书的峻严方正与其有着相似之处。而立于隋开皇十三年（593年）的《曹植庙碑》，则与《董美人墓志》承接北碑的风格有所不同，书写结体略扁，一些字保留了篆隶书的结构。其用笔方面最大的特点是提按顿挫明显，笔法滋润。虽工整不如《董美人墓志》，却有着丰富的表现趣味，后来集笔法大成者褚遂良书风，或与此碑的风格有着一定的关联。

④如果说《董美人墓志》和《曹植庙碑》对前代书风有着一定保留的话，那么《龙藏寺碑》则更多地表现了隋楷的自身特征。此碑因立于河北正定龙藏寺（今隆兴寺）得名，张公礼撰文，未著书丹者姓名。全碑高315厘米，宽90厘米，厚29厘米，楷书，共30行，每行50字。作为魏碑向唐楷转换过程中的隋代楷书样式，不仅在书法史上有重要的意义，更有着较高的艺术价值，被誉为“隋朝第一碑”，杨守敬、包世臣、王国维等都予以高度评价。此碑书法结体平正宽绰，细节表现趣味盎然，不落俗套，而用笔方面则精到细腻，变化丰富，体现出温文尔雅的气息，由此可见初唐楷书与隋代楷书的渊源关系，故称此碑开初唐楷书之先河亦毫不为过。

⑤楷书发展完成了融南北书风于一体的历程，为唐楷的形成与法度的建立奠定了坚实的基础。

56. 填入第一段划横线部分最恰当的词语是：

- A. 毫无二致
- B. 殊途同归
- C. 截然不同
- D. 南辕北辙

57. 下列不属于《龙藏寺碑》书风的一项是：

- A. 书法结体平正宽绰
- B. 细节表现趣味盎然
- C. 用笔精到细腻、变化丰富
- D. 提按顿挫明显，笔法滋润

58. 下列说法符合原文的一项是：

- A. 隋代书法流传于世的作品稀少
- B. 隋代书法多以文本书册传于世
- C. 《龙藏寺碑》共21行，每行23字，楷书
- D. 《董美人墓志》可被称为开初唐楷书之先河的作品

59. 能体现隋楷自身鲜明属性特征的作品是：

- A. 《董美人墓志》
- B. 《曹植庙碑》
- C. 《龙藏寺碑》
- D. 《八王寺碑》

60. 这篇文章主要介绍了隋代楷书的：

- A. 形成过程
- B. 重要意义
- C. 典型作品
- D. 艺术风格

※※※ 第二部分结束，请继续做第三部分！ ※※※

第三部分 数量关系

在这部分试题中，每道试题呈现一段表述数字关系的文字，要求你迅速、准确地计算出答案。

请开始答题：

61. 某公司有A、B两个部门打算在植树节种植一定数量的树木。其中，如果全部由A部门种植，需要6小时，全部由B部门种植，需要9小时。两个部门合作种植，则最终A部门比B部门多种植36棵树。实际种树过程中，AB部门合作3小时后，A部门因为其他工作不再种植，B部门最终完成剩余树木种植工作，则共用时多久？

- A. 3.5小时
- B. 4小时
- C. 4.5小时
- D. 5小时

62. 已知甲班人数比乙班人数多 $\frac{1}{3}$ 。下课后，两个班级均走了50%的人，甲班又有3人去了乙班，此时两班人数相同，则甲班原有多少人？

- A. 48
B. 36
C. 24
D. 18

63. 某商家以单价5元/个的价格买了200个水杯，一段时间后，以盈利60%的价格卖出了60%。剩余水杯的50%以亏本20%的价格出售，其余水杯因为有瑕疵最终未售卖出去，则最终该商家通过水杯盈利多少元？

- A. 320
B. 140
C. 120
D. 20

64. 某部门举办三场职业技能大赛，每名员工均可参加任意大赛。最终，只参加两场比赛的员工数比三场都参加的员工数多2倍，只参加一场比赛的员工数比未参加比赛的多5人，已知未参加比赛的人数最少且不为0。则该部门最少有多少人？

- A. 15
B. 13
C. 11
D. 9

65. 有一个4位密码的密码锁，如图所示： $\square\square\square\square$ 。已知，密码奇数位上的数字是从左向右依次递增的奇数；偶数位上的数字是从左向右依次递减的偶数。若密码中从左起的第二个数字大于第三个数字，则该密码的数字组合有多少种？

- A. 20
B. 26
C. 35
D. 36

66. 甲、乙两人分别从AB两地同时出发，4小时后相遇，此时甲走过的路程是乙走过路程的2倍。若乙每小时多走2公里，且提前4小时出发，则两人相遇时，乙走过的路程是甲走过路程的2倍。则甲每小时能走过的路程为多少公里？

- A. 6
B. 8
C. 10
D. 12

67. 从某部门甲乙丙丁四人中抽调二人组成小组开展工作，其中抽调的二人小组中有甲的概率是 x ；已确定抽调的人中必有乙，则另外一人是甲的概率为 y ，则 $x-y=?$

- A. 0
B. $\frac{1}{6}$
C. $\frac{1}{3}$
D. $\frac{1}{2}$

68. 有一本笔记本，每天被用掉一定的页数，已知从第三天开始用掉的页数总是比前两天少一页，且第一天用了1页，第五天用了4页笔记本，第六天比第五天多用2页，

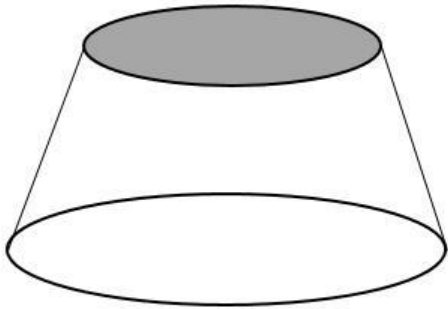
此时发现按照如此用法，该笔记本还可以用三天，则该笔记本共有多少页？

- A. 18
B. 27
C. 41
D. 63

69. 2020年一个三口之家的年龄总和为76岁。其中，父亲的年龄比母亲的年龄多 $\frac{1}{8}$ ，女儿的年龄是母亲年龄的 $\frac{1}{4}$ 。则在哪一年，父亲的年龄是女儿年龄的2倍？

- A. 2039年
B. 2040年
C. 2041年
D. 2042年

70. 有一个不计厚度的布罩子，如图所示，罩子底面是一个直径为20cm的圆，顶面是一个直径为10cm的圆，高为 $5\sqrt{3}$ cm，则制作该罩子需要多少 cm^2 的布料？



- A. 150π
B. 175π
C. 200π
D. 225π

71. 实验室环境中，有一杯浓度为30%的盐溶液。现向该溶液中加入100克水，浓度变为20%，继续加入100克水，溶液浓度将变为多少？

- A. 5%
B. 10%
C. 15%
D. 18%

72. 某8人小组举行歌唱评比，每人按固定顺序进行唱歌。最终得分显示，按顺序前5号得分的平均数高于前7号。其中，6号和7号分别得9分和7分。8人的平均分不到8分，则排序最后一名的选手最多可得多少分？（假设每人得分必须为整数）

- A. 9
B. 8
C. 7
D. 6

73. 甲乙两人去食堂吃饭，现只有3排有座位，各排分别有3、4、5个空位。则两人最终选在同一排吃饭的概率为：

- A. $\frac{1}{12}$
B. $\frac{1}{3}$

C. $\frac{19}{66}$

D. $\frac{5}{9}$

74. 有一个怪钟，每小时快6分钟。某天上午8点整，小白将这个怪钟调到标准时间，则当天该怪钟显示下午7:00时，标准时间是下午几点？

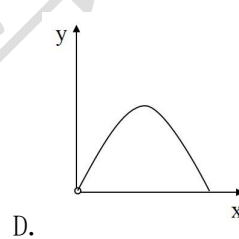
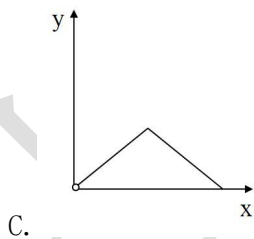
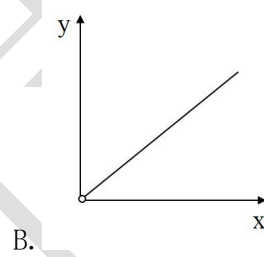
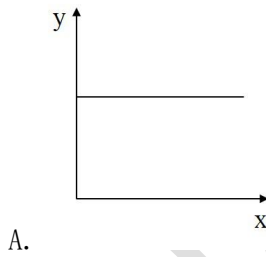
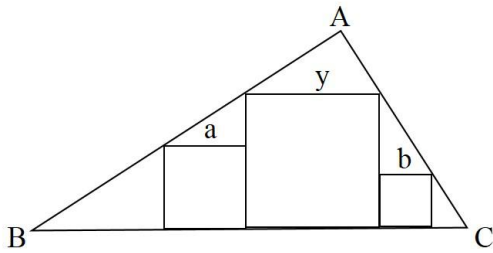
A. 4:00

B. 5:00

C. 5:30

D. 6:00

75. 如图所示，在直角三角形ABC（ $\angle A=90^\circ$ ）内放置边长分别为a, y, b的三个正方形，已知 $a+b=x$ ，且随着直角三角形ABC边长的变化，放置的三个正方形的边长也随之变化，则以下哪个坐标图能反映y与x的关系？



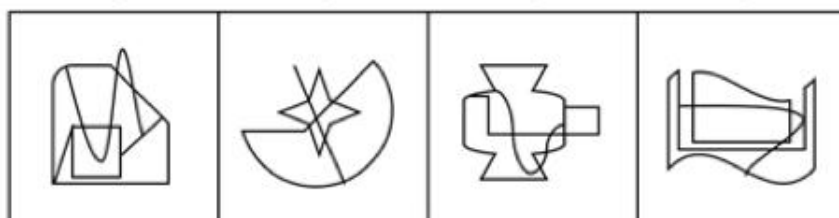
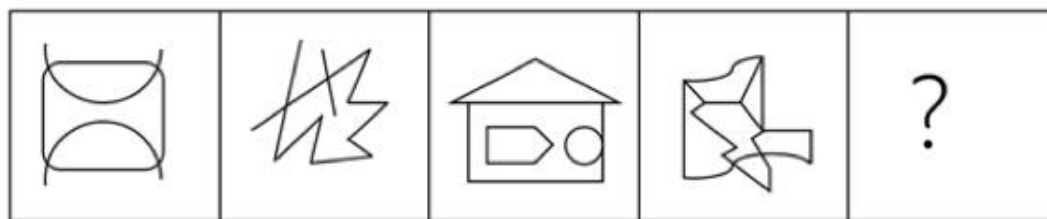
※※※ 第三部分结束，请继续做第四部分！ ※※※

第四部分 判断推理

一、图形推理。请按每道题的答题要求作答。

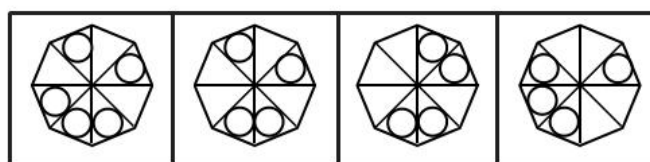
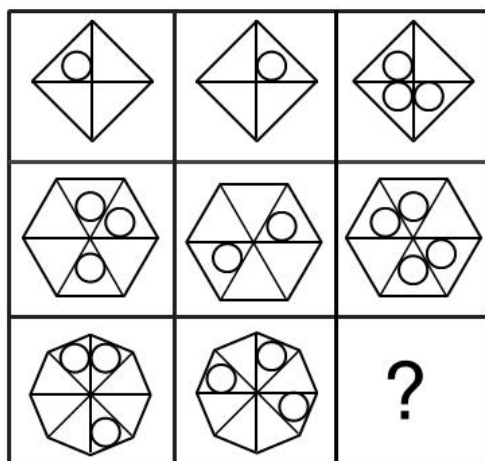
请开始答题：

76. 从所给的四个选项中，选择最合适的一个填入问号处，使之呈现一定的规律性：



A B C D

77. 从所给的四个选项中, 选择最合适的一个填入问号处, 使之呈现一定的规律性:



A B C D

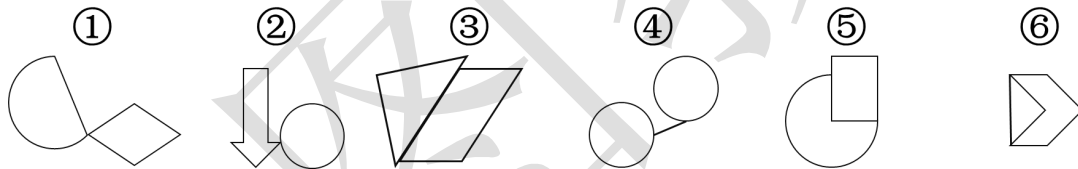
78. 从所给的四个选项中, 选择最合适的一个填入问号处, 使之呈现一定的规律性:

王	木	大
后	可	所
的	度	?

值	借	回	但
---	---	---	---

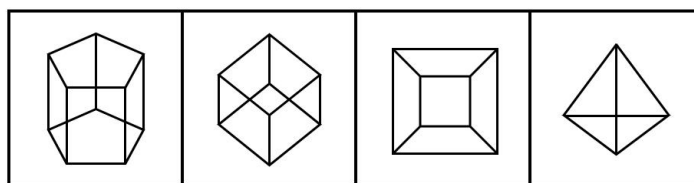
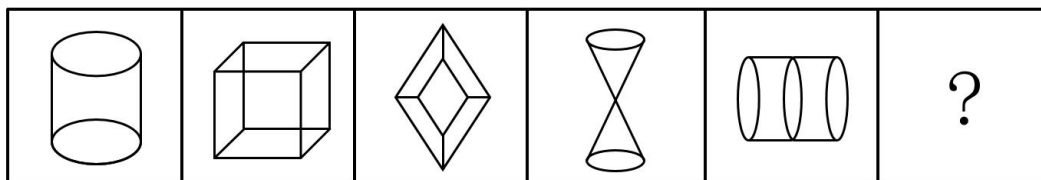
A B C D

79. 把下面的六个图形分为两类，使每一类图形都有各自的共同特征或规律，分类正确的一项是：



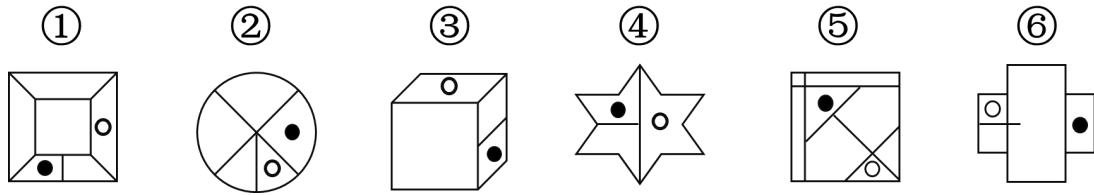
- A. ①③④, ②⑤⑥
- B. ①②④, ③⑤⑥
- C. ①③⑤, ②④⑥
- D. ①④⑤, ②③⑥

80. 从所给的四个选项中，选择最合适的一个填入问号处，使之呈现一定的规律性：




A B C D

81. 把下面的六个图形分为两类，使每一类图形都有各自的共同特征或规律，分类正确的一项是：



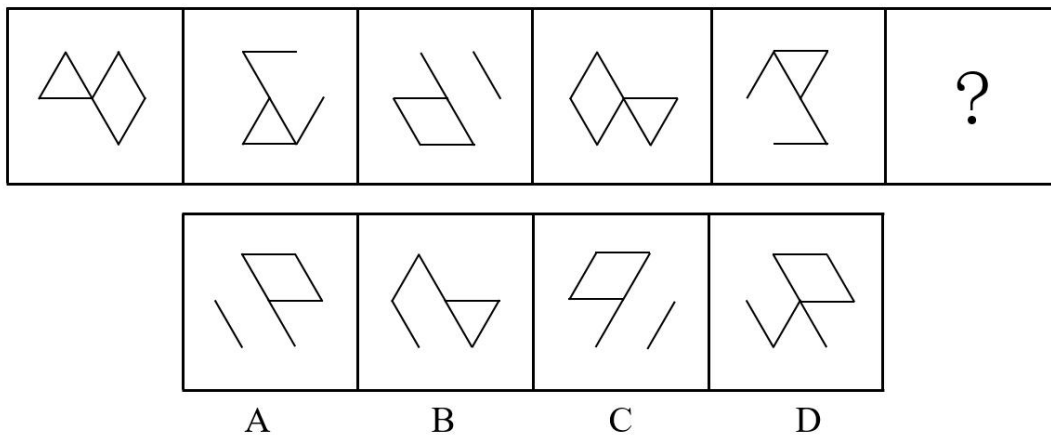
- A. ①②⑤, ③④⑥
- B. ①②⑥, ③④⑤
- C. ①③④, ②⑤⑥
- D. ①③⑥, ②④⑤

82. 把下面的六个图形分为两类，使每一类图形都有各自的共同特征或规律，分类正确的一项是：

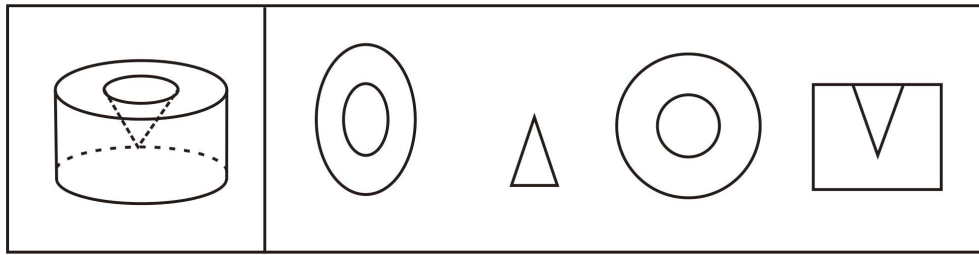


- A. ①②④, ③⑤⑥
- B. ①④⑥, ②③⑤
- C. ①②③, ④⑤⑥
- D. ①⑤⑥, ②③④

83. 从所给的四个选项中，选择最合适的一个填入问号处，使之呈现一定的规律性：

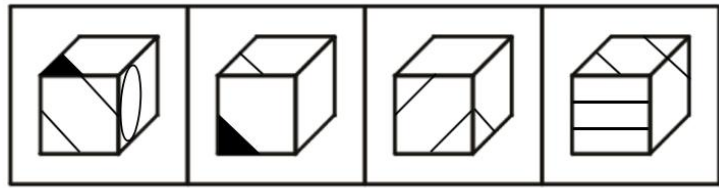
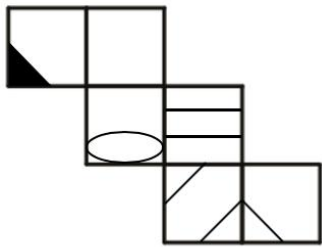


84. 左边是一个圆柱中间挖去了一个圆锥，右侧哪一个是左侧立体图形的截面图？



A B C D

85. 左边给定的是纸盒外表面的展开图，右边哪一项能由它折叠而成？请把它找出来。



A B C D

二、定义判断。每道题先给出定义，然后列出四种情况，要求你严格依据定义，从中选出一个最符合或最不符合该定义的答案。注意：假设这个定义是正确的，不容置疑的。

请开始答题：

86. 有一位叫布鲁玛·紫格尼克的心理学家，她给128个孩子布置了一系列作业，她让孩子们完成一部分作业，另一部分则令其中途停顿。一小时后测试结果：110个孩子对中途停顿的作业记忆犹新。紫格尼克的结论是：人们对已完成的工作较为健忘，因为“完成欲”已经得到满足，而未完成的工作则在脑海里萦绕不已。这就是所谓的“紫格尼克效应”。

根据上述定义，以下符合紫格尼克效应的是：

- A. 刚上初一的小乐每天回家第一件事就是写作业，有时候即使在学校写完了作业，回家也要再复习一遍
- B. 小吴做事总是心不在焉，工作效率很低，领导布置了同样的工作，同事们当天就能做完，他却要第二天才能完成
- C. 当你在一笔画圆时，在交接处有意留出一小段空白，回头再瞧一下这个圆，此刻你脑子里必定会闪现出要填补这段空白弧形的意念
- D. 开家长会时，班主任总是会特别强调小林和小红的名字，因为她们一个是第一名，一个是倒数第一名

87. 概念的限制,亦译“概念的限定”“概念的缩小法”,是通过增加概念的内涵,以减少概念的外延的逻辑方法。概念的限制是从属概念过渡到种概念的逻辑方法。

根据上述定义,以下不属于概念的限制的是:

- A. 学生——大学生
- B. 杯子——保温杯
- C. 发展——迅速发展
- D. 党员——干部

88. 基本归因错误描绘人们在考察某些行为或后果的原因时高估倾向性因素(谴责或赞誉他人)、低估情景性因素(谴责或赞誉环境)的双重倾向。它是归因理论的一个现象,即人们常常把他人的行为归因于人格或态度等内在特质上,而忽略他们所处情境的重要性。

根据上述定义,以下不符合基本归因错误的是:

- A. 小庞认为朋友就应该互相帮助,只要发现不合常规,他就认为这个朋友不是真正的朋友
- B. 小倩借了小舟的东西没有如期归还,小舟就认定小倩是个不讲信用的人,但事实上小倩是因为赶项目而没有时间归还
- C. 小兵找班主任请病假,班主任没有同意,因为小兵没有出具医生开具的病假条
- D. 销售人员小晶业绩不佳时,销售经理更倾向于认为是由于小晶的懒惰而不是竞争对手实力强

89. 让词句具有双重意义的修辞方式叫做双关。双关的两层含义,字面是次要的,言外之意是主要的。双关可分为谐音双关和语义双关两种。谐音双关,即利用音同或音近造成的双关。语义双关,即利用词语或句子在语境中形成的双重含义造成的双关。

根据上述定义,以下属于语义双关的是:

- A. 老张妻子不让他在家抽烟,老张只好在单位偷偷抽烟,偶尔他咳嗽一声,同事就会笑称他得了“气管炎”
- B. 《红楼梦》中贾惜春的判词写道“将那三春看破,桃红柳绿待如何”,暗含了贾史王薛四大家族的衰败,以及三位姐姐的不幸命运
- C. 东边日出西边雨,道是无晴却有晴
- D. 清花洁面乳的广告词是“清花洁面乳,只许痘留5天”

90. 词与词组合构成句法结构,把两种不同的句法结构混杂在一个表达式中,结果造成语句结构混乱、语义纠缠,这样的语病就叫杂糅。杂糅常见的形式有“举棋不定”和“反客为主”。所谓“举棋不定”,指的是时而要用这种结构,时而要用那种结构,

结果两种结构都用了；所谓“反客为主”，指的是把上半句主语以外的成分用来做下半句的主语，因此发生纠缠。

根据上述定义，以下属于反客为主杂糅的是：

- A. 向政府提意见是人民的责任
- B. 匪徒们偷袭游击队时，被游击队反包围，歼灭了无数匪军
- C. 《消费者权益保护法》深受广大消费者所欢迎，因为它强化了人们的自我保护意识
- D. 这慷慨悲歌的壮举的背后，还是自信心不够的表现

91. 暴力取证罪是侵犯公民人身权利、民主权利罪的一种，指司法工作人员使用暴力逼取证人证言的行为。暴力取证罪与刑讯逼供罪的区别在于：（1）目的不同。暴力取证罪行为人的目的是为了逼取证人证言，刑讯逼供罪行为人是为了逼取口供；（2）犯罪对象不同。暴力取证罪的对象限于刑事案件的证人，刑讯逼供罪的对象则是犯罪嫌疑人和被告人；（3）行为人方式有差异。刑讯逼供既可以是暴力方式，也可以使非暴力方式，而暴力取证罪则只能以暴力方式构成。

根据上述定义，以下属于暴力取证罪的是：

- A. 为了获得高额的诉讼代理费，律师王某对证人赵某进行威胁，迫使赵某在法庭上作虚假发言
- B. 齐某因为欠了高额赌债而东躲西藏，债主找到其朋友暴打一顿，目的是让其说出齐某下落
- C. 民警秦某为加快案件侦破的进度，对已有身孕的证人曲某拳打脚踢，让她说出嫌疑人曾出现在案发现场，结果致使其流产
- D. 熟悉心理学的刑警钱某对案发现场的目击证人进行催眠，通过对目击证人在催眠状态下的记忆提取，了解目击证人意识层面已经“遗忘”的相关信息，从而提升案件侦破速度

92. 在教育学中，波纹效应是指在学习的集体中，教师对有影响力的学生施加压力，实行惩罚，采取讽刺、挖苦等损害人格的做法时，会引起师生对立，出现抗拒现象，有些学生甚至会故意捣乱，出现一波未平，一波又起的情形。这时教师的影响力往往下降或消失不见，因为这些学生在集体中有更大的吸引力。

根据上述定义，以下符合波纹效应的是：

- A. 李老师对有画画天赋的小邹同学进行重点培养，鼓励其参加省级比赛，这一做法鼓舞了班里有其他特长的同学
- B. 高中生小聪作为队长带领团队获得了某项电子竞技赛的冠军，但是其班主任却在

课堂上说他“不务正业”，这导致很多学生对老师有意见，并多次在其课堂上捣乱

C. 小宇语文成绩很优秀，但数学成绩一直垫底，小宇的妈妈为此总是非打即骂，最终小宇对数学彻底失去了兴趣

D. 小武的爸爸是教导主任，从高一开始就一直密切关注小武的学习情况，不负众望的小武终于考上了理想的大学

93. 普通教育：主要以升学为目标，以基础科学知识为主要教学内容的学校教育，主要进行“全日制”学习的学历教育。普通教育是和成人教育相对应的概念，两者都属于学历教育，两者的区别主要在于教育对象和学习形式不同。普通教育的对象主要是处于成长阶段的青少年，采取全日制教学形式；成人教育的对象顾名思义是成年人，一般实行非全日制教学。

根据上述定义，以下不属于普通教育的是：

- A. 技工学校
- B. 高中教育
- C. 中等师范学校
- D. 函授形式的夜大

94. 城市文学是指以城市生活和城市居民为主要表现对象的文学，其内容围绕凸现城市特点这一中心向不同层面展开，具体包括勾勒城市风貌，书写城市印象，表现异于乡村的都市生活形态，彰显物质欲望，描写个体都市体验以及刻画各类市民形象等。

根据上述定义，以下属于城市文学的是：

- A. 《黄油烙饼》以中国20世纪60年代广大农村推行“大炼钢铁”运动为背景，描写了萧胜一家在饥饿年代里的故事
- B. 《蒲柳人家》通过一个六岁儿童何满子的视角，生动地描述20世纪30年代中期，中国共产党领导下的抗日救亡运动在冀东北农村的深入开展
- C. 《奇迹之城》以巴塞罗那城1888年度和1929年度两届世界博览会为背景，全景式地展现了巴塞罗那城市近四十年发展历程，作品对城市与人之间的关系作出了深刻的思考
- D. 《秦腔》以两条线展开，一条线是秦腔戏曲，一条线是农民与土地的关系。这两条线相互纠结，在一个叫清风街的村庄里演变着近三十年的历史

95. 不能犯未遂简称“不能犯”，指行为人已经着手实行犯罪，由于行为人事前认识错误而不可能达到犯罪既遂状态的一种犯罪未遂。

根据上述定义，以下不属于“不能犯”的是：

- A. 甲同学想要毒杀舍友，在饮水机投放了自认为是“毒药”的白色粉末（事后证明

是面粉)，结果喝了水的舍友都安然无恙

B. 王某因生意失利产生报复社会的心理，某天在人来人往的大街上用枪扫射路人，但是他并不知道枪内没有子弹

C. 林某为报复徐某，在某天晚上潜入徐某家中将躺在床上的徐某枪杀后逃走，事后经法医鉴定，被射杀前徐某已经因心脏病发死亡三小时了

D. 江某将含有砒霜的糖果喂给婴儿，幸亏婴儿的母亲及时赶到制止了悲剧的发生

三、类比推理。每道题先给出一组相关的词，要求你在备选答案中找出一组与之在逻辑关系上最为贴近、相似或匹配的词。

请开始答题：

96. 左转：右转

A. 塔葬：风俗

C. 左手：右手

97. 快递单号：物流信息

A. 问卷：数据

C. 温度计：水银

98. 推陈出新：吐故纳新

A. 返璞归真：矫揉造作

C. 攀龙附凤：依草附木

99. 支付宝：现金

A. 淘宝：实体店

C. 你：我

100. 隐瞒：病史：误诊

A. 提供：伪证：错判

C. 积累：经验：成功

101. 刘彻：汉世宗：汉武帝

A. 李世民：唐太宗：唐文帝

C. 朱元璋：明太祖：明成祖

102. 车辆：车牌号：字母

A. 人：身份证号：数字

C. 化妆品：年份：保质期

103. 河南：河北：黄河

B. 左侧卧：右侧卧

D. 拂晓：黎明

B. 准考证号：考试成绩

D. 证据：犯罪事实

B. 天翻地覆：沧海桑田

D. 拜将封侯：名誉扫地

B. 微博：客户端

D. 警告：书面警告

B. 交通：拥堵：晚点

D. 解释：含混：误解

B. 赵匡胤：宋太祖：宋真宗

D. 爱新觉罗·玄烨：清圣祖：清高宗

B. 商品：商标：包装

D. 手机：型号：通讯

A. 湖南：湖北：洞庭湖 B. 山西：山东：恒山

C. 江西：江苏：赣江 D. 广西：广东：广州

104. 枕头 之于 () 相当于 防护服 之于 ()

A. 寝具；医用防护服 B. 枕芯；帽子

C. 乳胶；连身式 D. 颈椎；隔热

105. 京剧 之于 () 相当于 黄芪 之于 ()

A. 国粹；地黄 B. 平剧；降压

C. 胡琴；耐旱 D. 武术；当归

四、逻辑判断。每道题给出一段陈述，这段陈述被假设是正确的，不容置疑的。要求你根据这段陈述，选择一个答案。注意：正确的答案应与所给的陈述相符合，不需要任何附加说明即可以从陈述中直接推出。

请开始答题：

106. 通过对中国武汉和深圳三家医院的2173例COVID-19患者的血型分布与相应地区正常人群的血型分布进行比较之后发现，与正常人相比，COVID-19患者中A和O型血的比例分别明显升高和降低。武汉和深圳另外两家医院的398名患者也观察到了相似的ABO分布模式。对汇总数据进行的分析显示，与非A血型相比，A型血的COVID-19感染风险显著更高，与非O型血型相比，O型血的感染风险显著降低。

下列哪项如果为真，最不能质疑上述论点？

A. 研究样本来自武汉和深圳的三家三甲医院的2173例患者，这些样本虽然真实存在，但数量不够大，不具备代表性

B. 由于样本信息资料不全，上述研究没能考虑年龄因素，而高龄人容易感染，感染后病情容易比较严重

C. 根据疫情调查的其他相关数据发现，血型对COVID-19患者病情的严重性有很大影响

D. 诺沃克病毒和乙型肝炎具有明确的血型易感性，但是对于COVID-19与血型之间的联系和背后机制，不能仅通过数据得出

107. 《英国癌症杂志》上的一项研究发现：腰围每增加11厘米，患肥胖症相关癌症的风险将提高13%。《美国癌症学会期刊》亦对腹型肥胖提出警示：腰围每增加10cm，患食管腺癌的风险会增加34%。总之，所有研究汇成一句话就是：腰越粗，命越短。

下列哪项如果为真，最能质疑上述论点？

-
- A. 对于肠癌来说，腰围每增加8厘米即伴随着患癌风险15%的提升
- B. 腹部胖说明内脏脂肪多，意味着心脏等地被厚厚的脂肪包裹住了，就容易被疾病登门拜访
- C. 体型多种多样，只要BMI在18.5—23.9的范围之内，养成良好的生活习惯，就可以远离疾病
- D. 腹部、大腿和胳膊都是容易堆积脂肪的地方，相比于其他地方而言，腹部胖更影响美观

108. 研究发现参加艺术活动有助于延年益寿。在过去的12年中，一些专家对6000多名年龄超过50岁的英国人的健康状况进行了分析。与不参加艺术活动的人相比，每年与艺术有1-2次交集的人，过早死亡的风险降低了约14%。对于那些有几个月的时间沉浸于艺术的人们，负面指标下降了31%。因此研究人员建议大家多去参观博物馆、艺术展会、剧院和音乐会。

下列哪项如果为真，最不能支持上述论点？

- A. 艺术活动是可以刺激负责控制创造力和想象力的右脑的综合活动，不仅可以提升人的智力，还能提高预期寿命
- B. 艺术活动是多模式健康干预措施，在内在审美动机的驱动下，参与艺术活动可以综合调动心理、身体、社会和行为等多重因素
- C. 艺术有助于改善人们的心理和身体状况，同时还减少了抑郁、痴呆、慢性疼痛的风险
- D. 中小学校和大学中与音乐和其他艺术研究有关的学科数量的减少会影响学生艺术鉴赏能力的培养

109. A、B、C、D为四位男生，他们喜欢的运动各不相同，有篮球、羽毛球、乒乓球和足球四种，在问到他们各自喜欢的运动时，A说：“B不喜欢打篮球。” B说：“C喜欢打羽毛球。” C说：“D不喜欢打乒乓球。” D说：“A、B、C三人中有一个人喜欢羽毛球，而且只有这个人说的是实话。”

如果D说的是实话，那么以下说法中正确的是：

- A. C喜欢打乒乓球，D喜欢打羽毛球
- B. B喜欢打乒乓球，C喜欢踢足球
- C. A喜欢打羽毛球，B喜欢踢足球
- D. D喜欢打羽毛球，A喜欢踢足球

110. 有黄色、蓝色、白色、红色四种颜色的球，甲、乙、丙、丁四个人每人领一种，甲：“我领到了黄色球”，乙：“我领到了红色球”，丙说：“甲说谎，他领到了

白球”，丁：“我领到了蓝色球”。

如果只有两个人说的是真话，则一定可以推出的是：

- A. 乙领到的是红色球
- B. 丁领到的是蓝色球
- C. 丙领到的不是白色球
- D. 甲领到的不是黄色球

111. 美国研究人员发现，体罚可能影响孩子智商。美国健康生活新闻网报道，这一发现源自惩戒与家庭暴力专家默里·施特劳斯与同事的跟踪调查。两人调查了美国806名2~4岁儿童和704名5~9岁儿童的智力测试分数，4年后再次测试后发现：前一个年龄组中未遭体罚过的儿童智商平均得分比经常挨打者高5分；后一组中这一差距为2.8分。

下列哪项如果为真，最能支持上述论点？

- A. 研究表明，经常受体罚的儿童数学成绩都较差
- B. 总被老师批评的孩子考试发挥失常的概率较高
- C. 体罚容易使孩子的认知、思维能力等受到较大不利影响
- D. 父母如果受过良好教育，孩子的智商往往较高

112. 科学家们的一项研究证实了运动有助于解决头部噪音。科学家们认为，是运动和锻炼让大脑活动改善了，因为运动员和音乐家经常必须在嘈杂的环境中进行运动和表演，不得不把噪音从工作中分离开来，这训练了大脑并“教会了”它减少背景“干扰”。

下列哪项如果为真，最能支持上述论点？

- A. 在噪声环境中，大提琴演奏家比其他音乐家具有更强的抗干扰能力
- B. 运动可以刺激头部中枢神经，从而帮助大脑快速把噪音从工作中分离开来
- C. 在嘈杂的环境中人们可以通过训练提高大脑的抗干扰能力
- D. 音乐演唱能力越强，大脑活动能力越高

113. 据美国《新闻周刊》网站2019年12月31日报道，研究人员分析了7个国家的28项现有研究的数据。这些研究涉及20897名年龄在1岁到18岁之间的健康儿童和青少年。他们的结论是，与喝低脂牛奶的孩子相比，喝全脂牛奶的孩子超重或肥胖的概率要低40%。

下列哪项如果为真，最能支持上述论点？

- A. 对美国和加拿大的许多儿童来说，牛奶是膳食脂肪的主要来源
- B. 全脂牛奶要比脱脂牛奶的饱腹感更强，能够延缓饥饿感，更加有利于减重

C. 从不喝牛奶的孩子超重或肥胖的概率较低

D. 青少年比中老年人更容易超重或肥胖

114. 经过省人民医院专家会诊，确定了如下事实：

(1) 如果甲和乙感染了病毒，则丙未感染；

(2) 丙感染了病毒，而且有关丁的体检报告是准确的；

(3) 只有丁的体检报告不准确，乙才未感染病毒。

根据以上陈述，可以得出下列哪项？

A. 甲没有感染病毒，乙感染了

B. 甲和丙都感染了病毒

C. 甲感染了病毒，乙未感染

D. 丙和丁都感染了病毒

115. 美国一项研究发现，世上有一小撮天生每日毋须睡满6小时都能精力旺盛，属于精明能干、外向的“少睡精英”。一般人如果睡不够，会脾气暴躁，办事能力下降，影响健康等，但研究者发现，有约1%至3%人口是天生的“短睡者”，他们像猫头鹰和早起鸟儿的混合体，深宵仍不会昏昏欲睡，只睡4至5小时即能精力充沛地处理一日事务，全日都不会打盹。他们不仅精力无穷，健健康康，还似乎较具耐痛和调适情绪能力，个性倾向外向、乐观和好挑战。专家发现，他们体内均含一种叫“hDEC2”的细微基因突变，用基因工程人为获得此基因突变的实验鼠也有抗睡能力。

根据上述内容，以下除哪项外均可以推出？

A. “短睡者”天生不喜欢睡觉

B. “短睡者”每天可以只睡四五个小时就精力充沛

C. “短睡者”体内含有抗睡能力的基因

D. 大部分人需要睡满6个小时

※※※ 第四部分结束，请继续做第五部分！ ※※※

第五部分 资料分析

所给出的图、表、文字或综合性资料均有若干个问题要你回答。你应根据资料提供的信息进行分析、比较、计算和判断处理。

请开始答题：

一、根据以下资料，回答116~120题。

2019年全国城镇私营单位就业人员年平均工资为53604元，比上年增加4029元，名

义增长8.1%，增速比2018年回落0.2个百分点。扣除价格因素，2019年全国城镇私营单位就业人员年平均工资实际增长5.2%。

分四大区域看，城镇私营单位就业人员年平均工资由高到低依次是东部、西部、中部和东北地区，分别为59471元、46777元、43927元和39861元，比上年分别增长7.7%、6.7%、7.0%和7.5%。

分行业门类看，年平均工资最高的三个行业分别为信息传输、软件和信息技术服务业，金融业76107元，科学研究和技术服务业67642元，分别为全国平均水平的1.59倍、1.42倍和1.26倍。年平均工资最低的行业分别是农、林、牧、渔业，住宿和餐饮业42424元，居民服务、修理和其他服务业43926元，分别为全国平均水平的70%、79%和82%。

从增长速度看，年平均工资增速最高的三个行业依次为金融业、采矿业和电力、热力、燃气及水生产和供应业，分别增长20.9%、12.7%和12.2%。增速最低的行业依次为农、林、牧、渔业，水利、环境和公共设施管理业以及房地产业，分别增长3.8%、4.8%和5.9%。

116. 2017年，全国城镇私营单位就业人员年平均工资约为：

- A. 45332元
- B. 45776元
- C. 45860元
- D. 54062元

117. 2019年，我国城镇私营单位就业人员年平均工资同比增量最多的区域是：

- A. 东北地区
- B. 西部地区
- C. 中部地区
- D. 东部地区

118. 2019年我国年平均工资最高的行业约比最低行业多多少倍？

- A. 2.2
- B. 1.7
- C. 1.3
- D. 0.9

119. 按照2018年价格计算2019年全国城镇私营单位就业人员年平均工资约为多少元？

- A. 49587
- B. 52166
- C. 53604
- D. 56391

120. 根据上述资料，以下说法正确的是：

- A. 2020年，我国年平均工资增速最高的行业比增速最低的行业增速高17.1个百分点
- B. 2018年，我国农、林、牧、渔业年平均工资不足3.5万元
- C. 2019年，增速最快的区域其年平均工资是增速最慢的区域的1.5倍以上
- D. 若保持2019年的增速，2020年，年平均工资最低的行业与其他行业年平均工资差距均增加

二、根据以下资料，回答121~125题。

2020年1—4月份全国规模以上工业企业主要财务指标

分 组	营业收入		营业成本		利润总额	
	1-4 月	同比增长	1-4 月	同比增长	1-4 月	同比增长
	(亿元)	(%)	(亿元)	(%)	(亿元)	(%)
总计	283082.5	-9.9	240373.2	-9.1	12597.9	-27.4
其中：采矿业	11461.8	-9.4	8434.7	-5.0	1110.1	-35.2
制造业	247764.0	-10.3	210762.8	-9.7	10269.5	-26.8
电力、热力、燃气及水生产和供应业	23856.7	-5.7	21175.6	-4.9	1218.3	-24.3
其中：国有控股企业	78856.0	-9.7	65179.5	-7.7	3046.3	-46.0
其中：股份制企业	210383.1	-9.4	178149.4	-8.7	9249.0	-26.6
外商及港澳台商投资企业	62916.5	-12.1	53550.2	-11.2	3121.3	-28.8
其中：私营企业	93432.9	-9.2	81287.2	-9.1	3920.1	-17.2

注：1.经济类型分组之间存在交叉，故各经济类型企业数据之和大于总计。

2.本表部分指标存在总计不等于分项之和的情况，是数据四舍五入所致，未作机械调整。

3.营业收入利润率=利润总额÷营业收入×100%，单位：%。

4.每百元营业收入中的成本=营业成本÷营业收入×100，单位：元。

5.每百元资产实现的营业收入=营业收入÷平均资产÷累计月数×12×100，单位：元。

121. 2019年1—4月份，我国规模以上采矿业营业收入利润率约为：

- A. 25.2%
- B. 21.1%
- C. 17.3%
- D. 13.5%

122. 按照2020年1—4月同比增速，2021年1—4月份全国规模以上制造业营业收入约为：

- A. 272540亿元
- B. 253418亿元
- C. 222244亿元
- D. 198971亿元

123. 2020年1—4月份全国规模以上外商及港澳台商投资企业每百元营业收入中的成本约为：

- A. 85.1元
- B. 85.7元
- C. 117.5元
- D. 119.2元

124. 若2020年1—4月份全国规模以上国有控股企业每百元资产实现的营业收入为51.9元，则同期全国规模以上国有控股企业平均资产约为：

- A. 473136亿元
- B. 455815亿元
- C. 378921亿元
- D. 136420亿元

125. 根据上述资料，以下说法错误的是：

A. 2019年1—4月份，全国规模以上电力、热力、燃气及水生产和供应业营业成本未超过采矿业的3倍

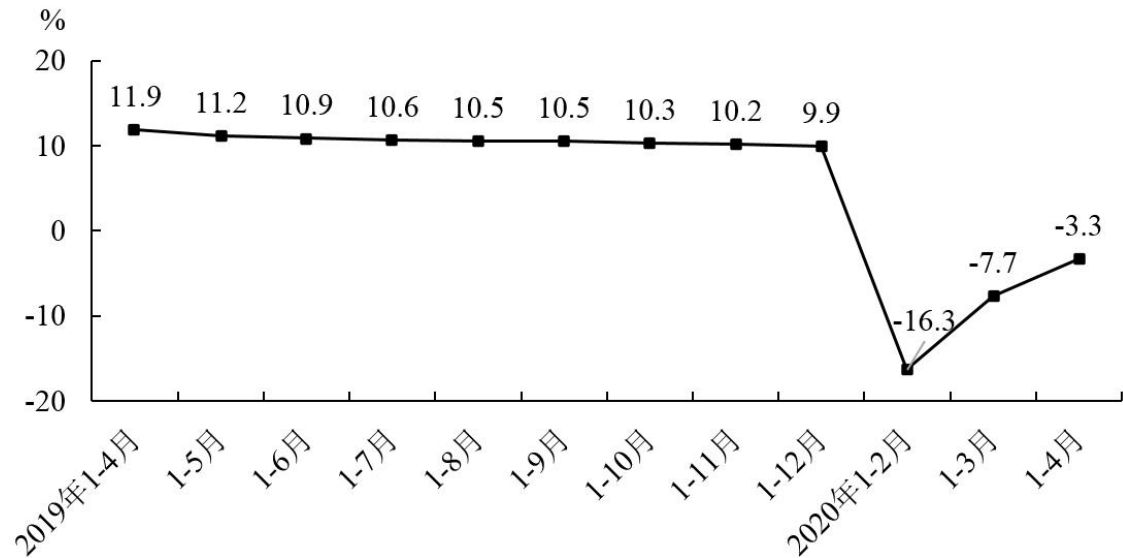
B. 2020年1—4月份，全国规模以上工业企业中电力、热力、燃气及水生产和供应业营业收入占比较去年同期有所下降

C. 2020年1—4月份，全国规模以上制造业利润总额超过采矿业及电力、热力、燃气及水生产和供应业之和的4倍

D. 2020年1—4月份，全国规模以上国有控股企业营业成本同比降幅较私营企业利润总额同比降幅低9.5个百分点

三、根据以下资料，回答126~130题。

2020年1—4月份，全国房地产开发投资33103亿元，同比下降3.3%，降幅比1—3月份收窄4.4个百分点。其中，住宅投资24238亿元，下降2.8%，降幅收窄4.4个百分点。



全国房地产开发投资同比增速

1—4月份，东部地区房地产开发投资18444亿元，同比下降3.1%，降幅比1—3月份收窄3.0个百分点；中部地区投资6418亿元，下降10.6%，降幅收窄8.1个百分点；西部地区投资7342亿元，增长3.7%，1—3月份为下降0.8%；东北地区投资900亿元，下降1.6%，降幅收窄12.4个百分点。

1—4月份，房地产开发企业房屋施工面积740568万平方米，同比增长2.5%，增速比1—3月份回落0.1个百分点。其中，住宅施工面积521043万平方米，增长3.8%。房屋新开工面积47768万平方米，下降18.4%，降幅收窄8.8个百分点。其中，住宅新开工面积35248万平方米，下降18.7%。房屋竣工面积19286万平方米，下降14.5%，降幅收窄1.3个百分点。其中，住宅竣工面积13709万平方米，下降14.5%。

1—4月份，房地产开发企业土地购置面积3151万平方米，同比下降12.0%，降幅比1—3月份收窄10.6个百分点；土地成交价款1699亿元，增长6.9%，1—3月份为下降18.1%。4月末，商品房待售面积52255万平方米，比3月末减少472万平方米。

126. 相比于2018年同期，2020年1—4月份，全国房地产开发投资约：

A. 减少10.7%

B. 增长10.7%

C. 增长9.0%

D. 增长8.2%

127. 我国各地区中, 2020年1—3月份房地产开发投资同比增速由大到小排序正确的是:

A. 中部地区、东北地区、东部地区、西部地区

B. 西部地区、东部地区、东北地区、中部地区

C. 西部地区、东北地区、东部地区、中部地区

D. 西部地区、东部地区、中部地区、东北地区

128. 2019年末, 我国房地产开发企业房屋施工面积中住宅施工面积为多少万平方米?

A. 769050

B. 712086

C. 542582

D. 499504

129. 2020年1—3月份, 全国房地产开发企业土地购置单价同比约增长:

A. 减少38.1%

B. 减少5.5%

C. 增长5.8%

D. 增长61.5%

130. 根据上述资料, 以下说法正确的有几项?

①2020年1—4月份, 房地产开发企业房屋施工面积、新开工面积及竣工面积中住宅面积占比最高的是房屋施工面积

②2020年1—3月份, 全国房地产开发投资中非住宅投资同比增速低于-8.2%

③2020年4月末, 我国商品房待售面积环比下降超过0.9%

A. 0

B. 1

C. 2

D. 3

四、根据以下资料, 回答131~135题。

2020年1—4月份, 全国规模以上工业企业实现利润总额12597.9亿元, 同比下降27.4%, 降幅比1—3月份收窄9.3个百分点。

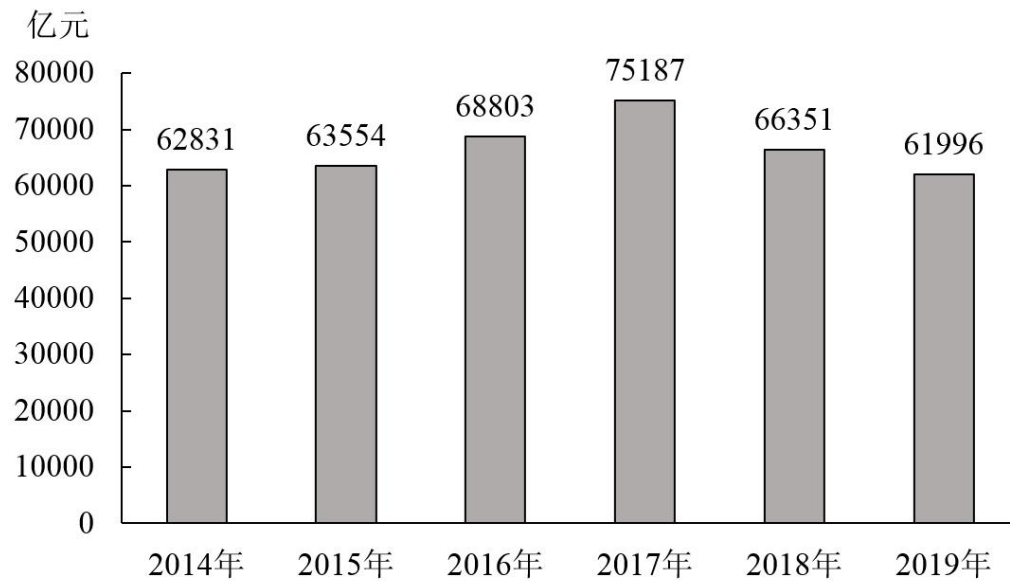
1—4月份, 规模以上工业企业中, 国有控股企业实现利润总额3046.3亿元, 同比下降50.1%; 股份制企业实现利润总额9249.0亿元, 下降25.2%; 外商及港澳台商投资企业实现利润总额3121.3亿元, 下降28.8%; 私营企业实现利润总额3920.1亿元, 下降17.2%。

1—4月份, 采矿业实现利润总额1110.1亿元, 同比下降35.2%; 制造业实现利润总额10269.5亿元, 下降26.8%; 电力、热力、燃气及水生产和供应业实现利润总额1218.3亿元, 下降24.3%。

1—4月份, 规模以上工业企业实现营业收入28.31万亿元, 同比下降9.9%。

4月末, 规模以上工业企业资产总计117.69万亿元, 同比增长6.3%; 负债合计66.80

万亿元；所有者权益合计50.89万亿元，增长6.4%。



2015—2019年全国规模以上工业企业实现利润总额

131. 若去年同期实现的利润总额未超过一季度平均值，则2020年4月，全国规模以上工业企业实现利润总额同比增速约为：

- A. 低于 -36.7%
- B. $-36.7\% \sim -27.4\%$
- C. $-27.4\% \sim 0.5\%$
- D. 高于 0.5%

132. 2020年1—4月份，我国规模以上工业企业中，国有控股企业实现利润总额同比变化量与股份制企业实现利润总额的同比变化量相差约为：

- A. -57 亿元
- B. 57 亿元
- C. 306 亿元
- D. 359 亿元

133. 2019年1—4月份，下列行业实现利润总额由大到小排序正确的是：

- A. 制造业 采矿业 电力、热力、燃气及水生产和供应业
- B. 制造业 电力、热力、燃气及水生产和供应业 采矿业
- C. 采矿业 电力、热力、燃气及水生产和供应业 制造业
- D. 采矿业 制造业 电力、热力、燃气及水生产和供应业

134. 下列时间段中，全国规模以上工业企业实现利润总额年均增长最快的是：

- A. 2014—2016年
- B. 2015—2017年
- C. 2016—2018年
- D. 2017—2019年

135. 根据上述资料，以下说法正确的是：

- A. 2020年1—4月份，我国规模以上工业企业实现营业收入的利润率超过 5%
- B. 2019年4月末，我国规模以上工业企业所有者权益合计不足 45 万亿元

C. 2019年4月末,我国工业企业资产负债率(负债总额与资产总额的比值)约为56.8%

D. 2020年4月末,我国规模以上工业企业资产负债率同比下降

※※※

全部测验到此结束!

※※※

