

2020年福建905事业联考试题

第一部分 公共基础知识

根据题目要求，在四个选项中选出一个正确答案。(共30题，每题0.8分，计24分)

1.近日，习近平总书记作出重要指示，指出要加强立法，强化监管，采取有效措施，建立长效机制，坚决制止（ ）要进一步加强宣传教育，切实培养节约习惯，在全社会营造浪费可耻、节约为荣的氛围。

- A.餐桌浪费现象
- B.超前消费行为
- C.餐饮浪费行为
- D.奢侈浪费现象

2.2020年8月20日，习近平总书记在合肥主持召开扎实推进长三角一体化发展座谈会并发表重要讲话，深刻阐明长三角区域在国家经济社会发展中的重要地位和作用，结合新形势新需求，就紧扣（ ）两个关键词抓好重点工作作出新部署。

- A.大保护和大规模
- B.一体化和高质量
- C.内循环和外循环
- D.一体化和创新性

3.2020年7月31日，北斗三号全球卫星导航系统正式开通，开始为全球用户提供全时定位、导航和授时服务。从哲学的角度看，卫星导航系统的出现和运用：

- A.是对客观规律的认识和利用
- B.表明运动是物质的唯一特性
- C.是对客观规律的观察和改造
- D.表明主观能动性起决定作用

4.全面建成小康社会是我们党向人民、向历史作出的庄严承诺。当前，全面建成小康社会，在生态环境、公共服务等方面还存在短板弱项。补短板、强弱项，必须聚焦问题的原因，分类施策，精准攻坚。从哲学的角度看，这主要体现了：

- A.矛盾的普遍性，要一分为二地看问题
- B.矛盾的特殊性，要具体问题具体分析
- C.联系的条件性，要找准本质必然的联系
- D.联系的客观性，要着眼于事物的整体性

5. 重大传染病和生物安全风险是事关国家安全和发展的重大风险挑战。新冠肺炎疫情发生后，中央强调要把生物安全纳入国家安全体系。这提升了我们对国家安全认识。这说明：

- A. 实践的目的是为了获得认识
- B. 实践的变化推动着认识的发展
- C. 真理是包含目的和终点在内的运动
- D. 认识的发展是一个由正确认识替代错误认识的过程

6. 中国特色社会主义进入新时代，各级党委和政府要按照党中央统一部署，坚定不移沿着中国特色社会主义道路前进，推进治理体系和治理能力现代化，努力提高促进社会公平正义、保障人民安居乐业的能力。这是因为：

- A. 社会存在要与社会意识相适应
- B. 生产力要适应生产关系的发展
- C. 上层建筑对经济基础具有反作用
- D. 人民群众的实践是社会变革的决定性力量

7. 在抗击新冠肺炎疫情的斗争中，涌现一大批可歌可泣的先进典型。为了表彰他们做出的贡献，8月11日，国家授予钟南山“共和国勋章”，授予张伯礼、张定宇、陈薇“人民英雄”国家荣誉称号。这表明：

- A. 人的价值在于实现对自我的满足
- B. 人的价值在于得到社会的广泛认可
- C. 个人的自我价值和社会价值是对等的
- D. 人既是价值的创造者，又是价值的享受者

8. 近期，我国部分地区小麦价格出现了上涨势头，给居民的生活消费带来了一定影响。由此可能对我国经济产生的影响是：

- A. 大米、玉米等粮食的消费量增加，推升替代品价格
- B. 农产品价格上涨，消费者大量减少对农产品的消费
- C. 农产品生产、加工等成本增加，导致其价格上涨
- D. 居民的恩格尔系数有一定程度的下降

9. 《中华人民共和国环境保护税法》根据“污染者付费”原则，规定环境污染者的税负与污染程度相关，税额与环境恢复的费用大体相当。实施这一税法最可能引起的反应是：

- A. 增加消费者经济负担—提高消费水平—养成文明消费习惯—改善生态环境
- B. 增加企业生产成本—减少企业利润—引导企业实现低排放—改善生态环境
- C. 引导企业实现低排放—降低企业生产成本—增加企业利润—改善生态环境
- D. 增加企业生产成本—增加消费者经济负担—减少消费浪费—改善生态环境

10. 国家统计局每年公布各省份的绿色发展指数，开展生态文明建设年度评价。这一做法对于完善经济社会发展评价体系，加快推进绿色发展和生态文明建设具有重要的导向作用。下列做法不能直接提升绿色发展指数的是：

- A. 某省所有一级客运站改为身份证或人脸识别自助检票
- B. 某类企业减少铅酸蓄电池、含汞锌镉干电池的生产
- C. 某市对购置新能源汽车的用户给予一定补贴
- D. 某镇政府大力推行新农村天然气改造工程

11. 某国一定时期内市场上流通的货币量为 6 万亿元, 为了刺激经济计划增加 20% 的货币供应量, 但执行后货币实际流通量达到 10 万亿元; 此时货币贬值程度为:

- A. 18%
- B. 28%
- C. 39%
- D. 47%

12. 假设全国居民消费价格指数同比上涨 2.4%, 高于同期银行一年期定期存款基准利率 1.5%, 导致银行存款实际利率为负数。在“负利率”时代, 理性个体不该采取的做法是:

- A. 减少储蓄存款
- B. 增加现时消费
- C. 增加个人消费信贷
- D. 提前偿还银行贷款

13. 近年来, 我国小微企业发展迅速, 但也面临着融资渠道窄、融资成本高、融资规模小等问题。下列措施中, 有帮手解决该问题的是:

- A. 提高企业资源利用率
- B. 降低银行存贷款利率
- C. 降低企业增值税起征点
- D. 提高银行存款准备金率

14. 研究发现, 青年人没钱也“贷款买车”, 中年人“损钱买车”, 老年人即使买得起车也会嫌“养车费钱”而不愿买车。老中青三代在家庭购车上的不同选择, 主要反映了他们:

- A. 消费观念的差异
- B. 消费支出的差异
- C. 生活质量的差距
- D. 经济收入的差距

15. 关于监察委员会, 下列说法正确的是,

- A. 上下级监察委员会之间的工作关系主要表现为相互监督
- B. 对涉嫌行贿犯罪或者共同职务犯罪的涉案人员, 监察委员会不可以采取留置措施
- C. 依法应当留置的被调查人如果在逃, 监察委员会可以在本行政区域内发布通缉令
- D. 各级监察委员会可以向本级中国共产党机关、国家机关派驻或者派出监察机构、监察专员

16. 甲对女友乙心怀怨恨, 意欲杀乙, 某日甲借故来到乙家, 将一整瓶安眠药掺入咖啡让乙喝下。甲见乙在床上昏睡认为药物已发生作用, 随即离开寻找自杀之处。甲犹豫徘徊一整天, 心生悔意忙回头欲救乙, 却发现乙已被他人送往医院抢救, 并无生命危险。对甲:

- A. 可以比照既遂犯从轻或者减轻、免除处罚
- B. 可以比照既遂犯从轻或者减轻处罚
- C. 应当免除处罚
- D. 按既遂犯处罚

17. 下列体现出法的评价作用的是:

- A. 金某说: “我的邻居张甲是个大孝子。”
- B. 魏某说: “我国法制建设取得了巨大成就。”
- C. 陶某说: “贪官李某枉法获刑, 罪有应得。”
- D. 姜某说: “高空抛物的法律规定有待进一步完善。”

18.9岁童星李小杰收入颇丰。其叔李某强生活困难，李小杰父亲李某军征得李小杰口头同意后，将李小杰片酬10万元以李小杰名义赠与李某强。对于这一赠与行为的法律效力，下列说法正确的是：

- A.有效，因为李某军是李小杰的法定代理人，且已征得李小杰同意
- B.无效，因为李某军仅征得李小杰口头同意，未签订书面协议
- C.无效，因为李某军处分李小杰的财产不是为了李小杰的利益
- D.效力待定，因为李某军未征得李小杰母亲的同意

19.下列选项中，属于司法活动的是：

- A.某建设局核发建筑工程师执业许可证
- B.某交通警察对交通违章人员处以罚款
- C.最高人民法院向全国人民代表大会做工作报告
- D.检察机关批准逮捕涉嫌危害国家安全的犯罪嫌疑人李某

20.某农药厂违规向外排放毒性超标的工业废水，导致甲村的饮用水被污染而无法饮用。该村村民的下列做法没有法律依据的是：

- A.直接要求该农药厂停止侵害，消除危险并赔偿损失
- B.直接向法院提起民事诉讼，要求该农药厂承担民事责任
- C.直接请求生态环境主管部门对该农药厂的违法行为展开调查
- D.直接向法院提起行政诉讼，要求生态环境主管部门承担行政赔偿责任

21.我国宪法规定：“中国共产党领导的多党合作和政治协商制度将长期存在和发展。”关于中国人民政治协商会议，下列说法正确的是：

- A.中国人民政治协商会议全国委员会和地方委员会是国家权力机关
- B.是中国共产党领导的多党合作和政治协商制度的重要机构
- C.由党派团体和界别代表组成，政协委员由民主选举产生
- D.全国政协委员列席全国人大的各种会议

22.公务员作为政府的形象代言人，只有自身诚实守信，才能取信于民。国家十分重视推进公务员诚信档案建设，各地也纷纷出台具体实施方案，要求建立公务员诚信档案。下列说法错误的是：

- A.建立诚信档案有助于权力的规范行使
- B.建立诚信档案有助于提高公务员形象
- C.诚信档案主要记录公务员违法违纪的相关信息
- D.诚信档案可作为公务员考核、任用和奖惩的依据

23.实践证明，干部敢担当、愿担当，改革的“硬骨头”才有人敢啃、愿啃。

改革不是一眼见底的小池塘，需要有涉险滩的勇气。而勇于改革创新，必然会有挫折或失败的风险。因此：

- A.要加强社会对勇于担当干部的监督和制约
- B.对在改革进程中探索失误的干部应免于惩处
- C.要制定专门容错免责规定，合理设置免责程序
- D.要全面提高勇于担当干部的收入水平和福利待遇

24. 下列行为依次对应的政府职能正确的是：

- ① XX 市政府严厉打击食盐行业擅自提价等违法行为
- ② 国家统计局公布三月份居民消费价格指数 (CPI)
- ③ XX 市采用科学方法管理小商贩, 给其留足生存空间
- ④ 中国人民银行下调存贷款基准利率 0.25 个百分点

- A. 社会管理 宏观调控 市场监管 公共服务
- B. 市场监管 宏观调控 社会管理 公共服务
- C. 社会管理 公共服务 市场监管 宏观调控
- D. 市场监管 公共服务 社会管理 宏观调控

25. 党的十八大以来, 中央确立国家粮食安全战略, 中国依靠自己的力量实现了粮食基本自给, 走出了一条中国特色粮食安全之路。作为负责任大国, 中国还积极参与世界粮食安全治理, 加强国际交流与合作, 为世界粮食安全做出了积极贡献。这些成就的取得:

- A. 有利于提高我国的全球竞争力及在世界格局中的主导权
- B. 证明中国是促进世界粮食安全与国际合作的积极参与者
- C. 反映出粮食安全是解决发展问题和构建国际新秩序的基础
- D. 表明我国把维护世界各国共同利益作为对外活动的出发点和落脚点

26. 粤港澳大湾区以环珠江湾区为核心, 集聚了香港、深圳、广州等多个港口, 形成港口群, 进而促进各类产业群的发展, 而产业的发展所吸引的大量人口又为城市的持续创新注入动力。实施粤港澳大湾区国家战略有利于:

- A. 深化内地和港澳交流合作, 促进经济平稳运行
- B. 优化区域产业布局, 规避经济全球化带来的风险和挑战
- C. 提高对外开放水平, 发挥外资经济对经济发展的主导作用
- D. 发挥宏观调控的决定性作用, 建立有效的区域协调发展机制

27. 近几年, 政府持续关注基层治理之困, 求解基层治理之策, 呼吁破除基层形式主义。可以说, 破除基层形式主义, 给基层干部减负松绑, 为基层治理提速升级, 已成为当前治国理政不容迟疑的重大事项。下列说法不正确的是:

- A. 要倾听基层干部心声, 多一些换位思考
- B. 基层干部“本领恐慌”“能力欠缺”是形式主义产生的根本原因
- C. 走偏的政绩思维、治理惯性, 容易造成基层的心声和期盼被忽视
- D. 要创造更宽松的工作环境, 把基层干部从一些无谓的事情中解脱出来

28. 近年来, 许多国外知名媒体同中方合作, 相继把一系列反映新中国 70 年发展历程、改革开放 40 年成就的纪录片, 翻译成多国语言, 在主流媒体播映, 向世界全面系统地介绍中国道路、中国制度、中国理念和中国智慧, 揭开了中华文化与世界文明对话的新乐章。这表明:

- A. 文化影响力的提升和经济实力的增强是同步的
- B. 创新文化交流形式是实现文化创新的根本途径
- C. 追求文化价值认同是国际文化交流的必然要求
- D. 文化力量越来越成为综合国力的重要因素

29.许多动物到了寒冷的冬天都要冬眠,一是因为环境温度降低,二是食物缺乏,冬眠能让动物保存更多的能量以度过漫长的冬季。可人类为什么不冬眠呢?下列原因解释错误的是:

- A.食物供应使人类不需要通过冬眠来躲避恶劣的生存条件
- B.人类血液中也有一种叫做“冬眠激素”的物质,但是没有被激活
- C.若人类冬眠一旦中心血液温度低于 28°C,心脏就会停止工作
- D.冬眠会导致人类大脑神经元之间的突触出现退化并产生不可逆的损伤

30.关于公文中的请示和报告的表述,下列错误的是:

- A.请示和报告都需要受文机关的答复
- B.请示和报告都不以文种单独作标题
- C.请示须事前行文;报告可事后行文,也可工作中行文
- D.请示要求一文一事;报告可一文一事,也可一文多事

第二部分 言语理解与表达

根据题目要求,在四个选项中选出一个正确答案。(共 25 题,每题 1 分,计 25 分)

31.依次填入横线处最恰当的是:

从一穷二白、百废待兴的落后面貌,到欣欣向荣、奔向小康的盛世_____新中国成立 70 年来创造的“当惊世界殊”的伟大成就,_____出中国发展背后的制度优势。

- A.现象 喻示
- B.气象 展示
- C.形象 显示
- D.景象 标示

32.依次填入横线处最恰当的是:

按照近年来诺贝尔生理学或医学奖的惯例,一般是三人或二人获奖,但此次_____是大隅良典独自获奖。这意味着,诺贝尔奖委员会认为大隅良典的发现更重要_____更有创新性。

- A.却 和
- B.只 且
- C.只 和
- D.却 且

33.依次填入横线处最恰当的是:

当学徒期间,学生们可以深入了解企业的运行规律,并通过向师傅学习,把一些制造业的精髓完整地_____下来。而企业之所以愿意给学徒提供岗位并给付一定的报酬,一方面可以吸纳年轻人的创意,另一方面,也能把自己的企业文化有效地_____开来,获得社会认同感。

- A.传输 传达
- B.传递 传授
- C.传承 传播
- D.传受 传流

34.下列语句中有语病的是:

- A.天山的盛夏,百花齐放,简直是一座美丽的大花园
- B.世界建筑公园里的缩微建筑,具体而微,风格各异
- C.今天,中国人民拥有的一切凝聚着追梦人的聪明才智,浸透着奋斗者的辛勤汗水
- D.有些所谓“时装”,这儿镶一溜花边,那儿缀几颗铜扣,让人不敢恭维

下列排序最恰当的是:

- ①还要阅读一些陶冶人文素质的书籍

- ②读书当然应有选择
- ③除了职业之外
- ④不过
- ⑤例如哲学、文学、历史等方面的著作
- ⑥不同专业和职业的人需要选择适合自己的书

- A.②③①⑤④⑥
- B.⑥②③④①⑤
- C.⑥②①④③⑤
- D.②⑥④③①⑤

关于社会哲学，我国学界曾存在一种误识，即认为历史唯物论就是社会哲学，因而在过去很长一段时间里，不少人对于是否有可能和有必要在历史唯物论之外建构独立的社会哲学存有疑义。其实，在历史唯物论的创始人马克思、恩格斯那里，社会哲学是可以与历史唯物论区别开来的。

对上述语段理解准确的是：

- A.社会哲学与历史唯物论无关
- B.建构独立的社会哲学势在必行
- C.历史唯物论与社会哲学区别明显
- D.历史唯物论不能完全等同于社会哲学

37.如今的互联网，已远非一个工具，它渗透并影响着深层的社会关系。曾经，浓浓的年味是一句问候、一副春联、一顿年夜饭。而在互联网时代，这些历史悠久的年俗也发生了变化，网络红包已成为过年的新标配。互联网改变的不仅仅是传统民俗，它对政府管理理念、社会治理体系，都产生了积极的促进作用。网络问政越来越被普通群众所接受，微信公众号已成为政务新媒体的重要平台。

上述语段旨在论述：

- A.网络红包成为过年的新标配
- B.网络促进政务管理与创新
- C.互联网深层次影响社会关系
- D.网络问政被普通大众接受

38.精准医学的提出，意味着人类医学进入了一个新的时代。首先，实施精准医疗，用于检测临床药物治疗效果的病例数将会大幅下降，治疗效果也会大幅提高。基因测序可以“一对一”有效预防心脏病突发。其次，实施精准医疗还会为癌症等顽固性疾病的治疗找到新的突破口，为实现多种疾病的个性化治疗提供有价值的信息。精准医疗为全世界疾病患者带来了福音，但也面临重重难题。

下列说法不符合文意的是：

- A.基因测序是精准医疗的一种治疗方式
- B.精准医疗为全世界疾病患者带来福音
- C.精准医疗可有效攻克癌症等顽固性疾病
- D.精准医疗便于实现多种疾病的个性化治疗

网络广告以其精准的效果、新颖的形式、丰富的内容倍受青睐；而其虚拟性、信息不对等性也让受众渐渐对其失去信心。国家互联网广告监测中心的监测数据显示，涉嫌违法广告的数量为监测广告总量的 2.8%，违法率约是传统媒体的三倍以上。因法规不全、监管不力等原因而造成的各种违规行为和无序状态，已经极大地干扰了网络广告业的良性运转。

上述文字旨在说明：

- A.网络广告法规不全、监管不力

- B.网络广告违法率比传统媒体高
- C.大众渐渐对网络广告失去信心
- D.网络广告问题凸显，亟需重构规范

鬼斧神工，天机独运。别处的山，都是亲亲热热地手拉着手，臂挽着臂，唯有张家界的山，彼此保持头角峥嵘的独立，谁也不待见谁。别处的峰，再陡再险也能踩在脚下，唯有张家界，以她的危崖崩壁，拒绝从猿到人的一切趾印。每柱岩峰，都青筋裸露、血性十足地直插霄汉。而峰巅的每处缝隙，每尺泥土，又必定有苍松或翠柏，亭亭如盖地笑傲尘寰。银崖翠冠，站远了看，犹如放大的苏州盆景。曲壑蟠涧，更增添无限空蒙幽翠。风吹过，一啸百吟；云漫开，万千气韵。

上述语段对张家界的山水描写没有提到的是：

- A.山峰的形态
- B.峰顶的松柏
- C.岩峰的走向
- D.山壑与山涧

41.一位大家说，人这一生，年轻时宾朋满座，能把酒言欢的朋友多得数不清。随着年纪渐长，中年的人生便在做减法，删繁就简，剩下三两个朋友，成了一生肝胆相照的知己。

上述语段反映的生活哲理是：

- A.简单从容
- B.自省节制
- C.淡泊名利
- D.沉静安然

中国历代书法的传承与创新，实质上都是围绕着如何处理既有艺术程式和它所承载的生命体验、艺术体验之间的关系来展开的。正如电影《梅兰芳》中用纸质的镣铐所做的比喻，我们不能扔也扔不下那无形的镣铐，却又要在这镣铐的拘束中让生命、情愫流淌。

上述材料的主要观点是：

- A.中国历代书法的传承与创新矛盾重重
- B.中国书法艺术程式与个体生命创造并行不悖
- C.不变的程式会压抑艺术家的创造生命和创新思维
- D.中国历代书法不重视艺术家的创造生命和创新思维

因为出于当事人之手，书札提供了研究相关历史人物与历史事件的第一手史料。这些史料中所披露的人事关系、政事秘闻，往往是不见于正史记载或公开报道的，寥寥数行往往抵得千言万语。

上述文字旨在说明：

- A.书札的收藏价值
- B.书札的文物价值
- C.书札的史料价值
- D.书札的艺术价值

研究人员目前正在研发一种可用眼部动作来控制的“眼神”机器人系统。使用这种系统，有行动障碍的人只需注视所需的物体，机器人就会自动帮助取来。该研究采用的是一种基于模式的系统，参照了眨眼频率、瞳孔放大程度等明确反映人类行动意图的眼部特征。

上述文字旨在说明：

- A.“眼神”系统控制机器人的前景可
- B.机器人“眼神”系统研发取得了新的突破
- C.“眼神”识别技术可助力机器人帮人取物
- D.“眼神”机器人依赖人眼的动作运行

很多人记忆里的搪瓷缸子、搪瓷饭盆如今只出现在影视作品中。但如果说起搪瓷的另一个名字，人们就明白它的出身是多么高贵。实际上，搪瓷只是它的中国名字，在世界其他地方都叫珐琅。1914年，日本将大量低质搪瓷制品倾销我国。此后，珐琅和搪瓷虽属同一种工艺，却在我国被约定俗成地分配到不同的行业中，工艺品叫珐琅，工业日用品叫做搪瓷。由于是舶来品，搪瓷在民间一度被称为洋瓷。

上述文字旨在讲述：

- A. 搪瓷的用途
- B. 搪瓷的由来
- C. 搪瓷的身份
- D. 搪瓷的传播

进入移动互联网时代，中国在互联网应用上的创新取得了惊人成就。然而，“一窝蜂式”的创新同样存在，低质化、同质化竞争反复出现：每当新风口出现，大家蜂拥而入、跑马圈地，但模式基本相同、手法并无二样，门槛低、易复制，狂撒币、比烧钱，却较少顾及更完善的体验、不一样的设计，以及持续创新能力的培育。互联网应用的创新，需要更加走心，否则所谓的创新产品就如浮萍一般，极易被雨打风吹去。

从这段文字可知作者对“一窝蜂式”创新的态度是：

- A. 肯定
- B. 担忧
- C. 怀疑
- D. 否定

47. 味精的诞生和使用只有百年的历史，但对于拥有几千年历史的美食大国而言，没有味精，依靠各种天然食材混搭也能提出鲜味来。据说，古时“鲜”字的写法本是三个鱼字。鱼本鲜中之最，三个鱼就更鲜了。春秋时代，齐桓公的御厨易牙首创了“鱼腹藏羊肉”这道菜，从而开创了天然食材混搭提鲜之道。以鱼、羊二味合烹为饌，千古流传，成为“鲜”字之本，于是后来“鲜”字的写法才改为“鱼”加“羊”。

上述文字重在说明：

- A. 味精的发展历史
- B. “鲜”的典故
- C. 混搭提鲜的传统
- D. “鲜”的来历

48. “免疫检查点”是人体自然存在的抑制免疫系统的方法。若免疫检查点被激活，就会抑制免疫细胞功能。癌细胞为了躲避免疫系统的攻击，一般都会激活免疫检查点，以抑制免疫系统对其攻击。如果能阻止癌细胞对免疫检查点的激活，就可以让免疫系统保持正常功能，攻击和杀灭癌细胞。在这种思路的引导下，便产生了免疫检查点抑制剂这类新药物，临床试验效果令人鼓舞，且能系统性增强人体全身的抗肿瘤免疫反应。但使用免疫抑制剂也可能造成肝脏毒性、内分泌失调，对一些器官造成损害。

从上述文字推论不出：

- A. 免疫抑制剂可阻止免疫检查点被激活，使免疫系统维持正常功能
- B. 使用免疫抑制剂会损害人体的肝脏功能
- C. 免疫抑制剂能系统性增强人体全身抗肿瘤免疫反应
- D. 癌细胞通过激活免疫检查点抑制免疫系统对其攻击

春秋以前，茶叶因其药用价值而被关注。古代人直接含嚼茶树鲜叶汲取茶汁，以感芬芳，久而久之，茶的含嚼成为人们的一种嗜好，这是茶之为饮的前奏。随着人类生活的变化，生嚼茶叶的习惯转变为煎服，即鲜叶洗净后，置陶罐中加水煮沸，连汤带叶服用。煎煮而成的茶，虽苦涩，但滋味浓郁，风味与功效更胜一筹。之后就养成煮煎品饮的习惯，这是茶作为饮品

的开端。

上述文字重在说明:

- A.茶叶的品茗历史
- B.茶叶的药用价值
- C.茶叶的煎煮习惯
- D.茶叶的风味功效

经典，是当世仍有典范意义与价值的优秀文化遗产，是感性中融入深刻理性的杰作。因此，阅读经典常常会陷入深刻的思考。近些年，受大众文化影响，阅读出现了去经典化的倾向。一是追求阅读的快乐，推崇碎片化、快餐化、浅易化、感官化的阅读；二是盲目从众，缺乏自己的判断。阅读真正的属性在于自由，大众文化的流行恰恰挤压了读者自由的空间。久而久之，读者的判断力、理解力下降，想象力贫乏，经典也可能变成了啃不动的馒头。

对划线部分理解最准确的是:

- A.经典的理性价值难以把握
- B.读者自由阅读的空间被挤压
- C.大众阅读经典的能力下降
- D.经典阅读与大众文化背道而驰

51. 塑化剂是邻苯二甲酸形成的大约 30 种酯类的统称。邻苯二甲酸酯与塑料分子的相容性很好，但是两者间没有紧密的化学键结合，彼此保持着独立的化学结构，因此当塑料制品接触到食品中的水和脂肪时，其中的邻苯二甲酸酯便会溶于其中。

上述文字重在介绍:

- A.塑化剂的特征
- B.塑化剂的化学结构
- C.塑化剂的危害
- D.塑化剂的化学原理

52. 可可树只能在低于南北纬 20 度的地区生存，还需要在湿度较高降水丰沛的地区才能保证长势良好、产量充足，而且不是所有的可可树都可以提供巧克力原料。根据某研究机构的数据，全球变暖的走势如果一直持续下去，30 年后全球将普遍升温 2.1 摄氏度。这一变化对可可树来说简直是灭顶之灾。随着生态环境的日益恶劣，可可豆的产量和库存都在迅速减少。与此同时，全球市场对巧克力的需求却在大幅增长。

下列推断有误的是:

- A.可可树的生长深受温度影响
- B.30 年后可能吃不到巧克力
- C.科学家正在努力拯救可可树
- D.巧克力面临“赤字”危机

53. 十多年来，阿胶块的零售价从每斤约 80 元涨到目前的近 30000 元。阿胶企业一直将其归因于驴皮紧缺、成本上涨。原材料的确是整个行业最大的短板，根据目前的行业销量，需要驴皮约 400 万张，但国内供应量不足 180 万张。目前市场上的一张驴皮的价格超过 3000 元。根据业内说法，一张驴皮能熬制约 4 斤阿胶，折算下来，750 元的驴皮便可以熬出 1 斤阿胶，相比于近 3000 元 1 斤的阿胶，驴皮价格上涨的幅度远远赶不上阿胶的价格。高利润回报之下，部分阿胶生产厂商甚至用成本较低的牛皮替代驴皮。

这段文字重在说明:

- A.阿胶行业中“以牛代驴”的现象极为普遍

- B. 阿胶价格在近十几年间上涨速度极为迅猛
- C. 原材料供不应求 是阿胶价格上涨的主要原因
- D. 驴皮成本上涨对阿胶企业盈利并不构成威胁

54. 宋明理学是中国传统文化的辩证综合，它所创造的儒道佛三位一体的哲学体系和精神构造，将儒家的入世、道家的避世、佛家的出世互补互摄，使中国人在任何境遇下都不会丧失安身立命的基点：得意时是儒家，失意时是道家，绝望时是佛家。这种三维结构使中国人的精神结构具有三角形的稳定性，它好似人生的锦囊袋，富有自我调节的力量，“穷则独善其身，达则兼济天下”。这种自给自足的精神生态与自给自足的自然经济相匹配，形成自给自足的精神世界和自给自足的生活世界。

下列说法与上述语段文意不符的是：

- A. 儒道佛三位一体的精神构造是中国人安身立命的根本
- B. 儒道佛三维结构使中国人的精神世界富有自我调节能力
- C. 儒道佛三位一体的精神构造是传统中国自给自足经济的衍生物
- D. 儒道佛三位一体的精神生态与自给自足的经济有一定的契合度

55. 遗民不仅是一种狭义的政治身份，它还形成了自身的文化传统，为易代之际的士人们提供了一整套话语资源以及可效法的行为模式。易代之际士人的进退，往往关系着道德标准和社会风气的变迁。近代民族国家观念的引入，使得士阶层的道义使命被知识人与民族国家之间的从属关系所掩盖。然而正是晚清以降道德革命的未完成性及三四十年代士大夫传统的回光返照造成了沦陷时期知识人的伦理处境，既不同于近代民族主义，亦不同于“蛮夷猾夏”或易代之际的暧昧性。

下列判断有误的是：

- A. 历史上易代之际的遗民具有自己的话语资源和行为模式
- B. 易代之际士人的行为会引发道德标准和社会风气的变化
- C. 沦陷区知识人的伦理处境兼具遗民和民族主义的双重性
- D. 近代民族国家观念成为沦陷时期知识人遵从的共同伦理

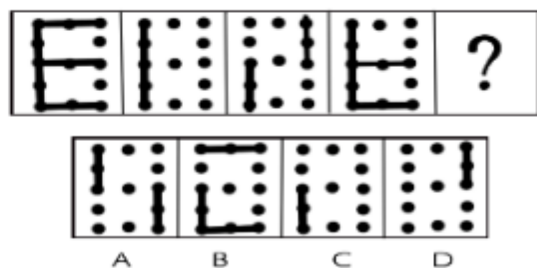
第三部分判断推理

本部分包含五种类型，共 30 道试题：

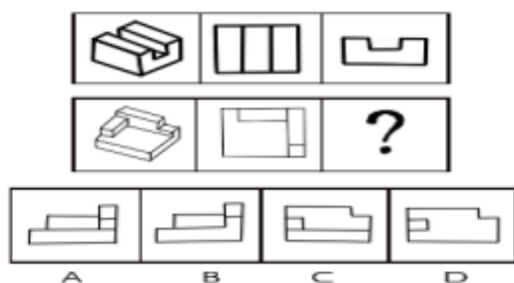
一、图形推理

请认真观察每组图形，理解其中含义，判断出它的逻辑和顺序，并在四个选项中选择最正确的答案。（共 5 题，每题 0.9 分，计 4.5 分）

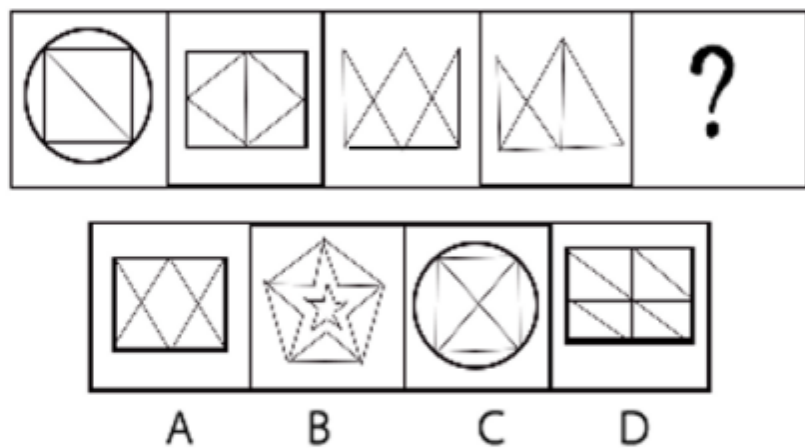
56. 填入问号处最恰当的是：



57. 填入问号处最恰当的是:



58. 填入问号处最恰当的是:

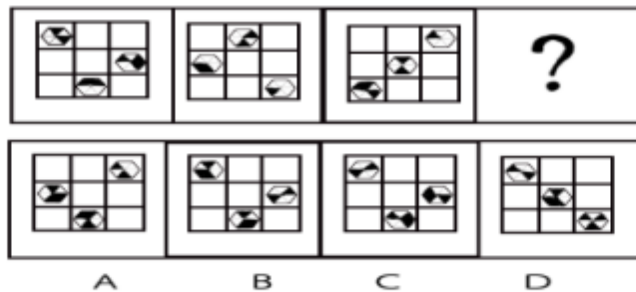


59. 填入问号处最恰当的是:



A、案 B、隶 C、炜 D、杉

60. 填入问号处最恰当的是:



二、事件排序

每道题给出五个事件，每个事件是以简短语句表述的，接着给出四种假定发生顺序的序列，请选择其中最合乎逻辑的一项。(共5题，每题0.7分，计3.5分)

61. ①改造老产业挖掘新产业 ②勘探发现镍矿

③成立公司不断开采 ④矿竭城衰

⑤“镍都”成为花海旅游城市

A. ⑤-②-①-④-③

B. ④-⑤-③-①-②

C. ②-③-④-①-⑤

D. ②-④-①-③-⑤

62. ①土地贫瘠 ②兴建市场八方客来

③专家实地调研 ④村民纷纷外出谋生

⑤免费提供苗木和技术

A. ③-①-②-④-⑤

B. ①-④-③-⑤-②

C. ④-①-⑤-②-③

D. ①-④-③-②-⑤

63. ①导致行业非理性发展 ②疯狂贴钱促销

③企业为了抢占市场 ④同时造成大量资本浪费

⑤资本在“O2O”(线上到线下)领域配置过大

A. ③-②-①-④-⑤

B. ⑤-①-④-②-③

C. ⑤-③-②-①-④

D. ③-②-④-⑤-①

64. ①热量产生 ②食物分子高速震荡相互摩擦

③加热食物 ④穿过绝缘体

⑤高频电磁波

A. ⑤-③-②-④-①

B. ②-⑤-④-③-①

C. ⑤-④-②-①-③

D.②-①-④-⑤-③

65.①选用红绿灯作为交通控制灯 ②可见光中红绿黄的波长相对长
③波长长的穿透力更强 ④更容易被看见
⑤恶劣天气里不易被散射掉

A.③-②-①-④-⑤

B.②-①-⑤-③-④

C.③-①-②-⑤-④

B.D.②-③-⑤-④-①

三、类比推理

每道题给出一对相关的词，然后请在备选答案中找出一对与之在逻辑关系上最为贴近、相似或匹配的词。(共5题，每题0.8分，计4分)

66.针线—缝补

A.风沙—防护

B.波涛—冲浪

C.油污—洗涤

D.锅炉—烧水

67.顾客—商场

A.演员—舞台

B.军人—部队

C.司机—车站

D.学生—操场

68.顺带—捎带

A.罢免—赦免

B.搬迁—拆迁

C.参透—悟透

D.回馈—反馈

69.精耕细作—丰收在望

A.流水不腐—户枢不蠹

B.勤学苦练—成绩斐然

C.老鼠过街—人人喊打

D.三天打鱼—两天晒网

70.劝君更尽一杯酒—西出阳关无故人

A.山重水复疑无路—柳暗花明又一村

B.晴川历历汉阳树—芳草萋萋鹦鹉洲

C.穿花蛱蝶深深见—点水蜻蜓款款飞

D.落红不是无情物—化作春泥更护花

四、定义判断

每道题先给出一个概念的定义，然后分别列出四种情况，请严格依据定义，从中选出一个最符合或最不符合该定义的答案。注意：假设这个定义是正确的，不容置疑的。(共5题，每题0.9分，计4.5分)

71. 艺术衍生品，是艺术作品衍生而来的商品，但其具备一定的艺术附加值。比如，经艺术家亲笔签名供收藏和鉴赏的书籍，印有艺术家作品的文具、生活用品、服装服饰以及其它具有艺术元素的产品等。

根据上述定义，下列不属于艺术衍生品的是：

- A.著名国画大师张大千的山水画的卷轴
- B.印有著名画家齐白石画作《墨虾图》的水杯
- C.印有著名诗人徐志摩诗作《再别康桥》的书签
- D.著名男高音歌唱家普拉西多·多明戈亲笔签名的CD

72. 柔性管理，是指依靠激励、感召、启发、诱导等方法对员工进行人性化管理的方式。与柔性管理有所不同，刚性管理则是基于组织职权，采用制度约束、纪律监督、惩处等手段对员工进行程式化管理。由此可知，刚性管理主要依靠外力来强迫员工做出某种行为或者不作为，而柔性管理关注员工的内在需求，促使员工主动朝着组织目标来决定自己的行为。

根据上述定义，下列符合柔性管理的是：

- A.某汽车生产厂商要求员工每月完成的工作量必须达到最低限额，否则会依据实际工作量与最低限额的差距来扣减工资，这一制度保障了公司的工作进度
- B.某计算机软件公司加大对公司研发技术的保护力度，对泄露公司研发技术的员工处以高额的罚款，之后公司研发技术极少泄露
- C.某国有企业采取“微笑”管理方式，视工人为管理人员的合作伙伴，培养员工在企业中的归属意识，提高了员工“士气”，生产效率极大提高
- D.某房地产公司对售楼人员采用末位淘汰制，规定连续三个月销售金额最差者将被辞退，此规定实施后该公司销售业绩稳步上升

73. 鳄鱼效应，是指假定一只鳄鱼咬住你的脚，如果你试图用手去挣脱你的脚，鳄鱼便会同时咬住你的脚与手。你愈挣扎，被咬住的就越多。所以，万一被鳄鱼咬住脚，优选的自救办法就是牺牲这只脚。

根据上述定义，下列不属于鳄鱼效应的是：A.庄某发现自己购买的股票价格一直下跌，决定抛空

- B.某家银行把700多亿元的不良资产出售给资产管理公司
- C.老虎误入猎人的索套，奋力咬断那条被套住的腿，忍痛逃离
- D.某汽车公司的CEO为保持公司业绩，撤换两名工作业绩不佳的主管

74. 不正当竞争行为，是指经营者在市场竞争中，采取非法的或者有悖于商业道德的手段和方式，与其他经营者相竞争的行为。我国反不正当竞争法规定的的不正当竞争行为包括市场混淆、商业贿赂、引人误解的虚假宣传、侵犯商业秘密、低价倾销、违反规定的有奖销售、商业毁谤等情形。根据上述定义，下列不属于不正当竞争行为的是：

- A.甲公司散布某公司售后服务差的谣言，虽未指名，但一般人可推知是乙公司
- B.甲灯具厂捏造乙灯具厂偷工减料的消息，并告诉了与乙灯具厂有长期合作的几家客户

- C.某饮料公司在广告中谎称该公司生产的某品牌饮料对某些疾病具有良好的治疗功效
D.甲工厂生产的产品发生质量问题，公众误以为该产品是乙工厂生产，乙工厂公开做出解释说明

75.精神养老，是相对于物质养老而言的，它是一种满足老年人精神需求的养老服务模式。具体来说，服务提供的主体包括老年人的家庭成员、政府、社会组织、企业等；服务提供方式既可以是非制度化的，也可以是制度化的；服务对象是希望得到精神服务的老年人群体；服务形式主要表现在亲情、人文关怀、文化娱乐、知识教育、人际交往、社会参与等方面。根据上述定义，下列属于精神养老的是：

- A.市养老院聘请专家为老年人开设道德讲坛
B.市居民倾向于选择具备医疗资质的养老服务机构
C.家住C市的陆某夫妇聘请保姆照顾年迈双亲的起居饮食
D.A市积极扶持“金太阳”社区养老服务机构改善生活设施

五、逻辑判断

每题给出一段陈述，这段陈述被假设是正确的，不容置疑的。请根据这段陈述，选择一个答案。注意，正确的答案应与所给的陈述相符合，不需要任何附加说明即可从陈述中直接推出。(共10题，每题1分，计10分)

76.如果小张被选为学习委员，那么他一定学习成绩优秀。上述判断是基于下列哪项假设？

- A.某些学习成绩不优秀的同学不得不放弃被选为学习委员的资格
B.并不是学习成绩优秀的同学一定要被选为学习委员
C.某些学习成绩优秀的同学不能被选为学习委员
D.学习成绩不优秀的同学不可以被选为学习委员

77.一种生长在土豆根部的植物病菌有两组明显的遗传特征A和B，研究人员有以下几点假设：①特征A和B中至少有一个遗传性强；②特征A遗传性可能不强；③特征A遗传性强；④特征B遗传性强。最后研究结论证明以上四点假设两个为真，两个为假。如果上述结论为真，则下列哪项为真？

- A.特征A遗传性强，特征B遗传性不强
B.特征A遗传性不强，特征B遗传性强
C.特征A遗传性强，特征B遗传性强
D.特征A遗传性不强，特征B遗传性不强

78.根据近几年的调查发现，随着人类社会不断进步，物质生活水平不断提高，人们越来越重视心理健康问题，成年人中患抑郁症的病例在逐年减少。但是，这还不足以得出抑郁症发病率在逐年下降的结论。下列哪项为真，最能加强上述推论？

- A.近年来未成年人得抑郁症的比例明显增加了
B.近年来防治抑郁症的医疗条件有了很大改善
C.比起癌症、心血管疾病，近年来对抑郁症的防治缺乏重视
D.对抑郁症的治疗目前还有难度，患者不可能在短期内得到治愈

79.研究发现，人体能够在夜间分泌的抑制疼痛的荷尔蒙要比白天多。因此，医生在夜间进行外科手术就可以使用相对较少的麻醉剂。大量的麻醉剂会对病人造成较大的危险，因此，在夜间进行外科手术可以减少风险。下列哪项为真，最能削弱上述结论？

- A.医院夜间手术和白天手术在数量上是一样的
- B.很多意外事故都发生在夜间，必须马上进行手术
- C.医生在夜间进行手术，其精神状态和手法灵敏度都比白天差
- D.安排在夜间进行的一般都是小手术，用的麻醉剂本身就不多，基本不存在风险

80.某企业获得一份竞争对手的加密商业电子邮件，邮件内容全部由阿拉伯数字组成，已知密件中每个阿拉伯数字表示且只表示一个英文字母。下列哪项最无助于破译这份加密商业电子邮件？

- A.知道英文中元音字母出现的频率
- B.知道英语中绝大多数的商业术语
- C.知道密件中的数字 2 表示英语字母 F
- D.知道密件中偶数数字相对于奇数数字的出现频率接近于英文中 G 相对于 X 的出现频率

81.张三是甲班学习成绩平均分最低的学生，但此次期末考试各科成绩均及格。因此，甲班在此次期末考试中将不会有学生不及格。

下列哪项为真，最能削弱上述论证？

- A.虽然张三此次期末考试各科成绩均及格，但仍然是甲班学习成绩最差的学生
- B.张三各科成绩都低于平均分，同样情况的还有李四等三人
- C.甲班学生李四在此次期末考试中有一门课程不及格
- D.张三各科成绩不都是倒数第一，数学刚好及格

82.老年大学组织了一次关于“是否会使用网络支付”的情况调查，某个班共有 50 个学生，该班的调查情况如下：

- A.这个班人人都会使用网络支付
- B.这个班人人都不會使用网络支付
- C.这个班只有一个人会使用网络支付
- D.这个班只有一个人不会使用网络支付

83.宇宙间一定存在着某种黑洞，因为现在尚没有任何理论和证据去证明这样的黑洞不可能存在。

下列哪个选项最有助于证明上述逻辑错误？

- A.“黑河理论”可以解释许多天体物理现象
- B.世界上大部分天体物理学家相信宇宙间存在某种黑洞
- C.如果高铁没有比飞机更安全，那么也不能证明高铁比飞机更便捷
- D.既然你不能证明外星人不存在，所以可以认为外星人就是存在的

84.文化创意产业是极具活力的朝阳产业，创作、创造、创新是其立足的根本，三者缺一不可。

下列都符合题干的断定，除了：

- A.如果没有创作，文化创意产业很难长期立足
- B.如果文化创意产业做得很成功，它肯定具有创造性
- C.只要做到了创作、创造、创新，文化创意产业就能蓬勃发展
- D.除非具有创作、创造、创新，否则文化创意产业就不会成功

85.某售楼部对上个月销售业绩(销售商品房套数)的统计显示:销售员人均销售商品房不少于1套,任意两个销售员销售的商品房数量均不同:没有人恰好销售了15套商品房:没有人销售的商品房的数量等于或超过全店销售人员的数量,基于上述统计,下列断定一定为真的是:

- I.该售楼部销售人员中,有人上个月的销售业绩为零
 - II.该售楼部销售人员的数量不少于3人
 - III.该售楼部销售人员的数量不多于15人
- A.只有I和II
B.只有I和III
C.只有II和III
D.I、II和III

第四部分 数量关系

本部分包含两种类型,共15道试题:

一、数字推理

给你一个数列,但其中缺少一项,要求你仔细观察数列的排列规律,然后从四个选项中最合理的一项,来填补空缺项,使之符合原数列的排列规律。(共5题,每题0.9分,计4.5分)

86. 2 4 3 6 5 8 7 9 11 ()

- A.10
B.12
C.13
D.14

87. 1 1 3 5 11 () 43

- A.26
B.21
C.16
D.13

88. 6 35 143 () 667

- A.353
B.343
C.333
D.323

89. 5 7 13 16 31 () 81 82

- A.32
B.42
C.50
D.62

90. $\frac{1}{2} \times \frac{2}{3} \times \frac{4}{5} \times (\quad) = \frac{16}{17}$

A. $\frac{8}{9}$

B. $\frac{8}{11}$

C. $\frac{8}{13}$

D. $\frac{8}{15}$

二、数学运算

在这部分试题中，每道试题为一段表述数字关系的算式或文字，请准确、迅速地计算出结果。
(共 10 题，每题 1 分，计 10 分)

91. $\frac{1998 \times 3 + 43 \times 559 + 37}{9.7 \times 13 + 169 \times 7 \times \frac{1}{7}} = ?$

A. 10

B. 5

C. 2

D. 1

92. 2019^{2017} 除以 4 的余数是：

A. 0

B. 1

C. 2

D. 3

93. 小东从某月月初开始投资一家新的商铺，每月月底需支付各项费用 8000 元。已知在每月支付费用前，小东月底的资金正好是月初资金的 2 倍。到第四次支付费用后，小东手上正好没有资金，那么小东此次开始投资时有多少资金？

A. 7200 元

B. 7250 元

C. 7500 元

D. 7800 元

94. 在 1 到 40 的自然数中任意取两个不同的数，使得取出的两数之和是 6 的倍数。请问有多少种取法？

A. 112

B. 127

C. 134

D. 141

95.甲、乙从湖边同地点同时出发沿相反方向绕行。已知湖的周长为 20 千米，甲、乙的速度分别为 4 千米/小时和 6 千米/小时。若甲每走 1 小时后休息 5 分钟，乙每走 50 分钟后休息 10 分钟，那么两人从出发到再次相遇需用多少分

- A.128
- B.136
- C.138
- D.145

96.甲、乙合作 6 小时完成了一项工作。由于配合得好，甲的工作效率比单独完成时提高了 $\frac{1}{10}$ ，

乙的工作效率比单独完成时提高了 $\frac{1}{5}$ ，如果甲单独完成需要 11 小时

- A.13
- B.16
- C.18
- D.20

97.甲、乙、丙 3 个试管中分别盛有 10 克、20 克、30 克水。把某种浓度的盐水 10 克倒入甲试管，均匀混合后取出 10 克倒入乙试管，再均匀混合乙试管后从中取出 10 克倒入丙试管，此时丙试管的盐水浓度为 0.5%。那么一开始倒入甲试管的盐水浓度是多少？

- A.6%
- B.10%
- C.12%
- D.14%

98.一艘船以恒定的马力顺流行驶 4 公里再返回原地，恰好用时 1 小时(不计船掉头时间)。已知河的水流速度为 3 公里/小时，那么该船顺流速度与逆流速度的比是：

- A.3:2
- B.2:1
- C.3:1
- D.4:1

99.木箱中有 10 个红球，20 个黑球，40 个白球和 30 个黄球，至少要摸出多少个球才能保证摸出的球中每种颜色的球一定都不少于 2 个？

- A.8
- B.9
- C.91
- D.92

100.下图中 $\triangle ABC$ 和 $\triangle DEF$ 是两个完全相同的等腰直角三角形， $AB=9\text{cm}$ ， $EC=3\text{cm}$ ，求阴影部分的面积。

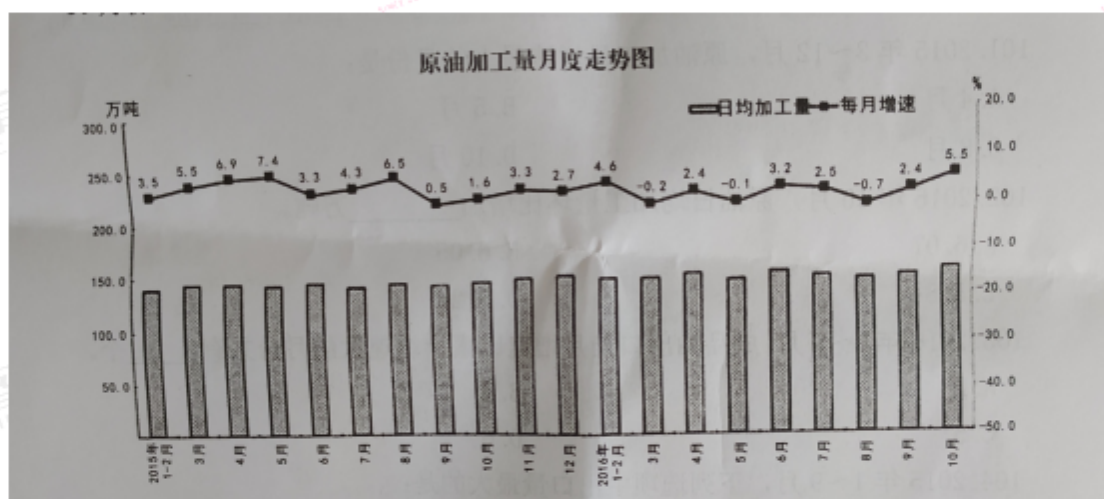
- A.27cm
- B.32cm
- C.36cm

第五部分资料分析

所给出的图、表、文字或综合性资料均设置了若干个问题,请根据资料提供的信息进行分析、比较、计算和判断处理。(共 10 题,每题 1 分,计 10 分)

(一)根据下列资料回答 101~105 题

2016 年 10 月份,规模以上工业原油加工量同比增长 5.5%,增速比 9 月份加快 3.1 个百分点;日均加工量 151.8 万吨,较 9 月份增长 4.0%。2016 年 1~10 月份,原油加工量同比增长 2.5%。



2016 年 1~9 月份,成品油(汽油、煤油、柴油、其他燃料油)出口 3405 万吨,同比增长 39.2%。其中,汽油、煤油、柴油出口量分别为 693 万吨、905 万吨、1079 万吨,同比分别增长 72.4%、6.6%、148.2%,其他燃料油出口有所减少,同比下降 4.3%。2016 年 9 月份,成品油出口同比增长 21.2%,增速较 8 月份加快 2.0 个百分点。



101. 2015 年 3~12 月, 原油加工量增速最大的月份是:

- A. 4 月
- B. 5 月
- C. 8 月
- D. 10 月

102. 2016 年 10 月, 原油日均加工量环比增加 () 万吨。

- A. 6.07
- B. 6.05
- C. 5.84
- D. 5.28

103. 2016 年 2~9 月, 成品油出口当月增速比累计增速大的月份共有 () 个。

- A. 2
- B. 3
- C. 5
- D. 6

104. 2015 年 1~9 月, 下列选项中出口量最大的是:

- A. 柴油
- B. 汽油
- C. 煤油
- D. 其他燃料油

105. 根据上述资料, 下列说法正确的是:

- A. 2015 年, 原油加工量累计增速逐月上涨
- B. 2015 年, 成品油出口量累计增速逐月上涨
- C. 2016 年 1~9 月, 汽油、煤油、柴油、其他燃料油的出口量同比上年均实现增长
- D. 2016 年 8 月, 成品油出口同比增长不超过 20%

106. 假设 2010 年的中国创新指数为 100, 那么 2015 年的中国创新指数比资料中的测算值:

- A. 高 31.8
- B. 低 31.8
- C. 高 41.4
- D. 低 41.4

107. 在新环境指数领域中, 与 2010 年相比, 2015 年指数增幅最大的是:

- A. 活动人口中大专及以上学历人数指数
- B. 享受加计扣除免税企业所占比重指数
- C. 人为 GDP 指数
- D. 信息化指数

108. 2012 年创新产出指数 A 比增长率较上年 () 个百分点。

- A.增加 0.14
- B.增加 1.4
- C.减少 0.14
- D.减少 1.4

109.下列选项中，其各项指标的指数均同比上升的是：

- A.2013 年创新投入领域
- B.2014 年创新环境领域
- C.2013 创新成效领域
- D.2014 年创新产出领域

110.根据上述资料，下列说法正确的是：

- A.与上年相比，2015 年创新投入指数的 6 个指标均保持上升势头
- B.与上年相比，2015 年创新投入指数的 5 个指标均保持上升势头
- C.与上年相比，2015 年创新投入指数的 6 个指标中，劳动生产率指数的增速最大
- D.与上年相比，2015 年创新指数，四大领域指数和 21 个指标指数均有不同幅度增长