

第一部分 言语理解与表达

(共 30 小题，每小题 0.9 分，共 27 分)

本部分包括表达与理解两方面的内容。请根据题目要求，在四个选项中选出一个最恰当的答案

1. 每年的七八月份这里都开满了黄花，金灿灿的一地，扯地连天的样子。这些黄花()着，在不经意的风中摇摆着，发出阵阵袭人的香气。

填入括号部分最恰当的一项是()。

A. 簇拥

B. 蜂拥

C. 环绕

D. 环抱

2. 一个肉身凡胎在战争中浸泡，如果没有()的综合素质，是不可能从成千上万个士兵中脱颖而出，甚至不可能在惨烈的搏杀中存活下来，更不可能成为横扫千军如卷席的元帅和上将。

填入括号部分最恰当的一项是 ()

A. 相得益彰

B. 鹤立鸡群

C. 出类拔萃

D. 相形见绌

3. 虫子百折不挠地长途跋涉实现自己的理想;蜗牛千方百计地追求自己神圣的爱情，唱响回

肠荡气的爱情咏叹调;屎壳郎不屈不挠地推着数倍于自己身体大小的粪球欢快地奔向目的地;

蚂蚁()地忙碌着钻进钻出自己的洞穴。

填入括号部分最恰当的一项是()。

- A.形单影只
- B.拉帮结派
- C.形影不离
- D.成群结队**

4.这么多的纸、墨，来自不同年龄的手，还有背后千里万里相隔的情性，看起来都是一声不吭地炼烟、打浆，或全神贯注，或()，手感全不在一个格调上，也就使这些物件在后来越发生出差异。

填入括号部分最恰当的一项是()。

- A.心惊胆战
- B.心不在焉**
- C.坦然自若
- D.魂不守舍

5.小儿眨眼就成了半大小伙子。像只胀足了气的皮球，每日里蹦哒，兀自跳个不停。老师觉得头疼，我也()。

填入括号部分最恰当的一项是

- A.束手无策**
- B.进退维谷

C.骑虎难下

D.甘之如饴

6.看他()的样子，我的心踏实了一些，问他怎么有这么大的把握，他告诉我：你看这里的每

一棵树长得都相似，其实每一棵树跟咱们人一样，长得都不一样，都有它们各自不同的记号

依次填入括号部分最恰当的一项是

A.志得意满

B.惘然若失

C.胸无点墨

D.胸有成竹

7.每个人存活于世，皆非 ()状态。作为独立发热的个体，你有你的爹娘，他有他的兄弟姐

妹，这便是血缘。小家庭以此为基础，大家族也由此派生，作为纽带，族与族之间，还可以

形成更庞大的关系，()达到生养目的，还可扩充自身实力，即联姻。

依次填入括号部分最恰当的一项是()。

A.真空 不仅

B.孤岛 而且

C.孤立 而是

D.伶仃 于是

8.几十年写公安，他自己恍惚，我们也常疑虑：李迪是公安的人吧？李迪是公安作家吧？李迪和

公安，维系着一种牢不可破的感情，像是公安事业的正直和坚毅，与他的乐观和善良，拧成

了一道（ ）的钢缆。

填入括号部分最恰当的一项是（ ）

A.根深蒂固

B.坚不可摧

C.摧枯拉朽

D.不堪一击

9.他在下乡时，一次去到一个偏远的山村，山高坡陡，还没有通电，逢雨雪天路极难走，这个村每年都有人摔伤摔残，亦或死亡。回到固原市，有朋友邀约小酌，期间诸多()，他想起那个村里人生活的()，禁不住摔杯而去，搞得几个陪同的人莫名其妙。

依次填入括号部分最恰当的一项是()。

A.文采斐然 劳苦

B.要言不烦 穷困

C.提纲挈领 窘迫

D.高谈阔论 艰难

10.一堵间隔的墙()后，我对村庄的记忆就陌生起来。头顶上的云朵，地上奔跑的羊群，再也不愿意()我。就连从北往南而来的风，也绕过村庄，远远伸进孤悬的天空。

依次填入括号部分最恰当的一项是

A.垮塌 驯服

B.坍塌 顺从

C.崩塌 反抗

D.兀立 遵从

11.从大人们敬天地的()礼仪中,我们隐约觉察到,大自然隐藏着某些神秘的力量,有着神秘的禁区,大人们尚且敬畏,我们更()。

依次填入括号部分最恰当的一项是()。

A.诚恳 得心应手

B.诚笃 敬谢不敏

C.虔诚 无能为力

D.恳切 爱莫能助

12.()是狭义地谈论文学,()不会是一个冷僻的话题。()它毕竟不像一门专业技术,()具有更深刻的非专业的心灵属性。

依次填入括号部分最恰当的一项是()。

A.即使 就 因此 况且

B.即便 也 因为 而是

C.纵然 又 于是 并且

D.如果 还 因而 而且

13 不过小菜小菜么,你得(),你只能吃它一点点,不任性就不会(),见好就收往往点石成金。

依次填入括号部分最恰当的一项是

A.顾名思义 画蛇添足

- B.望文生义 多此一举
- C.顾名思义 明知故问
- D.望文生义 节外生枝

14.我那会儿最爱学《英雄儿女》里的王成，蹲在用甘蔗渣()的战壕里高喊：“长江长江，我是黄河!为了胜利，向我开炮!”最后，拿起一根长长的甘蔗当爆破筒，做一个慷慨赴死的王成造型，从一丈多高甘蔗渣堆上往下跳。每次跳下去，都感觉自己跟敌人()了。

依次填入括号部分最恰当的一项是()

- A.做成 自取灭亡
- B.堆成 鸡飞蛋打
- C.垒成 同归于尽
- D.搭成 苟延残喘

15.关于夜勾起的美好想象，令多少文人墨客谱写了数不胜数，()的华丽诗篇，每一次的吟咏，有不一样的感慨，文字的墨香，文字的()难道是一味灵丹妙药?从那以后，我不再害怕失眠，不再恐惧黑夜。

依次填入括号部分最恰当的一项是()

- A.妙不可言 魅力
- B.妙趣横生 魄力
- C.神乎其神 魔力
- D.趣味无穷 气魄

16.吸烟饮酒本就不是好习惯，用药期间更是万万要不得，吸烟会加速体内药物代谢，从而降低药效。饮酒则会加强药物副作用而增加不适感。

根据上述文字，作者的观点是()

- A.吸烟后用药，在人体内会产生有毒物质
- B.饮酒一定要适量，喝多有害身体健康
- C.用药后，不要吸烟或饮酒
- D.吸烟对身体影响极大，一定要戒掉

17.如何判断自己腰痛的级别呢?可以自行测试下无痛活动范围:做体前屈、后仰、旋转、侧屈的动作，看看自己是否有疼痛感，疼痛的程度如何。如果是非常疼，那么就需要寻求康复治疗师的帮助了，如果是中度以下的疼痛，则可以试试“腰部保健操”。

文章接下来最可能讲述的是()

- A.介绍“腰部保健操”的具体动作
- B.给腰部疼痛的人一些生活小建议
- C.对“腰部保健操”的功能进行讲解
- D.做“腰部保健操”时的注意事项

18.每当工作压力大的时候，就出现担心、紧张不安、手抖、心跳加速、呼吸困难的现象，很多人担心，自己是不是得了焦虑症。焦虑症是一组以焦虑症状为主要临床相的精神障碍，是一种以焦虑情绪为主要临床表现的神经症。

给上述文字起一个小标题，下列最适合的是()

- A.为什么人会焦虑

B.焦虑症是神经病吗

C.什么是焦虑症

D.焦虑症会影响工作吗

19.肌腱损伤后致密的腱性组织难以再生，是通过瘢痕组织修复的，所以在密度和强度上都比原来的腱性组织薄弱，所以需要我们早期用石膏和支具严格的制动，以避免因损伤后过度活动而导致的损伤范围过大，难以行保守治疗。如果是完全断裂，就需要手术修补治疗了，术后一般需要石膏或支具固定4到6周左右。这是由于肌腱粘连愈合至少需要这点时间，在这之前完全是依靠缝线的张力维持的，所以一旦用力极有可能会将缝线崩断导致再次手术修补。

上述文字的主要内容是()

A.肌腱进行治疗后留下的后遗症

B.肌腱受伤后该如何治疗

C.肌腱受伤后要打石膏，可以起到保养的作用

D.肌腱损伤的诊断是很重要的，所以不能马虎大意

20.睡行症也就是我们通常所说的梦游症，指一种在睡眠过程中起床，在室内或户外行走或做一些简单活动的睡眠和觉醒同时存在的一种意识改变状态。睡行症通常发生于入睡后的2~3小时内，历时数分钟至半小时，次日通常无法回忆。常发生在10岁前，多见于男孩。

上述文字主要讲述了()

A.引起睡行症发生的条件

B.睡行症的概念和会发生的行为

C.睡行症的主要发生对象

D.睡行症是否会对人体带来危害

21.生物钟和睡眠压力是控制我们昼夜觉醒和睡眠规律的两大因素。其中，生物钟受光线的影响最大，会导致大脑分泌物质来调节清醒和睡眠的节律，作用最为明显的就是褪黑素。当夜晚来临，天色变暗，大脑内的褪黑素就会明显分泌，增加睡意。如果夜晚光线太强，褪黑素就会分泌减少，影响睡眠。所以，夜晚睡觉之前，要减少使用手机等有荧光屏的设备，建立良好的睡眠环境，使用遮光性好的窗帘，舒适的床品。

根据上述文字，下列说法错误的是()

A.睡觉前尽量减少玩手机的时间

B.在晚上，人体会分泌褪黑素

C.要想睡觉不被影响，最好没有生物钟

D.用遮光性好的窗帘，可以建立好的睡眠环境

22.日常生活中，难免出现小病小痛，许多人都会选择服用抗生素来消炎止痛，抗生素甚至成为许多家庭必备的万能药物。可你知道吗?滥用抗生素，不仅会对体内正常菌群造成不良影响，严重者甚至可能致残或致死!抗菌药物滥用会产生许多害，主要表现在细菌对抗菌药物产生广泛而迅速的耐药性，细菌耐药性的产生和不断增加会破坏生态环境，引起菌群失调，严重威胁人类身体健康和生命安全。

根据上述文字，下列说法正确的是()

A.滥用抗生素，严重的话可能会导致死亡

B.抗生素会使人体内环境失调，应该避免使用

- C. 抗生素是万能药，所有病痛都可服用
- D. 只要不滥用抗生素，就不会引起菌群失调

23. 对于成年人来说，居家工作或者学习还是需要消耗较多能量的。()，因此在日常饮食中应注意营养均衡、粗细搭配。以谷类和薯类作为主食补充，在增加身体热量的同时，还可以为身体补充碳水化合物、蛋白质、膳食纤维和 B 族维生素等营养物质。辅助水果、奶制品和蛋类补充身体所需的维生素和其他营养成分，能够增强身体免疫力。注意清淡饮食，保证每天 1500 毫升左右的饮用水摄入，可以有助于调节体温，促进肠胃消化。

填入括号部分最恰当的一项是 ()。

- A. 在饮食上应以补充蛋白质为主
- B. 生活中需要养成规律的作息习惯
- C. 饮食需要结合自身的实际情况
- D. 健康的身体是战胜疫情的关键**

24. 热损伤因素作用于人体后会导致一系列变化，从轻到重分为先兆中暑、轻症中暑和重症中暑，其中最重的重症中暑，即称为“热射病”。它是指因热力损伤引起的人体体温调节功能失调，体内热量过度积蓄，从而引起人体组织器官受损，临床主要表现为高热、精神状态改变及多脏器损伤。热射病住院死亡率高达 14% ~ 65%，需要收住 ICU 抢救的则有 60% 以上不能存活。

给上述文字起一个小标题，下列最适合的是 ()。

- A. 热射病要怎么治疗呢
- B. 我们怎么远离热射病呢**

C.什么是热射病呢

D.热射病病因都有哪些呢

25.随着医学的发展和进步，()，逐步掌握了一些有关微生物传播方式的知识和预防感染的办法。微生物的传播方式可分3类：①接触传播，又可分为直接接触传播和间接接触传播。前者即人体直接接触微生物，而后者则是人体通过媒介物等间接接触微生物；②飞沫传播；③空气传播。填入括号部分最恰当的一项是()。

A.人们对微生物的危害越来越重视

B.人们对防护措施的关注的焦点不断发生变化

C.人们对微生物往往是防不胜防

D.微生物在人们的生活里简直无所不在

26.“空调病”的症状众多，也因人而异，()，但其表现与多种疾病症状相似，呼吸系统、消化系统、关节肌肉和神经系统最易受其影响。首先是上呼吸道问题，主要表现为喉咙不适、流涕、咳嗽、咳痰等症状；其次，还可能出现恶心、呕吐、腹泻等胃肠道不适症状；更为严重的还可引起口眼歪斜等面部神经问题。

填入括号部分最恰当的一项是()。

A.虽然不是什么很严重的疾病

B.虽然不是一个具体疾病

C.虽然得这个病的人不多

D.虽然年纪大的人不容易被影响

27.从健身角度来看，()。家务劳动虽然也在“动”，也能出汗，但却无法像体育锻炼那样改善心肺耐力、肌力、柔韧性等，并且家务劳动的热量消耗非常有限，主要是为了维持每天的热量摄入与消耗之间的平衡。所以对于高血压患者来说，并不能单纯靠做家务来锻炼身体。

填入括号部分最恰当的一项是 ()。

- A.健身不能代替劳动
- B.合适的运动不能代替药物
- C.保持合适的运动量很重要
- D.劳动和运动是不同的概念

28.①是重庆的山水草木，一切事物的面纱

②重庆多雾，雾是重庆的面纱

③也许只有在雾中才会需要对眼前的人和事物眯着眼睛

④打望，重庆方言，即掂量观望的意思

⑤或睁大眼睛仔细掂量观望，虽近在咫尺，也不敢马虎

将以上 5 个句子重新排列，语序正确的是 ()。

- A.④②①③⑤
- B.③②①⑤④
- C.③④①⑤②
- D.①③⑤②④

29.①都与这座桥有关——少年时，塘栖街上的一大帮孩子的夏天都泡在运河里

- ②一直拖到“武林头”——那已经是德清了，起码有五里地远
- ③胆大的孩子可以站在广济桥上翻着跟斗下跳：抓住过往船只的尾巴
- ④很多塘栖人从小到大，在广济桥畔、运河两岸生活，很多人的记忆
- ⑤然后再游回来，或者再抓着船尾巴拖回来

将以上 5 个句子重新排列，语序正确的是（ ）。

A.②①③④⑤

B.④①③②⑤

C.①③④⑤②

D.⑤②①③④

30.①说这话的人就像看见过这支部队一样，说得有鼻子有眼

②有人说是电台天线，说村庄附近的深山中住有一支神秘部队

③三撑架是干什么用的，直到今天，村庄也没人能说清楚，但传说的版本却多种多样

④有人说是航空标志，是用来给省城机场起飞的飞机指引方向的

⑤甚至还说在某山窝里看到了这支部队，个个红面孔大眼睛，高高大大，走路像飞一样，来无影去无踪

⑥但这样的话很快就被别人反驳了，因为那些到更苕坡来的人都不高大，也不是红面孔，更没看到他们走路像飞跃，更不会来无影去无踪

将以上 6 个句子重新排列，语序正确的是（ ）。

A.④②①⑤③⑥

B.④②①③⑤⑥

C.③④②①⑤⑥

D.③④②⑥⑤①

第二部分 数量关系

(共 20 小题，共 20 分。)

一、数字推理。本类题共 10 小题，每小题 0.9 分，共 9 分。给你一个数列，但其中缺少一项，要求你仔细观察数列的排列规律，然后从四个选项中选出最符合规律的一项来填补空缺项。

31. 2, 4, 4, 6, 8, ()

A.6

B.8

C.10

D.12

32. 3, 4, 7, 16, 32, ()

A.57

B.58

C.65

D.76

33. 4, 7, 6, 9, 8, 11, ()

A,10

B.12

C.13

D.15

34. $1/4, 4/7, 9/13, 8/11, ()$

A.10/23

B.9/16

C.25/34

D.4/7

35. 2.12, 4.15, 6.27, 10.42, 16.69, (), 43.80

A.25.11

B.27.11

C.30.15

D.40.17

36. 4, 5, 9, 7, 16, 9, 25, ()

A.26

B.27

C.34

D,36

37. 4, 16, 64, 256, ()

A.512

B.1024

C.2020

D.4096

38. 5, 15, 27, 41, 57, ()

A.67

B.68

C.73

D.75

39. 4, 11, 19, 26, 39, 46, 61, ()

A.65

B.68

C.72

D.77

40. 3, 8, 17, 32, (), 100

A.44

B.50

C.67

D.78

二、数学运算。本类题共 10 小题，每小题 1.1 分。每道题呈现一段，表述数字关系的文字，要求你迅速、准确地计算出答案。

41.某公司计划在下周 7 天内选择 3 天时间对员工进行培训，为了使员工能更好地掌握培训内容，该公司领导要求培训时间不能相连，则此次培训共有()种安排方案

A.10

B.15

C.20

D.30

42.三年级某班在期末考试中取得了优异的成绩，因此刘老师买了一些笔记本准备奖励给同学们，若每位学生奖励 2 本笔记本，则还剩下 27 本笔记本，若每位同学奖励 4 本笔记本，则还差 43 本笔记本，则刘老师买了()本笔记本

A.89

B.97

C.110

D.135

43.因葡萄产量增加，某种品种的葡萄进价比上月低 6%，但水果店仍按上月售价销售，该葡萄利润率提高了 9 个百分点，则该水果店上个月销售该葡萄的利润率为()。

A.26%

B.33%

C.35%

D.41%

44.中秋节自古便有祭月、赏月、拜月、吃月饼、赏桂花、饮桂花酒等习俗，为了满足市场需求，某大型超市在八月十五“中秋节”来临之际，购进了某种品牌的月饼，每盒月饼进价为90元，根据超市每天成本消耗分析规定每盒月饼的售价不得低于100元。往年销售经验发现：当售价定为每盒月饼100元时，每天可以卖出500盒，每盒售价每提高1元，每天要少卖出10盒。当售价定为()元时，每天的销售利润最大。

A.100

B.110

C.120

D.130

45.甲、乙二人做某种机械零件，已知甲是技术能手每小时比乙多做3个，甲做30个所用的时间与乙做20个所用的时间相等，那么乙每小时做()个零件。

A.6

B.7

C.8

D.9

46.甲、乙、丙是某珠宝店的销售人员，2019年甲销售额是乙、丙销售额之和的2倍，2019

年甲、乙销售额之和是丙销售额的 5 倍。已知乙在 2019 年的销售额为 5 万元，则甲在 2019 年的销售额是()万元。

- A.8
- B.10
- C.16
- D.20**

47.已知今年父亲和儿子的年龄和为 36 岁，16 年后，父亲的年龄是儿子年龄的 3 倍，则父亲今年()岁

- A.34
- B.35**
- C.31
- D.30

48,某块试验田播种工作,若甲单独完成需要 8 小时;若乙单独完成需要 5 小时;如果按照甲、乙、甲、乙的先后顺序轮流进行播种,每次 1 小时,那么完成该试验田播种工作需要()小时。

- A.6
- B.6.125
- C.6.2**
- D.7

49.有一艘轮船的某个舱室漏水，需要用水泵抽干后再进行修补(船舱的进水量不受任何影响)。如果用 5 台水泵可以在 20 小时内抽干，用 8 台水泵可以在 10 小时内抽干。那么用 10 台水泵一起抽水，则需要()小时可以抽干。

- A.6
- B.7.5
- C.8.5
- D.9

50.小朱和小杰相约周六晚上 5 点半到某家干锅店吃干锅，为此他们在周六上午 10 点每人都将自己的手表对准，小朱于 5 点半准时到达干锅店，而小杰却没来。后面发现小杰的手表比正确时间每小时慢 5 分钟，如果小杰按自己的手表 5 点半到达，那么小朱还得等多少时间?()


- A.20 分钟
- B.36 分钟
- C.50 分钟
- D.55 分钟

第三部分 判断推理

(共 25 小题，共 21 分。)

一、图形推理。本类题共 5 小题，每小题 1 分，共 5 分。请按每道题的答题要求作答。


51. 从所给的四个选项中，选择最合适的一个填入问号处，使之呈现一定的规律性。(B)



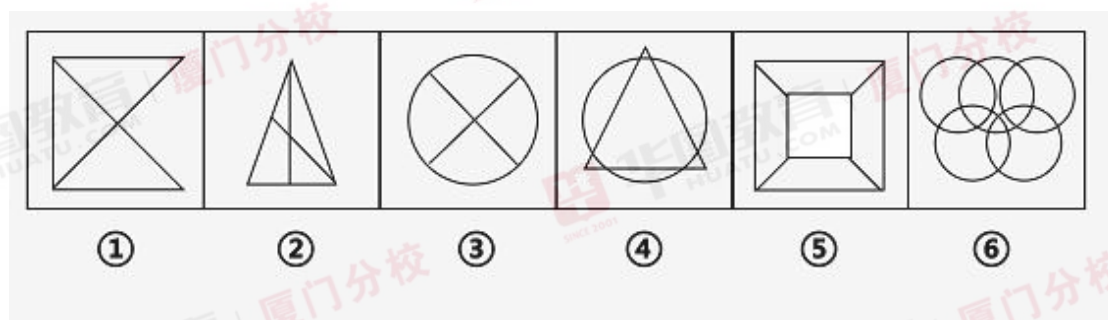
52. 从所给的四个选项中，选择最合适的一个填入问号处，使之呈现一定的规律性。(D)



53. 从送给是四个选项中，选择最合适的一个填入问号处，使之呈现一定的规律性。(C)



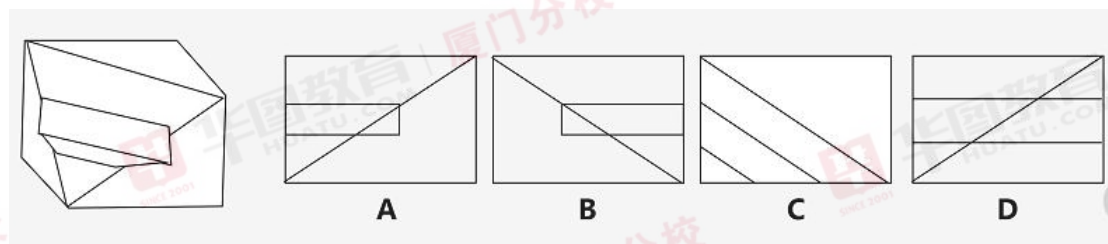
54、把下面的六个图形分为两类，使每一类图形都有各自的共同特征或规律，分类正确的一项是 ()。



- A、①②③, ②④⑥ B、①④⑥, ②③⑤
 C、②④⑤, ①③⑥ D、①②③, ④⑤⑥

55、下列左图给定的多面体，从任一方位观看，下面哪一项不可能是该多面体的视图？

(D)



二、定义判断。本类题共 5 小题，每小题 0.8 分，共 4 分。每道题先给定义，然后列出四种情况，要求你严格依据定义，从中选出一个最符合或最不符合该定义的答案。注意：假设这个定义是正确的，不容置疑的。

56.无因管理是指没有法定或约定义务，为避免他人利益遭受损失，而为其管理事务的行为。

根据上述定义，下列情形中属于无因管理的是（ ）

- A.甲将晒在院子外面隔壁家的大米当做自家大米收回
- B.乙加工厂对买方已付款但未取走的货物进行妥善保管
- C.丙开车过桥时，看见河里有儿童溺水，赶忙停车跳入河中救起儿童
- D.丁超市对进入超市的顾客的皮包进行保管

57.行政不作为是行政机关对于公民、法人和其他组织的符合条件的申请依法应该实施某种行为或履行某种法定职责却无正当理由拒绝履行或拖延履行的行政违法行为。

根据上述定义，下列行为不属于行政不作为的是（ ）

- A.李某去公安局给自己刚出生的孩子上户口，公安局以缺少出生证明为由拒绝办理
- B.王某向该地国土局书面提出申请，请求该局依法查处其所在村的耕地被有关工程项目违法强行占用的行为，该地国土局收到申请后，并没有受理、立案、处理
- C.刘某向其所在市人力资源和社会保障局邮寄信函，要求对其社会保险缴费基数偏低和少缴、漏缴问题进行强制征缴，该市社保局以该问题不属于该局职责为由不理睬
- D.行政复议机关对老王的复议申请迟迟拖延，不作任何处理

58.简政放权指精简政府机构，把经营管理权下放给企业，是中国在经济体制改革开始阶段，

针对高度集中的计划经济体制下政企职责部分、政府直接经营管理企业的状况，为增强企业活力，扩大企业经营自主权而采取的改革措施。

根据上述定义，下列举措不属于简政放权的是（ ）

- A.进一步清理和取消职业资格许可认定
- B.制定并公开企业投资项目核准及强制性中介服务事项目录清单，简化投资项目报建手续，大幅减少申报材料
- C.清理和规范人才招聘、评价，流动等环节中的行政审批和收费事项
- D.彻底放开限制，快速全面推进经济高效快速发展，由计划经济全面转到市场经济**

59.白色农业是指以蛋白质工程、细胞工程、酶工程为基础，用基因工程等高科技手段开发微生物资源的工程农业。它是通过优化配置微生物资源，利用微生物惊人的繁殖生产能力，在工厂化条件下生产人类及动植物所需营养品和保健品的新型农业。

根据上述定义，下列不属于白色农业的是（ ）

- A.利用微生物发酵处理秸秆生产饲料
- B.利用现有技术，分析土地资源，合理选种育种**
- C.利用工农业废液、废渣、叶片等蛋白质资源，生产高蛋白饲料和食品、药品
- D.农作物的秸秆、谷壳、木屑、糖渣、木薯等经过微生物发酵就可以转化成高效再生能源

60.疑病现象是人们将轻微的身体不适现象看成严重疾病，反复多次检查。特别是当亲友、邻居、同事因某病英年早逝和意外死亡后更容易出现这种现象。

根据上述定义，下列情形属于疑病现象的是（ ）

- A.小兰的好友患上很严重的产后抑郁症，小兰很担心以后自己也会像好友那样
- B.由于工作压力太大，再者客户催得紧，小吴觉得自己会猝死在工作上**

C.小明的祖母因肺病去世了，最近几天小明咳嗽的厉害，他也觉得自己得了肺病

D.小青的老公每天工作很晚回来，但她总是觉得她老公在背着她去兼职做副业

三、类比推理。本类题共 10 小题，每小题 0.7 分，共 7 分。每道题先给出一组相关的词，

要求你在备选答案中找出一组与之在逻辑关系上最为贴近、相似或匹配的词。

61.西安：长安（ ）

A.洛阳：中原

B.南京：建康

C.东京：开封

D.琉球：台湾

62.枪支：子弹（ ）

A.锤子：榔头

B.手机：电脑

C.秤杆：秤砣

D.汽车：公路

63.面包：面粉（ ）

A.酱油：黄豆

B.镰刀：农具

C.细菌：细胞

D.教师：学生

64.冰：冷（ ）

A.钱：臭

B.花：香

C.叶：绿

D.雪：白

65.无风：不起浪（ ）

A.鹬蚌相争：渔翁得利

B.城门失火：殃及池鱼

C.要想人不知：除非己莫为

D.不入虎穴：焉得虎子

66.一叶知秋：见微知著（ ）

A.草木皆兵：稳如泰山

B.冥顽不灵：茅塞顿开

C.举案齐眉：相敬如宾

D.志同道合：貌合神离

67.娇艳：花朵：芳香（ ）

A.悠闲：乡村：静谧

B.崎岖：耕耘：苦干

C.鲜嫩:蘑菇:阳光

D.调和:矛盾:流畅

68.竹子:筷子:簸箕 ()

A.棉花:靠垫:水瓶

B.纤维:冰箱:蜘蛛丝

C.糖类:调味:解馋

D.无纺布:口罩:购物袋

69. () 对于音乐相当于咖啡对于 ()

A.娱乐 健康

B.绘画 绿茶

C.浪漫 龙井

D.歌曲 刺激

70.阳春白雪对于 () 相当于 () 对于度日如年。

A.余音绕梁 浮光掠影

B.不同凡响 潜移默化

C.靡靡之乐 如隔三秋

D.下里巴人 白驹过隙

四、逻辑判断。本类题共 5 小题,每小题 1 分,共 5 分。每道题给出一段陈述,这段陈述被假设为正确的,不容置疑的。要求你根据这段陈述,选择一个答案。注意:正确的答案应与所给的陈述相符合,不需要任何附加说明即可以从陈述中直接推出。

71.某大型商场的入口处有一则提示语“禁止携带宠物入内”。这时刚好来了两位游客，都没有携带宠物。

如果上述的提示语得到准确地理解和严格地执行，那么以下哪一项陈述一定是正确的？（ ）

A.两位游客一定会被允许进入

B.两位游客可能会被允许进入

C.两位游客一定不会被允许进入

D.两位游客不可能被允许进入

72.甲、乙、丙三个人去书店买书，他们三人计划买一本小说、一本诗集和一本漫画。现已知甲不买漫画，乙不买诗集，丙既不买小说，也不买漫画。

从上述题干中能推出的是（ ）。

A.丙买诗集，乙买漫画，甲买小说

B.丙买漫画，乙买诗集，甲买小说

C.丙买漫画，乙买小说，甲买诗集

D.丙买小说，乙买漫画，甲买诗集

73.我们今天所谓的头脑风暴指的是无限制的自由联想和讨论，产生出新观念或激发创新设想。头脑风暴最大的好处就在于：即便这件事最后办砸了，但这可是集体讨论的结果，谁都不必为此担责任。但研究者认为头脑风暴是一种花时间却不太有效的方式。

以下哪项如果为真，能对研究者的观点提出最大的质疑？（ ）

A.通常人们独自思考比在群体中思考能想到更多的点子

B.有实验证实，一般人在以团队的方式进行思考时，想出的创意要比独立思考多两倍

C.有许多人太依赖于他人的努力,想获得免费意见

D.头脑风暴一词最早是精神病理学上的用语,专指精神病患者的精神错乱状态

74.如果一个公司的大多数员工都有较强的时间观念和责任意识,那么员工退到和早退就不可能成为一个公司的通病,上个月在 M 公司的员工中,早退的次数和退到的次数都达到了顶峰。

如果上述断定为真,则以下哪项也一定为真? ()

I.上个月 M 公司的大多数员工都退到或早退了

II.M 公司的大多数员工既没有较强的时间观念,也没有较强的责任意识

III.M 公司至少有些员工没有较强的时间观念,或者没有较强的责任意识

A.仅 I

B.仅 II

C.仅 III

D.仅 II 和 III

75.某体育器材室有甲、乙、丙三名管理人员,在某次体育比赛完后,需要在本周将比赛后的足球、篮球、羽毛球、乒乓球和排球 5 种球类进行归类放好。关于任务的安排,需要满足以下条件:

(1)每人均需至少完成其中一种球类的归类工作,且一种球的归类只能由一人完成;

(2)乒乓球和羽毛球的归类工作都不是由甲完成的;

(3)如果乒乓球归类的工作由丙完成,那么篮球归类的工作由乙完成;

(4)完成排球归类工作的人至少还需完成一项其他的球类归类的工作。

到了周末，甲、乙、丙三人顺利完成了 5 种球类归类的工作。

下列哪项中的任务不可能均由丙完成？（ ）

- A. 篮球、羽毛球
- B. 足球、乒乓球**
- C. 羽毛球、乒乓球
- D. 排球、羽毛球

第四部分 常识判断

(共 30 小题，每小题 0.7 分，共 21 分。)

根据题目要求，请在四个选项中选出一个最恰当的答案。

76. 2020 年 7 月 14 日，习近平同新加坡总理李显龙通电话，祝贺李显龙带领人民行动党在近日全国大选中获胜。习近平强调，（ ）成为中新关系新亮点，再次体现了两国关系的前瞻性、战略性、示范性，也为中新全方位合作伙伴关系增添了重要内涵。今年是中新建交（ ）周年，两国关系站在新的历史起点上。

- A、一带一路 20
- B、经济形势 20
- C、陆海新通道 30
- D、抗疫合作 30**

77. 2020 年 7 月，李克强日前签署国务院令，公布《保障中小企业款项支付条例》，明确禁止机关、事业单位和大型企业变相延长付款期限。下列选项中，不属于《保障中小企业款项

支付条例》的主要内容的是（ ）。

A.规范合同订立及资金保障，加强账款支付源头治理

B.规范支付行为，防范账款拖欠

C.选拔推介优秀创新创业项目和人才

D.加强信用监督和服务保障

78.2020年7月，国内首台（ ）海上风电机组在三峡集团福建福清兴化湾二期海上风电场成功并网发电，这是目前我国自主研发的单机容量亚太地区最大、全球第二大的海上风电机组，刷新了我国海上风电单机容量新纪录。

A.10兆瓦

B.20兆瓦

C.15兆瓦

D.5兆瓦

79.2020年7月，国家卫健委公开发布《关于全面推进社区医院建设工作的通知》(以下简称《通知》)。下列关于《通知》所提出要求，错误的是（ ）。

A.提高门诊常见病、多发病的诊疗、护理、康复等服务

B.加强住院病房建设，合理设置床位，主要以老年、康复、护理、安宁疗护床位为主

C.社区医院建设以多镇卫生服务中心为主

D.提高中医药服务和医疗康复能力

80.2020年7月，人力资源社会保障部等部门正式向社会发布一批新职业，这是我国自《中

华人民共和国职业分类大典(2015年版)》颁布以来发布的第三批新职业。下列选项中，不属于本次所发布新职业的是()。

- A.区块链工程技术人员
- B.历史清扫员**
- C.城市管理网格员
- D.信息安全测试员

81.下列关于习近平新时代中国特色社会主义思想的相关说法中，不正确的是()。

- A.习近平新时代中国特色社会主义思想是党和人民实践经验和集体智慧的结晶
- B. 习近平新时代中国特色社会主义思想内涵十分丰富，其中最重要、最核心的内容就是党的十九大报告概括的“十四个坚持”**
- C. 全面依法治国是中国特色社会主义的本质要求和重要保障
- D. 习近平新时代中国特色社会主义思想开辟了马克思主义新境界

82.党的十九大报告中提出要实施乡村振兴战略，下列选项中，不正确的是()。

- A. 实现小农户和古代农业发展有机衔接**
- B.巩固和完善农村基本经营制度，深化农村土地制度改革
- C.构建现代农业产业体系、生产体系、经营体系，完善农业支持保护制度
- D.支持和鼓励农民就业创业，拓宽增收渠道

83.国家安全，必须在国家治理的大背景下来思考和筹划，必须以安全治理作为基本路径来维护和保障。总体国家安全观就是()，以人民安全为宗旨，以政治安全为根本，以经

济安全为基础，以军事、文化、社会安全为保障等，走出一条中国特色国家安全道路。

- A.塑造国家安全
- B.统筹发展和安全
- C.健全公共安全体系
- D.坚持国家利益至上

84.自 2020 年 6 月份以来，我国猪肉价格在之前下降 3 个多月之后再次出现上涨，但本次价格上涨属于消费拉动型上涨，供需两方面都在增加，但消费增加更快。这说明（ ）。

- A.价格围绕商品的价值自发波动
- B.价格并不反映价值
- C.价格的变化都是价值变化的表现
- D.供求关系变动与商品的价格变动毫无关系

85.下列选项中，可以体现货币作为贮藏手段的是（ ）。

- A.纸币
- B.支付宝
- C.金银条块
- D.租金

86.小朱冒充某报社记者，对某污水处理厂超标排污为由，多次向该污水处理厂老板要钱，否则就对此事进行曝光。该老板因怕此事造成负面影响，无奈之下只能给钱了事，先后共支付给小朱 4 万余元。经查，该污水处理厂并无超标排污行为，则小朱的行为（ ）。

A.构成招摇撞骗罪

B.构成敲诈勒索罪

C.构成诈骗罪

D.构成合同诈骗罪

87.小吴借了小邹 20 万元，约定连本带利还 22 万元。小吴还钱时通过银行汇款，不小心多付了 2 万元给小邹。小邹便拿这多出来的 2 万元进行理财，获利 300 元。1 个月后，小吴才发现多还款的事实，便要求小邹返还。对此，下列表述正确的是（ ）。

A.小邹无须返还

B.小吴应要求银行赔偿自己的损失

C.小邹应返还

D.小邹的行为属于有因管理

88.某商场标有“售出商品，概不退换”“打折商品不退不换”等诸如此类的条款，这些条款都是（ ）的。

A.无效

B.有效

C.效力待定

D.可撤销

89.元朝是中国历史上首次由少数民族建立的大一统王朝，下列关于元朝的相关说法中，正确的是（ ）。

A.废除了中书省与枢密院、御史台，保留尚书省和门下省

B.其前身是忽必烈所建立的大蒙古国

C.商品经济和海外贸易较萧条

D.出现元曲等文化形式，更接近世俗化

90.古代官职指的是古代的从政人员的官职，下列古代官职与现代官职的对应关系中，不正确的是（ ）。

A.太守——省辖市市长

B.尚书令——监察部长

C.知县——县长

D.京兆尹——首都市长

91.下列选项中，与诗句“少无适俗韵，性本爱丘山”出自同一作者的是“()”。

A.对酒当歌，人生几何

B.木欣欣以向荣，泉涓涓而始流

C.枯藤老树昏鸦，小桥流水人家，古道西风瘦马

D.野火烧不尽，春风吹又生

92.《过故人庄》是唐代诗人孟浩然创作的一首五言律诗，其中“故人具鸡黍，邀我至田家”

一句中的“黍”指代的是（ ）。

A.村庄的外墙

B.饮酒

C.上等的粮食

D.农作物或农事

93.我国人民燃放烟花爆竹已有二千多年历史，每逢喜庆日子，人们为了增加节日的欢乐气氛，会燃放烟花爆竹。但由于烟花爆竹其中的火药成分，燃放者在燃放时如果不按照有关规定进行燃放或者燃放违规产品，就有可能导致安全事故的发生。下列选项中，属于按照规定燃放烟花爆竹的是（ ）。

A.小刘在远离居民区、人群的宽阔的广场内燃放

B.小袁在某幼儿园周边 10 米内燃放

C.小江在某文物保护单位周边 20 米内燃放小宵在家中客厅内燃放

D.小宵在家中客厅内燃放

94.下列关于室内环境保护的相关说法中，正确的是（ ）。

A.厨房污染主要是水污染，引起厨房内水污染的因素是多方面的，与能源结构、所用的食用油种类、烹饪方法、食物种类等均有关系

B.夜来香、黄花杜鹃和夹竹桃均是适于室内种植的植物

C.室内空气净化装置对室内空气净化毫无作用

D.在机房等电磁波发生强度较强的场所，工作人员应适当到远离电磁场处活动

95.新型冠状病毒疫苗现在正处于研发阶段，疫苗的研发是一个漫长而复杂的过程。下列关于疫苗的相关说法中，不正确的是（ ）。

A.不同疫苗的生产时间各不相同

- B.接种疫苗是预防和控制传染病最经济、有效的公共卫生干预措施
- C.疫苗是将病原微生物(如细菌、立克次氏体、病毒等)及其代谢产物，经过人工减毒、灭活或利用转基因等方法制成的用于预防传染病的自动免疫制剂
- D.治疗性疫苗主要用于疾病的预防，接受者为健康个体或新生儿

96.中国是世界稀土资源储量最大的国家，下列选项中，不属于将稀土材料加入钢中的主要作用是（ ）。

- A. 抗去磁作用
- B.净化作用
- C.细化组织
- D.对夹杂物的形态控制

97.天体，是所有宇宙星体的统称。判断某一物质是不是天体，不包括下列哪一种方法？（ ）

- A.看它是不是宇宙中物质的存在形式，星际物质尽管用肉眼看不见，但它是天体
- B.看它的体积大小是不是比地球大，比地球体积大的是天体
- C.看它是不是宇宙间的物质，天体的某一部分不是天体
- D.看它是不是位于地球的大气层中，位于外层空间的是天体，位于地球大气层中的不是天体

98.中药汤剂是最为传统和常用的一种中药制剂形式，而煎煮是中药汤剂唯一的制作方法。

下列关于煎煮中药的相关说法中，正确的是（ ）。

- A.一般情况一次煎煮即可，头煎药的药效最好
- B.中药煎煮最好用铁、铝等器皿

C.熬药时间长短对药效无影响

D.药时要注意搅拌药料，让药液充分透

99.下列关于生活中产生现象的相关说法中，正确的是（ ）。

A.蛇在皮期间，要消耗大量的养料，此时的蛇性情暴躁，较难捕捉

B.使用微波炉、冷水泡、热水烫的方法来解冻猪肉，对猪肉的口感和肉质均无影响

C.鞋底花纹几乎是平整的或者是细小而且潜的密集型花纹的鞋大多是凉鞋，沙滩鞋，休闲鞋

等

D.所有人群都适合使用含氟牙膏

100.从遗传学的角度上看，《红楼梦》中贾宝玉最好和下列选项中的哪一位结婚？（ ）

A.林黛玉

B.薛宝钗

C.史湘云

D.妙玉

101.亚热带气候是按照气温的不同对世界气候类型做出的区域性划分，以下属于亚热带气候的是（ ）。

A.温带大陆性气候

B.地中海气候

C.热带季风气候

D.山地气候

102.在计算机系统中，“记事本”程序和“写字板”程序可以实现的操作不包括（ ）。

A.输入汉字

B.插入、编辑图片

C.输入数字

D.输入标点符号

103.“行到篱边地满霜，囊时物物已非常。自怜失意秋风后，独有寒花不改香。”此句描述的是

以下哪一种花？（ ）

A.莲花

B.兰花

C.菊花

D.梅花

104.下列关于字画落款，描述正确的是（ ）。

A.清赏:表示这件作品供对方赏玩而已

B.是正:过去书画家受某人之请托做书画

C.雅属:指请别人修改文章的敬辞

D.斧正:指不以直接的教育方式而进行的教育

105.“交通强国，铁路先行”，电力动车组一般靠电力机车提供动力，列车到站前停止供电，

电动机线圈随车轮转动，带动发电机发电，这个过程车速从 200km/h 减到 90km/h，在 90km/h 以下才进行机械刹车，下列说法不正确的是（ ）。

A.列车刹车后难以立刻停下来是因为受到了惯性的作用

B.机械刹车过程是机械能转化为内能

C.列进站时车体附近空气流速大压强变小，人靠太近会推向列车

D.减速发电，相当于一个发电机，应用的是电磁感应现象

第五部分 资料分析

(共 10 小题，每小题 1.1 分，共 11 分。)

所给出的图、表、文字或综合性资料均有若干个问题要你回答。你应根据资料提供的信息进行分析、比较、计算和判断处理。

根据以下资料，回答 106~110 题。

2019 年服务进出口总额 54153 亿元，比上年增长 2.8%。其中，服务出口 19564 亿元，增长 8.9%；服务进口 34589 亿元，下降 0.4%，服务进出口逆差 15025 亿元。

2019 年外商直接投资（不含银行、证券、保险领域）新设立企业 40888 家，比上年下降 32.5%。

实际使用外商直接投资金额 9415 亿元，增长 5.8%，折 1381 亿美元，增长 2.4%。其中“一带一路”沿线国家对华直接投资新设立企业 5591 家，增长 24.8%；对华直接投资金额（含通过部分自由港对华投资）576 亿元，增长 36.0%，折 84 亿美元，增长 30.6%。全年高技术产业实际使用外资 2660 亿元，增长 25.6%，折 391 亿美元，增长 21.7%。

2019 年外商直接投资（不含银行、证券、保险领域）及其增长速度

行业	企业数	比上年增长 (%)	实际使用金 (%)	比上年增长 (%)
总计	40888	-32.5	9415	5.8
其中:农、林、牧、渔业	495	-33.2	38	-27.9
制造业	5396	-12.3	2416	-11.0
电力、热力、燃气及水生产和供应业	295	3.9	239	-17.6
交通运输、仓储和邮政业	591	-21.6	309	-1.6
信息传输、软件和信息技术服务业	4295	-40.5	999	29.4
批发和零售业	13837	-39.5	614	-4.5
房地产业	1050	-0.3	1608	8.0
租赁和商务服务业	5777	-36.5	1499	20.6
居民服务、修理和其他服务业	361	-25.6	37	-0.4

2019年对外非金融类直接投资额7630亿元，比上年下降4.3%，折1106亿美元，下降8.2%。

其中，对“一带一路”沿线国家非金融类直接投资额150亿美元，下降3.8%。

2019年对外承包工程完成营业额11928亿元，比上年增长6.6%，折1729亿美元，增长2.3%。

其中，对“一带一路”沿线国家完成营业额980亿美元，增长9.7%，占对外承包工程完成营业额比重为56.7%。对外劳务合作派出各类劳务人员49万人。

106.2018年服务进出口总额为（ ）亿元。

A.47235

B.49659

C.52678

D.53321

107.2019 年实际使用外商直接投资金额同比增长了 () 亿元

A.516

B.557

C.589

D.602

108.2018 年批发和零售业新设立企业家数量是外商直接投资(不含银行、证券、保险领域)新设立企业家数的 ()

A.25.3%

B.37.8%

C.40.6%

D.56.1%

109.下列四种外商直接投资的行业中，2019 年实际使用金额同比增长最快的是()

A.信息传输、软件和信息技术服务

B.房地产业

C.租赁和商务服务业

D.居民服务、修理和其他服务业

110.根据上述资料，下列说法错误的是：（ ）

A.2019 年制造业外商直接投资新设立企业家数同比下降速度小于农、林、牧渔业。

B.2018 年对外非金融类直接投资额为 7973 亿元

C.2019 年服务出口额同比增长量小于服务进出口额的逃避增长量

D.2018 年对“一带一路”沿线国家完成营业额是对外承包工程完成营业额的 52.8%

根据以下资料，回答 111~115 题。

经核算，2019 年我国“三新”经济增加值为 161927 亿元。相当于 GDP 的比重为 16.3%，比上年提高 0.2 个百分点；按现价计算的增速为 9.3%，比同期 GDP 现价增速高 1.5 个百分点。

分三次产业看，“三新”经济第一产业增加值为 6685 亿元，相当于 GDP 的比重为 0.75%；

“三新”经济第二产业增加值为 70443 亿元，相当于 GDP 比重为 7.1%；“三新”经济第

三产业增加值为 84799 亿元，相当于 GDP 比重为 86%。

2019 年“三新”经济增加值核算结果

产业	增加值 (亿元)	相当于 GDP 比重 (%)	现价增速 (%)
“三新”经济	161927	16.3	9.3
第一产业	6685	0.7	7.3
第二产业	70443	7.1	12.8

第三产业	84799	8.6	6.8
------	-------	-----	-----

新兴消费快速发展，网络购物继续扩大，智能化产品、信息等消费持续增长，线上线下融合步伐加快，消费新业态新模式不断成长壮大。数据显示，2019年，我国电子商务平台交易额达到34.8万亿元，比上年增长10.1%，网络消费持续保持较快增长，全国网上零售额10.6万亿元，比上年增长16.5%，增速高于全社会消费品零售总额增速8.5个百分点。其中，实物商品网上零售额增长19.5%，占社会消费品零售总额的比重为20.7%，比上年提高2.3个百分点。以跨境电商为代表的贸易新业态新模式成为外贸增长亮点，2019年，全年新设24个跨境电商综合试验区；我国跨境电子商务交易额实现1.99万亿元，比上年增长12.4%。2019年全国网购替代率为80.6%，比上年提高0.2个百分点，线上消费对线下消费的替代进一步增强。

进一步深化“放管服”改革，大众创业万众创新深入开展，微观主体活力不断增强。据测算，2019年经济活力指数为313.6，比上年增长7.4%。从主要构成指标看，2019年，全国新登记注册市场主体数量为2377.4万户，增长10.6%，科技企业孵化器数量预计增至5200家左右，增长约7.4%，国家高新技术产业开发区企业单位数超过14万个，增长19.7%以上，2019年，创业板、新三板挂牌公司数量为9744个，是2014年的4.9倍。随着网络经济快速发展，快递业客户主体和需求不断扩大，快递业务应用范围日益广泛。快递业延续良好发展态势。2019年，快递业务量达到635.2亿件，比上年增长25.3%，是2014年的4.6倍。

111.2019年，我国“三新”经济第三产业增加值占“三新经济增加值的（ ）

A. 50.4%

B. 2.3%

C.4.15%

D.43.5%

112. 2018 年，我国电子商务平台交易额为()万亿元。

A. 31.6

B.32.5

C. 33.6

D. 34.2

113. 2019 年，我国跨境电子商务交易额较上年增长了()亿元。

A.0.198

B.0.235

C.1856

D.2195

114. 2014 年，我国创业板、新三板挂牌公司数量为 () 个

A.1875

B. 1989

C.2012

D.2263

115.根据上述资料，下列说法错误的是()。

- A. 2019 年，我国 GOP 接近 100 万亿元
- B. 2019 年，全国网上零售额较 2018 年增长了 1.5 万亿元
- C. 2018 年，我国快递业务量为 500.9 亿件
- D. 2019 年，我国国家高新技术开发区企业单位数的同比增长量小于全国新登记注册市场主体数量的同比增长量