

2018 天津“三支一扶”考试 (网友回忆版)

重要提示:

为维护您的个人权益, 确保三支一扶考试的公平公正, 请您协助我们监督考试实施工作。

本场考试规定: 监考老师要向本考场全体考生展示题本密封情况, 并邀请 2 名考生代表验封签字后, 方能开启试卷袋。

仅限华图教育内部教学使用!

二〇一八年

条
形
码

请将此条形码揭下,
贴在答题卡指定位置。

准考证号

姓名

注意事项

- 一、此项测验分为五个部分，总时限 150 分钟。
- 二、请按照要求在答题卡上填写好自己的姓名，涂写好准考证号，严禁折叠答题卡。
- 三、必须在答题卡上答题；在题本上答题，一律无效。
- 四、监考人员宣布考试开始时，方可答题，宣布考试结束时，应立即停止答题。题本、答题卡，草稿纸一律留在桌上，待监考人员确认数量无误，允许离开后，方可离开考场。如果你违反了以上任何一项要求，都将影响你的成绩。
- 五、在这项测验中，可能有些试题较难，因此你不要在一道题上思考时间太久，遇到不会答的题目可先跳过去，如果有时间再去思考，否则，你可能没有时间完成后面的题目。
- 六、试题答错不倒扣

停！请不要往下翻！听候监考老师的指示。
否则，会影响你的成绩。

第一部分 数量关系

一、数字推理（公 5 题）给你一个数列，但其中缺少一项，要求你仔细观察数列的排列规律，然后从四个选项中选择你认为最合理的一项，填补空缺。

1、73， 54， 37， 22， ()

A 9 B 21 C 24 D 31

2、 $\frac{5}{8}$ ， 0.5 0.375， $\frac{1}{4}$ ， ()

A.0.475 B. 0.36 C. $\frac{3}{7}$ D. 0.125

3、5， 20， 8， 32 7 28 9 ()

A, 27 B, 36 C, 40 D, 42

4、4， ()， 40， 70， 108

A. 9 B. 12 C 18 D. 28

5、6， 15， 35， 77， ()

A.99 B.104 C.128 D.143

二、数字运算：共 10 题，主要考察解决算数问题的能力，可以再草稿纸上运算

6、 $16 \times 48 + 72 \times 15 + 24 \times 23 = ()$

A.2000 B. 2324 C.2400 D.2480

7、某连队共有 90 个人，站成一排，从左向右数，士兵甲是第 78 个，从右向左数，士兵乙是第 49 个，则甲和乙之间有多少个士兵？ ()

A. 29 B. 35 C. 36 D. 37

8、某场考试中共有 200 名同学参加，总体平均分为 75 分，其中男生平均为 69 分，女生平均分为 84 分，

则男生有（ ）名。

A. 120 B. 115 C. 100 D. 90

9、甲乙丙三人共同录入一份稿件，得到的劳动报酬三人平分。但由于实际工作时，乙比甲少录入 12 页，甲比丙多录入 12 页，三人公平起见，乙丙各自给了甲 20 元，则每录入一页可得（ ）元报酬。

A. 1.2 B. 2.5 C. 5 D. 6

10、小明骑车去郊游，前半段路程的骑行速度为 4 米每秒，后半段路程的骑行速度为 6 米每秒，则全程的平均速度为（ ）米每秒。

A. 4.5 B. 4.8 C. 5.0 D. 5.4

11、某铁路桥长 1000 米，一列火车从桥上通过，测的火车从开始上桥到完全下桥共用 120 秒，这列火车完全在桥上的时间 80 秒，则火车速度是（ ）

A. 10.2 米/秒 B. 12.8 米/秒 C. 650 米/分 D. 660 米/分

12、某班学生总数是 32 人，第一次考试中有 25 人及格，在第二次考试中有 22 人及格，弱两次考试中，都几个的有 20 人，那么两次考试都不及格的人数是（ ）

A. 28 B. 4 C. 5 D. 6

13、某年五月份有五个星期六，已知这五个星期之和为 75，则这个月中最后一个星期六是多少号？（ ）

A. 28 B. 29 C. 30 D. 31

14、2014 年，甲的年龄是乙的年龄的四倍。2018 年，甲的年龄是乙的年龄的 3 倍。则甲乙二人 2016 年的年龄分别是多少岁？（ ）

A. 34s 岁 12 岁 B.32 岁 8 岁 C.36 岁， 12 岁 D. 34 岁， 10 岁

15、某专业有 A、B、C、D 四门选修课，要求每位同学选修且只能选修其中 两门课程。无论怎样选择，至少有 5 名同学选修的课程完全相同，那么该专业至少有（ ）名学生。

A.17 B. 21 C. 25 D. 30

第二部分 言语理解与表达

一、选词填空（共5题）青葱所给的四个词中选出一个填入句子中括号内，使句子的意思表达最准确。

16、趁着乔迁之喜，办酒席者（ ）、借机敛财，当地遂出台了决定，对其进行了相应的教育和处罚。

- A. 弄虚作假 B. 巧立名目 C. 掩人耳目 D. 欺上瞒下

17、改革开放以来，日渐通畅的流动性给中国社会带来了无与伦比的（ ）

- A. 力量 B. 生机 C. 动力 D. 活力

18、形式主义的调研（ ）了形式主义的报告，非但起不到发现和解决问题的作用，反而（ ），既影响力基层干部的工作，又绕远了被调研企业的正常生产生活，实不可取。

- A. 滋生 画蛇添足 B. 衍生 背道而驰
C. 催生 适得其反 D. 产生 事与愿违

19、取缔低俗内容，光有（ ）额表态不行，紧靠封禁几个账号不够，需要在技术层面、管理层面、价值层面，把长效机制整整建立起来，才能（ ）低俗内容泛滥的土壤。

- A. 言之凿凿 清楚 B. 口若悬河 剔除
C. 信口开河 根除 D. 信誓旦旦 铲除

20、过程中，扶贫地区的教育资源和声学机会很难与城市（ ）。扶贫地区的孩子接收的教育质量相对较差。在进入城市就业的过程中，他们更多地实在（ ）地硬闯，融入城市过程中的挫败感，正使他们动摇“知识改变命运”的信念。

- A. 相提并论 单枪匹马 B. 一视同仁 漫无目的
C. 同日而语 手足无情 D. 等量齐观 形单影只

二、语句表达（共5题）要求你从语法、语气、语文等方面对有关语句做出判断。

21、下列各句中，没有歧义的一句是（ ）

- A. 《诗词经典》系列图书连续利郎年重印3次
B.他知道这件事不重要

- C. 领导们正在研究解决问题的方法
- D. 我们需要相信自己的人

22、下列各句中，没有语病的是（ ）

- A. 我们本着保证质量、降低成本、便于服务为原则，改进了产品的处方和工艺。
- B. 据美国医学组织网报道，美国斯坦福大学医学研究人员找到了物理压力形成伤疤的分子路径。
- C. 为了更好地调动教师的积极性，我们一定要做好考核教师的教学成绩，对于贡献突出和敢于奉献的教师要给予适当的物质奖励。
- D. 父母总怕我们不能好好照顾自己，显然多虑了。

23、下列各句中，表述正确的一项是（ ）

- A. 随处可见的和不可见的，正在改变着人们的生活
- B. 深圳市机动车保有量大，交通事故伤亡率一致在高位运行
- C. 过去传统媒体时代，我们的报纸、广播、电视等都应秉持正面宣传为主的方针
- D. 近年来，全面从严治党重拳频出，政治生态焕然一新

24、邪猎格局中，语义明确、没有语病的一项是（ ）

- A. 在活动现场，主要负责人就广大消费者关心的问题 and 困惑进行了细致的解答
- B. 中小学教师的工作平凡而细致，单却是我们的社会中不可缺少的中坚力量之一
- C. 这个地区发挥资源优势，依靠科技，增加智力投资，改变了落后局面，贫困面减少了三倍以上
- D. 在漫长的发展过程中，我国园林建筑与诗文、绘画等艺术紧密结合，形成了富有诗情画意的、在世界上独树一帜的艺术风格

25、下列各句中，划线词语的使用，不正确的一项是（ ）

- A. 戴望舒的《雨巷》悲而不伤，有一种中性美，在新年朗诵会上，他对《雨巷》的朗读，恰到好处的诠释了这首经典的意蕴。
- B. 我市明确提出把民生工作作为经济工作中提纲挈领、纲举目张的重要抓手，以此扩大有效投资需求，
- C. “互联网+生鲜”创新试验区的规划建设正在有序推进，完成这个任务，不能自出机杼，急于求成。

D. 如果我们只注重经济数量增长，而忽视质量改善，就会对自然资源盲目开发，甚至竭泽而渔，那势必会阻碍美丽中国建设，

三、**阅读理解**（共 15 题）媒体包含一段段位，短文后面是一个或几个不完整整的陈述，要求你从四个选项中选出一个来完成这一陈述。

26. 由于我国和日韩等东亚国家在文化上有一定的渊源关系，国产剧已于出口到亚洲地区。同时，欧美国家和我国在文化上差异较大，尤其对我国历史文化不太了解，我们的剧集再精彩，人家看不懂，或者在理解上有偏差，都会导致输出的部分国产剧在北美市场表现不够理想。

这段话谈论的是（ ）

- A. 国产剧出口欧美不受欢迎的原因
- B. 亚洲国家文化上的相同易于剧集交流
- C. 国产剧出口国外任重而道远
- D. 我国优秀的剧集数量太少

27. 老龄化与人民生活水平的提高将带动中国医药消费需求来新一轮更快加速的增长。我国医药工业已经连续十年保持 20.8% 的增速，未来十年我国医药工业总产值的复合年增长率有望达到 22%。新医改以来，我姑欧一直致力于提高居民医疗保障水平，乙城镇职工、城镇居民和“新农合”为主的医保体系，覆盖全国 90% 的城乡区域，这些搜将极大刺激药品消费市场，带动行业的快速房展。

这段文字的主旨是（ ）

- A. 我国医药工业发展势头非常快速
- B. 我国医药行业发展快速的原因
- C. 我国药品消费市场将快速发展
- D. 我国居民医疗保障水平日益改善

28. 出了一本好书不过如此，但拿上大奖，反响甚剧。原因是大奖调动了社会资源，与国家、权利、财力结合在一起，这样，各种奖被传媒与大众过分关注，而单枪匹马的作家，却没有这样的实力。

这段话的主要意思是（ ）

- A. 大奖本身比文学作品和作家更受关注

- B. 大奖能调动各种社会资源
- C. 获奖的作品更有轰动效应
- D. 世俗的力量会干预脱俗的言语艺术

29. 鼓楼是古代城市的标志，也是研究城市发展的独特角度。对中国鼓楼的藐视，自古以来就大量出现在正史、地方志、文学作品中，并且在都城学、军事学等学科中也是重要研究对象，每一座鼓楼都是一本厚重的史书，承载着丰富多样的历史，面对这样的“历史”，我们淫荡心存敬畏。

这段文字意在说明（）。

- A 应对鼓楼的文化遗产价值予以重视
- B 亟需对现存的鼓楼开展保护和研究
- C 鼓楼的文化价值远高于商业价值
- D 鼓楼为研究城市发展提供了独特视角

30. 是谁说，自然景观和心灵景观是互相对应的，不曾珍藏，神往山清水秀云淡风轻鸟语花香的心灵，想必一定是苍白的干燥的荒芜的，一定缺失爱和美的滋养润泽，旅行能催人思考，我们眼前的景观同我们脑子里可能产生的想法之间往往存在某种奇妙的关系，宏阔的思考常常需要有壮观的景观，而新的观点往往也产生于陌生的所在。

这段文字意在说明（）

- A. 旅行能使人开阔眼界
- B. 旅行者的角色能使人增加人生体验
- C. 人的思维角度会受到所处环境的影响
- D. 旅途中的景观常能引起思考

31. 在中国文化的冲击下，佛教必须要适应我国现实情况才能够立足，所以它会做出一些伪装，以求的认同，其中早期佛教书籍中特别强调“孝”，这就是对原文含义的歪曲来适应中国纲纪色彩文化要求的表现之一。

这段话的主旨是（）

- A. 佛教是一个适应性很强的宗教
- B. “孝”是佛教书籍发展过程中延伸出来的要义之一
- C. 佛教对中国传统文化影响较深
- D. 传统文化的力量迫使宗教在传播过程中进行了变通

32. 时人诵读古代经典并非单纯为了模仿古人，而是立足当下，令祖先的智慧得以承续，以期在现实语境下

生成新的意义，古装与历史的距离很远，古人读书席地而坐，写字以刀刻竹，皆因当时社会生产条件自然而为之，今读古人书而必效法古人之形貌，就未免显得不自然。自国学热兴起以来，追逐“古风”者不少，殊不知“古风”并非古代风格，而是古朴的民风，应如孔孟不求名利，如老庄不假雕饰，如隐者向山林寻求宁静，如这人向内心叩问真理。往往形式易学，而真正的历史情怀难解。

对这段话理解正确的一项是（ ）

- A. 现代社会传授古代经典应充分利用现代教学方式
- B. 诵读经典何必模仿古人，国学传承忌形式主义
- C. 追逐古风的方式与教育所崇尚“随风潜入夜，润物细无声”背道而驰
- D. 随意捏造古代场景，学习古人吟诗作对是一种本末倒置

33. 随着旅游业的进一步兴起，许多农村把“农家乐”当作第一主业，村民拿出自家最好的房间改成客房，不大的院子里，餐桌一张接着一张，连 xxxx 的地方都没有，更有甚者，为办农家乐，田地转包了，果树干死了，乡野的风景荡然无存，村里看不见大树下依然了得老人，欢乐弄跑的孩子，听不到鸡鸣狗吠，过度的商业化湮没了农村的悠闲与宁静。

这段话要表达的核心观点是（ ）

- A. “农家乐”旅游的本质是展示农家生活方式
- B. “农家乐”旅游不应失去农家田园本色
- C. “农家乐”过度商业化不利于持续发展
- D. “农家乐”不应成为农村的主业

34. 为了提高案件解决的效率，全国至少已有半数以上省份的法院引入了人工智能，比如五分钟生成一份法律文书，对简易案件的迅速裁决等等，它们正逐渐参与法官办案的流程，那么，机器人能不能成为合格的法官呢？现在说还为时尚早，或者说法官并没有那么好做，很多法官不仅读得了万卷书，还积累了足够多的知识和经验，以应对未知情况，毕竟司法办案不仅仅是一个相关法律条文积累、筛选的过程，还需要法官大量的说理和逻辑来推动。

这段文字意在说明（ ）

- A. 年轻的“人工智能”成为合格法官的路还很长
- B. 未来，人工智能只能在人的引导下做好辅助性工作
- C. 人工智能不受主观情感影响，对案件更能做到“一视同仁”
- D. 人工智能审判系统能够通过智能分析给法官提供参考，防止人工疏忽导致的错误

35. 伴随着市场的兴盛，含有强烈功利色彩的有偿鉴定也应运而生，专家成为市场的香饽饽，是形形色色有偿鉴定的主角，不少专家忙于走穴，经常马不停蹄地参加社会上的有偿鉴定活动，俨然变为一名社会活动家，有偿鉴定使专家违背道德，颠倒黑白，低档赝品成为专家眼中的“宝贝”，伪作摇身一变成为“名品真迹”流入市场，有些专家还亲自出面在媒体撰文为拍卖公司的重量级拍品宣传鼓吹，由于心存似念，指假为真，网开一面的现象时有发生。

这段话意在（ ）

- A. 指出由于有些专家在鉴定时掺杂了公司或个人私利，导致违心鉴定的现象屡屡发生
- B. 表明应该加强对鉴定专家道德的监管和约束
- C. 说明专家对文艺市场的混乱负有不可推卸的责任
- D. 列举当前混乱纷杂的艺术品鉴定行业的各种乱象

36. 前不久在一个座谈会上，一些来自各地的知名民营企业普遍反映，2005年以来，国务院制定了非公有制经济“36条”和民间投资“36条”，允许民营企业进入过去传统意义上讲的垄断行业，文件非常好。但他们不感兴趣。多年沉痛的教训告诉他们，只要国有企业处于垄断地位、占据优势地位的行业，民营经济不能去、也不愿或者不敢去，因为有可能碰得头破血流，甚至可能有去无回。怎么真正做到放开市场准入，让民营企业愿意进去、敢于进去，而且进去以后与国有企业一起，共同为中国经济下一阶段的发展和结构调整起作用，是下一步改革应该做的事情。

这段话理解恰当的一项是（ ）

- A. 民营企业要发展，首先是要打破垄断，开放市场准入
- B. 民营企业要发展，首先要搞活金融，解除金融对民营经济的压制，开放民间金融活动
- C. 民营企业要发展，首先要放开管制，减少干预，强化竞争
- D. 政府要仅仅抓住市场化发展方向和多种经济成分共同发展这两条主线

37. 我国汉语国际推广活动正在不断拓展，而这一过程中应当将海外华人族群文化的现状考虑在内。以促进汉语国际全面推广、弘扬中华文化来发展软实力是一回事，支持海外华人文化从中华文化的母体脱胎而出，成为当地社会族群文化是另一回事。前者取代后者就会混淆华人构建自己族群文化与弘扬中华文化的界限，不利于华人和中国关系的发展。

这段文字强调的是（ ）

- A. 应注意维护和发展海外华人与中国的正常关系

- B. 海外华人文化应与中华文化巧妙融合，并保持自身特色
- C. 发展中华文化软实力应当与支持海外华人族群文化共同前进
- D. 汉语国际推广活动的前提之一是支持海外华人构建自身族群文化

38、当我们逐渐成长起来之后，我们便也逐渐形成了对这个世界看法。它不仅来自于阅读，更来自直接的经验。假如我们依然热爱阅读，并且依然对阅读保持信赖，便会自觉地去芜存精，选择那些真正的好书。前段时期阅读好书的经历帮助了我们，从人生中得到的真情实感也帮助了我们。阅读和阅历使我们几乎是本能地懂得哪些是好书，哪些是那种作者以诚实与信赖写下来的。这段文字主要说明（ ）

- A. 成年之后，我们仍然以信赖的态度读书，而这时候的信赖却是一种理性的信赖
- B. 成年时期的阅读信赖是建立在宽容之上
- C. 阅读可为我们的人生经验做出补充和修正，使之达到健康完美的境地
- D. 阅读在人生中给我们带来的益处

39、强大的制造业是一个国家经济实力的体现和国家安全的保障。随着新一轮技术革命和产业变革的兴起，制造业正呈现出智能化、数字化和网络化的发展趋势，知识密集度不断提高。展望“工业 4.0”和“互联网+”的前景，无论是对新一代互联网、机器人、三维打印、工业控制软件等关键技术的创新和应用，还是培育、壮大以新一代信息技术、高端装备制造、生物、新能源、新材料为代表的战略性新兴产业，都需要一大批高素质的制造业从业人员。

这段话要表达的中心思想是（ ）

- A. 制造业的发展关系到国家的经济实力和国家安全
- B. 加大对教育体系的支持力度，改进高等教育、职业教育等，当属人才战略的要义
- C. 制造强国通常在科学技术上处于领先地位，精密程度不断提高
- D. 提高制造业从业人员的知识和技能是国家产业政策的重要内容

40、有些人喜欢对我国历史进行假设：清末立宪能够成功，中国就能走上君主立宪的道路；20 世纪的一系列革命没有发生，中国又将如何发展；国民党蒋介石政权没有垮台，中国走资本主义道路，中国又将如何。然而对于一个国家和民族的发展来说，选择什么样的道路存在各种可能，但能成为现实的只有一种，这是各种历史因素共同作用的必然结果。今日之中国精彩纷呈，中华民族伟大复兴展现出前所未有的光明前景。倘若再用假设得出的假设性结论来否定现实，那就更为荒诞可笑了。

这段文字意在说明（ ）

- A. 中国历史怎么假设都不如现实这般精彩
- B. 根据个人的主观偏好而任意想象的，都是混淆是非、迷惑人心的

- C. 一个民族历史的创造是各种偶然因素综合作用的结果
- D. 种种假设并非是对历史的否定，而是对历史的深刻反思

第三部分 判断推理

一、事件排序：（共5题）每道题给出5个事件，每个事件均以简短语句表述，接着给出事件假定发生顺序的4个数字序列，请你选择其中最合乎逻辑的一种事件顺序。

- 41、（1）正式开园 （2）修建人民公园 （3）丰富人们生活
 （4）设计景观 （5）人流量增多
A. 4-1-2-3-5 B. 2-1-4-5-3 C. 1-4-2-5-3 D. 2-4-1-5-3
- 42、（1）资料失真 （2）经济普查 （3）经济损失
 （4）数据更新 （5）经济出现新增长
A. 1-3-2-4-5 B. 3-5-2-1-4 C. 4-3-2-5-1 D. 5-2-1-3-4
- 43、（1）思索现象背后的原因 （2）发现奇怪现象
 （3）实验验证 （4）成功解释现象原因
 （5）寻找理论依据
A. 2-5-1-3-4 B. 3-1-2-4-5 C. 2-1-5-3-4 D. 4-2-3-1-5
- 44、（1）陈胜吴广起义 （2）郑成功收复台湾
 （3）林则徐虎门销烟 （4）武则天称帝，改国号为周
 （5）汉武帝派张骞出使西域，开通丝绸之路
A. 1-5-4-2-3 B. 2-3-5-1-4 C. 5-1-4-3-2 D. 1-4-2-3-5
- 45、（1）改造设计后的导航仪受到市场欢迎 （2）导航仪市场竞争日趋激烈
 （3）某导航仪厂效益明显见好 （4）调整导航仪的生产策略
 （5）某厂导航仪大量囤积
A. 2-4-3-5-1 B. 2-5-4-1-3 C. 2-5-1-4-3 D. 2-3-4-5-1

二、图形推理：（共5题）

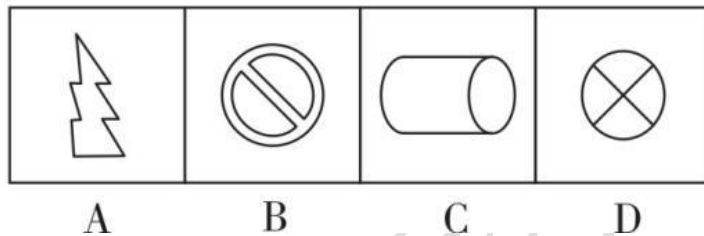
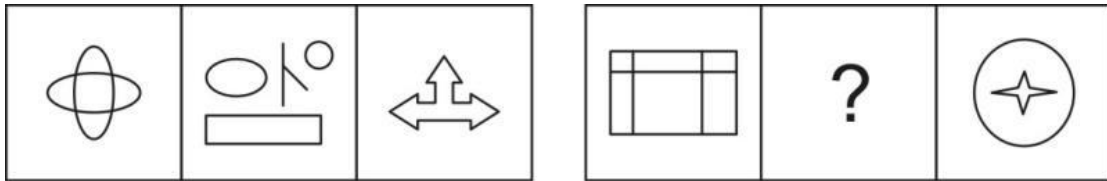
- 46、题目中的图形呈现一定规律性。根据这种规律，最有可能出现在？处的图形是（ ）。



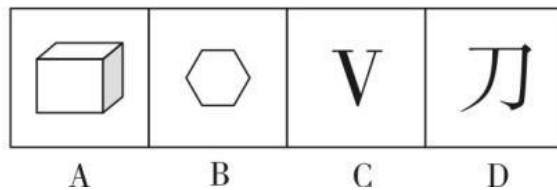
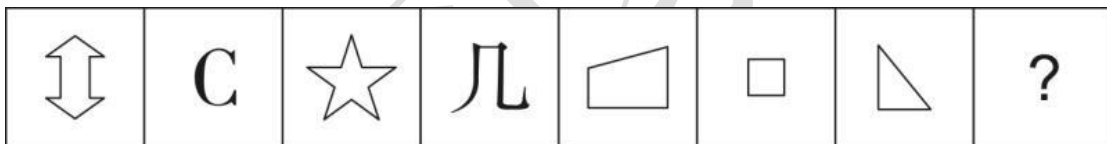
47、题目中的图形呈现一定规律性。根据这种规律，最有可能出现在？处的图形是（ ）。



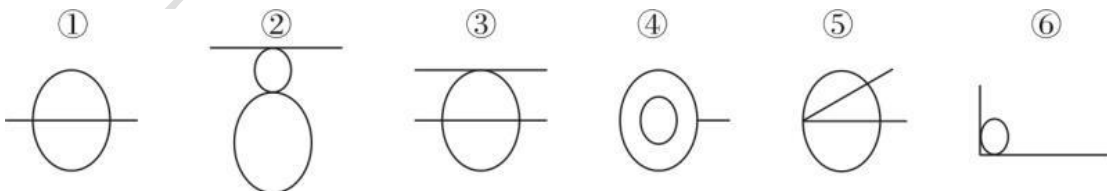
48、题目中的图形呈现一定规律性。根据这种规律，最有可能出现在？处的图形是（ ）。



49、题目中的图形呈现一定规律性。根据这种规律，最有可能出现在？处的图形是（ ）。



50、把下面的六个图形分为两类，使每一类图形都有各自的共同特征或者规律，分类正确的一项是（ ）。



- A. ①②④, ③⑤⑥
B. ①④⑤, ②③⑥
C. ①②③, ④⑤⑥
D. ①④⑥, ②③⑤

三、常识判断：（共 20 题）涵盖政治、经济、文学、历史、社会、公文等多方面常识，考查应试者在这些

方面应知应会的基础知识以及运用基本知识分析判断的基本能力。

- 51、2018年是马克思诞辰200周年，马克思被称为全世界无产阶级和劳动人民的伟大导师，无产阶级的精神领袖，国际共产主义运动的先驱。下列属于马克思著作的是《()》。
- A. 法国文明史 B. 自然辩证法 C. 共产党宣言 D. 国家起源
- 52、2018年4月10日，习近平总书记出席博鳌亚洲论坛2018年年会开幕式，并发表题为《开放共创繁荣 创新引领未来》的主旨演讲，习近平总书记强调，面向未来，我们要互相尊重、平等相待，走()，结伴而不结盟的国与国交往新路，实现持久和平。
- A. 相互交流合作共赢 B. 对话而不对抗
C. 单边与多边相结合 D. 区域结盟与对话相结合
- 53、习近平总书记在参加重庆代表团审议时强调，党员干部应当要时刻保持人民公仆本色，要()，培养和强化自我约束，自我控制的意识和能力，做到“心不动于微利之诱，目不眩于五色之感”。
- A. 慎独、慎微、慎言、慎行 B. 慎独、慎初、慎微、慎欲
C. 慎行、慎欲、慎初、慎终 D. 慎微、慎言、慎独、慎初
- 54、当地时间2018年4月14日，叙利亚遭受空袭，此次参与空袭叙利亚活动的国家不包括()。
- A. 德国 B. 英国 C. 法国 D. 美国
- 55、根据商务部的监测，2017年1-8月，全国农村实现网络零售额7290亿元人民币，同比增长38.1%，高出城市网络零售额增速5.6个百分点。商务部将继续出台新政策、探索新模式、利用新技术，加快推动()的发展，促进农民增收，助力脱贫攻坚。
- A. 农村经济 B. 互联网+农业 C. 农业现代化 D. 农村电商
- 56、李克强总理指出，我国经济要长期保持中高速增长，迈向中高端水平，必须用好政府和市场这“两只手”，即开启()，一是推动大众创业、万众创新，释放民智民力，推动社会纵向流动，促进社会公平正义。二是要扩大公共产品和公共服务供给，补齐“短板”。
- A. “双驱动” B. “双引擎” C. “双创” D. “双推动”
- 57、中共中央政治局常委()在2018年3月14日举行的全国政协十三届一次会议第四次全体会议上，当选全国政协主席。
- A. 俞正声 B. 李源潮 C. 汪洋 D. 赵乐际
- 58、2018年4月13日上午，以“新时代 新阅读 新向往”为主题的第四届(2018)中国数字阅读大会在杭州举行。数据显示，中国数字阅读市场规模已经达到了152亿，用户方面，目前数字阅读用户已接近4亿，中国人自古崇尚读书，也流传了诸多劝人读书学习的诗词佳句，下列不属于劝人读书学习的

诗句的是（ ）。

- A. 旧书不厌百回读，熟读精思子自知 B. 书痴者文必工，艺痴者技必良
C. 问渠那得清如许，为有源头活水来 D. 心安身自安，身安室自宽

59、从国家统计局了解到，2018年，我国将建立以旅游、养老、健康等为主的幸福产业统计监测制度，研究建立反映数字经济、共享经济、现代供应链的统计制度；完善全面建成小康社会指标体系，进而建立起（ ）体系。

- A. 现代化统计调查 B. 新时代统计调查
C. 全面化统计调查 D. 新时代现代化统计调查

60、2017年养老金并轨改革启动，近4000万公职人员缴纳养老金，公职人员和企业职工领取同样水平的养老金。养老金并轨有利于（ ）。

- A. 缩小收入差距，维护社会公平 B. 保障弱势群体的基本生活
C. 增加国库收入，提高国力 D. 缩小贫富差距，维护公平正义

61、①青岛市政府在招商引资过程中严格实行“环保一票否决权”制度，关闭高耗能，高污染企业。

②德州市政府实施“百万屋顶”计划，开展太阳能推广利用工作，打造“中国太阳城”。

以上两段材料所体现的共同经济生活道理是（ ）。

- A. 宏观调控以经济手段和行政手段为主
B. 发挥市场在资源配置中的决定性作用
C. 坚持科学发展观，走可持续发展之路
D. 增强自主创新能力，建设创新型国家

62、在“一带一路”国际合作高峰论坛上，习近平指出：“一带一路”源自中国，但属于世界。在“一带一路”建设国际合作框架内，各方秉持共商、共建、共享原则，携手应对世界经济面临的挑战，开创发展新机遇，谋求发展新动力，扩张发展新空间，实现优势互补、互利共赢，不断朝着人类命运共同体方向迈进。这表明我国（ ）。

- A. 在全球性问题的解决中发挥着关键性作用
B. 在谋求本国发展的同时促进各国共同发展
C. 已维护发展中国家利益为外交活动的出发点
D. 以建立国际政治新秩序为外交政策的宗旨

63、“二十四节气”被列入联合国教科文组织人类非物质文化遗产代表作名录，世界遗产再添“中国符号”，“二十四节气”的申遗成功（ ）。

- B 日本孩子的体质要好于中国孩子体质
- C 日本注重孩子的意志培养
- D 中日两国家长在孩子的教育观念上存在着差距

72.某公司有 60 名员工，男女员工各占一半，有 40 个员工喜欢华为手机；50 个员工喜欢苹果手机。这表面可能会有（）。

- A 20 个男员工喜欢华为手机而不喜欢苹果手机
- B 20 个喜欢苹果手机的男员工不喜欢华为手机
- C 30 个喜欢苹果手机的女员工不喜欢华为手机
- D 30 个喜欢华为手机的男员工只有 10 个喜欢苹果手机

73.桌子上有 4 个杯子，每个杯子上写着一句话，第一个杯子：“所有的杯子中都有啤酒”

第二个杯子：“本杯中有可乐”；第三个杯子：“本杯中没有咖啡”；第四个杯子：“有些杯子中没有啤酒”。

4 句话中只有一句是真话，那么下列哪项为真？（）

- A 第三个杯子中有咖啡
- B 所有杯子中都没有可乐
- C 所有的杯子中都有啤酒
- D 第二个杯子中有可乐

74.考生并非向职业学校招生人员所想象的哪样容易收到影响，他们很清楚自己报考哪个学校，而且他们想要报考的与其他人认为他们报考的学校往往差别很大。

一下哪项如果威震，最能反驳上述观点？（）

- A. 当考生与同伴一起报考学校时，通常很少与同伴发生争执。
- B 各种职业学校招生的广告经常使得考生不知所措
- C 做广告越多的职业学校往往报考的学生也越多
- D 有些考生在报考学校前纠结报考哪个学校

75.耗资数十亿元，采用了当今通信领域十项尖端技术的“铱星”全球卫星电话系统，最终因价格过于昂贵，用户稀少，公司严重亏损而宣告关闭。这件事表明（）。

- A 产品科技水平的高低决定其市场占有率的高低
- B 高科技产品不应定价过高，否则会影响市场占有率
- C 科技创新和新产品开发必须以市场为导向，并接受市场的检验
- D 竞争机制导致了企业和产品的优胜劣汰

76.有些人坚信外星人是存在的。理由是，谁能证明外星人不存在呢？

下列选项中，哪一项与上文的论证方式是相同的？（）

- A 原始森林中有野人。理由是，有谁看见过野人的踪影呢？
- B 古代神学家论证神灵是存在的。理由是：你能证明神灵不存在吗？
- C 科学家不是天生聪明的。因为谁能证明爱因斯坦就是聪明的呢？
- D 一个哲学家不相信人的神经在脑中汇合，理由是，奥斯汀讲到，神经是从心脏中产生出来的。

77.互联网的发展改变了人们的生活方式，人们可以通过手机移动支付方式，通过“扫一扫”或转账就能快捷消费，避免了携带大量现金、找零的麻烦，并且提高了消费的效率。有学者认为，现金消费会收到移动支付的强烈冲击，并且越来越多的网络和电商经济会改变着人们的生活观念。

以下哪项如果为真，最能消弱学者的观点？（ ）

- A 手机移动支付虽然很便利，但是容易导致个人信息的遗漏
- B 就目前而言，手机移动支付仍然要在现金支付的支撑下才能生存
- C 更多的人愿意选择辩解的支付方式来提高消费效率
- D 大部分商家还是不支持手机移动支付功能，因为这样会增加自身的经营成本

78.如果甲参加婚礼，那么乙、丙、丁将一起参加婚礼。

如果上述判定为真，那么以下哪项也是真的？（ ）

- A 如果乙、丙、丁都参加婚礼，那么甲参加了婚礼
- B 如果丙没有参加婚礼，那么乙和丁不会都参加婚礼
- C 如果丁没有参加婚礼，那么甲和丙不会都参加婚礼
- D 如果甲没有参加婚礼那么乙、丙、丁中至少有一个人没有参加婚礼

79.现在，送孩子上大学的教育费用在很多家庭的消费支出中占有相当大的比重，有人说，这是因为高等教育是一项很好的投资，以下哪项对以上说法提出质疑？

- A 一个大学文凭每年的利润率是 13%以上，超过了股票的长期利润率
- B 在 25 岁到 29 岁的人中。高中及以下学历的失业率是受过高等教育的人的三倍
- C 科技发展迅速，经济从依赖体力转变为更多依赖脑力。对大学学历的回报进一步提高
- D 随着计算机技术的发展，许多原来需要高技术人才承担的工作可以雇只会操作键盘的技工来干

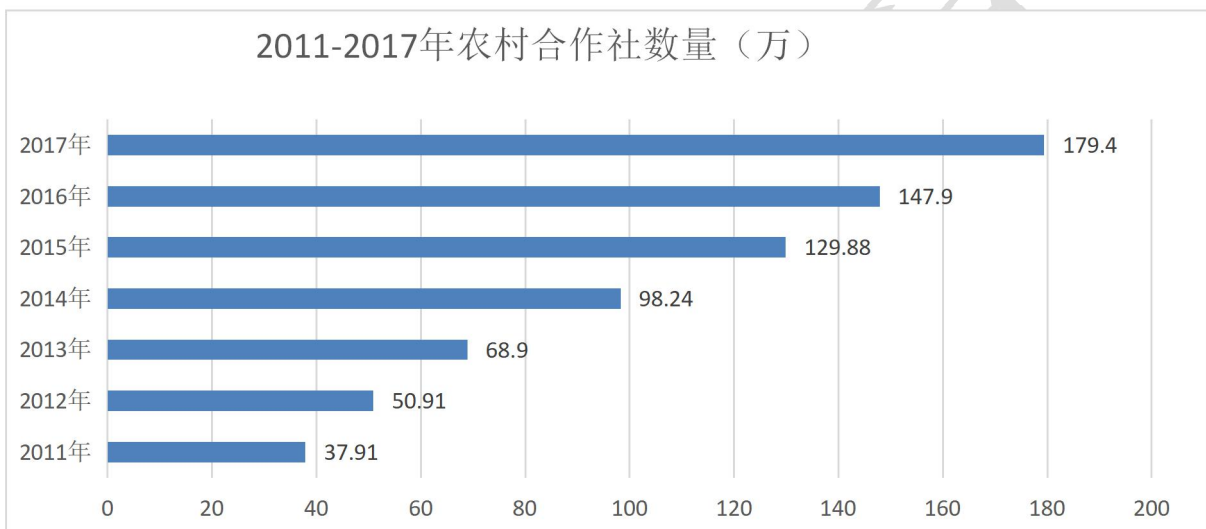
80.某儿童图书馆是一款互动式儿童阅读软件，包含海量儿童绘本类型的儿童图书。使得孩子可以自主阅读，减轻了家长为孩子念书的辛苦。这款儿童阅读软件广受到孩子和家长的欢迎。但儿童教育专家通过对 51 名学龄前儿童的对比研究发现，儿童试用该儿童图书馆及累死软件 5 个月，创造力下降了 42%，而阅读能力并没有明显提高

从以上介绍中可以得出下述那种结论？（ ）

- A 电脑不能取代笔和纸这样最原始的学习工具，因为后者能胜任儿童的思维自由驰骋
- B 阅读软件对儿童智力的其它方面的发展有积极影响，比如记忆能力
- C 某儿童图书馆广受欢迎足以说明其积极影响
- D 阅读软件对学龄前儿童的作用不如对已入学儿童大

第四部分 资料分析

(一) 根据下面的材料，回答第 81-85 题



2011年	2012年	2013年	2014年	2015年	2016年	2017年
37.91	50.91	68.9	98.24	129.88	147.9	179.4

81.2011-2017年，我国农村合作社数量较上一年增长最多的是在（ ）

- A 2012年 B 2014年 C 2015年 D 2017年

82.2017年我国农村合作社数量比2011年多（ ）个

- A 141.5万 B 152.5万 C 165.3万 D 1414.9万

83.2011-2017年，我国农村合作社数量在那一年首次出现下滑？（ ）

- A 2012年 B 2013年 C 2014年 D 2015年

84.2011-2017年，我国农村合作社数量增幅超过30%年份有（ ）个

A 5 B 4 C 3 D 2

85.根据图标，下列正确的有（）。

- ①2011-2017年，我国农村合作社数量同比增长最少的是在2016年
- ②2011-2017年，我国农村合作社平均数量超过2015年的数量
- ③2013年我国农村合作社数量同比增长率和2012年相同

A 0 B 1 C 2 D 3

(二)根据下面的材料，回答第86-89题

根据国家统计局公布的全国粮食生产数据显示，2017年全国期食品产量12254亿斤，比2016年增长33亿斤。粮食生产再获丰收，属历史上第二高产年。其中玉米4318亿斤，减少73亿斤；稻谷4171亿斤、增加30亿斤；小麦2593亿斤，增加19亿斤；其它粮食作物1274亿斤，增加58亿斤。

初步统计，2017年全国粮食播种面积16.38亿亩，比2016年减少1222万亩，下降0.7%，2017年，全国谷物播种面积13.94亿亩，下降1.6%；其中玉米5.32亿亩，比上年减少1984万亩，下降3.6%；稻谷4.53亿亩，与上年基本持平；小麦3.60亿亩，比上年减少299万亩，下降0.8%。豆类播种面积增加，薯类面积稳定，2017年，全国豆类播种面积1.55亿亩，比上年增加978万亩，增长6.7%，其中大都播种面积1.17亿亩，比上年增加871万亩，增长8.1%；其它杂豆播种面积增加107万亩，增长2.9%……、薯类播种面积1.34亿亩，比上年略减5万亩。

86、2017年，下列粮食总产量同比增幅最大的一种是()。

- A.五米
- 3.小麦
- C.稻谷
- D.其他粮食作物

87、2017年全国谷物播种面积比上年下降约（）万亩。

- A.1990
- B. 2100
- C. 2300
- D 3200

88、2017年，全国玉米和小麦总面积()。

- A.超过9亿亩
- B.同比下降超过2%

- C.约占全国粮食播种面积的 456
- D. 比稻谷的播种面积多 4390 百万亩
- 89、 2016 年，全国粮食作物平均单产约为() 公斤/亩
- A.364
- B. 369
- C. 727
- D.738
- 90、根据上述资料，以下说法不正确的一项是()
- A.2017 年全国粮食种植面积的下降，主要原因之一是因为玉米播种面积减少较多
3. 2017 年稻谷的播种面积是大豆播种面积的 3 倍以上
- C. 2017 年玉米平均单产比小麦平均单产多 45.4 公斤/亩
- D. 2016 年，豆类播种面积占全国粮食播种面积的 9%以上

第五部分作文

阅读以下材料作答：

材料 1:党的十九大报告指出，我国经济已由高速增长阶段转向高质量发展阶段，必须坚持质量第一、效益优先，以供给侧结构性改革为主线，推动经济发展质量变革、效率变革、动力变革，提高全要素生产率。这一重要论断，明确了我国经济发展的阶段特征，方向路径和主要任务。高质量发展，是大形势、大格局、大逻辑。

2018 年被农业农村部确定为“农业质量年”。2 月 6 日，全国推进质量兴农绿色兴农品牌强农工作会议在福建福州召开，农业农村部部长出席会议并宣布“农业质量年”行动正式启动。

启动“农业质量年”行动是落实习近平总书记关于推进质量兴农要求、积极实施乡村振兴战略的一项重要举措。习近平总书记在去年底的中央农村工作会议上对实施乡村振兴战略，推进质量兴农、绿色兴农，发出了号召、提出了要求。并强调推动高质量发展，是我们当前和今后一个时期确定发展思路、制定经济政策、实施宏观调控的根本要求:要推进农业供给侧结构性改革，坚持质量兴农、绿色兴农，农业政策从增产导向转向提质导向。这一重要论断，深刻指出了推进高质量发展的重要意义，指明了农业农村经济发展的努力方向。

材料 2: “一年之计在于春”，春耕生产是关系全年粮食生产和农业发展的第一仗，也是实施农业高质量发展的关键开局。据数据显示，截至 4 月 24 日,全国已春播农作物 4.41 亿亩，完成意向的 33.2%，进度同

比快 1 个百分点。其中，早稻栽插和中稻育秧均过八成，播栽质量提高，秧苗长势较好。农业农村部种植业管理司司长表示，今年春耕生产的三个显著特点，概括起来就是“优”“绿”“融”三大关键词。

农业农村部发展计划司司长表示，一季度农业农村经济运行开局良好。第一产业增加值达到 8904 亿元，同比增长 3.2%;农村居民人均可支配收入达到 4226 元，实际增长 6.8%,延续了“双增长”的势头，实现了“开门红”。

总的来看，一季度农业农村经济的好形势，为乡村振兴战略开局起步奠定了良好基础。但受国际市场变化和国内宏观经济走势影响，农业农村经济发展仍然存在一些苗头性、趋势性的问题，需要采取有力措施，才能保持这样好的势头。

材料 3 中央一号文件指出，当前，中国进入高质量发展新阶段，中国发展不平衡不充分问题在乡村最为突出，第一个突出表现就在于农产品阶段性供过于求和供给不足并存。农业供给质量亟待提高。中国农业农村经济已经到了推进高质量发展的新阶段，缓解农业资源环境压力，满足民众不断升级的消费需求，应对激烈的国际竞争，必须加快推进农业高质量发展

农业农村部部长表示。推动农业高质量发展。是一场深刻的变革，绝不是对现有发展路径的小修小补，而是要实现工作导向的重大转变和工作重心的重大调整，推动农业来一场质量革命。实施“农业质量年”行动是推进农业转型升级的重要举措，农业部门要加快推动“农业质量年”活动取得显著成效，加快农业转型升级步伐，让老百姓有实实在在的获得感

材料 4:

我国的农业高质量发展离不开绿色转型。近几年，农业农村部深入开展化肥农药使用量零增长行动，推进有机肥替代化肥，推进病虫绿色防控和统防统治，选择 150 个县开展全程绿色防控试点。同时，开展耕地轮作休耕试点，试点面积增加到 3000 万亩，调减华北地下水超采区、西南西北条锈病菌源区及新疆塔里木河地下水超采区的耗水、低产小麦面积。

结合天津市实际，2018 年天津市政府工作报告明确了将推动城乡融合发展、推动农村重点领域改革、推动农业结构调整、推动农业农村绿色发展来确保农业高质量发展，相关责任人表示：“从 2017 年开始，我们更加重视农业的高质量发展，投入 3000 万元建设重点农业项目。同时，我们制定了品牌战略实施方案，出台奖励政策，认定了 83 个天津农业知名品牌。”“而且，天津在推进农业高质量发展中还将推进智能农业的发展，天津是农业部物联网区域试验工程 3 个试点省市之一，我们建立了 100 个核心试验基地，辐射带动整个产业，农林牧副渔都将有智能农业的发展。”

黑龙江省人大代表在“两会”上表示，生态环境好是黑龙江的金字招牌。作为全国绿色有机食品生产第一大省，我们更要牢固树立“绿水青山就是金山银山”的发展理念，深入实施绿色兴农战略，推行绿色

生产方式，推进农业优质化、绿色化、特色化，放大生态和资源优势，加快绿水青山向金山银山转变。推进农业高质量发展，坚持质量兴农、效益优先原则，以市场为导向，调优品种品质结构，大力发展绿色食品，完善农产品质量安全追溯体系，强化农产品质量监管，让老百姓吃得好、吃得放心。

材料 5.随着我国经济发展步入新常态，我国农业发展呈现一系列新特点的同时也面临诸多新挑战。

长期以来，粮棉油糖四类农产品播种面积占我国农业总播种面积的 80%以上。而这四类农产品总产值约为 2 万亿元，仅占农业总产值的 20%，也就是说，八成的耕地贡献了两成农业产值；并且目前我国农产品加工业总产值与农业总产值之比为 2.3: 1.与发达国家的 3.7:1 相比。还有很大提升空间。

在经济结构转型升级和 GDP 增速下滑的背景下，农民工就业机会越来越少。由于高库存与全球性供给过剩，粮食等主要农产品价格持续低位徘徊，粮食生产成本不断上升，加之，一些年轻农民认为“种粮无前途”，外出打工才是首选，中老年农民种地主要为口粮。中青年在家务农的主要目的是赡养父辈、照顾儿女；有的地方种地亏损，耕地撂荒现象常有发生，导致种粮大户和家庭农场，调减种粮面积，增加经济作物种植面积。像过去样依靠非农收入，靠粮食增产和提价保障农民持续增收的难度越来越大。

近年来，大宗农产品内外价差不断扩大，农产品进口快速增长，导致国内库存攀升，造成了“洋货入市、国货入库”的局面。例如谷物进口量从 1458 万吨增长到 3271 万吨，使国内玉米成为结构性过剩品种，造成储备膨胀。随着贸易标准不断提高，在我国农业竞争力先天不足的情况下，价低质优的国外农产品将大量涌入国内市场。

作答要求:

质量发展是兴国之道、强国之策。党中央、国务院高度重视质量发展工作，习近平总书记在许多重要会议上多次作出重要的指示和部署，对质量兴农提出了明确的要求。

结合所给材料和自身认识，请围绕“质量兴农 农业强国”这一主题，自选角度，自拟题目，写一篇议论性的文章。(30 分)

要求:观点鲜明，论证充分，条理清楚，结构完整，语言流畅，字数 800-1000 字。

全部试题到此结束!