

# 2017 年天津三支一扶考试真题

## 第一部分 数量关系

一、数字推理：（共 5 题）给你一个数列，但其中缺少一项，要求你仔细观察数列的排列规律，然后从四个选项中选择你认为最合理的一项，填补空缺项。

1、23, 25/3, 3, 29/27, ( )

A.11/81      B.31/81      C.35/162      D.35/243

2、16, 8, 8, 12, 24, 60, ( )

A.90      B.120      C.180      D.240

3、125, ( ), 83, 65, 49

A.116      B.103      C.101      D.96

4、1, 3, 4, 13, ( ), 690

A.24      B.33      C.47      D.53

5、191, 263, 335, 614, ( )

A.713      B.825      C.861      D.912

二、数学运算：（共 10 题）主要考查你解决算术问题的能力，你可以在草稿纸上运算。

6、请计算： $1099+999\times 99=$  ( )。

A.10000      B.99990      C.99999      D.100000

7、0.33, 8/25, 35%, 1/3 四个数最大的是 ( )。

A.0.33      B.8/25      C.35%      D.1/3

8、把 54 拆分为 a, b, c, d 四个数，如果 a 数加上 2, b 数减去 2, c 数乘以 2, d 数除以 2 之后得到的四个数相等，那么 a, b, c, d 的值分别为 ( )。

A.10, 14, 6, 24      B.18, 22, 10, 40      C.12, 16, 9, 22      D.8, 12, 6, 28

9、第一中心小学举行数学竞赛，共 20 道题，每做对一道题得 5 分，没做错一道题扣 2 分。小明得了 86 分，他做错了 ( ) 道题。

A.2      B.3      C.4      D.5

10、出租车的起步价是在公里以内为 8 元，超过 3 公里后每 1 公里收费 1.7 元，请问走 15 公里需收多少钱？ ( )

A.20.4 元      B.28.4 元      C.33.9 元      D.44.8 元

11、某商店为某品牌服装代销 500 件女装，代销费用为销售总额的 15%，全部销售完后，商店向服装厂交付 17000 元，这批衣服每件售价多少元？（ ）

A.25      B.30      C.40      D.48

12、某市修建了一个人工湖，并在周围开展“围湖种树”工程，现运回一批树苗，若每隔 4 米栽一棵，则少 200 棵；若每隔 5 米栽一棵，则多 280 棵。请问共运回树苗多少棵？（ ）

A.1660 棵      B.1920 棵      C.2200 棵      D.2480 棵

13、如果从昨天算起五天之后是星期一，那么，从明天算起八天之后是星期几？（ ）

A.星期六      B.星期四      C.星期二      D.星期一

14、小刘的家距离公司 5.5 公里，小刘每天去公司上班，先以每分钟 40 米的速度步行到公交站，然后乘公交车直达公司，每分钟行 340 米，结果共用 25 分钟到达公司，则公交站离小刘家（ ）米。

A.200      B.400      C.600      D.800

15、爸爸对女儿说：“当我的岁数是你的岁数时，你才 2 岁。”女儿对爸爸说：“当我的岁数到你现在的岁数时，你将会 71 岁。”那么，爸爸和女儿现在分别多少岁？（ ）

A.49 岁，26 岁      B. 48 岁，25 岁      C.47 岁，24 岁      D.46 岁，23 岁

## 第二部分 言语理解与表达

一、选词填空：（共 5 题）要求你从所给的四个词中选出一个填入句中括号内，从而使句子的意思表达最准确。

16、随着大数据、物联网等新兴技术的（ ），“互联网+”主题下的智慧社区发展正在提速。

A.瞬息万变      B.转瞬即逝      C.日新月异      D.日日维新

17、为了迎接全运会，青年志愿者队伍（ ），准备大显身手。

A.摩拳擦掌      B.粉墨登场      C.走马上任      D.抛头露面

18、国家要着力提高整个产业链的竞争力，基本方法（ ）倾轧国家资金搞重复建设，（ ）要通过扶持品牌、标准、物流、信息网络等手段，促进现有企业之间的合作，共享资源，提高企业生产效率。

A.不是 而是      B.不应 而应      C.不可 但是      D.不能 而

19、从埃及石像上的刻字到泰国白庙的洗手间，中国游客的素质一直是个十分敏感且每每在网络上引起广泛关注的话题。随着舆论的（ ），国家旅游局不得不出台游客“黑名单”，以杜绝游客的不文明行为，久而久之，似乎每一位中国游客也都默认了“素质低”这一（ ）。

- A.发展 标志      B.发酵 标签      C.进展 标识      D.扩大 烙印

20、当富裕国家的人们开始（ ）全球化为普通民众能带来多少好处时，当美国总统和英国脱欧公投结果印证了这些国家在移民、安全和全球发展等议题上出现了国内利益优先的倾向时，我们高兴的看到，中国正逐步展现其全球领导力，填补这一（ ）。

- A.质疑 缺失      B.置疑 空缺      C.置疑 缺失      D.质疑 空缺

**二、语句表达：（共 5 题）要求你从语法、语气、语义等方面对有关语句做出判断。**

21、下列各句中，没有歧义的一句是（ ）。

- A.这一社区助人风气浓厚，被评为“先进社区”  
B.老李对老张说，他的儿子出版了一本专著  
C.5月14日还欠款总计5000元  
D.作为一名科班出身的演员，一定要演好戏

22、下列各句中，没有语病的一句是（ ）。

- A.校长亲自给本科生上课，广受同学们所欢迎  
B.繁华市场和人民群众的生活是刻不容缓的任务  
C.文物是一个民族共同的记忆载体  
D.由于这次事故，天津友谊路地段的交通为此封闭了近三小时

23、下列各句中，没有语病、句意明确的一项是（ ）。

- A.这几年来，他无时不忘搜集、整理素材，积累了大量贪官的资料  
B.中国有句古话，“取乎其上，得乎其中”，即使以最严格的要求，通常也只能获得中等的效果  
C.公司决定对本次事故主要负责的技术员和安全员，给予警告和免职处分  
D.《走遍中国》系列图书连续两年重印了6次

24、下列各句中，缺少“的”字的一句是（ ）。

- A.小范是跟刘欢老师学唱歌  
B.原因在于人们对待生活态度不同  
C.高考加分政策关乎社会公平正义  
D.如何处理网民诉求，成为政府部门必须思考问题

25、下列各句中，加点词语使用不恰当的一句是（ ）

- A.我们的水平和老同志相差太远了，只能望其项背
- B.我们都在紧张地复习准备考试，他却若无其事地看漫画书
- C.回答他的是夺眶而出的泪水和踉跄而去的背影
- D.滥杀藏羚羊的行为日益猖獗，违法者众多且分布广泛，而管理部门人手不足，因此执法时往往捉襟见肘

三、阅读理解：（共 15 题）问题可能是选择一个词语或一个句子，使表达最为准确，也可能是考察对文字内容的理解，你的选择应与题目要求最相符合。

26、拉尼娜现象会增加我国北方干旱地区降水，干燥的北方农牧地区将得到充足的水资源，对农务生产会有一定帮助，但就全球来看，拉尼娜现象对世界经济总体还是以负面影响为主，得到好处的仅是局部地区。

这段文字旨在说明拉尼娜现象（ ）。

- A.会使全球干旱地区减少
- B.对局部地区利大于弊
- C.将给世界经济带来消极影响
- D.将导致世界各国农业结构变化

27、行为科学研究显示，工作时的人际关系通常不那么复杂，也宽松些。可能是由于这种人际关系更有规律，更易于预料，因此也更容易协调，因为人们知道他们每天都要共同努力，相互协作，才能完成一定的工作。

这段文字主要是在强调（ ）。

- A.普通的人际关系缺乏规律
- B.工作人员之间的关系比较简单
- C.共同的目标使工作人员很团结
- D.维系好良好的人际关系要靠共同努力

28、在今天的商业世界中，供过于求是普遍现象，为了说服顾客购买自己的产品，大规模竞争就在同类商品的生产企业之间展开了，他们得经常设法向消费者提醒自己产品的名字和优等的质量，这就需靠广告。

对这段文字概括最恰当的是（ ）。

- A.广告是商业世界的必然产物
- B.各商家之间用广告开展竞争
- C.广告就是要说服顾客买东西
- D.广告是经济活动中供过于求的产物

29、近年来，一些人和单位利用网络的匿名性、快递单的开放性，肆意搜集、贩卖网民的个人信息，而隐私快递单顺应形势与民意，用户个人信息“加码”隐藏，构筑信息保护与公共安全屏障。

这段话的意思是（ ）。

A.隐私快递单体现了现代科技进步

B.个人信息安全亟待加强

C.信息泄露给公民带来隐忧

D.隐私快递单助推信息保护

30、互联网给商家带来了低成本传播途径，越来越多的公司意识到了潜在的土豆效应。当需求增速将低，消费停滞的时候，被削减的只是高档产品，必需品和物美价廉的产品去、需求反倒上升，传统商业领域的 10 元店效应被彻底互联网化。

这段文字的“土豆”指的是（ ）。

A.必需品和物美价廉产品

B.传统商业领域的 10 元店

C.互联网的低成本传播途径

D.消费停滞所减少的高档产品

31、相对论的提出和发展，革命性地改变了人们对物质世界的认识，许多物理现象得以真正的被解释，许多理论也建立在相对论的基础上来验证一个又一个假设，它对推动世界文明的进步有深远的意义，这些耗时多年的基础研究成果，其科学价值无可估量，绝不是使用“有没有用”这样的简单标准就能衡量。

这段文字意在强调（ ）。

A.科学研究需要长期积累

B.相对论对现代物理学意义重大

C.基础研究不应该急功近利

D.科学价值无法用量化指标衡量

32、不要小看了买菜做饭刷锅洗碗这些琐碎家务，调查结果显示，夫妻在家务分工上的分歧是导致家庭关系紧张的重要原因。随着女性年龄增长，因家务分配不公而生的心理压力会逐渐增加，而男性则相对保持稳定。研究者还发现，未能在家务分工上达成共识常常会令女性觉得在两性关系中处于劣势，从而情绪紧张。而对于男性来说，更重要的不是做多少家务，而是自己的经济社会地位是否高出配偶。当收入低于女方时，做家务常常会触发男性的羞耻及抵触心理。

最适合做这段文字标题的是（ ）。

A.家务非小事

B.家庭分工的学问

C.生活的调节剂——家务

D.多做家务益处多

33、一些自媒体推送热点事件之后，公众通常都会根据各自的价值标尺、经验水平等，对事件进行是非判断和道德评判。然而不可忽视的是，一些自媒体先声夺人的价值判断，往往会妨碍公众做出客观评价，甚至有可能让少数人被其利用、引诱。

对这段话理解正确的一项是（ ）。

A.自媒体从业者应自觉遵守媒体伦理

B.自媒体认为关注度比内容本身更有价值

---

C.应激发公众和自媒体向上的力量

D.公众需要提高自身的鉴别力和媒体素养

34、在中国文化的冲击下，佛教必须要适应我国现实情况才能立足，所以它会做出一些伪装，以求得认同。其中早期佛教书籍中有些特别强调“孝”，这就是对原文含义的歪曲来适应中国纲纪色彩文化要求的表现之一。

这段话的主旨是（ ）。

A.佛教是一个适应性很强的宗教

B.“孝”是佛教书籍发展过程中延伸出来的要义之一

C.传统文化的力量迫使佛教在传播过程中进行了变通

D.佛教对中国传统文化影响较深

35、面对生产经营主体量大面广，质量安全的未知风险、人为风险、衍生风险交织共存的复杂情况，严管食品安全，必须构筑全方位、立体式的监控网络，尤其要完善将食品药品安全风险布控于未始，消灭于萌芽的预警与“发现”机制，布下安全监管的“千里眼”、“顺风耳”。这就要求以科技创新强化食品药品安全监管体系，充分发挥科学仪器和信息科技的协同创新优势，大力推动快速检测仪器的研制和产业化，构筑人防、技防、物防等综合发力的群防群治格局。

对这段话理解恰当的一项是（ ）。

A.法规制度是严管食品药品的监管依据和执法利器

B.严管食品药品安全重在完善监管体制机制

C.必须强化地方政府对食品药品安全负总责的责任体系

D.严管食品药品安全，是为人民健康把关的迫切需要

36、目前我国气象卫星只能呈现大气的平面图像，对大气的立体探测尚待发展。随着卫星技术和新技术水平的发展，今后的卫星可以给大气进行扫描，可以检测云层厚度、温度和湿度分布，台风热力学结构等等，提高天气预报准确率的同时还能够加强应对气候变化的能力，而目前我国在气象卫星规模和核心技术方面与发达国家还存在一些差距，在经过十年的发展，有望赶上国际先进水平，从“气象大国”晋升为“气象强国”，根据这段文字，以下说法正确的是（ ）。

A.现阶段欧美国家的天气预报准确率高于中国

B.我国气象卫星未来能够实现大气的立体检测

C.我国和发达国家的气象卫星技术水平相差十年

---

D.目前我国气象卫星技术在某些领域处于世界领先地位

37、在现实生活中，因为好大喜功、贪大求洋导致的浪费与失误屡见不鲜，因为急于求成、急功近利导致拔苗助长、不计后果的例子也不胜枚举。这是因为，“大干快上”并没有随着科学发展观的提出与确立而自行消失，有的地方、有的干部仍然把“发展是硬道理”误解为“经济增长是硬道理”，仍然把“又好又快”发展理解为只有“快”才能称得上“好”，轻视了快速增长背后所付出的代价，忽视了扩大规模后结构调整的紧迫，致使经济社会发展出现了一系列棘手的矛盾和问题。

本文作者要表达的意思是（ ）。

- A.“快”，让人们看到了迅速发展带来的显著变化
- B.快速增长既来自于对物质匮乏与经济滞后的焦虑，更来自于对迅速发展改变现状的渴望
- C.这些年来各级政府部门似乎已经习惯了追求“快的政绩”
- D.发展应告别一味求快，回归科学理性

38、新劳动合同出台后所引发的争议在很大程度上源自企业雇主所产生的心理恐慌，而不是源于对企业的实际损害。新的劳动合同法剥夺的是雇主在用工方面随心所欲而不负责任的权利，而这种权利无论是对员工、对社会还是对企业都是有害的。

对于本句话理解不正确的是（ ）。

- A.新劳动合同法出台后引发了一些争议
- B.新劳动合同法加强了对员工的保护
- C.新劳动合同法剥夺了雇主的一些权力，对企业是一种保护
- D.新劳动合同法所引发的企业雇主心理恐慌是源于雇主担心对企业造成实际的损害

39、起源于天津的“泥人张”，代表着我国中国泥塑艺术的高峰，而随着生活方式的改变，这样具有浓郁民间气息的传统手艺濒临失传。这些改变，使得泥人张手艺面临生存危机，如果不能应世而变，终将成为博物馆里的标本。但从文化遗产的角度来看，泥人张不应在商业化的浪潮中肆意改变，那么与社会适应而又不失人文内涵就成为了手艺继承的新的课题。

这段文字想要传递的信息是（ ）。

- A.“泥人张”的传统功能减弱但文化价值依然存在
- B.传统手艺如何在市场竞争中保持其生命力
- C.泥人张需要在保留传统的同时进行创新
- D.生活方式的变化导致泥人张手艺正在逐渐衰退

40、由于供求关系依然偏紧、开发商不能压低房价，以及人们受消费信心与心理预期的趋

动影响等因素，2017 年的房价将在盘整中增速趋缓，各月房价同比增幅呈现由高到低趋势，都是密集区与区域中心城市房价增长较快。

- A.房地产市场 2017 年依然由供求关系偏紧、炒作房价、开发商抬高房价等现象
- B.2017 年的房价将呈现总体增速趋缓、部分地区增长较快的趋势
- C.2017 年房价同比将呈现下降趋势，但都市密集区与区域性中心城市房价增长较快
- D.2017 年消费者消费信心依然很强，对于房价的心理预期仍然很高

### 第三部分 判断推理

一、事件排序：（共 10 题）每道题给出 5 个事件，每个事件均以简短语句表述，接着给出事件假定发生顺序的 4 个数字序列，请你选择其中最合乎逻辑的一种时间顺序。

41、(1) 人工增雨 (2) 缺乏降水 (3) 灾情缓解

(4) 庄稼枯萎 (5) 天气干旱

A.4-1-3-2-5 B.2-5-4-1-3 C.5-2-1-4-3 D.3-5-4-1-2

42、(1) 住宅小区建成 (2) 购买荒地 (3) 绿化环境

(4) 新区规划 (5) 工厂迁址

A.5-3-4-1-2 B.3-2-1-4-5 C.3-4-5-2-1 D.4-2-5-1-3

43、(1) 检察院审查 (2) 贪污受贿 (3) 一审判决

(4) 上诉 (5) 终审判决

A.2-1-4-3-5 B.2-1-3-4-5 C.4-5-3-1-2 D.5-1-4-2-3

44 (1) 接种疫苗 (2) 疫情出现 (3) 得到控制

(4) 生产疫苗 (5) 引起关注

A.2-5-4-1-3 B.1-5-4-3-2 C.2-4-5-1-3 D.2-1-4-3-5

45、(1) 养殖丰收 (2) 研究新式养殖方法 (3) 反复试验取得成功

(4) 普及应用 (5) 收入增加

A.1-3-2-4-5 B.2-4-5-3-1 C.2-3-4-1-5 D.2-1-4-3-5

46、(1) 收拾行李登记 (2) 打电话预定房间 (3) 上网查询路线

(4) 入住酒店，欣赏风景 (5) 计划出门旅游

A.5-1-4-3-2 B.5-3-2-1-4 C.4-3-2-1-5 D.5-4-2-3-1

47、(1) 签约成交、交车 (2) 车辆介绍、试乘驾驶 (3) 接待、咨询

(4) 报价协商 (5) 售后跟踪

A.4-5-1-3-2 B.2-5-4-3-1 C.3-2-4-1-5 D.5-3-1-4-2



- 48、(1) 申报广电总局，批文 (2) 市场运作，开机 (3) 创作剧本、成立剧组  
 (4) 联系单位挂名合拍 (5) 确定导演，选演员

A.2-5-4-1-3 B.3-2-4-1-5 C.2-5-4-3-1 D.3-4-1-5-2


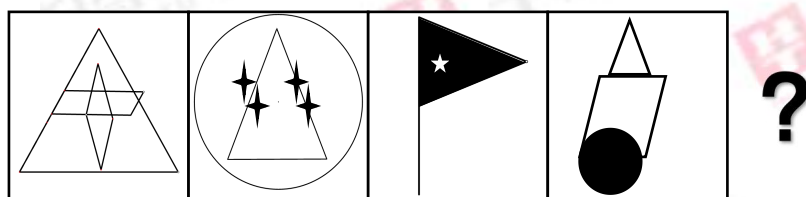
- 49、(1) 小女孩被救出 (2) 保安发现情况，连忙报警求助  
 (3) 女孩被锁车中 (4) 警方抵达后果断砸窗救人  
 (5) 女孩在车中哭闹

A.3-5-2-4-1 B.3-2-5-4-1 C.3-4-2-5-1 D.3-5-4-2-1

- 50、(1) 山里人们生活好起来 (2) 在此办起山货加工厂  
 (3) 企业家发现山货很有市场 (4) 一位企业家偶然到来  
 (5) 某山里山货丰富

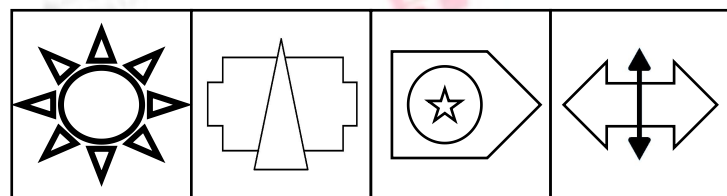
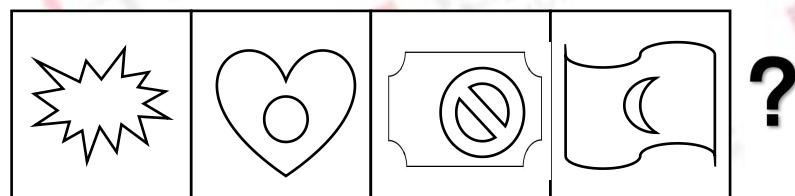
A.1-5-3-2-4 B.5-4-3-2-1 C.4-5-3-2-1 D.1-5-4-3-2

51、题目中的图形呈现一定规律性，根据这种规律，最有可能出现在？处的图形是（ ）。



A B C D

52、题目中的图形呈现一定规律性，根据这种规律，最有可能出现在？处的图形是（ ）。



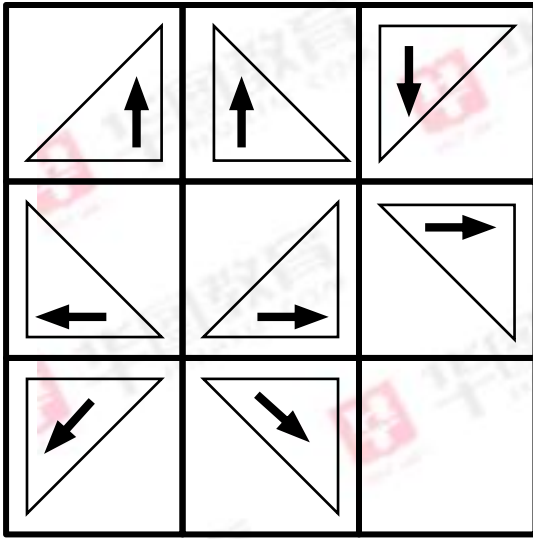
A

B

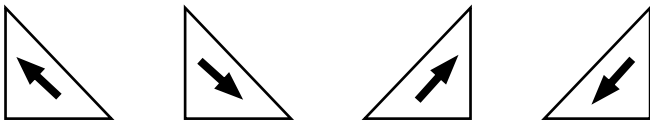
C

D

53、题目中的图形呈现一定规律性，根据这种规律，最有可能出现在？处的图形是（ ）。



?




A

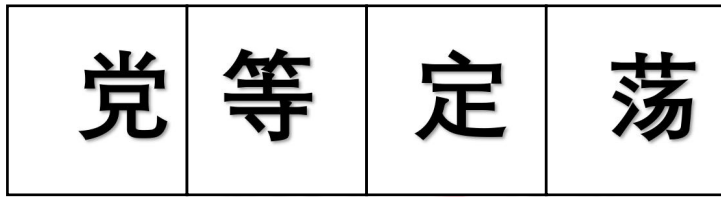
B

C

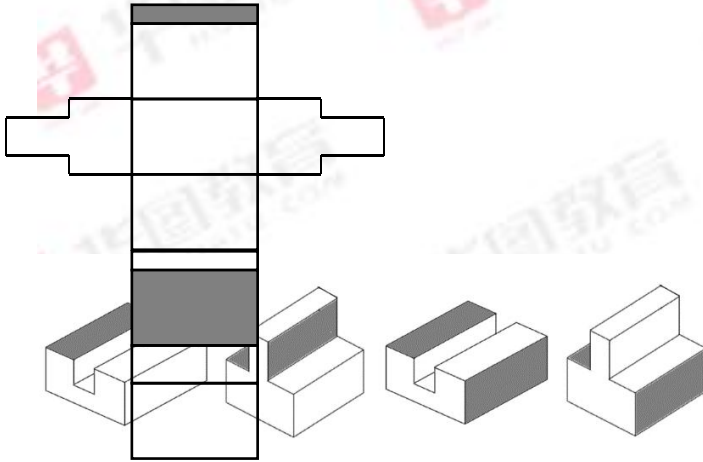
D

54、题目中的图形呈现一定规律性，根据这种规律，最有可能出现在？处的图形是（ ）。





55. 在四个选项中，由左面的纸板折叠而成的是（ ）。



A                      B                      C                      D

**三 . 常识判断. (共 15 题) 涵盖政治、经济、文学、历史、社会等多方面常识，考察应试者在这些方面应知应会的基本知识以及运用基本知识分析判断的基本能力。**

56. 近期，天津制订了关于治理行政机关公务员（ ）问题的六项措施，把严惩问责与保护激励相统一，既剑指“为官不为”，又激励敢作敢为，营造干事创业的强大气场。

- A. 贪污腐败      B. 不担当不作为      C. 不进步不学习      D. “圈子文化”

57. 面对国内外环境的变化，中国共产党不断完善领导方式和执政方式。中国共产党执政的基本方式是（ ）

- A. 科学执政      B. 民主执政      C. 依法执政      D. 为民执政

58. 自 2017 年 2 月天津市“（ ）”活动启动以来，市活动领导小组办公室认真贯彻落实工作部署，加强统筹指导，狠抓组织实施，各区均取得明显成效。截至目前，活动惠及全市 1.8 万家企业，汇总企业问题 1036 个，解决率达 40.64%。

- A. 双万双服      B. 八项规定      C. 美丽天津      D. 六个严禁

59. “富强、民主、文明、和谐”是我国社会主义现代化国家的建设目标。其中（ ）是社会主义的生命。也是创造人民美好幸福生活的政治保障。

- A. “富强”      B. “和谐”      C. “文明”      D. “民主”

60. 针对我国当前就业形势，应坚持（ ）、（ ）、（ ），用改革的办法搭建更优创业平台，

用市场的力量创造更多的就业机会，推动经济持续健康发展，促进社会公平正义。

- A. 创业发展 深化改革 民主决策
- B. 三严三实 四个自信 五位一体
- C. 体制改革 从严治党 三位一体
- D. 简政放权 放管结合 优化服务

61. 随着科学技术的进步，我们阅读的方式也在日益多元化，我们可以读“书”、读“广播”、读“电视”、读“微信”等等，一位网友据此认为，今天我们完全可以通过阅读获得我们所需的一切知识和精神食量。该网友的观点（ ）。

- A. 具有合理性。因为直接经验比间接经验更可靠
- B. 具有不合理性。因为真知最终都来源于实践，来源于直接经验
- C. 具有合理性。因为实践对认识有决定作用
- D. 具有不合理性。因为间接经验是认识的途径

62. 中纪委官网在《每月 e 题》栏目主动向网民发出邀请，请大家来晒一晒身边那些披着“隐身衣”的“四风”问题，曝光那些改头换面的腐败手段，这一做法（ ）。

- A. 有利于直接保障公民的基本政治权利
- B. 是实现人民当家作主地位的基本保障
- C. 能够进一步发挥舆论监督的独特作用
- D. 是公民对政府权利制约和监督的关键

63.“供给侧”“工匠精神”“洪荒之力”等词汇入 2016 年十大流行语。流行语不仅是一种语言现象，也是社情民意，社会心理的特殊载体，折射出社会文化发展的阶段性特征，每一年流行语的变化体现了（ ）。

- A. 社会意识对社会存在的反映
- B. 社会意识总是与时俱进
- C. 社会意识对社会存在有反作用
- D. 社会意识具有相对独立性

64. 主权国家拥有的独立主权是指（ ）。

- A. 管理人口、领土、政权的权力
- B. 行使对内、对外的国家职权的权力
- C. 自主处理内政和外交事务的权利
- D. 保卫国家自身生存和发展的权利

65. 分享经济是指资源所有者通过社会化平台有偿分享闲置资源的一种全新商业模式。业内预计，未来 5 年我国分享经济年均增长率将在 40%左右。发展分享经济（ ）。

- A. 是公有制的有效实现形式
- B. 有助于缩小我国收入分配差距
- C. 有利于实现资源优化配置
- D. 能为经济发展提供新的增长点、

66. 社会主义在中国确立的主要标志是（ ）。

- A. 中华人民共和国的成立
- B. 三大改造的胜利完成

C.中华人民共和国宪法的颁布 D.第一个五年计划的完成

67、遗产是指公民死亡时遗留下来的（ ）。

A.个人所有财产 B.个人固定资产 C.个人合法财产 D.个人储蓄

68、农业在我国国民经济发展中起（ ）。

A.基础作用 B.主导作用 C.决定作用 D.稳定作用

69、“江山社稷”中的“稷”在古代指的是（ ）。

A.土地之神 B.黎民百姓 C.五谷之神 D.祈求丰收

70、市农业局向市规划局申请征用土地建立粮食生产基地，使用的公文文种应该是（ ）。

A.通报 B.议案 C.请示 D.函

**四、演绎推理：（共 10 题）每题给出一段陈述，这段陈述被假设是正确的，不容置疑的，要求根据这段陈述选择一个答案。**

71、倾销，指垄断资本家为了击败竞争对手，夺取国外市场，在一定时期内以远远低于国内外市场的价格，甚至低于生产成本的价格抛售商品的一切行为。

下列行为属于倾销的是（ ）。

- A.春节期间，海尔公司举行了“买冰箱送烤箱”的酬宾活动
- B.为了占有市场，美国将其小麦以低于成本的价格卖给印度
- C.两家商场竞争，以低于成本的价格出售商品
- D.为了和越南茶叶出口业竞争，中国部分茶农降低了绿茶的出口价格

72、消费者并不如厂家所想的那样易受影响，他们知道自己需要什么，而他们所想要的也许与其他人认为他们想要的相差甚远。

以下哪项如果为真，最能反驳上述观点？（ ）

- A.大多数人年复一年的购买同一牌子的商品
- B.当人们与同伴一起购物时，通常很少与同伴发生争执
- C.做广告最多的公司销售量也最大
- D.商店的货架上摆着各种牌子的商品，容易使消费者不知所措

73、以前的科学发现大都是偶然结果，并非是研究者有意追寻的，但现在的科学研究由于其高成本，不得不依赖于各种资助。而资助者感兴趣的是所资助项目的经济效益，这使得研究者没法顾及任何与被资助项目不直接相关的东西，因此，在目前的科学发现中，偶然性因素不可能再发挥以前那样的作用。

以下哪项最可能是上述论证所假设的？（ ）

A.只有研究者有意识追寻的东西，才可能和其研究直接相关

B.过去的科学研究对自身可能产生的经济效益不感兴趣

C.对资助的依赖使得研究者不可能从事他们所感兴趣的研究

D.一般地说，有价值的科学发现都是偶然结果

74、某整形医院对接受整形手术的人进行了统计调查，发现家长绝对同意子女进行整形手术的支持率高达 80%，经过子女做了思想工作后同意整形的占 10%，家长对子女整形的总支持率达到 90%，比几年前的 60%高出许多。

以下哪项陈述最适合作为从上面的论述中推出的结论？（ ）

A.90%做整形手术的孩子得到了家长的同意

B.坚决不同意自己孩子做手术的家长不超过 5%

C.10%做整形手术的孩子给家长做了思想工作

D.90%的家长支持自己的孩子做整形手术

75、李先生一定是公司内的高层人员，他总是打着领带上班。

假设一下哪项，能推出上述结论？（ ）

A.公司高层人员都打领带上班

B.所有公司都不允许高层人员不打领带上班

C.除非是公司高层人员，否则男士们不会打领带上班

D.许多高层人员只在上班时打领带

76、在某办公室公开选拔科长的招录考试中，共有甲、乙、丙、丁、戊、己、庚 7 人报名。根据统计，7 人的最高学历分别是本科和博士，其中博士毕业的有 3 人；女性有 3 人。已知，甲、乙、丙的学历层次相同，己、庚的学历层次不同；戊、己、庚的性别相同，甲、丁的性别不同。最终录用的是一名女博士。

根据以上陈述，可以得出以下哪项？

A.甲是男博士

B.乙是女博士

C.庚不是男博士

D.丁是女博士

77、每一种招聘选拔的方法都有缺陷。合理的选拔求职者，目前流行的通过考试选拔的招聘方法恐怕是所有有缺陷的方法中最好的一种了。

以下哪一项不符合上述断定的含义？（ ）

A.被录用的求职者的实际能力与他们的考分基本相符

B.有些没有考上的求职者，实际上也具备较高的能力

C.有些被录用的求职者，其实并不具备应有的能力

---

D.布局背影有能力的考生被录用，是考场舞弊所致

78、某地最新的人均寿命的数据显示，在过去的20年中，男性与女性的平均寿命增长了10岁，其中，男性的平均寿命增长了8岁，女性的平均寿命增长了13岁。

如果上述断定是真的，则以下有关被调查人口的断定，哪一项也一定是真的？（ ）

- A.目前该地男性的平均寿命要长于女性的平均寿命
- B.该地男性人数比女性人数多
- C.20年前该地男性的平均寿命要长于女性的平均寿命
- D.女性受调查的人数比男性受调查的人数多

79、政府对基本商品征收的一种税是对出售的每一罐食用油征税两分钱。税务记录显示，尽管人口数量保持稳定且税法执行有力，食用油的税收额在税法生效的头两年中还是显著下降了。

如果正确，最有助于解释食用油的税收额下降的一项是（ ）。

- A.在食用油税实行后的两年，政府开始在许多其他基本商品上征税
- B.很少家庭在加税后开始生产他们自己的食用油
- C.商人在税法实施后开始用比以前更大的罐子售油
- D.食用油罐传统上被用作结婚礼物，税法实施后，用食用油做礼物增多了

80、经济性薪酬强调物质激励，非经济性薪酬强调精神激励，二者均不能成功地解决所有激励问题，二者结合却往往能解决一种薪酬方法难以解决的激励问题。

以下哪项最支持上述的说法？（ ）

- A. 对手涉及激励的问题能够找出解决的薪酬方法
- B. 一种薪酬方法只能解决一种激励问题
- C. 没有完全满意的解决激励问题的薪酬方法
- D. 不能只采取一种薪酬方法解决所有激励问题

第四部分 资料分析

根据下面的材料，回答第81-85题

某些省份粮食作物及水稻产量统计表

| 省份 | 粮食作物总产量<br>(万吨) | 水稻产量<br>(万吨) | 水稻占粮食作物总<br>收入比例 (%) |
|----|-----------------|--------------|----------------------|
| 江苏 | 88770           | 9886         | 20.3                 |
| 内蒙 | 3879            | 1668         | 64.5                 |
| 海南 | 4148            | 1117         | 53.2                 |
| 江西 | 2123            | 1388         | 65.2                 |
| 湖北 | 16866           | 8348         | 74.2                 |

81、表中所列省份中，水稻占本省粮食作物总收入的比例最大的是（ ）。

- A. 海南      B. 内蒙      C. 湖北      D. 江西

82、表中所列省份中，水稻产量占本省粮食作物总产量比重最大的是（ ）

- A. 江苏      B. 江西      C. 内蒙      D. 以上均不对

83、海南除水稻外其他粮食作物占粮食作物总产量的（ ）

- A. 73.1%      B. 63.1%      C. 26.9%      D. 46.8%

84、水稻产量最多的省份比产量最少的省份多（ ）

- A. 6735 万吨      B. 7231 万吨      C. 8498 万吨      D. 8769 万吨

85、以下说法错误的是（ ）、

- A.五省份中，江苏省粮食作物总产量最高  
B.江苏省水稻产量超过了其他四省份水稻产量之和  
C.海南水稻产量占全省粮食总产量的比重不足 30%  
D.五省份中，有四个省份水稻占粮食作物总收入比例超过了 50%

**根据下面的材料，回答第 86-90 题**

2016 年，M 市全年实现货物进出口总额 4140.39 亿元，比上年下降 10.3%，其中，出口 2677.96 亿元，下降 21.6%；进口 1462.43 亿元，增长 22.1%。

根据美元计算，货物实现进出口总额 627.71 亿美元，比上年下降 15.7%。其中，出口 406.94 亿美元，下降 26.3%；进口 220.77 亿美元，增长 14.5%。

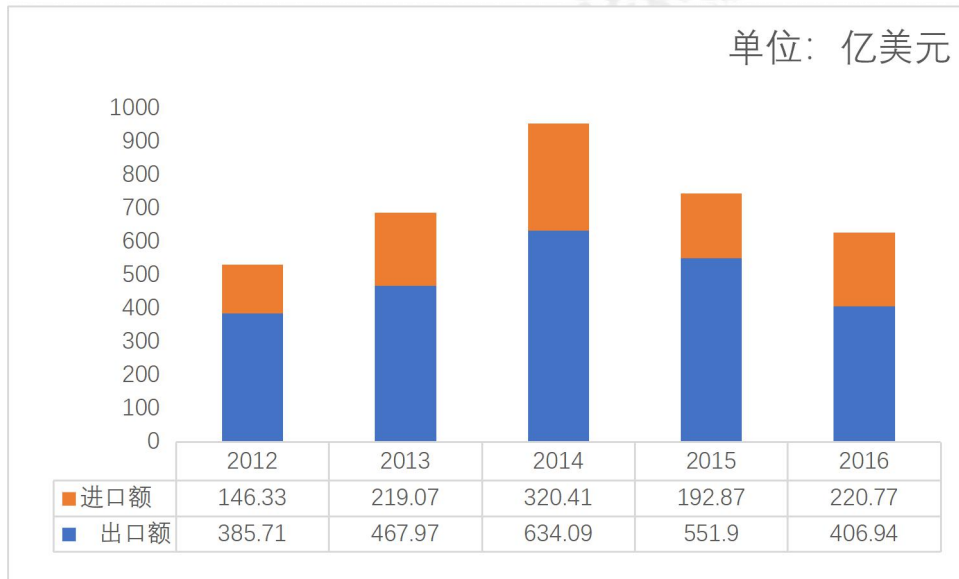
全市货物出口前三位国家（地区）为美国、德国和香港，分别出口 643.94 亿元、264.46 亿元和 259.51 亿元，比上年分别下降 16.1%、12.6%和 2.6%。

货物进口前三位国家（地区）为台湾、韩国和马来西亚，分别进口 227.11 亿元、173.44



亿元和 159.85 亿元，台湾和韩国分别增长 24.6%、19.2%，马来西亚下降 5.3%。

2012—2016 年 M 市货物进出口总额统计图



- 86、2012~2016 年，M 市货物进出口总额排第三名的年份是（ ）
- A. 2016 年      B. 2015 年      C. 2014 年      D. 2013 年
- 87、2016 年，M 市进出口货物总额比 2014 年下降了约（ ）
- A. 25.3%      B. 28.2%      C. 34.2%      D. 40.8%
- 88、2015 年，M 市向香港地区出口货物总额约为（ ）亿元
- A. 300.17      B. 266.44      C. 259.93      D. 199.36
- 89、2012~2016 年，M 市货物贸易顺差额在 300 亿美元以上的年份有几个？（ ）
- A. 3      B. 2      C. 1      D. 0
- 90、根据上述资料，下列说法正确的是（ ）
- A. 2016 年，M 市进出口货物总额的降幅比 2015 年的低约 6.3%
- B. 在 M 市货物进口的国家（地区）中，马来西亚所占的比重最低
- C. 2016 年，M 市货物出口前三位的国家（地区）货物出口额的比重占总出口额的一半以上
- D. 2012~2016 年，M 市进出口贸易始终保持良好的发展势头

#### 第五部分 作文

**材料 1:** 刚刚过去的 2016 年，农业农村发展持续向好，稳中有进，十三五经济社会良好开局提供了有力支撑，成绩面前也要清醒看到，农业仍是经济社会发展的突出短板，稳住农业农村这个“基本盘”，对稳定全局至关重要，中央一号文件给出明确的政策信号，必须始终

---

坚持把解决好“三农”问题，作为全党工作重中之重不动摇，重农强农调子不能变，力度不能减。

当前，农业农村发展进入新的历史阶段，内在动因和外部环境正发生重大而深刻的变化。长久以来，我国农业发展方式中不健康、不可持续、缺乏竞争力的矛盾不断积累，供需错配、成本过高、透支资源、农民增收难的四大难题始终横在眼前，推进农业供给侧结构性改革，提高农业综合效益和竞争力，是当前和今后一个时期我国农业政策改革和完善的主要方向。

**材料 2:** 在居民消费结构升级的背景下，部分农产品供求结构性失衡的问题日益凸显，优质化、多样化、专用化农产品发展相对滞后，大豆供需缺口进一步扩大，玉米增产超过了需求增长，部分农产品库存过多，确保供给总量与结构平衡的难度加大，在资源环境约束趋紧的背景下，农业发展方式粗放的问题日益凸显，在国内外农产品市场深度融合的背景下，农业竞争力不强的问题日益凸显。劳动力、土地等生产成本持续攀升，主要农产品国内外市场价格倒挂，部分农产品进口逐年增多，传统优势农产品出口难度加大，我国农业大而不强，多而不优的问题更加突出，在经济发展速度放缓，动力转换的背景下，农民持续增收难度加大的问题日益凸显。农产品价格提升空间较为有限，家庭经营收入和工资性收入增速放缓，加快缩小城乡居民收入差距，确保如期实现农村全面小康任务艰巨。

**材料 3:** 武汉市大力推进生态农业建设，取得了一定成效，农业标准化生产规模显著扩大，农业废物利用率持续提升，农业农村环境治理成效显著。武汉乡村休闲游产业也得以快速发展，截至 2016 年，乡村休闲游经营单位发展到 1112 家，年接待旅客 2000 万人次，实现旅游收入 40 亿元。市政府先后出台了《现代都市农业示范园区项目建设管理实行办法》和《现代都市农业示范园区建设专项补贴资金管理暂行办法》等，并规定未来三年，市级财政每年统筹整合相关涉农资金 3 亿元，用于支持农业示范园建设。

**材料 4:** 我国粮食正面临着产量、进口量、库存量“三量齐增”的状况，可谓洋粮入市、国货入库，随着中国经济的持续发展和人民生活水平的不断提高，劳动工资水平和自然资源成本逐年上升，农产品已从低成本优势转为高成本劣势，对中国农产品竞争力和农民纯收入产生了极大的压力。因此，我国农业必然需要走向适度规模化经营的道路。“三权分置”改革意在加快土地流转，打破户口和土地之间的关联，意味着基于农民身份的土地无偿使用权将就此终结，基于土地国有背景下的土地交易和流转市场将直接增加地方政府手中的土地，小农

---

经济就此结束，农场时代即将开启。以种粮大户，专业合作社，农业产业化龙头企业为代表的新型规模化农业生产主体---“新农人”将逐步取代过去的家庭作坊而成为我国农业生产的主力军。

**材料 5：**说到农业专业，大家首先想到的是在农村工作，由于目前城乡条件的巨大差距，谁愿意到农村去？而那些好不容易从农村考出来的学生也不会轻易放弃跳出农门的机会，在学一些回到农村的专业，甚至一些传统的农业大学不少都顺应市场经济的潮流，有的搞了人文学院，有的甚至开办了商学院，纷纷向综合性大学转型，在这种情况下，学农的大学生就更少了，据了解，农业院校畜牧专业目前是最抢手的专业之一，连招聘会都不用办，毕业生就被抢聘一空。但即使如此，依然专业招生困难。

另外，农业行业招生难，留人难得主要原因还是生产生活条件差，大型养殖企业都建在远离城乡和村庄的孤山野岭，不仅人烟稀少，而且生活很不便利，晚上没有城市的花前月下，可能也没有 wifi，甚至如歌里所唱的“没有 24 小时热水的家”，再有，农业企业普遍盈利困难，开出的薪水标准本身不高，与城市企业相比处于劣势。

**材料 6：**近年来，莘县围绕加快农业产业转型升级这条主线，按照“强优势，补短板，推动一二三产业融合发展”的思路，大力实施农业龙头带动方略，抓龙头，带基地，树品牌，增效益，瓜菜产业实现跨越式发展，带动菜农增收致富，全县瓜菜菌播种面积达到 98 万亩，食用菌栽培面积达 650 万平方米，瓜菜菌总产达 480 多万吨，被中国蔬菜流通协会命名为“中国蔬菜第一县”。

为充分发挥农业资源和品牌优势，促进瓜菜产业的经贸合作，自 2012 年起，莘县每一年举办一届瓜菜节，集中展示瓜菜菌及相关产业发展的新理念，新成果，新技术，新产品。与往年相比，本届瓜菜节最大亮点是增加了农业嘉年华元素，中原现代农业嘉年华是江北地区单体最大的展览馆，是集科技，体验，节庆，文创，农技培训于一体的农文献综合体，以新的方式诠释莘县农业特色，构建欢乐共享的农业乐园。

据了解，为了做大做强蔬菜产业，莘县重点实施“净菜进京”战略，先后与北京首农集团，海淀区政府和北京近 40 家农产品连锁经营商进行精准对接，全力推介莘县安全可追溯蔬菜，达成多个基地采购合作协议，建立了产销紧密衔接，全程质量可控，减少流通环节，保持农产品价格趋稳的农产品直供直销模式。目前，莘县安全放心蔬菜已经覆盖北京 100 多家连锁超市，每天直销北京的蔬菜达到 8 万多斤，产品抽检合格率一直保持 100%，在北京市场

---

拥有良好的口碑。

**材料 7：**“今年生意不好做”，这是梅州柚农的共同感受，2015 年收购价在 2-3 元 / 斤，去年降到 1-2 元/斤。据统计，2016 年，梅州沙田柚产量近 60 万吨，比 2015 年增产三成，品质好的收购价较高，然而收购价却普遍下降 20%到 30%。

从供给关系而言，增产的商品过剩滞销，展现出的是供给关系的不平衡，换言之，仅依靠增加产品数量来增加农民收入的时代已是一去不复返，粗放式的生产方式不仅容易使市场饱和甚至还有可能造成产业结构性失衡。

**材料 8：**当挂满枝头的果实在闪烁的金光，蕉岭县蕉城镇种植户王锦阳既喜且“愁”。青壮年外出务工，家里只剩下老人和小孩儿，一到农忙季节劳动力根本不够用，王金阳说，每人一天一百元，到一百二十元，甚至都难觅人工，年轻人不愿种地，一是怕吃苦，二是不懂种植，对于农忙时雇来的青壮劳动力，很多都需要现场培训，人力成本只是其中之一，可以通过农业机械化替代劳动，降低人工成本，但是问题接踵而来，由于机械设备前期投入过大往往让人望而止步，农民想要融资购买机械设备，又面临融资难的问题，换言之，近年来农业生产资料价格快速上涨，依然束缚着农业生产的发展。

**答题要求：**

阅读上面材料，结合自身认识，围绕“农业产业结构调整”这一主题，自选角度，自拟题目，写一篇议论性文章。

**要求：**观点鲜明，论证透彻。论据充分，结构合理，层次清楚，字数 800-1000 字。